



ANADOLU ÜNİVERSİTESİ
AÇIKÖĞRETİM FAKÜLTESİ
BA - AÇIKÖĞRETİM OKULLARI

T.C. MİLLİ EĞİTİM BAKANLIĞI
Hayat Boyu Öğrenme Genel Müdürlüğü
2018-2019 ÖĞRETİM YILI BATI AVRUPA - BALKANLAR
AÇIK ÖĞRETİM LİSESİ I. DÖNEM SINAVI

1. OTURUM Cumartesi

A

0101

ÖĞRENCİNİN

SOYADI :

ADI :

T.C. KİMLİK NO / ÖĞRENCİ NO :

SINAV SALON NO : SIRA NO:

Sınavla ilgili soru kitapçığının ön ve arka kapağındaki tüm kuralları okudum, anladım, kabul ediyorum.

İMZA:.....

SINAV İÇERİĞİ

Testin Adı	Soru Sayısı	Sayfa No	Testin Adı	Soru Sayısı	Sayfa No
BİYOLOJİ 2	20	02	SEÇMELİ TÜRK DİLİ VE EDEBİYATI 2	20	34
COĞRAFYA 4	20	04	SEÇMELİ ALMANCA 1	20	36
DİN KÜLTÜRÜ VE AHLAK BİLGİSİ 2	20	06	SEÇMELİ FRANSIZCA 1	20	39
FELSEFE 1	20	09	SEÇMELİ İNGİLİZCE 1	20	42
KİMYA 3	20	11	SEÇMELİ ALMANCA 2	20	45
MATEMATİK 1	20	13	SEÇMELİ FRANSIZCA 2	20	48
MATEMATİK 3	20	15	SEÇMELİ İNGİLİZCE 2	20	51
SEÇMELİ COĞRAFYA 2	20	18	SEÇMELİ ALMANCA 4	20	54
SEÇMELİ ÇAĞDAŞ TÜRK VE DÜNYA TARİHİ 2	20	21	SEÇMELİ FRANSIZCA 4	20	57
SEÇMELİ DEMOKRASİ VE İNSAN HAKLARI 1	20	23	SEÇMELİ İNGİLİZCE 4	20	60
SEÇMELİ İŞLETME 2	20	25	TEMEL DİNİ BİLGİLER 1	20	63
SEÇMELİ KİMYA 1	20	27	TÜRK DİLİ VE EDEBİYATI 1	20	65
SEÇMELİ MATEMATİK 2	20	29	TÜRK DİLİ VE EDEBİYATI 4	20	67
SEÇMELİ TARİH 2	20	32	TÜRK DİLİ VE EDEBİYATI 7	20	69

SINAVDA UYULMASI GEREKEN ÖZEL KURALLAR

1. Soru kitapçığındaki her bir testi cevaplamanız için verilen süre 30 dakika, toplam süre 150 dakikadır.
2. Sınavın ilk 30 dakikası ve son 5 dakikası içinde sınavınızı tamamlasanız bile salondan çıkamazsınız. Herhangi bir nedenle salondan çıktığınız takdirde, tekrar sınava devam etmenize izin verilmeyecektir. Sınavın başlamasını izleyen ilk 15 dakikadan sonra hiçbir öğrenci sınava alınamaz.
3. Yanlış cevaplarınız dikkate alınmayacaktır. Bu nedenle kitapçığındaki tüm sorular için size doğru gelen seçeneği işaretleyerek cevapsız soru bırakmamanız yararınıza olacaktır.
4. Sınav sırasında hesap makinesi kullanabilirsiniz. Ancak, kullanacağınız makinede alfabetik tuş takımınının (A, B, C,..., Y, Z), program yapılmasına, saklanmasına ve çalıştırılmasına imkân veren EXE, STORE, RUN vb. tuşlar bulunamaz.

"Sınavda Uyulması Gereken Genel Kurallar" soru kitapçığının arka sayfasında yer almaktadır. Bu kuralları da mutlaka dikkatlice okuyunuz.

Anadolu Üniversitesi tarafından hazırlanmış olan bu testlerin her hakkı saklıdır. Hangi amaçla olursa olsun, testlerin tamamının veya bir kısmının Anadolu Üniversitesi'nin yazılı izni olmadan kopya edilmesi, fotoğraflarının çekilmesi, herhangi bir yolla çoğaltılması, yayımlanması ya da kullanılması yasaktır. Bu yasağa uymayanlar gerekli cezai sorumluluğu ve testlerin hazırlanmasındaki mali külfeti peşinen kabullenmiş sayılır.

2019 AÖÖ-AÖL I. DÖNEM 0101-A

1. Aşağıdaki organizmaların hangisi 105 °C ve daha yüksek sıcaklıkta yaşayabilir?

- A) Arkeler
- B) Protistler
- C) Mantarlar
- D) Virüsler

2. Taksonomik hiyerarşide tür basamağından âlem'e doğru gidildikçe gerçekleşen olaylarla ilgili aşağıdaki ifadelerden hangisi doğrudur?

- A) Canlı sayısı azalır.
- B) Protein benzerliği artar.
- C) Gen benzerliği artar.
- D) Canlı çeşitliliği artar.

3. Aşağıdakilerden hangisi virüslerin insanlarda neden olduğu hastalıklardan biri değildir?

- A) Uçuk
- B) Siroz
- C) Gastrit
- D) Kuduz

4. I. Hücre yapısı ve sayısı
II. Embriyonik gelişimler
III. Vücut simetrisi

Yukarıdakilerden hangileri doğal sınıflandırma yapılırken dikkate alınan başlıca özellikler arasında yer alır?

- A) Yalnız I
- B) Yalnız III
- C) I ve II
- D) I, II ve III

5. Omurgalı hayvanlar ile ilgili aşağıdaki ifadelerden hangisi doğrudur?

- A) Embriyonik gelişimin ilk evrelerinde solungaç yarığı görülür.
- B) Hücre duvarı selüloz yapılıdır.
- C) Genelde açık dolaşım görülür.
- D) Kloroplast organeli bulunur.

6. Aşağıdakilerden hangisi prokaryotlar grubunda bulunan âlemlerden biridir?

- A) Bitkiler
- B) Bakteriler
- C) Mantarlar
- D) Protistalar

7. Ortak atadan gelen, yapı ve görev bakımından benzer özelliklere sahip, çiftleştiklerinde kısır olmayan yavrular oluşturan bireyler topluluğuna ne ad verilir?

- A) Takım
- B) Cins
- C) Tür
- D) Aile

8. Mantarlar ile ilgili aşağıdaki ifadelerden hangisi yanlıştır?

- A) Eşeyli ve eşeysiz ürerler.
- B) Hücre duvarı selüloz yapılıdır.
- C) Beslenme şekilleri heterotroftur.
- D) Glikozun fazlasını glikojen olarak depo ederler.

9. Kökenleri farklı görevleri aynı olan organlara ne ad verilir?

- A) Analog organ
- B) Filogenik organ
- C) Ampirik organ
- D) Homolog organ

10. Aşağıdakilerden hangisinde kirletici bir maddeyi bir organizma kullanarak ortamdan uzaklaştırma işlemini tanımlayan terimdir?

- A) Sanitasyon
- B) Biyoremediasyon
- C) İzolasyon
- D) Biyoçeşitlilik

11. Aşağıdakilerden hangisi yüzücü sölenterlerden biridir?

- A) Deniz şakayığı
- B) Hidralar
- C) Deniz anası
- D) Deniz mercanları

12. Aşağıdaki canlı gruplarından hangisi sadece tek hücreli canlıları kapsamaktadır?

- A) Bitkiler
- B) Bakteriler
- C) Protistler
- D) Hayvanlar

13. Aşağıdakilerden hangisi yakamoz olayının etmenidir?

- A) Bakteri
- B) Mantar
- C) Sivrisinek
- D) Alg

14. Aşağıdakilerden hangisi hücre duvarı üzerinde bulunup bakterinin daha dirençli olmasını sağlayan yapılardan biridir?

- A) Peptidoglikan
- B) Kapsül
- C) Pilus
- D) Kamçı

15. Bakterileri konakçı olarak kullanan virüslere ne ad verilir?

- A) Genom
- B) Nükleik asit
- C) Bakteriyofaj
- D) Kapsit

16. Biyoremediasyon sürecinde kullanılan canlı grubunu aşağıdakilerden hangisidir?

- A) Mikroorganizmalar
- B) Sölenterler
- C) Eklem bacaklılar
- D) Bitkiler

17. Aşağıdakilerden hangisi bir biyomimetik örneği değildir?

- A) Helikopter
- B) Radar
- C) Su şişesi
- D) Yüzücü paleti

18. Aşağıdakilerden hangisi omurgalı hayvanlar içerisinde karasal hayata uyum sağlayan ilk gruptur?

- A) Kuşlar
- B) İki yaşamlılar
- C) Memeliler
- D) Sürüngenler

19. İnsan aşağıdaki omurgalı hayvan gruplarından hangisinde yer alır?

- A) Memeliler
- B) Sürüngenler
- C) İki yaşamlılar
- D) Kuşlar

20. Aşağıdakilerden hangisi vücut ısısı sabit olan canlılardan biridir?

- A) İki yaşamlılar
- B) Sürüngenler
- C) Balıklar
- D) Kuşlar

2019 AÖÖ-AÖL I. DÖNEM 0101-A

1. Aşağıdakilerden hangisi bir ülkenin genç ve dinamik nüfusa sahip olmasının sağladığı faydalardan biri değildir?

- A) Ekonomik canlılığa bağlı olarak devletin vergi gelirlerinin yükselmesi
- B) Sanayide kâr oranının artması
- C) Genç nüfusta teknolojik üretkenliğe olan yatkınlığın yeni iş alanlarını ortaya çıkarması
- D) Tüketimde verimliliğin artmasıyla ihracatta rekabeti kolaylaştırması

2. Aşağıdakilerden hangisi nüfus artışının hızlı olmasının olumlu sonuçlarından biri değildir?

- A) Vergi gelirlerinin artması
- B) Tüketici sayısının artması
- C) Yeni yatırım alanlarının açılması
- D) İş olanaklarının azlığı

3. Nitelikli iş gücü ve bilim adamlarının yurt dışına yaptığı göçlere ne ad verilir?

- A) İşçi göçü
- B) Beyin göçü
- C) Kavimler göçü
- D) Mübadele göçü

4. Kentleşme oranının en yüksek olduğu bölge aşağıdakilerden hangisidir?

- A) Güneydoğu Anadolu
- B) Karadeniz
- C) Doğu Anadolu
- D) Marmara

5. Türkiyede ilk nüfus sayımı hangi yıl yapılmıştır?

- A) 1927
- B) 1935
- C) 1945
- D) 1957

6. Aşağıdakilerden hangisi genel olarak Dünya nüfus artış oranına etki eden faktörlerden biri değildir?

- A) Çocuk ölümlerinin azalması
- B) Sanayileşme oranı
- C) Toplumsal ve kültürel gelişmeler
- D) Savaşlar

7. Aşağıdakilerden hangisi Türkiye'de nüfusun dağılışına etki eden beşeri faktörlerden biri değildir?

- A) Sanayileşme
- B) Turizm
- C) Bitki örtüsü
- D) Sağlık hizmetleri

8. Aşağıdakilerden hangisi Dünyada nüfus yoğunluğunun en fazla olduğu kıtadır?

- A) Okyanusya
- B) Asya
- C) Antartika
- D) Afrika

9. Çiftçilik, hayvancılık, madencilik, ormancılık gibi faaliyetlerin yapıldığı ekonomik faaliyet grubu aşağıdakilerden hangisidir?

- A) İkincil ekonomik faaliyet
- B) Üçüncül ekonomik faaliyet
- C) Birincil ekonomik faaliyet
- D) Dördüncül ekonomik faaliyet

10. Yılın belli bir zamanında kırsal yerlerden büyük şehirlere çalışma amacıyla yapılan göçlere ----- denir.

Yukarıdaki cümlede boş bırakılan yeri aşağıdakilerden hangisi doğru şekilde tamamlar?

- A) sürekli göç
- B) mevsimlik göç
- C) beyin göçü
- D) net göç

11. Aşağıdakilerden hangisi dış göçlerin sonuçlarından biri değildir?

- A) Göç veren ailelerin bölünmesi
- B) Ülke ekonomisine döviz girdisinin sağlanması
- C) Göç veren ülke nüfusunun artması
- D) Ülkeler arası ekonomik ilişkilerin gelişmesi

2019 AÖÖ-AÖL I. DÖNEM 0101-A

12. İnsanların mağaraları ve kaya oyuklarını mesken tuttıkları dönem / çağ aşağıdakilerden hangisidir?

- A) Kalkolitik çağ
- B) Paleolitik çağ
- C) Neolitik dönem
- D) Mezolitik dönem

13. Aşağıdakilerden hangisi gelişmemiş ülkelerin özelliklerinden biridir?

- A) Sanayileşme ve hizmet sektörünün yetersiz olması
- B) Nüfus artış hızının çok düşük olması
- C) Şehirdeki nüfusun, kırsal nüfusundan fazla olması
- D) Üretilen ürünlerin ticari değerinin yüksek olması

14. Dünyanın en eski ulaşım sistemi aşağıdakilerden hangisidir?

- A) Demir yolu
- B) Deniz yolu
- C) Kara yolu
- D) Hava yolu

15. Deprem oluşumu, nedenleri, deprem dalgalarını, deprem ölçüm sistemlerini inceleyen ve araştıran bilim dalına ne ad verilir?

- A) Sismoloji
- B) Sismograf
- C) Levha
- D) Sismolog

16. Levhaların üzerinde bulunan tabakaların gerilmesi, sıkışması ya da yanıl basıncın etkisiyle parçalara ayrılmasına ne ad verilir?

- A) İzolastik denge
- B) Kırılma
- C) Deprem
- D) Sismik dalgalanma

17. Yunanistan ile Mora Yarımadası'nı ayıran kanal aşağıdakilerden hangisidir?

- A) Korint kanalı
- B) Panama kanalı
- C) Kiel kanalı
- D) Süveyş kanalı

18. Aşağıdakilerden hangisi coğrafi bilgi sisteminin temel fonksiyonlarından biri değildir?

- A) Nokta görüş alanlarının tespiti
- B) Veri toplama
- C) Veri işleme
- D) Karar desteği sağlanması

19. Atlas okyanusu ile Akdenizi birbirine bağlayan boğaz aşağıdakilerden hangisidir?

- A) İstanbul Boğazı
- B) Çanakkale Boğazı
- C) Cebelitarık Boğazı
- D) Macellan Boğazı

20. Okyanus veya deniz tabanındaki faylarda oluşan yer sarsıntıları sonucu ortaya çıkan, boyları 30 ile 50 m'yi bulan dev dalgalara ne ad verilir?

- A) Şev hareketi
- B) Hortum
- C) Tayfun
- D) Tsunami

2019 AÖÖ-AÖL I. DÖNEM 0101-A

1. Aşağıdakilerden hangisi ahlâk, örf, adet, gelenek ve hukuki kuralları belirlemede **temel** etkendir?

- A) Din
- B) Millet
- C) Ekonomi
- D) Devlet

2. Bir toplumda benimsenmiş ve yaşatılmakta olan her türlü düşünce, kural ve uygulamalara ----- adı verilir.

Yukarıdaki cümlede boş bırakılan yeri aşağıdakilerden hangisi doğru şekilde tamamlar?

- A) hikmet
- B) değer
- C) âdet
- D) iffet

3. Aşağıdakilerden hangisi Kur'an-ı Kerim'deki hikmet ile ilgili ayetlerden biri **değildir**?

- A) "Rabbinin yoluna hikmet ve güzel öğütle davet et." (Nahl suresi, 125. ayet.)
- B) "...Kime hikmet verilmişse ona çok hayır verilmiştir..." (Bakara suresi, 269. ayet.)
- C) "O, ümmilere, içlerinden, kendilerine ayetlerini okuyan, onları temizleyen, onlara kitap ve hikmeti öğreten bir peygamber gönderendir..." (Cuma suresi, 2. ayet.)
- D) "Mü'min erkeklere söyle, gözlerini haramdan sakınsınlar ve iffetlerini korusunlar...Mü'min kadınlara da söyle, gözlerini haramdan sakınsınlar ve iffetlerini korusunlar..." (Nur suresi, 30. ve 31. ayet.)

4. Değerlerin temeli **ilk** nerede atılır?

- A) Sosyal çevrede
- B) Arkadaş çevresinde
- C) Okulda
- D) Ailede

5. Aşağıdakilerden hangisi bir topluma ait manevi değerlerden biri **değildir**?

- A) Topluma ait inançlar
- B) Toplumun gelenekleri
- C) Toplumda kullanılan araç ve gereçler
- D) Toplumun âdetleri

6. Bir toplumda, uygulanagelen, kuşaktan kuşağa iletilen, kültürel değer, alışkanlık ve davranışlara ne ad verilir?

- A) Adalet
- B) Âdet
- C) Örf
- D) Şecaat

7. Adalet ile ilgili aşağıdaki ifadelerden hangisi **doğru değildir**?

- A) Adaletli bir kişi, en yakın akrabaları olaydan zararlı çıkacaksa bir defaya mahsus doğruluktan ve doğru şahitlik yapıp doğru hüküm vermekten uzak durabilir.
- B) Adaletin tam tersi zulümdür.
- C) Adalet; doğruluk, denklik, doğru yolu izleme, hakka göre hüküm vermek, eşit olmak, tarafsızlık ve aşırılıktan uzaklaşıp her şeye hakkını vermek gibi anlamlara gelir.
- D) Anne ve babalar çocukları arasında adaletli davranmalı ve bu duyguyu onlara aşılamalıdır.

8. I. Adalet
II. Hikmet
III. Kabalık
IV. İffet

Yukarıdakilerden hangileri toplumları yaşanılır kılan ve büyük bir aile yapan **temel** değerlerdendir?

- A) I ve II
- B) I, II ve IV
- C) I, III ve IV
- D) I, II, III ve IV

9. Kur'an-ı Kerim'de "Ey iman edenler! Allah'tan korkun ve doğrularla beraber olun." (Tevbe suresi, 119. ayet.) ayetinde aşağıdakilerden hangisine dikkat çekilmiştir?

- A) Kişilik gelişimine arkadaş grubu ve çevrenin etkisi sebebiyle doğrularla beraber olmanın gerekliliği
- B) Birlik ve beraberliğin önemi ve hassasiyeti
- C) Dürüstlüğü ve adaletli olmanın önemi
- D) Davranış ve hükümde doğru olup hakka göre hüküm vermek

10. Aşağıdakilerden hangisi İslam dinine inanan ve onun ilkelerini benimseyen bir kişinin bağlı kalmaya gayret gösterdiği değerlerden biri değildir?

- A) Anne babaya iyi davranmak
- B) Misafire ikram etmek
- C) Komşu hakkını gasbetmek
- D) Düşkünlere yardım etmek

11. Kadiri tarikatının kurucusu Abdulkadir Geylani ile Hanefi mezhebinin hocası İmam Azam Ebu Hanife'nin türbeleri nerededir?

- A) Şam
- B) Kudüs
- C) Hicaz
- D) Bağdat

12. İslam medeniyetinin izlerini taşıyan coğrafyalardan biri olan Şam ve Bağdat Bölgesi ile ilgili aşağıdaki ifadelerden hangisi yanlıştır?

- A) Selçuklular zamanında Şam, yapılan medreselerle önemli bir ilim ve kültür merkezi hâline gelmiş, 1516 yılında Yavuz Sultan Selim'in Mısır seferi sırasında Osmanlı idaresi altına girmiştir.
- B) Şam bölgesi; Suriye, Filistin, Lübnan ve Ürdün bölgelerine verilen isimdir.
- C) Şam bölgesi Hz. Ömer (r.a.) zamanında Müslümanlar tarafından fethedilmiş daha sonra Emevi Devleti'nin başkenti olmuştur.
- D) Şam bölgesi; İslam'ın ortaya çıktığı ve yeryüzüne dağıldığı yerdir.

- 13. Günümüzde, Nişabur, Merv, Belh, Herat gibi tarihî şehirlerin bulunduğu coğrafyaya verilen isimdir.
- Özellikle Kur'an ilimleri ve tefsir sahasında ön plana çıkan âlimler yetiştirmiştir ki, Mukâtil bin Süleyman bunlardandır.
- Mevlânâ Cealeddin Rumi burada doğmuş daha sonra Anadolu'ya göç etmiştir.

Yukarıda verilen bilgiler aşağıdaki bölgelerden hangisine aittir?

- A) Kudüs ve Çevresi
- B) İran, Horasan, Türkistan ve Mâverâünnehir Bölgesi
- C) Kuzey Afrika (Mısır ve Mağrip Bölgesi)
- D) Şam ve Bağdat Bölgesi

14. Malazgirt Zaferi ile Anadolu'nun kapısını Müslümanlara açan kişi kimdir?

- A) Sultan Alparslan
- B) Ahmet Yesevi
- C) Gazneli Mahmut
- D) Selahaddin-i Eyyubi

15. İslam medeniyeti ilk insan, aynı zamanda ilk peygamber olan ----- ile başlamış ve peygamberler halkasının hâtemi (sonuncusu) olan Peygamberimiz Hz. Muhammed (s.a.v.) ile beraber olgunlaşarak kemâle ulaşmıştır.

Yukarıdaki cümlede boş bırakılan yeri aşağıdakilerden hangisi doğru şekilde tamamlar?

- A) Hz. İdris (a.s.)
- B) Hz. İbrahim (a.s.)
- C) Hz. Nuh (a.s.)
- D) Hz. Âdem (a.s.)

16. İmam Buhari, İmam Tirmizî, Dârimi, İmam Mâturidi, Ebü'l-Leys es-Semerkandî gibi alimlerin yetiştiği bölge aşağıdakilerden hangisidir?

- A) İran, Horasan, Türkistan ve Mâverâünnehir Bölgesi
- B) Hint alt kıtası
- C) Endülüs
- D) Anadolu ve Balkanlar

2019 AÖÖ-AÖL I. DÖNEM 0101-A

17. -----, İber Yarımadası'nda Müslümanların hâkimiyeti altındaki İspanya'ya geçmişte verilen bir isimdir. Kurtuba, Gırnata, İşbiliye bölgenin önemli şehirlerindendir.

Yukarıdaki cümlede boş bırakılan yeri aşağıdakilerden hangisi doğru şekilde tamamlar?

- A) Hint Alt Kıtası
- B) Kuzey Afrika (Mısır ve Mağrib)
- C) Endülüs
- D) Anadolu ve Balkanlar

18. **Aşağıdakilerden hangisi Anadolu ve Balkanlar Bölgesinde yetişen âlimlerden biri değildir?**

- A) Hacı Bayram Veli
- B) İmam Râbbani
- C) Yunus Emre
- D) Elmalılı Hamdi Yazır

19. **Babürler döneminde inşa edilen ve dünyanın yedi harikasından biri sayılan Taç Mahal, aşağıdaki hangi coğrafyadaki İslam kültür ve medeniyetinin başta gelen örneklerindendir?**

- A) Kuzey Afrika (Mısır ve Mağrib)
- B) Hint Alt Kıtası
- C) İran, Horasan, Türkistan ve Mâverâünnehir Bölgesi
- D) Şam ve Bağdat Bölgesi

20. **Müslümanların namaz ibadetinde yöneldiği kible olan Kâbe-i Muazzama nerededir?**

- A) Medine
- B) Kudüs
- C) Mekke
- D) Şam

2019 AÖÖ-AÖL I. DÖNEM 0101-A

1. Aşağıdakilerden hangisi felsefi bir görüşün özelliklerinden biri olamaz?
- A) Felsefi bir sorunun ardından gelen
B) Sistemli ve tutarlı olan
C) Çelişik olan
D) Evrensel doğruları arayan
2. Bugün bildiğimiz anlamdaki “var olanlar üzerine akla dayalı, sistemli bir düşünme” olan felsefe aşağıdakilerden hangisinde başlamıştır?
- A) Antik Yunan
B) Sümer
C) Çin
D) Hindistan
3. Savunulan bir görüşü desteklemek için ileri sürülen gerekçelere ne ad verilir?
- A) Soru
B) Argüman
C) Kavram
D) Anlam
4. Felsefenin akla ve mantığa dayanan açıklamalarda bulunması felsefi düşüncenin aşağıdaki hangi özelliğini en çok vurgulamaktadır?
- A) Sorgulamacı olması
B) Şüpheyeye yer vermesi
C) Evrensel olması
D) Rasyonel olması
5. Okuduğunuz bir metinden felsefi sorular çıkartmak isterseniz bu soruların tarzı aşağıdakilerden hangisi olmalıdır?
- A) “Nedir?” tarzındaki sorular
B) İhtiyaçlara karşı sorulan sorular
C) Cevabı net olan sorular
D) Tekrar sormaya gerek duyulmayan sorular
6. Aşağıdakilerden hangisi bir felsefe sorusu olabilir?
- A) Yemekte ne yedin?
B) Dünya’da kaç insan vardır?
C) İyi kitap nasıl seçilir?
D) Adalet nedir?
7. Çevre kirliliği konusunda felsefi bir tartışma yapmak isteyen bir grubun ele alacağı sorular arasında aşağıdakilerden hangisi zorunlu değildir?
- A) Çevre kirliliğini oluşturan gazların ölçümünü kimler yapmaktadır?
B) Çevre nedir?
C) Çevre ve insan arasındaki ilişki nedir?
D) İnsanın çevre karşısında bir sorumluluğu var mıdır?
8. İnsanların yaşamlarına ilişkin anlayışını zenginleştiren, kişinin karşısına çıkan her tür durumda akılsal kararlar vermesine aşağıdakilerden hangisi yardımcı olur?
- A) Felsefe
B) Biyoloji
C) Simya
D) Kimya
9. Aşağıdakilerden hangisi filozofun özelliği olamaz?
- A) Bilgelik arayışı içinde olan
B) Sorgulamacı
C) Bütün bilgiye sahip olan
D) Eleştirel
10. ----- bir düşüncenin, bir yargının, bir önermenin gerçeğe uygunluğudur.
- Yukarıdaki cümlede boş bırakılan yeri aşağıdakilerden hangisi doğru şekilde tamamlar?
- A) Argüman
B) Hakikat
C) Temellendirme
D) Gerçeklik
11. Bilgelik sevgisi anlamına gelen felsefe sözcüğünü oluşturan iki Yunanca kavram aşağıdakilerden hangisinde birlikte ve doğru olarak verilmiştir?
- A) Episteme ve doxa
B) Aletheia ve logos
C) Philia ve sophia
D) Logos ve retorik
12. Düşünen öznenin kendi üstüne dönerek düşünmesi olarak tanımlanan kavram aşağıdakilerden hangisidir?
- A) Suje
B) Obje
C) Özbilinç
D) Bilgi

13. Aşağıdaki ifadelerden hangisi "Bir düşünme etkinliği olan felsefe kişinin kendini bilmesine giden yolu açar." fikrini desteklemez?

- A) Üstüne düşünülmemiş bir yaşam yaşanmaya değer değildir.
- B) İlim ilim bilmektir. İlim kendini bilmektir. Sen kendini bilmez isen ya nice okumaktır.
- C) Kendini Bil!
- D) Düşünmeden anı yaşa!

14. Andre Gide'in "İnsanın yaşamı insanın düşüdür." sözü felsefenin aşağıdaki alanlardan hangisi ile ilişkisini gösterir?

- A) Bilim
- B) Matematik
- C) Geometri
- D) Hayat

15. "Tüm insanlar ölümlüdür, Sokrates bir insandır, öyleyse Sokrates ölümlüdür." şeklinde olan akıl yürütme biçimi aşağıdakilerden hangisine bir örnektir?

- A) Tümdengelim
- B) En iyi açıklama
- C) Analoji
- D) Tümevarım

16. "Zeynep bütün korku filmlerine bayılır, ancak Zeynep Frankenstein, polisiye, cadı masalı gibi filmleri sevmez." ifadesi aşağıdakilerden hangisine bir örnektir?

- A) Kararsız
- B) Tutarlı
- C) Çelişik
- D) Kesin

17. Düşünme ----- aracılığıyla gerçekleşir.

Yukarıdaki cümlede boş bırakılan yeri aşağıdakilerden hangisi doğru şekilde tamamlar?

- A) canlılar
- B) akıl yürütme
- C) bilim
- D) kavramlar

18. Jasper "Felsefe, yolda olmaktır." sözü ile felsefenin aşağıdaki hangi özelliğini vurgulamaktadır?

- A) Felsefenin kesin bir bilim olması
- B) Felsefenin olmuş bitmiş bir yapısının olmaması
- C) Felsefede tek bir doğrunun olması
- D) Felsefede cevapların olmaması

19. Bir düşünceyi anlayamamanın ya da anlaşamamanın nedeni aşağıdakilerden hangisidir?

- A) Düşüncenin doğru olmaması
- B) Kavramların yanlış kullanımı
- C) Düşüncenin öznel olması
- D) Düşüncenin nesnel olması

20. Aşağıdaki cümlelerden hangisi bir önermedir?

- A) Bir dakika gelir misin?
- B) İstanbul Türkiye'nin başkentidir.
- C) Yaşasın bugün tatil!
- D) Ah düştüm!

2019 AÖÖ-AÖL I. DÖNEM 0101-A

1. C_3H_7OH bileşiğinin 12,0 gramı kaç tane H atomu içerir?
(C:12 g/mol; H:1 g/mol; O:16 g/mol)

A) $1,20 \times 10^{23}$
B) $6,02 \times 10^{23}$
C) $9,63 \times 10^{23}$
D) $2,44 \times 10^{24}$

2. $KClO_3 (k) \rightarrow KCl (k) + O_2 (g)$

Yukarıdaki tepkime hangi türdür?

A) Yanma tepkimesi
B) Sentez tepkimesi
C) Çözünme – çökeltme tepkimesi
D) Ayrışma tepkimesi

3. C ve O elementlerinden CO ve CO_2 bileşikleri oluşmaktadır. C elementleri arasındaki katlı oran kaçtır?

A) 1/2
B) 1
C) 3/2
D) 2

4. 4,6 gram C_2H_5OH bileşiğinde kaç tane H atomu vardır?

A) $3,61 \times 10^{23}$
B) $6,02 \times 10^{23}$
C) $3,01 \times 10^{24}$
D) $9,03 \times 10^{24}$

5. Mol kavramı ve tepkimeler ile ilgili aşağıdaki ifadelerden hangisi yanlıştır?

A) Tepkimede tamamı tükenen maddeye sınırlayıcı bileşen denir.
B) Doğalgazın yanması fiziksel tepkimedir.
C) C-12 izotopunun kütlesi 12 u'dur.
D) Oksijenin bağlı atom kütlesi 16'dır.

6. $CaCl_2 + H_2CO_3 \rightarrow CaCO_3 + 2 HCl$

Yukarıdaki tepkimeye göre 11,1 g $CaCl_2$, yeterince H_2CO_3 bileşiği ile tepkimeye girdiğinde 9,0 gram $CaCO_3$ oluştuğuna göre tepkimenin yüzde verimi kaçtır?
(Ca:40 g/mol; Cl:35,5 g/mol; H:1 g/mol; C:12 g/mol; O:16 g/mol)

A) 60
B) 70
C) 80
D) 90

7. Metan bileşiğinde karbon ve hidrojen elementlerinin kütlece birleşme oranı 3/1'dir. 16 gram metan bileşiği oluşuyorsa bu bileşiğin kaç gramı hidrojen elementidir?

A) 1
B) 3
C) 4
D) 12

8. $C_3H_8 (g) + 5 O_2 (g) \rightarrow 3CO_2 (g) + 4H_2O (g)$

Yukarıdaki tepkimeye göre 8,8 g propanı (C_3H_8) yakmak için kaç gram oksijen gazına (O_2) ihtiyaç vardır?
(C:12 g/mol; H:1 g/mol; O:16 g/mol)

A) 12
B) 32
C) 44
D) 160

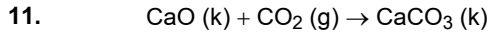
9. $x C_2H_5OH + y O_2 \rightarrow z CO_2 + t H_2O$

Yukarıdaki tepkimenin denkleşebilmesi için x, y, z ve t katsayıları kaç olur?

x	y	z	t
A) 1	2	3	3/5
B) 1	5/2	2	3
C) 1	3	2	3
D) 2	3	1	4

10. 3 gram C elementi ile 4 gram O elementi birleşerek CO bileşiğini oluşturmaktadır. 28 gram CO bileşiği oluşturmak için C elementinden kaç gram harcanmıştır?

A) 2
B) 4
C) 10
D) 12



0,1 mol CaO, 0,2 mol CO₂ ile yukarıdaki tepkime denkleminde göre tepkimeye sokulduğunda kaç gram CaCO₃ oluşur? (Ca:40 g/mol; O:16 g/mol; C:12 g/mol)

- A) 10
- B) 20
- C) 30
- D) 40

12. Aşağıdakilerden hangisi tane boyutu farkı ile karışımları ayırma yöntemlerinden biri değildir?

- A) Eleme
- B) Süzme
- C) Diyaliz
- D) Özütleme

13. 200 g'lık çözeltinin 0,1 mg'ı çözünen madde ise bu çözeltinin ppm cinsinden derişimi kaçtır?

- A) 0,1
- B) 0,2
- C) 0,5
- D) 1,0

14. Kolonya, hacimce %70 etil alkol içeriyorsa 2 L'lik kolonyanın kaç L'si etil alkolden oluşmuştur?

- A) 0,6
- B) 1,4
- C) 1,8
- D) 7

15. Aşağıdakilerden hangisi saf maddedir?

- A) Süspansiyon
- B) Sönmemiş kireç
- C) Aerosol
- D) Emülsiyon

16. Süzme yöntemiyle ayırlamayacak kadar küçük tanecikler içeren karışımlar aşağıdaki ayırma yöntemlerinden hangisiyle ayrılabilir?

- A) Diyaliz
- B) Yüzdürme
- C) Ayırma hunisi
- D) Eleme

17. Otomobillerde araç radyatörlerindeki suya antifiriz konulması aşağıdaki özelliklerden hangisi ile ilgilidir?

- A) Buhar basıncı düşmesi
- B) Kaynama noktası yükselmesi
- C) Ozmotik basınç
- D) Donma noktası düşmesi

18. 200 g tuzlu su çözeltisinde 120 g su bulunuyorsa bu çözelti kütlece yüzde kaçlıktır?

- A) 10
- B) 20
- C) 40
- D) 60

19. Aşağıdaki eşleştirmelerden hangisi yanlıştır?

Örnek Karışım Türü

- | | |
|--------------|-------------|
| A) Ayran | Süspansiyon |
| B) Deodorant | Çözelti |
| C) Bulut | Aerosol |
| D) Süt | Koloit |

20. Kaynama noktası 65 °C olan metanolle, kaynama noktası 99 °C olan izooktan çözücüsünü aşağıdaki ayırma yöntemlerinden hangisiyle ayırmak mümkündür?

- A) Ayrımsal damıtma
- B) Kristallendirme
- C) Ayırma hunisi
- D) Basit damıtma

2019 AÖÖ-AÖL I. DÖNEM 0101-A

1. 5 farklı önermenin birbirine göre kaç tane doğruluk durumu vardır?

- A) 5
B) 10
C) 25
D) 32

2. $(p \Rightarrow p) \vee q$ bileşik önermesinin en sade hâli aşağıdakilerden hangisidir?

- A) 0
B) 1
C) p'
D) q

3. $(p \wedge q) \wedge (q \vee p)'$ bileşik önermesinin en sade hâli aşağıdakilerden hangisidir?

- A) 0
B) 1
C) p
D) q'

4. $(a+1,5)=(3,b-1)$ olduğuna göre, $a+b$ kaçtır?

- A) 2
B) 6
C) 8
D) 12

5. $A = \{1,2,3,a\}$ ve $B = \{b,c,d,4,5\}$ olduğuna göre, aşağıdakilerden hangisi $A \times B$ kümesinin bir elemanı değildir?

- A) (1, b)
B) (4, a)
C) (a, 5)
D) (a, c)

6. $A = \{a,1,\{1\},\{2\},\{1,2,a\}\}$ kümesinin alt kümelerinin sayısı kaçtır?

- A) 32
B) 64
C) 128
D) 256

7. Matematik ve İngilizce derslerinin en az birinden başarılı olan 40 öğrencinin bulunduğu bir sınıfta 18 öğrenci yalnızca Matematik dersinden ve 10 öğrenci ise yalnızca İngilizce dersinden başarılı olduğuna göre, her iki dersten de başarılı olan öğrenci sayısı kaçtır?

- A) 14
B) 12
C) 10
D) 8

8. $s(A) = 7$, $s(B) = 5$, $s(C) = 3$, $s(A \cap B) = 3$, $s(A \cap C) = 2$, $s(B \cap C) = 2$ ve $s(A \cap B \cap C) = 1$ ise, $s(A \cup B \cup C)$ aşağıdakilerden hangisidir?

- A) 6
B) 7
C) 8
D) 9

9. $A = \{1,2,c\}$, $B = \{1,3,c,e\}$ ve $C = \{1,2,5,a,b,d\}$ kümeleri veriliyor. Buna göre $(A \cup B) \cap C$ kümesi aşağıdakilerden hangisidir?

- A) {1,3}
B) {1,2,a,e}
C) {1,2,3,c,e}
D) {1,2}

10. Ortak özellik yöntemi ile verilen $A = \{x \mid x, 1 \text{ ile } 9 \text{ arasında çift tam sayı}\}$ kümesinin liste yöntemi ile gösterimi aşağıdakilerden hangisidir?

- A) {2,3,4,5,6,7,8}
B) {1,3,5,7}
C) {2,4,6,8}
D) {2,4,6}

11. $A = \{a,b,c,d,e,f\}$ kümesinin alt kümelerinin kaç tanesinde c elemanı bulunmaz?

- A) 8
B) 16
C) 32
D) 64

12. $\sqrt{45} + 2\sqrt{5} - \sqrt{125}$ işleminin sonucu kaçtır?

- A) $-\sqrt{5}$
- B) 0
- C) $\sqrt{5}$
- D) $2\sqrt{5}$

13. $3^{3x-1}=9$ denklemini sağlayan x değeri kaçtır?

- A) 0
- B) 1
- C) 2
- D) 3

14. $|x-5| \leq 2$ eşitsizliğini sağlayan tamsayılar kümesi aşağıdakilerden hangisidir?

- A) $\{-3,-2,-1,0,1,2,3\}$
- B) $\{-7,-6,-5,-4,-3,-2,-1,0,1,2,3\}$
- C) $\{0,1,2,3,4,5,6,7\}$
- D) $\{3,4,5,6,7\}$

15. $2x - 3 = 5x + 9$ denkleminin gerçek sayılardaki çözüm kümesi aşağıdakilerden hangisidir?

- A) $\{-4\}$
- B) $\{0\}$
- C) $\{4\}$
- D) \emptyset

16. $\begin{cases} 2x - y = 3 \\ x + y = 6 \end{cases}$ denklemler sisteminin çözüm kümesi aşağıdakilerden hangisidir?

- A) $\{(-3,-3)\}$
- B) $\{(-3,3)\}$
- C) $\{(3,3)\}$
- D) $\{(3,-3)\}$

17. 48 kg nohut, 64 kg mercimek ve 72 kg fasulye birbirine karıştırılmadan eşit büyüklükte torbalara doldurulacaktır.

Buna göre, en az kaç torba gerekir?

- A) 23
- B) 25
- C) 27
- D) 30

18. Rakamları farklı dört basamaklı 5L21 doğal sayısı 3 ile tam bölündüğüne göre, L kaç farklı değer alabilir?

- A) 1
- B) 2
- C) 3
- D) 4

19. 34A2579 yedi basamaklı sayısının 11 ile kalansız bölünebilmesi için A kaç olmalıdır?

- A) 3
- B) 6
- C) 7
- D) 9

20. Boyutları 6 cm, 8 cm ve 20 cm olan tuğlalardan en az kaç tanesi ile bir küp oluşturulabilir?

- A) 1.800
- B) 1.200
- C) 600
- D) 300

2019 AÖÖ-AÖL I. DÖNEM 0101-A

1. $\frac{11! - 10!}{9!}$ işleminin sonucu kaçtır?

- A) 90
B) 100
C) 110
D) 120

2. $A = \{2, 3, 4, 5, 7\}$ kümesinin elemanları kullanılarak üç basamaklı en fazla kaç farklı tek doğal sayı yazılabilir?

- A) 66
B) 69
C) 75
D) 78

3. $(2x + y)^3$ ifadesinin açılımı aşağıdakilerden hangisidir?

- A) $8x^3 + 12x^2y + 6xy^2 + y^3$
B) $8x^3 + 24x^2y + 12xy^2 + y^3$
C) $8x^3 + 12x^2y + 24xy^2 + 6y^3$
D) $6x^3 + 12x^2y + 8xy^2 + y^3$

4. Bir rafta 2 fizik ve 3 kimya kitabı vardır. Aynı tür kitaplar birbirinden ayrılmamak üzere, bu kitaplar en fazla kaç değişik şekilde yan yana sıralanabilir?

- A) 20
B) 22
C) 24
D) 28

5. Bir kutuda bulunan 15 özdeş toptan 5'i kırmızı, 7'si mavi ve 3'ü yeşildir. Bu kutudan rastgele alınan bir topun kırmızı veya mavi olma olasılığı kaçtır?

- A) $\frac{2}{15}$
B) $\frac{8}{15}$
C) $\frac{2}{3}$
D) $\frac{4}{5}$

6. İSTANBUL kelimesinin harfleri en çok bir kez kullanılarak bu harflerle anlamlı ya da anlamsız 4 harfli en fazla kaç kelime yazılabilir?

- A) 1520
B) 1680
C) 1840
D) 1920

7. 10 kişilik bir grupta 6 kişi basket kursuna, 4 kişi futbol kursuna gitmektedir. Bu kurslardan birine katılan herhangi bir kişinin diğer kursa katılmadığı biliniyor.

Buna göre, 3 basket 2 futbol kursuna giden toplam 5 kişi kaç farklı şekilde seçilebilir?

- A) 88
B) 96
C) 108
D) 120

8. $f: \mathbb{R} \rightarrow \mathbb{R}, f(x) = 3x - 2$ ve $g: \mathbb{R} \rightarrow \mathbb{R}, g(x) = (x + 1)$ olduğuna göre $(f \cdot g)(1)$ değeri kaçtır?

- A) 2
B) 4
C) 6
D) 8

9. Bir fonksiyonun tanım kümesindeki her bir elemanın görüntüsü, tanım kümesindeki diğer elemanların görüntülerinden farklı ise bu fonksiyona ne ad verilir?

A) Örten fonksiyon
B) Sabit fonksiyon
C) Bire bir fonksiyon
D) Çift fonksiyon

10. $f: \mathbb{R} \rightarrow \mathbb{R}, f(x) = 4x - 5$ ve $g: \mathbb{R} \rightarrow \mathbb{R}, g(x) = 3x^2$ olduğuna göre, $(g \circ f)(2)$ değeri kaçtır?

A) 15
B) 18
C) 24
D) 27

11. $f: \mathbb{R} \rightarrow \mathbb{R}, f(x) = \frac{2x+1}{3}$ fonksiyonu veriliyor.

Buna göre, $f^{-1}(3)$ değeri kaçtır?

A) 1
B) $\frac{3}{2}$
C) $\frac{7}{3}$
D) 4

12. $f: \mathbb{R} \rightarrow \mathbb{R}, f(x) = 2x^2 - 3$, $g: \mathbb{R} \rightarrow \mathbb{R}, g(x) = 3x - 4$ olduğuna göre, $3f(1) - 2g(3)$ değeri kaçtır?

A) -13
B) -7
C) -4
D) 3

13.
$$f(x) = \begin{cases} x^2 - 2, & -5 \leq x < 4 \\ 2x - 5, & 4 \leq x \leq 10 \\ x + 1, & 10 < x \leq 15 \end{cases}$$

Tanım kümesi $[-5, 15]$ olan f fonksiyonu yukarıda verilmiştir.

Buna göre, $3f(-2) - f(6) + f(12)$ değeri kaçtır?

A) 7
B) 8
C) 12
D) 13

14. $f: \mathbb{R} \rightarrow \mathbb{R}, f(x) = (2x - 1)^2 + 1$ olduğuna göre, $f(-1)$ değeri kaçtır?

A) -8
B) -2
C) 8
D) 10

15. $P(x) = x^3 + 5x^2 - 3x - 9$ polinomunun $(x-2)$ ile bölümünden kalan kaçtır?

A) 13
B) 8
C) 0
D) -2

16. $P(x) = (2a+1)x^4 + 3x^2 - 2$ polinomları veriliyor.
 $Q(x) = 7x^4 + (b-2)x^2 + c$

$P(x) = Q(x)$ olduğuna göre, $a+b+c$ toplamı kaçtır?

A) 4
B) 6
C) 8
D) 10

17. $P(x) = 3x^5 - 7x^4 + 2x^2 + 6$ polinomunun derecesi kaçtır?

- A) 4
- B) 5
- C) 6
- D) 7

18. Aşağıdakilerden hangisi $P(x) = x^2 + 4x - 12$ polinomunun çarpanlarından biridir?

- A) $(x+4)$
- B) $(x-3)$
- C) $(x+6)$
- D) $(x+2)$

19. $\frac{2x^2 - 6x}{2x^2 + 10x}$ rasyonel ifadesinin en sade hali aşağıdakilerden hangisidir?

- A) $\frac{x-5}{x+3}$
- B) $\frac{x-3}{x+5}$
- C) $\frac{x+3}{x-5}$
- D) $\frac{x-3}{2x}$

20. $P(x) = x^3 + 5x^2 - x$ ve $Q(x) = 4x^3 - 3x^2 + 6x + 8$ olduğuna göre, $P(x) + Q(x)$ aşağıdakilerden hangisidir?

- A) $5x^3 + 2x^2 + 5x + 8$
- B) $5x^3 + 8x^2 + 7x$
- C) $5x^3 + 4x^2 + 5x$
- D) $5x^3 + 8x^2 + 7x + 8$

2019 AÖÖ-AÖL I. DÖNEM 0101-A

1. Ulusal park uygulaması ilk olarak aşağıdaki ülkelerden hangisinde başlamıştır?

- A) İngiltere
- B) ABD
- C) Türkiye
- D) Almanya

2. Aşağıdakilerden hangisi ticaretin gelişmesinde, ham madde, üretim ve pazar alanlarının oluşmasında etkili olan fiziki faktörler arasında yer alır?

- A) Eğitim
- B) Sanayileşme
- C) Doğal bitki örtüsü
- D) Ulaşım

3. Türkiye hangi yılda IMF'e üye olmuştur?

- A) 1947
- B) 1951
- C) 1960
- D) 1972

4. Turizmin, uluslararası barışın ve dostluğun korunmasında önemli olması turizmin hangi etkisi ile ilgilidir?

- A) Ekonomik etkiler
- B) Çevresel etkiler
- C) Sosyal ve kültürel etkiler
- D) Politik etkiler

5. Aşağıdaki anlaşmalardan hangisi ile AET ülkeleri gümrük birliği uygulamasına başlamış ve tarım, ulaşım ve rekabet gibi alanlarda ortak politikalar oluşturmuştur?

- A) Paris Anlaşması
- B) Roma Anlaşması
- C) Atina Anlaşması
- D) Lahey Anlaşması

6. Hindistan ile ilgili aşağıdaki ifadelerden hangisi yanlıştır?

- A) Halkın 3/4'ü sanayi kesiminde çalışır.
- B) Yüzölçümü olarak dünyanın yedinci büyük ülkesidir.
- C) Doğal bitki örtüsü bakımından zengin bir yapısı vardır.
- D) Muson iklimi, ülke geneline hakimdir.

7. Aşağıdakilerden hangisi kültürü oluşturan manevi unsurlardan biridir?

- A) Toprak özellikleri
- B) Dünya görüşü
- C) Coğrafi konum
- D) İklim özellikleri

8. Aşağıdakilerden hangisi Birleşmiş Milletler kararlarında veto hakkına sahip olan ülkelere değildir?

- A) Fransa
- B) Rusya
- C) Hollanda
- D) Çin

9. Eski Türk devletlerinde, devletin başında bulunan kişiye ne ad verilirdi?

- A) Tigin
- B) Tumen
- C) Ataman
- D) Kağan

10. Osmanlı İmparatorluğu'nda devlet işlerinin görüşülüp karara bağlandığı meclise ne ad verilirdi?

- A) Divan-ı Hümayun
- B) Enderun
- C) Birun
- D) İdadi

11. Aşağıdakilerden hangisi küresel ısınmayı gösteren kanıtlardan biri değildir?

- A) Buzullardaki incelmeler
- B) Göllerdeki su sıcaklığının azalması
- C) Jeolojik kanıtlar
- D) Deniz seviyesindeki yükselmeler

12. Yeryüzünde bulunan toprakların dış kuvvetler tarafından süpürülerek taşınmasına ne ad verilir?

- A) Debi
- B) Nadas
- C) Rekolte
- D) Erozyon

13. Gelişen ve gelişmekte olan ülkelerin büyük kentlerinde araç sayısının çok fazla olması, yerleşim merkezinin deniz kıyısında bulunması ve denizden kaynaklanan nemli hava kütlelerinin şehrin üzerini kaplamasıyla havada birikmiş olarak bulunan karbonmonoksit, sülfüroksit ve azotoksit gazlarının nem ve güneş ışığının etkisi ile tepkimeye girmesi ve ağırlığın artmasına bağlı olarak oluşan karbondioksitin şehrin üzerine çökmesi ile meydana gelen hava kirliliği tipi aşağıdakilerden hangisidir?

- A) Los Angeles tipi hava kirlenmesi
- B) Atina tipi hava kirlenmesi
- C) Venedik tipi hava kirlenmesi
- D) Moskova tipi hava kirlenmesi

14. Fosil yakıtların kullanımı ile açığa çıkan kükürtdioksit ve karbondioksit gibi zararlı gazların, havanın soğuması ile alçalarak şehrin üzerini adeta bir sis tabakası şeklinde kaplaması sonucunda meydana gelen hava kirliliği tipi aşağıdakilerden hangisidir?

- A) Paris tipi hava kirlenmesi
- B) Venedik tipi hava kirlenmesi
- C) Londra tipi hava kirlenmesi
- D) Atina tipi hava kirlenmesi

15. Kullanıldıktan veya ömrünü tamamladıktan sonra atık haline gelen malzemelerin çeşitli yöntem ve teknikler kullanılarak tekrar imal edilmesi ya da kullanıma hazır hale getirilmesi sürecine ne ad verilir?

- A) Esnek kullanım
- B) Optimum süreç
- C) Fermantasyon
- D) Geri dönüşüm

2019 AÖÖ-AÖL I. DÖNEM 0101-A

16. Aşağıdakilerden hangisi dünyada ilk nükleer çalışmaların yapıldığı ülkelerden biridir?

- A) Hindistan
- B) Arjantin
- C) ABD
- D) Uruguay

17. Bitki atıklarının oksijen ile teması kesilerek fermante edilmesi sonucunda elde edilen enerji türüne ne ad verilir?

- A) Biyogaz
- B) Nükleer enerji
- C) Doğal gaz
- D) Senyoraj

18. Aşağıdakilerden hangisi orman alanlarının tahrip edilmesi ile birlikte ortaya çıkan ve ortaya çıkması muhtemel olan başlıca sorunlar arasında yer almaz?

- A) Birçok hayvan türünün yok olması
- B) Yeraltı su seviyesinin düşmesi
- C) Hava kirliliğinin azalması
- D) Tarımsal ve hayvansal üretimin azalması

19. I. Nadas uygulaması
II. Aşırı hayvan otlatılması
III. Eğimli yamaçların tarıma açılması

Yukarıdakilerden hangileri erozyonun artmasına etki yapan başlıca insan faaliyetleri arasında yer alır?

- A) Yalnız II
- B) I ve II
- C) II ve III
- D) I, II ve III

20. Kentlerin kontrolsüz ve plansız bir şekilde çok hızlı büyümesi ile nüfusun çok hızlı artmasına ne ad verilir?

- A) Sabit kentleşme
- B) Çarpık kentleşme
- C) Optimum kentleşme
- D) Durağan kentleşme

SEÇMELİ ÇAĞDAŞ TÜRK VE DÜNYA TARİHİ 2

A

2019 AÖÖ-AÖL I. DÖNEM 0101-A

- Günümüzde Keşmir Meselesi, aşağıdaki ülkelerden hangileri arasında çözümlenemeyen bir sorundur?**
 - Mısır ve İsrail
 - ABD ve SSCB
 - Pakistan ve Hindistan
 - Çin ve Japonya
- Aşağıdakilerden hangisi Bandung Konferansı'nda kabul edilen "Barış İçinde Bir Arada Yaşamın Beş İlkesi"nden biri değildir?**
 - Siyasi bağımsızlık
 - Kendi topraklarında başka devletlerin askerî üssüne izin vermek
 - Millî kurtuluş savaşlarını desteklemek
 - Askerî ittifaklara katılmamak
- 1974 Kıbrıs Barış Harekâtı'nı gerekçe göstererek Türkiye'ye yapmakta olduğu ekonomik yardımını keserek silah ambargosu uygulayan devlet aşağıdakilerden hangisidir?**
 - ABD
 - Polonya
 - Çin
 - İsveç
- Aşağıdakilerden hangisi Batı ve Avrupa tarafından İran'a uygulanan ambargoya rağmen ABD'nin İsraili bir general vasıtasıyla İranlı yetkililerle gizlice görüşerek İran'a silah satmasının açığa çıkarılması olayıdır?**
 - İrangate Olayı
 - Bozkurt-Louts Olayı
 - Wagon Lits Olayı
 - Razgrad Olayı
- Aşağıdakilerden hangisi Camp David Antlaşması'nın (1979) içeriğinde yer almaz?**
 - Mısır ile İsrail birbirlerinin egemenlik haklarına saygı duyacak
 - Mısır-İsrail Savaşı'na son verilecek
 - İsrail'in işgal ettiği bölgelerdeki varlığı kabul edilecek
 - İsrail'in Süveyş Kanalı'ndan yararlanmasına yönelik haklar garanti altına alınacak
- Türkiye'de ilk renkli televizyon yayını ne zaman başlamıştır?**
 - 1984
 - 1992
 - 1995
 - 1997
- 1960'ta Venezuela Devleti'nin çağrısı üzerine İran, Irak, Kuveyt ve Suudi Arabistan'ın aralarında olduğu ülkeler tarafından kurulan birlik aşağıdakilerden hangisidir?**
 - NATO
 - OPEC
 - COMECON
 - BM
- Küba Buhranı'nın en önemli özelliği aşağıdakilerden hangisidir?**
 - SSCB'nin Molotov Planı'nı yürürlüğe sokması
 - Nükleer silahlara sahip iki büyük gücün ilk kez doğrudan doğruya karşı karşıya gelmesi
 - Rusya'da Bolşevik İhtilali'nin çıkması
 - ABD Dış İşleri Bakanı George C. Marshall'ın istifa etmesi
- Aşağıdakilerden hangisi Türkiye-Yunanistan ilişkilerinde gerginliğin artmasının nedenlerinden biri değildir?**
 - Ege adalarının silahlandırılması
 - Kıbrıs Meselesi
 - FIR Hattı Sorunu
 - Normandiya Çıkarması
- İlk uzay aracı olan Sputnik'i uzaya fırlatan devlet aşağıdakilerden hangisidir?**
 - Almanya
 - İtalya
 - SSCB
 - ABD

11. Kimya dalında 2015 Nobel Ödülü'nü kazanan kişi aşağıdakilerden hangisidir?

- A) Reşat Nuri Güntekin
- B) Fuat Sezgin
- C) Gazi Yaşargil
- D) Aziz Sancar

12. SSCB'de "glasnost ve perestroika" politikalarının sahibi kişi aşağıdakilerden hangisidir?

- A) II. Katerina
- B) Mihael Gorbaçov
- C) I. Nikola
- D) Mihail Romanov

13. Bilişim sistemlerinin gizlilik, bütünlük veya erişilebilirliğinin ortadan kaldırmak amacıyla siber ortamın herhangi bir yerindeki kişi veya bilişim sistemleri tarafından kasıtlı olarak yapılan işlemlere ne ad verilir?

- A) Siberetik
- B) Sibernasyon Çağı
- C) Siberhondrik
- D) Siber Saldırı

14. Aşağıdakilerden hangisi sosyal medya kullanımının olumlu yanlarından biri değildir?

- A) Kültürel ürünler ve kişiler arası ilişkilerin sanallaşması
- B) Yeni haberlere hızlı şekilde ulaşılabilmesi
- C) Farklı düşünce, coğrafya ve kültürlerin daha hızlı tanınabilmesi
- D) Mekâna bağlı kalmaksızın yeni arkadaşlar edinilebilmesi

15. Dağlık Karabağ Sorunu aşağıdaki devletlerden hangileri arasında meydana gelmiştir?

- A) İran ve Irak
- B) Azerbaycan ve Ermenistan
- C) Pakistan ve Hindistan
- D) İngiltere ve Fransa

16. 1992-1995 Bosna Savaşı sonrasında Bosna-Hersek'in bağımsızlığını kazanmasında büyük rol üstlenen kişi aşağıdakilerden hangisidir?

- A) Aliya İzzetbegoviç
- B) Fazıl Küçük
- C) İslam Kerimov
- D) Ebulfez Elçibey

17. SSCB'nin dağılmasından sonra 1991'de bağımsızlığını ilan eden Azerbaycan'ı ilk tanıyan ülke aşağıdakilerden hangisidir?

- A) Fransa
- B) İspanya
- C) İtalya
- D) Türkiye

18. Kuveyt'i 1990 yılında işgal eden devlet aşağıdakilerden hangisidir?

- A) Fransa
- B) İngiltere
- C) Irak
- D) İtalya

19. Aşağıdakilerden hangisi Turgut Özal tarafından önerilen "BARİŞ Suyu Projesi"nin tamamlanamamasının nedenlerinden biri değildir?

- A) Ülkeler arası siyasi güvensizlikler
- B) Orta Doğu'daki siyasi çekişmeler
- C) Arap-İsrail çatışması
- D) Otrar Hadisesi

20. Gece ve gündüz, kötü hava şartları da dâhil, keşif, gözetleme, sabit/hareketli hedef tespit, teşhis, tanımlama ve takip amaçlı, gerçek zamanlı görüntü istihbaratı görevlerine yönelik geliştirilen "Türk insansız hava aracı" aşağıdakilerden hangisidir?

- A) ALTAY
- B) HÜRKUŞ
- C) ANKA
- D) TUFAN

2019 AÖÖ-AÖL I. DÖNEM 0101-A

1. I. Seçimler için aday göstermek
II. İktidarı kullanarak ülkeyi yönetmek
III. Halk ile iktidar arasında aracılık yapmamak

Yukarıdakilerden hangileri siyasi partilerin işlevlerindedir?

- A) Yalnız I
- B) Yalnız II
- C) I ve II
- D) I, II ve III

2. -----, kilisenin oluşturduğu yozlaşmayı ortadan kaldırmak için uğraşmış ve tanrı ile kul arasında kimsenin giremeyeceğini savunmuştur.

Yukarıdaki cümlede boş bırakılan yeri aşağıdakilerden hangisi doğru şekilde tamamlar?

- A) M. Lutter
- B) Petrarca
- C) T. Morus
- D) Copernic

3. Aşağıdakilerden hangisi I. kuşak haklardan biridir?

- A) Barış hakkı
- B) Ekonomik hakkı
- C) Mülkiyet hakkı
- D) Çevre hakkı

4. 1924 Anayasası ile ilgili aşağıdaki ifadelerden hangisi yanlıştır?

- A) Güçler ayrılığı ilkesi benimsenmiştir.
- B) Meclis üstünlüğüne dayalı bir anayasadır.
- C) Ekonomik ve sosyal haklara ayrıntılı bir şekilde yer verilmemiştir.
- D) Yargı yetkisi bağımsız mahkemelere bırakılmıştır.

5. Aşağıdakilerden hangisi hukuk devleti olmanın gereklerinden biri değildir?

- A) Kanun önünde eşitlik
- B) Kuvvetler birliği
- C) İdarenin yargısal denetimi
- D) Mahkemelerin bağımsızlığı

6. Aşağıdakilerden hangisi isteme haklardan biri değildir?

- A) Vergi ödevi
- B) Eğitim ve öğretim hakkı
- C) Çalışma hakkı
- D) Grev hakkı

7. Aşağıdakilerden hangisi Bakanlar Kurulu adına, sözlü veya yazılı olarak cevaplandırılmak üzere Başbakan ve bakanlardan bilgi istemekten ibarettir?

- A) Genel görüşme
- B) Teokratik görüşme
- C) Soru
- D) Meclis araştırması

8. Kilisenin oluşturduğu yozlaşmayı ortadan kaldırmak için uğraşan ve tanrı ile kul arasında kimsenin giremeyeceğini savunan düşünür aşağıdakilerden hangisidir?

- A) Copernic
- B) Petrarca
- C) T. Morus
- D) M. Lutter

9. Toplum ve devlet faaliyetlerini ilgilendiren belli bir konunun TBMM Genel Kurulu'nda görüşülmesine ne ad verilir?

- A) Genel görüşme
- B) Gensoru
- C) Meclis araştırması
- D) Soru

10. Aşağıdakilerden hangisi kısıtlı oy türlerinden biri değildir?

- A) Cinsiyete bağlı oy
- B) Irka dayalı oy
- C) Yeteneğe bağlı oy
- D) Ayrımcı oy

11. I. Çağdaş demokrasi için bir ön koşuldur.
II. Düşünce ve kanaat özgürlüğüne dayanır.
III. Laik olmayan bir devlet sisteminin insan hakları ihlallerine yol açması kaçınılmazdır.

Laiklik ilkesi ile ilgili yukarıdaki ifadelerden hangileri doğrudur?

- A) Yalnız I
- B) Yalnız II
- C) I ve II
- D) I, II ve III

12. Avrupa Güvenlik ve İşbirliği Teşkilatı'nın ülkeler arasında doğacak çatışmaların önlenmesi için faaliyet gösteren organı aşağıdakilerden hangisidir?

- A) Kıdemli Memurlar Komitesi
- B) Çatışma Önleme Merkezi
- C) Hür Seçimler Bürosu
- D) Danışma Komitesi

13. Bir ülkede yaşayan, bir devlete vatandaşlık bağıyla bağlı, kendini o ülkenin kaderine bağlamış insanlardan oluşan bütüne ne ad verilir?

- A) Soy
- B) Toplum
- C) İrk
- D) Halk

14. Bir toplumda toplumsal yapının bütününe dokunmaksızın eskiyen, güncelliğini kaybeden, toplumun ihtiyaçlarına cevap veremeyen kurum ve kuralların düzeltilmesine ve iyileştirilmesine ----- denir.

Yukarıdaki cümlede boş bırakılan yeri aşağıdakilerden hangisi doğru şekilde tamamlar?

- A) çağdaşlaşma
- B) gelişme
- C) devrim
- D) reform

15. İnsanların olayları, gerçeküstü birtakım olgularla açıklamaya çalıştıkları evre aşağıdakilerden hangisidir?

- A) Metafizik
- B) Teolojik
- C) Pozitif
- D) Sorgulayıcı

16. Uluslararası sivil toplum örgütleri ile ilgili aşağıdaki ifadelerden hangisi yanlıştır?

- A) Demokrasiye ve insan haklarına ilişkin sorunlara evrensel düzeyde yaklaşırlar.
- B) Devletlerin etki ve güdümünde kalırlar.
- C) Evrensel ölçekte kamuoyu oluştururlar.
- D) Devletler için büyük bir baskı aracıdırlar.

17. Üye devletlerin daimi temsilcilerinden oluşan, Avrupa İnsan Hakları Mahkemesi kararlarının uygulanmasını izlemek ve rapor hazırlamak gibi görevleri bulunan, Avrupa İnsan Hakları Sözleşmesi ile kurulmuş denetim organı aşağıdakilerden hangisidir?

- A) Ekonomik Sosyal ve Kültürel Haklar Komitesi
- B) Delegeler Komitesi
- C) Danışma Komitesi
- D) Bakanlar Konseyi

18. Avrupa İnsan Hakları Mahkemesi'nin kararlarının yerine getirilmesini denetleyen, yılda iki kez toplanan ve siyasi yaptırıma sahip olan denetim organı aşağıdakilerden hangisidir?

- A) Delegeler Komitesi
- B) Konsey
- C) Bakanlar Komitesi
- D) Danışma Komitesi

19. Cumhuriyet ile ilgili aşağıdaki ifadelerden hangisi yanlıştır?

- A) Halk egemenliğinin yönetime yansımaları için katılımcı bir demokrasinin de sağlanması gerekir.
- B) Cumhuriyet bir yönetim biçimidir.
- C) Teokratik yapıya dayanmaktadır.
- D) Cumhuriyet yönetimi insan haklarına, adalete ve eşitliğe önem verir.

20. 1961'de Londra'da kurulan, örgüt düşünce suçlarının ve siyasi tutukların serbest bırakılması için uğraşan uluslararası ölçekteki sivil toplum kuruluşu aşağıdakilerden hangisidir?

- A) Uluslararası Hukuk Komitesi
- B) Uluslararası Af Örgütü
- C) Uluslararası Kızılhaç Komitesi
- D) Uluslararası PEN Kulübü

2019 AÖÖ-AÖL I. DÖNEM 0101-A

1. Aşağıdakilerden hangisi işletmelerin personel seçimi yaparken kullandığı yöntemlerden biridir?
 - A) Mülakat
 - B) Ahilik
 - C) Oryantasyon
 - D) Ar-Ge
2. Üretim sürecindeki hataların ortaya konularak bunlarla ilgili düzeltici faaliyetlerin yapılmasına ne ad verilir?
 - A) İşlem
 - B) Çıktı
 - C) Geri bildirim
 - D) Kontrol
3. Aşağıdakilerden hangisi herhangi bir mamulün kalitesini oluşturan ve mamulün kalitesini doğrudan etkileyen faktörlerden biri değildir?
 - A) Ham madde kalitesi
 - B) Proje ve tasarım kalitesi
 - C) Kontrol kalitesi
 - D) Kampanya kalitesi
4. Bilgi edinmeye dayalı, bilgi temelli ve bilimsel birikimin kaynağı olan araştırmalara ne ad verilir?
 - A) Temel araştırmalar
 - B) Uygulamalı araştırmalar
 - C) Planın denetimi
 - D) Kalite kontrol
5. Stoklar belli bir düzeye düştüğünde önceden belirlenmiş düzeyde sipariş edildiği ve stokların sürekli sayımının yapıldığı stok kontrol yöntemi aşağıdakilerden hangisidir?
 - A) Gözle kontrol yöntemi
 - B) Sabit sipariş miktarı
 - C) Stoksuz malzeme yönetimi
 - D) Sabit sipariş süresi
6. Aşağıdakilerden hangisi insan kaynakları yönetimi kavramının konularından biridir?
 - A) İşletmenin kârlılığı
 - B) İklimsel değişim
 - C) Stok devir hızı
 - D) Ücret yönetimi
7. Aşağıdakilerden hangisi pazarlamanın özelliklerinden biri değildir?
 - A) Mübadele işlemi olması
 - B) Denetime yönelik olması
 - C) Planlama ve uygulama süreci olması
 - D) Fiyatlandırma, tutundurma ve dağıtımını içermesi
8. Aşağıdakilerden hangisi doğrudan dağıtım şartlarından biri değildir?
 - A) Tüketici ya da müşterilerin belirli merkezlerde toplanmış olması
 - B) Üretimle tüketim noktalarındaki mesafenin kısa olması
 - C) Malın yeterince standartlaşmış olması
 - D) Üretim tüketim hızının farklı olması
9. Aşağıdakilerden hangisi planlamanın işletmeye sağladığı faydalardan biri değildir?
 - A) Etkin bir denetime olanak sağlaması
 - B) İşletme kaynaklarını etkin ve verimli kullanılmasını sağlaması
 - C) İşletmenin bölümleri arasında koordinasyonu sağlaması
 - D) Lider yetişmesini sağlaması
10. Parakendecilerin ürünün satışı yanında bilgi ve satış sonrası destek gibi hizmetleri sunması aşağıdakilerden hangisine yarar sağlar?
 - A) Üretici
 - B) Tüketici
 - C) Yönetici
 - D) Toptancı

11. Bir iş sözleşmesine dayanarak çalışan gerçek kişiye ne ad verilir?

- A) İşçi
- B) İşveren
- C) Ücretli
- D) Memur

12. Aşağıdakilerden hangisi işletmelerin faaliyetlerini sürdürürken çevrenin korunmasına yönelik alması gereken tedbirlerden biri değildir?

- A) Atıkların geri dönüşümünü sağlamalıdır.
- B) Doğal kaynakların etkili ve verimli kullanılmasını sağlayan teknolojileri kullanmalıdır.
- C) Üretimde tamamen yenilenemez kaynaklar kullanmalıdır.
- D) Tüm çalışanları çevre sorumluluk bilincini artırmalıdır.

13. Aşağıdakilerden hangisi yenilenemez doğal kaynaklardan biridir?

- A) Rüzgar enerjisi
- B) Tarımsal topraklar
- C) Petrol
- D) Güneş enerjisi

14. Atık maddelerin yeniden değerlendirilmesine ne ad verilir?

- A) Stoklama
- B) İsrar
- C) Değerleme
- D) Geri dönüşüm

15. Bir kimseye bir iş karşılığında işveren veya üçüncü kişiler tarafından sağlanan ve para ile ödenen tutara ne ad verilir?

- A) Kâr
- B) Komisyon
- C) Ücret
- D) İskonto

16. Aşağıdakilerden hangisi işletme çalışanlarının ücretlerini belirlerken dikkate alınan unsurlardan biri değildir?

- A) Müşteri taleplerinin göz önüne alınması
- B) İşletmenin ücret politikasının esnek olması
- C) Ücretlendirme konusunda objektif olunması
- D) Ücretlendirme konusunda cinsiyet, dil, din ırk ve benzeri sebeplerle ayırım yapılmaması

17. Aşağıdakilerden hangisi standartlaşmanın tüketiciye sağladığı yararlarından biri değildir?

- A) Malları karşılaştırma imkânı sağlar.
- B) Alıcıların kalite yönünden aldanmalarını önler.
- C) El sanatlarını geliştirir.
- D) Ucuzluğa yol açar.

18. Aşağıdakilerden hangisi günümüzde çevre ile ilgili yaşanan sorunlardan biri değildir?

- A) Manyetik kirlilik
- B) Geri dönüşümün artması
- C) Bitki ve hayvan türlerinin yok olması
- D) İklim değişikliği

19. İşçi çalıştıran gerçek veya tüzel kişiye ya da tüzel kişiliği olmayan kurum ve kuruluşlara ne ad verilir?

- A) Memur
- B) İşveren
- C) İşçi
- D) Emekli

20. Belirli bir faaliyetin, o faaliyetle ilgili bulunanların ve özellikle ekonominin yararına olarak yapılabilmesi için tüm tarafların katkı ve işbirliği ile belirli kurallar koyma ve bu kuralları uygulama işlemine ne ad verilir?

- A) Standardizasyon
- B) Koordinasyon
- C) Oryantasyon
- D) Motivasyon

2019 AÖÖ-AÖL I. DÖNEM 0101-A

1. Çözünürlüğün sıcaklık ve basınç ilişkisi ile ilgili aşağıdaki ifadelerden hangisi doğrudur?
- A) Gazların çözünürlüğü sıcaklık arttıkça azalır.
B) Gazların çözünürlüğü basınç arttıkça azalır.
C) Katıların çözünürlüğü genellikle sıcaklık arttıkça azalır.
D) Katıların çözünürlüğü basınç arttıkça azalır.
2. 0,1 M(molar) 250 mL NaCl çözeltisini hazırlamak için kaç gram NaCl gereklidir? ($M_A(\text{NaCl})=58,44 \text{ g/mol}$)
- A) 0,025
B) 1,46
C) 5,84
D) 25,00
3. Yükseltgenme basamağı genellikle -2 olan elektron dizilimi aşağıdakilerden hangisidir?
- A) $ns^2 np^3$
B) $ns^2 np^5$
C) $ns^2 np^2$
D) $ns^2 np^4$
4. 25 °C ve 2 atmosfer basınçtaki azot gazının (N_2) yoğunluğu kaç g/L olur? ($M_A(N_2)=28 \text{ g/mol}$; $R=0,0821 \text{ L.atm/mol.K}$)
- A) 2,29
B) 3,60
C) 4,83
D) 8,25
5. Aşağıdaki asal gazların elektron dizilimlerinden hangisi yanlıştır?
- A) Neon ($_{10}\text{Ne}$): $[\text{He}] 2s^2 2p^6$
B) Argon ($_{18}\text{Ar}$): $[\text{Ne}] 3s^2 3p^6$
C) Kripton ($_{36}\text{Kr}$): $[\text{Ar}] 4s^2 3d^{10} 4p^6$
D) Ksenon ($_{54}\text{Xe}$): $[\text{Kr}] 5s^2 4d^{10} 5p^5$
6. Sabit sıcaklıkta bir miktar gaz ile doldurulmuş bir tüp, 600 mmHg basınçta 10 L hacim kaplamaktadır, gazın sıcaklığını ve miktarını değiştirmeden hacmi 60 L'ye getiriliyor, tüpteki son basınç kaç mmHg olur?
- A) 1
B) 100
C) 300
D) 600
7. Bir atomun kimyasal bağdaki elektronları kendine doğru çekme yeteneğine ne ad verilir?
- A) İyonlaşma enerjisi
B) Elektron ilgisi
C) Van der Waals yarıçapı
D) Elektronegatiflik
8. Kütlece % 10'luk 100 gram NaOH çözeltisi hazırlamak için kaç gram NaOH gereklidir?
- A) 5
B) 10
C) 15
D) 20
9. Bir su numunesinin 100 gramında 0,05 gram Cl^- iyonu içerdiği bulunmuştur, Cl^- iyonunun derişimi kaç ppm dir?
- A) 50
B) 100
C) 150
D) 500
10. Bir atomda bulunan iki elektronun da 4 kuantum sayısının aynı olamayacağını ifade eden ilke aşağıdakilerden hangisidir?
- A) Aufbau kuralı
B) Hund kuralı
C) Pauli ilkesi
D) Heisenberg belirsizlik ilkesi
11. Maddenin buhar halden katı hale geçmesi olayı aşağıdakilerden hangisidir?
- A) Süblimleşme
B) Yoğuşma
C) Buharlaşma
D) Kırışılma
12. Periyodik sistemde en solda bulunan ilk iki sütündeki 1A ve 2A grubu elementleri hangi bloktadır?
- A) f
B) p
C) s
D) d

13. Belirli sıcaklık ve basınçta belirli miktar çözücüde çözülebilecek en fazla çözüneni çözmüş olan çözeltiye ne ad verilir?

- A) Derişik çözelti
- B) Doymamış çözelti
- C) Aşırı doymun çözelti
- D) Doymun çözelti

14. 6 g O₂ ve 2 g N₂ gazlarından oluşan gaz karışımında, karışımı oluşturan her bir gazın kısmi basınçları aşağıdakilerden hangisinde doğru olarak verilmiştir? (M_A (N₂)= 28 g/mol; M_A (O₂)= 32 g/mol)

- A) X_{O2}=0,47; X_{N2}=53
- B) X_{O2}=0,65; X_{N2}=0,35
- C) X_{O2}=0,71; X_{N2}=0,29
- D) X_{O2}=0,75; X_{N2}=0,25

15. Aşağıdaki elektron dizilimlerinden hangisi doğrudur?

- A) ¹¹Na: 1s² 2s² 2p⁵ 3s²
- B) ²⁴Cr: 1s² 2s² 2p⁶ 3s² 3p⁶ 4s¹ 3d⁵
- C) ⁹F: 1s² 2s¹ 2p⁶
- D) ¹⁹K: 1s² 2s² 2p⁶ 3s² 3p⁵ 4s²

16. Sıvının buhar basıncının dış basınca eşitlendiği sıcaklığa ne ad verilir?

- A) Buharlaşma
- B) Kriyoskopi
- C) Kaynama noktası
- D) Ebülyoskopi

17. HCl ve H₂O molekülleri arasındaki çözücü-çözünen etkileşimi türü aşağıdakilerden hangisidir?

- A) Dipol-dipol etkileşimi
- B) İyon-indüklenmiş dipol etkileşimi
- C) İndüklenmiş dipol-indüklenmiş dipol etkileşimi
- D) Dipol-indüklenmiş dipol etkileşimi

18. Aşağıdakilerden hangisi elektronun enerji düzeyine ve elektronun çekirdeğe olan ortalama uzaklığına bağlı olarak değişen kuantum sayısıdır?

- A) Spin kuantum sayısı
- B) Manyetik kuantum sayısı
- C) Baş kuantum sayısı
- D) Açısai momentum kuantum sayısı

19. Sabit hacimde belli bir miktar gaz ile doldurulmuş bir kabın basıncı başlangıçta 800 mmHg ve sıcaklığı 27°C iken gazın hacmi ve miktarı değiştirilmeden basıncı 400 mmHg'ya getirildiğinde gazın sıcaklığı kaç K (Kelvin) olur?

- A) 75
- B) 150
- C) 300
- D) 600

20. Gaz taneciklerinin hızı ve molekül kütleleri arasındaki davranışı açıklayan Graham Difüzyon Yasası'na ait eşitlik aşağıdakilerden hangisidir?

$$A) \frac{v_X}{v_Y} = \sqrt{\frac{M_{AY}}{M_{AX}}}$$

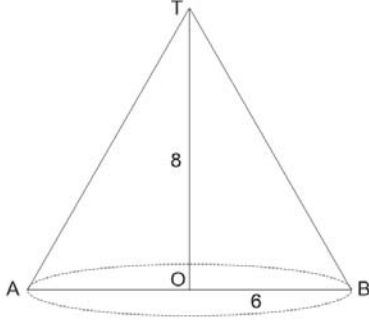
$$B) v = \sqrt{\frac{3kT}{m}}$$

$$C) E_K = \frac{3}{2}mv^2$$

$$D) E_K = \frac{3}{2}kT$$

2019 AÖÖ-AÖL I. DÖNEM 0101-A

1.



Yukarıdaki şekilde yükseklik uzunluğu 8 cm ve taban yarıçap uzunluğu 6 cm olan bir dik dairesel koni verilmiştir.

Buna göre, bu koninin yüzey alanı kaç cm^2 dir?

- A) 84π
- B) 96π
- C) 108π
- D) 120π

2. Yarıçapı, yüksekliğinin $\frac{1}{4}$ ü kadar olan bir dik dairesel silindirin hacmi $32\pi \text{ cm}^3$ olduğuna göre, yarıçapı kaç cm'dir?

- A) 6
- B) 4
- C) 3
- D) 2

3. Taban yarıçapının uzunluğu 10 cm olan bir dik koninin hacmi $1.000\pi \text{ cm}^3$ ise yüksekliği kaç cm'dir?

- A) 5
- B) 10
- C) 30
- D) 45

4. Yarıçapı 6 cm olan kürenin hacmi kaç cm^3 tür?

- A) 36π
- B) 72π
- C) 144π
- D) 288π

5. Bir torbada aynı büyüklükte 3 kırmızı ve 4 beyaz top vardır. Bu torbadan, çekilen top torbaya tekrar bırakılmamak koşulu ile, rastgele iki top çekildiğinde iki topun da kırmızı olma olasılığı kaçtır?

- A) $\frac{1}{7}$
- B) $\frac{3}{7}$
- C) $\frac{4}{7}$
- D) $\frac{2}{3}$

6. Bir sınıfta 6'sı sarışın 10 kız ve 3'ü sarışın 15 erkek öğrenci vardır.

Buna göre, bu sınıftan seçilen bir öğrencinin kız veya sarışın olma olasılığı kaçtır?

- A) $\frac{6}{25}$
- B) $\frac{13}{25}$
- C) $\frac{3}{5}$
- D) $\frac{21}{25}$

7. 3 kırmızı, 5 mavi ve 7 yeşil kalemden rastgele 3 tanesi seçiliyor. Kalemlerden üçünün de farklı renk olma olasılığı kaçtır?

- A) $\frac{1}{15}$
- B) $\frac{3}{13}$
- C) $\frac{7}{15}$
- D) $\frac{3}{5}$

8. Bir madeni para ve bir zar birlikte atılıyor. Paranın yazı ve zarın 3 gelme olasılığı kaçtır?

- A) $\frac{1}{12}$
 B) $\frac{1}{6}$
 C) $\frac{1}{3}$
 D) $\frac{1}{2}$

9. $x^2 + x + 6 < 0$
 $x - 2 > 0$

Yukarıdaki eşitsizlik sisteminin çözüm kümesi aşağıdakilerden hangisidir?

- A) $(2, \infty)$
 B) \emptyset
 C) $(-\infty, -3)$
 D) $(-3, 2)$

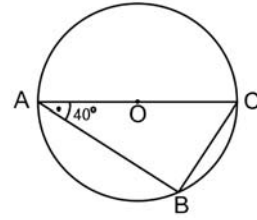
10. İki sayının farkı 3, kareleri farkı 21 olduğuna göre, bu sayıların çarpımı kaçtır?

- A) 10
 B) 12
 C) 15
 D) 18

11. $3x^2 - 5x - 2 < 0$ eşitsizliğinin çözüm kümesi aşağıdakilerden hangisidir?

- A) $(-\infty, -\frac{1}{3})$
 B) \emptyset
 C) $(-\frac{1}{3}, 2)$
 D) $(2, \infty)$

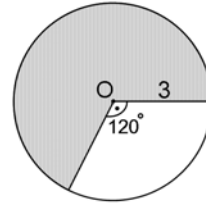
12.



Yukarıdaki O merkezli çemberde [AC] çap ve $m(\widehat{CAB}) = 40^\circ$ olduğuna göre, AB yayının ölçüsü kaç derecedir?

- A) 50
 B) 80
 C) 100
 D) 130

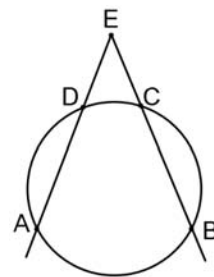
13.



Yukarıdaki yarıçapı 3 cm olan dairenin 240° lik taralı bölgesinin alanı kaç cm^2 dir?

- A) $\frac{\pi}{2}$
 B) 3π
 C) 4π
 D) 6π

14.



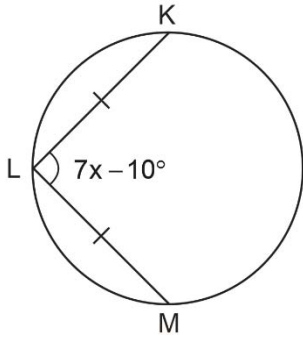
Yukarıdaki çemberde AD yayının ölçüsü ile BC yayının ölçüsü eşit ve 100° dir. $m(\widehat{DEC}) = 40^\circ$ olduğuna göre, AB yayının ölçüsü kaç derecedir?

- A) 80
 B) 100
 C) 110
 D) 120

15. Yarıçapının uzunluğu 6 cm olan bir çemberde, merkez açısı 120° olan bir yay parçasının uzunluğu kaç cm'dir?

- A) π
B) 2π
C) 4π
D) 6π

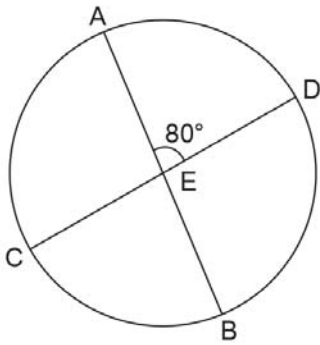
16.



Yukarıdaki çemberde $|KL| = |LM|$, $m(\widehat{KL}) = 50^\circ$ ve $m(\widehat{KLM}) = 7x - 10^\circ$ olduğuna göre, x değeri kaçtır?

- A) 10
B) 20
C) 30
D) 40

17.



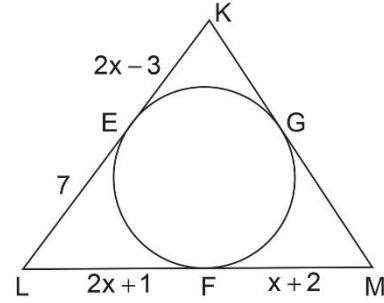
Yukarıdaki çemberde $[AB]$ ve $[CD]$ birer kiriş olup $\{E\} = [AB] \cap [CD]$ dir. $m(\widehat{AED}) = 80^\circ$ ve $m(\widehat{DB}) = 140^\circ$ ise, $m(\widehat{AC})$ kaç derecedir?

- A) 50
B) 60
C) 70
D) 80

18. Bir çemberde 12 cm uzunluğundaki kirişin merkeze olan uzaklığı 8 cm olduğuna göre, bu çemberin yarıçap uzunluğu kaç cm'dir?

- A) 10
B) 12
C) 14
D) 16

19.

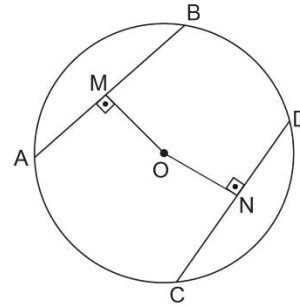


Yukarıdaki şekilde E, F, G noktaları KLM üçgeninin iç teğet çemberinin değme noktalarıdır.

$|EL| = 7$ birim, $|LF| = 2x + 1$ birim, $|FM| = x + 2$ birim ve $|EK| = 2x - 3$ birim olduğuna göre, KLM üçgenini çevresi kaç birimdir?

- A) 24
B) 26
C) 28
D) 30

20.



Yukarıdaki O merkezli çemberde A, B, C, D noktaları çember üzerinde; $[OM] \perp [AB]$, $[ON] \perp [CD]$ ve $|AB| = |CD|$ dir. $|OM| = 6x$ ve $|ON| = 3x + 9$ olduğuna göre, x değeri kaçtır?

- A) 2
B) 3
C) 4
D) 5

2019 AÖÖ-AÖL I. DÖNEM 0101-A

1. Nizam-ı Cedid Ordusu hangi Osmanlı padişahı zamanında kurulmuştur?

- A) III. Selim
- B) II. Mehmet
- C) II. Murat
- D) IV. Murat

2. 1830 İhtilalleri ilk olarak hangi ülkede başlamıştır?

- A) Rusya
- B) ABD
- C) İngiltere
- D) Fransa

3. Aşağıdakilerden hangisi Islahat Fermanı ile getirilen ilkeler arasında yer almaz?

- A) İltizam sistemi ülkenin her tarafında uygulanacak
- B) Müslüman olmayanlar da askere alınacak
- C) Bütün uyruklar için vergi eşitliği sağlanacak
- D) Hristiyanların dinî nitelikteki bütün hak ve ayrıcalıkları aynen korunacak

4. Aşağıdakilerden hangisi II. Abdülhamid Dönemi'nde gerçekleşmiştir?

- A) Küçük Kaynarca Antlaşması
- B) İlk resmi gazetenin çıkarılması
- C) Darülaceze'nin açılması
- D) Yeniçeri Ocağı'nın kaldırılması

5. Tanzimat Fermanı hangi Osmanlı padişahı döneminde imzalanmıştır?

- A) Sultan Abdülmecit
- B) IV. Murat
- C) II. Mehmet
- D) I. Selim

6. Aşağıdakilerden hangisi Sened-i İttifak'ın maddeleri arasında yer almaz?

- A) Âyanlar padişahın emirlerini yerine getirerek ona sadık kalacak
- B) Müsadere usulü tamamen kaldırılacak
- C) İstanbul'da Yeniçeri Ocağı ve diğer ocaklarda isyan çıkarsa âyanlar emir beklemeksizin gelip isyanı bastırmaya çalışacak
- D) Padişah âdil ve eşit vergi alacak, aşırı vergi konmayacak

7. Bağdat Demir Yolu'nun yapımına hangi Osmanlı padişahı döneminde başlanmıştır?

- A) II. Abdülhamit
- B) II. Murat
- C) II. Mahmut
- D) II. Mehmet

8. Aşağıdakilerden hangisi kapitalizmin amaçları arasında yer almaz?

- A) Üretilen malları satmak
- B) En yüksek kârı elde edebilmek
- C) Bireylere serbest girişim yapabileceği hakları kazandırmak
- D) Üretim aşamasında devletin müdahalesini artırmak

9. Aşağıdakilerden hangisi XVIII. yüzyılda fikirleri ile liberalizme katkı sağlayan kişilerden biri değildir?

- A) David Hume
- B) Adam Ferguson
- C) Cicero
- D) Adam Smith

10. Aşağıdakilerden hangisi Kapitalizm ideolojisinin ortaya çıkmasının nedenlerinden biri değildir?

- A) Bankacılığın gelişmesi
- B) Bilimin özellikle de gözlem ve tümevarım metodundaki gelişimin eski düzene olan inancı yıkması
- C) XVI. XVII ve XVIII. yüzyıllardaki İngiliz kumaş sanayisinin büyümesi
- D) XIV. ve XVII. yüzyıl arasında uluslararası ticaretin azalması

11. Aşağıdakilerden hangisi 1881 yılında ilan edilen “Muharrem Kararnamesi” sonucunda kurulmuştur?

- A) Cerrahhane-i Amire
- B) Bostancı Ocağı
- C) Düyûn-ı Umûmiye İdaresi
- D) Darülbeydi

12. Aşağıdakilerden hangisi 1838 Balta Limanı Ticaret Antlaşması'nın sonuçlarından biri değildir?

- A) Yerli tüccardan alınan iç gümrük vergisinin kaldırılması
- B) Osmanlı pazarlarının büyük oranda yabancıların denetimine geçmesi
- C) Avrupa ile rekabet edemeyen Osmanlı esnafının yavaş yavaş faaliyetlerini durdurmak mecburiyetinde kalması
- D) Osmanlı esnafının ham madde bulmakta sıkıntı çekmesi

13. Sanayide insan gücü yerine makine kullanımını yaygınlaştıran “Buhar Makinesi”ni icat eden kişi aşağıdakilerden hangisidir?

- A) John Kay
- B) James Watt
- C) James Hargreaves
- D) Richard Trevithick

14. Bir devletin başka ulusları, devletleri, toplulukları, siyasal, ekonomik ve aynı zamanda kültürel egemenliği altına alarak yayılması ve yayılmasını istemesini ifade eden kavram aşağıdakilerden hangisidir?

- A) Bipedalizm
- B) Hellenizm
- C) Emperyalizm
- D) Hümanizm

15. Aşağıdakilerden hangisi Klasik Üretim'in (Zirai Üretim ve Zanaat Üretim) genel özelliklerinden biri değildir?

- A) Üretim araçlarının mülkiyetinin zanaatkâra ait olması
- B) Üretimde çalışan sayısının sınırlı olması
- C) Üretim ve satışın aynı mekânda gerçekleşmesi
- D) Üretimde makineleşmenin ön planda olması

16. Aşağıdakilerden hangisi Osmanlı devlet adamlarının sanayi devrimini ciddiye aldıklarını gösteren en önemli kanıtlardan biridir?

- A) Aşar vergisinin artırılması
- B) Sanayi okullarının açılması
- C) Sümerbank'ın kurulması
- D) Etibank'ın kurulması

17. 1840 yılında William Churchill tarafından çıkarılan yarı resmî gazete aşağıdakilerden hangisidir?

- A) Mımbır
- B) Ceride-i Havadis
- C) Albayrak
- D) Emel

18. İngilizler tarafından “halkın düşüncesi” anlamında kullanılmış kavram aşağıdakilerden hangisidir?

- A) Müsadere
- B) Ahitname
- C) Esham
- D) Kamuoyu

19. Mürur tezkiresi (tezkeresi) nedir?

- A) Bir bölgeyi savunmak için yapılan ve silahlarla güçlendirilen yapıdır.
- B) Osmanlı Devleti'nde ülke içinde seyahat etmek ve İstanbul'a gitmek için alınan izin ve geçiş belgesidir.
- C) Mahkemenin verdiği kararı kabul etmeyerek bir üst mahkemeye götürmektir.
- D) Bir alanla ilgili oluşturulan danışma kuruludur.

20. Aşağıdakilerden hangisi sanayileşmenin etkisiyle şehir hayatında yaşanan sorunlar arasında yer almaz?

- A) Konut sıkıntısı
- B) Su kirliliği
- C) Kültürel faaliyetlerin artması
- D) Hava kirliliği

2019 AÖÖ-AÖL I. DÖNEM 0101-A

1. Aşağıdakilerden hangisi Adalet Ağaoğlu'nun eserlerinden biri değildir?

- A) Ruh Üşümesi
- B) Dik Bayır
- C) Evcilik Oyunu
- D) Tombala

2. Aşağıdakilerden hangisi Abbas Sayar'ın eserlerinden biri değildir?

- A) Kiralık Konak
- B) Yılkı Atı
- C) Çelo
- D) Tarlabası Salkım Saçak

3. Aşağıdaki cümlelerin hangisinde bir anlatım bozukluğu vardır?

- A) Bu yağmursuz günler, aylarca ve aylarca sürdü.
- B) Üç kadın dar bir kaldırımında yan yana yürüyordu.
- C) Yazar konuşmasında somut gerçeklere de değindi.
- D) Bugün ne kitap okudum ne de ders çalıştım.

4. "Zemzeme Mukaddemesi" adlı eleştiri yazısı aşağıdaki yazarlardan hangisine aittir?

- A) Ziya Paşa
- B) Şinasi
- C) Namık Kemal
- D) Rezaizade Mahmut Ekrem

5. "Tutunamayanlar" adlı roman aşağıdaki yazarlardan hangisine aittir?

- A) Erdal Öz
- B) Oğuz Atay
- C) Vedat Türkali
- D) Melih Cevdet Anday

6. Necip Fazıl Kısakürek ile ilgili aşağıdaki ifadelerden hangisi yanlıştır?

- A) Şiirin yanı sıra oyun, makale, fıkra, tarih, eleştiri, biyografi, monografi, hikâye türünde de yazmıştır.
- B) Hece ölçüsünü kullanmıştır.
- C) Dilde süslü ve sanatlı bir anlatımı benimsemiştir.
- D) Ağaç ve Büyük Doğu dergilerini çıkarmıştır.

7. Aşağıdaki cümlelerin hangisinde bir anlatım bozukluğu vardır?

- A) İlk müziğe başladığım zaman enstrümanımdan korkardım.
- B) Yaşlı kadın kendi kendine mırıldanıyordu.
- C) Bu ufacık odada yıllarca çalıştım.
- D) Çocuklar sınıfta kahkahalarla güldüler.

8. "Yaban" romanı aşağıdaki yazarlardan hangisine aittir?

- A) Kemal Bilbaşar
- B) Ahmet Hamdi Tanpınar
- C) Faik Baysal
- D) Yakup Kadri Karaosmanoğlu

9. Aşağıdakilerden hangisi 1923-1950 Cumhuriyet Dönemi Tiyatrosu için söylenemez?

- A) Çok partili döneme geçince siyasi içerik kazanması
- B) Halka inilememesi, büyük şehirlerin dışına çıkılamaması
- C) Kurumsal bir yapıya kavuşması
- D) Güçlü ve acımasız iş adamları, kurnaz fırsatçılar gibi temaların işlenmesi

10. Türk edebiyatında eleştirinin edebî bir tür olarak gelişmesi ve önem kazanması hangi edebiyat döneminde olmuştur?

- A) Servetifünun
- B) Fecr-i Âti
- C) Milli edebiyat
- D) Tanzimat edebiyatı

11. "Demdeme" adlı eleştiri yazısı aşağıdakilerden hangisine aittir?

- A) Namık Kemal
- B) Mehmet Rauf
- C) Muallim Naci
- D) Hüseyin Cahit

12. Ne desem tersini yapıyorsun(I) Çabuk deęiş üstünü(II) Her gün bir kazak, pantolon kirletiyorsun(III) Nerede kopardın o düğmeyi(IV)

Yukarıdaki parçada numaralandırılmış cümlelerden hangisinin sonuna soru işareti konmalıdır?

- A) I.
B) II.
C) III.
D) IV.

13. Aşağıdakilerden hangisi Yaşar Kemal'in sanatının özelliklerinden biri değildir?

- A) Halkın ortak inançlarını bir masal, efsane, destan havası içinde anlatması
B) İlik romanlarının otobiyografik özellikler taşıması
C) Sanat yaşamına şiirle başlaması
D) Eserlerinde daha çok Çukurova insanların yaşamlarını anlatması

14. Aşağıdaki cümlelerin hangisinde anlatım bozukluğu vardır?

- A) Onun sevimli yüzü, bir çocuk yüzünü çağırıyordu.
B) Gözlerinden, kırları artan sakallarına bir iki damla yaş düştü.
C) Güzel şiir okumak için önce şiirde ne anlatıldığını anlamalıyız.
D) Düşüncelerini açıkça söylemekten her zaman kaçırıyorsun.

15. Aşağıdakilerden hangisi mülakat türünün özelliklerinden biri değildir?

- A) Görüşmenin kayıt altına alınması
B) Görüşmenin konusunun ilgi çekici ve toplumsal açıdan önemli olması
C) Ön görüşme yapılmasının isteğe bağlı olması
D) Soruların önceden hazırlanması

16. Aşağıdakilerden hangisi Ruşen Eşref Ünaydın'ın eserlerinden biri değildir?

- A) Liderler Diyor ki
B) Damla Damla
C) Boğaziçi Yakından
D) Çanakkale'de Savaşanlar Dediler ki

17. Aşağıdaki tiyatro oyunlarından hangisi Ahmet Kutsi Tecer'e aittir?

- A) Paydos
B) Köşebaşı
C) Gölgele
D) Küçük Şehir

18. Aşağıdaki cümlelerin hangisine "ki"nin yazımı ile ilgili bir yanlışlık yapılmıştır?

- A) Sendeki bavulu bana ver.
B) Sen ki benim en güvendiğim arkadaşımдын.
C) Bu akşam tiyatroya gitsem mi ki?
D) Biz inanıyoruzki, sen çok başarılı bir insan olacaksın.

19. Eleştirinin edebî bir tür olarak gelişmesi ve önem kazanması Servetifünun Dönemi'nde olmuştur. Batı'dan özellikle 19. yüzyıl Fransız düşünürlerinden Hippolyte Taine'nin eleştiri yazılarından yapılan çeviriler Servet-i Fünun dergisinde yayımlanmıştır. Cenap Şahabettin estetik ve eleştiri etrafında kaleme aldığı yazılarıyla bu türün gelişmesine ve yeni bir edebiyat anlayışının yerleşmesine hizmet etmiştir. Hüseyin Cahit; Ahmet Rasim ve Ali Kemal'le olan tartışmaların "Kavgalarım" adı altında kitaplaştırmıştır.

Yukarıdaki parçada aşağıdakilerden hangisine değildir?

- A) Hippolyte Taine'nin eleştiri yazılarından çeviriler yapılmasına
B) "Kavgalarım" adlı eseri Hüseyin Cahit'in kitaplaştırmaya
C) Servetifünun Dönemi'nde eleştiri türü ile ilgili olarak sadece Batı'dan çeviri yapılmasına
D) Cenap Şahabettin'in, estetik ve eleştiri ile ilgili yazılarının bu türün gelişmesine katkısının olmasına

20. "Tahrib-i Harabat" ve "Takip" adlı eleştiri yazıları aşağıdakilerden hangisine aittir?

- A) Cenap Şahabettin
B) Muallim Naci
C) Ziya Paşa
D) Namık Kemal

2019 AÖÖ-AÖL I. DÖNEM 0101-A

1. ----- kommen aus Russland und ----- Russisch.

Welche Wörter passen in die obigen Lücken?

Yukarıdaki cümlede boş bırakılan yerleri aşağıdakilerden hangileri doğru olarak tamamlar?

- A) Ich / bin
B) Wir / sprechen
C) Er / kommt
D) Sie / wollen

2. A: Hallo, hier ist Ayfer.
B: -----
A: A-y-f-e-r

Welches ergänzt die Lücke im obigen Dialog?

Yukarıdaki karşılıklı konuşmada boş bırakılan yeri aşağıdakilerden hangisi doğru olarak tamamlar?

- A) Wie bitte? Können Sie das Buchstabieren bitte?
B) Wo bitte? Kenne ich ihn?
C) Wer? Ich kenne Sie ja gar nicht?
D) Wann bitte? Darf ich mitkommen?

3. Meine Freundin Lena kommt ----- Berlin.

Welches Wort passt in die obige Lücke?

Yukarıdaki cümlede boş bırakılan yeri aşağıdakilerden hangisi doğru olarak tamamlar?

- A) mit
B) aus
C) zu
D) für

4. Was bedeutet das Wort "Vedalaşma" auf Deutsch?

"Vedalaşma" sözcüğünün Almancası aşağıdakilerden hangisinde doğru olarak verilmiştir?

- A) Die Vereinbarung
B) Die Verabredung
C) Die Verabschiedung
D) Die Verspätung

5. Ich wohne in Istanbul.

Welche Frage paßt zur obigen Antwort?

Yukarıdaki cevabı gerektirecek soru aşağıdakilerden hangisinde doğru olarak verilmiştir?

- A) Was machst du morgen?
B) Wo wohnst du?
C) Wie alt bist du?
D) Wer ist das?

6. ----- Mathematikunterricht und ich finde es langweilig.

Welches ergänzt die Lücke im obigen Satz?

Yukarıdaki cümlede boş bırakılan yeri aşağıdakilerden hangisi doğru olarak tamamlar?

- A) Am Montag habe ich
B) Wir planen das Wochenende
C) Er ist sehr streng
D) Wir singen jeden morgen

7. grün / grau / groß / gelb

Welches Wort passt nicht zu den anderen in der obigen Wortgruppe?

Yukarıdaki sözcük grubuna uymayan sözcük aşağıdakilerden hangisinde doğru olarak verilmiştir?

- A) groß
B) grün
C) grau
D) gelb

8. Die Wochenenden sind ----- und -----.

Welche Wörter passen in die obigen Lücken?

Yukarıdaki cümlede boş bırakılan yerleri aşağıdakilerden hangileri doğru olarak tamamlar?

- A) der Mittwoch / der Donnerstag
B) das Deutsch / der Dienstag
C) die Monate / das Jahr
D) der Samstag / der Sonntag

9. Findest du Biologie interessant?

Welche Antwort passt zur obigen Frage?

Yukarıdaki sorunun cevabı aşağıdakilerden hangisinde doğru olarak verilmiştir?

- A) Ich habe jeden Tag acht Stunden Unterricht.
- B) Nein, wir gehen ins Kino.
- C) Unser Mathelehrer ist sehr streng.
- D) Ja, aber Chemie finde ich auch interessant.

10. Hallo, ich heiße Sabine und -----.

Welches ergänzt nicht die Lücke im obigen Satz?

Yukarıdaki cümlede boş bırakılan yeri aşağıdakilerden hangisi doğru olarak tamamlamaz?

- A) gehe aufs Gymnasium
- B) mein Lieblingsfach ist Deutsch
- C) hast keine Zeit
- D) bin 18 Jahre alt

11. Wie schreibt man die Zahl "23"?

"23" sayısının yazılışı aşağıdakilerden hangisinde doğru olarak verilmiştir?

- A) Dreiundzwanzig
- B) Zweiunddrei
- C) Zwanzig
- D) Dreizehn

12. Mein Vater ist Lehrer von -----.

Welches Wort passt in die obige Lücke?

Yukarıdaki cümlede boş bırakılan yeri aşağıdakilerden hangisi doğru olarak tamamlar?

- A) Wohnung
- B) Frankfurt
- C) Beruf
- D) Geschwister

13. Ich habe braune Haare und blaue Augen.

Welche Frage passt zur obigen Antwort?

Yukarıdaki cevabı gerektirecek soru aşağıdakilerden hangisinde doğru olarak verilmiştir?

- A) Was bist du von Beruf?
- B) Wer hat Geburtstag?
- C) Wann kommst du nach Hause?
- D) Wie sieht du aus?

14. ----- macht die Haare schön.

Welches Wort passt in die obige Lücke?

Yukarıdaki cümlede boş bırakılan yeri aşağıdakilerden hangisi doğru olarak tamamlar?

- A) Der Lehrer
- B) Der Arzt
- C) Der Friseur
- D) Der Koch

15. Das Mädchen -----.

Welches ergänzt nicht die Lücke im obigen Satz?

Yukarıdaki cümlede boş bırakılan yeri aşağıdakilerden hangisi doğru olarak tamamlamaz?

- A) ist meine Schwester
- B) ist ein Einzelkind
- C) heißt Petra
- D) leben zusammen

16. Was bedeutet das Wort "aufwecken" auf Türkisch?

"aufwecken" sözcüğünün Türkçesi aşağıdakilerden hangisinde doğru olarak verilmiştir?

- A) uyandırmak
- B) uyuyamamak
- C) uyutmak
- D) uyumak

17. ----- Melda und Tolga machen samstags Sport.

Welches Wort passt nicht in die obige Lücke?

Yukarıdaki cümlede boş bırakılan yeri aşağıdakilerden hangisi doğru olarak tamamlamaz?

- A) Unsere Kinder
- B) Der Tagesplan
- C) Die Freunde
- D) Die Geschwister

18. Thunfisch / ich / einen / mit / möchte / Toast / bitte

Wie kann man mit den obigen Wortgruppen einen sinnvollen und richtigen Satz bilden?

Yukarıdaki sözcük gruplarıyla kurulabilecek en anlamlı ve doğru cümle aşağıdakilerden hangisinde doğru olarak verilmiştir?

- A) Thunfisch bitte ich möchte mit einen Toast.
- B) Einen Toast ich möchte Thunfisch mit bitte.
- C) Ich möchte einen Toast mit Thunfisch bitte.
- D) Möchte einen Toast mit ich bitte Thunfisch.

19. Ich stehe morgens um 7:00 Uhr auf.

Wie lautet der obige Satz auf Türkisch?

Yukarıdaki cümlenin Türkçe karşılığı aşağıdakilerden hangisinde doğru olarak verilmiştir?

- A) Sabah 7:00 den beri çalışıyorum.
- B) Sabahları saat 7:00 de kalkıyorum.
- C) Sabahları 7:00 de işe gidiyorum.
- D) Sabah 7:00 ye kadar uyuyamıyorum.

20. Haben Sie Kuchen?

Welche Antwort passt zur obigen Frage?

Yukarıdaki sorunun cevabı aşağıdakilerden hangisinde doğru olarak verilmiştir?

- A) Nein, ich möchte nichts trinken.
- B) Ja, der Platz dort ist frei.
- C) Leider haben wir nur Tee mit Zitrone.
- D) Ja, wir haben Apfelkuchen und Käsekuchen.

2019 AÖÖ-AÖL I. DÖNEM 0101-A

1. Avez- ----- une voiture?

Choisissez le mot qui convient.**Cümledeki boşluğu aşağıdakilerden hangisi doğru şekilde tamamlar?**

- A) vous
- B) nous
- C) tu
- D) je

2. J'ai une -----.

Choisissez le mot qui convient.**Cümledeki boşluğu aşağıdakilerden hangisi doğru şekilde tamamlar?**

- A) visage
- B) bouche
- C) bras
- D) pied

3. I. La boîte est verte.
II. Elle est large.
III. Le gant est noir.
IV. Elle est lourde aussi.

Trouvez la phrase qui ne convient pas.**Sırasıyla okunduğunda, anlam bütünlüğünü bozan cümleyi bulunuz.**

- A) I
- B) II
- C) III
- D) IV

4. - -----?

- C'est un ordinateur.

Choisissez la question qui convient.**Yukarıdaki konuşmada cevabı gerektiren soru aşağıdakilerden hangisidir?**

- A) Comment est la chaise
- B) À quoi sert le drapeau
- C) Qui est-ce
- D) Qu'est-ce que c'est

5. A : ----- -vous prendre quelque chose?
B : Un café, s'il vous plaît.**Choisissez les mots qui conviennent.****Konuşmadaki boşlukları aşağıdakilerden hangisi doğru şekilde tamamlar?**

- A) Voulons
- B) Voulez
- C) Pouvez
- D) Pouvons

6. A : Quelle est la forme de son nez?
B : Il est -----.**Choisissez la réponse qui convient.****Konuşmadaki boşluğu aşağıdakilerden hangisi doğru şekilde tamamlar?**

- A) droite
- B) petite
- C) pointu
- D) bleue

7. Nous ----- dans la même ville.

Choisissez le mot qui convient.**Cümledeki boşluğu aşağıdakilerden hangisi doğru şekilde tamamlar?**

- A) habitez
- B) habite
- C) habitent
- D) habitons

8. Toutes les filles ----- belles.

Choisissez le mot qui convient.**Cümledeki boşluğu aşağıdakilerden hangisi doğru şekilde tamamlar?**

- A) est
- B) sont
- C) ont
- D) ai

9. Elle ----- des lunettes de soleil.

Choisissez le mot qui convient.

Cümledeki boşluğu aşağıdakilerden hangisi doğru şekilde tamamlar?

- A) porte
- B) est
- C) as
- D) voyage

10. «Tu m'attends?»

Choisissez la traduction qui convient.

Yukarıdaki cümlelerin Türkçe karşılığı aşağıdakilerden hangisidir?

- A) Sana gelir mi?
- B) Beni bekler misin?
- C) Bana gelir misin?
- D) Sen gider misin?

11. Le pull est en -----.

Choisissez le mot qui convient.

Cümledeki boşluğu aşağıdakilerden hangisi doğru şekilde tamamlar?

- A) laine
- B) bois
- C) carton
- D) aluminium

12. - Tu ----- la petite fille?
- Oui, je la vois.

Choisissez le mot qui convient.

Yukarıdaki konuşmada boş bırakılan yeri aşağıdakilerden hangisi doğru şekilde tamamlar?

- A) vois
- B) voit
- C) voyez
- D) voyons

13. «Gözleri mavi.»

Choisissez la traduction qui convient.

Yukarıdaki cümlelerin Fransızca karşılığı aşağıdakilerden hangisidir?

- A) Il a les cheveux bleus.
- B) Il a les yeux verts.
- C) Il a les cheveux roux.
- D) Il a les yeux bleus.

14. A : ----- tu aimes le cinéma?
B : Oui, beaucoup.

Choisissez le mot qui convient.

Cümledeki boşluğu aşağıdakilerden hangisi doğru şekilde tamamlar?

- A) Quelqu'un
- B) Est-ce que
- C) Qui
- D) Quelle

15. Il ----- un frère et une sœur.

Choisissez le mot qui convient.

Cümledeki boşluğu aşağıdakilerden hangisi doğru şekilde tamamlar?

- A) a
- B) est
- C) ont
- D) son

16. - Vous voulez quelque chose?
- Non, nous ne voulons -----.

Choisissez le mot qui convient.

Yukarıdaki konuşmada boş bırakılan yeri aşağıdakilerden hangisi doğru şekilde tamamlar?

- A) pour
- B) par
- C) bien
- D) rien

2019 AÖÖ-AÖL I. DÖNEM 0101-A

17. Il a des ----- noirs.

Choisissez le mot qui convient.

Cümledeki boşluğu aşağıdakilerden hangisi doğru şekilde tamamlar?

- A) bouche
- B) oreille
- C) yeux
- D) nez

18. A : Vous connaissez Madame Bécourt?

B : Non, je ne ----- connais pas.

Choisissez le mot qui convient.

Konuşmadaki boşluğu aşağıdakilerden hangisi doğru şekilde tamamlar?

- A) les
- B) me
- C) la
- D) lui

19. «Je me réveille à 6h30.»

Choisissez la traduction qui convient.

Yukarıdaki cümlenin Türkçe karşılığı aşağıdakilerden hangisidir?

- A) 6.30'da uyandık.
- B) 6.30'da uyanıyoruz.
- C) 6.30'da uyandınız.
- D) 6.30'da uyanıyorum.

20. A : ----- nationalité es tu?

B : Je suis turc.

Choisissez la question qui convient.

Konuşmadaki boşluğu aşağıdakilerden hangisi doğru şekilde tamamlar?

- A) Comment
- B) Quelle
- C) De quelle
- D) Combien

2019 AÖÖ-AÖL I. DÖNEM 0101-A

1. There are five ----- in the fridge and one ----- on the table.

Which of the following completes the sentence above?

Aşağıdakilerden hangisi yukarıdaki cümleyi doğru olarak tamamlar?

- A) apples / bananas
B) apple / bananas
C) apples / banana
D) apple / banana

2. She is ----- at the moment.

Which of the following completes the sentence above?

Aşağıdakilerden hangisi yukarıdaki cümleyi doğru şekilde tamamlar?

- A) sleeping
B) sleeps
C) slept
D) sleep

3. A: What are you doing now?
B: I am ----- for my exam.

Which of the following completes the dialogue above?

Aşağıdakilerden hangisi yukarıdaki konuşmayı doğru şekilde tamamlar?

- A) studying
B) studies
C) studied
D) study

4. A: ----- does Liam brush his teeth?
B: He always brushes his teeth.

Which of the following completes the dialogue above?

Aşağıdakilerden hangisi yukarıdaki konuşmayı doğru şekilde tamamlar?

- A) What
B) Where
C) Why
D) How often

5. New York is ----- city in the world.

Which of the following completes the sentence above?

Aşağıdakilerden hangisi yukarıdaki cümleyi doğru olarak tamamlar?

- A) crowded
B) less crowded
C) the most crowded
D) more crowded

6. She ----- dark brown hair and blue eyes.

Which of the following completes the sentence above?

Aşağıdakilerden hangisi yukarıdaki cümleyi doğru şekilde tamamlar?

- A) does
B) doesn't
C) have got
D) has got

7. There ----- some students in the classroom.

Which of the following completes the sentence above?

Aşağıdakilerden hangisi yukarıdaki cümleyi doğru olarak tamamlar?

- A) are
B) was
C) has been
D) is

8. My mother ----- cook different kinds of meals but I cannot.

Which of the following completes the sentence above?

Aşağıdakilerden hangisi yukarıdaki cümleyi doğru olarak tamamlar?

- A) shall
- B) must
- C) would
- D) can

9. Sally is ----- than Ellen.

Which of the following completes the sentence above?

Aşağıdakilerden hangisi yukarıdaki cümleyi doğru şekilde tamamlar?

- A) oldest
- B) older
- C) the oldest
- D) old

10. Tom ----- like playing football.

Which of the following completes the sentence above?

Aşağıdakilerden hangisi yukarıdaki cümleyi doğru şekilde tamamlar?

- A) don't
- B) hasn't
- C) isn't
- D) doesn't

11. A: I don't want to stay at home.
B: ----- we go to a café?

Which of the following completes the dialogue above?

Aşağıdakilerden hangisi yukarıdaki konuşmayı doğru şekilde tamamlar?

- A) Let's
- B) How about
- C) Why don't
- D) What about

12. Our teacher is ----- man in our school.

Which of the following completes the sentence above?

Aşağıdakilerden hangisi yukarıdaki cümleyi doğru şekilde tamamlar?

- A) the tallest
- B) taller
- C) tallest
- D) tall

13. A: Is Olivia young?
B: No, -----.

Which of the following completes the dialogue above?

Aşağıdakilerden hangisi yukarıdaki konuşmayı doğru şekilde tamamlar?

- A) she hasn't
- B) she isn't
- C) she does
- D) she is

14. I like ----- tea.

Which of the following completes the sentence above?

Aşağıdakilerden hangisi yukarıdaki cümleyi doğru şekilde tamamlar?

- A) drinks
- B) drank
- C) drinking
- D) drink

15. A cheetah is ----- than an elephant.

Which of the following completes the sentence above?

Aşağıdakilerden hangisi yukarıdaki cümleyi doğru olarak tamamlar?

- A) the slowest
- B) faster
- C) the fastest
- D) slower

16. I prefer ----- vegetables to meat.

Which of the following completes the sentence above?

Aşağıdakilerden hangisi yukarıdaki cümleyi doğru şekilde tamamlar?

- A) ate
- B) eating
- C) eats
- D) eat

17. ----- you like to go shopping tomorrow?

Which of the following completes the sentence above?

Aşağıdakilerden hangisi yukarıdaki cümleyi doğru şekilde tamamlar?

- A) Shall
- B) How about
- C) Let's
- D) Would

18. A: ----- is the red sofa?

B: The red sofa is behind the coffee table.

Which of the following completes the dialogue above?

Aşağıdakilerden hangisi yukarıdaki konuşmayı doğru olarak tamamlar?

- A) Who
- B) Which
- C) Where
- D) What

19. A: -----?

B: I'm fine. Thank you.

Which of the following completes the dialogue above?

Aşağıdakilerden hangisi yukarıdaki konuşmayı doğru şekilde tamamlar?

- A) How are you?
- B) Where are you from?
- C) What is your name?
- D) How old are you?

20. A: What time is it?

B: It's ----- (09:20)

Which of the following completes the dialogue above?

Aşağıdakilerden hangisi yukarıdaki konuşmayı doğru şekilde tamamlar?

- A) It's twenty past ten.
- B) It's twenty past nine.
- C) It's twenty to nine.
- D) It's twenty to ten.

2019 AÖÖ-AÖL I. DÖNEM 0101-A

1. Was bedeutet das Wort "karpuz" auf Deutsch?

"karpuz" sözcüğünün Almancası aşağıdakilerden hangisinde doğru olarak verilmiştir?

- A) Die Zitrone
B) Die Kiwi
C) Die Wassermelone
D) Die Birne

2. Die Bananen kosten 10 Euro.

Welche Frage paßt zur obigen Antwort?

Yukarıdaki cevabı gerektirecek soru aşağıdakilerden hangisinde doğru olarak verilmiştir?

- A) Wer möchte Bananen essen?
B) Wie viel kosten die Bananen?
C) Wo kann ich Bananen kaufen?
D) Wann gehst du einkaufen?

3. A: Gehst du bitte einkaufen?
B: Ja gern. -----
A: Wir brauchen Gurken und Käse.

Welches ergänzt die Lücke im obigen Dialog?

Yukarıdaki karşılıklı konuşmada boş bırakılan yeri aşağıdakilerden hangisi doğru olarak tamamlar?

- A) Was brauchen wir alles?
B) Wo kaufst du ein?
C) Wann kochst du?
D) Wer geht heute einkaufen?

4. Können Sie die Kartoffeln und die Eier ----- und in Scheiben schneiden, bitte?

Welches Wort passt in die obige Lücke?

Yukarıdaki cümlede boş bırakılan yeri aşağıdakilerden hangisi doğru olarak tamamlar?

- A) servieren
B) mischen
C) schälen
D) geben

5. Mein ----- ist Hähnchen mit Reis und Salat.

Welches Wort passt in die obige Lücke?

Yukarıdaki cümlede boş bırakılan yeri aşağıdakilerden hangisi doğru olarak tamamlar?

- A) Einkaufsliste
B) Rezept
C) Partner
D) Liebingsessen

6. Der ----- Monat heißt September. Er ist im -----.

Welche Wörter passen in die obigen Lücken?

Yukarıda boş bırakılan yerleri aşağıdakilerden hangileri doğru olarak tamamlar?

- A) siebte / Frühling
B) achte / Winter
C) neunte / Herbst
D) sechste / Sommer

7. Wie ist der Wald im Herbst?

Welche Antwort passt zur obigen Frage?

Yukarıdaki sorunun cevabı aşağıdakilerden hangisinde doğru olarak verilmiştir?

- A) Der Wald ist im Herbst rot, gelb und braun.
B) Der Himmel ist blau und klar.
C) Die Blumen blühen in allen Farben.
D) Die Luft ist warm und frisch.

8. ----- ist am neunundzwanzigsten Oktober.

Welches ergänzt die Lücke im obigen Satz?

Yukarıdaki cümlede boş bırakılan yeri aşağıdakilerden hangisi doğru olarak tamamlar?

- A) Tag der Demokratie
B) Der Gedenktag für Märtyrer
C) Tag der Republik
D) Der Muttertag

9. Im Winter -----.

Welches ergänzt nicht die Lücke im obigen Satz?

Yukarıdaki cümlede boş bırakılan yeri aşağıdakilerden hangisi doğru olarak tamamlamaz?

- A) wird in Deutschland Weihnachten gefeiert
- B) ist es kalt und wir trinken viel Tee
- C) essen Kinder viel Eis
- D) kommt der Schnee

10. Der Sommer / Der Mittwoch / Der Frühling / Der Herbst

Welches Wort passt nicht zu den anderen in der obigen Wortgruppe?

Yukarıdaki sözcük grubuna uymayan sözcük aşağıdakilerden hangisinde doğru olarak verilmiştir?

- A) Der Sommer
- B) Der Herbst
- C) Der Frühling
- D) Der Mittwoch

11. In meiner Freizeit -----.

Welches ergänzt nicht die Lücke im obigen Satz?

Yukarıdaki cümlede boş bırakılan yeri aşağıdakilerden hangisi doğru olarak tamamlamaz?

- A) weil ich keine Zeit habe
- B) gehe ich ins Theater
- C) spiele ich gern Gitarre
- D) surfe ich im Internet

12. Entschuldigung, wo ----- der Komödienfilm "Meine Welt"?

Welches Wort passt in die obige Lücke?

Yukarıdaki cümlede boş bırakılan yeri aşağıdakilerden hangisi doğru olarak tamamlar?

- A) läuft
- B) landet
- C) liegt
- D) liest

13. Kannst du gut Tennis spielen?

Welche Antwort passt zur obigen Frage?

Yukarıdaki sorunun cevabı aşağıdakilerden hangisinde doğru olarak verilmiştir?

- A) Ja, ich bin in der Basketballmannschaft.
- B) Ja, ich finde Sport sehr wichtig.
- C) Nein, wir haben morgen Training.
- D) Nein, ich kann nur ein bisschen Tennis spielen.

14. Mein Bruder und ich ----- gern Sport.

Welches Wort passt in die obige Lücke?

Yukarıdaki cümlede boş bırakılan yeri aşağıdakilerden hangisi doğru olarak tamamlar?

- A) sammeln
- B) treiben
- C) stricken
- D) feiern

15. Ich gehe ins Theater.

Welche Frage passt zur obigen Antwort?

Yukarıdaki cevabı gerektirecek soru aşağıdakilerden hangisinde doğru olarak verilmiştir?

- A) Was kaufst du?
- B) Wohin gehst du?
- C) Wann gehst du?
- D) Wie gehst du?

16. Wie findest du diese Bluse?

Welche Antwort passt zur obigen Frage?

Yukarıdaki sorunun cevabı aşağıdakilerden hangisinde doğru olarak verilmiştir?

- A) Ich kann die Kasse nicht finden.
- B) Ich finde sie originell und schick.
- C) Ich möchte heute tanzen gehen.
- D) Ich habe eine neue Jacke gekauft.

17. Ich wohne im Stadtzentrum.

Wie lautet der obige Satz auf Türkisch?

Yukarıdaki cümlenin Türkçe karşılığı aşağıdakilerden hangisinde doğru olarak verilmiştir?

- A) Şehir merkezinde oturuyorum.
- B) Şehir merkezi çok kalabalık oluyor.
- C) Merkeze kadar geliyorum.
- D) Merkeze kadar yürüyorum.

18. Das Hemd / Die Bluse / Das T-Shirt / Der Hut

Welches Wort passt nicht zu den anderen in der obigen Wortgruppe?

Yukarıdaki sözcük grubuna uymayan sözcük aşağıdakilerden hangisinde doğru olarak verilmiştir?

- A) Das Hemd
- B) Der Hut
- C) Das T-Shirt
- D) Die Bluse

19. Was bedeutet das Wort "pflücken" auf Türkisch?

"pflücken" sözcüğünün Türkçesi aşağıdakilerden hangisinde doğru olarak verilmiştir?

- A) kesmek
- B) biriktirmek
- C) dikmek
- D) koparmak

20. Wir kaufen Obst und Gemüse im -----.

Welches Wort passt in die obige Lücke?

Yukarıdaki cümlede boş bırakılan yeri aşağıdakilerden hangisi doğru olarak tamamlar?

- A) Post
- B) Metzgerei
- C) Apotheke
- D) Gemüseladen

2019 AÖÖ-AÖL I. DÖNEM 0101-A

1. Paulette aime jouer ----- tennis.

Choisissez le mot qui convient.

Cümledeki boşluğu aşağıdakilerden hangisi doğru şekilde tamamlar?

- A) au
B) à
C) des
D) du

2. Ils vont ----- Philippe.

Choisissez le mot qui convient.

Cümledeki boşluğu aşağıdakilerden hangisi doğru şekilde tamamlar?

- A) en
B) à
C) chez
D) de

3. Pour nager, nous allons à la -----.

Choisissez le mot qui convient.

Cümledeki boşluğu aşağıdakilerden hangisi doğru şekilde tamamlar?

- A) mairie
B) pharmacie
C) bibliothèque
D) piscine

4. I. Gérard parle très bien français.
II. Il habite en France.
III. Il est professeur de français.
IV. S'il vous plaît?

Trouvez la phrase qui ne convient pas.

Sırasıyla okunduğunda, anlam bütünlüğünü bozan cümleyi bulunuz.

- A) I
B) II
C) III
D) IV

5. La poste est ----- le cinéma et le théâtre.

Choisissez le mot qui convient.

Cümledeki boşluğu aşağıdakilerden hangisi doğru şekilde tamamlar?

- A) au milieu
B) entre
C) à coté
D) en face

6. Je peux parler français car je travaille -----.

Choisissez le mot qui convient.

Cümledeki boşluğu aşağıdakilerden hangisi doğru şekilde tamamlar?

- A) beaucoup
B) peu
C) jamais
D) pas

7. ----- 29 Octobre est la fête de la République en Turquie.

Choisissez le mot qui convient.

Cümledeki boşluğu aşağıdakilerden hangisi doğru şekilde tamamlar?

- A) Le
B) En
C) Au
D) Quand

8. I. Pour aller au Musée d'Atatürk.
II. Visiter les musées, c'est intéressant.
III. Vous traversez cette rue.
IV. Et vous tournez à gauche.

Choisissez la phrase qui ne convient pas a l'ensemble.

Sırasıyla okunduğunda anlam bütünlüğünü bozan cümle aşağıdakilerden hangisidir?

- A) I
B) II
C) III
D) IV

9. ----- été, nous allons au bord de la mer.

Choisissez le mot qui convient.

Cümledeki boşluğu aşağıdakilerden hangisi doğru şekilde tamamlar?

- A) Dans
- B) Ces
- C) En
- D) Quel

10. - -----tu ne vas pas à l'école?

- Parce que je suis malade.

Choisissez le mot qui convient.

Yukarıdaki konuşmada boş bırakılan yeri aşağıdakilerden hangisi doğru şekilde tamamlar?

- A) D'où
- B) Comment
- C) Combien
- D) Pourquoi

11. jour / sommes / quel / nous ?
I II III IV

Mettez dans le bon ordre.

Yukarıdaki kelimelerin anlamlı ve kurallı bir cümle oluşturan sırası aşağıdakilerin hangisinde doğru olarak verilmiştir?

- A) I, III, II, IV
- B) III, I, II, IV
- C) III, IV, II, I
- D) IV, III, II, I

12. Mes parents ----- Canada.

Choisissez l'expression qui convient.

Cümledeki boşluğu aşağıdakilerden hangisi doğru şekilde tamamlar?

- A) va à
- B) vont en
- C) va en
- D) vont au

13. Denise joue ----- 8 ans. Elle joue bien.

Choisissez le mot qui convient.

Cümledeki boşluğu aşağıdakilerden hangisi doğru şekilde tamamlar?

- A) mal
- B) aussi
- C) depuis
- D) dans

14. Il va à l'école ----- pied.

Choisissez le mot qui convient.

Cümledeki boşluğu aşağıdakilerden hangisi doğru şekilde tamamlar?

- A) le
- B) en
- C) à
- D) par

15. Le Musée d'Orsay est ----- la banque.

Choisissez l'expression qui convient.

Cümledeki boşluğu aşağıdakilerden hangisi doğru şekilde tamamlar?

- A) à côté de
- B) entre
- C) loin du
- D) en face

16. «Interdit de tourner à gauche.»

Choisissez la traduction qui convient.

Yukarıdaki cümlenin Türkçe karşılığı aşağıdakilerden hangisidir?

- A) Sağda yürümek yasaktır.
- B) Sağa dönmek yasaktır.
- C) Solda yürümek yasaktır.
- D) Sola dönmek yasaktır.

2019 AÖÖ-AÖL I. DÖNEM 0101-A

17. Vous payez comment? Par chèque ou -----
carte de crédit?

Choisissez le mot qui convient.

**Cümledeki boşluğu aşağıdakilerden hangisi
doğru şekilde tamamlar?**

- A) sur
- B) par
- C) en
- D) de

18. Elle va toujours à l'école ----- pied.

Choisissez le mot qui convient.

**Cümledeki boşluğu aşağıdakilerden hangisi
doğru şekilde tamamlar?**

- A) à
- B) le
- C) avec
- D) en

19. Le cinéma va commencer ----- dix minutes.

Choisissez le mot qui convient.

**Cümledeki boşluğu aşağıdakilerden hangisi
doğru şekilde tamamlar?**

- A) comme
- B) dans
- C) depuis
- D) il y a

20. - -----?

- Je viens de la Turquie.

Choisissez la question qui convient.

**Yukarıdaki konuşmada cevabı gerektiren
soru aşağıdakilerden hangisidir?**

- A) Comment vous appelez-vous
- B) Où allez-vous
- C) D'où venez-vous
- D) Quand êtes-vous parti

2019 AÖÖ-AÖL I. DÖNEM 0101-A

1. A: I don't want to stay at home.
B: ----- we go to a café?

Which of the following completes the dialogue above?

Aşağıdakilerden hangisi yukarıdaki konuşmayı doğru olarak tamamlar?

- A) How about
B) Let's
C) What about
D) Why don't

2. We ----- steak and cheese yesterday night.

Which of the following completes the sentence above?

Aşağıdakilerden hangisi yukarıdaki cümleyi doğru olarak tamamlar?

- A) eats
B) eat
C) eaten
D) ate

3. Ali: How ----- money is there in your pocket?
Can: There is 20 TL.

Which of the following completes the dialogue above?

Aşağıdakilerden hangisi yukarıdaki konuşmayı doğru olarak tamamlar?

- A) much
B) many
C) more
D) any

4. Do you mind ----- I use your pen?

Which of the following completes the sentence above?

Aşağıdakilerden hangisi yukarıdaki cümleyi doğru olarak tamamlar?

- A) when
B) could
C) would
D) if

5. I ----- get up at eight o'clock tomorrow morning.

Which of the following completes the sentence above?

Aşağıdakilerden hangisi yukarıdaki cümleyi doğru olarak tamamlar?

- A) going
B) going to
C) go to
D) am going to

6. Bill ----- her friends tomorrow afternoon.

Which of the following completes the sentence above?

Aşağıdakilerden hangisi yukarıdaki cümleyi doğru olarak tamamlar?

- A) is going to visit
B) visited
C) was visiting
D) visits

7. My aunt ----- a big birthday cake for me last Saturday.

Which of the following completes the sentence above?

Aşağıdakilerden hangisi yukarıdaki cümleyi doğru olarak tamamlar?

- A) made
B) making
C) makes
D) is making

8. ----- I have a menu, please?

Which of the following completes the sentence above?

Aşağıdakilerden hangisi yukarıdaki cümleyi doğru olarak tamamlar?

- A) Can
B) Must
C) Would
D) Shall

9. You ----- get a taxi or you will miss the train.

Which of the following completes the sentence above?

Aşağıdakilerden hangisi yukarıdaki cümleyi doğru olarak tamamlar?

- A) would
- B) shouldn't
- C) had better
- D) mustn't

10. You ----- sing a song in the library.

Which of the following completes the sentence above?

Aşağıdakilerden hangisi yukarıdaki cümleyi doğru şekilde tamamlar?

- A) must
- B) mustn't
- C) need
- D) should

11. Sam: How ----- apples are there in the basket?
Jim: There are a few.

Which of the following completes the dialogue above?

Aşağıdakilerden hangisi yukarıdaki konuşmayı doğru olarak tamamlar?

- A) much
- B) any
- C) many
- D) some

12. I ----- at the cinema at 5 o'clock yesterday.

Which of the following completes the sentence above?

Aşağıdakilerden hangisi yukarıdaki cümleyi doğru olarak tamamlar?

- A) were
- B) will
- C) was
- D) am

13. Alex ----- to the theatre last week.

Which of the following completes the sentence above?

Aşağıdakilerden hangisi yukarıdaki cümleyi doğru olarak tamamlar?

- A) go
- B) went
- C) going
- D) goes

14. The carpets are very dirty. I ----- clean them.

Which of the following completes the sentence above?

Aşağıdakilerden hangisi yukarıdaki cümleyi doğru şekilde tamamlar?

- A) mustn't
- B) must
- C) shouldn't
- D) don't have to

15. When did you ----- basketball?

Which of the following completes the sentence above?

Aşağıdakilerden hangisi yukarıdaki cümleyi doğru şekilde tamamlar?

- A) play
- B) played
- C) plays
- D) is playing

16. A: What is the matter with you?
B: I ----- a fever.

Which of the following completes the dialogue above?

Aşağıdakilerden hangisi yukarıdaki konuşmayı doğru olarak tamamlar?

- A) has got
- B) have got
- C) did
- D) does

2019 AÖÖ-AÖL I. DÖNEM 0101-A

17. A: I have got toothache.
B: You ----- go to a dentist.

Which of the following completes the dialogue above?

Aşağıdakilerden hangisi yukarıdaki konuşmayı doğru şekilde tamamlar?

- A) can't
- B) mustn't
- C) should
- D) shouldn't

18. A: What did you do last night?
B: I ----- English.

Which of the following completes the dialogue above?

Aşağıdakilerden hangisi yukarıdaki konuşmayı doğru olarak tamamlar?

- A) will study
- B) studying
- C) studies
- D) studied

19. Our school team won the football match -----.

Which of the following completes the sentence above?

Aşağıdakilerden hangisi yukarıdaki cümleyi doğru olarak tamamlar?

- A) tomorrow
- B) next week
- C) yesterday
- D) every day

20. They finished their project -----.

Which of the following completes the sentence above?

Aşağıdakilerden hangisi yukarıdaki cümleyi doğru olarak tamamlar?

- A) tomorrow
- B) last month
- C) every month
- D) next month

2019 AÖÖ-AÖL I. DÖNEM 0101-A

1. Wie viel kostet der Eintritt ----- Person?

Welches Wort passt in die obige Lücke?

Yukarıdaki cümlede boş bırakılan yeri aşağıdakilerden hangisi doğru olarak tamamlar?

- A) etwa
B) pro
C) bis
D) nur

2. Die Touristen ----- den Kölner Dom.

Welches Wort passt in die obige Lücke?

Yukarıdaki cümlede boş bırakılan yeri aşağıdakilerden hangisi doğru olarak tamamlar?

- A) besichtigen
B) verkaufen
C) bekommen
D) verbringen

3. Wo verbringst du deine Ferien?

Welche Antwort passt zur obigen Frage?

Yukarıdaki sorunun cevabı aşağıdakilerden hangisinde doğru olarak verilmiştir?

- A) Ich war schon in Holland.
B) Ich verbringe meine Ferien in Holland.
C) Er plant einiges für den Sommer.
D) Er wird in Deutschland studieren.

4. Sie ist im Erdgeschoss.

Welche Frage passt zur obigen Antwort?

Yukarıdaki cevabı gerektirecek soru aşağıdakilerden hangisinde doğru olarak verilmiştir?

- A) Wo ist die Bibliothek?
B) Gehen wir in die Mensa?
C) Wer ist euer Schulleiter?
D) Was macht ihr im Musikraum?

5. In der ----- spielen oder trainieren wir.

Welches Wort passt in die obige Lücke?

Yukarıdaki cümlede boş bırakılan yeri aşağıdakilerden hangisi doğru olarak tamamlar?

- A) Bibliothek
B) Mensa
C) Klasse
D) Sporthalle

6. Großeltern / Bauernhaus / meine / im / leben

Wie kann man mit den obigen Wortgruppen einen sinnvollen und richtigen Satz bilden?

Yukarıdaki sözcük gruplarıyla kurulabilecek en anlamlı ve doğru cümle aşağıdakilerden hangisinde doğru olarak verilmiştir?

- A) Im meine leben Bauernhaus Großeltern.
B) Leben meine im Großeltern Bauernhaus.
C) Meine Großeltern leben im Bauernhaus.
D) Großeltern meine leben Bauernhaus im.

7. Ich gehe mit meinen Freunden ins Kino.

Wie lautet der obige Satz im Perfekt?

Yukarıdaki cümlenin di' li geçmiş zaman şekli aşağıdakilerden hangisinde doğru olarak verilmiştir?

- A) Ich werde mit meinen Freunden ins Kino gehen.
B) Ich möchte mit meinen Freunden ins Kino gehen.
C) Ich hätte mit den Freunden ins Kino gehen können.
D) Ich bin mit meinen Freunden ins Kino gegangen.

8. A: -----
B: Ich habe die Kühe gemolken.
A: Das ist ja toll!

Welcher Satz ergänzt den obigen Dialog?

Yukarıdaki karşılıklı konuşmayı aşağıdakilerden hangisi doğru olarak tamamlar?

- A) Wann gehst du in die Ferien?
B) Hast du deine Familie besucht?
C) Was hast du auf dem Bauernhof gemacht?
D) Hattest du deine Hausaufgaben gemacht?

9. Beim ----- fasten die Moslems einen Monat lang tagsüber.

Welches Wort passt in die obige Lücke?

Yukarıdaki cümlede boş bırakılan yeri aşağıdakilerden hangisi doğru olarak tamamlar?

- A) Ramadan
B) Opferfest
C) Kinderfest
D) Siegesfest

10. Susanne hat im Zoo die ----- mit Bananen gefüttert.

Welches Wort passt in die obige Lücke?

Yukarıdaki cümlede boş bırakılan yeri aşağıdakilerden hangisi doğru olarak tamamlar?

- A) Schlange
B) Affen
C) Hund
D) Löwen

11. Das Kind schaut ----- das Fenster.

Welches Wort passt in die obige Lücke?

Yukarıdaki cümlede boş bırakılan yeri aşağıdakilerden hangisi doğru olarak tamamlar?

- A) nach
B) entlang
C) um
D) durch

12. Die Fahrt ----- Hamburg ----- Stuttgart dauert drei Stunden.

Welche Wörter passen in die obigen Lücken?

Yukarıdaki cümlede boş bırakılan yerleri aşağıdakilerden hangisi doğru olarak tamamlar?

- A) aus / ab
B) von / nach
C) seit / für
D) bis / in

13. Die Kinder gehen ----- Tanzkurs.

Welches Wort passt in die obige Lücke?

Yukarıdaki cümlede boş bırakılan yeri aşağıdakilerden hangisi doğru olarak tamamlar?

- A) zum
B) zur
C) aus
D) an

14. In Paris habe ich -----.

Welcher Satz ergänzt nicht die obige Lücke?

Yukarıdaki cümleyi aşağıdakilerden hangisi doğru olarak tamamlamaz?

- A) tolle Gerichte gegessen
- B) meine Freunde getroffen
- C) auf dem Eiffelturm viele Fotos gemacht
- D) im Westen von der Türkei

15. Was bedeutet das Wort "Das Gleis" auf Türkisch?

"Das Gleis" sözcüğünün Türkçesi aşağıdakilerden hangisinde doğru olarak verilmiştir?

- A) Beyin
- B) Ray
- C) Tarife
- D) Fay

16. Was bedeutet das Wort "mutlaka" auf Deutsch?

"mutlaka" sözcüğünün Almancası aşağıdakilerden hangisinde doğru olarak verilmiştir?

- A) unbedingt
- B) überall
- C) unwichtig
- D) überhaupt

17. essen / trinken / frühstücken / schlafen

Welches Wort passt nicht zu den anderen in der obigen Wortgruppe?

Yukarıdaki sözcük grubuna uymayan sözcük aşağıdakilerden hangisinde doğru olarak verilmiştir?

- A) frühstücken
- B) trinken
- C) schlafen
- D) essen

18. Welche Lebensmittel enthalten Eiweiß?

Welche Antwort passt zur obigen Frage?

Yukarıdaki sorunun cevabı aşağıdakilerden hangisinde doğru olarak verilmiştir?

- A) Man soll auch viel Wasser trinken.
- B) Kohlenhydrate wie Brot und Kartoffeln sind sehr wichtig.
- C) Fleisch, Fisch und Ei enthalten Eiweiß.
- D) In Obst und Gemüse sind viele Vitamine.

19. A: Hallo Frank!

B: Hallo Ayşe!

A: Ich möchte ----- zum Abendessen einladen.

B: Oh, das ist sehr nett. Wann?

A: Heute ----- 20:00 Uhr.

Welche Wörter passen in die Lücken im obigen Dialog?

Yukarıdaki karşılıklı konuşmada boş bırakılan yerleri aşağıdakilerden hangisi doğru olarak tamamlar?

- A) mir / an
- B) es / zu
- C) sich / ab
- D) dich / um

20. ----- ist ein wichtiger Nahrungsmittel beim Frühstück.

Welches Wort passt nicht in die obige Lücke?

Yukarıdaki cümlede boş bırakılan yeri aşağıdakilerden hangisi doğru olarak tamamlamaz?

- A) Der Honig
- B) Das Brot
- C) Die Erbsen
- D) Das Ei

2019 AÖÖ-AÖL I. DÖNEM 0101-A

1. Je vais ----- les courses.

Choisissez le mot qui convient.

Cümledeki boşluğu aşağıdakilerden hangisi doğru şekilde tamamlar?

- A) faire
B) à faire
C) de faire
D) fait

2. Le patron ----- de sortir, il n'est pas dans son bureau maintenant.

Choisissez le mot qui convient.

Cümledeki boşluğu aşağıdakilerden hangisi doğru şekilde tamamlar?

- A) va
B) vient
C) a
D) est

3. Je vais ----- aller au parc et après je vais me promener.

Choisissez le mot qui convient.

Cümledeki boşluğu aşağıdakilerden hangisi doğru şekilde tamamlar?

- A) quand
B) pendant
C) d'abord
D) mais

4. J'aime ----- la neige.

Choisissez le mot qui convient.

Cümledeki boşluğu aşağıdakilerden hangisi doğru şekilde tamamlar?

- A) regardent
B) regarde
C) regardes
D) regarder

5. A : Il y a du ----- à Antalya.
B : Oui, il fait chaud.

Choisissez le mot qui convient.

Konuşmadaki boşluğu aşağıdakilerden hangisi doğru şekilde tamamlar?

- A) neige
B) soleil
C) brouillard
D) nuages

6. Elles ----- aux cartes avec leurs amis ce soir.

Choisissez l'expression qui convient.

Cümledeki boşluğu aşağıdakilerden hangisi doğru şekilde tamamlar?

- A) jouez
B) joues
C) vais jouer
D) vont jouer

7. Elle ----- dans quelques heures.

Choisissez l'expression qui convient.

Cümlede boş bırakılan yeri aşağıdakilerden hangisi doğru şekilde tamamlar?

- A) va partir
B) vient de partir
C) vas partie
D) viens de partir

8. Nous venons de -----.

Choisissez le mot qui convient.

Cümledeki boşluğu aşağıdakilerden hangisi doğru şekilde tamamlar?

- A) manges
B) mange
C) manger
D) mangeait

9. ----- garder la forme je fais du sport.

Choisissez le mot qui convient.

Cümledeki boşluğu aşağıdakilerden hangisi doğru şekilde tamamlar?

- A) En
- B) Dans
- C) Pour
- D) Demain

10. Elles ont deux livres. C'est -----.

Choisissez le mot qui convient.

Cümledeki boşluğu aşağıdakilerden hangisi doğru şekilde tamamlar?

- A) les leurs
- B) le leur
- C) les leur
- D) les siennes

11. - Ce sont vos chaussures?

- Oui, c'est -----.

Choisissez le mot qui convient.

Yukarıdaki konuşmada boş bırakılan yeri aşağıdakilerden hangisi doğru şekilde tamamlar?

- A) les nôtres
- B) les vôtres
- C) les leurs
- D) les tiennes

12. En été, Monique ----- des cours.

Choisissez le mot qui convient.

Cümledeki boşluğu aşağıdakilerden hangisi doğru şekilde tamamlar?

- A) donne
- B) va donner
- C) donnait
- D) donnez

13. Elle vient d'-----.

Choisissez le mot qui convient.

Cümledeki boşluğu aşağıdakilerden hangisi doğru şekilde tamamlar?

- A) arrive
- B) arrivait
- C) arrivé
- D) arriver

14. «Je voudrais bien une tasse de thé.»

Choisissez la traduction qui convient.

Yukarıdaki cümlelerin Türkçe karşılığı aşağıdakilerden hangisidir?

- A) Çayı iyi isterim.
- B) Bir fincan çay isterim.
- C) Bir fincan çay verin.
- D) İyi bir çay isterim.

15. Je ----- aller au Cameroun et visiter le Sénégal.

Choisissez le mot qui convient.

Cümledeki boşluğu aşağıdakilerden hangisi doğru şekilde tamamlar?

- A) voudriez
- B) voudraient
- C) voudrait
- D) voudrais

16. Quand il était petit, il ----- dans le village avec sa famille.

Choisissez le mot qui convient.

Cümledeki boşluğu aşağıdakilerden hangisi doğru şekilde tamamlar?

- A) vivait
- B) va vivre
- C) vais vivre
- D) vivais

2019 AÖÖ-AÖL I. DÖNEM 0101-A

17. «Pierre pencereden ne görüyor?»

Choisissez la traduction qui convient.

Yukarıdaki cümlenin Fransızca karşılığı aşağıdakilerden hangisidir?

- A) Que dit Pierre par la fenêtre?
- B) Quand Pierre regarde par la fenêtre?
- C) Que voit Pierre par la fenêtre?
- D) Qui voit Pierre par la fenêtre?

18. «La mère de Paul vient d'arriver.»

Choisissez la traduction qui convient.

Yukarıdaki cümlenin Türkçe karşılığı aşağıdakilerden hangisidir?

- A) Paul'ün babası şimdi geldi.
- B) Paul'ün annesi şimdi geldi.
- C) Paul'ün annesi az sonra gelecek.
- D) Paul'ün babası az sonra gelecek.

19. Le chien est ----- les livres et le globe.

Choisissez le mot qui convient.

Cümledeki boşluğu aşağıdakilerden hangisi doğru şekilde tamamlar?

- A) sous
- B) à côté
- C) sur
- D) entre

20. Ce tableau est magnifique, ----- il coûte cher.

Choisissez le mot qui convient.

Cümledeki boşluğu aşağıdakilerden hangisi doğru şekilde tamamlar?

- A) bientôt
- B) grâce à
- C) mais
- D) assez

2019 AÖÖ-AÖL I. DÖNEM 0101-A

1. She doesn't have a driving licence, she ----- drive car.

Which of the following completes the sentence above?

Aşağıdakilerden hangisi yukarıdaki cümleyi doğru şekilde tamamlar?

- A) shouldn't
B) should
C) can
D) are

2. Peter doesn't eat the lasagne.

Which of the following sentences is the passive form of the sentence above?

Yukarıdaki cümlenin edilgen biçimi aşağıdakilerden hangisidir?

- A) The lasagne isn't eaten by Peter.
B) The lasagne not eaten by Peter.
C) Peter eats the lasagne.
D) The lasagne is eaten by Peter.

3. He cooks the dinner.

Which of the following sentences is the passive form of the sentence above?

Yukarıdaki cümlenin edilgen biçimi aşağıdakilerden hangisidir?

- A) He cooked the dinner.
B) The dinner cooked by him.
C) The dinner will cook by him.
D) The dinner is cooked by him.

4. A: It is going to rain.
B: -----.

Which of the following completes the dialogue above?

Aşağıdakilerden hangisi yukarıdaki karşılıklı konuşmayı doğru şekilde tamamlar?

- A) You should see a doctor
B) You should take an umbrella
C) You should call the teacher
D) You shouldn't drink tea

5. A: Can I watch television?
B: ----- . It is forbidden.

Which of the following completes the dialogue above?

Aşağıdakilerden hangisi yukarıdaki karşılıklı konuşmayı doğru şekilde tamamlar?

- A) Yes, you can
B) Of course
C) Sure
D) No, you can't

6. The money ----- by her sister.

Which of the following completes the sentence above?

Aşağıdakilerden hangisi yukarıdaki cümleyi doğru şekilde tamamlar?

- A) pays
B) paid
C) is paid
D) pay

7. My father is responsible for ----- out the garbage.

Which of the following completes the sentence above?

Aşağıdakilerden hangisi yukarıdaki cümleyi doğru şekilde tamamlar?

- A) making
B) taking
C) doing
D) setting

8. First, ----- the eggs into a small bowl.

Which of the following completes the sentence above?

Aşağıdakilerden hangisi yukarıdaki cümleyi doğru şekilde tamamlar?

- A) dice
B) peel
C) crack
D) cut

9. The woman ----- wears a black hat is my mother.

Which of the following completes the sentence above?

Aşağıdakilerden hangisi yukarıdaki cümleyi doğru şekilde tamamlar?

- A) who
- B) whose
- C) which
- D) when

10. If I ----- you, I wouldn't wear that red shirt.

Which of the following completes the sentence above?

Aşağıdakilerden hangisi yukarıdaki cümleyi doğru şekilde tamamlar?

- A) were
- B) am
- C) will be
- D) would be

11. Shop Assistant: Hello, Good morning! Can I help you?

Mike : Yes, I'm looking for a sweater.

Shop Assistant: -----?

Mike : I usually use Medium size.

Which of the following completes the dialogue above?

Aşağıdakilerden hangisi yukarıdaki karşılıklı konuşmayı doğru şekilde tamamlar?

- A) How does it fit
- B) Can I try it on
- C) What size are you
- D) Do you have a larger one

12. I would donate some money if I ----- rich.

Which of the following completes the sentence above?

Aşağıdakilerden hangisi yukarıdaki cümleyi doğru şekilde tamamlar?

- A) would be
- B) am
- C) were
- D) will be

13. I would rather drink coffee ----- tea.

Which of the following completes the sentence above?

Aşağıdakilerden hangisi yukarıdaki cümleyi doğru şekilde tamamlar?

- A) over
- B) to
- C) that
- D) than

14. If she ----- a smartphone, she would buy one.

Which of the following completes the sentence above?

Aşağıdakilerden hangisi yukarıdaki cümleyi doğru şekilde tamamlar?

- A) would want
- B) want
- C) wants
- D) wanted

15. The World Wide Web became available for people.

What is the synonym of the underlined word in the sentence above?

Yukarıdaki cümlede altı çizili kelimenin eş anlamlısı aşağıdakilerden hangisidir?

- A) Accessible
- B) Whole
- C) Source
- D) Confidential

16. The film ----- I watched last night was very good.

Which of the following completes the sentence above?

Aşağıdakilerden hangisi yukarıdaki cümleyi doğru şekilde tamamlar?

- A) whose
- B) which
- C) when
- D) who

2019 AÖÖ-AÖL I. DÖNEM 0101-A

17. If you ----- more time, you would spend more time with your friends.

Which of the following completes the sentence above?

Aşağıdakilerden hangisi yukarıdaki cümleyi doğru şekilde tamamlar?

- A) have
- B) would have
- C) will have
- D) had

18. This hotel is ----- one in the city.

Which of the following completes the sentence above?

Aşağıdakilerden hangisi yukarıdaki cümleyi doğru şekilde tamamlar?

- A) the cheaper
- B) cheapest
- C) the cheapest
- D) cheaper than

19. This is ----- bag in the store.

Which of the following completes the sentence above?

Aşağıdakilerden hangisi yukarıdaki cümleyi doğru şekilde tamamlar?

- A) more expensive
- B) the most expensive
- C) expensive
- D) expensive than

20. My father is ----- than my grandfather.

Which of the following completes the sentence above?

Aşağıdakilerden hangisi yukarıdaki cümleyi doğru şekilde tamamlar?

- A) young
- B) younger
- C) youngest
- D) the youngest

2019 AÖÖ-AÖL I. DÖNEM 0101-A

1. Eşlerin karşılıklı sorumlulukları ile ilgili aşağıdaki ifadelerden hangisi yanlıştır?

- A) Eşler, aile içindeki rollerini yerine getirirken "biz" yerine "ben" anlayışıyla davranmalıdır.
- B) Eşler, hak ve sorumluluklarını yerine getirirken hak ile adaleti gözetmelidir.
- C) Eşler, nezaket kurallarına uymalıdır.
- D) Eşler, yeri geldiğinde aile saadetlerini korumak için maddi manevi fedakârlıkta bulunmalıdır.

- 2. I. Ahlaki yozlaşma
- II. Alkol ve madde bağımlılığı
- III. Boşanma
- IV. Zina

Yukarıdakilerden hangileri sosyal hayatı olumsuz yönde etkileyen faktörlerdir?

- A) Yalnız II
- B) I ve III
- C) I, II ve IV
- D) I, II, III ve IV

3. Aşağıdakilerden hangisi evliliğin amaçlarından biri değildir?

- A) Sevmeye ve sevilme ihtiyacını karşılamak
- B) Maddi çıkar elde etmek
- C) Dayanışma duygusunu hissetmek
- D) Toplumda bir yer edinebilmek

4. Bir insanı öldürmenin büyük bir günah olduğu, onu yaşatmanın ise ne kadar yüce bir davranış olduğu Kur'an-ı Kerim'in hangi ayetinde belirtilmiştir?

- A) En'am Suresi, 151. Ayet
- B) Hucurat Suresi, 6. Ayet
- C) Nur Suresi, 30. Ayet
- D) Maide Suresi, 32. Ayet

5. "Allah size emanetleri mutlaka ehline vermenizi, insanlar arasında hükmettiğiniz zaman adaletle karar vermenizi emreder..." (Nisa Suresi, 58. Ayet)

Yukarıdaki ayet sosyal hayatla ilgili temel unsurlardan hangisine işaret etmektedir?

- A) Sulh
- B) Kardeşlik
- C) Hak ve adaleti gözetme
- D) Yardımlaşma ve dayanışma

6. Aşağıdakilerden hangisi Müslüman toplumdaki yardımlaşma ve dayanışma ile ilgili uygulamalardan biri değildir?

- A) Cizye
- B) Zekât
- C) Sadaka
- D) İnfak

7. Karı-kocanın, kendilerine ait bir mahremiyet ve paylaşım alanı oluşturmalarını ve neslin devamını sağlayan meşru ve özel ilişkiye ne ad verilir?

- A) Nişan
- B) Evlilik
- C) Nikâh
- D) Aile

- 8. I. Sevgi ve saygı
- II. Sözünde durmak
- III. İşi sağlam yapmak

Yukarıdakilerden hangileri bir toplumda emniyet ve güven ortamının oluşmasını sağlayan etkenlerdir?

- A) Yalnız I
- B) Yalnız II
- C) II ve III
- D) I, II ve III

9. Aşağıdaki durumların hangisinde eşler ve çocuklar boşanmanın olumsuz etkilerine daha az maruz kalır?

- A) Boşanmanın, baskı altında gerçekleşmesi
- B) Boşanmanın, sadakatsizlik nedeniyle gerçekleşmesi
- C) Boşanmanın, karşılıklı anlaşarak gerçekleşmesi
- D) Boşanmanın, şiddet altında gerçekleşmesi

10. Aşağıdakilerden hangisi hiçbir kişisel çıkar ve kazanç gözetmeksizin sırf Allah rızası için ihtiyaç sahibine verilen borcu ifade eder?

- A) Hibe
- B) Karz-ı hasen
- C) Miras
- D) İnfak

11. Aşağıdakilerden hangisi kul hakkına girmeye bir örnek değildir?

- A) Birinden borç almak
- B) Dedikodu yapmak
- C) Sırları ifşa etmek
- D) Özel hayatı araştırmak

12. I. Hibe
II. Tefecilik
III. Rüşvet
IV. Kumar

İslâm dinine göre yukarıdakilerden hangileri haksız kazançtır?

- A) Yalnız I
- B) I ve IV
- C) II ve III
- D) II, III ve IV

13. Aşağıdakilerden hangisi karaborsacılık anlamına gelen ifadelerden biri değildir?

- A) İfşa etmek
- B) İstiflemek
- C) Saklamak
- D) Depolamak

14. "Mallarınızı aranızda haksız yollarla yemeyin. İnsanların mallarından bir kısmını bile bile haram yollarla yemek için o mallardan vermeyin." (Bakara Suresi, 188. Ayet)

Yukarıdaki ayette, aşağıdakilerden hangisinin İslâm dinince yasak olduğu belirtilmiştir?

- A) Karaborsacılık
- B) Rüşvet
- C) Hileli satış
- D) Faiz

15. Ticari bir ürünü pahallaşma gayesiyle saklayıp piyasaya arzını geciktirmeye ne ad verilir?

- A) Spekülasyon
- B) Manipülasyon
- C) Karaborsacılık
- D) Hileli satış

16. Aşağıdakilerden hangisi İslâm dinine göre, borçlanma ile ilgili kurallardan biridir?

- A) Borcu asla bağışlamamak
- B) İmkânı olduğu halde borcu ödememek
- C) Mecbur kalınmasa dahi borçlanmak
- D) Borçluya karşı haksızlık etmemek

17. Aşağıdakilerden hangisi ekonomik hayatı olumsuz etkileyen uygulamalardan biridir?

- A) İnfak etmek
- B) Yapay olarak fiyatlarla oynamak
- C) Mal veya üründeki kusuru ifşa etmek
- D) Parayı üretime katmak

18. Aşağıdakilerden hangisi infak kapsamında yer almaz?

- A) Tutumlu olmak
- B) İlim öğretmek
- C) Sadaka vermek
- D) Zekât vermek

19. Aşağıdakilerden hangisi İslâm dininin faizle ilgili görüşlerinden biri değildir?

- A) Paranın üretim dışında tutulması uygun değildir.
- B) Sermayenin belli kişilerde toplanması, gelir dağılımında farklılıklara neden olur.
- C) Parayı üretime katmadan veya risk ve zarara katlanmadan kazanç elde edilebilir.
- D) Faiz, varlıklı insanların ihtiyaç sahiplerini sömürmesine yol açar.

20. Aşağıdakilerden hangisi işverenin hak ve sorumluluklarından biri değildir?

- A) İşi ehline vermek
- B) İşçileri çalışma saatinden fazla çalıştırmamak
- C) İş ortamının güvenliğini sağlamak
- D) İşçinin ücretini işin bitiminden sonra belirlemek

2019 AÖÖ-AÖL I. DÖNEM 0101-A

1. “Kayıp Aranıyor” adlı roman aşağıdaki yazarlardan hangisine aittir?
- A) Memduh Şevket Esendal
B) Sait Faik Abasıyanık
C) Tarık Buğra
D) Refik Halit Karay
2. Türk edebiyatında Batılı anlamda ilk hikâye örneği aşağıdaki yazarlardan hangisine aittir?
- A) Ahmet Mithat Efendi
B) Samipaşazade Sezai
C) Ömer Seyfettin
D) Halide Edip
3. Bir ülke içinde aynı dilin farklı konuşma şekillerine ne ad verilir?
- A) Jargon
B) Ağız
C) Argo
D) Lehçe
4. Aşağıdaki sözcüklerin hangisinde ses düşmesi meydana gelmiştir?
- A) denizaltı
B) karabiber
C) sivrisinek
D) kahvaltı
5. Öğretici metinlerle ilgili aşağıdaki ifadelerden hangisi yanlıştır?
- A) Kurmaca söz konusudur.
B) Kelimeler gerçek anlamlarıyla kullanılır.
C) Dil, göndergesel işleviyle kullanılır.
D) Anlatıcı nesnel bir tutum izler.
6. Dünya edebiyatında bilinen ilk hikâye örneği aşağıdaki yazarlardan hangisine aittir?
- A) Gogol
B) Boccaccio
C) Turgenyev
D) Çehov
7. Aşağıdakilerden hangisi anlatmaya bağlı metinlerden biridir?
- A) Dram
B) Trajedi
C) Komedi
D) Masal
8. Edebî metinlerle ilgili aşağıdaki ifadelerden hangisi yanlıştır?
- A) Anlatıcı öznel bir tutum izler.
B) Çok anlamlılık söz konusudur.
C) Bilgi verme amaçlıdır.
D) Gerçeğimsi bir yapıya sahiptir.
9. La Fontaine’in masallarını Türk edebiyatına “Tercüme-i Manzume” adıyla aşağıdaki yazarlardan hangisi çevirmiştir?
- A) Ahmet Mithat Efendi
B) Namık Kemal
C) Şinasi
D) Mehmet Rauf
10. Aşağıdakilerden hangisi Refik Halit Karay’ın mizah konulu eserlerinden biri değildir?
- A) Ay Peşinde
B) Guguklu Saat
C) Kirpinin Dedikleri
D) Yezidin Kızı

11. Aşağıdakilerden hangisi kişisel hayatı konu alan metinlerden biri değildir?

- A) Fıkra
- B) Anı
- C) Mektup
- D) Günlük

12. Aşağıdakilerden hangisi “masal” türünün özelliklerinden biri değildir?

- A) Hayal mahsulü olması
- B) Olayların, kahramanların ve varlıkların sıradan özellikler taşıması
- C) Nesirle söylenmesi
- D) Ahlaka dayalı, yararlı, eğitici olarak düşünülmesi

13. Aşağıdaki cümlelerin hangisinde sayı sıfatı kullanılmıştır?

- A) Okuldan gelecek sene mezun olacağım.
- B) Bahçedeki ağacı kestik.
- C) Kızım yarışmada ikinci oldu.
- D) Çocuk, hızla yanımdan geçti.

14. Gel ey mahbube Çin'den
O şirin köşk içinden

Yukarıdaki dizelerde aşağıdaki uyak türlerinden hangisi kullanılmıştır?

- A) Cinaslı uyak
- B) Zengin uyak
- C) Tam uyak
- D) Tunç uyak

15. Aşağıdaki şairlerden hangisi Türk edebiyatında “saf şiir” anlayışının kurucusu ve aynı zamanda en önemli temsilcisidir?

- A) Fazıl Hüsnü Dağlarca
- B) Yahya Kemal Beyatlı
- C) Orhan Veli
- D) Mehmet Emin Yurdakul

16. Aşağıdaki cümlelerin hangisinde bağlaç kullanılmıştır?

- A) O karda gezip izini belli etmez.
- B) Doğru cevapları işaretledim.
- C) Türk dili köklü ve zengin bir dildir.
- D) Aklına gelen başına geldi.

17. Aşağıdakilerden hangisi “fabl” türünün özelliklerinden biri değildir?

- A) Zaman ve yerin genellikle belirli olması
- B) Serim, çözüm ve öğüt bölümlerinden oluşması
- C) Sonunda her zaman ahlak dersi verilmesi
- D) Manzum ya da nesir biçiminde yazılması

18. Aşağıdakilerden hangisi “mahlas”ın özelliklerinden biri değildir?

- A) Divan ve halk edebiyatında geleneğe bağlı bir kural olması
- B) Şairlerin şiirlerinde kullandıkları takma adlara verilen isim olması
- C) Halk edebiyatında “tapşırma” adı verilmesi
- D) İlk beyitte veya üçüncü dörtlükte söylenmesi

19. Dünya edebiyatında ilk fabl örneklerini aşağıdakilerden hangisi yazmıştır?

- A) Herodot
- B) Aisop
- C) Beydeba
- D) Sokrates

20. Aşağıdaki altı çizili sözcüklerden hangisi sıfat olarak kullanılmıştır?

- A) Beyaz örtüyü masaya serdik.
- B) Balkondan Ay tutulmasını izledik.
- C) Keşke şimdi memleketimde olsaydım.
- D) Sobayı yakınca oda ısındı.

2019 AÖÖ-AÖL I. DÖNEM 0101-A

1. Aşağıdakilerden hangisi anlamına göre şart cümlesidir?

- A) Bu işi başarmak istiyorsan daha çok çalışmalısın.
- B) Her işi yapmaya hazırım.
- C) Biraz temiz hava alalım.
- D) Keşke böyle bir felaket yaşanmasaydı.

2. Milli Edebiyat romanı ile ilgili aşağıdaki ifadelerden hangisi doğrudur?

- A) Teknik açıdan başarı yakalayamamıştır.
- B) Bireyin iç dünyasına yönelim fazladır.
- C) Halka doğru ilkesi ile hareket edilmiştir.
- D) Süslü bir dil ve üslup hâkimdir.

3. Batı tiyatro anlayışının Türk edebiyatına yerleşip benimsenmesinde ve Türk komedy yazarlığının yeni bir doğrultuda gelişmesinde en çok etkili olan yazar kimdir?

- A) Shakespeare
- B) Moliere
- C) Samuel Brecht
- D) Goethe

4. I. Mukaddime
II. Giriş
III. Bitiş
IV. Fasıll

Yukarıdakilerden hangileri Karagözün bölümlerine verilen isimlerdendir?

- A) I ve II
- B) I ve III
- C) I, II ve III
- D) I, III ve IV

5. Aşağıdakilerden hangisi Orta Oyunu'nda yer alan tiplerden biri değildir?

- A) Şeyh Küşteri
- B) Pişekâr
- C) Kavuklu Hamdi
- D) Zenne

6. I. Modern tiyatrodaki tek kişilik oyunların ilk örneğidir.
II. Karagöz ve orta oyunu ile hayalin genişliği ve olayların zenginliği açısından benzerlik gösterir.
III. Günümüzde tamamen kimlik değiştirilerek "Stand up" denilen gösteriye dönüşmüştür.
IV. Merak unsurunu artırmak için bazen asıl olayın dışına çıkar.

Meddahla ilgili yukarıdaki ifadelerden hangileri doğrudur?

- A) I ve III
- B) II ve IV
- C) I, III ve IV
- D) II, III ve IV

7. Aşağıdakilerden hangisi yapısına göre bağımsız sıralı bir cümledir?

- A) Bu sene bahar erken geldi, ağaçlar vakitsiz çiçek açtı.
- B) Arkadaşıma çok güvenirdim, bütün sırlarımı anlatırdım.
- C) Kardeşim odamızı dağıtırdı, bense toplardım.
- D) Müdüre, dereceye gren öğrencileri sahneye çağırırdı, tek tek tebrik etti.

8. I. Roman türünün ilk örnekleri verilmiştir.
II. Teknik açıdan kusursuz romanlar yazılmıştır.
III. Romanlarda asıl amaç estetik zevk oluşturmaktır.
IV. Tanzimat'ın ilk döneminde eserlerde romantizm akımının etkisi görülür.

Tanzimat dönemi romanı ile ilgili yukarıdaki ifadelerden hangileri doğrudur?

- A) I ve II
- B) I ve III
- C) I ve IV
- D) II ve IV

9. 5N1K kuralı "neden?" sorusu aşağıdakilerden hangisine cevap verir?

- A) Konunun ne olduğu
- B) İlgili ve sorumlu kişileri
- C) Mekân ve yer kavramlarını
- D) Amacın ne olduğu

10. Aşağıdakilerden hangisi kurallı bir isim cümlesidir?

- A) Gülme komşuna, gelir başına.
- B) Mikroplar, gözle görülmeyen minik canlılardır.
- C) Babasının yanından hiç ayrılmıyordu.
- D) Yine açıklardan dev gibi gemiler geçiyor.

11. Aşağıdaki anı örnekleri ve yazar eşleştirmelerinden hangisi doğrudur?

- A) Jean Jacques Rousseou → Şiir ve Gerçek
- B) Goethe → İtiraflar
- C) Andre Gide → Jurnaller
- D) Babür Şah → Şecere-i Türk

12. Günümüzde TV kadar hızlı, gazete kadar derin ve kapsamlı olması nedeniyle okuyucu tarafından çok fazla tercih edilen medya organı aşağıdakilerden hangisidir?

- A) Dergi
- B) Genel ağ
- C) Radyo
- D) Televizyon

13. Basın-yayın organlarının temel ögesi aşağıdakilerden hangisidir?

- A) İletişim
- B) Gazete
- C) Olay
- D) Haber

14. Aşağıdakilerden hangisi “anı” türünün özelliklerinden biri değildir?

- A) Geçmişin üçüncü kişi ağzıyla anlatılması
- B) İnsan belleğinde iz bırakan olay ve olguları anlatması
- C) Yazarın unutulmasını istemediği gerçekleri kalıcı kılması
- D) Tarihçilere ışık tutması

15. Bir gazetenin adının altında, ilk sayfasını en üst bölümünde, önem verilen bir haberin iri harflerle konulan başlığına ne ad verilir?

- A) Spot
- B) Manşet
- C) Kupür
- D) Tiraj

16. Tanınmış kişilerin yaşamları içinde olup biten olayları çekici bir üslupla kaleme almalarından doğan yazı türüne ne ad verilir?

- A) Günlük
- B) Söylev
- C) Röportaj
- D) Anı

17. Aşağıdakilerden hangisi gezi yazısı yazarken dikkat edilmesi gereken hususlardan biri değildir?

- A) Görsel öğelerle desteklenmelidir.
- B) Önemli olmayan yerlerde ayrıntıya girilmemelidir.
- C) Sanatlı bir dil kullanılmalıdır.
- D) Bilgiler kısa ve öz olmalıdır.

18. Aşağıdaki gezi yazısı ve yazar eşleştirmelerinden hangisi yanlıştır?

- A) Frankfurt Seyahatnamesi-Ahmet Haşim
- B) Avrupa'da Bir Cevelan-Cenap Şahabettin
- C) Anadolu Notları -Reşat Nuri Güntekin
- D) Seyahatname-Evliya Çelebi

19. Seyahatnamelerle ilgili aşağıdaki ifadelerden hangisi yanlıştır?

- A) Sadece gezip görme ihtiyacından doğmuştur.
- B) Tarihi belge niteliği taşır.
- C) Bir şehrin, bir beldenin, tarihi bir eserin o anki durumunu anlatır.
- D) Ayrıntılı tasvirlerle yer verir.

20. I. Açık, sade, anlaşılır bir dille yazılması
II. Açıklayıcı, betimleyici, öyküleyici anlatım tarzı kullanılması
III. Odak noktasının mekân olması
IV. Tarih, coğrafya, sosyoloji gibi bilim dallarına kaynaklık etmesi

Yukarıdakilerden hangileri anı ile gezi yazısının ortak özellikleridir?

- A) I ve II
- B) II ve IV
- C) I, II ve III
- D) I, II ve IV

2019 AÖÖ-AÖL I. DÖNEM 0101-A

1. Edebiyat ile psikoloji ve psikiyatri arasındaki ilişki ile ilgili aşağıdaki ifadelerden hangisi **yanlıştır**?

- A) Edebi eserde yapılan ruh çözümlemesi ile bir psikoloğun yaptığı çözümleme yöntemleri aynıdır.
- B) Edebiyat ve psikolojinin temelinde insanın iç dünyasını anlamak vardır.
- C) Bir edebi eserin oluşturulmasından okurla buluşmasına kadar tüm aşamalarında psikolojik etkileşim söz konusudur.
- D) Edebi eser oluşturulurken psikoloji ve psikiyatriden yararlanmak o eseri psikolojik bir araştırma yapmaz.

2. "Kamus-ı Türki" adlı sözlüğün yazarı kimdir?

- A) Ahmet Vefik Paşa
- B) Mustafa bin Şemsettin
- C) Şemsettin Sami
- D) Ferit Develioğlu

3. Dilin tarihi süreç içerisindeki değişimi ile ilgili aşağıdaki ifadelerden hangisi **yanlıştır**?

- A) Günümüzde bir dilin değişimini etkileyen en önemli sebep teknolojik gelişmelerdir.
- B) Çeviri, sadece yazı dilini etkileyen bir değişim unsurudur.
- C) Toplumda meydana gelen her türlü değişim dili etkiler.
- D) Bir dilde değişim ister dilin iç isterse dış dinamikleri olsun, dilin kendi işleyişi doğası ve kuralları içerisinde gerçekleşir.

- 4. I. Köpek sadık bir dosttur.
- II. Köpek çok huysuzlanıyor.
- III. Köpeğin mamasını verdi.

Yukarıdaki cümlelerin hangilerinde "köpek" kelimesi genel anlamında kullanılmıştır?

- A) Yalnız I
- B) Yalnız III
- C) I ve III
- D) II ve III

5. Aşağıdaki cümlelerin hangisinde altı çizili kelime somut anlamlıdır?

- A) Her insan sevgiye muhtaçtır.
- B) Duygularıyla dalga geçilmesinden hiç hoşlanmazdı.
- C) Sabah sabah gördüğü rüyasını anlattı.
- D) Yastık o kadar sertiki boynum tutulmuş.

6. Varoluşun özden önce geldiğini ve özü sürekli olarak yarattığını ileri süren öğretiyeye ne ad verilir?

- A) Kurlsızlık
- B) Varoluşçuluk
- C) Nihilizm
- D) Sembolizm

7. "kol" kelimesi aşağıdaki cümlelerin hangisinde gerçek anlamında kullanılmıştır?

- A) Okulda resim koluna başkan seçildi.
- B) Tüm dostları dört bir koldan yardımına koştu.
- C) Haftasonu kolunu inciten çocuk sınava giremedi.
- D) Sonbaharda ağacın bütün kollarını budadılar.

8. Aşağıdaki cümlelerin hangisinde eş anlamlı kelimeler bir arada kullanılmıştır?

- A) Hepinize sonsuz teşekkürlerimi ve şükranlarımı sunuyorum.
- B) Sınavda altı doğru üç yanlışı varmış.
- C) En öne geçtiği için arkadakiler hiçbir şey göremedi.
- D) Her konuda az çok bilgi sahibi bir insandır.

9. "Küçürek Hikâye" türü ile ilgili aşağıdaki ifadelerden hangisi **yanlıştır**?

- A) Çağrışıma açık metinlerdir.
- B) Kişi zaman ve mekân gibi unsular ayrıntıları ile işlenir.
- C) Anlatımdan çok sezdirmeye dayalı hikâyelerdir.
- D) 20. yüzyılın sonlarında ortaya çıkmıştır.

10. Aşağıdaki kelimelerden hangisinin eş seslisi **yoktur**?

- A) Kalkan
- B) Bağır
- C) Devir
- D) Esir

11. Konu, tema, kişi ve bu kişilerin metindeki işlevlerinin belirlendiği "hikâye yazma planı" bölümü aşağıdakilerden hangisidir?

- A) Metni düzeltme ve geliştirme
- B) Planlama
- C) Hazırlık
- D) Taslak metin oluşturma

2019 AÖÖ-AÖL I. DÖNEM 0101-A

12. I. Plan doğrultusunda metin yazma
II. Kişileri ve metindeki işlevleri belirleme
III. Anlatım biçimleri ve tekniklerinden yararlanma
IV. Metin tutarlılığını değerlendirme

Yukarıdakilerden hangileri bir hikâye oluşturulurken "taslak metin oluşturma" aşamasında yapılacaktır?

- A) I ve II
B) I ve III
C) I, III ve IV
D) II, III ve IV

13. **Aşağıdaki kelime çiftlerinden hangisi yakın anlamlıdır?**

- A) asır-yüzyıl
B) aş-yemek
C) ilgi-alaka
D) rahat-huzur

14. **"canavar" kelimesinin eskiden "canlı, yaşayan, hayvan" gibi anlamlara gelmesine rağmen günümüzde "yabani, yırtıcı hayvan" anlamına gelmesi aşağıdakilerden hangisine örnektir?**

- A) Anlam kötüleşmesi
B) Anlam kayması
C) Anlam daralması
D) Anlam genişlemesi

15. **Aklın, geleneklerin, alışkanlıkların denetiminden uzak; bilinçaltı gerçeklerini yansıtan, bilinen gerçekle bağını kesip kendince bir gerçek yaratmak amacını güden edebiyat ve sanat akımı aşağıdakilerden hangisidir?**

- A) Fütürizm
B) Sembolizm
C) Sürrealizm
D) Natüralizm

16. I. Dilde sadeleşme
II. Aruz ölçüsünü kullanma
III. Anadolu insanının sorunlarını dile getirme

Yukarıdakilerden hangileri Cumhuriyet Dönemi'nde Milli Edebiyat anlayışını yansıtan şairlerin ortak özelliklerindedir?

- A) Yalnız I
B) Yalnız II
C) I ve II
D) I ve III

17. **"Bayrak Şairi" olarak ünlenen şairimiz kimdir?**

- A) Faruk Nafiz Çamlıbel
B) Arif Nihat Asya
C) Namık Kemal
D) Ahmet Kutsi Tecer

18. I. Şiirde içerikten çok biçime önem vermişlerdir.
II. Serbest nazımla şiirlerini yazmışlardır.
III. Marş olarak okunmaya uygun şiirler üretmişlerdir.
IV. Toplum için sanat anlayışını benimsemişlerdir.

Yukarıdakilerden hangileri toplumcu gerçekçi şairlerin ortak özelliklerindedir?

- A) I ve II
B) I ve III
C) I, II ve IV
D) II, III ve IV

19. **"Toplum için sanat" anlayışının asıl amacı aşağıdakilerden hangisidir?**

- A) Sosyal hayata fayda sağlamak
B) Güzellik duygusuna ulaşmak
C) Estetik başarıyı yakalamak
D) İdeolojik söylemden uzak durmak

20. **Dini değerleri, geleneğe duyarlılığı ve metafizik anlayışını öne çıkaran şiir anlayışı ile ilgili aşağıdaki ifadelerden hangisi yanlıştır?**

- A) Şairler, geleneksel unsurları modern şiir biçimleri ile sentezlemişlerdir.
B) Geleneksel Türk-İslam kültür, sanat ve edebiyat birikimlerinden değişik şekillerde yararlanmışlardır.
C) Türk edebiyatında özellikle Garipçilerin yazdığı şiirler bu şiir geleneğini oluşturmuştur.
D) Sezgicilik ve mistisizm akımlarının etkisiyle metafizik ve dini konuları ele almışlardır.

BU SAYFA BOŞ BIRAKILMIŞTIR.

SINAVDA UYULMASI GEREKEN GENEL KURALLAR

1. Sınava girmek için gerekli belgelerinizin tümünü sınav başlamadan önce sıranızın üzerine bırakınız.
2. Sınav süresince görevlilerle konuşmak, görevlilere soru sormak yasaktır. Aynı şekilde görevlilerin de öğrencilerle yakından ve alçak sesle konuşmaları yasaktır. Gerekli durumlarda görevliler yerinizi değiştirebilir.
3. Size verilen cevap kâğıdının üzerindeki TCKN/Öğrenci no, ad, soyadı, bilgilerini kontrol ediniz, ilgili alanları eksiksiz doldurarak imzalayınız. Bu bilgiler size ait değilse, görevlileri uyararak size ait cevap kâğıdını isteyiniz. Başka öğrenciye ait cevap kâğıdı kullanan öğrencilerin o oturumdaki sınavları geçersiz sayılır.
4. Cevap kâğıdı üzerine test grubunu (A, B, C, D) kodlamayan veya birden fazla kodlama yapan öğrencilerin sınavları geçersiz sayılır.
5. Cevap kâğıdınıza yazacağınız her türlü yazı ve yapacağınız işaretlemeler için koyu yazan siyah kurşun kalem kullanmalısınız. Siyah kurşun kalem dışında farklı bir kalem (tükenmez, mürekkepli ya da renkli vb.) kullanan öğrencilerin sınavları geçersiz sayılır.
6. Cevap kâğıdı üzerinde değişiklik yapmak istediğinizde, iz bırakmayan bir silgi kullanınız. Cevap kâğıdınızı buruşturmayınız, katlamayınız ve üzerine gereksiz hiçbir işaret koymayınız.
7. Cevaplarınızı, cevap kâğıdında ilgili test için ayrılmış olan alana, cevap yerinin dışına taşırmadan işaretleyiniz. Soru kitapçığı üzerinde yapılan işaretlemeler değerlendirmeye alınmayacaktır.
8. Her sorunun tek bir doğru cevabı vardır. Bir soru için birden çok cevabı işaretlerseniz, o soruyu yanlış cevaplamış sayılacaksınız.
9. Soru kitapçığınızı aldığınızda sayfalarına hızlıca bakarak hatalı ya da eksik baskı olup olmadığını kontrol ediniz. Hata/eksik olması durumunda kitapçığının değiştirilmesi için derhâl Salon Başkanına başvurunuz. Sınav görevlileri sınavın başladığını belirtmeden kitapçığınızı tekrar açmayınız.
10. Cevap kâğıdınızda belirtilen kitapçık kodu ile soru kitapçığının kodunu karşılaştırınız. Aynı değilse, sınav görevlilerine durumu bildirerek doğru kitapçığın verilmesini talep ediniz.
11. Soru kitapçığındaki ilgili alanlara ad, soyadı, TCKN/Öğrenci no, sınav salon no, sıra no bilgilerinizi eksiksiz doldurarak imzanızı atınız. Soru kitapçığının sayfalarındaki boş yerleri müsvedde amacıyla kullanabilirsiniz.
12. Aşağıdaki durumlarda sınav görevlileri tarafından Bireysel Sınav İptal Tutanağı düzenlenerek ilgili öğrencilerin sınavları geçersiz sayılır:
 - a) Sınav kurallarına ve sınav görevlilerinin uyarılarına uymamak, sınav düzenini bozmak,
 - b) Kâğıt, kitap, defter, not vb. dokümanları; pergel, açıölçer, cetvel vb. araçları; cep telefonu, bilgisayar, tablet, telsiz, kamera vb. iletişim, depolama, kayıt ve veri aktarma cihazlarını; ruhsatlı veya resmi amaçlı olsa bile silah ve silah yerine geçebilecek nesnelere yanında bulundurmamak,
 - c) Sınav sırasında kalem, silgi vb. araç-gereç paylaşımında bulunmak,
 - d) Cevapları, cevap kâğıdı dışında bir yere yazmak ve sınav salonundan dışarı çıkarmak,
 - e) Sınava girebilmek için gerekli belgeleri eksik olduğu halde sınava katılıp, cevap kâğıdında işaretleme yapmak,
 - f) Sınav görevlileri tarafından öğrencinin kimliğinden şüphe duyulması,
 - g) Cevap kâğıdını ve/veya soru kitapçığını sınav görevlilerine eksiksiz ve sağlam şekilde teslim etmemek, sınav salonu dışına çıkarmak,
 - h) Kopya çekmek, vermek, çekilmesine yardımcı olmak vb. eylemlerde bulunmak,
 - i) Kendisi yerine başkasını sınava sokmak.
13. Sınav bitiminde, cevap kâğıdınızı ve soru kitapçığınızı salon görevlilerine eksiksiz biçimde teslim ediniz. Sınav bittikten sonra gönderilen cevap kâğıtları dikkate alınmayacaktır.

SINAV KURALLARINA UYDUĞUNUZ İÇİN TEŞEKKÜR EDER, SINAVINIZDA BAŞARILAR DİLERİZ.