



ANADOLU ÜNİVERSİTESİ
AÇIKÖĞRETİM FAKÜLTESİ
BA - AÇIKÖĞRETİM OKULLARI

T.C. MİLLİ EĞİTİM BAKANLIĞI
Hayat Boyu Öğrenme Genel Müdürlüğü
2018-2019 ÖĞRETİM YILI BATI AVRUPA - BALKANLAR
AÇIK ÖĞRETİM LİSESİ III. DÖNEM SINAVI
4. OTURUM Pazar

ÖĞRENCİNİN

A

0104

SOYADI :

ADI :

T.C. KİMLİK NO / ÖĞRENCİ NO :

SINAV SALON NO : SIRA NO:

Sınavla ilgili soru kitapçığının ön ve arka kapağındaki tüm kuralları okudum, anladım, kabul ediyorum.

İMZA:.....

SINAV İÇERİĞİ

Testin Adı	Soru Sayısı	Sayfa No	Testin Adı	Soru Sayısı	Sayfa No
DİN KÜLTÜRÜ VE AHLAK BİLGİSİ 8	20	02	SEÇMELİ ALMANCA 2	20	32
FELSEFE 3	20	04	SEÇMELİ FRANSIZCA 2	20	35
KİMYA 4	20	06	SEÇMELİ İNGİLİZCE 2	20	38
SAĞLIK BİLGİSİ VE TRAFİK KÜLTÜRÜ 2	20	08	TARİH 1	20	41
SEÇMELİ COĞRAFYA 1	20	11	TARİH 4	20	43
SEÇMELİ COĞRAFYA 4	20	13	TARİH 5	20	45
SEÇMELİ ÇAĞDAŞ TÜRK VE DÜNYA TARİHİ 2	20	15	TARİH 6	20	47
SEÇMELİ EKONOMİ 1	20	17	TEMEL DİNİ BİLGİLER 2	20	49
SEÇMELİ GİRİŞİMCİLİK 1	20	19	TÜRK DİLİ VE EDEBİYATI 2	20	51
SEÇMELİ İŞLETME 1	20	21	ALMANCA 4	20	54
SEÇMELİ ALMANCA 1	20	23	FRANSIZCA 4	20	57
SEÇMELİ FRANSIZCA 1	20	26	İNGİLİZCE 4	20	60
SEÇMELİ İNGİLİZCE 1	20	29			

SINAVDA UYULMASI GEREKEN ÖZEL KURALLAR

1. Soru kitapçığındaki her bir testi cevaplamanız için verilen süre 30 dakika, toplam süre 150 dakikadır.
2. Sınavın ilk 30 dakikası ve son 5 dakikası içinde sınavınızı tamamlasanız bile salondan çıkamazsınız. Herhangi bir nedenle salondan çıktığınız takdirde, tekrar sınava devam etmenize izin verilmeyecektir. Sınavın başlamasını izleyen ilk 15 dakikadan sonra hiçbir öğrenci sınava alınamaz.
3. Yanlış cevaplarınız dikkate alınmayacaktır. Bu nedenle kitapçığındaki tüm sorular için size doğru gelen seçeneği işaretleyerek cevapsiz soru bırakmamanız yararınıza olacaktır.
4. Sınav sırasında hesap makinesi kullanabilirsiniz. Ancak, kullanacağınız makinede alfabetik tuş takımınının (A, B, C,..., Y, Z), program yapılmasına, saklanmasına ve çalıştırılmasına imkân veren EXE, STORE, RUN vb. tuşlar bulunamaz.

"Sınavda Uyulması Gereken Genel Kurallar" soru kitapçığının arka sayfasında yer almaktadır. Bu kuralları da mutlaka dikkatlice okuyunuz.

Anadolu Üniversitesi tarafından hazırlanmış olan bu testlerin her hakkı saklıdır. Hangi amaçla olursa olsun, testlerin tamamının veya bir kısmının Anadolu Üniversitesi'nin yazılı izni olmadan kopya edilmesi, fotoğraflarının çekilmesi, herhangi bir yolla çoğaltılması, yayımlanması ya da kullanılması yasaktır. Bu yasağa uymayanlar gerekli cezai sorumluluğu ve testlerin hazırlanmasındaki mali külfeti peşinen kabullenmiş sayılır.

2019 AÖÖ-AÖL III. DÖNEM 0104-A

1. Dinen yapılması kesin olarak gerekli davranışlara ne ad verilir?

- A) Haram
- B) Günah
- C) Farz
- D) Mekruh

2. En'am Suresi kaç ayettir?

- A) 163
- B) 165
- C) 167
- D) 169

3. Allah'ın asla affedemeyeceği en büyük günah nedir?

- A) Zina
- B) Yalancılık
- C) Şirk
- D) Kumar

4. Mükellefin yapıp yapmamakta özgür bırakıldığı davranışlara ne ad verilir?

- A) Mahiyet
- B) Tefekkür
- C) Mübah
- D) Tasnif

5. Kur'an ve sünnet gibi delillerden dinî hükümler ortaya koyabilme bilgi ve becerisine sahip kimselere ne ad verilir?

- A) Mükellef
- B) Keşiş
- C) Müçtehid
- D) Tercüman

6. Mülk sahibine ne ad verilir?

- A) Girişimci
- B) İdareci
- C) Yönetici
- D) Malik

7. Hz Muhammed'in sözlerine, davranışlarına, ve sahabelerinin yapmış olduğu olumlu davranışları onaylamasına ne ad verilir?

- A) Sünnet
- B) Farz
- C) Vacip
- D) Mübah

8. Başkasına ait bir işi veya hizmeti bir bedel karşılığında yapmayı üstlenen kimseye ne ad verilir?

- A) İşveren
- B) İşçi
- C) Kiracı
- D) Malik

9. Aşağıdakilerden hangisi Tripitaka'nın bölümlerinden biri değildir?

- A) Vihara
- B) Viyana - Pitaka
- C) Abhidharma - Pitaka
- D) Sutta Pitaka

10. Aşağıdakilerden hangisi Lao Tsu'nun davranış hakkındaki öğretisinin temelinde yer alan ve insan hayatındaki kurallar olarak kendini gösteren ilkelerden biri değildir?

- A) Çok para kazanmak
- B) Mevcutla yetinmek
- C) Tabiatla hareketsizlik
- D) Boşlukta rekabet etmemek

11. I. Bodhi Ağacı
II. Tripitaka
III. Dharma
IV. Sangha

Yukarıdakilerden hangileri Budizm ile ilgili kavramlardandır?

- A) Yalnız I
- B) I ve III
- C) I, II ve IV
- D) I, II, III ve IV

12. Kast sistemiyle ilgili aşağıdaki ifadelerden hangisi doğrudur?

- A) Kast, kişinin iradesiyle seçilir.
- B) Kast, kişinin iradesiyle değiştirilir.
- C) Aynı kast üyeleri birbirleriyle evlenebilir.
- D) Kast sistemine karşı gelinmesi, kişinin kasttan çıkarılmasına sebep olur.

13. I. Doğru karar
II. Doğru konuşma
III. Doğru hareket
IV. Doğru çaba

Yukarıdakilerden hangileri Budizm'in 8 Dilimli Yol anlayışında yer alır?

- A) Yalnız I
- B) II ve IV
- C) I, III ve IV
- D) I, II, III ve IV

14. Hinduizm'de aşağıdakilerden hangisinin ibadet etme hakkı yoktur?

- A) Paryaların
- B) Brahmanların
- C) Vaisyaların
- D) Kşatriyaların

15. Taoizm düşüncesinin kaynağı olan kitap aşağıdakilerden hangisidir?

- A) Kuan
- B) Tao Te King
- C) Kung
- D) Miao

16. Kast sisteminde yer alan sudralar sınıfını aşağıdakilerden hangisi oluşturur?

- A) Esnaflar
- B) İşçiler ve sanatkârlar
- C) Tüccarlar
- D) Askerler

17. I. Vücut
II. Duyular
III. Eğilimler
IV. Bilinçlilik

Buda'ya göre, yukarıdakilerden hangileri insanoğlunu oluşturan unsurlardandır?

- A) Yalnız I
- B) I ve II
- C) II, III ve IV
- D) I, II, III ve IV

18. Aşağıdakilerden hangisi Yin'in özelliklerinden biridir?

- A) Kuru
- B) Zararlı
- C) Işık
- D) Sıcak

19. Aşağıdakilerden hangisi Hindu İnanç Sistemine göre, öne çıkan tanrısal varlıklardan biri değildir?

- A) Wu Wei
- B) Brahma
- C) Vişnu
- D) Şiva

20. Taoizm'de zenginlik tanrısına ne ad verilir?

- A) Ganj
- B) Kvan - Ti
- C) Shin
- D) Yin

2019 AÖÖ-AÖL III. DÖNEM 0104-A

1. Sofistler ile ilgili aşağıdaki ifadelerden hangisi **yanlıştır**?

- A) Para karşılığı ders veren bir konuda uzmanlaşmış bilgili kişilerdir.
- B) Bilgi ve ahlak görüşlerinde göreceliğe yer olmadığını ve herkesin uymaya zorunlu olduğu ahlaki bir yasayı savunmuşlardır.
- C) Özellikle konuşma sanatında ve siyasette eğitim vermişlerdir.
- D) Bilgide kesinliğin olmadığını ve kesin bilgi arayışının da doğru olmadığını savunmuşlardır.

2. Sokratik Yöntem ile ilgili aşağıdaki ifadelerden hangisi **yanlıştır**?

- A) Bütün bilgiye sahip olmayı sağlar.
- B) Sorguladır.
- C) Kanıtlarını desteklemeyen istisna örnekler sunulur.
- D) Karşı tarafın doğru bilgiyi görmesi sağlanır.

3. MÖ 6. yüzyılda varlığın **ilk** nedeni; **temel** ilke aşağıdaki kavramlardan hangisi ile açıklanmıştır?

- A) Episteme
- B) Arkhe
- C) Logos
- D) Aletheia

4. Evrenin **ilk** nedenin, varlıkların tümünün **ilk** maddesinin su olduğunu savunan düşünür aşağıdakilerden hangisidir?

- A) Aristoteles
- B) Thales
- C) Herakleitos
- D) Demokritos

5. Varlığın değişimini kabul eden ve reddeden düşüncelerden yola çıkarak "idealar kuramı" olarak adlandırılan varoluş anlayışını oluşturan filozof aşağıdakilerden hangisidir?

- A) Platon
- B) Aristoteles
- C) Sokrates
- D) Demokritos

6. Sümer, Mezopotamya, Mısır gibi ilk medeniyetlerin kozmos ve erdem anlayışları felsefi düşünce üzerinde etkili olmuştur. Ancak felsefe Antik Yunan'da ortaya çıkmıştır. Felsefenin Antik Yunan'da ortaya çıkmasını sağlayan özellik aşağıdakilerden hangisidir?

- A) Antik Yunan'da nüfusun fazla olması
- B) Antik Yunan'da verimli tarım arazilerinin olması
- C) Antik Yunan'da savaşların az olması
- D) Antik Yunan'da sistematik düşüncenin olması

7. İrade özgürlüğü konusunda insanın özgür olduğunu ve davranışını kendi oluşturup, davranışlarından sorumlu olduğu savunan İslam kelamcıları aşağıdakilerden hangisidir?

- A) Mu'tezile
- B) Cebriye
- C) Eş'ariyye
- D) Maturidi

8. Mantığa dayalı bilginin değil mistik tecrübeye dayalı bilginin hakikati vereceğini savunan İslam felsefesi görüşü aşağıdakilerden hangisidir?

- A) Meşşailik
- B) Batınilik
- C) İshrakilik
- D) Materyalist

9. İslam esaslarına bağlı, Aristoteles ve kısmen de Platon felsefesini içeren mantık ve matematik temelli felsefi yaklaşıma ne ad verilir?

- A) Dehriyye
- B) İshrakilik
- C) İhvanı Safa
- D) Meşşailik

10. Aşağıdakilerden hangisi Hristiyan felsefesinin **genel** özelliklerinden biri **değildir**?

- A) Oluşturulan fikirlerde çoğunlukla dinsel otoriteye karşı gelinmesi
- B) Antik Yunan felsefesinden etkilenmesi
- C) İncanın bilgiyi mümkün kıldığı düşüncesinin egemen olması
- D) Akıl ve inanç tartışmalarının ön plana çıkması

11. MS 2. - MS 15. Yüzyıl felsefesinin daha çok ilişki kurduğu alan aşağıdakilerden hangisidir?
- A) Mimari
B) Sanat
C) İnanç
D) Hukuk
12. Tanrı'nın varlığına kanıt probleminde Tanrı'nın var olmadığına yönelik aşağıdakilerden hangisi delil olarak sunulmuştur?
- A) Amaçsallık
B) Evrensellik
C) Düzenlilik
D) Kötülük
13. Yaradan'ın varlığına yönelik "inayet" ve "ihtira" olmak üzere iki delil bulunduğunu savunan İslam felsefecisi aşağıdakilerden hangisidir?
- A) Fârâbî
B) İbn Sînâ
C) El Kindî
D) İbn Rüşd
14. Çalışmaları ile geleneksel felsefenin olgulara yönelik açıklamasını derinden sarsan ve "Kütle Çekim Yasası"nı keşfeden bilim insanı aşağıdakilerden hangisidir?
- A) Galileo Galilei
B) Francis Bacon
C) Isaac Newton
D) Nicalous Kopernik
15. Aşağıdakilerden hangisi istenen ütopya eserlerinden biri değildir?
- A) Cesur Yeni Dünya
B) Devlet
C) El Medinetü'l Fazıla
D) Ütopya
16. Kartezyen felsefe ile ilgili aşağıdaki ifadelerden hangisi yanlıştır?
- A) Descartes felsefesi olarak da bilinir.
B) Dinin bilimden üstün olduğunu ispatlamayı denemiştir.
C) Bilgide şüphe duyulmayacak bir temel arar.
D) Varlık alanında yaratan ve yaratılan töz olmak üzere iki ana töz olduğunu savunur.
17. Platon'un Devlet adlı eserinde de G.Orwell'in 1984 adlı eserinde de hayali bir devlet anlayışı anlatılır. Bu iki eseri ortak noktada buluşturan kavram aşağıdakilerden hangisidir?
- A) Hakikat
B) Argüman
C) Logos
D) Ütopya
18. 17.yüzyılda pekişen bilimi ve bilimsel yöntemi temele alan modern düşünce sistemi aşağıdaki düşüncelerden hangisine tepki olarak doğmuştur?
- A) Aydınlanma düşüncesi
B) Evrensel düşünce
C) Skolastik düşünce
D) Romantik düşünce
19. 12. yüzyıl çeviri faaliyetleri ile ilgili aşağıdaki ifadelerden hangisi yanlıştır?
- A) Çevirilerle kazanılan birikim bir dönüşüme uğramış ve 15. yüzyılda İtalya'da başlayacak Rönesans için zemin hazırlamıştır.
B) Çeviride ulaşılan kitap, buluş, harita ve aletler Avrupalı bilim insanları tarafından kullanılıp geliştirilmiştir ve tekniğin ilerlemesine katkı sağlamıştır.
C) İslam felsefesinde tartışılan problemlerin çeviriler yolu ile inanç, varlık gibi felsefi konularda Batılı filozofları etkilemediği görülmüştür.
D) Batı, ilk olarak İslam ilimleri, Antik Yunan, Hint ve Mısır eserlerini Arapçadan kendi dillerine çevrilmiştir.
20. "Amaca ulaşmak için her yol mübahtır." düşüncesini politik düşüncenin temelini koyan 17. yüzyıl düşünürü aşağıdakilerden hangisidir?
- A) Rousseau
B) Machiavelli
C) Locke
D) Bodin

2019 AÖÖ-AÖL III. DÖNEM 0104-A

1. I. Soy metal; hem asit hem bazlarla etkileşen metaldir.
- II. Kral suyu; üç hacim derişik HCl ve bir hacim derişik HNO₃ karışımıdır.
- III. Bazik oksit; metallerin oksijen elementiyle oluşturduğu bileşiktir.
- IV. Asit; ciltte kayganlık hissi oluşturan, tadı acı olan bir maddedir.

Asit ve bazlar ile ilgili yukarıdaki ifadelerden hangileri doğrudur?

- A) Yalnız III
- B) I ve II
- C) II ve III
- D) I, II ve IV

2. Piyasada satılan kireç çözücü yerine aşağıdakilerden hangisi kullanılırsa kireçlenme giderilebilir?

- A) Yemek sodası
- B) Sirke
- C) Çamaşır sodası
- D) Sofra tuzu

3. I. CO₂
- II. N₂O₅
- III. SO₂
- IV. CaO

Yukarıdaki bileşiklerin hangileri sulu ortamda asit gibi davranır?

- A) Yalnız IV
- B) I ve IV
- C) II ve III
- D) I, II ve III

4. Aşağıda bazı maddelerin pH değerleri ve asit-baz özellikleri verilmiştir.

Buna göre aşağıdaki eşleştirmelerden hangisi yanlıştır?

Madde Adı	pH Değeri	Asitlik-Bazlık özelliği
A) Limon suyu	2,2	Asidik
B) Süt	6,5	Nötr
C) Kabartma tozu	9,5	Bazik
D) Çamaşır suyu	12,0	Bazik

5. - Kuvvetli asidik özellik gösterir.
- Volkanik patlamalarla atmosfere salınarak ve su buharıyla tepkimeye girerek asit yağmuruna neden olur.
- Halk arasında tuz ruhu olarak bilinir.

Yukarıda özellikleri verilen bileşik aşağıdakilerden hangisidir?

- A) HCl
- B) H₂SO₄
- C) HNO₃
- D) H₃PO₄

6. Ba(OH)₂ bazı ve H₂SO₄ asidi arasında gerçekleşen tepkime denklemi aşağıdakilerden hangisidir?

- A) Ba(OH)₂ + H₂SO₄ → BaHSO₄ + 2H₂O
- B) Ba(OH)₂ + H₂SO₄ → BaSO₄ + 2H₂O
- C) Ba(OH)₂ + H₂SO₄ → CaSO₄ + H₂O
- D) Ba(OH)₂ + H₂SO₄ → Ba

7. Asit yağmurları ile ilgili aşağıdaki ifadelerden hangisi yanlıştır?

- A) Asit yağmuruna sülfürik asit ve nitrik asit sebep olmaktadır.
- B) Hava kirletici gazlar asit yağmuruna sebep olmaktadır.
- C) Asit yağmurunun pH değeri 5,5'den büyüktür.
- D) Asit yağmurları sulardaki canlı yaşamı tehlikeye sokar.

8. Bazlar ile ilgili aşağıdaki ifadelerden hangisi yanlıştır?

- A) Sönmüş kireç saç ve derimize zarar verir.
- B) Yağ çözücüler kostik maddelerden üretilir.
- C) Kostiksoda cildimizi aşındırır.
- D) Sudkostik metallerden yapılmış boruları aşındırır.

9. SO₂(g) + H₂O → x

Yukarıdaki denkleştirilmiş tepkimeye göre x bileşiği aşağıdakilerden hangisi olabilir?

- A) H₂SO₃
- B) H₂SO₄
- C) HNO₃
- D) HSO₃⁻

10. Aşağıdaki bileşiklerden hangisi suda bazik özellik gösterir?

- A) CO₂
- B) SO₂
- C) N₂O₅
- D) CaO

11. Riviera yağ ile ilgili aşağıdaki ifadelerden hangisi doğrudur?

- A) Yağdaki mumsu maddelerin uzaklaştırılması için rafinasyon uygulanır.
- B) Bitki tohumlarının sadece preslenmesi ile oluşur.
- C) Yağa NaOH gibi bazların eklenmesiyle asitliği düşürülen yağdır.
- D) Sızma yağ ile rafine yağ karıştırıldığında oluşur.

12. Bitkisel veya hayvansal yağların sodyum hidroksit bazı ile tepkimesi sonucu elde edilen kişisel temizlik maddesi aşağıdakilerden hangisidir?

- A) Katı sabun
- B) Sıvı sabun
- C) Deterjan
- D) Şampuan

13. Aşağıdakilerden hangisi asit yağmurunun oluşmasına sebep olan havayı kirletici gazlardan biri değildir?

- A) Azot dioksit
- B) Karbon dioksit
- C) Kükürt trioksit
- D) Kükürt dioksit

14. İlacın kısa sürede etki etmesi isteniyorsa aşağıdaki ilaç formlarından hangisi en uygundur?

- A) Hap
- B) Şurup
- C) Merhem
- D) İğne

15. Polimerler; küçük moleküllerin zincir oluşturacak şekilde birbirine bağlanması sonucu oluşan büyük moleküllerdir.

Buna göre, aşağıdakilerden hangisi polimer değildir?

- A) Etan
- B) Kauçuk
- C) Polietilen (PE)
- D) Polyester

16.



koduyla sembolize edilen, tek kullanımlık plastik çay bardaklarının da üretiminde kullanılan polimer aşağıdakilerden hangisidir?

- A) Polistiren
- B) Polipropilen
- C) Polivinil klorür
- D) Polietilen tereftalat

17. Aşağıdakilerden hangisi diş macunlarında temel bileşen olarak kullanılır?

- A) Renklendiriciler
- B) Yükseltgen maddeler
- C) Yüze aktif maddeler
- D) Tatlandırıcılar

18. Aşağıdakilerden hangisi doğal polimerdir?

- A) Polietilen
- B) Kauçuk
- C) İpek
- D) Kevlar

19. - Gıdanın raf ömrünü uzatmak için uygulanır.
- Gıdalar 60-100°C'a kadar ısıtılıp, paketlenir.
- Bu işlemde gıdalarda bazı bakteriler olabilir.

Yukarıda özellikleri verilen işlem aşağıdakilerden hangisidir?

- A) UHT
- B) Rafinasyon
- C) Pastörizasyon
- D) Süblimleşme





20. - Oda sıcaklığında genellikle sıvı halde bulunur.
- Karbon, hidrojen ve oksijen elementlerinden oluşur.
- Suda çözünmeyen maddedir.
- Gıda sanayinde kullanılır.

Yukarıda tanımlanan madde aşağıdakilerden hangisidir?

- A) Kuyruk yağı
- B) Ayçiçek yağı
- C) Tereyağı
- D) Madeni yağ

2019 AÖÖ-AÖL III. DÖNEM 0104-A

1. Aşağıdakilerden hangisi trafik tanzim işaret ve levhalarından karşıdan gelene yol ver levhasıdır?

- A) 
- B) 
- C) 
- D) 

2. Kara yolunda aynı şeritte birbiri ardında hareket halinde olan iki araç arasındaki mesafeye ne ad verilir?

- A) Trafik mesafesi
B) Takip mesafesi
C) Görev mesafesi
D) Kesin mesafe

3. I. Yol çizgileri
II. Trafik görevlisinin işaretleri
III. Trafik işaret levhaları
IV. Işıklı trafik işaretleri

Yukarıdaki bilgilere göre trafik işaret ve görevlilerine uymadaki öncelik aşağıdakilerden hangisinde doğru sıra ile verilmiştir?

- A) I, II, III, IV
B) I, IV, II, III
C) II, IV, III, I
D) IV, III, I, II

4. İş makinesi türündeki motorlu araçları kullanacak kişiler hangi sınıf sürücü belgesi almalıdır?

- A) A sınıfı
B) C sınıfı
C) D sınıfı
D) G sınıfı

5. "Karayolları Trafik Güvenliği Günü" ne zaman kutlanır?

- A) Mart ayının son Pazar günü
B) Şubat ayının ilk Pazar günü
C) Mayıs ayının ilk cumartesi günü
D) Haziran ayının ilk cumartesi günü

6. Geçiş üstünlüğüne sahip araçların sürülmesine ilişkin esas ve kurallarla ilgili aşağıdaki ifadelerden hangisi yanlıştır?

- A) Bu araçlar görev hali dışında geçiş üstünlüğü işaret ve hakkını kullanabilirler.
B) Bu araçlar görev halinde iken geçiş üstünlüğü hakkına sahiptir.
C) Bu araçlar hizmetin yerine getirilmesini sağlama amacına uygun olmak şartıyla Karayolları Trafik Kanunu ve Karayolları Trafik Yönetmeliği'nde gösterilen trafik kısıtlamalarına ve yasaklarına bağlı değildir.
D) Bu araçların birbirleriyle karşılaşmalarında geçiş üstünlüğü belirtilen öncelik sırası esas alınarak kullanılır.

2019 AÖÖ-AÖL III. DÖNEM 0104-A

7. Görev sırasında belirli araç sürücülerinin can ve mal güvenliğini tehlikeye sokmak şartı ile trafik kısıtlama veya yasaklarına bağlı olmamalarına ----- denir.

Yukarıdaki cümlede boş bırakılan yeri aşağıdakilerden hangisi doğru şekilde tamamlar?

- A) sürüş hakkı
B) geçiş hakkı
C) kavşak üstünlüğü
D) geçiş üstünlüğü

8. Aşağıdakilerden hangisi bisiklet kullanımının sağladığı katkılardan biri **değildir**?

- A) İsrar ve yakıt tüketiminin artması
B) Park probleminin artması
C) Trafik kazalarına bağlı can ve mal kaybında azalma
D) Çevrenin bozulması ve kirlenmesi

9. Bu ışık yanmakta iken aksine bir işaret yoksa hiçbir yöne hareket edilmez.

Yukarıda belirtilen trafik ışığı aşağıdakilerden hangisidir?

- A) Kırmızı ışık
B) Yeşil ışık
C) Sarı ışık
D) Aralıklı yanıp sönen sarı ışık

10. İnsanların, hayvanların ve araçların ulaşım yolları üzerindeki hal ve hareketlerine ----- denir.

Yukarıdaki cümlede boş bırakılan yeri aşağıdakilerden hangisi doğru şekilde tamamlar?

- A) Durum
B) Trafik
C) Kaza
D) Kural

11. 1.Girişi olmayan yol kavşağı	K.	
2.Yaya geçidi	L.	
3.Öndeki taşıtı geçmek yasaktır.	M.	

Yukarıdaki trafik levhaları ve anlamlarının doğru eşleştirilmesi aşağıdakilerden hangisinde verilmiştir?

- A) 1-L,2-K,3-M
B) 1-L,2-M,3-K
C) 1-K,2-L,3-M
D) 1-M,2-K,3-L

12. Aşağıdakilerden hangisi trafik polisi, trafik işaret levhası veya ışıklı işaret cihazları bulunmayan kavşaklarda uyulması gereken kurallardan biri **değildir**?

- A) Tali yoldan ana yola çıkan sürücüler, ana yoldan gelen araçlara yol vermelidir.
B) Bölünmüş yola çıkan sürücüler bu yoldan geçen araçlara yol vermelidir.
C) Tramvaylar doğru geçmekte olan sürücülere geçiş hakkı vermelidir.
D) Bir iz ya da mülkten çıkan sürücüler kara yolundan gelen araçlara yol vermelidir.

13. Aşağıdakilerden hangisi emniyet kemeri kullanımının zorunlu olduğu kişilerden **biridir**?

- A) Geri giden veya park yerlerinde 25km/sa geçmeyen hızla seyreden sürücüler
B) Görev ya da ekip çalışması ile özel pozisyonlarda bulduklarında acil servis görevlileri
C) Yerleşim yeri içinde, servis araçları hariç ticari amaçla yolcu taşımacılığı yapan minibüs ve otobüsteki yolcular
D) Yerleşim yeri içinde özel araçlarıyla giden sürücüler

14. Trafik eğitimi ile ilgili aşağıdaki ifadelerden hangisi yanlıştır?

- A) Daha güvenli bir trafik ortamının oluşturulabilmesi, insanların trafik kurallarını bir yaşam biçimi olarak benimsemesi ve toplumsal bir kültür, bir medeniyet göstergesi olarak kabul etmesi ile mümkündür.
- B) Trafik eğitimine erken yaşlarda başlamak gerekir.
- C) Trafik eğitiminin; sürücü, yaya, yolcu, denetleyici, aile, öğretmen gibi tüm bireyleri kapsamasına gerek yoktur.
- D) Bilinçli, nitelikli, sorumluluk sahibi, dürüst, trafik kültürü oluşmuş sürücü, yaya ve yolcuların yetiştirilmesi önemli ölçüde eğitimle mümkündür.

15. Kamyonların Karayolları Trafik Kanunu ile belirlenmiş yerleşim yerleri içindeki uymaları gereken yasal azami hız sınırı kaç km'dir?

- A) 20
- B) 30
- C) 50
- D) 70

16. Aşağıdakilerden hangisi trafikte öfke duygusuna sebep olan etmenlerden biri değildir?

- A) Hız yapmak
- B) Hatalı araç kullanan sürücüler
- C) Dur-kalklar
- D) Trafik lambaları

17. İkaz anlamında olup yanlış sırasına göre yolun trafiğe kapanmak veya açılmak üzere olduğunu gösteren trafik ışığı aşağıdakilerden hangisidir?

- A) Yaya simgeli yeşil ışık
- B) Kırmızı ışık
- C) Yeşil ışık
- D) Sarı ışık

18. Karayolları Trafik Yönetmeliği'ne göre aşağıdaki davranışlardan hangisini sergilemek yasak değildir?

- A) Kara yolu dışında, kenarında veya kara yolu sınırı içinde trafik işaretlerinin anlamlarını değiştirecek veya yanıltacak şekilde levhalar, işaretlemeler ile ağaç, direk, yangın musluğu, çeşme, parmaklık gibi yapı elemanları veya benzerlerini dikmek
- B) Kara yolu üzerinde, trafik işaretlerinin üzerine yazılan yazıları temizlemek
- C) Kara yolu yapısının, trafik işaretlerinin ve kara yoluna ait diğer yapı ve güvenlik tesislerinin üzerlerine yazı yazmak
- D) Trafik işaretlerinin görülmesini engelleyecek veya güçleştirecek şekilde bir şey koymak, atmak

19. Yayaaların karşıya güvenle geçmelerini sağlamak amacıyla taşıt yolu üzerine çizilen çizgilere ----- denir.

Yukarıdaki cümlede boş bırakılan yeri aşağıdakilerden hangisi doğru şekilde tamamlar?

- A) park yeri çizgileri
- B) park yasağı çizgileri
- C) kesik yol çizgisi
- D) yaya geçidi çizgileri

20. Aşağıdakilerden hangisinin gerçekleşmesi durumunda aday sürücünün sürücü belgesi iptal edilmez?

- A) Emniyet kemeri, kask kullanılması zorunludur kuralının üç kez ihlal edilmesi
- B) Hız sınırları üzerinde araç kullanmak yasaktır kuralının üç kez ihlal edilmesi
- C) Kırmızı ışığın bir kez ihlal edilmesi
- D) Toplam 75 ceza puanının aşılması

SEÇMELİ COĞRAFYA 1

A

2019 AÖÖ-AÖL III. DÖNEM 0104-A

1. Türkiye'nin nüfusunun 2020 yılında kaç milyon kişi olacağı tahmin edilmektedir?

- A) 78
- B) 82
- C) 90
- D) 100

2. Aşağıdakilerden hangisi üretimi etkileyen beşeri faktörlerden biri değildir?

- A) Teknolojik gelişme
- B) İşgücü kaynakları
- C) Senyoraj oranı
- D) Sermaye birikimi

3. Ekosistemde; su, besin maddesi ve enerjinin bir canlıdan diğerine geçmesine ne ad verilir?

- A) Besin zinciri
- B) Arbitraj
- C) Korozyon
- D) Sabitleşme

4. Besin piramidinde en fazla biyokütleyle sahip olan canlılar aşağıdakilerden hangisidir?

- A) Birincil tüketiciler
- B) İkincil tüketiciler
- C) Üçüncül tüketiciler
- D) Üreticiler

5. İnorganik kimyasal unsurların, özellikle bitkiler tarafından organik maddelere dönüştürülmesinin ardından tekrar cansız ortama dönmesi sürecine ne ad verilir?

- A) Madde döngüsü
- B) Marjinalleşme
- C) Pareto etkisi
- D) Sentez değişimi

6. Dünyada en fazla nüfusa sahip olan ülke aşağıdakilerden hangisidir?

- A) ABD
- B) Malezya
- C) Çin
- D) Hindistan

7. Balıkçılık faaliyetlerinin yürütüldüğü köy altı yerleşme aşağıdakilerden hangisidir?

- A) Dalyan
- B) Yayla
- C) Kom
- D) Mezra

8. I. Ekonomik fonksiyonlar
II. Nüfus büyüklüğü
III. Yüzölçümü

Yukarıdakilerden hangileri bir yerleşmenin şehir olmasındaki belirleyici faktörler arasında yer alır?

- A) Yalnız I
- B) I ve II
- C) II ve III
- D) I, II ve III

9. Azerbaycan'ın başkenti aşağıdakilerden hangisidir?

- A) Sofya
- B) Bakü
- C) Londra
- D) Tiran

10. Aşağıdakilerden hangileri ileri teknolojilerin kullanıldığı teknoloji şehirlerinden biri değildir?

- A) Washington
- B) Cambridge
- C) Buhara
- D) Tokyo

11. Aşağıdakilerden hangisi Doğu Anadolu Projesi'nin (DAP) amaçlarından biri değildir?

- A) Bölge dışına olan göçleri artırmak
- B) Kişi başına düşen milli geliri artırmak
- C) İç ticarete hayvancılığın önemini artırmak
- D) Meraları ve hayvan ırklarını ıslah etmek

12. Aşağıdakilerden hangisi tükenebilen doğal kaynaklardan biri değildir?

- A) Doğal gaz
- B) Kömür
- C) Petrol
- D) Güneş

13. Türkiye'nin yaklaşık yüzde kaç ormanlarla kaplıdır?

- A) 10
- B) 27
- C) 35
- D) 40

14. Türkiye'de 1923-1932 dönemi ile ilgili aşağıdaki ifadelerden hangisi yanlıştır?

- A) Teşvik-i Sanayi Kanunu kabul edilmiştir.
- B) Toprak reformu yapılmıştır.
- C) Aşar vergisi uygulanmaya başlanmıştır.
- D) İzmir İktisat Kongresi toplanmıştır.

15. Yetersiz yağış nedeniyle toprağın sürülerek bir yıl boş bırakılmasına ne ad verilir?

- A) Swap
- B) Nadas
- C) Senyoraj
- D) Rekolte

16. Dünyada en zengin bor yataklarına sahip olan ülke aşağıdakilerden hangisidir?

- A) Tayland
- B) İngiltere
- C) Arjantin
- D) Türkiye

17. Bitki ve hayvan artıklarına dayalı enerji kaynağına ne ad verilir?

- A) Biyokütle enerjisi
- B) Jeotermal enerji
- C) Hidroelektrik güç
- D) Sentez enerjisi

18. Türkiye'nin en önemli göl tuzu yatağı aşağıdakilerden hangisidir?

- A) Sapanca Gölü
- B) İznik Gölü
- C) Tuz Gölü
- D) Abant Gölü

19. Herhangi bir tarım ürünü bir tarım bölgesinde çok fazla yetiştiriliyorsa bu bitki, o yöre için ----- demektir.

Yukarıdaki cümlede boş bırakılan yeri aşağıdakilerden hangisi doğru şekilde tamamlar?

- A) esnek bitki
- B) mono kültür bitki
- C) dönüşüm içeren bitki
- D) korozyon türü bitki

20. Ekstansif tarım ile ilgili aşağıdaki ifadelerden hangisi yanlıştır?

- A) Büyük oranda doğal koşullara bağımlı olarak gerçekleştirilir.
- B) Modern tarım tekniklerinden uzak olduğu için verimlilik düşüktür.
- C) İklim değişikliklerine bağlı olarak üretim miktarlarında yıllara göre artma ya da azalma görülür.
- D) Gelişmiş ülkelerde veya bölgelerde uygulanır.

2019 AÖÖ-AÖL III. DÖNEM 0104-A

1. Varlığı sağlıklı bir ekosistemin göstergesi olan ve ekosistemdeki türlerin dengede kalmasını sağlayan, bitkiyle de beslenebildiği için tohum dağıtıcı bir rol üstlenen canlı aşağıdakilerden hangisidir?

- A) Çekirge
- B) Fare
- C) Ayı
- D) Kedi

2. Aşağıdakilerden hangisi doğal kaynakların sürdürülebilir kullanımı için yapılması gerekenlerden biridir?

- A) Doğanın verdikleriyle yetinilmesi
- B) Gelecek nesillerin ihtiyaçlarının dikkate alınması
- C) Dünyada nüfus artışının engellenmesi
- D) İlkel yaşam ortamına geri dönülmesi

3. Türk kültürü, 5000 yıllık geçmişiyle Orta Asya'dan kaynağını alıp birçok coğrafyada etkili olmuştur.

Aşağıdakilerden hangisi Türk kültürü havzasında yer alan bölgeler arasında yer almaz?

- A) Kuzey Afrika
- B) Ortadoğu
- C) Avustralya
- D) Sibiry

4. Hint Okyanusu ile Kızıldeniz'i birbirine bağlayan boğaz aşağıdakilerden hangisidir?

- A) Bab-ül Mendep
- B) Hürmüz
- C) İstanbul
- D) Malakka

5. Aşağıdakilerden hangisi coğrafi keşiflerde bulunmak amacıyla denize açılan ve coğrafi keşifler içerisinde yer alan kaptanlardan biri değildir?

- A) Piri Reis
- B) Kristof Kolomb
- C) Ferdinand Magellan
- D) Bartelemeo Diaz

6. 2016 yılı İnsani Gelişme Endeksi Sıralaması'na göre ilk sırada yer alan ülke aşağıdakilerden hangisidir?

- A) Gürcistan
- B) Çin
- C) Norveç
- D) Almanya

7. Aşağıdakilerden hangisi ekolojik ayak izinin hesaplanmasında kullanılan bileşenlerden biri değildir?

- A) Tatil ve dinlenme amaçlı kullanılan toplam turizm alanı
- B) Hayvancılık faaliyetlerinde kullanılan toplam otlatma alanı
- C) Yerleşim alanları
- D) İnsanların gıda ve hayvan yemi üretmek için kullandıkları toplam tarım alanı

8. Birleşmiş Milletler'in yapmış olduğu sınıflamaya göre gelişmişlik seviyesi için temel ölçüt aşağıdakilerden hangisidir?

- A) Enflasyon oranı
- B) Ülkenin ithalat hacmi
- C) Asgari ücret miktarı
- D) Kişi başına düşen milli gelir

9. Coğrafi keşiflerden sonra konumsal önemini kaybeden Mısır'ın tekrar önem kazanmasında aşağıdakilerden hangisi etkili olmuştur?

- A) Süveyş Kanalı'nın açılması
- B) İpek Yolu'nun eski önemine kavuşması
- C) Hindistan'a ulaşan farklı yolların bulunması
- D) Amerika'nın keşfi

10. Bir ülkede üretilen mal ve hizmetlerin toplam değerine ne ad verilir?

- A) Gelir dağılımı
- B) İnsani gelişme
- C) Girişimcilik oranı
- D) Gayrisafi milli hasıla

11. Türkiye'nin jeopolitik konumunu daha avantajlı hale getirecek çalışmalardan biri olan TANAP Projesi ile aşağıdakilerden hangisinin gerçekleştirilmesi amaçlanmaktadır?

- A) Rusya'da üretilen petrolün Karadeniz üzerinden Türkiye'ye ulaştırılması
- B) Orta Doğu petrol ve doğal gazının Avrupa'ya taşınması
- C) Tarihi İpek Yolu'nun demir yoluyla hayata geçirilmesi
- D) Hazar Gölü çevresinde çıkarılan doğal gazın Türkiye üzerinden Avrupa'ya taşınması

12. Aşağıdakilerden hangisi Atatürk'ün İkinci Dünya Savaşı'nı öngörerek Türkiye'nin çevresini güven altına almak için gerçekleştirdiği girişimlerden biridir?

- A) Demir İpek Yolu
- B) Avrupa Konseyi
- C) Sadabat Paketi
- D) Karadeniz Ekonomik İşbirliği Örgütü

13. **Şimdiki kuşakların ihtiyaçlarını, gelecek kuşakların ihtiyaçlarını tehlikeye atmadan karşılamayı olanaklı kılan ekonomi politikaları aşağıdaki kavramlardan hangisi ile ifade edilir?**

- A) Teknolojik gelişme
- B) Sanayileşme
- C) Turizme dayalı kalkınma
- D) Sürdürülebilir kalkınma

14. **Sovyetler Birliği'nin dağılmasından sonra Azerbaycan'ın Karabağ bölgesini işgal eden ülke aşağıdakilerden hangisidir?**

- A) Rusya
- B) Ermenistan
- C) Irak
- D) İran

15. **Habitat Konferansı'nın konusu aşağıdakilerden hangisidir?**

- A) Çölleşmeyle mücadele
- B) Biyoçeşitliliğin korunması
- C) Kentleşme ve konut ihtiyacı
- D) Ozon tabakasındaki seyrelmenin önlenmesi

16. **Bir akarsu üzerinde kurulacak olan hidroelektrik santrali inşaatına başlamadan önce ÇED raporu hazırlanması, aşağıdaki çevre politikaları ilkelerinden hangisine örnek oluşturur?**

- A) Önleme ilkesi
- B) İhtiyat ilkesi
- C) İş birliği ilkesi
- D) Kirleten öder ilkesi

17. **Yer şekillerinin dağlık ve engebeli olduğu ülkelerde ulaşım, tarım ve sanayii gibi ekonomik faaliyetler olumsuz yönde etkilenir. Bu özelliklere sahip yerlerde yol yapım ve ulaşım maliyetleri fazladır.**

Buna göre aşağıdaki bölgelerin hangisinde yol yapım maliyeti en düşüktür?

- A) Akdeniz
- B) İç Anadolu
- C) Karadeniz
- D) Doğu Anadolu

18. **Orta Asya'daki Hazar bölgesinin stratejik öneminin artmasının nedeni aşağıdakilerden hangisidir?**

- A) Petrol ve doğal gaz zenginliği
- B) Yeryüzü şekilleri
- C) Turizm potansiyeli
- D) İklimi

19. **Aşağıdakilerden hangisi gelişmiş ülkelerin sahip olduğu özelliklerden biridir?**

- A) Gelir dağılımı dengesizdir.
- B) Toplumun geneli geniş ailelerden oluşur.
- C) Kırsal nüfus fazladır.
- D) Nüfus artış hızı düşüktür.

20. **Amerika Kıtası'nda yer alan bazı ülkeler petrol ve tarım plantasyonları gibi doğal kaynaklara sahip olmasına karşın bunları işleyecek yeterli gücü olmadığından bu kaynakları sanayileşmiş ülkelere satmak zorunda kalmaktadır.**

Aşağıdakilerden hangisi bu ülkelerden biri değildir?

- A) Ekvador
- B) Libya
- C) Surinam
- D) Guatemala

2019 AÖÖ-AÖL III. DÖNEM 0104-A

1. Kapitalist ve komünist bloka dâhil olmayan ülkeler için ----- terimi kullanılır. Latin Amerika, Orta Doğu, Güney Asya ve Güneydoğu Asya ülkelerini kapsar.

Yukarıdaki cümlede boş bırakılan yeri aşağıdakilerden hangisi doğru şekilde tamamlar?

- A) İtilaf Devletleri
B) Üçüncü Dünya
C) Mihver Bloku
D) Gelişmiş Devletler
2. Pakistan ve Hindistan'ın bağımsızlıklarından itibaren iki ülke arasında yaşanan sorun ve çatışmaların en önemli nedeni aşağıdakilerden hangisidir?
- A) Keşmir Meselesi
B) Leyte Savaşı
C) El-Kebir Olayı
D) Pugaçev İsyanı
3. 1960'ta Venezuela Devleti'nin çağrısı üzerine İran, Irak, Kuveyt ve Suudi Arabistan'ın aralarında olduğu ülkeler tarafından kurulan birlik aşağıdakilerden hangisidir?
- A) NATO
B) COMECON
C) BM
D) OPEC
4. Aşağıdakilerden hangisi ABD-Küba ilişkilerini olumsuz etkileyen gelişmelerden biridir?
- A) Otrar Hadisesi
B) Wagon Lits Olayı
C) Domuzlar Körfezi Çıkarması
D) Bozkurt-Lotus Olayı
5. 1974 Kıbrıs Barış Harekâtı'nı gerekçe göstererek Türkiye'ye yapmakta olduğu ekonomik yardımı keserek silah ambargosu uygulayan devlet aşağıdakilerden hangisidir?
- A) İsveç
B) Polonya
C) Çin
D) ABD

6. Vietnam Savaşı'na gönderilmek istenmesine karşı çıkmış ve "Vietnamlılar bana hiçbir kötülük yapmadı, neden onlarla savaşıyım?" şeklindeki tarihi çıkışı yapan ünlü boksör aşağıdakilerden hangisidir?

- A) Lennox Lewis
B) Joe Frazier
C) Muhammed Ali
D) Wladimir Klitschko

7. Aşağıdakilerden hangisi Afro-Amerikan Sivil Hareketi'nin (Afroamerikan Sivil Haklar Hareketi) liderlerinden biridir?

- A) Mark Sykes
B) Henry McMahon
C) Georges Picot
D) Malcolm X

8. Aşağıdakilerden hangisi Türkiye-Yunanistan ilişkilerinde gerginliğin artmasının nedenlerinden biri değildir?

- A) FIR Hattı Sorunu
B) Ege adalarının silahlandırılması
C) Kıbrıs Meselesi
D) Razgrad Olayı

9. Aşağıdakilerden hangisi Camp David Antlaşması'nın (1979) içeriğinde yer almaz?

- A) İsrail'in Süveyş Kanalı'ndan yararlanmasına yönelik haklar garanti altına alınacak
B) Mısır-İsrail Savaşı'na son verilecek
C) İsrail'in işgal ettiği bölgelerdeki varlığı kabul edilecek
D) Mısır ile İsrail birbirlerinin egemenlik haklarına saygı duyacak

10. ABD, SSCB, İngiltere ve Fransa arasında 1960 yılında gerçekleşen "Dört Ülke Zirvesi"ni SSCB lideri Kruşçev'in terk etmesindeki temel neden aşağıdakilerden hangisidir?

- A) Stalingrad Kuşatması
B) Pearl Harbor Baskını
C) Normandiya Çıkarması
D) U-2 Casus Uçakları Sorunu

11. 1992-1995 Bosna Savaşı sonrasında Bosna-Hersek'in bağımsızlığını kazanmasında büyük rol üstlenen kişi aşağıdakilerden hangisidir?
- A) Aliya İzzetbegoviç
B) Ebulfez Elçibey
C) İslam Kerimov
D) Fazıl Küçük
12. Aşağıdakilerden hangisi sosyal medya kullanımının olumlu yanlarından biri değildir?
- A) Topluları olumsuzluklara sürükleyecek asparagas haberlerin hızlıca yayılması
B) Yeni haberlere hızlı şekilde ulaşılabilmesi
C) Farklı düşünce, coğrafya ve kültürlerin daha hızlı tanınabilmesi
D) Mekâna bağlı kalmaksızın yeni arkadaşlar edinilebilmesi
13. Aşağıdakilerden hangisi 1980 sonrasında ABD ve İngiltere'de uygulanan neoliberal ekonomik politikaların ortak özelliklerinden biri değildir?
- A) Denk bir bütçe izleme
B) Özelleştirmeyi yasaklama
C) İstikrarlı bir para politikası uygulama
D) Vergi oranlarını indirme
14. "Yüzyılın Beyin Cerrahı" ve Dünya Tıp tarihine geçen 50 hekimden biri unvanı verilen Türk bilim adamı aşağıdakilerden hangisidir?
- A) M. Gazi Yaşargil
B) Fuat Sezgin
C) Oktay Sinanoğlu
D) Aziz Sancar
15. Aşağıdakilerden hangisi Turgut Özal tarafından önerilen "BARIŞ Suyu Projesi"nin tamamlanamamasının nedenlerinden biri değildir?
- A) Arap-İsrail çatışması
B) Ülkeler arası siyasi güvensizlikler
C) Otrar Hadisesi
D) Orta Doğu'daki siyasi çekişmeler
16. Kuveyt'i 1990 yılında işgal eden devlet aşağıdakilerden hangisidir?
- A) İngiltere
B) Irak
C) Fransa
D) İtalya
17. Gece ve gündüz, kötü hava şartları da dâhil, keşif, gözetleme, sabit/hareketli hedef tespit, teşhis, tanımlama ve takip amaçlı, gerçek zamanlı görüntü istihbaratı görevlerine yönelik geliştirilen "Türk insansız hava aracı" aşağıdakilerden hangisidir?
- A) HÜRKUŞ
B) ANKA
C) TUFAN
D) ALTAY
18. Üretim araçlarının özel mülkiyetin elinde olduğu ve serbest piyasa ekonomisi çerçevesinde bu araçların kâr birikimi sağlamak için kullanıldığı ekonomik sisteme ne ad verilir?
- A) Kapitalizm
B) Konstrüktivizm
C) Kübizm
D) Fütürizm
19. SSCB'de "glasnost ve perestroika" programlarını uygulamaya koyan kişi aşağıdakilerden hangisidir?
- A) Vladimir Putin
B) Mihael Gorbaçov
C) Stalin
D) Boris Yeltsin
20. Bilişim sistemlerinin gizlilik, bütünlük veya erişilebilirliğinin ortadan kaldırmak amacıyla siber ortamın herhangi bir yerindeki kişi veya bilişim sistemleri tarafından kasıtlı olarak yapılan işlemlere ne ad verilir?
- A) Siberhondrik
B) Sibernetik
C) Siber Saldırı
D) Sibernasyon Çağı

2019 AÖÖ-AÖL III. DÖNEM 0104-A

1. Toprak sahibinin elde ettiği gelire ne ad verilir?
- A) Sermaye
B) Rant
C) Faiz
D) Kâr
2. Aşağıdakilerden hangisi, İktisat Kongresinde alınan önemli kararlardan biri değildir?
- A) Günlük çalışma süresinin 8 saate indirilmesi
B) Havacılık çalışmaları ile ilgili bir kurumun kurulması
C) Koruyucu gümrük vergileri ile sanayinin korunması
D) Özel teşebbüse kredi sağlayacak bir devlet bankasının kurulması
3. Aşağıdakilerden hangisi, ekonomi politikasının hedeflerinden biri değildir?
- A) Ekonomik büyümeyi sağlamak
B) Hakça gelir dağılımını sağlamak
C) Tekel piyasalarını artırmak
D) Dış ödemeler dengesini sağlamak
4. Ekonomiyi, servetlerin üretim, mübadele, bölüşüm ve tüketimini inceleyen bir bilim dalı olarak tanımlayan bilim adamı aşağıdakilerden hangisidir?
- A) Adam Smith
B) Jean Baptiste Say
C) John Stuart Mill
D) David Ricardo
5. Aşağıdakilerden hangisi, yönlendirici vasıtalarla bir örnek değildir?
- A) Yatırımları destekleme önlemleri
B) İhracatı destekleme önlemleri
C) Kamulaştırma
D) Nüfus planlaması
6. Aşağıdakilerden hangisi ihtiyaçlar arasında rekabet ve ikame imkânlarının tüketicilere sağladığı faydalardan biridir?
- A) Gelir dağılımını iyileştirir.
B) Bireylerin gelirlerini yükseltir.
C) Aynı ihtiyaca cevap veren malların fiyatları arasında orantılı bir denge sağlar.
D) Kalkınma hızını yükseltir.
7. İnsanların bir mala verdikleri önemin derecesine ne ad verilir?
- A) Değer
B) İstek
C) Fayda
D) İhtiyaç
8. Aşağıdakilerden hangisi ekonomik ihtiyaç değildir?
- A) Televizyon ihtiyacı
B) Hava ihtiyacı
C) Konut ihtiyacı
D) Giyinme ihtiyacı
9. İnsanların ihtiyaçlarını doğrudan doğruya karşılamaya uygun olan, üretilebilen ve doğada belirli miktarda bulunan vasıtalara ne ad verilir?
- A) Mal
B) Fayda
C) Emek
D) Değer
10. Aşağıdakilerden hangisi ihtiyaç yasalarından biri değildir?
- A) İhtiyaçlar yaşla ilgilidir.
B) İhtiyaçlar değişmektedir.
C) İhtiyaçlar birbirine rakiptir.
D) İhtiyaçların miktarı sınırsızdır.
11. Aşağıdakilerden hangisi ikinci enerji kaynaklarından biri değildir?
- A) Biogaz
B) Kok kömürü
C) Şehir gazı
D) Rüzgâr enerjisi
12. Aşağıdakilerden hangisi Türkiye'deki termik santrallerden biridir?
- A) Keban
B) Tunçbilek
C) Hirfanlı
D) Hazar
13. Aşağıdakilerden hangisi kuruluş yeri seçiminde göz önünde bulundurulacak faktörlerden biri değildir?
- A) Su kaynaklarına yakın olması
B) Hammadde kaynaklarına yakın olması
C) Enerji kaynaklarına yakın olması
D) Kullanılan üretim teknolojisinin güncel olması
14. Aşağıdakilerden hangisi kıt malların faydasını artırarak üretimde bulunmanın yollarından biri değildir?
- A) Zaman faydası
B) Şekil faydası
C) Mülkiyet faydası
D) Emek faydası

15. Aşağıdakilerden hangisi hem elektrik hem de sulama amaçlı GAP projelerinden biri değildir?

- A) Dicle-Kralkızı Projesi
- B) Adıyaman-Kahta Projesi
- C) Gaziantep Projesi
- D) Aşağı Fırat Projesi

16. Aşağıdakilerden hangisi verimliliğe etki eden objektif etkenlerden biridir?

- A) İşyerinin sağlık ve teknik bakımından havalandırılması
- B) İşçinin ücret kesintisi korkusu yaşaması
- C) Çalışanların terfilerinde kayırmacılığın artması
- D) Ücretin kesintiye uğraması

17. Aşağıdakilerden hangisi hızlı nüfus artışının olumsuz yönlerinden biridir?

- A) Yeni kurumların benimsenmesini ve ekonomik faaliyetlerin hızlanmasını sağlaması
- B) Doğal kaynakların işletilmesini kolaylaştırması
- C) Kişilerin mekân içinde ve meslekler arasında hareketliliğini sağlaması
- D) Kamu yönetiminin yol, kanalizasyon, su, elektrik gibi altyapı hizmetlerini yürütmesinin zorlaştırması

18. Nüfus ile ilgili aşağıdaki ifadelerden hangisi yanlıştır?

- A) Bir ülke nüfusunda 20-60 yaş arasındaki olgunlar diliminin büyük olması, ekonomik faaliyetleri azaltır.
- B) Nüfusun yapısını cinsiyet, yaş, meslek grupları belirtir.
- C) Nüfusa dinamizm kazandıran doğumlar, ölümler, iç ve dış göçlerdir.
- D) Bir ülkede nüfus sayısı o ülkenin ekonomik faaliyet hacmini, ekonomik gücünü belirleyen bir etkendir.

19. Zihinsel olarak yapılan çalışmalar hangi emek sınıflaması içinde yer alır?

- A) Objektif emek
- B) Yönetici emek
- C) Sübjektif emek
- D) Uygulayıcı emek

20. Aşağıdakilerden hangisi emek olarak kabul edilebilir?

- A) Makinelerin ve hayvanların faaliyetleri
- B) Zevk için kürek çekmek
- C) Dağ sporu yapmak
- D) Tarla sürmek

SEÇMELİ GİRİŞİMCİLİK 1

A

2019 AÖÖ-AÖL III. DÖNEM 0104-A

1. Bir kimsenin davranış ve kararları sonucunda kaybetme şansına maruz kalmasına ne ad verilir?

- A) Zarar
- B) Risk
- C) Kâr
- D) Kıtılık

2. Girişimcinin yenilikçi ve dinamik olma özelliğini ekonomik kalkınmada, insan kaynaklarını temel yapı taşlarından biri olarak ilk kez vurgulayan ve gündeme getiren ekonomist aşağıdakilerden hangisidir?

- A) Joseph Schumpeter
- B) Robert Plutchik
- C) Adam Smith
- D) Richard Cantillon

3. I. Lider etkileyendir.
II. Lider motive edicidir.
III. Lider ekip kurandır.

Yukarıdakilerden hangileri bir liderin özelliklerindedir?

- A) Yalnız I
- B) I ve II
- C) II ve III
- D) I, II ve III

4. Üretim faktörleri kendisinde olmasa bile, onları bir araya getirebilen, üretim birimlerini kuran, çalıştıran ve risklere katlanan kişiye ne ad verilir?

- A) Yönetici
- B) Tüketici
- C) Girişimci
- D) Profesyonel

5. Ekonomi bilimine göre alıcı ve satıcıların birbirleriyle kolayca temas etmelerini sağlayan örgütsel varlığa ne ad verilir?

- A) Kartel
- B) Piyasa
- C) Sermaye
- D) Vizyon

6. Aşağıdakilerden hangisi çağdaş bir girişimcinin yerine getirmesi beklenen fonksiyonlardan biri değildir?

- A) Yeni mal ve hizmet üretmek
- B) Bilinen mal ve hizmetlerin nitelik ve kalitesini düşürmek
- C) Yeni pazarlara ulaşmak
- D) Endüstride yeni organizasyonlar kurmak

7. Aşağıdakilerden hangisi girişimciliğin ana bileşenlerinden biri değildir?

- A) Sınırsız sermaye sahibi olmak
- B) Rekabetçi düşünmek
- C) Risk almak
- D) Öncü olmak

8. I. Sürekli değişim fırsatları kollar.
II. Problemleri öngörür ve önler.
III. Değişime odaklı hedefler belirler.

Girişimciler bir işe başlayacakları zaman yukarıdaki davranışsal özelliklerden hangilerini sergiler?

- A) Yalnız I
- B) I ve II
- C) I ve III
- D) I, II ve III

9. Aşağıdakilerden hangisi girişimcilik için gerekli kaynak olan üretim faktörlerinden biri değildir?

- A) Sermaye
- B) Emek
- C) Doğa
- D) Vizyon

10. Aşağıdakilerden hangisi girişimcinin temel özelliklerinden biridir?

- A) Tarafli olması
- B) Kararsız olması
- C) Planlı olması
- D) Uyumsuz olması

11. İşletmeler için amaç geliştirme ve bu amaçlara ulaşmak için çeşitli alternatiflerin değerlendirilmelerini kapsayan süreçlere ne ad verilir?
- A) Geri besleme
B) Planlama
C) Bölümlleme
D) Analiz
12. İşletme içinde bir fikri, riski alma ve yenilik yapma yoluyla kârlı, nihai bir ürüne dönüştürme sorumluluğunu üstlenen kişi aşağıdakilerden hangisidir?
- A) Dış girişimci
B) Lider
C) Yönetici
D) İç girişimci
13. Aşağıdakilerden hangisi girişimcinin vizyon oluşturabilmek için gereken özelliklerinden biri değildir?
- A) Yöntem oluşturmak
B) Yaratıcı olmak
C) Başarıyı paylaşmamak
D) Yardımsever olmak
14. İncelenen kurumun, tekniğin, sürecin, durumun veya kişinin güçlü yönlerini belirlemede, dış çevreden kaynaklanan fırsat ve tehditleri saptamakta kullanılan tekniğe ne ad verilir?
- A) Strateji analizi
B) Fayda Maliyet analizi
C) SWOT analizi
D) BCG analizi
15. Girişimcinin yeniliğe, yaratıcılığa ve orjinallliğe açıklığının, başkalarının görüşlerinden ve katkılarından ilham alma derecesinin göstergesine ne ad verilir?
- A) Vizyon
B) Motivasyon
C) Misyon
D) Standardizasyon
16. 18. yüzyılın başında girişimciyi “henüz belirginleşmemiş bir bedele satmak üzere girdileri bugünden satın alan ve üreten kişi” olarak tanımlayan ekonomist aşağıdakilerden hangisidir?
- A) Richard Cantillon
B) Ferdinand Porche
C) Joseph Schumpeter
D) Jetin Baptise Say
17. Ekonomistlere göre fiyatı olan ve bedelini ödemek sureti ile satın alınabilen her türlü mal ve hizmete ne ad verilir?
- A) Arz
B) Tercih
C) Kıt mal
D) Piyasa
18. Sanayi üretiminde kullanılan çeşitli ham maddeler ve ara mallar, ekonomik mal ve hizmetlerin üretimi amacıyla kullanılırken yok olsalar dahi aşağıdakilerin hangisiyle adlandırılır?
- A) Üretim
B) Tüketim
C) Atık
D) Endüstriler arası kullanım
19. Üreticilerin satmaya hazır oldukları mal miktarına ekonomide ne ad verilir?
- A) Piyasa
B) Arz
C) Verimlilik
D) Talep
20. Aşağıdakilerden hangisi sosyal girişimci olarak adını tarihe yazdıran ve modern hemşireliğin kurucusu olan kişidir?
- A) Florence Nightingale
B) Vinoba Bhave
C) Jean Monnet
D) John Muir

2019 AÖÖ-AÖL III. DÖNEM 0104-A

1. Üretimde kullanılan makine, teçhizat, donanım, binalar, hammadde gibi varlıklardan oluşan üretim faktörü aşağıdakilerden hangisidir?
 - A) Doğa
 - B) Emek
 - C) Girişimci
 - D) Sermaye
2. Mal ve hizmetlerin herhangi bir ihtiyacı giderebilme özelliğine ne ad verilir?
 - A) Mal
 - B) Tüketim
 - C) Fayda
 - D) Standart
3. Girdilerin fayda-maliyet analizini yapmak aşağıdaki verimlilik ilkelerinden hangisini ifade eder?
 - A) Teknik olma ilkesi
 - B) Uygunluk ilkesi
 - C) Farkında olmak ilkesi
 - D) Analitiklik ilkesi
4. Üretimi için hiçbir çaba ya da örgütlenme gerektirmeyen ve doğada hazır bulunan mallara ne ad verilir?
 - A) Serbest mallar
 - B) Dayanıklı mallar
 - C) Ekonomik mallar
 - D) Dayanıksız mallar
5. İnsan ihtiyaçlarının giderilmesine yönelik üretilen ancak elle tutulmayan ve saklanması mümkün olmayan faaliyetlere ne ad verilir?
 - A) Tüketim malı
 - B) Dayanıklı mal
 - C) Dayanıksız mal
 - D) Hizmet
6. Aşağıdakilerden hangisi işletmenin genel amaçlarından biridir?
 - A) Uzun vadeli büyümeyi hedef haline getirmek
 - B) Tüketicilere nitelikli mal ve hizmet sunmak
 - C) Kâr elde etmek
 - D) Personeline yeterli ücret vermek
7. İşletmelerin kuruluşu, finansmanı, üretim araçlarının sağlanması, üretilen mal ve hizmetlerin pazarlanması, örgütlenip, yönetilmeleri ve parasal olayların izlenmesi konularını ele alıp inceleyen bilim dalı aşağıdakilerden hangisidir?
 - A) İşletme bilimi
 - B) Davranış bilimi
 - C) Ekonomi bilimi
 - D) Hukuk bilimi
8. Bir toplumda düzeni sağlamak amacıyla yürürlükte bulunan yasalar, tüzük ve yönetmeliklerle, yazılı olan ve olmayan diğer kurallar bütününe ne ad verilir?
 - A) Genelge
 - B) Mevzuat
 - C) Sosyoloji
 - D) Hukuk
9. İşletme yöneticileri, hangi üründen ne miktarda üretileceği, ne zaman üretileceği, hedef tüketici kitlesinin tespiti gibi konularda etkin bir şekilde karar vermek için aşağıdaki bilimlerden hangisinden faydalanır?
 - A) Antropoloji
 - B) İstatistik
 - C) Hukuk
 - D) Psikoloji
10. İşletmelerin belli bir dönem içinde elde ettiği gelirler ile aynı dönem içinde katlandığı giderler arasındaki olumlu farka ne ad verilir?
 - A) Zarar
 - B) Faiz
 - C) Kâr
 - D) Pay
11. Aşağıdakilerden hangisi sanayi işletmelerinin özelliklerinden biri değildir?
 - A) Üretim yaparken gelişmiş teknolojilerin kullanılması
 - B) Üretimlerinde standardizasyonun olmaması ve denetimin zor olması
 - C) Üretimde genellikle seri imalatın söz konusu olması
 - D) Hammadde ve malzemelerin fiziksel ya da kimyasal yönden değişikliğe uğraması

12. Aşağıdakilerden hangisi kâr amacı gütmeyen işletmelerin özelliklerinden biri değildir?

- A) Çalışanlarının gönüllü olması
- B) Kar amacı güden sektörlerden ve devletten yardım alabilmesi
- C) İşletmenin sahipliğini gösteren şahıs veya şahıslara ait hisselerin olması
- D) Çoğunlukla hizmet üreten işletmeler olması

13. Ticari bir işletmeyi bir ticaret unvanı altında işletmek amacıyla kurulan, şirket alacaklılarına karşı ortaklardan bir veya birkaçının sorumluluğu sınırlanmamış ve diğer ortak veya ortakların sorumluluğu belirli bir sermaye ile sınırlanmış olan şirkete ne ad verilir?

- A) Komandit şirket
- B) Kollektif şirket
- C) Limitet şirket
- D) Anonim şirket

14. Ticari bir işletmeyi bir ticaret unvanı altında işletmek amacıyla gerçek kişiler arasında kurulan ve ortaklarından hiç birinin sorumluluğu şirket alacaklılarına karşı sınırlanmamış olan şirkete ne ad verilir?

- A) Limitet şirket
- B) Kollektif şirket
- C) Komandit şirket
- D) Anonim şirket

15. Kazanç paylaşma dışında, kanunlarla yasaklanmamış belirli ve ortak bir amacı gerçekleştirmek üzere, en az yedi gerçek veya tüzel kişinin, bilgi ve çalışmalarını sürekli olarak birleştirmek suretiyle oluşturdukları tüzel kişiliğe sahip kişi topluluklarına ne ad verilir?

- A) Dernek
- B) Kulüp
- C) Vakıf
- D) Kooperatif

16. Ticari, sınai, zirai ve mesleki faaliyetleri ile ilgili olarak bir iş yeri açıp faaliyete başlayanların bu faaliyetinden dolayı vergi yükümlülüğü çıkıyorsa aşağıdaki kurumlardan hangisine bildirimde bulunma sorumluluğu vardır?

- A) Kalkınma Bakanlığı
- B) Sosyal Güvenlik Kurumu
- C) Maliye Bakanlığı
- D) Türkiye İş Kurumu

17. Aşağıdakilerden hangisi meslek kuruluşlarının amaçlarından biri değildir?

- A) Mesleki ahlâka uygun faaliyette bulunmak
- B) Kamu menfaatlerini gözetmek
- C) Mesleki bilgi ve becerileri geliştirmek
- D) Dayanışmayı sürekli kılmak ve geliştirmek

18. Bilinmesinde üçüncü kişiler yönünden fayda ve zorunluluk bulunan tacirlerle ilgili bazı işlemlerin kaydedilmesine ait resmi sicile ne ad verilir?

- A) Ticaret sicili
- B) Tapu sicili
- C) Nüfus sicili
- D) Adli sicil

19. Kısa veya uzun vadeli sigorta kolları bakımından adına prim ödenmesi gereken veya kendi adına prim ödemesi gereken kişiye ne ad verilir?

- A) İşyeri
- B) Sigortalı
- C) İşveren
- D) Alt işveren

20. İş kazası veya meslek hastalığı halinde sigortalıya veya sigortalının ölümü halinde hak sahiplerine yapılan sürekli ödemeye ne ad verilir?

- A) Prim
- B) Faiz
- C) Rant
- D) Gelir

2019 AÖÖ-AÖL III. DÖNEM 0104-A

1. Meine Freundin Lena kommt ----- Berlin.

Welches Wort passt in die obige Lücke?

Yukarıdaki cümlede boş bırakılan yeri aşağıdakilerden hangisi doğru olarak tamamlar?

- A) zu
B) mit
C) für
D) aus

2. Was bedeutet das Wort "Vedalaşma" auf Deutsch?

"Vedalaşma" sözcüğünün Almancası aşağıdakilerden hangisinde doğru olarak verilmiştir?

- A) Die Verabschiedung
B) Die Vereinbarung
C) Die Verabredung
D) Die Verspätung

3. ----- kommen aus Russland und ----- Russisch.

Welche Wörter passen in die obigen Lücken?

Yukarıdaki cümlede boş bırakılan yerleri aşağıdakilerden hangileri doğru olarak tamamlar?

- A) Sie / wollen
B) Ich / bin
C) Wir / sprechen
D) Er / kommt

4. A: Hallo, hier ist Ayfer.
B: -----
A: A-y-f-e-r

Welches ergänzt die Lücke im obigen Dialog?

Yukarıdaki karşılıklı konuşmada boş bırakılan yeri aşağıdakilerden hangisi doğru olarak tamamlar?

- A) Wer? Ich kenne Sie ja gar nicht?
B) Wie bitte? Können Sie das Buchstabieren bitte?
C) Wann bitte? Darf ich mitkommen?
D) Wo bitte? Kenne ich ihn?

5. Ich wohne in Istanbul.

Welche Frage paßt zur obigen Antwort?

Yukarıdaki cevabı gerektirecek soru aşağıdakilerden hangisinde doğru olarak verilmiştir?

- A) Wie alt bist du?
B) Wer ist das?
C) Wo wohnst du?
D) Was machst du morgen?

6. Hallo, ich heiße Sabine und -----.

Welches ergänzt nicht die Lücke im obigen Satz?

Yukarıdaki cümlede boş bırakılan yeri aşağıdakilerden hangisi doğru olarak tamamlamaz?

- A) bin 18 Jahre alt
B) hast keine Zeit
C) mein Lieblingsfach ist Deutsch
D) gehe aufs Gymnasium

7. grün / grau / groß /gelb

Welches Wort passt nicht zu den anderen in der obigen Wortgruppe?

Yukarıdaki sözcük grubuna uymayan sözcük aşağıdakilerden hangisinde doğru olarak verilmiştir?

- A) gelb
- B) groß
- C) grün
- D) grau

8. Die Wochenenden sind ----- und -----.

Welche Wörter passen in die obigen Lücken?

Yukarıdaki cümlede boş bırakılan yerleri aşağıdakilerden hangileri doğru olarak tamamlar?

- A) das Deutsch / der Dienstag
- B) der Samstag / der Sonntag
- C) der Mittwoch / der Donnerstag
- D) die Monate / das Jahr

9. Findest du Biologie interessant?

Welche Antwort passt zur obigen Frage?

Yukarıdaki sorunun cevabı aşağıdakilerden hangisinde doğru olarak verilmiştir?

- A) Ja, aber Chemie finde ich auch interessant.
- B) Ich habe jeden Tag acht Stunden Unterricht.
- C) Unser Mathelehrer ist sehr streng.
- D) Nein, wir gehen ins Kino.

10. ----- Mathematikunterricht und ich finde es langweilig.

Welches ergänzt die Lücke im obigen Satz?

Yukarıdaki cümlede boş bırakılan yeri aşağıdakilerden hangisi doğru olarak tamamlar?

- A) Wir planen das Wochenende
- B) Er ist sehr streng
- C) Wir singen jeden morgen
- D) Am Montag habe ich

11. ----- macht die Haare schön.

Welches Wort passt in die obige Lücke?

Yukarıdaki cümlede boş bırakılan yeri aşağıdakilerden hangisi doğru olarak tamamlar?

- A) Der Friseur
- B) Der Koch
- C) Der Arzt
- D) Der Lehrer

12. Das Mädchen -----.

Welches ergänzt nicht die Lücke im obigen Satz?

Yukarıdaki cümlede boş bırakılan yeri aşağıdakilerden hangisi doğru olarak tamamlamaz?

- A) ist meine Schwester
- B) heißt Petra
- C) ist ein Einzelkind
- D) leben zusammen

13. Wie schreibt man die Zahl "23"?

"23" sayısının yazılışı aşağıdakilerden hangisinde doğru olarak verilmiştir?

- A) Dreiundzwanzig
- B) Zweiunddrei
- C) Zwanzig
- D) Dreizehn

14. Mein Vater ist Lehrer von -----.

Welches Wort passt in die obige Lücke?

Yukarıdaki cümlede boş bırakılan yeri aşağıdakilerden hangisi doğru olarak tamamlar?

- A) Frankfurt
- B) Wohnung
- C) Geschwister
- D) Beruf

15. Ich habe braune Haare und blaue Augen.

Welche Frage passt zur obigen Antwort?

Yukarıdaki cevabı gerektirecek soru aşağıdakilerden hangisinde doğru olarak verilmiştir?

- A) Was bist du von Beruf?
- B) Wer hat Geburtstag?
- C) Wie siehst du aus?
- D) Wann kommst du nach Hause?

16. Was bedeutet das Wort "aufwecken" auf Türkisch?

"aufwecken" sözcüğünün Türkçesi aşağıdakilerden hangisinde doğru olarak verilmiştir?

- A) uyandırmak
- B) uyumak
- C) uyutmak
- D) uyuyamamak

17. Thunfisch / ich / einen / mit / möchte / Toast / bitte

Wie kann man mit den obigen Wortgruppen einen sinnvollen und richtigen Satz bilden?

Yukarıdaki sözcük gruplarıyla kurulabilecek en anlamli ve doğru cümle aşağıdakilerden hangisinde doğru olarak verilmiştir?

- A) Thunfisch bitte ich möchte mit einen Toast.
- B) Möchte einen Toast mit ich bitte Thunfisch.
- C) Ich möchte einen Toast mit Thunfisch bitte.
- D) Einen Toast ich möchte Thunfisch mit bitte.

18. Haben Sie Kuchen?

Welche Antwort passt zur obigen Frage?

Yukarıdaki sorunun cevabı aşağıdakilerden hangisinde doğru olarak verilmiştir?

- A) Nein, ich möchte nichts trinken.
- B) Ja, wir haben Apfelkuchen und Käsekuchen.
- C) Ja, der Platz dort ist frei.
- D) Leider haben wir nur Tee mit Zitrone.

19. Ich stehe morgens um 7:00 Uhr auf.

Wie lautet der obige Satz auf Türkisch?

Yukarıdaki cümlenin Türkçe karşılığı aşağıdakilerden hangisinde doğru olarak verilmiştir?

- A) Sabah 7:00 den beri çalışıyorum.
- B) Sabah 7:00 ye kadar uyuyamıyorum.
- C) Sabahları saat 7:00 de kalkıyorum.
- D) Sabahları 7:00 de işe gidiyorum.

20. ----- Melda und Tolga machen samstags Sport.

Welches Wort passt nicht in die obige Lücke?

Yukarıdaki cümlede boş bırakılan yeri aşağıdakilerden hangisi doğru olarak tamamlamaz?

- A) Die Freunde
- B) Die Geschwister
- C) Unsere Kinder
- D) Der Tagesplan

2019 AÖÖ-AÖL III. DÖNEM 0104-A

1. Nous ----- dans la même ville.

Choisissez le mot qui convient.

Cümledeki boşluğu aşağıdakilerden hangisi doğru şekilde tamamlar?

- A) habite
B) habitez
C) habitons
D) habitent

2. Il ----- un frère et une sœur.

Choisissez le mot qui convient.

Cümledeki boşluğu aşağıdakilerden hangisi doğru şekilde tamamlar?

- A) a
B) est
C) ont
D) son

3. Ils ----- une voiture.

Choisissez le mot qui convient.

Cümledeki boşluğu aşağıdakilerden hangisi doğru şekilde tamamlar?

- A) préférons
B) vont
C) donne
D) achètent

4. - Son frère est petit?
- Non, il est -----.

Choisissez le mot qui convient.

Konuşmadaki boşluğu aşağıdakilerden hangisi doğru şekilde tamamlar?

- A) triste
B) grand
C) rêveur
D) fatigué

5. La mère de ma ----- s'appelle Francine, c'est ma grand-mère maternelle.

Trouvez le mot qui convient.

Yukarıdaki cümleyi doğru şekilde tamamlayan sözcüğü bulunuz.

- A) mère
B) sœur
C) frère
D) père

6. A : Aujourd'hui c'est lundi. Et demain?
B : -----.

Choisissez l'expression qui convient.

Konuşmadaki boşluğu aşağıdakilerden hangisi doğru şekilde tamamlar?

- A) C'est samedi
B) C'est mardi
C) C'est mercredi
D) C'est vendredi

7. A : Quelle est la forme de son nez?
B : Il est -----.

Choisissez la réponse qui convient.

Konuşmadaki boşluğu aşağıdakilerden hangisi doğru şekilde tamamlar?

- A) droite
B) petite
C) pointu
D) bleue

8. Je mange avec ma -----.

Choisissez le mot qui convient.

Cümledeki boşluğu aşağıdakilerden hangisi doğru şekilde tamamlar?

- A) bouche
B) nez
C) yeux
D) cou

2019 AÖÖ-AÖL III. DÖNEM 0104-A

9. A : ----- nationalité es-tu?
B : Je suis turc.

Choisissez le mot qui convient.

Konuşmadaki boşluğu aşağıdakilerden hangisi doğru şekilde tamamlar?

- A) Combien
B) Quelle
C) Comment
D) De quelle

10. Nous entendons avec les -----.

Trouvez le mot qui convient.

Yukarıdaki cümleyi doğru şekilde tamamlayan sözcüğü bulunuz.

- A) mains
B) yeux
C) cheveux
D) oreilles

11. A : Quand est-ce qu'il neige souvent?
B : -----.

Choisissez l'expression qui convient.

Konuşmadaki boşluğu aşağıdakilerden hangisi doğru şekilde tamamlar?

- A) Au printemps
B) En hiver
C) En été
D) En automne

12. A : ----- tu aimes le cinéma?
B : Oui, beaucoup.

Choisissez le mot qui convient.

Cümledeki boşluğu aşağıdakilerden hangisi doğru şekilde tamamlar?

- A) Quelle
B) Quelqu'un
C) Est-ce que
D) Qui

13. J'habite ----- Paris ----- France.

Choisissez les mots qui conviennent.

Cümledeki boşlukları aşağıdakilerden hangisi doğru şekilde tamamlar?

- A) à / en
B) au / au
C) en / en
D) aux / au

14. J'ai 39 degrés de -----.

Choisissez le mot qui convient.

Cümledeki boşluğu aşağıdakilerden hangisi doğru şekilde tamamlar?

- A) mal de tête
B) fièvre
C) fatigue
D) rhume

15. Zoé n'est pas mariée; elle est -----.

Choisissez le mot qui convient.

Cümlede boş bırakılan yeri aşağıdakilerden hangisi doğru şekilde tamamlar?

- A) tristes
B) content
C) marié
D) célibataire

16. «Tu m'attends?»

Choisissez la traduction qui convient.

Yukarıdaki cümlenin Türkçe karşılığı aşağıdakilerden hangisidir?

- A) Sen gider misin?
B) Sana gelir mi?
C) Beni bekler misin?
D) Bana gelir misin?

2019 AÖÖ-AÖL III. DÖNEM 0104-A

17. I. Il a les yeux noirs.
II. Il a un gros nez.
III. Il arrive à sept heures.
IV. Il porte des lunettes.

Choisissez la phrase qui **ne convient pas**.

Sırasıyla okunduğunda anlam bütünlüğünü **bozan** cümle aşağıdakilerden hangisidir?

- A) I
B) II
C) III
D) IV

18. - -----?
- C'est un ordinateur.

Choisissez la question qui convient.

Yukarıdaki konuşmada cevabı gerektiren soru aşağıdakilerden hangisidir?

- A) Qu'est-ce que c'est
B) À quoi sert le drapeau
C) Qui est-ce
D) Comment est la chaise

19. prendre / tu / des / dois / médicaments .
I II III IV V

Mettez les mots dans le bon ordre pour faire une phrase.

Yukarıdaki sözcükleri bir cümle oluşturacak şekilde doğru sıraya koyunuz.

- A) II / I / V / IV / III
B) II / IV / I / III / V
C) III / II / IV / I / V
D) III / V / IV / II / I

20. A : Vous connaissez Madame Bécourt?
B : Non, je ne ----- connais pas.

Choisissez le mot qui convient.

Konuşmadaki boşluğu aşağıdakilerden hangisi doğru şekilde tamamlar?

- A) les
B) lui
C) me
D) la

2019 AÖÖ-AÖL III. DÖNEM 0104-A

1. The flowers are ----- the vase.

Which of the following completes the sentence above?

Aşağıdakilerden hangisi yukarıdaki cümleyi doğru olarak tamamlar?

- A) in
B) for
C) to
D) at

2. A: What are you doing now?
B: I'm ----- the baby.

Which of the following completes the dialogue above?

Aşağıdakilerden hangisi yukarıdaki konuşmayı doğru olarak tamamlar?

- A) feeding
B) feed
C) fed
D) has fed

3. Do you like ----- in the sea?

Which of the following completes the sentence above?

Aşağıdakilerden hangisi yukarıdaki cümleyi doğru olarak tamamlar?

- A) swims
B) is swimming
C) swim
D) swimming

4. He is ----- on the phone now.

Which of the following completes the sentence above?

Aşağıdakilerden hangisi yukarıdaki cümleyi doğru olarak tamamlar?

- A) talked
B) talk
C) talking
D) talks

5. ----- three hotels in the city.

Which of the following completes the sentence above?

Aşağıdakilerden hangisi yukarıdaki cümleyi doğru olarak tamamlar?

- A) There isn't
B) Is there
C) There is
D) There are

6. Mike is ----- youngest student in his class.

Which of the following completes the sentence above?

Aşağıdakilerden hangisi yukarıdaki cümleyi doğru olarak tamamlar?

- A) much
B) the
C) most
D) more

7. A: How often ----- Liam brush his teeth?
B: He always brushes his teeth.

Which of the following completes the dialogue above?

Aşağıdakilerden hangisi yukarıdaki konuşmayı doğru şekilde tamamlar?

- A) do
B) did
C) does
D) is

8. A: ----- is she?
B: She is twenty-five years old.

Which of the following completes the dialogue above?

Aşağıdakilerden hangisi yukarıdaki konuşmayı doğru olarak tamamlar?

- A) How much
- B) What
- C) Where
- D) How old

9. A: ----- brothers and sisters have you got?
B: I have got a brother and a sister.

Which of the following completes the dialogue above?

Aşağıdakilerden hangisi yukarıdaki konuşmayı doğru olarak tamamlar?

- A) How much
- B) How about
- C) How many
- D) How old

10. A cheetah is ----- than an elephant.

Which of the following completes the sentence above?

Aşağıdakilerden hangisi yukarıdaki cümleyi doğru olarak tamamlar?

- A) the slowest
- B) faster
- C) the fastest
- D) slower

11. A: I don't want to stay at home.
B: ----- we go to a café?

Which of the following completes the dialogue above?

Aşağıdakilerden hangisi yukarıdaki konuşmayı doğru şekilde tamamlar?

- A) Let's
- B) Why don't
- C) What about
- D) How about

12. Selim : -----
Eleni : I am from Greece.

Which of the following completes the dialogue above?

Aşağıdakilerden hangisi yukarıdaki konuşmayı doğru olarak tamamlar?

- A) How old are you?
- B) How are you?
- C) Are you new?
- D) Where are you from?

13. A: Is Olivia young?
B: No, -----.

Which of the following completes the dialogue above?

Aşağıdakilerden hangisi yukarıdaki konuşmayı doğru şekilde tamamlar?

- A) she isn't
- B) she does
- C) she hasn't
- D) she is

14. She ----- got long hair.

Which of the following completes the sentence above?

Aşağıdakilerden hangisi yukarıdaki cümleyi doğru şekilde tamamlar?

- A) have
- B) are
- C) has
- D) is

15. Saat onbire çeyrek var.

Which of the following is the English translation of the sentence above?

Aşağıdakilerden hangisi yukarıdaki cümlemin İngilizce karşılığıdır?

- A) It's twenty to eleven.
- B) It's eleven o'clock.
- C) It's quarter past eleven.
- D) It's quarter to eleven.

16. My mother ----- cook different kinds of meals but I cannot.

Which of the following completes the sentence above?

Aşağıdakilerden hangisi yukarıdaki cümleyi doğru olarak tamamlar?

- A) shall
- B) can
- C) would
- D) must

17. ----- you like to go shopping tomorrow?

Which of the following completes the sentence above?

Aşağıdakilerden hangisi yukarıdaki cümleyi doğru şekilde tamamlar?

- A) Would
- B) Shall
- C) How about
- D) Let's

18. A: -----?

B: I'm fine. Thank you.

Which of the following completes the dialogue above?

Aşağıdakilerden hangisi yukarıdaki konuşmayı doğru şekilde tamamlar?

- A) What is your name?
- B) How old are you?
- C) How are you?
- D) Where are you from?

19. Sally ----- tea every morning.

Which of the following completes the sentence above?

Aşağıdakilerden hangisi yukarıdaki cümleyi doğru olarak tamamlar?

- A) drinks
- B) has drunk
- C) drink
- D) drinking

20. A: ----- is the yellow sofa?

B: The yellow sofa is behind the table.

Which of the following completes the dialogue above?

Aşağıdakilerden hangisi yukarıdaki konuşmayı doğru şekilde tamamlar?

- A) Who
- B) Where
- C) What
- D) Why

2019 AÖÖ-AÖL III. DÖNEM 0104-A

1. A: Gehst du bitte einkaufen?
B: Ja gern. -----
A: Wir brauchen Gurken und Käse.

Welches ergänzt die Lücke im obigen Dialog?

Yukarıdaki karşılıklı konuşmada boş bırakılan yeri aşağıdakilerden hangisi doğru olarak tamamlar?

- A) Wo kaufst du ein?
B) Was brauchen wir alles?
C) Wer geht heute einkaufen?
D) Wann kochst du?

2. Mein ----- ist Hähnchen mit Reis und Salat.

Welches Wort passt in die obige Lücke?

Yukarıdaki cümlede boş bırakılan yeri aşağıdakilerden hangisi doğru olarak tamamlar?

- A) Rezept
B) Partner
C) Einkaufsliste
D) Lieblingsessen

3. Was bedeutet das Wort "karpuz" auf Deutsch?

"karpuz" sözcüğünün Alması aşağıdakilerden hangisinde doğru olarak verilmiştir?

- A) Die Zitrone
B) Die Birne
C) Die Kiwi
D) Die Wassermelone

4. Können Sie die Kartoffeln und die Eier ----- und in Scheiben schneiden, bitte?

Welches Wort passt in die obige Lücke?

Yukarıdaki cümlede boş bırakılan yeri aşağıdakilerden hangisi doğru olarak tamamlar?

- A) geben
B) servieren
C) schälen
D) mischen

5. Die Bananen kosten 10 Euro.

Welche Frage paßt zur obigen Antwort?

Yukarıdaki cevabı gerektirecek soru aşağıdakilerden hangisinde doğru olarak verilmiştir?

- A) Wie viel kosten die Bananen?
B) Wann gehst du einkaufen?
C) Wo kann ich Bananen kaufen?
D) Wer möchte Bananen essen?

6. Der ----- Monat heißt September. Er ist im -----.

Welche Wörter passen in die Lücken im obigen Satz?

Yukarıdaki cümlede boş bırakılan yerleri aşağıdakilerden hangileri doğru olarak tamamlar?

- A) achte / Winter
B) sechste / Sommer
C) neunte / Herbst
D) siebte / Frühling

7. Der Sommer / Der Mittwoch / Der Frühling / Der Herbst

Welches Wort passt nicht zu den anderen in der obigen Wortgruppe?

Yukarıdaki sözcük grubuna uymayan sözcük aşağıdakilerden hangisinde doğru olarak verilmiştir?

- A) Der Herbst
B) Der Frühling
C) Der Sommer
D) Der Mittwoch

8. ----- ist am neunundzwanzigsten Oktober.

Welches ergänzt die Lücke im obigen Satz?

Yukarıdaki cümlede boş bırakılan yeri aşağıdakilerden hangisi doğru olarak tamamlar?

- A) Tag der Demokratie
B) Der Muttertag
C) Tag der Republik
D) Der Gedenktag für Märtyrer

9. Wie ist der Wald im Herbst?

Welche Antwort passt zur obigen Frage?

Yukarıdaki sorunun cevabı aşağıdakilerden hangisinde doğru olarak verilmiştir?

- A) Der Himmel ist blau und klar.
B) Die Blumen blühen in allen Farben.
C) Der Wald ist im Herbst rot, gelb und braun.
D) Die Luft ist warm und frisch.

10. Im Winter -----.

Welches ergänzt nicht die Lücke im obigen Satz?

Yukarıdaki cümlede boş bırakılan yeri aşağıdakilerden hangisi doğru olarak tamamlamaz?

- A) essen Kinder viel Eis
B) kommt der Schnee
C) wird in Deutschland Weihnachten gefeiert
D) ist es kalt und wir trinken viel Tee

11. Ich gehe ins Theater.

Welche Frage passt zur obigen Antwort?

Yukarıdaki cevabı gerektirecek soru aşağıdakilerden hangisinde doğru olarak verilmiştir?

- A) Wie gehst du?
B) Was kaufst du?
C) Wohin gehst du?
D) Wann gehst du?

12. Mein Bruder und ich ----- gern Sport.

Welches Wort passt in die obige Lücke?

Yukarıdaki cümlede boş bırakılan yeri aşağıdakilerden hangisi doğru olarak tamamlar?

- A) treiben
B) feiern
C) sammeln
D) stricken

13. Kannst du gut Tennis spielen?

Welche Antwort passt zur obigen Frage?

Yukarıdaki sorunun cevabı aşağıdakilerden hangisinde doğru olarak verilmiştir?

- A) Ja, ich bin in der Basketballmannschaft.
B) Nein, ich kann nur ein bisschen Tennis spielen.
C) Ja, ich finde Sport sehr wichtig.
D) Nein, wir haben morgen Training.

14. In meiner Freizeit -----.

Welches ergänzt nicht die Lücke im obigen Satz?

Yukarıdaki cümlede boş bırakılan yeri aşağıdakilerden hangisi doğru olarak tamamlamaz?

- A) gehe ich ins Theater
- B) weil ich keine Zeit habe
- C) surfe ich im Internet
- D) spiele ich gern Gitarre

15. Entschuldigung, wo ----- der Komödienfilm "Meine Welt"?

Welches Wort passt in die obige Lücke?

Yukarıdaki cümlede boş bırakılan yeri aşağıdakilerden hangisi doğru olarak tamamlar?

- A) läuft
- B) landet
- C) liegt
- D) liest

16. Wir kaufen Obst und Gemüse im -----.

Welches Wort passt in die obige Lücke?

Yukarıdaki cümlede boş bırakılan yeri aşağıdakilerden hangisi doğru olarak tamamlar?

- A) Apotheke
- B) Gemüseladen
- C) Metzgerei
- D) Post

17. Wie findest du diese Bluse?

Welche Antwort passt zur obigen Frage?

Yukarıdaki sorunun cevabı aşağıdakilerden hangisinde doğru olarak verilmiştir?

- A) Ich möchte heute tanzen gehen.
- B) Ich finde sie originell und schick.
- C) Ich habe eine neue Jacke gekauft.
- D) Ich kann die Kasse nicht finden.

18. Das Hemd / Die Bluse / Das T-Shirt / Der Hut

Welches Wort passt nicht zu den anderen in der obigen Wortgruppe?

Yukarıdaki sözcük grubuna uymayan sözcük aşağıdakilerden hangisinde doğru olarak verilmiştir?

- A) Die Bluse
- B) Das T-Shirt
- C) Das Hemd
- D) Der Hut

19. Was bedeutet das Wort "pflücken" auf Türkisch?

"pflücken" sözcüğünün Türkçesi aşağıdakilerden hangisinde doğru olarak verilmiştir?

- A) dikmek
- B) kesmek
- C) biriktirmek
- D) koparmak

20. Ich wohne im Stadtzentrum.

Wie lautet der obige Satz auf Türkisch?

Yukarıdaki cümlenin Türkçe karşılığı aşağıdakilerden hangisinde doğru olarak verilmiştir?

- A) Şehir merkezinde oturuyorum.
- B) Merkezden geliyorum.
- C) Şehir merkezi çok kalabalık oluyor.
- D) Merkeze kadar yürüyorum.

2019 AÖÖ-AÖL III. DÖNEM 0104-A

1. I. Gérard parle très bien français.
II. Il habite en France.
III. Il est professeur de français.
IV. S'il vous plaît?

Trouvez la phrase qui **ne convient pas**.

Sırasıyla okunduğunda, anlam bütünlüğünü **bozan** cümleyi bulunuz.

- A) I
B) II
C) III
D) IV

2. Mon père achète un ----- de fleurs.

Choisissez le mot qui convient.

Cümledeki boşluğu aşağıdakilerden hangisi doğru şekilde tamamlar?

- A) bouquet
B) grand
C) beaucoup
D) des

3. ----- été, nous allons au bord de la mer.

Choisissez le mot qui convient.

Cümledeki boşluğu aşağıdakilerden hangisi doğru şekilde tamamlar?

- A) Quel
B) Ces
C) Dans
D) En

4. Je ne sais pas ----- film regarder.

Choisissez le mot qui convient.

Cümledeki boşluğu aşağıdakilerden hangisi doğru şekilde tamamlar?

- A) quelle
B) quels
C) quel
D) quelles

5. simple / le / veut / chambre / une / client .
I II III IV V VI

Mettez les mots dans le bon ordre pour faire une phrase.

Yukarıdaki sözcükleri bir cümle oluşturacak şekilde doğru sıraya koyunuz.

- A) II / III / V / VI / IV / I
B) II / VI / III / V / IV / I
C) V / IV / III / I / VI / II
D) V / VI / III / I / II / IV

6. Il y a 18 bougies sur le gâteau car j'ai 18 -----.

Choisissez le mot qui convient.

Cümledeki boşluğu aşağıdakilerden hangisi doğru şekilde tamamlar?

- A) année
B) anniversaire
C) ans
D) amis

7. Elle pratique ----- football.

Trouvez le mot qui convient.

Yukarıdaki cümleyi doğru şekilde tamamlayan sözcüğü bulunuz.

- A) à
B) de la
C) au
D) le

8. A : Vous avez une réservation?
B : -----.

Choisissez l'expression qui convient.

Konuşmadaki boşluğu aşağıdakilerden hangisi doğru şekilde tamamlar?

- A) Oui, pour deux nuits
B) L'hôtel est fermé
C) Je vous en prie
D) Merci

9. I. Pour aller au Musée d'Atatürk.
II. Visiter les musées, c'est intéressant.
III. Vous traversez cette rue.
IV. Et vous tournez à gauche.

Choisissez la phrase qui **ne convient pas** a l'ensemble.

Sırasıyla okunduğunda anlam bütünlüğünü **bozan** cümle aşağıdakilerden hangisidir?

- A) I
B) II
C) III
D) IV

10. «Tu as pris ton parapluie?»

Choisissez la traduction qui convient.

Yukarıdaki cümlenin Türkçe karşılığı aşağıdakilerden hangisidir?

- A) Yağmur mu yağıyor?
B) Şemsiye alalım mı?
C) Şemsiyeni aldın mı?
D) Şemsiye alsak mı?

11. A : Qu'est-ce que tu fêtes?
B : -----.

Choisissez l'expression qui convient.

Konuşmadaki boşluğu aşağıdakilerden hangisi doğru şekilde tamamlar?

- A) C'est une décoration
B) C'est vendredi
C) Mon anniversaire
D) Je prépare la table

12. La poste est ----- le cinéma et le théâtre.

Choisissez le mot qui convient.

Cümledeki boşluğu aşağıdakilerden hangisi doğru şekilde tamamlar?

- A) en face
B) entre
C) au milieu
D) à coté

13. ----- rez-de-chaussée, il y a la cuisine.

Trouvez le mot qui convient.

Yukarıdaki cümleyi doğru şekilde tamamlayan sözcüğü bulunuz.

- A) À
B) En
C) Aux
D) Au

14. Je peux parler français car je travaille -----.

Choisissez le mot qui convient.

Cümledeki boşluğu aşağıdakilerden hangisi doğru şekilde tamamlar?

- A) beaucoup
B) peu
C) jamais
D) pas

15. - ----- tu ne vas pas à l'école?
- Parce que je suis malade.

Choisissez le mot qui convient.

Konuşmadaki boşluğu aşağıdakilerden hangisi doğru şekilde tamamlar?

- A) Combien
B) Comment
C) Pourquoi
D) D'où

16. «Interdit de tourner à gauche.»

Choisissez la traduction qui convient.

Yukarıdaki cümlenin Türkçe karşılığı aşağıdakilerden hangisidir?

- A) Sola dönmek yasaktır.
B) Sağa dönmek yasaktır.
C) Sağda yürümek yasaktır.
D) Solda yürümek yasaktır.

2019 AÖÖ-AÖL III. DÖNEM 0104-A

17. fais / de / natation / je / la .
I II III IV V

Mettez les mots dans le bon ordre pour faire une phrase.

Yukarıdaki sözcükleri bir cümle oluşturacak şekilde doğru sıraya koyunuz.

- A) IV / I / II / V / III
- B) IV / II / I / III / V
- C) IV / III / I / II / V
- D) IV / V / III / I / II

18.



Que signifie ce pictogramme?

Resimdeki işaretin anlamı nedir?

- A) Il faut faire attention.
- B) Il faut s'arrêter.
- C) Il ne faut pas sortir.
- D) Il ne faut pas entrer.

19. Je vais ----- Turquie.

Choisissez le mot qui convient.

Cümledeki boşluğu aşağıdakilerden hangisi doğru şekilde tamamlar?

- A) à
- B) aux
- C) au
- D) en

20. Marie travaille dans un restaurant: Elle est -----.

Choisissez le mot qui convient.

Cümledeki boşluğu aşağıdakilerden hangisi doğru şekilde tamamlar?

- A) chimiste
- B) serveuse
- C) facteur
- D) dentiste

2019 AÖÖ-AÖL III. DÖNEM 0104-A

1. A: ----- is this book?
B: It's 50 TL.

Which of the following completes the dialogue above?

Aşağıdakilerden hangisi yukarıdaki konuşmayı doğru şekilde tamamlar?

- A) Where
B) How many
C) How much
D) What

2. China is famous ----- its Great wall.

Which of the following completes the sentence above?

Aşağıdakilerden hangisi yukarıdaki cümleyi doğru şekilde tamamlar?

- A) with
B) on
C) for
D) about

3. A: What is the matter with you?
B: I ----- a fever.

Which of the following completes the dialogue above?

Aşağıdakilerden hangisi yukarıdaki konuşmayı doğru olarak tamamlar?

- A) has got
B) have got
C) did
D) does

4. ----- I have a menu, please?

Which of the following completes the sentence above?

Aşağıdakilerden hangisi yukarıdaki cümleyi doğru olarak tamamlar?

- A) Would
B) Must
C) Can
D) Shall

5. What ----- you like to drink?

Which of the following completes the sentence above?

Aşağıdakilerden hangisi yukarıdaki cümleyi doğru şekilde tamamlar?

- A) does
B) can
C) would
D) will

6. A: What is James going to do tonight?
B: He ----- TV.

Which of the following completes the dialogue above?

Aşağıdakilerden hangisi yukarıdaki konuşmayı doğru olarak tamamlar?

- A) is going to watch
B) watched
C) watching
D) has watched

7. Sam: How ----- hours do you watch TV in a day?
Jim: Four or five hours in a day.

Which of the following completes the dialogue above?

Aşağıdakilerden hangisi yukarıdaki konuşmayı doğru olarak tamamlar?

- A) some
- B) much
- C) any
- D) many

8. A: I don't want to stay at home.
B: ----- we go to a café?

Which of the following completes the dialogue above?

Aşağıdakilerden hangisi yukarıdaki konuşmayı doğru olarak tamamlar?

- A) What about
- B) Let's
- C) How about
- D) Why don't

9. You ----- get a taxi or you will miss the train.

Which of the following completes the sentence above?

Aşağıdakilerden hangisi yukarıdaki cümleyi doğru olarak tamamlar?

- A) had better
- B) mustn't
- C) shouldn't
- D) would

10. I ----- throw a party for my parents next week.

Which of the following completes the sentence above?

Aşağıdakilerden hangisi yukarıdaki cümleyi doğru şekilde tamamlar?

- A) went
- B) am going to
- C) go
- D) going

11. What is the weather ----- in Paris?

Which of the following completes the sentence above?

Aşağıdakilerden hangisi yukarıdaki cümleyi doğru şekilde tamamlar?

- A) hot
- B) like
- C) look
- D) see

12. A: What did you do last night?
B: I ----- English.

Which of the following completes the dialogue above?

Aşağıdakilerden hangisi yukarıdaki konuşmayı doğru olarak tamamlar?

- A) will study
- B) studying
- C) studied
- D) studies

13. You ----- smoke in closed areas.

Which of the following completes the sentence above?

Aşağıdakilerden hangisi yukarıdaki cümleyi doğru şekilde tamamlar?

- A) must
- B) can
- C) should
- D) mustn't

14. Where ----- they go last year?

Which of the following completes the sentence above?

Aşağıdakilerden hangisi yukarıdaki cümleyi doğru şekilde tamamlar?

- A) did
- B) do
- C) does
- D) was

15. Sally ----- a student two years ago.

Which of the following completes the sentence above?

Aşağıdakilerden hangisi yukarıdaki cümleyi doğru şekilde tamamlar?

- A) were
- B) is
- C) be
- D) was

16. Our school team won the football match -----.

Which of the following completes the sentence above?

Aşağıdakilerden hangisi yukarıdaki cümleyi doğru olarak tamamlar?

- A) yesterday
- B) next week
- C) every day
- D) tomorrow

17. Alex ----- to the theatre last week.

Which of the following completes the sentence above?

Aşağıdakilerden hangisi yukarıdaki cümleyi doğru olarak tamamlar?

- A) go
- B) went
- C) goes
- D) going

18. A: ----- was the flight?
B: It was terrible.

Which of the following completes the dialogue above?

Aşağıdakilerden hangisi yukarıdaki konuşmayı doğru şekilde tamamlar?

- A) When
- B) Where
- C) What
- D) How

19. A: I have got toothache.
B: You ----- go to a dentist.

Which of the following completes the dialogue above?

Aşağıdakilerden hangisi yukarıdaki konuşmayı doğru şekilde tamamlar?

- A) should
- B) can't
- C) shouldn't
- D) mustn't

20. Do you mind ----- I use your pen?

Which of the following completes the sentence above?

Aşağıdakilerden hangisi yukarıdaki cümleyi doğru olarak tamamlar?

- A) when
- B) if
- C) could
- D) would

2019 AÖÖ-AÖL III. DÖNEM 0104-A

1. **Başkentleri Ninova'da ilk kütüphaneyi kurarak uygarlığa büyük katkı sağlayan medeniyet aşağıdakilerden hangisidir?**
 - A) Lidyalılar
 - B) Fenikeliler
 - C) Urartular
 - D) Asurlar

2. **Bakır ile kalayın karıştırılması sonucu elde edilen maden türü aşağıdakilerden hangisidir?**
 - A) Gümüş
 - B) Tunç
 - C) Bronz
 - D) Kalay

3. **Moğol İmparatorluğu'nun hukuki ve askeri işlerini düzelen yasa aşağıdakilerden hangisidir?**
 - A) 12 Levha Kanunları
 - B) Hammurabi Kanunları
 - C) Urgakina Yasaları
 - D) Cengiz Han Yasası

4. **Çivi yazısını icat eden uygarlık aşağıdakilerden hangisidir?**
 - A) Asurlar
 - B) Urartular
 - C) Sümerler
 - D) Hititler

5. **Roma'da cumhuriyet rejiminin kurulmasından sonra MÖ 450 yılında yazılan kanun aşağıdakilerden hangisidir?**
 - A) 12 Levha Kanunları
 - B) Urgakina Kanunları
 - C) Manu Kanunları
 - D) Mişna Kanunları

6. **Güvenlik ve konaklama işlevli yarı askeri yapılara ne ad verilir?**
 - A) Ribat
 - B) Agora
 - C) Arasta
 - D) Bedesten

7. **Kazı yoluyla toprak ve su altındaki maddi kalıntıları çıkararak inceleyen bilim dalı aşağıdakilerden hangisidir?**
 - A) Antropoloji
 - B) Arkeoloji
 - C) Kronoloji
 - D) Epigrafi

8. **Dikdörtgen planlı olarak yapılan ve avlular etrafında sıralanan yapı tipine ne ad verilir?**
 - A) Megaron
 - B) Natron
 - C) Ziggurat
 - D) Karum

9. **Hammurabi Kanunları hangi Mezopotamya uygarlığına aittir?**
 - A) Sümerler
 - B) Akadlar
 - C) Babiller
 - D) Asurlar

10. **Kurdıkları koloniler sayesinde ülkeler arası kültürel etkileşimi sağlayan Fenikelilerin en ünlü Afrika kolonisi aşağıdakilerden hangisidir?**
 - A) Kaniş
 - B) Kartaca
 - C) Kition
 - D) Sidon

11. Hz. Muhammed'in kurduğu İslam devletinin adli, askeri ve mali yapılanmasını gerçekleştiren halife aşağıdakilerden hangisidir?

- A) Hz. Osman
- B) Hz. Ömer
- C) Hz. Ali
- D) Hz. Ebubekir

12. Abbasiler döneminde Hindistan, Çin, Suriye ve Afrika arasında bir ticaret ve aydınlanma merkezi haline gelen şehir aşağıdakilerden hangisidir?

- A) Semerkant
- B) Musul
- C) Necef
- D) Bağdat

13. Tarihin ilk yazılı anayasası aşağıdakilerden hangisidir?

- A) Hammurabi Kanunları
- B) 12 Levha Kanunları
- C) Magna Carta Libertatum
- D) Urukagina Kanunları

14. "Gregoryan takvimi" olarak da bilinen takvim aşağıdakilerden hangisidir?

- A) Miladi takvim
- B) Rumi takvim
- C) Celâli takvimi
- D) Hicri takvim

15. Aşağıdakilerden hangisi Çin Medeniyeti'nin uygarlığa katkılarında biri değildir?

- A) Matbaa
- B) Barut
- C) Kâğıt
- D) Tekerlek

16. Eski Roma'da meclis binasına ne ad verilir?

- A) Basilika
- B) Sebasteion
- C) Bleuoterion
- D) Lejyon

17. Türklerin, İslamiyet'i kabul ettikten sonra kullandığı takvim aşağıdakilerden hangisidir?

- A) Celâli takvimi
- B) Rumi takvim
- C) Hicri takvim
- D) Miladi takvim

18. Sümerlerde okullara ne ad verilir?

- A) Potern
- B) Mastaba
- C) İnhumasyon
- D) Tablet evi

19. İnsan ırkını inceleyen ve kültürlerin gelişimini araştıran tarihe yardımcı bilim dalı aşağıdakilerden hangisidir?

- A) Antropoloji
- B) Arkeoloji
- C) Coğrafya
- D) Heraldik

20. Seyahat sırasında yolcu ve ticaret kabilelerinin konakladığı yerlere ne ad verilir?

- A) Agora
- B) Han
- C) Kapan
- D) Bedesten

2019 AÖÖ-AÖL III. DÖNEM 0104-A

1. Aşağıdakilerden hangisi coğrafi keşiflerin nedenlerinden biri değildir?

- A) Dünyayı öğrenmek isteyen cesur gemicilerin yetişmesi
- B) Avrupalıların, Doğu'nun zenginliklerine ulaşmak istemesi
- C) Coğrafya biliminin gelişmesi
- D) Portekizliler ve İspanyollar tarafından kurulan büyük sömürge imparatorluklarının Avrupalı devletleri rahatsız etmesi

2. Coğrafi keşiflerde ilk girişimi yapan ülke aşağıdakilerden hangisidir?

- A) Portekiz
- B) İtalya
- C) Venedik
- D) Ceneviz

3. Osmanlı Devleti'nde ilk kapitülasyon hangi devlete verilmiştir?

- A) İtalya
- B) İngiltere
- C) Venedik
- D) Fransa

4. Aşağıdakilerden hangisi İstanbul'un fethinin sonuçlarından biri değildir?

- A) Osmanlı Devleti'nin, Türk ve İslam dünyasındaki saygınlığının artması
- B) Orta Çağ'ın kapanıp, Yeni Çağ'ın başlaması
- C) Avrupa'da merkezi krallıkların güç kaybetmeye başlaması
- D) Osmanlı Devleti'nin, Asya ve Avrupa'daki topraklarının birbirine bağlanması

5. İstanbul kaç yılında fethedilmiştir?

- A) 1425
- B) 1453
- C) 1511
- D) 1550

6. Aşağıdakilerden hangisi İstanbul'un fethinin nedenlerinden biri değildir?

- A) Osmanlı Devleti'nin, Anadolu ve Rumeli arasında bir bağlantı kurmak istemesi
- B) Bizans'ın saltanat iddiasında bulunan şehzadeleri desteklemesi
- C) Osmanlı Devleti'nin, deniz ticaret yollarını denetim altına almak istemesi
- D) Avrupa'da merkezi krallıkların güç kaybetmeye başlaması

7. Karadeniz'in Türk gölü haline gelmesini sağlayan olay aşağıdakilerden hangisidir?

- A) Eflak'ın fethi
- B) Mora'nın fethi
- C) Amasra'nın fethi
- D) Kırım'ın fethi

8. Veziriazam ile ilgili aşağıdaki ifadelerden hangisi yanlıştır?

- A) Memurların atanması, görevden alınması ve terfi etmesi gibi işlerinden sorumludur.
- B) Divan-ı Hümayun'da padişahın mutlak vekilidir.
- C) Askeri sınıfa ait şer'i ve hukuki işlerin görülmesinden sorumludur.
- D) Mahkemelerin verdiği hükümleri yerine getirmek görevleri arasındadır.

9. Enderun ile ilgili aşağıdaki ifadelerden hangisi yanlıştır?

- A) Fatih Sultan Mehmet tarafından kurulmuştur.
- B) Devşirme yöntemiyle yetiştirilen gençlerin bulunduğu yerdir.
- C) Padişah'ın yabancı elçileri kabul ettiği bir bölümü vardır.
- D) Saraydan bağımsız olarak çalışan bir kurumdur.

10. Osmanlı Devleti'nde sancak beyi olan şehzadelere görevi sırasında rehberlik eden tecrübeli devlet adamlarına ne ad verilir?

- A) Vezir
- B) Lala
- C) Kazasker
- D) Subaşı

11. İlimiye sınıfının Divân-ı Hümâyun'daki temsilcisi aşağıdakilerden hangisidir?

- A) Kadıasker
- B) Reisülküttâb
- C) Defterdar
- D) Şeyhü-l İslam

12. Yıldırım Bayezit'in ölümünden sonra oğulları arasında 11 yıl süren taht mücadelelerinin yaşandığı döneme ne ad verilir?

- A) Çöküş Devri
- B) Gerileme Devri
- C) Fetret Devri
- D) Duraklama Devri

13. Osmanlı Devleti'nde kazaların bağlı olduğu yönetim birimlerine ne ad verilir?

- A) Sancak
- B) Mahalle
- C) Eyalet
- D) Köy

14. Osmanlı Devleti'nde padişahın, ailesinin ve saray kadınlarının günlük hayatlarını geçirdikleri mekâna ne ad verilir?

- A) Birun
- B) Harem
- C) Büyük oda
- D) Has oda

15. Müsadere sistemi hangi padişah döneminde uygulanmaya başlanmıştır?

- A) Kanuni Sultan Süleyman
- B) Fatih Sultan Mehmet
- C) Yavuz Sultan Selim
- D) Murat Hüdavendigâr

16. Osmanlılarda, devlet adamlarına mülk olarak verilen topraklara ne ad verilir?

- A) Malikâne
- B) Dirlik
- C) Mukataa
- D) Vakıf

17. Hz. Muhammed'e inanarak onun yaptıklarını ve söylediklerini uygulayan müslümanlara ne ad verilir?

- A) Ümmet
- B) Kabile
- C) Kavim
- D) Millet

18. Osmanlı Devleti'nin piyasalarda oluşan rekabeti denetlemek için uyguladığı sistem aşağıdakilerden hangisidir?

- A) Derbent
- B) Pençik
- C) Narh
- D) Müsadere

19. Osmanlılarda gelirleri hayır işleri ve sosyal hizmetler için ayrılan topraklara ne ad verilir?

- A) Ocaklık
- B) Mukataa
- C) Vakıf
- D) Yurtluk

20. Osmanlı Devleti'nde ticareti yapılan malların toptan getirildiği ticaret merkezlerine ne ad verilir?

- A) Meydan
- B) Kapan
- C) Pazar yeri
- D) Bedesten

2019 AÖÖ-AÖL III. DÖNEM 0104-A

1. Osmanlı Devleti'nin Kuzey Afrika'daki üç eyaletine (Tunus, Cezayir ve Trablusgarp) verilen ortak ad aşağıdakilerden hangisidir?
- A) Haklar Birliği
B) Verimli Hilal
C) Garp Ocakları
D) Halk Meclisi
2. Osmanlı Devleti Zitvatorok Antlaşması'nı aşağıdaki devletlerden hangisiyle imzalamıştır?
- A) Fransa
B) Avusturya
C) İngiltere
D) Rusya
3. I. Ahmet Dönemi'nde Safevilerle imzalanan antlaşma aşağıdakilerden hangisidir?
- A) Belgrad Antlaşması
B) Vasvar Antlaşması
C) Nasuh Paşa Antlaşması
D) Bucaş Antlaşması
4. Aşağıdakilerden hangisi Küçük Kaynarca Antlaşması'nın maddelerinden biri değildir?
- A) Rusya Osmanlı Devleti'ne savaş tazminatı ödeyecek
B) Rusya kapitülasyonlardan yararlanabilecek
C) Rusya, gerekli gördüğü Osmanlı yerleşim birimlerinde konsolosluklar açabilecek
D) Kırım bağımsız olacak, sadece dini bakımdan halifeye bağlı kalacak
5. 1635'te İran üzerine düzenlenen Revan Seferi'ni komuta eden Osmanlı hükümdarı aşağıdakilerden hangisidir?
- A) Mehmet Çelebi
B) II. Murat
C) I. Selim
D) IV. Murat
6. Karlofça Antlaşması'nda Lehistan'a bırakılan yer aşağıdakilerden hangisidir?
- A) Sudak
B) Kırım
C) Mora
D) Podolya
7. Aşağıdakilerden hangisi Prut Antlaşması'nın maddelerinden biri değildir?
- A) İsveç Kralı Demirbaş Şar'ın ülkesine serbestçe dönmesine izin verilecek
B) Rusya Lehistan'ın içişlerine karışmayacak
C) Azak Kalesi, Ruslara bırakılacak
D) Rusya İstanbul'da elçi bulundurmuyacak
8. Aşağıdakilerden hangisi Reform hareketinin başlamasında etkili olan gelişmeler arasında yer almaz?
- A) Matbaanın geliştirilmesi
B) Otrar Hadisesi
C) Katolik Kilisesi'nde ortaya çıkan bozulmalar
D) Rönesans
9. "Düstûr'ül Amel" adlı risalesinde devlet düzenine ilişkin değerlendirmelerde bulunan kişi aşağıdakilerden hangisidir?
- A) Naima Efendi
B) Yanyalı Esad Efendi
C) Kâtip Çelebi
D) Ali Kuşçu
10. XVI. ve XVII. yüzyılda Avrupa ülkelerinin ticaret politikalarının temelini oluşturan ekonomi modeli aşağıdakilerden hangisidir?
- A) Merkantilizm
B) Kübizm
C) İrredentizm
D) Nihilizm
11. İnsanı değer kabul eden, onu her şeyin ölçütü olarak tanımlayan, insanın doğasını, yeteneklerini, sınırlarını veya ilgilerini konu edinen felsefi akım aşağıdakilerden hangisidir?
- A) İrredentizm
B) Nihilizm
C) Hümanizm
D) Despotizm
12. "Hükümdar" (Prens) adlı eserin yazarı aşağıdakilerden hangisidir?
- A) Jean Jacques Rousseau
B) Machiavelli
C) Thomas More
D) Copernicus

13. Aşağıdakilerden hangisi Kanuni Sultan Süleyman Dönemi'nde Fransa'ya verilen kapitülasyonların amaçları arasında yer almaz?

- A) Akdeniz ticaretini canlandırmak
- B) Avrupa'da Hristiyan birliğini bozmak
- C) Almanya'ya karşı Fransa'nın desteğini kazanmak
- D) Baba İshak Ayaklanması'nı önlemek

14. Aşağıdakilerden hangisi Lale Devri'nin özelliklerinden biri değildir?

- A) Doğu ve Batı dillerinden tercüme yapılmaması
- B) Süsleme sanatında barok ve rokoko tarzlarının etkili olması
- C) Yangınlara karşı Tulumbacı Ocağı'nın kurulması
- D) Anadolu (Güzelcehisar) Hisarı'nın yapılması

15. Aşağıdakilerden hangisi 1877-1878 Osmanlı-Rus Savaşı'nda Plevne Savunması'nın sonuçta başarısız kalmasının nedenlerinden biri değildir?

- A) Osman Paşa'nın orduyu iyi yönetememesi
- B) Yardımcı kuvvet gelmemesi
- C) Askerî malzeme ve mühimmat sıkıntısı yaşanması
- D) Ağır kış şartları

16. II. Balkan Savaşı sonucunda Bulgaristan ile Osmanlı Devleti arasında yapılan barış antlaşması aşağıdakilerden hangisidir?

- A) Atina Barış Antlaşması
- B) İstanbul Barış Antlaşması
- C) Paris Barış Antlaşması
- D) Berlin Barış Antlaşması

17. Rusların sıcak denizlere inme politikasının başlatıcısı olan hükümdar aşağıdakilerden hangisidir?

- A) I. Petro
- B) VI. İvan
- C) II. Aleksandr
- D) I. Aleksey

18. II. Mahmut'un düzenli vergi vermesi ve Hicaz'ı ele geçiren Vehhabileri etkisiz kılması koşuluyla 1805'te Mısır Valisi olarak atadığı kişi aşağıdakilerden hangisidir?

- A) Hüseyin Hilmi Paşa
- B) Mehmet Ali Paşa
- C) Mahmut Şevket Paşa
- D) Kâmil Paşa

19. 1877-1878 Osmanlı-Rus Savaşı'nın 93 Harbi olarak adlandırılmasının sebebi aşağıdakilerden hangisidir?

- A) Rumi takvime göre 1293 yılında gerçekleşmesi
- B) 93 gün sürmesi
- C) Miladi takvime göre 1893 yılında gerçekleşmesi
- D) 93 bin askerin Ruslara esir düşmesi

20. Avrupa devletlerinin XIX. yüzyıl ve sonrasında Osmanlı Devleti'ne karşı yürütecekleri siyaseti ifade eden kavram aşağıdakilerden hangisidir?

- A) Demir Perde
- B) Soğuk Savaş
- C) Güneş Kral
- D) Şark Meselesi

2019 AÖÖ-AÖL III. DÖNEM 0104-A

1. Nizam-ı Cedid Ordusu'nun giderlerini karşılamak amacıyla kurulan hazine aşağıdakilerden hangisidir?

- A) Hazine-i Amire
- B) İrad-ı Cedit
- C) Defterdarlık
- D) Hazine-i Hassa

2. Aşağıdakilerden hangisi liberal düşünürlerin savundukları düşüncelerden biri değildir?

- A) Din ve devlet işlerinin birbirinden ayrılmalı
- B) Tüm bireyler eşit haklara sahip olmalı
- C) Ekonomik faaliyetler kısıtlanmalı
- D) Keyfi yönetimler sınırlandırılmalı

3. Sanayi Devrimi hangi ülkede başlamıştır?

- A) Rusya
- B) İtalya
- C) Fransa
- D) İngiltere

4. Aşağıdakilerden hangisi II. Abdülhamit Dönemi'nde eğitim ile ilgili yapılan çalışmalar arasında yer almaz?

- A) Çocukların ilköğretimine büyük önem verilerek pek çok vilayette yeni okullar açılması
- B) Harbiye, mülkiye ve askerî tıbbiyenin müfredatlarının geliştirilmesi
- C) Rüşdiyeler ve idadilerdeki yabancı dil öğretiminin kaldırılması
- D) Hamidiye Ticaret Mektebi'nin açılması

5. Aşağıdakilerden hangisi II. Mahmut Dönemi'nin özelliklerinden biri değildir?

- A) II. Meşrutiyetin ilan edilmesi
- B) Asâkir-i Mansûre-i Muhammediyye adlı yeni bir ordunun kurulması
- C) Mekteb-i Tıbbiye'nin açılması
- D) Memur yetiştirmek üzere Mekteb-i Maârif-i Adliyye'nin açılması

6. Aşağıdakilerden hangisi Sened-i İttifak'ın maddeleri arasında yer almaz?

- A) İstanbul'da Yeniçeri Ocağı ve diğer ocaklarda isyan çıkarsa âyanlar emir beklemeksizin gelip isyanı bastırmaya çalışacak
- B) Âyanlar padişahın emirlerini yerine getirerek ona sadık kalacak
- C) Müsadere usulü tamamen kaldırılacak
- D) Padişah âdil ve eşit vergi alacak, aşırı vergi konmayacak

7. Bâbîâli Baskını ile iktidarı ele geçiren siyasi parti aşağıdakilerden hangisidir?

- A) Osmanlı Demokratik Fırkası
- B) İttihat ve Terakki Fırkası
- C) Hürriyet Fırkası
- D) Osmanlı Ahrar Fırkası

8. Aşağıdakilerden hangisi XVIII. ve XIX. yüzyıllarda Osmanlı Devleti'nin endüstriyel üretime geçişte yaşadığı zorlukların nedenlerinden biri değildir?

- A) Meclis-i Maarif-i Umumiye'nin kurulması
- B) Rusya ve Avusturya ile yapılan uzun süreli savaşların getirdiği mali sıkıntılar
- C) III. Selim ve II. Mahmut dönemlerinde başlatılan ıslahatlara ulemanın karşı çıkması
- D) Devlet sınırları içerisinde meydana gelen isyanlar

9. Aşağıdakilerden hangisi Osmanlı devlet adamlarının sanayi devrimini ciddiye aldıklarını gösteren en önemli kanıtlardan biridir?

- A) Aşar vergisinin artırılması
- B) Sanayi okullarının açılması
- C) Sümerbank'ın kurulması
- D) Etibank'ın kurulması

10. "Milletlerin Zenginliği" adlı eser aşağıdaki kişilerden hangisine aittir?

- A) John Locke
- B) Adam Smith
- C) David Hume
- D) Thomas Hobbes

11. Aşağıdakilerden hangisi endüstriyel üretimin genel özelliklerinden biri değildir?

- A) İş bölümünde modern eğitimden faydalanılması
- B) Üretim araçlarının mülkiyetinin fabrika/firma sahibine ait olması
- C) Üretimde el emeğinin ön planda olması
- D) Üretimde çalışan sayısının binlerle ifade edilmesi

12. Aşağıdakilerden hangisi Osmanlı Devleti'nde sanayiye güçlendirmeye yönelik atılan adımlardan biri değildir?

- A) Sanayi Mektepleri'nin açılması
- B) İrad-ı Cedid Hazinesi'nin kaldırılması
- C) Esnaf Şirketleri'nin kurulması
- D) Demir Yolu Projeleri'nin hayata geçirilmesi

13. Aşağıdakilerden hangisi 1838 Balta Limanı Ticaret Antlaşması'nın sonuçlarından biri değildir?

- A) Yerli tüccardan alınan iç gümrük vergisinin kaldırılması
- B) Avrupa ile rekabet edemeyen Osmanlı esnafının yavaş yavaş faaliyetlerini durdurmak mecburiyetinde kalması
- C) Osmanlı pazarlarının büyük oranda yabancıların denetimine geçmesi
- D) Osmanlı esnafının ham madde bulmakta sıkıntı çekmesi

14. Aşağıdakilerden hangisi Osmanlı Devleti'nde Millî iktisat politikaları çerçevesinde atılan adımlardan biri değildir?

- A) Kapitülasyonların kaldırılması
- B) Düyûn-ı Umûmiye'nin faaliyetlerin askıya alınması
- C) Ticari işletmelerde Türkçenin kullanılmasına yönelik yasaların çıkarılması
- D) Ekber ve Erşed Sistemi'ne geçilmesi

15. Farklı etnik kökene sahip toplumların farklı kültür birikimlerini (din, dil, gelenek, alışkanlık, vb.) ve aidiyet duygularını, egemen kültür ve kimlik dokusu içinde eritip yok etmesine ne ad verilir?

- A) Şansölye
- B) Diocesis
- C) Knezlik
- D) Asimilasyon

16. Osmanlı Devleti'nde modern şehirlerin kuruluşunun Avrupa'dan farklılık göstermesinin en büyük sebebi aşağıdakilerden hangisidir?

- A) Nüfusun az olması
- B) Tarıma ayrılan toprakların fazla olması
- C) Sanayileşme ve teknolojik gelişmenin geç başlaması
- D) Mülk arazi sayısının fazla olması

17. İngilizler tarafından "halkın düşüncesi" anlamında kullanılmış kavram aşağıdakilerden hangisidir?

- A) Müsadere
- B) Esham
- C) Ahitname
- D) Kamuoyu

18. Fransız İhtilali'yle ortaya çıkan ve çok uluslu imparatorlukların parçalanmasına neden olan fikir akımı aşağıdakilerden hangisidir?

- A) Milliyetçilik
- B) Teokrazi
- C) Monarşi
- D) Despotizm

19. 1840 yılında William Churchill tarafından çıkarılan yarı resmî gazete aşağıdakilerden hangisidir?

- A) Ceride-i Havadis
- B) Albayrak
- C) Mimler
- D) Emel

20. Mürur tezkiresi (tezkeresi) nedir?

- A) Bir bölgeyi savunmak için yapılan ve silahlarla güçlendirilen yapıdır.
- B) Bir alanla ilgili oluşturulan danışma kuruludur.
- C) Mahkemenin verdiği kararı kabul etmeyerek bir üst mahkemeye götürmektir.
- D) Osmanlı Devleti'nde ülke içinde seyahat etmek ve İstanbul'a gitmek için alınan izin ve geçiş belgesidir.

2019 AÖÖ-AÖL III. DÖNEM 0104-A

1. Kişinin günlük hayatında faydasına ve zararına olan şeyleri bilmesine ne ad verilir?

- A) Sünnet
- B) Fıkıh
- C) Müçtehit
- D) Delil

2. İslam Hukuku'nun temel kaynağı aşağıdakilerden hangisidir?

- A) Kur'an-ı Kerim
- B) Kıyas
- C) Hadis
- D) İcma

3. İslam dininin temel amacı aşağıdakilerden hangisidir?

- A) İnsanlara manevi yönden destek olmak
- B) İnsanların eşit şartlarda yaşamalarını sağlamak
- C) İnsanların suç ve günah işlemelerini engellemek
- D) İnsanın dünya ve ahiret mutluluğunu sağlamak

4. Bir konuda yarar ile zarar çatıştığı takdirde öncelikle ne yapılmalıdır?

- A) Zararın daha sonra giderileceği düşünülerek hareket edilmelidir.
- B) Yarar ön planda tutulmalıdır.
- C) Zararın defedilmesi esas alınmalıdır.
- D) Zarar gözardı edilmelidir.

5. Aşağıdakilerden hangisi İslam Hukuku'nun temel ilkelerinden biri değildir?

- A) Tekliflerde kolaylık
- B) Suçun toplumsallığı
- C) Suç ve ceza arasında doğru orantı
- D) Helallerde genişlik

6. Bir kişinin işlediği suç nedeniyle başkalarının sorumlu tutulamayacağını ifade eden İslam Hukuku ilkesi aşağıdakilerden hangisidir?

- A) Suçun şahsiliği
- B) Suç ve ceza arasında doğru orantı
- C) Kamu yararının gözetilmesi
- D) Adaletin gözetilmesi

7. Hukuk ve ahlâk ilişkisi ile ilgili aşağıdaki ifadelerden hangisi yanlıştır?

- A) Ahlâkın, hukuka göre önceliği olmalıdır çünkü ahlâkı oluşturulamamış kanunların geçerliliği yoktur.
- B) Ahlâkın yaptırımı toplum tarafından dışlanma ve ayıplanma şeklinde ortaya çıkarken, hukukun yaptırımları zorlayıcı özellik taşır.
- C) Ahlâki olgunluğa erişmemiş bireylerde ahlâki davranış, hukukun yaptırım gücüyle gerçekleşir.
- D) Hukuk içsel, ahlâk ise dışsal bir dinamiktir.

8. Fıkıh ilminin konularından biri olan "ferai" aşağıdakilerden hangisiyle ilgilidir?

- A) Günlük hayatla ilgili akitler
- B) Miras ve vasiyet
- C) Evlenme ve boşanma
- D) Namaz ve oruç

9. Fıkıh ilminin konularından biri olan "münakehat" aşağıdakilerden hangisiyle ilgilidir?

- A) Günlük hayatla ilgili akitler
- B) Suçlar ve cezaları
- C) Evlenme ve boşanma
- D) Miras ve vasiyet

10. "Kim bir kötülük işlerse onun kadar ceza görür..." (Mü'min Suresi, 40. ayet)

Yukarıdaki ayet İslam Hukuku ilkelerinden hangisiyle ilgilidir?

- A) Suç ve ceza arasında doğru orantı
- B) Adaletin gözetilmesi
- C) Tekliflerde kolaylık
- D) Suçun şahsiliği

11. İnsanlarla olan ilişkilerde gözetilmesi gereken en öncelikli hak aşağıdakilerden hangisidir?

- A) Mahremiyet hakkı
- B) Mülkiyet hakkı
- C) Özgürlük hakkı
- D) Kul hakkı

12. İslam ahlâkının konusu aşağıdakilerden hangisidir?

- A) Toplumların varoluş nedenleri
- B) Canlıların özellikleri
- C) İnsanın düşünce ve davranışları
- D) Bireylerin istek ve ihtiyaçları

13. Allah'ın yücelik ve azametini kabul ve tasdik ederek O'nun karşısında saygılı ve edepli olmaya ne ad verilir?

- A) Muhabbet
- B) Ta'zim
- C) İbadet
- D) Hoşgörü

14. Bireyin şahsi ve sosyal hayatının düzenini sağlamak, saadet ve selamete ulaşmak için hem kendisine, hem Allah'a hem de başkalarına karşı yapmayı manen üzerine aldığı fiil ve durumlara ne ad verilir?

- A) Terbiye
- B) Erdem
- C) Talim
- D) Vazife

15. Aşağıdakilerden hangisi takva kapsamında yer almaz?

- A) Allah'tan uzaklaşmaya neden olan her türlü duygu, düşünce ve davranışı terk etmek
- B) Küfre ve şirke düşmekten sakınmak
- C) Allah'ın affedici olması nedeniyle ibadetleri ihmal etmek
- D) Günah işlemekten ve dinen şüpheli olan şeylerden uzak durmak

16. Aşağıdakilerden hangisi İslam kelimesinin sözlük anlamlarından biri değildir?

- A) Boyun eğmek
- B) Önyargılı olmak
- C) Kurtuluşa ermek
- D) Teslim olmak

17. İslam dininde aşağıdaki haklardan hangisi dokunulmaz olarak kabul edilmiştir?

- A) Yaşama hakkı
- B) Düşünce hakkı
- C) Çalışma hakkı
- D) Eğitim hakkı

18. Salat ü selam ne anlama gelir?

- A) Kur'an-ı Kerim'i okumak
- B) Dua okumak
- C) Allah'a kulluk etmek
- D) Salavat getirmek

19. Aşağıdakilerden hangisi kulun, Allah'ın rahmetine güvenerek ümit içinde olmasını ifade eder?

- A) Ta'zim
- B) Havf
- C) Reca
- D) Takva

20. Aşağıdakilerden hangisi Hz. Muhammed'in söz ve davranışlarını ifade eder?

- A) Sünnet
- B) İcma
- C) Kelâm
- D) Kıyas

2019 AÖÖ-AÖL III. DÖNEM 0104-A

1. Victor Hugo'nun "Noturdam de Paris", Alexander Dumas'ın "Monte Cristo" ve "Üç Silahşörler", Namık Kemal'in "Cezmi" romanları aşağıdaki roman türlerinden hangisine örnektir?

- A) Tarihî roman
- B) Sosyal roman
- C) Macera romanı
- D) Psikolojik roman

2. Aşağıdakilerden hangisi trajedinin özelliklerinden biri değildir?

- A) Manzum olarak yazılması
- B) Kahramanların soylu kişiler olması
- C) Erdeme ve ahlaka değer verilmesi
- D) Konularının günlük hayattan alınması

3. Türk edebiyatında ilk çeviri roman aşağıdaki yazarlardan hangisine aittir?

- A) Namık Kemal
- B) Yusuf Kamil Paşa
- C) Rezaizade Mahmud Ekrem
- D) Şemseddin Sami

4. Aşağıdakilerden hangisi romanın yapı unsurlarından biri değildir?

- A) Kişiler
- B) Çatışma
- C) Gözlem
- D) Olay

5. "Paydos" adlı oyun aşağıdaki yazarlardan hangisine aittir?

- A) Cevat Fehmi Başkut
- B) Nazım Hikmet
- C) Güngör Dilmen
- D) Oktay Rifat

6. Aşağıdaki cümlelerin hangisinde yer-yön zarfı kullanılmıştır?

- A) Akşama sinemaya gideceğiz.
- B) Yarın gelerseniz daha iyi olur.
- C) Evden koşarak çıktım.
- D) Lütfen, dışarıda bekleyin!

7. Güldürü niteliğinde kısa oyunlara ne ad verilir?

- A) Mizansen
- B) Tirat
- C) Skeç
- D) Replik

8. Aşağıdakilerden hangisi Orhan Asena'nın eserlerinden biri değildir?

- A) Ah Şu Gençler
- B) Hurrem Sultan
- C) Tohum ve Toprak
- D) Tanrılar ve İnsanlar

9. Aşağıdaki cümlelerin hangisinde ek fiil kullanılmıştır?
- A) Nasıl bir işte çalışıyor?
B) Yüzmek iyi bir spordur.
C) Çocuk korkuyla annesine baktı.
D) Bu kitapların hepsini okudum.
10. Divan edebiyatında kişilerin biyografisini çeşitli yönleriyle ele alan eserlere ne ad verilir?
- A) Mecmua
B) Edebiyat tarihi
C) Antoloji
D) Tezkire
11. “İşaret Çocukları, Yedi Güzel Adam, Menziller” adlı eserler aşağıdaki şairlerden hangisine aittir?
- A) Şevket Süreya
B) Turgut Uyar
C) Nazım Hikmet
D) Cahit Zarifoğlu
12. Ayşe Kulin’in “Adı Aylın” adlı romanı biçim bakımından aşağıdakilerden hangisine örnektir?
- A) Otobiyografi
B) Biyografi
C) Monografi
D) Portre
13. “Şah ve Sultan” adlı eser aşağıdaki yazarlardan hangisine aittir?
- A) Ayşe Kulin
B) Beşir Ayvazoğlu
C) İskender Pala
D) Sinan Yağmur
14. Aşağıdaki altı çizili sözcüklerden hangisi belgisiz zamir olarak kullanılmıştır?
- A) Birçoğu düşünümüze geldi.
B) Simsiyah saçları güneşte parlıyordu.
C) Her gün bu fırından ekmek alırız.
D) Kapının önünde bekleme.
15. “Evli Bir Kadının Günlüğü” adlı eser aşağıdaki yazarlardan hangisine aittir?
- A) Nazım Hikmet
B) Peride Celâl
C) Reşat Nuri Güntekin
D) Yakup Kadri Karaosmanoğlu
16. Bir kimseyi karakteristik özellikleriyle okuyucuya tanıtmak amacıyla yazılan edebî yazılara ne ad verilir?
- A) Monografi
B) Monolog
C) Güldeste
D) Portre

2019 AÖÖ-AÖL III. DÖNEM 0104-A

17. “Kısa Hayat Öyküm, Sensiz Herşey Renksiz, Yeditepe Öyküleri” adlı eserler aşağıdaki yazarlardan hangisine aittir?

- A) Necati Cumalı
- B) Hıfzı Topuz
- C) Abidin Dino
- D) Sinan Yağmur

18. Aşağıdaki fiillerden hangisi gelecek zamanın rivayeti ile çekimlenmiştir?

- A) gelecekmiş
- B) biliyorsan
- C) alacaktım
- D) baksaydın

19. Aşağıdaki cümlelerden hangisinin yüklemi yeterlilik fiili ile çekimlenmiştir?

- A) Koşuver kızım biraz!
- B) O küçücük yazıyı uzaktan okuyabildim.
- C) Hep aynı olaylar süregeliyordu.
- D) Sabah erkenden kalkar, etrafı toplarsın.

20. “Gelen konuklarla tokalaştı.” cümlesinde fiilin öznesine göre çatısı aşağıdakilerden hangisine örnektir?

- A) Dönüşlü
- B) Edilgen
- C) İşteş
- D) Ettirgen

2019 AÖO-AÖL III. DÖNEM 0104-A

1. In unserer Schule gibt es ein Labor für -----.

Welches Wort passt in die obige Lücke?

Yukarıdaki cümlede boş bırakılan yeri aşağıdakilerden hangisi doğru olarak tamamlar?

- A) Computerspiele
B) Experimente
C) Erdgeschoss
D) Schulleitung

2. Ja, wir können in der Mensa essen.

Welche Frage passt zur obigen Antwort?

Yukarıdaki cevabı gerektirecek soru aşağıdakilerden hangisinde doğru olarak verilmiştir?

- A) Hast du auch eine Prüfung?
B) Gibt es eine Sporthalle?
C) Gibt es eine Mensa?
D) Wo ist die Bibliothek?

3. 8 Euro pro Person.

Welche Frage passt zur obigen Antwort?

Yukarıdaki cevabı gerektirecek soru aşağıdakilerden hangisinde doğru olarak verilmiştir?

- A) Wie viel kostet der Eintritt pro Person?
B) Wie lange dauert die Führung?
C) Wie oft gehst du ins Museum?
D) Wie ist das Museum?

4. A: Hast du ----- Brille gesehen?
B: Ja, ----- Brille ist auf dem Schreibtisch.

Welche Wörter passen in die Lücken im obigen Dialog?

Yukarıdaki karşılıklı konuşmada boş bırakılan yerleri aşağıdakilerden hangileri doğru olarak tamamlar?

- A) meine / deine
B) deine / seine
C) neue / alte
D) kleinen / einen

5. Die Bibliothek ist in der ----- vom Rathaus, viele ----- fahren her.

Welche Wörter passen in die obigen Lücken?

Yukarıdaki cümlede boş bırakılan yerleri aşağıdakilerden hangisi doğru olarak tamamlar?

- A) Stelle / Kreuzung
B) Weite / Bahnhof
C) Seite / Strecken
D) Nähe / Buslinien

6. Beim Ramadan -----.

Welches ergänzt die Lücke im obigen Satz?

Yukarıdaki cümlede boş bırakılan yeri aşağıdakilerden hangisi doğru olarak tamamlar?

- A) gehen alle im Wald spazieren
B) füttern die Kinder die Hühner
C) fasten die Moslems tagsüber
D) essen wir den ganzen Tag

7. Welches gehört nicht zur Phase der Hochzeitszeremonie?

Welche Antwort passt zur obigen Frage?

Yukarıdaki sorunun cevabı aşağıdakilerden hangisinde doğru olarak verilmiştir?

- A) Die Schultüte.
B) Der Bewilligungsbesuch.
C) Die Hochzeitsvorbereitungen.
D) Die Verlobungsfeier.

8. Die Hühner / Die Kühe / Das Grillen / Die Ziegen

Welches Wort passt nicht zu den anderen in der obigen Wortgruppe?

Yukarıdaki sözcük grubuna uymayan sözcük aşağıdakilerden hangisinde doğru olarak verilmiştir?

- A) Die Ziegen
B) Das Grillen
C) Die Kühe
D) Die Hühner

9. (I) Meine Großeltern stehen morgens am Festtag sehr früh auf. (II) Mein Großvater und mein Vater gehen in die Moschee. (III) Ich habe Tomatensuppe gekocht. (IV) Nach dem Festgebet frühstücken wir alle zusammen.

Welcher Satz passt nicht zum obigen Paragraf?

Yukarıdakilerden hangisi paragrafın anlam bütünlüğünü bozmaktadır?

- A) I
- B) II
- C) III
- D) IV

10. Der Wehrdienst ist eine wichtige ----- für die Männer in der Türkei.

Welches ergänzt die Lücke im obigen Satz?

Yukarıdaki cümlede boş bırakılan yeri aşağıdakilerden hangisi doğru olarak tamamlar?

- A) Besuch
- B) Punkt
- C) Bedürfnis
- D) Pflicht

11. A: Guten Tag! -----
B: Hallo! Ja, gerne.
A: Wo ist hier die Moschee?
B: Sehen Sie den Park dort drüben? Vom Park biegen Sie nach rechts, da auf der linken Seite liegt die Moschee.

Welches ergänzt die Lücke im obigen Dialog?

Yukarıdaki karşılıklı konuşmada boş bırakılan yeri aşağıdakilerden hangisi doğru olarak tamamlar?

- A) Sind Sie fremd hier?
- B) Wo wohnen Sie?
- C) Darf ich Sie etwas fragen?
- D) Können Sie mir sagen, wie spät es ist?

12. ----- will Murat gehen?

Welches Wort passt nicht in die obige Lücke?

Yukarıdaki cümlede boş bırakılan yeri aşağıdakilerden hangisi doğru olarak tamamlamaz?

- A) Womit
- B) Wann
- C) Wohin
- D) Weil

13. Wo liegt Ankara?

Welche Antwort passt zur obigen Frage?

Yukarıdaki sorunun cevabı aşağıdakilerden hangisinde doğru olarak verilmiştir?

- A) Diese Stadt kenne ich von Bursa.
- B) Ankara liegt in der Mitte von der Türkei.
- C) Die Stadt habe ich voriges Jahr besucht.
- D) Ankara liegt im Südosten.

14. Von Gleis Nummer 5.

Welche Frage passt zur obigen Antwort?

Yukarıdaki cevabı gerektirecek soru aşağıdakilerden hangisinde doğru olarak verilmiştir?

- A) Fährt der Zug gleich ab?
- B) Von welchem Gleis fährt der Zug ab?
- C) Kommt der Zug pünktlich?
- D) Wann kommt der Zug?

15. Ihr fliegt mit ----- Schülern in die USA.

Welches Wort passt in die obige Lücke?

Yukarıdaki cümlede boş bırakılan yeri aşağıdakilerden hangisi doğru olarak tamamlar?

- A) euren
- B) eurem
- C) eure
- D) euer

16. Kaffee / Mutter / meine / gerne / Tasse / trinkt / eine

Wie kann man mit den obigen Wortgruppen einen sinnvollen und richtigen Satz bilden?

Yukarıdaki sözcük gruplarıyla kurulabilecek en anlamlı ve doğru cümle aşağıdakilerden hangisinde doğru olarak verilmiştir?

- A) Tasse Kaffee gerne eine meine Mutter trinkt.
- B) Mutter Tasse trinkt Kaffee meine gerne eine.
- C) Meine Mutter trinkt gerne eine Tasse Kaffee.
- D) Trinkt gerne eine Kaffee meine Mutter Tasse.

17. Welches gehört nicht zu den Zutaten für den Kartoffelsalat?

Welche Antwort passt zur obigen Frage?

Yukarıdaki sorunun cevabı aşağıdakilerden hangisinde doğru olarak verilmiştir?

- A) Das Olivenöl.
- B) Die Petersilie.
- C) Die Zwiebeln.
- D) Der Puderzucker.

18. Das Gehirn ----- ausreichend Flüssigkeit.

Welches Wort passt in die obige Lücke?

Yukarıdaki cümlede boş bırakılan yeri aşağıdakilerden hangisi doğru olarak tamamlar?

- A) macht
- B) kocht
- C) sorgt
- D) braucht

19. Der Tourist / Der Zug / Der Bus / Das Auto

Welches Wort passt nicht zu den anderen in der obigen Wortgruppe?

Yukarıdaki sözcük grubuna uymayan sözcük aşağıdakilerden hangisinde doğru olarak verilmiştir?

- A) Der Tourist
- B) Der Zug
- C) Der Bus
- D) Das Auto

20. Das schmeckt echt gut.

Welcher der folgenden Sätze hat die gleiche Bedeutung mit dem obigen?

Yukarıdaki cümle ile aynı anlamı taşıyan cümle aşağıdakilerden hangisinde doğru olarak verilmiştir?

- A) Das ist mir zu teuer.
- B) Das ist lecker.
- C) Das ist zu wenig.
- D) Das ist zu kalt.

2019 AÖÖ-AÖL III. DÖNEM 0104-A

1. Elle vient d'-----.

Choisissez le mot qui convient.**Cümledeki boşluğu aşağıdakilerden hangisi doğru şekilde tamamlar?**

- A) arrive
- B) arrivait
- C) arriver
- D) arrivé

2. «İçecek olarak ne alırsınız?»

Choisissez la traduction qui convient.**Yukarıdaki cümlelerin Fransızca karşılığı aşağıdakilerden hangisidir?**

- A) Vous voulez de l'eau?
- B) Vous désirez autre chose?
- C) Tu veux quelque chose?
- D) Et comme boisson?

3. Je cherche des infos ----- internet.

Choisissez le mot qui convient.**Cümledeki boşluğu aşağıdakilerden hangisi doğru şekilde tamamlar?**

- A) en
- B) au
- C) sur
- D) à

4. Mes chaussures sont -----.

Choisissez le mot qui convient.**Cümledeki boşluğu aşağıdakilerden hangisi doğru şekilde tamamlar?**

- A) bleues
- B) bleue
- C) bleu
- D) bleus

5. Quand il fera chaud, nous ----- des vacances.

Choisissez le mot qui convient.**Cümledeki boşluğu aşağıdakilerden hangisi doğru şekilde tamamlar?**

- A) ferons
- B) faire
- C) faisons
- D) faisons

6. Elle ----- dans quelques heures.

Choisissez l'expression qui convient.**Cümledeki boşluğu aşağıdakilerden hangisi doğru şekilde tamamlar?**

- A) viens de partir
- B) vas partir
- C) va partir
- D) vient de partir

7. Nous ----- au tennis.

Trouvez le mot qui convient.**Yukarıdaki cümleyi doğru şekilde tamamlayan sözcüğü bulunuz.**

- A) jouons
- B) faisons
- C) regardons
- D) pratiquons

8. Elles ont deux livres. C'est -----.

Choisissez le mot qui convient.**Cümledeki boşluğu aşağıdakilerden hangisi doğru şekilde tamamlar?**

- A) les siennes
- B) le leur
- C) les leur
- D) les leurs

9. Il ----- doucement.

Choisissez le mot qui convient.

Cümledeki boşluğu aşağıdakilerden hangisi doğru şekilde tamamlar?

- A) parles
- B) parle
- C) parlons
- D) parlez

10. ----- garder la forme je fais du sport.

Choisissez le mot qui convient.

Cümledeki boşluğu aşağıdakilerden hangisi doğru şekilde tamamlar?

- A) Demain
- B) Dans
- C) En
- D) Pour

11. I. Je vais prendre des photos.
II. La Turquie est un pays.
III. Ankara est la capitale de la Turquie.
IV. La Turquie est une République.

Trouvez la phrase qui ne convient pas.

Sırasıyla okunduğunda, anlam bütünlüğünü bozan cümleyi bulunuz.

- A) I
- B) II
- C) III
- D) IV

12. Je vais ----- aller au parc et après je vais me promener.

Choisissez le mot qui convient.

Cümledeki boşluğu aşağıdakilerden hangisi doğru şekilde tamamlar?

- A) quand
- B) d'abord
- C) mais
- D) pendant

13. Je ----- aller au Cameroun et visiter le Sénégal.

Choisissez le mot qui convient.

Cümledeki boşluğu aşağıdakilerden hangisi doğru şekilde tamamlar?

- A) voudrais
- B) voudrait
- C) voudraient
- D) voudriez

14. «Devine où je pars cette année.»

Choisissez la traduction qui convient.

Yukarıdaki cümlenin Türkçe karşılığı aşağıdakilerden hangisidir?

- A) Gel hadi bu yıl gidelim.
- B) Bil bakalım bu yıl nereye gidiyorum.
- C) Anlaştık, bu yıl sizinle tatile gidiyorum.
- D) Bu yıl hep birlikte tatile gidelim.

15. Léa : C'est ta maison?

Paul : -----

Léa : Elle est belle.

Paul : Merci.

Choisissez l'expression qui convient.

Konuşmadaki boşluğu aşağıdakilerden hangisi doğru şekilde tamamlar?

- A) Les nôtres!
- B) C'est dramatique.
- C) Oui, c'est le tien.
- D) Oui, c'est la mienne.

16. «Le texte parle de la nature.»

Choisissez la traduction qui convient.

Yukarıdaki cümlenin Türkçe karşılığı aşağıdakilerden hangisidir?

- A) Doğallık ile ilgili bir metin okuyorum.
- B) Metin doğal yaşamdan söz etmektedir.
- C) Metin doğa konusunu işlemektedir.
- D) Doğa ile ilgili metinler arıyorum.

2019 AÖÖ-AÖL III. DÖNEM 0104-A

17. A : Il y a du ----- à Antalya.
B : Oui, il fait chaud.

Choisissez le mot qui convient.

Konuşmadaki boşluğu aşağıdakilerden hangisi doğru şekilde tamamlar?

- A) neige
- B) soleil
- C) brouillard
- D) nuages

18. - -----?
- Il fait 30 degrés.

Choisissez l'expression qui convient.

Konuşmadaki boşluğu aşağıdakilerden hangisi doğru şekilde tamamlar?

- A) Le climat du pays est froid
- B) Quelle saison il aime
- C) Tu préfères la neige ou la pluie
- D) Quel temps fait-il aujourd'hui

19. Pierre : -----?
Paul : Non, il est fermé le lundi.
Pierre : Combien coûte l'entrée?
Paul : 15 euros.

Trouvez l'expression qui convient.

Yukarıdaki konuşmayı doğru şekilde tamamlayan ifadeyi bulunuz.

- A) Tu veux parler avec nous
- B) Les tableaux sont beaux
- C) Le musée est ouvert tous les jours
- D) La salle est fermée le mardi

20. Mireille : Tu téléphones à Marie?
Jacques : Oui, je ----- téléphone.

Choisissez le mot qui convient.

Konuşmadaki boşluğu aşağıdakilerden hangisi doğru şekilde tamamlar?

- A) en
- B) lui
- C) à
- D) la

2019 AÖÖ-AÖL III. DÖNEM 0104-A

1. 1. First, crack the eggs into a small bowl.
2. Later on, ----- the eggs.
3. Add some salt and pepper.

Which of the following completes the recipe above?

Aşağıdakilerden hangisi yukarıdaki tarifte boş bırakılan yeri doğru şekilde tamamlar?

- A) dice
- B) cut
- C) peel
- D) whisk

2. You ----- eat junk food if you are overweight.

Which of the following completes the sentence above?

Aşağıdakilerden hangisi yukarıdaki cümleyi doğru şekilde tamamlar?

- A) can
- B) should
- C) will
- D) shouldn't

3. The streets ----- by people for the festival.

Which of the following completes the sentence above?

Aşağıdakilerden hangisi yukarıdaki cümleyi doğru şekilde tamamlar?

- A) decorates
- B) is decorated
- C) are decorated
- D) decorated

4. The house is ----- by my mother.

Which of the following completes the sentence above?

Aşağıdakilerden hangisi yukarıdaki cümleyi doğru şekilde tamamlar?

- A) cleans
- B) cleaned
- C) clean
- D) will clean

5. A: Can I watch television?
B: ----- . It is forbidden.

Which of the following completes the dialogue above?

Aşağıdakilerden hangisi yukarıdaki konuşmayı doğru şekilde tamamlar?

- A) Sure
- B) Yes, you can
- C) No, you can't
- D) Of course

6. My brother is responsible for ----- the windows.

Which of the following completes the sentence above?

Aşağıdakilerden hangisi yukarıdaki cümleyi doğru şekilde tamamlar?

- A) putting
- B) cleaning
- C) doing
- D) tidying

7. A: -----?
B: It is a three-day festival.

Which of the following completes the dialogue above?

Aşağıdakilerden hangisi yukarıdaki konuşmayı doğru şekilde tamamlar?

- A) What is done during the celebration
- B) What preparations are done before the festival
- C) How many days is the festival celebrated
- D) What is the name of the celebration

8. If you don't hurry, you ----- miss the bus.

Which of the following completes the sentence above?

Aşağıdakilerden hangisi yukarıdaki cümleyi doğru şekilde tamamlar?

- A) shouldn't
- B) will
- C) not
- D) does

9. Shop Assistant: Hello, Good morning! -----?
Mike : Yes, I'm looking for a coat.
Shop Assistant: What size are you?
Mike : I usually use Small size.

Which of the following completes the dialogue above?

Aşağıdakilerden hangisi yukarıdaki konuşmayı doğru şekilde tamamlar?

- A) How does it fit
- B) Can I help you
- C) How much is it
- D) Can I try it on

10. My painting is ----- than that one.

Which of the following completes the sentence above?

Aşağıdakilerden hangisi yukarıdaki cümleyi doğru şekilde tamamlar?

- A) more beautiful
- B) beautiful
- C) the beautiful
- D) the most beautiful

11. This is ----- film I have ever watched.

Which of the following completes the sentence above?

Aşağıdakilerden hangisi yukarıdaki cümleyi doğru şekilde tamamlar?

- A) more interesting
- B) interesting
- C) the most interesting
- D) the interesting

12. If I ----- rich, I would buy that car.

Which of the following completes the sentence above?

Aşağıdakilerden hangisi yukarıdaki cümleyi doğru şekilde tamamlar?

- A) were
- B) am
- C) will be
- D) would be

13. I wish you -----cook fish. I don't like fish.

Which of the following completes the sentence above?

Aşağıdakilerden hangisi yukarıdaki cümleyi doğru şekilde tamamlar?

- A) didn't
- B) do
- C) doesn't
- D) will

14. The child -----wears a red shirt is my brother.

Which of the following completes the sentence above?

Aşağıdakilerden hangisi yukarıdaki cümleyi doğru şekilde tamamlar?

- A) who
- B) whose
- C) which
- D) when

15. My homework is ----- than your homework.

Which of the following completes the sentence above?

Aşağıdakilerden hangisi yukarıdaki cümleyi doğru şekilde tamamlar?

- A) the better
- B) best
- C) the best
- D) better

16. I wish I ----- more money so that I could buy a new car.

Which of the following completes the sentence above?

Aşağıdakilerden hangisi yukarıdaki cümleyi doğru şekilde tamamlar?

- A) would have
- B) had
- C) will have
- D) have

17. One of the most traditional communication media is television.

Which of the following is the synonym of the underlined word in the sentence above?

Yukarıdaki cümlede altı çizili kelimenin eş anlamlısı aşağıdakilerden hangisidir?

- A) Conventional
- B) Entire
- C) Whole
- D) Available

18. If she ----- her bike, I would buy it.

Which of the following completes the sentence above?

Aşağıdakilerden hangisi yukarıdaki cümleyi doğru şekilde tamamlar?

- A) would sell
- B) sells
- C) sell
- D) sold

19. The film ----- I watched last night was very good.

Which of the following completes the sentence above?

Aşağıdakilerden hangisi yukarıdaki cümleyi doğru şekilde tamamlar?

- A) when
- B) who
- C) whose
- D) which

20. I prefer ----- by bus.

Which of the following completes the sentence above?

Aşağıdakilerden hangisi yukarıdaki cümleyi doğru şekilde tamamlar?

- A) to travel
- B) travel
- C) travelling
- D) to travelling

BU SAYFA BOŞ BIRAKILMIŞTIR.

SINAVDA UYULMASI GEREKEN GENEL KURALLAR

1. Sınava girmek için gerekli belgelerinizin tümünü sınav başlamadan önce sıranızın üzerine bırakınız.
2. Sınav süresince görevlilerle konuşmak, görevlilere soru sormak yasaktır. Aynı şekilde görevlilerin de öğrencilerle yakından ve alçak sesle konuşmaları yasaktır. Gerekli durumlarda görevliler yerinizi değiştirebilir.
3. Size verilen cevap kâğıdının üzerindeki TCKN/öğrenci no, ad, soyadı, bilgilerini kontrol ediniz, ilgili alanları eksiksiz doldurarak imzalayınız. Bu bilgiler size ait değilse, kâğıt üzerinde hiçbir işlem yapmadan görevlileri uyarak size ait cevap kâğıdını isteyiniz. Başkasına ait cevap kâğıdı kullanan öğrencilerin sınavları geçersiz sayılır.
4. Cevap kâğıdı üzerine test grubunu (A, B, C, D) kodlamayan veya birden fazla grubu kodlayanların sınavları geçersiz sayılır.
5. Cevap kâğıdınıza yazacağınız her türlü yazı ve yapacağınız işaretlemeler için koyu yazan siyah kurşun kalem kullanmalısınız. Farklı bir kalem (tükenmez, mürekkepli ya da renkli vb.) kullanan öğrencilerin sınavları geçersiz sayılır.
6. Cevap kâğıdı üzerinde değişiklik yapmak istediğinizde, iz bırakmayan bir silgi kullanınız. Cevap kâğıdınızı buruşturmayınız, katlamayınız ve üzerine gereksiz hiçbir işaret koymayınız.
7. Cevaplarınızı, cevap kâğıdında ilgili test için ayrılmış olan alana, cevap yerinin dışına taşırmadan işaretleyiniz. Soru kitapçığı üzerinde yapılan işaretlemeler değerlendirmeye alınmayacaktır.
8. Her sorunun tek bir doğru cevabı vardır. Bir soru için birden çok cevabı işaretlerseniz, o soruyu yanlış cevaplamış sayılacaksınız.
9. Soru kitapçığınızı aldığınızda sayfalarına hızlıca bakarak hatalı ya da eksik baskı olup olmadığını kontrol ediniz. Hata/eksik olması durumunda kitapçığının değiştirilmesi için derhâl sınav görevlilerine başvurunuz. Sınav görevlileri sınavın başladığını belirtmeden kitapçığınızı tekrar açmayınız.
10. Cevap kâğıdınızda belirtilen kitapçık kodu ile soru kitapçığının kodunu karşılaştırınız. Aynı değilse, sınav görevlilerine durumu bildirerek doğru kitapçığın verilmesini talep ediniz.
11. Soru kitapçığındaki ilgili alanlara ad, soyadı, TCKN/öğrenci no, sınav salon no, sıra no bilgilerinizi eksiksiz doldurarak imzanızı atınız. Soru kitapçığının sayfalarındaki boş yerleri müsvedde amacıyla kullanabilirsiniz.
12. Aşağıdaki durumlarda sınav görevlileri tarafından Bireysel Sınav İptal Tutanağı düzenlenerek ilgili öğrencilerin sınavları geçersiz sayılır:
 - a) Sınav kurallarına ve sınav görevlilerinin uyarılarına uymamak, sınav düzenini bozmak,
 - b) Kâğıt, kitap, defter, not vb. dokümanları; pergel, açıölçer, cetvel vb. araçları; cep telefonu, bilgisayar, tablet, telsiz, kamera vb. iletişim, depolama, kayıt ve veri aktarma cihazlarını; ruhsatlı veya resmi amaçlı olsa bile silah ve silah yerine geçebilecek nesnelere yanında bulundurmamak,
 - c) Sınav sırasında kalem, silgi vb. araç-gereç paylaşımında bulunmak,
 - d) Cevapları, cevap kâğıdı dışında bir yere yazmak ve sınav salonundan dışarı çıkarmak,
 - e) Sınava girebilmek için gerekli belgeleri eksik olduğu halde sınava katılıp, cevap kâğıdında işaretleme yapmak,
 - f) Sınav görevlileri tarafından öğrencinin kimliğinden şüphe duyulması,
 - g) Cevap kâğıdını ve/veya soru kitapçığını sınav görevlilerine eksiksiz ve sağlam şekilde teslim etmemek, sınav salonu dışına çıkarmak,
 - h) Kopya çekmek, kopya vermek ya da kopya çekilmesine yardımcı olmak vb. eylemlerde bulunmak,
 - i) Kendisi yerine başka birini sınava sokmak veya başka bir adayın yerine sınava girmek,
 - j) Talebi doğrultusunda okuyucu ve/veya işaretleyici desteği aldığı hâlde, bizzat sınav sorularını okumak ve/veya cevapları işaretleme.
13. Sınav bitiminde, cevap kâğıdınızı ve soru kitapçığınızı salon görevlilerine eksiksiz biçimde teslim ediniz. Sınav bittikten sonra gönderilen cevap kâğıtları dikkate alınmayacaktır.

SINAV KURALLARINA UYDUĞUNUZ İÇİN TEŞEKKÜR EDER, SINAVINIZDA BAŞARILAR DİLERİZ.