



ANADOLU ÜNİVERSİTESİ  
AÇIKÖĞRETİM FAKÜLTESİ  
BA - AÇIKÖĞRETİM OKULLARI

**T.C. MİLLİ EĞİTİM BAKANLIĞI**  
**Hayat Boyu Öğrenme Genel Müdürlüğü**  
**2017-2018 ÖĞRETİM YILI BATI AVRUPA - BALKANLAR**  
**AÇIK ÖĞRETİM LİSESİ II. DÖNEM SINAVI**  
**2. OTURUM Pazar**

ÖĞRENCİNİN

**B**

**0102**

SOYADI : .....

ADI : .....

T.C. KİMLİK NO / ÖĞRENCİ NO : .....

SINAV SALON NO : ..... SIRA NO: .....

Sınavla ilgili soru kitapçığının ön ve arka kapağındaki tüm kuralları okudum, anladım, kabul ediyorum.

İMZA:.....

**SINAV İÇERİĞİ**

Testin Adı	Soru Sayısı	Sayfa No	Testin Adı	Soru Sayısı	Sayfa No
DİN KÜLTÜRÜ VE AHLAK BİLGİSİ 5	20	02	SEÇMELİ KİMYA 3	20	35
ALMANCA 2	20	04	BİYOLOJİ 4	20	39
İNGİLİZCE 2	20	07	SEÇMELİ BİYOLOJİ 4	20	41
FRANSIZCA 2	20	10	SEÇMELİ ÇAĞDAŞ TÜRK VE DÜNYA TARİHİ 1	20	43
SAĞLIK BİLGİSİ VE TRAFİK KÜLTÜRÜ 1	20	13	SEÇMELİ İŞLETME 2	20	45
ALMANCA 4	20	15	SEÇMELİ MANTIK 2	20	47
İNGİLİZCE 4	20	18	SEÇMELİ SANAT TARİHİ 1	20	49
FRANSIZCA 4	20	21	SAĞLIK BİLGİSİ 2	20	51
DİL VE ANLATIM 2	20	24	TRAFİK VE İLK YARDIM BİLGİSİ 1	20	53
DİL VE ANLATIM 4	20	26	TRAFİK VE İLK YARDIM BİLGİSİ 2	20	55
DİL VE ANLATIM 7	20	29	SEÇMELİ DİL VE ANLATIM 8	20	57
FİZİK 1	20	31	SEÇMELİ TÜRK EDEBİYATI 5	20	59
FİZİK 2	20	33	SAĞLIK BİLGİSİ VE TRAFİK KÜLTÜRÜ 2	20	62

**SINAVDA UYULMASI GEREKEN ÖZEL KURALLAR**

1. Soru kitapçığındaki her bir testi cevaplamanız için verilen süre 30 dakika, toplam süre 150 dakikadır.
2. Sınavın ilk 30 dakikası ve son 5 dakikası içinde sınavınızı tamamlasınız bile salondan çıkamazsınız. Herhangi bir nedenle salondan çıktığınız takdirde, tekrar sınava devam etmenize izin verilmeyecektir. Sınavın başlamasını izleyen ilk 15 dakikadan sonra hiçbir öğrenci sınava alınamaz.
3. Yanlış cevaplarınız dikkate alınmayacaktır. Bu nedenle kitapçıktaki tüm sorular için size doğru gelen seçeneği işaretleyerek cevapsız soru bırakmamanız yararınıza olacaktır.
4. Sınav sırasında hesap makinesi kullanabilirsiniz. Ancak, kullanacağınız makinede alfabetik tuş takımınının (A, B, C,..., Y, Z), program yapılmasına, saklanmasına ve çalıştırılmasına imkân veren EXE, STORE, RUN vb. tuşlar bulunamaz.

"Sınavda Uyulması Gereken Genel Kurallar" soru kitapçığının arka sayfasında yer almaktadır. Bu kuralları da mutlaka dikkatlice okuyunuz.

Anadolu Üniversitesi tarafından hazırlanmış olan bu testlerin her hakkı saklıdır. Hangi amaçla olursa olsun, testlerin tamamının veya bir kısmının Anadolu Üniversitesi'nin yazılı izni olmadan kopya edilmesi, fotoğraflarının çekilmesi, herhangi bir yolla çoğaltılması, yayımlanması ya da kullanılması yasaktır. Bu yasağa uymayanlar gerekli cezai sorumluluğu ve testlerin hazırlanmasındaki mali külfeti peşinen kabullenmiş sayılır.

2018 AÖÖ-AÖL II. DÖNEM 0102-B

1. Hz. Muhammed'in torunu olan Hz. Hasan'ın soyundan gelenlere ne ad verilir?
  - A) Furkan
  - B) Seyyid
  - C) Şerif
  - D) Semih
2. Aşağıdakilerden hangisi ibadetler ile ilgili temel ilkelerden biri değildir?
  - A) Karşılık
  - B) İsteklilik
  - C) Gösterişten uzak olma
  - D) Kolaylık
3. Allah'ın sonsuz güç ve irade sahibi olup, her şeye gücünün yetmesi aşağıdakilerden hangisini tanımlar?
  - A) Külli irade
  - B) Cüzi irade
  - C) Tevekkül
  - D) Kaza
4. Hz. Muhammed'in hasta olan insanları bizzat evlerinde ziyaret edip, onlar için dua etmesi hangi özelliği ile ilgilidir?
  - A) Otoriter olması
  - B) Dürüst olması
  - C) Merhametli olması
  - D) Adaletli olması
5. Aşağıdakilerden hangisi ibadetin toplumsal faydalarından biridir?
  - A) İnsanı kötülüklerden alıkoyması
  - B) İnsana sabrı öğretmesi
  - C) İnsanın iç huzurunu güçlendirmesi
  - D) İnsanda güven duygusunu geliştirmesi
6. Allah'ın önceden takdir edip belirlediği olayların zamanı geldiğinde Allah'ın takdirine uygun şekilde gerçekleşmesine ne ad verilir?
  - A) Kader
  - B) İrade
  - C) Ecel
  - D) Kaza
7. Ömrün bittiği, hayatın sona erdiği zamana ne ad verilir?
  - A) İrade
  - B) Ecel
  - C) Şer
  - D) Kader
8. Bir öğrencinin planlı ve düzenli biçimde dersine çalıştıktan sonra Allah'a güvenip ondan yardım dilemesi aşağıdakilerden hangisine bir örnektir?
  - A) Kader
  - B) Tevekkül
  - C) Kaza
  - D) Tesadüf
9. Aşağıdakilerden hangisi ibadetlerin insana kazandırdıklarından biri değildir?
  - A) Sorumluluk bilincini geliştirmesi
  - B) Güven duygusunu geliştirmesi
  - C) Kişiyi gurur ve kibire yaklaştırması
  - D) İnsanın Yaratıcısı ile ilişkisini güçlendirmesi
10. Aşağıdakilerden hangisi tevekkül anlayışı ile bağdaşmaz?
  - A) Hasta olduğunda tedavi olmak
  - B) Sınav öncesinde ders çalışmak
  - C) Yolculuk esnasında trafik kurallarına uymak
  - D) Kader mahkûmuyum diyerek hırsızlık yapmak
11. Bir insanın bir şeyi yapıp yapamama gücünün sınırlı olmasına ne ad verilir?
  - A) Kaza
  - B) Cüzi irade
  - C) Tevekkül
  - D) Külli irade
12. Aşağıdakilerden hangisi Kur'an-ı Kerim'de tarif edilen örnek insanın özelliklerinden biri değildir?
  - A) Fedâkâr olan
  - B) Yanlışlarında ısrar eden
  - C) İsraftan kaçınan
  - D) Tövbe eden

13. Aşağıdakilerden hangisi İslam düşüncesinde ortaya çıkan yorum farklılıklarının sebeplerinden biri değildir?

- A) Hak din olması
- B) Siyasi durumlar
- C) Coğrafi farklılıklar
- D) Dinî metinler

14. "Kararını verdiğin zaman artık Allah'a dayanıp güven. Çünkü Allah kendisine dayanıp güvenenleri sever." ayetiyle aşağıdakilerden hangisinin önemi vurgulanmıştır?

- A) Ahiret hayatına iman
- B) Tevekkül etmenin
- C) Yardımsever olmanın
- D) Kadere iman

15. Aşağıdakilerden hangisi kaderle ilişkilendirilen kavramlardan biri değildir?

- A) Ecel ve ömür
- B) Afet
- C) Tesadüf
- D) Hayır ve Şer

16. Hz. Ali ile Muaviye arasında yaşanan Sıffin savaşı sonucunda ortaya çıkmıştır. Hüküm verme işinin hakemlere bırakılmasının yanlış olduğuna ve tek hakemin Allah olduğuna inanırlar.

Yukarıda anlatılan mezhep aşağıdakilerden hangisidir?

- A) Haricilik
- B) Caferilik
- C) Şiiilik
- D) Eşarilik

17. İslam dininin emir ve yasaklarından yalnızca kimler sorumlu tutulmuştur?

- A) Kadere iman edenler
- B) Namaz kılanlar
- C) Zenginler
- D) Akıl ve irade sahibi olanlar

18. İbadetleri yerine getirirken istekli olmanın yanı sıra samimiyet, içtenlik, maddi çıkar gözetmeme ve yalnızca Allah'ın rızasını kazanma adına yapma duygusuna ne ad verilir?

- A) Niyet
- B) Hayâ
- C) Kasıt
- D) İhlâs

19. Dini bir terim olarak "Rızık" nedir?

- A) Evrendeki her bir nesnenin belirlenen sürenin sonunda yok olmasıdır.
- B) Kişinin kendi söz ve davranışlarının sonuçlarına katlanması durumudur.
- C) Allah'ın dünyadaki tüm canlıların yiyip-içmesi, yararlanması ve faydalanması amacıyla verdiği bütün nimetlerdir.
- D) Allah'ın başlangıçtan sonsuza kadar olmuş ve olacak olan tüm olayların yerini, zamanını bilip takdir etmesidir.

20. "Biz her şeyi belli bir ölçüye göre yarattık." ayetinde aşağıdakilerden hangisinin önemi vurgulanmıştır?

- A) Sosyal yardımlaşmanın önemi
- B) İnsanın akıl sahibi olması
- C) Ahiret hayatına iman
- D) Kadere iman

2018 AÖÖ-AÖL II. DÖNEM 0102-B

1. Was bedeutet das Wort "Manzara" auf Deutsch?

"Manzara" sözcüğünün Alıncası ařađıdakilerden hangisinde dođru olarak verilmiřtir?

- A) Der Berg  
B) Die Freundschaft  
C) Die Landschaft  
D) Das Dach

2. Die Sonne geht auf.

Wie lautet der obige Satz auf Türkisch?

Yukarıdaki cümlelerin Türkçe karřılıđı ařađıdakilerden hangisinde dođru olarak verilmiřtir?

- A) Güneř battı.  
B) Güneř doğuyor.  
C) Güneř yakıyor.  
D) Güneř tutuldu.

3. A: Möchtest du eine ----- Tasche?  
B: Nein, die ----- Tasche gefällt mir besser.

Welche Wörter ergänzen die Lücken im obigen Dialog?

Yukarıdaki karřılıklı konuşmada boş bırakılan yerleri ařađıdakilerden hangileri dođru olarak tamamlar?

- A) schwarzem / rotem  
B) schwarz / rot  
C) schwarze / rote  
D) schwarzes / rotes

4. Spät am Abend ----- die Frauen einkaufen.

Welches Wort passt in die obige Lücke?

Yukarıdaki cümlede boş bırakılan yerleri ařađıdakilerden hangisi dođru olarak tamamlar?

- A) sein  
B) gingen  
C) dachten  
D) schrieben

5. Die Frau stellt die Blumen ----- die Vase.

Welches Wort passt in die obige Lücke?

Yukarıdaki cümlede boş bırakılan yerleri ařađıdakilerden hangisi dođru olarak tamamlar?

- A) zu  
B) über  
C) in  
D) auf

6. A: Guten Tag, darf ich etwas fragen?  
B: Ja, ----- Sie müssen schnell machen!  
A: Ist das richtig ----- ist das falsch? Man sagt, die Deutschen essen nur Kartoffeln.  
B: Das ist falsch.

Welches ergänzt die Lücken im obigen Dialog?

Yukarıdaki karřılıklı konuşmada boş bırakılan yerleri ařađıdakilerden hangileri dođru olarak tamamlar?

- A) aber / oder  
B) und / denn  
C) oder / und  
D) denn / und

7. ----- wenn ich Hunger habe, esse ich Schokolade.

Welches Wort passt in die obige Lücke?

Yukarıdaki cümlede boş bırakılan yerleri ařađıdakilerden hangisi dođru olarak tamamlar?

- A) Immer  
B) Doch  
C) Sondern  
D) Als

8. Es gab einen schrecklichen Regen, -----.

**Welches ergänzt die Lücke im obigen Satz?**

**Yukarıdaki cümlede boş bırakılan yeri aşağıdakilerden hangisi doğru olarak tamamlar?**

- A) kommst zum Essen
- B) als ich gestern in der Stadt war
- C) wenn ich studieren kann
- D) freue mich auf die Einladung

9. Welche Aufgaben haben Deutsche Kulturinstitute im Ausland?

**Welche Antwort passt zur obigen Frage?**

**Yukarıdaki sorunun cevabı aşağıdakilerden hangisinde doğru olarak verilmiştir?**

- A) Sie müssen den Kindern die Fremdsprachen lehren und versuchen diese zu erweitern.
- B) Sie haben versucht neue Kulturinstitute im Inland zu entwickeln.
- C) Sie möchten sich jedes Jahr im Ausland an der selben Stelle treffen.
- D) Sie sollen die deutsche Sprache im Ausland fördern und die kulturelle Zusammenarbeit unterstützen.

10. Wie viele Wörter benutzt der Mensch im Alltag?

**Welche Antwort passt zur obigen Frage?**

**Yukarıdaki sorunun cevabı aşağıdakilerden hangisinde doğru olarak verilmiştir?**

- A) Das ist ein altes Wörterbuch.
- B) Sie dürfen hier nicht so laut sprechen.
- C) Man kann im Duden nachschlagen.
- D) Im Alltag benutzen wir nur 1000 Wörter.

11. Mit welchem Geld willst du das Ferienhaus bezahlen?

**Welche Antwort passt zur obigen Frage?**

**Yukarıdaki sorunun cevabı aşağıdakilerden hangisinde doğru olarak verilmiştir?**

- A) Das Ferienhaus gehört nicht meiner Mutter.
- B) Sie möchten kein Ferienhaus.
- C) Mit einem Kredit, den die Bank uns gibt.
- D) Ich habe viel Schulden.

12. Rize und Samsun sind zwei Städte, ----- am Schwarzen Meer liegen.

**Welches Wort passt in die obige Lücke?**

**Yukarıdaki cümlede boş bırakılan yeri aşağıdakilerden hangisi doğru olarak tamamlar?**

- A) das
- B) der
- C) den
- D) die

13. Das ist eine Geschichte. Die Geschichte ist interessant.

**Wie kann man die obigen Sätze verbinden?**

**Yukarıdaki cümlelerin birleştirilmiş hali aşağıdakilerden hangisinde doğru olarak verilmiştir?**

- A) Das ist unsere interessante Geschichte.
- B) Das ist die Geschichte, den ich dir erzählen wollte.
- C) Das ist eine Geschichte, die interessant ist.
- D) Das ist die Geschichte, von der ich viele neue Erlebnisse gelernt habe.

14. Sie sind im Garten.

**Welche Frage passt zur obigen Antwort?**

**Yukarıdaki cevabı gerektirecek soru aşağıdakilerden hangisinde doğru olarak verilmiştir?**

- A) Wo sind die Frauen?
- B) Kennst du die Frau?
- C) Hast du eine Frau?
- D) Was macht die Frau im Garten?

15. Was bedeutet das Wort "irmak" auf Deutsch?

**"irmak" sözcüğünün Almanca'sı aşağıdakilerden hangisinde doğru olarak verilmiştir?**

- A) Das Land
- B) Das Meer
- C) Die Wiese
- D) Der Fluß

16. Wenn die Frau die Möglichkeit -----, ----- sie eine Waschmaschine kaufen.

**Welche Wörter passen in die obigen Lücken?**

**Yukarıdaki cümlede boş bırakılan yerleri aşağıdakilerden hangileri doğru olarak tamamlar?**

- A) hätte / würde
- B) hätten / wirst
- C) hatte / wird
- D) hat / wäre

17. -----, hoffentlich regnet es nicht!

**Welcher Satz ergänzt die obigen Lücke?**

**Yukarıdaki cümlede boş bırakılan yeri aşağıdakilerden hangisi doğru olarak tamamlar?**

- A) Wir müssen leider für die Prüfung arbeiten
- B) Ich habe keine Zeit
- C) Das ist eine hübsche Überraschung
- D) Wir wollen einen Ausflug machen

18. Wann ----- du deine Hausaufgaben -----?

**Welche Wörter passen in die obigen Lücken?**

**Yukarıdaki cümlede boş bırakılan yerleri aşağıdakilerden hangileri doğru olarak tamamlar?**

- A) werden / machten
- B) wirst / machen
- C) wird / macht
- D) wird / seien

19. -----, würde ich mehr lesen.

**Welches ergänzt nicht die Lücke im obigen Satz?**

**Yukarıdaki cümlede boş bırakılan yeri aşağıdakilerden hangisi doğru olarak tamamlamaz?**

- A) Wenn ich unbedingt essen möchte
- B) Wenn ich nicht viel arbeiten müsste
- C) Wenn es keinen Fernseher gäbe
- D) Wenn ich mehr Zeit hätte

20. Was bedeutet das Gegenteil von "sich erinnern"?

**"sich erinnern" sözcüğünün zıt anlamı aşağıdakilerden hangisinde doğru olarak verilmiştir?**

- A) spätestens
- B) vergessen
- C) antworten
- D) einladen

2018 AÖÖ-AÖL II. DÖNEM 0102-B

1. When did you ----- basketball?

**Which of the following completes the sentence above?**

**Aşağıdakilerden hangisi yukarıdaki cümleyi doğru şekilde tamamlar?**

- A) is playing  
B) plays  
C) played  
D) play

2. A: ----- hours do you watch TV every day?  
B: Approximately, four or five hours in a day.

**Which of the following completes the dialogue above?**

**Aşağıdakilerden hangisi yukarıdaki konuşmayı doğru şekilde tamamlar?**

- A) How much  
B) How  
C) How long  
D) How many

3. My brother ----- the dishes at the moment.

**Which of the following completes the sentence above?**

**Aşağıdakilerden hangisi yukarıdaki cümleyi doğru şekilde tamamlar?**

- A) washed  
B) is washing  
C) are washing  
D) washes

4. What is the weather ----- in Paris?

**Which of the following completes the sentence above?**

**Aşağıdakilerden hangisi yukarıdaki cümleyi doğru şekilde tamamlar?**

- A) hot  
B) look  
C) see  
D) like

5. A: What is the matter with you?  
B: I ----- a fever.

**Which of the following completes the dialogue above?**

**Aşağıdakilerden hangisi yukarıdaki konuşmayı doğru şekilde tamamlar?**

- A) have got  
B) has got  
C) did  
D) does

6. My aunt ----- a big birthday cake for me last Saturday.

**Which of the following completes the sentence above?**

**Aşağıdakilerden hangisi yukarıdaki cümleyi doğru şekilde tamamlar?**

- A) made  
B) is making  
C) makes  
D) making

7. What ----- you like to drink?

**Which of the following completes the sentence above?**

**Aşağıdakilerden hangisi yukarıdaki cümleyi doğru şekilde tamamlar?**

- A) can  
B) would  
C) will  
D) does

8. You ----- sing a song in the library.

**Which of the following completes the sentence above?**

**Aşağıdakilerden hangisi yukarıdaki cümleyi doğru şekilde tamamlar?**

- A) need  
B) should  
C) mustn't  
D) must

9. ----- I have a menu, please?

Which of the following completes the sentence above?

Aşağıdakilerden hangisi yukarıdaki cümleyi doğru şekilde tamamlar?

- A) Would
- B) Must
- C) Can
- D) Shall

10. Watching too much TV is a bad -----.

Which of the following completes the sentence above?

Aşağıdakilerden hangisi yukarıdaki cümleyi doğru şekilde tamamlar?

- A) intention
- B) habit
- C) issue
- D) bully

11. Paris is famous ----- its Eiffel Tower.

Which of the following completes the sentence above?

Aşağıdakilerden hangisi yukarıdaki cümleyi doğru şekilde tamamlar?

- A) for
- B) with
- C) to
- D) about

12. A: What did you do last night?  
B: I ----- English.

Which of the following completes the dialogue above?

Aşağıdakilerden hangisi yukarıdaki konuşmayı doğru şekilde tamamlar?

- A) will study
- B) studies
- C) studying
- D) studied

13. The carpets are very dirty. I ----- clean them.

Which of the following completes the sentence above?

Aşağıdakilerden hangisi yukarıdaki cümleyi doğru şekilde tamamlar?

- A) shouldn't
- B) mustn't
- C) must
- D) don't have to

14. I am ----- swim next weekend.

Which of the following completes the sentence above?

Aşağıdakilerden hangisi yukarıdaki cümleyi doğru şekilde tamamlar?

- A) going to
- B) goes
- C) going
- D) go to

15. A: I don't want to stay at home.  
B: ----- we go to a café?

Which of the following completes the dialogue above?

Aşağıdakilerden hangisi yukarıdaki konuşmayı doğru şekilde tamamlar?

- A) What about
- B) How about
- C) Why don't
- D) Let's

16. A: I have got toothache. What should I do?  
B: You ----- go to a dentist.

Which of the following completes the dialogue above?

Aşağıdakilerden hangisi yukarıdaki konuşmayı doğru şekilde tamamlar?

- A) can't
- B) should
- C) shouldn't
- D) mustn't



17. ----- was the weather yesterday?

**Which of the following completes the sentence above?**

**Aşağıdakilerden hangisi yukarıdaki cümleyi doğru şekilde tamamlar?**

- A) How
- B) Which
- C) What
- D) Where

18. They finished their project -----.

**Which of the following completes the sentence above?**

**Aşağıdakilerden hangisi yukarıdaki cümleyi doğru şekilde tamamlar?**

- A) next month
- B) last month
- C) every month
- D) tomorrow

19. Sally ----- a student two years ago.

**Which of the following completes the sentence above?**

**Aşağıdakilerden hangisi yukarıdaki cümleyi doğru şekilde tamamlar?**

- A) be
- B) is
- C) was
- D) were

20. Would you like ----- for brunch?

**Which of the following completes the sentence above?**

**Aşağıdakilerden hangisi yukarıdaki cümleyi doğru şekilde tamamlar?**

- A) coming
- B) came
- C) come
- D) to come

2018 AÖÖ-AÖL II. DÖNEM 0102-B

1. C'est la ville ----- nous avons habit  pendant 10 ans.

**Choisissez le mot qui convient.**

**C mledeki bořluęu ařaęıdakilerden hangisi doęru řekilde tamamlar?**

- A) ce qui  
B) qui  
C) que  
D) o 

2. Il faut se d p cher pour ne pas ----- l'avion.

**Choisissez le mot qui convient.**

**C mledeki bořluęu ařaęıdakilerden hangisi doęru řekilde tamamlar?**

- A) manquer  
B) partir  
C) voyager  
D) sortir

3. «Tu as pris ton parapluie?»

**Choisissez la traduction qui convient.**

**Yukarıdaki c mlenin T rk e karřılıęı ařaęıdakilerden hangisidir?**

- A) řemsiye alalım mı?  
B) Yaęmur mu yaęıyor?  
C) řemsiyeni aldın mı?  
D) řemsiye alsak mı?

4. «Kitabı veren sensin.»

**Choisissez la traduction qui convient.**

**Yukarıdaki c mlenin Fransızca karřılıęı ařaęıdakilerden hangisidir?**

- A) C'est toi qui as donn  le livre.  
B) C'est le livre que tu lis.  
C) C'est le livre que tu donnes.  
D) C'est toi qui lis le livre.

5. Mon p re a achet  un ----- de roses.

**Choisissez le mot qui convient.**

**C mledeki bořluęu ařaęıdakilerden hangisi doęru řekilde tamamlar?**

- A) grand  
B) beaucoup  
C) des  
D) bouquet

6. Elle est ----- Paris.

**Choisissez le mot qui convient.**

**C mledeki bořluęu ařaęıdakilerden hangisi doęru řekilde tamamlar?**

- A) aux  
B) en  
C)    
D) au

7. Pour nager, nous allons   la -----.

**Choisissez le mot qui convient.**

**C mledeki bořluęu ařaęıdakilerden hangisi doęru řekilde tamamlar?**

- A) biblioth que  
B) piscine  
C) mairie  
D) pharmacie

8. Hier, mon p re a voyag  ----- train.

**Choisissez le mot qui convient.**

**C mledeki bořluęu ařaęıdakilerden hangisi doęru řekilde tamamlar?**

- A) au  
B) de  
C)    
D) en

9. Je me promenais, je visitais les musées et tout à coup je -----.

**Choisissez le mot qui convient.**

**Cümledeki boşluğu aşağıdakilerden hangisi doğru şekilde tamamlar?**

- A) tombais
- B) tomber
- C) suis tombé
- D) tomberai

10. - Tu vas bien?  
- Non, je vais -----.

**Choisissez le mot qui convient.**

**Yukarıdaki konuşmada boş bırakılan yeri aşağıdakilerden hangisi doğru şekilde tamamlar?**

- A) vite
- B) vraiment
- C) mal
- D) bien

11. Quand je suis venue, vous -----.

**Choisissez le mot qui convient.**

**Cümledeki boşluğu aşağıdakilerden hangisi doğru şekilde tamamlar?**

- A) part
- B) étiez partis
- C) étaient partis
- D) partez

12. La fille ----- je regarde.

**Choisissez le mot qui convient.**

**Cümledeki boşluğu aşağıdakilerden hangisi doğru şekilde tamamlar?**

- A) dont
- B) qui
- C) où
- D) que

13. Marie parle -----.

**Choisissez le mot qui convient.**

**Cümledeki boşluğu aşağıdakilerden hangisi doğru şekilde tamamlar?**

- A) doucement
- B) doux
- C) douce
- D) douceur

14. Jeudi dernier, il -----.

**Choisissez le mot qui convient.**

**Cümledeki boşluğu aşağıdakilerden hangisi doğru şekilde tamamlar?**

- A) neigeait
- B) neige
- C) neigera
- D) neiger

15. - Tu écris souvent à tes parents?  
- Oui, je ----- écris souvent.

**Choisissez le mot qui convient.**

**Yukarıdaki konuşmada boş bırakılan yeri aşağıdakilerden hangisi doğru şekilde tamamlar?**

- A) elle
- B) lui
- C) les
- D) leur

16. J'ai deux voitures et Marie a cinq voitures, donc -----.

**Choisissez l'expression qui convient.**

**Cümledeki boşluğu aşağıdakilerden hangisi doğru şekilde tamamlar?**

- A) J'ai autant de voitures que Marie
- B) J'ai moins de voitures que Marie
- C) Marie a moins de voitures que moi
- D) Marie a autant de voitures que moi

17. Le cinéma est ----- du café.

**Choisissez le mot qui convient.**

**Cümledeki boşluğu aşağıdakilerden hangisi doğru şekilde tamamlar?**

- A) derrière
- B) en face
- C) dans
- D) devant

18. I. Pierre prend son petit-déjeuner.  
II. Il travaille plus que moi.  
III. Il mange du pain avec un peu de beurre.  
IV. Il boit son café.

**Trouvez la phrase qui ne convient pas.**

**Cümleler sırasıyla okunduğunda, anlam bütünlüğünü bozan cümleyi bulunuz.**

- A) I
- B) II
- C) III
- D) IV

19. Nous sommes à Paris ----- hier.

**Choisissez le mot/l'expression qui convient.**

**Cümledeki boşluğu aşağıdakilerden hangisi doğru şekilde tamamlar?**

- A) depuis
- B) pendant
- C) il y a
- D) ça fait

20. Je suis malade ----- je ne vais pas à l'école.

**Choisissez le mot qui convient.**

**Cümledeki boşluğu aşağıdakilerden hangisi doğru şekilde tamamlar?**

- A) mais
- B) ou bien
- C) donc
- D) ou

2018 AÖÖ-AÖL II. DÖNEM 0102-B

1. Aşağıdakilerden hangisi su ve besin hijyenlerinde dikkat edilmesi gereken hususlardan biri değildir?

- A) İçme suyu olarak temiz su kullanılmalı
- B) Hastalık yapabilecek şüpheli besinler, özellikle küflü besinler, küf kısmı temizlenerek tüketilmeli
- C) Gıdalar üstü kapalı tutularak sinek ve böceklerden korunmalı
- D) Gıdaları satın alırken son kullanma tarihlerine dikkat edilmeli

2. Vücuda önceden belli maddeler verilerek kişide belli hastalıklara karşı özel dayanıklılık durumu geliştirme işlemine ne ad verilir?

- A) İmplant
- B) Aktif bağışıklık
- C) Dezenfekte
- D) Aşı

3. Aşağıdakilerden hangisi engellilik olgusunun gün geçtikçe daha uygun hale gelmesinin nedenlerinden biri değildir?

- A) Genetik yatkınlığın artması
- B) Nüfusun yaşlanması
- C) Diyabet hastalığının artış göstermesi
- D) İlerleyen yaşlarda engellilik riskinin yükselmesi

4. I. Aşırı ve yanlış beslenme  
II. Fiziksel aktivite yetersizliği  
III. Dengeli beslenme  
IV. Genetik etmenler

Yukarıdakilerden hangileri obezitenin oluşmasına neden olan etkenlerdendir?

- A) Yalnız I
- B) I ve III
- C) I, II ve IV
- D) I, II, III ve IV

5. Bir canlıya kendi doğasında bulunmayan bambaşka bir karakter kazandırılması yoluyla elde edilen canlı organizmalara ne ad verilir?

- A) Tümör
- B) Kanser
- C) GDO
- D) Radyasyon

6. Yalnızca alkol ve madde bağımlılığı sorunu yaşayanlarda özel bir bölüm olarak hizmet veren tedavi merkezi aşağıdakilerden hangisidir?

- A) Alo 155
- B) AMATEM
- C) ŞÖNİM
- D) LÖSEV

7. Hasta/yaralının, bilinci kapalı, solunum ve nabız yok ise aşağıdakilerden hangisi yapılır?

- A) Bak – dinle – hisset yöntemi uygulanır.
- B) Hastaya koma pozisyonu verilir.
- C) Hastaya baş – çene pozisyonu verilir.
- D) Temel yaşam desteğine geçilir.

8. Aşağıdakilerden hangisi alkol bağımlılığını ifade etmektedir?

- A) Zayıf iradeli kişilerin, alkol kullanan arkadaşlarına hayır diyememe durumudur.
- B) Bireysel ve ailevi sebeplerden dolayı alkol kullanma isteğidir.
- C) Alkol alma istediğini kontrol edemeyen, ortaya çıkan bedensel, ruhsal ve sosyal zararlarına rağmen hala alkol kullanmaya devam etmektedir.
- D) Sosyal ortamlarda alkol kullanımının artmasıdır.

9. Beslenmeyle ilgili aşağıdaki ifadelerden hangisi yanlıştır?

- A) Besin öğeleri yeteri kadar alınmadığında yetersiz beslenme oluşur.
- B) Sabah kahvaltısı yapılmazsa beyinde yeterince enerji oluşmaz.
- C) Metabolizmanın düzenli çalışması için günde en az üç öğün besin tüketilmelidir.
- D) Sadece protein veya karbonhidratla beslenmek hücrelerin düzenli ve dengeli çalışması için gereklidir.

10. Aşağıdakilerden hangisi arasında boşluklar olan dişlerin aralarının temizliğinde kullanılır?

- A) Gargara
- B) Arayüz fırçası
- C) Diş fırçası
- D) Diş ipi

11. Kişinin toplumdan ve devletten sağlığını korumasını, gerektiğinde tedavi edilerek iyileştirilmesini isteyebilmesi ve toplumun sağladığı imkanlardan faydalanabilmesine ne ad verilir?
- A) Sağlık hakkı  
B) Sosyal hizmet  
C) Hasta hakkı  
D) Acil hizmet
12. Aşağıdakilerden hangisi sınav kaygısının nedenlerinden biri değildir?
- A) Okulda sık sık sınava maruz kalmak  
B) Sürekli başarılı olma, kazanma çabası içinde olmak  
C) Geçmiş başarısızlıkları unutamamak, genellemek ve geleceğe ilişkin olumsuz çıkarımlar yapmak  
D) Sınav ve sınanmayı bir saygınlık sorunu olarak görmek
13. Aşağıdakilerden hangisi tedavi edici sağlık hizmetlerinin aşamalarından olan birinci basamak sağlık kuruluşları içinde yer alır?
- A) Senatoryumlar  
B) Tanı ve tedavi hizmetlerinin verildiği hastaneler  
C) Üniversite hastaneleri  
D) Aile hekimlikleri
14. Aşağıdakilerden hangisi koruyucu sağlık hizmetlerinin aşamalarından olan birincil korumada yer alır?
- A) Genetik danışma  
B) Erken tanı  
C) Sağlık taramaları  
D) Diyabetli hastalarda göz komplikasyonlarının engellenmesi
15. Aşağıdakilerden hangisi ergenlikte karşılaşılan durumlardandır?
- A) Derslerde başarılı, okul kurallarına saygılı olması  
B) Heyecan, aşk, hoşlanma, nefret gibi duygular aşırı olması  
C) Ailenin kurallarını kabul etmesi  
D) Ailesine bağlı, dışa dönük olması
16. Sigarada asıl bağımlılık yapan madde aşağıdakilerden hangisidir?
- A) Amonyak  
B) Nikotin  
C) Stearik asit  
D) Kadmiyum
17. Aşağıdakilerden hangisi öğrencilerin okulla ilgili stres kaynaklarından biridir?
- A) Kardeşler arası iletişim  
B) Güvensizlik  
C) Yaklaşan sınavlar  
D) Ekonomik yetersizlik
18. Aşağıdakilerden hangisi obezitenin yol açtığı ruhsal sağlık sorunlarından biridir?
- A) İnsülin direnci  
B) Uyku apnesi  
C) Hipertansiyon  
D) Anokresiya nevroza
19. Aşağıdakilerden hangisi insan sağlığını etkileyen fiziksel etmenlerden biri değildir?
- A) Gıda katkı maddeleri  
B) Giyim eşyaları  
C) Ev ve işyerlerinin havası, sıcaklığı  
D) Çevrenin iklimi
20. Aşağıdakilerden hangisi ilk yardımın öncelikli amaçlarından biri değildir?
- A) Hayati tehlikelerin ortadan kaldırılması  
B) İyileşmenin kolaylaştırılması  
C) Hastanın/yaralının yalnız kalmamasının sağlanması  
D) Yaşamsal fonksiyonların sürdürülmesinin sağlanması

2018 AÖO-AÖL II. DÖNEM 0102-B

1. ----- warten zu Hause auf das Essen!

**Welches ergänzt die Lücke im obigen Satz?**

**Yukarıdaki cümlede boş bırakılan yeri aşağıdakilerden hangisi doğru olarak tamamlar?**

- A) Die hungrigen Kinder  
B) Die hungrige Katze  
C) Das verhungerte Kind  
D) Der verhungerte Junge

2. In einen zerbrochenen Krug -----.

**Welches ergänzt die Lücke im obigen Satz?**

**Yukarıdaki cümlede boş bırakılan yeri aşağıdakilerden hangisi doğru olarak tamamlar?**

- A) darf man Wasser füllen.  
B) kann man kein Wasser füllen.  
C) könnte man immer Wasser füllen.  
D) hat man immer Wasser.

3. Ich ----- mit dem Rauchen aufhören!

**Welches Wort passt nicht in die obige Lücke?**

**Yukarıdaki cümlede boş bırakılan yeri aşağıdakilerden hangisi doğru olarak tamamlamaz?**

- A) habe  
B) soll  
C) werde  
D) muß

4. Wenn man Texte ----- muss, sollte man die Fremdsprache beherrschen.

**Welches Wort passt in die obige Lücke?**

**Yukarıdaki cümlede boş bırakılan yeri aşağıdakilerden hangisi doğru olarak tamamlar?**

- A) gelehrt  
B) entscheiden  
C) übersetzen  
D) normalerweise

5. Ihr müsst schnell schreiben.

**Wie lautet der obige Satz in der Imperativ-Form?**

**Yukarıdaki cümlenin emir cümle şekli aşağıdakilerden hangisinde doğru olarak verilmiştir?**

- A) Schreib schnell!  
B) Schreibst schnell!  
C) Schreibte schneller!  
D) Schreibt schnell!

6. Wir müssen immer um Erlaubnis -----!

**Welches Wort passt in die obige Lücke?**

**Yukarıdaki cümlede boş bırakılan yeri aşağıdakilerden hangisi doğru olarak tamamlar?**

- A) hören  
B) bitten  
C) vertrauen  
D) nehmen

7. ----- ein neues Auto!

**Welches ergänzt nicht die Lücke im obigen Satz?**

**Yukarıdaki cümlede boş bırakılan yeri aşağıdakilerden hangisi doğru olarak tamamlamaz?**

- A) Sie wollte auch  
B) Wir hätten gern  
C) Ich hätte gerne  
D) Du könntest immer

8. Ich möchte sehr gerne eine Weltreise machen!

**Welche Frage passt zur obigen Antwort?**

**Yukarıdaki cevabı gerektirecek soru aşağıdakilerden hangisinde doğru olarak verilmiştir?**

- A) Was möchtest du zum Geburtstag?  
B) Wer hat Geburtstag?  
C) Wann hast du Geburtstag?  
D) Warum feierst du Geburtstag?

9. Soll ich Ihnen helfen die Pakete zu tragen?

**Welche Antwort passt zur obigen Frage?**

**Yukarıdaki sorunun cevabı aşağıdakilerden hangisinde doğru olarak verilmiştir?**

- A) Ja, ich komme auch mit euch.
- B) Nein danke, Sie brauchen mir nicht zu helfen.
- C) Ja, ich habe auch Hunger.
- D) Nein, das ist für meine Tochter.

10. Eylülde baştan başlamalıyım!

**Wie lautet der obige Satz auf Deutsch?**

**Yukarıdaki cümlenin Almancası aşağıdakilerden hangisinde doğru olarak verilmiştir?**

- A) Im September darf ich von vorne anfangen!
- B) Im September hat er von vorne angefangen!
- C) Ich soll im September wieder anfangen!
- D) Ich muß im September von vorne anfangen!

11. Als der Befreiungskrieg began, ----- es 1919.

**Welches Wort passt in die obige Lücke?**

**Yukarıdaki cümlede boş bırakılan yeri aşağıdakilerden hangisi doğru olarak tamamlar?**

- A) sei
- B) ist
- C) war
- D) sind

12. ----- Sven die Schule -----, heiratete er Simone.

**Welche Wörter passen in die obigen Lücken?**

**Yukarıdaki cümlede boş bırakılan yerleri aşağıdakilerden hangileri doğru olarak tamamlar?**

- A) Wenn / stellte
- B) Für / war
- C) Weil / anfang
- D) Als / beendete

13. Andy ist der ----- Junge in unserer Familie.

**Welches Wort passt in die obige Lücke?**

**Yukarıdaki cümlede boş bırakılan yeri aşağıdakilerden hangisi doğru olarak tamamlar?**

- A) kleinste
- B) kleinem
- C) klein
- D) kleinen

14. Susanne ist 20 Jahre alt. Michael ist 9 Jahre alt.

**Welche Schlußfolgerung kann man nach den obigen Sätzen machen?**

**Yukarıdaki cümlelerden çıkarılacak yargı aşağıdakilerin hangisinde doğru olarak verilmiştir?**

- A) Michael ist größer als Susanne.
- B) Michael ist am ältesten.
- C) Susanne ist nicht so groß wie Michael.
- D) Susanne ist älter als Michael.

15. -----, damit wir keine Miete bezahlen müssen.

**Welches ergänzt die Lücke im obigen Satz?**

**Yukarıdaki cümlede boş bırakılan yeri aşağıdakilerden hangisi doğru olarak tamamlar?**

- A) Wir müssen Deutsch lernen
- B) Wir möchten eine neue Tasche
- C) Wir kaufen uns eine Wohnung
- D) Wir haben ein Auto gekauft

16. In jeder Stadt befindet sich ein Info-Büro, -----.

**Welches ergänzt die Lücke im obigen Satz?**

**Yukarıdaki cümlede boş bırakılan yeri aşağıdakilerden hangisi doğru olarak tamamlar?**

- A) um verschiedene Fragen zu beantworten.
- B) damit sie alle Verbrecher auffinden können.
- C) wenn sich alle in der Stadt wohl füllen möchten.
- D) weil jeder die Miete bezahlen muß.



17. Unsere Firma exportiert ----- nach Deutschland.

**Welches Wort passt nicht in die obige Lücke?**

**Yukarıdaki cümlede boş bırakılan yeri aşağıdakilerden hangisi doğru olarak tamamlamaz?**

- A) niemals
- B) wegen
- C) immer
- D) oft

18. A: Oh Nein! Der Zug ist abgefahren!

B: ----- Nach einer Stunde kommt der nächste Zug!

A: Gut, dann muß ich noch eine Stunde hier warten.

**Welches ergänzt die Lücke im obigen Dialog?**

**Yukarıdaki karşılıklı konuşmada boş bırakılan yeri aşağıdakilerden hangisi doğru olarak tamamlar?**

- A) Ich habe keine Eintrittskarte!
- B) Das sieht gut aus!
- C) Sie brauchen nicht traurig zu sein!
- D) Sie können mit mir einen Spaziergang machen!

19. Die Welt ist rund. Das ist bekannt.

**Wie kann man die obigen Sätze mit "daß" verbinden?**

**Yukarıdaki cümlelerin "daß" ile birleştirilmiş hali aşağıdakilerden hangisinde doğru olarak verilmiştir?**

- A) Daß ist bekannt, weil die Welt rund ist.
- B) Daß die Welt rund ist, ist bekannt.
- C) Daß die Welt rund ist, muß es bekannt sein.
- D) Daß die Welt rund ist, das stimmt.

20. Was bedeutet das Wort "birşeyi etkilemek" auf Deutsch?

**"birşeyi etkilemek" sözcüğünün Almancası aşağıdakilerden hangisinde doğru olarak verilmiştir?**

- A) etwas bemerken
- B) jemanden kennen
- C) etwas beeinflussen
- D) jemanden bemerken

2018 AÖÖ-AÖL II. DÖNEM 0102-B

1. She will go abroad ----- May.

**Which of the following completes the sentence above?**

**Aşağıdakilerden hangisi yukarıdaki cümleyi doğru olarak tamamlar?**

- A) at
- B) on
- C) in
- D) from

2. My students ----- some animal pictures last week.

**Which of the following completes the sentence above?**

**Aşağıdakilerden hangisi yukarıdaki cümleyi doğru olarak tamamlar?**

- A) have drawn
- B) will draw
- C) draw
- D) drew

3. I don't like getting up early ----- the mornings.

**Which of the following completes the sentence above?**

**Aşağıdakilerden hangisi yukarıdaki cümleyi doğru olarak tamamlar?**

- A) under
- B) at
- C) in
- D) on

4. I was born ----- İzmir in 1988.

**Which of the following completes the sentence above?**

**Aşağıdakilerden hangisi yukarıdaki cümleyi doğru olarak tamamlar?**

- A) on
- B) in
- C) from
- D) at

5. The kids finished their homework ----- to watch TV.

**Which of the following completes the sentence above?**

**Aşağıdakilerden hangisi yukarıdaki cümleyi doğru olarak tamamlar?**

- A) quick
- B) quickly
- C) good
- D) badly

6. She is a very kind student. She behaves ----- to everybody.

**Which of the following completes the sentence above?**

**Aşağıdakilerden hangisi yukarıdaki cümleyi doğru olarak tamamlar?**

- A) kind
- B) kindly
- C) kinder
- D) unkind

7. You ----- wait when the traffic light is red.

**Which of the following completes the sentence above?**

**Aşağıdakilerden hangisi yukarıdaki cümleyi doğru olarak tamamlar?**

- A) must
- B) mustn't
- C) can't
- D) may

8. The Queen is the ----- person in England.

**Which of the following completes the sentence above?**

**Aşağıdakilerden hangisi yukarıdaki cümleyi doğru olarak tamamlar?**

- A) richest
- B) rich
- C) richer
- D) much rich

9. My mum has ----- decorated my room. It's ready for my party now.

**Which of the following completes the sentence above?**

**Aşağıdakilerden hangisi yukarıdaki cümleyi doğru olarak tamamlar?**

- A) already
- B) before
- C) still
- D) yet

10. Our new office is ----- second floor of the building.

**Which of the following completes the sentence above?**

**Aşağıdakilerden hangisi yukarıdaki cümleyi doğru olarak tamamlar?**

- A) in
- B) next
- C) on
- D) between

11. My dad is not a careful driver. He drives ----- and has lots of accidents.

**Which of the following completes the sentence above?**

**Aşağıdakilerden hangisi yukarıdaki cümleyi doğru olarak tamamlar?**

- A) the most careful
- B) faster
- C) fast
- D) carefully

12. Health is ----- than money.

**Which of the following completes the sentence above?**

**Aşağıdakilerden hangisi yukarıdaki cümleyi doğru olarak tamamlar?**

- A) more important
- B) important
- C) most important
- D) the important

13. You ----- drink a glass of milk before you sleep. It helps you sleep well.

**Which of the following completes the sentence above?**

**Aşağıdakilerden hangisi yukarıdaki cümleyi doğru olarak tamamlar?**

- A) are
- B) shouldn't
- C) mustn't
- D) should

14. My cousins from Australia will be in Ankara ----- the 1st of January.

**Which of the following completes the sentence above?**

**Aşağıdakilerden hangisi yukarıdaki cümleyi doğru olarak tamamlar?**

- A) on
- B) in
- C) from
- D) (--)

15. They haven't been in Italy -----.

**Which of the following completes the sentence above?**

**Aşağıdakilerden hangisi yukarıdaki cümleyi doğru olarak tamamlar?**

- A) already
- B) ever
- C) since
- D) before

16. Last weekend we ----- our monthly shopping at the new mall.

**Which of the following completes the sentence above?**

**Aşağıdakilerden hangisi yukarıdaki cümleyi doğru olarak tamamlar?**

- A) are doing
- B) do
- C) will do
- D) did

2018 AÖÖ-AÖL II. DÖNEM 0102-B

17. My English marks are ----- than my History marks.

**Which of the following completes the sentence above?**

**Aşağıdakilerden hangisi yukarıdaki cümleyi doğru olarak tamamlar?**

- A) the worst
- B) worse
- C) more bad
- D) bad

18. Have you ----- sung in front of people?

**Which of the following completes the sentence above?**

**Aşağıdakilerden hangisi yukarıdaki cümleyi doğru olarak tamamlar?**

- A) already
- B) ever
- C) yet
- D) never

19. I ----- speak English well, I need some practice.

**Which of the following completes the sentence above?**

**Aşağıdakilerden hangisi yukarıdaki cümleyi doğru olarak tamamlar?**

- A) shouldn't
- B) couldn't
- C) mustn't
- D) can't

20. He usually helps his dad ----- Sundays.

**Which of the following completes the sentence above?**

**Aşağıdakilerden hangisi yukarıdaki cümleyi doğru olarak tamamlar?**

- A) under
- B) at
- C) on
- D) in

2018 AÖÖ-AÖL II. DÖNEM 0102-B

1. C'est mon livre. C'est -----.

**Choisissez le mot qui convient.**

**Cümledeki boşluğu aşağıdakilerden hangisi doğru şekilde tamamlar?**

- A) la mienne
- B) le tien
- C) la tienne
- D) le mien

2. C'est une personne -----.

**Choisissez le mot qui convient.**

**Cümledeki boşluğu aşağıdakilerden hangisi doğru şekilde tamamlar?**

- A) silencieux
- B) naïve
- C) joli
- D) éveillé

3. C'est la plus belle femme ----- monde.

**Choisissez le mot qui convient.**

**Cümledeki boşluğu aşağıdakilerden hangisi doğru şekilde tamamlar?**

- A) par
- B) de
- C) du
- D) pour

4. Ali a 25 livres, Hakan a 42 livres. Ali a ----- de livres que Hakan.

**Choisissez le mot qui convient.**

**Cümledeki boşluğu aşağıdakilerden hangisi doğru şekilde tamamlar?**

- A) plus
- B) moins
- C) autant
- D) aussi

5. Le chauffeur conduit -----.

**Choisissez le mot qui convient.**

**Cümledeki boşluğu aşağıdakilerden hangisi doğru şekilde tamamlar?**

- A) honnête
- B) suffisamment
- C) violent
- D) prudemment

6. Si tu n'étais pas parti, tu ----- du gâteau.

**Choisissez le mot qui convient.**

**Cümledeki boşluğu aşağıdakilerden hangisi doğru şekilde tamamlar?**

- A) avais mangé
- B) aurais mangé
- C) manges
- D) mangeras

7. Il a autant ----- stylo ----- moi.

**Choisissez les mots qui conviennent.**

**Cümledeki boşlukları aşağıdakilerden hangisi doğru şekilde tamamlar?**

- A) de / que
- B) que / que
- C) de / qui
- D) que / de

8. - Ce sont les livres de ton professeur?  
- Non, ce sont ----- de Paul.

**Choisissez le mot qui convient.**

**Yukarıdaki konuşmada boş bırakılan yeri aşağıdakilerden hangisi doğru şekilde tamamlar?**

- A) celles
- B) celle
- C) ceux
- D) celui

9. ----- la page.

**Choisissez le mot qui convient.**

**Cümledeki boşluğu aşağıdakilerden hangisi doğru şekilde tamamlar?**

- A) Reste
- B) Trouble
- C) Réfléchis
- D) Tourne

10. «Tu devrais acheter une robe.»

**Choisissez la traduction qui convient.**

**Yukarıdaki cümlelerin Türkçe karşılığı aşağıdakilerden hangisidir?**

- A) Elbise alacaksın.
- B) Elbise alabilirsin.
- C) Elbise almalısın.
- D) Elbise alıyor.

11. ----- rançon!

**Choisissez le mot qui convient.**

**Cümledeki boşluğu aşağıdakilerden hangisi doğru şekilde tamamlar?**

- A) Quelle
- B) Quels
- C) Quelles
- D) Quel

12. Ce tableau est magnifique, ----- il coûte cher.

**Choisissez le mot qui convient.**

**Cümledeki boşluğu aşağıdakilerden hangisi doğru şekilde tamamlar?**

- A) malgré
- B) mais
- C) assez
- D) contrairement à

13. «Bu bir şaka mı?»

**Choisissez la traduction qui convient.**

**Yukarıdaki cümlelerin Fransızca karşılığı aşağıdakilerden hangisidir?**

- A) C'est une plaisanterie?
- B) C'est une légende?
- C) C'est rigolo?
- D) Ça fait rire?

14. Marie gagne 100€, Jeanne gagne 100€. Marie est ----- riche que Jeanne.

**Choisissez le mot qui convient.**

**Cümlede boş bırakılan yeri aşağıdakilerden hangisi doğru şekilde tamamlar?**

- A) autant de
- B) plus
- C) grand
- D) aussi

15. Il vient de -----.

**Choisissez le mot qui convient.**

**Cümledeki boşluğu aşağıdakilerden hangisi doğru şekilde tamamlar?**

- A) neigeait
- B) neige
- C) neigé
- D) neiger

16. «Le domestique va faire le ménage.»

**Choisissez la traduction qui convient.**

**Yukarıdaki cümlelerin Türkçe karşılığı aşağıdakilerden hangisidir?**

- A) Uşak temizlik yapacak.
- B) Hizmetli evi temizleyecek.
- C) Hizmetçi kadın temizlik yaptı.
- D) Hizmetçi adam temizlik yaptı.

17. Il n'y avait personne, ----- la porte était ouverte.

**Choisissez l'expression qui convient.**

**Cümlede boş bırakılan yeri aşağıdakilerden hangisi doğru şekilde tamamlar?**

- A) maintenant
- B) contrairement à
- C) en revanche
- D) malgré

18. Mon ami m'a dit qu'il ne ----- pas venir avec nous.

**Choisissez le mot qui convient.**

**Cümledeki boşluğu aşağıdakilerden hangisi doğru şekilde tamamlar?**

- A) pouvait
- B) pouvaient
- C) pouvoir
- D) puisse

19. -----, les élèves iront à l'école.

**Choisissez le mot/l'expression qui convient.**

**Cümledeki boşluğu aşağıdakilerden hangisi doğru şekilde tamamlar?**

- A) La semaine dernière
- B) Hier
- C) Demain
- D) Avant-hier

20. Je pense ----- toi.

**Choisissez le mot qui convient.**

**Cümledeki boşluğu aşağıdakilerden hangisi doğru şekilde tamamlar?**

- A) au
- B) à
- C) de
- D) en

2018 AÖÖ-AÖL II. DÖNEM 0102-B

1. Aşağıdaki cümlelerden hangisinde sözde özne bulunmaktadır?

- A) Pencereyi açarken camı kırdım.
- B) Rüzgâr açık pencerenin camını kırdı.
- C) Pencereyi açarken cam kırıldı.
- D) Pencerenin camı zaten kırıldı.

2. Aşağıdaki cümlelerin hangisinde zincirleme isim tamlaması vardır?

- A) Ahmet beş gün önce kaybıldı.
- B) Bahçenin onarılması gereken duvarı tamamen çöktü.
- C) Sınıftaki öğrenciler koşarak dışarı çıktı.
- D) Çocuklar büyüklerine saygı göstermelidir.

3. Aşağıdaki cümlelerin hangisi sırasıyla "kim, ne zaman, nerede" sorularını yanıtlamaktadır?

- A) Ayten, geçen gün asansörde kaldı.
- B) Annem, dışarı çıkarken aceleliydi.
- C) Bazı günler çok hüzünlü oluyorum.
- D) Evde kalınca işlerimi hallettim.

4. Aşağıdakilerden hangisi yapı bakımından sözcük türlerinden biri değildir?

- A) Birleşik
- B) Türemiş
- C) Basit
- D) Karmaşık

5. Aşağıdakilerden hangisi diğerlerinden farklı türde bir tamlamadır?

- A) dilin işlevleri
- B) zamanın getirdikleri
- C) sulu kar
- D) oyunun kuralları

6. Aşağıdaki cümlelerden hangisinde edat tümleci yoktur?

- A) Doğru dürüst insan kalmamış.
- B) Ağaçların yaprakları elektrik ışıkları ile parlıyor.
- C) Eskişehir'e kadar demir yolu ile gittim.
- D) Artık hayatla tamamen barıştım.

7. Aşağıdaki cümlelerden hangisinde ortak özne bulunmaktadır?

- A) Hamza yerinden kalkıp gideceken Ahmet onu kolundan tuttu.
- B) Hamza yerinden kalktı, lambayı kapattı ve yatağına girdi.
- C) Hamza yerinden kalktı.
- D) Hamza kalktı, Ahmet oturdu.

8. Aşağıdaki cümlelerin hangisinde tümleş eksikliğinden kaynaklanan bir anlatım bozukluğu vardır?

- A) Televizyonda kaliteli programlar çok az.
- B) Oyun gittikçe daha da zorlaşıyor.
- C) Sabahları simit yemeyi çok seviyoruz.
- D) Mine'yi tanıyorum ve çok güveniyorum.

9. Aşağıdaki eylemlerden hangisi farklı bir kiple çekimlenmiştir?

- A) gelmemiş
- B) otur
- C) okuyorlar
- D) bitirdiler

10. Aşağıdakilerden hangisi devrik cümle değildir?

- A) Ne olacak Ali gelince?
- B) Gelen gidene okutur rahmet.
- C) Sınıfın en çalışkanı Ahmet'tir.
- D) Elindekini hemen bırak yere!



11. Aşağıdakilerden hangisi yüklem türüne göre isim cümlesidir?

- A) En sevdiğim çiçek güldür.
- B) Düzenli olarak çalışmalısınız.
- C) Annem bu sözleri duyunca çok üzüldü.
- D) Ordunun yaklaştığını anladı.

12. Aşağıdaki cümlelerin hangisinde sıfat tamlaması yoktur?

- A) Yeşil gözleri, iki solgun boncuk gibiydi.
- B) Bahçe duvarının önünde boynuna sarıldım.
- C) Kızıl saçlarını savura savura koşuyordu.
- D) Artık berber görmeyen bu güzel saçlar solmuş.

13. Aşağıdaki sözcüklerden hangisi fiilden isim yapan yapım eki almamıştır?

- A) Alışveriş
- B) Dalgın
- C) İşçi
- D) Ölüm

14. Aşağıdakilerden hangisi dilek-şart cümlesidir?

- A) Okulumu bitirip yüzmeyi öğrensem.
- B) Başarmak için çok çalışmalıyım.
- C) Orada ne yapıyorsunuz?
- D) En çok sevdiğim çiçek güldür.

15. Aşağıdaki cümlelerin hangisinde ikileme zıt anlamlı kelimelerden oluşmuştur?

- A) Eş dost hep birlikte pikniğe gittik.
- B) Eğri büğrü yollardan geçerek hedefe ulaştık.
- C) Bu bence olsa olsa yirmi liradır.
- D) Aşağı yukarı iki saattir seni bekliyorum.

16. Aşağıdaki cümlelerin hangisinde bir söz grubu vardır?

- A) Ahmet Almanya'dan dün geldi.
- B) Ha o ha bu ne fark eder?
- C) Bu çocuk neden bağıyor?
- D) Bu işten sen zararlı çıkacaksın.

17. Aşağıdakilerden hangisi terim anlamlı bir sözcük değildir?

- A) Kalem
- B) Uyak
- C) Redif
- D) Rakam

18. Aşağıdaki cümlelerin hangisinde mecaz anlamda kullanılmış bir sözcük vardır?

- A) Her zaman odamı düzenli tutmaya çalışıyorum.
- B) Kardeşim doğduğunda onu herkesten kıskanmışım.
- C) Annem her zaman sığındığım en güvenli liman olmuştur.
- D) Sağlıklı kalabilmek için her gün düzenli spor yapıyorum.

19. Yeryüzündeki dillerde ses, yapı ve söz dizimi bakımlarından bazı benzerlik ve yakınlıklar görülür. Bunlara dil akrabalığı denir.

Yukarıdaki cümleler aşağıdaki paragraf çeşitlerinin hangisinden alınmış olabilir?

- A) Açıklama paragrafı
- B) Düşsel paragraf
- C) Çözümleme paragrafı
- D) Olay paragrafı

20. Paragrafta iletilmek istenen iletinin en kısa ve açık ifadesine ne ad verilir?

- A) Ana metin
- B) Yardımcı düşünce
- C) Asıl metin
- D) Ana düşünce

2018 AÖÖ-AÖL II. DÖNEM 0102-B

1. Aşağıdaki metin türlerinin hangisinde gelecekte söz eden anlatımdan yararlanılmaz?

- A) Şiir
- B) Tiyatro
- C) Öykü
- D) Anı

2. "Geldi sokuldu yanıma. Kazağımın kaçmış ipiyle oynamaya koyuldu. Çocuk gözlerini bir sis bürümüştü. Saçlarını okşadım. Kazağın kaçmışlığı, ceketimin düğmeleri-ve artık büyümüş sayılırdı, mendil cebine el sokmuyor, "Bunda ne var?.." demiyordu- ve kol saatimin kayışı ve sonra bıyıklarım onu uzun süre oyalamaya yetmedi. "Dayı babam ne zaman gelecek?" dedi. Yüreğimde bir kan tortusu.."

Yukarıdaki anlatımda aşağıdakilerden hangisi ağır basmaktadır?

- A) Tanımlama
- B) Tartışma
- C) Öyküleme
- D) Açıklama

3. Aşağıdaki cümlelerin hangisinde çıkma durum eki alan edat vardır?

- A) Onun senden başka arkadaşı olmadığını biliyorsun.
- B) Bu kitabı yarına kadar bitirmeni istiyorum.
- C) Onun kadar konsere giden adam tanımadım.
- D) Sizin gibi yardımsever insanlar tarih oldu artık.

4. Aşağıdaki cümlelerin hangisinde kızma anlamı vardır?

- A) Vay, sen de gittin demek konsere!
- B) Bırak, senin yardımına ihtiyacımız yok bizim!
- C) Ay, ben sana söylemeyi unutmuşum!
- D) Eh, sana bu kadar anlayış yeter !

5. Aşağıdaki cümlelerin hangisinde adlaşmış yer-yön zarfı kullanılmıştır?

- A) Bu soğukta dışarı çıkma bence.
- B) Gördün deli, dön geri.
- C) Baban geldi, hemen yukarı çık.
- D) Kapı açılınca içeriye ufuk girdi.

6. Aşağıdaki cümlelerin hangisinde eyleme eklenen "-miş, -miş, -muş" eki cümleye "başkasından duyulma, aktarılma" anlamı katmaktadır?

- A) Bu kitap tam on yılda yazılmış.
- B) Elbisen sana çok yakışmış.
- C) Babam, dün akşam toplantıya gitmemiş.
- D) Bütün gün güneşte durmaktan sırtın yanmış.

7. "Sabah serinliğinin tatlı sarhoşluğunda kadınlar, ellerinde kovalarıyla, sulama kanallarından gürül gürül akan suyun ve cıvıldaayan kuşların söylediği şarkıların eşliğinde, dut bahçelerine doğru yola koyulurlar. Dut bahçelerine ulaştıklarında ağaçların altına örtüler yayıp, içlerinden en güçlüsünün dut ağaçlarını silkelemesini beklerler. Dallarından kopan dutlar, kar taneleri gibi teker teker yere düşer. Köylü kadınlar karıncalar gibi akşama kadar dinlenmeksizin çalışırlar."

Yukarıdaki parçanın anlatımı ile ilgili aşağıdaki ifadelerden hangisi yanlıştır?

- A) Tanımlama yapılmıştır.
- B) Benzetmelerden yararlanılmıştır.
- C) Betimlemeye başvurulmuştur.
- D) Görsel öğelere yer verilmiştir.

8. Aşağıdaki cümlelerin hangisinde birleşik sıfat vardır?

- A) Tembellik onun huyu haline gelmişti.
- B) Pisboğaz insanlar şehrin her yerini sarmıştı.
- C) Ağlayan insan zayıf insan mıdır?
- D) Kadının neşeli bir havası vardı.

**9. Aşağıdaki cümlelerden hangisinde zarf-fiil yoktur?**

- A) Kimsesiz ve sessizce buralardan göçüp gitti.
- B) Parayı aldığımda hemen borcumu ödeyeceğim.
- C) Aklına geleni söyleyince dürüst insan olunmuyor.
- D) Bilinçli insan sanat gerçeğini kavriyor.

**10. Aşağıdaki cümlelerin hangisinde "yalnız" sözcüğü edat görevinde kullanılmıştır?**

- A) Yalnız bizim için söyle bu şarkıyı.
- B) Yalnız yaşayanlar bu ağırlığı iyi bilirler.
- C) Yalnız kalacaksın günün birinde.
- D) Bu koskoca evde yalnız yaşıyordu.

**11. "Sanatçının öbür insanlardan ayrılması, sese, taşa, renge, söze can verdiği içindir. Doğaya beğenisini, özenini katan insan, onu sanata dönüştürür. Sanatçı, doğaya yeni bir bakış getiren insandır. O yarattıktan sonra, insan artık iki dünyayla yüz yüzedir: Gördüğü dünya, sanatçının gösterdiği dünya.... Picasso, "Resim, senin benden istediğin değil, benim sana verdiğimdir" diyor."**

**Yukarıdaki parçanın anlatımında aşağıdakilerden hangisi ağır basmaktadır?**

- A) Betimsel anlatım
- B) Düşsel anlatım
- C) Kanıtlayıcı anlatım
- D) Açıklayıcı anlatım

- 12.**
- Amaç okuyucuyu bilgilendirmektir.
  - Genellikle nesnel anlatım kullanılır.
  - Dil ve ifade sade, gösterişsiz ve pürüzsüzdür.

**Yukarıda temel özellikleri belirtilen anlatım türü aşağıdakilerden hangisidir?**

- A) Öyküleyici anlatım
- B) Açıklayıcı anlatım
- C) Epik anlatım
- D) Betimleyici anlatım

**13. Aşağıdaki cümlelerin hangisinde "bu" sözcüğü işaret sıfatı olarak kullanılmıştır?**

- A) Çocuklar da işte bundan istiyorlar.
- B) Onu bunu bilmem, yarın erkenden gideceksin.
- C) Bunu bana evlendiğimizde vermişti.
- D) Deli eder insanı bu dünya.

**14. Aşağıdaki cümlelerin hangisinde anlamca kaynaşmış(deyimleşmiş) birleşik fiil vardır?**

- A) Sen gelmeyince ben çok üzül müştüm.
- B) Kendini naza çekmeyi ne çok severdi.
- C) Neden bu akşam sen de bizimle birlikte eğlenmiyorsun?
- D) Bu hikâye yıllardır anlatılır bizim evde.

**15. Aşağıdaki cümlelerin hangisinde emredici bir anlatım söz konusudur?**

- A) Kırmızı ışıktadır!
- B) Ben neden gideyim?
- C) Karanlık her yeri sarmış.
- D) Daha çok çalışmalısın!

16. Aşağıdaki cümlelerin hangisinde yüklem oldurgan çatılı bir eylemdir?

- A) Kitaplar özenle raflara yerleştirildi.
- B) Bu soğuk havada neden beni dışarıda bekletiyorsun?
- C) Yemekte anlattıkları ile herkesi güldürdü.
- D) Bütün bulaşıkları bana yıkattı.

17. Aşağıdaki cümlelerin hangisinde zamir kullanılmamıştır?

- A) Senin için yaptıklarımı ne çabuk unuttun?
- B) Hangilerinin bilgisayarını varmış?
- C) Kasabada herkes bu konuyu konuşuyormuş.
- D) Bu laflara karnım tok benim.

18. "Gördünüz mü?" dedi Hermione Harry ve Ron bitirdiğinde. "Köpek Flamel'in Felsefe Taşı'nı koruyor olmalı! Bahse girerim Dumbledore taşı onun için saklıyordur, çünkü ikisi arkadaş ve birilerinin taşın peşinde olduğunu biliyor, bu nedenle taşın Gringotts'tan çıkarılmasını istedi!" "Altın yapımında kullanılan ve ölümü engelleyen bir taş!" dedi Harry. "Snape'in neden onun peşinde olduğu anlaşıldı! Herkes bunu ister!" "Ve neden Flamel'i Yakın Zamanda Sihir Dünyası'ndaki Gelişmeler kitabında bulamadığımız anlaşıldı," dedi Ron. "Hiç de yakın zamanda biri değil, 665 yaşında, değil mi?"

Bu parçanın anlatımıyla ilgili aşağıdaki ifadelerden hangisi yanlıştır?

- A) Yer ve zaman öğeleri açık ve kesin değildir.
- B) Epik öğelere yer verilmiştir.
- C) Abartma söz konusudur.
- D) Gerçeküstü öğeler içermektedir.

19. "(I)Burada insan, Oscar Wilde'ın o ünlü lafını anımsıyor: (II)"Bir saate kadar sanat, yaşamı taklit eder ama bir saatten sonra da yaşam, sanatı taklit eder." (III)Örneğin bir İngiliz ressamı Turner, bu dünyadan gelip geçtiyse, siz de onu izlediyseniz ondan sonra gün batımlarına başka türlü bakarsınız. (IV)Üstelik kim Gregor Samsa'nın öyküsünü okuduktan sonra yaşamının belirli parçalarını ona benzetmemiştir ki?"

Yukarıdaki parçada numaralandırılmış cümlelerin hangilerinde bağlaç vardır?

- A) I, II ve III
- B) I, II ve IV
- C) I, III ve IV
- D) II, III ve IV

20. Aşağıdaki cümlelerde kullanılan deyimlerden hangisi belirteç görevindedir?

- A) Ekmeğini taştan çıkaran insanları çok severdi.
- B) Derin sulara hiç gözünü kırpmadan atlardı.
- C) Ele avuca gelmez çocuklarla uğraşmayı iş edinmişti.
- D) Dilinin ucuna gelen sözlerin hiç birini söylemedi.

2018 AÖÖ-AÖL II. DÖNEM 0102-B

1. Şinasi tarafından yazılmış tek perdelik bir komedi olan "Şair Evlenmesi" adlı eser, aşağıdaki metin türlerinden hangisine örnektir?
- A) Gazete çevresinde gelişen metinler  
B) Anlatmaya bağlı sanat metinleri  
C) Göstermeye bağlı sanat metinleri  
D) Coşku ve heyecana bağlı sanat metinleri
2. Aşağıdakilerden hangisi göstermeye bağlı türlerden biridir?
- A) Tiyatro  
B) Masal  
C) Deneme  
D) Şiir
3. Aşağıdakilerden hangisi fablın öğelerinden biri değildir?
- A) Yer  
B) Kişiler  
C) Olay  
D) Dize
4. Bir çeşit masal olan, ancak masaldan farklı olarak sonunda her zaman bir ahlak ve ibret dersi veren yazı türüne ne ad verilir?
- A) Dram  
B) Fabl  
C) Seyahatname  
D) Öykü
5. Aşağıdakilerden hangisi öğretici metinlerin özelliklerinden biri değildir?
- A) Okuyucuya bilgi vermek amacıyla yazılması  
B) Açık ve sade bir dille yazılması  
C) Gerçeklerin kurgulanarak anlatılması  
D) Dilin göndergesel işlevde kullanılması
6. Aşağıdakilerden hangisi sanat metinlerinin özelliklerinden biridir?
- A) Estetik kaygı taşıması  
B) Herkesçe aynı algılanacak bir anlama sahip olması  
C) Kurallaştırılmış yargılara sahip olması  
D) Öğretici bir içeriğinin olması
7. Battal Gazi ve Köroğlu hikâyeleri hangi türün örnekleridir?
- A) Aşk hikâyelerinin  
B) Masalsı hikayelerin  
C) Köy hikâyelerinin  
D) Kahramanlık hikâyelerinin
8. Şiirlerinde gündelik hayatı, anlık sevinç ve tasaları, aşkı ve ölümü ele alan ve özellikle karamsarlıklarını, korkularını "Otuz Beş Yaş" şiirinde dile getiren şair aşağıdakilerden hangisidir?
- A) Attila İlhan  
B) Cahit Sıtkı Tarancı  
C) Orhan Veli  
D) Ahmet Muhip Dranas
9. Namık Kemal tarafından yazılan ve edebiyatımızda ilk tarihsel roman olarak kabul edilen eser aşağıdakilerden hangisidir?
- A) Çalıkuşu  
B) Kiskanmak  
C) Cezmi  
D) Mai ve Siyah
10. "Gider oldum kömür gözlü sevgilim elveda" mısrasındaki söz sanatı aşağıdakilerden hangisidir?
- A) Benzetme  
B) Açık İstiare  
C) Kapalı İstiare  
D) Mecaz-ı Mürsel

11. Aşağıdakilerden hangisi şiirin dış yapı özelliklerinden biri değildir?

- A) Ölçü
- B) Nazım şekli
- C) Kafiye
- D) Şiirin öz derinliği

12. Masallarla ilgili aşağıdaki ifadelerden hangisi yanlıştır?

- A) Masallarda yer ve zaman kavramları belirsizdir.
- B) Masal anonim bir türdür.
- C) Genellikle nesir şeklindedir.
- D) Bir masal içinde halk edebiyatının diğer türlerinden örnekler bulunmaz.

13. Sözlü gelenekten derlendiği düşünülen ilk Türkçe masal kitabı aşağıdakilerden hangisidir?

- A) Billur Köşk Masalları
- B) Bahtiyarnâme
- C) Kırk Vezir Hikâyesi
- D) Binbir Gece Masalları

14. Aşağıdakilerden hangisi Türk kaynaklı halk hikâyelerinden biri değildir?

- A) Emrah ile Selvihan
- B) Kerem ile Aslı
- C) Leyla ile Mecnun
- D) Dede Korkut Hikâyeleri

15. Ege Kıyılarından, Merhaba Akdeniz, Ege'nin Dili, Yaşasın Deniz, Gülen Ada adlı öykü kitaplarının yazarı kimdir?

- A) Samim Kocagöz
- B) Ercüment Ekrem Talu
- C) Cevdet Kudret
- D) Cevat Şakir Kabaağaçlı

16. İnsan yaşamının sınırsız kültür birikimi içinde yer alan ve insanı derinden etkileyen toplumsal veya siyasi olayları, gelenek ve görenekleri bazen eleştirel bazen de bilimsel açıdan ele alan roman çeşidi aşağıdakilerden hangisidir?

- A) Tarihî roman
- B) Sosyal roman
- C) Macera romanı
- D) Psikolojik roman

17. Birçok yönü ile operayı andıran fakat sahnedeki bütün hareketleri ahenkli ve zengin dans figürleri halinde gösteren baştan sona besteli tiyatro çeşidine ne ad verilir?

- A) Bale
- B) Skeç
- C) Revü
- D) Operet

18. Her zaman ve her yerde rastlanabilen insan kusurlarını belli tiplerde göstererek sahnede gülünç eden komedyâ türü aşağıdakilerden hangisidir?

- A) Töre komedyası
- B) Yergi komedyası
- C) Karakter komedyası
- D) Entrika komedyası

19. Aşağıdakilerden hangisi fabl türünün Batı'daki ilk temsilcilerinden biridir?

- A) Pançatantra
- B) Gülistan
- C) Bidpay
- D) Ezop

20. Karagöz oyununda Karagöz ve Hacivat arasındaki atışma hangi bölümde gerçekleşmektedir?

- A) Bitiş
- B) Muhavere
- C) Fasıl
- D) Hayal

2018 AÖÖ-AÖL II. DÖNEM 0102-B

1. Aşağıdakilerden hangisi vektörel niceliklerden biridir?

- A) Hacim
- B) Yer değiştirme
- C) Sürat
- D) Sıcaklık

2. Yapmış olduğu teleskop ile uzay hakkında daha önce hiç yapılmamış gözlemler gerçekleştiren bilim adamı aşağıdakilerden hangisidir?

- A) Galileo
- B) Newton
- C) Aristo
- D) Einstein

3. Aşağıdaki temel büyüklüklerden hangisinin birimi Kelvin'dir?

- A) Kütle
- B) Işık şiddeti
- C) Elektrik akımı
- D) Sıcaklık

4. I. Vektörel büyüklükler sadece yön belirten niceliklerdir.  
II. Hacim türetilmiş bir büyüklüktür.  
III. Elektrik akımı temel büyüklüklerden birisidir.

Yukarıdaki ifadelerden hangisi doğrudur?

- A) Yalnız II
- B) I ve II
- C) I, II ve III
- D) II ve III

5. Aşağıdakilerden hangisinin kütlesi en küçüktür?

- A) 0,1 ton
- B) 100 kg
- C) 1000 gr
- D) 0,1 kg

6. Aşağıdaki kuvvetlerden hangisi çiçek sapına veya yaprağa yapışan yağmur damlaları ile örneklendirilir?

- A) Kohezyon
- B) Adezyon
- C) Sürtünme
- D) Yerçekimi

7. Aşağıdaki olayların hangisinde öz kütle farklılığı önemli değildir?

- A) Kalınlık hesaplama
- B) Ebru yapımı
- C) Ayrandan tereyağı elde edilmesi
- D) Kan ve idrar tahlili

8. I. Hacmi artan bir cismin kütlesi de artar.  
II. Öz kütlenin birimi kg/metreküptür.  
III. İki farklı cisimden hacmi büyük olanın kütlesi de kesinlikle diğerinden büyüktür.

Yukarıdaki ifadelerden hangisi doğrudur?

- A) Yalnız II
- B) I ve II
- C) I ve III
- D) I, II ve III

9. Bir cisme dayanıklılığını veren özellikler aşağıdakilerin hangisinde birlikte ve doğru olarak verilmiştir?

- A) Kesit alanı / Hacim
- B) Hacim / Kesit alanı
- C) Uzunluk / Kesit alanı
- D) Uzunluk / Hacim

10. Bir kenarı 20 dm olan bir küpün hacmi kaç m<sup>3</sup>tür?

- A) 8
- B) 80
- C) 800
- D) 8000

11. Sürtünme kuvvetinin 2N olduğu bir yüzeyde 8N'luk yatay bir kuvvetle çekilen 4kg kütleli bir kutunun ivmesi kaç m/s<sup>2</sup>'dir?

- A) 1/2
- B) 2/3
- C) 3/2
- D) 2

12. Kırmızı ışıpta durmakta olan bir otomobil yeşil yanınca harekete başlar ve 4s'de hızı 12 m/s'ye ulaşır.

Bu otomobilin ivmesi kaç m/s<sup>2</sup>'dir?

- A) 3
- B) 8
- C) 16
- D) 48

13. 0,2 sürtünme katsayısına sahip bir yüzeyde 12N'luk yatay bir kuvvetle çekilen 4kg kütleli bir cismin ivmesi kaç m/s<sup>2</sup>'dir? (g=10 m/s<sup>2</sup>)

- A) 1/2
- B) 1
- C) 3/2
- D) 2

2018 AÖÖ-AÖL II. DÖNEM 0102-B

14. Sürtünme katsayısının 0,2 olduğu bir yüzeyde durmakta olan 20kg kütleli bir kutuyu hareket ettirmek için uygulanması gereken en az kuvvet kaç N'dur? ( $g=10 \text{ m/s}^2$ )
- A) 4  
B) 30  
C) 40  
D) 200
15. Durgun halden harekete başlayan ve 4N büyüklüğünde yatay bir kuvvetle sürtünmesiz bir ortamda çekilen 3kg kütleli bir cismin 3s sonraki hızı kaç m/s'dir?
- A) 2  
B) 3  
C) 4  
D) 6
16. Sürtünme kuvveti ile ilgili aşağıdaki ifadelerden hangisi yanlıştır?
- A) Sürtünme kuvvetinin yönü her zaman harekete ters yöndedir.  
B) Cisimlerin hareketini zorlaştırır.  
C) Sürtünme kuvveti, temel kuvvetlerden biridir.  
D) Kinetik ve statik olarak ikiye ayrılır.
17. Bir araba 80 dakikada 160 km yol almaktadır. Bu arabanın ortalama hızı kaç m/s'dir?
- A) 3/100  
B) 1/3  
C) 3  
D) 100/3
18. I. Ağırlık vektörel bir büyüklüktür.  
II. Kütle, değişmeyen madde miktarıdır.  
III. Kutuplarda yerçekimi ivmesi daha büyüktür.
- Yukarıdaki ifadelerden hangileri doğrudur?**
- A) Yalnız II  
B) I ve II  
C) II ve III  
D) I, II ve III
19. A noktasından hareket eden ve 4 m/s sabit hızla ilerleyen bir taşıt, B noktasına 12 dakikada varıyor. Daha sonra 6 m/s sabit hızla ilerleyip 20 dakikada C noktasına varıyor. A ile C arası alınan yol kaç km'dir?
- A) 6  
B) 8  
C) 10  
D) 14

20. Aşağıdakilerden hangisi bir titreşim hareketi değildir?

- A) Gitar telinin hareketi  
B) Tekerleğin hareketi  
C) Arının kanat çırpması  
D) Salıncağın hareketi



2018 AÖÖ-AÖL II. DÖNEM 0102-B

1. Aşağıdaki olaylardan hangisinde fiziksel anlamda iş yapılmaz?

- A) Market arabasının itilmesi
- B) Düz yolda yürüyen öğrencinin sırt çantası taşınması
- C) Çocuğun çantayı yerden kaldırması
- D) İşçinin bir sandığı yatay düzlemde çekmesi

2. Aşağıdaki enerjilerden hangisi biyokütle yardımıyla üretilmektedir?

- A) Isı
- B) Elektrik
- C) Hareket
- D) Hidrojen

3. 70 kg kütleli bir adamın 10m/s hızla koşması durumunda kazanacağı kinetik enerji kaç Joule'dur?

- A) 350
- B) 700
- C) 1400
- D) 3500

4. Bir vinç, ağırlığı 2000N olan bir sandığı 10m yüksekliğe çıkarıyor. Buna göre vinç kaç kJ'lük iş yapmış olur?

- A) 1
- B) 2
- C) 10
- D) 20

5. I. Yerçekimi potansiyel enerjisi cismin ağırlığı ile doğru orantılıdır.  
II. Bir cismin kinetik enerjisi her zaman potansiyel enerjisine eşittir.  
III. Esnek bir yayın esneklik potansiyel enerjisi yay sabiti ile doğru orantılıdır.

Yukarıdaki ifadelerden hangileri doğrudur?

- A) Yalnız III
- B) I ve II
- C) I ve III
- D) II ve III

6. I. İşin birimi Joule'dür.  
II. İş vektörel bir büyüklüktür.  
III. İşin negatif olması cismin enerjisinin arttığı anlamına gelir.  
IV. Cisim kuvvet doğrultusunda hareket ederse iş yapılır.

Yukarıdaki ifadelerden hangileri doğrudur?

- A) Yalnız I
- B) I ve II
- C) I ve IV
- D) I, III ve IV

7. Bir makara 20kg'lık yükü 1 dakikada 30m yükseğe çıkarmaktadır. Makaranın gücü kaç W'tır?

- A) 10
- B) 25
- C) 50
- D) 100

8. 80 m yükseklikten serbest bırakılan bir taş yere kaç m/s hızla çarpar?

(Hava sürtünmesini ihmal ediniz.  $g=10 \text{ m/s}^2$  alınız.)

- A) 10
- B) 20
- C) 36
- D) 40

9. Bir cisim üzerine 25N'luk kuvvet uygulanarak yeri 5m değiştirilmiştir. Cisim ile yüzey arasındaki sürtünme kuvveti 10N ise, yapılan net iş kaç J'dür?

- A) 15
- B) 35
- C) 75
- D) 100

10. Bir cisim, sürtünme kuvvetinin 2N olduğu bir yüzeyde 8m boyunca 12N'luk bir kuvvetle çekilmektedir. Sürtünme kuvvetinin yaptığı iş kaç Joule'dür?

- A) 16
- B) 24
- C) 80
- D) 96

11. Yerçekimi potansiyel enerjisi aşağıdaki niceliklerden hangisine bağlı değildir?

- A) Cismin hızı
- B) Cismin kütlesi
- C) Yükseklik
- D) Yerçekimi ivmesi

12. Bir ısıtıcı şehir şebekesinden sağladığı 80J'lük enerjinin 60J'ünü ısı olarak dışarıya vermektedir. Bu ısıtıcının verimi yüzde kaçtır?

- A) 25
- B) 60
- C) 75
- D) 125

2018 AÖÖ-AÖL II. DÖNEM 0102-B

13. Maddenin gaz halinden plazma haline geçmesine ne ad verilir?

- A) Deiyonizasyon
- B) Buharlaşma
- C) Yoğuşma
- D) İyonizasyon

14. Günümüzde mevsimlerde yaşanan düzensizliklerin ve değişimlerin sebebi aşağıdakilerden hangisidir?

- A) Doğal felaketler
- B) Küresel ısınma
- C) Dünyanın yaşlanması
- D) Dünyanın kendi etrafında dönmesi

15. Aşağıdaki ifadelerden hangisi yanlıştır?

- A) Öz ısı madde miktarı ile artar.
- B) Termometre yapımında öz ısı düşük sıvılar kullanılır.
- C) Öz ısı saf maddeler için ayırt edici bir özelliktir.
- D) Bir maddenin sıcaklığını 1°C değiştirmek için gerekli ısı miktarına, ısı sırası denir.

16. Aşağıdakilerden hangisi ısı iletim hızını etkileyen faktörlerden biri değildir?

- A) Maddenin kalınlığı
- B) Maddenin cinsi
- C) Maddenin rengi
- D) Maddenin yüzey alanı

17. I. Plastik çubuk yün kumaşa sürtülürse, (-) yüklenir.  
 II. Plastik çubuk yün kumaşa sürtülürse, kumaş (-) yüklenir.  
 III. Cam çubuk ipek kumaşa sürtülürse, (+) yükle yüklenir.  
 IV. Cam çubuk ipek kumaşa sürtülürse, kumaş (+) yüklenir.

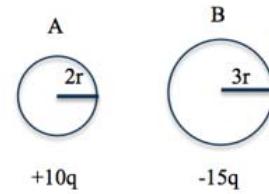
Yukarıdaki ifadelerden hangiler, doğrudur?

- A) I ve II
- B) I ve III
- C) II ve IV
- D) I, II ve IV

18. Aşağıdaki ifadelerden hangisi yanlıştır?

- A) Elektrik alan, skaler bir niceliktir.
- B) Elektrik alanın kaynağı durgun elektrik yüküdür.
- C) Elektrik yükünün değeri arttıkça elektrik alanın şiddeti de artar.
- D) Elektrik alanına giren bir yük, elektriksel bir kuvvete maruz kalır.

19.



İletken A ve B küreleri birbirine dokundurulup ayrıldığında yeni yükleri kaç q olur?

- A) -3; -2
- B) -2; -3
- C) -2; 1
- D) -1; 2

20. I. Atomun çekirdeğinde sadece elektron ve nötron vardır.  
 II. Elektron negatif, proton ise pozitif yüklüdür.  
 III. Nötr atomda elektron ve proton sayısı birbirinden farklıdır.

Yukarıdaki ifadelerden hangileri doğrudur?

- A) Yalnız II
- B) I ve II
- C) II ve III
- D) I, II ve III

2018 AÖÖ-AÖL II. DÖNEM 0102-B

1.  $\text{Ni}^{2+}(\text{suda}) + \text{Cr}(\text{k}) \rightarrow \text{Ni}(\text{k}) + \text{Cr}^{3+}(\text{suda})$  redoks tepkimesinin hücre potansiyeli ve istemli olup olmadığına ilişkin aşağıdakilerden hangisi doğrudur?  
( $\text{Ni}^{2+}(\text{suda}) + 2\text{e}^- \rightarrow \text{Ni}(\text{k}), E^0 = -0,250 \text{ V}$   
 $\text{Cr}^{3+}(\text{suda}) + 3\text{e}^- \rightarrow \text{Cr}(\text{k}), E^0 = -0,744 \text{ V}$ )

- A)  $E_{\text{hücre}}^0 = -0,744 \text{ V}$ , istemsiz  
B)  $E_{\text{hücre}}^0 = +0,250 \text{ V}$ , istemli  
C)  $E_{\text{hücre}}^0 = +0,494 \text{ V}$ , istemli  
D)  $E_{\text{hücre}}^0 = +0,944 \text{ V}$ , istemsiz

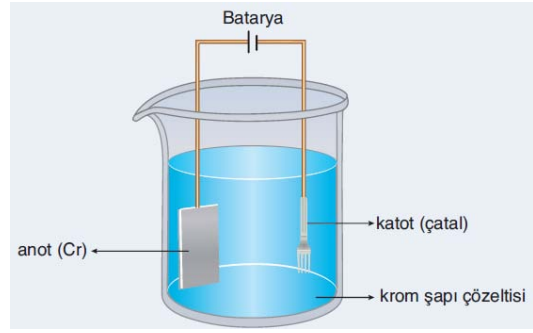
2. Aşağıdaki nötr redoks tepkimesine ait yarı tepkimelerden hangisi doğru yazılmıştır?

- A)  $\text{Zn}^0(\text{suda}) \rightarrow \text{Zn}^{2+}(\text{k}) + 2\text{e}^-$   
B)  $\text{Zn}^0(\text{k}) + \text{Zn}^{2+}(\text{suda}) \rightarrow 2\text{e}^-$   
C)  $\text{Zn}^{2+}(\text{suda}) \rightarrow \text{Zn}^0(\text{k}) + 2\text{e}^-$   
D)  $\text{Zn}^0(\text{k}) \rightarrow \text{Zn}^{2+}(\text{suda}) + 2\text{e}^-$

3. Aşağıdakilerden hangisinde merkez atomun hibrit türüne göre molekül geometrisi yanlış verilmiştir?

- A) Merkez atomun hibrit türü:  $\text{sp}^3\text{d}^2$   
Molekül geometrisi: Düzgün sekiz yüzlü  
Örnek molekül:  $\text{SF}_6$   
B) Merkez atomun hibrit türü:  $\text{sp}^3\text{d}$   
Molekül geometrisi: Üçgen-çift piramit  
Örnek molekül:  $\text{PCl}_5$   
C) Merkez atomun hibrit türü:  $\text{sp}$   
Molekül geometrisi: Üçgen-düzlem  
Örnek molekül:  $\text{BF}_3$   
D) Merkez atomun hibrit türü:  $\text{sp}^3$   
Molekül geometrisi: Eşkenar üçgen piramit  
Örnek molekül:  $\text{CH}_4$

4.



Elektroliz yöntemi ile kaplama işlemine ait yukarıdaki şekil için aşağıdaki ifadelerden hangisi doğrudur?

- A) Çözeltide bir değişiklik olmazken Cr metali anottan katoda taşınmış olur.  
B) Katotta gerçekleşen reaksiyon:  
 $\text{Cr}(\text{k}) \rightarrow \text{Cr}^{3+}(\text{suda}) + 3\text{e}^-$   
C) Katottaki metalik krom yükseltgenerek çözeltiliye geçerken anotta indirgenme gerçekleşir.  
D) Anotta gerçekleşen reaksiyon:  
 $\text{Cr}^{3+}(\text{suda}) + 3\text{e}^- \rightarrow \text{Cr}(\text{k})$

5. "Elektronların göç ettiği atom veya iyonlara bakılmaksızın elektron kazanımı" olarak tanımlanan kavram aşağıdakilerden hangisidir?

- A) Elektrokimya  
B) Redoks  
C) Yükseltgenme  
D) İndirgenme

6.  $\text{ZnSO}_4$  sulu çözeltisi içine Zn elektrot batırılması ile oluşan sisteme ne denir?

- A) Yarı hücre  
B) Elektrolit  
C) Elektrot  
D) Elektroliz

7. Aşağıdaki bileşik çiftlerinden hangisi fonksiyonel grup izomeri değildir?

- A)  $\text{CH}_3\text{—CH}_2\text{—OH}$        $\text{CH}_3\text{—O—CH}_3$   
 B)  $\text{CH}_3\text{—CH}_2\text{—C}\begin{array}{l} \text{=O} \\ | \\ \text{H} \end{array}$        $\text{CH}_3\text{—C}\begin{array}{l} \text{—CH}_3 \\ \text{=O} \end{array}$   
 C)  $\text{CH}_3\text{—CH}_2\text{—C}\begin{array}{l} \text{=O} \\ | \\ \text{OH} \end{array}$        $\text{CH}_3\text{—C}\begin{array}{l} \text{=O} \\ | \\ \text{O—CH}_3 \end{array}$   
 D)  $\text{H}_2\text{C}=\text{C}\begin{array}{l} \text{—CH}_3 \\ | \\ \text{OH} \end{array}$        $\text{CH}_3\text{—C}\begin{array}{l} \text{—CH}_3 \\ \text{=O} \end{array}$

8. Aşağıdakilerden hangisinde, suyun elektrolizi sırasında katot ve anotta oluşan tepkimeler doğru olarak verilmektedir?

- A) Katot:  $\text{H}_2(\text{g}) + 2\text{e}^- \rightarrow 2\text{H}^+(\text{suda})$   
 Anot:  $1/2\text{O}_2(\text{g}) \rightarrow \text{H}_2\text{O}(\text{s}) + 2\text{H}^+(\text{suda}) + 2\text{e}^-$   
 B) Katot:  $2\text{H}^+(\text{suda}) + 2\text{e}^- \rightarrow \text{H}_2(\text{g})$   
 Anot:  $\text{H}_2\text{O}(\text{s}) \rightarrow 1/2\text{O}_2(\text{g}) + 2\text{H}^+(\text{suda}) + 2\text{e}^-$   
 C) Katot:  $\text{H}_2\text{O}(\text{s}) \rightarrow 1/2\text{O}_2(\text{g}) + 2\text{H}^+(\text{suda})$   
 Anot:  $2\text{H}^+(\text{suda}) + 2\text{e}^- \rightarrow \text{H}_2(\text{g}) + 2\text{e}^-$   
 D) Katot:  $2\text{H}^+(\text{suda}) + \text{H}_2(\text{g}) \rightarrow 2\text{e}^-$   
 Anot:  $2\text{e}^- \rightarrow \text{H}_2\text{O}(\text{s}) + 1/2\text{O}_2(\text{g}) + 2\text{H}^+(\text{suda})$

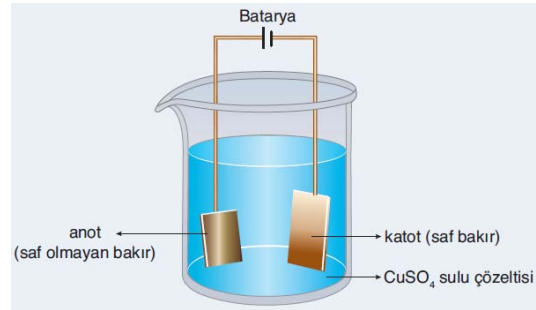
9. Aşağıdakilerden hangisi  $\text{AX}_2\text{E}_2$  VSEPR gösterimlerine ait bir moleküldür?

- A)  $\text{BeCl}_2$  (Berilyum klorür)  
 B)  $\text{CH}_2\text{O}$  (Formaldehit)  
 C)  $\text{H}_2\text{O}$  (Su)  
 D)  $\text{C}_2\text{H}_4$  (Eten)

10. Aşağıdakilerden hangisi stereoizomerlik (üç boyut izomerliği) çeşitlerinden biridir?

- A) Zincir-Halka izomerisi  
 B) Konformasyon izomerisi  
 C) Tautomer izomerisi  
 D) Konum izomerisi

11.

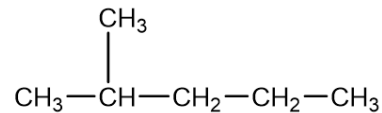


Elektrolitik saflaştırma ile bakır eldesine ait şekil yukarıda verilmiştir. Buna göre; elektrolitik saflaştırma ile bakır eldesi için aşağıdaki ifadelerden hangisi yanlıştır?

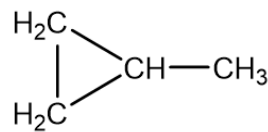
- A) Saflaştırma işleminde elektrolit olarak  $\text{CuSO}_4$  tuzunun sulu çözeltisi kullanılmıştır.  
 B) Anotta, Cu metali  $\text{Cu}^{2+}$  iyonuna yükseltgenmektedir.  
 C) Saf olmayan bakır külçenin kütlesi artarken, saf bakır katodun kütlesi tüketilmektedir.  
 D) Katotta, çözeltiliye geçen iyonlar indirgenerek Cu metali olarak açığa çıkmaktadır.

12. Aşağıdaki bileşik çiftlerinden hangisinde konum izomerisi vardır?

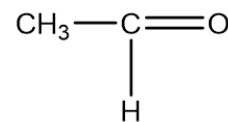
- A)  $\text{CH}_3\text{—CH}_2\text{—CH}_2\text{—CH}_2\text{—CH}_2\text{—CH}_3$



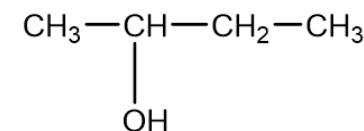
- B)  $\text{CH}_3\text{—CH}_2\text{—CH}=\text{CH}_2$



- C)  $\text{H}_2\text{C}=\text{CH—OH}$



- D)  $\text{CH}_3\text{—CH}_2\text{—CH}_2\text{—CH}_2\text{—OH}$



13. Aşağıdakilerden hangisi, Daniell pilinin standart şartlarda (1M'lık çözeltilerde başlangıç potansiyeli 1,1 V) hesaplanan hücre potansiyeline etki eden faktörlerden biri değildir?

- A) Çözelti derişimleri
- B) Pil gerilimi
- C) Sıcaklık
- D) Gaz elektrotlarda basınç

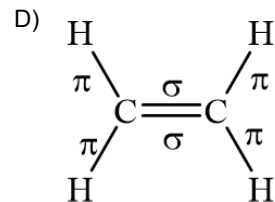
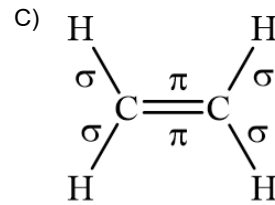
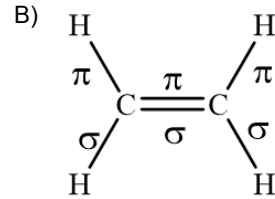
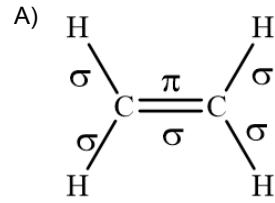
14. Aşağıdakilerden hangisi organik bileşiktir?

- A) Formik asit (HCOOH)
- B) Karbonmonoksit (CO)
- C) Potasyum siyanür (KCN)
- D) Sodyum karbonat ( $\text{Na}_2\text{CO}_3$ )

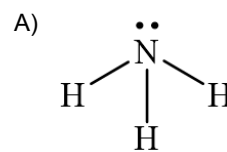
15. Bileşikteki fonksiyonel grubu  $-\text{O}-$  olan bileşik sınıfının genel adı aşağıdakilerden hangisidir?

- A) Aldehit
- B) Eter
- C) Fenol
- D) Ester

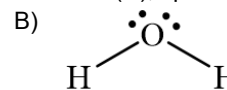
16. Aşağıdaki organik bileşiklerin hangisinde  $\sigma$  (sigma) ve  $\pi$  (pi) bağları doğru verilmiştir?



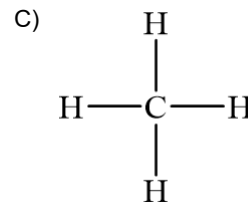
17. Aşağıdaki bileşiklerin hangisinde hibritleşme türü doğru verilmiştir?



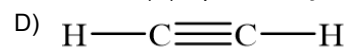
Azot (N),  $\text{sp}^2$  hibritleşmesi yapmıştır.



Oksijen (O),  $\text{sp}^2$  hibritleşmesi yapmıştır.



Karbon (C),  $\text{sp}^4$  hibritleşmesi yapmıştır.



Karbonlar (C),  $\text{sp}$  hibritleşmesi yapmıştır.

2018 AÖÖ-AÖL II. DÖNEM 0102-B

18. Çinkosülfat ( $ZnSO_4$ ) çözeltisinin elektrolizinde devreden 3500 C elektrik yükü geçtiğinde katotta açığa çıkan çinko (Zn) metalinin kütlesi kaç gramdır? (Zn: 65,39)

- A) 0,036  
B) 1,186  
C) 0,018  
D) 2,372

20.  $3AsO_3^{3-} \rightarrow 3AsO_4^{3-} + 6e^-$  asidik ortamda gerçekleşen yarı tepkimenin denkleştirilmiş hali aşağıdakilerden hangisidir?

- A)  $3H_2O + 3AsO_3^{3-} \rightarrow 3AsO_4^{3-} + 6e^- + 6H^+$   
B)  $H_2O + 3AsO_3^{3-} \rightarrow 3AsO_4^{3-} + 6e^- + 2H^+$   
C)  $2H_2O + 3AsO_3^{3-} \rightarrow 3AsO_4^{3-} + 6e^- + 4H^+$   
D)  $4H_2O + 3AsO_3^{3-} \rightarrow 3AsO_4^{3-} + 6e^- + 8H^+$

19. Aşağıdaki organik bileşiklerden hangisinde Lewis formülü doğru yazılmıştır?

- A) 
$$\begin{array}{c} H \\ \vdots \\ H \cdot \cdot C \cdot \cdot C \cdot \cdot O \\ \vdots \quad \vdots \\ H \quad \cdot \cdot O \cdot \cdot H \end{array}$$
- B) 
$$\begin{array}{c} H \cdot \cdot C \cdot \cdot C \cdot \cdot H \\ \cdot \cdot \quad \cdot \cdot \\ H \cdot \cdot \quad \cdot \cdot H \end{array}$$
- C) 
$$\begin{array}{c} H \\ \vdots \\ H \cdot \cdot C \cdot \cdot C \cdot \cdot C \cdot \cdot H \\ \vdots \quad \vdots \quad \vdots \\ \quad \quad \quad H \\ \quad \quad \quad \vdots \\ \quad \quad \quad H \end{array}$$
- D) 
$$\begin{array}{c} H \cdot \cdot C \cdot \cdot O \\ \vdots \quad \vdots \\ \cdot \cdot O \cdot \cdot H \end{array}$$

2018 AÖÖ-AÖL II. DÖNEM 0102-B

1. Aşağıdakilerden hangisi diğer verilen kavramların tümünü kapsar?
- A) Popülasyon  
B) Ekosistem  
C) Komünite  
D) Biyosfer
2. Benzer bitki ve hayvan topluluklarını içeren geniş coğrafi bölgelere ne ad verilir?
- A) Ekoton  
B) Biyom  
C) Ekosistem  
D) Tundra
3. Alg ve mantarların birlikte bulunduğu liken birliği hangi tür simbiyoz yaşama örnektir?
- A) Kommensalizm  
B) Parazitizm  
C) Mutualizm  
D) Konak
4. Aşağıdakilerden hangisi simbiyoz yaşam türlerinden biri değildir?
- A) Holozoik  
B) Mutualizm  
C) Parazitizm  
D) Kommensalizm
5. Aşağıdakilerden hangisi biyotik faktörlerden biri değildir?
- A) Tüketiciler  
B) Ayrıştırıcılar  
C) Mineraller  
D) Üreticiler
6. Belirli bir alanda yaşayan ve birbirleriyle etkileşim içinde olan popülasyonların meydana getirdiği canlı topluluklarına ne ad verilir?
- A) Ekosistem  
B) Popülasyon  
C) Habitat  
D) Komünite
7. Bir bireyin bulunduğu ortam içerisinde sahip olduğu veya yapmak zorunda bulunduğu bütün sorumluluklara ve işlevlere ne ad verilir?
- A) Biyotop  
B) Komünite  
C) Ekolojik niş  
D) Ekoton
8. Çöller dünyadaki karaların yaklaşık yüzde kaçını kaplar?
- A) 45  
B) 35  
C) 20  
D) 10
9. İnorganik maddelerden organik madde sentezleyemeyen, ihtiyaç duyduğu organik maddeyi dışarıdan hazır alan canlılara ne ad verilir?
- A) Heterotrof  
B) Ototrof  
C) Kemosentez  
D) Ayrıştırıcı
10. Aşağıdakilerden hangisi sucul biyomlardan biri değildir?
- A) Tuzlu su  
B) Tundra  
C) Akarsu  
D) Göl

11. Aşağıdakilerden hangisi ekolojik döngülerden biri değildir?
- A) Su döngüsü  
B) Fosfor döngüsü  
C) Oksijen döngüsü  
D) Klor döngüsü
12. Okyanuslar ve bunları birbirine bağlayan denizler yerkürenin yaklaşık yüzde kaçını kaplar?
- A) 80  
B) 70  
C) 60  
D) 50
13. Ortak bir atadan gelen, yapı ve görev bakımından benzerlik gösteren, birbirleriyle çiftleşebilen ve çiftleşme sonucu üreme yeteneğine sahip bireylere ne ad verilir?
- A) Tür  
B) Familya  
C) Habitat  
D) Cins
14. Ekosistemde belirli bir zaman diliminde belirli bir bölgede yaşayan aynı türden bireylerin oluşturduğu topluluğa ne ad verilir?
- A) Habitat  
B) Komünite  
C) Biyosfer  
D) Popülasyon
15. Aşağıdakilerden hangisi karasal biyomlardan biri değildir?
- A) Orman  
B) Delta  
C) Çöl  
D) Tundra
16. Canlılar dünyasının yerkürede oluşturduğu biyosfer ile bunların cansız çevresine ne ad verilir?
- A) Biyom  
B) Ekoton  
C) Biyotop  
D) Ekosfer
17. Her dem yeşil bodur ağaç ve dikenli çalılıarın meydana getirdiği biyom türü aşağıdakilerden hangisidir?
- A) Tundra  
B) Savan  
C) Maki  
D) Çöl
18. Ladin, köknar, çam gibi ağaçlar aşağıdaki orman türlerinden hangisine aittir?
- A) İğne yapraklı ormanlar  
B) Çayırılar  
C) Tropikal yağmur ormanları  
D) Ilıman bölge yaprak döken ormanlar
19. Aşağıdakilerden hangisi abiyotik faktörlerden biri değildir?
- A) İklim  
B) Su  
C) Ayrıştırıcılar  
D) Işık
20. Birincil tüketiciler üzerinden beslenen etçil organizmalara ne ad verilir?
- A) Karnivor  
B) Herbivor  
C) Omnivor  
D) Ototrof



2018 AÖÖ-AÖL II. DÖNEM 0102-B

1. Aynı türün bireyleri arasında, aynı kaynaklar için gerçekleşen mücadeleye ne ad verilir?

- A) Türler arası rekabet
- B) Tür içi rekabet
- C) Ekolojik niş
- D) Parazitizm

2. Bir popülasyondaki bireylerin yaş dağılımını tanımlayan terim aşağıdakilerden hangisidir?

- A) Popülasyon dengesi
- B) Popülasyon yoğunluğu
- C) Popülasyon taşıma kapasitesi
- D) Popülasyon bileşimi

3. Aşağıdakilerden hangisi komünitelerdeki simbiyotik ilişkilerden biri değildir?

- A) Süksesyon
- B) Mütualizm
- C) Kommensalizm
- D) Parazitizm

4. Aşağıdakilerden hangisi nesli tehlike altında olan türleri koruma ile ilgili birliklerden biridir?

- A) WHO
- B) IUCN
- C) NATO
- D) UNICEF

5. Primer süksesyonda ilk evre aşağıdakilerden hangisidir?

- A) Ağaç evresi
- B) Ot evresi
- C) Yosun evresi
- D) Liken evresi

6. Aşağıdakilerden hangisi insan bağırsağındaki bakteriler tarafından sentezlenen vitaminlerden biridir?

- A) A
- B) C
- C) D
- D) K

7. Aşağıdakilerden hangisi bir popülasyonun taşıyabileceği maksimum birey sayısı olarak tanımlanır?

- A) Popülasyon yoğunluğu
- B) Popülasyon dengesi
- C) Popülasyon taşıma kapasitesi
- D) Popülasyon dağılımı

8. Aşağıdakilerden hangisi tam parazit bitkilere örnektir?

- A) Canavar otu
- B) Ökse otu
- C) Eğrelti otu
- D) Diş otu

9. Belirli bir komüniteye ait yaşam alanlarının geçiş bölgelerine ne ad verilir?

- A) Popülasyon
- B) Ekoton
- C) Mütualizm
- D) Ekolojik niş

10. Belirli bir zaman diliminde popülasyon bireylerinin ölümü sonucu popülasyondan ayrılan bireylerin sayısının, toplam popülasyon bireyleri sayısına oranı aşağıdakilerden hangisini verir?

- A) Popülasyon yoğunluğu
- B) Ölüm oranı
- C) Doğum oranı
- D) Popülasyon dinamiği

11. Aşağıdakilerden hangisi Hardy-Weinberg'e göre bir popülasyonda dengenin korunması için gerekli olan koşullardan biri değildir?
- A) Mutasyonlar olmamalı  
B) Kalabalık popülasyon olmalı  
C) Rastgele çiftleşme olmalı  
D) Doğal seçim olmalı
12. Aşağıdakilerden hangisi bir popülasyonda doğum ve ölüm oranı eşitlendiğinde oluşan evredir?
- A) Denge evresi  
B) Negatif artış evresi  
C) Logaritmik artış evresi  
D) Kuruluş evresi
13. Nükleoproteinlerden oluşan canlı öncülü aşağıdakilerden hangisidir?
- A) Koaservat  
B) Aminoasit  
C) Fosil  
D) Protein
14. Aşağıdakilerden hangisi devoniyen dönemi için kullanılan addır?
- A) Balık devri  
B) Omurgalı devri  
C) Kuş devri  
D) Sürüngenler devri
15. Biyogenez hipotezinin savunduğu görüş aşağıdakilerden hangisidir?
- A) Canlılar parazitlerden oluşur.  
B) Canlılar oksijensiz gelişir.  
C) Canlılar canlılardan oluşur.  
D) Canlılar cansızlardan oluşur.
16. Canlılığın başka gezegenlerden Dünya'ya spor ve tohumların gelmesiyle başladığını savunan görüş aşağıdakilerden hangisidir?
- A) Heterotrof  
B) Abiyogenez  
C) Ototrof  
D) Panspermia
17. "Hayvanların tarihi" adlı eserin yazarı aşağıdakilerden hangisidir?
- A) Van Helmont  
B) Francesco Redi  
C) Aristo  
D) Louis Pasteur
18. Geçmişte yaşamış canlıların kalıntlarına ne ad verilir?
- A) Koaservat  
B) Stoma  
C) Fosil  
D) Kaliptra
19. Gen ve kromozomların yapısında meydana gelen ani değişiklikleri tanımlayan terim aşağıdakilerden hangisidir?
- A) Koaservat  
B) Mutasyon  
C) Evrim  
D) Ekoton
20. Görevleri aynı, yapıları farklı organlar için kullanılan terim aşağıdakilerden hangisidir?
- A) Heterotrof  
B) Homolog  
C) Analog  
D) Ototrof

2018 AÖÖ-AÖL II. DÖNEM 0102-B

1. I. Dünya Savaşı sonrasında uluslararası barışın korunması ve işbirliğinin sağlanması için galip devletler tarafından 1920 yılında aşağıdakilerden hangisi kurulmuştur?

- A) Birleşmiş Milletler
- B) Milletler Cemiyeti
- C) Varşova Paktı
- D) Briand- Kellog Paktı

2. Aşağıdakilerden hangisi Sadabat Paktı'nı imzalayan devletlerden biri değildir?

- A) Türkiye
- B) Irak
- C) İtalya
- D) Afganistan

3. 15 Ağustos 1905'te "Rusya Müslümanları I.Kongresi"nin toplanmasında önemli çalışmaları olan kişiler aşağıdakilerden hangisinde birlikte ve doğru olarak verilmiştir?

- A) Yusuf Akçura ve İsmail Gaspıralı
- B) Ebunnaş Kursavî ve Hüseyinzade Ali
- C) Âlimcan Barudî ve Ali Suavi
- D) Münevver Karî ve İbray Altınсарın

4. I. Dünya Savaşı sonunda Almanya ile İtilaf Devletleri arasında imzalanan antlaşma aşağıdakilerden hangisidir?

- A) Saint Germain
- B) Versailles
- C) Trianon
- D) Neuilly

5. Aşağıdakilerden hangisi 1929 dünya ekonomik krizinin sonuçlarından biri değildir?

- A) Dünya ticaretinin %65 oranında artması
- B) Tarım ürünleri fiyatlarında %40 - %60'lık düşüşler meydana gelmesi
- C) İşsizliğin büyük boyutlara ulaşması
- D) Çok sayıda bankanın batması

6. Aşağıdakilerden hangisi Japonya'da "Meiji Restorasyonu" döneminin özelliklerinden biri değildir?

- A) Giyim kuşamda Batı'nın örnek alınması
- B) Takvimin değiştirilmesi
- C) Şogunların yönetimdeki etkinliklerinin artırılması
- D) Çağdaş bir bankacılık sisteminin oluşturulması

7. Basmacı Hareketi'nin tek gayesi aşağıdakilerden hangisidir?

- A) Türkistan'ı Ruslardan kurtararak istiklaline kavuşturmak
- B) Orta Asya'ya Rus göçmelerini yerleştirmek
- C) Kazaklar arasında Tatar etkisini azaltmak
- D) Rus kültürünü kazaklara benimsetebilmek

8. Amerikalı General Mac Arthur'un, Japonları Filipinler'de ağır bir yenilgiye uğrattığı (Ekim 1944) savaş aşağıdakilerden hangisidir?

- A) Sedan Savaşı
- B) İntikal Savaşı
- C) Poltova Savaşı
- D) Leyte Savaşı

9. 11 Mart 1941 tarihinde Ödünç Verme ve Kiralama Yasası'nı çıkaran devlet aşağıdakilerden hangisidir?

- A) Rusya
- B) ABD
- C) Japonya
- D) Çin

10. Aşağıdakilerden hangisi II. Dünya Savaşı'nın sonuçlarından biri değildir?

- A) Tarım ve sanayi üretiminin önemli ölçüde azalması
- B) Faşizm ve Nazizm gibi akımların tasfiye edilmesi
- C) Milyonlarca sivilin hayatını kaybetmesi
- D) Duyun-ı Umumiye İdaresi'nin kurulması

11. **Almanya "Barbarossa Harekâtı"nı aşağıdaki hangi ülkeyi teslim almak için düzenlemiştir?**
- A) İspanya  
B) SSCB  
C) Japonya  
D) Çin
12. **14-24 Ocak 1943'te Roosevelt ve Churchill'in, Kazablanka Konferansı'nda aldıkları karar aşağıdakilerden hangisidir?**
- A) Varşova Paktı'nın kurulması  
B) Kuzey Atlantik Antlaşması Örgütü'nün kurulması  
C) Türkiye'nin Kore'ye asker göndermesi  
D) Mihver devletlerin kayıtsız şartsız teslim alınması
13. **I. Dünya Savaşı sırasında Almanya'nın üzerinde bulunduğu toprakların Alman ırkına yeterli gelmeyeceğine ilişkin mevcut fikrin, Hitler tarafından yayılma politikasının gerekçesi olarak kabul edilmesi sonucunda ortaya çıkan kavram aşağıdakilerden hangisidir?**
- A) Hayat sahası  
B) Maginot hattı  
C) Demirperde  
D) Panslavizm
14. **Aşağıdakilerden hangisi Atlantik Bildirisi'nin maddelerinden biri değildir?**
- A) Mihver devletler silahlandırılacak  
B) Savaşın sonra toprak kazanılmayacak  
C) İlgili halkın onayı alınmadan toprak değişikliği yapılmayacak  
D) Temel ham maddelerden eşit biçimde faydalanılacak
15. **Türkiye'nin NATO'ya üye olmasını tepki ile karşılayan devletler aşağıdakilerden hangisinde birlikte ve doğru olarak verilmiştir?**
- A) Fransa ve İtalya  
B) Japonya ve Çin  
C) SSCB ve Bulgaristan  
D) ABD ve İngiltere
16. **Aşağıdakilerden hangisi Güney Doğu Asya Anlaşma Teşkilatı'nı (SEATO) oluşturan ülkelerden biri değildir?**
- A) Yeni Zelanda  
B) Çin  
C) ABD  
D) İngiltere
17. **Sputnik Uydusu'nu 1957 yılında uzaya gönderen devlet aşağıdakilerden hangisidir?**
- A) Fransa  
B) Çin  
C) SSCB  
D) Japonya
18. **Aşağıdakilerden hangisi 25 Mayıs 1963'te kurulan Afrika Birliği Teşkilatının amaçları arasında yer almaz?**
- A) Afrika ülkeleri arasında birlik ve dayanışmayı geliştirmek  
B) Afrika ülkeleri arasında ekonomi, eğitim ve sağlık politikalarını uyumlu hale getirmek  
C) Afrika ülkeleri arasında bilim ve savunma politikalarını uyumlu hale getirmek  
D) Afrika ülkeleri arasında etnik ayrımcılığı artırmak
19. **1948'de ABD tarafından hazırlanan "Hilts Raporu"nda Türkiye için aşağıdakilerden hangisi önerilmektedir?**
- A) Banka sayısının azaltılması  
B) Pirinç ekiminin azaltılması  
C) Ulaşım ağırlığının demir yolundan kara yoluna kaydırılması  
D) Açık denizlerde ticaret serbestliğinin gerçekleştirilmesi
20. **1959 yılında Küba'da Batista diktatörlüğünü yıkarak kendi hükümetini kuran kişi aşağıdakilerden hangisidir?**
- A) Mahatma Gandhi  
B) Mao Zedong  
C) Harry S. Truman  
D) Fidel Castro

2018 AÖÖ-AÖL II. DÖNEM 0102-B

1. Aşağıdakilerden hangisi işletmelerin personel seçimi yaparken kullandığı yöntemlerden biridir?
- A) Ahilik  
B) Mülakat  
C) Oryantasyon  
D) Ar-Ge
2. Bireyin görevindeki başarısını, işteki tutum ve davranışlarını, ahlak durumunu ve özelliklerini bütünleyen ve çalışanın başarısına olan katkılarını değerlendiren planlı araca ne ad verilir?
- A) Fizibilite  
B) Tutundurma  
C) Performans değerlendirme  
D) Hizmet içi eğitim
3. İşin gerektirdiği tutum ve bilgilerin edinilmesi düşünsel ve bedensel becerilerin kazandırılması yeni çalışanın işe ve işletmeye uyumunun kısa zamanda sağlanması amacıyla uygulanan eğitim aşağıdakilerden hangidir?
- A) Kariyer planlama  
B) Standardizasyon  
C) Performans değerlendirme  
D) Oryantasyon
4. Aşağıdakilerden hangisi üretimde yetersiz stok bulunması sonucunda ortaya çıkan durumlardan biridir?
- A) Stok giderleri artar.  
B) Üretimin aksaması ortaya çıkar.  
C) Stok riskleri ortaya çıkar.  
D) İşletmenin kârı artar.
5. Aşağıdakilerden hangisi Ahilik felsefesine ait bir ifadedir?
- A) Ürünler belli standarda bağlanmadan üretilir.  
B) Mal ve hizmet üretiminde hata kabullenilir.  
C) Müşteri istekleri göz önünde tutulur.  
D) İsraf desteklenir.
6. Üretim sürecindeki hataların ortaya konularak bunlarla ilgili düzeltici faaliyetlerin yapılmasına ne ad verilir?
- A) Kontrol  
B) Çıktı  
C) İşlem  
D) Geri bildirim
7. Aşağıdakilerden hangisi insan kaynakları yönetimi kavramının konularından biridir?
- A) İklimsel değişim  
B) İşletmenin kârlılığı  
C) Ücret yönetimi  
D) Stok devir hızı
8. Aşağıdakilerden hangisi oryantasyon eğitiminde verilen bilgilerden biri değildir?
- A) Tanıştırma  
B) İşletmenin tanıtımı  
C) Finansal yönetim  
D) Personel haklarının açıklanması
9. Parakendecilerin ürünün satışı yanında bilgi ve satış sonrası destek gibi hizmetleri sunması aşağıdakilerden hangisine yarar sağlar?
- A) Toptancı  
B) Tüketici  
C) Üretici  
D) Yönetici
10. Mevcut teknoloji ve bilgiyi yeni ürünler ya da üretim teknikleriyle ilgili uyarlamalara doğru yönlendirme ve mevcudu kullanma sürecine ne ad verilir?
- A) Araştırma  
B) Standardizasyon  
C) Geliştirme  
D) Pazarlama

11. Ekonominin gereklerine ve kamu yararına uygun olarak tüketicinin sağlık ve güvenliği ile ekonomik çıkarlarını koruyucu, aydınlatıcı, eğitici, zararı tazmin edici, çevresel tehlikelerden korunmasını sağlayıcı önlemleri alan ve tüketicilerin kendilerini koruyucu girişimlerini özendiren ve bu konudaki politikaların oluşturulmasında gönüllü örgütleri teşvik etmeye ilişkin hususları düzenlemeyi amaçlayan kanun aşağıdakilerden hangisidir?
- A) Tüketicinin Korunması Kanunu  
B) Bilgi Edinme Kanunu  
C) Bankacılık Kanunu  
D) Türk Borçlar Kanunu
12. Aşağıdakilerden hangisi yenilenebilir doğal kaynaklardan biri değildir?
- A) Uranyum  
B) Güneş enerjisi  
C) Tarımsal topraklar  
D) Jeotermal enerji
13. Aşağıdakilerden hangisi yenilenebilir doğal kaynaklardan biridir?
- A) Bakır  
B) Rüzgar enerjisi  
C) Demir  
D) Civa
14. Belirli bir faaliyetin, o faaliyetle ilgili bulunanların ve özellikle ekonominin yararına olarak yapılabilmesi için tüm tarafların katkı ve işbirliği ile belirli kurallar koyma ve bu kuralları uygulama işlemine ne ad verilir?
- A) Standardizasyon  
B) Koordinasyon  
C) Oryantasyon  
D) Motivasyon
15. Bir kimseye bir iş karşılığında işveren veya üçüncü kişiler tarafından sağlanan ve para ile ödenen tutara ne ad verilir?
- A) Ücret  
B) Kâr  
C) Komisyon  
D) İskonto
16. İşçi çalıştıran gerçek veya tüzel kişiye ya da tüzel kişiliği olmayan kurum ve kuruluşlara ne ad verilir?
- A) Emekli  
B) İşçi  
C) Memur  
D) İşveren
17. Aşağıdakilerden hangisi Çevre Kanunu çerçevesinde hazırlanan yönetmeliklerden biri değildir?
- A) Gürültü kontrolü  
B) Su kirliliği kontrolü  
C) Hava kalitesinin korunması  
D) Nüfus kontrolü
18. Türkiye’de tüketicinin korunmasına yönelik düzenleme ilk kez hangi anayasada yer almıştır?
- A) 1982  
B) 1961  
C) 1924  
D) 1921
19. Aşağıdakilerden hangisi standartlaşmanın tüketiciye sağladığı yararlarından biri değildir?
- A) Ucuzluğa yol açar.  
B) Alıcıların kalite yönünden aldanmalarını önler.  
C) Malları karşılaştırma imkânı sağlar.  
D) El sanatlarını geliştirir.
20. İşçiye sağlanan ek ödemelerin katılmadığı ücrete ne ad verilir?
- A) Stopaj  
B) Asıl ücret  
C) Komisyon  
D) İhbar ücreti

2018 AÖÖ-AÖL II. DÖNEM 0102-B

1. Aşağıdaki alanlardan hangisi "Felsefe tüm bilimlere yol gösterdiği gibi, bilimlerin mantıksal yapısını ve işleyişini anlamaya çalışır." ilkesi sonucunda ortaya çıkmıştır?
  - A) Uygulama Mantığı
  - B) Mantık Felsefesi
  - C) Bilim Felsefesi
  - D) Bilgi Felsefesi
2. Aşağıdakilerden hangisi doğruluk değeri ve varlık kavramıyla ilgili sorunlardan biri değildir?
  - A) p önermesinin değillesmesi nasıl gösterilir?
  - B) Bilgi ile nesnesi arasında bir uyum olabilir mi?
  - C) Bir önermenin doğru olması ne anlama gelir?
  - D) Bilgi önermesinin doğru olması ne anlama gelir?
3. Aşağıdakilerden hangisi eksik tümevarımın en önemli özelliğidir?
  - A) Çelişmezlik
  - B) Özdeşlik
  - C) Kesinlik
  - D) Olasılık
4. Aşağıdakilerden hangisi mantık felsefesinin amaçlarından biri değildir?
  - A) Mantığı gözlem ve deneye dayandırmanın yollarını araştırmak
  - B) Mantığın kavramlarını sorgulamak
  - C) Mantığın ilkelerini sorgulamak
  - D) Mantık değişmezleri ile ilgili sorunları araştırmak
5. Aksiyomlardan türetilmiş olan önermelere ne ad verilir?
  - A) Eksik tümevarım
  - B) Analiz
  - C) Tam tümevarım
  - D) Teorem
6. Aşağıdakilerden hangisi mantıklı insanın özelliklerinden biri değildir?
  - A) Tutarlı
  - B) Eleştirel
  - C) Bencil
  - D) Kuşkucu
7. "Var olan hiçbir şey hem kendisi hem de kendisi olmayan olamaz." ifadesi aşağıdaki hangi mantık ilkesinin varlık alanına uygulanmasıdır?
  - A) Yeter-Neden
  - B) Özdeşlik
  - C) Üçüncü Halin İmkansızlığı
  - D) Çelişmezlik
8. Aşağıdakilerden hangisi ikili yüklemli bir önermedir?
  - A) Özlem başarılıdır.
  - B) Orhan ile Ahmet arkadaştır.
  - C) Fuat, piyano çalar.
  - D) Mustafa, Taner ile Semih'ten uzundur.
9. Önergelerin ikiden fazla değere sahip olabileceklerini kabul eden mantık sistemine ne ad verilir?
  - A) Çok Değerli Mantık
  - B) Tikel Özelleme
  - C) Varlık Mantığı
  - D) Tümel Özelleme
10. Aşağıdakilerden hangisi mantık türlerinden biri değildir?
  - A) İki değerli mantık
  - B) Evetleme mantığı
  - C) Kipli mantık
  - D) Çok değerli mantık
11. Aşağıdaki sorulardan hangisi mantık felsefesinin mantık ilkeleriyle ilgili sorularından biri değildir?
  - A) Mantık ilkeleri kaç tanedir?
  - B) Mantık ilkeleri birbirleriyle ilişkili midir?
  - C) Mantık ilkeleri varlığın temel ilkeleri de sayılabilir mi?
  - D) Mantık ilkeleri her yer ve zaman için geçerli midir?
12. Aşağıdakilerden hangisi  $(\sim\forall xFx)$  önermesine eşdeğer bir ifadedir?
  - A) Bütün insanlar iyidir.
  - B) Her çiçeğin güzel koktuğu doğru değildir.
  - C) Bazı insanlar kötüdür.
  - D) Bazı çiçekler güzel koktuğu doğru değildir.

13. Aşağıdakilerden hangisi özdeşlik ilkesinin varlık alanına uygulanmasının ifadesidir?

- A) Bir şeyin aynı anda hem var olup hem de var olmaması mümkün değildir.
- B) Bir şey ya vardır ya yoktur.
- C) Her var olan, kendisine özdeşdir.
- D) Var olan hiçbir şey hem kendisi hem de kendisi olmayan olamaz.

14. Aşağıdakilerden hangisi sembolik mantıkta bileşik bir önermedir?

- A) Ayşe'nin elbisesi kırmızıdır.
- B) Ankara Türkiye'nin başkentidir.
- C) Bütün kediler miyavlar.
- D) Ezgi öğrenci değildir.

15. Eleştirel düşünme ile ilgili aşağıdaki ifadelerden hangisi yanlıştır?

- A) Tümdengelim, tümevarım ve analogiye dayanılarak yapılır.
- B) Eleştirel düşünmede kanıtlar, duygulara ve ön yargılara bağlıdır.
- C) Akıl ilkelerine ve bilimsel yöntemle ispatlanmış bilgilere dayanır.
- D) Bir olay ya da düşüncenin doğru olup olmadığını anlamak için yapılan sistemli düşünme biçimidir.

16. "Sporcu çalışkan olur ise kazanması kolay olur." ifadesinin niceleme mantığında sembolleştirilmiş hali aşağıdakilerden hangisidir?

- A)  $Fa \leftrightarrow Fb$
- B)  $p \Rightarrow q$
- C)  $Fb \vee Fq$
- D)  $Fa \Rightarrow Fb$

17. Doğadaki bir varlık sistemi ile ilgili ortaya konan önermelere ne ad verilir?

- A) Topikler
- B) Tümevarım
- C) Bilimsel Teori
- D) Kanıt

18. Mantığın ne olduğu sorusu aşağıdaki alanlardan hangisinin kapsamına girer?

- A) Doğa felsefesi
- B) Bilim felsefesi
- C) Mantık felsefesi
- D) Matematik felsefesi

19. Varlık mantığı ile ilgili aşağıdaki ifadelerden hangisi yanlıştır?

- A) Hem gerçek hem de gerçek olmayan dünyalardaki varlıklar üzerine önermeler oluşturur.
- B) Vardır şeklinde ifade edilen mantık değişmezi "E" sembolüyle gösterilir.
- C) Özdeşlik mantığının mantık değişmezlerine "var" sözcüğünün eklenmesiyle elde edilmiştir.
- D) Gerçek dünyada var olmayan varlıkları da ad olarak ele alır.

20. Mantığın ilke ve kurallarının her türlü bilgi etkinliğine uygulanmasına uygulamalı mantık denir.

Yukarıdaki tanımda mantığın hangi yönü vurgulanmıştır?

- A) Sadece teoride kalmadığı
- B) Yöntemsel olduğu
- C) Sembolik olduğu
- D) İlke ve kurallarının olduğu



2018 AÖÖ-AÖL II. DÖNEM 0102-B

1. Mezopotamya'da Ur, Uruk, Umma ve Kaş gibi önemli şehir devletleri aşağıdaki uygarlıklardan hangisi tarafından kurulmuştur?
  - A) Babiller
  - B) Hititler
  - C) Sümerler
  - D) Akadlar
2. Anadolu sanatında önemli bir yeri olan Hitit Uygarlığının ünlü başkenti, aşağıdakilerden hangisidir?
  - A) Gordion
  - B) Tuşpa
  - C) Sard
  - D) Hattuşaş
3. Hazar Denizi, Malatya, Erzurum, Musul ve Halep arasındaki bölgede oturan Asya kökenli Huri kabileleri tarafından MÖ 9. yüzyılda Van Gölü ve çevresinde kurulan devlet aşağıdakilerden hangisidir?
  - A) Urartu
  - B) Akad
  - C) Asur
  - D) Elam
4. İstanbul'daki Tekfur Sarayı hangi uygarlığa aittir?
  - A) Bizans
  - B) Roma
  - C) Yunan
  - D) Osmanlı
5. Sanat tarihine yardımcı bilimlerden biri de nümizmatiktir. Nümizmatik biliminin ilgi alanı aşağıdakilerden hangisidir?
  - A) Olayların tarihlerini saptayarak oluşum sıralarını düzenleyen bilim dalıdır.
  - B) Sikke ve madalyonların tarihi ve tanımıyla uğraşan bilim dalıdır.
  - C) Anıt, heykel vb. eserler üzerindeki yazılar ile ilgilenen bilim dalıdır.
  - D) Coğrafi bölgelerin, şehirlerin tarihini inceleyen bilim dalıdır.
6. İtalyan Barok dönemi mimarlığının önde gelen temsilcisi, Saint Carlo Kilisesi, Saint Agnese Kilisesi, Alessandrina Kütüphanesi'nin mimarı aşağıdakilerden hangisidir?
  - A) Francesco Borromini
  - B) Andrea Palladio
  - C) Antonio Canova
  - D) Jacques Louis David
7. Mısırlılar tarafından inşa edilen ve piramitlere geçişin ilk adımı olan dikdörtgen biçiminde kerpiç ve taştan yapılan mezarlara ne ad verilir?
  - A) Papirüs
  - B) Mastaba
  - C) Basamaklı Piramit
  - D) Megaron
8. İnsanların yaşayış biçimlerinin dününü ve bugününü araştıran bilim dalı aşağıdakilerden hangisidir?
  - A) Kronoloji
  - B) Arkeometri
  - C) Nümizmatik
  - D) Antropoloji
9. Anadolu'da eski çağlarda birçok tümülüs tipi mezarın bulunmuş olduğu, önemli bir sanat merkezi olan Sard şehri, aşağıdaki uygarlıklardan hangisinin başkentiydi?
  - A) Urartu
  - B) Lidya
  - C) Frigya
  - D) Geç Hitit
10. İmparator Hadrianus döneminde M.S. 2. yüzyılda yaptırılan yuvarlak planlı Panteon tapınağı aşağıdaki şehirlerden hangisinde yer alır?
  - A) Venedik
  - B) Napoli
  - C) Roma
  - D) Milano
11. "Sığınak ve Deniz Feneri", "Gravelines'de Kanal", "Pudralanan Genç Kadın" gibi tabloları ile tanınan Fransız ressam kimdir?
  - A) Vincent van Gogh
  - B) Poul Gauguin
  - C) Poul Cezanne
  - D) George Seurat
12. I. Dans  
II. Tiyatro  
III. Müzik  
Yukarıdakilerden hangileri ritmik sanatlar içinde yer alır?
  - A) Yalnız I
  - B) Yalnız II
  - C) I ve II
  - D) II ve III

13. Cilalı Taş Devri'nden kalma Çayönü antik kenti günümüzde hangi kentin sınırları içinde yer almaktadır?
- A) Urfa  
B) Aydın  
C) Diyarbakır  
D) Adana
14. M.Ö. 4000'li yıllarda Orta Asya'dan göçlerle gelen ve yerleştikleri bölgede Ur, Uruk, Eridu ve Kiş gibi şehirler kuran uygarlığın adı nedir?
- A) Akad  
B) Sümer  
C) Asur  
D) Babil
15. Aşağıdakilerden hangisi Rönesans dönemi ressamlarından biri değildir?
- A) Vincent Van Gogh  
B) Sandro Botticelli  
C) Leonardo da Vinci  
D) Paolo Uccello
16. Zevk ve lüks içindeki yaşam sahnelerini canlandıran, parlak renklerden oluşan resimleriyle tanınan fovizmin yaygınlaşmasında rol oynayan, "Boulogne Ormanı", "Şato ve Atlar" tabloları ile tanınan ressam kimdir?
- A) Pablo Picasso  
B) Fernand Leger  
C) Edward Munch  
D) Raoul Dufy
17. Roman Sanatı hangi yüzyıllar arasında etkili olmuştur?
- A) 13-15. yüzyıllar arasında  
B) 10-13. yüzyıllar arasında  
C) 15-17. yüzyıllar arasında  
D) 17-19. yüzyıllar arasında
18. Aşağıdakilerden hangisi, İlk Çağda Anadolu'da kurulan devletlerden biri değildir?
- A) Urartular  
B) Lidyalılar  
C) Hititler  
D) Asurlular
19. Manet gibi figüre bağlı, hareket halindeki insanı betimlemede büyük ustalığı olan, "Mavi Balerin", "Concorde Meydanı", "Ütü Yapan Kadınlar", gibi tablolarıyla tanınan ressam kimdir?
- A) Maurice de Vlaminck  
B) Toulouse Lautrec  
C) Edgar Degas  
D) Henry Matisse
20. 20. yüzyılın ilk çeyreğinde Kuzey Avrupa'da ortaya çıkan, dışa vurumculuk olarak da bilinen ve en önemli temsilcilerinden biri de Egon Schiele olan sanat akımı aşağıdakilerden hangisidir?
- A) Ekspresyonizm  
B) Sürrealizm  
C) Fütürizm  
D) Metafizik Resim

2018 AÖÖ-AÖL II. DÖNEM 0102-B

1. Koltuk altı ölçümünde, vücut sıcaklığının normal değeri kaç santigrat derecedir?

- A) 36
- B) 36.5
- C) 37
- D) 37.5

2. Aşağıdakilerden hangisi vektörler ile bulaşan hastalıklardan korunma yollarından biri değildir?

- A) Sağlık eğitimi
- B) Bataklıkların kurutulması
- C) Aşı yerine hastalığı geçirerek bağışıklık kazanılması
- D) Başıboş hayvanların kontrolü

3. Düşük, gebeliğin kaçınıcı haftadan önce sona ermesidir?

- A) 20.
- B) 25.
- C) 30.
- D) 36.

4. Aşağıdakilerden hangisi kanserden korunmak için alınması gereken önlemlerden biri değildir?

- A) Sigara ve alkol kullanılmamalı
- B) Haftada 3 gün en az 30 dk yürümeli
- C) Kırmızı et tercih edilmeli
- D) Aşırı tuz tüketiminden kaçınılmalı

5. Aşağıdakilerden hangisi gebelik belirtilerinden biridir?

- A) Memelerde dolgunluk ve hassasiyet
- B) Az idrara çıkma
- C) Vagina salgılarının azalması
- D) Uykusuzluk

6. Temasla bulaşan hastalıklar ile ilgili aşağıdaki ifadelerden hangisi yanlıştır?

- A) Genelde insandan insana bulaşır.
- B) Kişisel hijyenle bağlantılıdır.
- C) Kapalı alanlarda olmak daha güvenlidir.
- D) Özellikle kış aylarında tokalaşmadan kaçınılmalıdır.

7. Aşağıdakilerden hangisi zoonoz hastalıklardan biridir?

- A) Frengi
- B) Hepatit B
- C) Brucella
- D) Bel soğukluğu

8. Vazektomi ile ilgili aşağıdaki ifadelerden hangisi doğrudur?

- A) Hastanede yatmayı gerektiren bir işlemdir.
- B) Çocuk istemeyen çiftlerde erkeklerin sperm kanallarının bağlanmasıdır.
- C) Cinsel yolla bulaşan enfeksiyonlardan korur.
- D) Cinsel isteklilikte azalma görülür.

9. I. Duygusal olarak destek verme  
II. Eğitim  
III. Bakım  
IV. Koruma  
V. Kaliteli zaman geçirme

Aşağıdakilerden hangisi ebeveynlerin çocuklarına karşı sorumluluklarındandır?

- A) Yalnız II
- B) Yalnız IV
- C) I ve IV
- D) I, II, III, IV ve V

10. Gebeliğin ilk üç ayında görülen bulantının nedeni aşağıdaki hormonlardan hangisidir?

- A) Prolaktin
- B) Östrojen
- C) Tiroksin
- D) İnsülin

11. Aşı takvimine göre çocuklara 1. ayın sonunda aşağıdaki aşılarından hangisi yapılır?

- A) KPA
- B) Hep B
- C) BCG
- D) KKK

12. Aşağıdakilerden hangisi çocuklarının bakımı konusunda işbirliği yapan ebeveynlerin özelliklerinden biridir?

- A) Ebeveynlik yaklaşımı konusunda hemfikir olmaları
- B) Çocuklarına neyin iyi olduğu konusunda son kararı babanın vermesi
- C) Öfke ve gücenmişlik duygularını çocuklarına ilişkin görev ve sorumluluklarına yansıtmaları
- D) Birbirlerinin annelik ve babalık haklarına saygı duymamaları

13. Aşağıdakilerden hangisi ateşli havalede yapılması gerekenlerden biri değildir?

- A) Islak bezlerle vücuda kompres yapılır.
- B) Ilık su ile duş aldırılır.
- C) Vücuda alkol sürülerek ateş düşürülür.
- D) Hastanın giysileri çıkarılır.

14. I. Uzun süre iyileşmeyen yaralar  
II. Yutkunma güçlüğü ve hazımsızlık  
III. Ben ve siğillerde meydana gelen değişiklikler  
IV. Rahim ve makattan normal olmayan akıntı veya kanama  
V. Uzun süreli ses kısıklığı

**Yukarıdakilerden hangileri kanserin belirtilerindendir?**

- A) I ve II
- B) I ve III
- C) II, III ve IV
- D) I, II, III, IV ve V

15. I. Öksürük  
II. Ateş  
III. Boğaz ağrısı  
IV. Hızlı solunum  
V. İnemeli solunum

**Yukarıdakilerden hangileri akut solunum yolu enfeksiyonlarının belirtilerindendir?**

- A) I ve II
- B) I ve III
- C) IV ve V
- D) I, II, III, IV ve V

16. I. Yüz ifadesi  
II. Jest ve mimik  
III. Ses tonu  
IV. Beden duruşu

**Yukarıdakilerden hangileri sözsüz iletişim içinde yer alır?**

- A) I ve II
- B) I ve III
- C) II ve IV
- D) I, II, III ve IV

17. Aşağıdakilerden hangisi kalp ve damar hastalıklarından biri değildir?

- A) Diyabet
- B) Felç
- C) Koroner kalp hastalığı
- D) Hipertansiyon

18. Aşağıdakilerden hangisi aile planlamasının anne sağlığına olan yararlarından biri değildir?

- A) İstenmeyen gebelikleri önlemesi
- B) Ruh sağlığını koruması
- C) Zor doğuma bağlı tehlikeleri önlemesi
- D) Sık aralıklarla gebelik oluşması

19. Türkiye'de ilk koruyucu aile uygulaması kaç yılında yapılmıştır?

- A) 1949
- B) 1955
- C) 1985
- D) 2000

20. Aşağıdakilerden hangisi AIDS hastalığının bulaşma riskinin en yüksek olduğu gruplardan biri değildir?

- A) Sağlık personelleri
- B) Güvenli cinsel ilişki yaşayanlar
- C) Eş cinseller
- D) Uyuşturucu bağımlıları

2018 AÖÖ-AÖL II. DÖNEM 0102-B

1. Aşağıdakilerden hangisinin aksine bir hüküm veya işaret bulunmadıkça kara yollarında araç sürücüleri tarafından yapılması yasaktır?

- A) Aracın cinsine ve hızına uygun şeritten gitmesi
- B) İşaret vermeden şerit değiştirmesi
- C) Gidişe ayrılan en sol şeridi geçiş amaçlı olarak kullanması
- D) Şerit değiştirmeden önce gireceği şeritteki araçların güvenli geçişlerini beklemesi

2. Aşağıdakilerden hangisinin demiryolu (hemzemin) geçitlerinde yapılması yasaktır?

- A) İndirilmiş veya indirilmekte olan bariyerler varken geçide girmek
- B) Işıklı veya sesli "Dur" emrine uymak
- C) Geçidin durumuna uygun hızda geçmek
- D) Kontrolsüz geçitlerde geçmeden önce makul mesafede durmak

3. Aşağıdakilerden hangisi kara yolunda bozulup kalan araçların, tehlikeye meydan vermemesi için yapılması gereken işlemlerden biridir?

- A) Vitesin boşa alınması
- B) Aracın kapılarının açık tutulması
- C) Uzağı gösteren ışıkların açık tutulması
- D) Aracın ön ve arkasına açıkca görülebilecek şekilde birer kırmızı yansıtıcı konulması

4. Aşağıdakilerden hangisi öndeki aracı geçmenin yasak olduğu yerlerden biri değildir?

- A) Yaya ve okul geçitlerine yaklaşılacak yerler
- B) Geçmenin herhangi bir trafik işareti ile yasaklandığı yerler
- C) Görüş yetersizliği olan tepe üstü ve dönemeçler
- D) Kesikli yol çizgisinin bulunduğu yollar

5. Trafik kazaları genellikle insan kusurlarına bağlı olarak meydana gelir.

Buna göre, trafik kazalarının azaltılmasında en etkili yol aşağıdakilerden hangisidir?

- A) Taşıtların güvenlik donanımlarının artırılması
- B) Eğitim yoluyla bireylerde trafik bilincinin oluşturulması
- C) Yol kalitesinin yükseltilmesi
- D) Trafik akışının denetlenmesi

6. Saatte 90 km hızla giden bir otomobilin, önündeki araçla arasında en az kaç metre takip mesafesi olmalıdır?

- A) 35
- B) 40
- C) 45
- D) 50

7. Yaya, hayvan ve motorsuz araçların girmesinin yasak olduğu kara yolu aşağıdakilerden hangisidir ?

- A) Otoyol
- B) Geçiş yolu
- C) İki yönlü kara yolu
- D) Bölünmüş kara yolu

8. Kara yolunun hangi kısmı zorunlu durumlarda araçlar tarafından kullanılır?

- A) Yaya kaldırımı
- B) Ada
- C) Banket
- D) Bisiklet yolu

9. Belirli araçların, can ve mal güvenliğini tehlikeye sokmamak şartıyla, görev sırasında trafik kısıtlama veya yasaklarına bağlı olmamaları durumuna ne ad verilir?

- A) Geçiş muafiyeti
- B) Geçiş hakkı
- C) Geçiş üstünlüğü
- D) Geçiş kolaylığı

10. İkaz anlamında olup bu yerin yavaş ve dikkatli geçilmesini bildiren trafik ışığı aşağıdakilerden hangisidir?

- A) Fasıllı olarak yanıp sönen sarı ışık
- B) Fasıllı olarak yanıp sönen kırmızı ışık
- C) Sürekli yanıp ışıklı oklar
- D) Sesli veya sürekli yanıp yazılı ışıklar

11. Aşağıdakilerden hangisi sağa dönüş yapan araç sürücülerinin uymak mecburiyetinde olduğu kurallardan biri değildir?

- A) Hızını azaltmak
- B) Hızını artırmak
- C) Dönüş işareti vermek
- D) Dar bir kavisle dönmek

12. I. Yaya yolları  
II. Otobüs durakları  
III. Geçiş yollarının önü

Yukarıdakilerden hangileri park etmenin yasak olduğu yerlerdendir?

- A) Yalnız I
- B) I ve II
- C) II ve III
- D) I, II ve III

13. Emniyet Genel Müdürlüğü kaza verilerine göre yayalara ait en fazla kaza sebebi aşağıdakilerden hangisidir?

- A) Yayanın otoyola çıkması
- B) Yayanın görünürlüğünü arttırıcı tedbirler almaması
- C) Yayanın kırmızı ışıkta geçmesi
- D) Yayanın yola birden çıkması

14. Taşıt yolunun dar olduğu yerlerde aksini gösteren bir trafik işareti yoksa "kamyon" sürücüsü aşağıdaki araçlardan hangisine geçiş hakkı vererek geçiş kolaylığı sağlamak zorundadır?

- A) Lastik tekerlekli traktör
- B) İş makineleri
- C) Otomobil
- D) Arazi taşıtı

15. Aşağıdakilerden hangisi Motorlu Taşıt Sürücü Belgesi alacaklarda aranan şartlardan biri değildir?

- A) Araç sahibi olma şartı
- B) Yaş şartı
- C) Hükümlü olmama şartı
- D) Sağlık şartı

16. I. İlk yardım çantası  
II. Yangın söndürme cihazı  
III. İsveç çakısı

Yukarıdakilerden hangileri araçlarda bulunması zorunlu olan malzeme ve gereçlerdendir?

- A) Yalnız I
- B) Yalnız III
- C) I ve II
- D) I, II ve III

17. Aşağıdakilerden hangisi özel araçları gereksiz kullanmanın yol açtığı zararlardan biri değildir?

- A) Park probleminin artması
- B) Çevrenin bozulması ve kirlilik
- C) Yakıt tüketiminin artması ve israf
- D) Araç ömrünün uzaması

18. Kara yollarında, taşıtların yan yana gitme sayısı aşağıdakilerden hangisi ile belirlenir?

- A) Kara yolundaki taşıt sayısı
- B) Yol çizgileri
- C) Işıklı işaret cihazları
- D) Trafik polisinin sayısı

19. Aşağıdakilerden hangisi trafik düzen ve güvenliğini sağlamak amacıyla düzenlenmiş işaret ve levhalardan biri değildir?

- A) Bilgi işaretleri
- B) Reklam levhaları
- C) Otoyol işaretleri
- D) Duraklama ve park etme işaretleri

20. Trafiğe ilk kez çıkacak otomobil için yapılması zorunlu olan işlem aşağıdakilerden hangisidir?

- A) Kayıt ve tescil
- B) Renk değişikliği
- C) Servis bakımı
- D) Kasko sigortası

2018 AÖÖ-AÖL II. DÖNEM 0102-B

1. Kısa sürede çok kan kaybına neden olan kanama çeşidi aşağıdakilerden hangisidir?

- A) Toplardamar
- B) Atardamar
- C) Kılcal damar
- D) Burun

2. Şoka girmiş bir kazazedede kanın, beyin ve hayati organlara taşınmasını sağlamak amacıyla yapılan uygulama aşağıdakilerden hangisidir?

- A) Baş, boyun ve gövde ekseninin korunması
- B) Kazazedenin gömlek yakasının ve kemerinin gevşetilmesi
- C) Başın yana çevrilerek, çenenin göğüsten uzaklaştırılması
- D) Sırt üstü yatırılarak ayaklarının 30 cm kadar yükseltilmesi

3. İnsan vücudunda bulunan kanın yüzde kaçının dolaşım sisteminden çekilmesi hayati fonksiyonların bozulmasına sebep olur?

- A) 5
- B) 10
- C) 20
- D) 25

4. Beyne giden kan akışının azalması sonucu kısa süreli, yüzeysel ve geçici bilinç kaybına ne ad verilir?

- A) Kansızlık
- B) Koma
- C) Şok
- D) Bayılma

5. Aşağıdakilerden hangisi delici karın bölgesi yaralanmalarında yapılan ilk yardım uygulamalarından biri değildir?

- A) Meyve suyu içirilmesi
- B) Yaşam bulgularının sık sık izlenmesi
- C) Isı kaybını önlemek için üzerinin örtülmesi
- D) Bilinç yerinde ise sırtüstü pozisyonda bacaklar bükülmüş olarak yatırılması

6. Uzun kopması durumunda yapılması gereken doğru uygulama aşağıdakilerden hangisidir?

- A) Kopan uzvu direk buzla temas ettirilerek dokuyu korumak
- B) Kopan uzvu temiz bir bezle sararak sıcak tutmak
- C) Kopan uzvu temiz su geçirmez torbaya koyduktan sonra soğuk tutmak
- D) Kopan uzuvda kirlenme varsa tentürdiyot ile temizlemek

7. Deri altındaki yumuşak dokunun da zarar gördüğü yanık türü aşağıdakilerden hangisidir?

- A) Yüzeysel yanık
- B) 1.derece yanık
- C) 2.derece yanık
- D) 3.derece yanık

8. Egzoz gazına maruz kalma sonucu yetersiz soluyan bir kazazedeye aşağıdakilerden hangisi uygulanır?

- A) Açık havaya çıkarılır.
- B) Yoğurt yedirilir.
- C) Tuzlu su içirilir.
- D) Kusturulur.

9. Kazazedenin durumunun değerlendirilmesi yapılırken öncelikle aşağıdakilerden hangisine bakılmalıdır?

- A) Hastalık ya da yaralanmanın ciddiyetine
- B) Kan basıncına
- C) Bilinç durumuna
- D) Vücut ısısına

10. Aşağıdakilerden hangisi burkulma durumunda yapılan ilk yardım uygulamalarından biri değildir?

- A) Burkulan bölgenin yüksekte tutulması
- B) Sıcak uygulaması
- C) Hareket ettirilmemesi
- D) Bandaj uygulaması

11. Bir bebeğin bilinç durumu kontrol edilirken vücudunun hangi bölümüne yavaşça vurulur?

- A) Omurgasına
- B) Karın boşluğuna
- C) Omuzuna
- D) Ayak tabanına

12. Aşağıdakilerden hangisi kazazedenin burun kanaması olması durumunda yapılacak ilk yardım uygulamalarından biri değildir?

- A) Burun üzerine buz uygulanması
- B) Başın hafifçe öne eğilmesi
- C) Oturtulması
- D) Burun kanatlarının 5 dk. süre ile sıkılması

13. I. Sağlık Müdürlüklerine  
II. Hastanelere, sağlık ocaklarına  
III. Organ nakli yapan merkezlere

Türkiye’de organ bağıışı yapmak isteyenler yukarıdakilerden hangilerine başvuru yapabilirler?

- A) Yalnız I
- B) Yalnız II
- C) I ve II
- D) I, II ve III

14. Aşağıdakilerden hangisi deniz canlılarının sokması durumunda yapılması gereken ilk yardım uygulamalarından biri değildir?

- A) Etkilenen bölgeye soğuk uygulama yapılması
- B) Batan diken varsa ve görünüyorsa çıkartılması
- C) Yaralı bölgenin hareket ettirilmemesi
- D) Etkilenen bölgenin ovulmaması

15. I. Solunum yolunun açık tutulması  
II. Gerekli ilaç tedavisine başlanması  
III. Solunum ve dolaşımın desteklenmesi

Yukarıdakilerden hangileri “Temel Yaşam Desteği” sağlamak için yapılan uygulamalardandır?

- A) Yalnız I
- B) I ve II
- C) I ve III
- D) I, II ve III

16. Aşağıdakilerden hangisi solunum durması nedenlerinden biri değildir?

- A) Hava yolu tıkanmaları
- B) Kırık veya çıkık olması
- C) Zehirlenmeler
- D) Elektrik veya yıldırım çarpması

17. Kılcal damar kanamasına ait özellik aşağıdakilerden hangisidir?

- A) Koyu renkli kanın fışkırırcasına akması
- B) Koyu renkteki kanın az basınçla devamlı akması
- C) Sızıntı şeklinde olması
- D) Kalp atımları ile uyumlu olarak kesik kesik akması

18.



Yukarıdaki resimde görülen yaralanma türü aşağıdakilerden hangisidir?

- A) Açık kırık
- B) Çıkık
- C) Kapalı kırık
- D) Burkulma

19. Aşağıdakilerden hangisi cilt yoluyla zehirlenme belirtilerinden biri değildir?

- A) Vücut ısısında artış
- B) Kusma
- C) Gözlerde yanma
- D) Anormal solunum

20. Yaralıları taşımada kullanılan en ideal yöntem aşağıdakilerden hangisidir?

- A) İtfaiyeci yöntemi
- B) Çekme yöntemi
- C) Sedye ile taşıma yöntemi
- D) Dört el üzerine oturtup taşıma yöntemi



2018 AÖÖ-AÖL II. DÖNEM 0102-B

1. Aşağıdakilerden hangisi sempozyumun özelliklerinden biri değildir?
- A) Sempozyumlarda alınan kararların bilimsel değer taşıması  
B) Aynı konunun farklı bakış açılarıyla ele alınması  
C) Bir başkana ihtiyaç duymaması  
D) Sempozyum bildirilerinin genellikle yayımlanan bir yazı türü olması
2. "Ormanların korunmasında yasalar mı çevre bilinci mi daha etkili olur?" sorusunu tartışan iki grubun kendi görüşlerini açıklamak, kanıtlamak karşı tarafın zayıf noktalarını aramak için yaptıkları söyleşmeye ne ad verilir?
- A) Münazara  
B) Sempozyum  
C) Forum  
D) Mülakat
3. Bir başkanın yönetiminde, toplumu ilgilendiren bir konuda, farklı gruplardan oluşan dinleyicilerin söz sırası olarak konuşma kuralları içerisinde yaptıkları tartışmalara ne ad verilir?
- A) Sempozyum  
B) Konferans  
C) Toplantı  
D) Forum
4. Makalelerinde sürekli vatan, millet ve hürriyet temalarını işleyen yazar aşağıdakilerden hangisidir?
- A) Ali Naci  
B) Namık Kemal  
C) Recaizade Mahmut Ekrem  
D) Cahit Sıtkı
5. Aşağıdakilerden hangisi açık bir anlatımın sahip olması gereken unsurlardan biri değildir?
- A) Sanatlı söyleyiş  
B) Akıcılık  
C) Duruluk  
D) Yalınlık

6. Konferansın asıl amacı nedir?
- A) Dinleyicilerin hoş vakit geçirmesini sağlamak  
B) Dinleyicileri coşkandırmak  
C) Dinleyicileri bilgilendirmek  
D) Dinleyicileri birbirleriyle tanıştırmak
7. Forum türünün amacı aşağıdakilerden hangisidir?
- A) Bir konu hakkında belli kararlara varmak  
B) Bilim, teknik, sanat gibi konular hakkında bilgi vermek  
C) Bir konu hakkında karşıt görüşleri savunmak  
D) Bir konu üzerinde bütün ilgililerin görüşlerini öğrenmek
8. Aşağıdakilerden hangisi makalede söylenenlerin bir yargıya bağlandığı bölümdür?
- A) Yöntemler  
B) Tartışma ve sonuç  
C) Dipnot  
D) Malzeme
9. Aşağıdakilerden hangisi sözlü anlatım türlerinden biridir?
- A) Forum  
B) Deneme  
C) Eleştiri  
D) Tiyatro
10. Türk edebiyatında makalenin gelişimine bakıldığında 1860'da ilk makale kim tarafından yazılmıştır?
- A) Nefi  
B) Hüseyin Cahit  
C) Şinasi  
D) Namık Kemal

11. Aşağıdakilerden hangisi bilimsel yazıların giriş bölümünde dikkat edilmesi gerekenlerden biri değildir?

- A) Araştırmada nasıl bir yol izlendiği ortaya konur.
- B) Elde edilen bilgiler açık ve anlaşılır bir şekilde ortaya konur.
- C) Ana bulgular dile getirilir.
- D) Çalışmanın gerekliliği ortaya konur.

12. Açık oturumlarda konuşmacı sayısının kaç kişiyi geçmemesi tercih edilir?

- A) Altı
- B) Sekiz
- C) On
- D) On iki

13. Aşağıdakilerden hangisi bilimsel yazı türlerinden biridir?

- A) Film senaryoları
- B) Tiyatro metinleri
- C) Sone
- D) Toplantı özetleri

14. "Yeşeren Otlar" adlı şiir kitabının yazarı aşağıdakilerden hangisidir?

- A) Cemal Süreyya
- B) Cahit Külebi
- C) Cahit Sıtkı Tarancı
- D) Ahmet Haşim

15. Bilimsel yazıların okuyucu kitlesine ulaşması bakımından en önemli ögesi aşağıdakilerden hangisidir?

- A) Tartışma
- B) Dipnot
- C) Sonuç
- D) Başlık

16. Bilimsel yazıların omurgası kabul edilen tür aşağıdakilerden hangisidir?

- A) Forum
- B) Sempozyum
- C) Makale
- D) Münazara

17. Araştırılan sorunun tanıtıldığı ve neden bu konunun ele alındığı, çalışmanın diğer çalışmalar arasındaki yerinin belirtildiği sempozyum bölümü aşağıdakilerden hangisidir?

- A) Bulgular
- B) Giriş
- C) Deney
- D) Sonuç

18. Bilimsel yazılarda kullanılan dil işlevi aşağıdakilerden hangisidir?

- A) Göndergesel işlev
- B) Dil ötesi işlevi
- C) Heyecana bağlı işlev
- D) Şiirsel işlev

19. Bilimsel yazılardaki kaynakça bölümüne ne ad verilir?

- A) Sonuç
- B) Dipnot
- C) Bibliyografya
- D) İndeks

20. Aşağıdakilerden hangisi makale ile bilimsel yazıların ortak özelliklerinden biridir?

- A) İki türde de sanatsal yaklaşımın ön planda olması
- B) İki türün de okuyucuyu bilgilendirmesi
- C) Her iki türde de anlatılanların kanıtlanma zorunluluğunun olmaması
- D) Her iki türün de belli bir kesime hitap etmesi

2018 AÖÖ-AÖL II. DÖNEM 0102-B

1. Toplumun sosyal, siyasi ve tarihi şartlarından yararlanarak meydana getirilen edebiyat eserine ne ad verilir?

- A) Hayali metin
- B) Kurmaca metin
- C) Edebi metin
- D) Yazılı metin

2. Gerçeğin hayal dünyasında yeniden şekillendiği metinlere ne ad verilir?

- A) Edebî metin
- B) Kurmaca metin
- C) Öğretici metin
- D) Yazılı metin

3. 19. yüzyılda Osmanlı Devleti'nin sosyal ve siyasi yapısıyla ilgili aşağıdaki ifadelerden hangisi yanlıştır?

- A) Devlet kurumları yeniden yapılandırılmıştır.
- B) Orduda yapılan düzenlemeler ile savaşlarda büyük başarılar kazanılmıştır.
- C) Batı'da gerçekleşen bilimsel gelişmeler örnek alınmıştır.
- D) Yapılması gereken yenilikler Tanzimat Fermanı ile halka duyurulmuştur.

4. Terkib-i bend ile ilgili aşağıdaki ifadelerden hangisi yanlıştır?

- A) Dini, felsefi ve sosyal yaşamla ilgili konular işlenir.
- B) Çağdaş Türk Edebiyatının nazım biçimlerindenidir.
- C) Her biri gazel tarzında uyaklanmış 5-10 bentten meydana gelir.
- D) Bentlerin her birine terkipane adı verilir.

5. Rezaizâde Mahmut Ekrem ile ilgili aşağıdaki ifadelerden hangisi yanlıştır?

- A) Tasvir-i Efkâr gazetesinde yazılar yazmıştır.
- B) Tanzimat edebiyatı şair ve yazarlarındandır.
- C) Galatasaray Lisesi'nde edebiyat öğretmenliği yapmıştır.
- D) Toplumsal konular hakkında eserler vermiştir.

6. Tanzimat Fermanı'nın hazırlanış amacı aşağıdakilerden hangisidir?

- A) Osmanlı Devleti'ndeki değişimlere engel olmak
- B) Devrin gereksinimlerine uygun Batı esasları doğrultusunda yeniden yapılanmak
- C) Savaşlarda yenilgiye son vermek
- D) Ordudaki değişen disiplin anlayışına el atmak

7. Namık Kemal'in 1876 yılında Magosa'da sürgünde bulunduğu sırada yazdığı, romantizm akımının etkilerini taşıyan eseri aşağıdakilerden hangisidir?

- A) Son Pişmanlık
- B) Harabat
- C) Sergüzeşt
- D) İntibah

8. Aşağıdakilerden hangisi Muallim Naci'nin eserlerinden biridir?

- A) Ateş-pare
- B) İntibah
- C) Gülnihâl
- D) Zavallı Çocuk

9. Aşağıdakilerden hangisi, Tanzimat Dönemi aydınları arasında yer almaz?
- A) Ziya Paşa  
B) Nazım Hikmet  
C) Samipaşazade Sezai  
D) Namık Kemal
10. Noktalama işaretleri ilk kez aşağıdakilerden hangisinde kullanılmıştır?
- A) Eşber'de  
B) Telemak'ta  
C) Tercüman-ı Ahval Mukaddimesi'nde  
D) Cezmi'de
11. Aşağıdakilerden hangisi, Tanzimat Döneminde tiyatro uyarlamalarıyla öne çıkan yazarlardan biridir?
- A) Şemsettin Sami  
B) Ahmet Cevdet Paşa  
C) Ahmet Vefik Paşa  
D) Orhan Asena
12. Batıdan ilk şiir çevirilerini Tercüme-i Manzume adıyla yayınlayan yazar aşağıdakilerden hangisidir?
- A) Şinasi  
B) Namık Kemal  
C) Sami Paşazâde Sezâî  
D) Ziya Paşa
13. Aşağıdakilerden hangisi, Dünya Edebiyatında romantizm akımının öncülerinden biridir?
- A) Victor Hugo  
B) Moliere  
C) Montaigne  
D) La Fontaine
14. Aşağıdaki romanlardan hangisi Tanzimat Edebiyatının ikinci döneminde romantizmden realizme geçişin göstergesidir?
- A) Vatan Yahut Silistre  
B) Telemak  
C) Şair Evlenmesi  
D) Sergüzeşt
15. Şiirlerinde lirik ve epik duyguları işleyen; Bunlar Odur, Macera-yı Aşk, İçli Kız vb. eserlerin yazarı, Tanzimat Dönemi şairi aşağıdakilerden hangisidir?
- A) Sami Paşazâde Sezâî  
B) Ahmet Mithat Efendi  
C) Abdülhak Hamit Tarhan  
D) Recaizâde Mahmut Ekrem
16. Ziya Paşa aşağıdaki türlerden hangisinde eser vermemiştir?
- A) Tiyatro  
B) Edebiyat tarihi  
C) Makale  
D) Şiir

2018 AÖÖ-AÖL II. DÖNEM 0102-B

17. Ölen bir kişinin ardından onun kahramanlıklarını, yiğitliklerini anlatmak için yazılan eserlere ne ad verilir?

- A) Terci-i bend
- B) Rubai
- C) Terkeb-i bend
- D) Mersiye

18. Namık Kemal'in Osmanlı Devleti'nin son dönemlerini anlattığı, vatanın içinde bulunduğu durum karşısında devleti yönetenlerin davranışlarını eleştirdiği şiiri aşağıdakilerden hangisidir?

- A) Vatan Mersiyesi
- B) Müntehabat-ı Eşar
- C) Zafername
- D) Makber

19. Aşağıdakilerden hangisi 'toplum için sanat' anlayışını benimseyen aydınlardan biridir?

- A) Recaizade Mahmut Ekrem
- B) Samipaşazâde Sezaî
- C) Abdülhak Hamit
- D) Ziya Paşa

20. Tanzimat dönemi Türk Edebiyatında yayımlanan ilk mizahi gazete aşağıdakilerden hangisidir?

- A) Ceride-i Havadis
- B) Takvim-i Vekayi
- C) Diyojen
- D) Tercüman-ı Ahval

2018 AÖÖ-AÖL II. DÖNEM 0102-B

1. Aşağıdakilerden hangisi ehliyet almak isteyen bir sürücü adayında aranan şartlardan biri değildir?
- A) Yaşı  
B) Medeni hali  
C) Adli sicil kaydı  
D) Sağlık durumu
2. Kara yolu üzerinde trafik çizgileri ile ayrılmış bölümlerden her birine ne ad verilir?
- A) Şerit  
B) Yol çizgisi  
C) Trafik levhası  
D) Kavşak
3. 100 km/sa hızla birbirini takip eden araçların takip mesafesi en az kaç metre olmalıdır?
- A) 25  
B) 35  
C) 40  
D) 50
4. Aşağıdakilerden hangisi geçiş üstünlüğüne sahip araçlardan biri değildir?
- A) Yaralı veya acil hastaları taşıyan ambulanslar  
B) İtfaiye araçları ile benzeri acil müdahale araçları  
C) Yük taşıyan kamyonlar  
D) Organ ve doku nakli yapan araçlar
5. Güvenli, anlaşılabilir ve daha iyi bir trafik ortamı oluşturabilmek için aşağıdakilerden hangisi sürücü ve yayaların sahip olması gereken özelliklerinden biri değildir?
- A) Olumlu beden dili ve konuşma üslubuna sahip olması  
B) Öfke duygusuna hakim olması  
C) Empati yapabilmesi  
D) Aceleci olması
6. Aşağıdakilerden hangisi kazaya sebebiyet açısından ana unsur olan insan etmeninin trafikte yer alan şekillerinden biri değildir?
- A) Sürücü  
B) Yaya  
C) Taşıt  
D) Yolcu
7. Aşağıdakilerden hangisi Milli Eğitim Bakanlığı'nın trafik eğitimi ile ilgili görev ve yetkilerden biri değildir?
- A) Özel sürücü kurslarının açılmasını engellemek  
B) İlköğretim ve ortaöğretim okullarında ders programlarına eğitim amacıyla zorunlu uygulamalı trafik ve ilk yardım dersleri koymak  
C) Çocuk trafik eğitim parklarının yapılma, açılma, eğitim, denetim ve çalışma esaslarını belirlemek  
D) Okul öncesi, okul içi ve okul dışı trafik eğitimini düzenleyen trafik genel eğitim planını hazırlamak
8. İnsanların, hayvanların ve araçların ulaşım yolları üzerindeki hal ve hareketlerine ne ad verilir?
- A) Düzen  
B) Adap  
C) Kural  
D) Trafik
9. Aşağıdakilerden hangisi hava yolu ile ulaşımın insanlar tarafından tercih edilme nedenlerinden biri değildir?
- A) Güvenli olması  
B) Ucuz olması  
C) Konforlu olması  
D) Hızlı olması

10. Aşağıdakilerden hangisi trafik kazalarının ekonomik etkilerinden biridir?

- A) Yetişmiş insan gücünün kaybedilmesi
- B) Kaza geçiren kişinin sosyal hayattan uzaklaşması
- C) Kaza geçiren kişilerin yakınlarının da bu durumdan etkilenmesi
- D) Kazaya uğrayan kişilerin uyku bozukluğu yaşaması

11. Emniyet kemeri kullanımı ile ilgili aşağıdaki ifadelerden hangisi doğrudur?

- A) Hava yastığı olan araçlarda emniyet kemeri yoktur.
- B) Emniyet kemeri, kazaları önlemeyen ancak yaralanmaları azaltabilen bir güvenlik aracıdır.
- C) Emniyet kemeri kullanmamak bir hata değildir.
- D) Gidilecek mesafe kısa ise emniyet kemeri kullanılmaz.

12. Trafik polisi, trafik işaret levhası veya ışıklı işaret cihazları bulunmayan kavşaklarda geçiş hakkıyla ilgili verilen aşağıdaki ifadelerden hangisi yanlıştır?

- A) Bir iz veya mülkten çıkan sürücüler, kara yolundan gelen araçlara geçiş hakkını vermek zorundadır.
- B) Bölünmüş yola çıkan sürücüler, bu yoldan geçen araçlara geçiş hakkını vermek zorundadır.
- C) Dönel kavşak içindeki araçlar, dönel kavşağa gelen sürücülere geçiş hakkı vermek zorundadır.
- D) Dönüş yapan sürücüler, doğru geçmekte olan araçlara geçiş hakkını vermek zorundadır.

13. Aşağıdakilerden hangisi bisiklet kullanımının çevreye sağladığı katkılardan biridir?

- A) Trafik kazalarına bağlı can ve mal kaybında artma
- B) Kamu harcamalarında artma
- C) Yakıt tüketiminde artma
- D) Gürültü kirliliğinde azalma

14. Trafik kazası sonucu bedenen ve ruhen engeli kalan kişilerin başkalarına bağımlı olmadan hayatlarına devam etmeleri için yapılan çalışmalara ne ad verilir?

- A) Psikoterapi
- B) Uyum çalışması
- C) Rehabilitasyon
- D) Telepati

15. Aşağıdakilerden hangisi trafikte yayaların kara yolunda sürücüler tarafından fark edilmelerini sağlamak için alaca karanlık ve gece karanlığında olması gereken önlemlerden biridir?

- A) Üzerinde yansıtıcı kıyafetler ve aksesuarlar bulundurmamak
- B) Yolun ortasından yürümek
- C) Sürücüler tarafından fark edilebilmek için koyu renk kıyafetler giymek
- D) Yolun iki yanında banket olduğu durumlarda gidiş yönüne göre sağ banketten yürümek

16.	1. 	K. Kontrolsüz demiryolu geçidi
	2. 	L. Her iki taraftan daralan kaplama
	3. 	M. Dönel kavşak
	4. 	N. Sağa tehlikeli viraj

Yukarıdaki trafik işaret ve levhaları ve anlamlarının doğru eşleştirilmesi aşağıdakilerden hangisinde verilmiştir?

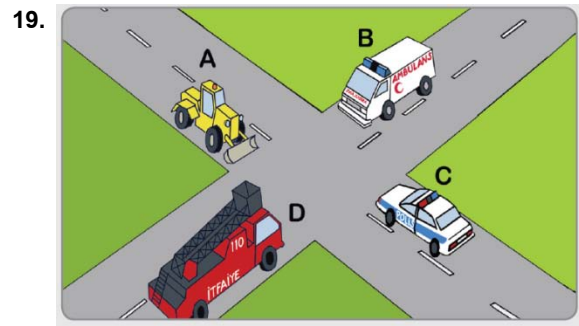
- A) 1-L, 2-K, 3-M, 4-N
- B) 1-N, 2-M, 3-K, 4-L
- C) 1-K, 2-M, 3-N, 4-L
- D) 1-M, 2-N, 3-L, 4-K

17. Aşağıdakilerden hangisi trafikte sergilenmesi gereken olumlu davranışlardan biridir?

- A) Trafikte aracından yaşlı, hasta veya çocuklu bir insanı indirmek için kısa süreli duran sürücüye korna çalmak
- B) Yağmurlu bir havada trafikte seyrederken yayalara dikkat etmeden su sıçratmak
- C) Siren çalarak gelen ambulansa yol vermemek
- D) Karlı bir havada zincir takmak için uğraşan bir sürücüye, deneyimli olarak yardım etmek

18. Aşağıdakilerden hangisi özel araçları gereksiz yere kullanmanın sebep olduğu olumsuzluklardan biri değildir?

- A) İsraf ve yakıt tüketiminin azalması
- B) Park problemlerinin artması
- C) Çevrenin bozulması ve kirlenmesi
- D) Aracın yıpranması ve ömrünün azalması



Bu resimdeki araçlar geçme sırasına göre aşağıdakilerden hangisinde doğru verilmiştir?

- A) A, B, D, C
- B) A, C, B, D
- C) B, D, C, A
- D) D, B, A, C

20. Karayolları Trafik Kanunu'na göre, şehirler arası çift yönlü kara yollarında otobüslerin uyması gereken yasal azami hız sınırı kaçtır?

- A) 60
- B) 80
- C) 90
- D) 100



BU SAYFA BOŞ BIRAKILMIŞTIR.

BU SAYFA BOŞ BIRAKILMIŞTIR.

BU SAYFA BOŞ BIRAKILMIŞTIR.

## SINAVDA UYULMASI GEREKEN GENEL KURALLAR

1. Sınava girmek için gerekli belgelerinizin tümünü sınav başlamadan önce sıranızın üzerine bırakınız.
2. Sınav süresince görevlilerle konuşmak, görevlilere soru sormak yasaktır. Aynı şekilde görevlilerin de öğrencilerle yakından ve alçak sesle konuşmaları yasaktır. Gerekli durumlarda görevliler yerinizi değiştirebilir.
3. Size verilen cevap kâğıdının üzerindeki TCKN/Öğrenci no, ad, soyadı, bilgilerini kontrol ediniz, ilgili alanları eksiksiz doldurarak imzalayınız. Bu bilgiler size ait değilse, görevlileri uyararak size ait cevap kâğıdını isteyiniz. Başka öğrenciye ait cevap kâğıdı kullanan öğrencilerin o oturumdaki sınavları geçersiz sayılır.
4. Cevap kâğıdı üzerine test grubunu (A, B, C, D) kodlamayan veya birden fazla kodlama yapan öğrencilerin sınavları geçersiz sayılır.
5. Cevap kâğıdınıza yazacağınız her türlü yazı ve yapacağınız işaretlemeler için koyu yazan siyah kurşun kalem kullanmalısınız. Siyah kurşun kalem dışında farklı bir kalem (tükenmez, mürekkepli ya da renkli vb.) kullanan öğrencilerin sınavları geçersiz sayılır.
6. Cevap kâğıdı üzerinde değişiklik yapmak istediğinizde, iz bırakmayan bir silgi kullanınız. Cevap kâğıdınızı buruşturmayınız, katlamayınız ve üzerine gereksiz hiçbir işaret koymayınız.
7. Cevaplarınızı, cevap kâğıdında ilgili test için ayrılmış olan alana, cevap yerinin dışına taşırmadan işaretleyiniz. Soru kitapçığı üzerinde yapılan işaretlemeler değerlendirmeye alınmayacaktır.
8. Her sorunun tek bir doğru cevabı vardır. Bir soru için birden çok cevabı işaretlerseniz, o soruyu yanlış cevaplamış sayılacaksınız.
9. Soru kitapçığınızı aldığınızda sayfalarına hızlıca bakarak hatalı ya da eksik baskı olup olmadığını kontrol ediniz. Hata/eksik olması durumunda kitapçığının değiştirilmesi için derhâl Salon Başkanına başvurunuz. Sınav görevlileri sınavın başladığını belirtmeden kitapçığınızı tekrar açmayınız.
10. Cevap kâğıdınızda belirtilen kitapçık kodu ile soru kitapçığının kodunu karşılaştırınız. Aynı değilse, sınav görevlilerine durumu bildirerek doğru kitapçığın verilmesini talep ediniz.
11. Soru kitapçığındaki ilgili alanlara ad, soyadı, TCKN/Öğrenci no, sınav salon no, sıra no bilgilerinizi eksiksiz doldurarak imzanızı atınız. Soru kitapçığının sayfalarındaki boş yerleri müsvedde amacıyla kullanabilirsiniz.
12. Aşağıdaki durumlarda sınav görevlileri tarafından Bireysel Sınav İptal Tutanağı düzenlenerek ilgili öğrencilerin sınavları geçersiz sayılır:
  - a) Sınav kurallarına ve sınav görevlilerinin uyarılarına uymamak, sınav düzenini bozmak,
  - b) Kâğıt, kitap, defter, not vb. dokümanları; pergel, açıölçer, cetvel vb. araçları; cep telefonu, bilgisayar, tablet, telsiz, kamera vb. iletişim, depolama, kayıt ve veri aktarma cihazlarını; ruhsatlı veya resmi amaçlı olsa bile silah ve silah yerine geçebilecek nesnelere yanında bulundurmamak,
  - c) Sınav sırasında kalem, silgi vb. araç-gereç paylaşımında bulunmak,
  - d) Cevapları, cevap kâğıdı dışında bir yere yazmak ve sınav salonundan dışarı çıkarmak,
  - e) Sınava girebilmek için gerekli belgeleri eksik olduğu halde sınava katılıp, cevap kâğıdında işaretleme yapmak,
  - f) Sınav görevlileri tarafından öğrencinin kimliğinden şüphe duyulması,
  - g) Cevap kâğıdını ve/veya soru kitapçığını sınav görevlilerine eksiksiz ve sağlam şekilde teslim etmemek, sınav salonu dışına çıkarmak,
  - h) Kopya çekmek, vermek, çekilmesine yardımcı olmak vb. eylemlerde bulunmak,
  - i) Kendisi yerine başkasını sınava sokmak.
13. Sınav bitiminde, cevap kâğıdınızı ve soru kitapçığınızı salon görevlilerine eksiksiz biçimde teslim ediniz. Sınav bittikten sonra gönderilen cevap kâğıtları dikkate alınmayacaktır.

**SINAV KURALLARINA UYDUĞUNUZ İÇİN TEŞEKKÜR EDER, SINAVINIZDA BAŞARILAR DİLERİZ.**