



ANADOLU ÜNİVERSİTESİ
AÇIKÖĞRETİM FAKÜLTESİ
BA - AÇIKÖĞRETİM OKULLARI

T.C. MİLLİ EĞİTİM BAKANLIĞI
Hayat Boyu Öğrenme Genel Müdürlüğü
2017-2018 ÖĞRETİM YILI BATI AVRUPA - BALKANLAR
AÇIK ÖĞRETİM LİSESİ II. DÖNEM SINAVI

4. OTURUM Pazar

ÖĞRENCİNİN

A

0104

SOYADI :

ADI :

T.C. KİMLİK NO / ÖĞRENCİ NO :

SINAV SALON NO : SIRA NO:

Sınavla ilgili soru kitapçığının ön ve arka kapağındaki tüm kuralları okudum, anladım, kabul ediyorum.

İMZA:.....

SINAV İÇERİĞİ

Testin Adı	Soru Sayısı	Sayfa No	Testin Adı	Soru Sayısı	Sayfa No
DİN KÜLTÜRÜ VE AHLAK BİLGİSİ 1	20	02	BİYOLOJİ 1	20	30
SEÇMELİ FELSEFE 1	20	04	SEÇMELİ BİYOLOJİ 2	20	32
TARİH 4	20	06	TEMEL DİNİ BİLGİLER 2	20	34
SEÇMELİ TARİH 2	20	08	SEÇMELİ MATEMATİK 4	20	36
SEÇMELİ COĞRAFYA 1	20	10	SEÇMELİ SANAT TARİHİ 2	20	40
SEÇMELİ COĞRAFYA 4	20	12	ALMANCA 6	20	42
DİL VE ANLATIM 8	20	14	İNGİLİZCE 6	20	45
TÜRK EDEBİYATI 3	20	16	FRANSIZCA 6	20	48
TÜRK EDEBİYATI 8	20	19	SEÇMELİ ALMANCA 7	20	51
SEÇMELİ FİZİK 4	20	21	SEÇMELİ İNGİLİZCE 7	20	54
KİMYA 2	20	23	SEÇMELİ FRANSIZCA 7	20	57
KİMYA 3	20	26	PEYGAMBERİMİZİN HAYATI 1 (SEÇMELİ)	20	60
KİMYA 4	20	28	SEÇMELİ TÜRK EDEBİYATI 6	20	62

SINAVDA UYULMASI GEREKEN ÖZEL KURALLAR

1. Soru kitapçığındaki her bir testi cevaplamanız için verilen süre 30 dakika, toplam süre 150 dakikadır.
2. Sınavın ilk 30 dakikası ve son 5 dakikası içinde sınavınızı tamamlasanız bile salondan çıkamazsınız. Herhangi bir nedenle salondan çıktığınız takdirde, tekrar sınava devam etmenize izin verilmeyecektir. Sınavın başlamasını izleyen ilk 15 dakikadan sonra hiçbir öğrenci sınava alınamaz.
3. Yanlış cevaplarınız dikkate alınmayacaktır. Bu nedenle kitapçığındaki tüm sorular için size doğru gelen seçeneği işaretleyerek cevapsız soru bırakmamanız yararınıza olacaktır.
4. Sınav sırasında hesap makinesi kullanabilirsiniz. Ancak, kullanacağınız makinede alfabetik tuş takımınının (A, B, C,..., Y, Z), program yapılmasına, saklanmasına ve çalıştırılmasına imkân veren EXE, STORE, RUN vb. tuşlar bulunamaz.

"Sınavda Uyulması Gereken Genel Kurallar" soru kitapçığının arka sayfasında yer almaktadır. Bu kuralları da mutlaka dikkatlice okuyunuz.

Anadolu Üniversitesi tarafından hazırlanmış olan bu testlerin her hakkı saklıdır. Hangi amaçla olursa olsun, testlerin tamamının veya bir kısmının Anadolu Üniversitesi'nin yazılı izni olmadan kopya edilmesi, fotoğraflarının çekilmesi, herhangi bir yolla çoğaltılması, yayımlanması ya da kullanılması yasaktır. Bu yasağa uymayanlar gerekli cezai sorumluluğu ve testlerin hazırlanmasındaki mali külfeti peşinen kabullenmiş sayılır.

2018 AÖÖ-AÖL II. DÖNEM 0104-A

1. Dünyada ilk inanma kiminle başlamıştır?

- A) Hz. Muhammed
- B) Hz. İsa
- C) Hz. Musa
- D) Hz. Âdem

2. Aşağıdakilerden hangisi "Allah'ın yeryüzündeki halifesi" ünvanını hak etmiştir?

- A) İnsan
- B) Melek
- C) Cin
- D) Hayvan

3. İnsanın hayatta karşılaştığı hastalık, musibet ve felaketler karşısında çaresiz kaldığı durumlardan en önemli teselli kaynağı aşağıdakilerden hangisidir?

- A) Sosyal medya
- B) Din
- C) Aile
- D) Para

4. Politeizm nedir?

- A) Tek tanrıcılık
- B) Çok tanrıcılık
- C) Tanrı tanımazlık
- D) Bunalım felsefesi

5. İnsanın yaratılış gayesi nedir?

- A) Nefsini her isteği ile doyurmak
- B) Gününü gün etmek
- C) Allah'ı tanıyıp Ona ibadet etmek
- D) Çok çocuk sahibi olup çoğalmak

6. "Din" ile ilgili aşağıdaki ifadelerden hangisi yanlıştır?

- A) İnsanların kardeşçe barış ve huzur içinde yaşamalarını öğretir.
- B) Kin, nefret ve intikam gibi her türlü kötülüğü destekler.
- C) İnsanların yararına olan iyi ve güzel davranışları öğretir.
- D) İnsanları huzur, barış ve kardeşliğin hakim olduğu bir hayat yaşamaya yöneltir.

7. Hac ve Umrede ihrama girerken boy abdesti almanın hükmü nedir?

- A) Mekruh
- B) Farz
- C) Sünnet
- D) Mubah

8. İbadet ile ilgili aşağıdaki ifadelerden hangisi yanlıştır?

- A) Bir ibadet başka bir ibadetin yerine geçemez.
- B) Allah'ın yasakladığı kötü ve çirkin davranışlardan uzak durmak bir ibadettir.
- C) Allah'ı memnun etmek için faydalı ve güzel işler yapmak bir ibadettir.
- D) İnsanların yaptığı ibadet karşılığında Allah'tan karşılık beklemesi gerekir.

9. Mekan ve çevre temizliği ile ilgili aşağıdaki ifadelerden hangisi yanlıştır?

- A) Yerlere tükürmemeli, çöpleri sağa sola atmamalıyız.
- B) Ortak kullanılan alanların temiz tutulmasına özellikle dikkat etmek gerekir.
- C) Çevre temizliği, beden ve ruh temizliği kadar önemli değildir.
- D) Çevre temizliğine dikkat etmeyen insanlar hem kendilerini hem de başkalarını rahatsız ederler.

10. Ağıza ve buruna su çekilerek temizlenmek ve vücudun tamamını hiç kuru yer kalmayacak şekilde yıkamaya ne ad verilir?

- A) Gusül
- B) Mesh etmek
- C) Namaz abdesti
- D) Teyemmüm

11. Peygamberimize dedesi Abdulmuttalip'in verdiği "Muhammed" ismi ne anlama gelmektedir?
- A) Çok temiz
B) Saygı duyulan
C) Çok övülen
D) Güzel ahlaklı
12. Hz. Muhammed (s.a.v.) aşağıdaki şehirlerden hangisinde dünyaya gelmiştir?
- A) Taif
B) Medine
C) Mekke
D) Cidde
13. Aşağıdakilerden hangisi Medine Sözleşmesi'nin maddelerinden biri değildir?
- A) Şehir dışından bir saldırı olursa Medine'yi yalnız yahudiler savunacaklar.
B) Yahudiler kendi dininde serbest olacaklar.
C) Müslümanlarla Yahudiler, barış içinde yaşayacaklar.
D) Müslümanlarla Yahudiler arasında bir anlaşmazlık çıkarsa Hz. Muhammed hakem kabul edilecek.
14. Peygamberimiz Hz. Muhammed (s.a.v.)'in anne ve babasının isimleri aşağıdakilerden hangisinde birlikte ve doğru olarak verilmiştir?
- A) Hatice - Ömer
B) Âmine - Abdullah
C) Fatma - Ebu Talip
D) Ayşe - Ebu Bekir
15. Hz. Muhammed (s.a.v.)'e ilk vahiy'i getiren meleğ aşağıdakilerden hangisidir?
- A) Mikail
B) Azrail
C) İsrail
D) Cebrail
16. Kur'an-ı Kerim'in, harflerinin çıkış yerlerine uygun olarak hatasız biçimde okunmasını öğreten ilime ne ad verilir?
- A) Tecvit
B) Mukabele
C) Hatim
D) Meal
17. İslam dininin temel kaynağı aşağıdakilerden hangisidir?
- A) Kur'an-ı Kerim
B) Hz. Muhammed (s.a.v.)'in sünneti
C) Din bilginlerinin görüşleri
D) Örf ve adetler
18. Tefsir ilmi ile uğraşan kişilere ne ad verilir?
- A) Hatim
B) Hafız
C) Meal
D) Müfessir
19. Kuran-ı Kerim'in indirilme süreci kaç yılda tamamlanmıştır?
- A) 5
B) 10
C) 15
D) 23
20. Aşağıdakilerden hangisi Kur'an'ı Kerim'in öğütlediği güzel ahlak ilkelerinden biri değildir?
- A) Komşu ve akrabalarla iyi ilişkiler kurmak
B) Yalan söylemek
C) Anne babaya iyi davranmak
D) Yoksullara yardım etmek

2018 AÖÖ-AÖL II. DÖNEM 0104-A

1. **Ontoloji terimini ilk kez kullanan düşünür aşağıdakilerden hangisidir?**

- A) Wolff
- B) Fichte
- C) Hegel
- D) Schelling

2. **Auguste Comte insanların pozitif evrede olayları aşağıdakilerden hangisine dayanarak açıkladıklarını savunur?**

- A) İlahi kaynaklara
- B) Gizli güçlere
- C) Bilimsel yasalara
- D) Kutsal sayılan varlıklara

3. **Doğru bilginin imkansızlığını, insanın gerçekliğin bilgisine erişemeyeceğini savunan görüşe ne ad verilir?**

- A) Ampirizm
- B) İdealizm
- C) Septisizm
- D) Pozitivizm

4. **Bilginin kaynağı konusunda empirist olan Hume'un nedensellik ilkesine getirdiği yenilik aşağıdakilerden hangisidir?**

- A) Nedensellik bir zorunluluk değil, bizim alışkanlığımızdır.
- B) Nedensellik akli kullanmanın bir sonucudur.
- C) Neden-sonuç bağlantıları için deneye gerek yoktur.
- D) Nedensellik ilkesi zorunlu ve kesin önermeleri gösterir.

5. **Bilimi ve bilimsel bilgiyi konu alan, bilimin yapısını, ilkelerini ve kavramlarını inceleyen felsefe dalına ne ad verilir?**

- A) Din felsefesi
- B) Siyaset felsefesi
- C) Estetik
- D) Bilim felsefesi

6. "Deneyiniz, deneyiniz, denemediğiniz hiçbir şeye inanmayınız."

Francis Bacon'un yukarıdaki sözü bilimsel bilginin aşağıdaki hangi özelliğine vurgu yapmaktadır?

- A) Kavramsallık
- B) Mantıksallık
- C) Olgusallık
- D) Eleştirelilik

7. **Varlık anlayışını, asıl varlığın idea olduğunu savunan görüşlerle madde olduğunu savunan görüşlerin sentezinden oluşturan düşünür aşağıdakilerden hangisidir?**

- A) Descartes
- B) Marx
- C) Husserl
- D) Farabi

8. **Aşağıdakilerden hangisi felsefe ve bilimi dünden ayıran en temel özelliktir?**

- A) Dogmatik olmamaları
- B) Deney ve gözleme dayanmaları
- C) Evreni ve insanı anlama çabaları
- D) En temel olanı bulmaya çabaları

9. **Epistemoloji ile ilgili aşağıdaki ifadelerden hangisi yanlıştır?**

- A) Yunanca "doğru bilgi" anlamına gelen "episteme" ve "akılsal açıklama" anlamına gelen "logos" kelimelerinden türemiştir.
- B) Evrenin yapısı ve oluşumu ile ilgili sorulara cevap arar.
- C) Bilginin ne olduğunu, nasıl ve ne yollardan elde edildiğini araştırır.
- D) Başlıca kurucuları Descartes, Locke ve Kant'tır.

10. **Aşağıdakilerden hangisi bilimi, bilim insanının yaratıcı çalışmasının ürünü olarak değerlendiren düşünürlerden biri değildir?**

- A) Hempel
- B) Reichenbach
- C) Carnap
- D) Toulmin

11. **Aşağıdakilerden hangisi varlığı idea olarak kabul eden düşünürlerden biri değildir?**

- A) Farabi
- B) Platon
- C) La Mettrie
- D) Aristoteles

12. **Özü anlamının yolunun fenomeni bilmekten geçtiğini, fenomenen hareketle "öz"e ulaşılacağını savunan düşünür aşağıdakilerden hangisidir?**

- A) Hobbes
- B) Aristoteles
- C) Husserl
- D) Demokritos

13. Aşağıdakilerden hangisi Kuhn'a göre bilimin gelişim aşamalarından biri değildir?

- A) Bilim öncesi dönem
- B) Monarşik dönem
- C) Devrimler
- D) Bunalımlar

14. I. İnsan bilim sayesinde, doğayı ve toplumsal gerçekliği anlayabilir.
II. Bilimin verileri sayesinde teknoloji üretebilir.
III. Bilim sayesinde insanlar bilimsel bilinç kazanır ve sosyal, ekonomik ve kültürel anlamda olumlu değişiklikler yapar.

Yukarıdaki ifadeler ile aşağıdakilerden hangisine vurgu yapılmaktadır?

- A) Bilimsel bilginin diğer bilimlere olan ihtiyacına
- B) Bilimin değerine
- C) Bilim ve teknoloji ilişkisine
- D) Bilim felsefesinin ne işe yaradığına

15. Aşağıdakilerden hangisi Marx'ın diyalektik materyalizminin özelliklerinden biridir?

- A) İdeaların ekonomik güçler ve üretim araçlarını belirlemesi
- B) Varlığın idea olarak tarihte kendine yer bulması
- C) Varlığın ruh ve maddenin bir sentezi olması
- D) Varlığın madde ile başlayıp, düşüncenin maddenin ürünü olması

16. Aşağıdaki felsefe alanlarından hangisi 20. yüzyıl bilgi felsefesi çerçevesinde ele alınamaz?

- A) Çözümleyici Felsefe
- B) Kritisizm
- C) Fenomenoloji
- D) Pragmatizm

17. • Kişiden kişiye, toplumdan topluma değişmeyen genel geçer bilgilerdir.

- Deney yöntemi kullanılarak elde edilir.
- Düzenli ve sistemli bilgidir.
- Objektiftir.

Yukarıdaki özellikler aşağıdaki bilgi çeşitlerinden hangisine aittir?

- A) Sanat bilgisi
- B) Bilimsel bilgi
- C) Gündelik bilgi
- D) Felsefi bilgi

18. Aşağıdakilerden hangisi 1940'lı yıllara kadar etkisini sürdüren klasik bilimsel görüşe karşı yapılan eleştirilerden biri değildir?

- A) Bilimin bağımsız ve nesnel bir yapısı olmadığı
- B) Bilimin doğrusal bir biçimde ilerlemediği
- C) Bilimin insanlığın tüm problemlerini çözemeyeceği
- D) Bilimin bilim adamının ürünü olduğu

19. Hegel'e göre hem doğa hem de tarih ve kültür karşıtların çatışması ve senteze ulaşma biçiminde ilerler. Bu sentez zamanla teze dönüşür, tez antitezini yaratır. Bunların çatışmasından yeni bir senteze ulaşılır.

Hegel'in yukarıdaki ilkesini aşağıdakilerden hangisi doğru bir biçimde tanımlar?

- A) Realizm
- B) İdealizm
- C) Mutlak Tin(Geist)
- D) Diyalektik

20. Aşağıdakilerden hangisi dini bilginin özelliklerinden biri değildir?

- A) Objektif olması
- B) Dogmatik olması
- C) Doğaya uygunluk aranmaması
- D) İnanca dayanması

2018 AÖÖ-AÖL II. DÖNEM 0104-A

1. Birinci Dünya Savaşı sonunda imzalanan fakat yürürlüğe giremeyen tek antlaşma aşağıdakilerden hangisidir?
 - A) Versay Antlaşması
 - B) Sevr Antlaşması
 - C) Nöyyi Antlaşması
 - D) Triyanon Antlaşması

2. Osmanlı tarihinde 1718-1730 yılları arasında yaşanan döneme ne ad verilir?
 - A) Lale Devri
 - B) Fetret Devri
 - C) Yükseliş Devri
 - D) Duraklama Devri

3. Osmanlı merkez teşkilatında köklü değişiklikler yaparak Divan-ı Hümayun'u kaldıran ve yerine nazırlıkları kuran padişah aşağıdakilerden hangisidir?
 - A) I. Mahmut
 - B) II. Mahmut
 - C) III. Selim
 - D) IV. Murat

4. Vaka-i Hayriye adıyla tarihe geçen olay aşağıdakilerden hangisidir?
 - A) Yeniçeri Ocağı'nın kaldırılması
 - B) Mühendishane-i Berr-i Hümayun'un kurulması
 - C) Sekban-ı Cedit Ocağı'nın kaldırılması
 - D) Nizam-ı Cedit Ordusu'nun kurulması

5. Milliyetçilik hareketleri kapsamında Osmanlı Devleti'nden ayrılmak için isyan eden ilk topluluk aşağıdakilerden hangisidir?
 - A) Rumlar
 - B) Sırpalar
 - C) Ermeniler
 - D) Yunanlılar

6. Osmanlı Devleti olimpiyatlara ilk kez kaç yılında katılmıştır?
 - A) 1909
 - B) 1912
 - C) 1914
 - D) 1916

7. Bütün Osmanlı vatandaşlarını haklar ve yükümlülükler bakımından eşit kılarak duygu ve düşünce birliği sağlamayı amaçlayan fikir akımı aşağıdakilerden hangisidir?
 - A) Osmanlıcılık
 - B) Türkçülük
 - C) İslamcılık
 - D) Batıcılık

8. Aşağıdakilerden hangisi III. Selim Dönemi'nde yapılan ıslahatlardan biri değildir?
 - A) Meclis-i Meşveret adıyla bir danışma meclisinin oluşturulması
 - B) Nizam-ı Cedit adıyla yeni bir ordu kurulması
 - C) İrad-ı Cedit adında bir hazinenin kurulması
 - D) Subay yetiştirmek üzere Mühendishane-i Bahr-i Hümayun'un açılması

9. Osmanlı Devleti'nde çıkarılan ilk mizah dergisi aşağıdakilerden hangisidir?
 - A) Karagöz
 - B) Mirat
 - C) Muhbir
 - D) Diyojen

10. Aşağıdakilerden hangisi Sanayi İnkılabı'nın doğurduğu sonuçlardan biri değildir?
 - A) İşçi sınıfının yerini makinelerin alması
 - B) Malların daha hızlı, ucuz ve bol üretilmeye başlanması
 - C) Fiyatların düşmesiyle birlikte tüketime artması
 - D) Avrupa'da burjuva sınıfının yükselmesi

11. 18. yüzyılın ikinci yarısından itibaren Osmanlı Devleti'nin para ihtiyacını karşılamak için piyasaya sürdüğü, belli bir vadesi ve garanti yıllık getirisi olan iç borçlanma senetlerine ne ad verilir?
- A) Evrak-ı veresiye
B) Arpalık
C) Esham
D) Evrak-ı nakdiyye
12. Osmanlı Devleti ilk dış borcu hangi savaş sırasında almıştır?
- A) Varna Savaşı
B) 93 Harbi
C) Ankara Savaşı
D) Kırım Savaşı
13. Osmanlı Devleti'nde matbaa kurulduktan sonra basılan ilk eser aşağıdakilerden hangisidir?
- A) Vankulu Lügati
B) Seyahatname
C) Tarih-i Seyyah
D) Tarih-i Timur
14. Sanayi İnkılabı ilk hangi ülkede başlamıştır?
- A) Almanya
B) Fransa
C) İtalya
D) İngiltere
15. Osmanlı Devleti sınırları içinde yaşarken ilk bağımsızlığını kazanan azınlık grup aşağıdakilerden hangisidir?
- A) Sırlar
B) Yunanlılar
C) Ermeniler
D) Rumlar
16. II. Mahmut'un âyanlar ile imzaladığı, devlet otoritesini sınırlandıran belge aşağıdakilerden hangisidir?
- A) Tanzimat Fermanı
B) Islahat Fermanı
C) Sened-i İttifak
D) I. Meşrutiyet
17. Osmanlı Devleti'nin 18. yüzyılın başlarında izlediği siyaset aşağıdakilerden hangisidir?
- A) Büyük bir deniz devleti haline gelmek
B) Yeni yerler fethetmek
C) Kaybettiği toprakları geri almak
D) Dışa açılmadan kendi sınırlarında yaşamak
18. Düyun-ı Umumiye İdaresi'nin kurulmasını öngören belge aşağıdakilerden hangisidir?
- A) Islahat Fermanı
B) Kanun-i Esasi
C) Tanzimat Fermanı
D) Muharrem Kararnamesi
19. Fransız İhtilali kaç yılında gerçekleşmiştir?
- A) 1600
B) 1618
C) 1789
D) 1830
20. Aşağıdakilerden hangisi Fransız İhtilali'nin nedenlerinden biri değildir?
- A) Rahiplerin zenginlik içinde ayrıcalıklı bir hayat sürmesi
B) İşçiler ve köylülerin çalıştıkları halde geçimlerini sağlamakta zorlanması
C) Halkın feodal düzenin kaldırılmasına tepki göstermesi
D) Aydınlanma düşünürlerinin insanları mutlu edecek yeni bir devlet düzenini savunması

SEÇMELİ TARİH 2

A

2018 AÖÖ-AÖL II. DÖNEM 0104-A

1. Kuran-ı Kerim ilk defa hangi halife zamanında kitap haline getirilmiştir?
 - A) Hz. Osman
 - B) Hz. Ali
 - C) Hz. Ebubekir
 - D) Hz. Ömer
2. Aşağıdakilerden hangisi Medine'de bulunan Müslümanlarla Mekkeliler arasında gerçekleşen savaşlardan biri değildir?
 - A) Puvatya Savaşı
 - B) Bedir Savaşı
 - C) Uhud Savaşı
 - D) Hendek Savaşı
3. Abbasiler döneminde Bizans Devleti'nin sınırında kurulan ve Türk askerlerinin yerleştirildiği şehirlere ne ad verilir?
 - A) Otağ
 - B) Avasım
 - C) Naib
 - D) Malik
4. Aşağıdakilerden hangisi İslamiyet öncesinde Arabistan'da yaşanan "Cahiliye Dönemi"nin özelliklerinden biri değildir?
 - A) Putlara tapınmanın yaygın olması
 - B) Kadın haklarının gelişmemiş olması
 - C) Okuma-yazma oranının düşük olması
 - D) Gelişmiş bir hukuk sisteminin olması
5. Talas Savaşı'nın dünya kültür tarihi bakımından en önemli sonucu aşağıdakilerden hangisidir?
 - A) Orta Asya'nın Çinlilerin kontrolüne girmekten kurtarılması
 - B) Müslüman Arapların, Çinlilerden kâğıt imal etmesini öğrenmesi
 - C) Abbasi Devlet yönetiminde Türklerin görev almaya başlaması
 - D) Türkler ile Müslüman Araplar arasındaki ilişkilerin yumuşaması
6. Aşağıdakilerden hangisi Dandanakan Meydan Muharebesi'nin (1040) sonuçlarından biri değildir?
 - A) Tuğrul Bey'in sultan ilan edilmesi
 - B) Büyük Selçuklu Devleti'nin resmen kurulması
 - C) Gaznelilerin yükseliş sürecine girmesi
 - D) Türklerin batıya doğru ilerlemelerinin önünün açılması
7. Hindistan'a gerçekleştirdiği 17 sefer sonucunda Pencap, Peşaver, Multan, Gücerat, Delhi ve Ganj vadisinin batı yakasını hâkimiyeti altına almayı başaran Gazneli hükümdarı aşağıdakilerden hangisidir?
 - A) Sultan Mahmut
 - B) Alp Tekin
 - C) Hüsrev Şah
 - D) Behram Şah
8. Aşağıdakilerden hangisi Moğol-Harzemşahlar çatışmasının nedenlerinden biridir?
 - A) Pugaçev İsyanı
 - B) El-Kebir Olayı
 - C) Otrar Faciası
 - D) Blitz Olayı
9. Tolunoğulları Devleti'nin başkenti aşağıdakilerden hangisidir?
 - A) Fustat
 - B) Belencer
 - C) Gürgenç
 - D) Merv
10. Kaşgarlı Mahmut'un Türkçenin Arapça kadar zengin olduğunu göstermek için yazdığı eseri aşağıdakilerden hangisidir?
 - A) Divan-ı Hikmet
 - B) Divanu Lügati't Türk
 - C) Atabet'ül Hakayık
 - D) Ayn'ül Ayan

11. Büyük Selçuklu Devleti döneminde şehirlerde ticari hayatı düzenleyen ve bugünkü belediye işlerini yürüten görevlilere ne ad verilir?
- A) Martolos
B) Muhtesip
C) Muid
D) Muhzır
12. Aristo'nun eserlerini inceleyip yeni yorumlar getirdiği için ikinci öğretmen anlamına gelen "Muallim-i Sâni" unvanıyla anılan kişi kimdir?
- A) Ömer Hayyam
B) Birûni
C) Farabî
D) İbn-i Sina
13. Abbasi halifelerinin hükümdarlara gönderdikleri elbiselere ne ad verilir?
- A) Nevbet
B) Otağ
C) Çetr
D) Tıraz
14. Müslümanlardan yetiştirdikleri tarım ürünlerinden onda bir oranında alınan vergi aşağıdakilerden hangisidir?
- A) İспенç
B) Cizye
C) Haraç
D) Öşür
15. Büyük Selçuklular döneminde yetişen ve en ünlü eseri İhyaü'l-Ulûmiddin (Din İlimlerinin Yeniden Canlandırılması) olan ilim adamı aşağıdakilerden hangisidir?
- A) Evliya Çelebi
B) Edip Ahmet
C) Gazalî
D) Yunus Emre
16. Hindistan'da 1526-1858 yılları arasında hüküm süren Türk Devleti aşağıdakilerden hangisidir?
- A) Gazne Devleti
B) Uygur Devleti
C) Büyük Selçuklu Devleti
D) Babür Devleti
17. Timur Devleti döneminde "Yıldızların Fihristi Cetvelleri" adlı eserin yazarı aşağıdakilerden hangisidir?
- A) Koçi Bey
B) Uluğ Bey
C) Ömer Hayyam
D) Fuzuli
18. Timurlularda savaşlarda kahramanlık gösterenlere verilen iktalara ne ad verilir?
- A) Suyugal
B) Payza
C) Kubçiri
D) Yam
19. Aşağıdakilerden hangisi Ankara Savaşı'nın (1402) sonuçlarından biri değildir?
- A) Anadolu Türk birliğinin bozulması
B) Yıldırım Bayezid'in oğulları arasında taht kavgalarının başlaması
C) Osmanlı Devleti'nin fetret devrine girmesi
D) Osmanlı Devleti'nin Balkanlarda gerçekleştirdiği fetihlerin hız kazanması
20. Moğollarda göçebe halktan alınan vergiye ne ad verilir?
- A) Kopçur
B) İnçü
C) Aymak
D) Yasun

2018 AÖÖ-AÖL II. DÖNEM 0104-A

1. **Çöller ile ilgili aşağıdaki ifadelerden hangisi yanlıştır?**

- A) Fauna bakımından zengin ortamlardır.
- B) Çöllerde suyun azlığı, bitki ve hayvanlar için en önemli sorundur.
- C) Çöllerde yaşayan birçok hayvan türünün kendine has davranışsal ve yapısal özellikleri vardır.
- D) Flora bakımından fakir ortamlardır.

2. **Dünyada en zengin kömür yataklarına sahip olan ülke aşağıdakilerden hangisidir?**

- A) Letonya
- B) Hollanda
- C) Belçika
- D) ABD

3. **Fransa'nın siyasi merkezi aşağıdaki şehirlerden hangisidir?**

- A) Cenova
- B) Marsilya
- C) Paris
- D) Nice

4. **Günümüzde dünyada en çok kahve üreten ülke aşağıdakilerden hangisidir?**

- A) Brezilya
- B) Singapur
- C) Slovenya
- D) Norveç

5. **Benzer bitki ve hayvan topluluklarını barındıran bölgelere ne ad verilir?**

- A) Zooloji
- B) Ekosistem
- C) Biyom
- D) Biyosfer

6. **Ekosistem ile ilgili aşağıdaki ifadelerden hangisi yanlıştır?**

- A) Dinamik bir birimdir.
- B) Mikroorganizmalar, ekosistemi oluşturan cansız ögeler arasında yer alır.
- C) Canlılar ile bunların çevreleri ve aralarındaki ilişkilerden oluşur.
- D) Biyosfer, dünya ekosistemini oluşturan unsurlardan biridir.

7. **Dünyada en fazla nüfusa sahip olan ülke aşağıdakilerden hangisidir?**

- A) Hindistan
- B) Çin
- C) ABD
- D) Malezya

8. **Teknik ve coğrafyanın birbirine yaptığı etkiyi araştıran bilim dalı aşağıdakilerden hangisidir?**

- A) Fiziki coğrafya
- B) Beşeri coğrafya
- C) Teknocoğrafya
- D) Biyocoğrafya

9. **Tiber Nehri üzerinde geçiş noktasındaki bir adaya yaklaşık 3 bin yıl önce kurulan; sanatın, tarihin ve dinin iç içe geçtiği bir kent olan ve dünya tarihindeki belirleyici rolünü asırlar boyunca sürdürdüğü için "Dünyanın Başkenti" unvanına layık görülen şehir aşağıdakilerden hangisidir?**

- A) Lizbon
- B) Prag
- C) Londra
- D) Roma

10. **Doğada kendiliğinden oluşmuş, insan akıl ve tekniğinin ürünü olmayan, meydana gelme aşamalarında insanın herhangi bir rolünün bulunmadığı bütün zenginlik kaynaklarına ne ad verilir?**

- A) Nükleer enerji
- B) Doğal kaynak
- C) Yerli üretim
- D) Elektrik enerjisi

11. İnsan vücudunun yüzde kaç su sudan oluşur?

- A) 25
- B) 30
- C) 45
- D) 65

12. Atmosfer, yüzde kaç oranında oksijen içerir?

- A) 10
- B) 21
- C) 32
- D) 40

13. New York'un hangi caddesi, dünyanın bir numaralı finans merkezidir?

- A) Wall Street
- B) Berkeley
- C) Pigale
- D) Larambla

14. ABD'nin nüfusu en fazla olan şehri aşağıdakilerden hangisidir?

- A) New York
- B) Washington
- C) Boston
- D) Los Angeles

15. Aşağıdakilerden hangisi belirli şartlar altında kendini yenileyebilen kaynaklardan biridir?

- A) Orman
- B) Petrol
- C) Kömür
- D) Doğal gaz

16. Türkiye aşağıdaki deprem kuşaklarından hangisinde yer alır?

- A) Kutup
- B) Pasifik
- C) Alp-Himalaya
- D) Atlantik

17. Dünya bor rezervlerinin yaklaşık yüzde kaç Türkiye'de yer almaktadır?

- A) 25
- B) 40
- C) 60
- D) 72

18. Uranyum ve toryum gibi radyoaktif minerallerin atomlarının parçalanmasıyla açığa çıkan enerjiye ne ad verilir?

- A) Hidroelektrik enerji
- B) Nükleer enerji
- C) Termal enerji
- D) Ekosistem enerjisi

19. "Arılar yok olduğunda, insanlar en fazla dört yıl yaşayabilir" diyerek, arıcılığın ekosistemlerin işleyişi açısından önemine dikkat çeken bilim insanı aşağıdakilerden hangisidir?

- A) Pascal
- B) Darwin
- C) Newton
- D) Einstein

20. Türkiye ekonomisindeki 1923-1932 dönemindeki gelişmeler ile ilgili aşağıdaki ifadelerden hangisi yanlıştır?

- A) 1923 yılında İzmir İktisat Kongresi toplanmıştır.
- B) 1925 yılında Aşar vergisi kaldırılmıştır.
- C) 1930 yılında Devlet Planlama Teşkilatı kurulmuştur.
- D) Sanayi kuruluşlarının teşviki ve korunması için 1927 yılında Teşviki Sanayi Kanunu çıkarılmıştır.

SEÇMELİ COĞRAFYA 4

A

2018 AÖÖ-AÖL II. DÖNEM 0104-A

1. Nüfus projeksiyonları ile elde edilmek istenen en önemli sonuç aşağıdakilerden hangisidir?

- A) Doğum ve ölüm oranlarını tespit etmek
- B) Eğitim seviyesini tespit etmek
- C) Yaş gruplarını tespit etmek
- D) Ekonomik, sosyal ve kültürel yatırımların nasıl yapılacağını tespit etmek

2. Aşağıdakilerden hangisi nüfus artış hızının azalmasına neden olan durumlardan biri değildir?

- A) Aile planlaması
- B) İç göçlerin artması
- C) Kadınların eğitiminin yükseltilmesi
- D) Kadınların iş hayatına girmesi

3. Aşağıdakilerden hangisi "Yeşilirmak Havzası Gelişim Projesi" kapsamında yer alan illerden biri değildir?

- A) Çankırı
- B) Çorum
- C) Samsun
- D) Tokat

4. Türkiye'de Nüfus Planlaması Genel Müdürlüğü hangi yıl kurulmuştur?

- A) 1950
- B) 1955
- C) 1960
- D) 1965

5. Aşağıdakilerden hangisi Türkiye ile kara sınırı olan ülkelerden biri değildir?

- A) Suriye
- B) İran
- C) Almanya
- D) Bulgaristan

6. Aşağıdakilerden hangisi "Güneydoğu Anadolu Projesi" ile hedeflenen temel gelişmelerden biri değildir?

- A) Bölgeyi sanayi ve hizmet merkezi haline getirmek
- B) Bölge dışına yapılacak göçleri teşvik etmek
- C) Bölgede tarımsal gelişme ve hayvancılığın gelişmesini sağlamak
- D) Bölgede milli gelir ve istihdamı artırmak

7. Zonguldak, Bartın, Karabük (ZBK) projesinin fizibilite çalışması aşağıdaki tarihlerin hangisinde tamamlanmıştır?

- A) 1991
- B) 1993
- C) 1995
- D) 1997

8. Aşağıdaki ülkelerden hangisi insani gelişim endeksinde orta seviyede yer alır?

- A) Çin
- B) Azerbaycan
- C) Fransa
- D) Senegal

9. Aşağıdakilerden hangisi Almanya'daki Türk'lerin yoğun olarak yaşadığı şehirlerden biri değildir?

- A) Dortmund
- B) Essen
- C) München
- D) Berlin

10. Aşağıdakilerden hangisi Doğu Karadeniz Bölgesi (DOKAP) kapsamındaki illerden biridir?

- A) Amasya
- B) Erzurum
- C) Zonguldak
- D) Trabzon

11. Aşağıdakilerden hangisi jeopolitiğin değişmeyen unsurları arasında yer almaz?

- A) Ülkenin coğrafi şekil özellikleri
- B) Bilimsel ve teknolojik özellikler
- C) Jeolojik özellikler
- D) İklim özellikleri

2018 AÖÖ-AÖL II. DÖNEM 0104-A

12. - Afrika'nın tek selüloz ve kağıt üreticisidir.
- Yabancıların en fazla yatırım yaptığı ülkedir.
- Federal bir cumhuriyettir.

Yukarıda özellikleri verilen Afrika ülkesi aşağıdakilerden hangisidir?

- A) Güney Afrika Cumhuriyeti
B) Cezayir
C) Nijerya
D) Orta Afrika Cumhuriyeti

13. I. Irak sorunu
II. Kıbrıs sorunu
III. Batı Trakya sorunu

Yukarıdakilerden hangileri Türkiye'yi doğrudan ilgilendiren sorunlar arasında yer alır?

- A) Yalnız I
B) Yalnız II
C) II ve III
D) I, II ve III

14. **Aşağıdakilerden hangisi merkezi Amsterdam'da bulunan Greenpeace'in başlıca çalışma alanlarından biri değildir?**

- A) Okyanusların ve yaşlı ormanların korunmasını sağlamak
B) Küresel ısınmanın durdurulmasını sağlamak
C) Genleri ile oynanmış organizmaların doğaya bırakılmasını sağlamak
D) Zehirli kimyasalların ortadan kaldırılmasını sağlamak

15. **Petrol yataklarını kontrol etmek için Irak'ı tamamen işgal eden devlet aşağıdakilerden hangisidir?**

- A) İsrail
B) ABD
C) Almanya
D) Rusya

16. **Dünya'daki sulak alanların korunması için 1971 yılında imzalanan sözleşme aşağıdakilerden hangisidir?**

- A) Viyana
B) Paris
C) Ramsar
D) Barcelona

17. **Çevre ve insan hakları meselelerine Dünya Bankasının ilgisini çeken, tüm dünya devletlerine küresel ısınma ile ilgili gerekli yasaları çıkarmaları için baskıda bulunan ve uluslararası düzeyde balina avcılığını yasaklayan çevre örgütü aşağıdakilerden hangisidir?**

- A) Dünya dostları
B) Dünya vahşi yaşam formu
C) Dünya doğayı koruma vakfı
D) Doğal hayatı koruma derneği

18. **Nükleer enerji santrallerinde yakıt olarak kullanılan ve çok az bulunduğu için ilgili ülkeler arasında sorunlara neden olan doğal kaynak türü aşağıdakilerden hangisidir?**

- A) Bakır
B) Kömür
C) Uranyum
D) Demir

19. **1967 yılında Suriye'ye ait önemli su kaynaklarının bulunduğu Golan Tepelerini işgal eden ülke aşağıdakilerden hangisidir?**

- A) Kuveyt
B) İsrail
C) Irak
D) Cezayir

20. **Zengin petrol rezervleri ile dünyadaki büyük güçlerin dikkatini çeken ve II. Abdülhamit'in yayımladığı özel bir ferman ile Hazine-i Hassa'ya bağlanan yerler aşağıdakilerden hangisidir?**

- A) Musul ve Kerkük
B) Şam ve Halep
C) Süleymaniye ve Erbil
D) Bağdat ve Tahran

2018 AÖÖ-AÖL II. DÖNEM 0104-A

1. Aşağıdakilerden hangisi bilimsel yazı türlerinden biri değildir?

- A) Bilimsel Makaleler
- B) CV – Curriculum Vitae (Özgeçmiş)
- C) Konferans Raporları
- D) Toplantı Özetleri

2. Münazaranın temeli aşağıdakilerden hangisine dayanır?

- A) Antitez – Metatez
- B) Tez – Metatez
- C) Tez
- D) Tez – Antitez

3. Aşağıdakilerden hangisi bilimsel yazılarla ilgili bir terim değildir?

- A) Bibliyografya
- B) Dipnot
- C) Oturum başkanı
- D) İndeks

4. Açık oturumda izleyicilerin sorularının alınması ve cevaplanması söz konusu olduğunda açık oturum aşağıdakilerden hangisine dönüşür?

- A) Forum
- B) Sempozyum
- C) Mülakat
- D) Röportaj

5. Bir konunun dinleyiciler önünde, söyleşi havası içerisinde birkaç kişi tarafından tartışılmasına ne ad verilir?

- A) Konferans
- B) Açık oturum
- C) Röportaj
- D) Söylev

6. Aşağıdakilerden hangisi sözlü anlatım türlerinden biri değildir?

- A) Sempozyum
- B) Münazara
- C) Forum
- D) Resim

7. “Çocuk gelişiminde aile mi önemlidir, çevre mi?” sorusunu tartışan iki gurubun kendi görüşlerini açıklamak, kanıtlamak karşı tarafın zayıf noktalarını aramak için yaptıkları söyleşmeye ne ad verilir?

- A) Makale
- B) Mülakat
- C) Münazara
- D) Forum

8. Aşağıdakilerden hangisi ülkemizde ilk özel gazeteyi kuranlardan birisidir?

- A) Agah Efendi
- B) Ahmet Emin
- C) Hüseyin Cahit
- D) Cenap Şehabettin

9. Münazaranın topluluk karşısında yapılan türüne ne ad verilir?

- A) Mülakatlar
- B) Toplu tartışmalar
- C) Makaleler
- D) Gösteriler

10. Aşağıdakilerden hangisi sempozyum bildirisinin bölümlerinden biridir?

- A) Gelişme
- B) Taslak
- C) Sonuç
- D) Giriş

11. Yazar, düşünür ve sanatçıların veya kendi alanında uzman kişilerin bir konuyu açıklamak, tanıtmak, bilgi vermek, öğretmek amacıyla yaptıkları konuşmalara ne ad verilir?
- A) Sempozyum
B) Açık Oturum
C) Konferans
D) Toplantı
12. Sayfa içinde geçen herhangi bir düşünce veya bilgi ile ilgili sayfa altına konulan açıklamaya ne ad verilir?
- A) Dipnot
B) İndeks
C) Dökümantasyon
D) Kaynakça
13. Aşağıdakilerden hangisi konferansçının konferans sırasında dikkat etmesi gereken unsurlardan biridir?
- A) Elindeki notları dinleyiciye okumalıdır.
B) Argo ve bayağı sözlerden kaçınmalıdır.
C) Konferansçının, dinleyicilerin kültür ve zevk düzeylerini dikkate alma zorunluluğu yoktur.
D) Konferansçı heyecanı ile hareket etmelidir.
14. Dinleyiciler tarafından beklenen yeni bilgi, belge ve önerilerin açıklanıp tartışıldığı sempozyum bölümü aşağıdakilerden hangisidir?
- A) Giriş
B) Deney
C) Sonuç
D) Bulgular
15. Adını Romalıların eskiden yaptıkları halk toplantılarından alan, bir sorun üzerinde bütün ilgililerin görüşlerini öğrenmek için yapılan toplantı türü aşağıdakilerden hangisidir?
- A) Münazara
B) Söyleşi
C) Forum
D) Sempozyum
16. Aşağıdakilerden hangisi açık anlatımın özelliklerinden biridir?
- A) Gereksiz söz tekrarlarından kaçınmak
B) Söz tekrarlarından yararlanmak
C) Anlatımı zenginleştirmek için anlaşılması güç cümleler kullanmak
D) Süslü bir dil kullanmak
17. Açık oturumun temel amacı nedir?
- A) Ele alınan konuyu karara bağlamak
B) Problemlere yeni bakış açıları getirmek
C) Grubun düşüncesine karşı çıkanları sert bir şekilde eleştirmek
D) Alınan kararları uygulamaya koymak
18. Aşağıdakilerden hangisi konferansların ortak özelliklerinden biri değildir?
- A) Konferansların geniş kitlelere veya uzmanlar grubuna bir konu hakkında bilgi vermek için düzenlenmesi
B) Konferanslarda özgün düşüncelerin dile getirilmesi
C) Ele alınan konuda herkesin konferans verebilmesi
D) Konferansların bir konuyu açıklamak, dinleyicileri bilgilendirmek, aydınlatmak üzere hazırlanan konuşmalar olması
19. Aşağıdakilerden hangisi bilimsel yazılar içerisinde yer almaz?
- A) Değerlendirme yazıları
B) Konferans raporları
C) Bilimsel makaleler
D) Tiyatro metinleri
20. Aşağıdakilerden hangisi konferans planında yer almaz?
- A) Konferansın amacı
B) Konuşmacı sayısı
C) Konunun sunuluşu
D) Hitap cümlesi

2018 AÖÖ-AÖL II. DÖNEM 0104-A

1. Türk Edebiyat tarihinde, 10. yüzyılın ikinci yarısından 19. yüzyılın başlarına kadar devam eden döneme ne ad verilir?

- A) Tanzimat Dönemi Türk Edebiyatı
- B) İslamiyet Öncesi Türk Edebiyatı
- C) Milli Edebiyat
- D) İslami Dönem Türk Edebiyatı

2. Aşağıdaki Çağdaş Türk Edebiyatı destanları ve yazarları ile ilgili eşleştirmelerden hangisi yanlıştır?

- A) Berlin Üçlemesi- Fazıl Hüsni Dağlarca
- B) Atatürk Kurtuluş Savaşı'nda- Cahit Külebi
- C) Kurtuluş Savaşı Destanı- Nazım Hikmet
- D) Sakarya Meydan Savaşı- Ceyhun Atuf Kansu

3. Tarihte bilinen en eski destan aşağıdakilerden hangisidir?

- A) Timur Destanı
- B) Gılgamış Destanı
- C) Atillâ Destanı
- D) Cengiz Han Destanı

4. Türklerin en eski savlının yer aldığı eser aşağıdakilerden hangisidir?

- A) Göktürk Yazıtları
- B) Kutadgu Bilig
- C) Divan-ı Lügat'it Türk
- D) Atabetü'l Hakâyık

5. Yunan edebiyatının ünlü doğa destanları İlyada ve Odysseia aşağıdakilerden hangisi tarafından kaleme alınmıştır?

- A) Sophokles
- B) Milton
- C) Aristo
- D) Homeros

6. İlyada ve Odysseia Destanı ile ilgili aşağıdaki ifadelerden hangisi yanlıştır?

- A) Ritmik vezinle söylenen dizelerde sözcüklerle musiki yaratılır.
- B) Soylu duyguları, yüksek düşünceleri yansıtır.
- C) Zengin bilgi, görgü ve hayal öğeleriyle bütünleşen güzel bir dili vardır.
- D) Sophokles tarafından derlenip manzum olarak yazıya geçirilmiştir.

7. Destanın özellikleri ile ilgili aşağıdaki ifadelerden hangisi yanlıştır?

- A) Halkı ilgilendiren büyük olaylardan doğmuştur.
- B) Olaylar sınırlı bir coğrafyada geçer.
- C) Önce sözlü tür olarak doğmuştur.
- D) Konusu kahramanların yaptıkları üzerine kurulur.

8. Çağdaş Türk Edebiyatı'nın önemli destan örneklerinden biri olan "Atatürk Kurtuluş Savaşı'nda" adlı eserin yazarı aşağıdakilerden hangisidir?

- A) Namık Kemal
- B) Cahit Külebi
- C) Fazıl Hüsni Dağlarca
- D) Gülten Akın

9. İslamiyet'ten önce Türklerde sevilen kişilerin ölümüne duyulan üzüntüyü ifade eden ve kopuz eşliğinde söylenen şiirlere ne ad verilir?

- A) Ağıt
- B) Güzelleme
- C) Koçaklama
- D) Sagu

10. Halk edebiyatında ölen kişinin ardından onun yiğitliklerini, iyiliklerini ve erdemlerini anlatan şiiirlere ne ad verilir?

- A) Sav
- B) Güzelleme
- C) Ağıt
- D) Koçaklama

11. Nasıl güzel geçti bütün yaz
Geceler küçük bahçede...
Sen zambaklar kadar beyaz
Ve ürkek bir düşünce

Yukarıdaki dizelerin yer aldığı "Bütün Yaz" adlı şiir kitabının yazarı aşağıdakilerden hangisidir?

- A) Ahmet Kutsi Tecer
- B) Ahmet Haşim
- C) Ahmet Hamdi Tanpınar
- D) Ahmet Telli

12. Padişaha ve sadrazama sunmak için Fransa Sefaretnamesi adlı eseri yazan Osmanlı devlet adamı kimdir?

- A) Süleyman Çelebi
- B) Yirmisekiz Mehmet Çelebi
- C) Kâtip Çelebi
- D) Mercimek Ahmet

13. 13. yüzyıl Moğol tarihçisi Reşiduddin tarafından yazıya geçirilen destan aşağıdakilerden hangisidir?

- A) Göç Destanı
- B) Şu Destanı
- C) Ergenekon Destanı
- D) Manas Destanı

14. Aşağıdakilerden hangisi Destan Dönemi Türk Edebiyatında Türklerin kullandıkları alfabelerden biridir?

- A) Göktürk
- B) Kiril
- C) Arap
- D) Latin

15. Aşağıdakilerden hangisi eski Türk şairlerine Türk boyları arasında verilen isimlerden biri değildir?

- A) Oyun
- B) Şair
- C) Şaman
- D) Baksı

16. Edebiyat tarihi ile ilgili aşağıdaki ifadelerden hangisi doğrudur?

- A) Öğretici nitelikte birer sanat eseridir.
- B) Pozitif bilimler gibi gözleme ve deneye dayanır.
- C) Edebiyatın konusu içine giren eserleri ve sanatçıları alfabetik sırayla değerlendirir.
- D) Bir toplumun edebiyatının işlediği yolu ve geçirdiği dönemleri anlatır; edebiyat hayatını bütün olarak değerlendirir.

17. "Biş ernek tüz ermes." (Beş parmak düz olmaz.)

Yukarıdaki sav örneğine en uygun atasözü aşağıdakilerden hangisidir?

- A) Bir ağaçta gül de biter diken de.
- B) Cefayı çekmeyen sefayı bilemez.
- C) Ağaç yaşken eğilir.
- D) Hayırsız dost gereksiz post.

2018 AÖÖ-AÖL II. DÖNEM 0104-A

18. Türk Edebiyatının en önemli eserlerindendir. Eser adını iyi ve kötü düşünceli iki prensten almaktadır. Eserin aslı Sanskritçe'dir. Dinsel masal niteliği taşımaktadır.

Yukarıda tanıtılan eser aşağıdakilerden hangisidir?

- A) Kutadgu Bilig
- B) Atabetü'l Hakâyık
- C) Kalyanankara ve Papamkara
- D) İlyada ve Odyssea

20. Türkiye'de Batılı anlamda edebiyat tarihi çalışmaları aşağıdaki dönemlerden hangisinde başlamıştır?

- A) Tanzimat dönemi
- B) Servet-i Fünûn dönemi
- C) Cumhuriyet dönemi
- D) Fecr-i Âti dönemi

19. Kahramanların başlarından geçen olağanüstü olayları törensel bir üslupla anlatan ve genellikle birkaç bölümden oluşan uzun manzum eserlere ne ad verilir?

- A) Destan
- B) Ağıt
- C) Güzelleme
- D) Koşuk

2018 AÖÖ-AÖL II. DÖNEM 0104-A

1. Orhan Pamuk'un Doğu edebiyatına özgü motiflerin kullanıldığı; Şeyh Galip'in Hüsn ü Aşk'ından Binbir Gece Masalları'na kadar birçok geleneksel metnin anlatım biçimlerinden yararlandığı romanı aşağıdakilerden hangisidir?
- A) Kara Kitap
B) Cevdet Bey ve Oğulları
C) Yeni Hayat
D) Benim Adım Kırmızı
2. İkinci yeni şiirinde dilin aşırı uçlarında dolaşan, kendine özgü yeni bir dil kurmaya çalışan, şiiri okuyucuyu şaşırtma ve sarsma anlayışı üzerine kuran bir şairdir. Asım Bezirci, onu İkinci Yeni'nin en özgün şairi olarak görür. Sürrealist teknikleri şiire en ciddi biçimde uygular.
- Yukarıda sözü edilen şair aşağıdakilerden hangisidir?
- A) Edip Cansever
B) Sezai Karakoç
C) Ece Ayhan
D) Cemal Süreyya
3. Aşağıdakilerden hangisi hikâyeyi oluşturan temel unsurlardan biri değildir?
- A) Olay
B) Heyecan
C) Yer
D) Zaman
4. Aşağıdakilerden hangisi Cumhuriyet Dönemi deneme yazarları arasında yer almaz?
- A) Suat Kemal Yetkin
B) Sabahattin Eyuboğlu
C) Yusuf Atılgan
D) Cemil Meriç
5. Aşağıdakilerden hangisi "Beş Hececiler"den biri değildir?
- A) Yusuf Ziya Ortaç
B) Orhan Seyfi Orhon
C) Faruk Nafiz Çamlıbel
D) Nazım Hikmet

6. Aşağıdakilerden hangisi halk şiiri nazım birimidir?
- A) Dize
B) Bent
C) Beyit
D) Dörtlük
7. Konusu savaş, kahramanlık ve yiğitliği övme olan şiir türü aşağıdakilerden hangisidir?
- A) Güzelleme
B) Koçaklama
C) Taşlama
D) Öğüt
8. Türk edebiyatında postmodern romanın yolunu açan yazar aşağıdakilerden hangisidir?
- A) Oğuz Atay
B) Sait Faik Abasıyanık
C) Memduh Şevket Esendal
D) Ömer Seyfettin
9. Türk edebiyatında Nâbizade Nâzım tarafından yazılan ve ilk köy romanı olarak bilinen eser aşağıdakilerden hangisidir?
- A) Karabibik
B) Küçük Paşa
C) Memleket Hikayeleri
D) Zehra
10. "Anayurt Otel" ve "Aylak Adam" adlı romanların yazarı aşağıdakilerden hangisidir?
- A) Yusuf Atılgan
B) Sabahattin Ali
C) Peyami Safa
D) Ahmet Rasim
11. Aşağıdakilerden hangisi bireyin iç dünyasını esas alan eserlerden biridir?
- A) Kuyucaklı Yusuf
B) Tutunamayanlar
C) Dokuzuncu Hariciye Koşuşu
D) Kocaoğlu

12. "İkinci Yeni Sonrası Toplumcu Şiir" ile ilgili aşağıdaki ifadelerden hangisi yanlıştır?

- A) Şiir dili ve söyleyişinde aşırılıktan kaçınılmıştır.
- B) Geleneksel söyleyişten yararlanılmaya çalışıldı.
- C) Toplumcu şairler sanatlarını toplumdan önemli tuttular.
- D) Şiirde uzak çağrışımlara yer verildi.

13. Türk edebiyatında psikolojik romanın ilk örneğini veren yazar aşağıdakilerden hangisidir?

- A) Peyami Safa
- B) Mehmet Rauf
- C) Füsün Akatlı
- D) Azra Erhat

14. Aşağıdakilerden hangisi William Shakespeare'in tiyatro oyunlarından biridir?

- A) Kral Lear
- B) Cimri
- C) Köşebaşı
- D) Nişanlılar

15. Aşağıdakilerden hangisi toplumcu şairlerin şiirlerinde işlenen konular arasında yer almaz?

- A) Geleceğe inanç
- B) Hayatın zorluklarına direnme isteği
- C) Ümit
- D) Yalnızlık

16. Aşağıdakilerden hangisi 1940'larda gelişen yeni şiir anlayışına rağmen geleneksel çizgide ölçülü, uyaklı şiir anlayışını sürdüren şairlerden biri değildir?

- A) Yahya Kemal
- B) Cahit Külebi
- C) Ahmet Muhip Dıranas
- D) Ahmet Hamdi Tanpınar

17. Şiir coğrafyasını Türk ve Batı şiiri özelliklerini kendinde birleştirerek oluşturan; serbest tarzda kaleme aldığı şiirlerinde yalnızlık, hüznün, kaçış, ölüm tutkusu temalarını işleyen şair aşağıdakilerden hangisidir?

- A) İlhan Geçer
- B) Behçet Necatigil
- C) Cemal Süreya
- D) Hilmi Yavuz

18. Aşağıdakilerden hangisi Yahya Kemal Beyatlı'nın sanat anlayışının özelliklerinden biri değildir?

- A) İç ahengi her şeyden üstün tutması
- B) Klasik divan şiirini Batı şiirindeki bütünlük anlayışıyla ele alması
- C) Şiir konularını aşk, tabiat, deniz, ölüm ve sonsuzluktan alması
- D) Osmanlı medeniyet ve kültüründen uzaklaşması

19. "Fırtına Kuşu" adlı eser aşağıdaki yazarlardan hangisine aittir?

- A) Yaşar Kemal
- B) Reşat Nuri Güntekin
- C) Hamdullah Suphi Tanrıöver
- D) Latife Tekin

20. Yedi tepeye kurulmuş

Pul pul
Gümüş gümüş balıkları
Pul pul
Işıktan sudan örülmüş
Canım İstanbul

Yukarıdaki şiir aşağıdaki şairlerden hangisine aittir?

- A) Ahmet Muhip Dıranas
- B) Bedri Rahmi Eyüboğlu
- C) Ahmet Haşim
- D) Sezai Karakoç

SEÇMELİ FİZİK 4

A

2018 AÖÖ-AÖL II. DÖNEM 0104-A

1. Compton olayında gelen foton ile saçılan fotonun hangi nicelikleri eşit olur?

- A) Enerjileri
- B) Hızları
- C) Frekansları
- D) Dalga boyları

2. Aşağıdakilerden hangisi atomun uyarılma yollarından biri değildir?

- A) Isıyla
- B) Kurşunla
- C) Fotonla
- D) Çarpırtmayla

3. I. Alfa ışıması yapan atomun kütle numarası 4, atom numarası 2 azalır.
II. Beta bozunumunda bir nötron, bir protona ve bir beta parçacığına dönüşür.
III. Gama ışınlarının frekansı çok yüksektir.

Radyoaktif ışımlarla ilgili yukarıdaki ifadelerden hangileri doğrudur?

- A) Yalnız I
- B) Yalnız II
- C) I ve II
- D) I, II ve III

4. 10 nm kaç Å'dür?

- A) 0,1
- B) 1
- C) 10
- D) 100

5. Işımanın uyarılmış yayılımı yolu ile ışığın kuvvetlendirilmesine ne ad verilir?

- A) X – ışını
- B) Lazer
- C) X – Ray
- D) Nanoteknoloji

6. I. Özel görelilik kuramına göre tüm fizik yasaları bütün eylemsiz referans sistemlerinde aynıdır.
II. Özel görelilik kuramına göre ışık hızı kaynağın veya gözlemcinin hızından bağımsızdır.
III. Özel görelilik kuramına göre fizik yasaları birbirine göre sabit hızla hareket eden bütün referans sistemlerinde aynıdır.

Özel görelilik kuramı ile ilgili yukarıdaki ifadelerden hangileri doğrudur?

- A) Yalnız I
- B) Yalnız II
- C) I ve II
- D) I, II ve III

7. Aşağıdakilerden hangisi evrenin genişlediğini kanıtlamak için kullanılabilir?

- A) Bohr atom teorisi
- B) de-Broglie hipotezi
- C) Doppler olayı
- D) Fotoelektrik olay

8. Herhangi bir radyoaktif izotopun miktarının başlangıç miktarının yarısına inmesine ne ad verilir?

- A) Fisyon
- B) Yarı izotop
- C) Yarı ömür
- D) Yarı miktar

9. I. Valans bandındaki boşluklara hole adı verilir.
II. N-tipi bir yarıiletkende akım taşıyıcılarının çoğu boşluklardır.
III. Yarıiletken diyotlar, N ve P tipi yarıiletkenlerin birleşmesi sonucu oluşur.

Diyotun yapısı ile ilgili yukarıdaki ifadelerden hangileri doğrudur?

- A) Yalnız I
- B) Yalnız III
- C) I ve III
- D) II ve III

10. Özel Görelilik (İzafiyet) Kuramı'nı aşağıdaki bilim insanlarından hangisi geliştirmiştir?

- A) Bohr
- B) Einstein
- C) Hertz
- D) Newton

11. Gök adaların dünyadan uzaklaşma hızı ile ilgili yasa aşağıdakilerden hangisidir?

- A) Hubble
- B) Temel Hâl
- C) Big Bang
- D) Schrödinger

12. Dünyada atomik ve altom altı boyutlarda, maddi evrende gerçekleşen olayları yöneten doğa yasalarını inceleyen bilim dalına ne ad verilir?

- A) Kuantum Fiziği
- B) Termo Dinamik
- C) Katı Hâl Fiziği
- D) Astrofizik

13. Yüzeilerine gelen Güneş enerjisini elektrik enerjisine dönüştüren sistemlere ne ad verilir?

- A) Nükleer fisyon
- B) Gama ışıması
- C) Fotovoltaik piller
- D) Rayoaktivite

14. IR enerjiyi kullanarak görüntünün genel yapısının IR enerjisine göre farklı renklerle gösteren görüntüleme aracı aşağıdakilerden hangisidir?

- A) Termal kameralar
- B) Leptonlar
- C) Manyetik Rezonans
- D) Baryonlar

15. Yüzey sıcaklığı 46,000 K olan bir gezegenin en şiddetli ışınım gerçekleştirdiği dalgaboyu kaç nm'dir? (Wien katsayısı = $2,898 \cdot 10^{-3}$ mK)

- A) 63
- B) 133
- C) 6300
- D) 133000

16. Sıcaklığı 127 °C olan bir metalden yayılan ışınımın en yüksek değerindeki dalgaboyu kaç Å'dür? (Wien katsayısı = $2,898 \cdot 10^{-3}$ mK)

- A) 724,5
- B) 1200
- C) 7245
- D) 72450

17. m kütleli bir parçacık v hızı ile hareket ederken bu parçacığa eşlik eden de Broglie dalgaboyu λ olmaktadır. Bu parçacığın kütlesi 3 katına ve hızı 2 katına çıkarsa, parçacığa eşlik eden de Broglie dalgasının dalgaboyu kaç λ olur?

- A) 1/6
- B) 1/3
- C) 1
- D) 3

18. Aşağıdakilerden hangisi görüntüleme cihazlarından biri değildir?

- A) Sonar
- B) Hadron
- C) Ultrason
- D) Tomografi

19. I. Nötronlar ve protonlar kuarklardan meydana gelmiştir.
II. Elektronlar lepton ailesine aittir.
III. Bozonlar fermiyon sınıfına aittir.

Atomun yapısı ile ilgili yukarıdaki ifadelerden hangileri doğrudur?

- A) Yalnız I
- B) Yalnız III
- C) I ve II
- D) II ve III

20. I. Dalgaboyu büyür.
II. Hız değişmez.
III. Enerjisi azalır.

Compton olayında, serbest elektrona çarparak saçılan foton ile ilgili yukarıdaki ifadelerden hangileri doğrudur?

- A) Yalnız I
- B) Yalnız II
- C) I ve III
- D) I, II ve III

2018 AÖÖ-AÖL II. DÖNEM 0104-A

1. ^{20}Ca ve ^{17}Cl elementlerinin oluşturduğu iyonik bileşiğin formülü aşağıdakilerden hangisidir?

- A) Ca_2Cl_3
- B) CaCl_2
- C) CaCl
- D) CaCl_3

2. I. Van der Waals kuvvetleri
II. Hidrojen bağı
III. İyonik bağ
IV. Metalik bağ

Yukarıdaki etkileşimlerden hangileri "güçlü etkileşim" grubunda yer alır?

- A) Yalnız I
- B) I ve II
- C) III ve IV
- D) I, II ve III

3. N_2O_5 bileşik formülüne sahip molekülün sistematik adı aşağıdakilerden hangisidir?

- A) Azot monoksit
- B) Diazot monoksit
- C) Azot oksit
- D) Diazot pentaoksit

4. Aşağıdakilerden hangisinde CuI bileşiği doğru adlandırılmıştır?

- A) Bakır(I) iyodür
- B) Bakır iyodür
- C) Bakır iyodat
- D) Bakır(II) iyodür

5. Aşağıdakilerden hangisi kimyasal değişim değildir?

- A) Meyvenin kararması
- B) Betonun sertleşmesi
- C) Besinlerin pişirilmesi
- D) Suyun donması

6. Aşağıdaki bileşiklerin hangisi apolar kovalent bağ içerir?

- A) N_2
- B) CH_4
- C) CO_2
- D) BH_3

7. NaCl bileşiği ile ilgili aşağıdaki ifadelerden hangisi yanlıştır? (^{11}Na , ^{17}Cl)

- A) Her Na^+ iyonu 6 Cl^- iyonu tarafından çekilerek iyonik kristal yapısını oluşturur.
- B) Oda koşullarında katı halde bulunur.
- C) İyonik bağlı bileşiktir.
- D) Erime ve kaynama noktası düşüktür.

8. Viskozite ile ilgili olarak aşağıdakilerden hangisi doğrudur?

- A) Sıvıların viskozitesi sıcaklık arttıkça artar.
- B) Moleküller arası etkileşim kuvveti arttıkça, sıvının viskozitesi azalır.
- C) Molekül kütlesi viskoziteyi etkilemez.
- D) Sıvının viskozitesi büyüdükçe, akıcılığı azalır.

9. Normal koşullarda 0,1 mol gaz kaç litre hacim kaplar?

- A) 2,24
- B) 22,4
- C) 44,8
- D) 56,2

2018 AÖO-AÖL II. DÖNEM 0104-A

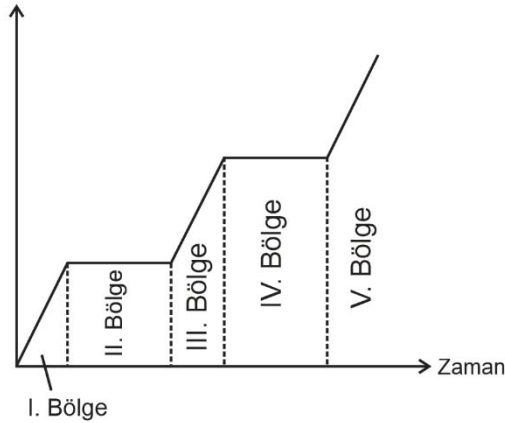
10. Katı maddenin ısı alarak gaz hâline geçmesine ne ad verilir?

- A) İyonizasyon
- B) Buharlaşma
- C) Süblimleşme
- D) Kırışılma

11. Pozitif ve negatif yüklerin serbestçe dolaştığı taneciklerden oluşan, diğer hâllere göre taneciklerinin enerjisi en yüksek olan fiziksel hâl aşağıdakilerden hangisidir?

- A) Katı
- B) Plazma
- C) Sıvı
- D) Gaz

12. (°C) Sıcaklık



Yukarıda saf katı maddenin hal değişim grafiği verilmektedir. Bu grafikte ilgili aşağıdaki ifadelerden hangisi doğrudur?

- A) I. Bölge'de maddenin bir kısmı erimeye başlamıştır.
- B) II. Bölge'de ortamda sıvı – gaz karışımı bulunur.
- C) III. Bölgede madde homojendir.
- D) IV. Bölge'de yoğunlaşma gerçekleşir.

13. "Kuru buz" aşağıdaki katı gruplarından hangisinde yer alır?

- A) Moleküler katı
- B) İyonik katı
- C) Kovalent katı
- D) Metalik katı

14. LPG ile ilgili aşağıdaki ifadelerden hangisi doğrudur?

- A) Sıvı fazda yakıt olarak kullanılır.
- B) Normal koşullar altında sıvıdır.
- C) Bütan ve propan gazlarından oluşan bir karışımdır.
- D) Birim başına enerji verimi düşüktür.

15. I. Dış basınç
II. Sıvının cinsi
III. Sıvının saflığı
IV. Isıtıcının gücü
V. Sıvının miktarı

Yukarıdakilerden hangileri kaynama noktasını etkileyen faktörlerdendir?

- A) Yalnız I
- B) I, II ve III
- C) I, II ve IV
- D) I, II, III, IV ve V

16. I. Suyun sert olması, sabun sarfiyatını azaltır.
II. Sert sular sıcak su borularında tortu bırakır.
III. Su içerisinde çözülmüş kalsiyum, magnezyum ve değerliği +1'den yüksek olan katyonların miktarı arttıkça suyun sertliği artar.

Suyun sertliği ile ilgili yukarıdaki ifadelerden hangileri doğrudur?

- A) Yalnız I
- B) Yalnız II
- C) I ve II
- D) II ve III

2018 AÖÖ-AÖL II. DÖNEM 0104-A

17. Suyun insanlar için önemi ile ilgili aşağıdaki ifadelerden hangisi yanlıştır?

- A) İnsan vücudunda yaş ilerledikçe su oranı azalır.
- B) Vücut ısısını düzenleyici etkisi yoktur.
- C) Sindirim ve emilim işlevleri için gereklidir.
- D) İç organlardaki zarların ve iskelet sistemindeki eklemlerin kayganlığını sağlayarak hareketi kolaylaştırır.

18. Aşağıdakilerden hangisi asit yağmurlarına sebep olan kirleticilerden biridir?

- A) Azot dioksit
- B) Kloroflorokarbon
- C) Karbon dioksit
- D) Ozon

19. Aşağıdakilerden hangisi su ve toprak kirliliğine neden olan "ağır metaller"den biri değildir?

- A) Kobalt
- B) Benzen
- C) Nikel
- D) Demir

20.

- I. NH_3
- II. H_2O
- III. H_2S
- IV. CH_3OH

Yukarıdaki moleküllerden hangileri hidrojen bağı yapar?

- A) Yalnız II
- B) I, II ve III
- C) I, II ve IV
- D) I, II, III ve IV

2018 AÖÖ-AÖL II. DÖNEM 0104-A

1. Aşağıdaki sulu çözeltilerin hangisi kırmızı turnusol kâğıdının rengini maviye çevirir?

- A) CH_3COOH
- B) NaOH
- C) HF
- D) CO_2

2. I. Kezzap
II. Tuz ruhu
III. Kostik soda
IV. Sönmüş kireç

Yukarıdaki maddelerden hangileri asit özelliği göstermez?

- A) Yalnız IV
- B) I ve II
- C) III ve IV
- D) I, II ve III

3. Birbiri içinde çözünmeyen sıvılardan oluşan heterojen karışımlara ne ad verilir?

- A) Süspansiyon
- B) Emülsiyon
- C) Jel
- D) Aerosol

4. Aşağıdakilerden hangisi soy metaldir?

- A) Altın
- B) Sodyum
- C) Potasyum
- D) Çinko

5. "Karınca asidi" olarak bilinen asit aşağıdakilerden hangisidir?

- A) Hidroklorik asit
- B) Asetik asit
- C) Malik asit
- D) Formik asit

6. Halk arasında "çamaşır sodası" olarak bilinen tuz aşağıdakilerden hangisidir?

- A) Sodyum karbonat
- B) Alüminyum sülfat
- C) Diamonyum fosfat
- D) Amonyum klorür

7. Aşağıdakilerden hangisi tanecik boyutu farkı ile ayırma yöntemlerinden biri değildir?

- A) Eleme
- B) Süzme
- C) Diyaliz
- D) Savurma

8. İshal ve benzeri sebeplerle aşırı su kaybeden bireylere içme suyu yerine izotonik serum fizyolojik verilmesi ve bu yolla su kaybeden hücrelerin su alarak biyolojik dengelerinin bozulmasının önlenmesi aşağıdaki olaylardan hangisiyle ilgilidir?

- A) Ozmoz
- B) Kriyoskopi
- C) Ebulyoskopi
- D) Spektroskopisi

9. Aşağıdakilerden hangisi yoğunluk farkı ile ayırma yöntemlerinden biri değildir?

- A) Ayırma hunisi ile ayırma
- B) Santrifüjleme
- C) Aktarma
- D) İyon değiştirme

10. Süzgeç kağıdından geçebilecek büyüklükteki katı maddelerin merkezci kuvvet yardımıyla çöktürülmesi işlemine ne ad verilir?

- A) Dekantasyon
- B) Yüzdürme
- C) Santrifüjleme
- D) Damıtma

11. I. Apolar maddeler polar çözücülerde çözünür.
II. Su, apolar maddeleri çözmez.
III. Etil alkol, suda çözünür.

Maddelerin birbiri içinde çözünmeleriyle ilgili yukarıdaki ifadelerden hangileri doğrudur?

- A) Yalnız I
- B) Yalnız III
- C) I ve II
- D) II ve III

12. Kışın buzlanmaya karşı yollara tuz atılması, tuzun hangi etkisiyle açıklanır?

- A) Kaynama noktası yükselmesi
- B) Donma noktası alçalması
- C) Osmotik basıncı artırması
- D) Buhar basıncını düşürmesi

13. Kütlece %10'luk 200 g tuzlu su çözeltisi ile kütlece %40'lık 400 g tuzlu su çözeltisi karıştırılıyor. Buna göre, son çözeltinin kütlece yüzde derişimi kaçtır?

- A) 10
- B) 15
- C) 20
- D) 30

14. Asitlerin genel özellikleri ile ilgili aşağıdaki ifadelerden hangisi doğrudur?

- A) Elde kayganlık hissi uyandırır.
- B) Mavi turnusol kağıdının rengini kırmızıya çevirirler.
- C) Asidik çözeltilerin pH değerleri 7'den büyüktür.
- D) Sulu çözeltilerde OH⁻ iyonu verirler.

15. Aşağıdaki maddelerden hangisinin sulu çözeltisi asit özelliği gösterir?

- A) SO₂
- B) NaOH
- C) NH₃
- D) Ca(OH)₂

16. Karışımların sınıflandırılmasıyla ilgili aşağıdaki ifadelerden hangisi yanlıştır?

- A) Zeytinyağı ve su karışımı bir emülsiyon örneğidir.
- B) Birbiri içinde çözünmeyen bir katı ve sıvıdan oluşan heterojen karışımlara "süspansiyon" denir.
- C) Heterojen karışımlara "çözelti" de denir.
- D) Bileşenleri çıplak gözle ya da mikroskopla ayırt edilebilen karışımlara heterojen karışımlar denir.

17. Aşağıdakilerden hangisi asit yağmurlarının oluşumunu engellemek için alınacak önlemlerden biri değildir?

- A) Fabrikalarda ve evlerde fosil yakıt kullanılması
- B) Yeşil alanların artırılması
- C) Egzoz gazlarının zararlarını aza indirmek için toplu taşıma araçlarının kullanılması
- D) Fabrika bacalarına filtre takılması

18. "Sodyum bikarbonat" tuzunun formülü aşağıdakilerden hangisidir?

- A) NaCl
- B) NaF
- C) NaHCO₃
- D) Na₂S

19. Asitlerin depolanması ve taşınmasında dikkat edilmesi gerekenler ile ilgili aşağıdaki ifadelerden hangisi yanlıştır?

- A) Asit ve bazlar ayrı yerlerde depolanmalı ve taşınmalıdır.
- B) Asitler, polietilen kaplarda muhafaza edilmemelidir.
- C) Asit buharlarının oluşup solunmasının engellenmesi amacıyla depolama yerleri iyi havalandırılmalıdır.
- D) Asitler güneş ışığından uzak, kuru ve serin yerlerde depolanmalıdır.

20.

Bal bileşenleri	Yüzde derişim (%C)
Fruktoz	38
Glikoz	31
Su	17
Sakkaroz	2
Niştasta	1
Diğer	11

Yukarıdaki tabloda verilen bilgilere göre 200 gram balda kaç gram fruktoz bulunur?

- A) 19
- B) 38
- C) 76
- D) 152

2018 AÖO-AÖL II. DÖNEM 0104-A

1. Aşağıdakilerden hangisi temiz enerji kaynaklarından biridir?

- A) Nükleer enerji
- B) Doğal gaz
- C) Rüzgâr enerjisi
- D) Işıma enerjisi

2. Aşağıdaki hangisi deterjanların temel bileşenlerinden biri değildir?

- A) Yüzey aktif madde
- B) Renklendiriciler
- C) Ağartıcılar
- D) Sertlik gidericiler

3. Aşağıdakilerden hangisi proteinlerin sindiriminde görev alan enzimlerden biri değildir?

- A) Tripsin
- B) Erepsin
- C) Pepsin
- D) Lipaz

4. Sularda azotlu ve fosforlu bileşiklerin artması sonucu su yaşam alanının bozulmasına ne ad verilir?

- A) Oksidasyon
- B) Ötrofikasyon
- C) Sedimentasyon
- D) Hidratasyon

5. Aşağıdakilerden hangisi katı farmasötik ilaç şekillerinden biridir?

- A) Kapsül
- B) Şurup
- C) Ampul
- D) Damla

6. Nişasta ile ilgili aşağıdaki ifadelerden hangisi yanlıştır?

- A) Bir besinin nişasta içerip içermediği iyot çözeltisi ile anlaşılır.
- B) Bitkilerde bulunan bir depo polisakkarittir.
- C) Glikoz ve fruktoz monomerlerinden oluşur.
- D) İnsanlar ve birçok hayvan, bitkisel nişastayı hidroliz edebilen enzimlere sahiptir.

7. Aşağıdakilerden hangisi petrolün bileşenlerinden biri değildir?

- A) Antrasitler
- B) Parafinler
- C) Aromatik hidrokarbonlar
- D) Alkenler

8. Aşağıdakilerden hangisi silginin hammaddesidir?

- A) Kalsiyum karbonat
- B) Kauçuk
- C) Dekstrin
- D) Selüloz

9. Aşağıdakilerden hangisi hava kirliliğine neden olan gazlardan biri değildir?

- A) O₂
- B) NO₂
- C) SO₂
- D) CO

10. I. Polimerleri oluşturan, tekrarlanan küçük yapı birimlerine monomer adı verilir.
II. Monomerlerden polimerlerin oluşmasına polimerleşme denir.
III. İki monomerin birleşmesiyle trimer denilen moleküller oluşur.

Polimerler ile ilgili yukarıdaki ifadelerden hangileri doğrudur?

- A) Yalnız II
- B) I ve II
- C) I ve III
- D) II ve III

11. Kömür türleri arasında en değerli, en sert ve en dayanıklı olanı aşağıdakilerden hangisidir?

- A) Antrasit
- B) Linyit
- C) Taş kömürü
- D) Turba

2018 AÖÖ-AÖL II. DÖNEM 0104-A

12. I. Yapılarında azot bulunmaz.
II. Amino asitlerden oluşurlar.
III. Vücut dokularının oluşumu ve onarımında görev alırlar.

Proteinler ile ilgili yukarıdaki ifadelerden hangileri doğrudur?

- A) Yalnız I
B) Yalnız III
C) I ve II
D) II ve III

13. Aşağıdakilerden hangisi polimer değildir?

- A) Politetraflor eten
B) Polivinilklorür
C) Alkil benzen sülfonat
D) Polietilen teraftalat

14. Aşağıdakilerden hangisi bitkilerde bulunan mikro besin elementlerinden biridir?

- A) Karbon
B) Fosfor
C) Azot
D) Klor

15. Aşağıdakilerden hangisi aromatik hidrokarbondur?

- A) Propan
B) Toluen
C) Metan
D) Eten

16. Aşağıdakilerden hangisi bir polisakkarittir?

- A) Glikoz
B) Maltoz
C) Sakkaroz
D) Selüloz

17. Anyon ve katyon değiştirici zarlardan kullanılarak deniz suyunun tuzdan arındırıldığı yöntem aşağıdakilerden hangisidir?

- A) Elektrodializ yöntemi
B) Işınlama yöntemi
C) Ozmoz yöntemi
D) Termik yöntem

18. Kil, kum ve kireç taşının belirli oranlarda karıştırılıp yüksek sıcaklıkta kavrulması ile elde edilen, açık havada su eklendiğinde bir süre sonra sertleşen kalsiyum silikat bileşimli yapı malzemesine ne ad verilir?

- A) Kaolin
B) Seramik
C) Çimento
D) Kauçuk

19. Aşağıdakilerden hangisi ısınmada ve taşımacılıkta yakıt olarak kullanılan petrol ürünlerinden biri değildir?

- A) Fuel-oil
B) Mazot
C) Turba
D) Gaz yağı

20. "Arpa şekeri" olarak da adlandırılan disakkarit aşağıdakilerden hangisidir?

- A) Fruktoz
B) Glikoz
C) Sakkaroz
D) Maltoz

2018 AÖÖ-AÖL II. DÖNEM 0104-A

1. **Büyük moleküllü maddelerin parçalanmasıyla meydana gelen kimyasal reaksiyonlara ne ad verilir?**
 - A) Katabolizma
 - B) Anabolizma
 - C) Fotosentez
 - D) Metabolizma

2. **"Hava çok sıcak." İfadesi aşağıdaki terimlerden hangisi ile ilişkilidir?**
 - A) Nicel gözlem
 - B) Nitel gözlem
 - C) Paradigma
 - D) Bağımsız değişken

3. **Aşağıdakilerden hangisi bilimsel çalışmalarda tercih edilen işlemlerden biridir?**
 - A) Nicel gözlem
 - B) Bağımlı değişken
 - C) Nitel gözlem
 - D) Kontrollü deney

4. **Aşağıdakilerden hangisi görme pigmentlerinin yapısına katılan ve yağda eriyen vitaminler grubunda yer alır?**
 - A) A vitamini
 - B) D vitamini
 - C) K vitamini
 - D) E vitamini

5. **Aşağıdakilerden hangisi hiçbir zaman bir kanuna dönüşmez?**
 - A) Bilimsel bilgi
 - B) Bilimsel yöntem
 - C) Teori
 - D) Nicel gözlem

6. **Bitkisel ve hayvansal atıkların kullanımıyla üretilen yakıta ne ad verilir?**
 - A) Petrol
 - B) Kömür
 - C) Fosil yakıt
 - D) Biyoyakıt

7. **Kirletici bir maddeyi bir organizma kullanarak ortamdan uzaklaştırma işlemine ne ad verilir?**
 - A) Biyotipleme
 - B) Biyoremediasyon
 - C) Biyoçeşitlilik
 - D) Sanitasyon

8. **Aşağıdakilerden hangisi karbonhidratlardan heksozlara örnektir?**
 - A) Gliseraldehit
 - B) Glikoz
 - C) Riboz
 - D) Deoksiriboz

9. **Proteinleri oluşturan yapı taşlarına ne ad verilir?**
 - A) Polisakkaritler
 - B) Enzimler
 - C) Steroidler
 - D) Aminoasitler

10. **Aşağıdakilerden hangisi insan vücudunda en fazla bulunan mineraldir?**
 - A) Kalsiyum
 - B) Magnezyum
 - C) Sodyum
 - D) Potasyum

11. **Biyolojinin tam tanımı aşağıdakilerden hangisidir?**

- A) Canlıların yapı ve işlevlerini, canlı ve cansız çevre ile ilişkilerini açıklamaya çalışan bir bilimdir.
- B) Canlıların yapı ve işlevlerini çalışan bir bilimdir.
- C) Canlıların yapı ve işlevlerini, canlı ve cansız çevre ile ilişkilerini, dağılımlarını ve çeşitliliklerini inceleyen, temel olarak da canlılık olgusunu açıklamaya çalışan bir bilimdir.
- D) Canlıların yapı ve işlevlerini ve genel olarak canlılık olgusunu açıklamaya çalışan bir bilimdir.

12. **Birleşik enzimlerin protein kısmı aşağıdakilerden hangisidir?**

- A) Katalizör
- B) Apoenzim
- C) Kofaktör
- D) Koenzim

13. **Maddelerin asitlik ve bazikliklerini ölçmek için kullanılan pH cetvelinin değer aralığı aşağıdakilerden hangisidir?**

- A) 0-14
- B) 14-24
- C) 24-30
- D) 30-40

14. **Bilim insanlarının kendilerine özgü farklı bakış açılarını ifade etmek için kullanılan terim aşağıdakilerden hangisidir?**

- A) Bilim
- B) Bilimsel bilgi
- C) Paradigma
- D) Nesnellik

15. **Aşağıdakilerden hangisinde bir hücreli canlılardaki hareket organlarından biridir?**

- A) Yalancı ayak
- B) Yüzgeç
- C) Bacak
- D) Kanat

16. **Enerji elde etmek için en hızlı şekilde kullanılan organik moleküller aşağıdakilerden hangisidir?**

- A) Nükleik asitler
- B) Karbonhidratlar
- C) Proteinler
- D) Yağlar

17. **Aşağıdakilerden hangisi bilimsel bilginin kaynak ve dayanakları arasında yer almaz?**

- A) Akıl yürütme
- B) Gözlem
- C) Esinlenme
- D) Kişisel deneyim

18. **Aşağıdakilerden hangisi disakkaritlerin oluşumu sırasında meydana gelen tepkimelerden biridir?**

- A) Katabolizma
- B) Fosforilasyon
- C) Fotosentez
- D) Dehidrasyon

19. **Yaşamın devamı için hücre içi veya vücut içi ortamın belirli bir dengede olması durumuna ne ad verilir?**

- A) Metabolizma
- B) Biyoremediasyon
- C) Homeostazi
- D) Fotosentez

20. **Aşağıdakilerden hangisi nükleik asitleri oluşturan birimlerden biridir?**

- A) Aminoasit
- B) Substrat
- C) Skorbüt
- D) Nükleotit

2018 AÖÖ-AÖL II. DÖNEM 0104-A

1. Aşağıdakilerden hangisi enterogastrik hormonlardan biri değildir?
- A) Gastrin
B) Sekretin
C) Kolesistokinin
D) Gastrik inhibitör peptit
2. Sinir sistemini oluşturan özelleşmiş hücrelere ne ad verilir?
- A) Akson
B) Kondrosit
C) Nöron
D) Dendrit
3. Astrositlerin bulunduğu yer aşağıdakilerden hangisidir?
- A) Sinir düğümleri
B) Miyelin kılıf
C) Merkezi sinir sistemi
D) Çevresel sinir sistemi
4. Gözdeki fotoreseptörler ve görme sinirlerinin bulunduğu tabaka aşağıdakilerden hangisidir?
- A) Optik kiyazma
B) Kornea
C) Retina
D) İris
5. Merkezi sinir sistemini oluşturan yapıları çevreleyen zara ne ad verilir?
- A) Meninges
B) Beyincik
C) Talamus
D) Pons
6. Hipofiz bezinin çalışmasını, salgılatıcı faktörler aracılığıyla düzenleyen yapı aşağıdakilerden hangisidir?
- A) Pons
B) Epitalamus
C) Hipotalamus
D) Ara beyin
7. Herhangi bir uyarıya karşı hızlı ve istemsiz verilen tepkiye ne ad verilir?
- A) Nöron
B) Meninges
C) Sinaps
D) Refleks
8. Böbrek üstü bezlerini uyararak veya nörotransmitter madde salgılayarak kalp atışını hızlandıran sinirler aşağıdakilerden hangileridir?
- A) Merkezi sinir sistemi
B) Çevresel sinir sistemi
C) Parasempatik sinirler
D) Sempatik sinirler
9. Tiroit uyarıcı hormon (TSH)'un salgılandığı yer aşağıdakilerden hangisidir?
- A) Talamus
B) Hipofiz bezi
C) Ön beyin
D) Hipotalamus
10. Aşağıdakilerden hangisinin pankreastan yeterli miktarda salgılanamaması sonucunda şeker hastalığı meydana gelir?
- A) Lüteinleştirici hormon
B) Prolaktin
C) İnsülin
D) Büyüme hormonu

11. Midenin en ıç kısmında bulunan tabaka aşağıdakilerden hangisidir?

- A) Bağ doku
- B) Periton
- C) Karın zarı
- D) Mukoza

12. Dişi eşey bezine ne ad verilir?

- A) Ovaryum
- B) Testis
- C) Korteks
- D) Pankreas

13. Rus fizyolog Ivan Pavlov'un köpekler ile gerçekleştirdiği deneyinde açıklanan öğrenme tipi aşağıdakilerden hangisidir?

- A) Kalıplaşma
- B) Refleks
- C) Kavrama
- D) Koşullanma

14. Hayvanat bahçelerinde yaşayan bazı hayvan türlerinin insanlardan neden kaçmadığını açıklayan öğrenme türü aşağıdakilerden hangisidir?

- A) Birleşik öğrenme
- B) Alışma yoluyla öğrenme
- C) İzlenim yoluyla öğrenme
- D) Kavrama yoluyla öğrenme

15. Arıların, bir besin kaynağının kovana yakın olduğunu anlatmak için sergiledikleri davranış aşağıdakilerden hangisidir?

- A) Sallanma dansı
- B) Halka dansı
- C) Alturizm
- D) Ritüel kavga

16. Hayvanların iletişim gerçekleştirmek için salgıladıkları kimyasal uyarıcılara ne ad verilir?

- A) Salgı
- B) Nörotransmitter
- C) Hormon
- D) Feromon

17. Canlılardaki davranış şekillerini, bu davranışların amaç, neden ve mekanizmalarını araştıran bilim dalına ne ad verilir?

- A) Fizyoloji
- B) Etoloji
- C) Zooloji
- D) Biyoloji

18. Aşağıdakilerden hangisi içgörü yoluyla öğrenmeye örnektir?

- A) Şempanzelerin alet kullanarak problem çözmesi
- B) Bazı kuş türlerinin belirli yüksekliğe yuva yapması
- C) Kazların anneyi tanınması ve takip etmesi
- D) Bebeğin elini sıcak yere dokundurduğunda aniden çekmesi

19. Aşağıdakilerden hangisi öğrenilen davranışlardan biri değildir?

- A) Koşullanma
- B) Refleks
- C) Kavrama
- D) Kalıplaşma

20. Memelilerde içgüdüsel davranışların kontrol merkezi aşağıdakilerden hangisidir?

- A) Hipotalamus
- B) Omurilik soğanı
- C) Pons
- D) Arka beyin

2018 AÖÖ-AÖL II. DÖNEM 0104-A

1. "Hiçbir suçlu başkasının suçunu yüklenmez..." (En'am Suresi, 164. ayet)

Yukarıdaki ayet İslam Hukuku ilkelerinden hangisiyle ilgilidir?

- A) Hellalarda genişlik
- B) Adaletin gözetilmesi
- C) Kamu yararının gözetilmesi
- D) Suçun şahsiliği

2. Toplum hayatının en önemli denge unsuru ve teminatı aşağıdakilerden hangisidir?

- A) Ekonomi
- B) Doğa
- C) Adalet
- D) Aile

3. Aşağıdakilerden hangisi İslam Hukuku'nun temel ilkelerinden biri değildir?

- A) Suç ve ceza arasında ters orantı
- B) Hellalarda genişlik
- C) Kamu yararının gözetilmesi
- D) Tekliflerde kolaylık

4. Fıkıh usulü alanında yazılan ilk eser aşağıdakilerden hangisidir?

- A) El-İhtiyar
- B) Er-Risâle
- C) El-Umed
- D) El-Burhân

5. Hz. Peygamber'in vefatından sonra, aynı dönemde yaşayan müçtehitlerin dini bir konunun hükmü hakkında görüş birliği içinde olmalarına ne ad verilir?

- A) Kıyas
- B) Mütevatir
- C) Tevatür
- D) İcma

6. İslam Hukuku'nun temel ilkelerinden biri olan tekliflerde kolaylık ile ilgili aşağıdaki ifadelerden hangisi yanlıştır?

- A) Bir kişinin, teklife ehil sayılması için akıl sağlığının yerinde olması ve buluğa ermesi gerekir.
- B) Teklif, Allah'ın kulunu bir işi yapma veya yapmama konusunda yükümlü tutmasıdır.
- C) Zaruretler, memnu olan şeyleri mübah kılmaz.
- D) İslam dini, insanların yasaklara uymalarını kolaylaştıran birçok hüküm koymuştur.

7. Fıkıh ilminin konularından biri olan "münakehat" aşağıdakilerden hangisiyle ilgilidir?

- A) Suçlar ve cezaları
- B) Evlenme ve boşanma
- C) Miras ve vasiyet
- D) Günlük hayatla ilgili akitler

8. Fıkıh ilmi ile uğraşan kişiye ne ad verilir?

- A) Fakih
- B) Müçtehit
- C) Mükellef
- D) Faik

9. İslam Hukuku'nun temel kaynağı aşağıdakilerden hangisidir?

- A) Hadis
- B) Kıyas
- C) İcma
- D) Kur'an-ı Kerim

10. İslam dini ile ilgili aşağıdaki ifadelerden hangisi doğrudur?

- A) Hak ve sorumluluklar kişisel menfaatlara göre belirlenmiştir.
- B) Birey ve toplum yararının gözetilmesini amaçlar.
- C) Kişilerin sadece bireysel sorumlulukları vardır.
- D) Emir ve yasaklar sadece fertlerin iyiliği içindir.

11. Aşağıdakilerden hangisi kulun, Allah'ın rahmetine güvenerek ümit içinde olmasını ifade eder?

- A) Takva
- B) Havf
- C) Reca
- D) Ta'zim

12. Aşağıdakilerden hangisi dünyevi korku ve kaygıları ifade eder?

- A) Havf
- B) Tevbe
- C) Reca
- D) Takva

13. Aşağıdakilerden hangisi peygamberimize itaat etmeyi, getirdiği dini hükümlerin hak ve gerçek olduğuna samimi bir şekilde inanmayı ve haber verdiği hususların tamamını tasdik etmeyi ifade eder?

- A) Muhabbet
- B) Teslimiyet
- C) Takva
- D) İbadet

14. Aşağıdakilerden hangisi İslam kelimesinin sözlük anlamlarından biri değildir?

- A) Boyun eğmek
- B) Kurtuluşa ermek
- C) Teslim olmak
- D) Önyargılı olmak

15. Allah'ın yücelik ve azametini kabul ve tasdik ederek O'nun karşısında saygılı ve edepli olmaya ne ad verilir?

- A) İbadet
- B) Muhabbet
- C) Ta'zim
- D) Hoşgörü

16. İslam ahlâkının konusu aşağıdakilerden hangisidir?

- A) İnsanın düşünce ve davranışları
- B) Canlıların özellikleri
- C) Toplumların varoluş nedenleri
- D) Bireylerin istek ve ihtiyaçları

17. İslam dininde aşağıdaki haklardan hangisi dokunulmaz olarak kabul edilmiştir?

- A) Düşünce hakkı
- B) Eğitim hakkı
- C) Çalışma hakkı
- D) Yaşama hakkı

18. Aşağıdakilerden hangisi takva kapsamında yer almaz?

- A) Günah işlemekten ve dinen şüpheli olan şeylerden uzak durmak
- B) Küfre ve şirke düşmekten sakınmak
- C) Allah'ın affedici olması nedeniyle ibadetleri ihmal etmek
- D) Allah'tan uzaklaşmaya neden olan her türlü duygu, düşünce ve davranışı terk etmek

19. Aşağıdakilerden hangisi Hz. Muhammed'in söz ve davranışlarını ifade eder?

- A) İcma
- B) Sünnet
- C) Kıyas
- D) Kelâm

20. Kur'an-ı Kerim'in hangi özelliği, hükümlerinin kıyamete kadar yaşayacak bütün insanlar için geçerli olduğunu ifade eder?

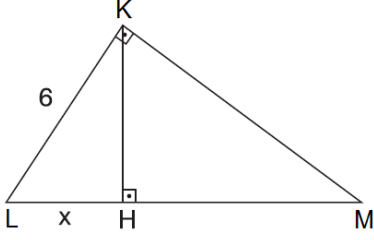
- A) Son ilahi kitap olması
- B) Dünya ve ahiret saadetinin kaynağı olması
- C) Hiçbir değişikliğe uğramadan günümüze kadar ulaşmış olması
- D) 23 yıllık bir süreçte indirilmesi

SEÇMELİ MATEMATİK 4

A

2018 AÖÖ-AÖL II. DÖNEM 0104-A

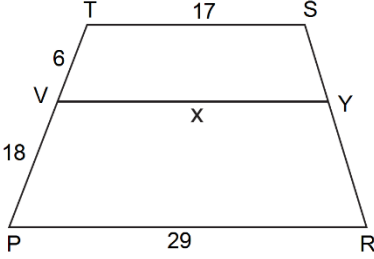
1.



Yukarıdaki KLM dik üçgeninde $[KL] \perp [KM]$, $[KH] \perp [LM]$, $|KL|=6$ cm ve $|LM|=12$ cm olduğuna göre, $|LH|=x$ kaç cm'dir?

- A) 2
- B) 3
- C) 4
- D) 6

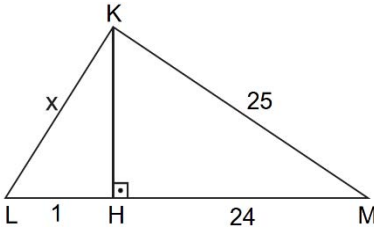
2.



Yukarıdaki şekilde $[TS] \parallel [VY] \parallel [PR]$, $|TV|=6$ cm, $|VP|=18$ cm, $|TS|=17$ cm ve $|PR|=29$ cm olduğuna göre, $|VY|=x$ kaç cm'dir?

- A) 23
- B) 22
- C) 21
- D) 20

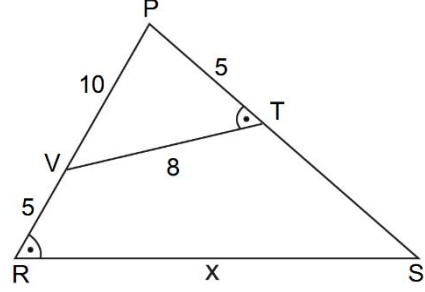
3.



Yukarıdaki KLM üçgeninde $|KM|=25$ cm, $|LH|=1$ cm, $|HM|=24$ cm ve $[KH] \perp [LM]$ olduğuna göre, $|KL|=x$ kaç cm'dir?

- A) $2\sqrt{3}$
- B) $2\sqrt{5}$
- C) $5\sqrt{2}$
- D) $5\sqrt{3}$

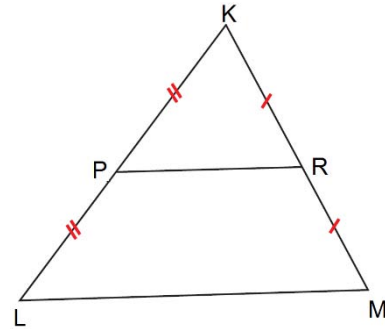
4.



Yukarıdaki PRS üçgeninde $m(\widehat{PTV}) = m(\widehat{PRS})$, $|PV|=10$ cm, $|PT|=|VR|=5$ cm ve $|VT|=8$ cm olduğuna göre, $|RS|=x$ kaç cm'dir?

- A) 12
- B) 16
- C) 20
- D) 24

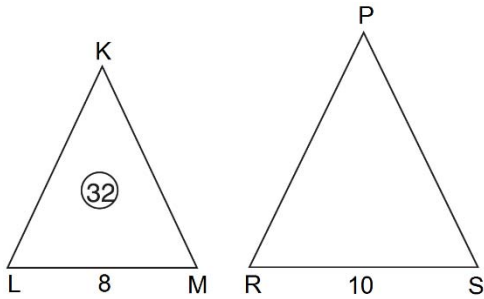
5.



Yukarıdaki KLM üçgeninde $|KP|=|PL|$, $|KR|=|RM|$ ve $A(\triangle KPR) = 40$ cm² olduğuna göre, $A(\text{PLMR})$ kaç cm² dir?

- A) 60
- B) 80
- C) 120
- D) 160

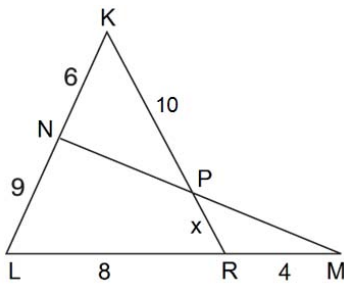
6.



Yukarıdaki KLM ve PRS üçgenlerinde $\triangle KLM \sim \triangle PRS$, $|LM|=8$ cm, $|RS|=10$ cm ve $\text{Alan}(\triangle KLM) = 32$ cm² olduğuna göre, $\text{Alan}(\triangle PRS)$ kaç cm² dir?

- A) 40
- B) 45
- C) 50
- D) 55

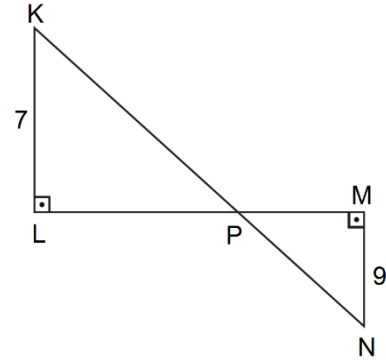
7.



Yukarıdaki şekilde $|KN|=6$ cm, $|NL|=9$ cm, $|LR|=8$ cm, $|RM|=4$ cm ve $|KP|=10$ cm olduğuna göre, $|PR|=x$ kaç cm'dir?

- A) 4
- B) 5
- C) 6
- D) 8

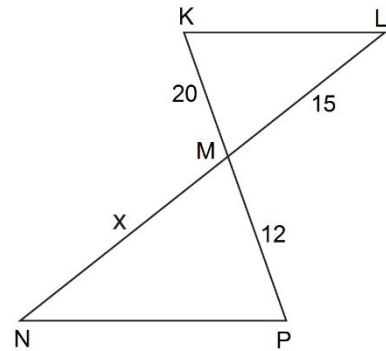
8.



Yukarıdaki şekilde $[KL] \perp [LM]$, $[LM] \perp [MN]$, $|KL|=7$ cm, $|MN|=9$ cm ve $|LM|=12$ cm olduğuna göre, $|KN|$ kaç cm'dir?

- A) 20
- B) 22
- C) 26
- D) 28

9.

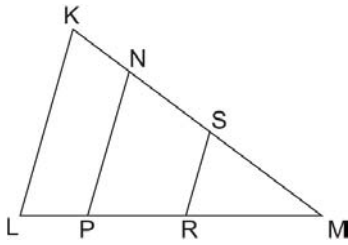


Yukarıdaki şekilde $[KL] \parallel [NP]$, $[KP] \cap [LN] = \{M\}$, $|KM|=20$ cm, $|LM|=15$ cm ve $|MP|=12$ cm olduğuna göre, $|MN|=x$ kaç cm'dir?

- A) 25
- B) 17
- C) 9
- D) 8

2018 AÖÖ-AÖL II. DÖNEM 0104-A

10.



Yukarıdaki KLM üçgeninde $[KL] \parallel [NP] \parallel [SR]$, $|NS|=2 \cdot |KN|=2 \cdot |SM|$ ve $A(\text{PRSN})=24 \text{ cm}^2$ olduğuna göre, $A(\text{KLPN})$ kaç cm^2 'dir?

- A) 12
B) 18
C) 21
D) 23

11. $f(x) = \cos(6x + 2)$ fonksiyonunun esas periyodu aşağıdakilerden hangisidir?

- A) $\frac{\pi}{2}$
B) $\frac{\pi}{3}$
C) $\frac{\pi}{6}$
D) $\frac{\pi}{12}$

12. $\tan \frac{3\pi}{4} + \tan 3\pi - \tan \frac{\pi}{4}$ ifadesinin değeri kaçtır?

- A) -2
B) -1
C) 0
D) 1

13. $P = 2 \sin x - 5$ olduğuna göre, P'nin alabileceği en büyük tam sayı değeri kaçtır?

- A) -7
B) -3
C) 1
D) 4

14. $h(x) = \tan(4x + 6)$ fonksiyonunun esas periyodu aşağıdakilerden hangisidir?

- A) $\frac{\pi}{2}$
B) $\frac{\pi}{3}$
C) $\frac{\pi}{4}$
D) $\frac{\pi}{6}$

15. Bir ABC üçgeninin iç açıları \hat{A} , \hat{B} ve \hat{C} olmak üzere, $\sin(\hat{A}) + \sin(\hat{B} + \hat{C})$ ifadesinin eşiti aşağıdakilerden hangisidir?

- A) $2 \cdot \sin(\hat{A})$
B) $\sin(2\hat{A})$
C) 0
D) 1

16. 150° 'lik açının esas ölçüsü kaç radyandır?

- A) $\frac{\pi}{3}$
B) $\frac{\pi}{2}$
C) $\frac{2\pi}{3}$
D) $\frac{5\pi}{6}$

2018 AÖÖ-AÖL II. DÖNEM 0104-A

17. $R = \sin 270 - \cos 630 + \sin 990 - \cos 720$ ifadesinin değeri kaçtır?

- A) 1
- B) 0
- C) -1
- D) -3

18. $\frac{13\pi}{4}$ radyanlık açının esas ölçüsü kaç radyandır?

- A) $\frac{7\pi}{4}$
- B) $\frac{5\pi}{4}$
- C) $\frac{3\pi}{4}$
- D) $\frac{\pi}{4}$

19. $Y = (\tan x \cdot \cos x)^2 - 1$ ifadesinin eşiti aşağıdakilerden hangisidir?

- A) $-\cos^2 x$
- B) $-\sin^2 x$
- C) $\cos^2 x$
- D) $\sin^2 x$

20. $\sin x \cdot \cos x = -\frac{1}{4}$ olduğuna göre,

$\sin x + \cos x$ ifadesinin değeri kaçtır?

- A) $\frac{1}{3}$
- B) $\frac{\sqrt{2}}{3}$
- C) $\frac{1}{2}$
- D) $\frac{\sqrt{2}}{2}$

2018 AÖÖ-AÖL II. DÖNEM 0104-A

1. Aşağıdakilerden hangisi kumaş satılan çarşılarla Osmanlı mimarisinde verilen isimdir?
 - A) Bedesten
 - B) Han
 - C) Kervansaray
 - D) Ribat
2. Türk sanatında "Nakkaş" hangi sanatla uğraşan kişiye denmektedir?
 - A) Hat
 - B) Seramik
 - C) Minyatür
 - D) Çini
3. 16.Yüzyılda Kur'anların yazılmasında kullanılan yuvarlak karakterli yazı çeşidi aşağıdakilerden hangisidir?
 - A) Sülüs
 - B) Ta'lik
 - C) Divani
 - D) Siyakat
4. Aşağıdakilerden hangisi Orhun anıtlarından biri değildir?
 - A) Kül Tigin Anıtı
 - B) Tonyukuk Anıtı
 - C) İstemi Han Anıtı
 - D) Bilge Kağan Anıtı
5. İlk kez Abbasiler tarafından uygulanmış, desenin oksitli bir karışımla işlendiği ve sarı ve kahverengi tonlarda olduğu çini tekniği aşağıdakilerden hangisidir?
 - A) Sır altı tekniği
 - B) Minai
 - C) Lüster
 - D) Çini mozaik tekniği
6. Hangisi yol üstlerinde gelip geçen yolcuların ve kervanların dinlenmeleri, güvenliklerinin sağlanması amaçlarıyla inşa edilen Karahanlı yapılarına verilen isimdir?
 - A) Ribat
 - B) Medrese
 - C) Han
 - D) Bedesten
7. Aşağıdakilerden hangisi İslam dünyasının bilinen ilk türbe yapısıdır?
 - A) Aslan Cazip Türbesi
 - B) Kubbet'üs Süleybiye Türbesi
 - C) Sultan Sencer Türbesi
 - D) Arap Ata Türbesi
8. İstanbul Sultan Ahmet Camii'nin mimarı aşağıdakilerden hangisidir?
 - A) Mimar Davut Ağa
 - B) Mimar Sinan
 - C) Mimar Sedefkar Mehmet Ağa
 - D) Mimar Hacı Hasan Ağa
9. Elhamra Sarayı aşağıdaki ülkelerden hangisinde yer almaktadır?
 - A) İran
 - B) İtalya
 - C) Suriye
 - D) İspanya
10. Kent minyatürleriyle tanınan Matrakçı Nasuh hangi dönemin sanatçısıdır?
 - A) Kanuni Sultan Süleyman
 - B) Fatih Sultan Mehmet
 - C) Yıldırım Bayezıt
 - D) II. Mahmut
11. Kordoba Camii aşağıdaki uygarlıklardan hangisine aittir?
 - A) Fatımiler
 - B) Endülüs Emevileri
 - C) Abbasiler
 - D) Memlûkler
12. Ressamlığının yanı sıra arkeolog ve müzeci olan, İskender Lahdi'ni bulmasıyla tanınan sanatçı aşağıdakilerden hangisidir?
 - A) Şeker Ahmet Paşa
 - B) İbrahim Çallı
 - C) Osman Hamdi Bey
 - D) Hüseyin Avni Lifij
13. Göktürklerde soylu ve hükümdarların mezarlarına veya anıtlarına dikilen insan figürlü taşta heykele ne isim verilir?
 - A) Kurgan
 - B) Dikili taş
 - C) Büst
 - D) Balbal
14. Aşağıdakilerden hangisi bilinen en eski kervansaraydır?
 - A) Ribat-ı Mahi
 - B) Ribat-ı Melik
 - C) Ribat-ı Zafarani
 - D) Ribat-ı Şerif

15. Yüzeylerde kaplama olarak kullanılan, bir tür killi topraktan yapılan, sırlı, çeşitli renk ve motiflerde süslenmiş seramik esere ne ad verilir?

- A) Levha
- B) Çini
- C) Tuğla
- D) Kiremit

16. Ahmedi tarafından resmedilen ve Osmanlı padişahlarının resimli ilk tarihi olan eser aşağıdakilerden hangisidir?

- A) Şehinşahname
- B) Cerrahiye-i İlhaniye
- C) Süleymanname
- D) İskendername

17. Aşağıdakilerden hangisi günümüze ulaşmış en eski Osmanlı medresesidir?

- A) İstanbul Rüstem Paşa Medresesi
- B) İznik Süleyman Paşa Medresesi
- C) Bursa Muradiye Medresesi
- D) Bursa Yeşil Medrese

18. Aşağıdakilerden hangisi bir Uşak halısı tipi değildir?

- A) Yıldızlı
- B) Madalyonlu
- C) Kuşlu
- D) Çiçekli

19. Topkapı Sarayı'nın inşasına hangi padişah döneminde başlanmıştır?

- A) Yavuz Sultan Selim
- B) Dördüncü Murat
- C) Kanuni Sultan Süleyman
- D) Fatih Sultan Mehmet

20. Türk cami mimarisinde son cemaat yeri hangi dönemde ortaya çıkmıştır?

- A) Beylikler Dönemi
- B) Büyük Selçuklu Dönemi
- C) Osmanlı Dönemi
- D) Anadolu Selçuklu Dönemi

2018 AÖO-AÖL II. DÖNEM 0104-A

1. A: Wenn ich Zeit finde, möchte ich meine Mutter ins Theater bringen.
B: -----.
A: Ja, das glaube ich auch!

Welcher Satz ergänzt den obigen Dialog?

Yukarıdaki karşılıklı konuşmada boş bırakılan yeri aşağıdakilerden hangisi doğru olarak tamamlar?

- A) Die Mutter hatte sich immer gefreut.
B) Die Müttern hätten sich freuen können.
C) Deine Mutter würde lieber ins Theater gehen.
D) Deine Mutter würde sich sehr darüber freuen.
2. A: Hast du dich für die Party umgezogen?
B: Ja! Warum?
A: -----.
B: Klar doch! Für dich und für die Party!

Welcher Satz ergänzt die Lücke im obigen Dialog?

Yukarıdaki karşılıklı konuşmada boş bırakılan yeri aşağıdakilerden hangisi doğru olarak tamamlar?

- A) Ich dachte, du hättest dich für mich umgezogen
B) Ich komme auch gern mit zur Party
C) Er bereitet sich für die Party
D) Ich habe leider keine Zeit und kann mich nicht umziehen
3. **Was bedeutet "etwas behaupten" auf Türkisch?**

"etwas behaupten" ifadesinin Türkçesi aşağıdakilerden hangisinde doğru olarak verilmiştir?

- A) birşeyi ilan etmek
B) birşeyi iddia etmek
C) birşey göstermek
D) birine bir şey vermek
4. Man sagte, er ----- einen Roman!

Welches Wort passt in die obige Lücke?

Yukarıdaki cümlede boş bırakılan yeri aşağıdakilerden hangisi doğru olarak tamamlar?

- A) schriebe
B) schriebest
C) schreiben
D) schreibten

5. Ich dachte, ihr wärt im Kino!

Wie lautet der obige Satz auf Türkisch?

Yukarıdaki cümlelerin Türkçesi aşağıdakilerden hangisinde doğru olarak verilmiştir?

- A) Niyetiniz sinemaya gitmek değildi aslında!
B) Sinemada olduğunuzu düşündüm!
C) Zaten hep sinemaya gidersiniz!
D) Sinemada olmanız gerekiyordu!

6. A: Hat Patricia diesen Film gesehen?
B: Nein, sie hat diesen Film nicht gesehen!
A: -----.
B: Ja, der Film war wirklich toll!

Welches ergänzt die Lücke im obigen Dialog?

Yukarıdaki karşılıklı konuşmada boş bırakılan yeri aşağıdakilerden hangisi doğru olarak tamamlar?

- A) Das ist wirklich ausgezeichnet!
B) Hätte sie doch diesen Film gesehen!
C) Naja, das macht nichts.
D) Das war auch im Film zu sehen.

7. Die / stattfinden / heute / Saal / im / Versammlung

Wie kann man mit den obigen Wortgruppen einen sinnvollen Satz bilden?

Yukarıdaki sözcük gruplarıyla kurulabilecek en anlamlı cümle aşağıdakilerden hangisinde doğru olarak verilmiştir?

- A) Heute die Versammlung statt findet im Saal.
B) Die Saal findet Versammlung heute im statt.
C) Die Versammlung findet heute im Saal statt.
D) Findet statt Saal die Versammlung heute im.

8. ----- ist von einem guten Regisseur ----- worden.

Welche Wörter passen in die obigen Lücken?

Yukarıdaki cümlede boş bırakılan yerleri aşağıdakilerden hangileri doğru olarak tamamlar?

- A) Das Auto / gemacht
B) Das Buch / geschrieben
C) Der Roman / gedruckt
D) Der Film / gedreht

9. Wir haben für morgen keine Hausaufgaben.

Welches ist die Konjunktiv-Form vom obigen Satz?

Yukarıdaki cümlenin Konjunktif hali aşağıdakilerden hangisinde doğru olarak verilmiştir?

- A) Man sagt, wir hätten für morgen keine Hausaufgaben.
 B) Man hat gesagt, daß wir morgen keine Hausaufgaben haben.
 C) Man will, daß wir morgen nicht zur Schule gehen.
 D) Man meint, daß die Schule morgen geschlossen ist.

10. ----- Sie sei Hausfrau und habe zwei Kinder!

Welches ergänzt nicht die Lücke im obigen Satz?

Yukarıdaki cümlede boş bırakılan yeri aşağıdakilerden hangisi doğru olarak tamamlamaz?

- A) Schaut mal was sie sagt!
 B) Hört euch das mal an!
 C) Lebt er allein?
 D) Habt ihr das gehört?

11. Wie lautet das Wort "yaralı olmak" auf Deutsch?

"yaralı olmak" sözcüğünün Almanca karşılığı aşağıdakilerden hangisinde doğru olarak verilmiştir?

- A) glücklich sein
 B) ernst sein
 C) erfolgreich sein
 D) verletzt sein

12. Tina sagte mir, -----.

Welches ergänzt nicht die Lücke im obigen Satz?

Yukarıdaki cümlede boş bırakılan yeri aşağıdakilerden hangisi doğru olarak tamamlamaz?

- A) der Film sei sehr gut gedreht worden
 B) das Geschäft sei durchgehend geschlossen
 C) der Roman sei von Adalet Ağaoğlu geschrieben worden
 D) weil die Fußballmannschaft keinen Erfolg haben wird

13. Die Sängerin ----- nicht singen, denn sie ----- Halsschmerzen gehabt.

Welche Wörter passen in die obigen Lücken?

Yukarıdaki cümlede boş bırakılan yerleri aşağıdakilerden hangileri doğru olarak tamamlar?

- A) kann / hattest
 B) ist / hätte
 C) war / hast
 D) könne / habe

14. Spezialität / Käse / Nudeln / Arzt

Welches Wort passt nicht zu den anderen in der obigen Wortgruppe?

Yukarıdaki sözcük grubuna uymayan sözcük aşağıdakilerden hangisinde doğru olarak verilmiştir?

- A) Nudeln
 B) Arzt
 C) Spezialität
 D) Käse

15. Der Mann, der schwarze Augen hat, -----.

Welches ergänzt nicht die Lücke im obigen Satz?

Yukarıdaki cümlede boş bırakılan yeri aşağıdakilerden hangisi doğru olarak tamamlamaz?

- A) haben sich sehr gefreut
 B) sieht gut aus
 C) ist Deutschlehrer
 D) arbeitet in der Bank

16. Die Touristen, ----- die Türkei sehr gefallen hat, kommen nächstes Jahr wieder.

Welches Wort passt in die obige Lücke?

Yukarıdaki cümlede boş bırakılan yeri aşağıdakilerden hangisi doğru olarak tamamlar?

- A) die
 B) der
 C) denen
 D) dessen

17. Was bedeutet das Wort "die Bäckerei" auf Türkisch?

"die Bäckerei" sözcüğünün Türkçesi aşağıdakilerden hangisinde doğru olarak verilmiştir?

- A) Fırıncı
- B) Postacı
- C) Fırın
- D) Pasta

18. Yan tarafta oturan genç adam bizim komşumuz.

Wie lautet der obige Satz auf Deutsch?

Yukarıdaki cümlenin Almancası aşağıdakilerden hangisinde doğru olarak verilmiştir?

- A) Der junge Mann, der nebenan wohnt, ist unser Nachbar.
- B) Der junge Mann, der hierher kommt, kennt dich.
- C) Der junge Mann, dem ich helfe, wohnt hier.
- D) Der junge Mann, der hier wohnen soll, kennt uns.

19. Die Gäste kommen aus Frankreich. Sie wohnen bei uns.

Wie kann man die obigen Sätze verbinden?

Yukarıdaki cümlelerin birleştirilmiş hali aşağıdakilerden hangisinde doğru olarak verilmiştir?

- A) Sie kommt aus Frankreich und will bei uns wohnen.
- B) Die Gäste, die aus Frankreich kommen, wohnen bei uns.
- C) Sie wohnt bei uns und ist ein Gast aus Frankreich.
- D) Die Gäste, die aus Frankreich kommen, wohnen hier.

20. Der Füller, ----- du mir geschenkt hast, gefällt mir sehr gut.

Welches Wort passt in die obige Lücke?

Yukarıdaki cümlede boş bırakılan yeri aşağıdakilerden hangisi doğru olarak tamamlar?

- A) der
- B) die
- C) den
- D) das

2018 AÖÖ-AÖL II. DÖNEM 0104-A

1. A: ----- you open the door?
B: Of course.

Which of the following completes the dialogue above?

Aşağıdakilerden hangisi yukarıdaki konuşmayı doğru olarak tamamlar?

- A) Could
B) Have
C) Does
D) Are

2. If we ----- to the cinema earlier, we wouldn't have missed the start of the film.

Which of the following completes the sentence above?

Aşağıdakilerden hangisi yukarıdaki cümleyi doğru olarak tamamlar?

- A) went
B) had gone
C) go
D) would go

3. -----, Mehmet will be having a job interview in London.

Which of the following completes the sentence above?

Aşağıdakilerden hangisi yukarıdaki cümleyi doğru olarak tamamlar?

- A) By this time tomorrow
B) Since Friday
C) Now
D) Yesterday

4. Mary ----- for three hours.

Which of the following completes the sentence above?

Aşağıdakilerden hangisi yukarıdaki cümleyi doğru olarak tamamlar?

- A) has been studying
B) have been studying
C) study
D) will study

5. Marlin is a careful driver. She drives very -----.

Which of the following completes the sentence above?

Aşağıdakilerden hangisi yukarıdaki cümleyi doğru olarak tamamlar?

- A) careful
B) carefully
C) more careful
D) the careful

6. Sandy is cooking ----- in the kitchen.

Which of the following completes the sentence above?

Aşağıdakilerden hangisi yukarıdaki cümleyi doğru olarak tamamlar?

- A) where
B) downstairs
C) to
D) out

7. The baby ----- since morning.

Which of the following completes the sentence above?

Aşağıdakilerden hangisi yukarıdaki cümleyi doğru olarak tamamlar?

- A) is crying
B) cried
C) has been crying
D) cry

8. This time next week I ----- in Antalya.

Which of the following completes the sentence above?

Aşağıdakilerden hangisi yukarıdaki cümleyi doğru olarak tamamlar?

- A) will swim
B) are swimming
C) swam
D) will be swimming

9. The house is ----- nice and modern.

Which of the following completes the sentence above?

Aşağıdakilerden hangisi yukarıdaki cümleyi doğru olarak tamamlar?

- A) to
- B) it
- C) very
- D) no

10. Cem will be ----- his grandparents at the end of the week.

Which of the following completes the sentence above?

Aşağıdakilerden hangisi yukarıdaki cümleyi doğru olarak tamamlar?

- A) visited
- B) visiting
- C) has visited
- D) was visiting

11. They are studying French -----.

Which of the following completes the sentence above?

Aşağıdakilerden hangisi yukarıdaki cümleyi doğru olarak tamamlar?

- A) yesterday
- B) last night
- C) in summer
- D) at the moment

12. The teacher explained the subject ----- . All the students understood it well.

Which of the following completes the sentence above?

Aşağıdakilerden hangisi yukarıdaki cümleyi doğru olarak tamamlar?

- A) very
- B) quite
- C) quick
- D) simply

13. I want to see the car ----- won the F1 race.

Which of the following completes the sentence above?

Aşağıdakilerden hangisi yukarıdaki cümleyi doğru olarak tamamlar?

- A) who
- B) what
- C) which
- D) whose

14. If I weren't a teacher, I ----- in a bank.

Which of the following completes the sentence above?

Aşağıdakilerden hangisi yukarıdaki cümleyi doğru olarak tamamlar?

- A) would work
- B) will work
- C) work
- D) worked

15. If you ----- two by two, you get one.

Which of the following completes the sentence above?

Aşağıdakilerden hangisi yukarıdaki cümleyi doğru olarak tamamlar?

- A) divided
- B) will divide
- C) divides
- D) divide

16. If you ----- the president, what would you do?

Which of the following completes the sentence above?

Aşağıdakilerden hangisi yukarıdaki cümleyi doğru olarak tamamlar?

- A) will be
- B) are
- C) were
- D) was

2018 AÖÖ-AÖL II. DÖNEM 0104-A

17. These are Mark and Nicole ----- parents live in Germany.

Which of the following completes the sentence above?

Aşağıdakilerden hangisi yukarıdaki cümleyi doğru olarak tamamlar?

- A) whose
- B) where
- C) when
- D) which

18. A musician is someone ----- plays music.

Which of the following completes the sentence above?

Aşağıdakilerden hangisi yukarıdaki cümleyi doğru olarak tamamlar?

- A) whose
- B) where
- C) which
- D) who

19. Helen eat homemade food ----- it is healthier and cheaper.

Which of the following completes the sentence above?

Aşağıdakilerden hangisi yukarıdaki cümleyi doğru olarak tamamlar?

- A) although
- B) because
- C) before
- D) which

20. ----- she heard the news, she began to cry.

Which of the following completes the sentence above?

Aşağıdakilerden hangisi yukarıdaki cümleyi doğru olarak tamamlar?

- A) If
- B) In
- C) As soon as
- D) While

2018 AÖÖ-AÖL II. DÖNEM 0104-A

1. «Enlève tes coudes de la table.»

Choisissez la traduction qui convient.

Yukarıdaki cümlelerin Türkçe karşılığı aşağıdakilerden hangisidir?

- A) Dirseklerini masadan kaldır.
B) Masaya tabakları koy.
C) Masadan kalk, ellerini yıka.
D) Ellerini masaya koy.

2. J'ai 8 ans. Je vais -----.

Choisissez l'expression qui convient.

Cümledeki boşluğu aşağıdakilerden hangisi doğru şekilde tamamlar?

- A) au lycée
B) l'école primaire
C) à l'école maternelle
D) à l'université

3. Le frère de ma mère est -----.

Choisissez l'expression qui convient.

Cümlede boş bırakılan yeri aşağıdakilerden hangisi doğru şekilde tamamlar?

- A) ma tante
B) mon cousin
C) mon oncle
D) mon gendre

4. Une famille française ----- en général de 4 ou 5 personnes.

Choisissez le mot/l'expression qui convient.

Cümledeki boşluğu aşağıdakilerden hangisi doğru şekilde tamamlar?

- A) se compose
B) se fait
C) a
D) se passe

5. La mère de mon mari est -----.

Choisissez l'expression qui convient.

Cümlede boş bırakılan yeri aşağıdakilerden hangisi doğru şekilde tamamlar?

- A) ma belle sœur
B) ma mère
C) mon père
D) ma belle-mère

6. - -----?
- Je suis instituteur.

Choisissez la question qui convient.

Yukarıdaki konuşmada cevabı gerektiren soru aşağıdakilerden hangisidir?

- A) Quel est votre métier
B) Est-ce que vous étudiez en médecin
C) Qu'est-ce que tu as fait l'été dernier
D) Comment s'appelle cet examen

7. Je vends des vêtements: je fais du -----.

Choisissez le mot qui convient.

Cümledeki boşluğu aşağıdakilerden hangisi doğru şekilde tamamlar?

- A) sciences
B) commerce
C) droit
D) médecine

8. Pour devenir physicienne, elle a ----- des études de sciences.

Choisissez le mot qui convient.

Cümledeki boşluğu aşağıdakilerden hangisi doğru şekilde tamamlar?

- A) écouté
B) arrêté
C) abandonné
D) fait

9. Ne ----- promène pas dans la rue.

Choisissez le mot qui convient.

Cümledeki boşluğu aşağıdakilerden hangisi doğru şekilde tamamlar?

- A) tu
B) te
C) vous
D) toi

10. J'ai eu le Bac: je suis devenu -----.

Choisissez le mot qui convient.

Cümledeki boşluğu aşağıdakilerden hangisi doğru şekilde tamamlar?

- A) enfant
B) écolier
C) bachelier
D) lycéen

11. «Cet éditeur a imprimé ces livres.»

Choisissez la forme passive de la phrase ci-dessus.

Yukarıdaki cümlelerin edilgen hali aşağıdakilerden hangisidir?

- A) Ces livres ont été imprimés par cet éditeur.
B) Ces livres seront imprimés par cet éditeur.
C) Ces livres vont être imprimés par cet éditeur.
D) Ces livres sont imprimés par cet éditeur.

12. le / comme / pas / ça / ne / regardez
I II III IV V VI

Mettez dans le bon ordre.

Yukarıdaki kelimelerin anlamlı bir bütün oluşturan sırası aşağıdakilerin hangisinde doğru olarak verilmiştir?

- A) I, II, VI, III, IV, V
B) III, I, II, IV, VI, V
C) V, I, VI, III, II, IV
D) VI, I, II, IV, V, III

13. Une lettre sera écrite ----- Paul ----- Mehmet.

Choisissez les mots qui conviennent.

Cümledeki boşlukları aşağıdakilerden hangisi doğru şekilde tamamlar?

- A) une / à
B) à / par
C) de / au
D) de / par

14. On doit partir à 21 heures. ----- mangé avant 20 heures.

Choisissez le mot qui convient.

Cümledeki boşluğu aşağıdakilerden hangisi doğru şekilde tamamlar?

- A) Soyons
B) Sois
C) Avoir
D) Ayez

15. C'est un enfant bien élevé.

Choisissez l'antonyme du mot souligné.

Yukarıdaki cümlede altı çizili kelimenin zıt anlamlısı aşağıdakilerden hangisidir?

- A) belle
B) gentil
C) mal
D) bon

16. I. En 1930, nous avions 20 ans.
II. Nous dansions beaucoup.
III. Nous aimions faire la fête.
IV. Il faut compter les jours.

Choisissez la phrase qui ne convient pas à l'ensemble.

Sırasıyla okunduğunda, anlam bütünlüğünü bozan cümleyi bulunuz.

- A) I
B) II
C) III
D) IV

17. Je suis une -----.

Choisissez le mot qui convient.

Cümledeki boşluğu aşağıdakilerden hangisi doğru şekilde tamamlar?

- A) séminaire
- B) conférence
- C) cours
- D) études

18. - -----?

- Non, j'étudie en lettres.

Choisissez la question qui convient.

Yukarıdaki konuşmada cevabı gerektiren soru aşağıdakilerden hangisidir?

- A) Pourquoi as-tu abandonné tes études
- B) Quand est-ce que tu as été reçu au Bac
- C) Est-ce que tu étudies en médecin
- D) Est-ce que tu as trouvé un travail

19. Vous vous amusez? Alors ----- à danser.

Choisissez le mot qui convient.

Cümledeki boşluğu aşağıdakilerden hangisi doğru şekilde tamamlar?

- A) allez
- B) continue
- C) va
- D) continuez

20. «La porte est ouverte par ma sœur.»

Choisissez la forme active de la phrase ci-dessus.

Yukarıdaki cümlenin etken hali aşağıdakilerden hangisidir?

- A) Ma sœur ouvre la porte.
- B) Ma sœur ouvrira la porte.
- C) Ma sœur a ouvert la porte.
- D) Ma sœur va ouvrir la porte.

2018 AÖÖ-AÖL II. DÖNEM 0104-A

1. Der Löwe ist laut, aber die Schlange ist -----.

Welches Wort passt in die obige Lücke?

Yukarıdaki cümlede boş bırakılan yeri aşağıdakilerden hangisi doğru olarak tamamlar?

- A) breit
B) kurz
C) schwer
D) leise

2. Ich habe einen -----, ich muss die Länder und die Hauptstädte üben.

Welches Wort passt in die obige Lücke?

Yukarıdaki cümlede boş bırakılan yeri aşağıdakilerden hangisi doğru olarak tamamlar?

- A) Mathematiktest
B) Erdkundetest
C) Deutschttest
D) Sporttest

3. Ah, ich glaube sie leben in Afrika!

Welche Frage passt zur obigen Antwort?

Yukarıdaki cevabı gerektirecek soru aşağıdakilerden hangisinde doğru olarak verilmiştir?

- A) Weißt du eigentlich, auf welchem Kontinent die Elefanten leben?
B) Weißt du welche Tiere es in unserem Land gibt?
C) Auf welchem Kontinent spricht man Englisch?
D) Kommst du mit zum Zoo?

4. ----- meinem zwanzigsten Geburtstag habe ich ein Auto bekommen.

Welches Wort passt in die obige Lücke?

Yukarıdaki cümlede boş bırakılan yeri aşağıdakilerden hangisi doğru olarak tamamlar?

- A) In
B) Auf
C) Aus
D) Zu

5. Ja, Französisch wird in Frankreich gesprochen.

Welche Frage passt zur obigen Antwort?

Yukarıdaki cevabı gerektirecek soru aşağıdakilerden hangisinde doğru olarak verilmiştir?

- A) Wer geht nach Frankreich?
B) Weißt du wo Französisch gesprochen wird?
C) Weißt du, daß ich meine Ferien in Frankreich verbringe?
D) Warst du schon in Frankreich?

6. Für die Zukunft wünsche ich mir, -----.

Welches ergänzt nicht die Lücke im obigen Satz?

Yukarıdaki cümlede boş bırakılan yeri aşağıdakilerden hangisi doğru olarak tamamlamaz?

- A) dass ist aber sehr nett von dir
B) dass ich Querflöte spielen kann
C) dass ich in einer Band mitspielen kann
D) dass ich die Prüfung bestehe

7. ----- ich sieben Jahre alt war, habe ich ----- Geige zu spielen.

Welche Wörter passen in die obigen Lücken?

Yukarıdaki cümlede boş bırakılan yerleri aşağıdakilerden hangileri doğru olarak tamamlar?

- A) Trotz / fangen
B) Seit / anfangen
C) Wenn / fing
D) Als / angefangen

8. -----, musst du in ein Musikgeschäft gehen.

Welches ergänzt die Lücke im obigen Satz?

Yukarıdaki cümlede boş bırakılan yeri aşağıdakilerden hangisi doğru olarak tamamlar?

- A) Wenn du eine Trompete kaufen willst
- B) Als ich mit Musik anfang
- C) Für das Konzert habe ich mich vorbereitet
- D) Damit ich dreimal in der Woche üben kann

9. Was ist ein Reim?

Welche Antwort passt zur obigen Frage?

Yukarıdaki sorunun cevabı aşağıdakilerden hangisinde doğru olarak verilmiştir?

- A) Wenn man in ein Musikgeschäft geht, kann man es finden.
- B) Das sind Open-Air-Konzerte mit mindestens neuntausend Zuhörer.
- C) Wenn die Wortenden in zwei Zeilen am Ende eines Satzes gleich sind, ist es ein Reim.
- D) Das ist ein Orchester, in der auch Erwachsene mitspielen.

10. Mit welchem Instrument hast du angefangen?

Welche Antwort passt zur obigen Frage?

Yukarıdaki sorunun cevabı aşağıdakilerden hangisinde doğru olarak verilmiştir?

- A) Mein erstes Instrument war eine Blockflöte.
- B) Ich übe zweimal in der Woche drei Stunden.
- C) In einem Kammerorchester spielen auch Erwachsene mit.
- D) Saxophon ist ein Blasinstrument.

11. A: Wann werden in Deutschland Familienfeste gefeiert?

B: -----.

A: Ja, das wird auch in der Türkei gefeiert!

Welches ergänzt den obigen Dialog?

Yukarıdaki karşılıklı konuşmada boş bırakılan yeri aşağıdakilerden hangisi doğru olarak tamamlar?

- A) Wenn ich krank bin gehe ich zum Arzt
- B) Wenn zum Beispiel ein Kind geboren wird
- C) Wenn die Ferien anfangen fahren wir in die Türkei
- D) Wenn ich mir ein neues Buch kaufe

12. ----- über ein neues Projekt.

Welches ergänzt nicht die Lücke im obigen Satz?

Yukarıdaki cümlede boş bırakılan yeri aşağıdakilerden hangisi doğru olarak tamamlamaz?

- A) Er trägt einen Rucksack
- B) Die Schüler sprechen
- C) Diese Umfrage ist
- D) Der Lehrer diskutiert

13. Wann sind die Eltern glücklich?

Welche Antwort passt zur obigen Frage?

Yukarıdaki sorunun cevabı aşağıdakilerden hangisinde doğru olarak verilmiştir?

- A) Der Mann freut sich, wenn seine Mannschaft das Spiel gewinnt.
- B) Die Eltern sind glücklich, wenn ihre Kinder zufrieden und freundlich sind.
- C) Ich bin immer unglücklich!
- D) Die Frauen sind glücklich, wenn sie Einkäufe machen.

14. Die Schüler und Schülerinnen der Förderich Grundschule -----.

Welches ergänzt nicht die Lücke im obigen Satz?

Yukarıdaki cümlede boş bırakılan yeri aşağıdakilerden hangisi doğru olarak tamamlamaz?

- A) sitzen auf einer Treppe auf dem Schulhof
- B) unterhalten sich in der Cafeteria
- C) sitzen auf einer Bank auf dem Schulhof
- D) fasst uns draussen immer an der Hand

15. Die wichtigste Methode, -----, besteht darin, die negativen Verhalten zu schwächen und die positiven Verhalten zu stärken.

Welcher Satz ergänzt die obige Lücke?

Yukarıdaki cümleyi aşağıdakilerden hangisi doğru olarak tamamlar?

- A) kann man gute Ergebnisse finden
- B) zieht man es herauf
- C) ein glückliches Leben zu führen
- D) wie leicht bricht das

16. ----- den Jogurt, Olivenöl, Essig, Salz und Pfeffer.

Welches ergänzt die Lücke im obigen Satz?

Yukarıdaki cümlede boş bırakılan yeri aşağıdakilerden hangisi doğru olarak tamamlar?

- A) Danach muss man sie ganz klein schneiden
- B) Zum Schluß schmeckt es der ganzen Familie
- C) Für die Soße mische ich
- D) Ich brauche kleine Teller

17. Der Arzt will deine Lunge ----- und deinen Puls -----!

Welche Wörter passen in die obigen Lücken?

Yukarıdaki cümlede boş bırakılan yerleri aşağıdakilerden hangileri doğru olarak tamamlar?

- A) schauen / nehmen
- B) abhören / fühlen
- C) verstehen / gehen
- D) untersuchen / geben

18. Mein ----- tut weh!

Welches Wort passt nicht in die obige Lücke?

Yukarıdaki cümlede boş bırakılan yeri aşağıdakilerden hangisi doğru olarak tamamlamaz?

- A) Bauch
- B) Arm
- C) Nase
- D) Hals

19. Laufen ist eine gute Übung, -----.

Welches ergänzt die Lücke im obigen Satz?

Yukarıdaki cümlede boş bırakılan yeri aşağıdakilerden hangisi doğru olarak tamamlar?

- A) er soll es auf das Blatt zeichnen
- B) wir sammeln neue Ideen
- C) du kannst diese vor der Klasse präsentieren
- D) sie macht den Körper warm

20. Ich spiele jeden Tag eine Stunde Tennis.

Welche Frage passt zur obigen Antwort?

Yukarıdaki cevabı gerektirecek soru aşağıdakilerden hangisinde doğru olarak verilmiştir?

- A) Wie machst du den Salat?
- B) Wie übst du die Wörter?
- C) Womit hältst du dich fit?
- D) Was ißt du mittags?

2018 AÖÖ-AÖL II. DÖNEM 0104-A

1. Leo hasn't done his homework -----.

Which of the following completes the sentence above?

Aşağıdakilerden hangisi yukarıdaki cümleyi doğru olarak tamamlar?

- A) yet
B) already
C) for
D) just

2. Fred hasn't studied for the exam ----- far.

Which of the following completes the sentence above?

Aşağıdakilerden hangisi yukarıdaki cümleyi doğru olarak tamamlar?

- A) ever
B) already
C) yet
D) so

3. My sister is afraid ----- spiders.

Which of the following completes the sentence above?

Aşağıdakilerden hangisi yukarıdaki cümleyi doğru olarak tamamlar?

- A) at
B) of
C) in
D) with

4. I ----- already ----- the lunch when the children came from school.

Which of the following completes the sentence above?

Aşağıdakilerden hangisi yukarıdaki cümleyi doğru olarak tamamlar?

- A) had / prepared
B) have / prepared
C) had / prepare
D) have / prepare

5. When they arrived at the party hall, everybody ----- . It was empty.

Which of the following completes the sentence above?

Aşağıdakilerden hangisi yukarıdaki cümleyi doğru olarak tamamlar?

- A) has already left
B) left
C) leaves
D) had already left

6. Elise has been a doctor ----- 2003.

Which of the following completes the sentence above?

Aşağıdakilerden hangisi yukarıdaki cümleyi doğru olarak tamamlar?

- A) for
B) ever
C) since
D) at

7. My friend is very keen ----- horses.

Which of the following completes the sentence above?

Aşağıdakilerden hangisi yukarıdaki cümleyi doğru olarak tamamlar?

- A) at
B) of
C) in
D) on

8. How long ----- she ----- sleeping?

Which of the following completes the sentence above?

Aşağıdakilerden hangisi yukarıdaki cümleyi doğru olarak tamamlar?

- A) has / been
B) is / been
C) has / be
D) have / been

9. I couldn't do my homework because I ----- my books at school.

Which of the following completes the sentence above?

Aşağıdakilerden hangisi yukarıdaki cümleyi doğru olarak tamamlar?

- A) have forgotten
- B) had forgotten
- C) am forgetting
- D) forgot

10. Dad: John, please tidy your wardrobe.
John: Don't worry dad. I have ----- tidied it, it's clean now.

Which of the following completes the dialogue above?

Aşağıdakilerden hangisi yukarıdaki konuşmayı doğru olarak tamamlar?

- A) yet
- B) never
- C) already
- D) ever

11. They had been ----- for him for twenty-five minutes when he -----.

Which of the following completes the sentence above?

Aşağıdakilerden hangisi yukarıdaki cümleyi doğru olarak tamamlar?

- A) waited / came
- B) waited / come
- C) waiting / came
- D) waiting / comes

12. We are ----- with your exam results, they could be much better.

Which of the following completes the sentence above?

Aşağıdakilerden hangisi yukarıdaki cümleyi doğru olarak tamamlar?

- A) afraid
- B) disappointed
- C) fond
- D) keen

13. She asked me if I was going home.

Which of the following is the direct speech form of the reported speech sentence above?

Aşağıdakilerden hangisi yukarıdaki dolaylı anlatım cümlesinin dolaysız anlatım biçimidir?

- A) She asked, "Did you go home?"
- B) She asked, "Are you going home?"
- C) She asks, "Have you gone home?"
- D) She asked, "Were you going home?"

14. New York is famous ----- its Statue of Liberty.

Which of the following completes the sentence above?

Aşağıdakilerden hangisi yukarıdaki cümleyi doğru olarak tamamlar?

- A) with
- B) to
- C) about
- D) for

15. Paul: "I can play football well."
Paul said that he ----- football well.

Which of the following completes the sentence above?

Aşağıdakilerden hangisi yukarıdaki cümleyi doğru olarak tamamlar?

- A) may play
- B) played
- C) could play
- D) is playing

16. The teacher: "Whose pencil is that on the table?"
The teacher asked whose pencil that ----- on the table.

Which of the following completes the sentence above?

Aşağıdakilerden hangisi yukarıdaki cümleyi doğru olarak tamamlar?

- A) has been
- B) is
- C) did
- D) was

17. I am ----- of my daughter's achievements at university.

Which of the following completes the sentence above?

Aşağıdakilerden hangisi yukarıdaki cümleyi doğru olarak tamamlar?

- A) proud
- B) disappointed
- C) keen
- D) interested

18. After Michelle ----- breakfast, she went to the beach.

Which of the following completes the sentence above?

Aşağıdakilerden hangisi yukarıdaki cümleyi doğru olarak tamamlar?

- A) had
- B) had had
- C) has been
- D) has had

19. Mert: "Where has your mum gone, Caner?"
Mert asked Caner -----.

Which of the following completes the sentence above?

Aşağıdakilerden hangisi yukarıdaki cümleyi doğru olarak tamamlar?

- A) where his mum went
- B) if his mum had gone
- C) where his mum had gone
- D) where his mum has gone

20. Berna: "When will you see her?"
Berna asked me -----.

Which of the following completes the sentence above?

Aşağıdakilerden hangisi yukarıdaki cümleyi doğru olarak tamamlar?

- A) when I would see her
- B) when would you see her
- C) when I will see her
- D) if I would see her

2018 AÖO-AÖL II. DÖNEM 0104-A

1. Tu parles très vite, je ----- comprends ----- .

Choisissez les mots qui conviennent.

Cümledeki boşlukları aşağıdakilerden hangisi doğru şekilde tamamlar?

- A) rien / ne
B) ne / personne
C) personne / ne
D) ne / rien

2. C'est ma mère qui ----- appelle?

Choisissez le mot qui convient.

Cümledeki boşluğu aşağıdakilerden hangisi doğru şekilde tamamlar?

- A) moi
B) me
C) je
D) m'

3. - Vous êtes ----- facilement?
- Non, ça été -----.

Choisissez les mots qui conviennent.

Yukarıdaki konuşmada boş bırakılan yerleri aşağıdakilerden hangisi doğru şekilde tamamlar?

- A) venus / difficile
B) venu / facile
C) là / difficilement
D) là / facilement

4. Je pense ----- je suis.

Choisissez le mot qui convient.

Cümledeki boşluğu aşağıdakilerden hangisi doğru şekilde tamamlar?

- A) donc
B) jamais
C) rien
D) trop

5. I. J'habite à Lyon.
II. Cet appartement est en bon état.
III. Le loyer n'est pas cher.
IV. Il est de 100 euros.

Choisissez la phrase qui ne convient pas.

Cümleler sırasıyla okunduğunda, anlam bütünlüğünü bozan cümleyi bulunuz.

- A) I
B) II
C) III
D) IV

6. Marie : Est-ce que Paul a des nouvelles de sa voiture?

Alain : ----- !

Marie : La police ne l'a pas appelé?

Alain : Non, mais je pense qu'elle appellera bientôt.

Choisissez l'expression qui convient.

Yukarıdaki konuşmada boş bırakılan yeri aşağıdakilerden hangisi doğru şekilde tamamlar?

- A) Oh là là
B) Bien sûr
C) Pas encore
D) Ne t'inquiète pas

7. - Bonjour, je voudrais parler à M. Lenoir.
- Oui, -----
- De Mme Chantal.

Choisissez l'expression qui convient.

Yukarıdaki konuşmada boş bırakılan yeri aşağıdakilerden hangisi doğru şekilde tamamlar?

- A) c'est de la part de qui?
B) c'est moi.
C) il est là?
D) c'est à cause de toi.

8. «La vie est chère.»

Choisissez la traduction qui convient.

Yukarıdaki cümlenin Türkçe karşılığı aşağıdakilerden hangisidir?

- A) Hayat güzel.
- B) Hayat değerli.
- C) Hayat pahalı.
- D) Sevgili hayat.

9. J'achète des baskets à Luc. Je ----- achète.

Choisissez l'expression qui convient.

Cümledeki boşluğu aşağıdakilerden hangisi doğru şekilde tamamlar?

- A) les le
- B) lui les
- C) les lui
- D) le lui

10. - Vous avez changé de style vestimentaire?
- Non, pas de ----- .

Choisissez le mot qui convient.

Yukarıdaki konuşmada boş bırakılan yeri aşağıdakilerden hangisi doğru şekilde tamamlar?

- A) changer
- B) changement
- C) changeable
- D) changeur

11. ----- coûte ce livre?

Choisissez le mot qui convient.

Cümledeki boşluğu aşağıdakilerden hangisi doğru şekilde tamamlar?

- A) Comment
- B) Combien
- C) Quand
- D) Est-ce que

12. «Je lui ai proposé un coup de main.»

Choisissez la traduction qui convient.

Yukarıdaki cümlenin Türkçe karşılığı aşağıdakilerden hangisidir?

- A) Onun elleriyle oynadım.
- B) Onun ellerine baktım.
- C) Onun elini tuttum.
- D) Ona yardım teklif ettim.

13. La réunion est ----- 14 novembre.

Choisissez le mot qui convient.

Cümledeki boşluğu aşağıdakilerden hangisi doğru şekilde tamamlar?

- A) en
- B) le
- C) au
- D) de la

14. Si tu es malade, tu ----- te reposer.

Choisissez le mot qui convient.

Cümledeki boşluğu aşağıdakilerden hangisi doğru şekilde tamamlar?

- A) bien
- B) as
- C) vais
- D) dois

15. Je cherche un appartement ----- louer.

Choisissez le mot qui convient.

Cümledeki boşluğu aşağıdakilerden hangisi doğru şekilde tamamlar?

- A) à
- B) de
- C) par
- D) en

2018 AÖÖ-AÖL II. DÖNEM 0104-A

16. L'année dernière, il ----- trop chaud. Cette année, il ----- mieux.

Choisissez les mots qui conviennent.

Cümledeki boşlukları aşağıdakilerden hangisi doğru şekilde tamamlar?

- A) fait / fera
- B) faisait / fait
- C) fait / faisait
- D) fera / faisait

17. C'est un livre ----- parle d'une jeune fille malade.

Choisissez le mot qui convient.

Cümledeki boşluğu aşağıdakilerden hangisi doğru şekilde tamamlar?

- A) que
- B) qui
- C) et
- D) quoi

18. ----- du sport pour être en bonne santé.

Choisissez le mot qui convient.

Cümledeki boşluğu aşağıdakilerden hangisi doğru şekilde tamamlar?

- A) Ouvrez
- B) Payez
- C) Soyez
- D) Faîtes

19. «Sinemaya gitmek istediğini söylüyor.»

Choisissez la traduction qui convient.

Yukarıdaki cümlenin Fransızca karşılığı aşağıdakilerden hangisidir?

- A) Dis-lui d'aller au cinéma.
- B) Elle voudrait aller au cinéma.
- C) Elle dit qu'elle veut aller au cinéma.
- D) Elle veut aller au cinéma.

20. J'en ai assez ----- cet ordinateur.

Choisissez le mot qui convient.

Cümledeki boşluğu aşağıdakilerden hangisi doğru şekilde tamamlar?

- A) par
- B) que
- C) de
- D) sur

PEYGAMBERİMİZİN HAYATI 1 (SEÇMELİ)

A

2018 AÖÖ-AÖL II. DÖNEM 0104-A

1. **Cenâb-ı Allah (c.c), Cebrail aracılığı ile Hz. Muhammed'e (s.a.v) haberlerini bildirmeye, nurunu (kitabını) indirmeye kaç yılında başlamıştır?**
 - A) 571
 - B) 610
 - C) 622
 - D) 632
2. **Siyer ilminin ilk ve en önemli kaynağı aşağıdakilerden hangisidir?**
 - A) Türkçe sözlükler
 - B) Atlaslar
 - C) Ansiklopediler
 - D) Kur'an-ı Kerim
3. **Savaşların yapılmasının yasak olduğu aylara ne ad verilir?**
 - A) Eşhuru'l Hurum
 - B) Cahiliye
 - C) Muallakât
 - D) Asabiyet
4. **"Ey peygamber! Seni tanık, müjdeci, uyarıcı, izniyle Allah'a çağırıcı ve etrafını aydınlatan bir ışık olarak gönderdik." ayeti aşağıdaki surelerden hangisinde yer alır?**
 - A) Lokman Suresi
 - B) Nahl Suresi
 - C) Kalem Suresi
 - D) Ahzâb Suresi
5. **İlk peygamber aşağıdakilerden hangisidir?**
 - A) Hz. İsa
 - B) Hz. Âdem
 - C) Hz. Musa
 - D) Hz. Muhammed
6. **Nebilerin sonuncusu aşağıdakilerden hangisidir?**
 - A) Hz. İsmail
 - B) Hz. İbrahim
 - C) Hz. Muhammed
 - D) Hz. Musa
7. **Hız. Peygamber (s.a.v), Mekke'den ayrılıp Medine-i Münevvere'ye kaç yılında hicret etmiştir?**
 - A) 632
 - B) 622
 - C) 616
 - D) 610
8. **Göklerin ve yerlerin tek hâkimi, ölümsüz ve her şeyi bilen Allah (c.c) dışında canlı ve cansız herhangi bir varlığa tapınmaya, bunları O'na (c.c) denk ve benzer tutmaya ne ad verilir?**
 - A) Şirk
 - B) Müşrik
 - C) Sabii
 - D) Bedevi
9. **Hız. Peygamber'in (s.a.v) sözleri, davranışları ve takrirlerine ne ad verilir?**
 - A) Haber
 - B) İhsan
 - C) Hadis
 - D) Sembol
10. **"Ticaret amacıyla yapılan yaz ve kış yolculuklarından ve bu imkanları bahşeden Kâbe'nin Rabbine kulluk edilmesi gerektiğinden" bahseden sure aşağıdakilerden hangisidir?**
 - A) Zuhuf Suresi
 - B) İsra Suresi
 - C) Kureyş Suresi
 - D) Tekvir Suresi

11. Aşağıdakilerden hangisi Erdemliler Topluluğu'nun yaptığı toplantıda alınan kararlardan biri değildir?

- A) İster Mekke içinden ister Mekke dışından olsun, haksızlığa uğramış kimse bırakılmaması
- B) Haksızlık edenlerin Mekke dışına sürülmesi
- C) Hakkını alıncaya kadar haksızlığa uğrayanla beraber hareket edilmesi
- D) Mekke'de zulme asla fırsat verilmemesi ve zalime asla müsamaha gösterilmemesi

12. Fil olayı kaç yılında gerçekleşmiştir?

- A) 560
- B) 564
- C) 571
- D) 580

13. Erdemliler topluluğunun diğer adı aşağıdakilerden hangisidir?

- A) Emniyetliler Topluluğu
- B) Darül Nedve
- C) Darül Erkam
- D) Hılful'ı – Fudül

14. Hz. Muhammed'in (s.a.v.) sütannesinin adı aşağıdakilerden hangisidir?

- A) Zeynep
- B) Rukiye
- C) Hatice
- D) Halime

15. Gördüğü bir rüya üzerine zezem kuyusunun yerini keşfederek tamir ettiren ve hacıların hizmetine sunan kişi aşağıdakilerden hangisidir?

- A) Hz. Muhammed'in (s.a.v) oğlu Kasım
- B) Hz. Muhammed'in (s.a.v) babası Abdullah
- C) Hz. Muhammed'in (s.a.v) amcası Ebu Tâlib
- D) Hz. Muhammed'in (s.a.v) dedesi AbdulmutTâlib

16. Hz. Muhammed (s.a.v.) sütannesinin yanında kaç yıl kalmıştır?

- A) 4
- B) 7
- C) 6
- D) 5

17. Allah'ın (c.c) peygamberlerini temiz bir yaratılışa sahip kılarak, gizli ve açık her türlü günahattan, şirkten, küfürden, münafıklıktan ve zulüm yapmaktan korumasına ne ad verilir?

- A) Mürşid
- B) İsmet
- C) İffet
- D) Asabiyet

18. Allah'ın (c.c) Hz. Muhammed'e (s.a.v) vahiy göndererek peygamberlik verdiği yer aşağıdakilerden hangisidir?

- A) Uhud Dağı
- B) Sevr Dağı
- C) Hira Mağarası
- D) Tur Mağarası

19. Aşağıdakilerden hangisi Hz. Peygamber'in (s.a.v) en çok bilinen adlarından biri değildir?

- A) Abdullah
- B) Mahmut
- C) Ahmet
- D) Muhammed

20. Hz. Peygamber'in (s.a.v) babasının adı aşağıdakilerden hangisidir?

- A) Abdullah
- B) İsmail
- C) Haşim
- D) AbdulmutTâlib

2018 AÖÖ-AÖL II. DÖNEM 0104-A

1. **Gelenekçi şairlerin en çok saldırdığı yenilikçi şair aşağıdakilerden hangisidir?**
 - A) Recaizade Mahmut Ekrem
 - B) Tevfik Fikret
 - C) Cenap Şehabettin
 - D) Halit Ziya
2. **Cenap Şehabettin'in ilk şiirinin yayımlandığı gazete aşağıdakilerden hangisidir?**
 - A) İkdam
 - B) Hizmet
 - C) Vatan
 - D) Saadet
3. **Aşağıdakilerden hangisi Türkçülük akımının kültür ve edebiyat alanındaki yayın organlarından biri değildir?**
 - A) Türk Derneği
 - B) Halkevleri
 - C) Türk Yurdu
 - D) Türk Ocağı
4. **"Maupassant Tarzı Hikaye"nin ortaya çıktığı ülke aşağıdakilerden hangisidir?**
 - A) Fransa
 - B) Rusya
 - C) Almanya
 - D) Türkiye
5. **Türk edebiyatında ilk psikolojik romanın yazarı aşağıdakilerden hangisidir?**
 - A) İbrahim Şinasi
 - B) Halid Ziya
 - C) Nabizade Nazım
 - D) Mehmet Rauf
6. **Batılılaşmanın Türk edebiyatında başladığı dönem aşağıdakilerden hangisidir?**
 - A) Fecr-i Ati Edebiyatı
 - B) Servet-i Fünûn Edebiyatı
 - C) Millî Edebiyat
 - D) Tanzimat Edebiyatı
7. **"Fecr-i Âti" kelime grubunun anlamı aşağıdakilerden hangisidir?**
 - A) Umutsuz Hayal
 - B) Geleceğin Aydınlığı
 - C) İlerici Anlayış
 - D) Yenilikçi Edebiyat
8. **Döneminin "Fikri hür, irfanı hür, vicdanı hür şair"i Tevfik Fikret'in çocuklar için sade bir dille ve hece ölçüsüyle yazdığı şiir kitabı aşağıdakilerden hangisidir?**
 - A) Nemide
 - B) Feride
 - C) Şermin
 - D) Handan
9. **"Türk Edebiyatında İlk Mutasavvıflar" adlı eser aşağıdaki yazarlardan hangisine aittir?**
 - A) Fuat Köprülü
 - B) Tevfik Fikret
 - C) Ziya Gökalp
 - D) Reşat Nuri Güntekin
10. **Aşağıdakilerden hangisi Tevfik Fikret'in şiir sanatının özelliklerinden biri değildir?**
 - A) Türkçeyi aruz ölçüsüne ustalıkla uygulaması
 - B) Yalın bir dil kullanması
 - C) Sone, terzarima gibi nazım şekillerini kullanması
 - D) Duygu ve düşüncelerini beyit yerine dize içerisinde tamamlaması
11. **Yakup Kadri Karaosmanoğlu'nun kuşaklar arasındaki çatışmayı gözler önüne serdiği, Batılılaşmayı yanlış anlayarak bir ailenin dağılmasına neden olan sorumsuz davranışları yerdığı eseri aşağıdakilerden hangisidir?**
 - A) Yaban
 - B) Sodom ve Gomore
 - C) Nur Baba
 - D) Kiralık Konak

12. Türk edebiyatında "saf şiir" anlayışının önemli temsilcileri aşağıdakilerin hangisinde birlikte ve doğru olarak verilmiştir?

- A) Faruk Nafiz Çamlıbel-Orhan Seyfi Orhon
- B) Yusuf Ziya Ortaç-Ahmet Haşim
- C) Mehmet Âkif Ersoy-Mehmet Emin Yurdakul
- D) Ahmet Haşim-Yahya Kemal Beyatlı

13. Aşağıdakilerden hangisi Ahmet Haşim'in eserlerinden biri değildir?

- A) Göl Saatleri
- B) Frankfurt Seyahatnamesi
- C) Altın Işık
- D) Piyale

14. Osmanlı-Rus Savaşı ile Balkan Savaşı yenilgilerinin zemin hazırladığı fikir akımı aşağıdakilerden hangisidir?

- A) Türkçülük
- B) İslamcılık
- C) Milliyetçilik
- D) Osmanlıcılık

15. Cenap Şahabettin'in Bulgaristan, Romanya, Macaristan, Çekoslavakya, Almanya ve Avusturya'ya yaptığı gezilerle ilgili izlenimlerini, anılarını topladığı kitabı aşağıdakilerden hangisidir?

- A) Avrupa Mektupları
- B) Anadolu Notları
- C) Yolcu Defteri
- D) Deniz Aşırı

16. 19. yüzyılın ikinci yarısında romantizme tepki olarak doğan akım aşağıdakilerden hangisidir?

- A) Realizm
- B) Sembolizm
- C) Natüralizm
- D) Parnasizm

17. "Çalığışu" adlı roman aşağıdaki yazarlardan hangisine aittir?

- A) Yakup Kadri Karaosmanoğlu
- B) Reşat Nuri Güntekin
- C) Mehmet Rauf
- D) Halit Ziya Uşaklıgil

18. "İstiklâl Marşı" şairi Mehmet Âkif Ersoy'un eserlerini topladığı kitabı aşağıdakilerden hangisidir?

- A) Aziz İstanbul
- B) Akın
- C) Safahat
- D) Göl Saatleri

19. "Millî Edebiyat Akımı"nın asıl yayın organı aşağıdakilerden hangisidir?

- A) Türk Yurdu
- B) Genç Kalemler
- C) Türk Ocağı
- D) Türk Cemiyeti

20. Mehmet Rauf'un yazdığı ilk hikaye aşağıdakilerden hangisidir?

- A) Düşmüş
- B) Zavallı Kız
- C) Bir Aşkın Tarihi
- D) Son Emel

SINAVDA UYULMASI GEREKEN GENEL KURALLAR

1. Sınava girmek için gerekli belgelerinizin tümünü sınav başlamadan önce sıranızın üzerine bırakınız.
2. Sınav süresince görevlilerle konuşmak, görevlilere soru sormak yasaktır. Aynı şekilde görevlilerin de öğrencilerle yakından ve alçak sesle konuşmaları yasaktır. Gerekli durumlarda görevliler yerinizi değiştirebilir.
3. Size verilen cevap kâğıdının üzerindeki TCKN/Öğrenci no, ad, soyadı, bilgilerini kontrol ediniz, ilgili alanları eksiksiz doldurarak imzalayınız. Bu bilgiler size ait değilse, görevlileri uyararak size ait cevap kâğıdını isteyiniz. Başka öğrenciye ait cevap kâğıdı kullanan öğrencilerin o oturumdaki sınavları geçersiz sayılır.
4. Cevap kâğıdı üzerine test grubunu (A, B, C, D) kodlamayan veya birden fazla kodlama yapan öğrencilerin sınavları geçersiz sayılır.
5. Cevap kâğıdınıza yazacağınız her türlü yazı ve yapacağınız işaretlemeler için koyu yazan siyah kurşun kalem kullanmalısınız. Siyah kurşun kalem dışında farklı bir kalem (tükenmez, mürekkepli ya da renkli vb.) kullanan öğrencilerin sınavları geçersiz sayılır.
6. Cevap kâğıdı üzerinde değişiklik yapmak istediğinizde, iz bırakmayan bir silgi kullanınız. Cevap kâğıdınızı buruşturmayınız, katlamayınız ve üzerine gereksiz hiçbir işaret koymayınız.
7. Cevaplarınızı, cevap kâğıdında ilgili test için ayrılmış olan alana, cevap yerinin dışına taşırmadan işaretleyiniz. Soru kitapçığı üzerinde yapılan işaretlemeler değerlendirmeye alınmayacaktır.
8. Her sorunun tek bir doğru cevabı vardır. Bir soru için birden çok cevabı işaretlerseniz, o soruyu yanlış cevaplamış sayılacaksınız.
9. Soru kitapçığınızı aldığınızda sayfalarına hızlıca bakarak hatalı ya da eksik baskı olup olmadığını kontrol ediniz. Hata/eksik olması durumunda kitapçığının değiştirilmesi için derhâl Salon Başkanına başvurunuz. Sınav görevlileri sınavın başladığını belirtmeden kitapçığınızı tekrar açmayınız.
10. Cevap kâğıdınızda belirtilen kitapçık kodu ile soru kitapçığının kodunu karşılaştırınız. Aynı değilse, sınav görevlilerine durumu bildirerek doğru kitapçığın verilmesini talep ediniz.
11. Soru kitapçığındaki ilgili alanlara ad, soyadı, TCKN/Öğrenci no, sınav salon no, sıra no bilgilerinizi eksiksiz doldurarak imzanızı atınız. Soru kitapçığının sayfalarındaki boş yerleri müsvedde amacıyla kullanabilirsiniz.
12. Aşağıdaki durumlarda sınav görevlileri tarafından Bireysel Sınav İptal Tutanağı düzenlenerek ilgili öğrencilerin sınavları geçersiz sayılır:
 - a) Sınav kurallarına ve sınav görevlilerinin uyarılarına uymamak, sınav düzenini bozmak,
 - b) Kâğıt, kitap, defter, not vb. dokümanları; pergel, açıölçer, cetvel vb. araçları; cep telefonu, bilgisayar, tablet, telsiz, kamera vb. iletişim, depolama, kayıt ve veri aktarma cihazlarını; ruhsatlı veya resmi amaçlı olsa bile silah ve silah yerine geçebilecek nesnelere yanında bulundurmamak,
 - c) Sınav sırasında kalem, silgi vb. araç-gereç paylaşımında bulunmak,
 - d) Cevapları, cevap kâğıdı dışında bir yere yazmak ve sınav salonundan dışarı çıkarmak,
 - e) Sınava girebilmek için gerekli belgeleri eksik olduğu halde sınava katılıp, cevap kâğıdında işaretleme yapmak,
 - f) Sınav görevlileri tarafından öğrencinin kimliğinden şüphe duyulması,
 - g) Cevap kâğıdını ve/veya soru kitapçığını sınav görevlilerine eksiksiz ve sağlam şekilde teslim etmemek, sınav salonu dışına çıkarmak,
 - h) Kopya çekmek, vermek, çekilmesine yardımcı olmak vb. eylemlerde bulunmak,
 - i) Kendisi yerine başkasını sınava sokmak.
13. Sınav bitiminde, cevap kâğıdınızı ve soru kitapçığınızı salon görevlilerine eksiksiz biçimde teslim ediniz. Sınav bittikten sonra gönderilen cevap kâğıtları dikkate alınmayacaktır.

SINAV KURALLARINA UYDUĞUNUZ İÇİN TEŞEKKÜR EDER, SINAVINIZDA BAŞARILAR DİLERİZ.