



ANADOLU ÜNİVERSİTESİ  
AÇIKÖĞRETİM FAKÜLTESİ  
BA - AÇIKÖĞRETİM OKULLARI

**T.C. MİLLİ EĞİTİM BAKANLIĞI**  
**Hayat Boyu Öğrenme Genel Müdürlüğü**  
**2017-2018 ÖĞRETİM YILI BATI AVRUPA - BALKANLAR**  
**AÇIK ÖĞRETİM LİSESİ II. DÖNEM SINAVI**  
**6. OTURUM Pazar**

ÖĞRENCİNİN

**B**

**0106**

SOYADI : .....

ADI : .....

T.C. KİMLİK NO / ÖĞRENCİ NO : .....

SINAV SALON NO : ..... SIRA NO: .....

Sınavla ilgili soru kitapçığının ön ve arka kapağındaki tüm kuralları okudum, anladım, kabul ediyorum.

İMZA:.....

**SINAV İÇERİĞİ**

Testin Adı	Soru Sayısı	Sayfa No	Testin Adı	Soru Sayısı	Sayfa No
DİN KÜLTÜRÜ VE AHLAK BİLGİSİ 6	20	02	SAĞLIK BİLGİSİ 1	20	29
T.C. İNKILAP TARİHİ VE ATATÜRKÇÜLÜK 1	20	04	ALMANCA 7	20	31
T.C. İNKILAP TARİHİ VE ATATÜRKÇÜLÜK 2	20	06	İNGİLİZCE 7	20	34
COĞRAFYA 4	20	08	FRANSIZCA 7	20	37
SEÇMELİ COĞRAFYA 3	20	10	SEÇMELİ ALMANCA 8	20	40
SEÇMELİ PSİKOLOJİ 1	20	12	SEÇMELİ İNGİLİZCE 8	20	43
SEÇMELİ KİMYA 2	20	14	SEÇMELİ FRANSIZCA 8	20	46
BİYOLOJİ 2	20	17	TÜRK DİLİ VE EDEBİYATI 2	20	49
BİYOLOJİ 3	20	19	TÜRK DİLİ VE EDEBİYATI 3	20	51
SEÇMELİ BİYOLOJİ 1	20	21	SEÇMELİ DEMOKRASİ VE İNSAN HAKLARI 2	20	53
SEÇMELİ ÇAĞDAŞ TÜRK VE DÜNYA TARİHİ 2	20	23	SEÇMELİ DİL VE ANLATIM 6	20	55
TEMEL DİNİ BİLGİLER 1	20	25	MATEMATİK 2	20	57
SEÇMELİ MANTIK 1	20	27			

**SINAVDA UYULMASI GEREKEN ÖZEL KURALLAR**

1. Soru kitapçığındaki her bir testi cevaplamanız için verilen süre 30 dakika, toplam süre 150 dakikadır.
2. Sınavın ilk 30 dakikası ve son 5 dakikası içinde sınavınızı tamamlasanız bile salondan çıkamazsınız. Herhangi bir nedenle salondan çıktığınız takdirde, tekrar sınava devam etmenize izin verilmeyecektir. Sınavın başlamasını izleyen ilk 15 dakikadan sonra hiçbir öğrenci sınava alınamaz.
3. Yanlış cevaplarınız dikkate alınmayacaktır. Bu nedenle kitapçıktaki tüm sorular için size doğru gelen seçeneği işaretleyerek cevapsız soru bırakmamanız yararınıza olacaktır.
4. Sınav sırasında hesap makinesi kullanabilirsiniz. Ancak, kullanacağınız makinede alfabetik tuş takımınının (A, B, C,..., Y, Z), program yapılmasına, saklanmasına ve çalıştırılmasına imkân veren EXE, STORE, RUN vb. tuşlar bulunamaz.

"Sınavda Uyulması Gereken Genel Kurallar" soru kitapçığının arka sayfasında yer almaktadır. Bu kuralları da mutlaka dikkatlice okuyunuz.

Anadolu Üniversitesi tarafından hazırlanmış olan bu testlerin her hakkı saklıdır. Hangi amaçla olursa olsun, testlerin tamamının veya bir kısmının Anadolu Üniversitesi'nin yazılı izni olmadan kopya edilmesi, fotoğraflarının çekilmesi, herhangi bir yolla çoğaltılması, yayımlanması ya da kullanılması yasaktır. Bu yasağa uymayanlar gerekli cezai sorumluluğu ve testlerin hazırlanmasındaki mali külfeti peşinen kabullenmiş sayılır.

2018 AÖÖ-AÖL II. DÖNEM 0106-B

1. Kur'an-ı Kerim metninin hatasız ve eksiksiz basım ve yayımını sağlamak üzere kontrol edip onaylayan birim aşağıdakilerden hangisidir?

- A) Tasfiye İşleri Genel Müdürlüğü
- B) Din İşleri Yüksek Kurulu
- C) Hac Dairesi
- D) Mushafları İnceleme ve Kıraat Kurulu

2. Hz. Muhammed'i öven edebi eserlere ne ad verilir?

- A) Naat
- B) Mevlit
- C) Ebru
- D) Tevhit

3. Aşağıdakilerden hangisi Diyanet İşleri Başkanlığı'na bağlı kurum ve kuruluşlardan biri değildir?

- A) Din İşleri Yüksek Kurulu
- B) Mushafları İnceleme Kurulu
- C) Tasfiye İşleri Genel Müdürlüğü
- D) Din Hizmetleri Dairesi

4. Diyanet İşleri Başkanlığı'nın en yüksek karar ve danışma organı olup, dinî konularda inceleme ve araştırma faaliyetlerinde bulunan birim aşağıdakilerden hangisidir?

- A) Din Hizmetleri Dairesi
- B) Hac Dairesi
- C) Din İşleri Yüksek Kurulu
- D) Mushafları İnceleme Kurulu

5. Osmanlı İmparatorluğu zamanında din işleri aşağıdakilerden hangisi tarafından yürütülürdü?

- A) Şeyhülislam
- B) Nişancı
- C) Veziriazam
- D) Yeniçeri Ağası

6. Tezhip sanatı ile ilgilenen sanatçılara ne ad verilir?

- A) Nakkaş
- B) Müzehhip
- C) Hattat
- D) Neyzen

7. İslam'daki evlilik anlayışıyla ilgili aşağıdaki ifadelerden hangisi yanlıştır?

- A) Evlilik insani ve medeni bir muameledir.
- B) Boşanma zina sayılır ve yasaktır.
- C) Neslin devamı ve korunması için evlilik esastır.
- D) Evlilik insan şeref ve haysiyetini korumuştur.

8. Allah'ın varlığını ve birliğini ifade eden edebi eserlere ne ad verilir?

- A) Naat
- B) Münacat
- C) Tevhit
- D) Methiye

9. Özel birtakım boyalarla su üzerinde yapılan şekillerin kâğıda çıkarılmasıyla oluşan süsleme sanatı aşağıdakilerden hangisidir?

- A) Hat
- B) Tezhip
- C) Minyatür
- D) Ebru

10. Görevli oldukları il ya da ilçelerde din hizmetlerinden birinci derece sorumlu olan ve din hizmetlerini, dinî müesseseleri yöneten ve din görevlilerinin hizmetlerini düzenleyip denetletleyen görevlilere ne ad verilir?

- A) Din İşleri Yüksek Kurulu Başkanı
- B) Vaiz
- C) Müftü
- D) İmam-Hatip

11. Kâğıt veya deri üzerine yapılan, ışık, gölge ve derinliği olmayan küçük boyutlu ve renkli resimlere ne ad verilir?
- A) Tezhip  
B) Musiki  
C) Hat  
D) Minyatür
12. Cami ve mescitlerde din hizmetlerini yürüten, dinî konularda toplumu bilgilendiren, vakit, cenaze, bayram, cuma, teravîh gibi namazların cemaatle kaldırılmasını sağlayan din görevlisi aşağıdakilerden hangisidir?
- A) Müftü  
B) Vaiz  
C) Müezzin  
D) İmam-hatip
13. İslam tarihindeki ilk cami aşağıdakilerden hangisidir?
- A) Kabe  
B) Kuba mescidi  
C) Kubbetus Sahra  
D) Mescidi Nebi
14. Yüce Allah'a yakarışı ve kulun acizliğini ifade eden edebi eserlere ne ad verilir?
- A) Methiye  
B) Tevhit  
C) Münacat  
D) Naat
15. 1920 yılından, halifeliğin kaldırıldığı 1924 yılına kadar din hizmetlerini yürüten kurum aşağıdakilerden hangisidir?
- A) Şer'iye ve Evkaf Vekâleti  
B) Tevhid-i Tedrisat  
C) Sadaret Kethudalığı  
D) Bab-ı Defter
16. Aşağıdaki camilerden hangisi Edirne'de bulunur?
- A) Selimiye  
B) Hasan Paşa İmaret  
C) Sultan Ahmet  
D) Ayasofya
17. Namaz vakitleri geldiğinde ezan okuyan, kamet getiren, caminin temizliği ve bakımı gibi görevlerde bulunan din görevlisi aşağıdakilerden hangisidir?
- A) Cemaat  
B) Müezzin  
C) Vaiz  
D) İmam
18. İnsanda güzellik hissi uyandıran, güzel duygu ve anlamlar içeren sanatla ilgili değer yargısı aşağıdakilerden hangisidir?
- A) Altın Oran  
B) Denge  
C) Mizanpaj  
D) Estetik
19. Dinî konularda insanları bilgilendirici ve doğru yolu gösterici nitelikte genellikle cuma ve bayram namazı öncesi konuşmalar yapan din görevlisi aşağıdakilerden hangisidir?
- A) Müftü  
B) Vaiz  
C) İmam Hatip  
D) Müezzin
20. Türkiye'deki tüm camilerde hutbelerin Türkçe okunmaya başlandığı tarih aşağıdakilerden hangisidir?
- A) 1932  
B) 1938  
C) 1944  
D) 1948

2018 AÖÖ-AÖL II. DÖNEM 0106-B

1. I. Balkan Savaşı sonunda imzalanan Londra Barış Antlaşması'yla Osmanlı Devleti'nin Balkanlardaki topraklarından en büyük payı elde eden devlet aşağıdakilerden hangisidir?
  - A) Romanya
  - B) Bulgaristan
  - C) Yunanistan
  - D) Arnavutluk
2. Aşağıdakilerden hangisi Birinci Dünya Savaşı'nda Osmanlı Devleti'nin taarruz cephelerindedir?
  - A) Makedonya Cephesi
  - B) Irak Cephesi
  - C) Kafkas Cephesi
  - D) Çanakkale Cephesi
3. Osmanlı Devleti'nde ortaya çıkan Osmanlılık, İslamcılık, Turancılık, Türkçülük ve Batıcılık gibi düşünce akımlarının ortak amacı aşağıdakilerden hangisidir?
  - A) Paris Barış Konferansı'na Osmanlı Devleti'nin katılımını sağlamak
  - B) Devlet yönetimini teokratik yapıya kavuşturmak
  - C) Osmanlı Devleti'nin sınırlarını genişletmek
  - D) Avrupa Devletleri'nin Osmanlı Devleti'nin iç işlerine karışmasını önlemek ve devleti dağılmaktan kurtarmak
4. İngiltere ile Rusya'nın 10 Haziran 1908 tarihinde Reval'de gizli bir görüşme yapması İttihat ve Terakki'yi aşağıdakilerden hangisinin ilanı için harekete geçirmiştir?
  - A) II. Meşrutiyet
  - B) Islahat Fermanı
  - C) Sened-i İttifak
  - D) Tanzimat Fermanı
5. Trablusgarp Savaşı sonunda Osmanlı Devleti ile İtalyanlar arasında yapılan barış antlaşması aşağıdakilerden hangisidir?
  - A) İstanbul Antlaşması
  - B) Londra Antlaşması
  - C) Bükreş Antlaşması
  - D) Uşi Antlaşması
6. Mondros Ateşkes Antlaşması'ndan sonra ilk işgal edilen Osmanlı toprağı aşağıdakilerden hangisidir?
  - A) Trabzon
  - B) Musul
  - C) İzmir
  - D) Samsun
7. Aşağıdakilerden hangisi azınlıklar tarafından kurulan cemiyetlerden biri değildir?
  - A) Kilikyalılar Cemiyeti
  - B) Mavri Mira Cemiyeti
  - C) Pontus Cemiyeti
  - D) Etniki Eteryä Cemiyeti
8. Basın ve yayın yolu ile işgallerin haksızlığını dünya kamuoyuna duyurmak amacıyla İstanbul'daki yazar ve aydınlar tarafından kurulan ve Kuvayimilliyeye ifadesini ilk kez kullanan cemiyet aşağıdakilerden hangisidir?
  - A) Teali İslam Cemiyeti
  - B) Taşnak Cemiyeti
  - C) Millî Kongre Cemiyeti
  - D) İzmir Müdafaa-i Hukuk-u Osmaniye Cemiyeti
9. Yunanlıların 15 Mayıs 1919'da başlayan İzmir'i işgaline karşın ilk kurşunu atan Hukuk-u Beşer (İnsan Hakları) Gazetesi başyazarı aşağıdakilerden hangisidir?
  - A) Rauf Orbay
  - B) Hasan Tahsin
  - C) Namık Kemal
  - D) Ziya Gökalp
10. Aşağıdakilerden hangisi Wilson İlkeleri'nin maddelerinden biri değildir?
  - A) Yenilenler savaş tazminatı ve cezai tazminat ödeyecek
  - B) Savaş sonunda yenilenler, yenilenlerden toprak almayacak
  - C) Bütün barış antlaşmaları açık olacak
  - D) Devletler arasındaki anlaşmazlıklar barış yolu ile çözümlenecek

11. Atatürk'ün, "Yolunda yürüyen bir yolcunun, ufku görmesi kâfi değildir. Muhakkak ufkun ötesini de görmesi lazımdır." sözünde Atatürk'ün kişisel özelliklerinden hangisini açıkça görmek mümkündür?
- A) Mantıklı ve Gerçekçi Oluşu  
B) Bütünleştirme Gücü  
C) İleri Görüşlülüğü  
D) Vatan ve Millet Sevgisi
12. II. Meşrutiyet'in ilanından sonra meşrutiyet yönetimine karşı olanların İstanbul'da 13 Nisan 1909 tarihinde çıkardıkları isyan/ayaklanma aşağıdakilerden hangisidir?
- A) Canberdi Gazali Ayaklanması  
B) Kalenderoğlu İsyanı  
C) 31 Mart Ayaklanması  
D) Şeyh Sait İsyanı
13. Mustafa Kemal (Atatürk) Şam'da bulunan V. Orduya bağlı 30. Süvari Alayı'nda staj yaptığı sırada kurduğu cemiyet aşağıdakilerden hangisidir?
- A) İttihat ve Terakki Cemiyeti  
B) Osmanlı Hürriyet Cemiyeti  
C) Reddi İlhak Cemiyeti  
D) Vatan ve Hürriyet Cemiyeti
14. "Bu vatan çocuklarımız ve torunlarımız için cennet yapılmaya layıktır."  
**Mustafa Kemal'in (Atatürk) yukarıdaki sözü kişisel özelliklerinden hangisini açıkça ortaya koymaktadır?**
- A) İnkılapçılığı  
B) İleri Görüşlülüğü  
C) Mantıklı ve Gerçekçi Oluşu  
D) Vatan ve Millet Sevgisi
15. Aşağıdakilerden hangisi Eskişehir-Kütahya Muharebelerinin sonuçlarından biri değildir?
- A) Düzenli Türk ordusunun ilk zaferini kazanması  
B) Eskişehir, Kütahya ve Afyon'unun Yunanlıların eline geçmesi  
C) Mecliste Mustafa Kemal'e karşı muhalefetin artması  
D) Türkler arasında büyük üzüntü ve korkuya neden olması
16. Millî Mücadele'nin ilk yayın organı aşağıdakilerden hangisidir?
- A) Aydede  
B) İrade-i Milliye  
C) Alemdar  
D) Güleryüz
17. Aşağıdakilerden hangisinde ilk defa millî irade ve millî hâkimiyetten söz edilmiştir?
- A) Son Osmanlı Mebusan Meclisi  
B) Erzurum Kongresi  
C) Amasya Genelgesi  
D) Sivas Kongresi
18. Mudanya Ateşkes Antlaşması'nda Türkiye'yi temsil eden kişi aşağıdakilerden hangisidir?
- A) İsmet İnönü  
B) Rauf Orbay  
C) Refet Bele  
D) Fevzi Çakmak
19. Mustafa Kemal Atatürk, "Hattı müdafaa yoktur, sathı müdafaa vardır. O sathı bütün vatandır. Vatanın her karış toprağı, vatandaşın kaniyle sulanmadıkça terk olunmaz." emrini hangi savaşta vermiştir?
- A) I. İnönü Savaşı  
B) II. İnönü Savaşı  
C) Eskişehir-Kütahya Savaşları  
D) Sakarya Savaşı
20. Türkiye Büyük Millet Meclisi Hükümeti'nin uluslararası alanda sağladığı ilk başarı aşağıdakilerden hangisidir?
- A) Kars Antlaşması  
B) Gümrü Antlaşması  
C) Moskova Antlaşması  
D) Lozan Barış Antlaşması

2018 AÖÖ-AÖL II. DÖNEM 0106-B

1. Mustafa Kemal Atatürk, "Benim naçiz vücudum bir gün elbet toprak olacaktır. Fakat Türkiye Cumhuriyet'i sonsuza kadar yaşayacaktır." sözünü aşağıdaki hangi olay üzerine söylemiştir?
  - A) Kabakçı Mustafa İsyanı
  - B) Şeyh Sait İsyanı
  - C) İzmir Suikast Girişimi
  - D) 31 Mart Vakası
2. Türk Devlet yapısının laikleşmesinin ilk aşaması aşağıdakilerden hangisidir?
  - A) Saltanatın kaldırılması
  - B) Halifeliğin kaldırılması
  - C) Türk Medeni Kanununun kabul edilmesi
  - D) Harf İnkılabının yapılması
3. Aşağıdakilerden hangisi Türk Medeni Kanunu'nun getirdiği yeniliklerden biri değildir?
  - A) Kadınlara dilediği mesleğe girme hakkının tanınması
  - B) Kadınlara yerel seçimlerde seçme ve seçilme hakkının tanınması
  - C) Mirasta ve şahitlikte kadın erkek eşitliğinin sağlanması
  - D) Kadınlara boşanma hakkının verilmesi
4. Aşağıdakilerden hangisi Cumhuriyet'in ilanının nedenleri arasında yer almaz?
  - A) Nüfus Mübadelesi Sorunu'nu diplomatik yollarla çözümlenmek
  - B) Meclis hükümeti sisteminin ortaya çıkardığı sorunları çözümlenmek
  - C) Millî egemenliğin tam olarak gerçekleştirilmesini sağlamak
  - D) Devlet başkanlığı ve rejim sorununu çözümlenmek
5. Aşağıdakilerden hangisi İzmir İktisat Kongresi'nde kabul edilen Misak-ı İktisadi'de yer alan maddelerden biri değildir?
  - A) Demiryolu inşaatı programa bağlanmalı
  - B) Sanayinin teşviki ve millî bankaların kurulması sağlanmalı
  - C) Hammaddesi yurt dışında olan sanayi dalları kurulmalı
  - D) Küçük imalattan büyük işletmelere geçilmeli
6. Türk Hava Kuvvetlerinin temelini atan Osmanlı devlet adamı aşağıdakilerden hangisidir?
  - A) Ali Rıza Paşa
  - B) Mustafa Reşit Paşa
  - C) Enver Paşa
  - D) Mahmut Şevket Paşa
7. Günümüzdeki jandarma teşkilatı Selçuklular Dönemi'nde hangi ad altında hizmet etmiştir?
  - A) Şurta
  - B) Sancakbeyi
  - C) Köy Kethüdası
  - D) Subaşı
8. Aşağıdakilerden hangisi Balkan Antantı'nı imzalayan ülkelerden biri değildir?
  - A) Türkiye
  - B) Arnavutluk
  - C) Yunanistan
  - D) Romanya
9. Aşağıdakilerden hangisi Sadabat Paketi'nin imzalayan ülkelerin üzerinde uzlaştıkları maddelerden biri değildir?
  - A) Ortak çıkarlarını ilgilendiren meselelerde birbirlerine danışmak
  - B) Birbirlerinin iç işlerine karışmamak
  - C) Ortak sınırlara saygı göstermek
  - D) Milletler Cemiyeti'nden ayrılmak
10. Yabancı Okullar Sorunu'ndaki yaklaşımı nedeniyle aşağıdaki devletlerden hangisiyle Türkiye Cumhuriyeti'nin iyi ilişkiler kurması gecikmiştir?
  - A) Portekiz
  - B) Fransa
  - C) İspanya
  - D) Mısır

11. Türkiye, 1929 yılında Briand-Kellogg Paktı'nı imzalayarak aşağıdakilerden hangisini açıkça ortaya koymuştur?

- A) Kara sularını 6 milden 12 mile çıkardığını
- B) Osmanlı borçlarını ödemeyi kabul ettiğini
- C) Savaşı reddettiğini
- D) Eğitimde farklı uygulamalara son verdiğini

12. Aşağıdakilerden hangisi Atatürk ilke ve inkılaplarının dayandığı esaslar arasında yer almaz?

- A) Bağımsızlık ve özgürlük
- B) Vatan ve millet sevgisi
- C) Egemenliğin millete ait olması
- D) Durağanlık

13. Devlet düzeninin ve hukuk kurallarının dine değil, akla ve bilime dayandırılması, kimsenin dini inancına ve vicdan özgürlüğüne karşılmamasını temel alan Atatürk ilkesi aşağıdakilerden hangisidir?

- A) Halkçılık
- B) Devletçilik
- C) Laiklik
- D) Milliyetçilik

14. Aşağıdakilerden hangisi devletçiliğin Atatürk tarafından ekonomik politika olarak kabul edilmesinin nedenlerinden biri değildir?

- A) Sosyal adaletin ve coğrafi bölgeler arasındaki dengenin sağlanmak istenmesi
- B) Meclis Hükümeti Sistemi'nin benimsenmesi
- C) Siyasi bağımsızlığın korunması için ekonomik kalkınmanın gerekli olması
- D) Osmanlı Devleti'nden, yeni Türk Devleti'ne devredilen ekonomik yapının kötü durumda olması

15. Türkiye'de İlk Beş Yıllık Kalkınma Planı kaç yıldan itibaren uygulanmaya konulmuştur?

- A) 1934
- B) 1945
- C) 1957
- D) 1966

16. Mustafa Kemal Atatürk, Anıtkabir'e defnedilmeden önce aşağıdaki yerlerden hangisinde hazırlanan geçici bir kabre konulmuştur?

- A) Ayasofya Müzesi
- B) Anadolu Medeniyetler Müzesi
- C) Topkapı Müzesi
- D) Etnografya Müzesi

17. Türkiye Cumhuriyeti'nin ikinci Cumhurbaşkanı kimdir?

- A) İsmet İnönü
- B) Cemal Gürsel
- C) Fahri Korutürk
- D) Celal Bayar

18. Aşağıdakilerden hangisi II. Dünya Savaşı'nda Müttefik Devletlerden biri değildir?

- A) İngiltere
- B) Fransa
- C) Japonya
- D) ABD

19. I. Dünya Savaşı'ndan sonra Tuna ve Balkanlar bölgesinde kurulan ilk önemli ittifak aşağıdakilerden hangisidir?

- A) Birleşmiş Milletler
- B) Varşova Paktı
- C) Bağdat Paktı
- D) Küçük Antant

20. Aşağıdakilerden hangisi Birleşmiş Milletler Örgütü'nün amaçları arasında yer almaz?

- A) Uluslararası barış ve güvenliği sağlamak
- B) Uluslararası sorunların çözümünde ırk, dil ve din ayrımı gözetmek
- C) Milletlerin hak eşitliği ve kendi geleceklerini belirleme hakkına dayalı dostça ilişkiler geliştirmek
- D) Ekonomik, toplumsal, kültürel ve insani sorunları çözmeye uluslararası işbirliğini gerçekleştirmek

2018 AÖÖ-AÖL II. DÖNEM 0106-B

1. Ekonomik olarak limanı besleyen, limanla etkileşime giren alana ne ad verilir?
  - A) Tombolo
  - B) Panayır
  - C) Fuar
  - D) Hinterland
  
2. Aşağıdakilerden hangisi tuğla ve kiremit üreten tesislerin yoğunlaştığı şehirlerden biri değildir?
  - A) Uşak
  - B) Manisa
  - C) İzmir
  - D) Ağrı
  
3. Aşağıdakilerden hangisi turizm şehirlerinden biri değildir?
  - A) Antalya
  - B) Nevşehir
  - C) Siirt
  - D) İstanbul
  
4. Aşağıdakilerden hangisi İç Batı Anadolu dağlarından biri değildir?
  - A) Türkmen
  - B) Murat
  - C) Yamanlar
  - D) Melendiz
  
5. Aşağıdakilerden hangisi Türkiye'de buzulların oluşturduğu yer şekillerinden biri değildir?
  - A) Sirk ve hörgüç kaya
  - B) Moren yığınları
  - C) Tombololar
  - D) Sander ovaları
  
6. Aşağıdakilerden hangisi Türkiye'de nüfusun ve yerleşmenin dağılışını etkileyen doğal faktörlerden biri değildir?
  - A) İç ve dış göçler
  - B) Jeolojik yapı
  - C) Bitki örtüsü
  - D) Su kaynakları
  
7. Bir veya birkaç ev, ambar ve tarım arazisinden oluşan yerleşmelere ne ad verilir?
  - A) Dam
  - B) Çiftlik
  - C) Mezra
  - D) Mahalle
  
8. Lav tabakalarının akarsular tarafından yarılmasıyla oluşan plato çeşidine ne ad verilir?
  - A) Karstik platolar
  - B) Tabaka düzlüğü platoları
  - C) Aşınım düzlüğü platoları
  - D) Volkanik platolar
  
9. Akarsuyun, yatağındaki su fazlası nedeniyle taşarak çevresindeki geniş düzlük veya çukur alanlara yayılmasına ne ad verilir?
  - A) Taşkın
  - B) Kasırga
  - C) Tayfun
  - D) Rüzgâr
  
10. Yer kabuğu içindeki kırılmalar sonucu ani olarak ortaya çıkan titreşimlerin dalgalar hâlinde yayılmasına ne ad verilir?
  - A) Tsunami
  - B) Çığ
  - C) Deprem
  - D) Hortum



11. Toprağın akarsu, sel suları ve rüzgar gibi dış kuvvetler tarafından aşındırılarak taşınmasına ne ad verilir?
- A) Erozyon  
B) Heyelan  
C) Torak kayması  
D) Deprem
12. Mısır topraklarında bulunan ve Akdeniz ile Kızıldeniz'i birleştiren 161 km uzunluğundaki yapay su yolu aşağıdakilerden hangisidir?
- A) Panama kanalı  
B) Kiel kanalı  
C) Korint kanalı  
D) Suveyş kanalı
13. Sürekli dönen, basıncı az hava sütunlarına ne ad verilir?
- A) Hortum  
B) Çiğ  
C) Tayfun  
D) Rüzgâr
14. Aşağıdakilerden hangisi Türkiye'deki iç göçün nedenlerinden biri değildir?
- A) Tarımda makineleşmenin yarattığı işsizlik  
B) Miras yoluyla toprağın parçalanması  
C) Nüfus dağılımındaki dengesizlik  
D) Eğitim, sağlık ve sosyal hizmetlerden daha fazla yararlanma isteği
15. Aşağıdakilerden hangisi göç veren yerlerdeki başlıca itici faktörlerden biridir?
- A) İş olanaklarının fazla olması  
B) Eğitim imkânlarının yetersiz olması  
C) Eğitim ve sağlık hizmetlerinin gelişmiş olması  
D) Daha kaliteli bir yaşam sunması
16. Çin, Hindistan, Japonya ve Güney Kore gibi uluslararası ticaretin büyük önem taşıdığı ülkeleri Batı'ya bağlayan boğaz aşağıdakilerden hangisidir?
- A) Cebelitarık Boğazı  
B) Hürmüz Boğazı  
C) Malakka Boğazı  
D) Bering Boğazı
17. Yolcu ve yük taşımacılığında orta uzaklıktaki mesafeler için maliyetin en düşük olduğu ulaşım sistemi aşağıdakilerden hangisidir?
- A) Deniz yolu  
B) Demir yolu  
C) Hava yolu  
D) Kara yolu
18. Cumhuriyet Dönemi'nden sonra ilk kapsamlı nüfus sayımı hangi tarihte yapılmıştır?
- A) 1927  
B) 1935  
C) 1941  
D) 1960
19. Dünyanın en eski ulaşım sistemi aşağıdakilerden hangisidir?
- A) Demir yolu  
B) Kara yolu  
C) Hava yolu  
D) Deniz yolu
20. Lozan antlaşması nedeniyle Yunanistan'dan Türkiye'ye gelenler ve Türkiye'den Yunanistan'a gidenlerin yaptığı göçe ne ad verilir?
- A) İşçi göçü  
B) Mübadele göçü  
C) İç göç  
D) Beyin göçü

## SEÇMELİ COĞRAFYA 3

B

2018 AÖÖ-AÖL II. DÖNEM 0106-B

1. Aşağıdakilerden hangisi hidrolojik karakterli ekstrem olaylardan biridir?  
A) Volkanizma  
B) Tsunami  
C) Deprem  
D) Aşırı yağışlar
2. Aşağıdakilerden hangisi küresel ısınmadan etkilenecek alanlardan biri değildir?  
A) Ormanlar  
B) Yeraltı kaynakları  
C) Su kaynakları  
D) Kıyılar
3. Aşağıdakilerden hangisi Akdeniz Uygarılarından biri değildir?  
A) Mayalar  
B) Fenikeliler  
C) Yunanlılar  
D) Romalılar
4. Aşağıdakilerden hangisi büyük depremler sonucu meydana gelen doğal olaylardan biri değildir?  
A) Zemin sıvılaşması  
B) Tsunami  
C) Şiddetli yağışlar  
D) Göllerde değişimler
5. Medeniyetler ve kuruldukları bölgelerle ilgili aşağıdaki eşleştirmelerden hangisi yanlıştır?  
A) Mısır - Güney Afrika  
B) Çin - Doğu Asya  
C) İnkâ - Güney Amerika  
D) Aztek - Orta Amerika
6. Güneşi aynada gören köy olarak bilinen Viganella aşağıdaki ülkelerden hangisinin sınırları içinde yer alır?  
A) İskoçya  
B) İspanya  
C) İsviçre  
D) İtalya

7. Aşağıdakilerden hangisi Nil Nehri'nin Mısır medeniyetine etkilerinden biri değildir?  
A) Nehir boyunca ticari ilişkilerin gelişmesine olanak sağlaması  
B) Mısırlıların diğer uygarlıklardan geri kalmasını sağlaması  
C) Düzenli akışı sayesinde taşımacılık yapılmasına olanak sağlaması  
D) Meydana gelen taşkınlar sonucu bozulan tarla sınırlarını yeniden tespit etmek için matematikten yararlanmalarını sağlaması
8. 1950 yılında nüfusu 10 milyonu aşan tek şehir aşağıdakilerden hangisidir?  
A) Mumbai  
B) Londra  
C) Newyork  
D) Paris
9. I. İstanbul - İzmit çevresi  
II. Gümüşhane - Bayburt çevresi  
III. Hakkari - Şırnak çevresi  
Yukarıdakilerden hangileri Türkiye'deki seyrek nüfuslu bölgeler arasında yer almaz?  
A) Yalnız I  
B) I ve II  
C) II ve III  
D) I, II ve III
10. Aşağıdakilerden hangisi geleceğin ekonomik yapısını büyük oranda değiştirecektir?  
A) Ulusal hareketler  
B) Küreselleşme hareketleri  
C) Makineleşme  
D) Kitlesele üretim
11. Aşağıdakilerden hangisi ekonomik özelliklerine göre oluşturulan bölgelerden biri değildir?  
A) Tarım bölgesi  
B) Maden bölgesi  
C) Kırsal bölge  
D) Turizm bölgesi

12. Aşağıdakilerden hangisi Türkiye'deki ovalık bölgeler içinde yer alır?

- A) Rize
- B) Adana
- C) Erzurum
- D) Ardahan

13. I. İstanbul  
II. Gaziantep  
III. Adana

Yukarıdakilerden hangileri büyük ölçekli ticaret merkezleri grubunda yer alır?

- A) Yalnız I
- B) I ve II
- C) II ve III
- D) I, II ve III

14. Aşağıdakilerden hangisi dünyanın en kalabalık şehirlerinden biridir?

- A) Oslo
- B) Pire
- C) Şanghay
- D) Zürih

15. Türkiye'nin ikinci büyük ticaret merkezi aşağıdakilerden hangisidir?

- A) Gaziantep
- B) İzmir
- C) Ankara
- D) Antalya

16. Aşağıdakilerden ülkelerden hangisi 2010 yılı dış ticaret verilerine göre Türkiye'nin ithalatında ilk sırada yer almaktadır?

- A) Çin
- B) Almanya
- C) İtalya
- D) Rusya

17. Türkiye turizminin temelini oluşturan turizm sektörü aşağıdakilerden hangisidir?

- A) Deniz turizmi
- B) Kongre turizmi
- C) Sağlık turizmi
- D) Yayla turizmi

18. I. Bakü -Tiflis - Ceyhan  
II. Kerkük - Yumurtalık  
III. Novorosisk - Samsun

Yukarıdaki boru hatlarından hangileri Orta Asya Türk Cumhuriyetlerinin Akdeniz ve Avrupa'ya çıkışında etkili olmuştur?

- A) Yalnız I
- B) I ve II
- C) II ve III
- D) I, II ve III

19. Dünya Turizm Örgütü'nün (UNWTO) 2010 yılı verilerine göre aşağıdaki ülkelerden hangisi turist sayısı bakımından ilk sırada yer alır?

- A) Türkiye
- B) İspanya
- C) Fransa
- D) ABD

20. Aşağıdakilerden hangisi Türkiye'de turizmi etkileyen doğal faktörlerden biri değildir?

- A) Doğal bitki örtüsü
- B) Yüzey şekilleri
- C) Coğrafi konum
- D) Doğal nüfus artışı

# SEÇMELİ PSİKOLOJİ 1

B

2018 AÖÖ-AÖL II. DÖNEM 0106-B

1. Aşağıdakilerden hangisi görsel derinlik algılamasına neden olan çevresel etmenlerden biri değildir?
  - A) Işık ve gölge
  - B) Binişim
  - C) Halüsinasyon
  - D) Çizgisel perspektif
2. "Bilincin ne olduğundan çok, ne için olduğunu bilmek önemlidir." görüşünü savunan anlayış aşağıdakilerden hangisidir?
  - A) Fonksiyonalizm
  - B) Naturalizm
  - C) Behaviorizm
  - D) Klasisizm
3. Aşağıdaki kavramlardan hangisi psikolojide "doyurulmamış güdüler" anlamında da kullanılır?
  - A) Alışma
  - B) Davranış
  - C) Uyum
  - D) İhtiyaç
4. Davranışların ortaya çıkmasından itibaren gelişimlerini, gelişme dönemlerini araştıran psikoloji dalı aşağıdakilerden hangisidir?
  - A) Deneysel psikoloji
  - B) Genetik psikoloji
  - C) Sosyal psikoloji
  - D) Yetişkinlik psikolojisi
5. Herhangi bir canlı türünün öğrenme gerekmeden gösterdiği uyum sağlama ve sürekli olarak davranma eğilimine ne ad verilir?
  - A) Bağ kurma
  - B) Genel uyarılmışlık
  - C) Koşullanma
  - D) İçgüdü
6. Organizmanın doğrudan veya dolaylı olarak gözlenebilen tüm etkinliklerine ne ad verilir?
  - A) Öğrenme
  - B) Araştırma
  - C) Eğitim
  - D) Davranış
7. Aşağıdakilerden hangisi bellekte hatırlamaya ipucu sağlayacak gruplamalardan biri değildir?
  - A) Benzerlik
  - B) Doğruluk
  - C) Zıtlık
  - D) Eş zamanlılık
8. Aşağıdakilerden hangisi yaratıcı düşünmenin evrelerinden biri değildir?
  - A) İnanma
  - B) İlham
  - C) Kuluçka
  - D) Hazırlık
9. Pekiştirecin görünür biçimde kullanılmadığı, ağırlık noktasının bilgi depolama ve bilgi işleme olduğu öğrenme türü aşağıdakilerden hangisidir?
  - A) Bilişsel öğrenme
  - B) Duyuşsal öğrenme
  - C) Psiko-motor öğrenme
  - D) Klasik öğrenme
10. Duyu organlarının dıştan algıladığı bir nesnenin bilince yansıyan yanına ne ad verilir?
  - A) Söylem
  - B) İmge
  - C) Belleme
  - D) Kavram

11. Genzimize bir şey kaçtığında hapsirmamız, elimizi gözümüze yaklaştırdığımızda gözümüzü kırpmamız aşağıdakilerden hangisine örnek gösterilebilir?

- A) Refleks
- B) Kurulma
- C) Dürtü
- D) İçgüdü

12. Aşağıdakilerden hangisi fiziksel illüzyona örnektir?

- A) Yılandan korkan birinin kalın bir ipi yılan olarak algılaması
- B) Köpek havlaması duyan bir kişinin karanlık sokakta bir kütüğü köpeğe benzeterek irkilmesi
- C) Bir çay bardağında duran kaşığın kırık gibi görünmesi
- D) Yalnız uyumaktan korkan bir çocuğun odasındaki oyuncaların hareket ettiğini görmesi

13. Işık dalgasının gözü etkileyerek renkli görmeyi sağlamasına ne ad verilir?

- A) Algı
- B) Denge
- C) Duyum
- D) Dürtü

14. Algılanan uyarıcıların bir şekle, bir biçime sokulmasına ne ad verilir?

- A) Algıda değişmezlik
- B) Algıda organizasyon
- C) Algıda yakınlık
- D) Algıda seçicilik

15. 1879'da ilk psikoloji deneylerinin yapıldığı psikoloji laboratuvarını kuran bilim insanı aşağıdakilerden hangisidir?

- A) W. Wundt
- B) W. James
- C) J. Dewey
- D) K. Lewin

16. Bir tablo; tuval, boya ve renklerin toplamından çok daha farklı bir şeydir. Tek tek anlamı olmayan parçalar bütünlük halinde anlam kazanır.

Yukarıdaki görüşü savunan yaklaşım aşağıdakilerden hangisidir?

- A) Psikoanalitik
- B) Yapısalcı
- C) Gestaltçı
- D) Hümanistik

17. İnsanların nesne algılamalarındaki temel örgütleyici aşağıdakilerden hangisidir?

- A) Gruplama
- B) Algı alanı
- C) Tamamlama
- D) Eğilim

18. Birinci Dünya Savaşı sırasında, yapısalcılığa ve işlevselciliğe karşı çıkan bir grup Amerikalı psikoloğun geliştirdiği yaklaşım aşağıdakilerden hangisidir?

- A) Biyolojik
- B) Hümanistlik
- C) Psikoanalitik
- D) Davranışçılık

19. Önceden öğrenilenlerin yeni öğrenilenleri unutturmasına ne ad verilir?

- A) Baskılama
- B) İleriye ket vurma
- C) Geriye ket vurma
- D) Olumsuz pekiştirme

20. Aşağıdakilerden hangisi belleğin temel işlemlerinden biri değildir?

- A) Kodlama
- B) Çağırma
- C) Seçme
- D) Saklama

2018 AÖÖ-AÖL II. DÖNEM 0106-B

1. 60°C sıcaklıkta, NaCl tuzunun çözünürlüğü 35g/100g su olduğuna göre 270g'lık doygun çözelti hazırlamak için kaç gram NaCl tuzu çözünmelidir?

A) 17,5  
B) 35,0  
C) 45,0  
D) 70,0

2. 16,4 g  $\text{Ca}(\text{NO}_3)_2$  ile hazırlanan 100 mL'lik çözeltinin molar derişimi kaçtır?(Ca:40 g/mol; N: 14 g/mol; O: 16/ g/mol)

A) 0,1  
B) 1  
C) 1,2  
D) 1,5

3. I. Katıların sıvılardaki çözünürlüğü genellikle sıcaklıkla değişmez.  
II. Gazların sıvılardaki çözünürlüğü sıcaklıkla ters orantılı olarak değişir.  
III. Katı ve sıvıların çözünürlüğü basınçtan etkilenmez.  
IV. Gazların sıvıdaki çözünürlüğü, gazın kısmi basıncıyla doğru orantılı olarak değişir.

**Çözünürlük ile ilgili yukarıdaki ifadelerden hangileri doğrudur?**

A) Yalnız I  
B) Yalnız IV  
C) I, II ve III  
D) II, III ve IV

4. Çözeltide tanecik derişimine bağlı olarak değişen özelliklere koligatif özellik denir.

**Buna göre; aşağıdakilerden hangisi koligatif özelliklerden biri değildir?**

A) Çözünürlük  
B) Osmotik basınç  
C) Kaynama noktası yükselmesi  
D) Buhar basıncı düşmesi

5. Bir kimyasal tepkimede oluşan ürünlerin entalpileri ile tepkenlerin (girenlerin) entalpileri arasındaki değişime ne ad verilir?

A) Reaksiyon entalpisi  
B) Reaksiyon entropisi  
C) Adyabatik olay  
D) Standart oluşum entalpisi

6. Maddeler arası aktarılan ısı aşağıdakilerden hangisine bağlı değildir?

A) Madde kütlesi  
B) Son sıcaklık  
C) İlk sıcaklık  
D) Frekans

7. Bir sisteme 30 kJ'lük ısı sağlanıp, sisteme karşı iş yapıldığında sistemin iç enerji değişimi 65 kJ ise yapılan iş kaç kJ'dür?

A) 30  
B) 35  
C) 50  
D) 60

8. Çevresi ile madde alışveriş yapmayan, sabit miktarda madde içeren, ancak enerji alışverişini yapabilen sistemlere ne ad verilir?

A) Kapalı sistem  
B) İzotermal sistem  
C) Açık sistem  
D) İzole sistem

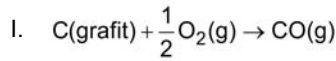
9. Mutlak sıfır noktasında entropinin sıfır olabilmesi için maddenin saf ve kusursuz kristallere sahip olması gerektiğini açıklayan yasa aşağıdakilerden hangisidir?

A) Termodinamiğin sıfıncı yasası  
B) Termodinamiğin birinci yasası  
C) Termodinamiğin ikinci yasası  
D) Termodinamiğin üçüncü yasası

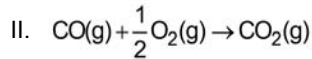
10.  $2\text{NO}(\text{g}) + \text{O}_2(\text{g}) \rightarrow 2\text{NO}_2(\text{g}) + 114\text{kJ}$  tepkimesi ile ilgili olarak aşağıdakilerden hangisi yanlıştır? ( $\Delta S_{\text{sistem}}^\circ = -146,5 \text{ J/K}$ )

- A) Tepkime istemlidir.
- B) Tepkimenin standart oluşum serbest enerjisi ( $\Delta G^\circ$ ) sıfırdan küçüktür.
- C) Tepkime dengededir.
- D)  $\Delta G^\circ = -70,3\text{kJ}'\text{dür}$ .

11.



$$\Delta H^\circ = -110,5\text{kJ/mol}$$



$$\Delta H^\circ = +283,0\text{kJ/mol}$$

Tepkimelerinin entalpileri bilindiğine göre,  $\text{C}(\text{grafit}) + \text{O}_2(\text{g}) \rightarrow \text{CO}_2(\text{g})$  tepkimesinin entalpisi kaç kJ/mol olur?

- A) -393,5
- B) -283,0
- C) -153,2
- D) 237,4

12. • Aktifleşme enerjisini düşürür.  
• İleri ve geri tepkimelerin aktifleşme enerjisini eşit miktarda azaltır.  
• Ürünün daha kısa sürede oluşmasını sağlar.

Yukarıdaki ifadelerde tanımlanan terim aşağıdakilerden hangisidir?

- A) İnhibitör
- B) Girişim
- C) Katalizör
- D) İndikatör

13.  $\text{H}_2\text{PO}_4^-(\text{suda}) + \text{HF}(\text{suda}) \rightleftharpoons \text{H}_3\text{PO}_4(\text{suda}) + \text{F}^-(\text{suda})$

Yukarıdaki tepkimeye göre  $\text{H}_2\text{PO}_4^-$  iyonunun konjuge asidi aşağıdakilerden hangisidir?

- A)  $\text{F}^-$
- B)  $\text{HPO}_4^{2-}$
- C)  $\text{H}_3\text{PO}_4$
- D)  $\text{PO}_4^{3-}$

14.  $2\text{NO}_2(\text{g}) \rightleftharpoons \text{N}_2\text{O}_4(\text{g})$  tepkimesinin  $25^\circ\text{C}'\text{daki}$  denge sabiti ( $K_c$ )  $2,2 \times 10^{-2}$  ve denge kesri ( $Q_c$ ) 1,1 ise bu tepkimeyle ilgili olarak aşağıdakilerden hangisi söylenemez?

- A) İleri tepkime hızı, geri tepkime hızından büyüktür.
- B) Bu tepkime dengededir.
- C) Tepkime  $\text{N}_2\text{O}_4$  artacak şekilde yürür.
- D) Denge  $K_c = Q_c$  olana kadar sağa kayar.

15. NaCl tuzunun sulu çözeltisinin pH değeri aşağıdakilerden hangisidir?

- A) 2
- B) 4
- C) 7
- D) 9

16.  $2\text{NH}_3(\text{g}) \rightarrow \text{N}_2(\text{g}) + 3\text{H}_2(\text{g})$  tepkimesi 1,5 L'lik kapta gerçekleştiğinde 2 dk'da 0,06 mol  $\text{NH}_3(\text{g})$  harcanmıştır. Bu durumda  $\text{N}_2$  gazının oluşum hızı kaç mol/L.dk'dır?

- A) 0,01
- B) 0,02
- C) 0,03
- D) 0,04

2018 AÖÖ-AÖL II. DÖNEM 0106-B

17. 0,2 M 500 mL HCl çözeltisini nötrleştirmek için kaç litre 0,1 M NaOH çözeltisi gereklidir?

- A) 0,1
- B) 1
- C) 2
- D) 3

18. AgCl tuzunun saf sudaki çözünürlüğü aşağıdakilerden hangisidir? (AgCl için  $K_{çç}=1 \times 10^{-10}$ )

- A)  $1 \times 10^{-3}$
- B)  $1 \times 10^{-4}$
- C)  $1 \times 10^{-5}$
- D)  $1 \times 10^{-10}$

19. 4,0 gram NaOH katısıyla hazırlanan 1000 mL'lik sulu çözeltinin pOH değeri aşağıdakilerden hangisidir? (Na: 23g/mol; O: 16g/mol; H: 1g/mol)

- A) 0,1
- B) 1
- C) 2
- D) 13

20. I.  $H_2O_2(suda) + I^- (suda) \rightarrow H_2O(s) + IO^- (suda)$  (Yavaş)  
 II.  $IO^- (suda) + H_3O^+ (suda) \rightarrow HOI (suda) + H_2O(s)$  (Hızlı)  
 III.  $HOI(suda) + H_3O^+ (suda) + I^- (suda) \rightarrow 2H_2O(s) + I_2(s)$  (Hızlı)

Yukarıdaki tepkimeler dikkate alındığında aşağıdakilerden hangisi doğrudur?

- A) Tepkimede ara ürün  $H_3O^+$  iyonudur.
- B) Tepkimenin moleküleritesi 3 (trimoleküler tepkime)'dür.
- C) Tepkimenin derecesi 1'dir.
- D) Net tepkimenin hız bağıntısı  $(v) = k \cdot [H_2O_2][I^-]$  olarak yazılır.



2018 AÖÖ-AÖL II. DÖNEM 0106-B

1. Aşağıdakilerden hangisi yakamoz olayının etmenidir?

- A) Mantar
- B) Sivrisinek
- C) Bakteri
- D) Alg

2. Homolog organ örnekleri aşağıdakilerden hangisinde birlikte ve doğru olarak verilmiştir?

- A) İnsan kolu - kaz ayağı
- B) İnsan kolu - balina yüzgeci
- C) İnsan kolu - yarası kanadı
- D) Balina yüzgeci - yarası kanadı

3. Bakterileri konakçı olarak kullanan virüslere ne ad verilir?

- A) Nükleik asit
- B) Kapsit
- C) Bakteriyofaj
- D) Genom

4. Aşağıdaki canlı gruplarında hangisi sadece tek hücreli canlıları kapsamaktadır?

- A) Protistler
- B) Hayvanlar
- C) Bitkiler
- D) Bakteriler

5. Aşağıdakilerden hangisi vücut ısısı sabit olan canlılardan biridir?

- A) İki yaşamlılar
- B) Balıklar
- C) Kuşlar
- D) Sürüngenler

6. Aşağıdakilerden hangisi bir prokaryottur?

- A) Bakteri
- B) Mantar
- C) Bitki
- D) Hayvan

7. Aşağıdakilerden hangisi omurgalı hayvanlar içerisinde karasal hayata uyum sağlayan ilk gruptur?

- A) Memeliler
- B) İki yaşamlılar
- C) Kuşlar
- D) Sürüngenler

8. Ekmek mayası aşağıdaki canlı gruplarının hangisinde yer alır?

- A) Bakteriler
- B) Arkeler
- C) Mantarlar
- D) Protista

9. İnsan aşağıdaki omurgalı hayvan gruplarından hangisinde yer alır?

- A) Memeliler
- B) Kuşlar
- C) Sürüngenler
- D) İki yaşamlılar

10. Aşağıdakilerden hangisi bir biyomimetik örneği değildir?

- A) Yüzücü paleti
- B) Radar
- C) Su şişesi
- D) Helikopter

11. Canlıların benzer ve ortak özellikleri ile akrabalık özelliklerine göre gruplandırılması işlemine ne ad verilir?

- A) Taksonomi
- B) Sistematik
- C) Protista
- D) Amprik

12. Aşağıdakilerden hangisi omurgasız hayvanlar arasında yer almaz?

- A) İki yaşamlılar
- B) Solucanlar
- C) Yumuşakçalar
- D) Sölenterler

13. Aşağıdakilerden hangisinde kirletici bir maddeyi bir organizma kullanarak ortamdan uzaklaştırma işlemi tanımlayan terimdir?

- A) Sanitasyon
- B) Biyoremediasyon
- C) Biyoçeşitlilik
- D) İzolasyon

14. Aşağıdakilerden hangisi bir tür değildir?

- A) Zürafa
- B) At
- C) Eşek
- D) Katır

15. Aşağıdakilerden hangisi tür özellikleri arasında yer almaz?

- A) Kısır olmamak
- B) Yapı ve görev bakımından benzer özelliklere sahip olmak
- C) Ortak atadan gelmek
- D) Omurgalı olmak

16. Türden aleme doğru gidildikçe türler ile ilgili aşağıdaki ifadelerden hangisi yanlıştır?

- A) Protein benzerliği azalır.
- B) Gen benzerliği artar.
- C) Canlı sayısı artar.
- D) Canlı çeşitliliği artar.

17. Biyoremediasyon sürecinde kullanılan canlı grubunu aşağıdakilerden hangisidir?

- A) Mikroorganizmalar
- B) Sölenterler
- C) Eklem bacaklılar
- D) Bitkiler

18. Aşağıdakilerden hangisi hücre duvarı üzerinde bulunup bakterinin daha dirençli olmasını sağlayan yapılardan biridir?

- A) Peptidoglikan
- B) Kamçı
- C) Pilus
- D) Kapsül

19. Aşağıdakilerden hangisi yüzücü sölenterlerden biridir?

- A) Hidralar
- B) Deniz mercanları
- C) Deniz anası
- D) Deniz şakayığı

20. Aşağıdakilerden hangisi benzer ailelerin birleşmesiyle oluşan filogenetik grubu ifade eder?

- A) Cins
- B) Takım
- C) Aile
- D) Tür

2018 AÖÖ-AÖL II. DÖNEM 0106-B

1. Aşağıdakilerden hangisi insan embriyosunun gelişim basamaklarından biri değildir?

- A) Gastrulasyon
- B) Organogenez
- C) Segmentasyon
- D) Amniyosentez

2. Aşağıdakilerden hangisi eşeyli üremez?

- A) Kurbağalar
- B) Karayosunları
- C) Tohumlu bitkiler
- D) Tatlı su balıkları

3. Aşağıdakilerden hangisi biyoteknolojinin uygulama alanlarından biri değildir?

- A) Uzay Biyoteknolojisi
- B) Çevre Biyoteknolojisi
- C) Tıbbi Biyoteknoloji
- D) Gıda Biyoteknolojisi

4. Aşağıdakilerden hangisi insanda dişi üreme sisteminde yer almaz?

- A) Serviks
- B) Uterus
- C) Fallopi tüpü
- D) Epididimis

5. İnsanda gerçekleşen menstrual döngü ortalama kaç gün sürer?

- A) 20
- B) 24
- C) 28
- D) 38

6. Bireyler arasında çeşitlilik gösteren, çiçek rengi gibi kalıtılabilir özelliklere ne ad verilir?

- A) Lokus
- B) Alel
- C) Gen
- D) Karakter

7. Aşağıdakilerden hangisi eşeysiz üreme türlerinden biri değildir?

- A) Tomurcuklanma
- B) Konjugasyon
- C) Rejenerasyon
- D) Sporla üreme

8. Kromozom sayısı  $2n=46$  olan bir hücre, arka arkaya beş kez mitoz bölünme geçirirse sonuçta toplam kaç hücre oluşur?

- A) 8
- B) 16
- C) 32
- D) 64

9. Kanserli hücrelerin kötü huylu tümör oluşturdukları ilk dokudan daha uzak dokulara sıçramasına ve yayılım göstermesine ne ad verilir?

- A) Sitokinez
- B) Metastaz
- C) Siklin
- D) Replikasyon

10. Telofaz evresinin başlangıç safhasında çekirdek zarının oluşması ile aynı anda gerçekleşen sitoplazma bölünmesine ne ad verilir?

- A) Sentrozom
- B) Kromatit
- C) Sentromer
- D) Sitokinez

11. **İnterfaz evresinde bitki ve hayvan hücrelerinde DNA'nın kendini eşleyerek iki katına çıkarmasına ne ad verilir?**
- A) Replikasyon  
B) Kromatit  
C) Gonozom  
D) Otozom
12. **Skrotum denilen torba şeklindeki yapının içinde bulunan, spermilerin meydana geldiği beze ne ad verilir?**
- A) Prostat  
B) Cowper  
C) Testis  
D) Vas deferens
13. **AaBbCcDd karakterlerine sahip bir birey kaç çeşit gamet meydana getirir?**
- A) 8  
B) 16  
C) 32  
D) 64
14. **Gebeliğin 8. haftasından sonra embriyoya ne ad verilir?**
- A) Blastomer  
B) Koriyon  
C) Fetüs  
D) Morula
15. **Aşağıdakilerden hangisi cinsel yolla bulaşan hastalıklardan biri değildir?**
- A) Difteri  
B) Hepatit B  
C) HPV  
D) AIDS
16. **Hücrelerin kontrolsüz bir şekilde çoğalması durumuna ne ad verilir?**
- A) Bölünme  
B) Rejenerasyon  
C) Kansereleşme  
D) Kromatin
17. **Mitozun ilk evresi aşağıdakilerden hangisidir?**
- A) Anafaz  
B) Metafaz  
C) Telofaz  
D) Profaz
18. **Döllenmemiş yumurta, doku parçaları ve bir miktar kanın dışarıya atıldığı evre aşağıdakilerden hangisidir?**
- A) Menstruasyon  
B) Folikül  
C) Korpus luteum  
D) Ovulasyon
19. **Döllenmemiş yumurtadan yeni birey oluşumunun görüldüğü üreme şekli aşağıdakilerden hangisidir?**
- A) Konjugasyon  
B) Partenogenez  
C) Metagenez  
D) Rejenerasyon
20. **Aşağıdakilerden hangisi insanda Y kromozomuna bağlı ortaya çıkan kalıtım türlerinden biri değildir?**
- A) Hemofili  
B) Kulak kılılığı  
C) Balık pulluluk  
D) Yapışık parmaklılık

# SEÇMELİ BİYOLOJİ 1

B

2018 AÖÖ-AÖL II. DÖNEM 0106-B

1. Aşağıdakilerden hangisi fotosentez hızını etkileyen çevresel faktörlerden biri değildir?

- A) Işık şiddeti
- B) Enzim miktarı
- C) Karbondioksit miktarı
- D) Sıcaklık

2. Yağ asitlerinin beta oksidasyonu aşağıdakilerden hangisinde gerçekleşir?

- A) Granum
- B) Kloroplast
- C) Mitokondri
- D) Stroma

3. Elektron taşıma sisteminde (ETS), elektronlar taşınırken indirgenme yükseltgenme tepkimelerine bağlı olarak ATP sentezlenmesine ne ad verilir?

- A) Metabolizma
- B) Fotofosforilasyon
- C) Oksidatif fosforilasyon
- D) Substrat düzeyinde fosforilasyon

4. Laktik asitin tekrar kullanım için glikoza dönüştürüldüğü organ aşağıdakilerden hangisidir?

- A) Karaciğer
- B) Akciğer
- C) Beyin
- D) Kalp

5. Krebs çemberi reaksiyonlarını başlatan kilit molekül aşağıdakilerden hangisidir?

- A) Asetil CoA
- B) Sitrik asit
- C) FADH<sub>2</sub>
- D) NADH

6. Aşağıdakilerden hangisi ekzerjonik reaksiyonlara örnektir?

- A) Ekzositoz
- B) Hücre bölünmesi
- C) Endositoz
- D) Oksijensiz solunum

7. Fotosistem birimlerinin yer aldığı organel bölgesi aşağıdakilerden hangisidir?

- A) Tepkime merkezi
- B) Anten kompleksi
- C) Karotenoit
- D) Tilakoid zar

8. Işığın temel birimine ne ad verilir?

- A) Grana
- B) Karotenoid
- C) Fotosistem
- D) Foton

9. Aşağıdakilerden hangisi piruvatın etil alkol veya laktik aside çevrildiği işlemdir?

- A) Fermantasyon
- B) Fotosentez
- C) Glikoliz
- D) Fosforilasyon

10. Yıkım tepkimelerini tanımlayan terim aşağıdakilerden hangisidir?

- A) Anabolizma
- B) Katabolizma
- C) Metabolizma
- D) Fosforilasyon

11. Fotosentezin ikinci basamağı aşağıdakilerden hangisidir?

- A) Kloroplast
- B) Elektron taşıma sistemi
- C) Calvin döngüsü
- D) Anabolizma

12. Tilakoitlerin üst üste dizilmesiyle oluşan yapı aşağıdakilerden hangisidir?

- A) Kloroplast
- B) Stroma
- C) Klorofil
- D) Granum

13. Karotenoidler olarak da adlandırılan karoten, likopen ve ksantofilin dahil olduğu molekül grubu aşağıdakilerden hangisidir?

- A) Karbonhidrat
- B) Pigment
- C) Protein
- D) Enzim

14. Aşağıdakilerden hangisi ATP molekülünün yapısına girmez?

- A) Fosfat
- B) Riboz
- C) Sülfat
- D) Adenin

15. Calvin döngüsünün gerçekleştiği yer aşağıdakilerden hangisidir?

- A) Tilakoid
- B) Stroma
- C) Grana
- D) Granum

16. Bacak kaslarının kasılması ile bisiklet pedalının çevrilmesini sağlayan enerji türü aşağıdakilerden hangisidir?

- A) Metabolizma
- B) Kinetik enerji
- C) Potansiyel enerji
- D) Kimyasal enerji

17. Bir glikoz molekülünün glikolizi sonucu kaç molekül piruvat oluşur?

- A) 2
- B) 3
- C) 4
- D) 5

18. Amino asitlerin piruvata dönüştürülmesinde gerçekleşen tepkime aşağıdakilerden hangisidir?

- A) Fosforilasyon
- B) Glikoliz
- C) Beta oksidasyonu
- D) Deaminasyon

19. Aşağıdakilerden hangisi ışığa bağımlı tepkimelerin özelliklerinden biri değildir?

- A) ATP üretilmesi
- B) NADPH üretilmesi
- C) Stromada gerçekleşmesi
- D) Oksijen açığa çıkarması

20. Bir glikoz molekülünün glikoliz yoluyla parçalanmasında harcanan ATP sayısı kaçtır?

- A) 2
- B) 3
- C) 4
- D) 5

2018 AÖÖ-AÖL II. DÖNEM 0106-B

1. Pakistan ve Hindistan'ın bağımsızlıklarından itibaren iki ülke arasında yaşanan sorun ve çatışmaların en önemli nedeni aşağıdakilerden hangisidir?
- A) Pugaçev İsyanı  
B) Leyte Savaşı  
C) El-Kebir Olayı  
D) Keşmir Meselesi
2. Kuveyt'i 1990 yılında işgal eden devlet aşağıdakilerden hangisidir?
- A) Irak  
B) Bulgaristan  
C) Yunanistan  
D) Almanya
3. Türkiye ve Yunanistan Ege Denizi'nde kıta sahanlığı ile ilgili hiçbir faaliyette bulunmamayı aşağıdakilerden hangisiyle kabul etmişlerdir?
- A) Balfour Deklarasyonu  
B) Bern Deklarasyonu  
C) Litvinov Protokolü  
D) Sandler Raporu
4. Bağımsızlığına yeni kavuşan Afrika ve Asya ülkelerinin ABD ve SSCB gibi iki büyük nükleer güç karşısında varlıklarını korumak, birlik ve dayanışmalarını sağlamak amacıyla 1955 yılında gerçekleşen konferans aşağıdakilerden hangisidir?
- A) Kahire Konferansı  
B) Tahran Konferansı  
C) Bandung Konferansı  
D) Yalta Konferansı
5. Kuzey Kıbrıs Türk Cumhuriyetini tanıyan ilk devlet aşağıdakilerden hangisidir?
- A) Türkiye  
B) İtalya  
C) Yunanistan  
D) İspanya
6. 1974 Kıbrıs Barış Harekâtı'nı gerekçe göstererek Türkiye'ye yapmakta olduğu ekonomik yardımını keserek silah ambargosu uygulayan devlet aşağıdakilerden hangisidir?
- A) İsveç  
B) ABD  
C) Polonya  
D) Çin
7. Vostok-1 uzay aracı ile ilk kez uzaya giden kişi aşağıdakilerden hangisidir?
- A) Yuri Gagarin  
B) Constantin Tsiolkovsky  
C) Robert H. Goddard  
D) Hermann Oberth
8. Nükleer silahların sınırlandırılmasında başlangıç olan gelişme aşağıdakilerden hangisidir?
- A) 1944 yılında Kahire Görüşmesi'nin yapılması  
B) Wagon Lits Olayı'nın gerçekleşmesi  
C) Razgrad Olayı'nın yaşanması  
D) Küba buhranı sırasında SSCB ve ABD arasında yaşanan füze krizinin uzlaşma yoluyla çözümlenmesi
9. Aşağıdakilerden hangisi 1960-1980 yılları arasında Türkiye'de köyden kente göçün neden olduğu toplumsal değişimlerden biri değildir?
- A) Sendikal faaliyetlerin yoğunlaşması  
B) Gecekondulaşmanın artması  
C) Edebiyatta "Toplumculuk" akımının ortaya çıkması  
D) İşçi sayısının azalması
10. Türkiye Cumhuriyeti 1961 Anayasası'nın en önemli özelliği aşağıdakilerden hangisidir?
- A) Erkân-ı Harbiye-i Umumiye Vekâleti'nin kaldırılması  
B) Tevhid-i Tedrisat Kanunu'nun kabul edilmesi  
C) Devlet yönetiminde ve toplum yaşamında bireye ağırlık verilmesi  
D) Meclis Hükümeti Sistemi'nden, Kabine Sistemi'ne geçilmesi

11. Dağlık Karabağ Sorunu aşağıdaki devletlerden hangileri arasında meydana gelmiştir?
- A) İran ve Irak  
B) Azerbaycan ve Ermenistan  
C) Pakistan ve Hindistan  
D) İngiltere ve Fransa
12. Orta Asya Cumhuriyetleri arasında en büyük doğal gaz rezervlerine ve yıllık üretim kapasitesine sahip devlet aşağıdakilerden hangisidir?
- A) Türkmenistan  
B) Kırgızistan  
C) Özbekistan  
D) Tacikistan
13. 1992-1995 Bosna Savaşı sonrasında Bosna-Hersek'in bağımsızlığını kazanmasında büyük rol üstlenen kişi aşağıdakilerden hangisidir?
- A) Fazıl Küçük  
B) Aliya İzzetbegoviç  
C) Ebulfez Elçibey  
D) İslam Kerimov
14. Türkiye'de ilk özel televizyon kanalının açılması hangi yıl gerçekleşmiştir?
- A) 1990  
B) 1995  
C) 1998  
D) 1999
15. Aşağıdakilerden hangisi Soğuk Savaş Dönemi'nin en önemli sorunlarından biridir?
- A) Montrö Boğazlar Sözleşmesi'nin imzalanması  
B) Japonya'da "Meiji Restorasyonu" denilen reform sürecinin başlaması  
C) Milletler Cemiyeti'nin kurulması  
D) Demokratik Almanya ile Federal Almanya'nın birleştirilmesi
16. Aşağıdakilerden hangisi Türk ekonomi anlayışında dönüm noktası olan 24 Ocak 1980 tarihinde alınan kararların temel önceliklerden biri değildir?
- A) İhracata yönelik üretimi teşvik etmek  
B) Enflasyonu düşürmek  
C) Serbest piyasa ekonomisini yasaklamak  
D) Ödemeler dengesini düzeltmek
17. Aşağıdakilerden hangisi Şanghay İş Birliği Örgütü'ne üye ülkelerden biri değildir?
- A) Özbekistan  
B) Tacikistan  
C) Kazakistan  
D) İtalya
18. Semey nükleer deneme alanını kapatarak dünya tarihinde ilk defa gönüllü olarak kendi silah deposundan vazgeçen ülke aşağıdakilerden hangisidir?
- A) Azerbaycan  
B) Kazakistan  
C) Çin  
D) Japonya
19. Kimya dalında 2015 Nobel Ödülü'nü kazanan kişi aşağıdakilerden hangisidir?
- A) Cengiz Aytmatov  
B) Orhan Pamuk  
C) Aziz Sançar  
D) Reşat Nuri Güntekin
20. Mısır, Sudan ve Etiyopya arasında su sorunu yaşanmasına neden olan nehir aşağıdakilerden hangisidir?
- A) Fırat  
B) Şeria  
C) Nil  
D) Dicle



2018 AÖÖ-AÖL II. DÖNEM 0106-B

1. Faizin Arapça karşılığı aşağıdakilerden hangisidir?

- A) Tecessüs
- B) Riba
- C) İnfak
- D) İntikâr

2. Aşağıdakilerden hangisi merak etmek ve gizlice ayıp ve kusur araştırmak anlamına gelir?

- A) Tecessüs
- B) Fitne
- C) Fesat
- D) Gıybet

3. Erkeğin, evleneceği kadına nikâhta vermek zorunda olduğu ücrete ne ad verilir?

- A) Tecessüs
- B) Ziyet
- C) Cizye
- D) Mehir

4. Aralarında nikah bağı bulunmayan erkek ve kadının arasındaki gayri ahlâki ilişkiye ne ad verilir?

- A) Mahremiyet ihlali
- B) Zina
- C) Sadakatsizlik
- D) İhanet

5. Aşağıdakilerden hangisi eşlerin boşanma esnasındaki sorumluluklarından biri değildir?

- A) Birbirlerine haksızlık etmeden, adaletli bir şekilde ayrılmak
- B) Aile bireyleri hakkında dedikodu yapmamak
- C) Aile sırlarını, yeri geldiğinde açıklamak
- D) Çocukları, birbirlerine karşı kin ve nefretle doldurmamak

6. Aile ile ilgili aşağıdaki ifadelerden hangisi yanlıştır?

- A) İslâm dini, aile ile ilgili kuralları tamamen insanlara bırakmıştır.
- B) Toplumun devamı aile ile sağlanır.
- C) Aile, nikâh akdi ile kurulur.
- D) Aile içi ilişkiler sağlam ve sağlıklıysa, toplum da güçlü ve güvenli bir toplum olur.

7. I. Hibe  
II. Tefecilik  
III. Rüşvet  
IV. Kumar

İslâm dinine göre yukarıdakilerden hangileri haksız kazançtır?

- A) Yalnız I
- B) I ve IV
- C) II ve III
- D) II, III ve IV

8. Aşağıdakilerden hangisi Müslüman toplumlardaki yardımlaşma ve dayanışma ile ilgili uygulamalardan biri değildir?

- A) İnfak
- B) Sadaka
- C) Cizye
- D) Zekât

9. Haksız bir fayda elde etmek için verilen ücrete ne ad verilir?

- A) Rüşvet
- B) Karaborsacılık
- C) Hileli satış
- D) Faiz

10. "Ey iman edenler! Adaleti titizlikle ayakta tutan, kendiniz, ana babanız ve akrabanız aleyhine de olsa Allah için şahitlik eden kimseler olun..." (Nisa Suresi, 135. Ayet)

Yukarıdaki ayet toplumsal yaşamın temel ilkelerinden hangisine işaret etmektedir?

- A) Yardımlaşma ve dayanışma
- B) Hak ve adaleti gözetme
- C) Emniyet ve güven
- D) Sulh

11. Fiyat ve değer ilişkisini bozarak, bir takım faydalar elde etmek için ürünün fiyatını haksız bir şekilde yükseltmeye veya düşürmeye ne ad verilir?

- A) Karaborsacılık
- B) Rüşvet alma veya verme
- C) Hileli satış yapma
- D) Yapay olarak fiyatlarla oynama

12. Aşağıdakilerden hangisi evliliğin amaçlarından biri değildir?

- A) Sevme ve sevilme ihtiyacını karşılamak
- B) Toplumda bir yer edinebilmek
- C) Maddi çıkar elde etmek
- D) Dayanışma duygusunu hissetmek

13. Aşağıdakilerden hangisi ekonomik hayatı olumsuz etkileyen uygulamalardan biri değildir?

- A) İnfak etmek
- B) Rüşvet almak
- C) Faiz almak
- D) Karaborsacılık

14. İnsanların birbirleriyle olan ilişkilerinden doğan hak ve sorumluluklarına genel olarak ne ad verilir?

- A) Mülkiyet hakkı
- B) Kul hakkı
- C) Sosyal haklar
- D) Ekonomik haklar

15. Aşağıdakilerden hangisi infak kapsamında yer almaz?

- A) Zekât vermek
- B) Sadaka vermek
- C) Tutumlu olmak
- D) İlim öğretmek

16. Ticari bir ürünü pahalılaştırma gayesiyle saklayıp piyasaya arzını geciktirmeye ne ad verilir?

- A) Karaborsacılık
- B) Manipülasyon
- C) Spekülasyon
- D) Hileli satış

17. I. Sevgi ve saygı  
II. Sözünde durmak  
III. İşi sağlam yapmak

Yukarıdakilerden hangileri bir toplumda emniyet ve güven ortamının oluşmasını sağlayan etkenlerdir?

- A) Yalnız I
- B) Yalnız II
- C) II ve III
- D) I, II ve III

18. Aşağıdakilerden hangisi işçinin hak ve sorumluluklarından biri değildir?

- A) Kendisine emanet edilen işi gerektiği şekilde yapmak
- B) İşvereni zarara soksa da, ihtiyaçlarının karşılamak için başka bir işle de meşgul olmak
- C) Kendisine emanet edilen eşyaları korumak ve zarar vermemek
- D) İşini özenle yapmak ve işverenin çaresizliğinden yararlanmamak

19. Aşağıdakilerden hangisi kul hakkına girmeye bir örnek değildir?

- A) Özel hayatı araştırmak
- B) Dedikodu yapmak
- C) Birinden borç almak
- D) Sırları ifşa etmek

20. Evlilik sözleşmesinin sona ermesine ne ad verilir?

- A) İhanet
- B) Tecessüs
- C) Ayrılma
- D) Talak

2018 AÖÖ-AÖL II. DÖNEM 0106-B

1. “Düşünüyorum öyleyse varım.” kıyası aşağıdakilerden hangisine bir örnektir?

- A) Zincirleme kıyas
- B) Entimem
- C) Basit kıyas
- D) İkilem

2. Aşağıdaki akıl yürütmelerden hangisi tümdengelim bir örnektir?

- A) Demir ısıtılınca genişir. Bakır ısıtılınca genişir. O halde madenler ısıtılınca genişir.
- B) Maymunların ve yunusların gülme yetileri vardır. Maymunların aynı zamanda konuşma yetileri vardır. O halde yunusların da konuşma yetileri vardır.
- C) Türkiye’de iklimler değişiyor. Japonya’da iklimler değişiyor. İngiltere’de iklimler değişiyor. Amerika’da iklimler değişiyor. O halde dünyada iklimler değişiyor.
- D) Bütün kitapların sayfaları vardır. “Sessiz Ev” bir kitaptır. O halde “Sessiz Ev”in sayfaları vardır.

3. Aristoteles ile ilgili aşağıdaki ifadelerden hangisi yanlıştır?

- A) Mantığı sistemli ve düzenli hale getirmiştir.
- B) Mantığı bulan düşünürdür.
- C) İlkçağ filozofudur.
- D) Mantık üzerine yazdığı kitapları Organon adı altında toplamıştır.

4. Yargının nesnesiyle olan uygunluğuna bilgi doğrusu denilirken, doğruluğunun akıl aracılığıyla bilindiği yargılara mantıksal doğruluk denir.

Yukarıdaki bilgiye göre, aşağıdakilerden hangisi mantıksal doğruluktur?

- A) Einstein zekidir.
- B) Su, normal koşullarda 100°C’de kaynar.
- C) Kar beyazdır.
- D) Hiçbir köpek kedi değildir.

5. “Bazı insanlar cimridir.” önermesinin düz döndürmesi aşağıdakilerden hangisidir?

- A) Bazı cimriler insandır.
- B) Bazı cimriler insan değildir.
- C) Tüm insanlar cimridir.
- D) Tüm cimriler insandır.

6. Aşağıdakilerden hangisi zorunlu (apodiktik) bir önermedir?

- A) Bazı insanlar bencildir.
- B) Karenin bütün kenarları birbirine eşittir.
- C) Bazı çocuklar yaramazdır.
- D) Kuşlar memeli hayvanlardır.

7. Önerme ile ilgili aşağıdaki ifadelerden hangisi yanlıştır?

- A) Tikel olumsuz bir önermenin düz döndürmesi yoktur.
- B) Tikel olumlu bir önermenin ters döndürmesi yoktur.
- C) “Her hakem adildir.” önermesinin ters döndürmesi “Her adil olmayan hakemdir.” önermesidir.
- D) “Bazı bitkiler kokusuzdur.” önermesinin düz döndürmesi “Bazı kokusuzlar bitkidir.” önermesidir.

8. Mantık ile ilgili aşağıdaki ifadelerden hangisi yanlıştır?

- A) Mantık, doğru düşünmenin kurallarını araştırır.
- B) Mantık, düşüncelerin gerçekte olup olmadıklarını denetler.
- C) Mantık, tüm bilimlerin temelinde yer almak zorundadır.
- D) Mantıklı düşünmek, doğru akıl yürütmek anlamına gelir.

9. Max bir itfaiyeci ise cesurdur. Max itfaiyecidir. O halde, Max cesurdur.

Yukarıdaki kıyas aşağıdaki kıyas biçimlerinden hangisine bir örnektir?

- A) Art bileşenin değillenmesi
- B) Art bileşenin evetlenmesi
- C) Ön bileşenin evetlenmesi
- D) Ön bileşenin değillenmesi

10. Aşağıdaki önermelerden hangisi “Her insan yazardır.” önermesi ile eşdeğerdir?

- A) Her yazar olmayan insan olmayandır.
- B) Her yazar insandır.
- C) Hiçbir insan olmayan yazar değildir.
- D) Her insan yazar olmayandır.

11. Aşağıdaki önermelerden hangisi özdeşlik ilkesine bir örnek değildir?

- A) İnsan insandır.
- B) Bitkiler ya canlıdır ya da canlı değildir.
- C) Herşey güzel ise herşey güzeldir.
- D) Eğer beş kere beş yirmi beş ediyorsa beş kere beş yirmibeş ediyordur.

12. Özelden genele yapılan akıl yürütme biçimine ne ad verilir?

- A) Benzeşim
- B) Tümdengelim
- C) Analoji
- D) Tümevarım

2018 AÖÖ-AÖL II. DÖNEM 0106-B

13. "Aynı niteliğin, aynı zamanda, aynı özneye, aynı bakımdan hem ait olması, hem de olmaması imkânsızdır."

**Aristoteles'in yukarıdaki sözü mantık ilkelerinden hangisini ifade eder?**

- A) Çelişmezlik  
B) Özdeşlik  
C) Üçüncü halin olanaksızlığı  
D) Belirsizlik

14. **Aşağıdakilerden hangisinde hem mantıksal hem de bilgi doğruluğuna uyulmuştur?**

- A) Bütün insanlar filozoftur. Sokrates bir insandır. O halde, Sokrates bir filozoftur.  
B) Bütün bilimler matematikselidir. Biyoloji bir bilimdir. O halde, biyoloji matematikselidir.  
C) Bütün kediler beyazdır. Boncuk bir kedir. O halde, Boncuk beyazdır.  
D) Bütün insanlar ölümlüdür. Sokrates bir insandır. O halde, Sokrates ölümlüdür.

15. **Aşağıdaki kavram çiftlerinden hangisi çelişik kavramlara bir örnektir?**

- A) Katı - Katı Olmayan  
B) Hisli - Duygusuz  
C) Kalabalık - Tenha  
D) Açık - Kapalı

16. I. Çıkarım Yapma  
II. Kavram Oluşturma  
III. Önerme Kurma

**Aristoteles'e göre doğru akıl yürütme için gerekli olan yukarıdaki aşamalar aşağıdakilerden hangisinde doğru sıralanmıştır?**

- A) I, II, III  
B) II, I, III  
C) II, III, I  
D) III, I, II

17. **Aşağıdakilerden hangisi mantık ilkelerinden biri değildir?**

- A) Benzeşim  
B) Özdeşlik  
C) Yeter - neden  
D) Çelişmezlik

18. **Aşağıdakilerden hangisi önemli İslam mantıkçılarından biri değildir?**

- A) İbn-i Sina  
B) Farabi  
C) Razi  
D) Nefi

19. **Aşağıdaki kıyaslardan hangisi "ikilem"e bir örnektir?**

- A) Evren ya sonludur ya da sonsuzdur; evren sonlu değildir; o halde evren sonsuzdur.  
B) Dans etmek faydalıdır, çünkü ter atarsın.  
C) Eğer sen bir öğretmensen, ne korkak ne de sertsindir; ama sen hem korkaksın hem de sert; o halde sen iyi bir öğretmen değilsin.  
D) Ya bu deveyi güdeceksin ya da bu diyardan gideceksin; bu deveyi gütmeyeceksin; o halde bu diyardan gideceksin.

20. **Aristoteles'in cins, tür, ayırım, özgülük ve ilintiden oluşan beş tümel sıralamasına göre, aşağıdakilerden hangisi insanın özgülüğüdür?**

- A) Uyumak  
B) Üremek  
C) Sohbet etmek  
D) Büyüme

2018 AÖÖ-AÖL II. DÖNEM 0106-B

1. Aşağıdakilerden hangisi lezzet vermek amacıyla kullanılan yiyecek grubunda yer alır?

- A) Yağlar
- B) Yoğurt
- C) Balık
- D) Tahıl

2. Uyuşturucu bağımlılığı tedavisinin rehabilitasyon aşamasında aşağıdakilerden hangisi yer almaz?

- A) Kişilerin tekrar iş gücü kazandırılarak çalışabilecek hale getirilmesi
- B) Kişinin bağımlı olduğu maddeden uzaklaştırılarak yoksunluk belirtileri ile savaştırılması
- C) Kişilerin ruhsal problemlerinin çözülmesi
- D) Olumlu hobiler kazanmasının sağlanması

3. Aşağıdakilerden hangisi yaşlılık döneminde görülen sorunlardan biridir?

- A) Kalp kapakçıklarında kireçlenme
- B) Kalsiyumun artması sonucu krampların azalması
- C) Kemiklerde minerallerin artması
- D) Tansiyon düşüklüğü

4. I. Görme duygusundan sorumlu herhangi bir merkezin fonksiyon kaybı  
II. Retinaya kan olması  
III. Retinaya gerekli kanın sağlanamaması  
IV. Göz merceğinin netliğini kaybetmesi

Yukarıdakilerden hangileri görme sorunlarının nedenlerindedir?

- A) Yalnız I
- B) Yalnız II
- C) II ve III
- D) I, II, III ve IV

5. Stres ile ilgili aşağıdaki ifadelerden hangisi yanlıştır?

- A) Kişinin çevreyle uyumunu bozar.
- B) Karamsar bir ruh hâline neden olur.
- C) Başta mide ve sindirim sistemi rahatsızlıkları olmak üzere birçok hastalığa zemin hazırlar.
- D) Bağışıklık sistemini güçlendirir.

6. Aşağıdakilerden hangisi zihinsel engelin özelliklerinden biri değildir?

- A) Kendi yaş grubuna göre beceri, sorumluluk ve iletişim kurmada geriliğin olması
- B) Kendi kendine yeterlilik alanında normal olması
- C) Genel zekâ işlevinin normalin altında olması
- D) Doğum öncesinde, sırasında ve sonrasında başlaması

7. Aşağıdakilerden hangisi sigara bağımlılığından kurtulmada etkili yollardan biri değildir?

- A) Sigara sayısını azaltmak
- B) Sigarasız geçen günler için ödülleri koymak
- C) Fiziksel aktiviteyi artırmak
- D) Sigarayı hatırlatan şeyleri ortadan kaldırmak

8. Aşağıdakilerden hangisi üç yaş çocuğunun özelliklerinden biridir?

- A) 200 kelime bilmesi
- B) Diğer çocuklarla oynamayı sevmesi
- C) Üç tekerlekli bisiklete binebilmesi
- D) Kendi kendine yemek yemeyi başaramaması

9. Aşağıdakilerden hangisi, fazla yemekten sonra yenilenlerin kilo almaya neden olmaması için kusma, laksatif ilaç kullanma ya da aşırı egzersiz yoluyla vücuttan dışarı atılmaya çalışıldığı yeme bozukluğudur?

- A) Diyabet
- B) Bulimia nevroza
- C) Obesite
- D) Anoreksia nevroza

10. Aşağıdakilerden hangisi birincil düzeyde ruh sağlığını koruma ilkelerinden biridir?

- A) Klinikte yatan hastanın bakım ve tedavisinin sağlanması
- B) İlaç kullanımının takibi
- C) Birey ve aileye yönelik etkin sorun çözme becerilerinin geliştirilmesi
- D) Sosyal destek gruplarının oluşturulması

11. Bağımlılık Yapıcı Maddeler ve Bağımlılık ile Mücadele 2012 Ulusal Raporu'na göre, kullanımı en yaygın ikinci sırada yer alan zararlı alışkanlık maddesi aşağıdakilerden hangisidir?

- A) Alkol
- B) Tütün
- C) Sedatifler
- D) Sakinleştiriciler

12. Aşağıdakilerden hangisi ergenlik döneminin özelliklerinden biridir?

- A) Duyguların süreklilik göstermesi
- B) Derslere ilgi duyulması
- C) Evdeki kuralların çokluğundan yakınılması
- D) Sürekli eve kapanılması

13. I. İklimsel değişiklikler  
II. İlaçlara karşı direnç gelişmesi  
III. Patojenlerin genetiklerindeki değişiklikler  
IV. Sağlıksız kentleşme

Yukarıdakilerden hangileri son yıllarda vektörlerin önem kazanmaya başlamasının nedenlerindedir?

- A) Yalnız II
- B) Yalnız III
- C) I ve II
- D) I, II, III ve IV

14. Kişinin sosyal ve maddî ihtiyaçlarını gidermeme aşağıdaki aile içi şiddet davranışlarından hangisine bir örnektir?

- A) İhmal
- B) Ekonomik istismar
- C) Duygusal istismar
- D) Fiziksel şiddet

15. Aşağıdakilerden hangisi 6-12 yaş döneminin özelliklerinden biri değildir?

- A) Kurumsal kurallara uyararak yaşaması
- B) Soyuttan somuta doğru düşünmesi
- C) Büyük ve küçük kaslarını kullanması
- D) Yaşlılarıyla birlikte oynaması

16. Tırnak bakımı ile ilgili aşağıdaki ifadelerden hangisi yanlıştır?

- A) Tırnaklarda kir ve yağ kolayca biriktiğinden tırnak yeme alışkanlığı zararlıdır.
- B) Tırnaklar, banyo yaparken tırnak fırçası ile fırçalanmalıdır.
- C) Tırnağın etten ayrıldıktan sonraki bölümünde mikroplar barınabilir, bağırsak parazitlerinin yumurtaları bulunabilir.
- D) El tırnakları düz kesilmelidir.

17. Aşağıdakilerden hangisi Türkiye’de bireylere sağlık hizmeti sunumunda dikkate alınan ilkelere biri değildir?

- A) Bedensel, ruhsal ve sosyal yönden tam iyilik halinde yaşamak bir insan hakkıdır.
- B) Bireylerin ırk, dil, din ve mezhep, cinsiyet, siyasi düşünce, felsefi inanç, ekonomik ve sosyal durum gibi farklılıkları sağlık hizmetlerinin sunumunda dikkate alınır.
- C) Tıbbi zorunluluklar ve kanunlarda yazılı hâller dışında, rızası olmaksızın kişinin vücut bütünlüğüne ve diğer kişilik haklarına dokunulamaz.
- D) Kanun ile izin verilen durumlar ile tıbbi zorunluluklar dışında, hastanın özel ve aile hayatının gizliliğine önem verilir.

18. I. Baş ağrısı  
II. Konsantrasyon bozukluğu  
III. Adet düzensizliği  
IV. Mineral ve elektrolit dengesizliği

Yukarıdakilerden hangileri çok düşük enerjili diyetlerin yan etkilerindedir?

- A) Yalnız I
- B) Yalnız IV
- C) I ve III
- D) I, II, III ve IV

19. Kişinin uyuşturucuya başlamamak için direndiği, istediği zaman bırakabileceğini düşündüğü, vücutta kalıcı bir fiziksel hasarın olmadığı ve gerekli tıbbi yardım yapılırsa kolaylıkla uyuşturucuyu bırakabileceği bağımlılık dönemi aşağıdakilerden hangisidir?

- A) Düşünlük
- B) Adaptasyon
- C) Alışma
- D) Doyma

20. Aşağıdakilerden hangisi iletişim engellerini kaldırmanın yollarından biri değildir?

- A) Mesajın anlaşılıp anlaşılmadığı geri bildirimle kontrol edilmeli
- B) Kaynağın gönderdiği mesajlar, alıcının ilgisini çekecek gerçek ve çekici örneklerle desteklenmeli
- C) Kaynağın gönderdiği mesajlar sadece sözlü olmalı
- D) Kaynak, sözlü mesajları alıcının anlayacağı ve algılayabileceği biçimde kullanılmalı

2018 AÖO-AÖL II. DÖNEM 0106-B

1. Der Hund steht ----- dem Nilpferd und dem Tiger.

**Welches Wort passt in die obige Lücke?**

**Yukarıdaki cümlede boş bırakılan yeri aşağıdakilerden hangisi doğru olarak tamamlar?**

- A) in  
B) zwischen  
C) aus  
D) über

2. Ein Affe kann sehr gut -----.

**Welches Wort passt in die obige Lücke?**

**Yukarıdaki cümlede boş bırakılan yeri aşağıdakilerden hangisi doğru olarak tamamlar?**

- A) klettern  
B) schwimmen  
C) fliegen  
D) schlafen

3. Charlotte ----- in Ankara.

**Welches Wort passt in die obige Lücke?**

**Yukarıdaki cümlede boş bırakılan yeri aşağıdakilerden hangisi doğru olarak tamamlar?**

- A) sitzen  
B) studiert  
C) legt  
D) sieht

4. Der Bär ist -----.

**Welches ergänzt die Lücke im obigen Satz?**

**Yukarıdaki cümlede boş bırakılan yeri aşağıdakilerden hangisi doğru olarak tamamlar?**

- A) schwer aber klein  
B) groß und kräftig  
C) schnell aber schwach  
D) lang und leicht

5. ----- hat einen langen Hals.

**Welches Wort passt in die obige Lücke?**

**Yukarıdaki cümlede boş bırakılan yeri aşağıdakilerden hangisi doğru olarak tamamlar?**

- A) Das Zebra  
B) Das Krokodil  
C) Die Schlange  
D) Die Giraffe

6. Für die Zukunft wünsche ich mir, daß ich in einer Band mitspielen kann. -----, das wäre das Größte für mich!

**Welcher Satz ergänzt die obige Lücke?**

**Yukarıdaki cümlede boş bırakılan yeri aşağıdakilerden hangisi doğru olarak tamamlar?**

- A) In der Woche habe ich zwei Stunden  
B) Es hat mir auch gut gefallen  
C) Vielleicht gründe ich sogar eine eigene Band  
D) Ich bin daran gewöhnt

7. Sie spielt Geige.

**Welche Frage passt zur obigen Antwort?**

**Yukarıdaki cevabı gerektirecek soru aşağıdakilerden hangisinde doğru olarak verilmiştir?**

- A) Woher hast du dieses Instrument?  
B) Wann spielen Sie ein Instrument?  
C) Womit machen Sie Musik?  
D) Welches Instrument spielt Ayşe?

8. A: -----.

B: Ich kenne die Musik von Mozart.

A: Ach ja, die kennen wir alle!

**Welcher Satz ergänzt die Lücke im obigen Dialog?**

**Yukarıdaki karşılıklı konuşmada boş bırakılan yeri aşağıdakilerden hangisi doğru olarak tamamlar?**

- A) Gehst du gern ins Konzert?  
B) Welche klassische Musik kennst du?  
C) Welche Gruppen hörst du gern?  
D) Hast du auch einen Lieblingssänger?

9. Was bedeutet das Wort "sunmak" auf Deutsch?

"sunmak" sözcüğünün Almancası aşağıdakilerden hangisinde doğru olarak verilmiştir?

- A) aussprechen
- B) wiederholen
- C) präsentieren
- D) nachschlagen

10. Klaus spielt Klavier, ----- er alleine ist.

Welches Wort passt in die obige Lücke?

Yukarıdaki cümlede boş bırakılan yeri aşağıdakilerden hangisi doğru olarak tamamlar?

- A) wenn
- B) was
- C) welche
- D) als

11. Draussen ist es kalt, deshalb sitzen der Mann und die Frau heute ----- im Haus.

Welches Wort passt in die obige Lücke?

Yukarıdaki cümlede boş bırakılan yeri aşağıdakilerden hangisi doğru olarak tamamlar?

- A) ausserhalb
- B) über
- C) drinnen
- D) zwischen

12. Die Frau möchte ----- ein blaues Kleid kaufen.

Welches Wort passt in die obige Lücke?

Yukarıdaki cümlede boş bırakılan yeri aşağıdakilerden hangisi doğru olarak tamamlar?

- A) sind
- B) sich
- C) mich
- D) dich

13. Glück und Unglück sind wie Eimer im Brunnen, zieht man den einen auf, so sinkt der ----- ab.

Welches Wort passt in die obige Lücke?

Yukarıdaki cümlede boş bırakılan yeri aşağıdakilerden hangisi doğru olarak tamamlar?

- A) andere
- B) niemand
- C) jemand
- D) sondern

14. Es gibt viele ----- und ----- bei türkischen und deutschen Familienfesten.

Welche Wörter passen in die obigen Lücken?

Yukarıdaki cümlede boş bırakılan yerleri aşağıdakilerden hangileri doğru olarak tamamlar?

- A) Teil / Ziel
- B) Thema / Beispiel
- C) Ähnlichkeiten / Unterschiede
- D) Besprechung / Ehre

15. Die Jugendlichen wollen heutzutage ----- sein.

Welches Wort passt nicht in die obige Lücke?

Yukarıdaki cümlede boş bırakılan yeri aşağıdakilerden hangisi doğru olarak tamamlamaz?

- A) selten
- B) selbstständig
- C) glücklich
- D) erfolgreich

16. Machst du ----- Sport oder mit deinen Freunden?

Welches Wort passt in die obige Lücke?

Yukarıdaki cümlede boş bırakılan yeri aşağıdakilerden hangisi doğru olarak tamamlar?

- A) gleich
- B) selten
- C) allein
- D) kein



17. Untersuchen / Patientin / die / Ärztin / die

**Wie kann man mit den obigen Wortgruppen einen sinnvollen Satz bilden?**

**Yukarıdaki sözcük gruplarıyla kurulabilecek en anlamlı cümle aşağıdakilerden hangisinde doğru olarak verilmiştir?**

- A) Die Patientin Ärztin die untersuchen.
- B) Die Ärztin die Patientin untersucht.
- C) Die Patientin die Ärzte untersucht.
- D) Die Ärztin untersucht die Patientin.

18. Wie lautet das Singular von "Die Körper"?

**"Die Körper" sözcüğünün tekil hali aşağıdakilerden hangisinde doğru olarak verilmiştir?**

- A) Den Körpern
- B) Eine Körper
- C) Eines Körpers
- D) Der Körper

19. A: Hast du gehört, -----?

B: Nein, was hat sie denn?

A: Sie hat Kopfschmerzen.

**Welcher Satz ergänzt den obigen Dialog?**

**Yukarıdaki karşılıklı konuşmada boş bırakılan yeri aşağıdakilerden hangisi doğru olarak tamamlar?**

- A) daß unsere Lehrerin krank ist
- B) kommt ihr auch mit uns
- C) packt seinen Koffer
- D) wenn du heute deine Hausaufgaben machst

20. Nabız atışı biraz yüksek.

**Wie lautet der obige Satz auf Deutsch?**

**Yukarıdaki cümlenin Almancası aşağıdakilerden hangisinde doğru olarak verilmiştir?**

- A) Den Puls kann ich nicht fühlen.
- B) Der Pulsschlag ist schwer zu hören.
- C) Die Lunge und der Hals ist frei.
- D) Der Pulsschlag ist etwas erhöht.

2018 AÖÖ-AÖL II. DÖNEM 0106-B

1. Teacher: "Don't play football here, children!"  
Teacher told the children .....

**Which of the following completes the sentence above?**

**Aşağıdakilerden hangisi yukarıdaki cümleyi doğru olarak tamamlar?**

- A) not to play football there  
B) not play football  
C) not to playing football  
D) to play football

2. Julia : There are lots of glass pieces on the floor. Who is ----- for this?  
Robert : I think Josh is, but I am not sure.

**Which of the following completes the dialogue above?**

**Aşağıdakilerden hangisi yukarıdaki konuşmayı doğru olarak tamamlar?**

- A) worried  
B) ashamed  
C) late  
D) responsible

3. He had been running for an hour when he ----- his arm.

**Which of the following completes the sentence above?**

**Aşağıdakilerden hangisi yukarıdaki cümleyi doğru olarak tamamlar?**

- A) had broken  
B) breaks  
C) broke  
D) breaking

4. When we woke up this morning, it -----.

**Which of the following completes the sentence above?**

**Aşağıdakilerden hangisi yukarıdaki cümleyi doğru olarak tamamlar?**

- A) has been snowing  
B) had been snowing  
C) snows  
D) is snowing

5. Paul: "I can play football well."  
Paul said that he ----- football well.

**Which of the following completes the sentence above?**

**Aşağıdakilerden hangisi yukarıdaki cümleyi doğru olarak tamamlar?**

- A) could play  
B) played  
C) may play  
D) is playing

6. He has ----- finished the housework. Everything's ready!

**Which of the following completes the sentence above?**

**Aşağıdakilerden hangisi yukarıdaki cümleyi doğru olarak tamamlar?**

- A) for  
B) since  
C) yet  
D) already

7. Leo hasn't done his homework -----.

**Which of the following completes the sentence above?**

**Aşağıdakilerden hangisi yukarıdaki cümleyi doğru olarak tamamlar?**

- A) already  
B) yet  
C) for  
D) just

8. I am busy ----- my homework.

Which of the following completes the sentence above?

Aşağıdakilerden hangisi yukarıdaki cümleyi doğru olarak tamamlar?

- A) for
- B) to
- C) with
- D) about

9. Jenny: "Is it rainy outside?"

Which of the following is the reported speech form of the direct speech sentence above?

Aşağıdakilerden hangisi yukarıdaki dolaysız anlatım cümlesinin dolaylı anlatım biçimidir?

- A) Jenny wanted to know if it is rainy outside.
- B) Jenny wanted to know was it rainy outside.
- C) Jenny wanted to know if it was rainy outside.
- D) Jenny wanted to know if it did rainy outside.

10. Mustafa is extremely ----- at teaching English.

Which of the following completes the sentence above?

Aşağıdakilerden hangisi yukarıdaki cümleyi doğru olarak tamamlar?

- A) good
- B) proud
- C) famous
- D) interested

11. Tom hadn't played football before.

Which of the following is the Turkish translation of the sentence above?

Aşağıdakilerden hangisi yukarıdaki cümlenin Türkçe karşılığıdır?

- A) Tom daha önce futbol oynamadı.
- B) Tom daha önce futbol oynamamıştı.
- C) Tom önceleri futbol oynayamıyordu.
- D) Tom önceleri futbol oynamadı.

12. How long ----- you ----- running in the park?

Which of the following completes the sentence above?

Aşağıdakilerden hangisi yukarıdaki cümleyi doğru olarak tamamlar?

- A) is / been
- B) has / be
- C) have / been
- D) has / been

13. My friend is very keen ----- horses.

Which of the following completes the sentence above?

Aşağıdakilerden hangisi yukarıdaki cümleyi doğru olarak tamamlar?

- A) in
- B) of
- C) at
- D) on

14. I was very tired because I ----- for days.

Which of the following completes the sentence above?

Aşağıdakilerden hangisi yukarıdaki cümleyi doğru olarak tamamlar?

- A) never sleep
- B) am sleeping
- C) haven't slept
- D) hadn't slept

15. He asked me what I was eating.

Which of the following is the direct speech form of the reported speech sentence above?

Aşağıdakilerden hangisi yukarıdaki dolaylı anlatım cümlesinin dolaysız anlatım biçimidir?

- A) He asked, "What were you eating?"
- B) He asked, "What did you eat?"
- C) He asked, "What are you eating?"
- D) He asks, "What have you eaten?"

16. I am afraid ----- dogs.

**Which of the following completes the sentence above?**

**Aşağıdakilerden hangisi yukarıdaki cümleyi doğru olarak tamamlar?**

- A) in
- B) of
- C) with
- D) at

17. Ellen: I called her three times last night, but I couldn't reach.  
Tommy: You must be worried ----- her.

**Which of the following completes the dialogue above?**

**Aşağıdakilerden hangisi yukarıdaki konuşmayı doğru olarak tamamlar?**

- A) about
- B) for
- C) from
- D) on

18. New York is famous ----- its Statue of Liberty.

**Which of the following completes the sentence above?**

**Aşağıdakilerden hangisi yukarıdaki cümleyi doğru olarak tamamlar?**

- A) with
- B) about
- C) to
- D) for

19. When we arrived at the airport, the plane ----- already -----.

**Which of the following completes the sentence above?**

**Aşağıdakilerden hangisi yukarıdaki cümleyi doğru olarak tamamlar?**

- A) had / taken off
- B) took / off
- C) has / taken off
- D) is / taking off

20. My grandparents have been married ----- 55 years.

**Which of the following completes the sentence above?**

**Aşağıdakilerden hangisi yukarıdaki cümleyi doğru olarak tamamlar?**

- A) since
- B) for
- C) yet
- D) ever

2018 AÖÖ-AÖL II. DÖNEM 0106-B

1. Je lui ai donné un cadeau car ----- son anniversaire.

**Choisissez l'expression qui convient.**

**Cümledeki boşluğu aşağıdakilerden hangisi doğru şekilde tamamlar?**

- A) il était  
B) il y avait  
C) c'était  
D) il faisait

2. Je veux manger un bon repas ----- je n'ai pas d'argent.

**Choisissez le mot qui convient.**

**Cümledeki boşluğu aşağıdakilerden hangisi doğru şekilde tamamlar?**

- A) mais  
B) pour  
C) avant  
D) donc

3. La mère : Comment s'est passé ta première journée à l'école?

Alain : Bien. Les professeurs ont fait une réunion.

La mère : -----

Alain : Oui. J'ai cours toute la semaine de 9 heures à 15 heures.

**Choisissez l'expression qui convient.**

**Yukarıdaki konuşmada boş bırakılan yeri aşağıdakilerden hangisi doğru şekilde tamamlar?**

- A) Ils ne font pas leçons aujourd'hui?  
B) Pourquoi ont-ils fait une réunion?  
C) Comment sont les professeurs?  
D) Ils ont donné votre emploi de temps?

4. I. Monsieur Rioux est directeur.  
II. Il a 55 ans.  
III. La réunion commence.  
IV. Il est marié.

**Trouvez la phrase qui ne convient pas.**

**Sırasıyla okunduğunda anlam bütünlüğünü bozan cümleyi bulunuz.**

- A) I  
B) II  
C) III  
D) IV

5. - ----- livre voulez-vous acheter?  
- Celui-ci.

**Choisissez le mot qui convient.**

**Yukarıdaki konuşmada boş bırakılan yeri aşağıdakilerden hangisi doğru şekilde tamamlar?**

- A) Lequel  
B) Lesquels  
C) Quelle  
D) Laquelle

6. Je vais à l'école ----- lundi ----- vendredi.

**Choisissez les mots qui conviennent.**

**Cümledeki boşlukları aşağıdakilerden hangisi doğru şekilde tamamlar?**

- A) de / au  
B) du / au  
C) du / à  
D) de / à

7. Le médecin a conseillé à Marie ----- partir en vacances.

**Choisissez le mot qui convient.**

**Cümledeki boşluğu aşağıdakilerden hangisi doğru şekilde tamamlar?**

- A) du  
B) de  
C) pour  
D) en

8. Il fait 40 degrés donc -----.

**Choisissez l'expression qui convient.**

**Yukarıdaki cümlede boş bırakılan yeri aşağıdakilerden hangisi doğru şekilde tamamlar?**

- A) c'est l'automne
- B) c'est l'hiver
- C) il fait froid
- D) il fait chaud

9. J'ai grossi: j'ai ----- des kilos.

**Choisissez le mot qui convient.**

**Cümledeki boşluğu aşağıdakilerden hangisi doğru şekilde tamamlar?**

- A) pris
- B) fait
- C) donné
- D) mangé

10. «Je lui ai proposé un coup de main.»

**Choisissez la traduction qui convient.**

**Yukarıdaki cümlenin Türkçe karşılığı aşağıdakilerden hangisidir?**

- A) Onun ellerine baktım.
- B) Onun elleriyle oynadım.
- C) Ona yardım teklif ettim.
- D) Onun elini tuttum.

11. Marie: Qu'en penses-tu? Est-ce une bonne idée?

Alain : -----, oui.

Marie: Alors je suis contente.

**Choisissez l'expression qui convient.**

**Yukarıdaki konuşmada boş bırakılan yeri aşağıdakilerden hangisi doğru şekilde tamamlar?**

- A) D'après toi
- B) A mon avis
- C) A son avis
- D) Je le trouve

12. - Quel temps ----- hier?

**Choisissez l'expression qui convient.**

**Cümledeki boşluğu aşağıdakilerden hangisi doğru şekilde tamamlar?**

- A) faisait-il
- B) il fait
- C) fera-t-il
- D) il fera

13. ----- coûte ce livre?

**Choisissez le mot qui convient.**

**Cümledeki boşluğu aşağıdakilerden hangisi doğru şekilde tamamlar?**

- A) Est-ce que
- B) Comment
- C) Quand
- D) Combien

14. C'est ma mère qui ----- appelle?

**Choisissez le mot qui convient.**

**Cümledeki boşluğu aşağıdakilerden hangisi doğru şekilde tamamlar?**

- A) moi
- B) m'
- C) me
- D) je

15. «Sinemaya gitmek istediğini söylüyor.»

**Choisissez la traduction qui convient.**

**Yukarıdaki cümlenin Fransızca karşılığı aşağıdakilerden hangisidir?**

- A) Elle voudrait aller au cinéma.
- B) Elle veut aller au cinéma.
- C) Dis-lui d'aller au cinéma.
- D) Elle dit qu'elle veut aller au cinéma.

16. Je dis «Super!» quand je -----.

**Choisissez l'expression qui convient.**

**Yukarıdaki cümlede boş bırakılan yeri aşağıdakilerden hangisi doğru şekilde tamamlar?**

- A) malheureux
- B) pleure
- C) suis content
- D) suis triste

17. Le magasin est ouvert toute la semaine ----- dimanche.

**Choisissez le mot qui convient.**

**Cümledeki boşluğu aşağıdakilerden hangisi doğru şekilde tamamlar?**

- A) en
- B) par
- C) pour
- D) sauf

18. La semaine prochaine, Lise et Marie ----- au cirque.

**Choisissez le mot qui convient.**

**Cümledeki boşluğu aşağıdakilerden hangisi doğru şekilde tamamlar?**

- A) iront
- B) allaient
- C) sont allées
- D) sont allés

19. «Hadi, bana da söyle!»

**Choisissez la traduction qui convient.**

**Yukarıdaki cümlenin Fransızca karşılığı aşağıdakilerden hangisidir?**

- A) Allez, parlons-en aussi!
- B) Vas-y, dis-le!
- C) Vas-y, dis-le moi aussi!
- D) Allez, dis-le!

20. Cet homme pèse 180 kilos : c'est -----.

**Choisissez le mot qui convient.**

**Cümledeki boşluğu aşağıdakilerden hangisi doğru şekilde tamamlar?**

- A) joyeux
- B) bon
- C) étonnant
- D) encourageant

2018 AÖO-AÖL II. DÖNEM 0106-B

1. Die technischen ----- gehen weiter.

**Welches Wort passt in die obige Lücke?**

**Yukarıdaki cümlede boş bırakılan yeri aşağıdakilerden hangisi doğru olarak tamamlar?**

- A) Formulare  
B) Tatsache  
C) Beruf  
D) Entwicklungen

2. Was möchtest du werden?

**Welche Antwort passt zur obigen Frage?**

**Yukarıdaki sorunun cevabı aşağıdakilerden hangisinde doğru olarak verilmiştir?**

- A) Er ist Architekt.  
B) Ich möchte Pferdezüchterin werden.  
C) Mädchen im Alter von 15 wollen meistens Lehrerin werden.  
D) Du kannst ein guter Informatiker werden.

3. Willst / kannst / wenn / studieren / du / Berlin / in

**Wie kann man mit den obigen Wortgruppen einen sinnvollen Satz bilden?**

**Yukarıdaki sözcük gruplarıyla kurulabilecek en anamlı cümle aşağıdakilerden hangisinde doğru olarak verilmiştir?**

- A) Kannst studieren willst, wenn Berlin du in.  
B) Berlin willst, wenn du in kannst studieren.  
C) Wenn du willst, kannst du in Berlin studieren.  
D) Willst wenn, du in kannst Berlin studieren.

4. Wer ist Albert Einstein?

**Welche Antwort passt zur obigen Frage?**

**Yukarıdaki sorunun cevabı aşağıdakilerden hangisinde doğru olarak verilmiştir?**

- A) Er ist ein weltberühmter genialer Wissenschaftler.  
B) Er möchte Deutsch lernen.  
C) Er ist ein guter Ingenieur.  
D) Er fliegt nach Spanien.

5. Her zaman yeni keşif ve buluşlar vardır.

**Wie lautet der obige Satz auf Deutsch?**

**Yukarıdaki cümlenin Almancası aşağıdakilerden hangisinde doğru olarak verilmiştir?**

- A) Ich habe eine neue Entdeckung gemacht.  
B) Es gibt immer neue Entdeckungen und Erfindungen.  
C) Wir können etwas neues erfinden.  
D) Er möchte eine neue Maschine entwickeln.

6. Ich arbeite am Forschungsinstitut in Berlin.

**Wie lautet der obige Satz auf Türkisch?**

**Yukarıdaki cümlenin Türkçesi aşağıdakilerden hangisinde doğru olarak verilmiştir?**

- A) Berlin'de birçok araştırma enstitüsü var.  
B) Berlin'de ki araştırma enstitüsünde çalışmak isterim.  
C) Berlin'de yeni açılan araştırma enstitüsünde çalışıyorum.  
D) Berlin'de bilimsel araştırma enstitüsünde çalışıyorum.

7. Warum fahren die Kinder gern Fahrrad?

**Welche Antwort passt nicht zur obigen Frage?**

**Aşağıdakilerden hangisi yukarıdaki sorunun doğru cevabı değildir?**

- A) Um die Hausaufgaben zu machen.  
B) Weil es ihnen Spaß macht.  
C) Um sich zu entspannen.  
D) Weil es aufregend ist.

8. Ja, das ist ein Fahrradtaxi!

**Welche Frage passt zur obigen Antwort?**

**Yukarıdaki cevabı gerektirecek soru aşağıdakilerden hangisinde doğru olarak verilmiştir?**

- A) Hast du ein Taxi gerufen?  
B) Hast du ein Auto?  
C) Wo ist die Haltestelle?  
D) Weißt du eigentlich, was Velotaxi bedeutet?



9. Was bedeutet das Gegenteil von "aufregend"?

"aufregend" sözcüğünün zıt anlamlısı aşağıdakilerden hangisinde doğru olarak verilmiştir?

- A) zufrieden
- B) spannend
- C) beruhigend
- D) sammeln

10. ----- ist aus unserer Welt nicht mehr -----.

Welche Wörter passen in die obigen Lücken?

Yukarıdaki cümlede boş bırakılan yerleri aşağıdakilerden hangileri doğru olarak tamamlar?

- A) Die Energie / braucht
- B) Der Computer / wegzudenken
- C) Der Erfolg / modern
- D) Das Velotaxi / besucht

11. Die Männer wollen die Sehenswürdigkeiten sehen.

Wie lautet der obige Satz in der Singularform?

Yukarıdaki cümlenin tekil hali aşağıdakilerden hangisinde doğru olarak verilmiştir?

- A) Die Mann will die Sehenswürdigkeiten sehen.
- B) Der Mann will die Sehenswürdigkeit sehen.
- C) Die Mann besuchen die Sehenswürdigkeit.
- D) Das Mann hat die Sehenswürdigkeiten sehen wollen.

12. Wegen dem Computer haben die Schüler das Schreiben -----.

Welches Wort passt in die obige Lücke?

Yukarıdaki cümlede boş bırakılan yeri aşağıdakilerden hangisi doğru olarak tamamlar?

- A) vergessen
- B) verfügen
- C) verbreiten
- D) verlegen

13. Der Computer / Die Tastatur / Der Rechner / Das Auto

Welches Wort passt nicht zu den anderen in der obigen Wortgruppe?

Yukarıdaki sözcük grubuna uymayan sözcük aşağıdakilerden hangisinde doğru olarak verilmiştir?

- A) Die Tastatur
- B) Der Computer
- C) Der Rechner
- D) Das Auto

14. Ich will im Sommer nach Paris fliegen.

Welche Frage passt zur obigen Antwort?

Yukarıdaki cevabı gerektirecek soru aşağıdakilerden hangisinde doğru olarak verilmiştir?

- A) Warum ist es im Sommer wunderbar für die Besucher?
- B) Wo warst du im Sommer?
- C) Was willst du im Sommer machen?
- D) Welche Probleme hast du im Sommer?

15. Die Stadt Bursa liegt westlich von Eskişehir.

Welche Frage passt zur obigen Antwort?

Yukarıdaki cevabı gerektirecek soru aşağıdakilerden hangisinde doğru olarak verilmiştir?

- A) Hast du Freunde aus Bursa?
- B) Wo liegt die Stadt Bursa?
- C) Wie gehst du nach Bursa?
- D) Gibt es in Bursa viele Moscheen?

16. Was bedeutet "Anlatı" auf Deutsch?

"Anlatı" sözcüğünün Almancası aşağıdakilerden hangisinde doğru olarak verilmiştir?

- A) Das Buch
- B) Der Roman
- C) Die Zeitung
- D) Die Erzählung

17. Hier kann man Informationen über die Geschichte der Burg erhalten.

**Wie lautet der obige Satz auf Türkisch?**

**Yukarıdaki cümlenin Türkçesi aşağıdakilerden hangisinde doğru olarak verilmiştir?**

- A) Burada kalenin tarihi hakkında bilgi alınabilir.
- B) İsteyenler kaleyi gezebilir.
- C) Burada kale hakkında bilgi vermek isterim.
- D) Kalenin geçmişi ile ilgilenen varsa araştırma yapabilir.

18. Die Landkarte ----- nur einen kleinen Ausschnitt.

**Welches Wort passt in die obige Lücke?**

**Yukarıdaki cümlede boş bırakılan yeri aşağıdakilerden hangisi doğru olarak tamamlar?**

- A) schreibt
- B) fließt
- C) zeigt
- D) liegt

19. ----- die Sage von der schönen Loreley.

**Welcher Satz ergänzt die obige Lücke?**

**Yukarıdaki cümlede boş bırakılan yeri aşağıdakilerden hangisi doğru olarak tamamlar?**

- A) Ein Bericht über Katastrophen schildert
- B) Das ist ein kleines Schlaflied
- C) Das Lied Loreley erzählt
- D) Dieser Fall hat viele Antworten gebracht

20. Loreley ist ein Felsen am Rhein und man erzählt, daß viele Boote dort ----- sind.

**Welches Wort passt in die obige Lücke?**

**Yukarıdaki cümlede boş bırakılan yeri aşağıdakilerden hangisi doğru olarak tamamlar?**

- A) untergegangen
- B) vortragen
- C) verbringen
- D) gesungen

2018 AÖÖ-AÖL II. DÖNEM 0106-B

1. My best friend ----- married by next June.

Which of the following completes the sentence above?

Aşağıdakilerden hangisi yukarıdaki cümleyi doğru olarak tamamlar?

- A) gets  
B) will have got  
C) will get  
D) is

2. Don't come early in the morning, I -----.

Which of the following completes the sentence above?

Aşağıdakilerden hangisi yukarıdaki cümleyi doğru olarak tamamlar?

- A) will slept  
B) slept  
C) sleep  
D) will be sleeping

3. The letters ----- by the secretary tomorrow.

Which of the following completes the sentence above?

Aşağıdakilerden hangisi yukarıdaki cümleyi doğru olarak tamamlar?

- A) will be posted  
B) posted  
C) are posted  
D) were posted

4. Mehmet Rauf wrote 'Eylül'.

Which of the following is the passive voice of the sentence above?

Aşağıdakilerden hangisi yukarıdaki cümlelerin edilgen yapıda kurulmuş biçimidir?

- A) 'Eylül' is written by Mehmet Rauf.  
B) 'Eylül' has written by Mehmet Rauf.  
C) 'Eylül' has been written by Mehmet Rauf.  
D) 'Eylül' was written by Mehmet Rauf.

5. The walls ----- by the painters now.

Which of the following completes the sentence above?

Aşağıdakilerden hangisi yukarıdaki cümleyi doğru olarak tamamlar?

- A) were painted  
B) will be painted  
C) are painted  
D) are being painted

6. ----- they got home, the boy had eaten all the cake.

Which of the following completes the sentence above?

Aşağıdakilerden hangisi yukarıdaki cümleyi doğru olarak tamamlar?

- A) Due to the fact that  
B) By the time  
C) Whenever  
D) Because

7. ----- that water has lots of benefits, Kathy drinks two litres a day.

Which of the following completes the sentence above?

Aşağıdakilerden hangisi yukarıdaki cümleyi doğru olarak tamamlar?

- A) For  
B) Because  
C) Due to the fact  
D) Since

8. The party ----- before midnight.

Which of the following completes the sentence above?

Aşağıdakilerden hangisi yukarıdaki cümleyi doğru olarak tamamlar?

- A) started  
B) will be starting  
C) will have started  
D) starts

9. Don't get angry or sad if someone ----- at you.

**Which of the following completes the sentence above?**

**Aşağıdakilerden hangisi yukarıdaki cümleyi doğru olarak tamamlar?**

- A) shouted
- B) shouts
- C) will shout
- D) is shouting

10. The windows ----- by Semih yesterday.

**Which of the following completes the sentence above?**

**Aşağıdakilerden hangisi yukarıdaki cümleyi doğru olarak tamamlar?**

- A) broke
- B) were broken
- C) are broken
- D) will be broken

11. Sarah ate a big sandwich ----- she was hungry.

**Which of the following completes the sentence above?**

**Aşağıdakilerden hangisi yukarıdaki cümleyi doğru olarak tamamlar?**

- A) to
- B) why
- C) as
- D) in

12. The film was very boring ----- some people fell asleep.

**Which of the following completes the sentence above?**

**Aşağıdakilerden hangisi yukarıdaki cümleyi doğru olarak tamamlar?**

- A) so
- B) because
- C) at
- D) to

13. Taner can't play with his tablet ----- he finishes his homework.

**Which of the following completes the sentence above?**

**Aşağıdakilerden hangisi yukarıdaki cümleyi doğru olarak tamamlar?**

- A) to
- B) until
- C) at
- D) because

14. If you ----- ill, go to the doctor.

**Which of the following completes the sentence above?**

**Aşağıdakilerden hangisi yukarıdaki cümleyi doğru olarak tamamlar?**

- A) are
- B) was
- C) be
- D) were

15. If we ----- a taxi , we would have arrived earlier.

**Which of the following completes the sentence above?**

**Aşağıdakilerden hangisi yukarıdaki cümleyi doğru olarak tamamlar?**

- A) will take
- B) have taken
- C) take
- D) had taken

16. This time next Saturday I ----- to İstanbul for the weekend.

**Which of the following completes the sentence above?**

**Aşağıdakilerden hangisi yukarıdaki cümleyi doğru olarak tamamlar?**

- A) will be going
- B) will go
- C) will have gone
- D) go

17. If I were very rich, I ----- poor people.

**Which of the following completes the sentence above?**

**Aşağıdakilerden hangisi yukarıdaki cümleyi doğru olarak tamamlar?**

- A) helped
- B) help
- C) would help
- D) will help

18. French ----- in Belgium.

**Which of the following completes the sentence above?**

**Aşağıdakilerden hangisi yukarıdaki cümleyi doğru olarak tamamlar?**

- A) will be speak
- B) speaks
- C) was spoken
- D) is spoken

19. He cannot go ----- he wants.

**Which of the following completes the sentence above?**

**Aşağıdakilerden hangisi yukarıdaki cümleyi doğru olarak tamamlar?**

- A) wherever
- B) since
- C) by
- D) for

20. If Jamie ----- his motorbike, he ----- a new car.

**Which of the following completes the sentence above?**

**Aşağıdakilerden hangisi yukarıdaki cümleyi doğru olarak tamamlar?**

- A) will sell / buys
- B) sells / would buy
- C) sells / will buy
- D) sell / will buy

2018 AÖÖ-AÖL II. DÖNEM 0106-B

1. Il peut pleuvoir; n'oubliez pas ----- prendre votre parapluie.

**Choisissez le mot qui convient.**

**Cümledeki boşluğu aşağıdakilerden hangisi doğru şekilde tamamlar?**

- A) sans  
B) en  
C) de  
D) qui

2. Il est triste ----- son amie.

**Choisissez le mot/l'expression qui convient.**

**Cümledeki boşluğu aşağıdakilerden hangisi doğru şekilde tamamlar?**

- A) qui  
B) que  
C) contre le  
D) à cause de

3. «Marie est tombée amoureuse.»

**Choisissez la traduction qui convient.**

**Yukarıdaki cümlenin Türkçe karşılığı aşağıdakilerden hangisidir?**

- A) Marie aşkı buldu.  
B) Marie düştü.  
C) Marie'nin sevgilisi düştü.  
D) Marie âşık oldu.

4. La semaine prochaine, il ----- au Portugal.

**Choisissez le mot qui convient.**

**Cümledeki boşluğu aşağıdakilerden hangisi doğru şekilde tamamlar?**

- A) sera  
B) a  
C) était  
D) es

5. I. L'omelette est aux champignons.  
II. Le jus de pomme est une boisson.  
III. La café aussi.  
IV. Mais la glace est un dessert.

**Choisissez la phrase qui ne convient pas à l'ensemble.**

**Sırasıyla okunduğunda, anlam bütünlüğünü bozan cümleyi bulunuz.**

- A) I  
B) II  
C) III  
D) IV

6. I. Pourquoi?  
II. Je voudrais vous faire part de mes opinions.  
III. La campagne est meilleure que la ville.  
IV. Eh bien, parce que il y a moins de pollution.  
V. Mais aussi parce qu'il y a beaucoup de légumes.

**Mettez dans le bon ordre.**

**Yukarıdaki cümleleri düzgün bir paragraf oluşturacak şekilde sıraya koyunuz.**

- A) I, II, IV, III, V  
B) II, III, I, IV, V  
C) IV, III, II, I, V  
D) V, IV, III, II, I

7. - ----- ?  
- Vendredi prochain.

**Choisissez la question qui convient.**

**Yukarıdaki konuşmada cevabı gerektiren soru aşağıdakilerden hangisidir?**

- A) Nous sommes quel jour  
B) Quand vous partez  
C) Vous venez d'où  
D) Vous allez où

8. Le serveur : Vous avez fait ----- choix?  
Le client : Oui, je prends un café au lait.

**Choisissez le mot qui convient.**

**Yukarıdaki konuşmada boş bırakılan yeri aşağıdakilerden hangisi doğru şekilde tamamlar?**

- A) vous
- B) ton
- C) nos
- D) votre

9. La femme ----- vient est ma mère.

**Choisissez le mot qui convient.**

**Cümledeki boşluğu aşağıdakilerden hangisi doğru şekilde tamamlar?**

- A) qui
- B) que
- C) lequel
- D) laquelle

10. Eva avait toujours de mauvaises notes en mathématique mais elle a ----- ses notes.

**Choisissez le mot qui convient.**

**Cümledeki boşluğu aşağıdakilerden hangisi doğru şekilde tamamlar?**

- A) averti
- B) encouragé
- C) remonté
- D) conseillé

11. C'est le livre ----- je préfère.

**Choisissez le mot qui convient.**

**Cümledeki boşluğu aşağıdakilerden hangisi doğru şekilde tamamlar?**

- A) qui
- B) que
- C) de
- D) en

12. Il est en section scientifique ----- il donne plus d'importance aux Maths.

**Choisissez le mot qui convient.**

**Cümledeki boşluğu aşağıdakilerden hangisi doğru şekilde tamamlar?**

- A) bon
- B) trop
- C) ou
- D) donc

13. ----- j'ai le temps, je peux vous aider.

**Choisissez le mot/l'expression qui convient.**

**Cümledeki boşluğu aşağıdakilerden hangisi doğru şekilde tamamlar?**

- A) À cause de
- B) Pour
- C) Contre
- D) Si

14. Marie et Selda aiment les langues étrangères: ----- parle une langue différente.

**Choisissez le mot qui convient.**

**Cümledeki boşluğu aşağıdakilerden hangisi doğru şekilde tamamlar?**

- A) elles
- B) chacune
- C) chacun
- D) je

15. Isabelle : ----- ?

Alain : Nous irons à la mer.

Isabelle : ----- ?

Alain : A Nice.

**Choisissez les expressions qui conviennent.**

**Yukarıdaki konuşmada boş bırakılan yerleri aşağıdakilerden hangisi doğru şekilde tamamlar?**

- A) Vous nagez / Où
- B) Vous faites quoi cet été / Où
- C) Vous aimez les vacances / Quelle ville
- D) Vous allez où / Quand

2018 AÖÖ-AÖL II. DÖNEM 0106-B

16. ----- de litres d'eau vous buvez par jour?

**Choisissez le mot qui convient.**

**Cümledeki boşluğu aşağıdakilerden hangisi doğru şekilde tamamlar?**

- A) Combien
- B) Chacun
- C) Dans
- D) Est-ce que

17. Je suis ----- le théâtre et contre le cinéma.

**Choisissez le mot qui convient.**

**Cümledeki boşluğu aşağıdakilerden hangisi doğru şekilde tamamlar?**

- A) dans
- B) du
- C) pour
- D) qui

18. Mon ami a de mauvaises notes en littérature. Il -----, à dire la vérité à ses parents.

**Choisissez le mot qui convient.**

**Cümledeki boşluğu aşağıdakilerden hangisi doğru şekilde tamamlar?**

- A) hésite
- B) obligé
- C) pardonnez
- D) encouragement

19. La vie à la campagne est ----- .

**Choisissez le mot qui convient.**

**Cümledeki boşluğu aşağıdakilerden hangisi doğru şekilde tamamlar?**

- A) laid
- B) bruyante
- C) tranquille
- D) ennuyeux

20. ----- homme s'appelle Ludovic.

**Choisissez le mot qui convient.**

**Cümledeki boşluğu aşağıdakilerden hangisi doğru şekilde tamamlar?**

- A) Ce
- B) Cette
- C) Cet
- D) Ces



2018 AÖÖ-AÖL II. DÖNEM 0106-B

1. Aşağıdaki cümlelerin hangisinde belgisiz zamir vardır?

- A) Onca işim varken sinemaya gelemem.
- B) Paramın yarısını Selma'ya verdim.
- C) Şu paltoyu almak istedi.
- D) Bu dersten sonra herkes bahçede toplansın.

2. Trajedi ile ilgili aşağıdaki ifadelerden hangisi yanlıştır?

- A) Seyircide korku ve acıma hislerini uyandırmak amacıyla yazılır.
- B) Kahramanları soylu kişilerdir.
- C) Üç birlik kuralına uyma zorunluluğu yoktur.
- D) Erdeme ve ahlaka değer verilir.

3. İlk Türk romanı olan "Taaşşuk-ı Talat ve Fitnat" adlı eser aşağıdaki yazarlardan hangisine aittir?

- A) Şinasi
- B) Şemseddin Sami
- C) Yusuf Kamil Paşa
- D) Namık Kemal

4. Aşağıdaki cümlelerin hangisinde soru zamiri vardır?

- A) Bilmem bu kaçınıcı bahar?
- B) Bunu onlara kim söylemiş?
- C) Türkiye'ye ne zaman geldin?
- D) Sen de bizimle gelebilir misin?

5. Hikâye türü ile ilgili aşağıdaki ifadelerden hangisi yanlıştır?

- A) Romandan daha kısadır.
- B) Olayın geçtiği yer ayrıntılı olarak anlatılmaz.
- C) Kahramanların tanıtımında ayrıntıya girilir.
- D) Anlatım yalın, anlaşılır ve özlüdür.

6. Aşağıdaki cümlelerin hangisinde zaman zarfı kullanılmıştır?

- A) Çocuklar arkamdan geliyordu.
- B) Paketi aşağı bırak.
- C) Kedi divanın altında uyuyor.
- D) Akşamüstü sahilde yürüyüş yaptık.

7. Türk edebiyatında Batılı anlamda ilk tiyatro eserini aşağıdaki yazarlardan hangisi yazmıştır?

- A) Şinasi
- B) Namık Kemal
- C) Abdülhal Hâmit Tarhan
- D) Recaizade Mahmut Ekrem

8. Aşağıdakilerden hangisi romanlarda "tip" kişinin özelliklerinden biri değildir?

- A) Dramatik aksiyon ve çatışmalardan etkilenmesi
- B) Tek bir özellik taşıması
- C) Değişmemesi ve gelişmemesi, tüm hikâyede aynı görevi üstlenmesi
- D) Bulunduğu toplumun izlerini taşıması

9. "Korku, Tanrılar ve İnsanlar, Hürrem Sultan, Tohum ve Toprak" gibi tiyatro eserleri aşağıdaki yazarlardan hangisine aittir?

- A) Ahmet Vefik Paşa
- B) Haldun Taner
- C) Orhan Asena
- D) Vedat Nedim Tör

10. "Şah ve Sultan" adlı eser aşağıdaki yazarlardan hangisine aittir?

- A) Hıfzı Topuz
- B) Sinan Yağmur
- C) Ayşe Kulin
- D) İskender Pala

11. Aşağıdaki fiillerden hangisi gelecek zamanın rivayeti ile çekimlenmiştir?

- A) gelecekmış
- B) biliyorsan
- C) alacaktım
- D) baksaydın

12. "Suyu Arayan Adam" adlı eser aşağıdaki yazarlardan hangisine aittir?

- A) Aziz Nesin
- B) Necip Fazıl Kısakürek
- C) Şevket Süreyya Aydemir
- D) Abidin Dino

13. Aşağıdaki cümlelerin hangisinde zaman kayması vardır?

- A) Dün seni pastanede gördüm.
- B) Bizimkiler bu oyuna yarın gelecekler.
- C) Şu anda yemek yapıyorum.
- D) Söz verdiği her yere geç kalıyor.

14. Aşağıdaki cümlelerin hangisinde edat kullanılmamıştır?

- A) Senin için tatlı aldım.
- B) Bu kazağı da çok beğendim.
- C) Onun gibi iyi insan görmedim.
- D) Dışarıya palto ile çıkabilirsin.

15. Bir kimseyi karakteristik özellikleriyle okuyucuya tanıtmak amacıyla yazılan edebî yazılara ne ad verilir?

- A) Otobiyografi
- B) Portre
- C) Monografi
- D) Biyografi

16. Aşağıdaki cümlelerin hangisinde bağlaç iki cümleyi birbirine bağlamıştır?

- A) Dersine iyi çalıştı ve sınıfını geçti.
- B) Seni ya bu akşam ya da yarın sabah ararım.
- C) Benimle de gelebilirsin.
- D) Çanta ve bavulu sana veriyorum.

17. "İşaret Çocukları, Yedi Güzel Adam, Menziller" adlı şiirler aşağıdaki şairlerden hangisine aittir?

- A) Attilâ İlhan
- B) Oktay Rifat
- C) Necip Fazıl Kısakürek
- D) Cahit Zarifoğlu

18. Aşağıdaki cümlelerin hangisinde eylemin karşılıklı olarak yapılması söz konusudur?

- A) Gürültüyü duyan kediler kaçtılar.
- B) Gelen misafirlerle tokalaştı.
- C) Duyduklarını anlatmaktan çekiniyordu.
- D) Düğüne o da davet edilmiş.

19. Aşağıdaki cümlelerden hangisinin fiili basit yapıdır?

- A) Babam, tabağındaki yemeğin hepsini yedi.
- B) Her sözümden bir mana çıkarıyordum.
- C) Yolda kalanlara yardım ettik.
- D) Günün ilk ışıkları etrafa yayılıyor.

20. "Gündökümü", "Sesler", "Yüzler" adlı eserler aşağıdaki yazarlardan hangisine aittir?

- A) Salah Bırsel
- B) Cemil Meriç
- C) Tomris Uyar
- D) Oğuz Atay

2018 AÖÖ-AÖL II. DÖNEM 0106-B

1. Aşağıdaki cümlelerin hangisinde miktar zarfı vardır?

- A) Hiçbir şey demeden çekip gitmiş.
- B) Birden bire gözlerim karardı.
- C) Ne kadar da ince ruhlu bir kadın.
- D) Bu kadar akıllı bir çocuk görmedim.

2. Milli Edebiyat Dönemi hikâyelerinin en belirgin özelliği aşağıdakilerden hangisidir?

- A) Olaylar ve kahramanların gerçeğe yakın olması
- B) Hikâyelerde sade bir dil kullanılması
- C) Hikâyenin, Türk edebiyatına batılı anlamda bu dönemde girmesi
- D) Hikâyelerde işlenen konuların ilk kez bu dönemde toplumsal içerikli olması

3. Aşağıdakilerden hangisi Anonim Halk Şiiri'nin nazım şekillerinden biri değildir?

- A) Koşma
- B) Mani
- C) Ağıt
- D) Ninni

4. Dini-Tasavvufi(Tekke) Edebiyatı nazım şekillerinden olan ve tarikata yeni giren kişilere adabını öğretmek, onları olgunlaştırmak için mürşitlerin söylediği manzum sözlere ne ad verilir?

- A) Devriye
- B) Şathiye
- C) İlahi
- D) Nutuk

5. Aşağıdakilerden hangisi mesnevilerin "bitiş" bölümünde yer alan unsurlardan biri değildir?

- A) Mesnevinin adı
- B) Asıl konu
- C) Nerede yazıldığı
- D) Beyit sayısı

6. Aşağıdaki cümlelerin hangisinde fiil istek kipinde çekimlenmiştir?

- A) Arkadaşına bu kadar ağır sözler söylememeliydin.
- B) Bu olanları görmesem daha iyiydi.
- C) Ben bu gece erkenden yola çıkayım.
- D) Yarınki sınava çok iyi çalış.

7. Âşık Edebiyatı nazım şekillerinden olan "Koşma" ve "Semai" arasındaki temel fark aşağıdakilerden hangisidir?

- A) Kafiye düzeni
- B) Nazım birimi
- C) Birim sayısı
- D) Hece ölçüsü

8. "Atabetü'l Hakayık" adlı eserin yazarı kimdir?

- A) Edip Ahmet Yükneki
- B) Yusuf Has Hacip
- C) Ahmet Yesevi
- D) Kaşgarlı Mahmud

9. Milli Edebiyat dönemi yazarlarıyla ilgili aşağıdaki ifadelerden hangisi doğrudur?

- A) İlk kez bu dönem sanatçıları Batı'dan hikâye çevirileri yapmışlardır.
- B) Genellikle bireysel temaları işlemişlerdir.
- C) Hikâyelerinde realist bir tutum sergilemişlerdir.
- D) Bu dönemde aşk, tüm yazarların en çok işlediği konu olmuştur.

10. Aşağıdaki cümlelerden hangisinin yüklemi anlamına göre oluş fiilidir?

- A) Geçen yıl bu aylarda İstanbul'a taşındı.
- B) Bacağında çıkan yara gün geçtikçe iyileşti.
- C) Oturduğu yerden hızlıca kalktı.
- D) Annesine çok güzel bir elbise aldı.

11. Türk edebiyatında aruz ölçüsünün kullanıldığı ilk eser aşağıdakilerden hangisidir?

- A) Divanu Lügati't-Türk
- B) Divan-ı Hikmet
- C) Atabetü'l Hakayık
- D) Kutadgu Bilig

12. Bir dileği bildirmek için resmî makamlara sunulan, imzalı ve adresli yazılara ne ad verilir?

- A) Dilekçe
- B) Tutanak
- C) Mektup
- D) Makale

13. Tutanak yazımıyla ilgili aşağıdaki ifadelerden hangisi yanlıştır?

- A) Olaylar kronolojik sıraya göre anlatılır.
- B) Tutanak elle yazılacaksa dolma kalem ya da tükenmez kalem kullanılır.
- C) Tek bir tutanak türü vardır.
- D) Tutanak kağıdının sadece bir yüzü kullanılır.

14. Dünya edebiyatında bugünkü anlamıyla romanı hatırlatan ilk eser aşağıdakilerden hangisidir?

- A) İntibah
- B) Don Kişot
- C) Gülliver'in Gezileri
- D) Dekameron

15. Doğal destanlarla ilgili aşağıdaki ifadelerden hangisi yanlıştır?

- A) Toplumun ortak malıdır.
- B) Söyleyeni bellidir.
- C) Yazının henüz bulunmadığı ve yaygınlaşmadığı bir toplumda doğmuştur.
- D) Kuşaktan kuşağa sözlü olarak aktarılmıştır.

16. Aksi sabit oluncaya kadar hukuken geçerli olan ve belgelenmesi gereken bir durumun, bu durumu tespit edenler tarafından hazırlanıp imzalanın belgelere ne ad verilir?

- A) Dilekçe
- B) Röportaj
- C) Tutanak
- D) Rapor

17. "Bu meydanda bir çok imparator ve imparatoriçeler, en gürültülü alaylar, yarışlar, geçit törenleri yaptılar." cümlesinin öğeleri aşağıdakilerin hangisinde sırasıyla ve doğru olarak verilmiştir?

- A) Dolaylı Tümleç, Özne, Nesne ve Yüklem
- B) Dolaylı Tümleç, Nesne, Özne ve Yüklem
- C) Zarf Tümleci, Özne, Dolaylı Tümleç ve Yüklem
- D) Zarf Tümleç, Nesne, Özne ve Yüklem

18. "Sığır" adı verilen dinsel sürgün avları ile "şölen ya da toy" denilen dinsel ziyafetlerde söylenen şiire ne ad verilir?

- A) Koşuk
- B) Sagu
- C) Destan
- D) Sav

19. Aşağıdakilerden hangisi dilekçe yazarken uyulması gerek kurallardan biri değildir?

- A) Amacı ve muhatabı belirleme
- B) İçeriği belirleme
- C) Kendini takdim etme
- D) Kararları yazma

20. Türk destanları ile ilgili aşağıdaki eşleştirmelerden hangisi yanlıştır?

- A) Göktürk-Bozkurt Destanı
- B) Uygur-Ergenekon Destanı
- C) Türk/Moğol-Cengiz Han Destanı
- D) Karahanlı-Saltuk Buğra Han Destanı

2018 AÖÖ-AÖL II. DÖNEM 0106-B

1. Aşağıdakilerden hangisi hukukun üstünlüğü kuralının özelliklerinden biri değildir?

- A) Devlet erklerinin tek elden yürütülmesi
- B) Temel hak ve özgürlüklerin anayasal güvenceye kavuşturulması
- C) Yasaların anayasa ve insan haklarına uygun olması
- D) Yargının hür ve bağımsız olması

2. Aşağıdakilerden hangisi III. Kuşak haklardan biri değildir?

- A) Barış
- B) Çevre
- C) Yaşama
- D) Gelişme

3. Osmanlı Devleti'nde padişahın yetkilerini sınırlayan, onu belli yönde davranmaya zorlayan ilk belge aşağıdakilerden hangisidir?

- A) Kanun-i Esasi
- B) Islahat Fermanı
- C) Gülhane Hatt-ı Hümayunu
- D) Sened-i İttifak

4. 1924 Anayasası ile ilgili aşağıdaki ifadelerden hangisi yanlıştır?

- A) Güçler birliği ilkesi benimsenmiştir.
- B) Meclis üstünlüğüne dayalı bir anayasadır.
- C) Ekonomik ve sosyal haklara ayrıntılı biçimde yer vermiştir.
- D) Yargı yetkisi bağımsız mahkemelere bırakılmıştır.

5. Ulus devlet ve devlete dayalı hukuk fikrinin mimarı aşağıdakilerden hangisidir?

- A) Machiavelli
- B) Hobbes
- C) Montesquieu
- D) Locke

6. Yerleşik bir topluluğun hukuksal ve siyasal açıdan örgütlenmesi sonucu oluşan, tüzel kişiliğe sahip soyut varlığa ne ad verilir?

- A) Topluluk
- B) Ülke
- C) Devlet
- D) Halk

7. Aşağıdakilerden hangisi Atinalıların mecliste yönetime katılabilmesi için sahip olmaları gereken şartlardan biri değildir?

- A) Erkek olmak
- B) Atina vatandaşı olmak
- C) Yirmi yaşını doldurmuş olmak
- D) Savaşlara katılmış olmak

8. Laiklik ile ilgili aşağıdaki ifadelerden hangisi yanlıştır?

- A) Laik devlette hukuk sistemi teokratik esaslara dayandırılır.
- B) Laik devlette kurumlar pozitif hukuk kurallarına dayandırılır.
- C) Laik devlette kişilere inançlarından dolayı baskı yapılmaz.
- D) Laik devlette din ve devlet işleri birbirinden ayrılır.

9. -----, toplumu ve devlet faaliyetlerini ilgilendiren belli bir konunun TBMM Genel Kurulu'nda görüşülmesidir.

Yukarıdaki cümlede boş bırakılan yeri aşağıdakilerden hangisi doğru şekilde tamamlar?

- A) Denetleme
- B) Meclis araştırması
- C) Soru
- D) Genel görüşme

10. Aşağıdakilerden hangisi koruyucu haklardan biridir?

- A) Dilekçe hakkı
- B) Özel hayatın gizliliği
- C) Eğitim ve öğrenim hakkı
- D) Toplu iş sözleşmesi hakkı

11. Mustafa Kemal Atatürk'ün Samsun'a çıktığı tarih aşağıdakilerden hangisidir?

- A) 19 Mayıs 1919
- B) 23 Nisan 1920
- C) 29 Ekim 1923
- D) 3 Mart 1924

12. Avrupa İnsan Hakları Mahkemesi ile ilgili aşağıdaki ifadelerden hangisi yanlıştır?

- A) Yargıçlar, seçtikleri ülkeden bağımsız olarak görev yaparlar.
- B) Üye devletlerden seçilen yargıçlardan oluşur.
- C) Mahkemenin yaptırımını hapis cezası şeklinde de olabilir.
- D) Sözleşmeyi imzalayan devletlerin sözleşme hükümlerini yerine getirip getirmediikleri denetlenir.

13. Aşağıdakilerden hangisi uluslararası sivil toplum örgütlerinin faaliyet alanlarından biri değildir?

- A) Soykırımla mücadele etmesi
- B) Savaş suçlarının yargılanması
- C) İnsan hakları ihlallerinin önlenmesi
- D) Çevre kirliliğinin önlenmesi

14. Türk halkını refah ve huzura kavuşturmayı, çağdaş uygarlık seviyesinin üstüne çıkarmayı amaçlayan ve bunları başarabilmek için akli, bilimi ve özgür düşünceyi kendine rehber edinen düşünce sistemine ne ad verilir?

- A) Reform
- B) İnkılap
- C) Atatürkçülük
- D) Çağdaşlaşma

15. Çağdaşlaşmayı devam ettirmek için bütün Atatürk ilkelerinin yaşama geçirilmesi aşağıdaki ilkelere hangisi ile gerçekleşir?

- A) Devletçilik
- B) İnkılapçılık
- C) Laiklik
- D) Halkçılık

16. Avrupa Güvenlik ve İşbirliği Teşkilatı'nın ülkeler arasında doğacak çatışmaların önlenmesi için faaliyet gösteren organı aşağıdakilerden hangisidir?

- A) Kıdemli Memurlar Komitesi
- B) Danışma Komitesi
- C) Hür Seçimler Bürosu
- D) Çatışma Önleme Merkezi

17. Çevre kirliliğinin önlenmesi için dünya çapında faaliyet gösteren uluslararası sivil toplum kuruluşu aşağıdakilerden hangisidir?

- A) Uluslararası PEN Kulübü
- B) Green Peace
- C) Uluslararası Kızılhaç Komitesi
- D) Uluslararası Af Örgütü

18. Atatürk ilkelerinden devletçilik ilkesinin en temel amaçlarından biri aşağıdakilerden hangisidir?

- A) Türk halkını layık olduğu yaşam standardına yükseltmek
- B) Özel sektörü tamamen red etmek
- C) İhracatı yasaklamak
- D) Dışa bağımlılığı artırmak

19. Çoğunlukla aynı topraklar üzerinde yaşayan, aralarında dil, tarih, duygu, ülkü, gelenek ve görenek birliği olan insan topluluğuna ne ad verilir?

- A) Devlet
- B) Millet
- C) Vatan
- D) Örgüt

20. Uluslararası koruma mekanizmalarının işletilmesinde hem uluslararası organizasyona dâhil olan hem de bu organizasyon tarafından hazırlanan antlaşmaya taraf olan devlet için uygulanan denetim aşağıdakilerden hangisidir?

- A) Denetimli serbestlik
- B) Adli kontrol
- C) Sözleşme dışı denetim
- D) Sözleşme içi denetim

2018 AÖÖ-AÖL II. DÖNEM 0106-B

1. Söylev türüyle ilgili aşağıdaki ifadelerden hangisi yanlıştır?

- A) Söylev; etkili, heyecanlı ve açık cümlelerle bitirilmelidir.  
 B) Söylevcilerin en önemli yeteneği toplulukları inandırmaktaki güçleridir.  
 C) Söylev türünün ilk örnekleri Maya dönemlerinde görülür.  
 D) Söylev heyecanlandırarak bir fikri aşılacaktır.

2. Aşağıdakilerin hangisinde virgül kaldırılırsa cümlenin anlamı değişir?

- A) Küçük, çam ağacının arkasına saklanmıştı.  
 B) O gece, nöbet sırasının ona geldiğini öğrendi.  
 C) Doktor hanım, başını kaldırıp yüzüne baktı.  
 D) Karanlık, dar sokaklar uzadıkça uzuyordu.

3. Aşağıdaki cümlelerin hangisinde "-ki"nin yazımı doğrudur?

- A) O hiç gülmediki!  
 B) Bana öylesine yakındı ki kardeşimden ayıramazdım.  
 C) Masada ki kitapları düzenledim.  
 D) Öyle çok güldümki gözlerimden yaş geldi.

4. Aşağıdaki alı çizili sözcüklerin hangisinde yazım yanlışı vardır?

- A) Kitaptan başka dostu yoktu.  
 B) Ailesinin yanına, Zonguldak'a gitti.  
 C) Çiçekçiden mavi orkide aldım.  
 D) Küçük çocuk, kuşu kafesten kaçtığından beri ağlıyor.

## 5. "Sevgili Arkadaşlarım! Yüksek öğrenim gençlerini, istediğimiz ve ihtiyaç duyduğumuz gibi milli bilinç sahibi, modern kültürlü olarak yetiştirmek için İstanbul Üniversitesi'nin gelişmesi, Ankara Üniversitesi'nin tamamlanması ve Doğu Üniversitesi'nin yapılan çalışmalarla belirlenmiş olan kurallar içinde Van Gölü civarında kurulması çalışmalarını hızla ve önemle sürdürülmektedir..."

Yukarıda bir parçası alıntılanan yazının türü aşağıdakilerden hangisidir?

- A) Söylev  
 B) Mülakat  
 C) Makale  
 D) Nesir

6. Cumhuriyet döneminin en büyük konuşmacısı aşağıdakilerden hangisidir?

- A) Halide Edip  
 B) Peyami Safa  
 C) Mustafa Kemal Atatürk  
 D) Bekir Sıtkı

7. Aşağıdaki cümlelerin hangisinde ünlemin kullanımı doğrudur?

- A) Bugün gelenler şunlar! Masa, sandalye, halı!  
 B) Sevgili Kardeşim!  
 C) At ölür, meydan kalır! Yiğit ölür, şanı kalır!  
 D) Ordular! İlk hedefiniz Akdeniz'dir, ileri!

8. Aşağıdakilerden hangisi mülakatın özelliklerinden biri değildir?

- A) Mülakat metnine sonradan ek yapılamaması  
 B) Mülakat yapan kişinin yayımlanmadan önce gerekirse metne yorumlarını da katabilmesi  
 C) Mülakat metninin öğretici olması  
 D) Genelde söyleşmeye bağlı bir anlatım türü kullanılması

## 9. Sorular herkesin anlayabileceği gibi açık ve net olmalı, alınan cevap aynen aktarılmalı ve ayrıntıya girilmemelidir.

Yukarıda sözü edilen edebî tür aşağıdakilerden hangisidir?

- A) Fıkra  
 B) Deneme  
 C) Mülakat  
 D) Söylev

## 10. Aşağıdaki cümlelerde altı çizili sözcüklerin hangisinde ünlü daralması vardır?

- A) Annem bu akşam geliyor.  
 B) Daha önce böyle bir olayla karşılaşmamıştım.  
 C) Sınav sorularının tamamını cevaplamış.  
 D) Akşam arkadaşlarla yemeğe gideceğiz.

11. "Onuncu Yıl Nutku" aşağıdaki edebî türlerden hangisine örnektir?

- A) Denemeye  
 B) Mektuba  
 C) Mülakata  
 D) Hitabete

**12. Söylev konuşması yapan kişiye ne ad verilir?**

- A) Şair
- B) Hatip
- C) Eleştirmen
- D) Zannatkar

**13. Ekonomistlerin yaptıkları konuşmalar hangi söylev çeşidi içerisinde yer alır?**

- A) Hukuksal söylev
- B) Siyasi söylev
- C) Akademik söylev
- D) İktisadi söylev

**14. Bilimsel toplantılarda ilim ve fen insanların yaptıkları konuşmalar aşağıdaki söylev çeşitlerinin hangisinde yer alır?**

- A) Akademik söylev
- B) İktisadi söylev
- C) Hukuksal söylev
- D) Siyasi söylev

**15. Röportajın özellikleri ile ilgili aşağıdaki ifadelerden hangisi yanlıştır?**

- A) Röportajcı gördükleri ve izlenimleriyle yetinmeyip araştırma ve inceleme de yapar.
- B) Röportajlar okuyucunun dikkatini çekecek ve onları bazı konularda düşündürcek biçimde düzenlenir.
- C) Röportajı yapan kişi kendi görüşlerini röportaja katmaz.
- D) Röportajcının amacı konuyu çarpıtmadan belgesel olarak okuyucuya sunmak ve okuyucuyu konunun içinde yaşatmaktır.

**16. Aşağıdakilerden hangisi sözlü anlatım türlerinden biridir?**

- A) Eleştiri
- B) Hitabet
- C) Deneme
- D) Makale

**17. Aşağıdakilerden hangisi mülakatçının özelliklerinden biridir?**

- A) Ayrıntılara önem vermesi
- B) Aldığı cevaplara yorumunu katarak yazıya geçirmesi
- C) Mülakat esnasında sanat yönünden zengin bir dil kullanması
- D) Sabırlı, nazik ve dikkatli olması

**18. "Büyük Türk milleti!**

On beş yıldan beri giriştiğimiz işlerde muvaffakiyet vadeden çok sözlerimi işittin. Bahtıyarım ki bu sözlerimin hiç birinde, milletimin hakkımdaki itimadını sarsacak bir isabetsizliğe uğramadım. Bugün aynı iman ve katiyetle söylüyorum ki millî ölküye, tam bir bütünlükle yürümekte olan Türk milletinin büyük millet olduğunu, bütün medenî âlem az zamanda bir kere daha tanıyacaktır..."

**Yukarıda bir parçası alıntılanan yazının türü aşağıdakilerden hangisidir?**

- A) Mülakat
- B) Söylev
- C) Makale
- D) Nesir

**19. Belli bir üne kavuşmuş kişilerin özelliklerini işleyen röportaj türü aşağıdakilerden hangisidir?**

- A) Toplum konu alan röportajlar
- B) Bir yeri konu alan röportajlar
- C) Eşyayı konu alan röportajlar
- D) İnsanı konu alan röportajlar

**20. Aşağıdaki sözcüklerin hangisinde ses türemesi yoktur?**

- A) kitaplık
- B) hissetmek
- C) affetmek
- D) gencecik



2018 AÖÖ-AÖL II. DÖNEM 0106-B

1. Ozan evinin merdivenlerindeki basamakları ikişerli saydığına 1, üçerli saydığına 2, beşerli saydığına 4 basamak artıyor.

Buna göre, Ozan'ın evinin merdivenindeki basamak sayısı en az kaçtır?

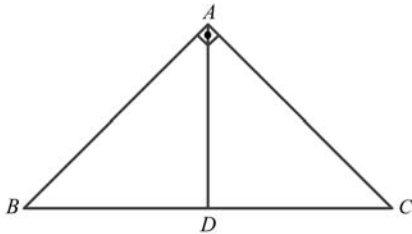
- A) 29  
B) 30  
C) 31  
D) 32
2. Rakamları farklı beş basamaklı 5L21 doğal sayısı 3 ile tam bölündüğüne göre, L kaç farklı değer alabilir?
- A) 1  
B) 2  
C) 3  
D) 4
3. Kenar uzunlukları 24 m ve 21 m olan bir arsa, kare şeklinde parsellere ayrılacaktır.

Buna göre, en az kaç tane eş parsel elde edilir?

- A) 3  
B) 45  
C) 56  
D) 64
4. Alanları oranı  $\frac{4}{9}$  olan iki üçgenden alanı büyük olanın çevresi 45 cm ise alanı küçük olanın çevresi kaç cm'dir?

- A) 20  
B) 25  
C) 30  
D) 40

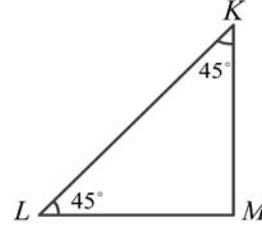
5.



Yukarıdaki ABC üçgeninde [AD] kenarortay,  $m(\widehat{CAB}) = 90^\circ$ ,  $|BC|=10$  cm ise,  $|AD|$  kaç cm'dir?

- A) 4  
B) 5  
C) 6  
D) 7

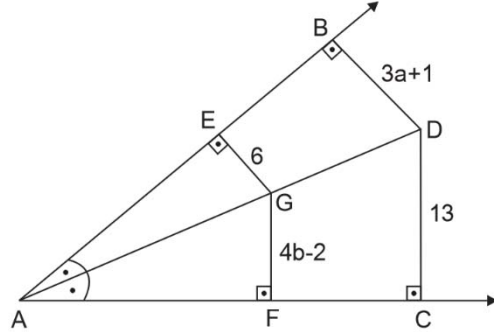
6.



Yukarıdaki KLM üçgeninde  $m(\widehat{MKL}) = 45^\circ$  ve  $m(\widehat{KLM}) = 45^\circ$  ise, bu üçgenin kenar uzunlukları ile ilgili aşağıdakilerden hangisi doğrudur?

- A)  $|KL|=|LM|=|MK|$   
B)  $|KL|<|MK|<|LM|$   
C)  $|KL|<|MK|=|LM|$   
D)  $|KL|>|LM|=|MK|$

7.



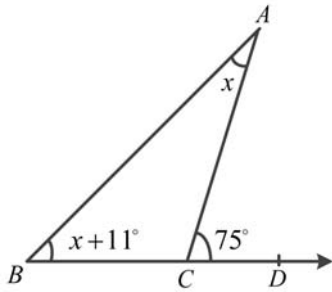
Yukarıdaki şekile göre a.b değeri kaçtır?

- A) 6  
B) 8  
C) 12  
D) 14

8. Bir üçgenin kenar uzunlukları sırasıyla x, 5 ve 8 cm olduğuna göre, x'in alabileceği en büyük tam sayı değeri kaç cm'dir?

- A) 14  
B) 13  
C) 12  
D) 10

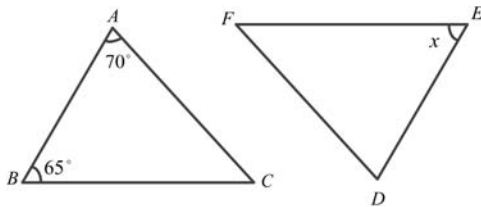
9.



Yukarıdaki ABC üçgeninde  $m(\widehat{CAB}) = x^\circ$ ,  
 $m(\widehat{ABC}) = x + 11^\circ$ ,  $m(\widehat{DCA}) = 75^\circ$  ise,  $x$  kaç  
 derecedir?

- A) 30  
 B) 32  
 C) 38  
 D) 43

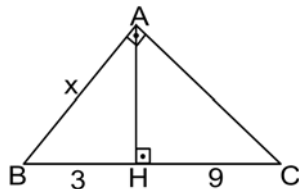
10.



Yukarıdaki ABC ve DEF üçgenlerinde;  
 $m(\widehat{CAB}) = 70^\circ$ ,  $m(\widehat{ABC}) = 65^\circ$ ,  $m(\widehat{DEF}) = x$  ve  
 ABC üçgeni ile DEF üçgeni eş üçgenler ise,  
 $x$  kaç derecedir?

- A) 45  
 B) 65  
 C) 70  
 D) 90

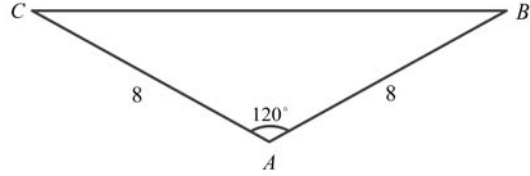
11.



Yukarıdaki ABC üçgeninde;  $[AB] \perp [AC]$ ,  
 $[AH] \perp [BC]$ ,  $|BH| = 3$  cm ve  $|HC| = 9$  cm ise,  
 $|AB| = x$  kaç cm'dir?

- A)  $3\sqrt{3}$   
 B) 6  
 C)  $6\sqrt{3}$   
 D) 12

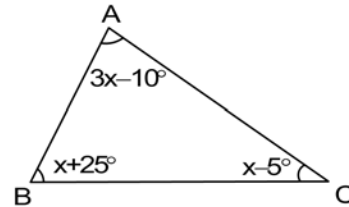
12.



Yukarıdaki ABC ikizkenar üçgeninde  
 $m(\widehat{CAB}) = 120^\circ$  ve  $|AB| = |AC| = 8$  cm ise,  
 üçgenin alanı kaç  $\text{cm}^2$  dir?

- A) 8  
 B)  $8\sqrt{2}$   
 C)  $8\sqrt{3}$   
 D)  $16\sqrt{3}$

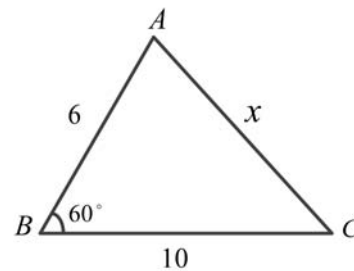
13.



Yukarıdaki şekilde verilenlere göre,  $m(\widehat{ACB})$   
 derecedir?

- A) 29  
 B) 34  
 C) 39  
 D) 59

14.

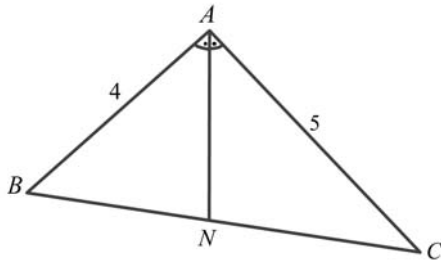


Yukarıdaki ABC üçgeninde  $m(\widehat{ABC}) = 60^\circ$ ,  
 $|AB| = 6$  cm ve  $|BC| = 10$  cm ise,  $|AC| = x$  kaç  
 cm'dir?

- A)  $2\sqrt{13}$   
 B)  $2\sqrt{15}$   
 C)  $2\sqrt{17}$   
 D)  $2\sqrt{19}$

2018 AÖÖ-AÖL II. DÖNEM 0106-B

15.



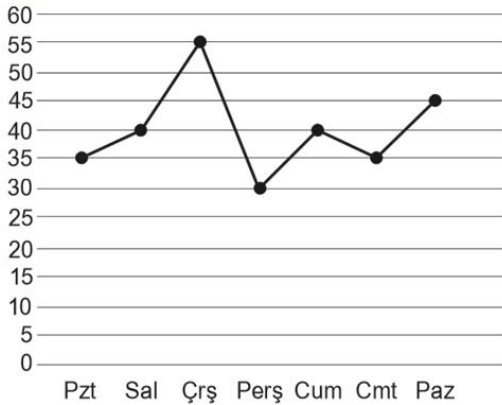
Yukarıdaki ABC üçgeninde  $[AN]$  açıortay  $|AB|=4$  cm,  $|AC|=5$  cm ve  $|BC|=7$  cm ise  $|NC|$  kaç cm'dir?

- A)  $35/9$   
 B)  $32/9$   
 C)  $30/9$   
 D)  $28/9$

16. Dik kenar uzunlukları  $3\sqrt{2}$  cm olan ikizkenar dik üçgenin hipotenüsünün uzunluğu kaç cm'dir?

- A) 4  
 B)  $4\sqrt{2}$   
 C) 6  
 D)  $6\sqrt{2}$

17. Sayfa Sayısı



Yukarıdaki çizgi grafiğinde, Begüm'ün bir hafta boyunca günlük okuduğu sayfa sayıları verilmiştir.

Buna göre, Begüm günlük ortalama kaç sayfa kitap okumuştur?

- A) 40  
 B) 50  
 C) 60  
 D) 70

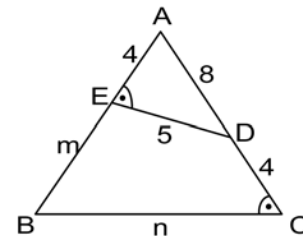
18. Bir futbol takımının son 8 maçta attığı gol sayısı sırasıyla 3, 7, 5, 6, 1, 3, 5, 2 olduğuna göre bu dağılımın ortanca değeri kaçtır?

- A) 3  
 B) 4  
 C) 5  
 D) 6

19. Yaşları 20, 30, 25, x ve 22 olan beş kişilik bir arkadaş grubunun yaş ortalaması 25 ise, x kaçtır?

- A) 25  
 B) 26  
 C) 27  
 D) 28

20.



Yukarıdaki şekilde  $m(\widehat{AED}) = m(\widehat{ACB})$  olduğuna göre,  $m+n$  kaçtır?

- A) 15  
 B) 18  
 C) 20  
 D) 35

## SINAVDA UYULMASI GEREKEN GENEL KURALLAR

1. Sınava girmek için gerekli belgelerinizin tümünü sınav başlamadan önce sıranızın üzerine bırakınız.
2. Sınav süresince görevlilerle konuşmak, görevlilere soru sormak yasaktır. Aynı şekilde görevlilerin de öğrencilerle yakından ve alçak sesle konuşmaları yasaktır. Gerekli durumlarda görevliler yerinizi değiştirebilir.
3. Size verilen cevap kâğıdının üzerindeki TCKN/Öğrenci no, ad, soyadı, bilgilerini kontrol ediniz, ilgili alanları eksiksiz doldurarak imzalayınız. Bu bilgiler size ait değilse, görevlileri uyararak size ait cevap kâğıdını isteyiniz. Başka öğrenciye ait cevap kâğıdı kullanan öğrencilerin o oturumdaki sınavları geçersiz sayılır.
4. Cevap kâğıdı üzerine test grubunu (A, B, C, D) kodlamayan veya birden fazla kodlama yapan öğrencilerin sınavları geçersiz sayılır.
5. Cevap kâğıdınıza yazacağınız her türlü yazı ve yapacağınız işaretlemeler için koyu yazan siyah kurşun kalem kullanmalısınız. Siyah kurşun kalem dışında farklı bir kalem (tükenmez, mürekkepli ya da renkli vb.) kullanan öğrencilerin sınavları geçersiz sayılır.
6. Cevap kâğıdı üzerinde değişiklik yapmak istediğinizde, iz bırakmayan bir silgi kullanınız. Cevap kâğıdınızı buruşturmayınız, katlamayınız ve üzerine gereksiz hiçbir işaret koymayınız.
7. Cevaplarınızı, cevap kâğıdında ilgili test için ayrılmış olan alana, cevap yerinin dışına taşırmadan işaretleyiniz. Soru kitapçığı üzerinde yapılan işaretlemeler değerlendirmeye alınmayacaktır.
8. Her sorunun tek bir doğru cevabı vardır. Bir soru için birden çok cevabı işaretlerseniz, o soruyu yanlış cevaplamış sayılacaksınız.
9. Soru kitapçığınızı aldığınızda sayfalarına hızlıca bakarak hatalı ya da eksik baskı olup olmadığını kontrol ediniz. Hata/eksik olması durumunda kitapçığının değiştirilmesi için derhâl Salon Başkanına başvurunuz. Sınav görevlileri sınavın başladığını belirtmeden kitapçığınızı tekrar açmayınız.
10. Cevap kâğıdınızda belirtilen kitapçık kodu ile soru kitapçığının kodunu karşılaştırınız. Aynı değilse, sınav görevlilerine durumu bildirerek doğru kitapçığın verilmesini talep ediniz.
11. Soru kitapçığındaki ilgili alanlara ad, soyadı, TCKN/Öğrenci no, sınav salon no, sıra no bilgilerinizi eksiksiz doldurarak imzanızı atınız. Soru kitapçığının sayfalarındaki boş yerleri müsvedde amacıyla kullanabilirsiniz.
12. Aşağıdaki durumlarda sınav görevlileri tarafından Bireysel Sınav İptal Tutanağı düzenlenerek ilgili öğrencilerin sınavları geçersiz sayılır:
  - a) Sınav kurallarına ve sınav görevlilerinin uyarılarına uymamak, sınav düzenini bozmak,
  - b) Kâğıt, kitap, defter, not vb. dokümanları; pergel, açıölçer, cetvel vb. araçları; cep telefonu, bilgisayar, tablet, telsiz, kamera vb. iletişim, depolama, kayıt ve veri aktarma cihazlarını; ruhsatlı veya resmi amaçlı olsa bile silah ve silah yerine geçebilecek nesnelere yanında bulundurmamak,
  - c) Sınav sırasında kalem, silgi vb. araç-gereç paylaşımında bulunmak,
  - d) Cevapları, cevap kâğıdı dışında bir yere yazmak ve sınav salonundan dışarı çıkarmak,
  - e) Sınava girebilmek için gerekli belgeleri eksik olduğu halde sınava katılıp, cevap kâğıdında işaretleme yapmak,
  - f) Sınav görevlileri tarafından öğrencinin kimliğinden şüphe duyulması,
  - g) Cevap kâğıdını ve/veya soru kitapçığını sınav görevlilerine eksiksiz ve sağlam şekilde teslim etmemek, sınav salonu dışına çıkarmak,
  - h) Kopya çekmek, vermek, çekilmesine yardımcı olmak vb. eylemlerde bulunmak,
  - i) Kendisi yerine başkasını sınava sokmak.
13. Sınav bitiminde, cevap kâğıdınızı ve soru kitapçığınızı salon görevlilerine eksiksiz biçimde teslim ediniz. Sınav bittikten sonra gönderilen cevap kâğıtları dikkate alınmayacaktır.

**SINAV KURALLARINA UYDUĞUNUZ İÇİN TEŞEKKÜR EDER, SINAVINIZDA BAŞARILAR DİLERİZ.**