



ANADOLU ÜNİVERSİTESİ
AÇIKÖĞRETİM FAKÜLTESİ
BA - AÇIKÖĞRETİM OKULLARI

T.C. MİLLİ EĞİTİM BAKANLIĞI
Hayat Boyu Öğrenme Genel Müdürlüğü
2017-2018 ÖĞRETİM YILI BATI AVRUPA - BALKANLAR
AÇIK ÖĞRETİM LİSESİ I. DÖNEM SINAVI
3. OTURUM Cumartesi

ÖĞRENCİNİN

B

0103

SOYADI :

ADI :

T.C. KİMLİK NO / ÖĞRENCİ NO :

SINAV SALON NO : SIRA NO:

Sınavla ilgili soru kitapçığının ön ve arka kapağındaki tüm kuralları okudum, anladım, kabul ediyorum.

İMZA:.....

SINAV İÇERİĞİ

Testin Adı	Soru Sayısı	Sayfa No	Testin Adı	Soru Sayısı	Sayfa No
DİN KÜLTÜRÜ VE AHLAK BİLGİSİ 3	20	02	TÜRK EDEBİYATI 6	20	30
DİN KÜLTÜRÜ VE AHLAK BİLGİSİ 8	20	04	FİZİK 3	20	32
TARİH 2	20	06	SEÇMELİ İŞLETME 1	20	35
SEÇMELİ TARİH 1	20	08	SEÇMELİ ALMANCA 5	20	37
COĞRAFYA 1	20	10	SEÇMELİ İNGİLİZCE 5	20	40
COĞRAFYA 3	20	12	SEÇMELİ FRANSIZCA 5	20	43
MATEMATİK 3	20	14	PEYGAMBERİMİZİN HAYATI 2 (SEÇMELİ)	20	46
SEÇMELİ SOSYOLOJİ 1	20	17	SEÇMELİ PSİKOLOJİ 2	20	48
ALMANCA 5	20	19	SEÇMELİ MATEMATİK 3	20	50
İNGİLİZCE 5	20	22	SEÇMELİ BİYOLOJİ 3	20	52
FRANSIZCA 5	20	25	SEÇMELİ KİMYA 4	20	54
DİL VE ANLATIM 6	20	28			

SINAVDA UYULMASI GEREKEN ÖZEL KURALLAR

1. Soru kitapçığındaki her bir testi cevaplamanız için verilen süre 30 dakika, toplam süre 150 dakikadır.
2. Sınavın ilk 30 dakikası ve son 5 dakikası içinde sınavınızı tamamlasanız bile salondan çıkamazsınız. Herhangi bir nedenle salondan çıktığınız takdirde, tekrar sınava devam etmenize izin verilmeyecektir. Sınavın başlamasını izleyen ilk 15 dakikadan sonra hiçbir öğrenci sınava alınamaz.
3. Yanlış cevaplarınız dikkate alınmayacaktır. Bu nedenle kitapçığındaki tüm sorular için size doğru gelen seçeneği işaretleyerek cevapsız soru bırakmamanız yararınıza olacaktır.
4. Sınav sırasında hesap makinesi kullanabilirsiniz. Ancak, kullanacağınız makinede alfabetik tuş takımınının (A, B, C,..., Y, Z), program yapılmasına, saklanmasına ve çalıştırılmasına imkân veren EXE, STORE, RUN vb. tuşlar bulunamaz.

"Sınavda Uyulması Gereken Genel Kurallar" soru kitapçığının arka sayfasında yer almaktadır. Bu kuralları da mutlaka dikkatlice okuyunuz.

Anadolu Üniversitesi tarafından hazırlanmış olan bu testlerin her hakkı saklıdır. Hangi amaçla olursa olsun, testlerin tamamının veya bir kısmının Anadolu Üniversitesi'nin yazılı izni olmadan kopya edilmesi, fotoğraflarının çekilmesi, herhangi bir yolla çoğaltılması, yayımlanması ya da kullanılması yasaktır. Bu yasağa uymayanlar gerekli cezai sorumluluğu ve testlerin hazırlanmasındaki mali külfeti peşinen kabullenmiş sayılır.

2018 AÖÖ-AÖL I. DÖNEM 0103-B

1. Hz. Muhammed nerede vefat etmiştir?

- A) Kudüs
- B) Mekke
- C) Medine
- D) Umman

2. Kâbe'nin etrafında yedi kez dönmeye ne ad verilir?

- A) Tavaf
- B) İhram
- C) Vakfe
- D) Sa'y

3. Kur'an-ı Kerim hangi melek aracılığıyla gönderilmiştir?

- A) İsrail
- B) Mikail
- C) Cebrail
- D) Azrail

4. Allah'a saygı ile boyun eğmek ve emirlerine itaat etmeye ne ad verilir?

- A) İbadet
- B) Ahlâk
- C) İman
- D) Fitrat

5. Tevrat hangi peygambere gönderilmiştir?

- A) Hz. Eyüp
- B) Hz. Yusuf
- C) Hz. Musa
- D) Hz. Davut

6. Mahşer'in anlamı aşağıdaki ifadelerin hangisinde doğru olarak verilmiştir?

- A) Kişinin dünyada yaptığı amellerden sorgulanmasıdır.
- B) Sevap ve günahların tartıldığı özel bir tartıdır.
- C) Yeniden diriliş ile başlayan ve sonsuza kadar sürecek olan zamandır.
- D) Yeniden diriliş ile birlikte insanların Allah'a hesap vermek üzere toplanacakları yerdir.

7. Kur'an-ı Kerim'de kaç peygamberin adı geçmektedir?

- A) 13
- B) 25
- C) 37
- D) 48

8. Tefsirle uğraşan âlimlere ne ad verilir?

- A) Müderris
- B) Müfessir
- C) Ulema
- D) Sahabe

9. Bayram namazı kaç rekâttır?

- A) 2
- B) 4
- C) 5
- D) 6

10. Sabah namazı kaç rekâttır?

- A) 2
- B) 4
- C) 8
- D) 10

11. Kâbe nerededir?

- A) Mekke
- B) Kudüs
- C) Yemen
- D) Medine

12. İkinci namazı kaç rekattır?

- A) 2
- B) 4
- C) 6
- D) 8

13. Aşağıdakilerden hangisi dört büyük melekten biri değildir?

- A) Münker
- B) Mikâil
- C) Azrail
- D) İsrail

14. Kur'anı Kerim hangi dilde gönderilmiştir?

- A) Farsça
- B) Latince
- C) Samayetçe
- D) Arapça

15. Aşağıdakilerden hangisi farz namazlarından biri değildir?

- A) İkinci namazı
- B) Vitir namazı
- C) Cenaze namazı
- D) Sabah namazı

2018 AÖÖ-AÖL I. DÖNEM 0103-B

16. Sevap ve günahların tartıldığı özel tartıya ne ad verilir?

- A) Amel defteri
- B) Mizan
- C) Hesap
- D) Sırat

17. Tövbe nedir?

- A) Dinin yasak ettiği şeylerden sakınıp, buyurduklarını yerine getirmek
- B) Allah'a, Allah'ın peygamberlerimize bildirdiği tüm bilgilere şüphe etmeden inanmak
- C) Allah'a saygı ile boyun eğmek ve emirlerine itaat etmek
- D) İşlenmiş bir günaha pişman olup, bir daha işlemeyeceğine dair Allah'a söz vermek ve af dilemek

18. Merhamete muhtaç olana iyilik etmeyi gerektiren şefkat duygusu aşağıdakilerden hangisidir?

- A) Tefekkür
- B) Vefa
- C) Rahmet
- D) Lütuf

19. Kur'an da kaç sure vardır?

- A) 100
- B) 110
- C) 114
- D) 120

20. İmandan sonra yapılması gereken ilk ve en önemli farz aşağıdakilerden hangisidir?

- A) Zekat vermek
- B) Oruç tutmak
- C) Hacca gitmek
- D) Namaz kılmak

2018 AÖÖ-AÖL I. DÖNEM 0103-B

1. Aşağıdakilerden hangisi İslam kelimesinin anlamlarından biri değildir?

- A) Huzur
- B) Güven
- C) Kavga
- D) Mutluluk

2. Pîr-i Türkistan olarak bilinen İslam Âlimi aşağıdakilerden hangisidir?

- A) Ahmet Yesevî
- B) Mevlana
- C) Yunus Emre
- D) Hacı Bektaş Veli

3. "Giderdim gönülden kini, kin tutanın yoktur dini. Düşmanımız kindir bizim, biz kimseye kin tutmayız." diyerek insanların barış ve huzur içinde yaşaması gerektiğini vurgulayan büyük mutasavvıf ve halk şairi aşağıdakilerden hangisidir?

- A) Dadaloğlu
- B) Yunus Emre
- C) Karacaoğlan
- D) Mevlana

4. I. Allah'a ortak koşmak
II. Anne ve babaya eziyet etmek
III. Adam öldürmek
IV. Yalancı şahitlik yapmak

Yukarıdakilerden hangileri büyük günahlardandır?

- A) Yalnız III
- B) I ve II
- C) I, II ve IV
- D) I, II, III ve IV

5. "Yurtta sulh, cihanda sulh." diyerek insanların birlikte barış içinde yaşamasına verdiği önemi belirten devlet adamı aşağıdakilerden hangisidir?

- A) Rauf Denktaş
- B) Mustafa Kemal Atatürk
- C) Fatih Sultan Mehmet
- D) Ebulfez Elçibey

6. I. Şam
II. Kahire
III. İstanbul
IV. Mardin

Yukarıdakilerden hangileri farklı dinlere ait ibadet mekanlarının birarada bulunduğu şehirlerdendir?

- A) Yalnız I
- B) I ve II
- C) I, II ve III
- D) I, II, III ve IV

7. Barış kavramıyla ilgili aşağıdaki ifadelerden hangisi yanlıştır?

- A) Mutluluk verir.
- B) Hoşgörü gerektirmez.
- C) Dinlerin ortak isteğidir.
- D) İnsanlık gereğidir.

8. Son peygamber kimdir?

- A) Hz. Muhammed
- B) Hz. İsa
- C) Hz. Musa
- D) Hz. Adem

9. Elmalılı Muhammed Hamdi Yazır'ın Atatürk'ün yönlendirmesiyle hazırlamış olduğu Türkçe Kur'an tefsir kitabı aşağıdakilerden hangisidir?

- A) Hak Dini Kur'an Dili
- B) Sahihi Buhari Muhtasarı Tecridi Sarih Tercemesi
- C) Amentü Şerhi
- D) İslam Fıkıh İlmî

10. I. Elmalılı Muhammed Hamdi Yazır
II. Babanzade Ahmed Naim Efendi
III. Rifat Börekçi

Yukarıdakilerden hangileri Atatürk'ün değer verdiği uzman din âlimlerindendir?

- A) Yalnız I
- B) Yalnız II
- C) I ve II
- D) I, II ve III

11. "Her fert din ve diyanetini, imanını öğrenmek için bir yere muhtaçtır. Orası mekteptir." diyen lider kimdir?

- A) Kanuni Sultan Süleyman
- B) Yavuz Sultan Selim
- C) Mustafa Kemal Atatürk
- D) II. Murat

12. "Nasıl ki, her hususta yüksek meslek ve ihtisas sahipleri yetiştirmek gerekli ise dinimizin gerçek felsefesini inceleyerek araştırarak, bilimsel ve teknik olarak telkin kudretine sahip olacak seçkin ve gerçek din ilim adamlarını yetiştirecek, yüksek öğrenim kurumlarına sahip olmalıyız." diyen lider kimdir?

- A) II. Murat
- B) Yavuz Sultan Selim
- C) Mustafa Kemal Atatürk
- D) Kanuni Sultan Süleyman

13. I. Ergenlik çağına girmiş olmak
II. Abdest almak
III. Belirli vakitlerde kılmak
IV. Kabe'ye yönelmek

Yukarıdakilerden hangileri namaz kılmanın şartlarındandır?

- A) Yalnız I
- B) I ve II
- C) II ve III
- D) I, II, III ve IV

14. Kur'an'ın son suresi aşağıdakilerden hangisidir?

- A) Nas
- B) İhlas
- C) Fil
- D) Felak

15. Hinduizm'de koruyucu olarak bilinen tanrı aşağıdakilerden hangisidir?

- A) Vişnu
- B) Vaisya
- C) Kşatriya
- D) Sudra

16. Aşağıdakilerden hangisi Sihizm'de yer alan beş kötülükten biri değildir?

- A) Şehvet
- B) Ego
- C) Tevazu
- D) Hırs

17. Rebiulevvel ayının 12. günü kutlanan kandil aşağıdakilerden hangisidir?

- A) Berat Kandili
- B) Miraç Kandili
- C) Mevlit Kandili
- D) Regaip Kandili

18. I. Ayakta durma
II. Dua okuma
III. Diz çökme
IV. Rüku
V. Secde

Yukarıdakilerden hangileri Hristiyanlık'taki ibadet anlayışında yer almaz?

- A) Yalnız IV
- B) IV ve V
- C) I, II ve III
- D) I, II, III ve IV

19. Taoizm'le ilgili aşağıdaki ifadelerden hangisi yanlıştır?

- A) MÖ. VI. yüzyılda ortaya çıkmıştır.
- B) Yin; eril gücü, yang; dişil gücü, temsil etmektedir.
- C) Taoizm'in başlıca öğretisi mistik üstün varlıklarla ilgilidir.
- D) Günümüzde Taoizm'in mensuplarının büyük çoğunluğu Çin'de yaşamaktadır.

20. Yahudilerin Pesah (Fış-Fış) Bayramı kaç gün sürer?

- A) 3
- B) 4
- C) 5
- D) 8

2018 AÖÖ-AÖL I. DÖNEM 0103-B

1. Orta Asya'daki ilk Müslüman Türk devleti aşağıdakilerden hangisidir?

- A) Fatımiler
- B) Gazneliler
- C) Harezmsahlar
- D) Karahanlılar

2. Büyük Selçuklu Devleti'nin kuruluşu hangi savaş sonunda tamamlanmıştır?

- A) Talh-âb Savaşı
- B) Nesâ Savaşı
- C) Serahs Savaşı
- D) Dandanakan Savaşı

3. Aşağıdakilerden hangisi akli ilimlerden biri değildir?

- A) Kelam
- B) Astronomi
- C) Felsefe
- D) Coğrafya

4. Büyük Selçuklu Devleti'nde iç ve dış yazışmaları yürüten divan aşağıdakilerden hangisidir?

- A) Divan-ı İnşa
- B) Divan-ı İstifa
- C) Divan-ı İşraf
- D) Divan-ı Arz

5. Hz. Muhammed'in Medine'ye hicretinden sonra, Medine toplumunu yeniden düzenlemek adına yapılan anlaşma aşağıdakilerden hangisidir?

- A) Medine Sözleşmesi
- B) Hudeybiye Anlaşması
- C) Mekke Sözleşmesi
- D) Hilfu'l-Fudûl Anlaşması

6. Orta Asya'nın en eski kültürü aşağıdakilerden hangisidir?

- A) Tagar
- B) Afanesyevo
- C) Andronova
- D) Anav

7. Aşağıdakilerden hangisi Türklere ait hükümdarlık sembollerinden biri değildir?

- A) Tuğ
- B) Taht
- C) Çetr
- D) Davul

8. Aşağıdakilerden hangisi Araplar tarafından haram olarak kabul edilen aylardan biri değildir?

- A) Şaban
- B) Zilkade
- C) Zilhicce
- D) Recep

9. Kutadgu Bilig'in (Mutluluk veren bilgi) yazarı aşağıdakilerden hangisidir?

- A) Yusuf Has Hacıp
- B) Kaşgarlı Mahmut
- C) Ahmet Yesevi
- D) Kerderli Mahmut

10. Hz. Muhammed'in vefatından sonra seçilen ilk halife aşağıdakilerden hangisidir?

- A) Hz. Osman
- B) Hz. Ömer
- C) Hz. Ebu Bekir
- D) Hz. Ali

11. Selçuklularda, eyaletlere küçük yaşlarda gönderilen şehzadeleri iyi bir devlet adamı olarak yetiştirmek üzere görevlendirilen eğitime ne ad verilir?

- A) Vezir
- B) Atabey
- C) Melik
- D) Subaşı

12. Türklerde devleti yönetme yetkisi Gök Tanrı tarafından kime verilmiştir?

- A) Meclise
- B) Memurlara
- C) Hatuna
- D) Kağana

13. Malazgirt Savaşı kaç yılında yapılmıştır?

- A) 1040
- B) 1056
- C) 1071
- D) 1090

14. Türk adına resmi kimlik kazandıran devlet aşağıdakilerden hangisidir?

- A) Avrupa Hun Devleti
- B) Asya Hun Devleti
- C) Uygur Devleti
- D) Kök Türk Devleti

15. İlk Türk devletlerinde hukukun temelini ve kaynağını oluşturan sözlü hukuk kurallarına ne ad verilir?

- A) Kanun
- B) Töre
- C) Yasa
- D) Yuğ

16. Müslümanlar ile Bizans arasında yapılan ilk savaş aşağıdakilerden hangisidir?

- A) Hendek Savaşı
- B) Mute Savaşı
- C) Bedir Savaşı
- D) Uhud Savaşı

17. İslamiyet'i kabul eden ilk Türk topluluğu aşağıdakilerden hangisidir?

- A) Hazarlar
- B) Karluklar
- C) Kırgızlar
- D) Oğuzlar

18. Aşağıdakilerden hangisi İslamiyet öncesi Arabistan'da yer alan sosyal sınıflardan biri değildir?

- A) Hürler
- B) Mevaliler
- C) Rahipler
- D) Köleler

19. İslamiyet'in doğduğu dönemde Arabistan'da görülen yerleşik yaşam tarzına ne ad verilir?

- A) Ensar
- B) Hadarilik
- C) Bedevilik
- D) Muhacir

20. Uygur Devleti'ne son veren topluluk aşağıdakilerden hangisidir?

- A) Avarlar
- B) Hazarlar
- C) Kırgızlar
- D) Türgişler

2018 AÖÖ-AÖL I. DÖNEM 0103-B

1. İskit hükümdarı Alp Er Tunga ile Pers hükümdarı Kirus arasında geçen mücadeleler Firdevsi tarafından yazılan hangi esere konu olmuştur?
 - A) Nasihatnâme
 - B) Ayn'ül Ayan
 - C) Şehname
 - D) Muhtasar-ı Fi'l Hisab
2. Aşağıdakilerden hangisi Persler tarafından "Sakalar" olarak adlandırılmıştır?
 - A) Uygurlar
 - B) Hazarlar
 - C) Peçenekler
 - D) İskitler
3. Aşağıdakilerden hangisi Orta Asya Türk göçlerinin sonuçlarından biri değildir?
 - A) Türk tarihinin belli bir bölgede bir bütün halinde incelenmesini kolaylaştırması
 - B) Kavimler Göçü gibi dünya tarihine yön veren önemli olaylara zemin hazırlaması
 - C) Asya ile Avrupa'nın siyasi ve kültürel yapısının değişmesi
 - D) Türk toplulukların göç ettikleri bölgelerde yeni devletler kurması
4. Anav kültürü ile ilgili aşağıdaki ifadelerden hangisi yanlıştır?
 - A) Güneşte kurutulmuş tuğlalardan yapılan evlerde oturulmuştur.
 - B) Bakırdan süs eşyaları yapılmıştır.
 - C) Koyun, sığır gibi hayvanlar beslenip, çiftçilik yapılmıştır.
 - D) Dört tekerlekli arabalar ve keçeden Türk çadırları ilk defa bu kültürde ortaya çıkmıştır.
5. İranlıların "Eftalit" adı ile isimlendirdikleri Türk Devleti aşağıdakilerden hangisidir?
 - A) Akhunlar
 - B) Hazarlar
 - C) Sabarlar
 - D) Avarlar
6. Türk tarihinde ilk düzenli ordu teşkilatını kuran hükümdar aşağıdakilerden hangisidir?
 - A) I. Murat
 - B) Attila
 - C) Mete
 - D) Timur
7. Mete'nin MÖ 201 yılında çıktığı Çin Seferinde büyük başarılar elde etmesine rağmen Çin topraklarına yerleşmeyip Çin İmparatorluğunu vergiye bağlayan bir antlaşma yapmayı uygun görmesinin nedeni aşağıdakilerden hangisidir?
 - A) Tölesler ve Kırgızları egemenliği altına almayı öncelik haline getirmesi
 - B) Tunguzların İpek Yolu ticaretini engelleme çalışmalarını önlemek istemesi
 - C) Akhunların ani saldırılarından dolayı geri dönmek istemesi
 - D) Çin gibi son derece geniş topraklara sahip bir devletin dışarıdan yönetilemeyeceğini ve istilâ edilemeyeceğini bilmesi
8. Böğü Kağan ile ilgili aşağıdaki ifadelerden hangisi yanlıştır?
 - A) Tung Baga Tarkan tarafından 780 yılında öldürülmüştür.
 - B) Uygurlar en parlak dönemlerini onun hükümdarlık zamanında yaşamıştır.
 - C) Mani dinine ait ülkesindeki bütün tapınakları yıktırılmıştır.
 - D) 762'de Tibetlilerin saldırılarına ve isyancılara karşı Çin imparatorunu korumak amacıyla Çin'e sefer yapmıştır.
9. Türgişler ile ilgili aşağıdaki ifadelerden hangisi yanlıştır?
 - A) Altay dağlarının batısından Seyhun Irmağı'na kadar uzanan geniş düzlüklerde yaşamışlardır.
 - B) Bilinen ilk hükümdarları Kutluk Bilge Kül Kağan'dır.
 - C) Türgişler hem Maveraünnehir bölgesinin hem de Orta Asya halkının ekonomik çıkarlarını korumak için Arap ordularına karşı mücadele etmişlerdir.
 - D) Batı Kök Türk Devleti'ne bağlı olarak yaşayan Türgişler bu devletin yıkılmasından sonra bağımsız olmuşlardır.

10. Oğuzların din adamlarına ne ad verilir?

- A) Kam
- B) Balbal
- C) Kurgan
- D) Yuğ

11. Tarihte İstanbul'u ilk defa kuşatan Türk kavmi aşağıdakilerden hangisidir?

- A) Hazarlar
- B) Türgişler
- C) Avarlar
- D) Ak Hunlar

12. Dünyanın en uzun destanı olarak bilinen Manas Destanı kime aittir?

- A) Kırgızlar
- B) Avarlar
- C) Türgişler
- D) Hazarlar

13. Türk tarihinde Museviliği kabul eden ilk ve tek Türk Devleti aşağıdakilerden hangisidir?

- A) Uygurlar
- B) Avarlar
- C) Kırgızlar
- D) Hazarlar

14. Türeyiş ve Göç Destanları aşağıdaki devletlerden hangisine aittir?

- A) Avarlar
- B) Uygurlar
- C) Kırgızlar
- D) Türgişler

15. İlk Türk Devletleri'nde toplumsal yapının en alt birimini aşağıdakilerden hangisi oluşturur?

- A) Boy
- B) Urug
- C) Oguş
- D) Bodun

16. Orhun Yazıtlarını 1893 yılında okuyan Danimarkalı dil bilimci aşağıdakilerden hangisidir?

- A) Hieronymus Laski
- B) Vilhelm Thomsen
- C) B. D. Koçnev
- D) Herbert Marcuse

17. İlk Türk Devletleri'nde il (el) kavramının karşılığı aşağıdakilerden hangisidir?

- A) Töre
- B) Barış
- C) Savaş
- D) Devlet

18. Hunların Çin üzerine yaptıkları seferlerin başlıca nedeni aşağıdakilerden hangisidir?

- A) Mani Dini'nin yayılmasını engellemek
- B) İpek Yolu'na hâkim olmak
- C) Budizm'in yayılmasını sağlamak
- D) İslamiyet'in kuzeye doğru yayılmasını sağlamak

19. Çin'in Orta Asya'daki hâkimiyetini kaybederek çekilmek zorunda kalmasına ve tarım havzasının Uygurların eline geçmesine neden olan 751 yılındaki savaş aşağıdakilerden hangisidir?

- A) Talas Savaşı
- B) Kuzey Şansi Savaşı
- C) Bolçu Savaşı
- D) Köseadağ Savaşı

20. Orta Asya Türk tarihine ait bilgilere en fazla aşağıdaki devletlerden hangisinin kaynaklarında rastlanır?

- A) Almanya
- B) Çin
- C) ABD
- D) Fransa

2018 AÖÖ-AÖL I. DÖNEM 0103-B

1. Coğrafya kelimesini ilk kez kullandığı kabul edilen, coğrafyanın isim babası aşağıdakilerden hangisidir?
- A) Weber
B) Marks
C) Habermas
D) Eratosthenes
2. Oluşturduğu haritalarla bilinen, Osmanlı İmparatorluğu döneminde yaşamış ünlü denizci aşağıdakilerden hangisidir?
- A) Ulubatlı Hasan
B) Batlamyus
C) Pîrî Reis
D) Evliya Çelebi
3. Aşağıdakilerden hangisi bölgesel coğrafyanın alt bilim dallarından biridir?
- A) Sanayi coğrafyası
B) Ulaşım coğrafyası
C) Turizm coğrafyası
D) Ülkeler coğrafyası
4. Türkiye'nin mutlak konumu ile ilgili aşağıdaki ifadelerden hangisi yanlıştır?
- A) 36-42 kuzey paralelleri ile 26-45 doğu meridyenleri arasında yer alır.
B) Ekvatora göre güney yarım kürededir.
C) Ekvatora göre kuzey yarım kürededir.
D) Greenwich'e göre doğu yarım kürededir.
5. Dağ ya da tepelerin en yüksek noktasına ne ad verilir?
- A) Ekuidistans
B) Doruk
C) Yamaç
D) Boyun
6. Dünya üzerinde toplam kaç adet paralel dairesi olduğu kabul edilir?
- A) 180
B) 120
C) 90
D) 60
7. Aşağıdakilerden hangisi iklim elemanlarından biri değildir?
- A) Sıcaklık
B) Paraleller
C) Basınç ve rüzgârlar
D) Nem ve yağış
8. Aşağıdakilerden hangisi canlı çevre elemanlarından biri değildir?
- A) İnsan
B) Hava küre
C) Bitki
D) Hayvan
9. Su kürenin diğer adı aşağıdakilerden hangisidir?
- A) Biyosfer
B) Atmosfer
C) Litosfer
D) Hidrosfer
10. Aşağıdaki şehirlerden hangisinde karasal iklimin tipik özellikleri görülür?
- A) Samsun
B) Muğla
C) Balıkesir
D) Kars

11. Meridyenler ile ilgili aşağıdaki ifadelerden hangisi yanlıştır?

- A) Meridyenlerin uzunlukları birbirine eşit değildir.
- B) Kuzey-güney doğrultusunda uzanır.
- C) Başlangıç noktası Greenwich'tir.
- D) Aynı meridyen üzerindeki bütün noktalarda yerel saat aynıdır.

12. Harita bilimine ne ad verilir?

- A) Klimatoloji
- B) İzohips
- C) Topoğrafya
- D) Kartografya

13. Aşağıdakilerden hangisi coğrafyanın ilkelerinden biri değildir?

- A) Nedensellik ilkesi
- B) Dağılım ilkesi
- C) Özgünlük ilkesi
- D) Karşılıklı ilgi ilkesi

14. Dünya, kendi eksenini etrafından bir tam dönüşü ne kadar sürede tamamlar?

- A) 24 saat
- B) 1 Ay
- C) 6 Ay
- D) 1 Yıl

15. Aşağıdakilerden hangisi coğrafyanın yararlandığı, coğrafyaya yakın bilimlerden biri değildir?

- A) Jeomorfoloji
- B) Jeoloji
- C) Müzikoloji
- D) Jeofizik

16. Dünya üzerinde herhangi bir noktanın veya bölgenin bulunduğu yere ne ad verilir?

- A) Meridyen
- B) Coğrafi konum
- C) Ekinoks
- D) Paralel

17. Aşağıdakilerden hangisi sıcak iklim çeşitlerinden biri değildir?

- A) Muson
- B) Savan
- C) Tundra
- D) Çöl

18. Coğrafya ile ilgili aşağıdaki ifadelerden hangisi yanlıştır?

- A) Coğrafya, insanın yakın çevresinden başlayarak ülkesini ve dünyayı tanımalarını sağlar.
- B) Coğrafya bilmek sel, deprem, erozyon gibi felakete karşı tedbir alabilmeyi öğretir.
- C) Coğrafya insanın dünyaya bakış açısını değiştirmez.
- D) Coğrafya öğrenmek insanın ufkunu genişletir.

19. En uzun paralel dairesi aşağıdakilerden hangisidir?

- A) Ekvator
- B) Yengeç dönencesi
- C) Güney kutup dairesi
- D) Oğlak dönencesi

20. Dağları aşarak alçalan hava kütlelerinin hız ve sürtünmeye bağlı olarak ısınması ile oluşan sıcak ve kuru rüzgâr aşağıdakilerden hangisidir?

- A) Fön rüzgârları
- B) Kutup rüzgârları
- C) Meltem rüzgârları
- D) Batı rüzgârları

2018 AÖÖ-AÖL I. DÖNEM 0103-B

1. Volkanlardan çıkan küllerin rüzgâr ile taşınarak, geniş alanlarda birikerek sertleşmesi sonucunda oluşan kayalara ne ad verilir?
 - A) Tortul
 - B) Polye
 - C) Konglomera
 - D) Tüf
2. Kayaç türlerinin, sıcaklık ve basınç altında başkalaşım geçirerek yeni türlere dönüşmesine ne ad verilir?
 - A) İç püskürük kayaçlar
 - B) Metamorfik kayaçlar
 - C) Organik tortullar
 - D) Kimyasal tortullar
3. Bitki ve hayvan kalıntılarının birikip taşlaşmasıyla oluşan kayaç türü aşağıdakilerden hangisidir?
 - A) Kimyasal tortul kayaçlar
 - B) Başkalaşım kayaçlar
 - C) Organik tortul kayaçlar
 - D) Fiziksel tortul kayaçlar
4. Aşağıdakilerden hangisi dış püskürük kayaçlardan biridir?
 - A) Jips
 - B) Bazalt
 - C) Kaya tuzu
 - D) Kömür
5. Aşağıdakilerden hangisi azonal topraklardan biri değildir?
 - A) Halomorfik topraklar
 - B) Alüvyal topraklar
 - C) Kolüvyal topraklar
 - D) Löss topraklar
6. İki geçirimsiz tabaka arasındaki geçirimli tabakada biriken suların sondaj yapılarak yeryüzüne çıkarılmasıyla oluşan kaynak aşağıdakilerden hangisidir?
 - A) Artezyen kaynaklar
 - B) Karstik kaynaklar
 - C) Fay kaynağı
 - D) Yamaç kaynağı
7. Volkanik faaliyetlerle oluşmuş çanaklarda, suların birikmesi ile oluşan göllere ne ad verilir?
 - A) Tektonik göller
 - B) Volkanik göller
 - C) Karstik göller
 - D) Doğal set gölleri
8. Kıtaları çevreleyen büyük su kütlelerine ne ad verilir?
 - A) Tektonik göl
 - B) Deniz
 - C) Okyanus
 - D) Buzul göl
9. Toplam nüfusun, ekili – dikili alanlara bölünmesiyle ortaya çıkan nüfus yoğunluğuna ne ad verilir?
 - A) Tarımsal nüfus yoğunluğu
 - B) Fizyolojik nüfus yoğunluğu
 - C) Aritmetik nüfus yoğunluğu
 - D) Çevresel nüfus yoğunluğu
10. Aşağıdakilerden hangisi dünyada nüfus yoğunluğunun az olduğu yerlerden biridir?
 - A) Batı Avrupa
 - B) ABD'nin doğu kıyıları
 - C) Nil havzası
 - D) Amazon havzası
11. Aşağıdakilerden hangisi nüfusun dağılışını etkileyen doğal faktörlerden biri değildir?
 - A) İklim
 - B) Ulaşım
 - C) Toprak özellikleri
 - D) Yer şekilleri
12. Dünya, kıta, ülke, bölge veya bir yerleşme gibi sınırları kesin olarak belirlenmiş bir alanda, belli bir zaman diliminde yaşayan insanların toplam sayısına ne ad verilir?
 - A) Mübadele
 - B) Bağımlı nüfus
 - C) Nüfus
 - D) Demografi

13. Aşağıdakilerden hangisi en çok beyin göçü alan ülkeler arasında yer almaz?

- A) Tunus
- B) Almanya
- C) Fransa
- D) Kanada

14. Kavimler göçünün en önemli sebebi nedir?

- A) Yeni yerler keşfetme isteği
- B) Boy beylerinin baskısı
- C) Olumsuz iklim koşulları
- D) Kan davaları

15. Aşağıdakilerden hangisi Türkiye'nin işçi göçü vermesinin nedenlerinden biri değildir?

- A) Kırsal kesimdeki gelirin düşüklüğü
- B) Hızlı nüfus artışı
- C) İstihdam sorunları
- D) Ülkeler arasındaki gelişmişlik farkı

16. Aşağıdakilerden hangisi göçün sosyal nedenlerinden biri değildir?

- A) Eğitim
- B) Sağlık
- C) Ulaşım
- D) Turizm

17. Japonya, İngiltere, Almanya gibi ülkelerde aşağıdaki sektörlerden hangisinde çalışanların oranı daha fazladır?

- A) Ormancılık
- B) Hayvancılık
- C) Hizmet
- D) Tarım

18. Aşağıdakilerden hangisi birincil ekonomik faaliyetlerden biri değildir?

- A) Yargı
- B) Hayvancılık
- C) Ormancılık
- D) Tarım

19. Aşağıdaki ülkelerin hangisinde üçüncül ekonomik faaliyetler daha fazladır?

- A) Nijerya
- B) Mali
- C) Somali
- D) ABD

20. Üniversiteler, bilişim teknolojileri ve araştırma merkezlerinin yer aldığı ekonomik faaliyetler grubu aşağıdakilerden hangisidir?

- A) Dördüncül ekonomik faaliyetler
- B) Üçüncül ekonomik faaliyetler
- C) İkincil ekonomik faaliyetler
- D) Birincil ekonomik faaliyetler

2018 AÖÖ-AÖL I. DÖNEM 0103-B

1. Bir A kutusunda 2 siyah, 2 beyaz top, B kutusunda 2 siyah, 1 beyaz top bulunmaktadır. Kutulardan biri rastgele seçiliyor ve içinden rastgele bir top çekiliyor.

Buna göre, çekilen topun siyah olma olasılığı kaçtır?

- A) $\frac{7}{12}$
 B) $\frac{7}{10}$
 C) $\frac{7}{8}$
 D) $\frac{7}{6}$

2. 10 elemanlı bir kümenin 2 elemanlı permütasyonlarının sayısı kaçtır?

- A) 2
 B) 10
 C) 45
 D) 90

3. $\frac{6!-5!}{5!-4!}$ ifadesinin eşiti aşağıdakilerden hangisidir?

- A) $\frac{25}{8}$
 B) $\frac{25}{6}$
 C) $\frac{25}{4}$
 D) $\frac{25}{2}$

4. $C(8,1)+\dots+C(8,8)$ ifadesinin değeri kaçtır?

- A) 256
 B) 255
 C) 128
 D) 127

5. $A = \{3,4,5,6\}$ kümesinin elemanları kullanılarak kaç tane 2 basamaklı doğal sayı yazılabilir?

- A) 4
 B) 8
 C) 16
 D) 24

6. $(2x-3)^3$ ifadesinin açılımdaki sabit terim kaçtır?

- A) -27
 B) -3
 C) 6
 D) 9

7. Aynı düzlemdeki 4 doğru, en fazla kaç noktada kesişir?

- A) 6
 B) 4
 C) 3
 D) 1

8. $f:R \rightarrow R$, $f(x)=x^2+3x+2$ ve $g:R \rightarrow R$, $g(x)=3x^2-2x+4$ olduğuna göre, $(3f-2g)(1)$ değeri kaçtır?

- A) 7
 B) 8
 C) 9
 D) 10

9. f bir çift fonksiyon ve $2f(x)=3x-f(-x)$ ise $f(5)$ kaçtır?

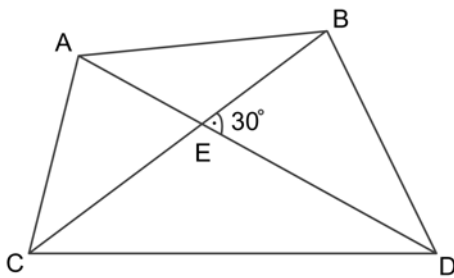
- A) 5
 B) 6
 C) 7
 D) 8

2018 AÖÖ-AÖL I. DÖNEM 0103-B

10. $f(x) = 1 - 3x$ ve $g(x) = 3x + 2$ fonksiyonları veriliyor. Buna göre, $(g \circ f)(1)$ değeri kaçtır?

- A) -4
B) -3
C) -2
D) -1

11.



Yukarıdaki ABDC dörtgeninde $|AD| = 12$ br, $|BC| = 10$ br ve $m(\widehat{BED}) = 30^\circ$ olduğuna göre, ABDC dörtgeninin alanı kaç br² dir?

- A) 24
B) 30
C) 60
D) 120

12. $y = 3x + 7$ doğrusunun eğimi kaçtır?

- A) 0
B) 3/7
C) 3
D) 7

13. A(5,12) noktasının orijine uzaklığı kaç birimdir?

- A) 5
B) 7
C) 12
D) 13

14. K(1,2) noktasının $5x + 12y - 3 = 0$ doğrusuna olan uzaklığı kaç birimdir?

- A) 2
B) 5
C) 9
D) 13

15. A(-2,2) ve B(7,-4) noktaları veriliyor. [AB] doğru parçasını C noktası $\frac{|CA|}{|CB|} = 2$ oranında

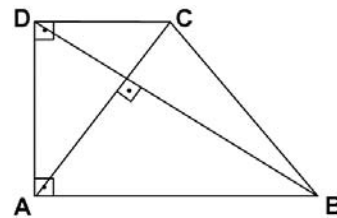
içten böldüğüne göre C noktasının koordinatları aşağıdakilerden hangisidir?

- A) (4,0)
B) (3,-1)
C) (4,-2)
D) (3,-2)

16. Düzgün altıgenin bir iç açısının ölçüsü kaç derecedir?

- A) 60
B) 72
C) 108
D) 120

17.



Yukarıdaki ABCD dik yamuğunda köşegenler birbirine diktir. $|AD| = 6$ cm ve $|DC| = 4$ cm olduğuna göre, $|AB|$ kaç cm'dir?

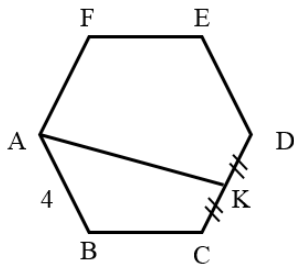
- A) 5
B) 9
C) 10
D) 12

2018 AÖÖ-AÖL I. DÖNEM 0103-B

18. $A(0,1)$ ve $B(-1,0)$ noktalarından geçen doğrusunun denklemi aşağıdakilerden hangisidir?

- A) $y = 1 - x$
- B) $y = 2x + 1$
- C) $y = 1 - 2x$
- D) $y = x + 1$

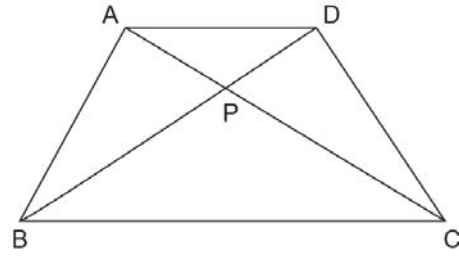
19.



Yukarıdaki $ABCDEF$ düzgün altıgeninde $|CK| = |DK|$ ve $|AB| = 4$ br olduğuna göre, $[AK]$ uzunluğu kaç birimdir?

- A) $\sqrt{13}$
- B) $2\sqrt{13}$
- C) $3\sqrt{13}$
- D) $4\sqrt{13}$

20.



Yukarıdaki $ABCD$ dörtgeninde $A(APB) = 16$ br², $A(BPC) = 12$ br² ve $A(CPD) = 9$ br² olduğuna göre, APD üçgeninin alanı kaç br² dir?

- A) 16
- B) 12
- C) 10
- D) 8

2018 AÖÖ-AÖL I. DÖNEM 0103-B

1. Aşağıdakilerden hangisi geçici gruplara örnek olarak verilemez?

- A) Yapı kooperatifi kuranlar
- B) İnşaatçı çalışan işçiler
- C) Her hafta kurulan pazarlar
- D) Bir konuda araştırma yapan bilim insanları

2. I. Arkadaşlık ilişkileri
II. Aile içi ilişkiler
III. Resmi ilişkiler

Yukarıdakilerden hangileri birincil ilişki türlerindedir?

- A) Yalnız I
- B) I ve II
- C) II ve III
- D) I, II ve III

3. Küçük gruplarda bireyler arasındaki yaklaşma (çekim) ve uzaklaşma (İtim) modellerini açıklamayı sağlayan araştırma tekniği aşağıdakilerden hangisidir?

- A) Sosyometri
- B) Olay inceleme
- C) Görüşme
- D) Anket

4. Aşağıdakilerden hangisi ilk kentlerin özellikle göl ve nehir kenarlarına kurulma nedenlerinden biri değildir?

- A) Tarımsal faaliyetler
- B) Ticaret
- C) Ulaşım
- D) Savunma

5. Topluları köy ve kent toplumu olarak sınıflandıran bilim insanı aşağıdakilerden hangisidir?

- A) Karl Popper
- B) Robert Redfield
- C) Karl Marx
- D) Auguste Comte

6. Antik çağın en büyük kenti aşağıdakilerden hangisidir?

- A) Venedik
- B) Roma
- C) Milano
- D) Napoli

7. Köy, iş yeri, okul gibi küçük grupların yaşam biçimlerini, toplumsal ilişkilerini, tutumlarını incelemeye yarayan veri toplama tekniği aşağıdakilerden hangisidir?

- A) Sistematiik gözlem
- B) Yordama
- C) Deneyleme
- D) Basit gözlem

8. Aşağıdakilerden hangisi yazısız ya da resmî olmayan normlara verilen örneklerden biri değildir?

- A) Kan davası
- B) Para cezası
- C) Özel günleri kutlamak
- D) Tesbih çekmek

9. 1789 Fransız Devrimi'ni hazırlayıcı en önemli fikir akımı aşağıdakilerden hangisidir?

- A) Kuralcılık
- B) Cumhuriyetçilik
- C) Milliyetçilik
- D) Gelecekçilik

10. Aşağıdakilerden hangisi feodal toplumlarda toprak sahiplerinden biri değildir?

- A) Serfler
- B) Soylular
- C) Beyler
- D) Senyörler

11. I. Toplumun varlığını sağlamak
II. Toplumun bütünlüğünü sağlamak
III. Toplumun sürekliliğini sağlamak

Yukarıdakilerden hangileri toplumsal kontrolün temel işlevlerindedir?

- A) Yalnız I
B) I ve II
C) II ve III
D) I, II ve III

12. Mehmet ile Ayşe'nin belli bir tarihte ve yerde evlenmesi aşağıdakilerden hangisine örnek olarak verilebilir?

- A) Toplumsal olgu
B) Toplumsal yığın
C) Toplumsal olay
D) Toplumsal norm

13. Aşağıdakilerden hangisi köy öncesi dönemde toprağa yerleşme nedenlerinden biri değildir?

- A) Toplayıcılık ve avcılık alanlarının artması
B) Hayvanların evcilleştirilmesi ve bitkilerin yetiştirilmesi
C) Nüfus sayısı ve yoğunluğu arttığı için göç etmenin zorlaşması
D) Üretim araç ve gereçlerinin geliştirilmesi

14. "Enflasyon artarsa toplumsal sorunlar artar" varsayımı aşağıdakilerden hangisi ile ilgilidir?

- A) Genelleme
B) Tümevarım
C) Tümdengelim
D) Gözlem

15. Kast sisteminin klasik örneğine aşağıdaki devletlerden hangisinde rastlanır?

- A) Hindistan
B) Çin
C) Nijerya
D) Vietnam

16. Bilgi edinme sürecinde ortaya atılan, geçerliliği ve güvenilirliği bilimsel yöntemle saptanmış bilgi ve açıklama düzenine ne ad verilir?

- A) Veri
B) Bulgu
C) Değer
D) Kuram

17. Aşağıdakilerden hangisi insan bilimlerinden biri değildir?

- A) Psikoloji tarihi
B) Sosyoloji
C) Biyoloji
D) Siyaset bilimi

18. Aşağıdakilerden hangisi verilmiş statülerden biri değildir?

- A) Soy
B) Annelik
C) Milliyet
D) Cinsiyet

19. Aşağıdakilerden hangisi toplumsal rolün içerdiği davranış çeşitlerinden biri değildir?

- A) Yasaklanan davranışlar
B) Beklenen davranışlar
C) İzin verilen davranışlar
D) Sistemik davranışlar

20. Aşağıdakilerden hangisi toplumsal olgunun özelliklerinden biri değildir?

- A) Tek tek gerçekleşmesi
B) Yer ve zamanın belli bir olay ile sınırlı olmaması
C) Soyut olması
D) Genel olması

2018 AÖÖ-AÖL I. DÖNEM 0103-B

1. Ali ist 65 kg. Ahmet ist 70 kg und Mehmet ist 85 kg.

Welche Schlußfolgerung kann man nach den obigen Sätzen machen?

Verilen cümlelere göre, aşağıdaki yargılardan hangisi doğrudur?

- A) Mehmet ist am schwersten.
B) Ali ist der älteste.
C) Ahmet ist am leichtesten.
D) Mehmet ist der kleinste.

2. **Wie lautet die Grundform von "am liebsten"?**

"am liebsten" sözcüğünün mastar hali aşağıdakilerden hangisinde doğru olarak verilmiştir?

- A) viel
B) gern
C) mehr
D) gut

3. Mein Haus ist ----- als deine Wohnung.

Welches Wort passt nicht in die obige Lücke?

Cümlede boş bırakılan yeri aşağıdakilerden hangisi doğru şekilde tamamlamaz?

- A) schneller
B) teurer
C) grösser
D) schöner

4. Wir essen ----- Fleisch als Geflügel. Aber ----- essen wir Fleisch.

Welche Wörter passen in die obigen Lücken?

Cümlede boş bırakılan yerleri aşağıdakilerden hangisi doğru olarak tamamlar?

- A) mehr / am meisten
B) viel / lieber
C) besser / am teuersten
D) schöner / mehr

5. Ayfer: Was hat er gesagt?
Melda: Er hat gesagt, er ----- müde.

Welches ergänzt die Lücke im obigen Dialog?

Verilen karşılıklı konuşmada boş bırakılan yeri aşağıdakilerden hangisi doğru olarak tamamlar?

- A) hätte
B) ist
C) war
D) sei

6. ----- Fahrrad ist billiger als meiner.

Welches Wort passt in die obige Lücke?

Cümlede boş bırakılan yeri aşağıdakilerden hangisi doğru şekilde tamamlar?

- A) Dein
B) Meiner
C) Deins
D) Meins

7. -----, um soziale Ordnung zu schaffen.

Welches ergänzt die Lücke im obigen Satz?

Verilen cümleyi aşağıdakilerden hangisi doğru olarak tamamlar?

- A) Man braucht Gesetze
B) Er geht zumSchalter
C) Frauen unterstützen die Familie
D) Die Verkehrspolizisten müssen

8. Warum kommt ihr heute?

Welche Antwort passt nicht zur obigen Frage?

Verilen sorunun cevabı aşağıdakilerden hangisi olamaz?

- A) Damit wir unsere Arbeit rechtzeitig erledigen können.
B) Wir kommen heute, weil wir zum Arzt gehen müssen.
C) Wenn wir reich werden, spare ich Geld.
D) Weil das Konzert heute Abend ist.

9. Sie geht in die Sprachschule, weil sie Deutsch lernen will.

Welche Frage passt zur obigen Antwort?

Verilen cevabı gerektirecek soru aşağıdakilerden hangisidir?

- A) Wer geht in die Sprachschule?
B) Wie geht sie in die Schule?
C) Warum geht sie in die Sprachschule?
D) Wann geht sie in die Schule?

10. Michaela geht zu einem Sprachkurs, um Deutsch zu lernen.

Welche Frage passt zur obigen Antwort?

Verilen cevabı gerektirecek soru aşağıdakilerden hangisidir?

- A) Zu welchem Sprachkurs geht Michaela?
B) Wozu geht Michaela zu einem Sprachkurs?
C) Kann Michaela gut deutsch sprechen?
D) Wann geht Michaela zu einem Sprachkurs?

11. Warum werden Verkehrspolizisten eingesetzt?

Welche Antwort passt zur obigen Frage?

Verilen sorunun cevabı aşağıdakilerden hangisidir?

- A) Sie können eingesetzt werden, wenn die Kinder es brauchen.
B) Sie unterstützen die Familien.
C) Sie sorgen für die soziale Ordnung.
D) Sie werden eingesetzt, um den Verkehr zu ordnen.

12. Was bedeutet "Das Gesetz" auf Türkisch?

"Das Gesetz" sözcüğünün Türkçesi aşağıdakilerden hangisidir?

- A) Yardım
B) Fatura
C) Kanun
D) Vergi

13. Wir wohnen in Bursa. Bursa ist eine schöne Stadt.

Wie kann man die obigen Sätze verbinden?

Verilen cümlelerin birleştirilmiş hali aşağıdakilerden hangisidir?

- A) Er lebt schon seit Jahren in Bursa, weil er dort arbeitet.
B) Wir gehen nach Bursa, weil ich dort arbeite.
C) Ich mag Bursa, weil die Stadt mir sehr gefällt.
D) Wir wohnen in Bursa, weil Bursa eine schöne Stadt ist.

14. ----- dauert der Film ----- Kino?

Welche Wörter passen in die obigen Lücken?

Cümlede boş bırakılan yerleri aşağıdakilerden hangisi doğru şekilde tamamlar?

- A) Was / an
B) Wie / für
C) Wie lange / im
D) Woher / zum

15. Die Banken ----- jeden Tag um 8.00 Uhr.

Welches Wort passt in die obige Lücke?

Cümlede boş bırakılan yeri aşağıdakilerden hangisi doğru şekilde tamamlar?

- A) kommen
B) öffnen
C) sind
D) enden

16. Ich bin zur Zeit ----- in Eskişehir.

Welches Wort passt in die obige Lücke?

Cümlede boş bırakılan yeri aşağıdakilerden hangisi doğru şekilde tamamlar?

- A) verspätet
B) wohnhaft
C) verboten
D) besetzt

17. September, Oktober und November sind -----.

Welches ergänzt die Lücke im obigen Satz?

Verilen cümleyi aşağıdakilerden hangisi doğru olarak tamamlar?

- A) die Frühlingsmonate
- B) die Sommermonate
- C) der Sommeranfang
- D) die Herbstmonate

18. Ich gehe jeden Tag schwimmen!

Welche Frage passt zur obigen Antwort?

Verilen cevabı gerektirecek soru aşağıdakilerden hangisidir?

- A) Warum schwimmst du?
- B) Wie oft gehst du schwimmen?
- C) Wie lange schwimmst du?
- D) Wo schwimmst du?

19. ----- 1980 ----- 1984 habe ich die Grundschule besucht.

Welche Wörter passen in die obigen Lücken?

Cümlede boş bırakılan yerleri aşağıdakilerden hangisi doğru olarak tamamlar?

- A) Bis / um
- B) Am / bis
- C) Von / bis
- D) Seit / ab

20. Man sollte ----- essen und ----- Sport treiben und somit Gesund bleiben!

Welche Wörter passen in die obigen Lücken?

Cümlede boş bırakılan yerleri aşağıdakilerden hangisi doğru şekilde tamamlar?

- A) etwa / selten
- B) sicher / tagelang
- C) nie / genau
- D) selten / häufig

2018 AÖÖ-AÖL I. DÖNEM 0103-B

1. A: ----- yesterday afternoon?

B: I was at home. I was helping my mum.

Which of the following completes the dialogue above?

Aşağıdakilerden hangisi yukarıdaki konuşmayı doğru olarak tamamlar?

- A) What are you doing
- B) What have you done
- C) What do you do
- D) What were you doing

2. He hardly ever reads book, -----?

Which of the following completes the sentence above?

Aşağıdakilerden hangisi yukarıdaki cümleyi doğru olarak tamamlar?

- A) will he
- B) has he
- C) doesn't he
- D) does he

3. Zeynep studies regularly, -----?

Which of the following completes the sentence above?

Aşağıdakilerden hangisi yukarıdaki cümleyi doğru olarak tamamlar?

- A) did she
- B) doesn't she
- C) does she
- D) is she

4. Can I borrow your dictionary? I ----- it back tomorrow.

Which of the following completes the sentence above?

Aşağıdakilerden hangisi yukarıdaki cümleyi doğru olarak tamamlar?

- A) will give
- B) give
- C) am giving
- D) gave

5. Mrs. Cottony was writing an essay ----- somebody knocked the door.

Which of the following completes the sentence above?

Aşağıdakilerden hangisi yukarıdaki cümleyi doğru olarak tamamlar?

- A) while
- B) who
- C) when
- D) which

6. I went to bed ----- than usual.

Which of the following completes the sentence above?

Aşağıdakilerden hangisi yukarıdaki cümleyi doğru olarak tamamlar?

- A) latest
- B) more late
- C) later
- D) late

7. Sally does her homework ----- than me.

Which of the following completes the sentence above?

Aşağıdakilerden hangisi yukarıdaki cümleyi doğru olarak tamamlar?

- A) fast
- B) more fast
- C) fastest
- D) faster

8. Ali solved all the problems ----- than his friends.

Which of the following completes the sentence above?

Aşağıdakilerden hangisi yukarıdaki cümleyi doğru olarak tamamlar?

- A) more easily
- B) easy
- C) easily
- D) most easily

9. Mary used to ----- basketball when she was fifteen.

Which of the following completes the sentence above?

Aşağıdakilerden hangisi yukarıdaki cümleyi doğru olarak tamamlar?

- A) play
- B) played
- C) is playing
- D) has played

10. We ----- our cousins for a long time.

Which of the following completes the sentence above?

Aşağıdakilerden hangisi yukarıdaki cümleyi doğru olarak tamamlar?

- A) hasn't seen
- B) didn't see
- C) see
- D) haven't seen

11. Ali ----- a doctor in the future.

Which of the following completes the sentence above?

Aşağıdakilerden hangisi yukarıdaki cümleyi doğru olarak tamamlar?

- A) is be
- B) been
- C) will be
- D) will being

12. There ----- a big park in the city but now there isn't.

Which of the following completes the sentence above?

Aşağıdakilerden hangisi yukarıdaki cümleyi doğru olarak tamamlar?

- A) used to been
- B) used
- C) used to be
- D) used to being

13. I haven't seen him ----- years.

Which of the following completes the sentence above?

Aşağıdakilerden hangisi yukarıdaki cümleyi doğru olarak tamamlar?

- A) after
- B) now
- C) ago
- D) for

14. They ----- travel around the world next year.

Which of the following completes the sentence above?

Aşağıdakilerden hangisi yukarıdaki cümleyi doğru olarak tamamlar?

- A) will
- B) does
- C) are
- D) is

15. Help me with my shopping bags, -----?

Which of the following completes the sentence above?

Aşağıdakilerden hangisi yukarıdaki cümleyi doğru olarak tamamlar?

- A) do you
- B) did you
- C) will you
- D) shall we

16. Lucy is a careful driver. I think she drives ----- than me.

Which of the following completes the sentence above?

Aşağıdakilerden hangisi yukarıdaki cümleyi doğru olarak tamamlar?

- A) carefully
- B) more carefully
- C) careless
- D) careful

17. Mary: Let's watch a movie, -----?
Ernest: That's a good idea.

Which of the following completes the dialogue above?

Aşağıdakilerden hangisi yukarıdaki konuşmayı doğru olarak tamamlar?

- A) shall we
- B) do they
- C) will we
- D) shall they

18. Carol has been a basketball player ----- 1995.

Which of the following completes the sentence above?

Aşağıdakilerden hangisi yukarıdaki cümleyi doğru olarak tamamlar?

- A) from
- B) since
- C) for
- D) ago

19. ----- I was going to theatre, I saw an accident.

Which of the following completes the sentence above?

Aşağıdakilerden hangisi yukarıdaki cümleyi doğru olarak tamamlar?

- A) Where
- B) While
- C) Who
- D) Which

20. Our guests arrived while we ----- dinner.

Which of the following completes the sentence above?

Aşağıdakilerden hangisi yukarıdaki cümleyi doğru olarak tamamlar?

- A) had
- B) were having
- C) have
- D) are having

2018 AÖÖ-AÖL I. DÖNEM 0103-B

1. Ce roman raconte l'histoire d'une femme qui se marie: c'est un roman -----.

Choisissez le mot qui convient.

Cümledeki boşluğu aşağıdakilerden hangisi doğru şekilde tamamlar?

- A) policier
B) d'amour
C) d'histoire
D) de biologie

2. Cette cravate ----- 25 euros.

Choisissez le mot qui convient.

Cümledeki boşluğu aşağıdakilerden hangisi doğru şekilde tamamlar?

- A) coûte
B) achète
C) dit
D) vend

3. Jacques et Claudine sont mariés. C'est un -----.

Choisissez le mot qui convient.

Cümledeki boşluğu aşağıdakilerden hangisi doğru şekilde tamamlar?

- A) couple
B) ami
C) personnage
D) amie

4. La ville ----- est célèbre, c'est Paris.

Choisissez le mot qui convient.

Cümledeki boşluğu aşağıdakilerden hangisi doğru şekilde tamamlar?

- A) où
B) que
C) dont
D) qui

5. C'est ton bagage ----- main.

Choisissez le mot qui convient.

Cümledeki boşluğu aşağıdakilerden hangisi doğru şekilde tamamlar?

- A) de
B) au
C) la
D) à

6. Ce sont des enfants -----.

Choisissez le mot qui convient.

Cümledeki boşluğu aşağıdakilerden hangisi doğru şekilde tamamlar?

- A) obéissants
B) obéissent
C) obéit
D) obéir

7. Lisa : Tu vas en vacances?
Henri : Oui.
Lisa : Où vas-tu?
Henri : -----.

Choisissez la réplique qui convient.

Yukarıdaki konuşmada boş bırakılan yeri aşağıdakilerden hangisi doğru şekilde tamamlar?

- A) En avion
B) Je voyage
C) A l'étranger
D) Il part à l'étranger

8. Lisa : Il faut acheter un cadeau à François.
Henri : Que veux-tu lui acheter?
Lisa : Je ne sais pas.
Henri : -----

Choisissez l'expression qui convient.

Yukarıdaki konuşmada boş bırakılan yeri aşağıdakilerden hangisi doğru şekilde tamamlar?

- A) Il voyagera.
B) Tu organises une fête?
C) Il part à l'étranger.
D) Tu peux acheter une cravate.

2018 AÖÖ-AÖL I. DÖNEM 0103-B

9. Il peut jouer ----- piano.

Choisissez le mot qui convient.

Cümledeki boşluğu aşağıdakilerden hangisi doğru şekilde tamamlar?

- A) de la
- B) au
- C) du
- D) de

10. Les courses se font au -----.

Choisissez le mot qui convient.

Cümledeki boşluğu aşağıdakilerden hangisi doğru şekilde tamamlar?

- A) théâtre
- B) librairie
- C) supermarché
- D) cinéma

11. Je crois ----- tu as raison.

Choisissez le mot qui convient.

Cümledeki boşluğu aşağıdakilerden hangisi doğru şekilde tamamlar?

- A) qu'
- B) que
- C) quoi
- D) qui

12. Je danse ----- chantant.

Choisissez le mot qui convient.

Cümledeki boşluğu aşağıdakilerden hangisi doğru şekilde tamamlar?

- A) à
- B) de
- C) en
- D) du

13. Quand je suis fatigué, je -----.

Choisissez l'expression qui convient.

Yukarıdaki cümlede boş bırakılan yeri aşağıdakilerden hangisi doğru şekilde tamamlar?

- A) me repose
- B) danse
- C) fais du vélo
- D) fait du violon

14. «Cumartesi günü neler yapacaksınız?»

Choisissez la traduction qui convient.

Yukarıdaki cümlenin Türkçe karşılığı aşağıdakilerden hangisidir?

- A) Que faites-vous Dimanche?
- B) Quelle est votre activité pour Samedi?
- C) Qu'est-ce que vous faites Dimanche?
- D) Qu'est-ce que vous allez faire Samedi?

15. «L'oiseau est blessé.»

Choisissez la traduction qui convient.

Yukarıdaki cümlenin Türkçe karşılığı aşağıdakilerden hangisidir?

- A) Kuş yaralı.
- B) Kuş üşüdü.
- C) Kuş uçuyor.
- D) Kuş düştü.

16. Mai est un mois du/de l' -----.

Choisissez le mot qui convient.

Cümledeki boşluğu aşağıdakilerden hangisi doğru şekilde tamamlar?

- A) automne
- B) hiver
- C) printemps
- D) été

17. «L'heure où mon fils s'endort est 21 heures.»

Choisissez la traduction qui convient.

Yukarıdaki cümlelerin Türkçe karşılığı aşağıdakilerden hangisidir?

- A) Oğlumun uyandığı saat 21'dir.
- B) Oğlumun uyuduğu saat 21'dir.
- C) Kızım saat 21'de uyanır.
- D) Kızım saat 21'de uyur.

18. I. J'ai décidé d'organiser une fête.
II. C'est une bonne école.
III. Je vais inviter tous mes amis.
IV. On va s'amuser.

Trouvez la phrase qui ne convient pas.

Cümleler sırasıyla okunduğunda, anlam bütünlüğünü bozan cümleyi bulunuz.

- A) I
- B) II
- C) III
- D) IV

19. Il a mangé ----- est toute verte.

Choisissez les mots qui conviennent.

Cümledeki boşlukları aşağıdakilerden hangisi doğru şekilde tamamlar?

- A) un abricot / que
- B) une prune / que
- C) un gâteau / qui
- D) une pomme / qui

20. les / j'aime / brillantes / lumières
I II III IV

Mettez dans le bon ordre.

Yukarıdaki kelimelerin anlamlı ve kurallı bir bütün oluşturan sırası aşağıdakilerin hangisinde doğru olarak verilmiştir?

- A) I, III, II, IV
- B) II, I, IV, III
- C) III, IV, I, II
- D) III, IV, II, I

2018 AÖÖ-AÖL I. DÖNEM 0103-B

1. Aşağıdaki yazar ve eser eşleştirmelerinden hangisi yanlıştır?

- A) Yaşar Nabi Nayır - Edebiyatçılarımız Konuşuyor
- B) Yaşar Kemal - Peri Bacaları
- C) Fikret Otyam - Ha Bu Diyar
- D) Necmi Onur - Ustalarla Konuşmalar

2. Aşağıdakilerden hangisi mülakatın özelliklerinden biridir?

- A) Mülakatı hazırlayanın, aldığı cevapları yazıya dönüştürürken kendi yorumunu katması
- B) Öğretici ve ufuk açıcı olması
- C) Her kesimden kişilerle yapılması
- D) Ayrıntıya girilmesi

3. Saygıdeğer Arkadaşlarım!

Vatanın ve rejimin koruyucusu olmakla kalmayıp en geniş ve gerçek anlamıyla bir barış etkeni, bir eğitim ve öğretim ocağı olan yenilmez ordumuzun geçen yıl da belirttiğim ve açıkladığım gibi, son sistem silah ve motorlu araçlarla donatılması yolundaki çalışmalara hız verilmiştir...

Yukarıda bir parçası alıntılanan yazının türü aşağıdakilerden hangisidir?

- A) Hitabet
- B) Mülakat
- C) Makale
- D) Şiir

4. "Yüz bin okur tarafından bir kez okunmak mı istersiniz yoksa bir okur tarafından yüz bin kez mi () Bu soruya Paul Valery şu yanıtı verir () "Yüz bin okur tarafından yüz bin kez okunmak isterim ()"

Yukarıdaki parçada parantez ile belirtilen yerlere sırasıyla aşağıdaki noktalama işaretlerinden hangileri getirilmelidir?

- A) (.) (:) (!)
- B) (?) (...) (.)
- C) (?) (:) (.)
- D) (?) (.) (!)

5. Atatürk'ün "Söylev" adlı eserinde en çok üzerinde durduğu dönem aşağıdakilerden hangisidir?

- A) Kurtuluş Savaşı yılları
- B) Osmanlı'nın son dönemleri
- C) Çanakkale savaşları
- D) Cumhuriyetin ilanı

6. "Buluşma, görüşme, konuşma" anlamına da gelen metin türü aşağıdakilerden hangisidir?

- A) Söylev
- B) Nutuk
- C) Röportaj
- D) Mülakat

7. Söylev türünün ilk örnekleri nerede görülmüştür?

- A) Mısır ve İskenderiye'de
- B) Eski Yunan ve Roma'da
- C) Floransa ve Sicilya'da
- D) Keltler ve Vikingler'de

8. Aşağıdakilerin hangisinde "-ki" eki ünlü uyumlarına uymuştur?

- A) kitaptaki
- B) taştaki
- C) dünkü
- D) sokaktaki

9. Röportajla ilgili aşağıdaki ifadelerden hangisi yanlıştır?

- A) Röportajlar okuyucunun dikkatini çekecek ve onları bazı konularda düşündürecek biçimde düzenlenmelidir.
- B) Röportajcı gördükleri ve izlenimleriyle yetinmeyip araştırma ve inceleme de yapar.
- C) Röportajcının amacı konuyu çarpıtmadan belgesel olarak okuyucuya sunmak ve okuyucuyu konunun içinde yaşatmaktır.
- D) Röportajı yapan kişi kendi görüşlerini röportaja katmaz.

10. Cumhuriyet döneminin en büyük konuşmacısı aşağıdakilerden hangisidir?

- A) Mustafa Kemal Atatürk
- B) Bekir Sıtkı
- C) Halide Edip
- D) Peyami Safa

11. "Gerçek Bir Yeryüzü Cenneti Sapanca" başlıklı röportajın türü aşağıdakilerden hangisidir?

- A) Belgesel
- B) Eşyayı konu alan
- C) Bir yeri konu alan
- D) Gezi yazısı

12. Röportajın sağlam bir düşünce ve teze dayanması yönüyle benzerlik gösterdiği tür aşağıdakilerden hangisidir?

- A) Makale
- B) Deneme
- C) Fıkra
- D) Nutuk

13. Aşağıdakilerden hangisi sözlü anlatım türlerinden biri değildir?

- A) Mülakat
- B) Söylev
- C) Röportaj
- D) Deneme

14. Aşağıdakilerden hangisi konularına göre söylev çeşitlerinden birdir?

- A) Şiirsel söylev
- B) Hukuksal söylev
- C) Görsel söylev
- D) Sosyal söylev

15. "Tanrı gibi gökte olmuş Türk Bilge Kağanı, bu zamanda oturdum. Sözümü tamamiyle işit. Bilhassa küçük kardeş yeğenim, oğlum, bütün soyum, milletim, güneydeki Şadpıt beyleri, kuzeydeki Tarkat, Buyruk beyleri, Otuz Tatar..."

Yukarıda bir parçası alıntılanan eser aşağıdakilerden hangisidir?

- A) Göktürk Yazıtları
- B) Fatih Sultan Mehmet'in Nutku
- C) İstiklal Kulesi Yazıtları
- D) Bugün de Diyorlar ki

16. Söylevle ilgili aşağıdaki ifadelerden hangisi yanlıştır?

- A) Konuşmacı vurgu ve tonlamalara da dikkat etmelidir.
- B) Konuşmacı dinleyicilerin zevk, kültür düzeyleri ve gereksinimlerini göz önünde bulundurmalıdır.
- C) Konuşmada jest, mimik ve hareket olmamalıdır.
- D) Söylev etkili ve heyecanlı cümlelerle bitirilmelidir.

17. Aşağıdakilerden hangisi Türk edebiyatındaki tanınmış mülakat yazarlarından biri değildir?

- A) Mustafa Baysal
- B) Sermat Sami Uysal
- C) Hikmet Feridun Es
- D) İbrahim Çallı

18. "Türk Milleti! Kurtuluş Savaşı'na başladığımızın on beşinci yılındayız. Bugün cumhuriyetimizin onuncu yılını doldurduğu en büyük bayramıdır. Kutlu olsun!"

Yukarıda bir parçası alıntılanan Atatürk'ün konuşmasının türü aşağıdakilerden hangisidir?

- A) Hatırat
- B) Nutuk
- C) Tirad
- D) Nesir

19. Bireysel ve toplumsal sorunları dini açıdan yorumlayan söylev türüne ne ad verilir?

- A) Dinsel Söylev
- B) Siyasi Söylev
- C) Akademik Söylev
- D) İktisadi Söylev

20. Aşağıdakilerden hangisi hatip anlamındadır?

- A) Sufiör
- B) Söylevci
- C) Şair
- D) Mülakatçı

2018 AÖÖ-AÖL I. DÖNEM 0103-B

1. Aşağıdakilerden hangisi Türk edebiyatında "Beş Hececiler" adıyla anılan yazarlardan biri değildir?

- A) Yusuf Ziya Ortaç
- B) Ahmet Haşim
- C) Enis Behiç Koryürek
- D) Faruk Nafiz Çamlıbel

2. Öz Şiir (saf şiir) anlayışının Türk edebiyatındaki önemli temsilcileri aşağıdakilerden hangisinde birlikte verilmiştir?

- A) Ahmet Samim-Celal Sahir
- B) Ömer Seyfettin-Ali Canip Yöntem
- C) Ahmet Haşim-Yahya Kemal Beyatlı
- D) Fuat Köprülü-Ziya Gökalp

3. Mensur şiirin ilk ortaya çıktığı ülke aşağıdakilerden hangisidir?

- A) Rusya
- B) Fransa
- C) İngiltere
- D) Almanya

4. Aşağıdakilerden hangisi Tefik Fikret'in şiir sanatının özelliklerinden biri değildir?

- A) Duygu ve düşüncelerini beyit yerine dize içerisinde tamamlaması
- B) Sone, terzarima gibi nazım şekillerini kullanması
- C) Türkçeyi aruz ölçüsüne ustalıkla uygulaması
- D) Bütün eserlerinde yalın bir dil kullanması

5. Eserde kuşaklar arası çatışma işlenmiştir. Batılılaşmayı yanlış anlayanların sorumsuz davranışları yerilmektedir. Eski devri temsil eden Naim Efendi'nin konaktan ayrılmamak için verdiği mücadele anlatılmaktadır.

Yukarıda sözü edilen eser aşağıdakilerden hangisidir?

- A) Yaban
- B) Kiralık Konak
- C) Yüzakı
- D) Sinekli Bakkal

6. Tefik Fikret'in İkinci Meşrutiyet'in ilanı ile İttihat ve Terrakki Partisi'nin iktidarı ele geçirmesiyle ülkede oluşan sevinçli ortamı, bu ortamda gençlerin elinde cennet kadar güzel bir vatanın var olduğunu, bunu korumanın da gençlere düştüğünü anlattığı eseri aşağıdakilerden hangisidir?

- A) Zevrak'la Ebru
- B) Eylül
- C) Haluk'un Defteri
- D) Ferda

7. Cenap Şehabettin'in ilk şiirinin yayımlandığı gazete aşağıdakilerden hangisidir?

- A) Vatan
- B) Hizmet
- C) Saadet
- D) İkdam

8. "Çamdeviren", "Deli Ozan" gibi takma isimlerle mizah şiirleri yazan şair aşağıdakilerden hangisidir?

- A) Mehmet Emin Yurdakul
- B) Yahya Kemal
- C) Ahmet Haşim
- D) Faruk Nafiz Çamlıbel

9. Kurtuluş Savaşı yıllarında kendini ulusal temalara vererek ülkenin kurtuluşuna ilişkin konuları işledi. "Sinekli Bakkal, Vurun Kahpeye, Ateşten Gömlek, Handan" eserlerinden bazılarıdır.

Yukarıda sözü edilen sanatçı aşağıdakilerden hangisidir?

- A) Halide Edip Adıvar
- B) Mehmet Âkif Ersoy
- C) Ömer Seyfettin
- D) Ziya Gökalp

10. "Kendi Gök Kubbemiz", "Eski Şiirin Rüzgarıyla", "Aziz İstanbul" adlı eserlerin yazarı aşağıdakilerden hangisidir?

- A) Cenap Şehabettin
- B) Yahya Kemal Beyatlı
- C) Tefik Fikret
- D) Ahmet Haşim

11. "Elhan-ı Şita" adlı şiirinde heceleri müzik düzeyinde kullanan şair aşağıdakilerden hangisidir?

- A) Cenap Şehabettin
- B) Hüseyin Suat
- C) Ali Canip
- D) Tefik Fikret

12. Mehmet Rauf'un kaleme aldığı, Türk edebiyatında yazılan ilk psikolojik roman aşağıdakilerden hangisidir?

- A) Benim Olsaydın
- B) Viyana
- C) Eylül
- D) Aşk-ı Memnu

13. Halit Ziya Uşaklıgil'den sonra Edebiyat-ı Cedide topluluğunun en önemli romancılarındandır. On altı yaşında iken, Halit Ziya'nın İzmir'de çıkardığı Hizmet adlı dergide "Düşmüş" adlı ilk hikayesi yayımlandı.

Yukarıda sözü edilen yazar aşağıdakilerden hangisidir?

- A) Tevfik Fikret
- B) Cenap Şehabettin
- C) Hüseyin Yalçın
- D) Mehmet Rauf

14. Türk edebiyatını dönemlere ayıran, bilimsel yöntemlerle inceleyen ilk araştırmacı aşağıdakilerden hangisidir?

- A) Yahya Kemal Beyatlı
- B) Fuat Köprülü
- C) Ali Canip Yöntem
- D) Ömer Seyfettin

15. Aşağıdaki ideolojilerden hangisi Osmanlı Devleti'nin gücünü Türk tarihi ve Türk kültüründen olması, "Türk ulusu" fikrinin yayılması düşüncesine dayanır?

- A) Türkçülük
- B) İslamcılık
- C) Batıcılık
- D) Osmanlıcılık

16. Aşağıdakilerden hangisi Fecr-i Âtî topluluğunun amaçları arasında yer almaz?

- A) Topluluk üyelerinin eserlerinden oluşan bir kütüphane kurmak
- B) Genç yetenekleri bir araya getirmek
- C) Dilin, edebiyatın ve diğer bilimlerin ilerlemesine katkı sağlamak
- D) "Toplum için sanat" anlayışına bağlı olmak

17. Duygudan çok tasvire, düşünceye, biçim ve söyleyiş güzelliğine önem veren "sanat için sanat" görüşünü benimseyen, realizm akımının şiirdeki biçimine ne ad verilir?

- A) Parnasizm
- B) Sembolizm
- C) Natüralizm
- D) Romantizm

18. Eserlerinden bazıları "Kırmızı Fesler", "Ruh-ı Kemal", "Ordunun Defteri", "Baria" olan Servet-i Fünûn Dönemi içerisinde şair olarak bilinen, "Şiirimiz" adıyla Servet-i Fünûn dergisinde yayımladığı uzun makalesinde topluluğun sanat anlayışını ve eleştirilerini dile getiren sanatçı aşağıdakilerden hangisidir?

- A) Cenap Şehabettin
- B) Mehmet Rauf
- C) Ali Ekrem Bolayır
- D) Tevfik Fikret

19. Maupassant Tarzı Hikaye'nin Türk edebiyatındaki öncüsü aşağıdakilerden hangisidir?

- A) Ömer Seyfettin
- B) Halide Edip Adıvar
- C) Memduh Şevket Esendal
- D) Sait Faik Abasıyanık

20. Aşağıdakilerden hangisi Mehmet Âkif Ersoy'un "Safahat"ı içerisinde yer almaz?

- A) Hatıralar
- B) Hakkın Sesleri
- C) Süleymaniyede Bayram Sabahı
- D) Asım

2018 AÖÖ-AÖL I. DÖNEM 0103-B

1. Musluktan düşük hızda akan bir suyun; akış hızının artırılıp belli bir değerin üstüne çıkarıldıktan sonra karmaşık ve düzensiz bir şekilde akmaya başlaması ile aşağıdaki akış türlerinden hangisi meydana gelir?

- A) Türbülanslı akış
- B) Dış akış
- C) Laminer akış
- D) İç akış

2. Hava basıncından faydalanarak bir yerin deniz seviyesinden yüksekliğini tespit etmek için kullanılan ölçüm aracı aşağıdakilerden hangisidir?

- A) Barometre
- B) Manometre
- C) Batimetre
- D) Altimetre

3. ----- ilkesine göre akışkanlarda hızın yüksek olduğu yerde basınç az, hızın düşük olduğu yerde ise basınç fazladır.

Yukarıdaki cümlede boş bırakılan yeri aşağıdakilerden hangisi doğru şekilde tamamlar?

- A) Newton
- B) Curie
- C) Bernoulli
- D) Arşimet

4. Aşağıdakilerden hangisi maddelerin manyetik özelliklerinden biri değildir?

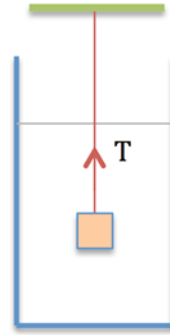
- A) Paramanyetik
- B) Ferromanyetik
- C) Diamanyetik
- D) Heromanyetik

5. I. İçerisinden elektrik akımı geçen iletken bir telin yakınında bulunan pusulada sapma gözlenir.
II. İletkenden geçen akım miktarı artarsa iletken çevresindeki manyetik alan azalır.
III. Dünyamız büyük bir mıknatıs gibi davranır.

Akım ve manyetik alan ile ilgili yukarıdaki ifadelerden hangisi/hangileri yanlıştır?

- A) Yalnız II
- B) I ve II
- C) I ve III
- D) I, II ve III

6.



Şekildeki sistemde $1,4 \text{ g/cm}^3$ yoğunluğundaki sıvı içindeki 4 kg kütleli ve 1000 cm^3 hacime sahip cisim bir ipele tavana asılmış ve bu haliyle dengededir. Buna göre ipteki gerilme kuvveti kaç N'dir? ($g=10 \text{ m/s}^2$)

- A) 14
- B) 26
- C) 40
- D) 54

7. 220 V şehir şebekesi ile çalışan bir kurutma makinasının gücü $2,2 \text{ kW}$ 'tır. Bu makinanın direnci kaç ohm'dur?

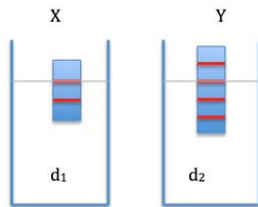
- A) 9
- B) 11
- C) 22
- D) 44

2018 AÖÖ-AÖL I. DÖNEM 0103-B

8. Sıvı ile dolu bir kabın içindeki bir cisim için kaldırma kuvvetinin cismin ağırlığından küçük olması durumunda sözkonusu cisimde aşağıdaki durumlardan hangisi meydana gelir?

- A) Batar.
B) Askıda kalır.
C) Yüzer.
D) Kabın dışına düşer.

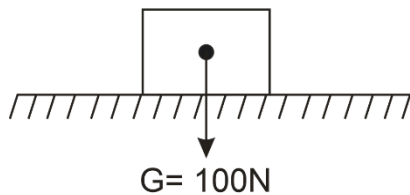
9.



Aynı cins maddeden yapılan X ve Y cisimleri farklı sıvılar içinde şekildeki gibi dengededir. Buna göre d_1/d_2 oranı aşağıdakilerden hangisidir?

- A) 2/5
B) 9/10
C) 10/9
D) 5/2

10.



Yukarıdaki şekilde ağırlığı 100N olan katı bir cisim $0,5 \text{ m}^2$ lik yatay bir zemin üzerinde oturmaktadır.

Buna göre cismin zemin üzerine uyguladığı basınç kaç N/m^2 'dir?

- A) 200
B) 250
C) 300
D) 350

11. İletkenlik, akım ve kuvvet ile ilgili aşağıdaki ifadelerden hangisi yanlıştır?

- A) Elektrik akımı, elektrik yüklerinin hareketi sonucu oluşur.
B) Plastik yalıtkan bir malzemedir.
C) Sürtünme yoluyla oluşan elektriğe statik elektrik denir.
D) Yükler aynı işaretli oldukları zaman birbirlerine çekici kuvvet uygularlar.

12. Taban alanı 120 cm^2 ve yüksekliği 50 cm olan silindirik bir kabın içerisi yarıya kadar su ile doldurulmuştur. Kabın tabanına etki eden basınç kuvveti kaç N'dir? ($g=10 \text{ m/s}^2$, $d_{\text{su}}=1 \text{ gr/cm}^3$)

- A) 10
B) 30
C) 100
D) 300

13. Aşağıdakilerden hangisi yalıtkan bir maddedir?

- A) Ebonit
B) Germanyum
C) Bakır tel
D) Silisyum

14. I. Elektriksel direnç iletkenin uzunluğu ile ters orantılıdır.
II. Uzunluğu ve kesit alanı eşit olan farklı cins maddelerin direnci farklıdır.
III. Elektriksel direnç iletkenin kesiti ile ters orantılıdır.

İletkenlerde direnç ile ilgili yukarıdaki ifadelerden hangisi/hangileri doğrudur?

- A) Yalnız III
B) I ve III
C) II ve III
D) I, II ve III

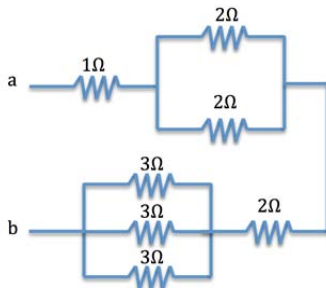
2018 AÖÖ-AÖL I. DÖNEM 0103-B

15. I. Birim yüzeye etki eden dik kuvvete Basınç denir.
 II. Bir sıvının her parçası düzgün bir çizgi boyunca akıyorsa, bu akışa Laminer akış denir.
 III. Açık hava basıncını ölçmeye yarayan araçlara Batimetre denir.

Basınç, sıvılarda akış ve basınç ölçme araçları ile ilgili yukarıdaki tanımlardan hangisi/hangileri doğrudur?

- A) Yalnız II
 B) I ve II
 C) II ve III
 D) I, II ve III

16.



Şekildeki devrede a-b uçları arasındaki eşdeğer direnç kaç ohm'dur?

- A) 1/5
 B) 1/3
 C) 3
 D) 5

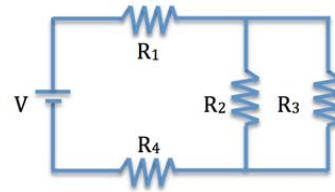
17. Taban alanı 80 cm^2 olan 800 N ağırlığındaki küp şeklindeki bir kutu karla kaplı bir zemin üzerine bırakılıyor. Buna göre kutunun kar yüzeyine uyguladığı basınç kaç kPa'dır?

- A) 1
 B) 10
 C) 100
 D) 1000

18. 220 V şehir şebekesinde çalışan bir ısıtıcının direnci $550 \text{ k}\Omega$ 'dur. Bu ısıtıcı çalıştığı zaman üzerinden geçen akım kaç mA'dır?

- A) 0,1
 B) 0,2
 C) 0,3
 D) 0,4

19.



Yukarıda verilen devrede $R_1= 2 \Omega$, $R_2= 3 \Omega$, $R_3= 6 \Omega$, $R_4= 1 \Omega$ ve kaynak gerilimi (V) 15V olarak verilmektedir. Buna göre R_1 direnci üzerinden geçen akım kaç amperdir?

- A) 1
 B) 2
 C) 3
 D) 5

20. PİL ve akü gibi, kimyasal enerjiyi elektrik enerjisine dönüştüren araçlara ne ad verilir?

- A) Elektrolit
 B) Batarya
 C) Miknatıs
 D) Elektrot

2018 AÖÖ-AÖL I. DÖNEM 0103-B

1. İnsan ihtiyaçlarının giderilmesine yönelik üretilen ancak elle tutulmayan ve saklanması mümkün olmayan faaliyetlere ne ad verilir?
- A) Dayanıklı mal
B) Hizmet
C) Dayanıksız mal
D) Tüketim malı
2. Aşağıdakilerden hangisi ihtiyaçların sınıflandırılmasında ikincil ihtiyaçlar arasında yer almaz?
- A) Barınmak
B) Araba kullanmak
C) Sinemaya gitmek
D) Kitap okumak
3. Üretimi için hiçbir çaba ya da örgütlenme gerektirmeyen ve doğada hazır bulunan mallara ne ad verilir?
- A) Ekonomik mallar
B) Dayanıklı mallar
C) Dayanıksız mallar
D) Serbest mallar
4. Bilgili olmak, benliğine saygı duymak, bağımsız ve özgür olmak Maslow'un ihtiyaçlar hiyerarşisinde aşağıdakilerden hangisinin kapsamında yer alır?
- A) Statü ve saygınlık ihtiyacı
B) Ait olma ihtiyacı
C) Kendini geliştirme ihtiyacı
D) Güvenlik ihtiyacı
5. Mal ve hizmetlerin herhangi bir ihtiyacı giderebilme özelliğine ne ad verilir?
- A) Tüketim
B) Standart
C) Mal
D) Fayda
6. Verilerin toplanması organize edilmesi analiz edilmesi özetlenmesi, sunulması ve bu verilerden bir sonuca varılabilmesi için kullanılan bilim dalı aşağıdakilerden hangisidir?
- A) Davranış bilimi
B) İşletme bilimi
C) İstatistik bilimi
D) Hukuk bilimi
7. İşletmelerin kuruluşu, finansmanı, üretim araçlarının sağlanması, üretilen mal ve hizmetlerin pazarlanması, örgütlenip, yönetilmeleri ve parasal olayların izlenmesi konularını ele alıp inceleyen bilim dalı aşağıdakilerden hangisidir?
- A) İşletme bilimi
B) Ekonomi bilimi
C) Davranış bilimi
D) Hukuk bilimi
8. Aşağıdakilerden hangisi işletmenin genel amaçlarından biri değildir?
- A) Kâr elde etmek
B) İşletmenin varlığını devam ettirmek
C) Topluma hizmet etmek
D) Uzun vadeli büyümeyi hedef haline getirmek
9. Kâr'ın ölçüt olarak kullanılmadığı değerlendirme aşağıdakilerden hangisidir?
- A) İşletmenin büyümesinde
B) Üst yönetimin başarı değerlendirmesinde
C) Tüketicilerin tercihlerinde
D) Çalışanlar için özendirici olmasında
10. Kâr elde etmenin öncelikli amaç olduğu kuruluş aşağıdakilerden hangisidir?
- A) Belediyeler
B) Dernekler
C) Vakıflar
D) Özel işletmeler
11. Aşağıdakilerden hangisi kâr amacı gütmeyen işletmelerin özelliklerinden biri değildir?
- A) Çoğunlukla hizmet üreten işletmeler olması
B) Kar amacı güden sektörlerden ve devletten yardım alabilmesi
C) Çalışanlarının gönüllü olması
D) İşletmenin sahipliğini gösteren şahıs veya şahıslara ait hisselerin olması
12. Sermayesi belirli ve paylara bölünmüş olan, borçlarından dolayı sadece mal varlığıyla sorumlu bulunan şirkete ne ad verilir?
- A) Anonim şirket
B) Limitet şirket
C) Komandit şirket
D) Kollektif şirket

13. Ticari bir işletmeyi bir ticaret unvanı altında işletmek amacıyla gerçek kişiler arasında kurulan ve ortaklarından hiç birinin sorumluluğu şirket alacaklarına karşı sınırlanmamış olan şirkete ne ad verilir?
- A) Anonim şirket
B) Limitet şirket
C) Kollektif şirket
D) Komandit şirket
14. Aşağıdakilerden hangisi sermaye şirketlerinin üstünlüklerinden biridir?
- A) Şirket yönetiminin zaman içerisinde belli bir grubun eline geçebilmesi
B) Ortaklık paylarının kolaylıkla devredilebilmesi
C) Sermayesinin tamamının devlete ait olması
D) Kurulmasının zor ve masraflı olması
15. Gerçek veya tüzel kişilerin yeterli mal ve hakları belirli ve sürekli bir amaca özgülemeleriyle oluşan tüzel kişiliğe sahip mal topluluklarına ne ad verilir?
- A) Kooperatif
B) Vakıf
C) Dernek
D) Kulüp
16. Çabuk bozulan mallar üreten işletmeler için önemli olan kuruluş yeri faktörü aşağıdakilerden hangisidir?
- A) Yerel yönetim imkânları
B) Özendirme (Teşvik)
C) Pazara yakınlık
D) Atıkların atılması
17. Aşağıdakilerden hangisi kuruluş yeri seçiminde işgücü faktörü değerlendirilirken ele alınan konulardan biri değildir?
- A) İşgücünün aile yapısı
B) İşgücünün miktarı
C) İşgücünün niteliği
D) İşgücünün maliyeti
18. Belirli sosyal risklerin yol açabileceği gelir kayıpları ve gider artışlarına karşı kişilerin güvenliklerinin sağlanmasına ne ad verilir?
- A) Siber güvenlik
B) İş güvenliği
C) Sosyal güvenlik
D) Özel güvenlik
19. Kısa veya uzun vadeli sigorta kolları bakımından adına prim ödenmesi gereken veya kendi adına prim ödemesi gereken kişiye ne ad verilir?
- A) Alt işveren
B) Sigortalı
C) İşyeri
D) İşveren
20. Soğuk yerlerde faaliyet gösteren işletmelerin ısıtılmasının ek maliyet yüklemesi durumunda işletmenin dikkate alması gereken kuruluş yeri faktörü aşağıdakilerden hangisidir?
- A) Ham madde
B) İklim koşulları
C) Taşıma
D) Enerji ve yakıt

2018 AÖO-AÖL I. DÖNEM 0103-B

1. Der vierte Monat des Jahres ist -----.

Welches Wort passt in die obige Lücke?

Cümlede boş bırakılan yeri aşağıdakilerden hangisi doğru şekilde tamamlar?

- A) April
B) Mai
C) Juni
D) Juli

2. Städte werden -----, aber die Welt wird immer kleiner.

Welches Wort passt in die obige Lücke?

Cümlede boş bırakılan yeri aşağıdakilerden hangisi doğru şekilde tamamlar?

- A) schwierig
B) lange
C) größer
D) dauert

3. -----, ist der ----- Berg der Welt.

Welche Wörter passen in die obigen Lücken?

Cümlede boş bırakılan yerleri aşağıdakilerden hangisi doğru olarak tamamlar?

- A) Efe / schneller
B) Erciyes / klein
C) Afrika / größte
D) Mount Everest / höchste

4. Ahmet ist 1.95 cm, Ali ist 1.80 cm und Ayşe ist 1.70 cm groß. Ahmet ist -----.

Welches Wort passt in die obige Lücke?

Cümlede boş bırakılan yeri aşağıdakilerden hangisi doğru olarak tamamlar?

- A) am längsten
B) länger als
C) wie lang
D) die kleine

5. Das Auto ist schneller als das Fahrrad. Das Flugzeug ist aber -----.

Welches Wort passt in die obige Lücke?

Cümlede boş bırakılan yeri aşağıdakilerden hangisi doğru şekilde tamamlar?

- A) als schneller
B) schnell
C) schnellste
D) am schnellsten

6. Wie lautet das Komparativ von "heiß"?

"heiß" sözcüğünün komparatif hali aşağıdakilerden hangisidir?

- A) heiß wie
B) heißer als
C) heißeste als
D) heißestem

7. Petra geht zum Arzt, weil sie krank ist.

Welche Frage passt zur obigen Antwort?

Verilen cevabı gerektirecek soru aşağıdakilerden hangisidir?

- A) Wozu geht Petra zum Arzt?
B) Wann geht sie zur Schule?
C) Wie heißt Petra's Arzt?
D) Wer geht zur Schule?

8. ----- der Computer nicht funktioniert, weiß ich auch nicht.

Welches Wort passt in die obige Lücke?

Cümlede boş bırakılan yeri aşağıdakilerden hangisi doğru olarak tamamlar?

- A) Wozu
B) Warum
C) Weil
D) Was

9. A: Hallo, Ayşe!
B: Hallo, Atilla!
A: Wo wohnst du zur Zeit?
B: In Bursa.
A: Warum wohnst du in Bursa?
B: -----.

Welcher Satz ergänzt den obigen Dialog?

Verilen karşılıklı konuşmayı aşağıdakilerden hangisi doğru olarak tamamlar?

- A) Ich wohne in Bursa, weil ich dort arbeite
B) Ich arbeite in Istanbul, weil ich dort viel verdiene
C) Wir möchten nach Bursa fahren, weil wir unsere Freunde besuchen wollen
D) Wir wollen auch in Bursa arbeiten, denn wir wohnen dort

10. Er ----- jeden Tag mindestens eine Zeitung.

Welches Wort passt in die obige Lücke?

Cümlede boş bırakılan yeri aşağıdakilerden hangisi doğru şekilde tamamlar?

- A) macht
B) habt
C) steigt
D) kauft

11. Wie lautet das Wort "Selbstverwirklichung" auf Türkisch?

"Selbstverwirklichung" sözcüğünün Türkçe karşılığı aşağıdakilerden hangisidir?

- A) Kişisel çıkarlar
B) Toplumsal harcamalar
C) Kendini gerçekleştirme
D) Bireysel bağımsızlık

12. Frau Krüger: -----
Sohn: Ich bin gekommen, weil ich Taschengeld brauche.
Frau Krüger: Ach ja, das habe ich vergessen! Hier hast du dein Geld!
Sohn: Danke!

Welches ergänzt den obigen Dialog?

Verilen karşılıklı konuşmayı aşağıdakilerden hangisi doğru olarak tamamlar?

- A) Wohin gehst du?
B) Warum bist du gekommen?
C) Wann machst du deine Hausaufgaben?
D) Wo ist deine Tasche?

13. Wie lautet das Wort "Maddi destek" auf Deutsch?

"Maddi destek" sözcüğünün Almanca karşılığı aşağıdakilerden hangisidir?

- A) Finanzielle Unterstützung
B) Kulturelle Verwirklichung
C) Soziale Entwicklung
D) Selbstverständigung

14. Die Angestellten in einer Bank können sich in der Pause ausruhen.

Welche Frage passt zur obigen Antwort?

Verilen cevabı gerektirecek soru aşağıdakilerden hangisidir?

- A) Wann fängt die Pause an?
B) Wann machst du Pause?
C) Wann kann man Überweisungen machen?
D) Wann können sich die Bankangestellten ausruhen?

15. A: -----

B: Selten, weil ich keine Zeit habe.

A: Das ist aber Schade!

Welches ergänzt den obigen Dialog?

Verilen karşılıklı konuşmayı aşağıdakilerden hangisi doğru olarak tamamlar?

- A) Um wieviel Uhr geht ihr ins Kino?
- B) Gehst du auch ins Kino?
- C) Wie oft gehen Sie ins Theater?
- D) Wann fängt der Film an?

16. Besonders um die Jahreswende.

Welche Frage passt zur obigen Antwort?

Verilen cevabı gerektirecek soru aşağıdakilerden hangisidir?

- A) Kommst du heute Abend zum Essen?
- B) Wann müssen Angestellte in der Bank manchmal sehr lange Überstunden machen?
- C) Was machst du am Jahresanfang?
- D) Wie gehst du jeden Tag zur Arbeit, zu Fuss oder nimmst du den Bus?

17. Müssen Bankangestellte oft ----- machen?

Welches Wort passt in die obige Lücke?

Cümlede boş bırakılan yeri aşağıdakilerden hangisi doğru olarak tamamlar?

- A) Hausaufgaben
- B) Urlaub
- C) Überstunden
- D) Feierabend

18. Die Wintermonate sind -----.

Welches ergänzt die Lücke im obigen Satz?

Verilen cümleyi aşağıdakilerden hangisi doğru olarak tamamlar?

- A) der September, der Oktober, der November
- B) der Dezember, der Januar, der Februar
- C) der Juni, der Juli, der August
- D) der März, der April, der Mai

19. Sie geht morgens ----- um 08.00 Uhr zur Bank.

Welches Wort passt nicht in die obige Lücke?

Cümlede boş bırakılan yeri aşağıdakilerden hangisi doğru olarak tamamlamaz?

- A) ungefähr
- B) immer
- C) pünktlich
- D) alle

20. Wie lange arbeitet man hier täglich?

Welche Antwort passt zur obigen Frage?

Verilen sorunun cevabı aşağıdakilerden hangisidir?

- A) Ich schlafe nur am Wochenende.
- B) Wenn du willst, kannst du auch arbeiten.
- C) Die normale Arbeitsdauer dauert täglich 8 Stunden.
- D) Normalerweise mache ich jeden Tag Sport.

2018 AÖÖ-AÖL I. DÖNEM 0103-B

1. I ----- a lot when I was a student.

Which of the following completes the sentence above?

Aşağıdakilerden hangisi yukarıdaki cümleyi doğru olarak tamamlar?

- A) have studied
B) can study
C) used to study
D) used to studying

2. Did you ----- do sport regularly when you were young?

Which of the following completes the sentence above?

Aşağıdakilerden hangisi yukarıdaki cümleyi doğru olarak tamamlar?

- A) use to
B) used to
C) not used to
D) be used to

3. While they ----- a movie, the electricity went off.

Which of the following completes the sentence above?

Aşağıdakilerden hangisi yukarıdaki cümleyi doğru olarak tamamlar?

- A) watched
B) are watching
C) have watched
D) were watching

4. Larry hasn't eaten anything ----- breakfast.

Which of the following completes the sentence above?

Aşağıdakilerden hangisi yukarıdaki cümleyi doğru olarak tamamlar?

- A) to
B) for
C) at
D) since

5. Peter ----- dinner with his family last night.

Which of the following completes the sentence above?

Aşağıdakilerden hangisi yukarıdaki cümleyi doğru olarak tamamlar?

- A) had
B) will have
C) is going to have
D) have had

6. What were you doing when I ----- you last night?

Which of the following completes the sentence above?

Aşağıdakilerden hangisi yukarıdaki cümleyi doğru olarak tamamlar?

- A) called
B) has called
C) calling
D) call

7. Carol ----- in London since 1995.

Which of the following completes the sentence above?

Aşağıdakilerden hangisi yukarıdaki cümleyi doğru olarak tamamlar?

- A) is
B) has been
C) will be
D) was

8. My sister ----- very thin when she was a baby.

Which of the following completes the sentence above?

Aşağıdakilerden hangisi yukarıdaki cümleyi doğru olarak tamamlar?

- A) used to was
B) use to be
C) used to be
D) uses to be

9. Paul has been a teacher ----- two years.

Which of the following completes the sentence above?

Aşağıdakilerden hangisi yukarıdaki cümleyi doğru olarak tamamlar?

- A) since
- B) for
- C) at
- D) as

10. Our guests arrived while we ----- dinner.

Which of the following completes the sentence above?

Aşağıdakilerden hangisi yukarıdaki cümleyi doğru olarak tamamlar?

- A) have
- B) are having
- C) were having
- D) had

11. We were having breakfast in the garden ----- it suddenly started to rain.

Which of the following completes the sentence above?

Aşağıdakilerden hangisi yukarıdaki cümleyi doğru olarak tamamlar?

- A) since
- B) when
- C) for
- D) while

12. Sally does her homework ----- than me.

Which of the following completes the sentence above?

Aşağıdakilerden hangisi yukarıdaki cümleyi doğru olarak tamamlar?

- A) fastest
- B) faster
- C) more fast
- D) fast

13. Ana speaks ----- than Nat.

Which of the following completes the sentence above?

Aşağıdakilerden hangisi yukarıdaki cümleyi doğru olarak tamamlar?

- A) more fluently
- B) more fluent
- C) fluent
- D) fluently

14. Could you speak more -----?

Which of the following completes the sentence above?

Aşağıdakilerden hangisi yukarıdaki cümleyi doğru olarak tamamlar?

- A) slow
- B) slowest
- C) slower
- D) slowly

15. Tomorrow ----- a busy day for us.

Which of the following completes the sentence above?

Aşağıdakilerden hangisi yukarıdaki cümleyi doğru olarak tamamlar?

- A) being
- B) will be
- C) was
- D) were

16. I wake up ----- than my brother.

Which of the following completes the sentence above?

Aşağıdakilerden hangisi yukarıdaki cümleyi doğru olarak tamamlar?

- A) the earliest
- B) early
- C) earlier
- D) earliest

2018 AÖÖ-AÖL I. DÖNEM 0103-B

17. A: I can't carry this box.
B: Ok, I ----- help you to carry.

Which of the following completes the dialogue above?

Aşağıdakilerden hangisi yukarıdaki konuşmayı doğru olarak tamamlar?

- A) does
- B) have
- C) is
- D) will

18. Help me with my shopping bags, -----?

Which of the following completes the sentence above?

Aşağıdakilerden hangisi yukarıdaki cümleyi doğru olarak tamamlar?

- A) do you
- B) did you
- C) shall we
- D) will you

19. Zeynep always studies regularly, -----?

Which of the following completes the sentence above?

Aşağıdakilerden hangisi yukarıdaki cümleyi doğru olarak tamamlar?

- A) doesn't she
- B) does she
- C) is she
- D) did she

20. They haven't been to Egypt before, -----?

Which of the following completes the sentence above?

Aşağıdakilerden hangisi yukarıdaki cümleyi doğru olarak tamamlar?

- A) haven't they
- B) will they
- C) have they
- D) did they

2018 AÖÖ-AÖL I. DÖNEM 0103-B

1. Il faut un passeport quand on veut partir -----.

Choisissez l'expression qui convient.

Cümlede boş bırakılan yeri aşağıdakilerden hangisi doğru şekilde tamamlar?

- A) à la maison
B) à l'étranger
C) chez le médecin
D) au magasin

2. «L'oiseau est blessé.»

Choisissez la traduction qui convient.

Yukarıdaki cümlenin Türkçe karşılığı aşağıdakilerden hangisidir?

- A) Kuş düştü.
B) Kuş uçuyor.
C) Kuş yaralı.
D) Kuş üşüdü.

3. A: Qu'est-ce que tu as fait hier soir?
B: -----.

Choisissez la réponse qui convient.

Yukarıdaki konuşmada boş bırakılan yeri aşağıdakilerden hangisi doğru şekilde tamamlar?

- A) Je suis allée au concert
B) Je vais partir pour Paris
C) J'aime la musique classique
D) Je suis technicien

4. ----- mon école!

Choisissez le mot qui convient.

Cümledeki boşluğu aşağıdakilerden hangisi doğru şekilde tamamlar?

- A) Ceci
B) Ici
C) Cette
D) Voilà

5. Elle joue ----- basketball.

Choisissez le mot qui convient.

Cümledeki boşluğu aşağıdakilerden hangisi doğru şekilde tamamlar?

- A) au
B) du
C) de la
D) de

6. Elle a oublié son bagage ----- main dans ma chambre.

Choisissez le mot qui convient.

Cümledeki boşluğu aşağıdakilerden hangisi doğru şekilde tamamlar?

- A) des
B) où
C) en
D) à

7. A: ----- personnes y a-t-il dans le dialogue?
B: Il y a 6 personnes.

Choisissez l'expression qui convient.

Yukarıdaki konuşmada boş bırakılan yeri aşağıdakilerden hangisi doğru şekilde tamamlar?

- A) Combien de
B) Quand
C) Qui
D) Dans quoi

8. Une flute est un ----- de musique.

Choisissez le mot qui convient.

Cümledeki boşluğu aşağıdakilerden hangisi doğru şekilde tamamlar?

- A) sport
B) instrument
C) leçon
D) jeu

9. Vous regardez ----- télévision.

Choisissez le mot qui convient.

Cümledeki boşluğu aşağıdakilerden hangisi doğru şekilde tamamlar?

- A) la
- B) à la
- C) au
- D) de

10. Les vacances ----- sont en décembre.

Choisissez le mot qui convient.

Cümledeki boşluğu aşağıdakilerden hangisi doğru şekilde tamamlar?

- A) d'été
- B) de Noël
- C) de février
- D) de printemps

11. Elle veut une chambre pour une personne. Elle est -----.

Choisissez le mot qui convient.

Cümledeki boşluğu aşağıdakilerden hangisi doğru şekilde tamamlar?

- A) en groupe
- B) seul
- C) en troupeau
- D) seule

12. les / j'aime / brillantes / lumières
I II III IV

Mettez dans le bon ordre.

Yukarıdaki kelimelerin anlamlı ve kurallı bir bütün oluşturan sırası aşağıdakilerin hangisinde doğru olarak verilmiştir?

- A) II, I, III, IV
- B) II, I, IV, III
- C) III, IV, I, II
- D) III, IV, II, I

13. J'ai vu mon cousin ----- à l'école.

Choisissez le mot qui convient.

Cümledeki boşluğu aşağıdakilerden hangisi doğru şekilde tamamlar?

- A) souffrants
- B) venant
- C) allant
- D) ayant

14. «Sattığım ev kırmızı.»

Choisissez la traduction qui convient.

Yukarıdaki cümlenin Fransızca karşılığı aşağıdakilerden hangisidir?

- A) La maison que j'ai vendue est rouge.
- B) La maison que j'ai vendu est rouge.
- C) La maison que j'ai achetée est rouge.
- D) La maison que j'ai acheté est rouge.

15. I. Il repart à l'étranger l'année prochaine.
II. Il ira en Belgique.
III. Il y a beaucoup de formalités.
IV. Il aime ce pays.

Trouvez la phrase qui ne convient pas à l'ensemble.

Sırasıyla okunduğunda, anlam bütünlüğünü bozan cümleyi bulunuz.

- A) I
- B) II
- C) III
- D) IV

16. L'enfant ----- tu m'as parlé est ici.

Choisissez le mot qui convient.

Cümledeki boşluğu aşağıdakilerden hangisi doğru şekilde tamamlar?

- A) où
- B) que
- C) dont
- D) qui

17. ----- malade, elle n'est pas allée à l'école.

Choisissez le mot qui convient.

Cümledeki boşluğu aşağıdakilerden hangisi doğru şekilde tamamlar?

- A) Faisant
- B) Ayant
- C) Marchant
- D) Etant

18. Il fait chaud, il -----.

Choisissez l'expression qui convient.

Cümledeki boşluğu aşağıdakilerden hangisi doğru şekilde tamamlar?

- A) pleut
- B) fait du soleil
- C) y a du vent
- D) neige

19. Les courses se font au -----.

Choisissez le mot qui convient.

Cümledeki boşluğu aşağıdakilerden hangisi doğru şekilde tamamlar?

- A) théâtre
- B) librairie
- C) supermarché
- D) cinéma

20. Je veux aller ----- pays ----- elle est -----.

Choisissez les mots qui conviennent.

Cümledeki boşlukları aşağıdakilerden hangisi doğru şekilde tamamlar?

- A) au / que / né
- B) à / que / née
- C) dans / où / né
- D) au / où / née

PEYGAMBERİMİZİN HAYATI 2 (SEÇMELİ)

B

2018 AÖÖ-AÖL I. DÖNEM 0103-B

1. Allah'ın (c.c) melek aracılığıyla peygambere ilahi hitapta bulunmasına ne ad verilir?

- A) Mi'rac
- B) Vahiy
- C) Biat
- D) Hicret

2. Hz. Peygamber'in (s.a.v) İslam'a davetiyle ilgili aşağıdaki ifadelerden hangisi doğrudur?

- A) Tüm insanları davet etmiştir.
- B) Sadece zenginleri davet etmiştir.
- C) Sadece gençleri davet etmiştir.
- D) Sadece arkadaşlarını davet etmiştir.

3. İslam'ın ilk eğitim – öğretim merkezi aşağıdakilerden hangisidir?

- A) Darü'n – Nedve
- B) Akabe
- C) Neşv-ü Nema
- D) Dârü'l – Erkam

4. Aşağıdakilerden hangisi müşrikleri Müslümanlara yönelik bir boykot uygulamaya iten nedenlerden biri değildir?

- A) Müslümanların Habeşistan'a hicret etmesi ve orada iyi karşılanmaları
- B) İslam'ın Mekke'de yayılmaya devam etmesi
- C) Hz. Hatice'nin Müslüman olması
- D) Hz. Hamza ve Hz. Ömer'in Müslüman olmaları

5. İkinci Akabe Biat'ı kaç yılında gerçekleşmiştir?

- A) 622
- B) 624
- C) 626
- D) 628

6. Hz. Muhammed (s.a.v) kaç yıl insanları İslam'a gizlice davet etmiştir?

- A) 3
- B) 4
- C) 5
- D) 6

7. Hz. Muhammed'e (s.a.v) indirilen ilk vahiy aşağıdakilerden hangisidir?

- A) Duy
- B) Oku
- C) Öğren
- D) Dinle

8. Habeşistan'a hicretin nedeni aşağıdakilerden hangisidir?

- A) Müslüman olanların Hristiyanlardan daha çok sevilmesi
- B) Mekkelilerin, Medinelileri sevmemesi
- C) Müşriklerin, Müslümanlara yaptığı baskıların her geçen gün artması
- D) Kölelerin sayısının artması

9. "Sen, sana buyurulanları açıkça duyur, müşriklere aldırış etme!" ayeti aşağıdaki surelerden hangisine aittir?

- A) Meryem Suresi
- B) Hicr Suresi
- C) Hucurât Suresi
- D) Lokman Suresi

10. İslam'ın ilk şehidi aşağıdakilerden hangisidir?

- A) Hz. Zeyd
- B) Sümei'ye
- C) Ebu Tâlib
- D) Hz. Ali

11. İlk Müslüman aşağıdakilerden hangisidir?

- A) Ebu Tâlib
- B) Hz. Hatice
- C) Hz. Ali
- D) Hz. Ebubekir

12. Hz. Muhammed (s.a.v) kaç yılında vefat etmiştir?

- A) 632
- B) 630
- C) 628
- D) 626

13. Hudeybiye Antlaşması kaç yılında imzalanmıştır?

- A) 628
- B) 626
- C) 622
- D) 621

14. Hz. Peygamber'in (s.a.v) katılmayıp bir sahabenin komutasında yapılan seferlere ne ad verilir?

- A) Namzet
- B) Gazve
- C) Boykot
- D) Seriyeye

15. Bakara suresinin, 144. ayeti inmeden önce Müslümanlar namazlarını hangi yöne dönerek kılıyorlardı?

- A) Ebva Mescidi
- B) Kuba Mescidi
- C) Mescid-i Aksa
- D) Mescid-i Nebi

16. Gerçekte Müslüman olmadığı halde, görünüşte Müslüman gözükenlere ne ad verilir?

- A) Gazve
- B) Cihad
- C) Nifak
- D) Münafık

17. Hz. Peygamber (s.a.v) ile ilgili aşağıdaki ifadelerden hangisi yanlıştır?

- A) Hiçbir zaman savaşı bir çıkar yolu olarak görmemiştir.
- B) Katıldığı savaşların tümü savunma amaçlıydı.
- C) Düşmanlarını savaştan vazgeçirmeye çalışmıştır.
- D) Her zaman anlaşmayı bozan taraf olmuştur.

18. Hz. Peygamber'in (s.a.v) Medine'ye hicret ettikten sonra, Müslümanların hem ibadet edebilecekleri hem de bir eğitim müessesesi olarak kullanılacak ilk yapıya ne ad verilmiştir?

- A) Ashabı Suffe
- B) Mescid-i Aksa
- C) Mescid-i Nebi
- D) Mescid-i Haram

19. Hz. Muhammed'in (s.a.v) amcası Hz. Hamza'nın şehit edildiği savaş aşağıdakilerden hangisidir?

- A) Bedir Savaşı
- B) Sevik Savaşı
- C) Hendek Savaşı
- D) Uhud Savaşı

20. Hz. Peygamber'in (s.a.v) kabrine ne ad verilir?

- A) Mescid-i Aksa
- B) Hilful Fudul
- C) Ravza-i Mutahhara
- D) Darüf Erkam

2018 AÖÖ-AÖL I. DÖNEM 0103-B

1. **Orijinal buluş ve çözümler üretme biçimine ne ad verilir?**
 - A) Algılama
 - B) Yetenek
 - C) Yaratıcı düşünme
 - D) Mizaç

2. **İnsanı etkileyen nesne, güç ve uyarıların hepsine birden ne ad verilir?**
 - A) Bellek
 - B) Çevre
 - C) Eylem
 - D) İletişim

3. **Çocuğun ilk dönemde, anne ve babasının yargı ve davranışlarını benimsemesine ne ad verilir?**
 - A) İkna olma
 - B) Sosyal algı
 - C) Yönelme
 - D) Özdeşim kurma

4. **Aşağıdakilerden hangisi tutum kuramlarından biridir?**
 - A) Tutarlılık Kuramı
 - B) Zihinsel Yargı Kuramı
 - C) Psikolojik Çelişki Kuramı
 - D) Bağlılık Kuramı

5. **Aşağıdakilerden hangisi geçici gruplara örnektir?**
 - A) Bir spor kulübünü destekleyen taraftarlar
 - B) Bir hastane odasında birlikte kalan refakatçiler
 - C) Bir sendikаныn temsilcileri
 - D) Bir siyasi partiye üye kişiler

6. **Engellenmenin yarattığı gerilim durumuna ne ad verilir?**
 - A) Hayal kırıklığı
 - B) Üzüntü
 - C) Depresyon
 - D) Çatışma

7. **Müzik eğitimi almak isteyen bir gencin, kendisine engel olmaya çalışan ailesini ikna etmek için gösterdiği çaba, stres yaratan bir durumla karşılaştığında gösterilen tepkilerden hangisi ile açıklanır?**
 - A) Kaçma
 - B) Uzlaşma
 - C) Atılım
 - D) Çekilme

8. **Uzun süreli ve yoğun stresin yarattığı organik bozukluklar biçiminde ortaya çıkan hastalıklara ne ad verilir?**
 - A) Psikosomatik hastalık
 - B) Genetik hastalıklar
 - C) Zihinsel hastalıklar
 - D) Enfeksiyon hastalıkları

9. **Bilişsel çelişki kuramına göre, bir tutumun değişmesi için tutum ve davranış arasında bir çelişki bulunmalıdır.**

Buna göre, aşağıdaki ifadelerden hangisini söyleyen bir kişi için tutum değişikliği ihtimali söz konusudur?

 - A) Arkadaşlarımı çok seviyorum ve onlarla iyi geçiniyorum.
 - B) Tatil için bu şehri çok sevdim ama her zaman burada yaşamak istemezdim.
 - C) En zor bulmacaları çözebiliyorum ve boş vakitlerimi onlarla geçiriyorum.
 - D) Asitli içecekleri zararlı buluyorum ama içiyorum.

10. **Aşağıdakilerden hangisi kötü strese neden olan bireysel özelliklerden biri değildir?**
 - A) Mizaç
 - B) Kazanılmış alışkanlıklar
 - C) Algılama yeteneği
 - D) Yaşam enerjisi

11. **Aşağıdakilerden hangisi Freud'a göre kişiliği oluşturan temel yapılardan biri değildir?**
 - A) Ego
 - B) Zeka
 - C) İd
 - D) Süper ego

12. Kişilikle ilgili hazırlanan soruların yazılı veya sözlü olarak cevaplandırılmasına dayanan ölçeklere ne ad verilir?

- A) Test
- B) Görüşme
- C) Anket
- D) Gözlem

13. Aşağıdakilerden hangisi zekaca geri bireylerin yer aldığı zeka bölümlerinden biri değildir?

- A) İdiot
- B) Embesil
- C) Dehâ
- D) Moran

14. Aşağıdakilerden hangisi psikolojik stres nedenlerinden biridir?

- A) Mikrop, bakteri ve virüsler
- B) Olaylara verilen anlamlar
- C) Çevre kirliliği
- D) Doğa koşulları

15. Aşağıdakilerden hangisi doğal üyeliğe örnektir?

- A) Ali'nin spor kulübüne üyeliği
- B) Ali'nin dans kulübüne üyeliği
- C) Yeni doğan Ali bebeğin aileye üyeliği
- D) Ali'nin okul korosuna üyeliği

16. Çocukluktan yetişkinliğe geçişi hazırlayan ara döneme ne ad verilir?

- A) Ergenlik dönemi
- B) İkinci dönem
- C) Büyüme dönemi
- D) Olgunluk dönemi

17. Jung'a göre ruhsal enerjinin kaynağı aşağıdakilerden hangisidir?

- A) Cinsel dürtü
- B) Kaygıdan kurtulma çabası
- C) Aşağılık duygusu
- D) Karşıtların çatışması

18. Uzun süre aynı türden olay ve uyarıların etkisinde kalan organizmanın durumdan etkilenme derecesinin azalmasına ne ad verilir?

- A) Duyarsızlaşma
- B) İnkâr
- C) Yansıtma
- D) Bastırma

19. Bireyin sosyal çevre içindeki davranışlarını konu alan ve onları inceleyen bilim dalı aşağıdakilerden hangisidir?

- A) Sosyal davranış
- B) Psikoloji
- C) Biyoloji
- D) Sosyal psikoloji

20. Görevini grubun ortak idaresinden alan, kararları tek başına vermeyen liderlik tipi aşağıdakilerden hangisidir?

- A) Karizmatik lider
- B) Demokratik lider
- C) Geleneksel lider
- D) Otoriter lider

SEÇMELİ MATEMATİK 3

B

2018 AÖÖ-AÖL I. DÖNEM 0103-B

1 - 3. soruları aşağıdaki bilgilere göre ve birbirinden bağımsız olarak cevaplayınız.

Bir araştırma şirketi tarafından uygulanan bir anketin başlangıçtaki maliyeti 4800 TL olup anketin uygulandığı birey başına maliyeti 9 TL'dir. Araştırma şirketinin uyguladığı bu anketten elde edeceği kazanç ise anketin uygulandığı birey başına 15 TL'dir.

1. Buna göre, araştırma şirketinin zarar etmemesi için anketi uygulaması gereken birey sayısı en az kaçtır?
A) 800
B) 850
C) 900
D) 950
2. Yukarıdaki bilgilere göre, anketin uygulandığı birey sayısı 2150 olduğunda, kaç TL kâr elde edilir?
A) 7900
B) 8100
C) 8300
D) 8500
3. Araştırma şirketinin 2700 TL kâr elde edebilmesi için anketin uygulanması gereken birey sayısı kaçtır?
A) 1200
B) 1250
C) 1300
D) 1350
4. Gerçek sayılarda tanımlı $f(x) = 7x + 6$ doğrusal fonksiyonunun değişim oranı (hızı) kaçtır?
A) 5
B) 6
C) 7
D) 8

5 - 7. soruları aşağıdaki bilgilere göre ve birbirinden bağımsız olarak cevaplayınız.

Bir fabrika, işçilerine maaş ödemeleri için iki farklı tarife sunmaktadır.

1. **Tarife:** Aylık 2000 TL sabit ücret ve çalışılan her bir gün için 28 TL ödenecektir.
 2. **Tarife:** Aylık 1200 TL sabit ücret ve çalışılan her bir gün için 60 TL ödenecektir.
5. Buna göre, kaç günlük çalışma için aylık maaş miktarı her iki tarifeye göre aynı olur?
A) 22
B) 25
C) 28
D) 30
 6. Yukarıdaki bilgilere göre, birinci tarifeyi tercih eden bir işçi 2588 TL maaş aldığı ayda kaç gün çalışmıştır?
A) 21
B) 22
C) 23
D) 24
 7. Yukarıdaki bilgilere göre, ikinci tarifeyi tercih eden bir işçi 27 gün çalıştığı ayda kaç TL maaş alır?
A) 2680
B) 2750
C) 2790
D) 2820
 8. Bir bakteri kolonisinde bulunan bakterilerin sayısı bir saatte 3 katına çıkıyor. 5 saat sonra bakteri sayısı 972 olduğuna göre, başlangıçtaki bakteri sayısı kaçtır?
A) 2
B) 3
C) 4
D) 6
 9. $K = (16)^5 \cdot (125)^6$ ifadesi kaç basamaklı bir sayı belirtir?
A) 18
B) 19
C) 20
D) 21

10. $f(x) = m \cdot 2^{-3x}$ fonksiyonunun grafiği (1,5) noktasından geçtiğine göre, m kaçtır?
- A) -30
B) 10
C) 30
D) 40
11. Başlangıçtaki miktarı 136 gram olan bir maddeden 36 yıl sonra 17 gram kaldığına göre, bu maddenin yarı ömrü kaç yıldır?
- A) 6
B) 9
C) 12
D) 18
12. Bir bankaya yıllık %5 bileşik faizle yatırılan 8000 TL 3 yıl sonra kaç TL'ye ulaşır?
- A) 9261
B) 9357
C) 9425
D) 9519
13. $(125)^{2n} = (625)^6$ eşitliğini sağlayan n değeri kaçtır?
- A) 4
B) 3
C) 2
D) 1
14. x, y ve z pozitif tam sayılar olmak üzere, $2^x \cdot 3^y \cdot 5^z = 720$ eşitliğini sağlayan x, y ve z değerlerinin toplamı kaçtır?
- A) 7
B) 8
C) 9
D) 10
15. $4^{2x} \cdot 10^x \cdot 5^{4x} = 10^{15}$ eşitliğini sağlayan x değeri kaçtır?
- A) 1
B) 2
C) 3
D) 5
16. $(0,5)^{24} + (16)^{-6}$ işleminin sonucu kaçtır?
- A) 2^{48}
B) 2^{26}
C) 2^{-23}
D) 2^{-25}

17. Aşağıdakilerden hangisi bir üstel fonksiyon değildir?

- A) 3^{-x}
B) $4^{\frac{x}{3}}$
C) 5^{x+4}
D) 1^x

18. Bir öğrenci işlemci hızı 1,6 MHz olan eski bilgisayarının yerine, işlemci hızı 3,2 GHz olan yeni bir bilgisayar alıyor.

Buna göre, yeni alınan bilgisayarın hızı, eski bilgisayarın hızının kaç katıdır? (1 GHz=10⁹ Hz, 1 MHz=10⁶ Hz)

- A) 2
B) 20
C) 200
D) 2000

19. Yetişkin bir insanın normal olarak bir nefes alışverişinde ortalama 500 ml havayı kullandığı ve dakikada ortalama 12 nefes aldığı bilinmektedir.

Buna göre, yetişkin bir insan normal şartlarda 25000 saatte kaç ml hava kullanır?

- A) $6 \cdot 10^9$
B) $9 \cdot 10^9$
C) $12 \cdot 10^9$
D) $25 \cdot 10^9$

20. $(4^3)^5 \cdot (8^5)^2$ işleminin sonucu kaçtır?

- A) 2^{62}
B) 2^{60}
C) 2^{31}
D) 2^{30}

2018 AÖÖ-AÖL I. DÖNEM 0103-B

1. Nükleik asitlerdeki organik baz ile 5C'lu şeker arasında bulunan bağa ne ad verilir?

- A) Ester bağı
- B) Peptit bağı
- C) Hidrojen bağı
- D) Glikozit bağı

2. Aşağıdaki hangisi DNA'nın yapısında yer alan bazlardan biri değildir?

- A) Urasil
- B) Adenin
- C) Timin
- D) Sitozin

3. DNA'nın yapısında yer alan 5C'lu şeker aşağıdakilerden hangisidir?

- A) Fruktoz
- B) Riboz
- C) Sükroz
- D) Deoksiriboz

4. Aşağıdakilerden hangisi protein sentezinin gerçekleştirildiği organeldir?

- A) Mitokondri
- B) Çekirdek
- C) Ribozom
- D) Sitoplazma

5. Nükleik asitleri ilk kez keşfedip isimlendiren bilim adamı aşağıdakilerden hangisidir?

- A) Colin Munro Mac-Leod
- B) Friedrich Miescher
- C) Oswald T. Avery
- D) Maclyn McCarty

6. Belirli bir zamanda ve belirli bir yerde bulunan tüm proteinlerin yapılarını, yerleşimlerini, miktarını, doku ve hücredeki işlevlerini, diğer proteinlerle olan etkileşimini aydınlatan bilim dalı aşağıdakilerden hangisidir?

- A) Epigenetik
- B) Genomik
- C) Biyoinformatik
- D) Proteomik

7. Aşağıdakilerden hangisi protein sentezi için gerekli genetik bilgiyi DNA'dan alıp ribozoma taşır?

- A) tRNA
- B) mRNA
- C) snRNA
- D) rRNA

8. DNA'nın kendisini eşlemesine ne ad verilir?

- A) Polimerizasyon
- B) Translasyon
- C) Transkripsiyon
- D) Replikasyon

9. DNA'da bulunan ATG genetik şifresinden sentezlenerek mRNA'da yer alacak olan nükleotid dizisi aşağıdakilerden hangisidir?

- A) UAC
- B) CAT
- C) CGU
- D) TCA

10. Aşağıdakilerden hangisi pirimidin bazı değildir?

- A) Urasil
- B) Adenin
- C) Sitozin
- D) Timin

11. Bitkilerin gün ve gece uzunluğuna verdikleri biyolojik tepkiye ne ad verilir?

- A) Fotonasti
- B) Kemotropizma
- C) Fotoperiyodizm
- D) Geotropizma

12. Aşağıdaki hücrelerden hangisinin farklılaşmasıyla emergensler meydana gelir?

- A) Sklerenkima
- B) Epidermis
- C) Kolenkima
- D) Parankima

13. Aşağıdakilerden hangisi bitkilerde sekonder büyümeyi sağlar?

- A) Sklerenkima
- B) Apikal meristem
- C) Lateral meristem
- D) Havalandırma parankiması

14. Aşağıdakilerden hangisi görevlerine göre parankima hücre gruplarından biri değildir?

- A) Depo
- B) Aktarma
- C) Özümleme
- D) Havalandırma

15. Aşağıdakilerden hangisi stoma ve lentisellerin ortak özelliklerinden biridir?

- A) Örtü doku elemanı olmaları
- B) Hücrelerinin canlı olmaları
- C) Devamlı açık olmaları
- D) Periderimde bulunmaları

16. Aşağıdakilerden hangisi tek çenekli bitkilerde kökün enine kesitinde endodermisin dış kısmında yer alır?

- A) Merkezi silindir
- B) Ksilem
- C) Korteks
- D) Floem

17. Aşağıdakilerden hangisi yalancı meyveler arasında yer alır?

- A) Elma
- B) Erik
- C) Üzüm
- D) Şeftali

18. Aşağıdaki bitkilerden hangisinin kökü besin olarak tüketilir?

- A) Soğan
- B) Pırasa
- C) Pancar
- D) Buğday

19. Diğer bir ismi "pek doku" olan yapı aşağıdakilerden hangisidir?

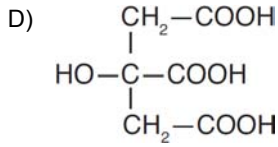
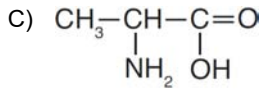
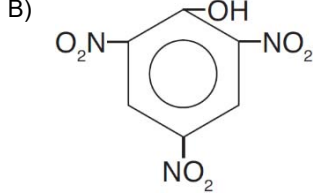
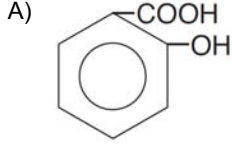
- A) Kollenkima
- B) Sklerenkima
- C) Parenkima
- D) Ksilem

20. Aşağıdakilerden hangisi büyümeyi ve gelişmeyi teşvik eden bitki hormonlarından biri değildir?

- A) Sitokinin
- B) Gibberelin
- C) Oksin
- D) Etilen

2018 AÖÖ-AÖL I. DÖNEM 0103-B

1. Aşağıdakilerden hangisi aminoasit bileşimidir?



2. Bir sıvının yüzey gerilimini düşüren maddelere ne ad verilir?

- A) Yağ asidi
- B) Yüzey aktif madde
- C) Yükseltgen madde
- D) Hidrofob grup

3. Yağlı tohumun parçalanıp preslenme ve ekstraksiyon işlemlerinden sonra kalan kısmına ne ad verilir?

- A) Prina
- B) Natürel zeytinyağı
- C) Vinterize yağ
- D) Sızma zeytinyağı

4. Proteinlerin organizma sıcaklığının üzerinde ısıtılması ile yapılarının bozulmasına ne ad verilir?

- A) Kondenzasyon
- B) Denatürasyon
- C) Polimerizasyon
- D) Klarifikasyon

5. "PVC" olarak bilinen polimer bileşiği aşağıdakilerden hangisidir?

- A) Polivinilklorür
- B) Polistiren
- C) Politetrafloretilen
- D) Polietilentereftalat

6. Maltozun hidrolizi sonucu oluşan monosakkaritler aşağıdakilerden hangisinde birlikte ve doğru olarak verilmiştir?

- A) Fruktoz + Dekstrin
- B) Glukoz + Fruktoz
- C) Fruktoz + Fruktoz
- D) Glukoz + Glukoz

7. I. Aspartam
II. Siklamat
III. Alanin
IV. Sistein

Yukarıdakilerden hangileri "yapay tatlandırıcılar" arasında yer alır?

- A) I ve II
- B) II ve III
- C) II ve IV
- D) I, III ve IV

8. Alkenler ile ilgili aşağıdaki ifadelerden hangisi yanlıştır?

- A) "Olefinler" olarak da bilinirler.
- B) Mol kütlesi arttıkça erime ve kaynama noktası yükselir.
- C) Yanma, katılma, yükseltgenme tepkimeleri verirler.
- D) Polimerleşme tepkimesi vermezler.

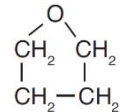
9. Yüksek karbonlu yağ asitlerinin sodyum veya potasyum tuzlarına ne ad verilir?

- A) Gliserin
- B) Yağ asitleri
- C) Sabun
- D) Stiren

10. "Yakıt yağı" olarak bilinen koyu renkli, akışkanlığı düşük petrol ürünü aşağıdakilerden hangisidir?

- A) Fuel oil
- B) Benzin
- C) Mazot (Motorin)
- D) Hafif petrol gazları

11. Aşağıdakilerden hangisi eter bileşiklerinden biri değildir?

- A) 
- B) $\text{CH}_3-\text{CH}(\text{CH}_3)-\text{O}-\text{CH}_3$
- C) $\text{CH}_3-\text{CH}(\text{OH})-\text{CH}_3$
- D) $\text{CH}_3-\text{O}-\text{CH}_2-\text{CH}_3$

12. Tek bir çeşit monomerden oluşan polimerlere ne ad verilir?

- A) Kopolimer
B) Monomer
C) Homopolimer
D) Kondenzasyon

13. "Etan"ın molekül formülü aşağıdakilerden hangisidir?

- A) C_4H_{10}
B) C_3H_8
C) CH_4
D) C_2H_6

14. Ham yağda oda koşullarında kristalize olarak bulanıklık oluşturan mum ve yüksek erime noktalı trigliseritlerin soğukta kristalize edilip filtrelenerek ham yağdan uzaklaştırılmasına ne ad verilir?

- A) Deodorizasyon
B) Vinterizasyon
C) Dekolorizasyon
D) Nötralizasyon

15. Aşağıdaki reaksiyonlardan hangisi gümüş ayna tepkimesidir?

- A) $\text{CH}_3-\text{C}(=\text{O})-\text{H} + 2\text{Ag}^+ + 2\text{OH}^- \xrightarrow{\text{NH}_3} \text{CH}_3-\text{C}(=\text{O})-\text{OH} + 2\text{Ag} + \text{H}_2\text{O}$
- B) $\text{CH}_3-\text{C}(=\text{O})-\text{H} \xrightarrow{\text{KMnO}_4/\text{OH}^-} \text{CH}_3-\text{C}(=\text{O})-\text{OH}$
- C) $\text{H}-\text{C}(=\text{O})-\text{H} \xrightarrow[\text{Fehling/Tollens}]{\text{NH}_3} \text{H}-\text{C}(=\text{O})-\text{OH}$
- D) $\text{CH}_3-\text{C}(=\text{O})-\text{H} + 2\text{Cu}^{2+} + 4\text{OH}^- \rightarrow \text{CH}_3-\text{C}(=\text{O})-\text{OH} + \text{Cu}_2\text{O} + 2\text{H}_2\text{O}$

16. Aromatik bileşikler ile ilgili aşağıdaki ifadelerden hangisi yanlıştır?

- A) Halka yapılı düzlemsel moleküllerdir.
B) Oldukça yanıcı (parlayıcı) bileşiklerdir.
C) Naftalin, aromatik bileşiklere bir örnektir.
D) "Parafinler" olarak da bilinirler.

17. Aşağıdakilerden hangisi polisakkaritlere bir örnektir?

- A) Maltoz
B) Nişasta
C) Laktoz
D) Sakkaroz

18. Aşağıdakilerden hangisi sekonder amin bileşiğidir?

- A) $\text{CH}_3-\text{CH}_2-\text{N}(\text{CH}_3)-\text{CH}_3$
- B) CH_3-NH_2
- C) NH_3
- D) $\text{CH}_3-\text{NH}-\text{CH}_3$

19. I. Molekülünde bir tane hidroksil grubu olan alkollere monoalkoller denir.
II. Alkol sınıfı bileşikler R-OH genel formülü ile gösterilirler.
III. Hidroksil grubuna bağlı karbon atomunda bir tane -R grubu bulunan alkoller sekonder alkol olarak sınıflandırılır.

Alkoller ile ilgili yukarıdaki ifadelerden hangileri doğrudur?

- A) Yalnız I
B) Yalnız III
C) I ve II
D) II ve III

20. İki mol karboksilik asit molekülünden bir mol H_2O ayrılması ile oluşan bileşiğe ne ad verilir?

- A) Pentoz
B) Asit anhidrit
C) Epoksit
D) Amid

SINAVDA UYULMASI GEREKEN GENEL KURALLAR

1. Sınava girmek için gerekli belgelerinizin tümünü sınav başlamadan önce sıranızın üzerine bırakınız.
2. Sınav süresince görevlilerle konuşmak, görevlilere soru sormak yasaktır. Aynı şekilde görevlilerin de öğrencilerle yakından ve alçak sesle konuşmaları yasaktır. Gerekli durumlarda görevliler yerinizi değiştirebilir.
3. Size verilen cevap kâğıdının üzerindeki TCKN/Öğrenci no, ad, soyadı, bilgilerini kontrol ediniz, ilgili alanları eksiksiz doldurarak imzalayınız. Bu bilgiler size ait değilse, görevlileri uyararak size ait cevap kâğıdını isteyiniz. Başka öğrenciye ait cevap kâğıdı kullanan öğrencilerin o oturumdaki sınavları geçersiz sayılır.
4. Cevap kâğıdı üzerine test grubunu (A, B, C, D) kodlamayan veya birden fazla kodlama yapan öğrencilerin sınavları geçersiz sayılır.
5. Cevap kâğıdınıza yazacağınız her türlü yazı ve yapacağınız işaretlemeler için koyu yazan siyah kurşun kalem kullanmalısınız. Siyah kurşun kalem dışında farklı bir kalem (tükenmez, mürekkepli ya da renkli vb.) kullanan öğrencilerin sınavları geçersiz sayılır.
6. Cevap kâğıdı üzerinde değişiklik yapmak istediğinizde, iz bırakmayan bir silgi kullanınız. Cevap kâğıdınızı buruşturmayınız, katlamayınız ve üzerine gereksiz hiçbir işaret koymayınız.
7. Cevaplarınızı, cevap kâğıdında ilgili test için ayrılmış olan alana, cevap yerinin dışına taşırmadan işaretleyiniz. Soru kitapçığı üzerinde yapılan işaretlemeler değerlendirmeye alınmayacaktır.
8. Her sorunun tek bir doğru cevabı vardır. Bir soru için birden çok cevabı işaretlerseniz, o soruyu yanlış cevaplamış sayılacaksınız.
9. Soru kitapçığınızı aldığınızda sayfalarına hızlıca bakarak hatalı ya da eksik baskı olup olmadığını kontrol ediniz. Hata/eksik olması durumunda kitapçığının değiştirilmesi için derhâl Salon Başkanına başvurunuz. Sınav görevlileri sınavın başladığını belirtmeden kitapçığınızı tekrar açmayınız.
10. Cevap kâğıdınızda belirtilen kitapçık kodu ile soru kitapçığının kodunu karşılaştırınız. Aynı değilse, sınav görevlilerine durumu bildirerek doğru kitapçığın verilmesini talep ediniz.
11. Soru kitapçığındaki ilgili alanlara ad, soyadı, TCKN/Öğrenci no, sınav salon no, sıra no bilgilerinizi eksiksiz doldurarak imzanızı atınız. Soru kitapçığının sayfalarındaki boş yerleri müsvedde amacıyla kullanabilirsiniz.
12. Aşağıdaki durumlarda sınav görevlileri tarafından Bireysel Sınav İptal Tutanağı düzenlenerek ilgili öğrencilerin sınavları geçersiz sayılır:
 - a) Sınav kurallarına ve sınav görevlilerinin uyarılarına uymamak, sınav düzenini bozmak,
 - b) Kâğıt, kitap, defter, not vb. dokümanları; pergel, açıölçer, cetvel vb. araçları; cep telefonu, bilgisayar, tablet, telsiz, kamera vb. iletişim, depolama, kayıt ve veri aktarma cihazlarını; ruhsatlı veya resmi amaçlı olsa bile silah ve silah yerine geçebilecek nesnelere yanında bulundurmamak,
 - c) Sınav sırasında kalem, silgi vb. araç-gereç paylaşımında bulunmak,
 - d) Cevapları, cevap kâğıdı dışında bir yere yazmak ve sınav salonundan dışarı çıkarmak,
 - e) Sınava girebilmek için gerekli belgeleri eksik olduğu halde sınava katılıp, cevap kâğıdında işaretleme yapmak,
 - f) Sınav görevlileri tarafından öğrencinin kimliğinden şüphe duyulması,
 - g) Cevap kâğıdını ve/veya soru kitapçığını sınav görevlilerine eksiksiz ve sağlam şekilde teslim etmemek, sınav salonu dışına çıkarmak,
 - h) Kopya çekmek, vermek, çekilmesine yardımcı olmak vb. eylemlerde bulunmak,
 - i) Kendisi yerine başkasını sınava sokmak.
13. Sınav bitiminde, cevap kâğıdınızı ve soru kitapçığınızı salon görevlilerine eksiksiz biçimde teslim ediniz. Sınav bittikten sonra gönderilen cevap kâğıtları dikkate alınmayacaktır.

SINAV KURALLARINA UYDUĞUNUZ İÇİN TEŞEKKÜR EDER, SINAVINIZDA BAŞARILAR DİLERİZ.