



ANADOLU ÜNİVERSİTESİ
AÇIKÖĞRETİM FAKÜLTESİ
BA - AÇIKÖĞRETİM OKULLARI

T.C. MİLLİ EĞİTİM BAKANLIĞI
Hayat Boyu Öğrenme Genel Müdürlüğü
2017-2018 ÖĞRETİM YILI BATI AVRUPA - BALKANLAR
AÇIK ÖĞRETİM LİSESİ I. DÖNEM SINAVI
5. OTURUM Cumartesi

ÖĞRENCİNİN

A

0105

SOYADI :

ADI :

T.C. KİMLİK NO / ÖĞRENCİ NO :

SINAV SALON NO : SIRA NO:

Sınavla ilgili soru kitapçığının ön ve arka kapağındaki tüm kuralları okudum, anladım, kabul ediyorum.

İMZA:.....

SINAV İÇERİĞİ

Testin Adı	Soru Sayısı	Sayfa No	Testin Adı	Soru Sayısı	Sayfa No
DİN KÜLTÜRÜ VE AHLAK BİLGİSİ 2	20	02	TÜRK EDEBİYATI 7	20	34
DİN KÜLTÜRÜ VE AHLAK BİLGİSİ 7	20	04	SEÇMELİ FİZİK 1	20	36
FELSEFE 1	20	06	KİMYA 2	20	39
TARİH 3	20	08	SEÇMELİ DEMOKRASİ VE İNSAN HAKLARI 1	20	41
COĞRAFYA 2	20	10	SEÇMELİ SANAT TARİHİ 2	20	43
ALMANCA 1	20	12	SEÇMELİ DİL VE ANLATIM 5	20	45
İNGİLİZCE 1	20	15	SEÇMELİ DİL VE ANLATIM 7	20	47
FRANSIZCA 1	20	18	SEÇMELİ TÜRK EDEBİYATI 7	20	49
ALMANCA 3	20	21	SEÇMELİ GİRİŞİMCİLİK 2	20	51
İNGİLİZCE 3	20	24	MATEMATİK 1	20	53
FRANSIZCA 3	20	27	SEÇMELİ FELSEFE 2	20	55
DİL VE ANLATIM 5	20	30	SEÇMELİ FİZİK 2	20	57
TÜRK EDEBİYATI 4	20	32			

SINAVDA UYULMASI GEREKEN ÖZEL KURALLAR

1. Soru kitapçığındaki her bir testi cevaplamanız için verilen süre 30 dakika, toplam süre 150 dakikadır.
2. Sınavın ilk 30 dakikası ve son 5 dakikası içinde sınavınızı tamamlasanız bile salondan çıkamazsınız. Herhangi bir nedenle salondan çıktığınız takdirde, tekrar sınava devam etmenize izin verilmeyecektir. Sınavın başlamasını izleyen ilk 15 dakikadan sonra hiçbir öğrenci sınava alınamaz.
3. Yanlış cevaplarınız dikkate alınmayacaktır. Bu nedenle kitapçığındaki tüm sorular için size doğru gelen seçeneği işaretleyerek cevapsız soru bırakmamanız yararınıza olacaktır.
4. Sınav sırasında hesap makinesi kullanabilirsiniz. Ancak, kullanacağınız makinede alfabetik tuş takımınının (A, B, C,..., Y, Z), program yapılmasına, saklanmasına ve çalıştırılmasına imkân veren EXE, STORE, RUN vb. tuşlar bulunamaz.

"Sınavda Uyulması Gereken Genel Kurallar" soru kitapçığının arka sayfasında yer almaktadır. Bu kuralları da mutlaka dikkatlice okuyunuz.

Anadolu Üniversitesi tarafından hazırlanmış olan bu testlerin her hakkı saklıdır. Hangi amaçla olursa olsun, testlerin tamamının veya bir kısmının Anadolu Üniversitesi'nin yazılı izni olmadan kopya edilmesi, fotoğraflarının çekilmesi, herhangi bir yolla çoğaltılması, yayımlanması ya da kullanılması yasaktır. Bu yasağa uymayanlar gerekli cezai sorumluluğu ve testlerin hazırlanmasındaki mali külfeti peşinen kabullenmiş sayılır.

2018 AÖÖ-AÖL I. DÖNEM 0105-A

1. Değerlerin ilk olduğu ve şekillendiği yer aşağıdakilerden hangisidir?

- A) İşyeri
- B) Dernek
- C) Aile
- D) Okul

2. Aşağıdakilerden hangisi Türk milletini bir arada tutan, toplumu birleştiren ortak değerlerden biri değildir?

- A) Hürriyet ve bağımsızlık
- B) Bayrak ve İstiklâl Marşı
- C) Bireycilik ve kendini düşünme
- D) Vatan ve vüknü birliği

3. Toplum ile ilgili aşağıdaki ifadelerden hangisi yanlıştır?

- A) Toplumsal değerler insanları tek tek fert olmaktan çıkararak birlik beraberlik içinde yaşayan bir toplum haline getirir.
- B) Toplumsal değerler toplumdaki fertleri ayrıştırır.
- C) Her toplumun kendine özgü değerleri vardır.
- D) Toplum, belli bir coğrafya üzerinde yaşayan, o coğrafya için mücadele etmiş, ortak değerleri benimsemiş insanlardan oluşur.

4. Aşağıdakilerden hangisi, Hz. Musa'ya indirilen ve Yahudilerin dinî öğretileri içerisinde yer alan "on emir" arasında sayılamaz?

- A) Komşuna karşı yalan şahitlik yapabilirsin.
- B) Zina etmeyeceksin.
- C) Çalmayacaksın.
- D) Anne ve babana hürmet edeceksin.

5. İlk evrensel insan hakları ilkeleri aşağıdakilerden hangisinde yer almaktadır?

- A) Birleşmiş Milletler Sözleşmesi
- B) Magna Carta
- C) Veda Hutbesi
- D) İnsan Hakları Evrensel Beyannamesi

6. İnsanın kendine has ve özgü olan, az veya çok her zaman gözlenebilen davranış ve alışkanlıklarına ne ad verilir?

- A) Kişilik
- B) Örf
- C) Merhamet
- D) İyilik

7. Dinin amacı aşağıdakilerden hangisidir?

- A) Yalancılık, kıskançlık gibi davranışları özendirmek
- B) İnsanı iyiye yönlendirip kötülüklerden uzak tutmak
- C) Kişinin yalnızca dünya hayatında mutlu olmasını sağlamak
- D) Cimrilik, geçimsizlik gibi davranışları desteklemek

8. I. Herkesin din ve inanç hürriyetini güvence altına almak
II. Dinin istismar edilmesine müsaade etmemek
III. Dinde ruhbanlık anlayışının oluşmasını önlemek

Yukarıdakilerden hangileri laikliğin temel amaçları içinde yer alır?

- A) I ve II
- B) I ve III
- C) II ve III
- D) I, II ve III

9. Dini emirlerin ilk muhatabı olan yeryüzündeki ilk peygamber aşağıdakilerden hangisidir?

- A) Hz. İdris
- B) Hz. Âdem
- C) Hz. Musa
- D) Hz. Nuh

10. Atatürk'ün laiklik anlayışıyla ilgili aşağıdaki ifadelerden hangisi yanlıştır?

- A) Taassup hoş görülmemektedir.
- B) Atatürk'e göre laiklik; sahte dindarlıkla ve büyücülükle mücadele kapısını açtığı için gerçek dindarlığın gelişmesini sağlamaktadır.
- C) Atatürk'ün laiklik anlayışı, asla dinsizlik değildir.
- D) Atatürk'ün laiklik anlayışı, asla din karşıtlığı değildir.

11. Osmanlı Devletinde "din ve vicdan hürriyeti ilkesi" ilk kez hangi belgede yer almıştır?

- A) Islahat Fermanı
- B) Sened-i İttifak
- C) Gülhane Hattı Hümayunu
- D) Kanun-i Esasi

12. İlahî dinlerin sonuncusu aşağıdakilerden hangisidir?

- A) Musevilik
- B) İslam
- C) Hristiyanlık
- D) Budizm

13. Avrupa'daki kilise otoritesi aşağıdaki hangi olayla son bulmuştur?

- A) Birinci Dünya Savaşı
- B) 1789 Fransız İhtilali
- C) Tanzimat Fermanı
- D) Yüz Yıl Savaşları

14. "İlim ilim bilmektir
İlim kendin bilmektir
Sen kendini bilmezsin
Ya nice okumaktır

Okumaktan murat ne
Kişi Hak'kı bilmektir
Çün okudun bilmezsin
Ha bir kuru ekmeğdir..."

Yukarıdaki şiir aşağıdaki İslam alimlerinden hangisinin eseridir?

- A) Hacı Bayram Veli
- B) Mevlana
- C) Ahmet Yesevî
- D) Yunus Emre

15. Aşağıdakilerden hangisi Ahilik teşkilatında önemli olan prensiplerden biri değildir?

- A) İyi kalpli ve cömert olacaksın.
- B) İşinde ve hayatında güvenilir olacaksın.
- C) İftira ve gıybetten sakınmayacaksın.
- D) Allah'ın emirlerine uyacaksın.

16. Aşağıdakilerden hangisi Türklerin benimsediği Gök Tanrı inancının temel esasları arasında yer almaz?

- A) Dünya hayatından sonra hayat yoktur.
- B) Tanrı yaratan, yaşatan ve koruyandır.
- C) Dünyada iyilik edenler öldükten sonra bunun karşılığı olarak iyi bir yere gidecekler ve sonsuz olarak yaşayacaklardır.
- D) Bir ve tek olan Gök Tanrı vardır.

17. Ebu Hanife'nin asıl adı nedir?

- A) Amr bin As
- B) Cafer bin Tayyar
- C) İmam Maturidi
- D) Numan bin Sabit

18. Aşağıdakilerden hangisi Türklerin İslam medeniyetine katkılarında biri değildir?

- A) Matematik, tıp, astronomi gibi alanlarda çalışma yapmayı yasaklamaları
- B) Türklerin hâkimiyet kurdukları topraklarda çok sayıda bilim adamı yetiştirmeleri
- C) Türklerin hâkimiyet kurdukları topraklarda çok sayıda cami ve medrese yapmaları
- D) Türklerin kurdukları medreselerde tefsir, kelam, hadis, fıkıh gibi alanlarda çalışmalar yapılması

19. Mesnevi kimin eseridir?

- A) Ahmet Yesevi
- B) Hacı Bektaş Veli
- C) Yunus Emre
- D) Mevlana

20. I. İtil Volga Bulgar Devleti
II. Karahanlılar
III. Gazneliler

Yukarıdakilerden hangileri ilk Müslüman Türk Devletleri içinde yer alır?

- A) I ve II
- B) I ve III
- C) II ve III
- D) I, II ve III

2018 AÖÖ-AÖL I. DÖNEM 0105-A

1. Ahiret gününde hesaba çekilme inancı; kişilere, aşağıdaki davranışlardan hangisini yaptırmaz?

- A) Bencillik yapma
- B) Doğru ve dürüst olma
- C) Haksızlıktan ve haram yemekten sakınma
- D) Herkese iyilik etme

2. I. Ömrünü nerede geçirdiği
II. Vücudunu nerede yıprattığı
III. Malını nereden kazanıp nereye harcadığı
IV. Bildiği ile amel edip etmediği

Hz. Muhammed şöyle buyurmuştur: "Kişi, kıyamet gününde bazı konularda hesaba çekilmedikçe yerinden ayrılmaz." Yukarıdakilerden hangileri bu konulardandır?

- A) Yalnız IV
- B) I ve II
- C) I, II ve IV
- D) I, II, III ve IV

3. Ölümle ilgili aşağıdaki ifadelerden hangisi yanlıştır?

- A) İslam İnancı'na göre; ölüm bir yok oluşturdur.
- B) Doğum gibi ölümden, hayatın ayrılmaz bir parçasıdır.
- C) İnanmayanlar için ölüm, her şeyin yokluğa gittiği bir korku ve ümitsizlik hâlidir.
- D) Allah'a inananlar için yaptıkları iyi ve güzel davranışların karşılığı olarak ödüllendirilecekleri ahiret hayatına geçiş kapısıdır.

4. Aşağıdakilerden hangisi anne ve babanın vefatlarından sonra onlar için yapılabilecek iyiliklerden biri değildir?

- A) Dostlarına ikramda bulunmak
- B) Vasiyetlerini yerine getirmek
- C) Mal kavgasına düşmek
- D) Günahlarının affedilmesini Allah'tan talep etmek

5. Kıyamet gününde ölümlerin diriltirilip mahşere çıkarılmasına ne ad verilir?

- A) Cehennem
- B) Evren
- C) Cennet
- D) Haşır

6. Aşağıdakilerden hangisi tövbenin şartlarından biri değildir?

- A) Günahı terk etmek
- B) Tövbe ettiğini en az on kişiye ilân etmek
- C) Yaptığına pişman olmak
- D) Bir daha yapmamaya karar vermek

7. I. Hoşgörü
II. Kardeşlik
III. Birlik
IV. Beraberlik

Bağışlamayı başaran bireylerin oluşturduğu toplumlarda yukarıdaki duygulardan hangileri hâkim olur?

- A) Yalnız II
- B) I ve III
- C) I, III ve IV
- D) I, II, III ve IV

8. Aşağıdakilerden hangisi Allah'ın bağışlayıcı sıfatlarından biri değildir?

- A) Es-semî
- B) Et-tevvab
- C) Es-settar
- D) El-afüvv

9. Allah'ın günahları örtmesi ve bağışlamasına ne ad verilir?

- A) Mağfiret
- B) Tövbe
- C) İstiğfar
- D) Yakarma

10. Hata ve tövbeyle ilgili aşağıdaki ifadelerden hangisi yanlıştır?

- A) Önemli olan yapılan hatadan ve işlenen günaha pişman olabilmek ve Allah'tan af dileyebilmektir.
- B) Tövbe etmek sadece dini mekânlarda gerçekleşir.
- C) İslam Dini'ne göre; insan, hayatının son anına kadar hata ve günahlarından tövbe edebilir.
- D) İnsan, akli ve iradesiyle seçmiş olduğu davranışlarda bazen hata yapabilir.

11. Aşağıdakilerden hangisi "Kütübi Erbaa" diye bilinen hadis kaynaklarından biri değildir?

- A) El-Kâfi
- B) El-İstıbsar
- C) Sünen-i Nesâi
- D) El-Fakîh

12. I. Sünnet
II. Hadis
III. Evrensellik

Yukarıdakilerden hangileri Hz. Muhammed'i anlamak için kullanılan anahtar kavramlardandır?

- A) Yalnız I
- B) Yalnız II
- C) II ve III
- D) I, II ve III

13. Aşağıdakilerden hangisi sünnet türlerinden biri değildir?

- A) Ebedi sünnet
- B) Sözlü sünnet
- C) Fiili sünnet
- D) Takriri sünnet

14. "Sünen-i Ebu Davud" adlı eseri kim hazırlamıştır?

- A) Muhammed bin İsmail el-Buhari
- B) Ebu İsa Muhammed bin İsa
- C) Muhammed bin Süleyman es-Sicistânî
- D) Müslim bin Haccâc el-Kuşeyrî

15. Hz. Muhammed'in hadislerine ne ad verilir?

- A) Rivayet
- B) Musibet
- C) Hadis-i Şerif
- D) Kudret

16. Hz. Ali'nin öğütlerinin, hutbelerinin ve güzel sözlerinin bir araya getirildiği esere ne ad verilir?

- A) Ustam ve Ben
- B) Nehcü'l-Belâğa
- C) Divan-ı Hikmet
- D) Araf

17. Musahiplik ne demektir?

- A) Yalan yere yemin etmektir.
- B) Haksızlığın savunulmasıdır.
- C) Yol kardeşliğidir.
- D) Kendi çıkarlarını gözetmek için tüm doğruları yok saymaktır.

18. I. Pirden el alıp tövbe etmek
II. Allah'tan korkmak
III. Hizmet etmek
IV. Mürit olmak

Yukarıdakilerden hangileri Hacı Bektaş Veli'nin Makâlât'ında bulunan tarikat kapısı ve on makam arasında yer alır?

- A) Yalnız II
- B) I ve III
- C) I, II ve III
- D) I, II, III ve IV

19. Cem ve cemeviyle ilgili aşağıdaki ifadelerden hangisi yanlıştır?

- A) Cemi, dede yönetir.
- B) Yılın ilk cemine, dardan indirme cemi denir.
- C) Cem; toplanmak, bir araya gelmek, bütünleşmek demektir.
- D) Cemevi, cemin yapıldığı yerdir.

20. Mevlana nerede doğmuştur?

- A) Konya
- B) Belh
- C) Yesi
- D) Buhara

2018 AÖÖ-AÖL I. DÖNEM 0105-A

1. Bilgi felsefesinin belli başlı kurucuları aşağıdakilerden hangisinde birlikte ve doğru olarak verilmiştir?
 - A) Descartes - John Locke – Immanuel Kant
 - B) Aristoteles - Descartes – Immanuel Kant
 - C) Descartes – Hegel – David Hume
 - D) Aristoteles – John Locke – John Dewey
2. Aşağıdakilerden hangisi XVII. yüzyılda felsefenin girdiği "bilgi kuramsal dönemeç" olarak adlandırılan dönemin özelliklerinden biri değildir?
 - A) Tanrısal bilginin öneminin artması
 - B) Yeni bir bilim anlayışının doğması
 - C) Varlığa dair soruların arka plana atılması
 - D) Bilginin ne olduğu, nasıl ve ne yollardan elde edildiğine dair araştırmaların başlaması
3. Yunanca "phileo" ile "sophia" sözcüklerinin birleşiminden oluşan felsefenin sözcük anlamı aşağıdakilerden hangisidir?
 - A) Bilgi doğrusu
 - B) Bilgelik sevgisi
 - C) Dostluk bilgisi
 - D) Doğru anlam
4. Aşağıdakilerden hangisi Comte'un Üç Hal Yasası'nın evrelerinden biri değildir?
 - A) Estetik evre
 - B) Metafizik evre
 - C) Teolojik evre
 - D) Pozitif evre
5. Bilginin kaynağında tecrübenin, deneyin bulunduğunu savunan düşünür aşağıdakilerden hangisidir?
 - A) Hobbes
 - B) Descartes
 - C) Locke
 - D) Whitehead
6. Aşağıdakilerden hangisi sanat bilgisinin özelliklerinden biri değildir?
 - A) Amacının "güzel" ve estetik haz olması
 - B) Özne ve özgün bir ürün olması
 - C) İnanca dayanması
 - D) Yaratıcı insan aklının ürünü olması
7. Bilimsel yasa ve kuramları birer alet olarak gören enstrümantalizm öğretisi aşağıdaki düşünürlerden hangisine aittir?
 - A) John Dewey
 - B) Auguste Comte
 - C) Socrates
 - D) Hegel
8. Aşağıdakilerden hangisi duyularla kavranamayan, zaman ve mekân dünyasında yer almayan varlıklar üzerinde çalışan bir bilim dalıdır?
 - A) Kimya
 - B) Biyoloji
 - C) Fizik
 - D) Matematik
9. Modern bilimi temel alan, bilim dışı her türlü spekülasyonu reddeden felsefe akımı aşağıdakilerden hangisidir?
 - A) Rasyonalizm
 - B) Kritisizm
 - C) Pragmatizm
 - D) Pozitivizm
10. Dış dünyadaki varlıkların madde ve form olmak üzere iki öğeden oluştuğunu savunan düşünür aşağıdakilerden hangisidir?
 - A) Gorgias
 - B) Protogoras
 - C) Parmenides
 - D) Aristoteles
11. "Kanun" adlı eser aşağıdaki düşünürlerden hangisine aittir?
 - A) Mevlana
 - B) Birûnî
 - C) Yunus Emre
 - D) Gazali
12. Aşağıdakilerden hangisi bilimi ürün olarak inceleyen filozoflardan biri değildir?
 - A) Hempel
 - B) Reichenbach
 - C) Carnap
 - D) Toulmin

13. Aşağıdakilerden hangisi varlığı akıl yoluyla açıklamaya ve temellendirmeye çalışan alanlardan biridir?

- A) Din
- B) Ahlak
- C) Felsefe
- D) Sanat

14. Bilimin yapısını, doğasını, bilimsel kuramlarla gerçeklik arasındaki ilişkiyi, ilkelerini, ana kavramlarını ve bilimde yöntem problemini inceleyen alana ne ad verilir?

- A) Doğa felsefesi
- B) Bilim felsefesi
- C) Bilgi felsefesi
- D) Bilimsel felsefe

15. Evrenin ana maddesinin su olduğunu, herşeyin sudan oluştuğunu ve yine suya dönüşeceğini savunan düşünür aşağıdakilerden hangisidir?

- A) Demokritos
- B) Thales
- C) Platon
- D) Herakleitos

16. Ontoloji terimini ilk kez kullanan düşünür aşağıdakilerden hangisidir?

- A) Fichte
- B) Wolff
- C) Hegel
- D) Schelling

17. Aşağıdakilerden hangisi XX. yüzyılda Newton fiziğine güvenin sarsılmasına neden olan teorilerden biri değildir?

- A) Einstein'in Görelilik Kuramı
- B) Planck'ın Quantum Teorisi
- C) Bacon'un Tümevarımsal Kuramı
- D) Heisenberg'in Belirsizlik Kuramı

18. Descartes, Meditasyonlar adlı eserinin ikinci kısmında ruhun varlığını, altıncı kısmında ise beden varlığını ispatlamıştır. Descartes'e göre, ne ruh var olmak için bedene, ne de beden var olmak için ruha ihtiyaç duyar.

Yukarıdaki bilgiye göre, Descartes için ruh ve beden aşağıdakilerden hangisini ifade eder?

- A) Töz
- B) Tanrısallık
- C) Uzamlı varlık
- D) Öz

19. Hiçbir şeyin var olmadığını, hiçbir şeyin bilinemeyeceğini savunan görüşe ne ad verilir?

- A) Kritisizm
- B) Materyalizm
- C) Nihilizm
- D) Septisizm

20. Aşağıdakilerden hangisi Rönenans Çağı bilim adamlarından biri değildir?

- A) Newton
- B) Kopernik
- C) Galileo
- D) Batlamyus

2018 AÖÖ-AÖL I. DÖNEM 0105-A

1. Aşağıdakilerden hangisi Ankara Savaşı'nın sonuçlarından biri değildir?

- A) Anadolu'daki Türk siyasi birliğinin tamamlanması
- B) İstanbul'un fethinin yarım yüzyıl kadar gecikmesi
- C) Osmanlı Devleti'nin Balkanlar'daki ilerleyişinin durması
- D) Anadolu'da siyasi, sosyal ve ekonomik düzenin bozulması

2. Avrupa'da 1618-1648 yılları arasında yaşanan savaflara ne ad verilir?

- A) Otuz Yıl Savaşları
- B) Yüzyıl Savaşları
- C) Güller Savaşları
- D) Seksen Yıl Savaşları

3. Osmanlı Devleti'nde mülki ve mali işlerden sorumlu olan zümre aşağıdakilerden hangisidir?

- A) İhtiyar heyeti
- B) İlimiye
- C) Seyfiye
- D) Kalemîye

4. Aşağıdakilerden hangisi İstanbul'un fethinin Türk tarihi bakımından sonuçlarından biri değildir?

- A) Karadenizi Akdenize bağlayan su yolunun kontrol altına alınması
- B) Osmanlı Devleti'nin, Türk ve İslam dünyasındaki saygınlığının artması
- C) Osmanlı Devleti'nin, Anadolu ve Balkanlar'daki hâkimiyetinin pekiştirmesi
- D) Avrupa'da merkezi krallıkların güç kazanmaya başlaması

5. Aşağıdakilerden hangisi Osmanlı Devleti'ne bağlı salyaneli (yıllık) eyaletlerden biri değildir?

- A) Trablusşam
- B) Trablusgrap
- C) Tunus
- D) Habeş

6. Osmanlı Devleti'nin, Kanuni Sultan Süleyman Dönemi'nde Avusturya'ya karşı sağladığı siyasi üstünlüğü sona erdiren antlaşma aşağıdakilerden hangisidir?

- A) İstanbul Antlaşması
- B) Uşi Antlaşması
- C) Zıtvatoruk Antlaşması
- D) Balta Limanı Antlaşması

7. Osmanlı-Bizans arasında yapılan ilk savaş aşağıdakilerden hangisidir?

- A) Çirmen Savaşı
- B) Palekanon Savaşı
- C) Koyunhisar Savaşı
- D) Sırpsındığı Savaşı

8. Bugünkü Türkiye- İnan sınırını büyük ölçüde çizen antlaşma aşağıdakilerden hangisidir?

- A) Nasuh Paşa Antlaşması
- B) Ferhat Paşa Antlaşması
- C) Kasr-ı Şirin Antlaşması
- D) Serav Antlaşması

9. Osmanlı Devleti'nin, Anadolu'da Türk siyasi birliğini sağlama yolunda attığı ilk adım aşağıdakilerden hangisidir?

- A) Ani Kalesi'ni alması
- B) Karesioğulları Beyliği'ni kendi topraklarına katması
- C) Koyunhisar Savaşı'nı kazanması
- D) İznik'i fethetmesi

10. Osmanlı Devleti'nde çarşı ve pazarda, esnaf ve zanaatkarları denetleyen görevliye ne ad verilir?

- A) Rikabdar
- B) Subaşı
- C) Muhtesip
- D) Hadim

11. Devşirme sistemi ile ilgili aşağıdaki ifadelerden hangisi yanlıştır?

- A) İhtiyaca göre üç ya da beş yılda bir yapılırdı.
- B) 12-18 yaşları arasındaki Hristiyan erkek çocuklar devşirilirdi.
- C) Müslüman ve Yahudi ailelerin çocukları da devşirmeye dahildi.
- D) Bir aileden birden fazla çocuk alınmazdı.

12. Osmanlı Devleti'nde tımar sisteminin uygulandığı toprakların dışında kalan ve geliri doğrudan hazineye aktarılan toprak aşağıdakilerden hangisidir?

- A) İktâ
- B) Has
- C) Zeamet
- D) Mukataa

13. Aşağıdakilerden hangisi Osmanlı Devleti ve Haçlılar arasında yapılan Edirne-Segedin Antlaşması'nın maddelerinden biri değildir?

- A) Sırbistan, Osmanlı Devleti'ne vergi vermek koşuluyla bağımsız bir krallık olacak
- B) Osmanlı Devleti, Balkanlar'dan tamamen çekilecek
- C) On yıl boyunca taraflar birbiriyle savaşmayacak
- D) Tuna nehri sınır kabul edilecek

14. Yıldırım Bayezit'in ölümünden sonra oğulları arasında 11 yıl süren taht mücadelelerinin yaşandığı döneme ne ad verilir?

- A) Fetret Devri
- B) Duraklama Devri
- C) Gerileme Devri
- D) Çöküş Devri

15. Osmanlı Devleti'nde kazaların bağlı olduğu yönetim birimlerine ne ad verilir?

- A) Köy
- B) Sancak
- C) Eyalet
- D) Mahalle

16. Osmanlı Devleti'nde padişahın, ailesinin ve saray kadınlarının günlük hayatlarını geçirdikleri mekâna ne ad verilir?

- A) Büyük oda
- B) Has oda
- C) Birun
- D) Harem

17. İlk Osmanlı medresesi nerde açılmıştır?

- A) Bursa'da
- B) İznik'de
- C) İstanbul'da
- D) Edirne'de

18. Osmanlı Devleti'nde divan teşkilatını ilk kez oluşturan padişah aşağıdakilerden hangisidir?

- A) I. Murat
- B) Osman Bey
- C) Mehmet Çelebi
- D) Orhan Bey

19. Anadolu'da Türk siyasi birliğini büyük ölçüde sağlayan Osmanlı padişahı aşağıdakilerden hangisidir?

- A) I. Murat
- B) Yıldırım Bayezit
- C) Orhan Bey
- D) Osman Bey

20. Seyahatname adlı eserin yazarı aşağıdakilerden hangisidir?

- A) Evliya Çelebi
- B) Kâtip Çelebi
- C) Lagari Hasan Çelebi
- D) Hezarfen Ahmet Çelebi

2018 AÖÖ-AÖL I. DÖNEM 0105-A

1. Hinterlandı geniş olan ve ticaretin genellikle deniz ulaşımı ile yapıldığı şehirlere liman şehirleri denir.

Aşağıdakilerden hangisi bir liman şehri değildir?

- A) Marsilya
- B) İzmir
- C) Hamburg
- D) Astana

2. Aşağıdakilerden hangisi ekonomik özelliklerine göre bölge türlerinden biri değildir?

- A) Konut yapı özelliklerine göre bölgeler
- B) Ulaşım özelliklerine göre bölgeler
- C) Sanayi özelliklerine göre bölgeler
- D) Tarım özelliklerine göre bölgeler

3. Avrupa Birliği üyeliğinden çıkış süreci başlatan ülke aşağıdakilerden hangisidir?

- A) Romanya
- B) İngiltere
- C) Portekiz
- D) Yunanistan

4. Aşağıdakilerden hangisi Türkiye'nin Sakin Şehirler Birliğine (Cittaslow) üye olan belediyelerinden biri değildir?

- A) Gökçeada
- B) Akyaka
- C) İstanbul
- D) Seferihisar

5. Toprak meskenler, yağışın az ve sıcaklık farkının fazla olduğu alanlarda görülür.

Türkiye'de toprak meskenlerin en yaygın olduğu bölge aşağıdakilerden hangisidir?

- A) Akdeniz
- B) Ege
- C) Güneydoğu Anadolu
- D) Karadeniz

6. 70 yılı aşkın ömrünün 51 yılını seyahatlerde geçiren, Osmanlı İmparatorluğunun bir çok bölgesini gezen ve Seyahatname adlı eseri bulunan seyyah aşağıdakilerden hangisidir?

- A) Piri Reis
- B) İbn-i Sina
- C) Mimar Sinan
- D) Evliya Çelebi

7. Türkiye'de nüfusun en yoğun olduğu bölge aşağıdakilerden hangisidir?

- A) Güneydoğu Anadolu
- B) Karadeniz
- C) Marmara
- D) Akdeniz

8. İnsanların ve diğer canlıların sürekli etkileşim içinde olduğu doğal ve beşeri yaşam alanına ne ad verilir?

- A) Arazi
- B) Mekân
- C) Alan
- D) Çevre

9. Aşağıdakilerden hangisi insanın doğaya olumsuz etkilerinden biri değildir?

- A) Orman oluşturmak için ağaç dikim alanları belirlemek
- B) Ekosistemde dengeyi sağlayan bazı hayvan türlerini yok etmek
- C) Yeni yerleşme alanları açmak
- D) Sanayi tesisleri kurmak için orman alanlarını tahrip etmek

10. Aşağıdakilerden hangisi Şanghay İşbirliği Örgütüne üye olan ülkelerden biri değildir?

- A) Almanya
- B) Kazakistan
- C) Rusya
- D) Çin

11. Türkiye'nin kaç ili vardır?

- A) 82
- B) 81
- C) 80
- D) 79

12. Aşağıdakilerden hangisi yerleşmeyi etkileyen doğal faktörlerden biri değildir?

- A) Su kaynakları
- B) Ticaret
- C) İklim
- D) Yer şekilleri

13. Özellikle şehir merkezlerinde geceleri gökyüzünde yıldızların görünmesini engelleyen kirlilik türü aşağıdakilerden hangisidir?

- A) Işık kirliliği
- B) Gürültü kirliliği
- C) Toprak kirliliği
- D) Su kirliliği

14. İlin genel yönetiminden sorumlu olan devlet memuru aşağıdakilerden hangisidir?

- A) Kaymakam
- B) Milletvekili
- C) Vali
- D) Muhtar

15. Aşağıdakilerden hangisi yerleşme planına göre kırsal yerleşme tiplerinden biri değildir?

- A) Tarım
- B) Dairesel
- C) Hat boyu
- D) Yol boyu

16. Aşağıdakilerden hangisi Anadolu'da kurulan medeniyetlerden biri değildir?

- A) Urartu
- B) İnkâ
- C) Frig
- D) Hitit

17. Temel ekonomik faaliyetlerin tarım, hayvancılık, ormancılık ve balıkçılık olduğu yerleşmelere ne ad verilir?

- A) Bölgesel yerleşme
- B) Kırsal yerleşme
- C) İdari yerleşme
- D) Kentsel yerleşme

18. Türkiye'de dağınık yerleşmenin en çok görüldüğü bölge aşağıdakilerden hangisidir?

- A) Akdeniz
- B) Marmara
- C) Ege
- D) Karadeniz

19. İdari işlevleri ön planda olan şehirlerde ülkenin ya da bölgenin yönetim merkezleri bulunur.

Aşağıdakilerden hangisi idari şehir değildir?

- A) Londra
- B) Paris
- C) Roma
- D) İstanbul

20. Dini işlevi olan şehirler, bir veya birden fazla dinî inancın merkezi ya da önemli dini eserlerin bulunduğu yerlerdir.

Aşağıdakilerden hangisi dinî şehirlerden biri değildir?

- A) Roma
- B) Mekke
- C) Berlin
- D) Kudüs

2018 AÖÖ-AÖL I. DÖNEM 0105-A

1. ----- meldet die Ankunft des Zuges.

Welches Wort passt in die obige Lücke?

Cümlede boş bırakılan yeri aşağıdakilerden hangisi doğru olarak tamamlar?

- A) Die Brücke
B) Das Haus
C) Die Garage
D) Der Beamte

2. A: Hallo Murat! Ich habe Durst. Trinken wir etwas?

B: -----.

A: Gut dann essen wir auch etwas.

Welches ergänzt den obigen Dialog?

Verilen karşılıklı konuşmayı aşağıdakilerden hangisi doğru olarak tamamlar?

- A) Ja, eine gute Idee, ich habe auch Hunger
B) Ich habe gerade etwas gegessen
C) Ich habe keinen Durst, ich bin müde
D) Nein danke, ich muss nach Hause

3. Dort verkauft man viele gebrauchte Möbel und Kleider.

Welche Frage paßt zur obigen Antwort?

Verilen cevabı gerektirecek soru aşağıdakilerden hangisidir?

- A) Wie ist deine Wohnung?
B) Wie viele Kleider hast du?
C) Welche Möbel willst du kaufen?
D) Was ist ein Flohmarkt?

4. Sie geht ins Kino.

Wie lautet der obige Satz im Perfekt?

Verilen cümlelerin di' li geçmiş zaman şekli aşağıdakilerden hangisidir?

- A) Sie sollen ins Kino gegangen.
B) Sie werden ins Kino gehen.
C) Sie ist ins Kino gegangen.
D) Sie muss ins Kino gehen.

5. Der Löwe ist nicht -----, er ist stark.

Welches Wort passt in die obige Lücke?

Cümlede boş bırakılan yeri aşağıdakilerden hangisi doğru olarak tamamlar?

- A) kurz
B) schwach
C) hoch
D) lang

6. Wir sollen das Fenster zumachen.

Wie lautet der obige Satz in der Imperativ-Form?

Verilen cümlelerin emir cümle şekli aşağıdakilerden hangisidir?

- A) Lass die Fenster bitte auf!
B) Mach sofort die Fenster auf!
C) Macht das Fenster zu!
D) Zumacht das Fenster!

7. Ohne Führerschein -----.

Welches ergänzt die Lücke im obigen Satz?

Verilen cümleyi aşağıdakilerden hangisi doğru olarak tamamlar?

- A) darf man nicht Auto fahren
B) muss man miteinander spielen
C) kann nur selten Fische fangen
D) soll man zu den Polizisten gehen

8. Galatasaray hat das Spiel ----- Beşiktaş -----.

Welche Wörter passen in die obigen Lücken?

Cümlede boş bırakılan yerleri aşağıdakilerden hangileri doğru olarak tamamlar?

- A) gegen / verloren
- B) mit / gegangen
- C) für / verlieren
- D) zu / nehmen

9. Wann geht ihr morgen zur Schule? (10.30)

Welche Antwort passt zur obigen Frage?

Verilen sorunun cevabı aşağıdakilerden hangisidir?

- A) Ich bin morgen zu Hause.
- B) Wir gehen um halb elf zur Schule.
- C) Sehr früh muss ich zur Schule.
- D) Ab halb zehn bin ich in der Schule.

10. Heute ist der letzte Tag, -----.

Welches ergänzt die Lücke im obigen Satz?

Verilen cümleyi aşağıdakilerden hangisi doğru olarak tamamlar?

- A) sie ist von vorne ausgestiegen
- B) er hat mir ein Buch geschenkt
- C) das Buch liegt auf dem Tisch
- D) ich muss die Bücher abgeben

11. Wie komme ich zum Kaufhaus?

Welche Antwort paßt zur obigen Frage?

Verilen sorunun cevabı aşağıdakilerden hangisidir?

- A) Der Bus kommt gegen 6 Uhr.
- B) Sie müssen geradeaus und danach rechts weiter.
- C) Das sieht nicht schlecht aus.
- D) Sie müssen sich ein Auto kaufen.

12. Während ich meine Hausaufgaben mache, höre ich ----- Musik.

Welches Wort passt nicht in die obige Lücke?

Cümlede boş bırakılan yeri aşağıdakilerden hangisi doğru olarak tamamlamaz?

- A) sonst
- B) immer
- C) oft
- D) manchmal

13. Ausstellung der Bilder von Picasso.

Wie lautet der obige Satz in der Passivform?

Verilen cümlenin edilgen hali aşağıdakilerden hangisidir?

- A) Ausgestellt werden die Bilder von Picasso.
- B) Die Bilder wird von Picasso ausgestellt.
- C) Die Bilder von Picasso sind ausgestellt worden.
- D) Picasso und seine Bilder wurden ausgestellt.

14. Der Autofahrer hat das Auto ----- den Baum gefahren.

Welches Wort paßt in die obige Lücke?

Cümlede boş bırakılan yeri aşağıdakilerden hangisi doğru şekilde tamamlar?

- A) gegen
- B) auf
- C) ohne
- D) durch

15. Entschuldigung, wissen Sie vielleicht, -----?

Welches ergänzt nicht die Lücke im obigen Satz?

Verilen cümleyi aşağıdakilerden hangisi doğru olarak tamamlamaz?

- A) wo wir ein Taxi finden können
- B) hängt es an der Wand
- C) wann der Bus kommt
- D) wie man zur Post kommt

16. Ayşe findet die Modezeitungen ----- die politischen Zeitungen.

Welches passt in die obige Lücke?

Cümlede boş bırakılan yeri aşağıdakilerden hangisi doğru şekilde tamamlar?

- A) schnell wie
- B) fleißiger als
- C) nicht so klein wie
- D) interessanter als

17. Der Arbeiter prüft den Motor.

Wie lautet der obige Satz in der Passivform?

Verilen cümlelerin edilgen hali aşağıdakilerden hangisidir?

- A) Der Arbeiter möchte den Motor prüfen.
- B) Der Arbeiter soll den Motor prüfen.
- C) Der Motor wird von dem Arbeiter geprüft.
- D) Der Motor ist geprüft worden.

18. Man baut hier eine Brücke.

Welches hat die gleiche Bedeutung mit dem obigen Satz?

Verilen cümle ile aynı anlamı taşıyan aşağıdakilerin hangisidir?

- A) Heute wurde hier eine Brücke gebaut.
- B) Er muss hier eine Brücke bauen.
- C) Die Brücke ist neu gebaut worden.
- D) Hier wird eine Brücke gebaut.

19. Über wen lacht ihr?

Welche Antwort paßt zur obigen Frage?

Verilen sorunun cevabı aşağıdakilerden hangisidir?

- A) Über die Umwelt beschweren wir uns.
- B) Er will sich beschweren.
- C) Über die Nachbarn.
- D) Wir sprechen über die Jugend.

20. Der türkische Schüler hat sich nach ----- Heimat geseht.

Welches Wort passt in die obige Lücke?

Cümlede boş bırakılan yeri aşağıdakilerden hangisi doğru olarak tamamlar?

- A) unseres
- B) seiner
- C) meinem
- D) dein

2018 AÖÖ-AÖL I. DÖNEM 0105-A

1. She ----- dark brown hair and blue eyes.

Which of the following completes the sentence above?

Aşağıdakilerden hangisi yukarıdaki cümleyi doğru şekilde tamamlar?

- A) does
B) have got
C) has got
D) doesn't

2. A: ----- brothers and sisters have you got?
B: I have got a brother and a sister.

Which of the following completes the dialogue above?

Aşağıdakilerden hangisi yukarıdaki konuşmayı doğru olarak tamamlar?

- A) How old
B) How much
C) How many
D) How about

3. A: What are you doing now?
B: I am ----- for my Science exam.

Which of the following completes the dialogue above?

Aşağıdakilerden hangisi yukarıdaki konuşmayı doğru olarak tamamlar?

- A) studying
B) study
C) studied
D) studies

4. I ----- to swim in the sea rather than swim in the pool.

Which of the following completes the sentence above?

Aşağıdakilerden hangisi yukarıdaki cümleyi doğru şekilde tamamlar?

- A) prefer
B) would
C) enjoy
D) hate

5. I always ----- tea at breakfast, but now I ----- coffee.

Which of the following completes the sentence above?

Aşağıdakilerden hangisi yukarıdaki cümleyi doğru olarak tamamlar?

- A) am drinking / drink
B) drink / am drinking
C) drinks / am drinking
D) drinking / drink

6. A: Is it your book?
B: Yes, it is ----- book.

Which of the following completes the dialogue above?

Aşağıdakilerden hangisi yukarıdaki konuşmayı doğru olarak tamamlar?

- A) my
B) your
C) his
D) her

7. Tom is ----- a book now.

Which of the following completes the sentence above?

Aşağıdakilerden hangisi yukarıdaki cümleyi doğru olarak tamamlar?

- A) read
B) reading
C) will read
D) reads

8. A: How often ----- Liam brush his teeth?
B: He always brushes his teeth.

Which of the following completes the dialogue above?

Aşağıdakilerden hangisi yukarıdaki konuşmayı doğru şekilde tamamlar?

- A) did
B) do
C) is
D) does

9. A: Hello! -----
B: My name is Alex.

Which of the following completes the dialogue above?

Aşağıdakilerden hangisi yukarıdaki konuşmayı doğru şekilde tamamlar?

- A) How are you?
- B) Where are you from?
- C) What is your name?
- D) How old are you?

10. A plane is ----- than a train.

Which of the following completes the sentence above?

Aşağıdakilerden hangisi yukarıdaki cümleyi doğru şekilde tamamlar?

- A) faster
- B) fast
- C) fastest
- D) the fast

11. Selim : -----?

Eleni : No, I am not. I am from Greece.

Which of the following completes the dialogue above?

Aşağıdakilerden hangisi yukarıdaki konuşmayı doğru olarak tamamlar?

- A) Are you from Italy
- B) How old are you
- C) Are you new
- D) How are you

12. I will meet you ----- three o'clock tomorrow.

Which of the following completes the sentence above?

Aşağıdakilerden hangisi yukarıdaki cümleyi doğru olarak tamamlar?

- A) on
- B) in
- C) between
- D) at

13. A: ----- is she?
B: She is twenty-five years old.

Which of the following completes the dialogue above?

Aşağıdakilerden hangisi yukarıdaki konuşmayı doğru olarak tamamlar?

- A) Where
- B) What
- C) How old
- D) How much

14. A: -----?
B: Yes, she does.

Which of the following completes the dialogue above?

Aşağıdakilerden hangisi yukarıdaki konuşmayı doğru olarak tamamlar?

- A) What does she like doing
- B) Do you like travelling
- C) Does she like playing chess
- D) Where does she go shopping

15. A: ----- a library near here?
B: Yes, the library is on your right.

Which of the following completes the dialogue above?

Aşağıdakilerden hangisi yukarıdaki konuşmayı doğru olarak tamamlar?

- A) Are there
- B) Is there
- C) There was
- D) There were

16. ----- you like to go shopping tomorrow?

Which of the following completes the sentence above?

Aşağıdakilerden hangisi yukarıdaki cümleyi doğru şekilde tamamlar?

- A) How about
- B) Shall
- C) Let's
- D) Would

17. There ----- some students in the classroom.

Which of the following completes the sentence above?

Aşağıdakilerden hangisi yukarıdaki cümleyi doğru olarak tamamlar?

- A) has been
- B) is
- C) was
- D) are

18. Mike is ----- youngest student in his class.

Which of the following completes the sentence above?

Aşağıdakilerden hangisi yukarıdaki cümleyi doğru olarak tamamlar?

- A) most
- B) the
- C) much
- D) more

19. A: What is the time?

B: ----- (06:45)

Which of the following completes the sentence above?

Aşağıdakilerden hangisi yukarıdaki cümleyi doğru olarak tamamlar?

- A) It is seven o'clock
- B) It is quarter past seven.
- C) It is half past seven.
- D) It is quarter to seven.

20. I ----- got a cat. ----- name is Çakıl.

Which of the following completes the sentence above?

Aşağıdakilerden hangisi yukarıdaki cümleyi doğru şekilde tamamlar?

- A) have / It
- B) have / Its
- C) has / Its
- D) has / It

2018 AÖÖ-AÖL I. DÖNEM 0105-A

1. Le ----- est doux et chaud.

Choisissez le mot qui convient.

Cümledeki boşluğu aşağıdakilerden hangisi doğru şekilde tamamlar?

- A) fer
- B) nylon
- C) velours
- D) beton

2. Il pleure ----- la journée.

Choisissez le mot qui convient.

Cümledeki boşluğu aşağıdakilerden hangisi doğru şekilde tamamlar?

- A) toute
- B) tout
- C) tous
- D) toutes

3. - Tu as entendu quelque chose?

- Non, je n'ai ----- entendu.

Choisissez le mot qui convient.

Yukarıdaki konuşmada boş bırakılan yeri aşağıdakilerden hangisi doğru şekilde tamamlar?

- A) pas
- B) rien
- C) personne
- D) ni

4. J'ai ----- lunettes que toi.

Choisissez le mot qui convient.

Cümledeki boşluğu aşağıdakilerden hangisi doğru şekilde tamamlar?

- A) certains
- B) quelques
- C) certaines
- D) les mêmes

5. - Ils sont vieux?

- Non, ils sont -----.

Choisissez le mot qui convient.

Yukarıdaki konuşmada boş bırakılan yeri aşağıdakilerden hangisi doğru şekilde tamamlar?

- A) timides
- B) maigres
- C) jeunes
- D) gentils

6. Nous nous sommes ----- les dents.

Choisissez le mot qui convient.

Cümledeki boşluğu aşağıdakilerden hangisi doğru şekilde tamamlar?

- A) brossée
- B) brossés
- C) brosse
- D) brossé

7. Si j'étais grand, je ----- partir seul.

Choisissez le mot qui convient.

Cümledeki boşluğu aşağıdakilerden hangisi doğru şekilde tamamlar?

- A) pourrais
- B) pourrai
- C) pourra
- D) pourras

8. Marie pèse 80 kilos. Julie pèse 40 kilos. Julie est -----.

Choisissez le mot qui convient.

Cümledeki boşluğu aşağıdakilerden hangisi doğru şekilde tamamlar?

- A) grosse
- B) maigre
- C) longue
- D) courte

9. «Si vous voulez partir, demandez la permission.»

Choisissez la traduction qui convient.

Yukarıdaki cümlelerin Türkçe karşılığı aşağıdakilerden hangisidir?

- A) Gelmek istiyorsanız susun.
- B) Gitmek için, çalışın.
- C) Gitmek istiyorsanız, izin isteyin.
- D) Gelmek için, koşun.

10. - ----- sert un marteau?

- Ça sert à enfoncer un clou.

Choisissez l'expression qui convient.

Yukarıdaki konuşmada boş bırakılan yeri aşağıdakilerden hangisi doğru şekilde tamamlar?

- A) A quoi
- B) De quoi
- C) Du quoi
- D) Pourquoi

11. «Babam artık sigara içmeyecek.»

Choisissez la traduction qui convient.

Yukarıdaki cümlelerin Fransızca karşılığı aşağıdakilerden hangisidir?

- A) Mon père ne fume pas encore.
- B) Mon père ne fumera pas.
- C) Mon père ne fumera jamais.
- D) Mon père ne fumera plus.

12. Où es-tu? Je ne ----- vois pas.

Choisissez le mot qui convient.

Cümledeki boşluğu aşağıdakilerden hangisi doğru şekilde tamamlar?

- A) te
- B) tu
- C) me
- D) le

13. - -----?

- C'est un ordinateur.

Choisissez la question qui convient.

Yukarıdaki konuşmada cevabı gerektiren soru aşağıdakilerden hangisidir?

- A) Qui est-ce
- B) Qu'est-ce que c'est
- C) A quoi sert le couteau
- D) Comment est la table

14. - Vous connaissez ce jeune homme?

- Non, je ne ----- connais pas.

Choisissez le mot qui convient.

Yukarıdaki konuşmada boş bırakılan yeri aşağıdakilerden hangisi doğru şekilde tamamlar?

- A) me
- B) lui
- C) la
- D) le

15. Nous avons ----- une voiture.

Choisissez le mot qui convient.

Cümledeki boşluğu aşağıdakilerden hangisi doğru şekilde tamamlar?

- A) était
- B) ont
- C) eu
- D) mon

16. I. D'abord, j'allume l'ordinateur.
II. Ensuite, je clique sur la souris.
III. J'envoie un mail.
IV. C'est une calculatrice.

Trouvez la phrase qui ne convient pas.

Cümleler sırasıyla okunduğunda, anlam bütünlüğünü bozan cümleyi bulunuz.

- A) I
- B) II
- C) III
- D) IV

2018 AÖÖ-AÖL I. DÖNEM 0105-A

17. - ----- le sac?
- Il est vert.

Choisissez l'expression qui convient.

Yukarıdaki konuşmada boş bırakılan yeri aşağıdakilerden hangisi doğru şekilde tamamlar?

- A) Qui est
- B) De quelle couleur est
- C) Que fait
- D) Comment s'appelle

18. Vous ----- de bonne humeur.

Choisissez le mot qui convient.

Cümledeki boşluğu aşağıdakilerden hangisi doğru şekilde tamamlar?

- A) sommes
- B) êtes
- C) avez
- D) avons

19. Hier, nous ----- le travail.

Choisissez le mot qui convient.

Cümledeki boşluğu aşağıdakilerden hangisi doğru şekilde tamamlar?

- A) avons fini
- B) avez fini
- C) sommes finis
- D) sommes finies

20. ----- dans le bus.

Choisissez l'expression qui convient.

Cümledeki boşluğu aşağıdakilerden hangisi doğru şekilde tamamlar?

- A) J'ai monté
- B) Elle a monté
- C) Elle est montée
- D) Il a monté

2018 AÖÖ-AÖL I. DÖNEM 0105-A

1. Sivrihisar liegt bei Eskişehir.

Welche Frage passt zur obigen Antwort?

Verilen cevabı gerektirecek soru aşağıdakilerden hangisidir?

- A) Wo liegt Sivrihisar?
B) Wie fährst du nach Sivrihisar?
C) Wer geht nach Sivrihisar?
D) Woher kennen Sie die Leute aus Sivrihisar?

2. Der Student legt seine Bücher ----- den Tisch.

Welches Wort passt in die obige Lücke?

Cümlede boş bırakılan yeri aşağıdakilerden hangisi doğru olarak tamamlar?

- A) auf
B) aus
C) zu
D) zur

3. Schnell! ----- die Teller auf den Tisch!

Welches Wort passt in die obige Lücke?

Cümlede boş bırakılan yeri aşağıdakilerden hangisi doğru şekilde tamamlar?

- A) Stellen
B) Stellst
C) Stellte
D) Stell

4. Der Junge hängt seine Jacke ----- den Schrank.

Welches Wort passt in die obige Lücke?

Cümlede boş bırakılan yeri aşağıdakilerden hangisi doğru şekilde tamamlar?

- A) in
B) zu
C) über
D) auf

5. Mein Bett ist ----- meinem Tisch und meinem Schrank.

Welches Wort passt in die obige Lücke?

Cümlede boş bırakılan yeri aşağıdakilerden hangisi doğru şekilde tamamlar?

- A) unter
B) auf
C) in
D) zwischen

6. Was bedeutet "ändern" auf Türkisch?

"ändern" sözcüğünün Türkçesi aşağıdakilerden hangisidir?

- A) kullanmak
B) değiştirmek
C) almak
D) çalışmak

7. A: Warum lachst du?
B: Weil ich -----.

Welches ergänzt den obigen Dialog?

Verilen karşılıklı konuşmayı aşağıdakilerden hangisi doğru olarak tamamlar?

- A) langweilig ist
B) müde wäre
C) das lustig finde
D) überlegen habe

8. Mit der neuen Lernmaschine können Sie jede ----- Fremdsprache ganz einfach lernen.

Welches Wort passt in die obige Lücke?

Cümlede boş bırakılan yeri aşağıdakilerden hangisi doğru şekilde tamamlar?

- A) beliebige
B) berühmt
C) besonders
D) bestellt

2018 AÖÖ-AÖL I. DÖNEM 0105-A

9. Zeynep wählt mit dem klein----- schwarz-----
Schalter ihr Programm.

**Welche Endungen passen in die obigen
Lücken?**

**Cümlede boş bırakılan yerleri aşağıdaki son
eklerden hangisi doğru olarak tamamlar?**

- A) -em / -en
- B) -e / -es
- C) -en / -en
- D) -er / -er

10. Der Van See ist der ----- See in der Türkei.

Welches Wort passt in die obige Lücke?

**Cümlede boş bırakılan yeri aşağıdakilerden
hangisi doğru olarak tamamlar?**

- A) kleinster
- B) größte
- C) tiefer
- D) höchstes

11. Bu ayrıntılı dilsel bir çalışma.

Wie lautet der obige Satz auf Deutsch?

**Verilen cümlelerin Almancası aşağıdakilerden
hangisidir?**

- A) Sprachliche und ausführliche Arbeiten
finden Sie hier.
- B) Diese Arbeit ist eine Ausführung für
Sprachen.
- C) Das ist eine ausführliche sprachliche Arbeit.
- D) Die ausführliche sprachliche Arbeit ist von
unserem Lehrer vorbereitet worden.

12. Was bedeutet "Yavaşlık" auf Deutsch?

**"Yavaşlık" sözcüğünün Almancası
aşağıdakilerden hangisidir?**

- A) Die Langlichkeit
- B) Die Lange
- C) Die Langheit
- D) Die Langsamkeit

13. Das Wetter ist heute sehr -----.

**Welches Wort passt nicht in die obige
Lücke?**

**Cümlede boş bırakılan yeri aşağıdakilerden
hangisi doğru olarak tamamlamaz?**

- A) sonnig
- B) sondern
- C) kalt
- D) windig

14. Ich möchte einen Schwamm zum
Baden.

Welches Wort passt in die obige Lücke?

**Cümlede boş bırakılan yeri aşağıdakilerden
hangisi doğru şekilde tamamlar?**

- A) freundlich
- B) richtig
- C) fremd
- D) weichen

15. Ist es möglich, daß wir bei euch übernachten können?

Welche Antwort passt zur obigen Frage?

Verilen sorunun cevabı aşağıdakilerden hangisidir?

- A) Wir müssen hier übernachten.
 B) Ja, natürlich könnt ihr bei uns übernachten.
 C) Nein, wir können nicht mitkommen.
 D) Nächste Woche möchten wir wieder kommen.

16. Kayak yapmak ister misin?

Wie lautet der obige Satz auf Deutsch?

Verilen cümlelerin Almancası aşağıdakilerden hangisidir?

- A) Bist du Ski gelaufen?
 B) Möchtest du Ski laufen?
 C) Hatten Sie Zeit zum Ski laufen?
 D) Möchtet ihr Ski laufen?

17. schlafen / einsteigen / aussteigen / losfahren

Welches Wort passt nicht zu den anderen in der obigen Wortgruppe?

Verilen sözcük grubuna uymayan aşağıdakilerden hangisidir?

- A) aussteigen
 B) einsteigen
 C) schlafen
 D) losfahren

18. ----- habe ich meinen Führerschein und kann mir ein Auto kaufen.

Welches Wort passt in die obige Lücke?

Cümlede boş bırakılan yeri aşağıdakilerden hangisi doğru olarak tamamlar?

- A) Seit
 B) Trotzdem
 C) Endlich
 D) Weil

19. Er sah die große Überraschung ----- als er nach Hause kam.

Welches Wort passt in die obige Lücke?

Cümlede boş bırakılan yeri aşağıdakilerden hangisi doğru olarak tamamlar?

- A) sonst
 B) dann
 C) wegen
 D) erst

20. Am Sonntag bin ich zu Hause geblieben.

Wie lautet der obige Satz im Präsens?

Verilen cümlelerin şimdiki zaman şekli aşağıdakilerden hangisidir?

- A) Am Sonntag bleibe ich zu Hause.
 B) Sonntags kann ich zu Hause bleiben.
 C) Sonntags bliebte ich nicht gerne zu Hause.
 D) Am Sonntag soll ich zu Hause bleiben.

2018 AÖÖ-AÖL I. DÖNEM 0105-A

1. ----- trousers are very trendy.

Which of the following completes the sentence above?

Aşağıdakilerden hangisi yukarıdaki cümleyi doğru olarak tamamlar?

- A) These
- B) That
- C) This
- D) They

2. We ----- a new car next year.

Which of the following completes the sentence above?

Aşağıdakilerden hangisi yukarıdaki cümleyi doğru olarak tamamlar?

- A) bought
- B) are buy
- C) are going to buy
- D) are go to buy

3. Take your umbrella! It ----- outside now.

Which of the following completes the sentence above?

Aşağıdakilerden hangisi yukarıdaki cümleyi doğru olarak tamamlar?

- A) is going to rain
- B) rain
- C) rains
- D) is raining

4. I like listening to opera ----- my friend doesn't.

Which of the following completes the sentence above?

Aşağıdakilerden hangisi yukarıdaki cümleyi doğru olarak tamamlar?

- A) because
- B) and
- C) or
- D) but

5. A: ----- does Mark go to school?
B: At 7 o'clock.

Which of the following completes the sentence above?

Aşağıdakilerden hangisi yukarıdaki cümleyi doğru olarak tamamlar?

- A) Where
- B) When
- C) Which
- D) Who

6. Richard never ----- to bed late at the weekends.

Which of the following completes the sentence above?

Aşağıdakilerden hangisi yukarıdaki cümleyi doğru olarak tamamlar?

- A) go
- B) will go
- C) goes
- D) is going

7. I never drink milk for breakfast.

Which of the following is the Turkish translation of the sentence above?

Aşağıdakilerden hangisi yukarıdaki cümlelerin Türkçe karşılığıdır?

- A) Kahvaltıda genellikle süt içerim.
- B) Kahvaltıda hiç süt içmem.
- C) Kahvaltıda sık sık süt içerim.
- D) Kahvaltıda daima süt içerim.

8. I met a ----- in the shopping center.

Which of the following completes the sentence above?

Aşağıdakilerden hangisi yukarıdaki cümleyi doğru olarak tamamlar?

- A) nice young lady
- B) nice lady young
- C) young nice lady
- D) lady nice young

9. They are Paul and Lucy. ----- parents are in Italy.

Which of the following completes the sentence above?

Aşağıdakilerden hangisi yukarıdaki cümleyi doğru olarak tamamlar?

- A) Their
- B) Her
- C) His
- D) Our

10. That umbrella is mine, not -----.

Which of the following completes the sentence above?

Aşağıdakilerden hangisi yukarıdaki cümleyi doğru olarak tamamlar?

- A) my
- B) your
- C) yours
- D) her

11. Mrs. Pitt is going to ----- to Liverpool after lunch.

Which of the following completes the sentence above?

Aşağıdakilerden hangisi yukarıdaki cümleyi doğru olarak tamamlar?

- A) driving
- B) drive
- C) drove
- D) drives

12. ----- hat is this here?

Which of the following completes the sentence above?

Aşağıdakilerden hangisi yukarıdaki cümleyi doğru olarak tamamlar?

- A) Whose
- B) Where
- C) What
- D) Who

13. Do you want to go to the theater ----- cinema?

Which of the following completes the sentence above?

Aşağıdakilerden hangisi yukarıdaki cümleyi doğru olarak tamamlar?

- A) for
- B) yet
- C) so
- D) or

14. My little brother always ----- early in the mornings.

Which of the following completes the sentence above?

Aşağıdakilerden hangisi yukarıdaki cümleyi doğru olarak tamamlar?

- A) wake up
- B) wakes up
- C) is waking up
- D) woke up

15. Ayşe ----- the dinner in the kitchen at the moment.

Which of the following completes the sentence above?

Aşağıdakilerden hangisi yukarıdaki cümleyi doğru olarak tamamlar?

- A) cook
- B) cooks
- C) is cooking
- D) cooking

16. Cansu opened the door ----- saw a strange woman.

Which of the following completes the sentence above?

Aşağıdakilerden hangisi yukarıdaki cümleyi doğru olarak tamamlar?

- A) for
- B) so
- C) or
- D) and

2018 AÖÖ-AÖL I. DÖNEM 0105-A

17. My sister drinks ----- glass of milk before sleeping.

Which of the following completes the sentence above?

Aşağıdakilerden hangisi yukarıdaki cümleyi doğru olarak tamamlar?

- A) —
- B) an
- C) the
- D) a

18. A: Do we have any eggs for the cake?
B: Yes, we have ----- eggs.

Which of the following completes the dialogue above?

Aşağıdakilerden hangisi yukarıdaki konuşmayı doğru olarak tamamlar?

- A) much
- B) some
- C) a
- D) any

19. ----- Paris is the capital city of France.

Which of the following completes the sentence above?

Aşağıdakilerden hangisi yukarıdaki cümleyi doğru olarak tamamlar?

- A) The
- B) An
- C) (—)
- D) A

20. clock on the wall doesn't work properly.

Which of the following completes the sentence above?

Aşağıdakilerden hangisi yukarıdaki cümleyi doğru olarak tamamlar?

- A) That
- B) These
- C) Those
- D) Is

2018 AÖÖ-AÖL I. DÖNEM 0105-A

1. Il court parce qu'il est -----.

Choisissez l'expression qui convient.

Cümledeki boşluğu aşağıdakilerden hangisi doğru şekilde tamamlar?

- A) en retard
- B) à la mode
- C) en voiture
- D) à Paris

2. ----- quand l'utilisez-vous?

Choisissez le mot qui convient.

Cümledeki boşluğu aşağıdakilerden hangisi doğru şekilde tamamlar?

- A) A
- B) Parce que
- C) Depuis
- D) Avec

3. ----- parfum aimez-vous?

Choisissez le mot qui convient.

Cümledeki boşluğu aşağıdakilerden hangisi doğru şekilde tamamlar?

- A) Quels
- B) Quelle
- C) Quel
- D) Quelles

4. ----- elle triste, Noémie pleure.

Choisissez le mot qui convient.

Cümledeki boşluğu aşağıdakilerden hangisi doğru şekilde tamamlar?

- A) Car
- B) Comme
- C) Mais
- D) Comment

5. Hier, nous ----- en voiture.

Choisissez le mot/l'expression qui convient.

Cümledeki boşluğu aşağıdakilerden hangisi doğru şekilde tamamlar?

- A) partons
- B) partirons
- C) partir
- D) sommes partis

6. Je suis fatigué et triste. ----- ne va bien au travail.

Choisissez le mot qui convient.

Cümledeki boşluğu aşağıdakilerden hangisi doğru şekilde tamamlar?

- A) Rien
- B) Quelque chose
- C) Aucun
- D) Quelqu'un

7. Eric : Tu veux du café.

Noémie : Non, je n' ----- veux pas.

Eric : Tu veux du thé?

Noémie : Non, je ne veux ----- du café ----- du thé.

Choisissez les mots qui conviennent.

Yukarıdaki konuşmada boş bırakılan yerleri aşağıdakilerden hangisi doğru şekilde tamamlar?

- A) ne / pas / en
- B) y / ne / ni
- C) en / pas / ne
- D) en / ni / ni

8. «Okula geldiğimde, öğrenciler yoktu.»

Choisissez la traduction qui convient.

Yukarıdaki cümlenin Fransızca karşılığı aşağıdakilerden hangisidir?

- A) Je suis venue à l'école, les élèves sont partis.
B) Depuis que je suis arrivé à l'école, il n'y a pas d'élèves.
C) Comme je suis venue à l'école, il n'y a pas d'élèves.
D) Quand je suis arrivé à l'école, il n'y avait pas d'élèves.

9. «C'est une très bonne surprise!»

Choisissez la traduction qui convient.

Yukarıdaki cümlenin Türkçe karşılığı aşağıdakilerden hangisidir?

- A) Senin için sürprizim var!
B) Bu ne tür bir sürpriz!
C) Bu çok hoş bir sürpriz!
D) Sana sürprizim var!

10. Quand je bois du café, je ne ----- pas dormir.

Choisissez le mot qui convient.

Cümledeki boşluğu aşağıdakilerden hangisi doğru şekilde tamamlar?

- A) peux
B) pouvoir
C) pouvais
D) ai pu

11. J'ai beaucoup de travail. J'en ai -----.

Choisissez le mot qui convient.

Cümledeki boşluğu aşağıdakilerden hangisi doğru şekilde tamamlar?

- A) fatigué
B) ennuyé
C) marre
D) malade

12. Eric : Ouvre la fenêtre?
Noémie : Quoi?
Eric : Je te dis ----- la fenêtre.

Choisissez l'expression qui convient.

Yukarıdaki konuşmada boş bırakılan yeri aşağıdakilerden hangisi doğru şekilde tamamlar?

- A) ne pas ouvrir
B) de ne pas ouvrir
C) d'ouvrir
D) ouvrir

13. Notre directeur est très gentil. Chaque matin, -----.

Complétez la phrase avec la proposition qui convient.

Cümledeki boşluğu aşağıdakilerden hangisi doğru şekilde tamamlar?

- A) il prend son petit déjeuner
B) il nous dit bonjour
C) il arrive tard
D) il est malheureux

14. - ----- font ces enfants?
- Ils jouent.

Choisissez le mot qui convient.

Yukarıdaki konuşmada boş bırakılan yeri aşağıdakilerden hangisi doğru şekilde tamamlar?

- A) Où
B) Est-ce que
C) Comment
D) Que

15. La souris est attrapée ----- le chat?

Choisissez le mot qui convient.

Cümledeki boşluğu aşağıdakilerden hangisi doğru şekilde tamamlar?

- A) à
B) par
C) en
D) dans

2018 AÖÖ-AÖL I. DÖNEM 0105-A

16. I. Ces lunettes sont rouges.
II. Ce pantalon est à la mode.
III. Il n'est pas cher.
IV. Il est très bon marché.

Trouvez la phrase qui **ne convient pas**.

Cümleler sırasıyla okunduğunda, anlam bütünlüğünü **bozan** cümleyi bulunuz.

- A) I
B) II
C) III
D) IV

17. ce / résoudre / comment / problème?
I II III IV

Mettez dans le bon ordre.

Yukarıdaki kelimelerin anlamlı bir bütün oluşturan sırası aşağıdakilerin hangisinde doğru olarak verilmiştir?

- A) I, IV, II, III
B) II, IV, III, I
C) III, I, II, IV
D) III, II, I, IV

18. Les gaz d'échappement sont dangereux ----- la santé.

Choisissez le mot qui convient.

Cümledeki boşluğu aşağıdakilerden hangisi doğru şekilde tamamlar?

- A) qui
B) pour
C) que
D) comme

19. Robert : -----?

Michel : Pas encore, mais dès que j'en trouverai un, je déménagerai.

Choisissez la question qui convient.

Yukarıdaki konuşmada cevabı gerektiren soru aşağıdakilerden hangisidir?

- A) As-tu trouvé un appartement
B) Qu'est-ce qui t'arrive
C) Qu'est-ce que tu fais quand tu vois un enfant
D) As-tu déjà rencontré un homme pauvre

20. C'est vous qui -----?

Choisissez le mot qui convient.

Cümledeki boşluğu aşağıdakilerden hangisi doğru şekilde tamamlar?

- A) parle
B) criez
C) danser
D) chantons

2018 AÖÖ-AÖL I. DÖNEM 0105-A

1. Bir kişinin söylediğinin aynı şekilde değil de bazı değişiklikler yapılarak anlatılmasına ne ad verilir?
- A) Dolaylı anlatım
B) Nesnel anlatım
C) Öznel anlatım
D) Doğrudan anlatım
2. Herhangi bir konu üzerinde yazarın düşüncelerini kesin yargıya varmadan, kurallara bağlamadan görüş ve düşüncelerini serbestçe ortaya koyduğu fikir yazılarına ne ad verilir?
- A) Makale
B) Deneme
C) Eleştiri
D) Fıkra
3. Aşağıdakilerden hangisi modern Türk tiyatrosunun türlerinden biridir?
- A) Orta oyunu
B) Karagöz
C) Mesnevi
D) Dram
4. Sanat metinleriyle ilgili aşağıdaki ifadelerden hangisi yanlıştır?
- A) Estetik ön plandadır.
B) Sanat metinlerine edebi metinler de denir.
C) Her okunduğunda farklı yorumlanmaz.
D) Edebiyat biliminin içerisinde yer alır.
5. Gezi yazılarının eski adı aşağıdakilerden hangisidir?
- A) Hatıra
B) Seyahatname
C) Name
D) Vakaname

6. Halk hikâyesi, aşağıdaki metin türlerinden hangisinin içerisinde yer alır?
- A) Anlatmaya bağlı edebi metinler
B) Bilimsel metinler
C) Öğretici metinler
D) Göstermeye bağlı edebi metinler
7. Aşağıdakilerden hangisi kişisel hayatı konu alan metinlerden biridir?
- A) Sohbet
B) Destan
C) Anı
D) Makale
8. Atatürk'ün manevi kızı Afet İnan'a yazdığı mektubun türü aşağıdakilerden hangisidir?
- A) Siyasi mektup
B) Edebi mektup
C) İş mektubu
D) Özel mektup
9. "Sakıp Sabancı, 7 Nisan 1933 tarihinde Kayseri'de dünyaya geldi. Çok genç yaşlarda çalışma hayatına atıldı..."
- Yukarıda bir bölümü verilen metnin türü aşağıdakilerden hangisidir?
- A) Makale
B) Biyografi
C) Mülakat
D) Anı
10. Aşağıdakilerden hangisi hikâyenin bölümlerinden biri değildir?
- A) Fasıllar
B) Çözüm
C) Düğüm
D) Serim

11. Aşağıdakilerden hangisi konularına göre haber yazıları arasında yer almaz?

- A) Siyasi haber yazıları
- B) Sanatla ilgili haber yazıları
- C) Kişisel haber yazıları
- D) Sosyal konularla ilgili haber yazıları

12. Çoban Çeşmesi şiirinin şairi kimdir?

- A) Ataol Behramoğlu
- B) Faruk Nafiz Çamlıbel
- C) Yahya Kemal Beyatlı
- D) Ahmet Hamdi Tanpınar

13. Kavuklu ve Pişekâr'ın kahramanları olduğu oyun türü aşağıdakilerden hangisidir?

- A) Trajedi
- B) Köy seyirlik oyunu
- C) Destan
- D) Orta oyunu

14. Aşağıdakilerden hangisi dilekçenin özelliklerinden biri değildir?

- A) Başlık ve metin olmak üzere iki bölümden oluşması
- B) Anlatımın yalın ve duru olması
- C) Sol alt köşeye adresin yazılması
- D) Sağ alt köşeye ad ve soyadın yazılıp imza atılması

15. Aşağıdakilerden hangisi anlatmaya bağlı edebi metinlerden biri değildir?

- A) Destan
- B) Şiir
- C) Roman
- D) Masal

16. Aşağıdakilerden hangisinde eş anlamlı sözcüklerin kullanılmasından kaynaklanan bir anlatım bozukluğu vardır?

- A) Ağır ağır çıkacaksın bu merdivenlerden.
- B) Yakında ak koyun, kara koyun çıkacak ortaya.
- C) Bu konuda bir emelim, isteğim ve arzum yok.
- D) Az gittim, uz gittim.

17. Bugün Eskişehir() e kar yağacakmış() ama ben pek inanmadım() Sen ne dersin()

Yukarıdaki cümlelerde parantez içlerine sırasıyla hangi noktalama işaretleri gelmelidir?

- A) (,) (,) (,) (,)
- B) (') (;) (,) (?)
- C) (') (") (!) (,)
- D) (') (:) (;) (?)

18. Aşağıdaki cümlelerin hangisinde soru eki "mi" yanlış yazılmıştır?

- A) Sence bu bulgur az mı çok mu?
- B) Bu muymuş gizlediği?
- C) Kitabı geri verdin mi?
- D) Bizimle çalışmak istermisiniz?

19. Aşağıdaki cümlelerin hangisinde yazım yanlış yapılmıştır?

- A) Söyledikleri yalan mı?
- B) İçindeki kıvılcımın farkına vardı.
- C) Sizde bizim gibi düşündüğünüzü sanıyordum.
- D) Senin söylediklerini o fark edemez ki.

20. Aşağıdakilerden hangisinde ses daralması kuralına örnek bir sözcük vardır?

- A) Bu kalem yazmıyor.
- B) Hava soğuyor.
- C) Güneş açıyor.
- D) İçim üşüyor.

2018 AÖÖ-AÖL I. DÖNEM 0105-A

1. Aşağıdakilerden hangisi Eski Türk Edebiyatı'nda romanın yerini tutan uzun kahramanlık hikâyelerinden biridir?

- A) Seyahatnâme
- B) Battalnâme
- C) Şikayetnâme
- D) Vakayınâme

2. Aşağıdakilerden hangisi anonim halk şiirinin özelliklerinden biri değildir?

- A) Daha çok yarım ayak kullanılması
- B) Halkın ortaklaşa ürünü olması
- C) Dilinin ağır, anlatımının sanatlı olması
- D) Hece ölçüsü kullanılması

3. İslami döneme ait ilk eserleri ortaya koyan ilk Müslüman Türk devleti aşağıdakilerden hangisidir?

- A) Göktürkler
- B) Uygurlar
- C) Emeviler
- D) Karahanlılar

4. Anonim halk şiiri örneği olup genellikle dört dizeden oluşan, 7'li hece ölçüsüyle söylenen, aaba şeklinde uyaklanan nazım şekline ne ad verilir?

- A) Mâni
- B) Türkü
- C) Koşma
- D) Semaî

5. Gazel nazım şeklinin en güzel beyitine ne ad verilir?

- A) Beytü'l-gazel
- B) Matla beyit
- C) Makta beyit
- D) Musammat gazel

6. XIII. yüzyılda, Anadolu'nun fethedilerek İslamlaştırıldığı dönemde yapılan kahramanlıkların anlatıldığı destan aşağıdakilerden hangisidir?

- A) Bozkurt
- B) Ergenekon
- C) Alp Er Tunga
- D) Seyyid Battal Gazi

7. Suya gider al yazması başında İsmi kadın kendi on beş yaşında Dünyayı terk etti pek genç yaşında Dayanmalı Hakk'ın emri böyledir.

Yukarıdaki dörtlük aşağıdakilerden hangisine örnektir?

- A) Taşlama
- B) Güzelleme
- C) Ağıt
- D) Koçaklama

8. Kutadgu Bilig ile ilgili aşağıdaki ifadelerden hangisi yanlıştır?

- A) Süslü ve sanatlı bir dille yazılmıştır.
- B) Her beyit kendi içinde uyaklıdır.
- C) Aruzla yazılan ilk eserlerdendir.
- D) Bütünü 6645 beyitten oluşmuştur.

9. Tanrı'dan bağışlanmayı dileyen şiirlere ne ad verilir?

- A) Kaside
- B) Naat
- C) Münacaat
- D) Tevhit

10. Aşağıdakilerden hangisi orta oyunu tiplerinden biridir?

- A) Karagöz
- B) Tuzsuz Deli Bekir
- C) Külhanbeyi
- D) Pişekâr

11. Tasavvuf Edebiyatı'nda ölümden alınacak dersler ve Tanrı düşüncesinin dile getirildiği şairlere ne ad verilir?
- A) İlahi
B) Hikmet
C) Gazel
D) Tevhit
12. Aşağıdakilerden hangisi Çağdaş Türk Şiiri'nde rubai biçimini kullanan şairlerden biri değildir?
- A) Yahya Kemal Beyatlı
B) Edip Cansever
C) Nazım Hikmet
D) Ümit Yaşar Oğuzcan
13. Bilgi ve öğüt vermek için yazılan manzum eserlere ne ad verilir?
- A) Pastoral
B) Epik
C) Didaktik
D) Lirik
14. Aşağıdaki yazar ve eser eşleştirmelerinden hangisi yanlıştır?
- A) Edip Ahmet - Atabetü'l Hakâyık
B) Kaşgarlı Mahmut - Divan-ı Lügat'it Türk
C) Mevlana Celaleddin-i Rumi - Mevlid
D) Yusuf Has Hacip - Kutadgu Bilig
15. Âşık Paşa'nın didaktik mesnevisinin adı nedir?
- A) Lütfiyye
B) Hüsn ü Aşk
C) Hayriyye
D) Garibnâme
16. Terkibibent adlı eseriyle Doğu ve Batı kültürünün izdüşümlerini özdeyişlere dönüştürerek okuyucuya yansıtan sanatçı aşağıdakilerden hangisidir?
- A) Mustafa Paşa
B) Ahmet Vefik Paşa
C) Kemal Paşa
D) Ziya Paşa
17. Attila İlhan'ın gazel biçiminin bazı özelliklerinden yararlanarak yazdığı şiiri aşağıdakilerden hangisidir?
- A) Ayrılık Sevdaya Dâhil
B) Hasköy Bahriye Kahvesine Gazel
C) Ben Sana Mecburum
D) Güzel Bir Kıza Gazel
18. Tabiat güzellikleri, sevgi, aşk, ayrılık vb. konuların işlendiği, özel bir ezgiyle söylenen halk edebiyatı nazım şekli aşağıdakilerden hangisidir?
- A) Semai
B) Mâni
C) Koşuk
D) Koşma
19. Kültürel tarihimizi aydınlatacak düşüncelerin, toplumun değer yargılarının ele alınıp işlendiği, Yusuf Has Hacip tarafından yazılan "Siyasetnâme" türünün ilk örneği sayılan eser aşağıdakilerden hangisidir?
- A) Mantıku't-Tayr
B) Kutadgu Bilig
C) Divân-ı Hikmet
D) Atabetü'l-Hakâyık
20. Aşağıdakilerden hangisi kahramanlık temalı halk hikâyelerinden biridir?
- A) Kerem ile Aslı
B) Köroğlu
C) Tahir ile Zühre
D) Âşık Garip

2018 AÖÖ-AÖL I. DÖNEM 0105-A

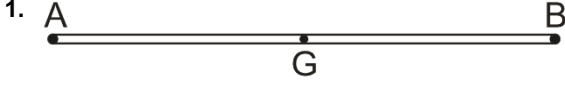
1. Devlet tarafından çıkarılan ilk resmi gazete aşağıdakilerden hangisidir?
- A) Ceride-i Havadis
B) İrade-i Mülkiye
C) Tercüman-ı Ahval
D) Takvim-i Vekayi
2. Aşağıdakilerden hangisi, II. Dünya Savaşı yıllarında Türkiye'de yapılan milli eğitim ve kültür alanındaki atılımlardan biri değildir?
- A) Türk ve İslam Ansiklopedilerinin yayımına başlanması
B) Gelenekçi edebiyatın getirdiği sınırlılıkların devam etmesi
C) Tercüme bürosunun kurulması
D) Köy enstitülerinin açılması
3. "İspinozlar", "72. Koğuş", "Bekçi Murtaza", "Kardeş Payı" gibi kendi roman ve öykülerinden oyunlaştırdığı eserleriyle Türk tiyatrosunda toplumcu gerçekçi yaklaşımın başarılı örneklerini veren yazar aşağıdakilerden hangisidir?
- A) Yaşar Kemal
B) Oktay Rifat
C) Orhan Kemal
D) Ahmet Kutsi Tecer
4. Türk edebiyatında deneme türünün en önemli yazarı aşağıdakilerden hangisidir?
- A) Nurullah Ataç
B) Uğur Kökten
C) Ahmet Rasim
D) Haldun Taner
5. Beş Hececiler topluluğunun ortak özelliği aşağıdakilerden hangisidir?
- A) Şiirlerinde bireysel duygularını dile getirmeleri
B) Halk şiiri geleneğinden yararlanmaları
C) Süslü, kapalı bir söyleyişe yönelmeleri
D) "Sanat sanat içindir." anlayışına bağlı kalmaları
6. Şiirlerinde daha çok büyük şehrin içinde kaybolmuş insanın kırık, karanlık, karmaşık duygularını anlatan şair aşağıdakilerden hangisidir?
- A) Behçet Necatigil
B) Fazıl Hüsnu Dağlarca
C) Cahit Külebi
D) Asaf Halef Çelebi
7. Osmanlı İmparatorluğu içinde ve dışında gezip gördüğü yerleri on ciltlik "Seyahatname" adlı eserinde anlatan yazar aşağıdakilerden hangisidir?
- A) Evliya Çelebi
B) Kâtip Çelebi
C) Nedim Gürsel
D) Yirmi Sekiz Çelebi Mehmet Efendi
8. Ahmet Haşim'in denemeleri aşağıdakilerin hangisinde birlikte ve doğru olarak verilmiştir?
- A) Evrak-ı Eyyam – Tiryaki Sözleri
B) Erguvan İstanbul – Dağ Şarkısı
C) Gurubahâne-i Laklakan – Bize Göre
D) Sonbahar Türküsü – Doğa
9. "Alemdağ'da Var Bir Yılan" hikâye kitabında gerçek, rüya ve hayali iç içe ele alan yazar aşağıdakilerden hangisidir?
- A) Sabahattin Âli
B) Sait Faik Abasıyanık
C) Halide Edip Adıvar
D) Reşat Nuri Güntekin
10. Yazarın herhangi bir konu üzerinde kesin hükümlere varmadan, kendi kişisel görüş ve düşüncelerini anlattığı yazı türü aşağıdakilerden hangisidir?
- A) Deneme
B) Makale
C) Fıkra
D) Röportaj

11. Hikâyelerini, "Abdullah Efendi'nin Rüyalari" adı altında toplamış olan ve eserlerinde rüya ve bilinç altına büyük önem veren yazar aşağıdakilerden hangisidir?
- A) Sabahattin Âli
B) Cevat Şakir Kabaağaçlı
C) Peyami Safa
D) Ahmet Hamdi Tanpınar
12. Gezi edebiyatının ilk klasik örneğini veren seyyah aşağıdakilerden hangisidir?
- A) Victor Hugo
B) Dostoyevski
C) Marco Polo
D) Stendhal
13. Aşağıdakilerden hangisi anı türünün özelliklerinden biri değildir?
- A) Amacının dönemini ve çevresindeki anlatmak olması
B) İncelmiş, zengin bir dil beğenisine ulaşmış olması
C) Yaşamların insan belleğindeki izlerinden oluşması
D) Günü gününe yaşanan olaylar, duygular ve düşüncelerden oluşması
14. Türk edebiyatında anı türünün ilk örneğini veren yazar aşağıdakilerden hangisidir?
- A) Babur Şah
B) Ebülğazi Bahadırhan
C) Aşık Çelebi
D) Hoca Dehhani
15. Tiyatro, roman ve hikâyelerinde toplumun aksayan yönlerini, olayları, tipleri gülünç gösteren bir mizah üslubuyla anlatan yazar aşağıdakilerden hangisidir?
- A) Yakup Kadri Karaosmanoğlu
B) Tarık Buğra
C) Aziz Nesin
D) Yaşar Kemal
16. Aşağıdakilerden hangisi makalenin özelliklerinden biri değildir?
- A) Öne sürülen düşüncenin inandırıcı biçimde geliştirilmiş olması ve kanıtlanması
B) Söz oyunlarına başvurulmaması
C) Anlatımın yalın ve yoğun olması
D) Konu bakımından sınırlı olması
17. "Kırk Yıl" adlı anı kitabı aşağıdaki yazarlardan hangisine aittir?
- A) Hüseyin Cahit Yalçın
B) Yahya Kemal Beyatlı
C) Halit Ziya Uşaklıgil
D) Ahmet Rasim
18. "Çalıkuşu" romanı ile yaygın bir ün kazanan, eserlerinde Anadolu kasaba ve şehirlerini fon olarak almış, insanları sorunlarıyla işleyen yazar aşağıdakilerden hangisidir?
- A) Sait Faik Abasıyanık
B) Reşat Nuri Güntekin
C) Sabahattin Âli
D) Peyami Safa
19. Türk dilinin kaynaklarını, gelişmesini ve bilimsel yöntemlerini incelemek için kurulan kurum aşağıdakilerden hangisidir?
- A) Tercüme Bürosu
B) Halkevleri
C) Türk Tarihi Tetkik Cemiyeti
D) Türk Dili Tetkik Cemiyeti
20. Varlık dergisinde ölçsüz, uyaksız, şairanelikten uzak yeni bir şiir akımı başlatan üç şair aşağıdakilerin hangisinde birlikte ve doğru olarak verilmiştir?
- A) Ömer Faruk Toprak-Arif Damar-Ahmet Arif
B) Orhan Veli Kanık-Melih Cevdet Anday-Oktay Rifat
C) Rifat Ilgaz-Enver Gökçe- Oktay Rifat
D) Attila İlhan-Orhan Veli Kanık-Melih Cevdet Anday

SEÇMELİ FİZİK 1

A

2018 AÖÖ-AÖL I. DÖNEM 0105-A



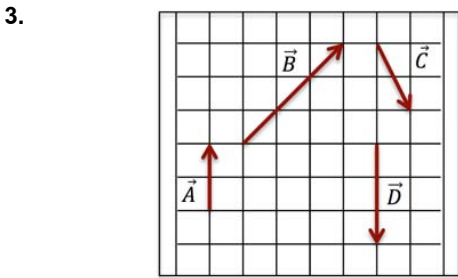
Boyu 20 cm olan homojen telin 10 cm'si kendi üstüne katlanıyor. Telin ağırlık merkezi (G) kaç cm yer değiştirir?

- A) 5
- B) 10
- C) 15
- D) 20



Sürtünmesiz bir düzlemde durmakta olan 8 kg kütleli bir cisme yukarıdaki gibi üç kuvvet etki etmektedir. Bu cismin 4 s sonra hızı kaç m/s olur? ($\cos 37^\circ = 0,8$; $\sin 37^\circ = 0,6$)

- A) 0,5
- B) 1
- C) 1,5
- D) 2



Şekildeki vektörlere göre, $\vec{E} = 2\vec{A} + \vec{B} - \vec{C} + \vec{D}$ vektörünün bileşenleri aşağıdakilerden hangisidir?

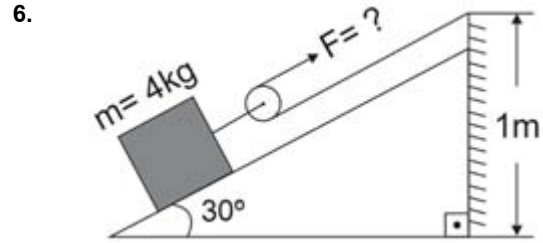
- A) (-2, 6)
- B) (-1, 5)
- C) (2, 6)
- D) (1, 5)

4. Hızı 4 m/s olan bir yüzücü akıntı hızı 6 m/s olan nehirde yüzmektedir. Yüzücü akıntı ile aynı yönde 20 s yüzdükten sonra ters yönde 20 s yüzmeye başlıyor. 40 s sonunda yüzücü başlangıçtan kaç metre(m) uzakta olur?

- A) 100
- B) 140
- C) 200
- D) 240

5. İlk hızı 15 m/s olan bir araba düzgün olarak 6 m/s^2 lik ivme ile hızlanıyor. Arabanın 5 s sonraki hızı kaç m/s'dir?

- A) 45
- B) 50
- C) 55
- D) 58



Yukarıdaki sistem dengede olduğuna göre, F kuvveti kaç newton(N)'dur? ($\sin 30^\circ = 0,5$, $g = 10 \text{ m/s}^2$, sürtünmeleri ve hareketli makaranın ağırlığını önemsemeyiniz.)

- A) 5
- B) 10
- C) 15
- D) 20

7. Bir uçak 500 m yükseklikte, 200 m/s hızla yatay doğrultuda uçarken bir bomba bırakıyor. Bomba bırakıldığı noktadan kaç metre yatay uzaklıkta yere çarpar? ($g = 10 \text{ m/s}^2$)

- A) 1.000
- B) 1.500
- C) 2.000
- D) 3.000

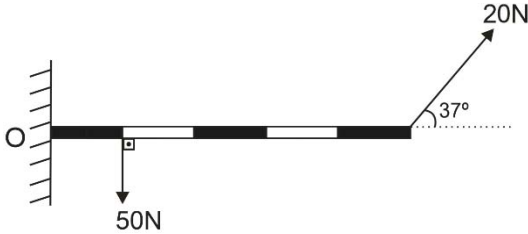
8. 60 m yükseklikten serbest bırakılan 4 kg kütleli bir cismin yerden 15 m yüksekte iken hızı kaç m/s'dir?

A) 30
B) 40
C) 45
D) 50

9. Bir araç 40 m/s hızla düz bir yolda gitmektedir. Aracın şoförü frene basarak 2 saniye(s) içinde arabanın hızını 20m/s'ye düşürmüştür. Bu sırada araba kaç metre(m) yol alır?

A) 20
B) 30
C) 40
D) 60

10.



Şekildeki çubuk eşit bölmeli olup her bölümü 10 cm dir. Çubuk O noktası etrafında dönebilmektedir. Kuvvetlerin O noktasında oluşturduğu torkun büyüklüğü ve yönü aşağıdakilerden hangisinde birlikte verilmiştir?

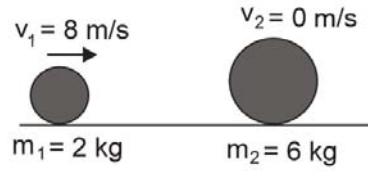
($\sin 53^\circ = \cos 37^\circ = 0,8$, $\cos 53^\circ = \sin 37^\circ = 0,6$)

A) 5 Nm (saat yönünde)
B) 10 Nm (saat yönünün tersi)
C) 10 Nm (saat yönünde)
D) 15 Nm (saat yönünün tersi)

11. Sürtünme katsayısı 0,4 olan bir yüzeyde durmakta olan 3 kg kütleli bir cisim üzerine 16 N büyüklüğünde yatay bir kuvvet uygulanıyor. Bu cismin ivmesi kaç m/s^2 'dir?

A) 1/2
B) 3/4
C) 4/3
D) 2

12.



Yukarıdaki iki cisim bir boyutta esnek olmayan bir çarpışma gerçekleştirdiğinde çarpışma sonrasında her iki cismin ortak hızı kaç m/s olur?

A) 2
B) 3
C) 4
D) 5

13. 85 kg kütleli bir futbolcu, 800 gr kütleli durmakta olan bir futbol topuna vuruyor. Futbolcunun topa uyguladığı kuvvet 200 N ve futbolcunun ayağı ile topun etkileşim süresi 0,3 s olduğuna göre, topun ayaktan çıkış hızı kaç m/s'dir?

A) 25
B) 45
C) 50
D) 75

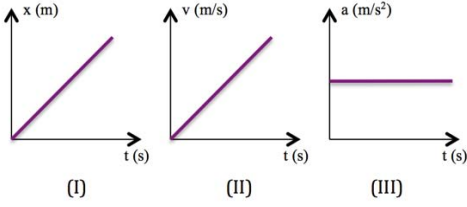
14. I. Momentum skaler bir büyüklüktür.
II. Esnek çarpışmalarda hem momentum hem de enerji korunur.
III. Momentumun birimi kinetik enerjinin birimi ile aynıdır.

Momentumla ilgili yukarıdaki ifadelerden hangileri doğrudur?

A) Yalnız I
B) Yalnız II
C) Yalnız III
D) II ve III

2018 AÖÖ-AÖL I. DÖNEM 0105-A

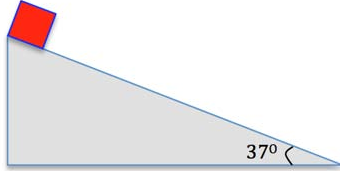
15.



Yukarıdaki grafiklerden hangileri sabit ivmeli hareket yapan bir cisme aittir?

- A) Yalnız II
B) Yalnız III
C) II ve III
D) I, II ve III

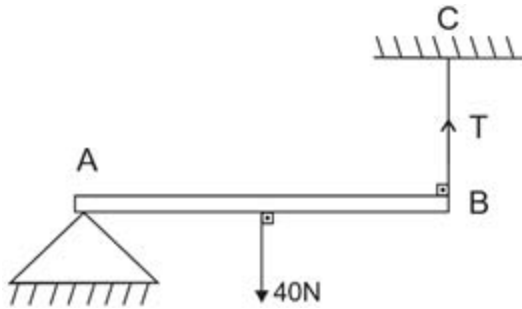
16.



Yukarıdaki şekilde sürtünmesiz bir eğik düzlemin tepesinde bulunan 4 kg kütleli bir cisim serbest bırakılıyor ve aşağıya doğru kayıyor. 1 s sonra cismin hızı aşağıdakilerden hangisidir? ($g=10\text{m/s}^2$; $\cos 37^\circ=0,8$; $\sin 37^\circ=0,6$)

- A) 6
B) 8
C) 10
D) 14

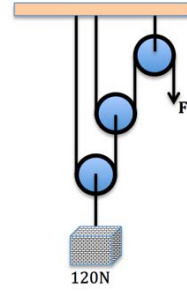
17.



Homojen AB çubuğu yatay dengede olduğuna göre, BC ipindeki gerilme kuvveti (T) kaç newton(N) dur?

- A) 5
B) 10
C) 15
D) 20

18.

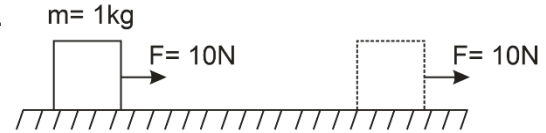


Yukarıdaki makaralar özdeş ve her birinin ağırlığı 20 N'dur.

Buna göre, 120 N'luk yükü dengeleyen F kuvveti kaç N'dur?

- A) 30
B) 45
C) 50
D) 60

19.



Şekilde görüldüğü gibi kütlesi 1kg olan bir sandık 10N büyüklüğündeki bir kuvvetle 5 saniye(s) süreyle çekilmektedir. Sandığa verilen itme nedir?

- A) 10 m/s²
B) 25 J
C) 50 N.s
D) 50 m/s

20. Sürtünme katsayısı 0,2 olan düz bir yüzeyde 3 kg kütleli bir cisme 20 m/s'lik bir ilk hız kazandırılıp serbest bırakılıyor. Cisim kaç metre sonra durur? ($g=10\text{m/s}^2$)

- A) 60
B) 100
C) 120
D) 130

2018 AÖÖ-AÖL I. DÖNEM 0105-A

1. Maddelerin "sıvı" hâli ile ilgili aşağıdaki ifadelerden hangisi doğrudur?

- A) Katı hâline göre daha düzenlidirler.
- B) Tanecikleri titreşim ve öteleme hareketi yapmaz.
- C) Tanecikleri arasındaki boşluk gazlara göre daha azdır.
- D) Sıkıştırılabilirler.

2. Aşağıdakilerden hangisi örgü yapısının iyonik bileşiklere kazandırdığı özelliklerden biri değildir?

- A) Oda koşullarında katı hâlde bulunmaları
- B) Erime ve kaynama noktalarının düşük olması
- C) Sert olmaları
- D) Kırılgan olmaları

3. Farklı ametal atomları arasında elektronların ortaklaşa kullanılması ile oluşan bağlara polar kovalent bağ denir.

Yukarıda verilen tanıma göre aşağıdaki bileşiklerin hangisinde bu tür bağ söz konusudur?

- A) F₂
- B) Cl₂
- C) N₂
- D) HCl

4. NBr₃ bileşiğinin sistematik adı aşağıdakilerden hangisidir?

- A) Diazot bromür
- B) Azot dibromür
- C) Azot tribromür
- D) Azot tetrabromür

5. Aşağıdakilerden hangisi kimyasal değişimdir?

- A) Besinlerin çürümesi
- B) Tuzun suda çözünmesi
- C) Buzun erimesi
- D) Suyun buharlaşması

6. Suyun varlıklar için önemi ile ilgili aşağıdaki ifadelerden hangisi yanlıştır?

- A) Bitkiler fotosentez, terleme, besin maddesi dağılımı gibi çeşitli işlemlerde suyu kullanır.
- B) İnsan vücudunda yaş ilerledikçe su oranı artar.
- C) İnsanlarda, vücut ağırlığı ve enerji harcaması arttıkça vücudun su ihtiyacı artar.
- D) Su, insanlarda vücut ısısını düzenlemede kullanılır.

7. Sıvılarda viskozite ile ilgili aşağıdaki ifadelerden hangisi doğrudur?

- A) Viskozite büyüdükçe akıcılık azalır.
- B) Sıcaklık arttıkça viskozite de artar.
- C) Viskozitesi büyük olan sıvılar akmaya karşı dirençli değildir.
- D) Moleküller arası kuvvetleri büyük olan sıvılar, moleküller arası kuvvetleri zayıf olan sıvılara göre daha düşük viskoziteye sahiptir.

8. Aşağıdakilerden hangisi moleküller arası zayıf etkileşimlerden biri değildir?

- A) Dipol – dipol etkileşimi
- B) İyon – dipol etkileşimi
- C) İyonik bağ
- D) London kuvvetleri

9. Küresel ısınma ve buna bağlı iklim değişikliğinden birinci derecede sorumlu olan sera gazı aşağıdakilerden hangisidir?

- A) Kükürt dioksit
- B) Oksijen
- C) Azot dioksit
- D) Karbon dioksit

10. Suyun sertliği ile ilgili aşağıdaki ifadelerden hangisi yanlıştır?

- A) Sert sularda sabun kolaylıkla köpürür.
- B) Suyun sertliği, suyun lezzetini etkiler.
- C) Suda çözünen kalsiyum ve magnezyum gibi iyonlar fazla ise bu tür sulara sert sular denir.
- D) Sert sular sıcak su borularında ve kazanlarda tortu bırakır.

11. ${}^2\text{He}$, ${}^{10}\text{Ne}$, ${}^{18}\text{Ar}$, ${}^{54}\text{Xe}$ atomlarından hangisinin London kuvveti en güçlüdür?

- A) ${}^2\text{He}$
- B) ${}^{10}\text{Ne}$
- C) ${}^{18}\text{Ar}$
- D) ${}^{54}\text{Xe}$

12. Aşağıdakilerden hangisi su ve toprak kirliliğine neden olan "ağır metaller"den biri değildir?

- A) Kurşun
- B) Kadmiyum
- C) Aseton
- D) Krom

13. Maddenin gaz hâlden sıvı hâle geçmesine ne ad verilir?

- A) Kırağılaşma
- B) Yoğuşma
- C) Buharlaşma
- D) Süblimleşme

14. Atmosferde bulunan azotun yüksek sıcaklıklarda oksijenle reaksiyona girerek oluşturduğu hava kirleticilere ne ad verilir?

- A) Azot oksitler
- B) Kükürt oksitler
- C) Kloroflorokarbonlar
- D) Karbonmonoksitler

15.

Ortam	Yükseklik
Akdeniz	Deniz seviyesi
Erciyes Dağı	3916 m
Uludağ	2543 m
Ağrı Dağı	5137 m

Yukarıdaki bilgiye göre suyun kaynama noktasının en yüksek olduğu yer aşağıdakilerden hangisidir?

- A) Erciyes Dağı
- B) Akdeniz
- C) Uludağ
- D) Ağrı Dağı

16. Maddenin plazma hâli ile ilgili aşağıdaki ifadelerden hangisi yanlıştır?

- A) Plazma hâlinde tepkimeler daha hızlı gerçekleşir.
- B) Pozitif yük sayısı negatif yük sayısına eşittir.
- C) Büyük bir enerji yoğunluğuna sahiptir.
- D) Elektriki iyi iletmez.

17. 20°C 'nin karşılığı olan K cinsinden sıcaklık aşağıdakilerden hangisidir?

- A) 255
- B) 293
- C) 512
- D) 617

18. Belirli bir geometrik şekli olmayan katılara ne ad verilir?

- A) Metalik katı
- B) İyonik katı
- C) Kovalent katı
- D) Amorf katı

19. I. Her sıcaklıkta gerçekleşir.
II. Sıvının her yerinde gerçekleşir.
III. Kabarcıklar oluşmaz.

Buharlaşma ile ilgili yukarıdaki ifadelerden hangileri doğrudur?

- A) Yalnız I
- B) Yalnız II
- C) I ve III
- D) II ve III

20. Aşağıdaki kimyasal türlerden hangisi iyondur?

- A) Mg^{2+}
- B) O_2
- C) CO_2
- D) O_3

2018 AÖÖ-AÖL I. DÖNEM 0105-A

1. Aşağıdakilerden hangisi I. kuşak haklardan biridir?

- A) Barış hakkı
- B) Din ve vicdan hürriyeti
- C) Ekonomik hakkı
- D) Çevre hakkı

2. Kilisenin oluşturduğu yozlaşmayı ortadan kaldırmak için uğraşan ve tanrı ile kul arasına kimsenin giremeyeceğini savunan düşünür aşağıdakilerden hangisidir?

- A) Copernic
- B) Petrarca
- C) T. Morus
- D) M. Lutter

3. Aşağıdakilerden hangisi sosyal devlet anlayışının gereklerinden biri değildir?

- A) Gelir adaleti ve eşitlik
- B) Sermayenin devlet tekelinde olması
- C) Sosyal güvenlik
- D) Ekonomik büyüme ve kalkınma

4. Temsili demokraside oy kullanma şekli aşağıdakilerden hangileridir?

- A) Kısıtlı - genel
- B) Sınırsız - özel
- C) Sınırlı - nesnel
- D) Evrensel - genel

5. 1924 Anayasası ile ilgili aşağıdaki ifadelerden hangisi yanlıştır?

- A) Ekonomik ve sosyal haklara ayrıntılı bir şekilde yer verilmemiştir.
- B) Meclis üstünlüğüne dayalı bir anayasadır.
- C) Güçler ayrılığı ilkesi benimsenmiştir.
- D) Yargı yetkisi bağımsız mahkemelere bırakılmıştır.

6. Aşağıdakilerden hangisi halk iktidarı veya halk egemenliği de anlamına gelmektedir?

- A) Özgürlük
- B) Ayırıcılık
- C) Eşitsizlik
- D) Demokrasi

7. Aşağıdakilerden hangisi isteme haklardan biri değildir?

- A) Dilekçe hakkı
- B) Eğitim ve öğretim hakkı
- C) Çalışma hakkı
- D) Grev hakkı

8. Aşağıdakilerden hangisi siyasi partilerin işlevlerinden biri değildir?

- A) İktidarı kullanarak ülkeyi yönetmek
- B) Seçimler için aday göstermek
- C) Ülke sorunlarını dile getirmemek
- D) Halk ile iktidar arasında aracılık yapmak

9. I. İnsan Hakları Üst Kurulu
II. İnsan Hakları Danışma Kurulu
III. İnsan Hakları İI ve İİçe Kurulları

Yukarıdakilerden hangileri Başbakanlık ve İnsan Hakları Başkanlığınca çeşitli kurul ve komisyonları arasında yer alır?

- A) Yalnız I
- B) Yalnız II
- C) I ve II
- D) I, II ve III

10. -----, Bakanlar Kurulu adına, sözlü veya yazılı olarak cevaplandırılmak üzere Başbakan ve bakanlardan bilgi istemekten ibarettir.

Yukarıdaki cümlede boş bırakılan yeri aşağıdakilerden hangisi doğru şekilde tamamlar?

- A) Teokratik görüşme
- B) Soru
- C) Meclis araştırması
- D) Genel görüşme

11. Atatürk düşünce sisteminde halkçılık, aşağıdakilerden hangisine dayanır?

- A) Milli egemenlik
- B) Monarşik yönetim
- C) Teokratik idare
- D) Oligarşik yapı

2018 AÖÖ-AÖL I. DÖNEM 0105-A

12. Uluslararası koruma mekanizmalarının işletilmesinde, bir antlaşmaya taraf olmayan fakat antlaşmayı hazırlayan uluslararası organizasyona üye olan devletler için uygulanan denetim aşağıdakilerden hangisidir?
- A) Sözleşme dışı denetim
B) Sözleşme içi denetim
C) Müeyyide
D) Adli kontrol
13. Türkiye, İnsan Hakları Evrensel Bildirgesi'ni kaç yılında kabul etmiştir?
- A) 1945
B) 1947
C) 1949
D) 1951
14. Bir toplumda toplumsal yapının bütününe dokunmaksızın eskiyen, güncelliğini kaybeden, toplumun ihtiyaçlarına cevap veremeyen kurum ve kuralların düzeltilmesine ve iyileştirilmesine ne ad verilir?
- A) Devrim
B) Gelişme
C) Reform
D) Çağdaşlaşma
15. Aşağıdakilerden hangisi uluslararası sivil toplum örgütlerinin faaliyet alanlarından biri değildir?
- A) Gelir adaletsizliğini ortadan kaldırması
B) Hızlı nüfus artışını önlemesi
C) İnsan hakları ihlallerinin önlenmesi
D) Savaş suçlarının yargılanması
16. 1961'de Londra'da kurulan, örgüt düşünce suçlarının ve siyasi tutukların serbest bırakılması için uğraşan uluslararası ölçekteki sivil toplum kuruluşu aşağıdakilerden hangisidir?
- A) Uluslararası Kızılhaç Komitesi
B) Uluslararası Af Örgütü
C) Uluslararası Hukuk Komitesi
D) Uluslararası PEN Kulübü
17. İnsanların olayları, gerçeküstü birtakım olgularla açıklamaya çalıştıkları evre aşağıdakilerden hangisidir?
- A) Sorgulayıcı
B) Teolojik
C) Pozitif
D) Metafizik
18. Uluslararası sivil toplum örgütleri ile ilgili aşağıdaki ifadelerden hangisi yanlıştır?
- A) Devletler için büyük bir baskı araçlarıdır.
B) Demokrasiye ve insan haklarına ilişkin sorunlara evrensel düzeyde yaklaşırlar.
C) Devletlerin etki ve güdümünde kalırlar.
D) Evrensel ölçekte kamuoyu oluştururlar.
19. Laiklik ilkesi ile ilgili aşağıdaki ifadelerden hangisi yanlıştır?
- A) Tek bir dine inancı öngörür.
B) Çağdaş demokrasi için bir ön koşuldur.
C) Laik olmayan bir devlet sisteminin insan hakları ihlallerine yol açması kaçınılmazdır.
D) Düşünce ve kanaat özgürlüğüne dayanır.
20. Cumhuriyet ile ilgili aşağıdaki ifadelerden hangisi yanlıştır?
- A) Halk egemenliğinin yönetime yansımaları için katılımcı bir demokrasinin de sağlanması gerekir.
B) Yönetim sadece bir zümreye aittir.
C) Cumhuriyet bir yönetim biçimidir.
D) Cumhuriyet yönetimi insan haklarına, adalete ve eşitliğe önem verir.

2018 AÖÖ-AÖL I. DÖNEM 0105-A

1. Şamanizm, Budizm ve Manihaizm etkisinde göçebe bozkır halkının gündelik yaşantısını doğaüstü tasvirlerle yansıttığı gri ve grinin tonlarının hakim olduğu eserleri ile ünlü, 15. yüzyılda yaşamış ressam aşağıdakilerden hangisidir?
 - A) Şerafeddin Sabuncuoğlu
 - B) Mehmet Siyah Kalem
 - C) Nigari
 - D) Matrakçı Nasuh
2. 1933 yılında kurulan, kendilerini Türkiye'deki resim gruplarının dördüncüsü olarak gören, kurucuları arasında Nurullah Berk ve Abidin Dino'nun bulunduğu Türk resim grubu aşağıdakilerden hangisidir?
 - A) D Grubu
 - B) Müstakil Ressam ve Heykeltıraşlar Birliği
 - C) Yeniler Grubu
 - D) Onlar Grubu
3. Anlamı "bulut gibi" olan ve çeşitli maddelerle yoğunlaştırılmış su yüzeyine boya damlatma yoluyla elde edilen desenin kağıda aktarılması sanatı aşağıdakilerden hangisidir?
 - A) Minyatür
 - B) Hat
 - C) Çini
 - D) Ebru
4. Aşağıdakilerden hangisi Anadolu Selçuklu dönemine ait bir minyatürlü el yazmasıdır?
 - A) Varka ile Gülşah
 - B) İskendername
 - C) Cerrahiye-i İlhaniye
 - D) Şehinşahname
5. Daha çok el yazması kitaplarda boya ve yıldız kullanılarak ışık, gölge, boyut ve perspektif verilmeden yapılan resimlere ne ad verilir?
 - A) İllüstrasyon
 - B) Ebru
 - C) Minyatür
 - D) Karikatür
6. İshak Paşa Sarayı günümüzde hangi il sınırları içerisinde yer almaktadır?
 - A) Ağrı
 - B) Bursa
 - C) Van
 - D) İstanbul
7. Aşağıdakilerden hangisi İslam sanatının ilk cami tipidir?
 - A) Kare planlı
 - B) Merkezi planlı
 - C) Transept planlı
 - D) Küfe planlı
8. Divriği Ulu Camisi ve Şifahanesi hangi beyliğe aittir?
 - A) Saltuklular
 - B) Danişmendliler
 - C) Artuklular
 - D) Mengücekliler
9. Anadolu Selçuklu Dönemi mimarisinde kubbenin ayaklar üzerinde taşındığı, cephelerin dört yöne kemerlerle açıldığı çokgen ya da kare gövdeli türbeler hangi tip içerisinde değerlendirilir?
 - A) Baldaken tipi türbeler
 - B) Eyvan tipi türbeler
 - C) İki katlı türbeler
 - D) Kare gövdeli türbeler
10. İstanbul'daki Çinili Köşk hangi padişah döneminde inşa ettirilmiştir?
 - A) Yıldırım Bayezit
 - B) Yavuz Sultan Selim
 - C) Kanuni Sultan Süleyman
 - D) Fatih Sultan Mehmet
11. Edirne Üç Şerefeli Cami hangi Osmanlı cami grubu içerisinde?
 - A) Tek kubbeli camiler
 - B) Ters T planlı camiler
 - C) Merkezi kubbeli camiler
 - D) Çok kubbeli camiler
12. Erken Osmanlı mimarlığının en büyük mezar yapısı olarak kabul edilen türbe aşağıdakilerden hangisidir?
 - A) İstanbul III. Selim Türbesi
 - B) Bursa Yeşil Türbe
 - C) İstanbul Kanuni Sultan Süleyman Türbesi
 - D) Bursa Şehzade Mustafa Türbesi
13. 14. yüzyıl sonu 15. yüzyıl başlarında İznik'te üretilen, kirlili beyaz astar üzerine mavi geometrik desenler, stilize bitki, bulut motifleri ve hayvan figürleriyle bezenen Osmanlı seramikleri hangi isimle anılır?
 - A) Kütahya seramikleri
 - B) Haliç işi seramikler
 - C) Milet işi seramikler
 - D) Şam işi seramikler

2018 AÖÖ-AÖL I. DÖNEM 0105-A

14. Yeniler Grubu içerisinde yer alan ve toplumsal gerçekçilik anlayışı doğrultusunda ele aldığı iri gözlü köylü kadın portreleriyle tanınan Türk ressam aşağıdakilerden hangisidir?

- A) Bedri Rahmi Eyüboğlu
- B) Nuri İyem
- C) Abidin Dino
- D) Nurullah Berk

15. Anıtkabir'in mimarları aşağıdakilerden hangisinde birlikte verilmiştir?

- A) Emin Onat – Vedat Tek
- B) Vedat Tek – Mimar Kemalettin
- C) Mimar Kemalettin – Orhan Arda
- D) Emin Onat – Orhan Arda

16. Dolmabahçe Sarayı hangi padişah tarafından yaptırılmıştır?

- A) II. Mahmut
- B) Kanuni Sultan Süleyman
- C) Sultan Abdülmecit
- D) V. Mehmet

17. Türk-İslam mimarisinde anıtsal taç kapı ve minare geleneği hangi dönemde başlamıştır?

- A) Anadolu Selçuklu Dönemi
- B) Karahanlı Dönemi
- C) Büyük Selçuklu Dönemi
- D) Beylikler Dönemi

18. Eyvanlı cami tipi ilk kez aşağıdaki Türk devletlerinden hangisi döneminde uygulanmıştır?

- A) Büyük Selçuklular
- B) Anadolu Selçukluları
- C) Osmanlılar
- D) Gazneliler

19. Mimar Sinan'ın "ustalık eserim" diye tanımladığı yapı aşağıdakilerden hangisidir?

- A) İstanbul Süleymaniye Camisi
- B) İstanbul Rüstem Paşa Medresesi
- C) Edirne Selimiye Camisi
- D) İstanbul Şehzade Camisi

20. Revaklı avlu Osmanlı camilerinde ilk kez hangi yapıda kullanılmıştır?

- A) Bursa Ulu Camisi
- B) Edirne Üç Şerefeli Camisi
- C) İstanbul Süleymaniye Camisi
- D) İstanbul Fatih Camisi

2018 AÖÖ-AÖL I. DÖNEM 0105-A

1. Aşağıdakilerden hangisi dilin coşku ve heyecanı dile getirme işlevinde kullanıldığı metin türlerinden biridir?

- A) Anı
- B) Şiir
- C) Günlük
- D) Gezi yazısı

2. Öğretici metinlerle ilgili aşağıdaki ifadelerden hangisi yanlıştır?

- A) Dil açık ve anlaşılır bir biçimde düzenlenir.
- B) Kurmaca değil gerçeklik ön plandadır.
- C) Bilgi vermek okuyucuyu aydınlatmak için yazılır.
- D) Kişi her okuduğunda ayrı bir anlam çıkarır.

3. Aşağıdakilerden hangisi konularına ve yazılış amaçlarına göre deneme çeşitlerinden biri değildir?

- A) Kişisel
- B) Klasik
- C) Eleştirel
- D) Felsefi

4. Aşağıdaki sanatsal metinlerden hangisi göstermeye bağlı edebî metinler grubunda yer alır?

- A) Biyografi
- B) Otobiyografi
- C) Orta oyunu
- D) Anı

5. Dil ve anlatım açısından sanat değeri taşıyan mektuplar aşağıdakilerden hangisidir?

- A) Davet mektupları
- B) Edebi mektuplar
- C) Tebrik mektupları
- D) Özel mektuplar

6. Aşağıdakilerden hangisi hikâyenin bölümlerinden biri değildir?

- A) Giriş
- B) Sonuç
- C) Gelişme
- D) Değerlendirme

7. Aşağıdakilerden hangisi anlamlı birden çok dil birliğinin yan yana gelerek yeni bir anlam ifade etmesidir?

- A) bağdaştırma
- B) bağlaşıklık
- C) bağdaşıklık
- D) bağlam

8. Aşağıdakilerden hangisi biyografinin taşınması gereken özelliklerden biri değildir?

- A) Hayat hikâyesi anlatılacak kişinin anılarından, mektuplarından yararlanılabilir.
- B) Açık ve sade bir dille yazılmalıdır.
- C) Biyografiyi yazan kişi gerekirse, duygu ve düşüncelerini de yazıya katabilir.
- D) Ayrıntılı bir ön çalışma gereklidir.

9. Orta oyununun oynandığı yuvarlak veya oval alana ne ad verilir?

- A) Söyleşi
- B) Palanga
- C) Mukaddime
- D) Muhavere

10. Bir isteği bildirmek, bir şikâyeti duyurmak veya herhangi bir konuda bilgi vermek amacıyla resmi ya da özel kurumlara/kuruluşlara yazılan yazılara ne ad verilir?

- A) Mektup
- B) Öneri
- C) Tenkit
- D) Dilekçe

11. Yanımda oturan bir Niğdeli şehrin eteğini saran ağaç kümeleri arasında pek iyi seçemediğim bir noktayı işaret etti. —Faruk Nafiz'in hanı, dedi. Büyük şairin han sahibi olduğu günleri de inşallah görürüz. Fakat yol arkadaşımın bana gösterdiği bina sadece Faruk Nafizin unutulmaz Han Duvarları şiirinde tasvir ettiği han idi.

Yukarıdaki parça metin türü olarak aşağıdakilerden hangisine örnektir?

- A) Gezi yazısı
B) Otobiyografi
C) Sohbet
D) Röportaj

12. Aşağıdakilerden hangisi kişisel hayatı konu alan öğretici metinlerden biridir?

- A) Eleştiri
B) Sohbet
C) Mektup
D) Deneme

13. Bir konuda bilgi vermek, bir gerçeği açıklamak ya da ispatlamak için her türlü kanıtlardan faydalanan ve bunları bilimsel biçimde inceleyen fikir yazılarına ne ad verilir?

- A) Haber
B) Makale
C) Fıkra
D) Eleştiri

14. Gazete ve televizyonlarda haberleri toplayan, ileten kişilere ne ad verilir?

- A) Hatip
B) Yazar
C) Eleştirmen
D) Muhabir

15. Aşağıdakilerden hangisi anı türünün özelliklerinden biri değildir?

- A) Olayların kurmaca olması
B) Öğretici metin olması
C) İşlenen olayların gözlemlere dayanması
D) Kişilerin yaşayışlarını anlatması

16. Hacivat ve Karagöz oyununda, okumuş, bilgili ve Türkçeyi iyi kullanan karakter aşağıdakilerden hangisidir?

- A) Meddah
B) Karagöz
C) Hacivat
D) Çelebi

17. Günlükler, üzerinden zaman geçtiğinde aşağıdakilerden hangisi ile adlandırılır?

- A) Hikâye
B) Anı
C) Sohbet
D) Mektup

18. Aşağıdakilerin hangisinde ünlü düşmesi gerçekleşmemiştir?

- A) Aklını çelmek
B) Bağı yanık
C) Ağzı sıkı
D) Bahtı açık

19. Hafta sonu Antalya() ya gidiyoruz() ama bu mevsimde Antalya çok sıcak oluyormuş() Bu konuda sen ne düşünüyorsun()

Yukarıdaki cümlelerde parantez içlerine sırasıyla hangi noktalama işaretleri gelmelidir?

- A) (') (;) (.) (?)
B) (') (") (!) (.)
C) (,) (.) (,) (.)
D) (') (:) (:) (?)

20. Aşağıdakilerden hangisinde ses daralması kuralına örnek bir sözcük vardır?

- A) Güneş açıyor.
B) Bu kalem yazmıyor.
C) İçim üşüyor.
D) Hava soğuyor.

2018 AÖÖ-AÖL I. DÖNEM 0105-A

1. Taşuk-u Talat ve Fitnat adlı ilk yerli roman aşağıdaki yazarlardan hangisine aittir?
- A) Şemsettin Sami
B) Mehmet Rauf
C) Reşat Nuri Güntekin
D) Recaizade Mahmut Ekrem
2. Hikâye planında olayın geçtiği ortamın ve kişilerin tanıtıldığı, yer ve zamanın belirtildiği, olay ve olay kişilerinin betimlendiği bölüm aşağıdakilerden hangisidir?
- A) Çözüm
B) Tema
C) Düşüm
D) Serim
3. "Atmacanın biri alaca burunlu bülbüle demiş, Ama ne zaman demiş, göklerde bulutlar arasında, Bülbülü sıkarken yaman pençelerinde..."
Yukarıda bir bölümü alıntılanan yazı türü aşağıdakilerden hangisidir?
- A) Deneme
B) Fabl
C) Şiir
D) Dram
4. Sanatta, bilimde, politikada veya başka alanlarda tanınmış kişilerin yaşamlarını anlatan yazı türüne ne ad verilir?
- A) Anı
B) Deneme
C) Biyografi
D) Günce
5. Aşağıdakilerden hangisi durum hikâyeciliğinin özelliklerinden biri değildir?
- A) Hikâye mutlaka serim, düşüm, çözüm planına uyularak belli bir sonuçla bitirilir.
B) Merak ögesi ikinci plandadır.
C) Gerçeklik abartılmadan anlatılır.
D) Kahramanlar karşılıklı konuşmalar içinde bulunur.
6. Reşat Nuri Güntekin'in "Çalikuşu" adlı romanının teması aşağıdakilerden hangisidir?
- A) Ölüm
B) Aşk
C) Kahramanlık
D) Makale
7. Shakespeare'in Venedik Taciri adlı eseri hangi türün örneğidir?
- A) Tragedya
B) Yergi komedyası
C) Dram
D) Karakter komedyası
8. Aşağıdakilerden hangisi "köy seyirlik oyunlarının" özelliklerinden biridir?
- A) Yazılı bir metnin bulunması
B) Profesyonel oyuncular tarafından oynanması
C) Ana ögesinin taklit olması
D) Seçilen oyuna önceden hazırlık yapılması
9. Köy oyunlarının, karagöz ve orta oyunundan ayıran fark aşağıdakilerden hangisidir?
- A) Hala geleneksel olarak devam ediyor olması
B) Oynandıkları yörelerin özelliklerini taşımaları
C) Oyun metninin belli olması
D) Belli zamanlarda oynanması
10. Yazarın sanat metinlerinde iletmek istediği mesaja ne ad verilir?
- A) Anlam
B) Yorum
C) Yoğun anlam
D) Gönderge
11. Aşağıdakilerden hangisi Türk kültürüne ait başlıca halk tiyatrosu türlerinden biri değildir?
- A) Mesnevi
B) Orta oyunu
C) Meddah
D) Karagöz

12. Aşağıdakilerden hangisi Karagöz oyunlarındaki kişilerden biri değildir?

- A) Çelebi
- B) Tuzsuz Deli Bekir
- C) Banker
- D) Zenne

13. Aşağıdakilerden hangisi tragedya'daki üç birlik kuralının öğelerinden biri değildir?

- A) Zaman birliği
- B) Karakter birliği
- C) Olay birliği
- D) Yer birliği

14. Adelet Ağaoğlu'nun "Görece zaman anlayışı" tekniğiyle yazdığı roman aşağıdakilerden hangisidir?

- A) Tutunamayanlar
- B) Dersaadet'te Sabah Ezanları
- C) İntibah
- D) Ölmeye Yatmak

15. Eşref Bey, Koroğlu, Latif Şah hikâyeleri hangi türün örnekleridir?

- A) Kahramanlık Hikâyeleri
- B) Aşk Hikâyeleri
- C) Masalsı Hikâyeler
- D) Köy Hikâyeleri

16. Maupassant Tarzı Hikâye ile ilgili aşağıdaki ifadelerden hangisi yanlıştır?

- A) Seçilmiş olay ve kişiler üzerine kurulur.
- B) Beklenmedik bir sonla biter.
- C) Rastlantılar ön plandadır.
- D) Olaylar zinciri; kişi, zaman ve yer ögesine bağlıdır.

17. Dış alemdeki olaylardan çok kahramanların iç dünyasını, ruh hallerini ele alarak kişilerin toplumla ilişkilerini, bunların birbirlerinden nasıl etkilendiklerini anlatan roman türü aşağıdakilerden hangisidir?

- A) Macera romanı
- B) Tahlil romanı
- C) Sosyal roman
- D) Tarihi roman

18. "Gülünç, bayağı, korkunç olaylarla acıklı, ince ve güzel olayları iç içe anlatan bir tiyatro türüdür. Nazım ve nesir şeklinde yazılabilir. Amacı seyirciye gerçeği göstermektir."

Yukarıda bazı özellikleri verilen tiyatro türü aşağıdakilerden hangisidir?

- A) Absürd
- B) Tragedya
- C) Epik
- D) Dram

19. Aşağıdakilerden hangisi konularına göre masal gruplarından biri değildir?

- A) Düşündürücü masallar
- B) Zincirlemeli masallar
- C) Asıl masallar
- D) Hayvan masalları

20. Bu tiyatronun göze çarpan yönü; kalıplaşmış gerçeklere karşı çıkmak, tabiatın ve mantıktan uzaklaşmak ve insanı düşündürmektir. Az olay ve sözle önemli şeyler anlatmak istenir. Bu çeşit tiyatro eserleri semboller, bilmeceler ve saçma tasarılarla doludur.

Yukarıda anlatılan tiyatro türü aşağıdakilerden hangisidir?

- A) Operet
- B) Absürd tiyatro
- C) Meddah
- D) Epik tiyatro

2018 AÖÖ-AÖL I. DÖNEM 0105-A

1. "Anadolu Notları" adlı gezi yazısı aşağıdaki yazarlardan hangisine aittir?
 - A) Reşat Nuri Güntekin
 - B) Peyami Safa
 - C) Ahmet Haşim
 - D) Ahmet Rasim
2. Faruk Nafiz Çamlıbel'in Ulukışla yoluyla Kayseri'ye gidişinin izlenimlerinden oluşan şiiri aşağıdakilerden hangisidir?
 - A) Akşam Musikîsi
 - B) Çoban Çeşmesi
 - C) Han Duvarları
 - D) Gezinti
3. 2006 yılında Nobel Edebiyat Ödülü'nü kazanan yazar aşağıdakilerden hangisidir?
 - A) Orhan Pamuk
 - B) Orhan Kemal
 - C) Kemal Tahir
 - D) Orhan Veli
4. İtalyan edebiyatında en tanınmış anı yazarı aşağıdakilerden hangisidir?
 - A) Alberto Moraio
 - B) Manzoni
 - C) Silvio Pellica
 - D) Fillippo Marinetti
5. "Tutunamayanlar" adlı roman aşağıdaki yazarlardan hangisine aittir?
 - A) Turgut Uyar
 - B) İlhan Berk
 - C) Oğuz Atay
 - D) Ece Ayhan
6. "Edebiyat Üzerine Makaleler" adlı eser aşağıdaki yazarlardan hangisine aittir?
 - A) Ahmet Hamdi Tanpınar
 - B) Peyami Safa
 - C) Nurullah Ataç
 - D) Nazım Hikmet
7. Ekonomik yapı ile etik yıkım arasındaki organik bağı gözlemlemiş, durumun bireylerin iç dünyasına olan etkisini yakalamış olan yazar aşağıdakilerden hangisidir?
 - A) Melih Cevdet
 - B) Oktay Rifat
 - C) Orhan Veli
 - D) İlhan Berk
8. Anadolu köy seyirlik oyunlarını ve geleneksel popüler halk tiyatrosunu çağdaş sanatsal etkinlikleri besleyecek önemli kaynaklar olarak değerlendiren şair aşağıdakilerden hangisidir?
 - A) Necati Cumalı
 - B) Ahmet Muhip Dıranas
 - C) Ahmet Kutsi Tecer
 - D) Aziz Nesin
9. Şiirden ölçü, uyak gibi bağları atan akımın başlatıcısı aşağıdakilerden hangisidir?
 - A) Faruk Nafiz Çamlıbel
 - B) Ahmet Muhip Dıranas
 - C) Ahmet Hamdi Tanpınar
 - D) Nazım Hikmet
10. Bilim, sanat, kültür ve başka konularda bilgi vermek, bir düşüncüyü ortaya koymak ya da savunmak amacıyla yazılan, yazarın kişisel görüşlerini de yansıttığı gazete ve dergi yazılarına ne ad verilir?
 - A) Fıkra
 - B) Günce
 - C) Deneme
 - D) Makale
11. 1942-1970 yılları arasında yirmi bir tiyatro oyunu yazarak dönemin en popüler yazarı olan sanatçı aşağıdakilerden hangisidir?
 - A) Selahaddin Batu
 - B) Cevat Fehmi Başkut
 - C) Selahaddin Kudret Aksal
 - D) Nahid Sırrı Örik

2018 AÖÖ-AÖL I. DÖNEM 0105-A

12. 1965'e kadar süren, anlamda kapalılığın ve değişik çağrışımlarla imgeci bir şiir anlayışının savunucusu olan edebî topluluk aşağıdakilerden hangisidir?

- A) Garipçiler
- B) Yedi Maşaleciler
- C) Birinci Yeniler
- D) İkinci Yeniler

13. Aşağıdakilerden hangisi makale türlerinden biri değildir?

- A) Askeri makale
- B) Siyasal makale
- C) Edebi makale
- D) Başmakale

14. "Hatıralar" adlı anı kitabında Atatürk'ü anlatan yazar aşağıdakilerden hangisidir?

- A) Ruşen Eşref Üneydin
- B) Ahmet İhsan Tokgöz
- C) Halit Ziya Uşaklıgil
- D) Ahmet Rasim

15. Aşağıdakilerden hangisi "Güldürücü Fıkra Tipleri" arasında yer almaz?

- A) Nasrettin Hoca
- B) Çelebi Mehmet
- C) İncili Çavuş
- D) Bekri Mustafa

16. Oğuz Atay'ın ölümünden sonra sahnelenen tek oyunu aşağıdakilerden hangisidir?

- A) Maviydi Bisikletim
- B) Oyunlarla Yaşayanlar
- C) Kâtip Çıkmazı
- D) Eski Fotoğraflar

17. Aşağıdakilerden hangisi "deneme" türünün özelliklerinden biri değildir?

- A) Kısa olması
- B) Belirli bir planla yazılması
- C) Samimi bir dil kullanılması
- D) Düşünceyi kabul ettirme, kesin bir sonuca gitme gibi bir amacının olmaması

18. Gazetelerin ilk sayfasında ve genellikle ilk sütununda yayımlanan makalelere ne ad verilir?

- A) Edebî Makale
- B) Siyasal Makale
- C) İktisadî Makale
- D) Başmakale

19. 1950'li yıllardan başlayarak kendi halinde insanların günlük yaşantısını ve sorunlarını yalın bir anlatımla sahneye getiren oyun yazarı aşağıdakilerden hangisidir?

- A) Haldun Taner
- B) Ferhan Şensoy
- C) Nazım Kurşunlu
- D) Aziz Nesin

20. "Düzenli" denemenin ilk örneklerine aşağıdaki yazarlardan hangisinde rastlanır?

- A) Bacon
- B) A. Camus
- C) Montaiqne
- D) T. S. Eliot

2018 AÖÖ-AÖL I. DÖNEM 0105-A

1. Başlangıcı ve sonu olan, uzunluğu önceden belirlenmiş bir süre içinde değişim yaratan, iç içe geçmiş amaç ve hedeflere sahip, planlanan uygulama adımlarıyla çeşitli ürünlerin elde edildiği, aynı ve nakdi kaynaklarla yürütülen çalışmalara ne ad verilir?
- A) İş planı
B) Fizibilite etüdü
C) Proje
D) İş fikri
2. Uzmanlık, bilgi ve deneyimi gerektiren proje faaliyetine ne ad verilir?
- A) Koordinasyon
B) Fizibilite(Yapılabilirlik) çalışması
C) Güdüleme
D) Çözümleme
3. Aşağıdakilerden hangisi finansal inceleme kapsamında yapılan çalışmalardan biridir?
- A) Temel mühendislik tasarımlarının yapılması
B) Makine donanımının seçilmesi
C) Ulaşım faktörlerinin araştırılması
D) Finansman tablolarının hazırlanması
4. Aşağıdakilerden hangisi anonim şirketin özelliklerinden biridir?
- A) Ortaklık kolaylıkla devredilemez.
B) Ortakların ölümü veya ortaklıktan çekilmeleri şirketi etkiler.
C) İdarenin sorumluluğu kişiseldir.
D) Büyük sermaye toplama yeteneğine sahip olduğundan büyük işletmeler anonim şirket niteliğinde kurulur.
5. Aşağıdakilerden hangisi işletmelerin ekonomik şekilleri bakımından sınıflandırılmasında yer alan işletme türlerinden biridir?
- A) Kamu işletmeleri
B) Finans işletmeleri
C) Hizmet üreten işletmeler
D) Kiralama işletmeleri
6. Aşağıdakilerden hangisi adi şirketin özelliklerinden biri değildir?
- A) Şirket kârları bütün ortaklar arasında ve belirtilen oranlarda veya eşit olarak dağıtılır.
B) Her ortağın şirket yönetiminde yetkisi vardır.
C) Yönetim yetkisi ortaklardan birine birkaçına ya da dışardan birine bırakılabilir.
D) Ortakların sorumlulukları taahhüt ettikleri sermaye ile sınırlıdır.
7. Otomobil fabrikaları aşağıdaki işletmelerden hangisine örnektir?
- A) Sanayi işletmeleri
B) Finans işletmeleri
C) Kiralama işletmeleri
D) Ticaret işletmeleri
8. Aşağıdakilerden hangisi işletmenin temel fonksiyonlarından biri değildir?
- A) Özendirici fonksiyon
B) Genel fonksiyon
C) Destekleyici fonksiyon
D) Kolaylaştırıcı fonksiyon
9. Kişi yada işletmelerin ihtiyaç duydukları fonların belirlenerek sağlanması ve bu fonların en uygun alanlara kaydırılarak yönetilmesine ne ad verilir?
- A) Tedarik
B) Finansal Yönetim
C) Planlama
D) Pazarlama
10. Aşağıdakilerden hangisi yapılabirlik etüdünün ekonomik incelemede yapılan araştırmalarından biri değildir?
- A) Ham madde analizi
B) Kuruluş yeri seçimi
C) Finansman giderlerinin belirlenmesi
D) Ürün araştırması
11. Aşağıdakilerden hangisi fizibilite etüdünün aşamalarından biri değildir?
- A) Hukuki inceleme
B) Sosyolojik inceleme
C) Teknik inceleme
D) Ekonomik inceleme

12. Aşağıdakilerden hangisi yapılabirlik etüdünün faydalarından biridir?

- A) Geri dönüşümü hızlandırır.
- B) Rekabeti artırır.
- C) Toplumun eğitim seviyesini artırır.
- D) Kredilerin doğru ve etkin kullanılmasını sağlar.

13. Serbest piyasa ekonomisine işlerlik kazandırmak amacıyla kamu ekonomik işletme ya da teşebbüsleri mülkiyetin kısmen veya tamamen özel teşebbüse devredilerek bunların özel işletme ya da teşebbüs biçimine dönüştürülmesine ne ad verilir?

- A) El koyma
- B) Özelleştirme
- C) Sonlandırma
- D) Kamulaştırma

14. Kâr amacıyla mal ve hizmet üretmek veya pazarlamak için üretim faktörlerini planlı, tutarlı ve akılcı bir sistemle bir araya getiren teknik ve ekonomik birime ne ad verilir?

- A) Piyasa
- B) Federasyon
- C) Vakıf
- D) İşletme

15. Bir işletmenin ürünlerinin yurt içinde ya da yurt dışında satışını ve pazarlamasını sağlayan ,işletmeye bağlı olarak çalışan ve işletmeyle aralarındaki ilişkinin hukuki kurallara bağlı olduğu işletme ya da şahıslara ne ad verilir?

- A) Bayi
- B) Franchising
- C) Tedarikçi
- D) Ajans

16. Türkiye'nin ekonomik ve sosyal ihtiyaçlarının karşılanmasında küçük ve orta ölçekli işletmelerin payını ve etkinliğini artırmak, rekabet güçlerini ve düzeylerini yükseltmek sanayide uyumunu ekonomik gelişmelere uygun biçimde gerçekleştirmek amacıyla kurulan kurum aşağıdakilerden hangisidir?

- A) BDDK
- B) KOSGEB
- C) SPK
- D) TSKB

17. Çalışanlara işletmenin amaçlarını ilkelerini çalışma şeklini tanımlamaya ve iş yaşamında uyulacak ilkelere yönelik kurallar bütününe açıklamaya yarayan kavram aşağıdakilerden hangisidir?

- A) İş ahlakı kuralları
- B) Ahilik
- C) Örf
- D) Hukuk kuralları

18. Aşağıdakilerden hangisi internet üzerinden satışın başarıya ulaşması için dikkat edilmesi gereken konulardan biri değildir?

- A) Doğru mağaza dekorasyonu seçimi
- B) Doğru işletme kuralları
- C) Doğru hedef kitle
- D) Doğru ihtiyaç tespiti

19. Piyasada tanınmış yerleşmiş bir ismin ya da markanın işletme hakkını veren tarafa ne ad verilir?

- A) Distribütörlük
- B) Müteşebbis
- C) Franchisor
- D) Franchisee

20. I. Ticari defterini tasdik ettirme
II. Deprem felaketinden zarar görenler için yardımda bulunma
III. Ticari defterleri saklama

Yukarıdakilerden hangileri girişimcinin yasal sorumluluklarındandır?

- A) Yalnız I
- B) Yalnız II
- C) I ve III
- D) I, II ve III

2018 AÖÖ-AÖL I. DÖNEM 0105-A

1. $(p \vee q) \wedge (p' \wedge q)'$ bileşik önermesinin en sade hâli aşağıdakilerden hangisidir?

- A) 0
B) 1
C) p
D) q'

2. 5 farklı önermenin birbirine göre kaç tane doğruluk durumu vardır?

- A) 5
B) 10
C) 25
D) 32

3. $(p \Rightarrow q) \vee p$ bileşik önermesinin en sade hâli aşağıdakilerden hangisidir?

- A) 0
B) 1
C) p'
D) q

4. Kendisi hariç alt kümelerinin sayısı 255 olan bir kümenin eleman sayısı kaçtır?

- A) 5
B) 6
C) 7
D) 8

5. $(2x-1,5) = (7,11-2y)$ olduğuna göre, $x+y$ kaçtır?

- A) 5
B) 6
C) 7
D) 8

6. Ortak özellik yöntemi ile verilen $A = \{x \mid x, 1 \text{ ile } 9 \text{ arasında çift tam sayı}\}$ kümesinin liste yöntemi ile gösterimi aşağıdakilerden hangisidir?

- A) $\{2,3,4,5,6,7,8\}$
B) $\{2,4,6,8\}$
C) $\{1,3,5,7\}$
D) $\{2,4,6\}$

7. Bir sınıfta basketbol veya voleybol sporlarından en az birini oynayan 40 öğrenci vardır. 6 öğrenci hem basketbol hem de voleybol oynamaktadır.

Basketbol oynayanların sayısı, voleybol oynayanların sayısından 6 fazla olduğuna göre, bu sınıfta sadece voleybol oynayan kaç öğrenci vardır?

- A) 14
B) 16
C) 18
D) 20

8. $A = \{1,2,5\}$, $B = \{3,5\}$ ve $C = \{1,2,3,4\}$ kümeleri veriliyor.

Buna göre, $(A \cup B) \cap C$ kümesi aşağıdakilerden hangisidir?

- A) $\{1,3,5\}$
B) $\{1,2,5\}$
C) $\{2,5\}$
D) $\{1,2,3\}$

9. $A = \{a,b,c,d,e,f\}$ kümesinin alt kümelerinin kaç tanesinde c elemanı bulunmaz?

- A) 8
B) 16
C) 32
D) 64

10. $A = \{1,2,3,a\}$ ve $B = \{b,c,d,4,5\}$ olduğuna göre, aşağıdakilerden hangisi $A \times B$ kümesinin bir elemanı değildir?

- A) (1, b)
B) (a, c)
C) (4, a)
D) (a, 5)

11. $A = [-2,3]$ ve $B = [-1,4]$ olduğuna göre, $A \cap B$ kümesi aşağıdakilerden hangisidir?

- A) $\{x \mid -1 < x < 3\}$
B) $\{x \mid -1 \leq x \leq 3\}$
C) $\{x \mid -2 < x < 4\}$
D) $\{x \mid -2 \leq x \leq 4\}$

12. Aşağıdakilerden hangisi bir irrasyonel sayıdır?

- A) -2
B) $\frac{3}{5}$
C) $\sqrt{8}$
D) $\sqrt{16}$

13. $\frac{2}{5} = \frac{10}{x}$ orantısında x kaçtır?

- A) 5
B) 10
C) 20
D) 25

14. Ali ile babasının bugünkü yaşları toplamı 40'dır. 5 yıl önce babasının yaşı, Ali'nin yaşının 5 katı olduğuna göre, babasının şimdiki yaşı kaçtır?

- A) 30
B) 32
C) 34
D) 35

15. $\sqrt{45} + 2\sqrt{5} - \sqrt{125}$ işleminin sonucu kaçtır?

- A) $-\sqrt{5}$
B) 0
C) $\sqrt{5}$
D) $2\sqrt{5}$

16. $\frac{3 \cdot 2^8 + 4^4}{16^2}$ işleminin sonucu kaçtır?

- A) 2
B) 4
C) 8
D) 16

17. $6x - \frac{2}{3} \geq \frac{4}{3}$ eşitsizliğinin çözüm kümesi aşağıdakilerden hangisidir?

- A) $\mathcal{C} = \left\{ x \mid x \geq \frac{1}{3}, x \in \mathbb{R} \right\}$
B) $\mathcal{C} = \left\{ x \mid x \leq \frac{1}{3}, x \in \mathbb{R} \right\}$
C) $\mathcal{C} = \left\{ x \mid x \leq \frac{1}{9}, x \in \mathbb{R} \right\}$
D) $\mathcal{C} = \left\{ x \mid x \geq \frac{1}{9}, x \in \mathbb{R} \right\}$

18. $|x-5| \leq 2$ eşitsizliğini sağlayan tamsayılar kümesi aşağıdakilerden hangisidir?

- A) {3,4,5,6,7}
B) {0,1,2,3,4,5,6,7}
C) {-3,-2,-1,0,1,2,3}
D) {-7,-6,-5,-4,-3,-2,-1,0,1,2,3}

19. $\begin{cases} 2x + 5y = 1 \\ 3x + 4y = -2 \end{cases}$ denklem sistemini sağlayan (x,y) ikilisi aşağıdakilerden hangisidir?

- A) (2,1)
B) (-2,-1)
C) (2,-1)
D) (-2,1)

20. $2x - 3 = 5x + 9$ denkleminin gerçek sayılardaki çözüm kümesi aşağıdakilerden hangisidir?

- A) {-4}
B) {0}
C) {4}
D) \emptyset

2018 AÖÖ-AÖL I. DÖNEM 0105-A

1. Aşağıdakilerden hangisi siyaset felsefesinin temel kavramlarından biri değildir?
- A) Erdem
B) Hukuk
C) Yasa
D) Bürokrasi
2. Aşağıdakilerden hangisi Max Weber'in tanımladığı otorite türlerinden biri değildir?
- A) Geleneksel otorite
B) Karizmatik otorite
C) Otokratik otorite
D) Demokratik otorite
3. İnsanların eylemlerini ve birbirleriyle ilişkilerini düzenlemek amacıyla oluşturulmuş normlar ya da değerler sistemine ne ad verilir?
- A) Din
B) Hukuk
C) Ahlak
D) Felsefe
4. Aşağıdakilerden hangisi estetik yargıya bir örnektir?
- A) Picasso'nun bütün resimleri güzeldir.
B) Bırakılan taş yere düşer.
C) Bütün canlılar ölümlüdür.
D) Arkadaşa yardımcı olmak iyi bir davranıştır.
5. "Öyle davran ki eylemine ölçü olarak aldığın ilke, tüm insanlar için geçerli, genel bir yasa haline gelsin." görüşüyle ahlak yasasını evrenselleştirmeye çalışan filozof aşağıdakilerden hangisidir?
- A) Platon
B) Kant
C) Spinoza
D) Farabi
6. Aşağıdakilerden hangisi ahlak felsefesinin kavramlarından biridir?
- A) Güznel
B) Meşruiyet
C) Erdem
D) Kutsal
7. Aşağıdakilerden hangisi ideal düzeni belirleyen ölçütlerden biri değildir?
- A) Eşitlik
B) Adalet
C) Özgürlük
D) Güç
8. Devletin etki baskı ve yönlendirmesinin dışında, toplumun kendi kendisini yönlendirmek, çıkarlarını savunmak amacıyla kurulan örgütlere ne ad verilir?
- A) Bürokrasi
B) Sivil toplum örgütleri
C) Siyasal partiler
D) Ütopya
9. Zihinde tasarlanmış, gerçekleşmesi mümkün olmayan düşsel bir toplum biçimini ve siyasi yönetim tarzını ifade eden kavram aşağıdakilerden hangisidir?
- A) Anomi
B) Ütopya
C) Devlet
D) Bürokrasi
10. Montesquieu'nun "Kanunların Ruhunu" adlı eserinde söz ettiği üç yönetim biçimi ve bu üç yönetim biçimine denk düşen üç temel duygu aşağıdakilerden hangisinde birlikte ve doğru olarak verilmiştir?
- A) Cumhuriyet - Şan/Şeref, Monarşi - Erdem, Despotizm - Korku
B) Cumhuriyet - Erdem, Monarşi - Korku, Despotizm - Şan/Şeref
C) Cumhuriyet - Erdem, Monarşi - Onur, Despotizm - Korku
D) Cumhuriyet - Onur, Despotizm - Erdem, Monarşi - Onur
11. İnsanın kendi çevresi ile kurduğu ilişkiyi estetik bir ifadeyle sunmasına ne ad verilir?
- A) Sanat
B) Fenomen
C) Etik
D) Erdem
12. Doğadaki kusursuzluğa ve düzene bakarak, her şeyin bir amacı olduğunu söyleyerek Tanrının varlığına ulaşmak O'nu aşağıdaki kanıtlardan hangisiyle ispatlamaktır?
- A) Ereklilik kanıtı
B) Ontolojik kanıt
C) Kozmolojik kanıt
D) Ahlaki kanıt

13. “Gerçek estetik yargıların duyusal olmaktan çıkıp düşünsel düzeye çıktığını, kişisel olmaktan çıkıp zorunlu ve genel geçer hale geldiğini” ifade eden Kant, bu görüşüyle aşağıdakilerden hangisini savunmuştur?

- A) Güzel olan ile iyi hoş olanın aynı şey olduğunu
- B) Sanatla oyun arasında benzerlik olduğunu
- C) Estetik yargıların, kişilere göre farklılık gösterdiğini
- D) Ortak estetik yargıların var olduğunu

14. Tanrı ile evreni bir ve aynı şey olarak gören düşünce biçimine ne ad verilir?

- A) Deizm
- B) Panteizm
- C) Ateizm
- D) Agnostisizm

15. Estetik yargı ile ilgili aşağıdaki ifadelerden hangisi yanlıştır?

- A) Subjektiftir.
- B) Zaman içinde değişikliğe uğrayabilir.
- C) Bireyseldir.
- D) Kültürel özelliklerden etkilenmez.

16. Sanat eseri ile ilgili aşağıdaki ifadelerden hangisi yanlıştır?

- A) Her sanat eseri özgün bir insan yaratısıdır.
- B) Sanat eserinin temel işlevi onu izleyende estetik bir duygu oluşturmaktır.
- C) Her sanat eserinin estetik özneye gereksinimi vardır.
- D) Her sanat eseri evrenseldir.

17. Aşağıdakilerden hangisi din felsefesinin temel kavramlarından biri değildir?

- A) Peygamber
- B) Vicdan
- C) Vahiy
- D) Kutsal

18. “Her şeyi bilen, en yüce ve en iyi olan bir Tanrı neden evrendeki acı, kötülük ve yetersizlikleri yaratmıştır?” sorusuna dayanan görüş aşağıdakilerden hangisidir?

- A) Tanrı'nın varlığını reddeden görüş
- B) Tanrı'nın varlığını bilinemeyeceğini söyleyen görüş
- C) Tanrı'nın varlığını kabul eden görüş
- D) Tanrı'nın yokluğunun bilinemeyeceğini söyleyen görüş

19. “Renkler ve zevkler tartışılmaz.” sözü aşağıdaki ifadelerden hangisini doğrular?

- A) Estetik yargılar duyusal değil, düşünseldir.
- B) Estetik yargılar zevk ve beğeniden uzaktır.
- C) Ortak estetik yargılar yoktur.
- D) Ortak estetik yargılara ulaşmak mümkündür.

20. Spinoza'nın “Tanrı Doğa'dır.” (Deus siva Natura) sözü aşağıdakilerden hangisine bir örnektir?

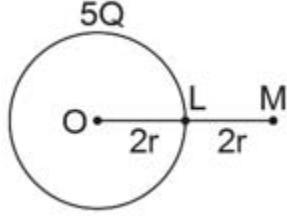
- A) Ateizm
- B) Deizm
- C) Teizm
- D) Panteizm

SEÇMELİ FİZİK 2

A

2018 AÖÖ-AÖL I. DÖNEM 0105-A

1.



Sabit yükü $+5Q$ olan $2r$ yarıçaplı bir küre yukarıdaki gibi yerleştiriliyor. L ve M noktalarındaki elektrik alanlarının oranı kaçtır?

- A) 1/4
- B) 1/3
- C) 1/2
- D) 1

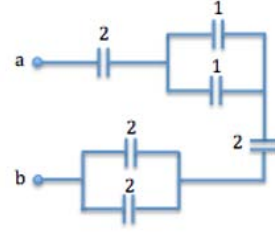
2. Her bir armatürde $50 \cdot 10^{-6}$ C'luk yük bulunan $5 \cdot 10^{-6}$ F sığalı bir kondansatörün armatürleri arasındaki potansiyel farkı kaç volt (V)'tur?

- A) 5
- B) 10
- C) 15
- D) 20

3. Manyetik alan şiddeti 10 wb/m^2 olan düzgün manyetik alana dik olarak konulan tek sarımlı bir dikdörtgen çerçevenin kenar uzunlukları 10 cm ve 20 cm dir. Tel çerçeve $0,1$ saniyede alana dik paralel hale getiriliyor. Çerçevede oluşan indüksiyon emk kaç volt(V)'tur?

- A) 2
- B) 4
- C) 6
- D) 8

4.



Her biri μF cinsinden verilen kapasitörler şekildeki gibi bağlanmıştır. a-b uçları arasındaki eşdeğer sığa kaç μF 'dir?

- A) 1/7
- B) 2/7
- C) 4/7
- D) 7/4

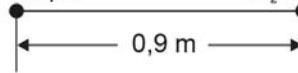
5. $q_1 = 4 \cdot 10^{-6} \text{ C}$ $q_2 = 8 \cdot 10^{-6} \text{ C}$



Yukarıdaki q_1 ve q_2 yüklerinin birbirlerine uyguladıkları elektriksel kuvvet kaç N'dur? ($k = 9 \cdot 10^9 \text{ Nm}^2 / \text{C}^2$)

- A) 4,6
- B) 5,8
- C) 6,5
- D) 7,2

6. $Q_1 = 30 \mu\text{C}$ $Q_2 = 10 \mu\text{C}$



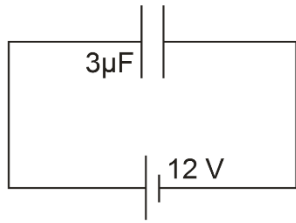
Yukarıdaki şekildeki sistemin elektriksel potansiyel enerjisi kaç joule(J)'dur? ($k=9 \cdot 10^9 \text{ Nm}^2/\text{C}^2$)

- A) 2,0
- B) 3,0
- C) 6,0
- D) 9,0

7. $4 \cdot 10^{-6} \text{ C}$ 'luk bir yükün kendisinden 60 cm uzaklıkta oluşturduğu elektrik alan kaç N/m^2 'dir? ($k = 9 \cdot 10^9 \text{ Nm}^2 / \text{C}^2$)

- A) $1 \cdot 10^5$
- B) $6 \cdot 10^5$
- C) $9 \cdot 10^5$
- D) $12 \cdot 10^5$

8.



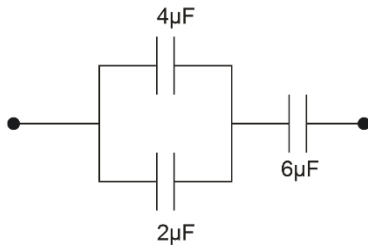
Yukarıdaki şekildeki kondansatörün taşıdığı enerji kaç joule (J)'dur?

- A) $90 \cdot 10^{-6}$
- B) $108 \cdot 10^{-6}$
- C) $116 \cdot 10^{-6}$
- D) $216 \cdot 10^{-6}$

9. Şehir şebekesi 115 V olan bir ülkede, 4,5 V'luk bir adaptörde kullanılan ideal bir transformatörün birincil sarım sayısı 2300 ise, ikincil sarım sayısı kaçtır?

- A) 60
- B) 80
- C) 90
- D) 120

10.



Yukarıdaki şekildeki devre parçasının eşdeğer sığası kaç μF 'dir?

- A) 3
- B) 6
- C) 9
- D) 12

11. Bir kondansatörün levhaları arasına uygulanan gerilim 20 V ve yükü $90 \mu\text{C}$ 'tur. Bu kondansatörün depoladığı enerji kaç joule'dur?

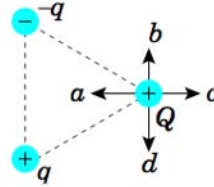
- A) $7 \cdot 10^{-2}$
- B) $4 \cdot 10^{-2}$
- C) $8 \cdot 10^{-3}$
- D) $9 \cdot 10^{-4}$

12. I. Mikrodalga fırınlarda kullanılır.
II. Fotoğraf makinalarının flaşlarında kullanılır.
III. Bilgisayarların klavye tuşlarında kullanılır.

Sığaçların kullanımı ile ilgili yukarıdaki ifadelerden hangileri doğrudur?

- A) Yalnız I
- B) I ve II
- C) II ve III
- D) I, II ve III

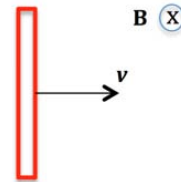
13.



Yukarıdaki $+q$, $-q$ ve $+Q$ noktasal yükleri eşdeğer bir üçgenin köşelerinde bulunmaktadır. $+Q$ yükü üzerine etki eden net kuvvetin yönü aşağıdakilerden hangisidir?

- A) a
- B) b
- C) c
- D) d

14.



Yukarıdaki şekilde sayfa düzleminden içeriye doğru yönelmiş $1,8 \text{ T}$ büyüklüğündeki bir manyetik alanda 30 cm uzunluğundaki iletken bir çubuk 4 m/s sabit hızla çekilmektedir. Çubuğun uçları arasında meydana gelen indüklenmiş emk kaç V'tur?

- A) 0,6
- B) 1,08
- C) 2,16
- D) 3,02

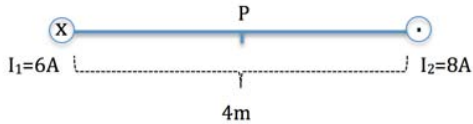
15. 40Ω 'luk bir direncin uçları arasındaki alternatif gerilimin maksimum değeri $40\sqrt{2}$ volt (V)'tur. Direnç üzerinden geçen akımın etkin değeri kaç amper (A)'dir?

- A) 1
B) 2
C) 3
D) 4

16. Bir alternatif akım devresinde kullanılan kapasitörün sığası $120 \mu\text{F}$ 'dır. Devrenin frekansı 60 Hz olduğuna göre, kapasitörün kapasitansı kaç ohm'dur? ($\pi = 3$ alınız.)

- A) 1,25
B) 12,50
C) 15,40
D) 23,15

17.



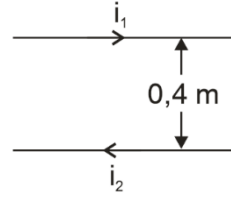
Sayfa düzlemine dik olarak yerleştirilen iki iletken telden şekilde gösterilen yönlerde akımlar geçmektedir. Tam orta nokta olan P noktasındaki manyetik alanın büyüklüğü ve yönü nedir? ($K=10^{-7} \text{ N/A}^2$)

- A) $0,7 \cdot 10^{-6} \text{ T}$, aşağı
B) $1,4 \cdot 10^{-6} \text{ T}$, aşağı
C) $1,4 \cdot 10^{-6} \text{ T}$, yukarı
D) $2,8 \cdot 10^{-6} \text{ T}$, yukarı

18. Bir alternatif akım devresinde akım makarasının indüktansı 90Ω , devrenin frekansı 50 Hz 'dir. Akım makarasının öz indüksiyon katsayısı kaç Henry(H)'dir? ($\pi = 3$ alınız.)

- A) 0,1
B) 0,2
C) 0,3
D) 0,4

19.



Yukarıda, aralarındaki uzaklık $0,4 \text{ m}$ olan paralel düz tellerden $i_1=3\text{A}$ ve $i_2=4\text{A}$ büyüklüğünde akım geçmektedir. Tellerin 1 metre uzunluğundaki parçalarına uyguladıkları manyetik kuvvet kaç Newton (N)'dur? ($K=10^{-7} \text{ N/A}^2$)

- A) $3 \cdot 10^{-6}$
B) $4 \cdot 10^{-6}$
C) $6 \cdot 10^{-6}$
D) $12 \cdot 10^{-6}$

20. Aralarındaki uzaklık 6 cm olan paralel iletken levhalara 3V 'luk bir gerilim uygulanıyor. Bu paralel plakalar arasına serbest bırakılan $4\mu\text{C}$ 'luk bir yük üzerine etki edecek elektriksel kuvvet kaç N'dur? (Yerçekiminin etkisini ihmal ediniz.)

- A) $1 \cdot 10^{-4}$
B) $2 \cdot 10^{-4}$
C) $4 \cdot 10^{-2}$
D) $4 \cdot 10^{-1}$

SINAVDA UYULMASI GEREKEN GENEL KURALLAR

1. Sınava girmek için gerekli belgelerinizin tümünü sınav başlamadan önce sıranızın üzerine bırakınız.
2. Sınav süresince görevlilerle konuşmak, görevlilere soru sormak yasaktır. Aynı şekilde görevlilerin de öğrencilerle yakından ve alçak sesle konuşmaları yasaktır. Gerekli durumlarda görevliler yerinizi değiştirebilir.
3. Size verilen cevap kâğıdının üzerindeki TCKN/Öğrenci no, ad, soyadı, bilgilerini kontrol ediniz, ilgili alanları eksiksiz doldurarak imzalayınız. Bu bilgiler size ait değilse, görevlileri uyararak size ait cevap kâğıdını isteyiniz. Başka öğrenciye ait cevap kâğıdı kullanan öğrencilerin o oturumdaki sınavları geçersiz sayılır.
4. Cevap kâğıdı üzerine test grubunu (A, B, C, D) kodlamayan veya birden fazla kodlama yapan öğrencilerin sınavları geçersiz sayılır.
5. Cevap kâğıdınıza yazacağınız her türlü yazı ve yapacağınız işaretlemeler için koyu yazan siyah kurşun kalem kullanmalısınız. Siyah kurşun kalem dışında farklı bir kalem (tükenmez, mürekkepli ya da renkli vb.) kullanan öğrencilerin sınavları geçersiz sayılır.
6. Cevap kâğıdı üzerinde değişiklik yapmak istediğinizde, iz bırakmayan bir silgi kullanınız. Cevap kâğıdınızı buruşturmayınız, katlamayınız ve üzerine gereksiz hiçbir işaret koymayınız.
7. Cevaplarınızı, cevap kâğıdında ilgili test için ayrılmış olan alana, cevap yerinin dışına taşırmadan işaretleyiniz. Soru kitapçığı üzerinde yapılan işaretlemeler değerlendirmeye alınmayacaktır.
8. Her sorunun tek bir doğru cevabı vardır. Bir soru için birden çok cevabı işaretlerseniz, o soruyu yanlış cevaplamış sayılacaksınız.
9. Soru kitapçığınızı aldığınızda sayfalarına hızlıca bakarak hatalı ya da eksik baskı olup olmadığını kontrol ediniz. Hata/eksik olması durumunda kitapçığının değiştirilmesi için derhâl Salon Başkanına başvurunuz. Sınav görevlileri sınavın başladığını belirtmeden kitapçığınızı tekrar açmayınız.
10. Cevap kâğıdınızda belirtilen kitapçık kodu ile soru kitapçığının kodunu karşılaştırınız. Aynı değilse, sınav görevlilerine durumu bildirerek doğru kitapçığın verilmesini talep ediniz.
11. Soru kitapçığınızdaki ilgili alanlara ad, soyadı, TCKN/Öğrenci no, sınav salon no, sıra no bilgilerinizi eksiksiz doldurarak imzanızı atınız. Soru kitapçığının sayfalarındaki boş yerleri müsvedde amacıyla kullanabilirsiniz.
12. Aşağıdaki durumlarda sınav görevlileri tarafından Bireysel Sınav İptal Tutanağı düzenlenerek ilgili öğrencilerin sınavları geçersiz sayılır:
 - a) Sınav kurallarına ve sınav görevlilerinin uyarılarına uymamak, sınav düzenini bozmak,
 - b) Kâğıt, kitap, defter, not vb. dokümanları; pergel, açıölçer, cetvel vb. araçları; cep telefonu, bilgisayar, tablet, telsiz, kamera vb. iletişim, depolama, kayıt ve veri aktarma cihazlarını; ruhsatlı veya resmi amaçlı olsa bile silah ve silah yerine geçebilecek nesnelere yanında bulundurmamak,
 - c) Sınav sırasında kalem, silgi vb. araç-gereç paylaşımında bulunmak,
 - d) Cevapları, cevap kâğıdı dışında bir yere yazmak ve sınav salonundan dışarı çıkarmak,
 - e) Sınava girebilmek için gerekli belgeleri eksik olduğu halde sınava katılıp, cevap kâğıdında işaretleme yapmak,
 - f) Sınav görevlileri tarafından öğrencinin kimliğinden şüphe duyulması,
 - g) Cevap kâğıdını ve/veya soru kitapçığını sınav görevlilerine eksiksiz ve sağlam şekilde teslim etmemek, sınav salonu dışına çıkarmak,
 - h) Kopya çekmek, vermek, çekilmesine yardımcı olmak vb. eylemlerde bulunmak,
 - i) Kendisi yerine başkasını sınava sokmak.
13. Sınav bitiminde, cevap kâğıdınızı ve soru kitapçığınızı salon görevlilerine eksiksiz biçimde teslim ediniz. Sınav bittikten sonra gönderilen cevap kâğıtları dikkate alınmayacaktır.

SINAV KURALLARINA UYDUĞUNUZ İÇİN TEŞEKKÜR EDER, SINAVINIZDA BAŞARILAR DİLERİZ.