



ANADOLU ÜNİVERSİTESİ
AÇIKÖĞRETİM FAKÜLTESİ
BA - AÇIKÖĞRETİM OKULLARI

T.C. MİLLİ EĞİTİM BAKANLIĞI
Hayat Boyu Öğrenme Genel Müdürlüğü
2016-2017 ÖĞRETİM YILI BATI AVRUPA - BALKANLAR
AÇIK ÖĞRETİM LİSESİ III. DÖNEM SINAVI

3. OTURUM Cumartesi

A

0103

ÖĞRENCİNİN

SOYADI :

ADI :

T.C. KİMLİK NO / ÖĞRENCİ NO :

SINAV SALON NO : SIRA NO:

Sınavla ilgili soru kitapçığının ön ve arka kapağındaki tüm kuralları okudum, anladım, kabul ediyorum.

İMZA:.....

SINAV İÇERİĞİ

Testin Adı	Soru Sayısı	Sayfa No	Testin Adı	Soru Sayısı	Sayfa No
DİN KÜLTÜRÜ VE AHLAK BİLGİSİ 3	20	02	KİMYA 8	20	37
DİN KÜLTÜRÜ VE AHLAK BİLGİSİ 8	20	04	BİYOLOJİ 7	20	40
TARİH 5	20	07	MATEMATİK 7	20	42
COĞRAFYA 1	20	09	İŞLETME 1	20	44
COĞRAFYA 3	20	11	ALMANCA 7	20	46
COĞRAFYA 4	20	13	İNGİLİZCE 7	20	49
COĞRAFYA 7	20	15	FRANSIZCA 7	20	52
COĞRAFYA 8	20	17	SEÇMELİ TARİH 4	20	55
MATEMATİK 3	20	19	SEÇMELİ ALMANCA 7	20	57
ALMANCA 1	20	21	SEÇMELİ İNGİLİZCE 7	20	60
İNGİLİZCE 1	20	24	SEÇMELİ FRANSIZCA 7	20	63
FRANSIZCA 1	20	27	HZ. MUHAMMED'İN HAYATI 2	20	66
SOSYOLOJİ 1	20	30	HZ. MUHAMMED'İN HAYATI 3	20	68
DİL VE ANLATIM 6	20	32	SEÇMELİ TÜRK EDEBİYATI 6	20	70
FİZİK 4	20	34			

SINAVDA UYULMASI GEREKEN ÖZEL KURALLAR

1. Soru kitapçığındaki her bir testi cevaplamanız için verilen süre 30 dakika, toplam süre 150 dakikadır.
2. Sınavın ilk 30 dakikası ve son 5 dakikası içinde sınavınızı tamamlasanız bile salondan çıkamazsınız. Herhangi bir nedenle salondan çıktığınız takdirde, tekrar sınava devam etmenize izin verilmeyecektir. Sınavın başlamasını izleyen ilk 15 dakikadan sonra hiçbir öğrenci sınava alınmaz.
3. Yanlış cevaplarınız dikkate alınmayacaktır. Bu nedenle kitapçıktaki tüm sorular için size doğru gelen seçeneği işaretleyerek cevapsız soru bırakmamanız yararınıza olacaktır.
4. Sınav sırasında hesap makinesi kullanabilirsiniz. Ancak, kullanacağınız makinede alfabetik tuş takımının (A, B, C, ..., Y, Z), program yapılmasına, saklanması ve çalıştırılmasına imkân veren EXE, STORE, RUN vb. tuşlar bulunamaz.

"Sınavda Uyulması Gereken Genel Kurallar" soru kitapçığının arka sayfasında yer almaktadır. Bu kuralları da mutlaka dikkatlice okuyunuz.

Anadolu Üniversitesi tarafından hazırlanmış olan bu testlerin her hakkı saklıdır. Hangi amaçla olursa olsun, testlerin tamamının veya bir kısmının Anadolu Üniversitesi'nin yazılı izni olmadan kopya edilmesi, fotoğraflarının çekilmesi, herhangi bir yolla çoğaltılması, yayımlanması ya da kullanılması yasaktır. Bu yasağa uymayanlar gerekli cezai sorumluluğu ve testlerin hazırlanmasındaki mali külfeti peşinen kabullenmiş sayılır.

1. Hz. Muhammed kaç yılında vefat etmiştir?

- A) 596
- B) 615
- C) 632
- D) 710

2. Okunan Kur'anı Kerim'i dinlemek aşağıdakilerden hangisine bir örnektir?

- A) Mubah
- B) Vacip
- C) Sünnet
- D) Farz

3. Kıyametten sonra yeniden diriliş ile başlayan ve sonsuza kadar sürecek olan zamana ne ad verilir?

- A) Mizan
- B) Ahiret
- C) Kaza
- D) Haşir

4. Tevrat hangi peygambere gönderilmiştir?

- A) Hz. Musa
- B) Hz. Eyüp
- C) Hz. Davut
- D) Hz. Yusuf

5. İslam dini kaç temel inanç esası üzerine kurulmuştur?

- A) 2
- B) 3
- C) 4
- D) 6

6. Haccin kaç şartı vardır?

- A) 1
- B) 2
- C) 3
- D) 4

7. Hz. Muhammed nerede vefat etmiştir?

- A) Medine
- B) Mekke
- C) Umman
- D) Kudüs

8. Hz. Muhammed kaç yılları arasında yaşamıştır?

- A) 532-581
- B) 551-602
- C) 571-632
- D) 584-622

9. Mahşer'in anlamı aşağıdaki ifadelerin hangisinde doğru olarak verilmiştir?

- A) Kişinin dünyada yaptığı amellerden sorgulanmasıdır.
- B) Yeniden diriliş ile başlayan ve sonsuza kadar sürecek olan zamandır.
- C) Sevap ve günahların tartıldığı özel bir tartıdır.
- D) Yeniden diriliş ile birlikte insanların Allah'a hesap vermek üzere toplanacakları yerdir.

10. İsrail meleğinin görevi nedir?

- A) Allah ile peygamberler arasında elçilik yapmak
- B) Kıyamet koptuğunda sûr'a üflemek
- C) Tabiat olayları ile ilgilenmek
- D) İnsanların sevap ve günahlarını yazmak

11. Bayram namazı kaç rekâttir?

- A) 2
- B) 4
- C) 5
- D) 6

12. Kur'an-ı Kerim'de kaç ayet vardır?

- A) 2222
- B) 3300
- C) 4444
- D) 6666

13. Hz. Muhammed'e "Muhammedül Emin" ismi hangi özelliğinden dolayı verilmiştir?

- A) Sabırlı olması
- B) Güvenilir olması
- C) Yardımsever olması
- D) Alçakgönüllü olması

14. Aşağıdakilerden hangisi Hz. Muhammed'in özelliklerinden biri değildir?

- A) Zamanı iyi değerlendirmesi
- B) Hoşgörülü olması
- C) Lüksü ve israfı sevmesi
- D) Verdiği sözde durması

15. Sevap ve günahların tartıldığı özel tartıya ne ad verilir?

- A) Mizan
- B) Sırat
- C) Amel defteri
- D) Hesap

16. Kur'an-ı Kerim hangi melek aracılığıyla gönderilmiştir?

- A) Mikail
- B) Azrail
- C) İsrail
- D) Cebrail

17. Allah'a saygı ile boyun eğmek ve emirlerine itaat etmeye ne ad verilir?

- A) İman
- B) İbadet
- C) Ahlâk
- D) Fitrat

18. Kur'an da kaç sure vardır?

- A) 100
- B) 110
- C) 114
- D) 120

19. Kur'anı Kerim hangi dilde gönderilmiştir?

- A) Arapça
- B) Samayetçe
- C) Farsça
- D) Latince

20. Kur'an-ı Kerim'de kaç peygamberin adı geçmektedir?

- A) 13
- B) 25
- C) 37
- D) 48

1. Pir-i Türkistan olarak bilinen İslam âlimi aşağıdakilerden hangisidir?

- A) Hacı Bektaş Veli
- B) Ahmet Yesevi
- C) Mevlana
- D) Yunus Emre

2. “Giderdim gönülden kini, kin tutanın yoktur dini. Düşmanımız kindir bizim, biz kimseye kin tutmayız.” diyerek insanların barış ve huzur içinde yaşaması gerektiğini vurgulayan büyük mutasavvıf ve halk şairi aşağıdakilerden hangisidir?

- A) Mevlana
- B) Yunus Emre
- C) Karacaoğlan
- D) Dadaloğlu

3. Hz. Muhammed’in de gençliğinde aktif olarak görev aldığı, haksızlık ve adaletsizliğin önüne geçebilmek için oluşturulan barış teşkilatı aşağıdakilerden hangisidir?

- A) Sıla-i Rahmi
- B) Nazm-ı Celil
- C) Hılful Fudul
- D) Teşkilat-ı Mahsusa

4. I. İnsan varlığını korur ve geliştirir.
II. Kültürel değerleri korur ve geliştirir.
III. Toplumların daha çok gelişip kalkınmasına olanak sağlar.
IV. İnsanların mutlu ve huzurlu bir ortamda yaşamasına imkan tanır.

Barış kavramıyla ilgili yukarıdaki ifadelerden hangileri doğrudur?

- A) Yalnız III
- B) I ve II
- C) I, III ve IV
- D) I, II, III ve IV

5. Aşağıdakilerden hangisi İslam Tarihi'nde Müslümanların barışa verdiği önemi gösteren olaylardan biri değildir?

- A) II. Haçlı Seferi
- B) Mekke'nin Fethi
- C) Medine Sözleşmesi
- D) Hudeybiye Antlaşması

6. “Yurtta sulh, cihanda sulh.” diyerek insanların birlikte barış içinde yaşamasına verdiği önemi belirten devlet adamı aşağıdakilerden hangisidir?

- A) Mustafa Kemal Atatürk
- B) Fatih Sultan Mehmet
- C) Ebulfez Elçibey
- D) Rauf Denktaş

7. "Nasıl ki, her hususta yüksek meslek ve ihtisas sahipleri yetiştirmek gerekli ise dinimizin gerçek felsefesini inceleyerek araştırarak, bilimsel ve teknik olarak telkin kudretine sahip olacak seçkin ve gerçek din ilim adamlarını yetiştirecek, yüksek öğrenim kurumlarına sahip olmalıyız." diyen lider kimdir?

- A) II. Murat
- B) Mustafa Kemal Atatürk
- C) Kanuni Sultan Süleyman
- D) Yavuz Sultan Selim

8. Aşağıdakilerden hangisi Atatürk'ün din ile ilgili görüşlerinden biri değildir?

- A) Dinsiz milletlerin devamına imkân yoktur.
- B) Din, Allah ile kul arasındaki bağlılıktır.
- C) Din lüzumlu bir müessesedir.
- D) Din, devlet işlerinde çok etkili olması gereken bir durumdur.

9. "Her fert din ve diyanetini, imanını öğrenmek için bir yere muhtaçtır. Orası mekteptir." diyen lider kimdir?

- A) Mustafa Kemal Atatürk
- B) Kanuni Sultan Süleyman
- C) Yavuz Sultan Selim
- D) II. Murat

10. Cumhuriyet Dönemi'nin ilk Diyanet İşleri Başkanı aşağıdakilerden hangisidir?

- A) Elmalılı Muhammed Hamdi Yazır
- B) Rıfat Börekçi
- C) Mehmet Akif Ersoy
- D) Ahmed Naim Efendi

11. "Milletimiz, din ve dil gibi kuvvetli iki fazilete sahiptir. Bu faziletleri hiçbir kuvvet, milletimizin kalp ve vicdanından çekip alamamıştır ve alamaz." sözünü kim söylemiştir?

- A) Mustafa Kemal Atatürk
- B) Hz. Muhammed
- C) Mevlana
- D) Yavuz Sultan Selim

12. Aşağıdakilerden hangisi Tevhid-i Tedrisat Kanunu'yla gelen yeniliklerden biri değildir?

- A) Yüksek ilim konularının öğretiminde tekke ve zaviyelerin desteklenmesi
- B) Medreselerin varlığına son verilmesi
- C) İlahiyat fakültelerinin açılması
- D) Bütün okulların Maarif Vekâleti'ne bağlanması

13. Hinduizm ile ilgili aşağıdaki ifadelerden hangisi yanlıştır?

- A) Ganj Nehri ve Himalaya Dağları kutsal kabul edilir.
- B) Kutsal kitapları Vedalar, Brahmanalar ve Upanişadlardır.
- C) Toplu ibadet yeri kilisedir.
- D) Hindülerin ortak ibadet sembolü "om" dur.

14. I. Namaz
II. Zekat
III. Oruç
IV. Hac

Yukarıdakilerden hangileri İslam Dini'nin temel ibadetlerindendir?

- A) Yalnız I
- B) II ve III
- C) III ve IV
- D) I, II, III ve IV

15. Taoizm'in kutsal kitabı aşağıdakilerden hangisidir?

- A) Agama
- B) Tien
- C) Tao Te-King
- D) Siddhanta

16. Hristiyanların ibadet yeri aşağıdakilerden hangisidir?

- A) Cami
- B) Sinagog
- C) Havra
- D) Kilise

17. Aşağıdakilerden hangisi Çin ve Japon Dinleri'nden biridir?

- A) Hinduizm
- B) Sihizm
- C) Taoizm
- D) Budizm

18. Yahudilerin kutsal kitabının tamamına ne ad verilir?

- A) Upanişad
- B) Tevrat
- C) İncil
- D) Brahmana

19. Sihizm 'i kim kurmuştur?

- A) Vardhamana
- B) Buda
- C) Guru Nanak
- D) Konfüçyüs

20. I. Doğru odaklanma
II. Doğru davranış
III. Doğru çaba
IV. Doğru geçim

Yukarıdakilerden hangileri Budizm'in sekiz dilimli prensiplerindendir?

- A) Yalnız II
- B) I ve III
- C) I, II ve III
- D) I, II, III ve IV

1. İranlıların "Eftalit" adı ile isimlendirdikleri Türk Devleti aşağıdakilerden hangisidir?
 - A) Avarlar
 - B) Akhunlar
 - C) Hazarlar
 - D) Sabarlar
2. Anav kültürü insanları ile ilgili aşağıdaki ifadelerden hangisi yanlıştır?
 - A) Tunçtan ve altından yapılmış eşyalar ilk defa bu kültürde görülmüştür.
 - B) Güneşte kurutulmuş tuğlalardan yapılan evlerde oturmuşlardır.
 - C) Koyun, sığır gibi hayvanları besleyip çiftçilik yapmışlardır.
 - D) Arpayı, buğdayı dibeklerde öğütmüşler ve bakırdan süs eşyası yapmışlardır.
3. İskitler ile ilgili aşağıdaki ifadelerden hangisi yanlıştır?
 - A) Persler tarafından Sakalar olarak adlandırılmışlardır.
 - B) Elhamra Sarayı İskitlerin dünya mimarisine hediye ettiği en önemli eserdir.
 - C) Çok tanrılı bir din anlayışı vardı.
 - D) Keçeden kubbeli derme çadırlarda otururlar, kımız içerlerdi.
4. Aşağıdakilerden hangisi Kavimler Göçü'nün sonuçlarından biri değildir?
 - A) Afanesyovo Kültürü'nün ortaya çıkması
 - B) Roma İmparatorluğu'nun ikiye bölünmesi
 - C) Germen kavimleri arasında Hristiyanlığın yayılmasıyla birlikte kilise ve din adamlarının güç kazanması
 - D) Avrupa'daki kavimlerin birbirleriyle karışıp kaynaşması sonucunda bugünkü Avrupa milletlerinin temellerinin atılması
5. Aşağıdakilerden hangisi Orta Asya Türk göçlerinin nedenleri arasında yer almaz?
 - A) Otlakların sayısının gittikçe artan sürülere yetmemesi
 - B) Tabii afetlerin yaşanması
 - C) Türk boyları arasında siyasal anlaşmazlıklardan dolayı savaşların çıkması
 - D) I. Haçlı Seferi'nin gerçekleşmesi
6. Türk tarihinde ilk düzenli ordu teşkilatını kuran hükümdar aşağıdakilerden hangisidir?
 - A) Mete
 - B) Timur
 - C) Attila
 - D) I. Murat
7. Böğü Kağan ile ilgili aşağıdaki ifadelerden hangisi yanlıştır?
 - A) Mani dinine ait ülkesindeki bütün tapınakları yıktırılmıştır.
 - B) 762'de Tibetlilerin saldırılarına ve isyancılara karşı Çin imparatorunu korumak amacıyla Çin'e sefer yapmıştır.
 - C) Uygurlar en parlak dönemlerini onun hükümdarlık zamanında yaşamıştır.
 - D) Tung Baga Tarkan tarafından 780 yılında öldürülmüştür.
8. Mete'nin MÖ 201 yılında çıktığı Çin Seferinde büyük başarılar elde etmesine rağmen Çin topraklarına yerleşmeyip Çin İmparatorluğunu vergiye bağlayan bir antlaşma yapmayı uygun görmesinin nedeni aşağıdakilerden hangisidir?
 - A) Tunguzların İpek Yolu ticaretini engelleme çalışmalarını önlemek istemesi
 - B) Tölesler ve Kırgızları egemenliği altına almayı öncelik haline getirmesi
 - C) Akhunların ani saldırılarından dolayı geri dönmek istemesi
 - D) Çin gibi son derece geniş topraklara sahip bir devletin dışarıdan yönetilemeyeceğini ve istilâ edilemeyeceğini bilmesi
9. Tarihte İstanbul'u ilk defa kuşatan Türk kavmi aşağıdakilerden hangisidir?
 - A) Türgişler
 - B) Avarlar
 - C) Hazarlar
 - D) Ak Hunlar
10. Dünyanın en uzun destanı olarak bilinen Manas Destanı kime aittir?
 - A) Türgişler
 - B) Hazarlar
 - C) Kırgızlar
 - D) Avarlar

11. Türk tarihinde Museviliği kabul eden ilk ve tek Türk Devleti aşağıdakilerden hangisidir?

- A) Avarlar
- B) Uygurlar
- C) Kırgızlar
- D) Hazarlar

12. Aşağıdakilerden hangisi İlk Türk Devletleri'nde devlet işlerinin görüşülüp karara bağlandığı meclise verilen adlardan biri değildir?

- A) Kengeş
- B) Kurultay
- C) Toy
- D) Tevki

13. Orhun Yazıtlarını 1893 yılında okuyan Danimarkalı dil bilimci aşağıdakilerden hangisidir?

- A) Hieronymus Laski
- B) Herbert Marcuse
- C) Vilhelm Thomsen
- D) B. D. Koçnev

14. İlk Türk Devletleri'nde il (el) kavramının karşılığı aşağıdakilerden hangisidir?

- A) Barış
- B) Savaş
- C) Devlet
- D) Töre

15. İlk Türk Devletleri'nde hükümdarın eşine ne ad verilir?

- A) Hatun (Katun)
- B) Emçi (Otacı)
- C) Ataman (İnal)
- D) İlteber (Erkin)

16. Türeyiş ve Göç Destanları aşağıdaki devletlerden hangisine aittir?

- A) Avarlar
- B) Kırgızlar
- C) Türgişler
- D) Uygurlar

17. Orta Asya Türk tarihine ait bilgilere en fazla aşağıdaki devletlerden hangisinin kaynaklarında rastlanır?

- A) Fransa
- B) ABD
- C) Çin
- D) Almanya

18. Aşağıdakilerden hangisi Çinlilerin Hun akınlarını durdurabilmek için aldıkları tedbirlerden biri değildir?

- A) Hunları gibi atlı birlikler teşkil etmek
- B) Hunların ihtiyaçları olan pirinç ve buğday'ın Çin'de ekimini yasaklamak
- C) Ordularını Hun tarzında yeniden düzenlemek
- D) Sınırlarda tahkimat yapmak ve uzun surlar inşa etmek

19. Çin'in Orta Asya'daki hâkimiyetini kaybederek çekilmek zorunda kalmasına ve tarım havzasının Uygurların eline geçmesine neden olan 751 yılındaki savaş aşağıdakilerden hangisidir?

- A) Bolçu Savaşı
- B) Kuzey Şansi Savaşı
- C) Talas Savaşı
- D) Köseadağ Savaşı

20. Hazarlarla Müslüman Araplar arasında ilk ciddi mücadele aşağıdaki hangi İslam halifesi döneminde başlamıştır?

- A) Hz. Ali
- B) Hz. Osman
- C) Hz. Ömer
- D) Hz. Ebubekir

1. Sıcaklığın yeryüzünde veya yer yüzünün herhangi bir bölümünde dağılışını gösterebilmek için eş sıcaklık eğrileriyle yapılan haritalara ne ad verilir?
 - A) İklim haritaları
 - B) İzoterm haritaları
 - C) İzobar haritaları
 - D) Fiziki haritalar
2. Güney yarım kürede en uzun gündüzün yaşandığı tarih aşağıdakilerden hangisidir?
 - A) 21 Mart
 - B) 21 Aralık
 - C) 23 Eylül
 - D) 21 Haziran
3. Atmosferde en çok bulunan gaz aşağıdakilerden hangisidir?
 - A) Oksijen
 - B) Metan
 - C) Argon
 - D) Azot
4. Aşağıdakilerden hangisi sürekli rüzgârlardan biri değildir?
 - A) Kutup rüzgârları
 - B) Fırtınalar
 - C) Batı rüzgârları
 - D) Alizeler
5. Başlangıç meridyeninin geçtiği şehir aşağıdakilerden hangisidir?
 - A) Greenwich
 - B) Londra
 - C) New York
 - D) Viyana
6. Dünyada sıcaklığın dengeli dağılımına yardımcı olan katman aşağıdakilerden hangisidir?
 - A) Litosfer
 - B) Biyosfer
 - C) Atmosfer
 - D) Hidrosfer
7. Aşağıdakilerden hangisi iklimin temel elemanlarından biri değildir?
 - A) Basınç
 - B) Ormanlar
 - C) Sıcaklık
 - D) Nemlilik
8. Yeryüzü şekillerini inceleyen bilim dalı aşağıdakilerden hangisidir?
 - A) Biyocoğrafya
 - B) Hidroğrafya
 - C) Jeomorfoloji
 - D) Klimatoloji
9. Aşağıdakilerden hangisi dünyanın şeklinin sonuçlarından biri değildir?
 - A) Dağların ve yeryüzü şekillerinin oluşması
 - B) Dünyanın güneşe bakan tarafının aydınlık iken diğer tarafının karanlık olması
 - C) Güneş ışınlarının geliş açısının Ekvator'a doğru gidildikçe daralması
 - D) Meridyen yaylarının kutuplarda birleşmesi
10. Yağmur yağışlarını ölçen alete ne ad verilir?
 - A) Pluviometre
 - B) Barometre
 - C) Termometre
 - D) Takometre
11. Ülkelerin sınırlarını gösteren haritalara ne ad verilir?
 - A) Siyasi haritalar
 - B) Ekonomi haritaları
 - C) Fiziki haritalar
 - D) Beşeri haritalar
12. Güney Hindistan, Güney Çin, Güneydoğu Asya gibi bölgelerde görülen iklim aşağıdakilerden hangisidir?
 - A) Okyanus iklimi
 - B) Tropikal iklim
 - C) Tundra iklimi
 - D) Muson iklimi
13. İnsanın yaşam alanı içinde bulunduğu ortama ne ad verilir?
 - A) Dağ
 - B) Tarla
 - C) Orman
 - D) Doğal çevre
14. Asya ve Avustralya'nın Büyük Okyanus kıyılarında oluşan rüzgarla ne ad verilir?
 - A) Hamsin
 - B) Sam
 - C) Tayfun
 - D) Lodos

15. Dünyanın kendi eksenini etrafındaki hareketini tamamlaması ile aşağıdakilerden hangisi meydana gelir?

- A) Gün
- B) Saat
- C) Yıl
- D) Ay

16. Her meridyen yayı aralığı kaç dakikaya eşittir?

- A) 2
- B) 3
- C) 4
- D) 5

17. Doğal bitki örtüsü, bazı kurakçıl otlar ve kaktüs gibi bitkilerden oluşan iklim türü aşağıdakilerden hangisidir?

- A) Akdeniz iklimi
- B) Kutup iklimi
- C) Çöl iklimi
- D) Karasal iklim

18. Alp Dağları ve başlıca sıradağların oluştuğu, Atlas ve Hint Okyanuslarının ortaya çıktığı jeolojik zaman aşağıdakilerden hangisidir?

- A) Paleozoik
- B) Prekambrien
- C) Mezozoik
- D) Neozoik

19. Akarsuyun içinde aktığı oluğa ne ad verilir?

- A) Ağız
- B) Yatak
- C) Kaynak
- D) Akarsu ağı

20. Yer kabuğu üzerinde, ağır ağır gelişen ve geniş alanları kapsayan yükselme ve alçalma hareketlerine ne ad verilir?

- A) Seizma
- B) Volkanizma
- C) Orojenez
- D) Epirojenez

1. Volkanik patlama çanaklarında oluşan göllere ne ad verilir?

- A) Sirk gölü
- B) Kaldera gölü
- C) Krater gölü
- D) Maar gölü

2. Dünya'daki bütün kıtaların birleşik olduğu kara parçasına ne ad verilir?

- A) Pantalassa
- B) Laurasia
- C) Pangea
- D) Gondwana

3. Göçlerin en önemli sebebi aşağıdakilerden hangisidir?

- A) İnsanların yeni yerler keşfetmek istemesi
- B) Geçim kaynaklarının artan nüfusu beslemekte yetersiz kalması
- C) İklim koşullarının elverişsiz olması
- D) İnsanların enerji kaynaklarına yakın olmak istemesi

4. I. İsveç
II. Türkiye
III. Japonya

Yukarıdaki ülkelerin hangilerinde deprem riski daha fazladır?

- A) Yalnız I
- B) Yalnız II
- C) I ve II
- D) II ve III

5. Köylerin büyüyerek kentlere dönüştüğü ve devletlerin ortaya çıktığı çağ aşağıdakilerden hangisidir?

- A) Kalkolitik Çağ
- B) Paleolitik Çağ
- C) Mezolitik Çağ
- D) Neolitik Çağ

6. Aşağıdakilerden hangisi üçüncül ekonomik faaliyetler arasında yer almaz?

- A) Bankacılık
- B) Muhasebe
- C) Reklam yayıncılığı
- D) Pazarlama

7. İlk modern nüfus sayımı nerede yapılmıştır?

- A) İskandinav ülkelerinde
- B) Güneydoğu Asya ülkelerinde
- C) Orta Doğu'da
- D) Batı Avrupa'da

8. Aşağıdakilerden hangisi göçün nedenlerinden biri değildir?

- A) Siyasi nedenler
- B) Doğal nedenler
- C) Ekonomik nedenler
- D) Psikolojik nedenler

9. Alçak kıyılarda dalga ve akıntıların etkisiyle meydana gelen kıyı kordonlarının bir koy veya körfezin önünü kapatması sonucu oluşan göllere ne ad verilir?

- A) Havza
- B) Lagün
- C) Tombolo
- D) Alüvyal set gölü

10. Aşağıdakilerden hangisi kimyasal tortul kayalardan biridir?

- A) Bazalt
- B) Konglomera
- C) Kaya tuzu
- D) Gnays

11. Aşağıdakilerden hangisi Dünya'da nüfus yoğunluğunun az olduğu yerlerden biridir?

- A) Orta Asya
- B) Güneydoğu Asya
- C) Batı Avrupa
- D) Japonya

12. Akarsu, rüzgâr, buzul, dalga ve akıntılar gibi dış kuvvetler tarafından aşındırılan malzemelerin taşınarak çukur yerlerde birikmesiyle oluşan kayalara ne ad verilir?
- A) Metamorfik kayalar
B) Fiziksel tortul kayalar
C) Kimyasal tortul kayalar
D) Organik tortul kayalar
13. Hindistan'ın Agra kentinde bulunan Taç Mahal'in yapımında aşağıdaki kayaç türlerinden hangisi kullanılmıştır?
- A) Kalker
B) Granit
C) Bazalt
D) Mermer
14. Aşağıdakilerden hangisi Türkiye'nin matematik konumunun sonuçlarından biri değildir?
- A) Aynı anda tek bir ortak saatin kullanılması
B) Orta kuşakta yer alması
C) Yakın bir jeolojik zamanda oluşması
D) Güneş ışınlarının dik açıyla gelmemesi
15. Buzulların taşıyıp biriktirdiği malzemelerden oluşan topraklara ne ad verilir?
- A) Litosoller
B) Morenler
C) Regosoller
D) Lösler
16. Aşağıdakilerden hangisi Güney Marmara'da yer alan ovalardan biri değildir?
- A) M. Kemal Paşa
B) Bursa
C) Balıkesir
D) Amasya
17. Selçuklular zamanında kervansarayların yaygınlaşması hangi ekonomik faaliyetin önem kazanmaya başladığını gösterir?
- A) Ticaret
B) Tarım
C) Hayvancılık
D) Endüstri
18. I. Alet yapımı keşfedilmiştir.
II. İnsanlar yerleşik yaşama geçmişlerdir.
III. Beslenme ve sağlık koşulları düzelmiştir.
- Yukarıdakilerden hangileri Dünya nüfusunun üçüncü sıçrama döneminde meydana gelen gelişmelerdendir?
- A) Yalnız I
B) Yalnız III
C) I ve II
D) II ve III
19. Mekansal olarak Avrupa Kıtası'nın çehresini değiştiren, yeni ırkların, siyasal yapıların ortaya çıkmasına, hatta yeni bir çağın başlamasına neden olan göç hareketi aşağıdakilerden hangisidir?
- A) İşçi Göçü
B) Beyin Göçü
C) Kavimler Göçü
D) Mevsimlik Göç
20. Fay hatlarının bulunduğu yerlerde aşağıdaki alanlardan hangisinin bulunma ihtimali daha fazladır?
- A) Jeotermal alanlar
B) Buzul alanları
C) Orman alanları
D) Çöl alanları

1. Aşağıdakilerden hangisi göçün nedenlerinden biri değildir?
- A) Şehir yaşamına uyumun zor olması
B) İş imkânlarının kısıtlı olması
C) Tarımsal üretimdeki verimin düşük olması
D) Nüfusun hızlı artması
2. Aşağıdakilerden hangisi nüfus artışının olumlu sonuçlarından biri değildir?
- A) Mal ve hizmet taleplerinin artması
B) Yeni iş kollarının oluşması
C) Üretim ve vergi gelirlerinin artması
D) İş gücü maliyetinin artması
3. Seramik, porselen, çömlek, tuğla ve kiremit üretiminde kullanılan ana ham madde aşağıdakilerden hangisidir?
- A) Kırmızı toprak
B) Kahverengi toprak
C) Kil
D) Silt
4. Doğal bir liman olmasına rağmen hinterlandı dar olduğu için yeterince gelişmemiş olan liman aşağıdakilerden hangisidir?
- A) İstanbul
B) Sinop
C) Mersin
D) İzmir
5. Yolcu ve yük taşımacılığında maliyetin en düşük olduğu ulaşım sistemi aşağıdakilerden hangisidir?
- A) Deniz yolu
B) Kara yolu
C) Hava yolu
D) Demir yolu
6. Aşağıdakilerden hangisi Türkiye'deki sanayi şehirlerinden biri değildir?
- A) Bursa
B) İzmit
C) Muş
D) İstanbul
7. Hindistan'a ulaşan ilk denizci kimdir?
- A) Vasco de Gama
B) Christophe Colomb
C) Macellan
D) Barthelemy Diaz
8. Sumatra Adası ile Malaya Yarımadası arasında yer alan boğaz aşağıdakilerden hangisidir?
- A) Hürmüz Boğazı
B) Malakka Boğazı
C) Bering Boğazı
D) Cebelitarık Boğazı
9. Aşağıdakilerden hangisi Türkiye'de jeotermal kökenli elektrik enerjisinin üretildiği yerlerden biridir?
- A) Kızılcahamam (Ankara)
B) Simav (Kütahya)
C) Sarayköy (Denizli)
D) Gönen (Balıkesir)
10. Aşağıdakilerden hangisi Türkiye'de nüfus artışının yol açtığı sorunlardan biri değildir?
- A) Milli gelirin azalması
B) Göçlerin artması
C) Çevresel sorunların artması
D) Refah seviyesinin artması

11. Birkaç mahallenin tek muhtarlık olarak birleştiği kır yerleşmelerine ne ad verilir?

- A) Divan
- B) Oba
- C) Mezra
- D) Yayla

12. Aşağıdakilerden hangisi Türkiye’de nüfusun yerleşimini ve dağılışını etkileyen beşeri faktörlerden biri değildir?

- A) Ulaşım
- B) Ekonomi
- C) Bilim ve teknolojiadaki gelişmeler
- D) Su kaynakları

13. Aşağıdakilerden hangisi fırtına, hortum ve kasırga gibi olağanüstü hava olaylarının zararlarını azaltmak için alınması gereken önlemlerden biri değildir?

- A) İnsanlara gerekli eğitim verilerek bilinçlendirilmesi
- B) Erken uyarı sistemlerinin kurulması
- C) Atmosferdeki hava hareketliliğinin yılda 1 kez kontrol edilmesi
- D) Binaların olağanüstü hava olaylarına karşı dayanıklı inşa edilmesi

14. Aşağıdakilerden hangisi yer kökenli doğal afetlerden biri değildir?

- A) Volkanik püskürtme
- B) Çığ
- C) Deprem
- D) Tsunami

15. Aşağıdakilerden hangisi Türkiye’deki volkanik set göllerinden biri değildir?

- A) Haçlı Gölü
- B) Balık Gölü
- C) Eymir Gölü
- D) Erçek Gölü

16. Aşağıdakilerden hangisi erozyonu engellemek için alınması gereken önlemlerden biri değildir?

- A) Eğimli yamaçların teraslandırılması
- B) Toprakların nadasa bırakılması
- C) Meralarda erken ve aşırı otlatma yapılmaması
- D) Tarım arazilerinin eğime dik yönde sürülmesi

17. Aşağıdakilerden hangisi zonal toprak çeşitlerinden biridir?

- A) Tuzlu topraklar
- B) Kolüvyal topraklar
- C) Alüvyal topraklar
- D) Çernezyom topraklar

18. Aşağıdakilerden hangisi Türkiye’de en çok göç alan iller arasında yer almaz?

- A) Muş
- B) Kocaeli
- C) Bursa
- D) Adana

19. Aşağıdakilerden hangisi kuraklığın sonuçlarından biri değildir?

- A) Hayvan ve bitki türlerinin zarar görmesi
- B) Erken uyarı sistemlerinin kurulması
- C) Büyük göçlerin yaşanması
- D) Tarım faaliyetlerinin yapılamaması

20. Akdeniz ile Atlas Okyanusu’nu birbirine bağlayan boğaz aşağıdakilerden hangisidir?

- A) Cebelitarık Boğazı
- B) Hürmüz Boğazı
- C) Bering Boğazı
- D) Malakka Boğazı

1. Nemrut heykelleri aşağıdaki illerden hangisinde yer alır?

- A) Adıyaman
- B) Şanlıurfa
- C) Gaziantep
- D) Adana

2. Azerbaycan'dan başlayıp Gürcistan ve Türkiye üzerinden geçerek Akdeniz'e ulaşan ham petrol boru hattı aşağıdakilerden hangisidir?

- A) Batman - Dört Yol
- B) Kerkük - Yumurtalık
- C) Samsun - Novorosisk
- D) Bakü - Tiflis - Ceyhan

3. Aşağıdakilerden hangisi Türkiye'de bitki örtüsüne göre oluşturulacak bölgeler arasında yer almaz?

- A) Maki
- B) Orman
- C) Tayga
- D) Bozkır(step)

4. Aşağıdakilerden hangisi ilk medeniyetlerin kurulduğu ülkelerden biri değildir?

- A) İsveç
- B) Suriye
- C) Türkiye
- D) Peru

5. Dünya Turizm Örgütü (UNWTO)'nün 2010 yılı verilerine göre turizm gelirleri bakımından ilk sırada yer alan ülke aşağıdakilerden hangisidir?

- A) İspanya
- B) Fransa
- C) ABD
- D) Çin

6. I. İstanbul - İzmit çevresi
II. Gümüşhane - Bayburt çevresi
III. Hakkari - Şırnak çevresi

Yukarıdakilerden hangileri Türkiye'deki seyrek nüfuslu bölgeler arasında yer almaz?

- A) Yalnız I
- B) I ve II
- C) II ve III
- D) I, II ve III

7. Fransa'nın film festivali ile ünlü şehri aşağıdakilerden hangisidir?

- A) Paris
- B) Nice
- C) Marsilya
- D) Cannes

8. Aşağıdakilerden hangisi nüfus artış hızının en fazla olduğu ülkelere biridir?

- A) Almanya
- B) Japonya
- C) Pakistan
- D) Rusya Federasyonu

9. I. Aşırı sıcaklar
II. Volkanizma
III. Şiddetli rüzgarlar
IV. Deprem

Yukarıdakilerden hangileri klimatolojik karakterli ekstrem olaylar arasında yer alır?

- A) I ve II
- B) I ve III
- C) II ve III
- D) III ve IV

10. Ruhr sanayi bölgesi hangi kıtada yer alır?

- A) Afrika
- B) Kuzey Amerika
- C) Asya
- D) Avrupa

11. I. İnkâ
II. Lidya
III. Fenike
IV. Aztek

Yukarıdakilerden hangileri Akdeniz uygarlıkları arasında yer alır?

- A) I ve II
B) I ve III
C) II ve III
D) III ve IV

12. **Aşağıdakilerden hangisi Türkiye'deki büyük ölçekli ticaret merkezleri grubunda yer almaz?**

- A) İzmir
B) Bilecik
C) Bursa
D) Adana

13. **Türkiye turizminin temelini oluşturan turizm sektörü aşağıdakilerden hangisidir?**

- A) Deniz turizmi
B) Kongre turizmi
C) Sağlık turizmi
D) Yayla turizmi

14. - Ticari hizmetler sektörü çok gelişmiştir.
- Rotterdam en önemli limanıdır.
- Kıyı koruma sistemleriyle ünlüdür.

Yukarıda özellikleri verilen Avrupa ülkesi aşağıdakilerden hangisidir?

- A) Fransa
B) Hollanda
C) Bulgaristan
D) Danimarka

15. **Orta büyüklükteki şehirlerle ilgili aşağıdaki ifadelerden hangisi yanlıştır?**

- A) Etki alanları geniştir.
B) Belli bir bölgenin mallarının toplanma ve büyük tüketim merkezlerine ulaştırıldığı yerlerdir.
C) Malatya, Erzurum, Şanlıurfa orta büyüklükteki kentlerden bazılarıdır.
D) Konumları itibarıyla bölgesel ticaret merkezleridir.

16. **Türkiye'nin 2011 Şubat ayında en fazla ihracat yaptığı ülke aşağıdakilerden hangisidir?**

- A) İspanya
B) Amerika Birleşik Devletleri
C) Fransa
D) Almanya

17. **Aşağıdakilerden hangisi küresel ısınmadan etkilenecek alanlardan biri değildir?**

- A) Kıyılar
B) Yeraltı kaynakları
C) Su kaynakları
D) Ormanlar

18. **Tarihi Harran Evleri'nin bulunduğu şehir aşağıdakilerden hangisidir?**

- A) Batman
B) Mardin
C) Diyarbakır
D) Şanlıurfa

19. **Aşağıdakilerden hangisi Türkiye'deki bölgelerin fiziki coğrafya özelliklerine göre yapılan sınıflandırmaları arasında yer almaz?**

- A) Su özelliklerine göre bölgeler
B) Nüfus yoğunluğuna göre bölgeler
C) Bitki örtüsüne göre bölgeler
D) İklim tipine göre bölgeler

20. I. Lidya
II. Maya
III. Aztek
IV. Fenike

Yukarıdaki medeniyetlerden hangileri Orta Amerika'da kurulmuştur?

- A) I ve II
B) I ve III
C) II ve III
D) II ve IV

1. 2002 yılında "Yaşayan Gezegen Raporu" ile insanların doğa üzerindeki giderek artan olumsuz etkilerini göz önüne seren çevre örgütü aşağıdakilerden hangisidir?
 - A) Greenpeace
 - B) Uluslararası Fauna ve Flora
 - C) Dünya Vahşi Yaşam Fonu
 - D) Dünya Doğayı Koruma Vakfı
2. Artvin, Bayburt, Giresun gibi illeri kapsayan bölgesel kalkınma projesi aşağıdakilerden hangisidir?
 - A) DOKAP
 - B) GAP
 - C) DAP
 - D) ZBK
3. Orta Doğu petrollerinin çıkış kapısı konumunda olan ve İran Körfezi'ni Umman Denizi'ne bağlayan boğaz aşağıdakilerden hangisidir?
 - A) Bering Boğazı
 - B) Macellan Boğazı
 - C) Hürmüz Boğazı
 - D) Malakka Boğazı
4. Aşağıdakilerden hangisi Türkiye'de cumhuriyetin ilk yıllarında uygulanan nüfus politikalarından biri değildir?
 - A) Ücretsiz ilaç dağıtmak
 - B) Doğum evleri kurmak
 - C) Çok çocuklu aileleri para ile ödüllendirmek
 - D) Şehirlere göçü teşvik etmek
5. Türkiye'de doğum oranlarını düşürmeye yönelik uygulamalar hangi yıldan sonra teşvik edilmeye başlanmıştır?
 - A) 1963
 - B) 1968
 - C) 1970
 - D) 1991
6. Güney Afrika Cumhuriyeti'nin sahip olduğu ve dünya rezervleri içindeki payı % 83 olan maden aşağıdakilerden hangisidir?
 - A) Altın
 - B) Manganez
 - C) Elmas
 - D) Titanyum
7. 1967 yılında Suriye'ye ait önemli su kaynaklarının bulunduğu Golan Tepelerini işgal eden ülke aşağıdakilerden hangisidir?
 - A) Cezayir
 - B) Irak
 - C) Kuveyt
 - D) İsrail
8. Aşağıdakilerden hangisi Orta Doğu'nun dünya açısından önemli bir bölge olmasının nedenlerinden biri değildir?
 - A) Dünya petrol rezervlerinin büyük bölümüne sahip olması
 - B) Su rezervlerinin çok olması
 - C) Kutsal mekanları barındırması
 - D) Önemli ticaret yollarının kavşak noktasında bulunması
9. Aşağıdaki barajlardan hangisi GAP kapsamında yer almaktadır?
 - A) Demirköprü
 - B) Hasan Uğurlu
 - C) Atatürk
 - D) Hirfanlı
10. Bir ülkede nüfus piramidinin tabanı yıllar içinde daralıyorsa bunun nedeni aşağıdakilerden hangisidir?
 - A) İç göçlerin yaşanması
 - B) Nüfus artış hızının düşmesi
 - C) İşsizlik oranının artması
 - D) Bağımlı nüfusun artması

11. Mercan resifleri ile ilgili aşağıdaki ifadelerden hangisi yanlıştır?

- A) Bir araya gelerek süperorganizmaları oluştururlar.
- B) Birçok canlının üreme alanıdır.
- C) Küresel ısınma sonucu yok olma tehlikesiyle karşı karşıya kalmışlardır.
- D) Batı Avrupa kıyılarında yaygın olarak görülürler.

12. Aşağıdakilerden hangisi doğal mirasları korumak için yapılabilecek faaliyetler arasında yer almaz?

- A) Katı atıkların yakılarak yok edilmesi
- B) Organik ürünler kullanılması
- C) Orman alanlarının geliştirilmesi
- D) Yenilenebilir enerji kaynaklarının tercih edilmesi

13. Aşağıdakilerden hangisi Türkiye ile kara sınırı olan ülkelerden biridir?

- A) Hırvatistan
- B) Suriye
- C) Çin Halk Cumhuriyeti
- D) Nijerya

14. Aşağıdakilerden hangisi jeopolitiğin değişmeyen unsurları arasında yer almaz?

- A) İklim özellikleri
- B) Jeolojik özellikler
- C) Bilimsel ve teknolojik özellikler
- D) Ülkenin coğrafi şekil özellikleri

15. Devletlerin coğrafi özellikleri ile siyasetleri arasındaki ilişkiyi inceleyen bilim dalı aşağıdakilerden hangisidir?

- A) Jeopolitik
- B) Coğrafya
- C) Jeomorfoloji
- D) Diplomasi

16. "Hazine Adası" olarak da bilinen Dünya'nın üçüncü büyük adası aşağıdakilerden hangisidir?

- A) Galapagos
- B) Malta
- C) Rodos
- D) Borneo

17. Aşağıdakilerden hangisi uluslararası çatışmaların yaşandığı ülkelerden biri değildir?

- A) Afganistan
- B) Japonya
- C) Irak
- D) Libya

18. Nükleer enerji santrallerinde yakıt olarak kullanılan ve çok az bulunduğu için ilgili ülkeler arasında sorunlara neden olan doğal kaynak türü aşağıdakilerden hangisidir?

- A) Demir
- B) Kömür
- C) Uranyum
- D) Bakır

19. Ülkelerin gelişmişlik düzeylerini belirtmek için en çok tercih edilen ölçüt aşağıdakilerden hangisidir?

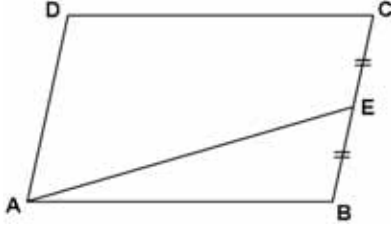
- A) Kişi başına düşen milli gelir
- B) Okur-yazar oranı
- C) Doktor başına düşen hasta sayısı
- D) Kişi başına düşen elektrik tüketimi

20. Aşağıdakilerden hangisi DAP kapsamındaki illerden biri değildir?

- A) Gümüşhane
- B) Van
- C) Tokat
- D) Ardahan

1. Aynı düzlemdeki 4 doğru, en fazla kaç noktada kesişir?
- A) 6
B) 4
C) 3
D) 1
2. $\frac{0! \cdot 9!}{8!}$ ifadesinin değeri kaçtır?
- A) 1
B) $\frac{9}{8}$
C) 8
D) 9
3. $C(7,1) + C(7,2) + \dots + C(7,5) + C(7,6)$ ifadesinin değeri kaçtır?
- A) 126
B) 127
C) 128
D) 130
4. $P(n,1) + P(n,0) = 5$ ise n kaçtır?
- A) 1
B) 4
C) 5
D) 6
5. $A = \{a, b, c, d\}$ kümesinin 3 elemanlı alt kümelerinin sayısı kaçtır?
- A) 1
B) 4
C) 12
D) 24
6. Azra babasının kendisine aldığı şifreli çantaya rakamlar kullanarak 3 haneli bir şifre belirleyecektir.
- Buna göre Azra kaç farklı şifre oluşturabilir?**
- A) 10
B) 100
C) 1.000
D) 10.000
7. 4 gömleği, 3 pantolonu ve 6 ceketini bulunan bir kişi, bir gömlek, bir pantolon ve bir ceket giymek şartıyla kaç farklı şekilde giyinebilir?
- A) 13
B) 24
C) 48
D) 72
8. Bir A kutusunda 2 siyah, 2 beyaz top, B kutusunda 2 siyah, 1 beyaz top bulunmaktadır. Kutulardan biri rastgele seçiliyor ve içinden rastgele bir top çekiliyor. Çekilen topun siyah olma olasılığı kaçtır?
- A) $\frac{7}{12}$
B) $\frac{7}{10}$
C) $\frac{7}{8}$
D) $\frac{7}{6}$
9. $f: \mathbb{R} \rightarrow \mathbb{R}$ ve $f(x) = x^2 + 3x + 2$ ve $g: \mathbb{R} \rightarrow \mathbb{R}$ $g(x) = 3x^2 - 2x + 4$ ise $(3f-2g)(1)$ değeri aşağıdakilerden hangisidir?
- A) 7
B) 8
C) 9
D) 10
10. $f: \mathbb{R} \rightarrow \mathbb{R}$, $f(x) = 5x^2 + 7$ fonksiyonu ile ilgili aşağıdaki ifadelerden hangisi doğrudur?
- A) Bire-bir bir fonksiyondur.
B) Ötlen bir fonksiyondur.
C) Tersi vardır.
D) Çift fonksiyondur.
11. $f(x) = 1 - 3x$ ve $g(x) = 3x + 2$ fonksiyonları veriliyor. Buna göre $(g \circ f)(1)$ değeri kaçtır?
- A) -4
B) -3
C) -2
D) -1
12. $f: \mathbb{R} \rightarrow \mathbb{R}$, $f(x) = 3x + 5$ ise $f(0) + f^{-1}(8)$ değeri kaçtır?
- A) 6
B) 5
C) 1
D) 0

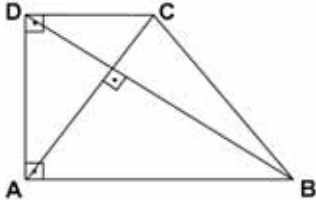
13.



Yukarıdaki ABCD paralelkenarında $|CE|=|EB|$ ve ABE üçgeninin alanı 4 br^2 olduğuna göre AECD dörtgeninin alanı kaç br^2 dir?

- A) 8
- B) 12
- C) 16
- D) 20

14.



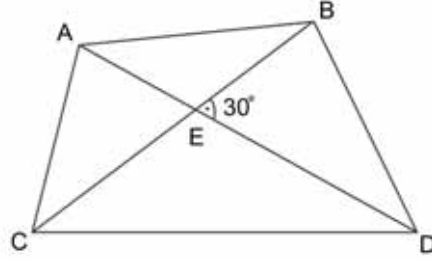
Yukarıdaki ABCD dik yamuğunda köşegenler birbirine diktir. $|AD|=6 \text{ cm}$ ve $|DC|=4 \text{ cm}$ ise $|AB|$ kaç cm 'dir?

- A) 5
- B) 9
- C) 10
- D) 12

15. Düzgün bir dokuzgenin bir dış açısının ölçüsü kaç derecedir?

- A) 40
- B) 60
- C) 90
- D) 108

16.



Yukarıdaki ABDC dörtgeninde $|AD|=12 \text{ br}$, $|BC|=10 \text{ br}$ ve $m(\widehat{BED}) = 30^\circ$ olduğuna göre ABDC dörtgeninin alanı kaç br^2 dir?

- A) 24
- B) 30
- C) 60
- D) 120

17. $A(0,4)$ noktasından geçen ve $y=3-x$ doğrusuna dik olan doğrunun denklemi aşağıdakilerden hangisidir?

- A) $y = x - 3$
- B) $y = 4 - x$
- C) $y = x + 4$
- D) $y = x + 3$

18. $y = 3x + 7$ doğrusunun eğimi kaçtır?

- A) 0
- B) $3/7$
- C) 3
- D) 7

19. Bir düzgün sekizgenin iç açılarının toplamı kaç derecedir?

- A) 360
- B) 720
- C) 900
- D) 1.080

20. $A(0,0)$ ve $B(3,4)$ noktaları arasındaki uzaklık kaç birimdir?

- A) 3
- B) 4
- C) 5
- D) 7

1. Spielst du Blockflöte?

Welche Antwort passt zur obigen Frage?

Verilen sorunun cevabı aşağıdakilerden hangisidir?

- A) Ja, ich gehe ins Kino.
- B) Nein, ich spiele nicht Blockflöte.
- C) Nein, ich möchte dir ein Buch schenken.
- D) Ja, ich singe gern.

2. Wir ihn im Kino gesehen.

Welches Wort passt in die obige Lücke?

Cümlede boş bırakılan yeri aşağıdakilerden hangisi tamamlar?

- A) hast
- B) haben
- C) hat
- D) hatte

3. Ja, er ist 91 Jahre alt.

Welche Frage passt zur obigen Antwort?

Verilen cevabı gerektirecek soru aşağıdakilerden hangisidir?

- A) Wer sind sie?
- B) Was studiert er?
- C) Lebt er noch?
- D) Wohnst du auch hier?

4. Was brauchen wir, wenn es regnet?

Welche Antwort passt zur obigen Frage?

Verilen sorunun cevabı aşağıdakilerden hangisidir?

- A) Er braucht einen Fotoapparat.
- B) Wir brauchen einen Regenschirm.
- C) Du brauchst ein Badetuch.
- D) Sie braucht viele Bücher.

5. Wir gehen zum Flohmarkt.

Wie lautet der obige Satz im Perfekt?

Verilen cümlelerin di' li geçmiş zaman şekli aşağıdakilerden hangisidir?

- A) Wir gingen zum Flohmarkt.
- B) Wir hätten zum Flohmarkt gegangen.
- C) Wir sind zum Flohmarkt gegangen.
- D) Wir werden zum Flohmarkt gehen.

6. Eine alte Frau braucht Hilfe. Man

Welches ergänzt die Lücke im obigen Satz?

Verilen cümleyi aşağıdakilerden hangisi tamamlar?

- A) soll ihr helfen.
- B) möchte draussen essen.
- C) wird zu spät kommen.
- D) kann sich ausruhen.

7. Die Blumen blühen und das Kinderfest wird gefeiert.

Wie lautet die Frage für die obige Antwort?

Verilen cümleye yönelik soru cümlesi aşağıdakilerden hangisidir?

- A) Wann laufen wir Ski?
- B) Was passiert im April?
- C) Wer geht in die Ferien?
- D) Warum ziehst du um?

8. Der Monat ist Juli.

Welches Wort passt in die obige Lücke?

Cümlede boş bırakılan yeri aşağıdakilerden hangisi doğru şekilde tamamlar?

- A) vierte
- B) fünfte
- C) sechste
- D) siebte

9. Der Mann hat das Gras

Welches Wort passt in die obige Lücke?

Cümlede boş bırakılan yeri aşağıdakilerden hangisi doğru şekilde tamamlar?

- A) geregnet
- B) gemischt
- C) gelegt
- D) gemäht

10. Atatürk hat im Jahre 1923 gegründet.

Welches Wort passt in die obige Lücke?

Cümlede boş bırakılan yeri aşağıdakilerden hangisi tamamlar?

- A) die Mauer
- B) die Zeitung
- C) die Türkische Republik
- D) die Revolution

11. ich meine Hausaufgaben mache, höre ich immer Musik.

Welches Wort passt in die obige Lücke?

Cümlede boş bırakılan yeri aşağıdakilerden hangisi doğru şekilde tamamlar?

- A) Während
- B) Ab
- C) Trotz
- D) Ausserdem

12. Ayşe ist krank und muss im Bett bleiben.

Wie lautet der obige Satz im Präteritum?

Verilen cümlelerin geçmiş zaman şekli aşağıdakilerden hangisidir?

- A) Ayşe ist gekrank und bleibt im Bett.
- B) Ayşe wurde krank und wird im Bett bleiben.
- C) Ayşe war krank und musste im Bett bleiben.
- D) Ayşe musste im Bett bleiben, weil sie krank wurde.

13. Gähnen muss man die Hand vor den Mund halten.

Welches Wort passt in die obige Lücke?

Cümlede boş bırakılan yeri aşağıdakilerden hangisi doğru şekilde tamamlar?

- A) Nach
- B) Auf
- C) Beim
- D) An

14. Ihr sollt das Radio leise stellen.

Wie lautet der obige Satz in der Imperativ-Form?

Verilen cümlelerin emir cümle şekli aşağıdakilerden hangisidir?

- A) Stellt das Radio leise!
- B) Leise stellen das Radio!
- C) Das Radio soll leise sein!
- D) Stellst das leiser!

15. Die Mutter legt Ihrem Sohn ein dickes Kissen den Kopf.

Welches Wort passt in die obige Lücke?

Cümlede boş bırakılan yeri aşağıdakilerden hangisi doğru şekilde tamamlar?

- A) zu
- B) in
- C) aus
- D) unter

16. Hat man die Miete reduziert?

Welche Antwort passt zur obigen Frage?

Verilen sorunun cevabı aşağıdakilerden hangisidir?

- A) Nein, die Miete konnte man leider nicht senken.
- B) Ja, ich habe es bezahlt.
- C) Nein, die wurden durch neue ersetzt.
- D) Ja, wir haben unsere Nachbarn eingeladen.

17. Die Mutter spült das Geschirr.

Wie lautet der obige Satz in der Passivform?

Verilen cümlelerin edilgen hali aşağıdakilerden hangisidir?

- A) Das Geschirr soll gespült werden.
- B) Das Geschirr wird gespült.
- C) Die Mutter will das Geschirr spülen.
- D) Die Mutter hat abgespült.

18. Die Dachziegel können nicht werden, weil es da oben zu dieser Zeit kalt ist.

Welches Wort passt in die obige Lücke?

Cümlede boş bırakılan yeri aşağıdakilerden hangisi tamamlar?

- A) ausgewechselt
- B) verkauft
- C) bezahlt
- D) geladen

19. Das Essen ist heute so gut wie gestern.

Welches Wort paßt in die obige Lücke?

Cümlede boş bırakılan yeri aşağıdakilerden hangisi doğru şekilde tamamlar?

- A) kein
- B) und
- C) beim
- D) nicht

20. Kinder essen gern Schokolade aber essen sie Eis.

Welches Wort passt in die obige Lücke?

Cümlede boş bırakılan yeri aşağıdakilerden hangisi doğru şekilde tamamlar?

- A) am vielsten
- B) besser
- C) vieler
- D) am liebsten

1. Is your uncle engineer or teacher?

Which of the following completes the sentence above?

Aşağıdakilerden hangisi yukarıdaki cümleyi doğru olarak tamamlar?

- A) an / the
B) an / a
C) the / a
D) a / a

2. Our school team won the football match

Which of the following completes the sentence above?

Aşağıdakilerden hangisi yukarıdaki cümleyi doğru olarak tamamlar?

- A) yesterday
B) every day
C) tomorrow
D) next week

3. Tom : I close the window?
Teacher : Yes, of course.

Which of the following completes the dialogue above?

Aşağıdakilerden hangisi yukarıdaki konuşmayı doğru olarak tamamlar?

- A) Have
B) May
C) Does
D) Has

4. I send you my reports, don't worry.

Which of the following completes the sentence above?

Aşağıdakilerden hangisi yukarıdaki cümleyi doğru olarak tamamlar?

- A) must
B) used to
C) should
D) will

5. When Simon was 6, he speak French fluently.

Which of the following completes the sentence above?

Aşağıdakilerden hangisi yukarıdaki cümleyi doğru olarak tamamlar?

- A) won't
B) could
C) can
D) don't

6. Carol's brother milk every morning.

Which of the following completes the sentence above?

Aşağıdakilerden hangisi yukarıdaki cümleyi doğru olarak tamamlar?

- A) drinks
B) drunk
C) have drunk
D) drinking

7. Leo: What will you do tomorrow?
Sam: I will probably shopping.

Which of the following completes the dialogue above?

Aşağıdakilerden hangisi yukarıdaki konuşmayı doğru olarak tamamlar?

- A) going
B) went
C) gone
D) go

8. She a horror film last night.

Which of the following completes the sentence above?

Aşağıdakilerden hangisi yukarıdaki cümleyi doğru olarak tamamlar?

- A) watch
B) is watching
C) watches
D) watched

9. There some students in the classroom.

Which of the following completes the sentence above?

Aşağıdakilerden hangisi yukarıdaki cümleyi doğru olarak tamamlar?

- A) are
B) has been
C) was
D) is

10. I at the cinema at 5 o'clock yesterday.

Which of the following completes the sentence above?

Aşağıdakilerden hangisi yukarıdaki cümleyi doğru olarak tamamlar?

- A) were
B) am
C) was
D) will

11. I can't find the eggs. There any eggs in the fridge.

Which of the following completes the sentence above?

Aşağıdakilerden hangisi yukarıdaki cümleyi doğru olarak tamamlar?

- A) haven't
B) aren't
C) won't
D) isn't

12. You sing a song in the library.

Which of the following completes the sentence above?

Aşağıdakilerden hangisi yukarıdaki cümleyi doğru olarak tamamlar?

- A) mustn't
B) must
C) need
D) needn't

13. Bob: Is there salt in the cupboard?
George: No, there isn't.

Which of the following completes the dialogue above?

Aşağıdakilerden hangisi yukarıdaki konuşmayı doğru olarak tamamlar?

- A) many
B) some
C) any
D) very

14. There are five in the fridge and a on the table.

Which of the following completes the sentence above?

Aşağıdakilerden hangisi yukarıdaki cümleyi doğru olarak tamamlar?

- A) apples / banana
B) apple / bananas
C) apple / banana
D) apples / bananas

15. Selim :?

Eleni : No, I am not. I am from Greece.

Which of the following completes the dialogue above?

Aşağıdakilerden hangisi yukarıdaki konuşmayı doğru olarak tamamlar?

- A) How old are you
B) Are you new
C) How are you
D) Are you from Italy

16. A: What are?

B: are empty boxes.

Which of the following completes the dialogue above?

Aşağıdakilerden hangisi yukarıdaki konuşmayı doğru olarak tamamlar?

- A) that / They
B) this / They
C) these / They
D) those / It

17. Ann: How coffee is there in the box?
Bobby: There is a little.

Which of the following completes the dialogue above?

Aşağıdakilerden hangisi yukarıdaki konuşmayı doğru olarak tamamlar?

- A) any
- B) long
- C) much
- D) many

18. I at ten o'clock tomorrow morning.

Which of the following completes the sentence above?

Aşağıdakilerden hangisi yukarıdaki cümleyi doğru olarak tamamlar?

- A) getting up
- B) am going to get up
- C) get up
- D) got up

19. When Elena married, she is going to go abroad.

Which of the following completes the sentence above?

Aşağıdakilerden hangisi yukarıdaki cümleyi doğru olarak tamamlar?

- A) getting
- B) got
- C) gets
- D) have gotten

20. 10 years ago there lots of trees in this park, but now there are many skyscrapers.

Which of the following completes the dialogue above?

Aşağıdakilerden hangisi yukarıdaki konuşmayı doğru olarak tamamlar?

- A) didn't use to be
- B) to be
- C) are
- D) used to be

1. - Vous voyez?
- Non, nous ne voyons personne.

Choisissez le mot qui convient.

Yukarıdaki konuşmada boş bırakılan yeri aşağıdakilerden hangisi doğru şekilde tamamlar?

- A) aucun
B) personne
C) quelqu'un
D) aucune

2. le chat.

Choisissez l'expression qui convient.

Yukarıdaki cümlede boş bırakılan yeri aşağıdakilerden hangisi doğru şekilde tamamlar?

- A) Je suis sorti
B) J'ai sorti
C) Elle est sortie
D) Je suis sortie

3. I. Je me connecte à Internet.
II. Je navigue.
III. Je tchatte.
IV. C'est mon appareil photo.

Trouvez la phrase qui ne convient pas.

Cümleler sırasıyla okunduğunda, anlam bütünlüğünü bozan cümleyi bulunuz.

- A) I
B) II
C) III
D) IV

4. «Si vous voulez partir, demandez la permission.»

Choisissez la traduction qui convient.

Yukarıdaki cümlenin Türkçe karşılığı aşağıdakilerden hangisidir?

- A) Gitmek istiyorsanız, izin isteyin.
B) Gitmek için, çalışın.
C) Gelmek istiyorsanız susun.
D) Gelmek için, koşun.

5. - Vous connaissez ce jeune homme?
- Non, je ne connais pas.

Choisissez le mot qui convient.

Yukarıdaki konuşmada boş bırakılan yeri aşağıdakilerden hangisi doğru şekilde tamamlar?

- A) le
B) la
C) lui
D) me

6. montent les escaliers.

Choisissez le mot qui convient.

Cümledeki boşluğu aşağıdakilerden hangisi doğru şekilde tamamlar?

- A) Ils
B) Nous
C) Je
D) Elle

7. Il une petite bouche.

Choisissez le mot qui convient.

Cümledeki boşluğu aşağıdakilerden hangisi doğru şekilde tamamlar?

- A) est
B) a
C) ont
D) sont

8. «S'il ne pleut pas, j'irai me promener.»

Choisissez la traduction qui convient.

Yukarıdaki cümlenin Türkçe karşılığı aşağıdakilerden hangisidir?

- A) Yağmur yağmazsa, gezmeye gideceğim.
B) Yağmur yağmadığında, gezerim.
C) Yağmurlu havada gezmiyorum
D) Yağmur yağıyor, ben geziyorum.

9. - quoi sert le clavier?
- Ça sert à écrire.

Choisissez le mot qui convient.

Yukarıdaki konuşmada boş bırakılan yeri aşağıdakilerden hangisi doğru şekilde tamamlar?

- A) Du
B) En
C) Pour
D) A

10. Si j'étais jeune, je en Amérique.

Choisissez le mot qui convient.

Cümledeki boşluğu aşağıdakilerden hangisi doğru şekilde tamamlar?

- A) pars
B) partirais
C) partais
D) partir

11. Avez- une voiture?

Choisissez le mot qui convient.

Cümledeki boşluğu aşağıdakilerden hangisi doğru şekilde tamamlar?

- A) vous
B) nous
C) tu
D) je

12. Où es-tu? Je ne vois pas.

Choisissez le mot qui convient.

Cümledeki boşluğu aşağıdakilerden hangisi doğru şekilde tamamlar?

- A) tu
B) le
C) me
D) te

13. Nous habitons dans ville.

Choisissez le mot qui convient.

Cümledeki boşluğu aşağıdakilerden hangisi doğru şekilde tamamlar?

- A) le même
B) les mêmes
C) la même
D) meme

14. - Vous du thé?

- Non, je ne veux pas thé.

Choisissez les mots qui conviennent.

Yukarıdaki konuşmada boş bırakılan yerleri aşağıdakilerden hangisi doğru şekilde tamamlar?

- A) voulez / du
B) pouvez / du
C) voulez / de
D) pouvez / de

15. - Quelle est la forme de son nez?

-

Choisissez la réponse qui convient.

Yukarıdaki konuşmada boş bırakılan yeri aşağıdakilerden hangisi doğru şekilde tamamlar?

- A) Elle est large
B) Elle est pointue
C) Il est droit
D) Il est bleu

16. les filles sont belles.

Choisissez le mot qui convient.

Cümledeki boşluğu aşağıdakilerden hangisi doğru şekilde tamamlar?

- A) Tous
B) Toute
C) Tout
D) Toutes

17. -?

- La table est rouge.

Choisissez la question qui convient.

Yukarıdaki konuşmada cevabı gerektiren soru aşağıdakilerden hangisidir?

- A) Combien mesure la table
- B) Quelle est la forme de la table
- C) Comment s'appelle la table
- D) De quelle couleur est la table

18. «Geçen Pazar günü yüzme havuzuna gitmedik.»

Choisissez la traduction qui convient.

Yukarıdaki cümlenin Fransızca karşılığı aşağıdakilerden hangisidir?

- A) Nous avons nagé dimanche dernier.
- B) Nous ne sommes pas allés à la piscine dimanche dernier.
- C) Nous n'avons pas nagé dimanche dernier.
- D) Nous sommes allés à la piscine dimanche dernier.

19. Ayşe a blanches et noirs.

Choisissez les mots qui conviennent.

Cümledeki boşlukları aşağıdakilerden hangisi doğru şekilde tamamlar?

- A) des dents / des nez
- B) des dents / des yeux
- C) des yeux / des dents
- D) des nez / des yeux

20. Le pull est en

Choisissez le mot qui convient.

Cümledeki boşluğu aşağıdakilerden hangisi doğru şekilde tamamlar?

- A) bois
- B) aluminium
- C) laine
- D) carton

1. Toprağa yerleşmiş toplumlarda ilk yazılı hukuk ve mahkemelerin ortaya çıktığı toplumsal yapılanma aşağıdakilerden hangisidir?
 - A) İmparatorluklar
 - B) Siteler
 - C) Feodal toplumlar
 - D) Özler
2. İnsanların üretmeden, doğadan topladığı ürünleri tüketerek varlığını sürdürdükleri dönem aşağıdakilerden hangisidir?
 - A) Köy öncesi dönem
 - B) Toprağa yerleşme
 - C) Köy dönemi
 - D) Merkez köy dönemi
3. Gecekondu ailesi üzerinde araştırma yapılırken, gecekondu tarihsel gelişimi, gecekonduya yaşayan ailelerin ekonomik ve kültürel durumları, dini ve ahlaki değerleri, gelir düzeyleri, yaşadıkları ortam, tüketim alışkanlıkları, dinlenme ve eğlenme alışkanlıklarının derinlemesine incelenmesini sağlayan araştırma tekniği aşağıdakilerden hangisidir?
 - A) Sosyometri
 - B) Monografi
 - C) Olay inceleme
 - D) Anket
4. Aşağıdakilerden hangisi geçici gruplara örnek olarak verilemez?
 - A) Her hafta kurulan pazarlar
 - B) İnşaatçı çalışan işçiler
 - C) Yapı kooperatifi kuranlar
 - D) Bir konuda araştırma yapan bilim insanları
5. Belli bir durumda toplum içinde nasıl davranılması gerektiğini gösteren ve yaptırım gücü taşıyan kurallar sistemine ne ad verilir?
 - A) Toplumsal statü
 - B) Toplumsal değer
 - C) Toplumsal kontrol
 - D) Toplumsal norm
6. Türkiye’de özellikle kentleşme süreci hangi yıllarda başlamıştır?
 - A) 1930’lu
 - B) 1940’lı
 - C) 1950’li
 - D) 1960’lı
7. Aşağıdakilerden hangisi ilk kentlerin özellikle göl ve nehir kenarlarına kurulma nedenlerinden biri değildir?
 - A) Savunma
 - B) Ulaşım
 - C) Ticaret
 - D) Tarımsal faaliyetler
8. Aşağıdakilerden hangisi bilimin temel niteliklerinden biri değildir?
 - A) Olgulara dayanması
 - B) Mantıksal olması
 - C) Genelleyici olması
 - D) Subjektif olması
9. Aşağıdakilerden hangisi birincil grubun özelliklerinden biri değildir?
 - A) Üyeler arası ilişkinin sürekli olması
 - B) Üye sayısının az olması
 - C) Bizlik bilincinin hâkim olması
 - D) Yazılı normlara dayanması
10. Aşağıdakilerden hangisi insan bilimlerinden biridir?
 - A) Matematik
 - B) Mantık
 - C) Siyaset bilimi
 - D) Jeoloji bilimi

11. Sosyolojinin antropolojiden temel farkı aşağıdakilerden hangisidir?

- A) İnsanın evrimini incelemesi
- B) İnsanın kökenini incelemesi
- C) Günümüz toplumlarını inceleme konusu edinmesi
- D) İlkel toplulukları konu edinmesi

12. Aşağıdakilerden hangisi sosyolojinin ilgilendiği konulardan biridir?

- A) Bireyin davranışları
- B) Duyum
- C) Öğrenme
- D) İşsizlik

13. Antik çağın en büyük kenti aşağıdakilerden hangisidir?

- A) Venedik
- B) Roma
- C) Milano
- D) Napoli

14. Aşağıdakilerden hangisi verilmiş statülerden biridir?

- A) Öğretmenlik
- B) Milliyet
- C) Babalık
- D) Esnafılık

15. Aşağıdakilerden hangisi sistematik gözlemden kullanılan araçlardan biri değildir?

- A) Tepegöz
- B) Fotoğraf makinası
- C) Kamera
- D) Teyp

16. Yolculuk yaparken ya da markette alışveriş yaparken kurulan ilişki türü aşağıdakilerden hangisidir?

- A) Uzun süreli
- B) Anlık
- C) Periyodik
- D) Kısa süreli

17. Atatürkçü düşüncede milletin en önemli ve ilk unsuru aşağıdakilerden hangisidir?

- A) Ekonomik kalkınma
- B) Birlikte yaşam ruhu
- C) Din birliğini sağlama
- D) Tarihine sahip çıkma

18. I. İlişkilerin belirli bir süre devam etmesi
II. Bireyler arasında etkileşimin olması
III. Bireylerin birbirinden haberdar olması

Yukarıdakilerden hangileri toplumsal ilişkide olması gereken özelliklerdendir?

- A) Yalnız I
- B) I ve II
- C) II ve III
- D) I, II ve III

19. Topluları açık toplum ve kapalı toplum olarak sınıflandıran bilim insanı aşağıdakilerden hangisidir?

- A) Auguste Comte
- B) Robert Redfield
- C) Karl Popper
- D) Karl Marx

20. Köyün toplumsal yapısında büyük değişmelere ve yapısal dönüşümlere neden olan olay aşağıdakilerden hangisidir?

- A) Rönesans
- B) Sanayi devrimi
- C) Coğrafi keşifler
- D) Reform hareketleri

1. Aşağıdakilerden hangisi mülakatın özelliklerinden biri değildir?

- A) Topluluk önünde gerçekleştirilmesi
- B) Ünlü kişilerle yapılması
- C) Amacının toplumu aydınlatmak olması
- D) Soru-cevap şeklinde gerçekleştirilmesi

2. Aşağıdaki röportaj yazarı ve eseri eşleştirmelerinden hangisi yanlıştır?

- A) Mustafa Baydar - Edebiyatçılarımız Ne Diyorlar
- B) Fikret Otyam - Doğudan Gezi Notları
- C) Yaşar Kemal - Bu Diyar Baştan Başa
- D) Namık Kemal - Çukurova Yana Yana

3. "Yüz bin okur tarafından bir kez okunmak mı istersiniz yoksa bir okur tarafından yüz bin kez mi () Bu soruya Paul Valery şu yanıtı verir () "Yüz bin okur tarafından yüz bin kez okunmak isterim ()"

Yukarıdaki parçada parantez ile belirtilen yerlere sırasıyla aşağıdaki noktalama işaretlerinden hangileri getirilmelidir?

- A) (.) (:) (!)
- B) (?) (.) (!)
- C) (?) (:) (.)
- D) (?) (...)

4. Söylev türüyle ilgili aşağıdaki ifadelerden hangisi yanlıştır?

- A) Cumhuriyet döneminin en büyük konuşmacısı Mustafa Kemal Atatürk'tür.
- B) İlk örnekleri Kelt dönemlerinde görülür.
- C) Ele alınan konu açık, kesin ve inandırıcı biçimde ortaya konur.
- D) Söylev heyecanlandırarak bir fikri aşılacaktır.

5. Başarılı bir söylevci ile ilgili aşağıdaki ifadelerden hangisi yanlıştır?

- A) Söyleyeceklerine önce kendisi inanır.
- B) Dinleyicilerin kendisinden neler beklediğini bilir.
- C) Üzerinde konuştuğu konuyu bütün yönleri ile bilir.
- D) Uzun cümleler kurar.

6. Aşağıdakilerden hangisi konularına göre röportaj türlerinden biridir?

- A) Siyasi konuları ele alan röportajlar
- B) Dinsel konuları ele alan röportajlar
- C) Eşyayı konu alan röportajlar
- D) Askeri konuları ele alan röportajlar

7. Aşağıdakilerden hangisi bir söylev çeşidi değildir?

- A) Akademik
- B) Mekansal
- C) Ekonomik
- D) Dinsel

8. "Tanrı gibi Tanrı yaratmış Türk Bilge Kağanı, sözüm: Babam Türk Bilge Kağanı... Sir, Dokuz Oğuz, İki Ediz çadırılı beyleri, milleti.."

Yukarıda bir parçası alıntılanan eser aşağıdakilerden hangisidir?

- A) Göktürk Yazıtları
- B) Bugün de Diyorlar ki
- C) İstiklal Kulesi Yazıtları
- D) Fatih Sultan Mehmet'in Nutku

9. "Yurttaşlarım! Az zamanda çok ve büyük işler yaptık; bu işlerin en büyüğü, temeli, Türk kahramanlığı ve yüksek Türk kültürü olan Türkiye Cumhuriyeti'dir."

Yukarıda bir parçası alıntılanan Atatürk'ün konuşmasının türü aşağıdakilerden hangisidir?

- A) Tirad
- B) Hatırat
- C) Nesir
- D) Nutuk

10. "Onlar benim fikir ve görüşlerime önem verirler." cümlesindeki anlatım bozukluğunun nedeni aşağıdakilerden hangisidir?

- A) Ses türemesinin gerçekleştiği sözcüklerin kullanılması
- B) Ses benzeşmesine uğramış sözcüklerin kullanılması
- C) Aynı anlamdaki sözcüklerin bir arada kullanılması
- D) Ses daralmasının gerçekleştiği sözcüklerin kullanılması

11. Aşağıdakilerin hangisinde "-ki" eki ünlü uyumlarına uymuştur?

- A) dünkü
- B) taştaki
- C) kitaptaki
- D) sokaktaki

12. Buluşma, görüşme ya da konuşma anlamına da gelen, alanında tanınmış kişilerle yapılan, öğretici ve ufuk açıcı metinlerden oluşan yazılara ne ad verilir?

- A) Biyografi
- B) Mülakat
- C) Söylev
- D) Deneme

13. Saygıdeğer Arkadaşlarım!

Vatanın ve rejimin koruyucusu olmakla kalmayıp en geniş ve gerçek anlamıyla bir barış etkeni, bir eğitim ve öğretim ocağı olan yenilmez ordumuzun geçen yıl da belirttiğim ve açıkladığım gibi, son sistem silah ve motorlu araçlarla donatılması yolundaki çalışmalara hız verilmiştir...

Yukarıda bir parçası alıntılanan yazının türü aşağıdakilerden hangisidir?

- A) Mülakat
- B) Şiir
- C) Makale
- D) Hitabet

14. Söylevin asıl amacı aşağıdakilerden hangisidir?

- A) Bilgi vermek
- B) Dinleyenleri kendi düşüncesinden yana çekmek
- C) Ünlü birini tanıtmak
- D) Bir sorunu değişik boyutları ile incelemek

15. İnsanları heyecanlandırmak, bir fikri, bir kanaati insanlara aşılama ve benimsetmek isteyen bir konuşmacının seçeceği tür aşağıdakilerden hangisidir?

- A) Mülakat
- B) Röportaj
- C) Söylev
- D) Sohbet

16. Aşağıdakilerden hangisi mülakat ve mülakatçının özelliklerinden biri değildir?

- A) Mülakatı yapan kişi konu akışı bozulsa, konu başka yerlere gitse dahi müdahale etmemelidir.
- B) Mülakat metni öğretici ve ufuk açıcıdır.
- C) Genelde söyleşmeye bağlı anlatım türü kullanılır.
- D) Mülakatçı sabırlı, nazik ve dikkatli olmalıdır.

17. Röportajın sağlam bir düşünce ve teze dayanması yönüyle benzerlik gösterdiği tür aşağıdakilerden hangisidir?

- A) Nutuk
- B) Makale
- C) Fıkra
- D) Deneme

18. Aşağıdaki cümlelerin hangisinde ses daralmasına uğramış bir sözcük vardır?

- A) Evdeki çekyatı atacakmış.
- B) Bu olanlar bilgisizliğin son örneği.
- C) Bu yapılanları kimse kabullenemez.
- D) Annem bu akşam bizimle gelmiyor.

19. Aşağıdakilerden hangisi sözlü anlatım türlerinden biridir?

- A) Nutuk
- B) Deneme
- C) Makale
- D) Mektup

20. Aşağıdaki cümlelerin hangisinde -mı, -mi, -mu, -mü soru ekinin yazımı yanlıştır?

- A) Sen de mi geldin?
- B) Çocukmuyum?
- C) Güler misin, ağlar mısın?
- D) Okuyor muyuz?

1. I. Dalgaların hızı
II. Dalgaların frekansı
III. Yayı geren kuvvet

Birbirlerinin ucuna eklenmiş ince ve kalın yaylardan birinde oluşturulan periyodik dalgalar diğerine geçtiğinde yukarıdakilerden hangileri her iki yay için meydana gelebilecek değişkenlerden biri değildir?

- A) Yalnız I
- B) Yalnız III
- C) I ve II
- D) II ve III

2. Sarmal bir yayda oluşturulan dalganın yayılma hızını artırmak için aşağıdakilerden hangisi yapılmalıdır?

- A) Daha ağır bir yay kullanılmalı
- B) Yayı geren kuvvetin büyüklüğü artırılmalı
- C) Dalga boyu ve genliği daha küçük dalgalar oluşturulmalı
- D) Yayı geren kuvvetin büyüklüğü azaltılmalı

3. Sismograf cihazı aşağıdakilerin hangisinde kullanılır?

- A) Ses kayıtlarında
- B) Deprem kayıtlarında
- C) Sıcaklık ölçümlerinde
- D) Nem ölçümlerinde

4. Su derinliği her yerde aynı olan bir dalga leğeninde üretilen periyodik dalgaların frekansı 2 Hz, dalga boyları 5 cm olduğuna göre yayılma hızı kaç cm/s' dir?

- A) 20
- B) 15
- C) 10
- D) 5

5. Bir saniyede 10 dalga üreten periyodik dalga kaynağının periyodu kaç saniye(s) 'dir?

- A) 0,1
- B) 0,2
- C) 0,3
- D) 0,4

6. Merkezinde bulunan bir eksen etrafında dönebilen ve üzerinde eşit aralıklarla açılmış yarık bulunan daire şeklindeki araca ne ad verilir?

- A) Manometre
- B) Kronometre
- C) Barometre
- D) Stroboskop

7. I. Dalga boyu
II. Hızı
III. Periyodu

Birbirine eklenmiş ince ve kalın yaylardan, ince yayda oluşturulan periyodik dalgalar kalın yaya geçtiğinde yukarıdaki niceliklerden hangileri azalır?

- A) Yalnız I
- B) Yalnız II
- C) I ve II
- D) II ve III

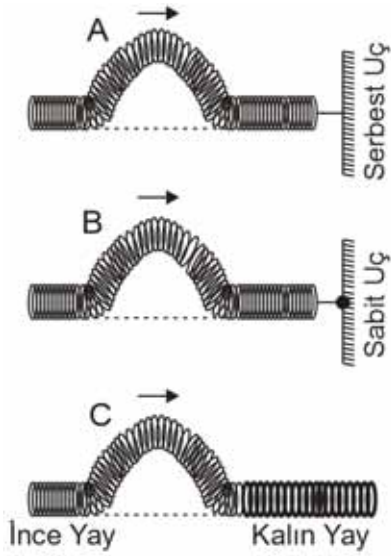
8. Esnek bir yayda oluşturulan periyodik dalgaların 1 ile 4. dalga tepesi arasındaki uzaklığı 12 cm ise periyodik dalgaların dalga boyu kaç cm'dir?

- A) 4
- B) 8
- C) 12
- D) 16

9. Yanardağlardan volkanların fıskırması sırasında meydana gelen patlamalardan kaynaklanan depremlere ne ad verilir?

- A) Deprem dalgaları
- B) Çöküntü depremleri
- C) Tektonik deprem
- D) Volkanik deprem

10.



Yukarıdaki şekilde A, B ve C atmalarından hangileri baş aşağı dönerek yansır?

- A) Yalnız A
- B) Yalnız C
- C) A ve C
- D) B ve C

11. SI birim sisteminde aydınlanma şiddetinin birimi aşağıdakilerden hangisidir?

- A) Kelvin (K)
- B) Candela (cd)
- C) Lümen (lm)
- D) Luks (lx)

12. I. Mavi ışık altında mavi görünür.
II. Yeşil ışık altında kırmızı görünür.
III. Beyaz ışık altında kırmızı görünür.

Kırmızı ışık altında kırmızı görünen bir cisimle ilgili yukarıdaki ifadelerden hangisi veya hangileri doğrudur?

- A) Yalnız I
- B) Yalnız III
- C) I ve III
- D) II ve III

13. Işığın parçacık teorisinin en önemli kurucusu olan bilim insanı aşağıdakilerden hangisidir?

- A) Hertz
- B) Newton
- C) Huygens
- D) Young

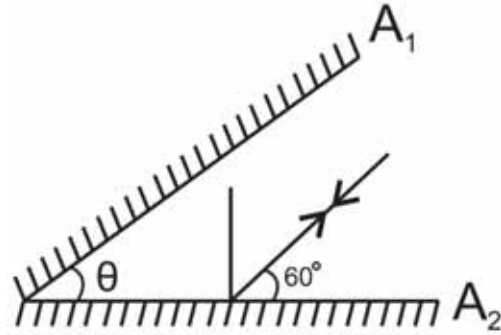
14. Numarası +0,25 dioptri olan gözlük camının odak uzaklığı kaç metre'dir?

- A) 8
- B) 4
- C) 2
- D) 1

15. Işık prizmasında en fazla kırılmaya uğrayan ışığın rengi aşağıdakilerden hangisidir?

- A) Mavi
- B) Yeşil
- C) Sarı
- D) Mor

16.



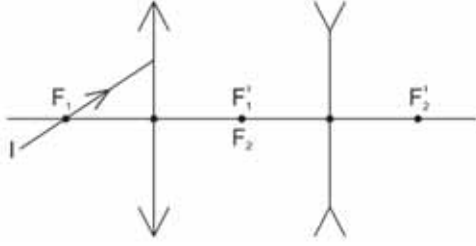
Aralarında θ açısı bulunan A_1 ve A_2 aynalarına gelen I ışını yukarıdaki şekildeki gibi A_2 aynasına gelip toplam üç kez yansıdıktan sonra geldiği yoldan geri dönen I ışının θ açısı kaç derecedir?

- A) 30
- B) 45
- C) 60
- D) 75

17. Uzağı iyi göremeyen kişilerde oluşan göz kusuru aşağıdakilerden hangisidir?

- A) Miyop
- B) Astigmat
- C) Presbitlik
- D) Hipermetrop

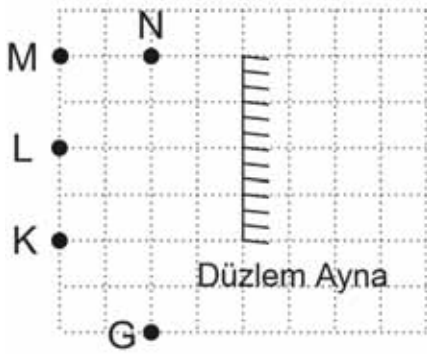
18.



Yukarıdaki şekilde merceklerin odak uzaklıkları eşittir. İnce kenarlı merceğe odak uzaklığından gelen I ışını kalın kenarlı mercekten kırıldıktan sonra nereden geçer?

- A) Kalın kenarlı merceğin odak uzaklığından geçerek gider.
- B) Kalın kenarlı mercekten bu merceğin odak uzaklığı arasından geçerek gider.
- C) Uzantısı kalın-ince kenarlı merceğin odak uzaklığından geçecekmiş gibi kırılır.
- D) Kalın kenarlı merceğin asal eksenine paralel gider.

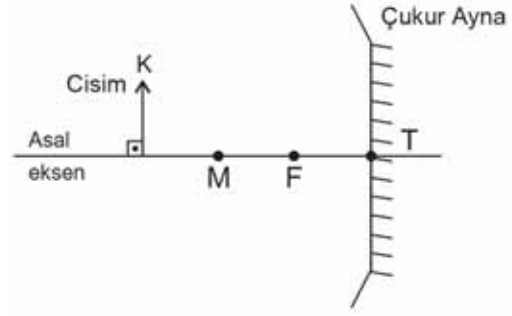
19.



Düzlem ayna önündeki G noktasından yukarıdaki şekilde görüldüğü gibi düzlem aynaya bakan gözlemci K, L, M ve N noktalarından hangilerinin görüntüsünü düzlem aynada görür?

- A) Yalnız M
- B) M ve N
- C) L ve K
- D) Yalnız N

20.



Yukarıdaki şekilde görüldüğü gibi K cismi çukur aynanın merkezinin dışında ise yeni görüntü nerede oluşur ve özelliği nedir?

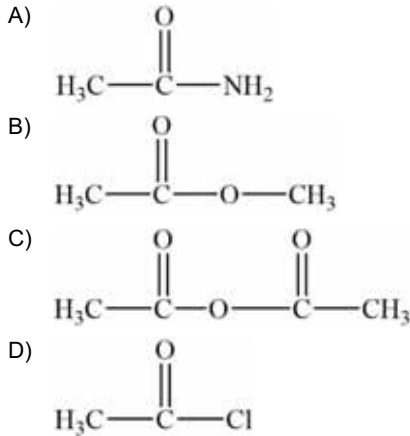
- A) Odakla merkez arasında, gerçek
- B) Ayna ile odak arasında, gerçek
- C) Odakta, gerçek
- D) Merkezde, sanal

1. Alkil amin bileşiklerinde azot atomuna bağlı bulunan metil grubu sayısı arttıkça bazlık kuvvet artar.

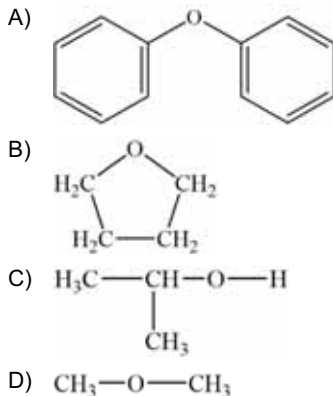
Yukarıdaki ifadeye göre, aşağıdakilerden hangisi doğrudur?

- A) $\text{CH}_3\text{CH}_2\text{CH}_2\text{NH}_2 > \text{CH}_3\text{CH}_2\text{NH}_2 > \text{CH}_3\text{NH}_2$
 B) $\text{CH}_3\text{CH}_2\text{NH}_2 > (\text{CH}_3)_2\text{NH} > \text{CH}_3\text{NH}_2$
 C) $(\text{CH}_3)_3\text{N} > (\text{CH}_3)_2\text{NH} > \text{CH}_3\text{NH}_2$
 D) $\text{CH}_3\text{CH}_2\text{CH}_2\text{CH}_2\text{NH}_2 > (\text{CH}_3\text{CH}_2\text{CH}_2)_2\text{NH} > (\text{CH}_3\text{CH}_2)_3\text{N}$

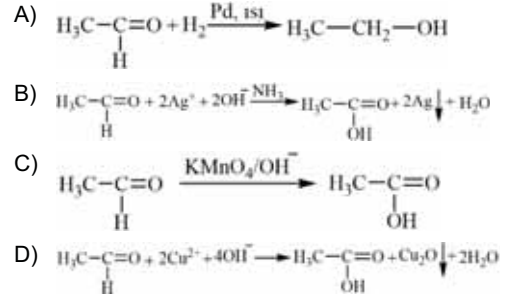
2. Aşağıdakilerden hangisi asit anhidrit bileşiğidir?



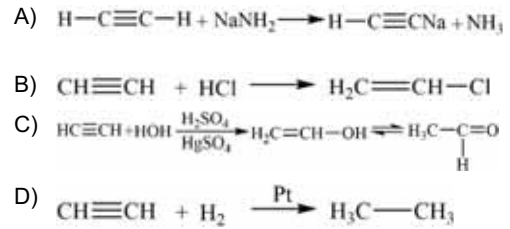
3. Aşağıdakilerden hangisi eter bileşiği değildir?



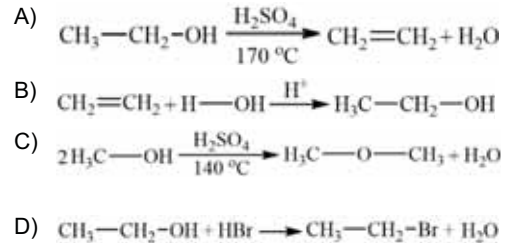
4. Aldehitlerin Fehling ayırıcı ile karboksilik asitlere yükselttiği tepkime aşağıdakilerden hangisidir?



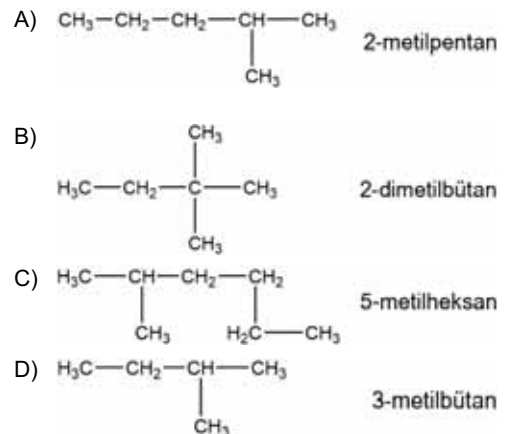
5. Alkinlere ait aşağıdaki kimyasal tepkimelerden hangisi asit-baz tepkimesidir?



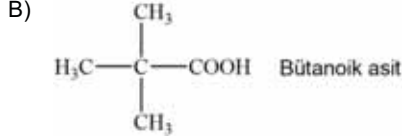
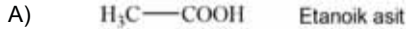
6. Aşağıdaki tepkimelerden hangisi etanolün elde edilme yollarından biridir?



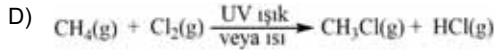
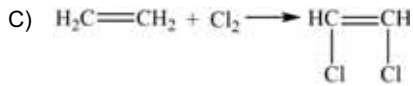
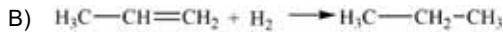
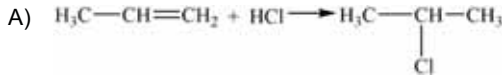
7. Aşağıdaki bileşiklerin hangisinde IUPAC kuralına göre yapılan adlandırma doğrudur?



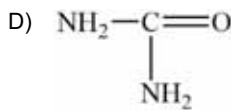
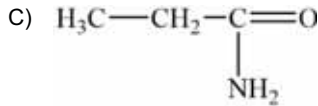
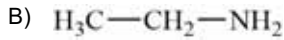
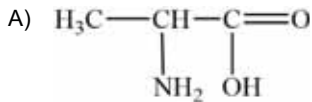
8. IUPAC kuralına göre, aşağıdaki karboksilik asitlerin hangisinde yapılan adlandırma doğrudur?



9. Aşağıdakilerden hangisi alkenlerin kimyasal tepkimelerinden biri değildir?



10. Aşağıdakilerden hangisi amino asit bileşiğidir?



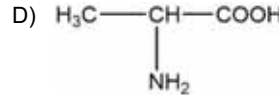
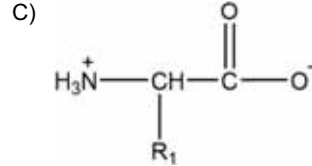
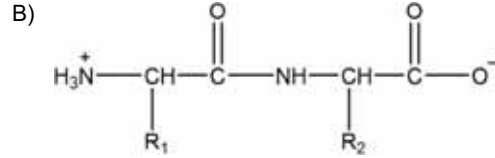
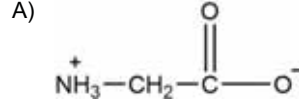
11. Aşağıdakilerden hangisi yüksek karbonlu yağ asitlerinin potasyum tuzu olan yüzey aktif maddedir?

- A) Yumuşak sabun (arap sabunu)
B) Sert sabun (beyaz sabun)
C) Alkil benzen sülfonat
D) Sodyum lauril sülfat (sodyum dodesil sülfat)

12. Tek bir çeşit monomerden oluşan polimerlere ne ad verilir?

- A) Kopolimer
B) Monomer
C) Homopolimer
D) Kondenzasyon

13. Aşağıdaki bileşiklerin hangisinde peptit bağı vardır?



14. Hidrojenasyon sırasında sıvı yağlardaki bazı doymamış yağ asidi birimlerinin yapısal değişikliğe uğraması sonucu oluşan yağlara ne ad verilir?

- A) Katı yağlar
B) Cis yağlar
C) Gliseriltristearat
D) Trans yağlar

15. Yağlı tohumun parçalanıp preslenme ve ekstraksiyon işlemlerinden sonra kalan kısmına ne ad verilir?

- A) Natürel zeytinyağı
B) Vinterize yağ
C) Sızma zeytinyağı
D) Prina

16. Bileşimleri çok karışık ve birbirinden farklı olan siyah renkli akışkanlığı çok düşük sıvılar aşağıdakilerden hangisidir?

- A) Mazot (Motorin)
B) Katran ve asfalt
C) Hafif petrol gazları
D) Benzin

17. Çeşitli sebeplerle oranı yükselmiş olan serbest asitlerin, nötrleştirme veya kızgın su buharı destilasyonundan yararlanılarak ham yağdan uzaklaştırılması işleminin gerçekleştirildiği ham yağın rafinasyonundaki işlem aşaması aşağıdakilerden hangisidir?

- A) Yapışkan maddelerin alınması
- B) Serbest asitliğin giderilmesi
- C) Ön işlem olarak ham yağın berraklaştırılması
- D) Renk açma

18. Yüzey aktif maddeler ile ilgili aşağıdaki ifadelerden hangisi yanlıştır?

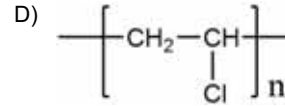
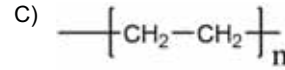
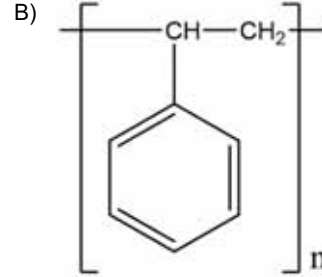
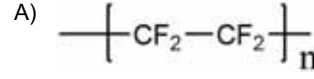
- A) Yüzey gerilimi, bir sıvının yüzey alanını artırmak için gereken enerji ya da ıstır.
- B) Bir sıvının yüzey gerilimini düşüren maddelere yüzey aktif maddeler denir.
- C) Karboksilik asitlerden yağların yapısında bulunan asitlere yağ asidi denir.
- D) $C_{17}H_{35}COONa$ formülünde, sabun molekülündeki zinciri ($C_{17}H_{35}-$) hidrofil, diğer grup ($-COONa$) ise hidrofob özellik gösterir.

19. Maltozun su ile hidrolizi sonucunda, yapısındaki monosakkarit birimleri olan moleküller oluşur.

Buna göre, bu monosakkaritler aşağıdakilerden hangileridir?

- A) Glukoz + Fruktoz
- B) Fruktoz + Fruktoz
- C) Glukoz + Glukoz
- D) Sakkaroz + Sellobiyoz

20. Aşağıdakilerden hangisi polistiren polimeridir?



1. Bitkilerde kök ucunda bulunan büyüme konisine ne ad verilir?

- A) Kaliptra
- B) Parenkima
- C) Floem
- D) Lentisel

2. Aşağıdakilerden hangisi stomanın görevlerinden biridir?

- A) Karbondioksit alışverişi
- B) Karbonhidrat alışverişi
- C) Işık alışverişi
- D) Terleme ve gaz alışverişi

3. Bitkilerde epiderminin farklılaşması ile aşağıdaki yapılardan hangisi oluşur?

- A) Emergenler
- B) Gövde
- C) Kökler
- D) Yapraklar

4. Turp bitkisinin aşağıdaki kısımlarından hangisi besin olarak kullanılır?

- A) Gövde
- B) Tohum
- C) Yapraklar
- D) Kök

5. Aşağıdakilerden hangisinin yapısında cansız hücreler bulunur?

- A) Stoma
- B) Petal
- C) Lentiseller
- D) Sepal

6. Aşağıdakilerden hangisi absisik asitin bitkilerdeki görevini ifade etmektedir?

- A) Çimlenmeyi başlatmak
- B) Büyüme ve gelişmeyi engellemek
- C) Tohum oluşumunu teşvik etmek
- D) Büyüme ve gelişmeyi teşvik etmek

7. Aşağıdakilerden hangisi sadece RNA'da yer alan azotlu bazdır?

- A) Adenin
- B) Timin
- C) Urasil
- D) Sitozin

8. Aşağıdaki yapılardan hangisi besi dokunun gelişmesi ile oluşur?

- A) Anter
- B) Zigot
- C) Petal
- D) Endosperm

9. Aşağıdakilerden hangisinin oranı tüm canlılarda 1'e eşittir?

- A) A+C/G+T
- B) A+G/C+T
- C) C+T/A+G
- D) A+T/G+C

10. I. Organik baz
II. 5C'lu şeker
III. Fosfat

Yukarıdakilerden hangileri nükleotidin yapısında yer alır?

- A) Yalnız I
- B) Yalnız II
- C) I ve III
- D) I, II ve III

11. Patates aşağıdaki bitki gruplarından hangisinde yer alır?

- A) Tohumlu bitki
- B) Odunsu bitki
- C) Kısa gün bitkisi
- D) Çok yıllık bitki

12. *Streptococcus pneumoniae* bakterisi aşağıdaki hastalıklardan hangisinin etkenidir?

- A) Kanser
- B) Zatürre
- C) Grip
- D) Bronşit

13. Fotoperiodizmin kısa tanımı aşağıdakilerden hangisidir?

- A) Bitkilerin yerçekimine karşı verdiği tepkidir.
- B) Bitkilerin sarsıntıya karşı verdiği tepkidir.
- C) Bitkilerin gün ve gece uzunluğuna verdiği tepkidir.
- D) Bitkilerin ışığa karşı verdiği tepkidir.

14. Aşağıdakilerden hangisin hidrojen bağı ile bağlanan biyolojik maddelerden biridir?

- A) Yağ asitleri
- B) Ribozom alt birimleri
- C) Azotlu bazlar
- D) DNA nükleotidleri

15. Aşağıdakilerden hangisi James Watsons ve Francis Crick'in yapısını gösterdiği biyolojik maddedir?

- A) DNA çift sarmalı
- B) Nükleik asit yapısı
- C) Ribozom altbirimleri
- D) RNA tek sarmalı

16. Aşağıdakilerden hangisi apikal meristemin bitkilerdeki görevidir?

- A) Yanlamasına büyüme
- B) Uzunlamasına büyüme
- C) Odunlaşma
- D) Çimlenme

17. Replikasyon terimini kısa tanımı aşağıdakilerden hangisidir?

- A) DNA'nin kendini eşlemesi
- B) RNA'nın sentezi
- C) Protein sentezi
- D) Karbonhidratların yıkımı

18. Aşağıdakilerden hangisinde Friedrich Miescher'in ilk olarak keşfedip isimlendirdiği biyolojik maddedir?

- A) Gen
- B) Protein
- C) Nükleik asit
- D) Enzim

19. Genlerin özünü oluşturan kalıtsal maddeye ne ad verilir?

- A) DNA
- B) RNA
- C) Timin
- D) Protein

20. DNA'nın yapısında bulunan şeker aşağıdakilerden hangisidir?

- A) Riboz
- B) Deoksiriboz
- C) Glikoz
- D) Fruktoz

1 - 3. soruları aşağıdaki bilgilere göre cevaplayınız.

Bir fabrika, işçilerine maaş ödemeleri için iki farklı tarife sunmaktadır.

1. **Tarife:** Aylık 2000 TL sabit ücret ve çalışılan her bir gün için 28 TL ödenecektir.
2. **Tarife:** Aylık 1200 TL sabit ücret ve çalışılan her bir gün için 60 TL ödenecektir.

1. Buna göre, kaç günlük çalışma için aylık maaş miktarı her iki tarifeye göre aynı olur?

- A) 22
- B) 25
- C) 28
- D) 30

2. Yukarıdaki bilgilere göre, birinci tarifeyi tercih eden bir işçi 2588 TL maaş aldığı ayda kaç gün çalışmıştır?

- A) 21
- B) 22
- C) 23
- D) 24

3. Yukarıdaki bilgilere göre, ikinci tarifeyi tercih eden bir işçi 27 gün çalıştığı ayda kaç TL maaş alır?

- A) 2680
- B) 2750
- C) 2790
- D) 2820

4. Gerçek sayılarda tanımlı $f(x) = 7x + 6$ doğrusal fonksiyonunun değişim oranı (hızı) kaçtır?

- A) 5
- B) 6
- C) 7
- D) 8

5 - 7. soruları aşağıdaki bilgilere göre ve birbirinden bağımsız olarak cevaplayınız.

Bir araştırma şirketi tarafından uygulanan bir anketin başlangıçtaki maliyeti 4800 TL olup anketin uygulandığı birey başına maliyeti 9 TL'dir. Araştırma şirketinin uyguladığı bu anketten elde edeceği kazanç ise anketin uygulandığı birey başına 15 TL'dir.

5. Buna göre, araştırma şirketinin zarar etmemesi için anketi uygulaması gereken birey sayısı en az kaçtır?

- A) 800
- B) 850
- C) 900
- D) 950

6. Yukarıdaki bilgilere göre, anketin uygulandığı birey sayısı 2150 olduğunda, kaç TL kâr elde edilir?

- A) 7900
- B) 8100
- C) 8300
- D) 8500

7. Araştırma şirketinin 2700 TL kâr elde edebilmesi için anketin uygulanması gereken birey sayısı kaçtır?

- A) 1200
- B) 1250
- C) 1300
- D) 1350

8. $f(x) = k \cdot 3^{2x}$ fonksiyonunun grafiği $(-1, 4)$ noktasından geçtiğine göre, k kaçtır?

- A) 18
- B) 24
- C) 36
- D) 48

9. Bir bankaya yıllık %10 bileşik faizle yatırılan 6000 TL, 3 yıl sonra kaç TL'ye ulaşır?

- A) 7800
- B) 7872
- C) 7986
- D) 8116

10. Başlangıçtaki miktarı 136 gram olan bir maddeden 36 yıl sonra 17 gram kaldığına göre, bu maddenin yarı ömrü kaç yıldır?
- A) 6
B) 9
C) 12
D) 18
11. $10^{17} - 4 \cdot 10^{16} + 200 \cdot 10^{14}$ işleminin sonucu kaçtır?
- A) $6 \cdot 10^{16}$
B) $8 \cdot 10^{16}$
C) $2 \cdot 10^{17}$
D) $4 \cdot 10^{17}$
12. $4^{2x} \cdot 10^x \cdot 5^{4x} = 10^{15}$ eşitliğini sağlayan x değeri kaçtır?
- A) 1
B) 2
C) 3
D) 5
13. $K = (16)^5 \cdot (125)^6$ ifadesi kaç basamaklı bir sayı belirtir?
- A) 18
B) 19
C) 20
D) 21
14. Bir bakteri kolonisinde bulunan bakterilerin sayısı bir saatte 2 katına çıktığına göre, başlangıçta 3 bakteri bulunan bu kolonide kaç saat sonra bakteri sayısı 384 olur?
- A) 4
B) 5
C) 6
D) 7
15. x, y ve z pozitif tamsayılar olmak üzere, $2^x \cdot 3^y \cdot 5^z = 540$ eşitliğini sağlayan x, y ve z değerlerinin toplamı kaçtır?
- A) 5
B) 6
C) 8
D) 9
16. Bir öğrenci işlemci hızı 1,6 MHz olan eski bilgisayarının yerine, işlemci hızı 3,2 GHz olan yeni bir bilgisayar alıyor.
- Buna göre, yeni alınan bilgisayarın hızı, eski bilgisayarın hızının kaç katıdır? (1 GHz=10⁹ Hz, 1 MHz=10⁶ Hz)
- A) 2
B) 20
C) 200
D) 2000
17. Aşağıdakilerden hangisi üstel fonksiyon değildir?
- A) $(-4)^x$
B) 4^{-x}
C) 2^{x+3}
D) $5^{\frac{x}{2}}$
18. $(125)^{2n} = (625)^6$ eşitliğini sağlayan n değeri kaçtır?
- A) 4
B) 3
C) 2
D) 1
19. $(0,5)^{24} + (16)^{-6}$ işleminin sonucu kaçtır?
- A) 2^{48}
B) 2^{26}
C) 2^{-23}
D) 2^{-25}
20. $(4^3)^5 \cdot (8^5)^2$ işleminin sonucu kaçtır?
- A) 2^{62}
B) 2^{60}
C) 2^{31}
D) 2^{30}

1. İşletmelerin kuruluşu, finansmanı, üretim araçlarının sağlanması, üretilen mal ve hizmetlerin pazarlanması, örgütlenip, yönetilmeleri ve parasal olayların izlenmesi konularını ele alıp inceleyen bilim dalı aşağıdakilerden hangisidir?
 - A) İşletme bilimi
 - B) Ekonomi bilimi
 - C) Davranış bilimi
 - D) Hukuk bilimi
2. İşletmelerin belli bir dönem içinde elde ettiği gelirler ile aynı dönem içinde katlandığı giderler arasındaki olumsuz farka ne ad verilir?
 - A) Mevduat
 - B) Zarar
 - C) Kâr
 - D) Faiz
3. Belirli bir faaliyetten ekonomik fayda sağlamak üzere, bütün ilgili tarafların katkı ve işbirliği ile belirli kurallar koyma ve kuralları uygulama işlemine ne ad verilir?
 - A) Fabrikasyon
 - B) Telekomünikasyon
 - C) Organizasyon
 - D) Standardizasyon
4. Aşağıdakilerden hangisi uluslararası standart kuruluşlarından biri değildir?
 - A) Uluslararası Elektronik Komisyonu
 - B) CE(Avrupaya uygunluk)
 - C) Türk Standartları Enstitüsü
 - D) Uluslararası Standardizasyon Organizasyonu
5. Aşağıdakilerden hangisi işletmenin özel amaçlarından biri değildir?
 - A) Yerel yönetimlerle işbirliği
 - B) Tüketicilere nitelikli mal ve hizmet sunmak
 - C) Personeline yeterli ücret vermek
 - D) Uzun vadeli büyümeyi hedef haline getirmek
6. Aşağıdakilerden hangisi işletmelerin üretimde verimliliği artırmak için personeline yönelik izlediği politikalardan biri değildir?
 - A) Çalışanına iyi ücret vermesi
 - B) Çalışanların sorunlarına eğilmesi
 - C) Çalışma koşullarını güvenli ve sağlıklı kılması
 - D) Nitelikli mal ve hizmet sunması
7. Mal ve hizmetlerin herhangi bir ihtiyacı giderebilme özelliğine ne ad verilir?
 - A) Tüketim
 - B) Fayda
 - C) Standart
 - D) Mal
8. İşletme yöneticileri, hangi üründen ne miktarda üretileceği, ne zaman üretileceği, hedef tüketici kitlesinin tespiti gibi konularda etkin bir şekilde karar vermek için aşağıdaki bilimlerden hangisinden faydalanır?
 - A) Antropoloji
 - B) Psikoloji
 - C) İstatistik
 - D) Hukuk
9. İşletmenin amacına ve üretim faaliyetine uygun olarak toplanmış maddi ve gayri maddi varlıkların tümüne ne ad verilir?
 - A) Stok
 - B) Hammadde
 - C) Mal
 - D) Sermaye
10. İnsan istek ve ihtiyaçlarını gidermeye yarayan somut araçlara ne ad verilir?
 - A) Mal
 - B) Hizmet
 - C) Sermaye
 - D) Stok

11. Aşağıdakilerden hangisi devletin toplumun çıkarlarını korumak, çevrenin bozulmasını engellemek, işletmelerin belli bölgelerde kurulmasını teşvik etmek ya da zorlaştırmak için aldığı önlemlerden biri değildir?
- A) İstisna ve muafiyet uygulamak
B) Sağlık hizmetlerini artırmak
C) Alt yapı yatırımlarını desteklemek
D) Vergi indirimi sağlamak
12. Aşağıdakilerden hangisi meslek kuruluşlarının amaçlarından biri değildir?
- A) Mesleki ahlaka uygun faaliyette bulunmak
B) Mesleki bilgi ve becerileri geliştirmek
C) Kamu menfaatlerini gözardı etmek
D) Dayanışmayı sürekli kılmak ve geliştirmek
13. Tüzel kişiliği haiz olmak üzere ortaklarının belirli ekonomik menfaatlerini ve özellikle meslek veya geçimlerine ait ihtiyaçlarını işgücü ve parasal katkılarıyla karşılıklı yardım, dayanışma ve kefalet suretiyle sağlayıp korumak amacıyla gerçek ve tüzel kişiler tarafından kurulan değişir ortaklı ve değişir sermayeli ortaklıklara ne ad verilir?
- A) Kooperatif
B) Dernek
C) Meslek kuruluşları
D) Vakıf
14. Aşağıdakilerden hangisi yabancı sermayeli işletmelerden biri değildir?
- A) 233 sayılı Kanun Hükmünde Kararname ile kurulan Kamu İktisadi Teşebbüsleri
B) 4875 sayılı Doğrudan Yabancı Yatırımlar Kanununa göre kurulan işletmeler
C) 6326 sayılı Petrol Kanununa göre kurulan işletmeler
D) 1567 sayılı Türk Parasının Kıymetini Koruma Hakkında Kanuna göre kurulan işletmeler
15. Aşağıdakilerden hangisi sanayi işletmelerinin özelliklerinden biri değildir?
- A) Hammadde ve malzemelerin fiziksel ya da kimyasal yönden değişikliğe uğraması
B) Üretimde genellikle seri imalatın söz konusu olması
C) Üretim yaparken gelişmiş teknolojilerin kullanılması
D) Üretimlerinde standardizasyonun olmaması ve denetimin zor olması
16. Ticari bir işletmeyi bir ticaret unvanı altında işletmek amacıyla gerçek kişiler arasında kurulan ve ortaklarından hiç birinin sorumluluğu şirket alacaklarına karşı sınırlanmamış olan şirkete ne ad verilir?
- A) Komandit şirket
B) Kollektif şirket
C) Anonim şirket
D) Limitet şirket
17. Bilinmesinde üçüncü kişiler yönünden fayda ve zorunluluk bulunan tacirlerle ilgili bazı işlemlerin kaydedilmesine ait resmi sicile ne ad verilir?
- A) Tapu sicili
B) Adli sicil
C) Ticaret sicili
D) Nüfus sicili
18. Çok sıcak yerlerde faaliyet gösteren işletmelerin soğutulmasının ek harcamalar gerektirmesi durumunda işletmenin dikkate alması gereken kuruluş yeri faktörü aşağıdakilerden hangisidir?
- A) Dağıtım kanalları
B) İklim koşulları
C) Atıkların atılması
D) Enerji ve yakıt
19. Bir salça fabrikasının domates üretimi yapılan bölgeye yakın kurulmasında etkili olan kuruluş yeri seçimi faktörü aşağıdakilerden hangisidir?
- A) Yerel yönetim imkânları
B) Pazara yakınlık
C) İklim koşulları
D) Hammadde
20. Aşağıdakilerden hangisi şahıs şirketlerinin özelliklerinden biridir?
- A) Şirketten ayrılan ortağın şirket işlerinden dolayı üçüncü kişilere olan sorumluluğu hiçbir şekilde devam etmez.
B) En az 7 ortak tarafından kurulması
C) Ortaklığın devrinin güç olması
D) Sermayesinin yüzde ellisinin devlete ait olması

1. Helmut seine Schlüssel auf den Tisch.

Welches Wort passt in die obige Lücke?

Cümlede boş bırakılan yeri aşağıdakilerden hangisi doğru şekilde tamamlar?

- A) schreibt
B) kommt
C) steht
D) legt

2. Die Garage ist dem Haus.

Welches Wort passt in die obige Lücke?

Cümlede boş bırakılan yeri aşağıdakilerden hangisi tamamlar?

- A) auf
B) zu
C) hinter
D) zwischen

3. kann nicht laufen, sondern schleichen.

Welches Wort passt in die obige Lücke?

Cümlede boş bırakılan yeri aşağıdakilerden hangisi tamamlar?

- A) Ein Tiger
B) Eine Schlange
C) Eine Schildkröte
D) Ein Pferd

4. Der Löwe ist der König aller Tiere.

Welche Frage passt zur obigen Antwort?

Verilen cevabı gerektirecek soru aşağıdakilerden hangisidir?

- A) Wann geht der König aller Tiere in den Wald?
B) Welche Tiere kennst du?
C) Wo ist der König aller Tiere?
D) Welches Tier ist der König aller Tiere?

5. Meine Tochter hat acht Jahren eine Katze.

Welches Wort passt in die obige Lücke?

Cümlede boş bırakılan yeri aşağıdakilerden hangisi doğru şekilde tamamlar?

- A) im
B) aus
C) seit
D) zu

6. A: Wie deine Liebessängerin?
B: Liebessängerin heißt Funda Arar.

Welches ergänzt die Lücken im obigen Dialog?

Verilen karşılıklı konuşmada boş bırakılan yerleri aşağıdakilerden hangisi tamamlar?

- A) heißt / Meine
B) kennst / Dein
C) schreibst / Meine
D) singt / Deine

7. Nein, er macht keine Musik!

Welche Frage passt zur obigen Antwort?

Verilen cevabı gerektirecek soru aşağıdakilerden hangisidir?

- A) Macht er Musik?
B) Hast du einen Computer?
C) Wann machst du Sport?
D) Wie machst du deine Hausaufgaben?

8. Was bedeutet "iltifat" auf Deutsch?

"iltifat" sözcüğünün Almancası aşağıdakilerden hangisidir?

- A) Der Zuhörer
B) Das Kompliment
C) Die Umfrage
D) Das Ergebnis

9. Was bedeutet "sunmak" auf Deutsch?

"sunmak" sözcüğünün Almancası aşağıdakilerden hangisidir?

- A) aussprechen
- B) nachschlagen
- C) wiederholen
- D) präsentieren

10. kannst du die Prüfung bestehen.

Welches ergänzt die Lücke im obigen Satz?

Verilen cümleyi aşağıdakilerden hangisi tamamlar?

- A) Falls er seine Hausaufgaben macht
- B) Als wir heute in die Schule gingen
- C) Wenn du viel übst
- D) Wenn wir Musik hören

11. Die Kinder spielen Park.

Welches Wort passt in die obige Lücke?

Cümlede boş bırakılan yeri aşağıdakilerden hangisi tamamlar?

- A) im
- B) auf
- C) zu
- D) aus

12. Die Studenten eine Klassenfahrt nach Antalya.

Welches Wort passt in die obige Lücke?

Cümlede boş bırakılan yeri aşağıdakilerden hangisi doğru şekilde tamamlar?

- A) planen
- B) fahren
- C) tragen
- D) sagen

13. Worüber sprechen die Schüler?

Welches hat die gleiche Bedeutung mit dem obigen Satz?

Verilen cümle ile aynı anlamı taşıyan aşağıdakilerin hangisidir?

- A) Über was diskutieren die Schüler?
- B) Wie unterhalten sich die Schüler?
- C) Was sagt der Schüler?
- D) Über welche Prüfung sprechen die Kinder?

14. In der Türkei werden Familienfeste gefeiert, wenn jemand Geburtstag hat.

Welche Frage passt zur obigen Antwort?

Verilen cevabı gerektirecek soru aşağıdakilerden hangisidir?

- A) Für wen willst du ein Geschenk kaufen?
- B) Welche Familienfeste werden in der Türkei gefeiert?
- C) Welche religiösen Feste kennst du in der Türkei?
- D) Wann feiert ihr das Zuckerfest?

15. Die Eltern müssen ein Vorbild sein.

Wie lautet der obige Satz auf Türkisch?

Verilen cümlelerin Türkçesi aşağıdakilerden hangisidir?

- A) Her zaman ebeveynlerimi örnek aldım.
- B) Her zaman ebeveynler örnek alınır.
- C) Ebeveynler örnek olmak zorundadır.
- D) Ebeveynleri örnek almak zorunda değilsin.

16. braucht Vitamine und Mineralien, um gesund zu bleiben.

Welches Wort passt in die obige Lücke?

Cümlede boş bırakılan yeri aşağıdakilerden hangisi doğru şekilde tamamlar?

- A) Das Essen
- B) Die Zeit
- C) Das Rezept
- D) Der Körper

17. Du bist immer fit, wie machst du das?

Welche Antwort passt nicht zur obigen Frage?

Aşağıdakilerden hangisi verilen sorunun cevabı olamaz?

- A) Ich spiele jeden Tag Fußball.
- B) Ich esse und schlafe gern.
- C) Ich fahre oft Fahrrad.
- D) Ich gehe jeden Abend laufen.

18. A: Was hast du?

B:, ich kann nicht hören.

A: Dann musst du zum Arzt!

Welcher Satz ergänzt den obigen Dialog?

Verilen karşılıklı konuşmayı aşağıdakilerden hangisi tamamlar?

- A) Mein Hals tut mir weh.
- B) Meine Ohren tun mir weh.
- C) Mein Bauch tut mir weh.
- D) Mein Zahn tut mir weh.

19. Abhören / Lungen / die / Arzt / der

Wie kann man mit den obigen Wortgruppen einen sinnvollen und richtigen Satz bilden?

Verilen sözcük gruplarıyla kurulabilecek en anlamlı ve doğru cümle aşağıdakilerden hangisidir?

- A) Der Arzt die Lungen abhören.
- B) Die Lungen der hören ab Arzt.
- C) Der Arzt hört die Lungen ab.
- D) Die Lungen abhören der Arzt.

20. Wo ist der Kraut für den Salat?

Wie lautet der obige Satz in der Pluralform?

Verilen cümlelerin çoğul hali aşağıdakilerden hangisidir?

- A) Wo sind die Krauten für den Salat?
- B) Wo ist die Kraut für die Salate?
- C) Wo ist die Krautes für das Salat?
- D) Wo sind die Kräuter für die Salate?

1. Serap is of her daughters.

Which of the following completes the sentence above?

Aşağıdakilerden hangisi yukarıdaki cümleyi doğru olarak tamamlar?

- A) fond
B) responsible
C) good
D) interested

2. The baby has been ill morning.

Which of the following completes the sentence above?

Aşağıdakilerden hangisi yukarıdaki cümleyi doğru olarak tamamlar?

- A) since
B) yet
C) ever
D) for

3. My friends: "We are in the canteen now"
My friends said that

Which of the following completes the sentence above?

Aşağıdakilerden hangisi yukarıdaki cümleyi doğru olarak tamamlar?

- A) they are in the canteen now
B) they have been in canteen now
C) to be in the canteen now
D) they were in the canteen then

4. Those thieves have been in prison 20 years.

Which of the following completes the sentence above?

Aşağıdakilerden hangisi yukarıdaki cümleyi doğru olarak tamamlar?

- A) since
B) yet
C) for
D) ever

5. How long the dog barking?

Which of the following completes the sentence above?

Aşağıdakilerden hangisi yukarıdaki cümleyi doğru olarak tamamlar?

- A) has / be
B) have / been
C) is / been
D) has / been

6. Are you proud your son's graduation from university?

Which of the following completes the sentence above?

Aşağıdakilerden hangisi yukarıdaki cümleyi doğru olarak tamamlar?

- A) with
B) of
C) from
D) at

7. That young lady to an opera before.

Which of the following completes the sentence above?

Aşağıdakilerden hangisi yukarıdaki cümleyi doğru olarak tamamlar?

- A) been
B) have been
C) was
D) had never been

8. When we arrived at the airport, the plane already

Which of the following completes the sentence above?

Aşağıdakilerden hangisi yukarıdaki cümleyi doğru olarak tamamlar?

- A) has / taken off
B) took / off
C) had / taken off
D) is / taking off

9. Selma: "I am waiting for the postman"
Selma said that the postman.

Which of the following completes the sentence above?

Aşağıdakilerden hangisi yukarıdaki cümleyi doğru olarak tamamlar?

- A) has been waiting for
- B) will be waiting for
- C) she was waiting for
- D) she is waiting for

10. My teachers are disappointed my exam results.

Which of the following completes the sentence above?

Aşağıdakilerden hangisi yukarıdaki cümleyi doğru olarak tamamlar?

- A) with
- B) at
- C) in
- D) on

11. Paul: "I can play football well."
Paul said that he football well.

Which of the following completes the sentence above?

Aşağıdakilerden hangisi yukarıdaki cümleyi doğru olarak tamamlar?

- A) played
- B) could play
- C) may play
- D) is playing

12. I had talked to him before he that accident.

Which of the following completes the sentence above?

Aşağıdakilerden hangisi yukarıdaki cümleyi doğru olarak tamamlar?

- A) having
- B) had
- C) have had
- D) had had

13. Come on! Wake up! Don't be late school.

Which of the following completes the sentence above?

Aşağıdakilerden hangisi yukarıdaki cümleyi doğru olarak tamamlar?

- A) in
- B) to
- C) for
- D) at

14. He had been running for an hour when he his arm.

Which of the following completes the sentence above?

Aşağıdakilerden hangisi yukarıdaki cümleyi doğru olarak tamamlar?

- A) broke
- B) breaks
- C) had broken
- D) breaking

15. Clark: "Play with us, Louise"
Clark told Louise

Which of the following completes the sentence above?

Aşağıdakilerden hangisi yukarıdaki cümleyi doğru olarak tamamlar?

- A) to play with us
- B) to playing with us
- C) to playing with them
- D) to play with them

16. My teacher: "Do you want to see the pictures?"
My teacher asked me

Which of the following completes the sentence above?

Aşağıdakilerden hangisi yukarıdaki cümleyi doğru olarak tamamlar?

- A) do you want to see the pictures
- B) if I want to see the pictures
- C) if I wanted to see the pictures
- D) to see the pictures

17. What you lately?

Which of the following completes the sentence above?

Aşağıdakilerden hangisi yukarıdaki cümleyi doğru olarak tamamlar?

- A) do / be
- B) have / been doing
- C) were / be
- D) have / been

18. Where you? I couldn't see you anywhere.

Which of the following completes the sentence above?

Aşağıdakilerden hangisi yukarıdaki cümleyi doğru olarak tamamlar?

- A) have / been
- B) do / be
- C) has / been
- D) was / be

19. The men in the café when the police arrived.

Which of the following completes the sentence above?

Aşağıdakilerden hangisi yukarıdaki cümleyi doğru olarak tamamlar?

- A) had fight
- B) fights
- C) will fight
- D) had been fighting

20. Your jeans are similar mine but my jeans are tighter.

Which of the following completes the sentence above?

Aşağıdakilerden hangisi yukarıdaki cümleyi doğru olarak tamamlar?

- A) for
- B) to
- C) in
- D) at

1. - Tu appelles tes parents?
- Oui, je appelle.

Choisissez le mot qui convient.

Yukarıdaki konuşmada boş bırakılan yeri aşağıdakilerden hangisi doğru şekilde tamamlar?

- A) les
B) leur
C) le
D) l'

2. I. La grippe est une maladie parfois dangereuse.
II. Il faut respirer beaucoup.
III. Pour se protéger, il faut prendre des précautions.
IV. Par exemple, se vacciner, porter un masque.

Choisissez la phrase qui ne convient pas à l'ensemble.

Sırasıyla okunduğunda, anlam bütünlüğünü bozan cümleyi bulunuz.

- A) I
B) II
C) III
D) IV

3. Il faisait trop froid je suis tombée malade.

Choisissez le mot qui convient.

Cümledeki boşluğu aşağıdakilerden hangisi doğru şekilde tamamlar?

- A) qui
B) mais
C) que
D) donc

4. coûte ce livre?

Choisissez le mot qui convient.

Cümledeki boşluğu aşağıdakilerden hangisi doğru şekilde tamamlar?

- A) Comment
B) Combien
C) Quand
D) Est-ce que

5. A : Je veux acheter un sac.
B :?
A : Elle dit qu'elle veut acheter un sac.

Choisissez l'expression qui convient.

Yukarıdaki konuşmada boş bırakılan yeri aşağıdakilerden hangisi doğru şekilde tamamlar?

- A) Qu'est-ce qu'elle dit
B) Où est-ce qu'elle va
C) Comment va-t-elle
D) Quel est votre choix

6. J'en ai assez cet ordinateur.

Choisissez le mot qui convient.

Cümledeki boşluğu aşağıdakilerden hangisi doğru şekilde tamamlar?

- A) pour
B) de
C) que
D) sur

7. Hier, beaucoup de gens dans la rue.

Choisissez l'expression qui convient.

Cümledeki boşluğu aşağıdakilerden hangisi doğru şekilde tamamlar?

- A) il y avait
B) il était
C) il faisait
D) c'était

8. Pour aller à la poste, à droite.

Choisissez le mot qui convient.

Cümledeki boşluğu aşağıdakilerden hangisi doğru şekilde tamamlar?

- A) tournez
- B) traversez
- C) tenez
- D) faites

9. - Tu connais Richard?
- Oui, c'est le garçon fait du sport.

Choisissez le mot qui convient.

Yukarıdaki konuşmada boş bırakılan yeri aşağıdakilerden hangisi doğru şekilde tamamlar?

- A) quand
- B) qui
- C) pour
- D) que

10. Je vais à l'école lundi vendredi.

Choisissez les mots qui conviennent.

Cümledeki boşlukları aşağıdakilerden hangisi doğru şekilde tamamlar?

- A) du / au
- B) du / à
- C) de / au
- D) de / à

11. Laure des photos avec son appareil photo.

Choisissez le mot qui convient.

Cümledeki boşluğu aşağıdakilerden hangisi doğru şekilde tamamlar?

- A) achète
- B) tire
- C) prend
- D) donne

12. «Elle voudrait avoir plus d'argent.»

Choisissez la traduction qui convient.

Yukarıdaki cümlenin Türkçe karşılığı aşağıdakilerden hangisidir?

- A) İsteddiği parayı vermeyecek.
- B) Daha çok paraya ihtiyacı var.
- C) Çok para istedi.
- D) Daha çok paraya sahip olmak istiyor.

13. Il est un étudiant.

Choisissez le mot qui convient.

Cümledeki boşluğu aşağıdakilerden hangisi doğru şekilde tamamlar?

- A) mieux
- B) bien
- C) bon
- D) meilleur

14. L'année dernière, il trop chaud. Cette année, il mieux.

Choisissez les mots qui conviennent.

Cümledeki boşlukları aşağıdakilerden hangisi doğru şekilde tamamlar?

- A) fait / fera
- B) faisait / fait
- C) fera / faisait
- D) fait / faisait

15. - J'ai gagné au loto!
- Je suis heureuse pour toi. C'est!

Choisissez le mot qui convient.

Yukarıdaki konuşmada boş bırakılan yeri aşağıdakilerden hangisi doğru şekilde tamamlar?

- A) catastrophique
- B) mauvais
- C) super
- D) une catastrophe

16. Il n'a pas regardé la télévision il avait des devoirs.

Choisissez le mot qui convient.

Cümledeki boşluğu aşağıdakilerden hangisi doğru şekilde tamamlar?

- A) comme
- B) qui
- C) comment
- D) car

17. Le magasin est ouvert toute la semaine dimanche.

Choisissez le mot qui convient.

Cümledeki boşluğu aşağıdakilerden hangisi doğru şekilde tamamlar?

- A) pour
- B) par
- C) sauf
- D) en

18. Tu paies chèque ou espèces.

Choisissez les mots qui conviennent.

Cümledeki boşlukları aşağıdakilerden hangisi doğru şekilde tamamlar?

- A) en / des
- B) par / des
- C) par / en
- D) en / en

19. «Elsa giyim tarzını değiştirdi.»

Choisissez la traduction qui convient.

Yukarıdaki cümlenin Fransızca karşılığı aşağıdakilerden hangisidir?

- A) Elsa porte des vêtements démodés.
- B) Elsa aime mettre ses jupes longues.
- C) Elsa a changé son vêtement.
- D) Elsa a changé de tenue vestimentaire.

20. La réunion est 12 avril.

Choisissez le mot qui convient.

Cümledeki boşluğu aşağıdakilerden hangisi doğru şekilde tamamlar?

- A) de la
- B) au
- C) en
- D) le

1. Bilimsel ve teknolojik gelişmeler sonunda yapılan, buhar gücüyle çalışan makinelerin kullanıldığı ilk alan aşağıdakilerden hangisidir?
 - A) Dokuma sanayi
 - B) Otomotiv sanayi
 - C) Kimya sanayi
 - D) Demir çelik sanayi
2. Aşağıdakilerden hangisi II. Mahmut Dönemi'nde yönetim alanında yapılan ıslahatlardan biri değildir?
 - A) Posta ve karantina sevislerinin kurulması
 - B) Müsadere geleneğinin kaldırılması
 - C) Matbuat nizamnamesinin çıkarılması
 - D) Yurtdışına çıkışlarda pasaport uygulamasının başlatılması
3. Osmanlı Devleti'nin meşruti yönetime geçişini sağlayan Kanun-i Esasi hangi tarihte ilan edilmiştir?
 - A) 3 Kasım 1839
 - B) 18 Şubat 1856
 - C) 23 Aralık 1876
 - D) 20 Mart 1877
4. Aşağıdakilerden hangisi 1739'da Rusya ve Osmanlı Devleti arasında yapılan Belgrad Antlaşması'nın maddeleri arasında yer almaz?
 - A) Azak Kalesi yıkılmak şartıyla Rusya'ya bırakılacak
 - B) Ruslar savaş sırasında aldığı yerleri Osmanlılara geri verecek
 - C) Rusya Karadeniz'de savaş ve ticaret gemisi bulundurmaz
 - D) Rus tüccarlar Türk sularında serbestçe ticaret yapabilecek
5. Osmanlı Devleti'nin boğazlar konusunda son kez tek başına karar verdiği antlaşma aşağıdakilerden hangisidir?
 - A) Hünkâr İskeleyi
 - B) Balta Limanı
 - C) Londra
 - D) İstanbul
6. XVIII. yüzyıl Avrupası'nda büyük çoğunluğu krallar arasındaki akrabalık nedeniyle çıkan savaşlara ne ad verilir?
 - A) Yüzyıl Savaşları
 - B) Veraset Savaşları
 - C) Bağımsızlık Savaşları
 - D) Otuz Yıl Savaşları
7. Osmanlı Devleti'nde 1718-1730 yılları arasında yaşanan döneme ne ad verilir?
 - A) Çöküş Dönemi
 - B) Islahat Devri
 - C) Yükseliş Dönemi
 - D) Lale Devri
8. Osmanlı Devleti'nin XVIII. yüzyıl başlarında takip ettiği siyaset aşağıdakilerden hangisidir?
 - A) Büyük bir sömürge imparatorluğu kurmak
 - B) Kaybettiği toprakları geri almak
 - C) Deniz aşırı ülkelerde ticaret yapmak
 - D) Topraklarını genişletmek
9. Vaka-i Hayriye adıyla tarihe geçen olay aşağıdakilerden hangisidir?
 - A) Yeniçeri Ocağı'nın kaldırılması
 - B) Sekban-ı Cedit Ocağı'nın kaldırılması
 - C) Asakir-i Mansure-i Muhammediye ordusunun kurulması
 - D) Nizam-ı Cedit ordusunun kaldırılması
10. Aşağıdakilerden hangisi Osmanlı Devleti'nin dağılmasını önlemeye yönelik ortaya çıkan fikir akımlarından biri değildir?
 - A) Turancılık
 - B) Osmanlıcılık
 - C) Sosyalizm
 - D) İslamcılık
11. 1881 yılında Osmanlı Devleti'nin dış borçlarının ödenmesi ile ilgili yeni esasların belirlendiği belge aşağıdakilerden hangisidir?
 - A) Islahat Fermanı
 - B) Tanzimat Fermanı
 - C) Balta Limanı Antlaşması
 - D) Muharrem Kararnamesi

12. XVII. yüzyılda Osmanlı Devleti'nin en çok savaştığı ülke aşağıdakilerden hangisidir?

- A) İngiltere
- B) Almanya
- C) Avusturya
- D) Fransa

13. III. Selim'in yaptığı ıslahatların tümüne ne ad verilir?

- A) İrad-ı Cedit
- B) Sened-i ittifak
- C) Sekban-ı Cedit
- D) Nizam-ı Cedit

14. Osmanlı Devleti sınırları içinde en çok okula sahip azınlık aşağıdakilerden hangisidir?

- A) Sıplar
- B) Rumlar
- C) Ermeniler
- D) Yahudiler

15. İnsan ve hayvan gücüne dayalı üretim tarzından makine gücünün hâkim olduğu üretim tarzına geçişi ifade eden kavram aşağıdakilerden hangisidir?

- A) Fransız İhtilali
- B) Reform
- C) Sanayi İnkılabı
- D) Aydınlanma Çağı

16. Küçük Kaynarca Antlaşması'ndan sonra Kırım'ı ele geçirmek için harekete geçen Rusya ile savaş hazırlıklarına başlayan Osmanlı Devleti arasında Fransa'nın arabuluculuğu ile yapılan antlaşma aşağıdakilerden hangisidir?

- A) Aynalıkavak Sözleşmesi
- B) Uşi Antlaşması
- C) Zıstovi Antlaşması
- D) Belgrad Antlaşması

17. Aşağıdakilerden hangisi Tanzimat Fermanı'nda yer alan hükümlerden biri değildir?

- A) Herkesten kazancına göre vergi alınması
- B) Gayrimüslim halka din ve vicdan özgürlüğünün sağlanması
- C) Müsadere usulünün kaldırılması
- D) Rüşvet ve adam kayırmanın önlenmesi

18. Aşağıdakilerden hangisi Küçük Kaynarca Antlaşması'nın maddeleri arasında yer almaz?

- A) Buğ nehri iki devlet arasında sınır kabul edilecek
- B) Rusya savaşta işgal ettiği yerleri Osmanlı Devleti'ne geri verecek
- C) Kırım bağımsız olacak, Kırım hanları sadece dini bakımdan Osmanlı halifesine bağlı olacak
- D) Rusya Osmanlı Devleti'ne savaş tazminatı ödeyecek

19. Aşağıdakilerden hangisi Sanayi İnkılabı'nın Osmanlı Devleti üzerindeki olumsuz etkilerinden biri değildir?

- A) Küçük el tezgahlarının kapanması
- B) Dışarıya daha fazla mamul madde satar hale gelmesi
- C) Osmanlı esnafının hammade sıkıntısı yaşamaması
- D) İthal malların Osmanlı pazarlarını ele geçirmesi

20. 1850 yılında yayınlanan ilk Türk dergisi aşağıdakilerden hangisidir?

- A) Vekay-i Tıbbiye
- B) Tercüman-ı Ahval
- C) Cerde-i Havadis
- D) Tasvir-i Efkâr

1. A: Woher kommt er?
B:
A: Ach so, ich dachte, er wäre aus der Türkei!

Welches ergänzt den obigen Dialog?

Verilen karşılıklı konuşmayı aşağıdakilerden hangisi tamamlar?

- A) Meine Schwester studiert auch in Deutschland!
B) Sie arbeiten in Portugal.
C) Man sagt, er wäre aus Deutschland.
D) Ach ja, wir fahren jedes Jahr in die Türkei!

2. den Finger auf dem Mund zu bringen benutze ich oft.

Welches Wort passt in die obige Lücke?

Cümlede boş bırakılan yeri aşağıdakilerden hangisi tamamlar?

- A) Die Geste
B) Die Hand
C) Das Bild
D) Der Mann

3. A:
B: Italienisch wird in Italien gesprochen.
A: Ach, das ist interessant!

Welches ergänzt die Lücke im obigen Dialog?

Verilen karşılıklı konuşmada boş bırakılan yeri aşağıdakilerden hangisi tamamlar?

- A) Wer kommt aus Italien?
B) Wann möchtest du Italienisch sprechen lernen?
C) Weißt du, wo Italienisch gesprochen wird?
D) Wart ihr in den Ferien in Italien?

4. Die Schildkröte ist, aber der Affe ist schnell.

Welches Wort passt in die obige Lücke?

Cümlede boş bırakılan yeri aşağıdakilerden hangisi doğru şekilde tamamlar?

- A) leise
B) groß
C) laut
D) langsam

5. Ich habe einen, ich muss die Länder und die Hauptstädte üben.

Welches Wort passt in die obige Lücke?

Cümlede boş bırakılan yeri aşağıdakilerden hangisi tamamlar?

- A) Deuschtest
B) Mathematiktest
C) Sporttest
D) Erdkundetest

6. für deine Zukunft und viel Glück wünsche ich dir!

Welches Wort passt in die obige Lücke?

Cümlede boş bırakılan yeri aşağıdakilerden hangisi doğru şekilde tamamlar?

- A) Immer zusammen
B) Jede Musik
C) Grüßen Sie
D) Alles Gute

7. Ich mag die Musik Beethoven.

Welches Wort passt in die obige Lücke?

Cümlede boş bırakılan yeri aşağıdakilerden hangisi tamamlar?

- A) auf
B) von
C) zu
D) für

8. Für die Zukunft wünsche ich mir,

Welches ergänzt nicht die Lücke im obigen Satz?

Verilen cümleyi aşağıdakilerden hangisi tamamlamaz?

- A) dass ich die Prüfung bestehe.
- B) dass ich Querflöte spielen kann.
- C) dass ich in einer Band mitspielen kann.
- D) dass du mir zugehört hast ist aber sehr nett von dir.

9. Wie lautet das Wort "Die Konzerte" in der Singularform?

"Die Konzerte" isminin tekil hali aşağıdakilerden hangisidir?

- A) Das Konzert
- B) Die Konzert
- C) Der Konzert
- D) Den Konzert

10. Ich glaube, sie planen eine Klassenfahrt.

Welche Frage passt zur obigen Antwort?

Verilen cevabı gerektirecek soru aşağıdakilerden hangisidir?

- A) Was planen die Schüler?
- B) Wo sitzen die Schüler?
- C) Wann kommen die Schüler?
- D) Welche Schüler sind das?

11., habe ich angefangen Klavier zu spielen.

Welcher Satz ergänzt die obige Lücke?

Verilen cümleyi aşağıdakilerden hangisi tamamlar?

- A) Als ich zehn Jahre alt war
- B) Ich hatte heute keine Zeit
- C) Wenn ich groß werde
- D) Jeder kann etwas spielen lernen

12. Für uns ist es wichtig, die Kinder gehorsam und fleißig werden.

Welches Wort passt in die obige Lücke?

Cümlede boş bırakılan yeri aşağıdakilerden hangisi tamamlar?

- A) denn
- B) für
- C) dass
- D) somit

13., wenn sie ihre Kinder gut erziehen wollen.

Welches ergänzt die Lücke im obigen Satz?

Verilen cümleyi aşağıdakilerden hangisi tamamlar?

- A) Die Eltern müssen ein Vorbild sein
- B) Das sieht man auf dem Foto
- C) In unserer Familie sind alle Mädchen gehorsam
- D) Jede Eigenschaft kommt von der Mutter

14. Wenn man Philosophen befragt, was Glück ist, erhält man Antworten.

Welches Wort passt in die obige Lücke?

Cümlede boş bırakılan yeri aşağıdakilerden hangisi doğru şekilde tamamlar?

- A) zusammen
- B) lächeln
- C) verschiedene
- D) verdoppelt

15. Bist du krank geworden?

Welche Antwort passt zur obigen Frage?

Verilen sorunun cevabı aşağıdakilerden hangisidir?

- A) Ja, ich finde Familienfeste wichtig, weil wir in Kontakt bleiben.
- B) Ja, ich bin krank geworden und meine Mutter hat mich zum Arzt gebracht.
- C) Nein er hat gesagt, dass er am Wochenende kommen will.
- D) Nein, ich wollte auch an der Versammlung teilnehmen.

16. Womit hältst du dich fit?

Welche Antwort passt zur obigen Frage?

Verilen sorunun cevabı aşağıdakilerden hangisidir?

- A) Ich muß meine Hausaufgaben ordentlich machen.
- B) Sie will sich fit halten.
- C) Ich spiele dreimal in der Woche Tennis.
- D) Er hat viele neue Ideen für die Schulkinder.

17. ist für vier Personen.

Welches Wort passt nicht in die obige Lücke?

Cümlede boş bırakılan yeri aşağıdakilerden hangisi doğru şekilde tamamlamaz?

- A) Das Rezept
- B) Der Körper
- C) Das Essen
- D) Der Salat

18. ist für die ganze Familie wichtig.

Welches ergänzt die Lücke im obigen Satz?

Verilen cümleyi aşağıdakilerden hangisi tamamlar?

- A) Unsere Wohnung liegt zentral
- B) Viel frisches Gemüse und Obst
- C) Wir haben keine Tomaten mehr zu Hause
- D) Das ist ein Rezept für dich

19. Ja, ich bin krank.

Welche Frage passt zur obigen Antwort?

Verilen cevabı gerektirecek soru aşağıdakilerden hangisidir?

- A) Bist du krank?
- B) Was hat er denn?
- C) Habt ihr Schmerzen?
- D) Wie kann ich helfen?

20. Karnım ağrıyor.

Wie lautet der obige Satz auf Deutsch?

Verilen cümlenin Almancası aşağıdakilerden hangisidir?

- A) Der Arzt untersucht meinen Bauch.
- B) Ich muss meinen Bauch warm halten.
- C) Mein Bauch ist krank.
- D) Mein Bauch tut mir weh.

SEÇMELİ İNGİLİZCE 7

A

2017 AÖÖ-AÖL III. DÖNEM 0103-A

1. Mert: "Where has your mum gone, Caner?"
Mert asked Caner

Which of the following completes the sentence above?

Aşağıdakilerden hangisi yukarıdaki cümleyi doğru olarak tamamlar?

- A) where his mum has gone
- B) where his mum went
- C) if his mum had gone
- D) where his mum had gone

2. Leo hasn't done his homework

Which of the following completes the sentence above?

Aşağıdakilerden hangisi yukarıdaki cümleyi doğru olarak tamamlar?

- A) already
- B) yet
- C) for
- D) just

3. New York is famous its Statue of Liberty.

Which of the following completes the sentence above?

Aşağıdakilerden hangisi yukarıdaki cümleyi doğru olarak tamamlar?

- A) with
- B) to
- C) for
- D) about

4. Your outfit is similar mine but they are a bit different in colours.

Which of the following completes the sentence above?

Aşağıdakilerden hangisi yukarıdaki cümleyi doğru olarak tamamlar?

- A) in
- B) at
- C) to
- D) for

5. They had been for him for twenty-five minutes when he

Which of the following completes the sentence above?

Aşağıdakilerden hangisi yukarıdaki cümleyi doğru olarak tamamlar?

- A) waited / come
- B) waiting / came
- C) waited / came
- D) waiting / comes

6. After Michelle breakfast, she went to the beach.

Which of the following completes the sentence above?

Aşağıdakilerden hangisi yukarıdaki cümleyi doğru olarak tamamlar?

- A) has had
- B) had had
- C) has been
- D) had

7. Tom sabahtan beri odasını temizlemekte.

Which of the following is the English translation of the sentence above?

Aşağıdakilerden hangisi yukarıdaki cümlelerin İngilizce karşılıdır?

- A) Tom has been cleaning his room since morning.
- B) Tom cleaned his room this morning.
- C) Tom has been cleaning his room all day.
- D) Tom cleaned his room yesterday morning.

8. That young lady to an opera before.

Which of the following completes the sentence above?

Aşağıdakilerden hangisi yukarıdaki cümleyi doğru olarak tamamlar?

- A) been
- B) have been
- C) was
- D) had never been

9. Berna: "When will you see her?"
Berna asked me

Which of the following completes the sentence above?

Aşağıdakilerden hangisi yukarıdaki cümleyi doğru olarak tamamlar?

- A) when would you see her
B) when I will see her
C) if I would see her
D) when I would see her

10. The teacher: "Whose pencil is that on the table?"
The teacher asked whose pencil that on the table.

Which of the following completes the sentence above?

Aşağıdakilerden hangisi yukarıdaki cümleyi doğru olarak tamamlar?

- A) is
B) has been
C) was
D) did

11. Are you pleased your new car?

Which of the following completes the sentence above?

Aşağıdakilerden hangisi yukarıdaki cümleyi doğru olarak tamamlar?

- A) on
B) with
C) at
D) from

12. She asked me if I was going home.

Which of the following is the direct speech form of the reported speech sentence above?

Aşağıdakilerden hangisi yukarıdaki dolaylı anlatım cümlesinin dolaysız anlatım biçimidir?

- A) She asked, "Are you going home?"
B) She asked, "Were you going home?"
C) She asks, "Have you gone home?"
D) She asked, "Did you go home?"

13. Fred hasn't studied for the exam far.

Which of the following completes the sentence above?

Aşağıdakilerden hangisi yukarıdaki cümleyi doğru olarak tamamlar?

- A) yet
B) ever
C) already
D) so

14. We have a lot to eat. The fridge is full fruit and vegetables.

Which of the following completes the sentence above?

Aşağıdakilerden hangisi yukarıdaki cümleyi doğru olarak tamamlar?

- A) of
B) in
C) on
D) at

15. I couldn't do my homework because I my books at school.

Which of the following completes the sentence above?

Aşağıdakilerden hangisi yukarıdaki cümleyi doğru olarak tamamlar?

- A) am forgetting
B) had forgotten
C) forgot
D) have forgotten

16. Paul: "I can play football well."
Paul said that he football well.

Which of the following completes the sentence above?

Aşağıdakilerden hangisi yukarıdaki cümleyi doğru olarak tamamlar?

- A) played
- B) is playing
- C) could play
- D) may play

17. When they arrived at the party hall, everybody It was empty.

Which of the following completes the sentence above?

Aşağıdakilerden hangisi yukarıdaki cümleyi doğru olarak tamamlar?

- A) leaves
- B) left
- C) had already left
- D) has already left

18. Elise has been a doctor 2003.

Which of the following completes the sentence above?

Aşağıdakilerden hangisi yukarıdaki cümleyi doğru olarak tamamlar?

- A) since
- B) for
- C) at
- D) ever

19. Mustafa is extremely at teaching English.

Which of the following completes the sentence above?

Aşağıdakilerden hangisi yukarıdaki cümleyi doğru olarak tamamlar?

- A) proud
- B) interested
- C) famous
- D) good

20. Dad: John, please tidy your wardrobe.
John: Don't worry dad. I have tidied it, it's clean now.

Which of the following completes the dialogue above?

Aşağıdakilerden hangisi yukarıdaki konuşmayı doğru olarak tamamlar?

- A) already
- B) never
- C) yet
- D) ever

1. «Elsa giyim tarzını değiştirdi.»

Choisissez la traduction qui convient.

Yukarıdaki cümlenin Fransızca karşılığı aşağıdakilerden hangisidir?

- A) Elsa aime mettre ses jupes longues.
B) Elsa a changé son vêtement.
C) Elsa porte des vêtements démodés.
D) Elsa a changé de tenue vestimentaire.

2. «Tu dois parler avec l'agent immobilier.»

Choisissez la traduction qui convient.

Yukarıdaki cümlenin Türkçe karşılığı aşağıdakilerden hangisidir?

- A) Emlakçıyla konuşman gerekiyor.
B) Emlakçıyı aramalısın.
C) Mobilyacıyla konuşmalısın.
D) Mobilyacıyı araman gerekiyor.

3. Il faut prendre des précautions le soleil.

Choisissez le mot qui convient.

Cümledeki boşluğu aşağıdakilerden hangisi doğru şekilde tamamlar?

- A) contre
B) par
C) à
D) en

4. C'est qui m'appelles?

Choisissez le mot qui convient.

Cümledeki boşluğu aşağıdakilerden hangisi doğru şekilde tamamlar?

- A) toi
B) tu
C) ta
D) te

5. - Vous connaissez cette histoire?
- Oui, nous connaissons.

Choisissez le mot qui convient.

Yukarıdaki konuşmada boş bırakılan yeri aşağıdakilerden hangisi doğru şekilde tamamlar?

- A) le
B) la
C) lui
D) leur

6. - Tu veux manger?
- Non je ne veux rien manger.

Choisissez le mot/l'expression qui convient.

Yukarıdaki konuşmada boş bırakılan yeri aşağıdakilerden hangisi doğru şekilde tamamlar?

- A) jamais
B) rien
C) quelque chose
D) quelqu'un

7. - Tu aimes Marie?
- Oui, je la trouve

Choisissez le mot qui convient.

Yukarıdaki konuşmada boş bırakılan yeri aşağıdakilerden hangisi doğru şekilde tamamlar?

- A) ennuyeux
B) passionnante
C) gai
D) heureux

8. - Jean parle-t-il à Marie?
- Oui,

Choisissez l'expression qui convient.

Yukarıdaki konuşmada boş bırakılan yeri aşağıdakilerden hangisi doğru şekilde tamamlar?

- A) elle leur parle
B) il leur parle
C) elle lui parle
D) il lui parle

9. J'ai mal à la tête, je prends une

Choisissez le mot qui convient.

Cümledeki boşluğu aşağıdakilerden hangisi doğru şekilde tamamlar?

- A) grippe
B) antibiotique
C) aspirine
D) consultation

10. - C'est fermé samedi et dimanche?
- Oui. C'est ouvert tous les jours le week-end.

Choisissez le mot qui convient.

Yukarıdaki konuşmada boş bırakılan yeri aşağıdakilerden hangisi doğru şekilde tamamlar?

- A) du
B) sauf
C) et
D) mais

11. coûte ce livre?

Choisissez le mot qui convient.

Cümledeki boşluğu aşağıdakilerden hangisi doğru şekilde tamamlar?

- A) Combien
B) Comment
C) Quand
D) Est-ce que

12. I. Il faisait nuit.
II. Tout d'un coup, j'entendais un bruit.
III. J'ai fini mes devoirs.
IV. J'avais très peur.

Chosissez la phrase qui ne convient pas à l'ensemble.

Sırasıyla okunduğunda anlam bütünlüğünü bozan cümle aşağıdakilerden hangisidir?

- A) I
B) II
C) III
D) IV

13. - Bonjour, je voudrais parler à M. Lenoir.
- Oui,
- De Mme Chantal.

Choisissez l'expression qui convient.

Yukarıdaki konuşmada boş bırakılan yeri aşağıdakilerden hangisi doğru şekilde tamamlar?

- A) c'est de la part de qui?
B) c'est moi.
C) il est là?
D) c'est à cause de toi.

14. Cet homme pèse 180 kilos: c'est

Choisissez le mot qui convient.

Cümledeki boşluğu aşağıdakilerden hangisi doğru şekilde tamamlar?

- A) joyeux
B) étonnant
C) encourageant
D) bon

15. C'est un camion, et

Choisissez les mots qui conviennent.

Cümledeki boşlukları aşağıdakilerden hangisi doğru şekilde tamamlar?

- A) lent / rose / noire
B) jolie / blanche / petite
C) petit / bleue / lente
D) grand / jaune / rapide

16. Nous ne pouvions pas avancer car du monde.

Choisissez l'expression qui convient.

Cümledeki boşluğu aşağıdakilerden hangisi doğru şekilde tamamlar?

- A) c'était
B) il était
C) il faisait
D) il y avait

17. La semaine prochaine nous un nouveau film.

Choisissez le mot qui convient.

Cümledeki boşluğu aşağıdakilerden hangisi doğru şekilde tamamlar?

- A) verrez
- B) verras
- C) verront
- D) verrons

18. Les personnes polies disent «.....».

Choisissez l'expression qui convient.

Cümledeki boşluğu aşağıdakilerden hangisi doğru şekilde tamamlar?

- A) Tu dois
- B) Je voudrais
- C) Je veux
- D) Il faut

19. Je cherche un appartement louer.

Choisissez le mot qui convient.

Cümledeki boşluğu aşağıdakilerden hangisi doğru şekilde tamamlar?

- A) de
- B) par
- C) à
- D) en

20. Hier, il chaud.

Choisissez le mot/l'expression qui convient.

Cümledeki boşluğu aşağıdakilerden hangisi doğru şekilde tamamlar?

- A) va faire
- B) fera
- C) faisait
- D) fait

1. Aşağıdakilerden hangisinin vefatında güneş tutulması yaşanmıştır?

- A) İbrahim
- B) Kasım
- C) Ali
- D) Abdullah

2. Hz. Muhammed'le ilgili aşağıdaki ifadelerden hangisi yanlıştır?

- A) Adaleti ayakta tutmak için çaba sarf ederdi.
- B) İnsanların sahip olduğu dünyevi şeylerin, üstünlük değerinin olduğunu hem sözleri hem de uygulamalarıyla gösterirdi.
- C) Kendisine ikram edilen yiyecekleri ashabın kimsesiz ve fakir olanlarıyla paylaşırdı.
- D) Allah'a kul olmak bakımından hiç kimsenin ayrıcalık sahibi olmadığını bilakis bu konuda herkesin eşit olduğunu vurgulardı.

3. Hz. Peygamber'e, sözüne güvenildiği, emaneti koruduğu bilindiği için ne ad verilir?

- A) Muhammedü'l – Emin
- B) Muhammedü'l – Adil
- C) Sözüne güvenilen
- D) Emanetü'l - Emin

4. Aşağıdakilerden hangisi şeytanın tuzaklarından biri değildir?

- A) Övünüp büyüklük iddia etmek
- B) Nefsin arzusuna uymak
- C) Allah'ın kullarına ululuk ve üstünlük taslamak
- D) Alçak gönüllülük etmek

5. Aşağıdakilerden hangisi cahiliyye dönemine ait kötü adetlerden biri değildir?

- A) Soya dayalı öğünmeler
- B) Nesep aidiyetine dayanarak yapılan öğünmeler
- C) Irka dayalı kınamalar
- D) Takvaya dayalı üstünlükler

6. İnsanlara ayrıcalık kazandıran durum aşağıdakilerden hangisidir?

- A) Soylu bir aileye mensup olmak
- B) Zengin olmak
- C) Allah'a karşı gelmekten sakınmak
- D) Mevki sahibi olmak

7. Aşağıdakilerden hangisi Abdullah b. Ümmi Mektun'a verilen görevlerden biridir?

- A) Müezzinlik
- B) Kâbe hakemliği
- C) Kâhyalık
- D) Kâtiplik

8. Hz. Muhammed'in üye olduğu, haksızlığa uğrayan insanların haklarını koruyan teşkilata ne ad verilir?

- A) Hılfu'l-Fudul
- B) Mescid-i Nebevi
- C) Ashab-ı Suffa
- D) Edebü'l Müfred

9. Aşağıdakilerden hangisi Mûte Savaşında şehit düşmüştür?

- A) İbn Ömer
- B) Ebu Davud
- C) Abbas Kusem
- D) Cafer b. Ebu Talip

10. Aşağıdakilerden hangisi mağduriyet durumlarından biri değildir?

- A) Yetim olmak
- B) Yaşlı olmak
- C) Çocuk olmak
- D) Dul olmak

11. "Kendilerinde ihtiyaç olsa bile, (kardeşlerini) nefisleri üzerine tercih ederler. Kimde nefsinin hırsından korunursa, işte bunlar azaptan kurtulanlardır."

Yukarıdaki ayetin geçtiği sure aşağıdakilerden hangisidir?

- A) Nisâ suresi
B) Haşr suresi
C) En'âm suresi
D) Felak suresi

12. İslam tarihinde ilk hicretin yapıldığı yer aşağıdakilerden hangisidir?

- A) Medine
B) Taif
C) Mekke
D) Habeşistan

13. Mekkelilerin işkenceleri altında can vermek üzereyken Hz. Ebu Bekir tarafından satın alınarak azad edilen köle aşağıdakilerden hangisidir?

- A) Abdullah b. Ümmi Mektun
B) Bilal-i Habeşi
C) Utbe b. Rebîa
D) Ebu Cehil

14. "Helak edici yedi şeyden çekiniz."

Aşağıdakilerden hangisi yukarıda bahsedilen yedi şeyden biri değildir?

- A) Yetim malı yemek
B) Sihir yapmak
C) Faiz yemek
D) Düşmana hücum gününe gitmek

15. Zu'l Huleyfe aşağıdakilerden hangisine verilen addır?

- A) Medinelilerin ihrama girme yerine
B) İstişare yapılan mekâna
C) Kabile toplantılarının yapıldığı salona
D) Savaş planlarını tartışıldığı çadıra

16. Rüyasında Ezan'ın sözleri öğretilen sahabe kimdir?

- A) Hz. Ömer'in oğlu Abdullah
B) Abdullah bin Zeyd
C) Hz. Bilal-i Habeşi
D) Busr bin Sufyan

17. "...Yapacağın işlerde onlarla, müminlerle istişare et. Bir işe azmettiğin zaman da artık Allah'a tevekkül et. Muhakkak ki Allah, kendine tevekkül edenleri sever."

Yukarıdaki ayetin geçtiği sure aşağıdakilerden hangisidir?

- A) Haşr suresi
B) Âli İmrân suresi
C) Felak suresi
D) Şûrâ suresi

18. İstişareyle ilgili aşağıdaki ifadelerden hangisi yanlıştır?

- A) İstişare bir anda fark edilmeyen, akla gelmeyen noktaların daha iyi anlaşılmasını sağlar.
B) İstişare insanların gönüllerini birbirine yaklaştırır.
C) İstişarede ne kadar az kişinin fikri alınırsa bakış açısı o kadar zenginleşir.
D) İstişare yapanların kibir ve gurur duyguları yerini, alçak gönüllülüğe bırakır.

19. Resulullah'ın vefatından sonra tayin edilen ilk halife kimdir?

- A) Hz. Ali
B) Zeyd bin Sabit
C) Hz. Ebu Bekir
D) Hz. Ömer

20. Medine'nin savunulması için şehrin etrafına hendek kazıldığı savaş aşağıdakilerden hangisidir?

- A) Uhud Savaşı
B) Bedir Savaşı
C) Hendek Savaşı
D) Hayber Savaşı

1. Aşağıdaki kişilerden hangisi Hz. Muhammed'e (s.a.v.) ilk iman edenlerden biri değildir?
 - A) Hz. Ali
 - B) Hz. Hatice
 - C) Ebu Leheb
 - D) Zeyd bin Harise
2. İnsanın yaradılış fitratına aykırı davranmasına ne ad verilir?
 - A) Duygusuzluk
 - B) Münafıklık
 - C) Dengesizlik
 - D) İnançsızlık
3. Bedir Savaşı ile ilgili aşağıdaki ifadelerden hangisi yanlıştır?
 - A) Mekkeli müşrikler Ebu Cehil'in komutasında hareket etmişlerdi.
 - B) Müslümanlarla müşrikler arasında yapılan ilk savaştı.
 - C) Savaşı müşrikler kazandı.
 - D) Müşrik ordusu silah ve asker sayısı yönünden İslam ordusundan daha fazlaydı.
4. Hz. Muhammed'in (s.a.v.) doğduğu gün aşağıdakilerden hangisidir?
 - A) Pazartesi
 - B) Salı
 - C) Perşembe
 - D) Cuma
5. İnsanın, başkalarının sahip olduğu güzel şeylerin kendisinde de olmasını arzulamasına ne ad verilir?
 - A) Ridde
 - B) Muhâcirûn
 - C) Ensâr
 - D) Gıpta
6. İnsanın, başkalarının sahip olduğu güzel şeylerin kendisinde de olmasını arzulamasına ne ad verilir?
 - A) Haset
 - B) Gıpta
 - C) Muhâcirûn
 - D) Ensâr
7. Aşağıdakilerden hangisi İslam dininin yasakladığı kötü huylardan biridir?
 - A) İktisatlı olmak
 - B) Cömertlik
 - C) Cimrilik
 - D) Yardımlaşmak
8. Mekke'de haksızlığa uğrayan, malı gasp edilen ve kimsesi olmadığından ezilen insanlar eksik olmazdı. Bu haksızlıkları önlemek için kurulmuş ve Hz. Muhammed'inde (s.a.v.) üyesi olduğu sivil toplum cemiyeti aşağıdakilerden hangisidir?
 - A) İhvânu's Safâ (Temiz Kardeşler)
 - B) Hilfu'l-Fudul (Erdemliler Topluluğu)
 - C) Cemiyet-i Tedrisiyye-i İslâmiyye
 - D) Amele-i Osmanî Cemiyeti
9. Aşağıdakilerden hangisi Hz. Muhammed'in sağlıkla ilgili tavsiyelerinden biri değildir?
 - A) Haftada en az birkaç kez banyo yapmak
 - B) Günde birkaç kez diş temizliği yapmak
 - C) Yemeklerden önce ve sonra elleri yıkamak
 - D) Aşırı yemek ve içmek
10. Aşağıdakilerden hangisi Hz. Muhammed'e (s.a.v.) göre iyi bir Müslümanın söz ve davranışlarında olması gereken özelliklerden biri değildir?
 - A) Dengeli
 - B) Hileli
 - C) Adaletli
 - D) Ölçülü

11. Hz. Muhammed'in (s.a.v.) sağlıkla ilgili hadislerinin bütününe ne ad verilir?
- A) Râfızî Hareketi
B) Mu'tezile
C) Tıbb-ı Nebevi
D) Ridde
12. Mute Savaşı'nda İslam ordusunun komutanlarından Zeyd bin Harise, Hz. Cafer ve Abdullah bin Revaha'nın şehit olması üzerine komutayı ele alarak orduyu toparlayan kişi kimdir?
- A) Halid bin Velid
B) Assâme bin Amr
C) Tarık bin Ziyad
D) Muhammed bin Abdülmelik ez-Zeyyât
13. Aşağıdaki savaşlardan hangisi Hz. Muhammed (s.a.v.) döneminde gerçekleşmemiştir?
- A) Bedir Savaşı
B) Talas Savaşı
C) Uhud Savaşı
D) Hendek Savaşı
14. Medine'de kurulan İslam devletinin anayasası niteliğindeki 623 yılındaki gelişme aşağıdakilerden hangisidir?
- A) I. Akabe Biatı
B) Gırnata Antlaşması
C) Hudeybiye Antlaşması
D) Medine Sözleşmesi
15. Hz. Muhammed'in (s.a.v.) İslam'ı tebliğ etmek için 620 yılında ilk kez Mekke dışında gittiği yer aşağıdakilerden hangisidir?
- A) Medine
B) Bağdat
C) Mute
D) Taif
16. Allah'a inanmakla birlikte inançta ve ibadette ona ortak koşmayı ifade eden kavram aşağıdakilerden hangisidir?
- A) Şirk
B) Mevâlî
C) Ashab
D) Biat
17. Hz. Muhammed'in (s.a.v.) kabrinin adı aşağıdakilerden hangisidir?
- A) Ravza-i Mutahhara
B) Hürremiyye
C) Dîvânü'z-zimâm
D) Emîrülümera
18. Cahiliye Dönemi'nde Arap kabileleri savaşılması yasak olan aylarda savaşa devam ettikleri için bu savaşlar aşağıdaki hangi adla adlandırılmıştır?
- A) 30 yıl Savaşları
B) Ficar Savaşları
C) Güller Savaşları
D) Yüzyıl Savaşları
19. İslam ordusunun komutanlarından Zeyd bin Harise, Hz. Cafer ve Abdullah bin Revaha'nın 629 yılında şehit olduğu savaş aşağıdakilerden hangisidir?
- A) Hayber Savaşı
B) Kâdisiye Savaşı
C) Huneyn Savaşı
D) Mûte Savaşı
20. Mekkeli müşriklerin Medine'ye bir daha saldırmaya cesaret edememesine neden olan 627 yılındaki savaş aşağıdakilerden hangisidir?
- A) Mercidabık Savaşı
B) Hendek Savaşı
C) Talas Savaşı
D) Uhud Savaşı

1. Aşağıdakilerden hangisi Halide Edip Adıvar'ın eserlerinden biri değildir?
 - A) Türkün Ateşle İmtihanı
 - B) Ateşten Gömlek
 - C) Yaban
 - D) Kalp Ağrısı

2. Servet-i Fünûn dergisi etrafında toplanan şair ve yazarların 1896-1901 yılları arasında oluşturduğu edebiyat aşağıdakilerden hangisidir?
 - A) Tanzimat Edebiyatı
 - B) Türk Ocağı
 - C) Fecr-i Âtî
 - D) Edebiyat-ı Cedide

3. Klasik olay hikâyesi tarzında yazan, Ömer Seyfettin'in de örnek aldığı Fransız yazar aşağıdakilerden hangisidir?
 - A) Voltaire
 - B) Moliere
 - C) Montaigne
 - D) Guy de Maupassant

4. Aşağıdakilerden hangisi "saf şiir" anlayışının özelliklerinden biri değildir?
 - A) Nazmın nesre yaklaşması
 - B) Söze önem verilmesi
 - C) Sosyal temalardan çok bireysel duyarlılığın tercih edilmesi
 - D) Ritm ve ahenge önem verilmesi

5. Divan edebiyatındaki beyit anlayışını kırarak nazmı nesre yaklaştıran şair aşağıdakilerden hangisidir?
 - A) Tevfik Fikret
 - B) Ali Ekrem Bolayır
 - C) Ziya Paşa
 - D) Ahmet Haşim

6. Türk edebiyatının ilk psikolojik romanı olan "Eylül" aşağıdaki yazarlardan hangisine aittir?
 - A) Recaizade Mahmut Ekrem
 - B) Namık Kemal
 - C) Mehmet Rauf
 - D) Ahmet Vefik Paşa

7. "Kiralık Konak", "Nur Baba", "Sodom ve Gomore", "Hüküm Gecesi" adlı romanlar aşağıdaki yazarlardan hangisine aittir?
 - A) Halide Edip Adıvar
 - B) Yakup Kadri Karaosmanoğlu
 - C) Ahmet Rauf
 - D) Halit Ziya Uşaklıgil

8. Aşağıdakilerden hangisi Milli Edebiyat Dönemi'nin özelliklerinden biri değildir?
 - A) Hece ölçüsü kullanılması
 - B) Divan edebiyatı nazım biçimlerinin benimsenmesi
 - C) Ulusal kaynaklardan yararlanılması
 - D) Halkın sorunlarının dile getirilmesi

9. Osmanlı-Rus Savaşı ile Balkan Savaşı yenilgilerinin zemin hazırladığı fikir akımı aşağıdakilerden hangisidir?
 - A) Milliyetçilik
 - B) Türkçülük
 - C) İslamcılık
 - D) Osmanlıcılık

10. Cenap Şehabettin'in ilk şiirinin yayımlandığı gazete aşağıdakilerden hangisidir?
 - A) Vatan
 - B) Hizmet
 - C) Saadet
 - D) İkdam

11. "Türk Edebiyatında İlk Mutasavvıflar" adlı eser aşağıdaki yazarlardan hangisine aittir?

- A) Tevfik Fikret
- B) Fuat Köprülü
- C) Reşat Nuri Güntekin
- D) Ziya Gökalp

12. Batılılaşmanın Türk edebiyatında başladığı dönem aşağıdakilerden hangisidir?

- A) Servet-i Fünûn Edebiyatı
- B) Fecr-i Ati Edebiyatı
- C) Millî Edebiyat
- D) Tanzimat Edebiyatı

13. Aşağıdakilerden hangisi Faruk Nafiz Çamlıbel'in eserlerinden biri değildir?

- A) Kızıl Elma
- B) Yıldız Yağmuru
- C) Han Duvarları
- D) Dinle Neyden

14. Aşağıdakilerden hangisi Millî edebiyat akımının başlıca temsilcileri arasında yer almaz?

- A) Ali Canip
- B) Mehmet Emin Yurdakul
- C) Halit Ziya
- D) Ziya Gökalp

15. Aşağıdakilerden hangisi Tevfik Fikret'in şiir sanatının özelliklerinden biri değildir?

- A) Türkçeyi aruz ölçüsüne ustalıkla uygulaması
- B) Sone, terzarima gibi nazım şekillerini kullanması
- C) Duygu ve düşüncelerini beyit yerine dize içerisinde tamamlaması
- D) Yalın bir dil kullanması

16. Aşağıdakilerden hangisi realizmin öncülerinden biri değildir?

- A) Balzac
- B) Baudelaire
- C) Maupassant
- D) Stendhal

17. "Millî Edebiyat Akımı"nın asıl yayın organı aşağıdakilerden hangisidir?

- A) Genç Kalemler
- B) Türk Yurdu
- C) Türk Ocağı
- D) Türk Cemiyeti

18. Döneminin "Fikri hür, irfanı hür, vicdanı hür şair"i Tevfik Fikret'in çocuklar için sade bir dille ve hece ölçüsüyle yazdığı şiir kitabı aşağıdakilerden hangisidir?

- A) Nemide
- B) Şermin
- C) Feride
- D) Handan

19. Duygudan çok tasvire, düşünceye, biçim ve söyleyiş güzelliğine önem veren "sanat için sanat" görüşünü benimseyen, realizm akımının şiirdeki biçimine ne ad verilir?

- A) Romantizm
- B) Natüralizm
- C) Sembolizm
- D) Parnasizm

20. "Fecr-i Âtı" kelime grubunun anlamı aşağıdakilerden hangisidir?

- A) İlerici Anlayış
- B) Yenilikçi Edebiyat
- C) Geleceğin Aydınlığı
- D) Umutsuz Hayal

SINAVDA UYULMASI GEREKEN GENEL KURALLAR

1. Sınava girmek için gerekli belgelerinizin tümünü sınav başlamadan önce sıranızın üzerine bırakınız.
2. Sınav süresince görevlilerle konuşmak, görevlilere soru sormak yasaktır. Aynı şekilde görevlilerin de öğrencilerle yakından ve alçak sesle konuşmaları yasaktır. Gerekli durumlarda görevliler yerinizi değiştirebilir.
3. Size verilen cevap kâğıdının üzerindeki TCKN/Öğrenci no, ad, soyadı, bilgilerini kontrol ediniz, ilgili alanları eksiksiz doldurarak imzalayınız. Bu bilgiler size ait değilse, görevlileri uyararak size ait cevap kâğıdını isteyiniz. Başka öğrenciye ait cevap kâğıdı kullanan öğrencilerin o oturumdaki sınavları geçersiz sayılır.
4. Cevap kâğıdı üzerine test grubunu (A, B, C, D) kodlamayan veya birden fazla kodlama yapan öğrencilerin sınavları geçersiz sayılır.
5. Cevap kâğıdınıza yazacağınız her türlü yazı ve yapacağınız işaretlemeler için koyu yazan siyah kurşun kalem kullanmalısınız. Siyah kurşun kalem dışında farklı bir kalem (tükenmez, mürekkepli ya da renkli vb.) kullanan öğrencilerin sınavları geçersiz sayılır.
6. Cevap kâğıdı üzerinde değişiklik yapmak istediğinizde, iz bırakmayan bir silgi kullanınız. Cevap kâğıdınızı buruşturmayınız, katlamayınız ve üzerine gereksiz hiçbir işaret koymayınız.
7. Cevaplarınızı, cevap kâğıdında ilgili test için ayrılmış olan alana, cevap yerinin dışına taşımadan işaretleyiniz. Soru kitapçığı üzerinde yapılan işaretlemeler değerlendirmeye alınmayacaktır.
8. Her sorunun tek bir doğru cevabı vardır. Bir soru için birden çok cevabı işaretlerseniz, o soruyu yanlış cevaplamış sayılacaksınız.
9. Soru kitapçığınızı aldıңызda sayfalarına hızlıca bakarak hatalı ya da eksik baskı olup olmadığını kontrol ediniz. Hata/eksik olması durumunda kitapçığının değiştirilmesi için derhâl Salon Başkanına başvurunuz. Sınav görevlileri sınavın başladığını belirtmeden kitapçığınızı tekrar açmayınız.
10. Cevap kâğıdınızda belirtilen kitapçık kodu ile soru kitapçığının kodunu karşılaştırınız. Aynı değilse, sınav görevlilerine durumu bildirerek doğru kitapçığın verilmesini talep ediniz.
11. Soru kitapçığındaki ilgili alanlara ad, soyadı, TCKN/Öğrenci no, sınav salon no, sıra no bilgilerinizi eksiksiz doldurarak imzanızı atınız. Soru kitapçığının sayfalarındaki boş yerleri müsvedde amacıyla kullanabilirsiniz.
12. Aşağıdaki durumlarda sınav görevlileri tarafından Bireysel Sınav İptal Tutanağı düzenlenerek ilgili öğrencilerin sınavları geçersiz sayılır:
 - a) Sınav kurallarına ve sınav görevlilerinin uyarılarına uymamak, sınav düzenini bozmak,
 - b) Kâğıt, kitap, defter, not vb. dokümanları; pergel, açıölçer, cetvel vb. araçları; cep telefonu, bilgisayar, tablet, telsiz, kamera vb. iletişim, depolama, kayıt ve veri aktarma cihazlarını; ruhsatlı veya resmi amaçlı olsa bile silah ve silah yerine geçebilecek nesnelere yanında bulundurmamak,
 - c) Sınav sırasında kalem, silgi vb. araç-gereç paylaşımında bulunmak,
 - d) Cevapları, cevap kâğıdı dışında bir yere yazmak ve sınav salonundan dışarı çıkarmak,
 - e) Sınava girebilmek için gerekli belgeleri eksik olduğu halde sınava katılıp, cevap kâğıdında işaretleme yapmak,
 - f) Sınav görevlileri tarafından öğrencinin kimliğinden şüphe duyulması,
 - g) Cevap kâğıdını ve/veya soru kitapçığını sınav görevlilerine eksiksiz ve sağlam şekilde teslim etmemek, sınav salonu dışına çıkarmak,
 - h) Kopya çekmek, vermek, çekilmesine yardımcı olmak vb. eylemlerde bulunmak,
 - i) Kendisi yerine başkasını sınava sokmak.
13. Sınav bitiminde, cevap kâğıdınızı ve soru kitapçığınızı salon görevlilerine eksiksiz biçimde teslim ediniz. Sınav bittikten sonra gönderilen cevap kâğıtları dikkate alınmayacaktır.

SINAV KURALLARINA UYDUĞUNUZ İÇİN TEŞEKKÜR EDER, SINAVINIZDA BAŞARILAR DİLERİZ.