



ANADOLU ÜNİVERSİTESİ  
AÇIK ÖĞRETİM FAKÜLTESİ  
BA - AÇIK ÖĞRETİM OKULLARI

**T.C. MİLLİ EĞİTİM BAKANLIĞI**  
**Hayat Boyu Öğrenme Genel Müdürlüğü**  
**2016-2017 ÖĞRETİM YILI BATI AVRUPA - BALKANLAR**  
**AÇIK ÖĞRETİM LİSESİ II. DÖNEM SINAVI**

**3. OTURUM Cumartesi**

**A**

**0103**

**ÖĞRENCİNİN**

SOYADI : .....

ADI : .....

T.C. KİMLİK NO / ÖĞRENCİ NO : .....

SINAV SALON NO : ..... SIRA NO: .....

Sınavla ilgili soru kitapçığının ön ve arka kapağındaki tüm kuralları okudum, anladım, kabul ediyorum.

İMZA:.....

**SINAV İÇERİĞİ**

Testin Adı	Soru Sayısı	Sayfa No	Testin Adı	Soru Sayısı	Sayfa No
DİN KÜLTÜRÜ VE AHLAK BİLGİSİ 3	20	02	MATEMATİK 7	20	37
TARİH 5	20	04	İŞLETME 1	20	39
COĞRAFYA 1	20	06	ALMANCA 7	20	41
COĞRAFYA 3	20	08	İNGİLİZCE 7	20	44
COĞRAFYA 8	20	10	FRANSIZCA 7	20	47
MATEMATİK 3	20	12	SEÇMELİ TARİH 4	20	50
ALMANCA 1	20	14	SEÇMELİ ALMANCA 5	20	52
İNGİLİZCE 1	20	17	SEÇMELİ İNGİLİZCE 5	20	55
FRANSIZCA 1	20	20	SEÇMELİ FRANSIZCA 5	20	58
SOSYOLOJİ 1	20	23	SEÇMELİ ALMANCA 7	20	61
DİL VE ANLATIM 6	20	25	SEÇMELİ İNGİLİZCE 7	20	64
TÜRK EDEBİYATI 6	20	27	SEÇMELİ FRANSIZCA 7	20	67
FİZİK 3	20	29	HZ. MUHAMMED'İN HAYATI 2	20	70
KİMYA 8	20	32	HZ. MUHAMMED'İN HAYATI 3	20	72
BİYOLOJİ 7	20	35	SEÇMELİ TÜRK EDEBİYATI 6	20	74

**SINAVDA UYULMASI GEREKEN ÖZEL KURALLAR**

1. Soru kitapçığındaki her bir testi cevaplamanız için verilen süre 30 dakika, toplam süre 150 dakikadır.
2. Sınavın ilk 30 dakikası ve son 5 dakikası içinde sınavınızı tamamlasanız bile salondan çıkamazsınız. Herhangi bir nedenle salondan çıktığınız takdirde, tekrar sınava devam etmenize izin verilmeyecektir. Sınavın başlamasını izleyen ilk 15 dakikadan sonra hiçbir öğrenci sınava alınamaz.
3. Yanlış cevaplarınız dikkate alınmayacaktır. Bu nedenle kitapçığındaki tüm sorular için size doğru gelen seçeneği işaretleyerek cevapsiz soru bırakmamanız yararınıza olacaktır.
4. Sınav sırasında hesap makinesi kullanabilirsiniz. Ancak, kullanacağınız makinede alfabetik tuş takımınının (A, B, C, ..., Y, Z), program yapılmasına, saklanmasına ve çalıştırılmasına imkân veren EXE, STORE, RUN vb. tuşlar bulunamaz.

"Sınavda Uyulması Gereken Genel Kurallar" soru kitapçığının arka sayfasında yer almaktadır. Bu kuralları da mutlaka dikkatlice okuyunuz.

*Anadolu Üniversitesi tarafından hazırlanmış olan bu testlerin her hakkı saklıdır. Hangi amaçla olursa olsun, testlerin tamamının veya bir kısmının Anadolu Üniversitesi'nin yazılı izni olmadan kopya edilmesi, fotoğraflarının çekilmesi, herhangi bir yolla çoğaltılması, yayımlanması ya da kullanılması yasaktır. Bu yasağa uymayanlar gerekli cezai sorumluluğu ve testlerin hazırlanmasındaki mali külfeti peşinen kabullenmiş sayılır.*

1. Kendisine kitap gönderilen peygamberlere ne ad verilir?

- A) Veli
- B) Sahabe
- C) Nebi
- D) Resul

2. Şit peygambere gönderilen kitap kaç sayfadır?

- A) 50
- B) 40
- C) 30
- D) 20

3. Kâbe nerededir?

- A) Kudüs
- B) Mekke
- C) Medine
- D) Yemen

4. Kur'an-ı Kerim'de kaç ayet vardır?

- A) 2222
- B) 3300
- C) 4444
- D) 6666

5. Aşağıdakilerden hangisi farz namazlarından biri değildir?

- A) Cenaze namazı
- B) İkinci namazı
- C) Vitr namazı
- D) Sabah namazı

6. Allah'a saygı ile boyun eğmek ve emirlerine itaat etmeye ne ad verilir?

- A) İbadet
- B) Ahlâk
- C) İman
- D) Fitrat

7. Kur'an da kaç sure vardır?

- A) 100
- B) 110
- C) 114
- D) 120

8. İsrail meleğinin görevi nedir?

- A) Allah ile peygamberler arasında elçilik yapmak
- B) Kıyamet koptuğunda sûr'a üflemek
- C) Tabiat olayları ile ilgilenmek
- D) İnsanların sevap ve günahlarını yazmak

9. Okunan Kur'anı Kerim'i dinlemek aşağıdakilerden hangisine bir örnektir?

- A) Farz
- B) Sünnet
- C) Vacip
- D) Mubah

10. Sevap ve günahların tartıldığı özel tartıya ne ad verilir?

- A) Sırat
- B) Amel defteri
- C) Hesap
- D) Mizan

11. Tövbenin kaç şartı vardır?

- A) 2
- B) 3
- C) 4
- D) 5

12. Aşağıdakilerden hangisi Allah'ın Subuti sıfatlarından biri değildir?

- A) Tekvin
- B) Basar
- C) Beka
- D) Semi

13. Mahşer'in anlamı aşağıdaki ifadelerin hangisinde doğru olarak verilmiştir?

- A) Yeniden diriliş ile birlikte insanların Allah'a hesap vermek üzere toplanacakları yerdir.
- B) Sevap ve günahların tartıldığı özel bir tartıdır.
- C) Yeniden diriliş ile başlayan ve sonsuza kadar sürecek olan zamandır.
- D) Kişinin dünyada yaptığı amellerden sorgulanmasıdır.

14. "Sırat-ı Müstakim" in kelime anlamı nedir?

- A) Müjdeli haber
- B) Allah'ın birliği
- C) Güzel ahlâk
- D) Doğru yol

15. Allah'ın yaratma sıfatına ne ad verilir?

- A) Rahmet
- B) Tekvin
- C) Tevhid
- D) Tevsir

16. Kur'an-ı Kerim'in tercümesine ne ad verilir?

- A) Kıyas
- B) Sünnet
- C) Meal
- D) İcma

17. Bayram namazı kaç rekâttır?

- A) 2
- B) 4
- C) 5
- D) 6

18. Hz. Muhammed nerede vefat etmiştir?

- A) Kudüs
- B) Mekke
- C) Umman
- D) Medine

19. Aşağıdakilerden hangisi vacip namazlardan biridir?

- A) Cuma namazı
- B) Bayram namazı
- C) Cenaze namazı
- D) Yatsı namazı

20. Kâbe'nin etrafında yedi kez dönmeye ne ad verilir?

- A) Sa'y
- B) Vakfe
- C) Tavaf
- D) İhram

1. Aşağıdakilerden hangisi Orta Asya Türk göçlerinin sonuçlarından biri değildir?

- A) Kavimler Göçü gibi dünya tarihine yön veren önemli olaylara zemin hazırlaması
- B) Türk toplulukların göç ettikleri bölgelerde yeni devletler kurmalarına ve Türk kültürünün yayılmasına neden olması
- C) Asya ile Avrupa'nın siyasi ve kültürel yapısında önemli değişikliklere neden olması
- D) Türk tarihinin belli bir bölgede bir bütün halinde incelenmesini kolaylaştırması

2. İskitler ile ilgili aşağıdaki ifadelerden hangisi yanlıştır?

- A) İskitler ata binmekte çok başarılıydılar.
- B) Üzengi ilk defa İskitler tarafından kullanılmıştır.
- C) İskitlerde tek tanrılı bir din anlayışı vardı.
- D) İskitler maden işlemekte ustaydılar.

3. İskitlerin aşağıdaki kavimlerden hangisiyle yaptıkları savaşlar ünlü şair Firdevsi'nin Şehname adlı eserine konu olmuştur?

- A) Kimmerler
- B) Persler
- C) Tabgaçlar
- D) Sabarlar

4. Anav kültürü ile ilgili aşağıdaki ifadelerden hangisi yanlıştır?

- A) Dört tekerlekli arabalar ve keçeden Türk çadırları ilk defa bu kültürde ortaya çıkmıştır.
- B) Bakırdan süs eşyaları yapılmıştır.
- C) Güneşte kurutulmuş tuğlalardan yapılan evlerde oturulmuştur.
- D) Koyun, sığır gibi hayvanlar beslenip, çiftçilik yapılmıştır.

5. İranlıların "Eftalit" adı ile isimlendirdikleri Türk Devleti aşağıdakilerden hangisidir?

- A) Avarlar
- B) Akhunlar
- C) Hazarlar
- D) Sabarlar

6. Türk tarihinde ilk düzenli ordu teşkilatı aşağıdaki hükümdarlardan hangisi tarafından kurulmuştur?

- A) Mete
- B) Attila
- C) Timur
- D) I. Murat

7. Kaşgarlı Mahmut, "Divân-ı Lûgat-it Türk" adlı eserinde, Türk adının hangi anlama geldiğini belirtmiştir?

- A) Çoğalmak
- B) Türemek
- C) Olgunluk çağı
- D) Kanun nizam sahibi

8. Avrupa Hun Devleti en parlak dönemini hangi hükümdar zamanında yaşamıştır?

- A) İlek
- B) İrnek
- C) Attila
- D) Balamir

9. Oğuzların din adamlarına ne ad verilir?

- A) Kam
- B) Balbal
- C) Kurgan
- D) Yuğ

10. Tarihte İstanbul'u ilk defa kuşatan Türk kavmi aşağıdakilerden hangisidir?

- A) Ak Hunlar
- B) Türgişler
- C) Hazarlar
- D) Avarlar

11. Türk tarihinde kendi adına para bastıran ilk hükümdar aşağıdakilerden hangisidir?

- A) Attila
- B) Mete
- C) Bağa Tarkan
- D) Teoman

12. Türk tarihinde Museviliği kabul eden ilk ve tek Türk Devleti aşağıdakilerden hangisidir?

- A) Kırgızlar
- B) Avarlar
- C) Uygurlar
- D) Hazarlar

13. İlk Türk Devletleri'nde "ulus" kavramının karşılığı aşağıdakilerden hangisidir?

- A) Ülke
- B) Töre
- C) Mahkeme
- D) Tapınak

14. İlk Türk Devletleri'nde il (el) kavramının karşılığı aşağıdakilerden hangisidir?

- A) Töre
- B) Devlet
- C) Savaş
- D) Barış

15. Orhun Yazıtlarını 1893 yılında okuyan Danimarkalı dil bilimci aşağıdakilerden hangisidir?

- A) B. D. Koçnev
- B) Hieronymus Laski
- C) Vilhelm Thomsen
- D) Herbert Marcuse

16. İlk Türk Devletleri'nde hükümdarın eşine ne ad verilir?

- A) Emçi (Otacı)
- B) Hatun (Katun)
- C) İlteber (Erkin)
- D) Ataman (İnal)

17. Çin'i sürekli baskı altında tutmak amacıyla Çin'e kırk altı sefer yapan II. Kök Türk hükümdarı aşağıdakilerden hangisidir?

- A) Kutluk Kağan
- B) Ta-lo-pien Kağan
- C) Tardu Kağan
- D) Kapgan Kağan

18. Moğolların devlet yönetiminde yönetici, komutan, öğretmen ve teknik eleman olarak görev yapmış Türk kavmi aşağıdakilerden hangisidir?

- A) Türgişler
- B) Tolunoğulları
- C) Hazarlar
- D) Uygurlar

19. Çin'in Orta Asya'daki hâkimiyetini kaybederek çekilmek zorunda kalmasına ve tarım havzasının Uygurların eline geçmesine neden olan 751 yılındaki savaş aşağıdakilerden hangisidir?

- A) Kuzey Şansi Savaşı
- B) Talas Savaşı
- C) Bolçu Savaşı
- D) Köseadağ Savaşı

20. Hunların Çin üzerine yaptıkları seferlerin başlıca nedeni aşağıdakilerden hangisidir?

- A) İslamiyet'in kuzeye doğru yayılmasını sağlamak
- B) Budizm'in yayılmasını sağlamak
- C) Mani Dini'nin yayılmasını engellemek
- D) İpek Yolu'na hâkim olmak

1. Sıcaklığın yeryüzünde veya yer yüzünün herhangi bir bölümünde dağılışını gösterebilmek için eş sıcaklık eğrileriyle yapılan haritalara ne ad verilir?
  - A) İzoterm haritaları
  - B) İklim haritaları
  - C) Fiziki haritalar
  - D) İzobar haritaları
2. Bir yamacın güneş karşısındaki konumuna ne ad verilir?
  - A) Güneş etkisi
  - B) Yörünge
  - C) Eksen
  - D) Bakı
3. Atmosfer içerisindeki hava olaylarının oluşmasını sağlayan güç aşağıdakilerden hangisidir?
  - A) Ay
  - B) Rüzgar
  - C) Mars
  - D) Güneş
4. Paralellerle ilgili aşağıdaki ifadelerden hangisi yanlıştır?
  - A) İki paralel arasındaki uzaklığa bir enlem derecesi denir.
  - B) 90'ı kuzey yarım kürede, 90'ı güney yarım kürededir.
  - C) Kutuplarda birleşirler.
  - D) Toplam 180 paralel vardır.
5. Aşağıdakilerden hangisi dünyanın şeklinin sonuçlarından biri değildir?
  - A) Meridyen yaylarının kutuplarda birleşmesi
  - B) Dağların ve yeryüzü şekillerinin oluşması
  - C) Güneş ışınlarının geliş açısının Ekvator'a doğru gidildikçe daralması
  - D) Dünyanın güneşe bakan tarafının aydınlık iken diğer tarafının karanlık olması
6. Aşağıdakilerden hangisi harita çiziminde kullanılan projeksiyon tiplerinden biri değildir?
  - A) Düzlem projeksiyon
  - B) Köşeli projeksiyon
  - C) Silindir projeksiyon
  - D) Konik projeksiyon
7. Ankara ve Kırıkkale arasındaki gerçek uzaklık 100 km'dir. Bu uzaklık 1/1.000.000 ölçekli bir harita üzerinde kaç cm ile gösterilir?
  - A) 10
  - B) 15
  - C) 20
  - D) 25
8. Dünya üzerinde bir yeri belirtebilmek için kullanılan yöntem ne ad verilir?
  - A) Geoit
  - B) Kutup
  - C) Ekvator
  - D) Koordinat sistemi
9. Bilinen ilk Türk haritasını kim çizmiştir?
  - A) Umur Bey
  - B) Kaşgarlı Mahmut
  - C) Piri Reis
  - D) İbrahim Reis
10. İklim ve iklim elemanlarını inceleyen bilim dalı aşağıdakilerden hangisidir?
  - A) Jeomorfoloji
  - B) Hidrografya
  - C) Klimatoloji
  - D) Biyocoğrafya
11. Dünyanın katı kabuğu olan taş küre aşağıdakilerden hangisidir?
  - A) Litosfer
  - B) Hidrosfer
  - C) Atmosfer
  - D) Biyosfer
12. Haritası çizilen herhangi bir yerin, düzleme aktarılması sırasında kullanılan küçültme oranına ne ad verilir?
  - A) Harita lejantı
  - B) Harita yönü
  - C) Harita başlığı
  - D) Harita ölçeği
13. Kutup noktalarından eşit uzaklıktaki noktaları birleştiren, dünyayı eşit iki parçaya bölen ve çevresi yaklaşık 40.000 km olan hayali çizgiye ne ad verilir?
  - A) Greenwich
  - B) Paralel
  - C) Meridyen
  - D) Ekvator

14. İki ardışık meridyen arasındaki yerel saat farkı kaç dakikadır?

- A) 4
- B) 5
- C) 6
- D) 7

15. Yer kabuğu üzerinde ağır ağır gelişen ve geniş alanları kapsayan yükselme ve alçalma hareketlerine ne ad verilir?

- A) Orojenez
- B) Epirojenez
- C) Deprem
- D) Volkanizma

16. Güney yarım kürede en uzun gündüzün yaşandığı tarih aşağıdakilerden hangisidir?

- A) 21 Haziran
- B) 23 Eylül
- C) 21 Aralık
- D) 21 Mart

17. Eş yükselti eğrilerine ne ad verilir?

- A) Yamaç
- B) Geoit
- C) İzohips
- D) Küre

18. Dağlarla çevrelenmiş şekilde bir alana soğuk havanın çökmesiyle, bu alanın aynı yüksekliğe sahip başka bir alandan daha soğuk olmasına ne ad verilir?

- A) Çanak alan etkisi
- B) Yükselti etkisi
- C) Deniz akıntılarının etkisi
- D) Dağ doğrultusunun etkisi

19. Ekinoks nedir?

- A) Akarsuların akış hızıdır.
- B) En uzun gündür.
- C) Dünyanın her yerinde gece ve gündüz sürelerinin birbirine eşit olmasıdır.
- D) Dünyanın şeklidir.

20. Nüfus yoğunluğu, nüfus dağılışı ve insanların kültürlerine ait bilgileri içeren harita türü aşağıdakilerden hangisidir?

- A) Fiziki harita
- B) Beşeri harita
- C) Siyasi harita
- D) Ekonomi haritası

1. Aşağıdakilerden hangisi Mezolitik Çağın özelliklerinden biridir?

- A) Ticaretin başlaması
- B) Köylerin kurulmaya başlanması
- C) Köpeğin evcilleştirilmesi
- D) Madenlerin işlenmeye başlanması

2. Karaları meydana getiren ve okyanusların altında da devam eden yer kabuğu parçalarına ne ad verilir?

- A) Levha
- B) Yanardağ
- C) Pangea
- D) Ada yayı

3. Granitlerin ayrışması sonucu yer yer birbiri üzerinde irili ufaklı ve köşeleri yuvarlaklaştırılmış bloklardan oluşan şekle ne ad verilir?

- A) Tüf
- B) Traverten
- C) Peri bacası
- D) Tor topografyası

4. Toprağın en üst katının yıkanması ile sızan minerallerin biriktiği horizon katmanı aşağıdakilerden hangisidir?

- A) A horizonu
- B) B horizonu
- C) C horizonu
- D) D horizonu

5. Aşağıdakilerden hangisi bir ülkedeki nüfus sayısının değişim nedenlerinden biri değildir?

- A) Ülke sınırlarının değişmesi
- B) Doğal afetler
- C) İç göçler
- D) Doğum oranı

6. Aşağıdakilerden hangisi birbirine yaklaşan levhalardan biri değildir?

- A) Avrasya levhası – Pasifik levhası
- B) Kuzey Amerika levhası – Pasifik levhası
- C) Pasifik levhası – Hindistan – Avustralya levhası
- D) Kokos levhası – Pasifik levhası

7. Kalkerli arazi içinde suların eritme ve aşındırması sonucu meydana gelen yeraltı boşluklarına ne ad verilir?

- A) Mağara
- B) Obruk
- C) Lapyta
- D) Dikit

8. Nüfusun yaş yapısını belirleyen en önemli etmen aşağıdakilerden hangisidir?

- A) Göçler
- B) Salgın hastalıklar
- C) Savaşlar
- D) Doğum oranı

9. Volkanik alanlarda yerin derinliklerindeki sıcak gazların uyguladığı basıncın etkisiyle sıcak su ve buhar şeklinde püskürerek çıkan kaynağa ne ad verilir?

- A) Karstik kaynak
- B) Gayzer kaynağı
- C) Fay kaynağı
- D) Yamaç kaynağı

10. Aşağıdakilerden hangisi iç püskürük kayalardan biridir?

- A) Kalker
- B) Kömür
- C) Siyenit
- D) Konglomera



11. Ülkeler arasında beyin göçü hangi yıldan sonra hız kazanmıştır?

- A) 1950
- B) 1960
- C) 1970
- D) 1980

12. Toplam nüfusun, ekili – dikili alanlara bölünmesiyle ortaya çıkan nüfus yoğunluğuna ne ad verilir?

- A) Tarımsal nüfus yoğunluğu
- B) Aritmetik nüfus yoğunluğu
- C) Fizyolojik nüfus yoğunluğu
- D) Çevresel nüfus yoğunluğu

13. Aşağıdakilerden hangisi dördüncül ekonomik faaliyetlerden biridir?

- A) İcra kurulu başkanlığı
- B) Ağ işletmenliği
- C) Hayvancılık
- D) Bankacılık

14. Buzul aşındırması sonucunda oluşan çukur alanlarda suların birikmesiyle meydana gelen göllere ne ad verilir?

- A) Tektonik göl
- B) Maar gölü
- C) Karstik göl
- D) Sirk gölü

15. Aşağıdakilerden hangisi gelişmiş ülkelerin özelliklerinden biri değildir?

- A) Nüfus artış hızlarının düşük olması
- B) İhraç ürünlerinin ham madde olması
- C) Milli gelirlerinin yüksek olması
- D) Okuma yazma oranlarının yüksek olması

16. İstanbul ve Çanakkale boğazlarının oluştuğu, Türkiye'nin günümüzdeki son şeklini aldığı jeolojik zaman aşağıdakilerden hangisidir?

- A) Kuaterner
- B) Mezozoik
- C) Tersiyer
- D) Paleozoik

17. Kavimler göçünün en önemli sebebi nedir?

- A) Boy beylerinin baskısı
- B) Kan davaları
- C) Olumsuz iklim koşulları
- D) Yeni yerler keşfetme isteği

18. Yer kabuğundan derinlere doğru inildikçe (faylarla parçalanmış alanlar hariç) sıcaklık her 33 metrede ortalama kaç °C artar?

- A) 1
- B) 2
- C) 3
- D) 4

19. Aşağıdakilerden hangisi Türkiye'nin matematik konumunun sonuçlarından biri değildir?

- A) Orta kuşakta yer alması
- B) Güneyden kuzeye gidildikçe cisimlerin gölge boylarının uzaması
- C) Doğusu ile batısı arasında 76 dakikalık zaman farkının bulunması
- D) Yeraltı kaynak çeşitliliği bakımından zengin olması

20. Aşağıdakilerden hangisi göçün doğal nedenlerinden biri değildir?

- A) Ulaşım
- B) Kuraklık
- C) Heyelan
- D) Erozyon

1. Petrol yataklarını kontrol etmek için Irak'ı tamamen işgal eden devlet aşağıdakilerden hangisidir?
  - A) Rusya
  - B) Almanya
  - C) ABD
  - D) İsrail
2. Aşağıdakilerden hangisi jeopolitiğin değişen unsurlarından biridir?
  - A) Coğrafi konum
  - B) Sosyal – kültürel değerler
  - C) Stratejik kaynaklar
  - D) Jeolojik ve jeomorfolojik özellikler
3. Türkiye'de Nüfus Planlaması Genel Müdürlüğü hangi yıl kurulmuştur?
  - A) 1950
  - B) 1955
  - C) 1960
  - D) 1965
4. Aşağıdakilerden hangisi Türkiye'nin kaybolan sulak alanlarından biri değildir?
  - A) Kestel Gölü
  - B) Gavur Gölü
  - C) Beyşehir Gölü
  - D) Amik Gölü
5. Aşağıdakilerden hangisi Yeşilirmak Havzası Gelişim Projesi kapsamında yer alan illerden biri değildir?
  - A) Çankırı
  - B) Tokat
  - C) Çorum
  - D) Samsun
6. İnsani gelişim endeksini ilk kez geliştiren ekonomist kimdir?
  - A) Turgut Özal
  - B) Mahbub ul Haq
  - C) Mihail Gorbaçov
  - D) Helmut Kohl
7. Aşağıdakilerden hangisi uluslararası sıcak çatışmalara neden olan beşeri ve ekonomik unsurlardan biri değildir?
  - A) Önemli ulaşım yollarının kontrolü
  - B) Sınır sorunları
  - C) Geçmişe dayanan sorunlar
  - D) Yeraltı zenginliklerinin paylaşımı
8. Aşağıdakilerden hangisi, uluslararası ekonomik örgütlerden biridir?
  - A) İKÖ
  - B) BM
  - C) OECD
  - D) NATO
9. Türkiye'de hangi yıldan sonra nüfus artışını düşürmeye yönelik uygulamalar teşvik edilmeye başlanmıştır?
  - A) 1933
  - B) 1945
  - C) 1955
  - D) 1963
10. Aşağıdakilerden hangisi, merkezi Amsterdam'da bulunan Greenpeace'in başlıca çalışma alanlarından biri değildir?
  - A) Zehirli kimyasalların ortadan kaldırılmasını sağlamak
  - B) Genleri ile oynanmış organizmaların doğaya bırakılmasını sağlamak
  - C) Küresel ısınmanın durdurulmasını sağlamak
  - D) Okyanusların ve yaşlı ormanların korunmasını sağlamak
11. Aşağıdakilerden hangisi insani gelişim endeksinde çok yüksek insani gelişmişlik seviyesinde yer alan ülkelerden biridir?
  - A) Brezilya
  - B) Nijer
  - C) Fas
  - D) Norveç

12. Aşağıdakilerden hangisi Almanya'daki Türk'lerin yoğun olarak yaşadığı şehirlerden biri değildir?

- A) München
- B) Berlin
- C) Dortmund
- D) Essen

13. Aşağıdakilerden hangisi Türkiye'de 1923 ile 1963 yılları arasındaki nüfus politikalarının dayanak noktalarından biri değildir?

- A) Ölüm oranlarının yüksek olması
- B) Türkiye'nin tabii kaynaklarını işletmek istemesi
- C) Nüfusun ekonomik kalkınmada bir engel olarak görülmesi
- D) Hızlı çoğalma ile ülkedeki sosyal iş bölümü ve ihtisaslaşmanın sağlanmak istenmesi

14. Aşağıdakilerden hangisi Doğu Karadeniz Projesi'nin başlıca amaçlarından biri değildir?

- A) Bölge içi farklılıkları artırmak
- B) Kıyı kesiminde ürün çeşitliliğini artırmak
- C) Turizm faaliyetlerini geliştirmek
- D) Ulaşım ve iletişim hizmetlerini güçlendirmek

15. Dünya'daki sulak alanların korunması için 1971 yılında imzalanan sözleşme aşağıdakilerden hangisidir?

- A) Barcelona
- B) Viyana
- C) Ramsar
- D) Paris

16. Aşağıdakilerden hangisi Türkiye'de fizibilite çalışmaları tamamlanan projelerden biri değildir?

- A) GAP
- B) ZBK
- C) DAP
- D) DOKAP

17. Aşağıdakilerden hangisi Türkiye'yi doğrudan ilgilendiren sorunlardan biridir?

- A) Filistin sorunu
- B) Bosna – Hersek sorunu
- C) Kosova sorunu
- D) Irak sorunu

18. Çin Halk Cumhuriyeti'nin başkenti aşağıdakilerden hangisidir?

- A) Pekin
- B) Hong Kong
- C) Shenzhen
- D) Şanghay

19. Dünya'nın akciğerleri olarak adlandırılan Amazon yağmur ormanları hangi kıtada yer almaktadır?

- A) Kuzey Amerika
- B) Güney Amerika
- C) Afrika
- D) Avustralya

20. Şattülarap su yolu ve petrol paylaşımından dolayı çatışan iki ülke aşağıdakilerin hangisinde birlikte ve doğru verilmiştir?

- A) Suriye-İsrail
- B) İran-İrak
- C) Irak-Kuveyt
- D) Mısır-İsrail

1. Bir madeni para ve bir zar atılıyor. Madeni paranın yazı veya zarın tek sayı gelme olasılığı kaçtır?

- A)  $\frac{1}{2}$   
B)  $\frac{3}{5}$   
C)  $\frac{2}{3}$   
D)  $\frac{3}{4}$

2.  $A = \{a, b, c, d\}$  kümesinin 3 elemanlı alt kümelerinin sayısı kaçtır?

- A) 1  
B) 4  
C) 12  
D) 24

3. Aynı düzlemdeki 4 doğru, en fazla kaç noktada kesişir?

- A) 6  
B) 4  
C) 3  
D) 1

4.  $C(7,1) + C(7,2) + \dots + C(7,5) + C(7,6)$  ifadesinin değeri kaçtır?

- A) 126  
B) 127  
C) 128  
D) 130

5.  $A = \{3, 4, 5, 6\}$  kümesinin elemanları kullanılarak kaç tane 2 basamaklı doğal sayı yazılabilir?

- A) 4  
B) 8  
C) 16  
D) 24

6.  $\frac{0! \cdot 9!}{8!}$  ifadesinin değeri kaçtır?

- A) 1  
B)  $\frac{9}{8}$   
C) 8  
D) 9

7.  $(2x - 3)^3$  ifadesinin açılımdaki sabit terim kaçtır?

- A) -27  
B) -3  
C) 6  
D) 9

8.  $P(5, k) + P(k, 0) = 21$  ise k kaçtır?

- A) 1  
B) 2  
C) 3  
D) 4

9.  $f(x) = 1 - 3x$  ve  $g(x) = 3x + 2$  fonksiyonları veriliyor. Buna göre  $(g \circ f)(1)$  değeri kaçtır?

- A) -4  
B) -3  
C) -2  
D) -1

10. f bir çift fonksiyon ve  $2f(x) = 3x - f(-x)$  ise  $f(5)$  kaçtır?

- A) 5  
B) 6  
C) 7  
D) 8

11.  $f: \mathbb{R} \rightarrow \mathbb{R}$ ,  $f(x) = 3x + 5$  ise  $f(0) + f^{-1}(8)$  değeri kaçtır?

- A) 6  
B) 5  
C) 1  
D) 0

12.  $f: \mathbb{R} \rightarrow \mathbb{R}$ ,  $f(x) = 2x + 1$  ise  $(2f)(3)$  değeri kaçtır?

- A) 3  
B) 5  
C) 7  
D) 14

13. Düzgün altıgenin bir iç açısının ölçüsü kaç derecedir?

- A) 60  
B) 72  
C) 108  
D) 120

14. Köşeleri  $A(0,0)$ ,  $B(3,0)$  ve  $C(3,3)$  olan üçgenin ağırlık merkezinin koordinatları aşağıdakilerden hangisidir?

- A) (0, 3)
- B) (3/2,3)
- C) (2,1)
- D) (3/2,1)

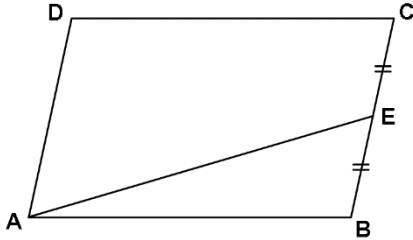
15. Dışbükey bir çokgenin iki iç açısının ölçüsü  $150^\circ$ ,  $125^\circ$  ve diğer iç açılarının ölçüleri eşit ve  $155^\circ$  olduğuna göre bu çokgenin kenar sayısı kaçtır?

- A) 10
- B) 11
- C) 12
- D) 13

16.  $y = 3x + 7$  doğrusunun eğimi kaçtır?

- A) 0
- B) 3/7
- C) 3
- D) 7

17.



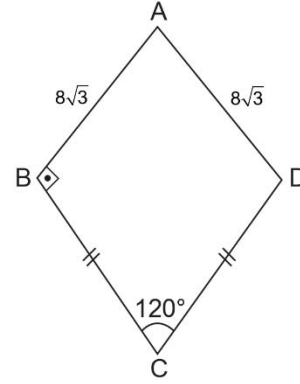
Yukarıdaki ABCD paralelkenarında  $|CE|=|EB|$  ve ABE üçgeninin alanı  $4 \text{ br}^2$  olduğuna göre AECD dörtgeninin alanı kaç  $\text{br}^2$  dir?

- A) 8
- B) 12
- C) 16
- D) 20

18.  $A(0,4)$  noktasından geçen ve  $y=3-x$  doğrusuna dik olan doğrunun denklemi aşağıdakilerden hangisidir?

- A)  $y = x - 3$
- B)  $y = 4 - x$
- C)  $y = x + 4$
- D)  $y = x + 3$

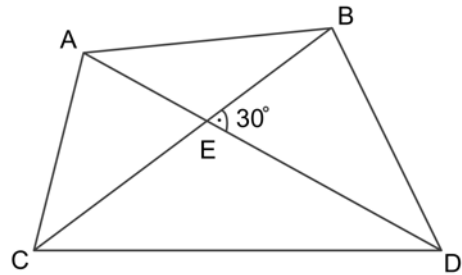
19.



Yukarıdaki ABCD deltoidinde  $|BC|=|CD|$ ,  $|AB|=|AD|=8\sqrt{3}$  br,  $m(\widehat{ABC})=90^\circ$  ve  $m(\widehat{BCD})=120^\circ$  olduğuna göre, ABCD deltoidinin alanı kaç  $\text{br}^2$  dir?

- A)  $64\sqrt{3}$
- B)  $60\sqrt{3}$
- C)  $56\sqrt{3}$
- D)  $48\sqrt{3}$

20.



Yukarıdaki ABDC dörtgeninde  $|AD|=12$  br,  $|BC|=10$  br ve  $m(\widehat{BED})=30^\circ$  olduğuna göre ABDC dörtgeninin alanı kaç  $\text{br}^2$  dir?

- A) 24
- B) 30
- C) 60
- D) 120

1. Zwanzig minus acht ist .....

**Welches Wort passt in die obige Lücke?**

**Cümlede boş bırakılan yeri aşağıdakilerden hangisi doğru şekilde tamamlar?**

- A) elf
- B) zwölf
- C) dreizehn
- D) vierzehn

2. Tolga ..... Melda sind Geschwister.

**Welches Wort passt in die obige Lücke?**

**Cümlede boş bırakılan yeri aşağıdakilerden hangisi doğru şekilde tamamlar?**

- A) und
- B) aber
- C) weil
- D) somit

3. Die Schlange ist nicht kurz, .....

**Welches ergänzt die Lücke im obigen Satz?**

**Verilen cümleyi aşağıdakilerden hangisi tamamlar?**

- A) er ist schlau.
- B) die ist dumm.
- C) der ist klein.
- D) sie ist lang.

4. Ja, sie ist 95 Jahre alt.

**Welche Frage passt zur obigen Antwort?**

**Verilen cevabı gerektirecek soru aşağıdakilerden hangisidir?**

- A) Lebt deine Großmutter noch?
- B) Wo wohnt deine Großmutter?
- C) Wer ist deine Großmutter?
- D) Wann kommt deine Großmutter?

5. Nein, wir haben kein Ferienhaus.

**Welche Frage passt zur obigen Antwort?**

**Verilen cevabı gerektirecek soru aşağıdakilerden hangisidir?**

- A) Wo wohnst du?
- B) Habt ihr ein Ferienhaus?
- C) Geht er auch nach Hause?
- D) Ist das Haus neu?

6. .... 18 Jahren lerne ich Auto fahren und dann ..... ich ein Auto kaufen.

**Welche Wörter passen in die obigen Lücken?**

**Cümlede boş bırakılan yerleri aşağıdakilerden hangisi doğru şekilde tamamlar?**

- A) Mit / will
- B) Auf / möchte
- C) In / sollst
- D) Für / wirst

7. .... hat es nicht geregnet.

**Welches ergänzt nicht die Lücke im obigen Satz?**

**Verilen cümleyi aşağıdakilerden hangisi tamamlamaz?**

- A) Nach Dienstag
- B) Wegen dem Müll
- C) Am Wochenende
- D) Gegen Abend

8. Die Kinder wissen nicht, ..... die Schule anfängt.

**Welches Wort passt in die obige Lücke?**

**Cümlede boş bırakılan yeri aşağıdakilerden hangisi doğru şekilde tamamlar?**

- A) wann  
B) wie  
C) wo  
D) wer

9. Unser Vater möchte Zeitung lesen. Wir .....

**Welches ergänzt die Lücke im obigen Satz?**

**Verilen cümleyi aşağıdakilerden hangisi tamamlar?**

- A) soll heute ein Buch lesen.  
B) sollst neue Zeitung lesen.  
C) sollen ihm Zeitung kaufen.  
D) solltet immer Zeitung kaufen.

10. Meine Mutter ist krank .....

**Welches ergänzt die Lücke im obigen Satz?**

**Verilen cümleyi aşağıdakilerden hangisi tamamlar?**

- A) ich gehe schnell in die Schule.  
B) sie muß zum Arzt.  
C) er geht in die Bibliothek.  
D) wir gehen zum Picknick.

11. Ja, gut aber die grüne Bluse gefällt mir besser.

**Welche Frage passt zur obigen Antwort?**

**Verilen cevabı gerektirecek soru aşağıdakilerden hangisidir?**

- A) Wo ist die rote Bluse?  
B) Willst du die Bluse kaufen?  
C) Wie gefällt dir die blaue Bluse?  
D) Wer hat eine grüne Bluse?

12. Sabine legt die Bücher ..... den Tisch.

**Welches Wort passt in die obige Lücke?**

**Cümlede boş bırakılan yeri aşağıdakilerden hangisi doğru şekilde tamamlar?**

- A) aus  
B) über  
C) auf  
D) in

13. Herr Yılmaz: Wie gefällt dir ..... Pullover?

Frau Yılmaz: .....?

Herr Yılmaz: Der schwarze.

Frau Yılmaz: Der weisse gefällt mir besser.

**Welches ergänzt die Lücke im obigen Dialog?**

**Verilen karşılıklı konuşmada boş bırakılan yeri aşağıdakilerden hangisi tamamlar?**

- A) diese / Welchem  
B) diesen / Welche  
C) dieser / Welcher  
D) diesem / Welches

14. .... dir bitte ..... dem Essen die Hände!

**Welche Wörter passen in die obigen Lücken?**

**Cümlede boş bırakılan yerleri aşağıdakilerden hangisi doğru şekilde tamamlar?**

- A) Wasche / bei  
B) Wascht / auf  
C) Waschen / an  
D) Wasch / vor

15. Hier ist die Rechnung!

**Welche Frage passt zur obigen Antwort?**

**Verilen cevabı gerektirecek soru aşağıdakilerden hangisidir?**

- A) Woher haben Sie den Computer gekauft?
- B) Wo ist der Tisch?
- C) Wohin soll ich den Computer stellen?
- D) Wieviel kostet die Reparatur?

16. Man baut hier eine Brücke.

**Welches hat die gleiche Bedeutung mit dem obigen Satz?**

**Verilen cümle ile aynı anlamı taşıyan aşağıdakilerin hangisidir?**

- A) Die Brücke ist neu gebaut worden.
- B) Heute wurde hier eine Brücke gebaut.
- C) Hier wird eine Brücke gebaut.
- D) Er muss hier eine Brücke bauen.

17. Ja, sehr.

**Welche Frage passt zur obigen Antwort?**

**Verilen cevabı gerektirecek soru aşağıdakilerden hangisidir?**

- A) Wohnst du in Eskişehir?
- B) Wann gehst du zur Schule?
- C) Hast du einen Regenschirm?
- D) Sehnt du dich nach deiner Heimat?

18. Das ist das Mofa mein..... Freund.....

**Welche Endungen passen in die obigen Lücken?**

**Cümlede boş bırakılan yerleri aşağıdaki son eklerden hangileri doğru şekilde tamamlar?**

- A) -en / -er
- B) -es / -es
- C) -em / -en
- D) -er / -rem

19. Die Kartoffeln sind von meiner Mutter geschält worden.

**Wie lautet der obige Satz auf Türkisch?**

**Verilen cümlenin Türkçesi aşağıdakilerden hangisidir?**

- A) Patatesler annem tarafından soyuldu.
- B) Patatesleri annem soydu ve doğradı.
- C) Benim annem patatesleri soymak zorunda kaldı.
- D) Benim annem patates soymamalı.

20. Die Ausstellung der Gemälde von Picasso.

**Wie lautet der obige Satz in der Passivform?**

**Verilen cümlenin edilgen hali aşağıdakilerden hangisidir?**

- A) Das Gemälde von Picasso hat man ausstellen wollen.
- B) Bei der Ausstellung wurden die Gemälde von Picasso vorgeführt.
- C) In der Ausstellung wurden die Gemälde von Picasso zu einem guten Preis verkauft.
- D) Die Gemälde von Picasso wurden ausgestellt.



1. A: How ..... apples are there in the basket?  
B: There are a few.

**Which of the following completes the dialogue above?**

**Aşağıdakilerden hangisi yukarıdaki konuşmayı doğru olarak tamamlar?**

- A) any
- B) much
- C) some
- D) many

2. Please, give me ..... pencil.

**Which of the following completes the sentence above?**

**Aşağıdakilerden hangisi yukarıdaki cümleyi doğru olarak tamamlar?**

- A) these
- B) that
- C) some
- D) those

3. A: What's the day today?  
B: It's .....

**Which of the following completes the dialogue above?**

**Aşağıdakilerden hangisi yukarıdaki konuşmayı doğru olarak tamamlar?**

- A) Wednesday
- B) a big school
- C) April
- D) a spoon

4. I can't find the eggs. There ..... any eggs in the fridge.

**Which of the following completes the sentence above?**

**Aşağıdakilerden hangisi yukarıdaki cümleyi doğru olarak tamamlar?**

- A) isn't
- B) won't
- C) haven't
- D) aren't

5. A: .....?  
B: They are in Antalya.

**Which of the following completes the dialogue above?**

**Aşağıdakilerden hangisi yukarıdaki konuşmayı doğru olarak tamamlar?**

- A) Are they in Antalya
- B) Is he here
- C) Where is your uncle
- D) Where are your grandparents

6. Canan drinks tea every morning.

**Which of the following is the negative form of the sentence above?**

**Aşağıdakilerden hangisi yukarıdaki cümlenin olumsuz biçimidir?**

- A) Canan wasn't drinking tea every morning.
- B) Canan doesn't drink tea every morning.
- C) Canan didn't drink tea every morning.
- D) Canan isn't drinking tea every morning.

7. .... some parents in the school garden, but  
..... any kids.

**Which of the following completes the sentence above?**

**Aşağıdakilerden hangisi yukarıdaki cümleyi doğru olarak tamamlar?**

- A) There is / there are
- B) There is / there isn't
- C) There are / there aren't
- D) There isn't / there are

8. I always watch TV ..... the evening.

**Which of the following completes the sentence above?**

**Aşağıdakilerden hangisi yukarıdaki cümleyi doğru olarak tamamlar?**

- A) to
- B) in
- C) for
- D) at

9. You ..... sing a song in the library.

**Which of the following completes the sentence above?**

**Aşağıdakilerden hangisi yukarıdaki cümleyi doğru olarak tamamlar?**

- A) need
- B) needn't
- C) must
- D) mustn't

10. Tom is ..... a book at the moment.

**Which of the following completes the sentence above?**

**Aşağıdakilerden hangisi yukarıdaki cümleyi doğru olarak tamamlar?**

- A) reading
- B) will read
- C) read
- D) reads

11. She ..... probably go to the park tomorrow.

**Which of the following completes the sentence above?**

**Aşağıdakilerden hangisi yukarıdaki cümleyi doğru olarak tamamlar?**

- A) will
- B) are
- C) have
- D) is

12. He is interested in art. I think he .....

**Which of the following completes the sentence above?**

**Aşağıdakilerden hangisi yukarıdaki cümleyi doğru olarak tamamlar?**

- A) is going to bed
- B) is bored
- C) will study Fine Arts
- D) was a teacher

13. A: What is she doing in the kitchen?  
B: .....

**Which of the following completes the dialogue above?**

**Aşağıdakilerden hangisi yukarıdaki konuşmayı doğru olarak tamamlar?**

- A) She cooking pizza.
- B) She is cook pizza.
- C) She is cooking pizza.
- D) She cooks pizza.

14. I ..... at ten o'clock tomorrow morning.

**Which of the following completes the sentence above?**

**Aşağıdakilerden hangisi yukarıdaki cümleyi doğru olarak tamamlar?**

- A) get up
- B) got up
- C) am going to get up
- D) getting up

15. When Simon was 6, he ..... speak French fluently.

**Which of the following completes the sentence above?**

**Aşağıdakilerden hangisi yukarıdaki cümleyi doğru olarak tamamlar?**

- A) can
- B) could
- C) don't
- D) won't

16. Alex ..... to music last morning.

**Which of the following completes the sentence above?**

**Aşağıdakilerden hangisi yukarıdaki cümleyi doğru olarak tamamlar?**

- A) is going to listen
- B) listens
- C) used to listen
- D) listened

17. A: Excuse me, ..... I borrow your sharpener?  
B: Certainly.

**Which of the following completes the dialogue above?**

**Aşağıdakilerden hangisi yukarıdaki konuşmayı doğru olarak tamamlar?**

- A) may
- B) have
- C) could
- D) must

18. 10 years ago, there ..... a few cars in my city, now there ..... so many cars.

**Which of the following completes the sentence above?**

**Aşağıdakilerden hangisi yukarıdaki cümleyi doğru olarak tamamlar?**

- A) used to be / are
- B) used to be / were
- C) are / used to be
- D) were / were

19. A: What did you do when you saw the fire?  
B: .....

**Which of the following completes the dialogue above?**

**Aşağıdakilerden hangisi yukarıdaki konuşmayı doğru olarak tamamlar?**

- A) I made some tea for myself.
- B) I called the fire brigade.
- C) I had a bath.
- D) I started dancing.

20. My aunt ..... a big birthday cake for me last Saturday.

**Which of the following completes the sentence above?**

**Aşağıdakilerden hangisi yukarıdaki cümleyi doğru olarak tamamlar?**

- A) making
- B) makes
- C) made
- D) is making

1. «Geçen Pazar günü yüzme havuzuna gitmedik.»

**Choisissez la traduction qui convient.**

**Yukarıdaki cümlelerin Fransızca karşılığı aşağıdakilerden hangisidir?**

- A) Nous sommes allés à la piscine dimanche dernier.  
B) Nous n'avons pas nagé dimanche dernier.  
C) Nous avons nagé dimanche dernier.  
D) Nous ne sommes pas allés à la piscine dimanche dernier.

2. - Tu vois la petite fille?  
- Oui, je ..... vois.

**Choisissez le mot qui convient.**

**Yukarıdaki konuşmada boş bırakılan yeri aşağıdakilerden hangisi doğru şekilde tamamlar?**

- A) l'  
B) le  
C) me  
D) la

3. Si j'étais jeune, je ..... en Amérique.

**Choisissez le mot qui convient.**

**Cümledeki boşluğu aşağıdakilerden hangisi doğru şekilde tamamlar?**

- A) partir  
B) partais  
C) pars  
D) partirais

4. - ..... quoi est le bracelet?  
- Il est en or.

**Choisissez le mot qui convient.**

**Yukarıdaki konuşmada boş bırakılan yeri aşağıdakilerden hangisi doğru şekilde tamamlar?**

- A) Pour  
B) A  
C) En  
D) Du

5. «Yarın, müzeyi ziyaret edeceğim.»

**Choisissez la traduction qui convient.**

**Yukarıdaki cümlelerin Fransızca karşılığı aşağıdakilerden hangisidir?**

- A) Demain, je le visite.  
B) Demain, je visiterai le musée.  
C) Hier, j'ai visité le musée.  
D) Hier, je verrai le musée.

6. «J'ai quelques soucis.»

**Choisissez la traduction qui convient.**

**Yukarıdaki cümlelerin Türkçe karşılığı aşağıdakilerden hangisidir?**

- A) Bazı endişelerim var.  
B) Hiçbir endişem yok.  
C) Herkes endişeli.  
D) Endişelerim de var.

7. Paul mesure 1m50. Pierre mesure 1m90. Paul est .....

**Choisissez le mot qui convient.**

**Cümledeki boşluğu aşağıdakilerden hangisi doğru şekilde tamamlar?**

- A) court  
B) maigre  
C) gros  
D) long

8. J'ai vu ..... même film.

**Choisissez le mot qui convient.**

**Cümledeki boşluğu aşağıdakilerden hangisi doğru şekilde tamamlar?**

- A) les  
B) la  
C) le  
D) l'

9. Il a des ..... bleus.

**Choisissez le mot qui convient.**

**Cümledeki boşluğu aşağıdakilerden hangisi doğru şekilde tamamlar?**

- A) oreille
- B) bouche
- C) nez
- D) yeux

10. Il pleure ..... la journée.

**Choisissez le mot qui convient.**

**Cümledeki boşluğu aşağıdakilerden hangisi doğru şekilde tamamlar?**

- A) toute
- B) tout
- C) tous
- D) toutes

11. - Vous voulez quelque chose?  
- Non, nous ne voulons .....

**Choisissez le mot qui convient.**

**Yukarıdaki konuşmada boş bırakılan yeri aşağıdakilerden hangisi doğru şekilde tamamlar?**

- A) rien
- B) aucune
- C) aucun
- D) personne

12. Mon collier ..... or.

**Choisissez le mot qui convient.**

**Cümledeki boşluğu aşağıdakilerden hangisi doğru şekilde tamamlar?**

- A) est en
- B) a en
- C) est l'
- D) a l'

13. Le ..... est doux et chaud.

**Choisissez le mot qui convient.**

**Cümledeki boşluğu aşağıdakilerden hangisi doğru şekilde tamamlar?**

- A) nylon
- B) velours
- C) beton
- D) fer

14. J'ai une .....

**Choisissez le mot qui convient.**

**Cümledeki boşluğu aşağıdakilerden hangisi doğru şekilde tamamlar?**

- A) pied
- B) bouche
- C) bras
- D) visage

15. I. La boîte est verte.  
II. Elle est large.  
III. Le gant est noir.  
IV. Elle mesure 15 cm.

**Trouvez la phrase qui ne convient pas.**

**Cümleler sırasıyla okunduğunda, anlam bütünlüğünü bozan cümleyi bulunuz.**

- A) I
- B) II
- C) III
- D) IV

16. - Il me regarde?  
- Non, il ne ..... regarde pas.

**Choisissez le mot qui convient.**

**Yukarıdaki konuşmada boş bırakılan yeri aşağıdakilerden hangisi doğru şekilde tamamlar?**

- A) me
- B) le
- C) te
- D) se

17. - Quelle est la forme de son nez?  
- .....

**Choisissez la réponse qui convient.**

**Yukarıdaki konuşmada boş bırakılan yeri aşağıdakilerden hangisi doğru şekilde tamamlar?**

- A) Elle est pointue
- B) Il est droit
- C) Elle est large
- D) Il est bleu

18. Quand ..... couchez-vous?

**Choisissez le mot qui convient.**

**Cümledeki boşluğu aşağıdakilerden hangisi doğru şekilde tamamlar?**

- A) lui
- B) te
- C) se
- D) vous

19. Hier, nous ..... le travail.

**Choisissez le mot qui convient.**

**Cümledeki boşluğu aşağıdakilerden hangisi doğru şekilde tamamlar?**

- A) sommes finis
- B) avons fini
- C) avez fini
- D) sommes finies

20. - Tous les élèves respectent-..... leur professeur?

**Choisissez le mot qui convient.**

**Cümledeki boşluğu aşağıdakilerden hangisi doğru şekilde tamamlar?**

- A) le
- B) elle
- C) ils
- D) il

1. I. Sanayi öncesi kentler  
II. Sanayi kentleri  
III. Metropol kentler

**Yukarıdakilerden hangileri tarihsel gelişimi açısından ele alınan kentlerdendir?**

- A) Yalnız I  
B) I ve II  
C) II ve III  
D) I, II ve III

2. Nüfusu çeşitli özellikleriyle inceleyen bilim dalı aşağıdakilerden hangisidir?

- A) Demografi  
B) Antropoloji  
C) Sigolografi  
D) Filoloji

3. Ulus devletlerin ortaya çıkmasında etkili olan gelişme aşağıdakilerden hangisidir?

- A) Coğrafi keşifler  
B) Yüzyıl savaşları  
C) Sanayi devrimi  
D) Rönesans hareketleri

4. "Enflasyon artarsa toplumsal sorunlar artar" varsayımı aşağıdakilerden hangisi ile ilgilidir?

- A) Tümdengelim  
B) Tümevarım  
C) Genelleme  
D) Gözlem

5. I. Birey-birey ilişkisi  
II. Birey-grup ilişkisi  
III. Grup-grup ilişkisi

**Yukarıdakilerden hangileri toplumsal ilişki türlerindedir?**

- A) Yalnız I  
B) I ve II  
C) II ve III  
D) I, II ve III

6. Aşağıdakilerden hangisi toplumsal değerlerin yerine getirdiği işlevlerden biri değildir?

- A) Bireyler üzerindeki baskıları kaldırarak rahat davranmasını sağlar.  
B) Bireyler ya da gruplar tarafından ortak olarak benimsenip paylaşıldığı için dayanışmayı güçlendirir.  
C) Bireylerin toplumsal rollerini seçmelerinde ve gerçekleştirmelerinde rehberlik eder.  
D) Statülerin belirlenmesinde önemli işlevlere sahiptir.

7. Aşağıdakilerden hangisi bilimsel çalışmalara başlamadan önce uyulması gereken ilkelerden biri değildir?

- A) Nedensellik  
B) Soyutluk  
C) Bilmediğini varsayma  
D) Konunun sınırlandırılması

8. Aşağıdakilerden hangisi kentleri çekici kılan nedenlerinden biri değildir?

- A) Daha iyi hayat standardına ulaşma olanağı  
B) Tüketim ürünlerinin bolluğu  
C) Cinsiyete dayalı doğal iş bölümünün olması  
D) Meslek edinme olanaklarının fazlalığı

9. Aşağıdakilerden hangisi milleti oluşturan unsurlardan biri değildir?

- A) Toprak birliği  
B) Ekonomi birliği  
C) Soy birliği  
D) Siyaset birliği

10. Aşağıdakilerden hangisi bilimin temel ilkelerinden biri değildir?

- A) Evrensel olması  
B) Mantıksal olması  
C) Sübjektif olması  
D) Olgulara dayanması

11. Köy, iş yeri, okul gibi küçük grupların yaşam biçimlerini, toplumsal ilişkilerini, tutumlarını incelemeye yarayan veri toplama tekniği aşağıdakilerden hangisidir?
- A) Basit gözlem  
B) Yordama  
C) Deneyleme  
D) Sistematik gözlem
12. Aşağıdakilerden hangisi bir insan birlikteliğinin toplum olabilmesi için gerçekleşmesi gereken koşullardan biri değildir?
- A) İhtiyaçları karşılayan işlevlerin yerine getirilmesi  
B) Bireylerin birlikte yaşama isteğinin olması  
C) Farklı kültürel değerleri paylaşmış olması  
D) Değişmeye rağmen süreklilik göstermesi
13. Aşağıdakilerden hangisi birincil gruplara örnektir?
- A) Dernekler  
B) Devlet  
C) Siyasal partiler  
D) Arkadaş grupları
14. Aşağıdakilerden hangisi köy öncesi dönemde toprağa yerleşme nedenlerinden biri değildir?
- A) Hayvanların evcilleştirilmesi  
B) Toplayıcılık ve avcılık alanlarının artması  
C) Bitkilerin yetiştirilmesi  
D) Üretim araç ve gereçlerinin geliştirilmesi
15. Okulda kendi çocuğunun öğretmeni olan bir kadının evde anne gibi davranması gerekirken öğretmen gibi davranması aşağıdakilerden hangisine örnektir?
- A) Rol yansıtması  
B) Rol yüceltmesi  
C) Rol pekiştirmesi  
D) Rol çatışması
16. Aşağıdakilerden hangisi toplumsal grupların özelliklerinden biri değildir?
- A) Farklı değerler etrafında birleşmiş olması  
B) Üyelerinin arasında iş bölümünün olması  
C) Göreli bir sürekliliğe sahip olması  
D) Gruba özgü kimlik geliştirmesi
17. Fiziki yapı, nüfus, toplumsal ilişkiler, kültür ve tabakalaşmanın karşılıklı ilişkiler içinde oluşturduğu bütüne ne ad verilir?
- A) Toplumsal tabakalaşma  
B) Toplumsal statü  
C) Toplumsal hareketlilik  
D) Toplumsal sistem
18. Bir toplumda olumlu olarak değerlendirilen davranış biçimlerinin, o toplumun üyelerince benimsenmesini sağlamayı amaçlayan yolların ya da önlemlerin tümüne ne ad verilir?
- A) Toplumsal roller  
B) Toplumsal kontrol  
C) Toplumsal normlar  
D) Toplumsal değerler
19. Küçük gruplarda bireyler arasındaki yaklaşma ve uzaklaşma modellerini açıklamayı sağlayan araştırma tekniği aşağıdakilerden hangisidir?
- A) Sosyometri  
B) Olay inceleme  
C) Anket  
D) Mülakat
20. Yağmacılar, fanatik spor taraftarları, linç girişiminde bulunan topluluklar aşağıdaki kalabalık türlerinden hangisine örnektir?
- A) Sıradan  
B) Etkin  
C) İzleyici ve dinleyici  
D) Gösteri



1. Aşağıdakilerden hangisi mülakatın özelliklerinden biridir?

- A) Mülakatı hazırlayanın, aldığı cevapları yazıya dönüştürürken kendi yorumunu katması
- B) Her kesimden kişilerle yapılması
- C) Öğretici ve ufuk açıcı olması
- D) Ayrıntıya girilmesi

2. Atatürk'ün "Söylev" adlı eserinde en çok üzerinde durduğu dönem aşağıdakilerden hangisidir?

- A) Cumhuriyetin ilanı
- B) Osmanlı'nın son dönemleri
- C) Çanakkale savaşları
- D) Kurtuluş Savaşı yılları

3. Aşağıdakilerden hangisi Türk edebiyatındaki tanınmış mülakat yazarlarından biri değildir?

- A) Mustafa Baysal
- B) İbrahim Çallı
- C) Hikmet Feridun Es
- D) Sermat Sami Uysal

4. Röportajla ilgili aşağıdaki ifadelerden hangisi yanlıştır?

- A) Röportajı yapan kişi kendi görüşlerini röportaja katmaz.
- B) Röportajcı gördükleri ve izlenimleriyle yetinmeyip araştırma ve inceleme de yapar.
- C) Röportajcının amacı konuyu çarpıtmadan belgesel olarak okuyucuya sunmak ve okuyucuyu konunun içinde yaşatmaktır.
- D) Röportajlar okuyucunun dikkatini çekecek ve onları bazı konularda düşündürecek biçimde düzenlenmelidir.

5. Cumhuriyet döneminin en büyük konuşmacısı aşağıdakilerden hangisidir?

- A) Bekir Sıtkı
- B) Halide Edip
- C) Mustafa Kemal Atatürk
- D) Peyami Safa

6. Aşağıdakilerden hangisi konularına göre söylev çeşitlerinden biridir?

- A) Şiirsel söylev
- B) Hukuksal söylev
- C) Görsel söylev
- D) Sosyal söylev

7. Bireysel ve toplumsal sorunları dini açıdan yorumlayan söylev türüne ne ad verilir?

- A) Akademik
- B) Siyasi
- C) İktisadi
- D) Dinsel

8. "Buluşma, görüşme, konuşma" anlamına da gelen metin türü aşağıdakilerden hangisidir?

- A) Mülakat
- B) Söylev
- C) Nutuk
- D) Röportaj

9. "Tanrı gibi gökte olmuş Türk Bilge Kağanı, bu zamanda oturdum. Sözümü tamamıyla işit. Bilhassa küçük kardeş yeğenim, oğlum, bütün soyum, milletim, güneydeki Şadpıt beyleri, kuzeydeki Tarkat, Buyruk beyleri, Otuz Tatar..."

Yukarıda bir parçası alıntılanan eser aşağıdakilerden hangisidir?

- A) Bugün de Diyorlar ki
- B) Göktürk Yazıtları
- C) Fatih Sultan Mehmet'in Nutku
- D) İstiklal Kulesi Yazıtları

10. "Türk Milleti! Kurtuluş Savaşı'na başladığımızın on beşinci yılındayız. Bugün cumhuriyetimizin onuncu yılını doldurduğu en büyük bayramdır. Kutlu olsun!"

Yukarıda bir parçası alıntılanan Atatürk'ün konuşmasının türü aşağıdakilerden hangisidir?

- A) Nesir
- B) Tirad
- C) Hatırat
- D) Nutuk

11. Aşağıdakilerden hangisi sözlü anlatım türlerinden biri değildir?

- A) Röportaj
- B) Deneme
- C) Mülakat
- D) Söylev

12. Söylev türünün ilk örnekleri nerede görülmüştür?

- A) Keltler ve Vikingler'de
- B) Mısır ve İskenderiye'de
- C) Eski Yunan ve Roma'da
- D) Floransa ve Sicilya'da

13. Aşağıdakilerin hangisinde "-ki" eki ünlü uyumlarına uymuştur?

- A) dünkü
- B) kitaptaki
- C) sokaktaki
- D) taştaki

14. "Gerçek Bir Yeryüzü Cenneti Sapanca" başlıklı röportajın türü aşağıdakilerden hangisidir?

- A) Belgesel
- B) Gezi yazısı
- C) Eşyayı konu alan
- D) Bir yeri konu alan

15. Bilimsel toplantılarda ilim ve fen insanların yaptıkları söylev türüne ne ad verilir?

- A) İktisadi söylev
- B) Akademik söylev
- C) Siyasi söylev
- D) Hukuksal söylev

16. Aşağıdakilerden hangisi hatip anlamındadır?

- A) Sufiör
- B) Mülakatçı
- C) Söylevci
- D) Şair

17. "Yüz bin okur tarafından bir kez okunmak mı istersiniz yoksa bir okur tarafından yüz bin kez mi ( ) Bu soruya Paul Valery şu yanıtı verir ( ) "Yüz bin okur tarafından yüz bin kez okunmak isterim ( )"

Yukarıdaki parçada parantez ile belirtilen yerlere sırasıyla aşağıdaki noktalama işaretlerinden hangileri getirilmelidir?

- A) (?) (:) (.)
- B) (.) (:) (!)
- C) (?) (.) (!)
- D) (?) (...) (.)

18. Röportajın sağlam bir düşünce ve teze dayanması yönüyle benzerlik gösterdiği tür aşağıdakilerden hangisidir?

- A) Deneme
- B) Makale
- C) Nutuk
- D) Fıkra

19. Aşağıdaki yazar ve eser eşleştirmelerinden hangisi yanlıştır?

- A) Yaşar Nabi Nayır- Edebiyatçılarımız Konuşuyor
- B) Fikret Otyam- Ha Bu Diyar
- C) Yaşar Kemal- Peri Bacaları
- D) Necmi Onur- Ustalarla Konuşmalar

20. Söylevle ilgili aşağıdaki ifadelerden hangisi yanlıştır?

- A) Söylev etkili ve heyecanlı cümlelerle bitirilmelidir.
- B) Konuşmacı vurgu ve tonlamalara da dikkat etmelidir.
- C) Konuşmada jest, mimik ve hareket olmamalıdır.
- D) Konuşmacı dinleyicilerin zevk, kültür düzeyleri ve gereksinimlerini göz önünde bulundurmalıdır.

1. "Musavver Malumat" adlı dergide yayımlanan şiiri ile Türk edebiyatında abes-muktebes tartışmasının çıkmasına neden olan şair aşağıdakilerden hangisidir?
  - A) Cenap Şahabettin
  - B) Hüseyin Suat
  - C) Hasan Âsaf
  - D) Tevfik Fikret
2. Duygudan çok tasvire, düşünceye, biçim ve söyleyiş güzelliğine önem veren "sanat için sanat" görüşünü benimseyen, realizm akımının şiirdeki biçimine ne ad verilir?
  - A) Romantizm
  - B) Parnasizm
  - C) Sembolizm
  - D) Natüralizm
3. Aşağıdakilerden hangisi Tevfik Fikret'in şiir sanatının özelliklerinden biri değildir?
  - A) Duygu ve düşüncelerini beyit yerine dize içerisinde tamamlaması
  - B) Sone, terzarima gibi nazım şekillerini kullanması
  - C) Türkçeyi aruz ölçüsüne ustalıkla uygulaması
  - D) Bütün eserlerinde yalın bir dil kullanması
4. "Türk Edebiyatında İlk Mutasavvıflar" adlı eser aşağıdaki yazarlardan hangisine aittir?
  - A) Reşat Nuri Güntekin
  - B) Tevfik Fikret
  - C) Ziya Gökalp
  - D) Fuat Köprülü
5. Aşağıdakilerden hangisi Ziya Gökalp'in eserlerinden biri değildir?
  - A) Malta Mektupları
  - B) Türkçülüğün Esasları
  - C) Göl Saatleri
  - D) Altın Işık
6. Aşağıdaki ideolojilerden hangisi Osmanlı Devleti'nin gücünü Türk Tarihi ve Türk Kültüründen olması, "Türk ulusu" fikrinin yayılması düşüncesine dayanır?
  - A) Batıcılık
  - B) Türkçülük
  - C) Osmanlıcılık
  - D) İslamcılık

7. Türk edebiyatında "Han Duvarları" ve "Çoban Çeşmesi" şiirleriyle tanınan; sade dil ve hece ölçüsünü ustalıkla kullanan; fıkra, manzum oyun, roman türünde de eser veren sanatçı aşağıdakilerden hangisidir?
  - A) Mehmet Emin Yurdakul
  - B) Yahya Kemal Beyatlı
  - C) Ahmet Hikmet Müftüoğlu
  - D) Faruk Nafiz Çamlıbel
8. Eserde kuşaklar arası çatışma işlenmiştir. Batılılaşmayı yanlış anlayanların sorumsuz davranışları yerilmektedir. Eski devri temsil eden Naim Efendi'nin konaktan ayrılmamak için verdiği mücadele anlatılmaktadır.
 

**Yukarıda sözü edilen eser aşağıdakilerden hangisidir?**

  - A) Kiralık Konak
  - B) Yüzakı
  - C) Yaban
  - D) Sinekli Bakkal
9. Klasik olay hikâyesi tarzında yazan, Ömer Seyfettin'in de örnek aldığı Fransız yazar aşağıdakilerden hangisidir?
  - A) Montaigne
  - B) Moliere
  - C) Guy de Maupassant
  - D) Voltaire
10. Türk edebiyatının ilk psikolojik romanı olan "Eylül" aşağıdaki yazarlardan hangisine aittir?
  - A) Mehmet Rauf
  - B) Ahmet Vefik Paşa
  - C) Recaizade Mahmut Ekrem
  - D) Namık Kemal
11. Aşağıdakilerden hangisi Halide Edip Adivar'ın eserlerinden biri değildir?
  - A) Ateşten Gömlek
  - B) Kalp Ağrısı
  - C) Türkün Ateşle İmtihanı
  - D) Piyale

12. Türk Edebiyatında nazmı nesre yaklaştırmada başarıya ulaşan yazarlar aşağıdakilerden hangisinde birlikte ve doğru olarak verilmiştir?
- A) Ömer Seyfettin – Ali Canip Yöntem  
B) Halit Ziya – Mehmet Rauf  
C) Ahmet Haşim – Yahya Kemal  
D) Mehmet Âkif Ersoy – Tevfik Fikret
13. Döneminin "Fikri hür, irfanı hür, vicdanı hür şair"i Tevfik Fikret'in çocuklar için sade bir dille ve hece ölçüsüyle yazdığı şiir kitabı aşağıdakilerden hangisidir?
- A) Handan  
B) Şermin  
C) Nemide  
D) Feride
14. Cenap Şehabettin'in ilk şiirinin yayımlandığı gazete aşağıdakilerden hangisidir?
- A) Vatan  
B) İkdam  
C) Saadet  
D) Hizmet
15. Eserlerinden bazıları "Kırmızı Fesler, Ruh-ı Kemal, Ordunun Defteri, Baria" olan Servet-i Fünûn Dönemi içerisinde şair olarak bilinen, "Şiirimiz" adıyla Servet-i Fünûn dergisinde yayımladığı uzun makalesinde topluluğun sanat anlayışını ve eleştirilerini dile getiren sanatçı aşağıdakilerden hangisidir?
- A) Cenap Şehabettin  
B) Ali Ekrem Bolayır  
C) Mehmet Rauf  
D) Tevfik Fikret
16. Servet-i Fünûn dergisi etrafında toplanan şair ve yazarların 1896-1901 yılları arasında oluşturduğu edebî topluluk aşağıdakilerden hangisidir?
- A) Edebiyat-ı Cedide  
B) Fecr-i Âtî  
C) Türk Ocağı  
D) Tanzimat Edebiyatı
17. Aşağıdakilerden hangisi Türk edebiyatında "Beş Hececiler" adıyla anılan yazarlardan biri değildir?
- A) Enis Behiç Koryürek  
B) Ömer Seyfettin  
C) Faruk Nafiz Çamlıbel  
D) Yusuf Ziya Ortaç
18. "Avrupa Mektupları" adlı gezi yazısı aşağıdaki yazarlardan hangisine aittir?
- A) Cenap Şehabettin  
B) Tevfik Fikret  
C) Ahmet Rasim  
D) Ahmet Haşim
19. "Kendi Gök Kubbemiz", "Eski Şiirin Rüzgarıyla", "Aziz İstanbul" adlı eserlerin yazarı aşağıdakilerden hangisidir?
- A) Yahya Kemal Beyatlı  
B) Ahmet Haşim  
C) Cenap Şehabettin  
D) Tevfik Fikret
20. Eserlerini "Safahat" adlı bir kitapta topladı. Manzum hikâyelerinde yoksul insanların yaşamını gerçekçi bir görüşle aktardı. "Toplum için sanat" anlayışını benimsedi.
- Yukarıda sözü edilen sanatçı aşağıdakilerden hangisidir?
- A) Mehmet Rauf  
B) Ziya Gökalp  
C) Mehmet Âkif Ersoy  
D) Ahmet Haşim

1. Kapalı kaplardaki gaz basıncını ölçmeye yarayan alet aşağıdakilerden hangisidir?

- A) Barometre
- B) Manometre
- C) Kalorimetre
- D) Termometre

2. Direnci  $55 \Omega$  olan bir ütü çalıştırıldığında üzerinden geçen akım  $4A$  olduğuna göre; ütünün takıldığı prizın gerilimi kaç voltur?

- A) 25
- B) 55
- C) 110
- D) 220

3. I. Demir, nikel, kobalt gibi maddeleri çeken cisimlere mıknatıs denir.  
II. Akım geçen iletkenlerin çevresinde elektriksel alan oluşur.  
III. Demir çiviye sarıltı telden geçen akım çivinin mıknatıs olmasını sağlar.

Mıknatıslıkla ilgili yukarıdaki ifadelerden hangileri doğrudur?

- A) Yalnız I
- B) Yalnız II
- C) I ve III
- D) II ve III

4. I. İletkenin uzunluğu ile doğru orantılıdır.  
II. İletkenin kesiti ile ters orantılıdır.  
III. İletkenin cinsine bağlıdır.

İletkenlerin elektriksel direnci ile ilgili yukarıdaki ifadelerden hangileri doğrudur?

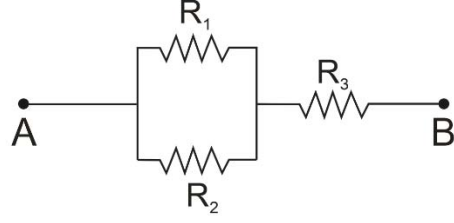
- A) Yalnız I
- B) Yalnız II
- C) I ve II
- D) I,II ve III

5. Bahçe sulama esnasında bazen hortumun ucu sıkılarak suyun bahçenin uzak yerlerine fışkırtılması sağlanır.

Buna göre, bu olay aşağıdaki ilkelerden hangisine göre gerçekleşir?

- A) Bernoulli
- B) Torricelli
- C) Pascal
- D) Archimedes

6.



Yukarıdaki elektrik devresindeki A ve B noktaları arasında bağlanan  $R_1$ ,  $R_2$  ve  $R_3$  dirençlerinin bağlantı şekilleri ile ilgili olarak aşağıdaki ifadelerden hangisi doğrudur?

- A)  $R_1$  ve  $R_2$  seri,  $R_3$  onlara paralel bağlanmıştır.
- B)  $R_1$  ve  $R_2$  paralel,  $R_3$  onlara seri bağlanmıştır.
- C) Üçü birbirine paralel bağlıdır.
- D) Üçü birbirine seri bağlıdır.

7. Boyları ve kesit alanları eşit üç nikrom telden her birinin direnci  $5 \text{ ohm}(\Omega)$  'dur. Bu üç telin uç uca eklenmesiyle oluşan yeni telin direnci kaç  $\text{ohm}(\Omega)$  olur?

- A) 5
- B) 7,5
- C) 10
- D) 15

8. Suyun derinliğini basınç değişiminden faydalanarak ölçmeye yarayan araç aşağıdakilerden hangisidir?

- A) Manometre
- B) Batimetre
- C) Barometre
- D) Termometre

9. Bir ampulun uçlarına  $8 \text{ voltluk (V)}$  gerilim uygulanınca  $4 \text{ amper (A)}$  şiddetinde akım geçmektedir.

Buna göre, ampulun direnci kaç  $\Omega$  (ohm) dur?

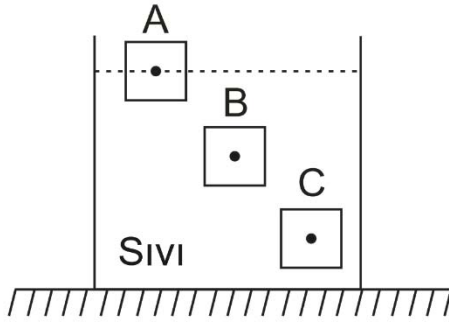
- A) 0,5
- B) 1,5
- C) 2
- D) 2,5

10. Her birinin direnci  $10 \Omega$  (ohm) olan üç dirençten ikisi birbirine paralel, diğer direnç ise paralel bağlanan bu iki dirence seri olarak bağlanmıştır.

Buna göre, eşdeğer direnç kaç  $\Omega$  (ohm) dur?

- A) 15  
B) 20  
C) 25  
D) 30

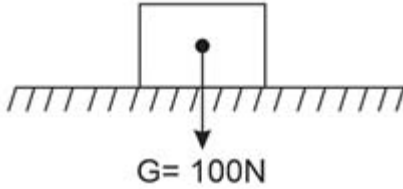
11.



Yukarıdaki şekilde sıvı içerisinde yüzen eşit kütleli A, B ve C cisimlerine etki eden kaldırma kuvvetinin  $F_A$ ,  $F_B$  ve  $F_C$  arasındaki büyüklük ilişkisi aşağıdakilerden hangisidir?

- A)  $F_A > F_B = F_C$   
B)  $F_A = F_B = F_C$   
C)  $F_A = F_B > F_C$   
D)  $F_A > F_B > F_C$

12.



Yukarıdaki şekilde görüldüğü gibi ağırlığı 100N olan katı bir cisim  $0,5m^2$  lik yatay bir zemin üzerinde oturmaktadır.

Buna göre cismin zemin üzerine uyguladığı basınç kaç  $N/m^2$  'dir?

- A) 200  
B) 250  
C) 300  
D) 350

13. I. Bir yüzeye dik olarak etki eden kuvvete basınç denir.  
II. Sıvılar, üzerlerine uygulanan kuvvetin büyüklüğünü değiştirmeden aynen iletir.  
III. Bir kuvvetin etki ettiği yüzey alanı küçüldükçe o kuvvetin oluşturduğu basınç büyür.

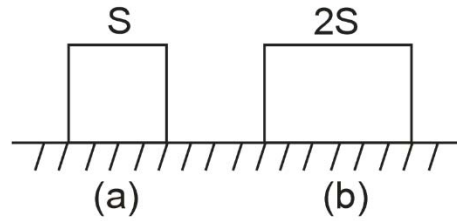
Basınç ile ilgili yukarıdaki ifadelerden hangileri doğrudur?

- A) Yalnız I  
B) Yalnız II  
C) I ve III  
D) II ve III

14. Gücü 30 W olan bir elektrik motorunun 5 dakikada harcadığı enerji kaç joule(J) 'dur?

- A) 500  
B) 900  
C) 6000  
D) 9000

15.



Yukarıdaki şekilde yüzey alanları S ve 2S olan ağırlıkları eşit küp ve dikdörtgenler prizması şeklindeki kutular a ve b' deki gibi dururken yatay düzleme yaptığı basınçlar sırasıyla  $P_1$  ve  $P_2$  'dir.

Buna göre  $P_1 / P_2$  oranı kaçtır?

- A) 1  
B) 2  
C) 3  
D) 4

16. Ortalama öz kütlesi  $1g/cm^3$  olan bir havuzdaki suyun yüzeyinden 1,5 m aşağıdaki su basıncı kaç pascal (Pa) 'dır?  
(Yer çekimi alan şiddetini,  $g = 10m/s^2$  alınız.)

- A) 2000  
B) 5000  
C) 10000  
D) 15000

17. Aşağıdaki maddelerden hangisi iletkendir?

- A) Bakır
- B) Cam
- C) Tahta
- D) Ebonit

18. Akışkanların kaldırma kuvvetiyle ilgili ilkeye ne ad verilir?

- A) Bernoulli ilkesi
- B) Pascal ilkesi
- C) Archimedes ilkesi
- D) Newton ilkesi

19. Uluslararası Birim Sistemi(SI)'nde basınç birimine ne ad verilir?

- A) Newton
- B) Pascal
- C) Watt
- D) Joule

20. Dirençleri sırasıyla  $5\Omega$  (ohm) ,  $3\Omega$  (ohm) ve  $7\Omega$  (ohm) olan üç ampul seri bağlanarak uçları arasındaki potansiyel farkı 15 volt (V) olan bir üreticinin iki kutbu arasına bağlanmıştır.

**Buna göre, dirençlerden geçen akım kaç amper(A) dir?**

- A) 1
- B) 2
- C) 2,5
- D) 3

1. Aşağıdaki reaksiyonlardan hangisi gümüş ayna tepkimesidir?

- A)  $\text{CH}_3-\text{C}=\text{O} + 2\text{Cu}^{2+} + 4\text{OH}^- \rightarrow \text{CH}_3-\text{C}(\text{OH})=\text{O} + \text{Cu}_2\text{O} + 2\text{H}_2\text{O}$
- B)  $\text{CH}_3-\text{C}=\text{O} \xrightarrow{\text{KMnO}_4/\text{OH}^-} \text{CH}_3-\text{C}(\text{OH})=\text{O}$
- C)  $\text{H}-\text{C}=\text{O} \xrightarrow[\text{Fehling/Tollens}]{\text{NH}_3} \text{H}-\text{C}(\text{OH})=\text{O}$
- D)  $\text{CH}_3-\text{C}=\text{O} + 2\text{Ag}^+ + 2\text{OH}^- \xrightarrow{\text{NH}_3} \text{CH}_3-\text{C}(\text{OH})=\text{O} + 2\text{Ag} + \text{H}_2\text{O}$

2. Aşağıdakilerden hangisi sekonder amin bileşiğidir?

- A)  $\text{CH}_3-\text{NH}-\text{CH}_3$
- B)  $\text{CH}_3-\text{CH}_2-\text{N}(\text{CH}_3)-\text{CH}_3$
- C)  $\text{CH}_3-\text{NH}_2$
- D)  $\text{NH}_3$

3. Aşağıdakilerden hangisi eter bileşiklerinden biri değildir?

- A)  $\text{CH}_3-\text{O}-\text{CH}_2-\text{CH}_3$
- B)  $\begin{array}{c} \text{O} \\ \diagup \quad \diagdown \\ \text{CH}_2 \quad \text{CH}_2 \\ | \quad | \\ \text{CH}_2-\text{CH}_2 \end{array}$
- C)  $\text{CH}_3-\text{CH}(\text{OH})-\text{CH}_3$
- D)  $\text{CH}_3-\text{CH}(\text{CH}_3)-\text{O}-\text{CH}_3$

4. Aşağıdaki reaksiyonlardan hangisinde yer alan ürün Markovnikov kuralı doğrultusunda oluşmaz?

- A)  $\text{CH}_3-\text{CH}=\text{CH}_2 + \text{Cl}_2 \rightarrow \text{CH}_3-\text{CH}(\text{Cl})-\text{CH}_2(\text{Cl})$
- B)  $\text{CH}_3-\text{CH}=\text{CH}_2 + \text{H}_2 \rightarrow \text{CH}_3-\text{CH}_2-\text{CH}_3$
- C)  $\text{CH}_3-\text{CH}=\text{CH}_2 + \text{H}_2\text{O} \rightarrow \text{CH}_3-\text{CH}(\text{OH})-\text{CH}_3$
- D)  $\text{CH}_3-\text{CH}=\text{CH}_2 + \text{HCl} \rightarrow \text{CH}_3-\text{CH}_2-\text{CH}_2-\text{Cl}$

5. Aşağıdaki karboksilik asitlerden hangisi yağ asididir?

- A) Etanoik asit
- B) Propandioik asit
- C) Benzoik asit
- D) Pentanoik asit


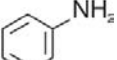

6. Aşağıdakilerden hangisi alkollerin elde edilme yollarına ait reaksiyonlardan biridir?

- A)  $\text{CH}_3-\text{CH}_2-\text{OH} + \text{HCl} \xrightarrow[\text{Lucas ayracı}]{\text{ZnCl}_2} \text{CH}_3-\text{CH}_2-\text{Cl} + \text{H}_2\text{O}$
- B)  $\text{CH}_3-\text{CH}_2-\text{OH} + \text{HBr} \xrightarrow{\text{H}_2\text{SO}_4} \text{CH}_3-\text{CH}_2-\text{Br} + \text{H}_2\text{O}$
- C)  $\text{CH}_3-\text{CH}_2-\text{Br} + \text{NaOH} \xrightarrow{\text{ısı}} \text{CH}_3-\text{CH}_2-\text{OH} + \text{NaBr}$
- D)  $\text{CH}_3-\text{OH} + \text{CH}_3-\text{C}(\text{O})-\text{O}-\text{CH}_3 \xrightarrow{\text{H}_2\text{SO}_4} \text{CH}_3-\text{C}(\text{O})-\text{O}-\text{CH}_3 + \text{H}_2\text{O}$

7. Aşağıdakilerden hangisi 4-etil-2-metilheptan bileşiğidir?

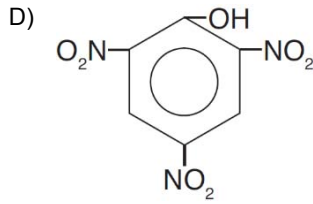
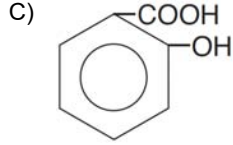
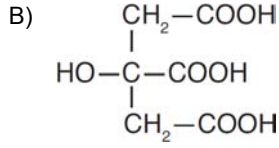
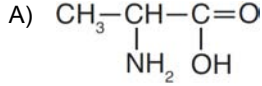
- A)  $\begin{array}{c} \text{CH}_3\text{CH}-\text{CH}_2-\text{CH}_2 \\ | \quad | \\ \text{CH}_3 \quad \text{CH}_2-\text{CH}_3 \end{array}$
- B)  $\text{CH}_3-\text{CH}_2-\text{CH}(\text{CH}_3)-\text{CH}(\text{CH}_2\text{CH}_3)-\text{CH}_2\text{CH}_3$
- C)  $\text{CH}_3-\text{CH}_2-\text{CH}_2-\text{CH}(\text{CH}_2\text{CH}_3)-\text{CH}_2-\text{CH}_2-\text{CH}_3$
- D)  $\text{CH}_3\text{CH}_2\text{CH}_2\text{CH}(\text{CH}_3)-\text{CH}_3$

8. Aşağıdakilerden hangisi aromatik hidrokarbon bileşiğidir?

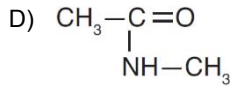
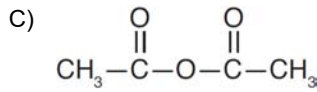
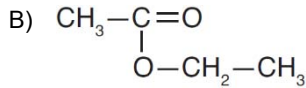
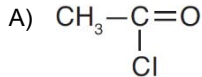
- A) 
- B) 
- C) 
- D)  $\text{CH}\equiv\text{C}-\text{C}\equiv\text{C}-\text{C}\equiv\text{CH}$



9. Aşağıdakilerden hangisi aminoasit bileşigidir?



10. Aşağıdaki karboksilik asit türevi bileşiklerden hangisi ester bileşigidir?



11. Bir sıvının yüzey gerilimini düşüren maddelere ne ad verilir?

- A) Hidrofob grup  
 B) Yüzey gerilimi  
 C) Yağ asidi  
 D) Yüzey aktif madde

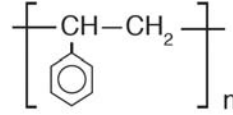
12. Ham yağa uygulanan bütün işlemler sonucunda elde edilen yağa ne ad verilir?

- A) Vinterizasyon  
 B) Rafine yağ  
 C) Binterize yağ  
 D) Prina

13. Tek bir çeşit monomerden oluşan polimerlere ne ad verilir?

- A) Homopolimer  
 B) Düşük polimerler  
 C) Kopolimer  
 D) Yüksek polimerler

14.



Yukarıda formülü verilen bileşik aşağıdakilerden hangisidir?

- A) Politetrafloroetilen  
 B) Polietilen  
 C) Polistiren  
 D) Polivinilklorür

15. Çeşitli bitkisel veya hayvansal yağların kısmi olarak hidrojene edilmeleri sonucunda elde edilen sertleştirilmiş rafine yağlardan veya bu yağlara çeşitli rafine bitkisel yağların karıştırılmasından elde edilen ve içerisinde emülsiyon halinde su, süt, süt tozu ve peynir altı suyu tozu ile katkı maddelerinin bulunduğu ürüne ne ad verilir?

- A) Bitkisel yağ  
 B) Margarin  
 C) Hayvansal yağ  
 D) Rafine yağ

16. Sakkarozun hidrolizi sonucu oluşan monosakkaritler aşağıdakilerden hangisinde birlikte ve doğru olarak verilmiştir?

- A) Fruktoz + Fruktoz
- B) Maltoz + Dekstrin
- C) Glukoz + Glukoz
- D) Glukoz + Fruktoz

17. Aşağıdakilerden hangisi aminoasit polimeri olarak adlandırılır?

- A) Peptit bağı
- B) Alanin
- C) Protein
- D) Dipeptit

18. Hidrojenasyon sırasında sıvı yağlardaki bazı doymamış yağ asidi birimlerinin yapısal değişikliğe uğraması sonucu oluşan yağlara ne ad verilir?

- A) Sıvı yağ
- B) Trans yağ
- C) Katı yağ
- D) Trigliserit

19. Petrolün gaz bileşenlerinin molekülündeki karbon atom sayısı aralığı aşağıdakilerden hangisinde doğru olarak verilmiştir?

- A) C<sub>1</sub> – C<sub>4</sub>
- B) C<sub>5</sub> – C<sub>7</sub>
- C) C<sub>10</sub> – C<sub>16</sub>
- D) C<sub>17</sub> – C<sub>19</sub>

20. Yüksek karbonlu yağ asitlerinin sodyum veya potasyum tuzlarına ne ad verilir?

- A) Sabun
- B) Gliserin
- C) Kir
- D) Yağ asitleri

1. Aşağıdakilerden hangisi ribonükleotitlerin yapısına yer almaz?

- A) Sülfat
- B) Fosfat
- C) 5C'lu şeker
- D) Azotlu organik baz

2. RNA'da timin bazı yerine yer alan bazı aşağıdakilerden hangisidir?

- A) Adenin
- B) Urasil
- C) Sitozin
- D) Guanin

3. RNA'nın yapısında bulunan 5C'lu şeker aşağıdakilerden hangisidir?

- A) Glikoz
- B) Deoksiriboz
- C) Riboz
- D) Maltoz

4. Aşağıdakilerden hangisi mRNA'daki amino asitleri sitoplazmadan ribozoma taşır?

- A) rRNA
- B) tRNA
- C) cDNA
- D) DNA

5. Aşağıdaki kavramlardan hangisi organizmanın kromozomlarında bulunan genetik bilginin tamamını ifade eder?

- A) DNA
- B) Gen
- C) Kodon
- D) Genom

6. Genlerin özünü oluşturan kalıtsal maddenin DNA olduğu aşağıdakilerden hangisi ile yapılan çalışmalar sonucunda keşfedilmiştir?

- A) *Streptococcus pneumoniae* bakterisi
- B) Maya mantarı
- C) Akyuvar çekirdekleri
- D) Balık spermi çekirdekleri

7. DNA üzerinde ortalama 1500 deoksiribonükleotitten oluşan ve bir protein sentezinden sorumlu olan bölgelere ne ad verilir?

- A) Riboz
- B) Adenin
- C) RNA
- D) Gen

8. İstenen özellikte bir genin çeşitli tekniklerle bir canlıdan alınarak başka bir canlıya aktarılmasıyla uğraşan bilim dalı aşağıdakilerden hangisidir?

- A) Biyoinformatik
- B) Proteomik
- C) Genetik mühendisliği
- D) Genomik

9. DNA'da bir genin bir tek nükleotit zincirindeki genetik bilgide bir amino asidi şifreleyen üçlü nükleotit dizisine ne ad verilir?

- A) Kodon
- B) Genetik kod
- C) Triplet
- D) Antikodon

10. DNA'da bulunan genetik bilgiden mRNA sentezlenmesine ne ad verilir?

- A) Translasyon
- B) Santral dogma
- C) Protein sentezi
- D) Transkripsiyon

11. Aşağıdakilerden hangisi yalancı meyveler arasında yer alır?

- A) Erik
- B) Üzüm
- C) Ayva
- D) Şeftali

12. Diğer bir ismi "pek doku" olan yapı aşağıdakilerden hangisidir?

- A) Kollenkima
- B) Parenkima
- C) Sklerenkima
- D) Ksilem

13. Aşağıdakilerden hangisi tek çenekli bitkilerde kökün enine kesitinde endodermisin dış kısmında yer alır?

- A) Merkezi silindir
- B) Floem
- C) Ksilem
- D) Korteks

14. Aşağıdaki bitkilerden hangisinin kökü besin olarak tüketilir?

- A) Buğday
- B) Pırasa
- C) Pancar
- D) Soğan

15. Aşağıdakilerden hangisi görevlerine göre parankima hücre gruplarından biri değildir?

- A) Depo
- B) Havalandırma
- C) Özümleme
- D) Aktarma

16. Aşağıdaki hücrelerden hangisinin farklılaşmasıyla emergensler meydana gelir?

- A) Sklerenkima
- B) Epidermis
- C) Parankima
- D) Kolenkima

17. Aşağıdakilerden hangisi büyümeyi ve gelişmeyi teşvik eden bitki hormonlarından biri değildir?

- A) Etilen
- B) Oksin
- C) Gibberelin
- D) Sitokinin

18. Aşağıdakilerden hangisi bitkilerde sekonder büyümeyi sağlar?

- A) Apikal meristem
- B) Sklerenkima
- C) Lateral meristem
- D) Havalandırma parankiması

19. Bitkilerin gün ve gece uzunluğuna verdikleri biyolojik tepkiye ne ad verilir?

- A) Fotoperiyodizm
- B) Geotropizma
- C) Kemotropizma
- D) Fotonasti

20. Aşağıdakilerden hangisi stoma ve lentisellerin ortak özelliklerinden biridir?

- A) Devamlı açık olmaları
- B) Örtü doku elemanı olmaları
- C) Peridermde bulunmaları
- D) Hücrelerinin canlı olmaları

1 - 3. soruları aşağıdaki bilgilere göre ve birbirinden bağımsız olarak cevaplayınız.

Bir araştırma şirketi tarafından uygulanan bir anketin başlangıçtaki maliyeti 4800 TL olup anketin uygulandığı birey başına maliyeti 9 TL'dir. Araştırma şirketinin uyguladığı bu anketten elde edeceği kazanç ise anketin uygulandığı birey başına 15 TL'dir.

- Buna göre, araştırma şirketinin zarar etmemesi için anketi uygulaması gereken birey sayısı en az kaçtır?
  - 800
  - 850
  - 900
  - 950
- Yukarıdaki bilgilere göre, anketin uygulandığı birey sayısı 2150 olduğunda, kaç TL kâr elde edilir?
  - 7900
  - 8100
  - 8300
  - 8500
- Araştırma şirketinin 2700 TL kâr elde edebilmesi için anketin uygulanması gereken birey sayısı kaçtır?
  - 1200
  - 1250
  - 1300
  - 1350

4 - 6. soruları aşağıdaki bilgilere göre ve birbirinden bağımsız olarak cevaplayınız.

Bir şirket, çalışanlarına maaş ödemeleri için iki farklı tarife sunmaktadır.

- Tarife:** Aylık 1400 TL sabit ücret ve çalışılan her bir gün için 35 TL ödenecektir.
- Tarife:** Aylık 800 TL sabit ücret ve çalışılan her bir gün için 60 TL ödenecektir.

- Buna göre, her iki tarifeye göre aylık maaş miktarının aynı olduğu durumda, her bir çalışanın aldığı maaş kaç TL olur?
  - 2200
  - 2220
  - 2240
  - 2260

- Yukarıdaki bilgilere göre, birinci tarifeyi tercih eden bir çalışan 19 gün çalıştığı ayda kaç TL maaş alır?
  - 1960
  - 1995
  - 2030
  - 2065

- Yukarıdaki bilgilere göre, ikinci tarifeyi tercih eden bir çalışan 2420 TL maaş aldığı ayda kaç gün çalışmıştır?
  - 24
  - 25
  - 26
  - 27

- $10^{17} - 4 \cdot 10^{16} + 200 \cdot 10^{14}$  işleminin sonucu kaçtır?
  - $6 \cdot 10^{16}$
  - $8 \cdot 10^{16}$
  - $2 \cdot 10^{17}$
  - $4 \cdot 10^{17}$

- $(0,5)^{24} + (16)^{-6}$  işleminin sonucu kaçtır?
  - $2^{48}$
  - $2^{26}$
  - $2^{-23}$
  - $2^{-25}$

- $6^{2x} \cdot 8^{2x} \cdot 9^{3x} = 6^{40}$  eşitliğini sağlayan  $x$  değeri kaçtır?
  - 2
  - 3
  - 4
  - 5

- Başlangıçtaki miktarı 136 gram olan bir maddeden 36 yıl sonra 17 gram kaldığına göre, bu maddenin yarı ömrü kaç yıldır?
  - 6
  - 9
  - 12
  - 18

11.  $(125)^{2n} = (625)^6$  eşitliğini sağlayan n değeri kaçtır?  
 A) 4  
 B) 3  
 C) 2  
 D) 1
12. x, y ve z pozitif tamsayılar olmak üzere,  $2^x \cdot 3^y \cdot 5^z = 540$  eşitliğini sağlayan x, y ve z değerlerinin toplamı kaçtır?  
 A) 5  
 B) 6  
 C) 8  
 D) 9
13. Bir bakteri kolonisinde bulunan bakterilerin sayısı bir saatte 3 katına çıkıyor. 5 saat sonra bakteri sayısı 972 olduğuna göre, başlangıçtaki bakteri sayısı kaçtır?  
 A) 2  
 B) 3  
 C) 4  
 D) 6
14.  $(0,125)^{-6} \cdot (32^3)^2$  işleminin sonucu kaçtır?  
 A)  $2^{64}$   
 B)  $2^{48}$   
 C)  $2^{36}$   
 D)  $2^{12}$
15. Bir bankaya yıllık %5 bileşik faizle yatırılan 8000 TL 3 yıl sonra kaç TL'ye ulaşır?  
 A) 9261  
 B) 9357  
 C) 9425  
 D) 9519
16. Aşağıdakilerden hangisi bir üstel fonksiyon değildir?  
 A)  $1^x$   
 B)  $4^{\frac{x}{3}}$   
 C)  $3^{-x}$   
 D)  $5^{x+4}$
17. Gerçek sayılarda tanımlı  $f(x)=5x + 7$  doğrusal fonksiyonunun değişim oranı (hızı) kaçtır?  
 A) 5  
 B) 6  
 C) 7  
 D) 12
18.  $f(x) = k \cdot 3^{2x}$  fonksiyonunun grafiği  $(-1, 4)$  noktasından geçtiğine göre, k kaçtır?  
 A) 18  
 B) 24  
 C) 36  
 D) 48
19. Bir öğrenci işlemci hızı 1,6 MHz olan eski bilgisayarının yerine, işlemci hızı 3,2 GHz olan yeni bir bilgisayar alıyor.  
 Buna göre, yeni alınan bilgisayarın hızı, eski bilgisayarın hızının kaç katıdır?  
 (1 GHz= $10^9$  Hz, 1 MHz= $10^6$  Hz)  
 A) 2  
 B) 20  
 C) 200  
 D) 2000
20.  $P = (8)^4 \cdot (25)^7$  ifadesi kaç basamaklı bir sayı belirtir?  
 A) 11  
 B) 12  
 C) 13  
 D) 14

1. Girdilerin fayda-maliyet analizini yapmak aşağıdaki verimlilik ilkelerinden hangisini ifade eder?
- A) Analitiklik ilkesi  
B) Farkında olmak ilkesi  
C) Uygunluk ilkesi  
D) Teknik olma ilkesi
2. Aşağıdakilerden hangisi üretim faktörlerinden biri değildir?
- A) Emek  
B) Sermaye  
C) Tüketici  
D) Girişimci
3. Mal ve hizmetlerin insan ihtiyaçlarını karşılaması amacıyla kullanılmasına ne ad verilir?
- A) İsrar  
B) Tüketim  
C) Tasarruf  
D) Fayda
4. İnsan ihtiyaçlarını karşılamak üzere üretim faktörlerini uygun ortamda bir araya getirerek mal ve hizmet üretimine yönelen kişiye ne ad verilir?
- A) Yönetici  
B) Tacir  
C) Üretici  
D) Distribütör
5. Aşağıdakilerden hangisi ihtiyaçların sınıflandırılmasında ikincil ihtiyaçlar arasında yer almaz?
- A) Sinemaya gitmek  
B) Araba kullanmak  
C) Barınmak  
D) Kitap okumak
6. Verilerin toplanması, organize edilmesi, analiz edilmesi, özetlenmesi, sunulması ve bu verilerin bir sonuca varılabilmesi için kullanılmasında yararlanılan bilim dalı aşağıdakilerden hangisidir?
- A) Antropoloji  
B) Hukuk  
C) Psikoloji  
D) İstatistik
7. İşletmelerin belli bir dönem içinde elde ettiği gelirler ile aynı dönem içinde katlandığı giderler arasındaki olumlu farka ne ad verilir?
- A) Faiz  
B) Kâr  
C) Zarar  
D) Pay
8. İnsanlar arasındaki benzerlik ve farklılıkları göz önüne alarak insanları karşılaştırmalı olarak inceleyen bilim dalı aşağıdakilerden hangisidir?
- A) Hukuk  
B) İstatistik  
C) Antropoloji  
D) İşletme
9. Aşağıdakilerden hangisi işletmenin genel amaçlarından biridir?
- A) Kâr elde etmek  
B) Tüketicilere nitelikli mal ve hizmet sunmak  
C) Personeline yeterli ücret vermek  
D) Uzun vadeli büyümeyi hedef haline getirmek
10. Kâr aşağıdaki değerlendirmelerden hangisinde ölçüt olarak kullanılmaz?
- A) Çalışanlar için özendirici olmasında  
B) İşletmenin büyümesinde  
C) Tüketicilerin tercihlerinde  
D) Üst yönetimin başarı değerlendirmesinde
11. Aşağıdakilerden hangisi sermaye şirketlerinin üstünlüklerinden biridir?
- A) Şirket yönetiminin zaman içerisinde belli bir grubun eline geçebilmesi  
B) Kurulmasının zor ve masraflı olması  
C) Sermayesinin tamamının devlete ait olması  
D) Ortaklık paylarının kolaylıkla devredilebilmesi

12. Bir veya daha çok gerçek veya tüzel kişi tarafından bir ticaret unvanı altında kurulan, esas sermayesi belli olan ve ortaklarının sorumluluğu koydukları ya da koymayı taahhüt ettikleri sermaye ile sınırlı şirkete ne ad verilir?
- A) Limitet şirket  
B) Kollektif şirket  
C) Komandit şirket  
D) Anonim şirket
13. Ticari bir işletmeyi bir ticaret unvanı altında işletmek amacıyla kurulan, şirket alacaklılarına karşı ortaklardan bir veya birkaçının sorumluluğu sınırlanmamış ve diğer ortak veya ortakların sorumluluğu belirli bir sermaye ile sınırlanmış olan şirkete ne ad verilir?
- A) Komandit şirket  
B) Kollektif şirket  
C) Limitet şirket  
D) Anonim şirket
14. Aşağıdakilerden hangisi hizmet işletmelerinin özelliklerinden biri değildir?
- A) İşletmelerin genellikle pazara yakın olması  
B) Üretim ile tüketimin eş zamanlı olması  
C) Ürünlerin soyut olması  
D) Fabrikasyon üretim yapmaları
15. Kazanç paylaşma dışında, kanunlarla yasaklanmamış belirli ve ortak bir amacı gerçekleştirmek üzere, en az yedi gerçek veya tüzel kişinin, bilgi ve çalışmalarını sürekli olarak birleştirmek suretiyle oluşturdukları tüzel kişiliğe sahip kişi topluluklarına ne ad verilir?
- A) Kulüp  
B) Vakıf  
C) Dernek  
D) Kooperatif
16. Çabuk bozulan mallar üreten işletmeler için önemli olan kuruluş yeri faktörü aşağıdakilerden hangisidir?
- A) Özendirme (Teşvik)  
B) Pazara yakınlık  
C) Yerel yönetim imkânları  
D) Atıkların atılması
17. Ticari, sınai, zirai ve mesleki faaliyetleri ile ilgili olarak bir iş yeri açıp faaliyete başlayanların bu faaliyetinden dolayı vergi yükümlülüğü çıkıyorsa aşağıdaki kurumlardan hangisine bildirimde bulunma sorumluluğu vardır?
- A) Kalkınma Bakanlığı  
B) Sosyal Güvenlik Kurumu  
C) Türkiye İş Kurumu  
D) Maliye Bakanlığı
18. Bir termik santralin kömür yataklarına yakın yerlere kurulması durumunda kuruluş yeri seçimini etkileyen faktör aşağıdakilerden hangisidir?
- A) Taşıma  
B) Hammadde  
C) Pazara yakınlık  
D) İşgücü
19. Belirli sosyal risklerin yol açabileceği gelir kayıpları ve gider artışlarına karşı kişilerin güvenliklerinin sağlanmasına ne ad verilir?
- A) Özel güvenlik  
B) Siber güvenlik  
C) İş güvenliği  
D) Sosyal güvenlik
20. Kısa veya uzun vadeli sigorta kolları bakımından adına prim ödenmesi gereken veya kendi adına prim ödemesi gereken kişiye ne ad verilir?
- A) Alt işveren  
B) Sigortalı  
C) İşyeri  
D) İşveren



1. Er legt seine Schlüssel ..... den Schrank.

**Welches Wort passt in die obige Lücke?**

**Cümlede boş bırakılan yeri aşağıdakilerden hangisi tamamlar?**

- A) zwischen  
B) mit  
C) in  
D) links

2. Der Löwe ist .....

**Welches ergänzt die Lücke im obigen Satz?**

**Verilen cümleyi aşağıdakilerden hangisi tamamlar?**

- A) lang und leicht.  
B) groß und kräftig.  
C) schnell aber schwach.  
D) langsam aber laut.

3. .... kann nicht laufen, sondern schleichen.

**Welches Wort passt in die obige Lücke?**

**Cümlede boş bırakılan yeri aşağıdakilerden hangisi doğru şekilde tamamlar?**

- A) Eine Schildkröte  
B) Eine Schlange  
C) Ein Tiger  
D) Ein Pferd

4. Auf welchen Kontinenten lebt der Elefant?

**Welche Antwort passt zur obigen Frage?**

**Verilen sorunun cevabı aşağıdakilerden hangisidir?**

- A) Der Elefant lebt in Afrika und in Asien.  
B) Ein Elefant kann sehr schnell laufen.  
C) Der Elefant ist groß und stark.  
D) Sie wurden in Indien gefunden.

5. .... meinem Geburtstag habe ich eine Schildkröte bekommen.

**Welches Wort passt in die obige Lücke?**

**Cümlede boş bırakılan yeri aşağıdakilerden hangisi doğru şekilde tamamlar?**

- A) Auf  
B) Über  
C) Zu  
D) Von

6. Was bedeutet "keyif" auf Deutsch?

**"keyif" sözcüğünün Almancası aşağıdakilerden hangisidir?**

- A) Die Laune  
B) Die Löffel  
C) Die Ideen  
D) Der Spiegel

7. A: ..... welches Musikinstrument interessierst du dich?  
B: Ich interessiere ..... für die Klarinette.  
A: Wirklich? Ich auch!

**Welche Wörter ergänzen die Lücken im obigen Dialog?**

**Verilen karşılıklı konuşmada boş bırakılan yerleri aşağıdakilerden hangileri tamamlar?**

- A) Mit / uns  
B) Für / mich  
C) An / euch  
D) Zu / mir

8. ...., dass ich in einer Band mitspielen kann.

**Welcher Satz ergänzt die obige Lücke?**

**Verilen cümleyi aşağıdakilerden hangisi tamamlar?**

- A) Das kleine Kind spielt Blockflöte  
B) Jeder kann das doch spielen  
C) Alles Gute für deine Zukunft  
D) Für die Zukunft wünsche ich mir

9. Womit macht ihr Musik?

**Welche Antwort passt zur obigen Frage?**

**Verilen sorunun cevabı aşağıdakilerden hangisidir?**

- A) Wir machen mit der Gitarre Musik.
- B) Ich habe auch einen Computer.
- C) Sie macht immer Musik.
- D) Er hat früher nie Musik gehört.

10. .... die Wortenden in zwei Zeilen am Ende eines Satzes gleich sind, wie z.B. Tag und Sag, ..... ist es ein Reim.

**Welche Wörter passen in die obigen Lücken?**

**Cümlede boş bırakılan yerleri aşağıdakilerden hangisi tamamlar?**

- A) Was / die
- B) Wenn / dann
- C) Wie / damit
- D) Wessen / dessen

11. Für die Eltern war es wichtig, dass die Mädchen fleißig und gehorsam sind.

**Wie lautet der obige Satz auf Türkisch?**

**Verilen cümlelerin Türkçesi aşağıdakilerden hangisidir?**

- A) Aileler için en önemli konu kız çocukların eğitim durumu.
- B) Aileler kız çocuklarını iyi eğitmek istiyordu.
- C) Aileler için kız çocukların çalışkan ve itaatli olması önemliydi.
- D) Aileler kız çocukların daha çalışkan ve itaatli olduklarını savundu.

12. ...., weil wir somit in Kontakt bleiben.

**Welches ergänzt die Lücke im obigen Satz?**

**Verilen cümleyi aşağıdakilerden hangisi tamamlar?**

- A) Familienfeste sind für uns wichtig
- B) In Deutschland wird gefeiert
- C) Die Kinder und Enkelkinder können
- D) Diese Frage ist für mich wichtig

13. freundlich / gehorsam / planen / hilfsbereit

**Welches Wort passt nicht zu den anderen in der obigen Wortgruppe?**

**Verilen sözcük grubuna uymayan aşağıdakilerden hangisidir?**

- A) hilfsbereit
- B) gehorsam
- C) freundlich
- D) planen

14. Çocuklar el ele tutuşuyorlar.

**Wie lautet der obige Satz auf Deutsch?**

**Verilen cümlelerin Almancası aşağıdakilerden hangisidir?**

- A) Die Kinder spielen Klavier.
- B) Die Kinder haben schmutzige Hände.
- C) Die Kinder halten sich Hand in Hand.
- D) Die Kinder müssen früh schlafen.

15. Was wird in der Türkei als Familienfest gefeiert?

**Welche Antwort passt zur obigen Frage?**

**Verilen sorunun cevabı aşağıdakilerden hangisidir?**

- A) Es gibt viele Ähnlichkeiten und Unterschiede zwischen den Türken und den Deutschen.
- B) Ich habe ein Geschenk für meine Schwester gekauft.
- C) In Deutschland gibt es auch religiöse Feste, die gefeiert werden müssen.
- D) In der Türkei wird das Geburtstag als Familienfest gefeiert.

16. Was hält dich fit?

Welche Antwort passt nicht zur obigen Frage?

Aşağıdakilerden hangisi verilen sorunun cevabı olamaz?

- A) Ich esse und schlafe gern.
- B) Ich fahre oft Fahrrad.
- C) Ich spiele jeden Tag Fußball.
- D) Ich gehe jeden Abend laufen.

17. A: Was ..... du, wenn du einen Salat  
.....?

B: Ich brauche einen Kopfsalat, Tomaten und Olivenöl.

Welches ergänzt die Lücken im obigen Dialog?

Verilen karşılıklı konuşmada boş bırakılan yerleri aşağıdakilerden hangisi tamamlar?

- A) hast / hast
- B) willst / essen
- C) kaufst / kochen
- D) brauchst / zubereitest

18. Machst du ..... Sport oder nur selten?

Welches Wort passt nicht in die obige Lücke?

Cümlede boş bırakılan yeri aşağıdakilerden hangisi tamamlamaz?

- A) oft
- B) jeden Tag
- C) immer
- D) manchmal

19. Ein Bund Petersilie.

Wie lautet der obige Satz auf Türkisch?

Verilen cümlenin Türkçesi aşağıdakilerden hangisidir?

- A) Bir yaprak marul.
- B) Bir çeşit mantar.
- C) Bir demet maydanoz.
- D) Bir bağ dereotu.

20. Die Kartoffel / der Paprika / der Kopfsalat / das Omelett / der Pilz

Welches Wort passt nicht zu den anderen in der obigen Wortgruppe?

Verilen sözcük grubuna uymayan aşağıdakilerden hangisidir?

- A) Der Kopfsalat
- B) Das Omelett
- C) Der Pilz
- D) Die Kartoffel

1. Michael said, "I will visit you tomorrow."  
Michael said that he would visit me .....

**Which of the following completes the sentence above?**

**Aşağıdakilerden hangisi yukarıdaki cümleyi doğru olarak tamamlar?**

- A) tomorrow  
B) now  
C) the previous day  
D) the next day

2. David is ..... with his presentation.

**Which of the following completes the sentence above?**

**Aşağıdakilerden hangisi yukarıdaki cümleyi doğru olarak tamamlar?**

- A) busy  
B) crazy  
C) similar  
D) keen

3. Mustafa is extremely ..... at teaching English.

**Which of the following completes the sentence above?**

**Aşağıdakilerden hangisi yukarıdaki cümleyi doğru olarak tamamlar?**

- A) proud  
B) famous  
C) interested  
D) good

4. Clark: "Play with us, Louise"  
Clark told Louise .....

**Which of the following completes the sentence above?**

**Aşağıdakilerden hangisi yukarıdaki cümleyi doğru olarak tamamlar?**

- A) to play with them  
B) to playing with them  
C) to play with us  
D) to playing with us

5. Jenny: "Is it rainy outside?"

**Which of the following is the reported speech form of the direct speech sentence above?**

**Aşağıdakilerden hangisi yukarıdaki dolaysız anlatım cümlesinin dolaylı anlatım biçimidir?**

- A) Jenny wanted to know if it is rainy outside.  
B) Jenny wanted to know was it rainy outside.  
C) Jenny wanted to know if it was rainy outside.  
D) Jenny wanted to know if it did rainy outside.

6. Are you pleased ..... your new car?

**Which of the following completes the sentence above?**

**Aşağıdakilerden hangisi yukarıdaki cümleyi doğru olarak tamamlar?**

- A) at  
B) from  
C) with  
D) on

7. My grandmother's garden is full ..... apple trees.

**Which of the following completes the sentence above?**

**Aşağıdakilerden hangisi yukarıdaki cümleyi doğru olarak tamamlar?**

- A) at  
B) of  
C) on  
D) in

8. Giresun is famous ..... its nuts.

**Which of the following completes the sentence above?**

**Aşağıdakilerden hangisi yukarıdaki cümleyi doğru olarak tamamlar?**

- A) at  
B) for  
C) in  
D) on

9. My friends: "We are in the canteen now"  
My friends said that .....
- Which of the following completes the sentence above?**
- Aşağıdakilerden hangisi yukarıdaki cümleyi doğru olarak tamamlar?**
- A) they are in the canteen now  
B) they were in the canteen then  
C) they have been in canteen now  
D) to be in the canteen now

10. Jack: "I can swim well."  
Jack said that he ..... well.
- Which of the following completes the sentence above?**
- Aşağıdakilerden hangisi yukarıdaki cümleyi doğru olarak tamamlar?**
- A) could swim  
B) swam  
C) is swimming  
D) may swim

11. I was very tired because I ..... for days.
- Which of the following completes the sentence above?**
- Aşağıdakilerden hangisi yukarıdaki cümleyi doğru olarak tamamlar?**
- A) am sleeping  
B) haven't slept  
C) hadn't slept  
D) never sleep

12. Jack: Did you have dinner with your family last night?  
Jane: No, I didn't. They had already ..... eating when I .....

**Which of the following completes the dialogue above?**

**Aşağıdakilerden hangisi yukarıdaki konuşmayı doğru olarak tamamlar?**

- A) finish / arrived  
B) finished / arrived  
C) finished / had arrived  
D) finish / arrive

13. Fred hasn't studied for the exam ..... far.

**Which of the following completes the sentence above?**

**Aşağıdakilerden hangisi yukarıdaki cümleyi doğru olarak tamamlar?**

- A) yet  
B) so  
C) ever  
D) already

14. Mary has been living in this city for five years.

**Which of the following is the Turkish translation of the sentence above?**

**Aşağıdakilerden hangisi yukarıdaki cümlenin Türkçe karşılığıdır?**

- A) Mary 5 yıl önce bu şehirde oturdu.  
B) Mary 5 yıl boyunca bu şehirde oturdu.  
C) Mary 5 yıldır bu evde oturmakta.  
D) Mary 5 yıldır bu şehirde oturuyor.

15. English is an important way to ..... among the world.

**Which of the following completes the sentence above?**

**Aşağıdakilerden hangisi yukarıdaki cümleyi doğru olarak tamamlar?**

- A) communicate
- B) find
- C) connect
- D) need

16. I can't find my keys. I think I ..... them.

**Which of the following completes the sentence above?**

**Aşağıdakilerden hangisi yukarıdaki cümleyi doğru olarak tamamlar?**

- A) am losing
- B) lost
- C) have lost
- D) have lose

17. Kathy had never ..... a penguin before she went to a zoo.

**Which of the following completes the sentence above?**

**Aşağıdakilerden hangisi yukarıdaki cümleyi doğru olarak tamamlar?**

- A) seen
- B) see
- C) has seen
- D) saw

18. The men in the café ..... when the police arrived.

**Which of the following completes the sentence above?**

**Aşağıdakilerden hangisi yukarıdaki cümleyi doğru olarak tamamlar?**

- A) fights
- B) will fight
- C) had fight
- D) had been fighting

19. My mum hasn't cooked our dinner .....

**Which of the following completes the sentence above?**

**Aşağıdakilerden hangisi yukarıdaki cümleyi doğru olarak tamamlar?**

- A) just
- B) since
- C) for
- D) yet

20. Those thieves have been in prison ..... 20 years.

**Which of the following completes the sentence above?**

**Aşağıdakilerden hangisi yukarıdaki cümleyi doğru olarak tamamlar?**

- A) since
- B) ever
- C) for
- D) yet

1. Tu parles très vite, je ..... comprends .....

**Choisissez les mots qui conviennent.**

**Cümledeki boşlukları aşağıdakilerden hangisi doğru şekilde tamamlar?**

- A) rien / ne  
B) ne / personne  
C) personne / ne  
D) ne / rien

2. - Tu vas inviter Paul?  
- Oui, je vais ..... inviter.

**Choisissez le mot qui convient.**

**Yukarıdaki konuşmada boş bırakılan yeri aşağıdakilerden hangisi doğru şekilde tamamlar?**

- A) la  
B) le  
C) l'  
D) lui

3. - Tu prends le train?  
- Non, je ..... le bus.

**Choisissez le mot qui convient.**

**Yukarıdaki konuşmada boş bırakılan yeri aşağıdakilerden hangisi doğru şekilde tamamlar?**

- A) vais  
B) fais  
C) préfère  
D) monte

4. - .....?  
- Devant le cinéma.

**Choisissez la question qui convient.**

**Yukarıdaki konuşmada cevabı gerektiren soru aşağıdakilerden hangisidir?**

- A) Quand viendra-t-il ici  
B) Quand il viendra avec nous  
C) Où avons-nous rendez-vous  
D) Comment va-t-il

5. Il faisait trop froid ..... je suis tombée malade.

**Choisissez le mot qui convient.**

**Cümledeki boşluğu aşağıdakilerden hangisi doğru şekilde tamamlar?**

- A) que  
B) donc  
C) qui  
D) mais

6. - Tu aimes Marie?  
- Oui, je la trouve .....

**Choisissez le mot qui convient.**

**Yukarıdaki konuşmada boş bırakılan yeri aşağıdakilerden hangisi doğru şekilde tamamlar?**

- A) passionnante  
B) ennuyeux  
C) gai  
D) heureux

7. «Elsa giyim tarzını değiştirdi.»

**Choisissez la traduction qui convient.**

**Yukarıdaki cümlenin Fransızca karşılığı aşağıdakilerden hangisidir?**

- A) Elsa a changé son vêtement.  
B) Elsa aime mettre ses jupes longues.  
C) Elsa a changé de tenue vestimentaire.  
D) Elsa porte des vêtements démodés.

8. - Qu'est que vous avez dit?  
- ..... Pierre et Marie vont au cinéma.

**Choisissez l'expression qui convient.**

**Yukarıdaki konuşmada boş bırakılan yeri aşağıdakilerden hangisi doğru şekilde tamamlar?**

- A) Nous avons dit que  
B) Nous avons dit qui  
C) Vous avez dit que  
D) Vous avez dit qui

9. J'achète des baskets à Luc. Je ..... achète.

**Choisissez les mots qui conviennent.**

**Cümledeki boşlukları aşağıdakilerden hangisi doğru şekilde tamamlar?**

- A) les / lui  
B) lui / les  
C) le / lui  
D) les / le

10. pas / d'alcool / beaucoup / prenez / ne  
I II III IV V

**Mettez dans le bon ordre.**

**Yukarıdaki kelimelerin anlamlı bir bütün oluşturan sırası aşağıdakilerin hangisinde doğru olarak verilmiştir?**

- A) V, IV, III, II, I  
B) V, IV, I, III, II  
C) IV, V, I, II, III  
D) IV, III, II, V, I

11. «Nous devons deviner ce mot.»

**Choisissez la traduction qui convient.**

**Yukarıdaki cümlenin Türkçe karşılığı aşağıdakilerden hangisidir?**

- A) Birlikte cümleler yazmalıyız.  
B) Bu kelimeyi tahmin etmeliyiz.  
C) Bu kelimenin anlamını bul.  
D) Bu kelimeyle cümle kurmalıyız.

12. .... vous avez faim, vous devez manger.

**Choisissez le mot qui convient.**

**Cümledeki boşluğu aşağıdakilerden hangisi doğru şekilde tamamlar?**

- A) En  
B) Que  
C) Par  
D) Quand

13. «La vie est chère.»

**Choisissez la traduction qui convient.**

**Yukarıdaki cümlenin Türkçe karşılığı aşağıdakilerden hangisidir?**

- A) Hayat değerli.  
B) Hayat pahalı.  
C) Sevgili hayat.  
D) Hayat güzel.

14. Chut! Il y a un bébé qui dort. Il faut parler .....

**Choisissez le mot qui convient.**

**Cümledeki boşluğu aşağıdakilerden hangisi doğru şekilde tamamlar?**

- A) silencieusement  
B) amoureusement  
C) avec méchanceté  
D) avec lenteur

15. I. J'habite à Lyon.  
II. Cet appartement est en bon état.  
III. Le loyer n'est pas cher.  
IV. Il est de 100 euros.

**Choisissez la phrase qui ne convient pas.**

**Cümleler sırasıyla okunduğunda, anlam bütünlüğünü bozan cümleyi bulunuz.**

- A) I  
B) II  
C) III  
D) IV

16. Marie : Est-ce que Paul a des nouvelles de sa voiture?

Alain : .....

Marie : La police ne l'a pas appelé?

Alain : Non, mais je pense qu'elle appellera bientôt.

**Choisissez l'expression qui convient.**

**Yukarıdaki konuşmada boş bırakılan yeri aşağıdakilerden hangisi doğru şekilde tamamlar?**

- A) Bien sûr  
B) Ne t'inquiète pas  
C) Oh là là  
D) Pas encore



17. J'ai mal à la tête, je prends une .....

**Choisissez le mot qui convient.**

**Cümledeki boşluğu aşağıdakilerden hangisi doğru şekilde tamamlar?**

- A) antibiotique
- B) consultation
- C) grippe
- D) aspirine

18. Vous devez ..... lentement.

**Choisissez le mot qui convient.**

**Cümledeki boşluğu aşağıdakilerden hangisi doğru şekilde tamamlar?**

- A) conduit
- B) conduis
- C) conduire
- D) conduirons

19. Hier, ..... beaucoup de gens dans la rue.

**Choisissez l'expression qui convient.**

**Cümledeki boşluğu aşağıdakilerden hangisi doğru şekilde tamamlar?**

- A) il était
- B) c'était
- C) il faisait
- D) il y avait

20. - .....

- Par chèque.

**Choisissez l'expression qui convient.**

**Yukarıdaki konuşmada boş bırakılan yeri aşağıdakilerden hangisi doğru şekilde tamamlar?**

- A) Quelle est la somme à payer
- B) Quel est votre moyen de paiement
- C) Vous avez de l'argent
- D) Ça coûte combien

1. XVIII. yüzyıl Rus dış politikasının temeli aşağıdakilerden hangisidir?

- A) Osmanlı Devleti ile iyi ilişkiler kurmak
- B) Büyük bir kara devleti haline gelmek
- C) Toprak bütünlüğünü korumak için dışa açılmamak
- D) Karadeniz'e açılmak, İstanbul ve boğazları ele geçirmek

2. Lale Devri ile ilgili aşağıdaki ifadelerden hangisi yanlıştır?

- A) Siyasi, askeri, sosyal ve kültürel gelişimler dışa kapalı olarak devam ettirilmiştir.
- B) Yüzlerce lale çeşidi yetiştirilmiştir.
- C) İstanbul'da eğlence hayatı yaygınlaşmıştır.
- D) Haliç ve Boğaziçi kıyılarında saraylar ve köşkler yapılmıştır.

3. Bilimsel ve teknolojik gelişmeler sonunda yapılan, buhar gücüyle çalışan makinelerin kullanıldığı ilk alan aşağıdakilerden hangisidir?

- A) Dokuma sanayi
- B) Otomotiv sanayi
- C) Kimya sanayi
- D) Demir çelik sanayi

4. Küçük Kaynarca Antlaşması'ndan sonra Kırım'ı ele geçirmek için harekete geçen Rusya ile savaş hazırlıklarına başlayan Osmanlı Devleti arasında Fransa'nın arabuluculuğu ile yapılan antlaşma aşağıdakilerden hangisidir?

- A) Hünkâr İskelesi Antlaşması
- B) Aynalıkavak Sözleşmesi
- C) Balta Limanı Antlaşması
- D) Prut Antlaşması

5. Fransız İhtilali'nin getirdiği prensiplerden rahatsız olan çok uluslu Avrupalı devletlerin, ihtilal fikirlerinin yayılmaması için Fransaya açtıkları, 1793-1815 yılları arasında yaşanan savaşa ne ad verilir?

- A) Veraset Savaşları
- B) İhtilal Savaşları
- C) Yüzyıl Savaşları
- D) Yedi yıl Savaşları

6. III. Selim'in yaptığı ıslahatların tümüne ne ad verilir?

- A) Nizam-ı Cedit
- B) Sened-i ittifak
- C) İrad-ı Cedit
- D) Sekban-ı Cedit

7. Sanayi İnkılabı'ndan sonra Avrupa'da en büyük sömürge imparatorluğunu kuran devlet aşağıdakilerden hangisidir?

- A) İngiltere
- B) Almanya
- C) Rusya
- D) Fransa

8. Aşağıdakilerden hangisi Fransız İhtilali'ni hazırlayan nedenlerden biri değildir?

- A) Ekonomik nedenler
- B) Sosyal nedenler
- C) Veraset savaşlarının etkisi
- D) Krallık rejiminin baskısı

9. İlk defa halkı Türk ve Müslüman olan bir bölgenin (Kırım'ın) kaybedildiği antlaşma aşağıdakilerden hangisidir?

- A) Kasr-ı Şirin
- B) Prut
- C) Küçük Kaynarca
- D) Yaş

10. Aşağıdakilerden hangisi Yaş Antlaşması'nın maddeleri arasında yer almaz?

- A) Osmanlı Devleti, Kırım'ın Rusya'ya ait olduğunu onaylayacak
- B) Dinyester nehri iki devlet arasında sınır kabul edilecek
- C) Antlaşma sekiz yıl süreyle geçerli olacak
- D) Rusya ele geçirdiği Bender, Kili ve Akkerman'ı Osmanlılara geri verecek

11. Aşağıdakilerden hangisi II. Mahmut Dönemi'nde eğitim alanında yapılan ıslahatlardan biri değildir?

- A) Orta dereceli okulların açılması
- B) İlk kez Avrupaya öğrenci gönderilmesi
- C) İlk öğretimin zorunlu hale getirilmesi
- D) Müsadere usulünün kaldırılması

12. Osmanlı Devleti'nden ayrılmak için ayaklanan ilk topluluk aşağıdakilerden hangisidir?

- A) Rumlar
- B) Ermeniler
- C) Çerkezler
- D) Sırlar

13. Yeniçeri Ocağı'nın kaldırılması olayına ne ad verilir?

- A) Yeniçeri ayaklanması
- B) Vaka-i Vakvakiye
- C) 31 Mart Olayı
- D) Vaka-i Hayriye

14. Osmalı Devleti'nin dağılmasında önemli rol oynayan yabancı okulları Milli Eğitim Bakanlığına bağlayan kanun aşağıdakilerden hangisidir?

- A) Tevhid-i Tedrisat Kanunu
- B) 1921 Anayasası
- C) Dersaadet Kanunu
- D) 1876 Anayasası

15. Osmanlı Devleti'nde halk ilk kez seçme ve seçilebilme hakkını aşağıdakilerden hangisi ile elde etmiştir?

- A) Tanzimat Fermanı
- B) Islahat Fermanı
- C) Fatih Kânunnamesi
- D) Kânunuesasi

16. Şark meselesi kavramı ilk kez nerede kullanılmıştır?

- A) Moskova Konferansı
- B) Viyana Kongresi (1815)
- C) Yalta Konferansı
- D) Postdam Konferansı

17. 1850 yılında yayınlanan ilk Türk dergisi aşağıdakilerden hangisidir?

- A) Tasvir-i Efkâr
- B) Cerde-i Havadis
- C) Vekay-i Tıbbiye
- D) Tercüman-ı Ahval

18. Müsadere usulü hangi padişah döneminde kaldırılmıştır?

- A) II. Mehmet
- B) II. Mahmut
- C) III. Selim
- D) IV. Murat

19. Osmanlı Devleti'ni "hasta adam" olarak nitelendiren ülke aşağıdakilerden hangisidir?

- A) İtalya
- B) Almanya
- C) Rusya
- D) Fransa

20. Osmanlı Devleti'nde milletisadika olarak adlandırılan millet aşağıdakilerden hangisidir?

- A) Sırlar
- B) Ermeniler
- C) Arnavutlar
- D) Rumlar

1. Serdar ist 1.95 cm, Tarkan ist 1.85 cm und Okan ist 1.70 cm groß. Okan ist .....

**Welches Wort passt in die obige Lücke?**

**Cümlede boş bırakılan yeri aşağıdakilerden hangisi tamamlar?**

- A) länger  
B) kürzer als  
C) der grosse  
D) am kürzesten

2. **Wie lautet die Grundform von "am meisten"?**

**"am meisten" sözcüğünün mastar hali aşağıdakilerin hangisinde doğru olarak verilmiştir?**

- A) gut  
B) viel  
C) mehr  
D) lieb

3. .... ist der ..... Berg der Welt.

**Welche Wörter passen in die obigen Lücken?**

**Cümlede boş bırakılan yerleri aşağıdakilerden hangileri doğru şekilde tamamlar?**

- A) Carl Lewis / kleinst  
B) Afrika / größte  
C) Erciyes / gutes  
D) Mount Everest / höchste

4. A: Wozu geht Martina ..... Englischkurs?  
B: Martina geht zum Englischkurs, ..... sie Englisch studieren will.

**Welches ergänzt die Lücken im obigen Dialog?**

**Verilen karşılıklı konuşmada boş bırakılan yerleri aşağıdakilerden hangisi tamamlar?**

- A) zum / weil  
B) zu / wenn  
C) aus / sein  
D) auf / warum

5. **Wie lautet das Wort "Finanzielle Unterstützung" auf Türkisch?**

**"Finanzielle Unterstützung" sözcüğünün Türkçe karşılığı aşağıdakilerden hangisidir?**

- A) Bireysel bağımsızlık  
B) Kişisel çıkarlar  
C) Maddi destek  
D) Toplumsal harcamalar

6. A: Hallo, Ayşe!  
B: Hallo, Atilla!  
A: Wo wohnst du zur Zeit?  
B: In Bursa.  
A: Warum wohnst du in Bursa?  
B: .....

**Welcher Satz ergänzt den obigen Dialog?**

**Verilen karşılıklı konuşmayı aşağıdakilerden hangisi tamamlar?**

- A) Ich wohne in Bursa, weil ich dort arbeite.  
B) Ich arbeite in Istanbul, weil ich dort viel verdiene.  
C) Wir wollen auch in Bursa arbeiten, denn wir wohnen dort.  
D) Wir möchten nach Bursa fahren, weil wir unsere Freunde besuchen wollen.

7. Die Herbstmonate sind .....

**Welches ergänzt die Lücke im obigen Satz?**

**Verilen cümleyi aşağıdakilerden hangisi tamamlar?**

- A) der Juni, der Juli, der August.  
B) der März, der April, der Mai.  
C) der September, der Oktober, der November.  
D) der Dezember, der Januar, der Februar.

8. Das ganze Personal muss morgens ..... um 8 Uhr in der Bank sein.

**Welches Wort passt in die obige Lücke?**

**Cümlede boş bırakılan yeri aşağıdakilerden hangisi doğru şekilde tamamlar?**

- A) nur  
B) seltsam  
C) spätestens  
D) sondern

9. Wann können sich Angestellte in der Bank ausruhen?

**Welche Antwort passt zur obigen Frage?**

**Verilen sorunun cevabı aşağıdakilerden hangisidir?**

- A) Jeden Abend kommen wir zusammen.
- B) Die Bank öffnet jeden Tag um diese Zeit.
- C) Um die Jahreswende können sie damit rechnen.
- D) Erst mittags können sie eine Pause machen.

10. Gehört die Tasche deinem Vater?

**Welche Antwort passt zur obigen Frage?**

**Verilen sorunun cevabı aşağıdakilerden hangisidir?**

- A) Nein, mein Vater ist zu Hause.
- B) Nein, die Tasche gehört nicht meinem Vater.
- C) Ja, ich habe meine Tasche in der Schule vergessen.
- D) Ja, mein Vater will sich eine Tasche kaufen.

11. A: Ist deine Mutter zu Hause?  
B: Nein, sie ist nicht zu Hause.  
A: Ich ....., sie wäre zu Hause.

**Welches ergänzt die Lücke im obigen Dialog?**

**Verilen karşılıklı konuşmada boş bırakılan yeri aşağıdakilerden hangisi tamamlar?**

- A) dachtet
- B) dachst
- C) dachten
- D) dachte

12. A: Was würdest du machen, wenn du jetzt in Italien wärst?  
B: .....  
A: Dass wäre super. Komm lass uns in den Ferien nach Italien fliegen!  
B: Das ist eine gute Idee!

**Welches ergänzt den obigen Dialog?**

**Verilen karşılıklı konuşmayı aşağıdakilerden hangisi tamamlar?**

- A) Ich gehe jeden Tag tanzen!
- B) Ich dachte, du wärst auch mitgekommen!
- C) Ich würde jeden Tag schwimmen und surfen!
- D) Ich habe mir ein neues Auto gekauft!

13. Der Arzt kommt am Samstag zu mir.

**Wie lautet der obige Satz in der Konjunktiv I Form?**

**Verilen cümlelerin Konjunktif I şekli aşağıdakilerden hangisidir?**

- A) Ich habe gehört, daß der Arzt am Samstag hier ist.
- B) Der Arzt meint, daß er am Samstag unbedingt kommen muß.
- C) Der Arzt hat es mir geagt, er will am Samstag kommen.
- D) Man sagt, der Arzt käme am Samstag zu mir.

14. Was bedeutet "uçurum" auf Deutsch?

**"uçurum" sözcüğünün Almancası aşağıdakilerden hangisidir?**

- A) Der Erfolg
- B) Die Mannschaft
- C) Die Schlucht
- D) Der Ernst

15. die / kann / kochen / Mutter / gut / sehr

**Wie kann man mit den obigen Wortgruppen einen sinnvollen Satz bilden?**

**Verilen sözcük gruplarıyla kurulabilecek en anlamlı cümle aşağıdakilerden hangisidir?**

- A) Kann sehr kochen gut die Mutter.
- B) Die Mutter kann sehr gut kochen.
- C) Sehr die Mutter kann kochen gut.
- D) Kann kochen die Mutter sehr gut.

16. Mağazalar dün kapalıydı.

**Wie lautet der obige Satz auf Deutsch?**

**Verilen cümlelerin Almancası aşağıdakilerden hangisidir?**

- A) Die Geschäfte waren gestern geschlossen.
- B) Nachmittags sind diese Geschäfte geschlossen.
- C) Heute Abend sind die Geschäfte geöffnet.
- D) Das Geschäft ist am Wochenende geöffnet.

17. A: Was willst du essen?  
 B: Die Nudeln, ....., schmecken mir besonders gut.  
 A: Das hört sich wirklich lecker an! Ich komm auch mit!  
 B: Also dann, lass uns Nudeln essen!

**Welches ergänzt die Lücke im obigen Dialog?**

**Verilen karşılıklı konuşmada boş bırakılan yeri aşağıdakilerden hangisi tamamlar?**

- A) den ich aus Italien kenne  
 B) die aus Italien kommen  
 C) der eine Spezialität aus der Türkei ist  
 D) das wir von Holland kaufen

18. ...., die ich gestern gekauft habe, war sehr billig.

**Welches Wort passt in die obige Lücke?**

**Cümlede boş bırakılan yeri aşağıdakilerden hangisi tamamlar?**

- A) Die Tasche  
 B) Der Computer  
 C) Das Haus  
 D) Das Buch

19. Die Frauen, ..... wir Blumen gekauft haben, ..... sich sehr gefreut.

**Welche Wörter passen in die obigen Lücken?**

**Cümlede boş bırakılan yerleri aşağıdakilerden hangileri doğru olarak tamamlar?**

- A) der / hatten  
 B) denen / haben  
 C) den / seien  
 D) dessen / hätten

20. Ich habe Fieber.

**Wie lautet der obige Satz auf Türkisch?**

**Verilen cümlenin Türkçesi aşağıdakilerden hangisidir?**

- A) Ateşim var.  
 B) Ateşleneceksin.  
 C) Ateşi düştü.  
 D) Ateş düşürücü iç.

1. He ..... in the park when it started to rain.

Which of the following completes the sentence above?

Aşağıdakilerden hangisi yukarıdaki cümleyi doğru olarak tamamlar?

- A) is running  
B) runs  
C) ran  
D) was running

2. Leo: Let's go to the cinema, .....?  
Mike: That's a good idea.

Which of the following completes the dialogue above?

Aşağıdakilerden hangisi yukarıdaki konuşmayı doğru olarak tamamlar?

- A) shall we  
B) shall you  
C) do we  
D) do you

3. I haven't seen Melisa ..... years.

Which of the following completes the sentence above?

Aşağıdakilerden hangisi yukarıdaki cümleyi doğru olarak tamamlar?

- A) for  
B) since  
C) ago  
D) after

4. Help me with my shopping bags, .....?

Which of the following completes the sentence above?

Aşağıdakilerden hangisi yukarıdaki cümleyi doğru olarak tamamlar?

- A) did you  
B) will you  
C) do you  
D) shall we

5. My grandparents have been married ..... 1945.

Which of the following completes the sentence above?

Aşağıdakilerden hangisi yukarıdaki cümleyi doğru olarak tamamlar?

- A) for  
B) since  
C) at  
D) in

6. My little sister ..... any vegetables two years ago.

Which of the following completes the sentence above?

Aşağıdakilerden hangisi yukarıdaki cümleyi doğru olarak tamamlar?

- A) ate  
B) didn't used to eat  
C) didn't use to eat  
D) use to eat

7. My little sisters play in the playground ..... than us.

Which of the following completes the sentence above?

Aşağıdakilerden hangisi yukarıdaki cümleyi doğru olarak tamamlar?

- A) more happily  
B) happier  
C) more happy  
D) happy

8. Jack: That's your car, ..... it?  
Bill: Yes, it is.

Which of the following completes the dialogue above?

Aşağıdakilerden hangisi yukarıdaki konuşmayı doğru olarak tamamlar?

- A) won't  
B) isn't  
C) aren't  
D) didn't

9. While they ..... a movie, the electricity went off.

Which of the following completes the sentence above?

Aşağıdakilerden hangisi yukarıdaki cümleyi doğru olarak tamamlar?

- A) watched
- B) are watching
- C) have watched
- D) were watching

10. Kim is 15 years old. Jasmine is 18 years old.  
Kim is ..... than Jasmine.

Which of the following completes the sentence above?

Aşağıdakilerden hangisi yukarıdaki cümleyi doğru olarak tamamlar?

- A) older
- B) younger
- C) longer
- D) faster

11. There ..... a big park in the city but now there isn't.

Which of the following completes the sentence above?

Aşağıdakilerden hangisi yukarıdaki cümleyi doğru olarak tamamlar?

- A) to be
- B) used to being
- C) used to be
- D) used to been

12. A ..... yesterday afternoon?  
B: I was at home. I was helping my mum.

Which of the following completes the dialogue above?

Aşağıdakilerden hangisi yukarıdaki konuşmayı doğru olarak tamamlar?

- A) What were you doing
- B) What are you doing
- C) What have you done
- D) What did you do

13. I went to bed ..... than usual.

Which of the following completes the sentence above?

Aşağıdakilerden hangisi yukarıdaki cümleyi doğru olarak tamamlar?

- A) late
- B) more late
- C) latest
- D) later

14. Sally does her homework ..... than me.

Which of the following completes the sentence above?

Aşağıdakilerden hangisi yukarıdaki cümleyi doğru olarak tamamlar?

- A) more fast
- B) faster
- C) fast
- D) fastest

15. Helen: Who will ..... the kitchen?  
Neal: Well, I won't.

Which of the following completes the dialogue above?

Aşağıdakilerden hangisi yukarıdaki konuşmayı doğru olarak tamamlar?

- A) clean
- B) cleaning
- C) cleans
- D) cleaned

16. He ..... a new computer soon.

Which of the following completes the sentence above?

Aşağıdakilerden hangisi yukarıdaki cümleyi doğru olarak tamamlar?

- A) is buy
- B) will buying
- C) will buy
- D) bought



17. I ..... a book when the phone rang.

**Which of the following completes the sentence above?**

**Aşağıdakilerden hangisi yukarıdaki cümleyi doğru olarak tamamlar?**

- A) have read
- B) read
- C) was reading
- D) having read

18. I have had my glasses ..... ten years.

**Which of the following completes the sentence above?**

**Aşağıdakilerden hangisi yukarıdaki cümleyi doğru olarak tamamlar?**

- A) then
- B) since
- C) ago
- D) for

19. He works at the factory, .....?

**Which of the following completes the sentence above?**

**Aşağıdakilerden hangisi yukarıdaki cümleyi doğru olarak tamamlar?**

- A) is he
- B) did he
- C) does he
- D) doesn't he

20. We will ..... to Bodrum in summer.

**Which of the following completes the sentence above?**

**Aşağıdakilerden hangisi yukarıdaki cümleyi doğru olarak tamamlar?**

- A) going
- B) gone
- C) go
- D) goes

1. I. Ma mère a acheté un livre.  
II. C'est un livre bien imprimé.  
III. Il y a beaucoup de dessins.  
IV. Je lis une lettre.

Trouvez la phrase qui **ne convient pas**.

Cümleler sırasıyla okunduğunda, anlam bütünlüğünü **bozan** cümleyi bulunuz.

- A) I  
B) II  
C) III  
D) IV

2. courant / à l'école / les enfants / ne / en /  
I II III IV V

pas / vont  
VI VII

Mettez dans le bon ordre.

Yukarıdaki kelimelerin anlamlı bir bütün oluşturan sırası aşağıdakilerin hangisinde doğru olarak verilmiştir?

- A) I, VII, III, IV, VI, II, V  
B) II, V, VII, VI, III, I, IV  
C) III, IV, VII, VI, II, V, I  
D) V, I, VII, III, IV, VI, II

3. C'est ton bagage ..... main.

Choisissez le mot qui convient.

Cümledeki boşluğu aşağıdakilerden hangisi doğru şekilde tamamlar?

- A) au  
B) de  
C) à  
D) la

4. «Ağlayarak gittim.»

Choisissez la traduction qui convient.

Yukarıdaki cümlenin Fransızca karşılığı aşağıdakilerden hangisidir?

- A) Je viens en pleurant.  
B) Je pars en pleurant.  
C) Je suis partie en pleurant.  
D) Je vais en pleurant.

5. Nous ..... du ski la semaine prochaine.

Choisissez le mot qui convient.

Cümledeki boşluğu aşağıdakilerden hangisi doğru şekilde tamamlar?

- A) avons fait  
B) apprendrons  
C) allons  
D) ferons

6. L'enfant ..... tu m'as parlé est ici.

Choisissez le mot qui convient.

Cümledeki boşluğu aşağıdakilerden hangisi doğru şekilde tamamlar?

- A) dont  
B) où  
C) qui  
D) que

7. Nous faisons du ski quand .....

Choisissez l'expression qui convient.

Cümledeki boşluğu aşağıdakilerden hangisi doğru şekilde tamamlar?

- A) il neige  
B) il pleut  
C) il y a du vent  
D) il y a du soleil

8. Pour réussir, il faut beaucoup .....

Choisissez le mot qui convient.

Cümledeki boşluğu aşağıdakilerden hangisi doğru şekilde tamamlar?

- A) travail  
B) travailler  
C) travaillent  
D) travaillant

9. Cette cravate ..... 25 euros.

**Choisissez le mot qui convient.**

**Cümledeki boşluğu aşağıdakilerden hangisi doğru şekilde tamamlar?**

- A) vend
- B) achète
- C) dit
- D) coûte

10. I. J'ai décidé d'organiser une fête.  
II. C'est une bonne école.  
III. Je vais inviter tous mes amis.  
IV. On va s'amuser.

**Trouvez la phrase qui ne convient pas.**

**Cümleler sırasıyla okunduğunda, anlam bütünlüğünü bozan cümleyi bulunuz.**

- A) I
- B) II
- C) III
- D) IV

11. Nicole et Henri sont mariés. C'est un .....

**Choisissez le mot qui convient.**

**Cümledeki boşluğu aşağıdakilerden hangisi doğru şekilde tamamlar?**

- A) couple
- B) ami
- C) personnage
- D) amie

12. .... malade, j'ai décidé de rester à la maison.

**Choisissez le mot qui convient.**

**Cümledeki boşluğu aşağıdakilerden hangisi doğru şekilde tamamlar?**

- A) Tenant
- B) Etant
- C) Sachant
- D) Ayant

13. Ce roman raconte l'histoire d'une femme qui se marie: c'est un roman .....

**Choisissez le mot qui convient.**

**Cümledeki boşluğu aşağıdakilerden hangisi doğru şekilde tamamlar?**

- A) de biologie
- B) policier
- C) d'histoire
- D) d'amour

14. C'est un sac de .....

**Choisissez le mot qui convient.**

**Cümledeki boşluğu aşağıdakilerden hangisi doğru şekilde tamamlar?**

- A) dos
- B) voyage
- C) étranger
- D) main

15. .... est un sport.

**Choisissez le mot qui convient.**

**Cümledeki boşluğu aşağıdakilerden hangisi doğru şekilde tamamlar?**

- A) Le jeu
- B) L'ennui
- C) Le pique-nique
- D) Le basket

16. «Cumartesi günü neler yapacaksınız?»

**Choisissez la traduction qui convient.**

**Yukarıdaki cümlenin Türkçe karşılığı aşağıdakilerden hangisidir?**

- A) Que faites-vous Dimanche?
- B) Qu'est-ce que vous allez faire Samedi?
- C) Qu'est-ce que vous faites Dimanche?
- D) Quelle est votre activité pour Samedi?

17. .... quelles conditions vous viendrez avez nous?

**Choisissez le mot qui convient.**

**Cümledeki boşluğu aşağıdakilerden hangisi doğru şekilde tamamlar?**

- A) Dans
- B) Qui
- C) En
- D) Où

18. La ville ..... tu es née est peuplée.

**Choisissez le mot qui convient.**

**Cümledeki boşluğu aşağıdakilerden hangisi doğru şekilde tamamlar?**

- A) qui
- B) dont
- C) où
- D) que

19. Ce sont des enfants .....

**Choisissez le mot qui convient.**

**Cümledeki boşluğu aşağıdakilerden hangisi doğru şekilde tamamlar?**

- A) obéissants
- B) obéissent
- C) obéir
- D) obéit

20. La fille que vous voyez est la plus belle fille de l'école.

**Choisissez la traduction qui convient.**

**Yukarıdaki cümlenin Türkçe karşılığı aşağıdakilerden hangisidir?**

- A) Gördüğünüz kız en güzel okula gider.
- B) Gördüğümüz kız okulun en iyisidir.
- C) Gördüğünüz kız okulun en güzel kızıdır.
- D) Görüştüğüm kız benim için en güzeldir.

1. Ich habe ..... zwei Jahren eine Katze.  
Ich habe sie sehr gern.

**Welches Wort passt in die obige Lücke?**

**Cümlede boş bırakılan yeri aşağıdakilerden hangisi doğru şekilde tamamlar?**

- A) seit  
B) auf  
C) von  
D) zum

2. .... du ein Haustier?

**Welches Wort passt in die obige Lücke?**

**Cümlede boş bırakılan yeri aşağıdakilerden hangisi doğru şekilde tamamlar?**

- A) Hast  
B) Hat  
C) Habt  
D) Hatte

3. .... meinem elften Geburtstag habe ich ein  
Fahrrad bekommen.

**Welches Wort passt in die obige Lücke?**

**Cümlede boş bırakılan yeri aşağıdakilerden hangisi doğru şekilde tamamlar?**

- A) Aus  
B) In  
C) Auf  
D) Zu

4. Spanisch wird in Spanien gesprochen.

**Welche Frage passt zur obigen Antwort?**

**Verilen cevabı gerektirecek soru aşağıdakilerden hangisidir?**

- A) Willst du Spanisch lernen?  
B) Wer kommt aus Spanien?  
C) Wo wird Spanisch gesprochen?  
D) Wann fährst du nach Spanien?

5. Kennst du Menschen mit außergewöhnlichen  
Haustieren?

**Welche Antwort passt zur obigen Frage?**

**Verilen sorunun cevabı aşağıdakilerden hangisidir?**

- A) Ja, ich habe eine Katze.  
B) Nein, meine Mutter mag leider keine Tiere  
im Haus.  
C) Nein, ich möchte kein Haustier.  
D) Ja, meine Tante hat ein Terrarium mit zwei  
Nattern.

6. Alles Gute für deine ..... und viel Spaß  
bei deiner Musikbegeisterung!

**Welches Wort passt in die obige Lücke?**

**Cümlede boş bırakılan yeri aşağıdakilerden hangisi doğru şekilde tamamlar?**

- A) Zukunft  
B) Frage  
C) Jahre  
D) Thema

7. ...., intressiere ich mich für  
eine Querflöte!

**Welches ergänzt die Lücke im obigen Satz?**

**Verilen cümleyi aşağıdakilerden hangisi tamamlar?**

- A) Wenn sie Sport macht  
B) Wenn ich in ein Musikgeschäft gehe  
C) Wenn wir Pizza essen  
D) Wenn du Haustiere hast

8. Der Film ist ..... einem guten Regisseur  
gedreht .....

**Welche Wörter passen in die obigen Lücken?**

**Cümlede boş bırakılan yerleri aşağıdakilerden hangileri tamamlar?**

- A) zu / werden  
B) in / würden  
C) von / worden  
D) an / wird

9. A: Karin, vielen Dank für .....  
 B: Gern geschehen!  
 A: Es war sehr interessant etwas ..... deine Musikbegeisterung zu erfahren.

**Welche Wörter ergänzen die Lücken im obigen Dialog?**

**Verilen karşılıklı konuşmada boş bırakılan yerleri aşağıdakilerden hangileri tamamlar?**

- A) den Anfang / unter
- B) das Thema / in
- C) das Interview / über
- D) die Zukunft / aus

10. Die Gruppe "Yüksek Sadakat" macht ..... Jahren ..... Musik!

**Welche Wörter passen in die obigen Lücken?**

**Cümlede boş bırakılan yerleri aşağıdakilerden hangileri doğru şekilde tamamlar?**

- A) auch / sondern
- B) seit / gemeinsam
- C) nur / mit
- D) bis / alleine

11. Dieser Roman ist von einem weltberühmten ..... geschrieben worden.

**Welches Wort passt in die obige Lücke?**

**Cümlede boş bırakılan yeri aşağıdakilerden hangisi doğru şekilde tamamlar?**

- A) Nachbar
- B) Schriftsteller
- C) Kinder
- D) Schülerin

12. Die wichtigste Methode, ....., besteht darin, die negativen Verhalten zu schwächen und die positiven Verhalten zu stärken.

**Welcher Satz ergänzt die obige Lücke?**

**Verilen cümleyi aşağıdakilerden hangisi tamamlar?**

- A) ein glückliches Leben zu führen
- B) zieht man es herauf
- C) wie leicht bricht das
- D) kann man gute Ergebnisse finden

13. Die Eltern sind glücklich, wenn.....

**Welches ergänzt die Lücke im obigen Satz?**

**Verilen cümleyi aşağıdakilerden hangisi tamamlar?**

- A) du kennst ihn schon.
- B) er fasst sich an der Hand.
- C) sie geht aus dem Haus.
- D) ihre Kinder zufrieden und freundlich sind.

14. Die Studenten sitzen in der Cafeteria der Schule und .....

**Welches ergänzt nicht die Lücke im obigen Satz?**

**Verilen cümleyi aşağıdakilerden hangisi tamamlamaz?**

- A) sprechen über ein Projekt.
- B) diskutieren über ein Problem.
- C) planen eine Klassenfahrt.
- D) macht eine Sandburg.

15. Die Eltern wollen ihre Kinder gut .....

**Welches Wort passt in die obige Lücke?**

**Cümlede boş bırakılan yeri aşağıdakilerden hangisi tamamlar?**

- A) einigen
- B) erziehen
- C) gehören
- D) nehmen

16. Doktor kan alıyor.

**Wie lautet der obige Satz auf Deutsch?**

**Verilen cümlenin Almancası aşağıdakilerden hangisidir?**

- A) Die Ärztin nimmt Blut ab.
- B) Der Arzt untersucht seine Patientin.
- C) Der Arzt hat eine Spritze gemacht.
- D) Die Ärztin hat mir gute Besserung gewünscht.

17. Kendimi hasta hissediyorum.

**Wie lautet der obige Satz auf Deutsch?**

**Verilen cümlelerin Almancası aşağıdakilerden hangisidir?**

- A) Mein Freund ist krank.
- B) Ich fühle mich krank.
- C) Sie ist krank geworden.
- D) Wir fühlen uns sehr gut.

18. Ach, der Arme!

**Welche Aussage passt zur obigen Antwort?**

**Verilen cevabı gerektirecek ifade aşağıdakilerden hangisidir?**

- A) Kannst du einen Salat für uns machen?
- B) Gehst du auch in diese Schule?
- C) Ich fühle mich heute sehr gut!
- D) Hast du schon gehört? Onkel Ahmet ist krank!

19. Der Körper braucht ..... um gesund zu bleiben.

**Welches ergänzt die Lücke im obigen Satz?**

**Verilen cümleyi aşağıdakilerden hangisi tamamlar?**

- A) Stunden und Tage
- B) Arbeit und Ideen
- C) Vitamine und Mineralien
- D) Taschen und Bücher

20. Welche Übung macht den Körper warm?

**Welche Antwort passt zur obigen Frage?**

**Verilen sorunun cevabı aşağıdakilerden hangisidir?**

- A) Das Sitzen.
- B) Das Fernsehen.
- C) Das Rennen.
- D) Das Schlafen.

1. Berna: "When will you see her?"  
Berna asked me .....

**Which of the following completes the sentence above?**

**Aşağıdakilerden hangisi yukarıdaki cümleyi doğru olarak tamamlar?**

- A) when I will see her  
B) when I would see her  
C) if I would see her  
D) when would you see her

2. Mert: "Where has your mum gone, Caner?"  
Mert asked Caner .....

**Which of the following completes the sentence above?**

**Aşağıdakilerden hangisi yukarıdaki cümleyi doğru olarak tamamlar?**

- A) if his mum had gone  
B) where his mum has gone  
C) where his mum had gone  
D) where his mum went

3. My friend is very keen ..... horses.

**Which of the following completes the sentence above?**

**Aşağıdakilerden hangisi yukarıdaki cümleyi doğru olarak tamamlar?**

- A) on  
B) of  
C) in  
D) at

4. We are ..... with your exam results, they could be much better.

**Which of the following completes the sentence above?**

**Aşağıdakilerden hangisi yukarıdaki cümleyi doğru olarak tamamlar?**

- A) fond  
B) afraid  
C) disappointed  
D) keen

5. My sister is afraid ..... spiders.

**Which of the following completes the sentence above?**

**Aşağıdakilerden hangisi yukarıdaki cümleyi doğru olarak tamamlar?**

- A) in  
B) at  
C) with  
D) of

6. The teacher: "Whose pencil is that on the table?"  
The teacher asked whose pencil that ..... on the table.

**Which of the following completes the sentence above?**

**Aşağıdakilerden hangisi yukarıdaki cümleyi doğru olarak tamamlar?**

- A) was  
B) is  
C) did  
D) has been

7. She asked me if I was going home.

**Which of the following is the direct speech form of the reported speech sentence above?**

**Aşağıdakilerden hangisi yukarıdaki dolaylı anlatım cümlesinin dolaysız anlatım biçimidir?**

- A) She asked, "Were you going home?"  
B) She asks, "Have you gone home?"  
C) She asked, "Did you go home?"  
D) She asked, "Are you going home?"



8. George said, "I will visit you tomorrow."  
George said that he would visit me .....

**Which of the following completes the sentence above?**

**Aşağıdakilerden hangisi yukarıdaki cümleyi doğru olarak tamamlar?**

- A) tomorrow
- B) the previous day
- C) now
- D) the next day

9. New York is famous ..... its Statue of Liberty.

**Which of the following completes the sentence above?**

**Aşağıdakilerden hangisi yukarıdaki cümleyi doğru olarak tamamlar?**

- A) for
- B) with
- C) to
- D) about

10. I am ..... of my daughter's achievements at university.

**Which of the following completes the sentence above?**

**Aşağıdakilerden hangisi yukarıdaki cümleyi doğru olarak tamamlar?**

- A) interested
- B) keen
- C) proud
- D) disappointed

11. Dad: John, please tidy your wardrobe.  
John: Don't worry dad. I have ..... tidied it, it's clean now.

**Which of the following completes the dialogue above?**

**Aşağıdakilerden hangisi yukarıdaki konuşmayı doğru olarak tamamlar?**

- A) already
- B) ever
- C) never
- D) yet

12. Fred hasn't studied for the exam ..... far.

**Which of the following completes the sentence above?**

**Aşağıdakilerden hangisi yukarıdaki cümleyi doğru olarak tamamlar?**

- A) yet
- B) ever
- C) already
- D) so

13. They had been ..... for him for twenty-five minutes when he .....

**Which of the following completes the sentence above?**

**Aşağıdakilerden hangisi yukarıdaki cümleyi doğru olarak tamamlar?**

- A) waited / came
- B) waiting / came
- C) waiting / comes
- D) waited / come

14. Leo hasn't done his homework .....

**Which of the following completes the sentence above?**

**Aşağıdakilerden hangisi yukarıdaki cümleyi doğru olarak tamamlar?**

- A) already
- B) just
- C) for
- D) yet

15. After Michelle ..... breakfast, she went to the beach.

**Which of the following completes the sentence above?**

**Aşağıdakilerden hangisi yukarıdaki cümleyi doğru olarak tamamlar?**

- A) has had
- B) had had
- C) has been
- D) had

16. I ..... already ..... the lunch when the children came from school.

**Which of the following completes the sentence above?**

**Aşağıdakilerden hangisi yukarıdaki cümleyi doğru olarak tamamlar?**

- A) had / prepared
- B) have / prepared
- C) had / prepare
- D) have / prepare

17. I couldn't do my homework because I ..... my books at school.

**Which of the following completes the sentence above?**

**Aşağıdakilerden hangisi yukarıdaki cümleyi doğru olarak tamamlar?**

- A) have forgotten
- B) had forgotten
- C) forgot
- D) am forgetting

18. How long ..... she ..... sleeping?

**Which of the following completes the sentence above?**

**Aşağıdakilerden hangisi yukarıdaki cümleyi doğru olarak tamamlar?**

- A) has / be
- B) have / been
- C) has / been
- D) is / been

19. Elise has been a doctor ..... 2003.

**Which of the following completes the sentence above?**

**Aşağıdakilerden hangisi yukarıdaki cümleyi doğru olarak tamamlar?**

- A) at
- B) since
- C) ever
- D) for

20. When they arrived at the party hall, everybody ..... It was empty.

**Which of the following completes the sentence above?**

**Aşağıdakilerden hangisi yukarıdaki cümleyi doğru olarak tamamlar?**

- A) left
- B) has already left
- C) had already left
- D) leaves

1. I. Monsieur Rioux est directeur.  
II. Il a 55 ans.  
III. La réunion commence.  
IV. Il est marié.

Choisissez la phrase qui **ne convient pas**.

Cümleler sırasıyla okunduğunda, anlam bütünlüğünü **bozan** cümleyi bulunuz.

- A) I  
B) II  
C) III  
D) IV

2. I. Moi, j'aime tous les animaux.  
II. Certains préfèrent seulement les chiens.  
III. D'autres seulement les chats.  
IV. Les vétérinaires soignent tous les animaux.

Choisissez la phrase qui **ne convient pas** à l'ensemble.

Sırasıyla okunduğunda, anlam bütünlüğünü **bozan** cümleyi bulunuz.

- A) I  
B) II  
C) III  
D) IV

3. - J'ai gagné au loto!  
- Je suis heureuse pour toi. C'est .....!

Choisissez le mot qui convient.

Yukarıdaki konuşmada boş bırakılan yeri aşağıdakilerden hangisi doğru şekilde tamamlar?

- A) catastrophique  
B) super  
C) une catastrophe  
D) mauvais

4. Je n'ai pas réussi à parler à mes parents. Je ..... téléphonerai demain.

Choisissez le mot qui convient.

Cümledeki boşluğu aşağıdakilerden hangisi doğru şekilde tamamlar?

- A) leur  
B) les  
C) leurs  
D) lui

5. - .....?  
- A.T.I.L.L.A. Avec un T et deux L.

Choisissez l'expression qui convient.

Yukarıdaki konuşmada boş bırakılan yeri aşağıdakilerden hangisi doğru şekilde tamamlar?

- A) Où est sa carte d'identité  
B) Ça s'écrit comment  
C) Est-ce que c'est un nom  
D) Combien de lettres il y a

6. Il faisait trop froid ..... je suis tombée malade.

Choisissez le mot qui convient.

Cümledeki boşluğu aşağıdakilerden hangisi doğru şekilde tamamlar?

- A) qui  
B) que  
C) donc  
D) mais

7. «Elle voudrait avoir plus d'argent.»

Choisissez la traduction qui convient.

Yukarıdaki cümlenin Türkçe karşılığı aşağıdakilerden hangisidir?

- A) Daha çok paraya sahip olmak istiyor.  
B) Çok para istedi.  
C) Daha çok paraya ihtiyacı var.  
D) İsteddiği parayı vermeyecek.

8. «Hier, j'ai regardé un match de foot à la télévision.»

Choisissez la traduction qui convient.

Yukarıdaki cümlenin Türkçe karşılığı aşağıdakilerden hangisidir?

- A) Dün televizyonda futbol maçı izledim.  
B) Dün maç gidemedim, televizyon izledim.  
C) Maça gitmeyelim, televizyondan izleyelim.  
D) Yarın, televizyonda maçı izleyeceğim.

9. Tu paies ..... chèque ou ..... espèces.

**Choisissez les mots qui conviennent.**

**Cümledeki boşlukları aşağıdakilerden hangisi doğru şekilde tamamlar?**

- A) en / en
- B) par / des
- C) par / en
- D) en / des

10. J'ai grossi: j'ai ..... des kilos.

**Choisissez le mot qui convient.**

**Cümledeki boşluğu aşağıdakilerden hangisi doğru şekilde tamamlar?**

- A) pris
- B) fait
- C) mangé
- D) donné

11. .... vous avez faim, vous devez manger.

**Choisissez le mot qui convient.**

**Cümledeki boşluğu aşağıdakilerden hangisi doğru şekilde tamamlar?**

- A) Par
- B) Que
- C) En
- D) Si

12. La mère : Voilà mes livres? ..... veux-tu?  
Alain : Celui de Balzac.

**Choisissez le mot qui convient.**

**Yukarıdaki konuşmada boş bırakılan yeri aşağıdakilerden hangisi doğru şekilde tamamlar?**

- A) Laquelle
- B) Lesquels
- C) Lesquelles
- D) Lequel

13. Chut! Il y a un bébé qui dort. Il faut parler .....

**Choisissez le mot qui convient.**

**Cümledeki boşluğu aşağıdakilerden hangisi doğru şekilde tamamlar?**

- A) amoureusement
- B) silencieusement
- C) avec méchanceté
- D) avec lenteur

14. C'est lui qui ..... bien.

**Choisissez le mot qui convient.**

**Cümledeki boşluğu aşağıdakilerden hangisi doğru şekilde tamamlar?**

- A) danser
- B) danses
- C) danse
- D) dansent

15. L'entreprise est ouverte ..... lundi ..... vendredi.

**Choisissez les mots qui conviennent.**

**Cümledeki boşlukları aşağıdakilerden hangisi doğru şekilde tamamlar?**

- A) de / en
- B) du / au
- C) entre / entre
- D) de / et

16. - Jean parle-t-il à Marie?  
- Oui, .....

**Choisissez l'expression qui convient.**

**Yukarıdaki konuşmada boş bırakılan yeri aşağıdakilerden hangisi doğru şekilde tamamlar?**

- A) elle lui parle
- B) elle leur parle
- C) il lui parle
- D) il leur parle

17. La semaine prochaine nous ..... un nouveau film.

**Choisissez le mot qui convient.**

**Cümledeki boşluğu aşağıdakilerden hangisi doğru şekilde tamamlar?**

- A) verras
- B) verront
- C) verrez
- D) verrons

18. «Cesaretini kaybetti.»

**Choisissez la traduction qui convient.**

**Yukarıdaki cümlenin Fransızca karşılığı aşağıdakilerden hangisidir?**

- A) Il a perdu sa déception.
- B) Il a tout perdu.
- C) Il a perdu son espoir.
- D) Il a perdu courage.

19. C'est un camion ....., ..... et .....

**Choisissez les mots qui conviennent.**

**Cümledeki boşlukları aşağıdakilerden hangisi doğru şekilde tamamlar?**

- A) grand / jaune / rapide
- B) petit / bleue / lente
- C) jolie / blanche / petite
- D) lent / rose / noire

20. Marie et moi ..... à une soirée.

**Choisissez le mot/l'expression qui convient.**

**Cümledeki boşluğu aşağıdakilerden hangisi doğru şekilde tamamlar?**

- A) est invité
- B) sommes invités
- C) avons invité
- D) sont invités

1. Hz. Peygamber'le ilgili aşağıdaki ifadelerden hangisi **yanlıştır**?

- A) İnsanın atalarıyla övünmesi gerektiğinden bahsedirdi.
- B) Hüküm verirken ve cezaları uygularken, hiç kimseye aldırılmadan doğru ve adil olan neyse onun yapılmasını isterdi.
- C) İnsanların soyuna, zenginliğine veya gücüne göre değil, eşitlik ilkesine göre davranırdı.
- D) Bütün müminleri alçak gönüllü olmaya davet ederdi.

2. Genç yaşta Hz. Muhammed'e verilen görev aşağıdakilerden hangisidir?

- A) Reis yardımcılığı
- B) Kâbe hakemliği
- C) Emanet bekçiliği
- D) Kabile bekçiliği

3. Aşağıdakilerden hangisi Allah'ın hikmetlerinden biri **değildir**?

- A) İnsanların birbirlerine farklı davranması
- B) İnsanların Hz. Adem ve Havva'nın çocukları olarak yaratılması
- C) İnsanların farklı kabilelere ayrılması
- D) İnsanların farklı milletlere ayrılması

4. Aşağıdakilerden hangisinin vefatında güneş, tutulması yaşanmıştır?

- A) Ali
- B) Abdullah
- C) İbrahim
- D) Kasım

5. "Ey insanlar! Şüphe yok ki, biz sizi bir erkek ve bir dişiden yarattık ve birbirinizi tanımanız için sizi boylara ve kabilelere ayırdık. Allah katında en değerli olanınız, ona karşı olmaktan en çok sakınmanızdır. Şüphesiz Allah hakkıyla bilendir, hakkıyla haberdar olandır."

**Yukarıdaki ayette aşağıdakilerden hangisi belirtilmektedir?**

- A) Allah'a karşı gelmenin önemli olmadığı
- B) Bütün insanların bir anadan ve bir babadan yaratıldığı
- C) İnsanların ırklarının önemli olduğu
- D) Sosyal statü bakımından insanların birbirinden üstün olduğu

6. "Helak edici yedi şeyden çekiniz."

**Aşağıdakilerden hangisi yukarıda bahsedilen yedi şeyden biri değildir?**

- A) Düşmana hücum gününe gitmek
- B) Allah'a şirk koşmak
- C) İffetli kadınlara zina iftirasında bulunmak
- D) Allah'ın haram kıldığı bir cana kıymak

7. Hz. Muhammed yetimlerle ilgilenmeye ve onların haklarıyla ilgili düzenlemelerde bulunmaya ne zaman başlamıştır?

- A) İlk hicretten sonra
- B) Annesinin vefatından sonra
- C) Evlendikten sonra
- D) Peygamberliğinin ilk yıllarında

8. Aşağıdakilerden hangisi Abdullah b. Ümmi Mektun'a verilen görevlerden biridir?

- A) Kâtiplik
- B) Kâbe hakemliği
- C) İmamlık
- D) Kâhyalık

9. İlk hicret sırasında Habeşistan'a giden muhacirlerin başkanı kimdir?

- A) Hz. Ali
- B) Cafer b. Ebi Talip
- C) Hz. Ömer
- D) Abbas Kusam

10. "Ergenlik çağına erişinceye kadar yetimin malına onun iyiliği için olmadıkça dokunmayın."

**Yukarıdaki ayetin geçtiği sure aşağıdakilerden hangisidir?**

- A) En'âm suresi
- B) Haşr suresi
- C) Nisâ suresi
- D) Fil suresi

11. Hz. Muhammed'e Peygamber olduğunu müjdeleyen sözleri ilk söyleyen kimdir?

- A) Hz. Hatice
- B) Hz. Ömer
- C) Varaka b. Nevfel
- D) Hz. Ebu Bekir

12. Müşriklerden okuma yazma bilenlerin her birinin on kişiye okuma yazma öğretirse serbest bırakılacağına karar verilen savaş aşağıdakilerden hangisidir?

- A) Hayber savaşı
- B) Hendek savaşı
- C) Uhud savaşı
- D) Bedir savaşı

13. Medinelilerin ihrama girme yerine ne ad verilir?

- A) Huzâa
- B) Zu'l Huleyfe
- C) Hudeybiye
- D) Tirmizi

14. İstişareyle ilgili aşağıdaki ifadelerden hangisi yanlıştır?

- A) İstenilen hedefe daha çabuk ulaşılır.
- B) İnsan daha sosyal olur.
- C) İnsanın paylaşımcılığı artar.
- D) Müminler arasındaki uyumu bozar.

15. "...Onların işleri, kendi aralarında istişare iledir..."

Yukarıdaki ayetin geçtiği sure aşağıdakilerden hangisidir?

- A) Şûrâ suresi
- B) Âli İmrân suresi
- C) Haşr suresi
- D) Felak suresi

16. Kur'an-ı Kerim'i toplama görevi kime verilmiştir?

- A) Hz. Ömer'in oğlu Abdullah'a
- B) Hz. Ömer'e
- C) Hz. Ebu Bekir'e
- D) Zeyd bin Sabit'e

17. Aşağıdakilerden hangisi Müslümanın Müslüman üzerindeki haklarından biri değildir?

- A) Çağrısına icabet etmek
- B) Nasihat istenirse nasihat vermek
- C) Başkaları hakkında dedikodu yapmak
- D) Hastalanırsa ziyaret etmek

18. Medine'nin savunulması için şehrin etrafına hendek kazıldığı savaş aşağıdakilerden hangisidir?

- A) Uhud Savaşı
- B) Hendek Savaşı
- C) Bedir Savaşı
- D) Hayber Savaşı

19. Bir iş yapmaya niyet eden kimseler istişare ederek aşağıdakilerden hangisini elde edemez?

- A) Kendi görüşlerini yoklama fırsatını
- B) Anlayışlarını test etme fırsatını
- C) Düşüncelerini yok sayma fırsatını
- D) Zekâlarını deneme fırsatını

20. Kur'an-ı Kerim'in sayfaları bir araya getirildikten sonra sırasıyla kimlerin yanında kalmıştır?

- A) Hz. Ebu Bekir, Hz. Ömer ve Hz. Ali
- B) Hz. Ömer, Hz. Ebu Bekir ve Hz. Ömer'in kızı Hafsa
- C) Hz. Ebu Bekir, Hz. Ömer ve Hz. Ömer'in oğlu Abdullah
- D) Hz. Ebu Bekir, Hz. Ömer ve Hz. Ömer'in kızı Hafsa

1. Hz. Muhammed'in (s.a.v.) annesi Âmine hangi yılda vefat etmiştir?

- A) 575
- B) 576
- C) 577
- D) 578

2. Medine sözleşmesi hangi yıl imzalanmıştır?

- A) 621
- B) 622
- C) 623
- D) 624

3. Hz. Muhammed'in (s.a.v.) amcası Ebu Talip ve eşi Hatice'nin vefat ettiği seneye ne ad verilir?

- A) Hüzün senesi
- B) Ayrılık senesi
- C) Hasret senesi
- D) Üzüntü senesi

4. "...Kendinizi kendi ellerinizle tehlikeye atmayın..." aşağıdaki surelerin hangisinin ayetidir?

- A) Nas
- B) Fatıha
- C) Bakara
- D) Felak

5. Aşağıdakilerden hangisi müşriklerin Hz. Muhammed'e (s.a.v.) inanmadıkları için bulunduğu ithamlardan biri değildir?

- A) Şair
- B) Kâhin
- C) Sihirbaz
- D) Yalancı

6. İkinci hicret kaç kişilik bir grupla yapılmıştır?

- A) 70
- B) 80
- C) 90
- D) 100

7. Aşağıdakilerden hangisi hastalık durumunda yapılmaması gerekenlerden biridir?

- A) Doktora gitmek
- B) İlaç kullanmamak
- C) Sabırlı olmak
- D) Dua okumak

8. Uhut Savaşı hangi yıl yapılmıştır?

- A) 623
- B) 624
- C) 625
- D) 626

9. İslam tarihinde inançlarından dolayı şehit edilen ilk Müslüman aşağıdakilerden hangisidir?

- A) Habbap
- B) Sümeyye
- C) Bilal
- D) Ammar

10. Savaşılması yasak aylarda da devam eden savaşlara ne ad verilir?

- A) Ficar savaşları
- B) Uhud savaşları
- C) Ölüm savaşları
- D) Kabile savaşları



11. “(Ey Resulüm) Sen önce en yakın akraba ve hısımlarını uyar.” suresi aşağıdakilerden hangisidir?

- A) Hicr
- B) Şuara
- C) Fatiha
- D) Felak

12. Hz. Muhammed’in (s.a.v.) İslam’ı tebliğ etmek için ilk kez Mekke dışında gittiği yer aşağıdakilerden hangisidir?

- A) Medine
- B) Mute
- C) Habeşistan
- D) Taif

13. “Böylece sizi orta yolu benimseyen bir ümmet kıldık.” ayetinin suresi aşağıdakilerden hangisidir?

- A) Rahmân
- B) Bakara
- C) Rûm
- D) Lokman

14. Hz. Muhammed’in (s.a.v.) dedesi ölümünden önce torununun himayesi görevini kime bırakmıştır?

- A) Amcasına
- B) Sütannesine
- C) Dayısına
- D) Yardımcısına

15. Müşriklerin eziyetine dayanamayan Müslümanlar ilk nereye hicret etmişlerdir?

- A) Mute
- B) Habeşistan
- C) Medine
- D) Taif

16. Aşağıdakilerden hangisi Hz. Muhammed’in (s.a.v.) çocuklarından biri değildir?

- A) Fatıma
- B) Kasım
- C) Zeynep
- D) Selami

17. Hendek Savaşı hangi ay yapılmıştır?

- A) Mart / Ramazan
- B) Mart / Şevval
- C) Nisan / Zilkade
- D) Haziran / Rebiyülevvel

18. Hz. Muhammed’e (s.a.v.) ilk kez Ramazan ayının Kadir gecesi gelen melek aşağıdakilerden hangisidir?

- A) İsrail
- B) Azrail
- C) Mikail
- D) Cebrail

19. Hz. Muhammed’in (s.a.v.) evliliğiyle ilgili aşağıdakilerden hangisi doğrudur?

- A) 25 yaşında Hatice
- B) 39 yaşında Halime
- C) 30 yaşında Ayşe
- D) 40 yaşında Rukiye

20. Hz. Muhammed’e (s.a.v.) ilk vahiy nerede gelmiştir?

- A) Taif
- B) Hira
- C) Sevr
- D) Hicr

1. Sembolizm akımının öncüleri aşağıdakilerden hangisinde birlikte ve doğru olarak verilmiştir?
  - A) Paul Verlaine–Baudelaire
  - B) Balzac–Victor Hugo
  - C) Stendhal–Balzac
  - D) Tolstoy–Victor Hugo
2. Recaizade Mahmut Ekrem tarafından Servet-i Fünûn dergisinin yazı işleri müdürlüğüne getirilen sanatçı aşağıdakilerden hangisidir?
  - A) Hasan Asaf
  - B) Tevfik Fikret
  - C) Muallim Naci
  - D) Mehmet Rauf
3. Ziya Gökalp'in sanatı ile ilgili aşağıdaki ifadelerden hangisi yanlıştır?
  - A) Türkçülük adı verilen akımı düzenleyip sisteme bağlamıştır.
  - B) Halk masallarından, Türk mitolojisinden, Dede Korkut Hikâyelerinden yararlanmıştır.
  - C) Hece ile yazdığı şiirlerinde düşüncüyü ön plana almıştır.
  - D) Batı dillerinden alınan sözcükleri Türkçeye uyarlamıştır.
4. Aşağıdakilerden hangisi Reşat Nuri Güntekin'in eserlerinden biri değildir?
  - A) Dudaktan Kalbe
  - B) Vurun Kahpeye
  - C) Yeşil Gece
  - D) Yaprak Dökümü
5. Aşağıdakilerden hangisi Millî Edebiyat Dönemi'nin genel özelliklerinden biri değildir?
  - A) Eski nazım şekillerinin kullanılması
  - B) Hece ölçüsünün kullanılması
  - C) Halkın sorunlarının dile getirilmesi
  - D) Dilde sadeleşmenin esas olması
6. "Ateşten Gömlek" ve "Vurun Kahpeye" adlı romanlar aşağıdaki yazarlardan hangisine aittir?
  - A) Halide Edip Adivar
  - B) Yakup Kadri Karaosmanoğlu
  - C) Ziya Gökalp
  - D) Reşat Nuri Güntekin
7. Yakup Kadri Karaosmanoğlu'nun kuşaklar arasındaki çatışmayı gözler önüne serdiği, Batılılaşmayı yanlış anlayarak bir ailenin dağılmasına neden olan sorumsuz davranışları yediği eseri aşağıdakilerden hangisidir?
  - A) Yaban
  - B) Sodom ve Gomore
  - C) Nur Baba
  - D) Kiralık Konak
8. Şiiri "nesir-musikisi" diye adlandıran şair aşağıdakilerden hangisidir?
  - A) Cenap Şehabettin
  - B) Ahmet Haşim
  - C) Halit Ziya
  - D) Tevfik Fikret
9. Aşağıdakilerden hangisi Fecr-i Âtî topluluğunun bildiride adı geçen şairlerinden biri değildir?
  - A) Emin Bülent
  - B) Tahsin Nahit
  - C) Ahmet Vefik
  - D) Ahmet Haşim
10. Çocuklar için sade bir dille "Şermin" adlı kitabı yazan sanatçı aşağıdakilerden hangisidir?
  - A) Ziya Paşa
  - B) Mehmet Rauf
  - C) Tevfik Fikret
  - D) Ahmet Mithat

11. "İstiklâl Marşı" şairi Mehmet Âkif Ersoy'un eserlerini topladığı kitabı aşağıdakilerden hangisidir?
- A) Aziz İstanbul  
B) Akın  
C) Göl Saatleri  
D) Safahat
12. İslam ülkelerinin birliği ve geliştirilmesini hedefleyen görüş aşağıdakilerden hangisidir?
- A) İslamcılık  
B) Osmanlıcılık  
C) Batıcılık  
D) Türkçülük
13. Realizmin ortaya çıktığı ülke aşağıdakilerden hangisidir?
- A) Almanya  
B) Rusya  
C) İngiltere  
D) Fransa
14. Cenap Şehabettin'in; Bulgaristan, Romanya, Macaristan, Çekoslovakya, Almanya ve Avusturya'ya yaptığı gezilere ait duyguları, düşünceleri ve bu gezilerde kendisini etkileyen önemli olayları anlattığı eseri aşağıdakilerden hangisidir?
- A) Frankfurt Seyahatnamesi  
B) Hac Yolunda  
C) Evrak-ı Eyyâm  
D) Avrupa Mektupları
15. Aşağıdakilerden hangisi "saf şiir" anlayışının özelliklerinden biri değildir?
- A) Söze önem verilmesi  
B) Ritm ve ahenge önem verilmesi  
C) Nazmın nesre yaklaşması  
D) Sosyal temalardan çok bireysel duyarlılığın tercih edilmesi
16. Türk edebiyatında ilk psikolojik romanın yazarı aşağıdakilerden hangisidir?
- A) Halid Ziya  
B) Nabizade Nazım  
C) Mehmet Rauf  
D) İbrahim Şinasi
17. "Bir Yazın Tarihi" ve "Hepsinden Acı" adlı eserler aşağıdaki yazarlardan hangisine aittir?
- A) Mehmet Rauf  
B) Halit Ziya  
C) Ahmet Hikmet  
D) Süleyman Nazif
18. Kendisini "fikri hür, irfanı hür ve vicdanı hür bir şair" olarak tanıtan ve hep öyle kalan şair aşağıdakilerden hangisidir?
- A) Mehmet Rauf  
B) Tevfik Fikret  
C) Halit Ziya  
D) Cenap Şehabettin
19. Aşağıdakilerden hangisi, Türk edebiyatında "Beş Hececiler" adıyla anılan yazarlar arasında yer almaz?
- A) Enis Behiç Koryürek  
B) Yusuf Ziya Ortaç  
C) Reşat Nuri Güntekin  
D) Faruk Nafiz Çamlıbel
20. Türk edebiyatını dönemlere ayıran, bilimsel yöntemlerle inceleyen ilk araştırmacı, aşağıdakilerden hangisidir?
- A) Ömer Seyfettin  
B) Fuat Köprülü  
C) Yahya Kemal  
D) Ahmet Haşim

## SINAVDA UYULMASI GEREKEN GENEL KURALLAR

1. Sınava girmek için gerekli belgelerinizin tümünü sınav başlamadan önce sıranızın üzerine bırakınız.
2. Sınav süresince görevlilerle konuşmak, görevlilere soru sormak yasaktır. Aynı şekilde görevlilerin de öğrencilerle yakından ve alçak sesle konuşmaları yasaktır. Gerekli durumlarda görevliler yerinizi değiştirebilir.
3. Size verilen cevap kâğıdının üzerindeki TCKN/Öğrenci no, ad, soyadı, bilgilerini kontrol ediniz, ilgili alanları eksiksiz doldurarak imzalayınız. Bu bilgiler size ait değilse, görevlileri uyararak size ait cevap kâğıdını isteyiniz. Başka öğrenciye ait cevap kâğıdı kullanan öğrencilerin o oturumdaki sınavları geçersiz sayılır.
4. Cevap kâğıdı üzerine test grubunu (A, B, C, D) kodlamayan veya birden fazla kodlama yapan öğrencilerin sınavları geçersiz sayılır.
5. Cevap kâğıdınıza yazacağınız her türlü yazı ve yapacağınız işaretlemeler için koyu yazan siyah kurşun kalem kullanmalısınız. Siyah kurşun kalem dışında farklı bir kalem (tükenmez, mürekkepli ya da renkli vb.) kullanan öğrencilerin sınavları geçersiz sayılır.
6. Cevap kâğıdı üzerinde değişiklik yapmak istediğinizde, iz bırakmayan bir silgi kullanınız. Cevap kâğıdınızı buruşturmayınız, katlamayınız ve üzerine gereksiz hiçbir işaret koymayınız.
7. Cevaplarınızı, cevap kâğıdında ilgili test için ayrılmış olan alana, cevap yerinin dışına taşırmadan işaretleyiniz. Soru kitapçığı üzerinde yapılan işaretlemeler değerlendirmeye alınmayacaktır.
8. Her sorunun tek bir doğru cevabı vardır. Bir soru için birden çok cevabı işaretlerseniz, o soruyu yanlış cevaplamış sayılacaksınız.
9. Soru kitapçığınızı aldığınızda sayfalarına hızlıca bakarak hatalı ya da eksik baskı olup olmadığını kontrol ediniz. Hata/eksik olması durumunda kitapçığının değiştirilmesi için derhâl Salon Başkanına başvurunuz. Sınav görevlileri sınavın başladığını belirtmeden kitapçığınızı tekrar açmayınız.
10. Cevap kâğıdınızda belirtilen kitapçık kodu ile soru kitapçığının kodunu karşılaştırınız. Aynı değilse, sınav görevlilerine durumu bildirerek doğru kitapçığın verilmesini talep ediniz.
11. Soru kitapçığındaki ilgili alanlara ad, soyadı, TCKN/Öğrenci no, sınav salon no, sıra no bilgilerinizi eksiksiz doldurarak imzanızı atınız. Soru kitapçığının sayfalarındaki boş yerleri müsvedde amacıyla kullanabilirsiniz.
12. Aşağıdaki durumlarda sınav görevlileri tarafından Bireysel Sınav İptal Tutanağı düzenlenerek ilgili öğrencilerin sınavları geçersiz sayılır:
  - a) Sınav kurallarına ve sınav görevlilerinin uyarılarına uymamak, sınav düzenini bozmak,
  - b) Kâğıt, kitap, defter, not vb. dokümanları; pergel, açıölçer, cetvel vb. araçları; cep telefonu, bilgisayar, tablet, telsiz, kamera vb. iletişim, depolama, kayıt ve veri aktarma cihazlarını; ruhsatlı veya resmi amaçlı olsa bile silah ve silah yerine geçebilecek nesnelere yanında bulundurmamak,
  - c) Sınav sırasında kalem, silgi vb. araç-gereç paylaşımında bulunmak,
  - d) Cevapları, cevap kâğıdı dışında bir yere yazmak ve sınav salonundan dışarı çıkarmak,
  - e) Sınava girebilmek için gerekli belgeleri eksik olduğu halde sınava katılıp, cevap kâğıdında işaretleme yapmak,
  - f) Sınav görevlileri tarafından öğrencinin kimliğinden şüphe duyulması,
  - g) Cevap kâğıdını ve/veya soru kitapçığını sınav görevlilerine eksiksiz ve sağlam şekilde teslim etmemek, sınav salonu dışına çıkarmak,
  - h) Kopya çekmek, vermek, çekilmesine yardımcı olmak vb. eylemlerde bulunmak,
  - i) Kendisi yerine başkasını sınava sokmak.
13. Sınav bitiminde, cevap kâğıdınızı ve soru kitapçığınızı salon görevlilerine eksiksiz biçimde teslim ediniz. Sınav bittikten sonra gönderilen cevap kâğıtları dikkate alınmayacaktır.

**SINAV KURALLARINA UYDUĞUNUZ İÇİN TEŞEKKÜR EDER, SINAVINIZDA BAŞARILAR DİLERİZ.**