



ANADOLU ÜNİVERSİTESİ
AÇIK ÖĞRETİM FAKÜLTESİ
BA - AÇIK ÖĞRETİM OKULLARI

T.C. MİLLİ EĞİTİM BAKANLIĞI
Hayat Boyu Öğrenme Genel Müdürlüğü
2016-2017 ÖĞRETİM YILI BATI AVRUPA - BALKANLAR
AÇIK ÖĞRETİM LİSESİ II. DÖNEM SINAVI
3. OTURUM Cumartesi

ÖĞRENCİNİN

B

0103

SOYADI :

ADI :

T.C. KİMLİK NO / ÖĞRENCİ NO :

SINAV SALON NO : SIRA NO:

Sınavla ilgili soru kitapçığının ön ve arka kapağındaki tüm kuralları okudum, anladım, kabul ediyorum.

İMZA:.....

SINAV İÇERİĞİ

Testin Adı	Soru Sayısı	Sayfa No	Testin Adı	Soru Sayısı	Sayfa No
DİN KÜLTÜRÜ VE AHLAK BİLGİSİ 3	20	02	MATEMATİK 7	20	37
TARİH 5	20	04	İŞLETME 1	20	39
COĞRAFYA 1	20	06	ALMANCA 7	20	41
COĞRAFYA 3	20	08	İNGİLİZCE 7	20	44
COĞRAFYA 8	20	10	FRANSIZCA 7	20	47
MATEMATİK 3	20	12	SEÇMELİ TARİH 4	20	50
ALMANCA 1	20	14	SEÇMELİ ALMANCA 5	20	52
İNGİLİZCE 1	20	17	SEÇMELİ İNGİLİZCE 5	20	55
FRANSIZCA 1	20	20	SEÇMELİ FRANSIZCA 5	20	58
SOSYOLOJİ 1	20	23	SEÇMELİ ALMANCA 7	20	61
DİL VE ANLATIM 6	20	25	SEÇMELİ İNGİLİZCE 7	20	64
TÜRK EDEBİYATI 6	20	27	SEÇMELİ FRANSIZCA 7	20	67
FİZİK 3	20	29	HZ. MUHAMMED'İN HAYATI 2	20	70
KİMYA 8	20	32	HZ. MUHAMMED'İN HAYATI 3	20	72
BİYOLOJİ 7	20	35	SEÇMELİ TÜRK EDEBİYATI 6	20	74

SINAVDA UYULMASI GEREKEN ÖZEL KURALLAR

1. Soru kitapçığındaki her bir testi cevaplamanız için verilen süre 30 dakika, toplam süre 150 dakikadır.
2. Sınavın ilk 30 dakikası ve son 5 dakikası içinde sınavınızı tamamlasanız bile salondan çıkamazsınız. Herhangi bir nedenle salondan çıktığınız takdirde, tekrar sınava devam etmenize izin verilmeyecektir. Sınavın başlamasını izleyen ilk 15 dakikadan sonra hiçbir öğrenci sınava alınmaz.
3. Yanlış cevaplarınız dikkate alınmayacaktır. Bu nedenle kitapçıktaki tüm sorular için size doğru gelen seçeneği işaretleyerek cevapsız soru bırakmamanız yararınıza olacaktır.
4. Sınav sırasında hesap makinesi kullanabilirsiniz. Ancak, kullanacağınız makinede alfabetik tuş takımınının (A, B, C,..., Y, Z), program yapılmasına, saklanmasına ve çalıştırılmasına imkân veren EXE, STORE, RUN vb. tuşlar bulunamaz.

"Sınavda Uyulması Gereken Genel Kurallar" soru kitapçığının arka sayfasında yer almaktadır. Bu kuralları da mutlaka dikkatlice okuyunuz.

Anadolu Üniversitesi tarafından hazırlanmış olan bu testlerin her hakkı saklıdır. Hangi amaçla olursa olsun, testlerin tamamının veya bir kısmının Anadolu Üniversitesi'nin yazılı izni olmadan kopya edilmesi, fotoğraflarının çekilmesi, herhangi bir yolla çoğaltılması, yayımlanması ya da kullanılması yasaktır. Bu yasağa uymayanlar gerekli cezai sorumluluğu ve testlerin hazırlanmasındaki mali külfeti peşinen kabullenmiş sayılır.

1. "Sırat-ı Müstakim" in kelime anlamı nedir?

- A) Güzel ahlâk
- B) Allah'ın birliği
- C) Doğru yol
- D) Müjdeli haber

2. Mahşer'in anlamı aşağıdaki ifadelerin hangisinde doğru olarak verilmiştir?

- A) Sevap ve günahların tartıldığı özel bir tartıdır.
- B) Yeniden diriliş ile birlikte insanların Allah'a hesap vermek üzere toplanacakları yerdir.
- C) Kişinin dünyada yaptığı amellerden sorgulanmasıdır.
- D) Yeniden diriliş ile başlayan ve sonsuza kadar sürecek olan zamandır.

3. Aşağıdakilerden hangisi farz namazlarından biri değildir?

- A) Vitr namazı
- B) Sabah namazı
- C) Cenaze namazı
- D) İkinci namazı

4. Hz. Muhammed nerede vefat etmiştir?

- A) Mekke
- B) Kudüs
- C) Umman
- D) Medine

5. Bayram namazı kaç rekâttır?

- A) 2
- B) 4
- C) 5
- D) 6

6. Sevap ve günahların tartıldığı özel tartıya ne ad verilir?

- A) Amel defteri
- B) Sırat
- C) Mizan
- D) Hesap

7. Aşağıdakilerden hangisi vacip namazlardan biridir?

- A) Yatsı namazı
- B) Bayram namazı
- C) Cuma namazı
- D) Cenaze namazı

8. Kendisine kitap gönderilen peygamberlere ne ad verilir?

- A) Resul
- B) Sahabe
- C) Nebi
- D) Veli

9. Allah'ın yaratma sıfatına ne ad verilir?

- A) Tevhid
- B) Tevsir
- C) Tekvin
- D) Rahmet

10. Kur'an-ı Kerim'de kaç ayet vardır?

- A) 2222
- B) 3300
- C) 4444
- D) 6666

11. Kâbe'nin etrafında yedi kez dönmeye ne ad verilir?

- A) İhram
- B) Tavaf
- C) Sa'y
- D) Vakfe

12. Şit peygambere gönderilen kitap kaç sayfadır?

- A) 50
- B) 40
- C) 30
- D) 20

13. Kur'an-ı Kerim'in tercümesine ne ad verilir?

- A) Kıyas
- B) İcma
- C) Sünnet
- D) Meal

14. İsrafil meleğinin görevi nedir?

- A) Allah ile peygamberler arasında elçilik yapmak
- B) Tabiat olayları ile ilgilenmek
- C) Kıyamet koptuğunda sûr'a üflemek
- D) İnsanların sevap ve günahlarını yazmak

15. Tövbenin kaç şartı vardır?

- A) 2
- B) 3
- C) 4
- D) 5

16. Kâbe nerededir?

- A) Mekke
- B) Yemen
- C) Kudüs
- D) Medine

17. Allah'a saygı ile boyun eğmek ve emirlerine itaat etmeye ne ad verilir?

- A) İman
- B) Fıtrat
- C) Ahlâk
- D) İbadet

18. Aşağıdakilerden hangisi Allah'ın Subuti sıfatlarından biri değildir?

- A) Tekvin
- B) Beka
- C) Basar
- D) Semi

19. Kur'an da kaç sure vardır?

- A) 100
- B) 110
- C) 114
- D) 120

20. Okunan Kur'anı Kerim'i dinlemek aşağıdakilerden hangisine bir örnektir?

- A) Vacip
- B) Sünnet
- C) Mubah
- D) Farz

1. Aşağıdakilerden hangisi Orta Asya Türk göçlerinin sonuçlarından biri değildir?

- A) Asya ile Avrupa'nın siyasi ve kültürel yapısında önemli değişikliklere neden olması
- B) Kavimler Göçü gibi dünya tarihine yön veren önemli olaylara zemin hazırlaması
- C) Türk tarihinin belli bir bölgede bir bütün halinde incelenmesini kolaylaştırması
- D) Türk toplulukların göç ettikleri bölgelerde yeni devletler kurmalarına ve Türk kültürünün yayılmasına neden olması

2. Anav kültürü ile ilgili aşağıdaki ifadelerden hangisi yanlıştır?

- A) Bakırdan süs eşyaları yapılmıştır.
- B) Güneşte kurutulmuş tuğlalardan yapılan evlerde oturulmuştur.
- C) Koyun, sığır gibi hayvanlar beslenip, çiftçilik yapılmıştır.
- D) Dört tekerlekli arabalar ve keçeden Türk çadırları ilk defa bu kültürde ortaya çıkmıştır.

3. İskitler ile ilgili aşağıdaki ifadelerden hangisi yanlıştır?

- A) İskitler ata binmekte çok başarılıydılar.
- B) İskitlerde tek tanrılı bir din anlayışı vardı.
- C) İskitler maden işlemekte ustaydılar.
- D) Üzengi ilk defa İskitler tarafından kullanılmıştır.

4. İskitlerin aşağıdaki kavimlerden hangisiyle yaptıkları savaşlar ünlü şair Firdevsi'nin Şehname adlı eserine konu olmuştur?

- A) Tabgaçlar
- B) Kimmerler
- C) Persler
- D) Sabarlar

5. İranlıların "Eftalit" adı ile isimlendirdikleri Türk Devleti aşağıdakilerden hangisidir?

- A) Sabarlar
- B) Akhunlar
- C) Avarlar
- D) Hazarlar

6. Kaşgarlı Mahmut, "Divân-ı Lûgat-it Türk" adlı eserinde, Türk adının hangi anlama geldiğini belirtmiştir?

- A) Olgunluk çağı
- B) Türemek
- C) Çoğalmak
- D) Kanun nizam sahibi

7. Avrupa Hun Devleti en parlak dönemini hangi hükümdar zamanında yaşamıştır?

- A) Attila
- B) Balamir
- C) İrnek
- D) İlek

8. Türk tarihinde ilk düzenli ordu teşkilatı aşağıdaki hükümdarlardan hangisi tarafından kurulmuştur?

- A) Attila
- B) Timur
- C) I. Murat
- D) Mete

9. Türk tarihinde Museviliği kabul eden ilk ve tek Türk Devleti aşağıdakilerden hangisidir?

- A) Uygurlar
- B) Hazarlar
- C) Avarlar
- D) Kırgızlar

10. Türk tarihinde kendi adına para bastıran ilk hükümdar aşağıdakilerden hangisidir?

- A) Attila
- B) Mete
- C) Bağa Tarkan
- D) Teoman

11. Oğuzların din adamlarına ne ad verilir?

- A) Balbal
- B) Kam
- C) Kurgan
- D) Yuğ

12. Tarihte İstanbul'u ilk defa kuşatan Türk kavmi aşağıdakilerden hangisidir?

- A) Ak Hunlar
- B) Türgişler
- C) Avarlar
- D) Hazarlar

13. İlk Türk Devletleri'nde il (el) kavramının karşılığı aşağıdakilerden hangisidir?

- A) Devlet
- B) Töre
- C) Savaş
- D) Barış

14. Orhun Yazıtlarını 1893 yılında okuyan Danimarkalı dil bilimci aşağıdakilerden hangisidir?

- A) Herbert Marcuse
- B) B. D. Koçnev
- C) Hieronymus Laski
- D) Vilhelm Thomsen

15. İlk Türk Devletleri'nde "ulus" kavramının karşılığı aşağıdakilerden hangisidir?

- A) Tapınak
- B) Töre
- C) Mahkeme
- D) Ülke

16. İlk Türk Devletleri'nde hükümdarın eşine ne ad verilir?

- A) Ataman (İnal)
- B) İlteber (Erkin)
- C) Hatun (Katun)
- D) Emçi (Otacı)

17. Çin'i sürekli baskı altında tutmak amacıyla Çin'e kırk altı sefer yapan II. Kök Türk hükümdarı aşağıdakilerden hangisidir?

- A) Kutluk Kağan
- B) Ta-lo-pien Kağan
- C) Tardu Kağan
- D) Kapgan Kağan

18. Çin'in Orta Asya'daki hâkimiyetini kaybederek çekilmek zorunda kalmasına ve tarım havzasının Uygurların eline geçmesine neden olan 751 yılındaki savaş aşağıdakilerden hangisidir?

- A) Köseadağ Savaşı
- B) Kuzey Şansi Savaşı
- C) Bolçu Savaşı
- D) Talas Savaşı

19. Moğolların devlet yönetiminde yönetici, komutan, öğretmen ve teknik eleman olarak görev yapmış Türk kavmi aşağıdakilerden hangisidir?

- A) Uygurlar
- B) Hazarlar
- C) Türgişler
- D) Tolunoğulları

20. Hunların Çin üzerine yaptıkları seferlerin başlıca nedeni aşağıdakilerden hangisidir?

- A) Budizm'in yayılmasını sağlamak
- B) İpek Yolu'na hâkim olmak
- C) İslamiyet'in kuzeye doğru yayılmasını sağlamak
- D) Mani Dini'nin yayılmasını engellemek

1. İki ardışık meridyen arasındaki yerel saat farkı kaç dakikadır?
 - A) 4
 - B) 5
 - C) 6
 - D) 7
2. Aşağıdakilerden hangisi dünyanın şeklinin sonuçlarından biri değildir?
 - A) Dünyanın güneşe bakan tarafının aydınlık iken diğer tarafının karanlık olması
 - B) Güneş ışınlarının geliş açısının Ekvator'a doğru gidildikçe daralması
 - C) Meridyen yaylarının kutuplarda birleşmesi
 - D) Dağların ve yeryüzü şekillerinin oluşması
3. Ankara ve Kırıkkale arasındaki gerçek uzaklık 100 km'dir. Bu uzaklık 1/1.000.000 ölçekli bir harita üzerinde kaç cm ile gösterilir?
 - A) 10
 - B) 15
 - C) 20
 - D) 25
4. Güney yarım kürede en uzun gündüzün yaşandığı tarih aşağıdakilerden hangisidir?
 - A) 23 Eylül
 - B) 21 Haziran
 - C) 21 Aralık
 - D) 21 Mart
5. Bir yamacın güneş karşısındaki konumuna ne ad verilir?
 - A) Eksen
 - B) Bakı
 - C) Güneş etkisi
 - D) Yörüngen
6. Yer kabuğu üzerinde ağır ağır gelişen ve geniş alanları kapsayan yükselme ve alçalma hareketlerine ne ad verilir?
 - A) Volkanizma
 - B) Deprem
 - C) Orojenez
 - D) Epirojenez
7. Haritası çizilen herhangi bir yerin, düzleme aktarılması sırasında kullanılan küçültme oranına ne ad verilir?
 - A) Harita başlığı
 - B) Harita yönü
 - C) Harita lejanti
 - D) Harita ölçeği

8. Ekinoks nedir?
 - A) Akarsuların akış hızıdır.
 - B) Dünyanın şeklidir.
 - C) Dünyanın her yerinde gece ve gündüz sürelerinin birbirine eşit olmasıdır.
 - D) En uzun gündür.
9. Bilinen ilk Türk haritasını kim çizmiştir?
 - A) Umur Bey
 - B) Kaşgarlı Mahmut
 - C) Piri Reis
 - D) İbrahim Reis
10. Nüfus yoğunluğu, nüfus dağılışı ve insanların kültürlerine ait bilgileri içeren harita türü aşağıdakilerden hangisidir?
 - A) Ekonomi haritası
 - B) Siyasi harita
 - C) Beşeri harita
 - D) Fiziki harita
11. Paralellerle ilgili aşağıdaki ifadelerden hangisi yanlıştır?
 - A) Toplam 180 paralel vardır.
 - B) 90'ı kuzey yarım kürede, 90'ı güney yarım kürededir.
 - C) İki paralel arasındaki uzaklığa bir enlem derecesi denir.
 - D) Kutuplarda birleşirler.
12. Dünya üzerinde bir yeri belirtebilmek için kullanılan yöntem ne ad verilir?
 - A) Geoit
 - B) Kutup
 - C) Ekvator
 - D) Koordinat sistemi
13. Dünyanın katı kabuğu olan taş küre aşağıdakilerden hangisidir?
 - A) Atmosfer
 - B) Litosfer
 - C) Hidrosfer
 - D) Biyosfer
14. Kutup noktalarından eşit uzaklıktaki noktaları birleştiren, dünyayı eşit iki parçaya bölen ve çevresi yaklaşık 40.000 km olan hayali çizgiye ne ad verilir?
 - A) Paralel
 - B) Ekvator
 - C) Greenwich
 - D) Meridyen

15. Sıcaklığın yeryüzünde veya yer yüzünün herhangi bir bölümünde dağılışını gösterebilmek için eş sıcaklık eğrileriyle yapılan haritalara ne ad verilir?

- A) İzobar haritaları
- B) Fiziki haritalar
- C) İzoterm haritaları
- D) İklim haritaları

16. Dağlarla çevrelenmiş şekilde bir alana soğuk havanın çökmesiyle, bu alanın aynı yüksekliğe sahip başka bir alandan daha soğuk olmasına ne ad verilir?

- A) Çanak alan etkisi
- B) Yükselti etkisi
- C) Dağ doğrultusunun etkisi
- D) Deniz akıntılarının etkisi

17. Atmosfer içerisindeki hava olaylarının oluşmasını sağlayan güç aşağıdakilerden hangisidir?

- A) Ay
- B) Güneş
- C) Mars
- D) Rüzgar

18. Eş yükselti eğrilerine ne ad verilir?

- A) İzohips
- B) Yamaç
- C) Geoit
- D) Küre

19. Aşağıdakilerden hangisi harita çiziminde kullanılan projeksiyon tiplerinden biri değildir?

- A) Silindir projeksiyon
- B) Konik projeksiyon
- C) Köşeli projeksiyon
- D) Düzlem projeksiyon

20. İklim ve iklim elemanlarını inceleyen bilim dalı aşağıdakilerden hangisidir?

- A) Klimatoloji
- B) Biyocoğrafya
- C) Hidrografya
- D) Jeomorfoloji

1. Aşağıdakilerden hangisi gelişmiş ülkelerin özelliklerinden biri değildir?

- A) İhraç ürünlerinin ham madde olması
- B) Milli gelirlerinin yüksek olması
- C) Nüfus artış hızlarının düşük olması
- D) Okuma yazma oranlarının yüksek olması

2. Nüfusun yaş yapısını belirleyen en önemli etmen aşağıdakilerden hangisidir?

- A) Göçler
- B) Salgın hastalıklar
- C) Doğum oranı
- D) Savaşlar

3. Toprağın en üst katının yıkanması ile sızan minerallerin biriktiği horizon katmanı aşağıdakilerden hangisidir?

- A) A horizonu
- B) B horizonu
- C) C horizonu
- D) D horizonu

4. Aşağıdakilerden hangisi iç püskürük kayalardan biridir?

- A) Kalker
- B) Kömür
- C) Konglomera
- D) Siyenit

5. Ülkeler arasında beyin göçü hangi yıldan sonra hız kazanmıştır?

- A) 1950
- B) 1960
- C) 1970
- D) 1980

6. Kalkerli arazi içinde suların eritme ve aşındırması sonucu meydana gelen yeraltı boşluklarına ne ad verilir?

- A) Mağara
- B) Lapyta
- C) Dikit
- D) Obruk

7. Aşağıdakilerden hangisi birbirine yaklaşan levhalardan biri değildir?

- A) Kuzey Amerika levhası – Pasifik levhası
- B) Avrasya levhası – Pasifik levhası
- C) Kokos levhası – Pasifik levhası
- D) Pasifik levhası – Hindistan – Avustralya levhası

8. Toplam nüfusun, ekili – dikili alanlara bölünmesiyle ortaya çıkan nüfus yoğunluğuna ne ad verilir?

- A) Çevresel nüfus yoğunluğu
- B) Tarımsal nüfus yoğunluğu
- C) Fizyolojik nüfus yoğunluğu
- D) Aritmetik nüfus yoğunluğu

9. Kavimler göçünün en önemli sebebi nedir?

- A) Yeni yerler keşfetme isteği
- B) Kan davaları
- C) Boy beylerinin baskısı
- D) Olumsuz iklim koşulları

10. Aşağıdakilerden hangisi dördüncül ekonomik faaliyetlerden biridir?

- A) Bankacılık
- B) Ağ işletmenliği
- C) Hayvancılık
- D) İcra kurulu başkanlığı

11. İstanbul ve Çanakkale boğazlarının oluştuğu, Türkiye'nin günümüzdeki son şeklini aldığı jeolojik zaman aşağıdakilerden hangisidir?

- A) Tersiyer
- B) Paleozoik
- C) Mezozoik
- D) Kuaterner

12. Volkanik alanlarda yerin derinliklerindeki sıcak gazların uyguladığı basıncın etkisiyle sıcak su ve buhar şeklinde püskürerek çıkan kaynağa ne ad verilir?

- A) Gayzer kaynağı
- B) Fay kaynağı
- C) Karstik kaynak
- D) Yamaç kaynağı

13. Aşağıdakilerden hangisi Mezolitik Çağın özelliklerinden biridir?

- A) Ticaretin başlaması
- B) Köpeğin evcilleştirilmesi
- C) Köylerin kurulmaya başlanması
- D) Madenlerin işlenmeye başlanması

14. Karaları meydana getiren ve okyanusların altında da devam eden yer kabuğu parçalarına ne ad verilir?

- A) Ada yayı
- B) Pangea
- C) Levha
- D) Yanardağ

15. Yer kabuğundan derinlere doğru inildikçe (faylarla parçalanmış alanlar hariç) sıcaklık her 33 metrede ortalama kaç °C artar?

- A) 1
- B) 2
- C) 3
- D) 4

16. Buzul aşındırması sonucunda oluşan çukur alanlarda suların birikmesiyle meydana gelen göllere ne ad verilir?

- A) Maar gölü
- B) Tektonik göl
- C) Karstik göl
- D) Sirk gölü

17. Aşağıdakilerden hangisi göçün doğal nedenlerinden biri değildir?

- A) Kuraklık
- B) Ulaşım
- C) Heyelan
- D) Erozyon

18. Aşağıdakilerden hangisi Türkiye'nin matematik konumunun sonuçlarından biri değildir?

- A) Güneyden kuzeye gidildikçe cisimlerin gölge boylarının uzaması
- B) Doğusu ile batısı arasında 76 dakikalık zaman farkının bulunması
- C) Yeraltı kaynak çeşitliliği bakımından zengin olması
- D) Orta kuşakta yer alması

19. Aşağıdakilerden hangisi bir ülkedeki nüfus sayısının değişim nedenlerinden biri değildir?

- A) İç göçler
- B) Ülke sınırlarının değişmesi
- C) Doğum oranı
- D) Doğal afetler

20. Granitlerin ayrışması sonucu yer yer birbirini üzerinde irili ufaklı ve köşeleri yuvarlaklaştırılmış bloklardan oluşan şekle ne ad verilir?

- A) Tüf
- B) Peri bacası
- C) Traverten
- D) Tor topografyası

1. Türkiye’de hangi yıldan sonra nüfus artışını düşürmeye yönelik uygulamalar teşvik edilmeye başlanmıştır?
 - A) 1933
 - B) 1945
 - C) 1955
 - D) 1963

2. Aşağıdakilerden hangisi Türkiye’yi doğrudan ilgilendiren sorunlardan biridir?
 - A) Kosova sorunu
 - B) Irak sorunu
 - C) Filistin sorunu
 - D) Bosna – Hersek sorunu

3. Aşağıdakilerden hangisi, merkezi Amsterdam’da bulunan Greenpeace’in başlıca çalışma alanlarından biri değildir?
 - A) Genleri ile oynanmış organizmaların doğaya bırakılmasını sağlamak
 - B) Küresel ısınmanın durdurulmasını sağlamak
 - C) Okyanusların ve yaşlı ormanların korunmasını sağlamak
 - D) Zehirli kimyasalların ortadan kaldırılmasını sağlamak

4. Aşağıdakilerden hangisi Yeşilirmak Havzası Gelişim Projesi kapsamında yer alan illerden biri değildir?
 - A) Samsun
 - B) Çankırı
 - C) Tokat
 - D) Çorum

5. Aşağıdakilerden hangisi Türkiye’de 1923 ile 1963 yılları arasındaki nüfus politikalarının dayanak noktalarından biri değildir?
 - A) Ölüm oranlarının yüksek olması
 - B) Türkiye’nin tabii kaynaklarını işletmek istemesi
 - C) Hızlı çoğalma ile ülkedeki sosyal iş bölümü ve ihtisaslaşmanın sağlanmak istenmesi
 - D) Nüfusun ekonomik kalkınmada bir engel olarak görülmesi

6. Petrol yataklarını kontrol etmek için Irak’ı tamamen işgal eden devlet aşağıdakilerden hangisidir?
 - A) Almanya
 - B) İsrail
 - C) ABD
 - D) Rusya

7. İnsani gelişim endeksini ilk kez geliştiren ekonomist kimdir?
 - A) Turgut Özal
 - B) Mahbub ul Haq
 - C) Mihail Gorbaçov
 - D) Helmut Kohl

8. Çin Halk Cumhuriyeti’nin başkenti aşağıdakilerden hangisidir?
 - A) Pekin
 - B) Shenzhen
 - C) Şanghay
 - D) Hong Kong

9. Aşağıdakilerden hangisi Almanya’daki Türk’lerin yoğun olarak yaşadığı şehirlerden biri değildir?
 - A) Dortmund
 - B) Berlin
 - C) München
 - D) Essen

10. Şattülarap su yolu ve petrol paylaşımından dolayı çatışan iki ülke aşağıdakilerin hangisinde birlikte ve doğru verilmiştir?
 - A) Suriye-İsrail
 - B) İran-İrak
 - C) Irak-Kuveyt
 - D) Mısır-İsrail

11. Aşağıdakilerden hangisi uluslararası sıcak çatışmalara neden olan beşeri ve ekonomik unsurlardan biri değildir?

- A) Yeraltı zenginliklerinin paylaşımı
- B) Sınır sorunları
- C) Geçmişe dayanan sorunlar
- D) Önemli ulaşım yollarının kontrolü

12. Türkiye'de Nüfus Planlaması Genel Müdürlüğü hangi yıl kurulmuştur?

- A) 1950
- B) 1955
- C) 1960
- D) 1965

13. Aşağıdakilerden hangisi insani gelişim endeksinde çok yüksek insani gelişmişlik seviyesinde yer alan ülkelerden biridir?

- A) Nijer
- B) Brezilya
- C) Norveç
- D) Fas

14. Aşağıdakilerden hangisi Türkiye'de fizibilite çalışmaları tamamlanan projelerden biri değildir?

- A) GAP
- B) ZBK
- C) DAP
- D) DOKAP

15. Dünya'nın akciğerleri olarak adlandırılan Amazon yağmur ormanları hangi kıtada yer almaktadır?

- A) Afrika
- B) Avustralya
- C) Güney Amerika
- D) Kuzey Amerika

16. Aşağıdakilerden hangisi, uluslararası ekonomik örgütlerden biridir?

- A) BM
- B) OECD
- C) İKÖ
- D) NATO

17. Aşağıdakilerden hangisi jeopolitiğin değişen unsurlarından biridir?

- A) Sosyal – kültürel değerler
- B) Coğrafi konum
- C) Stratejik kaynaklar
- D) Jeolojik ve jeomorfolojik özellikler

18. Aşağıdakilerden hangisi Doğu Karadeniz Projesi'nin başlıca amaçlarından biri değildir?

- A) Kıyı kesiminde ürün çeşitliliğini artırmak
- B) Turizm faaliyetlerini geliştirmek
- C) Ulaşım ve iletişim hizmetlerini güçlendirmek
- D) Bölge içi farklılıkları artırmak

19. Aşağıdakilerden hangisi Türkiye'nin kaybolan sulak alanlarından biri değildir?

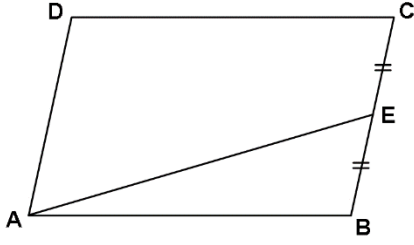
- A) Kestel Gölü
- B) Amik Gölü
- C) Beyşehir Gölü
- D) Gavur Gölü

20. Dünya'daki sulak alanların korunması için 1971 yılında imzalanan sözleşme aşağıdakilerden hangisidir?

- A) Viyana
- B) Paris
- C) Barcelona
- D) Ramsar

1. Aynı düzlemdeki 4 doğru, en fazla kaç noktada kesişir?
- A) 6
B) 4
C) 3
D) 1
2. $A = \{a, b, c, d\}$ kümesinin 3 elemanlı alt kümelerinin sayısı kaçtır?
- A) 1
B) 4
C) 12
D) 24
3. $A = \{3, 4, 5, 6\}$ kümesinin elemanları kullanılarak kaç tane 2 basamaklı doğal sayı yazılabilir?
- A) 4
B) 8
C) 16
D) 24
4. $\frac{0! \cdot 9!}{8!}$ ifadesinin değeri kaçtır?
- A) 1
B) $\frac{9}{8}$
C) 8
D) 9
5. $(2x - 3)^3$ ifadesinin açılımdaki sabit terim kaçtır?
- A) -27
B) -3
C) 6
D) 9
6. $P(5, k) + P(k, 0) = 21$ ise k kaçtır?
- A) 1
B) 2
C) 3
D) 4
7. $C(7, 1) + C(7, 2) + \dots + C(7, 5) + C(7, 6)$ ifadesinin değeri kaçtır?
- A) 126
B) 127
C) 128
D) 130
8. Bir madeni para ve bir zar atılıyor. Madeni paranın yazı veya zarın tek sayı gelme olasılığı kaçtır?
- A) $\frac{1}{2}$
B) $\frac{3}{5}$
C) $\frac{2}{3}$
D) $\frac{3}{4}$
9. $f: \mathbb{R} \rightarrow \mathbb{R}$, $f(x) = 2x + 1$ ise $(2f)(3)$ değeri kaçtır?
- A) 3
B) 5
C) 7
D) 14
10. $f: \mathbb{R} \rightarrow \mathbb{R}$, $f(x) = 3x + 5$ ise $f(0) + f^{-1}(8)$ değeri kaçtır?
- A) 6
B) 5
C) 1
D) 0
11. $f(x) = 1 - 3x$ ve $g(x) = 3x + 2$ fonksiyonları veriliyor. Buna göre $(g \circ f)(1)$ değeri kaçtır?
- A) -4
B) -3
C) -2
D) -1
12. f bir çift fonksiyon ve $2f(x) = 3x - f(-x)$ ise $f(5)$ kaçtır?
- A) 5
B) 6
C) 7
D) 8
13. Dışbükey bir çokgenin iki iç açısının ölçüsü 150° , 125° ve diğer iç açılarının ölçüleri eşit ve 155° olduğuna göre bu çokgenin kenar sayısı kaçtır?
- A) 10
B) 11
C) 12
D) 13

14.



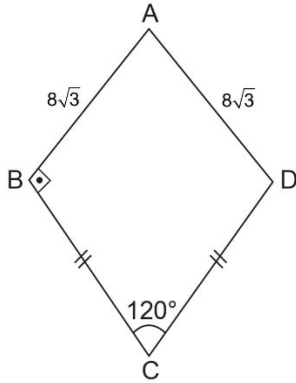
Yukarıdaki ABCD paralelkenarında $|CE|=|EB|$ ve ABE üçgeninin alanı 4 br^2 olduğuna göre AECD dörtgeninin alanı kaç br^2 dir?

- A) 8
- B) 12
- C) 16
- D) 20

15. $y = 3x + 7$ doğrusunun eğimi kaçtır?

- A) 0
- B) $3/7$
- C) 3
- D) 7

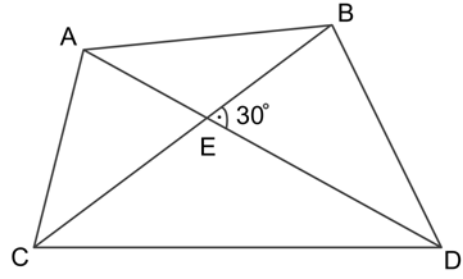
16.



Yukarıdaki ABCD deltoidinde $|BC|=|CD|$, $|AB|=|AD|=8\sqrt{3}$ br, $m(\widehat{ABC})=90^\circ$ ve $m(\widehat{BCD})=120^\circ$ olduğuna göre, ABCD deltoidinin alanı kaç br^2 dir?

- A) $64\sqrt{3}$
- B) $60\sqrt{3}$
- C) $56\sqrt{3}$
- D) $48\sqrt{3}$

17.



Yukarıdaki ABDC dörtgeninde $|AD|=12$ br, $|BC|=10$ br ve $m(\widehat{BED})=30^\circ$ olduğuna göre ABDC dörtgeninin alanı kaç br^2 dir?

- A) 24
- B) 30
- C) 60
- D) 120

18. Köşeleri $A(0,0)$, $B(3,0)$ ve $C(3,3)$ olan üçgenin ağırlık merkezinin koordinatları aşağıdakilerden hangisidir?

- A) $(3/2,1)$
- B) $(3/2,3)$
- C) $(2,1)$
- D) $(0,3)$

19. Düzgün altıgenin bir iç açısının ölçüsü kaç derecedir?

- A) 60
- B) 72
- C) 108
- D) 120

20. $A(0,4)$ noktasından geçen ve $y=3-x$ doğrusuna dik olan doğrunun denklemi aşağıdakilerden hangisidir?

- A) $y = x + 3$
- B) $y = 4 - x$
- C) $y = x + 4$
- D) $y = x - 3$

1. Nein, wir haben kein Ferienhaus.

Welche Frage passt zur obigen Antwort?

Verilen cevabı gerektirecek soru aşağıdakilerden hangisidir?

- A) Geht er auch nach Hause?
B) Ist das Haus neu?
C) Habt ihr ein Ferienhaus?
D) Wo wohnst du?

2. Ja, sie ist 95 Jahre alt.

Welche Frage passt zur obigen Antwort?

Verilen cevabı gerektirecek soru aşağıdakilerden hangisidir?

- A) Lebt deine Großmutter noch?
B) Wo wohnt deine Großmutter?
C) Wer ist deine Großmutter?
D) Wann kommt deine Großmutter?

3. Die Schlange ist nicht kurz,

Welches ergänzt die Lücke im obigen Satz?

Verilen cümleyi aşağıdakilerden hangisi tamamlar?

- A) die ist dumm.
B) sie ist lang.
C) der ist klein.
D) er ist schlau.

4. Tolga Melda sind Geschwister.

Welches Wort passt in die obige Lücke?

Cümlede boş bırakılan yeri aşağıdakilerden hangisi doğru şekilde tamamlar?

- A) aber
B) weil
C) somit
D) und

5. Zwanzig minus acht ist

Welches Wort passt in die obige Lücke?

Cümlede boş bırakılan yeri aşağıdakilerden hangisi doğru şekilde tamamlar?

- A) elf
B) zwölf
C) dreizehn
D) vierzehn

6. Die Kinder wissen nicht, die Schule anfängt.

Welches Wort passt in die obige Lücke?

Cümlede boş bırakılan yeri aşağıdakilerden hangisi doğru şekilde tamamlar?

- A) wann
B) wie
C) wo
D) wer

7. Unser Vater möchte Zeitung lesen. Wir

Welches ergänzt die Lücke im obigen Satz?

Verilen cümleyi aşağıdakilerden hangisi tamamlar?

- A) soll heute ein Buch lesen.
B) sollen ihm Zeitung kaufen.
C) sollst neue Zeitung lesen.
D) solltet immer Zeitung kaufen.

8. Meine Mutter ist krank

Welches ergänzt die Lücke im obigen Satz?

Verilen cümleyi aşağıdakilerden hangisi tamamlar?

- A) wir gehen zum Picknick.
B) ich gehe schnell in die Schule.
C) er geht in die Bibliothek.
D) sie muß zum Arzt.

9. 18 Jahren lerne ich Auto fahren und dann ich ein Auto kaufen.

Welche Wörter passen in die obigen Lücken?

Cümlede boş bırakılan yerleri aşağıdakilerden hangisi doğru şekilde tamamlar?

- A) Mit / will
B) Auf / möchte
C) In / sollst
D) Für / wirst

10. hat es nicht geregnet.

Welches ergänzt nicht die Lücke im obigen Satz?

Verilen cümleyi aşağıdakilerden hangisi tamamlamaz?

- A) Am Wochenende
B) Wegen dem Müll
C) Gegen Abend
D) Nach Dienstag

11. dir bitte dem Essen die Hände!

Welche Wörter passen in die obigen Lücken?

Cümlede boş bırakılan yerleri aşağıdakilerden hangisi doğru şekilde tamamlar?

- A) Waschen / an
B) Wascht / auf
C) Wasch / vor
D) Wasche / bei

12. Ja, gut aber die grüne Bluse gefällt mir besser.

Welche Frage passt zur obigen Antwort?

Verilen cevabı gerektirecek soru aşağıdakilerden hangisidir?

- A) Wo ist die rote Bluse?
B) Wie gefällt dir die blaue Bluse?
C) Willst du die Bluse kaufen?
D) Wer hat eine grüne Bluse?

13. Hier ist die Rechnung!

Welche Frage passt zur obigen Antwort?

Verilen cevabı gerektirecek soru aşağıdakilerden hangisidir?

- A) Wo ist der Tisch?
B) Wohin soll ich den Computer stellen?
C) Wieviel kostet die Reparatur?
D) Woher haben Sie den Computer gekauft?

14. Herr Yılmaz: Wie gefällt dir Pullover?
Frau Yılmaz:?
Herr Yılmaz: Der schwarze.
Frau Yılmaz: Der weisse gefällt mir besser.

Welches ergänzt die Lücke im obigen Dialog?

Verilen karşılıklı konuşmada boş bırakılan yeri aşağıdakilerden hangisi tamamlar?

- A) diesem / Welches
B) diesen / Welche
C) dieser / Welcher
D) diese / Welchem

15. Sabine legt die Bücher den Tisch.

Welches Wort passt in die obige Lücke?

Cümlede boş bırakılan yeri aşağıdakilerden hangisi doğru şekilde tamamlar?

- A) über
- B) in
- C) aus
- D) auf

16. Das ist das Mofa mein..... Freund.....

Welche Endungen passen in die obigen Lücken?

Cümlede boş bırakılan yerleri aşağıdaki son eklerden hangileri doğru şekilde tamamlar?

- A) -es / -es
- B) -en / -er
- C) -em / -en
- D) -er / -rem

17. Man baut hier eine Brücke.

Welches hat die gleiche Bedeutung mit dem obigen Satz?

Verilen cümle ile aynı anlamı taşıyan aşağıdakilerin hangisidir?

- A) Hier wird eine Brücke gebaut.
- B) Heute wurde hier eine Brücke gebaut.
- C) Die Brücke ist neu gebaut worden.
- D) Er muss hier eine Brücke bauen.

18. Die Kartoffeln sind von meiner Mutter geschält worden.

Wie lautet der obige Satz auf Türkisch?

Verilen cümlelerin Türkçesi aşağıdakilerden hangisidir?

- A) Patatesleri annem soydu ve doğradı.
- B) Patatesler annem tarafından soyuldu.
- C) Benim annem patatesleri soymak zorunda kaldı.
- D) Benim annem patates soymamalı.

19. Ja, sehr.

Welche Frage passt zur obigen Antwort?

Verilen cevabı gerektirecek soru aşağıdakilerden hangisidir?

- A) Hast du einen Regenschirm?
- B) Wann gehst du zur Schule?
- C) Wohnst du in Eskişehir?
- D) Sehnst du dich nach deiner Heimat?

20. Die Ausstellung der Gemälde von Picasso.

Wie lautet der obige Satz in der Passivform?

Verilen cümlelerin edilgen hali aşağıdakilerden hangisidir?

- A) In der Ausstellung wurden die Gemälde von Picasso zu einem guten Preis verkauft.
- B) Bei der Ausstellung wurden die Gemälde von Picasso vorgeführt.
- C) Das Gemälde von Picasso hat man ausstellen wollen.
- D) Die Gemälde von Picasso wurden ausgestellt.

1. I always watch TV the evening.

Which of the following completes the sentence above?

Aşağıdakilerden hangisi yukarıdaki cümleyi doğru olarak tamamlar?

- A) to
B) for
C) at
D) in

2. Canan drinks tea every morning.

Which of the following is the negative form of the sentence above?

Aşağıdakilerden hangisi yukarıdaki cümlemin olumsuz biçimidir?

- A) Canan doesn't drink tea every morning.
B) Canan didn't drink tea every morning.
C) Canan wasn't drinking tea every morning.
D) Canan isn't drinking tea every morning.

3. A: How apples are there in the basket?
B: There are a few.

Which of the following completes the dialogue above?

Aşağıdakilerden hangisi yukarıdaki konuşmayı doğru olarak tamamlar?

- A) any
B) much
C) many
D) some

4. some parents in the school garden, but
..... any kids.

Which of the following completes the sentence above?

Aşağıdakilerden hangisi yukarıdaki cümleyi doğru olarak tamamlar?

- A) There is / there are
B) There isn't / there are
C) There is / there isn't
D) There are / there aren't

5. A: What's the day today?
B: It's

Which of the following completes the dialogue above?

Aşağıdakilerden hangisi yukarıdaki konuşmayı doğru olarak tamamlar?

- A) a spoon
B) April
C) Wednesday
D) a big school

6. A:?
B: They are in Antalya.

Which of the following completes the dialogue above?

Aşağıdakilerden hangisi yukarıdaki konuşmayı doğru olarak tamamlar?

- A) Are they in Antalya
B) Where is your uncle
C) Is he here
D) Where are your grandparents

7. Please, give me pencil.

Which of the following completes the sentence above?

Aşağıdakilerden hangisi yukarıdaki cümleyi doğru olarak tamamlar?

- A) some
B) these
C) those
D) that

8. I can't find the eggs. There any eggs in the fridge.

Which of the following completes the sentence above?

Aşağıdakilerden hangisi yukarıdaki cümleyi doğru olarak tamamlar?

- A) isn't
- B) haven't
- C) aren't
- D) won't

9. She probably go to the park tomorrow.

Which of the following completes the sentence above?

Aşağıdakilerden hangisi yukarıdaki cümleyi doğru olarak tamamlar?

- A) is
- B) are
- C) will
- D) have

10. He is interested in art. I think he

Which of the following completes the sentence above?

Aşağıdakilerden hangisi yukarıdaki cümleyi doğru olarak tamamlar?

- A) is bored
- B) will study Fine Arts
- C) was a teacher
- D) is going to bed

11. You sing a song in the library.

Which of the following completes the sentence above?

Aşağıdakilerden hangisi yukarıdaki cümleyi doğru olarak tamamlar?

- A) must
- B) need
- C) needn't
- D) mustn't

12. A: What is she doing in the kitchen?
B:

Which of the following completes the dialogue above?

Aşağıdakilerden hangisi yukarıdaki konuşmayı doğru olarak tamamlar?

- A) She cooking pizza.
- B) She is cooking pizza.
- C) She is cook pizza.
- D) She cooks pizza.

13. I at ten o'clock tomorrow morning.

Which of the following completes the sentence above?

Aşağıdakilerden hangisi yukarıdaki cümleyi doğru olarak tamamlar?

- A) am going to get up
- B) got up
- C) getting up
- D) get up

14. Tom is a book at the moment.

Which of the following completes the sentence above?

Aşağıdakilerden hangisi yukarıdaki cümleyi doğru olarak tamamlar?

- A) reading
- B) will read
- C) read
- D) reads

15. A: What did you do when you saw the fire?
B:

Which of the following completes the dialogue above?

Aşağıdakilerden hangisi yukarıdaki konuşmayı doğru olarak tamamlar?

- A) I had a bath.
- B) I called the fire brigade.
- C) I started dancing.
- D) I made some tea for myself.

16. Alex to music last morning.

Which of the following completes the sentence above?

Aşağıdakilerden hangisi yukarıdaki cümleyi doğru olarak tamamlar?

- A) is going to listen
- B) listens
- C) listened
- D) used to listen

17. My aunt a big birthday cake for me last Saturday.

Which of the following completes the sentence above?

Aşağıdakilerden hangisi yukarıdaki cümleyi doğru olarak tamamlar?

- A) made
- B) makes
- C) making
- D) is making

18. When Simon was 6, he speak French fluently.

Which of the following completes the sentence above?

Aşağıdakilerden hangisi yukarıdaki cümleyi doğru olarak tamamlar?

- A) could
- B) don't
- C) can
- D) won't

19. A: Excuse me, I borrow your sharpener?
B: Certainly.

Which of the following completes the dialogue above?

Aşağıdakilerden hangisi yukarıdaki konuşmayı doğru olarak tamamlar?

- A) have
- B) may
- C) could
- D) must

20. 10 years ago, there a few cars in my city, now there so many cars.

Which of the following completes the sentence above?

Aşağıdakilerden hangisi yukarıdaki cümleyi doğru olarak tamamlar?

- A) used to be / are
- B) used to be / were
- C) are / used to be
- D) were / were

1. «Yarın, müzeyi ziyaret edeceğim.»

Choisissez la traduction qui convient.

Yukarıdaki cümlelerin Fransızca karşılığı aşağıdakilerden hangisidir?

- A) Hier, je verrai le musée.
B) Demain, je le visite.
C) Hier, j'ai visité le musée.
D) Demain, je visiterai le musée.

2. Paul mesure 1m50. Pierre mesure 1m90. Paul est

Choisissez le mot qui convient.

Cümledeki boşluğu aşağıdakilerden hangisi doğru şekilde tamamlar?

- A) maigre
B) court
C) gros
D) long

3. Le est doux et chaud.

Choisissez le mot qui convient.

Cümledeki boşluğu aşağıdakilerden hangisi doğru şekilde tamamlar?

- A) velours
B) nylon
C) fer
D) beton

4. - Vous voulez quelque chose?
- Non, nous ne voulons

Choisissez le mot qui convient.

Yukarıdaki konuşmada boş bırakılan yeri aşağıdakilerden hangisi doğru şekilde tamamlar?

- A) rien
B) aucun
C) aucune
D) personne

5. J'ai vu mème film.

Choisissez le mot qui convient.

Cümledeki boşluğu aşağıdakilerden hangisi doğru şekilde tamamlar?

- A) l'
B) la
C) les
D) le

6. Il pleure la journée.

Choisissez le mot qui convient.

Cümledeki boşluğu aşağıdakilerden hangisi doğru şekilde tamamlar?

- A) toute
B) tout
C) tous
D) toutes

7. Quand couchez-vous?

Choisissez le mot qui convient.

Cümledeki boşluğu aşağıdakilerden hangisi doğru şekilde tamamlar?

- A) vous
B) te
C) se
D) lui

8. - Tous les élèves respectent-..... leur professeur?

Choisissez le mot qui convient.

Cümledeki boşluğu aşağıdakilerden hangisi doğru şekilde tamamlar?

- A) le
B) elle
C) ils
D) il

9. I. La boîte est verte.
II. Elle est large.
III. Le gant est noir.
IV. Elle mesure 15 cm.

Trouvez la phrase qui **ne convient pas**.

Cümleler sırasıyla okunduğunda, anlam bütünlüğünü **bozan** cümleyi bulunuz.

- A) I
B) II
C) III
D) IV

10. Il a des bleus.

Choisissez le mot qui convient.

Cümledeki boşluğu aşağıdakilerden hangisi doğru şekilde tamamlar?

- A) nez
B) bouche
C) yeux
D) oreille

11. «Geçen Pazar günü yüzme havuzuna gitmedik.»

Choisissez la traduction qui convient.

Yukarıdaki cümlenin Fransızca karşılığı aşağıdakilerden hangisidir?

- A) Nous n'avons pas nagé dimanche dernier.
B) Nous avons nagé dimanche dernier.
C) Nous sommes allés à la piscine dimanche dernier.
D) Nous ne sommes pas allés à la piscine dimanche dernier.

12. - Il me regarde?
- Non, il ne regarde pas.

Choisissez le mot qui convient.

Yukarıdaki konuşmada boş bırakılan yeri aşağıdakilerden hangisi doğru şekilde tamamlar?

- A) te
B) le
C) me
D) se

13. Hier, nous le travail.

Choisissez le mot qui convient.

Cümledeki boşluğu aşağıdakilerden hangisi doğru şekilde tamamlar?

- A) sommes finis
B) avons fini
C) sommes finies
D) avez fini

14. Mon collier or.

Choisissez le mot qui convient.

Cümledeki boşluğu aşağıdakilerden hangisi doğru şekilde tamamlar?

- A) a en
B) est en
C) est l'
D) a l'

15. «J'ai quelques soucis.»

Choisissez la traduction qui convient.

Yukarıdaki cümlenin Türkçe karşılığı aşağıdakilerden hangisidir?

- A) Herkes endişeli.
B) Hiçbir endişem yok.
C) Endişelerim de var.
D) Bazı endişelerim var.

16. - quoi est le bracelet?
- Il est en or.

Choisissez le mot qui convient.

Yukarıdaki konuşmada boş bırakılan yeri aşağıdakilerden hangisi doğru şekilde tamamlar?

- A) A
B) Pour
C) En
D) Du

17. - Tu vois la petite fille?
- Oui, je vois.

Choisissez le mot qui convient.

Yukarıdaki konuşmada boş bırakılan yeri aşağıdakilerden hangisi doğru şekilde tamamlar?

- A) le
- B) la
- C) l'
- D) me

18. - Quelle est la forme de son nez?
-

Choisissez la réponse qui convient.

Yukarıdaki konuşmada boş bırakılan yeri aşağıdakilerden hangisi doğru şekilde tamamlar?

- A) Elle est large
- B) Il est droit
- C) Elle est pointue
- D) Il est bleu

19. Si j'étais jeune, je en Amérique.

Choisissez le mot qui convient.

Cümledeki boşluğu aşağıdakilerden hangisi doğru şekilde tamamlar?

- A) pars
- B) partir
- C) partirais
- D) partais

20. J'ai une

Choisissez le mot qui convient.

Cümledeki boşluğu aşağıdakilerden hangisi doğru şekilde tamamlar?

- A) pied
- B) bras
- C) visage
- D) bouche

1. Küçük gruplarda bireyler arasındaki yaklaşma ve uzaklaşma modellerini açıklamayı sağlayan araştırma tekniği aşağıdakilerden hangisidir?

- A) Sosyometri
- B) Olay inceleme
- C) Anket
- D) Mülakat

2. I. Sanayi öncesi kentler
II. Sanayi kentleri
III. Metropol kentler

Yukarıdakilerden hangileri tarihsel gelişimi açısından ele alınan kentlerdendir?

- A) Yalnız I
- B) I ve II
- C) II ve III
- D) I, II ve III

3. Aşağıdakilerden hangisi birincil gruplara örnektir?

- A) Arkadaş grupları
- B) Dernekler
- C) Devlet
- D) Siyasal partiler

4. Köy, iş yeri, okul gibi küçük grupların yaşam biçimlerini, toplumsal ilişkilerini, tutumlarını incelemeye yarayan veri toplama tekniği aşağıdakilerden hangisidir?

- A) Basit gözlem
- B) Yordama
- C) Deneyleme
- D) Sistemantik gözlem

5. Aşağıdakilerden hangisi milleti oluşturan unsurlardan biri değildir?

- A) Toprak birliği
- B) Ekonomi birliği
- C) Soy birliği
- D) Siyaset birliği

6. Aşağıdakilerden hangisi toplumsal değerlerin yerine getirdiği işlevlerden biri değildir?

- A) Bireylerin toplumsal rollerini seçmelerinde ve gerçekleştirmelerinde rehberlik eder.
- B) Bireyler ya da gruplar tarafından ortak olarak benimsenip paylaşıldığı için dayanışmayı güçlendirir.
- C) Bireyler üzerindeki baskıları kaldırarak rahat davranmasını sağlar.
- D) Statülerin belirlenmesinde önemli işlevlere sahiptir.

7. Yağmacılar, fanatik spor taraftarları, linç girişiminde bulunan topluluklar aşağıdaki kalabalık türlerinden hangisine örnektir?

- A) İzleyici ve dinleyici
- B) Gösteri
- C) Etkin
- D) Sıradan

8. Aşağıdakilerden hangisi bilimin temel ilkelerinden biri değildir?

- A) Sübjektif olması
- B) Mantıksal olması
- C) Evrensel olması
- D) Olgulara dayanması

9. Aşağıdakilerden hangisi toplumsal grupların özelliklerinden biri değildir?

- A) Gruba özgü kimlik geliştirmesi
- B) Farklı değerler etrafında birleşmiş olması
- C) Üyelerinin arasında iş bölümünün olması
- D) Görelî bir sürekliliğe sahip olması

10. I. Birey-birey ilişkisi
II. Birey-grup ilişkisi
III. Grup-grup ilişkisi

Yukarıdakilerden hangileri toplumsal ilişki türlerindedir?

- A) Yalnız I
- B) I ve II
- C) II ve III
- D) I, II ve III

11. Aşağıdakilerden hangisi bilimsel çalışmalara başlamadan önce uyulması gereken ilkelerden biri değildir?

- A) Nedensellik
- B) Soyutluk
- C) Bilmediğini varsayma
- D) Konunun sınırlandırılması

12. Ulus devletlerin ortaya çıkmasında etkili olan gelişme aşağıdakilerden hangisidir?

- A) Sanayi devrimi
- B) Yüzyıl savaşları
- C) Coğrafi keşifler
- D) Rönesans hareketleri

13. Fiziki yapı, nüfus, toplumsal ilişkiler, kültür ve tabakalaşmanın karşılıklı ilişkiler içinde oluşturduğu bütüne ne ad verilir?

- A) Toplumsal tabakalaşma
- B) Toplumsal statü
- C) Toplumsal hareketlilik
- D) Toplumsal sistem

14. "Enflasyon artarsa toplumsal sorunlar artar" varsayımı aşağıdakilerden hangisi ile ilgilidir?

- A) Genelleme
- B) Tümevarım
- C) Tümdengelim
- D) Gözlem

15. Nüfusu çeşitli özellikleriyle inceleyen bilim dalı aşağıdakilerden hangisidir?

- A) Demografi
- B) Filoloji
- C) Sigolografı
- D) Antropoloji

16. Aşağıdakilerden hangisi kentleri çekici kılan nedenlerinden biri değildir?

- A) Tüketim ürünlerinin bolluğu
- B) Cinsiyete dayalı doğal iş bölümünün olması
- C) Meslek edinme olanakların fazlalığı
- D) Daha iyi hayat standardına ulaşma olanağı

17. Aşağıdakilerden hangisi köy öncesi dönemde toprağa yerleşme nedenlerinden biri değildir?

- A) Hayvanların evcilleştirilmesi
- B) Bitkilerin yetiştirilmesi
- C) Üretim araç ve gereçlerinin geliştirilmesi
- D) Toplayıcılık ve avcılık alanlarının artması

18. Okulda kendi çocuğunun öğretmeni olan bir kadının evde anne gibi davranması gerekirken öğretmen gibi davranması aşağıdakilerden hangisine örnektir?

- A) Rol yansıtması
- B) Rol pekiştirmesi
- C) Rol çatışması
- D) Rol yüceltmesi

19. Bir toplumda olumlu olarak değerlendirilen davranış biçimlerinin, o toplumun üyelerince benimsenmesini sağlamayı amaçlayan yolların ya da önlemlerin tümüne ne ad verilir?

- A) Toplumsal değerler
- B) Toplumsal normlar
- C) Toplumsal roller
- D) Toplumsal kontrol

20. Aşağıdakilerden hangisi bir insan birlikteliğinin toplum olabilmesi için gerçekleşmesi gereken koşullardan biri değildir?

- A) Bireylerin birlikte yaşama isteğinin olması
- B) Farklı kültürel değerleri paylaşmış olması
- C) Değişmeye rağmen süreklilik göstermesi
- D) İhtiyaçları karşılayan işlevlerin yerine getirilmesi

1. Aşağıdakilerin hangisinde "-ki" eki ünlü uyumlarına uymuştur?

- A) taştaki
- B) kitaptaki
- C) sokaktaki
- D) dünkü

2. Söylevle ilgili aşağıdaki ifadelerden hangisi yanlıştır?

- A) Konuşmada jest, mimik ve hareket olmamalıdır.
- B) Konuşmacı dinleyicilerin zevk, kültür düzeyleri ve gereksinimlerini göz önünde bulundurmalıdır.
- C) Söylev etkili ve heyecanlı cümlelerle bitirilmelidir.
- D) Konuşmacı vurgu ve tonlamalara da dikkat etmelidir.

3. Aşağıdakilerden hangisi mülakatın özelliklerinden biridir?

- A) Mülakatı hazırlayanın, aldığı cevapları yazıya dönüştürürken kendi yorumunu katması
- B) Her kesimden kişilerle yapılması
- C) Öğretici ve ufuk açıcı olması
- D) Ayrıntıya girilmesi

4. Söylev türünün ilk örnekleri nerede görülmüştür?

- A) Mısır ve İskenderiye'de
- B) Eski Yunan ve Roma'da
- C) Floransa ve Sicilya'da
- D) Keltler ve Vikingler'de

5. Aşağıdakilerden hangisi Türk edebiyatındaki tanınmış mülakat yazarlarından biri değildir?

- A) Hikmet Feridun Es
- B) Mustafa Baysal
- C) Sermat Sami Uysal
- D) İbrahim Çallı

6. Röportajla ilgili aşağıdaki ifadelerden hangisi yanlıştır?

- A) Röportajı yapan kişi kendi görüşlerini röportaja katmaz.
- B) Röportajcı gördükleri ve izlenimleriyle yetinmeyip araştırma ve inceleme de yapar.
- C) Röportajcının amacı konuyu çarpıtmadan belgesel olarak okuyucuya sunmak ve okuyucuyu konunun içinde yaşatmaktır.
- D) Röportajlar okuyucunun dikkatini çekecek ve onları bazı konularda düşündürerek biçimde düzenlenmelidir.

7. "Buluşma, görüşme, konuşma" anlamına da gelen metin türü aşağıdakilerden hangisidir?

- A) Röportaj
- B) Nutuk
- C) Mülakat
- D) Söylev

8. Aşağıdakilerden hangisi sözlü anlatım türlerinden biri değildir?

- A) Deneme
- B) Mülakat
- C) Söylev
- D) Röportaj

9. "Türk Milleti! Kurtuluş Savaşı'na başladığımızın on beşinci yılındayız. Bugün cumhuriyetimizin onuncu yılını doldurduğu en büyük bayramdır. Kutlu olsun!"

Yukarıda bir parçası alıntılanan Atatürk'ün konuşmasının türü aşağıdakilerden hangisidir?

- A) Hatırat
- B) Tirad
- C) Nesir
- D) Nutuk

10. Bilimsel toplantılarda ilim ve fen insanların yaptıkları söylev türüne ne ad verilir?

- A) Hukuksal söylev
- B) İktisadi söylev
- C) Akademik söylev
- D) Siyasi söylev

11. Atatürk'ün "Söylev" adlı eserinde **en çok** üzerinde durduğu dönem aşağıdakilerden hangisidir?

- A) Osmanlı'nın son dönemleri
- B) Kurtuluş Savaşı yılları
- C) Çanakkale savaşları
- D) Cumhuriyetin ilanı

12. "Tanrı gibi gökte olmuş Türk Bilge Kağanı, bu zamanda oturdum. Sözümü tamamiyle işit. Bilhassa küçük kardeş yeğenim, oğlum, bütün soyum, milletim, güneydeki Şadpıt beyleri, kuzeydeki Tarkat, Buyruk beyleri, Otuz Tatar..."

Yukarıda bir parçası alıntılanan eser aşağıdakilerden hangisidir?

- A) Göktürk Yazıtları
- B) Bugün de Diyorlar ki
- C) İstiklal Kulesi Yazıtları
- D) Fatih Sultan Mehmet'in Nutku

13. Aşağıdaki yazar ve eser eşleştirmelerinden hangisi **yanlıştır**?

- A) Fikret Otyam- Ha Bu Diyar
- B) Yaşar Nabi Nayır- Edebiyatçılarımız Konuşuyor
- C) Yaşar Kemal- Peri Bacaları
- D) Necmi Onur- Ustalarla Konuşmalar

14. Cumhuriyet döneminin **en büyük** konuşmacısı aşağıdakilerden hangisidir?

- A) Peyami Safa
- B) Halide Edip
- C) Mustafa Kemal Atatürk
- D) Bekir Sıtkı

15. Röportajın sağlam bir düşünce ve teze dayanması yönüyle benzerlik gösterdiği tür aşağıdakilerden hangisidir?

- A) Deneme
- B) Makale
- C) Nutuk
- D) Fıkra

16. "Yüz bin okur tarafından bir kez okunmak mı istersiniz yoksa bir okur tarafından yüz bin kez mi () Bu soruya Paul Valery şu yanıtı verir () "Yüz bin okur tarafından yüz bin kez okunmak isterim ()"

Yukarıdaki parçada parantez ile belirtilen yerlere sırasıyla aşağıdaki noktalama işaretlerinden hangileri getirilmelidir?

- A) (?) (:) (.)
- B) (.) (:) (!)
- C) (?) (.) (!)
- D) (?) (...) (.)

17. "Gerçek Bir Yeryüzü Cenneti Sapanca" başlıklı röportajın türü aşağıdakilerden hangisidir?

- A) Belgesel
- B) Gezi yazısı
- C) Eşyayı konu alan
- D) Bir yeri konu alan

18. Aşağıdakilerden hangisi hatip anlamındadır?

- A) Mülakatçı
- B) Suflör
- C) Söylevci
- D) Şair

19. Aşağıdakilerden hangisi konularına göre söylev çeşitlerinden birdir?

- A) Hukuksal söylev
- B) Görsel söylev
- C) Şiirsel söylev
- D) Sosyal söylev

20. Bireysel ve toplumsal sorunları dini açıdan yorumlayan söylev türüne ne ad verilir?

- A) İktisadi
- B) Dinsel
- C) Siyasi
- D) Akademik

1. Servet-i Fünûn dergisi etrafında toplanan şair ve yazarların 1896-1901 yılları arasında oluşturduğu edebî topluluk aşağıdakilerden hangisidir?
 - A) Türk Ocağı
 - B) Edebiyat-ı Cedide
 - C) Fecr-i Âtî
 - D) Tanzimat Edebiyatı
2. Türk edebiyatında "Han Duvarları" ve "Çoban Çeşmesi" şiiirleriyle tanınan; sade dil ve hece ölçüsünü ustalıklarla kullanan; fıkra, manzum oyun, roman türünde de eser veren sanatçı aşağıdakilerden hangisidir?
 - A) Mehmet Emin Yurdakul
 - B) Yahya Kemal Beyatlı
 - C) Ahmet Hikmet Müftüoğlu
 - D) Faruk Nafiz Çamlıbel
3. "Türk Edebiyatında İlk Mutasavvıflar" adlı eser aşağıdaki yazarlardan hangisine aittir?
 - A) Ziya Gökalp
 - B) Fuat Köprülü
 - C) Reşat Nuri Güntekin
 - D) Tevfik Fikret
4. Aşağıdakilerden hangisi Halide Edip Adıvar'ın eserlerinden biri değildir?
 - A) Türkün Ateşle İmtihanı
 - B) Kalp Ağrısı
 - C) Ateşten Gömlek
 - D) Piyale
5. "Kendi Gök Kubbeimiz", "Eski Şiirin Rüzgarıyla", "Aziz İstanbul" adlı eserlerin yazarı aşağıdakilerden hangisidir?
 - A) Yahya Kemal Beyatlı
 - B) Ahmet Haşim
 - C) Tevfik Fikret
 - D) Cenap Şehabettin
6. "Musavver Malumat" adlı dergide yayımlanan şiiri ile Türk edebiyatında abes-muktebes tartışmasının çıkmasına neden olan şair aşağıdakilerden hangisidir?
 - A) Cenap Şahabettin
 - B) Tevfik Fikret
 - C) Hasan Âsaf
 - D) Hüseyin Suat

7. Eserlerini "Safahat" adlı bir kitapta topladı. Manzum hikâyelerinde yoksul insanların yaşamını gerçekçi bir görüşle aktardı. "Toplum için sanat" anlayışını benimsedi.

Yukarıda sözü edilen sanatçı aşağıdakilerden hangisidir?

 - A) Ziya Gökalp
 - B) Ahmet Haşim
 - C) Mehmet Âkif Ersoy
 - D) Mehmet Rauf
8. Aşağıdakilerden hangisi Ziya Gökalp'in eserlerinden biri değildir?
 - A) Göl Saatleri
 - B) Türkçülüğün Esasları
 - C) Malta Mektupları
 - D) Altın Işık
9. Aşağıdakilerden hangisi Türk edebiyatında "Beş Hececiler" adıyla anılan yazarlardan biri değildir?
 - A) Enis Behiç Koryürek
 - B) Yusuf Ziya Ortaç
 - C) Faruk Nafiz Çamlıbel
 - D) Ömer Seyfettin
10. Aşağıdaki ideolojilerden hangisi Osmanlı Devleti'nin gücünü Türk Tarihi ve Türk Kültüründen olması, "Türk ulusu" fikrinin yayılması düşüncesine dayanır?
 - A) Türkçülük
 - B) Batıcılık
 - C) Osmanlıcılık
 - D) İslamcılık
11. Klasik olay hikâyesi tarzında yazan, Ömer Seyfettin'in de örnek aldığı Fransız yazar aşağıdakilerden hangisidir?
 - A) Montaigne
 - B) Voltaire
 - C) Moliere
 - D) Guy de Maupassant
12. Duygudan çok tasvire, düşünceye, biçim ve söyleyiş güzelliğine önem veren "sanat için sanat" görüşünü benimseyen, realizm akımının şiirdeki biçimine ne ad verilir?
 - A) Romantizm
 - B) Parnasizm
 - C) Sembolizm
 - D) Natüralizm

13. "Avrupa Mektupları" adlı gezi yazısı aşağıdaki yazarlardan hangisine aittir?

- A) Cenap Şehabettin
- B) Ahmet Rasim
- C) Tevfik Fikret
- D) Ahmet Haşim

14. Eserlerinden bazıları "Kırmızı Fesler, Ruh-ı Kemal, Ordunun Defteri, Baria" olan Servet-i Fünûn Dönemi içerisinde şair olarak bilinen, "Şiirimiz" adıyla Servet-i Fünûn dergisinde yayımladığı uzun makalesinde topluluğun sanat anlayışını ve eleştirilerini dile getiren sanatçı aşağıdakilerden hangisidir?

- A) Tevfik Fikret
- B) Mehmet Rauf
- C) Cenap Şehabettin
- D) Ali Ekrem Bolayır

15. Cenap Şehabettin'in ilk şiirinin yayımlandığı gazete aşağıdakilerden hangisidir?

- A) Vatan
- B) İkdam
- C) Saadet
- D) Hizmet

16. Eserde kuşaklar arası çatışma işlenmiştir. Batılılaşmayı yanlış anlayanların sorumsuz davranışları yerilmektedir. Eski devri temsil eden Naim Efendi'nin konaktan ayrılmamak için verdiği mücadele anlatılmaktadır.

Yukarıda sözü edilen eser aşağıdakilerden hangisidir?

- A) Sinekli Bakkal
- B) Kiralık Konak
- C) Yaban
- D) Yüzakı

17. Döneminin "Fikri hür, irfanı hür, vicdanı hür şair"i Tevfik Fikret'in çocuklar için sade bir dille ve hece ölçüsüyle yazdığı şiir kitabı aşağıdakilerden hangisidir?

- A) Handan
- B) Feride
- C) Şermin
- D) Nemide

18. Türk Edebiyatında nazmı nesre yaklaştırmada başarıya ulaşan yazarlar aşağıdakilerden hangisinde birlikte ve doğru olarak verilmiştir?

- A) Halit Ziya – Mehmet Rauf
- B) Ömer Seyfettin – Ali Canip Yöntem
- C) Mehmet Âkif Ersoy – Tevfik Fikret
- D) Ahmet Haşim – Yahya Kemal

19. Aşağıdakilerden hangisi Tevfik Fikret'in şiir sanatının özelliklerinden biri değildir?

- A) Duygu ve düşüncelerini beyit yerine dize içerisinde tamamlaması
- B) Bütün eserlerinde yalın bir dil kullanması
- C) Sone, terzarima gibi nazım şekillerini kullanması
- D) Türkçeyi aruz ölçüsüne ustalıkla uygulaması

20. Türk edebiyatının ilk psikolojik romanı olan "Eylül" aşağıdaki yazarlardan hangisine aittir?

- A) Mehmet Rauf
- B) Namık Kemal
- C) Ahmet Vefik Paşa
- D) Recaizade Mahmut Ekrem

1. Gücü 30 W olan bir elektrik motorunun 5 dakikada harcadığı enerji kaç joule(J) 'dur?

- A) 500
- B) 900
- C) 6000
- D) 9000

2. Suyun derinliğini basınç değişiminden faydalanarak ölçmeye yarayan araç aşağıdakilerden hangisidir?

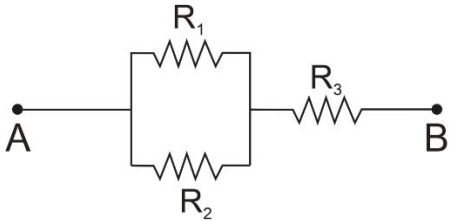
- A) Barometre
- B) Batimetre
- C) Manometre
- D) Termometre

3. I. İletkenin uzunluğu ile doğru orantılıdır.
II. İletkenin kesiti ile ters orantılıdır.
III. İletkenin cinsine bağlıdır.

İletkenlerin elektriksel direnci ile ilgili yukarıdaki ifadelerden hangileri doğrudur?

- A) Yalnız I
- B) Yalnız II
- C) I ve II
- D) I,II ve III

4.



Yukarıdaki elektrik devresindeki A ve B noktaları arasına bağlanan R₁, R₂ ve R₃ dirençlerinin bağlantı şekilleri ile ilgili olarak aşağıdaki ifadelerden hangisi doğrudur?

- A) R₁ ve R₂ seri, R₃ onlara paralel bağlanmıştır.
- B) R₁ ve R₂ paralel, R₃ onlara seri bağlanmıştır.
- C) Üçü birbirine paralel bağlıdır.
- D) Üçü birbirine seri bağlıdır.

5. Dirençleri sırasıyla 5Ω (ohm) , 3Ω (ohm) ve 7Ω (ohm) olan üç ampul seri bağlanarak uçları arasındaki potansiyel farkı 15 volt (V) olan bir üreticinin iki kutbu arasına bağlanmıştır.

Buna göre, dirençlerden geçen akım kaç amper(A) dir?

- A) 1
- B) 2
- C) 2,5
- D) 3

6. Aşağıdaki maddelerden hangisi iletkenidir?

- A) Bakır
- B) Tahta
- C) Cam
- D) Ebonit

7. Direnci 55 Ω olan bir ütü çalıştırıldığında üzerinden geçen akım 4A olduğuna göre; ütünün takıldığı priz gerilimi kaç voltur?

- A) 25
- B) 55
- C) 110
- D) 220

8. I. Bir yüzeye dik olarak etki eden kuvvete basınç denir.
II. Sıvılar, üzerlerine uygulanan kuvvetin büyüklüğünü değiştirmeden aynen iletir.
III. Bir kuvvetin etki ettiği yüzey alanı küçüldükçe o kuvvetin oluşturduğu basınç büyür.

Basınç ile ilgili yukarıdaki ifadelerden hangileri doğrudur?

- A) Yalnız I
- B) Yalnız II
- C) I ve III
- D) II ve III

9. Boyları ve kesit alanları eşit üç nikrom telden her birinin direnci 5 ohm(Ω) 'dur. Bu üç telin uç uca eklenmesiyle oluşan yeni telin direnci kaç ohm(Ω) olur?

- A) 5
- B) 7,5
- C) 10
- D) 15

10. Her birinin direnci 10Ω (ohm) olan üç dirençten ikisi birbirine paralel, diğer direnç ise paralel bağlanan bu iki dirence seri olarak bağlanmıştır.

Buna göre, eşdeğer direnç kaç Ω (ohm) dur?

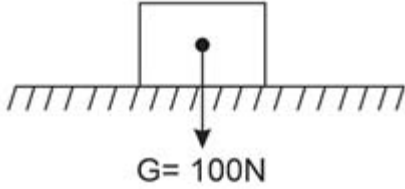
- A) 15
B) 20
C) 25
D) 30

11. Bir ampulün uçlarına 8 voltluk (V) gerilim uygulanınca 4 amper (A) şiddetinde akım geçmektedir.

Buna göre, ampulün direnci kaç Ω (ohm) dur?

- A) 0,5
B) 1,5
C) 2
D) 2,5

12.



Yukarıdaki şekilde görüldüğü gibi ağırlığı 100N olan katı bir cisim $0,5m^2$ lik yatay bir zemin üzerinde oturmaktadır.

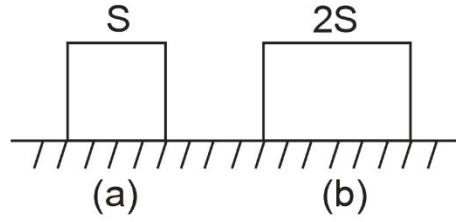
Buna göre cismin zemin üzerine uyguladığı basınç kaç N/m^2 'dir?

- A) 200
B) 250
C) 300
D) 350

13. Kapalı kaplardaki gaz basıncını ölçmeye yarayan alet aşağıdakilerden hangisidir?

- A) Barometre
B) Termometre
C) Manometre
D) Kalorimetre

14.



Yukarıdaki şekilde yüzey alanları S ve 2S olan ağırlıkları eşit küp ve dikdörtgenler prizması şeklindeki kutular a ve b' deki gibi dururken yatay düzleme yaptığı basınçlar sırasıyla P_1 ve P_2 'dir.

Buna göre P_1 / P_2 oranı kaçtır?

- A) 1
B) 2
C) 3
D) 4

15. Ortalama öz kütlesi $1g/cm^3$ olan bir havuzdaki suyun yüzeyinden 1,5 m aşağıdaki su basıncı kaç pascal (Pa) 'dir?

(Yer çekimi alan şiddetini, $g = 10m/s^2$ alınız.)

- A) 2000
B) 5000
C) 10000
D) 15000

16. Uluslararası Birim Sistemi(SI)'nde basınç birimine ne ad verilir?

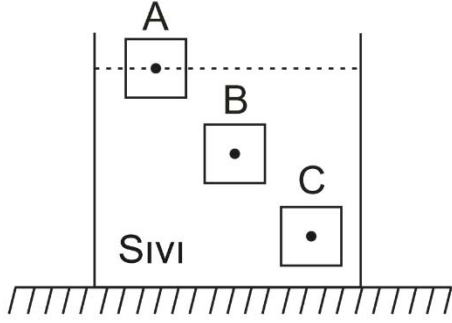
- A) Newton
B) Joule
C) Pascal
D) Watt

17. Bahçe sulama esnasında bazen hortumun ucu sıkılarak suyun bahçenin uzak yerlerine fışkırtılması sağlanır.

Buna göre, bu olay aşağıdaki ilkelere hangisine göre gerçekleşir?

- A) Bernoulli
B) Pascal
C) Archimedes
D) Torricelli

18.



Yukarıdaki şekilde sıvı içerisinde yüzen eşit kütleli A, B ve C cisimlerine etki eden kaldırma kuvvetinin F_A , F_B ve F_C arasındaki büyüklük ilişkisi aşağıdakilerden hangisidir?

- A) $F_A > F_B > F_C$
- B) $F_A = F_B > F_C$
- C) $F_A > F_B = F_C$
- D) $F_A = F_B = F_C$

20. Akışkanların kaldırma kuvvetiyle ilgili ilkeye ne ad verilir?

- A) Bernoulli ilkesi
- B) Archimedes ilkesi
- C) Newton ilkesi
- D) Pascal ilkesi

19. I. Demir, nikel, kobalt gibi maddeleri çeken cisimlere mıknatıs denir.
 II. Akım geçen iletkenlerin çevresinde elektriksel alan oluşur.
 III. Demir çiviye sarılı telden geçen akım çivinin mıknatıs olmasını sağlar.

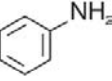


Mıknatıslıkla ilgili yukarıdaki ifadelerden hangileri doğrudur?

- A) Yalnız I
- B) Yalnız II
- C) I ve III
- D) II ve III

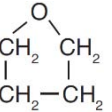
1. Aşağıdakilerden hangisi alkollerin elde edilme yollarına ait reaksiyonlardan biridir?

- A) $\text{CH}_3-\text{OH} + \text{CH}_3-\underset{\text{CH}_3}{\text{C}}=\text{O} \xrightarrow{\text{H}_2\text{SO}_4} \text{CH}_3-\underset{\text{O}-\text{CH}_3}{\text{C}}=\text{O} + \text{H}_2\text{O}$
- B) $\text{CH}_3-\text{CH}_2-\text{OH} + \text{HBr} \xrightarrow{\text{H}_2\text{SO}_4} \text{CH}_3-\text{CH}_2-\text{Br} + \text{H}_2\text{O}$
- C) $\text{CH}_3-\text{CH}_2-\text{OH} + \text{HCl} \xrightarrow[\text{Lucas ayırıcı}]{\text{ZnCl}_2} \text{CH}_3-\text{CH}_2-\text{Cl} + \text{H}_2\text{O}$
- D) $\text{CH}_3-\text{CH}_2-\text{Br} + \text{NaOH} \xrightarrow{\text{Isi}} \text{CH}_3-\text{CH}_2-\text{OH} + \text{NaBr}$

2. Aşağıdakilerden hangisi aromatik hidrokarbon bileşiğidir?

- A) 
- B) 
- C) 
- D) $\text{CH}\equiv\text{C}-\text{C}\equiv\text{C}-\text{C}\equiv\text{CH}$

3. Aşağıdakilerden hangisi eter bileşiklerinden biri değildir?

- A) $\text{CH}_3-\underset{\text{OH}}{\text{CH}}-\text{CH}_3$
- B) 
- C) $\text{CH}_3-\text{O}-\text{CH}_2-\text{CH}_3$
- D) $\text{CH}_3-\underset{\text{CH}_3}{\text{CH}}-\text{O}-\text{CH}_3$

4. Aşağıdakilerden hangisi 4-etil-2-metilheptan bileşiğidir?

- A) $\text{CH}_3-\underset{\text{CH}_3}{\text{CH}_2}-\text{CH}_2-\underset{\text{CH}_2\text{CH}_3}{\text{CH}}-\text{CH}_2-\text{CH}_2-\text{CH}_3$
- B) $\text{CH}_3-\text{CH}_2-\underset{\text{CH}_3}{\text{CH}}-\underset{\text{CH}_2\text{CH}_3}{\text{CH}}-\text{CH}_2-\text{CH}_3$
- C) $\text{CH}_3\underset{\text{CH}_3}{\text{CH}}-\text{CH}_2-\text{CH}_2-\underset{\text{CH}_2-\text{CH}_3}{\text{CH}_2}$
- D) $\text{CH}_3\text{CH}_2\text{CH}_2\underset{\text{CH}_3}{\text{CH}}-\text{CH}_3$

5. Aşağıdaki karboksilik asitlerden hangisi yağ asididir?

- A) Etanoik asit
- B) Propandioik asit
- C) Benzoik asit
- D) Pentanoik asit

6. Aşağıdakilerden hangisi sekonder amin bileşiğidir?

- A) $\text{CH}_3-\text{CH}_2-\underset{\text{CH}_3}{\text{N}}-\text{CH}_3$
- B) NH_3
- C) $\text{CH}_3-\text{NH}-\text{CH}_3$
- D) CH_3-NH_2

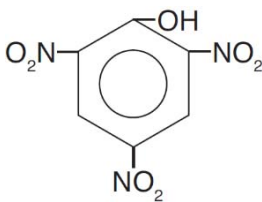
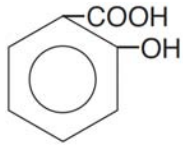
7. Aşağıdaki karboksilik asit türevi bileşiklerden hangisi ester bileşiğidir?

- A) $\text{CH}_3-\underset{\text{NH}-\text{CH}_3}{\text{C}}=\text{O}$
- B) $\text{CH}_3-\underset{\text{O}-\text{CH}_2-\text{CH}_3}{\text{C}}=\text{O}$
- C) $\text{CH}_3-\underset{\text{Cl}}{\text{C}}=\text{O}$
- D) $\text{CH}_3-\overset{\text{O}}{\parallel}{\text{C}}-\text{O}-\overset{\text{O}}{\parallel}{\text{C}}-\text{CH}_3$

8. Aşağıdaki reaksiyonlardan hangisi gümüş ayna tepkimesidir?

- A)
$$\text{H}-\underset{\text{H}}{\text{C}}=\text{O} \xrightarrow[\text{Fehling/Tollens}]{\text{NH}_3} \text{H}-\underset{\text{OH}}{\text{C}}=\text{O}$$
- B)
$$\text{CH}_3-\underset{\text{H}}{\text{C}}=\text{O} + 2\text{Ag}^+ + 2\text{OH}^- \xrightarrow{\text{NH}_3} \text{CH}_3-\underset{\text{OH}}{\text{C}}=\text{O} + 2\text{Ag} + \text{H}_2\text{O}$$
- C)
$$\text{CH}_3-\underset{\text{H}}{\text{C}}=\text{O} \xrightarrow{\text{KMnO}_4/\text{OH}^-} \text{CH}_3-\underset{\text{OH}}{\text{C}}=\text{O}$$
- D)
$$\text{CH}_3-\underset{\text{H}}{\text{C}}=\text{O} + 2\text{Cu}^{2+} + 4\text{OH}^- \rightarrow \text{CH}_3-\underset{\text{OH}}{\text{C}}=\text{O} + \text{Cu}_2\text{O} + 2\text{H}_2\text{O}$$

9. Aşağıdakilerden hangisi aminoasit bileşiğidir?

- A) 
- B) 
- C)
$$\text{CH}_3-\underset{\text{NH}_2}{\text{CH}}-\underset{\text{OH}}{\text{C}}=\text{O}$$
- D)
$$\begin{array}{c} \text{CH}_2-\text{COOH} \\ | \\ \text{HO}-\text{C}-\text{COOH} \\ | \\ \text{CH}_2-\text{COOH} \end{array}$$

10. Aşağıdaki reaksiyonlardan hangisinde yer alan ürün Markovnikov kuralı doğrultusunda oluşmaz?

- A)
$$\text{CH}_3-\text{CH}=\text{CH}_2 + \text{Cl}_2 \rightarrow \text{CH}_3-\underset{\text{Cl}}{\text{CH}}-\underset{\text{Cl}}{\text{CH}_2}$$
- B)
$$\text{CH}_3-\text{CH}=\text{CH}_2 + \text{H}_2\text{O} \rightarrow \text{CH}_3-\underset{\text{OH}}{\text{CH}}-\text{CH}_3$$
- C)
$$\text{CH}_3-\text{CH}=\text{CH}_2 + \text{H}_2 \rightarrow \text{CH}_3-\text{CH}_2-\text{CH}_3$$
- D)
$$\text{CH}_3-\text{CH}=\text{CH}_2 + \text{HCl} \rightarrow \text{CH}_3-\text{CH}_2-\text{CH}_2-\text{Cl}$$

11. Hidrojenasyon sırasında sıvı yağlardaki bazı doymamış yağ asidi birimlerinin yapısal değişikliğe uğraması sonucu oluşan yağlara ne ad verilir?

- A) Sıvı yağ
B) Trigliserit
C) Trans yağ
D) Katı yağ

12. Tek bir çeşit monomerden oluşan polimerlere ne ad verilir?

- A) Yüksek polimerler
B) Kopolimer
C) Düşük polimerler
D) Homopolimer

13. Çeşitli bitkisel veya hayvansal yağların kısmi olarak hidrojene edilmeleri sonucunda elde edilen sertleştirilmiş rafine yağlardan veya bu yağlara çeşitli rafine bitkisel yağların karıştırılmasından elde edilen ve içerisinde emülsiyon halinde su, süt, süt tozu ve peynir altı suyu tozu ile katkı maddelerinin bulunduğu ürüne ne ad verilir?

- A) Margarin
B) Bitkisel yağ
C) Hayvansal yağ
D) Rafine yağ

14. Petrolün gaz bileşenlerinin molekülündeki karbon atom sayısı aralığı aşağıdakilerden hangisinde doğru olarak verilmiştir?

- A) C₁ - C₄
B) C₅ - C₇
C) C₁₀ - C₁₆
D) C₁₇ - C₁₉

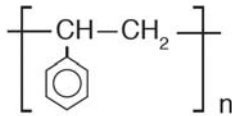
15. Sakkarozun hidrolizi sonucu oluşan monosakkaritler aşağıdakilerden hangisinde birlikte ve doğru olarak verilmiştir?

- A) Maltoz + Dekstrin
- B) Fruktoz + Fruktoz
- C) Glukoz + Fruktoz
- D) Glukoz + Glukoz

16. Bir sıvının yüzey gerilimini düşüren maddelere ne ad verilir?

- A) Yüzey gerilimi
- B) Yüzey aktif madde
- C) Yağ asidi
- D) Hidrofob grup

17.



Yukarıda formülü verilen bileşik aşağıdakilerden hangisidir?

- A) Politetrafloroetilen
- B) Polistiren
- C) Polivinilklorür
- D) Polietilen

18. Aşağıdakilerden hangisi aminoasit polimeri olarak adlandırılır?

- A) Peptit bağı
- B) Alanin
- C) Dipeptit
- D) Protein

19. Ham yağa uygulanan bütün işlemler sonucunda elde edilen yağa ne ad verilir?

- A) Prina
- B) Binterize yağ
- C) Rafine yağ
- D) Vinterizasyon

20. Yüksek karbonlu yağ asitlerinin sodyum veya potasyum tuzlarına ne ad verilir?

- A) Yağ asitleri
- B) Sabun
- C) Gliserin
- D) Kir

1. Aşağıdakilerden hangisi mRNA'daki amino asitleri sitoplazmadan ribozoma taşır?

- A) cDNA
- B) rRNA
- C) tRNA
- D) DNA

2. DNA'da bulunan genetik bilgiden mRNA sentezlenmesine ne ad verilir?

- A) Santral dogma
- B) Protein sentezi
- C) Translasyon
- D) Transkripsiyon

3. RNA'da timin bazı yerine yer alan bazı aşağıdakilerden hangisidir?

- A) Adenin
- B) Guanin
- C) Urasil
- D) Sitozin

4. RNA'nın yapısında bulunan 5C'lu şeker aşağıdakilerden hangisidir?

- A) Glikoz
- B) Deoksiriboz
- C) Riboz
- D) Maltoz

5. Aşağıdakilerden hangisi ribonükleotitlerin yapısına yer almaz?

- A) Fosfat
- B) Azotlu organik baz
- C) 5C'lu şeker
- D) Sülfat

6. DNA'da bir genin bir tek nükleotit zincirindeki genetik bilgide bir amino asidi şifreleyen üçlü nükleotit dizisine ne ad verilir?

- A) Genetik kod
- B) Antikodon
- C) Kodon
- D) Triplet

7. Aşağıdaki kavramlardan hangisi organizmanın kromozomlarında bulunan genetik bilginin tamamını ifade eder?

- A) DNA
- B) Gen
- C) Genom
- D) Kodon

8. DNA üzerinde ortalama 1500 deoksiribonükleotitten oluşan ve bir protein sentezinden sorumlu olan bölgelere ne ad verilir?

- A) Riboz
- B) Gen
- C) Adenin
- D) RNA

9. İstenen özellikte bir genin çeşitli tekniklerle bir canlıdan alınarak başka bir canlıya aktarılmasıyla uğraşan bilim dalı aşağıdakilerden hangisidir?

- A) Biyoinformatik
- B) Proteomik
- C) Genomik
- D) Genetik mühendisliği

10. Genlerin özünü oluşturan kalıtsal maddenin DNA olduğu aşağıdakilerden hangisi ile yapılan çalışmalar sonucunda keşfedilmiştir?

- A) *Streptococcus pneumoniae* bakterisi
- B) Balık spermi çekirdekleri
- C) Maya mantarı
- D) Akyuvar çekirdekleri

11. Aşağıdakilerden hangisi büyümeyi ve gelişmeyi teşvik eden bitki hormonlarından biri değildir?

- A) Giberelin
- B) Etilen
- C) Oksin
- D) Sitokinin

12. Aşağıdakilerden hangisi bitkilerde sekonder büyümeyi sağlar?

- A) Sklerenkima
- B) Lateral meristem
- C) Apikal meristem
- D) Havalandırma parankiması

13. Aşağıdakilerden hangisi yalancı meyveler arasında yer alır?

- A) Erik
- B) Şeftali
- C) Üzüm
- D) Ayva

14. Aşağıdaki hücrelerden hangisinin farklılaşmasıyla emergensler meydana gelir?

- A) Epidermis
- B) Sklerenkima
- C) Parankima
- D) Kolenkima

15. Bitkilerin gün ve gece uzunluğuna verdikleri biyolojik tepkiye ne ad verilir?

- A) Geotropizma
- B) Fotoperiyodizm
- C) Kemotropizma
- D) Fotonasti

16. Aşağıdakilerden hangisi stoma ve lentisellerin ortak özelliklerinden biridir?

- A) Devamlı açık olmaları
- B) Peridermde bulunmaları
- C) Örtü doku elemanı olmaları
- D) Hücrelerinin canlı olmaları

17. Diğer bir ismi "pek doku" olan yapı aşağıdakilerden hangisidir?

- A) Kollenkima
- B) Parenkima
- C) Sklerenkima
- D) Ksilem

18. Aşağıdakilerden hangisi tek çenekli bitkilerde kökün enine kesitinde endodermisin dış kısmında yer alır?

- A) Merkezi silindir
- B) Floem
- C) Ksilem
- D) Korteks

19. Aşağıdakilerden hangisi görevlerine göre parankima hücre gruplarından biri değildir?

- A) Aktarma
- B) Havalandırma
- C) Özümleme
- D) Depo

20. Aşağıdaki bitkilerden hangisinin kökü besin olarak tüketilir?

- A) Soğan
- B) Pancar
- C) Pırasa
- D) Buğday

1 - 3. soruları aşağıdaki bilgilere göre ve birbirinden bağımsız olarak cevaplayınız.

Bir araştırma şirketi tarafından uygulanan bir anketin başlangıçtaki maliyeti 4800 TL olup anketin uygulandığı birey başına maliyeti 9 TL'dir. Araştırma şirketinin uyguladığı bu anketten elde edeceği kazanç ise anketin uygulandığı birey başına 15 TL'dir.

- Buna göre, araştırma şirketinin zarar etmemesi için anketi uygulaması gereken birey sayısı en az kaçtır?
 - 800
 - 850
 - 900
 - 950
- Yukarıdaki bilgilere göre, anketin uygulandığı birey sayısı 2150 olduğunda, kaç TL kâr elde edilir?
 - 7900
 - 8100
 - 8300
 - 8500
- Araştırma şirketinin 2700 TL kâr elde edebilmesi için anketin uygulanması gereken birey sayısı kaçtır?
 - 1200
 - 1250
 - 1300
 - 1350

4 - 6. soruları aşağıdaki bilgilere göre ve birbirinden bağımsız olarak cevaplayınız.

Bir şirket, çalışanlarına maaş ödemeleri için iki farklı tarife sunmaktadır.

- Tarife:** Aylık 1400 TL sabit ücret ve çalışılan her bir gün için 35 TL ödenecektir.
- Tarife:** Aylık 800 TL sabit ücret ve çalışılan her bir gün için 60 TL ödenecektir.

- Buna göre, her iki tarifeye göre aylık maaş miktarının aynı olduğu durumda, her bir çalışanın aldığı maaş kaç TL olur?
 - 2200
 - 2220
 - 2240
 - 2260

- Yukarıdaki bilgilere göre, birinci tarifeyi tercih eden bir çalışan 19 gün çalıştığı ayda kaç TL maaş alır?
 - 1960
 - 1995
 - 2030
 - 2065

- Yukarıdaki bilgilere göre, ikinci tarifeyi tercih eden bir çalışan 2420 TL maaş aldığı ayda kaç gün çalışmıştır?
 - 24
 - 25
 - 26
 - 27

- Aşağıdakilerden hangisi bir üstel fonksiyon değildir?
 - 1^x
 - $4^{\frac{x}{3}}$
 - 3^{-x}
 - 5^{x+4}

- $10^{17} - 4 \cdot 10^{16} + 200 \cdot 10^{14}$ işleminin sonucu kaçtır?
 - $6 \cdot 10^{16}$
 - $8 \cdot 10^{16}$
 - $2 \cdot 10^{17}$
 - $4 \cdot 10^{17}$

- $(0,125)^{-6} \cdot (32^3)^2$ işleminin sonucu kaçtır?
 - 2^{64}
 - 2^{48}
 - 2^{36}
 - 2^{12}

- $(125)^{2n} = (625)^6$ eşitliğini sağlayan n değeri kaçtır?
 - 4
 - 3
 - 2
 - 1

11. x , y ve z pozitif tamsayılar olmak üzere, $2^x \cdot 3^y \cdot 5^z = 540$ eşitliğini sağlayan x , y ve z değerlerinin toplamı kaçtır?
- A) 5
B) 6
C) 8
D) 9
12. Başlangıçtaki miktarı 136 gram olan bir maddeden 36 yıl sonra 17 gram kaldığına göre, bu maddenin yarı ömrü kaç yıldır?
- A) 6
B) 9
C) 12
D) 18
13. Bir bakteri kolonisinde bulunan bakterilerin sayısı bir saatte 3 katına çıkıyor. 5 saat sonra bakteri sayısı 972 olduğuna göre, başlangıçtaki bakteri sayısı kaçtır?
- A) 2
B) 3
C) 4
D) 6
14. Bir öğrenci işlemci hızı 1,6 MHz olan eski bilgisayarının yerine, işlemci hızı 3,2 GHz olan yeni bir bilgisayar alıyor.
- Buna göre, yeni alınan bilgisayarın hızı, eski bilgisayarın hızının kaç katıdır? (1 GHz=10⁹ Hz, 1 MHz=10⁶ Hz)
- A) 2
B) 20
C) 200
D) 2000
15. Gerçek sayılarda tanımlı $f(x)=5x + 7$ doğrusal fonksiyonunun değişim oranı (hızı) kaçtır?
- A) 5
B) 6
C) 7
D) 12
16. Bir bankaya yıllık %5 bileşik faizle yatırılan 8000 TL 3 yıl sonra kaç TL'ye ulaşır?
- A) 9261
B) 9357
C) 9425
D) 9519
17. $f(x) = k \cdot 3^{2x}$ fonksiyonunun grafiği $(-1, 4)$ noktasından geçtiğine göre, k kaçtır?
- A) 18
B) 24
C) 36
D) 48
18. $6^{2x} \cdot 8^{2x} \cdot 9^{3x} = 6^{40}$ eşitliğini sağlayan x değeri kaçtır?
- A) 2
B) 3
C) 4
D) 5
19. $P = (8)^4 \cdot (25)^7$ ifadesi kaç basamaklı bir sayı belirtir?
- A) 11
B) 12
C) 13
D) 14
20. $(0,5)^{24} + (16)^{-6}$ işleminin sonucu kaçtır?
- A) 2⁴⁸
B) 2²⁶
C) 2⁻²³
D) 2⁻²⁵

1. Aşağıdakilerden hangisi üretim faktörlerinden biri değildir?
- A) Emek
B) Tüketici
C) Girişimci
D) Sermaye
2. Aşağıdakilerden hangisi ihtiyaçların sınıflandırılmasında ikincil ihtiyaçlar arasında yer almaz?
- A) Barınmak
B) Araba kullanmak
C) Sinemaya gitmek
D) Kitap okumak
3. Girdilerin fayda-maliyet analizini yapmak aşağıdaki verimlilik ilkelerinden hangisini ifade eder?
- A) Teknik olma ilkesi
B) Analitiklik ilkesi
C) Uygunluk ilkesi
D) Farkında olmak ilkesi
4. Mal ve hizmetlerin insan ihtiyaçlarını karşılaması amacıyla kullanılmasına ne ad verilir?
- A) Tasarruf
B) Fayda
C) İsraf
D) Tüketim
5. İnsan ihtiyaçlarını karşılamak üzere üretim faktörlerini uygun ortamda bir araya getirerek mal ve hizmet üretimine yönelen kişiye ne ad verilir?
- A) Üretici
B) Yönetici
C) Distribütör
D) Tacir
6. İşletmelerin belli bir dönem içinde elde ettiği gelirler ile aynı dönem içinde katlandığı giderler arasındaki olumlu farka ne ad verilir?
- A) Kâr
B) Faiz
C) Zarar
D) Pay

7. İnsanlar arasındaki benzerlik ve farklılıkları göz önüne alarak insanları karşılaştırmalı olarak inceleyen bilim dalı aşağıdakilerden hangisidir?
- A) İstatistik
B) Hukuk
C) Antropoloji
D) İşletme
8. Kâr aşağıdaki değerlendirmelerden hangisinde ölçüt olarak kullanılmaz?
- A) Üst yönetimin başarı değerlendirmesinde
B) İşletmenin büyümesinde
C) Tüketicilerin tercihlerinde
D) Çalışanlar için özendirici olmasında
9. Aşağıdakilerden hangisi işletmenin genel amaçlarından biridir?
- A) Uzun vadeli büyümeyi hedef haline getirmek
B) Personeline yeterli ücret vermek
C) Tüketicilere nitelikli mal ve hizmet sunmak
D) Kâr elde etmek
10. Verilerin toplanması, organize edilmesi, analiz edilmesi, özetlenmesi, sunulması ve bu verilerin bir sonuca varılabilmesi için kullanılmasında yararlanan bilim dalı aşağıdakilerden hangisidir?
- A) Psikoloji
B) Hukuk
C) Antropoloji
D) İstatistik
11. Aşağıdakilerden hangisi hizmet işletmelerinin özelliklerinden biri değildir?
- A) Üretim ile tüketimin eş zamanlı olması
B) Fabrikasyon üretim yapmaları
C) Ürünlerin soyut olması
D) İşletmelerin genellikle pazara yakın olması

12. Ticari bir işletmeyi bir ticaret unvanı altında işletmek amacıyla kurulan, şirket alacaklılarına karşı ortaklardan bir veya birkaçının sorumluluğu sınırlanmamış ve diğer ortak veya ortakların sorumluluğu belirli bir sermaye ile sınırlandırılmış olan şirkete ne ad verilir?
- A) Komandit şirket
B) Kollektif şirket
C) Limitet şirket
D) Anonim şirket
13. Aşağıdakilerden hangisi sermaye şirketlerinin üstünlüklerinden biridir?
- A) Sermayesinin tamamının devlete ait olması
B) Kurulmasının zor ve masraflı olması
C) Şirket yönetiminin zaman içerisinde belli bir grubun eline geçebilmesi
D) Ortaklık paylarının kolaylıkla devredilebilmesi
14. Kazanç paylaşma dışında, kanunlarla yasaklanmamış belirli ve ortak bir amacı gerçekleştirmek üzere, en az yedi gerçek veya tüzel kişinin, bilgi ve çalışmalarını sürekli olarak birleştirmek suretiyle oluşturdukları tüzel kişiliğe sahip kişi topluluklarına ne ad verilir?
- A) Vakıf
B) Kooperatif
C) Kulüp
D) Dernek
15. Bir veya daha çok gerçek veya tüzel kişi tarafından bir ticaret unvanı altında kurulan, esas sermayesi belli olan ve ortaklarının sorumluluğu koydukları ya da koymayı taahhüt ettikleri sermaye ile sınırlı şirkete ne ad verilir?
- A) Anonim şirket
B) Kollektif şirket
C) Limitet şirket
D) Komandit şirket
16. Belirli sosyal risklerin yol açabileceği gelir kayıpları ve gider artışlarına karşı kişilerin güvenliklerinin sağlanmasına ne ad verilir?
- A) Siber güvenlik
B) İş güvenliği
C) Sosyal güvenlik
D) Özel güvenlik
17. Kısa veya uzun vadeli sigorta kolları bakımından adına prim ödenmesi gereken veya kendi adına prim ödemesi gereken kişiye ne ad verilir?
- A) Sigortalı
B) İşveren
C) Alt işveren
D) İşyeri
18. Çabuk bozulan mallar üreten işletmeler için önemli olan kuruluş yeri faktörü aşağıdakilerden hangisidir?
- A) Yerel yönetim imkânları
B) Özendirme (Teşvik)
C) Pazara yakınlık
D) Atıkların atılması
19. Ticari, sınai, zirai ve mesleki faaliyetleri ile ilgili olarak bir iş yeri açıp faaliyete başlayanların bu faaliyetinden dolayı vergi yükümlülüğü çıkıyorsa aşağıdaki kurumlardan hangisine bildirimde bulunma sorumluluğu vardır?
- A) Maliye Bakanlığı
B) Kalkınma Bakanlığı
C) Türkiye İş Kurumu
D) Sosyal Güvenlik Kurumu
20. Bir termik santralin kömür yataklarına yakın yerlere kurulması durumunda kuruluş yeri seçimini etkileyen faktör aşağıdakilerden hangisidir?
- A) Pazara yakınlık
B) Hammadde
C) Taşıma
D) İşgücü

1. Er legt seine Schlüssel den Schrank.

Welches Wort passt in die obige Lücke?

Cümlede boş bırakılan yeri aşağıdakilerden hangisi tamamlar?

- A) in
B) mit
C) zwischen
D) links

2. kann nicht laufen, sondern schleichen.

Welches Wort passt in die obige Lücke?

Cümlede boş bırakılan yeri aşağıdakilerden hangisi doğru şekilde tamamlar?

- A) Eine Schildkröte
B) Eine Schlange
C) Ein Tiger
D) Ein Pferd

3. Auf welchen Kontinenten lebt der Elefant?

Welche Antwort passt zur obigen Frage?

Verilen sorunun cevabı aşağıdakilerden hangisidir?

- A) Der Elefant ist groß und stark.
B) Sie wurden in Indien gefunden.
C) Der Elefant lebt in Afrika und in Asien.
D) Ein Elefant kann sehr schnell laufen.

4. Der Löwe ist

Welches ergänzt die Lücke im obigen Satz?

Verilen cümleyi aşağıdakilerden hangisi tamamlar?

- A) schnell aber schwach.
B) langsam aber laut.
C) lang und leicht.
D) groß und kräftig.

5. meinem Geburtstag habe ich eine Schildkröte bekommen.

Welches Wort passt in die obige Lücke?

Cümlede boş bırakılan yeri aşağıdakilerden hangisi doğru şekilde tamamlar?

- A) Zu
B) Auf
C) Über
D) Von

6. Was bedeutet "keyif" auf Deutsch?

"keyif" sözcüğünün Almancası aşağıdakilerden hangisidir?

- A) Die Laune
B) Die Löffel
C) Die Ideen
D) Der Spiegel

7., dass ich in einer Band mitspielen kann.

Welcher Satz ergänzt die obige Lücke?

Verilen cümleyi aşağıdakilerden hangisi tamamlar?

- A) Für die Zukunft wünsche ich mir
B) Jeder kann das doch spielen
C) Alles Gute für deine Zukunft
D) Das kleine Kind spielt Blockflöte

8. A: welches Musikinstrument interessierst du dich?

B: Ich interessiere für die Klarinette.

A: Wirklich? Ich auch!

Welche Wörter ergänzen die Lücken im obigen Dialog?

Verilen karşılıklı konuşmada boş bırakılan yerleri aşağıdakilerden hangileri tamamlar?

- A) Mit / uns
B) Zu / mir
C) An / euch
D) Für / mich

9. die Wortenden in zwei Zeilen am Ende eines Satzes gleich sind, wie z.B. Tag und Sag, ist es ein Reim.

Welche Wörter passen in die obigen Lücken?

Cümlede boş bırakılan yerleri aşağıdakilerden hangisi tamamlar?

- A) Wessen / dessen
- B) Wenn / dann
- C) Was / die
- D) Wie / damit

10. Womit macht ihr Musik?

Welche Antwort passt zur obigen Frage?

Verilen sorunun cevabı aşağıdakilerden hangisidir?

- A) Ich habe auch einen Computer.
- B) Er hat früher nie Musik gehört.
- C) Sie macht immer Musik.
- D) Wir machen mit der Gitarre Musik.

11. Für die Eltern war es wichtig, dass die Mädchen fleißig und gehorsam sind.

Wie lautet der obige Satz auf Türkisch?

Verilen cümlelerin Türkçesi aşağıdakilerden hangisidir?

- A) Aileler için kız çocukların çalışkan ve itaatli olması önemliydi.
- B) Aileler kız çocuklarını iyi eğitmek istiyordu.
- C) Aileler için en önemli konu kız çocukların eğitim durumu.
- D) Aileler kız çocukların daha çalışkan ve itaatli olduklarını savundu.

12. Çocuklar el ele tutuşuyorlar.

Wie lautet der obige Satz auf Deutsch?

Verilen cümlelerin Almancası aşağıdakilerden hangisidir?

- A) Die Kinder spielen Klavier.
- B) Die Kinder müssen früh schlafen.
- C) Die Kinder halten sich Hand in Hand.
- D) Die Kinder haben schmutzige Hände.

13. Was wird in der Türkei als Familienfest gefeiert?

Welche Antwort passt zur obigen Frage?

Verilen sorunun cevabı aşağıdakilerden hangisidir?

- A) Ich habe ein Geschenk für meine Schwester gekauft.
- B) In der Türkei wird das Geburtstag als Familienfest gefeiert.
- C) Es gibt viele Ähnlichkeiten und Unterschiede zwischen den Türken und den Deutschen.
- D) In Deutschland gibt es auch religiöse Feste, die gefeiert werden müssen.

14., weil wir somit in Kontakt bleiben.

Welches ergänzt die Lücke im obigen Satz?

Verilen cümleyi aşağıdakilerden hangisi tamamlar?

- A) Die Kinder und Enkelkinder können
- B) In Deutschland wird gefeiert
- C) Familienfeste sind für uns wichtig
- D) Diese Frage ist für mich wichtig

15. freundlich / gehorsam / planen / hilfsbereit

Welches Wort passt nicht zu den anderen in der obigen Wortgruppe?

Verilen sözcük grubuna uymayan aşağıdakilerden hangisidir?

- A) freundlich
- B) gehorsam
- C) hilfsbereit
- D) planen

16. Die Kartoffel / der Paprika / der Kopfsalat / das Omelett / der Pilz

Welches Wort passt nicht zu den anderen in der obigen Wortgruppe?

Verilen sözcük grubuna uymayan aşağıdakilerden hangisidir?

- A) Die Kartoffel
- B) Das Omelett
- C) Der Kopfsalat
- D) Der Pilz

17. Ein Bund Petersilie.

Wie lautet der obige Satz auf Türkisch?

Verilen cümlelerin Türkçesi aşağıdakilerden hangisidir?

- A) Bir çeşit mantar.
- B) Bir demet maydanoz.
- C) Bir yaprak marul.
- D) Bir bağ dereotu.

18. A: Was du, wenn du einen Salat?

B: Ich brauche einen Kopfsalat, Tomaten und Olivenöl.

Welches ergänzt die Lücken im obigen Dialog?

Verilen karşılıklı konuşmada boş bırakılan yerleri aşağıdakilerden hangisi tamamlar?

- A) willst / essen
- B) hast / hast
- C) brauchst / zubereitest
- D) kaufst / kochen

19. Was hält dich fit?

Welche Antwort passt nicht zur obigen Frage?

Aşağıdakilerden hangisi verilen sorunun cevabı olamaz?

- A) Ich gehe jeden Abend laufen.
- B) Ich fahre oft Fahrrad.
- C) Ich esse und schlafe gern.
- D) Ich spiele jeden Tag Fußball.

20. Machst du Sport oder nur selten?

Welches Wort passt nicht in die obige Lücke?

Cümlede boş bırakılan yeri aşağıdakilerden hangisi tamamlamaz?

- A) oft
- B) jeden Tag
- C) immer
- D) manchmal

1. Mustafa is extremely at teaching English.

Which of the following completes the sentence above?

Aşağıdakilerden hangisi yukarıdaki cümleyi doğru olarak tamamlar?

- A) proud
- B) interested
- C) good
- D) famous

2. Are you pleased your new car?

Which of the following completes the sentence above?

Aşağıdakilerden hangisi yukarıdaki cümleyi doğru olarak tamamlar?

- A) from
- B) with
- C) on
- D) at

3. Giresun is famous its nuts.

Which of the following completes the sentence above?

Aşağıdakilerden hangisi yukarıdaki cümleyi doğru olarak tamamlar?

- A) in
- B) for
- C) on
- D) at

4. Clark: "Play with us, Louise"
Clark told Louise

Which of the following completes the sentence above?

Aşağıdakilerden hangisi yukarıdaki cümleyi doğru olarak tamamlar?

- A) to playing with us
- B) to play with us
- C) to play with them
- D) to playing with them

5. Jenny: "Is it rainy outside?"

Which of the following is the reported speech form of the direct speech sentence above?

Aşağıdakilerden hangisi yukarıdaki dolaysız anlatım cümlesinin dolaylı anlatım biçimidir?

- A) Jenny wanted to know if it is rainy outside.
- B) Jenny wanted to know was it rainy outside.
- C) Jenny wanted to know if it did rainy outside.
- D) Jenny wanted to know if it was rainy outside.

6. Michael said, "I will visit you tomorrow."
Michael said that he would visit me

Which of the following completes the sentence above?

Aşağıdakilerden hangisi yukarıdaki cümleyi doğru olarak tamamlar?

- A) tomorrow
- B) now
- C) the previous day
- D) the next day

7. My friends: "We are in the canteen now"
My friends said that

Which of the following completes the sentence above?

Aşağıdakilerden hangisi yukarıdaki cümleyi doğru olarak tamamlar?

- A) they are in the canteen now
- B) to be in the canteen now
- C) they were in the canteen then
- D) they have been in canteen now

8. My grandmother's garden is full apple trees.

Which of the following completes the sentence above?

Aşağıdakilerden hangisi yukarıdaki cümleyi doğru olarak tamamlar?

- A) of
- B) in
- C) on
- D) at

9. Jack: "I can swim well."
Jack said that he well.

Which of the following completes the sentence above?

Aşağıdakilerden hangisi yukarıdaki cümleyi doğru olarak tamamlar?

- A) is swimming
- B) could swim
- C) swam
- D) may swim

10. David is with his presentation.

Which of the following completes the sentence above?

Aşağıdakilerden hangisi yukarıdaki cümleyi doğru olarak tamamlar?

- A) similar
- B) keen
- C) crazy
- D) busy

11. Mary has been living in this city for five years.

Which of the following is the Turkish translation of the sentence above?

Aşağıdakilerden hangisi yukarıdaki cümlelerin Türkçe karşılığıdır?

- A) Mary 5 yıldır bu şehirde oturuyor.
- B) Mary 5 yıl boyunca bu şehirde oturdu.
- C) Mary 5 yıldır bu evde oturmakta.
- D) Mary 5 yıl önce bu şehirde oturdu.

12. Fred hasn't studied for the exam far.

Which of the following completes the sentence above?

Aşağıdakilerden hangisi yukarıdaki cümleyi doğru olarak tamamlar?

- A) yet
- B) ever
- C) so
- D) already

13. I can't find my keys. I think I them.

Which of the following completes the sentence above?

Aşağıdakilerden hangisi yukarıdaki cümleyi doğru olarak tamamlar?

- A) have lose
- B) lost
- C) am losing
- D) have lost

14. Those thieves have been in prison 20 years.

Which of the following completes the sentence above?

Aşağıdakilerden hangisi yukarıdaki cümleyi doğru olarak tamamlar?

- A) yet
- B) ever
- C) for
- D) since

15. Kathy had never a penguin before she went to a zoo.

Which of the following completes the sentence above?

Aşağıdakilerden hangisi yukarıdaki cümleyi doğru olarak tamamlar?

- A) seen
- B) saw
- C) has seen
- D) see

16. The men in the café when the police arrived.

Which of the following completes the sentence above?

Aşağıdakilerden hangisi yukarıdaki cümleyi doğru olarak tamamlar?

- A) fights
- B) had fight
- C) will fight
- D) had been fighting

17. My mum hasn't cooked our dinner

Which of the following completes the sentence above?

Aşağıdakilerden hangisi yukarıdaki cümleyi doğru olarak tamamlar?

- A) yet
- B) just
- C) for
- D) since

18. I was very tired because I for days.

Which of the following completes the sentence above?

Aşağıdakilerden hangisi yukarıdaki cümleyi doğru olarak tamamlar?

- A) never sleep
- B) hadn't slept
- C) am sleeping
- D) haven't slept

19. English is an important way to among the world.

Which of the following completes the sentence above?

Aşağıdakilerden hangisi yukarıdaki cümleyi doğru olarak tamamlar?

- A) need
- B) communicate
- C) find
- D) connect

20. Jack: Did you have dinner with your family last night?

Jane: No, I didn't. They had already eating when I

Which of the following completes the dialogue above?

Aşağıdakilerden hangisi yukarıdaki konuşmayı doğru olarak tamamlar?

- A) finished / arrived
- B) finished / had arrived
- C) finish / arrive
- D) finish / arrived

1. - Qu'est que vous avez dit?
- Pierre et Marie vont au cinéma.

Choisissez l'expression qui convient.

Yukarıdaki konuşmada boş bırakılan yeri aşağıdakilerden hangisi doğru şekilde tamamlar?

- A) Vous avez dit qui
B) Nous avons dit qui
C) Vous avez dit que
D) Nous avons dit que

2. Il faisait trop froid je suis tombée malade.

Choisissez le mot qui convient.

Cümledeki boşluğu aşağıdakilerden hangisi doğru şekilde tamamlar?

- A) donc
B) que
C) qui
D) mais

3. I. J'habite à Lyon.
II. Cet appartement est en bon état.
III. Le loyer n'est pas cher.
IV. Il est de 100 euros.

Choisissez la phrase qui ne convient pas.

Cümleler sırasıyla okunduğunda, anlam bütünlüğünü bozan cümleyi bulunuz.

- A) I
B) II
C) III
D) IV

4. J'ai mal à la tête, je prends une

Choisissez le mot qui convient.

Cümledeki boşluğu aşağıdakilerden hangisi doğru şekilde tamamlar?

- A) grippe
B) antibiotique
C) aspirine
D) consultation

5. Tu parles très vite, je comprends

Choisissez les mots qui conviennent.

Cümledeki boşlukları aşağıdakilerden hangisi doğru şekilde tamamlar?

- A) ne / rien
B) ne / personne
C) personne / ne
D) rien / ne

6. «Elsa giyim tarzını değiştirdi.»

Choisissez la traduction qui convient.

Yukarıdaki cümlelerin Fransızca karşılığı aşağıdakilerden hangisidir?

- A) Elsa aime mettre ses jupes longues.
B) Elsa a changé son vêtement.
C) Elsa a changé de tenue vestimentaire.
D) Elsa porte des vêtements démodés.

7. J'achète des baskets à Luc. Je achète.

Choisissez les mots qui conviennent.

Cümledeki boşlukları aşağıdakilerden hangisi doğru şekilde tamamlar?

- A) les / lui
B) lui / les
C) le / lui
D) les / le

8. Marie : Est-ce que Paul a des nouvelles de sa voiture?

Alain :

Marie : La police ne l'a pas appelé?

Alain : Non, mais je pense qu'elle appellera bientôt.

Choisissez l'expression qui convient.

Yukarıdaki konuşmada boş bırakılan yeri aşağıdakilerden hangisi doğru şekilde tamamlar?

- A) Bien sûr
B) Pas encore
C) Ne t'inquiète pas
D) Oh là là

9. -?
- Devant le cinéma.

Choisissez la question qui convient.

Yukarıdaki konuşmada cevabı gerektiren soru aşağıdakilerden hangisidir?

- A) Quand il viendra avec nous
B) Comment va-t-il
C) Où avons-nous rendez-vous
D) Quand viendra-t-il ici

10. Hier, beaucoup de gens dans la rue.

Choisissez l'expression qui convient.

Cümledeki boşluğu aşağıdakilerden hangisi doğru şekilde tamamlar?

- A) il faisait
B) c'était
C) il y avait
D) il était

11. - Tu aimes Marie?
- Oui, je la trouve

Choisissez le mot qui convient.

Yukarıdaki konuşmada boş bırakılan yeri aşağıdakilerden hangisi doğru şekilde tamamlar?

- A) heureux
B) ennuyeux
C) gai
D) passionnante

12. - Tu prends le train?
- Non, je le bus.

Choisissez le mot qui convient.

Yukarıdaki konuşmada boş bırakılan yeri aşağıdakilerden hangisi doğru şekilde tamamlar?

- A) monte
B) vais
C) fais
D) préfère

13. «Nous devons deviner ce mot.»

Choisissez la traduction qui convient.

Yukarıdaki cümlenin Türkçe karşılığı aşağıdakilerden hangisidir?

- A) Birlikte cümleler yazmalıyız.
B) Bu kelimenin anlamını bul.
C) Bu kelimeyle cümle kurmalıyız.
D) Bu kelimeyi tahmin etmeliyiz.

14. -?
- Par chèque.

Choisissez l'expression qui convient.

Yukarıdaki konuşmada boş bırakılan yeri aşağıdakilerden hangisi doğru şekilde tamamlar?

- A) Vous avez de l'argent
B) Quel est votre moyen de paiement
C) Ça coûte combien
D) Quelle est la somme à payer

15. Chut! Il y a un bébé qui dort. Il faut parler

Choisissez le mot qui convient.

Cümledeki boşluğu aşağıdakilerden hangisi doğru şekilde tamamlar?

- A) avec méchanceté
B) avec lenteur
C) silencieusement
D) amoureusement

16. - Tu vas inviter Paul?
- Oui, je vais inviter.

Choisissez le mot qui convient.

Yukarıdaki konuşmada boş bırakılan yeri aşağıdakilerden hangisi doğru şekilde tamamlar?

- A) la
B) lui
C) le
D) l'

17. pas / d'alcool / beaucoup / prenez / ne
I II III IV V

Mettez dans le bon ordre.

Yukarıdaki kelimelerin anlamlı bir bütün oluşturan sırası aşağıdakilerin hangisinde doğru olarak verilmiştir?

- A) V, IV, III, II, I
B) V, IV, I, III, II
C) IV, V, I, II, III
D) IV, III, II, V, I

18. vous avez faim, vous devez manger.

Choisissez le mot qui convient.

Cümledeki boşluğu aşağıdakilerden hangisi doğru şekilde tamamlar?

- A) Quand
B) En
C) Par
D) Que

19. Vous devez lentement.

Choisissez le mot qui convient.

Cümledeki boşluğu aşağıdakilerden hangisi doğru şekilde tamamlar?

- A) conduis
B) conduire
C) conduirons
D) conduit

20. «La vie est chère.»

Choisissez la traduction qui convient.

Yukarıdaki cümlenin Türkçe karşılığı aşağıdakilerden hangisidir?

- A) Sevgili hayat.
B) Hayat pahalı.
C) Hayat güzel.
D) Hayat değerli.

1. Küçük Kaynarca Antlaşması'ndan sonra Kırım'ı ele geçirmek için harekete geçen Rusya ile savaş hazırlıklarına başlayan Osmanlı Devleti arasında Fransa'nın arabuluculuğu ile yapılan antlaşma aşağıdakilerden hangisidir?
- A) Aynalıkavak Sözleşmesi
B) Hünkâr İskeleyi Antlaşması
C) Balta Limanı Antlaşması
D) Prut Antlaşması
2. Aşağıdakilerden hangisi Yaş Antlaşması'nın maddeleri arasında yer almaz?
- A) Antlaşma sekiz yıl süreyle geçerli olacak
B) Osmanlı Devleti, Kırım'ın Rusya'ya ait olduğunu onaylayacak
C) Rusya ele geçirdiği Bender, Kili ve Akkerman'ı Osmanlılara geri verecek
D) Dinyester nehri iki devlet arasında sınır kabul edilecek
3. Bilimsel ve teknolojik gelişmeler sonunda yapılan, buhar gücüyle çalışan makinelerin kullanıldığı ilk alan aşağıdakilerden hangisidir?
- A) Dokuma sanayi
B) Otomotiv sanayi
C) Kimya sanayi
D) Demir çelik sanayi
4. Fransız İhtilali'nin getirdiği prensiplerden rahatsız olan çok uluslu Avrupalı devletlerin, ihtilal fikirlerinin yayılmaması için Fransa'ya açtıkları, 1793-1815 yılları arasında yaşanan savaşa ne ad verilir?
- A) Yüzyıl Savaşları
B) Veraset Savaşları
C) İhtilal Savaşları
D) Yedi yıl Savaşları
5. Lale Devri ile ilgili aşağıdaki ifadelerden hangisi yanlıştır?
- A) İstanbul'da eğlence hayatı yaygınlaşmıştır.
B) Yüzlerce lale çeşidi yetiştirilmiştir.
C) Siyasi, askeri, sosyal ve kültürel gelişimler dışa kapalı olarak devam ettirilmiştir.
D) Haliç ve Boğaziçi kıyılarında saraylar ve köşkler yapılmıştır.
6. III. Selim'in yaptığı ıslahatların tümüne ne ad verilir?
- A) İrad-ı Cedit
B) Sekban-ı Cedit
C) Nizam-ı Cedit
D) Sened-i ittifak
7. Aşağıdakilerden hangisi Fransız İhtilali'ni hazırlayan nedenlerden biri değildir?
- A) Krallık rejiminin baskısı
B) Sosyal nedenler
C) Ekonomik nedenler
D) Veraset savaşlarının etkisi
8. İlk defa halkı Türk ve Müslüman olan bir bölgenin (Kırım'ın) kaybedildiği antlaşma aşağıdakilerden hangisidir?
- A) Yaş
B) Küçük Kaynarca
C) Kasrı Şirin
D) Prut
9. XVIII. yüzyıl Rus dış politikasının temeli aşağıdakilerden hangisidir?
- A) Toprak bütünlüğünü korumak için dışa açılmamak
B) Büyük bir kara devleti haline gelmek
C) Osmanlı Devleti ile iyi ilişkiler kurmak
D) Karadeniz'e açılmak, İstanbul ve boğazları ele geçirmek
10. Sanayi İnkılabı'ndan sonra Avrupa'da en büyük sömürge imparatorluğunu kuran devlet aşağıdakilerden hangisidir?
- A) Fransa
B) İngiltere
C) Rusya
D) Almanya
11. Şark meselesi kavramı ilk kez nerede kullanılmıştır?
- A) Moskova Konferansı
B) Postdam Konferansı
C) Yalta Konferansı
D) Viyana Kongresi (1815)

12. Aşağıdakilerden hangisi II. Mahmut Dönemi'nde eğitim alanında yapılan ıslahatlardan biri değildir?

- A) İlk kez Avrupaya öğrenci gönderilmesi
- B) Orta dereceli okulların açılması
- C) Müsadere usulünün kaldırılması
- D) İlk öğretimin zorunlu hale getirilmesi

13. Osmanlı Devleti'ni "hasta adam" olarak nitelendiren ülke aşağıdakilerden hangisidir?

- A) Rusya
- B) Almanya
- C) Fransa
- D) İtalya

14. Osmanlı Devleti'nde milletisadık olarak adlandırılan millet aşağıdakilerden hangisidir?

- A) Sırlar
- B) Ermeniler
- C) Rumlar
- D) Arnavutlar

15. 1850 yılında yayınlanan ilk Türk dergisi aşağıdakilerden hangisidir?

- A) Cerde-i Havadis
- B) Tercüman-ı Ahval
- C) Vekay-i Tıbbiye
- D) Tasvir-i Efkâr

16. Müsadere usulü hangi padişah döneminde kaldırılmıştır?

- A) II. Mehmet
- B) II. Mahmut
- C) III. Selim
- D) IV. Murat

17. Osmanlı Devleti'nde halk ilk kez seçme ve seçilebilme hakkını aşağıdakilerden hangisi ile elde etmiştir?

- A) Fatih Kânunnamesi
- B) Islahat Fermanı
- C) Tanzimat Fermanı
- D) Kânunuesasi

18. Yeniçeri Ocağı'nın kaldırılması olayına ne ad verilir?

- A) 31 Mart Olayı
- B) Vaka-i Hayriye
- C) Yeniçeri ayaklanması
- D) Vaka-i Vakvakiye

19. Osmanlı Devleti'nin dağılmasında önemli rol oynayan yabancı okulları Milli Eğitim Bakanlığına bağlayan kanun aşağıdakilerden hangisidir?

- A) 1921 Anayasası
- B) 1876 Anayasası
- C) Dersaadet Kanunu
- D) Tevhid-i Tedrisat Kanunu

20. Osmanlı Devleti'nden ayrılmak için ayaklanan ilk topluluk aşağıdakilerden hangisidir?

- A) Sırlar
- B) Çerkezler
- C) Ermeniler
- D) Rumlar

1. Wie lautet die Grundform von "am meisten"?

"am meisten" sözcüğünün mastar hali aşağıdakilerin hangisinde doğru olarak verilmiştir?

- A) mehr
- B) viel
- C) gut
- D) lieb

2. Serdar ist 1.95 cm, Tarkan ist 1.85 cm und Okan ist 1.70 cm groß. Okan ist

Welches Wort passt in die obige Lücke?

Cümlede boş bırakılan yeri aşağıdakilerden hangisi tamamlar?

- A) am kürzesten
- B) der grosse
- C) kürzer als
- D) länger

3. A: Wozu geht Martina Englischkurs?
B: Martina geht zum Englischkurs, sie Englisch studieren will.

Welches ergänzt die Lücken im obigen Dialog?

Verilen karşılıklı konuşmada boş bırakılan yerleri aşağıdakilerden hangisi tamamlar?

- A) auf / warum
- B) zu / wenn
- C) aus / sein
- D) zum / weil

4. A: Hallo, Ayşe!
B: Hallo, Atilla!
A: Wo wohnst du zur Zeit?
B: In Bursa.
A: Warum wohnst du in Bursa?
B:

Welcher Satz ergänzt den obigen Dialog?

Verilen karşılıklı konuşmayı aşağıdakilerden hangisi tamamlar?

- A) Wir wollen auch in Bursa arbeiten, denn wir wohnen dort.
- B) Ich arbeite in Istanbul, weil ich dort viel verdiene.
- C) Ich wohne in Bursa, weil ich dort arbeite.
- D) Wir möchten nach Bursa fahren, weil wir unsere Freunde besuchen wollen.

5. Wie lautet das Wort "Finanzielle Unterstützung" auf Türkisch?

"Finanzielle Unterstützung" sözcüğünün Türkçe karşılığı aşağıdakilerden hangisidir?

- A) Kişisel çıkarlar
- B) Toplumsal harcamalar
- C) Bireysel bağımsızlık
- D) Maddi destek

6. Wann können sich Angestellte in der Bank ausruhen?

Welche Antwort passt zur obigen Frage?

Verilen sorunun cevabı aşağıdakilerden hangisidir?

- A) Um die Jahreswende können sie damit rechnen.
- B) Erst mittags können sie eine Pause machen.
- C) Die Bank öffnet jeden Tag um diese Zeit.
- D) Jeden Abend kommen wir zusammen.

7. Die Herbstmonate sind

Welches ergänzt die Lücke im obigen Satz?

Verilen cümleyi aşağıdakilerden hangisi tamamlar?

- A) der September, der Oktober, der November.
- B) der März, der April, der Mai.
- C) der Juni, der Juli, der August.
- D) der Dezember, der Januar, der Februar.

8. Das ganze Personal muss morgens um 8 Uhr in der Bank sein.

Welches Wort passt in die obige Lücke?

Cümlede boş bırakılan yeri aşağıdakilerden hangisi doğru şekilde tamamlar?

- A) spätestens
- B) sondern
- C) seltsam
- D) nur

9. A: Ist deine Mutter zu Hause?
B: Nein, sie ist nicht zu Hause.
A: Ich, sie wäre zu Hause.

Welches ergänzt die Lücke im obigen Dialog?

Verilen karşılıklı konuşmada boş bırakılan yeri aşağıdakilerden hangisi tamamlar?

- A) dachte
B) dachten
C) dachst
D) dachtet

10. Gehört die Tasche deinem Vater?

Welche Antwort passt zur obigen Frage?

Verilen sorunun cevabı aşağıdakilerden hangisidir?

- A) Ja, ich habe meine Tasche in der Schule vergessen.
B) Nein, mein Vater ist zu Hause.
C) Nein, die Tasche gehört nicht meinem Vater.
D) Ja, mein Vater will sich eine Tasche kaufen.

11. Der Arzt kommt am Samstag zu mir.

Wie lautet der obige Satz in der Konjunktiv I Form?

Verilen cümlelerin Konjunktif I şekli aşağıdakilerden hangisidir?

- A) Ich habe gehört, daß der Arzt am Samstag hier ist.
B) Der Arzt hat es mir geagt, er will am Samstag kommen.
C) Man sagt, der Arzt käme am Samstag zu mir.
D) Der Arzt meint, daß er am Samstag unbedingt kommen muß.

12. Mağazalar dün kapalıydı.

Wie lautet der obige Satz auf Deutsch?

Verilen cümlelerin Almancası aşağıdakilerden hangisidir?

- A) Nachmittags sind diese Geschäfte geschlossen.
B) Heute Abend sind die Geschäfte geöffnet.
C) Die Geschäfte waren gestern geschlossen.
D) Das Geschäft ist am Wochenende geöffnet.

13. die / kann / kochen / Mutter / gut / sehr

Wie kann man mit den obigen Wortgruppen einen sinnvollen Satz bilden?

Verilen sözcük gruplarıyla kurulabilecek en anlamlı cümle aşağıdakilerden hangisidir?

- A) Kann sehr kochen gut die Mutter.
B) Kann kochen die Mutter sehr gut.
C) Sehr die Mutter kann kochen gut.
D) Die Mutter kann sehr gut kochen.

14. Was bedeutet "uçurum" auf Deutsch?

"uçurum" sözcüğünün Almancası aşağıdakilerden hangisidir?

- A) Die Schlucht
B) Der Ernst
C) Die Mannschaft
D) Der Erfolg

15. A: Was willst du essen?

B: Die Nudeln,, schmecken mir besonders gut.

A: Das hört sich wirklich lecker an! Ich komm auch mit!

B: Also dann, lass uns Nudeln essen!

Welches ergänzt die Lücke im obigen Dialog?

Verilen karşılıklı konuşmada boş bırakılan yeri aşağıdakilerden hangisi tamamlar?

- A) den ich aus Italien kenne
B) die aus Italien kommen
C) der eine Spezialität aus der Türkei ist
D) das wir von Holland kaufen

16., die ich gestern gekauft habe, war sehr billig.

Welches Wort passt in die obige Lücke?

Cümlede boş bırakılan yeri aşağıdakilerden hangisi tamamlar?

- A) Der Computer
B) Das Haus
C) Die Tasche
D) Das Buch

17. A: Was würdest du machen, wenn du jetzt in Italien wärst?

B:

A: Dass wäre super. Komm lass uns in den Ferien nach Italien fliegen!

B: Das ist eine gute Idee!

Welches ergänzt den obigen Dialog?

Verilen karşılıklı konuşmayı aşağıdakilerden hangisi tamamlar?

- A) Ich gehe jeden Tag tanzen!
- B) Ich dachte, du wärst auch mitgekommen!
- C) Ich würde jeden Tag schwimmen und surfen!
- D) Ich habe mir ein neues Auto gekauft!

18. Die Frauen, wir Blumen gekauft haben, sich sehr gefreut.

Welche Wörter passen in die obigen Lücken?

Cümlede boş bırakılan yerleri aşağıdakilerden hangileri doğru olarak tamamlar?

- A) der / hatten
- B) den / seien
- C) dessen / hätten
- D) denen / haben

19. Ich habe Fieber.

Wie lautet der obige Satz auf Türkisch?

Verilen cümlenin Türkçesi aşağıdakilerden hangisidir?

- A) Ateşim var.
- B) Ateşleneceksin.
- C) Ateşi düştü.
- D) Ateş düşürücü iç.

20. ist der Berg der Welt.

Welche Wörter passen in die obigen Lücken?

Cümlede boş bırakılan yerleri aşağıdakilerden hangileri doğru şekilde tamamlar?

- A) Mount Everest / höchste
- B) Carl Lewis / kleinst
- C) Afrika / größte
- D) Erciyes / gutes

1. Kim is 15 years old. Jasmine is 18 years old.
Kim is than Jasmine.

Which of the following completes the sentence above?

Aşağıdakilerden hangisi yukarıdaki cümleyi doğru olarak tamamlar?

- A) faster
- B) older
- C) longer
- D) younger

2. Jack: That's your car, it?
Bill: Yes, it is.

Which of the following completes the dialogue above?

Aşağıdakilerden hangisi yukarıdaki konuşmayı doğru olarak tamamlar?

- A) isn't
- B) won't
- C) aren't
- D) didn't

3. He in the park when it started to rain.

Which of the following completes the sentence above?

Aşağıdakilerden hangisi yukarıdaki cümleyi doğru olarak tamamlar?

- A) ran
- B) runs
- C) was running
- D) is running

4. I went to bed than usual.

Which of the following completes the sentence above?

Aşağıdakilerden hangisi yukarıdaki cümleyi doğru olarak tamamlar?

- A) later
- B) more late
- C) late
- D) latest

5. I have had my glasses ten years.

Which of the following completes the sentence above?

Aşağıdakilerden hangisi yukarıdaki cümleyi doğru olarak tamamlar?

- A) then
- B) ago
- C) since
- D) for

6. We will to Bodrum in summer.

Which of the following completes the sentence above?

Aşağıdakilerden hangisi yukarıdaki cümleyi doğru olarak tamamlar?

- A) goes
- B) going
- C) gone
- D) go

7. While they a movie, the electricity went off.

Which of the following completes the sentence above?

Aşağıdakilerden hangisi yukarıdaki cümleyi doğru olarak tamamlar?

- A) watched
- B) were watching
- C) are watching
- D) have watched

8. Leo: Let's go to the cinema,?
Mike: That's a good idea.

Which of the following completes the dialogue above?

Aşağıdakilerden hangisi yukarıdaki konuşmayı doğru olarak tamamlar?

- A) shall you
- B) shall we
- C) do we
- D) do you

9. He works at the factory,?

Which of the following completes the sentence above?

Aşağıdakilerden hangisi yukarıdaki cümleyi doğru olarak tamamlar?

- A) is he
- B) did he
- C) doesn't he
- D) does he

10. My grandparents have been married 1945.

Which of the following completes the sentence above?

Aşağıdakilerden hangisi yukarıdaki cümleyi doğru olarak tamamlar?

- A) at
- B) for
- C) since
- D) in

11. I a book when the phone rang.

Which of the following completes the sentence above?

Aşağıdakilerden hangisi yukarıdaki cümleyi doğru olarak tamamlar?

- A) read
- B) was reading
- C) have read
- D) having read

12. My little sister any vegetables two years ago.

Which of the following completes the sentence above?

Aşağıdakilerden hangisi yukarıdaki cümleyi doğru olarak tamamlar?

- A) didn't use to eat
- B) ate
- C) didn't used to eat
- D) use to eat

13. There a big park in the city but now there isn't.

Which of the following completes the sentence above?

Aşağıdakilerden hangisi yukarıdaki cümleyi doğru olarak tamamlar?

- A) used to been
- B) used to being
- C) to be
- D) used to be

14. He a new computer soon.

Which of the following completes the sentence above?

Aşağıdakilerden hangisi yukarıdaki cümleyi doğru olarak tamamlar?

- A) will buy
- B) will buying
- C) is buy
- D) bought

15. My little sisters play in the playground than us.

Which of the following completes the sentence above?

Aşağıdakilerden hangisi yukarıdaki cümleyi doğru olarak tamamlar?

- A) happy
- B) more happily
- C) happier
- D) more happy

16. I haven't seen Melisa years.

Which of the following completes the sentence above?

Aşağıdakilerden hangisi yukarıdaki cümleyi doğru olarak tamamlar?

- A) after
- B) since
- C) for
- D) ago

17. Help me with my shopping bags,?

Which of the following completes the sentence above?

Aşağıdakilerden hangisi yukarıdaki cümleyi doğru olarak tamamlar?

- A) shall we
- B) will you
- C) do you
- D) did you

18. Sally does her homework than me.

Which of the following completes the sentence above?

Aşağıdakilerden hangisi yukarıdaki cümleyi doğru olarak tamamlar?

- A) fast
- B) fastest
- C) faster
- D) more fast

19. A yesterday afternoon?

B: I was at home. I was helping my mum.

Which of the following completes the dialogue above?

Aşağıdakilerden hangisi yukarıdaki konuşmayı doğru olarak tamamlar?

- A) What did you do
- B) What have you done
- C) What are you doing
- D) What were you doing

20. Helen: Who will the kitchen?

Neal: Well, I won't.

Which of the following completes the dialogue above?

Aşağıdakilerden hangisi yukarıdaki konuşmayı doğru olarak tamamlar?

- A) clean
- B) cleaned
- C) cleaning
- D) cleans

1. malade, j'ai décidé de rester à la maison.

Choisissez le mot qui convient.

Cümledeki boşluğu aşağıdakilerden hangisi doğru şekilde tamamlar?

- A) Tenant
B) Ayant
C) Sachant
D) Etant

2. est un sport.

Choisissez le mot qui convient.

Cümledeki boşluğu aşağıdakilerden hangisi doğru şekilde tamamlar?

- A) Le basket
B) L'ennui
C) Le pique-nique
D) Le jeu

3. quelles conditions vous viendrez avez nous?

Choisissez le mot qui convient.

Cümledeki boşluğu aşağıdakilerden hangisi doğru şekilde tamamlar?

- A) Dans
B) En
C) Où
D) Qui

4. C'est ton bagage main.

Choisissez le mot qui convient.

Cümledeki boşluğu aşağıdakilerden hangisi doğru şekilde tamamlar?

- A) de
B) à
C) au
D) la

5. Nous du ski la semaine prochaine.

Choisissez le mot qui convient.

Cümledeki boşluğu aşağıdakilerden hangisi doğru şekilde tamamlar?

- A) allons
B) apprendrons
C) ferons
D) avons fait

6. «Cumartesi günü neler yapacaksınız?»

Choisissez la traduction qui convient.

Yukarıdaki cümlenin Türkçe karşılığı aşağıdakilerden hangisidir?

- A) Qu'est-ce que vous allez faire Samedi?
B) Quelle est votre activité pour Samedi?
C) Que faites-vous Dimanche?
D) Qu'est-ce que vous faites Dimanche?

7. Nicole et Henri sont mariés. C'est un

Choisissez le mot qui convient.

Cümledeki boşluğu aşağıdakilerden hangisi doğru şekilde tamamlar?

- A) ami
B) couple
C) personnage
D) amie

8. I. Ma mère a acheté un livre.
II. C'est un livre bien imprimé.
III. Il y a beaucoup de dessins.
IV. Je lis une lettre.

Trouvez la phrase qui ne convient pas.

Cümleler sırasıyla okunduğunda, anlam bütünlüğünü bozan cümleyi bulunuz.

- A) I
B) II
C) III
D) IV

9. C'est un sac de

Choisissez le mot qui convient.

Cümledeki boşluğu aşağıdakilerden hangisi doğru şekilde tamamlar?

- A) voyage
- B) étranger
- C) main
- D) dos

10. Ce roman raconte l'histoire d'une femme qui se marie: c'est un roman

Choisissez le mot qui convient.

Cümledeki boşluğu aşağıdakilerden hangisi doğru şekilde tamamlar?

- A) d'histoire
- B) policier
- C) d'amour
- D) de biologie

11. Nous faisons du ski quand

Choisissez l'expression qui convient.

Cümledeki boşluğu aşağıdakilerden hangisi doğru şekilde tamamlar?

- A) il neige
- B) il y a du vent
- C) il pleut
- D) il y a du soleil

12. courant / à l'école / les enfants / ne / en /
I II III IV V

pas / vont
VI VII

Mettez dans le bon ordre.

Yukarıdaki kelimelerin anlamlı bir bütün oluşturan sırası aşağıdakilerin hangisinde doğru olarak verilmiştir?

- A) I, VII, III, IV, VI, II, V
- B) II, V, VII, VI, III, I, IV
- C) III, IV, VII, VI, II, V, I
- D) V, I, VII, III, IV, VI, II

13. Cette cravate 25 euros.

Choisissez le mot qui convient.

Cümledeki boşluğu aşağıdakilerden hangisi doğru şekilde tamamlar?

- A) vend
- B) coûte
- C) achète
- D) dit

14. «Ağlayarak gittim.»

Choisissez la traduction qui convient.

Yukarıdaki cümlenin Fransızca karşılığı aşağıdakilerden hangisidir?

- A) Je viens en pleurant.
- B) Je pars en pleurant.
- C) Je suis partie en pleurant.
- D) Je vais en pleurant.

15. Ce sont des enfants

Choisissez le mot qui convient.

Cümledeki boşluğu aşağıdakilerden hangisi doğru şekilde tamamlar?

- A) obéir
- B) obéissants
- C) obéit
- D) obéissent

16. L'enfant tu m'as parlé est ici.

Choisissez le mot qui convient.

Cümledeki boşluğu aşağıdakilerden hangisi doğru şekilde tamamlar?

- A) qui
- B) que
- C) où
- D) dont

17. I. J'ai décidé d'organiser une fête.
II. C'est une bonne école.
III. Je vais inviter tous mes amis.
IV. On va s'amuser.

Trouvez la phrase qui **ne convient pas**.

Cümleler sırasıyla okunduğunda, anlam bütünlüğünü **bozan** cümleyi bulunuz.

- A) I
B) II
C) III
D) IV

18. Pour réussir, il faut beaucoup

Choisissez le mot qui convient.

Cümledeki boşluğu aşağıdakilerden hangisi doğru şekilde tamamlar?

- A) travaillent
B) travaillant
C) travail
D) travailler

19. La fille que vous voyez est la plus belle fille de l'école.

Choisissez la traduction qui convient.

Yukarıdaki cümlenin Türkçe karşılığı aşağıdakilerden hangisidir?

- A) Gördüğünüz kız en güzel okula gider.
B) Gördüğümüz kız okulun en iyisidir.
C) Gördüğünüz kız okulun en güzel kızıdır.
D) Görüştüğüm kız benim için en güzelidir.

20. La ville tu es née est peuplée.

Choisissez le mot qui convient.

Cümledeki boşluğu aşağıdakilerden hangisi doğru şekilde tamamlar?

- A) dont
B) qui
C) que
D) où

1. meinem elften Geburtstag habe ich ein Fahrrad bekommen.

Welches Wort passt in die obige Lücke?

Cümlede boş bırakılan yeri aşağıdakilerden hangisi doğru şekilde tamamlar?

- A) Auf
B) Zu
C) In
D) Aus

2. Spanisch wird in Spanien gesprochen.

Welche Frage passt zur obigen Antwort?

Verilen cevabı gerektirecek soru aşağıdakilerden hangisidir?

- A) Wo wird Spanisch gesprochen?
B) Wann fährst du nach Spanien?
C) Wer kommt aus Spanien?
D) Willst du Spanisch lernen?

3. Kennst du Menschen mit außergewöhnlichen Haustieren?

Welche Antwort passt zur obigen Frage?

Verilen sorunun cevabı aşağıdakilerden hangisidir?

- A) Ja, ich habe eine Katze.
B) Nein, meine Mutter mag leider keine Tiere im Haus.
C) Ja, meine Tante hat ein Terrarium mit zwei Nattern.
D) Nein, ich möchte kein Haustier.

4. Ich habe zwei Jahren eine Katze. Ich habe sie sehr gern.

Welches Wort passt in die obige Lücke?

Cümlede boş bırakılan yeri aşağıdakilerden hangisi doğru şekilde tamamlar?

- A) von
B) auf
C) seit
D) zum

5. du ein Haustier?

Welches Wort passt in die obige Lücke?

Cümlede boş bırakılan yeri aşağıdakilerden hangisi doğru şekilde tamamlar?

- A) Hat
B) Hatte
C) Habt
D) Hast

6. Die Gruppe "Yüksek Sadakat" macht Jahren Musik!

Welche Wörter passen in die obigen Lücken?

Cümlede boş bırakılan yerleri aşağıdakilerden hangileri doğru şekilde tamamlar?

- A) seit / gemeinsam
B) bis / alleine
C) nur / mit
D) auch / sondern

7. Alles Gute für deine und viel Spaß bei deiner Musikbegeisterung!

Welches Wort passt in die obige Lücke?

Cümlede boş bırakılan yeri aşağıdakilerden hangisi doğru şekilde tamamlar?

- A) Zukunft
B) Frage
C) Jahre
D) Thema

8., interessiere ich mich für eine Querflöte!

Welches ergänzt die Lücke im obigen Satz?

Verilen cümleyi aşağıdakilerden hangisi tamamlar?

- A) Wenn du Haustiere hast
B) Wenn ich in ein Musikgeschäft gehe
C) Wenn wir Pizza essen
D) Wenn sie Sport macht

9. A: Karin, vielen Dank für
 B: Gern geschehen!
 A: Es war sehr interessant etwas deine Musikbegeisterung zu erfahren.

Welche Wörter ergänzen die Lücken im obigen Dialog?

Verilen karşılıklı konuşmada boş bırakılan yerleri aşağıdakilerden hangileri tamamlar?

- A) das Interview / über
 B) das Thema / in
 C) den Anfang / unter
 D) die Zukunft / aus

10. Der Film ist einem guten Regisseur gedreht

Welche Wörter passen in die obigen Lücken?

Cümlede boş bırakılan yerleri aşağıdakilerden hangileri tamamlar?

- A) in / würden
 B) zu / werden
 C) von / worden
 D) an / wird

11. Die Eltern wollen ihre Kinder gut

Welches Wort passt in die obige Lücke?

Cümlede boş bırakılan yeri aşağıdakilerden hangisi tamamlar?

- A) gehören
 B) erziehen
 C) nehmen
 D) einigen

12. Die Eltern sind glücklich, wenn.....

Welches ergänzt die Lücke im obigen Satz?

Verilen cümleyi aşağıdakilerden hangisi tamamlar?

- A) er fasst sich an der Hand.
 B) sie geht aus dem Haus.
 C) du kennst ihn schon.
 D) ihre Kinder zufrieden und freundlich sind.

13. Die Studenten sitzen in der Cafeteria der Schule und

Welches ergänzt nicht die Lücke im obigen Satz?

Verilen cümleyi aşağıdakilerden hangisi tamamlamaz?

- A) sprechen über ein Projekt.
 B) macht eine Sandburg.
 C) planen eine Klassenfahrt.
 D) diskutieren über ein Problem.

14. Dieser Roman ist von einem weltberühmten geschrieben worden.

Welches Wort passt in die obige Lücke?

Cümlede boş bırakılan yeri aşağıdakilerden hangisi doğru şekilde tamamlar?

- A) Schriftsteller
 B) Kinder
 C) Schölerin
 D) Nachbar

15. Die wichtigste Methode,, besteht darin, die negativen Verhalten zu schwächen und die positiven Verhalten zu stärken.

Welcher Satz ergänzt die obige Lücke?

Verilen cümleyi aşağıdakilerden hangisi tamamlar?

- A) kann man gute Ergebnisse finden
 B) wie leicht bricht das
 C) zieht man es herauf
 D) ein glückliches Leben zu führen

16. Ach, der Arme!

Welche Aussage passt zur obigen Antwort?

Verilen cevabı gerektirecek ifade aşağıdakilerden hangisidir?

- A) Kannst du einen Salat für uns machen?
 B) Hast du schon gehört? Onkel Ahmet ist krank!
 C) Gehst du auch in diese Schule?
 D) Ich fühle mich heute sehr gut!

17. Doktor kan alıyor.

Wie lautet der obige Satz auf Deutsch?

Verilen cümlelerin Almancası aşağıdakilerden hangisidir?

- A) Die Ärztin hat mir gute Besserung gewünscht.
- B) Der Arzt untersucht seine Patientin.
- C) Der Arzt hat eine Spritze gemacht.
- D) Die Ärztin nimmt Blut ab.

18. Der Körper braucht um gesund zu bleiben.

Welches ergänzt die Lücke im obigen Satz?

Verilen cümleyi aşağıdakilerden hangisi tamamlar?

- A) Stunden und Tage
- B) Arbeit und Ideen
- C) Vitamine und Mineralien
- D) Taschen und Bücher

19. Kendimi hasta hissediyorum.

Wie lautet der obige Satz auf Deutsch?

Verilen cümlelerin Almancası aşağıdakilerden hangisidir?

- A) Wir fühlen uns sehr gut.
- B) Sie ist krank geworden.
- C) Mein Freund ist krank.
- D) Ich fühle mich krank.

20. Welche Übung macht den Körper warm?

Welche Antwort passt zur obigen Frage?

Verilen sorunun cevabı aşağıdakilerden hangisidir?

- A) Das Sitzen.
- B) Das Fernsehen.
- C) Das Rennen.
- D) Das Schlafen.

1. We are with your exam results, they could be much better.

Which of the following completes the sentence above?

Aşağıdakilerden hangisi yukarıdaki cümleyi doğru olarak tamamlar?

- A) disappointed
- B) keen
- C) afraid
- D) fond

2. My sister is afraid spiders.

Which of the following completes the sentence above?

Aşağıdakilerden hangisi yukarıdaki cümleyi doğru olarak tamamlar?

- A) in
- B) of
- C) at
- D) with

3. I am of my daughter's achievements at university.

Which of the following completes the sentence above?

Aşağıdakilerden hangisi yukarıdaki cümleyi doğru olarak tamamlar?

- A) proud
- B) interested
- C) keen
- D) disappointed

4. The teacher: "Whose pencil is that on the table?"
The teacher asked whose pencil that on the table.

Which of the following completes the sentence above?

Aşağıdakilerden hangisi yukarıdaki cümleyi doğru olarak tamamlar?

- A) did
- B) was
- C) has been
- D) is

5. Mert: "Where has your mum gone, Caner?"
Mert asked Caner

Which of the following completes the sentence above?

Aşağıdakilerden hangisi yukarıdaki cümleyi doğru olarak tamamlar?

- A) where his mum has gone
- B) where his mum went
- C) where his mum had gone
- D) if his mum had gone

6. New York is famous its Statue of Liberty.

Which of the following completes the sentence above?

Aşağıdakilerden hangisi yukarıdaki cümleyi doğru olarak tamamlar?

- A) for
- B) to
- C) about
- D) with

7. She asked me if I was going home.

Which of the following is the direct speech form of the reported speech sentence above?

Aşağıdakilerden hangisi yukarıdaki dolaylı anlatım cümlesinin dolaysız anlatım biçimidir?

- A) She asks, "Have you gone home?"
 B) She asked, "Are you going home?"
 C) She asked, "Were you going home?"
 D) She asked, "Did you go home?"

8. My friend is very keen horses.

Which of the following completes the sentence above?

Aşağıdakilerden hangisi yukarıdaki cümleyi doğru olarak tamamlar?

- A) on
 B) in
 C) at
 D) of

9. George said, "I will visit you tomorrow."
 George said that he would visit me

Which of the following completes the sentence above?

Aşağıdakilerden hangisi yukarıdaki cümleyi doğru olarak tamamlar?

- A) now
 B) the next day
 C) tomorrow
 D) the previous day

10. Berna: "When will you see her?"
 Berna asked me

Which of the following completes the sentence above?

Aşağıdakilerden hangisi yukarıdaki cümleyi doğru olarak tamamlar?

- A) when I will see her
 B) if I would see her
 C) when would you see her
 D) when I would see her

11. After Michelle breakfast, she went to the beach.

Which of the following completes the sentence above?

Aşağıdakilerden hangisi yukarıdaki cümleyi doğru olarak tamamlar?

- A) had
 B) has had
 C) has been
 D) had had

12. Dad: John, please tidy your wardrobe.
 John: Don't worry dad. I have tidied it, it's clean now.

Which of the following completes the dialogue above?

Aşağıdakilerden hangisi yukarıdaki konuşmayı doğru olarak tamamlar?

- A) never
 B) ever
 C) yet
 D) already

13. Fred hasn't studied for the exam far.

Which of the following completes the sentence above?

Aşağıdakilerden hangisi yukarıdaki cümleyi doğru olarak tamamlar?

- A) already
- B) yet
- C) so
- D) ever

14. They had been for him for twenty-five minutes when he

Which of the following completes the sentence above?

Aşağıdakilerden hangisi yukarıdaki cümleyi doğru olarak tamamlar?

- A) waited / come
- B) waited / came
- C) waiting / came
- D) waiting / comes

15. I already the lunch when the children came from school.

Which of the following completes the sentence above?

Aşağıdakilerden hangisi yukarıdaki cümleyi doğru olarak tamamlar?

- A) have / prepare
- B) had / prepare
- C) have / prepared
- D) had / prepared

16. How long she sleeping?

Which of the following completes the sentence above?

Aşağıdakilerden hangisi yukarıdaki cümleyi doğru olarak tamamlar?

- A) has / been
- B) has / be
- C) is / been
- D) have / been

17. When they arrived at the party hall, everybody It was empty.

Which of the following completes the sentence above?

Aşağıdakilerden hangisi yukarıdaki cümleyi doğru olarak tamamlar?

- A) has already left
- B) left
- C) had already left
- D) leaves

18. I couldn't do my homework because I my books at school.

Which of the following completes the sentence above?

Aşağıdakilerden hangisi yukarıdaki cümleyi doğru olarak tamamlar?

- A) forgot
- B) had forgotten
- C) have forgotten
- D) am forgetting

19. Elise has been a doctor 2003.

Which of the following completes the sentence above?

Aşağıdakilerden hangisi yukarıdaki cümleyi doğru olarak tamamlar?

- A) at
- B) ever
- C) since
- D) for

20. Leo hasn't done his homework

Which of the following completes the sentence above?

Aşağıdakilerden hangisi yukarıdaki cümleyi doğru olarak tamamlar?

- A) already
- B) for
- C) just
- D) yet

1. «Hier, j'ai regardé un match de foot à la télévision.»

Choisissez la traduction qui convient.

Yukarıdaki cümlenin Türkçe karşılığı aşağıdakilerden hangisidir?

- A) Dün televizyonda futbol maçı izledim.
B) Dün maç gidemedim, televizyon izledim.
C) Maça gitmeyelim, televizyondan izleyelim.
D) Yarın, televizyonda maçı izleyeceğim.

2. Chut! Il y a un bébé qui dort. Il faut parler

Choisissez le mot qui convient.

Cümledeki boşluğu aşağıdakilerden hangisi doğru şekilde tamamlar?

- A) silencieusement
B) amoureusement
C) avec lenteur
D) avec méchanceté

3. C'est lui qui bien.

Choisissez le mot qui convient.

Cümledeki boşluğu aşağıdakilerden hangisi doğru şekilde tamamlar?

- A) danse
B) danses
C) danser
D) dansent

4. La semaine prochaine nous un nouveau film.

Choisissez le mot qui convient.

Cümledeki boşluğu aşağıdakilerden hangisi doğru şekilde tamamlar?

- A) verras
B) verront
C) verrez
D) verrons

5. I. Monsieur Rioux est directeur.
II. Il a 55 ans.
III. La réunion commence.
IV. Il est marié.

Choisissez la phrase qui ne convient pas.

Cümleler sırasıyla okunduğunda, anlam bütünlüğünü bozan cümleyi bulunuz.

- A) I
B) II
C) III
D) IV

6. «Elle voudrait avoir plus d'argent.»

Choisissez la traduction qui convient.

Yukarıdaki cümlenin Türkçe karşılığı aşağıdakilerden hangisidir?

- A) Çok para istedi.
B) Daha çok paraya sahip olmak istiyor.
C) Daha çok paraya ihtiyacı var.
D) İsteddiği parayı vermeyecek.

7. - J'ai gagné au loto!
- Je suis heureuse pour toi. C'est!

Choisissez le mot qui convient.

Yukarıdaki konuşmada boş bırakılan yeri aşağıdakilerden hangisi doğru şekilde tamamlar?

- A) mauvais
B) catastrophique
C) une catastrophe
D) super

8. La mère : Voilà mes livres? veux-tu?
Alain : Celui de Balzac.

Choisissez le mot qui convient.

Yukarıdaki konuşmada boş bırakılan yeri aşağıdakilerden hangisi doğru şekilde tamamlar?

- A) Lesquelles
B) Lesquels
C) Lequel
D) Laquelle

9. «Cesaretini kaybetti.»

Choisissez la traduction qui convient.

Yukarıdaki cümlelerin Fransızca karşılığı aşağıdakilerden hangisidir?

- A) Il a perdu sa déception.
- B) Il a perdu son espoir.
- C) Il a perdu courage.
- D) Il a tout perdu.

10. Tu paies chèque ou espèces.

Choisissez les mots qui conviennent.

Cümledeki boşlukları aşağıdakilerden hangisi doğru şekilde tamamlar?

- A) par / des
- B) par / en
- C) en / en
- D) en / des

11. Je n'ai pas réussi à parler à mes parents. Je téléphonerai demain.

Choisissez le mot qui convient.

Cümledeki boşluğu aşağıdakilerden hangisi doğru şekilde tamamlar?

- A) leur
- B) les
- C) leurs
- D) lui

12. Il faisait trop froid je suis tombée malade.

Choisissez le mot qui convient.

Cümledeki boşluğu aşağıdakilerden hangisi doğru şekilde tamamlar?

- A) qui
- B) donc
- C) mais
- D) que

13. - Jean parle-t-il à Marie?
- Oui,

Choisissez l'expression qui convient.

Yukarıdaki konuşmada boş bırakılan yeri aşağıdakilerden hangisi doğru şekilde tamamlar?

- A) elle leur parle
- B) il leur parle
- C) elle lui parle
- D) il lui parle

14. C'est un camion, et

Choisissez les mots qui conviennent.

Cümledeki boşlukları aşağıdakilerden hangisi doğru şekilde tamamlar?

- A) jolie / blanche / petite
- B) lent / rose / noire
- C) grand / jaune / rapide
- D) petit / bleue / lente

15. -?

- A.T.I.L.L.A. Avec un T et deux L.

Choisissez l'expression qui convient.

Yukarıdaki konuşmada boş bırakılan yeri aşağıdakilerden hangisi doğru şekilde tamamlar?

- A) Combien de lettres il y a
- B) Où est sa carte d'identité
- C) Est-ce que c'est un nom
- D) Ça s'écrit comment

16. I. Moi, j'aime tous les animaux.
II. Certains préfèrent seulement les chiens.
III. D'autres seulement les chats.
IV. Les vétérinaires soignent tous les animaux.

Choisissez la phrase qui ne convient pas à l'ensemble.

Sırasıyla okunduğunda, anlam bütünlüğünü bozan cümleyi bulunuz.

- A) I
- B) II
- C) III
- D) IV

17. L'entreprise est ouverte lundi
vendredi.

Choisissez les mots qui conviennent.

Cümledeki boşlukları aşağıdakilerden hangisi doğru şekilde tamamlar?

- A) de / et
- B) du / au
- C) entre / entre
- D) de / en

18. Marie et moi à une soirée.

Choisissez le mot/l'expression qui convient.

Cümledeki boşluğu aşağıdakilerden hangisi doğru şekilde tamamlar?

- A) est invité
- B) sommes invités
- C) sont invités
- D) avons invité

19. J'ai grossi: j'ai des kilos.

Choisissez le mot qui convient.

Cümledeki boşluğu aşağıdakilerden hangisi doğru şekilde tamamlar?

- A) fait
- B) donné
- C) pris
- D) mangé

20. vous avez faim, vous devez manger.

Choisissez le mot qui convient.

Cümledeki boşluğu aşağıdakilerden hangisi doğru şekilde tamamlar?

- A) Si
- B) Par
- C) Que
- D) En

1. Genç yaşta Hz. Muhammed'e verilen görev aşağıdakilerden hangisidir?

- A) Emanet bekçiliği
- B) Kâbe hakemliği
- C) Reis yardımcılığı
- D) Kabile bekçiliği

2. Aşağıdakilerden hangisinin vefatında güneş, tutulması yaşanmıştır?

- A) İbrahim
- B) Kasım
- C) Ali
- D) Abdullah

3. Hz. Peygamber'le ilgili aşağıdaki ifadelerden hangisi yanlıştır?

- A) Hüküm verirken ve cezaları uygularken, hiç kimseye aldırmadan doğru ve adil olan neyse onun yapılmasını isterdi.
- B) Bütün müminleri alçak gönüllü olmaya davet ederdi.
- C) İnsanların soyuna, zenginliğine veya gücüne göre değil, eşitlik ilkesine göre davranırdı.
- D) İnsanın atalarıyla övünmesi gerektiğinden bahsederdi.

4. Aşağıdakilerden hangisi Allah'ın hikmetlerinden biri değildir?

- A) İnsanların farklı kabilelere ayrılması
- B) İnsanların farklı milletlere ayrılması
- C) İnsanların birbirlerine farklı davranması
- D) İnsanların Hz. Adem ve Havva'nın çocukları olarak yaratılması

5. "Ey insanlar! Şüphe yok ki, biz sizi bir erkek ve bir dişiden yarattık ve birbirinizi tanımanız için sizi boylara ve kabilelere ayırdık. Allah katında en değerli olanınız, ona karşı olmaktan en çok sakınmanızdır. Şüphesiz Allah hakkıyla bilendir, hakkıyla haberdar olandır."

Yukarıdaki ayette aşağıdakilerden hangisi belirtilmektedir?

- A) İnsanların ırklarının önemli olduğu
- B) Allah'a karşı gelmenin önemli olmadığı
- C) Bütün insanların bir anadan ve bir babadan yaratıldığı
- D) Sosyal statü bakımından insanların birbirinden üstün olduğu

6. "Ergenlik çağına erişinceye kadar yetimin malına onun iyiliği için olmadıkça dokunmayın."

Yukarıdaki ayetin geçtiği sure aşağıdakilerden hangisidir?

- A) En'âm suresi
- B) Nisâ suresi
- C) Fil suresi
- D) Haşr suresi

7. Hz. Muhammed yetimlerle ilgilenmeye ve onların haklarıyla ilgili düzenlemelerde bulunmaya ne zaman başlamıştır?

- A) Peygamberliğinin ilk yıllarında
- B) Annesinin vefatından sonra
- C) Evlendikten sonra
- D) İlk hicretten sonra

8. "Helak edici yedi şeyden çekiniz."

Aşağıdakilerden hangisi yukarıda bahsedilen yedi şeyden biri değildir?

- A) Düşmana hücum gününe gitmek
- B) Allah'a şirk koşmak
- C) İffetli kadınlara zina iftirasında bulunmak
- D) Allah'ın haram kıldığı bir cana kıymak

9. Aşağıdakilerden hangisi Abdullah b. Ümmi Mektun'a verilen görevlerden biridir?

- A) Kâbe hakemliği
- B) Kâhyalık
- C) Kâtiplik
- D) İmamlık

10. İlk hicret sırasında Habeşistan'a giden muhacirlerin başkanı kimdir?

- A) Hz. Ali
- B) Abbas Kusem
- C) Hz. Ömer
- D) Cafer b. Ebi Talip

11. Medinelilerin ihrama girme yerine ne ad verilir?

- A) Zu'l Huleyfe
- B) Huzâa
- C) Hudeybiye
- D) Tirmizi

12. Müşriklerden okuma yazma bilenlerin her birinin on kişiye okuma yazma öğretirse serbest bırakılacağına karar verilen savaş aşağıdakilerden hangisidir?

- A) Hendek savaşı
- B) Bedir savaşı
- C) Uhud savaşı
- D) Hayber savaşı

13. Aşağıdakilerden hangisi Müslümanın Müslüman üzerindeki haklarından biri değildir?

- A) Nasihat istenirse nasihat vermek
- B) Başkaları hakkında dedikodu yapmak
- C) Çağrısına icabet etmek
- D) Hastalanırsa ziyaret etmek

14. Kur'an-ı Kerim'in sayfaları bir araya getirildikten sonra sırasıyla kimlerin yanında kalmıştır?

- A) Hz. Ebu Bekir, Hz. Ömer ve Hz. Ali
- B) Hz. Ebu Bekir, Hz. Ömer ve Hz. Ömer'in oğlu Abdullah
- C) Hz. Ebu Bekir, Hz. Ömer ve Hz. Ömer'in kızı Hafsa
- D) Hz. Ömer, Hz. Ebu Bekir ve Hz. Ömer'in kızı Hafsa

15. İstişareyle ilgili aşağıdaki ifadelerden hangisi yanlıştır?

- A) İstenilen hedefe daha çabuk ulaşılır.
- B) İnsan daha sosyal olur.
- C) Müminler arasındaki uyumu bozar.
- D) İnsanın paylaşımcılığı artar.

16. Kur'an-ı Kerim'i toplama görevi kime verilmiştir?

- A) Hz. Ömer'in oğlu Abdullah'a
- B) Zeyd bin Sabit'e
- C) Hz. Ebu Bekir'e
- D) Hz. Ömer'e

17. Medine'nin savunulması için şehrin etrafına hendek kazıldığı savaş aşağıdakilerden hangisidir?

- A) Hayber Savaşı
- B) Bedir Savaşı
- C) Uhud Savaşı
- D) Hendek Savaşı

18. Hz. Muhammed'e Peygamber olduğunu müjdeleyen sözleri ilk söyleyen kimdir?

- A) Hz. Hatice
- B) Hz. Ömer
- C) Hz. Ebu Bekir
- D) Varaka b. Nevfel

19. Bir iş yapmaya niyet eden kimseler istişare ederek aşağıdakilerden hangisini elde edemez?

- A) Anlayışlarını test etme fırsatını
- B) Zekâlarını deneme fırsatını
- C) Düşüncelerini yok sayma fırsatını
- D) Kendi görüşlerini yoklama fırsatını

20. "...Onların işleri, kendi aralarında istişare iledir..."

Yukarıdaki ayetin geçtiği sure aşağıdakilerden hangisidir?

- A) Haşr suresi
- B) Şûrâ suresi
- C) Felak suresi
- D) Âli İmrân suresi

HZ. MUHAMMED'İN HAYATI 3

B

2017 AÖÖ-AÖL II. DÖNEM 0103-B

1. İslam tarihinde inançlarından dolayı şehit edilen ilk Müslüman aşağıdakilerden hangisidir?
 - A) Sümeyye
 - B) Habbap
 - C) Bilal
 - D) Ammar
2. Medine sözleşmesi hangi yıl imzalanmıştır?
 - A) 621
 - B) 622
 - C) 623
 - D) 624
3. Hz. Muhammed'in (s.a.v.) annesi Âmine hangi yılda vefat etmiştir?
 - A) 575
 - B) 576
 - C) 577
 - D) 578
4. Hz. Muhammed'in (s.a.v.) evliliğiyle ilgili aşağıdakilerden hangisi doğrudur?
 - A) 25 yaşında Hatice
 - B) 39 yaşında Halime
 - C) 30 yaşında Ayşe
 - D) 40 yaşında Rukiye
5. Aşağıdakilerden hangisi hastalık durumunda yapılmaması gerekenlerden biridir?
 - A) Doktora gitmek
 - B) İlaç kullanmamak
 - C) Dua okumak
 - D) Sabırlı olmak
6. "(Ey Resulüm) Sen önce en yakın akraba ve hısımlarını uyar." suresi aşağıdakilerden hangisidir?
 - A) Şuara
 - B) Hicr
 - C) Fatıha
 - D) Felak
7. Hz. Muhammed'in (s.a.v.) dedesi ölümünden önce torununun himayesi görevini kime bırakmıştır?
 - A) Sütannesine
 - B) Amcasına
 - C) Dayısına
 - D) Yardımcısına
8. İkinci hicret kaç kişilik bir grupla yapılmıştır?
 - A) 70
 - B) 80
 - C) 90
 - D) 100
9. Hendek Savaşı hangi ay yapılmıştır?
 - A) Mart / Ramazan
 - B) Mart / Şevval
 - C) Nisan / Zilkade
 - D) Haziran / Rebiyülevvel
10. Aşağıdakilerden hangisi müşriklerin Hz. Muhammed'e (s.a.v.) inanmadıkları için bulunduğu ithamlardan biri değildir?
 - A) Kâhin
 - B) Yalancı
 - C) Sihirbaz
 - D) Şair

11. Hz. Muhammed'in (s.a.v.) İslam'ı tebliğ etmek için ilk kez Mekke dışında gittiği yer aşağıdakilerden hangisidir?

- A) Medine
- B) Mute
- C) Habeşistan
- D) Taif

12. Uhut Savaşı hangi yıl yapılmıştır?

- A) 623
- B) 624
- C) 625
- D) 626

13. Aşağıdakilerden hangisi Hz. Muhammed'in (s.a.v.) çocuklarından biri değildir?

- A) Selami
- B) Zeynep
- C) Kasım
- D) Fatıma

14. Müşriklerin eziyetine dayanamayan Müslümanlar ilk nereye hicret etmişlerdir?

- A) Medine
- B) Habeşistan
- C) Taif
- D) Mute

15. Hz. Muhammed'e (s.a.v.) ilk kez Ramazan ayının Kadir gecesini gelen melek aşağıdakilerden hangisidir?

- A) İsrail
- B) Mikail
- C) Azrail
- D) Cebrail

16. Savaşılması yasak aylarda da devam eden savaşlara ne ad verilir?

- A) Uhud savaşları
- B) Ficar savaşları
- C) Ölüm savaşları
- D) Kabile savaşları

17. "...Kendinizi kendi ellerinizle tehlikeye atmayın..." aşağıdaki surelerin hangisinin ayetidir?

- A) Felak
- B) Fatıha
- C) Bakara
- D) Nas

18. Hz. Muhammed'e (s.a.v.) ilk vahiy nerede gelmiştir?

- A) Hicr
- B) Taif
- C) Sevr
- D) Hira

19. "Böylece sizi orta yolu benimseyen bir ümmet kıldık." ayetinin suresi aşağıdakilerden hangisidir?

- A) Lokman
- B) Bakara
- C) Rahmân
- D) Rûm

20. Hz. Muhammed'in (s.a.v.) amcası Ebu Talip ve eşi Hatice'nin vefat ettiği seneye ne ad verilir?

- A) Üzüntü senesi
- B) Ayrılık senesi
- C) Hasret senesi
- D) Hüzün senesi

1. Ziya Gökalp'in sanatı ile ilgili aşağıdaki ifadelerden hangisi yanlıştır?

- A) Türkçülük adı verilen akımı düzenleyip sisteme bağlamıştır.
- B) Halk masallarından, Türk mitolojisinden, Dede Korkut Hikâyelerinden yararlanmıştır.
- C) Hece ile yazdığı şiirlerinde düşünceyi ön plana almıştır.
- D) Batı dillerinden alınan sözcükleri Türkçeye uyarlamıştır.

2. "Bir Yazın Tarihi" ve "Hepsinden Acı" adlı eserler aşağıdaki yazarlardan hangisine aittir?

- A) Halit Ziya
- B) Mehmet Rauf
- C) Süleyman Nazif
- D) Ahmet Hikmet

3. Aşağıdakilerden hangisi Fecr-i Âti topluluğunun bildiride adı geçen şairlerinden biri değildir?

- A) Ahmet Vefik
- B) Tahsin Nahit
- C) Emin Bülent
- D) Ahmet Haşim

4. Şiiri "nesir-musikisi" diye adlandıran şair aşağıdakilerden hangisidir?

- A) Halit Ziya
- B) Tevfik Fikret
- C) Cenap Şehabettin
- D) Ahmet Haşim

5. Türk edebiyatını dönemlere ayıran, bilimsel yöntemlerle inceleyen ilk araştırmacı, aşağıdakilerden hangisidir?

- A) Ahmet Haşim
- B) Fuat Köprülü
- C) Yahya Kemal
- D) Ömer Seyfettin

6. Sembolizm akımının öncüleri aşağıdakilerden hangisinde birlikte ve doğru olarak verilmiştir?

- A) Paul Verlaine–Baudelaire
- B) Balzac–Victor Hugo
- C) Stendhal–Balzac
- D) Tolstoy–Victor Hugo

7. Türk edebiyatında ilk psikolojik romanın yazarı aşağıdakilerden hangisidir?

- A) İbrahim Şinasi
- B) Mehmet Rauf
- C) Halid Ziya
- D) Nabizade Nazım

8. Cenap Şehabettin'in; Bulgaristan, Romanya, Macaristan, Çekoslovakya, Almanya ve Avusturya'ya yaptığı gezilere ait duyguları, düşünceleri ve bu gezilerde kendisini etkileyen önemli olayları anlattığı eseri aşağıdakilerden hangisidir?

- A) Avrupa Mektupları
- B) Evrak-ı Eyyâm
- C) Hac Yolunda
- D) Frankfurt Seyahatnamesi

9. Kendisini "fikri hür, irfanı hür ve vicdanı hür bir şair" olarak tanıtan ve hep öyle kalan şair aşağıdakilerden hangisidir?

- A) Halit Ziya
- B) Cenap Şehabettin
- C) Mehmet Rauf
- D) Tevfik Fikret

10. "İstiklâl Marşı" şairi Mehmet Âkif Ersoy'un eserlerini topladığı kitabı aşağıdakilerden hangisidir?

- A) Aziz İstanbul
- B) Akın
- C) Göl Saatleri
- D) Safahat

11. Aşağıdakilerden hangisi "saf şiir" anlayışının özelliklerinden biri değildir?

- A) Söze önem verilmesi
- B) Sosyal temalardan çok bireysel duyarlılığın tercih edilmesi
- C) Nazmın nesre yaklaşması
- D) Ritm ve ahenge önem verilmesi

12. Aşağıdakilerden hangisi Millî Edebiyat Dönemi'nin genel özelliklerinden biri değildir?

- A) Hece ölçüsünün kullanılması
- B) Halkın sorunlarının dile getirilmesi
- C) Dilde sadeleşmenin esas olması
- D) Eski nazım şekillerinin kullanılması

13. Çocuklar için sade bir dille "Şermin" adlı kitabı yazan sanatçı aşağıdakilerden hangisidir?

- A) Ahmet Mithat
- B) Tevfik Fikret
- C) Mehmet Rauf
- D) Ziya Paşa

14. Yakup Kadri Karaosmanoğlu'nun kuşaklar arasındaki çatışmayı gözler önüne serdiği, Batılılaşmayı yanlış anlayarak bir ailenin dağılmasına neden olan sorumsuz davranışları yerdiği eseri aşağıdakilerden hangisidir?

- A) Yaban
- B) Sodom ve Gomore
- C) Nur Baba
- D) Kiralık Konak

15. Realizmin ortaya çıktığı ülke aşağıdakilerden hangisidir?

- A) İngiltere
- B) Almanya
- C) Fransa
- D) Rusya

16. Aşağıdakilerden hangisi Reşat Nuri Güntekin'in eserlerinden biri değildir?

- A) Vurun Kahpeye
- B) Dudaktan Kalbe
- C) Yeşil Gece
- D) Yaprak Dökümü

17. "Ateşten Gömlek" ve "Vurun Kahpeye" adlı romanlar aşağıdaki yazarlardan hangisine aittir?

- A) Reşat Nuri Güntekin
- B) Ziya Gökalp
- C) Halide Edip Adıvar
- D) Yakup Kadri Karaosmanoğlu

18. İslam ülkelerinin birliği ve geliştirilmesini hedefleyen görüş aşağıdakilerden hangisidir?

- A) Türkçülük
- B) İslamcılık
- C) Osmanlıcılık
- D) Batıcılık

19. Aşağıdakilerden hangisi, Türk edebiyatında "Beş Hececiler" adıyla anılan yazarlar arasında yer almaz?

- A) Enis Behiç Koryürek
- B) Yusuf Ziya Ortaç
- C) Reşat Nuri Güntekin
- D) Faruk Nafiz Çamlıbel

20. Rezaizade Mahmut Ekrem tarafından Servet-i Fünûn dergisinin yazı işleri müdürlüğüne getirilen sanatçı aşağıdakilerden hangisidir?

- A) Muallim Naci
- B) Tevfik Fikret
- C) Mehmet Rauf
- D) Hasan Asaf

SINAVDA UYULMASI GEREKEN GENEL KURALLAR

1. Sınava girmek için gerekli belgelerinizin tümünü sınav başlamadan önce sıranızın üzerine bırakınız.
2. Sınav süresince görevlilerle konuşmak, görevlilere soru sormak yasaktır. Aynı şekilde görevlilerin de öğrencilerle yakından ve alçak sesle konuşmaları yasaktır. Gerekli durumlarda görevliler yerinizi değiştirebilir.
3. Size verilen cevap kâğıdının üzerindeki TCKN/Öğrenci no, ad, soyadı, bilgilerini kontrol ediniz, ilgili alanları eksiksiz doldurarak imzalayınız. Bu bilgiler size ait değilse, görevlileri uyararak size ait cevap kâğıdını isteyiniz. Başka öğrenciye ait cevap kâğıdı kullanan öğrencilerin o oturumdaki sınavları geçersiz sayılır.
4. Cevap kâğıdı üzerine test grubunu (A, B, C, D) kodlamayan veya birden fazla kodlama yapan öğrencilerin sınavları geçersiz sayılır.
5. Cevap kâğıdınıza yazacağınız her türlü yazı ve yapacağınız işaretlemeler için koyu yazan siyah kurşun kalem kullanmalısınız. Siyah kurşun kalem dışında farklı bir kalem (tükenmez, mürekkepli ya da renkli vb.) kullanan öğrencilerin sınavları geçersiz sayılır.
6. Cevap kâğıdı üzerinde değişiklik yapmak istediğinizde, iz bırakmayan bir silgi kullanınız. Cevap kâğıdınızı buruşturmayınız, katlamayınız ve üzerine gereksiz hiçbir işaret koymayınız.
7. Cevaplarınızı, cevap kâğıdında ilgili test için ayrılmış olan alana, cevap yerinin dışına taşırmadan işaretleyiniz. Soru kitapçığı üzerinde yapılan işaretlemeler değerlendirmeye alınmayacaktır.
8. Her sorunun tek bir doğru cevabı vardır. Bir soru için birden çok cevabı işaretlerseniz, o soruyu yanlış cevaplamış sayılacaksınız.
9. Soru kitapçığınızı aldığınızda sayfalarına hızlıca bakarak hatalı ya da eksik baskı olup olmadığını kontrol ediniz. Hata/eksik olması durumunda kitapçığının değiştirilmesi için derhâl Salon Başkanına başvurunuz. Sınav görevlileri sınavın başladığını belirtmeden kitapçığınızı tekrar açmayınız.
10. Cevap kâğıdınızda belirtilen kitapçık kodu ile soru kitapçığının kodunu karşılaştırınız. Aynı değilse, sınav görevlilerine durumu bildirerek doğru kitapçığın verilmesini talep ediniz.
11. Soru kitapçığınızdaki ilgili alanlara ad, soyadı, TCKN/Öğrenci no, sınav salon no, sıra no bilgilerinizi eksiksiz doldurarak imzanızı atınız. Soru kitapçığının sayfalarındaki boş yerleri müsvedde amacıyla kullanabilirsiniz.
12. Aşağıdaki durumlarda sınav görevlileri tarafından Bireysel Sınav İptal Tutanağı düzenlenerek ilgili öğrencilerin sınavları geçersiz sayılır:
 - a) Sınav kurallarına ve sınav görevlilerinin uyarılarına uymamak, sınav düzenini bozmak,
 - b) Kâğıt, kitap, defter, not vb. dokümanları; pergel, açıölçer, cetvel vb. araçları; cep telefonu, bilgisayar, tablet, telsiz, kamera vb. iletişim, depolama, kayıt ve veri aktarma cihazlarını; ruhsatlı veya resmi amaçlı olsa bile silah ve silah yerine geçebilecek nesnelere yanında bulundurmamak,
 - c) Sınav sırasında kalem, silgi vb. araç-gereç paylaşımında bulunmak,
 - d) Cevapları, cevap kâğıdı dışında bir yere yazmak ve sınav salonundan dışarı çıkarmak,
 - e) Sınava girebilmek için gerekli belgeleri eksik olduğu halde sınava katılıp, cevap kâğıdında işaretleme yapmak,
 - f) Sınav görevlileri tarafından öğrencinin kimliğinden şüphe duyulması,
 - g) Cevap kâğıdını ve/veya soru kitapçığını sınav görevlilerine eksiksiz ve sağlam şekilde teslim etmemek, sınav salonu dışına çıkarmak,
 - h) Kopya çekmek, vermek, çekilmesine yardımcı olmak vb. eylemlerde bulunmak,
 - i) Kendisi yerine başkasını sınava sokmak.
13. Sınav bitiminde, cevap kâğıdınızı ve soru kitapçığınızı salon görevlilerine eksiksiz biçimde teslim ediniz. Sınav bittikten sonra gönderilen cevap kâğıtları dikkate alınmayacaktır.

SINAV KURALLARINA UYDUĞUNUZ İÇİN TEŞEKKÜR EDER, SINAVINIZDA BAŞARILAR DİLERİZ.