



ANADOLU ÜNİVERSİTESİ  
AÇIKÖĞRETİM FAKÜLTESİ  
BA - AÇIKÖĞRETİM OKULLARI

**T.C. MİLLİ EĞİTİM BAKANLIĞI**  
**Hayat Boyu Öğrenme Genel Müdürlüğü**  
**2016-2017 ÖĞRETİM YILI BATI AVRUPA - BALKANLAR**  
**AÇIK ÖĞRETİM LİSESİ I. DÖNEM SINAVI**  
**5. OTURUM Cumartesi**

**ÖĞRENCİNİN**

**B**

**0105**

SOYADI : .....

ADI : .....

T.C. KİMLİK NO / ÖĞRENCİ NO : .....

SINAV SALON NO : ..... SIRA NO: .....

Sınavla ilgili soru kitapçığının ön ve arka kapağındaki tüm kuralları okudum, anladım, kabul ediyorum.

İMZA:.....

**SINAV İÇERİĞİ**

Testin Adı	Soru Sayısı	Sayfa No	Testin Adı	Soru Sayısı	Sayfa No
DİN KÜLTÜRÜ VE AHLAK BİLGİSİ 2	20	02	KİMYA 2	20	34
FELSEFE 1	20	04	DEMOKRASİ VE İNSAN HAKLARI 1	20	36
SEÇMELİ FELSEFE 2	20	06	SANAT TARİHİ 2	20	38
TARİH 3	20	08	SEÇMELİ TARİH 3	20	40
COĞRAFYA 2	20	10	SEÇMELİ ALMANCA 3	20	42
ALMANCA 3	20	12	SEÇMELİ İNGİLİZCE 3	20	45
İNGİLİZCE 3	20	15	SEÇMELİ FRANSIZCA 3	20	48
FRANSIZCA 3	20	18	SEÇMELİ DİL VE ANLATIM 5	20	51
DİL VE ANLATIM 5	20	21	SEÇMELİ DİL VE ANLATIM 7	20	53
TÜRK EDEBİYATI 4	20	23	SEÇMELİ TÜRK EDEBİYATI 4	20	55
TÜRK EDEBİYATI 7	20	25	SEÇMELİ TÜRK EDEBİYATI 7	20	57
FİZİK 5	20	27	GİRİŞİMCİLİK 2	20	59
FİZİK 6	20	31	MATEMATİK 1	20	61

**SINAVDA UYULMASI GEREKEN ÖZEL KURALLAR**

1. Soru kitapçığındaki her bir testi cevaplamanız için verilen süre 30 dakika, toplam süre 150 dakikadır.
2. Sınavın ilk 30 dakikası ve son 5 dakikası içinde sınavınızı tamamlasanız bile salondan çıkamazsınız. Herhangi bir nedenle salondan çıktığınız takdirde, tekrar sınava devam etmenize izin verilmeyecektir. Sınavın başlamasını izleyen ilk 15 dakikadan sonra hiçbir öğrenci sınava alınamaz.
3. Yanlış cevaplarınız dikkate alınmayacaktır. Bu nedenle kitapçıktaki tüm sorular için size doğru gelen seçeneği işaretleyerek cevapsız soru bırakmamanız yararınıza olacaktır.
4. Sınav sırasında hesap makinesi kullanabilirsiniz. Ancak, kullanacağınız makinede alfabetik tuş takımınının (A, B, C, ..., Y, Z), program yapılmasına, saklanmasına ve çalıştırılmasına imkân veren EXE, STORE, RUN vb. tuşlar bulunamaz.

"Sınavda Uyulması Gereken Genel Kurallar" soru kitapçığının arka sayfasında yer almaktadır. Bu kuralları da mutlaka dikkatlice okuyunuz.

Anadolu Üniversitesi tarafından hazırlanmış olan bu testlerin her hakkı saklıdır. Hangi amaçla olursa olsun, testlerin tamamının veya bir kısmının Anadolu Üniversitesi'nin yazılı izni olmadan kopya edilmesi, fotoğraflarının çekilmesi, herhangi bir yolla çoğaltılması, yayımlanması ya da kullanılması yasaktır. Bu yasağa uymayanlar gerekli cezai sorumluluğu ve testlerin hazırlanmasındaki mali külfeti peşinen kabullenmiş sayılır.

**1. Toplum ile ilgili aşağıdaki ifadelerden hangisi yanlıştır?**

- A) Toplumsal değerler insanları tek tek fert olmaktan çıkararak birlik beraberlik içinde yaşayan bir toplum haline getirir.
- B) Toplum, belli bir coğrafya üzerinde yaşayan, o coğrafya için mücadele etmiş, ortak değerleri benimsemiş insanlardan oluşur.
- C) Toplumsal değerler toplumdaki fertleri ayırıştırır.
- D) Her toplumun kendine özgü değerleri vardır.

**2. İlk evrensel insan hakları ilkeleri aşağıdakilerden hangisinde yer almaktadır?**

- A) Magna Carta
- B) İnsan Hakları Evrensel Beyannamesi
- C) Veda Hutbesi
- D) Birleşmiş Milletler Sözleşmesi

**3. Aşağıdakilerden hangisi, Hz. Musa'ya indirilen ve Yahudilerin dinî öğretileri içerisinde yer alan "on emir" arasında yer almaz?**

- A) Anne ve babana hürmet edeceksin.
- B) Öldürmeyeceksin.
- C) Zina etmeyeceksin.
- D) Allah'ın ismini boş yere ağza alabilirsin.

**4. Aşağıdakilerden hangisi İslam dininin korunmasını istediği temel ilkelerden biri değildir?**

- A) Canın korunması
- B) Aklın korunması
- C) Hak yiyenin korunması
- D) Namusun korunması

**5. Aşağıdakilerden hangisi Türk milletini bir arada tutan, toplumu birleştiren ortak değerlerden biri değildir?**

- A) Bireycilik ve kendini düşünme
- B) Bayrak ve İstiklâl Marşı
- C) Vatan ve ülkü birliği
- D) Hürriyet ve bağımsızlık

**6. Değerler ile ilgili aşağıdaki ifadelerden hangisi yanlıştır?**

- A) Doğuştan gelen değerler dinî ve ahlaki değerlerdir.
- B) Değerlerin oluşmasında insanın içinde yaşadığı toplumun etkisi yoktur.
- C) İnsanların sahip olduğu değerler onun hayatını anlamlandırmasına katkı sağlar.
- D) Bir toplumda genel kabul gören veya benimsenen her türlü duygu, düşünce, davranış ve kurallara değer adı verilir.

**7. Osmanlı Devletinde "din ve vicdan hürriyeti ilkesi" ilk kez hangi belgede yer almıştır?**

- A) Gülhane Hattı Hümayunu
- B) Sened-i İttifak
- C) Kanun-i Esasi
- D) Islahat Fermanı

**8. I. Herkesin din ve inanç hürriyetini güvence altına almak  
II. Dinin istismar edilmesine müsaade etmemek  
III. Dinde ruhbanlık anlayışının oluşmasını önlemek**

**Yukarıdakilerden hangileri laikliğin temel amaçları içinde yer alır?**

- A) I ve II
- B) I ve III
- C) II ve III
- D) I, II ve III

**9. Laik devlet ile ilgili aşağıdaki ifadelerden hangisi yanlıştır?**

- A) Laik devlet, din hürriyetini ana ilke olarak kabul eder.
- B) Laik devletin resmi dini vardır.
- C) Laik devlette insanlara bir dinin zorla benimsetilmesi söz konusu değildir.
- D) Laik devlet herkese dinini seçme ve onun gereklerini yerine getirme serbestliği tanır.

**10. Atatürk'ün laiklik anlayışıyla ilgili aşağıdaki ifadelerden hangisi yanlıştır?**

- A) Atatürk'ün laiklik anlayışı, asla dinsizlik değildir.
- B) Taassup hoş görülmektedir.
- C) Atatürk'ün laiklik anlayışı, asla din karşıtlığı değildir.
- D) Atatürk'e göre laiklik; sahte dindarlıkla ve büyücülükle mücadele kapısını açtığı için gerçek dindarlığın gelişmesini sağlamaktadır.

**11. İnsanların dinlerini öğrenmelerine yardımcı olmak için aşağıdaki kurumlardan hangisi kurulmuştur?**

- A) Gelir İdaresi Başkanlığı
- B) Polis Akademisi Başkanlığı
- C) Bilgi İşlem Dairesi Başkanlığı
- D) Diyanet İşleri Başkanlığı

12. Dini emirlerin ilk muhatabı olan yeryüzündeki ilk peygamber aşağıdakilerden hangisidir?

- A) Hz. Âdem
- B) Hz. Nuh
- C) Hz. Musa
- D) Hz. İdris

13. Aşağıdakilerden hangisi Türklerin İslamiyetten önce benimsediği dinlerden biri değildir?

- A) Zerdüştlük
- B) Hristiyanlık
- C) Musevilik
- D) Budizm

14. I. İtil Volga Bulgar Devleti  
II. Karahanlılar  
III. Gazneliler

Yukarıdakilerden hangileri ilk Müslüman Türk Devletleri içinde yer alır?

- A) I ve II
- B) I ve III
- C) II ve III
- D) I, II ve III

15. Sulu boya veya altın yıldız kullanılarak kağıt ya da deri üzerine resim yapma sanatına ne ad verilir?

- A) Minyatür
- B) Ebru
- C) Tezhip
- D) Sülüs

16. Mesnevi kimin eseridir?

- A) Hacı Bektaş Veli
- B) Yunus Emre
- C) Ahmet Yesevi
- D) Mevlana

17. Aşağıdakilerden hangisi Türklerin benimsediği Gök Tanrı inancının temel esasları arasında yer almaz?

- A) Bir ve tek olan Gök Tanrı vardır.
- B) Dünya hayatından sonra sonlu bir hayat vardır.
- C) Tanrı yaratan, yaşatan ve koruyandır.
- D) Dünyada iyilik edenler öldükten sonra karşılık olarak iyi bir yere gideceklerdir.

18. Hacı Bektaş Veli ile ilgili aşağıdaki ifadelerden hangisi yanlıştır?

- A) Fıkhi mezheplerden Hanefi Mezhebi onun görüşleri etrafında şekillenmiştir.
- B) Bugün kendi adını taşıyan Nevşehir'in Hacı Bektaş ilçesinde halkı irşat edici çalışmalar yapmış ve talebeler yetiştirmiştir.
- C) Anadolu'da İslam anlayışının yerleşmesinde etkili olan başlıca tasavvuf alimlerinden birisidir.
- D) Hacı Bektaş Veli'nin sohbetlerine katılıp ona bağlananlara "Bektaşî" denilmiştir.

19. Aşağıdakilerden hangisi Ahilik teşkilatında önemli olan prensiplerden biri değildir?

- A) Allah'ın emirlerine uyacaksınız.
- B) İftira ve gıybetten sakınmayacaksınız.
- C) İşinde ve hayatında güvenilir olacaksınız.
- D) İyi kalpli ve cömert olacaksınız.

20. "İlim ilim bilmektir  
İlim kendin bilmektir  
Sen kendini bilmezsin  
Ya nice okumaktır

Okumaktan murat ne  
Kişi Hak'kı bilmektir  
Çün okudun bilmezsin  
Ha bir kuru ekmektir..."

Yukarıdaki şiir aşağıdaki İslam alimlerinden hangisinin eseridir?

- A) Hacı Bayram Veli
- B) Mevlana
- C) Yunus Emre
- D) Ahmet Yesevî

1. Aşağıdakilerden hangisi insan bilimlerinden biri değildir?

- A) Astronomi
- B) Tarih
- C) Antropoloji
- D) Psikoloji

2. Aşağıdakilerden hangisi metafiziğin incelediği temel problemlerden biri değildir?

- A) Tanrı ve ruhla ilgili problemler
- B) Kozmolojik problemler
- C) Ontolojik problemler
- D) Estetik problemler

3. Yunanca "phileo" ile "sophia" sözcüklerinin birleşiminden oluşan felsefenin sözcük anlamı aşağıdakilerden hangisidir?

- A) Doğru anlam
- B) Bilgi doğrusu
- C) Dostluk bilgisi
- D) Bilgelik sevgisi

4. Doğru bilginin kaynağının akıl olduğunu savunan görüşe ne ad verilir?

- A) Rasyonalizm
- B) Empirizm
- C) Pozitivizm
- D) Liberalizm

5. Aşağıdakilerden hangisi günlük yaşamda gerçek kavramının doğruluk kavramıyla karıştırılması ve bu iki kavramın birbirlerinin yerine kullanılmasına bir örnektir?

- A) Hep yanlış sözler kullanıyorsun.
- B) Doğru mu söylüyorsun?
- C) Sen gerçek mi söylüyorsun?
- D) Sen gerçekleri çarpıtıyorsun.

6. Bilgi en genel tanımıyla bilen özne ile bilinen nesne arasında kurulan ilişki sonucunda ortaya çıkan üründür.

Yukarıdaki bilgiye göre, sanatsal bilgide özne ile nesne arasındaki bağ aşağıdakilerden hangisi ile kurulur?

- A) Deney veya gözlem
- B) İnanç
- C) Yaratıcılık veya hayal gücü
- D) Sezgi veya deneyim

7. Aşağıdaki ifadelerden hangisi genel geçer doğru bilginin insan için olanaksız olduğunu dile getiren kuşkuculuk akımını (septisizm) destekler?

- A) Üçgenin iç açıları toplamı 180 derecedir.
- B) Yasaların, gelenek ve göreneklerin insanların üzerinde farklı etkileri vardır.
- C) Normal bir insan beş duyuya sahiptir.
- D)  $3+2=5$ 'tir.

8. Aşağıdakilerden hangisi felsefe bilgisinin özelliklerinden biri değildir?

- A) Evrensel olması
- B) Birleştirici ve bütünleştirici olması
- C) Rastlantıya dayanması
- D) Kümülatif olması

9. Aşağıdakilerden hangisi Comte'un Üç Hal Yasası'nın evrelerinden biri değildir?

- A) Pozitif evre
- B) Metafizik evre
- C) Teolojik evre
- D) Estetik evre

10. Aşağıdakilerden hangisi "Bilgi Kuramı"nın temel kavramlarından biri değildir?

- A) Obje
- B) Fenomenoloji
- C) Gerçeklik
- D) Temellendirme

11. Aşağıdakilerden hangisi XX. yüzyılda Newton fiziğine güvenin sarsılmasına neden olan teorilerden biri değildir?

- A) Einstein'in Görelilik Kuramı
- B) Bacon'un Tümevarımsal Kuramı
- C) Planck'ın Quantum Teorisi
- D) Heisenberg'in Belirsizlik Kuramı

12. Aşağıdakilerden hangisi İslam kültür çevresinde M.S. VIII. ve IX. yüzyıllar arasında özellikle bilim alanında önemli gelişmeler kaydedilmesini sağlayan en önemli faaliyetlerden biridir?

- A) Hristiyan din adamlarının felsefi ve bilimsel faaliyetleri teşvik etmeleri
- B) Kilisenin felsefi eserlerin basımına öncelik vermesi
- C) Bilimsel ve felsefi eserlerin eski Yunanca'dan Arapça'ya çevrilmesi
- D) Doğudan batıya göçün ilerlemesi

13. Ontoloji terimini ilk kez kullanan düşünür aşağıdakilerden hangisidir?

- A) Hegel
- B) Fichte
- C) Wolff
- D) Schelling

14. Aşağıdakilerden hangisi Kuhn'un savunduğu bilimin gelişim aşamalarından biri değildir?

- A) Klasik dönem
- B) Bunalımlar
- C) Devrim
- D) Olağan bilim dönemi

15. Aşağıdakilerden hangisi varlık felsefesini tanımlamak için kullanılan kavramlardan biri değildir?

- A) Epistemoloji
- B) İlk felsefe
- C) Metafizik
- D) Ontoloji

16. Aşağıdakilerden hangisi materyalizmi savunan düşünürlerden biridir?

- A) Karl Marks
- B) Aristoteles
- C) Farabi
- D) Platon

17. Aşağıdakilerden hangisi Rönenans Çağı bilim adamlarından biri değildir?

- A) Newton
- B) Galileo
- C) Kopernik
- D) Batlamyus

18. Hiçbir şeyin var olmadığını, hiçbir şeyin bilinemeyeceğini savunan görüşe ne ad verilir?

- A) Kritisizm
- B) Nihilizm
- C) Septisizm
- D) Materyalizm

19. Aşağıdakilerden hangisi varlığı akıl yoluyla açıklamaya ve temellendirmeye çalışan alanlardan biridir?

- A) Ahlak
- B) Felsefe
- C) Din
- D) Sanat

20. Bilimin yapısını, doğasını, bilimsel kuramlarla gerçeklik arasındaki ilişkiyi, ilkelerini, ana kavramlarını ve bilimde yöntem problemini inceleyen alana ne ad verilir?

- A) Bilgi felsefesi
- B) Bilimsel felsefe
- C) Doğa felsefesi
- D) Bilim felsefesi

1. İnsanların eylemlerini ve birbirleriyle ilişkilerini düzenlemek amacıyla oluşturulmuş normlar ya da değerler sistemine ne ad verilir?

- A) Ahlak
- B) Hukuk
- C) Din
- D) Felsefe

2. Huxley'in "Yeni Dünya" adlı eseri, teknolojinin insanlar üzerindeki olumsuz etkisine karşı bir uyarı niteliği taşımaktadır. O, bilim ve teknolojinin bu hızla devam etmesi durumunda insanın insan olmaktan çıkacağını iddia etmiştir.

Huxley'in yukarıda özellikleri verilen eseri aşağıdakilerden hangisi ile tanımlanmaktadır?

- A) Anarşizm
- B) İdeal devlet
- C) İstenilen ütopya
- D) Korku ütopyası

3. Aşağıdakilerden hangisi ideal düzeni belirleyen ölçütlerden biri değildir?

- A) Eşitlik
- B) Adalet
- C) Özgürlük
- D) Güç

4. Sartre'in ahlak alanındaki düşüncesi ile ilgili aşağıdaki ifadelerden hangisi doğrudur?

- A) Sartre'a göre, tüm insanlarda ortak akıl olduğundan genel bir ahlak vardır.
- B) Sartre'a göre, herkes için her yerde geçerli olan evrensel bir ahlak yoktur.
- C) Sartre'a göre, insan ahlak yasaları ile varolur.
- D) Sartre'a göre, doğa insana ahlaklı olmasını ve doğa yasalarına göre yaşamasını buyurur.

5. Max Weber'in "Liderin sahip olduğuna inanılan olağanüstü niteliklerinden doğar." şeklinde ifade ettiği otorite türü aşağıdakilerden hangisidir?

- A) Karizmatik
- B) Hukuksal
- C) Geleneksel
- D) Demokratik

6. Anarşizm görüşünün kurucusu aşağıdaki düşünürlerden hangisidir?

- A) Hegel
- B) Sartre
- C) Kant
- D) Proudhon

7. İnsanların toplum içinde nasıl davranmaları gerektiğini bildiren kurallardır.

•Devletin iktidar gücünü hiçbir baskı olmadan kullanabilmesidir.

•İzin verilmiş olan, yasaklanmamış olan davranışlarda bulunma serbestisidir.

Yukarıdakiler arasında tanımı verilmeyen kavram aşağıdakilerden hangisidir?

- A) Yasa
- B) Egemenlik
- C) Devlet
- D) Hak

8. "Yaratılmış her varlığı sevmek iyi, sevmemek kötüdür." diyen Mevlana'ya göre evrensel ahlak yasasının temeli aşağıdakilerden hangisidir?

- A) Haz
- B) Sezgi
- C) Aşk
- D) Akıl

9. Yaşadığı dönemin İtalya'sındaki aksaklıklardan yola çıkarak "Güneş Ülkesi" adını verdiği ideal bir toplum düzenini tasarlayan düşünür aşağıdakilerden hangisidir?

- A) Campanella
- B) Mill
- C) Bentham
- D) Bacon

10. Birey, devlet ve yaşamı konu alan "Kutadgu Bilig(Mutluluk Veren Kitap)" adlı eseriyle ün kazanan Türk düşünür aşağıdakilerden hangisidir?

- A) Yunus Emre
- B) Yusuf Has Hacip
- C) Hacı Bektaş Veli
- D) Mevlana

11. Descartes, V. Meditasyon'da Tanrı'nın varlığına onun mükemmel olmasından yola çıkarak ulaşır. Yani Tanrı mükemmel olarak düşünülür. Mükemmellik zorunlu olarak var olmayı gerektirir. Çünkü var olmamak bir eksiklik. Oysa Tanrı mükemmeldir dolayısıyla Tanrı vardır.

**Descartes'ın yukarıdaki ispatı aşağıdaki Tanrı kanıtlamalarından hangisine girer?**

- A) Ereklilik kanıtı
- B) Kozmolojik kanıt
- C) Ontolojik kanıt
- D) Ahlaki kanıt

12. Aşağıdakilerden hangisi sanat eserinin özelliklerinden biri değildir?

- A) Doğayla uyumlu olması
- B) Özgün olması
- C) Kendine ait özellikleri olan bir insan yarattığı olması
- D) İçerik ve biçimin birlikte bir anlam taşıması

13. Doğadaki kusursuzluğa ve düzene bakarak, her şeyin bir amacı olduğunu söyleyerek Tanrının varlığına ulaşmak O'nu aşağıdaki kanıtlardan hangisiyle ispatlamaktır?

- A) Ahlaki kanıt
- B) Ontolojik kanıt
- C) Kozmolojik kanıt
- D) Ereklilik kanıtı

14. Spinoza'nın "Tanrı Doğa'dır." (Deus siva Natura) sözü aşağıdakilerden hangisine bir örnektir?

- A) Deizm
- B) Ateizm
- C) Teizm
- D) Panteizm

15. Aşağıdakilerden hangisi din felsefesinin temel kavramlarından biri değildir?

- A) Vahiy
- B) Erdem
- C) İman
- D) İbadet

16. "Renkler ve zevkler tartışılmaz." sözü aşağıdaki ifadelerden hangisini doğrular?

- A) Estetik yargılar duysal değil, düşünseldir.
- B) Ortak estetik yargılara ulaşmak mümkündür.
- C) Ortak estetik yargılar yoktur.
- D) Estetik yargılar zevk ve beğeniden uzaktır.

17. "Her şeyi bilen, en yüce ve en iyi olan bir Tanrı neden evrendeki acı, kötülük ve yetersizlikleri yaratmıştır?" sorusuna dayanan görüş aşağıdakilerden hangisidir?

- A) Tanrı'nın varlığını reddeden görüş
- B) Tanrı'nın varlığını bilinemeyeceğini söyleyen görüş
- C) Tanrı'nın varlığını kabul eden görüş
- D) Tanrı'nın yokluğunun bilinemeyeceğini söyleyen görüş

18. Estetik yargı ile ilgili aşağıdaki ifadelerden hangisi yanlıştır?

- A) Subjektiftir.
- B) Kültürel özelliklerden etkilenmez.
- C) Bireyseldir.
- D) Zaman içinde değişikliğe uğrayabilir.

19. İnsanın kendi çevresi ile kurduğu ilişkiyi estetik bir ifadeyle sunmasına ne ad verilir?

- A) Etik
- B) Fenomen
- C) Sanat
- D) Erdem

20. Aşağıdakilerden hangisi estetik bir yargıdır?

- A) Bu tablonun değeri 1000 Türk Lirasıdır.
- B) Mozart'ın bütün besteleri çok güzeldir.
- C) Picasso 20. Yüzyılda yaşamış bir sanatçıdır.
- D) Su 100°C'de kaynar.

1. Devşirme Sistemi ile ilgili aşağıdaki ifadelerden hangisi yanlıştır?

- A) Osmanlı ülkesinde yaşayan Hıristiyan ailelerin sağlıklı ve kuvvetli olan erkek çocuklarından biri alınır.
- B) Ailelerden alınan çocukların din, gelenek, adet ve görenekleri değiştirilmez.
- C) Bir aileden birden fazla çocuk alınmaz.
- D) Üç beş yılda bir yapılır, sekiz ve on yaş arası çocuklar devşirilirdi.

2. Suyun içine boyaların serpiştirilmesi ile yapılan kağıt süsleme sanatı aşağıdakilerden hangisidir?

- A) Çinicilik
- B) Hat
- C) Ebru
- D) Tezhip

3. Osmanlı Devleti'nin Bizans kuvvetleriyle karşı karşıya geldiği ilk savaş aşağıdakilerden hangisidir?

- A) Sırpındığı
- B) Koyunhisar
- C) Pelekanon
- D) Çirmen

4. Osmanlıda el yazması kitapları süsleme sanatına ne ad verilir?

- A) Tezhip
- B) Hat
- C) Ciltçilik
- D) Minyatür

5. Aşağıdakilerden hangisi Tarhuncu Ahmet Paşa'nın devlet hazinesini düzeltmek için yaptığı çalışmalardan biri değildir?

- A) Gereksiz bütün harcamaların önlenmesi
- B) Yeni vergilerin getirilmesi
- C) Devletin alacaklarının tahsil edilmeye başlanması
- D) Devletin gelir ve giderlerini karşılaştıran bir rapor hazırlanması

6. Osmanlı Devleti'nin ilk resmi tarihçisi (vakanüvisi) aşağıdakilerden hangisidir?

- A) Katip Çelebi
- B) Nefi
- C) İtri
- D) Naima

7. İspanya adına Amerika kıtasını keşfeden kişi aşağıdakilerden hangisidir?

- A) Del Kano
- B) Jean Gutenberg
- C) Vasko Dö Gama
- D) Kristof Kolomb

8. Osmanlılarda ilk para hangi padişah zamanında basılmıştır?

- A) I. Murat
- B) Çelebi Mehmet
- C) Osman Bey
- D) Orhan Bey

9. Aşağıdakilerden hangisi tımar sisteminin bozulmasının sonuçlarından biri değildir?

- A) Devlet hazinesine daha fazla para girdi.
- B) Tımarlı asker sayısı azaldı.
- C) Halktan başıboş kişilerin Yeniçeri Ocağı'na alınması askeri teşkilatı ve disiplini bozdu.
- D) Devletin bütçe açığını kapatmak amacıyla getirdiği yeni vergiler yüzünden köylü toprağını terk etti.

10. Karadeniz'in Türk gölü olmasını sağlayan olay aşağıdakilerden hangisidir?

- A) Kırım'ın Fethi
- B) Mora'nın Fethi
- C) Eflak Seferi
- D) Bosna-Hersek Seferi



11. Osmanlı ordusunda, ordunun su ihtiyacını karşılayan gruba ne ad verilir?

- A) Sakalar
- B) Yörükler
- C) Beşliler
- D) Deliler

12. Aşağıdakilerden hangisi Reformun sonuçlarından biri değildir?

- A) Papaların eski güçlerini kaybetmesi
- B) Yeni mezheplerin ortaya çıkması
- C) Katolik kilisesinin kendini ıslah etmesi
- D) Ulusal dillerin doğması

13. Aşağıdakilerden hangisi Divan-ı Hümayun'un üyelerinden biri değildir?

- A) Kaptan emini
- B) Nişancı
- C) Vezirler
- D) Şeyhü'l İslam

14. İstanbul hangi yıl fethedilmiştir?

- A) 1450
- B) 1453
- C) 1459
- D) 1460

15. Osmanlı Devleti'nde ilk bedesten hangi padişah zamanında yapılmıştır?

- A) Osman Bey
- B) I. Murat
- C) Orhan Bey
- D) Yıldırım Bayezit

16. İlk Osmanlı medresesi nerede açılmıştır?

- A) Kütahya
- B) Edirne
- C) Bursa
- D) İznik

17. Osmanlı Devleti ve İran arasında 12 yıl süren savaştan sonra imzalanan antlaşma aşağıdakilerden hangisidir?

- A) Amasya
- B) Ferhat Paşa
- C) Nasuh Paşa
- D) Kasr-ı Şirin

18. Sarayda yetişen cariyelerle evlenme geleneğinin dışına çıkarak saray dışından bir kadın ile evlenen ilk padişah aşağıdakilerden hangisidir?

- A) I. Osman
- B) I. Selim
- C) II. Osman
- D) IV. Murat

19. Aşağıdakilerden hangisi Sırp Sındığı Savaşı'nın sonuçlarından biri değildir?

- A) Balkanlar'daki Macar etkisinin kırılması
- B) Türklerin, Balkanlarda hızla ilerlemeye başlaması
- C) Makedonya yolunun Osmanlılara açılması
- D) Edirne ve Batı Trakya'nın daha emniyetli hale gelmesi

20. Osmanlı Devleti ve İran arasında imzalanan ilk antlaşma aşağıdakilerden hangisidir?

- A) Nasuh Paşa
- B) Ferhat Paşa
- C) Karlofça
- D) Amasya

1. Akarsuların eğiminin azaldığı, yatağının genişlediği yerlerde, akarsuların taşıdığı alüvyon ve kumların birikmesiyle oluşan yeryüzü oluşumlarına ne ad verilir?
  - A) Peri bacaları
  - B) Lapyta
  - C) Birikinti konileri
  - D) Irmak adaları
2. Aşağıdakilerden hangisi kıyı oklarının zamanla gelişerek deniz ile koyu birbirinden ayırarak oluşturdukları lagünlerden (kıyı seti gölü) biridir?
  - A) Tuz Gölü
  - B) Beyşehir Gölü
  - C) Van Gölü
  - D) Büyükçekmece Gölü
3. Çeşitli endüstri kollarını ve endüstrinin kuruluş, gelişme, dağılım ve üretimini inceleyen coğrafya dalı aşağıdakilerden hangisidir?
  - A) Sanayi coğrafyası
  - B) Enerji coğrafyası
  - C) Yerleşme coğrafyası
  - D) Ulaşım coğrafyası
4. Aşağıdaki ülkelerden hangisi Avrupa Birliğine üye değildir?
  - A) Macaristan
  - B) Hırvatistan
  - C) Makedonya
  - D) Romanya
5. Türkiye'deki dağların güneye bakan yamaçlarının, kuzeye bakan yamaçlarına göre güneşlenme sürelerinin daha fazla olmasının temel nedeni aşağıdakilerden hangisidir?
  - A) İklim
  - B) Yükseklik
  - C) Sıcaklık
  - D) Bakı
6. Aşağıdaki illerden hangisinde dağınık yerleşmeler daha fazladır?
  - A) Bursa
  - B) Eskişehir
  - C) Artvin
  - D) Manisa
7. Türkiye'de kuzeydoğudan esen, kış aylarında soğuk ve sert, yaz aylarında ise serin ve kuru olan rüzgar aşağıdakilerden hangisidir?
  - A) Lodos
  - B) Kible
  - C) Karayel
  - D) Poyraz
8. Aşağıdakilerden hangisi Afrika ülkelerinden biridir?
  - A) Nepal
  - B) Etiyopya
  - C) Bangladeş
  - D) Surinam
9. Aşağıdakilerden hangisi insanların yerleşik hayata geçtiği ilk sahalardan biri değildir?
  - A) Kuzey İngiltere
  - B) Batı Afrika
  - C) Mezopotamya
  - D) Kuzey Çin
10. Aşağıdakilerden hangisi karstik ovalardan biridir?
  - A) Eskişehir Ovası
  - B) Muş Ovası
  - C) Konya Ovası
  - D) Elmalı Ovası
11. İnsanların geçimini tarım ve hayvancılıktan sağladığı yerleşmelere ne ad verilir?
  - A) Kasaba yerleşmeleri
  - B) Şehir yerleşmeleri
  - C) Kır yerleşmeleri
  - D) İlçe yerleşmeleri

12. Türkiye'ye güneş ışınlarının hiçbir zaman dik açıyla gelmemesinin nedeni aşağıdakilerden hangisidir?

- A) Türkiye'nin, Yengeç Dönencesinin kuzeyinde yer alması
- B) Yağışlı ve bulutlu bir iklime sahip olması
- C) Yükseltinin fazla olması
- D) Yeryüzü şekillerinin engebeli olması

13. Aşağıdakilerden hangisi karstik birikim şekillerinden biri değildir?

- A) Tombolo
- B) Sarkıt
- C) Traverten
- D) Dikit

14. İstanbul ve Çanakkale Boğazları aşağıdaki jeolojik zamanlardan hangisinde oluşmuştur?

- A) Mezozoik
- B) Tersiyer
- C) Kuaterner
- D) Paleozoik

15. Türkiye'nin en yüksek dağı aşağıdakilerden hangisidir?

- A) Erciyes Dağı
- B) Ağrı Dağı
- C) Toros Dağları
- D) Boz Dağlar

16. Aşağıdakilerden hangisi idari kent özelliğine sahiptir?

- A) Dubrovnik
- B) Madrid
- C) Selanik
- D) İstanbul

17. Türkiye'nin Temmuz ayı sıcaklık ortalamaları düşünülürken aşağıdaki illerden hangisinde ortalama sıcaklık diğerlerinden daha yüksektir?

- A) Denizli
- B) Bursa
- C) Antalya
- D) Çorum

18. Çağlayanlarda suyun düştüğü yerlerde oluşan çanaklara ne ad verilir?

- A) Dev kazanı
- B) Menderes
- C) Peribacası
- D) Kırgıbayır

19. Rüzgar aşındırmasının hızlı olduğu yerler aşağıdakilerden hangisidir?

- A) Ormanlık arazilerin yaygın olduğu yerler
- B) Volkanik malzemelerin bol, bitki örtüsünün zayıf olduğu yerler
- C) Kuraklığın yaşanmadığı, sulak yerler
- D) Geniş tarım arazilerinin olduğu bölgeler

20. Aşağıdakilerden hangisi Avrupa'nın önemli liman şehirlerinden biridir?

- A) Paris
- B) Rotterdam
- C) Brüksel
- D) Berlin

1. A: Wohin hast du meine Brille gelegt?  
B: Ich habe sie neben das Telefon gelegt,  
.....

**Welches ergänzt die Lücke im obigen Dialog?**

**Verilen karşılıklı konuşmada boş bırakılan yeri aşağıdakilerden hangisi tamamlar?**

- A) als ich mit Ayfer telefonierte!  
B) weiss ich aber leider nicht!  
C) er schläft gerade!  
D) ich bin total müde!

2. Hans sitzt .....

**Welches ergänzt nicht die Lücke im obigen Satz?**

**Verilen cümleyi aşağıdakilerden hangisi tamamlamaz?**

- A) im Bett und telefoniert.  
B) im Auto und will nach Hause fahren.  
C) ein Stück Kuchen auf ihrem Teller.  
D) auf der Couch im Wohnzimmer.

3. A: ..... liegt Polatlı?  
B: Polatlı liegt bei Ankara.

**Welches ergänzt die Lücke im obigen Dialog?**

**Verilen karşılıklı konuşmada boş bırakılan yeri aşağıdakilerden hangisi tamamlar?**

- A) Von welches Stadt  
B) Zu welcher Stadt  
C) Bei welcher Stadt  
D) Mit welchem Stadt

4. Die Kinder liegen im Kinderzimmer .....  
Teppich und spielen miteinander.

**Welches Wort passt in die obige Lücke?**

**Cümlede boş bırakılan yeri aşağıdakilerden hangisi doğru şekilde tamamlar?**

- A) zu der  
B) auf dem  
C) aus den  
D) in der

5. Ali kommt nach Deutschland zurück.

**Wie lautet der obige Satz im Perfekt?**

**Verilen cümlenin di'li geçmiş zaman şekli aşağıdakilerden hangisidir?**

- A) Ali ist nach Deutschland zurückgekommen.  
B) Ali kam nach Deutschland zurück.  
C) Ali wollte nach Deutschland zurückkommen.  
D) Ali wird nach Deutschland zurückkommen.

6. Aus welcher Stadt kommen Sie?

**Welche Antwort passt zur obigen Frage?**

**Verilen sorunun cevabı aşağıdakilerden hangisidir?**

- A) Wir können uns im Kino treffen.  
B) Ich kommen aus Frankfurt.  
C) Sie lebt in München.  
D) Er möchte in Berlin studieren.

7. Um acht Uhr ..... der Wecker.

**Welches Wort passt in die obige Lücke?**

**Cümlede boş bırakılan yeri aşağıdakilerden hangisi doğru şekilde tamamlar?**

- A) nimmt  
B) stellt  
C) zieht  
D) läutet

8. Ein Schachgenie kann ..... Schach spielen.

**Welches Wort passt nicht in die obige Lücke?**

**Cümlede boş bırakılan yeri aşağıdakilerden hangisi doğru şekilde tamamlamaz?**

- A) modern  
B) fantastisch  
C) gut  
D) super

9. Hier sehen Sie verschieden..... Knöpfe mit verschieden..... Buchstaben.

**Welche Endungen passen in die obigen Lücken?**

**Cümlede boş bırakılan yerleri aşağıdaki son eklerden hangileri doğru şekilde tamamlar?**

- A) -es / -em
- B) -e / -es
- C) -e / -en
- D) -er / -er

10. A: Was passiert, wenn ich auf diesen Knopf hier .....?  
B: Dann ..... die rote Lampe.

**Welche Wörter passen in die obigen Lücke im obigen Dialog?**

**Verilen karşılıklı konuşmada boş bırakılan yerleri aşağıdakilerden hangisi doğru şekilde tamamlar?**

- A) drücke / leuchtet
- B) stecke / machten
- C) mache / drückt
- D) leuchte / lernt

11. Mit unserem neuen Gerät können Sie in kurzer Zeit wie ein alter Chinese Chinesisch .....

**Welches Wort passt in die obige Lücke?**

**Cümlede boş bırakılan yeri aşağıdakilerden hangisi doğru şekilde tamamlar?**

- A) sehen
- B) sprechen
- C) kaufen
- D) brauchen

12. Mit einem ..... kann man Kilometer zählen.

**Welches Wort passt in die obige Lücke?**

**Cümlede boş bırakılan yeri aşağıdakilerden hangisi doğru şekilde tamamlar?**

- A) Kilometerzähler
- B) Denkapparat
- C) Schreibmaschine
- D) Zahlenkilometer

13. Was bedeutet "zirve" auf Deutsch?

**"zirve" sözcüğünün Almancası aşağıdakilerden hangisidir?**

- A) Der Spiegel
- B) Die Spitze
- C) Das Sitzen
- D) Die Schere

14. Ich fahre zurück in die Wohnung und nehme meine Brille.

**Wie lautet der obige Satz im Präteritum?**

**Verilen cümlelerin geçmiş zaman şekli aşağıdakilerden hangisidir?**

- A) Ich bin in der Wohnung und nehme meine Brille.
- B) Ich werde zurück in die Wohnung fahren und werde meine Brille nehmen.
- C) Ich fuhr zurück in die Wohnung und nahm meine Brille.
- D) Ich war in der Wohnung und hatte meine Brille genommen.

15. A: Was macht Karl heute nachmittag?  
B: .....  
A: Dann kann ich ihn dort sehen, weil ich auch zu dieser Besprechung gehen will.

**Welcher Satz ergänzt den obigen Dialog?**

**Verilen karşılıklı konuşmayı aşağıdakilerden hangisi tamamlar?**

- A) Karl geht heute um halb drei zu einer Besprechung.
- B) Karl möchte gerne früh schlafen gehen.
- C) Karl hat heute morgen eingekauft.
- D) Karl wird morgen früh zum Arzt gehen.

16. Ich werde schon heute das Visum beantragen. Es kann ein paar Wochen dauern.

**Wie kann man die obigen Sätze verbinden?**

**Verilen cümlelerin birleştirilmiş hali aşağıdakilerden hangisidir?**

- A) Ich habe das Visum heute beantragt, aber es soll ein paar Wochen dauern.
- B) Ich habe mich gestern für das Visum beworben, denn ich habe nur noch ein paar Wochen.
- C) Daß der Antrag für ein Visum ein paar Wochen dauert, haben die Beamten mir schon heute gesagt.
- D) Ich werde schon heute das Visum beantragen, weil es ein paar Wochen dauern kann.

17. Musluğu kapatacağım.

**Wie lautet der obige Satz auf Deutsch?**

**Verilen cümlelerin Almancası aşağıdakilerden hangisidir?**

- A) Ich soll den Wasserhahn zudrehen.
- B) Ich habe den Wasserhahn zgedreht.
- C) Ich möchte den Wasserhahn zudrehen.
- D) Ich werde den Wasserhahn zudrehen.

18. Wir ..... im Sommer in die Berge fahren.

**Welches Wort passt in die obige Lücke?**

**Cümlede boş bırakılan yeri aşağıdakilerden hangisi doğru şekilde tamamlar?**

- A) wird
- B) werden
- C) werde
- D) würde

19. Ich frühstücke um acht Uhr.

**Wie lautet der obige Satz im Futur?**

**Verilen cümlelerin gelecek zaman şekli aşağıdakilerden hangisidir?**

- A) Ich hatte um acht gefrühstückt.
- B) Ich kann um acht Uhr frühstücken.
- C) Ich werde um acht Uhr frühstücken.
- D) Ich habe um acht Uhr gefrühstückt.

20. Ich möchte mit dir zusammen eine Reise machen.

**Welches hat die gleiche Bedeutung mit dem obigen Satz?**

**Verilen cümle ile aynı anlamı taşıyan aşağıdakilerin hangisidir?**

- A) Ich möchte mit dir zusammen in dein Land zurückfahren.
- B) Ich möchte dich zu mir einladen.
- C) Ich mache dir einen Reisevorschlag.
- D) Ich möchte mit dir zusammen verreisen.

1. A: .....do you usually eat after dinner?  
B: I eat an apple.

Which of the following completes the dialogue above?

Aşağıdakilerden hangisi yukarıdaki konuşmayı doğru olarak tamamlar?

- A) How often
- B) What
- C) How
- D) Where

2. This is your umbrella. Where is .....

Which of the following completes the sentence above?

Aşağıdakilerden hangisi yukarıdaki cümleyi doğru olarak tamamlar?

- A) mine
- B) her
- C) me
- D) our

3. A: ..... do the banks open everyday?  
B: The banks open at 9.00 am.

Which of the following completes the dialogue above?

Aşağıdakilerden hangisi yukarıdaki konuşmayı doğru olarak tamamlar?

- A) When
- B) What
- C) Why
- D) How

4. We ..... a new car next year.

Which of the following completes the sentence above?

Aşağıdakilerden hangisi yukarıdaki cümleyi doğru olarak tamamlar?

- A) are buy
- B) bought
- C) are going to buy
- D) are go to buy

5. At the moment we ..... ready for the party.

Which of the following completes the sentence above?

Aşağıdakilerden hangisi yukarıdaki cümleyi doğru olarak tamamlar?

- A) are getting
- B) got
- C) get
- D) will get

6. How ..... books do you read in a year?

Which of the following completes the sentence above?

Aşağıdakilerden hangisi yukarıdaki cümleyi doğru olarak tamamlar?

- A) much
- B) many
- C) any
- D) some

7. Do you want to go to the theater ..... cinema?

Which of the following completes the sentence above?

Aşağıdakilerden hangisi yukarıdaki cümleyi doğru olarak tamamlar?

- A) or
- B) yet
- C) so
- D) for

8. They help ..... father in the garden at the weekends.

Which of the following completes the sentence above?

Aşağıdakilerden hangisi yukarıdaki cümleyi doğru olarak tamamlar?

- A) theirs
- B) him
- C) mine
- D) their

9. There was a ..... in front of my neighbour's house.

Which of the following completes the sentence above?

Aşağıdakilerden hangisi yukarıdaki cümleyi doğru olarak tamamlar?

- A) nice English old car  
B) old nice English car  
C) English nice old car  
D) nice old English car

10. A: ..... does Mark go to school?  
B: At 7 o'clock.

Which of the following completes the sentence above?

Aşağıdakilerden hangisi yukarıdaki cümleyi doğru olarak tamamlar?

- A) Who  
B) Where  
C) Which  
D) When

11. Cansu opened the door ..... saw a strange woman.

Which of the following completes the sentence above?

Aşağıdakilerden hangisi yukarıdaki cümleyi doğru olarak tamamlar?

- A) for  
B) so  
C) and  
D) or

12. We need ..... lemons for the salad.

Which of the following completes the dialogue above?

Aşağıdakilerden hangisi yukarıdaki konuşmayı doğru olarak tamamlar?

- A) much  
B) any  
C) some  
D) a little

13. .... İstanbul is a very crowded city.

Which of the following completes the sentence above?

Aşağıdakilerden hangisi yukarıdaki cümleyi doğru olarak tamamlar?

- A) (...)  
B) A  
C) The  
D) An

14. Take your umbrella! It ..... outside now.

Which of the following completes the sentence above?

Aşağıdakilerden hangisi yukarıdaki cümleyi doğru olarak tamamlar?

- A) is going to rain  
B) is raining  
C) rains  
D) rain

15. .... hat is this here?

Which of the following completes the sentence above?

Aşağıdakilerden hangisi yukarıdaki cümleyi doğru olarak tamamlar?

- A) Where  
B) Who  
C) Whose  
D) What

16. My sister drinks ..... glass of milk before sleeping.

Which of the following completes the sentence above?

Aşağıdakilerden hangisi yukarıdaki cümleyi doğru olarak tamamlar?

- A) —  
B) the  
C) a  
D) an



17. Mark doesn't have ..... friends.

**Which of the following completes the sentence above?**

**Aşağıdakilerden hangisi yukarıdaki cümleyi doğru olarak tamamlar?**

- A) much
- B) a little
- C) a
- D) many

18. A: How often do you go to the gym?

B: I go to the gym .....

**Which of the following completes the dialogue above?**

**Aşağıdakilerden hangisi yukarıdaki konuşmayı doğru olarak tamamlar?**

- A) yesterday
- B) last year
- C) last Wednesday
- D) twice a week

19. Begüm.....her homework tonight.

**Which of the following completes the sentence above?**

**Aşağıdakilerden hangisi yukarıdaki cümleyi doğru olarak tamamlar?**

- A) finished
- B) is going to finish
- C) finish
- D) are going to finish

20. I don't want to sell my house, ..... I need money.

**Which of the following completes the sentence above?**

**Aşağıdakilerden hangisi yukarıdaki cümleyi doğru olarak tamamlar?**

- A) or
- B) yet
- C) for
- D) and

1. - Cette fille est-..... belle?

**Choisissez le mot qui convient.**

**Cümledeki boşluğu aşağıdakilerden hangisi doğru şekilde tamamlar?**

- A) tu  
B) il  
C) on  
D) elle

2. ce / résoudre / comment / problème?  
I II III IV

**Mettez dans le bon ordre.**

**Yukarıdaki kelimelerin anlamlı bir bütün oluşturan sırası aşağıdakilerin hangisinde doğru olarak verilmiştir?**

- A) I, IV, II, III  
B) II, IV, III, I  
C) III, I, II, IV  
D) III, II, I, IV

3. C'est moi qui ..... cassé le vase.

**Choisissez le mot qui convient.**

**Yukarıdaki cümlede boş bırakılan yeri aşağıdakilerden hangisi doğru şekilde tamamlar?**

- A) ai  
B) as  
C) a  
D) est

4. Quand il pleut je prends mon .....

**Choisissez le mot qui convient.**

**Cümledeki boşluğu aşağıdakilerden hangisi doğru şekilde tamamlar?**

- A) voiture  
B) parapluie  
C) tableau  
D) bottes

5. - Il va chez le médecin?  
- Oui, il ..... va.

**Choisissez le mot qui convient.**

**Yukarıdaki konuşmada boş bırakılan yeri aşağıdakilerden hangisi doğru şekilde tamamlar?**

- A) lui  
B) en  
C) y  
D) me

6. - Je n'aime ..... les bonbons, ..... le chocolat.

**Choisissez les mots qui conviennent.**

**Cümledeki boşlukları aşağıdakilerden hangisi doğru şekilde tamamlar?**

- A) ni / ne  
B) ni / ni  
C) ne / ni  
D) ne / pas

7. Mme Poirier : Tu connais ..... jeune homme?  
M. Poirier : Oui, je le connais.

**Choisissez le mot qui convient.**

**Yukarıdaki konuşmada boş bırakılan yeri aşağıdakilerden hangisi doğru şekilde tamamlar?**

- A) ce  
B) cét  
C) cette  
D) ces

8. Il fait ..... tu veux.

**Choisissez le mot/l'expression qui convient.**

**Yukarıdaki cümlede boş bırakılan yeri aşağıdakilerden hangisi doğru şekilde tamamlar?**

- A) ce que  
B) qui  
C) que  
D) ce qui

9. «Babam yirmi bin avro buldu.»

**Choisissez la traduction qui convient.**

**Yukarıdaki cümlelerin Fransızca karşılığı aşağıdakilerden hangisidir?**

- A) Mon père a gagné dix mille euros.  
B) Mon père veut vingt mille euros.  
C) Mon père a trouvé vingt mille euros.  
D) Mon père a cherché dix mille euros.

10. ...., ils détruisent les forêts pour construire des maisons.

**Complétez la phrase avec la proposition qui convient.**

**Yukarıdaki cümleyi aşağıdaki ifadelerden hangisi doğru şekilde tamamlar?**

- A) Puisque tout le monde est malade  
B) Parce que les gens sont heureux  
C) Comme les gens sont inconscients  
D) Car les voitures sont dangereuses pour la santé

11. «Paris est une capitale qui attire beaucoup de touristes.»

**Choisissez la traduction qui convient.**

**Yukarıdaki cümlelerin Türkçe karşılığı aşağıdakilerden hangisidir?**

- A) Paris bir başkent ve turistik şehirdir.  
B) Paris turistlerle dolu bir şehirdir.  
C) Paris çok turistik bir başkenttir.  
D) Paris çok sayıda turist çeken bir başkenttir.

12. .... je parle, elle part.

**Choisissez l'expression qui convient.**

**Yukarıdaki cümlede boş bırakılan yeri aşağıdakilerden hangisi doğru şekilde tamamlar?**

- A) Lorsque  
B) Depuis que  
C) Depuis  
D) Ce que

13. Il fait ..... . Ferme la fenêtre.

**Choisissez le mot qui convient.**

**Cümledeki boşluğu aşağıdakilerden hangisi doğru şekilde tamamlar?**

- A) doux  
B) douce  
C) chaud  
D) froid

14. - Elle téléphone à sa mère?  
- Oui, elle ..... téléphone.

**Choisissez le mot qui convient.**

**Yukarıdaki konuşmada boş bırakılan yeri aşağıdakilerden hangisi doğru şekilde tamamlar?**

- A) elle  
B) lui  
C) le  
D) la

15. Cette histoire se passe ..... 1920.

**Choisissez le mot qui convient.**

**Cümledeki boşluğu aşağıdakilerden hangisi doğru şekilde tamamlar?**

- A) de  
B) en  
C) au  
D) le

16. - Est-ce que tu veux .....?  
- Oui, un café.

**Choisissez le mot qui convient.**

**Yukarıdaki konuşmada boş bırakılan yeri aşağıdakilerden hangisi doğru şekilde tamamlar?**

- A) quelque chose  
B) rien  
C) personne  
D) quelqu'un

17. Je te dis d'..... la fenêtre.

**Choisissez le mot qui convient.**

**Cümledeki boşluğu aşağıdakilerden hangisi doğru şekilde tamamlar?**

- A) ouverte
- B) ouvert
- C) ouvre
- D) ouvrir

18. - ..... habitez-vous à Marseille?  
- J'habite à Marseille ..... 2004.

**Complétez le dialogue avec les expressions qui conviennent.**

**Yukarıdaki konuşmada boş bırakılan yerleri aşağıdakilerden hangisi doğru şekilde tamamlar?**

- A) Pour où / quand
- B) Dès que / depuis quand
- C) Depuis quand / depuis
- D) Depuis combien de temps / comme

19. .... parfum aimez-vous?

**Choisissez le mot qui convient.**

**Cümledeki boşluğu aşağıdakilerden hangisi doğru şekilde tamamlar?**

- A) Quelles
- B) Quel
- C) Quelle
- D) Quels

20. I. Elle arrive quand?  
II. À trois heures.  
III. Vous avez l'heure?  
IV. À trois heures du matin?

**Choisissez la phrase qui ne convient pas à l'ensemble.**

**Sırasıyla okunduğunda anlam bütünlüğünü bozan cümle aşağıdakilerden hangisidir?**

- A) I
- B) II
- C) III
- D) IV

1. Bir ilgi veya benzetme sonucu gerçek anlamından başka anlamda kullanılan söze ne ad verilir?
- A) Şiirsel  
B) Coşku  
C) Mecaz  
D) Mısra
2. Aşağıdakilerden hangisi gölge oyununun (Karagöz-Hacivat) bölümlerinden biri değildir?
- A) Muhavere  
B) Mesnevi  
C) Mukaddime  
D) Fasil
3. Aşağıdakilerden hangisi göstermeye bağlı edebi metinlerden biridir?
- A) Dram  
B) Mesnevi  
C) Masal  
D) Destan
4. Aşağıdakilerden hangisi modern Türk tiyatrosu içerisinde yer almaz?
- A) Dram  
B) Orta oyunu  
C) Komedi  
D) Trajedi
5. Çoban Çeşmesi şiirinin şairi kimdir?
- A) Ahmet Hamdi Tanpınar  
B) Yahya Kemal Beyatlı  
C) Ataç Behramoğlu  
D) Faruk Nafiz Çamlıbel
6. Aşağıdakilerden hangisi hikâyenin öğelerinden biri değildir?
- A) Zaman  
B) Olay  
C) Serim  
D) Üslup
7. Aşağıdakilerden hangisi anlatmaya bağlı edebi metinlerden biri değildir?
- A) Destan  
B) Şiir  
C) Roman  
D) Masal
8. Olay çevresinde oluşan edebi metinlerle ilgili aşağıdaki ifadelerden hangisi yanlıştır?
- A) Kurmacanın imkânlarından yararlanır.  
B) Bir olay örgüsü vardır.  
C) Okuyanın yorumuna dayanır.  
D) İnsana özgü durumlar somutlaştırılır.
9. Fıkra ile ilgili aşağıdaki ifadelerden hangisi yanlıştır?
- A) Anlatım sizli bizli ve resmidir.  
B) Dil göndergesel işlevinde kullanılır.  
C) Olaya dayalı bir anlatımı vardır.  
D) Giriş, gelişme ve sonuç bölümlerinden oluşur.
10. Aşağıdakilerden hangisi makale yazarının sahip olması gereken özelliklerden biri değildir?
- A) Ele aldığı konuyu ispatlamalı  
B) Ele aldığı konuyu ince ayrıntısına kadar incelemeli  
C) İleri sürdüğü görüş ve düşüncelerini sağlam kaynaklara dayandırmalı  
D) Yazılarında tarafsız bir tavır takınmak yerine yorumunu katmalı
11. Atatürk'ün manevi kızı Afet İnan'a yazdığı mektubun türü aşağıdakilerden hangisidir?
- A) Özel mektup  
B) Edebi mektup  
C) İş mektubu  
D) Siyasi mektup

12. Aşağıdakilerden hangisi kişisel hayatı konu alan metinlerden biridir?

- A) Sohbet
- B) Destan
- C) Anı
- D) Makale

13. "Sakıp Sabancı, 7 Nisan 1933 tarihinde Kayseri'de dünyaya geldi. Çok genç yaşlarda çalışma hayatına atıldı..."

Yukarıda bir bölümü verilen metnin türü aşağıdakilerden hangisidir?

- A) Biyografi
- B) Makale
- C) Mülakat
- D) Anı

14. Günlük ve anı ile ilgili aşağıdaki ifadelerden hangisi yanlıştır?

- A) Günlüklerde anlatılanlar içtenlikle ifade edilir.
- B) Anılarda anlatılanlar belgelere dayanır.
- C) Anılar geçmişe yöneliktir.
- D) Günlükler günü gününe yazılır.

15. Sohbet (söyleşi) ile ilgili aşağıdaki ifadelerden hangisi yanlıştır?

- A) Konuşup görüşme anlamına gelir.
- B) Sohbet türünde yazılan kitaplar vardır.
- C) Atasözü ve deyimlerden yararlanır.
- D) Sohbet resmî bir dil ve üslup kullanılır.

16. Aşağıdakilerden hangisi konularına göre haber yazıları arasında yer almaz?

- A) Sosyal konularla ilgili haber yazıları
- B) Siyasi haber yazıları
- C) Sanatla ilgili haber yazıları
- D) Kişisel haber yazıları

17. Türk Edebiyatında deneme türünün ilk örnekleri ne zaman verilmiştir?

- A) II.Meşrutiyet'ten sonra
- B) Tanzimat'tan sonra
- C) Cumhuriyetin ilanından sonra
- D) Islahat Fermanı'ndan sonra

18. Mektupla ilgili aşağıdaki ifadelerden hangisi yanlıştır?

- A) Mektup kâğıdı temiz ve çizgisiz olmalıdır.
- B) Mektubun sol üst köşesi mutlaka imzalanmalıdır.
- C) Eldeki en eski mektup örnekleri Mısır firavunları ve Hititlerin mektuplarıdır.
- D) Bir haberi, dileği veya duyguyu başkasına iletme için yazılır.

19. Aşağıdaki cümlelerin hangisinde noktalama işareti yanlış kullanılmıştır?

- A) Bu sorunun cevabı nedir?
- B) "İmdat? " diye bir ses işitti.
- C) Ey Türk Gençliği!
- D) Matematik, fizik, kimya en sevdiği derslerdi.

20. Aşağıdaki cümlelerin hangisinde "de" nin kullanımıyla ilgili bir yazım yanlışı yapılmıştır?

- A) Sevgide riya olur mu?
- B) Umut çölde bir vahadır.
- C) Bu yağmur da gidilir mi?
- D) Ayakta durmakta zorlanıyor.

1. Yunus Emre'nin didaktik mesnevisi aşağıdakilerden hangisidir?

- A) Atabetü'l-Hakâyık
- B) Risaletü'n-Nushiyye
- C) Hayriyye
- D) Behcetü'l-Hadâyık

2. Bütün beyitleri aynı güzellikte, aynı değerde olan gazellere ne ad verilir?

- A) Musammat gazel
- B) Yek-ahenk gazel
- C) Düz gazel
- D) Yek-âvaz gazel

3. Leyla ve Mecnun adlı eserin nazım şekli aşağıdakilerden hangisidir?

- A) Mesnevi
- B) Kaside
- C) Gazel
- D) Murabba

4. Bed-asla necabet mi verir hiç üniforma  
Zer-dûz palan ursan eşek yine eşektir.

Ziya Paşa'nın bu beyitinde vurgulanmak istenen ifade aşağıdakilerden hangisidir?

- A) Yeryüzünde mayası bozuk olanlar da vardır.
- B) Üniforma insana soyluluk verir.
- C) Asalet insanın özündedir.
- D) Eşegin değeri üstüne vurulan eyer kadardır.

5. Kültürel tarihimizi aydınlatacak düşüncelerin, toplumun değer yargılarının ele alınıp işlendiği, Yusuf Has Hacıp tarafından yazılan "Siyasetnâme" türünün ilk örneği sayılan eser aşağıdakilerden hangisidir?

- A) Kutadgu Bilig
- B) Divân-ı Hikmet
- C) Mantıku't-Tayr
- D) Atabetü'l-Hakâyık

6. İlahilerinde Tanrı aşkını, insan sevgisini, hoşgörüyü yansıtmıştır. Ona göre insan, nefesine hâkim olmakla tutkularından kurtularak Tanrı'ya ulaşabilir. Farsçanın yaygın olduğu bir dönemde sade Türkçeye şiirler söylemiştir.

Yukarıda sözü edilen XIII. yüzyılın büyük tasavvuf şairi kimdir?

- A) Kaygusuz Abdal
- B) Fuzulî
- C) Ahmet Yesevî
- D) Yunus Emre

7. "Bugünden sonra divanda, dergâhta, bargâhta, mecliste, meydanda Türkçeden başka dil kullanılmayacaktır." diyerek bir fermanla Türkçeye sahip çıkmak isteyen devlet adamı aşağıdakilerden hangisidir?

- A) Fatih Sultan Mehmet
- B) Karamanoğlu Mehmet Bey
- C) Yavuz Sultan Selim
- D) Kanuni Sultan Süleyman

8. İslamiyet'in esaslarını ve tasavvufun inceliklerini göstermek için Hoca Ahmet Yesevî tarafından yazılan didaktik şiirlere ne ad verilir?

- A) İlâhi
- B) Nefes
- C) Hikmet
- D) Âyin

9. Manas Destanı ile ilgili aşağıdaki ifadelerden hangisi yanlıştır?

- A) Dörtlükler halinde düzenlenmiştir.
- B) Genellikle 7'li ve 8'li hece ölçüsüyle söylenir.
- C) Kırgızlara aittir.
- D) Dize başlarında aliterasyonlar bulunur.

10. Allah'a yakarışı işleyen, bağışlanmayı dileyen şiirlere ne ad verilir?

- A) Tevhit
- B) Münacaat
- C) Kaside
- D) Naat

11. Türk şiirinde gazelden sonra en çok kullanılan nazım şekli aşağıdakilerden hangisidir?

- A) Kaside
- B) Mersiye
- C) Türkü
- D) Rubai

12. Aşağıdakilerden hangisi tasavvuf düşüncesini şiirlerine yansıtan şair ve düşünürlerden biri değildir?

- A) Hallacı Mansur
- B) Hacı Bektaş Veli
- C) Hoca Dehhani
- D) Mevlâna

13. Birçok eserinde çağının sosyal gelişmeleri üzerinde durmuş, gazel nazım şekliyle yazdığı şiirlerde aşk ve güzellik konusunu işlemiştir. İskendernâme, Cemşid-ü Hurşid mesnevileri ile Divân'ı bulunan XIV. yüzyıl klâsik edebiyat şairi kimdir?

- A) Nâbî
- B) Necati
- C) Nefî
- D) Ahmedî

14. Aşağıdakilerden hangisi Türk halk tiyatrosu içinde yer almaz?

- A) Meddah
- B) Dram
- C) Köy seyirlik oyunu
- D) Orta oyunu

15. Zamanın olaylarını yazmakla görevlendirilen kişiye ne ad verilir?

- A) Meddah
- B) Vakanüvis
- C) Kâtip
- D) Seyyah

16. Hz. Muhammed'i öven kasidelere ne ad verilir?

- A) Münacaat
- B) Hicviye
- C) Naat
- D) Methiye

17. Kısa, nükteli ve güldürücü hikâyelere ne ad verilir?

- A) İlahi
- B) Mitos
- C) Methiye
- D) Fıkra

18. İslamiyet'in kabulünden sonra, Türklerin sosyal, siyasî ve kültürel yaşamlarındaki değişimlerle ilgili aşağıdaki ifadelerden hangisi yanlıştır?

- A) Ümmet olma yerine ulus olma bilincine erişilmiştir.
- B) Türk dili ayrı coğrafi bölgelerde Doğu Türkçesi ve Batı Türkçesi adıyla ikiye ayrılmıştır.
- C) Göçebe yaşamdan yerleşik düzene geçilmiştir.
- D) Bilim dili olarak Arapça, edebiyat dili olarak Farsça kullanılmaya başlanmıştır.

19. Divan edebiyatında şairlerin kendilerini övme geleneği vardı.

Kaside nazım şekli içinde şairin kendini övdüğü bölüme ne ad verilir?

- A) Mersiye
- B) Medhiye
- C) Girizgâh
- D) Fahriye

20. Anonim halk şiiri örneği olup genellikle dört dizeden oluşan, 7'li hece ölçüsüyle söylenen, aaba şeklinde uyaklanan nazım şekline ne ad verilir?

- A) Koşma
- B) Semaî
- C) Mâni
- D) Türkü



1. Hikâyelerini, "Abdullah Efendi'nin Rüyalari" adı altında toplamış olan ve eserlerinde rüya ve bilinç altına büyük önem veren yazar aşağıdakilerden hangisidir?
- A) Peyami Safa  
B) Sabahattin Âli  
C) Cevat Şakir Kabaağaçlı  
D) Ahmet Hamdi Tanpınar
2. Aşağıdakilerden hangisi Cumhuriyet Dönemi fıkra yazarlarından biri değildir?
- A) Burhan Felek  
B) Refik Halit Karay  
C) Yusuf Ziya Ortaç  
D) Halide Edip Adıvar
3. Ahmet Haşim'in denemeleri aşağıdakilerin hangisinde birlikte ve doğru olarak verilmiştir?
- A) Erguvan İstanbul – Dağ Şarkısı  
B) Evrak-ı Eyyam – Tiryaki Sözleri  
C) Gurubahâne-i Lakkakan – Bize Göre  
D) Sonbahar Türküsü – Doğa
4. Gerçeküstücü üslupla Türk-İslam mistisizmini ifade eden orijinal şiirler yazan şair aşağıdakilerden hangisidir?
- A) Ece Ayhan  
B) Turgut Uyar  
C) Sezai Karakoç  
D) İlhan Berk
5. Deneme türünün öncüsü kabul edilen Fransız yazar aşağıdakilerden hangisidir?
- A) Andre Malraux  
B) Simone de Beauver  
C) Jean Paul Sartre  
D) Montaigne
6. "Hatıralar" adlı anı kitabında Atatürk'ü anlatan yazar aşağıdakilerden hangisidir?
- A) Halit Ziya Uşaklıgil  
B) Ahmet İhsan Tokgöz  
C) Ahmet Rasim  
D) Ruşen Eşref Ünaydın
7. İtalyan edebiyatında en tanınmış anı yazarı aşağıdakilerden hangisidir?
- A) Silvio Pellica  
B) Fillippo Marinetti  
C) Manzoni  
D) Alberto Moraio
8. Devlet tarafından çıkarılan ilk resmi gazete aşağıdakilerden hangisidir?
- A) Ceride-i Havadis  
B) İrade-i Mülkiye  
C) Tercüman-ı Ahval  
D) Takvim-i Vekayi
9. Aşağıdakilerden hangisi fıkra türünün özelliklerinden biri değildir?
- A) Fıkra yazarının geniş bir genel kültüre sahip olması gerekir.  
B) Son yıllarda köşe yazısı adını da almaya başlamıştır.  
C) Fıkra yazarı siyasî, toplumsal, kültürel gelişmeleri günü gününe izlemek zorundadır.  
D) Bir düşünceyi ortaya koymak ya da savunmak amacıyla yazılan yazılardır.
10. Aşağıdakilerden hangisi II. Dünya Savaşı yıllarında millî eğitim ve kültür alanında yapılan atılımlardan biri değildir?
- A) Tercüme Bürosunun kurulması  
B) Dinî ağırlıklı kitapların basımının artması  
C) Dünya klasiklerinin çevrilmesi  
D) Köy Enstitülerinin kurulması
11. "İspinozlar", "72. Koğuş", "Bekçi Murtaza", "Kardeş Payı" gibi kendi roman ve öykülerinden oyunlaştırdığı eserleriyle Türk tiyatrosunda toplumcu gerçekçi yaklaşımın başarılı örneklerini veren yazar aşağıdakilerden hangisidir?
- A) Orhan Kemal  
B) Yaşar Kemal  
C) Oktay Rifat  
D) Ahmet Kutsi Tecer

12. Sabahattin Ali'nin Anadolu köy ve kasaba hayatının acıklı hallerini gerçekçi ve gözlemci bir şekilde yazdığı romanı aşağıdakilerden hangisidir?

- A) Kuyucaklı Yusuf
- B) Anayurt Oteli
- C) Damga
- D) Bizim Köy

13. Yazarın herhangi bir konu üzerinde kesin hükümlere varmadan, kendi kişisel görüş ve düşüncelerini anlattığı yazı türü aşağıdakilerden hangisidir?

- A) Fıkra
- B) Deneme
- C) Makale
- D) Röportaj

14. "Seyir Defteri" adlı gezi kitabının yazarı aşağıdakilerden hangisidir?

- A) Yaşar Kemal
- B) Nedim Gürsel
- C) Falih Rıfkı Atay
- D) Özcan Yurdakul

15. Aşağıdakilerden hangisi iyi bir makalenin özellikleri arasında yer almaz?

- A) Makale yazarının söz oyunlarına başvurmaması
- B) Öne sürülen düşüncenin inandırıcı bir biçimde geliştirilmiş olması ve kanıtlanabilmesi
- C) Okuyucu ile sohbet havasında yazılması
- D) Anlatımın yalın ve yoğun olması

16. Kendi yazdığı, yönettiği, oynadığı yirmiye yakın oyununda kalıplaşmış düşünceleri sarsan, seyirciyi şaşırtarak hep diken üstünde tutan tiyatrocunun aşağıdakilerden hangisidir?

- A) Memet Baydur
- B) Ferhan Şensoy
- C) Tarık Buğra
- D) Aziz Nesin

17. 2006'da Nobel Edebiyat Ödülü'nü kazanan yazar aşağıdakilerden hangisidir?

- A) Nermi Uygur
- B) Buket Uzuner
- C) Orhan Pamuk
- D) Yaşar Kemal

18. Garip akımı ile ilgili aşağıdaki ifadelerden hangisi yanlıştır?

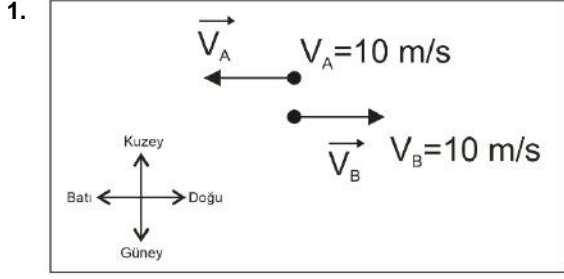
- A) Ağır bir dil kullanılmıştır.
- B) Orhan Veli, Melih Cevdet Anday ve Oktay Rifat temsilcileridir.
- C) Yaşama sevinci, günlük yaşam, küçük adamın dertleri anlatılmıştır.
- D) Şiirlerini "Garip" adlı bir kitapta toplamıştır.

19. Tiyatro, roman ve hikâyelerinde toplumun aksayan yönlerini, olayları, tipleri gülünç gösteren bir mizah üslubuyla anlatan yazar aşağıdakilerden hangisidir?

- A) Aziz Nesin
- B) Yakup Kadri Karaosmanoğlu
- C) Yaşar Kemal
- D) Tarık Buğra

20. Cumhuriyet Döneminin en başarılı oyun yazarı kimdir?

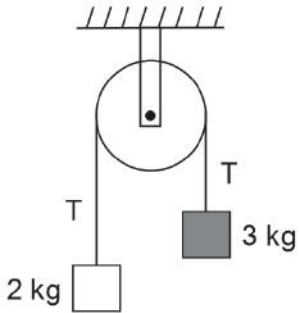
- A) Orhan Asena
- B) Refik Erduran
- C) Müsahipzade Celâl
- D) Cevat Fehmi Başkut



Şekilde görüldüğü gibi A aracı batıya doğru 10m/s hızla, B aracı ise doğuya doğru 10m/s hızla gitmektedir. B aracında bulunan gözlemci A aracını kaç m/s hızla ve hangi yönde görüyor?

- A) 10;Doğu  
B) 10;Bati  
C) 20;Doğu  
D) 20;Bati

2.



Şekildeki ağırlıksız makara ile kurulan sürtünmesiz sistem serbest bırakılıyor. İpteki T gerilmesi kaç Newton (N) dur? ( $g=10\text{m/s}^2$ )

- A) 12  
B) 15  
C) 24  
D) 26

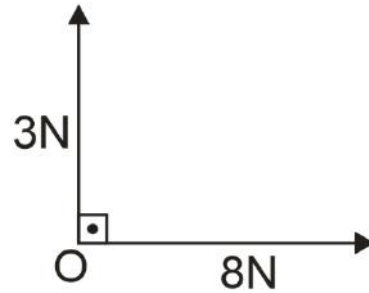
3. Torkun (moment) birimi aşağıdakilerden hangisidir?

- A) N.m  
B) m/s  
C) kgm/s  
D) N/kg

4. Yerden 20m yükseklikten serbest düşmeye bırakılan cisim yere kaç m/s hızla çarpar? ( $g=10\text{m/s}^2$ )

- A) 15  
B) 20  
C) 25  
D) 30

5.



Yukarıda görüldüğü gibi O noktasında bulunan cisme iki kuvvet uygulanmaktadır. Cisme uygulanan bileşke kuvvet kaç newton(N) dur?

- A) 8  
B) 9  
C) 10  
D) 15

6. I. Basit makinalarda işten kazanç olmaz.  
II. Basit makaralarda kuvvet kolunun yük koluna oranına kuvvet kazancı denir.  
III. Palanga sisteminde ip sayısı arttıkça kuvvet kazancı artar.

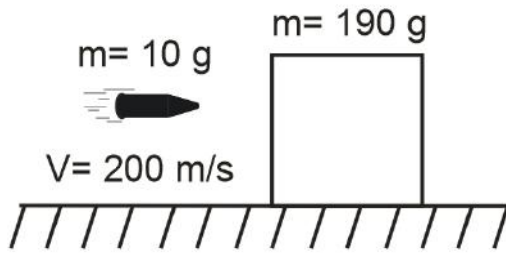
**Basit makaralarla ilgili yukarıdaki ifadelerden hangileri doğrudur?**

- A) Yalnız I  
B) Yalnız II  
C) I ve II  
D) I, II ve III

7. İlk hızı  $5\text{ m/s}$  olan bir araba düzgün olarak  $4\text{ m/s}^2$ 'lik ivme ile hızlanıyor. Arabanın 2 saniye sonra hızı kaç  $\text{m/s}$  olur?

- A) 7  
B) 10  
C) 13  
D) 15

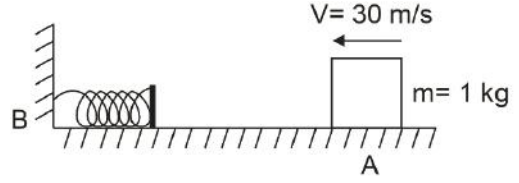
8.



Kütlesi  $10\text{ g}$  olan bir mermi sürtünmesiz düzlemde duran kütlesi  $190\text{ g}$  olan bir bloğa saplanıyor. Merminin hızı  $200\text{ m/s}$  olduğuna göre çarpışmadan sonra blok ve merminin ortak hızı kaç  $\text{m/s}$  dir?

- A) 2  
B) 6  
C) 8  
D) 10

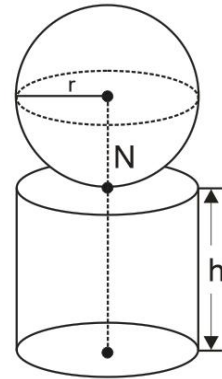
9.



A noktasından  $30\text{ m/s}$  hızla fırlatılan  $1\text{ kg}$  kütleli bir blok B noktasına sabitlenmiş olan yayı  $2\text{ m}$  sıkıştırılmaktadır. Yay sabiti kaç  $\text{N/m}$  dir? (Sürtünmeleri ihmal ediniz.)

- A) 225  
B) 175  
C) 150  
D) 100

10.



Aynı maddeden yapılmış içi dolu küre ile içi dolu silindir şeklindeki gibi birbirlerine bağlanmıştır. Bu şeklin ağırlık merkezinin N noktasında olması için  $r/h$  oranı ne olmalıdır?

- A)  $\sqrt{\frac{2}{3}}$   
B)  $\sqrt{\frac{3}{8}}$   
C)  $\frac{3}{5}$   
D)  $\frac{7}{9}$

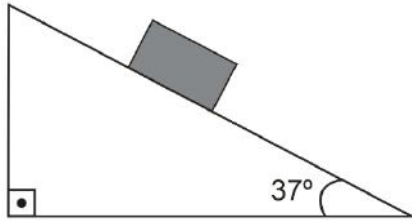
11. Hızı 20m/s olan bir otomobil trafik ışıklarına yaklaşırken kırmızı ışığın yanması üzerine düzgün olarak yavaşlamaya başlıyor. Otomobil 4 saniyede yavaşlayarak durduğuna göre duruncaya kadar aldığı yol kaç metre(m) dir?

- A) 40
- B) 30
- C) 20
- D) 10

12. İlk hızı 4m/s olan bir araba düzgün olarak  $3m/s^2$  lik ivme ile hızlanıyor. Arabanın 2 saniye sonundaki hızı kaç m/s dir?

- A) 6
- B) 8
- C) 10
- D) 12

13.



Şekilde görülen eğik düzlemin üzerinde bulunan kütlesi 2 kg olan bir cisim ile yüzey arasındaki sürtünme katsayısı 0,5 dir. Cisim üzerine uygulanan sürtünme kuvveti kaç Newton (N)dur? ( $g=10m/s^2$ ,  $\cos 37^\circ=0,6$ )

- A) 6
- B) 8
- C) 10
- D) 12

14. I. Momentum skaler bir büyüklüktür.  
II. Esnek çarpışmalarda hem momentum hem de enerji korunur.  
III. Momentumun birimi kinetik enerjinin birimi ile aynıdır.

Momentumla ilgili yukarıdaki ifadelerden hangileri doğrudur?

- A) Yalnız I
- B) Yalnız II
- C) Yalnız III
- D) II ve III

15. I. Hızlanan hareketlerde hız ile ivme her zaman aynı yönlüdür.  
II. Hızlanan hareketlerde konum-zaman grafiği konum eksenine doğru eğilir.  
III. Yavaşlayan hareketlerde konum -zaman grafiği zaman eksenine doğru eğilir.

İvmeli hareketlerle ilgili yukarıdaki ifadelerden hangileri doğrudur?

- A) Yalnız I
- B) Yalnız II
- C) I ve II
- D) I, II ve III


16. Aşağıdaki fiziksel büyüklüklerden hangisi skaler büyüklüktür?

- A) Konum
- B) Isı
- C) Kuvvet
- D) İvme

17. Aşağıdakilerden hangisi vektörel büyüklüktür?

- A) Kuvvet
- B) Kütle
- C) Enerji
- D) Zaman

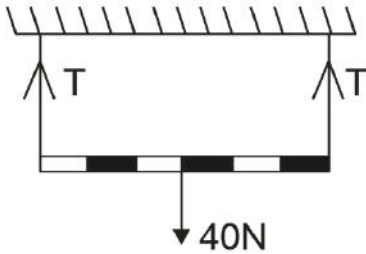
18.



Şekilde görüldüğü gibi sürtünmesiz ortamda durmakta olan 10kg kütleli cisme iki kuvvet aynı anda etki etmektedir. Cismin 2 saniye(s) sonundaki hızı kaç m/s olur?

- A) 8
- B) 10
- C) 12
- D) 16

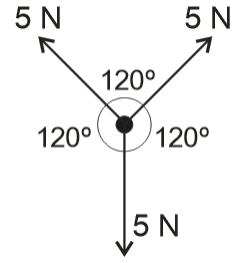
19.



Yukarıdaki şekilde görüldüğü gibi 40N ağırlığındaki düzgün homojen çubuk dengededir. İpteki gerilme kaç newton (N) dur?

- A) 15
- B) 20
- C) 25
- D) 35

20.



Aralarında  $120^\circ$  olan 5 N büyüklüğünde üç kuvvet O noktasında bulunan cisme etki etmektedir. Bileşke kuvvet kaç Newton (N)'dur? ( $\cos 60^\circ = 0,5$ )

- A) 15
- B) 10
- C) 5
- D) 0

1. Bir transformatörün verimi %80 dir. Bu transformatörün birincil sarımlarına 220V ve 1 amper(A)'lik akım uygulanıyor. İkincil sarımlardan 110V alındığına göre ikincil sarımdaki akım şiddeti kaç amper(A)'dir?

- A) 1,8  
B) 1,6  
C) 1,0  
D) 0,6

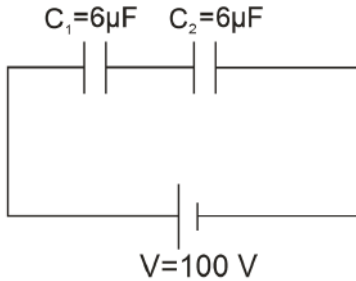
2. Manyetik alan şiddeti  $10 \text{ Wb/m}^2$  olan bir bölgede alan çizgilerine dik olarak yerleştirilen, alanı  $10 \text{ cm}^2$  olan yüzeyden geçen manyetik akı kaç weber (Wb) 'dir?

- A)  $2 \cdot 10^{-2}$   
B)  $6 \cdot 10^{-2}$   
C)  $1 \cdot 10^{-3}$   
D)  $4 \cdot 10^{-3}$

3. Boyutları  $10 \text{ cm} \times 10 \text{ cm}$  ve aralarındaki uzaklık  $1 \text{ cm}$  olan iki plakadan oluşan paralel plakalı kondansatörün sığası kaç farad (F) dir? ( $k=9 \cdot 10^{-12} \text{ F/m}$ )

- A)  $9 \cdot 10^{-12}$   
B)  $(5/2) \cdot 10^{-12}$   
C)  $18 \cdot 10^{-12}$   
D)  $36 \cdot 10^{-12}$

4.



Sıgaları verilen şekildeki devrede  $C_2$  kondansatörünün taşıdığı enerji kaç joule (J) dur?

- A)  $(1/2) \cdot 10^{-2}$   
B)  $(3/4) \cdot 10^{-2}$   
C)  $(3/4) \cdot 10^{-4}$   
D)  $(1/2) \cdot 10^{-4}$

5.  $20 \Omega$  luk bir direncin uçları arasındaki alternatif gerilimin maksimum değeri  $V=30\sqrt{3} \text{ V}$  dur. Direncin üzerinden geçen akımın etkin değeri kaç amper (A) dir?

- A) 3  
B) 2,5  
C) 2  
D) 1,5

6. I. Pozitif yüklü cismin oluşturduğu elektrik alan yükten dışarı doğrudur.  
II. Pozitif yük yakınına getirilen pozitif yüke çekme kuvveti uygular.  
III. Pozitif yük yakınına getirilen negatif yüke çekme kuvveti uygular.

Pozitif yükle ilgili yukarıdaki ifadelerden hangileri doğrudur?

- A) Yalnız I  
B) Yalnız II  
C) I ve III  
D) II ve III

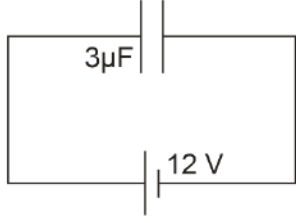
7. Manyetik alan şiddeti  $10 \text{ wb/m}^2$  olan düzgün manyetik alana dik olarak konulan tek sarımlı bir dikdörtgen çerçevenin kenar uzunlukları  $10 \text{ cm}$  ve  $20 \text{ cm}$  dir. Tel çerçeve  $0,1$  saniyede alana dik paralel hale getiriliyor. Çerçevede oluşan indüksiyon emk kaç volt(V) dur?

- A) 2  
B) 4  
C) 6  
D) 8

8.  $10 \mu\text{C}$  'luk yükten  $20 \text{ cm}$  uzaktaki bir noktaya,  $2 \mu\text{C}$  'luk yükü sonsuzdan getirmek için kaç joule(J)'luk iş yapmak gerekir? ( $k= 9 \cdot 10^9 \text{ N.m}^2/\text{C}$ )

- A) 0,8  
B) 0,9  
C) 1,2  
D) 2,4

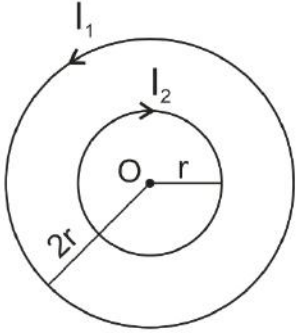
9.



Yukarıdaki şekildeki kondansatörün taşıdığı enerji kaç joule (J) dur? ( $\mu=10^{-6}$ )

- A)  $216 \cdot 10^{-6}$
- B)  $116 \cdot 10^{-6}$
- C)  $108 \cdot 10^{-6}$
- D)  $90 \cdot 10^{-6}$

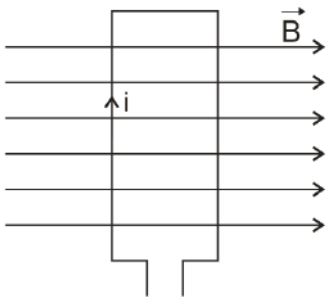
10.



Şekildeki O noktasındaki manyetik alanın sıfır olması için  $I_1/I_2$  oranı ne olmalıdır?

- A) 4
- B) 3
- C) 2
- D) 1

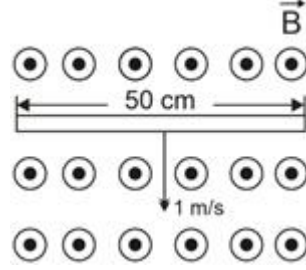
11.



Sayfa düzleminde bulunan ve kenar uzunlukları  $10\text{cm} \times 20\text{cm}$  olan tel halkaya şekildeki gibi şiddeti  $400\text{T}$  olan manyetik alan uygulanıyor. Halkadan geçen akım  $2\text{A}$  olduğuna göre halkada oluşan Tork(Moment) kaç  $\text{Wb} \cdot \text{A}$  dir?

- A) 4
- B) 8
- C) 12
- D) 16

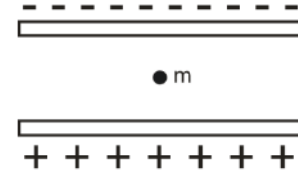
12.



Şekilde görüldüğü gibi  $50\text{ cm}$  uzunluğundaki iletken bir tel büyüklüğü  $2 \cdot 10^{-2}\text{ N/A}$  olan manyetik alana dik olarak yerleştirilmiştir. Tel  $1\text{ m/s}$  sabit hızla çekilirse telde oluşan indüksiyon emk kaç volt(V) olur?

- A) 0,01
- B) 0,1
- C) 0,2
- D) 1

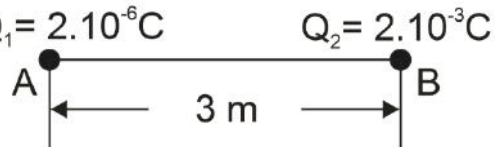
13.



Yukarıdaki şekilde görüldüğü gibi aralarındaki uzaklık  $11\text{ cm}$  olan iletken özdeş paralel levhalar arasındaki potansiyel farkı  $220\text{ V}$  olduğunda yükü  $+2 \cdot 10^{-3}\text{ C}$  olan parçacık askıda kalıyor. Parçacığın kütlesi kaç  $\text{kg}$  dir? ( $g=10\text{ m/s}^2$ )

- A) 0,1
- B) 0,2
- C) 0,3
- D) 0,4

14.

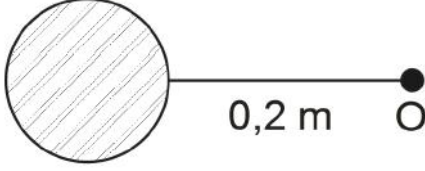


Yukarıdaki şekilde görüldüğü gibi sabit A ve B noktasal yükleri arasındaki elektriksel kuvvet kaç newton(N) dur? ( $K=9 \cdot 10^9\text{ Nm}^2/\text{C}^2$ )

- A) 2
- B) 4
- C) 5
- D) 6



15.  $Q = 16\mu\text{C}$



Yukarıdaki şekle göre noktasal Q yükünün O noktasında oluşturduğu elektrik alan kaç N/C dur? ( $k=9 \cdot 10^9 \text{ N.m}^2/\text{C}^2$ )

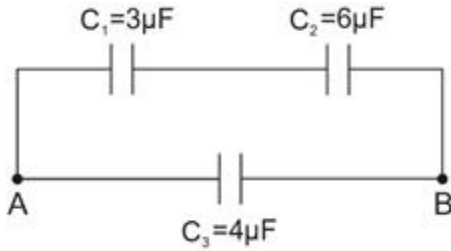
- A)  $36 \cdot 10^5$   
 B)  $18 \cdot 10^5$   
 C)  $9 \cdot 10^5$   
 D)  $6 \cdot 10^5$

16. I. Manyetik alan vektörel bir büyüklüktür.  
 II. İçinden akım geçen telin etrafında oluşan manyetik alanı bulmak için sağ el kuralı uygulanır.  
 III. İçinden akım geçen telin etrafındaki bir noktadaki manyetik alan, telden geçen akım ile tele olan uzaklıkla doğru orantılıdır.

Manyetik alanla ilgili yukarıdaki ifadelerden hangileri doğrudur?

- A) Yalnız I  
 B) Yalnız II  
 C) I ve II  
 D) I, II ve III

17.



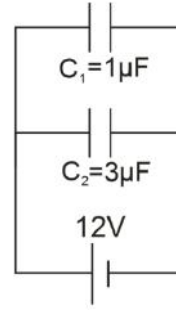
Şekildeki sistemin  $C_{AB}$  eşdeğer sığası kaç  $\mu\text{F}$ 'dir?

- A) 3  
 B) 4  
 C) 5  
 D) 6

18. Bir alternatif akım devresinde akım makarasının indüktansı  $60 \Omega$ , devrenin frekansı  $50 \text{ Hz}$ 'dir. Akım makarasının öz indüksiyon katsayısı kaç henry (H)'dir? ( $\pi=3$ )

- A) 0,1  
 B) 0,2  
 C) 0,3  
 D) 0,4

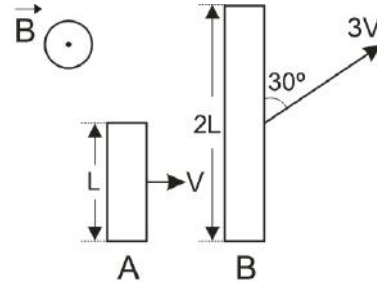
19.



Şekildeki devrede  $C_1$  kondansatörünün yükü kaç  $\mu\text{C}$ 'dur?

- A) 12  
 B) 16  
 C) 24  
 D) 36

20.



Şekildeki gibi boyları ve hızları verilen teller sayfa düzlemine dik bir manyetik alanda çekiliyorlar. Tellerin uçları arasında oluşan potansiyel farkları oranı ( $\epsilon_A/\epsilon_B$ ) nedir? ( $\sin 30^\circ = 0,5$ )

- A) 1/6  
 B) 1/5  
 C) 1/4  
 D) 1/3

1. Aşağıdaki zayıf etkileşimlerden hangisi Van der Waals türü etkileşimlerden biri değildir?

- A) İyon-dipol etkileşimi
- B) Hidrojen bağı
- C) London kuvveti
- D) Dipol-dipol etkileşimi

2.

Tür	Elektron Dizilimi		
	1.Katman	2.Katman	3.Katman
F	2	7	-
Na	2	8	1

Yukarıdaki tabloyu dikkate aldığınızda Na ve F atomları bir araya geldiğinde oluşan etkileşimin adı aşağıdakilerden hangisidir?

- A) Metalik bağ
- B) Kovalent bağ
- C) İyonik bağ
- D) İyon-dipol etkileşimi

3. Aşağıdaki etkileşim türlerinden hangisi güçlü etkileşim grubunda yer alır?

- A) Hidrojen bağları
- B) Metalik bağlar
- C) London kuvvetleri
- D) Dipol-dipol etkileşimleri

4. Aşağıdakilerden hangisi ametal atomları arasında oluşan güçlü bağlardandır?

- A) Van der Waals etkileşimi
- B) Metalik bağ
- C) İyonik bağ
- D) Kovalent bağ

5. Aşağıdaki değişimlerden hangisi fiziksel değişimdir?

- A) Suyun kaynaması
- B) Demirin paslanması
- C) Gümüşün kararması
- D) Kömürün yanması

6. Aşağıdaki özelliklerden hangisi metallerin iletken oluşunu açıklar?

- A) Çok sert olmaları
- B) Ametallerle tepkimelerinden tuz oluşturabilmeleri
- C) Örgüde elektron bulutu içermeleri
- D) En dış katmanda çok sayıda elektron bulundurmaları

7. Potasyum klorat, yüksek sıcaklıkta termal bozunmaya uğrayarak potasyum klorür ve oksijen gazına dönüşüyorsa ve tepkimede ortama mangan dioksit bileşiği ekleniyorsa bu madde tepkimeden harcanmadan çıkıyorsa bu madde hakkında aşağıdakilerden hangisi kesinlikle söylenebilir?

- A) Asittir.
- B) Katalizördür.
- C) Titranttır.
- D) Çöktürücüdür.

8. Elektronegatiflikleri farklı ametal atomları arasındaki kovalent bağlara polar kovalent bağ denir.

Yukarıda verilen tanıma göre aşağıdaki bileşiklerin hangisinde bu tür bağ söz konusudur?

- A) NaCl
- B) Cl<sub>2</sub>
- C) F<sub>2</sub>
- D) HF

9. Bazı maddelerin ısı etkisiyle elementlerine veya daha basit bileşiklere dönüşmesine ilişkin tepkimelere ne ad verilir?

- A) Fiziksel değişim
- B) Bozunma tepkimesi
- C) Oluşum tepkimesi
- D) Asit-baz tepkimesi

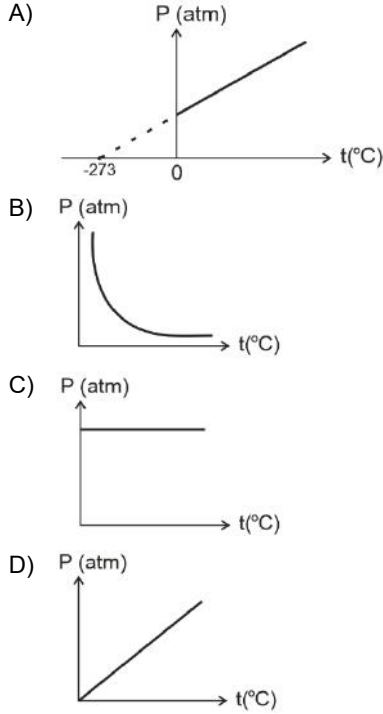
10. 0,6 L' lik 27 °C' daki gazın sıcaklığı hangi sıcaklığa getirilirse (°C) gazın hacmi 1L olur?

- A) 63
- B) 75
- C) 127
- D) 184

11. Sıvılaştırılmış petrol gazı için kullanılan kısaltma aşağıdakilerden hangisidir?

- A) SPE
- B) NŞA
- C) LNG
- D) LPG

12. Miktarı ve hacmi sabit bir gazın sıcaklık (°C) – basınç grafiği aşağıdakilerden hangisidir?



13.  $C_6H_{12}O_6$  (glikoz) ve  $I_2$  (iyot) gibi katılar moleküllerden oluşur ve bu moleküller van der Waals, dipol-dipol etkileşimleri, London kuvvetleri veya hidrojen bağlarıyla birbirine bağlanır.

Bu bilgiye göre bu tür maddelere verilen ad aşağıdakilerden hangisidir?

- A) İyonik katı  
B) Metalik katı  
C) Moleküler katı  
D) Kovalent katı

14. Basınç, birim yüzeye etki eden kuvvettir.

Bu bilgiye göre aşağıdakilerden hangisi basınç birimlerinden biri değildir?

- A)  $N/m^2$   
B) mg  
C) mmHg  
D) Atm

15. Viskozite ile ilgili olarak aşağıdaki ifadelerden hangisi yanlıştır?

- A) Viskozite, sıcaklık arttıkça genellikle azalır.  
B) Sıvının akmaya karşı gösterdiği direncin ölçüsü viskozitedir.  
C) Genel olarak molekülün zinciri uzadıkça maddenin viskozitesi artar.  
D) Sıvıların viskoziteleri, moleküller arası bağların sağlamlığı arttıkça azalır.

16. 3,55 g  $Cl_2$  gazının içerdiği molekül sayısı aşağıdakilerden hangisidir? (Cl atomunun mol kütlesi 35,5 g/mol)

- A)  $3,01 \times 10^{22}$   
B)  $9,2 \times 10^{22}$   
C)  $3,01 \times 10^{23}$   
D)  $6,25 \times 10^{23}$

17. İyonik katıların örgü birimleri arası etkileşim tipi aşağıdakilerden hangisidir?

- A) Metalik bağ  
B) Hidrojen bağı  
C) Kovalent bağ  
D) Elektrostatik çekim kuvveti

18. Gaz maddelerin doğrudan katı hale geçmelerine ne ad verilir?

- A) Kırğılaşma  
B) Buharlaşma  
C) Süblimleşme  
D) Yoğuşma

19. Gaz halindeki maddelerin moleküllerinin çok yüksek sıcaklıklarda atom haline dönüşmesi ile atomların bazı elektronlardan ayrılıp iyonların da oluştuğu fiziksel hale ne ad verilir?

- A) Gaz hal  
B) Katı hal  
C) Plazma  
D) Sıvı hal

20. Aşağıdakilerden hangisi sıvı kütlelerin küre şeklini almasının sebebidir?

- A) Yüzey gerilimi  
B) Viskozite  
C) Yoğuşma  
D) Buhar basıncı

1. Aşağıdakilerden hangisi demokratik yönetimlerde insan haklarının gerçekleştirilmesinde sorunlardan biri değildir?

- A) Devletin ekonomik olanaklarının yetersiz olması
- B) Sivil toplum örgütlerinin aktif faaliyetleri
- C) Kamu düzeni ve temel haklar arasındaki dengenin kurulamaması
- D) Eğitimsizlik

2. Seçmen olmanın vergi ödemek gibi belli şartlara bağlandığı oy türü aşağıdakilerden hangisidir?

- A) Serbest
- B) Genel
- C) Kısıtlı
- D) İhtiyari

3. 1924 Anayasası ile ilgili aşağıdaki ifadelerden hangisi yanlıştır?

- A) Ekonomik ve sosyal haklara ayrıntılı biçimde yer vermiştir.
- B) Meclis üstünlüğüne dayalı bir anayasadır.
- C) Güçler birliği ilkesi benimsenmiştir.
- D) Yargı yetkisi bağımsız mahkemelere bırakılmıştır.

4. Aşağıdakilerden hangisi siyasi partilerin işlevlerinden biri değildir?

- A) Halk ile iktidar arasında aracılık yapmak
- B) Seçimler için aday göstermek
- C) İktidarı kullanarak ülkeyi yönetmek
- D) Halkı ülke sorunlarından uzak tutmak

5. 1876 Anayasası ile ilgili aşağıdaki ifadelerden hangisi doğrudur?

- A) Meclis-i Ayan üyeleri halk tarafından seçilmiştir.
- B) Hükümetin siyasal sorumluluğu parlamentoya karşıdır.
- C) Osmanlı Devleti'nin monarşik ve teokratik niteliğini değiştirmiştir.
- D) Yasalar padişah onaylamadan geçerlilik kazanabilir.

6. Toplum ve devlet faaliyetlerini ilgilendiren belli bir konunun TBMM Genel Kurulu'nda görüşülmesine ne ad verilir?

- A) Gensoru
- B) Soru
- C) Meclis araştırması
- D) Genel görüşme

7. Aşağıdakilerden hangisi katılma haklarından biridir?

- A) Dinlenme hakkı
- B) Dilekçe hakkı
- C) Ailenin korunması
- D) Sendika kurma hakkı

8. Aşağıdakilerden hangisi hukuk devleti olmanın gereklerinden biri değildir?

- A) Kuvvetler birliği
- B) İdarenin yargısal denetimi
- C) Mahkemelerin bağımsızlığı
- D) Kanun önünde eşitlik

9. Belli bir ülkede belli bir dönemde yürürlükte bulunan hukuk kurallarına ne ad verilir?

- A) Doğal hukuk
- B) Anayasa
- C) Pozitif hukuk
- D) Norm

10. Magna Carta Libertatum (Büyük Özgürlük Fermanı) kaç yılında imzalanmıştır?

- A) 1215
- B) 1345
- C) 1780
- D) 1792

11. Bir toplumda toplumsal yapının bütününe dokunmaksızın eskiyen, güncelliğini kaybeden, toplumun ihtiyaçlarına cevap veremeyen kurum ve kuralların düzeltilmesine ve iyileştirilmesine ne ad verilir?

- A) Gelişme
- B) Devrim
- C) Çağdaşlaşma
- D) Reform

12. Avrupa İnsan Hakları Mahkemesi'nin, üye devletlerin daimi temsilcilerinden oluşan, mahkeme kararlarının uygulanmasını izlemek ve rapor hazırlamakla görevli organı aşağıdakilerden hangisidir?
- A) Çatışma Önleme Merkezi  
B) Delegeler Komitesi  
C) Hür Seçimler Bürosu  
D) Bakanlar Komitesi
13. Herkesin dininin gereklerini özgürce yaşayabilmesinin ön koşulu aşağıdakilerden hangisidir?
- A) Devletçilik  
B) Halkçılık  
C) Milliyetçilik  
D) Laiklik
14. Uluslararası sivil toplum örgütleri ile ilgili aşağıdaki ifadelerden hangisi yanlıştır?
- A) Devletlerin etki ve güdümünde kalırlar.  
B) Devletler için büyük bir baskı araçlarıdır.  
C) Demokrasiye ve insan haklarına ilişkin sorunlara evrensel düzeyde yaklaşırlar.  
D) Evrensel ölçekte kamuoyu oluştururlar.
15. Halkçılık ilkesi ile ilgili aşağıdaki ifadelerden hangisi yanlıştır?
- A) Hukuk devleti ve sosyal devlet anlayışlarını içinde barındırır.  
B) Belli bir kişi ya da gruba ayrıcalık tanınmasını gerektirir.  
C) Milli egemenlik ilkesine ve demokrasiye dayanır.  
D) Cumhuriyetçilik ve milliyetçilik ilkelerinin tamamlayıcısıdır.
16. Uluslararası koruma mekanizmalarının işletilmesinde, bir anlaşmaya taraf olmayan fakat anlaşmayı hazırlayan uluslararası organizasyona üye olan devletler için uygulanan denetim aşağıdakilerden hangisidir?
- A) Adli kontrol  
B) Sözleşme içi denetim  
C) Sözleşme dışı denetim  
D) Müeyyide
17. Saltanatın kaldırıldığı tarih aşağıdakilerden hangisidir?
- A) 1 Kasım 1922  
B) 29 Ekim 1923  
C) 3 Mart 1924  
D) 5 Şubat 1937
18. II. Dünya Savaşı'nın yol açtığı toplumsal, siyasal ve ekonomik yıkım sonucu Avrupa'da barış ve istikrarı sağlayacak ortak değerler yaratmak amacıyla Avrupa devletlerinin 5 Mayıs 1949 tarihinde imzaladığı sözleşme ile kurulan örgüt aşağıdakilerden hangisidir?
- A) Avrupa İnsan Hakları Mahkemesi  
B) Avrupa Konseyi  
C) Uluslararası Af Örgütü  
D) Birleşmiş Milletler
19. Türkiye, İnsan Hakları Evrensel Bildirgesi'ni kaç yılında kabul etmiştir?
- A) 1945  
B) 1947  
C) 1949  
D) 1951
20. Türkiye Cumhuriyeti Devleti'nin kurulduğu dönemde özel teşebbüsün ülke için gerekli olan atılımları başaramamış olması nedeniyle Atatürk, aşağıdaki ilkelerden hangisini uygulamaya koymuştur?
- A) Milliyetçilik  
B) Halkçılık  
C) Cumhuriyetçilik  
D) Devletçilik

1. Göktürklerde soylu ve hükümdarların mezarlarına veya anıtlarına dikilen insan figürlü taştan heykele ne isim verilir?
  - A) Balbal
  - B) Kurgan
  - C) Büst
  - D) Dikili taş
2. Aşağıdakilerden hangisi Orhun anıtlarından biri değildir?
  - A) İstemi Han Anıtı
  - B) Tonyukuk Anıtı
  - C) Kül Tigin Anıtı
  - D) Bilge Kağan Anıtı
3. Aşağıdakilerden hangisi İslam dünyasının bilinen ilk türbe yapısıdır?
  - A) Sultan Sencer Türbesi
  - B) Kubbet'üs Süleybiye Türbesi
  - C) Arap Ata Türbesi
  - D) Aslan Cazip Türbesi
4. Eski Türk resim sanatının en eski örnekleri hangi uygarlığa aittir?
  - A) Hun
  - B) Karahanlı
  - C) Uygur
  - D) Göktürk
5. Elhamra Sarayı aşağıdaki ülkelerden hangisinde yer almaktadır?
  - A) Suriye
  - B) İtalya
  - C) İran
  - D) İspanya
6. İstanbul Nusretiye Camisi hangi üslupta inşa edilmiştir?
  - A) Neoklasik Üslup
  - B) Seçmecî (Eklektik) Üslup
  - C) Türk Ampir Üslubu
  - D) Türk Barok Üslubu
7. İshak Paşa Sarayı günümüzde hangi il sınırları içerisinde yer almaktadır?
  - A) Van
  - B) İstanbul
  - C) Ağrı
  - D) Bursa
8. Türk-İslam mimarisinde anıtsal taç kapı ve minare geleneği hangi dönemde başlamıştır?
  - A) Beylikler Dönemi
  - B) Büyük Selçuklu Dönemi
  - C) Anadolu Selçuklu Dönemi
  - D) Karahanlı Dönemi
9. Eyvanlı cami tipi ilk kez aşağıdaki Türk devletlerinden hangisi döneminde uygulanmıştır?
  - A) Anadolu Selçukluları
  - B) Büyük Selçuklular
  - C) Osmanlılar
  - D) Gazneliler
10. Türk cami mimarisinde son cemaat yeri hangi dönemde ortaya çıkmıştır?
  - A) Anadolu Selçuklu Dönemi
  - B) Beylikler Dönemi
  - C) Osmanlı Dönemi
  - D) Büyük Selçuklu Dönemi
11. Aşağıdakilerden hangisi bir Uşak halısı tipi değildir?
  - A) Yıldızlı
  - B) Madalyonlu
  - C) Kuşlu
  - D) Çiçekli
12. Çinilerle bezendiği için Avrupalılarca "Mavi Cami" olarak adlandırılan Osmanlı camisi aşağıdakilerden hangisidir?
  - A) Bursa Ulu Camisi
  - B) İstanbul Süleymaniye Camisi
  - C) Edirne Selimiye Camisi
  - D) İstanbul Sultan Ahmet Camisi
13. Türk minyatür sanatının en eski örnekleri hangi döneme aittir?
  - A) Anadolu Selçuklu
  - B) Uygur
  - C) Osmanlı
  - D) Göktürk
14. Şamanizm, Budizm ve Manihaizm etkisinde göçebe bozkır halkının gündelik yaşantısını doğaüstü tasvirlerle yansıttığı gri ve grinin tonlarının hakim olduğu eserleri ile ünlü, 15. yüzyılda yaşamış ressam aşağıdakilerden hangisidir?
  - A) Nigari
  - B) Mehmet Siyah Kalem
  - C) Şerafeddin Sabuncuoğlu
  - D) Matrakçı Nasuh

15. İlk kez Abbasiler tarafından uygulanmış, desenin oksitli bir karışımla işlendiği ve sarı ve kahverengi tonlarda olduğu çini tekniği aşağıdakilerden hangisidir?

- A) Çini mozaik tekniği
- B) Minai
- C) Lüster
- D) Sır altı tekniği

16. Cumhuriyet döneminin ilk sanatçı topluluğu aşağıdakilerden hangisidir?

- A) Müstakil Ressam ve Heykeltıraşlar Birliği
- B) D Grubu
- C) Onlar Grubu
- D) Yeniler Grubu

17. Daha çok el yazması kitaplarda boya ve yaldız kullanılarak ışık, gölge, boyut ve perspektif verilmeden yapılan resimlere ne ad verilir?

- A) Karikatür
- B) İllüstrasyon
- C) Ebru
- D) Minyatür

18. Anıtkabir'in mimarları aşağıdakilerden hangisinde birlikte verilmiştir?

- A) Vedat Tek – Mimar Kemalettin
- B) Mimar Kemalettin – Orhan Arda
- C) Emin Onat – Orhan Arda
- D) Emin Onat – Vedat Tek

19. 1933 yılında kurulan, kendilerinin Türkiye'deki resim gruplarının dördüncüsü olarak gören, kurucuları arasında Nurullah Berk ve Abidin Dino'nun bulunduğu Türk resim grubu aşağıdakilerden hangisidir?

- A) D Grubu
- B) Müstakil Ressam ve Heykeltıraşlar Birliği
- C) Yeniler Grubu
- D) Onlar Grubu

20. Yeniler Grubu içerisinde yer alan ve toplumsal gerçekçilik anlayışı doğrultusunda ele aldığı iri gözlü köylü kadın portreleriyle tanınan Türk ressam aşağıdakilerden hangisidir?

- A) Nuri İyem
- B) Nurullah Berk
- C) Abidin Dino
- D) Bedri Rahmi Eyüboğlu

1. Tekkelerde yetişen ve daha çok dini değerlere ağırlık veren şairler tarafından geliştirilen edebiyet türüne ne ad verilir?
- A) Tasavvuf edebiyatı  
B) Halk edebiyatı  
C) Divan edebiyatı  
D) Garip edebiyatı
2. Aşağıdakilerden hangisi Celali İsyanları'nın sonuçlarından biri değildir?
- A) Tarım üretiminin düşmesi  
B) Köy ve kasalarda can ve mal güvenliğinin kalmaması  
C) Halkın büyük şehirlere göç etmesi  
D) Vergilerin düzenli toplanmasının sağlanması
3. Osmanlı'da el yazması kitapları süsleme sanatına ne ad verilir?
- A) Tezhip  
B) Hat  
C) Ciltçilik  
D) Minyatür
4. İçki, tütün ve geceleri sokağa çıkma yasağı getiren padişah aşağıdakilerden hangisidir?
- A) II. Mehmet  
B) II. Osman  
C) III. Murat  
D) IV. Murat
5. Osmanlı ordusunda ordunun su ihtiyacını karşılayan gruba ne ad verilir?
- A) Yörükler  
B) Beşliler  
C) Deliler  
D) Sakalar
6. Osmanlı Devleti'nde mülk topraklarından müslümanlara ait olanlara ne ad verilir?
- A) Haracı toprak  
B) Mirî toprak  
C) Öşrî toprak  
D) Mukataa
7. I. Kosova Savaşı ile ilgili aşağıdaki ifadelerden hangisi yanlıştır?
- A) Haçlılar yenildi.  
B) I. Bayezit bir Sırp tarafından hançerlenerek şehit edildi.  
C) Haçlı ordusu ile Sultan Murat komutasındaki Türk ordusu Kosova Ovası'nda karşılaştı.  
D) Balkan milletleri, Osmanlı Devleti'ne karşı bir araya geldi.
8. Osmanlı Devleti'nde devlet hazinesine ait ya da kişilerin kendi mülkleri olan arazi gelirlerini ilmi ve toplumsal kurumların masrafları için ayırdığı topraklara ne ad verilir?
- A) Yurtluk  
B) Ocaklık  
C) Vakıf  
D) Dirlik
9. Osmanlı Devleti'nin ilk resmi tarihçisi (vakanüvisti) aşağıdakilerden hangisidir?
- A) Naima  
B) Nef'i  
C) İtri  
D) Katip Çelebi
10. Aşağıdakilerden hangisi Ankara Savaşı'nın sonuçlarından biri değildir?
- A) İstanbul'un alınmasının gecikmesi  
B) Anadolu'daki sosyal ve ekonomik düzenin bozulması  
C) Balkanlar'daki Macar etkisinin kırılması  
D) Anadolu'nun siyasi birliğinin parçalanması
11. Yıldırım Bayezit'in, Timur'a esir düştüğü savaş aşağıdakilerden hangisidir?
- A) Sırpsındığı  
B) Koyunhisar  
C) Ankara  
D) Niğbolu



12. Aşağıdakilerden hangisi Divan-ı Hümayun'un üyelerinden biri değildir?

- A) Şeyhül İslam
- B) Kaptan emini
- C) Nişancı
- D) Vezirler

13. Osmanlı Devleti ve İran arasında 12 yıl süren savaştan sonra imzalanan antlaşma aşağıdakilerden hangisidir?

- A) Ferhat Paşa
- B) Amasya
- C) Kasr-ı Şirin
- D) Nasuh Paşa

14. Aşağıdakilerden hangisi Coğrafi keşiflerin sonuçlarından biri değildir?

- A) Avrupa'dan keşfedilen yerlere göçlerin başlaması
- B) Hıristiyanlığın yeni ülkelere yayılması
- C) Yeni kıta, ülke ve okyanusların bulunması
- D) Akdeniz limanlarının önem kazanması

15. Osmanlı Devleti'ne batıda toprak kazandıran son antlaşma aşağıdakilerden hangisidir?

- A) Karlofça
- B) Vasvar
- C) Zitvatoruk
- D) Bucaş

16. Fransa'ya kapütülasyon adı verilen ticari ve hukuki ayrıcalıklar hangi yıl verilmiştir?

- A) 1453
- B) 1520
- C) 1535
- D) 1610

17. Avrupada'ki mezhep çatışmalarının devletler arası bir sorun olmaktan çıkmasını sağlayan antlaşma aşağıdakilerden hangisidir?

- A) Suza
- B) Vestfalya
- C) Saint Germain
- D) Münster

18. Karadeniz'in Türk gölü olmasını sağlayan olay aşağıdakilerden hangisidir?

- A) Kırım'ın Fethi
- B) Eflak Seferi
- C) Mora'nın Fethi
- D) Bosna-Hersek Seferi

19. Osmanlı Devleti'nde, kapalı çarşıların içinde kıymetli kumaşlar ve mücevherlerin satıldığı yerlere ne ad verilir?

- A) Kevansaray
- B) Bedesten
- C) Kapan
- D) Han

20. Osmanlı Devleti'nin ilk defa top kullandığı savaş aşağıdakilerden hangisidir?

- A) Çirmen
- B) I. Kosova
- C) Sırpsındığı
- D) II. Kosova

1. Meine Mutter hat eine neue Tischdecke für den ..... gekauft.

**Welches Wort passt in die obige Lücke?**

**Cümlede boş bırakılan yeri aşağıdakilerden hangisi doğru şekilde tamamlar?**

- A) Tisch  
B) Fernseher  
C) Zeitung  
D) Stuhl

2. Die Milch ist .....

**Welches ergänzt den obigen Satz?**

**Verilen cümleyi aşağıdakilerden hangisi tamamlar?**

- A) auf dem Teppich  
B) auf dem Baum  
C) in der Lampe  
D) in dem Kühlschrank

3. Er steht vor der Tür.

**Welche Frage passt zur obigen Antwort?**

**Verilen cevabı gerektirecek soru aşağıdakilerden hangisidir?**

- A) Was studiert er?  
B) Wie steht er?  
C) Wo steht er?  
D) Warum macht er das?

4. Zürich hat mir gut gefallen.

**Wie lautet der obige Satz in der Plusquamperfekt Form?**

**Verilen cümlelerin miş'li geçmiş zaman şekli aşağıdakilerden hangisidir?**

- A) Zürich wird mir gut gefallen.  
B) Zürich hatte mir gut gefallen.  
C) Zürich gefällt mir gut.  
D) Zürich hätte mir gut gefallen.

5. Sivrihisar liegt bei Eskişehir.

**Welche Frage passt zur obigen Antwort?**

**Verilen cevabı gerektirecek soru aşağıdakilerden hangisidir?**

- A) Kennen Sie die Leute aus Sivrihisar?  
B) Kommen Sie aus Eskişehir?  
C) Wer geht nach Eskişehir?  
D) Bei welcher Stadt liegt Sivrihisar?

6. Die Frau nimmt ihr Kleid ..... dem Schrank.

**Welches Wort passt in die obige Lücke?**

**Cümlede boş bırakılan yeri aşağıdakilerden hangisi doğru şekilde tamamlar?**

- A) zu  
B) in  
C) aus  
D) an

7. Was bedeutet "insancıl" auf Deutsch?

**"insancıl" sözcüğünün Almanca'sı aşağıdakilerden hangisidir?**

- A) sachlich  
B) menschlich  
C) neulich  
D) kindlich

8. Anita wählt mit dem groß..... grün..... Schalter ihr Programm.

**Welche Endungen passen in die obigen Lücken?**

**Cümlede boş bırakılan yerleri aşağıdaki son eklerden hangileri doğru şekilde tamamlar?**

- A) -e / -es  
B) -es / -en  
C) -en / -en  
D) -er / -er

9. Was kann man mit einem Plattenspieler machen?

**Welche Antwort passt zur obigen Frage?**

**Verilen sorunun cevabı aşağıdakilerden hangisidir?**

- A) Damit kann man Platten spielen.
- B) Damit kann man laut sprechen.
- C) Damit spielt man Fußball.
- D) Damit kannst du deine Zigarette anzünden.

10. Die Firma gibt ..... Garantie.

**Welches Wort passt in die obige Lücke?**

**Cümlede boş bırakılan yeri aşağıdakilerden hangisi doğru şekilde tamamlar?**

- A) neuen
- B) sprachliche
- C) kleinen
- D) volle

11. Ich hätte gern eine harte Bürste .....

**Welches Wort passt in die obige Lücke?**

**Cümlede boş bırakılan yeri aşağıdakilerden hangisi tamamlar?**

- A) zum Zähneputzen!
- B) für Händetrocknen.
- C) mit Programm.
- D) im Topf!

12. Ayşe möchte den ..... Wissenschaftler kennen lernen.

**Welches Wort passt in die obige Lücke?**

**Cümlede boş bırakılan yeri aşağıdakilerden hangisi doğru şekilde tamamlar?**

- A) berühmte
- B) berühmten
- C) berühmter
- D) berühmtem

13. Tatil için ne planların var?

**Wie lautet der obige Satz auf Deutsch?**

**Verilen cümlelerin Almancası aşağıdakilerden hangisidir?**

- A) Was wollt ihr machen?
- B) Welche Pläne hast du für die Ferien?
- C) Wann hast du Urlaub?
- D) Wie lange hast du Ferien?

14. Urlaub / Hotel / Sonne / Reise / Wasserhahn

**Welches Wort passt nicht zu den anderen in der obigen Wortgruppe?**

**Verilen sözcük grubuna uymayan aşağıdakilerden hangisidir?**

- A) Reise
- B) Hotel
- C) Wasserhahn
- D) Urlaub

15. .... ihr mit dem Flugzeug fliegen?

**Welches Wort passt in die obige Lücke?**

**Cümlede boş bırakılan yeri aşağıdakilerden hangisi doğru şekilde tamamlar?**

- A) Werdet
- B) Wird
- C) Werden
- D) Würde

16. Sie hat gerade ..... Sie ist jetzt .....

**Welche Wörter passen in die obigen Lücken?**

**Cümlede boş bırakılan yerleri aşağıdakilerden hangisi doğru şekilde tamamlar?**

- A) hingefallen / schnell
- B) gegessen / satt
- C) vergessen / klein
- D) hungrig / durstig

17. Es wird regnen.

**Wie lautet der obige Satz auf Türkisch?**

**Verilen cümlelerin Türkçesi aşağıdakilerden hangisidir?**

- A) Yağmur yağmalı.
- B) Yağmur yağabilir.
- C) Yağmur yağacak.
- D) Yağmur yağdı.

18. Im Urlaub sind wir ..... im Bett geblieben.

**Welches Wort passt in die obige Lücke?**

**Cümlede boş bırakılan yeri aşağıdakilerden hangisi tamamlar?**

- A) sonst
- B) bleiben
- C) legen
- D) lange

19. ...., dass du mich zur Party einlädst.

**Welches ergänzt die Lücke im obigen Satz?**

**Verilen cümleyi aşağıdakilerden hangisi tamamlar?**

- A) Du machst mit
- B) Er schläft immer früh
- C) Sie will mitkommen
- D) Ich finde es sehr nett

20. .... fliegt auf den Baum.

**Welches ergänzt den obigen Satz?**

**Verilen cümleyi aşağıdakilerden hangisi tamamlar?**

- A) Der Vogel im Wald
- B) Die Kinder haben
- C) Die Hühner auf dem See
- D) Die Katze möchte

## SEÇMELİ İNGİLİZCE 3

B

2017 AÖÖ-AÖL I. DÖNEM 0105-B

1. Be quiet! The baby ..... at the moment.

Which of the following completes the sentence above?

Aşağıdakilerden hangisi yukarıdaki cümleyi doğru olarak tamamlar?

- A) is going to sleep
- B) sleep
- C) sleeps
- D) is sleeping

2. A: How often do you go to the cinema?  
B: I go to the cinema .....

Which of the following completes the dialogue above?

Aşağıdakilerden hangisi yukarıdaki konuşmayı doğru olarak tamamlar?

- A) twice a week
- B) yesterday
- C) last Wednesday
- D) last year

3. Elise will wear her ..... dress for the party.

Which of the following completes the sentence above?

Aşağıdakilerden hangisi yukarıdaki cümleyi doğru olarak tamamlar?

- A) new white silk
- B) white silk new
- C) new silk white
- D) white new silk

4. I sometimes drink coffee for breakfast.

Which of the following is the Turkish translation of the sentence above?

Aşağıdakilerden hangisi yukarıdaki cümlelerin Türkçe karşılığıdır?

- A) Kahvaltıda daima kahve içerim.
- B) Kahvaltıda hiç kahve içmem.
- C) Kahvaltıda sık sık kahve içerim.
- D) Kahvaltıda bazen kahve içerim.

5. A: ..... does the film start?  
B: It starts at 10 o'clock.

Which of the following completes the dialogue above?

Aşağıdakilerden hangisi yukarıdaki konuşmayı doğru olarak tamamlar?

- A) What
- B) When
- C) Whose
- D) Why

6. Miss Peter is going to ..... to London after breakfast.

Which of the following completes the sentence above?

Aşağıdakilerden hangisi yukarıdaki cümleyi doğru olarak tamamlar?

- A) drive
- B) driving
- C) drove
- D) drives

7. Do you want to go to a park ..... a shopping mall?

Which of the following completes the sentence above?

Aşağıdakilerden hangisi yukarıdaki cümleyi doğru olarak tamamlar?

- A) so
- B) but
- C) or
- D) for

8. Serap lost her cat ..... she is very sad.

Which of the following completes the sentence above?

Aşağıdakilerden hangisi yukarıdaki cümleyi doğru olarak tamamlar?

- A) so
- B) or
- C) nor
- D) but

9. Mark doesn't have ..... friends.

Which of the following completes the sentence above?

Aşağıdakilerden hangisi yukarıdaki cümleyi doğru olarak tamamlar?

- A) a little
- B) much
- C) a
- D) many

10. Mr Surface always ..... a shower in the mornings.

Which of the following completes the sentence above?

Aşağıdakilerden hangisi yukarıdaki cümleyi doğru olarak tamamlar?

- A) will take
- B) takes
- C) is taking
- D) take

11. He ..... the walls at the moment.

Which of the following completes the sentence above?

Aşağıdakilerden hangisi yukarıdaki cümleyi doğru olarak tamamlar?

- A) is going to paint
- B) paints
- C) paint
- D) is painting

12. I don't have ..... rock CDs.

Which of the following completes the sentence above?

Aşağıdakilerden hangisi yukarıdaki cümleyi doğru olarak tamamlar?

- A) much
- B) any
- C) a few
- D) a

13. My cousin ..... married soon.

Which of the following completes the sentence above?

Aşağıdakilerden hangisi yukarıdaki cümleyi doğru olarak tamamlar?

- A) is going to get
- B) get
- C) getting
- D) got

14. My brother always ..... milk before he sleeps.

Which of the following completes the sentence above?

Aşağıdakilerden hangisi yukarıdaki cümleyi doğru olarak tamamlar?

- A) drinking
- B) drink
- C) will drink
- D) drinks

15. A: ..... book is this here?  
B: It's my friend's book.

Which of the following completes the dialogue above?

Aşağıdakilerden hangisi yukarıdaki konuşmayı doğru olarak tamamlar?

- A) What
- B) Whose
- C) Where
- D) Who

16. .... boys are really lazy.

Which of the following completes the sentence above?

Aşağıdakilerden hangisi yukarıdaki cümleyi doğru olarak tamamlar?

- A) Is
- B) This
- C) These
- D) That

17. A: ..... does Mark live?  
B: He lives in İstanbul.

**Which of the following completes the dialogue above?**

**Aşağıdakilerden hangisi yukarıdaki konuşmayı doğru olarak tamamlar?**

- A) When
- B) Who
- C) Where
- D) Which

18. My little son needs ..... advice.

**Which of the following completes the sentence above?**

**Aşağıdakilerden hangisi yukarıdaki cümleyi doğru olarak tamamlar?**

- A) many
- B) some
- C) a few
- D) any

19. He couldn't pass the test ..... he didn't study enough.

**Which of the following completes the sentence above?**

**Aşağıdakilerden hangisi yukarıdaki cümleyi doğru olarak tamamlar?**

- A) or
- B) and
- C) because
- D) so

20. That umbrella is ..... not yours.

**Which of the following completes the sentence above?**

**Aşağıdakilerden hangisi yukarıdaki cümleyi doğru olarak tamamlar?**

- A) my
- B) your
- C) mine
- D) I

1. Il court parce qu'il est .....

**Choisissez l'expression qui convient.**

**Cümledeki boşluğu aşağıdakilerden hangisi doğru şekilde tamamlar?**

- A) en retard
- B) à la mode
- C) en voiture
- D) à Paris

2. Gelecek hafta Paris'te olacağım.

**Choisissez la traduction qui convient.**

**Yukarıdaki cümlelerin Fransızca karşılığı aşağıdakilerden hangisidir?**

- A) La semaine prochaine, j'irais à Paris.
- B) La semaine dernière, j'étais à Paris.
- C) La semaine dernière, je suis allé à Paris.
- D) La semaine prochaine, je serai à Paris.

3. «Okula geldiğimde, öğrenciler yoktu.»

**Choisissez la traduction qui convient.**

**Yukarıdaki cümlelerin Fransızca karşılığı aşağıdakilerden hangisidir?**

- A) Quand je suis arrivé à l'école, il n'y avait pas d'élèves.
- B) Comme je suis venue à l'école, il n'y a pas d'élèves.
- C) Depuis que je suis arrivé à l'école, il n'y a pas d'élèves.
- D) Je suis venue à l'école, les élèves sont partis.

4. - Est-ce que ..... va avec lui?  
- Non, personne ne va avec lui.

**Choisissez le mot qui convient.**

**Yukarıdaki konuşmada boş bırakılan yeri aşağıdakilerden hangisi doğru şekilde tamamlar?**

- A) personne
- B) quelque chose
- C) quelqu'un
- D) rien

5. Il fait ..... . Ferme la fenêtre.

**Choisissez le mot qui convient.**

**Cümledeki boşluğu aşağıdakilerden hangisi doğru şekilde tamamlar?**

- A) chaud
- B) froid
- C) doux
- D) douce

6. .... vous dites est faux.

**Choisissez l'expression qui convient.**

**Cümledeki boşluğu aşağıdakilerden hangisi doğru şekilde tamamlar?**

- A) Que
- B) Ce qui
- C) Ce qu'
- D) Ce que

7. Nos clients ..... aiment beaucoup.

**Choisissez le mot qui convient.**

**Cümledeki boşluğu aşağıdakilerden hangisi doğru şekilde tamamlar?**

- A) eux
- B) je
- C) nous
- D) chez

8. - ..... font ces enfants?  
- Ils jouent.

**Choisissez le mot qui convient.**

**Yukarıdaki konuşmada boş bırakılan yeri aşağıdakilerden hangisi doğru şekilde tamamlar?**

- A) Où
- B) Que
- C) Est-ce que
- D) Comment



9. J'ai promis ..... ma fille ..... est malade de venir tôt.

**Choisissez les mots qui conviennent.**

**Cümledeki boşlukları aşağıdakilerden hangisi doğru şekilde tamamlar?**

- A) de / qui
- B) de / que
- C) à / qui
- D) à / que

10. Notre directeur est très gentil. Chaque matin, .....

**Complétez la phrase avec la proposition qui convient.**

**Yukarıdaki cümleyi aşağıdaki ifadelerden hangisi doğru şekilde tamamlar?**

- A) il nous dit bonjour
- B) il prend son petit déjeuner
- C) il arrive tard
- D) il est malheureux

11. La voiture a été volée ..... un voleur.

**Choisissez le mot qui convient.**

**Cümledeki boşluğu aşağıdakilerden hangisi doğru şekilde tamamlar?**

- A) si
- B) de
- C) par
- D) en

12. Je vais ..... Paul.

**Choisissez le mot qui convient.**

**Cümledeki boşluğu aşağıdakilerden hangisi doğru şekilde tamamlar?**

- A) au
- B) chez
- C) à
- D) par

13. Paul : Je voudrais réserver une place.  
L'employé: .....?  
Paul : Pour Marseille.

**Choisissez la réplique qui convient.**

**Yukarıdaki konuşmada boş bırakılan yeri aşağıdakilerden hangisi doğru şekilde tamamlar?**

- A) Pour une personne
- B) Pour où Monsieur
- C) Oui, Monsieur, quel jour
- D) On part quand

14. - Tu as téléphoné à Marie?  
- Oui, je ..... ai téléphoné.

**Choisissez le mot qui convient.**

**Yukarıdaki konuşmada boş bırakılan yeri aşağıdakilerden hangisi doğru şekilde tamamlar?**

- A) y
- B) la
- C) lui
- D) en

15. - Donne-moi ta voiture?  
- Non, je ne ..... donnerai pas ma voiture.

**Choisissez le mot qui convient.**

**Yukarıdaki konuşmada boş bırakılan yeri aşağıdakilerden hangisi doğru şekilde tamamlar?**

- A) la
- B) lui
- C) me
- D) te

16. J'attends ..... 10 minutes.

**Choisissez le mot qui convient.**

**Cümledeki boşluğu aşağıdakilerden hangisi doğru şekilde tamamlar?**

- A) depuis
- B) avant
- C) après
- D) le

17. Pierre : Je voudrais réserver une place au restaurant.

L'employé : .....

Pierre : Demain soir, à 19 heures.

L'employé : D'accord Monsieur.

**Choisissez la phrase qui convient.**

**Yukarıdaki konuşmada boş bırakılan yeri aşağıdakilerden hangisi doğru şekilde tamamlar?**

- A) Pourquoi Monsieur
- B) Pour quand Monsieur
- C) Pour qui Monsieur
- D) Quelle heure est-il Monsieur

18. I. Ces lunettes sont rouges.  
II. Ce pantalon est à la mode.  
III. Il n'est pas cher.  
IV. Il est très bon marché.

**Trouvez la phrase qui ne convient pas.**

**Cümleler sırasıyla okunduğunda, anlam bütünlüğünü bozan cümleyi bulunuz.**

- A) I
- B) II
- C) III
- D) IV

19. «Elle m'a demandé de l'aider.»

**Choisissez la traduction qui convient.**

**Yukarıdaki cümlenin Türkçe karşılığı aşağıdakilerden hangisidir?**

- A) Onlara yardım edeceğim.
- B) Onlarla yardımlaşmamızı istedi.
- C) Ona yardım etmem için beni çağırdı.
- D) Ona yardım etmemi istedi.

20. Cette maison est-..... à louer ?

**Choisissez le mot qui convient.**

**Cümledeki boşluğu aşağıdakilerden hangisi doğru şekilde tamamlar?**

- A) ce
- B) on
- C) il
- D) elle

1. “Şair Evlenmesi” oyununun yazarı aşağıdakilerden hangisidir?

- A) Namık Kemal
- B) Baki
- C) Melih Cevdet
- D) Şinasi

2. Eldeki en eski mektup örnekleri kimlere aittir?

- A) Romalılara ve Galyalılara
- B) Friglere ve Traklara
- C) Mısır firavunları ve Hititlere
- D) Lidyalılara ve Fenikelilere

3. Aşağıdakilerden hangisi hikâyenin bölümlerinden biri değildir?

- A) Değerlendirme
- B) Giriş
- C) Sonuç
- D) Gelişme

4. Haber metinlerinde kullanılan dil işlevi aşağıdakilerden hangisidir?

- A) Şiirsel İşlev
- B) Alıcıyı Harekete Geçirme İşlevi
- C) Dil Ötesi İşlevi
- D) Kanalı Kontrol İşlevi

5. Mesnevi hangi metin grubu içinde yer alır?

- A) Göstermeye bağlı edebi metinler
- B) Tarihi metinler
- C) Felsefi metinler
- D) Anlatmaya bağlı edebi metinler

6. Deneme türüyle ilgili aşağıdaki ifadelerden hangisi yanlıştır?

- A) Ciddi sorunları ele alırken bile gülümsetir.
- B) Konu sınırlaması yoktur.
- C) Düşünce değil duygu yazıdır.
- D) Makale planına göre yazılır.

7. Aşağıdakilerden hangisi kişisel hayatı konu alan metinler içerisinde yer almaz?

- A) Biyografi
- B) Sohbet
- C) Anı
- D) Günlük

8. Herhangi bir konuda kişinin düşüncelerinin hiç değiştirilmeden verilmesine ne ad verilir?

- A) Öznel anlatım
- B) Dolaylı anlatım
- C) Nesnel anlatım
- D) Doğrudan anlatım

9. Aşağıdakilerden hangisi olay çevresinde oluşan metinlerin özelliklerinden biri değildir?

- A) Kelimeler daha çok mecaz ve yan anlamda kullanılması
- B) Okuyanın yorumuna dayanmaması
- C) Kurmacanın özelliklerinden yararlanılması
- D) Olay örgüsünün olması

10. Gazete çevresinde gelişen metinler; yazılış amaçları, gerçeklikle ilişkileri ve işlevlerine göre hangi metin grubu içinde yer alır?

- A) Sanat metinleri
- B) Öğretici metinler
- C) Olay çevresinde oluşan edebî metinler
- D) Göstermeye bağlı edebî metinler

11. Aşağıdakilerden hangisi biyografinin taşıması gereken özelliklerden biri değildir?

- A) Ayrıntılı bir ön çalışma gereklidir.
- B) Açık ve sade bir dille yazılmalıdır.
- C) Hayat hikâyesi anlatılacak kişinin anılarından, mektuplarından yararlanılabilir.
- D) Biyografiyi yazan kişi gerekirse, duygu ve düşüncelerini de yazıya katabilir.

12. Dil ve anlatım açısından sanat değeri taşıyan mektuplar aşağıdakilerden hangisidir?

- A) Tebrik mektupları
- B) Özel mektuplar
- C) Edebi mektuplar
- D) Davet mektupları

13. Aşağıdakilerden hangisi göstermeye bağlı edebî metinlerden biri değildir?

- A) Trajedi
- B) Mesnevi
- C) Komedi
- D) Dram

14. Bir konuda bilgi vermek, bir gerçeği açıklamak ya da ispatlamak için her türlü kanıtlardan faydalanan ve bunları bilimsel biçimde inceleyen fikir yazılarına ne ad verilir?

- A) Makale
- B) Fıkra
- C) Haber
- D) Eleştiri

15. Aşağıdakilerden hangisi anı türünün özellik bakımından benzediği edebî türlerden biri değildir?

- A) Gezi yazıları
- B) Otobiyografi
- C) Makale
- D) Günlük

16. Aşağıdakilerden hangisi anlamlı birden çok dil birliğinin yan yana gelerek yeni bir anlam ifade etmesidir?

- A) bağdaştırma
- B) bağlaşıklık
- C) bağdaşıklık
- D) bağlam

17. Hacivat ve Karagöz oyununda, okumuş, bilgili ve Türkçeyi iyi kullanan karakter aşağıdakilerden hangisidir?

- A) Çelebi
- B) Meddah
- C) Hacivat
- D) Karagöz

18. Aşağıdaki sözcüklerin hangisinde ses benzeşmesi gerçekleşmemiştir?

- A) Keskin
- B) Üçgen
- C) Kaçtı
- D) Sınıfta

19. Aşağıdaki cümlelerden hangisinde noktalama işareti yanlış kullanılmıştır?

- A) Ey Türk Gençliği!
- B) Gitmek istiyorum.
- C) Söylenecek öyle çok şey var ki...
- D) Cevabı biliyor musun!

20. Aşağıdaki kelimelerden hangisinin anlamı doğru verilmiştir?

- A) tekzip: yalanlama
- B) asparagas: çarpıcı
- C) sansasyonel: şişirme haber
- D) muhabir: haber

1. Aşağıdakilerden hangisi konusuna göre sosyal roman içerisinde yer alır?

- A) Cezmi
- B) Anamın Kitabı
- C) Define Adası
- D) Bereketli Topraklar Üzerinde

2. "Aslan toprakla oynuyormuş bir gün;  
Bir de bakmış pençesinde fare,  
Aslan, aslan yürekliymiş o gün,  
Kıymamış canına, bırakmış yere."

Yukarıda bir bölümü verilen öğretici metnin türü aşağıdakilerden hangisidir?

- A) Fabl
- B) Destan
- C) Anı
- D) Gezi yazısı

3. Moliere'in "Cimri" adlı eseri hangi komedy türünün örneğidir?

- A) Entrika komedyası
- B) Töre komedyası
- C) Yergi komedyası
- D) Karakter komedyası

4. Aşağıdakilerden hangisi "manzumenin" özelliklerinden biridir?

- A) Çok anlamlılık ve imgelerin ağır basması
- B) Olay örgüsünün olması
- C) Düz yazıyla ifade edilememesi
- D) Estetik kaygı taşıması

5. Aşağıdakilerden hangisi çağdaş batı romanında kullanılan anlatım tekniklerinden biri değildir?

- A) Montaj
- B) Görece zaman anlayışı
- C) Karışık anlatım
- D) Leitmotiv

6. Aşağıdakilerden hangisi aşk hikâyelerinde, aşıkların birbirlerine kavuşmalarını önleyen engellerden biri değildir?

- A) Din ayrılığı
- B) Sınıf ayrılığı
- C) Servet eşitsizliği
- D) Bölgesel farklılık

7. "Orhan Veli 13 Nisan 1914'te Beykoz'da doğdu. Çocukluğu Beykoz ve Beşiktaş'ta geçti. İlk dört sınıfı Galatasaray Lisesi'nde okuyan Orhan Veli, 1925'te annesiyle beraber Ankara'ya gitti. "

Yukarıda bir bölümü verilen eserin türü aşağıdakilerden hangisidir?

- A) Röportaj
- B) Biyografi
- C) Mülakat
- D) Makale

8. Aşağıdaki yazarlardan hangisi 1970'li yıllardan sonra Türk romanında toplum sorunlarına yönelişle, ideolojik boyutu ağır basan romanların arttığı dönemi temsil eden yazarlardan biri değildir?

- A) Yakup Kadri
- B) Adalet Ağaoğlu
- C) Oğuz Atay
- D) Pınar Kür

9. Hikâye planında olayın geçtiği ortamın ve kişilerin tanıtıldığı, yer ve zamanın belirtildiği, olay ve olay kişilerinin betimlendiği bölüm aşağıdakilerden hangisidir?

- A) Düğüm
- B) Tema
- C) Serim
- D) Çözüm

10. Aşağıdakilerden hangisi komedy türlerinden biridir?

- A) Yergi komedyası
- B) Diyalog komedyası
- C) Siyasi komedy
- D) Sosyal komedy

11. Duygu, düşünce ve hayallerin ölçülü, uyaklı dizeler halinde örülmüş biçimine ne ad verilir?

- A) Kafiye
- B) Tema
- C) Cinaz
- D) Nazım

12. Aşağıdakilerden hangisi masalın özelliklerinden biri değildir?

- A) Anonim bir tür olması
- B) Tek kaynaktan beslenmesi
- C) Dilinin şiirsel işlevde olması
- D) Yer ve zaman kavramlarının belirsiz olması

13. Aşağıdakilerden hangisi ben merkezli hikâyenin özelliklerinden biri değildir?

- A) Gerçeklikle hayallerin bir arada olması
- B) Çarpıcı ve beklenmedik bir sonla bitirilmesi
- C) Seçilmiş olay ve kişiler üzerine kurulması
- D) Birinci şahsın ağzından anlatılması

14. Aşağıdaki kelimelerden hangisinin anlamı yanlış verilmiştir?

- A) Mimik: Oyuncunun sahnede canlandığı kişilik
- B) Aksesuar: Dekora yardımcı olan küçük eşyalar
- C) Piyes: Tiyatro eserlerine verilen genel ad
- D) Perde: Oyunların gelişmesine göre oluşan bölümler

15. Epik tiyatroyla ilgili aşağıdaki ifadelerden hangisi yanlıştır?

- A) Seyircinin tiyatro düşünden uyanması için olayın akışı sık aralıklarla kesilir.
- B) Sahne dekor ve etki altına alıcı duygulu olaylardan uzak tutulur.
- C) Duygu yerine akıl ön plana çıkarılır.
- D) Amaç seyirciyi farklı diyarlara götürmek ve orda olduğu sürece büyülemektir.

16. Güzel şeyler düşünelim diye  
Yemyeşil oluvermiş ağaçlar

Yukarıdaki beyitte kullanılan söz sanatı aşağıdakilerden hangisidir?

- A) Tenasüp
- B) Hüsn- î Tâil
- C) Tevriye
- D) Kinaye

17. Aşağıdaki hikâyelerinde hangisi Arap-İslam kaynaklıdır?

- A) Emrah ile Selvihan
- B) Kerem ile Aslı
- C) Leyla ile Mecnun
- D) Ferhat ile Şirin

18. Kararmış kara gözler  
Dermanım kara gözler  
Gemim deryada kaldı  
Yelkenim kara gözler

Yukarıdaki manide "kara gözler" söz grubundaki kafiye türü aşağıdakilerden hangisidir?

- A) Cinaslı kafiye
- B) Tam kafiye
- C) Yarım kafiye
- D) Zengin kafiye

19. Aşağıdakilerden hangisi Türk kültürüne ait başlıca halk tiyatrosu türlerinden biri değildir?

- A) Karagöz
- B) Mesnevi
- C) Meddah
- D) Orta oyunu

20. Aşağıdakilerden hangisi dramatik bir eserde yer alan konuşma çeşitlerinin özel adlarından biri değildir?

- A) Tirad
- B) Diyalog
- C) Monolog
- D) Figüran

1. “Hakikatlerin Eşiği” anlamına gelen Atabetü'l Hakâyık'ın yazarı aşağıdakilerden hangisidir?

- A) Yükneklî Edip Ahmet
- B) Kaygusuz Abdal
- C) Âşık Ömer
- D) Yunus Emre

2. Aşağıdakilerden hangisi, Kaygusuz Abdal'ın **en önemli** eserlerinden biridir?

- A) Mesnevî
- B) Harnâme
- C) Çarhnâme
- D) Dilgüşa

3. Kasidelerde şairin kendisini övdüğü bölüm aşağıdakilerden hangisidir?

- A) Fahriye
- B) Dua
- C) Medhiye
- D) Nesîb

4. W. Shakespeare'in kavuşamayan iki sevgilinin aşk hikâyesini anlattığı tiyatro eseri aşağıdakilerden hangisidir?

- A) Kızıl ile Kara
- B) Romeo ve Juliet
- C) Kerem ile Aslı
- D) Madam Bovary

5. Suya gider al yazması başında  
İsmi kadın kendi on beş yaşında  
Dünyayı terk etti pek genç yaşında  
Dayanmalı Hakk'ın emri böyledir.

Yukarıdaki dördlük aşağıdakilerden hangisine örnektir?

- A) Güzelleme
- B) Taşlama
- C) Koçaklama
- D) Ağıt

6. Birçok eserinde çağının sosyal gelişmeleri üzerinde durmuş, gazel nazım şekliyle yazdığı şiirlerde aşk ve güzellik konusunu işlemiştir. İskendernâme, Cemşidü Hurşid mesnevileri ile Divân'ı bulunan XIV. yüzyıl klâsik edebiyat şairi aşağıdakilerden hangisidir?

- A) Nefî
- B) Ahmedî
- C) Nâbî
- D) Necatî

7. Tarihçi, şair ve dilcidir. Başarılı sözlük tercümelemeleri vardır. Burhan-ı Kaatı adlı sözlük çalışmasının bir bölümünü III. Selim'e sunmuştur.

Yukarıda sözü edilen kişi aşağıdakilerden hangisidir?

- A) Şehî Bey
- B) Mütercim Âsım
- C) Kaygusuz Abdal
- D) Ahmet Resmî Efendi

8. Öğretmek amacıyla ele alınan edebî eserlere ne ad verilir?

- A) Dramatik
- B) Pastoral
- C) Didaktik
- D) Satirik

9. Kırgızların geleneklerini, ahlak ve aile hayatlarını, dünya ve hayat görüşlerini anlatan destan aşağıdakilerden hangisidir?

- A) Türeyiş
- B) Oğuz Kağan
- C) Manas
- D) Göç

10. Gezip gördüğü yerlerin insanlarını, yaşayışlarını, tarihlerini ve medeniyetlerini anlatan kişilere ne ad verilir?

- A) Seyyah
- B) Meddah
- C) Keşiş
- D) Âşık

11. Kültürel tarihimizi aydınlatacak düşüncelerin, toplumun değer yargılarının ele alınıp işlendiği, Yusuf Has Hacıp tarafından yazılan "Siyasetnâme" türünün ilk örneği sayılan eser aşağıdakilerden hangisidir?
- A) Kutadgu Bilig  
B) Divân-ı Hikmet  
C) Atabetü'l-Hakâyık  
D) Mantıku't-Tayr
12. Aşağıdakilerden hangisi kahramanlık hikâyelerinden biridir?
- A) Lütfiye  
B) Âşık Garip  
C) Hayriye  
D) Köroğlu
13. Ahmet Yesevî'nin "Hikmet"leriyle ilgili aşağıdaki ifadelerden hangisi yanlıştır?
- A) Hece ölçüsü ve yarım uyak kullanılmıştır.  
B) Tasavvufun inceliklerini yansıtmıştır.  
C) Batı Türkçesiyle yazılmıştır.  
D) Didaktik bir eserdir.
14. Anonim halk şiiri örneği olup genellikle dört dizeden oluşan, 7'li hece ölçüsüyle söylenen, aaba şeklinde uyaklanan nazım şekline ne ad verilir?
- A) Mesnevî  
B) Türkü  
C) Mâni  
D) Semaî
15. Divan Edebiyatında, beş mesnevinin bir araya getirilmesiyle oluşan esere ne ad verilir?
- A) Hikmet  
B) Hamse  
C) Gazel  
D) Münşeat
16. Meşrutiyet'ten sonra, yeni bir anlayışla gazel biçiminin klasik örneklerini veren şair aşağıdakilerden hangisidir?
- A) Ahmet Paşa  
B) Hoca Dehhani  
C) Yahya Kemal  
D) Nazım Hikmet
17. Şairin kaside içinde medhiye bölümünden sonra uygun bir yerde aynı vezin ve kafiye ile söylediği bölüme ne ad verilir?
- A) Tegazzül  
B) Girizgah  
C) Dua  
D) Nesib
18. Hüsn-ü Aşk mesnevisinin yazarı aşağıdakilerden hangisidir?
- A) Âşık Paşa  
B) Şeyh Galip  
C) Ahmet Fakih  
D) Süleyman Çelebi
19. Divan edebiyatında, çeşitli devirlerde yaşayan şairlerin kısaca hayat ve eserlerinden söz eden kitaplara ne ad verilir?
- A) Şathiye  
B) Hamse  
C) Müstezât  
D) Tezkire
20. Gazel nazım şeklinin en güzel beyitine ne ad verilir?
- A) Yek-âvaz gazel  
B) Makta beyit  
C) Musammat gazel  
D) Beytü'l-gazel



1. Faruk Nafiz Çamlıbel'in Ulukışla yoluyla Kayseri'ye gidişinin izlenimlerinden oluşan şiiri aşağıdakilerden hangisidir?
- A) Han Duvarları  
B) Çoban Çeşmesi  
C) Akşam Musikîsi  
D) Gezinti
2. Aşağıdakilerden hangisi Cumhuriyet Dönemi gezi yazarları arasında yer almaz?
- A) Salah Bırsel  
B) Falih Rıfkı Atay  
C) Hikmet Birand  
D) Reşat Nuri Güntekin
3. Aşağıdakilerden hangisi "deneme" türünün özelliklerinden biri değildir?
- A) Kısa olması  
B) Belirli bir planla yazılması  
C) Samimi bir dil kullanılması  
D) Düşünceyi kabul ettirme, kesin bir sonuca gitme gibi bir amacının olmaması
4. "Kuyucaklı Yusuf" adlı roman aşağıdaki yazarlardan hangisine aittir?
- A) Reşat Nuri Güntekin  
B) Sabahattin Âli  
C) Nedim Gürsel  
D) Leyla Erbil
5. İçe dönük bir kişiliğe sahip olan ve büyük şehrin içinde kaybolmuş insanın kırık, karanlık, karmaşık duygularını şiirlerinde yansıtan şair aşağıdakilerden hangisidir?
- A) Fazıl Hüsnü Dağlarca  
B) Behçet Necatigil  
C) Cahit Külebi  
D) Asaf Halet Çelebi
6. "Anadolucu" ya da "memleketçi" edebiyata ilk tepkinin geldiği edebî topluluk aşağıdakilerden hangisidir?
- A) Yedi Meşaleciler  
B) Garipçiler  
C) Hisarcılar  
D) Maviciler
7. Şiirlerinde daha çok ölüm, sonsuzluk, zaman, an, rüya, hülya ve geçmiş zamana duyulan özlemi konu yapan şair aşağıdakilerden hangisidir?
- A) Halit Fahri Ozansoy  
B) Yusuf Ziya Ortaç  
C) Ahmet Hamdi Tanpınar  
D) Faruk Nafiz Çamlıbel
8. Anadolu köy seyirlik oyunlarını ve geleneksel popüler halk tiyatrosunu çağdaş sanatsal etkinlikleri besleyecek önemli kaynaklar olarak değerlendiren şair aşağıdakilerden hangisidir?
- A) Ahmet Muhip Dıranas  
B) Ahmet Kutsi Tecer  
C) Aziz Nesin  
D) Necati Cumalı
9. Şiirlerinde daha çok "ölüm, kader" gibi temaları işleyen şair aşağıdakilerden hangisidir?
- A) Kenan Hulusi Koray  
B) Vasfi Mahir Kocatürk  
C) Ziya Osman Saba  
D) Muammer Lütfi
10. "Sokrates'in Savunması", "Genç Osman", "Cem Sultan" gibi daha çok konusunu tarihten alan oyunlarıyla tanınan yazar aşağıdakilerden hangisidir?
- A) Orhan Asena  
B) Haldun Taner  
C) Güngör Dilmen  
D) Turan Ofazoğlu
11. "Senli benli" denemenin ilk örneklerine aşağıdaki yazarlardan hangisinde rastlanır?
- A) Montaiqne  
B) Bacon  
C) T. S. Eliot  
D) A. Camus

12. "Fatih-Harbiye" adlı roman aşağıdaki yazarlardan hangisine aittir?

- A) Ahmet Rasim
- B) Yusuf Atılgan
- C) Peyami Safa
- D) Sabahattin Ali

13. "Edebiyat Üzerine Makaleler" adlı eser aşağıdaki yazarlardan hangisine aittir?

- A) Ahmet Hamdi Tanpınar
- B) Peyami Safa
- C) Nurullah Ataç
- D) Nazım Hikmet

14. "Varlık" dergisinde ölçsüz, uyaksız, şairanelikten uzak yeni bir şiir akımı başlatan üç şair, aşağıdakilerin hangisinde birlikte ve doğru olarak verilmiştir?

- A) Rıfat Ilgaz-Enver Gökçe- Oktay Rifat
- B) Attila İlhan-Orhan Veli Kanık-Melih Cevdet Anday
- C) Ömer Faruk Toprak-Arif Damar-Ahmet Arif
- D) Orhan Veli Kanık-Melih Cevdet Anday-Oktay Rifat

15. "Bu Diyar Baştan Başa" adlı gezi kitabı aşağıdaki yazarlardan hangisine aittir?

- A) Nadir Paksoy
- B) Nedim Gürsel
- C) Fikret Otyam
- D) Yaşar Kemal

16. Yazarın herhangi bir konu üzerinde kesin hükümlere varmadan, kendi kişisel görüş ve düşüncelerini anlattığı yazı türüne ne ad verilir?

- A) Röportaj
- B) Makale
- C) Deneme
- D) Fıkra

17. "Karalama Defteri" adlı deneme kitabı aşağıdaki yazarlardan hangisine aittir?

- A) Fehmi Başkut
- B) Nurullah Ataç
- C) Muzaffer İzgü
- D) Salah Birsal

18. İçe dönük, maneviyatçı, bireyci şiirin başarılı örneklerini veren şair aşağıdakilerden hangisidir?

- A) Yusuf Ziya Ortaç
- B) Faruk Nafiz Çamlıbel
- C) Necip Fazıl Kısakürek
- D) Ahmet Muhip Dıranas

19. Aşağıdakilerden hangisi "Güldürücü Fıkra Tipleri" arasında yer almaz?

- A) Bekri Mustafa
- B) Nasrettin Hoca
- C) İncili Çavuş
- D) Çelebi Mehmet

20. Gazetelerin ilk sayfasında ve genellikle ilk sütununda yayımlanan makalelere ne ad verilir?

- A) Siyasal Makale
- B) İktisadî Makale
- C) Edebî Makale
- D) Başmakale

1. Aşağıdakilerden hangisi yapılabirlik etüdünün ekonomik incelemede yapılan arařtırmalarından biri değildir?

- A) Ürün arařtırması
- B) Finansman giderlerinin belirlenmesi
- C) Ham madde analizi
- D) Kuruluř yeri seçimi

2. Aşağıdakilerin hangisinde iř planının temel amaçlarından biri olan iletiřim aracı olarak kullanıldıđı durumlardan biri değildir?

- A) Stratejik iř ortakları bulunması
- B) Yapılacak yatırıma cazip hale getirilmesi
- C) Sermaye sađlanması
- D) Sonuçların izlenmesi

3. Aşağıdakilerden hangisi fizibilite etüdünün ařamalarından biri değildir?

- A) Ekonomik inceleme
- B) Kronolojik inceleme
- C) Teknik inceleme
- D) Hukuki inceleme

4. Aşağıdakilerin hangisinde iř planı yönetim aracı olarak kullanılmaz?

- A) Yapılacak yatırıma cazip hale getirmede
- B) Geliřmenin deđerlendirilmesinde
- C) İřletmenin evrelerine bađlı olarak takip edilecek yolların belirlenmesinde
- D) Sonuçların izlenmesinde

5. Uzmanlık, bilgi ve deneyimi gerektiren proje faaliyetine ne ad verilir?

- A) Koordinasyon
- B) Fizibilite(Yapılabirlik) çalıřması
- C) Çözümleme
- D) Güdöleme

6. Aşağıdakilerden hangisi yapılabirlik etüdünün faydalarından biridir?

- A) Rekabeti artırır.
- B) Geri dönüşümü hızlandırır.
- C) Kredilerin dođru ve etkin kullanılmasını sađlar.
- D) Toplumun eđitim seviyesini artırır.

7. Aşağıdakilerden hangisi iyi bir iř planının girişimciye sađladıđı yararlarından biri değildir?

- A) Yatırım planlarının finansmanı zorlařır.
- B) Giriřimcinin potansiyel sorunlar ortaya çıkmadan önlemler almasını sađlar.
- C) Giriřimcinin iř fikrinin belirginleřmesini sađlar.
- D) Giriřimcinin iřletmenin pozisyonunu görmesini sađlar.

8. Aşağıdakilerden hangisi finansal inceleme kapsamında yapılan çalıřmalardan biridir?

- A) Makine donanımının seçilmesi
- B) Ulařım faktörlerinin arařtırılması
- C) Finansman tablolarının hazırlanması
- D) Temel mühendislik tasarımlarının yapılması

9. Otomobil fabrikaları aşağıdaki iřletmelerden hangisine örnektir?

- A) Finans iřletmeleri
- B) Ticaret iřletmeleri
- C) Sanayi iřletmeleri
- D) Kiralama iřletmeleri

10. Aşağıdakilerden hangisi Anonim řirketin özelliklerinden biridir?

- A) Büyük sermaye toplama yeteneđine sahip olduđundan büyük iřletmeler anonim řirket niteliđinde kurulur.
- B) İdarenin sorumluluđu kişiseldir.
- C) Ortaklık kolaylıkla devredilemez.
- D) Ortakların ölümu veya ortaklıktan çekilmeleri řirketi etkiler.

11. Aşağıdakilerden hangisi adi řirketin özelliklerinden biri değildir?

- A) Her ortađın řirket yönetiminde yetkisi vardır.
- B) Yönetim yetkisi ortaklardan birine birkaçına ya da dıřardan birine bırakılabilir.
- C) Ortakların sorumlulukları taahhüt ettikleri sermaye ile sınırlıdır.
- D) řirket kârları bütün ortaklar arasında ve belirtilen oranlarda veya eřit olarak dađıtılır.

12. Aşağıdakilerden hangisi işletmelerin ekonomik şekilleri bakımından sınıflandırılmasında yer alan işletme türlerinden biridir?

- A) Kiralama işletmeleri
- B) Finans işletmeleri
- C) Hizmet üreten işletmeler
- D) Kamu işletmeleri

13. Aşağıdakilerden hangisi işletmenin temel fonksiyonlarından biri değildir?

- A) Destekleyici fonksiyon
- B) Özendirici fonksiyon
- C) Genel fonksiyon
- D) Kolaylaştırıcı fonksiyon

14. Aşağıdakilerden hangisi işletmenin temel özelliklerinden biri değildir?

- A) Hammadde temin etmesi
- B) Mal ve hizmet üretmesi
- C) Kâr sağlaması
- D) Üretim faktörlerini bir araya getirmesi

15. Aşağıdakilerden hangisi internet üzerinden satışın başarıya ulaşması için dikkat edilmesi gereken konulardan biri değildir?

- A) Doğru işletme kuralları
- B) Doğru ihtiyaç tespiti
- C) Doğru hedef kitle
- D) Doğru mağaza yeri seçimi

16. Türkiye'nin ekonomik ve sosyal ihtiyaçlarının karşılanmasında küçük ve orta ölçekli işletmelerin payını ve etkinliğini artırmak, rekabet güçlerini ve düzeylerini yükseltmek sanayide uyumunu ekonomik gelişmelere uygun biçimde gerçekleştirmek amacıyla kurulan kurum aşağıdakilerden hangisidir?

- A) KOSGEB
- B) BDDK
- C) TSKB
- D) SPK

17. I. Ticari defterini tasdik ettirme sorumluluğu  
II. Ticari defteri saklama sorumluluğu  
III. Sosyal güvenlik kurumuna karşı sorumluluğu

Yukarıdakilerden hangileri girişimcinin yasal sorumluluklarındandır?

- A) Yalnız I
- B) Yalnız II
- C) I ve II
- D) I,II ve III

18. Piyasada tanınmış yerleşmiş bir ismin ya da markanın işletme hakkını veren tarafa ne ad verilir?

- A) Franchisee
- B) Müteşebbis
- C) Distribütörlük
- D) Franchisor

19. Aşağıdakilerden hangisi Bayi ya da Distribütör'ü Franchising'ten ayıran özelliklerden biridir?

- A) Bayilerin ulusal reklam ve tanıtım kampanyalarına katılmak zorunda olmaları
- B) Bayinin ana şirkete para ödememesi aksine satışları karşılığında para alması
- C) Bayilerin ürünlerini sattıkları işletme ile aynı görüntüde olmak zorunda olmaları
- D) Bayilerin ana şirketin adıyla satış yapmak zorunda olması

20. Çalışanlara işletmenin amaçlarını ilkelerini çalışma şeklini tanımlamaya ve iş yaşamında uyulacak ilkelere yönelik kurallar bütünü açıklayan kavram aşağıdakilerden hangisidir?

- A) Örf
- B) Ahilik
- C) Hukuk kuralları
- D) İş ahlakı kuralları

1.  $B \times A = \{(3,3), (3,5), (3,8), (5,3), (5,5), (5,8)\}$  olduğuna göre  $A \cap B$  kümesi aşağıdakilerden hangisidir?

- A)  $\{3,5\}$
- B)  $\{3,5,8\}$
- C)  $\{3,8\}$
- D)  $\{5,8\}$

2.  $s(A) = 7$ ,  $s(B) = 5$ ,  $s(C) = 3$ ,  $s(A \cap B) = 3$ ,  $s(A \cap C) = 2$ ,  $s(B \cap C) = 2$  ve  $s(A \cap B \cap C) = 1$  ise  $s(A \cup B \cup C)$  aşağıdakilerden hangisidir?

- A) 6
- B) 7
- C) 8
- D) 9

3.  $(a+1,5) = (3,b-1)$  ise  $a \cdot b$  kaçtır?

- A) 2
- B) 6
- C) 8
- D) 12

4. Ortak özellik yöntemi ile verilen  $A = \{x \mid x, 1 \text{ ile } 9 \text{ arasında çift tamsayı}\}$  kümesinin liste yöntemi ile gösterimi aşağıdakilerden hangisidir?

- A)  $\{2,4,6,8\}$
- B)  $\{2,4,6\}$
- C)  $\{2,3,4,5,6,7,8\}$
- D)  $\{1,3,5,7\}$

5.  $A = \{1,2,5\}$ ,  $B = \{3,5\}$  ve  $C = \{1,2,3,4\}$  kümeleri veriliyor.  $(A \cup B) \cap C$  kümesi aşağıdakilerden hangisidir?

- A)  $\{1,3,5\}$
- B)  $\{1,2,5\}$
- C)  $\{2,5\}$
- D)  $\{1,2,3\}$

6.  $A = \{1,2,\{1\},\{3\},\{1,2\}\}$  olduğuna göre aşağıdakilerden hangisi doğrudur?

- A)  $\{3\} \subset A$
- B)  $\{1,2\} \in A$
- C)  $3 \in A$
- D)  $2 \subset A$

7. Köfte ve salata ikramlarından en az birinin tercih edildiği 180 yolcunun bulunduğu bir uçakta, 105 yolcu sadece köfte yemeyi, 40 yolcu ise köfte ve salatayı birlikte yemeyi tercih ettiğine göre salata yemeyi tercih eden yolcu sayısı kaçtır?

- A) 15
- B) 35
- C) 50
- D) 75

8.  $A = \{a, 1, \{1\}, \{2\}, \{1,2,a\}\}$  kümesinin alt kümelerinin sayısı kaçtır?

- A) 32
- B) 64
- C) 128
- D) 256

9.  $\begin{cases} 2x + 5y = 1 \\ 3x + 4y = -2 \end{cases}$  denklem sistemini sağlayan

(x,y) ikilisi aşağıdakilerden hangisidir?

- A) (-2,1)
- B) (-2,-1)
- C) (2,-1)
- D) (2,1)

10.  $\{x \mid -1 \leq x < 5\}$  kümesinin belirttiği aralık aşağıdakilerden hangisidir?

- A) [-1,5]
- B) [-1,5)
- C) (-1,5]
- D) (-1,5)

11. %20'si 40 olan sayının %30'u kaçtır?

- A) 45
- B) 50
- C) 60
- D) 80

12.  $\sqrt{45} + 2\sqrt{5} - \sqrt{125}$  işleminin sonucu kaçtır?

- A)  $-\sqrt{5}$
- B) 0
- C)  $\sqrt{5}$
- D)  $2\sqrt{5}$

13. Aşağıdakilerden hangisi bir irrasyonel sayıdır?

- A) -2
- B)  $\frac{3}{5}$
- C)  $\sqrt{8}$
- D)  $\sqrt{16}$

14.  $4 < x < 5$  için  $|x - 5|$  ifadesi aşağıdakilerden hangisine eşittir?

- A) x
- B) 5
- C)  $-x + 5$
- D)  $x - 5$

15.  $3^{3x-1}=9$  denklemini sağlayan x değeri kaçtır?

- A) 0
- B) 1
- C) 2
- D) 3

16.  $6x - \frac{2}{3} \geq \frac{4}{3}$  eşitsizliğinin çözüm kümesi aşağıdakilerden hangisidir?

- A)  $\mathcal{C} = \left\{ x \mid x \geq \frac{1}{9}, x \in \mathbb{R} \right\}$
- B)  $\mathcal{C} = \left\{ x \mid x \leq \frac{1}{3}, x \in \mathbb{R} \right\}$
- C)  $\mathcal{C} = \left\{ x \mid x \geq \frac{1}{3}, x \in \mathbb{R} \right\}$
- D)  $\mathcal{C} = \left\{ x \mid x \leq \frac{1}{9}, x \in \mathbb{R} \right\}$

17.  $|4x-1| \leq 11$  eşitsizliğini sağlayan  $x$  tamsayılarının toplamı kaçtır?

- A) 0
- B) 1
- C) 2
- D) 3

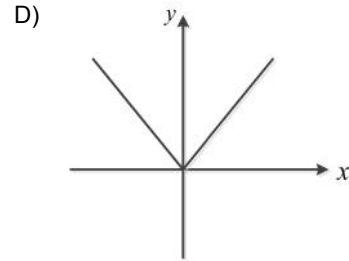
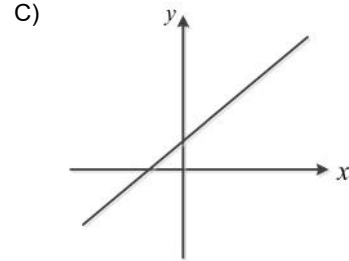
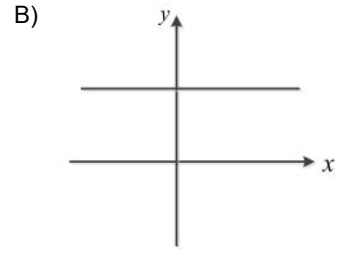
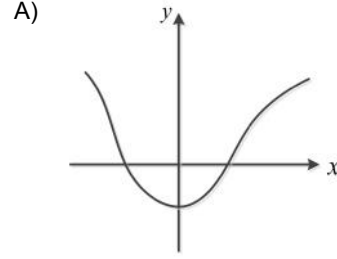
18.  $f(x) = x^2 - 1$  kuralı ile verilen  $f$  fonksiyonunun tanım kümesi  $A = \{-1, 0, 1, 2\}$  olduğuna göre  $f(A)$  görüntü kümesi aşağıdakilerden hangisidir?

- A)  $\{-1, 0, 1, 2\}$
- B)  $\{-1, 0, 3\}$
- C)  $\{-1, 0, 2, 3\}$
- D)  $\{0, 1, 3\}$

19.  $f$  doğrusal fonksiyonu için  $f(1) = 5$  ve  $f(-2) = 11$  olduğuna göre,  $f(3)$  kaçtır?

- A) 1
- B) 2
- C) 3
- D) 4

20. Aşağıdaki grafikleri verilen fonksiyonlardan hangisi bire birdir?



## SINAVDA UYULMASI GEREKEN GENEL KURALLAR

1. Sınava girmek için gerekli belgelerinizin tümünü sınav başlamadan önce sıranızın üzerine bırakınız.
2. Sınav süresince görevlilerle konuşmak, görevlilere soru sormak yasaktır. Aynı şekilde görevlilerin de öğrencilerle yakından ve alçak sesle konuşmaları yasaktır. Gerekli durumlarda görevliler yerinizi değiştirebilir.
3. Size verilen cevap kâğıdının üzerindeki TCKN/Öğrenci no, ad, soyadı, bilgilerini kontrol ediniz, ilgili alanları eksiksiz doldurarak imzalayınız. Bu bilgiler size ait değilse, görevlileri uyararak size ait cevap kâğıdını isteyiniz. Başka öğrenciye ait cevap kâğıdı kullanan öğrencilerin o oturumdaki sınavları geçersiz sayılır.
4. Cevap kâğıdı üzerine test grubunu (A, B, C, D) kodlamayan veya birden fazla kodlama yapan öğrencilerin sınavları geçersiz sayılır.
5. Cevap kâğıdınıza yazacağınız her türlü yazı ve yapacağınız işaretlemeler için koyu yazan siyah kurşun kalem kullanmalısınız. Siyah kurşun kalem dışında farklı bir kalem (tükenmez, mürekkepli ya da renkli vb.) kullanan öğrencilerin sınavları geçersiz sayılır.
6. Cevap kâğıdı üzerinde değişiklik yapmak istediğinizde, iz bırakmayan bir silgi kullanınız. Cevap kâğıdınızı buruşturmayınız, katlamayınız ve üzerine gereksiz hiçbir işaret koymayınız.
7. Cevaplarınızı, cevap kâğıdında ilgili test için ayrılmış olan alana, cevap yerinin dışına taşırmadan işaretleyiniz. Soru kitapçığı üzerinde yapılan işaretlemeler değerlendirmeye alınmayacaktır.
8. Her sorunun tek bir doğru cevabı vardır. Bir soru için birden çok cevabı işaretlerseniz, o soruyu yanlış cevaplamış sayılacaksınız.
9. Soru kitapçığınızı aldığınızda sayfalarına hızlıca bakarak hatalı ya da eksik baskı olup olmadığını kontrol ediniz. Hata/eksik olması durumunda kitapçığının değiştirilmesi için derhâl Salon Başkanına başvurunuz. Sınav görevlileri sınavın başladığını belirtmeden kitapçığınızı tekrar açmayınız.
10. Cevap kâğıdınızda belirtilen kitapçık kodu ile soru kitapçığının kodunu karşılaştırınız. Aynı değilse, sınav görevlilerine durumu bildirerek doğru kitapçığın verilmesini talep ediniz.
11. Soru kitapçığındaki ilgili alanlara ad, soyadı, TCKN/Öğrenci no, sınav salon no, sıra no bilgilerinizi eksiksiz doldurarak imzanızı atınız. Soru kitapçığının sayfalarındaki boş yerleri müsvedde amacıyla kullanabilirsiniz.
12. Aşağıdaki durumlarda sınav görevlileri tarafından Bireysel Sınav İptal Tutanağı düzenlenerek ilgili öğrencilerin sınavları geçersiz sayılır:
  - a) Sınav kurallarına ve sınav görevlilerinin uyarılarına uymamak, sınav düzenini bozmak,
  - b) Kâğıt, kitap, defter, not vb. dokümanları; pergel, açıölçer, cetvel vb. araçları; cep telefonu, bilgisayar, tablet, telsiz, kamera vb. iletişim, depolama, kayıt ve veri aktarma cihazlarını; ruhsatlı veya resmi amaçlı olsa bile silah ve silah yerine geçebilecek nesnelere yanında bulundurmamak,
  - c) Sınav sırasında kalem, silgi vb. araç-gereç paylaşımında bulunmak,
  - d) Cevapları, cevap kâğıdı dışında bir yere yazmak ve sınav salonundan dışarı çıkarmak,
  - e) Sınava girebilmek için gerekli belgeleri eksik olduğu halde sınava katılıp, cevap kâğıdında işaretleme yapmak,
  - f) Sınav görevlileri tarafından öğrencinin kimliğinden şüphe duyulması,
  - g) Cevap kâğıdını ve/veya soru kitapçığını sınav görevlilerine eksiksiz ve sağlam şekilde teslim etmemek, sınav salonu dışına çıkarmak,
  - h) Kopya çekmek, vermek, çekilmesine yardımcı olmak vb. eylemlerde bulunmak,
  - i) Kendisi yerine başkasını sınava sokmak.
13. Sınav bitiminde, cevap kâğıdınızı ve soru kitapçığınızı salon görevlilerine eksiksiz biçimde teslim ediniz. Sınav bittikten sonra gönderilen cevap kâğıtları dikkate alınmayacaktır.

**SINAV KURALLARINA UYDUĞUNUZ İÇİN TEŞEKKÜR EDER, SINAVINIZDA BAŞARILAR DİLERİZ.**