



ANADOLU ÜNİVERSİTESİ  
AÇIKÖĞRETİM FAKÜLTESİ  
BA - AÇIKÖĞRETİM OKULLARI

**T.C. MİLLİ EĞİTİM BAKANLIĞI**  
**Hayat Boyu Öğrenme Genel Müdürlüğü**  
**AÇIKÖĞRETİM LİSESİ – BATI AVRUPA PROGRAMI**  
**2015-2016 ÖĞRETİM YILI I. DÖNEM SINAVI**

5. OTURUM Cumartesi 16:00  
TEST GRUBUNUZ

**A**

**0105**

**ÖĞRENCİNİN**

SOYADI : .....

ADI : .....

TC KİMLİK NO / ÖĞRENCİ NO : .....

SINAV SALON NO : ..... SIRA NO: .....

İMZA: .....

Sınavla ilgili tüm kuralları okudum, anladım, kabul ediyorum.

**SINAV İÇERİĞİ**

Testin Adı	Soru Sayısı	Sayfa No	Testin Adı	Soru Sayısı	Sayfa No
DİN KÜLTÜRÜ VE AHLAK BİLGİSİ 2	20	02	TEMEL DİNİ BİLGİLER 1	20	31
FELSEFE 1	20	04	MANTIK 2	20	33
SEÇMELİ FELSEFE 2	20	06	SANAT TARİHİ 2	20	35
TARİH 3	20	08	SEÇMELİ TARİH 3	20	37
COĞRAFYA 2	20	10	SEÇMELİ DİL VE ANLATIM 5	20	39
COĞRAFYA 4	20	12	SEÇMELİ DİL VE ANLATIM 7	20	41
COĞRAFYA 8	20	14	ALMANCA 3	20	43
DİL VE ANLATIM 5	20	17	İNGİLİZCE 3	20	46
TÜRK EDEBİYATI 4	20	19	FRANSIZCA 3	20	49
TÜRK EDEBİYATI 7	20	21	GİRİŞİMCİLİK 2	20	52
FİZİK 5	20	23	MATEMATİK 1	20	54
FİZİK 6	20	27			

**SINAVDA UYULMASI GEREKEN ÖZEL KURALLAR**

1. Bu kitapçıkta yer alan her bir test için cevaplama süresi **30** dakika, toplam süre **150** dakikadır.
2. Öğrenciler sınavın ilk 30 dakikası ve son 5 dakikası içinde sınavlarını tamamlasalar bile salonu terk edemezler. Sınavın başlamasını izleyen ilk 15 dakikadan sonra hiçbir öğrenci sınava alınmaz.
3. Yanlış cevaplarınız dikkate alınmayacaktır. Bu nedenle kitapçıktaki tüm sorular için size doğru gelen seçeneği işaretleyerek cevapsız soru bırakmamanız yararınıza olacaktır.
4. Sınav sırasında hesap makinesi kullanabilirsiniz. Ancak, kullanacağınız makinede alfabetik tuş takımının (A, B, C, ..., Y, Z), program yapılmasına, saklanmasına ve çalıştırılmasına imkân veren EXE, STORE, RUN vb. tuşlar bulunamaz.

"Sınavda Uygulanacak Genel Kurallar" soru kitapçığının arka sayfasında yer almaktadır. Bu kuralları da mutlaka dikkatlice okuyunuz.

Anadolu Üniversitesi tarafından hazırlanmış olan bu testlerin her hakkı saklıdır. Hangi amaçla olursa olsun, testlerin tamamının veya bir kısmının Anadolu Üniversitesi'nin yazılı izni olmadan kopya edilmesi, fotoğraflarının çekilmesi, herhangi bir yolla çoğaltılması, yayımlanması ya da kullanılması yasaktır. Bu yasağa uymayanlar gerekli cezai sorumluluğu ve testlerin hazırlanmasındaki mali külfeti peşinen kabullenmiş sayılır.

1. Bir toplumda genel kabul gören veya benimsenen her türlü duygu, düşünce, davranış ve kurala ne ad verilir?
  - A) Fikir
  - B) Değer
  - C) Kanun
  - D) Devlet
2. Aşağıdakilerden hangisi, Hz. Musa'ya indirilen ve Yahudilerin dinî öğretileri içerisinde yer alan "on emir" arasında sayılamaz?
  - A) Zina etmeyeceksin.
  - B) Komşuna karşı yalan şahitlik yapabilirsin.
  - C) Çalmayacaksın.
  - D) Anne ve babana hürmet edeceksin.
3. "Örf ve âdetlerin din ile ilişkisi" ile ilgili aşağıdaki ifadelerden hangisi yanlıştır?
  - A) Dinin koymuş olduğu değerlere ters düşen örf ve âdetler terkedilmiştir.
  - B) Müslüman toplumlarda dinin etkisiyle oluşmuş örf ve âdetler bulunmaktadır.
  - C) Örf ve âdetler din ile doğrudan ilişkili değildir.
  - D) Bayramlaşma, dinî gün ve gecelerde yapılan etkinlikler, selamlaşma gibi uygulamaların özünde din vardır.
4. Aşağıdakilerden hangisi Türk milletini bir arada tutan, toplumu birleştiren ortak değerlerden biri değildir?
  - A) Hürriyet ve bağımsızlık
  - B) Vatan ve ülkü birliği
  - C) Bayrak ve İstiklâl Marşı
  - D) Bireycilik ve kendini düşünme
5. Değerlerin ilk oluştuğu ve şekillendiği yer aşağıdakilerden hangisidir?
  - A) Okul
  - B) İşyeri
  - C) Aile
  - D) Dernek
6. Aşağıdakilerden hangisi İslam dininin korunmasını istediği temel ilkelerden biri değildir?
  - A) Aklın korunması
  - B) Namusun korunması
  - C) Yalancının korunması
  - D) Dinin korunması
7. İlk evrensel insan hakları ilkeleri aşağıdakilerden hangisinde yer almaktadır?
  - A) İnsan Hakları Evrensel Beyannamesi
  - B) Magna Carta
  - C) Birleşmiş Milletler Sözleşmesi
  - D) Veda Hutbesi
8. Aşağıdakilerden hangisi laikliğin temel amaçlarından biri değildir?
  - A) Herkesin din ve inanç hürriyetini güvence altına almak
  - B) Devletin din ve mezheplere karşı tarafsız olmasını engellemek
  - C) Dinin istismar edilmesine müsaade etmemek
  - D) Dinde ruhbanlık anlayışının oluşmasını önlemek
9. Avrupa'daki kilise otoritesi aşağıdaki hangi olayla son bulmuştur?
  - A) 1789 Fransız İhtilali
  - B) Yüzyıl Savaşları
  - C) Islahat Fermanı
  - D) Tanzimat Fermanı
10. İlahî dinlerin sonuncusu aşağıdakilerden hangisidir?
  - A) İslam
  - B) Hristiyanlık
  - C) Budizm
  - D) Musevilik

11. "Laik devlet" ile ilgili aşağıdakilerden hangisi **yanlıştır**?

- A) Laik devlet; laiklik ilkesini benimsemiş devlet yönetimi demektir.
- B) Laik devlet; inancının gereğini yerine getirmeyenlere ve bir inanca sahip olmayanlara dayatma yapılması gerektiğini savunur.
- C) Laik devlet; din hürriyetini ana ilke olarak kabul eder.
- D) Laik devlete göre herkes dinini seçme ve onun gereklerini yerine getirme hakkına sahiptir.

12. Atatürk'ün laiklik anlayışıyla ilgili aşağıdaki ifadelerden hangisi **yanlıştır**?

- A) Atatürk'e göre laiklik; sahte dindarlıkla ve büyüçülükle mücadele kapısını açtığı için gerçek dindarlığın gelişmesini sağlamaktadır.
- B) Atatürk'ün laiklik anlayışı, asla dinsizlik değildir.
- C) Taassup hoş görülmektedir.
- D) Atatürk'ün laiklik anlayışı, asla din karşıtlığı değildir.

13. Aşağıdakilerden hangisi Ahilik teşkilatında önemli olan prensiplerden biri **değildir**?

- A) İşinde ve hayatında güvenilir olacaksınız.
- B) Allah'ın emirlerine uyacaksınız.
- C) İftira ve gıybetten sakınmayacaksınız.
- D) İyi kalpli ve cömert olacaksınız.

14. Ebu Hanife'nin **asıl** adı nedir?

- A) Numan Bin Sabit
- B) Cafer Bin Tayyar
- C) Amr Bin As
- D) İmam Maturidi

15. Aşağıdakilerden hangisi Türklerin İslamiyetten önce benimsediği dinlerden biri **değildir**?

- A) Musevilik
- B) Budizm
- C) Zerdüştlük
- D) Manihaizm

16. Hacı Bektaş Veli'nin hikmetli sözlerinin ve manzum olarak söylediği şiirlerinin toplandığı eserin adı nedir?

- A) Divan
- B) Makâlât
- C) Risalet'ün-Nushiyye
- D) Er-Risale

17. Mesnevi kimin eseridir?

- A) Hacı Bektaş Veli
- B) Ahmet Yesevi
- C) Yunus Emre
- D) Mevlana

18. Kitap kenarlarının ve satır aralarının altın tozu, çiçek ve nakışlarla süslenmesine ne ad verilir?

- A) Sülüs
- B) Hüsnühat
- C) Tezhip
- D) Ebru

19. Aşağıdakilerden hangisi Türklerin İslam dinini benimsemesinde etkili olan sebeplerden biri **değildir**?

- A) İslam dininin hak ve gerçek din olması
- B) İslam dininin hoşgörü ve sevgi anlayışı
- C) Müslüman tüccarların dürüstlüğü
- D) Gök Tanrı inancı ile İslam dininin benzeşmemesi

20. Aşağıdakilerden hangisi Türklerin benimsediği Gök Tanrı inancının **temel** esasları arasında **yer almaz**?

- A) Dünyada iyilik edenler öldükten sonra bunun karşılığı olarak iyi bir yere gidecekler ve sonsuz olarak yaşayacaklardır.
- B) Bir ve tek olan Gök Tanrı vardır.
- C) Tanrı yaratan, yaşatan ve koruyandır.
- D) Dünya hayatından sonra hayat yoktur.

1. Aşağıdakilerden hangisi materyalizmi savunan düşünürlerden biri değildir?
- A) Spencer  
B) Demokritos  
C) Hobbes  
D) La Mettrie
2. Evrenin ana maddesinin su olduğunu, her şeyin sudan oluştuğunu ve yine suya dönüşeceğini savunan düşünür aşağıdakilerden hangisidir?
- A) Thales  
B) Demokritos  
C) Platon  
D) Herakleitos
3. Ontoloji terimini ilk kullanan düşünür aşağıdakilerden hangisidir?
- A) Fichte  
B) Wolff  
C) Hegel  
D) Schelling
4. Aşağıdakilerden hangisi Comte'un üç hal yasası evrelerinden biri değildir?
- A) Pozitif Evre  
B) Metafizik Evre  
C) Teolojik Evre  
D) Estetik Evre
5. Felsefenin sözcük anlamı aşağıdakilerden hangisidir?
- A) Bilgelik sevgisi  
B) Zekâ  
C) Akıl  
D) Ahlak
6. Aşağıdakilerden hangisi duyularla kavranamayan, zaman ve mekân dünyasında ver almavan varlıklar üzerinde çalışan bir bilim dalıdır?
- A) Matematik  
B) Kimya  
C) Fizik  
D) Biyoloji
7. Sınırları önceden belirlenmiş bir alanda, bilmek amacıyla genel geçer bilgiye ulaşmak için sistemli olarak belli bir yöntemle elde edilen bilgiye ne ad verilir?
- A) Bilimsel bilgi  
B) Sanat bilgisi  
C) Gündelik bilgi  
D) Teknik bilgi
8. Dış dünyadaki varlıkların madde ve form olmak üzere iki öğeden oluştuğunu savunan düşünür aşağıdakilerden hangisidir?
- A) Gorgias  
B) Protogoras  
C) Aristoteles  
D) Parmenides
9. Bilginin ne olduğunu, nasıl ve ne yollardan elde edildiğini araştıran felsefe dalı aşağıdakilerden hangisidir?
- A) Ontoloji  
B) Epistemoloji  
C) Antropoloji  
D) Rasyonalizm
10. Felsefesini hem emprizme hem de rasyonalizme dayandıran görüş aşağıdakilerden hangisidir?
- A) Entüsyonizm  
B) Pozitivizm  
C) Septisizm  
D) Kritisizm
11. Varlığı fenomen olarak gören ve bundan yola çıkarak, fenomenoloji akımını kuran düşünür aşağıdakilerden hangisidir?
- A) Lamarck  
B) Marx  
C) Husserl  
D) Hegel
12. Varlığın var olup olmadığı, ruh, tanrı, öteki dünya, ölümsüzlük gibi felsefenin ilk ve son sorunlarıyla uğraşan alanı aşağıdakilerden hangisidir?
- A) Ontoloji  
B) Astrofizik  
C) Metafizik  
D) Astroloji
13. Aşağıdakilerden hangisi "bilimsel bilgi"nin özelliklerinden biri değildir?
- A) Olgusal olması  
B) Sübjek olması  
C) Mantıksal olması  
D) Eleştirici olması
14. Aşağıdakilerden hangisi felsefe bilgisinin özelliklerinden biri değildir?
- A) Birleştirici ve bütünleştirici olması  
B) Evrensel olması  
C) Kümülatif olması  
D) Rastlantıya dayanması

15. “Kanun” adlı eser aşağıdakilerden hangisine aittir?

- A) Mevlana
- B) Gazali
- C) Yunus Emre
- D) Birûnî

16. Doğruluğu ve gerçekliği tek yanlı olarak yalnızca eylemlerin sonuçları ile değerlendiren ve onları yalnızca sağladığı “fayda” açısından değerlendiren akım aşağıdakilerden hangisidir?

- A) Emprizm
- B) Rasyonalizm
- C) Nihilizm
- D) Pragmatizm

17. Bilginin kaynağında tecrübenin, deneyin bulunduğunu savunan düşünür aşağıdakilerden hangisidir?

- A) Descartes
- B) Hobbes
- C) Locke
- D) Whitehead

18. “Dünyadaki değişme mekanik olarak değil, diyalektik yasalara göre ani sıçramalar yoluyla gerçekleşir” görüşünü ifade eden düşünür aşağıdakilerden hangisidir?

- A) Husserl
- B) Marx
- C) Comte
- D) Hegel

19. Hiçbir şeyin var olmadığını, hiçbir şeyin bilinemeveceğini savunan felsefi öğretiyeye ne ad verilir?

- A) Ontoloji
- B) Mantıkçılık
- C) Kuramcılık
- D) Nihilizm

20. İnsan zihninden bağımsız bir gerçekliğin var olduğunu savunan felsefi öğretiye ne ad verilir?

- A) Kritisizm
- B) Realizm
- C) Septisizm
- D) Ampirizm

1. Zihinde tasarlanmış, gerçekleşmesi mümkün olmayan düşsel bir toplum biçimini ve siyasi yönetim tarzını ifade eden kavram aşağıdakilerden hangisidir?
- A) Bürokrasi  
B) Ütopya  
C) Anomi  
D) Devlet
2. Aşağıdakilerden hangisi bireyin temel haklarından biri değildir?
- A) Kolektif Haklar  
B) Kişisel Haklar  
C) Toplumsal ve Ekonomik Haklar  
D) Siyasal Haklar
3. Liberalizmi savunan düşünörlere göre, ideal düzenin var olması aşağıdakilerden hangisine bağlıdır?
- A) Toplumun hukuk kurallarından daha çok örf ve geleneklere göre yönetilmesine  
B) Toplumda birey özgürlüklerinin tam olarak yerine getirilmesine  
C) İnsanlar arasında tam eşitliğin gerçekleşmesine  
D) Üretim araçlarının toplumun ortak mülkiyetinde olmasına
4. Aşağıdakilerden hangisi siyaset felsefesinin temel sorularından biri değildir?
- A) Meşruiyetin ölçütü nedir?  
B) Evren yaratılmış mıdır?  
C) En iyi yönetim biçimi hangisidir?  
D) Bürokrasiden vazgeçilebilir mi?
5. Aşağıdakilerden hangisi estetik yargıya bir örnektir?
- A) Bütün canlılar ölümlüdür.  
B) Bırakılan taş yere düşer.  
C) Arkadaşa yardımcı olmak iyi bir davranıştır.  
D) Picasso'nun bütün resimleri güzeldir.
6. "Gerçek estetik yargıların duyusal olmaktan çıkıp düşünsel düzeye çıktığını, kişisel olmaktan çıkıp zorunlu ve genel geçer hale geldiğini" ifade eden Kant, bu görüşüyle aşağıdakilerden hangisini savunmuştur?
- A) Estetik yargıların, kişilere göre farklılık gösterdiğini  
B) Sanatla oyun arasında benzerlik olduğunu  
C) Ortak estetik yargıların var olduğunu  
D) Güzeli olan ile iyi hoş olanın aynı şey olduğunu
7. Farabi'nin, seçimle belirlenen erdemli kişiler tarafından yönetilen ütöpk devlet tasarısını anlattığı eseri aşağıdakilerden hangisidir?
- A) Güneş Ülkesi  
B) Ütopya  
C) Yeni Dünya  
D) Erdemli Şehir
8. Max Weber'in "Liderin sahip olduğuna inanılan olağanüstü niteliklerinden doğar." şeklinde ifade ettiğı otorite türü aşağıdakilerden hangisidir?
- A) Geleneksel  
B) Hukuksal  
C) Karizmatik  
D) Demokratik
9. Kant'ın ahlaki eylem ile ilgili görüşü aşağıdakilerden hangisidir?
- A) Bir eylem, bir ödev duygusuyla yapılmış ise ahlaki eylemdir.  
B) Bir eylemin iyi ya da kötü olduğuna, iyi ideasına uygun olup olmadığına bakılarak karar verilir.  
C) Neyin iyi, neyin kötü olduğu sezgiyle kavranabilir.  
D) Ahlaki eylemin amacı mutluluktur.
10. Estetik yargı ile ilgili aşağıdaki ifadelerden hangisi yanlıştır?
- A) Estetik yargılar bireyseldir.  
B) Estetik yargılar objektiftir.  
C) Estetik yargılar relatiftir.  
D) Estetik yargılar zorunludur.
11. Aşağıdakilerden hangisi ahlak felsefesinin temel sorularından biridir?
- A) İnsan ahlaki eylemde bulunurken özgür müdür?  
B) Meşruiyetin ölçütü nedir?  
C) Var oluşun kaynağı nedir?  
D) Sivil toplum ne anlama gelir?
12. Aşağıdakilerden hangisi ahlak yargılarının özelliklerinden biri değildir?
- A) Yaptırım gücüne sahiptir.  
B) Estetik beğeni ile ilgili yargılardır.  
C) Kişiden kişiye değişebilir.  
D) Değerlerle ilgilidir.

13. Aşağıdakilerden hangisi din felsefesinin temel kavramlarından biri değildir?

- A) İman
- B) Kutsal
- C) Yönetim
- D) Vahiy

14. Sanatçının eserlerini nasıl oluşturduğu ile ilgili aşağıdaki ifadelerden hangisi yanlıştır?

- A) Kendi yeteneği ve hayal gücünü kullanarak oluşturur.
- B) Madde ve biçime ilişkin her şeyle oynayarak oluşturur.
- C) Estetik duygulardan arınarak sanat eserini oluşturur.
- D) Nesnelere taklit ederek oluşturur.

15. Aşağıdakilerden hangisi ideal bir düzenin olabileceğini reddeden "nihilizm" in temsilcilerinden biridir?

- A) Nietzsche
- B) Comte
- C) Platon
- D) Marx

16. Aşağıdakilerden hangisi ahlak felsefesinin kavramlarından biridir?

- A) Güzel
- B) Meşruiyet
- C) Kutsal
- D) Erdem

17. Sartre hangi felsefi yaklaşımın temsilcisidir?

- A) Faydacılık
- B) Sezgicilik
- C) Hazcılık
- D) Varoluşçuluk

18. Panteizme göre, Tanrı'nın evrenden ayrı bir varlığı yoktur. Tanrı evrenin kendisidir. Evrende var olan herşey, aslında bir bütün olarak Tanrı'yı oluşturur. Tanrı her şeydir ve her şey Tanrı'dır. Tanrı, nesnelere dışında değil, içindedir.

**Bu açıklamaya göre Panteizm ile ilgili aşağıdaki yargılardan hangisine ulaşılabilir?**

- A) Tanrı ve evrenin birbirinden bağımsız olduğunu kabul eder.
- B) Tanrı'nın varlığını reddeder.
- C) Tanrı'nın varlığını evren ile özdeşleştirir.
- D) Tanrı'nın varlığının bilinmeyeceğini savunur.

19. I. Mevlana  
II. Yunus Emre  
III. Hacı Bektaş Veli

**Yukarıdakilerden hangileri evrensel ahlak yasasını tasavvuf düşüncesiyle temellendirmiştir?**

- A) Yalnız I
- B) I ve II
- C) II ve III
- D) I, II ve III

20. İnsanın kendi çevresi ile kurduğu ilişkiyi estetik bir ifadeyle sunmasına ne ad verilir?

- A) Bilim
- B) Sanat
- C) Din
- D) Ahlak

1. Osmanlı Devleti ve İran arasında imzalanan ilk antlaşma aşağıdakilerden hangisidir?

- A) Karlofça
- B) Ferhat Paşa
- C) Amasya
- D) Nasuh Paşa

2. Karadeniz'in Türk gölü olmasını sağlayan olay aşağıdakilerden hangisidir?

- A) Kırım'ın Fethi
- B) Mora'nın Fethi
- C) Eflak Seferi
- D) Bosna-Hersek Seferi

3. Moğol İmparatorluğu'nun parçalanması üzerine İran ve çevresinde Hülâgu Han tarafından kurulan devlet aşağıdakilerden hangisidir?

- A) Türkiye Selçuklu
- B) Altın Orda
- C) Memluk
- D) İlhanlı

4. Osmanlı Devleti'nin Avusturya'ya karşı üstünlüğünü sona erdiren antlaşma aşağıdakilerden hangisidir?

- A) Zıtvatoruk
- B) Kasr-ı Şirin
- C) Pasarofça
- D) Küçük Kaynarca

5. IV. Mehmet zamanında yeniçerilerin ayaklanması sonucu otuz kadar devlet adamının idamıyla sonuçlanan olay aşağıdakilerden hangisidir?

- A) Vaka-i Hayriye
- B) Celali ayaklanması
- C) Vaka-i vakvakiye
- D) 31 Mart olayı

6. Osmanlı Devleti'nde padişah kızlarına, annelerine ve eşlerine ayrılan toprak aşağıdakilerden hangisidir?

- A) Malikâne
- B) Paşmaklık
- C) Ocaklık
- D) Yurtluk

7. Osmanlı Devleti'nde eğitim ve öğretim faaliyetlerinin yapıldığı en önemli kurum aşağıdakilerden hangisidir?

- A) Medrese
- B) Mehterhane
- C) Humbarahane
- D) Tophane

8. Osmanlıda el yazması kitapları süsleme sanatına ne ad verilir?

- A) Ciltçilik
- B) Hat
- C) Tezhip
- D) Minyatür

9. Osmanlı Devleti ve Rusya arasında imzalanan ilk antlaşma aşağıdakilerden hangisidir?

- A) Vasvar
- B) Bucaş
- C) Bahçesaray (Çehrin)
- D) Zıtvatoruk

10. Vasvar Antlaşması kimler arasında imzalanmıştır?

- A) Almanya – Rusya
- B) Osmanlı Devleti – İngiltere
- C) Avusturya – Fransa
- D) Osmanlı Devleti – Avusturya



11. XVII. yüzyılda ıslahat hareketlerinde ilk esaslı adımı atan padişah aşağıdakilerden hangisidir?

- A) II. Osman (Genç Osman)
- B) III. Murat
- C) IV. Mehmet
- D) IV. Murat

12. Aşağıdakilerden hangisi Osmanlı bürokrasisini oluşturan kollardan biri değildir?

- A) Seyfiye
- B) İlmiye
- C) Kalemîye
- D) Enderun

13. Aşağıdakilerden hangisi Rönesans'ın nedenlerinden biri değildir?

- A) İstanbul'un fethinden sonra İtalya'ya giden Bizanslı aydınların antik dönem edebiyat ve sanatının yayılmasını sağlamaları
- B) Skolastik düşüncenin güç kazanması
- C) Coğrafi keşiflerle zenginleşen Avrupalıların sanatçı ve bilim insanlarını korumaları
- D) Kâğıt ve matbaanın kullanılmasıyla okuma ve yazma bilenlerin sayısının artması

14. Osmanlılarda ilk para hangi padişah zamanında basılmıştır?

- A) Osman Bey
- B) I. Murat
- C) Çelebi Mehmet
- D) Orhan Bey

15. Aşağıdakilerden hangisi dirlik sisteminin uygulanmasının sağladığı faydalardan biri değildir?

- A) Devlet, üretimi denetim altına almış ve sürekliliğini sağlamıştır.
- B) Hazinesden para harcanmadan her an savaşa hazır bir ordu beslenmiştir.
- C) Dirlik sisteminin uygulanması merkezi otoriteyi zayıflatmıştır.
- D) Araziden daha iyi faydalanılmış ve üretimin artması sağlanmıştır.

16. Osmanlı Devleti'nde 11 yıl boyunca yaşanan Fetret Devrine son veren padişah aşağıdakilerden hangisidir?

- A) Süleyman Çelebi
- B) Mehmet Çelebi
- C) İsa Çelebi
- D) Musa Çelebi

17. Osmanlı Devleti'nin fethettiği yerlere Anadolu'dan getirdiği Türkleri yerleştirmesinin amacı aşağıdakilerden hangisidir?

- A) Fethedilen yerlere Türk-İslam kimliği kazandırmak
- B) Bölgenin yerli halkını göçe zorlamak
- C) Bölgenin nüfusunu artırmak
- D) Bölgedeki üretimi artırmak

18. İstanbul hangi yıl fethedilmiştir?

- A) 1450
- B) 1453
- C) 1459
- D) 1460

19. Aşağıdakilerden hangisi Osmanlı Devleti ile Macarlar arasında 1444 yılında imzalanan Edirne-Segedin Antlaşması'nın maddeleri arasında ver almaz?

- A) Sırbistan bağımsız olacak fakat Osmanlı Devleti'ne vergi verecek
- B) Antlaşma on yıl geçerli olacak
- C) Tuna nehri iki taraf arasında sınır kabul edilecek
- D) Eflak tamamen Osmanlı egemenliğinde kalacak

20. Evliya Çelebi'nin Osmanlı ülkesini baştanbaşa gezerek otuz yıl süren seyahatlerini anlattığı eseri aşağıdakilerden hangisidir?

- A) Keşf-i Zünun
- B) Cihannüma
- C) Seyahatname
- D) Hitay Sefaretnamesi

1. Aşağıdaki illerden hangisi yıllık ortalama sıcaklık değerleri bakımından diğerlerinden **daha sıcaktır**?
- A) Erzurum  
B) Ankara  
C) Antalya  
D) Samsun
2. Ekvatora uzaklıklarının yaklaşık olarak aynı olmasına rağmen Erzurum ve Balıkesir'in ortalama sıcaklıklarının farklı olmasının sebebi aşağıdakilerden hangisidir?
- A) Yükselti  
B) Demografik yapısı  
C) Yüzölçümleri  
D) Bitki örtüsü
3. Aşağıdakilerden hangisi oluşumuna göre ovalardan biri **değildir**?
- A) Karstik ovalar  
B) Tektonik ovalar  
C) Delta ovaları  
D) Kıyı ovaları
4. Obrukların oluşum şekli aşağıdakilerden hangisidir?
- A) Sert rüzgârların aşındırmasıyla oluşur.  
B) Şiddetli yağışlar sonucu oluşur.  
C) Karstik arazilerin mağara tavanlarının çökmesiyle oluşur.  
D) Akarsuların debilerinin yüksek olması ve kuvvetli aşındırma yapmasıyla oluşur.
5. Peribacaları hangi şehirde bulunmaktadır?
- A) Çorum  
B) Kayseri  
C) Nevşehir  
D) Yozgat
6. Aşağıdakilerden hangisi sürekli kuraklık yaşanan bölgelerden biri **değildir**?
- A) Arap Yarımadası  
B) Kuzey Afrika  
C) Batı Avustralya  
D) Kuzey Avrupa
7. Aşağıdaki ülkelerden hangisi Avrupa Birliği'ne üye **değildir**?
- A) Arnavutluk  
B) Hırvatistan  
C) Romanya  
D) Slovenya
8. Aşağıdakilerden hangisi köy altı yerleşme tiplerinden biri **değildir**?
- A) Divan  
B) Kasaba  
C) Mezra  
D) Kom
9. Aşağıdakilerden hangisi küresel ısınmaya **en fazla** sebep olan etkenlerden biridir?
- A) Aşırı yağışlar  
B) Balıkçılık faaliyetleri  
C) Sanayi üretimi sırasında ortaya çıkan atıklar  
D) Tarımsal üretimin artması
10. Akarsuların, eğimin azaldığı yerlerde sağa sola kıvrılarak akmasına ne ad verilir?
- A) Vadi  
B) Menderes  
C) Peribacası  
D) Kırgıbayır
11. Bir ülkenin gümrük hattı dışında sayılan, ülkede geçerli ticari, mali ve ekonomik alanlara ilişkin hukuki ve idari düzenlemelerin uygulanmadığı veya kısmen uygulandığı, sanayi ve ticari faaliyetler için daha geniş teşviklerin tanındığı yerlere ne ad verilir?
- A) Kısıtlı bölge  
B) Değiş-tokuş bölgesi  
C) Yarı yapılandırılmış bölge  
D) Serbest bölge
12. Kıyı yakınındaki adaları kıyıya bağlayan kıyı kordonlarına ne ad verilir?
- A) Obruk  
B) Tombolo  
C) Dolin  
D) Lagün
13. Aşağıdakilerden hangisi, iklimi etkileyen özel konumla ilgili faktörlerden biri **değildir**?
- A) Ülkenin sınırları  
B) Basınç merkezleri  
C) Etrafındaki kara kütleleri  
D) Etrafındaki denizler
14. Aşağıdaki şehirlerden hangisi idari kent özelliğinde **değildir**?
- A) Berlin  
B) Ankara  
C) Madrid  
D) Selanik

15. Aşağıdaki enerji kaynaklarından hangisinin çevreye zararı yoktur?

- A) Taş kömürü
- B) Petrol
- C) Güneş enerjisi
- D) Doğalgaz

16. Aşağıdakilerden hangisi Türkiye’de görülen iklim çeşitlerinden biri değildir?

- A) Karadeniz iklimi
- B) Tropikal iklim
- C) Akdeniz iklimi
- D) Karasal iklim

17. Akdeniz, Ege ve Marmara kıyılarında etkili olan, güneybatıdan esen sıcak ve kuru rüzgâr aşağıdakilerden hangisidir?

- A) Lodos
- B) Karayel
- C) Yıldız
- D) Kible

18. Akarsular tarafından derince yarılmış olan engebeli düzlüklere ne ad verilir?

- A) Plato
- B) Yamaç
- C) Ova
- D) Kanyon

19. Aşağıdakilerden hangisi liman şehri değildir?

- A) İzmir
- B) Sinop
- C) İstanbul
- D) Van

20. Tarla ve bahçe ziraatı olarak topraktan yararlanma, hayvancılık, ormancılık, balıkçılık, madencilik faaliyetlerini konu alan coğrafya dalı aşağıdakilerden hangisidir?

- A) Nüfus coğrafyası
- B) Yerleşme coğrafyası
- C) Tarım coğrafyası
- D) Ticaret coğrafyası

1. Toprağın akarsu, sel suları ve rüzgar gibi dış kuvvetler tarafından aşındırılarak taşınmasına ne ad verilir?
  - A) Torak kayması
  - B) Heyelan
  - C) Erozyon
  - D) Deprem
  
2. Doğal bir liman olmasına rağmen hinterlandı dar olduğu için yeterince gelişmemiş olan liman aşağıdakilerden hangisidir?
  - A) İstanbul
  - B) Mersin
  - C) İzmir
  - D) Sinop
  
3. Aşağıdakilerden hangisi Türkiye'de toplu köy yerleşmelerinin yaygın olduğu yerlerden biri değildir?
  - A) Dağ yamaçları
  - B) Dağ etekleri
  - C) Engebeli araziler
  - D) Vadi tabanları
  
4. Aşağıdakilerden hangisi Türkiye'de görülen geniş yapraklı ağaçlardan biridir?
  - A) Meşe
  - B) Sedir
  - C) Servi
  - D) Ladin
  
5. Aşağıdakilerden hangisi kuraklığa karşı alınması gereken önlemlerden biri değildir?
  - A) Uygun yerlerde barajların inşa edilmesi
  - B) Geri dönüşümün yaygınlaştırılması
  - C) Fosil kökenli yakıtların kullanılması
  - D) Kuraklığa dayanıklı tarım ürünlerinin ekilmesi
  
6. Aşağıdakilerden hangisi Türkiye'de en çok göç veren şehirlerden biri değildir?
  - A) Ağrı
  - B) Mersin
  - C) Bingöl
  - D) Bitlis
  
7. Basra Körfezi'ni Umman Denizi'ne bağlayan boğaz aşağıdakilerden hangisidir?
  - A) Hürmüz Boğazı
  - B) Malaka Boğazı
  - C) Cebelitarık Boğazı
  - D) Bering Boğazı
  
8. Hindistan'a ulaşan ilk denizci kimdir?
  - A) Barthelemy Diaz
  - B) Macellan
  - C) Christoph Colomb
  - D) Vasco de Gama
  
9. Aşağıdakilerden hangisi tuğla ve kiremit üreten tesislerin yoğunlaştığı şehirlerden biri değildir?
  - A) İzmir
  - B) Batman
  - C) Manisa
  - D) Uşak
  
10. Aşağıdakilerden hangisi zonal toprak çeşitlerinden biridir?
  - A) Tuzlu topraklar
  - B) Alüvyal topraklar
  - C) Çernezyom topraklar
  - D) Kolüvyal topraklar
  
11. Aşağıdakilerden hangisi Türkiye nüfusunun yapısal özelliklerini yansıtan kriterlerden biri değildir?
  - A) Nüfusun konuşulan dillere göre dağılımı
  - B) Nüfusun cinsiyete göre dağılımı
  - C) Nüfusun yaş gruplarına göre dağılımı
  - D) Nüfusun eğitim durumuna göre dağılımı

12. Tarihi İpek Yolu'nun başladığı ülke aşağıdakilerden hangisidir?

- A) Moğolistan
- B) Hindistan
- C) Çin
- D) İran

13. Aşağıdakilerden hangisi Akdeniz'e dökülen akarsulardan biri değildir?

- A) Seyhan
- B) Ceyhan
- C) Göksu
- D) Bakırçay

14. Volkanik püskürmelerin en fazla görüldüğü yer aşağıdakilerden hangisidir?

- A) Büyük Okyanus çevresi
- B) Atlas Okyanusu çevresi
- C) Hint Okyanusu çevresi
- D) Akdeniz çevresi

15. Aşağıdakilerden hangisi Türkiye'deki göçü engellemek için alınabilecek önlemlerden biri değildir?

- A) Besi ve ahır hayvancılığını geliştirmek
- B) Tarıma dayalı sanayi kollarını şehirlere taşınmak
- C) Kırsal alanda sosyal hizmetleri arttırmak
- D) Modern tarım yöntemlerini yaygınlaştırmak

16. Birkaç mahallenin tek muhtarlık olarak birleştiği kır yerleşmelerine ne ad verilir?

- A) Divan
- B) Yayla
- C) Mezra
- D) Oba

17. Seramik, porselen, çömlek, tuğla ve kiremit üretiminde kullanılan ana madde aşağıdakilerden hangisidir?

- A) Kırmızı toprak
- B) Çorak
- C) Kahverengi toprak
- D) Kil

18. Aşağıdakilerden hangisi yer kökenli doğal afetlerden biri değildir?

- A) Tsunami
- B) Çığ
- C) Deprem
- D) Volkanik püskürtme

19. Aşağıdakilerden hangisi kent ve kır yerleşimlerini birbirinden ayırmak için kullanılan ölçütlerden biri değildir?

- A) Ulaşım olanakları
- B) Geçim kaynakları
- C) İdari yapı
- D) Nüfus sayısı

20. Aşağıdakilerden hangisi Türkiye'de nüfusun ve yerleşmenin dağılışı etkileyen doğal faktörlerden biri değildir?

- A) Kara ve denizlerin dağılışı
- B) Toprak çeşitliliği
- C) İç ve dış göçler
- D) Jeolojik yapı

1. I. Önemli ulaşım yollarının kontrolü  
II. Bağımsızlık istekleri  
III. Yeraltı zenginliklerinin paylaşımı  
IV. Su kaynaklarının paylaşımı

**Yukarıdakilerden hangileri uluslararası sıcak çatışmalara neden olan beşeri ve ekonomik unsurlar arasında yer alır?**

- A) I ve II
- B) I ve III
- C) II ve III
- D) III ve IV

2. Aşağıdakilerden hangisi Yeşilirmak Havzası Gelişim Projesi kapsamındaki illerden biridir?

- A) Karabük
- B) Zonguldak
- C) Çorum
- D) Bartın

3. Aşağıdakilerden hangisi deniz ve okyanuslarda canlı hayatının devamlılığına katkı yapar?

- A) Dönemsel avlanma yasakları
- B) Radyoaktif atıklar
- C) Endüstriyel balıkçılık
- D) Dip tarama yöntemiyle avlanma

4. Türkiye'nin 2050 yılındaki nüfus piramidi tabanının daralarak arı kovanı şekline benzeyeceği tahmin edilmektedir.

**Yukarıda açıklanan durum aşağıdakilerden hangisinin göstergesidir?**

- A) İşsiz kişi sayısının artacağı
- B) Yaşlı nüfus oranının artacağı
- C) Nüfus artış hızının artacağı
- D) Genç nüfus oranının artacağı

5. I. Uluabat Gölü  
II. Samsam Gölü  
III. Gavur Gölü  
IV. Van Gölü

**Yukarıdakilerden hangileri Türkiye'nin kavbolan sulak alanları arasında yer alır?**

- A) I ve II
- B) I ve III
- C) II ve III
- D) III ve IV

6. Aşağıdakilerden hangisi Greenpeace çevre örgütünün başlıca çalışma alanları arasında yer almaz?

- A) Genleri ile oynanmış organizmaların doğaya bırakılmalarının yaygınlaştırılması
- B) Küresel ısınmanın durdurulması
- C) Temiz ve geri dönüştürülebilir enerjinin kullanılması
- D) Zehirli kimyasalların ortadan kaldırılması

7. I. Evlenme yaşının erkekler ve kızlar için 21'e yükseltilmesi  
II. Çok çocuklu ailelere vergi muafiyetinin getirilmesi  
III. Nüfus artırma politikası ile doğum evi kurulması,  
IV. Gebeliği önleyici ilaç ve araçların satılmasının yaygınlaştırılması

**Yukarıdakilerden hangileri Türkiye'de 1960 yılına kadar izlenen nüfus politikaları arasında yer alır?**

- A) I ve II
- B) I ve III
- C) II ve III
- D) III ve IV

8. Artvin, Bayburt, Giresun gibi illeri kapsayan proje aşağıdakilerden hangisidir?

- A) DAP
- B) ZBK
- C) GAP
- D) DOKAP

9. I. Boğazların bulunması  
II. Dağların uzanış yönü  
III. Zengin petrol kaynakları bölgelerine komşu olması

**Yukarıdakilerden hangileri Türkiye'nin jeopolitik önemini artıran unsurlar arasında yer alır?**

- A) I ve II  
B) I ve III  
C) II ve III  
D) I, II ve III

10. Türkiye'nin nüfusu 1927 yılında 13.6 milyon iken 2010 yılında 73.7 milyona yükselmiştir.

**Aşağıdakilerden hangisi belirtilen yıllar arasında nüfusun hızlı artmasının nedenlerinden biri değildir?**

- A) Yurtdışına işçi göçü ile sağlanan gelirin artması  
B) Ekonomik koşulların iyileşmesi  
C) Sağlık hizmetlerinin gelişmesi  
D) Beslenme koşullarının düzelmesi

11. Birleşmiş Milletler 2010 Dünya İnsani Gelişme Raporu'na göre, aşağıdaki ülkelerden hangisinin İnsani Gelişim Endeksi en yüksektir?

- A) Çin  
B) Meksika  
C) Arjantin  
D) Japonya

12. 1963'te yıkılan Kıbrıs Cumhuriyeti aşağıdaki hangi ülkenin Kıbrıs Adası'ndan çekilmesi sonucu kurulmuştur?

- A) Almanya  
B) İngiltere  
C) Yunanistan  
D) Fransa

13. **Aşağıdakilerden hangisi doğal miraslarımızı korumak için yapılabilecek faaliyetler arasında yer almaz?**

- A) Orman alanlarının geliştirilmesi  
B) Çöplerin geri dönüşüm için ayrılması  
C) Su kaynaklarının aşırı derecede kullanılması  
D) Yenilenebilir enerji kaynaklarının tercih edilmesi

14. I. Dünya Bankası  
II. Avrupa Konseyi  
III. Ekonomik Kalkınma ve İşbirliği Örgütü  
IV. Birleşmiş Milletler

**Yukarıdakilerden hangileri Türkiye'nin üye olduğu ekonomik örgütler arasında yer alır?**

- A) I ve II  
B) I ve III  
C) II ve III  
D) III ve IV

15. **Aşağıdakilerden hangisi Orta Doğu'nun dünya açısından önemli bir bölge olmasının nedenlerinden biri değildir?**

- A) Önemli ticaret yollarının kavşak noktasında bulunması  
B) Dünya petrol rezervlerinin büyük bölümüne sahip olması  
C) Kutsal mekanları barındırması  
D) Su rezervlerinin çok olması

16. **Aşağıdakilerden hangisi günümüzdeki sıcak çatışma bölgelerinden biri değildir?**

- A) Orta Doğu  
B) Kafkasya  
C) Sibirya  
D) Orta Afrika

17. Aşağıdakilerden hangisi, fizibilite çalışmaları tamamlanan projelerin hayata geçirilmesi ile, söz konusu bölgelerde hedeflenen temel gelişmelerden biri değildir?

- A) Bölgeyi sanayi ve hizmet merkezi haline getirmek
- B) Bölge dışına yapılan göçleri artırmak
- C) Bölge içinde sermaye birikimini sağlamak
- D) Kişi başına düşen milli geliri artırmak

18. Orta Doğu petrollerinin çıkış kapısı konumunda olan ve İran Körfezi'ni Umman Denizi'ne bağlayan boğaz aşağıdakilerden hangisidir?

- A) Malakka Boğazı
- B) Macellan Boğazı
- C) Bering Boğazı
- D) Hürmüz Boğazı

19. Ülkelerin gelişmişlik düzeylerini belirtmek için en çok kullanılan ölçüt aşağıdakilerden hangisidir?

- A) Kişi başına düşen milli gelir
- B) Okur-yazar oranı
- C) Doktor başına düşen hasta sayısı
- D) Kişi başına düşen elektrik tüketimi

20. Aşağıdaki barajlardan hangisi GAP kapsamında yer almaktadır?

- A) Hirfanlı
- B) Demirköprü
- C) Kemer
- D) Atatürk



1. Sanat metinleriyle ilgili aşağıdaki ifadelerden hangisi yanlıştır?

- A) Her okunduğunda farklı yorumlanmaz.
- B) Estetik ön plandadır.
- C) Edebiyat biliminin içerisinde yer alır.
- D) Sanat metinlerine edebi metinler de denir.

2. Makale türü Türk edebiyatına hangi dönemde girmiştir?

- A) Fetret
- B) Tanzimat
- C) Islahat
- D) Cumhuriyet

3. Günlük ve anı ile ilgili olarak aşağıdakilerden hangisi söylenemez?

- A) Anıların geçmişe yönelik olduğu
- B) Günlüklerin günü gününe yazıldığı
- C) Günlüklerde özneliğin ağır bastığı
- D) Anılarda anlatılanların belgelere dayandığı

4. Fıkra ile ilgili aşağıdaki ifadelerden hangisi yanlıştır?

- A) Giriş, gelişme ve sonuç bölümlerinden oluşur.
- B) Olaya dayalı bir anlatımı vardır.
- C) Anlatım sizli bizli ve resmidir.
- D) Dil göndergesel işlevinde kullanılır.

5. Bir kişinin söylediğinin aynı şekilde değil de bazı değişiklikler yapılarak anlatılmasına ne ad verilir?

- A) Dolaylı anlatım
- B) Nesnel anlatım
- C) Öznel anlatım
- D) Doğrudan anlatım

6. Sohbet (söyleşi) ile ilgili aşağıdaki ifadelerden hangisi yanlıştır?

- A) Konuşup görüşme anlamına gelir.
- B) Sohbet resmî bir dil ve üslup kullanılır.
- C) Atasözü ve deyimlerden yararlanır.
- D) Sohbet türünde yazılan kitaplar da vardır.

7. Edebiyatımızın gezi türündeki ilk ve en büyük eseri olarak nitelendirilen Seyahatname eserinin yazarı aşağıdakilerden hangisidir?

- A) Pierre Loti
- B) Edip Ahmet Yükneki
- C) Halikarnas Balıkcısı
- D) Evliya Çelebi

8. Aşağıdakilerden hangisi hikâyenin bölümlerinden biri değildir?

- A) Giriş
- B) Değerlendirme
- C) Gelişme
- D) Sonuç

9. Çevresi izleyicilerle çevrili bir alan içinde oynanan, yazılı metne dayanmayan, içinde müzik, raks ve şarkı da bulunan doğaçlama bir oyun olarak tarif edilen tür aşağıdakilerden hangisidir?

- A) Orta oyunu
- B) Müzikal
- C) Komedi
- D) Karagöz

10. Metinlerin sınıflandırılmasına göre, olay çevresinde oluşan edebi metinler aşağıdakilerden hangisinin içinde yer alır?

- A) Sanat metinleri
- B) Öğretici metinler
- C) Gazete çevresinde gelişen metinler
- D) Tarihi metinler

11. Dilekçe ile ilgili aşağıdaki ifadelerden hangisi vanlıştır?

- A) İmzasız dilekçeler geçersiz sayılır.
- B) Anlatım yalın ve duru olmalıdır.
- C) Kâğıt yetmezse arka sayfaya devam edilir.
- D) Sol alt köşeye adres yazılır.

12. Aşağıdakilerden hangisi gölge oyununun (Karagöz-Hacivat) bölümlerinden biri değildir?

- A) Mukaddime
- B) Muhavere
- C) Fasil
- D) Mesnevi

13. Kavuklu ve Pişekâr'ın kahramanları olduğu oyun türü aşağıdakilerden hangisidir?

- A) Destan
- B) Orta oyunu
- C) Trajedi
- D) Köy seyirlik oyunu

14. Aşağıdakilerden hangisi göstermeye bağlı edebi metinlerden biri değildir?

- A) Dram
- B) Karagöz
- C) Mesnevi
- D) Trajedi

15. Anlatmaya bağlı edebi metinler edebiyatımızda aşağıdakilerden hangisiyle başlar?

- A) Destan
- B) Tarihi metinler
- C) Dram
- D) Şiir

16. Gezi yazılarının eski adı aşağıdakilerden hangisidir?

- A) Vakaname
- B) Name
- C) Seyahatname
- D) Hatıra

17. Herhangi bir konu üzerinde yazarın düşüncelerini kesin yargıya varmadan, kurallara bağlamadan görüş ve düşüncelerini serbestçe ortaya koyduğu fikir yazılarına ne ad verilir?

- A) Eleştiri
- B) Fıkra
- C) Makale
- D) Deneme

18. Eleştiri türüyle ilgili aşağıdakilerden hangisi vanlıştır?

- A) Kişinin kendi eleştirisini yansıtan yazılara otokritik adı verilir.
- B) Edebiyatımızdaki ilk eleştiri Namık Kemal'in Tahrib-i Harabat eseridir.
- C) Eleştiri yapan kişi geniş bilgi ve kültür birikimiyle donanımlı olmalı.
- D) Eleştiride eserin bütün özelliklerini ortaya koymak gereksizdir.

19. Aşağıdakilerden hangisi modern Türk tiyatrosu içerisinde ver almaz?

- A) Dram
- B) Orta oyunu
- C) Komedi
- D) Trajedi

20. Atatürk'ün manevi kızı Afet İnan'a yazdığı yazının türü aşağıdakilerden hangisidir?

- A) Özel mektup
- B) Edebi mektup
- C) Günce
- D) Anı

1. Aşağıdakilerden hangisi, çağdaş Türk şiirinde rubai biçimini kullanan şairlerden biri değildir?

- A) Edip Cansever
- B) Nazım Hikmet
- C) Yahya Kemal Beyatlı
- D) Ümit Yaşar Oğuzcan

2. Allah'a yakarışı işleyen ve bağışlanmayı dileyen şiirlere ne ad verilir?

- A) Münacaat
- B) Tevhit
- C) Kaside
- D) Naat

3. Hz. Muhammed'i öven kasidelere ne ad verilir?

- A) Hicviye
- B) Methiye
- C) Münacaat
- D) Naat

4. İlahilerinde Tanrı aşkını, insan sevgisini, hoşgörüyü yansıtmıştır. Ona göre insan, nefesine hâkim olmakla tutkularından kurtularak Tanrı'ya ulaşabilir. Farsçanın yaygın olduğu bir dönemde sade Türkçeye şiirler söylemiştir.

Yukarıda sözü edilen XIII. yüzyılın büyük tasavvuf şairi kimdir?

- A) Yunus Emre
- B) Ahmet Yesevî
- C) Kaygusuz Abdal
- D) Fuzulî

5. Aşağıdakilerden hangisi Eski Türk Edebiyatında romanın yerini tutan uzun kahramanlık hikâyelerinden biridir?

- A) Şikayetnâme
- B) Seyahatnâme
- C) Vakayınâme
- D) Battalnâme

6. Divan-ı Hikmet'in yazarı kimdir?

- A) Yunus Emre
- B) Ahmet Yesevi
- C) Kaşgarlı Mahmut
- D) Yusuf Has Hacib

7. Aşağıdakilerden hangisi Türk halk tiyatrosu içinde ver almaz?

- A) Dram
- B) Orta oyunu
- C) Meddah
- D) Köy seyirlik oyunu

8. Manas Destanı ile ilgili aşağıdaki ifadelerden hangisi yanlıştır?

- A) Dize başlarında aliterasyonlar bulunur.
- B) Kırgızlara aittir.
- C) Dörtükler halinde düzenlenmiştir.
- D) Genellikle 7'li ve 8'li hece ölçüsüyle söylenir.

9. "Bugünden sonra divanda, dergâhta, bargâhta, mecliste, meydanda Türkçeden başka dil kullanılmayacaktır." diyerek bir fermanla Türkçeye sahip çıkmak isteyen devlet adamı aşağıdakilerden hangisidir?

- A) Fatih Sultan Mehmet
- B) Karamanoğlu Mehmet Bey
- C) Kanuni Sultan Süleyman
- D) Yavuz Sultan Selim

10. Lâle Devri'nin İstanbul'unu, doğal güzelliklerini ve eğlence hayatını gazel ve şarkılarında ölümsüzleştiren; millileşme-mahallileşme akımının temsilcisi, klasik edebiyatın usta şairi aşağıdakilerden hangisidir?

- A) Bâkî
- B) Şeyh Galip
- C) Nedim
- D) Şeyhi

11. Terkibibent adlı eseriyle toplumu içinden çürüten yanlış davranışları yeren sanatçı aşağıdakilerden hangisidir?

- A) Ziya Paşa
- B) Kemal Paşa
- C) Mustafa Paşa
- D) Ahmet Vefik Paşa

12. Attila İlhan'ın gazel biçiminin bazı özelliklerinden yararlanarak yazdığı şiiri aşağıdakilerden hangisidir?

- A) Ayrılık Sevdaya Dâhil
- B) Güzel Bir Kıza Gazel
- C) Hasköy Bahriye Kahvesine Gazel
- D) Ben Sana Mecburum

13. Şairin bir kimsenin ölümünden duyduğu üzüntüyü anlattığı kasideye ne ad verilir?

- A) Münacaat
- B) Tevhit
- C) Hicviye
- D) Mersiye

14. Belimizde kılıcımız kirmâni  
Taşı deler mızrağımın temreni  
Hakkımızda devlet etmiş fermanı  
Ferman padişahın dağlar bizimdir.

Dadaloğlu'nun bu dörtlüğü aşağıdakilerden hangisine örnektir?

- A) Öğüt
- B) Güzelleme
- C) Taşlama
- D) Koçaklama

15. XVII. yüzyıl Türk toplumunun sanatını, tarihini, folklorunu, gelenek ve göreneklerini ayrıntılarıyla anlatan, Türk edebiyatında gezi türündeki eserlerin en ünlüsü olarak kabul edilen "Seyahatnâme" kim tarafından yazılmıştır?

- A) Süleyman Çelebi
- B) Kâtip Çelebi
- C) Evliya Çelebi
- D) Çelebi Mehmet

16. Gazel nazım şeklinin en güzel beyitine ne ad verilir?

- A) Matla beyit
- B) Beytül-gazel
- C) Musammat gazel
- D) Makta beyit

17. Âşık Paşa'nın didaktik mesnevisinin adı nedir?

- A) Lütfiyye
- B) Hüsn ü Aşk
- C) Garibnâme
- D) Hayriyye

18. Dört mısralık Divan Edebiyatı nazım şekli aşağıdakilerden hangisidir?

- A) Gazel
- B) Rubai
- C) Mesnevi
- D) Kaside

19. 'Cömertlikte ve yardım etmede akarsu gibi ol' sözü kime aittir?

- A) Âşık Paşa
- B) Nâbi
- C) Fuzulî
- D) Mevlâna

20. Kısa, nükteli ve güldürücü hikâyelere ne ad verilir?

- A) Fıkra
- B) Methiye
- C) Mitos
- D) İlahi

1. "Alemdağ'da Var Bir Yılan" hikâye kitabında gerçek, rüya ve hayali iç içe ele alan yazar aşağıdakilerden hangisidir?
- A) Sabahattin Âli  
B) Reşat Nuri Güntekin  
C) Halide Edip Adıvar  
D) Sait Faik Abasıyanık
2. Varlık dergisinde ölçüsüz, uyaksız, şairanelikten uzak yeni bir şiir akımı başlatan üç şair aşağıdakilerin hangisinde birlikte ve doğru olarak verilmiştir?
- A) Attila İlhan-Orhan Veli Kanık-Melih Cevdet Anday  
B) Orhan Veli Kanık-Melih Cevdet Anday-Oktaç Rifat  
C) Rifat Ilgaz-Enver Gökçe- Oktaç Rifat  
D) Ömer Faruk Toprak-Arif Damar-Ahmet Arif
3. "Akşam Musikîsi" adlı şiir aşağıdaki şairlerden hangisine aittir?
- A) Halit Fahri Ozansoy  
B) Yusuf Ziya Ortaç  
C) Yahya Kemal Beyatlı  
D) Enis Behiç Koryürek
4. Şiirlerinde daha çok "ölüm, kader" gibi temaları işleyen şair aşağıdakilerden hangisidir?
- A) Kenan Hulusi Koray  
B) Muammer Lütfi  
C) Ziya Osman Saba  
D) Vasfi Mahir Kocatürk
5. "Çalığışu" romanı ile yaygın bir ün kazanan, eserlerinde Anadolu kasaba ve şehirlerini fon olarak almış, insanları sorunlarıyla işleyen yazar aşağıdakilerden hangisidir?
- A) Peyami Safa  
B) Reşat Nuri Güntekin  
C) Sait Faik Abasıyanık  
D) Sabahattin Âli
6. Hikâyelerini, "Abdullah Efendi'nin Rüyaları" adı altında toplamış olan ve eserlerinde rüya ve bilinç altına büyük önem veren yazar aşağıdakilerden hangisidir?
- A) Ahmet Hamdi Tanpınar  
B) Cevat Şakir Kabaağaçlı  
C) Peyami Safa  
D) Sabahattin Âli
7. Şiirlerinde daha çok büyük şehrin içinde kaybolmuş insanın kırık, karanlık, karmaşık duygularını anlatan şair aşağıdakilerden hangisidir?
- A) Behçet Necatigil  
B) Asaf Halef Çelebi  
C) Fazıl Hüsnü Dağlarca  
D) Cahit Külebi
8. 2006'da Nobel Edebiyat Ödülü'nü kazanan yazar aşağıdakilerden hangisidir?
- A) Mermi Uygur  
B) Buket Uzuner  
C) Yaşar Kemal  
D) Orhan Pamuk
9. Aşağıdakilerden hangisi, II. Dünya Savaşı yıllarında Türkiye'de yapılan milli eğitim ve kültür alanındaki atılımlardan biri değildir?
- A) Türk ve İslam Ansiklopedilerinin yayımına başlanması  
B) Tercüme bürosunun kurulması  
C) Gelenekçi edebiyatın getirdiği sınırlılıkların devam etmesi  
D) Köy enstitülerinin açılması
10. Hecenin Beş Şairinden biri olup, Anadolu edebiyatının en öne çıkan adıdır. İleri gazetesi adına 1922'de gittiği Ankara'da kalarak Kurtuluş hareketine katılmıştır. Milli ve yerli sanat anlayışına göre kaleme aldığı "Han Duvarları" adlı şiiri vardır.
- Yukarıda sözü edilen şair aşağıdakilerden hangisidir?
- A) Faruk Nafiz Çamlıbel  
B) Yahya Kemal Beyatlı  
C) Mehmet Âkif Ersoy  
D) Mehmet Emin Yurdakul
11. Yazarın herhangi bir konu üzerinde kesin hükümlere varmadan, kendi kişisel görüş ve düşüncelerini anlattığı yazı türü aşağıdakilerden hangisidir?
- A) Fıkra  
B) Röportaj  
C) Deneme  
D) Makale

12. Aşağıdakilerden hangisi iyi bir makalenin özellikleri arasında ver almaz?

- A) Makale yazarının söz oyunlarına başvurmaması
- B) Anlatımın yalın ve yoğun olması
- C) Okuyucu ile sohbet havasında yazılması
- D) Öne sürülen düşüncenin inandırıcı bir biçimde geliştirilmiş olması ve kanıtlanabilmesi

13. Aşağıdakilerden hangisi Türk edebiyatındaki ilk deneme yazarları arasında ver almaz?

- A) Nurullah Ataç
- B) Cenap Şahabettin
- C) Ahmet Rasim
- D) Falih Rıfkı Atay

14. Gezi edebiyatının ilk klasik örneğini veren seyyah aşağıdakilerden hangisidir?

- A) Stendhal
- B) Marco Polo
- C) Dostoyevski
- D) Victor Hugo

15. "Hatıralar" adlı anı kitabında Atatürk'ü anlatan yazar aşağıdakilerden hangisidir?

- A) Ruşen Eşref Ünaydın
- B) Ahmet İhsan Tokgöz
- C) Halit Ziya Uşaklıgil
- D) Ahmet Rasim

16. Bir kimsenin kendi başından geçenleri veya tanık olduğu olayları anlattığı esere ne ad verilir?

- A) Anı
- B) Günlük
- C) Deneme
- D) Gezi yazısı

17. Türkçe yazılan ilk gezi kitabı kime aittir?

- A) Ahmet Haşim
- B) Seydi Ali Reis
- C) Çelebi Mehmet Efendi
- D) Katip Çelebi

18. İtalyan edebiyatında en tanınmış anı yazarı aşağıdakilerden hangisidir?

- A) Manzoni
- B) Fillippo Marinetti
- C) Alberto Moraio
- D) Silvio Pellica

19. "Seyir Defteri" adlı gezi kitabının yazarı aşağıdakilerden hangisidir?

- A) Özcan Yurdakul
- B) Falih Rıfkı Atay
- C) Nedim Gürsel
- D) Yaşar Kemal

20. Ahmet Haşim'in denemeleri aşağıdakilerin hangisinde birlikte ve doğru olarak verilmiştir?

- A) Evrak-ı Eyyam – Tiryaki Sözleri
- B) Erguvan İstanbul – Dağ Şarkısı
- C) Sonbahar Türküsü – Doğa
- D) Gurubahâne-i Laklakan – Bize Göre

2015-2016 AÖÖ-AÖL I. DÖNEM 0105-A

1. I. Uygulanan kuvvet ile  $\Delta t$  zaman aralığının çarpımına itme denir.
- II. Kuvvet- zaman grafiğinin altında kalan alan itmeye eşittir.
- III. Bir cismin kütlesi ile hızının çarpımına momentum denir.

**Yukarıdaki itme ve momentumla ilgili ifadelerden hangileri doğrudur?**

- A) I, II ve III
- B) I ve III
- C) I ve II
- D) Yalnız I

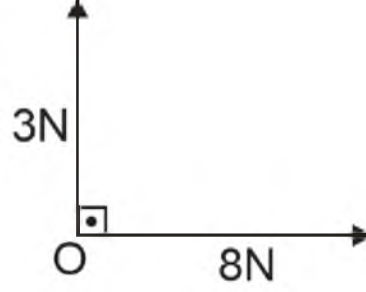
2. Bahçede oynayan bir çocuk elindeki topu düşey doğrultuda yukarı doğru  $20\text{m/s}$  hızla fırlatıyor. Top 2 saniye sonra yerden kaç metre (m) yüksekte olur? ( $g=10\text{m/s}^2$ )

- A) 6
- B) 8
- C) 20
- D) 25

3. Aşağıdakilerden hangisi vektörel büyüklüktür?

- A) Kütle
- B) Enerji
- C) Zaman
- D) Kuvvet

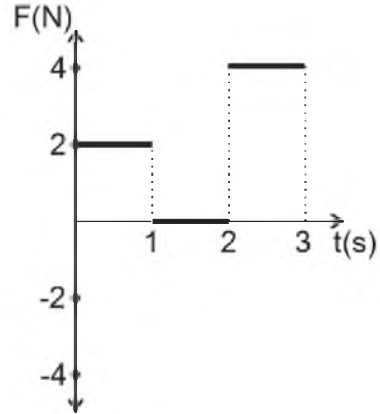
4.



Yukarıda görüldüğü gibi O noktasında bulunan cisme iki kuvvet uygulanmaktadır. Cisme uygulanan bileşke kuvvet kaç newton(N) dur?

- A) 8
- B) 9
- C) 10
- D) 15

5.



Yukarıda durmakta olan  $1\text{kg}$  kütleli bir cisme etki eden kuvvetin zamana bağlı olarak değişimi görülmektedir. 3.saniye sonunda cismin hızı kaç  $\text{m/s}$  dir?

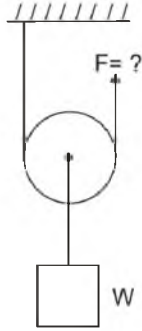
- A) 10
- B) 6
- C) 4
- D) 2

6. I. Hız-zaman grafiğinin eğimi ivmeyi verir.  
II. Hız-zaman grafiğinin altındaki alan yer değiştirmeyi verir.  
III. İvme-zaman grafiğinin altında kalan alan hız değişimini verir.

Hız-zaman ve ivme –zaman grafikleri ile ilgili yukarıdaki ifadelerden hangileri doğrudur?

- A) Yalnız I  
B) Yalnız II  
C) II ve III  
D) I, II ve III

7.



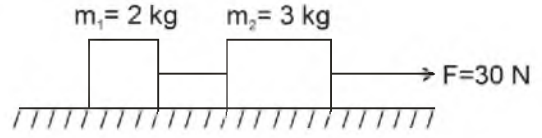
Şekilde görüldüğü gibi 5kg kütleli bir W yükü 10N ağırlığındaki makara ile dengeleniyor. F kuvveti kaç newton (N)dur? ( $g=10\text{m/s}^2$ )

- A) 20  
B) 25  
C) 30  
D) 50

8. Vida adımı 0,2 cm ve kuvvetin uygulandığı çemberin yarıçapı 0,6 cm olan vidanın tahta içinde ilerlemesine karşı koyan kuvvet direngen kuvvete uygulanan kuvvetin kaç katıdır? ( $\pi = 3$  alınız)

- A) 10  
B) 12  
C) 15  
D) 24

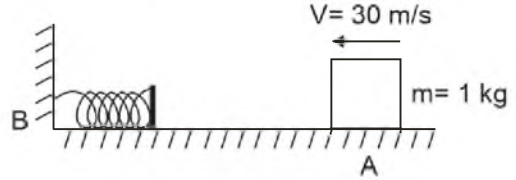
9.



Şekildeki sistemde cisimlerle yüzey arasındaki sürtünme katsayısı 0,4 olduğuna göre, sistemin ivmesi kaç  $\text{m/s}^2$  dir?  $g=10\text{m/s}^2$

- A) 4  
B) 3  
C) 2  
D) 1

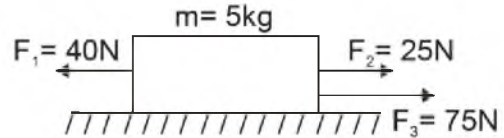
10.



A noktasından 30m/s hızla fırlatılan 1kg kütleli bir blok B noktasına sabitlenmiş olan yayı 2m sıkıştırmaktadır. Yay sabiti kaç N/m dir? (Sürtünmeleri ihmal ediniz.)

- A) 225  
B) 175  
C) 150  
D) 100

11.

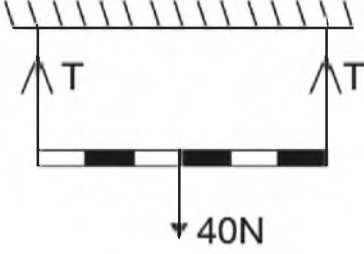


Yukarıdaki şekilde görüldüğü gibi sürtünmesiz bir yüzeyde durmakta olan 5kg kütleli cisme üç kuvvet aynı anda etki etmektedir. Cismin ivmesi kaç  $\text{m/s}^2$  dir?

- A) 8  
B) 6  
C) 10  
D) 12



12.



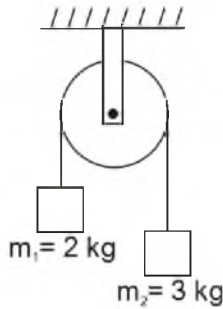
Yukarıdaki şekilde görüldüğü gibi 40N ağırlığındaki düzgün homojen çubuk dengededir. İpteki gerilme kaç newton (N) dur?

- A) 15
- B) 20
- C) 25
- D) 35

13. Hızı 20m/s olan bir otomobil trafik ışıklarına yaklaşırken kırmızı ışığın yanması üzerine düzgün olarak yavaşlamaya başlıyor. Otomobil 4 saniyede yavaşlayarak durduğuna göre duruncaya kadar aldığı yol kaç metre(m) dir?

- A) 40
- B) 30
- C) 20
- D) 10

14.



Yukarıdaki şekilde kütlesi ihmal edilebilir bir makaraya kütleleri 2kg ve 3kg olan iki cisim asılmıştır. Sistemin ivmesi kaç  $m/s^2$  dir?  $g=10m/s^2$  (Sürtünmeler ihmal edilmektedir.)

- A) 1
- B) 2
- C) 3
- D) 5

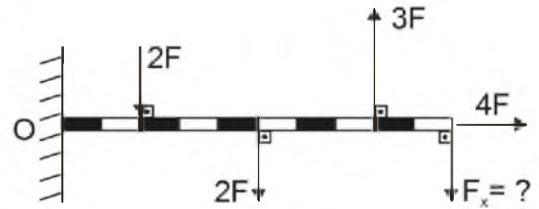
15. Suya göre hızı 1m/s olan bir yüzücü akıntı hızı 2m/s olan bir nehirde akıntı ile aynı yönde 10 saniye yüzüyor. Yüzücünün 10 saniye sonra yüzmeye başladığı noktaya uzaklığı kaç metre (m) olur?

- A) 25
- B) 15
- C) 20
- D) 30

16. İlk hızı 4m/s olan bir araba düzgün olarak  $3m/s^2$  lik ivme ile hızlanıyor. Arabanın 2 saniye sonundaki hızı kaç m/s dir?

- A) 6
- B) 8
- C) 10
- D) 12

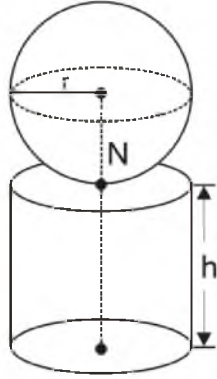
17.



Şekilde ağırlığı 2F olan homojen çubuk O noktası etrafında dönebilmektedir. Bileşke tork sıfır olduğuna göre  $F_x$  kuvveti kaç F dir?

- A) 1
- B) 2
- C) 3
- D) 4

18.



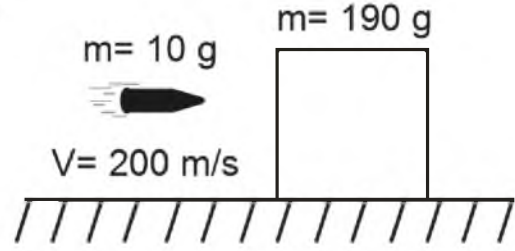
Aynı maddeden yapılmış içi dolu küre ile içi dolu silindir şekildeki gibi birbirlerine bağlanmıştır. Bu şeklin ağırlık merkezinin N noktasında olması için  $r/h$  oranı ne olmalıdır?

- A)  $\sqrt{\frac{2}{3}}$   
 B)  $\sqrt{\frac{3}{8}}$   
 C)  $\frac{3}{5}$   
 D)  $\frac{7}{9}$

19. 20 m yükseklikteki bir apartmanın balkonundan bir çocuk 0,5 kg kütleli bir top düşürmüştür. Top serbest düşme hareketi yaptığına göre, yerden 10m yüksekte hızı kaç m/s olur? ( $g=10\text{m/s}^2$ )

- A)  $10\sqrt{2}$   
 B)  $2\sqrt{3}$   
 C)  $5\sqrt{3}$   
 D)  $2\sqrt{5}$

20.



Kütlesi 10g olan bir mermi sürtünmesiz düzlemde duran kütlesi 190 g olan bir bloğa saplanıyor. Merminin hızı 200m/s olduğuna göre çarpışmadan sonra blok ve merminin ortak hızı kaç m/s dir?

- A) 2  
 B) 6  
 C) 8  
 D) 10

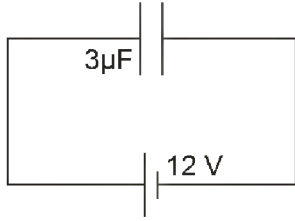
2015-2016 AÖÖ-AÖL I. DÖNEM 0105-A

1. I. Üzerinden akım geçen telin etrafındaki manyetik alan sağ el kuralı ile bulunur.  
 II. Birim yüzeyden dik olarak geçen manyetik alan çizgileri sayısına manyetik akı denir.  
 III. Akım makarasının içerisinde oluşan manyetik alan, sarım sayısı ile doğru orantılıdır.

Manyetik alanla ilgili yukarıdaki ifadelerden hangileri doğrudur?

- A) Yalnız II  
 B) I ve II  
 C) II ve III  
 D) I, II ve III

2.

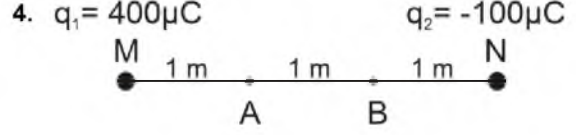


Yukarıdaki şekildeki kondansatörün taşıdığı enerji kaç joule (J) dur? ( $\mu=10^{-6}$ )

- A)  $108 \cdot 10^{-6}$   
 B)  $116 \cdot 10^{-6}$   
 C)  $216 \cdot 10^{-6}$   
 D)  $90 \cdot 10^{-6}$

3. Manyetik alan şiddeti  $10 \text{ wb/m}^2$  olan düzgün manyetik alana dik olarak konulan tek sarımlı bir dikdörtgen çerçevenin kenar uzunlukları  $10 \text{ cm}$  ve  $20 \text{ cm}$  dir. Tel çerçeve  $0,1$  saniyede alana dik paralel hale getiriliyor. Çerçeve de oluşan indüksiyon emk kaç volt(V) dur?

- A) 2  
 B) 4  
 C) 6  
 D) 8



Yukarıdaki şekilde görüldüğü gibi M ve N noktasal yüklerinin A ve B noktalarında oluşturduğu  $V_{AB}$  potansiyel farkı kaç volt(V)dur?

- A) 11,4  
 B) -22,5  
 C) -12,4  
 D) -11,4

5. I. Mikrodalga fırınlarda kullanılır.  
 II. Fotoğraf makinalarının flaşlarında kullanılır.  
 III. Bilgisayarların klavye tuşlarında kullanılır.

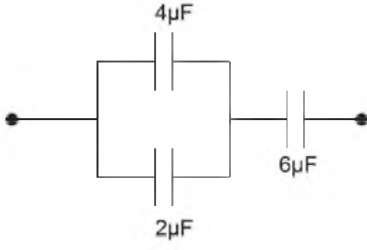
Sığaçların kullanımı ile ilgili yukarıdaki ifadelerden hangileri doğrudur?

- A) Yalnız I  
 B) I ve II  
 C) II ve III  
 D) I, II ve III

6. Bir alternatif akım devresinde akım makarasının indüktansı  $60 \Omega$ , devrenin frekansı  $50 \text{ Hz}$ 'dir. Akım makarasının öz indüksiyon katsayısı kaç henry (H)'dir? ( $\pi=3$ )

- A) 0,4  
 B) 0,3  
 C) 0,2  
 D) 0,1

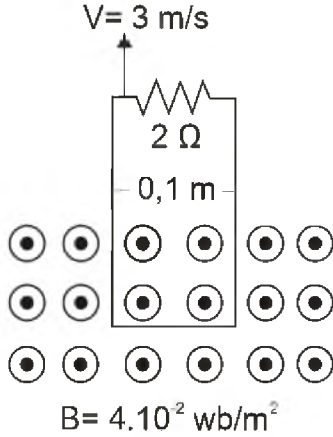
7.



Yukarıdaki şekildeki devre parçasının eşdeğer sığası kaç  $\mu\text{F}$  dir?

- A) 3
- B) 6
- C) 9
- D) 12

8.



Yukarıdaki şekilde görülen 0,1m uzunluğundaki tel çerçeve 3m/s hızla çekilmektedir.  $2\Omega$  değerindeki dirençten geçen indüksiyon akımı kaç amper(A) dir?

- A)  $7 \cdot 10^{-3}$
- B)  $6 \cdot 10^{-3}$
- C)  $5 \cdot 10^{-3}$
- D)  $4 \cdot 10^{-3}$

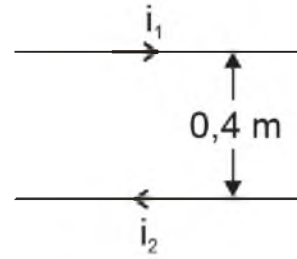
9. Her bir armatürde  $50 \cdot 10^{-6} \text{ C}$ ' luk yük bulunan  $5 \cdot 10^{-6} \text{ F}$  sığalı bir kondansatörün armatürleri arasındaki potansiyel farkı kaç volt(V) tur?

- A) 20
- B) 15
- C) 10
- D) 5

10.  $40 \Omega$  'luk bir direncin uçları arasındaki alternatif gerilimin maksimum değeri  $40\sqrt{2}$  volt (V) dur. Direnç üzerinden geçen akımın etkin değeri kaç amper (A) dir?

- A) 4
- B) 3
- C) 2
- D) 1

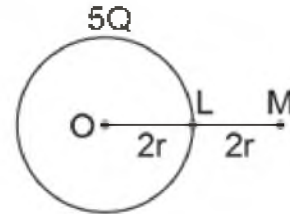
11.



Yukarıdaki şekilde görüldüğü gibi aralarındaki uzaklık 0,4 m olan paralel düz tellerden  $i_1 = 3\text{A}$  ve  $i_2 = 4\text{A}$  büyüklüğünde akım geçmektedir. Tellerin 1 metre uzunluğundaki parçalarına uyguladıkları manyetik kuvvet kaç newton (N) dur? ( $K = 10^{-7} \text{ N/A}^2$ )

- A)  $3 \cdot 10^{-6}$
- B)  $6 \cdot 10^{-6}$
- C)  $9 \cdot 10^{-6}$
- D)  $12 \cdot 10^{-6}$

12.



Şekilde görüldüğü gibi sabit yükü  $+Q$  olan  $2r$  yarıçaplı bir küre yukarıdaki şekildeki gibi yerleştiriliyor L ve M noktalarındaki elektrik alanlarının oranı nedir?

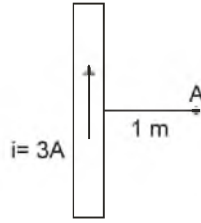
- A) 4
- B) 3
- C) 2
- D) 1

13. I. Elektrik alan pozitif birim yüke etki eden elektriksel kuvvettir.  
 II. Elektrik alanın yüklü parçacık üzerine yaptığı iş elektriksel potansiyel enerji olarak tanımlanır.  
 III. İletken ve yüklü bir kürenin içindeki elektrik alan sıfırdır.

**Elektrik alanla ilgili yukarıdaki ifadelerden hangileri doğrudur?**

- A) Yalnız I  
 B) I ve II  
 C) II ve III  
 D) I, II ve III

14.



**Yukarıdaki şekilde görüldüğü gibi içinden 3A akım geçen telin A noktasında oluşturduğu manyetik alanın büyüklüğü kaç  $\text{wb/m}^2$  dir? ( $K=10^{-7} \text{ N/A}^2$ )**

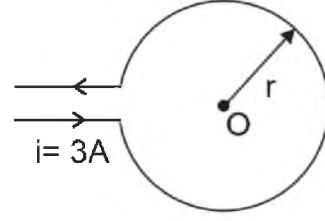
- A)  $2 \cdot 10^5$   
 B)  $9 \cdot 10^{-7}$   
 C)  $6 \cdot 10^{-7}$   
 D)  $4 \cdot 10^{-7}$

15. I. Sığaçlar aralarında yalıtkan ortam olan iki iletkenden oluşur.  
 II. Sığaçlar elektrik potansiyel enerjiyi ve elektrik yükünü depolayan araçlardır.  
 III. Seri bağlı sığaçlarda tüm plakaların yükleri birbirine eşit olur.

**Sığaçlarla ilgili yukarıdaki ifadelerden hangileri doğrudur?**

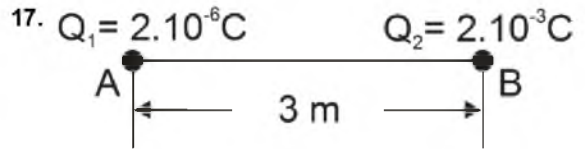
- A) Yalnız I  
 B) I ve II  
 C) II ve III  
 D) I, II ve III

16.



**Yukarıdaki şekilde görüldüğü gibi sayfa düzleminde bulunan r yarıçaplı halkanın O noktasında oluşturduğu manyetik alan büyüklüğü ve yönü nedir? ( $K=\mu_0/4\pi$ ,  $\pi=3$ )**

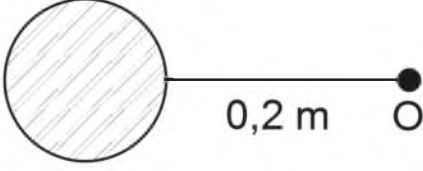
- A)  $18Ki/r$   $\odot$   
 B)  $18Ki/r$   $\otimes$   
 C)  $10Ki/r$   $\otimes$   
 D)  $10Ki/r$   $\odot$



**Yukarıdaki şekilde görüldüğü gibi sabit A ve B noktasal yükleri arasındaki elektriksel kuvvet kaç newton(N) dur? ( $K=9 \cdot 10^9 \text{ Nm}^2/\text{C}^2$ )**

- A) 2  
 B) 4  
 C) 5  
 D) 6


18.  $Q = 16\mu\text{C}$



Yukarıdaki şekle göre noktasal Q yükünün O noktasında oluşturduğu elektrik alan kaç N/C dur? ( $k=9 \cdot 10^9 \text{ N.m}^2/\text{C}^2$ )

- A)  $36 \cdot 10^5$
- B)  $18 \cdot 10^5$
- C)  $9 \cdot 10^5$
- D)  $6 \cdot 10^5$

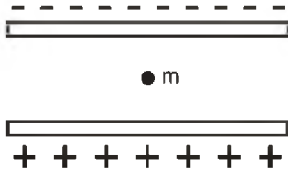
20.  $Q_1 = 30\mu\text{C}$   $Q_2 = 10\mu\text{C}$



Yukarıdaki şekildeki sistemin elektriksel potansiyel enerjisi kaç joule(J) dur? ( $k=9 \cdot 10^9 \text{ Nm}^2/\text{C}^2$ )

- A) 2,0
- B) 3,0
- C) 6,0
- D) 9,0

19.



Yukarıdaki şekilde görüldüğü gibi aralarındaki uzaklık 11 cm olan iletken özdeş paralel levhalar arasındaki potansiyel farkı 220 V olduğunda yükü  $+2 \cdot 10^{-3} \text{ C}$  olan parçacık askıda kalıyor. Parçacığın kütlesi kaç kg dır? ( $g=10\text{m/s}^2$ )

- A) 0,8
- B) 0,6
- C) 0,4
- D) 0,2

1. Peygamberimiz bir hadisinde 124 bin (diğer bir rivayette 224 bin) peygamber gönderildiğinden bahsetmektedir. Aşağıdakilerden hangisi Hz. Muhammed'in bu hadisine delil oluşturur?

- A) Farklı toplumlarda benzeşen inançlar ve ahlâk esaslarının olması
- B) Her toplumun birbirinden farklı diller konuşması
- C) Peygamberlerin pek çok konuda örnek olması
- D) İnsanların ırklara ayrılması

2. Aşağıdakilerden hangisi Hristiyanlık ve İslamiyet'in ittifak ettiği hususlardan biri değildir?

- A) Hz. İsa'nın annesi Meryem'dir.
- B) Hz. İsa çarmıha gerilerek öldürülmüştür.
- C) Ahiret hayatında ceza ve mükâfat vardır.
- D) Hristiyanlık havariler yoluyla yayılmıştır.

3. Aşağıdakilerden hangisi dinin insana sağladığı faydalardan biri değildir?

- A) Ölümle yok olma endişesini gidermesi
- B) Anlam anlayışına cevap vermesi
- C) İnsanın kendine olan güvenini artırması
- D) Sınırsız bir özgürlük sağlaması

4. Tanrısal, mutlak bilgiye sezgiyle ulaşabileceğini ileri süren görüş aşağıdakilerden hangisidir?

- A) Agnostizm
- B) Monoteizm
- C) Gnostizm
- D) Politeizm

5. Dinin temel amacı nedir?

- A) İnsanların dünyada ve ahirette mutlu olmalarını sağlamak
- B) İnsanların birbirleriyle yardımlaşmalarını sağlamak
- C) İnsanları kötülüklerden korumak
- D) İnsanların iyi ve kötüyü ayırt etmelerini sağlamak

6. Hinduizm'de, kast sistemi dışında kalan ve hiçbir hakkı bulunmayan gruba ne ad verilir?

- A) Karma
- B) Yoga
- C) Parya
- D) Ganj

7. I. Tanrı inancının olması  
II. Ölüm ötesiyle ilgili görüşünün olması  
III. İnananlarının belli sorumluluklarının olması

Yukarıdakilerden hangileri bir inancın din sayılabilmesi için gerekli unsurlardır?

- A) Yalnız I
- B) Yalnız III
- C) II ve III
- D) I, II ve III

8. Allah'ın subuti sıfatlarından hangisi O'nun herşeyi işittiğini ifade eder?

- A) Semi
- B) Kudret
- C) İrade
- D) Tekvin

9. Aşağıdakilerden hangisi inanç-ibadet ilişkisi olarak değerlendirilemez?

- A) Allah'a iman - Namaz kılma
- B) Peygamberlere iman - Sünnetlerini yerine getirme
- C) Meleklerle iman - Kötü davranışlardan kaçınma
- D) Ahirete iman - Mahşer meydanında toplanma

10. Aşağıdakilerden hangisi Allah'ın zati sıfatlarından biri değildir?

- A) Kıdem
- B) Kudret
- C) Vahdaniyet
- D) Kıyam bi nefsihi

11. "Ba's" kavramı aşağıdakilerden hangisini ifade eder?

- A) Sırat köprüsünden geçişi
- B) Sur'a birinci üflediği
- C) Öldükten sonra dirilişi
- D) Sevap ve günahın tartılışını

12. "Yaratılmışı hoş gör, yaratandan ötürü" (Yunus Emre)

**Bu sözü kendisine ilke edinen bir kişiden aşağıdaki davranışlardan hangisini yapması beklenir?**

- A) Canlılara eziyet etmesi
- B) İnsanları küçümsemesi
- C) Başkalarını çektişirmesi
- D) Kötülere merhamet etmesi

13. Tabiat olaylarının oluşumu ve rızıkların dağıtımı ile görevli olan melek aşağıdakilerden hangisidir?

- A) Cebrail
- B) Mikail
- C) Azrail
- D) İsrail

14. İncil'in yazılışı ile ilgili aşağıdaki ifadelerden hangisi doğrudur?

- A) Hz. İsa tarafından yazılan İncil nüshaları kaybolmuştur.
- B) Hz. İsa, Havarilerine yazdırmıştır.
- C) Hz. İsa'ya yazılı levhalar halinde verilmiştir.
- D) Hz. İsa'dan sonra yazılmıştır.

15. Aşağıdakilerden hangisi namazın içindeki farzlardan (kılınış şartlarından) biridir?

- A) Setr-i avret
- B) İstikbal-i kible
- C) İftitah tekbiri
- D) Niyet

16. I. Namaz kılmak  
II. Oruç tutmak  
III. Zekât vermek  
IV. Hacca gitmek

**Yukarıdaki ibadetlerden hangileri hem bedeni hem de mali olarak yapılır?**

- A) Yalnız III
- B) Yalnız IV
- C) I ve II
- D) II ve III

17. Kur'an'da "Beytu-I Atik" ve "Beytu-I Mamur" olarak adlandırılan yer aşağıdakilerden hangisidir?

- A) Kâbe
- B) Beytu-I İzzet
- C) Mescid-i Nebi
- D) Beytu-I Maktis

18. Aşağıdakilerden hangisi ibadetin ilkelerinden biri **değildir**?

- A) İbadet, içtenlikle yapılmalıdır.
- B) İnsan ibadetlerini Allah rızası için yapmalı, karşılığını O'ndan beklemelidir.
- C) İbadet, başkalarının zoruyla da olsa mutlaka yapılmalıdır.
- D) İbadet, hür iradeyle isteyerek yapılmalıdır.

19. "Sübhanek" duasının hangi bölümü, vakit namazlarında okunmadığı halde cenaze namazında okunur?

- A) Veteâla ceddük
- B) Vecelle senâük
- C) Vebihamdik
- D) Vetebâra kesmuk

20. Öğle namazı kaç rek'attır?

- A) 10
- B) 8
- C) 5
- D) 4



1. Doğruluğu açıkça belli olan önermelere ne ad verilir?

- A) Eşitlik
- B) Tanım
- C) Aksiyom
- D) Tutarlılık

2. "Kar yağarsa okullar tatil olmaz." önermesi, önermeler mantığında nasıl sembolleştirilir?

- A)  $q \Rightarrow p$
- B)  $\sim p \Rightarrow q$
- C)  $p \Rightarrow \sim q$
- D)  $p \Leftrightarrow \sim q$

3. Aşağıdaki önermelerden hangisi bir totolojidir?

- A)  $p \Rightarrow p$
- B)  $p \vee p$
- C)  $p \wedge \sim p$
- D)  $\sim p \Leftrightarrow p$

4. Önerme ile ilgili aşağıdaki ifadelerden hangisi doğrudur?

- A) Her tutarsız önerme geçerlidir.
- B) Bir önermenin doğruluk tablosundaki tüm yorumlamaları yanlışsa önerme tutarsızdır.
- C) Her tutarlı önerme geçerlidir.
- D) Bir önermenin tutarlı olabilmesi için doğruluk tablosundaki tüm yorumlamaların doğru olması gerekir.

5. "Ya kilo alacaksın ya da az yemek yiyeceksin." önermesi, önermeler mantığında nasıl sembolleştirilir?

- A)  $p \wedge q$
- B)  $p \Rightarrow q$
- C)  $p \Leftrightarrow q$
- D)  $p \vee q$

6. "Ceren sevimli ve akıllıdır." önermesi niceleme mantığında nasıl sembolleştirilir?

- A)  $\forall xFx$
- B)  $Fa \Rightarrow Ga$
- C)  $Fa \wedge Ga$
- D)  $\exists x \wedge Ga$

7. Aşağıdaki önermelerden hangisi sembolik mantıkta bileşik bir önermedir?

- A) Bütün insanlar akıllıdır.
- B) Mozart filozof değildir.
- C) Mehmet çok çalışkandır.
- D) Zeynep yaşlıdır.

8. Aşağıdaki önermelerden hangisi ikili yüklemli bir önermedir?

- A) Özlem başarılıdır.
- B) Orhan ile Ahmet arkadaştır.
- C) Mustafa, Taner ile Semih'ten uzundur.
- D) Fuat, piyano çalar.

9. Aşağıdaki önerme çiftlerinden hangisi birbirleriyle tutarlıdır?

- A)  $\forall xFx, \sim Fa$
- B)  $\sim \exists xFx, Fa$
- C)  $Ga, \sim Ga$
- D)  $\exists xGx, \exists x \sim Gx$

10. Aşağıdaki önermelerden hangisi geçerlidir?

- A)  $\exists xGx \wedge \exists xHx$
- B)  $\forall xFx \vee \forall xGx$
- C)  $\forall xFx \vee \sim \forall xFx$
- D)  $\sim (\exists xGx \rightarrow \forall xGx)$

11. Üç değerli mantığa göre aşağıdakilerden hangisi doğrudur?

- A) p "belirsiz" ve q "belirsiz" ise,  $p \rightarrow q$  "belirsiz" olur.
- B) p "doğru" ve q "belirsiz" ise  $p \rightarrow q$  "yanlış" olur.
- C) p "yanlış" ve q "yanlış" ise,  $q \vee q$  "yanlış" olur.
- D) p "belirsiz" ve q "belirsiz" ise  $p \wedge q$  "yanlış" olur.

12. Kiplik mantığına göre aşağıdaki önermelerden hangisi bütün mümkün dünyalarda yanlıştır?

- A) Anıtkabir Ankara'dadır veya Anıtkabir Ankara'da değildir.
- B) Menekşe mordur ve menekşe mor değildir.
- C) Dikdörtgen dört kenarlıdır.
- D) Altın sarı değildir.

13. Aşağıdaki önermelerden hangisi p:Yanlış, q:Yanlış kabul edildiğinde "Doğru" değerini alır?

- A)  $\sim p \Rightarrow q$
- B)  $p \vee q$
- C)  $p \Leftrightarrow q$
- D)  $p \wedge q$

14.  $p \vee q$  önermesinin eşdeğeri olan önerme aşağıdakilerden hangisidir?

- A)  $\sim(\sim p \wedge \sim q)$
- B)  $p \Rightarrow q$
- C)  $p \Leftrightarrow q$
- D)  $p \wedge q$

15. "İnsanlar paylaşmayı severlerse rahat diyalog kurarlar hem de dürüst ilişkiler yaşarlar." önermesinde kaç tane önerme eklemi ve bileşen kullanılmıştır?

- A) Dört önerme eklemi, dört bileşen
- B) İki önerme eklemi, üç bileşen
- C) Üç önerme eklemi, bir bileşen
- D) Bir önerme eklemi, bir bileşen

16.  $\sim\exists xGx$  önermesinin eşdeğeri aşağıdakilerden hangisidir?

- A)  $\sim\forall xGx$
- B)  $\exists xGx$
- C)  $\sim\exists x\sim Gx$
- D)  $\forall x\sim Gx$

17. "Uçan halı vardır." önermesi varlık mantığında nasıl sembolleştirilir?

- A)  $a \equiv b$
- B)  $E! a$
- C)  $\square p$
- D)  $a \equiv a$

18. Aksiyomlardan türetilmiş olan önermelere ne ad verilir?

- A) Teorem
- B) Analiz
- C) Eksik tümevarım
- D) Tam tümevarım

19. Aşağıdakilerden hangisi mantık felsefesinin amaçlarından biri değildir?

- A) Mantığın ilkelerini sorgulamak
- B) Mantığın kavramlarını sorgulamak
- C) Mantık değişmezleri ile ilgili sorunları araştırmak
- D) Mantığı gözlem ve deneye dayandırmanın yollarını araştırmak

20. Kiplik mantığına göre, "üç artı altının dokuz etmesi zorunludur ama ısınan havanın yükselmesi mümkündür." önermesinin sembolleştirilmiş hali aşağıdakilerden hangisidir?

- A)  $\square q \wedge \diamond p$
- B)  $\square p \rightarrow \diamond p$
- C)  $\diamond p \leftrightarrow \square q$
- D)  $\diamond p \wedge \square q$

1. Aşağıdakilerden hangisi "Orhun Anıtları"ndan biri değildir?
- A) Tonyukuk  
B) Bilge Kağan  
C) Oğuz Kağan  
D) Kültigin
2. Pazırık halısı aşağıdaki uygarlıklardan hangisine aittir?
- A) Pers  
B) Göktürk  
C) Uygur  
D) Hun
3. Göktürklerde soylu ve hükümdarların mezarlarına veya anıtlarına dikilen insan figürlü taştan heykele ne isim verilir?
- A) Büst  
B) Kurgan  
C) Dikili taş  
D) Balbal
4. Hun sanatına ait eserler ilk olarak nerelerde bulunmuştur?
- A) Müzeler  
B) Özel koleksiyonlar  
C) Kurganlar  
D) Çadırlar
5. İstanbul Nusretiye Camisi hangi üslupta inşa edilmiştir?
- A) Neoklasik Üslup  
B) Seçmeci (Eklektik) Üslup  
C) Türk Barok Üslubu  
D) Türk Ampir Üslubu
6. Eyvanlı cami tipi ilk kez aşağıdaki Türk devletlerinden hangisi döneminde uygulanmıştır?
- A) Büyük Selçuklular  
B) Osmanlılar  
C) Gazneliler  
D) Anadolu Selçukluları
7. Aşağıdakilerden hangisi Mimar Sinan'ın "kalfalık eserim" diye tanımladığı yapıdır?
- A) İstanbul Şehzade Camisi  
B) İstanbul Süleymaniye Camisi  
C) Edirne Selimiye Camisi  
D) İstanbul Şehzade Mehmet Medresesi
8. Aşağıdakilerden hangisi İslam sanatının ilk cami tipidir?
- A) Küfe planlı  
B) Merkezi planlı  
C) Transept planlı  
D) Kare planlı
9. Topkapı Sarayı'nın inşasına hangi padişah döneminde başlanmıştır?
- A) Dördüncü Murat  
B) Fatih Sultan Mehmet  
C) Kanuni Sultan Süleyman  
D) Yavuz Sultan Selim
10. Aşağıdakilerden hangisi günümüze ulaşmış en eski Osmanlı medresesidir?
- A) Bursa Yeşil Medrese  
B) İstanbul Rüstem Paşa Medresesi  
C) İznik Süleyman Paşa Medresesi  
D) Bursa Muradiye Medresesi
11. Türk minyatür sanatının en eski örnekleri hangi döneme aittir?
- A) Osmanlı  
B) Göktürk  
C) Anadolu Selçuklu  
D) Uygur
12. 16.Yüzyılda Kur'anların yazılmasında kullanılan yuvarlak karakterli yazı çeşidi aşağıdakilerden hangisidir?
- A) Sülüs  
B) Ta'lik  
C) Divani  
D) Siyakat
13. Aşağıdakilerden hangisi Anadolu Selçuklu dönemine ait bir minyatürlü el yazmasıdır?
- A) İskendername  
B) Varka ile Gülşah  
C) Şehinşahname  
D) Cerrahiye-i İlhaniye
14. Padişahların imzası niteliğinde olan hat sanatı eserine ne isim verilir?
- A) Tuğra  
B) Celi  
C) Rik'a  
D) Sülüs

15. Ahmedi tarafından resmedilen ve Osmanlı padişahlarının resimli ilk tarihi olan eser aşağıdakilerden hangisidir?

- A) Şehinşahname
- B) İskendername
- C) Cerrahiye-i İlhaniye
- D) Süleymanname

16. Aşağıdakilerden hangisi Cumhuriyet dönemi heykeltıraşlarından biri değildir?

- A) Ratip Aşit Acudoğlu
- B) Kenan Yontuç
- C) Bedri Rahmi Eyüboğlu
- D) Zühdü Müridoğlu

17. Cumhuriyet döneminin ilk sanatçı topluluğu aşağıdakilerden hangisidir?

- A) Yeniler Grubu
- B) D Grubu
- C) Müstakil Ressam ve Heykeltıraşlar Birliği
- D) Onlar Grubu

18. Yeniler Grubu içerisinde yer alan ve toplumsal gerçekçilik anlayışı doğrultusunda ele aldığı iri gözlü köylü kadın portreleriyle tanınan Türk ressam aşağıdakilerden hangisidir?

- A) Abidin Dino
- B) Bedri Rahmi Eyüboğlu
- C) Nurullah Berk
- D) Nuri İyem

19. Anıtkabir'in mimarları aşağıdakilerden hangisinde birlikte verilmiştir?

- A) Emin Onat – Vedat Tek
- B) Emin Onat – Orhan Arda
- C) Vedat Tek – Mimar Kemalettin
- D) Mimar Kemalettin – Orhan Arda

20. Çeşitli hayvan resimleriyle tanınmakla birlikte özellikle at başları üzerine yoğunlaşan Türk ressam aşağıdakilerden hangisidir?

- A) Orhan Peker
- B) Bedri Rahmi Eyüboğlu
- C) Osman Hamdi Bey
- D) Nuri İyem

1. Osmanlı Devleti'nde ilk daimi ve düzenli ordu hangi padişah zamanında kurulmuştur?

- A) I. Murat
- B) Osman Bey
- C) Orhan Bey
- D) Yıldırım Bayezit

2. Osmanlı Devleti'nde tımar sistemi hangi padişah zamanında kurulmuştur?

- A) I. Murat
- B) Osman Bey
- C) Orhan Bey
- D) Mehmet Çelebi

3. Divan-ı hümayun hangi padişah zamanında kurulmuştur?

- A) Yıldırım Bayezid
- B) Mehmet Çelebi
- C) Orhan Bey
- D) Osman Bey

4. Osmanlı Devleti'nde mülk topraklarından gayrimüslümlere ait olanına ne ad verilirdi?

- A) Öşrî toprak
- B) Haracî toprak
- C) Mirî toprak
- D) Malikâne

5. Yıldırım Bayezit'in Timur'a esir düştüğü savaş aşağıdakilerden hangisidir?

- A) Ankara
- B) Niğbolu
- C) Sırpsındığı
- D) Koyunhisar

6. Osmanlı Devleti'nin ilk defa top kullandığı savaş aşağıdakilerden hangisidir?

- A) Çirmen
- B) II. Kosova
- C) Sırpsındığı
- D) I. Kosova

7. Aşağıdakilerden hangisi Sırpsındığı Savaşı'nın sonuçlarından biri değildir?

- A) Eflak ve Boğdan'ın Osmanlı üstünlüğünü tanınması
- B) Balkanlar'daki Türk fetihlerinin hızlanması
- C) Macarların Balkanlar'daki etkisinin azalması
- D) Edirne ve Batı Trakya'nın daha emniyetli hale gelmesi

8. Devşirme Sistemi ile ilgili aşağıdaki ifadelerden hangisi yanlıştır?

- A) Osmanlı ülkesinde yaşayan Hristiyan ailelerin sağlık ve kuvvetli olan erkek çocuklarından biri alınırdı.
- B) Bir aileden birden fazla çocuk alınmazdı.
- C) Üç – beş yılda bir yapılır, sekiz ve on yaş arası çocuklar devşirilirdi.
- D) Ailelerden alınan çocukların din, gelenek, adet ve görenekleri değiştirilmezdi.

9. Moğol İmparatorluğu'nun parçalanmasından sonra Cengiz Han'ın torunu Batu Han tarafından Karadeniz ve Hazar Denizi'nin kuzeyinde kurulan devlet aşağıdakilerden hangisidir?

- A) Memluk
- B) Altın Orda
- C) Türkiye Selçuklu
- D) İlhanlı

10. Aşağıdakilerden hangisi Yavuz Sultan Selim'in Mısır seferinin sonuçlarından biri değildir?

- A) Bizans İmparatorluğunun sona ermesi
- B) Memluk Devleti'nin yıkılması
- C) Baharat yolunun Osmanlıların kontrolüne geçmesi
- D) Halifeliğin Osmanlılara geçmesi

11. Karadeniz'in Türk gölü olmasını sağlayan olay aşağıdakilerden hangisidir?

- A) Mora'nın Fethi
- B) Kırım'ın Fethi
- C) Eflak Seferi
- D) Bosna-Hersek Seferi

12. Aşağıdakilerden hangisi İstanbul'un fethinin nedenlerinden biri değildir?

- A) Bizans'ın Osmanlı şehzadelerini kışkırtarak taht kavgalarına neden olması
- B) İstanbul'un önemli ticaret merkezi olması
- C) II. Mehmet'in Fatih unvanını almak istemesi
- D) İstanbul'un Osmanlı'nın Anadolu ve Rumeli toprakları arasındaki bağlantıyı kesmesi

13. Tekkelerde yetişen ve daha çok dini değerlere ağırlık veren şairler tarafından geliştirilen edebiyet türüne ne ad verilir?

- A) Tasavvuf edebiyatı
- B) Garip edebiyatı
- C) Halk edebiyatı
- D) Divan edebiyatı

14. Fransa'ya kapütülasyon adı verilen ticari ve hukuki ayrıcalıklar hangi yıl verilmiştir?

- A) 1453
- B) 1520
- C) 1535
- D) 1610

15. Aşağıdakilerden hangisi Rönesans'ın sonuçlarından biri değildir?

- A) Reform hareketlerinin yaşanmasında etkili olması
- B) Papaların eski güç ve itibarını kaybetmesi
- C) Skolastik düşüncenin yerini pozitif düşünceye bırakması
- D) Avrupa'da resim, heykel, edebiyat ve mimari alanında gelişmelerin yaşanması

16. İçki, tütün ve geceleri sokağa çıkma yasağı getiren padişah aşağıdakilerden hangisidir?

- A) II. Mehmet
- B) II. Osman
- C) III. Murat
- D) IV. Murat

17. Evliya Çelebi'nin Osmanlı ülkesini baştanbaşa gezerek otuz yıl süren seyahatlerini anlattığı eseri aşağıdakilerden hangisidir?

- A) Seyahatname
- B) Cihannüma
- C) Keşf-i Zünun
- D) Hitay Sefaretnamesi

18. Bugünkü Türkiye-İran sınırının büyük ölçüde belirlendiği, Osmanlı Devleti ve İran arasında uzun süreli barış dönemini başlatan antlaşma aşağıdakilerden hangisidir?

- A) Nasuh Paşa
- B) Amasya
- C) Kasr-ı Şirin
- D) Ferhat Paşa

19. Aşağıdakilerden hangisi Karlofça Antlaşması'nın maddeleri arasında yer almaz?

- A) Mora Yarımadası ve Dalmaçya kıyıları Venediklilere verilecek
- B) Antlaşma 25 yıl sürecek ve Avusturya'nın garantisi altında olacak
- C) Podolya ve Ukrayna Lehistan'a verilecek
- D) Avusturya Osmanlı Devleti'ne savaş tazminatı ödeyecek

20. XVII. yüzyılda merkezi otoritenin bozulması sonucu Mısır, Trablusgarp, Yemen ve Basra gibi eyaletlerde çıkan isyanlara ne ad verilir?

- A) Yeniçeri ayaklanmaları
- B) İstanbul ayaklanmaları
- C) Eyalet ayaklanmaları
- D) Celali ayaklanmaları

1. Aşağıdakilerden hangisi anlatmaya bağlı edebi metinlerden biri değildir?

- A) Şiir
- B) Destan
- C) Roman
- D) Masal

2. Bilimsel bir konuyu veya bir kimsenin yaşamını, kişiliğini, eserlerini ayrıntılı olarak inceleyen eserlere ne ad verilir?

- A) Monografi
- B) Deneme
- C) Anı
- D) Otobiyografi

3. Aşağıdakilerden hangisi konularına ve yazılış amaçlarına göre deneme çeşitlerinden biri değildir?

- A) Klasik
- B) Kişisel
- C) Eleştirel
- D) Felsefi

4. Eldeki en eski mektup örnekleri kimlere aittir?

- A) Friglere ve Traklara
- B) Romalılara ve Galyalılara
- C) Mısır firavunları ve Hititlere
- D) Lidyalılara ve Fenikelilere

5. Dilekçeyle ilgili aşağıdaki ifadelerden hangisi vanlıştır?

- A) Anlatım yalın ve duru olmalıdır.
- B) Dilekçe yazımında kalemin rengi ve türü önemli değildir.
- C) Sağ alt köşeye ad ve soyadı yazılır ve imza atılır.
- D) Sol alt köşeye adres yazılır.

6. Aşağıdakilerden hangisi Geleneksel Türk Tiyatrosu içerisinde ver almaz?

- A) Karagöz
- B) Orta Oyunu
- C) Mesnevi
- D) Köy tiyatrosu

7. Tanınmış yazarların birbirlerine yazdıkları, fikir ve sanat olaylarını ve eserleri tartıştıkları mektuplar aşağıdakilerden hangisidir?

- A) Özel mektuplar
- B) Edebi mektuplar
- C) Teşekkür mektupları
- D) Tebrik mektupları

8. Aşağıdakilerden hangisi gölge oyununun (Karagöz-Hacivat) bölümlerinden biri değildir?

- A) Fasil
- B) Muhavere
- C) Mukaddime
- D) Mesnevi

9. Herhangi bir konuda kişinin düşüncelerinin hiç değiştirilmeden verilmesine ne ad verilir?

- A) Öznel anlatım
- B) Doğrudan anlatım
- C) Dolaylı anlatım
- D) Nesnel anlatım

10. Aşağıdakilerden hangisi kişisel hayatı konu alan metinler içerisinde ver almaz?

- A) Sohbet
- B) Biyografi
- C) Günlük
- D) Anı

11. Fıkra ile ilgili aşağıdaki ifadelerden hangisi yanlıştır?

- A) Olaya dayalı bir anlatımı vardır.
- B) Giriş, gelişme ve sonuç bölümlerinden oluşur.
- C) Dil göndergesel işlevinde kullanılır.
- D) Anlatım sizli bizli ve resmidir.

12. Aşağıdakilerden hangisi hikâyenin öğelerinden biri değildir?

- A) Zaman
- B) Mekân
- C) Kişiler
- D) Merak

13. Aşağıdakilerden hangisi öğretici metinlerin özelliklerinden biri değildir?

- A) Estetik ön plandadır.
- B) Amaç gerçeğin yeniden yorumlanması değil olduğu gibi anlatılmasıdır.
- C) Önemli olan okuyucuya bilgi vermek ya da paylaşmaktır.
- D) İfadeler açık ve nettir.

14. Makale türü Türk edebiyatına hangi dönemde girmiştir?

- A) Cumhuriyet
- B) Fetret
- C) Tanzimat
- D) Islahat

15. Sohbet (söyleşi) ile ilgili aşağıdaki ifadelerden hangisi yanlıştır?

- A) Konuşup görüşme anlamına gelir.
- B) Sohbet türünde yazılan kitaplar da vardır.
- C) Atasözü ve deyimlerden yararlanır.
- D) Sohbet resmî bir dil ve üslup kullanılır.

16. Mesnevi hangi metin grubu içinde yer alır?

- A) Tarihi metinler
- B) Felsefi metinler
- C) Anlatmaya bağlı edebî metinler
- D) Göstermeye bağlı edebî metinler

17. Edebiyatımızın gezi türündeki ilk ve en büyük eseri olarak nitelendirilen Seyahatname eserinin yazarı aşağıdakilerden hangisidir?

- A) Halikarnas Balıkcısı
- B) Pierre Loti
- C) Edip Ahmet Yükneki
- D) Evliya Çelebi

18. Aşağıdakilerden hangisi olay çevresinde oluşan edebî metinlerin özelliklerinden biri değildir?

- A) İnsana özgü durumlar somutlaştırılır.
- B) Bir olay örgüsü vardır.
- C) Her okunduğunda farklı yorumlanmaz.
- D) Kurmacanın imkânlarından yararlanır.

19. Köy tiyatrosu hangi metin grubu içinde yer alır?

- A) Öğretici metinler
- B) Göstermeye bağlı edebî metinler
- C) Anlatmaya bağlı edebî metinler
- D) Tarihi metinler

20. "Şair Evlenmesi" oyununun yazarı aşağıdakilerden hangisidir?

- A) Şinasi
- B) Namık Kemal
- C) Baki
- D) Melih Cevdet



1. "Aslan toprakla oynuyormuş bir gün;  
Bir de bakmış pençesinde fare,  
Aslan, aslan yürekliymiş o gün,  
Kıymamış canına, bırakmış yere."

**Yukarıda bir parçası alıntılanan öğretici metnin türü aşağıdakilerden hangisidir?**

- A) Anı  
B) Destan  
C) Fabl  
D) Gezi yazısı

2. Shakespeare'in Venedik Taciri adlı eseri hangi türün örneğidir?

- A) Tragedya  
B) Yergi komedyası  
C) Dram  
D) Karakter komedyası

3. Aşağıdakilerden hangisi şiirin dış yapı özelliklerinden biri değildir?

- A) Şiirin öz derinliği  
B) Nazım şekli  
C) Ölçü  
D) Kafiye

4. Aşağıdaki yazarlardan hangisi 1970'li yıllardan sonra Türk romanında toplum sorunlarına yönelişle, ideolojik boyutu ağır basan romanların arttığı dönemi temsil eden yazarlardan biri değildir?

- A) Oğuz Atay  
B) Emine İşinsu  
C) Yakup Kadri  
D) Pınar Kür

5. Aşağıdakilerden hangisi Türk Edebiyatı'nın gelişim sürecinde kurulan topluluklardan biri değildir?

- A) Üç Hececiler  
B) Tanzimat Edebiyatı  
C) Beş Hececiler  
D) Milli Edebiyat

6. Türk masallarını derleme, yayımlama ve inceleme çalışmaları ne zaman yoğunlaşmıştır?

- A) Cumhuriyet  
B) Tanzimat  
C) Meşrutiyet  
D) İslahat

7. "Güzel şeyler düşünelim diye  
Yemyeşil oluvermiş ağaçlar"

**Yukarıdaki dizelerde şairin; ağaçların yeşil olmasını tabiata değil de güzel şeyler düşünebilme nedenine bağlamasında aşağıdaki sanatlardan hangisi söz konusudur?**

- A) Tevriye  
B) Tenasüp  
C) Hüsn-î Tâilil  
D) Teşhis ve intak

8. Epik tiyatroyla ilgili aşağıdaki ifadelerden hangisi yanlıştır?

- A) Duygu yerine akıl ön plana çıkarılır.  
B) Amaç seyirciyi farklı diyarlara götürmek ve orda olduğu sürece büyülemektir.  
C) Sahne dekor ve etki altına alıcı duygulu olaylardan uzak tutulur.  
D) Seyircinin tiyatro düşünden uyanması için olayın akışı sık aralıklarla kesilir.

9. Bir şiirin en güzel dizesine ne ad verilir?

- A) Beyit  
B) Mısra-ı berceste  
C) Bent  
D) Terci-i bend

10. Çalıkluşu'nun yazarı aşağıdakilerden hangisidir?

- A) Sait Faik  
B) Peyami Safa  
C) Reşat Nuri  
D) Kemal Tahir

11. Atilla İlhan'ın "Leitmotiv" tekniği ile yazdığı romanı aşağıdakilerden hangisidir?

- A) Beyaz Kale
- B) Canbaz
- C) Ay Falcısı
- D) Dersaadet'te Sabah Ezanları

12. "Çıkıp yücesine seyran eyledim  
Gördüm ak kuğulu göller perişan  
Bir furkat geldi de durdum ağladım  
Öpüp kokladığım güller perişan"

Yukarıdaki dizelerle ilgili aşağıdaki ifadelerden hangisi yanlıştır?

- A) Şiirin nazım birimi dördlüklerden oluşmaktadır.
- B) Dil şiirsel işlevinde kullanılmıştır.
- C) Şiirde coşkuyu ve heyecanı dile getiren anlatım tarzından yararlanılmıştır.
- D) Şiiri Orhan Veli yazmıştır.

13. Avrupa'daki anlamıyla öykü türü edebiyatımıza hangi dönemde girmiştir?

- A) Cumhuriyet
- B) Kurtuluş savaşı
- C) Tanzimat
- D) Islahat

14. Aşağıdakilerden hangisi durum hikâyeciliğinin özelliklerinden biri değildir?

- A) Hikâye mutlaka serim, düğüm, çözüm planına uyularak belli bir sonuçla bitirilir.
- B) Merak ögesi ikinci plandadır.
- C) Gerçeklik abartılmadan anlatılır.
- D) Kahramanlar karşılıklı konuşmalar içinde bulunur.

15. Aşağıdakilerden hangisi tragedyaadaki üç birlik kuralının ögelerinden biri değildir?

- A) Karakter birliği
- B) Zaman birliği
- C) Olay birliği
- D) Yer birliği

16. Aşağıdakilerden hangisi dramatik bir eserde yer alan konuşma çeşitlerinin özel adlarından biri değildir?

- A) Diyalog
- B) Figüran
- C) Monolog
- D) Tirad

17. Battal Gazi, Köroğlu hikâyeleri hangi türün örnekleridir?

- A) Aşk hikâyelerinin
- B) Masalsı hikâyelerin
- C) Köy hikâyelerinin
- D) Kahramanlık hikâyelerinin

18. Türk edebiyatında masalı gerçek anlamda ilk defa "Mukaddeme-i Celal" adlı eserinde kullanan yazarımız aşağıdakilerden hangisidir?

- A) Şinasi
- B) Namık Kemal
- C) Kemal Tahir
- D) Atilla İlhan

19. Aşağıdakilerden hangisi konularına göre masal gruplarından biri değildir?

- A) Zincirlemeli masallar
- B) Düşündürücü masallar
- C) Asıl masallar
- D) Hayvan masalları

20. Yazarın sanat metinlerinde iletmek istediği mesaja ne ad verilir?

- A) Gönderge
- B) Anlam
- C) Yorum
- D) Yoğun anlam

1. Sie muß lernen, ..... richtig zu benutzen

**Welches Wort passt nicht in die obige Lücke?**

**Cümlede boş bırakılan yeri aşağıdakilerden hangisi tamamlamaz?**

- A) das Wörterbuch  
B) der Bild  
C) das Auto  
D) die Präpositionen

2. Sonntags ..... ich bis zehn Uhr.

**Welches Wort passt in die obige Lücke?**

**Cümlede boş bırakılan yeri aşağıdakilerden hangisi tamamlar?**

- A) schlafe  
B) setze  
C) lege  
D) stehe

3. .... im Wald sitzt auf dem Baum.

**Welches Wort passt in die obige Lücke?**

**Cümlede boş bırakılan yeri aşağıdakilerden hangisi doğru şekilde tamamlar?**

- A) Der Tisch  
B) Im Külschrank  
C) Der Vogel  
D) Im Foto

4. A: ..... liegt Sivrihisar?

B: Sivrihisar liegt bei Eskişehir.

**Welches ergänzt die Lücke im obigen Dialog?**

**Verilen karşılıklı konuşmada boş bırakılan yeri aşağıdakilerden hangisi tamamlar?**

- A) Zu welcher Stadt  
B) Mit welcher Stadt  
C) Von welcher Stadt  
D) Bei welcher Stadt

5. Hallo, woher kenne ich dich?

**Welche Antwort passt zur obigen Frage?**

**Verilen sorunun cevabı aşağıdakilerden hangisidir?**

- A) Mich? Das weiß ich nicht.  
B) Uns? Das geht aber nicht.  
C) Die kennen uns.  
D) Mir? Das ist nicht wahr.

6. Er hat seine Tasche ..... Telefon gelegt.

**Welche Wörter passen in die obigen Lücken?**

**Cümlede boş bırakılan yerleri aşağıdakilerden hangileri tamamlar?**

- A) zu der  
B) neben das  
C) in den  
D) unter die

7. Was bedeutet "ändern" auf Türkisch?

**"ändern" sözcüğünün Türkçesi aşağıdakilerden hangisidir?**

- A) almak  
B) kullanmak  
C) değiştirmek  
D) çalışmak

8. A: Was ....., wenn ich auf diesen Knopf hier drücke?

B: Dann ..... die grüne Lampe.

**Welche Wörter passen in die obigen Lücke im obigen Dialog?**

**Verilen karşılıklı konuşmada boş bırakılan yerleri aşağıdakilerden hangisi tamamlar?**

- A) mache / drückt  
B) stecke / machten  
C) passiert / leuchtet  
D) leuchte / lernt

9. Wir möchten die ..... Schauspielerin kennen lernen.

**Welches Wort passt in die obige Lücke?**

**Cümlede boş bırakılan yeri aşağıdakilerden hangisi tamamlar?**

- A) berühmtem  
B) berühmte  
C) berühmter  
D) berühmt

10. .... einem Kilometerzähler kann man Kilometer zählen.

**Welches Wort passt in die obige Lücke?**

**Cümlede boş bırakılan yeri aşağıdakilerden hangisi tamamlar?**

- A) Seit  
B) Mit  
C) Bei  
D) Für

11. Der Van See ist der ..... See in der Türkei.

**Welches Wort passt in die obige Lücke?**

**Cümlede boş bırakılan yeri aşağıdakilerden hangisi tamamlar?**

- A) höchstes  
B) kleinster  
C) tiefer  
D) größte

12. Das ist eine ausführliche sprachliche Arbeit.

**Wie lautet der obige Satz auf Türkisch?**

**Verilen cümlelerin Türkçesi aşağıdakilerden hangisidir?**

- A) Bu çalışmayı en kısa zamanda bitirmeliyim.  
B) Bu ayrıntılı dilsel bir çalışma.  
C) Bu çalışma hem dilsel hem de bilimsel özellik taşıyor.  
D) Bu çalışmayı bizim öğretmenimiz çok ayrıntılı bir şekilde hazırladı.

13. Was bedeutet "Yavaşlık" auf Deutsch?

**"Yavaşlık" sözcüğünün Almancası aşağıdakilerden hangisidir?**

- A) Die Langsamkeit  
B) Die Lange  
C) Die Langheit  
D) Die Langlicheit

14. Was ist ein Kochgenie?

**Welche Antwort passt zur obigen Frage?**

**Verilen sorunun cevabı aşağıdakilerden hangisidir?**

- A) Jemand, der sehr viel verdient.  
B) Jemand, der fantastisch spielen kann.  
C) Ein Kochgenie kann jede Sprache sprechen.  
D) Ein Kochgenie kann sehr gut kochen.

15. Er möchte mit mir zusammen eine Reise machen.

**Welches hat die gleiche Bedeutung mit dem obigen Satz?**

**Verilen cümle ile aynı anlamı taşıyan aşağıdakilerin hangisidir?**

- A) Er macht mir einen Reisevorschlag.  
B) Er möchte mit mir zusammen in dein Land zurückfahren.  
C) Er möchte dich zu mir einladen.  
D) Er möchte mit mir zusammen verreisen.

16. Was ..... ihr in den Ferien machen?

**Welches Wort passt in die obige Lücke?**

**Cümlede boş bırakılan yeri aşağıdakilerden hangisi tamamlar?**

- A) wirst  
B) will  
C) wollt  
D) wollen

17. Die Kinder gehen um acht Uhr in die Schule.

**Wie lautet der obige Satz im Futur?**

**Verilen cümlelerin gelecek zaman şekli aşağıdakilerden hangisidir?**

- A) Das Kind geht jeden Tag um acht Uhr in die Schule.
- B) Die Kinder werden um acht Uhr in die Schule gehen.
- C) Das Kind möchte um acht Uhr in die Schule gehen.
- D) Die Kinder können um acht Uhr in der Schule sein.

18. schlafen / einsteigen / aussteigen / losfahren

**Welches Wort passt nicht zu den anderen in der obigen Wortgruppe?**

**Verilen sözcük grubuna uymayan aşağıdakilerden hangisidir?**

- A) aussteigen
- B) losfahren
- C) schlafen
- D) einsteigen

19. Banyo su altında kaldı.

**Wie lautet der obige Satz auf Deutsch?**

**Verilen cümlelerin Almancası aşağıdakilerden hangisidir?**

- A) Das Badezimmer steht unter Wasser.
- B) Im Badezimmer gibt es warmes Wasser.
- C) Das Badezimmer ist viel zu klein.
- D) Im Badezimmer kann man baden.

20. Ist es möglich, daß wir bei euch übernachten können?

**Welche Antwort passt zur obigen Frage?**

**Verilen sorunun cevabı aşağıdakilerden hangisidir?**

- A) Wir müssen hier übernachten.
- B) Nein, wir können nicht mitkommen.
- C) Nächste Woche möchten wir wieder kommen.
- D) Ja, natürlich könnt ihr bei uns übernachten.

1. Richard never ..... to bed late at the weekends.

**Which of the following completes the sentence above?**

**Aşağıdakilerden hangisi yukarıdaki cümleyi doğru olarak tamamlar?**

- A) go  
B) goes  
C) is going  
D) will go

2. .... boys are really kind.

**Which of the following completes the sentence above?**

**Aşağıdakilerden hangisi yukarıdaki cümleyi doğru olarak tamamlar?**

- A) That  
B) Is  
C) These  
D) This

3. A: ..... do you go to school?  
B: I go to school by bus.

**Which of the following completes the dialogue above?**

**Aşağıdakilerden hangisi yukarıdaki konuşmayı doğru olarak tamamlar?**

- A) Which  
B) How  
C) What  
D) Who

4. My little brother always ..... early in the mornings.

**Which of the following completes the sentence above?**

**Aşağıdakilerden hangisi yukarıdaki cümleyi doğru olarak tamamlar?**

- A) wake up  
B) woke up  
C) wakes up  
D) is waking up

5. Is your mother ..... engineer or ..... doctor?

**Which of the following completes the sentence above?**

**Aşağıdakilerden hangisi yukarıdaki cümleyi doğru olarak tamamlar?**

- A) an / a  
B) a / a  
C) the / a  
D) an / the

6. I usually drink tea for breakfast.

**Which of the following is the Turkish translation of the sentence above?**

**Aşağıdakilerden hangisi yukarıdaki cümlenin Türkçe karşılığıdır?**

- A) Kahvaltıda hiç çay içmem.  
B) Kahvaltıda sık sık çay içerim.  
C) Kahvaltıda daima çay içerim.  
D) Kahvaltıda genellikle çay içerim.

7. They are Paul and Lucy. .... parents are in Italy.

**Which of the following completes the sentence above?**

**Aşağıdakilerden hangisi yukarıdaki cümleyi doğru olarak tamamlar?**

- A) Her  
B) His  
C) Our  
D) Their

8. They are working on a project .....

**Which of the following completes the sentence above?**

**Aşağıdakilerden hangisi yukarıdaki cümleyi doğru olarak tamamlar?**

- A) every day  
B) at the moment  
C) last night  
D) yet

9. This is your umbrella. Where is .....

**Which of the following completes the sentence above?**

**Aşağıdakilerden hangisi yukarıdaki cümleyi doğru olarak tamamlar?**

- A) mine
- B) our
- C) me
- D) her

10. This is Mary. .... sons are in France.

**Which of the following completes the sentence above?**

**Aşağıdakilerden hangisi yukarıdaki cümleyi doğru olarak tamamlar?**

- A) Her
- B) His
- C) Our
- D) Their

11. Do you read ..... science fiction books?

**Which of the following completes the sentence above?**

**Aşağıdakilerden hangisi yukarıdaki cümleyi doğru olarak tamamlar?**

- A) a lot of
- B) much
- C) a little
- D) a

12. Ayşe often ..... coffee but now she ..... tea in the office.

**Which of the following completes the sentence above?**

**Aşağıdakilerden hangisi yukarıdaki cümleyi doğru olarak tamamlar?**

- A) drinks / drinks
- B) drinks / drinking
- C) drinks / is drinking
- D) drinking / drink

13. My parents live in a(n) ..... house near İzmir.

**Which of the following completes the sentence above?**

**Aşağıdakilerden hangisi yukarıdaki cümleyi doğru olarak tamamlar?**

- A) old lovely little
- B) little old lively
- C) lovely old little
- D) lovely little old

14. I met a ..... in the shopping center.

**Which of the following completes the sentence above?**

**Aşağıdakilerden hangisi yukarıdaki cümleyi doğru olarak tamamlar?**

- A) nice lady young
- B) young nice lady
- C) nice young lady
- D) lady nice young

15. Catherine is playing tennis, ..... her favourite sport is football.

**Which of the following completes the sentence above?**

**Aşağıdakilerden hangisi yukarıdaki cümleyi doğru olarak tamamlar?**

- A) but
- B) and
- C) or
- D) so

16. We ..... get married next month.

**Which of the following completes the sentence above?**

**Aşağıdakilerden hangisi yukarıdaki cümleyi doğru olarak tamamlar?**

- A) go
- B) going
- C) are going to
- D) are going

17. Do you want to go to the theater .....  
cinema?

**Which of the following completes the sentence above?**

**Aşağıdakilerden hangisi yukarıdaki cümleyi doğru olarak tamamlar?**

- A) yet
- B) so
- C) for
- D) or

18. My brother has got ..... courage to tell this.

**Which of the following completes the sentence above?**

**Aşağıdakilerden hangisi yukarıdaki cümleyi doğru olarak tamamlar?**

- A) a little
- B) a few
- C) many
- D) a lot of

19. I was very tired ..... I went to bed and slept early.

**Which of the following completes the sentence above?**

**Aşağıdakilerden hangisi yukarıdaki cümleyi doğru olarak tamamlar?**

- A) or
- B) because
- C) so
- D) and

20. Greg: What are your plans for next year?  
Betty: I ..... a dance school.

**Which of the following completes the dialogue above?**

**Aşağıdakilerden hangisi yukarıdaki konuşmayı doğru olarak tamamlar?**

- A) open
- B) am going to open
- C) have opened
- D) opened



1. .... il fait beau, je me promène.

**Choisissez le mot qui convient.**

**Yukarıdaki cümlede boş bırakılan yeri aşağıdakilerden hangisi doğru şekilde tamamlar?**

- A) Que  
B) Pendant  
C) Depuis  
D) Comme

2. Il ..... les droits des gens, il est avocat.

**Choisissez le mot qui convient.**

**Cümledeki boşluğu aşağıdakilerden hangisi doğru şekilde tamamlar?**

- A) fais  
B) peut  
C) entend  
D) défend

3. - Est-ce que tu as téléphoné à Philippe?  
- Non, je ne ..... ai pas téléphoné.

**Choisissez le mot qui convient.**

**Yukarıdaki konuşmada boş bırakılan yeri aşağıdakilerden hangisi doğru şekilde tamamlar?**

- A) lui  
B) leur  
C) le  
D) la

4. Achetez ..... vous voulez.

**Choisissez le mot qui convient.**

**Cümledeki boşluğu aşağıdakilerden hangisi doğru şekilde tamamlar?**

- A) que  
B) puisque  
C) ce que  
D) qui

5. I. Le chien est adorable.  
II. Madame Pouce est blonde.  
III. C'est une femme qui porte des lunettes.  
IV. Elle aime les chiens.

**Trouvez la phrase qui ne convient pas.**

**Cümleler sırasıyla okunduğunda, anlam bütünlüğünü bozan cümleyi bulunuz.**

- A) I  
B) II  
C) III  
D) IV

6. J'attends ..... 10 minutes.

**Choisissez le mot/l'expression qui convient.**

**Cümledeki boşluğu aşağıdakilerden hangisi doğru şekilde tamamlar?**

- A) depuis  
B) avant  
C) après  
D) le

7. - .....  
- Je veux bien un thé.

**Choisissez la question qui convient.**

**Yukarıdaki konuşmada cevabı gerektiren soru aşağıdakilerden hangisidir?**

- A) Tu as quelque chose pour ouvrir cette bouteille?  
B) Entendez-vous quelque chose?  
C) Vous n'avez rien trouvé?  
D) Vous voulez quelque chose à boire?

8. Le voyage a été ..... par nos amis.

**Choisissez le mot qui convient.**

**Cümledeki boşluğu aşağıdakilerden hangisi doğru şekilde tamamlar?**

- A) organisé  
B) transporté  
C) écrit  
D) cassé

9. Je suis fatigué et triste. .... ne va bien au travail.

**Choisissez le mot qui convient.**

**Cümledeki boşluğu aşağıdakilerden hangisi doğru şekilde tamamlar?**

- A) Quelque chose  
B) Rien  
C) Quelqu'un  
D) Aucun

10. Quand part le train?

**Choisissez la traduction qui convient.**

**Yukarıdaki cümlelerin Türkçe karşılığı aşağıdakilerden hangisidir?**

- A) Tren ne zaman hareket ediyor?  
B) Tren ne kadar zamanda gidiyor?  
C) Tren ne zaman gelecek?  
D) Tren ne kadar gecikecek?

11. - Vous allez à l'école en voiture?  
- Non, nous ..... allons à pied.

**Choisissez le mot qui convient.**

**Yukarıdaki konuşmada boş bırakılan yeri aşağıdakilerden hangisi doğru şekilde tamamlar?**

- A) au  
B) y  
C) en  
D) de

12. .... nous finissons nos devoirs, nous allons dehors.

**Choisissez le mot qui convient.**

**Cümledeki boşluğu aşağıdakilerden hangisi doğru şekilde tamamlar?**

- A) Depuis que  
B) Dès que  
C) Parce que  
D) Car

13. Ne ..... pas ton parapluie!

**Choisissez le mot qui convient.**

**Cümledeki boşluğu aşağıdakilerden hangisi doğru şekilde tamamlar?**

- A) pris  
B) prend  
C) prends  
D) prendre

14. Éric : Tu veux du thé ou du café.

Noémie : Je ne veux ..... du thé ..... du café.

Éric : .....?

Noémie : Je veux de l'eau.

**Choisissez les expressions qui conviennent.**

**Yukarıdaki konuşmada boş bırakılan yerleri aşağıdakilerden hangisi doğru şekilde tamamlar?**

- A) ne / ne / Qu'est-ce que tu veux  
B) ni / pas / Que veux-tu  
C) ni / ni / Que veux-tu  
D) ne / pas / Qu'est-ce que tu veux

15. «Ne tür müzikten hoşlanırsınız?»

**Choisissez la traduction qui convient.**

**Yukarıdaki cümlelerin Fransızca karşılığı aşağıdakilerden hangisidir?**

- A) Quel genre de musique faites-vous?  
B) Quelle musique préférez-vous?  
C) Quelle musique écoutez-vous?  
D) Quel genre de musique aimez-vous?

16. C'est ..... qui avaient raconté l'histoire.

**Choisissez le mot qui convient.**

**Yukarıdaki cümlede boş bırakılan yeri aşağıdakilerden hangisi doğru şekilde tamamlar?**

- A) nous  
B) ils  
C) vous  
D) eux

17. - Quand partez-vous en vacances?

- .....

**Choisissez l'expression qui convient.**

**Yukarıdaki konuşmada boş bırakılan yeri aşağıdakilerden hangisi doğru şekilde tamamlar?**

- A) A Paris
- B) Demain
- C) Oui
- D) Avec lui

18. «Senin için endişelendim.»

**Choisissez la traduction qui convient.**

**Yukarıdaki cümlenin Fransızca karşılığı aşağıdakilerden hangisidir?**

- A) Tu m'inquiètes.
- B) Je me suis inquiétée pour toi.
- C) Tu es une personne inquiétante.
- D) Je suis une personne inquiète.

19. cette / aime / qui / actrice ?  
I II III IV

**Mettez dans le bon ordre.**

**Yukarıdaki kelimelerin anlamlı bir bütün oluşturan sırası aşağıdakilerin hangisinde doğru olarak verilmiştir?**

- A) I, IV, II, III
- B) II, IV, III, I
- C) III, II, I, IV
- D) III, IV, I, II

20. La maman : Qui a cassé le vase?

L'enfant : Jean.

La maman : C'est Jean?

L'enfant : Oui, .....

**Choisissez l'expression qui convient.**

**Yukarıdaki konuşmada boş bırakılan yeri aşağıdakilerden hangisi doğru şekilde tamamlar?**

- A) c'est lui qui l'a cassée
- B) c'est elle
- C) ce n'est pas lui
- D) c'est Jean qui l'a cassé

1. Aşağıdakilerden hangisi finansal inceleme kapsamında yapılan çalışmalardan biridir?

- A) Makine donanımının seçilmesi
- B) Alternatif teknolojilerin değerlendirilmesi
- C) Finansman tablolarının hazırlanması
- D) Temel mühendislik tasarımlarının yapılması

2. Aşağıdakilerden hangisi fizibilite etüdünün aşamalarından biri değildir?

- A) Sistematiik inceleme
- B) Hukuki inceleme
- C) Teknik inceleme
- D) Ekonomik inceleme

3. Yapılabilirlik etüdünün faydaları aşağıdakilerden hangisidir?

- A) Rekabeti artırır.
- B) Toplumun eğitim seviyesini artırır.
- C) Kredilerin doğru ve etkin kullanılmasını sağlar.
- D) Geri dönüşümü hızlandırır.

4. Aşağıdakilerden hangisi iyi bir iş fikri bulabilmek için yapılması gerekenlerden biri değildir?

- A) Açık fikirli olmak
- B) Pazar boşluklarını mutlaka kontrol etmek
- C) İş yaşamındaki geleneksel eğilimlere yönelmek
- D) Araştırma yapmak

5. Aşağıdakilerden hangisi ham madde ve yardımcı girdiler seçilirken önemli olan etmenlerden biri değildir?

- A) Talep analizi
- B) Üretim programı
- C) Teknoloji seçimi
- D) Personel seçimi

6. Aşağıdakilerden hangisi iş planı hazırlanırken dikkat edilmesi gereken hususlardan biri değildir?

- A) Plan düzgün bir şekilde organize edilerek bir bütün oluşturulması
- B) Planın oldukça kısa olması
- C) Başkaları tarafından hazırlanmış örnek planın kullanılmasına özen gösterilmesi
- D) Belgeleme ve arşivlemeye önem verilmesi

7. Aşağıdakilerden hangisi işletmelerin ülke ekonomisine katkılarında biri değildir?

- A) Ülkeye yeni teknolojilerin girmesini sağlamak
- B) El sanatlarını geliştirmek
- C) Sağladığı iş olanakları ile işsizliği önlemek
- D) Toplumun çeşitli ihtiyaçlarını karşılayarak başka ülkelere muhtaç olmadan yaşamalarını sağlamak

8. Kişi yada işletmelerin ihtiyaç duydukları fonların belirlenerek sağlanması ve bu fonların en uygun alanlara kaydırılarak yönetilmesine ne ad verilir?

- A) Finansal Yönetim
- B) Pazarlama
- C) Planlama
- D) Üretim

9. Aşağıdakilerden hangisi işleyişleri bakımından işletmeler arasında ver almaz?

- A) Sanayi işletmeleri
- B) Kamu işletmeleri
- C) Finans işletmeleri
- D) Tarım işletmeleri

10. Aşağıdakilerden hangisi sermaye kaynaklarının sağlanmasını ifade eder?

- A) Finansman
- B) Fizibilite
- C) Finansal yönetim
- D) Franchising

11. Kâr amacıyla mal ve hizmet üretmek veya pazarlamak için üretim faktörlerini planlı, tutarlı ve akılcı bir sistemle bir araya getiren teknik ve ekonomik birime ne ad verilir?

- A) İşletme
- B) Sendika
- C) Vakıf
- D) Fizibilite

12. Aşağıdakilerden hangisi işletmenin genelde kabul edilen amaçlarından biri değildir?

- A) Topluma hizmet etme
- B) Lider yetiştirme
- C) İşletmenin yaşamını devam ettirme
- D) Kâr sağlama

13. Aşağıdakilerden hangisi işletmelerin ekonomik şekilleri bakımından sınıflandırılmasında yer alan işletme türlerinden biridir?

- A) Finans işletmeleri
- B) Kamu işletmeleri
- C) Hizmet üreten işletmeler
- D) Kiralama işletmeleri

14. Bir işletme sistemi çerçevesinde yapılan satış etkinliklerinde denenmiş, kendini ispat etmiş bir markanın desteği ve güvencesi altında iş yapan firmaların mal ve hizmet dağılımına yönelik olarak belli bir bedel karşılığında söz konusu marka ve sistemin sahibi olan firma ile girmiş oldukları bağımsız ticari ilişki türüne ne ad verilir?

- A) Kartel
- B) Know-how
- C) Distribütör
- D) Franchising

15. Türkiye'nin ekonomik ve sosyal ihtiyaçlarının karşılanmasında küçük ve orta ölçekli işletmelerin payını ve etkinliğini artırmak, rekabet güçlerini ve düzeylerini yükseltmek sanayide uyumunu ekonomik gelişmelere uygun biçimde gerçekleştirmek amacıyla kurulan kurum aşağıdakilerden hangisidir?

- A) SPK
- B) BDDK
- C) TSE
- D) KOSGEB

16. Bir girişimcinin iş kurarken ekonomik istikrarsızlık engelini aşmasında aşağıdakilerden hangisi etkilidir?

- A) Sabitlenebilir değerleri tercih etmek
- B) Motivasyonu güçlendirmek
- C) Grup çalışmasına önem vermek
- D) Çalışanların özgüvenini artırmak

17. Aşağıdakilerden hangisi Bayi ya da Distribütör'ü Franchising'ten ayıran özelliklerden biridir?

- A) Bayiler ana şirketin adıyla satış yapmak zorundadır.
- B) Bayi ana şirkete para ödemez aksine satışları karşılığında para alır.
- C) Bayiler ulusal reklam ve tanıtım kampanyalarına katılmak zorundadır.
- D) Bayiler ürünlerini sattıkları işletme ile aynı görüntüde olmak zorundadır.

18. Aşağıdakilerden hangisi internet üzerinden satışın başarıya ulaşması için dikkat edilmesi gereken konulardan biri değildir?

- A) Doğru hedef kitle
- B) Doğru mağaza yeri seçimi
- C) Doğru ürün seçimi
- D) Doğru ihtiyaç tespiti

19. Piyasada tanınmış yerleşmiş bir ismin ya da markanın işletme hakkını veren tarafa ne ad verilir?

- A) Franchisee
- B) Distribütörlük
- C) Müteşebbis
- D) Franchisor

20. I. Ticari defterini tasdik ettirme sorumluluğu  
II. Ticari defteri saklama sorumluluğu  
III. Sosyal güvenlik kurumuna karşı sorumluluğu

**Yukarıdakilerden hangileri girişimcinin yasal sorumluluklarındandır?**

- A) Yalnız I
- B) Yalnız II
- C) I ve II
- D) I,II ve III

1.  $s(A) = 7$ ,  $s(B) = 5$ ,  $s(C) = 3$ ,  $s(A \cap B) = 3$ ,  
 $s(A \cap C) = 2$ ,  $s(B \cap C) = 2$  ve  $s(A \cap B \cap C) = 1$   
 ise  $s(A \cup B \cup C)$  aşağıdakilerden hangisidir?

A) 6  
 B) 7  
 C) 8  
 D) 9

2.  $A = \{1, 2, 5\}$ ,  $B = \{3, 5\}$  ve  $C = \{1, 2, 3, 4\}$   
 kümeleri veriliyor.  $(A \cup B) \cap C$  kümesi  
 aşağıdakilerden hangisidir?

A)  $\{2, 5\}$   
 B)  $\{1, 2, 5\}$   
 C)  $\{1, 2, 3\}$   
 D)  $\{1, 3, 5\}$

3. İngilizce, Matematik ve Türkçe derslerinin en az birinden geçen öğrencilerin bulunduğu 38 kişilik bir sınıfta 4 öğrenci üç dersten de geçmiştir. İngilizce dersinden geçen 18, Matematik dersinden geçen 20 ve Türkçe dersinden geçen 25 öğrenci olduğuna göre, yalnız iki dersten geçen öğrenci sayısı kaçtır?

A) 17  
 B) 19  
 C) 21  
 D) 23

4. "MATEMATİK" kelimesindeki harflerin oluşturduğu küme A olsun. A kümesinin alt kümelerinin kaçında T ve K harfleri bulunur?

A) 4  
 B) 8  
 C) 12  
 D) 16

5. A bir küme olmak üzere aşağıdakilerden hangisi  $A \times A$  kartezyen çarpım kümesinin eleman sayısı olabilir?

A) 9  
 B) 10  
 C) 12  
 D) 14

6. Bir sınıfta basketbol veya voleybol sporlarından en az birini oynayan 40 öğrenci vardır. 6 öğrenci hem basketbol hem de voleybol oynamaktadır. Basketbol oynayanların sayısı, voleybol oynayanların sayısından 6 fazladır. Buna göre bu sınıfta sadece voleybol oynayan kaç öğrenci vardır?

A) 14  
 B) 16  
 C) 18  
 D) 20

7.  $\frac{\sqrt{20} + \sqrt{45} + \sqrt{80} + \sqrt{125}}{\sqrt{35} \cdot \sqrt{7}}$  işleminin sonucu

kaçtır?

A) 2  
 B)  $\sqrt{5}$   
 C)  $\sqrt{7}$   
 D) 3

8. Bir işi Rıza 6 günde ve Süleyman 12 günde bitirmektedir. Buna göre, bu işi Rıza ve Süleyman birlikte kaç günde bitirir?

A) 2  
 B) 3  
 C) 4  
 D) 5

9.  $|4x - 1| \leq 11$  eşitsizliğini sağlayan  $x$  tamsayılarının toplamı kaçtır?

- A) 0  
B) 1  
C) 2  
D) 3

10.  $s(A \cup B) = 6$  ve  $s(A \cap B) = 2$  olduğuna göre,  $A \times B$  kümesinin eleman sayısı en çok kaçtır?

- A) 12  
B) 16  
C) 18  
D) 24

11.  $6x - \frac{2}{3} \geq \frac{4}{3}$  eşitsizliğinin çözüm kümesi aşağıdakilerden hangisidir?

- A)  $\mathcal{C} = \left\{ x \mid x \geq \frac{1}{9}, x \in \mathbb{R} \right\}$   
B)  $\mathcal{C} = \left\{ x \mid x \leq \frac{1}{3}, x \in \mathbb{R} \right\}$   
C)  $\mathcal{C} = \left\{ x \mid x \geq \frac{1}{3}, x \in \mathbb{R} \right\}$   
D)  $\mathcal{C} = \left\{ x \mid x \leq \frac{1}{9}, x \in \mathbb{R} \right\}$

12.  $2 \cdot 3^3 + 5 \cdot 3^3 + 9 \cdot 3^3 + 11 \cdot 3^3$  işleminin sonucu kaçtır?

- A)  $3^5$   
B)  $3^6$   
C)  $3^7$   
D)  $3^8$

13.  $5x - 2 = 3(2x - 1) - 4$  denkleminin çözüm kümesi aşağıdakilerden hangisidir?

- A)  $\{2\}$   
B)  $\{3\}$   
C)  $\{4\}$   
D)  $\{5\}$

14.  $\begin{cases} 2x + 5y = 1 \\ 3x + 4y = -2 \end{cases}$  denklem sistemini sağlayan  $(x,y)$  ikilisi aşağıdakilerden hangisidir?

- A)  $(-2,1)$   
B)  $(-2,-1)$   
C)  $(2,1)$   
D)  $(2,-1)$

15.  $B \times A = \{(3,3), (3,5), (3,8), (5,3), (5,5), (5,8)\}$  olduğuna göre  $A \cap B$  kümesi aşağıdakilerden hangisidir?

- A)  $\{3,8\}$   
B)  $\{3,5,8\}$   
C)  $\{3,5\}$   
D)  $\{5,8\}$

16.  $(2x + 3)^{2x-4} = 1$  denkleminin çözüm kümesi aşağıdakilerden hangisidir?

- A)  $\mathcal{C} = \{-2,2\}$   
B)  $\mathcal{C} = \{-2,1,2\}$   
C)  $\mathcal{C} = \{-2,1\}$   
D)  $\mathcal{C} = \{-2,-1,2\}$

17.

$$f: \mathbb{R} \rightarrow \mathbb{R}, f(x) = \begin{cases} -x, & x < 0 \text{ ise} \\ -4, & x = 0 \text{ ise} \\ x-2, & x > 0 \text{ ise} \end{cases}$$

fonksiyonu için  $f(-2) + f(0) + f(6)$  kaçtır?

- A) -2  
B) 2  
C) 4  
D) 6

18.

Girdi x	Çıktı f(x)
-1	4
0	1
1	-2
2	-5

Yukarıdaki tabloda girdi ve çıktıları verilen  $f$  doğrusal fonksiyonu aşağıdakilerden hangisidir?

- A)  $f(x) = 3x + 1$   
B)  $f(x) = -3x + 1$   
C)  $f(x) = -3x + 2$   
D)  $f(x) = -3x - 1$

19.  $f(2x - 1) = 3x + 4$  olduğuna göre  $f(9)$  değeri kaçtır?

- A) 15  
B) 17  
C) 18  
D) 19

20.  $f$  doğrusal fonksiyonu için  $f(1) = 5$  ve  $f(-2) = 11$  olduğuna göre,  $f(3)$  kaçtır?

- A) 1  
B) 2  
C) 3  
D) 4



BU SAYFA BOŞ BIRAKILMIŞTIR.

BU SAYFA BOŞ BIRAKILMIŞTIR.

BU SAYFA BOŞ BIRAKILMIŞTIR.

## SINAVDA UYULMASI GEREKEN GENEL KURALLAR

1. Sınava girmek için gerekli belgelerinizin tümünü sınav başlamadan önce sıranızın üzerine bırakınız.
2. Sınav süresince görevlilerle konuşmak, görevlilere soru sormak yasaktır. Aynı şekilde görevlilerin de öğrencilerle/adaylarla yakından ve alçak sesle konuşmaları yasaktır. Gerekli durumlarda görevliler yerinizi değiştirebilir.
3. Size verilen cevap kâğıdının üzerindeki TCKN/Öğrenci no, ad, soyadı, bilgilerini kontrol ediniz, ilgili alanları eksiksiz doldurarak imzalayınız. Bu bilgiler size ait değilse, kâğıt üzerinde hiçbir işlem yapmadan görevlileri uyararak size ait cevap kâğıdını isteyiniz. Başkasına ait cevap kâğıdı kullanan öğrencilerin sınavları geçersiz sayılır.
4. Cevap kâğıdı üzerine test grubunu (kitapçık türünü) kodlamayan veya birden fazla grubu kodlayanların sınavları geçersiz sayılır.
5. Cevap kâğıdınıza yazacağınız her türlü yazı ve yapacağınız işaretlemeler için koyu siyah kurşun kalem kullanmalısınız. Farklı bir kalem (tükenmez, mürekkepli, renkli vb.) kullananların sınavları geçersiz sayılır.
6. Cevap kâğıdı üzerinde değişiklik yapmak istediğinizde, iz bırakmayan bir silgi kullanınız. Cevap kâğıdınızı buruşturmayınız, katlamayınız ve üzerine gereksiz hiçbir işaret koymayınız.
7. Cevaplarınızı, cevap kâğıdında ilgili test için ayrılmış olan alana, cevap yerinin dışına taşırmadan işaretleyiniz. Soru kitapçığı üzerinde yapılan işaretlemeler değerlendirmeye alınmayacaktır.
8. Her sorunun tek bir doğru cevabı vardır. Bir soru için birden çok cevabı işaretlerseniz, o soruyu yanlış cevaplamış sayılacaksınız.
9. Soru kitapçığınızı aldığınızda sayfalarına hızlıca bakarak hatalı ya da eksik baskı olup olmadığını kontrol ediniz. Hata/eksik olması durumunda kitapçığının değiştirilmesi için derhâl sınav görevlilerine başvurunuz. Sınav görevlileri sınavın başladığını belirtmeden kitapçığınızı tekrar açmayınız.
10. Cevap kâğıdınızda belirtilen kitapçık kodu ile soru kitapçığının kodunu karşılaştırınız. Aynı değilse, sınav görevlilerine durumu bildirerek doğru kitapçığın verilmesini talep ediniz.
11. Soru kitapçığındaki ilgili alanlara ad, soyadı, TCKN/Öğrenci no, sınav salon no, sıra no bilgilerinizi eksiksiz doldurarak imzanızı atınız. Soru kitapçığının sayfalarındaki boş yerleri müsvedde amacıyla kullanabilirsiniz.
12. Aşağıdaki durumlarda sınav görevlileri tarafından Bireysel Sınav İptal Tutanağı düzenlenerek ilgili öğrencilerin/adayların sınavları geçersiz sayılır:
  - a) Sınav kurallarına ve sınav görevlilerinin uyarılarına uymamak, sınav düzenini bozmak,
  - b) Kâğıt, kitap, defter, not vb. dokümanları; pergel, açıölçer, cetvel vb. araçları; cep telefonu, bilgisayar, tablet, telsiz, kamera vb. iletişim, depolama, kayıt ve veri aktarma cihazlarını; ruhsatlı veya resmi amaçlı olsa bile silah ve silah yerine geçebilecek nesneleri yanında bulundurmamak,
  - c) Sınav sırasında kalem, silgi vb. araç-gereç paylaşımında bulunmak,
  - d) Cevapları, cevap kâğıdı dışında bir yere yazmak ve sınav salonundan dışarı çıkarmak,
  - e) Sınava girebilmek için gerekli belgeleri eksik olduğu halde sınava katılıp, cevap kâğıdında işaretleme yapmak,
  - f) Sınav görevlileri tarafından öğrencinin/adayın kimliğinden şüphe duyulması,
  - g) Cevap kâğıdını ve/veya soru kitapçığını sınav görevlilerine eksiksiz ve sağlam şekilde teslim etmemek, sınav salonu dışına çıkarmak,
  - h) Kopya çekmek, vermek, çekilmesine yardımcı olmak vb. eylemlerde bulunmak,
  - i) Kendisi yerine başkasını sınava sokmak.
13. Sınav bitiminde, cevap kâğıdınızı ve soru kitapçığınızı salon görevlilerine eksiksiz biçimde teslim ediniz. Sınav bittikten sonra gönderilen cevap kâğıtları dikkate alınmayacaktır.

**SINAV KURALLARINA UYDUĞUNUZ İÇİN TEŞEKKÜR EDER, SINAVINIZDA BAŞARILAR DİLERİZ.**