



ANADOLU ÜNİVERSİTESİ
AÇIKÖĞRETİM FAKÜLTESİ
BA - AÇIKÖĞRETİM OKULLARI

T.C. MİLLÎ EĞİTİM BAKANLIĞI
Hayat Boyu Öğrenme Genel Müdürlüğü
2016-2017 ÖĞRETİM YILI BATI AVRUPA – BALKANLAR
AÇIK ÖĞRETİM ORTAOKULU II. DÖNEM SINAVI

1. OTURUM Cumartesi

A

0100

ÖĞRENCİNİN

SOYADI :

ADI :

T.C. KİMLİK NO / ÖĞRENCİ NO :

SINAV SALON NO : SIRA NO :

Sınavla ilgili soru kitapçığının ön ve arka kapağındaki tüm kuralları okudum, anladım, kabul ediyorum.

İMZA :

SINAV İÇERİĞİ

Testin Adı	Soru Sayısı	Sayfa No
ALMANCA 5	20	02
İNGİLİZCE 5	20	05
FRANSIZCA 5	20	08
FEN VE TEKNOLOJİ 8	20	11
SOSYAL BİLGİLER 8	20	13
DİN KÜLTÜRÜ VE AHLAK BİLGİSİ 6	20	15
TÜRKÇE 8	20	17
MATEMATİK 8	20	19
DİN KÜLTÜRÜ VE AHLAK BİLGİSİ 8	20	23

SINAVDA UYULMASI GEREKEN ÖZEL KURALLAR

1. Soru kitapçığındaki her bir testi cevaplamanız için verilen süre 30 dakika, toplam süre 150 dakikadır.
2. Sınavın ilk 30 dakikası ve son 5 dakikası içinde sınavınızı tamamlasanız bile salondan çıkamazsınız. Herhangi bir nedenle salondan çıktığınız takdirde, tekrar sınava devam etmenize izin verilmeyecektir. Sınavın başlamasını izleyen ilk 15 dakikadan sonra hiçbir öğrenci sınava alınamaz.
3. Yanlış cevaplarınız dikkate alınmayacaktır. Bu nedenle kitapçığındaki tüm sorular için size doğru gelen seçeneği işaretleyerek cevapsız soru bırakmamanız yararınıza olacaktır.
4. Sınav sırasında hesap makinesi kullanabilirsiniz. Ancak, kullanacağınız makinede alfabetik tuş takımının (A, B, C, ..., Y, Z), program yapılmasına, saklanmasına ve çalıştırılmasına imkan veren EXE, STORE, RUN vb. tuşlar bulunamaz.

"Sınavda Uyulması Gereken Genel Kurallar" soru kitapçığının arka sayfasında yer almaktadır. Bu kuralları da mutlaka dikkatlice okuyunuz.

Anadolu Üniversitesi tarafından hazırlanmış olan bu testlerin her hakkı saklıdır. Hangi amaçla olursa olsun, testlerin tamamının veya bir kısmının Anadolu Üniversitesi'nin yazılı izni olmadan kopya edilmesi, fotoğraflarının çekilmesi, herhangi bir yolla çoğaltılması, yayımlanması ya da kullanılması yasaktır. Bu yasağa uymayanlar gerekli cezai sorumluluğu ve testlerin hazırlanmasındaki mali külfeti peşinen kabullenmiş sayılır.

1. A:

B: Es war achtundzwanzig Grad.

Welches Wort passt in die obige Lücke?

Cümlede boş bırakılan yeri aşağıdakilerden hangisi tamamlar?

- A) Was macht ihr heute?
- B) Woher kommt deine Mutter?
- C) Wann hat es geregnet?
- D) Wie war das Wetter in Madrid?

2. fahre ich nach Ankara.

Welches Wort passt nicht in die obige Lücke?

Cümlede boş bırakılan yeri aşağıdakilerden hangisi doğru şekilde tamamlamaz?

- A) Nächste Woche
- B) Gestern
- C) Im Juni
- D) In den Ferien

3. A: Wie die Hauptstadt von der Türkei?

B: heißt Ankara.

Welche Wörter ergänzen die Lücken im obigen Dialog?

Verilen karşılıklı konuşmada boş bırakılan yerleri aşağıdakilerden hangileri tamamlar?

- A) nennt / Er
- B) heißt / Sie
- C) kennst / Du
- D) hast / Wir

4. Hast du Hunger?

Welche Antwort passt zur obigen Frage?

Verilen sorunun cevabı aşağıdakilerden hangisidir?

- A) Nein, ich kann nicht.
- B) Nein, ich habe Durst.
- C) Ja, ich höre Musik.
- D) Ja, ich schreibe.

5. Meine tun mir weh. Ich bleibe zu Hause!

Welches Wort passt nicht in die obige Lücke?

Cümlede boş bırakılan yeri aşağıdakilerden hangisi doğru şekilde tamamlamaz?

- A) Ohren
- B) Füße
- C) Bauch
- D) Knien

6. Ich trinke Mineralwasser, möchtest du auch ein Glas Mineralwasser?

Welche Antwort passt zur obigen Frage?

Verilen sorunun cevabı aşağıdakilerden hangisidir?

- A) Nein, ich lerne im Sommer Englisch.
- B) Nein, wir gehen immer nach Antalya.
- C) Ja, danke. Ich habe auch Durst.
- D) Ja, ich bin jetzt in der Schule.

7. unserer Republik liegt in Ankara.

Welches Wort passt in die obige Lücke?

Cümlede boş bırakılan yeri aşağıdakilerden hangisi tamamlar?

- A) Der Gründer
- B) Die Veranstaltung
- C) Der Beamte
- D) Die Politiker

8. Am Flughafen kann man

Welcher Satz ergänzt die obige Lücke?

Verilen cümleyi aşağıdakilerden hangisi tamamlar?

- A) abfliegen und ankommen.
- B) werden Kranker gesund.
- C) wird Theater gemacht.
- D) Briefe abschicken.

9. Wir gehen morgen in den Zoo, kommst du mit?

Welche Antwort passt zur obigen Frage?

Verilen sorunun cevabı aşağıdakilerden hangisidir?

- A) Ja, ich finde die Akrobaten toll.
- B) Ich habe keine Lust Sport zu machen.
- C) Nein, ich gehe in den Zoo.
- D) Ja, klar. Ich mag Tiere sehr.

10. Wohnst du allein?

Welche Antwort passt zur obigen Frage?

Verilen sorunun cevabı aşağıdakilerden hangisidir?

- A) Nein, meine Wohnung ist im Zentrum.
- B) Ja, ich wohne allein.
- C) Ja, meine Wohnung hat drei Zimmer.
- D) Nein, ich habe viele Bäume im Garten.

11. Der Brief ist auf dem Tisch.

Wie lautet der obige Satz in der Pluralform?

Verilen cümlelerin çoğul hali aşağıdakilerden hangisidir?

- A) Die Briefe sind auf den Tischen.
- B) Den Brief kannst du auf den Tisch legen.
- C) Das Brief liegt auf dem Tisch.
- D) Die Briefe habe ich auf den Tisch gelegt.

12. Im Wohnzimmer gibt es Badewanne.

Welches Wort passt in die obige Lücke?

Cümlede boş bırakılan yeri aşağıdakilerden hangisi tamamlar?

- A) keinen
- B) einer
- C) einem
- D) keine

13. Bu bir kazak.

Wie lautet der obige Satz auf Deutsch?

Verilen cümlelerin Almancası aşağıdakilerden hangisidir?

- A) Das sind Socken.
- B) Das ist eine Hose.
- C) Das ist ein Pullover.
- D) Das sind Jacken.

14. Meine sind schwimmen und singen.

Welches Wort passt in die obige Lücke?

Cümlede boş bırakılan yeri aşağıdakilerden hangisi tamamlar?

- A) Hobbys
- B) Freizeit
- C) Brieffreund
- D) Farbe

15. Wann hast du Geburtstag? (14-06.)

Welche Antwort passt zur obigen Frage?

Verilen sorunun cevabı aşağıdakilerden hangisidir?

- A) Ich gehe am vierzehnten.
- B) Er kommt am vierzehnten Mai zur Party.
- C) Sie hat am vierzehnten Juli Geburtstag.
- D) Ich habe am vierzehnten Juni Geburtstag.

16. Mein / von / Beruf / ist / Vater / Arzt

Wie kann man mit den obigen Wortgruppen einen sinnvollen und richtigen Satz bilden?

Verilen sözcük gruplarıyla kurulabilecek en anlamlı ve doğru cümle aşağıdakilerden hangisidir?

- A) Mein Vater ist Arzt von Beruf.
- B) Ist mein Arzt Vater von Beruf.
- C) Von Beruf mein Arzt Vater ist.
- D) Mein Beruf Vater von ist Arzt.

17. Man kann lange schlafen und faulenzten.

Welches Wort passt nicht in die obige Lücke?

Cümlede boş bırakılan yeri aşağıdakilerden hangisi tamamlamaz?

- A) an den Wochenenden
- B) in dem Urlaub
- C) in den Ferien
- D) in der Schule

18. Was ist dein Lieblingsfach in der Schule?

Welche Antwort passt zur obigen Frage?

Verilen sorunun cevabı aşağıdakilerden hangisidir?

- A) Wir fahren in den Ferien nach Italien.
- B) Ich spiele gern Schach in meiner Freizeit.
- C) Mathematik.
- D) Ich esse in der Kantine.

19. Serap fährt um zur Schule.(7.45)

Welches Wort passt in die obige Lücke?

Cümlede boş bırakılan yeri aşağıdakilerden hangisi doğru şekilde tamamlar?

- A) zwanzig nach sieben
- B) halb acht
- C) viertel vor acht
- D) viertel nach sieben

20. Can hat einmal 2 Stunden Schwimmunterricht.

Welches Wort passt in die obige Lücke?

Cümlede boş bırakılan yeri aşağıdakilerden hangisi doğru şekilde tamamlar?

- A) im Labor
- B) in der Woche
- C) in Handarbeit
- D) im Computerraum

1. A: When is Kate's birthday?
B: It's February.

Which of the following completes the dialogue above?

Aşağıdakilerden hangisi yukarıdaki konuşmayı doğru olarak tamamlar?

- A) to
B) for
C) on
D) in

2. A: does Ayşe get up?
B: She gets up at 7 o'clock.

Which of the following completes the dialogue above?

Aşağıdakilerden hangisi yukarıdaki konuşmayı doğru olarak tamamlar?

- A) Do
B) What
C) Which
D) What time

3. A: I feel terrible. I have a sore throat.
B: Well, don't drink cold things. You should

Which of the following completes the dialogue above?

Aşağıdakilerden hangisi yukarıdaki konuşmayı doğru olarak tamamlar?

- A) what is the matter with you
B) oh, no
C) don't stay in the class
D) see the doctor

4. A:
B: I'm afraid I can't. I'm ill.

Which of the following completes the dialogue above?

Aşağıdakilerden hangisi yukarıdaki konuşmayı doğru olarak tamamlar?

- A) Do you exercise regularly?
B) Let's go cycling!
C) What is your favourite activity?
D) Do you like exercising?

5. A: I want to some money to the animal shelter.
B: That's a good idea.

Which of the following completes the dialogue above?

Aşağıdakilerden hangisi yukarıdaki konuşmayı doğru olarak tamamlar?

- A) adopt
B) donate
C) work
D) feed

6. I breakfast at eight o'clock everyday.

Which of the following completes the sentence above?

Aşağıdakilerden hangisi yukarıdaki cümleyi doğru olarak tamamlar?

- A) does
B) do
C) has
D) have

7. Serap can nice pictures.

Which of the following completes the sentence above?

Aşağıdakilerden hangisi yukarıdaki cümleyi doğru olarak tamamlar?

- A) draw
B) do
C) sing
D) play

8. A: languages do you speak?
B: Three. I speak Spanish, English and French.

Which of the following completes the dialogue above?

Aşağıdakilerden hangisi yukarıdaki konuşmayı doğru olarak tamamlar?

- A) How many
B) How
C) Can
D) Where

9. A:, where is the museum?
B: Go straight ahead Flower Road. It's on the left.

Which of the following completes the dialogue above?

Aşağıdakilerden hangisi yukarıdaki konuşmayı doğru olarak tamamlar?

- A) You're welcome
B) Thank you
C) Not at all
D) Excuse me

10. Hilda is from China, she speaks

Which of the following completes the sentence above?

Aşağıdakilerden hangisi yukarıdaki cümleyi doğru olarak tamamlar?

- A) Spanish
B) Chinese
C) Turkish
D) English

11. A: Can you origami?
B: No, I can't.

Which of the following completes the dialogue above?

Aşağıdakilerden hangisi yukarıdaki konuşmayı doğru olarak tamamlar?

- A) take
B) play
C) do
D) draw

12. Mary likes mountains at the weekends.

Which of the following completes the sentence above?

Aşağıdakilerden hangisi yukarıdaki cümleyi doğru olarak tamamlar?

- A) playing
B) riding
C) climbing
D) collecting

13. A: Which do you go to school?
B: I go to school on Monday, Tuesday and Friday.

Which of the following completes the dialogue above?

Aşağıdakilerden hangisi yukarıdaki konuşmayı doğru olarak tamamlar?

- A) get up
B) time
C) days
D) today

14.

Bank

Supermarket

School

The supermarket is the bank and the school.

Which of the following completes the sentence above?

Aşağıdakilerden hangisi yukarıdaki cümleyi doğru olarak tamamlar?

- A) between
B) in front of
C) behind
D) next to

15. Do you your teeth before bed?

Which of the following completes the sentence above?

Aşağıdakilerden hangisi yukarıdaki cümleyi doğru olarak tamamlar?

- A) catch
B) have
C) brush
D) wash

16. My grandmother can play

Which of the following completes the sentence above?

Aşağıdakilerden hangisi yukarıdaki cümleyi doğru olarak tamamlar?

- A) the violin
B) experiments
C) gymnastics
D) the computer

17. A: What of a movie is Cinderella?
B: It is a fairy tale.

Which of the following completes the dialogue above?

Aşağıdakilerden hangisi yukarıdaki konuşmayı doğru olarak tamamlar?

- A) about
- B) type
- C) favourite
- D) on

18. A: What is Elif's favourite activity?
B: Her favourite activity is chess.

Which of the following completes the dialogue above?

Aşağıdakilerden hangisi yukarıdaki konuşmayı doğru olarak tamamlar?

- A) playing
- B) climbing
- C) camping
- D) collecting

19.



- A: What time is it
B: It's

Which of the following completes the dialogue above?

Aşağıdakilerden hangisi yukarıdaki konuşmayı doğru olarak tamamlar?

- A) six past nine
- B) half past nine
- C) quarter to six
- D) nine past six

20. The children the sheep everyday. They like giving food to them.

Which of the following completes the sentence above?

Aşağıdakilerden hangisi yukarıdaki cümleyi doğru olarak tamamlar?

- A) milk
- B) ride
- C) feed
- D) water

1. Pierre veut d'eau.

Choisissez le mot qui convient.

Cümlede boş bırakılan yeri aşağıdakilerden hangisi doğru şekilde tamamlar?

- A) une pincée
- B) un verre
- C) une fourchette
- D) un couteau

2. J'ai invité Pierre à la maison. Il vient moi.

Choisissez le mot qui convient.

Cümlede boş bırakılan yeri aşağıdakilerden hangisi doğru şekilde tamamlar?

- A) à
- B) chez
- C) au
- D) en

3. «Fais deux trous.»

Choisissez la traduction qui convient.

Yukarıdaki cümlenin Türkçe karşılığı aşağıdakilerden hangisidir?

- A) İki kutu kes.
- B) İki daire yap.
- C) İki delik aç.
- D) İki resim çiz

4. Les feuilles en automne.

Choisissez le mot qui convient.

Cümlede boş bırakılan yere uygun düşen sözcüğü bulunuz.

- A) prennent
- B) portent
- C) adorent
- D) tombent

5. ces / prendre / va / médicaments / il
I II III IV V

Mettez les mots dans le bon ordre pour faire une phrase.

Yukarıdaki sözcükleri bir cümle oluşturacak şekilde sıraya koyunuz.

- A) V, I, IV, II, III
- B) V, II, III, I, IV
- C) V, III, II, I, IV
- D) V, IV, I, II, III

6. «Akşam yemeğini 7'de yeriz.»

Choisissez la traduction qui convient.

Yukarıdaki cümlenin Fransızca karşılığı aşağıdakilerden hangisidir?

- A) Nous peññ-dejeunons à 7 heures.
- B) Nous mangeons à 19 heures.
- C) Nous déjeunerons à 19 heures.
- D) Nous dññons à 7 heures.

7. -?

- Il y a du vent.

Trouvez la question qui correspond à la réponse donnée.

Yukarıdaki konuşmada verilen cevabı gerektiren soruyu bulunuz.

- A) Quel temps fait-il
- B) Quelle heure est-il
- C) Quel temps va-t-il faire
- D) Qu'est-ce qu'il fait

8. Nous 10 ans.

Choisissez le mot qui convient.

Cümlede boş bırakılan yeri aşağıdakilerden hangisi doğru şekilde tamamlar?

- A) sommes
- B) avons
- C) êtes
- D) avez

9. homme est grand.

Choisissez le mot qui convient.

Cümlede boş bırakılan yeri aşağıdakilerden hangisi doğru şekilde tamamlar?

- A) Cet
- B) Ce
- C) Cette
- D) Ces

10. Caissière : Vous payez comment?
Mme Legrand : especes. Voilà 50 euros.

Choisissez le mot qui convient.

Cümlede boş bırakılan yeri aşağıdakilerden hangisi doğru şekilde tamamlar?

- A) Par
- B) En
- C) Avec
- D) Dans

11. Mon appartement est 3^{ème} étage.

Choisissez le mot qui convient.

Cümlede boş bırakılan yeri aşağıdakilerden hangisi doğru şekilde tamamlar?

- A) de
- B) du
- C) à
- D) au

12. Les filles café.

Choisissez l'expression qui convient.

Cümlede boş bırakılan yeri aşağıdakilerden hangisi doğru şekilde tamamlar?

- A) boivent de la
- B) boit du
- C) boivent du
- D) boit de la

13. - Je veux connaître le des chaussures.
- Ça coûte 25 euros.

Choisissez le mot qui convient.

Konuşmada boş bırakılan yeri aşağıdakilerden hangisi doğru şekilde tamamlar?

- A) prix
- B) taille
- C) pointure
- D) couleur

14. - Merci.

-

Choisissez l'expression qui convient.

Yukarıdaki konuşmada boş bırakılan yeri aşağıdakilerden hangisi doğru şekilde tamamlar?

- A) De nen
- B) D'accord
- C) Tant pis
- D) Je ne sais pas

15. «99» en lettres:

Choisissez le mot qui convient.

Cümlede boş bırakılan yeri aşağıdakilerden hangisi doğru şekilde tamamlar?

- A) Quatre-vingt-neuf
- B) Soixante-neuf
- C) Soixante-dix-neuf
- D) Quatre-vingt-dix-neuf

16. À quelle heure part le train Lyon
Madame?

Choisissez le mot qui convient.

Cümlede boş bırakılan yeri aşağıdakilerden hangisi doğru şekilde tamamlar?

- A) avec
- B) au
- C) par
- D) pour

17. «Köprüyü geçin, solunuzda.»

Choisissez la traduction qui convient.

Yukarıdaki cümlenin Fransızca karşılığı aşağıdakilerden hangisidir?

- A) Continuez jusqu'au pont, c'est à droite.
- B) Traversez le pont, c'est à gauche.
- C) Prenez le feu, c'est à gauche.
- D) Allez tout droit, c'est à droite.

18. Pour écrire, il faut

Choisissez le mot qui convient.

Cümlede boş bırakılan yeri aşağıdakilerden hangisi doğru şekilde tamamlar?

- A) un livre
- B) une règle
- C) un crayon
- D) une télé

19. Il a besoin d'un/une de sel.

Choisissez le mot qui convient.

Cümlede boş bırakılan yeri aşağıdakilerden hangisi doğru şekilde tamamlar?

- A) verre
- B) couteau
- C) pincee
- D) fourchette

20. - Pour être en forme qu'est-ce qu'on fait?

.....

Trouvez la réponse qui correspond à la question donnée.

Yukarıdaki konuşmada verilen soruyu gerektiren cevabı bulunuz.

- A) On fait du sport
- B) On mange rien
- C) On boit du coca
- D) On ne boit pas d'eau

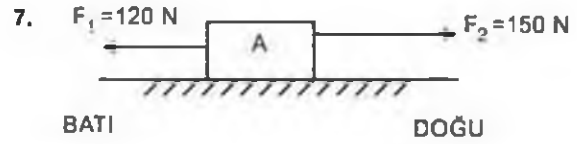
2017 AÖG-AÖL II. DÖNEM 0100-A

- Bir maddenin taneciklerinin sahip olduğu toplam hareket enerjisine ne ad verilir?
 - Isı
 - Sıcaklık
 - Kaynama
 - Yoğuşma
- 1380 km lik yolu 6 saatte giden bir aracın saatteki hızı kaç km/h tır?
 - 210
 - 220
 - 230
 - 240
- Aşağıdakilerden hangisi ısının iletim yollarında biri değildir?
 - İletim
 - Işıma
 - Yayıma
 - Konveksiyon
- Mustafa, dört cismin elektrik iletkenliğini ve yalıtkanlığını inceleyerek tablo yapmıştır.

	İletken	Yalıtkan
Cam kase		✓
Alüminyum kap		✓
Altın yüzük	✓	
Tahta çubuk		✓

Bu tabloya göre Mustafa hangi cismi yanlış işaretlemiştir?

- Cam kase
 - Alüminyum kap
 - Altın yüzük
 - Tahta çubuk
- I. Gaz
II. Katı
III. Sıvı
- Yukarıdaki madde hallerinin hangilerinde ısı konveksiyon yoluyla yayılır?
- Yalnız I
 - Yalnız III
 - I ve III
 - II ve III
- Bir devredeki direncin azalması durumunda ampul parlaklığında nasıl bir değişim gözlemlenir?
 - Artar.
 - Azalar.
 - Değişmez.
 - Ampul patlar.



Sürtünmesi ihmal edilen şekildeki A cisminde iki farklı kuvvet uygulanmaktadır.

Bu cismin dengelenmiş kuvvetler etkisinde olabilmesi için hangi yönde kaç N luk üçüncü bir kuvvet uygulanmalıdır?

- 20 N, DOĞU
 - 20 N, BATI
 - 30 N, DOĞU
 - 30 N, BATI
- 20 m/s hıza sahip olan bir araç 1 dakikada kaç metre yol alır? (s:saniye)
 - 20
 - 400
 - 800
 - 1200
 - Aşağıdakilerden hangisi iskelet sisteminde yer almaz?
 - Kalp
 - Kemik
 - Kıkırdak
 - Eklemler
 - Ses dalgalarının sert bir yüzeye çarparak kaynağına geri dönmesine ne ad verilir?
 - Yankı
 - Kırılma
 - Parlama
 - Akustik

11. Aşağıdakilerden hangisi erozyon olayının sonuçlarından biri değildir?

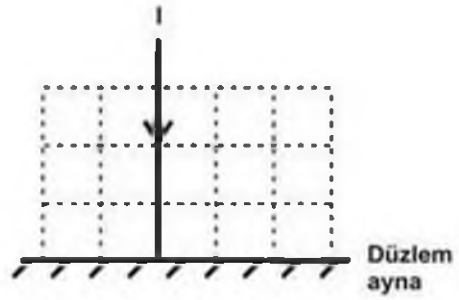
- Suların kirlenmesine neden olması
- Toprağın verimliliğini artırması
- Çölleşmeye sebep olması
- Ürün kalitesini düşürmesi

12. Özellikle pamuk üretiminde hangi çeşit toprak türü kullanılır?

- Killi
- Kireçli
- Humuslu
- Kumlu

13. Aşağıdaki maddelerden hangisi karışımdır?
- A) Çamaşır suyu
B) Toprak
C) Yemek tuzu
D) Demir
14. Aşağıdakilerden hangisi maddenin ortak özelliklerinden biri değildir?
- A) Sürat
B) Boşlukta yer kaplama
C) Eylemsizlik
D) Kütle
15. Vücudu yabancı maddelere ve mikroplara karşı koruyan kan hücrelerine ne ad verilir?
- A) Kan pulcugu
B) Akyuvar
C) Alyuvar
D) Plazma
16. Sperm ile ilgili aşağıdaki ifadelerden hangisi yanlıştır?
- A) Erkek üreme hücresidir.
B) Büyük ve hareketsizdir.
C) Baş, orta kısım ve kuyruk olmak üzere üç bölümden oluşur.
D) Testislerde meydana gelir.
17. Erkek organ başçığındaki polenlerin böcek, kuş, rüzgâr, su veya insanlar aracılığıyla dişi organın tepeciğine taşınmasına ne ad verilir?
- A) Pupalasma
B) Çimlenme
C) Başkalaşım
D) Tozlaşma
18. Aşağıdaki olayların hangisi kimyasal değişimdir?
- A) Etten kıyma yapılması
B) Camın kırılması
C) Buzun erimesi
D) Kağıdın yakılması
19. Başkalaşım geçiren böceklerde larva evresinin ardından görülen devre aşağıdakilerden hangisidir?
- A) İribaş
B) Koza
C) Pupa
D) Zigot

20.



I ışık ışını düzlem aynaya şekildeki gibi gönderiliyor. Buna göre, I ışık ışını düzlem aynadan aşağıdakilerden hangisi gibi yansır?

(Bölmeler eşit karelerden oluşmaktadır.)

- A)
- B)
- C)
- D)

1. Aşağıdakilerden hangisi vatandaş olmanın yüklediği sorumluluklardan biri değildir?
- A) Seçme ve seçilme hakkını kullanmak
B) Ticaret yaparak ülke ekonomisine katkıda bulunmak
C) Askerlik görevini yapmak
D) Vergilerini ödemek
2. Aşağıdaki cümlelerden hangisi bir "olgu" ifadesidir?
- A) Çınarcık ilçesinde dün saat 11.00'de 4.8 büyüklüğünde bir deprem oldu.
B) Çınarcık ve çevresinde daha büyük bir deprem beklemiyorum.
C) Çınarcık'ta deprem olduğuna göre en kısa zamanda İzmir'de de deprem olabilir.
D) Bu deprem Marmara Denizi'ndeki bir büyük depremin habercisi olabilir.
3. Aşağıdakilerden hangisi bir görüş cümlesidir?
- A) Türkiye'nin başkenti Ankara'dır.
B) Türkiye'nin nüfusu en fazla şehri İstanbul'dur.
C) Van şehri Türkiye'nin Doğu Anadolu Bölgesi'nde yer almaktadır.
D) Türkiye'nin en güzel şehri Adana'dır.
4. Türkiye'de görülen aşağıdaki iklim tiplerinden hangisinde çay, fındık ve mısır üretimi daha kolay yapılır?
- A) Karadeniz iklimi
B) Akdeniz iklimi
C) Karasal iklim
D) Step iklimi
5. Kuzey Amerika Kıtası ile Avrupa Kıtası arasında yer alan okyanus aşağıdakilerden hangisidir?
- A) Büyük Okyanus
B) Hint Okyanusu
C) Güney Okyanusu
D) Atlas Okyanusu
6. Gediz ve Büyük Menderes ırmakları arasında kurulan, ticaretle zenginleşen ve parayı icat eden Anadolu uygarlığı aşağıdakilerden hangisidir?
- A) Lidya
B) Urartu
C) Frig
D) Hitit
7. Türk ordusunu ilk defa onluk sisteme göre teşkilatlandıran Türk hükümdarı aşağıdakilerden hangisidir?
- A) Kültigin
B) Mete Han
C) Teoman
D) İstemi Kağan
8. Aşağıdakilerden hangisinin vefatı ile Dört Halife Dönemi sona ermiştir?
- A) Hz. Ebubekir
B) Hz. Osman
C) Hz. Ali
D) Hz. Ömer
9. Türk Edebiyatı'nın yazılı ilk örneklerinden olan Tonyukuk Kitabeleri hangi döneme aittir?
- A) Gazneliler
B) Uygurlar
C) Asya Hunları
D) Kök Türk
10. İklim özellikleri nedeniyle Karadeniz Bölgesi'nin kıyı kesimlerinde yetistirilemeyen ürün aşağıdakilerden hangisidir?
- A) Fındık
B) Buğday
C) Mısır
D) Çay

11. Aşağıdakilerden hangisi geri dönüşümün sağladığı faydalardan biri değildir?

- A) Enerji tasarrufu sağlaması
- B) Doğal kaynakları koruması
- C) Atık miktarını azaltması
- D) Sanayii geliştirmesi

12. Türkiye'de ormanlık alanların en fazla olduğu coğrafi bölge aşağıdakilerden hangisidir?

- A) İç Anadolu
- B) Karadeniz
- C) Marmara
- D) Ege

13. Aşağıdakilerden hangisinde yerleşme yoktur?

- A) Avrupa'nın batısı
- B) Afrika'nın kuzeyi
- C) Antarktika Kıtası
- D) Kuzey Amerika Kıtası

14. Aşağıdakilerden hangisi Türk Cumhuriyetlerinden biri değildir?

- A) Gürcistan
- B) Özbekistan
- C) Kazakistan
- D) Azerbaycan

15. 1789 Fransız Ulusal Meclisi tarafından kabul edilen İnsan Hakları Bildirgesi'nde "Özgürlük, bireyin başkasına zarar vermeden istediğini yapabilmesidir." olarak tanımlanmıştır.

Buna göre, aşağıdaki davranışlardan hangisi özgürlük sınırları içinde değildir?

- A) Üniversite öğrenimini yarıda bırakmak
- B) Çalıştığı işten istifa etmek
- C) Yüksek sesle müzik dinlemek
- D) Tatil yapmaya gitmek

16. Cumhuriyet yönetimi ile ilgili aşağıdaki ifadelerden hangisi yanlıştır?

- A) Yöneticiler kendi kurallarını kendi belirler.
- B) Birçok siyasi parti olabilir.
- C) Hak ve özgürlükler yasal güvence altındadır.
- D) Egemenlik millete aittir.

17. Aşağıdakilerden hangisi Osmanlı toplumunda demokrasi yolunda atılan ilk adımdır?

- A) Meşrutiyet'in ilanı
- B) Islahat Fermanı'nın ilan edilmesi
- C) Sened-i İttifak'ın kabul edilmesi
- D) Tanzimat Fermanı'nın ilan edilmesi

18. Doku ve organ bağıışı ile ilgili aşağıdaki ifadelerden hangisi yanlıştır?

- A) Görmeyen insanın görmesi sağlanabilir.
- B) Hastanın duygularının değişmesi sağlanabilir.
- C) Böbrek hastasının hayata dönmesi sağlanabilir.
- D) Kalp nakli ile hastanın yaşaması sağlanabilir.

19. Edinsel bağışıklık eksikliği sendromu (AIDS) hastalığına neden olan virüs aşağıdakilerden hangisidir?

- A) Uyuş virüsü
- B) Hepatit B virüsü
- C) HIV virüsü
- D) Hepatit C virüsü

20. Doğal çevre ile insan arasındaki ilişkileri inceleyen sosyal bilim dalı aşağıdakilerden hangisidir?

- A) Tarih
- B) Psikoloji
- C) Siyaset Bilimi
- D) Coğrafya

1. Allah'ın kitap ve şeriat (dini kurallar) verdiği peygamberlere ne ad verilir?
 - A) Resul
 - B) Suhuf
 - C) Sıdk
 - D) İsmet
2. Namaz kılan erkek ve kadının örtülmesi gereken yerlerini örtmesine ne ad verilir?
 - A) Kade-i Ahire
 - B) Setr-ı Avret
 - C) Necasetten Taharet
 - D) İstikbal-i Kible
3. Aşağıdakilerden hangisi namazı bozan durumlardan biri değildir?
 - A) Namaz kılariken hapşurmak
 - B) Namaz kılariken gülmek
 - C) Namaz kılariken konuşmak
 - D) Namaz farzlarından birini yapmamak
4. Kıraat kelimesinin anlamı aşağıdakilerden hangisidir?
 - A) Namaza "Allah-u Ekber" lafzıyla başlamaktır.
 - B) Namazın sonundaki oturuştur.
 - C) Namazda, ayakta iken Kur'an-ı Kerim okumaktır.
 - D) Namazda belirli uzuvları yere koyarak iki defa yere kapanmaktır.
5. Aşağıdakilerden hangisi farz olan namazlardan biridir?
 - A) Vitr
 - B) Cenaze
 - C) Teravih
 - D) Bayram
6. Allah tarafından Hz. Davud'a gönderilen İlahî kitap aşağıdakilerden hangisidir?
 - A) Tevrat
 - B) Kur'an-ı Kerim
 - C) İncil
 - D) Zebur
7. Medine'de olup muhacirlere her türlü fedakârlıkla yardım eden Müslümanlara ne ad verilir?
 - A) Evs
 - B) Suffa
 - C) Ensar
 - D) Hazreç
8. Ramazan ayında yatsı namazı ile vitir namazı arasında kılınan sünnet namazına ne ad verilir?
 - A) Bayram namazı
 - B) Cuma namazı
 - C) Cenaze namazı
 - D) Teravih namazı
9. Allah'tan vahiy alan ancak kendinden önceki resulün şeriatına uyan peygambere ne ad verilir?
 - A) Nebî
 - B) Sıdk
 - C) Suhuf
 - D) Fetanet
10. Kur'an-ı Kerim'de bulunan ilkeleri kabul etmek anlamına gelen kavram aşağıdakilerden hangisidir?
 - A) Kıssa
 - B) İnanç
 - C) Ahlak
 - D) İbadet
11. Mekke'den Medine'ye hicret eden Müslümanlara ne ad verilir?
 - A) Yesrip
 - B) Ensar
 - C) Muhacir
 - D) Suffa

12. Kur'an'da peygamberlerin ve bazı tarihi şahsiyetlerin başından geçen olaylar ve geçmişte yaşamış toplumlar hakkında bilgi vermek için kullanılan kavram aşağıdakilerden hangisidir?
- A) Vesvese
B) Kıssa
C) Fıkıh
D) Söyleyiş
13. Aşağıdakilerden hangisi Kur'an-ı Kerim'deki ayetlerin ana gruplarından biri değildir?
- A) Tövbe
B) İnanç
C) Ahlak
D) İbadet
14. İslam'ın ilk eğitim öğretim merkezi aşağıdakilerden hangisidir?
- A) Mescid-i Nebevi
B) Mescid'i Nebi
C) Suffa
D) Ravza-i Mutahhara
15. Aşağıdakilerden hangisi hasetin insanlar arasında neden olduğu sonuçlardan biri değildir?
- A) İnsanları birbirlerine sevgi ve saygıyla bağlar.
B) İnsanların arasında kin ve düşmanlık meydana getirir.
C) İnsanlar arasında yardımlaşmanın yok olmasına sebep olur.
D) Birlik ve beraberliğin yok olmasına neden olur.
16. İslam'ın Türkler arasında yayılmasında etkili olan ve lakabı Pir-i Türkistan olarak bilinen kişi aşağıdakilerden hangisidir?
- A) Maturidi
B) Yunus Emre
C) Ebu Hanife
D) Ahmet Yesevi
17. "Muavvizeteyn" aşağıdaki hangi iki sureye verilen addır?
- A) İhlas ve Felâk
B) İhlas ve Nâs
C) Felâk ve Nâs
D) Kureyş ve Fatiha
18. Ebu Hanife'nin görüşlerinin toplandığı kitap aşağıdakilerden hangisidir?
- A) Kitabu't Tevhîd
B) Te'vilatü'l-Kur'an
C) Kitabü'l Mülâkât
D) Fıkhu'l Ekber
19. Dini konularda Kur'an-ı Kerim'den sonra en önemli kaynak olarak kabul edilen kitap aşağıdakilerden hangisidir?
- A) El-Kanun fi'l-Tıp
B) Sahih-i Buhari
C) Kitabu'l Musiki
D) Cebr ve'l-Mukabele
20. Kur'an'da Allah'a isyan eden Şeytan'ın sıfatı olarak geçen kavram aşağıdakilerden hangisidir?
- A) İnkâr
B) Gıybet
C) Haset
D) Kibir

1. Aşağıdaki cümlelerin hangisinde zaman kayması vardır?
 - A) Yarın pazara gitmeyeceğim.
 - B) Dün seni okulda gördüm.
 - C) Akşam için yemek yapıyorum.
 - D) Her sabah erken kalkıyorum.
2. Aşağıdaki fiillerden hangisi mastar eki almıştır?
 - A) görecek
 - B) gitmek
 - C) giymiş
 - D) biliyor
3. Aşağıdakilerden hangisi fabl türünün özelliklerinden biri değildir?
 - A) Tekerlemeyle başlaması
 - B) İnsanlara daima sonunda bir ders verilmesi
 - C) Şiir ya da düz yazı biçiminde yazılması
 - D) İnsan olmayan varlıkların insan gibi konuşturulması
4. "Duraktan eve gelene kadar eli ayağı buz kesmişti." cümlesinde "buz kesmek" deyiimi hangi anlamda kullanılmıştır?
 - A) Tükenmek
 - B) Çok üşümek
 - C) Hastalanmak
 - D) Paniklemek
5. Aşağıdaki cümlelerin hangisinde fiil gelecek zaman III. çoğul kişi ile çekimlenmiştir?
 - A) Günlerini yazmakla geçiriyor.
 - B) Bisikletimi tamirciye götürdüm.
 - C) Çocuklara hediye verecekler.
 - D) Kısık sesle konuşuyorlar.
6. Önemi belirtmek istenen kelime ve hecelerin diğerlerine göre daha baskılı okunup söylenmesine ne ad verilir?
 - A) Tonlama
 - B) Vurgu
 - C) Söyleyiş
 - D) Seci
7. Aşağıdaki cümlelerin hangisinde fiil dilek-şart kipi ile çekimlenmiştir?
 - A) Küçük yaşta yetim kaldı.
 - B) Onun çocuksu davranışları beni sıkıyor.
 - C) Yarım akşam annelere gitsek.
 - D) Bir köy kahvesinde biraz dindik.
8. Aşağıdaki sözcüklerden hangisi terim anlamlıdır?
 - A) adalet
 - B) bayındır
 - C) destan
 - D) sıfat
9. "Dans etmeyi hâlâ seviyor." cümlesinde "hala", "hâlâ" sözcüklerinin yazımlarındaki ayrımı yaratan durum, aşağıdakilerin hangisinde vardır?
 - A) kar
 - B) siyah
 - C) ilan
 - D) lisan
10. Aşağıdaki sözcüklerden hangisi "kıtlık" sözcüğünün zıt anlamlısıdır?
 - A) eksiklik
 - B) bolluk
 - C) azınlık
 - D) çoğunluk

11. Aşağıdaki cümlelerde yer alan altı çizili sözcüklerden hangisi sıfat-fiildir?

- A) Bu kitapları okuyup özetleyin.
- B) Zil calınca öğrenciler içeri girdi.
- C) Hava gidererek bozuyordu.
- D) Dil, ulusu meydana getiren öğelerden biridir.

12. Aşağıdaki cümlelerin hangisinde ek-fiil kullanılmıştır?

- A) Aniden kapının zili çaldı.
- B) Kanepede sessizce oturdum.
- C) Bugünkü ders çok önemliymiş.
- D) İşini titizlikle yaptı.

13. Aşağıdaki cümlelerden hangisinin sonuna ünlem işareti konmalıdır?

- A) Olayı kısaca anlat.
- B) Çiçeği nereye bırakayım.
- C) Arabayı park edebilir misin?
- D) Ey Türk Gençliği!

14. Aşağıdaki cümlelerden hangisinin fiili işteş çatılıdır?

- A) Müdür, davetiyeleri sekretere yazdırdı.
- B) Erkenden okula gittim.
- C) Öğrencilerle tam iki saat konuşluk.
- D) Çocuklar akşama kadar yüzdüler.

15. Yürü be Dadaloğlu'm yürü git
Dertli dertli Çukurova yolun tut

Yukarıdaki dizelerde kullanılan kafiye türü aşağıdakilerden hangisidir?

- A) Zengin
- B) Yarım kafiye
- C) Tam
- D) Tunç

16. Aşağıdakilerden hangisi eşsesli bir sözcüktür?

- A) yüz
- B) ceza
- C) zengin
- D) düşman

17. Aşağıdaki cümlelerin hangisinde nesne yoktur?

- A) Güvercinler ekmek parçalarının hepsini yedi.
- B) Yarın sabah beni okula bırakır mısın?
- C) Çocuğun korkudan bakışları donuktu.
- D) Reyhan Ankara'ya gitti.

18. Aşağıdaki cümlelerin hangisinde anlatım bozukluğu vardır?

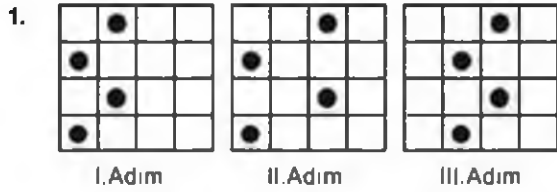
- A) Sandalı boyamak için sabaha kadar çalıştım.
- B) Bu akşam evden çıkmayı düşünmüyorum.
- C) Kimse işini yapmıyor, bahçede oturuyordu.
- D) Maçta önümde ve arkamda pek çok insan vardı.

19. Aşağıdaki fiillerden hangisi emir kipiyle çekimlenmiştir?

- A) yat
- B) koşmamalısın
- C) gidiyordu
- D) uyansa

20. Aşağıdaki cümlelerin hangisinde anlatım bozukluğu vardır?

- A) Genç kadına yardım etmek için koştu.
- B) Öyle hızlı koşar ki kimse ona yetişemez.
- C) Buralar iki yüz yıl önce ormanlıkmış.
- D) Bu yaz çok kitap okudum.



Yukarıdaki örüntünün IV. adımında gelmesi gereken şekil aşağıdakilerden hangisidir?

- A)
- B)
- C)
- D)

2.

$$\frac{2^{-3} \cdot 8^2}{4^2 \cdot 2^{-3}}$$

Yukarıdaki işlemin sonucu kaçtır?

- A) $\frac{1}{16}$
- B) $\frac{1}{8}$
- C) 4
- D) 8

3. $\frac{10^{-15} \times 10^4}{10^{-9} \times 10^{-1}} = \frac{10^{-12}}{10^{-10}}$

Yukarıdaki işlemin sonucu kaçtır?

- A) 0,01
- B) 0,1
- C) 1
- D) 10



3 tanesi d_1 doğrusu üzerinde, 4 tanesi d_2 doğrusu üzerinde olan 7 farklı nokta kaç farklı üçgen oluşturur?
(d_1 ve d_2 doğruları birbirine paraleldir.)

- A) 30
- B) 45
- C) 60
- D) 75

5. 94, 65, 86, 73, 68, 92, 77, 81, 60, 74

8/A şubesindeki öğrencilerin tarih sınavından aldıkları notlar yukarıda verilmiştir.

Buna göre, öğrencilerin notlarının aritmetik ortalaması kaçtır?

- A) 74
- B) 75
- C) 76
- D) 77

6. Bir televizyon yarışmasının elemelerinde, I. grupta 24 kadın, 12 erkek, II. grupta 22 erkek, 10 kadın vardır. Her iki grubun yarışma için birer kişi seçiliyor.

Seçilen yarışmacıların ikisinin de kadın olma olasılığı kaçtır?

- A) $\frac{5}{48}$
 B) $\frac{5}{24}$
 C) $\frac{11}{48}$
 D) $\frac{11}{24}$

7. $\sqrt{48} - 3\sqrt{75} + 5\sqrt{12}$

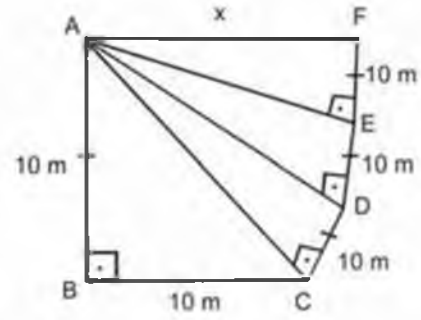
Yukarıdaki işlemin sonucu kaçtır?

- A) $-3\sqrt{3}$
 B) $-\sqrt{3}$
 C) $\frac{\sqrt{3}}{2}$
 D) $2\sqrt{3}$

8. $A = \{0, 2, 4, 6\}$ kümesinin elemanlarıyla üç basamaklı rakamları farklı en fazla kaç farklı doğal sayı yazılabilir?

- A) 12
 B) 16
 C) 18
 D) 24

9.

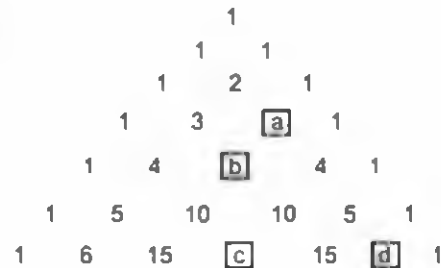


Yukarıdaki şekilde $\triangle ABC$, $\triangle ACD$, $\triangle ADE$ ve $\triangle AEF$ birer dik üçgendir.

Buna göre, $|AF| = x$ kaç metredir?

- A) $5\sqrt{5}$
 B) $10\sqrt{5}$
 C) 20
 D) 40

10.



Yukarıdaki pascal üçgeninde a, b, c ve d harflerinin yerine gelmesi gereken sayılar aşağıdakilerin hangisinde birlikte ve doğru verilmiştir?

- A) a=2 b=4 c=15 d=6
 B) a=3 b=4 c=20 d=15
 C) a=3 b=6 c=6 d=15
 D) a=3 b=6 c=20 d=6

11. İlk terimi -12 , ortak farkı 5 olan bir aritmetik dizinin 14 . terimi kaçtır?

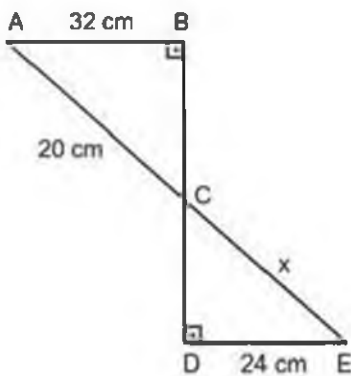
A) 53
B) 58
C) 63
D) 68

12. $\frac{x^2 - 2x}{3x - 9} \cdot \frac{x^2 - 4}{3 - x}$

işleminin en sade biçimi aşağıdakilerden hangisidir?

A) $\frac{-3x}{x - 2}$
B) $\frac{x}{-2 - x}$
C) $\frac{2x}{x - 3}$
D) $\frac{-x}{3(x+2)}$

13.



$\triangle ABC$ ve $\triangle EDC$ üçgenleri benzer olduğuna göre, $|CE| = x$ kaç cm'dir?

A) 12
B) 15
C) 18
D) 22

14. Üç kardeş 80 cevizi, küçük kardeş büyük kardeşin 2 katından 6 eksik ve ortanca kardeş küçük kardeşten 2 fazla alacak şekilde paylaşıyorlar.

Buna göre, ortanca kardeşin payına kaç ceviz düşmüştür?

A) 32
B) 30
C) 28
D) 24

15.

$$-\frac{9}{x+3} + \frac{22}{2x+6} = \frac{3}{8}$$

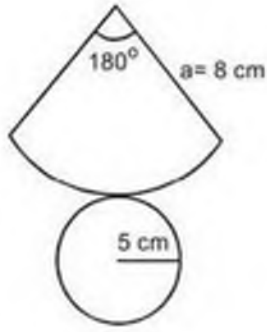
Yukarıdaki denklemini sağlayan x değeri aşağıdakilerden hangisidir?

A) $-\frac{25}{3}$
B) -3
C) $\frac{2}{3}$
D) $\frac{7}{3}$

16. Yarıçapı 17 cm olan kürenin merkezinden 15 cm uzaklıkta olan küçük dairenin alanı kaç cm^2 dir? ($\pi = 3$ alınız.)

A) 108
B) 147
C) 192
D) 243

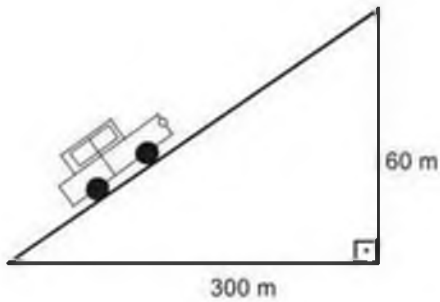
17.



Yukarıda açınımlı ve ölçüleri verilen dik koninin yüzey alanı kaç cm^2 dir?
($\pi = 3$ alınız.)

- A) 96
- B) 171
- C) 192
- D) 225

18.



Yukarıdaki şekilde verilen doğrunun eğimi % kaçtır?

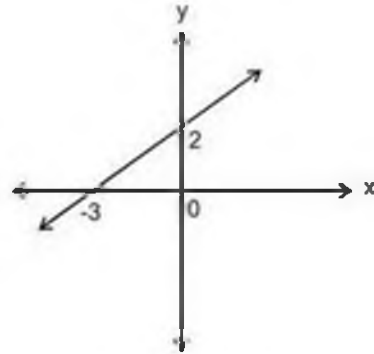
- A) 10
- B) 15
- C) 20
- D) 25

$$19. \begin{aligned} y + 4x &= 6 \\ y &= 8x - 2 \end{aligned}$$

denklemin sisteminin çözüm kümesi aşağıdakilerden hangisidir?

- A) $\left(\frac{1}{3}, -2\right)$
- B) $\left(\frac{2}{3}, \frac{10}{3}\right)$
- C) $\left(-\frac{1}{3}, \frac{2}{3}\right)$
- D) $\left(2, -\frac{5}{3}\right)$

20.



Yukarıda grafiği verilen doğrunun eğimi kaçtır?

- A) -3
- B) $-\frac{1}{3}$
- C) $\frac{2}{3}$
- D) 2

1. Tavaftan hemen sonra Kabe'nin doğu tarafında bulunan Safa ve Merve tepeleri arasında, hızlı adımlarla yedi defa gidip gelmeye ne ad verilir?
 - A) Ihram
 - B) Sa'y
 - C) Şavl
 - D) Vakfe
2. "Gökleri yedi kat üzerine yaratan O'dur. Rahman'ın bu yaratmasında bir düzensizlik bulamazsın. Gözünü bir çevir bak, bir çatlak görebilir misin?" ayetinin yer aldığı sure aşağıdakilerden hangisidir?
 - A) Kamer
 - B) Rahman
 - C) Mülk
 - D) En'am
3. Aşağıdakilerden hangisi zekât veren kişide aranan şartlardan biri değildir?
 - A) Merhametli olmak
 - B) Zengin olmak
 - C) Akıllı olmak
 - D) Ergenlik çağına girmiş olmak
4. Hacıların ihrama girdiği, Mekke şehrinin etrafında belirlenmiş yerlere ne ad verilir?
 - A) Vakfe
 - B) Sa'y
 - C) Şavl
 - D) Mikat
5. Allah'ın her şeyi önceden bilmesi yani neyin, ne zaman, nerede olacağını belli bir ölçü, düzen ve plan içerisinde yaratmasına ne ad verilir?
 - A) Evren
 - B) Kader
 - C) Fitrat
 - D) Kaza
6. Kurban Bayramı arifesinde öğle vaktinde bayram sabahına kadar, bir süre Arafat'ta bulunmaya ne ad verilir?
 - A) Umre
 - B) Fitre
 - C) Sa'y
 - D) Vakfe
7. Allah'a teslim olmak, güvenmek, dayanmak ve sığınmaya ne ad verilir?
 - A) Tevekkül
 - B) Kaza
 - C) Hayır
 - D) Şer
8. Aşağıdakilerden hangisi aklın insana sağladığı faydalarından biri değildir?
 - A) Mantıklı düşünmeyi sağlama
 - B) Doğruyu yanlıştan ayırma
 - C) Dünyada varoluşun sebebi olma
 - D) Yaşamı kolaylaştırma
9. Hz. Muhammed'in (s.a.v.) hiç kimseye ayrıcalıklı davranmaması, insanlar arasında inanç farkı gözetmeden herkese eşit davranması, peygamberimizin aşağıdaki örnek davranışlarından hangisini vurgulamaktadır?
 - A) Bilgiye önem vermesi
 - B) Sabırlı ve cesur olması
 - C) Güvenilir olması
 - D) Hakkı gözetmesi
10. Hz. Muhammed'in (s.a.v.) "Kim bir fidan diker veya ekin ekirse onlardan kuşlar ve diğer canlılar faydalandıkça Allah onu sevaptan yararlandırır. Yaptığına karşılık ona sadaka sevabı olur" sözü aşağıdaki örnek davranışlarından hangisine vurgu yapmaktadır?
 - A) Merhametli, hoşgörülü ve affedicı olması
 - B) Doğayı ve hayvanları sevmesi
 - C) Hakkı gözetmesi
 - D) Güvenilir olması

11. Bir düşünceye, inanışa körü körüne aşırı derecede bağlanıp ondan başkasını düşünememe durumuna ne denir?
- A) Taassup
B) Taklit
C) Bilgi
D) Tercih
12. "Şüphesiz Allah adaleti, iyilik yapmayı, yakınlarla yardım etmeyi emreder; O, düşünüp tutasınız diye size öğüt veriyor" ayeti aşağıdaki hangi surede geçmektedir?
- A) Bakara
B) Âl-i İmran
C) Necm
D) Nahl
13. İslam'da dinî sorumluluğun ön koşulu olarak aşağıdakilerden hangisi kabul edilmiştir?
- A) İlim
B) Akıl
C) Bilim
D) İhsan
14. Aşağıdakilerden hangisi kumar oynamanın zararlarından biri değildir?
- A) Kumar, insan bedenine zarar verir, hastalıkların doğmasına neden olur.
B) Kumar, oynayanları ve aileleri perişan eder.
C) Kumar, oynayanların ruh sağlığını bozar.
D) Kumar, çalışarak kazanmak yerine tembelliği ve hileyi teşvik eder.
15. Kast sisteminde esnaf ve çiftçilerin dahil olduğu sınıf aşağıdakilerden hangisidir?
- A) Kşatriyalar
B) Brahmanlar
C) Vaisyalar
D) Südralar
16. Aşağıdakilerden hangisi kutsal kitabını koruyamamış olan ilahi dinlerden biridir?
- A) Budizm
B) Şintoizm
C) Hinduizm
D) Hıristiyanlık
17. Aşağıdakilerden hangisi kul hakkına sebep olan davranışlardan biri değildir?
- A) Kötü zanda bulunmak
B) Hırsızlık yapmak
C) Yalan söylemek
D) Gülürlü olmak
18. Kur'an-ı Kerim'de "Kendi elinizle kendinizi tehlikeye atmayın! İyilik edin. Şüphesiz Allah iyilik edenleri sever." cümlesi hangi surede geçmektedir?
- A) Nisa
B) İsrâ
C) Bakara
D) Şûra
19. Aşağıdakilerden hangisi Yahudilik dinindeki On Emir'den biri değildir?
- A) İnsan öldürmeyeceksin.
B) Pazar günü hiçbir iş yapmayacaksın.
C) Hırsızlık yapmayacaksın.
D) Anne babana saygı göstereceksin.
20. Aşağıdakilerden hangisi ilahi olmayan dinlerden biridir?
- A) Yahudilik
B) İslam
C) Budizm
D) Hıristiyanlık

BU SAYFA BOŞ BIRAKILMIŞTIR.

BU SAYFA BOŞ BIRAKILMIŞTIR.

BU SAYFA BOŞ BIRAKILMIŞTIR.

SINAVDA UYULMASI GEREKEN GENEL KURALLAR

1. Sınava girmek için gerekli belgelerinizin tümünü sınav başlamadan önce sıranızın üzerine bırakınız.
2. Sınav süresince görevlilerle konuşmak, görevlilere soru sormak yasaktır. Aynı şekilde görevlilerin de öğrencilerle yakından ve alçak sesle konuşmaları yasaktır. Gerekli durumlarda görevliler yerinizi değiştirebilir.
3. Size verilen cevap kâğıdının üzerindeki TCKN/Öğrenci no, ad, soyadı, bilgilerini kontrol ediniz. İlgili alanları eksiksiz doldurarak imzalayınız. Bu bilgiler size ait değilse, görevlileri uyararak size ait cevap kâğıdını isteyiniz. Başka öğrenciye ait cevap kâğıdı kullanan öğrencilerin o oturumdaki sınavları geçersiz sayılır.
4. Cevap kâğıdı üzerine test grubunu (A, B, C, D) kodlamayan veya birden fazla kodlama yapan öğrencilerin sınavları geçersiz sayılır.
5. Cevap kâğıdınıza yazacağınız her türlü yazı ve yapacağınız işaretlemeler için koyu yazan siyah kurşun kalem kullanmalısınız. Siyah kurşun kalem dışında farklı bir kalem (tükenmez, mürekkepli ya da renkli vb.) kullanan öğrencilerin sınavları geçersiz sayılır.
6. Cevap kâğıdı üzerinde değişiklik yapmak istediğinizde, iz bırakmayan bir silgi kullanınız. Cevap kâğıdınızı buruşturmayınız, katlamayınız ve üzerine gereksiz hiçbir işaret koymayınız.
7. Cevaplarınızı, cevap kâğıdında ilgili test için ayrılmış olan alana, cevap yerinin dışına taşımadan işaretleyiniz. Soru kitapçığı üzerinde yapılan işaretlemeler değerlendirmeye alınmayacaktır.
8. Her sorunun tek bir doğru cevabı vardır. Bir soru için birden çok cevabı işaretlerseniz, o soruyu yanlış cevaplamış sayılacaksınız.
9. Soru kitapçığınızı aldığınızda sayfalanna hızlıca bakarak hatalı ya da eksik baskı olup olmadığını kontrol ediniz. Hata/eksik olması durumunda kitapçığının değiştirilmesi için derhâl Salon Başkanına başvurunuz. Sınav görevlileri sınavın başladığını belirtmeden kitapçığınızı tekrar açmayınız.
10. Cevap kâğıdınızda belirtilen kitapçık kodu ile soru kitapçığının kodunu karşılaştırınız. Aynı değilse, sınav görevlilerine durumu bildirerek doğru kitapçığın verilmesini talep ediniz.
11. Soru kitapçığındaki ilgili alanlara ad, soyadı, TCKN/Öğrenci no, sınav salon no, sıra no bilgilerinizi eksiksiz doldurarak imzanızı atınız. Soru kitapçığının sayfalannadaki boş yerleri müsvedde amacıyla kullanabilirsiniz.
12. Aşağıdaki durumlarda sınav görevlileri tarafından Bireysel Sınav İptal Tutanağı düzenlenerek ilgili öğrencilerin sınavları geçersiz sayılır.
 - a) Sınav kurallarına ve sınav görevlilerinin uyarlarına uymamak, sınav düzenini bozmak,
 - b) Kâğıt, kitap, defter, not vb. dokümanlar, pergel, açıölçer, cetvel vb. araçları, cep telefonu, bilgisayar, tablet, telsiz, kamera vb. iletişim, depolama, kayıt ve veri aktarma cihazlarını, ruhsatlı veya resmi amaçlı olsa bile silah ve silah yerine geçebilecek nesnelere yanında bulundurmamak,
 - c) Sınav sırasında kalem, silgi vb. araç-gereç paylaşımında bulunmak,
 - d) Cevapları, cevap kâğıdı dışında bir yere yazmak ve sınav salonundan dışarı çıkarmak,
 - e) Sınava girebilmek için gerekli belgeleri eksik olduğu halde sınava katılıp, cevap kâğıdında işaretleme yapmak,
 - f) Sınav görevlileri tarafından öğrencinin kimliğinden şüphe duyulması,
 - g) Cevap kâğıdını ve/veya soru kitapçığını sınav görevlilerine eksiksiz ve sağlam şekilde teslim etmemek, sınav salonu dışına çıkarmak,
 - h) Kopya çekmek, vermek, çekilmesine yardımcı olmak vb. eylemlerde bulunmak,
 - i) Kendisi yerine başkasını sınava sokmak.
13. Sınav bitiminde, cevap kâğıdınızı ve soru kitapçığınızı salon görevlilerine eksiksiz biçimde teslim ediniz. Sınav bittikten sonra gönderilen cevap kâğıtları dikkate alınmayacaktır.

SINAV KURALLARINA UYDUĞUNUZ İÇİN TEŞEKKÜR EDER, SINAVINIZDA BAŞARILAR DİLERİZ.