



ANADOLU ÜNİVERSİTESİ  
AÇIKÖĞRETİM FAKÜLTESİ  
BA - AÇIKÖĞRETİM OKULLARI

T.C. MİLLÎ EĞİTİM BAKANLIĞI  
Hayat Boyu Öğrenme Genel Müdürlüğü  
2016-2017 ÖĞRETİM YILI BATI AVRUPA – BALKANLAR  
AÇIK ÖĞRETİM ORTAOKULU II. DÖNEM SINAVI

1. OTURUM Cumartesi

**B**

**0100**

**ÖĞRENCİNİN**

SOYADI : .....

ADI : .....

T.C. KİMLİK NO / ÖĞRENCİ NO : .....

SINAV SALON NO : ..... SIRA NO : .....

Sınavla ilgili soru kitapçığının ön ve arka kapağındaki tüm kuralları okudum, anladım, kabul ediyorum.

İMZA : .....

**SINAV İÇERİĞİ**

Testin Adı	Soru Sayısı	Sayfa No
ALMANCA 5	20	02
İNGİLİZCE 5	20	05
FRANSIZCA 5	20	08
FEN VE TEKNOLOJİ 8	20	11
SOSYAL BİLGİLER 8	20	13
DİN KÜLTÜRÜ VE AHLAK BİLGİSİ 6	20	15
TÜRKÇE 8	20	17
MATEMATİK 8	20	19
DİN KÜLTÜRÜ VE AHLAK BİLGİSİ 8	20	23

**SINAVDA UYULMASI GEREKEN ÖZEL KURALLAR**

1. Soru kitapçığındaki her bir testi cevaplamanız için verilen süre 30 dakika, toplam süre 150 dakikadır.
2. Sınavın ilk 30 dakikası ve son 5 dakikası içinde sınavınızı tamamlasanız bile salondan çıkamazsınız. Herhangi bir nedenle salondan çıktığınız takdirde, tekrar sınava devam etmenize izin verilmeyecektir. Sınavın başlamasını izleyen ilk 15 dakikadan sonra hiçbir öğrenci sınava alınamaz.
3. Yanlış cevaplarınız dikkate alınmayacaktır. Bu nedenle kitapçığındaki tüm sorular için size doğru gelen seçeneği işaretleyerek cevapsız soru bırakmamanız yararınıza olacaktır.
4. Sınav sırasında hesap makinesi kullanabilirsiniz. Ancak, kullanacağınız makinede alfabetik tuş takımının (A, B, C, ..., Y, Z), program yapılmasına, saklanması ve çalıştırılmasına imkan veren EXE, STORE, RUN vb. tuşlar bulunamaz.

"Sınavda Uyulması Gereken Genel Kurallar" soru kitapçığının arka sayfasında yer almaktadır. Bu kuralları da mutlaka dikkatlice okuyunuz.

Anadolu Üniversitesi tarafından hazırlanmış olan bu testlerin her hakkı saklıdır. Hangi amaçla olursa olsun, testlerin tamamının veya bir kısmının Anadolu Üniversitesi'nin yazılı izni olmadan kopya edilmesi, fotoğraflarının çekilmesi, herhangi bir yolla çoğaltılması, yayımlanması ya da kullanılması yasaktır. Bu yasağa uymayanlar gerekli cezai sorumluluğu ve testlerin hazırlanmasındaki mali külfeti peşinen kabullenmiş sayılır.

1. .... fahre ich nach Ankara.

Welches Wort passt nicht in die obige Lücke?

Cümlede boş bırakılan yeri aşağıdakilerden hangisi doğru şekilde tamamlamaz?

- A) Gestern
- B) Nächste Woche
- C) Im Juni
- D) In den Ferien

2. A: Wie ..... die Hauptstadt von der Türkei?  
B: ..... heißt Ankara.

Welche Wörter ergänzen die Lücken im obigen Dialog?

Verilen karşılıklı konuşmada boş bırakılan yerleri aşağıdakilerden hangileri tamamlar?

- A) hast / Wir
- B) nennt / Er
- C) kennst / Du
- D) heißt / Sie

3. A: .....  
B: Es war achtundzwanzig Grad.

Welches Wort passt in die obige Lücke?

Cümlede boş bırakılan yeri aşağıdakilerden hangisi tamamlar?

- A) Wann hat es geregnet?
- B) Was macht ihr heute?
- C) Wie war das Wetter in Madrid?
- D) Woher kommt deine Mutter?

4. Meine ..... tun mir weh. Ich bleibe zu Hause!

Welches Wort passt nicht in die obige Lücke?

Cümlede boş bırakılan yeri aşağıdakilerden hangisi doğru şekilde tamamlamaz?

- A) Ohren
- B) Bauch
- C) Knien
- D) Füße

5. Ich trinke Mineralwasser, möchtest du auch ein Glas Mineralwasser?

Welche Antwort passt zur obigen Frage?

Verilen sorunun cevabı aşağıdakilerden hangisidir?

- A) Ja, ich bin jetzt in der Schule.
- B) Nein, wir gehen immer nach Antalya.
- C) Nein, ich lerne im Sommer Englisch.
- D) Ja, danke. Ich habe auch Durst.

6. Hast du Hunger?

Welche Antwort passt zur obigen Frage?

Verilen sorunun cevabı aşağıdakilerden hangisidir?

- A) Nein, ich kann nicht.
- B) Ja, ich höre Musik.
- C) Nein, ich habe Durst.
- D) Ja, ich schreibe.

7. Am Flughafen kann man .....

Welcher Satz ergänzt die obige Lücke?

Verilen cümleyi aşağıdakilerden hangisi tamamlar?

- A) Briefe abschicken.
- B) werden Kranke gesund.
- C) wird Theater gemacht.
- D) abfliegen und ankommen.

8. Wir gehen morgen in den Zoo, kommst du mit?

Welche Antwort passt zur obigen Frage?

Verilen sorunun cevabı aşağıdakilerden hangisidir?

- A) Ja, ich finde die Akrobaten toll.
- B) Ja, klar. Ich mag Tiere sehr.
- C) Nein, ich gehe in den Zoo.
- D) Ich habe keine Lust Sport zu machen.

9. .... unserer Republik liegt in Ankara.

Welches Wort passt in die obige Lücke?

Cümlede boş bırakılan yeri aşağıdakilerden hangisi tamamlar?

- A) Die Politiker
- B) Der Beamte
- C) Der Gründer
- D) Die Veranstaltung

10. Im Wohnzimmer gibt es ..... Badewanne.

Welches Wort passt in die obige Lücke?

Cümlede boş bırakılan yeri aşağıdakilerden hangisi tamamlar?

- A) keinen
- B) keine
- C) einem
- D) einer

11. Der Brief ist auf dem Tisch.

Wie lautet der obige Satz in der Pluralform?

Verilen cümlelerin çoğul hali aşağıdakilerden hangisidir?

- A) Die Briefe sind auf den Tischen.
- B) Den Brief kannst du auf den Tisch legen.
- C) Die Briefe habe ich auf den Tisch gelegt.
- D) Das Brief liegt auf dem Tisch.

12. Wohnst du allein?

Welche Antwort passt zur obigen Frage?

Verilen sorunun cevabı aşağıdakilerden hangisidir?

- A) Nein, ich habe viele Bäume im Garten.
- B) Ja, ich wohne allein.
- C) Nein, meine Wohnung ist im Zentrum.
- D) Ja, meine Wohnung hat drei Zimmer.

13. Meine ..... sind schwimmen und singen.

Welches Wort passt in die obige Lücke?

Cümlede boş bırakılan yeri aşağıdakilerden hangisi tamamlar?

- A) Hobbys
- B) Freizeit
- C) Brieffreund
- D) Farbe

14. Wann hast du Geburtstag? (14-06.)

Welche Antwort passt zur obigen Frage?

Verilen sorunun cevabı aşağıdakilerden hangisidir?

- A) Ich habe am vierzehnten Juni Geburtstag.
- B) Sie hat am vierzehnten Juli Geburtstag.
- C) Er kommt am vierzehnten Mai zur Party.
- D) Ich gehe am vierzehnten.

15. Mein / von / Beruf / ist / Vater / Arzt

Wie kann man mit den obigen Wortgruppen einen sinnvollen und richtigen Satz bilden?

Verilen sözcük gruplarıyla kurulabilecek en anlamlı ve doğru cümle aşağıdakilerden hangisidir?

- A) Mein Beruf Vater von ist Arzt.
- B) Mein Vater ist Arzt von Beruf.
- C) Von Beruf mein Arzt Vater ist.
- D) Ist mein Arzt Vater von Beruf.

16. Bu bir kazak.

Wie lautet der obige Satz auf Deutsch?

Verilen cümlelerin Almancası aşağıdakilerden hangisidir?

- A) Das sind Socken.
- B) Das ist eine Hose.
- C) Das sind Jacken.
- D) Das ist ein Pullover.

17. Man kann ..... lange schlafen und faulenzten.

Welches Wort passt nicht in die obige Lücke?

Cümlede boş bırakılan yeri aşağıdakilerden hangisi tamamlamaz?

- A) in den Ferien
- B) in dem Urlaub
- C) in der Schule
- D) an den Wochenenden

18. Was ist dein Lieblingsfach in der Schule?

Welche Antwort passt zur obigen Frage?

Verilen sorunun cevabı aşağıdakilerden hangisidir?

- A) Mathematik.
- B) Ich spiele gern Schach in meiner Freizeit.
- C) Wir fahren in den Ferien nach Italien.
- D) Ich esse in der Kantine.

19. Serap fährt um ..... zur Schule.(7.45)

Welches Wort passt in die obige Lücke?

Cümlede boş bırakılan yeri aşağıdakilerden hangisi doğru şekilde tamamlar?

- A) viertel nach sieben
- B) halb acht
- C) zwanzig nach sieben
- D) viertel vor acht

20. Can hat einmal ..... 2 Stunden Schwimmunterricht.

Welches Wort passt in die obige Lücke?

Cümlede boş bırakılan yeri aşağıdakilerden hangisi doğru şekilde tamamlar?

- A) in Handarbeit
- B) im Computerraum
- C) in der Woche
- D) im Labor

1. A: When is Kate's birthday?  
B: It's ..... February.

Which of the following completes the dialogue above?

Aşağıdakilerden hangisi yukarıdaki konuşmayı doğru olarak tamamlar?

- A) for  
B) to  
C) on  
D) in

2.



- A: What time is it?  
B: It's .....

Which of the following completes the dialogue above?

Aşağıdakilerden hangisi yukarıdaki konuşmayı doğru olarak tamamlar?

- A) quarter to six  
B) half past nine  
C) nine past six  
D) six past nine

3. A: What is Elif's favourite activity?  
B: Her favourite activity is ..... chess.

Which of the following completes the dialogue above?

Aşağıdakilerden hangisi yukarıdaki konuşmayı doğru olarak tamamlar?

- A) climbing  
B) camping  
C) playing  
D) collecting

4. A: Can you ..... origami?  
B: No, I can't.

Which of the following completes the dialogue above?

Aşağıdakilerden hangisi yukarıdaki konuşmayı doğru olarak tamamlar?

- A) do  
B) play  
C) draw  
D) take

5. A: Which ..... do you go to school?  
B: I go to school on Monday, Tuesday and Friday.

Which of the following completes the dialogue above?

Aşağıdakilerden hangisi yukarıdaki konuşmayı doğru olarak tamamlar?

- A) days  
B) get up  
C) today  
D) time

6. Hilda is from China, she speaks .....

Which of the following completes the sentence above?

Aşağıdakilerden hangisi yukarıdaki cümleyi doğru olarak tamamlar?

- A) English  
B) Spanish  
C) Turkish  
D) Chinese

7. My grandmother can play .....

Which of the following completes the sentence above?

Aşağıdakilerden hangisi yukarıdaki cümleyi doğru olarak tamamlar?

- A) the violin  
B) the computer  
C) gymnastics  
D) experiments

8. 

Bank
------

Supermarket
-------------

School
--------

The supermarket is ..... the bank and the school.

Which of the following completes the sentence above?

Aşağıdakilerden hangisi yukarıdaki cümleyi doğru olarak tamamlar?

- A) in front of  
B) behind  
C) between  
D) next to

9. I ..... breakfast at eight o'clock everyday.

Which of the following completes the sentence above?

Aşağıdakilerden hangisi yukarıdaki cümleyi doğru olarak tamamlar?

- A) have
- B) does
- C) do
- D) has

10. A: I want to ..... some money to the animal shelter.  
B: That's a good idea.

Which of the following completes the dialogue above?

Aşağıdakilerden hangisi yukarıdaki konuşmayı doğru olarak tamamlar?

- A) work
- B) donate
- C) feed
- D) adopt

11. Mary likes ..... mountains at the weekends.

Which of the following completes the sentence above?

Aşağıdakilerden hangisi yukarıdaki cümleyi doğru olarak tamamlar?

- A) playing
- B) collecting
- C) climbing
- D) riding

12. Do you ..... your teeth before bed?

Which of the following completes the sentence above?

Aşağıdakilerden hangisi yukarıdaki cümleyi doğru olarak tamamlar?

- A) catch
- B) wash
- C) brush
- D) have

13. The children ..... the sheep everyday. They like giving food to them.

Which of the following completes the sentence above?

Aşağıdakilerden hangisi yukarıdaki cümleyi doğru olarak tamamlar?

- A) water
- B) feed
- C) milk
- D) ride

14. A: .....  
B: I'm afraid I can't. I'm ill.

Which of the following completes the dialogue above?

Aşağıdakilerden hangisi yukarıdaki konuşmayı doğru olarak tamamlar?

- A) Do you like exercising?
- B) What is your favourite activity?
- C) Do you exercise regularly?
- D) Let's go cycling!

15. A: I feel terrible. I have a sore throat.  
B: Well, don't drink cold things. You should .....

Which of the following completes the dialogue above?

Aşağıdakilerden hangisi yukarıdaki konuşmayı doğru olarak tamamlar?

- A) what is the matter with you
- B) see the doctor
- C) oh, no
- D) don't stay in the class

16. A: What ..... of a movie is Cinderella?  
B: It is a fairy tale.

Which of the following completes the dialogue above?

Aşağıdakilerden hangisi yukarıdaki konuşmayı doğru olarak tamamlar?

- A) on
- B) about
- C) type
- D) favourite

17. Serap can ..... nice pictures.

Which of the following completes the sentence above?

Aşağıdakilerden hangisi yukarıdaki cümleyi doğru olarak tamamlar?

- A) do
- B) draw
- C) play
- D) sing

18. A: ..... languages do you speak?  
B: Three. I speak Spanish, English and French.

Which of the following completes the dialogue above?

Aşağıdakilerden hangisi yukarıdaki konuşmayı doğru olarak tamamlar?

- A) How
- B) Where
- C) Can
- D) How many

19. A: ..... does Ayşe get up?  
B: She gets up at 7 o'clock.

Which of the following completes the dialogue above?

Aşağıdakilerden hangisi yukarıdaki konuşmayı doğru olarak tamamlar?

- A) What time
- B) What
- C) Which
- D) Do

20. A: ....., where is the museum?  
B: Go straight ahead Flower Road. It's on the left.

Which of the following completes the dialogue above?

Aşağıdakilerden hangisi yukarıdaki konuşmayı doğru olarak tamamlar?

- A) Thank you
- B) You're welcome
- C) Not at all
- D) Excuse me

1. «Köprüyü geçin, solunuzda.»

Choisissez la traduction qui convient.

Yukarıdaki cümlelerin Fransızca karşılığı aşağıdakilerden hangisidir?

- A) Continuez jusqu'au pont, c'est à droite.  
B) Prenez le feu, c'est à gauche.  
C) Allez tout droit, c'est à droite.  
D) Traversez le pont, c'est à gauche.

2. Nous ..... 10 ans.

Choisissez le mot qui convient.

Cümlede boş bırakılan yeri aşağıdakilerden hangisi doğru şekilde tamamlar?

- A) avons  
B) sommes  
C) êtes  
D) avez

3. Pierre veut ..... d'eau.

Choisissez le mot qui convient.

Cümlede boş bırakılan yeri aşağıdakilerden hangisi doğru şekilde tamamlar?

- A) un verre  
B) une pincée  
C) une fourchette  
D) un couteau

4. Pour écrire, il faut .....

Choisissez le mot qui convient.

Cümlede boş bırakılan yeri aşağıdakilerden hangisi doğru şekilde tamamlar?

- A) une télé  
B) une règle  
C) un livre  
D) un crayon

5. Les feuilles ..... en automne.

Choisissez le mot qui convient.

Cümlede boş bırakılan yere uygun düşen sözcüğü bulunuz.

- A) tombent  
B) portent  
C) adorent  
D) prennent

6. «Akşam yemeğini 7'de yeriz.»

Choisissez la traduction qui convient.

Yukarıdaki cümlelerin Fransızca karşılığı aşağıdakilerden hangisidir?

- A) Nous déjeunons à 19 heures.  
B) Nous petit-déjeunons à 7 heures.  
C) Nous dînons à 7 heures.  
D) Nous mangeons à 19 heures.

7. - .....?

- Il y a du vent.

Trouvez la question qui correspond à la réponse donnée.

Yukarıdaki konuşmada verilen cevabı gerektiren soruyu bulunuz.

- A) Qu'est-ce qu'il fait  
B) Quelle heure est-il  
C) Quel temps va-t-il faire  
D) Quel temps fait-il

8. Il a besoin d'un/une ..... de sel.

Choisissez le mot qui convient.

Cümlede boş bırakılan yeri aşağıdakilerden hangisi doğru şekilde tamamlar?

- A) fourchette  
B) couteau  
C) pincée  
D) verre



9. À quelle heure part le train ..... Lyon Madame?

Choisissez le mot qui convient.

Cümlede boş bırakılan yeri aşağıdakilerden hangisi doğru şekilde tamamlar?

- A) pour  
B) avec  
C) au  
D) par

10. Mon appartement est ..... 3<sup>ème</sup> étage.

Choisissez le mot qui convient.

Cümlede boş bırakılan yeri aşağıdakilerden hangisi doğru şekilde tamamlar?

- A) du  
B) au  
C) de  
D) à

11. - Merci.

Choisissez l'expression qui convient.

Yukarıdaki konuşmada boş bırakılan yeri aşağıdakilerden hangisi doğru şekilde tamamlar?

- A) Je ne sais pas  
B) Tant pis  
C) De rien  
D) D'accord

12. - Pour être en forme qu'est-ce qu'on fait?

Trouvez la réponse qui correspond à la question donnée.

Yukarıdaki konuşmada verilen soruyu gerektiren cevabı bulunuz.

- A) On fait du sport  
B) On mange rien  
C) On boit du coca  
D) On ne boit pas d'eau

13. J'ai invité Pierre à la maison. Il vient ..... moi.

Choisissez le mot qui convient.

Cümlede boş bırakılan yeri aşağıdakilerden hangisi doğru şekilde tamamlar?

- A) en  
B) à  
C) au  
D) chez

14. Caissière : Vous payez comment?  
Mme Legrand : ..... espèces. Voilà 50 euros.

Choisissez le mot qui convient.

Cümlede boş bırakılan yeri aşağıdakilerden hangisi doğru şekilde tamamlar?

- A) Dans  
B) Par  
C) Avec  
D) En

15. ces / prendre / va / médicaments / il  
I II III IV V

Mettez les mots dans le bon ordre pour faire une phrase.

Yukarıdaki sözcükleri bir cümle oluşturacak şekilde sıraya koyunuz.

- A) V, I, IV, II, III  
B) V, II, III, I, IV  
C) V, III, II, I, IV  
D) V, IV, I, II, III

16. «99» en lettres: .....

Choisissez le mot qui convient.

Cümlede boş bırakılan yeri aşağıdakilerden hangisi doğru şekilde tamamlar?

- A) Soixante-neuf  
B) Quatre-vingt-dix-neuf  
C) Quatre-vingt-neuf  
D) Soixante-dix-neuf

17. .... homme est grand.

Choisissez le mot qui convient.

Cümlede boş bırakılan yeri aşağıdakilerden hangisi doğru şekilde tamamlar?

- A) Cette
- B) Cet
- C) Ce
- D) Ces

18. - Je veux connaître le ..... des chaussures.  
- Ça coûte 25 euros.

Choisissez le mot qui convient.

Konuşmada boş bırakılan yeri aşağıdakilerden hangisi doğru şekilde tamamlar?

- A) pointure
- B) prix
- C) taille
- D) couleur

19. Les filles ..... café.

Choisissez l'expression qui convient.

Cümlede boş bırakılan yeri aşağıdakilerden hangisi doğru şekilde tamamlar?

- A) boit du
- B) boit de la
- C) boivent du
- D) boivent de la

20. «Fais deux trous.»

Choisissez la traduction qui convient.

Yukarıdaki cümlenin Türkçe karşılığı aşağıdakilerden hangisidir?

- A) İki resim çiz
- B) İki delik aç
- C) İki kutu kes.
- D) İki daire yap

- Bir devredeki direncin azalması durumunda ampul parlaklığında nasıl bir değişim gözlemlenir?
  - Artar.
  - Azalıp.
  - Değişmez.
  - Ampul patlar.
- Aşağıdaki olayların hangisi kimyasal değişimdir?
  - Camin kırılması
  - Buzun erimesi
  - Etten kıyma yapılması
  - Kağıdın yakılması
- Başkalaşım geçiren böceklerde larva evresinin ardından görülen devre aşağıdakilerden hangisidir?
  - Zigot
  - Koza
  - Pupa
  - İribaş
- Aşağıdakilerden hangisi erozyon olayının sonuçlarından biri değildir?
  - Toprağın verimliliğini artırması
  - Suların kirlenmesine neden olması
  - Çölleşmeye sebep olması
  - Ürün kalitesini düşürmesi
- Aşağıdakilerden hangisi maddenin ortak özelliklerinden biri değildir?
  - Kütle
  - Sürat
  - Eylemsizlik
  - Boşlukta yer kaplama
- Aşağıdakilerden hangisi iskelet sisteminde yer almaz?
  - Kalp
  - Kemik
  - Kıkırdak
  - Eklemler
- Sperm ile ilgili aşağıdaki ifadelerden hangisi yanlıştır?
  - Testislerde meydana gelir.
  - Büyük ve hareketsizdir.
  - Baş, orta kısım ve kuyruk olmak üzere üç bölümden oluşur.
  - Erkek üreme hücresidir.

- 20 m/s hızla sahip olan bir araç 1 dakikada kaç metre yol alır? (s: saniye )
  - 20
  - 400
  - 800
  - 1200

- Mustafa, dört cismin elektrik iletkenliğini ve yalıtkanlığını inceleyerek tablo yapmıştır.

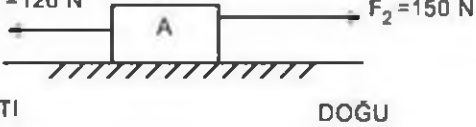
	İletken	Yalıtkan
Cam kase		√
Alüminyum kap		√
Altın yüzük	√	
Tahta çubuk		√

Bu tabloya göre Mustafa hangi cisimi yanlıs işaretlemiştir?

- Cam kase
  - Alüminyum kap
  - Altın yüzük
  - Tahta çubuk
- Aşağıdakilerden hangisi ısının iletim yollarında biri değildir?
    - Işıma
    - Yayıma
    - İletim
    - Konveksiyon
  - Aşağıdaki maddelerden hangisi karışımdır?
    - Demir
    - Yemek tuzu
    - Çamaşır suyu
    - Toprak
  - Ses dalgalarının sert bir yüzeye çarparak kaynağına geri dönmesine ne ad verilir?
    - Parlama
    - Kırılma
    - Yankı
    - Akustik
  - Erkek organ başçığındaki polenlerin böcek, kuş, rüzgâr, su veya insanlar aracılığıyla dişi organın tepeciğine taşınmasına ne ad verilir?
    - Çimlenme
    - Tozlaşma
    - Pupalaşma
    - Başkalaşım

14. Özellikle pamuk üretiminde hangi çeşit toprak türü kullanılır?

- A) Killi
- B) Kireçli
- C) Humuslu
- D) Kumlu

15.  $F_1 = 120 \text{ N}$    $F_2 = 150 \text{ N}$   
BATI DOĞU

Sürtünmesi ihmal edilen şekildeki A cismine iki farklı kuvvet uygulanmaktadır.

Bu cismin dengelenmiş kuvvetler etkisinde olabilmesi için hangi yönde kaç N luk üçüncü bir kuvvet uygulanmalıdır?

- A) 20 N, DOĞU
- B) 20 N, BATI
- C) 30 N, DOĞU
- D) 30 N, BATI

16. Bir maddenin taneciklerinin sahip olduğu toplam hareket enerjisine ne ad verilir?

- A) Kaynama
- B) Yoğuşma
- C) Isı
- D) Sıcaklık

17. I. Gaz  
II. Katı  
III. Sıvı

Yukarıdaki madde hallerinin hangilerinde ısı konveksiyon yoluyla yayılır?

- A) Yalnız I
- B) Yalnız III
- C) I ve III
- D) II ve III

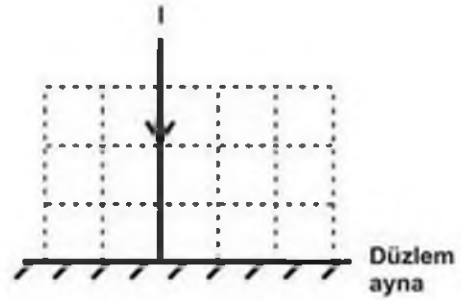
18. 1380 km lik yolu 6 saatte giden bir aracın saatteki hızı kaç km/h tır?

- A) 210
- B) 220
- C) 230
- D) 240

19. Vücudu yabancı maddelere ve mikroplara karşı koruyan kan hücrelerine ne ad verilir?


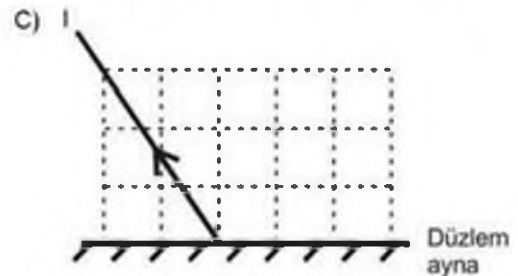
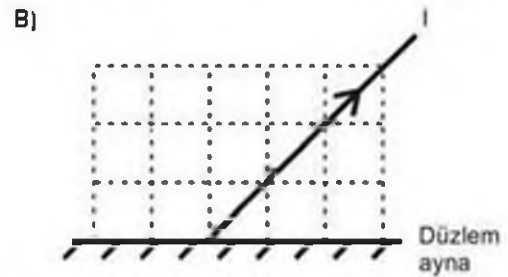
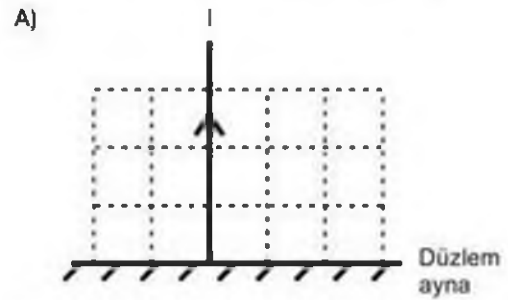
- A) Akyuvar
- B) Kan pulcuğu
- C) Akyuvar
- D) Plazma

20.



I ışık ışını düzlem aynaya şekildeki gibi gönderiliyor. Buna göre, I ışık ışını düzlem aynadan aşağıdakilerden hangisi gibi yansır?

(Bölmeler eşit karelerden oluşmaktadır.)



1. Aşağıdakilerden hangisi vatandaş olmanın yüklediği sorumluluklardan biri değildir?
  - A) Seçme ve seçilme hakkını kullanmak
  - B) Ticaret yaparak ülke ekonomisine katkıda bulunmak
  - C) Askerlik görevini yapmak
  - D) Vergilerini ödemek
2. Aşağıdaki cümlelerden hangisi bir "olgu" ifadesidir?
  - A) Bu deprem Marmara Denizi'ndeki bir büyük depremin habercisi olabilir.
  - B) Çınarcık ve çevresinde daha büyük bir deprem beklemiyorum.
  - C) Çınarcık'ta deprem olduğuna göre en kısa zamanda İzmir'de de deprem olabilir.
  - D) Çınarcık ilçesinde dün saat 11.00'de 4.8 büyüklüğünde bir deprem oldu.
3. Aşağıdakilerden hangisi bir görüş cümlesidir?
  - A) Van şehri Türkiye'nin Doğu Anadolu Bölgesi'nde yer almaktadır.
  - B) Türkiye'nin en güzel şehri Adana'dır.
  - C) Türkiye'nin nüfusu en fazla şehri İstanbul'dur.
  - D) Türkiye'nin başkenti Ankara'dır.
4. Türkiye'de görülen aşağıdaki iklim tiplerinden hangisinde çay, fındık ve mısır üretimi daha kolay yapılır?
  - A) Karadeniz iklimi
  - B) Akdeniz iklimi
  - C) Step iklimi
  - D) Karasal iklim
5. Gediz ve Büyük Menderes ırmakları arasında kurulan, ticaretle zenginleşen ve parayı icat eden Anadolu uygarlığı aşağıdakilerden hangisidir?
  - A) Frig
  - B) Lidya
  - C) Hitit
  - D) Urartu
6. Kuzey Amerika Kıtası ile Avrupa Kıtası arasında yer alan okyanus aşağıdakilerden hangisidir?
  - A) Atlas Okyanusu
  - B) Hint Okyanusu
  - C) Büyük Okyanus
  - D) Güney Okyanusu
7. Türk ordusunu ilk defa onluk sisteme göre teşkilatlandıran Türk hükümdarı aşağıdakilerden hangisidir?
  - A) Kültigin
  - B) Mete Han
  - C) Teoman
  - D) İstemi Kağan
8. Aşağıdakilerden hangisinin vefatı ile Dört Halife Dönemi sona ermiştir?
  - A) Hz. Ebubekir
  - B) Hz. Osman
  - C) Hz. Ömer
  - D) Hz. Ali
9. Türk Edebiyatı'nın yazılı ilk örneklerinden olan Tonyukuk Kitabeleri hangi döneme aittir?
  - A) Kök Türk
  - B) Gazneliler
  - C) Asya Hunları
  - D) Uygurlar
10. Türkiye'de ormanlık alanların en fazla olduğu coğrafi bölge aşağıdakilerden hangisidir?
  - A) İç Anadolu
  - B) Ege
  - C) Marmara
  - D) Karadeniz

11. Aşağıdakilerden hangisi geri dönüşümün sağladığı faydalardan biri değildir?

- A) Sanayii geliştirmesi
- B) Atık miktarını azaltması
- C) Enerji tasarrufu sağlaması
- D) Doğal kaynakları koruması

12. İklim özellikleri nedeniyle Karadeniz Bölgesi'nin kıyı kesimlerinde yetiştirilemeyen ürün aşağıdakilerden hangisidir?

- A) Fındık
- B) Çay
- C) Mısır
- D) Buğday

13. Aşağıdakilerden hangisinde yerleşme yoktur?

- A) Avrupa'nın batısı
- B) Afrika'nın kuzeyi
- C) Antarktika Kıtası
- D) Kuzey Amerika Kıtası

14. Aşağıdakilerden hangisi Türk Cumhuriyetlerinden biri değildir?

- A) Azerbaycan
- B) Özbekistan
- C) Kazakistan
- D) Gürcistan

15. Cumhuriyet yönetimi ile ilgili aşağıdaki ifadelerden hangisi yanlıştır?

- A) Egemenlik millete aittir.
- B) Birçok siyasi parti olabilir.
- C) Yöneticiler kendi kurallarını kendi belirler.
- D) Hak ve özgürlükler yasal güvence altındadır.

16. Aşağıdakilerden hangisi Osmanlı toplumunda demokrasi yolunda atılan ilk adımdır?

- A) Tanzimat Fermanı'nın ilan edilmesi
- B) Sened-i İttifak'ın kabul edilmesi
- C) Islahat Fermanı'nın ilan edilmesi
- D) Meşrutiyet'in ilanı

17. 1789 Fransız Ulusal Meclisi tarafından kabul edilen İnsan Hakları Bildirgesi'nde "Özgürlük, bireyin başkasına zarar vermeden istediğini yapabilmesidir." olarak tanımlanmıştır.

Buna göre, aşağıdaki davranışlardan hangisi özgürlük sınırları içinde değildir?

- A) Tatil yapmaya gitmek
- B) Çalıştığı işten istifa etmek
- C) Yüksek sesle müzik dinlemek
- D) Üniversite öğrenimini yarıda bırakmak

18. Edinsel bağışıklık eksikliği sendromu (AIDS) hastalığına neden olan virüs aşağıdakilerden hangisidir?

- A) Uyuş virüsü
- B) Hepatit B virüsü
- C) HIV virüsü
- D) Hepatit C virüsü

19. Doğal çevre ile insan arasındaki ilişkileri inceleyen sosyal bilim dalı aşağıdakilerden hangisidir?

- A) Coğrafya
- B) Psikoloji
- C) Tarih
- D) Siyaset Bilimi

20. Doku ve organ bağıışı ile ilgili aşağıdaki ifadelerden hangisi yanlıştır?

- A) Böbrek hastasının hayata dönmesi sağlanabilir.
- B) Görmeyen insanın görmesi sağlanabilir.
- C) Hastanın duygularının değişmesi sağlanabilir.
- D) Kalp nakli ile hastanın yaşaması sağlanabilir.

1. Namaz kılan erkek ve kadının örtülmesi gereken yerlerini örtmesine ne ad verilir?
  - A) Necasetten Taharet
  - B) İstikbal-i Kible
  - C) Kade-i Ahire
  - D) Setr-i Avret
2. Allah'ın kitap ve şariat (dini kurallar) verdiği peygamberlere ne ad verilir?
  - A) Sıdk
  - B) Resul
  - C) İsmet
  - D) Suhuf
3. Aşağıdakilerden hangisi namazı bozan durumlardan biri değildir?
  - A) Namaz kılariken hapsürmek
  - B) Namaz kılariken gülmek
  - C) Namaz kılariken konuşmak
  - D) Namaz farzlarından birini yapmamak
4. Kıraat kelimesinin anlamı aşağıdakilerden hangisidir?
  - A) Namazın sonundaki oturuştur.
  - B) Namazda, ayakta iken Kur'an-ı Kerim okumaktır.
  - C) Namaza "Allah-ı Ekber" lafzıyla başlamaktır.
  - D) Namazda belirli uzuvları yere koyarak iki defa yere kapanmaktır.
5. Ramazan ayında yatsı namazı ile vitir namazı arasında kılınan sünnet namazına ne ad verilir?
  - A) Teravih namazı
  - B) Cenaze namazı
  - C) Cuma namazı
  - D) Bayram namazı
6. Allah'tan vahiy alan ancak kendinden önceki resulün şariatına uyan peygambere ne ad verilir?
  - A) Sıdk
  - B) Suhuf
  - C) Felanel
  - D) Nebi
7. Allah tarafından Hz. Davud'a gönderilen ilahî kitap aşağıdakilerden hangisidir?
  - A) İncil
  - B) Tevrat
  - C) Zebur
  - D) Kur'an-ı Kerim
8. Aşağıdakilerden hangisi farz olan namazlardan biridir?
  - A) Bayram
  - B) Vitr
  - C) Teravih
  - D) Cenaze
9. Mekke'den Medine'ye hicret eden Müslümanlara ne ad verilir?
  - A) Ensar
  - B) Yesrip
  - C) Muhacir
  - D) Suffa
10. Kur'an'da peygamberlerin ve bazı tarihî şahsiyetlerin başından geçen olaylar ve geçmişte yaşamış toplumlar hakkında bilgi vermek için kullanılan kavram aşağıdakilerden hangisidir?
  - A) Söyleyiş
  - B) Kıssa
  - C) Fıkıh
  - D) Vesvese

11. Kur'an-ı Kerim'de bulunan ilkeleri kabul etmek anlamına gelen kavram aşağıdakilerden hangisidir?
- A) Ahlak  
B) İbadet  
C) İnanç  
D) Kıssa
12. Medine'de olup muhacirlere her türlü fedakârlıkla yardım eden Müslümanlara ne ad verilir?
- A) Suffa  
B) Ensar  
C) Hazreç  
D) Evs
13. İslam'ın ilk eğitim öğretim merkezi aşağıdakilerden hangisidir?
- A) Mescid-i Nebî  
B) Mescid-i Nebevi  
C) Ravza-i Mutahhara  
D) Suffa
14. Aşağıdakilerden hangisi Kur'an-ı Kerim'deki ayetlerin ana gruplarından biri değildir?
- A) Ahlak  
B) Tövbe  
C) İnanç  
D) İbadet
15. Aşağıdakilerden hangisi hasetin insanlar arasında neden olduğu sonuçlardan biri değildir?
- A) İnsanlar arasında yardımlaşmanın yok olmasına sebep olur.  
B) Birlik ve beraberliğin yok olmasına neden olur.  
C) İnsanların arasında kin ve düşmanlık meydana getirir.  
D) İnsanları birbirlerine sevgi ve saygıyla bağlar.
16. Ebu Hanife'nin görüşlerinin toplandığı kitap aşağıdakilerden hangisidir?
- A) Fıkhu'l Ekber  
B) Kitabu'l Tevhîd  
C) Kitabü'l Mülâkat  
D) Te'vilatü'l-Kur'an
17. Kur'an'da Allah'a isyan eden Şeytan'ın sıfatı olarak geçen kavram aşağıdakilerden hangisidir?
- A) İnkâr  
B) Haset  
C) Kibir  
D) Gıybet
18. İslam'ın Türkler arasında yayılmasında etkili olan ve lakabı Pir-i Türkistan olarak bilinen kişi aşağıdakilerden hangisidir?
- A) Ahmet Yesevi  
B) Ebu Hanife  
C) Maturidi  
D) Yunus Emre
19. Dini konularda Kur'an-ı Kerim'den sonra en önemli kaynak olarak kabul edilen kitap aşağıdakilerden hangisidir?
- A) El-Kanun fi'l-Tıp  
B) Cebr ve'l-Mukabele  
C) Sahih-i Buhari  
D) Kitabu'l Muskı
20. "Muavvizeteyn" aşağıdaki hangi iki sureye verilen addır?
- A) Felâk ve Nâs  
B) İhlas ve Nâs  
C) Kureyş ve Fatiha  
D) İhlas ve Felâk



1. Aşağıdaki cümlelerin hangisinde fiil dilek-şart kipi ile çekimlenmiştir?

- A) Yarım akşam annemlere gitsek.
- B) Küçük yaşta yetim kaldı.
- C) Onun çocuksu davranışları beni sıkıyor.
- D) Bir koy kahvesinde biraz dinlendik.

2. Aşağıdakilerden hangisi fabl türünün özelliklerinden biri değildir?

- A) Tekerlemeyle başlaması
- B) İnsanlara daima sonunda bir ders verilmesi
- C) Şiir ya da düz yazı biçiminde yazılması
- D) İnsan olmayan varlıkların insan gibi konuşturulması

3. Aşağıdaki cümlelerin hangisinde ek-fiil kullanılmıştır?

- A) Kanepede sessizce oturl
- B) İşini titizlikle yaptı.
- C) Bugünkü ders çok önemliymiş.
- D) Aniden kapının zili çaldı.

4. "Duraktan eve gelene kadar eli ayağı buz kesmişti." cümlesinde "buz kesmek" deyimini hangi anlamda kullanılmıştır?

- A) Paniklemek
- B) Çok üşümek
- C) Tükenmek
- D) Hastalanmak

5. Aşağıdaki cümlelerin hangisinde fiil gelecek zaman III. çoğul kişi ile çekimlenmiştir?

- A) Bisikletimi tamirciye götürdüm.
- B) Kısık sesle konuşuyorlar.
- C) Günlerini yazmakla geçiriyor.
- D) Çocuklara hediye verecekler.

6. Aşağıdaki cümlelerin hangisinde zaman kayması vardır?

- A) Her sabah erken kalkıyorum.
- B) Dün seni okulda gördüm.
- C) Akşam için yemek yapıyorum.
- D) Yarın pazara gitmeyeceğim.

7. Önemi belirtmek istenen kelime ve hecelerin diğerlerine göre daha baskılı okunup söylenmesine ne ad verilir?

- A) Seci
- B) Söyleyiş
- C) Tonlama
- D) Vurgu

8. Aşağıdaki sözcüklerden hangisi terim anlamlıdır?

- A) bayındır
- B) destan
- C) adalel
- D) sıfat

9. Yürü be Dadaloğlu'm yürü git  
Derli derli Çukurova yolun tut

Yukarıdaki dizelerde kullanılan kafiye türü aşağıdakilerden hangisidir?

- A) Zengin
- B) Tam
- C) Yarım kafiye
- D) Tunç

10. Aşağıdaki cümlelerden hangisinin filli işteş çatılıdır?

- A) Müdür, davetiyeleri sekretere yazdırdı.
- B) Öğrencilerle tam iki saat konuştuk.
- C) Erkenden okula gittim.
- D) Çocuklar akşama kadar yüzdüler.

11. "Dans etmeyi hâlâ seviyor." cümlesinde "hala", "hâlâ" sözcüklerinin yazımlarındaki ayrımı yaratan durum, aşağıdakilerin hangisinde vardır?
- A) lisan  
B) ilan  
C) kar  
D) siyah
12. Aşağıdaki sözcüklerden hangisi "kıtlık" sözcüğünün zıt anlamıdır?
- A) çoğunluk  
B) eksiklik  
C) bolluk  
D) azınlık
13. Aşağıdaki cümlelerde yer alan altı çizili sözcüklerden hangisi sıfat-fiildir?
- A) Zil calınca öğrenciler içeri girdi.  
B) Bu kıtapları okuyup özetleyin.  
C) Hava giderek bozuyordu.  
D) Dil, ulusu meydana getiren öğelerden biridir.
14. Aşağıdaki fiillerden hangisi mastar eki almıştır?
- A) gitmek  
B) biliyor  
C) giymiş  
D) görecek
15. Aşağıdaki cümlelerden hangisinin sonuna ünlem işareti konmalıdır?
- A) Olayı kısaca anlat  
B) Arabayı park edebilir misin  
C) Çiçeği nereye bırakayım  
D) Ey Türk Gençliği
16. Aşağıdaki cümlelerin hangisinde anlatım bozukluğu vardır?
- A) Kimse işini yapmıyor, bahçede oturuyordu.  
B) Bu akşam evden çıkmayı düşünmüyorum.  
C) Sandalı boyamak için sabaha kadar çalışım.  
D) Maçta önumde ve arkamda pek çok insan vardı.
17. Aşağıdaki fiillerden hangisi emir kipiyle çekimlenmiştir?
- A) koşmamalısın  
B) yat  
C) gidiyordu  
D) uyansa
18. Aşağıdaki cümlelerin hangisinde anlatım bozukluğu vardır?
- A) Bu yaz çok kitap okudum.  
B) Genç kadına yardım etmek için koştu.  
C) Buralar iki yüz yıl önce omanlıkmış.  
D) Öyle hızlı koşar ki kimse ona yetişemez.
19. Aşağıdakilerden hangisi eşsesli bir sözcüktür?
- A) ceza  
B) zengin  
C) yüz  
D) düşman
20. Aşağıdaki cümlelerin hangisinde nesne yoktur?
- A) Yarın sabah beni okula bırakır mısın?  
B) Reyhan Ankara'ya gitti.  
C) Çocuğun korkudan bakışları donuktu.  
D) Güvercinler ekmek parçalarının hepsini yedi.

1.

$$\frac{2^{-3} \cdot 8^2}{4^2 \cdot 2^3}$$

Yukarıdaki işlemin sonucu kaçtır?

- A)  $\frac{1}{16}$   
 B)  $\frac{1}{8}$   
 C) 4  
 D) 8


2.

$$\frac{10^{-15} \times 10^4}{10^{-9} \times 10^{-1}} : \frac{10^{-12}}{10^{-10}}$$

Yukarıdaki işlemin sonucu kaçtır?

- A) 0,01  
 B) 0,1  
 C) 1  
 D) 10

3.



I.Adım

II.Adım

III.Adım

Yukarıdaki örüntünün IV. adımında gelmesi gereken şekil aşağıdakilerden hangisidir?

- A)
- B)
- C)
- D)

4.  $\sqrt{48} - 3\sqrt{75} + 5\sqrt{12}$ 

Yukarıdaki işlemin sonucu kaçtır?

- A)  $-3\sqrt{3}$   
 B)  $-\sqrt{3}$   
 C)  $\frac{\sqrt{3}}{2}$   
 D)  $2\sqrt{3}$

5.  $A = \{0, 2, 4, 6\}$  kümesinin elemanlarıyla üç basamaklı rakamları farklı en fazla kaç farklı doğal sayı yazılabilir?

- A) 12  
 B) 16  
 C) 18  
 D) 24

6. Bir televizyon yarışmasının elemelerinde; I. grupta 24 kadın, 12 erkek, II. grupta 22 erkek, 10 kadın vardır. Her iki gruptan yarışma için birer kişi seçiliyor.

Seçilen yarışmacıların ikisinin de kadın olma olasılığı kaçtır?

- A)  $\frac{5}{48}$   
B)  $\frac{5}{24}$   
C)  $\frac{11}{48}$   
D)  $\frac{11}{24}$



3 tanesi  $d_1$  doğrusu üzerinde, 4 tanesi  $d_2$  doğrusu üzerinde olan 7 farklı nokta kaç farklı üçgen oluşturur?

( $d_1$  ve  $d_2$  doğruları birbirine paraleldir.)

- A) 30  
B) 45  
C) 60  
D) 75

8. 94, 65, 86, 73, 68, 92, 77, 81, 60, 74

8/A şubesindeki öğrencilerin tarih sınavından aldıkları notlar yukarıda verilmiştir.

Buna göre, öğrencilerin notlarının aritmetik ortalaması kaçtır?

- A) 74  
B) 75  
C) 76  
D) 77

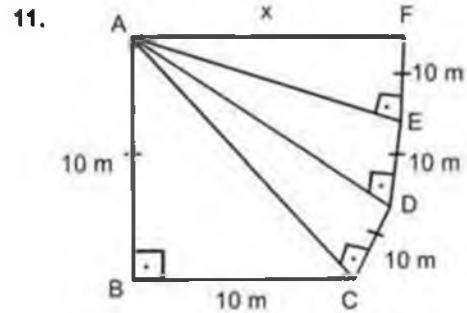
9.  $\frac{x^2 - 2x}{3x - 9} \cdot \frac{x^2 - 4}{3 - x}$

işleminin en sade biçimi aşağıdakilerden hangisidir?

- A)  $\frac{-3x}{x - 2}$   
B)  $\frac{-x}{3(x+2)}$   
C)  $\frac{2x}{x - 3}$   
D)  $\frac{x}{-2 - x}$

10. İlk terimi  $-12$ , ortak farkı 5 olan bir aritmetik dizinin 14. terimi kaçtır?

- A) 53  
B) 58  
C) 63  
D) 68



Yukarıdaki şekilde  $\triangle ABC$ ,  $\triangle ACD$ ,  $\triangle ADE$  ve  $\triangle AEF$  birer dik üçgendir.

Buna göre,  $|AF| = x$  kaç metredir?

- A)  $5\sqrt{5}$   
B)  $10\sqrt{5}$   
C) 20  
D) 40

12.

			1			
		1	2	1		
	1	3	a	3	1	
	1	4	b	4	1	
	1	5	10	10	5	1
1	6	15	c	15	d	1

Yukarıdaki pascal üçgeninde a, b, c ve d harflerinin yerine gelmesi gereken sayılar aşağıdakilerin hangisinde birlikte ve doğru verilmiştir?

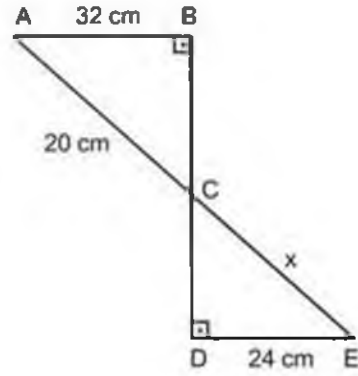
- A) a=2    b=4    c=15    d=6  
 B) a=3    b=4    c=20    d=15  
 C) a=3    b=6    c=6    d=15  
 D) a=3    b=6    c=20    d=6

13. Üç kardeş 80 cevizi, küçük kardeş büyük kardeşin 2 katından 6 eksik ve ortanca kardeş küçük kardeşten 2 fazla alacak şekilde paylaşıyorlar.

Buna göre, ortanca kardeşin payına kaç ceviz düşmüştür?

- A) 32  
 B) 30  
 C) 28  
 D) 24

14.



ABC ve EDC üçgenleri benzer olduğuna göre, CE = x kaç cm'dir?

- A) 12  
 B) 15  
 C) 18  
 D) 22

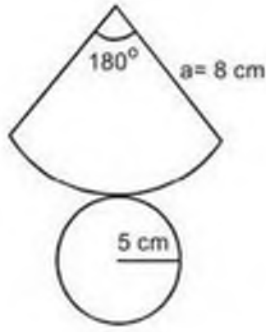
15.

$$-\frac{9}{x+3} + \frac{22}{2x+6} = \frac{3}{8}$$

Yukarıdaki denklemi sağlayan x değeri aşağıdakilerden hangisidir?

- A)  $-\frac{25}{3}$   
 B) -3  
 C)  $\frac{2}{3}$   
 D)  $\frac{7}{3}$

16.



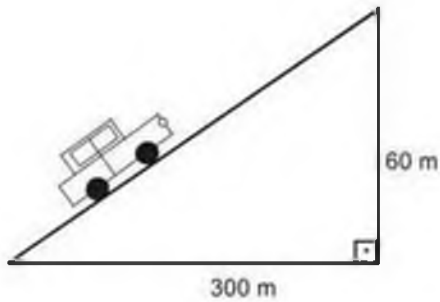
Yukarıda açınımlı ve ölçüleri verilen dik koninin yüzey alanı kaç  $\text{cm}^2$  dir?  
( $\pi = 3$  alınız.)

- A) 96
- B) 171
- C) 192
- D) 225

17. Yarıçapı 17 cm olan kürenin merkezinden 15 cm uzaklıkta olan küçük dairenin alanı kaç  $\text{cm}^2$  dir?  
( $\pi = 3$  alınız.)

- A) 108
- B) 147
- C) 192
- D) 243

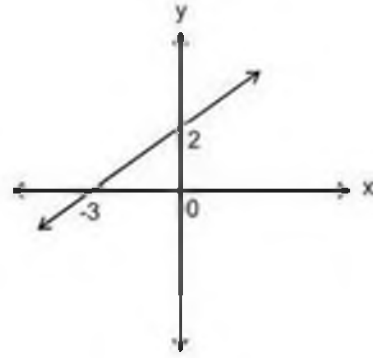
18.



Yukarıdaki şekilde verilen doğrunun eğimi % kaçtır?

- A) 10
- B) 15
- C) 20
- D) 25

19.



Yukarıda grafiği verilen doğrunun eğimi kaçtır?

- A) -3
- B)  $-\frac{1}{3}$
- C)  $\frac{2}{3}$
- D) 2

$$20. \begin{cases} y + 4x = 6 \\ y = 8x - 2 \end{cases}$$

denklemler sisteminin çözüm kümesi aşağıdakilerden hangisidir?

- A)  $\left(2, -\frac{5}{3}\right)$
- B)  $\left(\frac{1}{3}, -2\right)$
- C)  $\left(-\frac{1}{3}, \frac{2}{3}\right)$
- D)  $\left(\frac{2}{3}, \frac{10}{3}\right)$

1. Aşağıdakilerden hangisi zekât veren kişide aranan şartlardan biri değildir?
  - A) Merhametli olmak
  - B) Akıllı olmak
  - C) Ergenlik çağına girmiş olmak
  - D) Zengin olmak
2. Hacıların ihrama girdiği, Mekke şehrinin etrafında belirlenmiş yerlere ne ad verilir?
  - A) Vakfe
  - B) Sa'y
  - C) Şavl
  - D) Mikat
3. Allah'ın her şeyi önceden bilmesi yani neyin, ne zaman, nerede olacağını belli bir ölçü, düzen ve plan içerisinde yaratmasına ne ad verilir?
  - A) Evren
  - B) Kader
  - C) Kaza
  - D) Fitrat
4. "Gökleri yedi kat üzerine yaratan O'dur. Rahman'ın bu yaratmasında bir düzensizlik bulamazsın. Gözünü bir çevir bak, bir çatlak görebilir misin?" ayetinin yer aldığı sure aşağıdakilerden hangisidir?
  - A) En'am
  - B) Kamer
  - C) Mülk
  - D) Rahman
5. Allah'a teslim olmak, güvenmek, dayanmak ve sığınmaya ne ad verilir?
  - A) Tevekkül
  - B) Hayır
  - C) Kaza
  - D) Şer
6. Kurban Bayramı arifesinde öğle vaktinde bayram sabahına kadar, bir süre Arafat'ta bulunmaya ne ad verilir?
  - A) Umre
  - B) Fitre
  - C) Sa'y
  - D) Vakfe
7. Tavaftan hemen sonra Kabe'nin doğu tarafında bulunan Safa ve Merve tepeleri arasında, hızlı adımlarla yedi defa gidip gelmeye ne ad verilir?
  - A) İhram
  - B) Sa'y
  - C) Şavl
  - D) Vakfe
8. Hz. Muhammed'in (s.a.v.) hiç kimseye ayrıcalıklı davranmaması, insanlar arasında inanç farkı gözetmeden herkese eşit davranması, peygamberimizin aşağıdaki örnek davranışlarından hangisini vurgulamaktadır?
  - A) Güvenilir olması
  - B) Sabırlı ve cesur olması
  - C) Hakkı gözetmesi
  - D) Bilgiye önem vermesi
9. Bir düşünceye, inanışa körü körüne aşırı derecede bağlanıp ondan başkasını düşünememe durumuna ne denir?
  - A) Taassup
  - B) Taklîd
  - C) Bilgi
  - D) Tercih
10. "Şüphesiz Allah adaleti, iyilik yapmayı, yakınlarla yardım etmeyi emreder; O, düşünüp tutasınız diye size öğüt veriyor" ayeti aşağıdaki hangi surede geçmektedir?
  - A) Bakara
  - B) Nahl
  - C) Âl-i İmran
  - D) Necm

11. Aşağıdakilerden hangisi aklın insana sağladığı faydalarından biri değildir?
- A) Mantıklı düşünmeyi sağlama  
B) Doğruyu yanlıştan ayırma  
C) Dünyada varoluşun sebebi olma  
D) Yaşamı kolaylaştırma
12. Hz. Muhammed'in (s.a.v) "Kim bir fidan diker veya ekin ekirse onlardan kuşlar ve diğer canlılar faydalandıkça Allah onu sevaptan yararlandırır. Yaptığına karşılık ona sadaka sevabı olur" sözü aşağıdaki örnek davranışlarından hangisine vurgu yapmaktadır?
- A) Hakkı gözetmesi  
B) Güvenilir olması  
C) Merhametli, hoşgörülü ve affedici olması  
D) Doğayı ve hayvanları sevmesi
13. İslam'da dinî sorumluluğun ön koşulu olarak aşağıdakilerden hangisi kabul edilmiştir?
- A) İhsan  
B) Akıl  
C) Bilim  
D) İlim
14. Aşağıdakilerden hangisi kumar oynamanın zararlarından biri değildir?
- A) Kumar, insan bedenine zarar verir, hastalıkların doğmasına neden olur.  
B) Kumar, çalışarak kazanmak yerine tembelliği ve hileyi teşvik eder.  
C) Kumar, oynayanları ve aileleri perişan eder.  
D) Kumar, oynayanların ruh sağlığını bozar.
15. Aşağıdakilerden hangisi ilahi olmayan dinlerden biridir?
- A) Hıristiyanlık  
B) İslam  
C) Yahudilik  
D) Budizm
16. Kur'an-ı Kerim'de "Kendi elinizle kendinizi tehlikeye atmayın! İyilik edin. Şüphesiz Allah iyilik edenleri sever." cümlesi hangi surede geçmektedir?
- A) İsrâ  
B) Nisa  
C) Bakara  
D) Şûra
17. Aşağıdakilerden hangisi kul hakkına sebep olan davranışlardan biri değildir?
- A) Kötü zanda bulunmak  
B) Hırsızlık yapmak  
C) Yalan söylemek  
D) Güteryüzlü olmak
18. Aşağıdakilerden hangisi Yahudilik dinindeki On Emir'den biri değildir?
- A) İnsan öldürmeyeceksin.  
B) Pazar günü hiçbir iş yapmayacaksın.  
C) Hırsızlık yapmayacaksın.  
D) Anne babana saygı göstereceksin.
19. Aşağıdakilerden hangisi kutsal kitabını koruyamamış olan ilahi dinlerden biridir?
- A) Budizm  
B) Hinduizm  
C) Şintoizm  
D) Hıristiyanlık
20. Kast sisteminde esnaf ve çiftçilerin dahil olduğu sınıf aşağıdakilerden hangisidir?
- A) Brahmanlar  
B) Kşatryalar  
C) Vaisyalar  
D) Südralar



**BU SAYFA BOŞ BIRAKILMIŞTIR.**

**BU SAYFA BOŞ BIRAKILMIŞTIR.**

**BU SAYFA BOŞ BIRAKILMIŞTIR.**

## SINAVDA UYULMASI GEREKEN GENEL KURALLAR

1. Sınava girmek için gerekli belgelerinizin tümünü sınav başlamadan önce sıranızın üzerine bırakınız.
2. Sınav süresince görevlilerle konuşmak, görevlilere soru sormak yasaktır. Aynı şekilde görevlilerin de öğrencilerle yakından ve alçak sesle konuşmaları yasaktır. Gerekli durumlarda görevliler yerinizi değiştirebilir.
3. Size verilen cevap kâğıdının üzerindeki TCKN/Öğrenci no, ad, soyadı, bilgilerini kontrol ediniz, ilgili alanları eksiksiz doldurarak imzalayınız. Bu bilgiler size ait değilse, görevlileri uyararak size ait cevap kâğıdını isteyiniz. Başka öğrenciye ait cevap kâğıdı kullanan öğrencilerin o oturumdaki sınavları geçersiz sayılır.
4. Cevap kâğıdı üzerine test grubunu (A, B, C, D) kodlamayan veya birden fazla kodlama yapan öğrencilerin sınavları geçersiz sayılır.
5. Cevap kâğıdınıza yazacağınız her türlü yazı ve yapacağınız işaretlemeler için koyu yazan siyah kurşun kalem kullanmalısınız. Siyah kurşun kalem dışında farklı bir kalem (tükenmez, mürekkepli ya da renkli vb.) kullanan öğrencilerin sınavları geçersiz sayılır.
6. Cevap kâğıdı üzerinde değişiklik yapmak istediğinizde, iz bırakmayan bir silgi kullanınız. Cevap kâğıdınızı buruşturmayınız, katlamayınız ve üzerine gereksiz hiçbir işaret koymayınız.
7. Cevaplarınızı, cevap kâğıdında ilgili test için ayrılmış olan alana, cevap yerinin dışına taşırılmadan işaretleyiniz. Soru kitapçığı üzerinde yapılan işaretlemeler değerlendirmeye alınmayacaktır.
8. Her sorunun tek bir doğru cevabı vardır. Bir soru için birden çok cevabı işaretlerseniz, o soruyu yanlış cevaplamış sayılacaksınız.
9. Soru kitapçığınızı aldığınızda sayfalanna hızlıca bakarak hatalı ya da eksik baskı olup olmadığını kontrol ediniz. Hata/eksik olması durumunda kitapçığının değiştirilmesi için derhâl Salon Başkanına başvurunuz. Sınav görevlileri sınavın başladığını belirtmeden kitapçığınızı tekrar açmayınız.
10. Cevap kâğıdınızda belirtilen kitapçık kodu ile soru kitapçığının kodunu karşılaştırınız. Aynı değilse, sınav görevlilerine durumu bildirerek doğru kitapçığın verilmesini talep ediniz.
11. Soru kitapçığındaki ilgili alanlara ad, soyadı, TCKN/Öğrenci no, sınav salon no, sıra no bilgilerinizi eksiksiz doldurarak imzanızı atınız. Soru kitapçığının sayfalannadaki boş yerleri müsvedde amacıyla kullanabilirsiniz.
12. Aşağıdaki durumlarda sınav görevlileri tarafından Bireysel Sınav İptal Tutanağı düzenlenerek ilgili öğrencilerin sınavları geçersiz sayılır.
  - a) Sınav kurallarına ve sınav görevlilerinin uyarlarına uymamak, sınav düzenini bozmak,
  - b) Kâğıt, kitap, defter, not vb. dokümanlar, pergel, açıölçer, cetvel vb. araçları, cep telefonu, bilgisayar, tablet, telsiz, kamera vb. iletişim, depolama, kayıt ve veri aktarma cihazlarını, ruhsatlı veya resmi amaçlı olsa bile silah ve silah yerine geçebilecek nesnelere yanında bulundurmamak,
  - c) Sınav sırasında kalem, silgi vb. araç-gereç paylaşımında bulunmak,
  - d) Cevapları, cevap kâğıdı dışında bir yere yazmak ve sınav salonundan dışarı çıkarmak,
  - e) Sınava girebilmek için gerekli belgeleri eksik olduğu halde sınava katılıp, cevap kâğıdında işaretleme yapmak,
  - f) Sınav görevlileri tarafından öğrencinin kimliğinden şüphe duyulması,
  - g) Cevap kâğıdını ve/veya soru kitapçığını sınav görevlilerine eksiksiz ve sağlam şekilde teslim etmemek, sınav salonu dışına çıkarmak,
  - h) Kopya çekmek, vermek, çekilmesine yardımcı olmak vb. eylemlerde bulunmak,
  - i) Kendisi yerine başkasını sınava sokmak.
13. Sınav bitiminde, cevap kâğıdınızı ve soru kitapçığınızı salon görevlilerine eksiksiz biçimde teslim ediniz. Sınav bittikten sonra gönderilen cevap kâğıtları dikkate alınmayacaktır.

**SINAV KURALLARINA UYDUĞUNUZ İÇİN TEŞEKKÜR EDER, SINAVINIZDA BAŞARILAR DİLERİZ.**