



ANADOLU ÜNİVERSİTESİ  
AÇIKÖĞRETİM FAKÜLTESİ  
BA - AÇIKÖĞRETİM OKULLARI

T.C. MİLLÎ EĞİTİM BAKANLIĞI  
Hayat Boyu Öğrenme Genel Müdürlüğü  
2016-2017 ÖĞRETİM YILI BATI AVRUPA – BALKANLAR  
AÇIK ÖĞRETİM ORTAOKULU II. DÖNEM SINAVI

3. OTURUM Cumartesi

**A**

**0300**

ÖĞRENCİNİN

SOYADI : .....

ADI : .....

T.C. KİMLİK NO / ÖĞRENCİ NO : .....

SINAV SALON NO : ..... SIRA NO : .....

Sınavla ilgili soru kitapçığının ön ve arka kapağındaki tüm kuralları okudum, anladım, kabul ediyorum.

İMZA : .....

**SINAV İÇERİĞİ**

Testin Adı	Soru Sayısı	Sayfa No
TÜRKÇE 5	20	02
MATEMATİK 5	20	04
FEN VE TEKNOLOJİ 5	20	07
SOSYAL BİLGİLER 5	20	09
DİN KÜLTÜRÜ VE AHLAK BİLGİSİ 5	20	11
TÜRKÇE 7	20	13
MATEMATİK 7	20	16
FEN VE TEKNOLOJİ 7	20	19
SOSYAL BİLGİLER 7	20	21
ALMANCA 7	20	23
İNGİLİZCE 7	20	26
FRANSIZCA 7	20	29

**SINAVDA UYULMASI GEREKEN ÖZEL KURALLAR**

1. Soru kitapçığındaki her bir testi cevaplamanız için verilen süre 30 dakika, toplam süre 150 dakikadır.
2. Sınavın ilk 30 dakikası ve son 5 dakikası içinde sınavınızı tamamlasanız bile salondan çıkamazsınız. Herhangi bir nedenle salondan çıktığınız takdirde, tekrar sınava devam etmenize izin verilmeyecektir. Sınavın başlamasını izleyen ilk 15 dakikadan sonra hiçbir öğrenci sınava alınamaz.
3. Yanlış cevaplarınız dikkate alınmayacaktır. Bu nedenle kitapçığındaki tüm sorular için size doğru gelen seçeneği işaretleyerek cevapsiz soru bırakmamanız yararınıza olacaktır.
4. Sınav sırasında hesap makinesi kullanabilirsiniz. Ancak, kullanacağınız makinede alfabetik tuş takımının (A, B, C, ..., Y, Z), program yapılmasına, saklanmasına ve çalıştırılmasına imkan veren EXE, STORE, RUN vb. tuşlar bulunamaz.

"Sınavda Uyulması Gereken Genel Kurallar" soru kitapçığının arka sayfasında yer almaktadır. Bu kuralları da mutlaka dikkatlice okuyunuz.

Anadolu Üniversitesi tarafından hazırlanmış olan bu testlerin her hakkı saklıdır. Hangi amaçla olursa olsun, testlerin tamamının veya bir kısmının Anadolu Üniversitesi'nin yazılı izni olmadan kopya edilmesi, fotoğraflarının çekilmesi, herhangi bir yolla çoğaltılması, yayımlanması ya da kullanılması yasaktır. Bu yasağa uymayanlar gerekli cezai sorumluluğu ve testlerin hazırlanmasındaki mali külfeti peşinen kabullenmiş sayılır.

1. "Fatih, yapılan imtihanda başarılı oldu." cümlesinde altı çizili sözcük aşağıdakilerden hangisiyle eş anlamlıdır?
- A) öğrenci  
B) sınav  
C) donanımlı  
D) bilgili
2. Aşağıdaki cümlelerin hangisine ünlü düşmesine örnek bir sözcük vardır?
- A) Sıcak havadan hepimiz bunaldık.  
B) Gel de ayıkla pirincin taşını!  
C) Buradan denize girilmez.  
D) Nehrin suları iyice çekilmiş.
3. Aşağıdaki cümlelerin hangisinde zıt anlamlı sözcükler kullanılmıştır?
- A) Birbirimize anlatacak o kadar çok şey vardı ki...  
B) Kaşları çatılmış, gözleri kocaman açılmıştı.  
C) Ben küçükken sokağımız çok büyüktü.  
D) Tablolarında sıcak renklere ağırlık vermiş.
4. "Bu Vatan Kimin" şiiri aşağıdaki şairlerden hangisine aittir?
- A) Orhan Şaik Gökyay  
B) İsmail Hikmet Ertaylan  
C) Fazıl Hüsnü Dağlarca  
D) Mehmet Âkif Ersoy
5. "Bu topraklar üzerinde can vermiş yabancı askerler ..... bulunuyordu." cümlesinde boş bırakılan yeri aşağıdaki bağlaçlardan hangisi en uygun şekilde tamamlar?
- A) fakat  
B) ve  
C) ama  
D) de
6. Aşağıdakilerden hangisi devrik cümledir?
- A) Susuzluktan pek bezdiler.  
B) Zehir oldu bu güzel gezi.  
C) Bir sabah iki kardeş yürüyüşe çıkmışlardı.  
D) İyilik bir su, bırak aksın.
7. Aşağıdaki cümlelerden hangisinin filli olumsuzdur?
- A) Yaşlı adam fırçasını boya kavanozuna batırdı.  
B) Fenikeliler, Suriye'nin sahillerinde yerleşmişlerdi.  
C) Bu konuyu artık düşünmüyorum.  
D) Yeni elbisesini giymek istemişti.
8. Aşağıdaki sözcük çiftlerinden hangisi eş anlamlıdır?
- A) nefes – soluk  
B) eski – yeni  
C) kibar – kaba  
D) soğuk – sıcak
9. Aşağıdaki cümlelerden hangisinin sonuna ünlem işareti konmalıdır?
- A) Az sonra gelir, görüşürsünüz  
B) Isık çalarak çıktı evden  
C) Hey, buraya baksana  
D) Seni bugün üzgün görüyorum
10. Aşağıdaki sözcüklerden hangisinin yazımı yanlıştır?
- A) hastane  
B) kervan saray  
C) karaciğer  
D) yemekhane
11. "Bahçede sekiz ağaç vardı." cümlesinde altı çizili sözcük, tür bakımından aşağıdakilerden hangisine örnektir?
- A) Sayı sıfatına  
B) Belgisiz sıfata  
C) Zarf tümlecine  
D) Niteleme sıfatına
12. Tatlı diller şekerleşir  
Mutluluk kalbe yerleşir  
Eller, gönüller birleşir
- Yukarıdaki dördlükte kaç tane çoğul sözcük vardır?
- A) 5  
B) 4  
C) 3  
D) 2
13. Aşağıdaki sözcüklerden hangisi özel isimdir?
- A) Balıkçı  
B) Kumsal  
C) Çekirge  
D) Orhan
14. "duygular" sözcüğü ile ilgili aşağıdaki ifadelerden hangisi yanlıştır?
- A) Topluluk ismidir.  
B) Çoğul isimdir.  
C) Cins isimdir.  
D) Soyut isimdir.

15. "Bu soğuk havalarda bu kadar ..... giyinmemelisin." cümlesinde boş bırakılan yeri aşağıdakilerden hangisi **en uygun** şekilde tamamlar?

- A) habersiz
- B) renksiz
- C) kalın
- D) ince

16. Aşağıdaki cümlelerin hangisinde deyim vardır?

- A) Geniş bahçede büyük bir havuz vardı.
- B) Bu sözler onun da kulağına çalınmış olmalı.
- C) Yolda hızlı hızlı yürüyordu.
- D) Babasını aniden karşısında görünce çok şaşırıldı.

17. Aşağıdaki sözcüklerden hangisinin hecelenmesi doğru olarak gösterilmiştir?

- A) his-sel-ti-r-me-li-sin
- B) söy-le-dik-ler-in-den
- C) u-nut-ma-ma-lı-sın
- D) dö-nü-şe-ce-k-tir

18. Yüksek yüksek tepelere ev kurmasınlar  
Aşrı aşrı memlekete kız vemesinler  
Annesinin bir tanesini hor görmesinler

Yukarıdaki dizeler aşağıdaki halk edebiyatı türlerinden hangisine örnektir?

- A) Ninni
- B) Destan
- C) Mani
- D) Türkü

19. Aşağıdaki sözcüklerden hangisi terim anlamlıdır?

- A) kılaf
- B) erozyon
- C) öğrenci
- D) doktor

20. Aşağıdaki dizelerden hangisinin sonuna soru işareti konmalıdır?

- A) Kim bu cennet vatanını uğruna olmaz ki feda
- B) Çalma, kurban olayım, çehreni ey nazlı hilâl
- C) Verme, dünyaları alsan da, bu cennet vatanı
- D) O zaman yükselerek arşa değer belki başım

1. Okunuşu "Elli milyon yüz iki bin beş" olan sayı aşağıdakilerden hangisidir?

- A) 50 120 005
- B) 50 102 005
- C) 5 012 005
- D) 5 010 250

2. 18 kamyon 432 ton yük taşıyacaktır. Her bir kamyon eşit ağırlıkta yük taşıyacağına göre kamyon başına düşen yük kaç kg olur?

- A) 24
- B) 26
- C) 28
- D) 30

3. Eskişehir'den Samsun'a giden bir otobüs 4 saat 20 dakika gittikten sonra 25 dakika mola veriyor. Mola bittikten sonra 3 saat 45 dakika daha gidiyor ve Samsun'a varıyor.

Buna göre, şoför Eskişehir-Samsun arasını toplam kaç saatte gitmiştir?

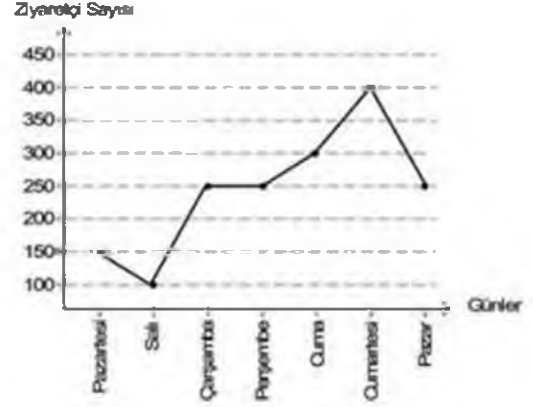
- A) 7 saat 50 dakika
- B) 8 saat 30 dakika
- C) 8 saat 45 dakika
- D) 9 saat

4. Pervin marketten kilosu 2,25 liradan 8 kg şeker, kilosu 3,5 liradan 6 kg un ve kilosu 8,75 liradan 2 kg yağ almıştır.

Buna göre, Pervin markete kaç lira ödemiştir?

- A) 49
- B) 51,25
- C) 56,5
- D) 61

5. ve 6. soruları aşağıdaki grafiğe göre cevaplayınız.



Yukarıdaki grafikte bir sergiye bir hafta boyunca gelen ziyaretçi sayıları verilmiştir.

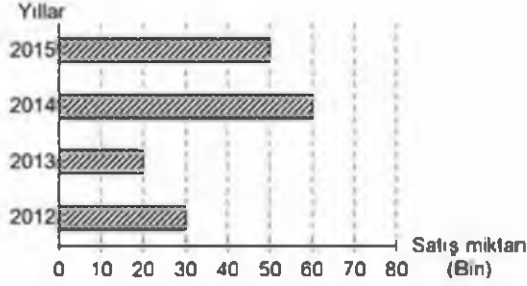
5. Ziyaretçi sayısının bir önceki güne göre değişmediği gün aşağıdakilerden hangisidir?

- A) Perşembe
- B) Cumartesi
- C) Cuma
- D) Pazartesi

6. En az ziyaretçinin geldiği gün aşağıdakilerden hangisidir?

- A) Salı
- B) Pazartesi
- C) Çarşamba
- D) Pazar

7 - 9. soruları aşağıdaki grafiğe göre cevaplayınız.



Yukarıdaki grafikte bir bölgede satılan televizyon sayılarının yıllara göre dağılımı verilmiştir.

7. **En az** satış yapılan yıl aşağıdakilerden hangisidir?

- A) 2012
- B) 2013
- C) 2014
- D) 2015

8. 2012–2015 yıllarında satılan **toplam** televizyon sayısı kaçtır?

- A) 130 000
- B) 140 000
- C) 150 000
- D) 160 000


9. 2014 yılında satılan televizyon sayısı 2012 yılına göre yüzde kaç artmıştır?

- A) 50
- B) 75
- C) 100
- D) 125

10. Bir açısı  $41^\circ$  olan dik açılı üçgenin üçüncü açısı kaç derecedir?

- A) 49
- B) 53
- C) 57
- D) 61

11.



Yukarıdaki A noktasının B noktasına göre konumu aşağıdakilerden hangisidir?

- A) 4 birim sağının 3 birim aşağısı
- B) 4 birim solunun 3 birim aşağısı
- C) 4 birim sağının 3 birim yukarısı
- D) 4 birim solunun 3 birim yukarısı

12.  $[AB]$  doğru parçasının şekil olarak gösterimi aşağıdakilerden hangisidir?

- A)
- B)
- C)
- D)

13. I.  $60^\circ$   
II.  $90^\circ$   
III.  $100^\circ$   
IV.  $110^\circ$

Yukarıdakilerden hangileri geniş açıdır?

- A) Yalnız II
- B) I ve III
- C) II ve IV
- D) III ve IV

14. Bir bahçenin  $\frac{2}{5}$ 'ine gül,  $\frac{1}{3}$ 'üne yasemin geri kalanına ise begonya ekilmiştir.

Buna göre, begonya ekili alan, bahçenin kaçta kaçtır?

- A)  $\frac{1}{12}$   
B)  $\frac{2}{9}$   
C)  $\frac{4}{15}$   
D)  $\frac{5}{12}$

15. Bir mağazada 1224 TL'ye satılan bir buzdolabında %25 indirim yapılmıştır.

Buna göre, indirim yapıldıktan sonra buzdolabı kaç TL'ye satılmıştır?

- A) 836  
B) 874  
C) 918  
D) 986

16. %15 aşağıdakilerden hangisi ile ifade edilir?

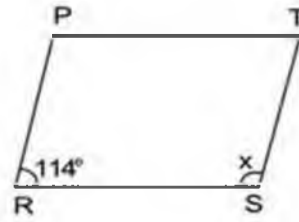
- A)  $\frac{3}{45}$   
B) 0,15  
C)  $\frac{15}{10}$   
D) 0,015

17. Aylin, 90 soruluk bir sınavda soruların tamamını cevaplamıştır.

Aylin 54 soruyu doğru cevapladığına göre, tüm soruların yüzde kaçına yanlış cevap vermiştir?

- A) 25  
B) 35  
C) 40  
D) 45

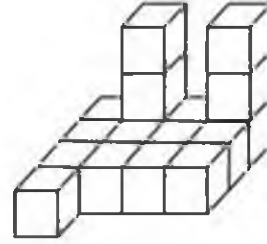
- 18.



Yukarıdaki PRST paralel kenarında x açısı kaç derecedir?

- A) 66  
B) 72  
C) 78  
D) 84

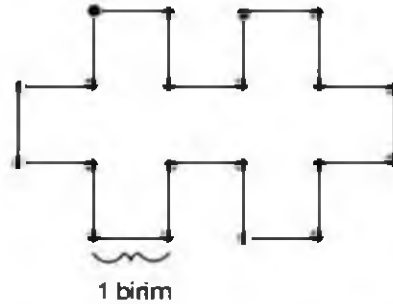
- 19.



Yukarıdaki birim küplerden oluşan şekilde kaç küp vardır?

- A) 15  
B) 16  
C) 17  
D) 18

- 20.



Bir kenarı 1 birim olan yukarıdaki şeklin çevre uzunluğu kaç birimdir?

- A) 17  
B) 18  
C) 19  
D) 20

1. Sıcaklık aşağıdakilerden hangisiyle ölçülür?
  - A) Hidrometre
  - B) Barometre
  - C) Termometre
  - D) Dinamometre
2. Vücudumuzda sindirimin başladığı ilk yer aşağıdakilerden hangisidir?
  - A) Yutak
  - B) İnce bağırsak
  - C) Mide
  - D) Ağız
3. Aşağıdakilerden hangisi çiçekli bitki değildir?
  - A) Çam
  - B) Kara yosunu
  - C) Papatya
  - D) Kiraz çiçeği
4. Canlı kalıntılarını çürüterek yaşayan mantar türü aşağıdakilerden hangisidir?
  - A) Küf mantarı
  - B) Şapkali mantar
  - C) Kültür mantarı
  - D) Maya mantarı
5. Canlıların üzerinde yaşadığı tabakaya ne ad verilir?
  - A) Kayaç
  - B) Granit
  - C) Yer kabuğu
  - D) Stratosfer
6. Aşağıdakilerden hangisi omurgalı hayvanlardan biridir?
  - A) Örümcek
  - B) Arı
  - C) Kurbağa
  - D) Kelebek
7. Kanı süzerek zararlı maddelerden arındıran organ aşağıdakilerden hangisidir?
  - A) Ürerta
  - B) Üreter
  - C) İdrar kesesi
  - D) Böbrek
8. Aşağıdakilerden hangisi kuvvet birimidir?
  - A) Newton
  - B) Metre
  - C) Gram
  - D) Kilogram

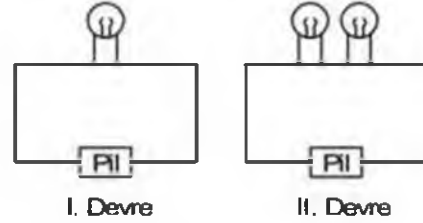
9.



Yukarıda sembolü gösterilen devre elemanı aşağıdakilerden hangisidir?

- A) Anahtar
- B) Pil
- C) Duy
- D) Ampul

10.



Pil, ampul ve kablo kullanılarak I. devre kuruluyor. Daha sonra devreye özdeş bir ampul daha bağlanıyor.

Buna göre, II. devredeki ampul parlaklığı I. devredekine göre nasıl değişir?

- A) Artar.
- B) Azalır.
- C) Değişmez.
- D) Önce artar, sonra azalır.

11. Isıyı geçirmeyen maddelere ne ad verilir?

- A) Strafor
- B) Opak
- C) Yarı saydam
- D) Saydam

12. Günlük hayatta yaylı el kantarı olarak bilinen kuvvetölçerin bilimsel adı aşağıdakilerden hangisidir?

- A) Elektroskop
- B) Mezura
- C) Dirençölçer
- D) Dinamometre

13. Besinlerin çok küçük parçalara ayrılarak kana karışabilecek duruma gelmesi için uğradıkları değişime ne ad verilir?

- A) Sindirim
- B) Boşaltım
- C) Dolaşım
- D) Solunum

14. Ses ile ilgili aşağıdaki ifadelerden hangisi yanlıştır?
- A) Titreşen cisimler tarafından üretilir.
  - B) Bir kaynaktan yayılan sesler, farklı ortamlarda farklı iştilir.
  - C) Cam yünü, lastik, strafor gibi maddeler sesi daha az iletir.
  - D) En iyi boşlukta yayılır.
15. Fosil bilimi alanında çalışan bilim insanlarına ne ad verilir?
- A) Paleontolog
  - B) Arkeolog
  - C) Biyolog
  - D) Antropolog
16. Maddenin ısı vererek hacminin azalmasına ne ad verilir?
- A) Genleşme
  - B) Buharlaşma
  - C) Büzülme
  - D) Yoğuşma
17. Bir araştırmada sonucu etkileyebilecek olan, etkisi azaltılıp çoğaltılabilen değişkene ne ad verilir?
- A) Tahmin grubu
  - B) Kontrol grubu
  - C) Bağımsız değişken
  - D) Bağımlı değişken
18. Aşağıdakilerden hangisi saf maddenin ayırt edici özelliklerinden biri değildir?
- A) Donma noktası
  - B) Hacim
  - C) Erime noktası
  - D) Kaynama noktası
19. Aşağıdakilerden hangisi yer kabuğunda yer almaz?
- A) Fosil
  - B) Hava
  - C) Maden
  - D) Kayaç
20. Basit bir elektrik devresinde ampulün takıldığı yuvaya ne ad verilir?
- A) Priz
  - B) Sigorta
  - C) Anahtar
  - D) Duy



1. Toplumun temel birimi aşağıdakilerden hangisidir?
  - A) Baba
  - B) Anne
  - C) Aile
  - D) Çocuk
2. Aşağıdakilerden hangisi Türkiye Cumhuriyeti nüfus cüzdanında yer almaz?
  - A) Doğum saati
  - B) Ad
  - C) Anne adı
  - D) Doğum yeri
3. Çocuk haklarını güvence altına almak için bir çok devletin bir araya gelerek hazırladıkları sözleşme aşağıdakilerden hangisidir?
  - A) Düşünce ve ifade Özgürlüğü Sözleşmesi
  - B) İnsan Hakları Evrensel Beyannamesi
  - C) Çocuk Haklarına Dair Sözleşme
  - D) Eğitim Hakkı Sözleşmesi
4. Dünyanın sekizinci harikası olan, 2150 metre yükseklikteki Nemrut Dağı aşağıdaki şehirlerden hangisinde yer alır?
  - A) Mardin
  - B) Adıyaman
  - C) Malatya
  - D) Tunceli
5. Aşağıdaki tarihi yerler ve doğal güzellikler ile bulunduğu şehirlere ilişkin eşleştirmelerden hangisi yanlıştır?
  - A) Antalya-Alanya Kalesi
  - B) Mersin-Pamukkale Travertenleri
  - C) Bitlis-Hasan Padişah Kümbeti
  - D) Kastamonu-Ilıca Şelalesi
6. Efes Antik Kenti hangi ilimizdedir?
  - A) İzmir
  - B) Antalya
  - C) Denizli
  - D) Muğla
7. Aşağıdaki illerden hangisinde liman vardır?
  - A) Burdur
  - B) Samsun
  - C) Kilis
  - D) Amasya
8. İç Anadolu Bölgesinde nüfusun en kalabalık olduğu il aşağıdakilerden hangisidir?
  - A) Ankara
  - B) Kırşehir
  - C) Çankırı
  - D) Nevşehir
9. Karadeniz iklimi ile ilgili aşağıdaki ifadelerden hangisi yanlıştır?
  - A) Çay üretimi için uygundur.
  - B) Bitki örtüsü çoğunlukla ormanlıktır.
  - C) Yaz turizmi yaygın olarak yapılır.
  - D) Her mevsim yağışlı ve ılıman geçer.
10. Türkiye'de balıkçılığın yüzde kaçını Karadeniz'de yapılıyor?
  - A) 25
  - B) 48
  - C) 56
  - D) 75

11. Türkiye'de su ve linyit gibi doğal kaynakları sayesinde elektrik enerjisinin %35'ni üreten bölge aşağıdakilerden hangisidir?
- A) Güneydoğu Anadolu Bölgesi  
B) İç Anadolu Bölgesi  
C) Marmara Bölgesi  
D) Doğu Anadolu Bölgesi
12. Karadeniz bölgesinde daha az yetişen ürün aşağıdakilerden hangisidir?
- A) Muz  
B) Çay  
C) Mısır  
D) Fındık
13. Büyük bir teleskop icat ederek Dünya'nın Güneş etrafında döndüğünü keşfeden bilim insanı aşağıdakilerden hangisidir?
- A) Cahit Arf  
B) Galileo  
C) Edison  
D) Marie Curie
14. Aşağıdakilerden hangisi buluş yapan bilim insanlarının özelliklerinden biri olamaz?
- A) Gözlem yapma  
B) Çalışkanlık  
C) Merak  
D) İlgisizlik
15. Erozyonu, çoraklaşmayı, çölleşmeyi, kirliliği, hatalı tarım tekniklerini ve amaç dışı arazi kullanımını önlemek, doğal varlıkların korunması için hükümetleri yönlendirmek ve etkin kamuoyu oluşturmak amacıyla kurulan ve faaliyet gösteren sivil toplum kuruluşu aşağıdakilerden hangisidir?
- A) Kadın Emegini Değerlendirme Vakfı  
B) Çocuk Vakfı  
C) TEMA Vakfı  
D) LÖSEV
16. Eğitim alanında hizmet vermek amacıyla kurulan ilk sivil toplum kuruluşu aşağıdakilerden hangisidir?
- A) LÖSEV  
B) Darüşşafaka Cemiyeti  
C) Türkiye Eğitim Gönüllüleri Vakfı  
D) KEDV
17. Türkiye'de yasama görevini aşağıdaki kurumlardan hangisi yerine getirir?
- A) Cumhurbaşkanı  
B) Bakanlar Kurulu  
C) TBMM  
D) Başbakan
18. Türk Bayrağı Kanunu hangi yıl çıkarılmıştır?
- A) 1938  
B) 1947  
C) 1976  
D) 1983
19. Aşağıdakilerden hangisi Dünya Miras Listesindeki varlıklardan biri değildir?
- A) Odunpazarı evleri  
B) Divriği Ulu Camii  
C) Safranbolu  
D) Pamukkale
20. Gize Piramidinin bulunduğu ülke aşağıdakilerden hangisidir?
- A) Meksika  
B) İspanya  
C) Fransa  
D) Mısır

1. Vahdaniyet'in anlamı aşağıdakilerden hangisidir?
  - A) Allah'ın her şeyi işitmesi
  - B) Allah'ın her şeyi görmesi
  - C) Allah'ın bir olması
  - D) Allah'ın her şeyi bilmesi
2. Caminin içinde vaaz verip, cemaati dini konularda aydınlatan kişinin oturduğu yüksekçe yere ne ad verilir?
  - A) Vaaz kürsüsü
  - B) Minare
  - C) Mihrap
  - D) Minber
3. Cami ve mescitlerde Kâbe yönünü gösteren kısma ne ad verilir?
  - A) Vaaz kürsüsü
  - B) Minber
  - C) Mihrap
  - D) Minare
4. "Semi" kelimesinin anlamı aşağıdakilerden hangisidir?
  - A) Allah'ın bir olması
  - B) Allah'ın her şeyi işitmesi
  - C) Allah'ın her şeyi görmesi
  - D) Allah'ın her şeyi bilmesi
5. Tevhit inancı ne demektir?
  - A) Allah'ın yasakladığı her türlü davranıştan kaçınmak
  - B) Allah'a kulluk etmek
  - C) Tan yerinin ağarmasından akşam güneş batıncaya kadar herhangi bir şey yiyip, içmemek
  - D) Kâinattaki tek yaratıcının Allah olduğuna inanmak
6. Kurban kesmek, İslam dininde nasıl bir davranıştır?
  - A) Sünnet
  - B) Farz
  - C) Vacip
  - D) Günah
7. "Yedi göğü birbiriyle tam bir uyum içinde yaratan odur. Rahman'ın yaratışında hiçbir aksaklık göremezsin. Gözünü çevir de bir bak, bir bozukluk görebiliyor musun?" ayeti, aşağıdaki hangi surede yer alır?
  - A) Fâtır
  - B) Mülk
  - C) Rûm
  - D) En'âm
8. Aşağıdakilerden hangisi farz olan başlıca ibadetlerden biri değildir?
  - A) Umre
  - B) Oruç
  - C) Zekât
  - D) Namaz
9. Hz. Peygambere sevgimizi, bağlılığımızı ve saygımızı belirtmek için yaptığımız duaya ne ad verilir?
  - A) Şehadet
  - B) Salavat
  - C) İbadet
  - D) Tevhit
10. Aşağıdakilerden hangisi Hz. Muhammed'in çocuklarından biridir?
  - A) Rukiye
  - B) Ayşe
  - C) Ali
  - D) Mehmet

11. Kur'an-ı Kerim ile ilgili aşağıdaki ifadelerden hangisi yanlıştır?
- A) İslam dininin temel kaynağıdır.  
 B) Kur'an'ı okumak ve anlamaya çalışmak bir ibadettir.  
 C) İnsanları karanlıktan aydınlığa çıkarır.  
 D) Allah tarafından, son peygamber Hz. Davut'a gönderilmiştir.
12. Kur'an ayetlerinin yaklaşık anlamıyla başka bir dile çevrilmesine ne ad verilir?
- A) Vahiy  
 B) Meal  
 C) Tefsir  
 D) Sure
13. Hıdrellez, her yıl aşağıdaki tarihlerden hangisinde bayram olarak kutlanır?
- A) 6 Mayıs  
 B) 6 Haziran  
 C) 6 Ağustos  
 D) 6 Eylül
14. Kur'an ayetlerinin açıklamalarına ne ad verilir?
- A) Meal  
 B) Tefsir  
 C) Tekvin  
 D) Vahiy
15. Kur'an-ı Kerim, peygamberimize hangi ayda inmeye başlamıştır?
- A) Recep  
 B) Şaban  
 C) Ramazan  
 D) Yılın ilk ayı
16. Aşağıdakilerden hangisi şehitlik kavramı ile ilgili doğru bir ifadedir?
- A) Şehitliğin maddi değeri vardır.  
 B) Allah yolunda düşmanla savaşmış, hayatta kalanlara şehit denir.  
 C) Şehitlerin ülkelerinin değerine bir etkileri yoktur.  
 D) Allah yolunda vatani koruma uğrunda düşmanla savaşmış, ölenlere şehit denir.
17. Bir vatan üzerinde var olmanın ve bağımsızlığın sembolü aşağıdakilerden hangisidir?
- A) Gelenekler  
 B) Kutsal kitap  
 C) Bayrak  
 D) Bayramlar
18. Recep ayının ilk Cuma gecesi hangi kandildir?
- A) Miraç  
 B) Berat  
 C) Mevlit  
 D) Regaip
19. Hz. Peygamberimiz ne zaman doğmuştur?
- A) 20 Nisan 571  
 B) 20 Nisan 671  
 C) 30 Mayıs 771  
 D) 30 Haziran 871
20. Yeni gün anlamına gelen ve baharı müjdeleyen kavram aşağıdakilerden hangisidir?
- A) Miraç  
 B) Kutlu doğum  
 C) Regaip  
 D) Nevruz

1. Aşağıdaki cümlelerin hangisinde soru anlamı bir zarfla sağlanmıştır?
- A) Sizde bu durumda ne yapılır?  
B) Osman hasta mı olmuş?  
C) Kimde defter var?  
D) Siz ne iş yapıyorsunuz?
2. Aşağıdaki cümlelerin hangisinde zaman zarfı vardır?
- A) Bu problemi çözemiyorum.  
B) İstanbul'a iki hafta önce geldik.  
C) Yaptığım ödevi kontrol ediyorum.  
D) Şerbeti masaya koyuver.
3. "Kaşığı" adlı öykü aşağıdaki yazarlardan hangisine aittir?
- A) Mehmet Rauf  
B) Halil Ziya Uşaklıgil  
C) Ömer Seyfettin  
D) Tevfik Fikret
4. Aşağıdakilerden hangisi topluluk karşısında yapılan konuşmalar arasına yer alır?
- A) Günlük konuşma  
B) Büyüklerle konuşma  
C) Telefonla konuşma  
D) Anı, olay anlatma
5. "Bu hastalık nasıl başladı( ) ne vakit başladı( ) hatırlamıyorum." cümlesinde boş parantezle gösterilen yerlere aşağıdaki noktalama işaretlerinden hangisi sırasıyla gelmelidir?
- A) (!), (!)  
B) (?), (?)  
C) (.), (.)  
D) (.), (?)
6. Aşağıdaki cümlelerin hangisinde fiil diğerlerinden farklı bir şahıs eki almıştır?
- A) Bu filmi mullaka seyredin.  
B) Yarın provaya gelsin.  
C) Bu havada sokağa çıkmasın.  
D) Yavru kedyi annesine götürsün.
7. Aşağıdaki cümlelerin hangisinde çekimli bir fiil yoktur?
- A) Nereye baksam onu görüyorum.  
B) Benim elbisem daha güzel.  
C) Elbette kara bahtım bir gün gülecek.  
D) Açık havada dolaşmayı severim.
8. Aşağıdaki sözcüklerden hangisinin anlamdaşı vardır?
- A) yaz  
B) ilk  
C) boş  
D) uzak
9. Aşağıdakilerden hangisi dinlemede güçlük yaratan nedenlerden biri değildir?
- A) Duyuma özürlü olmak  
B) Konuşanın gıyınışı ve davranışıyla ilgilenmemek  
C) Konuşana önem vermemek  
D) Konuya ilgi duymamak
10. Aşağıdaki cümlelerin hangisinde fiil olumsuz çekimlenmiştir?
- A) Kimse yarın derse gelmez.  
B) Onca kişi arasında beni seçti.  
C) İstersen yarın görüşelim.  
D) Yeleğini kalın ipten örmüştü.
11. "Her yazarın bakış açısı farklı olmalıdır." cümlesinin yüklemi yapısı bakımından aşağıdakilerden hangisine örnektir?
- A) Kurallı birleşik fiile  
B) Basit fiile  
C) Türemiş fiile  
D) Yardımcı fiile kurulan birleşik fiile
12. Aşağıdaki fiillerden hangisi basit fiile örnektir?
- A) okuyabil-  
B) yazıver-  
C) al-  
D) süregel-
13. Soyut bir kavramı anlaşılır bir duruma getirmek, görünür kılmak için aşağıdaki düşünceyi geliştirme yollarının hangisinden yararlanılır?
- A) Benzetme  
B) Tanımlama  
C) Kanıllama  
D) Örnekleme
14. Konuşma havası içinde, daha senli benli yazılan yazılara ne ad verilir?
- A) Öykü  
B) Sohbet  
C) Gezi yazısı  
D) Tutanak

15. Aşağıdaki cümlelerin hangisinde fiil birleşik bir fiildir?

- A) Şemsiyemi evde unuttum.
- B) Beş aydan beri iş arıyorum.
- C) Lütfen kapıyı kapatıverin.
- D) Sınıftan ağlayarak çıktı.

16. "Bodrumdaki Hazine" adlı öykü aşağıdaki yazarlardan hangisine aittir?

- A) Adnan Özyalçiner
- B) Mehmet Kaplan
- C) Seza Karakoç
- D) Onal Kutlar

17. Aşağıdakilerden hangisi bildirme yazısı türlerinden biri değildir?

- A) Tutanak
- B) Mektup
- C) Rapor
- D) Anı

18. Aşağıdaki türemiş fiillerden hangisi fiilden fiil türeten bir ek almıştır?

- A) türe-
- B) başar-
- C) kopar-
- D) garipse-

19. Bir eserin, bir sorunun, bir olayın özelliklerini, en ince ayrıntılarını araştırarak göz önüne seren yazı türüne ne ad verilir?

- A) Raporaj
- B) İnceleme
- C) Hikâye
- D) Roman

20. Aşağıdaki cümlelerin hangisinde fiil, fiilden fiil yapan bir ekle türemiştir?

- A) Notu çarçabuk okudu.
- B) Sana önemli haberlerim var.
- C) Bütün odunları sobada yaktı.
- D) Son anda otobüsü durdurdu.

1. Berna, bir top kumaşın önce  $\frac{2}{5}$ 'ini, sonra  $\frac{1}{4}$ 'ünü sattı. Geriye kalan kumaşın 5 metresini arkadaşına verdi.

Berna'nın elinde 9 metre kumaş kaldığına göre, bir top kumaş kaç metredir?

- A) 20  
B) 25  
C) 30  
D) 40

2.  $\left(5 - \frac{7}{2} + 3\right) + \left(-1 + \frac{7}{3} - \frac{5}{6}\right)$

işleminin sonucu kaçtır?

- A) 5  
B)  $\frac{9}{2}$   
C) 3  
D)  $\frac{11}{4}$

3. 152 kg olan Mesut diyet yaparak 8 ayda 80 kilograma inmek istiyor.

Buna göre, Mesut ayda ortalama kaç kg vermelidir?

- A) 7  
B) 8  
C) 9  
D) 10

4.  $6x \blacksquare = -42$  olduğuna göre,  $-63 \div \blacksquare$  işleminin sonucu kaçtır?

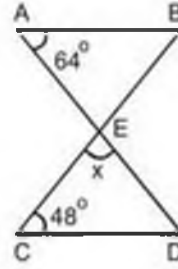
- A) -9  
B) -7  
C) 7  
D) 9

5. Aslı, 8 ve 12 yaşlarındaki iki çocuğuna 680 TL'yi yaşları ile doğru orantılı olarak paylaşmıştır.

Buna göre, büyük çocuk kaç TL almıştır?

- A) 396  
B) 408  
C) 442  
D) 460

6.



Yukarıdaki şekilde;  $[AB] \parallel [CD]$  ve  $s(\hat{A}) = 64^\circ$ ,  $s(\hat{C}) = 48^\circ$  olduğuna göre,  $s(\hat{CED}) = x$  kaç derecedir?

- A) 42  
B) 52  
C) 56  
D) 68

7. 26 kg sütte 4 kg tereyağı yapıldığına göre, 10 kg tereyağı yapmak için kaç kg süt gereklidir?

- A) 70  
B) 65  
C) 60  
D) 55


8. K



L



M



N



Yukarıda bir galerideki arabaların etiket fiyatları ve yapılan indirim yüzdeleri verilmiştir.

Buna göre, indirim miktarı en çok olan araba aşağıdakilerden hangisidir?

- A) K  
B) L  
C) M  
D) N

9.  $\frac{3x-2}{5} - \frac{2x+6}{4} = 3$

denkleminde  $x$ 'in değeri kaçtır?

- A) 49  
B) 55  
C) 63  
D) 68

10. Yiğit elindeki parasıyla 6 kg ceviz alırsa 18 TL kalıyor, eğer 8 kg ceviz alırsa 26 TL borçlanıyor.

Buna göre, Yiğit'in elinde kaç TL vardır?

- A) 110  
B) 120  
C) 140  
D) 150

11. Denklemi  $y = +\frac{2}{3}x - 8$  olan doğru üzerindeki

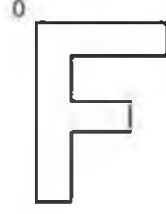
A noktasının ordinatı  $-2$  ise apsisi kaçtır?

- A)  $-7$   
B) 2  
C) 4  
D) 9

12. İç açıların ölçülerinin toplamı  $1080^\circ$  olan düzgün bir çokgenin bir dış açısının ölçüsü kaç derecedir?

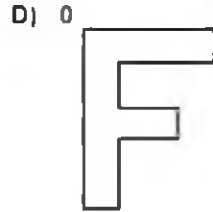
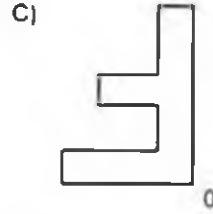
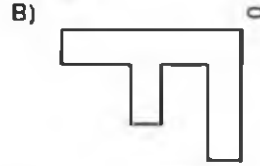
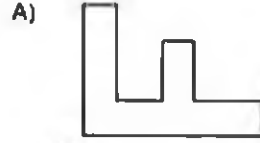
- A) 45  
B) 50  
C) 55  
D) 60

13.



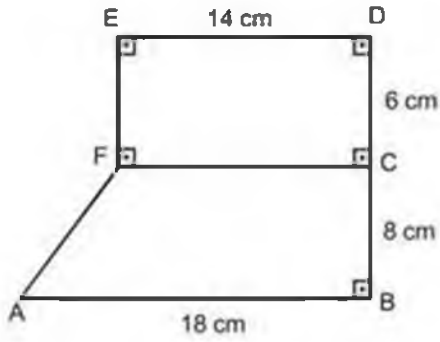
Yukarıdaki şekil, 0 noktası etrafında saat ibresinin yönünde  $90^\circ$  döndürülüyor.

Döndürülme işleminden sonra oluşan şekil aşağıdakilerden hangisidir?





14.

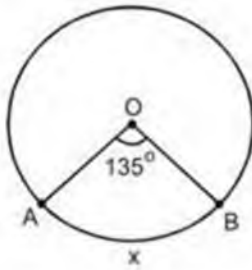


Yukarıda şekli ve ölçüleri verilen alanın tabanı halı ile kaplanacaktır.

Buna göre, alan için en az kaç metrekare halı gereklidir?  
(  $|AB|=18$  cm,  $|BC|=8$  cm,  $|CD|=6$  cm ve  $|ED|=14$  cm )

- A) 176
- B) 188
- C) 194
- D) 212

15.



O merkezli çemberde  $m(\widehat{AOB}) = 135^\circ$  ve  $r = 20$  cm'dir.

Buna göre  $\widehat{AB}$  yayının uzunluğu kaç cm'dir?  
( $\pi = 3$  alınız.)

- A) 30
- B) 35
- C) 40
- D) 45

16. Taban yarıçapı 3 cm, yüksekliği 5 cm olan silindirin açılımı aşağıdakilerden hangisidir?

( $\pi = 3$  alınız.)

- A)
- B)
- C)
- D)

17.

Cinsiyet \ Şube	1/A	1/B
	Kız	22
Erkek	16	24

Atatürk İlköğretim Okulundan bilgi yarışması için bir öğrenci seçilecektir.


Seçilen öğrencinin erkek veya 1/A şubesinden olma olasılığı nedir?

- A)  $\frac{31}{40}$   
 B)  $\frac{29}{40}$   
 C)  $\frac{28}{40}$   
 D)  $\frac{27}{40}$

18. 8 kişilik bir grupta; bir başkan, bir başkan yardımcısı ve bir sekreter kaç farklı şekilde seçilebilir?

- A) 304  
 B) 312  
 C) 336  
 D) 448

19. ve 20. soruları aşağıdaki grafiğe göre cevaplayınız.



Yukarıdaki daire grafiğinde öğrenci olan Mehmet'in aylık giderlerinin dağılımı verilmiştir.

19. Mehmet'in kira gideri, toplam giderlerinin yüzde kaçını oluşturmaktadır?

- A) 20  
 B) 25  
 C) 30  
 D) 40

20. Babası Mehmet'e aylık 1200 TL gönderdiğine göre, Mehmet eğitim için aylık kaç TL harcamaktadır?

- A) 240  
 B) 300  
 C) 360  
 D) 420

1. İyonik bağlarla ilgili aşağıdaki ifadelerden hangisi yanlıştır?

- A) Moleküler yapıdırlar.
- B) Pozitif ve negatif yüklü iyonlardan oluşurlar.
- C) Elektron ortaklaşmasına dayanır.
- D) Aynı cins element atomları arasında oluşur.

2. Hareketli cisimlerin hızlarından dolayı sahip olduğu enerji türüne ne ad verilir?

- A) Isı
- B) Potansiyel
- C) Kimyasal
- D) Kinetik

3. Yeryüzüne kadar ulaşan gök cisimlerine ne ad verilir?

- A) Gök taşı
- B) Meteor
- C) Yıldız
- D) Gezegen

4. Oluşturdukları kimyasal bileşikte Oksijen ve Hidrojen elementleri arasında hangi tür kimyasal bağ oluşur? (8O, 1H)

- A) Kovalent
- B) İyonik
- C) Dublet
- D) Oktet

5. Aşağıdakilerden hangisi orta kulakta bulunan kemiklerden biri değildir?

- A) Üzengi
- B) Salyangoz
- C) Çekiç
- D) Örs

6. Röntgen filmlerinin çekilmesinde kullanılan, insan vücuduna etkileri olan ışık türü aşağıdakilerden hangisidir?

- A) Mor ötesi ışınlar
- B) Gama ışınları
- C) X-ışınları
- D) Mikro dalgalar

7. Aşağıdakilerden hangisi Türkiye'de nesli tükenmek üzere olan hayvanlardan biridir?

- A) Akdeniz foku
- B) Asya fli
- C) Yabanöküzü
- D) Aslan

8. Üzerlerine uygulanan bir kuvvet etkisiyle şekillerini değiştiren, kuvvet ortadan kalktığında ise eski şekillerine dönebilen cisimlere ne ad verilir?

- A) Saf
- B) Organik
- C) Esnek
- D) Özdeş

9. Aşağıdakilerden hangisi homojen bir karışımdır?


- A) Su-zeytinyağı
- B) Salata
- C) Maden suyu
- D) Çamurlu su

10. Aşağıdakilerden hangisi canlı çevre faktörlerinden biri değildir?

- A) İnorganik maddeler
- B) Üreticiler
- C) Tüketiciler
- D) Ayrıştırıcılar

11. Aşağıdakilerden hangisi esneklik potansiyel enerjisine sahiptir?

- A) Masanın üzerinde duran kalem
- B) Gerilen yay
- C) Düşmekte olan taş
- D) Yolda hareket eden otomobil



Yukarıdaki besin zincirinde X canlısının beslenme şekli ile ilgili aşağıdaki ifadelerden hangisi doğrudur?

- A) Kendi besinini kendi üretir.
- B) Hem et ile hem ot ile beslenir.
- C) Yalnız et ile beslenir.
- D) Yalnız ot ile beslenir.

13.



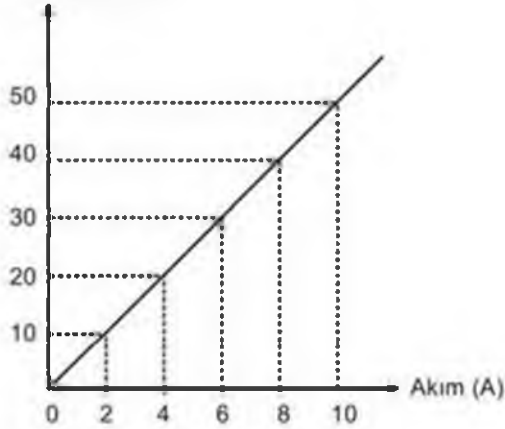
Yukarıdaki şekilde gösterilen eleman aşağıdakilerden hangisidir?

- A) Direnç
- B) Ampul
- C) İletken tel
- D) Pili

14. Kan içindeki zararlı atıkları ve üreyi süzerek idrar şeklinde vücuttan uzaklaştıran organ aşağıdakilerden hangisidir?

- A) Karaciğer
- B) Mide
- C) Böbrek
- D) Akciğer

15. Gerilim (V)



Bir devre elemanına ait yukarıda verilen gerilim-akım grafiğine göre, bu devre elemanının direnci kaç ohm dur?

- A) 2
- B) 5
- C) 8
- D) 10

16. Pozitif yüklü bir cisim, pozitif yüklü elektronun topuzuna dokundurulursa aşağıdaki durumlardan hangisi gözlenir? (Elektroskopun yükü > Cismin yükü)

- A) Açık yapraklar biraz daha açılır.
- B) Açık yapraklar daha çok açılır.
- C) Açık yapraklar önce kapanır, sonra açılır.
- D) Açık yapraklar biraz kapanır.

17. Kırmızı ışık altında bakılan beyaz bir cisim hangi renkte görülür?

- A) Siyah
- B) Gri
- C) Beyaz
- D) Kırmızı

18. Aşağıdakilerden hangisi doğuştan kazanılmış reflekstir?

- A) Yüzmek
- B) Örgü örmek
- C) Dans etmek
- D) Öksürmek

19. Aşağıdakilerden hangisi desteğin uçta, yükün ortada olduğu tek taraflı kaldıraçlara bir örnektir?

- A) Makas
- B) Gazoz açacağı
- C) Tahterevalli
- D) Kayık küreği

20. Aşağıdakilerden hangisi iç gezegenlerden biridir?

- A) Jüpiter
- B) Satürn
- C) Merkür
- D) Uranüs

1. Aşağıdakilerden hangisi "Ben" dilinin özelliklerinden biri değildir?
- A) Suçluluk hissettirmemesi  
B) Anlaşmazlıkları azaltması  
C) Konuşan kişiyi rahatlatması  
D) Suçlayıcı, eleştirici, yargılayıcı olması
2. Aşağıdakilerden hangisi kitle iletişim araçlarının sağladığı yararlarından biri değildir?
- A) Hızlı ve yaygın haberleşme  
B) Yüz yüze ilişkileri artırma  
C) Kamuoyu oluşturma  
D) Kültür aktarımını sağlama
3. Aşağıdakilerden hangisi iletişim sürecinde yapılan hatalardan biridir?
- A) Söylenenleri onaylama  
B) Farklı düşünceleri paylaşma  
C) Göz teması kurma  
D) Sürekli öğüt verme
4. Aşağıdakilerden hangisi Türkiye'de hızlı nüfus artışının sonuçlarından biri değildir?
- A) Gelir dağılımında dengesizlik  
B) Milli gelirden artış  
C) Doğal kaynaklarda azalış  
D) Çevre sorunlarında artış
5. Aşağıdakilerden hangisinde nüfus sayımlarından elde edilen sonuçlardan yararlanılmaz?
- A) Okul açarken  
B) Fabrika kurarken  
C) Çevreyi korurken  
D) Hastane yaptırırken
6. Türkiye'de 1950'li yıllardan itibaren köyden kente doğru yoğun bir nüfus hareketliliği yaşanmaktadır.
- Aşağıdakilerden hangisi bu durumun nedenlerinden biri değildir?
- A) Sağlık ve eğitim olanaklarının yetersizliği  
B) İş gücünün azalması  
C) İş olanaklarının yetersizliği  
D) Tarım alanlarının parçalanması
7. Aşağıdaki deniz savaşlarından hangisinden sonra Akdeniz bütünüyle Osmanlı Devleti'nin egemenliğine girmiştir?
- A) Korfu  
B) İnebahtı  
C) Preveze  
D) Rodos
8. Anadolu Türk mimarisinin en önemli anıtlarından biri olan Divriği Ulu Camii (1228) aşağıdaki beyliklerden hangisi tarafından yaptırılmıştır?
- A) Mengücekliler  
B) Saltuklular  
C) Osmanlılar  
D) Artuklular
9. Bizans'ın Anadolu'yu Türklerden geri alma ümitlerinin tamamen ortadan kalkmasını sağlayan (1176) Miryakefalon Savaşı sırasında Türkiye Selçuklularının lideri kimdir?
- A) I. Alaeddin Keykubat  
B) II. Kılıçarslan  
C) Melikşah  
D) Süleyman Şah
10. Coğrafi keşiflere kadar dünya ticaretinde önemli olan ticaret yolu aşağıdakilerden hangisidir?
- A) İstanbul Boğazı  
B) İpek Yolu  
C) Kral Yolu  
D) Süveyş Kanalı
11. 13. yüzyılda Anadolu'da kurulan mesleki ve ahlaki eğitimde önemli rol oynayan Ahilik teşkilatının kurucusu aşağıdakilerden hangisidir?
- A) Mevlâna Celaleddin Rûmî  
B) Hacı Bektaş Veli  
C) Ahi Evran  
D) Yunus Emre

12. Sanayi İnkılabı ilk olarak nerede başlamıştır?

- A) Fransa
- B) Almanya
- C) Rusya
- D) İngiltere

13. İlk Çağ uygarlıkları, günümüz bilim ve teknolojinin gelişmesine katkıda bulunan ilk buluşları gerçekleştirmişlerdir.

Aşağıdakilerden hangisi bu buluşlardan biri değildir?

- A) Tekerlek
- B) Yazı
- C) Buhar gücü
- D) Takvim

14. Avrupa'da akla dayanan düşünce sisteminin egemen olduğu döneme ne ad verilir?

- A) Aydınlanma Çağı
- B) Orta Çağ
- C) Yenilik Çağı
- D) Karanlık Çağ

15. Orta Asya Türk devletlerinde siyasi, ekonomik ve askeri kararların alındığı meclise ne ad verilir?

- A) Tore
- B) İl
- C) Cenk
- D) Kurultay

16. Aşağıdakilerden hangisi Osmanlı Devleti'nde devletin gelir ve giderlerinden, diğer bir deyişle maliyeden sorumlu divan üyesidir?

- A) Defterdar
- B) Kazasker
- C) Sadrazam
- D) Vezir

17. İlk Türk devletlerinde Kut adı verilen yönetim yetkisinin kan yoluyla babadan oğula geçtiği kabul edilirdi.

Buna göre aşağıdakilerden hangisi söylenbilir?

- A) Ülke yönetiminde meclisin önemli olduğu
- B) Yönetme yetkisinin halkta olduğu
- C) Taht kavgalarının olmadığı
- D) Devletin saltanatla yönetildiği

18. Aşağıdakilerden hangisi Birinci Dünya Savaşı'nda Osmanlı Devleti ile aynı grupta yer almıştır?

- A) Almanya
- B) İngiltere
- C) Fransa
- D) Rusya

19. Aşağıdakilerden hangisi Birinci Dünya Savaşı'nın sonuçlarından biri değildir?

- A) Avrupa'nın sınırlarının yeniden çizilmesi
- B) Yeni devletlerin kurulması
- C) Kalıcı barış ortamının sağlanması
- D) Çok uluslu imparatorlukların parçalanması

20. I. Yardım alamayan Rusya savaştan çekilmek zorunda kalmıştır.  
II. Amerika Birleşik Devletleri İtilaf devletleri yanında savaşa girmiştir.  
III. Çok sayıda insan hayatını kaybetmiştir.  
IV. Mustafa Kemal askeri başarılarıyla tüm dünyaca tanınmıştır.

Bu bilgilerden hangileri Çanakkale Cephesi'nin Birinci Dünya Savaşı'nın kaderini değiştirdiğine kanıt olarak gösterilir?

- A) I ve II
- B) I ve III
- C) II ve IV
- D) III ve IV

1. Die Schüler haben ..... Füller, ..... einen Bleistift.

Welche Wörter passen in die obigen Lücken?

Cümlede boş bırakılan yerleri aşağıdakilerden hangileri doğru şekilde tamamlar?

- A) ein / aber  
B) kein / nur  
C) keinen / sondern  
D) eine / und

2. Das ist ..... Lehrerin und ihr seid Schüler. Sie fragt ..... und ihr antwortet.

Welche Wörter passen in die obigen Lücken?

Cümlede boş bırakılan yerleri aşağıdakilerden hangileri tamamlar?

- A) bist / leset  
B) ist / macht  
C) sind / schreibt  
D) eure / euch

3. Am Samstag habe ich nicht ....., weil ich eine Prüfung habe.

Welches Wort passt in die obige Lücke?

Cümlede boş bırakılan yeri aşağıdakilerden hangisi tamamlar?

- A) frei  
B) damit  
C) heute  
D) gehen

4. Die Mutter hat ein Geschenk ..... uns.

Welches Wort passt in die obige Lücke?

Cümlede boş bırakılan yeri aşağıdakilerden hangisi tamamlar?

- A) dich  
B) sich  
C) mit  
D) für

5. A: Wo kann ich hier ein Restaurant finden?

B: .....

A: Danke sehr!

Welcher Satz ergänzt die Lücke im obigen Dialog?

Verilen karşılıklı konuşmada boş bırakılan yeri aşağıdakilerden hangisi tamamlar?

- A) Wir können heute Abend ins Restaurant gehen!  
B) Damit ich viel Geld verdienen kann!  
C) Dort drüben finden Sie ein Restaurant!  
D) Ich esse nie im Restaurant!

6. Hier ist eine Garage für ..... Auto.

Welches Wort passt in die obige Lücke?

Cümlede boş bırakılan yeri aşağıdakilerden hangisi doğru şekilde tamamlar?

- A) meinem  
B) meine  
C) meins  
D) mein

7. In Eskişehir.

Welche Frage kann man zum obigen Satz nicht stellen?

Verilen cümleye aşağıdaki sorulardan hangisi yönelilemez?

- A) Was hast du heute gemacht?  
B) Wo lebst du?  
C) Wo bist du geboren?  
D) Wo studierst du?

8. Atatürk ist der erste ..... der Türkischen Republik.

Welches Wort passt in die obige Lücke?

Cümlede boş bırakılan yeri aşağıdakilerden hangisi tamamlar?

- A) Sohn  
B) Präsident  
C) Bürger  
D) Erfinder

9. Am ersten Januar ist Neujahr.

Welche Frage passt zur obigen Antwort?

Verilen cevabı gerektirecek soru aşağıdakilerden hangisidir?

- A) Wann kommst du?
- B) Wann ist Neujahr?
- C) Wer kommt heute?
- D) Wer will mitkommen?

10. Was sucht Ahmet?(Tasche)

Welche Antwort passt zur obigen Frage?

Verilen sorunun cevabı aşağıdakilerden hangisidir?

- A) Wir können unsere Tasche nicht finden.
- B) Er sucht seine Tasche.
- C) Sie hat ihre Tasche zu Hause vergessen.
- D) Ich habe deine Tasche gefunden.

11. Tolga kommt von der Schule.

Welche Frage passt zur obigen Antwort?

Verilen cevabı gerektirecek soru aşağıdakilerden hangisidir?

- A) Woher kommt Tolga?
- B) Wann kommst du?
- C) Wie lange geht Tolga zur Schule?
- D) Wo seid ihr gewesen?

12. Ich lege die Bücher ..... Tisch.

Welches Wort passt in die obige Lücke?

Cümlede boş bırakılan yeri aşağıdakilerden hangisi doğru şekilde tamamlar?

- A) auf den
- B) in die
- C) aus dem
- D) zu der

13. Ich will in die Schweiz fliegen!

Welche Frage passt nicht zur obigen Antwort?

Aşağıdaki sorulardan hangisi verilen cevaba yönelik değildir?

- A) Was willst du in den Ferien machen?
- B) Kannst du mir bei dieser Aufgabe helfen?
- C) Wohin gehst du im Sommer?
- D) Wohin willst du fliegen?

14. Er möchte auf ..... Erciyes-Berg steigen.

Welches Wort passt in die obige Lücke?

Cümlede boş bırakılan yeri aşağıdakilerden hangisi tamamlar?

- A) das
- B) der
- C) den
- D) die

15. Mein Bruder ist Busfahrer.

Wie lautet der obige Satz auf Türkisch?

Verilen cümlenin Türkçesi aşağıdakilerden hangisidir?

- A) Abim otobüse bindi.
- B) Abim otobüsleri çok sever.
- C) Abim otobüs şoförü.
- D) Abimin otobüsü var.

16. Hast du Schmerzen?

Wie lautet der obige Satz auf Türkisch?

Verilen cümlenin Türkçesi aşağıdakilerden hangisidir?

- A) Ağrın var mı?
- B) Neren ağrıyor?
- C) Ağrın geçti mi?
- D) Her yerin mi ağrıyor?



17. Warum kaufen wir keine Milch?

Welche Antwort passt zur obigen Frage?

Verilen sorunun cevabı aşağıdakilerden hangisidir?

- A) Wir brauchen nichts, weil das Wetter schön wird.
- B) Weil ich Milch gerne trinke.
- C) Wir brauchen keine Milch, weil wir genug zu Hause haben.
- D) Er hat keine Zeit, weil er immer so viel arbeiten muss.

18. Weil ich Halsschmerzen habe.

Welche Frage passt zur obigen Antwort?

Verilen cevabı gerektirecek soru aşağıdakilerden hangisidir?

- A) Wann kommst du?
- B) Woher kommst du?
- C) Wie heißt der Arzt?
- D) Warum gehst du zum Arzt?

19. Mavi sana yakışmıyor!

Wie lautet der obige Satz auf Deutsch?

Verilen cümlenin Almancası aşağıdakilerden hangisidir?

- A) Blaue Kleider gefallen mir sehr gut!
- B) Er findet die blaue Hose nicht so gut!
- C) Ich möchte eine blaue Bluse kaufen!
- D) Blau steht dir nicht gut!

20. Er muss jetzt gehen. Er hat Hausaufgaben.

Wie kann man die obigen Sätze verbinden?

Verilen cümlelerin birleştirilmiş hali aşağıdakilerden hangisidir?

- A) Er wollte nach Hause gehen und seine Hausaufgaben machen.
- B) Er muss jetzt gehen, weil er Hausaufgaben hat.
- C) Er braucht nicht nach Hause zu gehen, wenn er seine Hausaufgaben gemacht hat.
- D) Er möchte jetzt seine Hausaufgaben machen.

1. The weather ..... very hot yesterday.

Which of the following completes the sentence above?

Aşağıdakilerden hangisi yukarıdaki cümleyi doğru olarak tamamlar?

- A) were
- B) is
- C) are
- D) was

2. My house is ..... yours.

Which of the following completes the sentence above?

Aşağıdakilerden hangisi yukarıdaki cümleyi doğru olarak tamamlar?

- A) similar to
- B) similar
- C) as
- D) the same

3. .... I see your identity card?

Which of the following completes the sentence above?

Aşağıdakilerden hangisi yukarıdaki cümleyi doğru olarak tamamlar?

- A) Would
- B) Will
- C) Can't
- D) May

4. Onur ..... the window last month.

Which of the following completes the sentence above?

Aşağıdakilerden hangisi yukarıdaki cümleyi doğru olarak tamamlar?

- A) have repaired
- B) repaired
- C) repair
- D) are repairing

5. .... the door, please.

Which of the following completes the sentence above?

Aşağıdakilerden hangisi yukarıdaki cümleyi doğru olarak tamamlar?

- A) Have to
- B) Could
- C) Close
- D) Doesn't

6. A: What shall we do now?  
B: ..... study Physics.

Which of the following completes the dialogue above?

Aşağıdakilerden hangisi yukarıdaki konuşmayı doğru olarak tamamlar?

- A) Let's
- B) Could
- C) Would
- D) Did

7. Istanbul is ..... than Izmir.

Which of the following completes the sentence above?

Aşağıdakilerden hangisi yukarıdaki cümleyi doğru olarak tamamlar?

- A) hot
- B) bigger
- C) cold
- D) big

8. We ..... go to Paris last year.

Which of the following completes the sentence above?

Aşağıdakilerden hangisi yukarıdaki cümleyi doğru olarak tamamlar?

- A) have to
- B) won't
- C) had to
- D) has to

9. I can't go out ..... it is very cold.

Which of the following completes the sentence above?

Aşağıdakilerden hangisi yukarıdaki cümleyi doğru olarak tamamlar?

- A) because
- B) before
- C) after
- D) so

10. There is a blackboard ..... the wall.

Which of the following completes the sentence above?

Aşağıdakilerden hangisi yukarıdaki cümleyi doğru olarak tamamlar?

- A) at
- B) on
- C) by
- D) in

11. I think they ..... to the theatre next Friday.

Which of the following completes the sentence above?

Aşağıdakilerden hangisi yukarıdaki cümleyi doğru olarak tamamlar?

- A) went
- B) go
- C) will go
- D) have gone

12. Ali isn't as ..... as Tom.

Which of the following completes the sentence above?

Aşağıdakilerden hangisi yukarıdaki cümleyi doğru olarak tamamlar?

- A) older
- B) better
- C) oldest
- D) old

13. There was an accident ..... I was late.

Which of the following completes the sentence above?

Aşağıdakilerden hangisi yukarıdaki cümleyi doğru olarak tamamlar?

- A) before
- B) so
- C) after
- D) when

14. Selim and I have a problem. Can you help .....

Which of the following completes the sentence above?

Aşağıdakilerden hangisi yukarıdaki cümleyi doğru olarak tamamlar?

- A) us
- B) him
- C) me
- D) her

15. Where did you ..... yesterday?

Which of the following completes the sentence above?

Aşağıdakilerden hangisi yukarıdaki cümleyi doğru olarak tamamlar?

- A) will go
- B) goes
- C) go
- D) went

16. Serap is ..... a book now.

Which of the following completes the sentence above?

Aşağıdakilerden hangisi yukarıdaki cümleyi doğru olarak tamamlar?

- A) will read
- B) read
- C) reading
- D) reads

17. She is dancing well, she ..... be a dancer.

Which of the following completes the sentence above?

Aşağıdakilerden hangisi yukarıdaki cümleyi doğru olarak tamamlar?

- A) didn't
- B) doesn't
- C) hasn't
- D) should

18. Ayşen always ..... shopping on Fridays.

Which of the following completes the sentence above?

Aşağıdakilerden hangisi yukarıdaki cümleyi doğru olarak tamamlar?

- A) go
- B) goes
- C) will going
- D) is going

19. If I ..... the answer of the question, I ..... tell you.

Which of the following completes the sentence above?

Aşağıdakilerden hangisi yukarıdaki cümleyi doğru olarak tamamlar?

- A) knew / would
- B) known / will
- C) know / would
- D) read / would

20. He ..... but now he smokes.

Which of the following completes the sentence above?

Aşağıdakilerden hangisi yukarıdaki cümleyi doğru olarak tamamlar?

- A) used to smoke
- B) didn't used to smoke
- C) use to smoke
- D) didn't use to smoke

1. Yves ..... à Lyon.

Choisissez le mot qui convient.

Cümlede boş bırakılan yere uygun düşen sözcüğü bulunuz.

- A) habite
- B) aime
- C) fait
- D) adore

2. surlout / du volley-ball / fait / elle  
I II III IV

Mettez les mots dans le bon ordre pour faire une phrase.

Yukarıdaki sözcükleri bir cümle oluşturacak şekilde sıraya koyunuz.

- A) IV, III, I, II
- B) IV, I, III, II
- C) III, II, IV, I
- D) II, III, I, IV

3. Valérie est ..... pendant deux ans en France.

Choisissez le mot /l'expression qui convient.

Cümlede boş bırakılan yere uygun düşen sözcük ya da ifadeyi bulunuz.

- A) restée
- B) rester
- C) reste
- D) restes

4. Si tu ..... être en forme, tu dois faire du sport.

Choisissez le mot/l'expression qui convient.

Cümlede boş bırakılan yere uygun düşen sözcük ya da ifadeyi bulunuz.

- A) as voulu
- B) vois
- C) veux
- D) voudrait

5. as / seize / ans / tu  
I II III IV

Mettez les mots dans le bon ordre pour faire une phrase.

Yukarıdaki sözcükleri bir cümle oluşturacak şekilde sıraya koyunuz.

- A) IV, I, II, III
- B) IV, II, I, III
- C) IV, II, III, I
- D) IV, III, I, II

6. Journaliste: Je veux vous ..... quelques questions?  
Eric : Oui, bien sûr.

Choisissez le mot qui convient.

Yukarıdaki konuşmada boş bırakılan yere uygun düşen sözcüğü bulunuz.

- A) poser
- B) trouver
- C) apprendre
- D) avoir

7. Il ..... marocain.

Choisissez le mot/l'expression qui convient.

Cümlede boş bırakılan yere uygun düşen sözcük ya da ifadeyi bulunuz.

- A) a
- B) est
- C) au
- D) suis

8. Je veux des pommes de terre. Ça coûte combien .....?

Choisissez le mot qui convient.

Cümlede boş bırakılan yere uygun düşen sözcüğü bulunuz.

- A) le litre
- B) le pot
- C) la tranche
- D) le kilo

9. «Elle ne fume plus.»

Choisissez la traduction qui convient.

Yukarıdaki cümlenin Türkçe karşılığı aşağıdakilerden hangisidir?

- A) Sigara isliyor.
- B) Artık sigara içmiyor.
- C) Hiç sigara içmedi.
- D) O sigara içmez.

10. J'attends quelou'un.

Trouvez l'antonyme du mot souligné.

Yukarıdaki cümlede altı çizili kalimenin zıt anlamısını bulunuz.

- A) plus
- B) jamais
- C) rien
- D) personne

11. Si je (j') ..... le temps, je lui .....

Choisissez les mots qui conviennent.

Cümlede boş bırakılan yerlere uygun düşen sözcükleri bulunuz.

- A) ai / téléphone
- B) ai / téléphonerai
- C) aurai / téléphonais
- D) aurai / téléphonerais

12. Ma mère veut acheter un ..... de miel.

Choisissez le mot qui convient.

Cümlede boş bırakılan yere uygun düşen sözcüğü bulunuz.

- A) tasse
- B) litre
- C) boîte
- D) pot

13. Il a acheté une bouteille ..... lait.

Choisissez le mot/l'expression qui convient.

Cümlede boş bırakılan yere uygun düşen sözcük ya da ifadeyi bulunuz.

- A) des
- B) de la
- C) à
- D) de

14. Si vous ..... à gauche, vous ..... la Tour Eiffel.

Choisissez les mots qui conviennent.

Cümlede boş bırakılan yerlere uygun düşen sözcükleri bulunuz.

- A) tournerez / verrez
- B) tournez / verrez
- C) tournez / voulez
- D) tournerez / voulez

15. Demain, il ..... ses amis pour son anniversaire.

Choisissez le mot qui convient.

Cümlede boş bırakılan yere uygun düşen sözcüğü bulunuz.

- A) invite
- B) invites
- C) invitera
- D) invitait

16. Elle a fait un voyage ..... train.

Choisissez le mot qui convient.

Cümlede boş bırakılan yere uygun düşen sözcüğü bulunuz.

- A) à
- B) dans
- C) la
- D) en

17. Mon fils est travailleur ..... une abeille.

Choisissez le mot qui convient.

Cümlede boş bırakılan yere uygun düşen sözcüğü bulunuz.

- A) moins
- B) en
- C) comme
- D) chez

18. La femme ..... des lunettes.

Choisissez le mot qui convient.

Cümlede boş bırakılan yere uygun düşen sözcüğü bulunuz.

- A) reste
- B) écoute
- C) porte
- D) chante

19. - ..... etes-vous?

- Je suis à la gare.

Choisissez le mot qui convient.

Yukarıdaki konuşmada boş bırakılan yere uygun düşen sözcüğü bulunuz.

- A) Quand
- B) Où
- C) Comment
- D) Qui

20. Nous ne faisons pas ..... sport.

Choisissez le mot qui convient.

Cümlede boş bırakılan yere uygun düşen sözcüğü bulunuz.

- A) de la
- B) au
- C) de
- D) du

## SINAVDA UYULMASI GEREKEN GENEL KURALLAR

1. Sınava girmek için gerekli belgelerinizin tümünü sınav başlamadan önce sıranızın üzerine bırakınız.
2. Sınav süresince görevlilerle konuşmak, görevlilere soru sormak yasaktır. Aynı şekilde görevlilerin de öğrencilerle yakından ve alçak sesle konuşmaları yasaktır. Gerekli durumlarda görevliler yerinizi değiştirebilir.
3. Size verilen cevap kâğıdının üzerindeki TCKN/Öğrenci no, ad, soyadı, bilgilerini kontrol ediniz. İlgili alanları eksiksiz doldurarak imzalayınız. Bu bilgiler size ait değilse, görevlileri uyararak size ait cevap kâğıdını isteyiniz. Başka öğrenciye ait cevap kâğıdı kullanan öğrencilerin o oturumdaki sınavları geçersiz sayılır.
4. Cevap kâğıdı üzerine test grubunu (A, B, C, D) kodlamayan veya birden fazla kodlama yapan öğrencilerin sınavları geçersiz sayılır.
5. Cevap kâğıdınıza yazacağınız her türlü yazı ve yapacağınız işaretlemeler için koyu yazan siyah kurşun kalem kullanmalısınız. Siyah kurşun kalem dışında farklı bir kalem (tükenmez, mürekkepli ya da renkli vb.) kullanan öğrencilerin sınavları geçersiz sayılır.
6. Cevap kâğıdı üzerinde değişiklik yapmak istediğinizde, iz bırakmayan bir silgi kullanınız. Cevap kâğıdınızı buruşturmayınız, katlamayınız ve üzerine gereksiz hiçbir işaret koymayınız.
7. Cevaplarınızı, cevap kâğıdında ilgili test için ayrılmış olan alana, cevap yerinin dışına taşırmadan işaretleyiniz. Soru kitapçığı üzerinde yapılan işaretlemeler değerlendirmeye alınmayacaktır.
8. Her sorunun tek bir doğru cevabı vardır. Bir soru için birden çok cevabı işaretlerseniz, o soruyu yanlış cevaplamış sayılacaksınız.
9. Soru kitapçığınızı aldığınızda sayfalanna hızlıca bakarak hatalı ya da eksik baskı olup olmadığını kontrol ediniz. Hata/eksik olması durumunda kitapçığının değiştirilmesi için derhâl Salon Başkanına başvurunuz. Sınav görevlileri sınavın başladığını belirtmeden kitapçığınızı tekrar açmayınız.
10. Cevap kâğıdınızda belirtilen kitapçık kodu ile soru kitapçığının kodunu karşılaştırınız. Aynı değilse, sınav görevlilerine durumu bildirerek doğru kitapçığın verilmesini talep ediniz.
11. Soru kitapçığındaki ilgili alanlara ad, soyadı, TCKN/Öğrenci no, sınav salon no, sıra no bilgilerinizi eksiksiz doldurarak imzanızı atınız. Soru kitapçığının sayfalannadaki boş yerleri müsvedde amacıyla kullanabilirsiniz.
12. Aşağıdaki durumlarda sınav görevlileri tarafından Bireysel Sınav İptal Tutanağı düzenlenerek ilgili öğrencilerin sınavları geçersiz sayılır.
  - a) Sınav kurallarına ve sınav görevlilerinin uyarlarına uymamak, sınav düzenini bozmak,
  - b) Kâğıt, kitap, defter, not vb. dokümanlar, pergel, açıölçer, cetvel vb. araçları, cep telefonu, bilgisayar, tablet, telsiz, kamera vb. iletişim, depolama, kayıt ve veri aktarma cihazlarını, ruhsatlı veya resmi amaçlı olsa bile silah ve silah yerine geçebilecek nesnelere yanında bulundurmamak,
  - c) Sınav sırasında kalem, silgi vb. araç-gereç paylaşımında bulunmak,
  - d) Cevapları, cevap kâğıdı dışında bir yere yazmak ve sınav salonundan dışarı çıkarmak,
  - e) Sınava girebilmek için gerekli belgeleri eksik olduğu halde sınava katılıp, cevap kâğıdında işaretleme yapmak,
  - f) Sınav görevlileri tarafından öğrencinin kimliğinden şüphe duyulması,
  - g) Cevap kâğıdını ve/veya soru kitapçığını sınav görevlilerine eksiksiz ve sağlam şekilde teslim etmemek, sınav salonu dışına çıkarmak,
  - h) Kopya çekmek, vermek, çekilmesine yardımcı olmak vb. eylemlerde bulunmak,
  - i) Kendisi yerine başkasını sınava sokmak.
13. Sınav bitiminde, cevap kâğıdınızı ve soru kitapçığınızı salon görevlilerine eksiksiz biçimde teslim ediniz. Sınav bittikten sonra gönderilen cevap kâğıtları dikkate alınmayacaktır.

**SINAV KURALLARINA UYDUĞUNUZ İÇİN TEŞEKKÜR EDER, SINAVINIZDA BAŞARILAR DİLERİZ.**