



ANADOLU ÜNİVERSİTESİ
AÇIKÖĞRETİM FAKÜLTESİ
BA - AÇIKÖĞRETİM OKULLARI

T.C. MİLLÎ EĞİTİM BAKANLIĞI
Hayat Boyu Öğrenme Genel Müdürlüğü
2016-2017 ÖĞRETİM YILI BATI AVRUPA – BALKANLAR
AÇIK ÖĞRETİM ORTAOKULU II. DÖNEM SINAVI

3. OTURUM Cumartesi

B

0300

ÖĞRENCİNİN

SOYADI :

ADI :

T.C. KİMLİK NO / ÖĞRENCİ NO :

SINAV SALON NO : SIRA NO :

Sınavla ilgili soru kitapçığının ön ve arka kapağındaki tüm kuralları okudum, anladım, kabul ediyorum.

İMZA :

SINAV İÇERİĞİ

Testin Adı	Soru Sayısı	Sayfa No
TÜRKÇE 5	20	02
MATEMATİK 5	20	04
FEN VE TEKNOLOJİ 5	20	07
SOSYAL BİLGİLER 5	20	09
DİN KÜLTÜRÜ VE AHLAK BİLGİSİ 5	20	11
TÜRKÇE 7	20	13
MATEMATİK 7	20	16
FEN VE TEKNOLOJİ 7	20	19
SOSYAL BİLGİLER 7	20	21
ALMANCA 7	20	23
İNGİLİZCE 7	20	26
FRANSIZCA 7	20	29

SINAVDA UYULMASI GEREKEN ÖZEL KURALLAR

1. Soru kitapçığındaki her bir testi cevaplamanız için verilen süre 30 dakika, toplam süre 150 dakikadır.
2. Sınavın ilk 30 dakikası ve son 5 dakikası içinde sınavınızı tamamlasanız bile salondan çıkamazsınız. Herhangi bir nedenle salondan çıktığınız takdirde, tekrar sınava devam etmenize izin verilmeyecektir. Sınavın başlamasını izleyen ilk 15 dakikadan sonra hiçbir öğrenci sınava alınamaz.
3. Yanlış cevaplarınız dikkate alınmayacaktır. Bu nedenle kitapçığındaki tüm sorular için size doğru gelen seçeneği işaretleyerek cevapsiz soru bırakmamanız yararınıza olacaktır.
4. Sınav sırasında hesap makinesi kullanabilirsiniz. Ancak, kullanacağınız makinede alfabetik tuş takımının (A, B, C, ..., Y, Z), program yapılmasına, saklanmasına ve çalıştırılmasına imkan veren EXE, STORE, RUN vb. tuşlar bulunamaz.

"Sınavda Uyulması Gereken Genel Kurallar" soru kitapçığının arka sayfasında yer almaktadır. Bu kuralları da mutlaka dikkatlice okuyunuz.

Anadolu Üniversitesi tarafından hazırlanmış olan bu testlerin her hakkı saklıdır. Hangi amaçla olursa olsun, testlerin tamamının veya bir kısmının Anadolu Üniversitesi'nin yazılı izni olmadan kopya edilmesi, fotoğraflarının çekilmesi, herhangi bir yolla çoğaltılması, yayımlanması ya da kullanılması yasaktır. Bu yasağa uymayanlar gerekli cezai sorumluluğu ve testlerin hazırlanmasındaki mali külfeti peşinen kabullenmiş sayılır.

1. "Bu soğuk havalarda bu kadar giyinmemelisin." cümlesinde boş bırakılan yeri aşağıdakilerden hangisi en uygun şekilde tamamlar?
- A) kalın
B) ince
C) habersiz
D) renksiz
2. "Fatih, yapılan imtihanda başarılı oldu." cümlesinde altı çizili sözcük aşağıdakilerden hangisiyle eşanımlıdır?
- A) sınav
B) öğrenci
C) donanımlı
D) bilgili
3. Aşağıdaki cümlelerin hangisinde deyim vardır?
- A) Babasını aniden karşısında görünce çok şaşırıldı.
B) Yolda hızlı hızlı yürüyordu.
C) Bu sözler onun da kulağına çalınmış olmalı.
D) Geniş bahçede büyük bir havuz vardı.
4. Yüksek yüksek tepelere ev kurmasınlar
Aşrı aşrı memleketle kız vermesinler
Annesinin bir tanesini hor görmesinler
- Yukarıdaki dizeler aşağıdaki halk edebiyatı türlerinden hangisine örnektir?
- A) Mani
B) Destan
C) Türkü
D) Ninni
5. Tatlı diller şekerleşir
Mutluluk kalbe yerleşir
Eller, gönüller birleşir
- Yukarıdaki dörtlükte kaç tane çoğul sözcük vardır?
- A) 5
B) 4
C) 3
D) 2
6. Aşağıdaki cümlelerden hangisinin sonuna ünlem işareti konmalıdır?
- A) Hey, buraya baksana
B) Az sonra gelir, görüşürsünüz
C) Seni bugün üzgün görüyorum
D) Isık çalarak çıktı evden
7. Aşağıdaki cümlelerin hangisine ünlü düşmesine örnek bir sözcük vardır?
- A) Gel de ayıkla pirincin taşınılı
B) Sıcak havadan hepimiz bunaldık.
C) Nehrin suları iyice çekilmiş.
D) Buradan denize girilmez.
8. Aşağıdaki sözcük çiftlerinden hangisi eşanımlıdır?
- A) eski – yeni
B) nefes – soluk
C) kibar – kaba
D) soğuk – sıcak
9. "Bu Vatan Kimin" şiiri aşağıdaki şairlerden hangisine aittir?
- A) İsmail Hikmet Ertaylan
B) Orhan Şaik Gökyay
C) Fazıl Hüsnü Dağlarca
D) Mehmet Akif Ersoy
10. Aşağıdaki cümlelerin hangisinde zıt anlamlı sözcükler kullanılmıştır?
- A) Kaşları çatılmış, gözleri kocaman açılmıştı.
B) Tablolarında sıcak renklere ağırlık vermiş.
C) Birbirimize anlatacak o kadar çok şey vardı ki...
D) Ben küçükken sokağımız çok büyüktü.
11. "duygular" sözcüğü ile ilgili aşağıdaki ifadelerden hangisi yanlıştır?
- A) Topluluk ismidir.
B) Çoğul isimdir.
C) Cins isimdir.
D) Soyut isimdir.
12. "Bahçede sekiz ağaç vardı." cümlesinde altı çizili sözcük, tür bakımından aşağıdakilerden hangisine örnektir?
- A) Belgisiz sığata
B) Sayı sıfatına
C) Zarf tümlecine
D) Niteleme sıfatına
13. Aşağıdaki cümlelerden hangisinin filli olumsuzdur?
- A) Yeni elbisesini giymek istemişti.
B) Fenikeliler, Suriye'nin sahillerinde yerleşmişlerdi.
C) Yaşlı adam fırçasını boya kavanozuna batırdı.
D) Bu konuyu artık düşünmüyorum.

14. "Bu topraklar üzerinde can vermiş yabancı askerler bulunuyordu." cümlesinde boş bırakılan yeri aşağıdaki bağlaçlardan hangisi en uygun şekilde tamamlar?
- A) ama
B) fakal
C) ve
D) de
15. Aşağıdaki dizelerden hangisinin sonuna soru işareti konmalıdır?
- A) Verme, dünyaları alsan da, bu cennet vatanı
B) O zaman yükselerek arşa değer belki başım
C) Çatma, kurban olayım, çehreni ey nazlı hilâl
D) Kim bu cennet vatanını uğruna olmaz kı feda
16. Aşağıdaki sözcüklerden hangisinin hecelenmesi doğru olarak gösterilmiştir?
- A) do-nu-şe-ce-k-ılır
B) his-set-ti-r-me-li-sin
C) u-nut-ma-ma-lı-sın
D) söy-le-dik-ler-in-den
17. Aşağıdakilerden hangisi devrik cümledir?
- A) Zehir oldu bu güzel gezi.
B) Susuzluktan pek bezdiler.
C) Bir sabah iki kardeş yürüyüşe çıkmışlardı.
D) İyilik bir su, bırak aksın.
18. Aşağıdaki sözcüklerden hangisi özel isimdir?
- A) Balıkçı
B) Orhan
C) Çekirge
D) Kumsal
19. Aşağıdaki sözcüklerden hangisinin yazımı yanlıştır?
- A) yemekhane
B) hastane
C) karaciğer
D) kervan saray
20. Aşağıdaki sözcüklerden hangisi terim anlamıdır?
- A) erozyon
B) doktor
C) öğrenci
D) kitap

1. 18 kamyon 432 ton yük taşıyacaktır. Her bir kamyon eşit ağırlıkta yük taşıyacağına göre kamyon başına düşen yük kaç kg olur?

- A) 24
- B) 26
- C) 28
- D) 30

2. Eskişehir'den Samsun'a giden bir otobüs 4 saat 20 dakika gittikten sonra 25 dakika mola veriyor. Mola bittikten sonra 3 saat 45 dakika daha gidiyor ve Samsun'a varıyor.

Buna göre, şoför Eskişehir-Samsun arasını toplam kaç saatte gitmiştir?

- A) 7 saat 50 dakika
- B) 8 saat 30 dakika
- C) 8 saat 45 dakika
- D) 9 saat

3. Pervin marketten kilosu 2.25 liradan 8 kg şeker, kilosu 3.5 liradan 6 kg un ve kilosu 8.75 liradan 2 kg yağ almıştır.

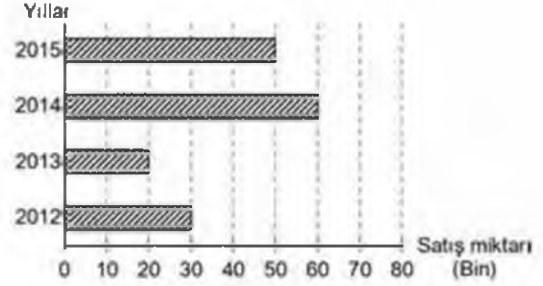
Buna göre, Pervin markete kaç lira ödemiştir?

- A) 49
- B) 51,25
- C) 56,5
- D) 61

4. Okunuşu "Elli milyon yüz iki bin beş" olan sayı aşağıdakilerden hangisidir?

- A) 50 120 005
- B) 50 102 005
- C) 5 012 005
- D) 5 010 250

5 - 7. soruları aşağıdaki grafiğe göre cevaplayınız.



Yukarıdaki grafikte bir bölgede satılan televizyon sayılarının yıllara göre dağılımı verilmiştir.

5. En az satış yapılan yıl aşağıdakilerden hangisidir?

- A) 2012
- B) 2013
- C) 2014
- D) 2015


6. 2012-2015 yıllarında satılan toplam televizyon sayısı kaçtır?

- A) 130 000
- B) 140 000
- C) 150 000
- D) 160 000

7. 2014 yılında satılan televizyon sayısı 2012 yılına göre yüzde kaç artmıştır?

- A) 50
- B) 75
- C) 100
- D) 125

8. ve 9. soruları aşağıdaki grafiğe göre cevaplayınız.



Yukarıdaki grafikte bir sergiye bir hafta boyunca gelen ziyaretçi sayıları verilmiştir.


8. Ziyaretçi sayısının bir önceki güne göre değişmediği gün aşağıdakilerden hangisidir?

- A) Pazartesi
- B) Perşembe
- C) Cumartesi
- D) Cuma

9. En az ziyaretçinin geldiği gün aşağıdakilerden hangisidir?

- A) Salı
- B) Pazartesi
- C) Pazar
- D) Çarşamba

10.



Yukarıdaki A noktasının B noktasına göre konumu aşağıdakilerden hangisidir?

- A) 4 birim sağının 3 birim aşağısı
- B) 4 birim solunun 3 birim aşağısı
- C) 4 birim sağının 3 birim yukarısı
- D) 4 birim solunun 3 birim yukarısı

11. [AB] doğru parçasının şekil olarak gösterimi aşağıdakilerden hangisidir?

- A)
- B)
- C)
- D)

12. Bir açısı 41° olan dik açılı üçgenin üçüncü açısı kaç derecedir?

- A) 49
- B) 53
- C) 57
- D) 61

13. I. 60°
II. 90°
III. 100°
IV. 110°

Yukarıdakilerden hangileri geniş açıdır?

- A) Yalnız II
- B) I ve III
- C) II ve IV
- D) III ve IV

14. %15 aşağıdakilerden hangisi ile ifade edilir?

- A) 0,015
B) $\frac{3}{45}$
C) $\frac{15}{10}$
D) 0,15

15. Bir bahçenin $\frac{2}{5}$ 'ine gül, $\frac{1}{3}$ 'üne yasemin geri kalanına ise begonya ekilmiştir.

Buna göre, begonya ekili alan, bahçenin kaçta kaçtır?

- A) $\frac{1}{12}$
B) $\frac{2}{9}$
C) $\frac{4}{15}$
D) $\frac{5}{12}$

16. Aylin, 90 soruluk bir sınavda soruların tamamını cevaplamıştır.

Aylin 54 soruyu doğru cevapladığına göre, tüm soruların yüzde kaçına yanlış cevap vermiştir?

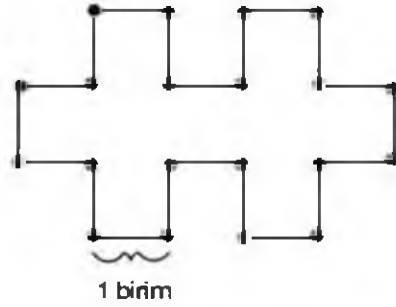
- A) 25
B) 35
C) 40
D) 45

17. Bir mağazada 1224 TL'ye satılan bir buzdolabında %25 indirim yapılmıştır.

Buna göre, indirim yapıldıktan sonra buzdolabı kaç TL'ye satılmıştır?

- A) 836
B) 874
C) 918
D) 986

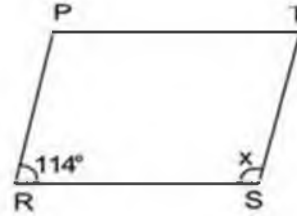
18.



Bir kenarı 1 birim olan yukarıdaki şeklin çevre uzunluğu kaç birimdir?

- A) 17
B) 18
C) 19
D) 20

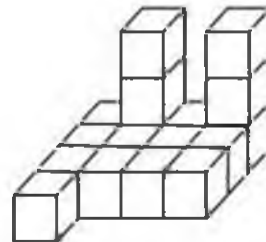
19.



Yukarıdaki PRST paralel kenarında x açısı kaç derecedir?


- A) 66
B) 72
C) 78
D) 84

20.

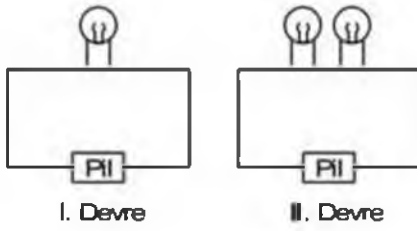


Yukarıdaki birim küplerden oluşan şekilde kaç küp vardır?

- A) 15
B) 16
C) 17
D) 18

1. Aşağıdakilerden hangisi omurgalı hayvanlardan biridir?
- A) Kurbağa
B) Arı
C) Örümcek
D) Kelebek
2. Besinlerin çok küçük parçalara ayrılarak kana karışabilecek duruma gelmesi için uğradıkları değişime ne ad verilir?
- A) Boşaltım
B) Dolaşım
C) Solunum
D) Sindirim
3. Canlıların üzerinde yaşadığı tabakaya ne ad verilir?
- A) Kayaç
B) Granit
C) Yer kabuğu
D) Stratosfer
4. Sıcaklık aşağıdakilerden hangisiyle ölçülür?
- A) Termometre
B) Barometre
C) Hidrometre
D) Dinamometre
5. Günlük hayatta yaylı el kantarı olarak bilinen kuvvetölçerin bilimsel adı aşağıdakilerden hangisidir?
- A) Mezura
B) Elektroskop
C) Dirençölçer
D) Dinamometre
6. Canlı kalıntılarını çürüterek yaşayan mantar türü aşağıdakilerden hangisidir?
- A) Küf mantarı
B) Şapkali mantar
C) Kültür mantarı
D) Maya mantarı
7. Maddenin ısı vererek hacminin azalmasına ne ad verilir?
- A) Buharlaşma
B) Genleşme
C) Yoğuşma
D) Büzülme
8. Ses ile ilgili aşağıdaki ifadelerden hangisi yanlıştır?
- A) Cam yünü, lastik, strafor gibi maddeler sesi daha az iletir.
B) Titreşen cisimler tarafından üretilir.
C) Bir kaynaktan yayılan sesler, farklı ortamlarda farklı işilir.
D) En iyi boşlukta yayılır.
9. Basit bir elektrik devresinde ampulün takıldığı yuvaya ne ad verilir?
- A) Anahtar
B) Sigorta
C) Duy
D) Priz
10. Bir araştırmada sonucu etkileyebilecek olan, etkisi azaltılıp çoğaltılabilen değişkene ne ad verilir?
- A) Bağımlı değişken
B) Bağımsız değişken
C) Kontrol grubu
D) Tahmin grubu
11.  Yukarıda sembolü gösterilen devre elemanı aşağıdakilerden hangisidir?
- A) Anahtar
B) Pili
C) Duy
D) Ampul
12. Işığı geçirmeyen maddelere ne ad verilir?
- A) Saydam
B) Opak
C) Strafor
D) Yarı saydam

13.



Pil, ampul ve kablo kullanılarak I. devre kuruluyor. Daha sonra devreye özdeş bir ampul daha bağlanıyor.

Buna göre, II. devredeki ampul parlaklığı I. devredekine göre nasıl değişir?

- A) Artar.
- B) Azalır.
- C) Değişmez.
- D) Önce artar, sonra azalır.

14. Aşağıdakilerden hangisi kuvvet birimidir?

- A) Metre
- B) Newton
- C) Gram
- D) Kilogram

15. Aşağıdakilerden hangisi saf maddenin ayırt edici özelliklerinden biri değildir?

- A) Hacim
- B) Donma noktası
- C) Erime noktası
- D) Kaynama noktası

16. Aşağıdakilerden hangisi çiçekli bitki değildir?

- A) Çam
- B) Kiraz çiçeği
- C) Papatya
- D) Kara yosunu

17. Vücudumuzda sindirimin başladığı ilk yer aşağıdakilerden hangisidir?

- A) Yutak
- B) Mide
- C) Ağız
- D) İnce bağırsak

18. Kanı süzerek zararlı maddelerden arındıran organ aşağıdakilerden hangisidir?

- A) İdrar kesesi
- B) Böbrek
- C) Üreter
- D) Ürerta

19. Fosil bilimi alanında çalışan bilim insanlarına ne ad verilir?

- A) Biyolog
- B) Arkeolog
- C) Paleontolog
- D) Antropolog

20. Aşağıdakilerden hangisi yer kabuğunda ver almaz?

- A) Fosil
- B) Maden
- C) Hava
- D) Kayaç

1. Çocuk haklarını güvence altına almak için bir çok devletin bir araya gelerek hazırladıkları sözleşme aşağıdakilerden hangisidir?
 - A) Çocuk Haklarına Dair Sözleşme
 - B) Eğitim Hakkı Sözleşmesi
 - C) İnsan Hakları Evrensel Beyannamesi
 - D) Düşünce ve ifade Özgürlüğü Sözleşmesi
2. Aşağıdakilerden hangisi Türkiye Cumhuriyeti nüfus cüzdanında yer almaz?
 - A) Doğum yeri
 - B) Doğum saati
 - C) Ad
 - D) Anne adı
3. Toplumun temel birimi aşağıdakilerden hangisidir?
 - A) Baba
 - B) Çocuk
 - C) Anne
 - D) Aile
4. Efes Antik Kenti hangi ilimizdedir?
 - A) Antalya
 - B) İzmir
 - C) Denizli
 - D) Muğla
5. Aşağıdaki tarihi yerler ve doğal güzellikler ile bulunduğu şehirlere ilişkin eşleştirmelerden hangisi yanlıştır?
 - A) Kastamonu-İllica Şelalesi
 - B) Bitlis-Hasan Padişah Kümbeti
 - C) Antalya-Alanya Kalesi
 - D) Mersin-Pamukkale Travertenleri
6. Dünyanın sekizinci harikası olan, 2150 metre yükseklikteki Nemrut Dağı aşağıdaki şehirlerden hangisindedir?
 - A) Malatya
 - B) Mardin
 - C) Adıyaman
 - D) Tunceli
7. Karadeniz iklimi ile ilgili aşağıdaki ifadelerden hangisi yanlıştır?
 - A) Yaz turizmi yaygın olarak yapılır.
 - B) Her mevsim yağışlı ve ılıman geçer.
 - C) Çay üretimi için uygundur.
 - D) Bitki örtüsü çoğunlukla ormanlıktır.
8. İç Anadolu Bölgesinde nüfusun en kalabalık olduğu il aşağıdakilerden hangisidir?
 - A) Çankırı
 - B) Ankara
 - C) Nevşehir
 - D) Kırşehir
9. Aşağıdaki illerden hangisinde liman vardır?
 - A) Samsun
 - B) Burdur
 - C) Kilis
 - D) Amasya
10. Karadeniz bölgesinde daha az yetişen ürün aşağıdakilerden hangisidir?
 - A) Çay
 - B) Mısır
 - C) Muz
 - D) Fındık

11. Türkiye'de balıkçılığın yüzde kaçını Karadeniz'de yapılır?
- A) 25
B) 48
C) 56
D) 75
12. Türkiye'de su ve linyit gibi doğal kaynakları sayesinde elektrik enerjisinin %35'ini üreten bölge aşağıdakilerden hangisidir?
- A) Marmara Bölgesi
B) Güneydoğu Anadolu Bölgesi
C) İç Anadolu Bölgesi
D) Doğu Anadolu Bölgesi
13. Büyük bir teleskop icat ederek Dünya'nın Güneş etrafında döndüğünü keşfeden bilim insanı aşağıdakilerden hangisidir?
- A) Edison
B) Galileo
C) Marie Curie
D) Cahit Arf
14. Aşağıdakilerden hangisi buluş yapan bilim insanlarının özelliklerinden biri olamaz?
- A) İlgisizlik
B) Çalışkanlık
C) Merak
D) Gözlem yapma
15. Eğitim alanında hizmet vermek amacıyla kurulan ilk sivil toplum kuruluşu aşağıdakilerden hangisidir?
- A) LOSEV
B) KEDV
C) Darüşşafaka Cemiyeti
D) Türkiye Eğitim Gönüllüleri Vakfı
16. Erozyonu, çoraklaşmayı, çölleşmeyi, kirliliği, hatalı tarım tekniklerini ve amaç dışı arazi kullanımını önlemek, doğal varlıkların korunması için hükümetleri yönlendirmek ve etkin kamuoyu oluşturmak amacıyla kurulan ve faaliyet gösteren sivil toplum kuruluşu aşağıdakilerden hangisidir?
- A) TEMA Vakfı
B) Kadın Emeğini Değerlendirme Vakfı
C) LOSEV
D) Çocuk Vakfı
17. Türk Bayrağı Kanunu hangi yıl çıkarılmıştır?
- A) 1938
B) 1947
C) 1976
D) 1983
18. Türkiye'de yasama görevini aşağıdaki kurumlardan hangisi yerine getirir?
- A) Bakanlar Kurulu
B) Cumhurbaşkanı
C) TBMM
D) Başbakan
19. Aşağıdakilerden hangisi Dünya Miras Listesindeki varlıklardan biri değildir?
- A) Pamukkale
B) Divriği Ulu Camii
C) Odunpazarı evleri
D) Safranbolu
20. Gize Piramidinin bulunduğu ülke aşağıdakilerden hangisidir?
- A) Meksika
B) Mısır
C) İspanya
D) Fransa

1. Cami ve mescitlerde Kâbe yönünü gösteren kısma ne ad verilir?

- A) Vaaz kürsüsü
- B) Minber
- C) Mihrap
- D) Minare

2. "Semi" kelimesinin anlamı aşağıdakilerden hangisidir?

- A) Allah'ın bir olması
- B) Allah'ın her şeyi görmesi
- C) Allah'ın her şeyi bilmesi
- D) Allah'ın her şeyi işitmesi

3. "Yedi göğü birbiriyle tam bir uyum içinde yaratan odur. Rahman'ın yaratışında hiçbir aksaklık göremezsin. Gözünü çevir de bir bak, bir bozukluk görebiliyor musun?" ayeti, aşağıdaki hangi surede yer alır?

- A) En'âm
- B) Mülk
- C) Fâtır
- D) Rûm

4. Aşağıdakilerden hangisi farz olan başlıca ibadetlerden biri değildir?

- A) Namaz
- B) Zekât
- C) Umre
- D) Oruç

5. Caminin içinde vaaz verip, cemaati dinî konularda aydınlatan kişinin oturduğu yüksekçe yere ne ad verilir?

- A) Minare
- B) Vaaz kürsüsü
- C) Mihrap
- D) Minber

6. Kurban kesmek, İslam dininde nasıl bir davranıştır?

- A) Günah
- B) Farz
- C) Sünnel
- D) Vacip

7. Vahdaniyet'in anlamı aşağıdakilerden hangisidir?

- A) Allah'ın her şeyi görmesi
- B) Allah'ın bir olması
- C) Allah'ın her şeyi bilmesi
- D) Allah'ın her şeyi işitmesi

8. Kur'an ayetlerinin yaklaşık anlamıyla başka bir dile çevrilmesine ne ad verilir?

- A) Meal
- B) Tefsir
- C) Sure
- D) Vahy

9. Kur'an ayetlerinin açıklamalarına ne ad verilir?

- A) Vahy
- B) Meal
- C) Tekvin
- D) Tefsir

10. Aşağıdakilerden hangisi Hz. Muhammed'in çocuklarından biridir?

- A) Mehmet
- B) Ali
- C) Rukiye
- D) Ayşe

11. Tevhit inancı ne demektir?

- A) Tan yerinin ağarmasından akşam güneş batıncaya kadar herhangi bir şey yiyip, içmemek
- B) Kâinattaki tek yaratıcının Allah olduğuna inanmak
- C) Allah'a kulluk etmek
- D) Allah'ın yasakladığı her türlü davranıştan kaçınmak

12. Kur'an-ı Kerim ile ilgili aşağıdaki ifadelerden hangisi yanlıştır?

- A) Allah tarafından, son peygamber Hz. Davut'a gönderilmiştir.
- B) İnsanları karanlıktan aydınlığa çıkarır.
- C) Kur'an'ı okumak ve anlamaya çalışmak bir ibadettir.
- D) İslam dininin temel kaynağıdır.

13. Hz. Peygambere sevgimizi, bağlılığımızı ve saygımızı belirtmek için yaptığımız duaya ne ad verilir?

- A) Şehadet
- B) Tevhil
- C) İbadet
- D) Salavat

14. Hidrellez, her yıl aşağıdaki tarihlerden hangisinde bayram olarak kutlanır?

- A) 6 Mayıs
- B) 6 Haziran
- C) 6 Ağustos
- D) 6 Eylül

15. Yeni gün anlamına gelen ve baharı müjdeleyen kavram aşağıdakilerden hangisidir?

- A) Regaip
- B) Nevruz
- C) Kullu doğum
- D) Miraç

16. Kur'an-ı Kerim, peygamberimize hangi ayda İnmeye başlamıştır?

- A) Şaban
- B) Recep
- C) Ramazan
- D) Yılın ilk ayı

17. Aşağıdakilerden hangisi şehitlik kavramı ile ilgili doğru bir ifadedir?

- A) Allah yolunda vatani koruma uğrunda düşmanla savaşır, ölenlere şehit denir.
- B) Allah yolunda düşmanla savaşır, hayatta kalanlara şehit denir.
- C) Şehitlerin ülkelerinin değerine bir etkileri yoktur.
- D) Şehitliğin maddi değeri vardır.

18. Bir vatan üzerinde var olmanın ve bağımsızlığın sembolü aşağıdakilerden hangisidir?

- A) Bayramlar
- B) Gelenekler
- C) Kutsal kitap
- D) Bayrak

19. Recep ayının ilk Cuma gecesi hangi kandildir?

- A) Mevlit
- B) Berat
- C) Regaip
- D) Miraç

20. Hz. Peygamberimiz ne zaman doğmuştur?

- A) 20 Nisan 571
- B) 20 Nisan 671
- C) 30 Mayıs 771
- D) 30 Haziran 871

1. Aşağıdaki cümlelerin hangisinde fiil diğerlerinden farklı bir şahıs eki almıştır?
 - A) Bu filmi mutlaka seyredin.
 - B) Yarın provaya gelsin.
 - C) Yavru kediyi annesine götürsün.
 - D) Bu havada sokağa çıkmasın.
2. Aşağıdakilerden hangisi topluluk karşısında yapılan konuşmalar arasına yer alır?
 - A) Telefonla konuşma
 - B) Günlük konuşma
 - C) Büyüklerle konuşma
 - D) Anı, olay anlatma
3. Aşağıdaki cümlelerin hangisinde fiil olumsuz çekimlenmiştir?
 - A) Yeleğini kalın ipten örmüştü.
 - B) İstersen yann görüşelim.
 - C) Kimse yarın derse gelmez.
 - D) Onca kişi arasında beni seçti.
4. Aşağıdaki cümlelerin hangisinde çekimli bir fiil yoktur?
 - A) Benim elbisem daha güzel.
 - B) Elbette kara bahtım bir gün gülecek.
 - C) Açık havada dolaşmayı severim.
 - D) Nereye baksam onu görüyorum.
5. Aşağıdaki sözcüklerden hangisinin anlamdaşı vardır?
 - A) uzak
 - B) ilk
 - C) boş
 - D) yaz
6. "Kaşağı" adlı öykü aşağıdaki yazarlardan hangisine aittir?
 - A) Tevfik Fikret
 - B) Mehmet Rauf
 - C) Ömer Seyfettin
 - D) Halit Ziya Uşaklıgil
7. Aşağıdakilerden hangisi dinlemede güçlük yaratan nedenlerden biri değildir?
 - A) Duyuma özürli olmak
 - B) Konuya ilgi duymamak
 - C) Konuşana önem vermemek
 - D) Konuşanın giyinişi ve davranışıyla ilgilenmemek
8. Aşağıdaki cümlelerin hangisinde zaman zarfı vardır?
 - A) İstanbul'a iki hafta önce geldik.
 - B) Bu problemi çözemiyorum.
 - C) Yaptığım ödevi kontrol ediyorum.
 - D) Şerbeti masaya koyuver.
9. "Bu hastalık nasıl başladı() ne vakit başladı() hatırlamıyorum." cümlesinde boş parantezle gösterilen yerlere aşağıdaki noktalama işaretlerinden hangisi sırasıyla gelmelidir?
 - A) (?), (?)
 - B) (,), (,)
 - C) (,), (?)
 - D) (!), (!)
10. Aşağıdaki cümlelerin hangisinde soru anlamı bir zarfla sağlanmıştır?
 - A) Sizce bu durumda ne yapılır?
 - B) Kimde defter var?
 - C) Osman hasta mı olmuş?
 - D) Siz ne iş yapıyorsunuz?
11. "Bodrumdaki Hazine" adlı öykü aşağıdaki yazarlardan hangisine aittir?
 - A) Mehmet Kaplan
 - B) Adnan Özyalçiner
 - C) Onat Kutlar
 - D) Sezai Karakoç
12. Konuşma havası içinde, daha senli benli yazılan yazılara ne ad verilir?
 - A) Öykü
 - B) Tutanak
 - C) Gezi yazısı
 - D) Sohbet
13. Soyut bir kavramı anlaşılır bir duruma getirmek, görünür kılmak için aşağıdaki düşünceyi geliştirme yollarının hangisinden yararlanılır?
 - A) Benzetme
 - B) Kanıllama
 - C) Örnekleme
 - D) Tanımlama
14. Aşağıdaki türemiş fiillerden hangisi fiilden fiil türeten bir ek almıştır?
 - A) türe-
 - B) garipse-
 - C) başar-
 - D) kopar-

15. Aşağıdakilerden hangisi bildirme yazısı türlerinden biri değildir?

- A) Anı
- B) Mektup
- C) Rapor
- D) Tutanak

16. Bir eserin, bir sorunun, bir olayın özelliklerini, en ince ayrıntılarını araştırarak göz önüne seren yazı türüne ne ad verilir?

- A) Roman
- B) İnceleme
- C) Hikâye
- D) Röportaj

17. Aşağıdaki fiillerden hangisi basit fiile örnektir?

- A) yazıver-
- B) okuyabil-
- C) al-
- D) süregel-

18. Aşağıdaki cümlelerin hangisinde fiil birleşik bir fiildir?

- A) Sınıftan ağlayarak çıktı.
- B) Lütfen kapıyı kapatıverin.
- C) Beş aydan beri iş arıyorum.
- D) Şemsiyemi evde unuttum.

19. Aşağıdaki cümlelerin hangisinde fiil, fiilden fiil yapan bir ekle türemiştir?

- A) Nolu çarçabuk okudu.
- B) Bütün odunları sobada yaktı.
- C) Son anda otobüsü durdurdu.
- D) Sana önemli haberlerim var.

20. "Her yazarın bakış açısı farklı olmalıdır." cümlesinin yüklemi yapısı bakımından aşağıdakilerden hangisine örnektir?

- A) Kurallı birleşik fiile
- B) Yardımcı fiille kurulan birleşik fiile
- C) Basit fiile
- D) Türemiş fiile

1. $6x \blacksquare = -42$ olduğuna göre,
 $-63 \div \blacksquare$ işleminin sonucu kaçtır?

- A) -9
 B) -7
 C) 7
 D) 9

2. Berna, bir top kumaşın önce $\frac{2}{5}$ 'ini, sonra $\frac{1}{4}$ 'ünü sattı. Geriye kalan kumaşın 5 metresini arkadaşına verdi.

Berna'nın elinde 9 metre kumaş kaldığına göre, bir top kumaş kaç metredir?

- A) 20
 B) 25
 C) 30
 D) 40

3. $\left(5 - \frac{7}{2} + 3\right) + \left(-1 + \frac{7}{3} - \frac{5}{6}\right)$

işleminin sonucu kaçtır?

- A) 5
 B) $\frac{9}{2}$
 C) 3
 D) $\frac{11}{4}$

4. K



- L



- M



- N



Yukarıda bir galerideki arabaların etiket fiyatları ve yapılan indirim yüzdeleri verilmiştir.

Buna göre, indirim miktarı en çok olan araba aşağıdakilerden hangisidir?

- A) K
 B) L
 C) M
 D) N

5. 152 kg olan Mesut diyet yaparak 8 ayda 80 kilograma inmek istiyor.

Buna göre, Mesut ayda ortalama kaç kg vermelidir?

- A) 7
 B) 8
 C) 9
 D) 10

6. 26 kg sütten 4 kg tereyağı yapıldığına göre, 10 kg tereyağı yapmak için kaç kg süt gereklidir?

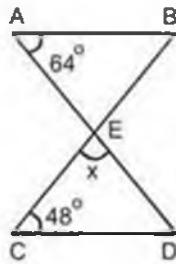
- A) 70
 B) 65
 C) 60
 D) 55

7. Aslı, 8 ve 12 yaşlarındaki iki çocuğuna 680 TL'yi yaşları ile doğru orantılı olarak paylaştırmıştır.

Buna göre, büyük çocuk kaç TL almıştır?

- A) 396
 B) 408
 C) 442
 D) 460

8.



Yukarıdaki şekilde; $[AB] \parallel [CD]$ ve $s(\hat{A}) = 64^\circ$, $s(\hat{C}) = 48^\circ$ olduğuna göre, $s(\hat{CED}) = x$ kaç derecedir?

- A) 42
- B) 52
- C) 56
- D) 68

9.

Denklemi $y = +\frac{2}{3}x - 8$ olan doğru üzerindeki A noktasının ordinatı -2 ise apsisi kaçtır?

- A) -7
- B) 2
- C) 4
- D) 9

$$10. \frac{3x-2}{5} - \frac{2x+6}{4} = 3$$

denkleminde x 'in değeri kaçtır?

- A) 49
- B) 55
- C) 63
- D) 68

11. Yiğit elindeki parasıyla 6 kg ceviz alırsa 18 TL kalıyor, eğer 8 kg ceviz alırsa 26 TL borçlanıyor.

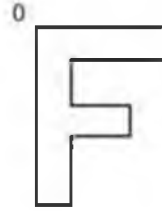
Buna göre, Yiğit'in elinde kaç TL vardır?

- A) 110
- B) 120
- C) 140
- D) 150

12. İç açılarının ölçülerinin toplamı 1080° olan düzgün bir çokgenin bir dış açısının ölçüsü kaç derecedir?

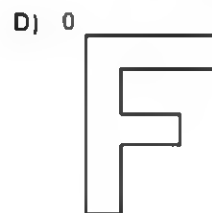
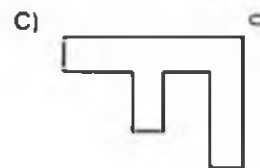
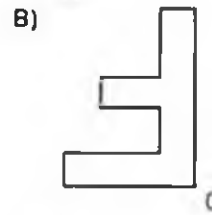
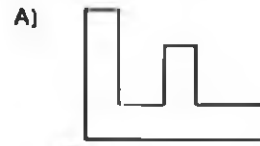
- A) 45
- B) 50
- C) 55
- D) 60

13.

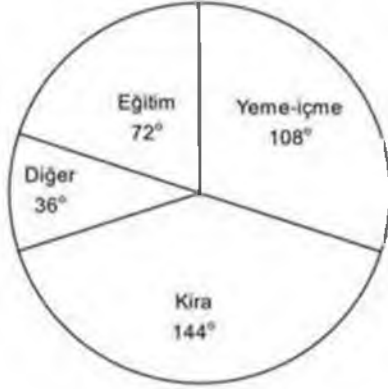


Yukarıdaki şekil, O noktası etrafında saat ibresinin yönünde 90° döndürülüyor.

Döndürülme işleminden sonra oluşan şekil aşağıdakilerden hangisidir?



14. ve 15. soruları aşağıdaki grafiğe göre cevaplayınız.



Yukarıdaki daire grafiğinde öğrenci olan Mehmet'in aylık giderlerinin dağılımı verilmiştir.

14. Mehmet'in kira gideri, toplam giderlerinin yüzde kaçını oluşturmaktadır?

- A) 20
- B) 25
- C) 30
- D) 40

15. Babası Mehmet'e aylık 1200 TL gönderdiğine göre, Mehmet eğitim için aylık kaç TL harcamaktadır?

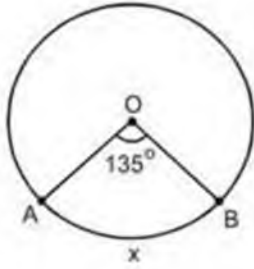
- A) 240
- B) 300
- C) 360
- D) 420

16. Taban yarıçapı 3 cm, yüksekliği 5 cm olan silindirin açılımı aşağıdakilerden hangisidir?

($\pi = 3$ alınız.)

- A)
- B)
- C)
- D)

17.

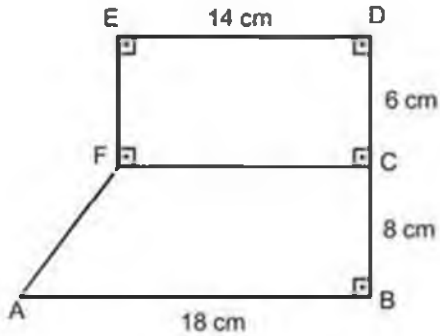


Ömerkezli çemberde $m(\widehat{AOB}) = 135^\circ$ ve $r = 20\text{cm}$ 'dir.

Buna göre \widehat{AB} yayının uzunluğu kaç cm'dir?
($\pi = 3$ alınız.)

- A) 30
- B) 35
- C) 40
- D) 45

18.



Yukarıda şekli ve ölçüleri verilen alanın tabanı halı ile kaplanacaktır.

Buna göre, alan için **en az** kaç metrekare halı gereklidir?
($|AB|=18\text{ cm}$, $|BC|=8\text{ cm}$, $|CD|=6\text{ cm}$ ve $|ED|=14\text{ cm}$)

- A) 176
- B) 188
- C) 194
- D) 212

19.

Şube \ Cinsiyet	1/A	1/B
Kız	22	18
Erkek	16	24

Atatürk İlköğretim Okulundan bilgi yarışması için bir öğrenci seçilecektir.

Seçilen öğrencinin erkek veya 1/A şubesinden olma olasılığı nedir?

- A) $\frac{31}{40}$
- B) $\frac{29}{40}$
- C) $\frac{28}{40}$
- D) $\frac{27}{40}$

1.



Yukarıdaki şekilde gösterilen eleman aşağıdakilerden hangisidir?

- A) İletken tel
- B) Pil
- C) Direnç
- D) Ampul

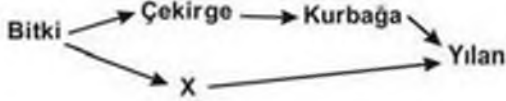
2. Röntgen filmlerinin çekilmesinde kullanılan, insan vücuduna etkileri olan ışık türü aşağıdakilerden hangisidir?

- A) X-ışınları
- B) Gama ışınları
- C) Mor ötesi ışınlar
- D) Mikro dalgalar

3. Aşağıdakilerden hangisi desteğin uçta, yükün ortada olduğu tek taraflı kaldıraçlara bir örnektir?

- A) Tahterevalli
- B) Makas
- C) Gazoz açacağı
- D) Kayık küreği

4.



Yukarıdaki besin zincirinde X canlısının beslenme şekli ile ilgili aşağıdaki ifadelerden hangisi doğrudur?

- A) Kendi besinini kendi üretir.
- B) Hem et ile hem ot ile beslenir.
- C) Yalnız et ile beslenir.
- D) Yalnız ot ile beslenir.

5. Aşağıdakilerden hangisi canlı çevre faktörlerinden biri değildir?

- A) Ayrıştırıcılar
- B) Üreticiler
- C) Tüketiciler
- D) İnorganik maddeler

6. Pozitif yüklü bir cisim, pozitif yüklü elektronun topuzuna dokundurulursa aşağıdaki durumlardan hangisi gözlenir? (Elektroskopun yükü > Cismin yükü)

- A) Açık yapraklar biraz kapanır.
- B) Açık yapraklar biraz daha açılır.
- C) Açık yapraklar önce kapanır, sonra açılır.
- D) Açık yapraklar daha çok açılır.

7. Oluşturdukları kimyasal bileşikte Oksijen ve Hidrojen elementleri arasında hangi tür kimyasal bağ oluşur? (8O, 1H)

- A) Kovalent
- B) İyonik
- C) Dublet
- D) Oktet

8. Aşağıdakilerden hangisi orta kulakta bulunan kemiklerden biri değildir?

- A) Çekiç
- B) Salyangoz
- C) Örs
- D) Üzengi

9. Üzerlerine uygulanan bir kuvvet etkisiyle şekillerini değiştiren, kuvvet ortadan kalktığı anda ise eski şekillerine dönebilen cisimlere ne ad verilir?

- A) Organik
- B) Esnek
- C) Saf
- D) Özdeş

10. Aşağıdakilerden hangisi homojen bir karışımdır?

- A) Su-zeytinyağı
- B) Salata
- C) Maden suyu
- D) Çamurlu su

11. İyonik bağlarla ilgili aşağıdaki ifadelerden hangisi yanlıştır?

- A) Moleküler yapıdadırlar.
- B) Pozitif ve negatif yüklü iyonlardan oluşurlar.
- C) Elektron ortaklaşmasına dayanır.
- D) Aynı cins element atomları arasında oluşur.

12. Kan içindeki zararlı atıkları ve üreyi süzerek idrar şeklinde vücuttan uzaklaştıran organ aşağıdakilerden hangisidir?

- A) Karaciğer
- B) Akciğer
- C) Mide
- D) Böbrek

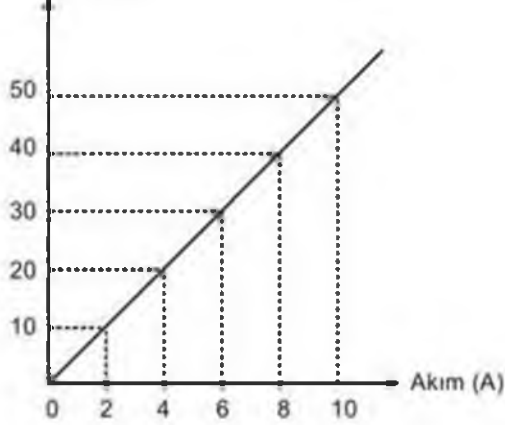
13. Aşağıdakilerden hangisi doğuştan kazanılmış reflekstir?

- A) Dans etmek
- B) Öksürmek
- C) Yüzmek
- D) Örgü örmek

14. Hareketli cisimlerin hızlarından dolayı sahip olduğu enerji türüne ne ad verilir?

- A) Kinetik
- B) Isı
- C) Kimyasal
- D) Potansiyel

15. Gerilim (V)



Bir devre elemanına ait yukarıda verilen gerilim-akım grafiğine göre, bu devre elemanının direnci kaç ohm dur?

- A) 2
- B) 5
- C) 8
- D) 10

16. Yeryüzüne kadar ulaşan gök cisimlerine ne ad verilir?

- A) Yıldız
- B) Meteor
- C) Gök taşı
- D) Gezegen

17. Aşağıdakilerden hangisi iç gezegenlerden biridir?

- A) Satürn
- B) Jüpiter
- C) Uranüs
- D) Merkür

18. Aşağıdakilerden hangisi Türkiye'de nesli tükenmek üzere olan hayvanlardan biridir?

- A) Aslan
- B) Asya fili
- C) Akdeniz fokı
- D) Yabanöküzü

19. Aşağıdakilerden hangisi esneklik potansiyel enerjisine sahiptir?

- A) Yolda hareket eden otomobil
- B) Gerilen yay
- C) Masanın üzerinde duran kalem
- D) Düşmekte olan taş

20. Kırmızı ışık altında bakılan beyaz bir cisim hangi renkte görülür?

- A) Beyaz
- B) Siyah
- C) Kırmızı
- D) Gri

1. Aşağıdakilerden hangisi kitle iletişim araçlarının sağladığı yararlarından biri değildir?
- A) Hızlı ve yaygın haberleşme
B) Yüz yüze ilişkileri artırma
C) Kamuoyu oluşturma
D) Kültür aktarımını sağlama
2. Aşağıdakilerden hangisi "Ben" dilinin özelliklerinden biri değildir?
- A) Anlaşmazlıkların azaltması
B) Konuşan kişiyi rahatlatması
C) Suçluluk hissettirmemesi
D) Suçlayıcı, eleştirici, yargılayıcı olması
3. Aşağıdakilerden hangisi iletişim sürecinde yapılan hatalardan biridir?
- A) Farklı düşünceleri paylaşma
B) Göz teması kurma
C) Sürekli öğüt verme
D) Soylenenleri onaylama
4. Aşağıdakilerden hangisi Türkiye'de hızlı nüfus artışının sonuçlarından biri değildir?
- A) Gelir dağılımında dengesizlik
B) Milli gelirden artış
C) Doğal kaynaklarda azalış
D) Çevre sorunlarında artış
5. Aşağıdakilerden hangisinde nüfus sayımlarından elde edilen sonuçlardan yararlanılmaz?
- A) Okul açarken
B) Hastane yaptırırken
C) Çevreyi korurken
D) Fabrika kurarken
6. Türkiye'de 1950'li yıllardan itibaren köyden kente doğru yoğun bir nüfus hareketliliği yaşanmaktadır.
- Aşağıdakilerden hangisi bu durumun nedenlerinden biri değildir?
- A) İş olanaklarının yetersizliği
B) İş gücünün azalması
C) Sağlık ve eğitim olanaklarının yetersizliği
D) Tarım alanlarının parçalanması
7. Bizans'ın Anadolu'yu Türklerden geri alma ümitlerinin tamamen ortadan kalkmasını sağlayan (1178) Miryakefalon Savaşı sırasında Türkiye Selçuklularının lideri kimdir?
- A) I. Alaeddin Keykubat
B) Süleyman Şah
C) Melikşah
D) II. Kılıçarslan
8. Aşağıdaki deniz savaşlarından hangisinden sonra Akdeniz bütünüyle Osmanlı Devleti'nin egemenliğine girmiştir?
- A) Preveze
B) Rodos
C) Korfu
D) Inebahtı
9. Anadolu Türk mimarisinin en önemli anıtlarından biri olan Divriği Ulu Camii (1228) aşağıdaki beyliklerden hangisi tarafından yaptırılmıştır?
- A) Mengücekliler
B) Saltuklular
C) Osmanlılar
D) Artuklular
10. Coğrafi keşiflere kadar dünya ticaretinde önemli olan ticaret yolu aşağıdakilerden hangisidir?
- A) İstanbul Boğazı
B) İpek Yolu
C) Kral Yolu
D) Süveyş Kanalı
11. 13. yüzyılda Anadolu'da kurulan mesleki ve ahlaki eğitimde önemli rol oynayan Ahilik teşkilatının kurucusu aşağıdakilerden hangisidir?
- A) Yunus Emre
B) Mevlâna Celaleddin Rûmi
C) Hacı Bektaş Veli
D) Ahi Evran

12. Sanayi İnkılabı ilk olarak nerede başlamıştır?

- A) Fransa
- B) Almanya
- C) Rusya
- D) İngiltere

13. Avrupa'da akla dayanan düşünce sisteminin egemen olduğu döneme ne ad verilir?

- A) Karanlık Çağ
- B) Aydınlanma Çağı
- C) Yenilik Çağı
- D) Orta Çağ

14. İlk Çağ uygarlıkları, günümüz bilim ve teknolojinin gelişmesine katkıda bulunan ilk buluşları gerçekleştirmişlerdir.

Aşağıdakilerden hangisi bu buluşlardan biri değildir?

- A) Takvim
- B) Yazı
- C) Tekerlek
- D) Buhar gücü

15. Aşağıdakilerden hangisi Osmanlı Devleti'nde devletin gelir ve giderlerinden, diğer bir deyişle maliyeden sorumlu divan üyesidir?

- A) Defterdar
- B) Kazasker
- C) Sadrazam
- D) Vezir

16. İlk Türk devletlerinde Kul adı verilen yönetim yetkisinin kan yoluyla babadan oğula geçtiği kabul edilirdi.

Buna göre aşağıdakilerden hangisi söylenbilir?

- A) Devletin saltanatla yönetildiği
- B) Yönetme yetkisinin halkta olduğu
- C) Taht kavgalarının olmadığı
- D) Ülke yönetiminde meclisin önemli olduğu

17. Orta Asya Türk devletlerinde siyasi, ekonomik ve askeri kararların alındığı meclise ne ad verilir?

- A) Cenk
- B) İl
- C) Kurultay
- D) Töre

18. Aşağıdakilerden hangisi Birinci Dünya Savaşı'nın sonuçlarından biri değildir?

- A) Avrupa'nın sınırlarının yeniden çizilmesi
- B) Yeni devletlerin kurulması
- C) Kalıcı barış ortamının sağlanması
- D) Çok uluslu imparatorlukların parçalanması

19. I. Yardım alamayan Rusya savaştan çekilmek zorunda kalmıştır.

II. Amerika Birleşik Devletleri İtilaf devletleri yanında savaşa girmiştir.

III. Çok sayıda insan hayatını kaybetmiştir.

IV. Mustafa Kemal askeri başarılarıyla tüm dünyaca tanınmıştır.

Bu bilgilerden hangileri Çanakkale Cephesi'nin Birinci Dünya Savaşı'nın kaderini değiştirdiğine kanıt olarak gösterilir?

- A) I ve II
- B) I ve III
- C) II ve IV
- D) III ve IV

20. Aşağıdakilerden hangisi Birinci Dünya Savaşı'nda Osmanlı Devleti ile aynı grupta yer almıştır?

- A) İngiltere
- B) Rusya
- C) Almanya
- D) Fransa

1. Die Schüler haben Füller, einen Bleistift.

Welche Wörter passen in die obigen Lücken?

Cümlede boş bırakılan yerleri aşağıdakilerden hangileri doğru şekilde tamamlar?

- A) keinen / sondern
B) kein / nur
C) ein / aber
D) eine / und

2. Das ist Lehrerin und ihr seid Schüler. Sie fragt und ihr antwortet.

Welche Wörter passen in die obigen Lücken?

Cümlede boş bırakılan yerleri aşağıdakilerden hangileri tamamlar?

- A) ist / macht
B) eure / euch
C) sind / schreibt
D) bist / leset

3. Die Mutter hat ein Geschenk uns.

Welches Wort passt in die obige Lücke?

Cümlede boş bırakılan yeri aşağıdakilerden hangisi tamamlar?

- A) mit
B) dich
C) für
D) sich

4. Am Samstag habe ich nicht, weil ich eine Prüfung habe.

Welches Wort passt in die obige Lücke?

Cümlede boş bırakılan yeri aşağıdakilerden hangisi tamamlar?

- A) frei
B) gehen
C) heute
D) damit

5. A: Wo kann ich hier ein Restaurant finden?

B:

A: Danke sehr!

Welcher Satz ergänzt die Lücke im obigen Dialog?

Verilen karşılıklı konuşmada boş bırakılan yeri aşağıdakilerden hangisi tamamlar?

- A) Damit ich viel Geld verdienen kann!
B) Dort drüben finden Sie ein Restaurant!
C) Wir können heute Abend ins Restaurant gehen!
D) Ich esse nie im Restaurant!

6. Hier ist eine Garage für Auto.

Welches Wort passt in die obige Lücke?

Cümlede boş bırakılan yeri aşağıdakilerden hangisi doğru şekilde tamamlar?

- A) mein
B) meine
C) meins
D) meinem

7. In Eskişehir.

Welche Frage kann man zum obigen Satz nicht stellen?

Verilen cümleye aşağıdaki sorulardan hangisi yönelilemez?

- A) Was hast du heute gemacht?
B) Wo lebst du?
C) Wo bist du geboren?
D) Wo studierst du?

8. Atatürk ist der erste der Türkischen Republik.

Welches Wort passt in die obige Lücke?

Cümlede boş bırakılan yeri aşağıdakilerden hangisi tamamlar?

- A) Erfinder
B) Sohn
C) Präsident
D) Bürger

9. Was sucht Ahmet?(Tasche)

Welche Antwort passt zur obigen Frage?

Verilen sorunun cevabı aşağıdakilerden hangisidir?

- A) Wir können unsere Tasche nicht finden.
- B) Ich habe deine Tasche gefunden.
- C) Sie hat ihre Tasche zu Hause vergessen.
- D) Er sucht seine Tasche.

10. Am ersten Januar ist Neujahr.

Welche Frage passt zur obigen Antwort?

Verilen cevabı gerektirecek soru aşağıdakilerden hangisidir?

- A) Wer kommt heute?
- B) Wann kommst du?
- C) Wer will mitkommen?
- D) Wann ist Neujahr?

11. Ich lege die Bücher Tisch.

Welches Wort passt in die obige Lücke?

Cümlede boş bırakılan yeri aşağıdakilerden hangisi doğru şekilde tamamlar?

- A) in die
- B) auf den
- C) aus dem
- D) zu der

12. Mein Bruder ist Busfahrer.

Wie lautet der obige Satz auf Türkisch?

Verilen cümlelerin Türkçesi aşağıdakilerden hangisidir?

- A) Abimin otobüsü var.
- B) Abim otobüsteri çok sever.
- C) Abim otobüse bindi.
- D) Abim otobüs şoförü.

13. Tolga kommt von der Schule.

Welche Frage passt zur obigen Antwort?

Verilen cevabı gerektirecek soru aşağıdakilerden hangisidir?

- A) Wo seid ihr gewesen?
- B) Woher kommt Tolga?
- C) Wann kommst du?
- D) Wie lange geht Tolga zur Schule?

14. Er möchte auf Erciyes-Berg steigen.

Welches Wort passt in die obige Lücke?

Cümlede boş bırakılan yeri aşağıdakilerden hangisi tamamlar?

- A) die
- B) der
- C) den
- D) das

15. Ich will in die Schweiz fliegen!

Welche Frage passt nicht zur obigen Antwort?

Aşağıdaki sorulardan hangisi verilen cevaba yönelik değildir?

- A) Wohin willst du fliegen?
- B) Was willst du in den Ferien machen?
- C) Wohin gehst du im Sommer?
- D) Kannst du mir bei dieser Aufgabe helfen?

16. Hast du Schmerzen?

Wie lautet der obige Satz auf Türkisch?

Verilen cümlelerin Türkçesi aşağıdakilerden hangisidir?

- A) Ağrın var mı?
- B) Ağrın geçti mi?
- C) Her yerin mi ağrıyor?
- D) Neren ağrıyor?

17. Er muss jetzt gehen. Er hat Hausaufgaben.

Wie kann man die obigen Sätze verbinden?

Verilen cümlelerin birleştirilmiş hali aşağıdakilerden hangisidir?

- A) Er wollte nach Hause gehen und seine Hausaufgaben machen.
- B) Er möchte jetzt seine Hausaufgaben machen.
- C) Er muss jetzt gehen, weil er Hausaufgaben hat.
- D) Er braucht nicht nach Hause zu gehen, wenn er seine Hausaufgaben gemacht hat.

18. Weil ich Halsschmerzen habe.

Welche Frage passt zur obigen Antwort?

Verilen cevabı gerektirecek soru aşağıdakilerden hangisidir?

- A) Wann kommst du?
- B) Wie heißt der Arzt?
- C) Warum gehst du zum Arzt?
- D) Woher kommst du?

19. Warum kaufen wir keine Milch?

Welche Antwort passt zur obigen Frage?

Verilen sorunun cevabı aşağıdakilerden hangisidir?

- A) Weil ich Milch gerne trinke.
- B) Wir brauchen keine Milch, weil wir genug zu Hause haben.
- C) Wir brauchen nichts, weil das Wetter schön wird.
- D) Er hat keine Zeit, weil er immer so viel arbeiten muss.

20. Mavi sana yakışmıyor!

Wie lautet der obige Satz auf Deutsch?

Verilen cümlenin Almancası aşağıdakilerden hangisidir?

- A) Ich möchte eine blaue Bluse kaufen!
- B) Er findet die blaue Hose nicht so gut!
- C) Blaue Kleider gefallen mir sehr gut!
- D) Blau steht dir nicht gut!

1. My house is yours.

Which of the following completes the sentence above?

Aşağıdakilerden hangisi yukarıdaki cümleyi doğru olarak tamamlar?

- A) as
B) similar
C) similar to
D) the same

2. There was an accident I was late.

Which of the following completes the sentence above?

Aşağıdakilerden hangisi yukarıdaki cümleyi doğru olarak tamamlar?

- A) when
B) so
C) before
D) after

3. If I the answer of the question, I tell you.

Which of the following completes the sentence above?

Aşağıdakilerden hangisi yukarıdaki cümleyi doğru olarak tamamlar?

- A) knew / would
B) know / would
C) read / would
D) known / will

4. Where did you yesterday?

Which of the following completes the sentence above?

Aşağıdakilerden hangisi yukarıdaki cümleyi doğru olarak tamamlar?

- A) goes
B) went
C) go
D) will go

5. Istanbul is than İzmir.

Which of the following completes the sentence above?

Aşağıdakilerden hangisi yukarıdaki cümleyi doğru olarak tamamlar?

- A) cold
B) bigger
C) big
D) hot

6. I think they to the theatre next Friday.

Which of the following completes the sentence above?

Aşağıdakilerden hangisi yukarıdaki cümleyi doğru olarak tamamlar?

- A) will go
B) have gone
C) went
D) go

7. I see your identity card?

Which of the following completes the sentence above?

Aşağıdakilerden hangisi yukarıdaki cümleyi doğru olarak tamamlar?

- A) May
B) Would
C) Will
D) Can't

8. The weather very hot yesterday.

Which of the following completes the sentence above?

Aşağıdakilerden hangisi yukarıdaki cümleyi doğru olarak tamamlar?

- A) were
B) is
C) are
D) was

9. Onur the window last month.

Which of the following completes the sentence above?

Aşağıdakilerden hangisi yukarıdaki cümleyi doğru olarak tamamlar?

- A) have repaired
- B) repaired
- C) repair
- D) are repairing

10. There is a blackboard the wall.

Which of the following completes the sentence above?

Aşağıdakilerden hangisi yukarıdaki cümleyi doğru olarak tamamlar?

- A) at
- B) by
- C) on
- D) in

11. He but now he smokes.

Which of the following completes the sentence above?

Aşağıdakilerden hangisi yukarıdaki cümleyi doğru olarak tamamlar?

- A) didn't use to smoke
- B) use to smoke
- C) used to smoke
- D) didn't used to smoke

12. She is dancing well, she be a dancer.

Which of the following completes the sentence above?

Aşağıdakilerden hangisi yukarıdaki cümleyi doğru olarak tamamlar?

- A) didn't
- B) doesn't
- C) hasn't
- D) should

13. the door, please.

Which of the following completes the sentence above?

Aşağıdakilerden hangisi yukarıdaki cümleyi doğru olarak tamamlar?

- A) Could
- B) Doesn't
- C) Have to
- D) Close

14. Ayşen always shopping on Fridays.

Which of the following completes the sentence above?

Aşağıdakilerden hangisi yukarıdaki cümleyi doğru olarak tamamlar?

- A) will going
- B) goes
- C) is going
- D) go

15. Serap is a book now.

Which of the following completes the sentence above?

Aşağıdakilerden hangisi yukarıdaki cümleyi doğru olarak tamamlar?

- A) will read
- B) reading
- C) read
- D) reads

16. We go to Paris last year.

Which of the following completes the sentence above?

Aşağıdakilerden hangisi yukarıdaki cümleyi doğru olarak tamamlar?

- A) have to
- B) has to
- C) won't
- D) had to

17. Ali isn't as as Tom.

Which of the following completes the sentence above?

Aşağıdakilerden hangisi yukarıdaki cümleyi doğru olarak tamamlar?

- A) old
- B) older
- C) better
- D) oldest

18. Selim and I have a problem. Can you help

Which of the following completes the sentence above?

Aşağıdakilerden hangisi yukarıdaki cümleyi doğru olarak tamamlar?

- A) me
- B) her
- C) us
- D) him

19. I can't go out it is very cold.

Which of the following completes the sentence above?

Aşağıdakilerden hangisi yukarıdaki cümleyi doğru olarak tamamlar?

- A) before
- B) so
- C) because
- D) after

20. A: What shall we do now?

B: study Physics.

Which of the following completes the dialogue above?

Aşağıdakilerden hangisi yukarıdaki konuşmayı doğru olarak tamamlar?

- A) Could
- B) Did
- C) Would
- D) Let's

1. Il marocain.

Choisissez le mot/l'expression qui convient.

Cümlede boş bırakılan yere uygun düşen sözcük ya da ifadeyi bulunuz.

- A) a
- B) est
- C) au
- D) suis

2. Mon fils est travailleur une abeille.

Choisissez le mot qui convient.

Cümlede boş bırakılan yere uygun düşen sözcüğü bulunuz.

- A) moins
- B) comme
- C) en
- D) chez

3. Valérie est pendant deux ans en France.

Choisissez le mot //l'expression qui convient.

Cümlede boş bırakılan yere uygun düşen sözcük ya da ifadeyi bulunuz.

- A) restes
- B) rester
- C) reste
- D) restee

4. Si je (j') le temps, je lui

Choisissez les mots qui conviennent.

Cümlede boş bırakılan yerlere uygun düşen sözcükleri bulunuz.

- A) aurai / téléphonerai
- B) aurai / téléphonais
- C) ai / téléphone
- D) ai / téléphonerai

5. Il a acheté une bouteille lait.

Choisissez le mot/l'expression qui convient.

Cümlede boş bırakılan yere uygun düşen sözcük ya da ifadeyi bulunuz.

- A) à
- B) de la
- C) de
- D) des

6. Elle a fait un voyage train.

Choisissez le mot qui convient.

Cümlede boş bırakılan yere uygun düşen sözcüğü bulunuz.

- A) en
- B) à
- C) la
- D) dans

7. Journaliste: Je veux vous quelques questions?

Eric : Oui, bien sûr.

Choisissez le mot qui convient.

Yukarıdaki konuşmada boş bırakılan yere uygun düşen sözcüğü bulunuz.

- A) poser
- B) trouver
- C) apprendre
- D) avoir

8. Yves à Lyon.

Choisissez le mot qui convient.

Cümlede boş bırakılan yere uygun düşen sözcüğü bulunuz.

- A) fait
- B) adore
- C) habite
- D) aime

9. J'attends quelqu'un.

Trouvez l'antonyme du mot souligné.

Yukarıdaki cümlede altı çizili kelimenin zıt anlamısını bulunuz.

- A) rien
- B) jamais
- C) plus
- D) personne

10. Ma mère veut acheter un de miel.

Choisissez le mot qui convient.

Cümlede boş bırakılan yere uygun düşen sözcüğü bulunuz.

- A) tasse
- B) litre
- C) boîte
- D) pot

11. Si tu être en forme, tu dois faire du sport.

Choisissez le mot/l'expression qui convient.

Cümlede boş bırakılan yere uygun düşen sözcük ya da ifadeyi bulunuz.

- A) as voulu
- B) vois
- C) veux
- D) voudrait

12. Nous ne faisons pas sport.

Choisissez le mot qui convient.

Cümlede boş bırakılan yere uygun düşen sözcüğü bulunuz.

- A) de
- B) du
- C) de la
- D) au

13. La femme des lunettes.

Choisissez le mot qui convient.

Cümlede boş bırakılan yere uygun düşen sözcüğü bulunuz.

- A) écoute
- B) porte
- C) reste
- D) chante

14. Si vous à gauche, vous la Tour Eiffel.

Choisissez les mots qui conviennent.

Cümlede boş bırakılan yerlere uygun düşen sözcükleri bulunuz.

- A) tournez / voulez
- B) tournez / verrez
- C) tournerez / verrez
- D) tournerez / voulez

15. surtout / du volley-ball / fait / elle
I II III IV

Mettez les mots dans le bon ordre pour faire une phrase.

Yukarıdaki sözcükleri bir cümle oluşturacak şekilde sıraya koyunuz.

- A) IV, III, I, II
- B) IV, I, III, II
- C) III, II, IV, I
- D) II, III, I, IV

16. as / seize / ans / tu
I II III IV

Mettez les mots dans le bon ordre pour faire une phrase.

Yukarıdaki sözcükleri bir cümle oluşturacak şekilde sıraya koyunuz.

- A) IV, I, II, III
- B) IV, II, I, III
- C) IV, II, III, I
- D) IV, III, I, II

17. - êtes-vous?
- Je suis à la gare.

Choisissez le mot qui convient.

Yukarıdaki konuşmada boş bırakılan yere uygun düşen sözcüğü bulunuz.

- A) Comment
- B) Qui
- C) Où
- D) Quand

18. Je veux des pommes de terre. Ça coûte combien?

Choisissez le mot qui convient.

Cümlede boş bırakılan yere uygun düşen sözcüğü bulunuz.

- A) le litre
- B) le pot
- C) le kilo
- D) la tranche

19. Demain, il ses amis pour son anniversaire.

Choisissez le mot qui convient.

Cümlede boş bırakılan yere uygun düşen sözcüğü bulunuz.

- A) invîe
- B) invites
- C) invitait
- D) invitera

20. «Elle ne fume plus.»

Choisissez la traduction qui convient.

Yukarıdaki cümlenin Türkçe karşılığı aşağıdakilerden hangisidir?

- A) O sigara içmez.
- B) Artık sigara içmiyor.
- C) Hiç sigara içmedi.
- D) Sigara istiyor.

SINAVDA UYULMASI GEREKEN GENEL KURALLAR

1. Sınava girmek için gerekli belgelerinizin tümünü sınav başlamadan önce sıranızın üzerine bırakınız.
2. Sınav süresince görevlilerle konuşmak, görevlilere soru sormak yasaktır. Aynı şekilde görevlilerin de öğrencilerle yakından ve alçak sesle konuşmaları yasaktır. Gerekli durumlarda görevliler yerinizi değiştirebilir.
3. Size verilen cevap kâğıdının üzerindeki TCKN/Öğrenci no, ad, soyadı, bilgilerini kontrol ediniz. İlgili alanları eksiksiz doldurarak imzalayınız. Bu bilgiler size ait değilse, görevlileri uyararak size ait cevap kâğıdını isteyiniz. Başka öğrenciye ait cevap kâğıdı kullanan öğrencilerin o oturumdaki sınavları geçersiz sayılır.
4. Cevap kâğıdı üzerine test grubunu (A, B, C, D) kodlamayan veya birden fazla kodlama yapan öğrencilerin sınavları geçersiz sayılır.
5. Cevap kâğıdınıza yazacağınız her türlü yazı ve yapacağınız işaretlemeler için koyu yazan siyah kurşun kalem kullanmalısınız. Siyah kurşun kalem dışında farklı bir kalem (tükenmez, mürekkepli ya da renkli vb.) kullanan öğrencilerin sınavları geçersiz sayılır.
6. Cevap kâğıdı üzerinde değişiklik yapmak istediğinizde, iz bırakmayan bir silgi kullanınız. Cevap kâğıdınızı buruşturmayınız, katlamayınız ve üzerine gereksiz hiçbir işaret koymayınız.
7. Cevaplarınızı, cevap kâğıdında ilgili test için ayrılmış olan alana, cevap yerinin dışına taşımadan işaretleyiniz. Soru kitapçığı üzerinde yapılan işaretlemeler değerlendirmeye alınmayacaktır.
8. Her sorunun tek bir doğru cevabı vardır. Bir soru için birden çok cevabı işaretlerseniz, o soruyu yanlış cevaplamış sayılacaksınız.
9. Soru kitapçığınızı aldığınızda sayfalanna hızlıca bakarak hatalı ya da eksik baskı olup olmadığını kontrol ediniz. Hata/eksik olması durumunda kitapçığının değiştirilmesi için derhâl Salon Başkanına başvurunuz. Sınav görevlileri sınavın başladığını belirtmeden kitapçığınızı tekrar açmayınız.
10. Cevap kâğıdınızda belirtilen kitapçık kodu ile soru kitapçığının kodunu karşılaştırınız. Aynı değilse, sınav görevlilerine durumu bildirerek doğru kitapçığın verilmesini talep ediniz.
11. Soru kitapçığındaki ilgili alanlara ad, soyadı, TCKN/Öğrenci no, sınav salon no, sıra no bilgilerinizi eksiksiz doldurarak imzanızı atınız. Soru kitapçığının sayfalannadaki boş yerleri müsvedde amacıyla kullanabilirsiniz.
12. Aşağıdaki durumlarda sınav görevlileri tarafından Bireysel Sınav İptal Tutanağı düzenlenerek ilgili öğrencilerin sınavları geçersiz sayılır.
 - a) Sınav kurallarına ve sınav görevlilerinin uyarlarına uymamak, sınav düzenini bozmak,
 - b) Kâğıt, kitap, defter, not vb. dokümanlar, pergel, açıölçer, cetvel vb. araçları, cep telefonu, bilgisayar, tablet, telsiz, kamera vb. iletişim, depolama, kayıt ve veri aktarma cihazlarını, ruhsatlı veya resmi amaçlı olsa bile silah ve silah yerine geçebilecek nesnelere yanında bulundurmamak,
 - c) Sınav sırasında kalem, silgi vb. araç-gereç paylaşımında bulunmak,
 - d) Cevapları, cevap kâğıdı dışında bir yere yazmak ve sınav salonundan dışarı çıkarmak,
 - e) Sınava girebilmek için gerekli belgeleri eksik olduğu halde sınava katılıp, cevap kâğıdında işaretleme yapmak,
 - f) Sınav görevlileri tarafından öğrencinin kimliğinden şüphe duyulması,
 - g) Cevap kâğıdını ve/veya soru kitapçığını sınav görevlilerine eksiksiz ve sağlam şekilde teslim etmemek, sınav salonu dışına çıkarmak,
 - h) Kopya çekmek, vermek, çekilmesine yardımcı olmak vb. eylemlerde bulunmak,
 - i) Kendisi yerine başkasını sınava sokmak.
13. Sınav bitiminde, cevap kâğıdınızı ve soru kitapçığınızı salon görevlilerine eksiksiz biçimde teslim ediniz. Sınav bittikten sonra gönderilen cevap kâğıtları dikkate alınmayacaktır.

SINAV KURALLARINA UYDUĞUNUZ İÇİN TEŞEKKÜR EDER, SINAVINIZDA BAŞARILAR DİLERİZ.