



ANADOLU ÜNİVERSİTESİ  
AÇIKÖĞRETİM FAKÜLTESİ  
BA - AÇIKÖĞRETİM OKULLARI

**T.C. MİLLİ EĞİTİM BAKANLIĞI**  
**Hayat Boyu Öğrenme Genel Müdürlüğü**  
**2016-2017 ÖĞRETİM YILI BATI AVRUPA – BALKANLAR**  
**AÇIK ÖĞRETİM ORTAOKULU III. DÖNEM SINAVI**

**1. OTURUM Cumartesi**

**A**

**0100**

**ÖĞRENCİNİN**

SOYADI : .....

ADI : .....

T.C. KİMLİK NO / ÖĞRENCİ NO : .....

SINAV SALON NO : ..... SIRA NO: .....

Sınavla ilgili soru kitapçığının ön ve arka kapağındaki tüm kuralları okudum, anladım, kabul ediyorum.

İMZA:.....

**SINAV İÇERİĞİ**

Testin Adı	Soru Sayısı	Sayfa No
ALMANCA 5	20	02
İNGİLİZCE 5	20	05
FRANSIZCA 5	20	08
FEN VE TEKNOLOJİ 6	20	11
SOSYAL BİLGİLER 6	20	13
DİN KÜLTÜRÜ VE AHLAK BİLGİSİ 6	20	15
FEN VE TEKNOLOJİ 7	20	17
TÜRKÇE 8	20	19
MATEMATİK 8	20	21
DİN KÜLTÜRÜ VE AHLAK BİLGİSİ 8	20	24

**SINAVDA UYULMASI GEREKEN ÖZEL KURALLAR**

1. Soru kitapçığındaki her bir testi cevaplamanız için verilen süre 30 dakika, toplam süre 150 dakikadır.
2. Sınavın ilk 30 dakikası ve son 5 dakikası içinde sınavınızı tamamlasanız bile salondan çıkamazsınız. Herhangi bir nedenle salondan çıktığınız takdirde, tekrar sınava devam etmenize izin verilmeyecektir. Sınavın başlamasını izleyen ilk 15 dakikadan sonra hiçbir öğrenci sınava alınamaz.
3. Yanlış cevaplarınız dikkate alınmayacaktır. Bu nedenle kitapçıktaki tüm sorular için size doğru gelen seçeneği işaretleyerek cevapsız soru bırakmamanız yararınıza olacaktır.
4. Sınav sırasında hesap makinesi kullanabilirsiniz. Ancak, kullanacağınız makinede alfabetik tuş takımının (A, B, C, ..., Y, Z), program yapılmasına, saklanmasına ve çalıştırılmasına imkân veren EXE, STORE, RUN vb. tuşlar bulunamaz.

"Sınavda Uyulması Gereken Genel Kurallar" soru kitapçığının arka sayfasında yer almaktadır. Bu kuralları da mutlaka dikkatlice okuyunuz.

Anadolu Üniversitesi tarafından hazırlanmış olan bu testlerin her hakkı saklıdır. Hangi amaçla olursa olsun, testlerin tamamının veya bir kısmının Anadolu Üniversitesi'nin yazılı izni olmadan kopya edilmesi, fotoğraflarının çekilmesi, herhangi bir yolla çoğaltılması, yayımlanması ya da kullanılması yasaktır. Bu yasağa uymayanlar gerekli cezai sorumluluğu ve testlerin hazırlanmasındaki mali külfeti peşinen kabullenmiş sayılır.

1. Im Sommer ..... wir in der Türkei und jetzt ..... wir in Deutschland.

**Welche Wörter ergänzen die Lücken im obigen Dialog?**

**Verilen karşılıklı konuşmada boş bırakılan yerleri aşağıdakilerden hangisi tamamlar?**

- A) wurden / werden  
B) waren / kann  
C) wird / sei  
D) waren / sind

2. .... hattest du Lust zum Tanzen. .... hast du keine Lust zum Tanzen.

**Welche Wörter passen in die obigen Lücken?**

**Cümlede boş bırakılan yerleri aşağıdakilerden hangileri tamamlar?**

- A) Früher / Jetzt  
B) Sonst / Mehr  
C) Wegen / Sondern  
D) Damit / Somit

3. .... war ich in Antalya.

**Welches Wort passt nicht in die obige Lücke?**

**Cümlede boş bırakılan yeri aşağıdakilerden hangisi doğru şekilde tamamlamaz?**

- A) In den Sommerferien  
B) Im August  
C) Nächste Woche  
D) Gestern

4. Tut dir dein ..... weh?

**Welches Wort passt nicht in die obige Lücke?**

**Cümlede boş bırakılan yeri aşağıdakilerden hangisi doğru şekilde tamamlamaz?**

- A) Pause  
B) Bauch  
C) Zahn  
D) Bein

5. ...., möchtest du auch ein Glas?

**Welcher Satz ergänzt die obige Lücke?**

**Verilen cümleyi aşağıdakilerden hangisi tamamlar?**

- A) Wir können etwas essen  
B) Ich möchte in die Schule gehen  
C) Ich trinke Mineralwasser  
D) Wir gehen immer nach Antalya

6. In der Pause ..... die Schüler .....

**Welche Wörter passen in die obigen Lücken?**

**Cümlede boş bırakılan yerleri aşağıdakilerden hangileri tamamlar?**

- A) isst / Eis  
B) trinkst / Cola  
C) essen / Käsebrod  
D) esse / Banane

7. Im Zoo kann man viele ..... sehen.

**Welches Wort passt in die obige Lücke?**

**Cümlede boş bırakılan yeri aşağıdakilerden hangisi tamamlar?**

- A) Post  
B) Bücher  
C) Briefe  
D) Tiere

8. Dort kann man Briefe abschicken.

**Welche Frage passt zur obigen Antwort?**

**Verilen cevabı gerektirecek soru aşağıdakilerden hangisidir?**

- A) Was kann man auf der Post machen?  
B) Wer geht einkaufen?  
C) Wie kommt man in die Bibliothek?  
D) Wo ist der Flughafen?

9. Fatma: Hallo Gamze! Du warst heute nicht in der Schule. Was ist los?  
Gamze: ..... Ich hatte Magenschmerzen.

**Welcher Satz ergänzt den obigen Dialog?**

**Verilen karşılıklı konuşmayı aşağıdakilerden hangisi tamamlar?**

- A) Sie ist klein.
- B) Er hat eine neue Hose.
- C) Ich war krank.
- D) Wir sind zu Hause.

10. Die Mutter ..... in der Küche.

**Welches Wort passt in die obige Lücke?**

**Cümlede boş bırakılan yeri aşağıdakilerden hangisi tamamlar?**

- A) stellt
- B) will
- C) duscht
- D) kocht

11. .... gibt es keinen Schreibtisch.

**Welches Wort passt in die obige Lücke?**

**Cümlede boş bırakılan yeri aşağıdakilerden hangisi doğru şekilde tamamlar?**

- A) Im Büro
- B) Im Bad
- C) Im Kinderzimmer
- D) Im Haus

12. Wie kommst du zur Schule?

**Welche Antwort passt zur obigen Frage?**

**Verilen sorunun cevabı aşağıdakilerden hangisidir?**

- A) Sie spricht Französisch.
- B) Wir gehen jetzt ins Kino.
- C) Er geht allein.
- D) Ich nehme den Bus.

13. Meine Mutter war früher ....., heute ist sie dick.

**Welches Wort passt in die obige Lücke?**

**Cümlede boş bırakılan yeri aşağıdakilerden hangisi tamamlar?**

- A) schlank
- B) kurz
- C) streng
- D) alt

14. .... ist 20 Jahre alt, sie ist Sekretärin und sie ist lustig.

**Welches Wort passt nicht in die obige Lücke?**

**Cümlede boş bırakılan yeri aşağıdakilerden hangisi tamamlamaz?**

- A) Meine Schwester
- B) Meine Tante
- C) Meine Freundin
- D) Mein Freund

15. A: Was ist dein Vater von Beruf?  
B: .....

**Welcher Satz ergänzt den obigen Dialog?**

**Verilen karşılıklı konuşmayı aşağıdakilerden hangisi tamamlar?**

- A) Ich finde das gut.
- B) Mein Vater ist Ingenieur.
- C) Sein Vater ist freundlich.
- D) Das ist mein Traumberuf.

16. Annem avukat.

**Wie lautet der obige Satz auf Deutsch?**

**Verilen cümlelerin Almanca'sı aşağıdakilerden hangisidir?**

- A) Meiner Mutter hilft der Anwalt.
- B) Meine Mutter ist Anwältin.
- C) Meine Mutter will Anwältin werden.
- D) Meine Mutter hilft diesem Anwalt.

17. Mein Lieblingsfach ist Sport, .....

**Welcher Satz ergänzt die obige Lücke?**

**Verilen cümleyi aşağıdakilerden hangisi tamamlar?**

- A) ich spiele gern Fussball.
- B) ich habe keine Hausaufgaben.
- C) ich frühstücke niemals.
- D) ich gehe sonntags ins Kino.

18. .... in der Woche haben wir Schwimmunterricht.

**Welches Wort passt in die obige Lücke?**

**Cümlede boş bırakılan yeri aşağıdakilerden hangisi tamamlar?**

- A) Leider
- B) Außerdem
- C) Einmal
- D) Hoffentlich

19. Tolga geht um ..... Uhr zur Schule.  
(08.00)

**Welches Wort passt in die obige Lücke?**

**Cümlede boş bırakılan yeri aşağıdakilerden hangisi tamamlar?**

- A) neun
- B) acht
- C) sieben
- D) fünf

20. A: .....

B: Nein, ich möchte ins Kino gehen.

**Welcher Satz ergänzt den obigen Dialog?**

**Verilen karşılıklı konuşmayı aşağıdakilerden hangisi tamamlar?**

- A) Gehen die Kinder jeden Tag in die Schule?
- B) Wir wollen reiten gehen, kommst du mit?
- C) Wann gehst du schwimmen?
- D) Wo spielen die Kinder abends?

1. A: I want to ..... some money to the animal shelter?  
B: That's a good idea.

**Which of the following completes the dialogue above?**

**Aşağıdakilerden hangisi yukarıdaki konuşmayı doğru olarak tamamlar?**

- A) donate  
B) volunteer  
C) examine  
D) adopt

2. A: I feel hot and tired. I have a fever.  
B: Well, you should .....

**Which of the following completes the dialogue above?**

**Aşağıdakilerden hangisi yukarıdaki konuşmayı doğru olarak tamamlar?**

- A) oh, no  
B) what is the matter with you  
C) don't stay in the class  
D) stay in bed

3. A: I want to get a ..... for my mother?  
B: What does she like?  
A: She likes books. I can buy a book for her.

**Which of the following completes the dialogue above?**

**Aşağıdakilerden hangisi yukarıdaki konuşmayı doğru olarak tamamlar?**

- A) cake  
B) birthday  
C) party  
D) present

4. My brother doesn't like ..... bicycle at the weekends but I like.

**Which of the following completes the sentence above?**

**Aşağıdakilerden hangisi yukarıdaki cümleyi doğru olarak tamamlar?**

- A) climbing  
B) collecting  
C) riding  
D) playing

5. A: What is your favourite class?  
B: I like ..... I can do experiments.

**Which of the following completes the dialogue above?**

**Aşağıdakilerden hangisi yukarıdaki konuşmayı doğru olarak tamamlar?**

- A) music  
B) science  
C) maths  
D) English

6. A: ..... do you get up?  
B: I get up at seven o'clock every morning.

**Which of the following completes the dialogue above?**

**Aşağıdakilerden hangisi yukarıdaki konuşmayı doğru olarak tamamlar?**

- A) How  
B) How many  
C) What time  
D) Which days

7. Antonio is from Italy, he is an .....

**Which of the following completes the sentence above?**

**Aşağıdakilerden hangisi yukarıdaki cümleyi doğru olarak tamamlar?**

- A) Italian  
B) Spanish  
C) English  
D) Chinese

8. My grandfather can't ..... computer.

**Which of the following completes the sentence above?**

**Aşağıdakilerden hangisi yukarıdaki cümleyi doğru olarak tamamlar?**

- A) draw  
B) sing  
C) use  
D) do

9. Ebru can ..... chess but I can't.

Which of the following completes the sentence above?

Aşağıdakilerden hangisi yukarıdaki cümleyi doğru olarak tamamlar?

- A) draw
- B) play
- C) sing
- D) do

10. The children ..... the vegetables everyday.

Which of the following completes the sentence above?

Aşağıdakilerden hangisi yukarıdaki cümleyi doğru olarak tamamlar?

- A) milk
- B) feed
- C) ride
- D) water

11. A: When is Rose's birthday?  
B: It's ..... 10th February.

Which of the following completes the dialogue above?

Aşağıdakilerden hangisi yukarıdaki konuşmayı doğru olarak tamamlar?

- A) to
- B) on
- C) in
- D) for

12. My friends like ..... puzzles very much but I don't.

Which of the following completes the sentence above?

Aşağıdakilerden hangisi yukarıdaki cümleyi doğru olarak tamamlar?

- A) solving
- B) drawing
- C) doing
- D) playing

13. A: .....  
B: I'm sorry, I can't. I must study.

Which of the following completes the dialogue above?

Aşağıdakilerden hangisi yukarıdaki konuşmayı doğru olarak tamamlar?

- A) What is your favourite activity?
- B) Do you like exercising?
- C) That sounds great.
- D) Let's go swimming!

14. Ali : Where are you from Alice?  
Alice: I'm from .....

Which of the following completes the dialogue above?

Aşağıdakilerden hangisi yukarıdaki konuşmayı doğru olarak tamamlar?

- A) Spain
- B) Japanese
- C) French
- D) Spanish

15. A: ..... of a movie is it?  
B: It is a comedy film.

Which of the following completes the dialogue above?

Aşağıdakilerden hangisi yukarıdaki konuşmayı doğru olarak tamamlar?

- A) What time
- B) What type
- C) Let's go
- D) What

16. A: ....., where is the supermarket?

B: Well. Go straight ahead the Flower Road and turn right. The supermarket is next to the library.

Which of the following completes the dialogue above?

Aşağıdakilerden hangisi yukarıdaki konuşmayı doğru olarak tamamlar?

- A) Thank you
- B) Excuse me
- C) Thanks
- D) You are welcome

17.



A: What time is it?

B: It's .....

Which of the following completes the dialogue above?

Aşağıdakilerden hangisi yukarıdaki konuşmayı doğru olarak tamamlar?

- A) quarter to twelve
- B) half past ten
- C) quarter past ten
- D) quarter to eleven

18. Zeynep ..... her hands and face in the mornings.

Which of the following completes the sentence above?

Aşağıdakilerden hangisi yukarıdaki cümleyi doğru olarak tamamlar?

- A) catches
- B) brushes
- C) has
- D) washes

19.

Park

Bank

School

The bank is ..... the park and the school.

- A) between
- B) behind
- C) in front of
- D) next to

20. A: ..... days do you have music class?  
B: I have music classes on Monday, Tuesday and Friday.

Which of the following completes the dialogue above?

Aşağıdakilerden hangisi yukarıdaki konuşmayı doğru olarak tamamlar?

- A) Which
- B) How
- C) When
- D) Where

1. On commence ..... les rues.

Choisissez le mot qui convient.

Cümlede boş bırakılan yere uygun düşen sözcüğü bulunuz.

- A) en  
B) à  
C) de  
D) par

2. Mon père et moi, ..... prépare le repas.

Choisissez le mot qui convient.

Cümlede boş bırakılan yere uygun düşen sözcüğü bulunuz.

- A) on  
B) il  
C) nous  
D) vous

3. I. Je m'appelle Amélie Dubois.  
II. Je suis française.  
III. J'ai une jolie mère.  
IV. J'ai 30 ans.

Trouvez la phrase qui ne convient pas.

Sırasıyla okunduğunda anlam bütünlüğünü bozan cümleyi bulunuz.

- A) I  
B) II  
C) III  
D) IV

4. Avec de la colle, je ..... une photo.

Choisissez le mot qui convient.

Cümlede boş bırakılan yeri aşağıdakilerden hangisi doğru şekilde tamamlar?

- A) coupe  
B) colorie  
C) colle  
D) trace

5. Il va à l'école ..... pied.

Choisissez le mot qui convient.

Cümlede boş bırakılan yeri aşağıdakilerden hangisi doğru şekilde tamamlar?

- A) en  
B) au  
C) chez  
D) à

6. Aujourd'hui, Alice est très heureuse.

Trouvez l'antonyme du mot souligné.

Yukarıdaki cümlede altı çizili kelimenin zıt anlamlısını bulunuz.

- A) agressive  
B) triste  
C) surprise  
D) jolie

7. «Üçü çeyrek geçiyor.»

Choisissez la traduction qui convient.

Yukarıdaki cümlelerin Fransızca karşılığı aşağıdakilerden hangisidir?

- A) Il est trois heures et quart.  
B) Il est trois heures vingt.  
C) Il est trois heures moins le quart.  
D) Il est trois heures moins vingt.

8. Chaque jour je me brosse .....

Choisissez le mot qui convient.

Cümlede boş bırakılan yere uygun düşen sözcüğü bulunuz.

- A) les dents  
B) les jambes  
C) les bras  
D) les mains



9. .... de petite taille et ..... les cheveux bruns.

Choisissez les mots qui conviennent.

Cümlede boş bırakılan yerleri aşağıdakilerden hangisi doğru şekilde tamamlar?

- A) Elle a / elle est  
B) J'ai / je suis  
C) Il a / il est  
D) Je suis / j'ai

10. - ..... part le bus ..... Istanbul?  
- A 16 heures.

Choisissez les mots qui conviennent.

Konuşmada boş bırakılan yerleri aşağıdakilerden hangisi doğru şekilde tamamlar?

- A) Qui / au  
B) Comment / à  
C) Quand / en  
D) A quelle heure / pour

11. Pour écrire sur l'ordinateur, je dois d'abord l'.....

Choisissez le mot qui convient.

Cümlede boş bırakılan yeri aşağıdakilerden hangisi doğru şekilde tamamlar?

- A) allumer  
B) taper  
C) éteindre  
D) envoyer

12. .... voiture est belle.

Choisissez le mot qui convient.

Cümlede boş bırakılan yeri aşağıdakilerden hangisi doğru şekilde tamamlar?

- A) Cette  
B) Ce  
C) Cet  
D) Ces

13. Martin va ..... le dentiste.

Choisissez le mot qui convient.

Cümlede boş bırakılan yere uygun düşen sözcüğü bulunuz.

- A) près  
B) chez  
C) dans  
D) par

14. «Notre maison est vieille mais jolie.»

Choisissez la traduction qui convient.

Yukarıdaki cümlenin Türkçe karşılığı aşağıdakilerden hangisidir?

- A) Ev güzel ve eski.  
B) Evim hem yeni hem güzel.  
C) Ev eski fakat güzeldir.  
D) Evimiz eski ama güzeldir.

15. Il a besoin d'un/une ..... de sel.

Choisissez le mot qui convient.

Cümlede boş bırakılan yeri aşağıdakilerden hangisi doğru şekilde tamamlar?

- A) verre  
B) couteau  
C) pincée  
D) fourchette

16. Alice est ..... Céline et Sylvie.

Choisissez le mot qui convient.

Cümlede boş bırakılan yere uygun düşen sözcüğü bulunuz.

- A) dans  
B) entre  
C) en  
D) au

17. Elles vont ..... théâtre chaque semaine.

**Choisissez le mot /l'expression qui convient.**

**Cümlede boş bırakılan yere uygun düşen sözcük ya da ifadeyi bulunuz.**

- A) en
- B) au
- C) dans
- D) à la

18. ces / prendre / va / médicaments / il  
I II III IV V

**Mettez les mots dans le bon ordre pour faire une phrase.**

**Yukarıdaki sözcükleri bir cümle oluşturacak şekilde sıraya koyunuz.**

- A) V, I, IV, II, III
- B) V, II, III, I, IV
- C) V, III, II, I, IV
- D) V, IV, I, II, III

19. Demain, il .....

**Choisissez le mot/l'expression qui convient.**

**Cümlede boş bırakılan yeri aşağıdakilerden hangisi doğru şekilde tamamlar?**

- A) a neigé
- B) neige
- C) va neiger
- D) neiger

20. - Merci.

- .....

**Choisissez l'expression qui convient.**

**Yukarıdaki konuşmada boş bırakılan yeri aşağıdakilerden hangisi doğru şekilde tamamlar?**

- A) Je ne sais pas
- B) De rien
- C) Tant pis
- D) D'accord

1. Hücredeki görevi enerji üretmek olan organel aşağıdakilerden hangisidir?
  - A) Koful
  - B) Sitoplazma
  - C) Mitokondri
  - D) Kloroplast
2. 1380 km lik yolu 6 saatte giden bir aracın saatteki hızı kaç km/h tır?
  - A) 210
  - B) 220
  - C) 230
  - D) 240
3. Zigot, arka arkaya geçirdiği bölünmeler sonucu 100 hücreye yaklaştığında hangi adı alır?
  - A) Sperm
  - B) Embriyo
  - C) Yumurta
  - D) Fetüs
4. Aşağıdakilerden hangisi düz kaslara bir örnektir?
  - A) Kol kası
  - B) Mide kası
  - C) Göz kapağı kası
  - D) Bacak kası
5. D vitamini ve minerallerin eksikliği sonucu bebeklerde ve çocuklarda görülen hastalığa ne ad verilir?
  - A) Raşitizm
  - B) Skorbit
  - C) Beriberi
  - D) Daltonizm
6. Aşağıdaki olayların hangisi kimyasal değişimdir?
  - A) Camın kırılması
  - B) Etten kıyma yapılması
  - C) Kağıdın yakılması
  - D) Buzun erimesi
7. Aşağıdaki maddelerden hangisi sesi daha iyi iletir?
  - A) Hava
  - B) Su
  - C) Demir
  - D) İspirto
8. Aşağıdakilerden hangisi doğurarak çoğalan hayvanlardan biridir?
  - A) Kelebek
  - B) Balina
  - C) Tavuk
  - D) Yılan
9. Işık, aşağıdaki nesnelere hangisi ile etkileştiğinde yoluna devam edemez?
  - A) Buzlu cam
  - B) Yağlı kağıt
  - C) Su
  - D) Tahta blok
10. Yerin derinliklerinde erimiş haldeki magmanın yerin içine ya da yüzeye yakın veya yüzeyde soğuyarak katılaşması ile oluşan kayalara ne ad verilir?
  - A) Fosil
  - B) Başkalm kayacı
  - C) Tortul kayaç
  - D) Magmatik kayaç
11. 20 m/s hıza sahip olan bir araç 1 dakikada kaç metre yol alır? (s:saniye )
  - A) 20
  - B) 400
  - C) 800
  - D) 1200
12. Aşağıdakilerden hangisi solunum sistemini oluşturan yapılardan biridir?
  - A) Karaciğer
  - B) Pankreas
  - C) Yutak
  - D) Böbrek
13. Özellikle pamuk üretiminde hangi çeşit toprak türü kullanılır?
  - A) Kumlu
  - B) Kireçli
  - C) Humuslu
  - D) Killi
14. Bir iletkenin direnci aşağıdakilerden hangisi ile doğru orantılıdır?
  - A) İletkenin cinsiyle
  - B) İletkenin boyuyla
  - C) İletkenin kesitiyle
  - D) İletkenin yapısıyla

15. Maddelerin ışınları tutmayıp ısıya dönüştürmeden uzaklaştırmalarına ne ad verilir?

- A) Yansıtma
- B) Soğurma
- C) Yoğuşma
- D) Genleşme

16. Aşağıdakilerden hangisi ısının ışıma yoluyla yayılmasına bir örnektir?

- A) Çay bardağının içinde duran kaşığıın ısınması
- B) Ocağın üzerindeki suyun ısınması
- C) Kalorifer peteğinden yayılan ısının odaya yayılması
- D) Güneş'in Dünya'yı ısıtması

17. Aşağıdakilerden hangisi ısı yalıtımında kullanılan maddelerden biri değildir?

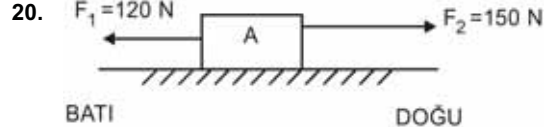
- A) Cam yünü
- B) Bakır
- C) Plastik köpük
- D) Asbest

18. Bileşiğin yapı taşına ne ad verilir?

- A) Molekül
- B) Element
- C) Atom
- D) Çekirdek

19. Aşağıdakilerden hangisi yalıtkan bir maddedir?

- A) Porselen
- B) Gümüş
- C) Alüminyum
- D) Demir



Sürtünmesi ihmal edilen şekildeki A cisminde iki farklı kuvvet uygulanmaktadır.

Bu cismin dengelenmiş kuvvetler etkisinde olabilmesi için hangi yönde kaç N luk üçüncü bir kuvvet uygulanmalıdır?

- A) 20 N, DOĞU
- B) 20 N, BATI
- C) 30 N, DOĞU
- D) 30 N, BATI

1. Aşağıdaki cümlelerden hangisi bir "olgu" ifadesidir?
- A) Çınarcık ilçesinde dün saat 11.00'de 4.8 büyüklüğünde bir deprem oldu.  
B) Çınarcık ve çevresinde daha büyük bir deprem beklemiyorum.  
C) Bu deprem Marmara Denizi'ndeki bir büyük depremin habercisi olabilir.  
D) Çınarcık'ta deprem olduğuna göre en kısa zamanda İzmir'de de deprem olabilir.
2. Aşağıdakilerden hangisi trafik kazalarının önlenmesinde yayalara düşen görevlerden biridir?
- A) Trafiğe çıkan araçların sayısını belirlemek  
B) Trafik kurallarına uymak  
C) Yolların niteliğini gözlemlemek  
D) Trafik kurallarını belirlemek
3. Aşağıdakilerden hangisi bir görüş cümlesidir?
- A) Akşam yemeğine amcamlara gittik.  
B) Atatürk 19 Mayıs 1919'da Samsun'a çıktı.  
C) Cumhuriyet 1923'te ilan edildi.  
D) Türkiye'nin en güzel şehri Adana'dır.
4. Dünya'nın kendine özgü şekline ne ad verilir?
- A) Geoit  
B) Meridyen  
C) Paralel  
D) Boylam
5. Aşağıdakilerden hangisi Türkiye'de farklı iklim çeşitlerinin yaşandığına kanıt olarak gösterilemez?
- A) Farklı turizm etkinliklerinin olması  
B) Kış aylarının Akdeniz Bölgesi'nde yağışlı geçmesi  
C) Tarım ürünlerinin çeşitliliği  
D) Doğal bitki örtüsünün farklılık göstermesi
6. Dünya'mızı ortadan ikiye ayıran paralelin adı nedir?
- A) Ekvator  
B) Enlem  
C) Meridyen  
D) Boylam
7. Aşağıdakilerden hangisi Orta Asya'da kurulan devletlerden biri değildir?
- A) Uygurlar  
B) Gazneliler  
C) Büyük Hun Devleti  
D) Kök Türkler
8. Türklerin bir demirci ustanın fikriyle demir dağını eritip dünyaya yayılmalarını anlatan destan aşağıdakilerden hangisidir?
- A) Yaradılış  
B) Göç  
C) Oğuz Kağan  
D) Ergenekon
9. Türk Edebiyatı'nın yazılı ilk örneklerinden olan Tonyukuk Kitabeleri hangi döneme aittir?
- A) Uygurlar  
B) Asya Hunları  
C) Kök Türk  
D) Gazneliler
10. Aşağıdakilerden hangisi geri dönüşümün sağladığı faydalardan biri değildir?
- A) Atık miktarını azaltması  
B) Doğal kaynakları koruması  
C) Enerji tasarrufu sağlaması  
D) Sanayii geliştirmesi
11. Aşağıdaki bitkilerden hangisi su içinde yetişmesine rağmen, başakları olgunlaşmış hasat işlemi bitinceye kadar kurak bir döneme ihtiyaç duyar?
- A) Pirinç  
B) Pamuk  
C) Buğday  
D) Mısır

12. Aşağıdakilerden hangisinde yerleşme yoktur?

- A) Avrupa'nın batısı
- B) Afrika'nın kuzeyi
- C) Antarktika Kıtası
- D) Kuzey Amerika Kıtası

13. Türkiye'de arazinin dağlık, tarım alanlarının küçük ve suyun bol olduğu yerlerde yerleşmeler dağınık haldedir.

Buna göre, aşağıdaki illerimizin hangisinde dağınık yerleşmeler diğerlerinden daha fazladır?

- A) Adana
- B) Konya
- C) Amasya
- D) Rize

14. Aşağıdakilerden hangisi Türkiye'nin dış ülkelere en çok sattığı ürünlerden biri değildir?

- A) Kuru üzüm
- B) Fındık
- C) Petrol
- D) Tütün

15. 1789 Fransız Ulusal Meclisi tarafından kabul edilen İnsan Hakları Bildirgesi'nde "Özgürlük, bireyin başkasına zarar vermeden istediğini yapabilmesidir." olarak tanımlanmıştır.

Buna göre, aşağıdaki davranışlardan hangisi özgürlük sınırları içinde değildir?

- A) Tatil yapmaya gitmek
- B) Yüksek sesle müzik dinlemek
- C) Çalıştığı işten istifa etmek
- D) Üniversite öğrenimini yarıda bırakmak

16. Aşağıdakilerden hangisi Osmanlı toplumunda demokrasi yolunda atılan ilk adımdır?

- A) Tanzimat Fermanı'nın ilan edilmesi
- B) Islahat Fermanı'nın ilan edilmesi
- C) Sened-i İttifak'ın kabul edilmesi
- D) Meşrutiyet'in ilanı

17. 1215 yılında İngiltere Kralı ile soylular arasında yapılan sözleşme ile tarihte ilk kez kralın yetkilerinde kısıtlama olmuştur.

Yukarıda sözü edilen belge aşağıdakilerden hangisidir?

- A) Hammurabi Kanunları
- B) Magna Carta Libertatum
- C) Fransa İhtilali
- D) Kanuni Esasi

18. Edinsel bağışıklık eksikliği sendromu (AIDS) hastalığına neden olan virüs aşağıdakilerden hangisidir?

- A) Hepatit C virüsü
- B) Hepatit B virüsü
- C) Uyuş virüsü
- D) HIV virüsü

19. Telif hakkı, eser sahibinin eserinden belli bir süre için yararlanma hakkı sağlar.

Buna göre, aşağıdakilerden hangisi telif hakkının eser sahibine sağladığı haklardan biri değildir?

- A) Haklarını istediği gibi kullanabilmesi
- B) Haklarını devredebilmesi
- C) Haklarını hiçbir şekilde başkasına verememesi
- D) Haklarını satabilmesi

20. Doku ve organ bağıışı ile ilgili aşağıdaki ifadelerden hangisi yanlıştır?

- A) Hastanın duygularının deęişmesi sağlanabilir.
- B) Kalp nakli ile hastanın yaşaması sağlanabilir.
- C) Böbrek hastasının hayata dönmesi sağlanabilir.
- D) Görmeyen insanın görmesi sağlanabilir.

1. Dedikodu, kovuculuk, yerme anlamlarına gelen kavram aşağıdakilerden hangisidir?

- A) Gıybet
- B) Haset
- C) Zan
- D) Kibir

2. Namaz kılan kimsenin elbisesinin, bedeninin ve namaz kılacağı yerin temiz olmasına ne ad verilir?

- A) Kabe-i Âhire
- B) Setr-i Avret
- C) İstikbal-i Kible
- D) Necasetten Taharet

3. Teyemmüm abdesti ile ilgili aşağıdaki ifadelerden hangisi yanlıştır?

- A) Toprak veya toprak cinsi bir şeyle alınır.
- B) Abdesti bozan her durum teyemmümü de bozar.
- C) Teyemmüm abdesti ile bir gün içerisindeki 5 vakit namaz kılınabilir.
- D) Suyun bulunmadığı, temiz olmadığı durumlar veya kullanılmasının insan sağlığı açısından tehlike oluşturduğu durumlarda alınır.

4. Allah'ın emir ve yasaklarını insanlara bildirmeleri için seçtiği kişilere ne ad verilir?

- A) Peygamber
- B) Sahabe
- C) Halife
- D) Sıdk

5. Medine'de olup, Muhacirlere her türlü fedakârlıkla yardım eden Müslümanlara ne ad verilir?

- A) Müezzin
- B) Ensar
- C) Nebi
- D) Yesrip

6. İlk dünya haritasını günümüzdeki ölçülere yakın biçimde çizen kişi aşağıdakilerden hangisidir?

- A) Hamit Aytaç
- B) Ali Kuşçu
- C) Piri Reis
- D) Kaşgarlı Mahmut

7. Aşağıdakilerden hangisi İslam'ın sakınılmasını istediği bazı davranışlardan biri değildir?

- A) Haset etme
- B) Yalan söyleme
- C) Alay etme
- D) Sinirli olma

8. Aşağıdakilerden hangisi ilahî kitaplardan biri değildir?

- A) Sahife
- B) İncil
- C) Zebur
- D) Tevrat

9. Matematikte cebir konularını ele alan ve sıfırı ilk keşfeden İslam bilgini aşağıdakilerden hangisidir?

- A) Ali Kuşçu
- B) Harezmi
- C) Birunî
- D) İbn-i Sina

10. Hz. Muhammed'in cenazesini yıkayan, kefenleyen ve cenaze namazını kırdıran kişi aşağıdakilerden hangisidir?

- A) Hz. Ali
- B) Hz. Bilal
- C) Hz. Ömer
- D) Hz. Ebu Bekir

11. Aşağıdakilerden hangisi Kur'an'da adı geçen peygamberlerden biridir?

- A) Hz. Mustafa
- B) Hz. Ali
- C) Hz. Sadık
- D) Hz. İsmail

12. Allah'ın emrettiği; belli kuralları olan hareketleri ve buyrukları yapmaya ne ad verilir?

- A) İnanç
- B) İman
- C) İbadet
- D) İhsan

13. Aşağıdakilerden hangisi manevi hırsızlıklardan biridir?

- A) Başkalarının eşyalarını çalma
- B) Elektriği kaçak kullanma
- C) İnşaatta malzemeyi ölçülerinden az ve kalitesiz kullanma
- D) Başkalarının evlerinin içini gözetleme

14. Hz. Muhammed(sav)'e ilk vahyin gelişinden Yesrib'e(Medine'ye) hicret etmesine kadar geçen döneme ne ad verilir?

- A) Sahabeler dönemi
- B) Mekke dönemi
- C) Halifeler dönemi
- D) Hicret dönemi

15. Tekbir ile başlayıp selam ile son bulan, Hz. Peygamber'in yapıp öğrettiği belirli bir fiil, söz ve duaları içine alan ibadet türü aşağıdakilerden hangisidir?

- A) Hacca gitme
- B) Oruç tutma
- C) Zekat verme
- D) Namaz kılma

16. Kur'an'daki en uzun ve en çok dikkat çeken kısma kime aittir?

- A) Hz. Musa
- B) Hz. Âdem
- C) Hz. Yusuf
- D) Hz. İbrahim

17. Ahilik teşkilatının kurulması ve yayılmasında önemli rol oynayan kişi aşağıdakilerden hangisidir?

- A) Ahmet Yesevi
- B) Ahi Evran
- C) Mevlana
- D) Maturidi

18. İlk peygamber ve ilk insan aşağıdakilerden hangisidir?

- A) Hz. İbrahim
- B) Hz. Musa
- C) Hz. Âdem
- D) Hz. Muhammed

19. Servetin gerçek sahibinin Allah olduğunu unutmamayı hatırlatan kısma aşağıdakilerden hangisidir?

- A) Hz. Eyüp kıssası
- B) Hz. Musa kıssası
- C) Hz. İbrahim kıssası
- D) Hz. Yunus kıssası

20. Aşağıdakilerden hangisi farz olan namazlardan biridir?

- A) Bayram
- B) Cenaze
- C) Teravih
- D) Vitir



1. Aşağıdakilerden hangisi kinetik enerjiye sahip değildir?

- A) Fırlatılan top
- B) Akan su
- C) Oturan çocuk
- D) Hareket halindeki araba





2. Grup çalışmasında öğrenciler sinir sistemi organlarını canlandırmışlar ve görevlerini açıklamışlardır.

Aslı: İskelet kaslarının hareketini düzenler ve vücudun dengesini sağlarım.

Buna göre, Aslı'nın canlandığı organ aşağıdakilerden hangisidir?

- A) Omurilik
- B) Omurilik soğanı
- C) Beyin
- D) Beyincik

3. Direnç, hangi sembolle gösterilir?

- A) 
- B) 
- C) 
- D) 

4. Bir cismin elektrikle yüklü olup olmadığını, yüklü ise hangi cins elektrikle yüklü olduğunu anlamamızı sağlayan araçlara ne ad verilir?

- A) Elektroskop
- B) Mikroskop
- C) Periskop
- D) Teleskop

5. Nötr atomlarla ilgili aşağıdaki ifadelerden hangisi doğrudur?

- A) Çekirdekte yalnız nötronlar vardır.
- B) Proton sayısı elektron sayısına eşittir.
- C) Proton sayısı elektron sayısından fazladır.
- D) Elektriksel olarak pozitif yüklüdür.

6. Atomun çekirdeğinde bulunan pozitif(+) yüklü parçacığa ne ad verilir?

- A) Proton
- B) Nötron
- C) Elektron
- D) İzoton

7. Aşağıdakilerden hangisi heterojen bir karışımdır?

- A) Kolonya
- B) Maden suyu
- C) Salata
- D) Kola

8. Korku ve heyecan anında adrenalin salgılayan bez aşağıdakilerden hangisidir?

- A) Hipofiz
- B) Tiroit
- C) Böbrek üstü
- D) Pankreas

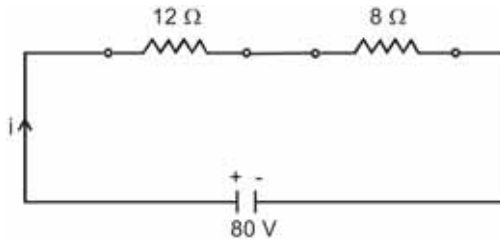
9. Popülasyonun tanımı aşağıdakilerden hangisidir?

- A) Bir canlının doğal olarak yaşayıp üreyebildiği yer
- B) Belirli bir bölgede yaşayan, aynı türe ait bireylerin oluşturduğu topluluk
- C) Bir bölgede yaşayan ve birbirleriyle etkileşim içinde olan canlılarla bunların cansız çevrelerinin oluşturduğu doğa parçası
- D) Canlıları doğrudan ya da dolaylı olarak etkileyen ortamın her bir elemanı

10. Güneş sisteminde Güneş'e en yakın gezegen aşağıdakilerden hangisidir?

- A) Mars
- B) Dünya
- C) Venüs
- D) Merkür

11.



Yukarıdaki elektrik devresinde devrenin akım şiddeti kaç amperdir?

- A) 4
- B) 5
- C) 6
- D) 8

12. Işığın bir yılda aldığı yola ne ad verilir?

- A) Uzay yılı
- B) Işık yılı
- C) Işık hızı
- D) Astronomi birimi

13. Aşağıda elektron dizilimi verilen elementlerden hangisi soygazdır?

- A) Mg: 2, 8, 2
- B) Na: 2, 8, 1
- C) Cl: 2, 8, 7
- D) Ne: 2, 8

14. Proteinlerin kimyasal sindirimi nerede başlar?

- A) Kalın bağırsakta
- B) Ağızda
- C) Midede
- D) İnce bağırsakta

15. Beyaz ışıktan elde edilen renk şeridinde ne ad verilir?

- A) Işık tayfı
- B) Prizma
- C) Mor ötesi
- D) X ışını

16. Bir canlının doğal olarak yaşayıp üreyebildiği yere ne ad verilir?

- A) Habitat
- B) Adaptasyon
- C) Mutasyon
- D) Popülasyon

17. Aşağıdakilerden hangisi desteğin uçta, yükün ortada olduğu tek taraflı kaldıraçlara bir örnektir?

- A) Kayık küreği
- B) Makas
- C) Tahterevalli
- D) Gazoz açacağı

18. Hareketli ve sabit makaraların birlikte kullanıldığı sistemlere ne ad verilir?

- A) Kaldıraç
- B) Palanga
- C) Eğik düzlem
- D) Dişli çark

19. Az yoğun ortamdan çok yoğun ortama geçen ışık ışınlarıyla ilgili aşağıdaki ifadelerden hangisi doğrudur?

- A) Kırılmadan direkt diğer ortama geçer.
- B) Normale yaklaşarak kırılır.
- C) Tam yansıma yaparak geldiği ortamda kalır.
- D) Normalden uzaklaşarak kırılır.

20. Aşağıdakilerden hangisi doğuştan kazanılmış reflektir?

- A) Dans etmek
- B) Yüzmek
- C) Öksürmek
- D) Örgü örmek

1. Aşağıdaki cümlelerden hangisinin yüklemi gereklilik kipinde çekimlenmiştir?

- A) Yerlere çöp atmamalıyız.
- B) Keşke o da bizimle gelse.
- C) Bakayım elbisen nasıl olmuş?
- D) Kendi evimize gittik.

2. Herhangi bir konuda yazı yazarken dikkat edilmesi gereken unsurlarla ilgili aşağıdaki ifadelerden hangisi yanlıştır?

- A) Kağıt ve sayfa düzenine dikkat edilmelidir.
- B) İfadelerde tekrara düşmek anlatımı zenginleştirir.
- C) Düzgün ve okunaklı yazmaya özen gösterilmelidir.
- D) Standart Türkçe kullanılmalıdır.

3. Aşağıdaki cümlelerden hangisinin yüklemi olumsuzdur?

- A) Yaşlı kadın bankta oturuyordu.
- B) Kapıyı annem açtı.
- C) Küçük kız yere düştü.
- D) Bugün okula gitmedim.

4. Aşağıdaki cümlelerin hangisinde terim kullanılmıştır?

- A) Üçgenin iç açıları toplamı 180° dir.
- B) Dün sabah ani bir kararla Ankara'ya gitti.
- C) Sandalyenin ayaklarından biri kırıldı.
- D) Göz görmeyince gönül katlanırmış.

5. Aşağıdaki fiillerden hangisi mastar eki almıştır?

- A) görecek
- B) biliyor
- C) gitmek
- D) giymiş

6. Aşağıdaki cümlelerden hangisinin yüklemi ek fiil almıştır?

- A) Zil çalınca, öğrenciler derse girdiler.
- B) Genç kadın çok yorgundu.
- C) Adam bankta oturmuş, gazete okuyor.
- D) Her akşam erkenden yatar.

7. Aşağıdaki sözcüklerden hangisi büyük ünlü uyumuna uymaz?

- A) öğrenci
- B) okul
- C) kitapçı
- D) kedi

8. "mesut" sözcüğünün eş anlamlısı aşağıdakilerden hangisidir?

- A) üzgün
- B) tasa
- C) yorgun
- D) mutlu

9. Aşağıdaki cümlelerden hangisinin yüklemi etken çatılı bir fiildir?

- A) Annem yemek pişiriyor.
- B) Yerler temizlendi.
- C) Okul inşaatına başlandı.
- D) Cam kırıldı.

10. Aşağıdaki cümlelerden hangisinin yüklemi edilgendir?

- A) Ailece pikniğe gittik.
- B) Bütün ev temizlendi.
- C) Merdivenleri koşarak çıktılar.
- D) O kitapların hepsini okudum.

11. İnsanların iç dünyalarını anlatan ve insanın iç dünyasının topluma yansımalarını aktaran romanlara ne ad verilir?

- A) Sosyal roman
- B) Macera romanı
- C) Köy romanı
- D) Psikolojik roman

12. Aşağıdaki sözcüklerden hangisi "kıtlık" sözcüğünün zıt anlamlısıdır?

- A) bolluk
- B) çoğunluk
- C) azınlık
- D) eksiklik

13. Aşağıdaki cümlelerden hangisinde altı çizili sözcük zarf-fiil değildir?

- A) İş yaparken seni dinleyemem.
- B) Orada öylece oturup bekledik.
- C) Anlamak için dinlemek gerekir.
- D) Bulutlar ağlayınca toprak yeşeriyordu.

14. Aşağıdaki cümlelerden hangisinin yüklemi geçişli bir fiil değildir?

- A) O kitabı okudum.
- B) Okula gittim.
- C) Vapuru kaçırdım.
- D) Onu tanıdım.

15. Aşağıdaki sözcüklerden hangisi kaynaştırma harfi almıştır?

- A) okulda
- B) susuz
- C) odanın
- D) kapıcı

16. Aşağıdaki cümlelerin hangisinde dolaylı tümleş vardır?

- A) Ağaçlar çiçek açtı.
- B) Arabayla gittik.
- C) Kapı uzun uzun çaldı.
- D) Okuldan geliyorum.

17. Aşağıdakilerden hangisi ad cümlesidir?

- A) Arkadaşımın babası öğretmendir.
- B) Bugün okullar tatil oldu.
- C) Babam bugün işe gitmedi.
- D) Hafta sonu pikniğe gideceğiz.

18. Aşağıdaki sözcüklerden hangisinde ünsüz sertleşmesi vardır?

- A) ağacın
- B) okuldan
- C) kitapta
- D) yaprağın

19. Aşağıdaki cümlelerin hangisinde özel isimlerle ilgili bir yazım yanlışı vardır?

- A) Kedisi Pamuk'tan ayrılmak ona çok zor gelmişti.
- B) Ev Van gölüne bakıyordu.
- C) İstanbul, Türkiye'nin en kalabalık şehridir.
- D) Ödemiş, İzmir'in bir ilçesidir.

20. Aşağıdaki sözcüklerden hangisinde, fiilden ad türeten bir ek aldığı için ünlü düşmesi vardır?

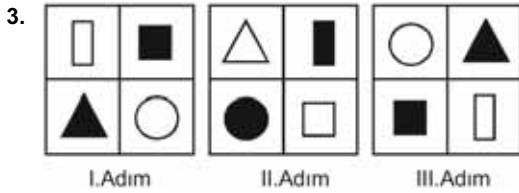
- A) ağaçta
- B) karnı
- C) küçülmek
- D) kavruk

1. 0,000000218 sayısının bilimsel gösterimi aşağıdakilerden hangisidir?

- A)  $0,218 \times 10^{-5}$   
 B)  $2,18 \times 10^{-7}$   
 C)  $21,8 \times 10^{-6}$   
 D)  $218 \times 10^{-8}$

2.  $(-3)^{-3}$  ifadesi aşağıdakilerden hangisine eşittir?

- A)  $-27$   
 B)  $-\frac{1}{27}$   
 C)  $\frac{1}{9}$   
 D) 9



Yukarıdaki örüntünün IV. adımında gelmesi gereken şekil aşağıdakilerden hangisidir?

- A)
- B)
- C)
- D)

4.  $\frac{10^5 \times 10^{-12}}{10^{-3} \times 10^{-7}} : \frac{10^{-22}}{10^{-24}}$

işleminin sonucu kaçtır?

- A) 0,1  
 B) 1  
 C) 10  
 D) 100

5. Sezgin'in elinde iki torba vardır. I. torbada 32 sarı top, 28 lacivert top, II. torbada 26 sarı top, 30 lacivert top vardır.

Sezgin, her iki torbadan da birer top çekiyor. Seçilen topların her ikisinin de lacivert olma olasılığı kaçtır?

- A)  $\frac{1}{2}$   
 B)  $\frac{1}{3}$   
 C)  $\frac{1}{4}$   
 D)  $\frac{1}{5}$

6.  $A=\{0, 1, 2, 3, 4\}$  kümesinin elemanlarıyla üç basamaklı en fazla kaç farklı doğal sayı yazılabilir?

- A) 125  
 B) 100  
 C) 75  
 D) 60

7. Bir mönüde 8 çeşit yemek bulunmaktadır. Verilecek 5 çeşit sipariş için kaç farklı seçim yapılabilir?

- A) 56  
 B) 48  
 C) 42  
 D) 35

8.  $\sqrt{5 - \frac{11}{4}} : \sqrt{1 + \frac{16}{9}}$

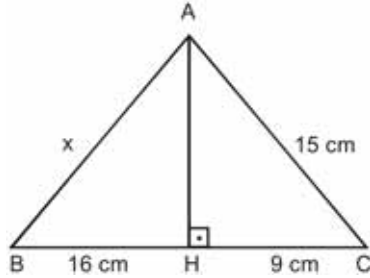
Yukarıdaki işlemin sonucu kaçtır?

- A)  $\frac{2}{5}$   
 B)  $\frac{2}{3}$   
 C)  $\frac{9}{10}$   
 D)  $\frac{5}{2}$

9. İlk terimi 19, ortak farkı 4 olan aritmetik dizinin 11. terimi kaçtır?

- A) 67  
 B) 63  
 C) 59  
 D) 55

10.



Yukarıdaki  $\triangle ABC$  üçgeninde;  $|AC| = 15$  cm,  
 $|HC| = 9$  cm ve  $|BH| = 16$  cm'dir.

Buna göre,  $|AB| = x$  kaç cm'dir?

- A) 20  
 B) 19  
 C) 18  
 D) 17

11. 2, 3, 6, 11, ?, 27 ....

Yukarıdaki örüntüde ? (soru işareti) yerine aşağıdakilerden hangisi gelmelidir?

- A) 15  
 B) 16  
 C) 17  
 D) 18

12.

$$\frac{x^2 + 3x}{x - 4} : \frac{x^2 - 9}{2x - 8}$$

işleminin en sade biçimi aşağıdakilerden hangisidir?

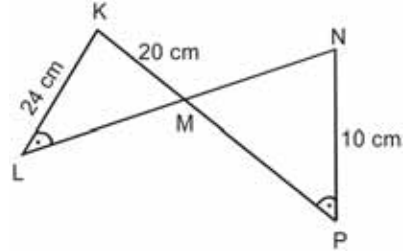
- A)  $\frac{2x}{x - 4}$   
 B)  $\frac{2x}{x - 3}$   
 C)  $\frac{2x + 1}{x - 2}$   
 D)  $\frac{x + 3}{x - 4}$

13. Nil, kumbarasına her gün 10 krş veya 25 krş atıyor. 61 gün sonra kumbarasını açan Nil 10 TL biriktiğini görüyor.

Buna göre, Nil kumbarasına kaç gün 25 krş atmıştır?

- A) 23  
 B) 24  
 C) 25  
 D) 26

14.



Yukarıdaki şekilde  $[KP] \cap [LN] = \{M\}$

$s(\widehat{KLM}) = s(\widehat{MPN})$ ,  $|KL| = 24$  cm,  $|KM| = 20$  cm,  
 ve  $|NP| = 10$  cm ise  $|MN|$  kaç cm'dir?

- A)  $\frac{22}{5}$   
 B)  $\frac{25}{3}$   
 C) 9  
 D) 11

15.

$$\frac{14}{3x-6} - \frac{2}{9} = \frac{4}{x-2}$$

Yukarıdaki denklemi sağlayan  $x$  değeri aşağıdakilerden hangisidir?

- A) 3
- B) 4
- C) 5
- D) 6

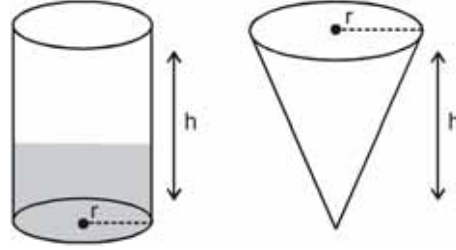
16. Tabanının bir kenarının uzunluğu 9 cm ve yüksekliği 4 cm olan kare dik piramidin hacmi kaç  $\text{cm}^3$  tür?

- A) 108
- B) 112
- C) 120
- D) 144

17. Orijinden ve  $A(4,-1)$  noktasından geçen doğrunun eğimi kaçtır?

- A) -4
- B) -1
- C)  $-\frac{1}{4}$
- D) 2

18.



Yukarıda, tabanlarının yarıçapları ve yükseklikleri eşit olan silindir ve koni şeklinde iki kap verilmiştir.

**Silindirin 1/3' ü su ile dolu iken suyun tamamı koniye boşaltıldığında, koninin içindeki su ile ilgili aşağıdaki ifadelerden hangisi doğrudur?**

- A) Koninin üçte biri doludur.
- B) Koninin yarısı doludur.
- C) Koninin dörtte üçü doludur.
- D) Koninin tamamı doludur.

19.  $-\frac{2}{3}y + 4x = 10$

denkleminin eğimi kaçtır?

- A) 6
- B) 3
- C)  $-\frac{3}{2}$
- D) -2

20. "5 katının 12 fazlası 42 veya 42 den büyük olan sayılar" ifadesine uygun eşitsizliğin çözüm kümesi aşağıdakilerden hangisidir?

- A)  $\{x | x \leq 5, x \in \mathbb{R}\}$
- B)  $\{x | x \leq 12, x \in \mathbb{R}\}$
- C)  $\{x | x \geq -4, x \in \mathbb{R}\}$
- D)  $\{x | x \geq 6, x \in \mathbb{R}\}$

1. Kâbe'nin etrafında, Hacer'ül Esvet'ten başlayarak yedi defa dönmeye ne ad verilir?
- A) Tavaf  
B) Mikat  
C) İhram  
D) Şavt
2. Aşağıdakilerden hangisi hac ibadetinin insan davranışları üzerinde yarattığı etkilerden biri değildir?
- A) Kutsal mekânları ziyaret, insandaki dinî duyguları pekiştirir.  
B) İnsanın işlediği günahlardan arınması için bir fırsat kapısıdır.  
C) Diğer Müslüman ülkelerin insanları ile tanışıp kaynaşma fırsatı bulunur.  
D) Hacda kardeşliğin en güzel örnekleri sergilendiğinden insanlar arasındaki eşitlik düşüncesi güçlenir.
3. Hz. Muhammed'in (s.a.v.) hiç kimseye ayrıcalıklı davranmaması, insanlar arasında inanç farkı gözetmeden herkese eşit davranması, peygamberimizin aşağıdaki örnek davranışlarından hangisini vurgulamaktadır?
- A) Bilgiye önem vermesi  
B) Sabırlı ve cesur olması  
C) Güvenilir olması  
D) Hakkı gözetmesi
4. "Hiç kimse kendi emeği ile kazandığından daha hayırlı bir lokma yememiştir." hadisi Rasulullah'ın (s.a.v) hangi özelliğini vurgulamaktadır?
- A) Çalışmayı sevmesi  
B) Merhametli olması  
C) Hoşgörülü olması  
D) Sabırlı olması
5. Allah'ın her şeyi önceden bilmesine; neyin, ne zaman, nerde olacağını belli bir ölçü, düzen ve plan içerisinde yaratmasına ne ad verilir?
- A) Alem  
B) Bilim  
C) Kader  
D) Denge
6. Aşağıdakilerden hangisi fiziksel yasaların özelliklerinden biri değildir?
- A) Her zaman ve her yerde aynı sonucu vermesi  
B) Tecrübeler sonucu ortaya konulmuş olması  
C) Allah'ın üstün kudret sahibi olduğunu ve her şeyi hakkıyla bildiğinin göstergesi olması  
D) Fiziksel yasaların evrensel olması
7. Tevekkül kelimesinin anlamı aşağıdakilerden hangisidir?
- A) Kur'an-ı Kerim'de belirtilen kuralların tümüdür.  
B) İnsanların Allah inancına doğuştan sahip olmasıdır.  
C) Allah'ın isimlerinden biridir.  
D) Allah'a teslim olmak, güvenmek, dayanmak ve sığınmaktır.
8. "Ya öğreten ya öğrenen ya dinleyen ya da bunları seven ol. Fakat sakın beşincisi olma helak olursun." hadisi Hz. Muhammed'in (s.a.v) hangi yönüne işaret etmektedir?
- A) Bilgiye önem vermesi  
B) Zamanı iyi değerlendirmesi  
C) Güvenilir bir insan olması  
D) Affedici olması
9. Aşağıdakilerden hangisi zekât verecek kişilerde aranan özelliklerden biri değildir?
- A) Müslüman olmak  
B) Akıllı olmak  
C) Evli olmak  
D) Ergenlik çağına girmiş olmak



10. Hac görevi süresince giyilen beyaz elbiseye ne ad verilir?

- A) Şavt
- B) Mikat
- C) Tavaf
- D) İhram

11. Hıristiyanlığın kutsal kitabı aşağıdakilerden hangisidir?

- A) Tevrat
- B) İncil
- C) Teslis
- D) Haham

12. Kur'an-ı Kerim'de sevgi ve merhamet örneği olarak gösterilen peygamber aşağıdakilerden hangisidir?

- A) Hz. Yusuf
- B) Hz. İbrahim
- C) Hz. Süleyman
- D) Hz. Nuh

13. İnsanların haklarına saygılı olmaya, söz ve davranışlarla onlara zarar vermemeye ne ad verilir?

- A) Erdem
- B) İnanç
- C) Kul hakkı
- D) Vicdan

14. Kast sisteminde din adamlarının dahil olduğu sınıf aşağıdakilerden hangisidir?

- A) Kşatriyalar
- B) Brahmanlar
- C) Vaisyalar
- D) Südralar

15. Aşağıdakilerden hangisi kul hakkına sebep olan davranışlardan biri değildir?

- A) Kötü zanda bulunmak
- B) Gıybet etmek
- C) Başkalarıyla alay etmek
- D) Dürüst olmak

16. Aşağıdakilerden hangisi Yahudilik dinindeki On Emir'den biri değildir?

- A) Cömert olacaksın.
- B) Hırsızlık yapmayacaksın.
- C) Putlara tapmayacaksın.
- D) Zina etmeyeceksin.

17. Aşağıdakilerden hangisi taasubun oluşmasındaki en büyük sebeplerden biridir?

- A) Sadakatsizlik
- B) Kibirlik
- C) Bilgisizlik
- D) Cimrilik

18. Tüm insanlık için gönderilen son ilahi din aşağıdakilerden hangisidir?

- A) Hristiyanlık
- B) Budizm
- C) Yahudilik
- D) İslam

19. Kur'an-ı Kerim'de "Kendi elinizle kendinizi tehlikeye atmayın! İyilik edin. Şüphesiz Allah iyilik edenleri sever." ayeti hangi surede geçmektedir?

- A) Nisa
- B) Bakara
- C) Şûra
- D) İsrâ

20. Aşağıdakilerden hangisi Kur'an'da insanın bilgi edinme yollarından biri değildir?

- A) Akıl
- B) Duyu organları
- C) Mucize
- D) Vahiy

BU SAYFA BOŞ BIRAKILMIŞTIR.

**BU SAYFA BOŞ BIRAKILMIŞTIR.**

## SINAVDA UYULMASI GEREKEN GENEL KURALLAR

1. Sınava girmek için gerekli belgelerinizin tümünü sınav başlamadan önce sıranızın üzerine bırakınız.
2. Sınav süresince görevlilerle konuşmak, görevlilere soru sormak yasaktır. Aynı şekilde görevlilerin de öğrencilerle yakından ve alçak sesle konuşmaları yasaktır. Gerekli durumlarda görevliler yerinizi değiştirebilir.
3. Size verilen cevap kâğıdının üzerindeki TCKN/Öğrenci no, ad, soyadı, bilgilerini kontrol ediniz, ilgili alanları eksiksiz doldurarak imzalayınız. Bu bilgiler size ait değilse, görevlileri uyararak size ait cevap kâğıdını isteyiniz. Başka öğrenciye ait cevap kâğıdı kullanan öğrencilerin o oturumdaki sınavları geçersiz sayılır.
4. Cevap kâğıdı üzerine test grubunu (A, B, C, D) kodlamayan veya birden fazla kodlama yapan öğrencilerin sınavları geçersiz sayılır.
5. Cevap kâğıdınıza yazacağınız her türlü yazı ve yapacağınız işaretlemeler için koyu yazan siyah kurşun kalem kullanmalısınız. Siyah kurşun kalem dışında farklı bir kalem (tükenmez, mürekkepli ya da renkli vb.) kullanan öğrencilerin sınavları geçersiz sayılır.
6. Cevap kâğıdı üzerinde değişiklik yapmak istediğinizde, iz bırakmayan bir silgi kullanınız. Cevap kâğıdınızı buruşturmayınız, katlamayınız ve üzerine gereksiz hiçbir işaret koymayınız.
7. Cevaplarınızı, cevap kâğıdında ilgili test için ayrılmış olan alana, cevap yerinin dışına taşımadan işaretleyiniz. Soru kitapçığı üzerinde yapılan işaretlemeler değerlendirmeye alınmayacaktır.
8. Her sorunun tek bir doğru cevabı vardır. Bir soru için birden çok cevabı işaretlerseniz, o soruyu yanlış cevaplamış sayılacaksınız.
9. Soru kitapçığınızı aldıңызda sayfalarına hızlıca bakarak hatalı ya da eksik baskı olup olmadığını kontrol ediniz. Hata/eksik olması durumunda kitapçığının değiştirilmesi için derhâl Salon Başkanına başvurunuz. Sınav görevlileri sınavın başladığını belirtmeden kitapçığınızı tekrar açmayınız.
10. Cevap kâğıdınızda belirtilen kitapçık kodu ile soru kitapçığının kodunu karşılaştırınız. Aynı değilse, sınav görevlilerine durumu bildirerek doğru kitapçığın verilmesini talep ediniz.
11. Soru kitapçığındaki ilgili alanlara ad, soyadı, TCKN/Öğrenci no, sınav salon no, sıra no bilgilerinizi eksiksiz doldurarak imzanızı atınız. Soru kitapçığının sayfalarındaki boş yerleri müsvedde amacıyla kullanabilirsiniz.
12. Aşağıdaki durumlarda sınav görevlileri tarafından Bireysel Sınav İptal Tutanağı düzenlenerek ilgili öğrencilerin sınavları geçersiz sayılır:
  - a) Sınav kurallarına ve sınav görevlilerinin uyarılarına uymamak, sınav düzenini bozmak,
  - b) Kâğıt, kitap, defter, not vb. dokümanları; pergel, açıölçer, cetvel vb. araçları; cep telefonu, bilgisayar, tablet, telsiz, kamera vb. iletişim, depolama, kayıt ve veri aktarma cihazlarını; ruhsatlı veya resmi amaçlı olsa bile silah ve silah yerine geçebilecek nesnelere yanında bulundurmamak,
  - c) Sınav sırasında kalem, silgi vb. araç-gereç paylaşımında bulunmak,
  - d) Cevapları, cevap kâğıdı dışında bir yere yazmak ve sınav salonundan dışarı çıkarmak,
  - e) Sınava girebilmek için gerekli belgeleri eksik olduğu halde sınava katılıp, cevap kâğıdında işaretleme yapmak,
  - f) Sınav görevlileri tarafından öğrencinin kimliğinden şüphe duyulması,
  - g) Cevap kâğıdını ve/veya soru kitapçığını sınav görevlilerine eksiksiz ve sağlam şekilde teslim etmemek, sınav salonu dışına çıkarmak,
  - h) Kopya çekmek, vermek, çekilmesine yardımcı olmak vb. eylemlerde bulunmak,
  - i) Kendisi yerine başkasını sınava sokmak.
13. Sınav bitiminde, cevap kâğıdınızı ve soru kitapçığınızı salon görevlilerine eksiksiz biçimde teslim ediniz. Sınav bittikten sonra gönderilen cevap kâğıtları dikkate alınmayacaktır.

**SINAV KURALLARINA UYDUĞUNUZ İÇİN TEŞEKKÜR EDER, SINAVINIZDA BAŞARILAR DİLERİZ.**