



ANADOLU ÜNİVERSİTESİ
AÇIKÖĞRETİM FAKÜLTESİ
BA - AÇIKÖĞRETİM OKULLARI

T.C. MİLLİ EĞİTİM BAKANLIĞI
Hayat Boyu Öğrenme Genel Müdürlüğü
2016-2017 ÖĞRETİM YILI BATI AVRUPA – BALKANLAR
AÇIK ÖĞRETİM ORTAOKULU III. DÖNEM SINAVI

1. OTURUM Cumartesi

B

0100

ÖĞRENCİNİN

SOYADI :

ADI :

T.C. KİMLİK NO / ÖĞRENCİ NO :

SINAV SALON NO : SIRA NO:

Sınavla ilgili soru kitapçığının ön ve arka kapağındaki tüm kuralları okudum, anladım, kabul ediyorum.

İMZA:.....

SINAV İÇERİĞİ

Testin Adı	Soru Sayısı	Sayfa No
ALMANCA 5	20	02
İNGİLİZCE 5	20	05
FRANSIZCA 5	20	08
FEN VE TEKNOLOJİ 6	20	11
SOSYAL BİLGİLER 6	20	13
DİN KÜLTÜRÜ VE AHLAK BİLGİSİ 6	20	15
FEN VE TEKNOLOJİ 7	20	17
TÜRKÇE 8	20	19
MATEMATİK 8	20	21
DİN KÜLTÜRÜ VE AHLAK BİLGİSİ 8	20	24

SINAVDA UYULMASI GEREKEN ÖZEL KURALLAR

1. Soru kitapçığındaki her bir testi cevaplamanız için verilen süre 30 dakika, toplam süre 150 dakikadır.
2. Sınavın ilk 30 dakikası ve son 5 dakikası içinde sınavınızı tamamlasanız bile salondan çıkamazsınız. Herhangi bir nedenle salondan çıktığınız takdirde, tekrar sınava devam etmenize izin verilmeyecektir. Sınavın başlamasını izleyen ilk 15 dakikadan sonra hiçbir öğrenci sınava alınamaz.
3. Yanlış cevaplarınız dikkate alınmayacaktır. Bu nedenle kitapçıktaki tüm sorular için size doğru gelen seçeneği işaretleyerek cevapsız soru bırakmamanız yararınıza olacaktır.
4. Sınav sırasında hesap makinesi kullanabilirsiniz. Ancak, kullanacağınız makinede alfabetik tuş takımının (A, B, C, ..., Y, Z), program yapılmasına, saklanmasına ve çalıştırılmasına imkân veren EXE, STORE, RUN vb. tuşlar bulunamaz.

"Sınavda Uyulması Gereken Genel Kurallar" soru kitapçığının arka sayfasında yer almaktadır. Bu kuralları da mutlaka dikkatlice okuyunuz.

Anadolu Üniversitesi tarafından hazırlanmış olan bu testlerin her hakkı saklıdır. Hangi amaçla olursa olsun, testlerin tamamının veya bir kısmının Anadolu Üniversitesi'nin yazılı izni olmadan kopya edilmesi, fotoğraflarının çekilmesi, herhangi bir yolla çoğaltılması, yayımlanması ya da kullanılması yasaktır. Bu yasağa uymayanlar gerekli cezai sorumluluğu ve testlerin hazırlanmasındaki mali külfeti peşinen kabullenmiş sayılır.

1. hattest du Lust zum Tanzen. hast du keine Lust zum Tanzen.

Welche Wörter passen in die obigen Lücken?

Cümlede boş bırakılan yerleri aşağıdakilerden hangileri tamamlar?

- A) Wegen / Sondern
B) Sonst / Mehr
C) Früher / Jetzt
D) Damit / Somit

2. Im Sommer wir in der Türkei und jetzt wir in Deutschland.

Welche Wörter ergänzen die Lücken im obigen Dialog?

Verilen karşılıklı konuşmada boş bırakılan yerleri aşağıdakilerden hangisi tamamlar?

- A) wird / sei
B) waren / kann
C) wurden / werden
D) waren / sind

3. war ich in Antalya.

Welches Wort passt nicht in die obige Lücke?

Cümlede boş bırakılan yeri aşağıdakilerden hangisi doğru şekilde tamamlamaz?

- A) In den Sommerferien
B) Nächste Woche
C) Im August
D) Gestern

4. Tut dir dein weh?

Welches Wort passt nicht in die obige Lücke?

Cümlede boş bırakılan yeri aşağıdakilerden hangisi doğru şekilde tamamlamaz?

- A) Zahn
B) Bauch
C) Pause
D) Bein

5., möchtest du auch ein Glas?

Welcher Satz ergänzt die obige Lücke?

Verilen cümleyi aşağıdakilerden hangisi tamamlar?

- A) Wir können etwas essen
B) Wir gehen immer nach Antalya
C) Ich möchte in die Schule gehen
D) Ich trinke Mineralwasser

6. In der Pause die Schüler

Welche Wörter passen in die obigen Lücken?

Cümlede boş bırakılan yerleri aşağıdakilerden hangileri tamamlar?

- A) isst / Eis
B) essen / Käsebrod
C) esse / Banane
D) trinkst / Cola

7. Fatma: Hallo Gamze! Du warst heute nicht in der Schule. Was ist los?
Gamze: Ich hatte Magenschmerzen.

Welcher Satz ergänzt den obigen Dialog?

Verilen karşılıklı konuşmayı aşağıdakilerden hangisi tamamlar?

- A) Ich war krank.
B) Sie ist klein.
C) Er hat eine neue Hose.
D) Wir sind zu Hause.

8. Im Zoo kann man viele sehen.

Welches Wort passt in die obige Lücke?

Cümlede boş bırakılan yeri aşağıdakilerden hangisi tamamlar?

- A) Tiere
B) Bücher
C) Briefe
D) Post

9. Dort kann man Briefe abschicken.

Welche Frage passt zur obigen Antwort?

Verilen cevabı gerektirecek soru aşağıdakilerden hangisidir?

- A) Wer geht einkaufen?
- B) Wo ist der Flughafen?
- C) Wie kommt man in die Bibliothek?
- D) Was kann man auf der Post machen?

10. gibt es keinen Schreibtisch.

Welches Wort passt in die obige Lücke?

Cümlede boş bırakılan yeri aşağıdakilerden hangisi doğru şekilde tamamlar?

- A) Im Bad
- B) Im Haus
- C) Im Kinderzimmer
- D) Im Büro

11. Die Mutter in der Küche.

Welches Wort passt in die obige Lücke?

Cümlede boş bırakılan yeri aşağıdakilerden hangisi tamamlar?

- A) stellt
- B) kocht
- C) duscht
- D) will

12. Wie kommst du zur Schule?

Welche Antwort passt zur obigen Frage?

Verilen sorunun cevabı aşağıdakilerden hangisidir?

- A) Wir gehen jetzt ins Kino.
- B) Er geht allein.
- C) Ich nehme den Bus.
- D) Sie spricht Französisch.

13. ist 20 Jahre alt, sie ist Sekretärin und sie ist lustig.

Welches Wort passt nicht in die obige Lücke?

Cümlede boş bırakılan yeri aşağıdakilerden hangisi tamamlamaz?

- A) Meine Freundin
- B) Meine Tante
- C) Mein Freund
- D) Meine Schwester

14. Meine Mutter war früher, heute ist sie dick.

Welches Wort passt in die obige Lücke?

Cümlede boş bırakılan yeri aşağıdakilerden hangisi tamamlar?

- A) alt
- B) schlank
- C) kurz
- D) streng

15. Annem avukat.

Wie lautet der obige Satz auf Deutsch?

Verilen cümlenin Almancası aşağıdakilerden hangisidir?

- A) Meiner Mutter hilft der Anwalt.
- B) Meine Mutter hilft diesem Anwalt.
- C) Meine Mutter will Anwältin werden.
- D) Meine Mutter ist Anwältin.

16. A: Was ist dein Vater von Beruf?

B:

Welcher Satz ergänzt den obigen Dialog?

Verilen karşılıklı konuşmayı aşağıdakilerden hangisi tamamlar?

- A) Mein Vater ist Ingenieur.
- B) Ich finde das gut.
- C) Das ist mein Traumberuf.
- D) Sein Vater ist freundlich.

17. in der Woche haben wir Schwimmunterricht.

Welches Wort passt in die obige Lücke?

Cümlede boş bırakılan yeri aşağıdakilerden hangisi tamamlar?

- A) Leider
- B) Hoffentlich
- C) Einmal
- D) Außerdem

18. Tolga geht um Uhr zur Schule. (08.00)

Welches Wort passt in die obige Lücke?

Cümlede boş bırakılan yeri aşağıdakilerden hangisi tamamlar?

- A) neun
- B) acht
- C) sieben
- D) fünf

19. Mein Lieblingsfach ist Sport,

Welcher Satz ergänzt die obige Lücke?

Verilen cümleyi aşağıdakilerden hangisi tamamlar?

- A) ich spiele gern Fussball.
- B) ich habe keine Hausaufgaben.
- C) ich gehe sonntags ins Kino.
- D) ich frühstücke niemals.

20. A:

B: Nein, ich möchte ins Kino gehen.

Welcher Satz ergänzt den obigen Dialog?

Verilen karşılıklı konuşmayı aşağıdakilerden hangisi tamamlar?

- A) Wo spielen die Kinder abends?
- B) Wann gehst du schwimmen?
- C) Gehen die Kinder jeden Tag in die Schule?
- D) Wir wollen reiten gehen, kommst du mit?

1. My brother doesn't like bicycle at the weekends but I like.

Which of the following completes the sentence above?

Aşağıdakilerden hangisi yukarıdaki cümleyi doğru olarak tamamlar?

- A) climbing
- B) collecting
- C) playing
- D) riding

2. My friends like puzzles very much but I don't.

Which of the following completes the sentence above?

Aşağıdakilerden hangisi yukarıdaki cümleyi doğru olarak tamamlar?

- A) playing
- B) solving
- C) doing
- D) drawing

3. A:
B: I'm sorry, I can't. I must study.

Which of the following completes the dialogue above?

Aşağıdakilerden hangisi yukarıdaki konuşmayı doğru olarak tamamlar?

- A) Let's go swimming!
- B) That sounds great.
- C) What is your favourite activity?
- D) Do you like exercising?

4. A: of a movie is it?
B: It is a comedy film.

Which of the following completes the dialogue above?

Aşağıdakilerden hangisi yukarıdaki konuşmayı doğru olarak tamamlar?

- A) What time
- B) Let's go
- C) What type
- D) What

5. The children the vegetables everyday.

Which of the following completes the sentence above?

Aşağıdakilerden hangisi yukarıdaki cümleyi doğru olarak tamamlar?

- A) ride
- B) milk
- C) water
- D) feed

6. A: I want to get a for my mother?
B: What does she like?
A: She likes books. I can buy a book for her.

Which of the following completes the dialogue above?

Aşağıdakilerden hangisi yukarıdaki konuşmayı doğru olarak tamamlar?

- A) party
- B) birthday
- C) cake
- D) present

7. Zeynep her hands and face in the mornings.

Which of the following completes the sentence above?

Aşağıdakilerden hangisi yukarıdaki cümleyi doğru olarak tamamlar?

- A) has
- B) brushes
- C) catches
- D) washes

8. Antonio is from Italy, he is an

Which of the following completes the sentence above?

Aşağıdakilerden hangisi yukarıdaki cümleyi doğru olarak tamamlar?

- A) Chinese
- B) Spanish
- C) English
- D) Italian

9. My grandfather can't computer.

Which of the following completes the sentence above?

Aşağıdakilerden hangisi yukarıdaki cümleyi doğru olarak tamamlar?

- A) use
B) sing
C) draw
D) do

10. A: What is your favourite class?
B: I like I can do experiments.

Which of the following completes the dialogue above?

Aşağıdakilerden hangisi yukarıdaki konuşmayı doğru olarak tamamlar?

- A) English
B) science
C) maths
D) music

11. Ebru can chess but I can't.

Which of the following completes the sentence above?

Aşağıdakilerden hangisi yukarıdaki cümleyi doğru olarak tamamlar?

- A) draw
B) play
C) sing
D) do

12. A: When is Rose's birthday?
B: It's 10th February.

Which of the following completes the dialogue above?

Aşağıdakilerden hangisi yukarıdaki konuşmayı doğru olarak tamamlar?

- A) to
B) in
C) for
D) on

13. A:, where is the supermarket?

B: Well. Go straight ahead the Flower Road and turn right. The supermarket is next to the library.

Which of the following completes the dialogue above?

Aşağıdakilerden hangisi yukarıdaki konuşmayı doğru olarak tamamlar?

- A) You are welcome
B) Excuse me
C) Thanks
D) Thank you

14.

Park

Bank

School

The bank is the park and the school.

- A) behind
B) in front of
C) between
D) next to

15. A: days do you have music class?
B: I have music classes on Monday, Tuesday and Friday.

Which of the following completes the dialogue above?

Aşağıdakilerden hangisi yukarıdaki konuşmayı doğru olarak tamamlar?

- A) Which
B) How
C) When
D) Where

16. Ali : Where are you from Alice?
Alice: I'm from

Which of the following completes the dialogue above?

Aşağıdakilerden hangisi yukarıdaki konuşmayı doğru olarak tamamlar?

- A) Spain
B) Spanish
C) French
D) Japanese

17. A: I feel hot and tired. I have a fever.
B: Well, you should

Which of the following completes the dialogue above?

Aşağıdakilerden hangisi yukarıdaki konuşmayı doğru olarak tamamlar?

- A) don't stay in the class
- B) what is the matter with you
- C) stay in bed
- D) oh, no

18. A: do you get up?
B: I get up at seven o'clock every morning.

Which of the following completes the dialogue above?

Aşağıdakilerden hangisi yukarıdaki konuşmayı doğru olarak tamamlar?

- A) How
- B) What time
- C) Which days
- D) How many

19.



- A: What time is it?
B: It's

Which of the following completes the dialogue above?

Aşağıdakilerden hangisi yukarıdaki konuşmayı doğru olarak tamamlar?

- A) quarter past ten
- B) quarter to eleven
- C) quarter to twelve
- D) half past ten

20. A: I want to some money to the animal shelter?
B: That's a good idea.

Which of the following completes the dialogue above?

Aşağıdakilerden hangisi yukarıdaki konuşmayı doğru olarak tamamlar?

- A) volunteer
- B) donate
- C) adopt
- D) examine

1. de petite taille et les cheveux bruns.

Choisissez les mots qui conviennent.

Cümlede boş bırakılan yerleri aşağıdakilerden hangisi doğru şekilde tamamlar?

- A) Je suis / j'ai
B) Elle a / elle est
C) Il a / il est
D) J'ai / je suis

2. Avec de la colle, je une photo.

Choisissez le mot qui convient.

Cümlede boş bırakılan yeri aşağıdakilerden hangisi doğru şekilde tamamlar?

- A) coupe
B) colle
C) colorie
D) trace

3. Elles vont théâtre chaque semaine.

Choisissez le mot /l'expression qui convient.

Cümlede boş bırakılan yere uygun düşen sözcük ya da ifadeyi bulunuz.

- A) dans
B) à la
C) en
D) au

4. Alice est Céline et Sylvie.

Choisissez le mot qui convient.

Cümlede boş bırakılan yere uygun düşen sözcüğü bulunuz.

- A) en
B) entre
C) dans
D) au

5. - part le bus Istanbul?
- A 16 heures.

Choisissez les mots qui conviennent.

Konuşmada boş bırakılan yerleri aşağıdakilerden hangisi doğru şekilde tamamlar?

- A) A quelle heure / pour
B) Comment / à
C) Quand / en
D) Qui / au

6. On commence les rues.

Choisissez le mot qui convient.

Cümlede boş bırakılan yere uygun düşen sözcüğü bulunuz.

- A) par
B) à
C) de
D) en

7. Pour écrire sur l'ordinateur, je dois d'abord l'.....

Choisissez le mot qui convient.

Cümlede boş bırakılan yeri aşağıdakilerden hangisi doğru şekilde tamamlar?

- A) taper
B) éteindre
C) allumer
D) envoyer

8. Martin va le dentiste.

Choisissez le mot qui convient.

Cümlede boş bırakılan yere uygun düşen sözcüğü bulunuz.

- A) chez
B) près
C) dans
D) par

9. Mon père et moi, prépare le repas.

Choisissez le mot qui convient.

Cümlede boş bırakılan yere uygun düşen sözcüğü bulunuz.

- A) on
- B) il
- C) nous
- D) vous

10. «Üçü çeyrek geçiyor.»

Choisissez la traduction qui convient.

Yukarıdaki cümlenin Fransızca karşılığı aşağıdakilerden hangisidir?

- A) Il est trois heures vingt.
- B) Il est trois heures moins le quart.
- C) Il est trois heures et quart.
- D) Il est trois heures moins vingt.

11. «Notre maison est vieille mais jolie.»

Choisissez la traduction qui convient.

Yukarıdaki cümlenin Türkçe karşılığı aşağıdakilerden hangisidir?

- A) Ev güzel ve eski.
- B) Ev eski fakat güzeldir.
- C) Evim hem yeni hem güzel.
- D) Evimiz eski ama güzeldir.

12. Demain, il

Choisissez le mot/l'expression qui convient.

Cümlede boş bırakılan yeri aşağıdakilerden hangisi doğru şekilde tamamlar?

- A) neige
- B) neiger
- C) a neigé
- D) va neiger

13. - Merci.

-

Choisissez l'expression qui convient.

Yukarıdaki konuşmada boş bırakılan yeri aşağıdakilerden hangisi doğru şekilde tamamlar?

- A) Je ne sais pas
- B) Tant pis
- C) De rien
- D) D'accord

14. voiture est belle.

Choisissez le mot qui convient.

Cümlede boş bırakılan yeri aşağıdakilerden hangisi doğru şekilde tamamlar?

- A) Ce
- B) Cette
- C) Cet
- D) Ces

15. Il va à l'école pied.

Choisissez le mot qui convient.

Cümlede boş bırakılan yeri aşağıdakilerden hangisi doğru şekilde tamamlar?

- A) chez
- B) en
- C) au
- D) à

16. Chaque jour je me brosse

Choisissez le mot qui convient.

Cümlede boş bırakılan yere uygun düşen sözcüğü bulunuz.

- A) les bras
- B) les dents
- C) les jambes
- D) les mains

17. ces / prendre / va / médicaments / il
I II III IV V

Mettez les mots dans le bon ordre pour faire une phrase.

Yukarıdaki sözcükleri bir cümle oluşturacak şekilde sıraya koyunuz.

- A) V, I, IV, II, III
B) V, II, III, I, IV
C) V, III, II, I, IV
D) V, IV, I, II, III

18. I. Je m'appelle Amélie Dubois.
II. Je suis française.
III. J'ai une jolie mère.
IV. J'ai 30 ans.

Trouvez la phrase qui ne convient pas.

Sırasıyla okunduğunda anlam bütünlüğünü bozan cümleyi bulunuz.

- A) I
B) II
C) III
D) IV

19. Il a besoin d'un/une de sel.

Choisissez le mot qui convient.

Cümlede boş bırakılan yeri aşağıdakilerden hangisi doğru şekilde tamamlar?

- A) fourchette
B) verre
C) couteau
D) pincée

20. Aujourd'hui, Alice est très heureuse.

Trouvez l'antonyme du mot souligné.

Yukarıdaki cümlede altı çizili kelimenin zıt anlamısını bulunuz.

- A) jolie
B) triste
C) agressive
D) surprise

1. Hücredeki görevi enerji üretmek olan organel aşağıdakilerden hangisidir?

- A) Koful
- B) Mitokondri
- C) Kloroplast
- D) Sitoplazma

2. Aşağıdakilerden hangisi solunum sistemini oluşturan yapılardan biridir?

- A) Pankreas
- B) Yutak
- C) Karaciğer
- D) Böbrek

3. 1380 km lik yolu 6 saatte giden bir aracın saatteki hızı kaç km/h tır?

- A) 210
- B) 220
- C) 230
- D) 240

4. Zigot, arka arkaya geçirdiği bölünmeler sonucu 100 hücreye yaklaştığında hangi adı alır?

- A) Embriyo
- B) Fetüs
- C) Yumurta
- D) Sperm

5. D vitamini ve minerallerin eksikliği sonucu bebeklerde ve çocuklarda görülen hastalığı ne ad verilir?

- A) Beriberi
- B) Daltonizm
- C) Raşitizm
- D) Skorbit

6. 20 m/s hıza sahip olan bir araç 1 dakikada kaç metre yol alır?
(s:saniye)

- A) 20
- B) 400
- C) 800
- D) 1200

7. Aşağıdakilerden hangisi yalıtkan bir maddedir?

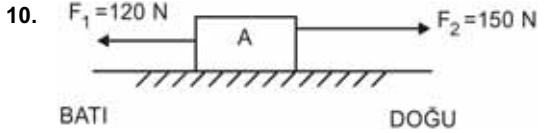
- A) Demir
- B) Alüminyum
- C) Gümüş
- D) Porselen

8. Işık, aşağıdaki nesnelere hangisi ile etkileştiğinde yoluna devam edemez?

- A) Tahta blok
- B) Buzlu cam
- C) Su
- D) Yağlı kağıt

9. Aşağıdaki olayların hangisi kimyasal değişimdir?

- A) Camın kırılması
- B) Etten kıyma yapılması
- C) Buzun erimesi
- D) Kağıdın yakılması



Sürtünmesi ihmal edilen şekildeki A cismine iki farklı kuvvet uygulanmaktadır.

Bu cismin dengelenmiş kuvvetler etkisinde olabilmesi için hangi yönde kaç N luk üçüncü bir kuvvet uygulanmalıdır?

- A) 20 N, DOĞU
- B) 20 N, BATI
- C) 30 N, DOĞU
- D) 30 N, BATI

11. Maddelerin ışınları tutmayıp ısıya dönüştürmeden uzaklaştırmalarına ne ad verilir?

- A) Genleşme
- B) Yansıtma
- C) Yoğuşma
- D) Soğurma

12. Aşağıdakilerden hangisi ısı yalıtımında kullanılan maddelerden biri değildir?

- A) Asbest
- B) Bakır
- C) Plastik köpük
- D) Cam yünü

13. Aşağıdakilerden hangisi ısıнын ışıma yoluyla yayılmasına bir örnektir?

- A) Çay bardağının içinde duran kaşığın ısınması
- B) Ocağın üzerindeki suyun ısınması
- C) Güneş'in Dünya'yı ısıtması
- D) Kalorifer peteğinden yayılan ısıнын odaya yayılması

14. Aşağıdaki maddelerden hangisi sesi daha iyi iletir?

- A) Hava
- B) Su
- C) Demir
- D) İspirto

15. Aşağıdakilerden hangisi doğurarak çoğalan hayvanlardan biridir?

- A) Yılan
- B) Kelebek
- C) Balina
- D) Tavuk

16. Yerin derinliklerinde erimiş haldeki magmanın yerin içine ya da yüzeye yakın veya yüzeyde soğuyarak katılaşması ile oluşan kayalara ne ad verilir?

- A) Tortul kayaç
- B) Magmatik kayaç
- C) Fosil
- D) Başkallım kayacı

17. Aşağıdakilerden hangisi düz kaslara bir örnektir?

- A) Mide kası
- B) Bacak kası
- C) Göz kapağı kası
- D) Kol kası

18. Bileşiğin yapı taşına ne ad verilir?

- A) Çekirdek
- B) Atom
- C) Element
- D) Molekül

19. Özellikle pamuk üretiminde hangi çeşit toprak türü kullanılır?

- A) Kumlu
- B) Killi
- C) Kireçli
- D) Humuslu

20. Bir iletkenin direnci aşağıdakilerden hangisi ile doğru orantılıdır?

- A) İletkenin boyuyla
- B) İletkenin yapısıyla
- C) İletkenin cinsiyle
- D) İletkenin kesitiyle

1. Aşağıdakilerden hangisi bir görüş cümlesidir?
 - A) Türkiye'nin en güzel şehri Adana'dır.
 - B) Akşam yemeğine amcamlara gittik.
 - C) Atatürk 19 Mayıs 1919'da Samsun'a çıktı.
 - D) Cumhuriyet 1923'te ilan edildi.
2. Aşağıdakilerden hangisi trafik kazalarının önlenmesinde yayalara düşen görevlerden biridir?
 - A) Trafiğe çıkan araçların sayısını belirlemek
 - B) Trafik kurallarına uymak
 - C) Trafik kurallarını belirlemek
 - D) Yolların niteliğini gözlemek
3. Aşağıdaki cümlelerden hangisi bir "olgu" ifadesidir?
 - A) Çınarcık ilçesinde dün saat 11.00'de 4.8 büyüklüğünde bir deprem oldu.
 - B) Çınarcık ve çevresinde daha büyük bir deprem beklemiyorum.
 - C) Çınarcık'ta deprem olduğuna göre en kısa zamanda İzmir'de de deprem olabilir.
 - D) Bu deprem Marmara Denizi'ndeki bir büyük depremin habercisi olabilir.
4. Aşağıdakilerden hangisi Türkiye'de farklı iklim çeşitlerinin yaşandığına kanıt olarak gösterilemez?
 - A) Tarım ürünlerinin çeşitliliği
 - B) Doğal bitki örtüsünün farklılık göstermesi
 - C) Kış aylarının Akdeniz Bölgesi'nde yağışlı geçmesi
 - D) Farklı turizm etkinliklerinin olması
5. Dünya'nın kendine özgü şekline ne ad verilir?
 - A) Boylam
 - B) Meridyen
 - C) Paralel
 - D) Geoit
6. Dünya'mızı ortadan ikiye ayıran paralelin adı nedir?
 - A) Boylam
 - B) Enlem
 - C) Ekvator
 - D) Meridyen
7. Türklerin bir demirci ustasının fikriyle demir dağını eritip dünyaya yayılmalarını anlatan destan aşağıdakilerden hangisidir?
 - A) Yaradılış
 - B) Göç
 - C) Oğuz Kağan
 - D) Ergenekon
8. Aşağıdakilerden hangisi Orta Asya'da kurulan devletlerden biri değildir?
 - A) Büyük Hun Devleti
 - B) Uygurlar
 - C) Gazneliler
 - D) Kök Türkler
9. Türk Edebiyatı'nın yazılı ilk örneklerinden olan Tonyukuk Kitabeleri hangi döneme aittir?
 - A) Gazneliler
 - B) Asya Hunları
 - C) Uygurlar
 - D) Kök Türk
10. Aşağıdaki bitkilerden hangisi su içinde yetişmesine rağmen, başakları olgunlaşmış hasat işlemi bitinceye kadar kurak bir döneme ihtiyaç duyar?
 - A) Pirinç
 - B) Buğday
 - C) Pamuk
 - D) Mısır
11. Aşağıdakilerden hangisi geri dönüşümün sağladığı faydalardan biri değildir?
 - A) Enerji tasarrufu sağlaması
 - B) Atık miktarını azaltması
 - C) Doğal kaynakları koruması
 - D) Sanayii geliştirmesi

12. Aşağıdakilerden hangisinde yerleşme yoktur?

- A) Avrupa'nın batısı
- B) Afrika'nın kuzeyi
- C) Antarktika Kıtası
- D) Kuzey Amerika Kıtası

13. Türkiye'de arazinin dağlık, tarım alanlarının küçük ve suyun bol olduğu yerlerde yerleşmeler dağınık haldedir.

Buna göre, aşağıdaki illerimizin hangisinde dağınık yerleşmeler diğerlerinden daha fazladır?

- A) Konya
- B) Rize
- C) Amasya
- D) Adana

14. Aşağıdakilerden hangisi Türkiye'nin dış ülkelere en çok sattığı ürünlerden biri değildir?

- A) Petrol
- B) Fındık
- C) Kuru üzüm
- D) Tütün

15. 1789 Fransız Ulusal Meclisi tarafından kabul edilen İnsan Hakları Bildirgesi'nde "Özgürlük, bireyin başkasına zarar vermeden istediğini yapabilmesidir." olarak tanımlanmıştır.

Buna göre, aşağıdaki davranışlardan hangisi özgürlük sınırları içinde değildir?

- A) Üniversite öğrenimini yarıda bırakmak
- B) Yüksek sesle müzik dinlemek
- C) Çalıştığı işten istifa etmek
- D) Tatil yapmaya gitmek

16. 1215 yılında İngiltere Kralı ile soylular arasında yapılan sözleşme ile tarihte ilk kez kralın yetkilerinde kısıtlama olmuştur.

Yukarıda sözü edilen belge aşağıdakilerden hangisidir?

- A) Hammurabi Kanunları
- B) Fransa İhtilali
- C) Kanuni Esasi
- D) Magna Carta Libertatum

17. Aşağıdakilerden hangisi Osmanlı toplumunda demokrasi yolunda atılan ilk adımdır?

- A) Sened-i İttifak'ın kabul edilmesi
- B) Tanzimat Fermanı'nın ilan edilmesi
- C) Meşrutiyet'in ilanı
- D) Islahat Fermanı'nın ilan edilmesi

18. Telif hakkı, eser sahibinin eserinden belli bir süre için yararlanma hakkı sağlar.

Buna göre, aşağıdakilerden hangisi telif hakkının eser sahibine sağladığı haklardan biri değildir?

- A) Haklarını devredebilmesi
- B) Haklarını hiçbir şekilde başkasına verememesi
- C) Haklarını satabilmesi
- D) Haklarını istediği gibi kullanabilmesi

19. Doku ve organ bağıışı ile ilgili aşağıdaki ifadelerden hangisi yanlıştır?

- A) Görmeyen insanın görmesi sağlanabilir.
- B) Kalp nakli ile hastanın yaşaması sağlanabilir.
- C) Hastanın duygularının değişmesi sağlanabilir.
- D) Böbrek hastasının hayata dönmesi sağlanabilir.

20. Edinsel bağışıklık eksikliği sendromu (AIDS) hastalığına neden olan virüs aşağıdakilerden hangisidir?

- A) Hepatit C virüsü
- B) HIV virüsü
- C) Uyuz virüsü
- D) Hepatit B virüsü

1. Aşağıdakilerden hangisi İslam'ın sakınılmasını istediği bazı davranışlardan biri değildir?

- A) Sinirli olma
- B) Yalan söyleme
- C) Haset etme
- D) Alay etme

2. Allah'ın emir ve yasaklarını insanlara bildirmeleri için seçtiği kişilere ne ad verilir?

- A) Halife
- B) Sıdk
- C) Sahabe
- D) Peygamber

3. Servetin gerçek sahibinin Allah olduğunu unutmamayı hatırlatan kıssa aşağıdakilerden hangisidir?

- A) Hz. Yunus kıssası
- B) Hz. Eyüp kıssası
- C) Hz. Musa kıssası
- D) Hz. İbrahim kıssası

4. Aşağıdakilerden hangisi Kur'an'da adı geçen peygamberlerden biridir?

- A) Hz. Sadık
- B) Hz. Ali
- C) Hz. İsmail
- D) Hz. Mustafa

5. İlk dünya haritasını günümüzdeki ölçülere yakın biçimde çizen kişi aşağıdakilerden hangisidir?

- A) Hamit Aytaç
- B) Kaşgarlı Mahmut
- C) Ali Kuşçu
- D) Piri Reis

6. Aşağıdakilerden hangisi farz olan namazlardan biridir?

- A) Cenaze
- B) Bayram
- C) Vitr
- D) Teravih

7. Kur'an'daki en uzun ve en çok dikkat çeken kıssa kime aittir?

- A) Hz. Âdem
- B) Hz. İbrahim
- C) Hz. Yusuf
- D) Hz. Musa

8. İlk peygamber ve ilk insan aşağıdakilerden hangisidir?

- A) Hz. Musa
- B) Hz. İbrahim
- C) Hz. Muhammed
- D) Hz. Âdem

9. Hz. Muhammed(sav)'e ilk vahyin gelişinden Yesrib'e(Medine'ye) hicret etmesine kadar geçen döneme ne ad verilir?

- A) Halifeler dönemi
- B) Mekke dönemi
- C) Sahabeler dönemi
- D) Hicret dönemi

10. Medine'de olup, Muhacirlere her türlü fedakârlıkla yardım eden Müslümanlara ne ad verilir?

- A) Yesrip
- B) Nebi
- C) Ensar
- D) Müezzin

11. Aşağıdakilerden hangisi ilahî kitaplardan biri değildir?

- A) Sahife
- B) Zebur
- C) İncil
- D) Tevrat

12. Dedikodu, kovuculuk, yerme anlamlarına gelen kavram aşağıdakilerden hangisidir?

- A) Zan
- B) Gıybet
- C) Kibir
- D) Haset

13. Hz. Muhammed'in cenazesini yıkayan, kefenleyen ve cenaze namazını kırdıran kişi aşağıdakilerden hangisidir?

- A) Hz. Bilal
- B) Hz. Ebu Bekir
- C) Hz. Ömer
- D) Hz. Ali

14. Ahilik teşkilatının kurulması ve yayılmasında önemli rol oynayan kişi aşağıdakilerden hangisidir?

- A) Ahi Evran
- B) Ahmet Yesevi
- C) Maturidi
- D) Mevlana

15. Teyemmüm abdesti ile ilgili aşağıdaki ifadelerden hangisi yanlıştır?

- A) Teyemmüm abdesti ile bir gün içerisindeki 5 vakit namaz kılınabilir.
- B) Suyun bulunmadığı, temiz olmadığı durumlar veya kullanılmasının insan sağlığı açısından tehlike oluşturduğu durumlarda alınır.
- C) Toprak veya toprak cinsi bir şeyle alınır.
- D) Abdesti bozan her durum teyemmümü de bozar.

16. Aşağıdakilerden hangisi manevi hırsızlıklardan biridir?

- A) Başkalarının eşyalarını çalma
- B) İnşaatta malzemeyi ölçülerinden az ve kalitesiz kullanma
- C) Başkalarının evlerinin içini gözetleme
- D) Elektriği kaçak kullanma

17. Tekbir ile başlayıp selam ile son bulan, Hz. Peygamber'in yapıp öğrettiği belirli bir fiil, söz ve duaları içine alan ibadet türü aşağıdakilerden hangisidir?

- A) Zekat verme
- B) Namaz kılma
- C) Hacca gitme
- D) Oruç tutma

18. Namaz kılan kimsenin elbisesinin, bedeninin ve namaz kılacağı yerin temiz olmasına ne ad verilir?

- A) Kabe-i Âhire
- B) Setr-i Avret
- C) İstikbal-i Kible
- D) Necasetten Taharet

19. Matematikte cebir konularını ele alan ve sıfırı ilk keşfeden İslam bilgini aşağıdakilerden hangisidir?

- A) Ali Kuşçu
- B) İbn-i Sina
- C) Harezmi
- D) Birunî

20. Allah'ın emrettiği; belli kuralları olan hareketleri ve buyrukları yapmaya ne ad verilir?

- A) İman
- B) İbadet
- C) İhsan
- D) İnanç

1. Proteinlerin kimyasal sindirimi nerede başlar?

- A) İnce bağırsakta
- B) Midede
- C) Kalın bağırsakta
- D) Ağızda

2. Nötr atomlarla ilgili aşağıdaki ifadelerden hangisi doğrudur?

- A) Proton sayısı elektron sayısından fazladır.
- B) Elektriksel olarak pozitif yüklüdür.
- C) Çekirdekte yalnız nötronlar vardır.
- D) Proton sayısı elektron sayısına eşittir.

3. Aşağıda elektron dizilimi verilen elementlerden hangisi soygazdır?

- A) Na: 2, 8, 1
- B) Cl: 2, 8, 7
- C) Ne: 2, 8
- D) Mg: 2, 8, 2





4. Korku ve heyecan anında adrenalin salgılayan bez aşağıdakilerden hangisidir?

- A) Hipofiz
- B) Pankreas
- C) Tiroid
- D) Böbrek üstü

5. Bir cismin elektrikle yüklü olup olmadığını, yüklü ise hangi cins elektrikle yüklü olduğunu anlamamızı sağlayan araçlara ne ad verilir?

- A) Periskop
- B) Mikroskop
- C) Teleskop
- D) Elektroskop

6. Direnç, hangi sembolle gösterilir?

- A) 
- B) 
- C) 
- D) 

7. Atomun çekirdeğinde bulunan pozitif(+) yüklü parçacığa ne ad verilir?

- A) Elektron
- B) Nötron
- C) İzoton
- D) Proton

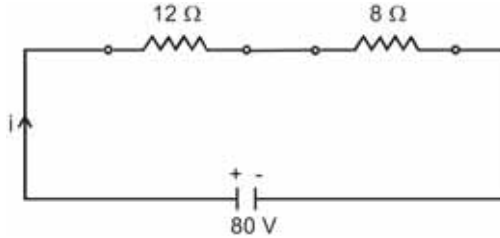
8. Işığın bir yılda aldığı yola ne ad verilir?

- A) Işık hızı
- B) Astronomi birimi
- C) Işık yılı
- D) Uzay yılı

9. Hareketli ve sabit makaraların birlikte kullanıldığı sistemlere ne ad verilir?

- A) Palanga
- B) Kaldıraç
- C) Dişli çark
- D) Eğik düzlem

10.



Yukarıdaki elektrik devresinde devrenin akım şiddeti kaç amperdir?

- A) 4
- B) 5
- C) 6
- D) 8

11. Aşağıdakilerden hangisi desteğin uçta, yükün ortada olduğu tek taraflı kaldıraçlara bir örnektir?

- A) Kayık küreği
- B) Gazoz açacağı
- C) Tahterevalli
- D) Makas

12. Aşağıdakilerden hangisi heterojen bir karışımdır?

- A) Salata
- B) Kolonya
- C) Kola
- D) Maden suyu

13. Grup çalışmasında öğrenciler sinir sistemi organlarını canlandırmışlar ve görevlerini açıklamışlardır.

Aslı: İskelet kaslarının hareketini düzenler ve vücudun dengesini sağlarım.

Buna göre, Aslı'nın canlandığı organ aşağıdakilerden hangisidir?

- A) Omurilik
- B) Beyin
- C) Beyincik
- D) Omurilik soğani

14. Aşağıdakilerden hangisi doğuştan kazanılmış reflektir?

- A) Öksürmek
- B) Dans etmek
- C) Örgü örmek
- D) Yüzmek

15. Bir canlının doğal olarak yaşayıp üreyebildiği yere ne ad verilir?

- A) Popülasyon
- B) Adaptasyon
- C) Habitat
- D) Mutasyon

16. Aşağıdakilerden hangisi kinetik enerjiye sahip değildir?

- A) Hareket halindeki araba
- B) Oturan çocuk
- C) Akan su
- D) Fırlatılan top

17. Beyaz ışıktan elde edilen renk şeridinde ne ad verilir?

- A) Işık tayfı
- B) Prizma
- C) Mor ötesi
- D) X ışını

18. Popülasyonun tanımı aşağıdakilerden hangisidir?

- A) Canlıları doğrudan ya da dolaylı olarak etkileyen ortamın her bir elemanı
- B) Belirli bir bölgede yaşayan, aynı türe ait bireylerin oluşturduğu topluluk
- C) Bir bölgede yaşayan ve birbirleriyle etkileşim içinde olan canlılarla bunların cansız çevrelerinin oluşturduğu doğa parçası
- D) Bir canlının doğal olarak yaşayıp üreyebildiği yer

19. Az yoğun ortamdan çok yoğun ortama geçen ışık ışınlarıyla ilgili aşağıdaki ifadelerden hangisi doğrudur?

- A) Normalden uzaklaşarak kırılır.
- B) Kırılmadan direkt diğer ortama geçer.
- C) Tam yansıma yaparak geldiği ortamda kalır.
- D) Normale yaklaşarak kırılır.

20. Güneş sisteminde Güneş'e en yakın gezegen aşağıdakilerden hangisidir?

- A) Mars
- B) Venüs
- C) Merkür
- D) Dünya

1. Aşağıdaki cümlelerin hangisinde terim kullanılmıştır?

- A) Üçgenin iç açıları toplamı 180° dir.
- B) Göz görmeyince gönül katlanırmış.
- C) Sandalyenin ayaklarından biri kırıktı.
- D) Dün sabah ani bir kararla Ankara'ya gitti.

2. Herhangi bir konuda yazı yazarken dikkat edilmesi gereken unsurlarla ilgili aşağıdaki ifadelerden hangisi yanlıştır?

- A) Standart Türkçe kullanılmalıdır.
- B) Kağıt ve sayfa düzenine dikkat edilmelidir.
- C) İfadelerde tekrara düşmek anlatımı zenginleştirir.
- D) Düzgün ve okunaklı yazmaya özen gösterilmelidir.

3. Aşağıdaki cümlelerden hangisinin yüklemi ek fiil almıştır?

- A) Adam bankta oturmuş, gazete okuyor.
- B) Genç kadın çok yorgundu.
- C) Zil çalınca, öğrenciler derse girdiler.
- D) Her akşam erkenden yatar.

4. Aşağıdaki fiillerden hangisi mastar eki almıştır?

- A) giymiş
- B) biliyor
- C) gitmek
- D) görecek

5. Aşağıdaki cümlelerden hangisinin yüklemi olumsuzdur?

- A) Bugün okula gitmedim.
- B) Kapıyı annem açtı.
- C) Küçük kız yere düştü.
- D) Yaşlı kadın bankta oturuyordu.

6. Aşağıdaki cümlelerden hangisinin yüklemi gereklilik kipinde çekimlenmiştir?

- A) Keşke o da bizimle gelse.
- B) Kendi evimize gittik.
- C) Bakayım elbisen nasıl olmuş?
- D) Yerlere çöp atmamalıyız.

7. Aşağıdakilerden hangisi ad cümlesidir?

- A) Bugün okullar tatil oldu.
- B) Arkadaşımın babası öğretmendir.
- C) Babam bugün işe gitmedi.
- D) Hafta sonu pikniğe gideceğiz.

8. Aşağıdaki cümlelerden hangisinde altı çizili sözcük zarf-fiil değildir?

- A) Bulutlar ağlayınca toprak yeşeriyordu.
- B) İş yaparken seni dinleyemem.
- C) Orada öylece oturup bekledik.
- D) Anlamak için dinlemek gerekir.

9. Aşağıdaki sözcüklerden hangisi "kıtlık" sözcüğünün zıt anlamlısıdır?

- A) bolluk
- B) çoğunluk
- C) azınlık
- D) eksiklik

10. "mesut" sözcüğünün eş anlamlısı aşağıdakilerden hangisidir?

- A) üzgün
- B) mutlu
- C) yorgun
- D) tasa

11. Aşağıdaki cümlelerden hangisinin yüklemi edilgendir?

- A) Bütün ev temizlendi.
- B) Ailece pikniğe gittik.
- C) Merdivenleri koşarak çıktılar.
- D) O kitapların hepsini okudum.

12. Aşağıdaki cümlelerden hangisinin yüklemi etken çatılı bir fiildir?

- A) Okul inşaatına başlandı.
- B) Cam kırıldı.
- C) Yerler temizlendi.
- D) Annem yemek pişiriyor.

13. Aşağıdaki cümlelerden hangisinin yüklemi geçişli bir fiil değildir?

- A) O kitabı okudum.
- B) Okula gittim.
- C) Onu tanıdım.
- D) Vapuru kaçırdım.

14. Aşağıdaki sözcüklerden hangisi kaynaştırma harfi almıştır?

- A) okulda
- B) kapıcı
- C) odanın
- D) susuz

15. Aşağıdaki cümlelerin hangisinde dolaylı tümleç vardır?

- A) Okuldan geliyorum.
- B) Arabayla gittik.
- C) Kapı uzun uzun çaldı.
- D) Ağaçlar çiçek açtı.

16. İnsanların iç dünyalarını anlatan ve insanın iç dünyasının topluma yansımalarını aktaran romanlara ne ad verilir?

- A) Köy romanı
- B) Macera romanı
- C) Psikolojik roman
- D) Sosyal roman

17. Aşağıdaki sözcüklerden hangisinde, fiilden ad türeten bir ek aldığı için ünlü düşmesi vardır?

- A) küçülmek
- B) karnı
- C) ağaçta
- D) kavruk

18. Aşağıdaki sözcüklerden hangisi büyük ünlü uyumuna uymaz?

- A) öğrenci
- B) kitapçı
- C) kedi
- D) okul

19. Aşağıdaki sözcüklerden hangisinde ünsüz sertleşmesi vardır?

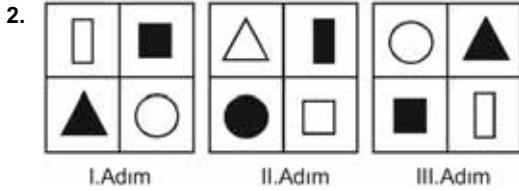
- A) ağacın
- B) yaprağın
- C) kitapta
- D) okuldan

20. Aşağıdaki cümlelerin hangisinde özel isimlerle ilgili bir yazım yanlışı vardır?

- A) Ödemiş, İzmir'in bir ilçesidir.
- B) Kedisi Pamuk'tan ayrılmak ona çok zor gelmişti.
- C) İstanbul, Türkiye'nin en kalabalık şehridir.
- D) Ev Van gölüne bakıyordu.

1. $(-3)^{-3}$ ifadesi aşağıdakilerden hangisine eşittir?

- A) -27
B) $-\frac{1}{27}$
C) $\frac{1}{9}$
D) 9



Yukarıdaki örüntünün IV. adımında gelmesi gereken şekil aşağıdakilerden hangisidir?

- A)

▲	▬
○	■
- B)

●	△
□	▬
- C)

▲	○
□	▬
- D)

□	●
▬	△

3. 0,000000218 sayısının bilimsel gösterimi aşağıdakilerden hangisidir?

- A) $0,218 \times 10^{-5}$
B) $2,18 \times 10^{-7}$
C) $21,8 \times 10^{-6}$
D) 218×10^{-8}

4. $\frac{10^5 \times 10^{-12}}{10^{-3} \times 10^{-7}} : \frac{10^{-22}}{10^{-24}}$

işleminin sonucu kaçtır?

- A) 0,1
B) 1
C) 10
D) 100

5. $A = \{0, 1, 2, 3, 4\}$ kümesinin elemanlarıyla üç basamaklı en fazla kaç farklı doğal sayı yazılabilir?

- A) 125
B) 100
C) 75
D) 60

6. Sezgin'in elinde iki torba vardır. I. torbada 32 sarı top, 28 lacivert top, II. torbada 26 sarı top, 30 lacivert top vardır.

Sezgin, her iki torbadan da birer top çekiyor. Seçilen topların her ikisinin de lacivert olma olasılığı kaçtır?

- A) $\frac{1}{2}$
B) $\frac{1}{3}$
C) $\frac{1}{4}$
D) $\frac{1}{5}$

7. Bir mönüde 8 çeşit yemek bulunmaktadır. Verilecek 5 çeşit sipariş için kaç farklı seçim yapılabilir?

- A) 56
B) 48
C) 42
D) 35

8. $\sqrt{5 - \frac{11}{4}} : \sqrt{1 + \frac{16}{9}}$

Yukarıdaki işlemin sonucu kaçtır?

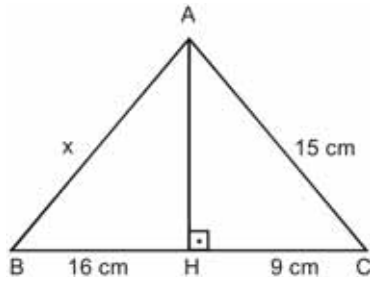
- A) $\frac{2}{5}$
 B) $\frac{2}{3}$
 C) $\frac{9}{10}$
 D) $\frac{5}{2}$

9. $\frac{x^2 + 3x}{x - 4} : \frac{x^2 - 9}{2x - 8}$

işleminin en sade biçimi aşağıdakilerden hangisidir?

- A) $\frac{2x}{x - 3}$
 B) $\frac{2x}{x - 4}$
 C) $\frac{x + 3}{x - 4}$
 D) $\frac{2x + 1}{x - 2}$

10.



Yukarıdaki ABC üçgeninde; $|AC| = 15$ cm,
 $|HC| = 9$ cm ve $|BH| = 16$ cm'dir.

Buna göre, $|AB| = x$ kaç cm'dir?

- A) 20
 B) 19
 C) 18
 D) 17

11. 2, 3, 6, 11, ?, 27

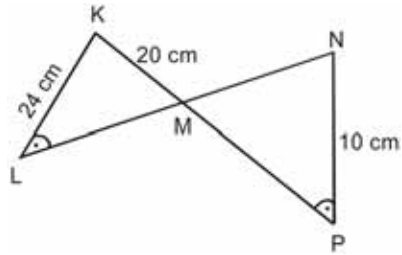
Yukarıdaki örüntüde ? (soru işareti) yerine aşağıdakilerden hangisi gelmelidir?

- A) 15
 B) 16
 C) 17
 D) 18

12. İlk terimi 19, ortak farkı 4 olan aritmetik dizinin 11. terimi kaçtır?

- A) 67
 B) 63
 C) 59
 D) 55

13.



Yukarıdaki şekilde $[KP] \cap [LN] = \{M\}$

$s(\widehat{KLM}) = s(\widehat{MPN})$, $|KL| = 24$ cm, $|KM| = 20$ cm,
 ve $|NP| = 10$ cm ise $|MN|$ kaç cm'dir?

- A) $\frac{22}{5}$
 B) $\frac{25}{3}$
 C) 9
 D) 11

14.

$$\frac{14}{3x-6} - \frac{2}{9} = \frac{4}{x-2}$$

Yukarıdaki denklemleri sağlayan x değeri aşağıdakilerden hangisidir?

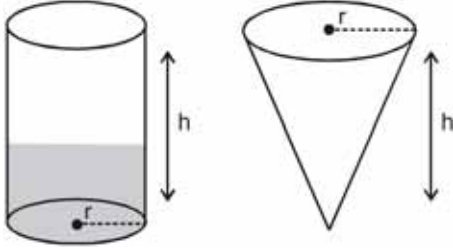
- A) 3
 B) 4
 C) 5
 D) 6

15. Nil, kumbarasına her gün 10 krş veya 25 krş atıyor. 61 gün sonra kumbarasını açan Nil 10 TL biriktiğini görüyor.

Buna göre, Nil kumbarasına kaç gün 25 krş atmıştır?

- A) 23
B) 24
C) 25
D) 26

16.



Yukarıda, tabanlarının yarıçapları ve yükseklikleri eşit olan silindir ve koni şeklinde iki kap verilmiştir.

Silindirin 1/3' ü su ile dolu iken suyun tamamı koniye boşaltıldığında, koninin içindeki su ile ilgili aşağıdaki ifadelerden hangisi doğrudur?

- A) Koninin üçte biri doludur.
B) Koninin yarısı doludur.
C) Koninin dörtte üçü doludur.
D) Koninin tamamı doludur.

17. Tabanının bir kenarının uzunluğu 9 cm ve yüksekliği 4 cm olan kare dik piramidin hacmi kaç cm^3 tür?

- A) 108
B) 112
C) 120
D) 144

18. "5 katının 12 fazlası 42 veya 42 den büyük olan sayılar" ifadesine uygun eşitsizliğin çözüm kümesi aşağıdakilerden hangisidir?

- A) $\{x|x \geq -4, x \in \mathbb{R}\}$
B) $\{x|x \geq 6, x \in \mathbb{R}\}$
C) $\{x|x \leq 5, x \in \mathbb{R}\}$
D) $\{x|x \leq 12, x \in \mathbb{R}\}$

19. Orijinden ve $A(4,-1)$ noktasından geçen doğrunun eğimi kaçtır?

- A) -4
B) -1
C) $-\frac{1}{4}$
D) 2

20. $-\frac{2}{3}y + 4x = 10$

denkleminin eğimi kaçtır?

- A) 6
B) 3
C) $-\frac{3}{2}$
D) -2

1. Hac görevi süresince giyilen beyaz elbiseye ne ad verilir?
- A) İhram
B) Mikat
C) Şavt
D) Tavaf
2. "Hiç kimse kendi emeği ile kazandığından daha hayırlı bir lokma yememiştir." hadisi Rasulullah'ın (s.a.v) hangi özelliğini vurgulamaktadır?
- A) Merhametli olması
B) Çalışmayı sevmesi
C) Hoşgörülü olması
D) Sabırlı olması
3. Allah'ın her şeyi önceden bilmesine; neyin, ne zaman, nerde olacağını belli bir ölçü, düzen ve plan içerisinde yaratmasına ne ad verilir?
- A) Denge
B) Alem
C) Kader
D) Bilim
4. "Ya öğreten ya öğrenen ya dinleyen ya da bunları seven ol. Fakat sakın beşincisi olma helak olursun." hadisi Hz. Muhammed'in (s.a.v) hangi yönüne işaret etmektedir?
- A) Bilgiye önem vermesi
B) Zamanı iyi değerlendirmesi
C) Güvenilir bir insan olması
D) Affedici olması
5. Tevekkül kelimesinin anlamı aşağıdakilerden hangisidir?
- A) İnsanların Allah inancına doğuştan sahip olmasıdır.
B) Allah'a teslim olmak, güvenmek, dayanmak ve sığınmaktır.
C) Kur'an-ı Kerim'de belirtilen kuralların tümüdür.
D) Allah'ın isimlerinden biridir.
6. Hz. Muhammed'in (s.a.v.) hiç kimseye ayrıcalıklı davranmaması, insanlar arasında inanç farkı gözetmeden herkese eşit davranması, peygamberimizin aşağıdaki örnek davranışlarından hangisini vurgulamaktadır?
- A) Güvenilir olması
B) Sabırlı ve cesur olması
C) Bilgiye önem vermesi
D) Hakkı gözetmesi
7. Aşağıdakilerden hangisi zekât verecek kişilerde aranan özelliklerden biri değildir?
- A) Evli olmak
B) Ergenlik çağına girmiş olmak
C) Müslüman olmak
D) Akıllı olmak
8. Aşağıdakilerden hangisi fiziksel yasaların özelliklerinden biri değildir?
- A) Allah'ın üstün kudret sahibi olduğunu ve her şeyi hakkıyla bildiğinin göstergesi olması
B) Her zaman ve her yerde aynı sonucu vermesi
C) Tecrübeler sonucu ortaya konulmuş olması
D) Fiziksel yasaların evrensel olması
9. Kâbe'nin etrafında, Hacer'ül Esvet'ten başlayarak yedi defa dönmeye ne ad verilir?
- A) Mikat
B) Tavaf
C) Şavt
D) İhram
10. Aşağıdakilerden hangisi hac ibadetinin insan davranışları üzerinde yarattığı etkilerden biri değildir?
- A) Hacda kardeşliğin en güzel örnekleri sergilendiğinden insanlar arasındaki eşitlik düşüncesi güçlenir.
B) Kutsal mekânları ziyaret, insandaki dinî duyguları pekiştirir.
C) Diğer Müslüman ülkelerin insanları ile tanışıp kaynaşma fırsatı bulunur.
D) İnsanın işlediği günahlardan arınması için bir fırsat kapısıdır.

11. Aşağıdakilerden hangisi Kur'an'da insanın bilgi edinme yollarından biri değildir?

- A) Duyu organları
- B) Akıl
- C) Mucize
- D) Vahiy

12. Hıristiyanlığın kutsal kitabı aşağıdakilerden hangisidir?

- A) İncil
- B) Tevrat
- C) Teslis
- D) Haham

13. Aşağıdakilerden hangisi kul hakkına sebep olan davranışlardan biri değildir?

- A) Kötü zanda bulunmak
- B) Gıybet etmek
- C) Başkalarıyla alay etmek
- D) Dürüst olmak

14. Tüm insanlık için gönderilen son ilahi din aşağıdakilerden hangisidir?

- A) Hristiyanlık
- B) İslam
- C) Budizm
- D) Yahudilik

15. Kur'an-ı Kerim'de "Kendi elinizle kendinizi tehlikeye atmayın! İyilik edin. Şüphesiz Allah iyilik edenleri sever." ayeti hangi surede geçmektedir?

- A) Bakara
- B) Nisa
- C) Şûra
- D) İsrâ

16. İnsanların haklarına saygılı olmaya, söz ve davranışlarla onlara zarar vermemeye ne ad verilir?

- A) İnanet
- B) Erdem
- C) Vicdan
- D) Kul hakkı

17. Kur'an-ı Kerim'de sevgi ve merhamet örneği olarak gösterilen peygamber aşağıdakilerden hangisidir?

- A) Hz. Nuh
- B) Hz. İbrahim
- C) Hz. Yusuf
- D) Hz. Süleyman

18. Aşağıdakilerden hangisi taasubun oluşmasındaki en büyük sebeplerden biridir?

- A) Kibirlik
- B) Sadakatsizlik
- C) Cimrilik
- D) Bilgisizlik

19. Kast sisteminde din adamlarının dahil olduğu sınıf aşağıdakilerden hangisidir?

- A) Vaisyalar
- B) Brahmanlar
- C) Südralar
- D) Kşatriyalar

20. Aşağıdakilerden hangisi Yahudilik dinindeki On Emir'den biri değildir?

- A) Hırsızlık yapmayacaksın.
- B) Zina etmeyeceksin.
- C) Cömert olacaksın.
- D) Putlara tapmayacaksın.

BU SAYFA BOŞ BIRAKILMIŞTIR.

BU SAYFA BOŞ BIRAKILMIŞTIR.

SINAVDA UYULMASI GEREKEN GENEL KURALLAR

1. Sınava girmek için gerekli belgelerinizin tümünü sınav başlamadan önce sıranızın üzerine bırakınız.
2. Sınav süresince görevlilerle konuşmak, görevlilere soru sormak yasaktır. Aynı şekilde görevlilerin de öğrencilerle yakından ve alçak sesle konuşmaları yasaktır. Gerekli durumlarda görevliler yerinizi değiştirebilir.
3. Size verilen cevap kâğıdının üzerindeki TCKN/Öğrenci no, ad, soyadı, bilgilerini kontrol ediniz, ilgili alanları eksiksiz doldurarak imzalayınız. Bu bilgiler size ait değilse, görevlileri uyararak size ait cevap kâğıdını isteyiniz. Başka öğrenciye ait cevap kâğıdı kullanan öğrencilerin o oturumdaki sınavları geçersiz sayılır.
4. Cevap kâğıdı üzerine test grubunu (A, B, C, D) kodlamayan veya birden fazla kodlama yapan öğrencilerin sınavları geçersiz sayılır.
5. Cevap kâğıdınıza yazacağınız her türlü yazı ve yapacağınız işaretlemeler için koyu yazan siyah kurşun kalem kullanmalısınız. Siyah kurşun kalem dışında farklı bir kalem (tükenmez, mürekkepli ya da renkli vb.) kullanan öğrencilerin sınavları geçersiz sayılır.
6. Cevap kâğıdı üzerinde değişiklik yapmak istediğinizde, iz bırakmayan bir silgi kullanınız. Cevap kâğıdınızı buruşturmayınız, katlamayınız ve üzerine gereksiz hiçbir işaret koymayınız.
7. Cevaplarınızı, cevap kâğıdında ilgili test için ayrılmış olan alana, cevap yerinin dışına taşımadan işaretleyiniz. Soru kitapçığı üzerinde yapılan işaretlemeler değerlendirmeye alınmayacaktır.
8. Her sorunun tek bir doğru cevabı vardır. Bir soru için birden çok cevabı işaretlerseniz, o soruyu yanlış cevaplamış sayılacaksınız.
9. Soru kitapçığınızı aldıңызda sayfalarına hızlıca bakarak hatalı ya da eksik baskı olup olmadığını kontrol ediniz. Hata/eksik olması durumunda kitapçığının değiştirilmesi için derhâl Salon Başkanına başvurunuz. Sınav görevlileri sınavın başladığını belirtmeden kitapçığınızı tekrar açmayınız.
10. Cevap kâğıdınızda belirtilen kitapçık kodu ile soru kitapçığının kodunu karşılaştırınız. Aynı değilse, sınav görevlilerine durumu bildirerek doğru kitapçığın verilmesini talep ediniz.
11. Soru kitapçığındaki ilgili alanlara ad, soyadı, TCKN/Öğrenci no, sınav salon no, sıra no bilgilerinizi eksiksiz doldurarak imzanızı atınız. Soru kitapçığının sayfalarındaki boş yerleri müsvedde amacıyla kullanabilirsiniz.
12. Aşağıdaki durumlarda sınav görevlileri tarafından Bireysel Sınav İptal Tutanağı düzenlenerek ilgili öğrencilerin sınavları geçersiz sayılır:
 - a) Sınav kurallarına ve sınav görevlilerinin uyarılarına uymamak, sınav düzenini bozmak,
 - b) Kâğıt, kitap, defter, not vb. dokümanları; pergel, açıölçer, cetvel vb. araçları; cep telefonu, bilgisayar, tablet, telsiz, kamera vb. iletişim, depolama, kayıt ve veri aktarma cihazlarını; ruhsatlı veya resmi amaçlı olsa bile silah ve silah yerine geçebilecek nesnelere yanında bulundurmamak,
 - c) Sınav sırasında kalem, silgi vb. araç-gereç paylaşımında bulunmak,
 - d) Cevapları, cevap kâğıdı dışında bir yere yazmak ve sınav salonundan dışarı çıkarmak,
 - e) Sınava girebilmek için gerekli belgeleri eksik olduğu halde sınava katılıp, cevap kâğıdında işaretleme yapmak,
 - f) Sınav görevlileri tarafından öğrencinin kimliğinden şüphe duyulması,
 - g) Cevap kâğıdını ve/veya soru kitapçığını sınav görevlilerine eksiksiz ve sağlam şekilde teslim etmemek, sınav salonu dışına çıkarmak,
 - h) Kopya çekmek, vermek, çekilmesine yardımcı olmak vb. eylemlerde bulunmak,
 - i) Kendisi yerine başkasını sınava sokmak.
13. Sınav bitiminde, cevap kâğıdınızı ve soru kitapçığınızı salon görevlilerine eksiksiz biçimde teslim ediniz. Sınav bittikten sonra gönderilen cevap kâğıtları dikkate alınmayacaktır.

SINAV KURALLARINA UYDUĞUNUZ İÇİN TEŞEKKÜR EDER, SINAVINIZDA BAŞARILAR DİLERİZ.