



ANADOLU ÜNİVERSİTESİ  
AÇIKÖĞRETİM FAKÜLTESİ  
BA - AÇIKÖĞRETİM OKULLARI

**T.C. MİLLİ EĞİTİM BAKANLIĞI**  
**Hayat Boyu Öğrenme Genel Müdürlüğü**  
**2016-2017 ÖĞRETİM YILI BATI AVRUPA – BALKANLAR**  
**AÇIK ÖĞRETİM ORTAOKULU III. DÖNEM SINAVI**

**3. OTURUM Cumartesi**

**A**

**0300**

**ÖĞRENCİNİN**

SOYADI : .....

ADI : .....

T.C. KİMLİK NO / ÖĞRENCİ NO : .....

SINAV SALON NO : ..... SIRA NO: .....

Sınavla ilgili soru kitapçığının ön ve arka kapağındaki tüm kuralları okudum, anladım, kabul ediyorum.

İMZA:.....

**SINAV İÇERİĞİ**

Testin Adı	Soru Sayısı	Sayfa No
TÜRKÇE 5	20	02
MATEMATİK 5	20	04
FEN VE TEKNOLOJİ 5	20	07
SOSYAL BİLGİLER 5	20	09
DİN KÜLTÜRÜ VE AHLAK BİLGİSİ 5	20	11
MATEMATİK 6	20	13
TÜRKÇE 7	20	16
MATEMATİK 7	20	18
SOSYAL BİLGİLER 7	20	22
ALMANCA 7	20	24
İNGİLİZCE 7	20	27
FRANSIZCA 7	20	30

**SINAVDA UYULMASI GEREKEN ÖZEL KURALLAR**

1. Soru kitapçığındaki her bir testi cevaplamanız için verilen süre 30 dakika, toplam süre 150 dakikadır.
2. Sınavın ilk 30 dakikası ve son 5 dakikası içinde sınavınızı tamamlasanız bile salondan çıkamazsınız. Herhangi bir nedenle salondan çıktığınız takdirde, tekrar sınava devam etmenize izin verilmeyecektir. Sınavın başlamasını izleyen ilk 15 dakikadan sonra hiçbir öğrenci sınava alınamaz.
3. Yanlış cevaplarınız dikkate alınmayacaktır. Bu nedenle kitapçıktaki tüm sorular için size doğru gelen seçeneği işaretleyerek cevapsız soru bırakmamanız yararınıza olacaktır.
4. Sınav sırasında hesap makinesi kullanabilirsiniz. Ancak, kullanacağınız makinede alfabetik tuş takımının (A, B, C, ..., Y, Z), program yapılmasına, saklanmasına ve çalıştırılmasına imkân veren EXE, STORE, RUN vb. tuşlar bulunamaz.

"Sınavda Uyulması Gereken Genel Kurallar" soru kitapçığının arka sayfasında yer almaktadır. Bu kuralları da mutlaka dikkatlice okuyunuz.

Anadolu Üniversitesi tarafından hazırlanmış olan bu testlerin her hakkı saklıdır. Hangi amaçla olursa olsun, testlerin tamamının veya bir kısmının Anadolu Üniversitesi'nin yazılı izni olmadan kopya edilmesi, fotoğraflarının çekilmesi, herhangi bir yolla çoğaltılması, yayımlanması ya da kullanılması yasaktır. Bu yasağa uymayanlar gerekli cezai sorumluluğu ve testlerin hazırlanmasındaki mali külfeti peşinen kabullenmiş sayılır.

1. Aşağıdaki cümlelerden hangisinin sonunda nokta işareti (.) kullanılmalıdır?
- A) Uçurtma yarışı hakkında bilgi verebilir misiniz  
B) Aaa gerçekten o  
C) Selçuk koşarak çarşığı geçti  
D) Onların istedikleri şey uçurtmanın uçuşması değil miydi
2. Aşağıdaki sözcüklerden hangisi özel isim değildir?
- A) Milletvekili  
B) Atatürk  
C) Çanakkale  
D) Avustralya
3. Aşağıdaki sözcüklerden hangisinin zıt anlamı yoktur?
- A) sıcak  
B) mavi  
C) uzun  
D) kalın
4. Aşağıdaki cümlelerin hangisinde "yaşlı" kelimesinin eş anlamı kullanılmıştır?
- A) Bebek mışıl mışıl uyuyor.  
B) İhtiyar adam sırtını ağaca yasladı.  
C) Kuru dallar aşağıya sarkmış.  
D) Suyu bir dikişte içti.
5. Aşağıdaki cümlelerden hangisinin sonunda ünlem işareti (!) kullanılmalıdır?
- A) Hey, buraya bak  
B) Ayşe, şunu verir misin  
C) Onu yerine koy  
D) Evde yalnız kalabiliyim
6. Aşağıdaki cümlelerin hangisinde "ne zaman" sorusunun yanıtı vardır?
- A) Onunla çarşıda buluşalım.  
B) Çalıştığım için içim rahat.  
C) Sizlerle çok güzel vakit geçirdik.  
D) Okuldan sonra yemek yemeye gittik.
7. "Atatürk'ü Duymak" şiiri aşağıdaki şairlerden hangisine aittir?
- A) Umit Uncu  
B) Bestami Yazgan  
C) Behçet Necatigil  
D) Necip Fazıl Kısayürek
8. Aşağıdaki cümlelerden hangisinin fiili olumsuzdur?
- A) Tatile gitmiyoruz.  
B) Babam hemen ansiklopediye uzandı.  
C) Anneannem bizi kapıda bekliyordu.  
D) Sevinçten çığlıklar atıyordum.
9. Aşağıdaki cümlelerin hangisinde bir tanım yapılmıştır?
- A) Şu bardağı bana uzatır mısın?  
B) Kitaplar zengin bilgi hazineleridir.  
C) Çocukları çok seviyorum.  
D) Dışarıdan çok gürültü geliyor.
10. "Işık" sözcüğü aşağıdaki cümlelerin hangisinde diğerlerinden farklı bir anlamda kullanılmıştır?
- A) Odanın ışığı çok parlak.  
B) Akşam ışıklar söndü.  
C) Işığı açalım, hava karardı.  
D) Atatürk hepimizin ışığıdır.
11. Aşağıdaki cümlelerin hangisinde zıt anlamı sözcükler kullanılmıştır?
- A) Tablolarında sıcak renklere ağırlık vermiş.  
B) Birbirimize anlatacak o kadar çok şey vardı ki...  
C) Ben küçükken sokağımız çok büyüktü.  
D) Kaşları çatılmış, gözleri kocaman açılmıştı.
12. "Bu Vatan Kimin" şiiri aşağıdaki şairlerden hangisine aittir?
- A) İsmail Hikmet Ertaylan  
B) Orhan Şaik Gökyay  
C) Mehmet Âkif Ersoy  
D) Fazıl Hüsnü Dağlarca

13. Aşağıdaki cümlelerin hangisinde benzetme yapılmıştır?

- A) Sabah erkenden kalkıp dışarı çıktım.
- B) Kapıları kapalı görünce şaşkırdım.
- C) Dün çok fazla yağış vardı.
- D) Kuşlar gibi özgür olmak isterim.

14. Aşağıdaki cümlelerden hangisi devrik bir cümledir?

- A) Nasıl durur Mustafa Kemal'in kağnısı?
- B) Ne kokar ne bulaşır.
- C) Bu işi iki yıldan beri yapıyoruz.
- D) Bazen ablasının evinde bazen ağabeyinin evinde kalıyordu.

15. "Atatürk ..... çok sevdiği milletine hizmet etmekten büyük bir zevk duymuştur." cümlesinde boş bırakılan yeri aşağıdaki sözcüklerden hangisi en uygun şekilde tamamlar?

- A) sanki
- B) veya
- C) her zaman
- D) ya da

16. "Bu topraklar üzerinde can vermiş yabancı askerler ..... bulunuyordu." cümlesinde boş bırakılan yeri aşağıdaki bağlaçlardan hangisi en uygun şekilde tamamlar?

- A) fakat
- B) ama
- C) ve
- D) de

17. Aşağıdaki fiillerden hangisinin yazımı yanlıştır?

- A) bitmiyor
- B) saklayacak
- C) yapacağım
- D) yapabiliyorum

18. Aşağıdaki cümlelerin hangisine ünlü düşmesine örnek bir sözcük vardır?

- A) Gel de ayıkla pirincin taşını!
- B) Nehrin suları iyice çekilmiş.
- C) Buradan denize girilmez.
- D) Sıcak havadan hepimiz bunaldık.

19. Aşağıdaki sözcüklerden hangisine "-cı/-ci" eki getirildiğinde yeni bir sözcük oluşmaz?

- A) simit
- B) şeker
- C) aynı
- D) kitap

20. Aşağıdakilerden hangisi bir atasözüdür?

- A) Onu görünce gözleri yuvalarından fırladı.
- B) Ona yetişebilmek için koşuverdi.
- C) Elindekine sahip olamadı.
- D) Sakla samanı gelir zamanı.

1. Bir sinema salonunun ilk sırası 11 koltuktur. Her sıradaki koltuk sayısı bir öncekinden 5 fazladır.

**Salonda toplam 8 sıra olduğuna göre, salonda toplam kaç koltuk vardır?**

- A) 182  
B) 228  
C) 254  
D) 279

2. Okunuşu "Altmış iki milyon altı bin altı" olan sayı aşağıdakilerden hangisidir?

- A) 6026006  
B) 6206006  
C) 62006006  
D) 62060006

3. 392 litrelik süt 14 litrelik şişelere doldurulacaktır.

**Buna göre kaç şişeye ihtiyaç vardır?**

- A) 28  
B) 29  
C) 30  
D) 31

4. Sevgi manavdan kilosu 1,75 TL'den 6 kg domates, kilosu 2,5 TL'den 4 kg soğan, kilosu 3,25 TL'den 2 kg patates almıştır.

**Buna göre, Sevgi manava kaç TL ödemiştir?**

- A) 24  
B) 27  
C) 29  
D) 33

5. 46 metre uzunluğundaki bir top kumaştan 115 cm uzunluğunda parçalar kesilerek perde dikilecektir.

**Bu kumaştan kaç tane perde çıkar?**

- A) 25  
B) 30  
C) 40  
D) 45

**6 - 8. soruları aşağıdaki tabloya göre cevaplayınız.**

Kitap Sayısı	Öğrenci Sayısı
1	///
2	/
3	### //
4	////
5	//
6	### /

Bir sınıftaki öğrencilerin sahip oldukları kitap sayıları yukarıdaki tabloda verilmiştir.

6. Buna göre, sınıftaki toplam öğrenci sayısı kaçtır?

- A) 21  
B) 22  
C) 23  
D) 24

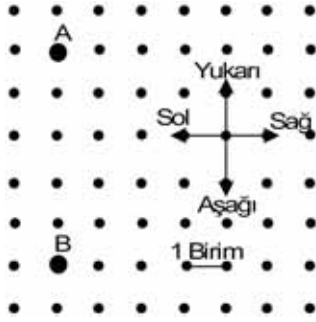
7. Yukarıdaki bilgilere göre, 6 kitabı olan öğrenci sayısı 2 kitabı olan öğrenci sayısından kaç fazladır?

- A) 2  
B) 3  
C) 4  
D) 5

8. Yukarıdaki bilgilere göre, sınıftaki toplam kitap sayısı kaçtır?

- A) 86  
B) 87  
C) 88  
D) 89

9.



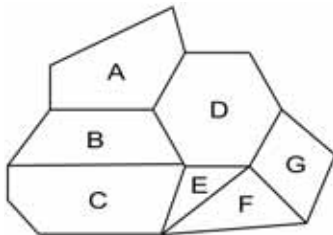
Yukarıdaki şekle göre aşağıdaki ifadelerden hangisi doğrudur?

- A) A noktası B noktasının 5 birim üstündedir.
- B) A noktası B noktasının 6 birim altındadır.
- C) B noktası A noktasının 4 birim üstündedir.
- D) B noktası A noktasının 6 birim altındadır.

10. Bir açısı  $26^\circ$  olan dik açılı üçgenin üçüncü açısı kaç derecedir?

- A) 48
- B) 52
- C) 58
- D) 64

11.



Yukarıdaki şekilde beş kenarlı çokgenler hangi harflerle belirtilmiştir?

- A) Yalnız A
- B) A ve C
- C) B, E ve G
- D) C, D ve F

12. Sevgi, 40 soruluk bir sınavda soruların tamamını cevaplamıştır.

Sevgi 24 soruyu doğru cevapladığına göre tüm soruların yüzde kaçına yanlış cevap vermiştir?

- A) 30
- B) 35
- C) 40
- D) 45

13. 6 doğal sayısı aşağıdaki kesirlerin hangisinden büyüktür?

- A)  $\frac{22}{4}$
- B)  $\frac{39}{5}$
- C)  $\frac{57}{9}$
- D)  $\frac{41}{6}$

14. Bir mağazada 680 TL'ye satılan bir palto indirim yapıldıktan sonra 476 TL'ye satılmaktadır.

Buna göre, ayakkabıda yüzde kaç indirim yapılmıştır?

- A) 20
- B) 25
- C) 30
- D) 40

15. Bir çiftçi tarlasının  $\frac{1}{5}$ 'ine arpa,  $\frac{2}{3}$ 'üne pancar geri kalan alana ise buğday ekmiştir.

Buna göre, buğday ekili alan tarlanın kaçta kaçtır?

- A)  $\frac{1}{9}$   
B)  $\frac{2}{15}$   
C)  $\frac{1}{5}$   
D)  $\frac{3}{10}$

16. Bir otobüsteki yolcuların %24'ü İngilizce bilmektedir.

Otobüste toplam 50 kişi olduğuna göre, İngilizce bilmeyen kaç kişi vardır?

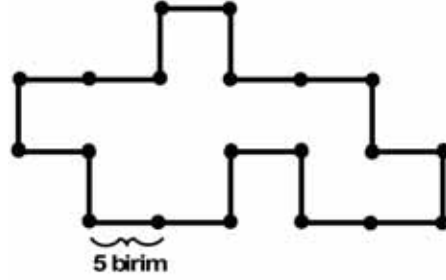
- A) 20  
B) 24  
C) 32  
D) 38

17. I. Karşılıklı kenarları birbirine paraleldir.  
II. Tüm açıları diktir.  
III. Karşılıklı kenarları eşittir.

Paralel kenar ile ilgili yukarıdaki ifadelerden hangileri doğrudur?

- A) Yalnız II  
B) I ve III  
C) II ve III  
D) I, II ve III

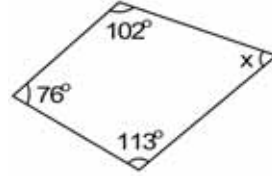
- 18.



Bir kenarı 5 birim olan yukarıdaki şeklin çevre uzunluğu kaç birimdir?

- A) 90  
B) 95  
C) 100  
D) 105

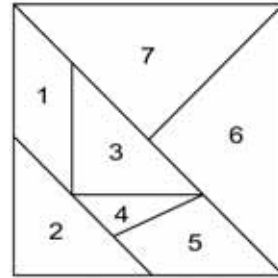
- 19.



Yukarıdaki dörtgende x açısı kaç derecedir?

- A) 57  
B) 69  
C) 73  
D) 77

- 20.



Yukarıdaki tangramda 3 ve 4 numaralı parçaların birleşiminden oluşan şekil aşağıdakilerden hangisidir?

- A) Yamuk  
B) Eşkenar dörtgen  
C) Üçgen  
D) Paralel kenar

1. Işığın saydam olmayan maddelerden geçememesi sonucunda oluşan karanlık bölgeye ne ad verilir?

- A) Opak
- B) Yarı gölge
- C) Tam gölge
- D) Geçirgen

2. Japonya'da geliştirilen "Maglev" adlı trende tekerlek bulunmamakta olup tren, çok güçlü mıknatıslar yardımıyla raylara temas etmeden hareket etmektedir.

Yukarıda söz edilen durumun nedeni aşağıdakilerden hangisidir?

- A) Sürtünme kuvvetini azlatmak
- B) Rayları korumak
- C) Trenin manevra kabiliyetini artırmak
- D) Kazalara engel olmak

3.



Yukarıda sembolü gösterilen devre elemanı aşağıdakilerden hangisidir?

- A) Ampul
- B) Pil
- C) Anahtar
- D) Duy

4. Vücudumuzda birinci dereceden enerji verici olarak kullanılan besin çeşidi aşağıdakilerden hangisidir?

- A) Vitamin
- B) Protein
- C) Karbonhidrat
- D) Yağ

5. Aşağıdakilerden hangisi çiçeksiz bitkilerden biridir?

- A) Kara yosunu
- B) Papatya
- C) Menekşe
- D) Gül

6. Suyun kaynama sıcaklığı kaç °C dir?

- A) -4
- B) 0
- C) 50
- D) 100

7. Zemini kaya veya dolgu maddesi olan bir yamacın yer çekimi, eğim ve su gibi nedenlerle bütün olarak kayarak yer değiştirmesine ne ad verilir?

- A) Heyelan
- B) Erozyon
- C) Deprem
- D) Sel

8. Fosil bilimi alanında çalışan bilim insanlarına ne ad verilir?

- A) Paleontolog
- B) Arkeolog
- C) Biyolog
- D) Antropolog

9. Katı haldeki bir maddenin ısı alarak doğrudan gaz haline geçmesine ne ad verilir?

- A) Buharlaştırma
- B) Yoğuşma
- C) Kaynama
- D) Süblimleşme

10. Sürtünme kuvvetiyle ilgili olarak aşağıdaki ifadelerden hangisi yanlıştır?

- A) Birbirine temas eden tüm yüzeylerde oluşur.
- B) Bir kuvvet çeşididir.
- C) Cismin hareketini kolaylaştırır.
- D) Çeşitli şekillerde artırılıp azaltılabilir.

11. Isı enerjisinin birimi aşağıdakilerden hangisidir?

- A) watt
- B) joule
- C) gram
- D) hertz

12.



Yukarıdaki sindirim sistemi şemasında soru işareti yerine aşağıdakilerden hangisi gelmelidir?

- A) Karaciğer
- B) Mide
- C) Pankreas
- D) Böbrek

13. Aşağıdakilerden hangisi omurgalı hayvanlardan biri değildir?

- A) Memeliler
- B) Süngerler
- C) Kurbağalar
- D) Balıklar

14. Aşağıdakilerden hangisi sesin yayıldığı ortamlardan biri değildir?

- A) Gaz
- B) Katı
- C) Sıvı
- D) Boşluk

15. Dinamometre, cisimlerin hangi özelliğinden yararlanılarak yapılmıştır?

- A) Sertlik
- B) Eylemsizlik
- C) Hareketlilik
- D) Esneklik

16. Işığı geçirmeyen maddelere ne ad verilir?

- A) Yarı saydam
- B) Saydam
- C) Opak
- D) Strafor

17. Bir araştırmada sonucu etkileyebilecek olan, etkisi azaltılıp çoğaltılabilen değişkene ne ad verilir?

- A) Bağımlı değişken
- B) Bağımsız değişken
- C) Tahmin grubu
- D) Kontrol grubu

18. Aşağıdakilerden hangisi boşaltım sisteminde görevli organlardan biridir?

- A) Akciğer
- B) Kalp
- C) Karaciğer
- D) Böbrek

19. Vücutta yapıcı ve onarıcı olarak görev yapan besin çeşidi aşağıdakilerden hangisidir?

- A) Protein
- B) Yağ
- C) Vitamin
- D) Karbonhidrat

20. Aşağıdakilerden hangisi kuvvet birimidir?

- A) Kilogram
- B) Newton
- C) Gram
- D) Metre



1. Çocuk Haklarına Dair Sözleşme ne zaman kabul edilmiştir?
- A) 20 Kasım 1989  
B) 21 Aralık 1990  
C) 6 Temmuz 1991  
D) 13 Ekim 1992
2. Aşağıdakilerden hangisi kişinin sahip olduğu haklardan biri değildir?
- A) Eğitim hakkı  
B) Sevme ve sevilme hakkı  
C) Düşünce ve ifade özgürlüğü hakkı  
D) Yaşama hakkı
3. Çaydaçıra oyunu hangi yöremize aittir?
- A) Edirne  
B) Elazığ  
C) Erzurum  
D) Eskişehir
4. Taşeli Platosu aşağıdaki bölgelerden hangisinde yer alır?
- A) Akdeniz  
B) Ege  
C) İç Anadolu  
D) Doğu Anadolu
5. Türkiye’de maden çeşitliliğinin ve rezervinin en fazla olduğu bölge aşağıdakilerden hangisidir?
- A) Doğu Anadolu  
B) Ege  
C) Akdeniz  
D) Karadeniz
6. Aşağıdaki tarım ürünlerinden hangisi İç Anadolu Bölgesi’nde yetiştirilir?
- A) Fındık  
B) Muz  
C) Buğday  
D) Çay
7. Büyük bir teleskop icat ederek Dünya’nın Güneş etrafında döndüğünü keşfeden bilim insanı aşağıdakilerden hangisidir?
- A) Marie Curie  
B) Edison  
C) Galileo  
D) Cahit Arf
8. 1876 yılında telgraf teknolojisindeki gelişmelerden yararlanarak sesi teller aracılığı ile ileten telefon kim tarafından icat edilmiştir?
- A) John Logie Maird  
B) Leonardo Da Vinci  
C) Samuel Morse  
D) Alexander Graham Bell
9. Aşağıdakilerden hangisi buluş yapan bilim insanlarının özelliklerinden biri olamaz?
- A) Merak  
B) Gözlem yapma  
C) Çalışkanlık  
D) İgisizlik
10. Aşağıdaki illerden hangisinde TEGV’in eğitim parkı yoktur?
- A) Samsun  
B) Eskişehir  
C) Sivas  
D) Van

11. Sivil toplum kuruluşunda gönüllü olarak çalışanların görev ve sorumlulukları ile ilgili aşağıdaki ifadelerden hangisi yanlıştır?

- A) Maddi kazanç sağlama amacı gözetilmez.
- B) Roller gönüllülük esasına göre verilir ve alınır.
- C) Toplumsal birçok sorunun çözülmesi için çalışmalar yaparlar.
- D) Görev ve sorumluluklarının dışında hareket ettiklerinde haklarında yasal işlem yapılır.

12. Aşağıdakilerden hangisi bir sivil toplum kuruluşu değildir?

- A) Milli Eğitim Vakfı
- B) Türk Tarih Kurumu
- C) TEMA Vakfı
- D) Türkiye Kızılay Derneği

13. Türkiye’de yasama görevini aşağıdaki kurumlardan hangisi yerine getirir?

- A) Başbakan
- B) Bakanlar Kurulu
- C) TBMM
- D) Cumhurbaşkanı

14. Türkiye Cumhuriyeti’nin ilk anayasası aşağıdakilerden hangisidir?

- A) 1921 Anayasası
- B) 1924 Anayasası
- C) 1961 Anayasası
- D) 1982 Anayasası

15. Aşağıdakilerden hangisi valiye bağlı değildir?

- A) İl Emniyet Müdürlüğü
- B) Tarım İl Müdürlüğü
- C) Belediye
- D) İl Milli Eğitim Müdürlüğü

16. Türkiye Cumhuriyeti’nin ilk Başbakanı kimdir?

- A) Rauf Orbay
- B) İsmet İnönü
- C) Kazım Karabekir
- D) Fevzi Çakmak

17. Aşağıdakilerden hangisi Türkiye’nin İran’dan en çok ithal ettiği ürünlerden biri değildir?

- A) Elektronik aletler
- B) Ham petrol
- C) Ham deri
- D) İşlenmemiş madenler

18. Türklerin bilinen ilk alfabeti olan Kök Türk Alfabeti ile yazılan Orhun Yazıtları günümüzde nerede bulunmaktadır?

- A) Kazakistan
- B) Endonezya
- C) Azerbaycan
- D) Moğolistan

19. Aşağıdaki ülkelerden hangisinin başkenti Dodoma’dır?

- A) Endonezya
- B) Tanzanya
- C) Çin
- D) Şili

20. Gize Piramidinin bulunduğu ülke aşağıdakilerden hangisidir?

- A) Fransa
- B) Meksika
- C) İspanya
- D) Mısır

1. Tüm Müslümanlara yardım, rahmet ve esenlik dilemek için aşağıdaki dualardan hangisinin okunması gerekir?
  - A) Salavat duaları
  - B) Hamd duaları
  - C) Tevekkül duaları
  - D) Şükür duaları
2. Hz. Hatice üstün ahlakından dolayı Mekke'de aşağıdaki hangi isimle anılıyordu?
  - A) Emine
  - B) Fatıma
  - C) Zeynep
  - D) Tahire
3. Allah'ın her şeyi bilmesi anlamına gelen sözcük aşağıdakilerden hangisidir?
  - A) Vahdaniyet
  - B) Basar
  - C) İlim
  - D) Kudret
4. Dinin anlaşılıp yaşanması için en temel ve en güvenilir kaynak aşağıdakilerden hangisidir?
  - A) Atasözü
  - B) Kur'an
  - C) Özdeyiş
  - D) Deyim
5. Dinimizin yasakladığı kötü davranışlardan biri olan, gereksiz yere harcama yapma ve savurganlık anlamına gelen sözcük aşağıdakilerden hangisidir?
  - A) Açgözlülük
  - B) Geçimsiz
  - C) Hovardalık
  - D) İsrar
6. Aşağıdakilerden hangisi Allah'ın insanlara lütfettiği en büyük nimetlerden biridir?
  - A) Duygusal olma
  - B) Akı kullanma
  - C) Konuşma
  - D) Yürüebilme
7. Kur'an-ı Kerim ile ilgili aşağıdaki ifadelerden hangisi yanlıştır?
  - A) İslam dininin temel kaynağıdır.
  - B) Hiç değişmeden ve güvenli bir şekilde günümüze kadar ulaşmıştır.
  - C) Allah tarafından gönderilen ilk kitaptır.
  - D) Bütün insanlara hitap eden evrensel bir kitaptır.
8. Namaz vaktinin geldiğini bildirmek için camide müezzinin ezan okuduğu, salâ verdiği, şerefesi olan, çoğunlukla taştan yüksek ve ince yapılara ne ad verilir?
  - A) Minare
  - B) Mabet
  - C) Mihrap
  - D) Minber
9. İstiklâl Marşı'nın yazarı aşağıdakilerden hangisidir?
  - A) Cahit Sıtkı Tarancı
  - B) Fatih Rıfki Atay
  - C) Behçet Kemal Çağlar
  - D) Mehmet Âkif Ersoy
10. Cuma namazı ile ilgili aşağıdaki ifadelerden hangisi yanlıştır?
  - A) Hutbede İslam dininin güzelliklerinden, dostluk, sevgi, barış ve toplumsal dayanışma konularından bahsedilir.
  - B) Minber denilen yüksekçe yerden hutbe okunur.
  - C) Sabah namazı vaktinde cemaatle kılınır.
  - D) İmam, Cuma ezanına kadar çeşitli konularda vaaz eder.

11. Aşağıdakilerden hangisi İslam'ın temel ibadetlerinden biri değildir?

- A) Zekât
- B) İman
- C) Hac
- D) Oruç

12. Günahlardan kurtuluş gecesi olarak kutlanan kandil aşağıdakilerden hangisidir?

- A) Mevlit
- B) Regaip
- C) Miraç
- D) Berat

13. Oğlu İsmail ile birlikte, ilk defa Hz. Âdem zamanında yapılan Kâbe'yi aynı yerinde yeniden yapan peygamber kimdir?

- A) Hz. İbrahim
- B) Hz. Yusuf
- C) Hz. Eyüp
- D) Hz. Süleyman

14. Yurdun dıştan gelen saldırılara karşı korunmasında hazırlıklı olmak için yapılan göreve ne ad verilir?

- A) Birlik
- B) Güvenlik
- C) Askerlik
- D) Gazilik

15. Zengin olanların, sahip oldukları mal ve paranın belli bir miktarını ihtiyacı olan kimselere vermesine ne ad verilir?

- A) Yardım
- B) Zekât
- C) Vacip
- D) Sadaka

16. Bir milletin bağımsız olarak üzerinde yaşadığı, sınırları belli olan toprak parçasına ne ad verilir?

- A) Vatan
- B) Cemiyet
- C) Millet
- D) Devlet

17. Hz. Muhammed ile Hz. Hatice'nin ilk çocuklarının adı aşağıdakilerden hangisidir?

- A) Zeynep
- B) Kasım
- C) Rukiye
- D) Abdullah

18. Tekvin'in anlamı aşağıdakilerden hangisidir?

- A) Allah'ın benzerinin olmaması
- B) Allah'ın herşeye gücünün yetmesi
- C) Allah'ın yaratma sıfatı
- D) Allah'ın adil olması

19. Aşağıdakilerden hangisi dinî bayramlarımızdan biridir?

- A) Ulusal Egemenlik ve Çocuk Bayramı
- B) Cumhuriyet Bayramı
- C) Zafer Bayramı
- D) Ramazan Bayramı

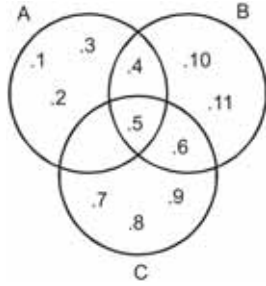
20. Farz kadar kesin olmamakla birlikte yapılması gerekli olan iş ve davranışlara ne ad verilir?

- A) Vacip
- B) Mekruh
- C) Mübah
- D) Sünnet

1. Ardışık üç çift doğal sayının toplamı 1062 olduğuna göre, küçük sayı kaçtır?

A) 350  
B) 352  
C) 354  
D) 356

2.



Yukarıdaki şemaya göre  $C \setminus (A \cup B)$  kümesi aşağıdakilerden hangisidir?

A) {4, 5}  
B) {5, 6}  
C) {7, 8, 9}  
D) {5, 6, 7, 8, 9}

3.  $A = \{k, l, m, n, p, r, s, t\}$ ,  $B = \{k, m, r, s\}$  ve  $C = \{n, r, s\}$  kümeleri veriliyor.

Buna göre, aşağıdakilerden hangisi yanlıştır?

A)  $(A \cap C) \supset B$   
B)  $A \supset C$   
C)  $B \subset A$   
D)  $(B \cap C) \subset A$

4. Sınavlara hazırlanan Melda, ilk gün 50 soru çözmüştür. Diğer günlerde bir önceki günden 15 soru daha fazla çözerek 6 günde bir test kitabını bitirmiştir.

Buna göre, bu test kitabında kaç soru vardır?

A) 400  
B) 465  
C) 525  
D) 590

5. 3, 7, 11, 15, 19, 23,..... sayı örüntüsünün cebirsel ifadesi aşağıdakilerden hangisidir?

A)  $3n - 1$   
B)  $3n + 2$   
C)  $4n - 1$   
D)  $4n + 1$

6. Kerim'in kalemlerinin sayısının 5 eksiğinin 3 katı Gül'ün kalemlerinin sayısına eşittir.

Gül'ün 18 kalemi olduğuna göre, Kerim'in kalemlerinin sayısını veren denklem aşağıdakilerden hangisidir?

A)  $3(x - 5) = 18$   
B)  $3x - 5 = 18$   
C)  $3(x + 5) = 18$   
D)  $3x + 5 = 18$

7. 60 kg ve 84 kg'lık iki çuval unu olan Ahmet, çuvalardaki unu eşit miktarlarda paketlemek istemektedir.

Buna göre, Ahmet'in en az kaç torbaya ihtiyacı vardır?

A) 7  
B) 9  
C) 12  
D) 15

8.  $73,042 - 62,14$

işleminin sonucu kaçtır?

A) 10,028  
B) 10,902  
C) 11,028  
D) 11,902

9. Bir bakkalın yumurtalarının  $\frac{4}{9}$ 'u 68 tanedir.

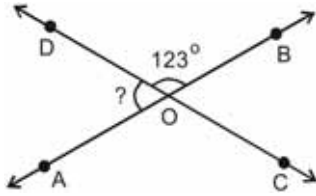
**Bakkal yumurtalarının  $\frac{2}{3}$ 'ünü sattığına göre, geriye kaç tane yumurtası kalmıştır?**

- A) 28  
B) 35  
C) 43  
D) 51

10. %64'ü ile %43'ünün farkı 63 olan sayı kaçtır?

- A) 250  
B) 300  
C) 350  
D) 400

11.



Şekilde O noktasında kesişen DC ve AB doğrularının oluşturduğu açılardan  $s(\widehat{DOB}) = 123^\circ$  olduğuna göre  $s(\widehat{DOA})$  kaç derecedir?

- A) 23  
B) 45  
C) 57  
D) 72

12. 72 kg sütten 24 kg peynir elde edildiğine göre, 19 kg peynir yapmak için kaç kg süt gereklidir?

- A) 56  
B) 57  
C) 58  
D) 59

13. Tümleler açıdan birinin ölçüsü diğerinin 2 katından 6 eksiktir.

**Buna göre, küçük olan açı kaç derecedir?**

- A) 40  
B) 36  
C) 32  
D) 28

14. Bir torbada aynı özelliğe sahip 5 kırmızı, 8 sarı, 7 lacivert top vardır. Torbadan rasgele çekilen topun kırmızı renkte olma olasılığı nedir?

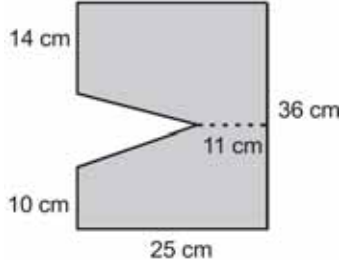
- A)  $\frac{3}{4}$   
B)  $\frac{3}{5}$   
C)  $\frac{2}{5}$   
D)  $\frac{1}{4}$

15. 11 kişilik bir grubun yaş ortalaması 25'tir. Gruptan bir kişi ayrıldığında kalan kişilerin yaş ortalaması 26 oluyor.

**Buna göre, gruptan ayrılan kişi kaç yaşındadır?**

- A) 17  
B) 16  
C) 15  
D) 14

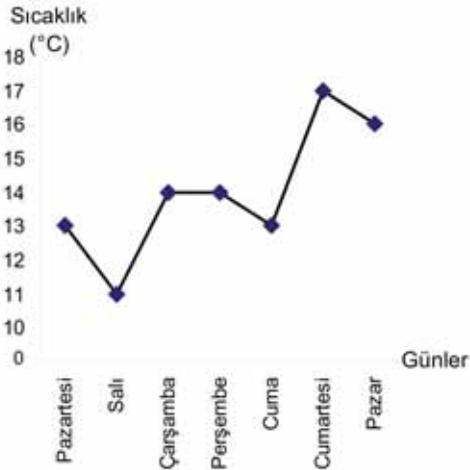
16.



Yukarıdaki taralı bölgenin alanı kaç  $\text{cm}^2$  dir?

- A) 816
- B) 822
- C) 884
- D) 900

17. ve 18. soruları aşağıdaki grafiğe göre cevaplayınız.



Yukarıdaki çizgi grafiğinde bir şehrin bir haftalık sıcaklık ölçümleri verilmiştir.

17. Yukarıdaki grafiğe göre, bir haftanın sıcaklığı ortalama kaç  $^{\circ}\text{C}$ 'dir?

- A) 12
- B) 13
- C) 14
- D) 15

18. Bu grafiğe göre, aşağıdaki ifadelerden hangisi yanlıştır?

- A) Pazartesi ve Cuma günlerinin sıcaklık ölçümleri aynıdır.
- B) Hava sıcaklığında en çok düşüş Salı günü olmuştur.
- C) Cumartesi günü Perşembe gününden  $3^{\circ}\text{C}$  daha sıcaktır.
- D) Haftanın en sıcak günü Pazardır.

19.

Yemekler	İçecekler
Hamburger	Ayran
Makarna	Kola
Köfte	Gazoz
Döner	Çay
Pizza	

Yukarıdaki menüden bir yemek ve bir içecek siparişi vermek isteyen Koray, kaç farklı seçim yapabilir?

- A) 12
- B) 18
- C) 20
- D) 24

20. 30 litrelik su  $400 \text{ cm}^3$  hacimli damacanalara doldurulacaktır.

Bu suyu doldurmak için kaç damacana gereklidir?

- A) 50
- B) 75
- C) 100
- D) 125

1. Aşağıdaki fiillerden hangisi 2. tekil kişi, olumsuz ve geniş zamanda çekimlenmiştir?

- A) gelmezsin
- B) gidiyorum
- C) koşuyorlar
- D) beğenmeyecek

2. Aşağıdaki cümlelerin hangisinde çekimli bir fiil yoktur?

- A) Bütün ödevlerini bitirdi.
- B) Okullar tatil oldu.
- C) Benim ayakkabı numaram kardeşiminkinden küçük.
- D) Çocuklar çok yorulmuştu.

3. Aşağıdakilerden hangisi karşılıklı konuşma türlerinden biri değildir?

- A) Telefonla konuşma
- B) Bir topluluğa birini tanıtırma konuşması
- C) Özür dileme konuşması
- D) Kutlama konuşması

4. “yanmak” sözcüğü aşağıdaki cümlelerin hangisinde diğerlerinden farklı bir anlamda kullanılmıştır?

- A) Alev alan kâğıt bir anda yandı.
- B) Yanan ormanların yerine yeni ağaçlar dikilecekmiş.
- C) Haberi duyunca içim yandı.
- D) Şöminede odunlar çıtırdarak yanıyordu.

5. “Kaşığı” adlı öykü aşağıdaki yazarlardan hangisine aittir?

- A) Tefik Fikret
- B) Mehmet Rauf
- C) Halit Ziya Uşaklıgil
- D) Ömer Seyfettin

6. Konuşurken sözcüklerdeki kimi hecelerin veya cümlelerdeki kimi sözcüklerin daha belirgin söylenmesine ne ad verilir?

- A) Vurgu
- B) Tonlama
- C) Noktalama
- D) Duraklama

7. Aşağıdaki cümlelerin hangisinde yer-yön zarfı vardır?

- A) Bilge dün akşam geldi.
- B) Koşarak ileri atıldı.
- C) Ali sınavdan en yüksek puanı aldı.
- D) Bu filmi pek beğenmedim.

8. Aşağıdakilerden hangisi bildirme yazısı türlerinden biri değildir?

- A) Tutanak
- B) Mektup
- C) Rapor
- D) Anı

9. Aşağıdakilerden hangisi çekimli bir fiildir?

- A) geldim
- B) güzelmiş
- C) soğuktu
- D) sağlamdır

10. Aşağıdakilerden hangisi farklı dinlemelerden en iyi biçimde yararlanabilmek için dikkat edilmesi gereken kurallardan biri değildir?

- A) Dinlemeye istekli olunmalıdır.
- B) Dinleme bir amaç için yapılmamalıdır.
- C) Konuşulanı iyi ve doğru biçimde anlamaya çalışılmalıdır.
- D) Kişi dikkatini dinleme süresince uyanık tutmaya çalışmalıdır.

11. Aşağıdaki cümlelerin hangisinde fiil yeterlilik fiili ile çekimlenmiştir?

- A) Sonunda kitabı okuyabildi.
- B) Camları siliver, lütfen.
- C) Sen sofrayı kuradır.
- D) Korkudan öleyazdım.



12. Aşağıdaki cümlelerin hangisinde zaman zarfı vardır?

- A) Babam bisikletimi tamir etti.
- B) Teyzemler İstanbul'a taşındı.
- C) Hepimiz Ayşe'nin doğumgünü için buluştuk.
- D) Ankara'ya yarın gideceğim.

13. Soyut bir kavramı anlaşılır bir duruma getirmek, görünür kılmak için aşağıdaki düşünceyi geliştirme yollarının hangisinden yararlanır?

- A) Benzetme
- B) Kanıtlama
- C) Örnekleme
- D) Tanımlama

14. "Bodrumdaki Hazine" adlı öykü aşağıdaki yazarlardan hangisine aittir?

- A) Onat Kutlar
- B) Adnan Özyalçın
- C) Mehmet Kaplan
- D) Sezai Karakoç

15. Aşağıdakilerden hangisi bir tanım cümlesidir?

- A) Köpeğimiz çok akıllı bir hayvan.
- B) Her hafta bir kalem kaybediyorum.
- C) Harfler seslerin işaretidir.
- D) Ağaçların altından uyuyakalmışız.

16. Aşağıdakilerden hangisi fiilden fiil türeten bir ek almıştır?

- A) kopar-
- B) başar-
- C) garipse-
- D) türe-

17. Aşağıdakilerden hangisi birleşik fiildir?

- A) yağdır-
- B) koş-
- C) uzat-
- D) okuyabil-

18. Bir eserin, bir sorunun, bir olayın özelliklerini, en ince ayrıntılarını araştırarak göz önüne seren yazı türüne ne ad verilir?

- A) Roman
- B) Hikâye
- C) İnceleme
- D) Röportaj

19. Aşağıdaki cümlelerin hangisinde fiilde anlam kayması vardır?

- A) Aldığım tüm kitapları okudum.
- B) Bizim kız bu habere çok sevinir.
- C) Yarın İzmir'e gelecekler.
- D) Dün işe gelmedi.

20. Aşağıdaki cümlelerden hangisinin yüklemi ek fiil almıştır?

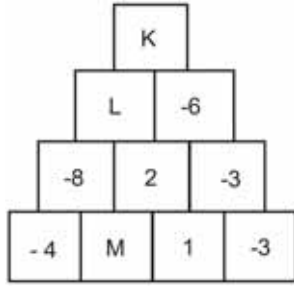
- A) Yatmadan önce mutlaka dişlerimi fırçalarım.
- B) Kardeşim bu yıl okula başlayacak.
- C) Kitap okumayı çok severim.
- D) Ceyda sınıfın en çalışkanıdır.

1. Bir laboratuvarında termometre  $13^{\circ}\text{C}$ 'yi gösterirken, sıcaklık her 1 dakikada  $3^{\circ}\text{C}$  düşmektedir.

Buna göre, 7 dakika sonra termometre kaç  $^{\circ}\text{C}$ 'yi gösterir?

- A) -11  
B) -8  
C) 10  
D) 16

2.

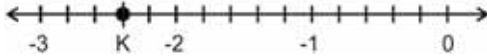


Yukarıdaki sayı piramidinde üstteki kutular alttaki iki kutunun çarpımı şeklinde yazılmıştır.

Buna göre,  $K+L+M$  kaçtır?

- A) 78  
B) 82  
C) 112  
D) 114

3.



Yukarıdaki sayı doğrusunda ardışık iki tam sayı arası 5 eş parçaya bölünmüştür.

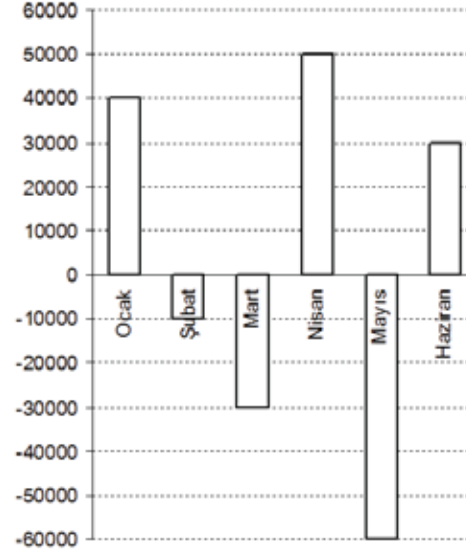
Buna göre, K noktasına karşılık gelen rasyonel sayı aşağıdakilerden hangisidir?

- A)  $-\frac{12}{5}$   
B)  $-\frac{8}{5}$   
C)  $-\frac{4}{5}$   
D)  $-\frac{2}{5}$

4. a negatif bir tam sayı olduğuna göre, aşağıdakilerden hangisi daima pozitif bir sayıdır?

- A)  $\frac{a}{2}$   
B)  $a^2 - 4$   
C)  $3a$   
D)  $-(a^3)$

5.



Yukarıdaki grafikte bir şirketin 6 aylık kâr-zarar durumu verilmiştir.

Buna göre, şirketin 6 aylık kâr-zarar durumu ile ilgili aşağıdaki ifadelerden hangisi doğrudur?

- A) 10.000 TL kâr etmiştir.  
B) 10.000 TL zarar etmiştir.  
C) 20.000 TL kâr etmiştir.  
D) 20.000 TL zarar etmiştir.

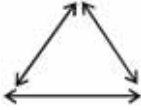
6. Bir ayakkabıcı etiket fiyatı 240 TL olan bir ayakkabıyı indirim zamanında 156 TL'ye satıyor.

Buna göre, ayakkabıcı % kaç indirim yapmıştır?

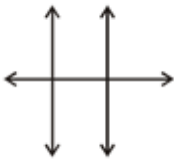
- A) 25  
B) 30  
C) 35  
D) 40

7. Aşağıdakilerden hangisi birbirini ikişer ikişer kesen üç doğruya bir örnektir?

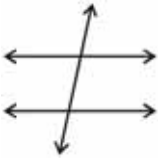
A)




B)



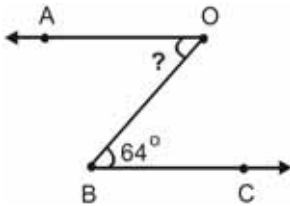
C)



D)



8.



Yukarıdaki şekilde,  $[AO] \parallel [BC]$  olduğuna göre,  $\angle(A\hat{O}B)$  kaç derecedir?

- A) 26  
B) 40  
C) 64  
D) 116

9. Zehra'nın kitaplarının sayısının Ata'nın kitaplarının sayısına oranı  $\frac{5}{8}$ 'dir.

Zehra ve Ata'nın toplam 91 kitabı varsa, Ata'nın kaç kitabı vardır?

- A) 35  
B) 42  
C) 49  
D) 56

10. Denklemi  $y = \frac{3}{4}x - 3$  olan doğru üzerindeki

bir A noktasının apsisi 6 ise ordinatı kaçtır?

- A) -6  
B)  $\frac{3}{2}$   
C) 2  
D) 9

11. Bir yılbaşı partisinde 114 kadın, 39 erkek vardır.

Bu partiye kaç evli çift gelirse kadın sayısı erkek sayısının 2 katı olur?

- A) 36  
B) 38  
C) 40  
D) 42

12. Özge, 930 sayfalık bir kitabı her gün bir önceki gün okuduğu sayfa sayısının 2 katı kadar okuyarak 5 günde bitiriyor.

Buna göre, Özge 4. günün sonunda kitabın kaç sayfasını okumuştur?

- A) 450  
B) 400  
C) 360  
D) 300

13. İç açılarının ölçülerinin toplamı  $1800^\circ$  olan bir çokgen kaç kenarlıdır?

- A) 10
- B) 11
- C) 12
- D) 13

14.

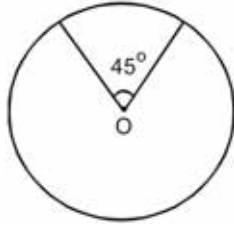


Yukarıdaki şekil O noktası etrafında saat ibresinin tersi yönünde  $180^\circ$  döndürülüyor.

Döndürülme işleminden sonra oluşan şekil aşağıdakilerden hangisidir?

- A)
- B)
- C)
- D)

15.

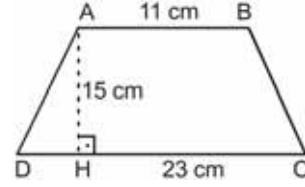


Yukarıdaki daire diliminin alanı  $24 \text{ cm}^2$  ve merkez açısının ölçüsü  $45^\circ$  dir.

Buna göre, dairenin yarıçapı kaç cm dir? ( $\pi = 3$  alınız.)

- A) 6
- B) 7
- C) 8
- D) 9

16.



Yukarıdaki ABCD yamuğunda;  $|AB|=11 \text{ cm}$ ,  $|CD|=23 \text{ cm}$  ve  $|AH|=15 \text{ cm}$  dir.

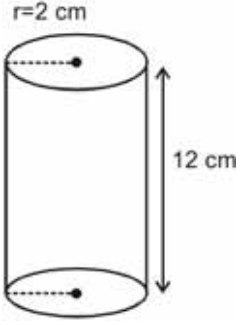
Buna göre, yamuğun alanı kaç  $\text{cm}^2$  dir?

- A) 225
- B) 255
- C) 280
- D) 310

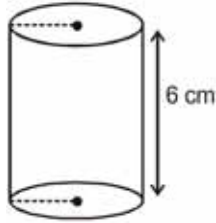
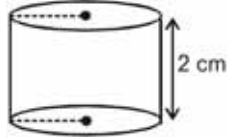
17. Bir gruptaki kişilerin yaşları sırasıyla; 18, 21, 22, 24, 26 ve 27 olduğuna göre, bu kişilerin yaşlarının aritmetik ortalaması kaçtır?

- A) 22
- B) 23
- C) 24
- D) 25

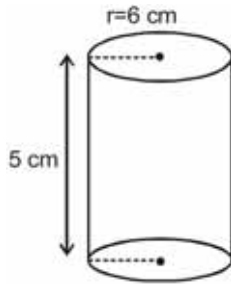
18.



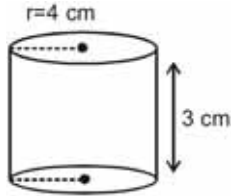
Yukarıdaki silindirin hacmi aşağıdaki silindirlere hangisinin hacmine eşittir?

A)  $r=3$  cmB)  $r=6$  cm

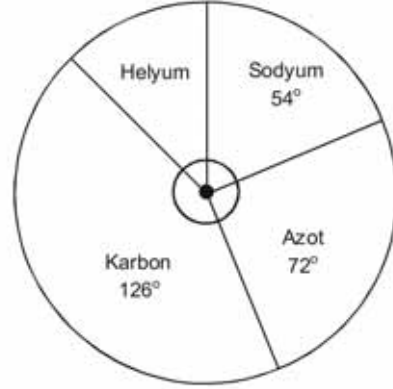
C)



D)



19.



Yukarıdaki dairesel grafikte bir kimyasal maddenin içeriğindeki elementlerin gramlarının dağılımı verilmiştir.

Buna göre, kimyasal maddenin içinde 42 gram karbon elementi varsa kaç gram helyum elementi bulunur?

- A) 18
- B) 24
- C) 36
- D) 54

20. Aşağıdaki veri gruplarından hangisinin tepe değeri (modu) en büyüktür?

- A) 83, 81, 81, 92, 98
- B) 91, 98, 91, 90, 91, 89
- C) 94, 92, 93, 92, 96, 76
- D) 100, 88, 88, 86, 88, 100

1. Aşağıdakilerden hangisi iletişim sürecinde yapılan hatalardan biridir?
  - A) Göz teması kurma
  - B) Sürekli öğüt verme
  - C) Söylenenleri onaylama
  - D) Farklı düşünceleri paylaşma
2. Aşağıdakilerden hangisi Atatürk'ün Milli Mücadele Döneminde halkı bilinçlendirmek ve kamuoyu oluşturmak amacıyla yararlandığı kitle iletişim araçlarından biridir?
  - A) Ankara Radyosu
  - B) İzmir Radyosu
  - C) Anadolu Ajansı
  - D) TRT
3. Aşağıdakilerden hangisi "Ben" dilinin özelliklerinden biri değildir?
  - A) Suçluluk hissettirmemesi
  - B) Anlaşmazlıkları azaltması
  - C) Konuşan kişiyi rahatlatması
  - D) Suçlayıcı, eleştirici, yargılayıcı olması
4. Aşağıdaki şehirlerden hangisinde yeraltı kaynaklarının varlığı ve işletilmesi nüfus yoğunluğunu artırmıştır?
  - A) Zonguldak
  - B) Muş
  - C) Karaman
  - D) Konya
5. Aşağıdakilerden hangisinde nüfus sayımlarından elde edilen sonuçlardan yararlanılmaz?
  - A) Fabrika kurarken
  - B) Hastane yaptırırken
  - C) Çevreyi korurken
  - D) Okul açarken
6. Aşağıdakilerden hangisi Türkiye'de en fazla göç alan illerden biridir?
  - A) Kütahya
  - B) Kırşehir
  - C) Rize
  - D) Kocaeli
7. Bizanslılarla Selçuklular arasında 1071 yılında yapılan ve Anadolu'nun kapılarının Türklere açılmasını sağlayan savaş aşağıdakilerden hangisidir?
  - A) Ankara
  - B) Dandanakan
  - C) Malazgirt
  - D) Pasinler
8. Bizans'ın Anadolu'yu Türklere geri alma ümitlerinin tamamen ortadan kalkmasını sağlayan (1176) Miryakefalon Savaşı sırasında Türkiye Selçuklularının lideri kimdir?
  - A) Melikşah
  - B) II. Kılıçarslan
  - C) Süleyman Şah
  - D) I. Alaeddin Keykubat
9. 13. yüzyılda Anadolu'da kurulan mesleki ve ahlaki eğitimde önemli rol oynayan Ahilik teşkilatının kurucusu aşağıdakilerden hangisidir?
  - A) Ahi Evran
  - B) Yunus Emre
  - C) Mevlâna Celaleddin Rûmi
  - D) Hacı Bektaş Veli
10. Meslek tercihi yaparken göz önünde bulundurulacaklar arasında aşağıdakilerden hangisi yoktur?
  - A) İligi ve istekler
  - B) Yakınların beklentileri
  - C) Kişisel özellikler
  - D) Yetenekler
11. Aşağıdakilerden hangisi coğrafi keşiflerin ekonomik sonuçlarından biridir?
  - A) Yeni ticaret yollarının bulunması
  - B) Kiliseye olan güvenin sarsılması
  - C) Yeni okyanus ve kıtaların bulunması
  - D) Dünya'nın yuvarlak olduğunun kanıtlanması

12. Sanayi İnkılabı ilk olarak nerede başlamıştır?

- A) Fransa
- B) Rusya
- C) Almanya
- D) İngiltere

13. Aşağıdakilerden hangisi Reform hareketlerinin sonuçlarından biridir?

- A) Avrupa'da dini baskının artması
- B) Hristiyanlığın amaçlarından uzaklaşması
- C) Katolik kilisesinin zenginleşmesi
- D) Laik düşüncenin ortaya çıkması

14. Aşağıdakilerden hangisi demokrasinin dayandığı temel ilkelere biri değildir?

- A) Devletçilik
- B) Özgürlük
- C) Katılımcılık
- D) Eşitlik

15. Avrupa'da kilise ve din adamlarına olan güvenin azalmasında aşağıdakilerden hangisi etkili olmamıştır?

- A) Dünya'nın yuvarlak olduğunun keşfedilmesi
- B) İncil'in değişik dillere çevrilmesi
- C) Matbaanın geliştirilip kullanılması
- D) Antik eserlerin incelenmesi

16. İlk Türk devletlerinde Kut adı verilen yönetim yetkisinin kan yoluyla babadan oğula geçtiği kabul edilirdi.

Buna göre aşağıdakilerden hangisi söylenebilir?

- A) Devletin saltanatla yönetildiği
- B) Ülke yönetiminde meclisin önemli olduğu
- C) Yönetme yetkisinin halkta olduğu
- D) Taht kavgalarının olmadığı

17. Atatürk, "Herhalde millet, hükümetin gözcüsü olmak gerekir. Çünkü hükümetlerin yaptığı işler olumsuz olup da millet itiraz etmez ve düşünmezse, bütün kusur ve suçlara katılmış demektir." sözüyle aşağıdakilerden hangisini vurgulamak istemiştir?

- A) Milletin çıkarlarının ön planda tutulmasını
- B) Bireylerin hak ve özgürlüklerini kullanmasını
- C) Halkın yönetenleri denetlemesi gerektiğini
- D) Yasama, yürütme ve yargı yetkilerinin ayrılığını

18. Milliyetçilik akımından en çok Rusya, Osmanlı ve Avusturya-Macaristan İmparatorlukları etkilenmiştir.

Bunun nedeni aşağıdakilerden hangisidir?

- A) Avrupa'ya yakın olmaları
- B) Çok uluslu bir yapıya sahip olmaları
- C) Baskıcı bir yönetime sahip olmaları
- D) Ortak düşmana sahip olmaları

19. Aşağıdakilerden hangisi insanlığın sanat, edebiyat, bilim ve düşünce mirasını koruma yollarından biri değildir?

- A) Bireyleri eğitmek
- B) İnsanların kullanımını kısıtlamak
- C) Müze ve kütüphaneler kurmak
- D) Ortak mirası korumak ve geliştirmek

20. Aşağıdakilerden hangisi, Birinci Dünya Savaşı'nın sonuçlarından biri değildir?

- A) Avrupa'nın sınırlarının yeniden çizilmesi
- B) Avrupa'da ekonominin bozulması
- C) Kalıcı Dünya barışının sağlanması
- D) Yeni devletlerin kurulması

1. A: Wie geht es ..... Schwester?  
B: Danke, es geht ihr schon besser.

**Welches Wort ergänzt die Lücke im obigen Dialog?**

**Verilen karşılıklı konuşmada boş bırakılan yeri aşağıdakilerden hangisi tamamlar?**

- A) dein  
B) deiner  
C) deinen  
D) deinem

2. Er hat ein Heft ..... einen Bleistift.

**Welches Wort passt in die obige Lücke?**

**Cümlede boş bırakılan yeri aşağıdakilerden hangisi tamamlar?**

- A) hat  
B) für  
C) sondern  
D) und

3. Zwölf ..... sind ein Jahr.

**Welches Wort passt in die obige Lücke?**

**Cümlede boş bırakılan yeri aşağıdakilerden hangisi doğru şekilde tamamlar?**

- A) Wochen  
B) Jahre  
C) Monate  
D) Tage

4. Ich habe ein Geschenk für ..... .

**Welches Wort passt in die obige Lücke?**

**Cümlede boş bırakılan yeri aşağıdakilerden hangisi doğru şekilde tamamlar?**

- A) dir  
B) dich  
C) dein  
D) deinem

5. Mein Auto ist ..... der Garage.

**Welches Wort passt in die obige Lücke?**

**Cümlede boş bırakılan yeri aşağıdakilerden hangisi tamamlar?**

- A) zum  
B) für  
C) auf  
D) in

6. Der Bus ..... um 7 Uhr ..... (abfahren)

**Welche Wörter passen in die obigen Lücken?**

**Cümlede boş bırakılan yerleri aşağıdakilerden hangileri doğru şekilde tamamlar?**

- A) fahren / ab  
B) fährt / ab  
C) ab / fahren  
D) ab / fährst

7. .... bist du geboren?

**Welches Wort passt in die obige Lücke?**

**Cümlede boş bırakılan yeri aşağıdakilerden hangisi doğru şekilde tamamlar?**

- A) Wo  
B) Was  
C) Wer  
D) Wem

8. Atatürks Mutter ..... Zübeyde.

**Welches Wort passt in die obige Lücke?**

**Cümlede boş bırakılan yeri aşağıdakilerden hangisi doğru şekilde tamamlar?**

- A) seine  
B) heißen  
C) heißt  
D) sind



9. Ich verbringe meine Ferien mit meinen Eltern.

**Welche Frage passt zur obigen Antwort?**

**Verilen cevabı gerektirecek soru aşağıdakilerden hangisidir?**

- A) Mit wem verbringst du deine Ferien?
- B) Wann beginnt das Schuljahr?
- C) Wer hat Ferien?
- D) Seit wann hast du Sommerferien?

10. Was hast du verloren? (die Schlüssel)

**Welche Antwort passt zur obigen Frage?**

**Verilen sorunun cevabı aşağıdakilerden hangisidir?**

- A) Er sucht seine Schlüssel.
- B) Wir suchen die Schlüssel.
- C) Ich habe meine Schlüssel verloren.
- D) Sie hat die Schlüssel vergessen.

11. Wem gehören die Bücher?

**Welche Antwort passt zur obigen Frage?**

**Verilen sorunun cevabı aşağıdakilerden hangisidir?**

- A) Sie gehören meiner Freundin.
- B) Ich lese sie gerne.
- C) Das ist meine Tasche.
- D) Er möchte neue Bücher kaufen.

12. Er ist schon Pensionär.

**Welche Frage passt zur obigen Antwort?**

**Verilen cevabı gerektirecek soru aşağıdakilerden hangisidir?**

- A) Wo lebt deine Tante?
- B) Was ist dein Großvater von Beruf?
- C) Gehört das Buch deinem Vater?
- D) Ist deine Mutter Lehrerin von Beruf?

13. ...., weil sie Blumen bekommen hat.

**Welcher Satz ergänzt nicht die obige Lücke?**

**Verilen cümleyi aşağıdakilerden hangisi tamamlamaz?**

- A) Das Mädchen lacht
- B) Die Frau freut sich
- C) Meine Mutter ist glücklich
- D) Der Mann ist zu Hause

14. Ich glaube, dass das Wetter schön wird.

**Wie lautet der obige Satz auf Türkisch?**

**Verilen cümlenin Türkçesi aşağıdakilerden hangisidir?**

- A) Bugün havanın güzel olacağı söylendi.
- B) Havanın güzel olmasını diliyorum.
- C) Havanın güzel olacağına inanıyorum.
- D) Bugün hava çok güzel geçti.

15. Er ist nicht fleißig. Er arbeitet nicht gut.

**Wie kann man die obigen Sätze verbinden?**

**Verilen cümlelerin birleştirilmiş hali aşağıdakilerden hangisidir?**

- A) Er ist sehr fleißig, denn er arbeitet sehr viel.
- B) Er arbeitet gut, aber er ist fleißig.
- C) Er ist nicht fleißig, aber er arbeitet viel.
- D) Er ist nicht fleißig, denn er arbeitet nicht gut.

16. Öğretmen öğrencilerin çok çalıştığını görüyor.

**Wie lautet der obige Satz auf Deutsch?**

**Verilen cümlenin Almancası aşağıdakilerden hangisidir?**

- A) Die Schüler wollen, dass der Lehrer nicht kommt.
- B) Der Lehrer sieht, dass die Schüler viel arbeiten.
- C) Die Lehrer wollen, dass die Schüler viel arbeiten.
- D) Die Schüler sehen, dass der Lehrer kommt.

17. Postane ve okul yanyana.

**Wie lautet der obige Satz auf Deutsch?**

**Verilen cümlelerin Almancası aşağıdakilerden hangisidir?**

- A) Die Post und die Schule sind nebeneinander.
- B) Die Post ist zwischen der Schule und der Bank.
- C) Die Post ist direkt hinter der Schule.
- D) Die Post liegt gegenüber der Schule.

18. A: .....

B: Biegen Sie an der Kreuzung bei den Ampeln rechts ein! Dann sehen sie es!

A: Vielen Dank!

B: Gern geschehen!

**Welcher Satz ergänzt den obigen Dialog?**

**Verilen karşılıklı konuşmayı aşağıdakilerden hangisi tamamlar?**

- A) Hast du diese Bücher neu gekauft?
- B) Kann man dort nur am Wochenende einkaufen?
- C) Fliegst du heute Nacht?
- D) Entschuldigung, wie komme ich zur Stadtbibliothek?

19. Wo tut's denn weh?

**Wie lautet der obige Satz auf Türkisch?**

**Verilen cümlelerin Türkçesi aşağıdakilerden hangisidir?**

- A) Neren ağrıyor?
- B) Ağrın mı var?
- C) Her yerin mi ağrıyor?
- D) Ağrın geçti mi?

20. A: Ich habe eine Idee.

B: Was?

A: Warum steigen wir nicht auf die Spitze vom Everest?

B: .....

A: Nein, komm laß es uns doch probieren!

B: Na, gut!

**Welcher Satz ergänzt den obigen Dialog?**

**Verilen karşılıklı konuşmayı aşağıdakilerden hangisi tamamlar?**

- A) Er geht jedes Jahr in seine Heimat!
- B) Dort war ich schon im letzten Sommer!
- C) Das ist doch viel zu gefährlich!
- D) Er hat keine Ferien!

1. .... English!

**Which of the following completes the sentence above?**

**Aşağıdakilerden hangisi yukarıdaki cümleyi doğru olarak tamamlar?**

- A) Have to
- B) Speak
- C) Can
- D) Could

2. Ayşe has brown and long hair. Gözde has short and yellow hair. So Ayşe's hairstyle is ..... Gözde.

**Which of the following completes the sentence above?**

**Aşağıdakilerden hangisi yukarıdaki cümleyi doğru olarak tamamlar?**

- A) different from
- B) the same as
- C) as same as
- D) different

3. I think they ..... to the library next Saturday.

**Which of the following completes the sentence above?**

**Aşağıdakilerden hangisi yukarıdaki cümleyi doğru olarak tamamlar?**

- A) will go
- B) went
- C) have gone
- D) go

4. .... I finished dinner, I went to cinema.

**Which of the following completes the sentence above?**

**Aşağıdakilerden hangisi yukarıdaki cümleyi doğru olarak tamamlar?**

- A) Because
- B) Which
- C) So
- D) After

5. .... don't you drink milk?

**Which of the following completes the sentence above?**

**Aşağıdakilerden hangisi yukarıdaki cümleyi doğru olarak tamamlar?**

- A) Let's
- B) Shall we
- C) Why
- D) What

6. He is a slow worker, he works .....

**Which of the following completes the dialogue above?**

**Aşağıdakilerden hangisi yukarıdaki konuşmayı doğru olarak tamamlar?**

- A) early
- B) lately
- C) slowly
- D) slow

7. You ..... clean your teeth every morning.

**Which of the following completes the sentence above?**

**Aşağıdakilerden hangisi yukarıdaki cümleyi doğru olarak tamamlar?**

- A) doesn't
- B) should
- C) hasn't
- D) didn't

8. A:Where was Ezgi yesterday?  
B:.....

**Which of the following completes the dialogue above?**

**Aşağıdakilerden hangisi yukarıdaki konuşmayı doğru olarak tamamlar?**

- A) She was at school
- B) She studied her lesson
- C) She didn't study her lesson
- D) She was six year old

9. It is ..... at the moment. Let's go out!

**Which of the following completes the sentence above?**

**Aşağıdakilerden hangisi yukarıdaki cümleyi doğru olarak tamamlar?**

- A) snow
- B) snowed
- C) snows
- D) snowing

10. There is a picture ..... the wall.

**Which of the following completes the sentence above?**

**Aşağıdakilerden hangisi yukarıdaki cümleyi doğru olarak tamamlar?**

- A) in
- B) at
- C) on
- D) by

11. If Uğur ..... harder, he ..... be better at school.

**Which of the following completes the sentence above?**

**Aşağıdakilerden hangisi yukarıdaki cümleyi doğru olarak tamamlar?**

- A) study / would
- B) is / would
- C) will study / would
- D) studied / would

12. .... I see your identity card?

**Which of the following completes the sentence above?**

**Aşağıdakilerden hangisi yukarıdaki cümleyi doğru olarak tamamlar?**

- A) Can't
- B) Will
- C) May
- D) Would

13. A:..... will you paint the doors?  
B:Next Sunday.

**Which of the following completes the dialogue above?**

**Aşağıdakilerden hangisi yukarıdaki konuşmayı doğru olarak tamamlar?**

- A) When
- B) What
- C) Why
- D) Where

14. Uğur and Bora ..... the car last night.

**Which of the following completes the sentence above?**

**Aşağıdakilerden hangisi yukarıdaki cümleyi doğru olarak tamamlar?**

- A) are repairing
- B) repaired
- C) repair
- D) have repaired

15. Sorry, I can't come to the theatre. I ..... do my homework.

**Which of the following completes the sentence above?**

**Aşağıdakilerden hangisi yukarıdaki cümleyi doğru olarak tamamlar?**

- A) have to
- B) may
- C) mustn't
- D) can

16. My socks are 10 TL. Her socks are 5 TL. Her socks ..... my socks.

**Which of the following completes the sentence above?**

**Aşağıdakilerden hangisi yukarıdaki cümleyi doğru olarak tamamlar?**

- A) are more expensive than
- B) are as expensive as
- C) aren't as cheap as
- D) aren't as expensive as

17. I always ..... orange juice but I never ..... milk.

**Which of the following completes the sentence above?**

**Aşağıdakilerden hangisi yukarıdaki cümleyi doğru olarak tamamlar?**

- A) drink / drinks
- B) drinking / drinks
- C) drinks / drinking
- D) drink / drink

18. Selim ..... every week.

**Which of the following completes the sentence above?**

**Aşağıdakilerden hangisi yukarıdaki cümleyi doğru olarak tamamlar?**

- A) swim
- B) swims
- C) swimming
- D) will swim

19. My sister and I have a problem. Can you help ..... ?

**Which of the following completes the sentence above?**

**Aşağıdakilerden hangisi yukarıdaki cümleyi doğru olarak tamamlar?**

- A) me
- B) us
- C) her
- D) him

20. Aylin ..... but now he smokes.

**Which of the following completes the sentence above?**

**Aşağıdakilerden hangisi yukarıdaki cümleyi doğru olarak tamamlar?**

- A) used to smoke
- B) use to smoke
- C) didn't use to smoke
- D) didn't used to smoke

1. - ..... êtes-vous?  
- Je suis à la gare.

**Choisissez le mot qui convient.**

**Yukarıdaki konuşmada boş bırakılan yere uygun düşen sözcüğü bulunuz.**

- A) Qui  
B) Comment  
C) Où  
D) Quand

2. Je veux de la margarine. Ça coûte combien .....?

**Choisissez le mot qui convient.**

**Cümlede boş bırakılan yere uygun düşen sözcüğü bulunuz.**

- A) le paquet  
B) le litre  
C) la bouteille  
D) le verre

3. Émile veut grossir. Il faut manger ..... .

**Choisissez le mot/l'expression qui convient.**

**Cümlede boş bırakılan yere uygun düşen sözcük ya da ifadeyi bulunuz.**

- A) du pain  
B) des légumes  
C) de la salade  
D) de l'eau

4. Si tu es d'accord, j' ..... mon amie.

**Choisissez le mot/l'expression qui convient.**

**Cümlede boş bırakılan yere uygun düşen sözcük ya da ifadeyi bulunuz.**

- A) ai invité  
B) inviterai  
C) invites  
D) inviter

5. Günde iki litre su içiniz.

**Choisissez la traduction qui convient.**

**Yukarıdaki cümlenin Fransızca karşılığı aşağıdakilerden hangisidir?**

- A) Il faut faire du sport chaque jour.  
B) Dormez deux heures par jour.  
C) Buvez deux litres d'eau par jour.  
D) Il ne faut pas trop boire de l'eau.

6. Pierre ..... 15 ans.

**Choisissez le mot qui convient.**

**Cümlede boş bırakılan yere uygun düşen sözcüğü bulunuz.**

- A) a  
B) est  
C) as  
D) es

7. viens / de la / Turquie / je  
I II III IV

**Mettez les mots dans le bon ordre pour faire une phrase.**

**Yukarıdaki sözcükleri bir cümle oluşturacak şekilde sıraya koyunuz.**

- A) IV, I, II, III  
B) IV, II, I, III  
C) IV, II, III, I  
D) IV, III, I, II

8. I. Emilie est jeune.  
II. Elle a les cheveux longs.  
III. Elle est au concert.  
IV. Elle est blonde.

**Trouvez la phrase qui ne convient pas.**

**Sırasıyla okunduğunda anlam bütünlüğünü bozan cümleyi bulunuz.**

- A) I  
B) II  
C) III  
D) IV

9. Ma grand-mère est têtue ..... une chèvre.

**Choisissez le mot qui convient.**

**Cümlede boş bırakılan yere uygun düşen sözcüğü bulunuz.**

- A) plus
- B) dans
- C) aussi
- D) comme

10. Ne ..... pas au dehors parce qu'il fait très froid.

**Choisissez le mot qui convient.**

**Cümlede boş bırakılan yere uygun düşen sözcüğü bulunuz.**

- A) sortez
- B) sorti
- C) sortir
- D) sois

11. Il y a du brouillard.

**Choisissez la traduction qui convient.**

**Yukarıdaki cümlelerin Türkçe karşılığı aşağıdakilerden hangisidir?**

- A) Hava soğuk.
- B) Hava bulutlu.
- C) Hava rüzgârlı.
- D) Hava sisli.

12. Vous ..... mangé?

**Choisissez le mot qui convient.**

**Cümlede boş bırakılan yere uygun düşen sözcüğü bulunuz.**

- A) êtes
- B) avons
- C) avez
- D) voulez

13. - .....?

- Parce que je soignerai les gens.

**Trouvez la question qui correspond à la réponse donnée.**

**Yukarıdaki konuşmada verilen cevabı gerektiren soruyu bulunuz.**

- A) Qu'est-ce que vous ferez si vous êtes riche
- B) Vous irez où la semaine prochaine
- C) Qu'est-ce que vous voulez devenir
- D) Pourquoi vous voulez devenir médecin

14. Denise : Tu veux du miel?

Jacques : Oui, je (j') ..... veux.

**Complétez le dialogue avec l'expression qui convient.**

**Yukarıdaki konuşmayı uygun düşen ifadeyle tamamlayınız.**

- A) le
- B) en
- C) la
- D) y

15. Le tigre est ..... fort que le chat.

**Choisissez le mot qui convient.**

**Cümlede boş bırakılan yere uygun düşen sözcüğü bulunuz.**

- A) aussi
- B) plus
- C) comme
- D) moins

16. Yves ..... à Lyon.

**Choisissez le mot qui convient.**

**Cümlede boş bırakılan yere uygun düşen sözcüğü bulunuz.**

- A) aime
- B) adore
- C) habite
- D) fait

17. - .....?

- C'est un cadeau pour toi.

**Trouvez la question qui correspond à la réponse donnée.**

**Yukarıdaki konuşmada verilen cevabı gerektiren soruyu bulunuz.**

- A) Quelle est votre profession
- B) Qu'est-ce que tu fais
- C) Qui sont-ils
- D) Qu'est-ce que c'est

18. Quel temps fera-t-il, .....?

**Choisissez le mot/l'expression qui convient.**

**Cümlede boş bırakılan yere uygun düşen sözcük ya da ifadeyi bulunuz.**

- A) hier
- B) demain
- C) lundi dernier
- D) avant-hier

19. Elle ne prend pas ..... beurre.

**Choisissez le mot/l'expression qui convient.**

**Cümlede boş bırakılan yere uygun düşen sözcük ya da ifadeyi bulunuz.**

- A) du
- B) de
- C) de la
- D) le

20. J'attends quelqu'un.

**Trouvez l'antonyme du mot souligné.**

**Yukarıdaki cümlede altı çizili kelimenin zıt anlamısını bulunuz.**

- A) rien
- B) plus
- C) jamais
- D) personne



**BU SAYFA BOŞ BIRAKILMIŞTIR.**

BU SAYFA BOŞ BIRAKILMIŞTIR.

**BU SAYFA BOŞ BIRAKILMIŞTIR.**

## SINAVDA UYULMASI GEREKEN GENEL KURALLAR

1. Sınava girmek için gerekli belgelerinizin tümünü sınav başlamadan önce sıranızın üzerine bırakınız.
2. Sınav süresince görevlilerle konuşmak, görevlilere soru sormak yasaktır. Aynı şekilde görevlilerin de öğrencilerle yakından ve alçak sesle konuşmaları yasaktır. Gerekli durumlarda görevliler yerinizi değiştirebilir.
3. Size verilen cevap kâğıdının üzerindeki TCKN/Öğrenci no, ad, soyadı, bilgilerini kontrol ediniz, ilgili alanları eksiksiz doldurarak imzalayınız. Bu bilgiler size ait değilse, görevlileri uyararak size ait cevap kâğıdını isteyiniz. Başka öğrenciye ait cevap kâğıdı kullanan öğrencilerin o oturumdaki sınavları geçersiz sayılır.
4. Cevap kâğıdı üzerine test grubunu (A, B, C, D) kodlamayan veya birden fazla kodlama yapan öğrencilerin sınavları geçersiz sayılır.
5. Cevap kâğıdınıza yazacağınız her türlü yazı ve yapacağınız işaretlemeler için koyu yazan siyah kurşun kalem kullanmalısınız. Siyah kurşun kalem dışında farklı bir kalem (tükenmez, mürekkepli ya da renkli vb.) kullanan öğrencilerin sınavları geçersiz sayılır.
6. Cevap kâğıdı üzerinde değişiklik yapmak istediğinizde, iz bırakmayan bir silgi kullanınız. Cevap kâğıdınızı buruşturmayınız, katlamayınız ve üzerine gereksiz hiçbir işaret koymayınız.
7. Cevaplarınızı, cevap kâğıdında ilgili test için ayrılmış olan alana, cevap yerinin dışına taşımadan işaretleyiniz. Soru kitapçığı üzerinde yapılan işaretlemeler değerlendirmeye alınmayacaktır.
8. Her sorunun tek bir doğru cevabı vardır. Bir soru için birden çok cevabı işaretlerseniz, o soruyu yanlış cevaplamış sayılacaksınız.
9. Soru kitapçığınızı aldıңызda sayfalarına hızlıca bakarak hatalı ya da eksik baskı olup olmadığını kontrol ediniz. Hata/eksik olması durumunda kitapçığının değiştirilmesi için derhâl Salon Başkanına başvurunuz. Sınav görevlileri sınavın başladığını belirtmeden kitapçığınızı tekrar açmayınız.
10. Cevap kâğıdınızda belirtilen kitapçık kodu ile soru kitapçığının kodunu karşılaştırınız. Aynı değilse, sınav görevlilerine durumu bildirerek doğru kitapçığın verilmesini talep ediniz.
11. Soru kitapçığındaki ilgili alanlara ad, soyadı, TCKN/Öğrenci no, sınav salon no, sıra no bilgilerinizi eksiksiz doldurarak imzanızı atınız. Soru kitapçığının sayfalarındaki boş yerleri müsvedde amacıyla kullanabilirsiniz.
12. Aşağıdaki durumlarda sınav görevlileri tarafından Bireysel Sınav İptal Tutanağı düzenlenerek ilgili öğrencilerin sınavları geçersiz sayılır:
  - a) Sınav kurallarına ve sınav görevlilerinin uyarılarına uymamak, sınav düzenini bozmak,
  - b) Kâğıt, kitap, defter, not vb. dokümanları; pergel, açıölçer, cetvel vb. araçları; cep telefonu, bilgisayar, tablet, telsiz, kamera vb. iletişim, depolama, kayıt ve veri aktarma cihazlarını; ruhsatlı veya resmi amaçlı olsa bile silah ve silah yerine geçebilecek nesnelere yanında bulundurmamak,
  - c) Sınav sırasında kalem, silgi vb. araç-gereç paylaşımında bulunmak,
  - d) Cevapları, cevap kâğıdı dışında bir yere yazmak ve sınav salonundan dışarı çıkarmak,
  - e) Sınava girebilmek için gerekli belgeleri eksik olduğu halde sınava katılıp, cevap kâğıdında işaretleme yapmak,
  - f) Sınav görevlileri tarafından öğrencinin kimliğinden şüphe duyulması,
  - g) Cevap kâğıdını ve/veya soru kitapçığını sınav görevlilerine eksiksiz ve sağlam şekilde teslim etmemek, sınav salonu dışına çıkarmak,
  - h) Kopya çekmek, vermek, çekilmesine yardımcı olmak vb. eylemlerde bulunmak,
  - i) Kendisi yerine başkasını sınava sokmak.
13. Sınav bitiminde, cevap kâğıdınızı ve soru kitapçığınızı salon görevlilerine eksiksiz biçimde teslim ediniz. Sınav bittikten sonra gönderilen cevap kâğıtları dikkate alınmayacaktır.

**SINAV KURALLARINA UYDUĞUNUZ İÇİN TEŞEKKÜR EDER, SINAVINIZDA BAŞARILAR DİLERİZ.**