



ANADOLU ÜNİVERSİTESİ  
AÇIKÖĞRETİM FAKÜLTESİ  
BA - AÇIKÖĞRETİM OKULLARI

**T.C. MİLLİ EĞİTİM BAKANLIĞI**  
**Hayat Boyu Öğrenme Genel Müdürlüğü**  
**2016-2017 ÖĞRETİM YILI BATI AVRUPA – BALKANLAR**  
**AÇIK ÖĞRETİM ORTAOKULU III. DÖNEM SINAVI**

**3. OTURUM Cumartesi**

**B**

**0300**

**ÖĞRENCİNİN**

SOYADI : .....

ADI : .....

T.C. KİMLİK NO / ÖĞRENCİ NO : .....

SINAV SALON NO : ..... SIRA NO: .....

Sınavla ilgili soru kitapçığının ön ve arka kapağındaki tüm kuralları okudum, anladım, kabul ediyorum.

İMZA:.....

**SINAV İÇERİĞİ**

| Testin Adı                     | Soru Sayısı | Sayfa No |
|--------------------------------|-------------|----------|
| TÜRKÇE 5                       | 20          | 02       |
| MATEMATİK 5                    | 20          | 04       |
| FEN VE TEKNOLOJİ 5             | 20          | 07       |
| SOSYAL BİLGİLER 5              | 20          | 09       |
| DİN KÜLTÜRÜ VE AHLAK BİLGİSİ 5 | 20          | 11       |
| MATEMATİK 6                    | 20          | 13       |
| TÜRKÇE 7                       | 20          | 16       |
| MATEMATİK 7                    | 20          | 18       |
| SOSYAL BİLGİLER 7              | 20          | 22       |
| ALMANCA 7                      | 20          | 24       |
| İNGİLİZCE 7                    | 20          | 27       |
| FRANSIZCA 7                    | 20          | 30       |

**SINAVDA UYULMASI GEREKEN ÖZEL KURALLAR**

1. Soru kitapçığındaki her bir testi cevaplamanız için verilen süre 30 dakika, toplam süre 150 dakikadır.
2. Sınavın ilk 30 dakikası ve son 5 dakikası içinde sınavınızı tamamlasanız bile salondan çıkamazsınız. Herhangi bir nedenle salondan çıktığınız takdirde, tekrar sınava devam etmenize izin verilmeyecektir. Sınavın başlamasını izleyen ilk 15 dakikadan sonra hiçbir öğrenci sınava alınamaz.
3. Yanlış cevaplarınız dikkate alınmayacaktır. Bu nedenle kitapçıktaki tüm sorular için size doğru gelen seçeneği işaretleyerek cevapsız soru bırakmamanız yararınıza olacaktır.
4. Sınav sırasında hesap makinesi kullanabilirsiniz. Ancak, kullanacağınız makinede alfabetik tuş takımının (A, B, C, ..., Y, Z), program yapılmasına, saklanmasına ve çalıştırılmasına imkân veren EXE, STORE, RUN vb. tuşlar bulunamaz.

"Sınavda Uyulması Gereken Genel Kurallar" soru kitapçığının arka sayfasında yer almaktadır. Bu kuralları da mutlaka dikkatlice okuyunuz.

Anadolu Üniversitesi tarafından hazırlanmış olan bu testlerin her hakkı saklıdır. Hangi amaçla olursa olsun, testlerin tamamının veya bir kısmının Anadolu Üniversitesi'nin yazılı izni olmadan kopya edilmesi, fotoğraflarının çekilmesi, herhangi bir yolla çoğaltılması, yayımlanması ya da kullanılması yasaktır. Bu yasağa uymayanlar gerekli cezai sorumluluğu ve testlerin hazırlanmasındaki mali külfeti peşinen kabullenmiş sayılır.

1. Aşağıdaki cümlelerin hangisinde bir tanım yapılmıştır?

- A) Şu bardağı bana uzatır mısın?
- B) Kitaplar zengin bilgi hazineleridir.
- C) Çocukları çok seviyorum.
- D) Dışarıdan çok gürültü geliyor.

2. Aşağıdaki cümlelerin hangisinde “ne zaman” sorusunun yanıtı vardır?

- A) Onunla çarşıda buluşalım.
- B) Çalıştığım için içim rahat.
- C) Sizlerle çok güzel vakit geçirdik.
- D) Okuldan sonra yemek yemeye gittik.

3. Aşağıdaki cümlelerden hangisinin sonunda ünlem işareti (!) kullanılmalıdır?

- A) Hey, buraya bak
- B) Ayşe, şunu verir misin
- C) Onu yerine koy
- D) Evde yalnız kalabilirim

4. “Bu topraklar üzerinde can vermiş yabancı askerler ..... bulunuyordu.” cümlesinde boş bırakılan yeri aşağıdaki bağlaçlardan hangisi en uygun şekilde tamamlar?

- A) ve
- B) fakat
- C) de
- D) ama

5. “ışık” sözcüğü aşağıdaki cümlelerin hangisinde diğerlerinden farklı bir anlamda kullanılmıştır?

- A) Atatürk hepimizin ışığıdır.
- B) Odanın ışığı çok parlak.
- C) Işığı açalım, hava karardı.
- D) Akşam ışıklar söndü.

6. “Atatürk’ü Duymak”şiiri aşağıdaki şairlerden hangisine aittir?

- A) Necip Fazıl Kısayürek
- B) Bestami Yazgan
- C) Umit Uncu
- D) Behçet Necatigil

7. Aşağıdaki sözcüklerden hangisi özel isim değildir?

- A) Çanakkale
- B) Atatürk
- C) Milletvekili
- D) Avustralya

8. Aşağıdaki cümlelerin hangisinde benzetme yapılmıştır?

- A) Dün çok fazla yağış vardı.
- B) Sabah erkenden kalkıp dışarı çıktım.
- C) Kapıları kapalı görünce şaşırımdı.
- D) Kuşlar gibi özgür olmak isterim.

9. “Atatürk ..... çok sevdiği milletine hizmet etmekten büyük bir zevk duymuştur.” cümlesinde boş bırakılan yeri aşağıdaki sözcüklerden hangisi en uygun şekilde tamamlar?

- A) her zaman
- B) veya
- C) sanki
- D) ya da

10. Aşağıdakilerden hangisi bir atasözüdür?

- A) Elindekine sahip olamadı.
- B) Sakla samanı gelir zamanı.
- C) Ona yetişebilmek için koşuverdi.
- D) Onu görünce gözleri yuvalarından fırladı.

11. Aşağıdaki cümlelerin hangisine ünlü düşmesine örnek bir sözcük vardır?

- A) Gel de ayıkla pirincin taşını!
- B) Sıcak havadan hepimiz bunaldık.
- C) Buradan denize girilmez.
- D) Nehrin suları iyice çekilmiş.

12. Aşağıdaki cümlelerin hangisinde zıt anlamlı sözcükler kullanılmıştır?

- A) Kaşları çatılmış, gözleri kocaman açılmıştı.
- B) Ben küçükken sokağımız çok büyüktü.
- C) Birbirimize anlatacak o kadar çok şey vardı ki...
- D) Tablolarında sıcak renklere ağırlık vermiş.

13. Aşağıdaki cümlelerden hangisinin fiili olumsuzdur?

- A) Anneannem bizi kapıda bekliyordu.
- B) Babam hemen ansiklopediye uzandı.
- C) Tatile gitmiyoruz.
- D) Sevinçten çığlıklar atıyordum.

14. Aşağıdaki cümlelerden hangisinin sonunda nokta işareti (.) kullanılmalıdır?

- A) Selçuk koşarak çarşayı geçti
- B) Aaa gerçekten o
- C) Uçurtma yarışı hakkında bilgi verebilir misiniz
- D) Onların istedikleri şey uçurtmanın uçuşması değil miydi

15. Aşağıdaki sözcüklerden hangisinin zıt anlamı yoktur?

- A) sıcak
- B) uzun
- C) kalın
- D) mavi

16. Aşağıdaki fiillerden hangisinin yazımı yanlıştır?

- A) bitmiyor
- B) yapacağım
- C) saklayacak
- D) yapabiliyorum

17. Aşağıdaki cümlelerin hangisinde "yaşlı" kelimesinin eş anlamı kullanılmıştır?

- A) Kuru dallar aşağıya sarkmış.
- B) İhtiyar adam sırtını ağaca yasladı.
- C) Bebek mışıl mışıl uyuyor.
- D) Suyu bir dikişte içti.

18. "Bu Vatan Kimin" şiiri aşağıdaki şairlerden hangisine aittir?

- A) Mehmet Âkif Ersoy
- B) Fazıl Hüsnü Dağlarca
- C) Orhan Şaik Gökyay
- D) İsmail Hikmet Ertaşlan

19. Aşağıdaki sözcüklerden hangisine "-cı/-ci" eki getirildiğinde yeni bir sözcük oluşmaz?

- A) kitap
- B) aynı
- C) şeker
- D) simit

20. Aşağıdaki cümlelerden hangisi devrik bir cümledir?

- A) Bu işi iki yıldan beri yapıyoruz.
- B) Ne kokar ne bulaşır.
- C) Nasıl durur Mustafa Kemal'in kağnısı?
- D) Bazen ablasının evinde bazen ağabeyinin evinde kalıyordu.

1. 392 litrelik süt 14 litrelik şişelere doldurulacaktır.

**Buna göre kaç şişeye ihtiyaç vardır?**

- A) 28  
B) 29  
C) 30  
D) 31

2. Bir sinema salonunun ilk sırası 11 koltuktur. Her sıradaki koltuk sayısı bir öncekinden 5 fazladır.

**Salonda toplam 8 sıra olduğuna göre, salonda toplam kaç koltuk vardır?**

- A) 182  
B) 228  
C) 254  
D) 279

3. Okunuşu "Altmış iki milyon altı bin altı" olan sayı aşağıdakilerden hangisidir?

- A) 6026006  
B) 6206006  
C) 62006006  
D) 62060006

4. 46 metre uzunluğundaki bir top kumaştan 115 cm uzunluğunda parçalar kesilerek perde dikilecektir.

**Bu kumaştan kaç tane perde çıkar?**

- A) 25  
B) 30  
C) 40  
D) 45

5. Sevgi manavdan kilosu 1,75 TL'den 6 kg domates, kilosu 2,5 TL'den 4 kg soğan, kilosu 3,25 TL'den 2 kg patates almıştır.

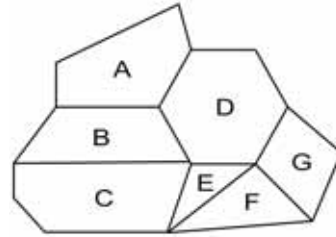
**Buna göre, Sevgi manava kaç TL ödemiştir?**

- A) 24  
B) 27  
C) 29  
D) 33

6. Bir açısı  $26^\circ$  olan dik açılı üçgenin üçüncü açısı kaç derecedir?

- A) 48  
B) 52  
C) 58  
D) 64

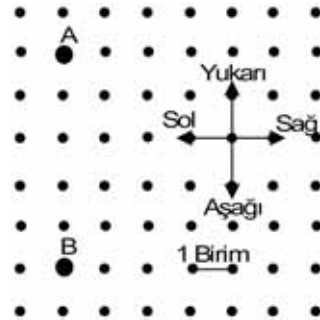
7.



**Yukarıdaki şekilde beş kenarlı çokgenler hangi harflerle belirtilmiştir?**

- A) Yalnız A  
B) A ve C  
C) B, E ve G  
D) C, D ve F

8.



**Yukarıdaki şekle göre aşağıdaki ifadelerden hangisi doğrudur?**

- A) A noktası B noktasının 5 birim üstündedir.  
B) A noktası B noktasının 6 birim altındadır.  
C) B noktası A noktasının 4 birim üstündedir.  
D) B noktası A noktasının 6 birim altındadır.

9. Bir mağazada 680 TL'ye satılan bir palto indirim yapıldıktan sonra 476 TL'ye satılmaktadır.

Buna göre, ayakkabıda yüzde kaç indirim yapılmıştır?

- A) 20  
B) 25  
C) 30  
D) 40

10 - 12. soruları aşağıdaki tabloya göre cevaplayınız.

| Kitap Sayısı | Öğrenci Sayısı |
|--------------|----------------|
| 1            | ///            |
| 2            | /              |
| 3            | ### //         |
| 4            | ////           |
| 5            | //             |
| 6            | ### /          |

Bir sınıftaki öğrencilerin sahip oldukları kitap sayıları yukarıdaki tabloda verilmiştir.

10. Buna göre, sınıftaki toplam öğrenci sayısı kaçtır?

- A) 21  
B) 22  
C) 23  
D) 24

11. Yukarıdaki bilgilere göre, 6 kitabı olan öğrenci sayısı 2 kitabı olan öğrenci sayısından kaç fazladır?

- A) 2  
B) 3  
C) 4  
D) 5

12. Yukarıdaki bilgilere göre, sınıftaki toplam kitap sayısı kaçtır?

- A) 86  
B) 87  
C) 88  
D) 89

13. 6 doğal sayısı aşağıdaki kesirlerin hangisinden büyüktür?

- A)  $\frac{22}{4}$   
B)  $\frac{39}{5}$   
C)  $\frac{57}{9}$   
D)  $\frac{41}{6}$

14. Sevgi, 40 soruluk bir sınavda soruların tamamını cevaplamıştır.

Sevgi 24 soruyu doğru cevapladığına göre tüm soruların yüzde kaçına yanlış cevap vermiştir?

- A) 30  
B) 35  
C) 40  
D) 45

15. Bir otobüsteki yolcuların %24'ü İngilizce bilmektedir.

Otobüste toplam 50 kişi olduğuna göre, İngilizce bilmeyen kaç kişi vardır?

- A) 20  
B) 24  
C) 32  
D) 38

16. Bir çiftçi tarlasının  $\frac{1}{5}$ 'ine arpa,  $\frac{2}{3}$ 'üne pancar geri kalan alana ise buğday ekmiştir.

Buna göre, buğday ekili alan tarlanın kaçta kaçtır?

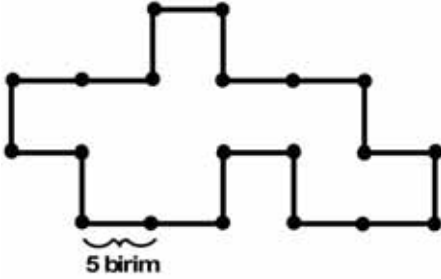
- A)  $\frac{1}{9}$   
B)  $\frac{2}{15}$   
C)  $\frac{1}{5}$   
D)  $\frac{3}{10}$

17. I. Karşılıklı kenarları birbirine paraleldir.  
II. Tüm açıları diktir.  
III. Karşılıklı kenarları eşittir.

Paralel kenar ile ilgili yukarıdaki ifadelerden hangileri doğrudur?

- A) Yalnız II  
B) I ve III  
C) II ve III  
D) I, II ve III

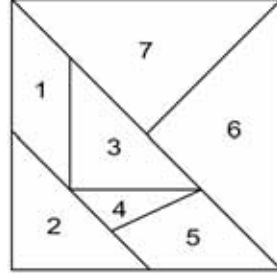
18.



Bir kenarı 5 birim olan yukarıdaki şeklin çevre uzunluğu kaç birimdir?

- A) 90  
B) 95  
C) 100  
D) 105

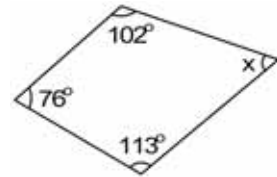
19.



Yukarıdaki tangramda 3 ve 4 numaralı parçaların birleşiminden oluşan şekil aşağıdakilerden hangisidir?

- A) Yamuk  
B) Eşkenar dörtgen  
C) Paralel kenar  
D) Üçgen

20.



Yukarıdaki dörtgende x açısı kaç derecedir?

- A) 57  
B) 69  
C) 73  
D) 77

1. Fosil bilimi alanında çalışan bilim insanlarına ne ad verilir?

- A) Biyolog
- B) Arkeolog
- C) Paleontolog
- D) Antropolog

2.



Yukarıdaki sindirim sistemi şemasında soru işareti yerine aşağıdakilerden hangisi gelmelidir?

- A) Böbrek
- B) Mide
- C) Pankreas
- D) Karaciğer

3. Suyun kaynama sıcaklığı kaç °C dir?

- A) -4
- B) 0
- C) 50
- D) 100

4. Sürtünme kuvvetiyle ilgili olarak aşağıdaki ifadelerden hangisi yanlıştır?

- A) Birbirine temas eden tüm yüzeylerde oluşur.
- B) Bir kuvvet çeşididir.
- C) Cismin hareketini kolaylaştırır.
- D) Çeşitli şekillerde artırılıp azaltılabilir.

5. Bir araştırmada sonucu etkileyebilecek olan, etkisi azaltılıp çoğaltılabilen değişkene ne ad verilir?

- A) Bağımlı değişken
- B) Bağımsız değişken
- C) Kontrol grubu
- D) Tahmin grubu

6. Işığın saydam olmayan maddelerden geçememesi sonucunda oluşan karanlık bölgeye ne ad verilir?

- A) Tam gölge
- B) Yarı gölge
- C) Opak
- D) Geçirgen

7. Vücudumuzda birinci dereceden enerji verici olarak kullanılan besin çeşidi aşağıdakilerden hangisidir?

- A) Yağ
- B) Vitamin
- C) Karbonhidrat
- D) Protein

8. Isı enerjisinin birimi aşağıdakilerden hangisidir?

- A) hertz
- B) watt
- C) gram
- D) joule

9. Japonya'da geliştirilen "Maglev" adlı trende tekerlek bulunmamakta olup tren, çok güçlü mıknatıslar yardımıyla raylara temas etmeden hareket etmektedir.

Yukarıda söz edilen durumun nedeni aşağıdakilerden hangisidir?

- A) Rayları korumak
- B) Sürtünme kuvvetini azlatmak
- C) Kazalara engel olmak
- D) Trenin manevra kabiliyetini artırmak

10. Vücutta yapıcı ve onarıcı olarak görev yapan besin çeşidi aşağıdakilerden hangisidir?

- A) Karbonhidrat
- B) Vitamin
- C) Protein
- D) Yağ

11.



Yukarıda sembolü gösterilen devre elemanı aşağıdakilerden hangisidir?

- A) Duy
- B) Anahtar
- C) PİL
- D) Ampul

12. Işığı geçirmeyen maddelere ne ad verilir?

- A) Opak
- B) Strafor
- C) Saydam
- D) Yarı saydam

13. Aşağıdakilerden hangisi omurgalı hayvanlardan biri değildir?

- A) Balıklar
- B) Süngerler
- C) Kurbağalar
- D) Memeliler

14. Zemini kaya veya dolgu maddesi olan bir yamacın yer çekimi, eğim ve su gibi nedenlerle bütün olarak kayarak yer değiştirmesine ne ad verilir?

- A) Heyelan
- B) Sel
- C) Deprem
- D) Erozyon

15. Aşağıdakilerden hangisi boşaltım sisteminde görevli organlardan biridir?

- A) Kalp
- B) Akciğer
- C) Karaciğer
- D) Böbrek

16. Aşağıdakilerden hangisi çiçeksiz bitkilerden biridir?

- A) Gül
- B) Papatya
- C) Kara yosunu
- D) Menekşe

17. Dinamometre, cisimlerin hangi özelliğinden yararlanılarak yapılmıştır?

- A) Esneklik
- B) Sertlik
- C) Eylemsizlik
- D) Hareketlilik

18. Katı haldeki bir maddenin ısı alarak doğrudan gaz haline geçmesine ne ad verilir?

- A) Kaynama
- B) Yoğuşma
- C) Buharlaştırma
- D) Süblimleşme

19. Aşağıdakilerden hangisi kuvvet birimidir?

- A) Newton
- B) Metre
- C) Kilogram
- D) Gram

20. Aşağıdakilerden hangisi sesin yayıldığı ortamlardan biri değildir?

- A) Gaz
- B) Sıvı
- C) Katı
- D) Boşluk



1. Aşağıdakilerden hangisi kişinin sahip olduğu haklardan biri değildir?
  - A) Düşünce ve ifade özgürlüğü hakkı
  - B) Eğitim hakkı
  - C) Yaşama hakkı
  - D) Sevme ve sevilme hakkı
  
2. Çocuk Haklarına Dair Sözleşme ne zaman kabul edilmiştir?
  - A) 20 Kasım 1989
  - B) 21 Aralık 1990
  - C) 6 Temmuz 1991
  - D) 13 Ekim 1992
  
3. Çaydaçıra oyunu hangi yöremize aittir?
  - A) Erzurum
  - B) Edirne
  - C) Eskişehir
  - D) Elazığ
  
4. Taşeli Platosu aşağıdaki bölgelerden hangisinde yer alır?
  - A) Ege
  - B) İç Anadolu
  - C) Doğu Anadolu
  - D) Akdeniz
  
5. Türkiye’de maden çeşitliliğinin ve rezervinin en fazla olduğu bölge aşağıdakilerden hangisidir?
  - A) Doğu Anadolu
  - B) Ege
  - C) Akdeniz
  - D) Karadeniz
  
6. Aşağıdaki tarım ürünlerinden hangisi İç Anadolu Bölgesi’nde yetiştirilir?
  - A) Muz
  - B) Çay
  - C) Fındık
  - D) Buğday
  
7. 1876 yılında telgraf teknolojisindeki gelişmelerden yararlanarak sesi teller aracılığı ile ileten telefon kim tarafından icat edilmiştir?
  - A) Alexander Graham Bell
  - B) Leonardo Da Vinci
  - C) John Logie Maird
  - D) Samuel Morse
  
8. Büyük bir teleskop icat ederek Dünya’nın Güneş etrafında döndüğünü keşfeden bilim insanı aşağıdakilerden hangisidir?
  - A) Galileo
  - B) Edison
  - C) Marie Curie
  - D) Cahit Arf
  
9. Aşağıdakilerden hangisi bir sivil toplum kuruluşu değildir?
  - A) Milli Eğitim Vakfı
  - B) Türkiye Kızılay Derneği
  - C) Türk Tarih Kurumu
  - D) TEMA Vakfı
  
10. Aşağıdakilerden hangisi buluş yapan bilim insanlarının özelliklerinden biri olamaz?
  - A) Çalışkanlık
  - B) İlgisizlik
  - C) Merak
  - D) Gözlem yapma

11. **Sivil toplum kuruluşunda gönüllü olarak çalışanların görev ve sorumlulukları ile ilgili aşağıdaki ifadelerden hangisi yanlıştır?**

- A) Roller gönüllülük esasına göre verilir ve alınır.
- B) Toplumsal birçok sorunun çözülmesi için çalışmalar yaparlar.
- C) Görev ve sorumluluklarının dışında hareket ettiklerinde haklarında yasal işlem yapılır.
- D) Maddi kazanç sağlama amacı gözetilmez.

12. **Aşağıdaki illerden hangisinde TEGV'in eğitim parkı yoktur?**

- A) Samsun
- B) Van
- C) Sivas
- D) Eskişehir

13. **Türkiye'de yasama görevini aşağıdaki kurumlardan hangisi yerine getirir?**

- A) Bakanlar Kurulu
- B) TBMM
- C) Başbakan
- D) Cumhurbaşkanı

14. **Türkiye Cumhuriyeti'nin ilk anayasası aşağıdakilerden hangisidir?**

- A) 1921 Anayasası
- B) 1924 Anayasası
- C) 1961 Anayasası
- D) 1982 Anayasası

15. **Aşağıdakilerden hangisi valiye bağlı değildir?**

- A) İl Millî Eğitim Müdürlüğü
- B) Belediye
- C) İl Emniyet Müdürlüğü
- D) Tarım İl Müdürlüğü

16. **Türkiye Cumhuriyeti'nin ilk Başbakanı kimdir?**

- A) Kazım Karabekir
- B) Fevzi Çakmak
- C) Rauf Orbay
- D) İsmet İnönü

17. **Gize Piramidinin bulunduğu ülke aşağıdakilerden hangisidir?**

- A) Fransa
- B) Mısır
- C) İspanya
- D) Meksika

18. **Aşağıdakilerden hangisi Türkiye'nin İran'dan en çok ithal ettiği ürünlerden biri değildir?**

- A) Ham deri
- B) Ham petrol
- C) Elektronik aletler
- D) İşlenmemiş madenler

19. **Türklerin bilinen ilk alfabeti olan Kök Türk Alfabeti ile yazılan Orhun Yazıtları günümüzde nerede bulunmaktadır?**

- A) Azerbaycan
- B) Moğolistan
- C) Kazakistan
- D) Endonezya

20. **Aşağıdaki ülkelerden hangisinin başkenti Dodoma'dır?**

- A) Şili
- B) Endonezya
- C) Tanzanya
- D) Çin

1. Hz. Hatice üstün ahlakından dolayı Mekke'de aşağıdaki hangi isimle anılıyordu?
  - A) Emine
  - B) Fatıma
  - C) Tahire
  - D) Zeynep
  
2. Dinimizin yasakladığı kötü davranışlardan biri olan, gereksiz yere harcama yapma ve savurganlık anlamına gelen sözcük aşağıdakilerden hangisidir?
  - A) Geçimsiz
  - B) Hovardalık
  - C) İsrif
  - D) Açgözlülük
  
3. Farz kadar kesin olmamakla birlikte yapılması gerekli olan iş ve davranışlara ne ad verilir?
  - A) Mekruh
  - B) Vacip
  - C) Sünnet
  - D) Mübah
  
4. Kur'an-ı Kerim ile ilgili aşağıdaki ifadelerden hangisi yanlıştır?
  - A) Bütün insanlara hitap eden evrensel bir kitaptır.
  - B) İslam dininin temel kaynağıdır.
  - C) Allah tarafından gönderilen ilk kitaptır.
  - D) Hiç değişmeden ve güvenli bir şekilde günümüze kadar ulaşmıştır.
  
5. Oğlu İsmail ile birlikte, ilk defa Hz. Âdem zamanında yapılan Kâbe'yi aynı yerinde yeniden yapan peygamber kimdir?
  - A) Hz. Süleyman
  - B) Hz. Eyüp
  - C) Hz. Yusuf
  - D) Hz. İbrahim
  
6. Namaz vaktinin geldiğini bildirmek için camide müezzinin ezan okuduğu, salâ verdiği, şerefesi olan, çoğunlukla taştan yüksek ve ince yapılara ne ad verilir?
  - A) Mabet
  - B) Mihrap
  - C) Minber
  - D) Minare
  
7. Tüm Müslümanlara yardım, rahmet ve esenlik dilemek için aşağıdaki dualardan hangisinin okunması gerekir?
  - A) Salavat duaları
  - B) Hamd duaları
  - C) Tevekkül duaları
  - D) Şükür duaları
  
8. Hz. Muhammed ile Hz. Hatice'nin ilk çocuklarının adı aşağıdakilerden hangisidir?
  - A) Abdullah
  - B) Zeynep
  - C) Rukiye
  - D) Kasım
  
9. İstiklâl Marşı'nın yazarı aşağıdakilerden hangisidir?
  - A) Fatih Rıfık Atay
  - B) Mehmet Âkif Ersoy
  - C) Behçet Kemal Çağlar
  - D) Cahit Sıtkı Tarancı
  
10. Zengin olanların, sahip oldukları mal ve paranın belli bir miktarını ihtiyacı olan kimselere vermesine ne ad verilir?
  - A) Yardım
  - B) Vacip
  - C) Sadaka
  - D) Zekât

11. Cuma namazı ile ilgili aşağıdaki ifadelerden hangisi yanlıştır?

- A) Sabah namazı vaktinde cemaatle kılınır.
- B) Minber denilen yüksekçe yerden hutbe okunur.
- C) İmam, Cuma ezanına kadar çeşitli konularda vaaz eder.
- D) Hutbede İslam dininin güzelliklerinden, dostluk, sevgi, barış ve toplumsal dayanışma konularından bahsedilir.

12. Dinin anlaşılıp yaşanması için en temel ve en güvenilir kaynak aşağıdakilerden hangisidir?

- A) Deyim
- B) Kur'an
- C) Atasözü
- D) Özdeyiş

13. Günahlardan kurtuluş gecesi olarak kutlanan kandil aşağıdakilerden hangisidir?

- A) Miraç
- B) Berat
- C) Regaip
- D) Mevlit

14. Aşağıdakilerden hangisi Allah'ın insanlara lütfettiği en büyük nimetlerden biridir?

- A) Yürüebilme
- B) Duygusal olma
- C) Akli kullanma
- D) Konuşma

15. Tekvin'in anlamı aşağıdakilerden hangisidir?

- A) Allah'ın yaratma sıfatı
- B) Allah'ın adil olması
- C) Allah'ın benzerinin olmaması
- D) Allah'ın herşeye gücünün yetmesi

16. Yurdun dıştan gelen saldırılara karşı korunmasında hazırlıklı olmak için yapılan göreve ne ad verilir?

- A) Gazilik
- B) Güvenlik
- C) Birlik
- D) Askerlik

17. Aşağıdakilerden hangisi İslam'ın temel ibadetlerinden biri değildir?

- A) Oruç
- B) İman
- C) Zekât
- D) Hac

18. Aşağıdakilerden hangisi dinî bayramlarımızdan biridir?

- A) Zafer Bayramı
- B) Cumhuriyet Bayramı
- C) Ramazan Bayramı
- D) Ulusal Egemenlik ve Çocuk Bayramı

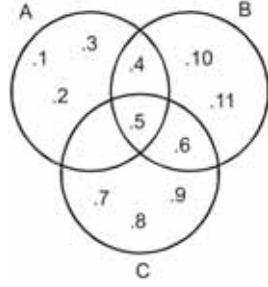
19. Allah'ın her şeyi bilmesi anlamına gelen sözcük aşağıdakilerden hangisidir?

- A) İlim
- B) Vahdaniyet
- C) Kudret
- D) Basar

20. Bir milletin bağımsız olarak üzerinde yaşadığı, sınırları belli olan toprak parçasına ne ad verilir?

- A) Vatan
- B) Devlet
- C) Millet
- D) Cemiyet

1.



Yukarıdaki şemaya göre  $C \setminus (A \cup B)$  kümesi aşağıdakilerden hangisidir?

- A) {4, 5}  
 B) {5, 6}  
 C) {7, 8, 9}  
 D) {5, 6, 7, 8, 9}

2.  $A = \{k, l, m, n, p, r, s, t\}$ ,  $B = \{k, m, r, s\}$  ve  $C = \{n, r, s\}$  kümeleri veriliyor.

Buna göre, aşağıdakilerden hangisi yanlıştır?

- A)  $(A \cap C) \supset B$   
 B)  $B \subset A$   
 C)  $A \supset C$   
 D)  $(B \cap C) \subset A$

3. Sınavlara hazırlanan Melda, ilk gün 50 soru çözmüştür. Diğer günlerde bir önceki günden 15 soru daha fazla çözerek 6 günde bir test kitabını bitirmiştir.

Buna göre, bu test kitabında kaç soru vardır?

- A) 400  
 B) 465  
 C) 525  
 D) 590

4. Ardışık üç çift doğal sayının toplamı 1062 olduğuna göre, küçük sayı kaçtır?

- A) 350  
 B) 352  
 C) 354  
 D) 356

5. 60 kg ve 84 kg'lık iki çuval unu olan Ahmet, çuvalardaki unu eşit miktarlarda paketlemek istemektedir.

Buna göre, Ahmet'in en az kaç torbaya ihtiyacı vardır?

- A) 7  
 B) 9  
 C) 12  
 D) 15

6. 3, 7, 11, 15, 19, 23,..... sayı örüntüsünün cebirsel ifadesi aşağıdakilerden hangisidir?

- A)  $3n - 1$   
 B)  $3n + 2$   
 C)  $4n - 1$   
 D)  $4n + 1$

7. %64'ü ile %43'ünün farkı 63 olan sayı kaçtır?

- A) 250  
 B) 300  
 C) 350  
 D) 400

8. Kerim'in kalemlerinin sayısının 5 eksiğinin 3 katı Gül'ün kalemlerinin sayısına eşittir.

Gül'ün 18 kalemi olduğuna göre, Kerim'in kalemlerinin sayısını veren denklem aşağıdakilerden hangisidir?

- A)  $3(x - 5) = 18$   
 B)  $3x + 5 = 18$   
 C)  $3(x + 5) = 18$   
 D)  $3x - 5 = 18$

9. 72 kg sütten 24 kg peynir elde edildiğine göre, 19 kg peynir yapmak için kaç kg süt gereklidir?

A) 56  
B) 57  
C) 58  
D) 59

10. Bir bakkalın yumurtalarının  $\frac{4}{9}$ 'u 68 tanedir.

Bakkal yumurtalarının  $\frac{2}{3}$ 'ünü sattığına göre, geriye kaç tane yumurtası kalmıştır?

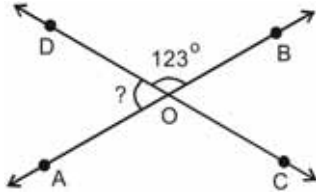
A) 28  
B) 35  
C) 43  
D) 51

11. Tümler açıdan birinin ölçüsü diğerinin 2 katından 6 eksiktir.

Buna göre, küçük olan açı kaç derecedir?

A) 40  
B) 36  
C) 32  
D) 28

- 12.



Şekilde O noktasında kesişen DC ve AB doğrularının oluşturduğu açılardan  $s(D\hat{O}B) = 123^\circ$  olduğuna göre  $s(D\hat{O}A)$  kaç derecedir?

A) 23  
B) 45  
C) 57  
D) 72

13.  $73,042 - 62,14$

işleminin sonucu kaçtır?

A) 10,028  
B) 10,902  
C) 11,028  
D) 11,902

- 14.

| Yemekler  | İçecekler |
|-----------|-----------|
| Hamburger | Ayran     |
| Makarna   | Kola      |
| Köfte     | Gazoz     |
| Döner     | Çay       |
| Pizza     |           |

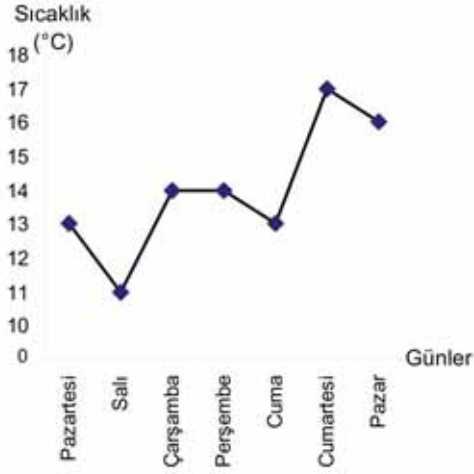
Yukarıdaki menüden bir yemek ve bir içecek siparişi vermek isteyen Koray, kaç farklı seçim yapabilir?

A) 12  
B) 18  
C) 20  
D) 24

15. Bir torbada aynı özelliğe sahip 5 kırmızı, 8 sarı, 7 lacivert top vardır. Torbadan rasgele çekilen topun kırmızı renkte olma olasılığı nedir?

A)  $\frac{3}{4}$   
B)  $\frac{3}{5}$   
C)  $\frac{2}{5}$   
D)  $\frac{1}{4}$

16. ve 17. soruları aşağıdaki grafiğe göre cevaplayınız.



Yukarıdaki çizgi grafiğinde bir şehrin bir haftalık sıcaklık ölçümleri verilmiştir.

16. Bu grafiğe göre, aşağıdaki ifadelerden hangisi yanlıştır?

- A) Pazartesi ve Cuma günlerinin sıcaklık ölçümleri aynıdır.
- B) Hava sıcaklığında en çok düşüş Salı günü olmuştur.
- C) Cumartesi günü Perşembe gününden 3°C daha sıcaktır.
- D) Haftanın en sıcak günü Pazardır.

17. Yukarıdaki grafiğe göre, bir haftanın sıcaklığı ortalama kaç °C'dir?

- A) 12
- B) 13
- C) 14
- D) 15

18. 11 kişilik bir grubun yaş ortalaması 25'tir. Gruptan bir kişi ayrıldığında kalan kişilerin yaş ortalaması 26 oluyor.

Buna göre, gruptan ayrılan kişi kaç yaşındadır?

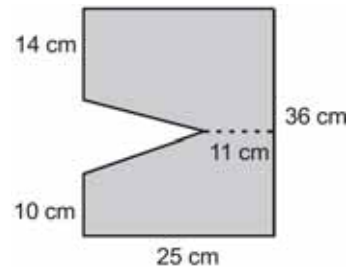
- A) 17
- B) 16
- C) 15
- D) 14

19. 30 litrelik su 400 cm<sup>3</sup> hacimli damacanalara doldurulacaktır.

Bu suyu doldurmak için kaç damacana gereklidir?

- A) 50
- B) 75
- C) 100
- D) 125

20.



Yukarıdaki taralı bölgenin alanı kaç cm<sup>2</sup> dir?

- A) 816
- B) 822
- C) 884
- D) 900

1. Aşağıdakilerden hangisi karşılıklı konuşma türlerinden biri değildir?

- A) Bir topluluğa birini tanıtırma konuşması
- B) Telefonla konuşma
- C) Özür dileme konuşması
- D) Kutlama konuşması

2. Aşağıdakilerden hangisi çekimli bir fiildir?

- A) sağlamdır
- B) güzelmiş
- C) soğuktu
- D) geldim

3. Konuşurken sözcüklerdeki kimi hecelerin veya cümlelerdeki kimi sözcüklerin daha belirgin söylenmesine ne ad verilir?

- A) Vurgu
- B) Tonlama
- C) Noktalama
- D) Duraklama

4. "Kaşığı" adlı öykü aşağıdaki yazarlardan hangisine aittir?

- A) Tevfik Fikret
- B) Halit Ziya Uşaklıgil
- C) Ömer Seyfettin
- D) Mehmet Rauf

5. Aşağıdaki cümlelerin hangisinde yer-yön zarfı vardır?

- A) Bilge dün akşam geldi.
- B) Koşarak ileri atıldı.
- C) Ali sınavdan en yüksek puanı aldı.
- D) Bu filmi pek beğenmedim.

6. Aşağıdaki cümlelerin hangisinde çekimli bir fiil yoktur?

- A) Benim ayakkabı numaram kardeşiminkinden küçük.
- B) Bütün ödevlerini bitirdi.
- C) Okullar tatil oldu.
- D) Çocuklar çok yorulmuştu.

7. Aşağıdakilerden hangisi farklı dinlemelerden en iyi biçimde yararlanabilmek için dikkat edilmesi gereken kurallardan biri değildir?

- A) Konuşulanı iyi ve doğru biçimde anlamaya çalışılmalıdır.
- B) Dinlemeye istekli olunmalıdır.
- C) Dinleme bir amaç için yapılmamalıdır.
- D) Kişi dikkatini dinleme süresince uyanık tutmaya çalışmalıdır.

8. Aşağıdaki cümlelerin hangisinde fiil yeterlilik fiili ile çekimlenmiştir?

- A) Korkudan öleyazdım.
- B) Camları siliver, lütfen.
- C) Sen sofrayı kurudur.
- D) Sonunda kitabı okuyabildi.

9. Aşağıdaki fiillerden hangisi 2. tekil kişi, olumsuz ve geniş zamanda çekimlenmiştir?

- A) gidiyorum
- B) beğenmeyecek
- C) gelmezsin
- D) koşuyorlar

10. Aşağıdaki cümlelerin hangisinde zaman zarfı vardır?

- A) Hepimiz Ayşe'nin doğumgünü için buluştuk.
- B) Ankara'ya yarın gideceğim.
- C) Teyzemler İstanbul'a taşındı.
- D) Babam bisikletimi tamir etti.

11. Aşağıdakilerden hangisi bildirme yazısı türlerinden biri değildir?

- A) Tutanak
- B) Mektup
- C) Rapor
- D) Anı



12. Bir eserin, bir sorunun, bir olayın özelliklerini, en ince ayrıntılarını araştırarak göz önüne seren yazı türüne ne ad verilir?

- A) İnceleme
- B) Roman
- C) Hikâye
- D) Röportaj

13. Aşağıdakilerden hangisi bir tanım cümlesidir?

- A) Her hafta bir kalem kaybediyorum.
- B) Ağaçların altından uyuyakalmışız.
- C) Harfler seslerin işaretidir.
- D) Köpeğimiz çok akıllı bir hayvan.

14. Aşağıdakilerden hangisi birleşik fiildir?

- A) koş-
- B) okuyabil-
- C) yağdır-
- D) uzat-

15. Aşağıdaki cümlelerden hangisinin yüklemi ek fiil almıştır?

- A) Ceyda sınıfın en çalışkanıdır.
- B) Kardeşim bu yıl okula başlayacak.
- C) Kitap okumayı çok severim.
- D) Yatmadan önce mutlaka dişlerimi fırçalarım.

16. "yanmak" sözcüğü aşağıdaki cümlelerin hangisinde diğerlerinden farklı bir anlamda kullanılmıştır?

- A) Alev alan kâğıt bir anda yandı.
- B) Şöminede odunlar çıtırdarak yanıyordu.
- C) Haberi duyunca içim yandı.
- D) Yanan ormanların yerine yeni ağaçlar dikilecekti.

17. "Bodrumdaki Hazine" adlı öykü aşağıdaki yazarlardan hangisine aittir?

- A) Sezai Karakoç
- B) Adnan Özyalçiner
- C) Onat Kutlar
- D) Mehmet Kaplan

18. Aşağıdakilerden hangisi fiilden fiil türeten bir ek almıştır?

- A) başar-
- B) türe-
- C) garipse-
- D) kopar-

19. Soyut bir kavramı anlaşılır bir duruma getirmek, görünür kılmak için aşağıdaki düşünceyi geliştirme yollarının hangisinden yararlanılır?

- A) Benzetme
- B) Örnekleme
- C) Tanımlama
- D) Kanıtlama

20. Aşağıdaki cümlelerin hangisinde fiilde anlam kayması vardır?

- A) Yarın İzmir'e gelecekler.
- B) Dün işe gelmedi.
- C) Aldığım tüm kitapları okudum.
- D) Bizim kız bu habere çok sevinir.

1. a negatif bir tam sayı olduğuna göre, aşağıdakilerden hangisi daima pozitif bir sayıdır?

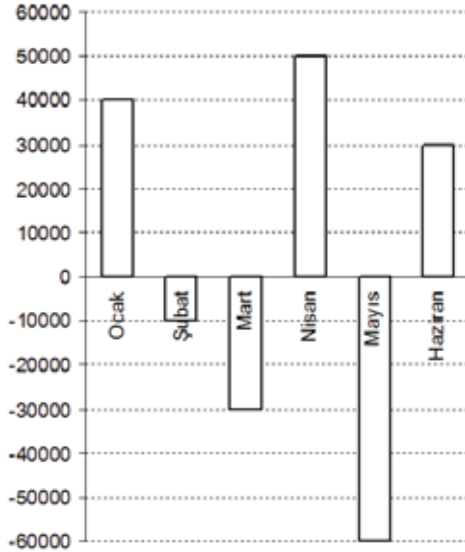
- A)  $\frac{a}{2}$   
 B)  $a^2 - 4$   
 C)  $3a$   
 D)  $-(a^3)$

2. Bir laboratuvarında termometre  $13^\circ\text{C}$ 'yi gösterirken, sıcaklık her 1 dakikada  $3^\circ\text{C}$  düşmektedir.

Buna göre, 7 dakika sonra termometre kaç  $^\circ\text{C}$ 'yi gösterir?

- A) -11  
 B) -8  
 C) 10  
 D) 16

- 3.

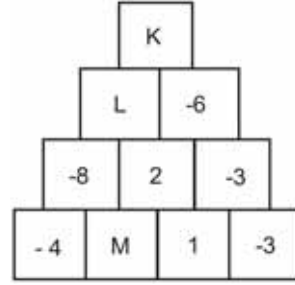


Yukarıdaki grafikte bir şirketin 6 aylık kâr-zarar durumu verilmiştir.

Buna göre, şirketin 6 aylık kâr-zarar durumu ile ilgili aşağıdaki ifadelerden hangisi doğrudur?

- A) 10.000 TL kâr etmiştir.  
 B) 10.000 TL zarar etmiştir.  
 C) 20.000 TL kâr etmiştir.  
 D) 20.000 TL zarar etmiştir.

- 4.

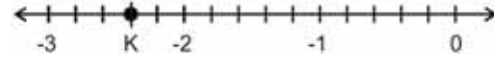


Yukarıdaki sayı piramidinde üstteki kutular alttaki iki kutunun çarpımı şeklinde yazılmıştır.

Buna göre,  $K+L+M$  kaçtır?

- A) 78  
 B) 82  
 C) 112  
 D) 114

- 5.



Yukarıdaki sayı doğrusunda ardışık iki tam sayı arası 5 eş parçaya bölünmüştür.

Buna göre, K noktasına karşılık gelen rasyonel sayı aşağıdakilerden hangisidir?

- A)  $-\frac{12}{5}$   
 B)  $-\frac{8}{5}$   
 C)  $-\frac{4}{5}$   
 D)  $-\frac{2}{5}$

6. Bir ayakkabıcı etiket fiyatı 240 TL olan bir ayakkabıyı indirim zamanında 156 TL'ye satıyor.

Buna göre, ayakkabıcı % kaç indirim yapmıştır?

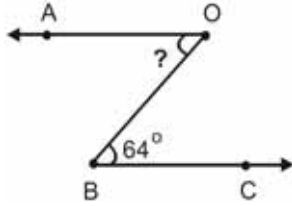
- A) 25  
 B) 30  
 C) 35  
 D) 40

7. Zehra'nın kitaplarının sayısının Ata'nın kitaplarının sayısına oranı  $\frac{5}{8}$ 'dir.

Zehra ve Ata'nın toplam 91 kitabı varsa, Ata'nın kaç kitabı vardır?

- A) 35  
B) 42  
C) 49  
D) 56

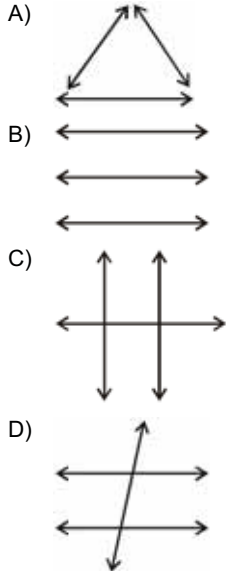
8.



Yukarıdaki şekilde,  $[AO \parallel [BC$  olduğuna göre,  $s(A\hat{O}B)$  kaç derecedir?

- A) 26  
B) 40  
C) 64  
D) 116

9. Aşağıdakilerden hangisi birbirini ikiye ikiye kesen üç doğruya bir örnektir?



10. Bir yılbaşı partisinde 114 kadın, 39 erkek vardır.

Bu partiye kaç evli çift gelirse kadın sayısı erkek sayısının 2 katı olur?

- A) 36  
B) 38  
C) 40  
D) 42

11. Denklemi  $y = \frac{3}{4}x - 3$  olan doğru üzerindeki

bir A noktasının apsisi 6 ise ordinatı kaçtır?

- A) -6  
B)  $\frac{3}{2}$   
C) 2  
D) 9

12. Özge, 930 sayfalık bir kitabı her gün bir önceki gün okuduğu sayfa sayısının 2 katı kadar okuyarak 5 günde bitiriyor.

Buna göre, Özge 4. günün sonunda kitabın kaç sayfasını okumuştur?

- A) 450  
B) 400  
C) 360  
D) 300

13.



Yukarıdaki şekil O noktası etrafında saat ibresinin tersi yönünde  $180^\circ$  döndürülüyor.

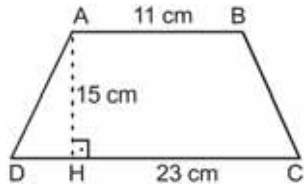
Döndürülme işleminden sonra oluşan şekil aşağıdakilerden hangisidir?

- A)
- B)
- C)
- D)

14. İç açıların ölçülerinin toplamı  $1800^\circ$  olan bir çokgen kaç kenarlıdır?

- A) 10  
B) 11  
C) 12  
D) 13

15.

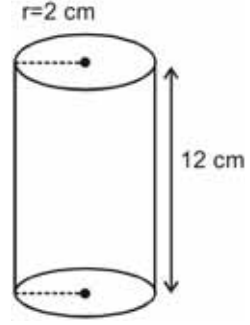


Yukarıdaki ABCD yamuğunda;  $|AB|=11$  cm,  $|CD|=23$  cm ve  $|AH|=15$  cm' dir.

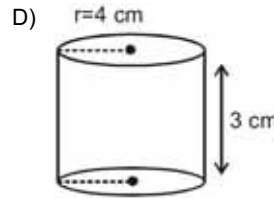
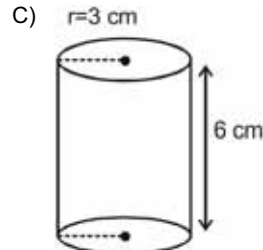
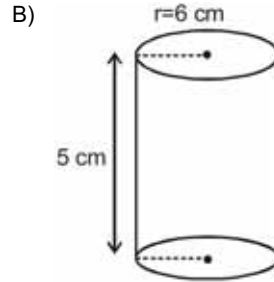
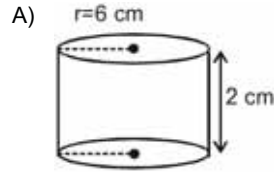
Buna göre, yamuğun alanı kaç  $\text{cm}^2$  dir?

- A) 225  
B) 255  
C) 280  
D) 310

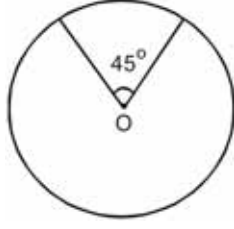
16.



Yukarıdaki silindirin hacmi aşağıdaki silindirlere hangisinin hacmine eşittir?



17.



Yukarıdaki daire diliminin alanı  $24 \text{ cm}^2$  ve merkez açısının ölçüsü  $45^\circ$  dir.

**Buna göre, dairenin yarıçapı kaç cm dir?**  
( $\pi = 3$  alınız.)

- A) 6
- B) 7
- C) 8
- D) 9

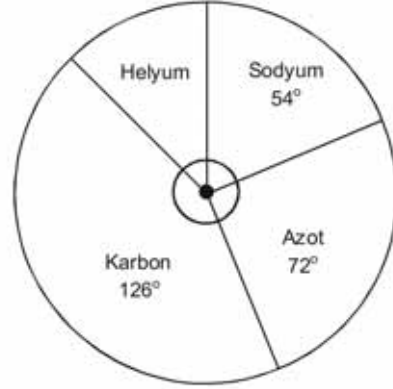
18. Bir gruptaki kişilerin yaşları sırasıyla; 18, 21, 22, 24, 26 ve 27 olduğuna göre, bu kişilerin yaşlarının aritmetik ortalaması kaçtır?

- A) 22
- B) 23
- C) 24
- D) 25

19. Aşağıdaki veri gruplarından hangisinin tepe değeri (modu) en büyüktür?

- A) 83, 81, 81, 92, 98
- B) 91, 98, 91, 90, 91, 89
- C) 94, 92, 93, 92, 96, 76
- D) 100, 88, 88, 86, 88, 100

20.



Yukarıdaki dairesel grafikte bir kimyasal maddenin içeriğindeki elementlerin gramlarının dağılımı verilmiştir.

**Buna göre, kimyasal maddenin içinde 42 gram karbon elementi varsa kaç gram helyum elementi bulunur?**

- A) 18
- B) 24
- C) 36
- D) 54

1. Aşağıdakilerden hangisi "Ben" dilinin özelliklerinden biri değildir?
  - A) Suçluluk hissettirmemesi
  - B) Anlaşmazlıkları azaltması
  - C) Konuşan kişiyi rahatlatması
  - D) Suçlayıcı, eleştirici, yargılayıcı olması
  
2. Aşağıdakilerden hangisi Atatürk'ün Milli Mücadele Döneminde halkı bilinçlendirmek ve kamuoyu oluşturmak amacıyla yararlandığı kitle iletişim araçlarından biridir?
  - A) Anadolu Ajansı
  - B) İzmir Radyosu
  - C) TRT
  - D) Ankara Radyosu
  
3. Aşağıdakilerden hangisi iletişim sürecinde yapılan hatalardan biridir?
  - A) Söylenenleri onaylama
  - B) Farklı düşünceleri paylaşma
  - C) Göz teması kurma
  - D) Sürekli öğüt verme
  
4. Aşağıdakilerden hangisinde nüfus sayımlarından elde edilen sonuçlardan yararlanılmaz?
  - A) Fabrika kurarken
  - B) Hastane yaptırırken
  - C) Çevreyi korurken
  - D) Okul açarken
  
5. Aşağıdakilerden hangisi Türkiye'de en fazla göç alan illerden biridir?
  - A) Rize
  - B) Kocaeli
  - C) Kırşehir
  - D) Kütahya
  
6. Aşağıdaki şehirlerden hangisinde yeraltı kaynaklarının varlığı ve işletilmesi nüfus yoğunluğunu artırmıştır?
  - A) Zonguldak
  - B) Muş
  - C) Konya
  - D) Karaman
  
7. Bizans'ın Anadolu'yu Türklerden geri alma ümitlerinin tamamen ortadan kalkmasını sağlayan (1176) Miryakefalon Savaşı sırasında Türkiye Selçuklularının lideri kimdir?
  - A) I. Alaeddin Keykubat
  - B) Melikşah
  - C) II. Kılıçarslan
  - D) Süleyman Şah
  
8. Bizanslılarla Selçuklular arasında 1071 yılında yapılan ve Anadolu'nun kapılarının Türklere açılmasını sağlayan savaş aşağıdakilerden hangisidir?
  - A) Ankara
  - B) Dandanakan
  - C) Pasinler
  - D) Malazgirt
  
9. Aşağıdakilerden hangisi coğrafi keşiflerin ekonomik sonuçlarından biridir?
  - A) Kiliseye olan güvenin sarsılması
  - B) Yeni okyanus ve kıtaların bulunması
  - C) Yeni ticaret yollarının bulunması
  - D) Dünya'nın yuvarlak olduğunun kanıtlanması
  
10. Meslek tercihi yaparken göz önünde bulundurulacaklar arasında aşağıdakilerden hangisi yoktur?
  - A) İlgisi ve istekler
  - B) Kişisel özellikler
  - C) Yetenekler
  - D) Yakınların beklentileri

11. 13. yüzyılda Anadolu'da kurulan mesleki ve ahlaki eğitimde önemli rol oynayan Ahilik teşkilatının kurucusu aşağıdakilerden hangisidir?

- A) Ahi Evran
- B) Yunus Emre
- C) Mevlâna Celaleddin Rûmi
- D) Hacı Bektaş Veli

12. Avrupa'da kilise ve din adamlarına olan güvenin azalmasında aşağıdakilerden hangisi etkili olmamıştır?

- A) Dünya'nın yuvarlak olduğunun keşfedilmesi
- B) Antik eserlerin incelenmesi
- C) Matbaanın geliştirilip kullanılması
- D) İncil'in değişik dillere çevrilmesi

13. Aşağıdakilerden hangisi Reform hareketlerinin sonuçlarından biridir?

- A) Avrupa'da dini baskının artması
- B) Laik düşüncenin ortaya çıkması
- C) Hristiyanlığın amaçlarından uzaklaşması
- D) Katolik kilisesinin zenginleşmesi

14. Sanayi İnkılabı ilk olarak nerede başlamıştır?

- A) İngiltere
- B) Almanya
- C) Rusya
- D) Fransa

15. Atatürk, "Herhalde millet, hükümetin gözcüsü olmak gerekir. Çünkü hükümetlerin yaptığı işler olumsuz olup da millet itiraz etmez ve düşünmezse, bütün kusur ve suçlara katılmış demektir." sözüyle aşağıdakilerden hangisini vurgulamak istemiştir?

- A) Bireylerin hak ve özgürlüklerini kullanmasını
- B) Milletin çıkarlarının ön planda tutulmasını
- C) Halkın yönetenleri denetlemesi gereğini
- D) Yasama, yürütme ve yargı yetkilerinin ayrılığını

16. İlk Türk devletlerinde Kut adı verilen yönetim yetkisinin kan yoluyla babadan oğula geçtiği kabul edilirdi.

Buna göre aşağıdakilerden hangisi söylenbilir?

- A) Devletin saltanatla yönetildiği
- B) Ülke yönetiminde meclisin önemli olduğu
- C) Yönetme yetkisinin halkta olduğu
- D) Taht kavgalarının olmadığı

17. Aşağıdakilerden hangisi demokrasinin dayandığı temel ilkelerden biri değildir?

- A) Katılımcılık
- B) Eşitlik
- C) Devletçilik
- D) Özgürlük

18. Milliyetçilik akımından en çok Rusya, Osmanlı ve Avusturya-Macaristan İmparatorlukları etkilenmiştir.

Bunun nedeni aşağıdakilerden hangisidir?

- A) Avrupa'ya yakın olmaları
- B) Çok uluslu bir yapıya sahip olmaları
- C) Baskıcı bir yönetime sahip olmaları
- D) Ortak düşmana sahip olmaları

19. Aşağıdakilerden hangisi, Birinci Dünya Savaşı'nın sonuçlarından biri değildir?

- A) Yeni devletlerin kurulması
- B) Avrupa'da ekonominin bozulması
- C) Avrupa'nın sınırlarının yeniden çizilmesi
- D) Kalıcı Dünya barışının sağlanması

20. Aşağıdakilerden hangisi insanlığın sanat, edebiyat, bilim ve düşünce mirasını koruma yollarından biri değildir?

- A) Ortak mirası korumak ve geliştirmek
- B) İnsanların kullanımını kısıtlamak
- C) Bireyleri eğitmek
- D) Müze ve kütüphaneler kurmak

1. A: Wie geht es ..... Schwester?  
B: Danke, es geht ihr schon besser.

**Welches Wort ergänzt die Lücke im obigen Dialog?**

**Verilen karşılıklı konuşmada boş bırakılan yeri aşağıdakilerden hangisi tamamlar?**

- A) deiner  
B) dein  
C) deinen  
D) deinem

2. Er hat ein Heft ..... einen Bleistift.

**Welches Wort passt in die obige Lücke?**

**Cümlede boş bırakılan yeri aşağıdakilerden hangisi tamamlar?**

- A) hat  
B) für  
C) sondern  
D) und

3. Zwölf ..... sind ein Jahr.

**Welches Wort passt in die obige Lücke?**

**Cümlede boş bırakılan yeri aşağıdakilerden hangisi doğru şekilde tamamlar?**

- A) Wochen  
B) Tage  
C) Monate  
D) Jahre

4. Ich habe ein Geschenk für ..... .

**Welches Wort passt in die obige Lücke?**

**Cümlede boş bırakılan yeri aşağıdakilerden hangisi doğru şekilde tamamlar?**

- A) dir  
B) dich  
C) dein  
D) deinem

5. Mein Auto ist ..... der Garage.

**Welches Wort passt in die obige Lücke?**

**Cümlede boş bırakılan yeri aşağıdakilerden hangisi tamamlar?**

- A) auf  
B) in  
C) für  
D) zum

6. Der Bus ..... um 7 Uhr ..... (abfahren)

**Welche Wörter passen in die obigen Lücken?**

**Cümlede boş bırakılan yerleri aşağıdakilerden hangileri doğru şekilde tamamlar?**

- A) fahren / ab  
B) fährt / ab  
C) ab / fahren  
D) ab / fährst

7. Atatürks Mutter ..... Zübeyde.

**Welches Wort passt in die obige Lücke?**

**Cümlede boş bırakılan yeri aşağıdakilerden hangisi doğru şekilde tamamlar?**

- A) heißt  
B) heißen  
C) seine  
D) sind

8. .... bist du geboren?

**Welches Wort passt in die obige Lücke?**

**Cümlede boş bırakılan yeri aşağıdakilerden hangisi doğru şekilde tamamlar?**

- A) Wem  
B) Wo  
C) Wer  
D) Was



9. Was hast du verloren? (die Schlüssel)

**Welche Antwort passt zur obigen Frage?**

**Verilen sorunun cevabı aşağıdakilerden hangisidir?**

- A) Wir suchen die Schlüssel.
- B) Er sucht seine Schlüssel.
- C) Ich habe meine Schlüssel verloren.
- D) Sie hat die Schlüssel vergessen.

10. Ich verbringe meine Ferien mit meinen Eltern.

**Welche Frage passt zur obigen Antwort?**

**Verilen cevabı gerektirecek soru aşağıdakilerden hangisidir?**

- A) Mit wem verbringst du deine Ferien?
- B) Wer hat Ferien?
- C) Wann beginnt das Schuljahr?
- D) Seit wann hast du Sommerferien?

11. Er ist schon Pensionär.

**Welche Frage passt zur obigen Antwort?**

**Verilen cevabı gerektirecek soru aşağıdakilerden hangisidir?**

- A) Ist deine Mutter Lehrerin von Beruf?
- B) Gehört das Buch deinem Vater?
- C) Wo lebt deine Tante?
- D) Was ist dein Großvater von Beruf?

12. Wem gehören die Bücher?

**Welche Antwort passt zur obigen Frage?**

**Verilen sorunun cevabı aşağıdakilerden hangisidir?**

- A) Das ist meine Tasche.
- B) Ich lese sie gerne.
- C) Er möchte neue Bücher kaufen.
- D) Sie gehören meiner Freundin.

13. Ich glaube, dass das Wetter schön wird.

**Wie lautet der obige Satz auf Türkisch?**

**Verilen cümlelerin Türkçesi aşağıdakilerden hangisidir?**

- A) Bugün hava çok güzel geçti.
- B) Havanın güzel olmasını diliyorum.
- C) Bugün havanın güzel olacağı söylendi.
- D) Havanın güzel olacağına inanıyorum.

14. ...., weil sie Blumen bekommen hat.

**Welcher Satz ergänzt nicht die obige Lücke?**

**Verilen cümleyi aşağıdakilerden hangisi tamamlamaz?**

- A) Meine Mutter ist glücklich
- B) Der Mann ist zu Hause
- C) Das Mädchen lacht
- D) Die Frau freut sich

15. Er ist nicht fleißig. Er arbeitet nicht gut.

**Wie kann man die obigen Sätze verbinden?**

**Verilen cümlelerin birleştirilmiş hali aşağıdakilerden hangisidir?**

- A) Er ist nicht fleißig, aber er arbeitet viel.
- B) Er ist sehr fleißig, denn er arbeitet sehr viel.
- C) Er ist nicht fleißig, denn er arbeitet nicht gut.
- D) Er arbeitet gut, aber er ist fleißig.

16. Öğretmen öğrencilerin çok çalıştığını görüyor.

**Wie lautet der obige Satz auf Deutsch?**

**Verilen cümlelerin Almancası aşağıdakilerden hangisidir?**

- A) Der Lehrer sieht, dass die Schüler viel arbeiten.
- B) Die Schüler sehen, dass der Lehrer kommt.
- C) Die Lehrer wollen, dass die Schüler viel arbeiten.
- D) Die Schüler wollen, dass der Lehrer nicht kommt.

17. A: .....  
 B: Biegen Sie an der Kreuzung bei den Ampeln rechts ein! Dann sehen sie es!  
 A: Vielen Dank!  
 B: Gern geschehen!

**Welcher Satz ergänzt den obigen Dialog?**

**Verilen karşılıklı konuşmayı aşağıdakilerden hangisi tamamlar?**

- A) Entschuldigung, wie komme ich zur Stadtbibliothek?  
 B) Kann man dort nur am Wochenende einkaufen?  
 C) Hast du diese Bücher neu gekauft?  
 D) Fliegst du heute Nacht?

18. Postane ve okul yanyana.

**Wie lautet der obige Satz auf Deutsch?**

**Verilen cümlelerin Almancası aşağıdakilerden hangisidir?**

- A) Die Post liegt gegenüber der Schule.  
 B) Die Post ist zwischen der Schule und der Bank.  
 C) Die Post und die Schule sind nebeneinander.  
 D) Die Post ist direkt hinter der Schule.

19. Wo tut's denn weh?

**Wie lautet der obige Satz auf Türkisch?**

**Verilen cümlelerin Türkçesi aşağıdakilerden hangisidir?**

- A) Ağrın geçti mi?  
 B) Ağrın mı var?  
 C) Her yerin mi ağrıyor?  
 D) Neren ağrıyor?

20. A: Ich habe eine Idee.  
 B: Was?  
 A: Warum steigen wir nicht auf die Spitze vom Everest?  
 B: .....  
 A: Nein, komm laß es uns doch probieren!  
 B: Na, gut!

**Welcher Satz ergänzt den obigen Dialog?**

**Verilen karşılıklı konuşmayı aşağıdakilerden hangisi tamamlar?**

- A) Er geht jedes Jahr in seine Heimat!  
 B) Dort war ich schon im letzten Sommer!  
 C) Das ist doch viel zu gefährlich!  
 D) Er hat keine Ferien!

1. It is ..... at the moment. Let's go out!

**Which of the following completes the sentence above?**

**Aşağıdakilerden hangisi yukarıdaki cümleyi doğru olarak tamamlar?**

- A) snow  
B) snowed  
C) snows  
D) snowing

2. My socks are 10 TL. Her socks are 5 TL. Her socks ..... my socks.

**Which of the following completes the sentence above?**

**Aşağıdakilerden hangisi yukarıdaki cümleyi doğru olarak tamamlar?**

- A) are more expensive than  
B) are as expensive as  
C) aren't as expensive as  
D) aren't as cheap as

3. I always ..... orange juice but I never ..... milk.

**Which of the following completes the sentence above?**

**Aşağıdakilerden hangisi yukarıdaki cümleyi doğru olarak tamamlar?**

- A) drink / drinks  
B) drinking / drinks  
C) drinks / drinking  
D) drink / drink

4. Selim ..... every week.

**Which of the following completes the sentence above?**

**Aşağıdakilerden hangisi yukarıdaki cümleyi doğru olarak tamamlar?**

- A) swim  
B) swims  
C) swimming  
D) will swim

5. My sister and I have a problem. Can you help ..... ?

**Which of the following completes the sentence above?**

**Aşağıdakilerden hangisi yukarıdaki cümleyi doğru olarak tamamlar?**

- A) me  
B) us  
C) her  
D) him

6. Aylin ..... but now he smokes.

**Which of the following completes the sentence above?**

**Aşağıdakilerden hangisi yukarıdaki cümleyi doğru olarak tamamlar?**

- A) used to smoke  
B) use to smoke  
C) didn't use to smoke  
D) didn't used to smoke

7. A:..... will you paint the doors?  
B:Next Sunday.

**Which of the following completes the dialogue above?**

**Aşağıdakilerden hangisi yukarıdaki konuşmayı doğru olarak tamamlar?**

- A) Why  
B) Where  
C) When  
D) What

8. Ayşe has brown and long hair. Gözde has short and yellow hair. So Ayşe's hairstyle is ..... Gözde.

**Which of the following completes the sentence above?**

**Aşağıdakilerden hangisi yukarıdaki cümleyi doğru olarak tamamlar?**

- A) different from  
B) different  
C) the same as  
D) as same as

9. .... English!

Which of the following completes the sentence above?

Aşağıdakilerden hangisi yukarıdaki cümleyi doğru olarak tamamlar?

- A) Could
- B) Can
- C) Have to
- D) Speak

10. He is a slow worker, he works .....

Which of the following completes the dialogue above?

Aşağıdakilerden hangisi yukarıdaki konuşmayı doğru olarak tamamlar?

- A) slowly
- B) early
- C) lately
- D) slow

11. You ..... clean your teeth every morning.

Which of the following completes the sentence above?

Aşağıdakilerden hangisi yukarıdaki cümleyi doğru olarak tamamlar?

- A) hasn't
- B) doesn't
- C) should
- D) didn't

12. There is a picture ..... the wall.

Which of the following completes the sentence above?

Aşağıdakilerden hangisi yukarıdaki cümleyi doğru olarak tamamlar?

- A) at
- B) on
- C) in
- D) by

13. A:Where was Ezgi yesterday?

B:.....

Which of the following completes the dialogue above?

Aşağıdakilerden hangisi yukarıdaki konuşmayı doğru olarak tamamlar?

- A) She was six year old
- B) She was at school
- C) She studied her lesson
- D) She didn't study her lesson

14. I think they ..... to the library next Saturday.

Which of the following completes the sentence above?

Aşağıdakilerden hangisi yukarıdaki cümleyi doğru olarak tamamlar?

- A) will go
- B) have gone
- C) went
- D) go

15. Sorry, I can't come to the theatre. I ..... do my homework.

Which of the following completes the sentence above?

Aşağıdakilerden hangisi yukarıdaki cümleyi doğru olarak tamamlar?

- A) have to
- B) can
- C) may
- D) mustn't

16. .... don't you drink milk?

Which of the following completes the sentence above?

Aşağıdakilerden hangisi yukarıdaki cümleyi doğru olarak tamamlar?

- A) What
- B) Let's
- C) Shall we
- D) Why

17. Uğur and Bora ..... the car last night.

**Which of the following completes the sentence above?**

**Aşağıdakilerden hangisi yukarıdaki cümleyi doğru olarak tamamlar?**

- A) repair
- B) repaired
- C) are repairing
- D) have repaired

18. .... I finished dinner, I went to cinema.

**Which of the following completes the sentence above?**

**Aşağıdakilerden hangisi yukarıdaki cümleyi doğru olarak tamamlar?**

- A) Which
- B) So
- C) After
- D) Because

19. If Uğur ..... harder, he ..... be better at school.

**Which of the following completes the sentence above?**

**Aşağıdakilerden hangisi yukarıdaki cümleyi doğru olarak tamamlar?**

- A) studied / would
- B) is / would
- C) will study / would
- D) study / would

20. .... I see your identity card?

**Which of the following completes the sentence above?**

**Aşağıdakilerden hangisi yukarıdaki cümleyi doğru olarak tamamlar?**

- A) Would
- B) Can't
- C) Will
- D) May

1. Je veux de la margarine. Ça coûte combien .....

**Choisissez le mot qui convient.**

**Cümlede boş bırakılan yere uygun düşen sözcüğü bulunuz.**

- A) la bouteille  
B) le litre  
C) le paquet  
D) le verre

2. - ..... êtes-vous?  
- Je suis à la gare.

**Choisissez le mot qui convient.**

**Yukarıdaki konuşmada boş bırakılan yere uygun düşen sözcüğü bulunuz.**

- A) Où  
B) Comment  
C) Qui  
D) Quand

3. Vous ..... mangé?

**Choisissez le mot qui convient.**

**Cümlede boş bırakılan yere uygun düşen sözcüğü bulunuz.**

- A) avez  
B) êtes  
C) voulez  
D) avons

4. Si tu es d'accord, j' ..... mon amie.

**Choisissez le mot/l'expression qui convient.**

**Cümlede boş bırakılan yere uygun düşen sözcük ya da ifadeyi bulunuz.**

- A) invites  
B) ai invité  
C) inviterai  
D) inviter

5. Le tigre est ..... fort que le chat.

**Choisissez le mot qui convient.**

**Cümlede boş bırakılan yere uygun düşen sözcüğü bulunuz.**

- A) comme  
B) plus  
C) moins  
D) aussi

6. Quel temps fera-t-il, .....?

**Choisissez le mot/l'expression qui convient.**

**Cümlede boş bırakılan yere uygun düşen sözcük ya da ifadeyi bulunuz.**

- A) demain  
B) avant-hier  
C) hier  
D) lundi dernier

7. Ne ..... pas au dehors parce qu'il fait très froid.

**Choisissez le mot qui convient.**

**Cümlede boş bırakılan yere uygun düşen sözcüğü bulunuz.**

- A) sortez  
B) sorti  
C) sortir  
D) sois

8. - .....?  
- Parce que je soignerai les gens.

**Trouvez la question qui correspond à la réponse donnée.**

**Yukarıdaki konuşmada verilen cevabı gerektiren soruyu bulunuz.**

- A) Qu'est-ce que vous ferez si vous êtes riche  
B) Vous irez où la semaine prochaine  
C) Qu'est-ce que vous voulez devenir  
D) Pourquoi vous voulez devenir médecin

9. J'attends quelqu'un.

Trouvez l'antonyme du mot souligné.

Yukarıdaki cümlede altı çizili kelimenin zıt anlamlısını bulunuz.

- A) jamais
- B) rien
- C) plus
- D) personne

10. Émile veut grossir. Il faut manger .....

Choisissez le mot/l'expression qui convient.

Cümlede boş bırakılan yere uygun düşen sözcük ya da ifadeyi bulunuz.

- A) des légumes
- B) du pain
- C) de l'eau
- D) de la salade

11. Elle ne prend pas ..... beurre.

Choisissez le mot/l'expression qui convient.

Cümlede boş bırakılan yere uygun düşen sözcük ya da ifadeyi bulunuz.

- A) de la
- B) le
- C) du
- D) de

12. Yves ..... à Lyon.

Choisissez le mot qui convient.

Cümlede boş bırakılan yere uygun düşen sözcüğü bulunuz.

- A) fait
- B) aime
- C) adore
- D) habite

13. Denise : Tu veux du miel?

Jacques : Oui, je (j') ..... veux.

Complétez le dialogue avec l'expression qui convient.

Yukarıdaki konuşmayı uygun düşen ifadeyle tamamlayınız.

- A) le
- B) la
- C) y
- D) en

14. I. Emilie est jeune.

II. Elle a les cheveux longs.

III. Elle est au concert.

IV. Elle est blonde.

Trouvez la phrase qui ne convient pas.

Sırasıyla okunduğunda anlam bütünlüğünü bozan cümleyi bulunuz.

- A) I
- B) II
- C) III
- D) IV

15. viens / de la / Turquie / je  
I II III IV

Mettez les mots dans le bon ordre pour faire une phrase.

Yukarıdaki sözcükleri bir cümle oluşturacak şekilde sıraya koyunuz.

- A) IV, I, II, III
- B) IV, II, I, III
- C) IV, II, III, I
- D) IV, III, I, II

16. Pierre ..... 15 ans.

Choisissez le mot qui convient.

Cümlede boş bırakılan yere uygun düşen sözcüğü bulunuz.

- A) as
- B) a
- C) es
- D) est

17. Günde iki litre su içiniz.

**Choisissez la traduction qui convient.**

**Yukarıdaki cümlenin Fransızca karşılığı aşağıdakilerden hangisidir?**

- A) Il faut faire du sport chaque jour.
- B) Il ne faut pas trop boire de l'eau.
- C) Buvez deux litres d'eau par jour.
- D) Dormez deux heures par jour.

18. Ma grand-mère est têtue ..... une chèvre.

**Choisissez le mot qui convient.**

**Cümlede boş bırakılan yere uygun düşen sözcüğü bulunuz.**

- A) dans
- B) comme
- C) aussi
- D) plus

19. - .....?

- C'est un cadeau pour toi.

**Trouvez la question qui correspond à la réponse donnée.**

**Yukarıdaki konuşmada verilen cevabı gerektiren soruyu bulunuz.**

- A) Qui sont-ils
- B) Qu'est-ce que tu fais
- C) Qu'est-ce que c'est
- D) Quelle est votre profession

20. Il y a du brouillard.

**Choisissez la traduction qui convient.**

**Yukarıdaki cümlenin Türkçe karşılığı aşağıdakilerden hangisidir?**

- A) Hava bulutlu.
- B) Hava sisli.
- C) Hava rüzgârlı.
- D) Hava soğuk.



**BU SAYFA BOŞ BIRAKILMIŞTIR.**

**BU SAYFA BOŞ BIRAKILMIŞTIR.**

**BU SAYFA BOŞ BIRAKILMIŞTIR.**

## SINAVDA UYULMASI GEREKEN GENEL KURALLAR

1. Sınava girmek için gerekli belgelerinizin tümünü sınav başlamadan önce sıranızın üzerine bırakınız.
2. Sınav süresince görevlilerle konuşmak, görevlilere soru sormak yasaktır. Aynı şekilde görevlilerin de öğrencilerle yakından ve alçak sesle konuşmaları yasaktır. Gerekli durumlarda görevliler yerinizi değiştirebilir.
3. Size verilen cevap kâğıdının üzerindeki TCKN/Öğrenci no, ad, soyadı, bilgilerini kontrol ediniz, ilgili alanları eksiksiz doldurarak imzalayınız. Bu bilgiler size ait değilse, görevlileri uyararak size ait cevap kâğıdını isteyiniz. Başka öğrenciye ait cevap kâğıdı kullanan öğrencilerin o oturumdaki sınavları geçersiz sayılır.
4. Cevap kâğıdı üzerine test grubunu (A, B, C, D) kodlamayan veya birden fazla kodlama yapan öğrencilerin sınavları geçersiz sayılır.
5. Cevap kâğıdınıza yazacağınız her türlü yazı ve yapacağınız işaretlemeler için koyu yazan siyah kurşun kalem kullanmalısınız. Siyah kurşun kalem dışında farklı bir kalem (tükenmez, mürekkepli ya da renkli vb.) kullanan öğrencilerin sınavları geçersiz sayılır.
6. Cevap kâğıdı üzerinde değişiklik yapmak istediğinizde, iz bırakmayan bir silgi kullanınız. Cevap kâğıdınızı buruşturmayınız, katlamayınız ve üzerine gereksiz hiçbir işaret koymayınız.
7. Cevaplarınızı, cevap kâğıdında ilgili test için ayrılmış olan alana, cevap yerinin dışına taşımadan işaretleyiniz. Soru kitapçığı üzerinde yapılan işaretlemeler değerlendirmeye alınmayacaktır.
8. Her sorunun tek bir doğru cevabı vardır. Bir soru için birden çok cevabı işaretlerseniz, o soruyu yanlış cevaplamış sayılacaksınız.
9. Soru kitapçığınızı aldıңызda sayfalarına hızlıca bakarak hatalı ya da eksik baskı olup olmadığını kontrol ediniz. Hata/eksik olması durumunda kitapçığının değiştirilmesi için derhâl Salon Başkanına başvurunuz. Sınav görevlileri sınavın başladığını belirtmeden kitapçığınızı tekrar açmayınız.
10. Cevap kâğıdınızda belirtilen kitapçık kodu ile soru kitapçığının kodunu karşılaştırınız. Aynı değilse, sınav görevlilerine durumu bildirerek doğru kitapçığın verilmesini talep ediniz.
11. Soru kitapçığındaki ilgili alanlara ad, soyadı, TCKN/Öğrenci no, sınav salon no, sıra no bilgilerinizi eksiksiz doldurarak imzanızı atınız. Soru kitapçığının sayfalarındaki boş yerleri müsvedde amacıyla kullanabilirsiniz.
12. Aşağıdaki durumlarda sınav görevlileri tarafından Bireysel Sınav İptal Tutanağı düzenlenerek ilgili öğrencilerin sınavları geçersiz sayılır:
  - a) Sınav kurallarına ve sınav görevlilerinin uyarılarına uymamak, sınav düzenini bozmak,
  - b) Kâğıt, kitap, defter, not vb. dokümanları; pergel, açıölçer, cetvel vb. araçları; cep telefonu, bilgisayar, tablet, telsiz, kamera vb. iletişim, depolama, kayıt ve veri aktarma cihazlarını; ruhsatlı veya resmi amaçlı olsa bile silah ve silah yerine geçebilecek nesnelere yanında bulundurmamak,
  - c) Sınav sırasında kalem, silgi vb. araç-gereç paylaşımında bulunmak,
  - d) Cevapları, cevap kâğıdı dışında bir yere yazmak ve sınav salonundan dışarı çıkarmak,
  - e) Sınava girebilmek için gerekli belgeleri eksik olduğu halde sınava katılıp, cevap kâğıdında işaretleme yapmak,
  - f) Sınav görevlileri tarafından öğrencinin kimliğinden şüphe duyulması,
  - g) Cevap kâğıdını ve/veya soru kitapçığını sınav görevlilerine eksiksiz ve sağlam şekilde teslim etmemek, sınav salonu dışına çıkarmak,
  - h) Kopya çekmek, vermek, çekilmesine yardımcı olmak vb. eylemlerde bulunmak,
  - i) Kendisi yerine başkasını sınava sokmak.
13. Sınav bitiminde, cevap kâğıdınızı ve soru kitapçığınızı salon görevlilerine eksiksiz biçimde teslim ediniz. Sınav bittikten sonra gönderilen cevap kâğıtları dikkate alınmayacaktır.

**SINAV KURALLARINA UYDUĞUNUZ İÇİN TEŞEKKÜR EDER, SINAVINIZDA BAŞARILAR DİLERİZ.**