



ANADOLU ÜNİVERSİTESİ
AÇIK ÖĞRETİM FAKÜLTESİ
BA - AÇIK ÖĞRETİM OKULLARI

T.C. MİLLİ EĞİTİM BAKANLIĞI
Hayat Boyu Öğrenme Genel Müdürlüğü
2016-2017 ÖĞRETİM YILI BATI AVRUPA - BALKANLAR
AÇIK ÖĞRETİM LİSESİ III. DÖNEM SINAVI

1. OTURUM Cumartesi

A

0101

ÖĞRENCİNİN

SOYADI :

ADI :

T.C. KİMLİK NO / ÖĞRENCİ NO :

SINAV SALON NO : SIRA NO:

Sınavla ilgili soru kitapçığının ön ve arka kapağındaki tüm kuralları okudum, anladım, kabul ediyorum.

İMZA:.....

SINAV İÇERİĞİ

Testin Adı	Soru Sayısı	Sayfa No	Testin Adı	Soru Sayısı	Sayfa No
DİN KÜLTÜRÜ VE AHLAK BİLGİSİ 4	20	02	EKONOMİ 2	20	35
FELSEFE 2	20	04	SEÇMELİ ALMANCA 5	20	37
MATEMATİK 5	20	06	SEÇMELİ İNGİLİZCE 5	20	40
SOSYOLOJİ 2	20	08	SEÇMELİ FRANSIZCA 5	20	43
DİL VE ANLATIM 1	20	10	SEÇMELİ ALMANCA 8	20	46
DİL VE ANLATIM 3	20	12	SEÇMELİ İNGİLİZCE 8	20	49
TÜRK EDEBİYATI 1	20	15	SEÇMELİ FRANSIZCA 8	20	52
TÜRK EDEBİYATI 2	20	17	HZ. MUHAMMED'İN HAYATI 4	20	55
TÜRK EDEBİYATI 5	20	19	TÜRK DİLİ VE EDEBİYATI 1	20	57
TÜRK EDEBİYATI 6	20	21	MATEMATİK 6	20	59
FİZİK 7	20	23	SEÇMELİ DİL VE ANLATIM 3	20	62
KİMYA 1	20	26	SEÇMELİ DİL VE ANLATIM 4	20	65
KİMYA 7	20	28	SEÇMELİ DİL VE ANLATIM 8	20	67
BİYOLOJİ 3	20	31	SEÇMELİ TÜRK EDEBİYATI 3	20	69
BİYOLOJİ 5	20	33	GİRİŞİMCİLİK 1	20	72

SINAVDA UYULMASI GEREKEN ÖZEL KURALLAR

1. Soru kitapçığındaki her bir testi cevaplamanız için verilen süre 30 dakika, toplam süre 150 dakikadır.
2. Sınavın ilk 30 dakikası ve son 5 dakikası içinde sınavınızı tamamlasanız bile salondan çıkamazsınız. Herhangi bir nedenle salondan çıktığınız takdirde, tekrar sınava devam etmenize izin verilmeyecektir. Sınavın başlamasını izleyen ilk 15 dakikadan sonra hiçbir öğrenci sınava alınmaz.
3. Yanlış cevaplarınız dikkate alınmayacaktır. Bu nedenle kitapçıktaki tüm sorular için size doğru gelen seçeneği işaretleyerek cevapsız soru bırakmamanız yararınıza olacaktır.
4. Sınav sırasında hesap makinesi kullanabilirsiniz. Ancak, kullanacağınız makinede alfabetik tuş takımının (A, B, C, ..., Y, Z), program yapılmasına, saklanması ve çalıştırılmasına imkân veren EXE, STORE, RUN vb. tuşlar bulunamaz.

"Sınavda Uyulması Gereken Genel Kurallar" soru kitapçığının arka sayfasında yer almaktadır. Bu kuralları da mutlaka dikkatlice okuyunuz.

Anadolu Üniversitesi tarafından hazırlanmış olan bu testlerin her hakkı saklıdır. Hangi amaçla olursa olsun, testlerin tamamının veya bir kısmının Anadolu Üniversitesi'nin yazılı izni olmadan kopya edilmesi, fotoğraflarının çekilmesi, herhangi bir yolla çoğaltılması, yayımlanması ya da kullanılması yasaktır. Bu yasağa uymayanlar gerekli cezai sorumluluğu ve testlerin hazırlanmasındaki mali külfeti peşinen kabullenmiş sayılır.

1. Allah'ın peygamberlerine dilediklerini özel bir şekilde bildirmesine ne ad verilir?
 - A) Vahiy
 - B) İcma
 - C) Suhuf
 - D) Kelâm
2. Toplum hayatında kişilerin birbirleriyle ve toplumla olan ilişkilerini düzenleyen ve uyulması kanun gücüyle desteklenmiş olan toplumsal kuralların bütününe ne ad verilir?
 - A) Örf
 - B) Hukuk
 - C) Laiklik
 - D) Adet
3. Aşağıdakilerden hangisi Atatürk'ün İslamiyet ile ilgili sözlerinden biri değildir?
 - A) Din gerekli bir kurumdur.
 - B) Dinimiz akla ve mantığa tamamen uygundur.
 - C) Dinimiz son dindir.
 - D) Dinimize inananlar, dünyada çoğunluktadır.
4. Özgürlük kavramı kaç temel davranış içerir?
 - A) 1
 - B) 2
 - C) 3
 - D) 4
5. Aşağıdakilerden hangisi ekonomik haklardan biri değildir?
 - A) Toplu sözleşme ve grev hakkı
 - B) Haberleşmenin gizliliği hakkı
 - C) Mülkiyet hakkı
 - D) Sendika kurma hakkı
6. "Din lüzumlu bir müessesedir. Dinsiz milletlerin devamına imkân yoktur." sözü kime aittir?
 - A) Yunus Emre
 - B) Hz. Muhammed
 - C) Mustafa Kemal Atatürk
 - D) Mehmet Akif Ersoy
7. Aşağıdakilerden hangisi bireyin bir başkasına zarar vermeden düşündüğünü ve dilediğini yapabilmesidir?
 - A) Özgürlük
 - B) Hak
 - C) Mücadele
 - D) Hukuk
8. "Birbirinizin gizli ve ayıp hallerini araştırmayınız." ayeti hangi hakla ilgilidir?
 - A) Ekonomik
 - B) Sağlık
 - C) Eğitim
 - D) Özel yaşamın gizliliği
9. Atatürk'e göre hiçbir kuvvetin Türk Milleti'nin kalbinden çıkaramayacağı iki fazilet aşağıdakilerin hangisinde birlikte verilmiştir?
 - A) Din ve özgürlük
 - B) Din ve dil
 - C) Din ve vicdan
 - D) Dil ve tarih
10. Hak ve özgürlüklerin kullanımı ile ilgili aşağıdaki ifadelerden hangisi yanlıştır?
 - A) Özgürlük sınırlıdır ve sınırlandırılabilir.
 - B) Hak ve özgürlükler şahsa bağlıdır, başkasına devredilemez.
 - C) Hak ve özgürlükleri kısıtlanan kişi, hakkını kendi almalıdır, devlete bırakmamalıdır.
 - D) Hak ve özgürlüklerde kimseye ayrıcalık tanınmaz.
11. Öğrenme, araştırma gözlem veya deney yoluyla elde edilen, insan zekasının ve çalışmasının sonucu ortaya çıkan ürüne ne ad verilir?
 - A) Beceri
 - B) Kalıtım
 - C) Yetenek
 - D) Bilgi
12. "De ki: O Kur'an Rabb'inizden gelen bir haktır. Artık dileyen iman etsin, dileyen inkâr etsin" ayet'i hangi özgürlükle ilgilidir?
 - A) İnanç
 - B) Düşünce
 - C) Seyahat
 - D) Yerleşme
13. Selçuklu veziri Nizamülmülk, Nizamiye Medresesi'ni nerede kurmuştur?
 - A) Yemen
 - B) Bağdat
 - C) Kudüs
 - D) Şam

14. Tarihte, **en çok** adaletli yönetimiyle ünlene halife kimdir?

- A) Hz. Osman
- B) Hz. Ebu Bekir
- C) Hz. Ömer
- D) Hz. Ali

15. "Hiç bilenlerle bilmeyenler bir olur mu" ayetiyle hangi **temel** hakka değinilmiştir?

- A) Eğitim hakkı
- B) Yaşam hakkı
- C) İbadet hakkı
- D) Özel yaşamın gizliliği hakkı

16. Amerika ve keşfinden önce Antartika'yı gösteren dünya haritasını kim çizmiştir?

- A) Biruni
- B) Ömer Hayyam
- C) Barbaros Hayrettin Paşa
- D) Piri Reis

17. Kişinin kendi inandığı ve gerçek kabul ettiği fikir ve düşüncelere bağlanmak, kendi dışındaki görüşlere söz hakkı tanımamak ve düşmanlık beslemeye ne ad verilir?

- A) Şirk
- B) Tecessüs
- C) Taassup
- D) Gıybet

18. Milli mücadelenin kazanılmasından sonra, Atatürk'ün Zağanos Paşa Camiinde Peygamber Efendimizden övgüyle ve hürmetle bahsettiği hutbeyi okuduğu il aşağıdakilerden hangisidir?

- A) Edirne
- B) Balıkesir
- C) Amasya
- D) Ankara

19. "Usturlâb" nedir?

- A) Gökyüzünün izlendiği gözlem aracı
- B) Yoğunluk ölçme aleti
- C) Basınç ölçme aracı
- D) Su seviye ölçme aracı

20. Kişinin bir başkasına zarar vermeden düşündüğünü ve dilediğini yapabilmesine ne ad verilir?

- A) Laiklik
- B) Milliyetçilik
- C) Adalet
- D) Özgürlük

1. Aşağıdakilerden hangisinde korku ütopyası eseri ve yazarı birlikte ve doğru olarak verilmiştir?

- A) Güneşin Ülkesi – Campanella
- B) Thomas More – 1984
- C) Erdemli Toplum – Farabi
- D) Yeni Dünya – Adous Huxley

2. Ahlak yasasını, Tanrı ve insan sevgisiyle temellendiren, bu çerçevede insanların eşitliğini ve kardeşliğini savunan, iyilik, sevgi, çalışkanlık ve dürüstlüğü ahlaki değer olarak benimseyen düşünür aşağıdakilerden hangisidir?

- A) Hacı Bektaş Veli
- B) Pir Sultan Abdal
- C) Yunus Emre
- D) Mevlana

3. “Anarşizm” akımının kurucusu aşağıdakilerden hangisidir?

- A) Kropotkin
- B) Stimer
- C) Proudhon
- D) Bakunin

4. Ahlaki yargılar iyi ya da kötü veya değerli ya da değersiz olarak nitelenen eylemlere dayanan yargılardır.

Yukarıdaki bilgiye göre, aşağıdakilerden hangisi ahlaki yargıya bir örnektir?

- A) Yalan söylemek kötüdür.
- B) İnsan öldürmek günahdır.
- C) Picasso 20. yüzyılda yaşamış bir sanatçıdır.
- D) Süt çocuklar için iyidir.

5. “Yeni Dünya” adlı eser aşağıdakilerden hangisine aittir?

- A) Campanella
- B) Orwell
- C) Huxley
- D) More

6. Aşağıdakilerden hangisi siyaset felsefesinin temel sorularından biri değildir?

- A) En iyi yönetim şekli hangisidir?
- B) Devletin varlık nedeni, görevi nedir?
- C) Sivil toplumun anlamı nedir?
- D) Siyasi bir partinin tüzüğü nasıl değiştirilir?

7. Yaşadığı dönemin İtalya’sındaki aksaklıklardan yola çıkarak “Güneş Ülkesi” adını verdiği ideal bir toplum düzenini tasarlayan düşünür aşağıdakilerden hangisidir?

- A) Mill
- B) Campanella
- C) Bentham
- D) Bacon

8. Aşağıdakilerden hangisi siyaset felsefesinin temel kavramlarından biri değildir?

- A) Ahlak
- B) Hukuk
- C) Meşruiyet
- D) Egemenlik

9. Hangi eylemlerimizin iyi, hangi eylemlerimizin kötü ya da hangi eylemlerimizin değerli veya değersiz olduğuna karar vermemizi sağlayan duyguya ne ad verilir?

- A) Acıma
- B) Vicdan
- C) Akıl
- D) Ahlak

10. Aşağıdakilerden hangisi siyaset bilimi ve siyaset felsefesi arasındaki farkı en doğru biçimde açıklar?

- A) Siyaset bilimi devlet, iktidar, yönetim gibi temel kavramları sorgular, siyaset felsefesi ütopya, distopya gibi teorilerle uğraşır.
- B) Siyaset bilimi tarihsel, siyaset felsefesi teoriktir.
- C) Siyaset bilimi olanı olduğu gibi inceler, siyaset felsefesi olması gerekeni inceler.
- D) Siyaset felsefesi politikacıların işi olup, siyaset bilimi filozofların işidir.

11. I. Sanatçı dışardan hammadde olarak izlenim alır.
II. Sanatçı bu hammaddeyi işler, dönüştürür, ve bir sentez haline getirir.
III. Bu sentezi resim, müzik, sinema gibi sanat dalları aracılığıyla bir anlatım biçimine dönüştürür.

Bir sanat eserinin ortaya çıkmasını yukarıdaki aşamalarla tarif eden Croce’a göre sanat aşağıdakilerden hangisidir?

- A) Yaratma
- B) Taklit
- C) Oyun
- D) İmge

12. Teizm, ateizm ve agnostisizm kavramları ile ilgili aşağıdaki ifadelerden hangisi doğrudur?

- A) Üçü de Tanrı'nın varlığı meselesini teolojiye bırakır.
- B) Üçü de Tanrı'nın varlığını kabul eder.
- C) Üçü de Tanrı'nın varlığına dair farklı yaklaşımlarda bulunur.
- D) Bu üç kavram, üç farklı dine aittir.

13. Aşağıdakilerden hangisi estetik yargıların özelliklerinden biri değildir?

- A) Zaman içinde değişikliğe uğrayabilmesi
- B) Evrensel olması
- C) Kültürel özelliklerden etkilenmesi
- D) Sübjektif olması

14. Aşağıdakilerden hangisi din felsefesinin temel kavramlarından biri değildir?

- A) Kutsal
- B) İman
- C) İbadet
- D) İktidar

15. "Sanat eseri" ile ilgili aşağıdaki ifadelerden hangisi yanlıştır?

- A) Kendine ait özellikleri olan bir insan yaratısıdır.
- B) Doğayla uyumludur.
- C) Özgündür.
- D) İçerik ve biçim birlikte bir anlam taşır.

16. Din felsefesini teolojiden ayıran temel etkinlik aşağıdakilerden hangisidir?

- A) Sorgulama
- B) İnanma
- C) Sevme
- D) Yaratma

17. Aşağıdakilerden hangisi din felsefesinin kapsamındadır?

- A) Kuran-ı Kerim'in tefsirinin nasıl yapılması gerektiğini açıklamak
- B) Üç büyük din arasındaki farkları ortaya çıkarmak
- C) Tanrı'nın varlığını ispatlamaya çalışmak
- D) İmanın beş şartının ne olduğunu açıklamak

18. Din ile felsefeyi birbirinden ayıranak inceleyen ilk düşünür aşağıdakilerden hangisidir?

- A) Huxley
- B) Kant
- C) Orwel
- D) Sartre

19. Sanat, "insanı gündelik yaşamın kaygılarından, sıkıntı ve korkulardan uzaklaştıran, insana zevk veren ve yarar amacı gütmeyen" şeklinde tanımlandığında aşağıdakilerden hangisi ile benzerlik gösterir?

- A) Özgürlük
- B) Aşk
- C) Değer
- D) Oyun

20. Grekçe "aisthesis" kavramından gelen ve ilk defa Alman düşünür Alexander Baumgarten tarafından geliştirilen estetiğin tanımı aşağıdakilerden hangisidir?

- A) İncelik ve zarafetin bilimi
- B) Matematiksel uygunluk
- C) Cerrahi bir alan
- D) Duyusal bilginin bilimi

1. Birinci terimi 3 ve ortak farkı 5 olan bir aritmetik dizinin ilk dört teriminin toplamı kaçtır?

A) 37
B) 38
C) 41
D) 42

2. Bir geometrik dizide birinci terim 4 ve ortak çarpan $\frac{1}{2}$ ise dizinin 10. terimi kaçtır?

A) $\frac{1}{2^7}$
B) $\frac{1}{2^6}$
C) $\frac{1}{2^5}$
D) $\frac{1}{2^4}$

3. $a_n = \frac{5n+2}{2n-1}$ dizisinin kaçınıcı terimi 3'e eşittir?

A) 3
B) 4
C) 5
D) 6

4. İlk terimi 2 ve ilk üç teriminin toplamı 26 olan pozitif terimli geometrik dizinin 6. terimi kaçtır?

A) $3 \cdot 2^5$
B) $3 \cdot 2^6$
C) $2 \cdot 3^5$
D) $2 \cdot 3^6$

5. Genel terimi $a_n = \frac{2n+3}{7}$ olan aritmetik dizinin ortak farkı kaçtır?

A) $\frac{2}{7}$
B) $\frac{3}{7}$
C) $\frac{4}{7}$
D) $\frac{5}{7}$

6. $a_n = \frac{1-2^n}{3^n+8}$ dizisinin 3. terimi kaçtır?

A) $-\frac{2}{3}$
B) $-\frac{1}{3}$
C) $-\frac{1}{5}$
D) $-\frac{1}{8}$

7. Yıllık 5.000 TL'ye kiraya verilen bir evin kirası her yıl % 10 artmıştır. Buna göre, 3 yılın sonunda elde edilen toplam kira bedeli kaç TL'dir?

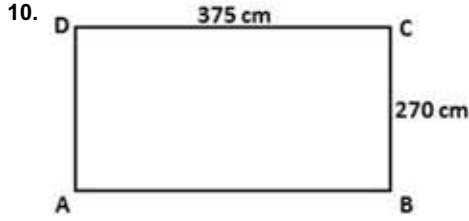
A) 16.550
B) 16.000
C) 15.450
D) 15.250

8. 24 litre süt, 36 litre ayran ve 60 litre su hiç artmayacak ve birbirine karışmayacak şekilde eşit hacimli şişelere doldurulacaktır. Buna göre en az kaç şişe kullanılacaktır?

A) 12
B) 10
C) 8
D) 5

9. Elif kalemlerini üçer üçer saydığıında 2 kalem, dörder dörder saydığıında 3 kalem ve beşer beşer saydığıında 4 kalem artıyor. Bu durumda Elif'in en az kaç kalemi vardır?

A) 119
B) 59
C) 23
D) 19



Yukarıdaki, kenar uzunlukları 270 cm ve 375 cm olan dikdörtgen biçimindeki odanın tabanı, kenar uzunlukları tam sayı olan eş kare fayanslarla döşenecektir.

Buna göre kare fayansın bir kenarı en fazla kaç cm'dir?

- A) 10
B) 15
C) 20
D) 25
11. Boyutları 6 cm, 8 cm ve 20 cm olan tuğlalardan en az kaç tanesi ile bir küp oluşturulabilir?
A) 1.800
B) 1.200
C) 600
D) 300
12. 34A2579 yedi basamaklı sayısının 11 ile kalansız bölünebilmesi için A kaç olmalıdır?
A) 3
B) 6
C) 7
D) 9
13. Bir miktar para yıllık %15 basit faizle kaç ay sonra kendisinin $\frac{1}{8}$ 'i kadar faiz getirir?
A) 6
B) 7
C) 8
D) 10
14. Yıllık %5 bileşik faiz oranıyla bankaya yatırılan 16.000 TL, 3 yıl sonunda kaç TL'ye ulaşır?
A) 19.416
B) 18.522
C) 17.974
D) 16.878

15. 114 kilogram elma 1, 2 ve 3 ile doğru orantılı olacak şekilde paylaşılacaktır. Buna göre en az elma alan kişi kaç kilogram elma alır?

- A) 57
B) 38
C) 28
D) 19

16. Bir belediyenin abonelerinden kullandıkları su miktarına göre aldığı ücreti veren tarife aşağıda verilmiştir.

- İlk 5 m³ su için sabit 10 TL,
- 5 m³' ten sonraki her bir m³ su için 2,5 TL ücret almaktadır.

Buna göre, 25 TL fatura ödeyen bir abone kaç m³ su kullanmıştır?

- A) 11
B) 12
C) 13
D) 14

17.
$$\left. \begin{array}{l} \frac{x}{0,2} = \frac{y}{0,15} \\ x + y = 7 \end{array} \right\} \text{ olduğuna göre } x \cdot y \text{ değeri}$$

kaçtır?

- A) 6
B) 8
C) 10
D) 12

18. %10 kârla 165 TL'ye satılan bir maldan elde edilen kâr miktarı kaç TL'dir?

- A) 18
B) 16,5
C) 15
D) 13,5

19. Bir hemşire 4 günde bir nöbet tutmaktadır. İlk nöbetini Pazartesi günü tuttuğuna göre 5. nöbetini hangi gün tutar?

- A) Cuma
B) Çarşamba
C) Perşembe
D) Salı

20. 450 gram su ve 150 gram şeker karıştırılarak homojen bir karışım elde ediliyor. Buna göre bu karışımın 10 gramında kaç gram şeker bulunur?

- A) $\frac{3}{5}$
B) $\frac{3}{4}$
C) $\frac{3}{2}$
D) $\frac{5}{2}$

1. Aşağıdakilerden hangisi Atatürk'ün önderliğinde gerçekleşen önemli kültürel gelişmelerden biridir?
- A) Şapka Kanunu
B) Ticaret Kanunu
C) İş Kanunu
D) Sendikalar Kanunu
2. İnsanda yokluk duygusuyla birlikte sıkıntı doğuran ve karşılanması gereken biyolojik ve toplumsal olguya ne ad verilir?
- A) Üretim
B) Hizmet
C) İhtiyaç
D) Fayda
3. Otoriteyi annenin büyük erkek kardeşin kullandığı, akrabalığın kadının soyundan geçtiği aile türü aşağıdakilerden hangisidir?
- A) Küçük aile
B) Ataerkil aile
C) Büyük aile
D) Anaerkil aile
4. Aşağıdakilerden hangisi siyasetin alt kurumlarından biri değildir?
- A) Baskı grupları
B) Demokrasi
C) Siyasi partiler
D) Hükümet
5. Özellikle metropollerde farklı etnik, sınıfsal, dinsel temelde yoğun olarak oluşan kültür öğeleri aşağıdakilerden hangisi ile ilgilidir?
- A) Alt kültür
B) Kültürel kaynaşma
C) Kültürlenme
D) Kültürel çatışma
6. Birden fazla kişinin, bir grubun ya da zümrenin egemenliğine dayanan yönetim şekline ne ad verilir?
- A) Oligarşi
B) Aristokrasi
C) Teokrasi
D) Monarşi
7. Aşağıdakilerden hangisi ailenin özelliklerinden biri değildir?
- A) Ekonomik kalkınmanın temelini oluşturması
B) Toplumun en eski birimi olması
C) Bireyin sevgi ve saygıyı, dayanışmayı bu kurumun içinde öğrenmesi
D) Toplumun en temel kurumu olması
8. I. Gelenek
II. Örf
III. Görenekler
- Yukarıdakilerden hangileri kökleşmiş kültür içeriklerindedir?
- A) Yalnız III
B) I ve II
C) II ve III
D) I, II ve III
9. Bir defada iktidar değişikliğini gerçekleştirmeye yönelik yapılan müdahaleye ne ad verilir?
- A) Baskın
B) Reform
C) İhtilal
D) İsyan
10. Aşağıdakilerden hangisi manevi kültür öğesidir?
- A) Okullar
B) Sanat
C) Kitaplar
D) Otomobiller

11. Aşağıdakilerden hangisi doğa güçlerine tapınma (güneş, ay, yıldız vb.) anlamına gelen ilk dinlerden biridir?

- A) Animizm
- B) Fetişizm
- C) Natürizm
- D) Monoteizm

12. I. Halifeliğin kaldırılması
II. Medeni Kanununun kabulü
III. Şapka Kanununun çıkarılması

Yukarıdakilerden hangileri Atatürk'ün çağdaş bir devlet ve toplum oluşturmak için gerçekleştirdiği devrimlerdendir?

- A) Yalnız I
- B) I ve II
- C) I ve III
- D) I, II ve III

13. Bir toplumda maddi ve manevi kültür öğelerinin bir araya gelerek işleyen bir bütün oluşturacak biçimde birbirini tamamlayamamasına ne ad verilir?

- A) Toplumsal yabancılaşma
- B) Toplumsal çözülme
- C) Toplumsal kargaşa
- D) Toplumsal kaynaşma

14. Aşağıdakilerden hangisi toplumsal siyasal farklılıklarda ortaya çıkan baskı gruplarından biri değildir?

- A) Sendikalar
- B) Dernekler
- C) Meslek örgütleri
- D) Öğrenci kulüpleri

15. Bir toplumda bütünleşme için mekanik ve organik dayanışmanın olması gerektiğini savunan düşünür aşağıdakilerden hangisidir?

- A) K. Popper
- B) A. Comte
- C) E. Durkheim
- D) W. James

16. Bireyin üyesi olduğu grubun dışından evlenmesine ne ad verilir?

- A) Poligami
- B) Egzogami
- C) Endogami
- D) Monogami

17. İkel toplumdan tarım toplumuna, tarım toplumundan sanayi toplumuna geçişe ne ad verilir?

- A) Gelişme
- B) Evrim
- C) Rejim
- D) İhtilal

18. Aşağıdakilerden hangisi Sultan II. Mahmut döneminde toplumsal çözümlerden kurtulmak için yapılan ıslahat hareketlerinden biri değildir?

- A) Yeniçeri ocağının kaldırılması
- B) Posta örgütünün kurulması
- C) İlköğretimin herkes için zorunlu kılınması
- D) Kanun-ı Esasi'nin ilan edilmesi

19. Fiyatların düşmesi ile birlikte paranın alım gücünün yükselmesine ne ad verilir?

- A) Revalüasyon
- B) Deflasyon
- C) Enformasyon
- D) Enflasyon

20. Aşağıdakilerden hangisi Atatürk'ün kadınları sosyal ve siyasal hayattaki ikincil konumlarından kurtarmak için yaptığı değişimlerden biri değildir?

- A) 1921 Teşkilat-ı Esasiye Kanunu
- B) 1924 Tevhid-i Tedrisat Kanunu
- C) 1926 Medeni Kanun
- D) 1934 Milletvekili Seçme Seçilme Hakkı

1. Duygu, düşünce ve isteklerin yazı, konuşma ve görsel işitsel araçlarla iletilmesine ne ad verilir?
- A) İletişim
B) Bağlam
C) Dil
D) Konuşma
2. Sözcüklerin birbiriyle olan ilişkilerini, cümledeki görevlerini ve durumunu inceleyen bilim dalı aşağıdakilerden hangisidir?
- A) Semantik
B) Sentaks
C) Etimoloji
D) Fonetik
3. Aşağıdakilerden hangisi Türk dilinin 16.- 20. yüzyıllar arası dönemini kapsayan ve Osmanlıca, Azeri Türkçesi, Çağatayca, Özbekçe gibi dillerden oluşan gelişme aşamasıdır?
- A) Orta Türkçe Çağı
B) Modern Türkçe
C) Yeni Türkçe
D) Eski Türkçe Çağı
4. Günlük yaşamda, evde, sokakta, çarşı pazarda kullanılan dile ne ad verilir?
- A) Yazı dili
B) Lehçe
C) Ağız
D) Konuşma dili
5. İlk Türkçe belgelerin ortaya konulduğu çağ aşağıdakilerden hangisidir?
- A) Eski Türkçe Çağı
B) İlk Türkçe Çağı
C) En Eski Türkçe Çağı
D) Altay Çağı
6. Ural-Altay dilleriyle ilgili aşağıdaki ifadelerden hangisi yanlıştır?
- A) Ünlü uyumu vardır.
B) Dilbilgisi bakımından erkek, dişi tür ayrımı vardır.
C) Bazı ekler çekim eki olmalarına rağmen yapım ki olarak da kullanılır.
D) Sondan eklemeli bir yapısı vardır.
7. Diller arasındaki yakınlık ve benzerliğe ne ad verilir?
- A) Dil kardeşliği
B) Dil birliği
C) Dil yakınlığı
D) Dil akrabalığı
8. Aşağıdakilerden hangisi çekimli (bükümlü) dillerden biridir?
- A) Türkçe
B) Samoyetçe
C) Farsça
D) Moğolca
9. Kültürel varlıkların kuşaktan kuşağa aktarılmasında en etkili araç aşağıdakilerden hangisidir?
- A) Kültür
B) Dil
C) Düşünce
D) Tarih
10. Türkçenin gelişmesine katkı sağlayan eserlerden biri olan "Atabetül Hakayık" ile ilgili aşağıdaki ifadelerden hangisi yanlıştır?
- A) Eser, Anadolu Türkçesi ile yazılmıştır.
B) Eser, ahlaki, öğretici tarzda yazılmış manzum bir eserdir.
C) Eserin tamamı dörtlüklerden ve beyitlerden oluşmuştur.
D) Eser, Edip Ahmet tarafından yazılmıştır.

11. Aşağıdakilerden hangisi iletişim kurmak için gerekli temel öğelerden biri değildir?

- A) Alıcı
- B) İleti
- C) Kaynak
- D) Yöntem

12. Aşağıdakilerden hangisi bir dil ailesi değildir?

- A) Ural – Altay
- B) Hami – Sami
- C) Japon – Kore
- D) Hint – Avrupa

13. Aşağıdaki altı çizili sözcüklerden hangisinde yumuşama yoktur?

- A) Söğüdün altına uzandı.
- B) Küçük kız, tabağı kırdı.
- C) Ekmeği bıçakla kesti.
- D) Patatesleri, kızgın yağa attı.

14. Harflerin yazımıyla ilgili aşağıdaki ifadelerden hangisi yanlıştır?

- A) Belli bir tarih bildiren ay, gün adları büyük harfle başlar.
- B) Dizeler büyük harfle başlar.
- C) Levhalar ve açıklama yazıları küçük harfle başlar.
- D) Sayılardan sonra gelen sözcükler küçük harfle başlar.

15. Aşağıdaki sözcüklerin hangisine ek getirildiğinde kesme işareti (') kullanılmaz?

- A) Ankara
- B) Akarsu
- C) Atatürk
- D) Türkiye

16. Aşağıdaki cümlelerin hangisinde "ki"nin yazımı doğrudur?

- A) Bana öylesine yakındaki kardeşimden ayırmazdım.
- B) Masada ki silgi kimin?
- C) Benim kitabım masada senin ki nerede?
- D) Sinemadaki film çok eğlenceliydi.

17. Aşağıdaki cümlelerin hangisinde "mi"nin yazımı yanlıştır?

- A) Oku muyorsan ver kitabımı.
- B) Daha doymadın mı?
- C) Yok mu senden başkası?
- D) Bana da verecek misin?

18. Aşağıdaki sözcüklerden hangisi küçük ünlü uyumu kuralına uymaz?

- A) Bahçe
- B) İnce
- C) Melodi
- D) Okul

19. Aşağıdaki sözcüklerden hangisi sadece düz ünlülerden oluşmuştur?

- A) Kolye
- B) Otobüs
- C) Kamyonet
- D) Çiçekçi

20. Aşağıdakilerden hangisinde sayıların yazımıyla ilgili bir yazım yanlışı vardır?

- A) İki hafta sonrasına randevulaştık.
- B) Onsekizime girmeme az kaldı.
- C) Üçe beş kala orada olurum.
- D) 100 liralık alışveriş yaptım.

1. Aşağıdakilerden hangisi iyi bir sunum için dikkat edilmesi gerekenlerden biridir?

- A) Çok küçük yazı fontunun kullanmaması
- B) Sunumda çok yavaş konuşulması
- C) Sunum için en az 20-25 dakikanın ayrılması
- D) Arka plan renginin ve yazının parlak olması

2. Aşağıdakilerden hangisi sunumdan önce yapılması gerekenlerden biridir?

- A) Sorular hazırlama
- B) Diksiyon dersi alma
- C) Ciddi, ağırbaşlı olma
- D) Malzemeleri kontrol etme

3. Güncel herhangi bir konu hakkında herhangi bir grup ya da topluluğa bilgi vermek amacıyla yapılan etkinliklerin tümüne ne ad verilir?

- A) Sunum
- B) Kongre
- C) Konferans
- D) Açık Oturum

4. Hayatın en önemli gerçeği samimiliktir.(I)Bu itibarla, hayat ile bağı olan edebiyat, mutlaka samimi bir edebiyattır denilebilir. (II)Hayatı en gizli, en karışık yönleriyle anlatmayan, duygularımızı tıpkı hayatta olduğu gibi saf ve derin bir şekilde duyurmayan, elemelerimizi, felaketlerimizi, açık açık yansıtmayan bir edebiyat, hayat ile ilgisiz ve sahte bir edebiyattır.(III) Öyle bir edebiyat, uzaklığından dolayı bize çok çekici, çok harikulade görünen o meçhul sıcak iklimlerin göz kamaştırıcı ürünleri nasıl açık bir havaya, sert bir rüzgara dayanamazsa, hayat ile ilgisi olmayan böyle bir edebiyat da zamanın sonsuz kasırgaları önünde süpürülüp gitmeye mahkumdur.(IV)

Yukarıda numaralanmış cümlelerden hangisi parçanın ana düşüncesidir?

- A) I
- B) II
- C) III
- D) IV

5. “Durum veya kesit hikâyeciliği denilen Çehov tarzı hikâyede olay önemsiz bir hale gelir. Daha doğrusu serim, düğüm, çözüm şeklinde sıralanan bir olayın anlatımı öykünün temeli değildir. Bu tarz hikâyelerde bir anlık bir düşünce, durum, akla gelen bir imge, ya da hayatın veya o anın içinde oluşan bir kesit öykünün temelini oluşturur. Başlayıp düğümlenen ve çözülen bir vaka değil, günlük yaşamın herhangi bir kesitini ele alıp anlatan öykülerdir. Böyle olunca olay hikâyeciliğindeki serim, düğüm, çözüm planına uyulma amacı ortadan kalkar. Bir çözüm olmayınca öykünün belli bir sonu da yoktur.”

Yukarıdaki parçada aşağıdaki anlatım biçimlerinden hangisi ağır basmaktadır?

- A) Betimleme
- B) Tartışma
- C) Açıklama
- D) Öyküleme

6. Aşağıdaki cümlelerin hangisinde birinci kişi anlatımı söz konusudur?

- A) Çocuk uykuya dalmamak için direniyordu ama gözkapaklarını aralamaya gücü yetmiyordu.
- B) Bir gün, kırlarda gezintiye çıkan bir adam, kenara oturduğu otlardan birinin dalında, küçük bir kozanın varlığını fark etti.
- C) Eczacının dikkatini çekebilme için büyük bir sabırla bekledi.
- D) Sonbaharın ortasında hâlâ Moda'daki dairenin balkonunda şala sarılmış oturuyor, İstanbul silüetinde tarihi yarımada, doğduğum yere bakıyordum.

7. Aşağıdaki cümlelerin hangisinde “tümleşme yanlışlarından” kaynaklanan bir anlatım bozukluğu vardır?

- A) Alma mazlumun ahını; çıkar aheste aheste.
- B) Duvarı nem, insanı gam yıkar.
- C) Dost ile ye, iç; alışveriş etme.
- D) Acıkan doymam; susayan kanmam sanır.

8. 1. Sağa dönüşünde yayaya yol verin.
2. Yaya geçitlerinde yavaşlayın.
3. Başka araçlarla aranıza mesafe koyun.
4. Tek yönlü yollarda tabelalara bakarak ilerleyin.

Yukarıdaki anlatımda aşağıdakilerden hangisi ağır basmaktadır?

- A) Öyküleyici anlatım
B) Kanıtlayıcı anlatım
C) Emredici anlatım
D) Düşsel anlatım
9. **Anlatımda kullanılan üslubun özentili olmadığı, cümlelerin gereksiz yere uzatılmadığı ve cümlelerde eksik sözcüklerin olmadığı anlatım özelliği aşağıdakilerden hangisidir?**
- A) İnanırcılık
B) Duruluk
C) İlginçlik
D) Tutarlılık
10. **“Uykusuz yola çıkmak hiç de akıllıca değildi.” cümlesindeki anlatım bozukluğunun nedeni aşağıdakilerden hangisidir?**
- A) Tamlama yanlışlığı
B) Gereksiz sözcük kullanımı
C) Tümleç eksikliği
D) Sözcüğün yanlış yerde bulunması
11. **Aşağıdaki cümlelerin hangisinde “atasözünün yapısının bozulmasından” kaynaklanan bir anlatım bozukluğu vardır?**
- A) Ava gelmez kuş olmaz, başa gelmez iş olmaz.
B) Deveyi yardan uçuran bir tutam çiçektir.
C) Acıkan doymam (sanır), susayan kanmam sanır.
D) Akıllıyı arkada tutma, akılsızı kılavuz etme.
12. **Aşağıdakilerden hangisi iyi bir anlatımda olması gereken özelliklerden biri değildir?**
- A) Nesnellik
B) Akıcılık
C) İlginçlik
D) Doğallık

13. **“Kütüphaneden aldığımız kitapları bir hafta içinde geri iade etmelisiniz.” cümlesindeki anlatım bozukluğunun nedeni aşağıdakilerden hangisidir?**

- A) Tamlama yanlışlığı
B) Sözcüğün yanlış yerde bulunması
C) Tümleç eksikliği
D) Gereksiz sözcük kullanımı

14. **“Kanuni Sultan Süleyman döneminde Türkiye’ye Halep ve Şam’dan gelen kahve, kısa sürede sosyal yaşamın bir parçası olmuş, ilk kahvehane 1554 yılında açılmıştır. Kahvehaneler giderek çoğalmış, insanların uğrak noktası olmuş, kahve önce ulema tarafından hoş karşılanmamış ve yasaklanmış ancak sonra payitahtın tanınmış uleması ve şeyhleri kahve müdavimlerini hoş görek yasağı kaldırmıştır.”**

Yukarıdaki parçanın anlatımıyla ilgili aşağıdakilerden hangisi söylenebilir?

- A) Bir olay örgüsü içinde anlatılmaktadır.
B) Söz sanatlarına başvurulmamıştır.
C) Amacı okuru eğlendirmektir.
D) Birinci ağızdan anlatım vardır.

15. **Aşağıdaki cümlelerin hangisinde nesnel bir anlatım söz konusudur?**

- A) Şairin en sevdiği çiçek sanırım mor menekşelerdi.
B) Kitabın birinci bölümü bence en canlı anlatımların olduğu yerdirdi.
C) Bilim ve Teknik, aylık yayımlan popüler bilim ve teknik dergidir.
D) Garip Hikâyeler’i okuyunca yazarın hayatından kesitler buluyor gibi hissedersiniz.

16. **Aşağıdakilerden hangisi öğretici anlatımın özelliklerinden biridir?**

- A) Hitap edilen kesimin kültür düzeyi ve beklentileri önemlidir.
B) Ses, taklit, hareket ve konuşma önemlidir.
C) Verilerden yola çıkılarak geleceğe ait tahmin yapılabilir.
D) Düşünce ve duygular kısa ve kesin ifadelerle dile getirilir.

17. Aşağıdaki cümlelerin hangisinde “gereksiz sözcük kullanımından” kaynaklanan bir anlatım bozukluğu vardır?

- A) Buna ancak ben karar verir, uygularım.
- B) Dükkanları kirli olan beş iş yeri kapatıldı.
- C) Sigarayı az, içkiyi hiç içmem.
- D) Balıklar suyun kirliliğinden dolayı kıyıya vurmuşlardı.

18. “Görölmeye değer bir yapıydı. Giriş kapısı kocaman, üzerinde bir tokmak vardı. Bina duvarları ise taşandı. Koca koca taşlar kesilerek adeta duvara monte edilmişti. Duvarın boyası moyası da yoktu. Tamamen doğal bir görünümü vardı. Eğer birine bu binaya tarif etmeye kalkışsanız o kişi ilk bakışta binayı tanırdı. Açık sarıya çalar bir rengi vardı binanın. İki kanatlı bir kapısı adeta sizi içeri çağırır. Pencereleri ise küçük küçüktü. Bir de tarihi anımsatan o heybetli bir duruşu.”

Yukarıdaki parçada aşağıdaki anlatım biçimlerinden hangisi ağır basmaktadır?

- A) Açıklama
- B) Öyküleme
- C) Betimleme
- D) Tartışma

19. Aşağıdaki cümlelerin hangisinde “birbiriyle karıştırılan sözcük kullanımından” kaynaklanan bir anlatım bozukluğu vardır?

- A) Bulaşık deterjanı ellerini hep tahrip etmişti.
- B) Aynadan yansıyan yorgun görüntüsüne baktı.
- C) Yazarın üçüncü romanı da yayımlanmıştı.
- D) Olanaklarımızı kullanıp bu işi halledeceğiz.

20. Aşağıdaki cümlelerin hangisinde “deyimin yanlış anlamda kullanılmasından” kaynaklanan bir anlatım bozukluğu vardır?

- A) Sınavı geçtiğini öğrenince havalara uçtu.
- B) Bağırması bütün mahalleyi ayağa kaldırmıştı.
- C) Meydan mahşer yeri gibi kalabalıktı.
- D) Bir ayağı çukurda olması onu daha dinç yapıyordu.

1. “Kösebaşı” adlı oyun aşağıdaki yazarlardan hangisine aittir?
 - A) Ahmet Kutsi Tecer
 - B) Halide Edip Adivar
 - C) Yakup Kadri Karaosmanoğlu
 - D) Reşat Nuri Güntekin
2. Aşağıdakilerden hangisi güzel bir cümlenin özelliklerinden biri değildir?
 - A) Duruluk
 - B) Akıcılık
 - C) Yalınlık
 - D) Kapalılık
3. Kutadgu Bilig adlı eserin yazarı aşağıdakilerden hangisidir?
 - A) Şeyyat Hamza
 - B) Kaşgarlı Mahmut
 - C) Yusuf Has Hacip
 - D) Ahmet Yesevi
4. “Dokuzuncu Hariciye Koşuşu” romanının yazarı aşağıdakilerden hangisidir?
 - A) Peyami Safa
 - B) Yaşar Kemal
 - C) Reşat Nuri Güntekin
 - D) Necati Cumalı
5. Aşağıdakilerden hangisi edebiyatın ilgili olduğu bilim dallarından biri değildir?
 - A) Psikoloji
 - B) Anatomi
 - C) Felsefe
 - D) Tarih
6. Duygu, düşünce ve hayallerin cümle ve paragraflar halinde dil bilgisi kurallarına uygun olarak anlatılmasına ne ad verilir?
 - A) Nazım
 - B) Nesir
 - C) Yargı
 - D) Tema
7. Aşağıdakilerden hangisi aruz ölçüsünün özelliklerinden biri değildir?
 - A) İlk kez İran edebiyatında kullanılması
 - B) Ulama yapılması
 - C) Dize sonlarındaki bütün hecelerin açık da olsa kapalı sayılması
 - D) Dost, çeşm, âb, yâr gibi sözcüklerin bir uzun bir kısa hece değerinde olması
8. Aşağıdakilerden hangisi edebî eser türlerinden biri değildir?
 - A) Tiyatro
 - B) Masal
 - C) Tarihi metin
 - D) Roman
9. “Merdiven” şiiri aşağıdaki şairlerden hangisine aittir?
 - A) Melih Cevdet Anday
 - B) Oktay Rıfat
 - C) Yahya Kemal Beyatlı
 - D) Ahmet Haşim
10. Klasik Türk şiirinde hiçbir nazıma bağlı olmayan tek beyitten meydana gelen nazımlara ne ad verilir?
 - A) Nazım
 - B) Kıt'a
 - C) Müfret
 - D) Tuyug
11. Klasik edebiyatta nesir yazıcılarına ne ad verilir?
 - A) Şair
 - B) Münşi
 - C) Ozan
 - D) Müellif
12. “İlahi Komedy” adlı eser aşağıdaki şairlerden hangisine aittir?
 - A) Dante Alighieri
 - B) Heinrich Böll
 - C) Tomas Manu
 - D) James Joyes

13. Ey dost senin yoluna
Canım vereyim Mevlâ
Aşkını komayayım
Oda gireyim Mevlâ

Yukarıdaki dördlükte "oda gireyim" sözüyle Tanrı aşkını bırakmayan Hz. İbrahim Peygamberin ateşe atılması olayı hatırlatılmaktadır. Bu edebî sanat aşağıdakilerden hangisine örnektir?

- A) Teşbih
B) Tenvîye
C) Tekrir
D) Telmih

14. Aşağıdakilerden hangisi anonim halk edebiyatı ürünlerinden biridir?

- A) Devriye
B) Ninni
C) Koşma
D) Nutuk

15. 1911-1923 yılları arasında Türk edebiyatında aşağıdaki edebiyat dönemlerinden hangisi görülür?

- A) Tanzimat Devri Türk Edebiyatı
B) Edebiyat-ı Cedide
C) Millî Edebiyat
D) Fecr-i Atî Toppluluğu

16. Savaş, kahramanlık, yiğitlik ve yurt sevgisi gibi konular ile tarihsel olayları coşkulu bir anlatımla dile getiren şiirlere ne ad verilir?

- A) Epik
B) Pastoral
C) Didaktik
D) Lirik

17. Dost dost diye nicesine sarıldım
Benim sadık yârim kara topraktır
Beyhude dolandım boşa yoruludum
Benim sadık yârim kara topraktır

Yukarıdaki dördlük ile ilgili aşağıdaki ifadelerden hangisi yanlıştır?

- A) Hece ölçüsüyle yazılmıştır.
B) Uyak düzeni abab şeklindedir.
C) Hecenin 14'lü kalıbı kullanılmıştır.
D) Kara toprak, sadık bir yer olarak nitelendirilmiştir.

18. Gel ey mahbube Çin'den
O şirin köşk içinden

Yukarıdaki dizelerin uyak türü aşağıdakilerden hangisine örnektir?

- A) Cinaslı uyak
B) Tam uyak
C) Zengin uyak
D) Tunç uyak

19. Orhan zamanından kalma bir duvar
Onunla bir yaşta ihtiyar çınar

Yukarıdaki dizelerin uyak türü aşağıdakilerden hangisine örnektir?

- A) Zengin uyak
B) Tam uyak
C) Cinaslı uyak
D) Tunç uyak

20. Aşağıdakilerden hangisi Dinî Tasavvuf halk edebiyatı ürünlerinden biri değildir?

- A) Hikmet
B) Nefes
C) Deme
D) Varsağı

1. Aşağıdakilerden hangisi halk edebiyatı kökenli bir hikâyedir?
 - A) Arzu ile Kanber
 - B) Leyla vü Mecnun
 - C) Yusuf u Züleyha
 - D) Hüsrev-i Şirin
2. Aşağıdakilerden hangisi Hun destanıdır?
 - A) Türeyiş
 - B) Alp Er Tunga
 - C) Göç
 - D) Oğuz Kağan
3. Aşağıdaki eser-yazar eşleştirmelerinden hangisi yanlıştır?
 - A) Yaprak Dökümü - Reşat Nuri Güntekin
 - B) Şu Çılgın Türkler - Turgut Özakman
 - C) Yüksek Ökçeler - Necati Cumalı
 - D) Dülger Balığının Ölümü - Sait Faik Abasıyanık
4. "Şair Dostlarım" adlı eser aşağıdaki yazarlardan hangisine aittir?
 - A) Edip Cansever
 - B) İlhan Berk
 - C) Ece Ayhan
 - D) Oktay Akbal
5. Aşağıdakilerden hangisi müzikli tiyatro türlerinden biri değildir?
 - A) Melodram
 - B) Opera
 - C) Bale
 - D) Operet
6. Aşağıdakilerden hangisi Rus edebiyatında en tanınmış öykü yazarlarından biridir?
 - A) Haineyh Böll
 - B) Dostoyevski
 - C) Anton Çehov
 - D) Tolstoy
7. Aşağıdakilerden hangisi Fransız edebiyatının fabl yazarıdır?
 - A) Moliere
 - B) Lamartin
 - C) Balzac
 - D) La Fontaine
8. Aşağıdakilerden hangisi ahlaki ve didaktik içerikli mesnevilerden biridir?
 - A) Yusuf u Züleyha
 - B) Harname
 - C) Hüsn ü Aşk
 - D) Şehrengiz-i Bursa
9. Tiyatroda oyuncuların metne bağlı kalmadan zekâ ve kavrayışlarına göre başarı sağladıkları konuşma ve davranışlara ne ad verilir?
 - A) Mimik
 - B) Adaptasyon
 - C) Rol
 - D) Tuluat
10. "Kuvâ-yı Milliye Destanı" aşağıdaki şairlerden hangisine aittir?
 - A) Rıfat Ilgaz
 - B) Nazım Hikmet
 - C) Enver Gökçe
 - D) Cahit Irgat
11. "Göç Destanı" aşağıdaki Türk destanlarının hangisinde yer alır?
 - A) Gök Türk Destanı
 - B) Saka Destanı
 - C) Uygur Destanı
 - D) Hun destanı
12. Aşağıdakilerden hangisi öğretici metin türlerinden biri değildir?
 - A) Hikâye
 - B) Eleştiri
 - C) Makale
 - D) Deneme

13. Bir yazarın veya önemli kişilerin başından geçen ya da yaşadıkları devirde tanık oldukları, duydukları olayları anlattığı yazılara ne ad verilir?
- A) Deneme
B) Makale
C) Fıkra
D) Anı
14. Türk edebiyatının deneme türünde yazan yazarları aşağıdakilerin hangisinde birlikte ve doğru olarak verilmiştir?
- A) Nurullah Ataç – Berna Moran
B) Nurullah Ataç – Oktay Akbal
C) Fethi Naci – Oktay Akbal
D) Falih Rıfkı Atay – Memet Rauf
15. “Ziya’ya Mektuplar” adlı eser aşağıdaki yazarlardan hangisine aittir?
- A) Cahit Sıtkı Tarancı
B) Ahmet Muhip Dıranas
C) Ahmet Hamdi Tanpınar
D) Necip Fazıl Kısakürek
16. Aşağıdakilerden hangisi fıkra türünün özelliklerinden biri değildir?
- A) Ortaya konan düşüncelerin kısa ve öz olarak incelenmesi
B) Gazete ve dergilerin belirli bir köşesinde yazılması
C) Ele alınan düşüncenin kesin olarak kanıtlanması
D) Samimi, sohbet tarzında yazılması
17. Bir yazarın herhangi bir konu üzerine görüş ve düşüncelerini kanıtlama gereği duymadan, kesin yargılara varmadan anlattığı yazı türüne ne ad verilir?
- A) Anı
B) Deneme
C) Eleştiri
D) Fıkra
18. Aşağıdakilerden hangisi Ruşen Eşref Ünaydın’ın eserlerinden biridir?
- A) Atatürk’ü Özleyiş
B) Esenlik Bildirisi
C) Şafak
D) Günübürlük
19. Bir yazarın ya da sanatçıların gezip gördükleri yerleri edebî bir anlatımla ele aldığı yazılara ne ad verilir?
- A) Mektup
B) Gezi
C) Anı
D) Günlük
20. Türk Tiyatrosunda “Kahvede Şenlik Var” adlı oyun tür olarak aşağıdakilerden hangisine örnektir?
- A) Operaya
B) Drama
C) Komediye
D) Trajediye

1. Aşağıdakilerden hangisi Tanzimat Döneminde yayınlanan ilk resmi gazetedir?
 - A) Diyojen
 - B) Takvim-i Vekayi
 - C) Tercüman-ı Hakikat
 - D) Ceride-i Havadis
2. Aşağıdaki şair ve yazarlardan hangisi toplumsal konular yerine bireysel konularda yazan sanatçılardan biridir?
 - A) Ahmet Mithat Efendi
 - B) Namık Kemal
 - C) Ziya Paşa
 - D) Sami Paşazâde Sezaî
3. Aşağıdakilerden hangisi, Muallim Naci'nin eserleri arasında yer almaz?
 - A) Taaşuk-ı Talat ve Fitnat
 - B) Fûruzan
 - C) Şerare
 - D) Ateş-pare
4. Türk Edebiyatı'nda modern anlamda ilk tiyatro eseri aşağıdakilerden hangisidir?
 - A) Araba Sevdası
 - B) Şair Evlenmesi
 - C) Vatan Yahut Silistre
 - D) İntibah
5. Divan edebiyatında, ölen bir kişinin arkasından, onun kahramanlıklarını, yiğitliklerini anlatan şiirlere ne ad verilir?
 - A) Mersiye
 - B) Koşma
 - C) Sav
 - D) Koşuk
6. Fenelon'un Telemaque (Telemak) isimli romanı 1859 yılında kim tarafından Türkçeye çevrilmiştir?
 - A) Namık Kemal
 - B) Ağâh Efendi
 - C) Yusuf Kamil Paşa
 - D) Şinasi
7. 1860 yılında Şinasi ve Ağâh Efendi tarafından çıkarılan ilk özel gazete aşağıdakilerden hangisidir?
 - A) Tercüman-ı Hakikat
 - B) İbret
 - C) Ceride-i Havadis
 - D) Tercüman-ı Ahvâl
8. Aşağıdakilerden hangisi Tanzimat Edebiyatının birinci dönemine ait (1860-1876) özelliklerden biridir?
 - A) Toplum için sanat anlayışının benimsenmesi
 - B) Açık anlatım yerine, kapalı ve sanatlı bir anlatımın kullanılması
 - C) Dilinin ağır olması
 - D) Bireysel temaların tercih edilmesi
9. Tanzimat Fermanı'nın ilanından sonra Osmanlı Devleti'nde aşağıdaki ülkelerden hangisinin kültürü ve edebiyatı örnek alınmıştır?
 - A) Rusya
 - B) Fransa
 - C) İran
 - D) İngiltere
10. Osmanlı Devleti'nde toplumu temsil eden piramidin en üst noktasında aşağıdakilerden hangisi yer alır?
 - A) Askerler
 - B) Padişah
 - C) Zanaatçılar
 - D) İlim Adamları

11. Türk Edebiyatı'nda Rezaizâde Mahmut Ekrem tarafından yazılan ilk realist roman aşağıdakilerden hangisidir?

- A) Araba Sevdası
- B) Taaşuk-ı Talat ve Fitnat
- C) Son Pişmanlık
- D) Cezmi

12. Gerçeğin hayal dünyasında yeniden şekillendiği metinlere ne ad verilir?

- A) Kurmaca metin
- B) Yazılı metin
- C) Hayalî metin
- D) Hikâye

13. Türk edebiyatında sahnelenen ilk tiyatro eseri ve yazarı, aşağıdakilerden hangisinde birlikte ve doğru olarak verilmiştir?

- A) Sabr u Sebat – Abdülhak Hâmit Tarhan
- B) Afife Anjelik – Rezaizâde Mahmut Ekrem
- C) Celalettin Harzemşah – Namık Kemal
- D) Vatan yahut Silistre – Namık Kemal

14. Türk edebiyatında, makale türünde yazı kaleme alan ilk yazar kimdir?

- A) Ahmet Mithat
- B) Namık Kemal
- C) Ziya Paşa
- D) Şinasi

15. Edebi eserin özellikleri ile ilgili aşağıdaki ifadelerden hangisi yanlıştır?

- A) Toplumun tarihi koşullarından da esinlenir.
- B) Kaynağını toplumun sosyal ve siyasi yapısından alır.
- C) Gerçeği olduğu gibi anlatır.
- D) Dil, yapı ve içerik yönünden yazıldığı dönemi yansıtır.

16. Tanzimat dönemi edebiyatı ile ilgili aşağıdaki ifadelerden hangisi yanlıştır?

- A) Sanatta sosyal gayeyi esas almıştır.
- B) Nesir sanatı bu dönemde ilgi görmemiştir.
- C) 1839 ve 1860 yılları arası kuruluş dönemi olarak kabul edilir.
- D) Çeviriler ile roman ve hikaye türü gelişmiştir.

17. Tanzimat'la başlayan yenileşme hareketinin öncülerinden olan, Türk Edebiyatının yenileşmesi ve öz kaynaklarına dönmesine savunan yazar aşağıdakilerden hangisidir?

- A) Namık Kemal
- B) Yahya Kemal
- C) Ziya Paşa
- D) Faruk Nafiz Çamlıbel

18. Romantizm akımının öncüsü Fransız yazar aşağıdakilerden hangisidir?

- A) Voltaire
- B) Gustave Flaubert
- C) Victor Hugo
- D) J.J. Rousseau

19. Yusuf Kamil Paşa'nın 1859 yılında Fransız yazar Fenelon'dan yaptığı ilk çeviri roman, aşağıdakilerden hangisidir?

- A) Monte Kristo
- B) Sefiller
- C) Telemak
- D) Martı

20. Tanzimat Dönemi Türk Edebiyatında tutsaklık ve insan ticareti üzerine yazılmış eserlerin en ünlüsü aşağıdakilerden hangisidir?

- A) İbret
- B) Şipsevdi
- C) Zemzeme
- D) Sergüzeşt

1. Aşağıdaki eserlerden hangisi Fuat Köprülü'ye ait değildir?
- A) Türkçülüğün Esasları
B) Türk Edebiyatında İlk Mutasavvıflar
C) Türk Edebiyatı Tarihi
D) Türk Saz Şairleri
2. Aşağıdaki yazar ve eseri eşleştirmelerinden hangisi yanlıştır?
- A) Yakup Kadri Karaosmanoğlu-Kıralık Konak
B) Cenap Şehabettin-Avrupa Notları
C) Halide Edip Adıvar-Sinekli Bakkal
D) Halit Ziya Uşaklıgil-Ateşten Gömlek
3. Öz Şiir (saf şiir) anlayışının Türk edebiyatındaki önemli temsilcileri aşağıdakilerden hangisinde birlikte verilmiştir?
- A) Fuat Köprülü – Ziya Gökalp
B) Ömer Seyfettin – Ali Canip Yöntem
C) Ahmet Samim – Celal Sahir
D) Ahmet Haşim – Yahya Kemal Beyatlı
4. Aşağıdakilerden hangisi Millî Edebiyat Dönemi'nin genel özellikleri arasında yer almaz?
- A) Divan edebiyatı nazım biçimleri tercih edilmiştir.
B) Dilde sadelik esastır.
C) Hece ölçüsü kullanılmıştır.
D) Konuşma dilinin şiire yerleşmesi gerekliliğini vurgulamışlardır.
5. Aşağıdakilerden hangisi Halide Edip Adıvar'ın eserlerinden biri değildir?
- A) Türkün Ateşle İmtihanı
B) Ateşten Gömlek
C) Piyale
D) Kalp Ağrısı
6. Aşağıdakilerden hangisi Servet-i Fünûn edebiyatının özelliklerinden biri değildir?
- A) Toplumsal temalara değinilmesi
B) Kulağa göre kafiye anlayışının benimsenmesi
C) Nazım birimi olarak mısra kullanılması
D) Şiirde sembolizm ve parnasizmin kullanılması
7. Aşağıdaki sanatçılardan hangisi Millî Edebiyat Dönemi'nde eser vermemiştir?
- A) Ziya Gökalp
B) Mehmet Âkif Ersoy
C) Halide Edip Adıvar
D) Yahya Kemal Beyatlı
8. Maupassant Tarzı Hikaye'nin Türk edebiyatındaki öncüsü aşağıdakilerden hangisidir?
- A) Memduh Şevket Esendal
B) Ömer Seyfettin
C) Sait Faik Abasıyanık
D) Halide Edip Adıvar
9. Mehmet Rauf'un kaleme aldığı, Türk edebiyatında yazılan ilk psikolojik roman aşağıdakilerden hangisidir?
- A) Aşk-ı Memnu
B) Benim Olsaydın
C) Viyana
D) Eylül
10. Mensur şiirin ilk ortaya çıktığı ülke aşağıdakilerden hangisidir?
- A) Rusya
B) İngiltere
C) Fransa
D) Almanya
11. Tevfik Fikret'in İkinci Meşrutiyet'in ilanı ile İttihat ve Terrakki Partisi'nin iktidarı ele geçirmesiyle ülkede oluşan sevinçli ortamı, bu ortamda gençlerin elinde cennet kadar güzel bir vatanın var olduğunu, bunu korumanın da gençlere düştüğünü anlattığı eseri aşağıdakilerden hangisidir?
- A) Haluk'un Defteri
B) Ferda
C) Zevrak'la Ebru
D) Eylül
12. 19. yüzyılın ikinci yarısından sonra parnasizme tepki olarak doğdu. Önce Fransa'da başlayan bu hareket, kısa sürede bütün Avrupa'ya yayıldı. Bu sanat anlayışında doğa değil, onun insan ruhunda bıraktığı izlenimler anlatılır. Sözler anlamları ile değil, yaratacakları ahenkle, müzikle önemlidir.
- Yukarıda sözü edilen bilgiler aşağıdaki akımlardan hangisine aittir?
- A) Realizm
B) Naturalizm
C) Sembolizm
D) Romantizm

13. İlk şiiri 1885'te daha öğrencilik yıllarında Saadet gazetesinde yayımlandı. Önceleri Muallim Naci'nin etkisinde kaldı. Daha sonra Rezaizade Mahmut Ekrem ve Abdülhak Hamit Tarhan'dan etkilenerek Batı tarzı şiire yöneldi. Servet-i Fünun dergisinde şiirleri yayımlandı. Tevfik Fikret ve Halit Ziya Uşaklıgil'le birlikte Servet-i Fünun edebiyatının üç önemli isminden biri oldu.

Yukarıda sözü edilen sanatçı aşağıdakilerden hangisidir?

- A) Hüseyin Cahit Yalçın
- B) Mehmet Rauf
- C) Süleyman Nazif
- D) Cenap Şehabettin

14. Türk edebiyatında özellikle edebiyat tarihi çalışmalarıyla tanınan araştırmacı-yazar aşağıdakilerden hangisidir?

- A) Halide Edip Adivar
- B) Yakup Kadri Karaosmanoğlu
- C) Fuat Köprülü
- D) Ahmet Hikmet Müftüoğlu

15. Aşağıdakilerden hangisi Mehmet Âkif Ersoy'un "Safahat"ı içerisinde yer almaz?

- A) Hatıralar
- B) Süleymaniyede Bayram Sabahı
- C) Gölgeler
- D) Fatih kürsüsünde

16. II. Abdülhamit'in 1878'te kurduğu baskı rejimi sonucunda ikinci dönem Tanzimat Edebiyatı sanatçılarının "sanat için sanat" görüşünden yola çıkarak öncülüğünü yapmış oldukları edebiyat anlayışı aşağıdakilerden hangisidir?

- A) Cumhuriyet Dönemi Edebiyatı
- B) Servet-i Fünun Edebiyatı
- C) Millî Edebiyat
- D) Tanzimat Edebiyatı

17. "Kendi Gök Kubbemiz", "Eski Şiirin Rüzgarıyla", "Aziz İstanbul" adlı eserlerin yazarı aşağıdakilerden hangisidir?

- A) Ahmet Haşim
- B) Yahya Kemal Beyatlı
- C) Tevfik Fikret
- D) Cenap Şehabettin

18. Dilin olduğundan daha ağır ve fazlasıyla sanatlı kullanılmasını eleştirmiştir. Şaire göre şiir, bütün insanların duygularının tercümanıdır. Bu nedenle şiirin ana teması insandır.

Yukarıda şiir hakkında görüşleri verilen şair aşağıdakilerden hangisidir?

- A) Süleyman Nazif
- B) Hüseyin Suat
- C) Ali Ekrem Bolayır
- D) Ahmet Hikmet Müftüoğlu

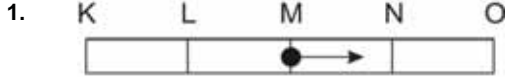
19. "Rubâb-ı Şikeste", "Hâluk'un Defteri", "Şermin", "Tarih-i Kadim" adlı şiir kitaplarının yazarı aşağıdakilerden hangisidir?

- A) Süleyman Nazif
- B) Ali Ekrem Bolayır
- C) Cenap Şehabettin
- D) Tevfik Fikret

20. Sanat hayatına Fecr-î Âti topluluğunda başladı. Topluluk dağıldıktan sonra Millî Edebiyat Döneminde şiirlerini yazmaya devam etti. Şiirlerinde kapalılığa yer verirken düz yazılarında açıklığa önem verdi. Özellikle Fransız Sembolist şairlerden etkilendi. Sonbahar, akşam, göller, sararan yapraklar vb. konular üzerinde durdu.

Yukarıda özellikleri verilen sanatçı aşağıdakilerden hangisidir?

- A) Ahmet Haşim
- B) Mehmet Emin Yurdakul
- C) Yahya Kemal Beyatlı
- D) Ziya Gökalp



Yukarıdaki şekilde M noktasından harekete başlayan bir cisim KO noktaları arasında basit harmonik hareket yapmaktadır. Her bir nokta arası 2 m, cismin kütlesi 100 g ve periyodu 24 s olduğuna göre, bu cismin 22. s' de bulunduğu nokta aşağıdakilerden hangisidir?

- A) L
- B) N
- C) M
- D) K

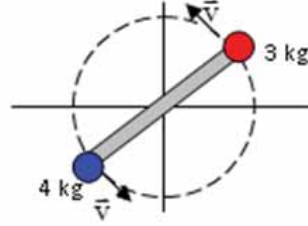
2. Eylemsizlik momenti ile ilgi aşağıdaki ifadelerden hangisi yanlıştır?

- A) Eylemsizlik momenti F ile gösterilir.
- B) Cismin dönme hareketindeki değişikliğe gösterdiği direncin ölçüsüdür.
- C) Eylemsizlik momentinin birimi $\text{kg} \cdot \text{m}^2$ dir.
- D) Eylemsizlik momenti parçacıkların kütesine ve dönme eksenine uzaklığına bağlıdır.

3. İki gezegen arasındaki uzaklık $2R$ iken çekim kuvveti F dir. Aralarındaki uzaklık $2R/3$ olursa çekim kuvveti kaç R olur?

- A) $1/9$
- B) $1/3$
- C) 1
- D) 9

4.



1 m uzunluğunda hafif bir çubuk, xy-düzleminde, çubuğun merkezindeki bir mil etrafında dönmektedir. Çubuğun uçlarına şekildeki gibi 4 kg ve 3 kg'lık iki kütle tutturulmuştur. Her parçacığın hızı 5 m/s'ye ulaştığı anda sistemin başlangıç noktasına göre açısal momentumu kaç $\text{kg} \cdot \text{m}^2/\text{s}$ olur?

- A) 10,5
- B) 17,5
- C) 15,5
- D) 20,5

5. Yatay düzlemde r yarıçaplı çembersel yörüngede v çizgisel hızı ile düzgün dairesel hareket yapan bir cismin frekansı aşağıdakilerden hangisidir?

($\pi = 3$)

- A) $v/6r$
- B) $v/3r$
- C) $3r/v$
- D) $6r/v$

6. Düz yatay virajlı bir yolda 129,6 km/saat hızla yol alan bir araba yolda savruluyor. Araç ile yol arasındaki sürtünme katsayısı 0,6 ise yolun yarıçapı kaç m'dir?

- A) 36
- B) 72
- C) 96
- D) 216

7. 80 g kütleli bir top, yaya asıldığında onu 4 cm uzatmaktadır. Bu topa titreşim hareketi yaptırılırsa, periyodu kaç s olur? ($\pi = 3$)

- A) 0,2
- B) 0,4
- C) 0,8
- D) 1,2

8. Basit harmonik hareket yapan bir cismin açısal frekansı 5 Hz'tir. Bu cisim $x = 2$ m konumlu yerden 10 m/s hız ile geçiyor. Bu hareketin genliği kaç m'dir?

- A) 1
B) 2
C) $2\sqrt{2}$
D) $2\sqrt{3}$

9. Basit harmonik hareket yapan bir cismin uzanım denklemi ($x = 5 \cos 10 t$) bağıntısı ile veriliyor. Bu hareketin periyodu kaç s dir? ($\pi = 3$)

- A) 0,2
B) 0,4
C) 0,6
D) 0,8

10. Bir basit sarkacın periyodunun 3 s olması için kullanılacak ipin uzunluğu kaç m olmalıdır?

- A) 2
B) 2,5
C) 3
D) 3,5

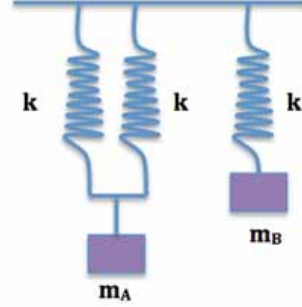
11. Uzunluğu 1,62 m olan bir sarkaç bilinmeyen bir yerde dakikada 20 kez titreşmektedir. Bu yerin kütle çekim ivmesi kaç m/s'dir?

- A) 2,45
B) 6,48
C) 7,62
D) 9,68

12. Basit harmonik hareket yapan bir cismin uzanım denklemi ($x = 4 \sin 18 t$) bağıntısı ile veriliyor. Bu hareketin frekansı kaç Hz'dir? ($\pi = 3$)

- A) 1
B) 2
C) 3
D) 6

13.



Esnek üç yay ile m_A ve m_B kütleli cisimler şekildeki gibi asılmıştır. Cisimler düşey doğrultuda titreştikleri zaman periyotları eşit olmaktadır. m_A/m_B oranı kaçtır?

- A) 1/4
B) 1/2
C) 1
D) 2

14. 6×10^{14} Hz frekansa sahip bir ışığın dalgaboyu kaç nm'dir? ($c = 3 \times 10^8$ m/s)

- A) 5
B) 50
C) 500
D) 1000

15. 6 Hz frekanslı bir dalga 3,9 m'lik bir yolu 2,6 s'de alıyor. Bu dalganın dalgaboyu kaç cm'dir?

- A) 10
B) 25
C) 35
D) 40

16. Birkaynaktan bir saniyede yayılan ışın enerjisine ne ad verilir?

- A) Işının gücü
B) Dalgaların süper hali
C) Işık şiddeti
D) Işığın enerjisi

17. 10 cm dalgaboyuna sahip bir elektromanyetik dalganın frekansı kaç GHz'dir?

- A) 0,03
- B) 0,3
- C) 3
- D) 30

18. Sesin havadaki hızı 340 m/s'dir. Bir müzik aletinden çıkan notanın frekansı 880 Hz'tir. Bu notanın dalgaboyu kaç cm'dir?

- A) 29,9
- B) 38,6
- C) 299
- D) 386

19. Tek renkli bir ışık, çift yarık üzerine düşürülüyor. Merkezi maksimumla ikinci karanlık saçak arası 0,5 cm ve yol farkı 660 nm'dir. Gelen ışığın dalgaboyu kaç Å'dür?

- A) 4,4
- B) 44
- C) 4400
- D) 8800

20. Aşağıdakilerden hangisi ışığın sadece tanecikli yapıda olduğunu gösteren olaylardan biridir?

- A) Girişim
- B) Kırınım
- C) Polarizasyon
- D) Fotoelektrik etki

1. Dünyadaki herşeyin sudan oluştuğunu iddia eden antik çağ simyacısı aşağıdakilerden hangisidir?

- A) Thales
- B) Democritus
- C) Şeyh Galip
- D) Aristo

2. Kimyasal sistemlerde fiziksel özellikleri ve enerji-iş dönüşümlerini inceleyen kimya bilim dalı aşağıdakilerden hangisidir?

- A) Analitik kimya
- B) Fizikokimya
- C) Amorganik kimya
- D) Organik kimya

3. Aşağıdakilerden hangisi saf maddedir?

- A) Bileşik
- B) Hava
- C) Şekerli su
- D) Tuzlu su

4. Bileşik formülü $\text{Ca}(\text{OH})_2$ olan bileşiğin geleneksel adı aşağıdakilerden hangisidir?

- A) Sönmüş kireç
- B) Kezzap
- C) Sönmemiş kireç
- D) Güherçile

5. Dokunduğu her nesneyi altına dönüştüren taş veya içene sonsuz hayat bahşeden su gibi hayaller peşinde koşup gizli formüller arayan insanlara ne ad verilir?

- A) Sihirbaz
- B) Simyacı
- C) Kimyacı
- D) Biyolog

6. Aşağıda formülü verilen bileşiklerden hangisi iyonik bileşiktir?

- A) CH_4
- B) NaCl
- C) CH_3OH
- D) CH_3COOH

7. Karbonat anyonunun aşağıdakilerden hangisidir? formülü

- A) HCO_3^-
- B) PO_4^{3-}
- C) NO_3^-
- D) CO_3^{2-}

8. Aşağıdaki bilim adamlarından hangisi modern kimyanın başlıca öncülerinden biri değildir?

- A) Dalton
- B) Priestly
- C) Democritus
- D) Lavoisier

9.

1A
Li
Na
K
Rb

Periyodik tabloda verilen dört atomun atom yarıçaplarıyla (r) ilgili olarak aşağıdakilerden hangisi doğrudur?

- A) $r_{\text{Li}} > r_{\text{Na}} > r_{\text{K}} > r_{\text{Rb}}$
- B) $r_{\text{Li}} < r_{\text{Na}} < r_{\text{K}} < r_{\text{Rb}}$
- C) $r_{\text{Li}} = r_{\text{Na}} = r_{\text{K}} = r_{\text{Rb}}$
- D) $r_{\text{Rb}} > r_{\text{K}} > r_{\text{Na}} > r_{\text{Li}}$

10. Aşağıdakilerden hangisi elementin periyodik sistemdeki yerini belirler?

- A) Atom numarası
- B) Kütle numarası
- C) İzotop numarası
- D) Lewis sembolü

11. Aşağıdakilerden hangisi ametalik özelliklerden biri değildir?

- A) Kendi aralarında elektron ortaklığıyla bileşik oluşturmaları
- B) Metallerle tepkimelerinden basit tuz oluşturmaları
- C) Isı ve elektriği iyi iletmeleri
- D) Kristal yapıda olanların saydam olması

12. Oda şartlarında gaz olan, hiçbir elementle bileşik oluşturmaya yatkın olmayan, en dış katmanında genellikle 8 elektron bulunduran elementlere verilen ad aşağıdakilerden hangisidir?

- A) Ametaller
- B) Yarı-metaller
- C) Metaller
- D) Asal gazlar

13.

7A
⁹ F
¹⁷ Cl
³⁵ Br
⁵³ I

Dört elementin (F, Cl, Br, I) periyodik sistemdeki yerleri ve atom numaraları yukarıda verilmektedir. Bu elementlerden hangisinin elektronegatifliği en yüksektir?

- A) F
- B) Cl
- C) Br
- D) I

14. Gaz halindeki tek bir atomun en yüksek enerji düzeyindeki bir elektronunu uzaklaştırabilmek için gerekli minimum enerjiye verilen ad aşağıdakilerden hangisidir?

- A) Elektronegatiflik
- B) Elektron ilgisi
- C) İyonlaşma enerjisi
- D) Atom yapıçığı

15. ¹⁵P elementinin katman elektron dizilimi aşağıdakilerden hangisidir?

- A) 2-8-2-3
- B) 2-8-5
- C) 2-8-8
- D) 8-2-5

16. "Belli bir bileşiği oluşturan elementlerin birleşen kütle oranları her zaman sabit kalır" kuralı aşağıdakilerden hangisini ifade eder?

- A) Katlı Oranla Kanunu
- B) İdeal Gaz Kanunu
- C) Kütlelerin Korunumu Kanunu
- D) Sabit Oranlar Kanunu

17. Proton, nötron ve elektron gibi zerrelere verilen ad aşağıdakilerden hangisidir?

- A) Parçacık
- B) Kütle numarası
- C) Elektron
- D) Atom altı tanecik

18. Aşağıdakilerden hangisi Rutherford'un önerdiği atom modelinin adıdır?

- A) Kuantum atom modeli
- B) Üzümlü kek modeli
- C) Çekirdek atom modeli
- D) Thomson atom modeli

19. Bir atomun proton sayısı ve nötron sayısının toplamı aşağıdaki terimlerden hangisiyle ifade edilir?

- A) Atom numarası
- B) İzotop sayısı
- C) Kütle numarası
- D) Elektron sayısı

20. Aşağıdakilerden hangisi karbonun izotopu değildir?

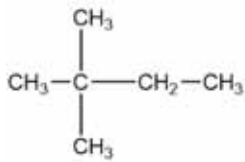
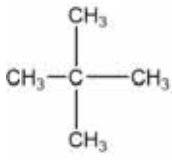
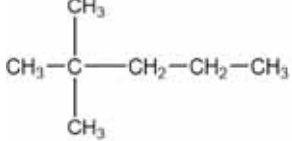
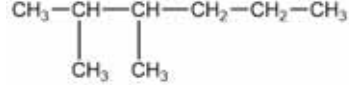
- A) ${}^12_6\text{C}$
- B) ${}^{13}_6\text{C}$
- C) ${}^{14}_6\text{C}$
- D) ${}^{14}_8\text{C}$

1. $\text{Fe}(k) + \text{Cl}_2(g) \rightarrow \text{Fe}^{2+}(\text{suda}) + 2\text{Cl}^-(\text{suda})$ tepkimesindeki her bir bileşenin yükseltgenme basamağı aşağıdakilerden hangisinde doğru olarak verilmiştir?

	Fe(k)	Cl ₂ (g)	Fe ²⁺ (suda)	Cl ⁻
A)	0	0	+2	-1
B)	+1	-1	+1	-1
C)	+2	-2	+1	-1
D)	+2	-1	0	0

2. $\text{CH}_3 - \text{CH}_2 - \text{CH}_2 - \text{CH}_2 - \text{CH}_2 - \text{CH}_3$

Aşağıdakilerden hangisi yukarıdaki bileşiğin zincir-dallanma izomerisidir?

- A) 
- B) 
- C) 
- D) 

3. sp^3 hibrit orbitalini oluşturan orbitaller ve hibrit orbital sayısı aşağıdakilerden hangisinde birlikte ve doğru olarak verilmiştir?

Hibrit orbitalini oluşturan orbitaller	Hibrit orbital sayısı
A) s + p	2
B) s + p + p	3
C) s + p + p + p	4
D) s + s + p + p	4

4. Yarı hücrelerden oluşan, istemli veya istemsiz redoks tepkimelerinin olduğu sistemlere ne ad verilir?

- A) Elektrolit
B) Elektrokimyasal hücre
C) Galvanik hücre
D) Elektrot

5. $\text{H}_2\text{C}_2\text{O}_4$ bileşiğindeki karbon (C) atomunun yükseltgenme basamağı kaçtır?

- A) -3
B) 0
C) +2
D) +3

6. Ortaklaşa kullanılan elektron çiftinin sadece bir atomdan geldiği bağ aşağıdakilerden hangisidir?

- A) İyonik bağ
B) Koordine kovalent bağ
C) Çift bağ
D) Kovalent bağ

7. $\text{Al}(k) + \text{NO}_3^-(\text{suda}) \rightarrow \text{Al}(\text{OH})_4^-(\text{suda}) + \text{NH}_3(\text{suda})$

Bazik ortamda gerçekleşen yukarıdaki tepkimenin denkleştirilmiş hali aşağıdakilerden hangisidir?

- A) $8\text{Al} + 3\text{NO}_3^- \rightarrow 8\text{Al}(\text{OH})_4^- + 3\text{NH}_3$
B) $8\text{Al} + 3\text{NO}_3^- + 5\text{H}^+ \rightarrow 8\text{Al}(\text{OH})_4^- + 3\text{NH}_3 + 23\text{H}_2\text{O}$
C) $23\text{H}_2\text{O} + 8\text{Al} + 3\text{NO}_3^- \rightarrow 8\text{Al}(\text{OH})_4^- + 5\text{H}^+ + 3\text{NH}_3$
D) $18\text{H}_2\text{O} + 8\text{Al} + 3\text{NO}_3^- + 5\text{OH}^- \rightarrow 8\text{Al}(\text{OH})_4^- + 3\text{NH}_3$

8. Tepkenler içinden geçen potansiyel üreten batarya aşağıdakilerden hangisidir?

- A) Akış pilleri
B) Kuru pilleri
C) Leclanché pilleri
D) Yükleme pilleri

9. Aşağıdaki VSEPR gösterimi – molekül geometrisi eşleştirmelerinden hangisi doğrudur?

VSEPR Gösterimi	Molekül Geometrisi
A) Ax_4	açısal
B) Ax_2	düzgün dörtyüzlü
C) Ax_3	üçgen – düzlem
D) Ax_3	doğrusal

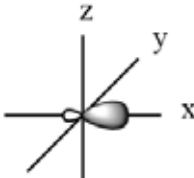
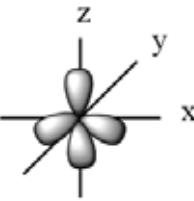
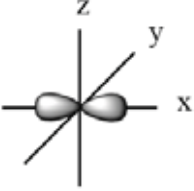
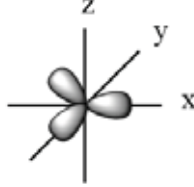
10. $\text{Ni}^{2+}(\text{suda}) + \text{Cr}(\text{k}) \rightarrow \text{Ni}(\text{k}) + \text{Cr}^{3+}(\text{suda})$ redoks tepkimesinin hücre potansiyeli ve istemli olup olmadığına ilişkin aşağıdakilerden hangisi doğrudur?
 $(\text{Ni}^{2+}(\text{suda}) + 2\text{e}^- \rightarrow \text{Ni}(\text{k}), E^0 = -0,250 \text{ V})$
 $(\text{Cr}^{3+}(\text{suda}) + 3\text{e}^- \rightarrow \text{Cr}(\text{k}), E^0 = -0,744 \text{ V})$

- A) $E^0_{\text{hücre}} = -0,744 \text{ V}$, istemsiz
 B) $E^0_{\text{hücre}} = +0,250 \text{ V}$, istemli
 C) $E^0_{\text{hücre}} = +0,494 \text{ V}$, istemli
 D) $E^0_{\text{hücre}} = +0,944 \text{ V}$, istemsiz

11. Aşağıdakilerden hangisi bir organik bileşiğin yapı formülüdür?

- A) $\begin{array}{c} \text{H} \\ \vdots \\ \text{H} \cdot \cdot \text{C} \cdot \cdot \text{H} \\ \vdots \\ \text{H} \end{array}$
 B) $\begin{array}{c} \text{H} \cdot \cdot \text{C} \cdot \cdot \text{O} \\ \vdots \\ \text{O} \cdot \cdot \text{H} \end{array}$
 C) $\begin{array}{c} \text{H} \cdot \cdot \text{C} \cdot \cdot \text{H} \\ \vdots \\ \text{H} \cdot \cdot \text{C} \cdot \cdot \text{H} \end{array}$
 D) $\begin{array}{c} \text{H} - \text{C} = \text{O} \\ \vdots \\ \text{O} - \text{H} \end{array}$

12. Karbon atomunun sp^2 hibrit orbitallerinin şekli aşağıdakilerden hangisidir?

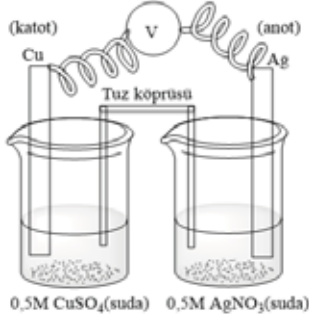
- A) 
- B) 
- C) 
- D) 

13. $a\text{Cu}(\text{k}) + b\text{HNO}_3(\text{suda}) \rightarrow c\text{Cu}(\text{NO}_3)_2(\text{suda}) + d\text{NO}_2(\text{g}) + e\text{H}_2\text{O}(\text{s})$

Yukarıdaki nötr redoks tepkime denkleştirildiğinde her bir bileşiğin katsayısı aşağıdakilerden hangisinde birlikte ve doğru olarak verilmiştir?

- A) $a = 0, b = 4, c = 0, d = 2, e = 2$
 B) $a = 1, b = 1, c = 1, d = 1, e = 1$
 C) $a = 1, b = 4, c = 1, d = 2, e = 2$
 D) $a = 2, b = 1, c = 2, d = 1, e = 2$

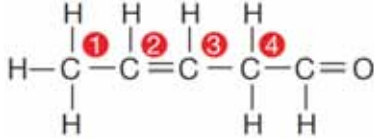
14.



Yukarıdaki Cu/Ag pilinin hücre diyagramı aşağıdakilerden hangisinde doğru olarak verilmiştir?

- A) $\text{Cu(k)} \mid \text{Cu}^{2+}(\text{suda})(0,5\text{M}) \mid \text{Ag}^+(\text{suda})(0,5\text{M}) \parallel \text{Ag(k)}$
 B) $\text{Cu(k)} \mid \text{Ag}^+(\text{suda})(0,5\text{M}) \parallel \text{Cu}^{2+}(\text{suda})(0,5\text{M}) \mid \text{Ag(k)}$
 C) $\text{Ag}^+(\text{suda})(0,5\text{M}) \mid \text{Ag(k)} \parallel \text{Cu(k)} \mid \text{Cu}^{2+}(\text{suda})(0,5\text{M})$
 D) $\text{Cu(k)} \mid \text{Cu}^{2+}(\text{suda})(0,5\text{M}) \parallel \text{Ag}^+(\text{suda})(0,5\text{M}) \mid \text{Ag(k)}$

15.



Yukarıdaki bileşikte numaralandırılmış karbon atomlarının hibritleşmesi aşağıdakilerden hangisinde doğru olarak verilmiştir?

- A) 1: karbon sp^2
 B) 2: karbon sp^2
 C) 3: karbon sp^3
 D) 4: karbon sp^2

16. Aşağıdaki bileşik – bileşikteki fonksiyonel grup eşleştirmelerinden hangisi doğrudur?

Bileşik sınıfının genel adı	Bileşikteki fonksiyonel grup
A) Alkol	$-\text{O}-$
B) Keton	$-\text{C}=\text{O}$ \mid H
C) Alken	$\diagup \text{C}=\text{C} \diagdown$
D) Eter	$-\text{OH}$

17. Elektrik akımı bir elektrolit içinden geçirildiğinde serbest hâle geçen veya çözünen madde miktarının, elektrolitten geçen elektrik yükü miktarı ile doğru orantılı olduğunu belirten kimya kanunu aşağıdakilerden hangisidir?

- A) Faraday'ın I. elektroliz kanunu
 B) Faraday'ın II. elektroliz kanunu
 C) Proust kanunu
 D) Dalton kanunu

18. $\text{CH}_3 - \text{CH}_2 - \text{OH}$ ve $\text{CH}_3 - \text{O} - \text{CH}_3$

Yukarıdaki bileşik çiftinin sahip olduğu izomeri türü aşağıdakilerden hangisidir?

- A) Zincir–halka izomerisi
 B) Fonksiyonel grup izomerisi
 C) Tautomer izomerisi
 D) Konum izomerisi

19. Anorganik ve organik maddeler ile ilgili aşağıdaki ifadelerden hangisi doğrudur?

- A) Organik madde, yapısında karbon ve çoğunlukla hidrojen elementleri içeren maddedir.
 B) Yapısında karbon atomu bulduran karbonmonoksit (CO), karbondioksit (CO_2), sodyum karbonat (Na_2CO_3) ve kalsiyum karbonat (CaCO_3) gibi karbonatlı bileşikler ve potasyum siyanür (KCN) maddeleri organik bileşiklerdir.
 C) Organik bileşiklerin ana kaynakları doğadaki mineraller ve cevherlerdir.
 D) Organik bileşikler su, bazı tuzlar, oksitler, asit ve bazlardır.

20. Bakır (II) sülfatın (CuSO_4) elektrolizi ile katotta 1,27 g bakır (Cu) metalinin serbest halde açığa çıkması için devreden geçmesi gereken elektrik yük miktarı kaç Coulomb'dur? ($\text{Cu}=63,54 \text{ g/mol}$)

- A) 7720
 B) 3860
 C) 1930
 D) 965

1. Rahim ağzı hücrelerine yerleşerek rahim ağzı kanserine neden olan virüs aşağıdakilerden hangisidir?
 - A) HPV
 - B) Ebola
 - C) İnfluenza
 - D) HIV

2. Aşağıdakilerden hangisi insanda erkek bireylerde ses kalınlaşması ve kıllanma gibi erkeklik özelliklerinin ortaya çıkmasını sağlayan hormondur?
 - A) Progesteron
 - B) Testosteron
 - C) Östrojen
 - D) Prolaktin

3. Kromozom sayısı $2n=24$ olan bir memeli hayvanın mayoz geçiren bir hücresinde kaç tane tetrad oluşur?
 - A) 2
 - B) 6
 - C) 12
 - D) 24

4. Hamileliğin sekizinci haftasından başlayıp doğuma kadar devam eden dönem aşağıdakilerden hangisidir?
 - A) Fetal evre
 - B) Embriyonik evre
 - C) Segmentasyon evresi
 - D) Döl tutma evresi

5. Aşağıdakilerden hangisi erkek ve dişi üreme organlarının ikisine de sahip olan canlı türlerinden biridir?
 - A) Kirpi
 - B) Kurbağa
 - C) Yılan
 - D) Halkalı solucan

6. İnce bir iğne yardımıyla amniyon kesesi içinden amniyon sıvısından örnek alındıktan sonra hücrelerin incelenerek anomali varlığı saptama işlemine ne ad verilir?
 - A) Segmentasyon
 - B) Organogenez
 - C) Amniyosentez
 - D) Epididimis

7. İnsanda hamilelik süresi yaklaşık kaç haftadır?
 - A) 24
 - B) 30
 - C) 36
 - D) 40

8. Aşağıdakilerden hangisi mitozun bölünme aşamalarından biri değildir?
 - A) Telofaz
 - B) Metafaz
 - C) İnterfaz
 - D) Anafaz

9. Aşağıdakilerden hangisi insan üreme sisteminde yumurtanın döllendiği yerdir?
 - A) Rahim ağzı
 - B) Fallop tüpü
 - C) Yumurtalıklar
 - D) Endometriyum

10. Aşağıdakilerden hangisi bakterilerin genetik yapılarda çeşitlilik yaratan etkilerinden biri değildir?
 - A) Konjugasyon
 - B) Transdüksiyon
 - C) Transformasyon
 - D) Enjeksiyon

11. Aşağıdakilerden hangisi eşeysiz üreme türlerinden biri değildir?
- A) Transdüksiyon
B) Vejetatif çoğalma
C) Sporla üreme
D) Tomurcuklanma
12. Aşağıdakilerden hangisi yumurtalıkta oluşan korpus luteumdan salgılanan hormondur?
- A) Prolaktin
B) Progesteron
C) Testosteron
D) Folikül uyarıcı hormon
13. HIV virüsünün neden olduğu hastalık aşağıdakilerden hangisidir?
- A) AIDS
B) Frengi
C) Hepatit
D) Bel soğukluğu
14. Embriyonun gelişimi için ihtiyaç duyduğu besin maddelerinin depo edildiği kese aşağıdakilerden hangisidir?
- A) Koriyon
B) Vitellus
C) Allantoyis
D) Amniyon zarı
15. Aşağıdakilerden hangisi erkek üreme sisteminde yer alır?
- A) Folükül
B) Fallop tüpü
C) Endometriyum
D) Testis
16. Gastrula safhasında meydana gelen üç embriyonik tabakadan gelişmesine ne ad verilir?
- A) Plasenta
B) Allantoyis
C) Organogenez
D) Fetüs
17. Yumurta ve sperm birleşerek meydana getirdiği oluşuma ne ad verilir?
- A) Zigot
B) Kiyazma
C) Gamet
D) Tetrat
18. Aşağıdakilerden hangisi rejenerasyonla üreyen canlılardan biridir?
- A) Arı
B) Sivrisinek
C) Kurbağa
D) Denizyıldızı
19. Aşağıdakilerden hangisi menstrual döngünün evrelerinden biri değildir?
- A) Ovulasyon evresi
B) Foliküler evre
C) Canlanma evresi
D) Korpus luteum evresi
20. Oogenezin tamamlanması ve yumurtanın oluşumu ile döllenmemiş yumurtanın vücuttan atılışına kadar olan süreye ne ad verilir?
- A) Morula
B) Menstrual döngü
C) Progesteron
D) Segmentasyon

1. Nitratın elektron alarak birkaç basamakta moleküler azota dönüşümüne ne ad verilir?
 - A) Glikoliz
 - B) Denitrifikasyon
 - C) Nitrifikasyon
 - D) Fermantasyon
2. Sinir hücresinde diğer sinir hücrelerinden uyarı alınmasını sağlayan kısım aşağıdakilerden hangisidir?
 - A) Miyelin kılıf
 - B) Hücre gövdesi
 - C) Akson
 - D) Dendrit
3. Oksijen yokluğunda sadece glikoliz yoluyla enerji elde edilen metabolik sürece ne ad verilir?
 - A) Kemosentez
 - B) Fotosentez
 - C) Fosforilasyon
 - D) Fermantasyon
4. Kulak zarının iki tarafındaki basıncın dengede tutulmasını sağlayan yapı aşağıdakilerden hangisidir?
 - A) Tulumcuk
 - B) Östaki borusu
 - C) Salyangoz
 - D) Kesecik
5. Aşağıdakilerden hangisi laktik asit fermantasyonu yoluyla üretilemez?
 - A) Yoğurt
 - B) Peynir
 - C) Ekmek
 - D) Tereyağı
6. Fotosentezle üretilen şeker moleküllerinin kloroplastta geçici olarak depolama şekli aşağıdakilerden hangisidir?
 - A) Nişasta
 - B) Sakkaroz
 - C) Glukoz
 - D) Protein
7. Güneşin ışık enerjisinin, klorofil taşıyan bazı canlılar tarafından kimyasal enerjiye dönüştürülerek organik moleküllerin yapısında depolanmasına ne ad verilir?
 - A) Pigment
 - B) Ototrof
 - C) Fotosentez
 - D) Fotoototrof
8. Aşağıdakilerden hangisinde kimyasal enerji elektrik enerjisine dönüştürülür?
 - A) Sinir hücresi
 - B) Kemik hücresi
 - C) Böbrek hücresi
 - D) Kas hücresi
9. Şeker sentezini başlatan molekül aşağıdakilerden hangisidir?
 - A) Su
 - B) Oksijen
 - C) Karbondioksit
 - D) ATP
10. Göz merceği ya da korneadaki düzensiz kıvrımlar sonucunda göze giren ışınların farklı açılarla kırılması sonucu retinanın üzerine aynı şekilde düşmemesi durumunda ortaya çıkan görme bozukluğuna ne ad verilir?
 - A) Katarakt
 - B) Miyop
 - C) Astigmat
 - D) Hipermetrop

11. Fotosentezin ışığa bağımlı reaksiyonlarının gerçekleştiği organel aşağıdakilerden hangisidir?
- A) Kloroplast tilakoit zarı
B) Ribozom
C) Hücre zarı
D) Çekirdek zarı
12. Aşağıdakilerden hangisi fotosentez hızını etkileyen kalıtsal faktörlerden biridir?
- A) Su
B) Enzim miktarı
C) Karbondioksit miktarı
D) Mineraller
13. Fotosentezde karbonhidrat sentezlenmesi sırasında atmosfere verilen gaz aşağıdakilerden hangisidir?
- A) Azot
B) Argon
C) Karbondioksit
D) Oksijen
14. Güneş ışığı yardımıyla deride sentezlenen vitamin aşağıdakilerden hangisidir?
- A) A
B) D
C) E
D) K
15. Homeostazinin korunmasında sinir sistemi ile birlikte çalışan ve iç salgı bezlerinden salgılanan kimyasal uyarıcılar aşağıdakilerden hangisidir?
- A) Nöron
B) Trombosit
C) Nörotransmitter
D) Hormon
16. Hücrede enerji gerektiren bütün faaliyetlerde gerekli olan enerjinin depolandığı molekül aşağıdakilerden hangisidir?
- A) Adenin
B) ATP
C) ADP
D) Riboz
17. Beyinde ve omurilikte, mesajları taşıyan sinir hücreleri etrafındaki miyelin kılıfın hasar görmesine dayalı sinir sistemi hastalığı aşağıdakilerden hangisidir?
- A) Parkinson
B) Alzheimer
C) Epilepsi
D) Multipl Skleroz
18. İçinde hem üreticiler hem de tüketiciler bulunan canlı grubu aşağıdakilerden hangisidir?
- A) Mantarlar
B) Hayvanlar
C) Bakteriler
D) Bitkiler
19. Hüresel solunumun ilk aşamasında, glikozun kademeli olarak parçalanarak pirüvik aside dönüştürülmesine ne ad verilir?
- A) Glikoliz
B) Katabolizma
C) Fotosentez
D) Metabolizma
20. Hüresel solunumda net ATP kazancı kaçtır?
- A) 38
B) 36
C) 34
D) 32

1. Aşağıdakilerden hangisi hızlı nüfus artışının olumsuz yönlerinden biridir?

- A) Kamu yönetiminin yol, kanalizasyon, su, elektrik gibi altyapı hizmetlerini yürütmesinin zorlaştırması
- B) Doğal kaynakların işletilmesini kolaylaştırması
- C) Kişilerin mekân içinde ve meslekler arasında hareketliliğini sağlaması
- D) Yeni kurumların benimsenmesini ve ekonomik faaliyetlerin hızlanmasını sağlaması

2. Nüfus ile ilgili aşağıdaki ifadelerden hangisi yanlıştır?

- A) Bir ülke nüfusunda 20-60 yaş arasındaki olgunlar diliminin büyük olması, ekonomik faaliyetleri azaltır.
- B) Nüfusa dinamizm kazandıran doğumlar, ölümler, iç ve dış göçlerdir.
- C) Bir ülkede nüfus sayısı o ülkenin ekonomik faaliyet hacmini, ekonomik gücünü belirleyen bir etkidir.
- D) Nüfusun yapısını cinsiyet, yaş, meslek grupları belirtir.

3. Aşağıdakilerden hangisi, emek sınıflaması içinde yer almaz?

- A) Sübjektif emek
- B) Objektif emek
- C) Karşılaştırmalı emek
- D) Yaratıcı emek

4. İnsanların mal ve hizmet elde etmek için yaptıkları faaliyetlere ne ad verilir?

- A) Girişimcilik
- B) Emek
- C) Üretim
- D) Rant

5. Aşağıdakilerden hangisi uygulayıcı emeğe bir örnektir?

- A) Temizlikçilik
- B) Ustabaşılık
- C) Fabrika şefi
- D) Mühendislik

6. Aşağıdakilerden hangisi sermayenin oluşmasındaki subjektif faktörlerden biridir?

- A) Gelecekte olabilecek istenmeyen durumlara karşı bir yedek gelir oluşturma isteği
- B) Gelir düzeyi
- C) Vergi oranlarının artması
- D) İnsanların sahip oldukları servetin gelecekteki değeri

7. Ekonomik açıdan sermayenin tanımı aşağıdakilerden hangisidir?

- A) Kuruluşun, faiz karşılığında bankalardan aldığı kredi ile yine faiz karşılığında tahvil satarak sağladığı borç kapitalidir.
- B) Önceden üretilmiş olan, üretimde kullanılan üretim faktörlerinin bileşimidir.
- C) Kuruluşun, mevcut alacakları toplamı ile borçları arasındaki farktır.
- D) Bir kuruluşun aktifindeki dönen varlıklarla duran varlıkların toplamıdır.

8. Orta vadeli borçların süresiyle ilgili aşağıdaki ifadelerden hangisi doğrudur?

- A) 1 - 3 ay vadeli.
- B) 3 - 6 ay vadeli.
- C) 6 - 9 ay vadeli.
- D) 1 - 2 yıl vadeli.

9. Aşağıdakilerden hangisi dönen varlıklardandır?

- A) Üretimin yapıldığı makineler
- B) Üretimin yapıldığı bina
- C) Üretimde kullanılan hammaddeler
- D) Araziler

10. Aşağıdakilerden hangisi öz sermaye içinde yer almaz?

- A) Kuruluşun çalışanlarına olan borçları
- B) Kuruluşun sağladığı kârın sahiplerine dağıtılmayarak işletmede bırakılan kısmı
- C) Faaliyetlerin devamı süresince kuruluş sahipleri tarafından getirilen para
- D) Kâr üzerinden alınan yedek akçe

11. Sigortacılıktan başka her türlü ticari iş ile uğraşmak üzere kurulan, sorumlulukları gerek şirket, gerek ortaklar için konan sermaye ile sınırlandırılmış olan şirketlere ne ad verilir?
- A) Adi komandit şirket
B) Anonim şirket
C) Limited şirket
D) Kolektif şirket
12. Sermayenin tamamı devlete ait olan ve tekel niteliğindeki mallar ile temel mal ve hizmetleri üretmek ve pazarlamak amacıyla yasayla kurulan, kamu hizmeti niteliği ağır basan kuruluşlara ne ad verilir?
- A) İktisadi Devlet Teşekkülleri
B) İştirak
C) Kamu İktisadi Kuruluşları
D) Bağlı ortaklık
13. Aşağıdakilerden hangisi girişimin (teşebbüs) özelliklerinden biri değildir?
- A) Üretim faktörlerini kullanan bir ünite olması
B) Üretim faktörlerinden yararlanarak mal ve hizmet üreten bir ünite olması
C) Üretim faktörlerini sağlayan bir ünite olması
D) Bir uygulama merkezi olması
14. Kolektif şirket ile ilgili aşağıdaki ifadelerden hangisi yanlıştır?
- A) Belirli bir unvan altında az sayıda ortak tarafından kurulur.
B) Ortakların sorumluluğu şirkete koydukları sermaye ile sınırlıdır.
C) Ortaklar, şirketin çıkarları için çok çaba sarf ederler.
D) Ortaklar çoğunlukla şirketi genişletecek cesareti gösteremezler.
15. Aşağıdakilerden hangisi girişimcinin başlıca özelliklerinden biri değildir?
- A) Girişimci, üretim faktörlerini akılcı bir şekilde sağlayan kişidir.
B) Girişimci, girişim faaliyetlerinden doğan riskleri üstlenen kişidir.
C) Girişimci, toplum sağlığını her şeyin önünde tutan kişidir.
D) Girişimci, üretim faktörlerinden yararlanarak mal ve hizmet üreten kişidir.
16. Aşağıdakilerden hangisi gelir olarak kabul edilmez?
- A) Ücret
B) Miras
C) Rant
D) Kâr
17. Bir işçinin itibari ücretinin satın alma gücüne ne ad verilir?
- A) Ayni ücret
B) Nakdi ücret
C) Zamana göre ücret
D) Reel ücret
18. Gayri Safi gelirden girişimcinin üretim giderleri çıktıktan sonra kalan miktara ne ad verilir?
- A) Servet
B) Gerçek kâr
C) Öz sermaye
D) Safi gelir
19. Türkiye Cumhuriyeti Merkez Bankası tarafından belirlenen faize ne ad verilir?
- A) Nominal faiz
B) Reel faiz
C) Serbest faiz
D) Bağlı faiz
20. Bir servetten doğan gelirlere ne ad verilir?
- A) İtibari gelir
B) Temelli gelir
C) Gerçek gelir
D) Marjinal gelir

1. King Kong ist der Affe der Welt.

Welches Wort passt in die obige Lücke?

Cümlede boş bırakılan yeri aşağıdakilerden hangisi tamamlar?

- A) schwächste
B) größte
C) kleinste
D) weiteste

2. Petra ist 85 kg, Maria ist 75 kg und Zeynep ist 60 kg.

Welche Schlußfolgerung kann man nach den obigen Sätzen machen?

Verilen cümlelere göre, aşağıdaki yargılardan hangisi doğrudur?

- A) Petra ist am schwersten.
B) Maria ist am schwersten.
C) Zeynep ist die kleinste.
D) Zeynep ist die längste.

3. Der vierte Monat des Jahres ist

Welches Wort passt in die obige Lücke?

Cümlede boş bırakılan yeri aşağıdakilerden hangisi doğru şekilde tamamlar?

- A) Mai
B) April
C) Juli
D) Juni

4. A: Warum bist du gekommen?

B:

A: Ach ja, das habe ich vergessen! Hier hast du dein Geld!

B: Danke!

Welches ergänzt den obigen Dialog?

Verilen karşılıklı konuşmayı aşağıdakilerden hangisi tamamlar?

- A) Ich habe meine Hausaufgaben gemacht.
B) Ich bin traurig, weil ich die Prüfung nicht bestanden habe.
C) Ich bin gekommen, weil ich Taschengeld brauche.
D) Ich hatte keine Zeit dich anzurufen.

5. Wie lautet das Wort "jemanden einsetzen" auf Türkisch?

"jemanden einsetzen" sözcüğünün Türkçe karşılığı aşağıdakilerden hangisidir?

- A) birini devreye sokmak
B) birini beğenmek
C) birini çağırmak
D) birbirine yardım etmek

6. Warum steigen Ölpreise ständig?

Welche Antwort passt zur obigen Frage?

Verilen sorunun cevabı aşağıdakilerden hangisidir?

- A) Weil ich viel Geld habe.
B) Weil die Inflation ständig steigt.
C) Weil wir früh aufgestanden sind.
D) Weil sie studieren wollen.

7. 1980 1984 habe ich die Realschule besucht.

Welche Wörter passen in die obigen Lücken?

Cümlede boş bırakılan yerleri aşağıdakilerden hangisi doğru şekilde tamamlar?

- A) In / auf
B) Aus / ab
C) Zu / für
D) Von / bis

8. Der Feierabend alle Angestellten.

Welches Wort passt in die obige Lücke?

Cümlede boş bırakılan yeri aşağıdakilerden hangisi doğru şekilde tamamlar?

- A) arbeiten
B) öffnen
C) rechnen
D) erleichtert

9. Die Sommermonate sind

Welches ergänzt die Lücke im obigen Satz?

Verilen cümleyi aşağıdakilerden hangisi tamamlar?

- A) der März, der April, der Mai.
B) der Dezember, der Januar, der Februar.
C) der Juni, der Juli, der August.
D) der September, der Oktober, der November.

10. Gehört das Buch deiner Mutter?

Welche Antwort passt zur obigen Frage?

Verilen sorunun cevabı aşağıdakilerden hangisidir?

- A) Ja, meine Mutter will sich ein Buch kaufen.
B) Nein, das Buch gehört nicht meiner Mutter.
C) Ja, meine Mutter ist zu Hause.
D) Ja, mein Buch habe ich in der Schule vergessen.

11. Was bedeutet "balık tutmak" auf Deutsch?

"balık tutmak" sözcüğünün Almancası aşağıdakilerden hangisidir?

- A) schwimmen
B) segeln
C) träumen
D) angeln

12. Du nicht in der Schule? Ich dachte, du wärest in der Schule!

Welches Wort passt in die obige Lücke?

Cümlede boş bırakılan yeri aşağıdakilerden hangisi doğru şekilde tamamlar?

- A) war
B) wäre
C) warst
D) wären

13. Die Banken sind der Reperatur durchgehend geschlossen.

Welches Wort passt in die obige Lücke?

Cümlede boş bırakılan yeri aşağıdakilerden hangisi doğru şekilde tamamlar?

- A) sonst
B) nur
C) wegen
D) versorgt

14. Versammlung / stattfinden / Saal / im / die

Wie kann man mit den obigen Wortgruppen einen sinnvollen und richtigen Satz bilden?

Verilen sözcük gruplarıyla kurulabilecek en anlamlı ve doğru cümle aşağıdakilerden hangisidir?

- A) Die Versammlung findet im Saal statt.
B) Die Saal Versammlung stattfindet im.
C) Findet die Versammlung im statt Saal.
D) Im Saal die Versammlung findet statt.

15. Man sagt, die junge Frau noch eine Praktikantin und eine Familie zu versorgen.

Welche Wörter passen in die obigen Lücken?

Cümlede boş bırakılan yerleri aşağıdakilerden hangisi tamamlar?

- A) soll / hatte
B) sei / habe
C) wird / hätte
D) war / habest

16. Mein Freund hatte keine Gelegenheit Englisch zu lernen.

Welches Wort passt nicht in die obige Lücke?

Cümlede boş bırakılan yeri aşağıdakilerden hangisi doğru şekilde tamamlamaz?

- A) noch
B) aber
C) zu
D) bis jetzt

17. Die Mädchen, wir Blumen geschenkt , haben sich gefreut.

Welche Wörter passen in die obigen Lücken?

Cümlede boş bırakılan yerleri aşağıdakilerden hangisi tamamlar?

- A) denen / haben
B) den / seien
C) dessen / hätten
D) der / hatten

18. Postane hafta sonları kapalıdır.

Wie lautet der obige Satz auf Deutsch?

Verilen cümlenin Almancası aşağıdakilerden hangisidir?

- A) Die Post ist gleich um die Ecke.
B) Am Wochenende musst du zur Post.
C) Am Wochenende kann die Post geschlossen sein.
D) Die Post ist am Wochenende geschlossen.

19. Das Kind, das Fieber hat, muß zum Arzt.

Wie lautet der obige Satz auf Türkisch?

Verilen cümlenin Türkçesi aşağıdakilerden hangisidir?

- A) Ateşi olan çocuk doktora gitmeli.
B) Çocuğun ateşini doktor da düşürememiş.
C) Ateşlenen çocuğu doktora götürmediler.
D) Çocuğu ateşlendiği için doktora götürmek istediler.

20. A: Hallo! Wie geht es dir?
B: Hallo! Gut, ich habe Hunger und gehe essen.

A: Was willst du essen?

B: Die Nudeln,....., schmecken mir besonders gut.

A: Das hört sich wirklich lecker an! Ich komm auch mit!

B: Also dann, lass uns Nudeln essen!

Welches ergänzt die Lücke im obigen Dialog?

Verilen karşılıklı konuşmada boş bırakılan yeri aşağıdakilerden hangisi tamamlar?

- A) das wir von Holland kaufen
B) den möchte ich auch kennenlernen
C) der eine Spezialität aus der Türkei ist
D) die aus Italien kommen

1. My brother speaks English than my father.

Which of the following completes the sentence above?

Aşağıdakilerden hangisi yukarıdaki cümleyi doğru olarak tamamlar?

- A) fluently
- B) fluent
- C) more fluently
- D) the most fluent

2. A: I can't carry this box.
B: Ok, I help you to carry.

Which of the following completes the dialogue above?

Aşağıdakilerden hangisi yukarıdaki konuşmayı doğru olarak tamamlar?

- A) does
- B) have
- C) is
- D) will

3. You usually wake up early, ?

Which of the following completes the sentence above?

Aşağıdakilerden hangisi yukarıdaki cümleyi doğru olarak tamamlar?

- A) don't you
- B) do you
- C) does he
- D) doesn't she

4. Did youdo sport regularly when you were young?

Which of the following completes the sentence above?

Aşağıdakilerden hangisi yukarıdaki cümleyi doğru olarak tamamlar?

- A) use to
- B) used to
- C) be used to
- D) not used to

5. I wake up than my brother.

Which of the following completes the sentence above?

Aşağıdakilerden hangisi yukarıdaki cümleyi doğru olarak tamamlar?

- A) early
- B) the earliest
- C) earlier
- D) earliest

6. He will a new car in the summer.

Which of the following completes the sentence above?

Aşağıdakilerden hangisi yukarıdaki cümleyi doğru olarak tamamlar?

- A) buy
- B) buys
- C) bought
- D) buying

7. Larry hasn't been here yesterday.

Which of the following completes the sentence above?

Aşağıdakilerden hangisi yukarıdaki cümleyi doğru olarak tamamlar?

- A) at
- B) for
- C) since
- D) to

8. My little sister a lot when she was a student at high school.

Which of the following completes the sentence above?

Aşağıdakilerden hangisi yukarıdaki cümleyi doğru olarak tamamlar?

- A) didn't used to study
- B) didn't use to study
- C) studied
- D) use to study

9. Carol in London since 1995.

Which of the following completes the sentence above?

Aşağıdakilerden hangisi yukarıdaki cümleyi doğru olarak tamamlar?

- A) was
B) is
C) has been
D) will be

10. We were having breakfast in the garden it suddenly started to rain.

Which of the following completes the sentence above?

Aşağıdakilerden hangisi yukarıdaki cümleyi doğru olarak tamamlar?

- A) for
B) when
C) since
D) while

11. Our guests arrived while we dinner.

Which of the following completes the sentence above?

Aşağıdakilerden hangisi yukarıdaki cümleyi doğru olarak tamamlar?

- A) are having
B) had
C) have
D) were having

12. Arif used to basketball when he was at high school.

Which of the following completes the sentence above?

Aşağıdakilerden hangisi yukarıdaki cümleyi doğru olarak tamamlar?

- A) have played
B) plays
C) will play
D) play

13. The family was having dinner the electricity went off.

Which of the following completes the sentence above?

Aşağıdakilerden hangisi yukarıdaki cümleyi doğru olarak tamamlar?

- A) while
B) when
C) since
D) already

14. Paul has lived in Spain two years.

Which of the following completes the sentence above?

Aşağıdakilerden hangisi yukarıdaki cümleyi doğru olarak tamamlar?

- A) for
B) since
C) at
D) as

15. She hardly ever watches television, ?

Which of the following completes the sentence above?

Aşağıdakilerden hangisi yukarıdaki cümleyi doğru olarak tamamlar?

- A) has she
B) does she
C) will she
D) doesn't she

16. The festival wasn't good,?

Which of the following completes the sentence above?

Aşağıdakilerden hangisi yukarıdaki cümleyi doğru olarak tamamlar?

- A) wasn't it
B) has it
C) is it
D) was it

17. Could you speak more ?

Which of the following completes the sentence above?

Aşağıdakilerden hangisi yukarıdaki cümleyi doğru olarak tamamlar?

- A) slowly
- B) slow
- C) slower
- D) slowest

18. I hope you will the exam.

Which of the following completes the sentence above?

Aşağıdakilerden hangisi yukarıdaki cümleyi doğru olarak tamamlar?

- A) passing
- B) passed
- C) passes
- D) pass

19. She was cooking the electricity went off.

Which of the following completes the sentence above?

Aşağıdakilerden hangisi yukarıdaki cümleyi doğru olarak tamamlar?

- A) which
- B) while
- C) when
- D) who

20. I haven't seen my uncle ten years.

Which of the following completes the sentence above?

Aşağıdakilerden hangisi yukarıdaki cümleyi doğru olarak tamamlar?

- A) ago
- B) for
- C) from
- D) since

1. «Cumartesi günü neler yapacaksınız?»

Choisissez la traduction qui convient.

Yukarıdaki cümlelerin Türkçe karşılığı aşağıdakilerden hangisidir?

- A) Que faites-vous Dimanche?
B) Quelle est votre activité pour Samedi?
C) Qu'est-ce que vous allez faire Samedi?
D) Qu'est-ce que vous faites Dimanche?

2. C'est un policier.

Choisissez le mot qui convient.

Cümledeki boşluğu aşağıdakilerden hangisi doğru şekilde tamamlar?

- A) photo
B) émission
C) roman
D) peinture

3. La ville est célèbre, c'est Paris.

Choisissez le mot qui convient.

Cümledeki boşluğu aşağıdakilerden hangisi doğru şekilde tamamlar?

- A) qui
B) que
C) dont
D) où

4. il s'est blessé.

Choisissez le mot qui convient.

Cümledeki boşluğu aşağıdakilerden hangisi doğru şekilde tamamlar?

- A) Brillante
B) Heureusement
C) Obéissantes
D) Malheureusement

5. Il faut un passeport quand on veut partir

Choisissez l'expression qui convient.

Cümlede boş bırakılan yeri aşağıdakilerden hangisi doğru şekilde tamamlar?

- A) au magasin
B) à la maison
C) chez le médecin
D) à l'étranger

6. Elle joue volley-ball.

Choisissez le mot qui convient.

Cümledeki boşluğu aşağıdakilerden hangisi doğru şekilde tamamlar?

- A) au
B) du
C) de la
D) les

7. I. J'ai décidé d'organiser une fête.
II. C'est une bonne école.
III. Je vais inviter tous mes amis.
IV. On va s'amuser.

Trouvez la phrase qui ne convient pas.

Cümleler sırasıyla okunduğunda, anlam bütünlüğünü bozan cümleyi bulunuz.

- A) I
B) II
C) III
D) IV

8. Elle a oublié son sac voyage.

Choisissez le mot qui convient.

Cümledeki boşluğu aşağıdakilerden hangisi doğru şekilde tamamlar?

- A) d'une
B) chez
C) des
D) de

9. les / j'aime / brillantes / lumières
I II III IV

Mettez dans le bon ordre.

Yukarıdaki kelimelerin anlamlı ve kurallı bir bütün oluşturan sırası aşağıdakilerin hangisinde doğru olarak verilmiştir?

- A) II, I, III, IV
B) II, I, IV, III
C) III, IV, I, II
D) III, IV, II, I

10. Je veux acheter la voiture tu parles.

Choisissez le mot qui convient.

Cümledeki boşluğu aşağıdakilerden hangisi doğru şekilde tamamlar?

- A) où
B) qui
C) dont
D) que

11. Pour réussir, il faut beaucoup

Choisissez le mot qui convient.

Cümledeki boşluğu aşağıdakilerden hangisi doğru şekilde tamamlar?

- A) travaillant
B) travail
C) travaillent
D) travaillent

12. la valise est lourde, Pierre a appelé un taxi.

Choisissez le mot qui convient.

Cümledeki boşluğu aşağıdakilerden hangisi doğru şekilde tamamlar?

- A) Comme
B) Quand
C) Lorsque
D) Malgré

13. La personne j'ai saluée est mon patron.

Choisissez le mot qui convient.

Cümledeki boşluğu aşağıdakilerden hangisi doğru şekilde tamamlar?

- A) celui
B) qui
C) celle
D) que

14. Lisa : Qu'est-ce que tu aimes lire?

Henri :

Lisa : Et les romans?

Henri : Non pas trop!

Choisissez l'expression qui convient.

Yukarıdaki konuşmada boş bırakılan yeri aşağıdakilerden hangisi doğru şekilde tamamlar?

- A) La télévision
B) Les BD
C) La radio
D) Le sport

15. «L'heure où mon fils s'endort est 21 heures.»

Choisissez la traduction qui convient.

Yukarıdaki cümlenin Türkçe karşılığı aşağıdakilerden hangisidir?

- A) Oğlumun uyuduğu saat 21'dir.
B) Kızım saat 21'de uyanır.
C) Oğlumun uyandığı saat 21'dir.
D) Kızım saat 21'de uyur.

16. Tu partiras comment?, ou en groupe?

Choisissez le mot qui convient.

Cümledeki boşluğu aşağıdakilerden hangisi doğru şekilde tamamlar?

- A) Seul
B) À l'étranger
C) Quand
D) Organiser

17. Juin est un mois de

Choisissez le mot qui convient.

Cümledeki boşluğu aşağıdakilerden hangisi doğru şekilde tamamlar?

- A) de l'automne
- B) l'hiver
- C) l'été
- D) du printemps

18. Monique un championnat de ping-pong chaque samedi.

Choisissez le mot qui convient.

Cümledeki boşluğu aşağıdakilerden hangisi doğru şekilde tamamlar?

- A) va
- B) organise
- C) part
- D) danse

19. Je chante en le ménage.

Choisissez le mot qui convient.

Cümledeki boşluğu aşağıdakilerden hangisi doğru şekilde tamamlar?

- A) faisait
- B) faisant
- C) faisais
- D) faire

20. Je joue guitare.

Choisissez le mot qui convient.

Cümledeki boşluğu aşağıdakilerden hangisi doğru şekilde tamamlar?

- A) de
- B) du
- C) de la
- D) au

1. Weitere Informationen findet ihr im Internet!

Wie lautet der obige Satz auf Türkisch?

Verilen cümlelerin Türkçesi aşağıdakilerden hangisidir?

- A) Bu bilgilere ancak internet şifresiyle ulaşabilirsiniz!
 B) İnternetinizi her türlü bilgi için kullanabilirsiniz!
 C) Diğer bilgileri internette bulduk!
 D) İnternette başka bilgiler bulabilirsiniz!

2. A: Was machen die Schüler, die eine Gesamtschule besucht haben?

B: Sie können einen Beruf erlernen!

A:

B: Ja, wenn sie wollen, können sie auch aufs Gymnasium gehen!

Welches ergänzt den obigen Dialog?

Verilen karşılıklı konuşmayı aşağıdakilerden hangisi tamamlar?

- A) Naja, dann müssen sie an zwei Tagen zur Berufsschule!
 B) Können sie auch aufs Gymnasium gehen?
 C) Gehen sie auf die Gesamtschule?
 D) Das war auch im Film zu sehen!

3. Es gibt immer wieder neue Entdeckungen und Erfindungen.

Wie lautet der obige Satz auf Türkisch?

Verilen cümlelerin Türkçesi aşağıdakilerden hangisidir?

- A) Yenilikleri ve buluşları her zaman çok beğenirim!
 B) Yeni buluş ve keşifleri her zaman takip ederim.
 C) Siz zaten hep yeni şeyler bulursunuz!
 D) Her zaman yeni keşif ve buluşlar vardır.

4. Was willst du werden?

Welche Antwort passt zur obigen Frage?

Verilen sorunun cevabı aşağıdakilerden hangisidir?

- A) Traum.
 B) Ausland.
 C) Pilot.
 D) Büro.

5. Wer ist Albert Einstein?

Welche Antwort passt zur obigen Frage?

Verilen sorunun cevabı aşağıdakilerden hangisidir?

- A) Er ist ein guter Ingenieur.
 B) Er ist ein weltberühmter genialer Wissenschaftler.
 C) Er möchte Deutsch lernen.
 D) Er fliegt nach Spanien.

6. Willst / kannst / wenn / studieren / du / Berlin / in

Wie kann man mit den obigen Wortgruppen einen sinnvollen und richtigen Satz bilden?

Verilen sözcük gruplarıyla kurulabilecek en anlamlı ve doğru cümle aşağıdakilerden hangisidir?

- A) Willst wenn, du in kannst Berlin studieren.
 B) Kannst studieren willst, wenn Berlin du in.
 C) Wenn du willst, kannst du in Berlin studieren.
 D) Berlin willst, wenn du in kannst studieren.

7. Die Schüler gehen von der ersten bis zur vierten Klasse in die

Welches Wort passt in die obige Lücke?

Cümlede boş bırakılan yeri aşağıdakilerden hangisi doğru şekilde tamamlar?

- A) Gesamtschule
 B) Hauptschule
 C) Realschule
 D) Grundschule

8. Was bedeutet das Gegenteil von "unzufrieden"?

"unzufrieden" sözcüğünün zıt anlamlısı aşağıdakilerden hangisidir?

- A) zufrieden
- B) spannend
- C) beruhigend
- D) sammeln

9. A: Weißt du eigentlich, was Velotaxi bedeutet?

B:

A: Das ist interessant! Dann braucht es überhaupt kein Benzin?

B: Genau, es braucht nur menschliche Energie!

A: Das ist ja toll!

Welcher Satz ergänzt den obigen Dialog?

Verilen karşılıklı konuşmayı aşağıdakilerden hangisi tamamlar?

- A) Nein, ich benutze mein Auto!
- B) Ja, das ist ein Fahrradtaxi!
- C) Ja, du kannst mein Fahrrad nehmen!
- D) Nein, das weiß ich auch nicht!

10. Weil sich die Besucher alle Sehenswürdigkeiten in Ruhe anschauen können.

Welche Frage passt zur obigen Antwort?

Verilen cevabı gerektirecek soru aşağıdakilerden hangisidir?

- A) Warum ist es im Sommer wunderbar für die Besucher?
- B) Was machst du im Sommer?
- C) Welche Probleme hast du im Sommer?
- D) Wohin willst du im Sommer gehen?

11. Der Computer / Die Tastatur / Der Rechner / Das Auto /

Welches Wort passt nicht zu den anderen in der obigen Wortgruppe?

Verilen sözcük grubuna uymayan aşağıdakilerden hangisidir?

- A) Der Rechner
- B) Der Computer
- C) Die Tastatur
- D) Das Auto

12. Warum fahren die Kinder gern Fahrrad?

Welche Antwort passt nicht zur obigen Frage?

Aşağıdakilerden hangisi verilen sorunun cevabı olamaz?

- A) Um die Hausaufgaben zu machen.
- B) Weil es aufregend ist.
- C) Um sich zu entspannen.
- D) Weil es ihnen Spaß macht.

13. Die Männer wollen die Sehenswürdigkeiten sehen.

Wie lautet der obige Satz in der Singularform?

Verilen cümlelerin tekil hali aşağıdakilerden hangisidir?

- A) Die Mann besuchen die Sehenswürdigkeit.
- B) Die Mann will die Sehenswürdigkeiten sehen.
- C) Der Mann will die Sehenswürdigkeit sehen.
- D) Das Mann hat die Sehenswürdigkeiten sehen wollen.

14. Wir haben das Gedicht

Welches ergänzt die Lücke im obigen Satz?

Verilen cümleyi aşağıdakilerden hangisi tamamlar?

- A) in der Klasse vorgetragen.
- B) heute neu gekauft.
- C) das ist ein schöner Blick.
- D) dort finden sie Informationen.

15. Heinrich Heine

Welcher Satz ergänzt die obige Lücke?

Verilen cümleyi aşağıdakilerden hangisi tamamlar?

- A) ist ein berühmter deutscher Dichter!
- B) ist mein bestes Rezept!
- C) heißt das kleine Dorf an der Mündung!
- D) heißt der längste Fluß in Deutschland!

16. Was bedeutet "die Sage" auf Türkisch?

"die Sage" sözcüğünün Türkçesi aşağıdakilerden hangisidir?

- A) Kule
- B) Yıkıntı
- C) Efsane
- D) Heykel

17. Plakate sind Hinweise die Besucher.

Welches Wort passt in die obige Lücke?

Cümlede boş bırakılan yeri aşağıdakilerden hangisi tamamlar?

- A) an
- B) bei
- C) für
- D) mit

18. Ren, Almanya'nın en uzun nehridir.

Wie lautet der obige Satz auf Deutsch?

Verilen cümlenin Almancası aşağıdakilerden hangisidir?

- A) Der Rhein ist in Deutschland sehr berühmt.
- B) Der Rhein ist der längste Fluss Deutschlands.
- C) Die meisten Dörfer Deutschlands liegen direkt am Rhein.
- D) Die Mündung vom Rhein ist am längsten.

19. Der Rhein fließt Deutschland.

Welches Wort passt in die obige Lücke?

Cümlede boş bırakılan yeri aşağıdakilerden hangisi tamamlar?

- A) mit
- B) durch
- C) für
- D) auf

20. Ein Blick auf den Loreleyfelsen ist wunderbar.

Welches passt in die obige Lücke?

Cümlede boş bırakılan yeri aşağıdakilerden hangisi doğru şekilde tamamlar?

- A) ein Plakat
- B) die Kinder
- C) aus Stein
- D) von der Straße

1. The letters will next week.

Which of the following completes the sentence above?

Aşağıdakilerden hangisi yukarıdaki cümleyi doğru olarak tamamlar?

- A) post
B) posted
C) be posted
D) posting

2. They have changed the date of their wedding.

Which of the following is the passive voice of the sentence above?

Aşağıdakilerden hangisi yukarıdaki cümlelerin edilgen yapıda kurulmuş biçimidir?

- A) The date of their wedding will be changed.
B) The date of their wedding is being changed.
C) The date of their wedding is changed.
D) The date of their wedding has been changed.

3. 'Tutunamayanlar' by Oğuz Atay.

Which of the following completes the sentence above?

Aşağıdakilerden hangisi yukarıdaki cümleyi doğru olarak tamamlar?

- A) is written
B) was written
C) will write
D) was

4. This time next Saturday I to İstanbul for the weekend.

Which of the following completes the sentence above?

Aşağıdakilerden hangisi yukarıdaki cümleyi doğru olarak tamamlar?

- A) will go
B) will be going
C) go
D) will have gone

5. These carpets by the machine.

Which of the following completes the sentence above?

Aşağıdakilerden hangisi yukarıdaki cümleyi doğru olarak tamamlar?

- A) have made
B) has been made
C) have been made
D) been made

6. I won't eat anything Joe comes home.

Which of the following completes the sentence above?

Aşağıdakilerden hangisi yukarıdaki cümleyi doğru olarak tamamlar?

- A) while
B) since
C) until
D) in

7. Don't call me after school. I for tomorrow's exam.

Which of the following completes the sentence above?

Aşağıdakilerden hangisi yukarıdaki cümleyi doğru olarak tamamlar?

- A) studied
B) will have studied
C) study
D) will be studying

8. Ali heard the news, he began to cry.

Which of the following completes the sentence above?

Aşağıdakilerden hangisi yukarıdaki cümleyi doğru olarak tamamlar?

- A) As soon as
B) To
C) So that
D) while

9. Jim : Why didn't you buy the blue skirt?
Catty : I had already bought one.

Which of the following completes the dialogue above?

Aşağıdakilerden hangisi yukarıdaki konuşmayı doğru olarak tamamlar?

- A) Because
- B) After
- C) Until
- D) Wherever

10. If it didn't rain, Jane go for a walk.

Which of the following completes the sentence above?

Aşağıdakilerden hangisi yukarıdaki cümleyi doğru olarak tamamlar?

- A) must
- B) will
- C) might have
- D) would

11. If they hadn't been on holiday, they to our birthday party.

Which of the following completes the sentence above?

Aşağıdakilerden hangisi yukarıdaki cümleyi doğru olarak tamamlar?

- A) will come
- B) would have come
- C) come
- D) would come

12. If we heat ice, it

Which of the following completes the sentence above?

Aşağıdakilerden hangisi yukarıdaki cümleyi doğru olarak tamamlar?

- A) freezes
- B) pours
- C) goes
- D) melts

13. She tries to visit she can.

Which of the following completes the sentence above?

Aşağıdakilerden hangisi yukarıdaki cümleyi doğru olarak tamamlar?

- A) wherever
- B) since
- C) by
- D) for

14. they got home, the boy had eaten all the cake.

Which of the following completes the sentence above?

Aşağıdakilerden hangisi yukarıdaki cümleyi doğru olarak tamamlar?

- A) Due to the fact that
- B) Whenever
- C) Because
- D) By the time

15. We swimming if the sun shines.

Which of the following completes the sentence above?

Aşağıdakilerden hangisi yukarıdaki cümleyi doğru olarak tamamlar?

- A) will go
- B) have gone
- C) went
- D) go

16. By the time I arrive there, he

Which of the following completes the sentence above?

Aşağıdakilerden hangisi yukarıdaki cümleyi doğru olarak tamamlar?

- A) is leaving
- B) will have left
- C) will leave
- D) leaves

17. My best friend married by next June.

Which of the following completes the sentence above?

Aşağıdakilerden hangisi yukarıdaki cümleyi doğru olarak tamamlar?

- A) will have got
- B) will get
- C) is
- D) gets

18. They their work by tomorrow.

Which of the following completes the sentence above?

Aşağıdakilerden hangisi yukarıdaki cümleyi doğru olarak tamamlar?

- A) finish
- B) finishing
- C) will have finished
- D) finished

19. English is all over the world.

Which of the following completes the sentence above?

Aşağıdakilerden hangisi yukarıdaki cümleyi doğru olarak tamamlar?

- A) spoke
- B) spoken
- C) has spoken
- D) speak

20. If you have a headache,

Which of the following completes the sentence above?

Aşağıdakilerden hangisi yukarıdaki cümleyi doğru olarak tamamlar?

- A) write a letter
- B) iron the clothes
- C) take an aspirin
- D) call the police

1. Le serveur : Vous avez fait choix?
Le client : Oui, je prends un café au lait.

Choisissez le mot qui convient.

Yukarıdaki konuşmada boş bırakılan yeri aşağıdakilerden hangisi doğru şekilde tamamlar?

- A) ton
B) votre
C) nos
D) vous

2. «Marie est tombée amoureuse.»

Choisissez la traduction qui convient.

Yukarıdaki cümlenin Türkçe karşılığı aşağıdakilerden hangisidir?

- A) Marie aşkı buldu.
B) Marie düştü.
C) Marie'nin sevgilisi düştü.
D) Marie âşık oldu.

3. Il peut pleuvoir; n'oubliez pas prendre votre parapluie.

Choisissez le mot qui convient.

Cümledeki boşluğu aşağıdakilerden hangisi doğru şekilde tamamlar?

- A) en
B) de
C) sans
D) qui

4. Mon ami a de mauvaises notes en littérature. Il, à dire la vérité à ses parents.

Choisissez le mot qui convient.

Cümledeki boşluğu aşağıdakilerden hangisi doğru şekilde tamamlar?

- A) encouragement
B) obligé
C) pardonnez
D) hésite

5. I. Pourquoi?
II. Je voudrais vous faire part de mes opinions.
III. La campagne est meilleure que la ville.
IV. Eh bien, parce que il y a moins de pollution.
V. Mais aussi parce qu'il y a beaucoup de légumes.

Mettez dans le bon ordre.

Yukarıdaki cümleleri düzgün bir paragraf oluşturacak şekilde sıraya koyunuz.

- A) I, II, IV, III, V
B) II, III, I, IV, V
C) IV, III, II, I, V
D) V, IV, III, II, I

6. de litres d'eau vous buvez par jour?

Choisissez le mot qui convient.

Cümledeki boşluğu aşağıdakilerden hangisi doğru şekilde tamamlar?

- A) Combien
B) Chacun
C) Dans
D) Est-ce que

7. C'est le livre je préfère.

Choisissez le mot qui convient.

Cümledeki boşluğu aşağıdakilerden hangisi doğru şekilde tamamlar?

- A) de
B) en
C) que
D) qui

8. Marie et Selda aiment les langues étrangères: parle une langue différente.

Choisissez le mot qui convient.

Cümledeki boşluğu aşağıdakilerden hangisi doğru şekilde tamamlar?

- A) je
B) chacun
C) elles
D) chacune

9. homme s'appelle Ludovic.

Choisissez le mot qui convient.

Cümledeki boşluğu aşağıdakilerden hangisi doğru şekilde tamamlar?

- A) Cette
B) Cet
C) Ces
D) Ce

10. La semaine prochaine, il au Portugal.

Choisissez le mot qui convient.

Cümledeki boşluğu aşağıdakilerden hangisi doğru şekilde tamamlar?

- A) sera
B) a
C) était
D) es

11. La femme vient est ma mère.

Choisissez le mot qui convient.

Cümledeki boşluğu aşağıdakilerden hangisi doğru şekilde tamamlar?

- A) lequel
B) que
C) qui
D) laquelle

12. Je suis le théâtre et contre le cinéma.

Choisissez le mot qui convient.

Cümledeki boşluğu aşağıdakilerden hangisi doğru şekilde tamamlar?

- A) pour
B) dans
C) du
D) qui

13. Il est en section scientifique il donne plus d'importance aux Maths.

Choisissez le mot qui convient.

Cümledeki boşluğu aşağıdakilerden hangisi doğru şekilde tamamlar?

- A) bon
B) trop
C) ou
D) donc

14. Eva avait toujours de mauvaises notes en mathématique mais elle a ses notes.

Choisissez le mot qui convient.

Cümledeki boşluğu aşağıdakilerden hangisi doğru şekilde tamamlar?

- A) conseillé
B) encouragé
C) averti
D) remonté

15. La vie à la campagne est

Choisissez le mot qui convient.

Cümledeki boşluğu aşağıdakilerden hangisi doğru şekilde tamamlar?

- A) tranquille
B) bruyante
C) ennuyeux
D) laid

16. -?
- Vendredi prochain.

Choisissez la question qui convient.

Yukarıdaki konuşmada cevabı gerektiren soru aşağıdakilerden hangisidir?

- A) Nous sommes quel jour
B) Quand vous partez
C) Vous allez où
D) Vous venez d'où

17. I. L'omelette est aux champignons.
II. Le jus de pomme est une boisson.
III. La café aussi.
IV. Mais la glace est un dessert.

Choisissez la phrase qui **ne convient pas** à l'ensemble.

Sırasıyla okunduğunda, anlam bütünlüğünü **bozan** cümleyi bulunuz.

- A) I
B) II
C) III
D) IV

18. Il est triste son amie.

Choisissez le mot/l'expression qui convient.

Cümledeki boşluğu aşağıdakilerden hangisi doğru şekilde tamamlar?

- A) que
B) qui
C) à cause de
D) contre le

19. Isabelle :?
Alain : Nous irons à la mer.
Isabelle :?
Alain : A Nice.

Choisissez les expressions qui conviennent.

Yukarıdaki konuşmada boş bırakılan yerleri aşağıdakilerden hangisi doğru şekilde tamamlar?

- A) Vous aimez les vacances / Quelle ville
B) Vous allez où / Quand
C) Vous faites quoi cet été / Où
D) Vous nagez / Où

20. j'ai le temps, je peux vous aider.

Choisissez le mot/l'expression qui convient.

Cümledeki boşluğu aşağıdakilerden hangisi doğru şekilde tamamlar?

- A) Pour
B) À cause de
C) Si
D) Contre

1. Aşağıdakilerden hangisi Müslümanlar için sadece bir hak değil, aynı zamanda görev olan davranışlardan biri değildir?
 - A) İyiliği emretmek
 - B) Kötülüğe engel olmak
 - C) Haksızlık karşısında duyarlı olmak
 - D) İnsanları zorlamak

2. Kur'an-ı Kerim'de insanlığın annesi olarak geçen kişi aşağıdakilerden hangisidir?
 - A) Hz. Havva
 - B) Hz. Meryem
 - C) Hz. Asiyе
 - D) Hz. Hacer

3. Hz. Muhammed'in (s.a.v.) düşünce ve ifade özgürlüğüne verdiği önemi gösteren en önemli örnek davranış aşağıdakilerden hangisidir?
 - A) Kötülüğe engel olması
 - B) İyiliği emretmesi
 - C) Öğüt vermesi
 - D) İstişare yapması

4. Bir kişinin haklarını başkalarına zarar vermeden kullanabilmesi olarak tanımlanan kavram aşağıdakilerden hangisidir?
 - A) Özgürlük
 - B) Zimmî
 - C) İntihal
 - D) Mutahhara

5. İslam dininde, Allah'a karşı duyulan saygı ve sorumluluk bilincini ifade eden kavram aşağıdakilerden hangisidir?
 - A) Refref
 - B) Takva
 - C) Ukba
 - D) Revân

6. Kur'an-ı Kerim'de iman ve sabır örneği olarak geçen kişi aşağıdakilerden hangisidir?
 - A) Hz. Asiyе
 - B) Hz. Havva
 - C) Hz. Meryem
 - D) Hz. Hacer

7. Taif kuşatmasında Arapların o güne kadar bilmedikleri mancınık sistemini kullanmayı teklif eden kişi kimdir?
 - A) Hz. Hamza
 - B) Selman-ı Farisi
 - C) Amr bin As
 - D) Tarık bin Ziyad

8. Aşağıdakilerden hangisi Hz. Muhammed'in (s.a.v.) önem verdiği ahlaki ilkelerden biri değildir?
 - A) Şefkat
 - B) Sevgi
 - C) Fedakârlık
 - D) İntikam

9. Medine Antlaşmasına ilişkin aşağıdaki ifadelerden hangisi yanlıştır?
 - A) İnanç ve ibadet özgürlüğü teminat altına alınmıştır.
 - B) Dini grupların hakları belirlenmiştir.
 - C) Müslümanlara özgürlükler konusunda diğerlerine göre imtiyaz sağlanmıştır.
 - D) Medine'de barışın sağlanmasına katkıda bulunmuştur.

10. İslam dinine göre bir yöneticinin en önemli görevi aşağıdakilerden hangisidir?
 - A) Vakıflar kurmak
 - B) Kâr elde etmek
 - C) Faizden uzak durmak
 - D) Allah'a karşı sorumlu olduğunu hiçbir zaman unutmamak

11. Kur'an-ı Kerim'de "Dinde zorlama yoktur, artık hak ile batıl iyice ayrılmıştır..." buyrulur. Bu ayete göre aşağıdaki ifadelerden hangisi doğrudur?
- A) Akıl, beden ve ruh sağlığı, Allah'ın bize verdiği bir emanettir.
 B) Herhangi bir insanı dinini değiştirmeye zorlamak açık bir şekilde yasaklanmıştır.
 C) İktisatlı yaşamının nasıl olması gerektiği ifade eder.
 D) Doğada ve toplumsal hayattaki dengeyi bozacak davranışlardan kaçınmamızı öğütler.
12. Aşağıdakilerden hangisi Hz. Muhammed'in (s.a.v.) yönetim ilkelerinden biri değildir?
- A) Eğitim ve öğretim
 B) Toplumsal birlik ve beraberlik
 C) Halkın yönetime katılımını sağlamak
 D) Sosyal adaletsizlik
13. Aşağıdakilerden hangisi İslam dinine göre yöneticilerin uyması gereken en önemli kuraldır?
- A) İlgi
 B) Saygı
 C) Hoşgörü
 D) Adalet
14. Hz. Muhammed (s.a.v.) "Müslüman bir kimse din kardeşinin pazarlığı üzerine pazarlık yapmasın" diye buyurarak insanlar arasında aşağıdaki davranışlardan hangisinin ortaya çıkmasını engellemiştir?
- A) Yardımlaşma
 B) Sevgi
 C) Kıskançlık
 D) Dayanışma
15. Halkın yöneticisine bağlılığını bildirmesi ve hukuktan ayrılmadığı sürece ona itaat edeceğine dair söz verilmesine ne ad verilir?
- A) Ashab
 B) Liyakat
 C) Biat
 D) İktisat
16. Hz. Muhammed, Veda Haccı için aşağıdaki şehirlerin hangisine gitmiştir?
- A) Medine
 B) Mekke
 C) Cidde
 D) Şam
17. "Başka hiçbir gölgenin bulunmadığı kıyamet gününde Yüce Allah, yedi sınıf insanı, arşının gölgesinde barındıracaktır."
- Aşağıdakilerden hangisi yukarıda söz edilenlerden biri olamaz?**
- A) Tenhada Allah'ı anıp gözyaşı dökten kimse
 B) Kalbi mescitlere bağlı olan Müslüman
 C) Sağ elin verdiği sol eli görüp sadakaları açık eden kimse
 D) Adaletli yönetici
18. Hz. Muhammed'in (s.a.v.) Veda Haccı için yola çıktığında develerin yürüyüş düzenini sağlayan Enceşe adındaki gence; "Enceşe! Sakin ol. Kristalleri dikkatli taşı!" sözünde kristaller olarak ifade ettiği aşağıdakilerden hangisidir?
- A) Değerli taşlar
 B) Kadınlar
 C) Çocuklar
 D) Altınlar
19. Hz. Muhammed (s.a.v.) "Dikkat edin! Sizin hanımlarınız üzerinde hakkınız olduğu gibi hanımlarınızın da sizin üzerinizde hakları vardır." buyurarak aşağıdaki hususlardan hangisine dikkat çekmiştir?
- A) Eşlerin birbirleri üzerinde hakkı olduğuna
 B) Eğitime önem verilmesine
 C) Tüketici haklarının korunmasına
 D) İbadet özgürlüğüne
20. Aşağıdakilerden hangisi İslam dininin haram kabul ederek insanların temel hak ve özgürlüklerini koruduğu davranışlardan biri değildir?
- A) İftira
 B) Tevazu
 C) Hırsızlık
 D) Cinayet

1. Aşağıdaki cümlelerin hangisinde fiil gereklilik kipiyle çekimlenmiştir?
- A) Akşam bize gelmelisin.
B) Yeni evimize taşındık.
C) İzmir'e yarın gideceğiz.
D) Babam çiçekleri suluyor.
2. Aşağıdaki cümlelerden hangisinin fiil kökü isimdir?
- A) Her gün parka gidiyor.
B) Söz verdiği her yere geç kalıyor.
C) Bir çocuk yanlışlıkla bizim kapıyı çaldı.
D) Çünkü sınavda çok heyecanlandım.
3. Kutadgu Bilig, Divanü Lugati't-Türk, Atabetü'l-Hakayık gibi eserler aşağıdaki Türkçe dönemlerinin hangisine örnektir?
- A) Batı Türkçesi
B) Osmanlı Türkçesi
C) Eski Türkçe
D) Doğu Türkçesi
4. Aşağıdakilerden hangisi Türkçe bir sözcüktür?
- A) saat
B) kardeş
C) tren
D) kubbe
5. Aşağıdakilerden hangisi olay hikâyesinin özelliklerinden biri değildir?
- A) Bir olay merkezinde gelişmesi ve sonuçlanması
B) Merak duygusunun geri plana itilmesi
C) En önemli örneklerini Maupassant'ın vermesi
D) Öncelikle olayın oluşumunun sergilenmesi
6. Aşağıdakilerden hangisi Ural-Altay dillerinden biri değildir?
- A) Çince
B) Moğolca
C) Türkçe
D) Fince
7. Aşağıdakilerden hangisi makalenin özelliklerinden biri değildir?
- A) Öğretici metinlerden biri olması
B) Belli bir düşüncenin kanıtlara dayandırılarak açıklanması
C) Ortaya konulan düşüncenin bilimsel temellere ve bilgilere dayandırılması
D) Özne bir anlatım dilinin kullanılması
8. Aşağıdaki cümlelerden hangisinin fiili geniş zaman eki ile çekimlenmiştir?
- A) Ben daha doğmadan ölmüş.
B) Anlamak için dinlemek gerekir.
C) Benim güzel günlerim orada geçti.
D) Eğri kılıç kında paslanmalıdır.
9. Türkçe kelime kökünde aynı iki ünsüz yan yana gelmez. Ancak, bazı Türkçe kelimeler zaman içinde değişime uğradığından bu kurala uymaz. Aşağıdaki kelimelerden hangisi bu duruma örnektir?
- A) hürriyet
B) kubbe
C) anne
D) hüzzam
10. Aşağıdaki cümlelerde yer alan altı çizili sözcüklerden hangisi terim anlamlıdır?
- A) Bazı kitaplarımı kütüphaneye verdim.
B) Kâğıdı makasla kestim.
C) Param olsa bir araba alırım.
D) Çanakkale Boğazi'ni ilk kez görüyorduk.
11. Türk edebiyatında makale türünün ilk örneklerini aşağıdaki yazarlardan hangisi vermiştir?
- A) Şinasi
B) Ziya Paşa
C) Namık Kemal
D) Ahmet Mithat Efendi
12. Bir kişi, durum veya bir düşüncüyü açık ya da kapalı biçimde eleştiren şiirlere ne ad verilir?
- A) Epik
B) Pastoral
C) Didaktik
D) Satirik
13. "Gider oldum kömür gözüm elveda" dizesinde aşağıdaki edebi sanatlardan hangisi vardır?
- A) Teşbih
B) Teşhis
C) Mecazımürsel
D) Cinaz

14. Aşağıdakilerden hangisi anonim halk edebiyatı örneklerinden olan bilmecelerde en çok başvurulan edebi sanatlardan biri değildir?

- A) İstiare
- B) Mecazımürsel
- C) Teşhis
- D) Teşbih

15. "Sanayi sektörünün çok defa unutulmuş bir özelliği iş alanı yaratma olanaklarının sınırsız oluşudur. Bundan ötürü kalkınmak ancak mümkündür."

Yukarıdaki parçada boş bırakılan yeri aşağıdakilerden hangisi en uygun şekilde tamamlar?

- A) sosyallikle
- B) bilimsellikle
- C) sanayileşmekle
- D) nesnellikle

16. Aşağıdakilerden hangisi belirtili isim tamlamasıdır?

- A) tencerenin kapağı
- B) çiçek yaprağı
- C) asansör kapısı
- D) kedi tüyleri

17. Roman yazı türünde, daha çok toplumsal boyutu ile okuyucunun karşısına çıkan ve kendisi gibi olanları temsil eden kişilere ne ad verilir?

- A) Karakter
- B) Kahraman
- C) Tip
- D) Anlatıcı

18. Aşağıdaki cümlelerin hangisinde isim fiil vardır?

- A) Beni yalnız sen anlarsın.
- B) Şapkasını ince ipten örmüştü.
- C) Her toplantıda bu konuya değiniyorum.
- D) Arkadaşını görmek için dışarı çıktı.

19. Aşağıdaki yazar ve eseri eşleştirmelerinden hangisi yanlıştır?

- A) Dostoyevski-Suç ve Ceza
- B) Halide Edip Adivar-Sinekli Bakkal
- C) Balzac-Madam Bovary
- D) Reşat Nuri Güntekin-Çalığışu

20. "Felatun Bey ile Rakım Efendi" adlı eser aşağıdaki yazarlardan hangisine aittir?

- A) Namık Kemal
- B) Ahmet Mithat Efendi
- C) Recaizade Mahmut Ekrem
- D) Şemsettin Sami

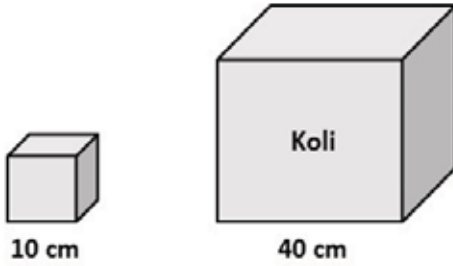
1. Silindirik biçiminde bir kaptaki su miktarı vardır. Bu kaptaki suyun içine küp şeklinde bir cisim atılınca kaptaki su seviyesi 27 birim yükseliyor. Sonra kaba küp şeklinde bir cisim daha atılıyor. Bu sefer su 1 birim yükseliyor. Her iki cisimde tamamen su içinde kaldığına göre küplerin ayrıtlarının oranı kaçtır?

- A) 2
B) 3
C) 6
D) 9

2. 1/1.000 ölçekli bir krokide alanı 5 cm² olan bir binanın gerçek alanı kaç m² dir?

- A) 5.000.000
B) 5.000
C) 500
D) 50

3.



Bir ayrıt uzunluğu 40 cm olan küp şeklindeki koliye, bir ayrıt uzunluğu 10 cm olan küp şeklindeki kutulardan en fazla kaç tane yerleştirilebilir?

- A) 12
B) 16
C) 20
D) 64

4. Gerçek yüksekliği 50 m olan bir kulenin bir fotoğraftaki yüksekliği 2 cm'dir.

Buna göre fotoğraf gerçek uzunluğu hangi oranda küçültülmüştür?

- A) 1/2.500
B) 1/2.000
C) 1/1.500
D) 1/1.000

5. Alanı 81π m² olan daire şeklindeki bir havuzun çevresi kaç m'dir?

- A) 6π
B) 9π
C) 18π
D) 36π

6. Yarıçapı yüksekliğinin $\frac{1}{4}$ ü kadar olan bir dik dairesel silindirin hacmi 32π cm³ olduğuna göre yarıçapı kaç cm'dir?

- A) 6
B) 4
C) 3
D) 2

7. Ölçeği 1/150.000 olan bir haritada 5 cm'lik bir uzunluk gerçekte kaç km'dir?

- A) 7,5
B) 15
C) 75
D) 750

8.



Bir toplulukta yer alan kişilerin bildikleri yabancı dillere göre dağılımları yukarıdaki daire grafiğinde verilmiştir. 20 kişi Fransızca bildiğine göre, Almanca bilenlerin sayısı kaçtır?

- A) 16
B) 18
C) 20
D) 22

9. ve 10. soruları aşağıdaki tabloya göre cevaplayınız.

Ürün İsmi	2012 yılı üretimi	2013 yılı üretimi
Elma	3 ton	4 ton
Şeftali	3 ton	4 ton
Portakal	8 ton	9 ton
Kiraz	1 ton	2 ton
Limon	5 ton	10 ton
Mandalina	5 ton	7 ton

Yukarıdaki tabloda 2012 ve 2013 yıllarında bir çiftlikte üretilen ürünler ve miktarları verilmiştir.

9. Bu bilgilere göre aşağıdakilerden hangisinin üretim miktarı 2013 yılında 2012 yılına göre **daha çok** artmıştır?

- A) Portakal
- B) Kiraz
- C) Limon
- D) Mandalina

10. Yukarıdaki bilgilere göre 2013 yılında üretilen ürünler dairesel grafikte gösterildiğinde; limon miktarını gösteren daire diliminin merkez açısı kaç derece olur?

- A) 45
- B) 60
- C) 90
- D) 100

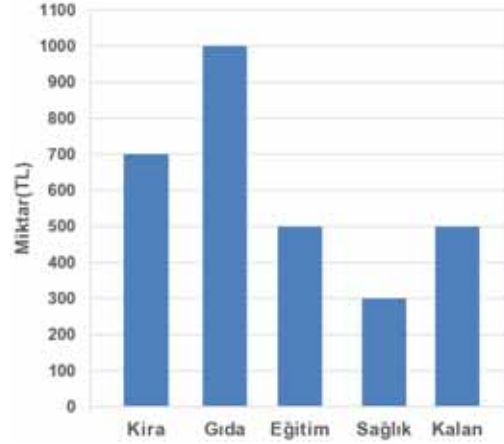
11. 3 kırmızı, 5 mavi ve 7 yeşil kalemde rastgele 3 tanesi seçiliyor. Kalemlerden üçünün de farklı renk olma olasılığı kaçtır?

- A) $\frac{1}{15}$
- B) $\frac{3}{13}$
- C) $\frac{7}{15}$
- D) $\frac{3}{5}$

12. a ve b sayılarının aritmetik ortalaması 26'dır. a, b ve c sayılarının aritmetik ortalaması ise 25'tir. Buna göre c sayısı kaçtır?

- A) 19
- B) 20
- C) 22
- D) 23

13.



Yukarıdaki grafikte bir çalışanın aylık gelirinin giderlere göre dağılımı verilmiştir.

Grafiğe göre sağlık gideri, aylık gelirin yüzde kaçına eşittir?

- A) 10
- B) 15
- C) 20
- D) 25

14. Bir torbada aynı büyüklükte 3 kırmızı ve 4 beyaz top vardır. Bu torbadan, çekilen top torbaya tekrar bırakılmamak koşulu ile, rastgele iki top çekildiğinde iki topun da kırmızı olma olasılığı kaçtır?

- A) $\frac{1}{7}$
- B) $\frac{3}{7}$
- C) $\frac{4}{7}$
- D) $\frac{2}{3}$

15. Bir torbada bulunan sarı ve yeşil bilyelerin sayısı 22'dir. Torbadan rastgele seçilen bir bilyenin yeşil olma olasılığı $\frac{4}{11}$ olduğuna göre, torbada kaç tane sarı bilye vardır?

- A) 8
- B) 12
- C) 14
- D) 16

16. Bir soruyu Ali'nin çözme olasılığı $\frac{1}{4}$, Ayşe'nin çözme olasılığı ise $\frac{1}{3}$ tür. Aynı soruyu Ali'nin veya Ayşe'nin çözme olasılığı $\frac{1}{6}$ olduğuna göre her ikisinin de soruyu çözme olasılığı kaçtır?
- A) $\frac{1}{12}$
 B) $\frac{5}{12}$
 C) $\frac{1}{2}$
 D) $\frac{7}{12}$

17. Bir zar atıldığında zarın 3 gelmeme olasılığı kaçtır?
- A) $\frac{1}{6}$
 B) $\frac{1}{3}$
 C) $\frac{2}{3}$
 D) $\frac{5}{6}$

18. Bir torba içinde 4 mavi 3 sarı; diğer bir torba içinde ise 3 mavi 2 sarı bilye vardır.
- Buna göre torbalardan birer bilye çekildiğinde, çekilen bilyelerden birinin mavi, diğerinin sarı olma olasılığı kaçtır?
- A) $\frac{1}{7}$
 B) $\frac{8}{35}$
 C) $\frac{9}{35}$
 D) $\frac{17}{35}$

19. Bir zarın 2 yüzü sarı, 3 yüzü mavi ve 1 yüzü kırmızı boyalıdır. Buna göre, zar bir kez atıldığında sarı yüzün üzerine düşme olasılığı kaçtır?
- A) $\frac{1}{6}$
 B) $\frac{1}{3}$
 C) $\frac{1}{2}$
 D) $\frac{2}{3}$

20. 8 erkek ve 4 kız öğrenci arasından 3 öğrenci seçilecektir. Seçilen öğrencilerden en az ikisinin kız olma olasılığı kaçtır?
- A) $\frac{9}{55}$
 B) $\frac{13}{55}$
 C) $\frac{39}{55}$
 D) $\frac{41}{55}$

1. Aşağıdaki cümlelerden hangisi bir paragrafın sonuç cümlesi olamaz?

- A) Bu konuya Yahya Kemal'in şiirinden bir örnek verelim.
- B) Kısacası resim yapmak biraz da yetenek işidir.
- C) Özetle, öğretmen olmak sadece fakülteyi bitirmekle olmuyor.
- D) Demek ki edebiyat, insana insanı anlatan bir yapıdır.

2. "Evde yaşayan evcil hayvanlarınızı makinenizin yanına yaklaştırmayınız. Makinenizin kurulumunu yapmadan önce paketini kontrol ediniz. Paket açıldıktan sonra dış yüzeyini mutlaka kontrol ediniz. Paketi açılmış yada hasarlı makineyi çalıştırmayınız."

Yukarıdaki parçada aşağıdaki anlatım türlerinden hangisi ağır basmaktadır?

- A) Kanıtlayıcı anlatım
- B) Düşsel anlatım
- C) Öyküleyici anlatım
- D) Emredici anlatım

3. "Yılın son günü pis ve uğursuz bir havada Bayezit Meydanı'nda, havuzun etrafında, bir arkadaşıyla, bomboş ceplerle ve ezik ve yenik ve toplum tarafından horlanmış dolaşırken... Bilime, politikaya, sanata, hele hele paraya, yani ekonomik kaderlere dair felsefeler yürütürken... Bu şans bende iken başka ne olsun? İclâl'le ve annesiyle burun buruna geliverdik."

Yukarıdaki parçada aşağıdaki anlatım türlerinden hangisi ağır basmaktadır?

- A) Tartışmacı anlatım
- B) Mizahi anlatım
- C) Öyküleyici anlatım
- D) Kanıtlayıcı anlatım

4. Aşağıdakilerden hangisi görsel malzemenin kullanım amaçlarından biridir?

- A) Fikirleri, kavramaları daha geniş zamanda anlatmak
- B) Dinleyicilerin verilen bilgiyi algılamalarını sağlamak
- C) Fikirlere ayrıntılı kanıtlar sağlamak
- D) Sunumu daha çabuk yapmak

5. "Büyük Taarruz, Kurtuluş Savaşı sırasında Türk ordusunun işgalci güçlere son ve kesin darbeyi vurmasını sağlamak ve Anadolu'dan atmak için düşünülp planlanan gizli bir harekât idi. Türkiye Büyük Millet Meclisi'nin 20 Temmuz 1922'deki oturumunda kendisine dördüncü kez olmak üzere Başkomutanlık yetkisi verilen Mustafa Kemal Paşa taarruz kararını haziran ayında almış ve hazırlıkları gizli olarak yürütmüştü. Büyük Taarruz Ağustos'un 26'sını 27'sine bağlayan gece Afyon'da başlamış, Aslıhan civarında kuşatılan düşman birliklerinin Mustafa Kemal Paşa'nın bizzat idare ettiği Dumlupınar Meydan Muharebesi'nde imha edilmesi ile Türk ordusunun zaferiyle sonuçlanmıştı."

Yukarıdaki parçada aşağıdaki anlatım biçimlerinden hangisi ağır basmaktadır?

- A) Açıklama
- B) Tartışma
- C) Betimleme
- D) Öyküleme

6. Aşağıdakilerden hangisi tartışma yönteminin değerlendirme aşaması ile ilgilidir?

- A) Tartışmayı yönlendirecek anahtar soruların hazırlanması
- B) Fiziksel ortamın daire ya da yarım ay biçiminde düzenlenmesi
- C) Konunun katılımcıların ilgisine göre belirlenmesi
- D) Sonucun başkan tarafından özetlenmesi

7. Aşağıdaki cümlelerin hangisinde "tümleç yanlışlarından" kaynaklanan bir anlatım bozukluğu vardır?

- A) Duvarı nem, insanı gam yıkar.
- B) Acıkan doymam; susayan kanmam sanır.
- C) Dost ile ye, iç; alışveriş etme.
- D) Alma mazlumun ahını; çıkar aheste aheste.

8. Aşağıdaki cümlelerin hangisinde "sözcüğün yanlış yerde kullanımından" kaynaklanan bir anlatım bozukluğu vardır?

- A) Bu konular sizin başınızı çok ağrıtabak gibi görünüyor.
- B) Uyarılarıma rağmen alkollü araba kullanmaya devam etti.
- C) Hastaneye gitmeden önce annesini ziyaret etmek istedi.
- D) Kapıdan her girene dikkatle bakıyordu.

9. Doğrudan anlatımda kişinin kendi düşünceleri ya da herhangi bir konuda bir kişinin görüş ve düşünceleri değişikliğe uğratılmadan aynen aktarılır.

Buna göre aşağıdakilerden hangisi doğrudan anlatıma örnek bir cümledir?

- A) Konfiçyüs, taşı delenin suyun kuvveti değil, damlaların sürekliliği olduğunu söylemiş.
B) Herkes, onun ne kadar içine kapanık biri olduğunu söylerdi.
C) Atatürk "akıl ve mantığın halledemeyeceği mesele yoktur" demiş.
D) Babam, yarınki sınava iyi hazırlanmam gerektiğini söyledi.

10. "Çağdaşlaşma denildiğinde, çağımızın özlemleri, gereksinimleri, akımları karşısında duyarlı ve hoşgörülü olmayı anlıyoruz. Çağdaş insan, çevresiyle, ülkesiyle hatta dünya ile birlikte yaşar; çevresinin sorunlarıyla yüküdür ve huzursuzdur. Böyle bir insanda mutluluk değerleri toplumsal ve evrenseldir."

Yukarıdaki parçaya göre aşağıdakilerden hangisi çağdaş insan özelliklerinden biri değildir?

- A) Durgun olmak
B) Hoşgörülü olmak
C) Değişimlere açık
D) Duyarlı olmak
11. **Aşağıdaki cümlelerin hangisinde "yüklemin yanlış kullanımından" kaynaklanan bir anlatım bozukluğu vardır?**
- A) Bunun doğruluğuna ancak okurlar karar verebilir.
B) Neden bu dünyada en çok çocukları üzerler?
C) Acıkınca buzdolabındaki yemeği ısıt ve ye.
D) Çocuklarıyla bazen çok bazen de hiç ilgilenmezdi.

12. • Aynı konu ya da sorunu olumlu ve olumsuz yönleriyle belirtme işi
• Düşüncelerin gözlem, kanı ve inançların etkilenmesini amaçlama
• Karşımızdakinin düşünce, duygu ve kanılarını yenileyerek değiştirmeyi amaçlama

Yukarıda temel özellikleri belirtilen sözlü anlatım türü aşağıdakilerden hangisidir?

- A) Değerlendirme
B) Tartışma
C) Panel
D) Söylev
13. **Aşağıdakilerden hangisi kişinin anlatışını zenginleştirmede etkili yollardan biridir?**
- A) Not almak
B) Maddeler çıkarmak
C) Konuşma dersine katılmak
D) Sorular hazırlamak

14. **Gönderici ile alıcı arasındaki iletinin gönderilme şekline ne ad verilir?**

- A) Dönüt
B) Ortam
C) Hedef
D) Kanal
15. "Her doğruyu söylemeye gelmezmiş, birtakım doğruları yaymamak, çokluktan, kamudan gizlemek gerekmiş... Peki ama, bir doğruyu söylemek, gizlemek, yayılmasını önlemeğe çalışmak o doğrunun yerinde duran yalanı sürdürmek demektir. Yalanın yalan olduğunu bilerek sürmesine bırakmaya hakkınız var mıdır?... Bu yalanlar kutsalmiş, onlara dokunmaya gelmezmiş... Bir şeyin yalan olduğunu anladık mı kutsallığına inanmıyoruz demektir; bunun için "kutsal yalan" sözü bir şeyin hem köşeli hem de yuvarlak, hem katı hem de biçimsiz olduğunu söylemek gibi bir saçmadır. Ama duygularını birer düşünce saymaktan çekinmeyenler böyle saçmalarla kolayca bağdaşabiliyor."

Yukarıdaki parçanın anlatımında aşağıdakilerden hangisi vardır?

- A) Olay, kişi, mekan ve zaman öğeleri
B) Öyküleyici anlatım
C) İki farklı bakış açısının ele alınması
D) Vurgu ve tonlama

16. I. İletinin, kanalın iletiyi iletmeye uygun olup olmadığını öğrenmek amacıyla düzenlenmesidir.
II. İletinin içeriğinden çok iletinin devam etmesi amaçlıdır.
III. Propaganda amaçlı siyasi söylevler, reklam metinleri dilin bu işlevi ile ilgilidir.
IV. Amaç, alıcıda bir tepki ve davranış değişikliği yaratmaktır.

Yukarıdakilerden hangileri dilin kanalı kontrol işlevi ile ilgilidir?

- A) I ve II
B) I ve III
C) II ve III
D) III ve IV

17. Aşağıdaki cümlelerle bir paragraf oluşturulursa hangisi giriş cümlesi olmaya en uygundur?

- A) Bizde ilk gerçek temsilcisi olarak Ömer Seyfettin'i görmek mümkündür.
B) Kısa oluşu, yalın bir olay örgüsüne sahip olması ile roman ve diğer anlatı türlerinden ayrılır.
C) Olayın geçtiği yer sınırlı, anlatım özlü ve yoğun olup karakterler belli bir olay içinde gösterilir.
D) Öykü, gerçek ya da gerçeğe yakın bir olayı aktaran kısa, düzyazı şeklindeki anlatıdır.

18. "Cehennem Nişanı"nda beş sandaldık. Güzel bir Ocak akşamı. Hava lodos. Denize kırmızı rengin türüsü yayılmış. Çok kaynamış ıhlamur rengindeki yayvan, geniş, ölü dalgalar. Sandallar ağır ağır sallanıyor, oltalar bekliyor, insanlar susuyor."

Yukarıdaki paragrafta aşağıdaki anlatım biçimlerinden hangisi ağır basmaktadır?

- A) Öyküleme
B) Betimleme
C) Açıklama
D) Tartışma

19. Tartışmacı anlatım ile ilgili aşağıdaki ifadelerden hangisi doğrudur?

- A) Olay, kişi, mekan ve zaman ortak öğelerdir.
B) Jest ve mimikler anlatımın gücünü artırır.
C) Dil ve ifade sade, gösterişsiz ve pürüzsüzdür.
D) Olaylar birinci şahsın ağzından anlatılabilir.

20. "Denizin sakladığı bir şey var
Sevmek der kimi,
Kimi unutulmak.
Peki neden üşütür hep
Bu ağustos gecesinde
Karanlığın büyüklüğü?
Beni düşünme, dedindi ayrılırken
Düşünmüyorum ki
Düşüncem sende kalmış"
(Fazıl Hüsnü Dağlarca)

Yukarıdaki şiirin ana düşüncesi aşağıdakilerden hangisidir?

- A) Ayrılık
B) Sevgi
C) Mutluluk
D) Ölüm

1. Aşağıdaki metin türlerinin hangisinde öyküleyici anlatım kullanılmaz?

- A) Makale
- B) Roman
- C) Anı
- D) Seyahat

2. Aşağıdaki altı çizili sözcüklerin hangisi yalın yapıdır?

- A) Bütün gün demircinin çırağının gelmesini bekledi.
- B) Babamın bahçemize diktiği ağaçlar kocaman olmuştu.
- C) Bilemediği sözcükler için sözlüğe bakardı.
- D) Yağmurluğunun ceplerine son bir ümitle baktı.

3. Aşağıdaki dizelerin hangisinde emredici bir anlatım söz konusudur?

- A) Gözlerin yağmurdan sonra yaprakların yeşili
Bi de başını çeviriyorsun ki yanında ben varım
- B) İnsan bütün güzel müzikleri dinlemeli
alabildiğine
Hem de tüm benliği seslerle, ezgilerle
dolarcasına
- C) Güneşin doğuşundadır doğanın sana verdiği
değer
Ve karşındakine değer verdiğin kadar
insansın
- D) Bağlanmayacaksın bir şeye, öyle körü
körüne.
"O olmazsa yaşayamam." demeyeceksin.

4. Etkisini öznenin üzerinde gösteren fiillerdir. Bu tür fiillerde fiili yapan özne, yaptığı işten yine kendisi etkilenir.

Aşağıdaki cümlelerin hangisi yukarıdaki açıklamaya örnek olabilir?

- A) Hırsızlar, polisler tarafından hemen yakalandılar.
- B) Dik yamaçlardan inen dağcılar aşağıda buluşuyorlardı.
- C) Kardeşim doğduğunda ne çok sevinmiştim.
- D) Kirli tabakları yemekten sonra yıkattı hemen.

5. • İsimlerden önce gelerek onları çeşitli yönlerden nitelerler.
• Tek başlarına kullanıldıklarında isim olarak değerlendirilirler.
• Arka arkaya sıralanarak bir ismi nitelemek için kullanılabilirler.

Yukarıda temel özellikleri belirtilen sözcük türü aşağıdakilerden hangisidir?

- A) Sıfat
- B) Zamir
- C) Fiil
- D) Ünlem

6. Aşağıdaki cümlelerin hangisinde altı çizili sözcük hem sıfat hem de zarf görevindedir?

- A) Yalnız adam koskoca evde yalnızdı.
- B) Sıcak günlerde sıcak insanlarla birlikteydik.
- C) Doğru bildiklerimiz acaba hep gerçekten doğru mudur?
- D) Saygılı insanlara karşı o da saygılı davranırdı.

7. Aşağıdaki cümlelerin hangisinde yüklem dışındaki sözcüklerin tümü zamirdir?

- A) Sana yapılmasını istemediğini sen başkasına mı yaptın?
- B) Sen onu buraya kimle getirdin?
- C) Bize dün burada otururken rastladı.
- D) Bazı öğrenciler senin bu konuyu anlatmadığını söyledi.

8. Aşağıdakilerden hangisi kanıtlayıcı anlatımda yararlanılan düşünceyi geliştirme yollarından biri değildir?

- A) Sınıflandırma
- B) Sayısal verilerden yararlanma
- C) Öyküleme
- D) Tanık gösterme

9. Güneş batarken ağaçları okşayan rüzgârla bahçemiz serinleşti.

Yukarıdaki cümlede kaç tane ad kullanılmıştır?

- A) 4
- B) 3
- C) 2
- D) 1

10. • Olandan çok olması istenilen anlatılır.
• Gerçekleşmesi mümkün olmayan tasarı ve düşünceler anlatılır.
• Bazı bilim kurgu romanları, fal ve burç yorumları bu anlatımla oluşturulur.

Yukarıda temel özellikleri belirtilen anlatım türü aşağıdakilerden hangisidir?

- A) Öyküleyici anlatım
B) Söyleşmeye bağlı anlatım
C) Düşsel anlatım
D) Gelecekte söz eden anlatım
11. **Aşağıdaki cümlelerin hangisinde türemiş sıfat vardır?**
- A) Çamlıktan yukarıya doğru gidince bizim eve varırsın.
B) Kışlık elbiselerini temizleyip kaldırmaya başlamıştı.
C) Ağaçların arasında dolaşıp çocukluğunu anıyordu.
D) Yeni sözcüklerin anlamı için sözlükten yararlanmıştı.
12. **Aşağıdaki cümlelerin hangisinde özel ad vardır?**
- A) Güneş girmeyen eve doktor girer, derdi babannem.
B) Pamuk tarlalarında çalışmaktan okula gidememişti.
C) Pamuk, bizim evin en sevilen üyelerindendi.
D) Perşembe derse gelirken kitaplarını da getirdi.
13. **"ile" sözcüğü aşağıdakilerin hangisinde bağlaç olarak kullanılmıştır?**
- A) Yazarın bir romanıyla bir şiir kitabını aldım.
B) Arkadaşlarıyla buluşmadan önce size uğrayacaktı.
C) Elmaları kabuklarıyla birlikte yemelisin.
D) Bu konuyla ilgili daha önce dilekçe verdiniz mi?
14. **Aşağıdakilerden hangisi öğretici anlatımın amaçlarından biri değildir?**
- A) Bir konuyu tanıtmak
B) Bilgi vermek
C) Bilgi vermek
D) Düş gücünü geliştirmek
15. **Aşağıdaki cümlelerin hangisinde soru zarfı vardır?**
- A) Kaç kişi sizi burada bekleyecek?
B) Böyle insanlarla nasıl anlaşıyorsun?
C) Bu dairede kimin oturduğunu biliyor musun?
D) Hangi evi satın aldınız?

16. **Aşağıdaki cümlelerin hangisinde "ah" ünlemi cümleye özlem anlamı katmaktadır?**

- A) Ah, kıymetini bilemediğim gençlik yıllarım!
B) Ah, şimdi Antalya'da tatilde olsaydım!
C) Ah, bir bu eksikti şimdi!
D) Ah, sınavlara biraz daha çalışsaydım geçerdim.

17. **Aşağıdaki cümlelerin hangisinde eylemin birlikte yapıldığı anlamı vardır?**

- A) Masanın iki yanında oturup uzun uzun bakiştılar.
B) Bu sorunu mutlaka arkadaşınla paylaşmalısın.
C) Akşama doğru bütün çocuklar evlerine döndüler.
D) Ormanda serçeler cıvıldaşarak uçuşuyor.

18. **Aşağıdaki cümlelerin hangisinde soru sıfatı vardır?**

- A) Yarınki derse kim gelecekti?
B) Bu yemeği ne zaman pişirdin?
C) Sınava kaç kişi girecek?
D) Sen de bizim eve uğrayabilir misin?

19. • Amaç okuyucuyu inandırma, aydınlatma ve bir başkasına görüşünü kabul ettirmektir.
• Örnekleme, tanık gösterme ve belge kullanma önemlidir.
• Sözcükler ve sözcük grupları gerçek anlamda kullanılır.

Yukarıda temel özellikleri belirtilen anlatım türü aşağıdakilerden hangisidir?

- A) Kanıtlayıcı anlatım
B) Lirik anlatım
C) Epik anlatım
D) Öyküleyici anlatım

20. **"Fiilin belirttiği işin hangi nedenden dolayı olduğunu gösteren ulaçlara (zarf –fiil) sebep ulaçları denir."**

Aşağıdaki cümlelerin hangisinde buna uygun bir kullanım vardır?

- A) Babam bizi kapının girişinde öfkeyle bekliyordu.
B) Askere gitmesi kesinleştiğinden düğünü ertelediler.
C) İşçiler bir haftadır dinlenmeksizin çalışıyorlardı.
D) Taş yürekli insanlar hayvanları da sevmeyizler.

1. Aşağıdakilerden hangisi konferansın özelliklerinden biridir?
- A) Emredici anlatım türünü kullanması
B) Ön hazırlık gerektirmemesi
C) Sadece sanat konularında verilmesi
D) Dilin ağırlıklı olarak göndergesel işlevde kullanılması
2. Bilimsel yazılarda kullanılan dil işlevi aşağıdakilerden hangisidir?
- A) Heyecana bağlı işlev
B) Dil ötesi işlevi
C) Göndergesel işlev
D) Şiirsel işlev
3. Münazaralarda konuşan veya yazan kişinin, dinleyicilerin veya okuyucuların duygularını okşamayı gaye edinmesine ne ad verilir?
- A) Demagoji
B) Hitap
C) Teknik
D) İfade
4. Aşağıdakilerden hangisi bilimsel yazıların bölümlerinden biri değildir?
- A) Başlık
B) Soru-cevap
C) Asıl metin
D) Özet
5. Aşağıdakilerden hangisi sempozyum bildirisinin bölümlerinden biri değildir?
- A) Bulgular
B) Giriş
C) Taslak
D) Deney
6. Aşağıdakilerden hangisi açık bir anlatımın sahip olması gereken unsurlardan biri değildir?
- A) Akıcılık
B) Duruluk
C) Yalınlık
D) Sanatlı söyleyiş
7. Bir kitabın veya derginin kişi, konu, yer adı gibi içindekileri yer numarasıyla belirten ve eserin sonunda yer alan alfabetik listeye ne ad verilir?
- A) İndeks
B) Kaynakça
C) Dokümantasyon
D) Dipnot
8. Aşağıdakilerden hangisi açık oturum planında yer almaz?
- A) Konuşmaları özetlemek
B) Açık oturumu sonuca bağlamak
C) Bulguları açıklamak
D) Açık oturumun yapılış nedeni
9. Makale ile ilgili aşağıdaki ifadelerden hangisi yanlıştır?
- A) Makale türü gazete ve dergilerin ortaya çıkışıyla başlamıştır.
B) Makalede temel öge duygudur.
C) Makale için konu yönünden bir sınır çizmek mümkün değildir.
D) Makalede senli benli konuşmalara ve süslü anlatımlara yer verilmez.
10. Konferansın asıl amacı nedir?
- A) Dinleyicileri bilgilendirmek
B) Dinleyicilerin hoş vakit geçirmesini sağlamak
C) Dinleyicileri coşkulandırmak
D) Dinleyicileri birbirleriyle tanıştırmak
11. Yazar, düşünür ve sanatçıların veya kendi alanında uzman kişilerin genellikle bilim, sanat ve ekonomi konularında açıklama, tanıtma, bilgi verme, öğretme amacıyla yaptıkları konuşmalara ne ad verilir?
- A) Münazara
B) Mülakat
C) Forum
D) Konferans
12. Aşağıdakilerden hangisi bilimsel yazılar içinde yer almaz?
- A) Bir şairin anıları
B) Toplantı özetleri
C) Konferans raporları
D) Değerlendirme yazıları

13. Gazetelerin ilk sayfasının birinci sütununda yayımlanan, günlük olaylar ve ülke sorunları ile ilgili yazılara ne ad verilir?

- A) Başyapıt
- B) Başmakale
- C) Fıkra
- D) Köşe yazısı

14. Araştırılan sorunun tanıtıldığı ve neden bu konunun ele alındığı, çalışmanın diğer çalışmalar arasındaki yerinin belirtildiği sempozyum bölümü aşağıdakilerden hangisidir?

- A) Deney
- B) Sonuç
- C) Bulgular
- D) Giriş

15. En belirgin özelliği sosyal bir sorunun geniş kitleler önünde bütün ayrıntılarıyla tartışılması ve dinleyicilerin de bu tartışmanın içinde aktif olarak yer alması olan toplantılara ne ad verilir?

- A) Münazara
- B) Söyleşi
- C) Forum
- D) Sempozyum

16. Aşağıdakilerden hangisi sözlü anlatım türlerinden biri değildir?

- A) Fıkra
- B) Konferans
- C) Münazara
- D) Forum

17. Bilimsel makalelerde araştırma sonucu elde edilen bulguların açık ve anlaşılır bir şekilde ortaya konduğu, tartışılıp genelleştirildiği, başka çalışmalarla ilişkilendirildiği ve çalışmanın günlük hayattaki yeri ve önemi üzerinde durulduğu bölüme ne ad verilir?

- A) Özet
- B) Asıl metin
- C) Sonuç ve tartışma
- D) Başlık

18. Aşağıdakilerden hangisi toplu tartışma çeşitleri arasında yer almaz?

- A) Panel
- B) Değerlendirme
- C) Sempozyum
- D) Açık Oturum

19. Aşağıdakilerden hangisi münazara başkanının görevlerinden biri değildir?

- A) Tartışanların düşüncelerini rahatlıkla dile getirebilecekleri bir ortam yaratmak
- B) Tartışılan konunun nitelik ve sınırlarının dinleyiciler tarafından anlaşılmasını sağlamak
- C) Tartışma konusunun dışına çıkılmasını engellemek
- D) Tartışmacılardan herhangi birinin katılmaması durumunda onun yerine geçmek

20. Makalelerinde sürekli vatan, millet ve hürriyet temalarını işleyen yazar aşağıdakilerden hangisidir?

- A) Namık Kemal
- B) Ali Naci
- C) Recaizade Mahmut Ekrem
- D) Cahit Sıtkı

SEÇMELİ TÜRK EDEBİYATI 3

A

2017 AÖÖ-AÖL III. DÖNEM 0101-A

1. Koşuk ile ilgili aşağıdaki ifadelerden hangisi yanlıştır?

- A) Divan-ı Lügat'it Türk'te örneklerine rastlanmaktadır.
- B) Günümüz halk edebiyatındaki koşmanın ilk biçimidir.
- C) Yazılı edebiyat döneminin ürünüdür.
- D) Tabiat güzellikleri vb. konuları işleyen şiiirlerdir.

2. Aşağıdaki yazarlardan hangisi, 17. yüzyılda yazdığı "Şecere-i Türk" adlı eserinde Ergenekon Destanı'na da yer vermiştir?

- A) Ebü'l-Gazi Bahadır Han
- B) Fazıl Hüsnü Dağlarca
- C) Ali Şîr Nevaî
- D) Melih Cevdet Anday

3. Aşağıdakilerden hangisi en eski Türk destanıdır?

- A) Yaratılış Destanı
- B) Türeyiş Destanı
- C) Bozkurt Destanı
- D) Göç Destanı

4. Aşağıdakilerden hangisi Gılgamış Destanı'ndan esinlenerek hazırlanmış eserlerden biri değildir?

- A) Ölümsüzlük Ardında Gılgamış
- B) Tanrılar ve İnsanlar
- C) Gılgamış Operası
- D) Bir Gerçek Hikâye

5. Aşağıdakilerden hangisi, Uygur destanlarından biri değildir?

- A) Türeyiş Destanı
- B) Göç Destanı
- C) Köroğlu Destanı
- D) Mani Dininin Kabulü Destanı

6. "Tanrılar ve İnsanlar" adlı oyunu kaleme alan yazar aşağıdakilerden hangisidir?

- A) Cahit Atay
- B) Melih Cevdet Anday
- C) Orhan Asena
- D) Orhan Kemal

7. Aşağıdakilerden hangisi sözlü edebiyatın özelliklerinden biri değildir?

- A) İslamiyet'in etkisinde kalması
- B) Dilinin sade olması
- C) Şiiirlerin kopuz eşliğinde söylenmesi
- D) Hece ölçüsü kullanılması

8. Çağdaş Türk Edebiyatı'nın önemli destan örneklerinden biri olan "Atatürk Kurtuluş Savaşı'nda" adlı eserin yazarı aşağıdakilerden hangisidir?

- A) Cahit Külebi
- B) Namık Kemal
- C) Gülten Akın
- D) Fazıl Hüsnü Dağlarca

9. Aşağıdakilerden hangisi edebiyat tarihçilerimizden biri değildir?

- A) Ahmet Hamdi Tanpınar
- B) Mehmet Fuad Köprülü
- C) Nihat Sami Banarlı
- D) Yahya Kemal Beyatlı

10. Tarihte Türk sözcüğünün geçtiği ilk metin aşağıdakilerden hangisidir?

- A) Orhun Yazıtları
- B) Battal Gazi Destanı
- C) Danişment Gazi Destanı
- D) Yenisey Yazıtları

11. Sagu ile ilgili aşağıdaki ifadelerden hangisi yanlıştır?

- A) Her dördlüğün ilk 2-3 dizesi kendi arasında uyaklıdır.
- B) Tabiat güzelliklerini anlatan şiirlerdir.
- C) Kopuz çalınarak söylenir.
- D) İslamiyet öncesi döneme aittir.

12. 17. yüzyılda Toroslarda Türkmen aşiretleri arasında yaşamış ünlü halk şairimiz aşağıdakilerden hangisidir?

- A) Âşık Veysel
- B) Pir Sultan Abdal
- C) Nailî Kadim
- D) Karacaoğlan

13. Balasagun yakınlarında bir şehir kuran hükümdar Şu'nun ilginç özelliklerinin, Büyük İskender'le yaptığı savaşların anlatıldığı Şu Destanı aşağıdakilerden hangisine aittir?

- A) Uygurlara
- B) Kırgızlara
- C) Sakalara
- D) Göktürlere

14. Halk şiirinin unutulmaz ustasıdır. 17. yüzyılda Toroslar' da Türkmen aşiretleri arasında yaşamıştır. Şiirlerini dördlük nazım birimiyle, hece ölçüsüyle saz eşliğinde söylemiştir.

Yukarıda tanıtılan ünlü halk ozanı, aşağıdakilerden hangisidir?

- A) Dadaloğlu
- B) Karacaoğlan
- C) Pir Sultan Abdal
- D) Âşık Veysel

15. Uygur ülkesine bereket ve mutluluk veren Kutlu Dağ'ın Çinliler tarafından parça parça taşınmasıyla bozulan Uğur sonucu ülkede görülmemiş bir kıtlık başlar. Yaşam çekilmez hale dönüşür ve Uygur Türkleri güneybatıya göç ederler.

Yukarıdaki parça hangi destanı anlatır?

- A) Ergenekon Destanı
- B) Göç Destanı
- C) Şu Destanı
- D) Oğuz Kağan Destanı

16. Türk Edebiyatı'nın en önemli eserlerindedir. Eser adını iyi ve kötü düşünceli iki presten almaktadır. Eserin aslı Sanskritçedir. Dinsel masal niteliği taşımaktadır.

Yukarıda tanıtılan eser aşağıdakilerden hangisidir?

- A) İlyada ve Odyssea
- B) Kalyanamkara ve Papamkara
- C) Kutadgu Bilig
- D) Atabetü'l Hakâyik

17. Destanın özellikleri ile ilgili aşağıdaki ifadelerden hangisi yanlıştır?

- A) Önce sözlü tür olarak doğmuştur.
- B) Halkı ilgilendiren büyük olaylardan doğmuştur.
- C) Olaylar sınırlı bir coğrafyada geçer.
- D) Konusu kahramanların yaptıkları üzerine kurulur.

18. İşgale uğrayan bir ülke ve savaş gibi önemli bir toplumsal olayı işleyen "Ateşten Gömlek" romanının yazarı, aşağıdakilerden hangisidir?

- A) Orhan Şaik Gökyay
- B) Halide Edip Adivar
- C) Ahmet Hamdi Tanpınar
- D) Hüseyin Rahmi Gürpınar

19. Çağdaş Türk Edebiyatı'nın önemli destan örneklerinden biri olan "Kurtuluş Savaşı Destanı" adlı eserin yazarı aşağıdakilerden hangisidir?

- A) Aras Ören
- B) Namık Kemal
- C) Cahit Külebi
- D) Nazım Hikmet

20. Yurt dışına elçi olarak gönderilen kişilerin gördükleri yerlerle ilgili gezi, gözlem ve izlenimlerini anlattıkları eserlere ne ad verilir?

- A) Şikâyetname
- B) Seyahatname
- C) Selçukname
- D) Sefaretname

1. Aşağıdakilerden hangisi girişimciyi teşvik eden devletin sağladığı olanaklardan biri değildir?
- A) Alt yapı hizmetleri sunmak
B) Adil rekabet ortamını ve adil bölüşümü sağlamak
C) Vergi oranlarını indirmek
D) Bürokrasiyi artırmak
2. Aşağıdakilerden hangisi bir girişimcinin iş kurduktan sonra karşılaştacağı zorluklardan biri değildir?
- A) Başarının sadece kendisine değil çalışanlara da bağlı olması
B) Kendinin, şirketinin ve personelin menfaatlerini ön planda tutmak
C) Tahsilatların her koşulda zamanında yapılması
D) Sürekli kendisini geliştirme ve öğrenme gereğinin olması
3. Aşağıdakilerden hangisi yaratıcılığın aşamalarından biri değildir?
- A) Fikir deneyimi aşaması
B) Değerlendirme ve uygulama
C) Pazarlama aşaması
D) Bilgi toplama aşaması
4. Aşağıdakilerden hangisi girişimci ve yönetici arasındaki başlıca farklardan biri değildir?
- A) Girişimci kâr amacı gütmeyen yönetici kâr amacı güder ve girişimlerin neticesinde doğabilecek riskleri üstlenir.
B) Girişimci değişikliklerle başarı sağlarken yönetici tam anlamıyla statükoya bağlı kalır.
C) Girişimci olaylardaki fırsatları yakalarken yönetici problemleri görür.
D) Yenilik girişimci ile, işlerin yürümesi ise yönetici ile olur.
5. Ekonomi bilimine göre alıcı ve satıcıların birbiriyle kolayca temas etmelerini sağlayan örgütsel varlığa ne ad verilir?
- A) Kartel
B) Piyasa
C) Sermaye
D) Vizyon
6. Aşağıdakilerden hangisi malların piyasalarından söz edebilmek için taşınması gereken özelliklerden biri değildir?
- A) Kıt olması
B) Dayanaklı mallar olması
C) Taşınması kolay olması
D) Malların aynı türden olması
7. Ekonomistlere göre fiyatı olan ve bedelini ödemek sureti ile satın alınabilen her türlü mal ve hizmete ne ad verilir?
- A) Piyasa
B) Tercih
C) Kıt mal
D) Arz
8. Aşağıdakilerden hangisi üretim faktörlerinden biri değildir?
- A) Sermaye
B) Emek
C) Doğa
D) Teşebbüs
9. Aşağıdakilerden hangisi girişimciliğin ana bileşenlerinden biri değildir?
- A) Rekabetçi düşünmek
B) Öncü olmak
C) Risk almak
D) Sınırsız sermayeye sahibi olmak
10. Aşağıdakilerden hangisi rekabetçi düşüncenin faydalarından biri değildir?
- A) Verimliliği yükseltmesi
B) Girişimcilerin tüketici yönlü olmasını sağlaması
C) Girişimcilerin ürün kalitesi düşük ürünler üretmesini sağlaması
D) Diğer işletmeleri iyileştirme ve yeniliklere zorlaması

11. 18. yüzyılın başında girişimciyi “henüz belirginleşmemiş bir bedele satmak üzere girdileri bugünden satın alan ve üreten kişi” olarak tanımlayan ekonomist aşağıdakilerden hangisidir?
- A) Jetin Baptise Say
B) Richard Cantillon
C) Joseph Schumpeter
D) Ferdinand Porche
12. Girişimcinin yeniliğe, yaratıcılığa ve orjinalliğe açıklığının, başkalarının görüşlerinden ve katkılarından ilham alma derecesinin göstergesine ne ad verilir?
- A) Vizyon
B) Misyon
C) Motivasyon
D) Standardizasyon
13. Aşağıdakilerden hangisi planların esnek olmasının girişimci açısından yararlarından biri değildir?
- A) Girişimcinin ufkunun açık olmasına yardımcı olması
B) Girişimciye alternatif hareket seçeneklerini geliştirmesi
C) Rekabet avantajı elde etmelerini sağlaması
D) Girişimcinin ayakta kalma olasılığını azaltması
14. Aşağıdakilerden hangisi girişimcinin temel özelliklerinden biridir?
- A) Uyumsuz olması
B) Tarafli olması
C) Kararsız olması
D) Planlı olması
15. Aşağıdakilerden hangisi girişimcinin vizyon oluşturabilmesi için gereken özelliklerden biri değildir?
- A) Sınırsız kaynaklara sahip olması
B) Yöntem oluşturması
C) Yardımsever olması
D) Örnek olması
16. Bir kimsenin davranış ve kararları sonucunda kaybetme şansına maruz kalmasına ne ad verilir?
- A) Kâr
B) Risk
C) Kıtlik
D) Zarar
17. İşletmeler için amaç geliştirme ve bu amaçlara ulaşmak için çeşitli alternatiflerin değerlendirilmelerini kapsayan süreçlere ne ad verilir?
- A) Geri besleme
B) Planlama
C) Analiz
D) Bölümleme
18. Aşağıdakilerden hangisi çağdaş bir girişimcinin yerine getirmesi beklenen fonksiyonlardan biri değildir?
- A) Bilinen mal ve hizmetlerin nitelik ve kalitesini düşürmek
B) Yeni mal ve hizmet üretmek
C) Endüstride yeni organizasyonlar kurmak
D) Yeni pazarlara ulaşmak
19. Aşağıdakilerden hangisi girişimcilerin kişisel özelliklerinden biri değildir?
- A) Problem çözme yeteneğine sahip olması
B) Planlarının değişik alternatifler içermemesi
C) Riske katlanması
D) Yenilikçi ve yaratıcı olması
20. Aşağıdakilerden hangisi bir girişimcinin insani ilişkilerde başarılı olması için dikkat etmesi gereken konulardan biri değildir?
- A) Başkalarına verdiği sözleri tutmak
B) Vergilerini düzenli olarak ödemek
C) Değişik fikir ve önerilere kapalı olmak
D) Adil, tarafsız dürüst olmak

BU SAYFA BOŞ BIRAKILMIŞTIR.

BU SAYFA BOŞ BIRAKILMIŞTIR.

SINAVDA UYULMASI GEREKEN GENEL KURALLAR

1. Sınava girmek için gerekli belgelerinizin tümünü sınav başlamadan önce sıranızın üzerine bırakınız.
2. Sınav süresince görevlilerle konuşmak, görevlilere soru sormak yasaktır. Aynı şekilde görevlilerin de öğrencilerle yakından ve alçak sesle konuşmaları yasaktır. Gerekli durumlarda görevliler yerinizi değiştirebilir.
3. Size verilen cevap kâğıdının üzerindeki TCKN/Öğrenci no, ad, soyadı, bilgilerini kontrol ediniz, ilgili alanları eksiksiz doldurarak imzalayınız. Bu bilgiler size ait değilse, görevlileri uyararak size ait cevap kâğıdını isteyiniz. Başka öğrenciye ait cevap kâğıdı kullanan öğrencilerin o oturumdaki sınavları geçersiz sayılır.
4. Cevap kâğıdı üzerine test grubunu (A, B, C, D) kodlamayan veya birden fazla kodlama yapan öğrencilerin sınavları geçersiz sayılır.
5. Cevap kâğıdınıza yazacağınız her türlü yazı ve yapacağınız işaretlemeler için koyu yazan siyah kurşun kalem kullanmalısınız. Siyah kurşun kalem dışında farklı bir kalem (tükenmez, mürekkepli ya da renkli vb.) kullanan öğrencilerin sınavları geçersiz sayılır.
6. Cevap kâğıdı üzerinde değişiklik yapmak istediğinizde, iz bırakmayan bir silgi kullanınız. Cevap kâğıdınızı buruşturmayınız, katlamayınız ve üzerine gereksiz hiçbir işaret koymayınız.
7. Cevaplarınızı, cevap kâğıdında ilgili test için ayrılmış olan alana, cevap yerinin dışına taşımadan işaretleyiniz. Soru kitapçığı üzerinde yapılan işaretlemeler değerlendirmeye alınmayacaktır.
8. Her sorunun tek bir doğru cevabı vardır. Bir soru için birden çok cevabı işaretlerseniz, o soruyu yanlış cevaplamış sayılacaksınız.
9. Soru kitapçığınızı aldıңызda sayfalarına hızlıca bakarak hatalı ya da eksik baskı olup olmadığını kontrol ediniz. Hata/eksik olması durumunda kitapçığının değiştirilmesi için derhâl Salon Başkanına başvurunuz. Sınav görevlileri sınavın başladığını belirtmeden kitapçığınızı tekrar açmayınız.
10. Cevap kâğıdınızda belirtilen kitapçık kodu ile soru kitapçığının kodunu karşılaştırınız. Aynı değilse, sınav görevlilerine durumu bildirerek doğru kitapçığın verilmesini talep ediniz.
11. Soru kitapçığındaki ilgili alanlara ad, soyadı, TCKN/Öğrenci no, sınav salon no, sıra no bilgilerinizi eksiksiz doldurarak imzanızı atınız. Soru kitapçığının sayfalarındaki boş yerleri müsvedde amacıyla kullanabilirsiniz.
12. Aşağıdaki durumlarda sınav görevlileri tarafından Bireysel Sınav İptal Tutanağı düzenlenerek ilgili öğrencilerin sınavları geçersiz sayılır:
 - a) Sınav kurallarına ve sınav görevlilerinin uyarılarına uymamak, sınav düzenini bozmak,
 - b) Kâğıt, kitap, defter, not vb. dokümanları; pergel, açıölçer, cetvel vb. araçları; cep telefonu, bilgisayar, tablet, telsiz, kamera vb. iletişim, depolama, kayıt ve veri aktarma cihazlarını; ruhsatlı veya resmi amaçlı olsa bile silah ve silah yerine geçebilecek nesnelere yanında bulundurmamak,
 - c) Sınav sırasında kalem, silgi vb. araç-gereç paylaşımında bulunmak,
 - d) Cevapları, cevap kâğıdı dışında bir yere yazmak ve sınav salonundan dışarı çıkarmak,
 - e) Sınava girebilmek için gerekli belgeleri eksik olduğu halde sınava katılıp, cevap kâğıdında işaretleme yapmak,
 - f) Sınav görevlileri tarafından öğrencinin kimliğinden şüphe duyulması,
 - g) Cevap kâğıdını ve/veya soru kitapçığını sınav görevlilerine eksiksiz ve sağlam şekilde teslim etmemek, sınav salonu dışına çıkarmak,
 - h) Kopya çekmek, vermek, çekilmesine yardımcı olmak vb. eylemlerde bulunmak,
 - i) Kendisi yerine başkasını sınava sokmak.
13. Sınav bitiminde, cevap kâğıdınızı ve soru kitapçığınızı salon görevlilerine eksiksiz biçimde teslim ediniz. Sınav bittikten sonra gönderilen cevap kâğıtları dikkate alınmayacaktır.

SINAV KURALLARINA UYDUĞUNUZ İÇİN TEŞEKKÜR EDER, SINAVINIZDA BAŞARILAR DİLERİZ.