



ANADOLU ÜNİVERSİTESİ
AÇIKÖĞRETİM FAKÜLTESİ
BA - AÇIKÖĞRETİM OKULLARI

T.C. MİLLİ EĞİTİM BAKANLIĞI
Hayat Boyu Öğrenme Genel Müdürlüğü
2016-2017 ÖĞRETİM YILI BATI AVRUPA - BALKANLAR
AÇIK ÖĞRETİM LİSESİ III. DÖNEM SINAVI

1. OTURUM Cumartesi

B

0101

ÖĞRENCİNİN

SOYADI :

ADI :

T.C. KİMLİK NO / ÖĞRENCİ NO :

SINAV SALON NO : SIRA NO:

Sınavla ilgili soru kitapçığının ön ve arka kapağındaki tüm kuralları okudum, anladım, kabul ediyorum.

İMZA:.....

SINAV İÇERİĞİ

Testin Adı	Soru Sayısı	Sayfa No	Testin Adı	Soru Sayısı	Sayfa No
DİN KÜLTÜRÜ VE AHLAK BİLGİSİ 4	20	02	EKONOMİ 2	20	35
FELSEFE 2	20	04	SEÇMELİ ALMANCA 5	20	37
MATEMATİK 5	20	06	SEÇMELİ İNGİLİZCE 5	20	40
SOSYOLOJİ 2	20	08	SEÇMELİ FRANZIZCA 5	20	43
DİL VE ANLATIM 1	20	10	SEÇMELİ ALMANCA 8	20	46
DİL VE ANLATIM 3	20	12	SEÇMELİ İNGİLİZCE 8	20	49
TÜRK EDEBİYATI 1	20	15	SEÇMELİ FRANZIZCA 8	20	52
TÜRK EDEBİYATI 2	20	17	HZ. MUHAMMED'İN HAYATI 4	20	55
TÜRK EDEBİYATI 5	20	19	TÜRK DİLİ VE EDEBİYATI 1	20	57
TÜRK EDEBİYATI 6	20	21	MATEMATİK 6	20	59
FİZİK 7	20	23	SEÇMELİ DİL VE ANLATIM 3	20	62
KİMYA 1	20	26	SEÇMELİ DİL VE ANLATIM 4	20	65
KİMYA 7	20	28	SEÇMELİ DİL VE ANLATIM 8	20	67
BİYOLOJİ 3	20	31	SEÇMELİ TÜRK EDEBİYATI 3	20	69
BİYOLOJİ 5	20	33	GİRİŞİMCİLİK 1	20	72

SINAVDA UYULMASI GEREKEN ÖZEL KURALLAR

1. Soru kitapçığındaki her bir testi cevaplamanız için verilen süre 30 dakika, toplam süre 150 dakikadır.
2. Sınavın ilk 30 dakikası ve son 5 dakikası içinde sınavınızı tamamlasanız bile salondan çıkamazsınız. Herhangi bir nedenle salondan çıktığınız takdirde, tekrar sınava devam etmenize izin verilmeyecektir. Sınavın başlamasını izleyen ilk 15 dakikadan sonra hiçbir öğrenci sınava alınmaz.
3. Yanlış cevaplarınız dikkate alınmayacaktır. Bu nedenle kitapçıktaki tüm sorular için size doğru gelen seçeneği işaretleyerek cevapsız soru bırakmamanız yararınıza olacaktır.
4. Sınav sırasında hesap makinesi kullanabilirsiniz. Ancak, kullanacağınız makinede alfabetik tuş takımının (A, B, C, ..., Y, Z), program yapılmasına, saklanması ve çalıştırılmasına imkân veren EXE, STORE, RUN vb. tuşlar bulunamaz.

"Sınavda Uyulması Gereken Genel Kurallar" soru kitapçığının arka sayfasında yer almaktadır. Bu kuralları da mutlaka dikkatlice okuyunuz.

Anadolu Üniversitesi tarafından hazırlanmış olan bu testlerin her hakkı saklıdır. Hangi amaçla olursa olsun, testlerin tamamının veya bir kısmının Anadolu Üniversitesi'nin yazılı izni olmadan kopya edilmesi, fotoğraflarının çekilmesi, herhangi bir yolla çoğaltılması, yayımlanması ya da kullanılması yasaktır. Bu yasağa uymayanlar gerekli cezai sorumluluğu ve testlerin hazırlanmasındaki mali külfeti peşinen kabullenmiş sayılır.

1. Kişinin bir başkasına zarar vermeden düşündüğünü ve dilediğini yapabilmesine ne ad verilir?
 - A) Milliyetçilik
 - B) Laiklik
 - C) Adalet
 - D) Özgürlük
2. Özgürlük kavramı kaç temel davranış içerir?
 - A) 1
 - B) 2
 - C) 3
 - D) 4
3. Milli mücadelenin kazanılmasından sonra, Atatürk'ün Zağanos Paşa Camiinde Peygamber Efendimizden övgüyle ve hürmetle bahsettiği hutbeyi okuduğu il aşağıdakilerden hangisidir?
 - A) Edirne
 - B) Balıkesir
 - C) Ankara
 - D) Amasya
4. "Hiç bilenlerle bilmeyenler bir olur mu" ayetiyle hangi temel hakka değinilmiştir?
 - A) Eğitim hakkı
 - B) İbadet hakkı
 - C) Özel yaşamın gizliliği hakkı
 - D) Yaşam hakkı
5. Toplum hayatında kişilerin birbirleriyle ve toplumla olan ilişkilerini düzenleyen ve uyulması kanun gücüyle desteklenmiş olan toplumsal kuralların bütününe ne ad verilir?
 - A) Laiklik
 - B) Adet
 - C) Örf
 - D) Hukuk
6. Kişinin kendi inandığı ve gerçek kabul ettiği fikir ve düşüncelere bağlanmak, kendi dışındaki görüşlere söz hakkı tanımamak ve düşmanlık beslemeye ne ad verilir?
 - A) Taassup
 - B) Şirk
 - C) Giybet
 - D) Tecessüs
7. Hak ve özgürlüklerin kullanımı ile ilgili aşağıdaki ifadelerden hangisi yanlıştır?
 - A) Hak ve özgürlüklerde kimseye ayrıcalık tanınmaz.
 - B) Hak ve özgürlükleri kısıtlanan kişi, hakkını kendi almalıdır, devlete bırakmamalıdır.
 - C) Özgürlük sınırlıdır ve sınırlandırılabilir.
 - D) Hak ve özgürlükler şahsa bağlıdır, başkasına devredilemez.
8. Allah'ın peygamberlerine dilediklerini özel bir şekilde bildirmesine ne ad verilir?
 - A) İcma
 - B) Suhuf
 - C) Vahiy
 - D) Kelâm
9. Aşağıdakilerden hangisi Atatürk'ün İslamiyet ile ilgili sözlerinden biri değildir?
 - A) Dinimiz son dindir.
 - B) Din gerekli bir kurumdur.
 - C) Dinimiz akla ve mantığa tamamen uygundur.
 - D) Dinimize inananlar, dünyada çoğunluktadır.
10. Aşağıdakilerden hangisi ekonomik haklardan biri değildir?
 - A) Haberleşmenin gizliliği hakkı
 - B) Toplu sözleşme ve grev hakkı
 - C) Sendika kurma hakkı
 - D) Mülkiyet hakkı
11. "Birbirinizin gizli ve ayıp hallerini araştırmayınız." ayeti hangi hakla ilgilidir?
 - A) Ekonomik
 - B) Sağlık
 - C) Özel yaşamın gizliliği
 - D) Eğitim
12. Selçuklu veziri Nizamülmülk, Nizamiye Medresesi'ni nerede kurmuştur?
 - A) Şam
 - B) Bağdat
 - C) Kudüs
 - D) Yemen
13. "De ki: O Kur'an Rabb'inizden gelen bir hakttır. Artık dileyen iman etsin, dileyen inkâr etsin" ayet'i hangi özgürlükle ilgilidir?
 - A) Düşünce
 - B) Seyahat
 - C) Yerleşme
 - D) İnanç

14. Atatürk'e göre hiçbir kuvvetin Türk Milleti'nin kalbinden çıkaramayacağı iki fazilet aşağıdakilerin hangisinde birlikte verilmiştir?

- A) Din ve vicdan
- B) Din ve özgürlük
- C) Din ve dil
- D) Dil ve tarih

15. Amerika ve keşfinden önce Antartika'yı gösteren dünya haritasını kim çizmiştir?

- A) Ömer Hayyam
- B) Piri Reis
- C) Barbaros Hayrettin Paşa
- D) Biruni

16. Öğrenme, araştırma gözlem veya deney yoluyla elde edilen, insan zekasının ve çalışmasının sonucu ortaya çıkan ürüne ne ad verilir?

- A) Bilgi
- B) Kalıtım
- C) Yetenek
- D) Beceri

17. "Din lüzumlu bir müessesedir. Dinsiz milletlerin devamına imkân yoktur." sözü kime aittir?

- A) Hz. Muhammed
- B) Yunus Emre
- C) Mehmet Akif Ersoy
- D) Mustafa Kemal Atatürk

18. Aşağıdakilerden hangisi bireyin bir başkasına zarar vermeden düşündüğünü ve dilediğini yapabilmesidir?

- A) Hukuk
- B) Özgürlük
- C) Mücadele
- D) Hak

19. "Usturlâb" nedir?

- A) Gökyüzünün izlendiği gözlem aracı
- B) Basınç ölçme aracı
- C) Yoğunluk ölçme aleti
- D) Su seviye ölçme aracı

20. Tarihte, en çok adaletli yönetimiyle ünlenen halife kimdir?

- A) Hz. Ali
- B) Hz. Ebu Bekir
- C) Hz. Ömer
- D) Hz. Osman

1. “Anarşizm” akımının kurucusu aşağıdakilerden hangisidir?
- A) Proudhon
B) Kropotkin
C) Stimer
D) Bakunin
2. Hangi eylemlerimizin iyi, hangi eylemlerimizin kötü ya da hangi eylemlerimizin değerli veya değersiz olduğuna karar vermemizi sağlayan duyguya ne ad verilir?
- A) Akıl
B) Acıma
C) Vicdan
D) Ahlak
3. Yaşadığı dönemin İtalya’sındaki aksaklıklardan yola çıkarak “Güneş Ülkesi” adını verdiği ideal bir toplum düzenini tasarlayan düşünür aşağıdakilerden hangisidir?
- A) Mill
B) Bacon
C) Bentham
D) Campanella
4. Aşağıdakilerden hangisinde korku ütopyası eseri ve yazarı birlikte ve doğru olarak verilmiştir?
- A) Yeni Dünya – Adous Huxley
B) Thomas More – 1984
C) Erdemli Toplum – Farabi
D) Güneşin Ülkesi – Campanella
5. Ahlak yasasını, Tanrı ve insan sevgisiyle temellendiren, bu çerçevede insanların eşitliğini ve kardeşliğini savunan, iyilik, sevgi, çalışkanlık ve dürüstlüğü ahlaki değer olarak benimseyen düşünür aşağıdakilerden hangisidir?
- A) Pir Sultan Abdal
B) Yunus Emre
C) Hacı Bektaş Veli
D) Mevlana
6. Ahlaki yargılar iyi ya da kötü veya değerli ya da değersiz olarak nitelenen eylemlere dayanan yargılardır.
- Yukarıdaki bilgiye göre, aşağıdakilerden hangisi ahlaki yargıya bir örnektir?
- A) Süt çocuklar için iyidir.
B) İnsan öldürmek günahtır.
C) Picasso 20. yüzyılda yaşamış bir sanatçıdır.
D) Yalan söylemek kötüdür.
7. Aşağıdakilerden hangisi siyaset bilimi ve siyaset felsefesi arasındaki farkı en doğru biçimde açıklar?
- A) Siyaset bilimi tarihsel, siyaset felsefesi teoriktir.
B) Siyaset bilimi devlet, iktidar, yönetim gibi temel kavramları sorgular, siyaset felsefesi ütopya, distopya gibi teorilerle uğraşır.
C) Siyaset bilimi olanı olduğu gibi inceler, siyaset felsefesi olması gerekeni inceler.
D) Siyaset felsefesi politikacıların işi olup, siyaset bilimi filozofların işidir.
8. Aşağıdakilerden hangisi siyaset felsefesinin temel kavramlarından biri değildir?
- A) Egemenlik
B) Ahlak
C) Hukuk
D) Meşruiyet
9. Aşağıdakilerden hangisi siyaset felsefesinin temel sorularından biri değildir?
- A) Sivil toplumun anlamı nedir?
B) Siyasi bir partinin tüzüğü nasıl değiştirilir?
C) En iyi yönetim şekli hangisidir?
D) Devletin varlık nedeni, görevi nedir?
10. “Yeni Dünya” adlı eser aşağıdakilerden hangisine aittir?
- A) Huxley
B) More
C) Campanella
D) Orwell
11. Teizm, ateizm ve agnostisizm kavramları ile ilgili aşağıdaki ifadelerden hangisi doğrudur?
- A) Üçü de Tanrı’nın varlığına dair farklı yaklaşımlarda bulunur.
B) Üçü de Tanrı’nın varlığını kabul eder.
C) Üçü de Tanrı’nın varlığı meselesini teolojiye bırakır.
D) Bu üç kavram, üç farklı dine aittir.
12. Aşağıdakilerden hangisi din felsefesinin temel kavramlarından biri değildir?
- A) Kutsal
B) İman
C) İbadet
D) İktidar

13. I. Sanatçı dışardan hammadde olarak izlenim alır.
II. Sanatçı bu hammaddeyi işler, dönüştürür, ve bir sentez haline getirir.
III. Bu sentezi resim, müzik, sinema gibi sanat dalları aracılığıyla bir anlatım biçimine dönüştürür.

Bir sanat eserinin ortaya çıkmasını yukarıdaki aşamalarla tarif eden Croce'a göre sanat aşağıdakilerden hangisidir?

- A) İmge
B) Oyun
C) Yaratma
D) Taklit
14. **Din ile felsefeyi birbirinden ayırarak inceleyen ilk düşünür aşağıdakilerden hangisidir?**
- A) Huxley
B) Kant
C) Sartre
D) Orwel
15. **Aşağıdakilerden hangisi din felsefesinin kapsamındadır?**
- A) Tanrı'nın varlığını ispatlamaya çalışmak
B) İmanın beş şartının ne olduğunu açıklamak
C) Kuran-ı Kerim'in tefsirinin nasıl yapılması gerektiğini açıklamak
D) Üç büyük din arasındaki farkları ortaya çıkarmak
16. **Aşağıdakilerden hangisi estetik yargıların özelliklerinden biri değildir?**
- A) Kültürel özelliklerden etkilenmesi
B) Zaman içinde değişikliğe uğrayabilmesi
C) Sübjektif olması
D) Evrensel olması
17. **Din felsefesini teolojiden ayıran temel etkinlik aşağıdakilerden hangisidir?**
- A) İnanma
B) Sorgulama
C) Sevme
D) Yaratma
18. **"Sanat eseri" ile ilgili aşağıdaki ifadelerden hangisi yanlıştır?**
- A) Özgündür.
B) İçerik ve biçim birlikte bir anlam taşır.
C) Kendine ait özellikleri olan bir insan yaratıdır.
D) Doğayla uyumludur.

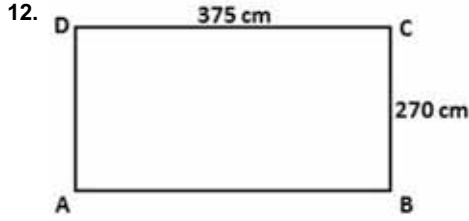
19. **Grekçe "aisthesis" kavramından gelen ve ilk defa Alman düşünür Alexander Baumgarten tarafından geliştirilen estetiğin tanımı aşağıdakilerden hangisidir?**

- A) Matematiksel uygunluk
B) İncelik ve zarafetin bilimi
C) Duyusal bilginin bilimi
D) Cerrahi bir alan

20. **Sanat, "insanı gündelik yaşamın kaygılarından, sıkıntı ve korkulardan uzaklaştıran, insana zevk veren ve yarar amacı gütmeyen" şeklinde tanımlandığında aşağıdakilerden hangisi ile benzerlik gösterir?**

- A) Özgürlük
B) Oyun
C) Aşk
D) Değer

1. $a_n = \frac{5n+2}{2n-1}$ dizisinin kaçınıcı terimi 3'e eşittir?
 A) 3
 B) 4
 C) 5
 D) 6
2. $a_n = \frac{1-2^n}{3^n+8}$ dizisinin 3. terimi kaçtır?
 A) $-\frac{2}{3}$
 B) $-\frac{1}{3}$
 C) $-\frac{1}{5}$
 D) $-\frac{1}{8}$
3. İlk terimi 2 ve ilk üç teriminin toplamı 26 olan pozitif terimli geometrik dizinin 6. terimi kaçtır?
 A) $3 \cdot 2^5$
 B) $3 \cdot 2^6$
 C) $2 \cdot 3^5$
 D) $2 \cdot 3^6$
4. Birinci terimi 3 ve ortak farkı 5 olan bir aritmetik dizinin ilk dört teriminin toplamı kaçtır?
 A) 37
 B) 38
 C) 41
 D) 42
5. Bir geometrik dizide birinci terim 4 ve ortak çarpan $\frac{1}{2}$ ise dizinin 10. terimi kaçtır?
 A) $\frac{1}{2^7}$
 B) $\frac{1}{2^6}$
 C) $\frac{1}{2^5}$
 D) $\frac{1}{2^4}$
6. Genel terimi $a_n = \frac{2n+3}{7}$ olan aritmetik dizinin ortak farkı kaçtır?
 A) $\frac{2}{7}$
 B) $\frac{3}{7}$
 C) $\frac{4}{7}$
 D) $\frac{5}{7}$
7. Yıllık 5.000 TL'ye kiraya verilen bir evin kirası her yıl % 10 artmıştır. Buna göre, 3 yılın sonunda elde edilen toplam kira bedeli kaç TL'dir?
 A) 16.550
 B) 16.000
 C) 15.450
 D) 15.250
8. Elif kalemlerini üçer üçer saydığıında 2 kalem, dörder dörder saydığıında 3 kalem ve beşer beşer saydığıında 4 kalem artıyor. Bu durumda Elif'in en az kaç kalemi vardır?
 A) 119
 B) 59
 C) 23
 D) 19
9. 34A2579 yedi basamaklı sayısının 11 ile kalansız bölünebilmesi için A kaç olmalıdır?
 A) 3
 B) 6
 C) 7
 D) 9
10. Boyutları 6 cm, 8 cm ve 20 cm olan tuğlalardan en az kaç tanesi ile bir küp oluşturulabilir?
 A) 1.800
 B) 1.200
 C) 600
 D) 300
11. 24 litre süt, 36 litre ayran ve 60 litre su hiç artmayacak ve birbirine karışmayacak şekilde eşit hacimli şişelere doldurulacaktır. Buna göre en az kaç şişe kullanılacaktır?
 A) 12
 B) 10
 C) 8
 D) 5



Yukarıdaki, kenar uzunlukları 270 cm ve 375 cm olan dikdörtgen biçimindeki odanın tabanı, kenar uzunlukları tam sayı olan eş kare fayanslarla döşenecektir.

Buna göre kare fayansın bir kenarı en fazla kaç cm'dir?

- A) 10
B) 15
C) 20
D) 25

13. Yıllık %5 bileşik faiz oranıyla bankaya yatırılan 16.000 TL, 3 yıl sonunda kaç TL'ye ulaşır?

- A) 19.416
B) 18.522
C) 17.974
D) 16.878

14. $\left. \begin{array}{l} \frac{x}{0,2} = \frac{y}{0,15} \\ x + y = 7 \end{array} \right\}$ olduğuna göre x.y değeri

kaçtır?

- A) 6
B) 8
C) 10
D) 12

15. Bir miktar para yıllık %15 basit faizle kaç ay sonra kendisinin $\frac{1}{8}$ 'i kadar faiz getirir?

- A) 6
B) 7
C) 8
D) 10

16. Bir belediyenin abonelerinden kullandıkları su miktarına göre aldığı ücreti veren tarife aşağıda verilmiştir.

- İlk 5 m³ su için sabit 10 TL,
- 5 m³' ten sonraki her bir m³ su için 2,5 TL ücret almaktadır.

Buna göre, 25 TL fatura ödeyen bir abone kaç m³ su kullanmıştır?

- A) 11
B) 12
C) 13
D) 14

17. %10 kârla 165 TL'ye satılan bir maldan elde edilen kâr miktarı kaç TL'dir?

- A) 18
B) 16,5
C) 15
D) 13,5

18. Bir hemşire 4 günde bir nöbet tutmaktadır. İlk nöbetini Pazartesi günü tuttuğuna göre 5. nöbetini hangi gün tutar?

- A) Cuma
B) Çarşamba
C) Salı
D) Perşembe

19. 450 gram su ve 150 gram şeker karıştırılarak homojen bir karışım elde ediliyor. Buna göre bu karışımın 10 gramında kaç gram şeker bulunur?

- A) $\frac{3}{5}$
B) $\frac{3}{4}$
C) $\frac{3}{2}$
D) $\frac{5}{2}$

20. 114 kilogram elma 1, 2 ve 3 ile doğru orantılı olacak şekilde paylaşılacaktır. Buna göre en az elma alan kişi kaç kilogram elma alır?

- A) 57
B) 38
C) 28
D) 19

1. Bireyin üyesi olduğu grubun dışından evlenmesine ne ad verilir?

- A) Endogami
- B) Egzogami
- C) Monogami
- D) Poligami

2. Aşağıdakilerden hangisi Sultan II. Mahmut döneminde toplumsal çözümlerden kurtulmak için yapılan ıslahat hareketlerinden biri değildir?

- A) Kanun-ı Esasi'nin ilan edilmesi
- B) İlköğretimin herkes için zorunlu kılınması
- C) Yeniçeri ocağının kaldırılması
- D) Posta örgütünün kurulması

3. Bir toplumda maddi ve manevi kültür öğelerinin bir araya gelerek işleyen bir bütün oluşturacak biçimde birbirini tamamlayamamasına ne ad verilir?

- A) Toplumsal kargaşa
- B) Toplumsal kaynaşma
- C) Toplumsal çözülme
- D) Toplumsal yabancılaşma

4. Aşağıdakilerden hangisi doğa güçlerine tapınma (güneş, ay, yıldız vb.) anlamına gelen ilk dinlerden biridir?

- A) Natürizm
- B) Fetişizm
- C) Animizm
- D) Monoteizm

5. Aşağıdakilerden hangisi manevi kültür ögesidir?

- A) Sanat
- B) Kitaplar
- C) Okullar
- D) Otomobiller

6. Aşağıdakilerden hangisi ailenin özelliklerinden biri değildir?

- A) Bireyin sevgi ve saygıyı, dayanışmayı bu kurumun içinde öğrenmesi
- B) Toplumun en eski birimi olması
- C) Ekonomik kalkınmanın temelini oluşturması
- D) Toplumun en temel kurumu olması

7. I. Gelenek
II. Örf
III. Görenekler

Yukarıdakilerden hangileri kökleşmiş kültür içeriklerindedir?

- A) Yalnız III
- B) I ve II
- C) II ve III
- D) I, II ve III

8. Aşağıdakilerden hangisi siyasetin alt kurumlarından biri değildir?

- A) Hükümet
- B) Siyasi partiler
- C) Baskı grupları
- D) Demokrasi

9. Aşağıdakilerden hangisi Atatürk'ün kadınları sosyal ve siyasal hayattaki ikincil konumlarından kurtarmak için yaptığı değişimlerden biri değildir?

- A) 1921 Teşkilat-ı Esasiye Kanunu
- B) 1924 Tevhid-i Tedrisat Kanunu
- C) 1926 Medeni Kanun
- D) 1934 Milletvekili Seçme Seçilme Hakkı

10. İnsanda yokluk duygusuyla birlikte sıkıntı doğuran ve karşılanması gereken biyolojik ve toplumsal olguya ne ad verilir?

- A) Üretim
- B) Hizmet
- C) İhtiyaç
- D) Fayda

11. Aşağıdakilerden hangisi toplumsal siyasal farklılıklarda ortaya çıkan baskı gruplarından biri değildir?

- A) Dernekler
- B) Sendikalar
- C) Öğrenci kulüpleri
- D) Meslek örgütleri

12. I. Halifeliğin kaldırılması
II. Medeni Kanununun kabulü
III. Şapka Kanununun çıkarılması

Yukarıdakilerden hangileri Atatürk'ün çağdaş bir devlet ve toplum oluşturmak için gerçekleştirdiği devrimlerdendir?

- A) Yalnız I
- B) I ve II
- C) I ve III
- D) I, II ve III

13. Otoriteyi annenin büyük erkek kardeşin kullandığı, akrabalığın kadının soyundan geçtiği aile türü aşağıdakilerden hangisidir?

- A) Anaerkil aile
- B) Ataerkil aile
- C) Büyük aile
- D) Küçük aile

14. Aşağıdakilerden hangisi Atatürk'ün önderliğinde gerçekleşen önemli kültürel gelişmelerden biridir?

- A) Ticaret Kanunu
- B) Şapka Kanunu
- C) İş Kanunu
- D) Sendikalar Kanunu

15. Fiyatların düşmesi ile birlikte paranın alım gücünün yükselmesine ne ad verilir?

- A) Revalüasyon
- B) Enflasyon
- C) Deflasyon
- D) Enformasyon

16. Bir defada iktidar değişikliğini gerçekleştirmeye yönelik yapılan müdahaleye ne ad verilir?

- A) Reform
- B) İsyan
- C) Baskın
- D) İhtilal

17. Bir toplumda bütünleşme için mekanik ve organik dayanışmanın olması gerektiğini savunan düşünür aşağıdakilerden hangisidir?

- A) E. Durkheim
- B) W. James
- C) K. Popper
- D) A. Comte

18. Birden fazla kişinin, bir grubun ya da zümrenin egemenliğine dayanan yönetim şekline ne ad verilir?

- A) Teokrasi
- B) Oligarşi
- C) Aristokrasi
- D) Monarşi

19. İkel toplumdan tarım toplumuna, tarım toplumundan sanayi toplumuna geçişe ne ad verilir?

- A) Gelişme
- B) İhtilal
- C) Evrim
- D) Rejim

20. Özellikle metropollerde farklı etnik, sınıfsal, dinsel temelde yoğun olarak oluşan kültür öğeleri aşağıdakilerden hangisi ile ilgilidir?

- A) Kültürel çatışma
- B) Alt kültür
- C) Kültürel kaynaşma
- D) Kültürlenme

1. Sözcüklerin birbiriyle olan ilişkilerini, cümledeki görevlerini ve durumunu inceleyen bilim dalı aşağıdakilerden hangisidir?
- A) Sentaks
B) Etimoloji
C) Fonetik
D) Semantik
2. Aşağıdakilerden hangisi Türk dilinin 16.- 20. yüzyıllar arası dönemini kapsayan ve Osmanlıca, Azeri Türkçesi, Çağatayca, Özbekçe gibi dillerden oluşan gelişme aşamasıdır?
- A) Orta Türkçe Çağı
B) Modern Türkçe
C) Yeni Türkçe
D) Eski Türkçe Çağı
3. Aşağıdakilerden hangisi iletişim kurmak için gerekli temel öğelerden biri değildir?
- A) İleti
B) Yöntem
C) Kaynak
D) Alıcı
4. Ural-Altay dilleriyle ilgili aşağıdaki ifadelerden hangisi yanlıştır?
- A) Ünlü uyumu vardır.
B) Bazı ekler çekim eki olmalarına rağmen yapım ki olarak da kullanılır.
C) Sondan eklemeli bir yapısı vardır.
D) Dilbilgisi bakımından erkek, dişi tür ayrımı vardır.
5. Kültürel varlıkların kuşaktan kuşağa aktarılmasında en etkili araç aşağıdakilerden hangisidir?
- A) Dil
B) Düşünce
C) Tarih
D) Kültür
6. Diller arasındaki yakınlık ve benzerliğe ne ad verilir?
- A) Dil birliği
B) Dil kardeşliği
C) Dil akrabalığı
D) Dil yakınlığı
7. Aşağıdakilerden hangisi çekimli (bükümlü) dillerden biridir?
- A) Moğolca
B) Türkçe
C) Samoyetçe
D) Farsça
8. Duygu, düşünce ve isteklerin yazı, konuşma ve görsel işitsel araçlarla iletilmesine ne ad verilir?
- A) Dil
B) İletişim
C) Bağlam
D) Konuşma
9. Türkçenin gelişmesine katkı sağlayan eserlerden biri olan "Atabetül Hakayık" ile ilgili aşağıdaki ifadelerden hangisi yanlıştır?
- A) Eser, Edip Ahmet tarafından yazılmıştır.
B) Eser, ahlaki, öğretici tarzda yazılmış manzum bir eserdir.
C) Eser, Anadolu Türkçesi ile yazılmıştır.
D) Eserin tamamı dördlüklerden ve beyitlerden oluşmuştur.
10. Aşağıdakilerden hangisi bir dil ailesi değildir?
- A) Japon – Kore
B) Hint – Avrupa
C) Ural – Altay
D) Hami – Sami

11. **Günlük yaşamda, evde, sokakta, çarşı pazarda kullanılan dile ne ad verilir?**

- A) Yazı dili
- B) Konuşma dili
- C) Ağız
- D) Lehçe

12. **İlk Türkçe belgelerin ortaya konulduğu çağ aşağıdakilerden hangisidir?**

- A) Eski Türkçe Çağı
- B) En Eski Türkçe Çağı
- C) İlk Türkçe Çağı
- D) Altay Çağı

13. **Aşağıdaki cümlelerin hangisinde "mi"nin yazımı yanlıştır?**

- A) Bana da verecek misin?
- B) Oku muyorsan ver kitabımı.
- C) Yok mu senden başkası?
- D) Daha doymadın mı?

14. **Aşağıdaki sözcüklerden hangisi sadece düz ünlülerden oluşmuştur?**

- A) Kolye
- B) Otobüs
- C) Çiçekçi
- D) Kamyonet

15. **Harflerin yazımıyla ilgili aşağıdaki ifadelerden hangisi yanlıştır?**

- A) Sayılardan sonra gelen sözcükler küçük harfle başlar.
- B) Dizeler büyük harfle başlar.
- C) Belli bir tarih bildiren ay, gün adları büyük harfle başlar.
- D) Levhalar ve açıklama yazıları küçük harfle başlar.

16. **Aşağıdaki sözcüklerden hangisi küçük ünlü uyumu kuralına uymaz?**

- A) Bahçe
- B) Melodi
- C) İnce
- D) Okul

17. **Aşağıdaki cümlelerin hangisinde "ki"nin yazımı doğrudur?**

- A) Sinemadaki film çok eğlenceliydi.
- B) Bana öylesine yakındaki kardeşimden ayırmazdım.
- C) Benim kitabım masada senin ki nerede?
- D) Masada ki silgi kimin?

18. **Aşağıdaki altı çizili sözcüklerden hangisinde yumuşama yoktur?**

- A) Söğüdün altına uzandı.
- B) Küçük kız, tabağı kırdı.
- C) Ekmeği bıçakla kesti.
- D) Patatesleri, kızgın yağa attı.

19. **Aşağıdaki sözcüklerin hangisine ek getirildiğinde kesme işareti (') kullanılmaz?**

- A) Akarsu
- B) Atatürk
- C) Türkiye
- D) Ankara

20. **Aşağıdakilerden hangisinde sayıların yazımıyla ilgili bir yazım yanlışı vardır?**

- A) Üç beş kala orada olurum.
- B) İki hafta sonrasına randevulaştık.
- C) Onsekizime girmeme az kaldı.
- D) 100 liralık alışveriş yaptım.

1. Aşağıdakilerden hangisi sunumdan önce yapılması gerekenlerden biridir?
- A) Ciddi, ağırbaşlı olma
B) Diksiyon dersi alma
C) Malzemeleri kontrol etme
D) Sorular hazırlama
2. Güncel herhangi bir konu hakkında herhangi bir grup ya da topluluğa bilgi vermek amacıyla yapılan etkinliklerin tümüne ne ad verilir?
- A) Sunum
B) Konferans
C) Kongre
D) Açık Oturum
3. Aşağıdakilerden hangisi iyi bir sunum için dikkat edilmesi gerekenlerden biridir?
- A) Arka plan renginin ve yazının parlak olması
B) Çok küçük yazı fontunun kullanmaması
C) Sunumda çok yavaş konuşulması
D) Sunum için en az 20-25 dakikanın ayrılması
4. Aşağıdaki cümlelerin hangisinde “birbiriyle karıştırılan sözcük kullanımından” kaynaklanan bir anlatım bozukluğu vardır?
- A) Olanaklarımızı kullanıp bu işi halledeceğiz.
B) Yazarın üçüncü romanı da yayımlanmıştı.
C) Aynadan yansıyan yorgun görüntüsüne baktı.
D) Bulaşık deterjanı ellerini hep tahrip etmişti.
5. Aşağıdaki cümlelerin hangisinde “gereksiz sözcük kullanımından” kaynaklanan bir anlatım bozukluğu vardır?
- A) Sigarayı az, içkiyi hiç içmem.
B) Balıklar suyun kirliliğinden dolayı kıyıya vurmuşlardı.
C) Dükkanları kirli olan beş iş yeri kapatıldı.
D) Buna ancak ben karar verir, uygularım.
6. “Kütüphaneden aldığımız kitapları bir hafta içinde geri iade etmelisiniz.” cümlesindeki anlatım bozukluğunun nedeni aşağıdakilerden hangisidir?
- A) Gereksiz sözcük kullanımı
B) Tamlama yanlışlığı
C) Sözcüğün yanlış yerde bulunması
D) Tümleç eksikliği
7. “Uykusuz yola çıkmak hiç de akıllıca değildi.” cümlesindeki anlatım bozukluğunun nedeni aşağıdakilerden hangisidir?
- A) Tümleç eksikliği
B) Sözcüğün yanlış yerde bulunması
C) Tamlama yanlışlığı
D) Gereksiz sözcük kullanımı
8. Aşağıdaki cümlelerin hangisinde birinci kişi anlatımı söz konusudur?
- A) Bir gün, kırlarda gezintiye çıkan bir adam, kenara oturduğu otlardan birinin dalında , küçük bir kozanın varlığını fark etti.
B) Çocuk uykuya dalmamak için direniyordu ama gözkapaklarını aralamaya gücü yetmiyordu.
C) Sonbaharın ortasında hâlâ Moda’daki dairemin balkonunda şala sarılmış oturuyor, İstanbul silüetinde tarihi yarımada, doğduğum yere bakıyordum.
D) Eczacının dikkatini çekebilmek için büyük bir sabırla bekledi.
9. Aşağıdaki cümlelerin hangisinde nesnel bir anlatım söz konusudur?
- A) Garip Hikâyeler’i okuyunca yazarın hayatından kesitler buluyor gibi hissedersiniz.
B) Şairin en sevdiği çiçek sanırım mor menekşelerdi.
C) Kitabın birinci bölümü bence en canlı anlatımların olduğu yerdirdi.
D) Bilim ve Teknik, aylık yayımlan popüler bilim ve teknik dergidir.

10. Aşağıdaki cümlelerin hangisinde “tümleş yanlıklarından” kaynaklanan bir anlatım bozukluğu vardır?

- A) Alma mazlumun ahını; çıkar aheste aheste.
- B) Duvarı nem, insanı gam yıkar.
- C) Dost ile ye, iç; alışveriş etme.
- D) Acıkan doymam; susayan kanmam sanır.

11. “Kanuni Sultan Süleyman döneminde Türkiye’ye Halep ve Şam’dan gelen kahve, kısa sürede sosyal yaşamın bir parçası olmuş, ilk kahvehane 1554 yılında açılmıştır. Kahvehaneler giderek çoğalmış, insanların uğrak noktası olmuş, kahve önce ulema tarafından hoş karşılanmamış ve yasaklanmış ancak sonra payitahtın tanınmış uleması ve şeyhleri kahve müdavimlerini hoş görerek yasağı kaldırmıştır.”

Yukarıdaki parçanın anlatımıyla ilgili aşağıdakilerden hangisi söylenebilir?

- A) Amacı okuru eğlendirmektir.
- B) Bir olay örgüsü içinde anlatılmaktadır.
- C) Söz sanatlarına başvurulmamıştır.
- D) Birinci ağızdan anlatım vardır.

12. “Durum veya kesit hikâyeciliği denilen Çehov tarzı hikâyede olay önemsiz bir hale gelir. Daha doğrusu serim, düğüm, çözüm şeklinde sıralanan bir olayın anlatımı öykünün temeli değildir. Bu tarz hikâyelerde bir anlık bir düşünce, durum, akla gelen bir imge, ya da hayatın veya o anın içinde oluşan bir kesit öykünün temelini oluşturur. Başlayıp düğümlenen ve çözülen bir vaka değil, günlük yaşamın herhangi bir kesitini ele alıp anlatan öykülerdir. Böyle olunca olay hikâyeciliğindeki serim, düğüm, çözüm planına uyulma amacı ortadan kalkar. Bir çözüm olmayınca öykünün belli bir sonu da yoktur.”

Yukarıdaki parçada aşağıdaki anlatım biçimlerinden hangisi ağır basmaktadır?

- A) Açıklama
- B) Tartışma
- C) Betimleme
- D) Öyküleme

13. Aşağıdakilerden hangisi öğretici anlatımın özelliklerinden biridir?

- A) Verilerden yola çıkılarak geleceğe ait tahmin yapılabilir.
- B) Hitap edilen kesimin kültür düzeyi ve beklentileri önemlidir.
- C) Ses, taklit, hareket ve konuşma önemlidir.
- D) Düşünce ve duygular kısa ve kesin ifadelerle dile getirilir.

14. Aşağıdaki cümlelerin hangisinde “atasözünün yapısının bozulmasından” kaynaklanan bir anlatım bozukluğu vardır?

- A) Acıkan doymam (sanır), susayan kanmam sanır.
- B) Deveyi yardan uçuran bir tutam çiçektir.
- C) Ava gelmez kuş olmaz, başa gelmez iş olmaz.
- D) Akıllıyı arkada tutma, akılsızı kılavuz etme.

15. Anlatımda kullanılan üslubun özentili olmadığı, cümlelerin gereksiz yere uzatılmadığı ve cümlelerde eksik sözcüklerin olmadığı anlatım özelliği aşağıdakilerden hangisidir?

- A) İlginçlik
- B) İnanırcılık
- C) Duruluk
- D) Tutarlılık

16. “Görölmeye değer bir yapıydı. Giriş kapısı kocaman, üzerinde bir tokmak vardı. Bina duvarları ise taşlandı. Koca koca taşlar kesilerek adeta duvara monte edilmişti. Duvarın boyası moyası da yoktu. Tamamen doğal bir görünümü vardı. Eğer birine bu binaya tarif etmeye kalkışsanız o kişi ilk bakışta binayı tanırdı. Açık sarıya çalar bir rengi vardı binanın. İki kanatlı bir kapısı adeta sizi içeri çağırır. Pencerelele ise küçük küçüktü. Bir de tarihi anımsatan o heybetli bir duruşu.”

Yukarıdaki parçada aşağıdaki anlatım biçimlerinden hangisi ağır basmaktadır?

- A) Tartışma
- B) Betimleme
- C) Açıklama
- D) Öyküleme

17. Aşağıdaki cümlelerin hangisinde “deyimin yanlış anlamda kullanılmasından” kaynaklanan bir anlatım bozukluğu vardır?

- A) Sınavı geçtiğini öğrenince havalara uçtu.
- B) Meydan mahşer yeri gibi kalabalıktı.
- C) Bağırması bütün mahalleyi ayağa kaldırmıştı.
- D) Bir ayağı çukurda olması onu daha dinç yapıyordu.

18. Aşağıdakilerden hangisi iyi bir anlatımda olması gereken özelliklerden biri değildir?

- A) Nesnellik
- B) Akıcılık
- C) İlginçlik
- D) Doğallık

19. Hayatın en önemli gerçeği samimiliktir.(I)Bu itibarla, hayat ile bağı olan edebiyat, mutlaka samimi bir edebiyattır denilebilir. (II)Hayatı en gizli, en karışık yönleriyle anlatmayan, duygularımızı tıpkı hayatta olduğu gibi saf ve derin bir şekilde duyurmayan, elemelerimizi, felaketlerimizi, açık açık yansıtmayan bir edebiyat, hayat ile ilgisiz ve sahte bir edebiyattır.(III) Öyle bir edebiyat, uzaklığından dolayı bize çok çekici, çok harikulade görünen o meçhul sıcak iklimlerin göz kamaştırıcı ürünleri nasıl açık bir havaya, sert bir rüzgara dayanamazsa, hayat ile ilgisi olmayan böyle bir edebiyat da zamanın sonsuz kasırgaları önünde süpürülüp gitmeye mahkumdur.(IV)

Yukarıda numaralanmış cümlelerden hangisi parçanın ana düşüncesidir?

- A) I
- B) II
- C) III
- D) IV

20. 1. Sağa dönüşünde yayaya yol verin.
2. Yaya geçitlerinde yavaşlayın.
3. Başka araçlarla aranıza mesafe koyun.
4. Tek yönlü yollarda tabelalara bakarak ilerleyin.

Yukarıdaki anlatımda aşağıdakilerden hangisi ağır basmaktadır?

- A) Kanıtlayıcı anlatım
- B) Öyküleyici anlatım
- C) Emredici anlatım
- D) Düşsel anlatım

1. “Dokuzuncu Hariciye Koşuşu” romanının yazarı aşağıdakilerden hangisidir?
 - A) Yaşar Kemal
 - B) Peyami Safa
 - C) Reşat Nuri Güntekin
 - D) Necati Cumalı
2. Klasik edebiyatta nesir yazıcılarına ne ad verilir?
 - A) Ozan
 - B) Şair
 - C) Müellif
 - D) Münşi
3. “İlahi Komedya” adlı eser aşağıdaki şairlerden hangisine aittir?
 - A) Dante Alighieri
 - B) James Joyes
 - C) Heinrich Böll
 - D) Tomas Manu
4. Aşağıdakilerden hangisi edebî eser türlerinden biri değildir?
 - A) Roman
 - B) Tiyatro
 - C) Masal
 - D) Tarihi metin
5. “Merdiven” şiiri aşağıdaki şairlerden hangisine aittir?
 - A) Melih Cevdet Anday
 - B) Oktay Rıfat
 - C) Ahmet Haşim
 - D) Yahya Kemal Beyatlı
6. Aşağıdakilerden hangisi edebiyatın ilgili olduğu bilim dallarından biri değildir?
 - A) Psikoloji
 - B) Anatomi
 - C) Felsefe
 - D) Tarih
7. Kutadgu Bilig adlı eserin yazarı aşağıdakilerden hangisidir?
 - A) Yusuf Has Hacip
 - B) Kaşgarlı Mahmut
 - C) Şeyyat Hamza
 - D) Ahmet Yesevi
8. “Köşebaşı” adlı oyun aşağıdaki yazarlardan hangisine aittir?
 - A) Reşat Nuri Güntekin
 - B) Ahmet Kutsi Tecer
 - C) Yakup Kadri Karaosmanoğlu
 - D) Halide Edip Adivar
9. Aşağıdakilerden hangisi güzel bir cümlenin özelliklerinden biri değildir?
 - A) Yalınlık
 - B) Duruluk
 - C) Akıcılık
 - D) Kapalılık
10. Duygu, düşünce ve hayallerin cümle ve paragraflar halinde dil bilgisi kurallarına uygun olarak anlatılmasına ne ad verilir?
 - A) Tema
 - B) Nazım
 - C) Nesir
 - D) Yargı
11. Aşağıdakilerden hangisi anonim halk edebiyatı ürünlerinden biridir?
 - A) Devriye
 - B) Ninni
 - C) Koşma
 - D) Nutuk
12. Aşağıdakilerden hangisi Dinî Tasavvuf halk edebiyatı ürünlerinden biri değildir?
 - A) Nefes
 - B) Hikmet
 - C) Deme
 - D) Varsağı

13. Gel ey mahbube Çin'den
O şirin köşk içinden

Yukarıdaki dizelerin uyak türü aşağıdakilerden hangisine örnektir?

- A) Tunç uyak
B) Cinaslı uyak
C) Tam uyak
D) Zengin uyak

14. Dost dost diye nicesine sarıldım
Benim sadık yârim kara topraktır
Beyhude dolandım boşa yoruldu
Benim sadık yârim kara topraktır

Yukarıdaki dördlük ile ilgili aşağıdaki ifadelerden hangisi yanlıştır?

- A) Kara toprak, sadık bir yer olarak nitelendirilmiştir.
B) Hece ölçüsüyle yazılmıştır.
C) Hecenin 14'ü kalıbı kullanılmıştır.
D) Uyak düzeni abab şeklindedir.

15. Aşağıdakilerden hangisi aruz ölçüsünün özelliklerinden biri **değildir**?

- A) İlk kez İnan edebiyatında kullanılması
B) Ulama yapılması
C) Dize sonlarındaki bütün hecelerin açık da olsa kapalı sayılması
D) Dost, çeşm, âb, yâr gibi sözcüklerin bir uzun bir kısa hece değerinde olması

16. Ey dost senin yoluna
Canım vereyim Mevlâ
Aşkını komayayım
Oda gireyim Mevlâ

Yukarıdaki dördlükte "oda gireyim" sözüyle Tanrı aşkını bırakmayan Hz. İbrahim Peygamberin ateşe atılması olayı hatırlatılmaktadır. Bu edebî sanat aşağıdakilerden hangisine örnektir?

- A) Tevriye
B) Telmih
C) Teşbih
D) Tekrir

17. Klasik Türk şiirinde hiçbir nazıma bağlı olmayan tek beyitten meydana gelen nazımlara ne ad verilir?

- A) Nazım
B) Tuyug
C) Müfret
D) Kit'a

18. Orhan zamanından kalma bir duvar
Onunla bir yaşta ihtiyar çınar

Yukarıdaki dizelerin uyak türü aşağıdakilerden hangisine örnektir?

- A) Tunç uyak
B) Zengin uyak
C) Tam uyak
D) Cinaslı uyak

19. Savaş, kahramanlık, yiğitlik ve yurt sevgisi gibi konular ile tarihsel olayları coşkulu bir anlatımla dile getiren şiirlere ne ad verilir?

- A) Epik
B) Lirik
C) Pastoral
D) Didaktik

20. 1911-1923 yılları arasında Türk edebiyatında aşağıdaki edebiyat dönemlerinden hangisi görülür?

- A) Tanzimat Devri Türk Edebiyatı
B) Edebiyat-ı Cedide
C) Fecr-i Ati Topluluğu
D) Milli Edebiyat

1. Aşağıdakilerden hangisi Hun destanıdır?
 - A) Türeyiş
 - B) Oğuz Kağan
 - C) Göç
 - D) Alp Er Tunga

2. Aşağıdaki eser-yazar eşleştirmelerinden hangisi yanlıştır?
 - A) Yaprak Dökümü - Reşat Nuri Güntekin
 - B) Şu Çılgın Türkler - Turgut Özakman
 - C) Yüksek Ökçeler - Necati Cumalı
 - D) Dülger Balığının Ölümü - Sait Faik Abasıyanık

3. Aşağıdakilerden hangisi Fransız edebiyatının fabl yazarıdır?
 - A) La Fontaine
 - B) Balzac
 - C) Moliere
 - D) Lamartin

4. Aşağıdakilerden hangisi ahlaki ve didaktik içerikli mesnevilerden biridir?
 - A) Şehrengiz-i Bursa
 - B) Hüsn ü Aşk
 - C) Yusuf u Züleyha
 - D) Harname

5. "Kuvâ-yı Milliye Destanı" aşağıdaki şairlerden hangisine aittir?
 - A) Nazım Hikmet
 - B) Rıfat Ilgaz
 - C) Enver Gökçe
 - D) Cahit Irgat

6. Aşağıdakilerden hangisi halk edebiyatı kökenli bir hikâyledir?
 - A) Hüsrev-i Şirin
 - B) Leyla vü Mecnun
 - C) Yusuf u Züleyha
 - D) Arzu ile Kanber

7. "Göç Destanı" aşağıdaki Türk destanlarının hangisinde yer alır?
 - A) Gök Türk Destanı
 - B) Saka Destanı
 - C) Uygur Destanı
 - D) Hun destanı

8. Tiyatroda oyuncuların metne bağlı kalmadan zekâ ve kavrayışlarına göre başarı sağladıkları konuşma ve davranışlara ne ad verilir?
 - A) Rol
 - B) Tuluat
 - C) Adaptasyon
 - D) Mimik

9. Aşağıdakilerden hangisi Rus edebiyatında en tanınmış öykü yazarlarından biridir?
 - A) Tolstoy
 - B) Haineyh Böll
 - C) Dostoyevski
 - D) Anton Çehov

10. Bir yazarın herhangi bir konu üzerine görüş ve düşüncelerini kanıtlama gereği duymadan, kesin yargılara varmadan anlattığı yazı türüne ne ad verilir?
 - A) Deneme
 - B) Fıkra
 - C) Anı
 - D) Eleştiri

11. Aşağıdakilerden hangisi Ruşen Eşref Ünaydın'ın eserlerinden biridir?
 - A) Şafak
 - B) Esenlik Bildirisi
 - C) Atatürk'ü Özleyiş
 - D) Günübürlük

12. Türk Tiyatrosunda “Kahvede Şenlik Var” adlı oyun tür olarak aşağıdakilerden hangisine örnektir?

- A) Operaya
- B) Drama
- C) Trajediye
- D) Komediye

13. Aşağıdakilerden hangisi müzikli tiyatro türlerinden biri değildir?

- A) Opera
- B) Melodram
- C) Operet
- D) Bale

14. Bir yazarın ya da sanatçıların gezip gördükleri yerleri edebî bir anlatımla ele aldığı yazılara ne ad verilir?

- A) Günlük
- B) Anı
- C) Gezi
- D) Mektup

15. Türk edebiyatının deneme türünde yazan yazarları aşağıdakilerin hangisinde birlikte ve doğru olarak verilmiştir?

- A) Nurullah Ataç – Oktay Akbal
- B) Nurullah Ataç – Berna Moran
- C) Falih Rıfkı Atay – Memet Rauf
- D) Fethi Naci – Oktay Akbal

16. Bir yazarın veya önemli kişilerin başından geçen ya da yaşadıkları devirde tanık oldukları, duydukları olayları anlattığı yazılara ne ad verilir?

- A) Deneme
- B) Makale
- C) Fıkra
- D) Anı

17. Aşağıdakilerden hangisi fıkra türünün özelliklerinden biri değildir?

- A) Gazete ve dergilerin belirli bir köşesinde yazılması
- B) Ele alınan düşüncenin kesin olarak kanıtlanması
- C) Samimi, sohbet tarzında yazılması
- D) Ortaya konan düşüncelerin kısa ve öz olarak incelenmesi

18. “Ziya’ya Mektuplar” adlı eser aşağıdaki yazarlardan hangisine aittir?

- A) Cahit Sıtkı Tarancı
- B) Ahmet Muhip Dıranas
- C) Ahmet Hamdi Tanpınar
- D) Necip Fazıl Kısakürek

19. Aşağıdakilerden hangisi öğretici metin türlerinden biri değildir?

- A) Makale
- B) Hikâye
- C) Eleştiri
- D) Deneme

20. “Şair Dostlarım” adlı eser aşağıdaki yazarlardan hangisine aittir?

- A) İlhan Berk
- B) Edip Cansever
- C) Oktay Akbal
- D) Ece Ayhan

1. Romantizm akımının öncüsü Fransız yazar aşağıdakilerden hangisidir?
 - A) Gustave Flaubert
 - B) J.J. Rousseau
 - C) Voltaire
 - D) Victor Hugo
2. Tanzimat dönemi edebiyatı ile ilgili aşağıdaki ifadelerden hangisi yanlıştır?
 - A) Sanatta sosyal gayeyi esas almıştır.
 - B) Çeviriler ile roman ve hikaye türü gelişmiştir.
 - C) 1839 ve 1860 yılları arası kuruluş dönemi olarak kabul edilir.
 - D) Nesir sanatı bu dönemde ilgi görmemiştir.
3. Türk edebiyatında sahnelenen ilk tiyatro eseri ve yazarı, aşağıdakilerden hangisinde birlikte ve doğru olarak verilmiştir?
 - A) Sabr u Sebat – Abdülhak Hâmit Tarhan
 - B) Celalettin Harzemşah – Namık Kemal
 - C) Vatan yahut Silistre – Namık Kemal
 - D) Afife Anjelik – Recaizâde Mahmut Ekrem
4. Tanzimat Fermanı'nın ilanından sonra Osmanlı Devleti'nde aşağıdaki ülkelerden hangisinin kültürü ve edebiyatı örnek alınmıştır?
 - A) Fransa
 - B) Rusya
 - C) İngiltere
 - D) İran
5. Türk Edebiyatı'nda modern anlamda ilk tiyatro eseri aşağıdakilerden hangisidir?
 - A) Araba Sevdası
 - B) İntibah
 - C) Şair Evlenmesi
 - D) Vatan Yahut Silistre
6. Türk edebiyatında, makale türünde yazı kaleme alan ilk yazar kimdir?
 - A) Ziya Paşa
 - B) Namık Kemal
 - C) Ahmet Mithat
 - D) Şinasi
7. Türk Edebiyatı'nda Recaizâde Mahmut Ekrem tarafından yazılan ilk realist roman aşağıdakilerden hangisidir?
 - A) Taaşuk-ı Talat ve Fitnat
 - B) Cezmi
 - C) Araba Sevdası
 - D) Son Pişmanlık
8. 1860 yılında Şinasi ve Ağâh Efendi tarafından çıkarılan ilk özel gazete aşağıdakilerden hangisidir?
 - A) Tercüman-ı Hakikat
 - B) Tercüman-ı Ahvâl
 - C) İbret
 - D) Ceride-i Havadis
9. Osmanlı Devleti'nde toplumu temsil eden piramidin en üst noktasında aşağıdakilerden hangisi yer alır?
 - A) İlim Adamları
 - B) Padişah
 - C) Zanaatçılar
 - D) Askerler
10. Aşağıdakilerden hangisi Tanzimat Döneminde yayınlanan ilk resmi gazetedir?
 - A) Tercüman-ı Hakikat
 - B) Diyojen
 - C) Ceride-i Havadis
 - D) Takvim-i Vekayi

11. Divan edebiyatında, ölen bir kişinin arkasından, onun kahramanlıklarını, yiğitliklerini anlatan şiirlere ne ad verilir?
- A) Mersiye
B) Koşuk
C) Koşma
D) Sav
12. Aşağıdaki şair ve yazarlardan hangisi toplumsal konular yerine bireysel konularda yazan sanatçılardan biridir?
- A) Ziya Paşa
B) Sami Paşazâde Sezaî
C) Ahmet Mithat Efendi
D) Namık Kemal
13. Yusuf Kamil Paşa'nın 1859 yılında Fransız yazar Fenelon'dan yaptığı ilk çeviri roman, aşağıdakilerden hangisidir?
- A) Sefiller
B) Martı
C) Monte Kristo
D) Telemak
14. Tanzimat'la başlayan yenileşme hareketinin öncülerinden olan, Türk Edebiyatının yenileşmesi ve öz kaynaklarına dönmesini savunan yazar aşağıdakilerden hangisidir?
- A) Faruk Nafiz Çamlıbel
B) Ziya Paşa
C) Namık Kemal
D) Yahya Kemal
15. Aşağıdakilerden hangisi, Muallim Naci'nin eserleri arasında yer almaz?
- A) Fûruzan
B) Ateş-pare
C) Taaşuk-ı Talat ve Fitnat
D) Şerare
16. Aşağıdakilerden hangisi Tanzimat Edebiyatının birinci dönemine ait (1860-1876) özelliklerden biridir?
- A) Dilinin ağır olması
B) Açık anlatım yerine, kapalı ve sanatlı bir anlatımın kullanılması
C) Toplum için sanat anlayışının benimsenmesi
D) Bireysel temaların tercih edilmesi
17. Gerçeğin hayal dünyasında yeniden şekillendiği metinlere ne ad verilir?
- A) Hikâye
B) Kurmaca metin
C) Hayalî metin
D) Yazılı metin
18. Edebi eserin özellikleri ile ilgili aşağıdaki ifadelerden hangisi yanlıştır?
- A) Gerçeği olduğu gibi anlatır.
B) Kaynağını toplumun sosyal ve siyasi yapısından alır.
C) Dil, yapı ve içerik yönünden yazıldığı dönemi yansıtır.
D) Toplumun tarihi koşullarından da esinlenir.
19. Fenelon'un Telemaque (Telemak) isimli romanı 1859 yılında kim tarafından Türkçeye çevrilmiştir?
- A) Yusuf Kamil Paşa
B) Agâh Efendi
C) Namık Kemal
D) Şinasi
20. Tanzimat Dönemi Türk Edebiyatında tutsaklık ve insan ticareti üzerine yazılmış eserlerin en ünlüsü aşağıdakilerden hangisidir?
- A) Sergüzeşt
B) İbret
C) Zemzeme
D) Şipsevdi

1. Aşağıdakilerden hangisi Halide Edip Adıvar'ın eserlerinden biri değildir?

- A) Türkün Ateşle İmtihanı
- B) Ateşten Gömlek
- C) Piyale
- D) Kalp Ağrısı

2. Öz Şiir (saf şiir) anlayışının Türk edebiyatındaki önemli temsilcileri aşağıdakilerden hangisinde birlikte verilmiştir?

- A) Ahmet Samim – Celal Sahir
- B) Ömer Seyfettin – Ali Canip Yöntem
- C) Ahmet Haşim – Yahya Kemal Beyatlı
- D) Fuat Köprülü – Ziya Gökalp

3. Aşağıdakilerden hangisi Millî Edebiyat Dönemi'nin genel özellikleri arasında yer almaz?

- A) Divan edebiyatı nazım biçimleri tercih edilmiştir.
- B) Dilde sadelik esastır.
- C) Hece ölçüsü kullanılmıştır.
- D) Konuşma dilinin şiire yerleşmesi gerekliliğini vurgulamışlardır.

4. Maupassant Tarzı Hikaye'nin Türk edebiyatındaki öncüsü aşağıdakilerden hangisidir?

- A) Sait Faik Abasıyanık
- B) Memduh Şevket Esendal
- C) Ömer Seyfettin
- D) Halide Edip Adıvar

5. II. Abdülhamit'in 1878'te kurduğu baskı rejimi sonucunda ikinci dönem Tanzimat Edebiyatı sanatçılarının "sanat için sanat" görüşünden yola çıkarak öncülüğünü yapmış oldukları edebiyat anlayışı aşağıdakilerden hangisidir?

- A) Servet-i Fünûn Edebiyatı
- B) Millî Edebiyat
- C) Tanzimat Edebiyatı
- D) Cumhuriyet Dönemi Edebiyatı

6. İlk şiiri 1885'te daha öğrencilik yıllarında Saadet gazetesinde yayımlandı. Önceleri Muallim Naci'nin etkisinde kaldı. Daha sonra Recaiade Mahmut Ekrem ve Abdülhak Hamit Tarhan'dan etkilenerek Batı tarzı şiire yöneldi. Servet-i Fünun dergisinde şiirleri yayımlandı. Tevfik Fikret ve Halit Ziya Uşaklıgil'le birlikte Servet-i Fünun edebiyatının üç önemli isminden biri oldu.

Yukarıda sözü edilen sanatçı aşağıdakilerden hangisidir?

- A) Süleyman Nazif
- B) Cenap Şehabettin
- C) Mehmet Rauf
- D) Hüseyin Cahit Yalçın

7. "Rubâb-ı Şikeste", "Hâluk'un Defteri", "Şermin", "Tarih-i Kadim" adlı şiir kitaplarının yazarı aşağıdakilerden hangisidir?

- A) Ali Ekrem Bolayır
- B) Cenap Şehabettin
- C) Süleyman Nazif
- D) Tevfik Fikret

8. Aşağıdaki sanatçılardan hangisi Millî Edebiyat Dönemi'nde eser vermemiştir?

- A) Yahya Kemal Beyatlı
- B) Ziya Gökalp
- C) Mehmet Âkif Ersoy
- D) Halide Edip Adıvar

9. Mensur şiirin ilk ortaya çıktığı ülke aşağıdakilerden hangisidir?

- A) İngiltere
- B) Almanya
- C) Rusya
- D) Fransa

10. Dilin olduğundan daha ağır ve fazlasıyla sanatlı kullanılmasını eleştirmiştir. Şaire göre şiir, bütün insanların duygularının tercümanıdır. Bu nedenle şiirin ana teması insandır.

Yukarıda şiir hakkında görüşleri verilen şair aşağıdakilerden hangisidir?

- A) Süleyman Nazif
- B) Ahmet Hikmet Müftüoğlu
- C) Hüseyin Suat
- D) Ali Ekrem Bolayır

11. Mehmet Rauf'un kaleme aldığı, Türk edebiyatında yazılan ilk psikolojik roman aşağıdakilerden hangisidir?

- A) Eylül
- B) Viyana
- C) Benim Olsaydın
- D) Aşk-ı Memnu

12. Türk edebiyatında özellikle edebiyat tarihi çalışmalarıyla tanınan araştırmacı-yazar aşağıdakilerden hangisidir?

- A) Halide Edip Adivar
- B) Yakup Kadri Karaosmanoğlu
- C) Fuat Köprülü
- D) Ahmet Hikmet Müftüoğlu

13. Aşağıdakilerden hangisi Servet-i Fünûn edebiyatının özelliklerinden biri değildir?

- A) Nazım birimi olarak mısra kullanılması
- B) Toplumsal temalara değinilmesi
- C) Kulağa göre kafiye anlayışının benimsenmesi
- D) Şiirde sembolizm ve parnasizmin kullanılması

14. Tevfik Fikret'in İkinci Meşrutiyet'in ilanı ile İttihat ve Terrakki Partisi'nin iktidarı ele geçmesiyle ülkede oluşan sevinçli ortamı, bu ortamda gençlerin elinde cennet kadar güzel bir vatanın var olduğunu, bunu korumanın da gençlere düştüğünü anlattığı eseri aşağıdakilerden hangisidir?

- A) Haluk'un Defteri
- B) Ferda
- C) Zevrak'la Ebru
- D) Eylül

15. Aşağıdaki yazar ve eseri eşleştirmelerinden hangisi yanlıştır?

- A) Yakup Kadri Karaosmanoğlu-Kıralık Konak
- B) Cenap Şehabettin-Avrupa Notları
- C) Halide Edip Adivar-Sinekli Bakkal
- D) Halit Ziya Uşaklıgil-Ateşten Gömlek

16. Aşağıdaki eserlerden hangisi Fuat Köprülü'ye ait değildir?

- A) Türkçülüğün Esasları
- B) Türk Edebiyatında İlk Mutasavvıflar
- C) Türk Edebiyatı Tarihi
- D) Türk Saz Şairleri

17. Aşağıdakilerden hangisi Mehmet Âkif Ersoy'un "Safahat"ı içerisinde yer almaz?

- A) Fatih kürsüsünde
- B) Süleymaniyede Bayram Sabahı
- C) Gölgele
- D) Hatıralar

18. 19. yüzyılın ikinci yarısından sonra parnasizme tepki olarak doğdu. Önce Fransa'da başlayan bu hareket, kısa sürede bütün Avrupa'ya yayıldı. Bu sanat anlayışında doğa değil, onun insan ruhunda bıraktığı izlenimler anlatılır. Sözler anlamları ile değil, yaratacakları ahenkle, müzikle önemlidir.

Yukarıda sözü edilen bilgiler aşağıdaki akımlardan hangisine aittir?

- A) Sembolizm
- B) Naturalizm
- C) Realizm
- D) Romantizm

19. Sanat hayatına Fecr-î Âti topluluğunda başladı. Topluluk dağıldıktan sonra Millî Edebiyat Döneminde şiirlerini yazmaya devam etti. Şiirlerinde kapalılığa yer verirken düz yazılarında açıklığa önem verdi. Özellikle Fransız Sembolist şairlerden etkilendi. Sonbahar, akşam, göller, sararan yapraklar vb. konular üzerinde durdu.

Yukarıda özellikleri verilen sanatçı aşağıdakilerden hangisidir?

- A) Ziya Gökalp
- B) Mehmet Emin Yurdakul
- C) Ahmet Haşim
- D) Yahya Kemal Beyatlı

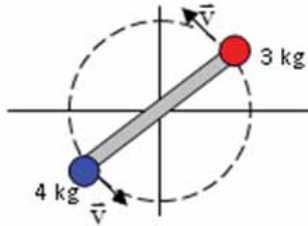
20. "Kendi Gök Kubbemiz", "Eski Şiirin Rüzgarıyla", "Aziz İstanbul" adlı eserlerin yazarı aşağıdakilerden hangisidir?

- A) Ahmet Haşim
- B) Tevfik Fikret
- C) Cenap Şehabettin
- D) Yahya Kemal Beyatlı

1. Eylemsizlik momenti ile ilgili aşağıdaki ifadelerden hangisi yanlıştır?

- A) Eylemsizlik momenti F ile gösterilir.
- B) Eylemsizlik momenti parçacıkların kütesine ve dönme eksenine uzaklığına bağlıdır.
- C) Eylemsizlik momentinin birimi $\text{kg} \cdot \text{m}^2$ dir.
- D) Cismin dönme hareketindeki değişikliğe gösterdiği direncin ölçüsüdür.

2.



1 m uzunluğunda hafif bir çubuk, xy -düzleminde, çubuğun merkezindeki bir mil etrafında dönmektedir. Çubuğun uçlarına şekildeki gibi 4 kg ve 3 kg'lık iki kütle tutturulmuştur. Her parçacığın hızı 5 m/s'ye ulaştığı anda sistemin başlangıç noktasına göre açısal momentumu kaç $\text{kg} \cdot \text{m}^2/\text{s}$ olur?

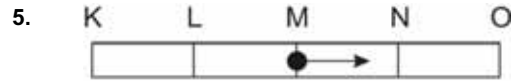
- A) 10,5
- B) 17,5
- C) 15,5
- D) 20,5

3. İki gezegen arasındaki uzaklık $2R$ iken çekim kuvveti F dir. Aralarındaki uzaklık $2R/3$ olursa çekim kuvveti kaç R olur?

- A) $1/9$
- B) $1/3$
- C) 1
- D) 9

4. Düz yatay virajlı bir yolda 129,6 km/saat hızla yol alan bir araba yolda savruluyor. Araç ile yol arasındaki sürtünme katsayısı 0,6 ise yolun yarıçapı kaç m'dir?

- A) 36
- B) 72
- C) 96
- D) 216



Yukarıdaki şekilde M noktasından harekete başlayan bir cisim KO noktaları arasında basit harmonik hareket yapmaktadır. Her bir nokta arası 2 m, cismin kütlesi 100 g ve periyodu 24 s olduğuna göre, bu cismin 22. s' de bulunduğu nokta aşağıdakilerden hangisidir?

- A) N
- B) L
- C) M
- D) K

6. Yatay düzlemde r yarıçaplı çembersel yörüngede v çizgisel hızı ile düzgün dairesel hareket yapan bir cismin frekansı aşağıdakilerden hangisidir?

($\pi = 3$)

- A) $v/6r$
- B) $v/3r$
- C) $3r/v$
- D) $6r/v$

7. 80 g kütleli bir top, yaya asıldığında onu 4 cm uzatmaktadır. Bu topa titreşim hareketi yaptırılırsa, periyodu kaç s olur? ($\pi = 3$)

- A) 0,2
- B) 0,4
- C) 0,8
- D) 1,2

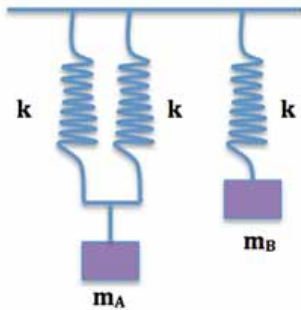
8. Basit harmonik hareket yapan bir cismin açısal frekansı 5 Hz'tir. Bu cisim $x = 2$ m konumlu yerden 10 m/s hız ile geçiyor. Bu hareketin genliği kaç m'dir?

A) 1
B) 2
C) $2\sqrt{2}$
D) $2\sqrt{3}$

9. Basit harmonik hareket yapan bir cismin uzanım denklemi ($x = 5 \cos 10 t$) bağıntısı ile veriliyor. Bu hareketin periyodu kaç s dir? ($\pi = 3$)

A) 0,2
B) 0,4
C) 0,6
D) 0,8

10.



Esnek üç yay ile m_A ve m_B kütleli cisimler şekildeki gibi asılmıştır. Cisimler düşey doğrultuda titreştikleri zaman periyotları eşit olmaktadır. m_A/m_B oranı kaçtır?

A) 1/4
B) 1/2
C) 1
D) 2

11. Bir basit sarkacın periyodunun 3 s olması için kullanılacak ipin uzunluğu kaç m olmalıdır?

A) 2
B) 2,5
C) 3
D) 3,5

12. Uzunluğu 1,62 m olan bir sarkaç bilinmeyen bir yerde dakikada 20 kez titreşmektedir. Bu yerin kütle çekim ivmesi kaç m/s'dir?

A) 2,45
B) 6,48
C) 7,62
D) 9,68

13. Basit harmonik hareket yapan bir cismin uzanım denklemi ($x = 4 \sin 18 t$) bağıntısı ile veriliyor. Bu hareketin frekansı kaç Hz'dir? ($\pi = 3$)

A) 1
B) 2
C) 3
D) 6

14. Aşağıdakilerden hangisi ışığın sadece tanecikli yapıda olduğunu gösteren olaylardan biridir?

A) Polarizasyon
B) Fotoelektrik etki
C) Girişim
D) Kırınım

15. Sesin havadaki hızı 340 m/s'dir. Bir müzik aletinden çıkan notanın frekansı 880 Hz'tir. Bu notanın dalga boyu kaç cm'dir?

A) 299
B) 38,6
C) 29,9
D) 386

16. 10 cm dalgaboyuna sahip bir elektromanyetik dalganın frekansı kaç GHz'dir?

- A) 0,03
- B) 0,3
- C) 3
- D) 30

17. 6×10^{14} Hz frekansa sahip bir ışığın dalgaboyu kaç nm'dir? ($c = 3 \times 10^8$ m/s)

- A) 5
- B) 50
- C) 500
- D) 1000

18. Tek renkli bir ışık, çift yarık üzerine düşürülüyor. Merkezi maksimumla ikinci karanlık saçak arası 0,5 cm ve yol farkı 660 nm'dir. Gelen ışığın dalgaboyu kaç Å'dür?

- A) 4,4
- B) 44
- C) 4400
- D) 8800

19. Birkaynaktan bir saniyede yayılan ışın enerjisine ne ad verilir?

- A) Işının gücü
- B) Işığın enerjisi
- C) Dalgaların süper hali
- D) Işık şiddeti

20. 6 Hz frekanslı bir dalga 3,9 m'lik bir yolu 2,6 s'de alıyor. Bu dalganın dalgaboyu kaç cm'dir?

- A) 10
- B) 25
- C) 35
- D) 40

1. Dünyadaki herşeyin sudan oluştuğunu iddia eden antik çağ simyacıları aşağıdakilerden hangisidir?

- A) Şeyh Galip
- B) Democritus
- C) Thales
- D) Aristo

2. Aşağıda formülü verilen bileşiklerden hangisi iyonik bileşiktir?

- A) CH₄
- B) NaCl
- C) CH₃OH
- D) CH₃COOH

3. Kimyasal sistemlerde fiziksel özellikleri ve enerji-iş dönüşümlerini inceleyen kimya bilim dalı aşağıdakilerden hangisidir?

- A) Analitik kimya
- B) Fizikokimya
- C) Amorganik kimya
- D) Organik kimya

4. Karbonat anyonunun formülü aşağıdakilerden hangisidir?

- A) HCO₃⁻
- B) NO₃⁻
- C) CO₃²⁻
- D) PO₄³⁻

5. Dokunduğu her nesneyi altına dönüştüren taş veya içene sonsuz hayat bahşeden su gibi hayaller peşinde koşup gizli formüller arayan insanlara ne ad verilir?

- A) Biyolog
- B) Sihirbaz
- C) Kimyacı
- D) Simyacı

6. Aşağıdaki bilim adamlarından hangisi modern kimyanın başlıca öncülerinden biri değildir?

- A) Lavoisier
- B) Priestly
- C) Democritus
- D) Dalton

7. Aşağıdakilerden hangisi saf maddedir?

- A) Tuzlu su
- B) Hava
- C) Şekerli su
- D) Bileşik

8. Bileşik formülü Ca(OH)₂ olan bileşiğin geleneksel adı aşağıdakilerden hangisidir?

- A) Kezzap
- B) Güherçile
- C) Sönmemiş kireç
- D) Sönmüş kireç

9. "Belli bir bileşiği oluşturan elementlerin birleşen kütle oranları her zaman sabit kalır" kuralı aşağıdakilerden hangisini ifade eder?

- A) Sabit Oranlar Kanunu
- B) İdeal Gaz Kanunu
- C) Kütlelerin Korunumu Kanunu
- D) Katlı Oranlar Kanunu

10.

7A
⁹ F
¹⁷ Cl
³⁵ Br
⁵³ I

Dört elementin (F, Cl, Br, I) periyodik sistemdeki yerleri ve atom numaraları yukarıda verilmektedir. Bu elementlerden hangisinin elektronegatifliği en yüksektir?

- A) F
- B) Cl
- C) Br
- D) I

11. Proton, nötron ve elektron gibi zerrelere verilen ad aşağıdakilerden hangisidir?

- A) Elektron
- B) Parçacık
- C) Kütle numarası
- D) Atom altı tanecik

12. Aşağıdakilerden hangisi elementin periyodik sistemdeki yerini belirler?

- A) Atom numarası
- B) Kütle numarası
- C) İzotop numarası
- D) Lewis sembolü

13. Oda şartlarında gaz olan, hiçbir elementle bileşik oluşturmaya yatkın olmayan, en dış katmanında genellikle 8 elektron bulunduran elementlere verilen ad aşağıdakilerden hangisidir?

- A) Ametaller
- B) Asal gazlar
- C) Metaller
- D) Yarı-metaller

14.

1A
Li
Na
K
Rb

Periyodik tabloda verilen dört atomun atom yarıçaplarıyla (r) ilgili olarak aşağıdakilerden hangisi doğrudur?

- A) $r_{Li} > r_{Na} > r_K > r_{Rb}$
- B) $r_{Li} = r_{Na} = r_K = r_{Rb}$
- C) $r_{Li} < r_{Na} < r_K < r_{Rb}$
- D) $r_{Rb} > r_K > r_{Na} > r_{Li}$

15. Aşağıdakilerden hangisi karbonun izotopu değildir?

- A) $^{12}_6C$
- B) $^{13}_6C$
- C) $^{14}_6C$
- D) $^{14}_8C$

16. Gaz halindeki tek bir atomun en yüksek enerji düzeyindeki bir elektronunu uzaklaştırabilmek için gerekli minimum enerjiye verilen ad aşağıdakilerden hangisidir?

- A) Elektronegatiflik
- B) İyonlaşma enerjisi
- C) Elektron ilgisi
- D) Atom yapıcağı

17. Aşağıdakilerden hangisi ametalik özelliklerden biri değildir?

- A) Isı ve elektriği iyi iletmeleri
- B) Metallerle tepkimelerinden basit tuz oluşturmaları
- C) Kristal yapıda olanların saydam olması
- D) Kendi aralarında elektron ortaklığıyla bileşik oluşturmaları

18. Bir atomun proton sayısı ve nötron sayısının toplamı aşağıdaki terimlerden hangisiyle ifade edilir?

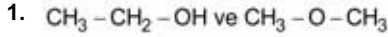
- A) Elektron sayısı
- B) İzotop sayısı
- C) Kütle numarası
- D) Atom numarası

19. Aşağıdakilerden hangisi Rutherford'un önerdiği atom modelinin adıdır?

- A) Çekirdek atom modeli
- B) Kuantum atom modeli
- C) Thomson atom modeli
- D) Üzümlü kek modeli

20. ^{15}P elementinin katman elektron dizilimi aşağıdakilerden hangisidir?

- A) 2-8-2-3
- B) 2-8-5
- C) 2-8-8
- D) 8-2-5



Yukarıdaki bileşik çiftinin sahip olduğu izomeri türü aşağıdakilerden hangisidir?

- A) Konum izomerisi
B) Zincir-halka izomerisi
C) Tautomer izomerisi
D) Fonksiyonel grup izomerisi

2. Elektrik akımı bir elektrolit içinden geçirildiğinde serbest hâle geçen veya çözünen madde miktarının, elektrolitten geçen elektrik yükü miktarı ile doğru orantılı olduğunu belirten kimya kanunu aşağıdakilerden hangisidir?

- A) Faraday'ın I. elektroliz kanunu
B) Faraday'ın II. elektroliz kanunu
C) Proust kanunu
D) Dalton kanunu

3. Bakır (II) sülfatın (CuSO_4) elektrolizi ile katotta 1,27 g bakır (Cu) metalinin serbest halde açığa çıkması için devreden geçmesi gereken elektrik yük miktarı kaç Coulomb'dur? (Cu=63,54 g/mol)

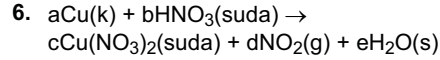
- A) 7720
B) 3860
C) 1930
D) 965

4. $\text{Al}(k) + \text{NO}_3^-(\text{suda}) \rightarrow \text{Al}(\text{OH})_4^-(\text{suda}) + \text{NH}_3(\text{suda})$
Bazik ortamda gerçekleşen yukarıdaki tepkimenin denkleştirilmiş hali aşağıdakilerden hangisidir?

- A) $8\text{Al} + 3\text{NO}_3^- \rightarrow 8\text{Al}(\text{OH})_4^- + 3\text{NH}_3$
B) $8\text{Al} + 3\text{NO}_3^- + 5\text{H}^+ \rightarrow 8\text{Al}(\text{OH})_4^- + 3\text{NH}_3 + 23\text{H}_2\text{O}$
C) $18\text{H}_2\text{O} + 8\text{Al} + 3\text{NO}_3^- + 5\text{OH}^- \rightarrow 8\text{Al}(\text{OH})_4^- + 3\text{NH}_3$
D) $23\text{H}_2\text{O} + 8\text{Al} + 3\text{NO}_3^- \rightarrow 8\text{Al}(\text{OH})_4^- + 5\text{H}^+ + 3\text{NH}_3$

5. Ortaklaşa kullanılan elektron çiftinin sadece bir atomdan geldiği bağ aşağıdakilerden hangisidir?

- A) Koordine kovalent bağ
B) Kovalent bağ
C) İyonik bağ
D) Çift bağ



Yukarıdaki nötr redoks tepkime denkleştirildiğinde her bir bileşiğin katsayısı aşağıdakilerden hangisinde birlikte ve doğru olarak verilmiştir?

- A) a= 0, b= 4, c= 0, d= 2, e= 2
B) a= 1, b= 1, c= 1, d= 1, e= 1
C) a= 1, b= 4, c= 1, d= 2, e= 2
D) a= 2, b= 1, c= 2, d= 1, e= 2

7. Anorganik ve organik maddeler ile ilgili aşağıdaki ifadelerden hangisi doğrudur?

- A) Organik bileşiklerin ana kaynakları doğadaki mineraller ve cevherlerdir.
B) Organik bileşikler su, bazı tuzlar, oksitler, asit ve bazlardır.
C) Yapısında karbon atomu bulduran karbonmonoksit (CO), karbondioksit (CO₂), sodyum karbonat (Na₂CO₃) ve kalsiyum karbonat (CaCO₃) gibi karbonatlı bileşikler ve potasyum siyanür (KCN) maddeleri organik bileşiklerdir.
D) Organik madde, yapısında karbon ve çoğunlukla hidrojen elementleri içeren maddedir.

8. Tepkenler içinden geçerken potansiyel üreten batarya aşağıdakilerden hangisidir?

- A) Akış pilleri
B) Yükleme pilleri
C) Leclanché pilleri
D) Kuru pilleri

9. Aşağıdakilerden hangisi bir organik bileşiğin yapı formülüdür?

- A) $\begin{array}{c} \text{H} \\ \vdots \\ \text{H} \cdot \cdot \text{C} \cdot \cdot \text{H} \\ \vdots \\ \text{H} \end{array}$
B) $\begin{array}{c} \text{H} - \text{C} = \ddot{\text{O}} \\ | \\ \ddot{\text{O}} - \text{H} \end{array}$
C) $\begin{array}{c} \text{H} \cdot \cdot \text{C} \cdot \cdot \text{C} \cdot \cdot \text{H} \\ \cdot \cdot \quad \cdot \cdot \quad \cdot \cdot \\ \text{H} \cdot \cdot \quad \cdot \cdot \quad \cdot \cdot \end{array}$
D) $\begin{array}{c} \text{H} \cdot \cdot \text{C} \cdot \cdot \text{O} \\ \vdots \\ \ddot{\text{O}} \cdot \cdot \text{H} \end{array}$

10. $\text{Ni}^{2+}(\text{suda}) + \text{Cr}(\text{k}) \rightarrow \text{Ni}(\text{k}) + \text{Cr}^{3+}(\text{suda})$ redoks tepkimesinin hücre potansiyeli ve istemli olup olmadığına ilişkin aşağıdakilerden hangisi doğrudur?
 $(\text{Ni}^{2+}(\text{suda}) + 2\text{e}^- \rightarrow \text{Ni}(\text{k}), E^0 = -0,250 \text{ V})$
 $(\text{Cr}^{3+}(\text{suda}) + 3\text{e}^- \rightarrow \text{Cr}(\text{k}), E^0 = -0,744 \text{ V})$

- A) $E^0_{\text{hücre}} = -0,744 \text{ V}$, istemsiz
 B) $E^0_{\text{hücre}} = +0,250 \text{ V}$, istemli
 C) $E^0_{\text{hücre}} = +0,494 \text{ V}$, istemli
 D) $E^0_{\text{hücre}} = +0,944 \text{ V}$, istemsiz

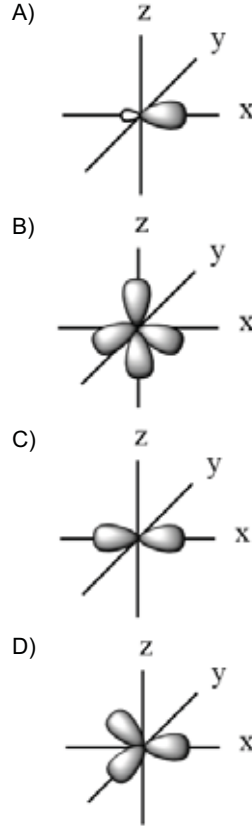
11. Aşağıdaki VSEPR gösterimi – molekül geometrisi eşleştirmelerinden hangisi doğrudur?

VSEPR Gösterimi	Molekül Geometrisi
A) Ax_4	açısal
B) Ax_3	doğrusal
C) Ax_2	düzgün dörtyüzlü
D) Ax_3	üçgen – düzlem

12. $\text{Fe}(\text{k}) + \text{Cl}_2(\text{g}) \rightarrow \text{Fe}^{2+}(\text{suda}) + 2\text{Cl}^-(\text{suda})$ tepkimesindeki her bir bileşenin yükseltgenme basamağı aşağıdakilerden hangisinde doğru olarak verilmiştir?

$\text{Fe}(\text{k})$	$\text{Cl}_2(\text{g})$	$\text{Fe}^{2+}(\text{suda})$	Cl^-
A) 0	0	+2	-1
B) +1	-1	+1	-1
C) +2	-2	+1	-1
D) +2	-1	0	0

13. Karbon atomunun sp^2 hibrit orbitallerinin şekli aşağıdakilerden hangisidir?



14. Yarı hücrelerden oluşan, istemli veya istemsiz redoks tepkimelerinin olduğu sistemlere ne ad verilir?

- A) Elektrolit
 B) Elektrot
 C) Elektrokimyasal hücre
 D) Galvanik hücre

15. $\text{CH}_3 - \text{CH}_2 - \text{CH}_2 - \text{CH}_2 - \text{CH}_2 - \text{CH}_3$

Aşağıdakilerden hangisi yukarıdaki bileşiğin zincir-dallanma izomerisidir?

- A) $\begin{array}{c} \text{CH}_3 - \text{CH} - \text{CH} - \text{CH}_2 - \text{CH}_2 - \text{CH}_3 \\ | \quad | \\ \text{CH}_3 \quad \text{CH}_3 \end{array}$
- B) $\begin{array}{c} \text{CH}_3 \\ | \\ \text{CH}_3 - \text{C} - \text{CH}_2 - \text{CH}_3 \\ | \\ \text{CH}_3 \end{array}$
- C) $\begin{array}{c} \text{CH}_3 \\ | \\ \text{CH}_3 - \text{C} - \text{CH}_2 - \text{CH}_2 - \text{CH}_3 \\ | \\ \text{CH}_3 \end{array}$
- D) $\begin{array}{c} \text{CH}_3 \\ | \\ \text{CH}_3 - \text{C} - \text{CH}_3 \\ | \\ \text{CH}_3 \end{array}$

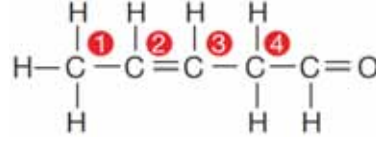
16. sp^3 hibrit orbitalini oluşturan orbitaller ve hibrit orbital sayısı aşağıdakilerden hangisinde birlikte ve doğru olarak verilmiştir?

- | Hibrit orbitalini oluşturan orbitaller | Hibrit orbital sayısı |
|--|-----------------------|
| A) s + p | 2 |
| B) s + p + p | 3 |
| C) s + p + p + p | 4 |
| D) s + s + p + p | 4 |

17. $\text{H}_2\text{C}_2\text{O}_4$ bileşiğindeki karbon (C) atomunun yükseltgenme basamağı kaçtır?

- A) -3
B) 0
C) +2
D) +3

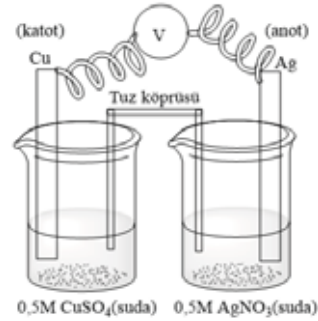
18.



Yukarıdaki bileşikte numaralandırılmış karbon atomlarının hibritleşmesi aşağıdakilerden hangisinde doğru olarak verilmiştir?

- A) 1: karbon sp^2
B) 2: karbon sp^2
C) 3: karbon sp^3
D) 4: karbon sp^2

19.



Yukarıdaki Cu/Ag pilinin hücre diyagramı aşağıdakilerden hangisinde doğru olarak verilmiştir?

- A) $\text{Cu}(k) | \text{Cu}^{2+}(\text{suda})(0,5M) || \text{Ag}^+(\text{suda})(0,5M) | \text{Ag}(k)$
B) $\text{Cu}(k) | \text{Ag}^+(\text{suda})(0,5M) || \text{Cu}^{2+}(\text{suda})(0,5M) | \text{Ag}(k)$
C) $\text{Ag}^+(\text{suda})(0,5M) | \text{Ag}(k) || \text{Cu}(k) | \text{Cu}^{2+}(\text{suda})(0,5M)$
D) $\text{Cu}(k) | \text{Cu}^{2+}(\text{suda})(0,5M) | \text{Ag}^+(\text{suda})(0,5M) || \text{Ag}(k)$

20. Aşağıdaki bileşik – bileşikteki fonksiyonel grup eşleştirmelerinden hangisi doğrudur?

- | Bileşik sınıfının genel adı | Bileşikteki fonksiyonel grup |
|-----------------------------|--|
| A) Keton | $\begin{array}{c} -\text{C}=\text{O} \\ \\ \text{H} \end{array}$ |
| B) Alken | $\begin{array}{c} \diagup \quad \diagdown \\ \text{C}=\text{C} \\ \diagdown \quad \diagup \end{array}$ |
| C) Alkol | $-\text{O}-$ |
| D) Eter | $-\text{OH}$ |

1. Aşağıdakilerden hangisi eşeysiz üreme türlerinden biri değildir?
- A) Transdüksiyon
B) Tomurcuklanma
C) Sporla üreme
D) Vejetatif çoğalma
2. Aşağıdakilerden hangisi erkek üreme sisteminde yer alır?
- A) Fallop tüpü
B) Testis
C) Endometriyum
D) Folükül
3. Oogenezin tamamlanması ve yumurtanın oluşumu ile döllenenmemiş yumurtanın vücuttan atılışına kadar olan süreye ne ad verilir?
- A) Progesteron
B) Segmentasyon
C) Menstrual döngü
D) Morula
4. Gastrula safhasında meydana gelen üç embriyonik tabakadan organların gelişmesine ne ad verilir?
- A) Organogenez
B) Allantoyis
C) Plasenta
D) Fetüs
5. Embriyonun gelişimi için ihtiyaç duyduğu besin maddelerinin depo edildiği kese aşağıdakilerden hangisidir?
- A) Koriyon
B) Vitellus
C) Allantoyis
D) Amniyon zarı
6. Kromozom sayısı $2n=24$ olan bir memeli hayvanın mayoz geçiren bir hücresinde kaç tane tetrad oluşur?
- A) 2
B) 6
C) 12
D) 24
7. Aşağıdakilerden hangisi mitozun bölünme aşamalarından biri değildir?
- A) Metafaz
B) Anafaz
C) Telofaz
D) İnterfaz
8. Aşağıdakilerden hangisi rejenerasyonla üreyen canlılardan biridir?
- A) Denizyıldızı
B) Kurbağa
C) Sivrisinek
D) Arı
9. Aşağıdakilerden hangisi bakterilerin genetik yapılarda çeşitlilik yaratan etkilerinden biri değildir?
- A) Transformasyon
B) Konjugasyon
C) Enjeksiyon
D) Transdüksiyon
10. İnsanda hamilelik süresi yaklaşık kaç haftadır?
- A) 24
B) 30
C) 36
D) 40

11. Aşağıdakilerden hangisi erkek ve dişi üreme organlarının ikisine de sahip olan canlı türlerinden biridir?

- A) Kirpi
- B) Halkalı solucan
- C) Kurbağa
- D) Yılan

12. Aşağıdakilerden hangisi menstrual döngünün evrelerinden biri değildir?

- A) Canlanma evresi
- B) Korpus luteum evresi
- C) Ovulasyon evresi
- D) Foliküler evre

13. Yumurta ve spermin birleşerek meydana getirdiği oluşuma ne ad verilir?

- A) Tetrat
- B) Kiyazma
- C) Gamet
- D) Zigot

14. Rahim ağzı hücrelerine yerleşerek rahim ağzı kanserine neden olan virüs aşağıdakilerden hangisidir?

- A) İnfluenza
- B) HPV
- C) HIV
- D) Ebola

15. Aşağıdakilerden hangisi insanda erkek bireylerde ses kalınlaşması ve kıllanma gibi erkeklik özelliklerinin ortaya çıkmasını sağlayan hormondur?

- A) Prolaktin
- B) Östrojen
- C) Progesteron
- D) Testosteron

16. Hamileliğin sekizinci haftasından başlayıp doğuma kadar devam eden dönem aşağıdakilerden hangisidir?

- A) Fetal evre
- B) Embriyonik evre
- C) Segmentasyon evresi
- D) Döl tutma evresi

17. Aşağıdakilerden hangisi insan üreme sisteminde yumurtanın döllendiği yerdir?

- A) Yumurtalıklar
- B) Fallop tüpü
- C) Rahim ağzı
- D) Endometriyum

18. Aşağıdakilerden hangisi yumurtalıkta oluşan korpus luteumdan salgılanan hormondur?

- A) Folikül uyarıcı hormon
- B) Testosteron
- C) Progesteron
- D) Prolaktin

19. İnce bir iğne yardımıyla amniyon kesesi içinden amniyon sıvısından örnek alındıktan sonra hücrelerin incelenerek anomali varlığı saptama işlemine ne ad verilir?

- A) Segmentasyon
- B) Epididimis
- C) Organogenez
- D) Amniyosentez

20. HIV virüsünün neden olduğu hastalık aşağıdakilerden hangisidir?

- A) Frengi
- B) Hepatit
- C) AIDS
- D) Bel soğukluğu

1. Oksijen yokluğunda sadece glikoliz yoluyla enerji elde edilen metabolik sürece ne ad verilir?
 - A) Fotosentez
 - B) Fosforilasyon
 - C) Fermantasyon
 - D) Kemosentez

2. Fotosentezde karbonhidrat sentezlenmesi sırasında atmosfere verilen gaz aşağıdakilerden hangisidir?
 - A) Argon
 - B) Karbondioksit
 - C) Oksijen
 - D) Azot

3. Şeker sentezini başlatan molekül aşağıdakilerden hangisidir?
 - A) Karbondioksit
 - B) ATP
 - C) Oksijen
 - D) Su

4. Homeostazinin korunmasında sinir sistemi ile birlikte çalışan ve iç salgı bezlerinden salgılanan kimyasal uyarıcılar aşağıdakilerden hangisidir?
 - A) Nöron
 - B) Hormon
 - C) Trombosit
 - D) Nörotransmitter

5. Fotosentezin ışığa bağımlı reaksiyonlarının gerçekleştiği organel aşağıdakilerden hangisidir?
 - A) Çekirdek zarı
 - B) Ribozom
 - C) Hücre zarı
 - D) Kloroplast tilakoit zarı

6. Güneşin ışık enerjisinin, klorofil taşıyan bazı canlılar tarafından kimyasal enerjiye dönüştürülerek organik moleküllerin yapısında depolanmasına ne ad verilir?
 - A) Pigment
 - B) Fotoototrof
 - C) Fotosentez
 - D) Ototrof

7. Fotosentezle üretilen şeker moleküllerinin kloroplastta geçici olarak depolama şekli aşağıdakilerden hangisidir?
 - A) Nişasta
 - B) Sakkaroz
 - C) Protein
 - D) Glukoz

8. İçinde hem üreticiler hem de tüketiciler bulunan canlı grubu aşağıdakilerden hangisidir?
 - A) Bakteriler
 - B) Mantarlar
 - C) Bitkiler
 - D) Hayvanlar

9. Nitratın elektron alarak birkaç basamakta moleküler azota dönüşümüne ne ad verilir?
 - A) Fermantasyon
 - B) Denitrifikasyon
 - C) Glikoliz
 - D) Nitrifikasyon

10. Hücresel solunumda net ATP kazancı kaçtır?
 - A) 38
 - B) 36
 - C) 34
 - D) 32

11. Hücrede enerji gerektiren bütün faaliyetlerde gerekli olan enerjinin depolandığı molekül aşağıdakilerden hangisidir?
- A) ATP
B) Riboz
C) Adenin
D) ADP
12. Aşağıdakilerden hangisi laktik asit fermantasyonu yoluyla üretilemez?
- A) Peynir
B) Ekmek
C) Yoğurt
D) Tereyağı
13. Hüresel solunumun ilk aşamasında, glikozun kademeli olarak parçalanarak pirüvik aside dönüştürülmesine ne ad verilir?
- A) Katabolizma
B) Fotosentez
C) Metabolizma
D) Glikoliz
14. Beyinde ve omurilikte, mesajları taşıyan sinir hücreleri etrafındaki miyelin kılıfın hasar görmesine dayalı sinir sistemi hastalığı aşağıdakilerden hangisidir?
- A) Parkinson
B) Epilepsi
C) Multipl Skleroz
D) Alzheimer
15. Sinir hücresinde diğer sinir hücrelerinden uyarı alınmasını sağlayan kısım aşağıdakilerden hangisidir?
- A) Hücre gövdesi
B) Dendrit
C) Akson
D) Miyelin kılıf
16. Aşağıdakilerden hangisi fotosentez hızını etkileyen kalıtsal faktörlerden biridir?
- A) Mineraller
B) Karbondioksit miktarı
C) Enzim miktarı
D) Su
17. Güneş ışığı yardımıyla deride sentezlenen vitamin aşağıdakilerden hangisidir?
- A) A
B) D
C) E
D) K
18. Kulak zarının iki tarafındaki basıncın dengede tutulmasını sağlayan yapı aşağıdakilerden hangisidir?
- A) Kesecik
B) Salyangoz
C) Tulumcuk
D) Östaki borusu
19. Göz merceği ya da korneadaki düzensiz kıvrımlar sonucunda göze giren ışınların farklı açılarla kırılması sonucu retinanın üzerine aynı şekilde düşmemesi durumunda ortaya çıkan görme bozukluğuna ne ad verilir?
- A) Miyop
B) Katarakt
C) Hipermetrop
D) Astigmat
20. Aşağıdakilerden hangisinde kimyasal enerji elektrik enerjisine dönüştürülür?
- A) Kemik hücresi
B) Böbrek hücresi
C) Kas hücresi
D) Sinir hücresi

1. Aşağıdakilerden hangisi, emek sınıflaması içinde yer almaz?

- A) Sübjektif emek
- B) Objektif emek
- C) Karşılaştırmalı emek
- D) Yaratıcı emek

2. Nüfus ile ilgili aşağıdaki ifadelerden hangisi yanlıştır?

- A) Bir ülkede nüfus sayısı o ülkenin ekonomik faaliyet hacmini, ekonomik gücünü belirleyen bir etkidir.
- B) Nüfusun yapısını cinsiyet, yaş, meslek grupları belirtir.
- C) Nüfusa dinamizm kazandıran doğumlar, ölümler, iç ve dış göçlerdir.
- D) Bir ülke nüfusunda 20-60 yaş arasındaki olgunlar diliminin büyük olması, ekonomik faaliyetleri azaltır.

3. Aşağıdakilerden hangisi hızlı nüfus artışının olumsuz yönlerinden biridir?

- A) Doğal kaynakların işletilmesini kolaylaştırması
- B) Yeni kurumların benimsenmesini ve ekonomik faaliyetlerin hızlanmasını sağlaması
- C) Kamu yönetiminin yol, kanalizasyon, su, elektrik gibi altyapı hizmetlerini yürütmesinin zorlaştırması
- D) Kişilerin mekân içinde ve meslekler arasında hareketliliğini sağlaması

4. İnsanların mal ve hizmet elde etmek için yaptıkları faaliyetlere ne ad verilir?

- A) Üretim
- B) Emek
- C) Girişimcilik
- D) Rant

5. Aşağıdakilerden hangisi uygulayıcı emeğin bir örneğidir?

- A) Mühendislik
- B) Temizlikçilik
- C) Ustabaşılık
- D) Fabrika şefi

6. Aşağıdakilerden hangisi öz sermaye içinde yer almaz?

- A) Kuruluşun çalışanlarına olan borçları
- B) Kuruluşun sağladığı kârın sahiplerine dağıtılmayarak işletmede bırakılan kısmı
- C) Faaliyetlerin devamı süresince kuruluş sahipleri tarafından getirilen para
- D) Kâr üzerinden alınan yedek akçe

7. Ekonomik açıdan sermayenin tanımı aşağıdakilerden hangisidir?

- A) Önceden üretilmiş olan, üretimde kullanılan üretim faktörlerinin bileşimidir.
- B) Bir kuruluşun aktifindeki dönen varlıklarla duran varlıkların toplamıdır.
- C) Kuruluşun, mevcut alacakları toplamı ile borçları arasındaki farktır.
- D) Kuruluşun, faiz karşılığında bankalardan aldığı kredi ile yine faiz karşılığında tahvil satarak sağladığı borç kapitalidir.

8. Aşağıdakilerden hangisi sermayenin oluşmasındaki subjektif faktörlerden biridir?

- A) Gelecekte olabilecek istenmeyen durumlara karşı bir yedek gelir oluşturma isteği
- B) Gelir düzeyi
- C) Vergi oranlarının artması
- D) İnsanların sahip oldukları servetin gelecekteki değeri

9. Orta vadeli borçların süresiyle ilgili aşağıdaki ifadelerden hangisi doğrudur?

- A) 1 - 3 ay vadeli.
- B) 3 - 6 ay vadeli.
- C) 6 - 9 ay vadeli.
- D) 1 - 2 yıl vadeli.

10. Aşağıdakilerden hangisi dönen varlıklardandır?

- A) Üretimde kullanılan hammaddeler
- B) Üretim yapıldığı bina
- C) Araziler
- D) Üretim yapıldığı makineler

11. Kolektif şirket ile ilgili aşağıdaki ifadelerden hangisi yanlıştır?

- A) Belirli bir unvan altında az sayıda ortak tarafından kurulur.
- B) Ortakların sorumluluğu şirkete koydukları sermaye ile sınırlıdır.
- C) Ortaklar, şirketin çıkarları için çok çaba sarf ederler.
- D) Ortaklar çoğunlukla şirketi genişletecek cesareti gösteremezler.

12. Sigortacılıktan başka her türlü ticari iş ile uğraşmak üzere kurulan, sorumlulukları gerek şirket, gerek ortaklar için konan sermaye ile sınırlandırılmış olan şirketlere ne ad verilir?

- A) Anonim şirket
- B) Kolektif şirket
- C) Limited şirket
- D) Adi komandit şirket

13. Aşağıdakilerden hangisi girişimcinin başlıca özelliklerinden biri değildir?

- A) Girişimci, girişim faaliyetlerinden doğan riskleri üstlenen kişidir.
- B) Girişimci, üretim faktörlerini akılcı bir şekilde sağlayan kişidir.
- C) Girişimci, üretim faktörlerinden yararlanarak mal ve hizmet üreten kişidir.
- D) Girişimci, toplum sağlığını her şeyin önünde tutan kişidir.

14. Aşağıdakilerden hangisi girişimin (teşebbüs) özelliklerinden biri değildir?

- A) Üretim faktörlerinden yararlanarak mal ve hizmet üreten bir ünite olması
- B) Üretim faktörlerini sağlayan bir ünite olması
- C) Bir uygulama merkezi olması
- D) Üretim faktörlerini kullanan bir ünite olması

15. Sermayenin tamamı devlete ait olan ve tekel niteliğindeki mallar ile temel mal ve hizmetleri üretmek ve pazarlamak amacıyla yasayla kurulan, kamu hizmeti niteliği ağır basan kuruluşlara ne ad verilir?

- A) İştirak
- B) Kamu İktisadi Kuruluşları
- C) İktisadi Devlet Teşekkülleri
- D) Bağlı ortaklık

16. Bir servetten doğan gelirlere ne ad verilir?

- A) Temelli gelir
- B) İtibari gelir
- C) Gerçek gelir
- D) Marjinal gelir

17. Gayri Safi gelirden girişimcinin üretim giderleri çıktıktan sonra kalan miktara ne ad verilir?

- A) Servet
- B) Öz sermaye
- C) Gerçek kâr
- D) Safi gelir

18. Türkiye Cumhuriyeti Merkez Bankası tarafından belirlenen faize ne ad verilir?

- A) Reel faiz
- B) Serbest faiz
- C) Nominal faiz
- D) Bağlı faiz

19. Aşağıdakilerden hangisi gelir olarak kabul edilmez?

- A) Rant
- B) Miras
- C) Ücret
- D) Kâr

20. Bir işçinin itibari ücretinin satın alma gücüne ne ad verilir?

- A) Nakdi ücret
- B) Ayni ücret
- C) Reel ücret
- D) Zamana göre ücret

1. King Kong ist der Affe der Welt.

Welches Wort passt in die obige Lücke?

Cümlede boş bırakılan yeri aşağıdakilerden hangisi tamamlar?

- A) weiteste
B) größte
C) schwächste
D) kleinste

2. Der vierte Monat des Jahres ist

Welches Wort passt in die obige Lücke?

Cümlede boş bırakılan yeri aşağıdakilerden hangisi doğru şekilde tamamlar?

- A) Juni
B) Juli
C) April
D) Mai

3. Petra ist 85 kg, Maria ist 75 kg und Zeynep ist 60 kg.

Welche Schlußfolgerung kann man nach den obigen Sätzen machen?

Verilen cümlelere göre, aşağıdaki yargılardan hangisi doğrudur?

- A) Petra ist am schwersten.
B) Zeynep ist die längste.
C) Zeynep ist die kleinste.
D) Maria ist am schwersten.

4. Warum steigen Ölpreise ständig?

Welche Antwort passt zur obigen Frage?

Verilen sorunun cevabı aşağıdakilerden hangisidir?

- A) Weil wir früh aufgestanden sind.
B) Weil ich viel Geld habe.
C) Weil sie studieren wollen.
D) Weil die Inflation ständig steigt.

5. A: Warum bist du gekommen?

B:

A: Ach ja, das habe ich vergessen! Hier hast du dein Geld!

B: Danke!

Welches ergänzt den obigen Dialog?

Verilen karşılıklı konuşmayı aşağıdakilerden hangisi tamamlar?

- A) Ich hatte keine Zeit dich anzurufen.
B) Ich bin gekommen, weil ich Taschengeld brauche.
C) Ich bin traurig, weil ich die Prüfung nicht bestanden habe.
D) Ich habe meine Hausaufgaben gemacht.

6. Wie lautet das Wort "jemanden einsetzen" auf Türkisch?

"jemanden einsetzen" sözcüğünün Türkçe karşılığı aşağıdakilerden hangisidir?

- A) birini devreye sokmak
B) birini beğenmek
C) birbirine yardım etmek
D) birini çağırmak

7. Der Feierabend alle Angestellten.

Welches Wort passt in die obige Lücke?

Cümlede boş bırakılan yeri aşağıdakilerden hangisi doğru şekilde tamamlar?

- A) erleichtert
B) öffnen
C) rechnen
D) arbeiten

8. Die Sommermonate sind

Welches ergänzt die Lücke im obigen Satz?

Verilen cümleyi aşağıdakilerden hangisi tamamlar?

- A) der September, der Oktober, der November.
B) der Dezember, der Januar, der Februar.
C) der März, der April, der Mai.
D) der Juni, der Juli, der August.

9. 1980 1984 habe ich die Realschule besucht.

Welche Wörter passen in die obigen Lücken?

Cümlede boş bırakılan yerleri aşağıdakilerden hangisi doğru şekilde tamamlar?

- A) In / auf
B) Von / bis
C) Zu / für
D) Aus / ab

10. Du nicht in der Schule? Ich dachte, du wärst in der Schule!

Welches Wort passt in die obige Lücke?

Cümlede boş bırakılan yeri aşağıdakilerden hangisi doğru şekilde tamamlar?

- A) warst
B) war
C) wäre
D) wären

11. Gehört das Buch deiner Mutter?

Welche Antwort passt zur obigen Frage?

Verilen sorunun cevabı aşağıdakilerden hangisidir?

- A) Nein, das Buch gehört nicht meiner Mutter.
B) Ja, meine Mutter will sich ein Buch kaufen.
C) Ja, meine Mutter ist zu Hause.
D) Ja, mein Buch habe ich in der Schule vergessen.

12. Was bedeutet "balık tutmak" auf Deutsch?

"balık tutmak" sözcüğünün Alması aşağıdakilerden hangisidir?

- A) träumen
B) segeln
C) angeln
D) schwimmen

13. Versammlung / stattfinden / Saal / im / die

Wie kann man mit den obigen Wortgruppen einen sinnvollen und richtigen Satz bilden?

Verilen sözcük gruplarıyla kurulabilecek en anlamlı ve doğru cümle aşağıdakilerden hangisidir?

- A) Im Saal die Versammlung findet statt.
B) Die Saal Versammlung stattfindet im.
C) Findet die Versammlung im statt Saal.
D) Die Versammlung findet im Saal statt.

14. Man sagt, die junge Frau noch eine Praktikantin und eine Familie zu versorgen.

Welche Wörter passen in die obigen Lücken?

Cümlede boş bırakılan yerleri aşağıdakilerden hangisi tamamlar?

- A) war / habest
B) soll / hatte
C) wird / hätte
D) sei / habe

15. Mein Freund hatte keine Gelegenheit Englisch zu lernen.

Welches Wort passt nicht in die obige Lücke?

Cümlede boş bırakılan yeri aşağıdakilerden hangisi doğru şekilde tamamlamaz?

- A) aber
B) bis jetzt
C) noch
D) zu

16. Die Banken sind der Reperatur durchgehend geschlossen.

Welches Wort passt in die obige Lücke?

Cümlede boş bırakılan yeri aşağıdakilerden hangisi doğru şekilde tamamlar?

- A) versorgt
- B) nur
- C) wegen
- D) sonst

17. A: Hallo! Wie geht es dir?
B: Hallo! Gut, ich habe Hunger und gehe essen.
A: Was willst du essen?
B: Die Nudeln,....., schmecken mir besonders gut.
A: Das hört sich wirklich lecker an! Ich komm auch mit!
B: Also dann, lass uns Nudeln essen!

Welches ergänzt die Lücke im obigen Dialog?

Verilen karşılıklı konuşmada boş bırakılan yeri aşağıdakilerden hangisi tamamlar?

- A) der eine Spezialität aus der Türkei ist
- B) das wir von Holland kaufen
- C) die aus Italien kommen
- D) den möchte ich auch kennenlernen

18. Postane hafta sonları kapalıdır.

Wie lautet der obige Satz auf Deutsch?

Verilen cümlelerin Almancası aşağıdakilerden hangisidir?

- A) Am Wochenende musst du zur Post.
- B) Die Post ist am Wochenende geschlossen.
- C) Am Wochenende kann die Post geschlossen sein.
- D) Die Post ist gleich um die Ecke.

19. Die Mädchen, wir Blumen geschenkt, haben sich gefreut.

Welche Wörter passen in die obigen Lücken?

Cümlede boş bırakılan yerleri aşağıdakilerden hangisi tamamlar?

- A) dessen / hätten
- B) denen / haben
- C) der / hatten
- D) den / seien

20. Das Kind, das Fieber hat, muß zum Arzt.

Wie lautet der obige Satz auf Türkisch?

Verilen cümlelerin Türkçesi aşağıdakilerden hangisidir?

- A) Ateşlenen çocuğu doktora götürmediler.
- B) Çocuğun ateşini doktor da düşürememiş.
- C) Ateşi olan çocuk doktora gitmeli.
- D) Çocuğu ateşlendiği için doktora götürmek istediler.

1. My little sister a lot when she was a student at high school.

Which of the following completes the sentence above?

Aşağıdakilerden hangisi yukarıdaki cümleyi doğru olarak tamamlar?

- A) didn't use to study
B) didn't used to study
C) studied
D) use to study

2. Our guests arrived while we dinner.

Which of the following completes the sentence above?

Aşağıdakilerden hangisi yukarıdaki cümleyi doğru olarak tamamlar?

- A) had
B) were having
C) have
D) are having

3. She was cooking the electricity went off.

Which of the following completes the sentence above?

Aşağıdakilerden hangisi yukarıdaki cümleyi doğru olarak tamamlar?

- A) when
B) while
C) who
D) which

4. I hope you will the exam.

Which of the following completes the sentence above?

Aşağıdakilerden hangisi yukarıdaki cümleyi doğru olarak tamamlar?

- A) passed
B) passing
C) pass
D) passes

5. Did youdo sport regularly when you were young?

Which of the following completes the sentence above?

Aşağıdakilerden hangisi yukarıdaki cümleyi doğru olarak tamamlar?

- A) used to
B) use to
C) be used to
D) not used to

6. The festival wasn't good,?

Which of the following completes the sentence above?

Aşağıdakilerden hangisi yukarıdaki cümleyi doğru olarak tamamlar?

- A) wasn't it
B) has it
C) was it
D) is it

7. A: I can't carry this box.
B: Ok, I help you to carry.

Which of the following completes the dialogue above?

Aşağıdakilerden hangisi yukarıdaki konuşmayı doğru olarak tamamlar?

- A) will
B) have
C) is
D) does

8. The family was having dinner the electricity went off.

Which of the following completes the sentence above?

Aşağıdakilerden hangisi yukarıdaki cümleyi doğru olarak tamamlar?

- A) already
B) while
C) when
D) since

9. Paul has lived in Spain two years.

Which of the following completes the sentence above?

Aşağıdakilerden hangisi yukarıdaki cümleyi doğru olarak tamamlar?

- A) as
- B) since
- C) for
- D) at

10. Arif used to basketball when he was at high school.

Which of the following completes the sentence above?

Aşağıdakilerden hangisi yukarıdaki cümleyi doğru olarak tamamlar?

- A) will play
- B) have played
- C) plays
- D) play

11. You usually wake up early, ?

Which of the following completes the sentence above?

Aşağıdakilerden hangisi yukarıdaki cümleyi doğru olarak tamamlar?

- A) doesn't she
- B) do you
- C) don't you
- D) does he

12. I haven't seen my uncle ten years.

Which of the following completes the sentence above?

Aşağıdakilerden hangisi yukarıdaki cümleyi doğru olarak tamamlar?

- A) ago
- B) since
- C) from
- D) for

13. Carol in London since 1995.

Which of the following completes the sentence above?

Aşağıdakilerden hangisi yukarıdaki cümleyi doğru olarak tamamlar?

- A) was
- B) is
- C) will be
- D) has been

14. My brother speaks English than my father.

Which of the following completes the sentence above?

Aşağıdakilerden hangisi yukarıdaki cümleyi doğru olarak tamamlar?

- A) fluently
- B) more fluently
- C) fluent
- D) the most fluent

15. We were having breakfast in the garden it suddenly started to rain.

Which of the following completes the sentence above?

Aşağıdakilerden hangisi yukarıdaki cümleyi doğru olarak tamamlar?

- A) when
- B) for
- C) since
- D) while

16. Could you speak more ?

Which of the following completes the sentence above?

Aşağıdakilerden hangisi yukarıdaki cümleyi doğru olarak tamamlar?

- A) slowly
- B) slow
- C) slower
- D) slowest

17. She hardly ever watches television, ?

Which of the following completes the sentence above?

Aşağıdakilerden hangisi yukarıdaki cümleyi doğru olarak tamamlar?

- A) has she
- B) does she
- C) doesn't she
- D) will she

18. I wake up than my brother.

Which of the following completes the sentence above?

Aşağıdakilerden hangisi yukarıdaki cümleyi doğru olarak tamamlar?

- A) the earliest
- B) earlier
- C) earliest
- D) early

19. Larry hasn't been here yesterday.

Which of the following completes the sentence above?

Aşağıdakilerden hangisi yukarıdaki cümleyi doğru olarak tamamlar?

- A) for
- B) at
- C) to
- D) since

20. He will a new car in the summer.

Which of the following completes the sentence above?

Aşağıdakilerden hangisi yukarıdaki cümleyi doğru olarak tamamlar?

- A) buys
- B) buying
- C) bought
- D) buy

1. Pour réussir, il faut beaucoup

Choisissez le mot qui convient.

Cümledeki boşluğu aşağıdakilerden hangisi doğru şekilde tamamlar?

- A) travailler
B) travaillent
C) travaillent
D) travail

2. «L'heure où mon fils s'endort est 21 heures.»

Choisissez la traduction qui convient.

Yukarıdaki cümlelerin Türkçe karşılığı aşağıdakilerden hangisidir?

- A) Kızım saat 21'de uyanır.
B) Oğlumun uyandığı saat 21'dir.
C) Oğlumun uyuduğu saat 21'dir.
D) Kızım saat 21'de uyur.

3. C'est un policier.

Choisissez le mot qui convient.

Cümledeki boşluğu aşağıdakilerden hangisi doğru şekilde tamamlar?

- A) peinture
B) émission
C) photo
D) roman

4. Tu partiras comment?, ou en groupe?

Choisissez le mot qui convient.

Cümledeki boşluğu aşağıdakilerden hangisi doğru şekilde tamamlar?

- A) Organiser
B) À l'étranger
C) Quand
D) Seul

5. les / j'aime / brillantes / lumières
I II III IV

Mettez dans le bon ordre.

Yukarıdaki kelimelerin anlamlı ve kurallı bir bütün oluşturan sırası aşağıdakilerin hangisinde doğru olarak verilmiştir?

- A) II, I, III, IV
B) II, I, IV, III
C) III, IV, I, II
D) III, IV, II, I

6. La personne j'ai saluée est mon patron.

Choisissez le mot qui convient.

Cümledeki boşluğu aşağıdakilerden hangisi doğru şekilde tamamlar?

- A) celle
B) qui
C) que
D) celui

7. il s'est blessé.

Choisissez le mot qui convient.

Cümledeki boşluğu aşağıdakilerden hangisi doğru şekilde tamamlar?

- A) Brillante
B) Heureusement
C) Obéissantes
D) Malheureusement

8. Elle joue volley-ball.

Choisissez le mot qui convient.

Cümledeki boşluğu aşağıdakilerden hangisi doğru şekilde tamamlar?

- A) de la
B) du
C) au
D) les

9. «Cumartesi günü neler yapacaksınız?»

Choisissez la traduction qui convient.

Yukarıdaki cümlelerin Türkçe karşılığı aşağıdakilerden hangisidir?

- A) Qu'est-ce que vous faites Dimanche?
B) Que faites-vous Dimanche?
C) Qu'est-ce que vous allez faire Samedi?
D) Quelle est votre activité pour Samedi?

10. Je chante en le ménage.

Choisissez le mot qui convient.

Cümledeki boşluğu aşağıdakilerden hangisi doğru şekilde tamamlar?

- A) faisais
B) faisant
C) faire
D) faisait

11. I. J'ai décidé d'organiser une fête.
II. C'est une bonne école.
III. Je vais inviter tous mes amis.
IV. On va s'amuser.

Trouvez la phrase qui ne convient pas.

Cümleler sırasıyla okunduğunda, anlam bütünlüğünü bozan cümleyi bulunuz.

- A) I
B) II
C) III
D) IV

12. Il faut un passeport quand on veut partir

Choisissez l'expression qui convient.

Cümlede boş bırakılan yeri aşağıdakilerden hangisi doğru şekilde tamamlar?

- A) à la maison
B) chez le médecin
C) à l'étranger
D) au magasin

13. La ville est célèbre, c'est Paris.

Choisissez le mot qui convient.

Cümledeki boşluğu aşağıdakilerden hangisi doğru şekilde tamamlar?

- A) dont
B) qui
C) que
D) où

14. Juin est un mois de

Choisissez le mot qui convient.

Cümledeki boşluğu aşağıdakilerden hangisi doğru şekilde tamamlar?

- A) du printemps
B) de l'automne
C) l'hiver
D) l'été

15. Elle a oublié son sac voyage.

Choisissez le mot qui convient.

Cümledeki boşluğu aşağıdakilerden hangisi doğru şekilde tamamlar?

- A) chez
B) de
C) des
D) d'une

16. la valise est lourde, Pierre a appelé un taxi.

Choisissez le mot qui convient.

Cümledeki boşluğu aşağıdakilerden hangisi doğru şekilde tamamlar?

- A) Comme
B) Malgré
C) Quand
D) Lorsque

17. Monique un championnat de ping-pong chaque samedi.

Choisissez le mot qui convient.

Cümledeki boşluğu aşağıdakilerden hangisi doğru şekilde tamamlar?

- A) organise
- B) va
- C) danse
- D) part

18. Je joue guitare.

Choisissez le mot qui convient.

Cümledeki boşluğu aşağıdakilerden hangisi doğru şekilde tamamlar?

- A) de la
- B) du
- C) au
- D) de

19. Lisa : Qu'est-ce que tu aimes lire?

Henri :

Lisa : Et les romans?

Henri : Non pas trop!

Choisissez l'expression qui convient.

Yukarıdaki konuşmada boş bırakılan yeri aşağıdakilerden hangisi doğru şekilde tamamlar?

- A) La télévision
- B) Le sport
- C) La radio
- D) Les BD

20. Je veux acheter la voiture tu parles.

Choisissez le mot qui convient.

Cümledeki boşluğu aşağıdakilerden hangisi doğru şekilde tamamlar?

- A) dont
- B) que
- C) où
- D) qui

1. Was willst du werden?

Welche Antwort passt zur obigen Frage?

Verilen sorunun cevabı aşağıdakilerden hangisidir?

- A) Traum.
- B) Ausland.
- C) Büro.
- D) Pilot.

2. Willst / kannst / wenn / studieren / du / Berlin / in

Wie kann man mit den obigen Wortgruppen einen sinnvollen und richtigen Satz bilden?

Verilen sözcük gruplarıyla kurulabilecek en anlamlı ve doğru cümle aşağıdakilerden hangisidir?

- A) Wenn du willst, kannst du in Berlin studieren.
- B) Berlin willst, wenn du in kannst studieren.
- C) Kannst studieren willst, wenn Berlin du in.
- D) Willst wenn, du in kannst Berlin studieren.

3. A: Was machen die Schüler, die eine Gesamtschule besucht haben?

B: Sie können einen Beruf erlernen!

A:

B: Ja, wenn sie wollen, können sie auch aufs Gymnasium gehen!

Welches ergänzt den obigen Dialog?

Verilen karşılıklı konuşmayı aşağıdakilerden hangisi tamamlar?

- A) Gehen sie auf die Gesamtschule?
- B) Naja, dann müssen sie an zwei Tagen zur Berufsschule!
- C) Das war auch im Film zu sehen!
- D) Können sie auch aufs Gymnasium gehen?

4. Es gibt immer wieder neue Entdeckungen und Erfindungen.

Wie lautet der obige Satz auf Türkisch?

Verilen cümlenin Türkçesi aşağıdakilerden hangisidir?

- A) Her zaman yeni keşif ve buluşlar vardır.
- B) Yeni buluş ve keşifleri her zaman takip ederim.
- C) Siz zaten hep yeni şeyler bulursunuz!
- D) Yenilikleri ve buluşları her zaman çok beğenirim!

5. Wer ist Albert Einstein?

Welche Antwort passt zur obigen Frage?

Verilen sorunun cevabı aşağıdakilerden hangisidir?

- A) Er ist ein guter Ingenieur.
- B) Er ist ein weltberühmter genialer Wissenschaftler.
- C) Er möchte Deutsch lernen.
- D) Er fliegt nach Spanien.

6. Weitere Informationen findet ihr im Internet!

Wie lautet der obige Satz auf Türkisch?

Verilen cümlenin Türkçesi aşağıdakilerden hangisidir?

- A) Diğer bilgileri internetten bulduk!
- B) Bu bilgilere ancak internet şifresiyle ulaşabilirsiniz!
- C) İnternetinizi her türlü bilgi için kullanabilirsiniz!
- D) İnternette başka bilgiler bulabilirsiniz!

7. Die Schüler gehen von der ersten bis zur vierten Klasse in die

Welches Wort passt in die obige Lücke?

Cümlede boş bırakılan yeri aşağıdakilerden hangisi doğru şekilde tamamlar?

- A) Realschule
- B) Gesamtschule
- C) Grundschule
- D) Hauptschule

8. Der Computer / Die Tastatur / Der Rechner / Das Auto /

Welches Wort passt nicht zu den anderen in der obigen Wortgruppe?

Verilen sözcük grubuna uymayan aşağıdakilerden hangisidir?

- A) Der Rechner
- B) Die Tastatur
- C) Der Computer
- D) Das Auto

9. Die Männer wollen die Sehenswürdigkeiten sehen.

Wie lautet der obige Satz in der Singularform?

Verilen cümlelerin tekil hali aşağıdakilerden hangisidir?

- A) Die Mann besuchen die Sehenswürdigkeit.
- B) Das Mann hat die Sehenswürdigkeiten sehen wollen.
- C) Die Mann will die Sehenswürdigkeiten sehen.
- D) Der Mann will die Sehenswürdigkeit sehen.

10. Warum fahren die Kinder gern Fahrrad?

Welche Antwort passt nicht zur obigen Frage?

Aşağıdakilerden hangisi verilen sorunun cevabı olamaz?

- A) Um die Hausaufgaben zu machen.
- B) Weil es ihnen Spaß macht.
- C) Um sich zu entspannen.
- D) Weil es aufregend ist.

11. A: Weißt du eigentlich, was Velotaxi bedeutet?

B:

A: Das ist interessant! Dann braucht es überhaupt kein Benzin?

B: Genau, es braucht nur menschliche Energie!

A: Das ist ja toll!

Welcher Satz ergänzt den obigen Dialog?

Verilen karşılıklı konuşmayı aşağıdakilerden hangisi tamamlar?

- A) Ja, du kannst mein Fahrrad nehmen!
- B) Nein, ich benutze mein Auto!
- C) Ja, das ist ein Fahrradtaxi!
- D) Nein, das weiß ich auch nicht!

12. Weil sich die Besucher alle Sehenswürdigkeiten in Ruhe anschauen können.

Welche Frage passt zur obigen Antwort?

Verilen cevabı gerektirecek soru aşağıdakilerden hangisidir?

- A) Warum ist es im Sommer wunderbar für die Besucher?
- B) Was machst du im Sommer?
- C) Welche Probleme hast du im Sommer?
- D) Wohin willst du im Sommer gehen?

13. Was bedeutet das Gegenteil von "unzufrieden"?

"unzufrieden" sözcüğünün zıt anlamlısı aşağıdakilerden hangisidir?

- A) sammeln
- B) spannend
- C) zufrieden
- D) beruhigend

14. Heinrich Heine

Welcher Satz ergänzt die obige Lücke?

Verilen cümleyi aşağıdakilerden hangisi tamamlar?

- A) ist mein bestes Rezept!
- B) ist ein berühmter deutscher Dichter!
- C) heißt das kleine Dorf an der Mündung!
- D) heißt der längste Fluß in Deutschland!

15. Ren, Almanya'nın en uzun nehridir.

Wie lautet der obige Satz auf Deutsch?

Verilen cümlelerin Almancası aşağıdakilerden hangisidir?

- A) Der Rhein ist der längste Fluss Deutschlands.
- B) Der Rhein ist in Deutschland sehr berühmt.
- C) Die Mündung vom Rhein ist am längsten.
- D) Die meisten Dörfer Deutschlands liegen direkt am Rhein.

16. Wir haben das Gedicht

Welches ergänzt die Lücke im obigen Satz?

Verilen cümleyi aşağıdakilerden hangisi tamamlar?

- A) heute neu gekauft.
- B) in der Klasse vorgetragen.
- C) das ist ein schöner Blick.
- D) dort finden sie Informationen.

17. Plakate sind Hinweise die Besucher.

Welches Wort passt in die obige Lücke?

Cümlede boş bırakılan yeri aşağıdakilerden hangisi tamamlar?

- A) an
- B) für
- C) mit
- D) bei

18. Was bedeutet "die Sage" auf Türkisch?

"die Sage" sözcüğünün Türkçesi aşağıdakilerden hangisidir?

- A) Heykel
- B) Yıkıntı
- C) Efsane
- D) Kule

19. Ein Blick auf den Loreleyfelsen ist wunderbar.

Welches passt in die obige Lücke?

Cümlede boş bırakılan yeri aşağıdakilerden hangisi doğru şekilde tamamlar?

- A) aus Stein
- B) von der Straße
- C) die Kinder
- D) ein Plakat

20. Der Rhein fließt Deutschland.

Welches Wort passt in die obige Lücke?

Cümlede boş bırakılan yeri aşağıdakilerden hangisi tamamlar?

- A) auf
- B) für
- C) durch
- D) mit

SEÇMELİ İNGİLİZCE 8

B

2017 AÖÖ-AÖL III. DÖNEM 0101-B

1. Ali heard the news, he began to cry.

Which of the following completes the sentence above?

Aşağıdakilerden hangisi yukarıdaki cümleyi doğru olarak tamamlar?

- A) while
- B) As soon as
- C) To
- D) So that

2. They have changed the date of their wedding.

Which of the following is the passive voice of the sentence above?

Aşağıdakilerden hangisi yukarıdaki cümlelerin edilgen yapıda kurulmuş biçimidir?

- A) The date of their wedding is being changed.
- B) The date of their wedding is changed.
- C) The date of their wedding will be changed.
- D) The date of their wedding has been changed.

3. If you have a headache,

Which of the following completes the sentence above?

Aşağıdakilerden hangisi yukarıdaki cümleyi doğru olarak tamamlar?

- A) call the police
- B) take an aspirin
- C) iron the clothes
- D) write a letter

4. Jim : Why didn't you buy the blue skirt?
Catty : I had already bought one.

Which of the following completes the dialogue above?

Aşağıdakilerden hangisi yukarıdaki konuşmayı doğru olarak tamamlar?

- A) Because
- B) After
- C) Until
- D) Wherever

5. We swimming if the sun shines.

Which of the following completes the sentence above?

Aşağıdakilerden hangisi yukarıdaki cümleyi doğru olarak tamamlar?

- A) have gone
- B) went
- C) go
- D) will go

6. I won't eat anything Joe comes home.

Which of the following completes the sentence above?

Aşağıdakilerden hangisi yukarıdaki cümleyi doğru olarak tamamlar?

- A) until
- B) in
- C) while
- D) since

7. 'Tutunamayanlar' by Oğuz Atay.

Which of the following completes the sentence above?

Aşağıdakilerden hangisi yukarıdaki cümleyi doğru olarak tamamlar?

- A) was written
- B) is written
- C) will write
- D) was

8. If they hadn't been on holiday, they to our birthday party.

Which of the following completes the sentence above?

Aşağıdakilerden hangisi yukarıdaki cümleyi doğru olarak tamamlar?

- A) would have come
- B) come
- C) would come
- D) will come

9. They their work by tomorrow.

Which of the following completes the sentence above?

Aşağıdakilerden hangisi yukarıdaki cümleyi doğru olarak tamamlar?

- A) finishing
- B) finish
- C) finished
- D) will have finished

10. English is all over the world.

Which of the following completes the sentence above?

Aşağıdakilerden hangisi yukarıdaki cümleyi doğru olarak tamamlar?

- A) has spoken
- B) spoken
- C) spoke
- D) speak

11. These carpets by the machine.

Which of the following completes the sentence above?

Aşağıdakilerden hangisi yukarıdaki cümleyi doğru olarak tamamlar?

- A) has been made
- B) been made
- C) have been made
- D) have made

12. If it didn't rain, Jane go for a walk.

Which of the following completes the sentence above?

Aşağıdakilerden hangisi yukarıdaki cümleyi doğru olarak tamamlar?

- A) will
- B) must
- C) would
- D) might have

13. My best friend married by next June.

Which of the following completes the sentence above?

Aşağıdakilerden hangisi yukarıdaki cümleyi doğru olarak tamamlar?

- A) will get
- B) gets
- C) will have got
- D) is

14. Don't call me after school. I for tomorrow's exam.

Which of the following completes the sentence above?

Aşağıdakilerden hangisi yukarıdaki cümleyi doğru olarak tamamlar?

- A) studied
- B) study
- C) will have studied
- D) will be studying

15. She tries to visit she can.

Which of the following completes the sentence above?

Aşağıdakilerden hangisi yukarıdaki cümleyi doğru olarak tamamlar?

- A) wherever
- B) for
- C) by
- D) since

16. This time next Saturday I to İstanbul for the weekend.

Which of the following completes the sentence above?

Aşağıdakilerden hangisi yukarıdaki cümleyi doğru olarak tamamlar?

- A) will have gone
- B) go
- C) will be going
- D) will go

17. The letters will next week.

Which of the following completes the sentence above?

Aşağıdakilerden hangisi yukarıdaki cümleyi doğru olarak tamamlar?

- A) posted
- B) posting
- C) post
- D) be posted

18. If we heat ice, it

Which of the following completes the sentence above?

Aşağıdakilerden hangisi yukarıdaki cümleyi doğru olarak tamamlar?

- A) goes
- B) melts
- C) pours
- D) freezes

19. By the time I arrive there, he

Which of the following completes the sentence above?

Aşağıdakilerden hangisi yukarıdaki cümleyi doğru olarak tamamlar?

- A) is leaving
- B) will leave
- C) will have left
- D) leaves

20. they got home, the boy had eaten all the cake.

Which of the following completes the sentence above?

Aşağıdakilerden hangisi yukarıdaki cümleyi doğru olarak tamamlar?

- A) Due to the fact that
- B) By the time
- C) Whenever
- D) Because

1. Il peut pleuvoir; n'oubliez pas prendre votre parapluie.

Choisissez le mot qui convient.

Cümledeki boşluğu aşağıdakilerden hangisi doğru şekilde tamamlar?

- A) sans
B) en
C) de
D) qui

2. Il est triste son amie.

Choisissez le mot/l'expression qui convient.

Cümledeki boşluğu aşağıdakilerden hangisi doğru şekilde tamamlar?

- A) qui
B) que
C) contre le
D) à cause de

3. «Marie est tombée amoureuse.»

Choisissez la traduction qui convient.

Yukarıdaki cümlenin Türkçe karşılığı aşağıdakilerden hangisidir?

- A) Marie aşkı buldu.
B) Marie düştü.
C) Marie'nin sevgilisi düştü.
D) Marie âşık oldu.

4. La semaine prochaine, il au Portugal.

Choisissez le mot qui convient.

Cümledeki boşluğu aşağıdakilerden hangisi doğru şekilde tamamlar?

- A) sera
B) a
C) était
D) es

5. I. L'omelette est aux champignons.
II. Le jus de pomme est une boisson.
III. La café aussi.
IV. Mais la glace est un dessert.

Choisissez la phrase qui ne convient pas à l'ensemble.

Sırasıyla okunduğunda, anlam bütünlüğünü bozan cümleyi bulunuz.

- A) I
B) II
C) III
D) IV

6. I. Pourquoi?
II. Je voudrais vous faire part de mes opinions.
III. La campagne est meilleure que la ville.
IV. Eh bien, parce que il y a moins de pollution.
V. Mais aussi parce qu'il y a beaucoup de légumes.

Mettez dans le bon ordre.

Yukarıdaki cümleleri düzgün bir paragraf oluşturacak şekilde sıraya koyunuz.

- A) I, II, IV, III, V
B) II, III, I, IV, V
C) IV, III, II, I, V
D) V, IV, III, II, I

7. -?
- Vendredi prochain.

Choisissez la question qui convient.

Yukarıdaki konuşmada cevabı gerektiren soru aşağıdakilerden hangisidir?

- A) Nous sommes quel jour
B) Quand vous partez
C) Vous venez d'où
D) Vous allez où

8. Le serveur : Vous avez fait choix?
Le client : Oui, je prends un café au lait.

Choisissez le mot qui convient.

Yukarıdaki konuşmada boş bırakılan yeri aşağıdakilerden hangisi doğru şekilde tamamlar?

- A) vous
B) ton
C) nos
D) votre

9. La femme vient est ma mère.

Choisissez le mot qui convient.

Cümledeki boşluğu aşağıdakilerden hangisi doğru şekilde tamamlar?

- A) qui
B) que
C) lequel
D) laquelle

10. Eva avait toujours de mauvaises notes en mathématique mais elle a ses notes.

Choisissez le mot qui convient.

Cümledeki boşluğu aşağıdakilerden hangisi doğru şekilde tamamlar?

- A) averti
B) encouragé
C) remonté
D) conseillé

11. C'est le livre je préfère.

Choisissez le mot qui convient.

Cümledeki boşluğu aşağıdakilerden hangisi doğru şekilde tamamlar?

- A) qui
B) que
C) de
D) en

12. Il est en section scientifique il donne plus d'importance aux Maths.

Choisissez le mot qui convient.

Cümledeki boşluğu aşağıdakilerden hangisi doğru şekilde tamamlar?

- A) bon
B) trop
C) ou
D) donc

13. j'ai le temps, je peux vous aider.

Choisissez le mot/l'expression qui convient.

Cümledeki boşluğu aşağıdakilerden hangisi doğru şekilde tamamlar?

- A) À cause de
B) Pour
C) Contre
D) Si

14. Marie et Selda aiment les langues étrangères: parle une langue différente.

Choisissez le mot qui convient.

Cümledeki boşluğu aşağıdakilerden hangisi doğru şekilde tamamlar?

- A) elles
B) chacune
C) chacun
D) je

15. Isabelle :?

Alain : Nous irons à la mer.

Isabelle :?

Alain : A Nice.

Choisissez les expressions qui conviennent.

Yukarıdaki konuşmada boş bırakılan yerleri aşağıdakilerden hangisi doğru şekilde tamamlar?

- A) Vous nagez / Où
B) Vous faites quoi cet été / Où
C) Vous aimez les vacances / Quelle ville
D) Vous allez où / Quand

16. de litres d'eau vous buvez par jour?

Choisissez le mot qui convient.

Cümledeki boşluğu aşağıdakilerden hangisi doğru şekilde tamamlar?

- A) Combien
- B) Chacun
- C) Dans
- D) Est-ce que

17. Je suis le théâtre et contre le cinéma.

Choisissez le mot qui convient.

Cümledeki boşluğu aşağıdakilerden hangisi doğru şekilde tamamlar?

- A) dans
- B) du
- C) pour
- D) qui

18. Mon ami a de mauvaises notes en littérature. Il, à dire la vérité à ses parents.

Choisissez le mot qui convient.

Cümledeki boşluğu aşağıdakilerden hangisi doğru şekilde tamamlar?

- A) hésite
- B) obligé
- C) pardonnez
- D) encouragement

19. La vie à la campagne est

Choisissez le mot qui convient.

Cümledeki boşluğu aşağıdakilerden hangisi doğru şekilde tamamlar?

- A) laid
- B) bruyante
- C) tranquille
- D) ennuyeux

20. homme s'appelle Ludovic.

Choisissez le mot qui convient.

Cümledeki boşluğu aşağıdakilerden hangisi doğru şekilde tamamlar?

- A) Ce
- B) Cette
- C) Cet
- D) Ces

1. İslam dininde, Allah'a karşı duyulan saygı ve sorumluluk bilincini ifade eden kavram aşağıdakilerden hangisidir?
- A) Takva
B) Ukba
C) Revân
D) Refref
2. Kur'an-ı Kerim'de insanlığın annesi olarak geçen kişi aşağıdakilerden hangisidir?
- A) Hz. Meryem
B) Hz. Havva
C) Hz. Asiyeye
D) Hz. Hacer
3. Hz. Muhammed, Veda Haccı için aşağıdaki şehirlerin hangisine gitmiştir?
- A) Medine
B) Cidde
C) Şam
D) Mekke
4. Hz. Muhammed'in (s.a.v.) Veda Haccı için yola çıktığında develerin yürüyüş düzenini sağlayan Enceşe adındaki gence; "Enceşe! Sakin ol. Kristalleri dikkatli taşı!" sözünde kristaller olarak ifade ettiği aşağıdakilerden hangisidir?
- A) Altınlar
B) Çocuklar
C) Kadınlar
D) Değerli taşlar
5. Bir kişinin haklarını başkalarına zarar vermeden kullanabilmesi olarak tanımlanan kavram aşağıdakilerden hangisidir?
- A) Özgürlük
B) İntihal
C) Mutahhara
D) Zimmî
6. Medine Antlaşmasına ilişkin aşağıdaki ifadelerden hangisi yanlıştır?
- A) İnanç ve ibadet özgürlüğü teminat altına alınmıştır.
B) Dini grupların hakları belirlenmiştir.
C) Medine'de barışın sağlanmasına katkıda bulunmuştur.
D) Müslümanlara özgürlükler konusunda diğerlerine göre imtiyaz sağlanmıştır.
7. "Başka hiçbir gölgenin bulunmadığı kıyamet gününde Yüce Allah, yedi sınıf insanı, arşının gölgesinde barındıracaktır."
- Aşağıdakilerden hangisi yukarıda söz edilenlerden biri olamaz?
- A) Sağ elin verdiği sol eli görüp sadakaları açık eden kimse
B) Tenhada Allah'ı anıp gözyaşı döken kimse
C) Kalbi mescitlere bağlı olan Müslüman
D) Adaletli yönetici
8. Aşağıdakilerden hangisi Hz. Muhammed'in (s.a.v.) yönetim ilkelerinden biri değildir?
- A) Toplumsal birlik ve beraberlik
B) Sosyal adaletsizlik
C) Eğitim ve öğretim
D) Halkın yönetime katılımını sağlamak
9. Hz. Muhammed'in (s.a.v.) düşünce ve ifade özgürlüğüne verdiği önemi gösteren en önemli örnek davranış aşağıdakilerden hangisidir?
- A) İyiliği emretmesi
B) Kötülüğe engel olması
C) İstişare yapması
D) Öğüt vermesi
10. Aşağıdakilerden hangisi Hz. Muhammed'in (s.a.v.) önem verdiği ahlaki ilkelerden biri değildir?
- A) İntikam
B) Şefkat
C) Fedakârlık
D) Sevgi

11. Aşağıdakilerden hangisi İslam dinine göre yöneticilerin uyması gereken en önemli kuraldır?
- A) Hoşgörü
B) Saygı
C) Adalet
D) İlgi
12. Kur'an-ı Kerim'de "Dinde zorlama yoktur, artık hak ile batıl iyice ayrılmıştır..." buyrulur. Bu ayete göre aşağıdaki ifadelerden hangisi doğrudur?
- A) Akıl, beden ve ruh sağlığı, Allah'ın bize verdiği bir emanettir.
B) Herhangi bir insanı dinini değiştirmeye zorlamak açık bir şekilde yasaklanmıştır.
C) İktisatlı yaşamının nasıl olması gerektiği ifade eder.
D) Doğada ve toplumsal hayattaki dengeyi bozacak davranışlardan kaçınmamızı öğütler.
13. Hz. Muhammed (s.a.v.) "Dikkat edin! Sizin hanımlarınız üzerinde hakkınız olduğu gibi hanımlarınızın da sizin üzerinizde hakları vardır." buyurarak aşağıdaki hususlardan hangisine dikkat çekmiştir?
- A) Tüketici haklarının korunmasına
B) İbadet özgürlüğüne
C) Eğitime önem verilmesine
D) Eşlerin birbirleri üzerinde hakkı olduğuna
14. Halkın yöneticisine bağlılığını bildirmesi ve hukuktan ayrılmadığı sürece ona itaat edeceğine dair söz verilmesine ne ad verilir?
- A) Liyakat
B) İktisat
C) Biat
D) Ashab
15. Aşağıdakilerden hangisi İslam dininin haram kabul ederek insanların temel hak ve özgürlüklerini koruduğu davranışlardan biri değildir?
- A) İftira
B) Tevazu
C) Hırsızlık
D) Cinayet
16. Hz. Muhammed (s.a.v.) "Müslüman bir kimse din kardeşinin pazarlığı üzerine pazarlık yapmasın" diye buyurarak insanlar arasında aşağıdaki davranışlardan hangisinin ortaya çıkmasını engellemiştir?
- A) Kıskançlık
B) Dayanışma
C) Yardımlaşma
D) Sevgi
17. Taif kuşatmasında Arapların o güne kadar bilmedikleri mancınık sistemini kullanmayı teklif eden kişi kimdir?
- A) Tarık bin Ziyad
B) Amr bin As
C) Hz. Hamza
D) Selman-ı Farisi
18. Aşağıdakilerden hangisi Müslümanlar için sadece bir hak değil, aynı zamanda görev olan davranışlardan biri değildir?
- A) Kötülüğe engel olmak
B) İnsanları zorlamak
C) İyiliği emretmek
D) Haksızlık karşısında duyarlı olmak
19. Kur'an-ı Kerim'de iman ve sabır örneği olarak geçen kişi aşağıdakilerden hangisidir?
- A) Hz. Hacer
B) Hz. Meryem
C) Hz. Asiye
D) Hz. Havva
20. İslam dinine göre bir yöneticinin en önemli görevi aşağıdakilerden hangisidir?
- A) Vakıflar kurmak
B) Allah'a karşı sorumlu olduğunu hiçbir zaman unutmamak
C) Faizden uzak durmak
D) Kâr elde etmek

1. Aşağıdaki cümlelerden hangisinin fiil kökü isimdir?

- A) Bir çocuk yanlışlıkla bizim kapıyı çaldı.
- B) Söz verdiği her yere geç kalıyor.
- C) Dünkü sınavda çok heyecanlandım.
- D) Her gün parka gidiyor.

2. "Sanayi sektörünün çok defa unutulmuş bir özelliği iş alanı yaratma olanaklarının sınırsız oluşudur. Bundan ötürü kalkınmak ancak mümkündür."

Yukarıdaki parçada boş bırakılan yeri aşağıdakilerden hangisi en uygun şekilde tamamlar?

- A) nesnellikle
- B) sanayileşmeyle
- C) sosyallikle
- D) bilimsellik

3. Aşağıdakilerden hangisi Türkçe bir sözcüktür?

- A) kardeş
- B) saat
- C) tren
- D) kubbe

4. Aşağıdakilerden hangisi Ural-Altay dillerinden biri değildir?

- A) Fince
- B) Türkçe
- C) Moğolca
- D) Çince

5. Türkçe kelime kökünde aynı iki ünsüz yan yana gelmez. Ancak, bazı Türkçe kelimeler zaman içinde değişime uğradığından bu kurala uymaz. Aşağıdaki kelimelerden hangisi bu duruma örnektir?

- A) kubbe
- B) hüzzam
- C) anne
- D) hürriyet

6. Aşağıdaki cümlelerden hangisinin fiili geniş zaman eki ile çekimlenmiştir?

- A) Ben daha doğmadan ölmüş.
- B) Anlamak için dinlemek gerekir.
- C) Eğri kılıç kında paslanmalıdır.
- D) Benim güzel günlerim orada geçti.

7. Aşağıdakilerden hangisi olay hikâyesinin özelliklerinden biri değildir?

- A) Merak duygusunun geri plana itilmesi
- B) Bir olay merkezinde gelişmesi ve sonuçlanması
- C) En önemli örneklerini Maupassant'ın vermesi
- D) Öncelikle olayın oluşumunun sergilenmesi

8. Kutadgu Bilig, Divanü Lugati't-Türk, Atabetü'l-Hakayık gibi eserler aşağıdaki Türkçe dönemlerinin hangisine örnektir?

- A) Batı Türkçesi
- B) Doğu Türkçesi
- C) Osmanlı Türkçesi
- D) Eski Türkçe

9. Aşağıdaki cümlelerin hangisinde fiil gereklilik kipiyle çekimlenmiştir?

- A) İzmir'e yarın gideceğiz.
- B) Akşam bize gelmelisin.
- C) Babam çiçekleri suluyor.
- D) Yeni evimize taşındık.

10. Aşağıdakilerden hangisi makalenin özelliklerinden biri değildir?

- A) Öznel bir anlatım dilinin kullanılması
- B) Ortaya konulan düşüncenin bilimsel temellere ve bilgilere dayandırılması
- C) Öğretici metinlerden biri olması
- D) Belli bir düşüncenin kanıtlara dayandırılarak açıklanması

11. “Gider oldum kömür gözlüm elveda” dizesinde aşağıdaki edebi sanatlardan hangisi vardır?
- A) Mecazımürsel
B) Teşhis
C) Teşbih
D) Cinaz
12. Türk edebiyatında makale türünün ilk örneklerini aşağıdaki yazarlardan hangisi vermiştir?
- A) Ziya Paşa
B) Ahmet Mithat Efendi
C) Namık Kemal
D) Şinasi
13. Aşağıdaki cümlelerde yer alan altı çizili sözcüklerden hangisi terim anlamlıdır?
- A) Çanakkale Boğazi’ni ilk kez görüyorduk.
B) Kâğıdı makasla kestim.
C) Param olsa bir araba alırım.
D) Bazı kitaplarımı kütüphaneye verdim.
14. Bir kişi, durum veya bir düşünceyi açık ya da kapalı biçimde eleştiren şiirlere ne ad verilir?
- A) Pastoral
B) Didaktik
C) Epik
D) Satirik
15. Aşağıdakilerden hangisi anonim halk edebiyatı örneklerinden olan bilmecelerde en çok başvurulan edebi sanatlardan biri değildir?
- A) Teşhis
B) Teşbih
C) Mecazımürsel
D) İstiare
16. Aşağıdakilerden hangisi belirtili isim tamlamasıdır?
- A) asansör kapısı
B) tencerenin kapağı
C) çiçek yaprağı
D) kedi tüyleri
17. Roman yazı türünde, daha çok toplumsal boyutu ile okuyucunun karşısına çıkan ve kendisi gibi olanları temsil eden kişilere ne ad verilir?
- A) Karakter
B) Kahraman
C) Anlatıcı
D) Tip
18. “Felatun Bey ile Rakım Efendi” adlı eser aşağıdaki yazarlardan hangisine aittir?
- A) Ahmet Mithat Efendi
B) Recaizade Mahmut Ekrem
C) Şemsettin Sami
D) Namık Kemal
19. Aşağıdaki cümlelerin hangisinde isim fiil vardır?
- A) Beni yalnız sen anlarsın.
B) Şapkasını ince ipten örmüştü.
C) Arkadaşını görmek için dışarı çıktı.
D) Her toplantıda bu konuya değiniyorum.
20. Aşağıdaki yazar ve eseri eşleştirmelerinden hangisi yanlıştır?
- A) Halide Edip Adivar-Sinekli Bakkal
B) Balzac-Madam Bovary
C) Reşat Nuri Güntekin-Çalıkuşu
D) Dostoyevski-Suç ve Ceza

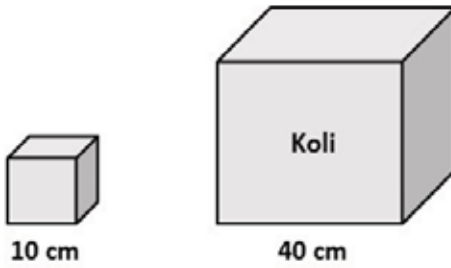
1. Ölçeği $1/150.000$ olan bir haritada 5 cm'lik bir uzunluk gerçekte kaç km'dir?

A) 7,5
B) 15
C) 75
D) 750

2. Silindir biçiminde bir kaptaki su miktarı vardır. Bu kaptaki suyun içine küp şeklinde bir cisim atılınca kaptaki su seviyesi 27 birim yükseliyor. Sonra kaba küp şeklinde bir cisim daha atılıyor. Bu sefer su 1 birim yükseliyor. Her iki cisimde tamamen su içinde kaldığına göre küplerin ayrıtlarının oranı kaçtır?

A) 2
B) 3
C) 6
D) 9

3.



Bir ayrıt uzunluğu 40 cm olan küp şeklindeki koliye, bir ayrıt uzunluğu 10 cm olan küp şeklindeki kutulardan en fazla kaç tane yerleştirilebilir?

A) 12
B) 16
C) 20
D) 64

4. $1/1.000$ ölçekli bir krokide alanı 5 cm^2 olan bir binanın gerçek alanı kaç m^2 dir?

A) 5.000.000
B) 5.000
C) 500
D) 50

5. Alanı $81\pi \text{ m}^2$ olan daire şeklindeki bir havuzun çevresi kaç m'dir?

A) 6π
B) 9π
C) 18π
D) 36π

6. Yarıçapı yüksekliğinin $\frac{1}{4}$ ü kadar olan bir dik dairesel silindirin hacmi $32\pi \text{ cm}^3$ olduğuna göre yarıçapı kaç cm'dir?

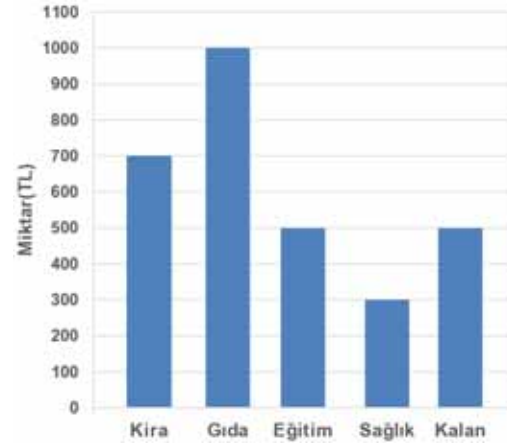
A) 6
B) 4
C) 3
D) 2

7. Gerçek yüksekliği 50 m olan bir kulenin bir fotoğraftaki yüksekliği 2 cm'dir.

Buna göre fotoğraf gerçek uzunluğu hangi oranda küçültülmüştür?

A) $1/2.500$
B) $1/2.000$
C) $1/1.500$
D) $1/1.000$

8.



Yukarıdaki grafikte bir çalışanın aylık gelirinin giderlere göre dağılımı verilmiştir.

Grafiğe göre sağlık gideri, aylık gelirin yüzde kaçına eşittir?

A) 10
B) 15
C) 20
D) 25

9. 3 kırmızı, 5 mavi ve 7 yeşil kalemden rastgele 3 tanesi seçiliyor. Kalemlerden üçünün de farklı renk olma olasılığı kaçtır?

- A) $\frac{1}{15}$
B) $\frac{3}{13}$
C) $\frac{7}{15}$
D) $\frac{3}{5}$

10. ve 11. soruları aşağıdaki tabloya göre cevaplayınız.

Ürün İsmi	2012 yılı üretimi	2013 yılı üretimi
Elma	3 ton	4 ton
Şeftali	3 ton	4 ton
Portakal	8 ton	9 ton
Kiraz	1 ton	2 ton
Limon	5 ton	10 ton
Mandalina	5 ton	7 ton

Yukarıdaki tabloda 2012 ve 2013 yıllarında bir çiftlikte üretilen ürünler ve miktarları verilmiştir.

10. Bu bilgilere göre aşağıdakilerden hangisinin üretim miktarı 2013 yılında 2012 yılına göre **daha çok** artmıştır?

- A) Kiraz
B) Portakal
C) Limon
D) Mandalina

11. Yukarıdaki bilgilere göre 2013 yılında üretilen ürünler dairesel grafikte gösterildiğinde; limon miktarını gösteren daire diliminin merkez açısı kaç derece olur?

- A) 45
B) 60
C) 90
D) 100

12. a ve b sayılarının aritmetik ortalaması 26'dır. a, b ve c sayılarının aritmetik ortalaması ise 25'tir. Buna göre c sayısı kaçtır?

- A) 19
B) 20
C) 22
D) 23

- 13.



Bir toplulukta yer alan kişilerin bildikleri yabancı dillere göre dağılımları yukarıdaki daire grafiğinde verilmiştir. 20 kişi Fransızca bildiğine göre, Almanca bilenlerin sayısı kaçtır?

- A) 16
B) 18
C) 20
D) 22

14. Bir torbada aynı büyüklükte 3 kırmızı ve 4 beyaz top vardır. Bu torbadan, çekilen top torbaya tekrar bırakılmamak koşulu ile, rastgele iki top çekildiğinde iki topun da kırmızı olma olasılığı kaçtır?

- A) $\frac{1}{7}$
B) $\frac{3}{7}$
C) $\frac{4}{7}$
D) $\frac{2}{3}$

15. Bir torba içinde 4 mavi 3 sarı; diğer bir torba içinde ise 3 mavi 2 sarı bilye vardır.

Buna göre torbalardan birer bilye çekildiğinde, çekilen bilyelerden birinin mavi, diğerinin sarı olma olasılığı kaçtır?

- A) $\frac{1}{7}$
B) $\frac{8}{35}$
C) $\frac{9}{35}$
D) $\frac{17}{35}$

16. Bir torbada bulunan sarı ve yeşil bilyelerin sayısı 22'dir. Torbadan rastgele seçilen bir bilyenin yeşil olma olasılığı $\frac{4}{11}$ olduğuna göre, torbada kaç tane sarı bilye vardır?

- A) 8
- B) 12
- C) 14
- D) 16

17. Bir zar atıldığında zarın 3 gelmeme olasılığı kaçtır?

- A) $\frac{1}{6}$
- B) $\frac{1}{3}$
- C) $\frac{2}{3}$
- D) $\frac{5}{6}$

18. 8 erkek ve 4 kız öğrenci arasından 3 öğrenci seçilecektir. Seçilen öğrencilerden en az ikisinin kız olma olasılığı kaçtır?

- A) $\frac{9}{55}$
- B) $\frac{13}{55}$
- C) $\frac{39}{55}$
- D) $\frac{41}{55}$

19. Bir soruyu Ali'nin çözme olasılığı $\frac{1}{4}$,

Ayşe'nin çözme olasılığı ise $\frac{1}{3}$ tür. Aynı soruyu Ali'nin veya Ayşe'nin çözme olasılığı $\frac{1}{6}$ olduğuna göre her ikisinin de soruyu çözme olasılığı kaçtır?

- A) $\frac{1}{12}$
- B) $\frac{5}{12}$
- C) $\frac{1}{2}$
- D) $\frac{7}{12}$

20. Bir zarın 2 yüzü sarı, 3 yüzü mavi ve 1 yüzü kırmızı boyalıdır. Buna göre, zar bir kez atıldığında sarı yüzün üzerine düşme olasılığı kaçtır?

- A) $\frac{1}{6}$
- B) $\frac{1}{3}$
- C) $\frac{1}{2}$
- D) $\frac{2}{3}$

1. Tartışmacı anlatım ile ilgili aşağıdaki ifadelerden hangisi doğrudur?

- A) Olay, kişi, mekan ve zaman ortak öğelerdir.
- B) Jest ve mimikler anlatımın gücünü artırır.
- C) Dil ve ifade sade, gösterişsiz ve pürüzsüzdür.
- D) Olaylar birinci şahsın ağzından anlatılabilir.

2. Aşağıdakilerden hangisi tartışma yönteminin değerlendirme aşaması ile ilgilidir?

- A) Tartışmayı yönlendirecek anahtar soruların hazırlanması
- B) Konunun katılımcıların ilgisine göre belirlenmesi
- C) Fiziksel ortamın daire ya da yarım ay biçiminde düzenlenmesi
- D) Sonucun başkan tarafından özetlenmesi

3. "Denizin sakladığı bir şey var
Sevmek der kimi,
Kimi unutulmak.
Peki neden üşütür hep
Bu ağustos gecesinde
Karanlığın büyüklüğü?
Beni düşünme, dedindi ayrılırken
Düşünmüyorum ki
Düşüncem sende kalmış"
(Fazıl Hüsnü Dağlarca)

Yukarıdaki şiirin ana düşüncesi aşağıdakilerden hangisidir?

- A) Sevgi
- B) Mutluluk
- C) Ölüm
- D) Ayrılık

4. I. İletinin, kanalın iletiyi iletmeye uygun olup olmadığını öğrenmek amacıyla düzenlenmesidir.
II. İletinin içeriğinden çok iletinin devam etmesi amaçlıdır.
III. Propaganda amaçlı siyasi söylevler, reklam metinleri dilin bu işlevi ile ilgilidir.
IV. Amaç, alıcıda bir tepki ve davranış değişikliği yaratmaktır.

Yukarıdakilerden hangileri dilin kanalı kontrol işlevi ile ilgilidir?

- A) I ve II
- B) I ve III
- C) II ve III
- D) III ve IV

5. Aşağıdaki cümlelerle bir paragraf oluşturulursa hangisi giriş cümlesi olmaya en uygundur?

- A) Kısa oluşu, yalın bir olay örgüsüne sahip olması ile roman ve diğer anlatı türlerinden ayrılır.
- B) Olayın geçtiği yer sınırlı, anlatım özlü ve yoğun olup karakterler belli bir olay içinde gösterilir.
- C) Öykü, gerçek ya da gerçeğe yakın bir olayı aktaran kısa, düzyazı şeklindeki anlatıdır.
- D) Bizde ilk gerçek temsilcisi olarak Ömer Seyfettin'i görmek mümkündür.

6. Doğrudan anlatımda kişinin kendi düşünceleri ya da herhangi bir konuda bir kişinin görüş ve düşünceleri değişikliğe uğratılmadan aynen aktarılır.

Buna göre aşağıdakilerden hangisi doğrudan anlatıma örnek bir cümledir?

- A) Babam, yarınki sınava iyi hazırlanmam gerektiğini söyledi.
- B) Atatürk "akıl ve mantığın halledemeyeceği mesele yoktur" demiş.
- C) Herkes, onun ne kadar içine kapanık biri olduğunu söylerdi.
- D) Konfıçyüs, taşı delenin suyun kuvveti değil, damlaların sürekliliği olduğunu söylemiş.

7. "Her doğruyu söylemeye gelmezmiş, birtakım doğruları yaymamak, çokluktan, kamudan gizlemek gerekmiş... Peki ama, bir doğruyu söylemek, gizlemek, yayılmasını önlemeğe çalışmak o doğrunun yerinde duran yalanı sürdürmek demektir. Yalanın yalan olduğunu bilerek sürmesine bırakmaya hakkınız var mıdır?... Bu yalanlar kutsalmiş, onlara dokunmaya gelmezmiş... Bir şeyin yalan olduğunu anladık mı kutsallığına inanmıyoruz demektir; bunun için "kutsal yalan" sözü bir şeyin hem köşeli hem de yuvarlak, hem katı hem de biçimsiz olduğunu söylemek gibi bir saçmadır. Ama duygularını birer düşünce saymaktan çekinmeyenler böyle saçmalarla kolayca bağdaşabiliyor."

Yukarıdaki parçanın anlatımında aşağıdakilerden hangisi vardır?

- A) Vurgu ve tonlama
- B) Olay, kişi, mekan ve zaman öğeleri
- C) Öyküleyici anlatım
- D) İki farklı bakış açısının ele alınması

8. “Evde yaşayan evcil hayvanlarınızı makinenizin yanına yaklaştırmayınız. Makinenizin kurulumunu yapmadan önce paketini kontrol ediniz. Paket açıldıktan sonra dış yüzeyini mutlaka kontrol ediniz. Paketi açılmış yada hasarlı makineyi çalıştırmayınız.”

Yukarıdaki parçada aşağıdaki anlatım türlerinden hangisi ağır basmaktadır

- A) Emredici anlatım
B) Düşsel anlatım
C) Öyküleyici anlatım
D) Kanıtlayıcı anlatım

9. “Yılın son günü pis ve uğursuz bir havada Bayezit Meydanı'nda, havuzun etrafında, bir arkadaşla, bomboş çeplerle ve ezik ve yenik ve toplum tarafından horlanmış dolaşırken... Bilime, politikaya, sanata, hele hele paraya, yani ekonomik kaderlere dair felsefeler yürütürken... Bu şans bende iken başka ne olsun? İclâl'le ve annesiyle burun buruna geliverdik.”

Yukarıdaki parçada aşağıdaki anlatım türlerinden hangisi ağır basmaktadır?

- A) Mizahi anlatım
B) Tartışmacı anlatım
C) Öyküleyici anlatım
D) Kanıtlayıcı anlatım

10. Aşağıdaki cümlelerin hangisinde “tümleç yanlışlarından” kaynaklanan bir anlatım bozukluğu vardır?

- A) Dost ile ye, iç; alışveriş etme.
B) Alma mazlumun ahını; çıkar aheste aheste.
C) Acıkan doymam; susayan kanmam sanır.
D) Duvarı nem, insanı gam yıkar.

11. Aşağıdaki cümlelerin hangisinde “yüklem yanlış kullanımından” kaynaklanan bir anlatım bozukluğu vardır?

- A) Bunun doğruluğuna ancak okurlar karar verebilir.
B) Neden bu dünyada en çok çocukları üzerler?
C) Acıkınca buzdolabındaki yemeği ısıt ve ye.
D) Çocuklarıyla bazen çok bazen de hiç ilgilenmezdi.

12. Gönderici ile alıcı arasındaki iletinin gönderilme şekline ne ad verilir?

- A) Kanal
B) Hedef
C) Ortam
D) Dönüt

13. • Aynı konu ya da sorunu olumlu ve olumsuz yönleriyle belirtme işi
• Düşüncelerin gözlem, kanı ve inançların etkilenmesini amaçlama
• Karşımızdakinin düşünce, duygu ve kanılarını yenileyerek değiştirmeyi amaçlama

Yukarıda temel özellikleri belirtilen sözlü anlatım türü aşağıdakilerden hangisidir?

- A) Söylev
B) Tartışma
C) Panel
D) Değerlendirme

14. Aşağıdaki cümlelerin hangisinde “sözcüğün yanlış yerde kullanımından” kaynaklanan bir anlatım bozukluğu vardır?

- A) Kapıdan her girene dikkatle bakıyordu.
B) Bu konular sizin başınızı çok ağrıttak gibi görünüyor.
C) Hastaneye gitmeden önce annesini ziyaret etmek istedi.
D) Uyarılarıma rağmen alkollü araba kullanmaya devam etti.

15. “Büyük Taarruz, Kurtuluş Savaşı sırasında Türk ordusunun işgalci güçlere son ve kesin darbeyi vurmasını sağlamak ve Anadolu'dan atmak için düşünülp planlanan gizli bir harekât idi. Türkiye Büyük Millet Meclisi'nin 20 Temmuz 1922'deki oturumunda kendisine dördüncü kez olmak üzere Başkomutanlık yetkisi verilen Mustafa Kemal Paşa taarruz kararını haziran ayında almış ve hazırlıkları gizli olarak yürütmüştü. Büyük Taarruz Ağustos'un 26'sını 27'sine bağlayan gece Afyon'da başlamış, Aslıhan civarında kuşatılan düşman birliklerinin Mustafa Kemal Paşa'nın bizzat idare ettiği Dumlupınar Meydan Muharebesi'nde imha edilmesi ile Türk ordusunun zaferiyle sonuçlanmıştı.”

Yukarıdaki parçada aşağıdaki anlatım biçimlerinden hangisi ağır basmaktadır?

- A) Öyküleme
B) Açıklama
C) Tartışma
D) Betimleme

16. Aşağıdakilerden hangisi görsel malzemenin kullanım amaçlarından biridir?

- A) Fikirleri ayrıntılı kanıtlar sağlamak
- B) Fikirleri, kavramaları daha geniş zamanda anlatmak
- C) Dinleyicilerin verilen bilgiyi algılamalarını sağlamak
- D) Sunumu daha çabuk yapmak

17. Aşağıdakilerden hangisi kişinin anlatışını zenginleştirmede etkili yollardan biridir?

- A) Maddeler çıkarmak
- B) Sorular hazırlamak
- C) Konuşma dersine katılmak
- D) Not almak

18. "Cehennem Nişanı"nda beş sandaldık. Güzel bir Ocak akşamı. Hava lodos. Denize kırmızı rengin türlü yayılmış. Çok kaynamış ıhlamur rengindeki yayvan, geniş, ölü dalgalar. Sandallar ağır ağır sallanıyor, oltalar bekliyor, insanlar susuyor."

Yukarıdaki paragrafta aşağıdaki anlatım biçimlerinden hangisi ağır basmaktadır?

- A) Betimleme
- B) Tartışma
- C) Öyküleme
- D) Açıklama

19. Aşağıdaki cümlelerden hangisi bir paragrafın sonuç cümlesi olamaz?

- A) Kısacası resim yapmak biraz da yetenek işidir.
- B) Demek ki edebiyat, insana insanı anlatan bir aynadır.
- C) Bu konuya Yahya Kemal'in şiirinden bir örnek verelim.
- D) Özetle, öğretmen olmak sadece fakülteyi bitirmekle olmuyor.

20. "Çağdaşlaşma denildiğinde, çağımızın özlemleri, gereksinimleri, akımları karşısında duyarlı ve hoşgörülü olmayı anlıyoruz. Çağdaş insan, çevresiyle, ülkesiyle hatta dünya ile birlikte yaşar; çevresinin sorunlarıyla yüküdür ve huzursuzdur. Böyle bir insanda mutluluk değerleri toplumsal ve evrenseldir."

Yukarıdaki parçaya göre aşağıdakilerden hangisi çağdaş insan özelliklerinden biri değildir?

- A) Değişimlere açık
- B) Durgun olmak
- C) Duyarlı olmak
- D) Hoşgörülü olmak

1. Güneş batarken ağaçları okşayan rüzgârla bahçemiz serinlemişti.

Yukarıdaki cümlede kaç tane ad kullanılmıştır?

- A) 4
B) 3
C) 2
D) 1

2. Aşağıdaki cümlelerin hangisinde soru sıfatı vardır?

- A) Yarınki derse kim gelecektir?
B) Sen de bizim eve uğrayabilir misin?
C) Sınava kaç kişi girecek?
D) Bu yemeği ne zaman pişirdin?

3. • İsimlerden önce gelerek onları çeşitli yönlerden nitelerler.
• Tek başlarına kullanıldıklarında isim olarak değerlendirilirler.
• Arka arkaya sıralanarak bir ismi nitelemek için kullanılabilirler.

Yukarıda temel özellikleri belirtilen sözcük türü aşağıdakilerden hangisidir?

- A) Zamir
B) Sıfat
C) Fiil
D) Ünlem

4. "ile" sözcüğü aşağıdakilerin hangisinde bağlaç olarak kullanılmıştır?

- A) Bu konuyla ilgili daha önce dilekçe verdiniz mi?
B) Arkadaşlarıyla buluşmadan önce size uğrayacaktı.
C) Elmaları kabuklarıyla birlikte yemelisin.
D) Yazarın bir romanıyla bir şiir kitabını aldım.

5. Aşağıdaki cümlelerin hangisinde eylemin birlikte yapıldığı anlamı vardır?

- A) Ormanda serçeler cıvıldaşarak uçuşuyor.
B) Masanın iki yanında oturup uzun uzun bakiştilar.
C) Bu sorunu mutlaka arkadaşınla paylaşmalısın.
D) Akşama doğru bütün çocuklar evlerine döndüler.

6. • Olandan çok olması istenilen anlatılır.
• Gerçekleşmesi mümkün olmayan tasarı ve düşünceler anlatılır.
• Bazı bilim kurgu romanları, fal ve burç yorumları bu anlatımla oluşturulur.

Yukarıda temel özellikleri belirtilen anlatım türü aşağıdakilerden hangisidir?

- A) Söyleşmeye bağlı anlatım
B) Gelecekte söz eden anlatım
C) Öyküleyici anlatım
D) Düşsel anlatım

7. Aşağıdaki cümlelerin hangisinde soru zarfı vardır?

- A) Hangi evi satın aldınız?
B) Bu dairede kimin oturduğunu biliyor musun?
C) Kaç kişi sizi burada bekleyecek?
D) Böyle insanlarla nasıl anlaşıyorsun?

8. Aşağıdaki dizelerin hangisinde emredici bir anlatım söz konusudur?

- A) Gözlerin yağmurdan sonra yaprakların yeşili
Bi de başını çeviriyorsun ki yanında ben varım
B) İnsan bütün güzel müzikleri dinlemeli
alabildiğine
Hem de tüm benliği seslerle, ezgilerle
dolarcasına
C) Bağlanmayacaksın bir şeye, öyle körü
körüne.
"O olmazsa yaşayamam." demeyeceksin.
D) Güneşin doğuşundadır doğanın sana verdiği
değer
Ve karşındakine değer verdiği kadar
insansın

9. Aşağıdaki cümlelerin hangisinde türemiş sıfat vardır?

- A) Ağaçların arasında dolaşıp çocukluğunu
anıyordu.
B) Kışlık elbiselerini temizleyip kaldırmaya
başlamıştı.
C) Yeni sözcüklerin anlamı için sözlükten
yararlanmıştı.
D) Çamlıktan yukarıya doğru gidince bizim eve
varırsın.

10. Aşağıdaki metin türlerinin hangisinde öyküleyici anlatım kullanılmaz?

- A) Makale
B) Anı
C) Roman
D) Seyahat

11. Aşağıdakilerden hangisi öğretici anlatımın amaçlarından biri değildir?

- A) Bilgi vermek
- B) Bilgi vermek
- C) Bir konuyu tanıtmak
- D) Düş gücünü geliştirmek

12. Etkisini öznenin üzerinde gösteren fiillerdir. Bu tür fiillerde fiili yapan özne, yaptığı işten yine kendisi etkilenir.

Aşağıdaki cümlelerin hangisi yukarıdaki açıklamaya örnek olabilir?

- A) Dik yamaçlardan inen dağcılar aşağıda buluyorlardı.
- B) Hırsızlar, polisler tarafından hemen yakalandılar.
- C) Kardeşim doğduğunda ne çok sevinmiştim.
- D) Kirli tabakları yemekten sonra yıkattı hemen.

13. • Amaç okuyucuyu inandırma, aydınlatma ve bir başkasına görüşünü kabul ettirmektir.
• Örnekleme, tanık gösterme ve belge kullanma önemlidir.
• Sözcükler ve sözcük grupları gerçek anlamda kullanılır.

Yukarıda temel özellikleri belirtilen anlatım türü aşağıdakilerden hangisidir?

- A) Lirik anlatım
- B) Öyküleyici anlatım
- C) Epik anlatım
- D) Kanıtlayıcı anlatım

14. Aşağıdaki cümlelerin hangisinde altı çizili sözcük hem sıfat hem de zarf görevindedir?

- A) Sıcak günlerde sıcak insanlarla birlikteydik.
- B) Saygılı insanlara karşı o da saygılı davranırdı.
- C) Doğru bildiklerimiz acaba hep gerçekten doğru mudur?
- D) Yalnız adam koskoca evde yalnızdı.

15. Aşağıdaki cümlelerin hangisinde yüklem dışındaki sözcüklerin tümü zamirdir?

- A) Bize dün burada otururken rastladı.
- B) Sana yapılmasını istemediğini sen başkasına mı yaptın?
- C) Sen onu buraya kimle getirdin?
- D) Bazı öğrenciler senin bu konuyu anlatmadığını söyledi.

16. Aşağıdaki cümlelerin hangisinde "ah" ünlemi cümleye özlem anlamı katmaktadır?

- A) Ah, şimdi Antalya'da tatilde olsaydım!
- B) Ah, kıymetini bilemediğim gençlik yıllarım!
- C) Ah, bir bu eksikti şimdi!
- D) Ah, sınavlara biraz daha çalışsaydım geçerdim.

17. Aşağıdaki altı çizili sözcüklerin hangisi yalın yapıdır?

- A) Babamın bahçemize diktiği ağaçlar kocaman olmuştu.
- B) Bütün gün demircinin çırağının gelmesini bekledi.
- C) Bilemediği sözcükler için sözlüğe bakardı.
- D) Yağmurluğunun ceplerine son bir ümitle baktı.

18. Aşağıdakilerden hangisi kanıtlayıcı anlatımda yararlanılan düşünceyi geliştirme yollarından biri değildir?

- A) Tanık gösterme
- B) Sayısal verilerden yararlanma
- C) Öyküleme
- D) Sınıflandırma

19. "Fiilin belirttiği işin hangi nedenden dolayı olduğunu gösteren ulaçlara (zarf –fiil) sebep ulaçları denir."

Aşağıdaki cümlelerin hangisinde buna uygun bir kullanım vardır?

- A) İşçiler bir haftadır dinlenmeksizin çalışıyorlardı.
- B) Taş yürekli insanlar hayvanları da sevmeyizler.
- C) Babam bizi kapının girişinde öfkeyle bekliyordu.
- D) Askere gitmesi kesinleştiğinden düğünü ertelediler.

20. Aşağıdaki cümlelerin hangisinde özel ad vardır?

- A) Pamuk tarlalarında çalışmaktan okula gidememişti.
- B) Perşembe derse gelirken kitaplarını da getirdi.
- C) Pamuk, bizim evin en sevilen üyelerindendi.
- D) Güneş girmeyen eve doktor girer, derdi babannem.

1. **En belirgin özelliği sosyal bir sorunun geniş kitleler önünde bütün ayrıntılarıyla tartışılması ve dinleyicilerin de bu tartışmanın içinde aktif olarak yer alması olan toplantılara ne ad verilir?**
 - A) Forum
 - B) Sempozyum
 - C) Münazara
 - D) Söyleşi

2. **Bilimsel makalelerde araştırma sonucu elde edilen bulguların açık ve anlaşılır bir şekilde ortaya konduğu, tartışılıp geliştirildiği, başka çalışmalarla ilişkilendirildiği ve çalışmanın günlük hayattaki yeri ve önemi üzerinde durulduğu bölüme ne ad verilir?**
 - A) Özet
 - B) Sonuç ve tartışma
 - C) Asıl metin
 - D) Başlık

3. **Aşağıdakilerden hangisi münazara başkanının görevlerinden biri değildir?**
 - A) Tartışılan konunun nitelik ve sınırlarının dinleyiciler tarafından anlaşılmasını sağlamak
 - B) Tartışanların düşüncelerini rahatlıkla dile getirebilecekleri bir ortam yaratmak
 - C) Tartışma konusunun dışına çıkılmasını engellemek
 - D) Tartışmacılardan herhangi birinin katılmaması durumunda onun yerine geçmek

4. **Makalelerinde sürekli vatan, millet ve hürriyet temalarını işleyen yazar aşağıdakilerden hangisidir?**
 - A) Namık Kemal
 - B) Ali Naci
 - C) Rezaizade Mahmut Ekrem
 - D) Cahit Sıtkı

5. **Münazaralarda konuşan veya yazan kişinin, dinleyicilerin veya okuyucuların duygularını okşamayı gaye edinmesine ne ad verilir?**
 - A) Teknik
 - B) Hitap
 - C) Demagoji
 - D) İfade

6. **Aşağıdakilerden hangisi açık bir anlatımın sahip olması gereken unsurlardan biri değildir?**
 - A) Sanatlı söyleyiş
 - B) Akıcılık
 - C) Duruluk
 - D) Yalınlık

7. **Yazar, düşünür ve sanatçıların veya kendi alanında uzman kişilerin genellikle bilim, sanat ve ekonomi konularında açıklama, tanıtma, bilgi verme, öğretme amacıyla yaptıkları konuşmalara ne ad verilir?**
 - A) Forum
 - B) Konferans
 - C) Mülakat
 - D) Münazara

8. **Bir kitabın veya derginin kişi, konu, yer adı gibi içindekileri yer numarasıyla belirten ve eserin sonunda yer alan alfabetik listeye ne ad verilir?**
 - A) Kaynakça
 - B) Dokümantasyon
 - C) Dipnot
 - D) İndeks

9. **Aşağıdakilerden hangisi konferansın özelliklerinden biridir?**
 - A) Sadece sanat konularında verilmesi
 - B) Ön hazırlık gerektirmemesi
 - C) Dilin ağırlıklı olarak göndergesel işlevde kullanılması
 - D) Emredici anlatım türünü kullanması

10. **Konferansın asıl amacı nedir?**
 - A) Dinleyicilerin hoş vakit geçirmesini sağlamak
 - B) Dinleyicileri bilgilendirmek
 - C) Dinleyicileri coşkulandırmak
 - D) Dinleyicileri birbirleriyle tanıştırmak

11. Aşağıdakilerden hangisi sözlü anlatım türlerinden biri değildir?

- A) Konferans
- B) Münazara
- C) Forum
- D) Fıkra

12. Gazetelerin ilk sayfasının birinci sütununda yayımlanan, günlük olaylar ve ülke sorunları ile ilgili yazılara ne ad verilir?

- A) Köşe yazısı
- B) Fıkra
- C) Başmakale
- D) Başyapıt

13. Makale ile ilgili aşağıdaki ifadelerden hangisi yanlıştır?

- A) Makalede temel öge duygudur.
- B) Makale için konu yönünden bir sınır çizmek mümkün değildir.
- C) Makalede senli benli konuşmalara ve süslü anlatımlara yer verilmez.
- D) Makale türü gazete ve dergilerin ortaya çıkışıyla başlamıştır.

14. Aşağıdakilerden hangisi sempozyum bildirisinin bölümlerinden biri değildir?

- A) Deney
- B) Taslak
- C) Bulgular
- D) Giriş

15. Aşağıdakilerden hangisi bilimsel yazıların bölümlerinden biri değildir?

- A) Özet
- B) Başlık
- C) Asıl metin
- D) Soru-cevap

16. Aşağıdakilerden hangisi bilimsel yazılar içinde yer almaz?

- A) Konferans raporları
- B) Değerlendirme yazıları
- C) Bir şairin anıları
- D) Toplantı özetleri

17. Araştırılan sorunun tanıtıldığı ve neden bu konunun ele alındığı, çalışmanın diğer çalışmalar arasındaki yerinin belirtildiği sempozyum bölümü aşağıdakilerden hangisidir?

- A) Giriş
- B) Bulgular
- C) Deney
- D) Sonuç

18. Bilimsel yazılarda kullanılan dil işlevi aşağıdakilerden hangisidir?

- A) Dil ötesi işlevi
- B) Göndergesel işlev
- C) Heyecana bağlı işlev
- D) Şiirsel işlev

19. Aşağıdakilerden hangisi toplu tartışma çeşitleri arasında yer almaz?

- A) Sempozyum
- B) Panel
- C) Değerlendirme
- D) Açık Oturum

20. Aşağıdakilerden hangisi açık oturum planında yer almaz?

- A) Açık oturumun yapılış nedeni
- B) Bulguları açıklamak
- C) Açık oturumu sonuca bağlamak
- D) Konuşmaları özetlemek

1. Yurt dışına elçi olarak gönderilen kişilerin gördükleri yerlerle ilgili gezi, gözlem ve izlenimlerini anlattıkları eserlere ne ad verilir?

- A) Seyahatname
- B) Şikâyetname
- C) Selçukname
- D) Sefaretname

2. Türk Edebiyatı'nın en önemli eserlerindedir. Eser adını iyi ve kötü düşünceli iki prensten almaktadır. Eserin aslı Sanskritçedir. Dinsel masal niteliği taşımaktadır.

Yukarıda tanıtılan eser aşağıdakilerden hangisidir?

- A) İlyada ve Odysseia
- B) Kutadgu Bilig
- C) Atabetü'l Hakâyık
- D) Kalyanamkara ve Papamkara

3. Uygur ülkesine bereket ve mutluluk veren Kutlu Dağ'ın Çinliler tarafından parça parça taşınmasıyla bozulan Uğur sonucu ülkede görülmemiş bir kıtlık başlar. Yaşam çekilmez hale dönüşür ve Uygur Türkleri güneybatıya göç ederler.

Yukarıdaki parça hangi destanı anlatır?

- A) Göç Destanı
- B) Ergenekon Destanı
- C) Oğuz Kağan Destanı
- D) Şu Destanı

4. Aşağıdakilerden hangisi sözlü edebiyatın özelliklerinden biri değildir?

- A) İslamiyet'in etkisinde kalması
- B) Dilinin sade olması
- C) Şiirlerin kopuz eşliğinde söylenmesi
- D) Hece ölçüsü kullanılması

5. Destanın özellikleri ile ilgili aşağıdaki ifadelerden hangisi yanlıştır?

- A) Olaylar sınırlı bir coğrafyada geçer.
- B) Önce sözlü tür olarak doğmuştur.
- C) Konusu kahramanların yaptıkları üzerine kurulur.
- D) Halkı ilgilendiren büyük olaylardan doğmuştur.

6. Aşağıdaki yazarlardan hangisi, 17. yüzyılda yazdığı "Şecere-i Türk" adlı eserinde Ergenekon Destanı'na da yer vermiştir?

- A) Ali Şîr Nevaî
- B) Fazıl Hüsnü Dağlarca
- C) Ebü'l-Gazi Bahadır Han
- D) Melih Cevdet Anday

7. "Tanrılar ve İnsanlar" adlı oyunu kaleme alan yazar aşağıdakilerden hangisidir?

- A) Cahit Atay
- B) Melih Cevdet Anday
- C) Orhan Asena
- D) Orhan Kemal

8. Halk şiirinin unutulmaz ustasıdır. 17. yüzyılda Toroslar' da Türkmen aşiretleri arasında yaşamıştır. Şiirlerini dörtlük nazım birimiyle, hece ölçüsüyle saz eşliğinde söylemiştir.

Yukarıda tanıtılan ünlü halk ozanı, aşağıdakilerden hangisidir?

- A) Dadaloğlu
- B) Karacaoğlu
- C) Pir Sultan Abdal
- D) Âşık Veysel

9. Çağdaş Türk Edebiyatı'nın önemli destan örneklerinden biri olan "Atatürk Kurtuluş Savaşı'nda" adlı eserin yazarı aşağıdakilerden hangisidir?

- A) Gülten Akın
- B) Namık Kemal
- C) Cahit Külebi
- D) Fazıl Hüsnü Dağlarca

10. Koşuk ile ilgili aşağıdaki ifadelerden hangisi yanlıştır?

- A) Tabiat güzellikleri vb. konuları işleyen şiirlerdir.
- B) Yazılı edebiyat döneminin ürünüdür.
- C) Divan-ı Lügat'it Türk'te örneklerine rastlanmaktadır.
- D) Günümüz halk edebiyatındaki koşmanın ilk biçimidir.

11. Aşağıdakilerden hangisi en eski Türk destanıdır?

- A) Göç Destanı
- B) Türeyiş Destanı
- C) Bozkurt Destanı
- D) Yaratılış Destanı

12. Aşağıdakilerden hangisi Gılgamış Destanı'ndan esinlenerek hazırlanmış eserlerden biri değildir?

- A) Tanrılar ve İnsanlar
- B) Bir Gerçek Hikâye
- C) Gılgamış Operası
- D) Ölümsüzlük Ardında Gılgamış

13. Aşağıdakilerden hangisi edebiyat tarihçilerimizden biri değildir?

- A) Nihat Sami Banarlı
- B) Mehmet Fuad Köprülü
- C) Ahmet Hamdi Tanpınar
- D) Yahya Kemal Beyatlı

14. Balasagun yakınlarında bir şehir kuran hükümdar Şu'nun ilginç özelliklerinin, Büyük İskender'le yaptığı savaşların anlatıldığı Şu Destanı aşağıdakilerden hangisine aittir?

- A) Kırgızlara
- B) Sakalara
- C) Göktürlere
- D) Uygurlara

15. İşgale uğrayan bir ülke ve savaş gibi önemli bir toplumsal olayı işleyen "Ateşten Gömlek" romanının yazarı, aşağıdakilerden hangisidir?

- A) Ahmet Hamdi Tanpınar
- B) Hüseyin Rahmi Gürpınar
- C) Halide Edip Adivar
- D) Orhan Şaik Gökyay

16. 17. yüzyılda Toroslarda Türkmen aşiretleri arasında yaşamış ünlü halk şairimiz aşağıdakilerden hangisidir?

- A) Karacaoğlan
- B) Nailî Kadim
- C) Pir Sultan Abdal
- D) Âşık Veysel

17. Sagu ile ilgili aşağıdaki ifadelerden hangisi yanlıştır?

- A) Her dördlüğün ilk 2-3 dizesi kendi arasında uyaklıdır.
- B) Kopuz çalınarak söylenir.
- C) İslamiyet öncesi döneme aittir.
- D) Tabiat güzelliklerini anlatan şiirlerdir.

20. Çağdaş Türk Edebiyatı'nın önemli destan örneklerinden biri olan "Kurtuluş Savaşı Destanı" adlı eserin yazarı aşağıdakilerden hangisidir?

- A) Nazım Hikmet
- B) Cahit Külebi
- C) Namık Kemal
- D) Aras Ören

18. Aşağıdakilerden hangisi, Uygur destanlarından biri değildir?

- A) Göç Destanı
- B) Köroğlu Destanı
- C) Türeyiş Destanı
- D) Mani Dininin Kabulü Destanı

19. Tarihte Türk sözcüğünün geçtiği ilk metin aşağıdakilerden hangisidir?

- A) Battal Gazi Destanı
- B) Danişment Gazi Destanı
- C) Orhun Yazıtları
- D) Yenisey Yazıtları

1. Aşağıdakilerden hangisi malların piyasalarından söz edebilmek için taşınması gereken özelliklerden biri değildir?
- A) Dayanaklı mallar olması
B) Kıt olması
C) Taşınması kolay olması
D) Malların aynı türden olması
2. Aşağıdakilerden hangisi yaratıcılığın aşamalarından biri değildir?
- A) Değerlendirme ve uygulama
B) Bilgi toplama aşaması
C) Fikir deneyimi aşaması
D) Pazarlama aşaması
3. Ekonomi bilimine göre alıcı ve satıcıların birbiriyle kolayca temas etmelerini sağlayan örgütsel varlığa ne ad verilir?
- A) Vizyon
B) Piyasa
C) Kartel
D) Sermaye
4. Aşağıdakilerden hangisi rekabetçi düşüncenin faydalarından biri değildir?
- A) Girişimcilerin tüketici yönlü olmasını sağlaması
B) Diğer işletmeleri iyileştirme ve yeniliklere zorlaması
C) Girişimcilerin ürün kalitesi düşük ürünler üretmesini sağlaması
D) Verimliliği yükseltmesi
5. Aşağıdakilerden hangisi girişimci ve yönetici arasındaki başlıca farklardan biri değildir?
- A) Girişimci kâr amacı gütmeyen yönetici kâr amacı güder ve girişimlerin neticesinde doğabilecek riskleri üstlenir.
B) Girişimci değişikliklerle başarı sağlarken yönetici tam anlamıyla statükoya bağlı kalır.
C) Girişimci olaylardaki fırsatları yakalarken yönetici problemleri görür.
D) Yenilik girişimci ile, işlerin yürütmesi ise yönetici ile olur.
6. Aşağıdakilerden hangisi üretim faktörlerinden biri değildir?
- A) Teşebbüs
B) Doğa
C) Emek
D) Sermaye
7. Aşağıdakilerden hangisi girişimciliğin ana bileşenlerinden biri değildir?
- A) Öncü olmak
B) Sınırsız sermayeye sahibi olmak
C) Risk almak
D) Rekabetçi düşünmek
8. Aşağıdakilerden hangisi girişimciyi teşvik eden devletin sağladığı olanaklardan biri değildir?
- A) Adil rekabet ortamını ve adil bölüşümü sağlamak
B) Vergi oranlarını indirmek
C) Bürokrasiyi artırmak
D) Alt yapı hizmetleri sunmak
9. Ekonomistlere göre fiyatı olan ve bedelini ödemek sureti ile satın alınabilen her türlü mal ve hizmete ne ad verilir?
- A) Arz
B) Kıt mal
C) Tercih
D) Piyasa
10. Aşağıdakilerden hangisi bir girişimcinin iş kurduktan sonra karşılaştığı zorluklardan biri değildir?
- A) Kendinin, şirketinin ve personelin menfaatlerini ön planda tutmak
B) Sürekli kendisini geliştirme ve öğrenme gereğinin olması
C) Başarının sadece kendisine değil çalışanlara da bağlı olması
D) Tahsilatların her koşulda zamanında yapılması

11. Aşağıdakilerden hangisi girişimcinin temel özelliklerinden biridir?

- A) Kararsız olması
- B) Tarafli olması
- C) Uyumsuz olması
- D) Planli olması

12. Aşağıdakilerden hangisi planların esnek olmasının girişimci açısından yararlarından biri değildir?

- A) Girişimcinin ayakta kalma olasılığını azaltması
- B) Girişimciye alternatif hareket seçeneklerini geliştirmesi
- C) Girişimcinin ufkunun açık olmasına yardımcı olması
- D) Rekabet avantajı elde etmelerini sağlaması

13. Bir kimsenin davranış ve kararları sonucunda kaybetme şansına maruz kalmasına ne ad verilir?

- A) Kıtlik
- B) Zarar
- C) Kâr
- D) Risk

14. Aşağıdakilerden hangisi girişimcinin vizyon oluşturabilmesi için gereken özelliklerden biri değildir?

- A) Örnek olması
- B) Yöntem oluşturması
- C) Yardımsever olması
- D) Sınırsız kaynaklara sahip olması

15. 18. yüzyılın başında girişimciyi "henüz belirginleşmemiş bir bedele satmak üzere girdileri bugünden satın alan ve üreten kişi" olarak tanımlayan ekonomist aşağıdakilerden hangisidir?

- A) Jetin Baptise Say
- B) Joseph Schumpeter
- C) Richard Cantillon
- D) Ferdinand Porche

16. İşletmeler için amaç geliştirme ve bu amaçlara ulaşmak için çeşitli alternatiflerin değerlendirilmelerini kapsayan süreçlere ne ad verilir?

- A) Geri besleme
- B) Planlama
- C) Analiz
- D) Bölümleme

17. Aşağıdakilerden hangisi çağdaş bir girişimcinin yerine getirmesi beklenen fonksiyonlardan biri değildir?

- A) Endüstride yeni organizasyonlar kurmak
- B) Yeni mal ve hizmet üretmek
- C) Bilinen mal ve hizmetlerin nitelik ve kalitesini düşürmek
- D) Yeni pazarlara ulaşmak

18. Girişimcinin yeniliğe, yaratıcılığa ve orjinalliğe açıklığının, başkalarının görüşlerinden ve katkılarından ilham alma derecesinin göstergesine ne ad verilir?

- A) Vizyon
- B) Motivasyon
- C) Misyon
- D) Standardizasyon

19. Aşağıdakilerden hangisi bir girişimcinin insani ilişkilerde başarılı olması için dikkat etmesi gereken konulardan biri değildir?

- A) Adil, tarafsız dürüst olmak
- B) Başkalarına verdiği sözleri tutmak
- C) Değişik fikir ve önerilere kapalı olmak
- D) Vergilerini düzenli olarak ödemek

20. Aşağıdakilerden hangisi girişimcilerin kişisel özelliklerinden biri değildir?

- A) Planlarının değişik alternatifler içermemesi
- B) Yenilikçi ve yaratıcı olması
- C) Riske katlanması
- D) Problem çözme yeteneğine sahip olması

BU SAYFA BOŞ BIRAKILMIŞTIR.

BU SAYFA BOŐ BIRAKILMIŐTIR.

SINAVDA UYULMASI GEREKEN GENEL KURALLAR

1. Sınava girmek için gerekli belgelerinizin tümünü sınav başlamadan önce sıranızın üzerine bırakınız.
2. Sınav süresince görevlilerle konuşmak, görevlilere soru sormak yasaktır. Aynı şekilde görevlilerin de öğrencilerle yakından ve alçak sesle konuşmaları yasaktır. Gerekli durumlarda görevliler yerinizi değiştirebilir.
3. Size verilen cevap kâğıdının üzerindeki TCKN/Öğrenci no, ad, soyadı, bilgilerini kontrol ediniz, ilgili alanları eksiksiz doldurarak imzalayınız. Bu bilgiler size ait değilse, görevlileri uyararak size ait cevap kâğıdını isteyiniz. Başka öğrenciye ait cevap kâğıdı kullanan öğrencilerin o oturumdaki sınavları geçersiz sayılır.
4. Cevap kâğıdı üzerine test grubunu (A, B, C, D) kodlamayan veya birden fazla kodlama yapan öğrencilerin sınavları geçersiz sayılır.
5. Cevap kâğıdınıza yazacağınız her türlü yazı ve yapacağınız işaretlemeler için koyu yazan siyah kurşun kalem kullanmalısınız. Siyah kurşun kalem dışında farklı bir kalem (tükenmez, mürekkepli ya da renkli vb.) kullanan öğrencilerin sınavları geçersiz sayılır.
6. Cevap kâğıdı üzerinde değişiklik yapmak istediğinizde, iz bırakmayan bir silgi kullanınız. Cevap kâğıdınızı buruşturmayınız, katlamayınız ve üzerine gereksiz hiçbir işaret koymayınız.
7. Cevaplarınızı, cevap kâğıdında ilgili test için ayrılmış olan alana, cevap yerinin dışına taşımadan işaretleyiniz. Soru kitapçığı üzerinde yapılan işaretlemeler değerlendirmeye alınmayacaktır.
8. Her sorunun tek bir doğru cevabı vardır. Bir soru için birden çok cevabı işaretlerseniz, o soruyu yanlış cevaplamış sayılacaksınız.
9. Soru kitapçığınızı aldıңызda sayfalarına hızlıca bakarak hatalı ya da eksik baskı olup olmadığını kontrol ediniz. Hata/eksik olması durumunda kitapçığının değiştirilmesi için derhâl Salon Başkanına başvurunuz. Sınav görevlileri sınavın başladığını belirtmeden kitapçığınızı tekrar açmayınız.
10. Cevap kâğıdınızda belirtilen kitapçık kodu ile soru kitapçığının kodunu karşılaştırınız. Aynı değilse, sınav görevlilerine durumu bildirerek doğru kitapçığın verilmesini talep ediniz.
11. Soru kitapçığındaki ilgili alanlara ad, soyadı, TCKN/Öğrenci no, sınav salon no, sıra no bilgilerinizi eksiksiz doldurarak imzanızı atınız. Soru kitapçığının sayfalarındaki boş yerleri müsvedde amacıyla kullanabilirsiniz.
12. Aşağıdaki durumlarda sınav görevlileri tarafından Bireysel Sınav İptal Tutanağı düzenlenerek ilgili öğrencilerin sınavları geçersiz sayılır:
 - a) Sınav kurallarına ve sınav görevlilerinin uyarılarına uymamak, sınav düzenini bozmak,
 - b) Kâğıt, kitap, defter, not vb. dokümanları; pergel, açıölçer, cetvel vb. araçları; cep telefonu, bilgisayar, tablet, telsiz, kamera vb. iletişim, depolama, kayıt ve veri aktarma cihazlarını; ruhsatlı veya resmi amaçlı olsa bile silah ve silah yerine geçebilecek nesnelere yanında bulundurmamak,
 - c) Sınav sırasında kalem, silgi vb. araç-gereç paylaşımında bulunmak,
 - d) Cevapları, cevap kâğıdı dışında bir yere yazmak ve sınav salonundan dışarı çıkarmak,
 - e) Sınava girebilmek için gerekli belgeleri eksik olduğu halde sınava katılıp, cevap kâğıdında işaretleme yapmak,
 - f) Sınav görevlileri tarafından öğrencinin kimliğinden şüphe duyulması,
 - g) Cevap kâğıdını ve/veya soru kitapçığını sınav görevlilerine eksiksiz ve sağlam şekilde teslim etmemek, sınav salonu dışına çıkarmak,
 - h) Kopya çekmek, vermek, çekilmesine yardımcı olmak vb. eylemlerde bulunmak,
 - i) Kendisi yerine başkasını sınava sokmak.
13. Sınav bitiminde, cevap kâğıdınızı ve soru kitapçığınızı salon görevlilerine eksiksiz biçimde teslim ediniz. Sınav bittikten sonra gönderilen cevap kâğıtları dikkate alınmayacaktır.

SINAV KURALLARINA UYDUĞUNUZ İÇİN TEŞEKKÜR EDER, SINAVINIZDA BAŞARILAR DİLERİZ.