



ANADOLU ÜNİVERSİTESİ
AÇIKÖĞRETİM FAKÜLTESİ
BA - AÇIKÖĞRETİM OKULLARI

T.C. MİLLİ EĞİTİM BAKANLIĞI
Hayat Boyu Öğrenme Genel Müdürlüğü
2016-2017 ÖĞRETİM YILI BATI AVRUPA - BALKANLAR
AÇIK ÖĞRETİM LİSESİ III. DÖNEM SINAVI

3. OTURUM Cumartesi

B

0103

ÖĞRENCİNİN

SOYADI :

ADI :

T.C. KİMLİK NO / ÖĞRENCİ NO :

SINAV SALON NO : SIRA NO:

Sınavla ilgili soru kitapçığının ön ve arka kapağındaki tüm kuralları okudum, anladım, kabul ediyorum.

İMZA:.....

SINAV İÇERİĞİ

Testin Adı	Soru Sayısı	Sayfa No	Testin Adı	Soru Sayısı	Sayfa No
DİN KÜLTÜRÜ VE AHLAK BİLGİSİ 3	20	02	KİMYA 8	20	37
DİN KÜLTÜRÜ VE AHLAK BİLGİSİ 8	20	04	BİYOLOJİ 7	20	40
TARİH 5	20	07	MATEMATİK 7	20	42
COĞRAFYA 1	20	09	İŞLETME 1	20	44
COĞRAFYA 3	20	11	ALMANCA 7	20	46
COĞRAFYA 4	20	13	İNGİLİZCE 7	20	49
COĞRAFYA 7	20	15	FRANSIZCA 7	20	52
COĞRAFYA 8	20	17	SEÇMELİ TARİH 4	20	55
MATEMATİK 3	20	19	SEÇMELİ ALMANCA 7	20	57
ALMANCA 1	20	21	SEÇMELİ İNGİLİZCE 7	20	60
İNGİLİZCE 1	20	24	SEÇMELİ FRANSIZCA 7	20	63
FRANSIZCA 1	20	27	HZ. MUHAMMED'İN HAYATI 2	20	66
SOSYOLOJİ 1	20	30	HZ. MUHAMMED'İN HAYATI 3	20	68
DİL VE ANLATIM 6	20	32	SEÇMELİ TÜRK EDEBİYATI 6	20	70
FİZİK 4	20	34			

SINAVDA UYULMASI GEREKEN ÖZEL KURALLAR

1. Soru kitapçığındaki her bir testi cevaplamanız için verilen süre 30 dakika, toplam süre 150 dakikadır.
2. Sınavın ilk 30 dakikası ve son 5 dakikası içinde sınavınızı tamamlasanız bile salondan çıkamazsınız. Herhangi bir nedenle salondan çıktığınız takdirde, tekrar sınava devam etmenize izin verilmeyecektir. Sınavın başlamasını izleyen ilk 15 dakikadan sonra hiçbir öğrenci sınava alınmaz.
3. Yanlış cevaplarınız dikkate alınmayacaktır. Bu nedenle kitapçığındaki tüm sorular için size doğru gelen seçeneği işaretleyerek cevapsız soru bırakmamanız yararınıza olacaktır.
4. Sınav sırasında hesap makinesi kullanabilirsiniz. Ancak, kullanacağınız makinede alfabetik tuş takımının (A, B, C, ..., Y, Z), program yapılmasına, saklanması ve çalıştırılmasına imkân veren EXE, STORE, RUN vb. tuşlar bulunamaz.

"Sınavda Uyulması Gereken Genel Kurallar" soru kitapçığının arka sayfasında yer almaktadır. Bu kuralları da mutlaka dikkatlice okuyunuz.

Anadolu Üniversitesi tarafından hazırlanmış olan bu testlerin her hakkı saklıdır. Hangi amaçla olursa olsun, testlerin tamamının veya bir kısmının Anadolu Üniversitesi'nin yazılı izni olmadan kopya edilmesi, fotoğraflarının çekilmesi, herhangi bir yolla çoğaltılması, yayımlanması ya da kullanılması yasaktır. Bu yasağa uymayanlar gerekli cezai sorumluluğu ve testlerin hazırlanmasındaki mali külfeti peşinen kabullenmiş sayılır.

1. Sevap ve günahların tartıldığı özel tartıya ne ad verilir?
 - A) Amel defteri
 - B) Sırat
 - C) Hesap
 - D) Mizan
2. Kur'anı Kerim hangi dilde gönderilmiştir?
 - A) Arapça
 - B) Samayetçe
 - C) Farsça
 - D) Latince
3. Kur'an da kaç sure vardır?
 - A) 100
 - B) 110
 - C) 114
 - D) 120
4. İslam dini kaç temel inanç esası üzerine kurulmuştur?
 - A) 2
 - B) 3
 - C) 4
 - D) 6
5. Mahşer'in anlamı aşağıdaki ifadelerin hangisinde doğru olarak verilmiştir?
 - A) Kişinin dünyada yaptığı amellerden sorgulanmasıdır.
 - B) Yeniden diriliş ile birlikte insanların Allah'a hesap vermek üzere toplanacakları yerdir.
 - C) Yeniden diriliş ile başlayan ve sonsuza kadar sürecek olan zamandır.
 - D) Sevap ve günahların tartıldığı özel bir tartıdır.
6. Hz. Muhammed kaç yılında vefat etmiştir?
 - A) 596
 - B) 615
 - C) 632
 - D) 710
7. Kur'an-ı Kerim'de kaç ayet vardır?
 - A) 2222
 - B) 3300
 - C) 4444
 - D) 6666
8. Hz. Muhammed nerede vefat etmiştir?
 - A) Medine
 - B) Mekke
 - C) Kudüs
 - D) Umman
9. Haccın kaç şartı vardır?
 - A) 1
 - B) 2
 - C) 3
 - D) 4
10. Hz. Muhammed'e "Muhammedül Emin" ismi hangi özelliğinden dolayı verilmiştir?
 - A) Sabırlı olması
 - B) Alçakgönüllü olması
 - C) Yardımsever olması
 - D) Güvenilir olması
11. Tevrat hangi peygambere gönderilmiştir?
 - A) Hz. Davut
 - B) Hz. Musa
 - C) Hz. Eyüp
 - D) Hz. Yusuf
12. Bayram namazı kaç rekâttir?
 - A) 2
 - B) 4
 - C) 5
 - D) 6
13. Hz. Muhammed kaç yılları arasında yaşamıştır?
 - A) 532-581
 - B) 551-602
 - C) 571-632
 - D) 584-622
14. Allah'a saygı ile boyun eğmek ve emirlerine itaat etmeye ne ad verilir?
 - A) Ahlâk
 - B) İbadet
 - C) Fitrat
 - D) İman
15. Kıyametten sonra yeniden diriliş ile başlayan ve sonsuza kadar sürecek olan zamana ne ad verilir?
 - A) Ahiret
 - B) Haşir
 - C) Mizan
 - D) Kaza
16. Kur'an-ı Kerim hangi melek aracılığıyla gönderilmiştir?
 - A) Mikail
 - B) İsrail
 - C) Azrail
 - D) Cebrail

17. Kur'an-ı Kerim'de kaç peygamberin adı geçmektedir?

- A) 13
- B) 25
- C) 37
- D) 48

18. Aşağıdakilerden hangisi Hz. Muhammed'in özelliklerinden biri değildir?

- A) Lüksü ve israfı sevmesi
- B) Hoşgörülü olması
- C) Verdiği sözde durması
- D) Zamanı iyi değerlendirmesi

19. İsrâfil meleğinin görevi nedir?

- A) Tabiat olayları ile ilgilenmek
- B) İnsanların sevap ve günahlarını yazmak
- C) Kıyamet koptuğunda sûr'a üflemek
- D) Allah ile peygamberler arasında elçilik yapmak

20. Okunan Kur'anı Kerim'i dinlemek aşağıdakilerden hangisine bir örnektir?

- A) Mubah
- B) Farz
- C) Vacip
- D) Sünnet

1. "Yurtta sulh, cihanda sulh." diyerek insanların birlikte barış içinde yaşamasına verdiği önemi belirten devlet adamı aşağıdakilerden hangisidir?

- A) Fatih Sultan Mehmet
- B) Mustafa Kemal Atatürk
- C) Rauf Denktaş
- D) Ebulföz Elçibey

2. I. İnsan varlığını korur ve geliştirir.
II. Kültürel değerleri korur ve geliştirir.
III. Toplumların daha çok gelişip kalkınmasına olanak sağlar.
IV. İnsanların mutlu ve huzurlu bir ortamda yaşamasına imkan tanır.

Barış kavramıyla ilgili yukarıdaki ifadelerden hangileri doğrudur?

- A) Yalnız III
- B) I ve II
- C) I, III ve IV
- D) I, II, III ve IV

3. Aşağıdakilerden hangisi İslam Tarihi'nde Müslümanların barışa verdiği önemi gösteren olaylardan biri değildir?

- A) Hudeybiye Antlaşması
- B) Mekke'nin Fethi
- C) II. Haçlı Seferi
- D) Medine Sözleşmesi

4. Hz. Muhammed'in de gençliğinde aktif olarak görev aldığı, haksızlık ve adaletsizliğin önüne geçebilmek için oluşturulan barış teşkilatı aşağıdakilerden hangisidir?

- A) Hilful Fudul
- B) Teşkilat-ı Mahsusa
- C) Nazm-ı Celil
- D) Sila-i Rahmi

5. Pir-i Türkistan olarak bilinen İslam âlimi aşağıdakilerden hangisidir?

- A) Yunus Emre
- B) Hacı Bektaş Veli
- C) Ahmet Yesevi
- D) Mevlana

6. "Giderdim gönülden kini, kin tutanın yoktur dini. Düşmanımız kindir bizim, biz kimseye kin tutmayız." diyerek insanların barış ve huzur içinde yaşaması gerektiğini vurgulayan büyük mutasavvıf ve halk şairi aşağıdakilerden hangisidir?

- A) Karacaoğlan
- B) Dadaloğlu
- C) Mevlana
- D) Yunus Emre

7. "Nasıl ki, her hususta yüksek meslek ve ihtisas sahipleri yetiştirmek gerekli ise dinimizin gerçek felsefesini inceleyerek araştırarak, bilimsel ve teknik olarak telkin kudretine sahip olacak seçkin ve gerçek din ilim adamlarını yetiştirecek, yüksek öğrenim kurumlarına sahip olmalıyız." diyen lider kimdir?

- A) Mustafa Kemal Atatürk
- B) Yavuz Sultan Selim
- C) Kanuni Sultan Süleyman
- D) II. Murat

8. Aşağıdakilerden hangisi Atatürk'ün din ile ilgili görüşlerinden biri değildir?

- A) Din, devlet işlerinde çok etkili olması gereken bir durumdur.
- B) Din, Allah ile kul arasındaki bağlılıktır.
- C) Din lüzumlu bir müessesedir.
- D) Dinsiz milletlerin devamına imkân yoktur.

9. "Her fert din ve diyanetini, imanını öğrenmek için bir yere muhtaçtır. Orası mekteptir." diyen lider kimdir?

- A) Yavuz Sultan Selim
- B) Kanuni Sultan Süleyman
- C) Mustafa Kemal Atatürk
- D) II. Murat

10. Cumhuriyet Dönemi'nin ilk Diyanet İşleri Başkanı aşağıdakilerden hangisidir?

- A) Rifat Börekçi
- B) Elmalılı Muhammed Hamdi Yazır
- C) Ahmed Naim Efendi
- D) Mehmet Akif Ersoy

11. "Milletimiz, din ve dil gibi kuvvetli iki fazilete sahiptir. Bu faziletleri hiçbir kuvvet, milletimizin kalp ve vicdanından çekip alamamıştır ve alamaz." sözünü kim söylemiştir?

- A) Yavuz Sultan Selim
- B) Hz. Muhammed
- C) Mevlana
- D) Mustafa Kemal Atatürk

12. Aşağıdakilerden hangisi Tevhid-i Tedrisat Kanunu'yla gelen yeniliklerden biri değildir?

- A) Medreselerin varlığına son verilmesi
- B) Yüksek ilim konularının öğretiminde tekke ve zaviyelerin desteklenmesi
- C) Bütün okulların Maarif Vekâleti'ne bağlanması
- D) İlahiyat fakültelerinin açılması

13. I. Doğru odaklanma
II. Doğru davranış
III. Doğru çaba
IV. Doğru geçim

Yukarıdakilerden hangileri Budizm'in sekiz dilimli prensiplerindedir?

- A) Yalnız II
- B) I ve III
- C) I, II ve III
- D) I, II, III ve IV

14. Aşağıdakilerden hangisi Çin ve Japon Dinleri'nden biridir?

- A) Taoizm
- B) Budizm
- C) Hinduizm
- D) Sihizm

15. Hristiyanların ibadet yeri aşağıdakilerden hangisidir?

- A) Havra
- B) Kilise
- C) Cami
- D) Sinagog

16. Sihizm 'i kim kurmuştur?

- A) Buda
- B) Guru Nanak
- C) Vardhamana
- D) Konfüçyüs

17. Hinduizm ile ilgili aşağıdaki ifadelerden hangisi yanlıştır?

- A) Kutsal kitapları Vedalar, Brahmanalar ve Upanışadlardır.
- B) Ganj Nehri ve Himalaya Dağları kutsal kabul edilir.
- C) Toplu ibadet yeri kilisedir.
- D) Hindülerin ortak ibadet sembolü "om" dur.

18. Taoizm'in kutsal kitabı aşağıdakilerden hangisidir?

- A) Agama
- B) Siddhanta
- C) Tao Te-King
- D) Tien

19. I. Namaz
II. Zekat
III. Oruç
IV. Hac

Yukarıdakilerden hangileri İslam Dini'nin temel ibadetlerindendir?

- A) Yalnız I
- B) II ve III
- C) III ve IV
- D) I, II, III ve IV

20. Yahudilerin kutsal kitabının tamamına ne ad verilir?

- A) Brahmana
- B) Tevrat
- C) İncil
- D) Upanışad

1. İranlıların "Eftalit" adı ile isimlendirdikleri Türk Devleti aşağıdakilerden hangisidir?

- A) Sabarlar
- B) Avarlar
- C) Hazarlar
- D) Akhunlar

2. İskitler ile ilgili aşağıdaki ifadelerden hangisi yanlıştır?

- A) Çok tanrılı bir din anlayışı vardı.
- B) Elhamra Sarayı İskitlerin dünya mimarisine hediye ettiği en önemli eserdir.
- C) Keçeden kubbeli derme çadırlarda otururlar, kırmızı içerlerdi.
- D) Persler tarafından Sakalar olarak adlandırılmışlardır.

3. Aşağıdakilerden hangisi Orta Asya Türk göçlerinin nedenleri arasında yer almaz?

- A) Tabii afetlerin yaşanması
- B) Türk boyları arasında siyasal anlaşmazlıklardan dolayı savaşların çıkması
- C) Otlakların sayısının gittikçe artan sürülere yetmemesi
- D) I. Haçlı Seferi'nin gerçekleşmesi

4. Anav kültürü insanları ile ilgili aşağıdaki ifadelerden hangisi yanlıştır?

- A) Tunçtan ve altından yapılmış eşyalar ilk defa bu kültürde görülmüştür.
- B) Arpayı, buğdayı dibeklerde öğütmüşler ve bakırdan süs eşyası yapmışlardır.
- C) Güneşte kurutulmuş tuğlalardan yapılan evlerde oturmuşlardır.
- D) Koyun, sığır gibi hayvanları besleyip çiftçilik yapmışlardır.

5. Türk tarihinde ilk düzenli ordu teşkilatını kuran hükümdar aşağıdakilerden hangisidir?

- A) Timur
- B) I. Murat
- C) Mete
- D) Attila

6. Mete'nin MÖ 201 yılında çıktığı Çin Seferinde büyük başarılar elde etmesine rağmen Çin topraklarına yerleşmeyi Çin İmparatorluğunu vergiye bağlayan bir antlaşma yapmayı uygun görmesinin nedeni aşağıdakilerden hangisidir?

- A) Tunguzların İpek Yolu ticaretini engelleme çalışmalarını önlemek istemesi
- B) Akhunların ani saldırılarından dolayı geri dönmek istemesi
- C) Çin gibi son derece geniş topraklara sahip bir devletin dışarıdan yönetilemeyeceğini ve istilâ edilemeyeceğini bilmesi
- D) Tölesler ve Kırgızları egemenliği altına almayı öncelik haline getirmesi

7. Aşağıdakilerden hangisi Kavimler Göçü'nün sonuçlarından biri değildir?

- A) Roma İmparatorluğu'nun ikiye bölünmesi
- B) Afanesyovo Kültürü'nün ortaya çıkması
- C) Avrupa'daki kavimlerin birbirleriyle karışıp kaynaşması sonucunda bugünkü Avrupa milletlerinin temellerinin atılması
- D) Germen kavimleri arasında Hristiyanlığın yayılmasıyla birlikte kilise ve din adamlarının güce kazanması

8. Böğü Kağan ile ilgili aşağıdaki ifadelerden hangisi yanlıştır?

- A) Mani dinine ait ülkesindeki bütün tapınakları yıktırıştır.
- B) Uygurlar en parlak dönemlerini onun hükümdarlık zamanında yaşamıştır.
- C) 762'de Tibetlilerin saldırılarına ve isyancılara karşı Çin imparatorunu korumak amacıyla Çin'e sefer yapmıştır.
- D) Tung Baga Tarkan tarafından 780 yılında öldürülmüştür.

9. Türk tarihinde Museviliği kabul eden ilk ve tek Türk Devleti aşağıdakilerden hangisidir?

- A) Kırgızlar
- B) Avarlar
- C) Uygurlar
- D) Hazarlar

10. Dünyanın en uzun destanı olarak bilinen Manas Destanı kime aittir?

- A) Türgişler
- B) Hazarlar
- C) Kırgızlar
- D) Avarlar

11. İlk Türk Devletleri'nde hükümdarın eşine ne ad verilir?

- A) İlteber (Erkin)
- B) Hatun (Katun)
- C) Emçi (Otacı)
- D) Ataman (İnal)

12. Tarihte İstanbul'u ilk defa kuşatan Türk kavmi aşağıdakilerden hangisidir?

- A) Ak Hunlar
- B) Hazarlar
- C) Türgişler
- D) Avarlar

13. Orhun Yazıtlarını 1893 yılında okuyan Danimarkalı dil bilimci aşağıdakilerden hangisidir?

- A) Herbert Marcuse
- B) Vilhelm Thomsen
- C) B. D. Koçnev
- D) Hieronymus Laski

14. İlk Türk Devletleri'nde il (el) kavramının karşılığı aşağıdakilerden hangisidir?

- A) Devlet
- B) Savaş
- C) Töre
- D) Barış

15. Türeyiş ve Göç Destanları aşağıdaki devletlerden hangisine aittir?

- A) Türgişler
- B) Uygurlar
- C) Avarlar
- D) Kırgızlar

16. Aşağıdakilerden hangisi İlk Türk Devletleri'nde devlet işlerinin görüşülüp karara bağlandığı meclise verilen adlardan biri değildir?

- A) Kurultay
- B) Kengeş
- C) Tevki
- D) Toy

17. Aşağıdakilerden hangisi Çinlilerin Hun akınlarını durdurabilmek için aldıkları tedbirlerden biri değildir?

- A) Hunlarınki gibi atlı birlikler teşkil etmek
- B) Sınırlarda tahkimat yapmak ve uzun surlar inşa etmek
- C) Ordularını Hun tarzında yeniden düzenlemek
- D) Hunların ihtiyaçları olan pirinç ve buğday'ın Çin'de ekimini yasaklamak

18. Çin'in Orta Asya'daki hâkimiyetini kaybederek çekilmek zorunda kalmasına ve tarım havzasının Uygurların eline geçmesine neden olan 751 yılındaki savaş aşağıdakilerden hangisidir?

- A) Talas Savaşı
- B) Köseadağ Savaşı
- C) Kuzey Şansi Savaşı
- D) Bolçu Savaşı

19. Hazarlarla Müslüman Araplar arasında ilk ciddi mücadele aşağıdaki hangi İslam halifesi döneminde başlamıştır?

- A) Hz. Ömer
- B) Hz. Ebubekir
- C) Hz. Osman
- D) Hz. Ali

20. Orta Asya Türk tarihine ait bilgilere en fazla aşağıdaki devletlerden hangisinin kaynaklarında rastlanır?

- A) Çin
- B) Almanya
- C) Fransa
- D) ABD

1. Dünyada sıcaklığın dengeli dağılımına yardımcı olan katman aşağıdakilerden hangisidir?
 - A) Litosfer
 - B) Biyosfer
 - C) Hidrosfer
 - D) Atmosfer
2. Akarsuyun içinde aktığı oluğa ne ad verilir?
 - A) Ağız
 - B) Kaynak
 - C) Akarsu ağı
 - D) Yatak
3. Ülkelerin sınırlarını gösteren haritalara ne ad verilir?
 - A) Fiziki haritalar
 - B) Beşeri haritalar
 - C) Siyasi haritalar
 - D) Ekonomi haritaları
4. Aşağıdakilerden hangisi dünyanın şeklinin sonuçlarından biri değildir?
 - A) Dağların ve yeryüzü şekillerinin oluşması
 - B) Güneş ışınlarının geliş açısının Ekvator'a doğru gidildikçe daralması
 - C) Dünyanın güneşe bakan tarafının aydınlık iken diğer tarafının karanlık olması
 - D) Meridyen yaylarının kutuplarda birleşmesi
5. Yağmur yağışlarını ölçen alete ne ad verilir?
 - A) Barometre
 - B) Takometre
 - C) Termometre
 - D) Pluviometre
6. Atmosferde en çok bulunan gaz aşağıdakilerden hangisidir?
 - A) Argon
 - B) Azot
 - C) Oksijen
 - D) Metan
7. Her meridyen yayı aralığı kaç dakikaya eşittir?
 - A) 2
 - B) 3
 - C) 4
 - D) 5
8. Dünyanın kendi eksenini etrafındaki hareketini tamamlaması ile aşağıdakilerden hangisi meydana gelir?
 - A) Saat
 - B) Gün
 - C) Ay
 - D) Yıl
9. Asya ve Avustralya'nın Büyük Okyanus kıyılarında oluşan rüzgarla ne ad verilir?
 - A) Sam
 - B) Hamsin
 - C) Lodos
 - D) Tayfun
10. Doğal bitki örtüsü, bazı kurakçıl otlar ve kaktüs gibi bitkilerden oluşan iklim türü aşağıdakilerden hangisidir?
 - A) Çöl iklimi
 - B) Karasal iklim
 - C) Kutup iklimi
 - D) Akdeniz iklimi
11. Aşağıdakilerden hangisi sürekli rüzgârlardan biri değildir?
 - A) Kutup rüzgârları
 - B) Fırtınalar
 - C) Batı rüzgârları
 - D) Alizeler
12. Güney yarım kürede en uzun gündüzün yaşandığı tarih aşağıdakilerden hangisidir?
 - A) 21 Aralık
 - B) 21 Haziran
 - C) 21 Mart
 - D) 23 Eylül
13. Alp Dağları ve başlıca sıradağların oluştuğu, Atlas ve Hint Okyanuslarının ortaya çıktığı jeolojik zaman aşağıdakilerden hangisidir?
 - A) Prekambrien
 - B) Mezozoik
 - C) Neozoik
 - D) Paleozoik
14. İnsanın yaşam alanı içinde bulunduğu ortama ne ad verilir?
 - A) Doğal çevre
 - B) Tarla
 - C) Orman
 - D) Dağ

15. Güney Hindistan, Güney Çin, Güneydoğu Asya gibi bölgelerde görülen iklim aşağıdakilerden hangisidir?

- A) Tundra iklimi
- B) Okyanus iklimi
- C) Muson iklimi
- D) Tropikal iklim

16. Başlangıç meridyeninin geçtiği şehir aşağıdakilerden hangisidir?

- A) Viyana
- B) Greenwich
- C) New York
- D) Londra

17. Yer kabuğu üzerinde, ağır ağır gelişen ve geniş alanları kapsayan yükselme ve alçalma hareketlerine ne ad verilir?

- A) Epirojenez
- B) Seizma
- C) Orojenez
- D) Volkanizma

18. Yeryüzü şekillerini inceleyen bilim dalı aşağıdakilerden hangisidir?

- A) Biyocoğrafya
- B) Hidroğrafya
- C) Jeomorfoloji
- D) Klimatoloji

19. Aşağıdakilerden hangisi iklimin temel elemanlarından biri değildir?

- A) Nemlilik
- B) Basınç
- C) Sıcaklık
- D) Ormanlar

20. Sıcaklığın yeryüzünde veya yer yüzünün herhangi bir bölümünde dağılışını gösterebilmek için eş sıcaklık eğrileriyle yapılan haritalara ne ad verilir?

- A) Fiziki haritalar
- B) İzoterm haritaları
- C) İklim haritaları
- D) İzobar haritaları

1. **ilk modern nüfus sayımı nerede yapılmıştır?**

- A) İskandinav ülkelerinde
- B) Batı Avrupa'da
- C) Güneydoğu Asya ülkelerinde
- D) Orta Doğu'da

2. **Aşağıdakilerden hangisi Güney Marmara'da yer alan ovalardan biri değildir?**

- A) Balıkesir
- B) M. Kemal Paşa
- C) Bursa
- D) Amasya

3. **Selçuklular zamanında kervansarayların yaygınlaşması hangi ekonomik faaliyetin önem kazanmaya başladığını gösterir?**

- A) Tarım
- B) Ticaret
- C) Hayvancılık
- D) Endüstri

4. **Aşağıdakilerden hangisi üçüncül ekonomik faaliyetler arasında yer almaz?**

- A) Reklam yayıncılığı
- B) Pazarlama
- C) Bankacılık
- D) Muhasebe

5. I. Alet yapımı keşfedilmiştir.
II. İnsanlar yerleşik yaşama geçmişlerdir.
III. Beslenme ve sağlık koşulları düzelmiştir.

Yukarıdakilerden hangileri Dünya nüfusunun üçüncü sıçrama döneminde meydana gelen gelişmelerdendir?

- A) I ve II
- B) II ve III
- C) Yalnız III
- D) Yalnız I

6. **Mekansal olarak Avrupa Kıtası'nın çehresini değiştiren, yeni ırkların, siyasal yapıların ortaya çıkmasına, hatta yeni bir çağın başlamasına neden olan göç hareketi aşağıdakilerden hangisidir?**

- A) Mevsimlik Göç
- B) İşçi Göçü
- C) Beyin Göçü
- D) Kavimler Göçü

7. **Buzulların taşıyıp biriktirdiği malzemelerden oluşan topraklara ne ad verilir?**

- A) Lösler
- B) Litosoller
- C) Morenler
- D) Regosoller

8. **Göçlerin en önemli sebebi aşağıdakilerden hangisidir?**

- A) İnsanların yeni yerler keşfetmek istemesi
- B) İnsanların enerji kaynaklarına yakın olmak istemesi
- C) İklim koşullarının elverişsiz olması
- D) Geçim kaynaklarının artan nüfusu beslemekte yetersiz kalması

9. **Aşağıdakilerden hangisi kimyasal tortul kayalardan biridir?**

- A) Kaya tuzu
- B) Gnays
- C) Bazalt
- D) Konglomera

10. **Aşağıdakilerden hangisi Dünya'da nüfus yoğunluğunun az olduğu yerlerden biridir?**

- A) Batı Avrupa
- B) Orta Asya
- C) Japonya
- D) Güneydoğu Asya

11. Fay hatlarının bulunduğu yerlerde aşağıdaki alanlardan hangisinin bulunma ihtimali daha fazladır?

- A) Çöl alanları
- B) Orman alanları
- C) Buzul alanları
- D) Jeotermal alanlar

12. Alçak kıyılarda dalga ve akıntıların etkisiyle meydana gelen kıyı kordonlarının bir koy veya körfezin önünü kapatması sonucu oluşan göllere ne ad verilir?

- A) Tombolo
- B) Lagün
- C) Havza
- D) Alüvyal set gölü

13. Volkanik patlama çanaklarında oluşan göllere ne ad verilir?

- A) Krater gölü
- B) Kaldera gölü
- C) Maar gölü
- D) Sirk gölü

14. Dünya'daki bütün kıtaların birleşik olduğu kara parçasına ne ad verilir?

- A) Pangea
- B) Laurasia
- C) Pantalassa
- D) Gondwana

15. I. İsveç
II. Türkiye
III. Japonya

Yukarıdaki ülkelerin hangilerinde deprem riski daha fazladır?

- A) Yalnız I
- B) Yalnız II
- C) I ve II
- D) II ve III

16. Aşağıdakilerden hangisi Türkiye'nin matematik konumunun sonuçlarından biri değildir?

- A) Güneş ışınlarının dik açıyla gelmemesi
- B) Yakın bir jeolojik zamanda oluşması
- C) Aynı anda tek bir ortak saatin kullanılması
- D) Orta kuşakta yer alması

17. Aşağıdakilerden hangisi göçün nedenlerinden biri değildir?

- A) Doğal nedenler
- B) Siyasi nedenler
- C) Psikolojik nedenler
- D) Ekonomik nedenler

18. Hindistan'ın Agra kentinde bulunan Taç Mahal'in yapımında aşağıdaki kayaç türlerinden hangisi kullanılmıştır?

- A) Mermer
- B) Granit
- C) Kalker
- D) Bazalt

19. Köylerin büyüyerek kentlere dönüştüğü ve devletlerin ortaya çıktığı çağ aşağıdakilerden hangisidir?

- A) Paleolitik Çağ
- B) Kalkolitik Çağ
- C) Neolitik Çağ
- D) Mezolitik Çağ

20. Akarsu, rüzgâr, buzul, dalga ve akıntılar gibi dış kuvvetler tarafından aşındırılan malzemelerin taşınarak çukur yerlerde birikmesiyle oluşan kayaçlara ne ad verilir?

- A) Kimyasal tortul kayaçlar
- B) Metamorfik kayaçlar
- C) Fiziksel tortul kayaçlar
- D) Organik tortul kayaçlar

1. Aşağıdakilerden hangisi Türkiye’de nüfusun yerleşimini ve dağılışını etkileyen beşeri faktörlerden biri değildir?
 - A) Ulaşım
 - B) Bilim ve teknolojiadaki gelişmeler
 - C) Su kaynakları
 - D) Ekonomi

2. Aşağıdakilerden hangisi zonal toprak çeşitlerinden biridir?
 - A) Kolüvyal topraklar
 - B) Çernezyom topraklar
 - C) Tuzlu topraklar
 - D) Alüvyal topraklar

3. Sumatra Adası ile Malaya Yarımadası arasında yer alan boğaz aşağıdakilerden hangisidir?
 - A) Malakka Boğazı
 - B) Cebelitarık Boğazı
 - C) Bering Boğazı
 - D) Hürmüz Boğazı

4. Seramik, porselen, çömlek, tuğla ve kiremit üretiminde kullanılan ana ham madde aşağıdakilerden hangisidir?
 - A) Kahverengi toprak
 - B) Kırmızı toprak
 - C) Silt
 - D) Kil

5. Aşağıdakilerden hangisi erozyonu engellemek için alınması gereken önlemlerden biri değildir?
 - A) Toprakların nadasa bırakılması
 - B) Eğimli yamaçların teraslandırılması
 - C) Tarım arazilerinin eğime dik yönde sürülmesi
 - D) Meralarda erken ve aşırı otlatma yapılmaması

6. Aşağıdakilerden hangisi Türkiye’deki sanayi şehirlerinden biri değildir?
 - A) İzmit
 - B) İstanbul
 - C) Muş
 - D) Bursa

7. Akdeniz ile Atlas Okyanusu’nu birbirine bağlayan boğaz aşağıdakilerden hangisidir?
 - A) Hürmüz Boğazı
 - B) Malakka Boğazı
 - C) Bering Boğazı
 - D) Cebelitarık Boğazı

8. Aşağıdakilerden hangisi kuraklığın sonuçlarından biri değildir?
 - A) Büyük göçlerin yaşanması
 - B) Erken uyarı sistemlerinin kurulması
 - C) Hayvan ve bitki türlerinin zarar görmesi
 - D) Tarım faaliyetlerinin yapılamaması

9. Aşağıdakilerden hangisi Türkiye’de en çok göç alan iller arasında yer almaz?
 - A) Muş
 - B) Kocaeli
 - C) Adana
 - D) Bursa

10. Aşağıdakilerden hangisi yer kökenli doğal afetlerden biri değildir?
 - A) Volkanik püskürtme
 - B) Deprem
 - C) Tsunami
 - D) Çiğ

11. Aşağıdakilerden hangisi Türkiye’de nüfus artışının yol açtığı sorunlardan biri değildir?

- A) Milli gelirin azalması
- B) Refah seviyesinin artması
- C) Çevresel sorunların artması
- D) Göçlerin artması

12. Yolcu ve yük taşımacılığında maliyetin en düşük olduğu ulaşım sistemi aşağıdakilerden hangisidir?

- A) Hava yolu
- B) Kara yolu
- C) Demir yolu
- D) Deniz yolu

13. Aşağıdakilerden hangisi Türkiye’de jeotermal kökenli elektrik enerjisinin üretildiği yerlerden biridir?

- A) Gönen (Balıkesir)
- B) Sarayköy (Denizli)
- C) Kızılcahamam (Ankara)
- D) Simav (Kütahya)

14. Aşağıdakilerden hangisi nüfus artışının olumlu sonuçlarından biri değildir?

- A) İş gücü maliyetinin artması
- B) Yeni iş kollarının oluşması
- C) Mal ve hizmet taleplerinin artması
- D) Üretim ve vergi gelirlerinin artması

15. Birkaç mahallenin tek muhtarlık olarak birleştiği kır yerleşmelerine ne ad verilir?

- A) Oba
- B) Mezra
- C) Yayla
- D) Divan

16. Aşağıdakilerden hangisi fırtına, hortum ve kasırga gibi olağanüstü hava olaylarının zararlarını azaltmak için alınması gereken önlemlerden biri değildir?

- A) Binaların olağanüstü hava olaylarına karşı dayanıklı inşa edilmesi
- B) İnsanlara gerekli eğitim verilerek bilinçlendirilmesi
- C) Atmosferdeki hava hareketliliğinin yılda 1 kez kontrol edilmesi
- D) Erken uyarı sistemlerinin kurulması

17. Aşağıdakilerden hangisi Türkiye’deki volkanik set göllerinden biri değildir?

- A) Eymir Gölü
- B) Haçlı Gölü
- C) Erçek Gölü
- D) Balık Gölü

18. Aşağıdakilerden hangisi göçün nedenlerinden biri değildir?

- A) Nüfusun hızlı artması
- B) İş imkânlarının kısıtlı olması
- C) Tarımsal üretimdeki verimin düşük olması
- D) Şehir yaşamına uyumun zor olması

19. Hindistan’a ulaşan ilk denizci kimdir?

- A) Christophe Colomb
- B) Vasco de Gama
- C) Barthelemy Diaz
- D) Macellan

20. Doğal bir liman olmasına rağmen hinterlandı dar olduğu için yeterince gelişmemiş olan liman aşağıdakilerden hangisidir?

- A) İstanbul
- B) Mersin
- C) Sinop
- D) İzmir

1. Aşağıdakilerden hangisi Türkiye'deki büyük ölçekli ticaret merkezleri grubunda yer almaz?

- A) Adana
- B) İzmir
- C) Bursa
- D) Bilecik

2. Nemrut heykelleri aşağıdaki illerden hangisinde yer alır?

- A) Adıyaman
- B) Şanlıurfa
- C) Gaziantep
- D) Adana

3. I. İnkâ
II. Lidya
III. Fenike
IV. Aztek

Yukarıdakilerden hangileri Akdeniz uygarlıkları arasında yer alır?

- A) I ve II
- B) I ve III
- C) II ve III
- D) III ve IV

4. Orta büyüklükteki şehirlerle ilgili aşağıdaki ifadelerden hangisi yanlıştır?

- A) Etki alanları geniştir.
- B) Belli bir bölgenin mallarının toplanma ve büyük tüketim merkezlerine ulaştırıldığı yerlerdir.
- C) Malatya, Erzurum, Şanlıurfa orta büyüklükteki kentlerden bazılarıdır.
- D) Konumları itibarıyla bölgesel ticaret merkezleridir.

5. Aşağıdakilerden hangisi ilk medeniyetlerin kurulduğu ülkelerden biri değildir?

- A) Suriye
- B) Peru
- C) İsveç
- D) Türkiye

6. Azerbaycan'dan başlayıp Gürcistan ve Türkiye üzerinden geçerek Akdeniz'e ulaşan ham petrol boru hattı aşağıdakilerden hangisidir?

- A) Samsun - Novorosisk
- B) Kerkük - Yumurtalık
- C) Batman - Dört Yol
- D) Bakü - Tiflis - Ceyhan

7. Aşağıdakilerden hangisi nüfus artış hızının en fazla olduğu ülkelerden biridir?

- A) Almanya
- B) Japonya
- C) Pakistan
- D) Rusya Federasyonu

8. Aşağıdakilerden hangisi Türkiye'deki bölgelerin fiziki coğrafya özelliklerine göre yapılan sınıflandırmaları arasında yer almaz?

- A) İklim tipine göre bölgeler
- B) Nüfus yoğunluğuna göre bölgeler
- C) Bitki örtüsüne göre bölgeler
- D) Su özelliklerine göre bölgeler

9. Aşağıdakilerden hangisi Türkiye'de bitki örtüsüne göre oluşturulacak bölgeler arasında yer almaz?

- A) Orman
- B) Maki
- C) Bozkır(step)
- D) Tayga

10. - Ticari hizmetler sektörü çok gelişmiştir.
- Rotterdam en önemli limanıdır.
- Kıyı koruma sistemleriyle ünlüdür.

Yukarıda özellikleri verilen Avrupa ülkesi aşağıdakilerden hangisidir?

- A) Hollanda
- B) Fransa
- C) Bulgaristan
- D) Danimarka

11. Ruhr sanayi bölgesi hangi kıtada yer alır?

- A) Asya
- B) Kuzey Amerika
- C) Afrika
- D) Avrupa

12. Aşağıdakilerden hangisi küresel ısınmadan etkilenecek alanlardan biri değildir?

- A) Ormanlar
- B) Yeraltı kaynakları
- C) Su kaynakları
- D) Kıyılar

13. Fransa'nın film festivali ile ünlü şehri aşağıdakilerden hangisidir?

- A) Nice
- B) Paris
- C) Cannes
- D) Marsilya

14. I. Aşırı sıcaklar
II. Volkanizma
III. Şiddetli rüzgarlar
IV. Deprem

Yukarıdakilerden hangileri klimatolojik karakterli ekstrem olaylar arasında yer alır?

- A) I ve II
- B) I ve III
- C) II ve III
- D) III ve IV

15. I. Lidya
II. Maya
III. Aztek
IV. Fenike

Yukarıdaki medeniyetlerden hangileri Orta Amerika'da kurulmuştur?

- A) I ve II
- B) I ve III
- C) II ve III
- D) II ve IV

16. Türkiye'nin 2011 Şubat ayında en fazla ihracat yaptığı ülke aşağıdakilerden hangisidir?

- A) Almanya
- B) Fransa
- C) Amerika Birleşik Devletleri
- D) İspanya

17. Dünya Turizm Örgütü (UNWTO)'nün 2010 yılı verilerine göre turizm gelirleri bakımından ilk sırada yer alan ülke aşağıdakilerden hangisidir?

- A) Çin
- B) ABD
- C) İspanya
- D) Fransa

18. Tarihi Harran Evleri'nin bulunduğu şehir aşağıdakilerden hangisidir?

- A) Diyarbakır
- B) Batman
- C) Mardin
- D) Şanlıurfa

19. I. İstanbul - İzmit çevresi
II. Gümüşhane - Bayburt çevresi
III. Hakkari - Şırnak çevresi

Yukarıdakilerden hangileri Türkiye'deki seyrek nüfuslu bölgeler arasında yer almaz?

- A) Yalnız I
- B) I ve II
- C) II ve III
- D) I, II ve III

20. Türkiye turizminin temelini oluşturan turizm sektörü aşağıdakilerden hangisidir?

- A) Sağlık turizmi
- B) Deniz turizmi
- C) Yayla turizmi
- D) Kongre turizmi

1. Ülkelerin gelişmişlik düzeylerini belirtmek için en çok tercih edilen ölçüt aşağıdakilerden hangisidir?
 - A) Okur-yazar oranı
 - B) Kişi başına düşen milli gelir
 - C) Doktor başına düşen hasta sayısı
 - D) Kişi başına düşen elektrik tüketimi
2. Türkiye'de doğum oranlarını düşürmeye yönelik uygulamalar hangi yıldan sonra teşvik edilmeye başlanmıştır?
 - A) 1963
 - B) 1968
 - C) 1970
 - D) 1991
3. Orta Doğu petrollerinin çıkış kapısı konumunda olan ve İran Körfezi'ni Umman Denizi'ne bağlayan boğaz aşağıdakilerden hangisidir?
 - A) Macellan Boğazı
 - B) Malakka Boğazı
 - C) Bering Boğazı
 - D) Hürmüz Boğazı
4. Artvin, Bayburt, Giresun gibi illeri kapsayan bölgesel kalkınma projesi aşağıdakilerden hangisidir?
 - A) GAP
 - B) DOKAP
 - C) DAP
 - D) ZBK
5. Aşağıdakilerden hangisi Türkiye ile kara sınırı olan ülkelerden biridir?
 - A) Hırvatistan
 - B) Çin Halk Cumhuriyeti
 - C) Suriye
 - D) Nijerya
6. Aşağıdakilerden hangisi uluslararası çatışmaların yaşandığı ülkelerden biri değildir?
 - A) Libya
 - B) Japonya
 - C) Irak
 - D) Afganistan
7. Devletlerin coğrafi özellikleri ile siyasetleri arasındaki ilişkiyi inceleyen bilim dalı aşağıdakilerden hangisidir?
 - A) Jeopolitik
 - B) Diplomasi
 - C) Jeomorfoloji
 - D) Coğrafya
8. Mercan resifleri ile ilgili aşağıdaki ifadelerden hangisi yanlıştır?
 - A) Bir araya gelerek süperorganizmaları oluştururlar.
 - B) Birçok canlının üreme alanıdır.
 - C) Küresel ısınma sonucu yok olma tehlikesiyle karşı karşıya kalmışlardır.
 - D) Batı Avrupa kıyılarında yaygın olarak görülürler.
9. Aşağıdakilerden hangisi DAP kapsamındaki illerden biri değildir?
 - A) Gümüşhane
 - B) Tokat
 - C) Van
 - D) Ardahan
10. Aşağıdakilerden hangisi Türkiye'de cumhuriyetin ilk yıllarında uygulanan nüfus politikalarından biri değildir?
 - A) Doğum evleri kurmak
 - B) Çok çocuklu aileleri para ile ödüllendirmek
 - C) Şehirlere göçü teşvik etmek
 - D) Ücretsiz ilaç dağıtmak

11. 2002 yılında "Yaşayan Gezegen Raporu" ile insanların doğa üzerindeki giderek artan olumsuz etkilerini göz önüne seren çevre örgütü aşağıdakilerden hangisidir?
- A) Greenpeace
B) Uluslararası Fauna ve Flora
C) Dünya Vahşi Yaşam Fonu
D) Dünya Doğayı Koruma Vakfı
12. "Hazine Adası" olarak da bilinen Dünya'nın üçüncü büyük adası aşağıdakilerden hangisidir?
- A) Borneo
B) Malta
C) Rodos
D) Galapagos
13. 1967 yılında Suriye'ye ait önemli su kaynaklarının bulunduğu Golan Tepelerini işgal eden ülke aşağıdakilerden hangisidir?
- A) Cezayir
B) Irak
C) Kuveyt
D) İsrail
14. Aşağıdaki barajlardan hangisi GAP kapsamında yer almaktadır?
- A) Demirköprü
B) Hirfanlı
C) Atatürk
D) Hasan Uğurlu
15. Nükleer enerji santrallerinde yakıt olarak kullanılan ve çok az bulunduğu için ilgili ülkeler arasında sorunlara neden olan doğal kaynak türü aşağıdakilerden hangisidir?
- A) Bakır
B) Uranyum
C) Demir
D) Kömür
16. Bir ülkede nüfus piramidinin tabanı yıllar içinde daralıyorsa bunun nedeni aşağıdakilerden hangisidir?
- A) Nüfus artış hızının düşmesi
B) Bağımlı nüfusun artması
C) İç göçlerin yaşanması
D) İşsizlik oranının artması
17. Aşağıdakilerden hangisi Orta Doğu'nun dünya açısından önemli bir bölge olmasının nedenlerinden biri değildir?
- A) Dünya petrol rezervlerinin büyük bölümüne sahip olması
B) Kutsal mekanları barındırması
C) Su rezervlerinin çok olması
D) Önemli ticaret yollarının kavşak noktasında bulunması
18. Aşağıdakilerden hangisi jeopolitiğin değişmeyen unsurları arasında yer almaz?
- A) Ülkenin coğrafi şekil özellikleri
B) Jeolojik özellikler
C) İklim özellikleri
D) Bilimsel ve teknolojik özellikler
19. Aşağıdakilerden hangisi doğal mirasları korumak için yapılabilecek faaliyetler arasında yer almaz?
- A) Katı atıkların yakılarak yok edilmesi
B) Yenilenebilir enerji kaynaklarının tercih edilmesi
C) Organik ürünler kullanılması
D) Orman alanlarının geliştirilmesi
20. Güney Afrika Cumhuriyeti'nin sahip olduğu ve dünya rezervleri içindeki payı % 83 olan maden aşağıdakilerden hangisidir?
- A) Elmas
B) Titanyum
C) Manganez
D) Altın

1. Azra babasının kendisine aldığı şifreli çantaya rakamlar kullanarak 3 haneli bir şifre belirleyecektir.

Buna göre Azra kaç farklı şifre oluşturabilir?

- A) 10
B) 100
C) 1.000
D) 10.000
2. $\frac{0! \cdot 9!}{8!}$ ifadesinin değeri kaçtır?
A) 1
B) $\frac{9}{8}$
C) 8
D) 9
3. $P(n,1) + P(n,0) = 5$ ise n kaçtır?
A) 1
B) 4
C) 5
D) 6
4. Aynı düzlemdeki 4 doğru, en fazla kaç noktada kesişir?
A) 6
B) 4
C) 3
D) 1
5. Bir A kutusunda 2 siyah, 2 beyaz top, B kutusunda 2 siyah, 1 beyaz top bulunmaktadır. Kutulardan biri rastgele seçiliyor ve içinden rastgele bir top çekiliyor. Çekilen topun siyah olma olasılığı kaçtır?
A) $\frac{7}{12}$
B) $\frac{7}{10}$
C) $\frac{7}{8}$
D) $\frac{7}{6}$
6. $A = \{a, b, c, d\}$ kümesinin 3 elemanlı alt kümelerinin sayısı kaçtır?
A) 1
B) 4
C) 12
D) 24

7. $C(7,1) + C(7,2) + \dots + C(7,5) + C(7,6)$ ifadesinin değeri kaçtır?

- A) 126
B) 127
C) 128
D) 130

8. 4 gömleği, 3 pantolonu ve 6 ceketini bulunan bir kişi, bir gömlek, bir pantolon ve bir ceket giymek şartıyla kaç farklı şekilde giyinebilir?

- A) 13
B) 24
C) 48
D) 72

9. $f: \mathbb{R} \rightarrow \mathbb{R}$ ve $f(x) = x^2 + 3x + 2$ ve $g: \mathbb{R} \rightarrow \mathbb{R}$
 $g(x) = 3x^2 - 2x + 4$ ise $(3f-2g)(1)$ değeri aşağıdakilerden hangisidir?

- A) 7
B) 8
C) 9
D) 10

10. $f: \mathbb{R} \rightarrow \mathbb{R}$, $f(x) = 3x + 5$ ise $f(0) + f^{-1}(8)$ değeri kaçtır?

- A) 6
B) 5
C) 1
D) 0

11. $f(x) = 1 - 3x$ ve $g(x) = 3x + 2$ fonksiyonları veriliyor. Buna göre $(g \circ f)(1)$ değeri kaçtır?

- A) -4
B) -3
C) -2
D) -1

12. $f: \mathbb{R} \rightarrow \mathbb{R}$, $f(x) = 5x^2 + 7$ fonksiyonu ile ilgili aşağıdaki ifadelerden hangisi doğrudur?

- A) Bire-bir bir fonksiyondur.
B) Tersidir.
C) Örten bir fonksiyondur.
D) Çift fonksiyondur.

13. A(0,0) ve B(3,4) noktaları arasındaki uzaklık kaç birimdir?

- A) 3
B) 4
C) 5
D) 7

14. Düzgün bir dokuzgenin bir dış açısının ölçüsü kaç derecedir?

- A) 40
- B) 60
- C) 90
- D) 108

15. Bir düzgün sekizgenin iç açılarının toplamı kaç derecedir?

- A) 360
- B) 720
- C) 900
- D) 1.080

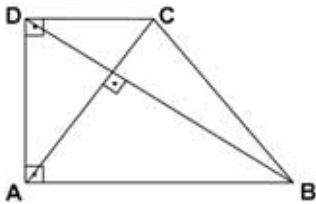
16. A(0,4) noktasından geçen ve $y=3-x$ doğrusuna dik olan doğrunun denklemi aşağıdakilerden hangisidir?

- A) $y = x - 3$
- B) $y = 4 - x$
- C) $y = x + 4$
- D) $y = x + 3$

17. $y = 3x + 7$ doğrusunun eğimi kaçtır?

- A) 0
- B) $3/7$
- C) 3
- D) 7

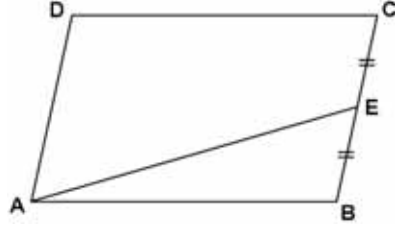
18.



Yukarıdaki ABCD dik yamuğunda köşegenler birbirine diktir. $|AD|=6$ cm ve $|DC|=4$ cm ise $|AB|$ kaç cm'dir?

- A) 5
- B) 9
- C) 10
- D) 12

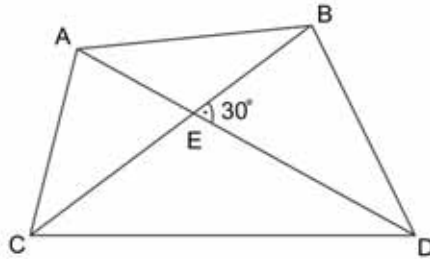
19.



Yukarıdaki ABCD paralelkenarında $|CE|=|EB|$ ve ABE üçgeninin alanı 4 br^2 olduğuna göre AECD dörtgeninin alanı kaç br^2 dir?

- A) 8
- B) 12
- C) 16
- D) 20

20.



Yukarıdaki ABDC dörtgeninde $|AD|=12$ br, $|BC|=10$ br ve $m(\widehat{BED}) = 30^\circ$ olduğuna göre ABDC dörtgeninin alanı kaç br^2 dir?

- A) 24
- B) 30
- C) 60
- D) 120

1. Wir ihn im Kino gesehen.

Welches Wort passt in die obige Lücke?

Cümlede boş bırakılan yeri aşağıdakilerden hangisi tamamlar?

- A) hat
B) hast
C) haben
D) hatte

2. Spielst du Blockflöte?

Welche Antwort passt zur obigen Frage?

Verilen sorunun cevabı aşağıdakilerden hangisidir?

- A) Nein, ich spiele nicht Blockflöte.
B) Nein, ich möchte dir ein Buch schenken.
C) Ja, ich gehe ins Kino.
D) Ja, ich singe gern.

3. Ja, er ist 91 Jahre alt.

Welche Frage passt zur obigen Antwort?

Verilen cevabı gerektirecek soru aşağıdakilerden hangisidir?

- A) Was studiert er?
B) Wohnst du auch hier?
C) Wer sind sie?
D) Lebt er noch?

4. Wir gehen zum Flohmarkt.

Wie lautet der obige Satz im Perfekt?

Verilen cümlelerin di' li geçmiş zaman şekli aşağıdakilerden hangisidir?

- A) Wir werden zum Flohmarkt gehen.
B) Wir hätten zum Flohmarkt gegangen.
C) Wir gingen zum Flohmarkt.
D) Wir sind zum Flohmarkt gegangen.

5. Was brauchen wir, wenn es regnet?

Welche Antwort passt zur obigen Frage?

Verilen sorunun cevabı aşağıdakilerden hangisidir?

- A) Sie braucht viele Bücher.
B) Du brauchst ein Badetuch.
C) Er braucht einen Fotoapparat.
D) Wir brauchen einen Regenschirm.

6. Atatürk hat im Jahre 1923 gegründet.

Welches Wort passt in die obige Lücke?

Cümlede boş bırakılan yeri aşağıdakilerden hangisi tamamlar?

- A) die Türkische Republik
B) die Zeitung
C) die Revolution
D) die Mauer

7. Der Mann hat das Gras

Welches Wort passt in die obige Lücke?

Cümlede boş bırakılan yeri aşağıdakilerden hangisi doğru şekilde tamamlar?

- A) gemischt
B) geregnet
C) gemäht
D) gelegt

8. Die Blumen blühen und das Kinderfest wird gefeiert.

Wie lautet die Frage für die obige Antwort?

Verilen cümleye yönelik soru cümlesi aşağıdakilerden hangisidir?

- A) Was passiert im April?
B) Wann laufen wir Ski?
C) Wer geht in die Ferien?
D) Warum ziehst du um?

9. Eine alte Frau braucht Hilfe. Man

Welches ergänzt die Lücke im obigen Satz?

Verilen cümleyi aşağıdakilerden hangisi tamamlar?

- A) kann sich ausruhen.
- B) möchte draussen essen.
- C) wird zu spät kommen.
- D) soll ihr helfen.

10. Der Monat ist Juli.

Welches Wort passt in die obige Lücke?

Cümlede boş bırakılan yeri aşağıdakilerden hangisi doğru şekilde tamamlar?

- A) vierte
- B) fünfte
- C) sechste
- D) siebte

11. Ayşe ist krank und muss im Bett bleiben.

Wie lautet der obige Satz im Präteritum?

Verilen cümlelerin geçmiş zaman şekli aşağıdakilerden hangisidir?

- A) Ayşe wurde krank und wird im Bett bleiben.
- B) Ayşe ist gekrankt und bleibt im Bett.
- C) Ayşe war krank und musste im Bett bleiben.
- D) Ayşe musste im Bett bleiben, weil sie krank wurde.

12. Die Mutter legt Ihrem Sohn ein dickes Kissen den Kopf.

Welches Wort passt in die obige Lücke?

Cümlede boş bırakılan yeri aşağıdakilerden hangisi doğru şekilde tamamlar?

- A) unter
- B) zu
- C) in
- D) aus

13. ich meine Hausaufgaben mache, höre ich immer Musik.

Welches Wort passt in die obige Lücke?

Cümlede boş bırakılan yeri aşağıdakilerden hangisi doğru şekilde tamamlar?

- A) Ab
- B) Während
- C) Ausserdem
- D) Trotz

14. Gähnen muss man die Hand vor den Mund halten.

Welches Wort passt in die obige Lücke?

Cümlede boş bırakılan yeri aşağıdakilerden hangisi doğru şekilde tamamlar?

- A) An
- B) Beim
- C) Auf
- D) Nach

15. Ihr sollt das Radio leise stellen.

Wie lautet der obige Satz in der Imperativ-Form?

Verilen cümlelerin emir cümle şekli aşağıdakilerden hangisidir?

- A) Stellt das Radio leise!
- B) Das Radio soll leise sein!
- C) Leise stellen das Radio!
- D) Stellst das leiser!

16. Die Mutter spült das Geschirr.

Wie lautet der obige Satz in der Passivform?

Verilen cümlelerin edilgen hali aşağıdakilerden hangisidir?

- A) Das Geschirr soll gespült werden.
- B) Die Mutter will das Geschirr spülen.
- C) Das Geschirr wird gespült.
- D) Die Mutter hat abgospült.

17. Das Essen ist heute so gut wie gestern.

Welches Wort paßt in die obige Lücke?

Cümlede boş bırakılan yeri aşağıdakilerden hangisi doğru şekilde tamamlar?

- A) und
- B) nicht
- C) kein
- D) beim

18. Kinder essen gern Schokolade aber essen sie Eis.

Welches Wort passt in die obige Lücke?

Cümlede boş bırakılan yeri aşağıdakilerden hangisi doğru şekilde tamamlar?

- A) besser
- B) am liebsten
- C) vieler
- D) am vielsten

19. Hat man die Miete reduziert?

Welche Antwort passt zur obigen Frage?

Verilen sorunun cevabı aşağıdakilerden hangisidir?

- A) Ja, ich habe es bezahlt.
- B) Ja, wir haben unsere Nachbarn eingeladen.
- C) Nein, die Miete konnte man leider nicht senken.
- D) Nein, die wurden durch neue ersetzt.

20. Die Dachziegel können nicht werden, weil es da oben zu dieser Zeit kalt ist.

Welches Wort passt in die obige Lücke?

Cümlede boş bırakılan yeri aşağıdakilerden hangisi tamamlar?

- A) geladen
- B) ausgewechselt
- C) verkauft
- D) bezahlt

1. Ann: How coffee is there in the box?
Bobby: There is a little.

Which of the following completes the dialogue above?

Aşağıdakilerden hangisi yukarıdaki konuşmayı doğru olarak tamamlar?

- A) long
B) many
C) much
D) any

2. I at the cinema at 5 o'clock yesterday.

Which of the following completes the sentence above?

Aşağıdakilerden hangisi yukarıdaki cümleyi doğru olarak tamamlar?

- A) will
B) was
C) am
D) were

3. Tom : I close the window?
Teacher : Yes, of course.

Which of the following completes the dialogue above?

Aşağıdakilerden hangisi yukarıdaki konuşmayı doğru olarak tamamlar?

- A) May
B) Have
C) Does
D) Has

4. I can't find the eggs. There any eggs in the fridge.

Which of the following completes the sentence above?

Aşağıdakilerden hangisi yukarıdaki cümleyi doğru olarak tamamlar?

- A) haven't
B) isn't
C) won't
D) aren't

5. Bob: Is there salt in the cupboard?
George: No, there isn't.

Which of the following completes the dialogue above?

Aşağıdakilerden hangisi yukarıdaki konuşmayı doğru olarak tamamlar?

- A) any
B) some
C) very
D) many

6. Our school team won the football match

Which of the following completes the sentence above?

Aşağıdakilerden hangisi yukarıdaki cümleyi doğru olarak tamamlar?

- A) every day
B) yesterday
C) tomorrow
D) next week

7. Is your uncle engineer or teacher?

Which of the following completes the sentence above?

Aşağıdakilerden hangisi yukarıdaki cümleyi doğru olarak tamamlar?

- A) an / the
B) the / a
C) a / a
D) an / a

8. I at ten o'clock tomorrow morning.

Which of the following completes the sentence above?

Aşağıdakilerden hangisi yukarıdaki cümleyi doğru olarak tamamlar?

- A) getting up
B) got up
C) get up
D) am going to get up

9. There some students in the classroom.

Which of the following completes the sentence above?

Aşağıdakilerden hangisi yukarıdaki cümleyi doğru olarak tamamlar?

- A) is
- B) are
- C) has been
- D) was

10. Leo: What will you do tomorrow?
Sam: I will probably shopping.

Which of the following completes the dialogue above?

Aşağıdakilerden hangisi yukarıdaki konuşmayı doğru olarak tamamlar?

- A) go
- B) went
- C) going
- D) gone

11. A: What are?
B: are empty boxes.

Which of the following completes the dialogue above?

Aşağıdakilerden hangisi yukarıdaki konuşmayı doğru olarak tamamlar?

- A) these / They
- B) that / They
- C) those / It
- D) this / They

12. You sing a song in the library.

Which of the following completes the sentence above?

Aşağıdakilerden hangisi yukarıdaki cümleyi doğru olarak tamamlar?

- A) must
- B) need
- C) needn't
- D) mustn't

13. Selim :?

Eleni : No, I am not. I am from Greece.

Which of the following completes the dialogue above?

Aşağıdakilerden hangisi yukarıdaki konuşmayı doğru olarak tamamlar?

- A) How are you
- B) Are you from Italy
- C) Are you new
- D) How old are you

14. I send you my reports, don't worry.

Which of the following completes the sentence above?

Aşağıdakilerden hangisi yukarıdaki cümleyi doğru olarak tamamlar?

- A) should
- B) used to
- C) will
- D) must

15. There are five in the fridge and a on the table.

Which of the following completes the sentence above?

Aşağıdakilerden hangisi yukarıdaki cümleyi doğru olarak tamamlar?

- A) apples / banana
- B) apple / banana
- C) apples / bananas
- D) apple / bananas

16. 10 years ago there lots of trees in this park, but now there are many skyscrapers.

Which of the following completes the dialogue above?

Aşağıdakilerden hangisi yukarıdaki konuşmayı doğru olarak tamamlar?

- A) didn't use to be
- B) to be
- C) are
- D) used to be

17. She a horror film last night.

Which of the following completes the sentence above?

Aşağıdakilerden hangisi yukarıdaki cümleyi doğru olarak tamamlar?

- A) watches
- B) is watching
- C) watched
- D) watch

18. When Elena married, she is going to go abroad.

Which of the following completes the sentence above?

Aşağıdakilerden hangisi yukarıdaki cümleyi doğru olarak tamamlar?

- A) have gotten
- B) got
- C) gets
- D) getting

19. When Simon was 6, he speak French fluently.

Which of the following completes the sentence above?

Aşağıdakilerden hangisi yukarıdaki cümleyi doğru olarak tamamlar?

- A) won't
- B) don't
- C) could
- D) can

20. Carol's brother milk every morning.

Which of the following completes the sentence above?

Aşağıdakilerden hangisi yukarıdaki cümleyi doğru olarak tamamlar?

- A) drunk
- B) drinks
- C) drinking
- D) have drunk

1. montent les escaliers.

Choisissez le mot qui convient.

Cümledeki boşluğu aşağıdakilerden hangisi doğru şekilde tamamlar?

- A) Ils
B) Nous
C) Je
D) Elle

2. les filles sont belles.

Choisissez le mot qui convient.

Cümledeki boşluğu aşağıdakilerden hangisi doğru şekilde tamamlar?

- A) Tout
B) Toute
C) Toutes
D) Tous

3. - quoi sert le clavier?
- Ça sert à écrire.

Choisissez le mot qui convient.

Yukarıdaki konuşmada boş bırakılan yeri aşağıdakilerden hangisi doğru şekilde tamamlar?

- A) A
B) En
C) Du
D) Pour

4. - Vous du thé?
- Non, je ne veux pas thé.

Choisissez les mots qui conviennent.

Yukarıdaki konuşmada boş bırakılan yerleri aşağıdakilerden hangisi doğru şekilde tamamlar?

- A) voulez / du
B) voulez / de
C) pouvez / de
D) pouvez / du

5. Nous habitons dans ville.

Choisissez le mot qui convient.

Cümledeki boşluğu aşağıdakilerden hangisi doğru şekilde tamamlar?

- A) meme
B) les mèmes
C) le mème
D) la mème

6. «Geçen Pazar günü yüzme havuzuna gitmedik.»

Choisissez la traduction qui convient.

Yukarıdaki cümlenin Fransızca karşılığı aşağıdakilerden hangisidir?

- A) Nous avons nagé dimanche dernier.
B) Nous sommes allés à la piscine dimanche dernier.
C) Nous ne sommes pas allés à la piscine dimanche dernier.
D) Nous n'avons pas nagé dimanche dernier.

7. Le pull est en

Choisissez le mot qui convient.

Cümledeki boşluğu aşağıdakilerden hangisi doğru şekilde tamamlar?

- A) bois
B) laine
C) aluminium
D) carton

8. -?
- La table est rouge.

Choisissez la question qui convient.

Yukarıdaki konuşmada cevabı gerektiren soru aşağıdakilerden hangisidir?

- A) Comment s'appelle la table
B) Quelle est la forme de la table
C) De quelle couleur est la table
D) Combien mesure la table

9. Avez- une voiture?

Choisissez le mot qui convient.

Cümledeki boşluğu aşağıdakilerden hangisi doğru şekilde tamamlar?

- A) nous
- B) vous
- C) tu
- D) je

10. Il une petite bouche.

Choisissez le mot qui convient.

Cümledeki boşluğu aşağıdakilerden hangisi doğru şekilde tamamlar?

- A) a
- B) est
- C) ont
- D) sont

11. - Vous voyez?

- Non, nous ne voyons personne.

Choisissez le mot qui convient.

Yukarıdaki konuşmada boş bırakılan yeri aşağıdakilerden hangisi doğru şekilde tamamlar?

- A) personne
- B) quelqu'un
- C) aucun
- D) aucune

12. Ayşe a blanches et noirs.

Choisissez les mots qui conviennent.

Cümledeki boşlukları aşağıdakilerden hangisi doğru şekilde tamamlar?

- A) des yeux / des dents
- B) des dents / des yeux
- C) des nez / des yeux
- D) des dents / des nez

13. le chat.

Choisissez l'expression qui convient.

Yukarıdaki cümlede boş bırakılan yeri aşağıdakilerden hangisi doğru şekilde tamamlar?

- A) J'ai sorti
- B) Je suis sorti
- C) Elle est sortie
- D) Je suis sortie

14. Si j'étais jeune, je en Amérique.

Choisissez le mot qui convient.

Cümledeki boşluğu aşağıdakilerden hangisi doğru şekilde tamamlar?

- A) partais
- B) pars
- C) partirais
- D) partir

15. Où es-tu? Je ne vois pas.

Choisissez le mot qui convient.

Cümledeki boşluğu aşağıdakilerden hangisi doğru şekilde tamamlar?

- A) me
- B) tu
- C) te
- D) le

16. «S'il ne pleut pas, j'irai me promener.»

Choisissez la traduction qui convient.

Yukarıdaki cümlenin Türkçe karşılığı aşağıdakilerden hangisidir?

- A) Yağmurlu havada gezmiyorum
- B) Yağmur yağmadığında, gezerim.
- C) Yağmur yağıyor, ben geziyorum.
- D) Yağmur yağmazsa, gezmeye gideceğim.

17. I. Je me connecte à Internet.
II. Je navigue.
III. Je tchatte.
IV. C'est mon appareil photo.

Trouvez la phrase qui **ne convient pas**.

Cümleler sırasıyla okunduğunda, anlam bütünlüğünü **bozan** cümleyi bulunuz.

- A) I
B) II
C) III
D) IV

18. - Vous connaissez ce jeune homme?
- Non, je ne connais pas.

Choisissez le mot qui convient.

Yukarıdaki konuşmada boş bırakılan yeri aşağıdakilerden hangisi doğru şekilde tamamlar?

- A) le
B) la
C) lui
D) me

19. «Si vous voulez partir, demandez la permission.»

Choisissez la traduction qui convient.

Yukarıdaki cümlenin Türkçe karşılığı aşağıdakilerden hangisidir?

- A) Gelmek için, koşun.
B) Gitmek için, çalışın.
C) Gelmek istiyorsanız susun.
D) Gitmek istiyorsanız, izin isteyin.

20. - Quelle est la forme de son nez?

-

Choisissez la réponse qui convient.

Yukarıdaki konuşmada boş bırakılan yeri aşağıdakilerden hangisi doğru şekilde tamamlar?

- A) Elle est pointue
B) Il est bleu
C) Elle est large
D) Il est droit

1. Sosyolojinin antropolojiden temel farkı aşağıdakilerden hangisidir?
 - A) İnsanın evrimini incelemesi
 - B) İnsanın kökenini incelemesi
 - C) Günümüz toplumlarını inceleme konusu edinmesi
 - D) İlkel toplulukları konu edinmesi

2. Antik çağın en büyük kenti aşağıdakilerden hangisidir?
 - A) Venedik
 - B) Roma
 - C) Napoli
 - D) Milano

3. Aşağıdakilerden hangisi insan bilimlerinden biridir?
 - A) Matematik
 - B) Mantık
 - C) Siyaset bilimi
 - D) Jeoloji bilimi

4. Aşağıdakilerden hangisi birincil grubun özelliklerinden biri değildir?
 - A) Üye sayısının az olması
 - B) Bizlik bilincinin hâkim olması
 - C) Üyeler arası ilişkinin sürekli olması
 - D) Yazılı normlara dayanması

5. Aşağıdakilerden hangisi geçici gruplara örnek olarak verilemez?
 - A) Her hafta kurulan pazarlar
 - B) İnşaatta çalışan işçiler
 - C) Yapı kooperatifi kuranlar
 - D) Bir konuda araştırma yapan bilim insanları

6. Yolculuk yaparken ya da markette alışveriş yaparken kurulan ilişki türü aşağıdakilerden hangisidir?
 - A) Uzun süreli
 - B) Anlık
 - C) Periyodik
 - D) Kısa süreli

7. İnsanların üretmeden, doğadan topladığı ürünleri tüketerek varlığını sürdürdükleri dönem aşağıdakilerden hangisidir?
 - A) Köy öncesi dönem
 - B) Merkez köy dönemi
 - C) Köy dönemi
 - D) Toprağa yerleşme

8. Aşağıdakilerden hangisi verilmiş statülerden biridir?
 - A) Öğretmenlik
 - B) Milliyet
 - C) Babalık
 - D) Esnaflık

9. Atatürkçü düşüncede milletin en önemli ve ilk unsuru aşağıdakilerden hangisidir?
 - A) Ekonomik kalkınma
 - B) Din birliğini sağlama
 - C) Birlikte yaşam ruhu
 - D) Tarihine sahip çıkma

10. Toprağa yerleşmiş toplumlarda ilk yazılı hukuk ve mahkemelerin ortaya çıktığı toplumsal yapılanma aşağıdakilerden hangisidir?
 - A) Siteler
 - B) İmparatorluklar
 - C) Feodal toplumlar
 - D) Özler

11. Belli bir durumda toplum içinde nasıl davranılması gerektiğini gösteren ve yaptırım gücü taşıyan kurallar sistemine ne ad verilir?

- A) Toplumsal statü
- B) Toplumsal norm
- C) Toplumsal kontrol
- D) Toplumsal değer

12. Aşağıdakilerden hangisi ilk kentlerin özellikle göl ve nehir kenarlarına kurulma nedenlerinden biri değildir?

- A) Ticaret
- B) Savunma
- C) Ulaşım
- D) Tarımsal faaliyetler

13. Türkiye’de özellikle kentleşme süreci hangi yıllarda başlamıştır?

- A) 1930’lu
- B) 1940’lı
- C) 1950’li
- D) 1960’lı

14. I. İlişkilerin belirli bir süre devam etmesi
II. Bireyler arasında etkileşimin olması
III. Bireylerin birbirinden haberdar olması

Yukarıdakilerden hangileri toplumsal ilişkide olması gereken özelliklerdendir?

- A) Yalnız I
- B) I ve II
- C) II ve III
- D) I, II ve III

15. Toplumlara açık toplum ve kapalı toplum olarak sınıflandıran bilim insanı aşağıdakilerden hangisidir?

- A) Karl Popper
- B) Robert Redfield
- C) Karl Marx
- D) Auguste Comte

16. Aşağıdakilerden hangisi bilimin temel niteliklerinden biri değildir?

- A) Mantıksal olması
- B) Olgulara dayanması
- C) Subjektif olması
- D) Genelleyici olması

17. Aşağıdakilerden hangisi sistematik gözlemede kullanılan araçlardan biri değildir?

- A) Teyp
- B) Tepegöz
- C) Fotoğraf makinası
- D) Kamera

18. Köyün toplumsal yapısında büyük değişmelere ve yapısal dönüşümlere neden olan olay aşağıdakilerden hangisidir?

- A) Sanayi devrimi
- B) Coğrafi keşifler
- C) Reform hareketleri
- D) Rönesans

19. Aşağıdakilerden hangisi sosyolojinin ilgilendiği konulardan biridir?

- A) Bireyin davranışları
- B) Duyum
- C) İşsizlik
- D) Öğrenme

20. Gecekondu ailesi üzerinde araştırma yapılırken, gecekonduunun tarihsel gelişimi, gecekonduuda yaşayan ailelerin ekonomik ve kültürel durumları, dini ve ahlaki değerleri, gelir düzeyleri, yaşadıkları ortam, tüketim alışkanlıkları, dinlenme ve eğlenme alışkanlıklarının derinlemesine incelenmesini sağlayan araştırma tekniği aşağıdakilerden hangisidir?

- A) Anket
- B) Sosyometri
- C) Olay inceleme
- D) Monografi

1. Röpörtajın sağlam bir düşünce ve teze dayanması yönüyle benzerlik gösterdiği tür aşağıdakilerden hangisidir?
- A) Fıkra
B) Deneme
C) Makale
D) Nutuk
2. Aşağıdakilerden hangisi mülakatın özelliklerinden biri değildir?
- A) Topluluk önünde gerçekleştirilmesi
B) Ünlü kişilerle yapılması
C) Amacının toplumu aydınlatmak olması
D) Soru-cevap şeklinde gerçekleştirilmesi
3. Aşağıdakilerden hangisi mülakat ve mülakatçının özelliklerinden biri değildir?
- A) Mülakatçı sabırlı, nazik ve dikkatli olmalıdır.
B) Mülakatı yapan kişi konu akışı bozulsa, konu başka yerlere gitse dahi müdahale etmemelidir.
C) Genelde söyleşmeye bağlı anlatım türü kullanılır.
D) Mülakat metni öğretici ve ufuk açıcıdır.
4. Aşağıdaki cümlelerin hangisinde ses daralmasına uğramış bir sözcük vardır?
- A) Bu olanlar bilgisizliğin son örneği.
B) Bu yapılanları kimse kabullenemez.
C) Annem bu akşam bizimle gelmiyor.
D) Evdeki çekyatı atacakmış.
5. Aşağıdakilerden hangisi sözlü anlatım türlerinden biridir?
- A) Deneme
B) Makale
C) Mektup
D) Nutuk
6. Aşağıdaki cümlelerin hangisinde -mı, -mi, -mu, -mü soru ekinin yazımı yanlıştır?
- A) Sen de mi geldin?
B) Çocukmuyum?
C) Güler misin, ağlar mısın?
D) Okuyor muyuz?
7. Söylev türüyle ilgili aşağıdaki ifadelerden hangisi yanlıştır?
- A) İlk örnekleri Kelt dönemlerinde görülür.
B) Cumhuriyet döneminin en büyük konuşmacısı Mustafa Kemal Atatürk'tür.
C) Ele alınan konu açık, kesin ve inandırıcı biçimde ortaya konur.
D) Söylev heyecanlandırarak bir fikri aşılmasıdır.
8. Aşağıdakilerin hangisinde "-kı" eki ünlü uyumlarına uymuştur?
- A) kitaptaki
B) dünkü
C) sokaktaki
D) taştaki
9. "Onlar benim fikir ve görüşlerime önem verirler." cümlesindeki anlatım bozukluğunun nedeni aşağıdakilerden hangisidir?
- A) Ses benzeşmesine uğramış sözcüklerin kullanılması
B) Ses türemesinin gerçekleştiği sözcüklerin kullanılması
C) Ses daralmasının gerçekleştiği sözcüklerin kullanılması
D) Aynı anlamdaki sözcüklerin bir arada kullanılması
10. "Yüz bin okur tarafından bir kez okunmak mı istersiniz yoksa bir okur tarafından yüz bin kez mi () Bu soruya Paul Valery şu yanıtı verir () "Yüz bin okur tarafından yüz bin kez okunmak isterim ()"
- Yukarıdaki parçada parantez ile belirtilen yerlere sırasıyla aşağıdaki noktalama işaretlerinden hangileri getirilmelidir?
- A) (.) (:) (!)
B) (?) (.) (!)
C) (?) (:) (.)
D) (?) (...) (.)
11. Başarılı bir söylevci ile ilgili aşağıdaki ifadelerden hangisi yanlıştır?
- A) Uzun cümleler kurar.
B) Dinleyicilerin kendisinden neler beklediğini bilir.
C) Üzerinde konuştuğu konuyu bütün yönleri ile bilir.
D) Söyleyeceklerine önce kendisi inanır.

12. Söylevin asıl amacı aşağıdakilerden hangisidir?

- A) Bir sorunu değişik boyutları ile incelemek
- B) Bilgi vermek
- C) Ünlü birini tanıtmak
- D) Dinleyenleri kendi düşüncesinden yana çekmek

13. Aşağıdaki röportaj yazarı ve eseri eşleştirmelerinden hangisi yanlıştır?

- A) Mustafa Baydar - Edebiyatçılarımız Ne Diyorlar
- B) Yaşar Kemal - Bu Diyar Baştan Başa
- C) Namık Kemal - Çukurova Yana Yana
- D) Fikret Otyam - Doğudan Gezi Notları

14. İnsanları heyecanlandırmak, bir fikri, bir kanaati insanlara aşılacak ve benimsetmek isteyen bir konuşmacının seçeceği tür aşağıdakilerden hangisidir?

- A) Söylev
- B) Mülakat
- C) Röportaj
- D) Sohbet

15. Aşağıdakilerden hangisi konularına göre röportaj türlerinden biridir?

- A) Askeri konuları ele alan röportajlar
- B) Eşyayı konu alan röportajlar
- C) Siyasi konuları ele alan röportajlar
- D) Dinsel konuları ele alan röportajlar

16. "Yurttaşlarım! Az zamanda çok ve büyük işler yaptık; bu işlerin en büyüğü, temeli, Türk kahramanlığı ve yüksek Türk kültürü olan Türkiye Cumhuriyeti'dir."

Yukarıda bir parçası alıntılanan Atatürk'ün konuşmasının türü aşağıdakilerden hangisidir?

- A) Hatırat
- B) Tirad
- C) Nutuk
- D) Nesir

17. Buluşma, görüşme ya da konuşma anlamına da gelen, alanında tanınmış kişilerle yapılan, öğretici ve ufuk açıcı metinlerden oluşan yazılara ne ad verilir?

- A) Mülakat
- B) Söylev
- C) Deneme
- D) Biyografi

18. Saygıdeğer Arkadaşlarım!

Vatanın ve rejimin koruyucusu olmakla kalmayıp en geniş ve gerçek anlamıyla bir barış etkeni, bir eğitim ve öğretim ocağı olan yenilmez ordumuzun geçen yıl da belirttiğim ve açıkladığım gibi, son sistem silah ve motorlu araçlarla donatılması yolundaki çalışmalara hız verilmiştir...

Yukarıda bir parçası alıntılanan yazının türü aşağıdakilerden hangisidir?

- A) Mülakat
- B) Şiir
- C) Hitabet
- D) Makale

19. Aşağıdakilerden hangisi bir söylev çeşidi değildir?

- A) Akademik
- B) Mekansal
- C) Dinsel
- D) Ekonomik

20. "Tanrı gibi Tanrı yaratmış Türk Bilge Kağanı, sözüm: Babam Türk Bilge Kağanı... Sir, Dokuz Oğuz, İki Ediz çadırılı beyleri, milleti.."

Yukarıda bir parçası alıntılanan eser aşağıdakilerden hangisidir?

- A) Bugün de Diyorlar ki
- B) İstiklal Kulesi Yazıtları
- C) Fatih Sultan Mehmet'in Nutku
- D) Göktürk Yazıtları

2017 AÖÖ-AÖL III. DÖNEM 0103-B

1. Su derinliği her yerde aynı olan bir dalga leğeninde üretilen periyodik dalgaların frekansı 2 Hz, dalga boyları 5 cm olduğuna göre yayılma hızı kaç cm/s' dir?

- A) 20
- B) 15
- C) 10
- D) 5

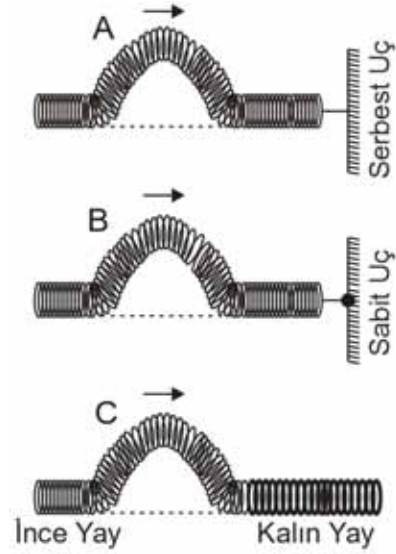
2. Sarmal bir yayda oluşturulan dalganın yayılma hızını artırmak için aşağıdakilerden hangisi yapılmalıdır?

- A) Daha ağır bir yay kullanılmalı
- B) Yayı geren kuvvetin büyüklüğü artırılmalı
- C) Yayı geren kuvvetin büyüklüğü azaltılmalı
- D) Dalga boyu ve genliği daha küçük dalgalar oluşturulmalı

3. Merkezinde bulunan bir eksen etrafında dönebilen ve üzerinde eşit aralıklarla açılmış yarıklar bulunan daire şeklindeki araca ne ad verilir?

- A) Barometre
- B) Manometre
- C) Kronometre
- D) Stroboskop

4.



Yukarıdaki şekilde A, B ve C atmalarından hangileri baş aşağı dönerek yansır?

- A) Yalnız A
- B) Yalnız C
- C) A ve C
- D) B ve C

5. I. Dalga boyu
II. Hızı
III. Periyodu

Birbirine eklenmiş ince ve kalın yaylardan, ince yayda oluşturulan periyodik dalgalar kalın yaya geçtiğinde yukarıdaki niceliklerden hangileri azalır?

- A) Yalnız I
- B) Yalnız II
- C) I ve II
- D) II ve III

6. I. Dalgaların hızı
II. Dalgaların frekansı
III. Yayı geren kuvvet

Birbirlerinin ucuna eklenmiş ince ve kalın yaylardan birinde oluşturulan periyodik dalgalar diğerine geçtiğinde yukarıdakilerden hangileri her iki yay için meydana gelebilecek değişkenlerden biri değildir?

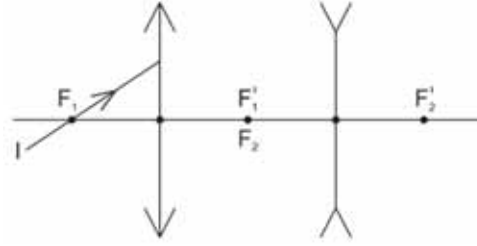
- A) Yalnız I
B) Yalnız III
C) I ve II
D) II ve III
7. Bir saniyede 10 dalga üreten periyodik dalga kaynağının periyodu kaç saniye(s) 'dir?
- A) 0,1
B) 0,2
C) 0,3
D) 0,4

8. Sismograf cihazı aşağıdakilerin hangisinde kullanılır?
- A) Deprem kayıtlarında
B) Nem ölçümlerinde
C) Sıcaklık ölçümlerinde
D) Ses kayıtlarında

9. Yanardağlardan volkanların fıskırması sırasında meydana gelen patlamalardan kaynaklanan depremlere ne ad verilir?
- A) Deprem dalgaları
B) Volkanik deprem
C) Tektonik deprem
D) Çöküntü depremleri

10. Esnek bir yayda oluşturulan periyodik dalgaların 1 ile 4. dalga tepesi arasındaki uzaklığı 12 cm ise periyodik dalgaların dalga boyu kaç cm'dir?
- A) 4
B) 8
C) 12
D) 16

11.

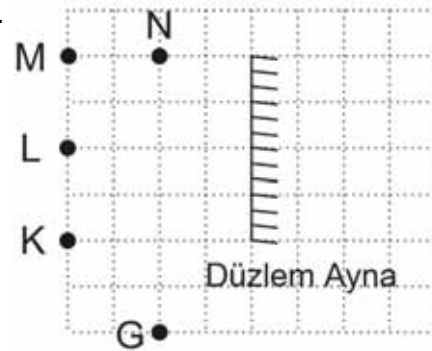


Yukarıdaki şekilde merceklerin odak uzaklıkları eşittir. İnce kenarlı merceğe odak uzaklığından gelen I ışını kalın kenarlı mercekten kırıldıktan sonra nereden geçer?

- A) Kalın kenarlı mercekten bu merceğin odak uzaklığı arasından geçerek gider.
B) Kalın kenarlı merceğin asal eksenine paralel gider.
C) Kalın kenarlı merceğin odak uzaklığından geçerek gider.
D) Uzantısı kalın-ince kenarlı merceğin odak uzaklığından geçecekmiş gibi kırılır.
12. Işık prizmasında en fazla kırılmaya uğrayan ışığın rengi aşağıdakilerden hangisidir?

- A) Sarı
B) Mor
C) Mavi
D) Yeşil

13.



Düzlem ayna önündeki G noktasından yukarıdaki şekilde görüldüğü gibi düzlem aynaya bakan gözlemci K, L, M ve N noktalarından hangilerinin görüntüsünü düzlem aynada görür?

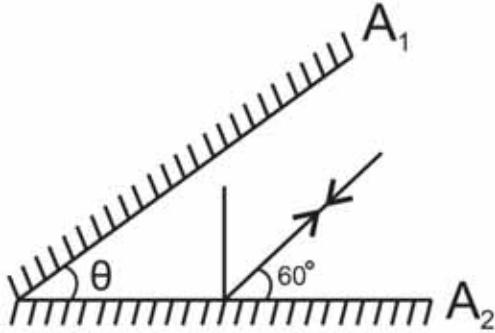
- A) Yalnız M
B) L ve K
C) Yalnız N
D) M ve N

14. I. Mavi ışık altında mavi görünür.
II. Yeşil ışık altında kırmızı görünür.
III. Beyaz ışık altında kırmızı görünür.

Kırmızı ışık altında kırmızı görünen bir cisimle ilgili yukarıdaki ifadelerden hangisi veya hangileri doğrudur?

- A) Yalnız I
B) Yalnız III
C) I ve III
D) II ve III
15. Uzağı iyi göremeyen kişilerde oluşan göz kusuru aşağıdakilerden hangisidir?
- A) Presbitlik
B) Astigmat
C) Hipermetrop
D) Miyop

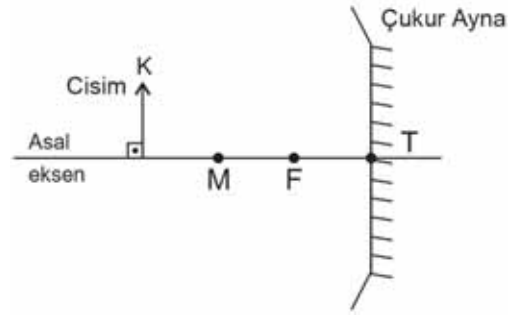
16.



Aralarında θ açısı bulunan A_1 ve A_2 aynalarına gelen I ışını yukarıdaki şekildeki gibi A_2 aynasına gelip toplam üç kez yansıdıktan sonra geldiği yoldan geri dönen I ışının θ açısı kaç derecedir?

- A) 30
B) 45
C) 60
D) 75
17. Işığın parçacık teorisinin en önemli kurucusu olan bilim insanı aşağıdakilerden hangisidir?
- A) Young
B) Newton
C) Huygens
D) Hertz

18.



Yukarıdaki şekilde görüldüğü gibi K cisimi çukur aynanın merkezinin dışında ise yeni görüntü nerede oluşur ve özelliği nedir?

- A) Ayna ile odak arasında, gerçek
B) Odakta, gerçek
C) Odakla merkez arasında, gerçek
D) Merkezde, sanal
19. Numarası +0,25 dioptri olan gözlük camının odak uzaklığı kaç metre'dir?
- A) 8
B) 4
C) 2
D) 1

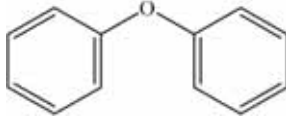
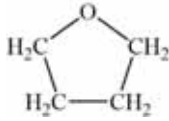
20. SI birim sisteminde aydınlanma şiddetinin birimi aşağıdakilerden hangisidir?

- A) Luks (lx)
B) Lümen (lm)
C) Candela (cd)
D) Kelvin (K)

1. Aşağıdakilerden hangisi alkenlerin kimyasal tepkimelerinden biri değildir?

- A) $H_2C=CH_2 + Cl_2 \rightarrow \begin{array}{c} HC=CH \\ | \quad | \\ Cl \quad Cl \end{array}$
- B) $CH_4(g) + Cl_2(g) \xrightarrow{\text{UV ışık veya ısı}} CH_3Cl(g) + HCl(g)$
- C) $H_3C-CH=CH_2 + H_2 \rightarrow H_3C-CH_2-CH_3$
- D) $H_3C-CH=CH_2 + HCl \rightarrow \begin{array}{c} H_3C-CH-CH_3 \\ | \\ Cl \end{array}$

2. Aşağıdakilerden hangisi eter bileşiği değildir?

- A) 
- B) CH_3-O-CH_3
- C) $H_3C-CH(O-)-H$
- D) 

3. Aşağıdaki bileşiklerin hangisinde IUPAC kuralına göre yapılan adlandırma doğrudur?

- A) $H_3C-CH_2-\underset{\begin{array}{c} | \\ CH_3 \end{array}}{CH}-CH_3$ 3-metilbütan
- B) $CH_3-CH_2-CH_2-\underset{\begin{array}{c} | \\ CH_3 \end{array}}{CH}-CH_3$ 2-metilpentan
- C) $H_3C-\underset{\begin{array}{c} | \\ CH_3 \end{array}}{CH}-CH_2-\underset{\begin{array}{c} | \\ H_2C-CH_3 \end{array}}{CH_2}$ 5-metilheksan
- D) $H_3C-CH_2-\underset{\begin{array}{c} | \\ CH_3 \end{array}}{C}-CH_3$ 2-dimetilbütan

4. Alkinlere ait aşağıdaki kimyasal tepkimelerden hangisi asit-baz tepkimesidir?

- A) $HC\equiv CH + HOH \xrightarrow[HgSO_4]{H_2SO_4} H_2C=CH-OH \rightleftharpoons \begin{array}{c} H_3C-C=O \\ | \\ H \end{array}$
- B) $CH\equiv CH + HCl \rightarrow H_2C=CH-Cl$
- C) $CH\equiv CH + H_2 \xrightarrow{Pt} H_3C-CH_3$
- D) $H-C\equiv C-H + NaNH_2 \rightarrow H-C\equiv CNa + NH_3$

5. Aldehitlerin Fehling ayırıcı ile karboksilik asitlere yükselttiği tepkime aşağıdakilerden hangisidir?

- A) $H_3C-\underset{\begin{array}{c} | \\ H \end{array}}{C}=O \xrightarrow{KMnO_4/OH^-} H_3C-\underset{\begin{array}{c} | \\ OH \end{array}}{C}=O$
- B) $H_3C-\underset{\begin{array}{c} | \\ H \end{array}}{C}=O + H_2 \xrightarrow{Pd, ısı} H_3C-CH_2-OH$
- C) $H_3C-\underset{\begin{array}{c} | \\ H \end{array}}{C}=O + 2Ag^+ + 2OH^- \xrightarrow{NH_3} H_3C-\underset{\begin{array}{c} | \\ OH \end{array}}{C}=O + 2Ag \downarrow + H_2O$
- D) $H_3C-\underset{\begin{array}{c} | \\ H \end{array}}{C}=O + 2Cu^{2+} + 4OH^- \rightarrow H_3C-\underset{\begin{array}{c} | \\ OH \end{array}}{C}=O + Cu_2O \downarrow + 2H_2O$

6. Aşağıdakilerden hangisi amino asit bileşiğidir?

- A) $H_3C-CH_2-NH_2$
- B) $NH_2-\underset{\begin{array}{c} | \\ NH_2 \end{array}}{C}=O$
- C) $H_3C-CH_2-\underset{\begin{array}{c} | \\ NH_2 \end{array}}{C}=O$
- D) $H_3C-\underset{\begin{array}{c} | \\ NH_2 \end{array}}{CH}-\underset{\begin{array}{c} | \\ OH \end{array}}{C}=O$

7. Aşağıdaki tepkimelerden hangisi etanolün elde edilme yollarından biridir?

- A) $CH_2=CH_2 + H-OH \xrightarrow{H^+} H_3C-CH_2-OH$
- B) $CH_3-CH_2-OH + HBr \rightarrow CH_3-CH_2-Br + H_2O$
- C) $2H_3C-OH \xrightarrow[140^\circ C]{H_2SO_4} H_3C-O-CH_3 + H_2O$
- D) $CH_3-CH_2-OH \xrightarrow[170^\circ C]{H_2SO_4} CH_2=CH_2 + H_2O$

8. IUPAC kuralına göre, aşağıdaki karboksilik asitlerin hangisinde yapılan adlandırma doğrudur?

- A) $\text{H}_3\text{C}-\text{COOH}$ Etanoik asit
 B) $\begin{array}{c} \text{COOH} \\ | \\ \text{H}_2\text{C} \\ | \\ \text{COOH} \end{array}$ Metanoik asit
 C) $\text{CH}_3(\text{CH}_2)_2\text{COOH}$ Propanoik asit
 D) $\begin{array}{c} \text{CH}_3 \\ | \\ \text{H}_3\text{C}-\text{C}-\text{COOH} \\ | \\ \text{CH}_3 \end{array}$ Bütenoik asit

9. Aşağıdakilerden hangisi asit anhidrit bileşiğidir?

- A) $\begin{array}{c} \text{O} \\ || \\ \text{H}_3\text{C}-\text{C}-\text{NH}_2 \end{array}$
 B) $\begin{array}{c} \text{O} \\ || \\ \text{H}_3\text{C}-\text{C}-\text{O}-\text{CH}_3 \end{array}$
 C) $\begin{array}{c} \text{O} \quad \quad \quad \text{O} \\ || \quad \quad \quad || \\ \text{H}_3\text{C}-\text{C}-\text{O}-\text{C}-\text{CH}_3 \end{array}$
 D) $\begin{array}{c} \text{O} \\ || \\ \text{H}_3\text{C}-\text{C}-\text{Cl} \end{array}$

10. Alkil amin bileşiklerinde azot atomuna bağlı bulunan metil grubu sayısı arttıkça bazlık kuvvet artar.

Yukarıdaki ifadeye göre, aşağıdakilerden hangisi doğrudur?

- A) $\text{CH}_3\text{CH}_2\text{NH}_2 > (\text{CH}_3)_2\text{NH} > \text{CH}_3\text{NH}_2$
 B) $\text{CH}_3\text{CH}_2\text{CH}_2\text{CH}_2\text{NH}_2 > (\text{CH}_3\text{CH}_2\text{CH}_2)_2\text{NH} > (\text{CH}_3\text{CH}_2)_3\text{N}$
 C) $(\text{CH}_3)_3\text{N} > (\text{CH}_3)_2\text{NH} > \text{CH}_3\text{NH}_2$
 D) $\text{CH}_3\text{CH}_2\text{CH}_2\text{NH}_2 > \text{CH}_3\text{CH}_2\text{NH}_2 > \text{CH}_3\text{NH}_2$

11. Aşağıdakilerden hangisi yüksek karbonlu yağ asitlerinin potasyum tuzu olan yüzey aktif maddedir?

- A) Sodyum lauril sülfat (sodyum dodesil sülfat)
 B) Sert sabun (beyaz sabun)
 C) Yumuşak sabun (arap sabunu)
 D) Alkil benzen sülfonat

12. Maltozun su ile hidrolizi sonucunda, yapısındaki monosakkarit birimleri olan moleküller oluşur.

Buna göre, bu monosakkaritler aşağıdakilerden hangileridir?

- A) Glukoz + Fruktoz
 B) Glukoz + Glukoz
 C) Fruktoz + Fruktoz
 D) Sakkaroz + Sellobiyoz

13. Bileşimleri çok karışık ve birbirinden farklı olan siyah renkli akışkanlığı çok düşük sıvılar aşağıdakilerden hangisidir?

- A) Katran ve asfalt
 B) Mazot (Motorin)
 C) Hafif petrol gazları
 D) Benzin

14. Tek bir çeşit monomerden oluşan polimerlere ne ad verilir?

- A) Kondenzasyon
 B) Kopolimer
 C) Monomer
 D) Homopolimer

15. Yağlı tohumun parçalanıp preslenme ve ekstraksiyon işlemlerinden sonra kalan kısmına ne ad verilir?

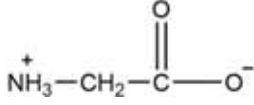
- A) Prina
 B) Sızma zeytinyağı
 C) Vinterize yağ
 D) Natürel zeytinyağı

16. Yüzey aktif maddeler ile ilgili aşağıdaki ifadelerden hangisi yanlıştır?

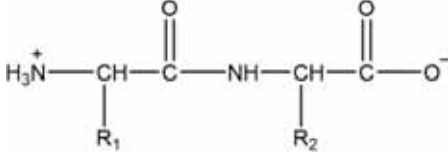
- A) $\text{C}_{17}\text{H}_{35}\text{COONa}$ formülünde, sabun molekülündeki zinciri ($\text{C}_{17}\text{H}_{35}-$) hidrofil, diğer grup ($-\text{COONa}$) ise hidrofob özellik gösterir.
 B) Yüzey gerilimi, bir sıvının yüzey alanını artırmak için gereken enerji ya da iştir.
 C) Karboksilik asitlerden yağların yapısında bulunan asitlere yağ asidi denir.
 D) Bir sıvının yüzey gerilimini düşüren maddelere yüzey aktif maddeler denir.

17. Aşağıdaki bileşiklerin hangisinde peptit bağı vardır?

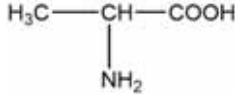
A)



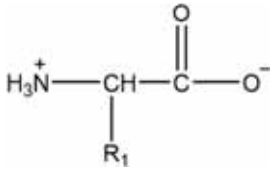
B)



C)

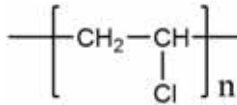


D)

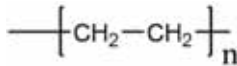


18. Aşağıdakilerden hangisi polistiren polimeridir?

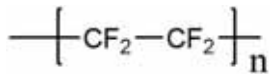
A)



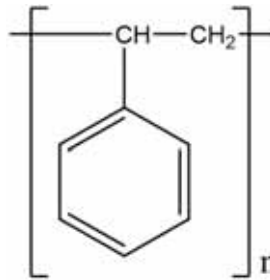
B)



C)



D)



19. Hidrojenasyon sırasında sıvı yağlardaki bazı doymamış yağ asidi birimlerinin yapısal değişikliğe uğraması sonucu oluşan yağlara ne ad verilir?

- A) Katı yağlar
B) Trans yağlar
C) Cis yağlar
D) Gliseriltristearat

20. Çeşitli sebeplerle oranı yükselmiş olan serbest asitlerin, nötralleştirme veya kızgın su buharı destilasyonundan yararlanılarak ham yağdan uzaklaştırılması işleminin gerçekleştirildiği ham yağın rafinasyonundaki işlem aşaması aşağıdakilerden hangisidir?

- A) Yapışkan maddelerin alınması
B) Renk açma
C) Serbest asitliğin giderilmesi
D) Ön işlem olarak ham yağın berraklaştırılması

1. Aşağıdaki yapılardan hangisi besi dokunun gelişmesi ile oluşur?

- A) Anter
- B) Endosperm
- C) Petal
- D) Zigot

2. Bitkilerde kök ucunda bulunan büyüme konisine ne ad verilir?

- A) Kaliptra
- B) Floem
- C) Parenkima
- D) Lentisel

3. Replikasyon terimini kısa tanımı aşağıdakilerden hangisidir?

- A) RNA'nın sentezi
- B) Protein sentezi
- C) DNA'nın kendini eşlemesi
- D) Karbonhidratların yıkımı

4. Aşağıdakilerden hangisinin oranı tüm canlılarda 1'e eşittir?

- A) A+C/G+T
- B) A+G/C+T
- C) C+T/A+G
- D) A+T/G+C

5. I. Organik baz
II. 5C'lu şeker
III. Fosfat

Yukarıdakilerden hangileri nükleotidin yapısında yer alır?

- A) Yalnız I
- B) Yalnız II
- C) I ve III
- D) I, II ve III

6. Aşağıdakilerden hangisin hidrojen bağı ile bağlanan biyolojik maddelerden biridir?

- A) Azotlu bazlar
- B) Ribozom alt birimleri
- C) DNA nükleotidleri
- D) Yağ asitleri

7. Genlerin özünü oluşturan kalıtsal maddeye ne ad verilir?

- A) DNA
- B) RNA
- C) Protein
- D) Timin

8. Patates aşağıdaki bitki gruplarından hangisinde yer alır?

- A) Tohumsuz bitki
- B) Kısa gün bitkisi
- C) Çok yıllık bitki
- D) Odunsu bitki

9. Aşağıdakilerden hangisi sadece RNA'da yer alan azotlu bazdır?

- A) Adenin
- B) Timin
- C) Sitozin
- D) Urasil

10. Aşağıdakilerden hangisinde Friedrich Miescher'in ilk olarak keşfedip isimlendirdiği biyolojik maddedir?

- A) Protein
- B) Enzim
- C) Nükleik asit
- D) Gen

11. Aşağıdakilerden hangisi apikal meristemin bitkilerdeki görevidir?

- A) Çimlenme
- B) Uzunlamasına büyüme
- C) Odunlaşma
- D) Yanlamasına büyüme

12. *Streptococcus pneumoniae* bakterisi aşağıdaki hastalıklardan hangisinin etkenidir?

- A) Grip
- B) Kanser
- C) Bronşit
- D) Zatürre

13. Bitkilerde epidermin farklılaşması ile aşağıdaki yapılardan hangisi oluşur?

- A) Gövde
- B) Emergensler
- C) Yapraklar
- D) Kökler

14. Turp bitkisinin aşağıdaki kısımlarından hangisi besin olarak kullanılır?

- A) Tohum
- B) Yapraklar
- C) Kök
- D) Gövde

15. Fotoperiodizmin kısa tanımı aşağıdakilerden hangisidir?

- A) Bitkilerin sarsıntıya karşı verdiği tepkidir.
- B) Bitkilerin ışığa karşı verdiği tepkidir.
- C) Bitkilerin yerçekimine karşı verdiği tepkidir.
- D) Bitkilerin gün ve gece uzunluğuna verdiği tepkidir.

16. Aşağıdakilerden hangisinin yapısında cansız hücreler bulunur?

- A) Lentiseller
- B) Sepal
- C) Petal
- D) Stoma

17. Aşağıdakilerden hangisi James Watsons ve Francis Crick'in yapısını gösterdiği biyolojik maddedir?

- A) Nükleik asit yapısı
- B) RNA tek sarmalı
- C) Ribozom altbirimleri
- D) DNA çift sarmalı

18. Aşağıdakilerden hangisi stomanın görevlerinden biridir?

- A) Işık alışverişi
- B) Karbondioksit alışverişi
- C) Terleme ve gaz alışverişi
- D) Karbonhidrat alışverişi

19. Aşağıdakilerden hangisi absisik asitin bitkilerdeki görevini ifade etmektedir?

- A) Büyüme ve gelişmeyi engellemek
- B) Büyüme ve gelişmeyi teşvik etmek
- C) Tohum oluşumunu teşvik etmek
- D) Çimlenmeyi başlatmak

20. DNA'nın yapısında bulunan şeker aşağıdakilerden hangisidir?

- A) Deoksiriboz
- B) Glikoz
- C) Fruktoz
- D) Riboz

1. Gerçek sayılarda tanımlı $f(x) = 7x + 6$ doğrusal fonksiyonunun değişim oranı (hızı) kaçtır?

- A) 5
B) 6
C) 7
D) 8

2 - 4. soruları aşağıdaki bilgilere göre cevaplayınız.

Bir fabrika, işçilerine maaş ödemeleri için iki farklı tarife sunmaktadır.

1. **Tarife:** Aylık 2000 TL sabit ücret ve çalışılan her bir gün için 28 TL ödenecektir.
2. **Tarife:** Aylık 1200 TL sabit ücret ve çalışılan her bir gün için 60 TL ödenecektir.

2. Buna göre, kaç günlük çalışma için aylık maaş miktarı her iki tarifeye göre aynı olur?

- A) 22
B) 25
C) 28
D) 30

3. Yukarıdaki bilgilere göre, birinci tarifeyi tercih eden bir işçi 2588 TL maaş aldığı ayda kaç gün çalışmıştır?

- A) 21
B) 22
C) 23
D) 24

4. Yukarıdaki bilgilere göre, ikinci tarifeyi tercih eden bir işçi 27 gün çalıştığı ayda kaç TL maaş alır?

- A) 2680
B) 2750
C) 2790
D) 2820

5 - 7. soruları aşağıdaki bilgilere göre ve birbirinden bağımsız olarak cevaplayınız.

Bir araştırma şirketi tarafından uygulanan bir anketin başlangıçtaki maliyeti 4800 TL olup anketin uygulandığı birey başına maliyeti 9 TL'dir. Araştırma şirketinin uyguladığı bu anketten elde edeceği kazanç ise anketin uygulandığı birey başına 15 TL'dir.

5. Buna göre, araştırma şirketinin zarar etmemesi için anketi uygulaması gereken birey sayısı en az kaçtır?

- A) 800
B) 850
C) 900
D) 950

6. Yukarıdaki bilgilere göre, anketin uygulandığı birey sayısı 2150 olduğunda, kaç TL kâr elde edilir?

- A) 7900
B) 8100
C) 8300
D) 8500

7. Araştırma şirketinin 2700 TL kâr elde edebilmesi için anketin uygulanması gereken birey sayısı kaçtır?

- A) 1200
B) 1250
C) 1300
D) 1350

8. Bir bankaya yıllık %10 bileşik faizle yatırılan 6000 TL, 3 yıl sonra kaç TL'ye ulaşır?

- A) 7800
B) 7872
C) 7986
D) 8116

9. Aşağıdakilerden hangisi üstel fonksiyon değildir?

- A) $(-4)^x$
B) 4^{-x}
C) 2^{x+3}
D) $5^{\frac{x}{2}}$

10. $f(x) = k \cdot 3^{2x}$ fonksiyonunun grafiği $(-1, 4)$ noktasından geçtiğine göre, k kaçtır?
- A) 18
B) 24
C) 36
D) 48
11. $4^{2x} \cdot 10^x \cdot 5^{4x} = 10^{15}$ eşitliğini sağlayan x değeri kaçtır?
- A) 1
B) 2
C) 3
D) 5
12. Bir öğrenci işlemci hızı 1,6 MHz olan eski bilgisayarının yerine, işlemci hızı 3,2 GHz olan yeni bir bilgisayar alıyor.
- Buna göre, yeni alınan bilgisayarın hızı, eski bilgisayarın hızının kaç katıdır?**
(1 GHz=10⁹ Hz, 1 MHz=10⁶ Hz)
- A) 2
B) 20
C) 200
D) 2000
13. $K = (16)^5 \cdot (125)^6$ ifadesi kaç basamaklı bir sayı belirtir?
- A) 18
B) 19
C) 20
D) 21
14. $(125)^{2n} = (625)^6$ eşitliğini sağlayan n değeri kaçtır?
- A) 4
B) 3
C) 2
D) 1
15. $(4^3)^5 \cdot (8^5)^2$ işleminin sonucu kaçtır?
- A) 2⁶²
B) 2⁶⁰
C) 2³¹
D) 2³⁰
16. $10^{17} - 4 \cdot 10^{16} + 200 \cdot 10^{14}$ işleminin sonucu kaçtır?
- A) 6 · 10¹⁶
B) 8 · 10¹⁶
C) 2 · 10¹⁷
D) 4 · 10¹⁷
17. Bir bakteri kolonisinde bulunan bakterilerin sayısı bir saatte 2 katına çıktığına göre, başlangıçta 3 bakteri bulunan bu kolonide kaç saat sonra bakteri sayısı 384 olur?
- A) 4
B) 5
C) 6
D) 7
18. $(0,5)^{24} + (16)^{-6}$ işleminin sonucu kaçtır?
- A) 2⁴⁸
B) 2²⁶
C) 2⁻²³
D) 2⁻²⁵
19. x , y ve z pozitif tamsayılar olmak üzere, $2^x \cdot 3^y \cdot 5^z = 540$ eşitliğini sağlayan x , y ve z değerlerinin toplamı kaçtır?
- A) 5
B) 6
C) 8
D) 9
20. Başlangıçtaki miktarı 136 gram olan bir maddeden 36 yıl sonra 17 gram kaldığına göre, bu maddenin yarı ömrü kaç yıldır?
- A) 6
B) 9
C) 12
D) 18

1. Aşağıdakilerden hangisi uluslararası standart kuruluşlarından biri değildir?
 - A) CE(Avrupaya uygunluk)
 - B) Uluslararası Elektronik Komisyonu
 - C) Uluslararası Standardasyon Organizasyonu
 - D) Türk Standartları Enstitüsü
2. Aşağıdakilerden hangisi işletmenin özel amaçlarından biri değildir?
 - A) Personeline yeterli ücret vermek
 - B) Uzun vadeli büyümeyi hedef haline getirmek
 - C) Yerel yönetimlerle işbirliği
 - D) Tüketiciye nitelikli mal ve hizmet sunmak
3. İnsan istek ve ihtiyaçlarını gidermeye yarayan somut araçlara ne ad verilir?
 - A) Stok
 - B) Mal
 - C) Hizmet
 - D) Sermaye
4. Belirli bir faaliyetten ekonomik fayda sağlamak üzere, bütün ilgili tarafların katkı ve işbirliği ile belirli kurallar koyma ve kuralları uygulama işlemine ne ad verilir?
 - A) Fabrikasyon
 - B) Organizasyon
 - C) Standardizasyon
 - D) Telekomünikasyon
5. İşletmenin amacına ve üretim faaliyetine uygun olarak toplanmış maddi ve gayri maddi varlıkların tümüne ne ad verilir?
 - A) Sermaye
 - B) Hammadde
 - C) Mal
 - D) Stok
6. Mal ve hizmetlerin herhangi bir ihtiyacı giderebilme özelliğine ne ad verilir?
 - A) Fayda
 - B) Mal
 - C) Tüketim
 - D) Standart
7. İşletmelerin kuruluşu, finansmanı, üretim araçlarının sağlanması, üretilen mal ve hizmetlerin pazarlanması, örgütlenip, yönetilmeleri ve parasal olayların izlenmesi konularını ele alıp inceleyen bilim dalı aşağıdakilerden hangisidir?
 - A) Davranış bilimi
 - B) Hukuk bilimi
 - C) Ekonomi bilimi
 - D) İşletme bilimi
8. İşletme yöneticileri, hangi üründen ne miktarda üretileceği, ne zaman üretileceği, hedef tüketici kitlesinin tespiti gibi konularda etkin bir şekilde karar vermek için aşağıdaki bilimlerden hangisinden faydalanır?
 - A) Antropoloji
 - B) İstatistik
 - C) Psikoloji
 - D) Hukuk
9. İşletmelerin belli bir dönem içinde elde ettiği gelirler ile aynı dönem içinde katlandığı giderler arasındaki olumsuz farka ne ad verilir?
 - A) Mevduat
 - B) Faiz
 - C) Kâr
 - D) Zarar
10. Aşağıdakilerden hangisi işletmelerin üretimde verimliliği artırmak için personeline yönelik izlediği politikalardan biri değildir?
 - A) Çalışanların sorunlarına eğilmesi
 - B) Çalışma koşullarını güvenli ve sağlıklı kılması
 - C) Nitelikli mal ve hizmet sunması
 - D) Çalışanına iyi ücret vermesi
11. Aşağıdakilerden hangisi devletin toplumun çıkarlarını korumak, çevrenin bozulmasını engellemek, işletmelerin belli bölgelerde kurulmasını teşvik etmek ya da zorlaştırmak için aldığı önlemlerden biri değildir?
 - A) Sağlık hizmetlerini artırmak
 - B) Alt yapı yatırımlarını desteklemek
 - C) Vergi indirimi sağlamak
 - D) İstisna ve muafiyet uygulamak

12. Aşağıdakilerden hangisi şahıs şirketlerinin özelliklerinden biridir?

- A) Sermayesinin yüzde ellisinin devlete ait olması
- B) En az 7 ortak tarafından kurulması
- C) Ortaklığın devrinin güç olması
- D) Şirketten ayrılan ortağın şirket işlerinden dolayı üçüncü kişilere olan sorumluluğu hiçbir şekilde devam etmez.

13. Aşağıdakilerden hangisi yabancı sermayeli işletmelerden biri değildir?

- A) 233 sayılı Kanun Hükmünde Kararname ile kurulan Kamu İktisadi Teşebbüsleri
- B) 1567 sayılı Türk Parasının Kıymetini Koruma Hakkında Kanuna göre kurulan işletmeler
- C) 4875 sayılı Doğrudan Yabancı Yatırımlar Kanununa göre kurulan işletmeler
- D) 6326 sayılı Petrol Kanununa göre kurulan işletmeler

14. Tüzel kişiliği haiz olmak üzere ortaklarının belirli ekonomik menfaatlerini ve özellikle meslek veya geçimlerine ait ihtiyaçlarını işgücü ve parasal katkılarıyla karşılıklı yardım, dayanışma ve kefalet suretiyle sağlayıp korumak amacıyla gerçek ve tüzel kişiler tarafından kurulan değişir ortaklı ve değişir sermayeli ortaklıklara ne ad verilir?

- A) Vakıf
- B) Kooperatif
- C) Dernek
- D) Meslek kuruluşları

15. Çok sıcak yerlerde faaliyet gösteren işletmelerin soğutulmasının ek harcamalar gerektirmesi durumunda işletmenin dikkate alması gereken kuruluş yeri faktörü aşağıdakilerden hangisidir?

- A) İklim koşulları
- B) Atıkların atılması
- C) Enerji ve yakıt
- D) Dağıtım kanalları

16. Aşağıdakilerden hangisi sanayi işletmelerinin özelliklerinden biri değildir?

- A) Hammadde ve malzemelerin fiziksel ya da kimyasal yönden değişikliğe uğraması
- B) Üretimde genellikle seri imalatın söz konusu olması
- C) Üretim yaparken gelişmiş teknolojilerin kullanılması
- D) Üretimlerinde standardizasyonun olmaması ve denetimin zor olması

17. Ticari bir işletmeyi bir ticaret unvanı altında işletmek amacıyla gerçek kişiler arasında kurulan ve ortaklarından hiç birinin sorumluluğu şirket alacaklarına karşı sınırlanmamış olan şirkete ne ad verilir?

- A) Anonim şirket
- B) Kollektif şirket
- C) Limitet şirket
- D) Komandit şirket

18. Aşağıdakilerden hangisi meslek kuruluşlarının amaçlarından biri değildir?

- A) Mesleki bilgi ve becerileri geliştirmek
- B) Dayanışmayı sürekli kılmak ve geliştirmek
- C) Mesleki ahlaka uygun faaliyette bulunmak
- D) Kamu menfaatlerini gözardı etmek

19. Bilinmesinde üçüncü kişiler yönünden fayda ve zorunluluk bulunan tacirlerle ilgili bazı işlemlerin kaydedilmesine ait resmi sicile ne ad verilir?

- A) Nüfus sicili
- B) Ticaret sicili
- C) Adli sicil
- D) Tapu sicili

20. Bir salça fabrikasının domates üretimi yapılan bölgeye yakın kurulmasında etkili olan kuruluş yeri seçimi faktörü aşağıdakilerden hangisidir?

- A) Pazara yakınlık
- B) İklim koşulları
- C) Hammadde
- D) Yerel yönetim imkânları

1. Die Garage ist dem Haus.

Welches Wort passt in die obige Lücke?

Cümlede boş bırakılan yeri aşağıdakilerden hangisi tamamlar?

- A) auf
B) hinter
C) zwischen
D) zu

2. Helmut seine Schlüssel auf den Tisch.

Welches Wort passt in die obige Lücke?

Cümlede boş bırakılan yeri aşağıdakilerden hangisi doğru şekilde tamamlar?

- A) schreibt
B) kommt
C) steht
D) legt

3. kann nicht laufen, sondern schleichen.

Welches Wort passt in die obige Lücke?

Cümlede boş bırakılan yeri aşağıdakilerden hangisi tamamlar?

- A) Ein Tiger
B) Eine Schlange
C) Eine Schildkröte
D) Ein Pferd

4. Der Löwe ist der König aller Tiere.

Welche Frage passt zur obigen Antwort?

Verilen cevabı gerektirecek soru aşağıdakilerden hangisidir?

- A) Wann geht der König aller Tiere in den Wald?
B) Welche Tiere kennst du?
C) Wo ist der König aller Tiere?
D) Welches Tier ist der König aller Tiere?

5. Meine Tochter hat acht Jahren eine Katze.

Welches Wort passt in die obige Lücke?

Cümlede boş bırakılan yeri aşağıdakilerden hangisi doğru şekilde tamamlar?

- A) im
B) zu
C) seit
D) aus

6. Was bedeutet "sunmak" auf Deutsch?

"sunmak" sözcüğünün Almancası aşağıdakilerden hangisidir?

- A) präsentieren
B) nachschlagen
C) wiederholen
D) aussprechen

7. A: Wie deine Liebessängerin?
B: Liebessängerin heißt Funda Arar.

Welches ergänzt die Lücken im obigen Dialog?

Verilen karşılıklı konuşmada boş bırakılan yerleri aşağıdakilerden hangisi tamamlar?

- A) heißt / Meine
B) kennst / Dein
C) schreibst / Meine
D) singt / Deine

8. kannst du die Prüfung bestehen.

Welches ergänzt die Lücke im obigen Satz?

Verilen cümleyi aşağıdakilerden hangisi tamamlar?

- A) Wenn wir Musik hören
B) Wenn du viel übst
C) Als wir heute in die Schule gingen
D) Falls er seine Hausaufgaben macht

9. Nein, er macht keine Musik!

Welche Frage passt zur obigen Antwort?

Verilen cevabı gerektirecek soru aşağıdakilerden hangisidir?

- A) Wann machst du Sport?
- B) Wie machst du deine Hausaufgaben?
- C) Macht er Musik?
- D) Hast du einen Computer?

10. Was bedeutet "iltifat" auf Deutsch?

"iltifat" sözcüğünün Almancası aşağıdakilerden hangisidir?

- A) Der Zuhörer
- B) Das Kompliment
- C) Das Ergebnis
- D) Die Umfrage

11. Die Eltern müssen ein Vorbild sein.

Wie lautet der obige Satz auf Türkisch?

Verilen cümlelerin Türkçesi aşağıdakilerden hangisidir?

- A) Her zaman ebeveynlerimi örnek aldım.
- B) Her zaman ebeveynler örnek alınır.
- C) Ebeveynleri örnek almak zorunda değilsin.
- D) Ebeveynler örnek olmak zorundadır.

12. In der Türkei werden Familienfeste gefeiert, wenn jemand Geburtstag hat.

Welche Frage passt zur obigen Antwort?

Verilen cevabı gerektirecek soru aşağıdakilerden hangisidir?

- A) Welche Familienfeste werden in der Türkei gefeiert?
- B) Für wen willst du ein Geschenk kaufen?
- C) Welche religiösen Feste kennst du in der Türkei?
- D) Wann feiert ihr das Zuckerfest?

13. Worüber sprechen die Schüler?

Welches hat die gleiche Bedeutung mit dem obigen Satz?

Verilen cümle ile aynı anlamı taşıyan aşağıdakilerin hangisidir?

- A) Wie unterhalten sich die Schüler?
- B) Über welche Prüfung sprechen die Kinder?
- C) Über was diskutieren die Schüler?
- D) Was sagt der Schüler?

14. Die Studenten eine Klassenfahrt nach Antalya.

Welches Wort passt in die obige Lücke?

Cümlede boş bırakılan yeri aşağıdakilerden hangisi doğru şekilde tamamlar?

- A) planen
- B) tragen
- C) fahren
- D) sagen

15. Die Kinder spielen Park.

Welches Wort passt in die obige Lücke?

Cümlede boş bırakılan yeri aşağıdakilerden hangisi tamamlar?

- A) aus
- B) zu
- C) im
- D) auf

16. A: Was hast du?

B:, ich kann nicht hören.

A: Dann musst du zum Arzt!

Welcher Satz ergänzt den obigen Dialog?

Verilen karşılıklı konuşmayı aşağıdakilerden hangisi tamamlar?

- A) Mein Bauch tut mir weh.
- B) Mein Zahn tut mir weh.
- C) Mein Hals tut mir weh.
- D) Meine Ohren tun mir weh.

17. Abhören / Lungen / die / Arzt / der

Wie kann man mit den obigen Wortgruppen einen sinnvollen und richtigen Satz bilden?

Verilen sözcük gruplarıyla kurulabilecek en anlamlı ve doğru cümle aşağıdakilerden hangisidir?

- A) Die Lungen der hören ab Arzt.
- B) Die Lungen abhören der Arzt.
- C) Der Arzt die Lungen abhören.
- D) Der Arzt hört die Lungen ab.

18. Wo ist der Kraut für den Salat?

Wie lautet der obige Satz in der Pluralform?

Verilen cümlelerin çoğul hali aşağıdakilerden hangisidir?

- A) Wo sind die Kräuter für die Salate?
- B) Wo sind die Krauten für den Salat?
- C) Wo ist die Krautes für das Salat?
- D) Wo ist die Kraut für die Salate?

19. Du bist immer fit, wie machst du das?

Welche Antwort passt nicht zur obigen Frage?

Aşağıdakilerden hangisi verilen sorunun cevabı olamaz?

- A) Ich spiele jeden Tag Fußball.
- B) Ich esse und schlafe gern.
- C) Ich gehe jeden Abend laufen.
- D) Ich fahre oft Fahrrad.

20. braucht Vitamine und Mineralien, um gesund zu bleiben.

Welches Wort passt in die obige Lücke?

Cümlede boş bırakılan yeri aşağıdakilerden hangisi doğru şekilde tamamlar?

- A) Die Zeit
- B) Das Essen
- C) Der Körper
- D) Das Rezept

1. Paul: "I can play football well."
Paul said that he football well.

Which of the following completes the sentence above?

Aşağıdakilerden hangisi yukarıdaki cümleyi doğru olarak tamamlar?

- A) played
- B) could play
- C) may play
- D) is playing

2. Come on! Wake up! Don't be late school.

Which of the following completes the sentence above?

Aşağıdakilerden hangisi yukarıdaki cümleyi doğru olarak tamamlar?

- A) at
- B) for
- C) in
- D) to

3. I had talked to him before he that accident.

Which of the following completes the sentence above?

Aşağıdakilerden hangisi yukarıdaki cümleyi doğru olarak tamamlar?

- A) having
- B) had had
- C) have had
- D) had

4. How long the dog barking?

Which of the following completes the sentence above?

Aşağıdakilerden hangisi yukarıdaki cümleyi doğru olarak tamamlar?

- A) has / been
- B) have / been
- C) is / been
- D) has / be

5. My teacher: "Do you want to see the pictures?"
My teacher asked me

Which of the following completes the sentence above?

Aşağıdakilerden hangisi yukarıdaki cümleyi doğru olarak tamamlar?

- A) do you want to see the pictures
- B) if I want to see the pictures
- C) if I wanted to see the pictures
- D) to see the pictures

6. When we arrived at the airport, the plane already

Which of the following completes the sentence above?

Aşağıdakilerden hangisi yukarıdaki cümleyi doğru olarak tamamlar?

- A) took / off
- B) is / taking off
- C) had / taken off
- D) has / taken off

7. He had been running for an hour when he his arm.

Which of the following completes the sentence above?

Aşağıdakilerden hangisi yukarıdaki cümleyi doğru olarak tamamlar?

- A) breaking
- B) breaks
- C) had broken
- D) broke

8. The baby has been ill morning.

Which of the following completes the sentence above?

Aşağıdakilerden hangisi yukarıdaki cümleyi doğru olarak tamamlar?

- A) since
- B) ever
- C) for
- D) yet

9. The men in the café when the police arrived.

Which of the following completes the sentence above?

Aşağıdakilerden hangisi yukarıdaki cümleyi doğru olarak tamamlar?

- A) fights
- B) will fight
- C) had fight
- D) had been fighting

10. Your jeans are similar mine but my jeans are tighter.

Which of the following completes the sentence above?

Aşağıdakilerden hangisi yukarıdaki cümleyi doğru olarak tamamlar?

- A) to
- B) for
- C) in
- D) at

11. My friends: "We are in the canteen now"
My friends said that

Which of the following completes the sentence above?

Aşağıdakilerden hangisi yukarıdaki cümleyi doğru olarak tamamlar?

- A) to be in the canteen now
- B) they were in the canteen then
- C) they are in the canteen now
- D) they have been in canteen now

12. Those thieves have been in prison 20 years.

Which of the following completes the sentence above?

Aşağıdakilerden hangisi yukarıdaki cümleyi doğru olarak tamamlar?

- A) ever
- B) yet
- C) since
- D) for

13. My teachers are disappointed my exam results.

Which of the following completes the sentence above?

Aşağıdakilerden hangisi yukarıdaki cümleyi doğru olarak tamamlar?

- A) on
- B) at
- C) with
- D) in

14. Where you? I couldn't see you anywhere.

Which of the following completes the sentence above?

Aşağıdakilerden hangisi yukarıdaki cümleyi doğru olarak tamamlar?

- A) was / be
- B) have / been
- C) do / be
- D) has / been

15. Serap is of her daughters.

Which of the following completes the sentence above?

Aşağıdakilerden hangisi yukarıdaki cümleyi doğru olarak tamamlar?

- A) good
- B) fond
- C) responsible
- D) interested

16. What you lately?

Which of the following completes the sentence above?

Aşağıdakilerden hangisi yukarıdaki cümleyi doğru olarak tamamlar?

- A) were / be
- B) do / be
- C) have / been doing
- D) have / been

17. That young lady to an opera before.

Which of the following completes the sentence above?

Aşağıdakilerden hangisi yukarıdaki cümleyi doğru olarak tamamlar?

- A) was
- B) been
- C) have been
- D) had never been

18. Are you proud your son's graduation from university?

Which of the following completes the sentence above?

Aşağıdakilerden hangisi yukarıdaki cümleyi doğru olarak tamamlar?

- A) of
- B) with
- C) from
- D) at

19. Clark: "Play with us, Louise"
Clark told Louise

Which of the following completes the sentence above?

Aşağıdakilerden hangisi yukarıdaki cümleyi doğru olarak tamamlar?

- A) to play with them
- B) to playing with us
- C) to play with us
- D) to playing with them

20. Selma: "I am waiting for the postman"
Selma said that the postman.

Which of the following completes the sentence above?

Aşağıdakilerden hangisi yukarıdaki cümleyi doğru olarak tamamlar?

- A) has been waiting for
- B) she is waiting for
- C) she was waiting for
- D) will be waiting for

1. coûte ce livre?

Choisissez le mot qui convient.

Cümledeki boşluğu aşağıdakilerden hangisi doğru şekilde tamamlar?

- A) Quand
B) Comment
C) Combien
D) Est-ce que

2. I. La grippe est une maladie parfois dangereuse.
II. Il faut respirer beaucoup.
III. Pour se protéger, il faut prendre des précautions.
IV. Par exemple, se vacciner, porter un masque.

Choisissez la phrase qui ne convient pas à l'ensemble.

Sırasıyla okunduğunda, anlam bütünlüğünü bozan cümleyi bulunuz.

- A) I
B) II
C) III
D) IV

3. Pour aller à la poste, à droite.

Choisissez le mot qui convient.

Cümledeki boşluğu aşağıdakilerden hangisi doğru şekilde tamamlar?

- A) tournez
B) traversez
C) tenez
D) faites

4. «Elsa giyim tarzını değiştirdi.»

Choisissez la traduction qui convient.

Yukarıdaki cümlelerin Fransızca karşılığı aşağıdakilerden hangisidir?

- A) Elsa porte des vêtements démodés.
B) Elsa a changé de tenue vestimentaire.
C) Elsa aime mettre ses jupes longues.
D) Elsa a changé son vêtement.

5. Il n'a pas regardé la télévision il avait des devoirs.

Choisissez le mot qui convient.

Cümledeki boşluğu aşağıdakilerden hangisi doğru şekilde tamamlar?

- A) car
B) qui
C) comme
D) comment

6. Il est un étudiant.

Choisissez le mot qui convient.

Cümledeki boşluğu aşağıdakilerden hangisi doğru şekilde tamamlar?

- A) bon
B) bien
C) mieux
D) meilleur

7. Il faisait trop froid je suis tombée malade.

Choisissez le mot qui convient.

Cümledeki boşluğu aşağıdakilerden hangisi doğru şekilde tamamlar?

- A) que
B) mais
C) qui
D) donc

8. J'en ai assez cet ordinateur.

Choisissez le mot qui convient.

Cümledeki boşluğu aşağıdakilerden hangisi doğru şekilde tamamlar?

- A) que
B) pour
C) de
D) sur

9. - J'ai gagné au loto!
- Je suis heureuse pour toi. C'est

Choisissez le mot qui convient.

Yukarıdaki konuşmada boş bırakılan yeri aşağıdakilerden hangisi doğru şekilde tamamlar?

- A) catastrophique
B) mauvais
C) une catastrophe
D) super

10. A : Je veux acheter un sac.
B :?
A : Elle dit qu'elle veut acheter un sac.

Choisissez l'expression qui convient.

Yukarıdaki konuşmada boş bırakılan yeri aşağıdakilerden hangisi doğru şekilde tamamlar?

- A) Qu'est-ce qu'elle dit
B) Où est-ce qu'elle va
C) Comment va-t-elle
D) Quel est votre choix

11. «Elle voudrait avoir plus d'argent.»

Choisissez la traduction qui convient.

Yukarıdaki cümlenin Türkçe karşılığı aşağıdakilerden hangisidir?

- A) Çok para istedi.
B) Daha çok paraya sahip olmak istiyor.
C) Daha çok paraya ihtiyacı var.
D) İstedığı parayı vermeyecek.

12. Tu paies chèque ou espèces.

Choisissez les mots qui conviennent.

Cümledeki boşlukları aşağıdakilerden hangisi doğru şekilde tamamlar?

- A) en / en
B) par / en
C) par / des
D) en / des

13. Hier, beaucoup de gens dans la rue.

Choisissez l'expression qui convient.

Cümledeki boşluğu aşağıdakilerden hangisi doğru şekilde tamamlar?

- A) c'était
B) il était
C) il faisait
D) il y avait

14. Je vais à l'école lundi vendredi.

Choisissez les mots qui conviennent.

Cümledeki boşlukları aşağıdakilerden hangisi doğru şekilde tamamlar?

- A) du / à
B) de / à
C) de / au
D) du / au

15. La réunion est 12 avril.

Choisissez le mot qui convient.

Cümledeki boşluğu aşağıdakilerden hangisi doğru şekilde tamamlar?

- A) le
B) en
C) au
D) de la

16. - Tu connais Richard?
- Oui, c'est le garçon fait du sport.

Choisissez le mot qui convient.

Yukarıdaki konuşmada boş bırakılan yeri aşağıdakilerden hangisi doğru şekilde tamamlar?

- A) quand
B) qui
C) pour
D) que

17. Laure des photos avec son appareil photo.

Choisissez le mot qui convient.

Cümledeki boşluğu aşağıdakilerden hangisi doğru şekilde tamamlar?

- A) donne
- B) achète
- C) prend
- D) tire

18. L'année dernière, il trop chaud. Cette année, il mieux.

Choisissez les mots qui conviennent.

Cümledeki boşlukları aşağıdakilerden hangisi doğru şekilde tamamlar?

- A) fait / faisait
- B) fera / faisait
- C) faisait / fait
- D) fait / fera

19. Le magasin est ouvert toute la semaine dimanche.

Choisissez le mot qui convient.

Cümledeki boşluğu aşağıdakilerden hangisi doğru şekilde tamamlar?

- A) en
- B) par
- C) sauf
- D) pour

20. - Tu appelles tes parents?
- Oui, je appelle.

Choisissez le mot qui convient.

Yukarıdaki konuşmada boş bırakılan yeri aşağıdakilerden hangisi doğru şekilde tamamlar?

- A) l'
- B) leur
- C) le
- D) les

1. Aşağıdakilerden hangisi II. Mahmut Dönemi'nde yönetim alanında yapılan ıslahatlardan biri değildir?
- A) Müsadere geleneğinin kaldırılması
B) Matbuat nizamnamesinin çıkarılması
C) Posta ve karantina sevislerinin kurulması
D) Yurtdışına çıkışlarda pasaport uygulamasının başlatılması
2. Osmanlı Devleti'nde 1718-1730 yılları arasında yaşanan döneme ne ad verilir?
- A) Çöküş Dönemi
B) Islahat Devri
C) Yükseliş Dönemi
D) Lale Devri
3. Osmanlı Devleti sınırları içinde en çok okula sahip azınlık aşağıdakilerden hangisidir?
- A) Rumlar
B) Sıplar
C) Ermeniler
D) Yahudiler
4. XVII. yüzyılda Osmanlı Devleti'nin en çok savaştığı ülke aşağıdakilerden hangisidir?
- A) Almanya
B) İngiltere
C) Fransa
D) Avusturya
5. Aşağıdakilerden hangisi Tanzimat Fermanı'nda yer alan hükümlerden biri değildir?
- A) Rüşvet ve adam kayırmanın önlenmesi
B) Gayrimüslim halka din ve vicdan özgürlüğünün sağlanması
C) Müsadere usulünün kaldırılması
D) Herkesten kazancına göre vergi alınması
6. 1881 yılında Osmanlı Devleti'nin dış borçlarının ödenmesi ile ilgili yeni esasların belirlendiği belge aşağıdakilerden hangisidir?
- A) Tanzimat Fermanı
B) Islahat Fermanı
C) Muharrem Kararnamesi
D) Balta Limanı Antlaşması
7. İnsan ve hayvan gücüne dayalı üretim tarzından makine gücünün hâkim olduğu üretim tarzına geçişi ifade eden kavram aşağıdakilerden hangisidir?
- A) Sanayi İnkılabı
B) Reform
C) Fransız İhtilali
D) Aydınlanma Çağı
8. Aşağıdakilerden hangisi Osmanlı Devleti'nin dağılmasını önlemeye yönelik ortaya çıkan fikir akımlarından biri değildir?
- A) Sosyalizm
B) Osmanlıcılık
C) Turancılık
D) İslamcılık
9. Aşağıdakilerden hangisi Küçük Kaynarca Antlaşması'nın maddeleri arasında yer almaz?
- A) Rusya savaşta işgal ettiği yerleri Osmanlı Devleti'ne geri verecek
B) Rusya Osmanlı Devleti'ne savaş tazminatı ödeyecek
C) Kırım bağımsız olacak, Kırım hanları sadece dini bakımdan Osmanlı halifesine bağlı olacak
D) Buğ nehri iki devlet arasında sınır kabul edilecek
10. Küçük Kaynarca Antlaşması'ndan sonra Kırım'ı ele geçirmek için harekete geçen Rusya ile savaş hazırlıklarına başlayan Osmanlı Devleti arasında Fransa'nın arabuluculuğu ile yapılan antlaşma aşağıdakilerden hangisidir?
- A) Aynalıkavak Sözleşmesi
B) Uşi Antlaşması
C) Zıştovi Antlaşması
D) Belgrad Antlaşması
11. III. Selim'in yaptığı ıslahatların tümüne ne ad verilir?
- A) Sened-i ittifak
B) Sekban-ı Cedit
C) Nizam-ı Cedit
D) İrad-ı Cedit

12. Aşağıdakilerden hangisi 1739'da Rusya ve Osmanlı Devleti arasında yapılan Belgrad Antlaşması'nın maddeleri arasında yer almaz?
- A) Rusya Karadeniz'de savaş ve ticaret gemisi bulundurmaz
B) Azak Kalesi yıkılmak şartıyla Rusya'ya bırakılacak
C) Ruslar savaş sırasında aldığı yerleri Osmanlılara geri verecek
D) Rus tüccarlar Türk sularında serbestçe ticaret yapabilecek
13. Osmanlı Devleti'nin boğazlar konusunda son kez tek başına karar verdiği antlaşma aşağıdakilerden hangisidir?
- A) Hünkâr İskelesi
B) Balta Limanı
C) Londra
D) İstanbul
14. Vaka-i Hayriye adıyla tarihe geçen olay aşağıdakilerden hangisidir?
- A) Asakir-i Mansure-i Muhammediye ordusunun kurulması
B) Yeniçeri Ocağı'nın kaldırılması
C) Sekban-ı Cedit Ocağı'nın kaldırılması
D) Nizam-ı Cedit ordusunun kaldırılması
15. Osmanlı Devleti'nin meşruti yönetime geçişini sağlayan Kanun-i Esasi hangi tarihte ilan edilmiştir?
- A) 3 Kasım 1839
B) 18 Şubat 1856
C) 23 Aralık 1876
D) 20 Mart 1877
16. Osmanlı Devleti'nin XVIII. yüzyıl başlarında takip ettiği siyaset aşağıdakilerden hangisidir?
- A) Topraklarını genişletmek
B) Deniz aşırı ülkelerde ticaret yapmak
C) Kaybettiği toprakları geri almak
D) Büyük bir sömürge imparatorluğu kurmak
17. XVIII. yüzyıl Avrupası'nda büyük çoğunluğu krallar arasındaki akrabalık nedeniyle çıkan savaşlara ne ad verilir?
- A) Otuz Yıl Savaşları
B) Yüzyıl Savaşları
C) Bağımsızlık Savaşları
D) Veraset Savaşları
18. Bilimsel ve teknolojik gelişmeler sonunda yapılan, buhar gücüyle çalışan makinelerin kullanıldığı ilk alan aşağıdakilerden hangisidir?
- A) Demir çelik sanayi
B) Otomotiv sanayi
C) Kimya sanayi
D) Dokuma sanayi
19. Aşağıdakilerden hangisi Sanayi İnkılabı'nın Osmanlı Devleti üzerindeki olumsuz etkilerinden biri değildir?
- A) İthal malların Osmanlı pazarlarını ele geçirmesi
B) Dışarıya daha fazla mamul madde satar hale gelmesi
C) Küçük el tezgahlarının kapanması
D) Osmanlı esnafının hammade sıkıntısı yaşamaması
20. 1850 yılında yayınlanan ilk Türk dergisi aşağıdakilerden hangisidir?
- A) Vekay-i Tıbbiye
B) Tercüman-ı Ahval
C) Cerde-i Havadis
D) Tasvir-i Efkâr

1. A: Woher kommt er?
B:
A: Ach so, ich dachte, er wäre aus der Türkei!

Welches ergänzt den obigen Dialog?

Verilen karşılıklı konuşmayı aşağıdakilerden hangisi tamamlar?

- A) Ach ja, wir fahren jedes Jahr in die Türkei!
B) Meine Schwester studiert auch in Deutschland!
C) Man sagt, er wäre aus Deutschland.
D) Sie arbeiten in Portugal.

2. den Finger auf dem Mund zu bringen benutze ich oft.

Welches Wort passt in die obige Lücke?

Cümlede boş bırakılan yeri aşağıdakilerden hangisi tamamlar?

- A) Die Geste
B) Die Hand
C) Das Bild
D) Der Mann

3. A:
B: Italienisch wird in Italien gesprochen.
A: Ach, das ist interessant!

Welches ergänzt die Lücke im obigen Dialog?

Verilen karşılıklı konuşmada boş bırakılan yeri aşağıdakilerden hangisi tamamlar?

- A) Wer kommt aus Italien?
B) Wart ihr in den Ferien in Italien?
C) Weißt du, wo Italienisch gesprochen wird?
D) Wann möchtest du Italienisch sprechen lernen?

4. Die Schildkröte ist, aber der Affe ist schnell.

Welches Wort passt in die obige Lücke?

Cümlede boş bırakılan yeri aşağıdakilerden hangisi doğru şekilde tamamlar?

- A) groß
B) langsam
C) laut
D) leise

5. Ich habe einen, ich muss die Länder und die Hauptstädte üben.

Welches Wort passt in die obige Lücke?

Cümlede boş bırakılan yeri aşağıdakilerden hangisi tamamlar?

- A) Deutschtest
B) Erdkundetest
C) Mathematiktest
D) Sporttest

6. für deine Zukunft und viel Glück wünsche ich dir!

Welches Wort passt in die obige Lücke?

Cümlede boş bırakılan yeri aşağıdakilerden hangisi doğru şekilde tamamlar?

- A) Grüßen Sie
B) Jede Musik
C) Alles Gute
D) Immer zusammen

7. Ich mag die Musik Beethoven.

Welches Wort passt in die obige Lücke?

Cümlede boş bırakılan yeri aşağıdakilerden hangisi tamamlar?

- A) zu
B) auf
C) von
D) für

8. Für die Zukunft wünsche ich mir,

Welches ergänzt nicht die Lücke im obigen Satz?

Verilen cümleyi aşağıdakilerden hangisi tamamlamaz?

- A) dass ich Querflöte spielen kann.
- B) dass du mir zugehört hast ist aber sehr nett von dir.
- C) dass ich in einer Band mitspielen kann.
- D) dass ich die Prüfung bestehe.

9. Wie lautet das Wort "Die Konzerte" in der Singularform?

"Die Konzerte" isminin tekil hali aşağıdakilerden hangisidir?

- A) Den Konzert
- B) Das Konzert
- C) Die Konzert
- D) Der Konzert

10. Wenn man Philosophen befragt, was Glück ist, erhält man Antworten.

Welches Wort passt in die obige Lücke?

Cümlede boş bırakılan yeri aşağıdakilerden hangisi doğru şekilde tamamlar?

- A) verschiedene
- B) lächeln
- C) zusammen
- D) verdoppelt

11. Für uns ist es wichtig, die Kinder gehorsam und fleißig werden.

Welches Wort passt in die obige Lücke?

Cümlede boş bırakılan yeri aşağıdakilerden hangisi tamamlar?

- A) dass
- B) für
- C) denn
- D) somit

12., wenn sie ihre Kinder gut erziehen wollen.

Welches ergänzt die Lücke im obigen Satz?

Verilen cümleyi aşağıdakilerden hangisi tamamlar?

- A) Jede Eigenschaft kommt von der Mutter
- B) In unserer Familie sind alle Mädchen gehorsam
- C) Das sieht man auf dem Foto
- D) Die Eltern müssen ein Vorbild sein

13. Ich glaube, sie planen eine Klassenfahrt.

Welche Frage passt zur obigen Antwort?

Verilen cevabı gerektirecek soru aşağıdakilerden hangisidir?

- A) Wann kommen die Schüler?
- B) Was planen die Schüler?
- C) Welche Schüler sind das?
- D) Wo sitzen die Schüler?

14. Bist du krank geworden?

Welche Antwort passt zur obigen Frage?

Verilen sorunun cevabı aşağıdakilerden hangisidir?

- A) Nein er hat gesagt, dass er am Wochenende kommen will.
- B) Ja, ich finde Familienfeste wichtig, weil wir in Kontakt bleiben.
- C) Nein, ich wollte auch an der Versammlung teilnehmen.
- D) Ja, ich bin krank geworden und meine Mutter hat mich zum Arzt gebracht.

15. Womit hältst du dich fit?

Welche Antwort passt zur obigen Frage?

Verilen sorunun cevabı aşağıdakilerden hangisidir?

- A) Ich muß meine Hausaufgaben ordentlich machen.
- B) Sie will sich fit halten.
- C) Er hat viele neue Ideen für die Schulkinder.
- D) Ich spiele dreimal in der Woche Tennis.

16. Karnım ağrıyor.

Wie lautet der obige Satz auf Deutsch?

Verilen cümlelerin Almancası aşağıdakilerden hangisidir?

- A) Der Arzt untersucht meinen Bauch.
- B) Mein Bauch ist krank.
- C) Ich muss meinen Bauch warm halten.
- D) Mein Bauch tut mir weh.

17., habe ich angefangen Klavier zu spielen.

Welcher Satz ergänzt die obige Lücke?

Verilen cümleyi aşağıdakilerden hangisi tamamlar?

- A) Als ich zehn Jahre alt war
- B) Ich hatte heute keine Zeit
- C) Wenn ich groß werde
- D) Jeder kann etwas spielen lernen

18. ist für vier Personen.

Welches Wort passt nicht in die obige Lücke?

Cümlede boş bırakılan yeri aşağıdakilerden hangisi doğru şekilde tamamlamaz?

- A) Der Körper
- B) Das Rezept
- C) Das Essen
- D) Der Salat

19. ist für die ganze Familie wichtig.

Welches ergänzt die Lücke im obigen Satz?

Verilen cümleyi aşağıdakilerden hangisi tamamlar?

- A) Unsere Wohnung liegt zentral
- B) Das ist ein Rezept für dich
- C) Viel frisches Gemüse und Obst
- D) Wir haben keine Tomaten mehr zu Hause

20. Ja, ich bin krank.

Welche Frage passt zur obigen Antwort?

Verilen cevabı gerektirecek soru aşağıdakilerden hangisidir?

- A) Bist du krank?
- B) Wie kann ich helfen?
- C) Was hat er denn?
- D) Habt ihr Schmerzen?

1. I couldn't do my homework because I my books at school.

Which of the following completes the sentence above?

Aşağıdakilerden hangisi yukarıdaki cümleyi doğru olarak tamamlar?

- A) forgot
B) had forgotten
C) have forgotten
D) am forgetting

2. The teacher: "Whose pencil is that on the table?"
The teacher asked whose pencil that on the table.

Which of the following completes the sentence above?

Aşağıdakilerden hangisi yukarıdaki cümleyi doğru olarak tamamlar?

- A) did
B) was
C) is
D) has been

3. Leo hasn't done his homework

Which of the following completes the sentence above?

Aşağıdakilerden hangisi yukarıdaki cümleyi doğru olarak tamamlar?

- A) for
B) yet
C) just
D) already

4. Tom sabahtan beri odasını temizlemekte.

Which of the following is the English translation of the sentence above?

Aşağıdakilerden hangisi yukarıdaki cümlenin İngilizce karşılığıdır?

- A) Tom has been cleaning his room since morning.
B) Tom cleaned his room this morning.
C) Tom has been cleaning his room all day.
D) Tom cleaned his room yesterday morning.

5. Elise has been a doctor 2003.

Which of the following completes the sentence above?

Aşağıdakilerden hangisi yukarıdaki cümleyi doğru olarak tamamlar?

- A) since
B) for
C) at
D) ever

6. Dad: John, please tidy your wardrobe.
John: Don't worry dad. I have tidied it, it's clean now.

Which of the following completes the dialogue above?

Aşağıdakilerden hangisi yukarıdaki konuşmayı doğru olarak tamamlar?

- A) never
B) yet
C) ever
D) already

7. She asked me if I was going home.

Which of the following is the direct speech form of the reported speech sentence above?

Aşağıdakilerden hangisi yukarıdaki dolaylı anlatım cümlesinin dolaysız anlatım biçimidir?

- A) She asked, "Did you go home?"
B) She asks, "Have you gone home?"
C) She asked, "Are you going home?"
D) She asked, "Were you going home?"

8. Your outfit is similar mine but they are a bit different in colours.

Which of the following completes the sentence above?

Aşağıdakilerden hangisi yukarıdaki cümleyi doğru olarak tamamlar?

- A) in
- B) at
- C) to
- D) for

9. We have a lot to eat. The fridge is full fruit and vegetables.

Which of the following completes the sentence above?

Aşağıdakilerden hangisi yukarıdaki cümleyi doğru olarak tamamlar?

- A) in
- B) at
- C) on
- D) of

10. Paul: "I can play football well."
Paul said that he football well.

Which of the following completes the sentence above?

Aşağıdakilerden hangisi yukarıdaki cümleyi doğru olarak tamamlar?

- A) played
- B) is playing
- C) may play
- D) could play

11. When they arrived at the party hall, everybody It was empty.

Which of the following completes the sentence above?

Aşağıdakilerden hangisi yukarıdaki cümleyi doğru olarak tamamlar?

- A) had already left
- B) leaves
- C) left
- D) has already left

12. Fred hasn't studied for the exam far.

Which of the following completes the sentence above?

Aşağıdakilerden hangisi yukarıdaki cümleyi doğru olarak tamamlar?

- A) ever
- B) already
- C) yet
- D) so

13. They had been for him for twenty-five minutes when he

Which of the following completes the sentence above?

Aşağıdakilerden hangisi yukarıdaki cümleyi doğru olarak tamamlar?

- A) waiting / comes
- B) waiting / came
- C) waited / come
- D) waited / came

14. Are you pleased your new car?

Which of the following completes the sentence above?

Aşağıdakilerden hangisi yukarıdaki cümleyi doğru olarak tamamlar?

- A) with
- B) from
- C) at
- D) on

15. Berna: "When will you see her?"
Berna asked me

Which of the following completes the sentence above?

Aşağıdakilerden hangisi yukarıdaki cümleyi doğru olarak tamamlar?

- A) when would you see her
- B) when I will see her
- C) when I would see her
- D) if I would see her

16. New York is famous its Statue of Liberty.

Which of the following completes the sentence above?

Aşağıdakilerden hangisi yukarıdaki cümleyi doğru olarak tamamlar?

- A) with
- B) about
- C) for
- D) to

17. Mustafa is extremely at teaching English.

Which of the following completes the sentence above?

Aşağıdakilerden hangisi yukarıdaki cümleyi doğru olarak tamamlar?

- A) interested
- B) famous
- C) proud
- D) good

18. Mert: "Where has your mum gone, Caner?"
Mert asked Caner

Which of the following completes the sentence above?

Aşağıdakilerden hangisi yukarıdaki cümleyi doğru olarak tamamlar?

- A) where his mum had gone
- B) if his mum had gone
- C) where his mum has gone
- D) where his mum went

19. That young lady to an opera before.

Which of the following completes the sentence above?

Aşağıdakilerden hangisi yukarıdaki cümleyi doğru olarak tamamlar?

- A) have been
- B) been
- C) had never been
- D) was

20. After Michelle breakfast, she went to the beach.

Which of the following completes the sentence above?

Aşağıdakilerden hangisi yukarıdaki cümleyi doğru olarak tamamlar?

- A) has been
- B) had had
- C) has had
- D) had

1. - Tu aimes Marie?
- Oui, je la trouve

Choisissez le mot qui convient.

Yukarıdaki konuşmada boş bırakılan yeri aşağıdakilerden hangisi doğru şekilde tamamlar?

- A) passionnante
B) ennuyeux
C) gai
D) heureux

2. - Vous connaissez cette histoire?
- Oui, nous connaissons.

Choisissez le mot qui convient.

Yukarıdaki konuşmada boş bırakılan yeri aşağıdakilerden hangisi doğru şekilde tamamlar?

- A) lui
B) le
C) la
D) leur

3. «Elsa giyim tarzını değiştirdi.»

Choisissez la traduction qui convient.

Yukarıdaki cümlenin Fransızca karşılığı aşağıdakilerden hangisidir?

- A) Elsa porte des vêtements démodés.
B) Elsa a changé de tenue vestimentaire.
C) Elsa aime mettre ses jupes longues.
D) Elsa a changé son vêtement.

4. Il faut prendre des précautions le soleil.

Choisissez le mot qui convient.

Cümledeki boşluğu aşağıdakilerden hangisi doğru şekilde tamamlar?

- A) en
B) par
C) à
D) contre

5. coûte ce livre?

Choisissez le mot qui convient.

Cümledeki boşluğu aşağıdakilerden hangisi doğru şekilde tamamlar?

- A) Combien
B) Comment
C) Quand
D) Est-ce que

6. - Tu veux manger?
- Non je ne veux rien manger.

Choisissez le mot/l'expression qui convient.

Yukarıdaki konuşmada boş bırakılan yeri aşağıdakilerden hangisi doğru şekilde tamamlar?

- A) quelque chose
B) jamais
C) rien
D) quelqu'un

7. Cet homme pèse 180 kilos: c'est

Choisissez le mot qui convient.

Cümledeki boşluğu aşağıdakilerden hangisi doğru şekilde tamamlar?

- A) joyeux
B) bon
C) encourageant
D) étonnant

8. - Bonjour, je voudrais parler à M. Lenoir.
- Oui,
- De Mme Chantal.

Choisissez l'expression qui convient.

Yukarıdaki konuşmada boş bırakılan yeri aşağıdakilerden hangisi doğru şekilde tamamlar?

- A) c'est de la part de qui?
B) c'est moi.
C) il est là?
D) c'est à cause de toi.

9. Hier, il chaud.

Choisissez le mot/l'expression qui convient.

Cümledeki boşluğu aşağıdakilerden hangisi doğru şekilde tamamlar?

- A) faisait
- B) fait
- C) fera
- D) va faire

10. C'est qui m'appelles?

Choisissez le mot qui convient.

Cümledeki boşluğu aşağıdakilerden hangisi doğru şekilde tamamlar?

- A) tu
- B) te
- C) ta
- D) toi

11. Les personnes polies disent «.....».

Choisissez l'expression qui convient.

Cümledeki boşluğu aşağıdakilerden hangisi doğru şekilde tamamlar?

- A) Il faut
- B) Je veux
- C) Je voudrais
- D) Tu dois

12. - C'est fermé samedi et dimanche?
- Oui. C'est ouvert tous les jours le week-end.

Choisissez le mot qui convient.

Yukarıdaki konuşmada boş bırakılan yeri aşağıdakilerden hangisi doğru şekilde tamamlar?

- A) mais
- B) et
- C) du
- D) sauf

13. J'ai mal à la tête, je prends une

Choisissez le mot qui convient.

Cümledeki boşluğu aşağıdakilerden hangisi doğru şekilde tamamlar?

- A) antibiotique
- B) aspirine
- C) grippe
- D) consultation

14. «Tu dois parler avec l'agent immobilier.»

Choisissez la traduction qui convient.

Yukarıdaki cümlenin Türkçe karşılığı aşağıdakilerden hangisidir?

- A) Mobilyacıyla konuşmalısın.
- B) Mobilyacıyı araman gerekiyor.
- C) Emlakçıyı aramalısın.
- D) Emlakçıyla konuşman gerekiyor.

15. C'est un camion, et

Choisissez les mots qui conviennent.

Cümledeki boşlukları aşağıdakilerden hangisi doğru şekilde tamamlar?

- A) petit / bleue / lente
- B) grand / jaune / rapide
- C) lent / rose / noire
- D) jolie / blanche / petite

16. La semaine prochaine nous un nouveau film.

Choisissez le mot qui convient.

Cümledeki boşluğu aşağıdakilerden hangisi doğru şekilde tamamlar?

- A) verras
- B) verrez
- C) verrons
- D) verront

17. I. Il faisait nuit.
II. Tout d'un coup, j'entendais un bruit.
III. J'ai fini mes devoirs.
IV. J'avais très peur.

Chosissez la phrase qui ne convient pas à l'ensemble.

Sırasıyla okunduğunda anlam bütünlüğünü bozan cümle aşağıdakilerden hangisidir?

- A) I
B) II
C) III
D) IV

18. - Jean parle-t-il à Marie?
- Oui,

Chosissez l'expression qui convient.

Yukarıdaki konuşmada boş bırakılan yeri aşağıdakilerden hangisi doğru şekilde tamamlar?

- A) elle lui parle
B) il lui parle
C) il leur parle
D) elle leur parle

19. Je cherche un appartement louer.

Chosissez le mot qui convient.

Cümledeki boşluğu aşağıdakilerden hangisi doğru şekilde tamamlar?

- A) de
B) à
C) en
D) par

20. Nous ne pouvions pas avancer car du monde.

Chosissez l'expression qui convient.

Cümledeki boşluğu aşağıdakilerden hangisi doğru şekilde tamamlar?

- A) il faisait
B) c'était
C) il y avait
D) il était

1. Aşağıdakilerden hangisinin vefatında güneş tutulması yaşanmıştır?

- A) İbrahim
- B) Kasım
- C) Ali
- D) Abdullah

2. Hz. Muhammed'le ilgili aşağıdaki ifadelerden hangisi yanlıştır?

- A) Adaleti ayakta tutmak için çaba sarf ederdi.
- B) Kendisine ikram edilen yiyecekleri ashabın kimsesiz ve fakir olanlarıyla paylaşırdı.
- C) Allah'a kul olmak bakımından hiç kimsenin ayrıcalık sahibi olmadığını bilakis bu konuda herkesin eşit olduğunu vurgulardı.
- D) İnsanların sahip olduğu dünyevi şeylerin, üstünlük değerinin olduğunu hem sözleri hem de uygulamalarıyla gösterirdi.

3. Aşağıdakilerden hangisi şeytanın tuzaklarından biri değildir?

- A) Övünüp büyüklük iddia etmek
- B) Alçak gönüllülük etmek
- C) Allah'ın kullarına ululuk ve üstünlük taslamak
- D) Nefsin arzusuna uymak

4. Aşağıdakilerden hangisi cahiliyye dönemine ait kötü adetlerden biri değildir?

- A) Soya dayalı öğünmeler
- B) Irka dayalı kınamalar
- C) Nesep aidiyetine dayanarak yapılan öğünmeler
- D) Takvaya dayalı üstünlükler

5. Hz. Peygamber'e, sözüne güvenildiği, emaneti koruduğu bilindiği için ne ad verilir?

- A) Muhammedü'l – Adil
- B) Emanetü'l - Emin
- C) Muhammedü'l – Emin
- D) Sözüne güvenilen

6. İnsanlara ayrıcalık kazandıran durum aşağıdakilerden hangisidir?

- A) Soylu bir aileye mensup olmak
- B) Allah'a karşı gelmekten sakınmak
- C) Mevki sahibi olmak
- D) Zengin olmak

7. "Helak edici yedi şeyden çekiniz."

Aşağıdakilerden hangisi yukarıda bahsedilen yedi şeyden biri değildir?

- A) Düşmana hücum gününe gitmek
- B) Faiz yemek
- C) Sihir yapmak
- D) Yetim malı yemek

8. Hz. Muhammed'in üye olduğu, haksızlığa uğrayan insanların haklarını koruyan teşkilata ne ad verilir?

- A) Ashab-ı Suffa
- B) Mescid-i Nebevi
- C) Hılfu'l-Fudul
- D) Edebü'l Müfred

9. Aşağıdakilerden hangisi Abdullah b. Ümmi Mektun'a verilen görevlerden biridir?

- A) Kâtiplik
- B) Kâhyalık
- C) Kâbe hakemliği
- D) Müezzinlik

10. Aşağıdakilerden hangisi mağduriyet durumlarından biri değildir?

- A) Çocuk olmak
- B) Yaşlı olmak
- C) Yetim olmak
- D) Dul olmak

11. İslam tarihinde ilk hicretin yapıldığı yer aşağıdakilerden hangisidir?

- A) Medine
- B) Habeşistan
- C) Mekke
- D) Taif

12. "Kendilerinde ihtiyaç olsa bile, (kardeşlerini) nefisleri üzerine tercih ederler. Kimde nefsinin hırsından korunursa, işte bunlar azaptan kurtulanlardır."

Yukarıdaki ayetin geçtiği sure aşağıdakilerden hangisidir?

- A) Felak suresi
- B) Haşr suresi
- C) En'âm suresi
- D) Nisâ suresi

13. Aşağıdakilerden hangisi Müte Savaşında şehit düşmüştür?

- A) Abbas Kusem
- B) Ebu Davud
- C) Cafer b. Ebu Talip
- D) İbn Ömer

14. Mekkelilerin işkenceleri altında can vermek üzereyken Hz. Ebu Bekir tarafından satın alınarak azad edilen köle aşağıdakilerden hangisidir?

- A) Ebu Cehil
- B) Abdullah b. Ümmi Mektun
- C) Bilal-i Habeşi
- D) Utbe b. Rebia

15. Medine'nin savunulması için şehrin etrafına hendek kazıldığı savaş aşağıdakilerden hangisidir?

- A) Hendek Savaşı
- B) Bedir Savaşı
- C) Uhud Savaşı
- D) Hayber Savaşı

16. Rüyasında Ezan'ın sözleri öğretilen sahabe kimdir?

- A) Hz. Ömer'in oğlu Abdullah
- B) Busr bin Sufyan
- C) Hz. Bilal-i Habeşi
- D) Abdullah bin Zeyd

17. İstişareyle ilgili aşağıdaki ifadelerden hangisi yanlıştır?

- A) İstişarede ne kadar az kişinin fikri alınırsa bakış açısı o kadar zenginleşir.
- B) İstişare bir anda fark edilmeyen, akla gelmeyen noktaların daha iyi anlaşılmasını sağlar.
- C) İstişare insanların gönüllerini birbirine yaklaştırır.
- D) İstişare yapanların kibir ve gurur duyguları yerini, alçak gönüllülüğe bırakır.

18. Zu'l Huleyfe aşağıdakilerden hangisine verilen addır?

- A) Kabile toplantılarının yapıldığı salona
- B) Savaş planlarını tartışıldığı çadıra
- C) İstişare yapılan mekâna
- D) Medinelilerin ihrama girme yerine

19. Resulullah'ın vefatından sonra tayin edilen ilk halife kimdir?

- A) Hz. Ali
- B) Hz. Ömer
- C) Hz. Ebu Bekir
- D) Zeyd bin Sabit

20. "...Yapacağın işlerde onlarla, müminlerle istişare et. Bir işe azmettiğin zaman da artık Allah'a tevekkül et. Muhakkak ki Allah, kendine tevekkül edenleri sever."

Yukarıdaki ayetin geçtiği sure aşağıdakilerden hangisidir?

- A) Haşr suresi
- B) Âli İmrân suresi
- C) Felak suresi
- D) Şûrâ suresi

1. Aşağıdakilerden hangisi İslam dininin yasakladığı kötü huylardan biridir?
 - A) Cimrilik
 - B) Cömertlik
 - C) İktisatlı olmak
 - D) Yardımlaşmak

2. Aşağıdakilerden hangisi Hz. Muhammed'e (s.a.v.) göre iyi bir Müslümanın söz ve davranışlarında olması gereken özelliklerden biri değildir?
 - A) Hileli
 - B) Ölçülü
 - C) Adaletli
 - D) Dengeli

3. Cahiliye Dönemi'nde Arap kabileleri savaşılmaması yasak olan aylarda savaşa devam ettikleri için bu savaşlar aşağıdaki hangi adla adlandırılmıştır?
 - A) 30 yıl Savaşları
 - B) Ficar Savaşları
 - C) Yüzyıl Savaşları
 - D) Güller Savaşları

4. İslam ordusunun komutanlarından Zeyd bin Harise, Hz. Cafer ve Abdullah bin Revaha'nın 629 yılında şehit olduğu savaş aşağıdakilerden hangisidir?
 - A) Mûte Savaşı
 - B) Hayber Savaşı
 - C) Huneyn Savaşı
 - D) Kâdisiye Savaşı

5. Mute Savaşı'nda İslam ordusunun komutanlarından Zeyd bin Harise, Hz. Cafer ve Abdullah bin Revaha'nın şehit olması üzerine komutayı ele alarak orduyu toparlayan kişi kimdir?
 - A) Tarık bin Ziyad
 - B) Assâme bin Amr
 - C) Muhammed bin Abdülmelik ez-Zeyyât
 - D) Halid bin Velid

6. Hz. Muhammed'in (s.a.v.) kabrinin adı aşağıdakilerden hangisidir?
 - A) Emîrülümera
 - B) Ravza-i Mutahhara
 - C) Dîvânü'z-zimâm
 - D) Hürremiyye

7. Allah'a inanmakla birlikte inançta ve ibadette ona ortak koşmayı ifade eden kavram aşağıdakilerden hangisidir?
 - A) Şirk
 - B) Ashab
 - C) Biat
 - D) Mevâlî

8. Hz. Muhammed'in (s.a.v.) İslam'ı tebliğ etmek için 620 yılında ilk kez Mekke dışında gittiği yer aşağıdakilerden hangisidir?
 - A) Medine
 - B) Mute
 - C) Taif
 - D) Bağdat

9. Aşağıdakilerden hangisi Hz. Muhammed'in sağlıkla ilgili tavsiyelerinden biri değildir?
 - A) Haftada en az birkaç kez banyo yapmak
 - B) Günde birkaç kez diş temizliği yapmak
 - C) Yemeklerden önce ve sonra elleri yıkamak
 - D) Aşırı yemek ve içmek

10. Mekke'de haksızlığa uğrayan, malı gasp edilen ve kimsesi olmadığından ezilen insanlar eksik olmazdı. Bu haksızlıkları önlemek için kurulmuş ve Hz. Muhammed'inde (s.a.v.) üyesi olduğu sivil toplum cemiyeti aşağıdakilerden hangisidir?
 - A) İhvânu's Safâ (Temiz Kardeşler)
 - B) Amele-i Osmanî Cemiyeti
 - C) Hilfu'l-Fudul (Erdemliler Topluluğu)
 - D) Cemiyet-i Tedrisiyye-i İslâmiyye

11. Bedir Savaşı ile ilgili aşağıdaki ifadelerden hangisi yanlıştır?

- A) Müşrik ordusu silah ve asker sayısı yönünden İslam ordusundan daha fazlaydı.
- B) Müslümanlarla müşrikler arasında yapılan ilk savaşı.
- C) Mekkeli müşrikler Ebu Cehil'in komutasında hareket etmişlerdi.
- D) Savaşı müşrikler kazandı.

12. Medine'de kurulan İslam devletinin anayasası niteliğindeki 623 yılındaki gelişme aşağıdakilerden hangisidir?

- A) Gırnata Antlaşması
- B) I. Akabe Biati
- C) Medine Sözleşmesi
- D) Hudeybiye Antlaşması

13. Hz. Muhammed'in (s.a.v.) sağlıkla ilgili hadislerinin bütününe ne ad verilir?

- A) Mu'tezile
- B) Tıbb-ı Nebevi
- C) Râfızî Hareketi
- D) Ridde

14. Hz. Muhammed'in (s.a.v.) doğduğu gün aşağıdakilerden hangisidir?

- A) Pazartesi
- B) Salı
- C) Perşembe
- D) Cuma

15. İnsanın yaradılış fitratına aykırı davranmasına ne ad verilir?

- A) Münafıklık
- B) İnançsızlık
- C) Duygusuzluk
- D) Dengesizlik

16. Aşağıdaki kişilerden hangisi Hz. Muhammed'e (s.a.v.) ilk iman edenlerden biri değildir?

- A) Ebu Lehep
- B) Hz. Hatice
- C) Hz. Ali
- D) Zeyd bin Harise

17. İnsanın, başkalarının sahip olduğu güzel şeylerin kendisinde de olmasını arzulamasına ne ad verilir?

- A) Ensâr
- B) Muhâcirûn
- C) Gıpta
- D) Ridde

18. Aşağıdaki savaşlardan hangisi Hz. Muhammed (s.a.v.) döneminde gerçekleşmemiştir?

- A) Bedir Savaşı
- B) Uhud Savaşı
- C) Hendek Savaşı
- D) Talas Savaşı

19. İnsanın, başkalarının sahip olduğu güzel şeylerin kendisinde de olmasını arzulamasına ne ad verilir?

- A) Haset
- B) Muhâcirûn
- C) Gıpta
- D) Ensâr

20. Mekkeli müşriklerin Medine'ye bir daha saldırmaya cesaret edememesine neden olan 627 yılındaki savaş aşağıdakilerden hangisidir?

- A) Talas Savaşı
- B) Mercidabık Savaşı
- C) Hendek Savaşı
- D) Uhud Savaşı

SEÇMELİ TÜRK EDEBİYATI 6

B

2017 AÖÖ-AÖL III. DÖNEM 0103-B

1. "Millî Edebiyat Akımı"nın asıl yayın organı aşağıdakilerden hangisidir?
 - A) Türk Cemiyeti
 - B) Türk Yurdu
 - C) Genç Kalemler
 - D) Türk Ocağı
2. Döneminin "Fikri hür, irfanı hür, vicdanı hür şair"i Tefik Fikret'in çocuklar için sade bir dille ve hece ölçüsüyle yazdığı şiir kitabı aşağıdakilerden hangisidir?
 - A) Feride
 - B) Şermin
 - C) Nemide
 - D) Handan
3. Divan edebiyatındaki beyit anlayışını kırarak nazmı nesre yaklaştıran şair aşağıdakilerden hangisidir?
 - A) Ali Ekrem Bolayır
 - B) Ahmet Haşim
 - C) Tefik Fikret
 - D) Ziya Paşa
4. "Fecr-i Âtî" kelime grubunun anlamı aşağıdakilerden hangisidir?
 - A) Umutsuz Hayal
 - B) Yenilikçi Edebiyat
 - C) Geleceğin Aydınlığı
 - D) İlerici Anlayış
5. Duygudan çok tasvire, düşünceye, biçim ve söyleyiş güzelliğine önem veren "sanat için sanat" görüşünü benimseyen, realizm akımının şiirdeki biçimine ne ad verilir?
 - A) Parnasizm
 - B) Romantizm
 - C) Natüralizm
 - D) Sembolizm
6. Aşağıdakilerden hangisi Millî edebiyat akımının başlıca temsilcileri arasında yer almaz?
 - A) Mehmet Emin Yurdakul
 - B) Ziya Gökalp
 - C) Halit Ziya
 - D) Ali Canip
7. Aşağıdakilerden hangisi Milli Edebiyat Dönemi'nin özelliklerinden biri değildir?
 - A) Ulusal kaynaklardan yararlanılması
 - B) Halkın sorunlarının dile getirilmesi
 - C) Hece ölçüsü kullanılması
 - D) Divan edebiyatı nazım biçimlerinin benimsenmesi
8. Servet-i Fünûn dergisi etrafında toplanan şair ve yazarların 1896-1901 yılları arasında oluşturduğu edebiyat aşağıdakilerden hangisidir?
 - A) Tanzimat Edebiyatı
 - B) Fecr-i Âtî
 - C) Edebiyat-ı Cedide
 - D) Türk Ocağı
9. Osmanlı-Rus Savaşı ile Balkan Savaşı yenilgilerinin zemin hazırladığı fikir akımı aşağıdakilerden hangisidir?
 - A) İslamcılık
 - B) Milliyetçilik
 - C) Türkçülük
 - D) Osmanlıcılık
10. Aşağıdakilerden hangisi "saf şiir" anlayışının özelliklerinden biri değildir?
 - A) Söze önem verilmesi
 - B) Ritm ve ahenge önem verilmesi
 - C) Sosyal temalardan çok bireysel duyarlılığın tercih edilmesi
 - D) Nazmın nesre yaklaşması

11. Türk edebiyatının ilk psikolojik romanı olan "Eylül" aşağıdaki yazarlardan hangisine aittir?

- A) Mehmet Rauf
- B) Namık Kemal
- C) Recaizade Mahmut Ekrem
- D) Ahmet Vefik Paşa

12. "Türk Edebiyatında İlk Mutasavvıflar" adlı eser aşağıdaki yazarlardan hangisine aittir?

- A) Ziya Gökalp
- B) Reşat Nuri Güntekin
- C) Tevfik Fikret
- D) Fuat Köprülü

13. Cenap Şehabettin'in ilk şiirinin yayımlandığı gazete aşağıdakilerden hangisidir?

- A) Saadet
- B) İkdam
- C) Hizmet
- D) Vatan

14. Aşağıdakilerden hangisi realizmin öncülerinden biri değildir?

- A) Stendhal
- B) Baudelaire
- C) Maupassant
- D) Balzac

15. Aşağıdakilerden hangisi Halide Edip Adivar'ın eserlerinden biri değildir?

- A) Yaban
- B) Türkün Ateşle İmtihanı
- C) Kalp Ağrısı
- D) Ateşten Gömlek

16. "Kiralık Konak", "Nur Baba", "Sodom ve Gomore", "Hüküm Gecesi" adlı romanlar aşağıdaki yazarlardan hangisine aittir?

- A) Halide Edip Adivar
- B) Ahmet Rauf
- C) Halit Ziya Uşaklıgil
- D) Yakup Kadri Karaosmanoğlu

17. Klasik olay hikâyesi tarzında yazan, Ömer Seyfettin'in de örnek aldığı Fransız yazar aşağıdakilerden hangisidir?

- A) Montaigne
- B) Moliere
- C) Voltaire
- D) Guy de Maupassant

18. Batılılaşmanın Türk edebiyatında başladığı dönem aşağıdakilerden hangisidir?

- A) Tanzimat Edebiyatı
- B) Servet-i Fünûn Edebiyatı
- C) Fecr-i Ati Edebiyatı
- D) Millî Edebiyat

19. Aşağıdakilerden hangisi Tevfik Fikret'in şiir sanatının özelliklerinden biri değildir?

- A) Sone, terzarima gibi nazım şekillerini kullanması
- B) Yalın bir dil kullanması
- C) Duygu ve düşüncelerini beyit yerine dize içerisinde tamamlaması
- D) Türkçeyi aruz ölçüsüne ustalıkla uygulaması

20. Aşağıdakilerden hangisi Faruk Nafiz Çamlıbel'in eserlerinden biri değildir?

- A) Han Duvarları
- B) Kızıl Elma
- C) Yıldız Yağmuru
- D) Dinle Neyden

SINAVDA UYULMASI GEREKEN GENEL KURALLAR

1. Sınava girmek için gerekli belgelerinizin tümünü sınav başlamadan önce sıranızın üzerine bırakınız.
2. Sınav süresince görevlilerle konuşmak, görevlilere soru sormak yasaktır. Aynı şekilde görevlilerin de öğrencilerle yakından ve alçak sesle konuşmaları yasaktır. Gerekli durumlarda görevliler yerinizi değiştirebilir.
3. Size verilen cevap kâğıdının üzerindeki TCKN/Öğrenci no, ad, soyadı, bilgilerini kontrol ediniz, ilgili alanları eksiksiz doldurarak imzalayınız. Bu bilgiler size ait değilse, görevlileri uyararak size ait cevap kâğıdını isteyiniz. Başka öğrenciye ait cevap kâğıdı kullanan öğrencilerin o oturumdaki sınavları geçersiz sayılır.
4. Cevap kâğıdı üzerine test grubunu (A, B, C, D) kodlamayan veya birden fazla kodlama yapan öğrencilerin sınavları geçersiz sayılır.
5. Cevap kâğıdınıza yazacağınız her türlü yazı ve yapacağınız işaretlemeler için koyu yazan siyah kurşun kalem kullanmalısınız. Siyah kurşun kalem dışında farklı bir kalem (tükenmez, mürekkepli ya da renkli vb.) kullanan öğrencilerin sınavları geçersiz sayılır.
6. Cevap kâğıdı üzerinde değişiklik yapmak istediğinizde, iz bırakmayan bir silgi kullanınız. Cevap kâğıdınızı buruşturmayınız, katlamayınız ve üzerine gereksiz hiçbir işaret koymayınız.
7. Cevaplarınızı, cevap kâğıdında ilgili test için ayrılmış olan alana, cevap yerinin dışına taşımadan işaretleyiniz. Soru kitapçığı üzerinde yapılan işaretlemeler değerlendirmeye alınmayacaktır.
8. Her sorunun tek bir doğru cevabı vardır. Bir soru için birden çok cevabı işaretlerseniz, o soruyu yanlış cevaplamış sayılacaksınız.
9. Soru kitapçığınızı aldıңызda sayfalarına hızlıca bakarak hatalı ya da eksik baskı olup olmadığını kontrol ediniz. Hata/eksik olması durumunda kitapçığının değiştirilmesi için derhâl Salon Başkanına başvurunuz. Sınav görevlileri sınavın başladığını belirtmeden kitapçığınızı tekrar açmayınız.
10. Cevap kâğıdınızda belirtilen kitapçık kodu ile soru kitapçığının kodunu karşılaştırınız. Aynı değilse, sınav görevlilerine durumu bildirerek doğru kitapçığın verilmesini talep ediniz.
11. Soru kitapçığındaki ilgili alanlara ad, soyadı, TCKN/Öğrenci no, sınav salon no, sıra no bilgilerinizi eksiksiz doldurarak imzanızı atınız. Soru kitapçığının sayfalarındaki boş yerleri müsvedde amacıyla kullanabilirsiniz.
12. Aşağıdaki durumlarda sınav görevlileri tarafından Bireysel Sınav İptal Tutanağı düzenlenerek ilgili öğrencilerin sınavları geçersiz sayılır:
 - a) Sınav kurallarına ve sınav görevlilerinin uyarılarına uymamak, sınav düzenini bozmak,
 - b) Kâğıt, kitap, defter, not vb. dokümanları; pergel, açıölçer, cetvel vb. araçları; cep telefonu, bilgisayar, tablet, telsiz, kamera vb. iletişim, depolama, kayıt ve veri aktarma cihazlarını; ruhsatlı veya resmi amaçlı olsa bile silah ve silah yerine geçebilecek nesnelere yanında bulundurmamak,
 - c) Sınav sırasında kalem, silgi vb. araç-gereç paylaşımında bulunmak,
 - d) Cevapları, cevap kâğıdı dışında bir yere yazmak ve sınav salonundan dışarı çıkarmak,
 - e) Sınava girebilmek için gerekli belgeleri eksik olduğu halde sınava katılıp, cevap kâğıdında işaretleme yapmak,
 - f) Sınav görevlileri tarafından öğrencinin kimliğinden şüphe duyulması,
 - g) Cevap kâğıdını ve/veya soru kitapçığını sınav görevlilerine eksiksiz ve sağlam şekilde teslim etmemek, sınav salonu dışına çıkarmak,
 - h) Kopya çekmek, vermek, çekilmesine yardımcı olmak vb. eylemlerde bulunmak,
 - i) Kendisi yerine başkasını sınava sokmak.
13. Sınav bitiminde, cevap kâğıdınızı ve soru kitapçığınızı salon görevlilerine eksiksiz biçimde teslim ediniz. Sınav bittikten sonra gönderilen cevap kâğıtları dikkate alınmayacaktır.

SINAV KURALLARINA UYDUĞUNUZ İÇİN TEŞEKKÜR EDER, SINAVINIZDA BAŞARILAR DİLERİZ.