



ANADOLU ÜNİVERSİTESİ  
AÇIKÖĞRETİM FAKÜLTESİ  
BA - AÇIKÖĞRETİM OKULLARI

**T.C. MİLLİ EĞİTİM BAKANLIĞI**  
**Hayat Boyu Öğrenme Genel Müdürlüğü**  
**AÇIKÖĞRETİM LİSESİ – BATI AVRUPA PROGRAMI**  
**2015-2016 ÖĞRETİM YILI III. DÖNEM SINAVI**

1. OTURUM Cumartesi 09:00

TEST GRUBUNUZ

**A**

**0101**

**ÖĞRENCİNİN**

SOYADI : .....

ADI : .....

T.C. KİMLİK NO / ÖĞRENCİ NO : .....

SINAV SALON NO : ..... SIRA NO: .....

Sınavla ilgili soru kitapçığının ön ve arka kapağındaki tüm kuralları okudum, anladım, kabul ediyorum.

İMZA:.....

**SINAV İÇERİĞİ**

Testin Adı	Soru Sayısı	Sayfa No	Testin Adı	Soru Sayısı	Sayfa No
DİN KÜLTÜRÜ VE AHLAK BİLGİSİ 7	20	02	SANAT TARİHİ 2	20	27
TARİH 1	20	04	SEÇMELİ COĞRAFYA 3	20	29
COĞRAFYA 2	20	06	HZ. MUHAMMED'İN HAYATI 2	20	31
COĞRAFYA 4	20	08	SEÇMELİ DİL VE ANLATIM 8	20	33
COĞRAFYA 8	20	10	SEÇMELİ TÜRK EDEBİYATI 5	20	35
DİL VE ANLATIM 6	20	12	ALMANCA 3	20	37
TÜRK EDEBİYATI 2	20	14	İNGİLİZCE 3	20	40
TÜRK EDEBİYATI 7	20	16	FRANSIZCA 3	20	43
FİZİK 4	20	18	SEÇMELİ ALMANCA 8	20	46
KİMYA 6	20	21	SEÇMELİ İNGİLİZCE 8	20	49
ÇAĞDAŞ TÜRK VE DÜNYA TARİHİ 1	20	23	SEÇMELİ FRANSIZCA 8	20	52
MANTIK 2	20	25	MATEMATİK 1	20	54

**SINAVDA UYULMASI GEREKEN ÖZEL KURALLAR**

1. Bu kitapçıkta yer alan her bir test için cevaplama süresi 30 dakika, toplam süre 150 dakikadır.
2. Öğrenciler sınavın ilk 30 dakikası ve son 5 dakikası içinde sınavlarını tamamlasalar bile salonu terk edemezler. Sınavın başlamasını izleyen ilk 15 dakikadan sonra hiçbir öğrenci sınava alınmaz.
3. Yanlış cevaplarınız dikkate alınmayacaktır. Bu nedenle kitapçığındaki tüm sorular için size doğru gelen seçeneği işaretleyerek cevapsız soru bırakmanız yararınıza olacaktır.
4. Sınav sırasında hesap makinesi kullanabilirsiniz. Ancak, kullanacağınız makinede alfabetik tuş takımının (A, B, C, ..., Y, Z), program yapılmasına, saklanmasına ve çalıştırılmasına imkân veren EXE, STORE, RUN vb. tuşlar bulunamaz.

"Sınavda Uyulması Gereken Genel Kurallar" soru kitapçığının arka sayfasında yer almaktadır. Bu kuralları da mutlaka dikkatlice okuyunuz.

*Anadolu Üniversitesi tarafından hazırlanmış olan bu testlerin her hakkı saklıdır. Hangi amaçla olursa olsun, testlerin tamamının veya bir kısmının Anadolu Üniversitesi'nin yazılı izni olmadan kopya edilmesi, fotoğraflarının çekilmesi, herhangi bir yolla çoğaltılması, yayımlanması ya da kullanılması yasaktır. Bu yasağa uymayanlar gerekli cezai sorumluluğu ve testlerin hazırlanmasındaki mali külfeti peşinen kabullenmiş sayılır.*

1. Aşağıdakilerden hangisi ölen birine karşı yapılması gereken sorumluluklardan biri değildir?

- A) Cenaze namazını kılmak
- B) Ölüyü yıkamak
- C) Dua etmek
- D) Elbiselerini dağıtmak

2. Dünyada yapılan her davranışın karşılığının görüleceği ve ölüp tekrar dirildikten sonra bunlardan hesap sorulacağına inanmak aşağıdakilerden hangisiyle ilgilidir?

- A) Meleklerle imanla
- B) Kitaplara imanla
- C) Ahirete imanla
- D) Peygamberlere imanla

3. Neylersin ölüm herkesin başında...  
Uyudun uyanamadın olacak,  
Kim bilir nerede, nasıl, kaç yaşında?  
Bir namazlık saltanatın olacak  
Taht misali o musalla taşında!

Ahirete uğurlanma duygusunun bahsedildiği bu dörtlüğün yazarı aşağıdakilerden hangisidir?

- A) Cahit Sıtkı Tarancı
- B) Hz. Mevlana
- C) Necip Fazıl Kısakürek
- D) Yunus Emre

4. O demde ki, perdeler kalkar perdeler iner  
Azrail'e "hoş geldin" diyebilmekte hüner.  
Kapı kapı bu yolun sonu kapısı ölümse;  
Her kapıda ağlayıp, o kapıda gülümse.

Ölüm duygusunun bahsedildiği bu dörtlüğün yazarı aşağıdakilerden hangisidir?

- A) Necip Fazıl Kısakürek
- B) Yunus Emre
- C) Hz. Mevlana
- D) Yusuf Has Hacıp

5. Ahirete iman ile ilgili aşağıdaki ifadelerden hangisi yanlıştır?

- A) İnsana ilahi adalete güvenme duygusu verir.
- B) İnsana, dünya hayatını anlamlandırılmalarına katkı sağlar.
- C) İnsanın dünya hayatının güzelliklerinden mahrum kalmasını gerektirir.
- D) İnsana yaptıklarının sorumluluğunu taşıma şuuru verir.

6. Allah'ın günahları örtmesi ve bağışlamasına ne ad verilir?

- A) Mağfiret
- B) İstiğfar
- C) Tövbe
- D) Yakarma

7. Aşağıdakilerden hangisi tövbenin şartlarından biri değildir?

- A) Günahı terk etmek
- B) Sadakasını ödemek
- C) Yaptığından pişman olmak
- D) Bir daha yapmamaya karar vermek

8. Bağışlama ile ilgili aşağıdaki ifadelerden hangisi yanlıştır?

- A) İnsanı yüceltir.
- B) Bir zaaftır.
- C) Sevgi temellidir.
- D) Toplumsal hoşgörünün temelidir.

9. Kütübü Sitte'nin altıncı kitabını aşağıdakilerden hangisi yazmıştır?

- A) Nesai
- B) Ebu Davud
- C) Tirmizi
- D) İbni Mace

10. Aşağıdakilerden hangisi Hz. Peygamberin Kur'an'ı açıklama konusundaki temel görevlerinden biri değildir?

- A) Hüküm koyuculuk
- B) Destekleyicilik
- C) Yorumlayıcılık
- D) Zikirlik

11. Kur'an'dan sonra en sağlam kitap olarak İslam alimlerinin beğenisine mazhar olan hadis kitabı aşağıdakilerden hangisidir?

- A) Sünen-i Ebu Davud
- B) Sünen-i Tirmizi
- C) Sahih-i Buhari
- D) Sahih-i Müslim

12. Aşağıdakilerden hangisi Sünen türünde eserler vermemiştir?

- A) Ebu Davud
- B) Buhari
- C) Tirmizi
- D) Nesai

13. Aziz Mahmut Hüdai'ye nisbet edilen tasavvuf ekolu aşağıdakilerden hangisidir?

- A) Celvetiyye
- B) Bektaşiyye
- C) Bayramiyye
- D) Nusriyye

14. Tasavvuf yoluna koyularak bu yolu benimseyen kişiye ne ad verilir?

- A) Sufi
- B) Hacı
- C) Aşık
- D) Nebi

15. Şeyh Nasirüddin'e nisbet edilen tasavvuf ekolu aşağıdakilerden hangisidir?

- A) Nusriyye
- B) Bektaşiyye
- C) Ahilik
- D) Bayramiyye

16. Tasavvufun asıl kaynağı aşağıdakilerden hangisidir?

- A) Namaz
- B) Kur'an ve Sünnet
- C) Mutasavvıf
- D) Sufilik

17. Aşağıdakilerden hangisi Mevleviliğin temel ilkelerinden biri değildir?

- A) Mevlana'yı pir tanımak
- B) İnsanlığa hizmet etmek
- C) Sadece manevi bakımdan temiz olmak
- D) Akli iyi kullanmak, hikmet sahibi olmak

18. Hacı Bayram Veli'ye nisbet edilen tasavvuf ekolu aşağıdakilerden hangisidir?

- A) Celvetiyye
- B) Nusriyye
- C) Bektaşiyye
- D) Bayramiyye

19. Aşağıdakilerden hangisi Divan-ı Hikmette geçen konulardan biri değildir?

- A) Dünyanın durumundan şikâyet
- B) Sema ve çilenin değeri
- C) Dervişlerin faziletleri
- D) Cennet ve cehennem hikâyeleri

20. Mevlevilikte bin bir gün süren halveti (çile) tamamlayan kişiye ne ad verilir?

- A) Hacı
- B) Usta
- C) Mürit
- D) Derviş

1. Ay yılını esas alan takvimi ilk kez kullanan medeniyet aşağıdakilerden hangisidir?

- A) Sümerler
- B) Frigler
- C) Mısırlılar
- D) Hititler

2. Aşağıdakilerden hangisi tarihe yardımcı bilimlerden olan kronolojinin inceleme alanıdır?

- A) Eski paralar
- B) Anıtlar, kitabeler ve tabletler
- C) Olayların, zamanının bildirerek sıralanması
- D) Eski yazı çeşit ve türleri

3. Aşağıdakilerden hangisinin adına bir kitabe dikilmemistir?

- A) Bilge Kağan
- B) Kapgan Kağan
- C) Tonyukuk
- D) Kül Tegin

4. Türklerde ekonomik hayat ile ilgili aşağıdaki ifadelerden hangisi yanlıştır?

- A) Komşularıyla ticaretle en çok değerli madenler ihraç etmişlerdir.
- B) Ekonominin temelini hayvancılık oluşturmuştur.
- C) Genellikle at, koyun, sığır ve deve gibi hayvanlar yetiştirmişlerdir.
- D) Ticareti geliştirmek için komşularıyla anlaşmalar yapmışlardır.

5. Aşağıdakilerden hangisi yazılı kaynaklar arasında ver almaz?

- A) Kitabeler
- B) Şecereler
- C) Takvimler
- D) Destanlar

6. Aşağıdakilerden hangisi Sümer şehir devletlerinden biri değildir?

- A) Tuşpa
- B) Ur
- C) Uruk
- D) Eridu

7. Türk devletlerindeki töre ile ilgili aşağıdaki ifadelerden hangisi yanlıştır?

- A) Hükümdarın buyrukları, halkın gelenekleri ve kurultayda alınan kararlardan oluşmuştur.
- B) Yazılı olmayan hukuk kurallarıdır.
- C) Töreye uymamak en büyük suçtur.
- D) Hükümdar hariç herkes töreye uymak zorundadır.

8. Mezopotamya'nın kelime anlamı aşağıdakilerden hangisidir?

- A) Güneşin doğduğu yer
- B) İki dağ arası
- C) İki nehir arası
- D) Ay ışığı

9. Aşağıdakilerden hangisi Türklerin Orta Asya'dan göç etmelerinin nedenleri arasında ver almaz?

- A) Ordudaki asker sayısının azalması
- B) Kuraklık ve aşırı soğukların olması
- C) Hayvan hastalıklarının çoğalması
- D) Dış baskıların artması

10. Tarih biliminde toplanan verilerin bir sistem dâhilinde sınıflandırılması aşamasına ne ad verilir?

- A) Tarama
- B) Tahlil
- C) Tasnih
- D) Tekip

11. Aşağıdakilerin hangisinde tarih mekâna göre sınıflandırılmıştır?

- A) Yakınçağ tarihi
- B) Asya tarihi
- C) Sanat tarihi
- D) Siyasi tarih

12. Aşağıdakilerden hangisi Roma Uygarlığı'nın dönemlerinden biri değildir?

- A) Krallık Dönemi
- B) İmparatorluk Dönemi
- C) Cumhuriyet Dönemi
- D) Rahipler Dönemi

13. Bakır ve kalayın karıştırılmasıyla elde edilen maden aşağıdakilerden hangisidir?

- A) Asbest
- B) Tunç
- C) Krom
- D) Boksit

14. Orta Çağ ile ilgili aşağıdaki ifadelerden hangisi yanlıştır?

- A) Magna Carta Antlaşması imzalanmıştır.
- B) Haçlı seferleri yapılmıştır.
- C) Kral yolu bu dönemde yapılmıştır.
- D) Bilim hayatının gelişmesi engellenmiştir.

15. Matematikte ilk defa dört işlemi kullanan uygarlık aşağıdakilerden hangisidir?

- A) Sümerler
- B) Mısırlılar
- C) Babiller
- D) Hititler

16. Asya Hun Devleti'nin bilinen ilk hükümdarı aşağıdakilerden hangisidir?

- A) Teoman
- B) Mete
- C) Yuçukien
- D) Huçing

17. Uygur Devleti'nin kurucusu aşağıdakilerden hangisidir?

- A) Moyen-Çur Kağan
- B) Baga Tarkan Kağan
- C) Böğü Kağan
- D) Kutluk Bilge Kül Kağan

18. Yazı, para, kâğıt ve takvim gibi buluşların ortaya çıktığı çağ aşağıdakilerden hangisidir?

- A) Yeni Çağ
- B) Orta Çağ
- C) İlk Çağ
- D) Maden Çağı

19. Aşağıdakilerden hangisi Avrupa Hun Devleti ve Doğu Roma arasında imzalanan Margos Antlaşması'nın maddeleri arasında ver almaz?

- A) Romalı mülteciler ve esirlerin her biri için Avrupa Hunlarına sekiz altın fidye verecek.
- B) Bizans'ın Avrupa Hunlarına verdiği vergi 300 altından 700 altına çıkarılacak.
- C) Hunlar tarafından esir edilmiş Romalılar ülkelerini terk eden Hunlar Doğu Roma Devletine kabul edilmeyecek.
- D) Bizans vergi haricinde Avrupa Hunlarına toprak da verecek.

20. Genel olarak olay ve olguların geçtiği, geçmekte olduğu ve geçeceği süreye ne ad verilir?

- A) Tarih
- B) Zaman
- C) Süreç
- D) Gün

1. Aşağıdakilerden hangisi oluşumuna göre ovalardan biri değildir?
  - A) Kıyı ovaları
  - B) Delta ovaları
  - C) Tektonik ovalar
  - D) Karstik ovalar
2. Akarsular tarafından derince yarılmış olan engebeli düzlüklere ne ad verilir?
  - A) Kanyon
  - B) Plato
  - C) Yamaç
  - D) Ova
3. Obrukların oluşum şekli aşağıdakilerden hangisidir?
  - A) Şiddetli yağışlar sonucu oluşur.
  - B) Sert rüzgârların aşındırmasıyla oluşur.
  - C) Akarsuların debilerinin yüksek olması ve kuvvetli aşındırma yapmasıyla oluşur.
  - D) Karstik arazilerin mağara tavanlarının çökmesiyle oluşur.
4. Tarla ve bahçe ziraatı olarak topraktan yararlanma, hayvancılık, ormancılık, balıkçılık, madencilik faaliyetlerini konu alan coğrafya dalı aşağıdakilerden hangisidir?
  - A) Tarım coğrafyası
  - B) Ticaret coğrafyası
  - C) Yerleşme coğrafyası
  - D) Nüfus coğrafyası
5. Aşağıdaki şehirlerden hangisi idari kent özelliğinde değildir?
  - A) Berlin
  - B) Madrid
  - C) İstanbul
  - D) Viyana
6. Aşağıdakilerden hangisi, iklimi etkileyen özel konumla ilgili faktörlerden biri değildir?
  - A) Basınç merkezleri
  - B) Ülkenin sınırları
  - C) Etrafındaki kara kütleleri
  - D) Etrafındaki denizler
7. Bir ülkenin gümrük hattı dışında sayılan, ülkede geçerli ticari, mali ve ekonomik alanlara ilişkin hukuki ve idari düzenlemelerin uygulanmadığı veya kısmen uygulandığı, sanayi ve ticari faaliyetler için daha geniş teşviklerin tanındığı yerlere ne ad verilir?
  - A) Serbest bölge
  - B) Değiş-tokuş bölgesi
  - C) Yarı yapılandırılmış bölge
  - D) Kısıtlı bölge
8. Ekvatora uzaklıklarının yaklaşık olarak aynı olmasına rağmen Erzurum ve Balıkesir'in ortalama sıcaklıklarının farklı olmasının sebebi aşağıdakilerden hangisidir?
  - A) Bitki örtüsü
  - B) Demografik yapısı
  - C) Yükselti
  - D) Yüzölçümleri
9. Aşağıdakilerden hangisi liman şehri değildir?
  - A) Sinop
  - B) İzmir
  - C) İstanbul
  - D) Denizli
10. Kıyı yakınındaki adaları kıyıya bağlayan kıyı kordonlarına ne ad verilir?
  - A) Dolin
  - B) Obruk
  - C) Tombolo
  - D) Lagün
11. Aşağıdakilerden hangisi sürekli kuraklık yaşanan bölgelerden biri değildir?
  - A) Kuzey Afrika
  - B) Kuzey Avrupa
  - C) Arap Yarımadası
  - D) Batı Avustralya
12. Peribacaları hangi şehirde bulunmaktadır?
  - A) Yozgat
  - B) Çorum
  - C) Nevşehir
  - D) Kayseri
13. Aşağıdaki ülkelerden hangisi Avrupa Birliğine üye değildir?
  - A) Slovenya
  - B) Arnavutluk
  - C) Hırvatistan
  - D) Romanya

14. Akdeniz, Ege ve Marmara kıyılarında etkili olan, güneybatıdan esen sıcak ve kuru rüzgâr aşağıdakilerden hangisidir?

- A) Yıldız
- B) Lodos
- C) Kible
- D) Karayel

15. Akarsuların, eğimin azaldığı yerlerde sağa sola kıvrılarak akmasına ne ad verilir?

- A) Menderes
- B) Vadi
- C) Kırgıbayır
- D) Peribacası

16. Aşağıdakilerden hangisi küresel ısınmaya en fazla sebep olan etkenlerden biridir?

- A) Balıkçılık faaliyetleri
- B) Aşırı yağışlar
- C) Tarımsal üretimin artması
- D) Sanayi üretimi sırasında ortaya çıkan atıklar

17. Aşağıdakilerden hangisi Türkiye’de görülen iklim çeşitlerinden biri değildir?

- A) Karadeniz iklimi
- B) Karasal iklim
- C) Tropikal iklim
- D) Akdeniz iklimi

18. Aşağıdakilerden hangisi köy altı yerleşme tiplerinden biri değildir?

- A) Divan
- B) Kom
- C) Mezra
- D) Kasaba

19. Aşağıdaki illerden hangisi yıllık ortalama sıcaklık değerleri bakımından diğerlerinden daha sıcaktır?

- A) Samsun
- B) Ankara
- C) Erzurum
- D) Antalya

20. Aşağıdaki enerji kaynaklarından hangisinin çevreye zararı yoktur?

- A) Güneş enerjisi
- B) Doğalgaz
- C) Petrol
- D) Taş kömürü

1. Aşağıdakilerden hangisi Türkiye'de Jeotermal kökenli elektrik enerjisinin üretildiği yerlerden biridir?
- A) Sarayköy (Denizli)  
B) Kızılcahamam (Ankara)  
C) Simav (Kütahya)  
D) Gönen (Balıkesir)
2. Türkiye'de tuzlu toprakların en fazla bulunduğu il aşağıdakilerden hangisidir?
- A) Ardahan  
B) Konya  
C) Artvin  
D) Adana
3. Aşağıdakilerden hangisi Türkiye'deki sanayi şehirlerinden biri değildir?
- A) Muş  
B) Bursa  
C) İstanbul  
D) İzmit
4. Aşağıdakilerden hangisi Ege Denizi'ne dökülen akarsulardan biri değildir?
- A) Çoruh  
B) Gediz  
C) Bakırçay  
D) Büyükmenderes
5. Nüfuslarına göre şehirler ile ilgili aşağıdaki ifadelerden hangisi yanlıştır?
- A) Nüfusu 10.000 – 25.000 arasında olan kentlere küçük kent denir.  
B) Nüfusu 100.000 – 500.000 arasında olan kentlere büyük kent denir.  
C) Nüfusu 25.000 – 100.000 arasında olan kentlere orta büyüklükte kent denir.  
D) Nüfusu 750.000'den fazla olan kentlere metropol kent denir.
6. Aşağıdakilerden hangisi turizm şehirlerinden biri değildir?
- A) İstanbul  
B) Nevşehir  
C) Bursa  
D) Siirt
7. Akdeniz ile Atlas Okyanusu'nu birbirine bağlayan boğaz aşağıdakilerden hangisidir?
- A) Hürmüz Boğazı  
B) Bering Boğazı  
C) Cebelitark Boğazı  
D) Malakka Boğazı
8. Aşağıdakilerden hangisi makiyi oluşturan bitki türlerinden biridir?
- A) Kayın  
B) Kermez meşesi  
C) Akçaağaç  
D) Kestane
9. Aşağıdakilerden hangisi Türkiye'de nüfus ve yerleşmenin dağılımını etkileyen doğal faktörlerden biridir?
- A) Ulaşım  
B) İklim  
C) Ekonomi  
D) Göç
10. Aşağıdakilerden hangisi Türkiye'de en fazla görülen meteorolojik tehlikelerden biri değildir?
- A) Sel ve taşkınlar  
B) Şiddetli yağışlar  
C) Don olayları  
D) Depremler
11. Aşağıdakilerden hangisi erozyonu engellemek için alınması gereken önlemlerden biri değildir?
- A) Toprakların nadasa bırakılmaması  
B) Eğimli yamaçların teraslandırılması  
C) Tarım arazilerinin eğime dik yönde sürülmesi  
D) Meralarda erken ve aşırı otlatma yapılmaması
12. Yolcu ve yük taşımacılığında maliyetin en düşük olduğu ulaşım sistemi aşağıdakilerden hangisidir?
- A) Demir yolu  
B) Kara yolu  
C) Hava yolu  
D) Deniz yolu



13. Aşağıdakilerden hangisi Türkiye'de **en çok** göç alan iller arasında **ver almaz**?

- A) Adana
- B) Kocaeli
- C) Muş
- D) Bursa

14. Aşağıdakilerden hangisi fırtına, hortum ve kasırga gibi olağanüstü hava olaylarının zararlarını azaltmak için alınması gereken önlemlerden biri **değildir**?

- A) Binaların olağanüstü hava olaylarına karşı dayanıklı inşa edilmesi
- B) Erken uyarı sistemlerinin kurulması
- C) İnsanlara gerekli eğitim verilerek bilinçlendirilmesi
- D) Atmosferdeki hava hareketliliğinin yılda 1 kez kontrol edilmesi

15. Aşağıdakilerden hangisi Türkiye'deki nüfus artışının sonuçlarından biri **değildir**?

- A) Kentlerde gecekondulaşmanın başlaması
- B) Kentlerde konut sıkıntısının artması
- C) Kırsal kesimdeki yatırımların verimi artırması
- D) Kırsal kesimde kişi başına düşen toprak miktarının azalması

16. Aşağıdakilerden hangisi göçün nedenlerinden biri **değildir**?

- A) İş imkânlarının kısıtlı olması
- B) Tarımsal üretimdeki verimin düşük olması
- C) Nüfusun dağılımının dengesizliği
- D) Nüfusun hızlı artması

17. Tarihte yazıyı kullanan **ilk** uygarlık aşağıdakilerden hangisidir?

- A) Çinliler
- B) İskitler
- C) Göktürkler
- D) Sümerler

18. Aşağıdakilerden hangisi Türkiye'deki alüvyal set göllerinden biri **değildir**?

- A) Uzun Göl
- B) Çıldır Gölü
- C) Mogan Gölü
- D) Köyceğiz Gölü

19. Vadi tabanlarındaki düzlüklerde, akarsu birikinti ovalarında, delta ovaları ve eski göl tabanlarında akarsuların taşıyarak biriktirdiği malzemelerden oluşan verimli topraklara ne ad verilir?

- A) Regosoller topraklar
- B) Vertisoller topraklar
- C) Alüvyal topraklar
- D) Kolüvyal topraklar

20. Aşağıdakilerden hangisi nüfus artışının olumlu sonuçlarından biri **değildir**?

- A) Yeni iş kollarının oluşması
- B) İş gücü maliyetinin artması
- C) Üretim ve vergi gelirlerinin artması
- D) Mal ve hizmet taleplerinin artması

1. Nükleer enerji santrallerinde yakıt olarak kullanılan ve **çok az** bulunduğu için ilgili ülkeler arasında sorunlara neden olan doğal kaynak türü aşağıdakilerden hangisidir?

- A) Demir
- B) Bakır
- C) Uranyum
- D) Kömür

2. "Hazine Adası" olarak da bilinen Dünya'nın üçüncü büyük adası aşağıdakilerden hangisidir?

- A) Borneo
- B) Malta
- C) Rodos
- D) Galapagos

3. Afrika kıtasındaki ülkeler arasında gelecek yıllarda su savaşlarının yaşanmasına neden olacak olan nehir aşağıdakilerden hangisidir?

- A) Tuna
- B) Amazon
- C) Ganj
- D) Nil

4. Aşağıdakilerden hangisi Türkiye ile kara sınırı olan ülkelerden biri **değildir**?

- A) Suriye
- B) Almanya
- C) İran
- D) Bulgaristan

5. Aşağıdakilerden hangisi Yeşilirmak havzası gelişim projesi kapsamında yer alan ovalardan biridir?

- A) Harran
- B) Konya
- C) Çarşamba
- D) Çukurova

6. - 1961'de Londra'da kuruldu.  
- Örgütün simgesi Büyük Panda'dır.  
- 2002 yılında yaşayan gezegen raporunu yayımlamıştır.  
- 50 ülkede şubesi vardır.

Yukarıda özellikleri verilen çevre örgütü aşağıdakilerden hangisidir?

- A) Dünya doğayı koruma vakfı
- B) Dünya vahşi yaşam fonu
- C) Uluslararası fauna ve flora
- D) Uluslararası doğa koruma birliği

7. Aşağıdakilerden hangisi nüfus projeksiyonlarından elde edilebilecek tahminlerden biri **değildir**?

- A) Göç hareketleri
- B) Ölüm
- C) Nüfus artış hızı
- D) Doğum

8. İnsanı gelişim endeksi **ilk** olarak aşağıdaki hangi ekonomist tarafından geliştirilmiştir?

- A) Mahbub ul Haq
- B) Mihail Gorbaçov
- C) Helmut Kohl
- D) Turgut Özal

9. Aşağıdakilerden hangisi uluslararası çatışmaların yaşandığı ülkelerden biri **değildir**?

- A) Irak
- B) Afganistan
- C) Libya
- D) Japonya

10. "Yurtta sulh , cihanda sulh" sözü aşağıdaki devlet adamlarından hangisine aittir?

- A) Winston Churchill
- B) Mustafa Kemal Atatürk
- C) Adolf Hitler
- D) Fevzi Çakmak

11. Aşağıdakilerden hangisi Türkiye'nin üye olduğu ekonomik, askeri ve siyasi örgütler arasında **ver almaz**?

- A) İKÖ
- B) KEİ
- C) AB
- D) NATO

12. Birleşmiş Milletler Dünya Sürdürülebilir Kalkınma Zirvesi'nde yoksulluk ve sağlık konulu raporda Dünyanın mali durumu ile ilgili aşağıdakilerden hangisine yer verilmemiştir?

- A) Gelişmekte olan ülkelerdeki beslenme bozuklukları sonucu çocuk ölüm oranları yükselmektedir.
- B) Enerji tüketimi sanayileşmiş ülkelerde giderek artmaktadır.
- C) Tarım sektöründe çalışanların oranı gelişmiş ülkelerde az, gelişmemiş ülkelerde ise fazladır.
- D) En zengin ülkeler ile en fakir ülkeler arasındaki fark giderek azalmaktadır.

13. Aşağıdakilerden hangisi insani gelişim endeksinde yüksek seviyede yer alan ülkelerden biridir?

- A) Somali
- B) Norveç
- C) Bahreyn
- D) Uganda

14. Aşağıdaki büyükşehirlerden hangisinin nüfus yoğunluğu diğerlerine göre azdır?

- A) Konya
- B) İstanbul
- C) İzmir
- D) Adana

15. - Ruhr sanayi bölgesinin olduğu Avrupa ülkesi neresidir?  
 - Afrika kıtasının tek kağıt ve selüloz üreticisi olan ülke neresidir?  
 - Sarı Irmak ve Mavi Irmak nehirlerinin olduğu Asya ülkesinin adı nedir?

Aşağıdakilerden hangisi yukarıdaki sorulara verilecek cevaplar arasında ver almaz?

- A) Almanya
- B) Çin Halk Cumhuriyeti
- C) Güney Afrika Cumhuriyeti
- D) İtalya

16. Sulak alanlar bakımından Avrupa ve Orta Doğu'nun en zengin ülkesi aşağıdakilerden hangisidir?

- A) Azerbaycan
- B) Türkiye
- C) Suriye
- D) İtalya

17. Aşağıdakilerden hangisi Türkiye'de uygulanan ve uygulanacak olan bölgesel kalkınma projelerinin ortak hedeflerinden biri değildir?

- A) Bölge dışına yapılan göçleri yavaşlatmak
- B) Kişi başına düşen geliri yükseltmek
- C) Tarım yerine sanayi sektörünü geliştirmek
- D) Bölgeler arasındaki kalkınmışlık farkını azaltmak

18. Aşağıdakilerden hangisi Türkiye'de cumhuriyetin ilk yıllarında uygulanan nüfus politikalarından biri değildir?

- A) Şehirlere göçün teşvik edilmesi
- B) Doğum evleri kurmak
- C) Ücretsiz ilaç dağıtmak
- D) Çok çocuklu aileleri para ile ödüllendirmek

19. I- Değişmeyen unsurlar  
 II- Zaman  
 III- Değişen unsurlar

Yukarıdakilerden hangileri jeopolitikte etkili olan unsurlar arasında yer alır?

- A) Yalnız I
- B) Yalnız III
- C) II ve III
- D) I,II ve III

20.

PROJELER	İLLER
I- GAP	a- Bayburt
II- DOKAP	b- Muş
III- DAP	c- Batman

Yukarıdaki projeler ve kapsamındaki iller arasında yapılacak eşleştirmelerden hangisi doğrudur?

- A) I-a,II-b,III-c
- B) I-c,II-a,III-b
- C) II-b,I-c,III-a
- D) III-b,II-c,I-a

1. Başarılı bir söylevci ile ilgili aşağıdaki ifadelerden hangisi yanlıştır?

- A) Uzun cümleler kurar.
- B) Dinleyicilerin kendisinden neler beklediğini bilir.
- C) Üzerinde konuştuğu konuyu bütün yönleri ile bilir.
- D) Söyleyeceklerine önce kendisi inanır.

2. Aşağıdaki cümlelerin hangisinde ses daralmasına uğramış bir sözcük vardır?

- A) Bu olanlar bilgisizliğin son örneği.
- B) Bu yapıları kimse kabullenemez.
- C) Annem bu akşam bizimle gelmiyor.
- D) Evdeki çekyatı atacakmış.

3. Söylevle ilgili aşağıdaki ifadelerden hangisi yanlıştır?

- A) Konuşmacı dinleyicilerin zevk, kültür düzeyleri ve gereksinimlerini göz önünde bulundurmalıdır.
- B) Konuşmada jest, mimik ve hareket olmamalıdır.
- C) Söylev etkili ve heyecanlı cümlelerle bitirilmelidir.
- D) Konuşmacı vurgu ve tonlamalara da dikkat etmelidir.

4. Aşağıdakilerden hangisi konularına göre röportaj türlerinden biridir?

- A) Eşyayı konu alan röportajlar
- B) Dinsel konuları ele alan röportajlar
- C) Siyasi konuları ele alan röportajlar
- D) Askeri konuları ele alan röportajlar

5. Aşağıdakilerden hangisi mülakatın özelliklerinden biri değildir?

- A) Ünlü kişilerle yapılması
- B) Amacının toplumu aydınlatmak olması
- C) Soru-cevap şeklinde gerçekleştirilmesi
- D) Topluluk önünde gerçekleştirilmesi

6. Aşağıdaki yazar ve eser eşleştirmelerinden hangisi yanlıştır?

- A) Yaşar Kemal- Peri Bacaları
- B) Necmi Onur- Ustalarla Konuşmalar
- C) Fikret Otyam- Ha Bu Diyar
- D) Yaşar Nabi Nayır- Edebiyatçılarımız Konuşuyor

7. Sorular herkesin anlayabileceği gibi açık ve net olmalı, alınan cevap aynen aktarılmalı ve ayrıntıya girilmemelidir.

Yukarıda sözü edilen edebi tür aşağıdakilerden hangisidir?

- A) Söylev
- B) Fıkra
- C) Deneme
- D) Mülakat

8. Aşağıdakilerden hangisi sözlü anlatım türlerinden biridir?

- A) Nutuk
- B) Deneme
- C) Makale
- D) Mektup

9. Röportajla ilgili aşağıdaki ifadelerden hangisi yanlıştır?

- A) Röportajlarda öğretici, açıklayıcı, kanıtlayıcı, betimleyici anlatım türlerinden yararlanılır.
- B) Röportajda ele alınan konular, toplumu ilgilendiren bir olay ya da konu olmalıdır.
- C) Röportaj yapan kişi elde ettiği bilgilere kendi görüş ve düşüncelerini katmaz.
- D) Röportajlarda öznellik hâkimdir.

10. Aşağıdakilerden hangisi söylevin amaçlarından biridir?

- A) Belli bir fikri, bir duyguyu heyecandırarak aşılacak
- B) Bilgi vermek
- C) Bir sorunu değişik boyutları ile incelemek
- D) Ünlü birini tanıtmak

11. Genellikle parlamentolarda, diplomatik toplantılarda, mitinglerde kullanılan söylevlere ne ad verilir?

- A) Askeri söylev
- B) Siyasi söylev
- C) Sosyal söylev
- D) Hukuksal söylev

12. **Buluşma, görüşme, konuşma anlamına da gelen metin türü aşağıdakilerden hangisidir?**

- A) Nutuk
- B) Röportaj
- C) Mülakat
- D) Söylev

13. **Aşağıdakilerden hangisi Türk edebiyatındaki söylev yazarlarından biri değildir?**

- A) Ümit Yaşar Oğuzcan
- B) Rıza Tevfik Bölükbaşı
- C) Süleyman Nazif
- D) Osman Bölükbaşı

14. "Yüz bin okur tarafından bir kez okunmak mı istersiniz yoksa bir okur tarafından yüz bin kez mi ( ) Bu soruya Paul Valery şu yanıtı verir ( ) "Yüz bin okur tarafından yüz bin kez okunmak isterim ( )"

**Yukarıdaki parçada parantez ile belirtilen yerlere sırasıyla aşağıdaki noktalama işaretlerinden hangileri getirilmelidir?**

- A) (.) (:) (!)
- B) (?) (.) (!)
- C) (?) (...) (.)
- D) (?) (:) (.)

15. **Bir vakıfta çalışan ve ünlü bir kişinin özelliklerini ona sorulan sorularla anlatan gazete yazısının türü aşağıdakilerden hangisidir?**

- A) Öykü
- B) Deneme
- C) Röportaj
- D) Fıkra

16. **Aşağıdakilerin hangisinde -ki eki ünlü uyumlarına uymuştur?**

- A) kitaptaki
- B) taştaki
- C) sokaktaki
- D) dünkü

17. **Aşağıdaki eser ve tür eşleştirmelerinden hangisi yanlıştır?**

- A) Onuncu Yıl Nutku-Söylev
- B) Bu Diyar Baştan Başa- Söylev
- C) Çukurova Yana Yana- Röportaj
- D) Göktürk Yazıtları- Söylev

18. **İnsanları heyecanlandırmak, bir fikri, bir kanaati insanlara aşlamak ve benimsetmek isteyen bir konuşmacının seçeceği tür aşağıdakilerden hangisidir?**

- A) Mülakat
- B) Röportaj
- C) Söylev
- D) Sohbet

19. **Aşağıdaki kelimelerden hangisinin anlamı doğru verilmiştir?**

- A) hatip: konuşma
- B) tutarlılık: tutarlı olma durumu
- C) hitabet: etkili söz söyleyen kişi
- D) beşeriyet: canlılık

20. **"Onlar benim fikir ve görüşlerime önem verirler." cümlesindeki anlatım bozukluğunun nedeni aşağıdakilerden hangisidir?**

- A) Aynı anlamdaki sözcüklerin bir arada kullanılması
- B) Ses benzeşmesine uğramış sözcüklerin kullanılması
- C) Ses türemesinin gerçekleştiği sözcüklerin kullanılması
- D) Ses daralmasının gerçekleştiği sözcüklerin kullanılması

1. "Kalevâla" adlı destan aşağıdakilerden hangisine aittir?

- A) Türk edebiyatına
- B) Rus edebiyatına
- C) Fin edebiyatına
- D) Azeri edebiyatına

2. Aşağıdakilerden hangisi Türk edebiyatında yer alan belli başlı orta-oyunlardan biri değildir?

- A) Hamam
- B) Berber Oyunu
- C) Kanlı Nigar
- D) Hürrem Sultan

3. "Şehname" adlı destan aşağıdakilerden hangisine aittir?

- A) Çin edebiyatına
- B) İran edebiyatına
- C) Hint edebiyatına
- D) Türk edebiyatına

4. "Çılgın Orlando" adlı destanın yazarı aşağıdakilerden hangisidir?

- A) Homeros
- B) Ariosto
- C) Lönnrot
- D) Milton

5. "Ergenekon" adlı destan aşağıdakilerden hangisine aittir?

- A) Türk edebiyatına
- B) İran edebiyatına
- C) Yunan edebiyatına
- D) Alman edebiyatına

6. "Kaybolmuş Cennet" adlı destanın yazarı aşağıdakilerden hangisidir?

- A) Ariosto
- B) Dante
- C) Milton
- D) Tasso

7. I. Şu Destanı  
II. Türeyiş Destanı  
III. Göç Destanı

Yukarıdaki destanlardan hangileri Uygur Destanları arasında yer alır?

- A) Yalnız I
- B) Yalnız III
- C) I ve II
- D) II ve III

8. Aşağıdakilerden hangisi tamamen nazım şeklinde yazılır ve bestelenir?

- A) Bale
- B) Opera
- C) Komedi müzikal
- D) Trajedi

9. "Kuvâ-yı Milliye Destanı" adlı destan aşağıdaki şairlerden hangisine aittir?

- A) Behçet Necatigil
- B) Fazıl Hüsnü Dağlarca
- C) Nazım Hikmet
- D) Ceyhun Atuf Kansu

10. La Fonten'in "Toprak Tencere ile Bakır Tencere" adlı hikâyesini aşağıdaki şairlerden hangisi manzum hale getirmiştir?

- A) Orhan Veli Kanık
- B) Behçet Necatigil
- C) Oktay Rifat
- D) Yusuf Ziya Ortaç

11. "Sakarya Meydan Savaşı" adlı destan aşağıdaki şairlerden hangisine aittir?

- A) Behçet Necatigil
- B) Oktay Rifat
- C) Ceyhun Âtuf Kansu
- D) Yusuf Ziya Ortaç

12. Bir sanat eserinin, bir sanatçının gerçek değerini ortaya koymak amacıyla inceleme sonucu yazılan yazılara ne ad verilir?

- A) Anı
- B) Deneme
- C) Fıkra
- D) Eleştiri

13. Aşağıdaki eserlerden hangisi gezi yazısı türünde yazılmıştır?

- A) Son Kuşlar
- B) Medeniyet Savaşı
- C) Semerkant
- D) Nalınlar

14. Aşağıdakilerden hangisi Türk edebiyatındaki deneme yazarlarından biri değildir?

- A) Ömer Seyfettin
- B) Nurullah Ataç
- C) Oktay Akbal
- D) Suut Kemal Yetkin

15. “Şair Dostlarım” adlı eser aşağıdaki yazarlardan hangisine aittir?

- A) İlhan Berk
- B) Oktay Akbal
- C) Ece Ayhan
- D) Edip Cansever

16. Türk Tiyatrosunda “Kahvede Şenlik Var” adlı oyun tür olarak aşağıdakilerden hangisine örnektir?

- A) Komediye
- B) Drama
- C) Trajediye
- D) Operaya

17. “Ziya'ya Mektuplar” adlı eser aşağıdaki yazarlardan hangisine aittir?

- A) Ahmet Hamdi Tanpınar
- B) Necip Fazıl Kısakürek
- C) Ahmet Muhip Dıranas
- D) Cahit Sıtkı Tarancı

18. Bir yazarın veya önemli kişilerin başından geçen ya da yaşadıkları devirde tanık oldukları, duydukları olayları anlattığı yazılara ne ad verilir?

- A) Deneme
- B) Anı
- C) Makale
- D) Fıkra

19. “İzlenimci Eleştiri” ile ilgili aşağıdaki ifadelerden hangisi yanlıştır?

- A) Sanat eseri sadece dış nedenlere göre değerlendirilemez.
- B) Eleştirmenin öznel tutumunu belirtme anlayışıdır.
- C) Sanat eserini incelemede birtakım değişmeyen kural ve ilkeler uygulanır.
- D) Bu eleştiriye göre insanın huyu, beğenisi zamanla değişir.

20. Aşağıdakilerden hangisi kişisel hayatı konu alan yazı türlerinden biridir?

- A) Fıkra
- B) Deneme
- C) Makale
- D) Mektup

1. Yedi Meşaleciler topluluğunun en güçlü şairi olan ve şiirlerinde kader, ölüm ve küçük mutlulukları işleyen şair aşağıdakilerden hangisidir?
- A) Ziya Osman Saba  
B) Yaşar Nabi Nayır  
C) Muammer Lütfi  
D) Cevdet Kudret
2. İbrahim Şinasi ve Ağah Efendi'nin birlikte çıkardıkları gazete aşağıdakilerden hangisidir?
- A) Vakit  
B) Ceride-i Havadis  
C) Tercüman-ı Ahval  
D) Takvim-i Vekayi
3. Boş Beşik, Susuz Yaz, Nalınlar adlı sahnelenmiş oyunların yazarı aşağıdakilerden hangisidir?
- A) Necati Cumalı  
B) Orhan Kemal  
C) Aziz Nesin  
D) Adalet Ağaoğlu
4. Türk edebiyatında deneme türünün en önemli yazarı aşağıdakilerden hangisidir?
- A) Nurullah Ataç  
B) Ahmet Rasim  
C) Haldun Taner  
D) Uğur Kökten
5. Aşağıdakilerden hangisi makalenin özelliklerinden biri değildir?
- A) Öne sürülen düşüncenin inandırıcı biçimde geliştirilmiş olması ve kanıtlanması  
B) Söz oyunlarına başvurulmaması  
C) Konu bakımından sınırlı olması  
D) Anlatımın yalın ve yoğun olması
6. Aşağıdakilerden hangisi makale türlerinden biri değildir?
- A) Askeri makale  
B) Siyasal makale  
C) Başmakale  
D) Edebi makale
7. Garip akımı ile ilgili aşağıdaki ifadelerden hangisi yanlıştır?
- A) Yaşama sevinci, günlük yaşam, küçük adamın dertleri anlatılmıştır.  
B) Orhan Veli, Melih Cevdet Anday ve Oktay Rifat temsilcileridir.  
C) Ağır bir dil kullanılmıştır.  
D) Şiirlerini "Garip" adlı bir kitapta toplamıştır.
8. Günlük olayları, yurt sorunlarını veya herhangi bir konuyu belli bir görüş açısından ele alan kısa yazılara ne ad verilir?
- A) Söylev  
B) Anı  
C) Deneme  
D) Fıkra
9. Bilim, sanat, kültür ve başka konularda bilgi vermek, bir düşünceyi ortaya koymak ya da savunmak amacıyla yazılan, yazarın kişisel görüşlerini de yansıttığı gazete ve dergi yazılarına ne ad verilir?
- A) Makale  
B) Günce  
C) Deneme  
D) Fıkra
10. Yaprak Dökümü, Eski Şarkı, Balıkesir Muhasebecisi adlı eserler aşağıdaki yazarlardan hangisine aittir?
- A) Oktay Rifat  
B) Reşat Nuri  
C) Halide Edip  
D) Melih Cevdet
11. Deneme türünün öncüsü kabul edilen Fransız yazar, aşağıdakilerden hangisidir?
- A) Jean Paul Sartre  
B) Montaigne  
C) Andre Malraux  
D) Simone de Beauver



12. "Bu Diyar Baştan Başa" adlı gezi kitabı aşağıdaki yazarlardan hangisine aittir?

- A) Nadir Paksoy
- B) Fikret Otyam
- C) Nedim Gürsel
- D) Yaşar Kemal

13. Türk edebiyatında anı türünün ilk örneğini veren yazar kimdir?

- A) Babur Şah
- B) Ebülğazi Bahadırhan
- C) Aşık Çelebi
- D) Hoca Dehhani

14. Aşağıdakilerden hangisi Peyami Safa'nın romanlarının özelliklerinden biridir?

- A) Emekleriyle yaşayan küçük insanları konu edinmesi
- B) Tanzimat'tan Cumhuriyet'e Türk toplumunun geçirdiği aşamaları konu edinmesi
- C) Anadolu'ya, Anadolu insanının dünyasına eğilmesi
- D) Bireyin öne alındığı, ruh çözümlemelerine dayalı romanlarının olması

15. Deneme türünde özgün örnekler veren Cumhuriyet Dönemi sanatçısı aşağıdakilerden hangisidir?

- A) Orhan Asena
- B) Nurullah Ataç
- C) Rifat Ilgaz
- D) Tarık Buğra

16. Aşağıdakilerden hangisi, fıkra türünün özelliklerinden biri değildir?

- A) Daha çok güncel konuların ele alınması
- B) Bilimsel olması
- C) Amacının okuyucunun dikkatini çekmek onu düşünmeye yöneltmek olması
- D) Kısa yazılması

17. "Keşanlı Ali Destanı" adlı eserin yazarı aşağıdakilerden hangisidir?

- A) Necati Cumalı
- B) Adalet Ağaoğlu
- C) Melih Cevdet Anday
- D) Haldun Taner

18. Aşağıdaki yazarlardan hangisi öykülerinde, yaşamları denize bağlı insanların dünyasını sergilemiştir?

- A) Kemal Bilbaşar
- B) Cemal Süreya
- C) Halikarnas Balıkcısı
- D) Enver Gökçe

19. Şiirlerinde Doğu mistisizmi ile tasavvufu birleştiren şair aşağıdakilerden hangisidir?

- A) Cahit Külebi
- B) Atilla İlhan
- C) Oktay Rifat
- D) Asaf Halet Çelebi

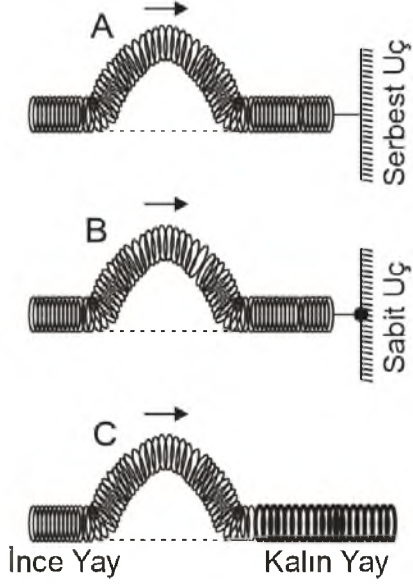
20. "Benim Adım Kırmızı" adlı romanın yazarı aşağıdakilerden hangisidir?

- A) Peyami Safa
- B) Orhan Pamuk
- C) Kemal Tahir
- D) Orhan Kemal

1. Derinliği her yerde aynı olan bir dalga leğeninde, 8 yarıklı bir stroboskop saniyede 4 devir yaptığında duruyormuş gibi görülen su dalgalarının frekansı kaç  $s^{-1}$ 'dir?

- A) 32  
B) 16  
C) 8  
D) 4

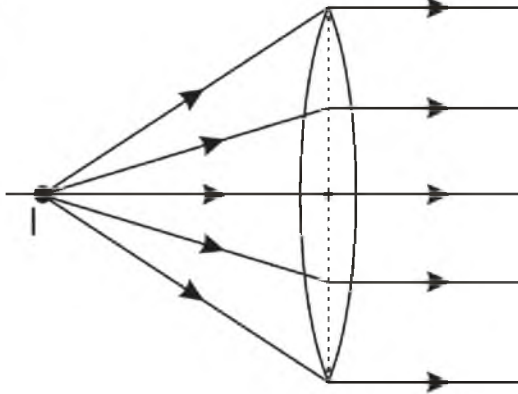
2.



Yukarıdaki şekilde A, B ve C atmalarından hangileri baş aşağı dönerek yansır?

- A) Yalnız A  
B) Yalnız C  
C) A ve C  
D) B ve C

3.



Yukarıdaki şekildeki I tek renkli ışık kaynağı merceğin neresindedir?

- A) Merkezinde  
B) Odağında  
C) Odak ile merkez arasında  
D) Odak ile mercek arasında

4. I. Su dalgaları mekanik dalgalardır.  
II. Su dalgaları daha sıg ortama geçtiklerinde hızları azalır.  
III. Su dalgaları ,çukur engelde yansdıktan sonra odak noktasında toplanırlar.

Su dalgaları ile ilgili yukarıdaki ifadelerden hangileri doğrudur?

- A) Yalnız I  
B) I ve II  
C) II ve III  
D) I,II ve III

5. Bir ipte oluşturulan periyodik dalgaların 1. ile 3. dalga tepesi arasındaki uzaklık 10 cm ise dalganın dalga boyu kaç cm 'dir?

- A) 5  
B) 10  
C) 15  
D) 20

6. Sarmal bir yayda oluşturulan dalganın yayılma hızını artırmak için aşağıdakilerden hangisi yapılmalıdır?

- A) Daha ağır bir yay kullanmak  
B) Yayı geren kuvvetin büyüklüğünü artırmak  
C) Dalga boyu ve genliği daha küçük dalgalar oluşturmak  
D) Yayı geren kuvvetin büyüklüğünü azaltmak

7. Işık şiddetinin Uluslararası Birim Sistemi(SI)'ndeki birimine ne ad verilir?

- A) watt  
B) joule  
C) lüks  
D) candela

8. I. Bir merceğin odak uzaklığı eğrilik yarıçapına bağlıdır.  
II. Bir merceğin yaklaştırma miktarına merceğin yakınsaması denir.  
III. Kalın kenarlı mercekler yakınsak mercek de denir.

Merceklerle ilgili yukarıdaki ifadelerden hangileri doğrudur?

- A) Yalnız I  
B) Yalnız II  
C) I ve II  
D) II ve III

9. Bir saniyede 10 dalga üreten periyodik dalga kaynağının periyodu kaç saniye(s) 'dir?

- A) 0,1
- B) 0,2
- C) 0,3
- D) 0,4

10. Işığın parçacık teorisinin en önemli kurucusu olan bilim insanı aşağıdakilerden hangisidir?

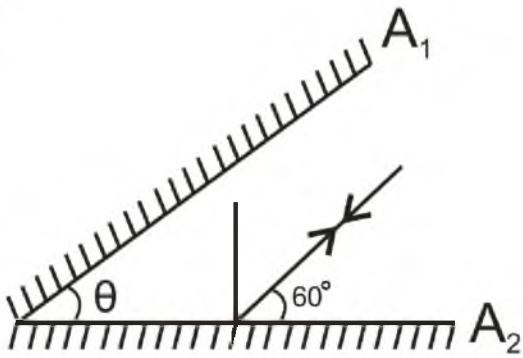
- A) Hertz
- B) Young
- C) Huygens
- D) Newton

11. I. Dalgalar enerji taşır.  
II. Dalga hareketinde moleküller yer değiştirir.  
III. Ses elektromanyetik bir dalgadır.

Dalgalarla ilgili yukarıdaki ifadelerden hangileri doğrudur?

- A) Yalnız I
- B) Yalnız II
- C) I ve II
- D) II ve III

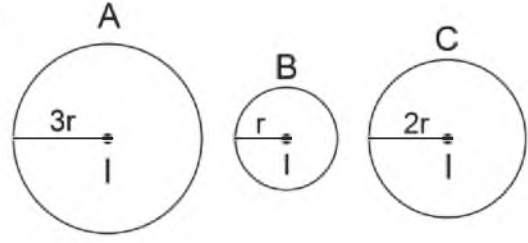
12.



Aralarında  $\theta$  açısı bulunan  $A_1$  ve  $A_2$  aynalarına gelen I ışını yukarıdaki şekildeki gibi  $A_2$  aynasına gelip toplam üç kez yansdıktan sonra geldiği yoldan geri dönen I ışının  $\theta$  açısı kaç derecedir?

- A) 30
- B) 45
- C) 60
- D) 75

13.

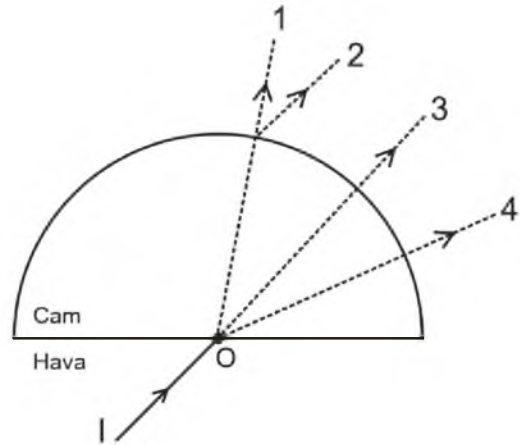


Yukarıdaki şekilde görüldüğü gibi yarıçapları  $r$ ,  $2r$  ve  $3r$  olan A, B ve C kürelerinin merkezlerinde özdeş ve şiddetleri  $I$  olan ışık kaynakları bulunmaktadır.

Buna göre kürelerin iç yüzeylerindeki aydınlanma şiddetleri  $E_A$ ,  $E_B$  ve  $E_C$  arasındaki büyüklük ilişkisi aşağıdakilerden hangisidir?

- A)  $E_B = E_C = E_A$
- B)  $E_B > E_C > E_A$
- C)  $E_B = E_C > E_A$
- D)  $E_B > E_C = E_A$

14.



Yarım küre şeklindeki camın merkezine yukarıdaki şekildeki gibi gelen tek renkli I ışını 1, 2, 3 ve 4 ile numaralandırılmış kesikli çizgilerle gösterilen yollardan hangisini izler?

- A) 1
- B) 2
- C) 3
- D) 4

15. I. Dalga boyu  
II. Hızı  
III. Periyodu

**Birbirine eklenmiş ince ve kalın yaylardan, ince yayda oluşturulan periyodik dalgalar kalın yaya geçtiğinde yukarıdaki niceliklerden hangileri azalır?**

- A) Yalnız I  
B) Yalnız II  
C) I ve II  
D) II ve III

16. I. Oluşturulan dalganın yayılma hızı o ortamın fiziksel özelliklerine bağlıdır.  
II. Ortamın yüzeyinde oluşturulan dalgalar, ortamın derin olan kısımlarında daha hızlı yayılır.  
III. Oluşturulan dalgalar ortamın fiziksel özelliklerini değiştirmiyorsa dalga boyunun büyüklüğü yayılma hızını etkilemez.

**Esnek ortamda oluşturulan dalgalarla ilgili yukarıdaki ifadelerden hangileri doğrudur?**

- A) Yalnız I  
B) Yalnız II  
C) II ve III  
D) I,II ve III

17. Deprem sonucu oluşan yer hareketlerini ölçen cihaz aşağıdakilerden hangisidir?

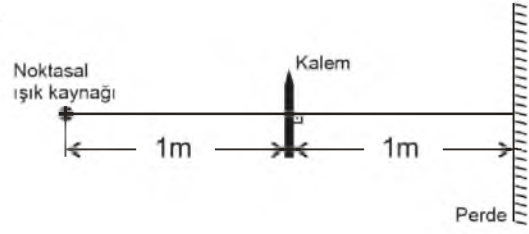
- A) Stroboskop  
B) Sismograf  
C) Termometre  
D) Diyapozon

18. I. Mavi ışık altında mavi görünür.  
II. Yeşil ışık altında kırmızı görünür.  
III. Beyaz ışık altında kırmızı görünür.

**Kırmızı ışık altında kırmızı görünen bir cisimle ilgili yukarıdaki ifadelerden hangisi doğrudur?**

- A) Yalnız I  
B) Yalnız III  
C) I ve III  
D) II ve III

- 19.



Noktasal ışık kaynağı ve 10 cm boyundaki bir kalem, bir perdenin önüne yukarıdaki şekildeki gibi yerleştirilmiştir.

**Buna göre kalemin perde üzerindeki boyu kaç cm 'dir?**

- A) 20  
B) 15  
C) 10  
D) 5

20. Yakını iyi göremeven kişilerde oluşan göz kusuru aşağıdakilerden hangisidir?

- A) Presbitlik  
B) Hipermetrop  
C) Astigmat  
D) Miyop

1. Çözünme olayı ile ilgili olarak aşağıdaki ifadelerden hangisi yanlıştır?

- A) Çözelti oluşumunda çözünen ile çözücü arasındaki çekim kuvvetleri (x) çözünen-çözünen (y) ve çözücü- çözücü (z) çekim kuvvetlerinden daha büyükse çözünme gerçekleşir.
- B) Çözelti oluşumunda x çekim kuvvetleri, y ve z çekim kuvvetlerinden daha küçükse çözünme gerçekleşir.
- C) Çözelti oluşumunda x çekim kuvvetleri, y ve z çekim kuvvetlerinden daha zayıfsa çözünme olayı endotermiktir.
- D) Y çekim kuvvetleri, x ve z çekim kuvvetlerinden daha fazla ise çözünme gerçekleşir.

2. Sabit basınçta sistem ile çevre arasında madde ve enerji alışverişinin olabildiği sisteme ne ad verilir?

- A) Açık sistem  
B) İzotermal sistem  
C) İzobarik sistem  
D) İzokorik sistem

3. Belli bir sıcaklıkta, belli bir miktardaki çözücüde en çok çözünebilir madde miktarına ne ad verilir?

- A) Çözünürlük  
B) Seyreltik çözelti  
C) Çözelti  
D) Doymuş çözelti

4. Buzun erimesi, kuru buzun (CO<sub>2</sub>(k)) süblimleşmesi ile ilgili aşağıdaki ifadelerden hangisi doğrudur?

- A) İyonik katıda çözünme gerçekleşir.  
B) Entropi artar.  
C) Kimyasal değişimdir.  
D) Sistemin sıcaklığı azalır.

5. 0,5 M 500mL'lik Ca(NO<sub>3</sub>)<sub>2</sub> çözeltisi hazırlamak için kaç gram Ca(NO<sub>3</sub>)<sub>2</sub>'a ihtiyacımız vardır? [Ca(NO<sub>3</sub>)<sub>2</sub> : 164 g/mol]

- A) 25  
B) 36  
C) 41  
D) 55

6. Bir kimyasal tepkimede oluşan ürünlerin entalpileri ile tepkenlerin (girenlerin) entalpileri arasındaki değişime ne ad verilir?

- A) Reaksiyon entropisi  
B) Reaksiyon entalpisi  
C) Adyabatik olay  
D) Standart oluşum entalpisi

7. 2A(g) → 3B(g) tepkimesinin hız ifadeleriyle ilgili olarak aşağıdakilerden hangisi doğrudur?

$$A) \frac{1}{3}V(O_3) = \frac{1}{2}V(O_2)$$

$$B) \frac{1}{2}V(A) = \frac{1}{3}V(B)$$

$$C) V_A = -\frac{\Delta[B]}{\Delta t}$$

$$D) V_B = -\frac{\Delta[B]}{\Delta t}$$

8. Aşağıdakilerden hangisi çözünebilirliğe etki eden faktörlerden biri değildir?

- A) Sıcaklık  
B) Ortak iyon  
C) Basınç  
D) Katalizör

9. Sabit sıcaklıktaki bir gaz 10 L'den kaç L'lik hacme sıkışmalıdır ki 1 atm basınçta çevrenin sisteme karşı yaptığı iş 6 L. atm olsun?

- A) 2  
B) 4  
C) 6  
D) 8

10. Ham yağda bulunan trigliseritler ve çeşitli vitaminler dışındaki safsızlıkların temizlenmesi işlemine ne ad verilir?

- A) Kristalizasyon  
B) Süblimleşme  
C) Kromatografi  
D) Rafinasyon

11. Aşağıdakilerden hangisi bir kimyasal tepkimenin olabilmesi için çarpışan moleküllerin sahip olmaları gereken minimum toplam kinetik enerjiye verilen isimlerden biri değildir?

- A) Aktifleşmiş kompleks  
B) Eşik enerjisi  
C) Aktifleşme enerjisi  
D) Aktivasyon enerjisi

12. 1 atm basınçtaki entropi değerine ne ad verilir?

- A) Reaksiyon entalpisi  
B) Reaksiyon entropisi  
C) Standart entropi  
D) Standart entalpi

13. Asetik asidin ( $\text{CH}_3\text{COOH}$ ) 25 °C sıcaklıktaki iyonlaşma sabiti ( $K_a$ )  $1,8 \times 10^{-5}$  ise



$\text{CH}_3\text{COO}^-(\text{suda}) + \text{H}_3\text{O}^+(\text{suda})$  tepkimesine göre 1 L'lik kaba 0,5 mol asetik asit konulduğunda çözeltinin hidronyum iyon derişimi  $[\text{H}_3\text{O}^+]$  kaç molar (M) olur?

- A)  $1 \cdot 10^{-3}$   
B)  $2 \cdot 10^{-3}$   
C)  $3 \cdot 10^{-3}$   
D)  $4 \cdot 10^{-3}$

14.  $\text{H}_2(\text{g}) + \text{I}_2(\text{g}) \rightleftharpoons 2\text{HI}(\text{g})$  tepkimesinin 298

K'deki denge sabiti 400'dür. 1 L'lik tepkime kabına 1 mol  $\text{H}_2$  ve 1 mol  $\text{I}_2$  gazları konuluyor. Dengedeki  $\text{H}_2$  derişimi kaç molar (M)'dir?

- A) 0,1  
B) 0,2  
C) 0,3  
D) 0,4

15. Kobalt sülfürün ( $\text{CoS}$ ) 25 °C sıcaklıktaki molar çözünürlüğü (mol/L) aşağıdakilerden hangisidir?

$\text{CoS}$  için  $K_{\text{çç}} = 3,0 \times 10^{-26}$

- A)  $1,73 \times 10^{-13}$   
B)  $2,86 \times 10^{-13}$   
C)  $3,45 \times 10^{-13}$   
D)  $4,25 \times 10^{-13}$

16. 0,2 mol  $\text{NaCl}$  500 gr g suda çözünerek çözelti hazırlanıyor. Bu çözelti 1 atm basınçta ısıtılırsa hangi sıcaklıkta kaynamaya başlar? (Su için  $K_f = 0,52 \text{ }^\circ\text{C/m}$ )

(Saf suyun 1 atm basınçta  $100^\circ\text{C}$ 'ta kaynadığını kabul ediniz.)

- A) 60,515  
B) 100,416  
C) 120,515  
D) 150,312

17. Aşağıdaki tepkimelerden hangisi heterojen fazlı tepkime değildir?

- A)  $\text{CaCO}_3(\text{k}) \rightarrow \text{CaO}(\text{k}) + \text{CO}_2(\text{g})$   
B)  $\text{KClO}_3(\text{k}) \rightarrow \text{KCl}(\text{k}) + \frac{3}{2}\text{O}_2(\text{g})$   
C)  $2\text{PbS}(\text{k}) + 3\text{O}_2(\text{g}) \rightarrow 2\text{PbO}(\text{k}) + 2\text{SO}_2(\text{g})$   
D)  $\text{CH}_3\text{COOH}(\text{suda}) + \text{H}_2\text{O}(\text{s}) \rightarrow \text{CH}_3\text{COO}^-(\text{suda}) + \text{H}_3\text{O}^+(\text{suda})$

18.  $2\text{NO}_2(\text{g}) + \text{F}_2(\text{g}) \rightarrow 2\text{NO}_2\text{F}(\text{g})$  tepkimesi aşağıdaki basamaklar üzerinden yürüyor;

1. basamak:  $\text{NO}_2(\text{g}) + \text{F}_2(\text{g}) \rightarrow \text{NO}_2\text{F}(\text{g}) + \text{F}(\text{g})$  (Yavaş)

2. basamak:  $\text{NO}_2(\text{g}) + \text{F}(\text{g}) \rightarrow \text{NO}_2\text{F}(\text{g})$  (Hızlı)

Tepkimenin hız bağlantısı aşağıdakilerden hangisidir?

- A)  $V = k \cdot [\text{NO}_2][\text{F}_2]$   
B)  $V = k \cdot [\text{NO}_2][\text{F}]$   
C)  $V = k \cdot [\text{NO}_2]^2[\text{F}_2]$   
D)  $V = k \cdot [\text{NO}_2][\text{F}]^2$

19.  $\text{N}_2(\text{g}) + \text{O}_2(\text{g}) \rightleftharpoons 2\text{NO}(\text{g})$  tepkimesi dengede

iken aynı sıcaklıkta  $\text{N}_2$  derişimi artırıldığında aşağıdakilerden hangisi meydana gelir?

- A) Denge sabiti artar.  
B) Daha az NO oluşur.  
C) Denge sabiti azalır.  
D) Denge bozulur ve sistem ürünler yönüne kayar.

20.  $\text{C}(\text{k}) + \text{H}_2\text{O}(\text{g}) \rightleftharpoons \text{H}_2(\text{g}) + \text{CO}(\text{g})$  tepkimesinin denge bağlantısı aşağıdakilerden hangisidir?

A)  $K_C = \frac{[\text{H}_2][\text{CO}]}{[\text{H}_2\text{O}]^2}$

B)  $K_C = \frac{[\text{H}_2][\text{CO}]}{[\text{C}][\text{H}_2\text{O}]}$

C)  $K_C = \frac{[\text{H}_2][\text{CO}]}{[\text{H}_2\text{O}]}$

D)  $K_C = [\text{H}_2][\text{CO}]$

1. I. Dünya Savaşı sonunda Bulgaristan ile itilaf devletleri arasında imzalanan antlaşma aşağıdakilerden hangisidir?
  - A) Neuilly (Nöyyi)
  - B) Versailles (Versay)
  - C) Trianon (Triyanon)
  - D) St. Germain (Sen Jermen)
2. Basmacı Hareketi'nin **tek** gayesi aşağıdakilerden hangisidir?
  - A) Kazaklar arasında Tatar etkisini azaltmak
  - B) Türkistan'ı Ruslardan kurtararak istiklaline kavuşturmak
  - C) Rus kültürünü kazaklara benimsetebilmek
  - D) Orta Asya'ya Rus göçmelerini yerleştirmek
3. 3 Mart 1918 tarihinde İttifak Devletleriyle Brest-Litovsk Antlaşması'nı imzalayarak Birinci Dünya Savaşı'ndan çekilen devlet aşağıdakilerden hangisidir?
  - A) İtalya
  - B) Japonya
  - C) Bulgaristan
  - D) Rusya
4. I. Dünya Savaşı sonrasında uluslararası barışın korunması ve işbirliğinin sağlanması için galip devletler tarafından 1920 yılında aşağıdakilerden hangisi kurulmuştur?
  - A) Briand- Kellog Pakti
  - B) Birleşmiş Milletler
  - C) Milletler Cemiyeti
  - D) Varşova Pakti
5. Japon limanlarının 1853 yılında ticarete açılmasında aşağıdaki devletlerden hangisinin baskısı etkili olmuştur?
  - A) Fransa
  - B) Almanya
  - C) İtalya
  - D) ABD
6. Aşağıdakilerden hangisi Balkan Antantı'nı (9 Şubat 1934) imzalayan devletler arasında **ver almaz**?
  - A) Bulgaristan
  - B) Yugoslavya
  - C) Türkiye
  - D) Yunanistan
7. Osmanlı Devleti'nin I. Dünya Savaşı'na girmesi üzerine Mısır'ı topraklarına kattığını ilan eden devlet aşağıdakilerden hangisidir?
  - A) İtalya
  - B) Rusya
  - C) İngiltere
  - D) Fransa
8. II. Dünya Savaşı'nın sonlarına doğru yapılacak barışın esaslarını belirlemek amacıyla Roosevelt, Churchill ve Stalin arasında 4-11 Şubat 1945 tarihinde gerçekleşen konferans aşağıdakilerden hangisidir?
  - A) Kazablanka Konferansı
  - B) Yalta Konferansı
  - C) Postdam Konferansı
  - D) San Francisco Konferansı
9. Aşağıdakilerden hangisi II. Dünya Savaşı'nın Türkiye'ye etkilerinden biri **değildir**?
  - A) 13 Ocak 1942'de büyük kentlerde ekmeğin karne ile dağıtılmasının kararlaştırılması
  - B) Savaşın etkilerini azaltmak ve ekonomik yönden gerekli koruyucu önlemleri almak amacıyla Millî Korunma Kanunu'nun çıkarılması
  - C) 1940 ve 1945 yılları arasında Türkiye'de nüfus artışının gerçekleşmesi
  - D) Savaş ihtimaline karşılık ülke gelirinin önemli bir kısmının savunma alanına ayrılması
10. I. Dünya Savaşı sırasında Almanya'nın üzerinde bulunduğu toprakların Alman ırkına yeterli gelmeyeceğine ilişkin mevcut fikrin, Hitler tarafından yayılma politikasının gerekçesi olarak kabul edilmesi sonucunda ortaya çıkan kavram aşağıdakilerden hangisidir?
  - A) Demirperde
  - B) Maginot hattı
  - C) Panslavizm
  - D) Hayat sahası
11. Amerikalı General Mac Arthur'un, Japonları Filipinler'de ağır bir yenilgiye uğrattığı (Ekim 1944) savaş aşağıdakilerden hangisidir?
  - A) İntikal Savaşı
  - B) Poltova Savaşı
  - C) Sedan Savaşı
  - D) Leyte Savaşı

12. Aşağıdakilerden hangisi II. Dünya Savaşı'nın sonuçlarından biri değildir?

- A) Tarım ve sanayi üretiminin önemli ölçüde azalması
- B) Faşizm ve Nazizm gibi akımların tasfiye edilmesi
- C) Duyun-ı Umumiye İdaresi'nin kurulması
- D) Milyonlarca sivilin hayatını kaybetmesi

13. 22 Haziran 1941 tarihinde "Barbarossa" hareketini başlatarak Baltık'tan Romanya'ya kadar uzanan geniş bir cephe üzerinden üç koldan Sovyet sınırını geçen devlet aşağıdakilerden hangisidir?

- A) Fransa
- B) Almanya
- C) İngiltere
- D) İtalya

14. SSCB'nin direktifleri sonucunda Haziran 1948'de Cominform'dan çıkarılan devlet aşağıdakilerden hangisidir?

- A) Yugoslavya
- B) Almanya
- C) İtalya
- D) Fransa

15. Aşağıdakilerden hangisi 25 Mayıs 1963'te kurulan Afrika Birliği Teşkilatının başlıca amaçları arasında ver almaz?

- A) Afrika ülkeleri arasında bilim ve savunma politikalarını uyumlu hale getirmek
- B) Afrika ülkeleri arasında birlik ve dayanışmayı geliştirmek
- C) Afrika ülkeleri arasında ekonomi, eğitim ve sağlık politikalarını uyumlu hale getirmek
- D) Afrika ülkeleri arasında etnik ayrımcılığı artırmak

16. SSCB'nin Avrupa'da egemenlik kurmaya başlaması üzerine, Truman Doktrini'ni ve Marshall planını uygulamaya koyan devlet aşağıdakilerden hangisidir?

- A) Çin
- B) ABD
- C) İtalya
- D) Japonya

17. Aşağıdakilerden hangisi Güney Doğu Asya Anlaşma Teşkilatı'nı (SEATO) oluşturan ülkelerden biri değildir?

- A) SSCB
- B) Fransa
- C) Tayland
- D) Pakistan

18. SSCB tarafından hazırlanan Molotof Planı'nın esas amacı aşağıdakilerden hangisidir?

- A) Batum'un Gürcistan'a bırakılmasını sağlamak
- B) ABD'nin Doğu Avrupa ülkeleri üzerinde etki kurmasını önlemek
- C) Nazilerin Yugoslavya'yı işgal etmesini önlemek
- D) İtalya'nın Akdeniz'de oluşturduğu tehdit karşısında Türkiye ile işbirliği yapmak

19. Pakistan Devleti'nin kurucusu kimdir?

- A) Muhammed Ali Cinnah
- B) Fidel Castro
- C) Harry S. Truman
- D) Mao Zedong

20. Füze teknolojisinde sağlanan ilerleme sonucunda ilk uydu "Sputnik" aşağıdaki ülkelerden hangisi tarafından gönderilmiştir?

- A) Çin
- B) SSCB
- C) Fransa
- D) Japonya



1. Aşağıdakilerden hangisi sembolik mantıkta bileşik bir önermedir?
- A) Bütün kediler miyavlar.  
B) Ankara Türkiye'nin başkentidir.  
C) Ezgi öğrenci değildir.  
D) Ayşe'nin elbisesi kırmızıdır.
2. Aşağıdakilerden hangisi ikili yüklemli bir önermedir?
- A) Orhan ile Ahmet arkadaştır.  
B) Mustafa, Taner ile Semih'ten uzundur.  
C) Özlem başarılıdır.  
D) Fuat, piyano çalar.
3. Aşağıdakilerden hangisi mantık türlerinden biri değildir?
- A) Evetleme mantığı  
B) İki değerli mantık  
C) Kipli mantık  
D) Çok değerli mantık
4. Aşağıdakilerden hangisi  $(\sim\forall xFx)$  önermesine eşdeğer bir ifadedir?
- A) Bazı çiçekler güzel koktuğu doğru değildir.  
B) Bütün insanlar iyidir.  
C) Her çiçeğin güzel koktuğu doğru değildir.  
D) Bazı insanlar kötüdür.
5. "Sporcu çalışkan olur ise kazanması kolay olur." ifadesinin niceleme mantığında sembolleştirilmiş hali aşağıdakilerden hangisidir?
- A)  $Fa \leftrightarrow Fb$   
B)  $p \Rightarrow q$   
C)  $Fb \vee Fq$   
D)  $Fa \Rightarrow Fb$
6.  $p:Y, q:D$  olduğunda  $(\sim p \leftrightarrow \sim q) \Rightarrow (p \vee q)$  önermesinin alacağı değer aşağıdakilerden hangisidir?
- A) Olumsuz  
B) Nötr  
C) Doğru  
D) Yanlış
7. Çok değerli mantıkta "p" önermesi belirsiz iken " $\sim p$ " önermesinin alacağı değer aşağıdakilerden hangisidir?
- A) Belirsiz  
B) Yanlış  
C) Doğru  
D) Ya doğru ya yanlış
8. Aşağıdakilerden hangisi gözlem ve deneye dayanan bilimsel bir yöntemdir?
- A) Uygulamalı Mantık  
B) Tümevarım  
C) Aksiyom  
D) Tümdengelim
9. Doğruluğu açıkça belli olan önermelere ne ad verilir?
- A) Tanım  
B) Eşitlik  
C) Tutarlılık  
D) Aksiyom
10. Aşağıdakilerden hangisi eksik tümevarımın en önemli özelliğidir?
- A) Çelişmezlik  
B) Kesinlik  
C) Özdeşlik  
D) Olasılık
11. Mantığın ilke ve kurallarının her türlü bilgi etkinliğine uygulanmasına uygulamalı mantık denir.
- Yukarıdaki tanımda mantığın hangi yönü vurgulanmıştır?**
- A) Yöntemsel olduğu  
B) Sadece teoride kalmadığı  
C) Sembolik olduğu  
D) İlke ve kurallarının olduğu
12. Aşağıdakilerden hangisi mantığın eleştirel düşünme ve akılcı tartışma alanına uygulandığı alandır?
- A) Sembolik mantık  
B) Klasik mantık  
C) Tartışma mantığı  
D) Kıyas mantığı
13. Aşağıdakilerden hangisi mantıklı insanın özelliklerinden biri değildir?
- A) Tutarlı  
B) Bencil  
C) Kuşkucu  
D) Eleştirel
14. Aşağıdakilerden hangisi mantık felsefesinin ele aldığı temel sorunlardan biri değildir?
- A) Doğruluk ve varlıkla ilgili sorunlar  
B) En yüksek iyi ile ilgili sorunlar  
C) Mantık değişmezleriyle ilgili sorunlar  
D) Geçerlilik kavramıyla ilgili sorunlar

15. Mantığın ne olduğu sorusu aşağıdaki alanlardan hangisinin kapsamına girer?

- A) Mantık felsefesi
- B) Matematik felsefesi
- C) Doğa felsefesi
- D) Bilim felsefesi

16. Aşağıdaki sorulardan hangisi mantık felsefesinin mantık ilkeleriyle ilgili sorularından biri değildir?

- A) Mantık ilkeleri her yer ve zaman için geçerli midir?
- B) Mantık ilkeleri kaç tanedir?
- C) Mantık ilkeleri birbirleriyle ilişkili midir?
- D) Mantık ilkeleri varlığın temel ilkeleri de sayılabilir mi?

17. Aşağıdakilerden hangisi özdeşlik ilkesinin varlık alanına uygulanmasının ifadesidir?

- A) Var olan hiçbir şey hem kendisi hem de kendisi olmayan olamaz.
- B) Bir şey ya vardır ya yoktur.
- C) Bir şeyin aynı anda hem var olup hem de var olmaması mümkün değildir.
- D) Her var olan, kendisine özdeştir.

18. Aşağıdakilerden hangisi doğruluk değeri ve varlık kavramıyla ilgili sorunlardan biri değildir?

- A) p önermesinin değillemesi nasıl gösterilir?
- B) Bilgi ile nesnesi arasında bir uyum olabilir mi?
- C) Bir önermenin doğru olması ne anlama gelir?
- D) Bilgi önermesinin doğru olması ne anlama gelir?

19. "Var olan hiçbir şey hem kendisi hem de kendisi olmayan olamaz." ifadesi aşağıdaki hangi mantık ilkesinin varlık alanına uygulanmasıdır?

- A) Yeter-Neden
- B) Özdeşlik
- C) Üçüncü Halin İmkansızlığı
- D) Çelişmezlik

20. Aşağıdakilerden hangisi mantık felsefesinin amaçlarından biri değildir?

- A) Mantığı gözlem ve deneye dayandırmanın yollarını araştırmak
- B) Mantığın kavramlarını sorgulamak
- C) Mantığın ilkelerini sorgulamak
- D) Mantık değişmezleri ile ilgili sorunları araştırmak

1. Elhamra Sarayı aşağıdaki uygarlıklardan hangisine aittir?
  - A) Abbasiler
  - B) Endülüs Emevileri
  - C) Memlükler
  - D) Karahanlılar
2. Anlamı “bulut gibi” olan ve çeşitli maddelerle yoğunlaştırılmış su yüzeyine boya damlatma yoluyla elde edilen desenin kağıda aktarılması sanatı aşağıdakilerden hangisidir?
  - A) Ebru
  - B) Hat
  - C) Çini
  - D) Minyatür
3. Kent minyatürleriyle tanınan Matrakçı Nasuh hangi dönemin sanatçısıdır?
  - A) II. Mahmut
  - B) Yıldırım Bayezit
  - C) Fatih Sultan Mehmet
  - D) Kanuni Sultan Süleyman
4. Anıtkabir’in mimarları aşağıdakilerden hangisinde birlikte verilmiştir?
  - A) Emin Onat – Orhan Arda
  - B) Vedat Tek – Mimar Kemalettin
  - C) Mimar Kemalettin – Orhan Arda
  - D) Emin Onat – Vedat Tek
5. Karahanlılardan kalan en eski eser aşağıdakilerden hangisidir?
  - A) Talhatan Baba Camisi
  - B) Arap Ata Türbesi
  - C) Ribat-ı Melik
  - D) Hazer Degaron Camisi
6. Sır altı ve sır üstü tekniklerinin birlikte kullanıldığı, sır altında mor, mavi, firuze ve yeşil, sır üstünde ise beyaz, kahverengi, siyah ve kırmızı renklerin tercih edildiği çini tekniği aşağıdakilerden hangisidir?
  - A) Çini mozaik tekniği
  - B) Lüster tekniği
  - C) Minai tekniği
  - D) Kabartma tekniği
7. Ahmedi tarafından resmedilen ve Osmanlı padişahlarının resimli ilk tarihi olan eser aşağıdakilerden hangisidir?
  - A) Cerrahiye-i İlhaniye
  - B) İskendername
  - C) Süleymanname
  - D) Şehinşahname
8. Ressamlığının yanı sıra arkeolog ve müzeci olan, İskender Lahdi’ni bulmasıyla tanınan sanatçı aşağıdakilerden hangisidir?
  - A) Şeker Ahmet Paşa
  - B) Hüseyin Avni Lîfij
  - C) Osman Hamdi Bey
  - D) İbrahim Çallı
9. İshak Paşa Sarayı günümüzde hangi il sınırları içerisinde yer almaktadır?
  - A) Van
  - B) Bursa
  - C) Ağrı
  - D) İstanbul
10. İstanbul Taksim Cumhuriyet Anıtı aşağıdaki sanatçılardan hangisine aittir?
  - A) Heinrich Krippel
  - B) Pietro Canonica
  - C) Kenan Yontuç
  - D) Ali Hadi Bara
11. Anıtkabir hangi mimari akım içerisinde yer almaktadır?
  - A) Neoklasik Akım
  - B) İkinci Ulusal Mimarlık Akımı
  - C) Seçmecî (eklektik) Akım
  - D) Birinci Ulusal Mimarlık Akımı
12. Göktürklerde soylu ve hükümdarların mezarlarına veya anıtlarına dikilen insan figürlü taşın heykele ne isim verilir?
  - A) Balbal
  - B) Kurgan
  - C) Büst
  - D) Dikili taş
13. Aşağıdakilerden hangisi bilinen en eski kervansaraydır?
  - A) Ribat-ı Mahi
  - B) Ribat-ı Zafarani
  - C) Ribat-ı Şerif
  - D) Ribat-ı Melik
14. Çeşitli hayvan resimleriyle tanınmakla birlikte özellikle at başları üzerine yoğunlaşan Türk ressam aşağıdakilerden hangisidir?
  - A) Orhan Peker
  - B) Nuri İyem
  - C) Osman Hamdi Bey
  - D) Bedri Rahmi Eyüboğlu

15. Türk-İslam mimarisinde anıtsal taç kapı ve minare geleneği hangi dönemde başlamıştır?

- A) Beylikler Dönemi
- B) Anadolu Selçuklu Dönemi
- C) Karahanlı Dönemi
- D) Büyük Selçuklu Dönemi

16. Aşağıdakilerden hangisi Orhun anıtlarından biri değildir?

- A) Kül Tigin Anıtı
- B) Tonyukuk Anıtı
- C) İstemi Han Anıtı
- D) Bilge Kağan Anıtı

17. Cumhuriyet döneminin ilk sanatçı topluluğu aşağıdakilerden hangisidir?

- A) D Grubu
- B) Yeniler Grubu
- C) Müstakil Ressam ve Heykeltıraşlar Birliği
- D) Onlar Grubu

18. Mimar Sinan'ın "ustalık eserim" diye tanımladığı yapı aşağıdakilerden hangisidir?

- A) İstanbul Şehzade Camisi
- B) İstanbul Rüstem Paşa Medresesi
- C) İstanbul Süleymaniye Camisi
- D) Edirne Selimiye Camisi

19. İstanbul Sultan Ahmet Camii'nin mimarı aşağıdakilerden hangisidir?

- A) Mimar Davut Ağa
- B) Mimar Sinan
- C) Mimar Hacı Hasan Ağa
- D) Mimar Sedefkar Mehmet Ağa

20. Edirne Üç Şerefeli Cami hangi Osmanlı cami grubu içerisindedir?

- A) Merkezi kubbeli camiler
- B) Tek kubbeli camiler
- C) Ters T planlı camiler
- D) Çok kubbeli camiler

1. Aşağıdakilerden hangisi Türkiye'nin özel konumunun sonuçlarından biri değildir?

- A) Ortalama yükseltinin fazla olması
- B) İklim çeşitliliğinin fazla olması
- C) Orta kuşakta yer alması
- D) Yeraltı kaynakları açısından zengin olması

2. İki okyanussal kıtanın birbirine yaklaştığı yerlerde aşağıdakilerden hangisi oluşur?

- A) Sıra dağlar
- B) Kıta kabuğu
- C) Yanardağ
- D) Volkanik ada yayları

3. Aşağıdakilerden hangisi kimyasal tortul kayaç türlerinden biri değildir?

- A) Kaya tuzu
- B) Kil taşı
- C) Jips
- D) Kalker

4. Aşağıdakilerden hangisi nüfus artışının olumlu sonuçlarından biri değildir?

- A) Yeni iş alanlarının açılması
- B) Üretimin artması
- C) İş gücünün artması
- D) Göçlerin artması

5. Aşağıdakilerden hangisi dış püskürük kayalardan biridir?

- A) Jips
- B) Bazalt
- C) Kaya tuzu
- D) Kömür

6. Aşağıdakilerden hangisi toprağın oluşumunu etkileyen faktörlerden biri değildir?

- A) Yer şekillerinin etkisi
- B) İklimin etkisi
- C) Zamanın etkisi
- D) Fay hatlarının etkisi

7. Karalar üzerindeki çukur alanlarda oluşmuş durgun su kütlelerine ne ad verilir?

- A) Göl
- B) Deniz
- C) Okyanus
- D) Baraj

8. Aşağıdakilerden hangisi Karadeniz bölgesinde yer alan ovalardan biri değildir?

- A) Erbaa
- B) Turhal
- C) Horasan
- D) Niksar

9. Aşağıdakilerden hangisi göçün mekânsal etkilerinden biri değildir?

- A) Göç veren yerlerde kamu ve özel yatırımların artması
- B) Göç veren yerlerde üretimin azalması
- C) Göç alan yerlerde trafik sorunlarının artması
- D) Göç alan yerlerde konut sıkıntısının artması

10. Aşağıdakilerden hangisi birbirinden uzaklaşan levhalardan biri değildir?

- A) Antartika Levhası – Avusturalya Levhası
- B) Nazka Levhası – Kokos Levhası
- C) Avrasya Levhası – Hindistan Levhası – Avusturya Levhası
- D) Afrika Levhası – Hindistan Levhası – Avusturalya Levhası

11. Aşağıdakilerden hangisi üçüncül ekonomik faaliyetlerden biri değildir?

- A) Turizm
- B) Sağlık
- C) Eğitim
- D) Reklam yayıncılığı

12. Aşağıdakilerden hangisi **en çok** beyin göçü veren ülkelerden biri **değildir**?

- A) Fransa
- B) Cezayir
- C) Çin
- D) Nijerya

13. Aşağıdakilerden hangisi gelişmiş ülkelerin genel özelliklerinden biri **değildir**?

- A) Yaşam standardının yüksek olması
- B) Nüfus artış hızının yüksek olması
- C) Ortalama ömrün uzun olması
- D) Sanayi ürünlerinin ihraç edilmesi

14. Akarsular tarafından derince yarılmış olan engebeli düzlüklere ne ad verilir?

- A) Vadi
- B) Havza
- C) Plato
- D) Ova

15. Buzulların taşıyarak biriktirdiği malzemelerden oluşan toprak türü aşağıdakilerden hangisidir?

- A) Morenler
- B) Lösler
- C) Regoseller
- D) Litoseller

16. İnsanların yerleşik hayata geçtiği, hayvanları evcilleştirip tarımla uğraştığı çağ aşağıdakilerden hangisidir?

- A) Paleolitik Çağ
- B) Kalkolitik Çağ
- C) Neolitik Çağ
- D) Mezolitik Çağ

17. Aşağıdakilerden hangisi nüfusun dağılımını etkileyen doğal faktörlerden biri **değildir**?

- A) Su kaynakları
- B) Tarım
- C) Bitki örtüsü
- D) Yer şekilleri

18. Aşağıdakilerden hangisi dünyada nüfus yoğunluğunun fazla olduğu yerlerden biridir?

- A) Orta Asya
- B) Amazon havzası
- C) Kutup çevresi
- D) Batı Avrupa

19. Kil taşının başkalaşmasıyla oluşan kayaç türü aşağıdakilerden hangisidir?

- A) Konglomera
- B) Şist
- C) Kuvarsit
- D) Gre

20. Orta kuşağın yarı kurak iklim bölgelerinde görülen seyrek ve cılız ot topluluklarına ne ad verilir?

- A) Bozkır
- B) Savan
- C) Tundra
- D) Çayır

1. Hz. Peygamber'le ilgili aşağıdaki ifadelerden hangisi **yanlıştır**?

- A) İnsanın atalarıyla övünmesi gerektiğinden bahsedirdi.
- B) Hüküm verirken ve cezaları uygularken, hiç kimseye aldırmandan doğru ve adil olan neyse onun yapılmasını isterdi.
- C) İnsanların soyuna, zenginliğine veya gücüne göre değil, eşitlik ilkesine göre davranırdı.
- D) Bütün müminleri alçak gönüllü olmaya davet ederdi.

2. Hz. Muhammed yetimlerle ilgilenmeye ve onların haklarıyla ilgili düzenlemelerde bulunmaya ne zaman başlamıştır?

- A) İlk hicretten sonra
- B) Annesinin vefatından sonra
- C) Evlendikten sonra
- D) Peygamberliğinin ilk yıllarında

3. Aşağıdakilerden hangisi Allah'ın hikmetlerinden biri **değildir**?

- A) İnsanların farklı kabilelere ayrılması
- B) İnsanların farklı milletlere ayrılması
- C) İnsanların Hz. Adem ve Havva'nın çocukları olarak yaratılması
- D) İnsanların birbirlerine farklı davranması

4. "Ey insanlar! Şüphesiz ki, biz sizi bir erkek ve bir dişiden yarattık ve birbirinizi tanımanız için sizi boylara ve kabilelere ayırdık. Allah katında en değerli olanınız, ona karşı olmaktan en çok sakınmanızdır. Şüphesiz Allah hakkıyla bilendir, hakkıyla haberdar olandır."

Yukarıdaki ayette aşağıdakilerden hangisi belirtilmektedir?

- A) Bütün insanların bir anadan ve bir babadan yaratıldığı
- B) Sosyal statü bakımından insanların birbirinden üstün olduğu
- C) Allah'a karşı gelmenin önemli olmadığı
- D) İnsanların ırklarının önemli olduğu

5. Resulullah'ın vefatından sonra tayin edilen **ilk** halife kimdir?

- A) Zeyd bin Sabit
- B) Hz. Ömer
- C) Hz. Ali
- D) Hz. Ebu Bekir

6. "Helak edici yedi şeyden çekiniz."

Aşağıdakilerden hangisi yukarıda bahsedilen yedi şeyden biri **değildir**?

- A) Düşmana hücum gününe gitmek
- B) Faiz yemek
- C) Sihir yapmak
- D) Yetim malı yemek

7. Aşağıdakilerden hangisinin vefatında güneş, tutulması yaşanmıştır?

- A) Ali
- B) Abdullah
- C) İbrahim
- D) Kasım

8. Habeşistan'a giden muhacirlerin başkanının, Habeşistan kralı huzurunda İslam'ı ve Müslümanları anlatmak için yaptığı konuşmada Hz. Peygamber'in yasakladığı konu aşağıdakilerden hangisidir?

- A) Yetim malını yemeyi
- B) Haram mal yemeyi
- C) Yoksullara hor görmeyi
- D) Faiz yemeyi

9. Genç yaşta Hz. Muhammed'e verilen görev aşağıdakilerden hangisidir?

- A) Reis yardımcılığı
- B) Emanet bekçiliği
- C) Kâbe hakemliği
- D) Kabile bekçiliği

10. Medine'nin savunulması için şehrin etrafına hendek kazıldığı savaş aşağıdakilerden hangisidir?

- A) Bedir Savaşı
- B) Hendek Savaşı
- C) Uhud Savaşı
- D) Hayber Savaşı

11. Aşağıdakilerden hangisi mağduriyet durumlarından biri **değildir**?

- A) Dul olmak
- B) Yetim olmak
- C) Çocuk olmak
- D) Yaşlı olmak

12. Medinelilerin ihrama girme yerine ne ad verilir?

- A) Zu'l Huleyfe
- B) Huzâa
- C) Hudeybiye
- D) Tirmizi

13. Kur'an-ı Kerim'in sayfaları bir araya getirildikten sonra sırasıyla kimlerin yanında kalmıştır?

- A) Hz. Ebu Bekir, Hz. Ömer, Hz. Ali
- B) Hz. Ebu Bekir, Hz. Ömer, Hz. Ömer'in oğlu Abdullah
- C) Hz. Ömer, Hz. Ebu Bekir, Hz. Ömer'in kızı Hafsa
- D) Hz. Ebu Bekir, Hz. Ömer, Hz. Ömer'in kızı Hafsa

14. Aşağıdakilerden hangisi İslam tarihinin ilk öğretmenlerinden biridir?

- A) Ümeyye b. Halef
- B) İbn Ümmi Mektun
- C) Utbe b. Rebia
- D) Ebu Cehil

15. Aşağıdakilerden hangisi Müslümanın Müslüman üzerindeki haklarından biri değildir?

- A) Nasihat istenirse nasihat vermek
- B) Başkaları hakkında dedikodu yapmak
- C) Çağrısına icabet etmek
- D) Hastalanırsa ziyaret etmek

16. Hz. Muhammed'in yüzyıllar öncesinde ortaya koyduğu istişare anlayışının günümüz kurumsal sisteminde yaygınlaştırılmaya çalışılan haline ne ad verilir?

- A) Kalite kontrol
- B) Toplam kalite yönetimi
- C) Kontrollü yönetim
- D) Yönetimde kalite kontrol

17. Kendilerini ilim yoluna vakfetmiş, kimi kimsesi olmayanlara ne ad verilir?

- A) Edebü'l Müfred
- B) İbn Hanbel
- C) Mescid-i Nebevi
- D) Ashab-ı Suffa

18. İstişareyle ilgili aşağıdaki ifadelerden hangisi yanlıştır?

- A) İnsan daha sosyal olur.
- B) İnsanın paylaşımcılığı artar.
- C) Müminler arasındaki uyumu bozar.
- D) İstenilen hedefe daha çabuk ulaşılır.

19. "Kendilerinde ihtiyaç olsa bile, (kardeşlerini) nefisleri üzerine tercih ederler. Kimde nefsinin hırsından korunursa, işte bunlar azaptan kurtulanlardır."

Yukarıdaki ayetin geçtiği sure aşağıdakilerden hangisidir?

- A) En'âm suresi
- B) Felak suresi
- C) Haşr suresi
- D) Nisâ suresi

20. İslam tarihinde ilk hicretin yapıldığı yer aşağıdakilerden hangisidir?

- A) Taif
- B) Habeşistan
- C) Mekke
- D) Medine



1. Bir başkanın yönetiminde, toplumu ilgilendiren bir konuda, farklı gruplardan oluşan dinleyicilerin söz sırası olarak konuşma kuralları içerisinde yaptıkları tartışmalara ne ad verilir?

- A) Sempozyum
- B) Konferans
- C) Toplantı
- D) Forum

2. Bilimsel yazıların ana omurgası olan tür aşağıdakilerden hangisidir?

- A) Makale
- B) Münazara
- C) Forum
- D) Sempozyum

3. Konferansın asıl amacı nedir?

- A) Dinleyicileri birbirleriyle tanıştırmak
- B) Dinleyicileri bilgilendirmek
- C) Dinleyicileri coşkulandırmak
- D) Dinleyicilerin hoş vakit geçirmesini sağlamak

4. Türk edebiyatında makalenin gelişimine bakıldığında 1860'da ilk makale kim tarafından yazılmıştır?

- A) Şinasi
- B) Nefi
- C) Hüseyin Cahit
- D) Namık Kemal

5. Araştırılan sorunun tanıtıldığı ve neden bu konunun ele alındığı, çalışmanın diğer çalışmalar arasındaki yerinin belirtildiği sempozyum bölümü aşağıdakilerden hangisidir?

- A) Münazara
- B) Forum
- C) Sempozyum
- D) Söyleşi

6. Konferans ile ilgili aşağıdaki ifadelerden hangisi yanlıştır?

- A) Konferans verilmeden önce konuşmayı yapacak kişi mutlaka dinleyicilere tanıtılır.
- B) Konferansta açıklayıcı, öğretici, kanıtlayıcı ve tartışmacı anlatım türleri kullanılır.
- C) Konferanstaki amaç aynen nutukta olduğu gibi dinleyicileri coşkulandırmaktır.
- D) Genellikle bilim, sanat ve ekonomi konularında verilir.

7. Aşağıdakilerden hangisi makale ve bilimsel yazıların benzerliklerinden biri değildir?

- A) Her iki tür de kurallı cümlelerle kurulurlar.
- B) Her iki türde de amaç okuyucuyu bilgilendirmektir.
- C) Her iki türde de anlatılanların kanıtlanması gerekir.
- D) Her iki türde de sanatsal yaklaşım ön plandadır.

8. Makaleyle ilgili aşağıdaki ifadelerden hangisi yanlıştır?

- A) Üslup yönünden üçüncü tekil anlatım tercih edilir.
- B) Gazetede ilk sayfa ve birinci sütunda yer alan ve günlük olaylar, ülke sorunları hakkında görüşleri yansıtan yazılara başmakale adı verilir.
- C) Makalede temel öge duygudur.
- D) Bilimsel bir anlatım ağır basar.

9. Sempozyum ile ilgili aşağıdaki ifadelerden hangisi yanlıştır?

- A) Giriş, gelişme ve sonuç bölümlerinden oluşur.
- B) Sempozyumda önceden belirlenmiş bir konuşmacı grubu bulunur.
- C) Sempozyumlarda, sempozyum düzenleme kurulu bulunur.
- D) Sempozyumlarda, aynı konu farklı bakış açılarıyla ele alınır.

10. Bilimsel yazı hazırlanırken başkasının görüşlerini alıp, gönderme yapılarak nereden alıntıldığı belirtilmediği takdirde ortaya çıkan bilimsel hırsızlığa ne ad verilir?

- A) Dipnot
- B) İndeks
- C) Alıntı
- D) İntihal

11. Gazetelerin ilk sayfasının birinci sütununda yayımlanan, günlük olaylar ve ülke sorunları ile ilgili yazılara ne ad verilir?

- A) Başyapıt
- B) Başmakale
- C) Köşe yazısı
- D) Fıkra

12. Aşağıdakilerden hangisi açık oturum planında yer almaz?

- A) Bulguları açıklanmak
- B) Konuşmaları özetlemek
- C) Açık oturumu sonuca bağlamak
- D) Açık oturumun yapılış nedeni

13. Aşağıdakilerden hangisi sözlü anlatım türlerinden biri değildir?

- A) Fıkra
- B) Münazara
- C) Forum
- D) Konferans

14. Aşağıdakilerden hangisi bilimsel yazıların bölümlerinden bir değildir?

- A) Özet
- B) Asıl metin
- C) Bulgular
- D) Sonuç ve tartışma

15. Aşağıdakilerden hangisi bilimsel yazıların giriş bölümünde dikkat edilmesi gerekenlerden biri değildir?

- A) Çalışmanın gerekliliği ortaya konur.
- B) Ana bulgular dile getirilir.
- C) Araştırmada nasıl bir yol izlendiği ortaya konur.
- D) Elde edilen bilgiler açık ve anlaşılır bir şekilde ortaya konur.

16. Aşağıdakilerden hangisi bir açık oturumda başkanın görevleri arasında yer almaz?

- A) Giriş konuşmasının yapılması
- B) Tartışma sırasında yaşanabilecek tatsız ve çirkin saldırıları önlemek
- C) Muhalif görüşe sahip kişilerin kendilerini açıklamalarına fırsat vermemek
- D) Soru – Cevap bölümünün düzenli ve anlaşılır bir şekilde devam etmesi sağlamak

17. Münazaranın topluluk karşısında yapılan türüne ne ad verilir?

- A) Gösteriler
- B) Toplu tartışmalar
- C) Forumlar
- D) Paneller

18. Belli bir konuyu aydınlatmak amacıyla, bilim adamı ve araştırmacıların bir araya geldikleri ve konuşmacıların konunun belirli bölümlerini sundukları, tartışmalı toplantılara ne ad verilir?

- A) Sempozyum
- B) Toplantı
- C) Konferans
- D) Açık Oturum

19. Aşağıdakilerden hangisi konferansların ortak özelliklerinden biri değildir?

- A) Konferansların geniş kitlelere veya uzmanlar grubuna bir konu hakkında bilgi vermek için düzenlenmesi
- B) Ele alınan konuda herkesin konferans verebilmesi
- C) Konferanslarda özgün düşüncelerin dile getirilmesi
- D) Konferansların bir konuyu açıklamak, dinleyicileri bilgilendirmek, aydınlatmak üzere hazırlanan konuşmalar olması

20. Münazaralarda konuşan veya yazan kişinin, dinleyicilerin veya okuyucuların duygularını okşamayı gaye edinmesine ne ad verilir?

- A) Teknik
- B) Hitap
- C) Demagoji
- D) İfade

1. Şiirlerinde lirik ve epik duyguları işleyen; Bunlar Odur, Macera-yı Aşk, İçli Kız vb. eserlerin yazarı, Tanzimat Dönemi şairi aşağıdakilerden hangisidir?
- A) Abdülhak Hamit Tarhan  
B) Recaizâde Mahmut Ekrem  
C) Ahmet Mithat Efendi  
D) Sami Paşazâde Sezaî
2. Vatan, millet, özgürlük, hak, eşitlik, adalet, uygarlık gibi kavramların edebiyata ilk olarak girdiği dönem aşağıdakilerden hangisidir?
- A) Yükselme  
B) Meşrutiyet  
C) Kuruluş  
D) Tanzimat
3. Tanzimat Dönemi'nde çıkarılan ilk resmî gazete aşağıdakilerden hangisidir?
- A) Takvim-i Vekayi  
B) Tercüman-ı Ahval  
C) Ceride-i Havadis  
D) Tercüman-ı Hakikât
4. Aşağıdaki romanlardan hangisi Tanzimat Edebiyatının ikinci döneminde romantizmden realizme geçişin göstergesidir?
- A) Şair Evlenmesi  
B) Sergüzeşt  
C) Vatan Yahut Silistre  
D) Telemak
5. Tanzimat Fermanı aşağıdaki padişahlardan hangisi döneminde ilan edilmiştir?
- A) II. Mahmut  
B) Vahdettin  
C) I. Mahmut  
D) I. Abdülmecit
6. Namık Kemal'in 1876 yılında Magosa'da sürgünde bulunduğu sırada yazdığı, romantizm akımının etkilerini taşıyan eseri aşağıdakilerden hangisidir?
- A) İntibah  
B) Harabat  
C) Sergüzeşt  
D) Son Pişmanlık
7. Tanzimat Fermanı'nın hazırlanış amacı aşağıdakilerden hangisidir?
- A) Savaşlarda yenilgiye son vermek  
B) Osmanlı Devleti'ndeki değişimlere engel olmak  
C) Devrin gereksinimlerine uygun Batı esasları doğrultusunda yeniden yapılanmak  
D) Ordudaki değişen disiplin anlayışına el atmak
8. Aşağıdakilerden hangisi Tanzimat Edebiyatının birinci döneminin önemli temsilcilerinden biridir?
- A) Samipaşazâde Sezaî  
B) Recaizâde Mahmut Ekrem  
C) Ahmet Mithat Efendi  
D) Abdülhak Hamit
9. Noktalama işaretleri ilk kez aşağıdakilerden hangisinde kullanılmıştır?
- A) Tercüman-ı Ahval Mukaddimesi'nde  
B) Eşber'de  
C) Cezmi'de  
D) Telemak'ta
10. Aşağıdakilerden hangisi 'toplum için sanat' anlayışını benimseyen aydınlardan biridir?
- A) Samipaşazâde Sezaî  
B) Ziya Paşa  
C) Abdülhak Hamit  
D) Recaizade Mahmut Ekrem

11. Ziya Paşa, aşağıdaki türlerden hangisinde eser vermemiştir?

- A) Edebiyat tarihi
- B) Makale
- C) Şiir
- D) Tiyatro

12. Aşağıdakilerden hangisi, Dünya Edebiyatında romantizm akımının öncülerinden biridir?

- A) La Fontaine
- B) Montaigne
- C) Victor Hugo
- D) Moliere

13. Toplumun sosyal, siyasi ve tarihi şartlarından yararlanarak meydana getirilen edebiyat eserine ne ad verilir?

- A) Yazılı metin
- B) Edebi metin
- C) Kurmaca metin
- D) Hayali metin

14. Aşağıdakilerden hangisi Tanzimat Döneminde Batıdan dilimize tercüme edilen eserlerden biridir?

- A) Savaş ve Barış
- B) Sefiller
- C) Anna Karenina
- D) İntibah

15. Ölen bir kişinin ardından onun kahramanlıklarını, yiğitliklerini anlatmak için yazılan eserlere ne ad verilir?

- A) Rubai
- B) Terkibibent
- C) Terciibent
- D) Mersiye

16. Türk Edebiyatının ilk realist romanı aşağıdakilerden hangisidir?

- A) Sergüzeşt
- B) İntibah
- C) Araba Sevdası
- D) Şair Evlenmesi

17. Aşağıdakilerden hangisi Muallim Naci'nin eserlerinden biridir?

- A) Zavallı Çocuk
- B) Gülnihâl
- C) İntibah
- D) Ateş-pare

18. Abdülhak Hâmit Tarhan'ın eşi Fatma Hanım'ın ölümü üzerine duyduğu acıyı dile getirdiği 295 bentlik eseri, aşağıdakilerden hangisidir?

- A) Sahra
- B) Nesteren
- C) Makber
- D) Ölü

19. Aşağıdaki şair ve yazarlardan hangisi toplumsal konular yerine bireysel konularda yazmayı yeğlemiştir?

- A) Ziya Paşa
- B) Sami Paşazâde Sezaî
- C) Şinasi
- D) Namık Kemal

20. Aşağıdakilerden hangisi, Tanzimat Dönemi aydınları arasında ver almaz?

- A) Ahmet Mithat
- B) Şinasi
- C) Namık Kemal
- D) Nazım Hikmet

1. Der Junge hängt seine Jacke ..... den Schrank.

**Welches Wort passt in die obige Lücke?**

**Cümlede boş bırakılan yeri aşağıdakilerden hangisi doğru şekilde tamamlar?**

- A) in  
B) zu  
C) über  
D) auf

2. Gestern Abend lag ich schon um acht im Bett. Ich war sehr .....

**Welches Wort passt in die obige Lücke?**

**Cümlede boş bırakılan yeri aşağıdakilerden hangisi tamamlar?**

- A) alt  
B) noch  
C) viel  
D) müde

3. Wisse Sie, ..... ich Deutschlehrerin bin?

**Welches Wort passt in die obige Lücke?**

**Cümlede boş bırakılan yeri aşağıdakilerden hangisi doğru şekilde tamamlar?**

- A) wenn  
B) denn  
C) dass  
D) weil

4. Schnell! ..... die Teller auf den Tisch!

**Welches Wort passt in die obige Lücke?**

**Cümlede boş bırakılan yeri aşağıdakilerden hangisi doğru şekilde tamamlar?**

- A) Stellen  
B) Stellst  
C) Stellte  
D) Stell

5. A: Sagen Sie mal, ..... kenne ich Sie?  
B: Mich? Das weiß ich nicht.  
A: Ach ja, ich kenne Sie ..... dem Buch Deutsch für Ausländer.

**Welche Wörter ergänzen die Lücken im obigen Dialog?**

**Verilen karşılıklı konuşmada boş bırakılan yerleri aşağıdakilerden hangisi tamamlar?**

- A) wann / zu  
B) woher / aus  
C) was / auf  
D) wohin / in

6. Sivrihisar liegt bei Eskişehir.

**Welche Frage passt zur obigen Antwort?**

**Verilen cevabı gerektirecek soru aşağıdakilerden hangisidir?**

- A) Woher kennen Sie die Leute aus Sivrihisar?  
B) Wer geht nach Sivrihisar?  
C) Wo liegt Sivrihisar?  
D) Wie fährst du nach Sivrihisar?

7. Der Student legt seine Bücher ..... den Tisch.

**Welches Wort passt in die obige Lücke?**

**Cümlede boş bırakılan yeri aşağıdakilerden hangisi tamamlar?**

- A) zu  
B) zur  
C) aus  
D) auf

8. Wenn er fantastisch singen kann, ist er ein .....

**Welches Wort passt in die obige Lücke?**

**Cümlede boş bırakılan yeri aşağıdakilerden hangisi tamamlar?**

- A) Melodie  
B) Meistersänger  
C) Mauer  
D) Meisterkoch

9. Mit der neuen Lernmaschine können Sie jede ..... Fremdsprache ganz einfach lernen.

**Welches Wort passt in die obige Lücke?**

**Cümlede boş bırakılan yeri aşağıdakilerden hangisi doğru şekilde tamamlar?**

- A) beliebige
- B) berühmt
- C) besonders
- D) bestellt

10. Das Wetter ist heute sehr .....

**Welches Wort passt nicht in die obige Lücke?**

**Cümlede boş bırakılan yeri aşağıdakilerden hangisi tamamlamaz?**

- A) sonnig
- B) sondern
- C) windig
- D) kalt

11. Der Mann steckt den elektrischen Kabel in die .....

**Welches Wort passt in die obige Lücke?**

**Cümlede boş bırakılan yeri aşağıdakilerden hangisi doğru şekilde tamamlar?**

- A) Steckdose
- B) Vase
- C) Schalter
- D) Licht

12. Bu ayrıntılı dilsel bir çalışma.

**Wie lautet der obige Satz auf Deutsch?**

**Verilen cümlelerin Almancası aşağıdakilerden hangisidir?**

- A) Diese Arbeit ist eine Ausführung für Sprachen.
- B) Das ist eine ausführliche sprachliche Arbeit.
- C) Sprachliche und ausführliche Arbeiten finden Sie hier.
- D) Die ausführliche sprachliche Arbeit ist von unserem Lehrer vorbereitet worden.

13. Was bedeutet "öge" auf Deutsch?

**"öge" sözcüğünün Almancası aşağıdakilerden hangisidir?**

- A) Der Kasten
- B) Das Kabel
- C) Das Element
- D) Der Trichter

14. Der Postmann ..... jeden Tag unsere Post.

**Welches Wort passt in die obige Lücke?**

**Cümlede boş bırakılan yeri aşağıdakilerden hangisi tamamlar?**

- A) legt
- B) lernt
- C) steht
- D) bringt

15. .... habe ich meinen Führerschein und kann mir ein Auto kaufen.

**Welches Wort passt in die obige Lücke?**

**Cümlede boş bırakılan yeri aşağıdakilerden hangisi tamamlar?**

- A) Endlich
- B) Trotzdem
- C) Seit
- D) Weil

16. Er sah die große Überraschung ..... als er nach Hause kam.

**Welches Wort passt in die obige Lücke?**

**Cümlede boş bırakılan yeri aşağıdakilerden hangisi tamamlar?**

- A) sonst
- B) dann
- C) wegen
- D) erst

17. Das Badezimmer stand unter Wasser.

**Wie lautet der obige Satz auf Türkisch?**

**Verilen cümlelerin Türkçesi aşağıdakilerden hangisidir?**

- A) Banyoda sıcak su bitti.
- B) Banyoyu su bastı.
- C) Banyoda su bitmiş.
- D) Banyo susuz kaldı.

18. A: Kommst du mit?

B: Wohin?

A: Wir machen einen Stadtbummel.

B: Nein, danke. Ihr ..... bestimmt zu lange bummeln!

A: Gut, dann sehen wir uns morgen!

**Welches ergänzt die Lücke im obigen Dialog?**

**Verilen karşılıklı konuşmada boş bırakılan yeri aşağıdakilerden hangisi tamamlar?**

- A) wirst
- B) wollen
- C) werdet
- D) werden

19. Am Sonntag habe ich meine Mutter besucht.

**Wie lautet der obige Satz im Präteritum?**

**Verilen cümlelerin yakın geçmiş zaman şekli aşağıdakilerden hangisidir?**

- A) Am Sonntag hatte ich meine Mutter besuchen sollen.
- B) Am Sonntag besuchte ich meine Mutter.
- C) Meine Mutter wollte ich am Sonntag besuchen.
- D) Am Sonntag werde ich meine Mutter besuchen.

20. Ayşe geht jeden Freitag ins Kino.

**Wie lautet der obige Satz im Futur?**

**Verilen cümlelerin gelecek zaman şekli aşağıdakilerden hangisidir?**

- A) Ayşe will am Freitag ins Kino gehen.
- B) Ayşe kann am Freitag ins Kino gehen.
- C) Ayşe wird jeden Freitag ins Kino gehen.
- D) Ayşe sollte Freitags ins Kino gehen.

1. He couldn't pass the test, ..... he didn't study enough.

**Which of the following completes the sentence above?**

**Aşağıdakilerden hangisi yukarıdaki cümleyi doğru olarak tamamlar?**

- A) so  
B) and  
C) or  
D) for

2. I met a/an ..... in the shopping center.

**Which of the following completes the sentence above?**

**Aşağıdakilerden hangisi yukarıdaki cümleyi doğru olarak tamamlar?**

- A) tall handsome American boy  
B) American tall handsome  
C) handsome tall American boy  
D) American boy tall handsome

3. I never drink milk for breakfast.

**Which of the following is the Turkish translation of the sentence above?**

**Aşağıdakilerden hangisi yukarıdaki cümlenin Türkçe karşılığıdır?**

- A) Kahvaltıda genellikle süt içerim.  
B) Kahvaltıda hiç süt içmem.  
C) Kahvaltıda sık sık süt içerim.  
D) Kahvaltıda daima süt içerim.

4. Take your umbrella! It ..... outside now.

**Which of the following completes the sentence above?**

**Aşağıdakilerden hangisi yukarıdaki cümleyi doğru olarak tamamlar?**

- A) rains  
B) rain  
C) is raining  
D) is going to rain

5. .... handbag is this here?

**Which of the following completes the sentence above?**

**Aşağıdakilerden hangisi yukarıdaki cümleyi doğru olarak tamamlar?**

- A) Whose  
B) Who  
C) Where  
D) What

6. .... İstanbul is a very crowded city.

**Which of the following completes the sentence above?**

**Aşağıdakilerden hangisi yukarıdaki cümleyi doğru olarak tamamlar?**

- A) The  
B) An  
C) (...)  
D) A

7. Aylin likes ..... dog very much.

**Which of the following completes the sentence above?**

**Aşağıdakilerden hangisi yukarıdaki cümleyi doğru olarak tamamlar?**

- A) mine  
B) hers  
C) she  
D) her

8. They help ..... father in the garden at the weekends.

**Which of the following completes the sentence above?**

**Aşağıdakilerden hangisi yukarıdaki cümleyi doğru olarak tamamlar?**

- A) their  
B) mine  
C) him  
D) theirs



9. We ..... a new car next year.

Which of the following completes the sentence above?

Aşağıdakilerden hangisi yukarıdaki cümleyi doğru olarak tamamlar?

- A) are go to buy  
B) are going to buy  
C) bought  
D) are buy

10. Greg: What are your plans for next year?  
Betty: I ..... a dance school.

Which of the following completes the dialogue above?

Aşağıdakilerden hangisi yukarıdaki konuşmayı doğru olarak tamamlar?

- A) have opened  
B) open  
C) opened  
D) am going to open

11. There is a ..... in our back garden.

Which of the following completes the sentence above?

Aşağıdakilerden hangisi yukarıdaki cümleyi doğru olarak tamamlar?

- A) big table wooden round  
B) big wooden round table  
C) big round wooden table  
D) round big wooden table

12. We need ..... lemons for the salad.

Which of the following completes the dialogue above?

Aşağıdakilerden hangisi yukarıdaki konuşmayı doğru olarak tamamlar?

- A) some  
B) any  
C) much  
D) a little

13. A: How often do you go to the theater?  
B: I go to the theater .....

Which of the following completes the dialogue above?

Aşağıdakilerden hangisi yukarıdaki konuşmayı doğru olarak tamamlar?

- A) yesterday  
B) once a month  
C) two days ago  
D) at the moment

14. I don't want to sell my house, ..... I need money.

Which of the following completes the sentence above?

Aşağıdakilerden hangisi yukarıdaki cümleyi doğru olarak tamamlar?

- A) for  
B) yet  
C) and  
D) or

15. Engin is busy. He ..... a meeting with his assistant at the moment.

Which of the following completes the sentence above?

Aşağıdakilerden hangisi yukarıdaki cümleyi doğru olarak tamamlar?

- A) is having  
B) has  
C) have  
D) is have

16. How ..... books do you read in a year?

Which of the following completes the sentence above?

Aşağıdakilerden hangisi yukarıdaki cümleyi doğru olarak tamamlar?

- A) some  
B) much  
C) many  
D) any

17. Begüm.....her homework tonight.

**Which of the following completes the sentence above?**

**Aşağıdakilerden hangisi yukarıdaki cümleyi doğru olarak tamamlar?**

- A) finish
- B) are going to finish
- C) finished
- D) is going to finish

18. Do you want to go to a park ..... a shopping mall?

**Which of the following completes the sentence above?**

**Aşağıdakilerden hangisi yukarıdaki cümleyi doğru olarak tamamlar?**

- A) for
- B) so
- C) but
- D) or

19. This dictionary is mine, that is ..... over there.

**Which of the following completes the sentence above?**

**Aşağıdakilerden hangisi yukarıdaki cümleyi doğru olarak tamamlar?**

- A) you
- B) yours
- C) my
- D) your

20. A: ..... does Greg go to work?

B: At 8 o'clock.

**Which of the following completes the sentence above?**

**Aşağıdakilerden hangisi yukarıdaki cümleyi doğru olarak tamamlar?**

- A) When
- B) Who
- C) Which
- D) Where

1. «Sa valise est lourde.»

**Choisissez la traduction qui convient.**

**Yukarıdaki cümlelerin Türkçe karşılığı aşağıdakilerden hangisidir?**

- A) Bavulu ağır.  
B) Bavulu hafif.  
C) Bavulu büyük.  
D) Bavulu küçük.

2. «J'ai réussi mon examen grâce à cette méthode.»

**Choisissez la traduction qui convient.**

**Yukarıdaki cümlelerin Türkçe karşılığı aşağıdakilerden hangisidir?**

- A) Sınavı yöntemle başardım.  
B) Sınavımı bu yöntem sayesinde başardım.  
C) Bu yöntemi kullanarak başarılı olunuyor.  
D) Sınava yöntemlerle çalışılır.

3. - Qui veut sa voiture?  
- C'est moi qui .....

**Choisissez l'expression qui convient.**

**Yukarıdaki konuşmada boş bırakılan yeri aşağıdakilerden hangisi doğru şekilde tamamlar?**

- A) le veux  
B) la veux  
C) la veut  
D) le veut

4. Les gaz d'échappement sont dangereux ..... la santé.

**Choisissez le mot qui convient.**

**Cümledeki boşluğu aşağıdakilerden hangisi doğru şekilde tamamlar?**

- A) pour  
B) que  
C) qui  
D) comme

5. Je ..... conseille de lire ce livre.

**Choisissez le mot qui convient.**

**Cümledeki boşluğu aşağıdakilerden hangisi doğru şekilde tamamlar?**

- A) peux  
B) suis  
C) le  
D) vous

6. Je vais ..... Paul.

**Choisissez le mot qui convient.**

**Cümledeki boşluğu aşağıdakilerden hangisi doğru şekilde tamamlar?**

- A) à  
B) au  
C) par  
D) chez

7. - Tu as mangé des pommes?  
- Non, .....

**Choisissez l'expression qui convient.**

**Yukarıdaki konuşmada boş bırakılan yeri aşağıdakilerden hangisi doğru şekilde tamamlar?**

- A) j'en mange  
B) je n'en mange pas  
C) je n'en ai pas mangé  
D) je dois en manger

8. Nos clients ..... aiment beaucoup.

**Choisissez le mot qui convient.**

**Cümledeki boşluğu aşağıdakilerden hangisi doğru şekilde tamamlar?**

- A) nous  
B) je  
C) il  
D) chez

9. «Okula geldiğimde, öğrenciler yoktu.»

**Choisissez la traduction qui convient.**

**Yukarıdaki cümlelerin Fransızca karşılığı aşağıdakilerden hangisidir?**

- A) Quand je suis arrivé à l'école, il n'y avait pas d'élèves.
- B) Je suis venue à l'école, les élèves sont partis.
- C) Depuis que je suis arrivé à l'école, il n'y a pas d'élèves.
- D) Comme je suis venue à l'école, il n'y a pas d'élèves.

10. J'attends ..... 10 minutes.

**Choisissez le mot qui convient.**

**Cümledeki boşluğu aşağıdakilerden hangisi doğru şekilde tamamlar?**

- A) le
- B) avant
- C) après
- D) depuis

11. - ..... font ces enfants?  
- Ils jouent.

**Choisissez le mot qui convient.**

**Yukarıdaki konuşmada boş bırakılan yeri aşağıdakilerden hangisi doğru şekilde tamamlar?**

- A) Comment
- B) Où
- C) Est-ce que
- D) Que

12. Eric : Ouvre la fenêtre?  
Noémie : Quoi?  
Eric : Je te dis ..... la fenêtre.

**Choisissez l'expression qui convient.**

**Yukarıdaki konuşmada boş bırakılan yeri aşağıdakilerden hangisi doğru şekilde tamamlar?**

- A) ouvrir
- B) de ne pas ouvrir
- C) d'ouvrir
- D) ne pas ouvrir

13. .... il pleut, on doit prendre un parapluie.

**Choisissez le mot qui convient.**

**Cümledeki boşluğu aşağıdakilerden hangisi doğru şekilde tamamlar?**

- A) Depuis
- B) Comme
- C) Car
- D) Pour

14. La maman : Qui a cassé le vase?  
L'enfant : Jean.  
La maman : C'est Jean?  
L'enfant : Oui, .....

**Choisissez l'expression qui convient.**

**Yukarıdaki konuşmada boş bırakılan yeri aşağıdakilerden hangisi doğru şekilde tamamlar?**

- A) c'est lui qui l'a cassée
- B) ce n'est pas lui
- C) c'est Jean qui l'a cassé
- D) c'est elle

15. Ils sont partis sans ..... dire.

**Choisissez le mot qui convient.**

**Cümledeki boşluğu aşağıdakilerden hangisi doğru şekilde tamamlar?**

- A) pour
- B) aucun
- C) personne
- D) rien

16. Je connais bien ce jeune homme ..... est étudiant dans notre université.

**Choisissez le mot qui convient.**

**Cümledeki boşluğu aşağıdakilerden hangisi doğru şekilde tamamlar?**

- A) qui
- B) que
- C) comment
- D) où

17. .... vous dites est faux.

**Choisissez l'expression qui convient.**

**Cümledeki boşluğu aşağıdakilerden hangisi doğru şekilde tamamlar?**

- A) Ce qu'
- B) Que
- C) Ce qui
- D) Ce que

18. .... je joue avec lui, il est très heureux.

**Choisissez le mot qui convient.**

**Cümledeki boşluğu aşağıdakilerden hangisi doğru şekilde tamamlar?**

- A) Parce que
- B) Lorsque
- C) Avant
- D) Depuis

19. I. Ces lunettes sont rouges.  
II. Ce pantalon est à la mode.  
III. Il n'est pas cher.  
IV. Il est très bon marché.

**Trouvez la phrase qui ne convient pas.**

**Cümleler sırasıyla okunduğunda, anlam bütünlüğünü bozan cümleyi bulunuz.**

- A) I
- B) II
- C) III
- D) IV

20. - Est-ce que tu as téléphoné à Philippe?  
- Non, je ne ..... ai pas téléphoné.

**Choisissez le mot qui convient.**

**Yukarıdaki konuşmada boş bırakılan yeri aşağıdakilerden hangisi doğru şekilde tamamlar?**

- A) lui
- B) leur
- C) le
- D) la

1. Wer ist Albert Einstein?

**Welche Antwort passt zur obigen Frage?**

**Verilen sorunun cevabı aşağıdakilerden hangisidir?**

- A) Er ist unser neuer Lehrer an der Schule.
- B) Er ist ein weltberühmter genialer Wissenschaftler.
- C) Er ist ein berühmter Ingenieur.
- D) Er kommt aus Spanien.

2. Weitere Informationen findet ihr im Internet!

**Wie lautet der obige Satz auf Türkisch?**

**Verilen cümlelerin Türkçesi aşağıdakilerden hangisidir?**

- A) İnternette başka bilgiler bulabilirsiniz!
- B) İnternetsizde arama yapabilirsiniz!
- C) Diğer bilgileri internetten bulduk!
- D) Diğer bilgilere ancak internet şifresiyle ulaşabilirsiniz!

3. Ich würde gern ein Auto erfinden, .....

**Welcher Satz ergänzt die obige Lücke?**

**Verilen cümleyi aşağıdakilerden hangisi tamamlar?**

- A) wenn ich mitkommen kann.
- B) ob ich ein neues kaufen kann.
- C) damit wir zusammen fahren können.
- D) daß ohne Benzin läuft.

4. Bei der Schulausbildung in Deutschland und in der Türkei gibt es .....

**Welches ergänzt den obigen Satz?**

**Verilen cümleyi aşağıdakilerden hangisi tamamlar?**

- A) Beispiele und Gruppen.
- B) Ähnlichkeiten und Unterschiede.
- C) Sprachen und Mittel.
- D) Klassen und Möglichkeit.

5. Her zaman yeni keşif ve buluşlar vardır.

**Wie lautet der obige Satz auf Deutsch?**

**Verilen cümlelerin Almançası aşağıdakilerden hangisidir?**

- A) Wir können etwas neues erfinden.
- B) Ich habe eine neue Entdeckung gemacht.
- C) Er möchte eine neue Maschine entwickeln.
- D) Es gibt immer neue Entdeckungen und Erfindungen.

6. Was willst du werden?

**Welche Antwort passt zur obigen Frage?**

**Verilen sorunun cevabı aşağıdakilerden hangisidir?**

- A) Ausland.
- B) Pilot.
- C) Traum.
- D) Büro.

7. Das Fernsehen ist die größte kulturelle Katastrophe, ..... die Erde erlebt hat.

**Welches Wort passt in die obige Lücke?**

**Cümlede boş bırakılan yeri aşağıdakilerden hangisi tamamlar?**

- A) dem
- B) der
- C) die
- D) des

8. Was vermutest du, warum Ayşe und Ali gern Fahrrad fahren?

**Welche Antwort passt zur obigen Frage?**

**Verilen sorunun cevabı aşağıdakilerden hangisidir?**

- A) Ich vermute, daß es Ayşe und Ali Spaß macht.
- B) Ich glaube, sie spielt gern.
- C) Ich nehme an, du kommst mit.
- D) Ich hatte gedacht, daß sie stolz auf dich sind.

9. Der Computer / Die Tastatur / Der Rechner / Das Auto /

Welches Wort passt nicht zu den anderen in der obigen Wortgruppe?

Verilen sözcük grubuna uymayan aşağıdakilerden hangisidir?

- A) Die Tastatur
- B) Der Rechner
- C) Das Auto
- D) Der Computer

10. In der Stadt gibt es viel Lärm und Abgas.

Wie lautet der obige Satz in der Pluralform?

Verilen cümlelerin çoğul hali aşağıdakilerden hangisidir?

- A) In den Städten gibt es viel Lärm und Abgase.
- B) In den Stadts gab es viele Lärme und Abgasen.
- C) In der Städten hat es viele Lärme und Abgases gegeben.
- D) In dieser Stadt gibt es vieler Lärmer und Abgasens.

11. Was bedeutet das Gegenteil von "beruhigend"?

"beruhigend" sözcüğünün zıt anlamlısı aşağıdakilerden hangisidir?

- A) lustig
- B) aufregend
- C) erfolgreich
- D) stolz

12. Fahren die Kinder gern Fahrrad?

Welche Antwort passt nicht zur obigen Frage?

Aşağıdakilerden hangisi verilen sorunun cevabı olamaz?

- A) Ja, weil es lustig ist.
- B) Ja, weil es aufregend ist.
- C) Ja, um die Hausaufgaben zu machen.
- D) Ja, es macht ihnen Spaß.

13. A: .....  
B: Ja, das ist ein Fahrradtaxi!

Welcher Satz ergänzt den obigen Dialog?

Verilen karşılıklı konuşmayı aşağıdakilerden hangisi tamamlar?

- A) Weißt du eigentlich, was Velotaxi bedeutet?
- B) Wo ist die Haltestelle?
- C) Hast du ein Taxi gerufen?
- D) Hast du ein Auto?

14. Heinrich Heine, der viele Gedichte, Balladen und Lieder geschrieben hat, .....

Welches ergänzt die Lücke im obigen Satz?

Verilen cümleyi aşağıdakilerden hangisi tamamlar?

- A) möchte sich endlich ein Auto kaufen.
- B) schreibt auch türkische Gedichte.
- C) ist ein berühmter deutscher Dichter.
- D) hat alles vom Internet gelernt.

15. Die Landkarte ..... nur einen kleinen Ausschnitt.

Welches Wort passt in die obige Lücke?

Cümlede boş bırakılan yeri aşağıdakilerden hangisi doğru şekilde tamamlar?

- A) zeigt
- B) schreibt
- C) fließt
- D) liegt

16. .... fließt durch Deutschland.

Welches Wort passt in die obige Lücke?

Cümlede boş bırakılan yeri aşağıdakilerden hangisi tamamlar?

- A) Der Kızılırmak
- B) Der Rhein
- C) Der Seyhan
- D) Der Porsuk

## 17. Was bedeutet " anlatı " auf Deutsch?

"anlatı" sözcüğünün Almancası aşağıdakilerden hangisidir?

- A) Der Roman
- B) Die Zeitung
- C) Das Buch
- D) Die Erzählung

## 18. Wir haben das Gedicht .....

Welches ergänzt die Lücke im obigen Satz?

Verilen cümleyi aşağıdakilerden hangisi tamamlar?

- A) auf die Postkarte gemalt.
- B) in der Klasse vorgetragen.
- C) das ist ein schöner Blick.
- D) dort finden sie Informationen.

## 19. Burada kalenin tarihi hakkında bilgi alınabilir.

Wie lautet der obige Satz auf Deutsch?

Verilen cümlelerin Almancası aşağıdakilerden hangisidir?

- A) Dort kannst du auf die Burg klettern.
- B) Die Information über die Burg findest du dort drüben.
- C) Hier kann man Informationen über die Burg erfahren.
- D) Hier bekommt man jede Information.

## 20. Die Stadt Bursa liegt westlich von Eskişehir.

Welche Frage passt zur obigen Antwort?

Verilen cevabı gerektirecek soru aşağıdakilerden hangisidir?

- A) Wie gehst du nach Bursa?
- B) Gibt es in Bursa viele Moscheen?
- C) Hast du Freunde aus Bursa?
- D) Wo liegt die Stadt Bursa?



1. Don't come early in the morning, I .....

Which of the following completes the sentence above?

Aşağıdakilerden hangisi yukarıdaki cümleyi doğru olarak tamamlar?

- A) slept
- B) sleep
- C) will be sleeping
- D) will slept

2. Jasmine will have ..... by this time next year.

Which of the following completes the sentence above?

Aşağıdakilerden hangisi yukarıdaki cümleyi doğru olarak tamamlar?

- A) retired
- B) retire
- C) retiring
- D) retires

3. The party ..... before midnight.

Which of the following completes the sentence above?

Aşağıdakilerden hangisi yukarıdaki cümleyi doğru olarak tamamlar?

- A) starts
- B) will have started
- C) started
- D) will be starting

4. Jane ..... the work by tomorrow.

Which of the following completes the sentence above?

Aşağıdakilerden hangisi yukarıdaki cümleyi doğru olarak tamamlar?

- A) will have finished
- B) is finishing
- C) finish
- D) has finished

5. Tomorrow night at 9, he ..... his favourite show on TV.

Which of the following completes the sentence above?

Aşağıdakilerden hangisi yukarıdaki cümleyi doğru olarak tamamlar?

- A) will be watching
- B) watches
- C) will watch
- D) is watching

6. If Aynur finds a cheap flight to Germany, she ..... her son.

Which of the following completes the sentence above?

Aşağıdakilerden hangisi yukarıdaki cümleyi doğru olarak tamamlar?

- A) visits
- B) visiting
- C) would visit
- D) will visit

7. They ..... swimming if the sun shines.

Which of the following completes the sentence above?

Aşağıdakilerden hangisi yukarıdaki cümleyi doğru olarak tamamlar?

- A) go
- B) are going
- C) will go
- D) goes

8. Don't wait for us if we ..... late.

**Which of the following completes the sentence above?**

**Aşağıdakilerden hangisi yukarıdaki cümleyi doğru olarak tamamlar?**

- A) are
- B) will be
- C) were
- D) be

9. If Kerem had told me the way correctly, I ..... so late.

**Which of the following completes the sentence above?**

**Aşağıdakilerden hangisi yukarıdaki cümleyi doğru olarak tamamlar?**

- A) would have arrived
- B) wouldn't arrive
- C) didn't arrive
- D) wouldn't have arrived

10. If I ..... you, I ..... a doctor.

**Which of the following completes the sentence above?**

**Aşağıdakilerden hangisi yukarıdaki cümleyi doğru olarak tamamlar?**

- A) have been/will see
- B) were/will see
- C) were / would see
- D) am/ will see

11. He will be successful ..... he studies regularly.

**Which of the following completes the sentence above?**

**Aşağıdakilerden hangisi yukarıdaki cümleyi doğru olarak tamamlar?**

- A) until
- B) in order to
- C) where
- D) as long as

12. Sarah ate a big sandwich ..... she was hungry.

**Which of the following completes the sentence above?**

**Aşağıdakilerden hangisi yukarıdaki cümleyi doğru olarak tamamlar?**

- A) to
- B) as
- C) in
- D) why

13. He cannot go ..... he wants.

**Which of the following completes the sentence above?**

**Aşağıdakilerden hangisi yukarıdaki cümleyi doğru olarak tamamlar?**

- A) for
- B) by
- C) since
- D) wherever

14. .... that water has lots of benefits, Kathy drinks two litres a day.

**Which of the following completes the sentence above?**

**Aşağıdakilerden hangisi yukarıdaki cümleyi doğru olarak tamamlar?**

- A) Because
- B) Due to the fact
- C) For
- D) Since

15. The film was very boring ..... some people fell asleep.

**Which of the following completes the sentence above?**

**Aşağıdakilerden hangisi yukarıdaki cümleyi doğru olarak tamamlar?**

- A) because
- B) so
- C) to
- D) at

16. 'Kürk Mantolu Madonna' ..... by Sabahattin Ali.

**Which of the following completes the sentence above?**

**Aşağıdakilerden hangisi yukarıdaki cümleyi doğru olarak tamamlar?**

- A) written
- B) has written
- C) was written
- D) had written

17. The letters ..... by the secretary tomorrow.

**Which of the following completes the sentence above?**

**Aşağıdakilerden hangisi yukarıdaki cümleyi doğru olarak tamamlar?**

- A) posted
- B) will be posted
- C) are posted
- D) were posted

18. The whole story ..... us by the students yesterday.

**Which of the following completes the sentence above?**

**Aşağıdakilerden hangisi yukarıdaki cümleyi doğru olarak tamamlar?**

- A) were told
- B) will be told
- C) was told
- D) is told

19. The walls ..... by the painters now.

**Which of the following completes the sentence above?**

**Aşağıdakilerden hangisi yukarıdaki cümleyi doğru olarak tamamlar?**

- A) are painted
- B) will be painted
- C) were painted
- D) are being painted

20. The windows ..... by Semih yesterday.

**Which of the following completes the sentence above?**

**Aşağıdakilerden hangisi yukarıdaki cümleyi doğru olarak tamamlar?**

- A) broke
- B) are broken
- C) were broken
- D) will be broken

1. Elle est en retard ..... un accident sur la route.

**Choisissez le mot/l'expression qui convient.**

**Cümledeki boşluğu aşağıdakilerden hangisi doğru şekilde tamamlar?**

- A) à cause d'  
B) à l'absence d'  
C) pourquoi  
D) si

2. Hier, il ..... un beau film.

**Choisissez le mot qui convient.**

**Cümlede boş bırakılan yeri aşağıdakilerden hangisi doğru şekilde tamamlar?**

- A) regardera  
B) regarde  
C) regarder  
D) a regardé

3. Tu ne penses pas y aller?

**Choisissez la traduction qui convient.**

**Yukarıdaki cümlelerin Türkçe karşılığı aşağıdakilerden hangisidir?**

- A) Oraya gitmeyi düşünmez misin?  
B) Oraya gitmeyi düşünüyor musun?  
C) Orada ne kadar kalacaksınız?  
D) Oraya nasıl gideceksin?

4. Le noir est une couleur ..... je préfère.

**Choisissez le mot qui convient.**

**Cümledeki boşluğu aşağıdakilerden hangisi doğru şekilde tamamlar?**

- A) où  
B) donc  
C) que  
D) qui

5. La cliente : .....

Le serveur : Tout de suite, Madame.

**Choisissez la réplique qui convient.**

**Yukarıdaki konuşmada boş bırakılan yeri aşağıdakilerden hangisi doğru şekilde tamamlar?**

- A) Vous prenez un thé?  
B) Monsieur, l'addition s'il vous plaît!  
C) Vous voulez commander quelque chose?  
D) Chacun paie sa part?

6. - .....?

- Vendredi prochain.

**Choisissez la question qui convient.**

**Yukarıdaki konuşmada cevabı gerektiren soru aşağıdakilerden hangisidir?**

- A) Quand vous partez  
B) Nous sommes quel jour  
C) Vous venez d'où  
D) Vous allez où

7. .... pense à soi-même.

**Choisissez le mot qui convient.**

**Cümledeki boşluğu aşağıdakilerden hangisi doğru şekilde tamamlar?**

- A) Qui  
B) Comme  
C) Chacun  
D) Toi

8. Le mois prochain, nous ..... en France.

**Choisissez le mot qui convient.**

**Cümledeki boşluğu aşağıdakilerden hangisi doğru şekilde tamamlar?**

- A) ira  
B) irons  
C) avons  
D) allez

9. Nous donnons des conseils ..... la fille.

**Choisissez le mot qui convient.**

**Cümledeki boşluğu aşağıdakilerden hangisi doğru şekilde tamamlar?**

- A) à  
B) de  
C) en  
D) lui

10. fait / choix / avez / votre / vous?

I II III IV V

**Mettez dans le bon ordre.**

**Yukarıdaki kelimelerin anlamlı ve kurallı bir cümle oluşturan sırası aşağıdakilerin hangisinde doğru olarak verilmiştir?**

- A) V, IV, II, III, I  
B) V, III, I, IV, II  
C) III, IV, V, I, II  
D) III, I, V, IV, II

11. Juliette pleure beaucoup. C'est une femme .....

**Choisissez le mot qui convient.**

**Cümledeki boşluğu aşağıdakilerden hangisi doğru şekilde tamamlar?**

- A) intelligente
- B) tranquille
- C) sensible
- D) heureuse

12. Demain, Pierre et Jean ..... une voiture.

**Choisissez le mot qui convient.**

**Cümlede boş bırakılan yeri aşağıdakilerden hangisi doğru şekilde tamamlar?**

- A) achèteront
- B) achètent
- C) acheter
- D) ont acheté

13. Peux-tu ..... présenter s'il te plaît?

**Choisissez le mot qui convient.**

**Cümledeki boşluğu aşağıdakilerden hangisi doğru şekilde tamamlar?**

- A) vous
- B) ton
- C) leur
- D) te

14. Il peut pleuvoir; n'oubliez pas ..... prendre votre parapluie.

**Choisissez le mot qui convient.**

**Cümledeki boşluğu aşağıdakilerden hangisi doğru şekilde tamamlar?**

- A) sans
- B) en
- C) qui
- D) de

15. - Le fondateur de la Turquie, c'est .....?  
- C'est Atatürk.

**Choisissez le mot qui convient.**

**Yukarıdaki konuşmada boş bırakılan yeri aşağıdakilerden hangisi doğru şekilde tamamlar?**

- A) quand
- B) qui
- C) où
- D) comment

16. Si vous avez soif, ..... de l'eau.

**Choisissez le mot qui convient.**

**Cümledeki boşluğu aşağıdakilerden hangisi doğru şekilde tamamlar?**

- A) soyez
- B) buvez
- C) pris
- D) mangez

17. Je suis ..... le théâtre et contre le cinéma.

**Choisissez le mot qui convient.**

**Cümledeki boşluğu aşağıdakilerden hangisi doğru şekilde tamamlar?**

- A) dans
- B) qui
- C) pour
- D) du

18. Elle lit 2 livres ..... mois.

**Choisissez le mot qui convient.**

**Cümledeki boşluğu aşağıdakilerden hangisi doğru şekilde tamamlar?**

- A) en
- B) chacune
- C) par
- D) dans

19. Si tu vas chez Paul, ..... tes clés.

**Choisissez le mot qui convient.**

**Cümlede boş bırakılan yeri aşağıdakilerden hangisi doğru şekilde tamamlar?**

- A) prendre
- B) prenez
- C) prends
- D) pris

20. On va faire un pique-nique: il faut ..... le barbecue.

**Choisissez le mot/l'expression qui convient.**

**Cümledeki boşluğu aşağıdakilerden hangisi doğru şekilde tamamlar?**

- A) allumer
- B) aller
- C) faire du feu
- D) couper le bois

1.  $A = \{1, 2, 3, a\}$  ve  $B = \{b, c, d, 4, 5\}$  olduğuna göre aşağıdakilerden hangisi  $A \times B$  kümesinin bir elemanı değildir?
- A) (1, b)  
B) (4, a)  
C) (a, 5)  
D) (a, c)
2. Köfte ve salata ikramlarından en az birinin tercih edildiği 180 yolcunun bulunduğu bir uçakta, 105 yolcu sadece köfte yemeyi, 40 yolcu ise köfte ve salatayı birlikte yemeyi tercih ettiğine göre salata yemeyi tercih eden yolcu sayısı kaçtır?
- A) 15  
B) 35  
C) 50  
D) 75
3.  $A = \{a, b, c, d, e, f\}$  kümesinin alt kümelerinin kaçında c bulunmaz?
- A) 8  
B) 16  
C) 32  
D) 64
4.  $A = \{1, 2, c\}$ ,  $B = \{1, 3, c, e\}$  ve  $C = \{1, 2, 5, a, b, d\}$  kümeleri veriliyor. Buna göre  $(A \cup B) \cap C$  kümesi aşağıdakilerden hangisidir?
- A) {1,2}  
B) {1,2,3,c,e}  
C) {1,3}  
D) {1,2,a,e}
5.  $A = \{x \mid 2 \leq x < 7 \text{ ve } x \text{ doğal sayı}\}$  kümesinin eleman sayısı kaçtır?
- A) 3  
B) 4  
C) 5  
D) 6
6.  $A = \{a, 1, \{1\}, \{2\}, \{1, 2, a\}\}$  kümesinin alt kümelerinin sayısı kaçtır?
- A) 32  
B) 64  
C) 128  
D) 256
7. Ali parasının üçte biri ile kitap, kalan parasının yarısı ile defter alınca geriye 20 lirası kaldığına göre Ali'nin harcama yapmadan önceki parası kaç liradır?
- A) 20  
B) 40  
C) 60  
D) 80
8.  $3^x = 5$  ise  $9^{2x}$  ifadesinin değeri kaçtır?
- A) 5  
B) 25  
C) 125  
D) 625
9.  $4 < x < 5$  için  $|x - 5|$  ifadesi aşağıdakilerden hangisine eşittir?
- A)  $-x + 5$   
B)  $x - 5$   
C)  $x$   
D) 5
10. %20'si 40 olan sayının %30'u kaçtır?
- A) 45  
B) 50  
C) 60  
D) 80
11.  $\frac{3 \cdot 2^8 + 4^4}{16^2}$  işleminin sonucu kaçtır?
- A) 2  
B) 4  
C) 8  
D) 16

12.  $2x - y = 3$   
 $-4x + 2y = 8$

Yukarıdaki denklem sisteminin çözüm kümesi aşağıdakilerden hangisidir?

- A)  $\{(2,1)\}$   
 B)  $\{(0,4)\}$   
 C)  $\mathbb{R}$   
 D)  $\emptyset$

13.  $x - 1 \leq \frac{7}{2}$  eşitsizliğini sağlayan kaç tane pozitif tamsayı vardır?

- A) 2  
 B) 3  
 C) 4  
 D) 5

14.  $2x - 3 = 5x + 9$  denkleminin çözüm kümesi aşağıdakilerden hangisidir?

- A)  $\{-4\}$   
 B)  $\{0\}$   
 C)  $\{4\}$   
 D)  $\emptyset$

15.  $A = (-2, 3]$  ve  $B = [-1, 4)$  olduğuna göre  $A \cap B$  kümesi aşağıdakilerden hangisidir?

- A)  $\{x \mid -1 < x < 3\}$   
 B)  $\{x \mid -1 \leq x \leq 3\}$   
 C)  $\{x \mid -2 < x < 4\}$   
 D)  $\{x \mid -2 \leq x \leq 4\}$

16. Aşağıdaki gerçek sayılardan hangisi 2 ile 3 arasındadır?

- A)  $\frac{5}{4}$   
 B)  $\sqrt{3}$   
 C)  $\sqrt{5}$   
 D)  $\frac{11}{3}$

17.  $\sqrt{45} + 2\sqrt{5} - \sqrt{125}$  işleminin sonucu kaçtır?

- A)  $-\sqrt{5}$   
 B) 0  
 C)  $\sqrt{5}$   
 D)  $2\sqrt{5}$

18.  $f: \mathbb{R} \rightarrow \mathbb{R}$ ,  $f(x) = (a-1)x + 5b$  fonksiyonu birim (özdeşlik) fonksiyon olduğuna göre  $a+b$  değeri kaçtır?

- A) -1  
 B) 0  
 C) 1  
 D) 2

19.  $f(x) = x^2 - 1$  kuralı ile verilen  $f$  fonksiyonunun tanım kümesi  $A = \{-1, 0, 1, 2\}$  olduğuna göre  $f(A)$  görüntü kümesi aşağıdakilerden hangisidir?

- A)  $\{-1, 0, 3\}$   
 B)  $\{-1, 0, 2, 3\}$   
 C)  $\{0, 1, 3\}$   
 D)  $\{-1, 0, 1, 2\}$

20.  $f: \mathbb{R} \rightarrow \mathbb{R}$ ,  $f(x) = (a-2)x - 11$  doğrusal fonksiyonun eğimi 5 ise  $a$  kaçtır?

- A) 3  
 B) 5  
 C) 7  
 D) 11

## SINAVDA UYULMASI GEREKEN GENEL KURALLAR

1. Sınava girmek için gerekli belgelerinizin tümünü sınav başlamadan önce sıranızın üzerine bırakınız.
2. Sınav süresince görevlilerle konuşmak, görevlilere soru sormak yasaktır. Aynı şekilde görevlilerin de öğrencilerle/adaylarla yakından ve alçak sesle konuşmaları yasaktır. Gerekli durumlarda görevliler yerinizi değiştirebilir.
3. Size verilen cevap kâğıdının üzerindeki TCKN/Öğrenci no, ad, soyadı, bilgilerini kontrol ediniz, ilgili alanları eksiksiz doldurarak imzalayınız. Bu bilgiler size ait değilse, kâğıt üzerinde hiçbir işlem yapmadan görevlileri uyararak size ait cevap kâğıdını isteyiniz. Başkasına ait cevap kâğıdı kullanan öğrencilerin sınavları geçersiz sayılır.
4. Cevap kâğıdı üzerine test grubunu (kitapçık türünü) kodlamayan veya birden fazla grubu kodlayanların sınavları geçersiz sayılır.
5. Cevap kâğıdınıza yazacağınız her türlü yazı ve yapacağınız işaretlemeler için koyu siyah kurşun kalem kullanmalısınız. Farklı bir kalem (tükenmez, mürekkepli, renkli vb.) kullananların sınavları geçersiz sayılır.
6. Cevap kâğıdı üzerinde değişiklik yapmak istediğinizde, iz bırakmayan bir silgi kullanınız. Cevap kâğıdınızı buruşturmayınız, katlamayınız ve üzerine gereksiz hiçbir işaret koymayınız.
7. Cevaplarınızı, cevap kâğıdında ilgili test için ayrılmış olan alana, cevap yerinin dışına taşırmadan işaretleyiniz. Soru kitapçığı üzerinde yapılan işaretlemeler değerlendirmeye alınmayacaktır.
8. Her sorunun tek bir doğru cevabı vardır. Bir soru için birden çok cevabı işaretlerseniz, o soruyu yanlış cevaplamış sayılacaksınız.
9. Soru kitapçığınızı aldığınızda sayfalarına hızlıca bakarak hatalı ya da eksik baskı olup olmadığını kontrol ediniz. Hata/eksik olması durumunda kitapçığının değiştirilmesi için derhâl sınav görevlilerine başvurunuz. Sınav görevlileri sınavın başladığını belirtmeden kitapçığınızı tekrar açmayınız.
10. Cevap kâğıdınızda belirtilen kitapçık kodu ile soru kitapçığının kodunu karşılaştırınız. Aynı değilse, sınav görevlilerine durumu bildirerek doğru kitapçığın verilmesini talep ediniz.
11. Soru kitapçığınızdaki ilgili alanlara ad, soyadı, TCKN/Öğrenci no, sınav salon no, sıra no bilgilerinizi eksiksiz doldurarak imzanızı atınız. Soru kitapçığının sayfalarındaki boş yerleri müsvedde amacıyla kullanabilirsiniz.
12. Aşağıdaki durumlarda sınav görevlileri tarafından Bireysel Sınav İptal Tutanağı düzenlenerek ilgili öğrencilerin/adayların sınavları geçersiz sayılır:
  - a) Sınav kurallarına ve sınav görevlilerinin uyarılarına uymamak, sınav düzenini bozmak,
  - b) Kâğıt, kitap, defter, not vb. dokümanları; pergel, açıölçer, cetvel vb. araçları; cep telefonu, bilgisayar, tablet, telsiz, kamera vb. iletişim, depolama, kayıt ve veri aktarma cihazlarını; ruhsatlı veya resmi amaçlı olsa bile silah ve silah yerine geçebilecek nesnelere yanında bulundurmamak,
  - c) Sınav sırasında kalem, silgi vb. araç-gereç paylaşımında bulunmak,
  - d) Cevapları, cevap kâğıdı dışında bir yere yazmak ve sınav salonundan dışarı çıkarmak,
  - e) Sınava girebilmek için gerekli belgeleri eksik olduğu halde sınava katılıp, cevap kâğıdında işaretleme yapmak,
  - f) Sınav görevlileri tarafından öğrencinin/adayın kimliğinden şüphe duyulması,
  - g) Cevap kâğıdını ve/veya soru kitapçığını sınav görevlilerine eksiksiz ve sağlam şekilde teslim etmemek, sınav salonu dışına çıkarmak,
  - h) Kopya çekmek, vermek, çekilmesine yardımcı olmak vb. eylemlerde bulunmak,
  - i) Kendisi yerine başkasını sınava sokmak.
13. Sınav bitiminde, cevap kâğıdınızı ve soru kitapçığınızı salon görevlilerine eksiksiz biçimde teslim ediniz. Sınav bittikten sonra gönderilen cevap kâğıtları dikkate alınmayacaktır.

**SINAV KURALLARINA UYDUĞUNUZ İÇİN TEŞEKKÜR EDER, SINAVINIZDA BAŞARILAR DİLERİZ.**