



ANADOLU ÜNİVERSİTESİ  
AÇIKÖĞRETİM FAKÜLTESİ  
BA - AÇIKÖĞRETİM OKULLARI

T.C. MİLLİ EĞİTİM BAKANLIĞI  
Hayat Boyu Öğrenme Genel Müdürlüğü  
AÇIKÖĞRETİM LİSESİ – BATI AVRUPA PROGRAMI  
2015-2016 ÖĞRETİM YILI III. DÖNEM SINAVI

2. OTURUM Pazar 09:00

TEST GRUBUNUZ

**A**

**0102**

**ÖĞRENCİNİN**

SOYADI : .....

ADI : .....

T.C. KİMLİK NO / ÖĞRENCİ NO : .....

SINAV SALON NO : ..... SIRA NO: .....

Sınavla ilgili soru kitapçığının ön ve arka kapağındaki tüm kuralları okudum, anladım, kabul ediyorum.

İMZA:.....

**SINAV İÇERİĞİ**

Testin Adı	Soru Sayısı	Sayfa No	Testin Adı	Soru Sayısı	Sayfa No
DİN KÜLTÜRÜ VE AHLAK BİLGİSİ 4	20	02	İŞLETME 1	20	37
SEÇMELİ FELSEFE 1	20	04	DEMOKRASİ VE İNSAN HAKLARI 1	20	39
DİN KÜLTÜRÜ VE AHLAK BİLGİSİ 6	20	06	SAĞLIK BİLGİSİ 1	20	41
T.C. İNKILAP TARİHİ VE ATATÜRKÇÜLÜK 1	20	08	SAĞLIK BİLGİSİ 2	20	43
COĞRAFYA 5	20	10	SEÇMELİ DİL VE ANLATIM 5	20	45
MATEMATİK 5	20	12	SEÇMELİ DİL VE ANLATIM 7	20	47
DİL VE ANLATIM 2	20	14	SEÇMELİ TÜRK EDEBİYATI 3	20	49
DİL VE ANLATIM 4	20	16	SEÇMELİ TÜRK EDEBİYATI 4	20	51
SOSYOLOJİ 1	20	19	ALMANCA 7	20	53
TÜRK EDEBİYATI 8	20	21	İNGİLİZCE 7	20	56
FİZİK 5	20	23	FRANSIZCA 7	20	59
KİMYA 1	20	27	SEÇMELİ ALMANCA 4	20	62
KİMYA 3	20	29	SEÇMELİ İNGİLİZCE 4	20	65
KİMYA 8	20	31	SEÇMELİ FRANSIZCA 4	20	68
MATEMATİK 8	20	34			

**SINAVDA UYULMASI GEREKEN ÖZEL KURALLAR**

1. Bu kitapçıkta yer alan her bir test için cevaplama süresi 30 dakika, toplam süre 150 dakikadır.
2. Öğrenciler sınavın ilk 30 dakikası ve son 5 dakikası içinde sınavlarını tamamlasalar bile salonu terk edemezler. Sınavın başlamasını izleyen ilk 15 dakikadan sonra hiçbir öğrenci sınava alınmaz.
3. Yanlış cevaplarınız dikkate alınmayacaktır. Bu nedenle kitapçıkta bulunan tüm sorular için size doğru gelen seçeneği işaretleyerek cevapsız soru bırakmamanız yararınıza olacaktır.
4. Sınav sırasında hesap makinesi kullanabilirsiniz. Ancak, kullanacağınız makinede alfabetik tuş takımının (A, B, C, ..., Y, Z), program yapılmasına, saklanmasına ve çalıştırılmasına imkân veren EXE, STORE, RUN vb. tuşlar bulunamaz.

"Sınavda Uyulması Gereken Genel Kurallar" soru kitapçığının arka sayfasında yer almaktadır. Bu kuralları da mutlaka dikkatlice okuyunuz.

Anadolu Üniversitesi tarafından hazırlanmış olan bu testlerin her hakkı saklıdır. Hangi amaçla olursa olsun, testlerin tamamının veya bir kısmının Anadolu Üniversitesi'nin yazılı izni olmadan kopya edilmesi, fotoğraflarının çekilmesi, herhangi bir yolla çoğaltılması, yayımlanması ya da kullanılması yasaktır. Bu yasağa uymayanlar gerekli cezai sorumluluğu ve testlerin hazırlanmasındaki mali külfeti peşinen kabullenmiş sayılır.

1. Modern astronominin kurucusu olarak kabul edilen bilim insanı aşağıdakilerden hangisidir?
  - A) İbn-i Sina
  - B) Fârâbi
  - C) Bitrûci
  - D) Kindi
2. Aşağıdakilerden hangisi astronomi alanında İslam medeniyetine önemli katkıda bulunan bilim insanıdır?
  - A) El-Ferazi
  - B) El-Kindi
  - C) İbn-i Heysem
  - D) Uluğ Bey
3. "Kendi elinizle kendinizi tehlikeye atmayın" ayet'i hangi hakla ilgilidir?
  - A) Sağlık Hakkı
  - B) Eğitim Hakkı
  - C) İbadet Hakkı
  - D) Ekonomik Haklar
4. Atatürk'e göre hiçbir kuvvetin Türk Milleti'nin kalbinden çıkaramayacağı iki fazilet aşağıdakilerin hangisinde birlikte verilmiştir?
  - A) Dil ve tarih
  - B) Din ve vicdan
  - C) Din ve dil
  - D) Din ve özgürlük
5. "Hiç bilenlerle bilmeyenler bir olur mu" ayetiyle hangi temel hakka değinilmiştir?
  - A) Özel yaşamın gizliliği hakkı
  - B) Eğitim hakkı
  - C) İbadet hakkı
  - D) Yaşam hakkı
6. Öğrenme, araştırma gözlem veya deney yoluyla elde edilen, insan zekasının ve çalışmasının sonucu ortaya çıkan ürüne ne ad verilir?
  - A) Bilgi
  - B) Beceri
  - C) Yetenek
  - D) Kalıtım
7. El-Kanun fit-Tıp adlı eser aşağıdaki bilim insanlarından hangisine aittir?
  - A) Ali Kuşçu
  - B) İbn-i Sina
  - C) Ömer Hayyam
  - D) Ebu Davut
8. "Birbirinizin gizli ve ayıp hallerini araştırmayınız." ayeti hangi hakla ilgilidir?
  - A) Sağlık
  - B) Eğitim
  - C) Özel yaşamın gizliliği
  - D) Ekonomik
9. "De ki: O Kur'an Rabb'inizden gelen bir haktır. Artık dileyen iman etsin, dileyen inkâr etsin" ayet'i hangi özgürlükle ilgilidir?
  - A) Yerleşme
  - B) Seyahat
  - C) Düşünce
  - D) İnanç
10. Önceleri okuma-yazma öğretiminin verildiği mektep görevini üstlenirken, sonraları çocuklara medrese öncesi eğitim veren ilk mektep olan eğitim kurumu aşağıdakilerden hangisidir?
  - A) Suffa
  - B) Küttap
  - C) Rasathane
  - D) Beytül hikme
11. Kişinin bir başkasına zarar vermeden düşündüğünü ve dilediğini yapabilmesine ne ad verilir?
  - A) Özgürlük
  - B) Laiklik
  - C) Milliyetçilik
  - D) Adalet
12. Özgürlük kavramı kaç temel davranış içerir?
  - A) 1
  - B) 2
  - C) 3
  - D) 4
13. Allah'ın peygamberlerine dilediklerini özel bir şekilde bildirmesine ne ad verilir?
  - A) Kelâm
  - B) İcma
  - C) Suhuf
  - D) Vahiy
14. "Usturlâb" nedir?
  - A) Su seviye ölçme aracı
  - B) Gökyüzünün izlendiği gözlem aracı
  - C) Yoğunluk ölçme aleti
  - D) Basınç ölçme aracı

15. Fizikte izafiyet (rölativite) teorisini ilk kez ortaya koyan bilim insanı aşağıdakilerden hangisidir?

- A) El- Kindi
- B) İbn Firnas
- C) El- Fergani
- D) İbn Havkal

16. Toplum hayatında kişilerin birbirleriyle ve toplumla olan ilişkilerini düzenleyen ve uyulması kanun gücüyle desteklenmiş olan toplumsal kuralların bütününe ne ad verilir?

- A) Adet
- B) Örf
- C) Laiklik
- D) Hukuk

17. Peygamberlere vahiyi bildiren melek aşağıdakilerden hangisidir?

- A) İsrail
- B) Kiramen katibin
- C) Cebrail
- D) Mikail

18. Milli mücadelenin kazanılmasından sonra, Atatürk'ün Zağanos Paşa Camiinde Peygamber Efendimizden övgüyle ve hürmetle bahsettiği hutbeyi okuduğu il aşağıdakilerden hangisidir?

- A) Amasya
- B) Balıkesir
- C) Edirne
- D) Ankara

19. Aşağıdakilerden hangisi Atatürk'ün İslamiyet ile ilgili sözlerinden biri değildir?

- A) Dinimize inananlar, dünyada çoğunluktadır.
- B) Dinimiz akla ve mantığa tamamen uygundur.
- C) Din gerekli bir kurumdur.
- D) Dinimiz son dindir.

20. Mülkiyet ve sendika kurma aşağıdaki haklardan hangisinin alanına girer?

- A) Seçme ve seçilme hakkı
- B) Eğitim hakkı
- C) Dilekçe hakkı
- D) Ekonomik haklar

1. Aşağıdakilerden hangisi felsefi, dinsel, bilimsel ve sanatsal bilginin ortak özelliğidir?
- A) Evreni ve insanı anlama çabası  
B) Evrenin kökenlerini bulma çabası  
C) Doğru bilgiye ulaşma çabası  
D) Evrensel bilgiye ulaşma çabası
2. Bilginin kaynağı konusunda empirist olan Hume'un nedensellik ilkesine getirdiği yenilik aşağıdakilerden hangisidir?
- A) Nedensellik akli kullanmanın bir sonucudur.  
B) Nedensellik bir zorunluluk değil, bizim alışkanlığımızdır.  
C) Neden-sonuç bağlantıları için deneye gerek yoktur.  
D) Nedensellik ilkesi zorunlu ve kesin önermeleri gösterir.
3. Aşağıdaki felsefe alanlarından hangisi 20. yüzyıl bilgi felsefesi çerçevesinde ele alınamaz?
- A) Çözümleyici Felsefe  
B) Kritisizm  
C) Pragmatizm  
D) Fenomenoloji
4. Aşağıdakilerden hangisi "Bilgi Kuramı"nın temel kavramlarından biri değildir?
- A) Dogma  
B) Gerçeklik  
C) Doğruluk  
D) Süje
5. İnsanla ve insanın yapıp ettikleriyle ilgili olan bilimlere ne ad verilir?
- A) Doğa bilimler  
B) İnsani bilimler  
C) Felsefi bilgiler  
D) İdeal bilimler
6. Aşağıdakilerden hangisi felsefe ve bilimi dinden ayıran en temel özelliğidir?
- A) Evreni ve insanı anlama çabaları  
B) En temel olanı bulmaya çalışmaları  
C) Deney ve gözleme dayanmaları  
D) Dogmatik olmamaları
7. Aşağıdakilerden hangisi teknik bilginin tarihsel süreç içinde geçirdiği aşamalardan biri değildir?
- A) Makine Teknolojisi  
B) Otomasyon Teknolojisi  
C) Alet Teknolojisi  
D) Formel Teknoloji
8. Comte'un Üç Hal Yasası'na göre aşağıdakilerden hangisi insan düşüncesinin geçirdiği evrelerden biri değildir?
- A) Teolojik evre  
B) Pozitif evre  
C) Metafizik evre  
D) Pragmatik evre
9. "Realizm" kavramının sözcük anlamı aşağıdakilerden hangisidir?
- A) Deneycilik  
B) Kuşkuculuk  
C) Gerçekçilik  
D) Faydacılık
10. "Kavramlar, deneyden gelen malzeme olmaksızın boş, deneyden gelen hammadde kavramlar olmaksızın kördür."
- Yukarıdaki sözü ile Kant bilginin kaynağı olarak aşağıdakilerden hangisine vurgu yapmıştır?
- A) Deney  
B) Sezgi  
C) Akıl ve Deney  
D) Akıl
11. "Bu evrende (nesnel dünyasında) duyularla algılanan varlıklar gerçekte var değildir. Onlar yalnızca görünüşten ibarettir." görüşünü savunan Platon'a göre gerçek varlıklar aşağıdakilerden hangisidir?
- A) Canlılar  
B) İdealar  
C) Cisimler  
D) Maddeler
12. Bilimi ve bilimsel bilgiyi konu alan, bilimin yapısını, ilkelerini ve kavramlarını inceleyen felsefe dalına ne ad verilir?
- A) Bilim felsefesi  
B) Siyaset felsefesi  
C) Estetik  
D) Din felsefesi
13. Bilim insanlarından birisinin teorisini kabul ettirdiği dönem, Kuhn'un deyimiyle paradigmaya bağlı olarak çalışılan dönem aşağıdakilerden hangisidir?
- A) Bilim Öncesi Dönem  
B) Bunalım Dönemi  
C) Olağan Bilim Dönemi  
D) Bilimsel Devrim Dönemi

14. Aşağıdakilerden hangisi bilimsel yöntemin aşamalarından biri değildir?

- A) Deney
- B) Hipotez
- C) Gözlem
- D) Obje

15. Ontoloji terimini ilk kez kullanan düşünür aşağıdakilerden hangisidir?

- A) Wolff
- B) Fichte
- C) Hegel
- D) Schelling

16. I. İnsan bilim sayesinde, doğayı ve toplumsal gerçekliği anlayabilir.  
II. Bilimin verileri sayesinde teknoloji üretebilir.  
III. Bilim sayesinde insanlar bilimsel bilinç kazanır ve sosyal, ekonomik ve kültürel anlamda olumlu değişimler yapar.

Yukarıdaki ifadeler ile aşağıdakilerden hangisine vurgu yapılmaktadır?

- A) Bilimin değerine
- B) Bilim felsefesinin ne işe yaradığına
- C) Bilim ve teknoloji ilişkisine
- D) Bilimsel bilginin diğer bilimlere olan ihtiyacına

17. Aşağıdakilerden hangisi varlığı sadece madde olarak kabul eden filozoflardan biri değildir?

- A) La Mettrie
- B) Hobbes
- C) Descartes
- D) Demokritos

18. Hegel'e göre hem doğa hem de tarih ve kültür karşıtların çatışması ve senteze ulaşma biçiminde ilerler. Bu sentez zamanla teze dönüşür, tez antitezini yaratır. Bunların çatışmasından yeni bir senteze ulaşılır.

Hegel'in yukarıdaki ilkesini aşağıdakilerden hangisi doğru bir biçimde tanımlar?

- A) Mutlak Tin(Geist)
- B) Diyalektik
- C) İdealizm
- D) Realizm

19. Reichenbach'a göre "Bilim nedir?" sorusunun cevabı aşağıdakilerden hangisidir?

- A) Dil felsefesinin kavramlarının ortaya çıkarılmasıdır.
- B) Deney ve gözleme dayalı bir etkinliktir.
- C) Doğanın ve dilin tarihteki gelişimini çözümlenektir.
- D) Bilim insanın yaratıcı çalışmasının sonucu ortaya çıkan bir üründür.

20. Hem "öz"ün bilinebileceğini ileri süren hem de "öz"e ulaşmak için kullanılan bir yöntem olan çağdaş felsefe akımına ne ad verilir?

- A) Ontoloji
- B) Diyalektik
- C) Fenomenoloji
- D) Materyalizm

1. Diyanet İşleri Başkanlığı'nın en yüksek karar ve danışma organı olup, dinî konularda inceleme ve araştırma faaliyetlerinde bulunan birim aşağıdakilerden hangisidir?
  - A) Din Hizmetleri Dairesi
  - B) Hac Dairesi
  - C) Din İşleri Yüksek Kurulu
  - D) Mushafları İnceleme Kurulu
2. Altın tozu ve boya kullanılarak yapılan süsleme sanatı aşağıdakilerden hangisidir?
  - A) Minyatür
  - B) Ebru
  - C) Hat
  - D) Tezhip
3. Osmanlı İmparatorluğu zamanında din işleri aşağıdakilerden hangisi tarafından yürütülürdü?
  - A) Yeniçeri Ağası
  - B) Nişancı
  - C) Veziriazam
  - D) Şeyhülislam
4. Aşağıdakilerden hangisi dinin de etkisiyle ortaya çıkan mimari eserlerden biri değildir?
  - A) Naat
  - B) Medrese
  - C) Külliye
  - D) Cami
5. Diyanet İşleri Başkanlığının kuruluş tarihi aşağıdakilerden hangisidir?
  - A) 3 Mart 1924
  - B) 29 Ekim 1923
  - C) 23 Nisan 1920
  - D) 19 Mayıs 1919
6. Kâğıt veya deri üzerine yapılan, ışık, gölge ve derinliği olmayan küçük boyutlu ve renkli resimlere ne ad verilir?
  - A) Hat
  - B) Minyatür
  - C) Musiki
  - D) Tezhip
7. Aşağıdakilerden hangisi Süleyman Çelebinin Mevlididir?
  - A) Mesnevi
  - B) Vesilatün Necat
  - C) Divan-ı Lugat-i Türk
  - D) Divan-ı Hikmet
8. Aşağıdakilerden hangisi Diyanet İşleri Başkanlığı'na bağlı kurum ve kuruluşlardan biri değildir?
  - A) Din İşleri Yüksek Kurulu
  - B) Mushafları İnceleme Kurulu
  - C) Tasfiye İşleri Genel Müdürlüğü
  - D) Din Hizmetleri Dairesi
9. İslam'daki evlilik anlayışıyla ilgili aşağıdaki ifadelerden hangisi yanlıştır?
  - A) Evlilik insani ve medeni bir muameledir.
  - B) Boşanma zina sayılır ve yasaktır.
  - C) Neslin devamı ve korunması için evlilik esastır.
  - D) Evlilik insan şeref ve haysiyetini korumuştur.
10. Yüce Allah'a yakarışı ve kulun acizliğini ifade eden edebi eserlere ne ad verilir?
  - A) Münacat
  - B) Tevhit
  - C) Naat
  - D) Methiye
11. Kur'an-ı Kerim metinlerinin hatasız ve eksiksiz basım ve yayımını sağlamak üzere kontrol edip onaylayan birim aşağıdakilerden hangisidir?
  - A) Din İşleri Yüksek Kurulu
  - B) Hac Dairesi
  - C) Mushafları İnceleme ve Kıraat Kurulu
  - D) Tasfiye İşleri Genel Müdürlüğü
12. Görevli oldukları il ya da ilçelerde din hizmetlerinden birinci derece sorumlu olan ve din hizmetlerini, dinî müesseseleri yöneten ve din görevlilerinin hizmetlerini düzenleyip denetletleyen görevlilere ne ad verilir?
  - A) Müftü
  - B) Vaiz
  - C) Din İşleri Yüksek Kurulu Başkanı
  - D) İmam-Hatip
13. Hz. Muhammed'i öven edebi eserlere ne ad verilir?
  - A) Mevlit
  - B) Naat
  - C) Ebru
  - D) Tevhit

14. Tezhip sanatı ile ilgilenen sanatkârlara ne ad verilir?

- A) Neyzen
- B) Hattat
- C) Müzehhip
- D) Nakkaş

15. Türkiye’de yaşayan Müslüman halka İslam dini ile ilgili hizmetler vermekle görevli olan kamu kuruluşu aşağıdakilerden hangisidir?

- A) İslam Enstitüsü
- B) Din İşleri Bakanlığı
- C) Diyanet İşleri Başkanlığı
- D) Hayat Boyu Öğrenme Genel Müdürlüğü

16. Aşağıdakilerden hangisi bir din görevlisi değildir?

- A) İmam-Hatip
- B) Vaiz
- C) Müftü
- D) Öğretmen

17. Cami ve mescitlerde din hizmetlerini yürüten, dinî konularda toplumu bilgilendiren, vakit, cenaze, bayram, cuma, teravih gibi namazların cemaatle kıldırılmasını sağlayan din görevlisi aşağıdakilerden hangisidir?

- A) Vaiz
- B) Müftü
- C) Müezzin
- D) İmam-hatip

18. Türkiye’de Diyanet İşleri Başkanlığı aşağıdakilerden hangisine bağlı olarak çalışır?

- A) Başbakanlık
- B) Cumhurbaşkanlığı
- C) İçişleri Bakanlığı
- D) Milli Eğitim Bakanlığı

19. İnsanda güzellik hissi uyandıran, güzel duygu ve anlamlar içeren sanatla ilgili değer yargısı aşağıdakilerden hangisidir?

- A) Mizanpaj
- B) Estetik
- C) Denge
- D) Altın Oran

20. "Hak Dini Kur'an Dili" adlı tefsir kitabı kim tarafından hazırlanmıştır?

- A) Muhammed İkbal
- B) Konyalı Mehmet Vehbi Efendi
- C) Ahmet Naim Efendi
- D) Elmalılı Muhammed Hamdi Yazır

1. Aşağıdakilerden hangisi II. Meşrutiyet'in demokrasi tarihimize getirdiği en önemli yeniliklerden biridir?

- A) Müsadere usulünün yaygınlaşması
- B) Duyun-u Umumiye Teşkilatı'nın kurulması
- C) Siyasi partilerin kurulması
- D) Köy ve mahalle muhtarlıklarının kurulması

2. Aşağıdakilerden hangisi Trablusgarp Savaşı'nın nedenleri arasında ver almaz?

- A) Trablusgarp'ın İtalya'ya yakın olması
- B) İtalya'nın gelişen sanayisi için ham madde ve pazar araması
- C) Trablusgarp ve Bingazi'nin Osmanlı Devleti tarafından savunulmasının güç olması
- D) Navarin'de Osmanlı donanmasının yıkılması

3. Aşağıdakilerden hangisi İtilaf Devletleri'nin Çanakkale Cephesi'ni açma amaçları arasında ver almaz?

- A) Kapitülasyonları kaldırmak
- B) Rusya'ya yardım etmek
- C) Süveyş Kanalı ve Hindistan yolu üzerindeki Osmanlı baskısını kaldırmak
- D) Balkan devletlerinin İttifak Devletleri yanında yer almalarını önlemek

4. Osmanlı Devleti'nde ortaya çıkan Osmanlılık, İslamcılık, Turancılık, Türkçülük ve Batıcılık gibi düşünce akımlarının ortak amacı aşağıdakilerden hangisidir?

- A) Paris Barış Konferansı'na Osmanlı Devleti'nin katılımını sağlamak
- B) Osmanlı Devleti'nin sınırlarını genişletmek
- C) Devlet yönetimini teokratik yapıya kavuşturmak
- D) Avrupa Devletleri'nin Osmanlı Devleti'nin iç işlerine karışmasını önlemek ve devleti dağılmaktan kurtarmak

5. Aşağıdakilerden hangisi Amerika Birleşik Devletleri Başkanı Wilson'un ortaya koyduğu 14 ilkeden biri değildir?

- A) Yenilenler savaş tazminatı ve cezai tazminat ödeyecek
- B) Savaş sonunda, yenilenler, yenilenlerden toprak almayacak
- C) Bütün barış antlaşmaları açık olacak
- D) Milletlerarası gizli antlaşmalar yapılmayacak

6. İtilaf Devletleri'nin Mondros Ateşkes Antlaşması'nın 7. maddesine dayanarak ilk işgal ettikleri Osmanlı toprağı aşağıdakilerden hangisidir?

- A) Malatya
- B) Musul
- C) İzmir
- D) Erzurum

7. Çukurova Bölgesi'nin Fransızlar ve Ermeniler tarafından işgal edilmesini önlemek amacıyla İstanbul'da kurulan Millî Cemiyet aşağıdakilerden hangisidir?

- A) Wilson Prensipleri Cemiyeti
- B) Alyans İsrailit ve Makabi Cemiyeti
- C) İngiliz Muhipler Cemiyeti
- D) Kilikyalılar Cemiyeti

8. Yunanlıların 15 Mayıs 1919'da başlayan İzmir'i işgaline karşın ilk kurşunu atan Hukuk-u Beşer (İnsan Hakları) Gazetesi başyazarı aşağıdakilerden hangisidir?

- A) Hasan Tahsin
- B) Rauf Orbay
- C) Namık Kemal
- D) Ziya Gökalp

9. Atatürk'ün, "Yolunda yürüyen bir yolcunun, ufku görmesi kâfi değildir. Muhakkak ufkun ötesini de görmesi lazımdır." sözünde Atatürk'ün kişisel özelliklerinden hangisini acıca görmek mümkündür?

- A) Bütünleştirme Gücü
- B) Vatan ve Milet Sevgisi
- C) İleri Görüşlülüğü
- D) Mantıklı ve Gerçekçi Oluşu

10. 31 Mart Ayaklanması'nı bastırmak için kurulan Hareket Ordusu'nun Kurmay Başkanlığına getirilen kişi aşağıdakilerden hangisidir?

- A) Celal Bayar
- B) Mustafa Kemal Atatürk
- C) İsmet İnönü
- D) Ali Fuat Cebesoy



11. Kuvayimillîye birlikleriyle ilgili aşağıdaki ifadelerden hangisi yanlıştır?

- A) Belli bir merkeze ve otoriteye bağlı değildir.
- B) Bölgesel nitelik taşıyan halk kuvvetleridir.
- C) Eli silah tutan herkesin katıldığı, gönüllülerden oluşan birliklerdir.
- D) Düzenli ve disiplinli ordulardır.

12. Aşağıdakilerden hangisi Saltanatın kaldırılmasının nedenlerinden biri değildir?

- A) İstanbul Hükümeti ve padişahın Millî Mücadeleye karşı olması
- B) Ülke yönetiminde ve barış görüşmelerinde iki ayrı hükümetin bulunmasının uygun olmaması
- C) İki dereceli seçim sisteminden tek dereceli seçim sistemine geçilmesi
- D) Saltanatın millî egemenlik anlayışına aykırı olması

13. Türkiye Büyük Millet Meclisi Hükümeti'nin uluslararası alanda sağladığı ilk başarı aşağıdakilerden hangisidir?

- A) Gümrü Antlaşması
- B) Kars Antlaşması
- C) Ankara Antlaşması
- D) Lozan Barış Antlaşması

14. Aşağıdakilerden hangisi Eskişehir-Kütahya Muharebelerinin sonuçlarından biri değildir?

- A) Mecliste Mustafa Kemal'e karşı muhalefetin artması
- B) Düzenli Türk ordusunun ilk zaferini kazanması
- C) Eskişehir, Kütahya ve Afyon'unun Yunanlıların eline geçmesi
- D) Türkler arasında büyük üzüntü ve korkuya neden olması

15. Temsil Heyeti'nin sesini kamuoyuna daha iyi duyurabilmek için Sivas'ta çıkarmaya başladığı gazete aşağıdakilerden hangisidir?

- A) İrade-i Millîye
- B) İstiklal
- C) İkdam
- D) Tasvir-i Efkâr

16. Mustafa Kemal Atatürk'e "Mareşal" rütbesi ve "Gazilik" unvanı hangi savaştan sonra verilmiştir?

- A) I. İnönü Savaşı
- B) II. İnönü Savaşı
- C) Eskişehir-Kütahya Savaşları
- D) Sakarya Savaşı

17. Mudanya Ateşkes Antlaşması'nda Türkiye'yi temsil eden kişi aşağıdakilerden hangisidir?

- A) Fevzi Çakmak
- B) İsmet İnönü
- C) Refet Bele
- D) Rauf Orbay

18. Aşağıdakilerden hangisi Türk Hükümeti tarafından Lozan'a gidecek heyetten kesinlikle taviz verilmemesi istenen konulardan biridir?

- A) Osmanlı Borçları
- B) Patrikhane
- C) Boğazlar
- D) Kapitülasyonlar

19. Son Osmanlı Mebusan Meclisi'nin en önemli hizmeti aşağıdakilerden hangisidir?

- A) Ankara'nın başkent olması
- B) Temsil Heyeti'nin oluşturulması
- C) Misakımillî'nin ilan edilmesi
- D) Amasya Genelgesi'nin yayınlanması

20. "Siz orada yalnız düşmanı değil, milletin kötü alın yazısını da yendiniz."

Yukarıdaki kutlama telgrafını Mustafa Kemal Atatürk hangi savaştan sonra İsmet İnönü'ye göndermiştir?

- A) I. İnönü Savaşı
- B) II. İnönü Savaşı
- C) Sakarya Savaşı
- D) Eskişehir-Kütahya Savaşları

1. Aşağıdakilerden hangisi dünyanın ekosisteminin en karmaşık ve en zengin beslenme damarlarından biridir?
- A) Dağlar  
B) Mercanlar  
C) Çöller  
D) Ovalar
2. Rüzgar enerjisinden elektrik üretme işlemi Türkiye'de ilk kez hangi şehirde yapılmaya başlanmıştır?
- A) Fethiye  
B) Çeşme  
C) Kaş  
D) Kuşadası
3. Şehirleşmede ve şehirlerdeki nüfusta artışın hızlanmasının sebebi aşağıdakilerden hangisidir?
- A) Savaşların azalması  
B) Zenginleşme  
C) Sanayileşme hareketleri  
D) Tarımsal faaliyetlerin artması
4. Efes antik kentine ait kalıntılar hangi şehrin sınırları içerisinde yer almaktadır?
- A) Aydın  
B) Muğla  
C) İzmir  
D) Denizli
5. Aşağıdakilerden hangisi liman şehridir?
- A) Üsküp  
B) Viyana  
C) Essen  
D) Marsilya
6. Aşağıdaki ülkelerden hangisinde nüfus artış oranı en düşüktür?
- A) Fransa  
B) Endonezya  
C) Hindistan  
D) Çin
7. Türkiye'de pirinç yetiştiriciliğinin en fazla olduğu bölge aşağıdakilerden hangisidir?
- A) Batı Trakya  
B) İç Ege  
C) Doğu Karadeniz  
D) Doğu Akdeniz
8. Aşağıdaki şehirlerden hangisinde petrol çıkarılmaktadır?
- A) Çorum  
B) Bolu  
C) Adıyaman  
D) Antalya
9. Aşağıdakilerden hangisi termik santral bulunan şehirlerden biri değildir?
- A) Elbistan  
B) Soma  
C) Salihli  
D) Yatağan
10. Aşağıdakilerden hangisi Türkiye'de sanayinin yoğunlaştığı illerden biri değildir?
- A) Iğdır  
B) Kocaeli  
C) Bursa  
D) Denizli
11. Aşağıdakilerden hangisi Türkiye'de kış sporlarının yapıldığı yerlerden biri değildir?
- A) Uludağ  
B) Palandöken  
C) Kartalkaya  
D) Küre
12. Sümela Manastırı aşağıdaki şehirlerden hangisindedir?
- A) Erzurum  
B) Rize  
C) Artvin  
D) Trabzon
13. Aşağıdakilerden hangisi tükenmeyen doğal kaynaklardan biri değildir?
- A) Dalga  
B) Doğal gaz  
C) Güneş  
D) Rüzgar
14. Türkiye'de çay yetiştiriciliğinin yapıldığı il aşağıdakilerden hangisidir?
- A) Amasya  
B) Rize  
C) Bayburt  
D) Samsun

15. Aşağıdakilerden hangisi üretim, dağıtım ve tüketimi etkileyen doğal faktörlerden biri değildir?

- A) Su Kaynakları
- B) İklim
- C) Yer şekilleri
- D) Şehirler

16. Dünyanın finans merkezi olarak kabul edilen şehir aşağıdakilerden hangisidir?

- A) Hamburg
- B) New York
- C) Paris
- D) Roma

17. Aşağıdaki şehirlerden hangisinin küresel etkisi en azdır?

- A) Berlin
- B) Londra
- C) Erivan
- D) Paris

18. Aşağıdakilerden hangisi bakır çıkarılan illerden biri değildir?

- A) Manisa
- B) Kastamonu
- C) Elazığ
- D) Artvin

19. Teknik ve coğrafyanın birbirine yaptığı etkiyi araştıran bilim dalı aşağıdakilerden hangisidir?

- A) Teknocoğrafya
- B) Beşeri coğrafya
- C) Biyocoğrafya
- D) Fiziki coğrafya

20. Çekirdeksiz üzüm üretiminin en fazla olduğu il aşağıdakilerden hangisidir?

- A) Çanakkale
- B) Uşak
- C) Kütahya
- D) Manisa

1. Genel terimi  $a_n = \frac{n+1}{3}$  olan aritmetik dizinin ortak farkı kaçtır?
- A) 1/3  
B) 2/3  
C) 3/4  
D) 4/5
2. Birinci terimi 4 ve ortak farkı 7 olan 4, 11, 18, ....., 67 sonlu aritmetik dizinin terimler toplamı kaçtır?
- A) 315  
B) 325  
C) 355  
D) 375
3.  $a_n$  pozitif terimli bir geometrik dizi ve  $a_1 = \frac{1}{3}$  ve  $\frac{a_n}{a_{n+3}} = 27$  ise bu dizinin ortak çarpanı kaçtır?
- A) 1/9  
B) 1/4  
C) 1/2  
D) 1/3
4. Bir geometrik dizide birinci terim 4 ve ortak çarpan  $\frac{1}{2}$  ise dizinin 10. terimi kaçtır?
- A)  $\frac{1}{2^7}$   
B)  $\frac{1}{2^6}$   
C)  $\frac{1}{2^5}$   
D)  $\frac{1}{2^4}$
5. Birinci terimi -2 ve ortak farkı 7 olan aritmetik dizinin 4. terimi kaçtır?
- A) 5  
B) 12  
C) 19  
D) 26
6.  $a_n = \frac{5n+2}{2n-1}$  dizisinin kaçınıcı terimi 3'e eşittir?
- A) 3  
B) 4  
C) 5  
D) 6
7.  $a_3 = 7$  ve  $a_7 - a_5 = 6$  olan bir aritmetik dizinin genel terimi aşağıdakilerden hangisidir?
- A)  $a_n = 3n+2$   
B)  $a_n = 3n-2$   
C)  $a_n = n+2$   
D)  $a_n = n-3$
8. Yıllık 12.000 TL ile işe giren bir çalışanın ücreti her yıl % 5 artmıştır. Buna göre bu çalışanın 5. yıldaki ücreti kaç TL'dir?
- A)  $12.000 \left(\frac{11}{10}\right)^3$   
B)  $12.000 \left(\frac{21}{20}\right)^4$   
C)  $24.000 \left(\frac{11}{10}\right)^4$   
D)  $24.000 \left(\left(\frac{11}{10}\right)^3 - 1\right)$
9. Üçüncü terimi  $\frac{5}{4}$  ve altıncı terimi  $\frac{5}{32}$  olan geometrik dizinin 9. terimi kaçtır?
- A)  $\frac{1}{2^8}$   
B)  $\frac{5}{2^8}$   
C)  $\frac{5}{2^7}$   
D)  $\frac{1}{7}$

10.  $a_n = \frac{1}{n(n+1)}$  dizisinin ilk 4 teriminin toplamı kaçtır?
- A) 1/5  
B) 2/5  
C) 3/5  
D) 4/5
11. 24 litre süt, 36 litre ayran ve 60 litre su hiç artmayacak ve birbirine karışmayacak şekilde eşit hacimli şişelere doldurulacaktır. Buna göre en az kaç şişe kullanılacaktır?
- A) 12  
B) 10  
C) 8  
D) 5
12. Aynı duraktan hareket eden iki otobüsten birincisi 35 dakikada, ikincisi ise 45 dakikada bir sefer yapıp aynı durağa geri dönüyor. Aynı anda hareket eden bu otobüsler ilk seferlerinden en az kaç dakika sonra duraktan tekrar birlikte hareket ederler?
- A) 275  
B) 290  
C) 300  
D) 315
13. Kenar uzunlukları 24 ve 56 metre olan dikdörtgen biçimindeki tarlanın etrafına ve köşelerine eşit aralıklarla ağaç dikilecektir. Buna göre en az kaç ağaca ihtiyaç vardır?
- A) 12  
B) 14  
C) 18  
D) 20
14. Bir kutudaki kalemler üçer üçer sayıldığında 1 kalem, dörder dörder sayıldığında 2 kalem ve yedişer yedişer sayıldığında ise 5 kalem artıyor. Bu durumda kutuda en az kaç kalem vardır?
- A) 92  
B) 82  
C) 79  
D) 74
15. 5 basamaklı  $6x54y$  sayısı 30 ile tam bölünebildiğine göre  $x$  değeri aşağıdakilerden hangisi olamaz?
- A) 1  
B) 3  
C) 6  
D) 9

16. Bir miktar para yıllık %15 basit faizle kaç ay sonra kendisinin  $\frac{1}{8}$  'i kadar faiz getirir?
- A) 6  
B) 7  
C) 8  
D) 10
17. 45 kişilik bir sınıfta kız öğrencilerin  $\frac{1}{4}$  'ü erkek öğrencilerin  $\frac{1}{6}$  'sına eşit ise erkek öğrenciler kız öğrencilerden kaç kişi fazladır?
- A) 9  
B) 8  
C) 7  
D) 6
18. 450 gram su ve 150 gram şeker karıştırılarak homojen bir karışım elde ediliyor. Buna göre bu karışımın 10 gramında kaç gram şeker bulunur?
- A) 3/5  
B) 3/4  
C) 3/2  
D) 5/2
19. 110 kilogram elma 1, 2 ve 3 ile ters orantılı olacak şekilde paylaşılacaktır. Buna göre en az elma alan kişi kaç kilogram elma alır?
- A) 45  
B) 30  
C) 20  
D) 15
20. Bir doktor 6 günde bir nöbet tutmaktadır. Bu doktor ilk nöbetini cumartesi günü tuttuğuna göre 11. nöbetini hangi gün tutar?
- A) Pazartesi  
B) Salı  
C) Çarşamba  
D) Perşembe

1. Aşağıdaki cümlelerin hangisinde terim anlamlı bir sözcük kullanılmamıştır?

- A) Bütün notaları çok güzel seslendiriyorsun.
- B) Kalem sözcüğü kök halindedir.
- C) Açık sorunlarını rahatlıkla çözebiliyorum.
- D) Bazı günler evde çok sıkılıyorum.

2. Aşağıdaki cümlelerin hangisinde örtülü özne kullanılmıştır?

- A) Annem ödül aldığımı duyunca çok sevinecek.
- B) Oyuncu, oyun süresince beş kostüm değiştirdi.
- C) Araçların kapının oradan çekilmesi anons edildi.
- D) Kardeşimi mutlu edince ben de mutlu oluyorum.

3. Aşağıdakilerden hangisi yapısına göre sıralı bir cümledir?

- A) Kahvaltımı yaptım, çıkmaya hazırım.
- B) Gürültüyü duyunca herkes pencerelere koştu.
- C) Dün tüm akrabalarımızı gördüm.
- D) Kitabı okudum ve arkadaşşıma verdim.

4. Aşağıdaki cümlelerin hangisinde gizli özne vardır?

- A) Hasan, pencereyi açarken camı kırdı.
- B) Ayşe, kapıyı hızlı hızlı çaldı.
- C) Annem çiçekleri çok sever.
- D) Tarlayı otlardan temizledi.

5. "Yarın akşam maç yapacaklar." cümlesi yapı bakımından aşağıdakilerden hangisine örnektir?

- A) Birleşik cümle
- B) Yalın cümle
- C) Sıralı cümle
- D) Bağlı cümle

6. Aşağıdaki cümlelerin hangisinde anlatım bozukluğu vardır?

- A) Ayaklarım çok ağrıyorlar.
- B) Her geçen gün boyu uzuyor.
- C) Yıllardır bu evde yaşıyor gibiyim.
- D) Benim için arkadaşlık çok önemlidir.

7. Aşağıdaki cümlelerin hangisinde soyut anlamda bir sözcük kullanılmıştır?

- A) Rüyamda başarılı olduğumu gördüm.
- B) Bu kitabı annemden aldım.
- C) Soruların cevaplarını kolayca buldum.
- D) Arkadaşıma kitap hediye ettim.

8. Aşağıdakilerden hangisi fiilden isim yapma eki alarak türemiş bir sözcüktür?

- A) incel
- B) görüş
- C) doğrul
- D) işçi

9. "Anne ve babası ona istediklerini aldı." cümlesindeki altı çizili öge aşağıdakilerden hangisidir?

- A) Zarf tümleci
- B) Özne
- C) Dolaylı tümleş
- D) Yüklem

10. Aşağıdaki cümlelerin hangisinde ikileme zıt anlamlı kelimelerden oluşmuştur?

- A) Eş dost hep birlikte pikniğe gittik.
- B) Bu bence olsa olsa yirmi liradır.
- C) Eğri büğrü yollardan geçerek hedefe ulaştık.
- D) Aşağı yukarı iki saattir seni bekliyorum.

11. Aşağıdaki sözcüklerden hangisi hem yapım hem çekim eki almıştır?

- A) Sözcük
- B) Kilimcilik
- C) Yazıcılar
- D) Pencereden

12. Aşağıdakilerden hangisi şart cümlesidir?

- A) Yarın birlikte tiyatroya gidelim.
- B) Babam erken gelirse dışarı çıkacağız.
- C) Soruyu çözebilmek için çok uğraştım.
- D) Sabaha kadar oturup projemi bitirdim.

13. Aşağıdakilerden hangisi diğerlerinden farklı türde bir tamlamadır?

- A) dilin işlevleri
- B) zamanın getirdikleri
- C) sulu kar
- D) oyunun kuralları

14. Aşağıdaki cümlelerin hangisinde edatla kurulmuş bir sözcük öbeği vardır?

- A) Salona gidip oturdular.
- B) Senin gibisini hiç görmedim.
- C) Geç olunca eve döndük.
- D) Ali ve Ahmet geldi.

15. Sabahları açık çay tercih ederim.

Güzel bir çay kenarında mola verdik.

Yukarıdaki cümlelerde altı çizili sözcükler arasındaki anlam ilişkisi aşağıdakilerden hangisidir?

- A) Eş anlamlılık
- B) Zıt anlamlılık
- C) Yakın anlamlılık
- D) Eş seslilik

16. Aşağıdaki cümlelerden hangisinin sonuna soru işareti konmalıdır?

- A) Bunu neden beğenmediğini anlamadım
- B) Nereden geldiklerini bilmiyorum
- C) Anahtarın yanında mı
- D) Kim olduğunu bana söylemedi

17. Aşağıdaki cümlelerin hangisinde kalma durum eki almış bir sözcük kullanılmıştır?

- A) Çocukça davranışları yüzünden azar işitti.
- B) Burada aradığım her şey var.
- C) Alfabeyi tersten de sayabiliyorum.
- D) Okulla evi arası yüz metreymiş.

18. Aşağıdaki sözcüklerden hangisi hem isim hem fiil köküdür?

- A) Büyü
- B) Saz
- C) Bil
- D) Gel

19. Aşağıdaki cümlelerin hangisinde ek eylemin olumsuzu kullanılmıştır?

- A) Her gün mutlaka düzenli olarak yürür.
- B) Her zaman başarılı bir öğrenci olmuştumdur.
- C) Ortalıkta kimsecikleri göremiyorum.
- D) Bazı günler sana şaşırıyorum değilim.

20. Hayatınız nerede biterse orada tamam olmuştur. Hayatın değeri uzun yaşanmasında değil iyi yaşanmasındadır. Öyle uzun yaşamışlar var ki pek az yaşamışlardır. Şunu anlamakta geç kalmayın. Doya doya yaşamak yılların çokluğuna değil sizin gücünüze bağlıdır.

Yukarıdaki paragrafın çeşidi aşağıdakilerden hangisidir?

- A) Olay
- B) Düşünce
- C) Fantastik
- D) Betimleme

1. Aşağıdaki cümlelerin hangisinde farklı türde bir zamir kullanılmıştır?

- A) Beni görünce hatırımı sordu.
- B) Buraya kadar bisikletle gelmiş.
- C) Size gelirken pasta alırsınız.
- D) Onu da toplantıya çağırılmayı unutma.

2. Aşağıdakilerden hangisinde türemiş sıfat vardır?

- A) Yiğit çocuk
- B) Üç kaktüs
- C) Hiçbir zaman
- D) Yorgun çiftçi

3. Aşağıdaki cümlelerin hangisinde belgisiz zamir vardır?

- A) Biri yukarı doğru koştu.
- B) Kaçınız çantasını evde unuttu?
- C) Nereye gitmeli?
- D) Kaçımız her gün ödevlerimizi yaparız?

4. Aşağıdakilerden hangisi isimden türeyen bir isimdir?

- A) Sayaç
- B) Durak
- C) Demirci
- D) Bilge

5. Bir isim ve bir fiilin birleşmesinden oluşan birleşik ad aşağıdakilerden hangisidir?

- A) kahvaltı
- B) hanımeli
- C) gecekondü
- D) yerelması

6. Aşağıdaki cümlelerin hangisinde sayı sıfatı kullanılmıştır?

- A) Birçok memleket gezdim.
- B) Üç kilo kiraz istiyorum.
- C) Her duyduğuna inanma.
- D) Bu eve kim gelecek?

7. Aşağıdaki cümlelerin hangisinde işaret zamiri kullanılmıştır?

- A) Hangisini okudum demiştin?
- B) Ben ders çalışmak istiyorum.
- C) Biri bize doğru yaklaşıyordu.
- D) O benim elmam.

8. Aşağıdakilerden hangisi bir anlatım biçimi olan hikâye etmeyi oluşturan temel unsurlardan biri değildir?

- A) Başlık
- B) Kişi
- C) Olay
- D) Yer



9. Aşağıdaki altı çizili sözcüklerden hangisinde zarf kullanılmıştır?

- A) Aldıklarım arasında bu kitap sürükleyici.
- B) Küçük çocuk arkadaşına seslendi.
- C) Q fırının her ürünü çok lezzetli.
- D) Benimle çok güzel konuşuyor.

10. Aşağıdakilerden hangisi söyleşmeye bağlı anlatımın kullanıldığı metin türlerinden biri değildir?

- A) Tiyatro
- B) Röportaj
- C) Deneme
- D) Mülakat

11. Aşağıdaki cümlelerin hangisinde "kırmızı" sözcüğü sıfat olarak kullanılmıştır?

- A) Kırmızı renk bir kazak alacağım.
- B) Kırmızıları bu tarafa ayıralım.
- C) Şu kalemlerden kırmızıyı verir misin?
- D) Etrafta ne varsa kırmızıydı.

12. Aşağıdaki cümlelerin hangisinde zaman ulacı kullanılmıştır?

- A) Bu işleri kendimce yola koydum.
- B) Çok yemek yediğinden fazla kilo alıyorsun.
- C) Parayı aldığımda size borcumu ödeyeceğim.
- D) Benimle görüşmeden hiçbir yere gitme.

13. Hikâyedeki olay ve olayların düğümlerinin çözüldüğü, merak edilen konuların ortadan kalktığı, bütün soruların cevaplandırıldığı bölüm aşağıdakilerden hangisidir?

- A) Giriş
- B) Sonuç
- C) Gelişme
- D) Düğüm

14. Aşağıdaki cümlelerin hangisinde yalın durum isteyen bir edat kullanılmıştır?

- A) Bu kitabı akşama kadar bitirmeye çalışıyorum.
- B) Senden başka arkadaşım yok.
- C) Bunun gibi adamlar artık çok az yetişiyor.
- D) Köpek için kemik aldım.

15. Aşağıdaki cümlelerin hangisinde altı çizili sözcük küçültme eki almamıştır?

- A) Bu güzel oyuncak bebeciği satın aldım.
- B) Bu ufacık odada çok sıkıldım.
- C) Ayakkabıları o minicik ayaklarına çok yakışmış!
- D) Sevgili Aysecik, seni çok özledim.

16. Lirik anlatım ile ilgili aşağıdaki ifadelerden hangisi yanlıştır?

- A) Daha çok şiir, roman, hikâye ve tiyatro türlerinde kullanılır.
- B) Lirik anlatımda fikirler ön plandadır.
- C) Dil heyecana bağlı işlevi ile kullanılır.
- D) "Ben" ve "biz" zamirleri çok kullanılır.

17. "ile" sözcüğü aşağıdakilerin hangisinde diğerlerinden farklı bir türde kullanılmıştır?

- A) İstanbul ile Eskişehir arası iki saat sürüyor.
- B) Elindeki çanta ile içeri giremezsin.
- C) Bu kadar ekmek ile ne yapacaksın?
- D) Ödevlerimizi arkadaşımız ile hazırladık.

18. Aşağıdakilerden hangisi bir topluluk ismidir?

- A) Ev
- B) Kitap
- C) Zekâ
- D) Ordu

19. Emir, telkin ve öneri anlamı taşıyan ifadelere yer verilen anlatım türü aşağıdakilerden hangisidir?

- A) Emredici anlatım
- B) Kanıtlayıcı anlatım
- C) Tartışmacı anlatım
- D) Açıklayıcı anlatım

20. Aşağıdakilerden hangisi birleşik isimdir?

- A) Yağmurluk
- B) Aslanağzı
- C) İstanbullu
- D) Silgi

1. Aşağıdakilerden hangisi bilimin temel niteliklerinden biri değildir?

- A) Subjektif olması
- B) Mantıksal olması
- C) Genelleyici olması
- D) Olgulara dayanması

2. Aşağıdakilerden hangisi geçici gruplara örnek olarak verilemez?

- A) Yapı kooperatifi kuranlar
- B) İnşaatçı çalışan işçiler
- C) Her hafta kurulan pazarlar
- D) Bir konuda araştırma yapan bilim insanları

3. Belli bir durumda toplum içinde nasıl davranılması gerektiğini gösteren ve yaptırım gücü taşıyan kurallar sistemine ne ad verilir?

- A) Toplumsal norm
- B) Toplumsal değer
- C) Toplumsal statü
- D) Toplumsal kontrol

4. Türkiye'de özellikle kentleşme süreci hangi yıllarda başlamıştır?

- A) 1930'lu
- B) 1940'lı
- C) 1950'li
- D) 1960'lı

5. Aşağıdakilerden hangisi verilmiş statülerden biridir?

- A) Esnaflık
- B) Öğretmenlik
- C) Babalık
- D) Milliyet

6. Topluları açık toplum ve kapalı toplum olarak sınıflandıran bilim insanı aşağıdakilerden hangisidir?

- A) Auguste Comte
- B) Robert Redfield
- C) Karl Marx
- D) Karl Popper

7. Aşağıdakilerden hangisi sistematik gözlemde kullanılan araçlardan biri değildir?

- A) Fotoğraf makinası
- B) Teyp
- C) Tepegöz
- D) Kamera

8. Köyün toplumsal yapısında büyük değişmelere ve yapısal dönüşümlere neden olan olay aşağıdakilerden hangisidir?

- A) Sanayi devrimi
- B) Reform hareketleri
- C) Coğrafi keşifler
- D) Rönesans

9. İnsanların üretmeden, doğadan topladığı ürünleri tüketerek varlığını sürdürdükleri dönem aşağıdakilerden hangisidir?

- A) Merkez köy dönemi
- B) Köy öncesi dönem
- C) Köy dönemi
- D) Toprağa yerleşme

10. Sosyolojinin antropolojiden temel farkı aşağıdakilerden hangisidir?

- A) Günümüz toplumlarını inceleme konusu edinmesi
- B) İnsanın kökenini incelemesi
- C) İnsanın evrimini incelemesi
- D) İlkel toplulukları konu edinmesi

11. I. İlişkilerin belirli bir süre devam etmesi  
II. Bireyler arasında etkileşimin olması  
III. Bireylerin birbirinden haberdar olması

**Yukarıdakilerden hangileri toplumsal ilişkide olması gereken özelliklerdendir?**

- A) Yalnız I  
B) I ve II  
C) II ve III  
D) I, II ve III

12. Yolculuk yaparken ya da markette alışveriş yaparken kurulan ilişki türü aşağıdakilerden hangisidir?

- A) Uzun süreli  
B) Kısa süreli  
C) Anlık  
D) Periyodik

13. Atatürkçü düşüncede milletin en önemli ve ilk unsuru aşağıdakilerden hangisidir?

- A) Birlikte yaşam ruhu  
B) Tarihine sahip çıkma  
C) Ekonomik kalkınma  
D) Din birliğini sağlama

14. Aşağıdakilerden hangisi ilk kentlerin özellikle göl ve nehir kenarlarına kurulma nedenlerinden biri değildir?

- A) Ticaret  
B) Savunma  
C) Tarımsal faaliyetler  
D) Ulaşım

15. Aşağıdakilerden hangisi birincil grubun özelliklerinden biri değildir?

- A) Üye sayısının az olması  
B) Üyeler arası ilişkinin sürekli olması  
C) Bizlik bilincinin hâkim olması  
D) Yazılı normlara dayanması

16. Toprağa yerleşmiş toplumlarda ilk yazılı hukuk ve mahkemelerin ortaya çıktığı toplumsal yapılanma aşağıdakilerden hangisidir?

- A) Feodal toplumlar  
B) İmparatorluklar  
C) Siteler  
D) Özler

17. Aşağıdakilerden hangisi insan bilimlerinden biridir?

- A) Mantık  
B) Jeoloji bilimi  
C) Matematik  
D) Siyaset bilimi

18. Aşağıdakilerden hangisi sosyolojinin ilgilendiği konulardan biridir?

- A) Bireyin davranışları  
B) İşsizlik  
C) Duyum  
D) Öğrenme

19. Antik çağın en büyük kenti aşağıdakilerden hangisidir?

- A) Roma  
B) Milano  
C) Venedik  
D) Napoli

20. Gecekondu ailesi üzerinde araştırma yapılırken, gecekonduunun tarihsel gelişimi, gecekonduya yaşayan ailelerin ekonomik ve kültürel durumları, dini ve ahlaki değerleri, gelir düzeyleri, yaşadıkları ortam, tüketim alışkanlıkları, dinlenme ve eğlenme alışkanlıklarının derinlemesine incelenmesini sağlayan araştırma tekniği aşağıdakilerden hangisidir?

- A) Olay inceleme  
B) Sosyometri  
C) Anket  
D) Monografi

1. Toplumcu Gerçekçi Türk edebiyatının ilk başarılı örneği aşağıdakilerden hangisidir?

- A) Kuyucaklı Yusuf
- B) Devlet Ana
- C) Küçük Ağa
- D) Gurbet Hikayeleri

2. “Seyfi Baba” adlı şiir aşağıdakilerden hangisine aittir?

- A) Oktay Rifat
- B) Melih Cevdet
- C) Mehmet Akif Ersoy
- D) Orhan Veli

3. Türk edebiyatında Nâbizade Nâzım tarafından yazılan ve ilk köy romanı olarak bilinen eser aşağıdakilerden hangisidir?

- A) Küçük Paşa
- B) Karabibik
- C) Memleket Hikayeleri
- D) Zehra

4. “Bir Başka Tepeden” adlı şiir aşağıdakilerden hangisine aittir?

- A) Sezai Karakoç
- B) Yakup Kadri
- C) Yahya Kemal
- D) Enis Batur

5. Aşağıdaki yazar ve eseri eşleştirmelerinden hangisi yanlıştır?

- A) Peyami Safa-Dokuzuncu Hariciye Koğuşu
- B) Oğuz Atay-Tutunamayanlar
- C) Nâbizade Nâzım-Karabibik
- D) Yusuf Atılgan-Yeni Hayat

6. “Anayurt Otel” ve “Aylak Adam” adlı romanların yazarı aşağıdakilerden hangisidir?

- A) Sabahattin Ali
- B) Yusuf Atılgan
- C) Peyami Safa
- D) Ahmet Rasim

7. Aşağıdakilerden hangisi Orhan Aşena'nın tiyatro oyunlarından biridir?

- A) Karanlıkta Bir Işık
- B) Yunus Emre
- C) Kerem ile Aslı
- D) Kocaoğlan

8. Yaşanmış ya da yaşanması mümkün olayların anlatıldığı kısa eserlere ne ad verilir?

- A) Masal
- B) Şiir
- C) Hikâye
- D) Deneme

9. Anlatılmadan kalan şeyleri bulup çıkarmaya çalıştığı şiirinde. Divan şiirinden etkiler taşıyan şiirini resim sanatıyla özdeşleştirerek zenginleştirdi. İnsanın sıkıntılarını, bunalımlarını en çok da yalnızlığını anlattığı şiirlerinde. Şiirlerinde mitolojiye de yer verdi.

Yukarıda söz edilen sanatçı aşağıdakilerden hangisidir?

- A) Cemal Süreya
- B) Turgut Uyar
- C) Can Yücel
- D) Edip Cansever

10. Bir şiirde bazı sözcüklerin diğerlerine göre daha baskın okunmasına ne ad verilir?

- A) Dize
- B) Vurgu
- C) Tonlama
- D) Ölçü

11. Türk edebiyatında postmodern romanın yolunu açan yazar aşağıdakilerden hangisidir?

- A) Memduh Şevket Esendal
- B) Turgut Uyar
- C) Ömer Seyfettin
- D) Sait Faik Abasıyanık

12. Aşağıdakilerden hangisi "Birinci Yeni Akımı"nın yaygınlaşmasını sağlayan şairlerden biri değildir?

- A) Melih Cevdet Anday
- B) Bedri Rahmi Eyüboğlu
- C) Ziya Gökalp
- D) Oktay Rifat

13. Aşağıdakilerden hangisi Cumhuriyetin ilk yıllarında yetişen halk şairlerinden biri değildir?

- A) Murat Çobanoğlu
- B) Konyalı Âşık Mehmet Hüznî
- C) Âşık Talibî Coşkun
- D) Ali İzzet

14. Aşağıdakilerden hangisi hikâyeyi oluşturan temel unsurlardan biri değildir?

- A) Yer
- B) Zaman
- C) Olay
- D) Heyecan

15. Aşağıdakilerden hangisi İkinci Yeni şiirinin genel özelliklerinden biri değildir?

- A) Günlük konuşma dilinin kullanılması
- B) İmgeci bir şiir olması
- C) Biliçaltına yönelmesi
- D) Daha çok betimleyici metinlerden oluşması

16. İkinci yeni şiirinde dilin aşırı uçlarında dolaşan, kendine özgü yeni bir dil kurmaya çalışan, şiiri okuyucuyu şaşırtma ve sarsma anlayışı üzerine kuran bir şairdir. Asım Bezirci, onu İkinci Yeni'nin en özgün şairi olarak görür. Sürrealist teknikleri şiire en ciddi biçimde uygular.

Yukarıda söz edilen şair aşağıdakilerden hangisidir?

- A) Ece Ayhan
- B) Edip Cansever
- C) Sezai Karakoç
- D) Cemal Süreyya

17. Peyami Safa'nın birey ruhuna ayna tuttuğu psikolojik romanı aşağıdakilerden hangisidir?

- A) Sözde Kızlar
- B) Fatih-Harbiye
- C) Dokuzuncu Hariciye Koşuşu
- D) Matmazel Noralya'nın Koltuğu

18. Aşağıdakilerden hangisi halk edebiyatına ait manzume türlerinden biri değildir?

- A) Mani
- B) Türkü
- C) Koşma
- D) Gazel

19. Orhan Pamuk'un Doğu edebiyatına özgü motiflerin kullanıldığı; Şeyh Galip'in Hüsn ü Aşk'ından Binbir Gece Masallarına kadar birçok geleneksel metnin anlatım biçimlerinden yararlandığı romanı aşağıdakilerden hangisidir?

- A) Cevdet Bey ve Oğulları
- B) Kara Kitap
- C) Yeni Hayat
- D) Benim Adım Kırmızı

20. Halk şiirinde kişiye, topluma, feleğe, tabiata aşık tarafından yöneltilen yergi, alay, eleştiri içeren şiirlere ne ad verilir?

- A) Taşlama
- B) Güzelleme
- C) Öğüt
- D) Ağıt

1. Düz bir yolda giden bir araç 40m/s hızla gitmektedir. Aracın şoförü frene basarak 2 saniye(s) içinde arabanın hızını 20m/s'ye düşürmektedir. Bu sırada araba kaç metre(m) yol alır?

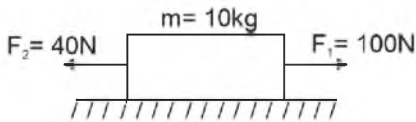
- A) 60  
B) 30  
C) 20  
D) 10

2. I. Momentum skaler bir büyüklüktür.  
II. Esnek çarpışmalarda hem momentum hem de enerji korunur.  
III. Momentumun birimi kinetik enerjinin birimi ile aynıdır.

**Momentumla ilgili yukarıdaki ifadelerden hangileri doğrudur?**

- A) Yalnız I  
B) Yalnız II  
C) Yalnız III  
D) II ve III

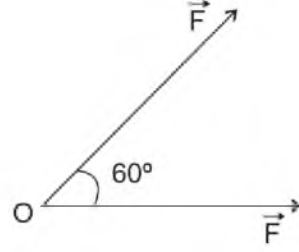
3.



Şekilde görüldüğü gibi sürtünmesiz ortamda durmakta olan 10kg kütleli cisme iki kuvvet aynı anda etki etmektedir. Cismin 2 saniye(s) sonundaki hızı kaç m/s olur?

- A) 8  
B) 10  
C) 12  
D) 16

4.



Şekilde görüldüğü gibi aynı noktaya uygulanan vektörler eşit büyüklüktedir. Bileşke vektör kaç F dir? ( $\cos 60^\circ = 0,5$ )

- A) 1  
B)  $\sqrt{3}$   
C)  $\sqrt{2}$   
D) 2

5. I. Basit makinalarda işten kazanç olmaz.  
II. Basit makaralarda kuvvet kolunun yük koluna oranına kuvvet kazancı denir.  
III. Palanga sisteminde ip sayısı arttıkça kuvvet kazancı artar.

**Basit makaralarla ilgili yukarıdaki ifadelerden hangileri doğrudur?**

- A) Yalnız I  
B) Yalnız II  
C) I ve II  
D) I, II ve III

6.



Şekilde görüldüğü gibi  $m_1 = 4\text{kg}$  kütleli ve hızı 5m/s olan bir cisim durmakta olan  $m_2 = 1\text{kg}$  kütleli cisme çarparak yapışıyor. İki cisim beraber ortak hızla gidiyorlar. Cisimlerin çarpışmadan sonraki ortak hızları kaç m/s dir?

- A) 4  
B) 6  
C) 8  
D) 10

7. Yerden 20m yükseklikten serbest düşmeye bırakılan cisim yere kaç m/s hızla çarpar? ( $g=10\text{m/s}^2$ )

- A) 15  
B) 20  
C) 25  
D) 30

8. Hızı 4m/s olan bir yüzücü akıntı hızı 6m/s olan nehirde yüzmektedir. Yüzücü akıntı ile aynı yönde 20s yüzdükten sonra ters yönde yüzmeye başlıyor. 40s sonra yüzücü başlangıçtan kaç metre(m) uzakta olur?

- A) 100  
B) 120  
C) 180  
D) 240

9. Bir uçak 500m yükseklikte, 200m/s hızla yatay doğrultuda uçarken bir bomba bırakıyor. Bomba bırakıldığı noktadan kaç metre (m)yatay uzaklıkta yere çarpar? ( $g=10\text{m/s}^2$ )

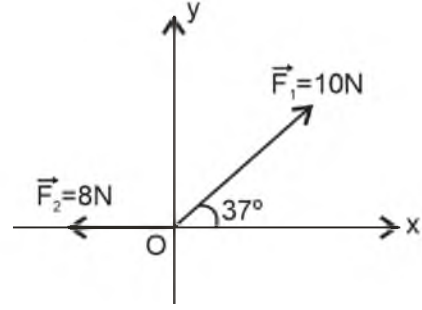
- A) 1000  
B) 1500  
C) 2000  
D) 2500

10. I. Hızlanan hareketlerde hız ile ivme her zaman aynı yönlüdür.  
II. Hızlanan hareketlerde konum-zaman grafiği konum eksenine doğru eğilir.  
III. Yavaşlayan hareketlerde konum -zaman grafiği zaman eksenine doğru eğilir.

İvmeli hareketlerle ilgili yukarıdaki ifadelerden hangileri doğrudur?

- A) Yalnız I  
B) Yalnız II  
C) I ve II  
D) I, II ve III

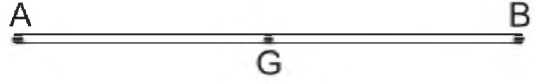
11.



Şekilde görüldüğü gibi 8N ve 10N büyüklüğündeki iki vektörün bileşkesi kaç newton(N) dur? ( $\sin 37^\circ = 0,6$ ,  $\cos 37^\circ = 0,8$ )

- A) 6  
B) 8  
C) 10  
D) 12

12. A



Boy 20cm olan homojen telin 10cm'si kendi üstüne katlanıyor. Telin ağırlık merkezi (G) kaç cm yer değiştirir?

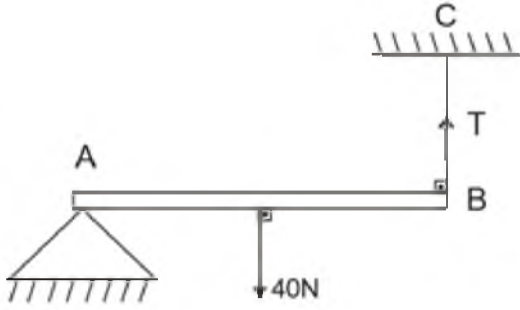
- A) 20  
B) 15  
C) 10  
D) 5

13. İlk hızı 10m/s olan bir araba düzgün olarak  $4\text{m/s}^2$  lik ivme ile hızlanmaktadır. Arabanın 2 saniye(s) sonundaki hızı kaç m/s olur?

- A) 10  
B) 12  
C) 18  
D) 20



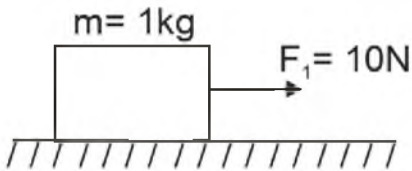
14.



Homojen AB çubuğu yatay dengede olduğuna göre, BC ipindeki gerilme kuvveti (T) kaç newton(N) dur?

- A) 5
- B) 10
- C) 15
- D) 20

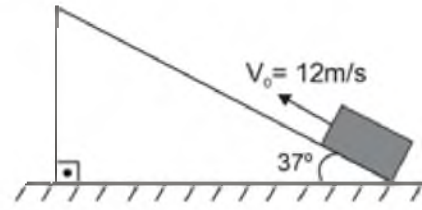
15.



Şekilde görüldüğü gibi cisimle zemin arasındaki sürtünme katsayısı 0,2 olan bir zeminde 1kg kütleli bir cisim 10N'luk bir kuvvetle çekiliyor. Cismin ivmesi kaç  $m/s^2$  dir? ( $g=10 m/s^2$ )

- A) 6
- B) 8
- C) 12
- D) 16

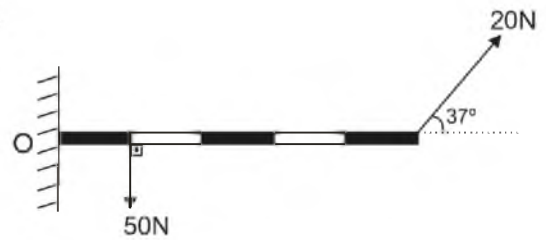
16.



Şekilde görüldüğü gibi kütlesi 2kg olan bir cisim sürtünmesiz bir eğik düzlemin alt ucundan yukarı doğru 12 m/s hızla fırlatılıyor. Cisim eğik düzlemin üzerinde yavaşlayarak durmaktadır. Cismin hızı kaç saniye sonra sıfır olur? ( $g=10 m/s^2$ ,  $\sin 37^\circ=0,6$ ) (Sürtünmeleri ihmal ediniz.)

- A) 2
- B) 4
- C) 6
- D) 8

17.

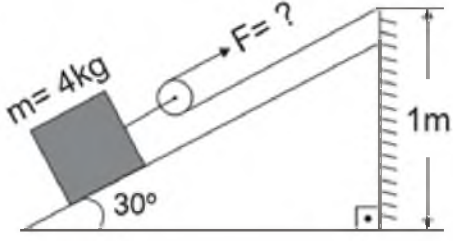


Şekilde görülen çubuk eşit bölmeli olup her bölümü 10cm dir. Çubuk O noktası etrafında dönebilmektedir. Kuvvetlerin O noktasında oluşturduğu torkun büyüklüğü ve yönü nedir?

( $\sin 53^\circ = \cos 37^\circ = 0,8$ ,  $\cos 53^\circ = \sin 37^\circ = 0,6$ )

- A) 0
- B) 10N.m (saat yönünde)
- C) 1N.m (saat yönünün tersi)
- D) 15 (saat yönünün tersi)

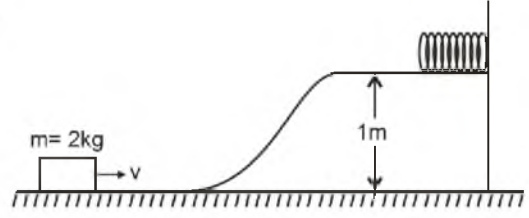
18.



Şekildeki sistem dengede olduğuna göre F kuvveti kaç newton(N)'dur? ( $\sin 30=0,5$ ,  $g=10\text{m/s}^2$ ) (Sürtünmeleri ve hareketli makaraların ağırlığını önemsemeyiniz.)

- A) 5
- B) 10
- C) 15
- D) 20

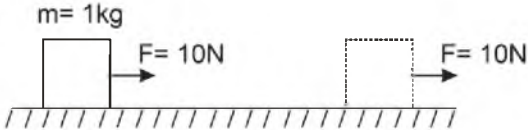
20.



Şekilde görüldüğü gibi 2kg kütleli bir cisim, sürtünmesiz bir yüzeyde v hızıyla şekildeki gibi atılarak yay sabiti 4000N/m olan yayı 10cm sıkıştırmaktadır. Cismin hızı kaç m/s dir? ( $g=10\text{m/s}^2$ )

- A)  $3\sqrt{10}$
- B) 25
- C)  $2\sqrt{10}$
- D) 15

19.



Şekilde görüldüğü gibi kütlesi 1kg olan bir sandık 10N büyüklüğündeki bir kuvvetle 5 saniye(s) süreyle çekilmektedir. Sandığa verilen itme nedir?

- A)  $10\text{m/s}^2$
- B) 25J
- C) 50N.s
- D) 50m/s

1. Aşağıdaki bilim adamlarından hangisi modern kimyanın başlıca öncülerinden biri değildir?
- A) Dalton  
B) Priestly  
C) Lavoisier  
D) Democritus
2. Dokunduğu her nesneyi altına dönüştüren taş veya içene sonsuz hayat bahşeden su gibi hayaller peşinde koşup gizli formüller arayan insanlara ne ad verilir?
- A) Kimyacı  
B) Biyolog  
C) Simyacı  
D) Sihirbaz
3. Bir bileşikte 3,6 g karbon 4,8 g oksijenle birleşirken, başka bir bileşikte 3,6 g karbon 9,6 g oksijenle birleşiyorsa, bu iki bileşikteki oksijen elementinin kütle oranı aşağıdakilerden hangisidir?
- A) 1/2  
B) 1/5  
C) 3/4  
D) 3/8
4. Kimyasal sistemlerde fiziksel özellikleri ve enerji-iş dönüşümlerini inceleyen kimya bilim dalı aşağıdakilerden hangisidir?
- A) Analitik kimya  
B) Amorganik kimya  
C) Fizikokimya  
D) Organik kimya
5. Dünyadaki herşeyin sudan oluştuğunu iddia eden antik çağ simyacısı aşağıdakilerden hangisidir?
- A) Şeyh Galip  
B) Democritus  
C) Aristo  
D) Thales
6. Aşağıdakilerden hangisi saf maddedir?
- A) Tuzlu su  
B) Bileşik  
C) Şekerli su  
D) Hava
7. Aşağıda formülü verilen bileşiklerden hangisi iyonik bileşiktir?
- A)  $\text{CH}_3\text{COOH}$   
B)  $\text{CH}_3\text{OH}$   
C)  $\text{CH}_4$   
D)  $\text{NaCl}$
8. Bileşik formülü  $\text{Ca}(\text{OH})_2$  olan bileşiğin geleneksel adı aşağıdakilerden hangisidir?
- A) Güherçile  
B) Sönmüş kireç  
C) Kezzap  
D) Sönmemiş kireç
9. Sudan, 0 °C ve normal hava basıncında 0,113 ml  $\text{H}_2$  gazı açığa çıkaran elektrik yükü miktarı(Coulomb) aşağıdakilerden hangisidir?
- A) 1  
B) 25  
C) 35  
D) 40
10. Elementin periyodik sistemdeki yerini belirleyen, tek bir atomunun çekirdeğinde bulunan proton sayısına ne ad verilir?
- A) İzotop sayısı  
B) Atom numarası  
C) Kütle numarası  
D) Değerlik elektron
11.  ${}_5\text{B}$ ,  ${}_6\text{C}$ ,  ${}_7\text{N}$  ve  ${}_8\text{O}$  elementlerinin elektro negatifleriyle ilgili aşağıdakilerden hangisi doğrudur?
- A)  $\text{EN}_\text{B}=\text{EN}_\text{C}=\text{EN}_\text{N}=\text{EN}_\text{O}$   
B)  $\text{EN}_\text{B}=\text{EN}_\text{C}>\text{EN}_\text{N}>\text{EN}_\text{O}$   
C)  $\text{EN}_\text{O}>\text{EN}_\text{N}>\text{EN}_\text{C}>\text{EN}_\text{B}$   
D)  $\text{EN}_\text{N}>\text{EN}_\text{C}>\text{EN}_\text{O}>\text{EN}_\text{B}$
12.  ${}_{15}\text{P}$  elementinin 2. Enerji düzeyindeki elektron sayısı aşağıdakilerden hangisidir?
- A) 8  
B) 9  
C) 10  
D) 11

13.  ${}^5\text{B}$ ,  ${}^{13}\text{Al}$ ,  ${}^{31}\text{Ga}$  elementlerinin yarıçaplarıyla ( $r$ ) ilgili olarak aşağıdakilerden hangisi doğrudur?

- A)  $r_{\text{Ga}} < r_{\text{B}} < r_{\text{Al}}$
- B)  $r_{\text{B}} = r_{\text{Al}} = r_{\text{Ga}}$
- C)  $r_{\text{Al}} < r_{\text{Ga}} < r_{\text{B}}$
- D)  $r_{\text{B}} < r_{\text{Al}} < r_{\text{Ga}}$

14. Protonların varlığı deneysel olarak hangi bilim adamı tarafından kanıtlanmıştır?

- A) Stoney
- B) Thomson ve Millikan
- C) E. Rutherford
- D) Crooks

15. Kütle numarası 19 olan bir elementin nötr halinin elektron sayısı 9 ise bu elementin nötron sayısı kaçtır?

- A) 1
- B) 7
- C) 9
- D) 10

16. Aşağıdakilerden hangisi yarı-metal elementlerden biri değildir?

- A) Karbon
- B) Germanyum
- C) Silisyum
- D) Arsenik

17. Atom altı tanecikler ile ilgili aşağıdaki ifadelerden hangisi yanlıştır?

- A) Protonun kütlesi yaklaşık 1 akb'dir.
- B) Elektronun yükü -1'dir.
- C) Elektronun kütlesi yaklaşık 1 akb'dir.
- D) Nötronun kütlesi yaklaşık 1 akb'dir.

18.  ${}^{12}\text{Mg}$  atomunun temel halinin elektron dizilimi aşağıdakilerden hangisidir?

- A) 2-8-1
- B) 2-8-2
- C) 2-8-8-1
- D) 2-8-8-2

19. 3,6 g karbon (C) 9,6 g oksijenle (O) tepkimeye giriyorsa bu bileşikte elementlerin kütle oranı  $\left(\frac{m_{\text{C}}}{m_{\text{O}}}\right)$  kaçtır?

- A) 3/8
- B) 2/5
- C) 3/4
- D) 8/2

20. Karbonat anyonunun formülü aşağıdakilerden hangisidir?

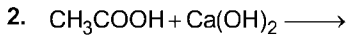
- A)  $\text{HCO}_3^-$
- B)  $\text{CO}_3^{2-}$
- C)  $\text{NO}_3^-$
- D)  $\text{PO}_4^{3-}$

1.

Bal bileşenleri	Yüzde derişim (%C)
Fruktoz	38
Glikoz	31
Su	17
Sakkaroz	2
Nişasta	1
Diğer	11

Yukarıdaki tabloda verilen bilgilere göre 200g balda kaç gram fruktoz bulunur?

- A) 19  
B) 38  
C) 76  
D) 152



Bu reaksiyon sonucunda aşağıdaki ürünlerden hangisi oluşur?

- A)  $\text{Ca}(\text{CH}_3\text{COO})_2$   
B)  $\text{CaCl}_2$   
C)  $\text{NaCH}_3\text{COO}$   
D)  $\text{CH}_3\text{COOH}$

3. Sıkma ile elde edilen ham zeytin yağının altında kalan sulu faz aşağıdaki yöntemlerden hangisiyle zeytin yağından ayrılabilir?

- A) Diyaliz  
B) Kristallendirme  
C) Dekantasyon  
D) Aktif kömür yüzeyinde tutma

4. Yarı geçirgen zarların küçük moleküllerin geçişine imkan verirken büyük molekülleri tutmasına ne ad verilir?

- A) Hidrolik basınç  
B) Osmoz  
C) Rejenerasyon  
D) Krisyoskopi

5. Aşağıdaki yöntemlerden hangisi yoğunluk farkı yoluyla ayırma yöntemi değildir?

- A) Ayırma hunisi ile ayırma  
B) Santrifujleme  
C) Yüzdürme  
D) Damıtma

6. Halk arasında potaskostik olarak bilinen, suda çözünürken ısı açığa çıkaran, ciltte kayganlık hissi uyandıran kuvvetli bazın formülü aşağıdakilerden hangisidir?

- A)  $\text{Ca}(\text{OH})_2$   
B)  $\text{H}_3\text{BO}_3$   
C) KOH  
D) NaOH

7. Aşağıdakilerden hangisi nötral bir tuzdur?

- A) Alüminyum sülfat  
B) Potasyum florür  
C) Amonyum klorür  
D) Sodyum klorür

8. 2 L içme suyunda 0,24 mg  $\text{F}^-$  iyonu varsa  $\text{F}^-$  iyonunun derişimi yaklaşık kaç ppm'dir? (Suyun yoğunluğunu 1 g/ml olarak kabul ediniz.)

- A) 0,12  
B) 0,24  
C) 0,36  
D) 0,48

9. Aşağıdaki maddelerden hangisinin sulu çözeltisi asit özelliği gösterir?

- A)  $\text{NH}_3$   
B)  $\text{Ca}(\text{OH})_2$   
C)  $\text{SO}_2$   
D) NaOH

10. 0,5 mol saf  $\text{HClO}_4$ , 1,0 mol saf NaOH ile suda çözünüp karıştırıldığında oluşan çözeltiye 2 damla fenolftalein indikatörü damlatılırsa çözelti ne renk olur?

- A) Sarı  
B) Pembe  
C) Renksiz  
D) Kırmızı

11. Kolloidal boyutlu parçacıkları büyütüp çökebilir hale getirdikten sonra ayırma işlemine ne ad verilir?

- A) Diyaliz
- B) Flotasyon
- C) Koagülasyon
- D) Aktarma

12. Kışın buzlanmaya karşı yollara tuz atılması tuzun hangi özelliği ile ilgilidir?

- A) Kaynama noktası yükselmesi
- B) Donma noktası alçalması
- C) Buhar basıncını düşürmesi
- D) Osmotik basıncı artırması

13. Yumurta akı aşağıdaki karışım gruplarından hangisinde yer alır?

- A) Kolloidal süspansiyon
- B) Katı aerosol
- C) Sıvı aerosol
- D) Emülsiyon

14.

Örnek	pH(yaklaşık)
İçme suyu	7,96
Kan	7,30
Süt	6,50
Asit yağmuru	4,50

Yukarıdaki tabloda verilen sıvılardan hangisi **daha kuvvetli asittir?**

- A) Süt
- B) İçme suyu
- C) Kan
- D) Asit yağmuru

15. Çözünen maddenin cinsinden bağımsız, derişimi ile orantılı olarak deęişen özelliklere ne ad verilir?

- A) Koligatif özellik
- B) Bazik özellik
- C) Asidik özellik
- D) Apolar özellik

16. Halk arasında zaç yaęı olarak bilinen, şiddetli nem çekici kuvvetli asit aşağıdakilerden hangisidir?

- A) Asetik asit
- B) Sülfürik asit
- C) Hidroklorik asit
- D) Nitrik asit

17. Aşağıdakilerden hangisi asit yağmurlarına neden olan maddelerden biri **değildir?**

- A) CH<sub>3</sub>COOH
- B) SO<sub>2</sub>
- C) NO<sub>2</sub>
- D) SO<sub>3</sub>

18. Aşağıdaki karışım örneklerinden hangisi heterojen bir karışımdır?

- A) Kolonya
- B) Maden suyu
- C) Çelik
- D) Tıraş köpüğü

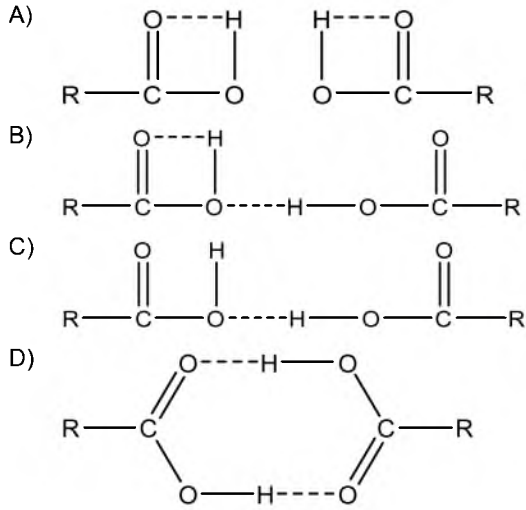
19. Boraks (Na<sub>2</sub>B<sub>4</sub>O<sub>7</sub>) doğal cevherine verilen isim aşağıdakilerden hangisidir?

- A) Güherçile
- B) Tinkal
- C) Şap
- D) Nişadır

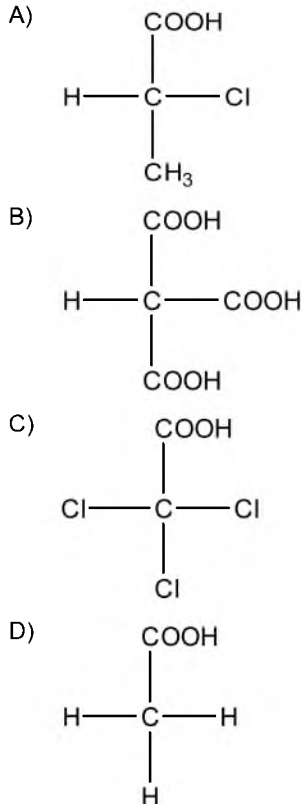
20. Aşağıdaki sulu çözeltilerin hangisi kırmızı turnusol kâğıdının rengini maviye çevirir?

- A) CO<sub>2</sub>
- B) HClO<sub>4</sub>
- C) CH<sub>3</sub>COOH
- D) NH<sub>3</sub>

1. Aşağıdaki bileşiklerden hangisi dimerik yapıya sahip karboksilli asit yapısıdır?



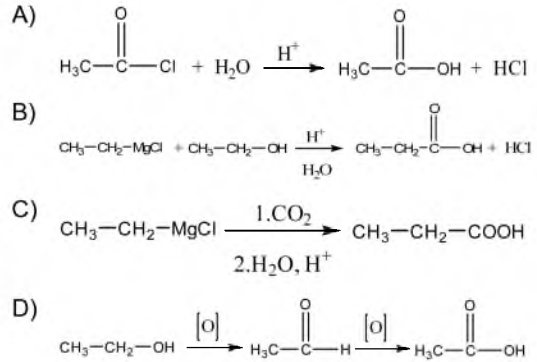
2. Aşağıdakilerden hangisi optikçe aktif bir bileşiktir?



3. Aşağıdakilerden hangisi yağ asidi bileşiği değildir?

- A) C<sub>5</sub>H<sub>11</sub>OH  
B) C<sub>17</sub>H<sub>35</sub>COOH  
C) C<sub>3</sub>H<sub>7</sub>COOH  
D) C<sub>15</sub>H<sub>31</sub>COOH

4. Aşağıdaki reaksiyonlardan hangisi karboksilli asitlerin genel elde edilme yollarından biri değildir?

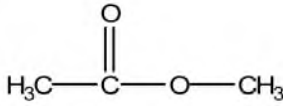


5. Esterlerin fiziksel özellikleri ile ilgili aşağıdaki ifadelerden hangisi yanlıştır?

- A) Ester molekülleri polar bileşiklerdir.  
B) Ester molekülleri suda çözünürler, ancak molekül büyüdükçe sudaki çözünürlüğü azalır.  
C) Ester moleküllerinin kaynama noktaları düşüktür.  
D) Ester moleküllerinin arasında hidrojen bağları vardır.

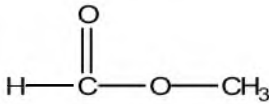
6. Aşağıdaki esterlere ait adlandırmalardan hangisi doğrudur?

A)



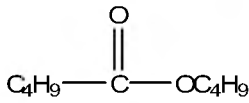
Dimetil asetat

B)



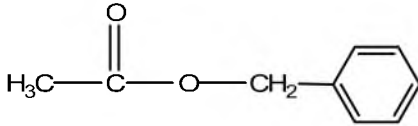
Etil asetat

C)



Bütül asetat

D)



Benzil asetat

7. Yağlar ile ilgili aşağıdaki ifadelerden hangisi yanlıştır?

- A) Tüm yağlar bitkisel kökenlidir.  
 B) Doymamış yağ asitlerini daha fazla miktarda içeren ve bu nedenle sıvı olan bitkisel yağlar, uygun katalizör kullanılarak  $\text{H}_2$  ile tepkimeye sokulursa yağ katılaştır. Bu şekilde oluşturulan katı yağa margarin adı verilir.  
 C) Yağ asitleri uzun, çift karbonlu ve düz zincirli monokarboksilli asitlerdir.  
 D) Yağ asitlerinin gliserinle oluşturdukları esterlere yağ denir.

8. Esterlerin kimyasal özellikleri ile ilgili aşağıdaki ifadelerden hangisi yanlıştır?

- A) Esterlerin amonyakla vermiş olduğu tepkimeler sonucu amitler oluşur.  
 B) Esterler  $\text{LiAlH}_4$  gibi kuvvetli indirgenlerle karboksilli asitlere indirgenir.  
 C) Esterler bazlarla da hidroliz olur. Hidroliz sonucunda oluşan tuza sabun, olaya ise sabunlaşma denir.  
 D) Esterler asitli ortamda su ile tepkimeye girerek kendilerini oluşturan asit ve alkole dönüşür.

9. Monosakkaritler ile ilgili aşağıdaki ifadelerden hangisi yanlıştır?

- A) Oldukça tatlıdırlar.  
 B) Basit şekerler olarak bilinirler.  
 C) En çok balda ve üzümde bulunurlar.  
 D) Suda hiç çözünmezler.

10. Karbonhidratların adlandırılmalarıyla ilgili aşağıdaki ifadelerden hangisi yanlıştır?

- A) Adlandırmada aldo- ya da keto- ön eklerinden sonra gelecek C sayısı, Latince karşılıkları olan tri, tetra, penta, hekza gibi sayılardır.  
 B) Yapısında aldehit grubu bulunduran karbonhidratlara aldöz denir.  
 C) Karbonhidratlar özellikleri yönünden birbirleriyle tamamen aynıdır. Örneğin; şeker, nişasta ve kâğıt birer karbonhidrattır ve tüm özellikleri de aynıdır.  
 D) Yapısında keton grubu bulunduran karbonhidratlara ketöz denir.

11. Disakkaritler ile ilgili aşağıdaki ifadelerden hangisi doğrudur?

- A) Sakkaroz, laktöz ve maltozdan oluşmuştur.  
 B) Nişastanın kısmi hidrolizi ile laktöz elde edilir.  
 C) Maltoz, sütte bulunduğu için süt şekeri olarak bilinir.  
 D) İki monosakkarit molekülünün aralarından bir  $\text{H}_2\text{O}$  çıkararak oluşturdukları karbonhidrata disakkarit denir.

12. Aşağıdakilerden hangisi birincil amin bileşiği değildir?

- A)  $\text{RNH}_2$   
 B)  $\text{CH}_3\text{CH}_2\text{NH}_2$   
 C)  $\text{CH}_3-\text{CH}_2-\text{NH}-\text{CH}_3$   
 D)  $\text{CH}_3\text{NH}_2$

13. Aşağıdakilerden hangisi polisakkarit bileşiğidir?

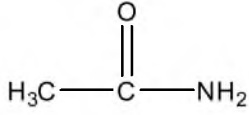
- A) Glikoz  
 B) Früktoz  
 C) Selüloz  
 D) Riboz



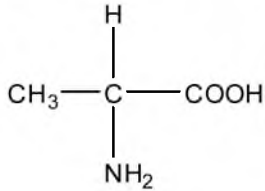
14. Aşağıdaki bileşiklerden hangisi amin bileşiği değildir?

A)  $\text{HNO}_3$

B)



C)



D)  $(\text{C}_2\text{H}_5)_2\text{NH}$

15. Aşağıdakilerden hangisi proteinlerin denatürasyonu için doğru bir örnektir?

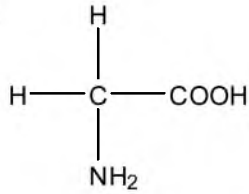
A) Kaynamış süt

B) Erimiş şeker

C) Kaynamış su

D) Kaynamış yumurta

16.



Yukarıdaki bileşiğin adı aşağıdakilerden hangisidir?

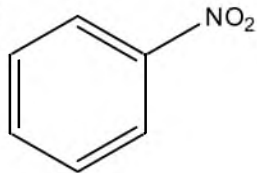
A) Aminoasetik asit (glisin)

B) Asetamit

C) Etil asetat

D) Formamit (metanamit)

17.



Yukarıdaki bileşiğin adı aşağıdakilerden hangisidir?

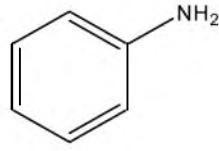
A) Benzen

B) Nitrobenzen

C) Benzaldehit

D) Tolüen

18.



Yukarıdaki bileşiğin adı aşağıdakilerden hangisidir?

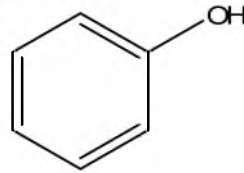
A) Fenol

B) Anilin

C) Tolüen

D) Nitrobenzen

19.



Yukarıdaki bileşiğin adı aşağıdakilerden hangisidir?

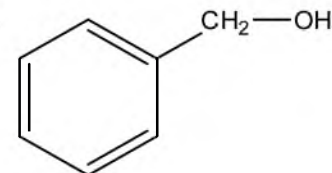
A) Fenol

B) Benzaldehit

C) Benzoik asit

D) Benzil Alkol

20.



Yukarıdaki bileşiğin adı aşağıdakilerden hangisidir?

A) Fenol

B) Benzoik asit

C) Benzil alkol

D) Benzil klorür

1.  $\int \cot x dx$  işleminin sonucu aşağıdakilerden hangisidir?

- A)  $-\ln|\cos x|+c$
- B)  $-1-\cot^2x+c$
- C)  $\ln|\sin x|+c$
- D)  $1+\cot^2x+c$

2.  $\begin{vmatrix} -1 & 3 & 0 \\ 4 & 2 & -1 \\ 0 & -3 & 5 \end{vmatrix} = A$  ise  $\begin{vmatrix} -2 & 6 & 0 \\ 8 & 4 & -2 \\ 0 & -6 & 10 \end{vmatrix}$

determinantının değeri kaçtır?

- A)  $-A$
- B)  $A$
- C)  $4A$
- D)  $8A$

3.  $f(x)=(a+1)x^2+ax-3$  ( $a \in \mathbb{R}$ ) fonksiyonunun  $x_0=1$  noktasındaki teğeti  $x-y+5=0$  doğrusuna dik olduğuna göre  $a$  kaçtır?

- A)  $-1$
- B)  $-\frac{1}{3}$
- C)  $\frac{1}{3}$
- D)  $1$

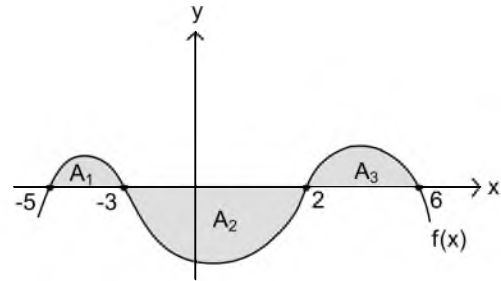
4.  $A = \begin{bmatrix} 3 & 5 \\ 2 & 4 \end{bmatrix}$  matrisinin tersi aşağıdakilerden hangisidir?

- A)  $\begin{bmatrix} 8 & -10 \\ -4 & 9 \end{bmatrix}$
- B)  $\begin{bmatrix} 2 & -\frac{5}{2} \\ -1 & \frac{3}{2} \end{bmatrix}$
- C)  $\begin{bmatrix} -\frac{3}{2} & -\frac{5}{2} \\ -1 & -2 \end{bmatrix}$
- D)  $\begin{bmatrix} 3 & -\frac{5}{2} \\ 1 & 4 \end{bmatrix}$

5.  $f(x)=6x^2-2x+1$  fonksiyonu veriliyor.  $f(1)=5$  olduğuna göre,  $f(-2)$  değeri kaçtır?

- A)  $-19$
- B)  $-11$
- C)  $-7$
- D)  $3$

6.



Yukarıdaki şekilde  $f(x)$  fonksiyonunun grafiği verilmiştir.

$A_1=3 br^2$ ,  $A_2=13 br^2$  ve  $A_3=7 br^2$  dir.

Buna göre,  $\int_{-5}^6 f(x) dx$  işleminin sonucu kaçtır?

- A)  $-3$
- B)  $3$
- C)  $4$
- D)  $23$

7.  $y = \frac{3x^2 - 2x}{(x+5)^2}$  fonksiyonunun düşey asimptotu olan doğru aşağıdakilerin hangisidir?

- A)  $x=-5$
- B)  $x=-1$
- C)  $x=2$
- D)  $x=4$

8.  $\int \frac{dx}{\sqrt{25-4x^2}}$  işleminin sonucu

aşağıdakilerden hangisidir?

- A)  $\frac{1}{5} \arcsin \frac{2x}{5} + c$   
 B)  $\frac{1}{5} \arccos \frac{2x}{5} + c$   
 C)  $\frac{1}{2} \arcsin \frac{2x}{5} + c$   
 D)  $\frac{1}{2} \arccos \frac{5x}{2} + c$

9.  $A = \begin{bmatrix} -2 & 1 \\ 4 & 6 \end{bmatrix}$  ve  $B = \begin{bmatrix} -1 & 3 \\ 2 & 5 \end{bmatrix}$  matrisleri veriliyor.

Buna göre,  $3A-2B$  matrisi aşağıdakilerden hangisidir?

- A)  $\begin{bmatrix} -4 & 9 \\ 16 & 28 \end{bmatrix}$   
 B)  $\begin{bmatrix} -7 & 7 \\ -2 & 3 \end{bmatrix}$   
 C)  $\begin{bmatrix} -4 & -3 \\ 8 & 8 \end{bmatrix}$   
 D)  $\begin{bmatrix} -8 & -9 \\ 3 & 7 \end{bmatrix}$

10.  $\begin{vmatrix} 2 & x & 0 \\ x & 3 & 4 \\ 1 & x & -1 \end{vmatrix} = -10$  denkleminin çözüm kümesi

aşağıdakilerden hangisidir?

- A)  $\{-1, 5\}$   
 B)  $\{-2\}$   
 C)  $\{-2, 2\}$   
 D)  $\{2\}$

11.  $A = \begin{bmatrix} 2x-y & 8 \\ 9 & -5 \end{bmatrix}$  ve  $B = \begin{bmatrix} -10 & 8 \\ x+3y & -5 \end{bmatrix}$  matrisleri veriliyor.

$A=B$  olduğuna göre  $x,y$  kaçtır?

- A) -12  
 B) -4  
 C) 1  
 D) 9

12.  $f(x)=\ln(-4x^3+3x^2-14)$  olduğuna göre  $f'(-2)$  değeri kaçtır?

- A) -5  
 B) -2  
 C) 3  
 D) 4

13.  $f(x)=2x^3-kx^2+x$  fonksiyon eğrisinin apsisi  $x=1$  olan noktasındaki teğetin denklemi  $y+3x-2=0$  olduğuna göre,  $k$  kaçtır?

- A)  $-\frac{1}{2}$   
 B)  $\frac{3}{2}$   
 C) 2  
 D) 5

14.  $f(x) = \frac{3x^3-4}{x^2-2x}$  olduğuna göre  $f'(-1)$  değeri

kaçtır?

- A)  $-\frac{1}{9}$   
 B)  $-\frac{1}{2}$   
 C)  $\frac{1}{3}$   
 D)  $\frac{1}{12}$

15.  $f(x)=|5x^3-2|+4x^2$  fonksiyonu veriliyor. Buna göre,  $f'(-1)$  aşağıdakilerden hangisidir?

- A) 7  
B) 11  
C) 22  
D) 38

16.  $\int e^{2x+1} dx$  işleminin sonucu aşağıdakilerden hangisine eşittir?

- A)  $\frac{e^{2x+1}}{2x} + c$   
B)  $\frac{e^{2x+1}}{2} + c$   
C)  $e^{2x+1} + c$   
D)  $2e^{2x+1} + c$

17.  $y=x^2$  parabolü ile  $x=3$  ve  $y=0$  doğrularının sınırladığı bölgenin alanı kaç birim karedir?

- A) 3  
B) 9  
C) 18  
D) 27

18.  $A = \begin{bmatrix} -2 & 3 \\ -1 & 2 \end{bmatrix}$  ise  $A^{37}$  matrisi aşağıdakilerden hangisidir?

- A)  $\begin{bmatrix} -1 & 3 \\ 2 & 1 \end{bmatrix}$   
B)  $\begin{bmatrix} -2 & 3 \\ -1 & 2 \end{bmatrix}$   
C)  $\begin{bmatrix} -2 & 1 \\ 0 & 2 \end{bmatrix}$   
D)  $\begin{bmatrix} 1 & 0 \\ 0 & 1 \end{bmatrix}$

19.  $\int_1^2 (6x^2 + 2x - 5) dx$  işleminin sonucu kaçtır?

- A) 6  
B) 8  
C) 10  
D) 12

20.  $A = \begin{bmatrix} 3 & -8 \\ 0 & 11 \\ -7 & 1 \end{bmatrix}$  ise  $A^T$  matrisi aşağıdakilerden hangisidir?

- A)  $\begin{bmatrix} 1 & 3 \\ -7 & 0 \\ 11 & -8 \end{bmatrix}$   
B)  $\begin{bmatrix} -8 & 1 & 0 \\ 11 & -7 & 3 \end{bmatrix}$   
C)  $\begin{bmatrix} 3 & 0 & -7 \\ -8 & 11 & 1 \end{bmatrix}$   
D)  $\begin{bmatrix} 6 & -16 \\ 0 & 22 \\ -14 & 2 \end{bmatrix}$

1. Aşağıdakilerden hangisi üretim faktörlerinden biri değildir?
- A) Tüketici  
B) Emek  
C) Girişimci  
D) Sermaye
2. İnsan istek ve ihtiyaçlarını gidermeye yarayan somut araçlara ne ad verilir?
- A) Hizmet  
B) Stok  
C) Mal  
D) Sermaye
3. Mal ve hizmetlerin insan ihtiyaçlarını karşılaması amacıyla kullanılmasına ne ad verilir?
- A) Fayda  
B) Birikim  
C) Tasarruf  
D) Tüketim
4. İşletmenin amacına ve üretim faaliyetine uygun olarak toplanmış maddi ve gayri maddi varlıkların tümüne ne ad verilir?
- A) Mal  
B) Stok  
C) Hammadde  
D) Sermaye
5. Üretimi için hiçbir çaba ya da örgütlenme gerektirmeyen ve doğada hazır bulunan mallara ne ad verilir?
- A) Hizmet  
B) Serbest mal  
C) Ekonomik mal  
D) Dayanıklı mal
6. İşletmelerin kuruluşu, finansmanı, üretim araçlarının sağlanması, üretilen mal ve hizmetlerin pazarlanması, örgütlenip, yönetilmeleri ve parasal olayların izlenmesi konularını ele alıp inceleyen bilim dalı aşağıdakilerden hangisidir?
- A) Ekonomi bilimi  
B) İşletme bilimi  
C) Davranış bilimi  
D) Hukuk bilimi
7. Aşağıdakilerden hangisi işletmelerin üretimde verimliliği artırmak için personeline yönelik izlediği politikalardan biri değildir?
- A) Çalışanların sorunlarına eğilmesi  
B) Çalışma koşullarını güvenli ve sağlıklı kılması  
C) Çalışanına iyi ücret vermesi  
D) Nitelikli mal ve hizmet sunması
8. Aşağıdakilerden hangisi işletmenin özel amaçlarından biri değildir?
- A) Tüketicilere nitelikli mal ve hizmet sunmak  
B) Yerel yönetimlerle işbirliği  
C) Uzun vadeli büyümeyi hedef haline getirmek  
D) Personeline yeterli ücret vermek
9. İşletmelerin belli bir dönem içinde elde ettiği gelirler ile aynı dönem içinde katlandığı giderler arasındaki olumsuz farka ne ad verilir?
- A) Zarar  
B) Kâr  
C) Mevduat  
D) Faiz
10. Verilerin toplanması, organize edilmesi, analiz edilmesi, özetlenmesi, sunulması ve bu verilerin bir sonuca varılabilmesi için kullanılmasında yararlanılan bilim dalı aşağıdakilerden hangisidir?
- A) Psikoloji  
B) İstatistik  
C) Antropoloji  
D) Hukuk
11. Aşağıdakilerden hangisi şahıs şirketlerinin özelliklerinden biridir?
- A) Şirket sözleşmesinin oy birliği ile değişmesi  
B) Her ortağın farklı oy hakkının olması  
C) Ortaklığın devrinin kolay olması  
D) En az 7 ortak tarafından imzalanan ana sözleşmeyle kurulması
12. Aşağıdakilerden hangisi sanayi işletmelerinin özelliklerinden biri değildir?
- A) Üretimlerinde standardizasyonun olmaması ve denetimin zor olması  
B) Üretim yaparken gelişmiş teknolojilerin kullanılması  
C) Üretimde genellikle seri imalatın söz konusu olması  
D) Hammadde ve malzemelerin fiziksel ya da kimyasal yönden değişikliğe uğraması

13. Ticari bir işletmeyi bir ticaret unvanı altında işletmek amacıyla gerçek kişiler arasında kurulan ve ortaklarından hiç birinin sorumluluğu şirket alacaklarına karşı sınırlanmamış olan şirkete ne ad verilir?

- A) Kollektif şirket
- B) Komandit şirket
- C) Limitet şirket
- D) Anonim şirket

14. Tüzel kişiliği haiz olmak üzere ortaklarının belirli ekonomik menfaatlerini ve özellikle meslek veya geçimlerine ait ihtiyaçlarını işgücü ve parasal katkılarıyla karşılıklı yardım, dayanışma ve kefalet suretiyle sağlayıp korumak amacıyla gerçek ve tüzel kişiler tarafından kurulan değişir ortaklı ve değişir sermayeli ortaklıklara ne ad verilir?

- A) Meslek kuruluşları
- B) Vakıf
- C) Dernek
- D) Kooperatif

15. Aşağıdakilerden hangisi kâr amacı olmayan işletmelerin özelliklerinden biri değildir?

- A) Çalışanlarının gönüllü olması
- B) Kar amacı güden şirketlerden ve devletten yardım alabilmesi
- C) Çoğunlukla hizmet üreten işletmeler olması
- D) İşletmenin sahipliğini gösteren şahıs veya şahıslara ait hisselerin olması

16. Kısa veya uzun vadeli sigorta kolları bakımından adına prim ödenmesi gereken veya kendi adına prim ödemesi gereken kişiye ne ad verilir?

- A) Alt işveren
- B) İşveren
- C) Sigortalı
- D) İşyeri

17. Çok sıcak yerlerde faaliyet gösteren işletmelerin soğutulmasının ek harcamalar gerektirmesi durumunda işletmenin dikkate alması gereken kuruluş yeri faktörü aşağıdakilerden hangisidir?

- A) Enerji ve yakıt
- B) Atıkların atılması
- C) İklim koşulları
- D) Taşıma

18. Bir termik santralin kömür yataklarına yakın yerlere kurulması durumunda kuruluş yeri seçimini etkileyen faktör aşağıdakilerden hangisidir?

- A) Pazara yakınlık
- B) Hammadde
- C) İşgücü
- D) Taşıma

19. Aşağıdakilerden hangisi meslek kuruluşlarının amaçlarından biri değildir?

- A) Mesleki ahlaka uygun faaliyette bulunmak
- B) Mesleki bilgi ve becerileri geliştirmek
- C) Kamu menfaatlerini gözardı etmek
- D) Dayanışmayı sürekli kılmak ve geliştirmek

20. Ticari, sınai, zirai ve mesleki faaliyetleri ile ilgili olarak bir iş yeri açıp faaliyete başlayanların bu faaliyetinden dolayı vergi yükümlülüğü çıkıyorsa aşağıdaki kurumlardan hangisine bildirimde bulunma sorumluluğu vardır?

- A) Kalkınma Bakanlığı
- B) Sosyal Güvenlik Kurumu
- C) Maliye Bakanlığı
- D) Türkiye İş Kurumu

1. Belli bir ülkede belli bir dönemde yürürlükte bulunan hukuk kurallarına ne ad verilir?
  - A) Doğal hukuk
  - B) Pozitif hukuk
  - C) Norm
  - D) Anayasa
  
2. Halk kavramı ile ilgili aşağıdaki ifadelerden hangisi yanlıştır?
  - A) Somut bir varlıktır.
  - B) Halk olmaksızın devletin varlığından söz edilebilir.
  - C) Belli bir zamanda belli bir yerde yaşayan insanları ifade eder.
  - D) Ortak bir amaçla bir araya gelmiş insanlardır.
  
3. Aşağıdakilerden hangisi Türkiye Cumhuriyeti devlet sisteminin dayandığı temel esaslardan biridir?
  - A) Kuvvetler birliği
  - B) Federal devlet yapısı
  - C) Egemenliğin belirli bir zümreye ait olması
  - D) Hukukun üstünlüğü
  
4. Din, mezhep, etnik köken, asalet, servet, makam gözetilmeksizin kişilerin yasalar karşısında eşit muamele görmesine ne ad verilir?
  - A) Matematiksel eşitlik
  - B) Hukuki eşitlik
  - C) Sosyal eşitlik
  - D) Siyasal eşitlik
  
5. Hukuk kurallarının, belli bir hukuk düzeni içerisinde kişilere belli yönde davranmaya izin vermesi, belli şeyleri istemeye yetkili kılmasına ne ad verilir?
  - A) Ödev
  - B) Yaptırım
  - C) Hak
  - D) Adalet
  
6. Aşağıdakilerden hangisi cumhuriyet öncesi demokratikleşme ve insan hakları ile ilgili gelişmelerden biri değildir?
  - A) Medeni Kanun'un kabul edilmesi
  - B) Islahat Fermanı'nın ilan edilmesi
  - C) Birinci Meşrutiyet'in kabul edilmesi
  - D) Sened-i İttifak'ın imzalanması
  
7. Aşağıdakilerden hangisi kısıtlı oy türlerinden biri değildir?
  - A) Yeteneğe bağlı oy
  - B) Cinsiyete bağlı oy
  - C) Irka dayalı oy
  - D) Gizli oy
  
8. Bir siyasi partinin mecliste grup kurabilmesi için gereken milletvekili sayısı kaçtır?
  - A) 20
  - B) 25
  - C) 30
  - D) 40
  
9. Kuvvetler ayrılığı ilkesi ilk kez aşağıdaki anayasalardan hangisi ile kabul edilmiştir?
  - A) 1921
  - B) 1924
  - C) 1961
  - D) 1982
  
10. Çoğulcu demokrasi ile ilgili aşağıdaki ifadelerden hangisi yanlıştır?
  - A) Çoğulculuğun, çoğunlukçuluğa dönüşmesi kuvvetler ayrımıyla mümkündür.
  - B) Hoşgörü ve farklılıklara saygıyı gerektirir.
  - C) Çoğulculuk çağdaş demokrasilerin ön koşuludur.
  - D) Tek tip toplum yaratma dayatmasına karşıdır.

11. Üye devletlerin daimi temsilcilerinden oluşan, Avrupa İnsan Hakları Mahkemesi kararlarının uygulanmasını izlemek ve rapor hazırlamak gibi görevleri bulunan, Avrupa İnsan Hakları Sözleşmesi ile kurulmuş denetim organı aşağıdakilerden hangisidir?

- A) İşkenceye Karşı Komite
- B) Bakanlar Konseyi
- C) İnsan Hakları Komitesi
- D) Delegeler Komitesi

12. Aşağıdakilerden hangisi Avrupa Güvenlik ve İşbirliği Teşkilatı'nın organlarından biri değildir?

- A) İnsan Hakları Komitesi
- B) Kıdemli Memurlar Komitesi
- C) Danışma Komitesi
- D) Konsey

13. Aşağıdakilerden hangisi uluslararası düzeyde faaliyet gösteren koruma organlarından biridir?

- A) Avrupa Birliği
- B) Birleşmiş Milletler Örgütü
- C) Avrupa Konseyi
- D) Avrupa Güvenlik ve İşbirliği Teşkilatı

14. Aşağıdakilerden hangisi Milletler Cemiyeti'nin kuruluş amaçlarından biri değildir?

- A) Örgütlenmiş halkların karşılıklı ilişkilerinde adaleti korumak
- B) Gizlilikten uzak, adaletli ve onurlu uluslararası ilişkiler sürdürmek
- C) Uluslar arasında işbirliğini geliştirmek
- D) Savaş dönemleri için birtakım kriterler belirlemek

15. Cemiyet-i Akvam (Milletler Cemiyeti) hangi barış antlaşması ile kurulmuştur?

- A) 1919 Versailles
- B) 1919 Saint Germain
- C) 1920 Trianon
- D) 1938 Münih

16. Halkçılık ilkesi ile ilgili aşağıdaki ifadelerden hangisi yanlıştır?

- A) Hukuk devleti ve sosyal devlet anlayışlarını içinde barındırır.
- B) Belli bir kişi ya da gruba ayrıcalık tanınmasını gerektirir.
- C) Milli egemenlik ilkesi ve demokrasiye dayanır.
- D) Cumhuriyetçilik ve milliyetçilik ilkelerinin tamamlayıcısıdır.

17. Laiklik ilkesi ile ilgili aşağıdaki ifadelerden hangisi yanlıştır?

- A) Çağdaş demokrasi için bir ön koşuldur.
- B) Düşünce ve kanaat özgürlüğüne dayanır.
- C) Tek bir dine inancı öngörür.
- D) Laik olmayan bir devlet sisteminin insan hakları ihlallerine yol açması kaçınılmazdır.

18. Aşağıdakilerden hangisi Oguste Comte'a göre insanlığın gelişim evrelerinden biri değildir?

- A) Teolojik evre
- B) Negatif evre
- C) Metafizik evre
- D) Pozitif evre

19. Bir ülkede belli bir dönemde geçerli olan kuralların zorla ve köklü bir değişikliğe tabi tutularak yerine yenilerinin getirilmesine ne ad verilir?

- A) Çağdaşlaşma
- B) Medeniyet
- C) İnkılap
- D) Reform

20. Laiklik Türkiye Cumhuriyeti devlet sistemine hangi Anayasa döneminde girmiştir?

- A) 1921
- B) 1924
- C) 1961
- D) 1982



1. Aşağıdakilerden hangisi "büyüme"yi tanımlar?

- A) Vücudun boy, kilo ve hacim olarak artmasıdır.
- B) Organlardaki işlevlerin yerine getirilmesi açısından belli bir olgunluğa erişilmesidir.
- C) Hem nitelik hem de nicelik olarak organizmada meydana gelen değişimlerdir.
- D) Öğrenme ve anlamayı içeren zihinsel etkinliklerin gelişimidir.

2. Aşağıdakilerden hangisi "okul çağı dönemi" özelliklerinden biri değildir?

- A) Kurumsal kurallara uyarak yaşamayı öğrenme
- B) Çevresinde kendisinden bağımsız bir dünyanın varlığını kabul etme
- C) Kendi davranışlarının sorumluluğunu yüklenbilme
- D) Ev dışında diğer yetişkinlerle ilişki kurabilme

3. Kişilerin akıl ve irade yönünden yeterli; anlama, düşünme, mantık yürütme, hafıza gibi zihinsel yeteneklerinden her birinin yeterli olmasına ne ad verilir?

- A) Beşeri iyilik hali
- B) Bedensel iyilik hali
- C) Zihinsel iyilik hali
- D) Sosyal iyilik hali

4. Şefkat, mutluluk, merak duyma aşağıdaki davranışlardan hangisine yönelten duygulara örnektir?

- A) Savunucu
- B) Yasaklayıcı
- C) Saldırgan
- D) Sevindirici

5. Aşağıdakilerden hangisi koruyucu sağlık hizmetlerinden biri değildir?

- A) Aile planlaması
- B) Fizik tedavi
- C) Erken tanı
- D) İyi beslenme

6. Aşağıdakilerden hangisi yaşlılık döneminde daha çok kadınlarda görülen hastalıklardan biri değildir?

- A) İştih kaybı
- B) Yüksek tansiyon
- C) Romatizma
- D) Görme bozuklukları

7. Hastanın yakınmalarını, sağlık geçmişini ve sağlığıyla ilgili bilgileri tam, eksiksiz vermesi, hasta hak ve sorumlulukları açısından aşağıdakilerden hangisinin kapsamında yer alır?

- A) Tedavi ile ilgili önerilere uyma
- B) Sosyal güvenlik durumu
- C) Hastane kurallarına uyma
- D) Sağlık çalışanlarını bilgilendirme

8. İçme sularına karışan aşağıdaki maddelerden hangisi zehirlenmelere vol acmaz?

- A) Cıva
- B) Kalsiyum
- C) Arsenik
- D) Kurşun

9. Aşağıdaki yiyeceklerden hangisi besin öğelerine göre sınıflamada diğerlerinden farklı grupta yer alır?

- A) Peynir
- B) Yoğurt
- C) Süt
- D) Yağ

10. Madde kullanımının bırakılmasına, etkisinin başka bir madde tarafından engellenmesine ya da madde miktarının azaltılmasına bağlı olarak vücutta bazı fizyolojik etkilerin ortaya çıkması durumuna ne ad verilir?

- A) Yoksunluk sendromu
- B) Tolerans gelişimi
- C) Tiryakilik
- D) Pasif içicilik

11. “Kendi aranızda konuşunca arkadaşlarınızı duyamıyorum ve üzülüyorum” ifadesi aşağıdakilerden hangisine bir örnektir?

- A) Sözsüz iletişime
- B) Sen diline
- C) Beden diline
- D) Ben diline

12. El temizliği ile ilgili aşağıdaki ifadelerden hangisi yanlıştır?

- A) Tuvalet gereksiniminin giderilmesinden önce eller yıkanmalıdır.
- B) Yemek hazırladıktan sonra eller yıkanmalıdır.
- C) El tırnakları, tırnak makası ile düz kesilmelidir.
- D) Tırnaklar banyo yaparken tırnak fırçası ile fırçalanmalıdır.

13. Bireyin kendisini rahatlatan bir durumu ya da ortamı hayal ederek stresin yarattığı olumsuz duygu ve düşüncelerden uzaklaşması şeklindeki stresle başa çıkmada etkili yöntem aşağıdakilerden hangisidir?

- A) Fiziksel aktivite
- B) Zihinde canlandırma
- C) Sosyal etkinlik geliştirme
- D) Zaman yönetimi

14. Alkol ile ilgili aşağıdaki ifadelerden hangisi yanlıştır?

- A) Alkol midenin iç yüzeyini tahriş ederek sürekli açlık hissedilmesine neden olur.
- B) Alkol gastrit, ülser, beslenme ve sindirim bozukluklarına yol açar.
- C) Fazla alkol tüketilmesi vücutta vitaminlerin eksilmesine neden olur.
- D) Alkolün vücutta işlenmesi için C vitamini kullanılır.

15. Kişinin aç kalarak kilosunu olması gereken en düşük vücut ağırlığının altına düşürecek kadar aşırı kilo kaybetmesine neden olan yemek bozukluğuna ne ad verilir?

- A) Gingivitis
- B) Anoreksiya nevroza
- C) Periodontal hastalık
- D) Mikrobiyal dental

16. Aşağıdakilerden hangisi stres tepkisini başlatan kimyasal madde içeren besinlerden biri değildir?

- A) Kahve
- B) Kakao
- C) Adaçayı çayı
- D) Kolalı içecekler

17. Aşağıdakilerden hangisi sigaranın temel zarar verici özellikleri arasında ver almaz?

- A) Anti spazmatik olması
- B) Kanın pıhtılaşmasını artırması
- C) Damar tıkayıcı olması
- D) Oksijen kısıtlayıcı olması

18. Kişinin sosyal ve maddi ihtiyaçlarını qidermeme aşağıdaki aile içi şiddet davranışlarından hangisinin kapsamında yer alır?

- A) Ekonomik istismar
- B) Duygusal istismar
- C) Fiziksel şiddet
- D) İhmal

19. Beden kitle indeksi 28 olan kişi için aşağıdakilerden hangisi geçerlidir?

- A) Normal
- B) Hafif şişman
- C) Zayıf
- D) Şişman

20. Uyuşturucu maddeler en büyük zararı aşağıdakilerden hangisine verir?

- A) Sindirim sistemine
- B) Dolaşım sistemine
- C) Merkezi sinir sistemine
- D) Kas sistemine

1. Endüstrileşme ile gelen sosyal ve ekonomik değişimin sonucu olan aile tipi aşağıdakilerden hangisidir?

- A) Çekirdek aile
- B) Geniş aile
- C) Kırsal aile
- D) Pederşahi aile

2. Aşağıdakilerden hangisi gebelik belirtilerinden biri değildir?

- A) Vagina salgılarının artması
- B) Az idrara çıkma
- C) Beklenen adet başlanmaması
- D) Yorgunluk, uykuya eğilimin olması

3. Gebe kadınlardaki kansızlık aşağıdakilerden hangisine neden olmaz?

- A) Diyabet (Şeker)e
- B) Taşikardiye
- C) Baş dönmesine
- D) Bebek ölümüne

4. Emzirme ile ilgili aşağıdaki ifadelerden hangisi yanlıştır?

- A) Her emzirmeden önce meme başı yıkanmalıdır.
- B) Emzirmede, her bir meme için beşer dakika ayrılmalıdır.
- C) Emme sırasında süt salgılanmasını sağlayan sinir uçları uyarılır.
- D) Emzirmeden sonra bebeğin yuttuğu hava çıkarılmazsa, karın ağrısına ve kusmaya yol açar.

5. Aşağıdakilerden hangisi aile planlamasının amaçlarından biri değildir?

- A) Bireyleri ve aileleri üreme sağlığı konusunda eğitmek
- B) Yüksek riskli ve istenilmeyen gebelikleri önlemek
- C) Gebe kalma aralığını serbest bırakmak
- D) Çocuk sahibi olmak isteyenlere tıbbi yardım sağlamak

6. Aşağıdakilerden hangisi aile planlamasının doğrudan anne sağlığına yararlarından biri değildir?

- A) İstenmeyen gebelikleri ve düşükleri önler.
- B) Anne ölümlerini azaltır.
- C) Sık aralıklarla çok sayıda gebelik oluşmasını önler.
- D) Sağlıklı doğan bebek sayısı artar.

7. Sağlıklı bir evlilikteki karı kocanın özellikleri ile ilgili aşağıdaki ifadelerden hangisi yanlıştır?

- A) Tartışmalar esnasında birbirlerini incitecek kelimeler sarf etmemeye özen gösterirler.
- B) Birbirlerinin ailelerinden kaynaklanan çok fazla tartışma yaşamazlar.
- C) Evliliklerinde güç paylaşımı konusunda kadın ön plandadır.
- D) Birlikte geçirdikleri zamandan zevk alırlar.

8. D vitamini aşağıdakilerden hangisinin kemiklere taşınmasını sağlar?

- A) Kalsiyum
- B) Demir
- C) Çinko
- D) Magnezyum

9. Gebeliği önleyici hap yöntemi ile ilgili aşağıdaki ifadelerden hangisi doğrudur?

- A) Emzirirken kullanılabilir.
- B) Kadınlık hormonlarından sadece östrojeni içerir.
- C) Anne sütünün miktarı artırır.
- D) 35 yaş ve üstünde olup, sigara içen kadınlar hapla korunacaksa sigarayı bırakmalıdır.

10. Bebeğin beslenmesinde anne sütü yanında, ek gıdalara kaçınıcı aydan sonra başlanmalıdır?

- A) 4.
- B) 5.
- C) 6.
- D) 7.

11. Bel soğukluğu hastalığının hastalık etkeni aşağıdakilerden hangisidir?

- A) Virüs
- B) Bakteri
- C) Parazit
- D) Mantar

12. Kanda alyuvarların yapısındaki hemoglobinin yapısındaki kusur aşağıdakilerden hangisine neden olur?

- A) Kansızlık
- B) Çölyak
- C) Yüksek ateş
- D) Sıtma

13. Akdeniz ateşi ile ilgili aşağıdaki ifadelerden hangisi yanlıştır?

- A) Atakların yanı sıra kişide karın ağrısı, eklem ağrısı ve göğüs ağrısı görülmektedir.
- B) Hastalarda ataklar dışında hiçbir belirti yoktur.
- C) Atak esnasında veya atak dışı zamanlarda bazı laboratuvar incelemeleri ile tanı konulamamaktadır.
- D) Ataklar, genellikle 24-48 saat sürmektedir.

14. Aşağıdakilerden hangisi şeker hastalarının yılda en az bir kez muayene yaptırmaları gereken organlarından biridir?

- A) Göz
- B) Beyin
- C) Burun
- D) Kulak

15. Aşağıdakilerden hangisi kanserden korunmak için beslenmede alınması gereken önlemlerden biri değildir?

- A) Sarımsak ve soğan tüketilmelidir.
- B) Ekmeğin kepekli olanı tercih edilmelidir.
- C) Aşırı tuzdan kaçınılmalıdır.
- D) Yağ tüketimi artırılmalıdır.

16. Dil altı ölçümünde, vücut sıcaklığının normal değeri kaç santigrat derecedir?

- A) 36
- B) 36,5
- C) 37,5
- D) 38

17. İki kere veya daha fazla yapılan ölçümlerde, kan basıncı değeri kaç mmHg'nin üstünde çıkarsa yüksek tansiyona işaret eder?

- A) 80 / 60
- B) 100 / 70
- C) 120 / 80
- D) 140 / 90

18. Aşağıdakilerden hangisi hipertansiyondan korunmak için yapılması gerekenlerden biri değildir?

- A) Düzenli egzersiz yapılması
- B) Potasyum bakımından zayıf gıdaların yenilmesi
- C) Tuz tüketiminin azaltılması
- D) Stresten uzak durulması

19. Yiyecekleri hazırlarken, kanserden korunma açısından aşağıdaki pişirme yöntemlerinden hangisi kullanılmalıdır?

- A) Tütsüleme
- B) Kavurma
- C) Izgara
- D) Kızartma

20. Aşağıdaki hastalıklardan hangisi bağışıklık sistemini yıkıma uğratar?

- A) AIDS
- B) Zoonoz
- C) Tifüs
- D) Veba

1. Gazetelerin ilk sayfasında, genellikle de ilk sütunda yayımlanan makalelere ne ad verilir?

- A) Köşe yazısı
- B) Başmakale
- C) Fıkra
- D) Fikir yazısı

2. Orta oyununun oynandığı yuvarlak veya oval alana ne ad verilir?

- A) Muhavere
- B) Mukaddime
- C) Palanga
- D) Söyleşi

3. Gazete çevresinde gelişen metinler; yazılış amaçları, gerçeklikle ilişkileri ve işlevlerine göre hangi metin grubu içinde yer alır?

- A) Öğretici metinler
- B) Sanat metinleri
- C) Olay çevresinde oluşan edebî metinler
- D) Göstermeye bağlı edebî metinler

4. Aşağıdakilerden hangisi hikâyenin öğelerinden biri değildir?

- A) Olay
- B) Serim
- C) Zaman
- D) Üslup

5. Öğretici metinlerle ilgili aşağıdaki ifadelerden hangisi yanlıştır?

- A) Bilgi vermek okuyucuyu aydınlatmak için yazılır.
- B) Dil açık ve anlaşılır bir biçimde düzenlenir.
- C) Kişi her okuduğunda ayrı bir anlam çıkarır.
- D) Kurmaca değil gerçeklik ön plandadır.

6. Aşağıdakilerden hangisi göstermeye bağlı edebî metinlerden biri değildir?

- A) Komedi
- B) Dram
- C) Trajedi
- D) Mesnevi

7. Yanımda oturan bir Niğdeli şehrin eteğini saran ağaç kümeleri arasında pek iyi seçemediğim bir noktayı işaret etti. —Faruk Nafiz'in hanı, dedi. Büyük şairin han sahibi olduğu günleri de inşallah görürüz. Fakat yol arkadaşımın bana gösterdiği bina sadece Faruk Nafizin unutulmaz Han Duvarları şiirinde tasvir ettiği han idi.

Yukarıdaki parça metin türü olarak aşağıdakilerden hangisine bir örnektir?

- A) Sohbet
- B) Gezi yazısı
- C) Otobiyografi
- D) Röportaj

8. Resmî mektuplarla ilgili aşağıdaki ifadelerden hangisi yanlıştır?

- A) Dört bölümden oluşur.
- B) Gereksiz ayrıntılara girilmez.
- C) Yukarıda kâğıdın dörtte biri kadar boşluk bırakılır.
- D) Sol tarafta en az üç santim boşluk bırakılır.

9. Günlükler, üzerinden zaman geçtiğinde aşağıdakilerden hangisi ile adlandırılır?

- A) Hikâye
- B) Anı
- C) Sohbet
- D) Mektup

10. Anı türüyle ilgili aşağıdaki ifadelerden hangisi yanlıştır?

- A) Dürüstlük, samimiyet ve sorumluluk duygusu ön plandadır.
- B) Olaylar olduğu gibi abartılmadan yazılır.
- C) Öğretici ve bilgi verici yazıdır.
- D) Yazar anlattıklarını ispatlamak zorundadır.

11. Aşağıdakilerden hangisi sanat metinlerinin özelliklerinden biri değildir?

- A) Estetiğin ön planda olması
- B) Duyguyu hissettirme amacı taşıması
- C) Dilin göndergesel işlevde kullanılması.
- D) Kelimelerin soyut anlam taşıması

12. Aşağıdakilerden hangisi olay çevresinde oluşan metinlerin özelliklerinden biri değildir?

- A) Kelimeler daha çok mecaz ve yan anlamda kullanılması
- B) Okuyanın yorumuna dayanmaması
- C) Olay örgüsünün olması
- D) Kurmacanın özelliklerinden yararlanılması

13. Herhangi bir konuda içini dökmek, paylaşmak amaçlı kesin hükümlere varmadan samimi bir üslupla yazılan yazılara ne ad verilir?

- A) Anı
- B) Deneme
- C) Hikâye
- D) Roman

14. Aşağıdakilerden hangisi dilin coşku ve heyecanı dile getirme işlevinde kullanıldığı metin türlerinden biridir?

- A) Şiir
- B) Gezi yazısı
- C) Günlük
- D) Anı

15. Aşağıdakilerden hangisi kişisel hayatı konu alan öğretici metinlerden biridir?

- A) Deneme
- B) Sohbet
- C) Mektup
- D) Eleştiri

16. Hacivat ve Karagöz oyununda, okumuş, bilgili ve Türkçeyi iyi kullanan karakter aşağıdakilerden hangisidir?

- A) Karagöz
- B) Meddah
- C) Çelebi
- D) Hacivat

17. Aşağıdakilerden hangisi anlamlı birden çok dil birliğinin yan yana gelerek yeni bir anlam ifade etmesidir?

- A) bağlaşıklık
- B) bağdaştırma
- C) bağdaşıklık
- D) bağlam

18. 10 Ağustos 1915. İngilizler, Conkbayırı'nı almak ve bütün boğaza hâkim olmak için 20.000 kişilik bir kuvvetle günlerce kazdıkları siperlere yerleşmişler, hücum anını bekliyorlardı. Gecenin karanlığı tamamen kalkmış, tan ağarmak üzereydi. 8. tümen komutanı ve diğer subaylarını çağırdım.

Yukarıdaki parça metin türü olarak aşağıdakilerden hangisine bir örnektir?

- A) Destan
- B) Biyografi
- C) Masal
- D) Anı

19. Deneme türüyle ilgili aşağıdaki ifadelerden hangisi yanlıştır?

- A) Makale planına göre yazılır.
- B) Konu sınırlaması yoktur.
- C) Düşünce değil duygu yazıdır.
- D) Ciddi sorunları ele alırken bile gülümsetir.

20. Aşağıdakilerden hangisi sanatsal metinlerden göstermeye bağlı edebî metinler grubunda yer alır?

- A) Otobiyografi
- B) Anı
- C) Biyografi
- D) Orta oyunu

1. "Atmacanın biri alaca burunlu bülbüle demiş,  
Ama ne zaman demiş, göklerde bulutlar  
arasında,  
Bülbülü sıkarken yaman pençelerinde,"

**Yukarıda bir parçası verilen yazı türü aşağıdakilerden hangisidir?**

- A) Fabl  
B) Deneme  
C) Dram  
D) Şiir
2. **Aşağıdakilerden hangisi batı etkisinde gelişen nazım biçimlerinden biridir?**
- A) Koşma  
B) Şarkı  
C) Serbest nazım  
D) Türkü
3. Bu tiyatronun göze çarpan yönü kalıplaşmış gerçeklere karşı çıkmak, tabiattan ve mantıktan uzaklaşmak ve insanı düşündürmektir. Az olay ve sözle önemli şeyler anlatmak istenir. Bu çeşit tiyatro eserleri semboller, bilmeceler ve saçma tasarımlarla doludur.
- Yukarıda anlatılan tiyatro türü aşağıdakilerden hangisidir?**
- A) Absürd tiyatro  
B) Epik tiyatro  
C) Operet  
D) Meddah
4. **Aşağıdakilerden hangisi Maupassant tarzı hikâyenin özelliklerinden biri değildir?**
- A) Beklenmedik bir sonla bitmesi  
B) Anlatımının ayrıntılı olması  
C) Raslantılara sık sık yer verilmesi  
D) Seçilmiş olay ve kişiler üzerine kurulması
5. **Dış alemdeki olaylardan çok kahramanların iç dünyasını, ruh hallerini ele alarak kişilerin toplumla ilişkilerini, bunların birbirlerinden nasıl etkilendiklerini anlatan roman türü aşağıdakilerden hangisidir?**
- A) Tahlil romanı  
B) Macera romanı  
C) Sosyal roman  
D) Tarihi roman

6. **Aşağıdakilerden hangisi aşk hikayelerinde, aşıkların birbirlerine kavuşmalarını önleyen engellerden biri değildir?**

- A) Servet eşitsizliği  
B) Din ayrılığı  
C) Sınıf ayrılığı  
D) Bölgesel farklılık

7. Güzel şeyler düşünelim diye  
Yemyeşil oluvermiş ağaçlar

**Yukarıdaki beyitte kullanılan söz sanatı aşağıdakilerden hangisidir?**

- A) Tenasüp  
B) Tevriye  
C) Hüsn-î Tâil  
D) Kinaye

8. **Aşağıdakilerden hangisi Türk kültürüne ait başlıca halk tiyatrosu türlerinden biri değildir?**

- A) Mesnevi  
B) Karagöz  
C) Meddah  
D) Orta oyunu

9. Kararmış kara gözler  
Dermanım kara gözler  
Gemim deryada kaldı  
Yelkenim kara gözler

**Yukarıdaki manide "kara gözler" söz grubundaki kafiye türü aşağıdakilerden hangisidir?**

- A) Yarım kafiye  
B) Cinaslı kafiye  
C) Tam kafiye  
D) Zengin kafiye

10. **Aşağıdakilerden hangisi dramatik bir eserde yer alan konuşma çeşitlerinin özel adlarından biri değildir?**

- A) Monolog  
B) Diyalog  
C) Tirad  
D) Figüran

11. Taşşuk-u Talat ve Fitnat adlı ilk yerli roman aşağıdaki yazarlardan hangisine aittir?

- A) Reşat Nuri Güntekin
- B) Mehmet Rauf
- C) Şemsettin Sami
- D) Rezaizade Mahmut Ekrem

12. Sanatta, bilimde, politikada veya başka alanlarda tanınmış kişilerin yaşamlarını anlatan yazı türüne ne ad verilir?

- A) Günce
- B) Biyografi
- C) Anı
- D) Deneme

13. Adelet Ağaoğlu'nun "Görece zaman anlayışı" tekniğiyle yazdığı roman aşağıdakilerden hangisidir?

- A) Dersaadet'te Sabah Ezanları
- B) Tutunamayanlar
- C) İntibah
- D) Ölmeye Yatmak

14. Reşat Nuri Güntekin'in "Çalığışu" adlı romanının teması aşağıdakilerden hangisidir?

- A) Aşk
- B) Ölüm
- C) Kahramanlık
- D) Makale

15. Duygu, düşünce ve hayallerin ölçülü, uyaklı dizeler halinde örülmüş biçimine ne ad verilir?

- A) Tema
- B) Nazım
- C) Kafiye
- D) Cinaz

16. Aşağıdakilerden hangisi tragedyaadaki üç birlik kuralının öğelerinden biri değildir?

- A) Olay birliği
- B) Yer birliği
- C) Karakter birliği
- D) Zaman birliği

17. Halk hikâyelerinde dinleyiciyi hikâyeye hazırlamak için söylenen birinci bölüme ne ad verilir?

- A) Asıl olay
- B) Döşeme
- C) Tekerleme
- D) Dua

18. Aşağıdakilerden hangisi konusuna göre sosyal roman içerisinde yer alır?

- A) Anamın Kitabı
- B) Cezmi
- C) Define Adası
- D) Bereketli Topraklar Üzerinde

19. Tiyatroda rol gereği yapılan yüz ifadelerine ne ad verilir?

- A) Tuluat
- B) Tirad
- C) Mimik
- D) Jest

20. Köy oyunlarının, karagöz ve orta oyunundan ayıran fark aşağıdakilerden hangisidir?

- A) Oyun metninin belli olması
- B) Belli zamanlarda oynanması
- C) Hala geleneksel olarak devam ediyor olması
- D) Oynandıkları yörelerin özelliklerini taşımaları



1. İslamiyet'ten önceki Türk destanlarının tarihsel sınıflandırması içinde ilk sırada yer alır. V. Radlov tarafından yazıya geçirilmiştir. Altay Türkleri arasında günümüzde de söylenmektedir.

**Yukarıda tanıtılan destan aşağıdakilerden hangisidir?**

- A) Yaratılış Destanı
- B) Manas Destanı
- C) Timur Destanı
- D) Göktürk Destanı

2. Aşağıdakilerden hangisi, İslamiyet'ten sonraki Türk destanlarından biridir?

- A) Göktürk Destanları
- B) Yaratılış Destanı
- C) Saka Destanları
- D) Manas Destanı

3. Aşağıdakilerden hangisi İslamiyet'ten önceki Türk destanlarından biridir?

- A) Danişment Gazi Destanı
- B) Timur Destanı
- C) Atilla Destanı
- D) Cengiz Han Destanı

4. Türk Edebiyat tarihinde, 10. yüzyılın ikinci yarısından 19. yüzyılın başlarına kadar devam eden döneme ne ad verilir?

- A) İslami Dönem Türk Edebiyatı
- B) Milli Edebiyat
- C) İslamiyet Öncesi Türk Edebiyatı
- D) Tanzimat Dönemi Türk Edebiyatı

5. İşgale uğrayan bir ülke ve savaş gibi önemli bir toplumsal olayı işleyen "Ateşten Gömlek" romanının yazarı, aşağıdakilerden hangisidir?

- A) Ahmet Hamdi Tanpınar
- B) Halide Edip Adıvar
- C) Hüseyin Rahmi Gürpınar
- D) Orhan Şaik Gökyay

6. Edebiyat tarihi ile ilgili aşağıdaki ifadelerden hangisi yanlıştır?

- A) Gözleme ve deneye dayanır.
- B) Hem bir bilim dalı hem de sanattır.
- C) Edebi eserleri tarihsel gelişim çizgisi içinde inceler.
- D) Öğretici bir nitelik taşır.

7. M.Ö. 3000'lerde Mezopotamya'da doğmuştur. Bilinen en eski destandır. Günümüze ulaşmış en kapsamlı metni Akad dilinde yazılmıştır.

**Yukarıda sözü edilen destan aşağıdakilerden hangisidir?**

- A) Şu Destanı
- B) Oğuz Kağan Destanı
- C) Gılgamış Destanı
- D) İlyada Destanı

8. Aşağıdaki destanlardan hangisinde, Oğuz Kağan'ın doğumu, üstün nitelikleri, askeri başarıları ve ölümünden önce devletini oğulları arasında nasıl paylaştığı anlatılmaktadır?

- A) Gılgamış
- B) Türeyiş
- C) Oğuz Kağan
- D) Göç

9. Türklerin en eski savlarının yer aldığı eser aşağıdakilerden hangisidir?

- A) Divan-ı Lügat'it Türk
- B) Kutadgu Bilig
- C) Göktürk Yazıtları
- D) Atabetü'l Hakâyık

10. 17. yüzyılda Toroslarda Türkmen aşiretleri arasında yaşamış ünlü halk şairimiz aşağıdakilerden hangisidir?

- A) Âşık Veysel
- B) Karacaoğlan
- C) Pir Sultan Abdal
- D) Nailî Kadim

11. Türklerin su sevgisinden, kaz, ördek gibi kuşları uğurlu sayan Şaman inanisından yansımalar taşıyan destan aşağıdakilerden hangisidir?

- A) Ergenekon Destanı
- B) Manas Destanı
- C) Köroğlu Destanı
- D) Şu Destanı

12. Tarihte Türk sözcüğünün geçtiği ilk metin aşağıdakilerden hangisidir?

- A) Battal Gazi Destanı
- B) Danişment Gazi Destanı
- C) Yenisey Yazıtları
- D) Orhun Yazıtları

13. Eski Türklerde, ölen kişinin ardından yapılan, ozanlar ve sıgıtçı adı verilen ağıtçıların ölen kişinin niteliklerini dile getiren ağıtlar yaktıkları büyük yas törenlerine ne ad verilir?

- A) Uruk
- B) Yuğ
- C) Biş
- D) Sav

14. Çağdaş Türk Edebiyatı'nın önemli destan örneklerinden biri olan "Kurtuluş Savaşı Destanı" adlı eserin yazarı aşağıdakilerden hangisidir?

- A) Namık Kemal
- B) Nazım Hikmet
- C) Cahit Külebi
- D) Aras Ören

15. Yazının henüz bulunmadığı ya da yaygınlaşmadığı bir kültürde doğan, ancak kuşaktan kuşağa sözlü olarak aktarıldıktan sonra yazıya geçirilen destan türü aşağıdakilerden hangisidir?

- A) Masal
- B) Halk hikâyesi
- C) Edebi destan
- D) Anonim destan

16. Başlangıçtan günümüze kadar edebiyatın konusu içine giren eserleri ve sanatçıları, edebiyat ve sanat akımlarını, bunların toplumda uyandırdığı yankıları araştıran inceleyen; belgelere dayanarak objektif bir şekilde değerlendiren bilim dalına ne ad verilir?

- A) Edebiyat Tarihi
- B) Lisaniyat
- C) Etnografya
- D) Sanat Tarihi

17. 13. yüzyıl Moğol tarihçisi Reşidüddin tarafından yazıya geçirilen destan aşağıdakilerden hangisidir?

- A) Ergenekon Destanı
- B) Manas Destanı
- C) Şu Destanı
- D) Göç Destanı

18. Yurt dışına elçi olarak gönderilen kişilerin gördükleri yerlerle ilgili gezi, gözlem ve izlenimlerini anlattıkları eserlere ne ad verilir?

- A) Selçukname
- B) Şikâyetname
- C) Seyahatname
- D) Sefaretname

19. Aşağıdakilerden hangisi, sözlü edebiyatın ürünlerinden biri değildir?

- A) Koşuk
- B) Gazel
- C) Sav
- D) Sagu

20. Bin atlı akınlarda çocuklar gibi şendik;  
Bin atlı o gün dev gibi bir orduyu yendik!

Yukarıdaki dizelerin yer aldığı "Akıncı" adlı şiir aşağıdaki şairlerimizden hangisine aittir?

- A) Ahmet Muhip Dıranas
- B) Ahmet Kutsi Tecer
- C) Yahya Kemal Beyatlı
- D) Afşar Timuçin

1. İslamiyet'in esaslarını ve tasavvufun inceliklerini göstermek için Hoca Ahmet Yesevî tarafından yazılan didaktik şiirlere ne ad verilir?
- A) İlâhi  
B) Hikmet  
C) Âyin  
D) Nefes
2. Gazel nazım şeklinde şairin takma adının geçtiği son beyite ne ad verilir?
- A) Musammat gazel  
B) Makta beyit  
C) Matla beyit  
D) Mahlas
3. Öğretmek amacıyla ele alınan edebî eserlere ne ad verilir?
- A) Satirik  
B) Dramatik  
C) Pastoral  
D) Didaktik
4. XIV. yüzyıldan itibaren âşık edebiyatı ürünlerinin toplandığı defterlere ne ad verilir?
- A) Destan  
B) Mitos  
C) Cönk  
D) Manzume
5. Aşağıdakilerden hangisi, Kaygusuz Abdal'ın en önemli eserlerinden biridir?
- A) Çarhnâme  
B) Dilgüşa  
C) Harnâme  
D) Mesnevî
6. Arapça ve Farsçanın Türkçe üzerinde baskı oluşturduğu bir dönemde "Bugünden sonra divanda, dergâhta, bargâhta, mecliste, meydanda Türkçeden başka dil kullanılmayacaktır." diyerek bir fermanla Türkçeye sahip çıkmak isteyen devlet adamı kimdir?
- A) Karamanoğlu Mehmet Bey  
B) Fatih Sultan Mehmet  
C) Yavuz Sultan Selim  
D) Sokullu Mehmet Paşa
7. Aşağıdakilerden hangisi, Divan şiirinin özelliklerinden biri değildir?
- A) Sözlü geleneğe dayanması  
B) Aruz ölçüsü kullanılması  
C) Nazım biçimlerinin beyit ve bent olması  
D) Tam ve zengin uyak kullanılması
8. Suya gider al yazması başında İsmi kadın kendi on beş yaşında Dünyayı terk etti pek genç yaşında Dayanmalı Hakk'ın emri böyledir.
- Yukarıdaki dördlük aşağıdakilerden hangisine örnektir?
- A) Güzelleme  
B) Taşlama  
C) Koçaklama  
D) Ağıt
9. Aşağıdakilerden hangisi Eski Türk Edebiyatında romanın yerini tutan uzun kahramanlık hikâyelerinden biri değildir?
- A) Saltuknâme  
B) Müslimnâme  
C) Sefaretnâme  
D) Battalnâme
10. Allah'a yakarışı işleyen, bağışlanmayı dileyen şiirlere ne ad verilir?
- A) Tevhit  
B) Münacaat  
C) Kaside  
D) Naat

11. Aşağıdakilerden hangisi, Osmanlı İmparatorluğu'nda Cihannuma, Fezleke, Keşfu'z-zunûn gibi önemli eserleriyle tanınan, XVII. yüzyılın çok yönlü yazarlarından ve düşünürlerinden biridir?

- A) Kâtip Çelebi
- B) Süleyman Çelebi
- C) Evliya Çelebi
- D) Mütercim Asım

12. Kırgızların geleneklerini, aile hayatlarını, dünya ve hayat görüşlerini anlatan destan, aşağıdakilerden hangisidir?

- A) Manas Destanı
- B) Türeyiş Destanı
- C) Bozkurt Destanı
- D) Yaradılış Destanı

13. Kasidelerde şairin kendisini övdüğü bölüm aşağıdakilerden hangisidir?

- A) Medhiye
- B) Fahriye
- C) Nesîb
- D) Dua

14. Şairlerin dünya görüşlerini, dini-tasavvufi düşüncelerini, aşk anlayışlarını kısa ve özlü bir şekilde işleyen, dört mısralık Divan edebiyatı nazım şeklidir. Özel aruz kalıplarıyla yazılır, aaxa şeklinde uyaklanır. En güzel örneklerini Ömer Hayyam ve Haleti vermiştir.

Yukarıda sözü edilen nazım şekli aşağıdakilerden hangisidir?

- A) Mesnevi
- B) Gazel
- C) Rubai
- D) Murabba

15. Aşağıdakilerden hangisi orta oyunu tiplerinden biridir?

- A) Pişekâr
- B) Külhanbeyi
- C) Tuzsuz Deli Bekir
- D) Karagöz

16. Yunus Emre'nin didaktik mesnevisi aşağıdakilerden hangisidir?

- A) Hayriyye
- B) Behcetü'l-Hadâyik
- C) Atabetü'l-Hakâyık
- D) Divan-ı Risâletü'n Nushiye

17. Divan Edebiyatında, beş mesnevinin bir araya getirilmesiyle oluşan eserlere ne ad verilir?

- A) Münşeat
- B) Hikmet
- C) Gazel
- D) Hamse

18. Tarihçi, şair ve dilcidir. Başarılı sözlük tercümeleleri vardır. Burhan-ı Kaatı adlı sözlük çalışmasının bir bölümünü III. Selim'e sunmuştur.

Yukarıda sözü edilen kişi aşağıdakilerden hangisidir?

- A) Şehî Bey
- B) Mütercim Âsım
- C) Ahmet Resmî Efendi
- D) Kaygusuz Abdal

19. W. Shakespeare'in kavuşamayan iki sevgilinin aşk hikâyesini anlattığı tiyatro eseri aşağıdakilerden hangisidir?

- A) Kerem ile Aslı
- B) Madam Bovary
- C) Romeo ve Juliet
- D) Kızıl ile Kara

20. Anonim halk şiiri örneği olup genellikle dört dizeden oluşan, 7'li hece ölçüsüyle söylenen, aaba şeklinde uyaklanan nazım şekli aşağıdakilerden hangisidir?

- A) Semaî
- B) Koşma
- C) Mâni
- D) Türkü

1. Der Hund steht ..... dem Nilpferd und dem Tiger.

**Welches Wort passt in die obige Lücke?**

**Cümlede boş bırakılan yeri aşağıdakilerden hangisi doğru şekilde tamamlar?**

- A) zwischen  
B) über  
C) in  
D) aus

2. Meine Tochter hat ..... acht Jahren eine Katze.

**Welches Wort passt in die obige Lücke?**

**Cümlede boş bırakılan yeri aşağıdakilerden hangisi doğru şekilde tamamlar?**

- A) zu  
B) aus  
C) seit  
D) im

3. **Welches zusammengesetzte Wort ist falsch?**

**Verilen birleşik sözcüklerden hangisi yanlıştır?**

- A) Der Landmorgen  
B) Der Erdkundetest  
C) Die Hauptstadt  
D) Das Haustier

4. Ein Affe kann sehr gut .....

**Welches Wort passt in die obige Lücke?**

**Cümlede boş bırakılan yeri aşağıdakilerden hangisi doğru şekilde tamamlar?**

- A) fliegen  
B) schwimmen  
C) klettern  
D) schlafen

5. Helmut ..... seine Schlüssel auf den Tisch.

**Welches Wort passt in die obige Lücke?**

**Cümlede boş bırakılan yeri aşağıdakilerden hangisi doğru şekilde tamamlar?**

- A) legt  
B) kommt  
C) schreibt  
D) steht

6. Sie spielt Klavier.

**Welche Frage passt zur obigen Antwort?**

**Verilen cevabı gerektirecek soru aşağıdakilerden hangisidir?**

- A) Womit machen Sie Musik?  
B) Welches Instrument spielt Ayşe?  
C) Woher hast du dieses Instrument?  
D) Wann spielen Sie ein Instrument?

7. A: .....  
B: Ich kenne die Musik von Mozart.  
A: Ach ja, die kennen wir alle!

**Welcher Satz ergänzt die Lücke im obigen Dialog?**

**Verilen karşılıklı konuşmada boş bırakılan yeri aşağıdakilerden hangisi tamamlar?**

- A) Welche klassische Musik kennst du?  
B) Gehst du gern ins Konzert?  
C) Welche Gruppen hörst du gern?  
D) Hast du auch einen Lieblingsänger?

8. .... die Wortenden in zwei Zeilen am Ende eines Satzes gleich sind, wie z.B. Tag und Sag, dann ist es ein Reim.

**Welches Wort passt in die obige Lücke?**

**Cümlede boş bırakılan yeri aşağıdakilerden hangisi doğru şekilde tamamlar?**

- A) Kann  
B) Denn  
C) Wenn  
D) Dann

9. Tarkan!

Welche Frage passt zur obigen Antwort?

Verilen cevabı gerektirecek soru aşağıdakilerden hangisidir?

- A) Wer ist deine Freundin?
- B) Wie heißt dein Liebessänger?
- C) Was für Musik interessiert dich am meisten?
- D) Welches Instrument spielst du?

10. Was bedeutet "trombon" auf Deutsch?

"trombon" sözcüğünün Almancası aşağıdakilerden hangisidir?

- A) Die Querflöte
- B) Die Trompete
- C) Die Posaune
- D) Die Trommel

11. Die Kinder spielen ..... in der Natur.

Welches Wort passt in die obige Lücke?

Cümlede boş bırakılan yeri aşağıdakilerden hangisi doğru şekilde tamamlar?

- A) helfen
- B) draussen
- C) sind
- D) machen

12. Für die Eltern ist es wichtig, daß Ihre Kinder ..... sind.

Welches Wort passt nicht in die obige Lücke?

Cümlede boş bırakılan yeri aşağıdakilerden hangisi doğru şekilde tamamlamaz?

- A) glücklich
- B) selbstständig
- C) tolerant
- D) selten

13. freundlich / gehorsam / planen / hilfsbereit

Welches Wort passt nicht zu den anderen in der obigen Wortgruppe?

Verilen sözcük grubuna uvmayan aşağıdakilerden hangisidir?

- A) gehorsam
- B) planen
- C) freundlich
- D) hilfsbereit

14. Das Kind möchte ..... eine Mütze kaufen.

Welches Wort passt in die obige Lücke?

Cümlede boş bırakılan yeri aşağıdakilerden hangisi doğru şekilde tamamlar?

- A) fast
- B) dich
- C) sich
- D) mich

15. Die Eltern müssen ein Vorbild sein.

Wie lautet der obige Satz auf Türkisch?

Verilen cümlelerin Türkçesi aşağıdakilerden hangisidir?

- A) Her zaman ebeveynlerimi örnek aldım.
- B) Ebeveynler örnek olmak zorundadır.
- C) Her zaman ebeveynler örnek alınır.
- D) Ebeveynleri örnek almak zorunda değilsin.

16. A: Was hast du?

B: ....., ich kann nicht hören.

A: Dann musst du zum Arzt!

Welcher Satz ergänzt den obigen Dialog?

Verilen karşılıklı konuşmayı aşağıdakilerden hangisi tamamlar?

- A) Meine Ohren tun mir weh.
- B) Mein Zahn tut mir weh.
- C) Mein Hals tut mir weh.
- D) Mein Bauch tut mir weh.

17. Was ..... du, wenn du ein Mittagessen .....?

**Welche Wörter passen in die obigen Lücken?**

**Cümlede boş bırakılan yerleri aşağıdakilerden hangileri tamamlar?**

- A) brauchst / zubereitest
- B) spielst / kochen
- C) willst / essen
- D) hast / hast

18. Wo ist der Kraut für den Salat?

**Wie lautet der obige Satz in der Pluralform?**

**Verilen cümlelerin çoğul hali aşağıdakilerden hangisidir?**

- A) Wo sind die Krauten für den Salat?
- B) Wo ist die Kraut für die Salate?
- C) Wo ist die Krautes für das Salat?
- D) Wo sind die Kräuter für die Salate?

19. Ja, ich fahre oft Fahrrad.

**Welche Frage passt nicht zur obigen Antwort?**

**Aşağıdaki sorulardan hangisi verilen cevaba yönelik değildir?**

- A) Fährst du oft Fahrrad?
- B) Machst du gern Sport?
- C) Haben Sie eine Verabredung?
- D) Magst du Fahrrad fahren?

20. Machst du ..... Sport oder mit deinen Freunden?

**Welches Wort passt in die obige Lücke?**

**Cümlede boş bırakılan yeri aşağıdakilerden hangisi tamamlar?**

- A) gleich
- B) kein
- C) selten
- D) allein

1. Mustafa is extremely ..... at teaching English.

Which of the following completes the sentence above?

Aşağıdakilerden hangisi yukarıdaki cümleyi doğru olarak tamamlar?

- A) interested
- B) good
- C) famous
- D) proud

2. David is ..... with his presentation.

Which of the following completes the sentence above?

Aşağıdakilerden hangisi yukarıdaki cümleyi doğru olarak tamamlar?

- A) busy
- B) keen
- C) similar
- D) crazy

3. Are you pleased ..... your new car?

Which of the following completes the sentence above?

Aşağıdakilerden hangisi yukarıdaki cümleyi doğru olarak tamamlar?

- A) from
- B) on
- C) at
- D) with

4. My grandmother's garden is full ..... apple trees.

Which of the following completes the sentence above?

Aşağıdakilerden hangisi yukarıdaki cümleyi doğru olarak tamamlar?

- A) of
- B) at
- C) on
- D) in

5. Giresun is famous ..... its nuts.

Which of the following completes the sentence above?

Aşağıdakilerden hangisi yukarıdaki cümleyi doğru olarak tamamlar?

- A) in
- B) on
- C) for
- D) at

6. Clark: "Play with us, Louise"  
Clark told Louise .....

Which of the following completes the sentence above?

Aşağıdakilerden hangisi yukarıdaki cümleyi doğru olarak tamamlar?

- A) to playing with them
- B) to play with us
- C) to play with them
- D) to playing with us

7. My friends: "We are in the canteen now"  
My friends said that .....

Which of the following completes the sentence above?

Aşağıdakilerden hangisi yukarıdaki cümleyi doğru olarak tamamlar?

- A) they are in the canteen now
- B) they have been in canteen now
- C) to be in the canteen now
- D) they were in the canteen then

8. Michael said, "I will visit you tomorrow."  
Michael said that he would visit me .....

Which of the following completes the sentence above?

Aşağıdakilerden hangisi yukarıdaki cümleyi doğru olarak tamamlar?

- A) the previous day
- B) tomorrow
- C) the next day
- D) now



9. Jack: "I can swim well."  
Jack said that he ..... well.

**Which of the following completes the sentence above?**

**Aşağıdakilerden hangisi yukarıdaki cümleyi doğru olarak tamamlar?**

- A) is swimming
- B) could swim
- C) may swim
- D) swam

10. Jenny: "Is it rainy outside?"

**Which of the following is the reported speech form of the direct speech sentence above?**

**Aşağıdakilerden hangisi yukarıdaki dolaysız anlatım cümlesinin dolaylı anlatım biçimidir?**

- A) Jenny wanted to know was it rainy outside.
- B) Jenny wanted to know if it was rainy outside.
- C) Jenny wanted to know if it is rainy outside.
- D) Jenny wanted to know if it did rainy outside.

11. Those thieves have been in prison ..... 20 years.

**Which of the following completes the sentence above?**

**Aşağıdakilerden hangisi yukarıdaki cümleyi doğru olarak tamamlar?**

- A) for
- B) yet
- C) since
- D) ever

12. I can't find my keys. I think I ..... them.

**Which of the following completes the sentence above?**

**Aşağıdakilerden hangisi yukarıdaki cümleyi doğru olarak tamamlar?**

- A) lost
- B) have lost
- C) am losing
- D) have lose

13. Fred hasn't studied for the exam ..... far.

**Which of the following completes the sentence above?**

**Aşağıdakilerden hangisi yukarıdaki cümleyi doğru olarak tamamlar?**

- A) yet
- B) so
- C) already
- D) ever

14. My mum hasn't cooked our dinner .....

**Which of the following completes the sentence above?**

**Aşağıdakilerden hangisi yukarıdaki cümleyi doğru olarak tamamlar?**

- A) since
- B) for
- C) yet
- D) just

15. Mary has been living in this city for five years.

**Which of the following is the Turkish translation of the sentence above?**

**Aşağıdakilerden hangisi yukarıdaki cümlenin Türkçe karşılığıdır?**

- A) Mary 5 yıl önce bu şehirde oturdu.
- B) Mary 5 yıldır bu evde oturmakta.
- C) Mary 5 yıl boyunca bu şehirde oturdu.
- D) Mary 5 yıldır bu şehirde oturuyor.

16. Kathy had never ..... a penguin before she went to a zoo.

**Which of the following completes the sentence above?**

**Aşağıdakilerden hangisi yukarıdaki cümleyi doğru olarak tamamlar?**

- A) saw
- B) seen
- C) see
- D) has seen

17. English is an important way to ..... among the world.

**Which of the following completes the sentence above?**

**Aşağıdakilerden hangisi yukarıdaki cümleyi doğru olarak tamamlar?**

- A) find
- B) connect
- C) communicate
- D) need

18. Jack: Did you have dinner with your family last night?

Jane: No, I didn't. They had already ..... eating when I .....

**Which of the following completes the dialogue above?**

**Aşağıdakilerden hangisi yukarıdaki konuşmayı doğru olarak tamamlar?**

- A) finish / arrive
- B) finish / arrived
- C) finished / had arrived
- D) finished / arrived

19. I was very tired because I ..... for days.

**Which of the following completes the sentence above?**

**Aşağıdakilerden hangisi yukarıdaki cümleyi doğru olarak tamamlar?**

- A) never sleep
- B) haven't slept
- C) am sleeping
- D) hadn't slept

20. The men in the café ..... when the police arrived.

**Which of the following completes the sentence above?**

**Aşağıdakilerden hangisi yukarıdaki cümleyi doğru olarak tamamlar?**

- A) had been fighting
- B) had fight
- C) will fight
- D) fights

1. .... vous avez faim, vous devez manger.

**Choisissez le mot qui convient.**

**Cümledeki boşluğu aşağıdakilerden hangisi doğru şekilde tamamlar?**

- A) Que  
B) Si  
C) En  
D) Par

2. Tu paies ..... chèque ou ..... espèces.

**Choisissez les mots qui conviennent.**

**Cümledeki boşlukları aşağıdakilerden hangisi doğru şekilde tamamlar?**

- A) en / en  
B) par / des  
C) par / en  
D) en / des

3. Mon père ..... 75 ans.

**Choisissez le mot qui convient.**

**Cümledeki boşluğu aşağıdakilerden hangisi doğru şekilde tamamlar?**

- A) ont  
B) est  
C) a  
D) as

4. C'est ma mère qui ..... appelle?

**Choisissez le mot qui convient.**

**Cümledeki boşluğu aşağıdakilerden hangisi doğru şekilde tamamlar?**

- A) m'  
B) me  
C) moi  
D) je

5. Je veux manger un bon repas ..... je n'ai pas d'argent.

**Choisissez le mot qui convient.**

**Cümledeki boşluğu aşağıdakilerden hangisi doğru şekilde tamamlar?**

- A) pour  
B) donc  
C) avant  
D) mais

6. J'ai grossi: j'ai ..... des kilos.

**Choisissez le mot qui convient.**

**Cümledeki boşluğu aşağıdakilerden hangisi doğru şekilde tamamlar?**

- A) fait  
B) mangé  
C) pris  
D) donné

7. L'année dernière, il ..... trop chaud. Cette année, il ..... mieux.

**Choisissez les mots qui conviennent.**

**Cümledeki boşlukları aşağıdakilerden hangisi doğru şekilde tamamlar?**

- A) faisait / fait  
B) fait / fera  
C) fera / faisait  
D) fait / faisait

8. «La vie est chère.»

**Choisissez la traduction qui convient.**

**Yukarıdaki cümlelerin Türkçe karşılığı aşağıdakilerden hangisidir?**

- A) Hayat güzel.  
B) Hayat pahalı.  
C) Hayat değerli.  
D) Sevgili hayat.

9. Voudriez-vous rappeler plus tard?

**Choisissez la traduction qui convient.**

**Yukarıdaki cümlelerin Türkçe karşılığı aşağıdakilerden hangisidir?**

- A) Sizi aramamızı ister misiniz?
- B) Daha önce aradınız mı?
- C) Daha sonra sizi arayacaklar mı?
- D) Daha sonra yine arar mısınız?

10. La mère : Voilà mes livres? ..... veux-tu?  
Alain : Celui de Balzac.

**Choisissez le mot qui convient.**

**Yukarıdaki konuşmada boş bırakılan yeri aşağıdakilerden hangisi doğru şekilde tamamlar?**

- A) Laquelle
- B) Lesquels
- C) Lesquelles
- D) Lequel

11. A: Je veux acheter un sac.  
B: .....?  
A: Elle dit qu'elle veut acheter un sac.

**Choisissez l'expression qui convient.**

**Yukarıdaki konuşmada boş bırakılan yeri aşağıdakilerden hangisi doğru şekilde tamamlar?**

- A) Qu'est-ce qu'elle dit
- B) Où est-ce qu'elle va
- C) Comment va-t-elle
- D) Quel est votre choix

12. - J'ai gagné au loto!  
- Je suis heureuse pour toi. C'est .....!

**Choisissez le mot qui convient.**

**Yukarıdaki konuşmada boş bırakılan yeri aşağıdakilerden hangisi doğru şekilde tamamlar?**

- A) une catastrophe
- B) mauvais
- C) super
- D) catastrophique

13. Il n'a pas regardé la télévision ..... il avait des devoirs.

**Choisissez le mot qui convient.**

**Cümledeki boşluğu aşağıdakilerden hangisi doğru şekilde tamamlar?**

- A) car
- B) qui
- C) comme
- D) comment

14. Marie: Qu'en penses-tu? Est-ce une bonne idée?

Alain : ....., oui.

Marie : Alors je suis contente.

**Choisissez l'expression qui convient.**

**Yukarıdaki konuşmada boş bırakılan yeri aşağıdakilerden hangisi doğru şekilde tamamlar?**

- A) Je le trouve
- B) A mon avis
- C) A son avis
- D) D'après toi

15. - .....?  
- A.T.I.L.L.A. Avec un T et deux L.

**Choisissez l'expression qui convient.**

**Yukarıdaki konuşmada boş bırakılan yeri aşağıdakilerden hangisi doğru şekilde tamamlar?**

- A) Est-ce que c'est un nom
- B) Combien de lettres il y a
- C) Où est sa carte d'identité
- D) Ça s'écrit comment

16. I. J'habite à Lyon.  
II. Cet appartement est en bon état.  
III. Le loyer n'est pas cher.  
IV. Il est de 100 euros.

**Choisissez la phrase qui ne convient pas.**

**Cümleler sırasıyla okunduğunda, anlam bütünlüğünü bozan cümleyi bulunuz.**

- A) I
- B) II
- C) III
- D) IV

17. La mère : Comment s'est passé ta première journée à l'école?

Alain : Bien. Les professeurs ont fait une réunion.

La mère : .....

Alain : Oui. J'ai cours toute la semaine de 9 heures à 15 heures.

**Choisissez l'expression qui convient.**

**Yukarıdaki konuşmada boş bırakılan yeri aşağıdakilerden hangisi doğru şekilde tamamlar?**

- A) Comment sont les professeurs?
- B) Pourquoi ont-ils fait une réunion?
- C) Ils ne font pas leçons aujourd'hui?
- D) Ils ont donné votre emploi de temps?

18. «Je lui ai proposé un coup de main.»

**Choisissez la traduction qui convient.**

**Yukarıdaki cümlenin Türkçe karşılığı aşağıdakilerden hangisidir?**

- A) Onun ellerine baktım.
- B) Onun elleriyle oynadım.
- C) Ona yardım teklif ettim.
- D) Onun elini tuttum.

19. - Vous avez changé de style vestimentaire?  
- Non, pas de .....

**Choisissez le mot qui convient.**

**Yukarıdaki konuşmada boş bırakılan yeri aşağıdakilerden hangisi doğru şekilde tamamlar?**

- A) changeable
- B) changer
- C) changeur
- D) changement

20. J'en ai marre ..... ce vieux ordinateur!

**Choisissez le mot qui convient.**

**Cümledeki boşluğu aşağıdakilerden hangisi doğru şekilde tamamlar?**

- A) car
- B) de
- C) de la
- D) pour

1. Die Uhr ist alt. .... Uhr ist sehr kostbar.

**Welches Wort passt in die obige Lücke?**

**Cümlede boş bırakılan yeri aşağıdakilerden hangisi tamamlar?**

- A) Der alte  
B) Das alten  
C) Die alte  
D) Das altes

2. Das Wetter ist in der Türkei immer .....

**Welches Wort passt in die obige Lücke?**

**Cümlede boş bırakılan yeri aşağıdakilerden hangisi doğru şekilde tamamlar?**

- A) sonniges  
B) sonnen  
C) sonnte  
D) sonnig

3. Ich möchte Dolmetscherin werden.

**Wie lautet der obige Satz auf Türkisch?**

**Verilen cümlelerin Türkçesi aşağıdakilerden hangisidir?**

- A) Çevirmenlik çok zor bir meslektir.  
B) Çevirmen olmak istiyorum.  
C) Çevirmen olarak çalışanları hiç sevmem.  
D) Çevirmenlik yapmak kolay bir iş değil.

4. Die Schüler ..... ihre Hausaufgaben machen.

**Welches Wort passt nicht in die obige Lücke?**

**Cümlede boş bırakılan yeri aşağıdakilerden hangisi tamamlamaz?**

- A) haben  
B) müssen  
C) sollen  
D) können

5. Unser Vater sagt, daß wir früh aufstehen sollen!  
Er sagt: "....."

**Welcher Satz ergänzt die obige Lücke?**

**Verilen cümleyi aşağıdakilerden hangisi tamamlar?**

- A) Steh früh auf!  
B) Steht früh auf!  
C) Stehen früh auf!  
D) Stehst früh auf!

6. Um Erlaubnis .....

**Welches Wort passt in die obige Lücke?**

**Cümlede boş bırakılan yeri aşağıdakilerden hangisi tamamlar?**

- A) hören  
B) nehmen  
C) kommen  
D) bitten

7. Ich hätte gern ein neues Haus.

**Wie lautet die Frage für die obige Antwort?**

**Verilen cümleye yönelik soru cümlesi aşağıdakilerden hangisidir?**

- A) Was hättest du gern?  
B) Was machst du da?  
C) Was hast du gemacht?  
D) Warum kommst du nicht mit?

8. Was möchtest du dir kaufen?

**Welche Antwort passt zur obigen Frage?**

**Verilen sorunun cevabı aşağıdakilerden hangisidir?**

- A) Das ist mir zu viel!  
B) Er hätte das nicht machen wollen!  
C) Wir können diesen Sommer keinen Urlaub machen!  
D) Ich möchte mir ein Auto kaufen!

9. Er hat noch schneller zu rennen, ..... er den Zug erreichen will.

**Welches Wort passt in die obige Lücke?**

**Cümlede boş bırakılan yeri aşağıdakilerden hangisi doğru olarak tamamlar?**

- A) als  
B) wenn  
C) müßt  
D) somit

10. Als Schüler muß man immer fleißig sein.

**Welcher Satz drückt das gleiche wie der obige aus?**

**Verilen cümle ile aynı anlamı taşıyan cümle aşağıdakilerin hangisinde doğru olarak verilmiştir?**

- A) Die Schüler haben fleißig gearbeitet.  
B) Die Schüler sind so fleißig wie früher.  
C) Schüler haben immer fleißig zu sein.  
D) Immer waren die Schüler fleißig.

11. ...., wird mein Studium im Sommer zu Ende gehen.

**Welcher Satz ergänzt die obige Lücke?**

**Verilen cümleyi aşağıdakilerden hangisi tamamlar?**

- A) Als ich zur Schule ging  
B) Wenn die Examen gut ausfallen  
C) Weil ich in diesem Jahr nicht kommen kann  
D) Damit ich die Prüfung bestehe

12. Als der Winter zu Ende war, kamen die Vögel zurück.

**Wie lautet der obige Satz auf Türkisch?**

**Verilen cümlelerin Türkçesi aşağıdakilerden hangisidir?**

- A) Kuşlar geri geldiğinde bahar başlar.  
B) Kuşlar döndüğünde kış başlamıştı.  
C) Kışın bittiği yere kuşlar geri gelmez.  
D) Kış bittiğinde kuşlar geri geldi.

13. Nein, die kältesten Monate des Jahres sind Januar und Februar.

**Welche Frage passt zur obigen Antwort?**

**Verilen cevabı gerektirecek soru aşağıdakilerden hangisidir?**

- A) Sind Juli und April die kältesten Monate des Jahres?  
B) Warum sind Juni und August die kältesten Monate des Jahres?  
C) Ist dir in den Monaten Juli und August auch immer kalt?  
D) Was machst du im Juni und April?

14. Die ..... (viel) Touristen machen Urlaub am Meer.

**Welches Wort passt in die obige Lücke?**

**Cümlede boş bırakılan yeri aşağıdakilerden hangisi doğru şekilde tamamlar?**

- A) mehrsten  
B) vielen  
C) meisten  
D) vielsten

15. Wir kaufen uns ein Auto, damit wir schöne Ausflüge machen können.

**Welche Frage passt zur obigen Antwort?**

**Verilen cevabı gerektirecek soru aşağıdakilerden hangisidir?**

- A) Wann habt ihr dieses Auto gesehen?  
B) Warum kauft ihr euch ein Auto?  
C) Was für ein Auto ist das?  
D) Wohin wollt ihr umziehen?

16. Zeynep lernt Englisch, um mit ihren englischen Freunden besser zu .....

**Welches Wort passt in die obige Lücke?**

**Cümlede boş bırakılan yeri aşağıdakilerden hangisi doğru şekilde tamamlar?**

- A) fahren  
B) kaufen  
C) exportieren  
D) korrespondieren

17. Meine Mutter kocht jeden Tag, das bedeutet sie kocht .....

**Welches Wort passt in die obige Lücke?**

**Cümlede boş bırakılan yeri aşağıdakilerden hangisi doğru şekilde tamamlar?**

- A) niemals
- B) immer
- C) selten
- D) manchmal

18. Hülya geht ..... zum Tanzen.

**Welches Wort passt nicht in die obige Lücke?**

**Cümlede boş bırakılan yeri aşağıdakilerden hangisi doğru şekilde tamamlamaz?**

- A) sondern
- B) manchmal
- C) niemals
- D) immer

19. ...., daß es keine Arbeit gibt.

**Welches ergänzt den obigen Satz?**

**Verilen cümleyi aşağıdakilerden hangisi doğru olarak tamamlar?**

- A) Die Polizei sagt
- B) Europäische Herkunft ist
- C) Arbeitslosigkeit bedeutet
- D) Naturschutz ist

20. Sibel freut sich, ..... sie viele Geschenke zum Geburtstag bekommen hat.

**Welches Wort paßt in die obige Lücke?**

**Cümlede boş bırakılan yeri aşağıdakilerden hangisi tamamlar?**

- A) die
- B) daß
- C) was
- D) wie



1. Ela is ..... than her grandmother.

Which of the following completes the sentence above?

Aşağıdakilerden hangisi yukarıdaki cümleyi doğru olarak tamamlar?

- A) younger  
B) young  
C) youngest  
D) the young

2. I can't understand what you speak. Please don't talk so .....

Which of the following completes the sentence above?

Aşağıdakilerden hangisi yukarıdaki cümleyi doğru olarak tamamlar?

- A) fast  
B) fastly  
C) fastest  
D) faster

3. I don't like getting up early ..... the mornings.

Which of the following completes the sentence above?

Aşağıdakilerden hangisi yukarıdaki cümleyi doğru olarak tamamlar?

- A) in  
B) at  
C) under  
D) on

4. It ..... heavily yesterday.

Which of the following completes the sentence above?

Aşağıdakilerden hangisi yukarıdaki cümleyi doğru olarak tamamlar?

- A) has rained  
B) will rain  
C) rains  
D) rained

5. Valerie is a carefull driver. She drives .....

Which of the following completes the sentence above?

Aşağıdakilerden hangisi yukarıdaki cümleyi doğru olarak tamamlar?

- A) carefully  
B) dangerous  
C) careful  
D) dangerously

6. Ayşe ..... two glasses of milk so far.

Which of the following completes the sentence above?

Aşağıdakilerden hangisi yukarıdaki cümleyi doğru olarak tamamlar?

- A) drank  
B) has drunk  
C) drink  
D) drinking

7. The twins' birthday is ..... April 11th.

Which of the following completes the sentence above?

Aşağıdakilerden hangisi yukarıdaki cümleyi doğru olarak tamamlar?

- A) at  
B) on  
C) in  
D) from

8. The Nile is ..... river in the world.

Which of the following completes the sentence above?

Aşağıdakilerden hangisi yukarıdaki cümleyi doğru olarak tamamlar?

- A) longest  
B) the longer  
C) longer  
D) the longest

9. You ..... wait when the light is red.

Which of the following completes the sentence above?

Aşağıdakilerden hangisi yukarıdaki cümleyi doğru olarak tamamlar?

- A) mustn't
- B) should
- C) must
- D) can

10. Health is ..... than money.

Which of the following completes the sentence above?

Aşağıdakilerden hangisi yukarıdaki cümleyi doğru olarak tamamlar?

- A) most important
- B) important
- C) the important
- D) more important

11. Liz went to the opera yesterday.

Which of the following is the negative form of the sentence above?

Aşağıdakilerden hangisi yukarıdaki cümlelerin olumsuz biçimidir?

- A) Liz was go to the opera yesterday.
- B) Liz wasn't going to the opera yesterday.
- C) Liz wasn't go to the opera yesterday.
- D) Liz didn't go to the opera yesterday.

12. John hasn't ridden a horse .....

Which of the following completes the sentence above?

Aşağıdakilerden hangisi yukarıdaki cümleyi doğru olarak tamamlar?

- A) ever
- B) before
- C) since
- D) already

13. The students are waiting for their teacher ..... the garden.

Which of the following completes the sentence above?

Aşağıdakilerden hangisi yukarıdaki cümleyi doğru olarak tamamlar?

- A) between
- B) on
- C) in
- D) at

14. We ..... a picnic in the countryside four days ago.

Which of the following completes the sentence above?

Aşağıdakilerden hangisi yukarıdaki cümleyi doğru olarak tamamlar?

- A) will have
- B) had
- C) have
- D) are

15. They ..... in Lyon last year.

Which of the following completes the sentence above?

Aşağıdakilerden hangisi yukarıdaki cümleyi doğru olarak tamamlar?

- A) were
- B) have
- C) are
- D) was

16. The students have ..... finished their homework. They're playing now.

Which of the following completes the sentence above?

Aşağıdakilerden hangisi yukarıdaki cümleyi doğru olarak tamamlar?

- A) yet
- B) ever
- C) already
- D) before

17. Seda is ..... girl in the class.

**Which of the following completes the sentence above?**

**Aşağıdakilerden hangisi yukarıdaki cümleyi doğru olarak tamamlar?**

- A) laziest
- B) lazy
- C) the lazier
- D) the laziest

18. Bungee jumping is ..... than table tennis.

**Which of the following completes the sentence above?**

**Aşağıdakilerden hangisi yukarıdaki cümleyi doğru olarak tamamlar?**

- A) dangerous
- B) the most dangerous
- C) more dangerous
- D) the more dangerous

19. My child was born ..... 2008 in İzmir.

**Which of the following completes the sentence above?**

**Aşağıdakilerden hangisi yukarıdaki cümleyi doğru olarak tamamlar?**

- A) on
- B) in
- C) at
- D) for

20. Last year my cousins ..... to the USA.

**Which of the following completes the sentence above?**

**Aşağıdakilerden hangisi yukarıdaki cümleyi doğru olarak tamamlar?**

- A) travel
- B) travels
- C) travelled
- D) are travelling

1. Ce bébé est .....

**Choisissez le mot qui convient.**

**Cümledeki boşluğu aşağıdakilerden hangisi doğru şekilde tamamlar?**

- A) doucement
- B) heureuse
- C) heureusement
- D) heureux

2. «Tu devrais acheter une robe.»

**Choisissez la traduction qui convient.**

**Yukarıdaki cümlelerin Türkçe karşılığı aşağıdakilerden hangisidir?**

- A) Elbise al.
- B) Elbise almalısın.
- C) Elbise alacaksın.
- D) Elbise alıyor.

3. «La police a refusé de donner une rançon.»

**Choisissez la traduction qui convient.**

**Yukarıdaki cümlelerin Türkçe karşılığı aşağıdakilerden hangisidir?**

- A) Polis fidye vermeyi reddetti.
- B) Polis hırsızları yakaladı.
- C) Polis para kasasını verdi.
- D) Polis çalınanları verdi.

4. Vous préférez quelle voiture? ..... ou .....

**Choisissez les mots qui conviennent.**

**Cümledeki boşlukları aşağıdakilerden hangisi doğru şekilde tamamlar?**

- A) Celle-ci / celle-là
- B) Celui-ci / celui-là
- C) Celle / celui
- D) Celui / celle

5. Cette télévision est à nous. C'est .....

**Choisissez l'expression qui convient.**

**Cümledeki boşluğu aşağıdakilerden hangisi doğru şekilde tamamlar?**

- A) la nôtre
- B) le nôtre
- C) la tienne
- D) le tien

6. Nous venons de .....

**Choisissez le mot qui convient.**

**Cümledeki boşluğu aşağıdakilerden hangisi doğru şekilde tamamlar?**

- A) mangeait
- B) mange
- C) manges
- D) manger

7. Il est intelligent ..... il ne travaille pas.

**Choisissez l'expression qui convient.**

**Cümledeki boşluğu aşağıdakilerden hangisi doğru şekilde tamamlar?**

- A) malgré
- B) mais
- C) contrairement à
- D) pour

8. Pierre : Marie est allée au restaurant.

Paul : Qu'est-ce que tu dis?

Pierre : Je dis que .....

**Choisissez l'expression qui convient.**

**Yukarıdaki konuşmada boş bırakılan yeri aşağıdakilerden hangisi doğru şekilde tamamlar?**

- A) Marie sera allée au restaurant
- B) Marie ira au restaurant
- C) Marie est allée au restaurant
- D) Marie va au restaurant

9. Il a autant ..... stylos ..... moi.

**Choisissez les mots qui conviennent.**

**Cümledeki boşlukları aşağıdakilerden hangisi doğru şekilde tamamlar?**

- A) que / de
- B) que / que
- C) de / que
- D) de / qui

10. Le vélo est ..... rapide ..... le train.

**Choisissez les mots qui conviennent.**

**Cümledeki boşlukları aşağıdakilerden hangisi doğru şekilde tamamlar?**

- A) plus / que
- B) plus / de
- C) moins / de
- D) moins / que

11. «Etkileyici!»

**Choisissez la traduction qui convient.**

**Yukarıdaki cümlelerin Fransızca karşılığı aşağıdakilerden hangisidir?**

- A) C'est drôle!
- B) C'est étrange!
- C) C'est intéressant!
- D) C'est impressionnant!

12. Laure a eu 10/20 à l'examen; Pierre a eu 15/20. Donc, .....

**Choisissez l'expression qui convient.**

**Cümledeki boşluğu aşağıdakilerden hangisi doğru şekilde tamamlar?**

- A) Pierre a eu une aussi bonne note que Laure
- B) Pierre a eu une meilleure note que Laure
- C) Laure a eu une meilleure note que Pierre
- D) Laure a eu une aussi bonne note que Pierre

13. Quand elle partira, je .....

**Choisissez le mot qui convient.**

**Cümledeki boşluğu aşağıdakilerden hangisi doğru şekilde tamamlar?**

- A) suis venue
- B) venais
- C) suis venu
- D) viendrai

14. Dans quelques minutes, nous ..... terminer ce travail.

**Choisissez le mot qui convient.**

**Cümledeki boşluğu aşağıdakilerden hangisi doğru şekilde tamamlar?**

- A) sommes
- B) avons
- C) allons
- D) voudrez

15. Elle est ..... habillée.

**Choisissez le mot qui convient.**

**Cümledeki boşluğu aşağıdakilerden hangisi doğru şekilde tamamlar?**

- A) étranagement
- B) prudente
- C) attentive
- D) violente

16. Le ..... a volé de l'argent.

**Choisissez le mot qui convient.**

**Cümledeki boşluğu aşağıdakilerden hangisi doğru şekilde tamamlar?**

- A) femme
- B) voleur
- C) avocat
- D) servante

17. Si tu n'étais pas parti, tu ..... du gâteau.

**Choisissez le mot qui convient.**

**Cümledeki boşluğu aşağıdakilerden hangisi doğru şekilde tamamlar?**

- A) mangeras
- B) aurais mangé
- C) manges
- D) avais mangé

18. C'est la plus belle femme ..... monde.

**Choisissez l'expression qui convient.**

**Cümledeki boşluğu aşağıdakilerden hangisi doğru şekilde tamamlar?**

- A) de
- B) par
- C) du
- D) pour

19. Cécile ..... des lunettes.

**Choisissez le mot qui convient.**

**Cümledeki boşluğu aşağıdakilerden hangisi doğru şekilde tamamlar?**

- A) s'habille
- B) porte
- C) se voit
- D) habille

20. ....-vous du feu?

**Choisissez le mot qui convient.**

**Cümledeki boşluğu aşağıdakilerden hangisi doğru şekilde tamamlar?**

- A) Etes
- B) Etiez
- C) Auriez
- D) Avons

BU SAYFA BOŞ BIRAKILMIŞTIR.

BU SAYFA BOŞ BIRAKILMIŞTIR.

## SINAVDA UYULMASI GEREKEN GENEL KURALLAR

1. Sınava girmek için gerekli belgelerinizin tümünü sınav başlamadan önce sıranızın üzerine bırakınız.
2. Sınav süresince görevlilerle konuşmak, görevlilere soru sormak yasaktır. Aynı şekilde görevlilerin de öğrencilerle/adaylarla yakından ve alçak sesle konuşmaları yasaktır. Gerekli durumlarda görevliler yerinizi değiştirebilir.
3. Size verilen cevap kâğıdının üzerindeki TCKN/Öğrenci no, ad, soyadı, bilgilerini kontrol ediniz, ilgili alanları eksiksiz doldurarak imzalayınız. Bu bilgiler size ait değilse, kâğıt üzerinde hiçbir işlem yapmadan görevlileri uyararak size ait cevap kâğıdını isteyiniz. Başkasına ait cevap kâğıdı kullanan öğrencilerin sınavları geçersiz sayılır.
4. Cevap kâğıdı üzerine test grubunu (kitapçık türünü) kodlamayan veya birden fazla grubu kodlayanların sınavları geçersiz sayılır.
5. Cevap kâğıdınıza yazacağınız her türlü yazı ve yapacağınız işaretlemeler için koyu siyah kurşun kalem kullanmalısınız. Farklı bir kalem (tükenmez, mürekkepli, renkli vb.) kullananların sınavları geçersiz sayılır.
6. Cevap kâğıdı üzerinde değişiklik yapmak istediğinizde, iz bırakmayan bir silgi kullanınız. Cevap kâğıdınızı buruşturmayınız, katlamayınız ve üzerine gereksiz hiçbir işaret koymayınız.
7. Cevaplarınızı, cevap kâğıdında ilgili test için ayrılmış olan alana, cevap yerinin dışına taşırmadan işaretleyiniz. Soru kitapçığı üzerinde yapılan işaretlemeler değerlendirmeye alınmayacaktır.
8. Her sorunun tek bir doğru cevabı vardır. Bir soru için birden çok cevabı işaretlerseniz, o soruyu yanlış cevaplamış sayılacaksınız.
9. Soru kitapçığınızı aldığınızda sayfalarına hızlıca bakarak hatalı ya da eksik baskı olup olmadığını kontrol ediniz. Hata/eksik olması durumunda kitapçığının değiştirilmesi için derhâl sınav görevlilerine başvurunuz. Sınav görevlileri sınavın başladığını belirtmeden kitapçığınızı tekrar açmayınız.
10. Cevap kâğıdınızda belirtilen kitapçık kodu ile soru kitapçığının kodunu karşılaştırınız. Aynı değilse, sınav görevlilerine durumu bildirerek doğru kitapçığın verilmesini talep ediniz.
11. Soru kitapçığındaki ilgili alanlara ad, soyadı, TCKN/Öğrenci no, sınav salon no, sıra no bilgilerinizi eksiksiz doldurarak imzanızı atınız. Soru kitapçığının sayfalarındaki boş yerleri müsvedde amacıyla kullanabilirsiniz.
12. Aşağıdaki durumlarda sınav görevlileri tarafından Bireysel Sınav İptal Tutanağı düzenlenerek ilgili öğrencilerin/adayların sınavları geçersiz sayılır:
  - a) Sınav kurallarına ve sınav görevlilerinin uyarılarına uymamak, sınav düzenini bozmak,
  - b) Kâğıt, kitap, defter, not vb. dokümanları; pergel, açıölçer, cetvel vb. araçları; cep telefonu, bilgisayar, tablet, telsiz, kamera vb. iletişim, depolama, kayıt ve veri aktarma cihazlarını; ruhsatlı veya resmi amaçlı olsa bile silah ve silah yerine geçebilecek nesnelere yanında bulundurmamak,
  - c) Sınav sırasında kalem, silgi vb. araç-gereç paylaşımında bulunmak,
  - d) Cevapları, cevap kâğıdı dışında bir yere yazmak ve sınav salonundan dışarı çıkarmak,
  - e) Sınava girebilmek için gerekli belgeleri eksik olduğu halde sınava katılıp, cevap kâğıdında işaretleme yapmak,
  - f) Sınav görevlileri tarafından öğrencinin/adayın kimliğinden şüphe duyulması,
  - g) Cevap kâğıdını ve/veya soru kitapçığını sınav görevlilerine eksiksiz ve sağlam şekilde teslim etmemek, sınav salonu dışına çıkarmak,
  - h) Kopya çekmek, vermek, çekilmesine yardımcı olmak vb. eylemlerde bulunmak,
  - i) Kendisi yerine başkasını sınava sokmak.
13. Sınav bitiminde, cevap kâğıdınızı ve soru kitapçığınızı salon görevlilerine eksiksiz biçimde teslim ediniz. Sınav bittikten sonra gönderilen cevap kâğıtları dikkate alınmayacaktır.

**SINAV KURALLARINA UYDUĞUNUZ İÇİN TEŞEKKÜR EDER, SINAVINIZDA BAŞARILAR DİLERİZ.**