



ANADOLU ÜNİVERSİTESİ
AÇIKÖĞRETİM FAKÜLTESİ
BA - AÇIKÖĞRETİM OKULLARI

T.C. MİLLİ EĞİTİM BAKANLIĞI
Hayat Boyu Öğrenme Genel Müdürlüğü
AÇIKÖĞRETİM LİSESİ – BATI AVRUPA PROGRAMI
2015-2016 ÖĞRETİM YILI III. DÖNEM SINAVI

3. OTURUM Cumartesi 13:00

TEST GRUBUNUZ

A

0103

ÖĞRENCİNİN

SOYADI :

ADI :

T.C. KİMLİK NO / ÖĞRENCİ NO :

SINAV SALON NO : SIRA NO:

Sınavla ilgili soru kitapçığının ön ve arka kapağındaki tüm kuralları okudum, anladım, kabul ediyorum.

İMZA:.....

SINAV İÇERİĞİ

Testin Adı	Soru Sayısı	Sayfa No	Testin Adı	Soru Sayısı	Sayfa No
DİN KÜLTÜRÜ VE AHLAK BİLGİSİ 3	20	02	SANAT TARİHİ 1	20	27
SEÇMELİ FELSEFE 2	20	04	TEMEL DİNİ BİLGİLER 2	20	29
TARİH 2	20	06	TRAFİK VE İLK YARDIM BİLGİSİ 1	20	31
DİN KÜLTÜRÜ VE AHLAK BİLGİSİ 8	20	08	SEÇMELİ TARİH 3	20	34
TARİH 4	20	10	SEÇMELİ COĞRAFYA 4	20	36
TÜRK EDEBİYATI 3	20	12	SEÇMELİ DİL VE ANLATIM 6	20	38
FİZİK 7	20	14	ALMANCA 2	20	40
KİMYA 5	20	17	İNGİLİZCE 2	20	43
BİYOLOJİ 1	20	19	FRANSIZCA 2	20	46
BİYOLOJİ 3	20	21	ALMANCA 5	20	48
ÇAĞDAŞ TÜRK VE DÜNYA TARİHİ 2	20	23	İNGİLİZCE 5	20	51
EKONOMİ 1	20	25	FRANSIZCA 5	20	54

SINAVDA UYULMASI GEREKEN ÖZEL KURALLAR

1. Bu kitapçıkta yer alan her bir test için cevaplama süresi 30 dakika, toplam süre 150 dakikadır.
2. Öğrenciler sınavın ilk 30 dakikası ve son 5 dakikası içinde sınavlarını tamamlasalar bile salonu terk edemezler. Sınavın başlamasını izleyen ilk 15 dakikadan sonra hiçbir öğrenci sınava alınmaz.
3. Yanlış cevaplarınız dikkate alınmayacaktır. Bu nedenle kitapçığındaki tüm sorular için size doğru gelen seçeneği işaretleyerek cevapsız soru bırakmanız yararınıza olacaktır.
4. Sınav sırasında hesap makinesi kullanabilirsiniz. Ancak, kullanacağınız makinede alfabetik tuş takımının (A, B, C, ..., Y, Z), program yapılmasına, saklanmasına ve çalıştırılmasına imkân veren EXE, STORE, RUN vb. tuşlar bulunamaz.

"Sınavda Uyulması Gereken Genel Kurallar" soru kitapçığının arka sayfasında yer almaktadır. Bu kuralları da mutlaka dikkatlice okuyunuz.

Anadolu Üniversitesi tarafından hazırlanmış olan bu testlerin her hakkı saklıdır. Hangi amaçla olursa olsun, testlerin tamamının veya bir kısmının Anadolu Üniversitesi'nin yazılı izni olmadan kopya edilmesi, fotoğraflarının çekilmesi, herhangi bir yolla çoğaltılması, yayımlanması ya da kullanılması yasaktır. Bu yasağa uymayanlar gerekli cezai sorumluluğu ve testlerin hazırlanmasındaki mali külfeti peşinen kabullenmiş sayılır.

1. Mahşer'in anlamı aşağıdaki ifadelerin hangisinde doğru olarak verilmiştir?

- A) Yeniden diriliş ile başlayan ve sonsuza kadar sürecek olan zamandır.
- B) Kişinin dünyada yaptığı amellerden sorgulanmasıdır.
- C) Sevap ve günahların tartıldığı özel bir tartıdır.
- D) Yeniden diriliş ile birlikte insanların Allah'a hesap vermek üzere toplanacakları yerdir.

2. Hacca gidenlerin özel giyim şekline ne ad verilir?

- A) İhram
- B) Vakfe
- C) Tavaf
- D) Sa'y

3. Tövbe nedir?

- A) Dinin yasak ettiği şeylerden sakınıp, buyurdıklarını yerine getirmek
- B) Allah'a saygı ile boyun eğmek ve emirlerine itaat etmek
- C) Allah'a, Allah'ın peygamberlerimize bildirdiği tüm bilgilere şüphe etmeden inanmak
- D) İşlenmiş bir günaha pişman olup, bir daha işlemeyeceğine dair Allah'a söz vermek ve af dilemek

4. Aşağıdakilerden hangisi Allah'ın Subuti sıfatlarından biri değildir?

- A) Basar
- B) Beka
- C) Semi
- D) Tekvin

5. İsrail meleğinin görevi nedir?

- A) Allah ile peygamberler arasında elçilik yapmak
- B) Tabiat olayları ile ilgilenmek
- C) Kıyamet koptuğunda sûr'a üflemek
- D) İnsanların sevap ve günahlarını yazmak

6. Hz. Muhammed nerede vefat etmiştir?

- A) Medine
- B) Mekke
- C) Umman
- D) Kudüs

7. Haccın kaç şartı vardır?

- A) 1
- B) 2
- C) 3
- D) 4

8. İkinci namazı kaç rekattır?

- A) 2
- B) 4
- C) 6
- D) 8

9. Aşağıdakilerden hangisi vacip namazlardan biridir?

- A) Bayram namazı
- B) Cuma namazı
- C) Yatsı namazı
- D) Cenaze namazı

10. İbadetler kaç çeşittir?

- A) 2
- B) 3
- C) 4
- D) 5

11. Okunan Kur'anı Kerim'i dinlemek aşağıdakilerden hangisine bir örnektir?

- A) Sünnet
- B) Mubah
- C) Farz
- D) Vacip

12. Hz. Muhammed'e "Muhammedül Emin" ismi hangi özelliğinden dolayı verilmiştir?

- A) Alçakgönüllü olması
- B) Sabırlı olması
- C) Yardımsever olması
- D) Güvenilir olması

13. "Sırat-ı Müstakim" in kelime anlamı nedir?

- A) Doğru yol
- B) Güzel ahlâk
- C) Müjdeli haber
- D) Allah'ın birliği

14. Kâbe'nin etrafında yedi kez dönmeye ne ad verilir?

- A) Sa'y
- B) İhram
- C) Vakfe
- D) Tavaf

15. Tövbenin kaç şartı vardır?

- A) 2
- B) 3
- C) 4
- D) 5

16. Bayram namazı kaç rekâttır?

- A) 2
- B) 4
- C) 5
- D) 6

17. Kur'anı Kerim hangi dilde gönderilmiştir?

- A) Latince
- B) Arapça
- C) Samayetçe
- D) Farsça

18. Kur'an-ı Kerim'in tercümesine ne ad verilir?

- A) İcma
- B) Kıyas
- C) Sünnet
- D) Meal

19. Kur'an-ı Kerim hangi melek aracılığıyla gönderilmiştir?

- A) Azrail
- B) Cebrail
- C) İsrail
- D) Mikail

20. Kur'an okumak aşağıdakilerden hangisine bir örnektir?

- A) Mubah
- B) Vacip
- C) Sünnet
- D) Farz

1. Sartre'in ahlak alanındaki düşüncesi ile ilgili aşağıdaki ifadelerden hangisi doğrudur?
 - A) Sartre'a göre, herkes için her yerde geçerli olan evrensel bir ahlak yoktur.
 - B) Sartre'a göre, tüm insanlarda ortak akıl olduğundan genel bir ahlak vardır.
 - C) Sartre'a göre, insan ahlak yasaları ile varolur.
 - D) Sartre'a göre, doğa insana ahlaklı olmasını ve doğa yasalarına göre yaşamasını buyurur.
2. Montesquieu'nun "Kanunların Ruhu" adlı eserinde söz ettiği üç yönetim biçimi ve bu üç yönetim biçimine denk düşen üç temel duygu aşağıdakilerden hangisinde birlikte ve doğru olarak verilmiştir?
 - A) Cumhuriyet - Erdem, Monarşi - Onur, Despotizm - Korku
 - B) Cumhuriyet - Şan/Şeref, Monarşi - Erdem, Despotizm - Korku
 - C) Cumhuriyet - Erdem, Monarşi - Korku, Despotizm - Şan/Şeref
 - D) Cumhuriyet - Onur, Despotizm - Erdem, Monarşi - Onur
3. Aşağıdakilerden hangisi korku ütopyasına bir örnektir?
 - A) Campanella'nın "Güneş Ülkesi"
 - B) Thomas More'un "Ütopya"sı
 - C) George Orwell'in "1984"ü
 - D) Farabi'nin "Erdemli Toplum"u
4. Birey, devlet ve yaşamı konu alan "Kutadgu Bilig(Mutluluk Veren Kitap)" adlı eseriyle ün kazanan Türk düşünür aşağıdakilerden hangisidir?
 - A) Yunus Emre
 - B) Mevlana
 - C) Yusuf Has Hacip
 - D) Hacı Bektaş Veli
5. Devletin etki baskı ve yönlendirmesinin dışında, toplumun kendi kendisini yönlendirmek, çıkarlarını savunmak amacıyla kurulan örgütlere ne ad verilir?
 - A) Sivil toplum örgütleri
 - B) Ütopya
 - C) Bürokrasi
 - D) Siyasal partiler
6. Anarşizm görüşünün kurucusu aşağıdaki düşünürlerden hangisidir?
 - A) Proudhon
 - B) Sartre
 - C) Hegel
 - D) Kant
7. Aşağıdakilerden hangisi Max Weber'in tanımladığı otorite türlerinden biri değildir?
 - A) Demokratik otorite
 - B) Karizmatik otorite
 - C) Geleneksel otorite
 - D) Otokratik otorite
8. "Yaratılmış her varlığı sevmek iyi, sevmemek kötüdür." diyen Mevlana'ya göre evrensel ahlak yasasının temeli aşağıdakilerden hangisidir?
 - A) Sezgi
 - B) Aşk
 - C) Haz
 - D) Akıl
9. "Öyle davran ki eylemine ölçü olarak aldığın ilke, tüm insanlar için geçerli, genel bir yasa haline gelsin." görüşüyle ahlak yasasını evrenselleştirmeye çalışan filozof aşağıdakilerden hangisidir?
 - A) Platon
 - B) Farabi
 - C) Kant
 - D) Spinoza
10. Aşağıdakilerden hangisi evrensel ahlak yasasını tasavvuf düşüncesiyle temellendiren düşünürlerden biri değildir?
 - A) Yunus Emre
 - B) Mevlana
 - C) Hacı Bektaş Veli
 - D) Biruni
11. Bergson'a göre evrensel olan açık ahlaka aşağıdaki yollardan hangisiyle ulaşılır?
 - A) Sezgi
 - B) İçinde yaşadığımız toplum
 - C) Akıl
 - D) Doğa

12. Descartes, V. Meditasyon'da Tanrı'nın varlığına onun mükemmel olmasından yola çıkarak ulaşır. Yani Tanrı mükemmel olarak düşünülür. Mükemmellik zorunlu olarak var olmayı gerektirir. Çünkü var olmamak bir eksikliktir. Oysa Tanrı mükemmeldir dolayısıyla Tanrı vardır.

Descartes'in yukarıdaki ispatı aşağıdaki Tanrı kanıtlamalarından hangisine girer?

- A) Ahlaki kanıt
- B) Kozmolojik kanıt
- C) Ereklilik kanıtı
- D) Ontolojik kanıt

13. Aşağıdakilerden hangisi din felsefesinin **temel kavramlarından biri değildir?**

- A) İman
- B) Vahiy
- C) Erdem
- D) İbadet

14. Sanat eseri ile ilgili aşağıdaki ifadelerden hangisi **yanlıştır?**

- A) Her sanat eseri özgün bir insan yaratısıdır.
- B) Sanat eserinin temel işlevi onu izleyende estetik bir duygu oluşturmaktır.
- C) Her sanat eserinin estetik özneye gereksinimi vardır.
- D) Her sanat eseri evrenselidir.

15. "Renkler ve zevkler tartışılmaz." sözü aşağıdaki ifadelerden hangisini **doğrular?**

- A) Estetik yargılar zevk ve beğeniden uzaktır.
- B) Ortak estetik yargılara ulaşmak mümkündür.
- C) Ortak estetik yargılar yoktur.
- D) Estetik yargılar duyusal değil, düşünseldir.

16. Doğadaki kusursuzluğa ve düzene bakarak, her şeyin bir amacı olduğunu söyleyerek Tanrının varlığına ulaşmak O'nu aşağıdaki kanıtlardan hangisiyle ispatlamaktır?

- A) Ontolojik kanıt
- B) Ereklilik kanıtı
- C) Kozmolojik kanıt
- D) Ahlaki kanıt

17. Spinoza'nın "Tanrı Doğa'dır." (Deus siva Natura) sözü aşağıdakilerden hangisine bir **örnektir?**

- A) Ateizm
- B) Panteizm
- C) Deizm
- D) Teizm

18. Aşağıdakilerden hangisi estetik bir yargıdır?

- A) Su 100°C derecede kaynar.
- B) Mozart'ın bütün besteleri çok güzeldir.
- C) Bu tablonun değeri 1000 Türk Lirasıdır.
- D) Picasso 20. Yüzyılda yaşamış bir sanatçıdır.

19. Aşağıdakilerden hangisi din konusunda **felsefi bir yaklaşımdır?**

- A) Dini temellendirmek ve inançları kuvvetlendirmek
- B) İnanılan dinin kurallarını açıklamak
- C) Olayları, dini kurallar çerçevesinde yorumlamak
- D) Dinin temel iddiaları üzerinde akla dayanarak, genel ve tutarlı biçimde düşünmek

20. İnsanın kendi çevresi ile kurduğu ilişkiyi estetik bir ifadeyle sunmasına ne ad verilir?

- A) Fenomen
- B) Sanat
- C) Erdem
- D) Etik

1. Türkler ve Müslümanlar arasındaki ilk ilişki kim zamanında başlamıştır?

- A) Hz. Ömer
- B) Hz. Muhammed
- C) Hz. Ali
- D) Hz. Osman

2. Aşağıdakilerden hangisi Türkiye Selçuklu Devleti ordusunun bölümlerinden biri değildir?

- A) Atlı süvariler
- B) Ücretli askerler
- C) Türkmenler
- D) Gulâmlar

3. Mezar üzerine inşa edilen çatılı ve kubbeli yapılara ne ad verilir?

- A) Medrese
- B) Türbe
- C) Anıt
- D) Mescit

4. Aşağıdakilerden hangisi Türkiye Selçukluları döneminde Anadolu'da kurulan sanayi kollarından biri değildir?

- A) Maden işçiliği
- B) Dericilik
- C) Otomotiv
- D) Dokumacılık

5. Aşağıdakilerden hangisi hicret sonrası gelişmelerden biri değildir?

- A) Mekke – Şam ticaret yolunun Müslümanların eline geçmesi
- B) Mekke'nin İslam dininin merkezi haline gelmesi
- C) Muhacirlerle ensarların kardeş ilan edilmesi
- D) Hz. Muhammed'in devlet başkanı olması

6. Aşağıdakilerden hangisi Mısır'ı yöneten Türk Devletleri'nden biri değildir?

- A) Karahanlılar
- B) Tolunoğulları
- C) Eyyûbiler
- D) Memlükler

7. Aşağıdakilerden hangisi Köseadağ Savaşı'nın sonuçlarından biri değildir?

- A) Selçukluların, Moğollardan verdikleri tahribata karşılık yüklü bir tazminat alması
- B) Selçuklu Devleti'nin parçalanma ve yıkılma sürecine girmesi
- C) Birçok Türk şehrindeki bilim ve kültür faaliyetlerinin durması
- D) Anadolu Selçuklularının Moğollara bağlanması ve ağır vergiler ödemeye başlaması

8. Aşağıdakilerden hangisi Türkiye Selçuklu Devleti'ndeki sosyal sınıflardan biri değildir?

- A) Konar-göçerler
- B) Köylüler
- C) Asiller
- D) Şehirliler

9. Sultan unvanını kullanan ilk Türk hükümdarı aşağıdakilerden hangisidir?

- A) Sebüktegin
- B) Alptegin
- C) Selçuk Bey
- D) Gazneli Mahmut

10. İslamiyet'i tasavvuf yoluyla anlatan Divan-ı Hikmet'in yazarı aşağıdakilerden hangisidir?

- A) Yükneklî Edip Ahmet
- B) Ahmet Yesevi
- C) Kaşgarlı Mahmut
- D) Yusuf Has Hacip

11. Anadolu'da kurulan ilk Türk Devleti aşağıdakilerden hangisidir?

- A) Saltuklular
- B) Danişmentliler
- C) Mengücekler
- D) Artuklular

12. Kur'an-ı Kerim'i açıklayan ve yorumlayan bilim dalı aşağıdakilerden hangisidir?

- A) Hadis
- B) Tefsir
- C) Kelam
- D) Fıkıh

13. Aşağıdakilerden hangisi Haçlı Seferleri'nin kültürel sonuçlarından biri değildir?

- A) Avrupalıların Müslümanlardan dokuma, cam ve deri işleme sanatını öğrenmesi
- B) Avrupalıların Müslümanlardan mimari teknikler öğrenmesi
- C) Avrupalıların Müslümanlardan pusula, barut ve kâğıt yapımını öğrenmesi
- D) Avrupa'da skolastik düşüncenin zayıflaması

14. Selçuklu Devleti'nde vergi geliri sultana ait olan toprak aşağıdakilerden hangisidir?

- A) Vakıf arazi
- B) Mülk arazi
- C) Has arazi
- D) İktâ arazi

15. Aşağıdakilerden hangisi Büyük Selçuklu Devleti'nin dağılmasıyla ortaya çıkan devletlerden biri değildir?

- A) Türkiye Selçukluları
- B) Suriye Selçukluları
- C) Hatay Selçukluları
- D) Kirman Selçukluları

16. Orta Asya'da kurulan ilk Müslüman Türk devleti aşağıdakilerden hangisidir?

- A) Gazneliler
- B) İhşidiler
- C) Tolunoğulları
- D) Karahanlılar

17. Hz. Muhammed'in dünyaya geldiği şehir aşağıdakilerden hangisidir?

- A) Mekke
- B) Yemen
- C) Hicaz
- D) Medine

18. Aşağıdakilerden hangisi Hayber'in fethinin sonuçlarından biri değildir?

- A) Yahudilere ürün vergisi uygulamasının başlatılması
- B) Şam ticaret yolunun güvenliğinin sağlanması
- C) Savaşta elde edilen ganimetlerin beşte birinin devlete bırakılması
- D) Müslüman olmayan erkeklerden cizye vergisi alınmaya başlanması

19. Aşağıdakilerden hangisi Emeviler döneminde halkın ayrıldığı sosyal sınıflardan biri değildir?

- A) Zımmi
- B) Mevâli
- C) Köleler
- D) Zenginler

20. İslam Devleti'nin ilk donanması hangi halife döneminde kurulmuştur?

- A) Hz. Ali
- B) Hz. Ömer
- C) Hz. Osman
- D) Hz. Ebubekir

1. Pir-i Türkistan olarak bilinen İslam âlimi aşağıdakilerden hangisidir?
- A) Hacı Bektaş Veli
B) Yunus Emre
C) Mevlana
D) Ahmet Yesevi
2. İslam dininin, insanın yaşamasını sağlamaya verdiği önemle ilgili aşağıdaki ifadelerden hangisi **yanlıştır**?
- A) Yaşam hakkı, Allah'ın insanlara verdiği bir hakktır.
B) Yaratıcı, hiç kimseye başkalarının yaşam hakkını sınırlama yetkisi vermemiştir.
C) İslam dini sadece töre cinayetini yasaklamaz.
D) İslam'a göre tüm insanların canı kutsaldır.
3. "Yurtta sulh, cihanda sulh" diyerek insanların birlikte barış içinde yaşamasına verdiği önemi belirten devlet adamı aşağıdakilerden hangisidir?
- A) Fatih Sultan Mehmet
B) Mustafa Kemal Atatürk
C) Rauf Denktaş
D) Ebulfez Elçibey
4. Aşağıdakilerden hangisi İslam tarihinde Müslümanların barışa verdiği önemi gösteren örneklerden biri **değildir**?
- A) Mekke'nin Fethi ve savaşlardan sonra esirlere uygulanan muamele
B) Hudeybiye Antlaşması
C) Haçlı Seferleri
D) Medine Sözleşmesi
5. Hz. Muhammed'in Medine'ye hicret ettikten sonra, orada bulunan diğer kabilelerle imzaladığı, toplumda ortak hareket etme, birlikte barış içinde yaşama, toplumların hukuki ve sosyal statülerini kabul etme, inanç ve ibadet hürriyeti sağlama konularını içeren sözleşme aşağıdakilerden hangisidir?
- A) Mekke'nin Fethi Antlaşması
B) Hudeybiye Antlaşması
C) Medine Sözleşmesi
D) Uhud Sözleşmesi
6. "Giderdim gönülden kini, kin tutanın yoktur dini. Düşmanımız kindir bizim, biz kimseye kin tutmayız." diyerek insanların barış ve huzur içinde yaşaması gerektiğini vurgulayan büyük mutasavvıf ve halk şairi aşağıdakilerden hangisidir?
- A) Yunus Emre
B) Karacaoğlan
C) Mevlana
D) Dadaloğlu
7. "Ey insanlar, Rabb'iniz birdir, babanız da birdir. Hepiniz, Adem'in çocuklarıdır." hadisiyle aşağıdakilerden hangisi ifade edilmiştir?
- A) Kur'an'ın herkesi barışa çağırdığı
B) İslam sözcüğünün, barış, güven ve huzur anlamına geldiği
C) Kimsenin takva dışında bir başkasına üstünlüğünün olmadığı
D) Tüm insanların çeşitli haklara sahip olduğu
8. Cumhuriyet Dönemi'nin ilk Diyanet İşleri Başkanı aşağıdakilerden hangisidir?
- A) Elmalılı Muhammed Hamdi Yazır
B) Ahmed Naim Efendi
C) Mehmet Akif Ersoy
D) Rifat Börekçi
9. Elmalılı Muhammed Hamdi Yazır'ın Atatürk'ün yönlendirmesiyle hazırlamış olduğu tefsir kitabı aşağıdakilerden hangisidir?
- A) Hak Dini Kur'an Dili
B) Sahihi Buhari Muhtasarı Tecridi Sarih Tercemesi
C) İslam Fıkıh İlmi
D) Amentü Şerhi
10. Aşağıdakilerden hangisi Tevhid-i Tedrisat Kanunu'yla gelen yeniliklerden biri **değildir**?
- A) İlahiyat fakültelerinin açılması
B) Yüksek ilim konularının öğretiminde tekke ve zaviyelerin desteklenmesi
C) Medreselerin varlığına son verilmesi
D) Bütün okulların Maarif Vekâletine bağlanması
11. İslamiyet ile ilgili aşağıdaki ifadelerden hangisi **yanlıştır**?
- A) Tüm insanlar doğuştan günahsız doğarlar.
B) Bütün insanlar Allah katında eşittir.
C) Son ilahi dindir.
D) Mesajları evrensel değildir.

12. İnsanları toplum içinde çeşitli sınıflara ayıran kast sistemi aşağıdaki dinlerin hangisinde vardır?
- A) Hinduizm
B) Hristiyanlık
C) Yahudilik
D) Budizm
13. Aşağıdakilerden hangisi Çin ve Japon dinlerinden biridir?
- A) Sihizm
B) Şintoizm
C) Budizm
D) Caynizm
14. Hintlilerin kutsal kabul ettikleri nehir aşağıdakilerden hangisidir?
- A) Ganj
B) Fırat
C) Mississippi
D) Nil
15. Hükümdar sülalesi ve askerler sınıfı olarak bilinen Kast sistemi sınıfı aşağıdakilerden hangisidir?
- A) Konsüller
B) Kşatriyalar
C) Sudralar
D) Brahmanlar
16. Aşağıdakilerden hangisi Hint dinlerinden biridir?
- A) Konfüçyanizm
B) Şintoizm
C) Budizm
D) Taoizm
17. Musevilerin inancına göre, alemlerin Rabbi ve her şeyin yaratıcısı olan aşağıdakilerden hangisidir?
- A) Musa
B) Tevrat
C) Firavun
D) Yehova
18. Hz. Muhammed kaç yılında doğmuştur?
- A) 571
B) 610
C) 622
D) 632

19. Hristiyanların kutsal kitabı aşağıdakilerden hangisidir?
- A) Tevrat
B) Zebur
C) Vedalar
D) İncil
20. Musevilikte, sinagog ve havra isimleri verilen ibadethanelerde ibadet kimlerin yönetiminde yapılmaktadır?
- A) Neviim
B) Haham
C) Ketuvim
D) Papaz

1. Osmanlı Devleti'nin kuzey Afrika'daki egemenliğini sona erdiren antlaşma aşağıdakilerden hangisidir?
- A) Edirne
B) Uşi
C) Londra
D) Yaş
2. Sanayi İnkılabı'ndan sonra Avrupa'da en büyük sömürge imparatorluğunun kuran devlet aşağıdakilerden hangisidir?
- A) İngiltere
B) Almanya
C) Fransa
D) Rusya
3. Tanzimat Fermanı hangi yıl ilan edilmiştir?
- A) 1730
B) 1789
C) 1839
D) 1856
4. Rumların ikinci isyanı (1821) nerede başlamıştır?
- A) Erdel
B) Boğdan
C) Girit
D) Mora
5. Aşağıdakilerden hangisi Yaş Antlaşması'nın maddeleri arasında ver almaz?
- A) Rusya ele geçirdiği Bender, Kili ve Akkerman'ı Osmanlılara geri verecek
B) Dinyester nehri iki devlet arasında sınır kabul edilecek
C) Antlaşma sekiz yıl süreyle geçerli olacak
D) Osmanlı Devleti, Kırım'ın Rusya'ya ait olduğunu onaylayacak
6. Matbuat Nizamnamesi hangi yıl çıkarılmıştır?
- A) 1856
B) 1864
C) 1876
D) 1890
7. Yeniçeri Ocağı'nın kaldırılması olayına ne ad verilir?
- A) Vaka-i Hayriye
B) Vaka-i Vakvakiye
C) Yeniçeri ayaklanması
D) 31 Mart Olayı
8. Küçük Kaynarca Antlaşması'ndan sonra Kırım'ı ele geçirmek için harekete geçen Rusya ile savaş hazırlıklarına başlayan Osmanlı Devleti arasında Fransa'nın arabuluculuğu ile yapılan antlaşma aşağıdakilerden hangisidir?
- A) Prut Antlaşması
B) Hünkâr İskelesi Antlaşması
C) Balta Limanı Antlaşması
D) Aynalıkavak sözleşmesi
9. Osmanlı Devleti Avrupa Devletleri'nden ilk defa hangi savaşla borç almıştır?
- A) Yunan İsyanı
B) Kırım Savaşı
C) 93 Harbi
D) Sırp İsyanı
10. Başyazarı Şinasi olan, fikir gazetesi özelliği taşıyan ve 1840 yılında yayın hayatına başlayan gazete aşağıdakilerden hangisidir?
- A) Tasvir-i Efkâr
B) Tercüman-ı Ahval
C) Tercüman
D) Ceride-i Havadis
11. Aşağıdakilerden hangisi Fransız İhtilali'nin sonuçlarından biri değildir?
- A) Avrupa'da mutlak yönetimlerin güç kazanması
B) Milliyetçilik akımının çok uluslu imparatorlukların parçalanmasına neden olması
C) Eşitlik, özgürlük ve adalet gibi ilkelerin yaygınlaşması
D) İngiltere ve ABD'de görülen demokratik gelişmelerin Avrupa'da etkili olmaya başlaması

12. Amerika ve İzmir arasında ilk kez düzenli bir biçimde ticari seferler hangi yıl yapılmaya başlamıştır?

- A) 1740
- B) 1790
- C) 1810
- D) 1850

13. Aşağıdakilerden hangisi Lale Devri ıslahatlarından bir değildir?

- A) Çiçek aşısı uygulamasına başlanması
- B) Yeniçeri Ocağı'nın kaldırılması
- C) Avrupa'ya elçilerin gönderilmesi
- D) Yalova'da bir kâğıt fabrikasının kurulması

14. XVIII. yüzyılda Avrupa'da büyük çoğunluğu krallar arasındaki akrabalık nedeniyle çıkan savaşlara ne ad verilir?

- A) Bağımsızlık Savaşları
- B) Veraset Savaşları
- C) Otuz Yıl Savaşları
- D) Yüzyıl Savaşları

15. Osmanlı Devleti'nin boğazlar üzerindeki mutlak egemenliğini sona erdiren ve boğazlara uluslararası bir statü kazandıran belge aşağıdakilerden hangisidir?

- A) Londra Boğazlar Sözleşmesi
- B) Hünkâr İskeleyi Antlaşması
- C) Balta Limanı Antlaşması
- D) Berlin Antlaşması

16. Aşağıdakilerden hangisi Sanayi İnkılabı'nın Osmanlı Devleti'ne etkilerinden biri değildir?

- A) Küçük el tezgâhlarının kapanmasıyla işsizliğin artması
- B) Osmanlı üretiminin Avrupa mallarıyla rekabet edememesi
- C) Osmanlı Devleti'nin siyasi çöküşünün hızlanması
- D) Osmanlı Devleti'nin dışarıya mamul madde satan bir ülke haline gelmesi

17. III. Selim'in Avrupa'dan askeri uzmanlar getirterek kurduğu ordu aşağıdakilerden hangisidir?

- A) Sekban-ı Cedit
- B) İrad-ı Cedit
- C) Asakir-i Mansure-i Muhammediye
- D) Nizam-ı Cedit

18. İngiltere, Amerika Birleşik Devletleri'nin bağımsızlığını hangi antlaşmayla kabul etmiştir?

- A) Petrograd
- B) Sykes-Picot
- C) Versay
- D) Saint Jean de Maurienne

19. Osmanlı Devleti'nin meşruti yönetime geçişini sağlayan Kanun-i Esasi hangi tarihte ilan edilmiştir?

- A) 3 Kasım 1839
- B) 18 Şubat 1856
- C) 23 Aralık 1876
- D) 20 Mart 1877

20. Padişah ve ayanlar arasında imzalanan ve ayanların gücünün padişah tarafından resmen tanındığını gösteren belge aşağıdakilerden hangisidir?

- A) Sened-i İttifak
- B) Muharrem Kararnamesi
- C) Islahat Fermanı
- D) Tanzimat Fermanı

1. Halk Edebiyatı'nda ölen kişinin ardından onun yiğitliklerini, iyiliklerini ve erdemlerini anlatan şiirlere ne ad verilir?

- A) Ağıt
- B) Koşuk
- C) Sav
- D) Güzelleme

2. Yurt dışına elçi olarak gönderilen kişilerin gördükleri yerlerle ilgili gezi, gözlem ve izlenimlerini anlattıkları eserlere ne ad verilir?

- A) Seyahatname
- B) Şikâyetname
- C) Sefaretname
- D) Selçukname

3. Orhun Yazıtları ile ilgili aşağıdaki ifadelerden hangisi yanlıştır?

- A) Türk dilinin en eski ve en değerli yazılı metinleridir.
- B) Göktürk alfabesiyle yazılmıştır.
- C) Tarihte Türk sözcüğünün geçtiği ilk metinlerdir.
- D) 16. yüzyıl sonunda İngiliz bilim adamları tarafından okunmuştur.

4. Nasıl güzel geçti bütün yaz
Geceler küçük bahçede...
Sen zambaklar kadar beyaz
Ve ürkek bir düşünce

Yukarıdaki dizelerin yer aldığı "Bütün Yaz" adlı şiir kime aittir?

- A) Ahmet Telli
- B) Ahmet Hamdi Tanpınar
- C) Ahmet Haşim
- D) Ahmet Kutsi Tecer

5. İşgale uğrayan bir ülke ve savaş gibi önemli bir toplumsal olayı işleyen "Ateşten Gömlek" romanının yazarı, aşağıdakilerden hangisidir?

- A) Ahmet Hamdi Tanpınar
- B) Orhan Şaik Gökyay
- C) Hüseyin Rahmi Gürpınar
- D) Halide Edip Adivar

6. Aşağıdakilerden hangisi, İslamiyet'ten sonraki Türk destanlarından biridir?

- A) Manas Destanı
- B) Yaratılış Destanı
- C) Saka Destanları
- D) Göktürk Destanları

7. Halk şiirinin unutulmaz ustasıdır. 17. yüzyılda Toroslar' da Türkmen aşiretleri arasında yaşamıştır. Şiirlerini dörtlük nazım birimiyle, hece ölçüsüyle saz eşliğinde söylemiştir.

Yukarıda tanıtılan ünlü halk ozanı, aşağıdakilerden hangisidir?

- A) Pir Sultan Abdal
- B) Karacaoğlan
- C) Âşık Veysel
- D) Dadaloğlu

8. Türklerin en eski savlarının yer aldığı eser aşağıdakilerden hangisidir?

- A) Divan-ı Lügat'it Türk
- B) Kutadgu Bilig
- C) Atabetü'l Hakâyık
- D) Göktürk Yazıtları

9. Türk destan üslubundan izler taşır. Türklerin su sevgisinden, kuşları uğurlu sayan Şaman inanışından yansımalar vardır.

Yukarıda tanıtılan destan aşağıdakilerden hangisidir?

- A) İlyada Destanı
- B) Oğuz Kağan Destanı
- C) Gılgamış Destanı
- D) Şu Destanı

10. Başlangıçtan günümüze kadar edebiyatın konusu içine giren eserleri ve sanatçıları, edebiyat ve sanat akımlarını, bunların toplumda uyandırdığı yankıları araştıran inceleyen; belgelere dayanarak objektif bir şekilde değerlendiren bilim dalına ne ad verilir?

- A) Lisaniyat
- B) Sanat Tarihi
- C) Etnografya
- D) Edebiyat Tarihi

11. Türk Edebiyatı'nın en önemli eserlerindedir. Eser adını iyi ve kötü düşünceli iki presten almaktadır. Eserin aslı Sanskritçedir. Dinsel masal niteliği taşımaktadır.

Yukarıda tanıtılan eser aşağıdakilerden hangisidir?

- A) Kalyanamkara ve Papamkara
- B) İlyada ve Odysseia
- C) Atabetü'l Hakâyık
- D) Kutadgu Bilig

12. Türkiye'de tarih ve edebiyat tarihi incelemelerinde bilimsel yöntemleri ilk defa kullanan, Türk Edebiyatı tarihçiliğinin ilk araştırmacısı ve kurucusu kimdir?

- A) Ahmet Hamdi Tanpınar
- B) Mehmet Fuad Köprülü
- C) Agâh Sırrı Levent
- D) Nihat Sami Banarlı

13. Eski Türklerde, gözlem ve uzun deneyimlerden süzülen duygu ve düşüncelerin özlü bir anlatımı olarak kabul edilen, dilden dile aktarılan atasözlerine ne ad verilir?

- A) Destan
- B) Koşuk
- C) Sav
- D) Sagu

14. Türk'ün öz benliğini yansıtan, yüksek bir ahlâka dayanan, kahramanlık ruhunu coşkuna bir deyişle dile getiren, sevgiden gücünü alan aile bağlarını eserin tamamında sergileyen Türk ulusal kültürünün temel eseri aşağıdakilerden hangisidir?

- A) Battal Gazi Destanı
- B) Dede Korkut Hikâyeleri
- C) Danişment Gazi Destanı
- D) Göktürk Yazıtları

15. Odysseus'un on yıl aradan sonra ülkesine dönüşünü "Kolları Bağlı Odysseus" adlı uzun şiirinde anlatan Çağdaş Türk Edebiyatçısı aşağıdakilerden hangisidir?

- A) Melih Cevdet Anday
- B) Bedri Rahmi Eyüpoğlu
- C) Edip Cansever
- D) Orhan Veli Kanık

16. Kahramanların başlarından geçen olağanüstü olayları törensel bir üslupla anlatan ve genellikle birkaç bölümden oluşan uzun manzum eserlere ne ad verilir?

- A) Ağıt
- B) Koşuk
- C) Destan
- D) Güzelleme

17. İslamiyet'ten önce Türklerde sevilen kişilerin ölümüne duyulan üzüntüyü ifade eden ve kopuz eşliğinde söylenen şiirlere ne ad verilir?

- A) Koçaklama
- B) Güzelleme
- C) Ağıt
- D) Sagu

18. Uygur ülkesine bereket ve mutluluk veren Kutlu Dağ'ın Çinliler tarafından parça parça taşınmasıyla bozulan Uğur sonucu ülkede görülmemiş bir kıtlık başlar. Yaşam çekilmez hale dönüşür ve Uygur Türkleri güneybatıya göç ederler.

Yukarıdaki parça hangi destanı anlatır?

- A) Ergenekon Destanı
- B) Şu Destanı
- C) Göç Destanı
- D) Oğuz Kağan Destanı

19. Padişaha ve sadrazama sunmak için Fransa Sefaretnamesi adlı eseri yazan Osmanlı devlet adamı kimdir?

- A) Mercimek Ahmet
- B) Yirmisekiz Mehmet Çelebi
- C) Süleyman Çelebi
- D) Kâtip Çelebi

20. Aşağıdakilerden hangisi, Batı etkisinde gelişen Türk Edebiyatı'nın bölümlerinden biri değildir?

- A) Milli Mücadele Dönemi Edebiyatı
- B) Âşık Tarzı Halk Edebiyatı
- C) Milli Edebiyat
- D) Cumhuriyet Dönemi Türk Edebiyatı

1. X'in Erime noktası: -5 Kaynama noktası:35
Y'nin Erime noktası:12 Kaynama noktası:78
Z'nin Erime noktası:9 Kaynama noktası:120

Verilen değerlere göre, yukarıdaki maddelerden hangileri 10 °C sıcaklıkta sıvı halde bulunur?

- A) Y ve Z
B) X ve Z
C) Yalnız Z
D) Yalnız X

2. Armatürlerinin yüzey alanı 6 cm² olan bir kondansatörde levhalar arası uzaklık 1 mm'dir. Buna göre, kondansatörün sığası kaç farad'dır?

(ϵ = Dielektrik sabiti=8.10⁻¹²)

- A) 48.10⁻¹⁵
B) 4,8.10⁻¹⁴
C) 4,8.10⁻¹³
D) 4,8.10⁻¹²

3. Sıcak bir metale dokunduğumuzda elimizin yanması ısının hangi yolla iletimine örnek olur?

- A) Konveksiyon yoluyla
B) İletim yoluyla
C) Işıma yoluyla
D) Manyetizma yoluyla

4. 100 gram suyun sıcaklığını 20 K arttırmak için gerekli ısı miktarı kaç joule'dür?
($c_{su}=4,18J/gK$)

- A) 3340 joule
B) 6270 joule
C) 8360 joule
D) 8400 joule

5. Hava sıcaklığının 35°C olduğu bir günde Fahrenheit ve Reomür termometreleri kaç dereceyi gösterir?

Fahrenheit	Reomür
A) 95	28
B) 85	25
C) 70	30
D) 65	26

6. I. Sıcaklık değişimi
II. Isı enerjisi değişimi
III. Son sıcaklığı

Farklı sıcaklıktaki X ve Y katı maddeleri birbirine degecek biçimde yerleştiriliyor. Cisimler arasında ısı dengesi kurulduğunda, Y maddesinin yukarıdaki niceliklerinden hangileri kesinlikle X'inkine eşit olur?

- A) Yalnız I
B) Yalnız II
C) II ve III
D) I, II ve III

7. Cismin bir daire etrafında bir tam tur atması için geçen süreye ne denir?

- A) Genlik
B) Periyot
C) Frekans
D) Uzanım

8. I. Çizgisel Hız (v)
II. Cismin Frekansı (f)
III. Yörünge yarıçapı (r)

Düzgün çembersel hareket yapan cisme etki eden merkezci kuvvetin büyüklüğü F'dir. F kuvveti yukarıdaki niceliklerden hangileri arttırıldığında azalır?

- A) Yalnız I
B) Yalnız II
C) Yalnız III
D) II ve III

9. Düzgün çembersel hareket yapan bir cisim 1 dakikada 120 tur dönüyor. Buna göre, cismin periyodu kaç saniyedir?

- A) 0,5
- B) 1
- C) 1,5
- D) 2

10. Yarıçapı 2m olan bir çember üzerinde 3 rad/s açısal hızla dönen bir cismin merkezci ivmesi kaç m/s^2 dir?

- A) 15
- B) 18
- C) 20
- D) 30

11. Yarıçapı $2r$ olan çembersel yörüngede w açısal hızıyla dairesel hareket yapan bir hareketlinin, çizgisel hızını değiştirmeden açısal hızını iki katına çıkartabilmek için yörünge yarıçapının kaç r olması gerekir?

- A) $1/4$
- B) $1/2$
- C) 1
- D) 2

12. Verimi %95 olan bir transformatörde, birincil (primer) devreye 100 voltluk gerilim uygulandığında, bu devredeki akım şiddeti 5 amper, ikincil (sekonder) devredeki akım şiddeti de 1 amper oluyor. Bu durumda ikinci devrenin uçları arasındaki gerilim kaç volttur?

- A) 500
- B) 475
- C) 95
- D) 45

13. Bir transformatörün primerindeki gerilim 200 Volt, sekonderindeki gerilim 10 Volttur. Transformatörün sekonderindeki sarım sayısı 20 olduğuna göre, primerindeki sarım sayısı kaçtır?

- A) 100
- B) 200
- C) 300
- D) 400

14. Yarıçapı r olan iletken bir kürenin sığası aşağıdakilerden hangisine bağlıdır?

- A) Kürenin yük miktarına
- B) Kürenin yarıçapına
- C) İletken kürenin cinsine
- D) Kürenin özkütlesine

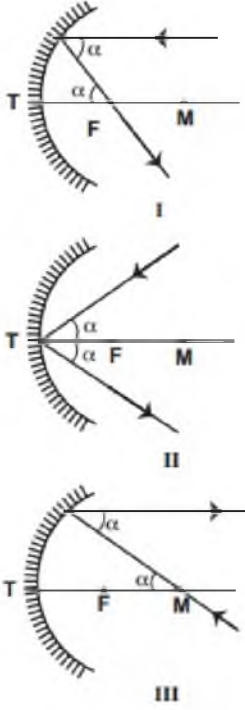
15. Işığın yansımaları ile ilgili aşağıdaki ifadelerden hangisi yanlıştır?

- A) Gelme açısı, yansıma açısına eşittir.
- B) Işığın yüzeye yaptığı açı ile gelme açısının toplamı 90° dir.
- C) Gelen ışın, yansıyan ışın ve yüzeyin normali aynı düzlemde bulunur.
- D) Gelen ışının normalle yaptığı açı yüzey ile yaptığı açıya daima eşittir.

16. Kırmızı ışık ile aydınlatıldığı odasında, sırasıyla beyaz, kırmızı ve mavi fon kartonlarını kesen öğrenci, bu kartonları sırasıyla hangi renkte görür?

- A) Kırmızı, kırmızı, siyah
- B) Beyaz, kırmızı, siyah
- C) Kırmızı, siyah, siyah
- D) Beyaz, siyah, mavi

17.



Şekildeki çukur aynalara gelen ışınların yansımaları aşağıdakilerden hangilerinde doğru olarak çizilmiştir?

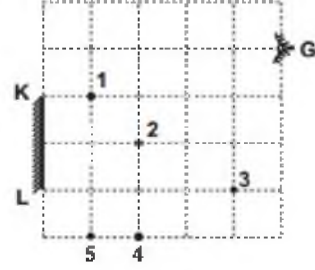
- A) Yalnız I
- B) Yalnız II
- C) I ve II
- D) II ve III

18. I. Pil
II. Akü
III. Jeneratör

Yukarıdakilerden hangileri doğru akım kaynağıdır?

- A) Yalnız I
- B) Yalnız II
- C) Yalnız III
- D) I ve II

19.



Şekildeki gibi yerleştirilmiş K-L düzlem aynasına G noktasından bakan bir gözlemci hangi noktaların görüntüsünü görebilir?

- A) 2-3-4
- B) 1-2-4
- C) 1-2-3
- D) 2-4-5

20. Işığın kırılması ile ilgili aşağıdaki ifadelerden hangisi doğrudur?

- A) Işık ışınları çok yoğun ortamdan az yoğun ortama geçerken hızı azalır.
- B) Işık ışınları az yoğun ortamdan çok yoğun ortama geçerken normalden uzaklaşarak kırılır.
- C) Işık ışınları ortamları ayıran yüzeye dik geliyorsa normale yaklaşarak kırılır.
- D) Işık ışınları az yoğun ortamdan çok yoğun ortama geçerken hızı azalır.

1. ^{19}K elementinin temel hal elektron dağılımı aşağıdakilerden hangisidir?

- A) $[\text{Ar}]4s^1$
 B) $[\text{Ne}]3s^1$
 C) $[\text{He}]2s^1$
 D) $[\text{Kr}]5s^1$

2. Nötr atomda negatif yüklü elektronları dengeleyen pozitif yüklerin bulunduğu bu pozitif yükleri de bulut olarak tanımlayan üzümlü keke de benzetilen model aşağıdakilerden hangisidir?

- A) Modern atom teorisi
 B) Bohr atom modeli
 C) Thomson atom modeli
 D) Rutherford atom modeli

3. Hidrojen atomunda 2. temel enerji düzeyinde bulunan bir elektron enerjisi (Joule) nedir? (1H , $R=2,18 \times 10^{-18} \text{ J}$)

- A) $-5,45 \times 10^{-19}$
 B) $-2,42 \times 10^{-19}$
 C) $3,25 \times 10^{-18}$
 D) $4,62 \times 10^{-18}$

4. Magnezyum fosfat bileşiğinin formülü aşağıdakilerden hangisidir?

- A) $\text{Mg}(\text{NO}_3)_3$
 B) $\text{Mg}_2(\text{PO}_4)_3$
 C) $\text{Mg}_3(\text{PO}_3)_2$
 D) $\text{Mg}_3(\text{PO}_4)_2$

5. 49,4 MHz frekansta yayılan sinyalin dalga boyu kaç m'dir? ($c=3,0 \times 10^8 \text{ m/s}$)

- A) 3,03
 B) 6,07
 C) 11,22
 D) 15,32

6. Oksijen (O) elementinin bağıl atom kütlesi 16 olduğuna göre oksijenin gerçek atom kütlesi kaç gramdır? (Avadro sayısı= $6,02 \times 10^{23}$)

- A) $2,66 \times 10^{-23}$
 B) $9,30 \times 10^{-23}$
 C) $3,85 \times 10^{-22}$
 D) $6,25 \times 10^{-22}$

7. Aşağıdaki elementlerden hangisi s blokunda ver almaz?

- A) ^{11}Na
 B) ^1H
 C) ^2He
 D) ^7N

8. Bir alt kabuktaki elektronların en kararlı diziliminin paralel spinin en fazla olduğu hale ne ad verilir?

- A) Madelung ilkesi
 B) Hund kuralı
 C) Aufbau kuralı
 D) Pauli dışlama ilkesi

9.

Orbital	n	l	m_l
4s	X	Y	Z

Tablodaki X, Y ve Z değerleri aşağıdakilerden hangisidir?

- A) 4; 0; 0
 B) 3; 1; -1, 0 +1
 C) 5; 0; 0
 D) 4; 0; 3

10. Aşağıdaki bileşiklerin hangisi oksit bileşiği değildir?

(^3Li , ^{11}Na , ^{19}K , ^{37}Rb)

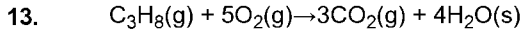
- A) Li_2O
 B) K_2O
 C) Rb_2O_2
 D) Na_2O

11. Bir bileşiğin bütün örneklerinin aynı bileşime sahip olduğu aşağıdaki hangi yasayla ifade edilmiştir?

- A) Kütle korunumu yasası
 B) Sabit oranlar yasası
 C) İdeal gaz yasası
 D) Katlı oranlar yasası

12. Bir bileşiğin en basit formülü CH_2 olarak bilindiğine göre bileşiğin mol kütlesi 112 g ise bu bileşiğin molekül formülü aşağıdakilerden hangisidir? (C:12; H:1)

- A) C_2H_4
 B) C_3H_6
 C) C_4H_8
 D) C_8H_{16}



44g C_3H_8 gazı yeterince O_2 gazı ile tepkimeye girerse kaç gram CO_2 gazı oluşur?
(C:12, H:1, O:16)

- A) 44
B) 82
C) 132
D) 160

14. Aşağıdakilerden hangisi yanma tepkimesidir?

- A) $Fe_2O_3(k) + 3CO(g) \rightarrow 2Fe(s) + 3CO_2(g)$
B) $CH_4(g) + 2O_2(g) \rightarrow CO_2(g) + 2H_2O(g)$
C) $NH_3(g) + H_2O(s) \rightleftharpoons NH_4^+(suda) + OH^-(suda)$
D) $AgNO_3(suda) + NaI(suda) \rightarrow AgI(k) + NaNO_3(suda)$

15. Mol kütlesi 16,08 g/mol olan bir gaz gözenekli engelden 1,5 dakikada efüzleniyorsa, molekül kütlesi 160,00 g/mol başka bir gaz kaç dakikada efüzlenir?

- A) 0,5
B) 2,13
C) 4,73
D) 6,35

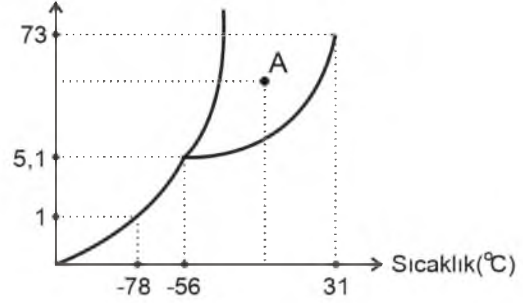
16. Sıcaklık 30 °C olduğunda bağıl nem % 79 ise bu sıcaklıktaki su buharının kısmi basıncı (mmHg) aşağıdakilerden hangisidir? (30 °C sıcaklıktaki suyun buhar basıncı 31,82 mmHg)

- A) 25
B) 30
C) 35
D) 40

17. 2 atm basınç birimi kaç torr'dur?

- A) 380
B) 760
C) 1520
D) 1830

18. Basınç(atm)



Yukarıdaki CO_2 'nin faz diyagramıyla ilgili aşağıdaki ifadelerden hangisi yanlıştır?

- A) Katı CO_2 , 1 atm basınçta erimez.
B) Üçlü noktada basınç 5,1 atm'dir.
C) A noktasında CO_2 sıvı haldedir.
D) Üçlü noktada sıcaklık 31 °C'dir.

19. Normal koşullarda (NK'da) 0,50 mol O_2 gazı kaç L hacim kaplar?

- A) 5,6
B) 11,2
C) 22,4
D) 43,5

20.

1.Grup
1A
3 Li
11 Na
19 K
37 Rb

Yukarıda atom numaraları verilen elementlerden hangisinin metalik özelliği en fazladır?

- A) ${}_3Li$
B) ${}_{11}Na$
C) ${}_{19}K$
D) ${}_{37}Rb$

1. Aşağıdakilerden hangisi **tek** başına canlılık göstergesi **değildir**?
 - A) Beslenme
 - B) Hareket
 - C) Boşaltım
 - D) Solunum

2. Bilimsel bir süreçte yapılacak **ilk iş** aşağıdakilerden hangisidir?
 - A) Problemi tanımlamak
 - B) Verileri toplamak
 - C) Hipotezi ortaya koymak
 - D) Deneyleri kurmak

3. Yağların bir organizmada ikinci derecede enerji verici olarak kullanılmalarının sebebi aşağıdakilerden hangisidir?
 - A) Yağ asitlerinden oluşmaları
 - B) Hücre zarı yapısına katılmaları
 - C) Zor parçalanmaları
 - D) Koruma yapmaları

4. Çok sayıda kanıtla desteklenmiş olan kapsamlı açıklamalara ne ad verilir?
 - A) Teori
 - B) Kanun
 - C) Hipotez
 - D) Veri

5. Glikozun bitki hücrelerindeki depo şekli aşağıdakilerden hangisidir?
 - A) Selüloz
 - B) Nişasta
 - C) Glikojen
 - D) Kitin

6. Aşağıdakilerden hangisi üreme hücrelerine verilen addır?
 - A) Gamet
 - B) Metabolizma
 - C) Anaerob
 - D) Aerob

7. İnsan vücudunda **en fazla** bulunan mineral aşağıdakilerden hangisidir?
 - A) Sodyum
 - B) Fosfor
 - C) Kalsiyum
 - D) Demir

8. Aşağıdakilerden hangisi biyolojik çeşitliliğin korunması ve geliştirilmesi amacıyla araştırmalar yapan, konu ile ilişkili sorunlara çözümler üretmeye çalışan bilim dalıdır?
 - A) Kriminal biyoloji
 - B) Moleküler biyoloji ve genetik
 - C) Doğa tarihi
 - D) Doğa koruma uzmanlığı

9. Aşağıdakilerden hangisi besinlerin oksijen kullanılmadan parçalanmasıyla enerji üretimini ifade etmektedir?
 - A) Anaerob solunum
 - B) Aerob solunum
 - C) Boşaltım
 - D) Üreme

10. Aşağıdakilerden hangisi inorganik bileşiklerden biridir?
 - A) Yağ
 - B) Protein
 - C) Karbonhidrat
 - D) Su

11. Aşağıdakilerden hangisi bir organizmanın kalıtım materyalinde bulunan genetik şifrelerin tamamını simgeler?
 - A) Solunum
 - B) Mitoz
 - C) Genom
 - D) Metabolizma

12. Aşağıdakilerden hangisi oksijenli solunum sonucu oluşan ürünlerden biri değildir?

- A) Enerji (ATP)
- B) Su
- C) Karbondioksit
- D) Besin

13. Aşağıdakilerden hangisi maddelerin hücre zarından enerji kullanarak geçişini ifade etmektedir?

- A) Difüzyon
- B) Pasif geçiş
- C) Aktif taşıma
- D) Osmoz

14. Aşağıdakilerden hangisi bilimsel çalışmalarla uğraşan bilim insanlarının sahip olması gereken özelliklerden biri değildir?

- A) Akılcı ve gerçekçi olmak
- B) Ön yargılara sahip olmak
- C) Tarafsız olmak
- D) Yeniliklere açık olmak

15. Aşağıdakilerden hangisi çekirdek zarı ve zarlı organellere sahiptir?

- A) Ökaryot hücreler
- B) Prokaryot hücreler
- C) Plazmitler
- D) Virüsler

16. Aşağıdakilerden hangisinde organizasyon sırası küçükten büyüğe birlikte ve doğru verilmiştir?

- A) Organ-Doku-Sistem-Hücre
- B) Doku-Organ-Sistem-Hücre
- C) Sistem-Hücre-Organ-Doku
- D) Hücre-Doku-Organ-Sistem

17. Aşağıdakilerden hangisi suda eriyen vitaminlerden biridir?

- A) A
- B) C
- C) D
- D) K

18. Aşağıdakilerden hangisi bütün canlılar için ortak yapı elementlerinden biri değildir?

- A) Karbon
- B) Hidrojen
- C) Selenyum
- D) Oksijen

19. Geviş getiren memelilerin dahil olduğu canlı grubu aşağıdakilerden hangisidir?

- A) Karnivorlar
- B) Omnivorlar
- C) Ototroflar
- D) Herbivorlar

20. Beslenmede hayvansal besinleri tercih eden canlılara ne ad verilir?

- A) Ototrof
- B) Karnivor
- C) Herbivor
- D) Omnivor

1. Kanser tedavisiyle ilgili bilim dalı aşağıdakilerden hangisidir?

- A) Hematoloji
- B) Patoloji
- C) Endokrinoloji
- D) Onkoloji

2. Adet döngüsünün ilk evresi aşağıdakilerden hangisidir?

- A) Ovulasyon
- B) Folikül
- C) Korpus luteum
- D) Menstruasyon

3. Birbiriyle aynı büyüklükte ve aynı kalıtsal yapıdaki blastomerlerin oluşturduğu, dut görünümündeki hücre topluluğuna ne ad verilir?

- A) Morula
- B) Blastula
- C) Organogenez
- D) Gastrula

4. Aşağıdakilerden hangisi dişi üreme sisteminde ver almaz?

- A) Uterus
- B) Fallopi tüpü
- C) Üretra
- D) Serviks

5. Aşağıdakilerden hangisi cinsel yolla bulaşan hastalıklardan biridir?

- A) Tüberküloz
- B) Difteri
- C) Grip
- D) HPV

6. Spermin üretraya boşaltılması sırasında idrarın da üretraya geçişine engel olan organ aşağıdakilerden hangisidir?

- A) Epididimis
- B) Prostat bezi
- C) Cowper bezi
- D) Seminal kesecik

7. Aşağıdakilerden hangisi folik asit eksikliğinde karşılaşılan sorunlardan biri değildir?

- A) Annede aşırı kilo alımı
- B) Annede anemi
- C) Düşük doğum ağırlıklı bebekler
- D) Nöral tüp defektleri

8. Olgunlaşan yumurta hücresinin, folikülün yırtılmasıyla yumurtalıktan atıldığı evre aşağıdakilerden hangisidir?

- A) Korpus luteum evresi
- B) Folikül evresi
- C) Ovulasyon evresi
- D) Menstruasyon evresi

9. Ceninin tıbbi adı aşağıdakilerden hangisidir?

- A) Morula
- B) Koriyon
- C) Blastomer
- D) Fetüs

10. Aşağıdakilerden hangisi gebelik boyunca anne ve dölüt arasındaki bağlantıyı sağlar?

- A) Plasenta
- B) Serviks
- C) Fallopi tüpü
- D) Uterus

11. Aşağıdakilerden hangisi mitozun evrelerinden biri değildir?

- A) Profaz
- B) Telofaz
- C) Metastaz
- D) Anafaz

12. Canlının zarar gören kısımlarını onarmasına ne ad verilir?

- A) Medüz
- B) Rejenerasyon
- C) Metagenez
- D) Polip

13. Eşey ana hücrelerinin diploit yapısı aşağıdakilerden hangisiyle sembolize edilir?

- A) 2n
- B) 4n
- C) 6n
- D) 8n

14. Mayoz bölünmeyle ilgili aşağıdaki ifadelerden hangisi yanlıştır?

- A) Mayoz sonucunda oluşan üreme hücreleri haploit kromozomludur.
- B) Mayoz sonucunda kromozom sayısında değişiklik olmaz.
- C) Mayoz sayesinde bir türün bireyleri arasında genetik çeşitlilik sağlanır.
- D) Mayoz, türe ait kromozom sayısının nesiller boyunca sabit kalmasını sağlar.

15. Sporla üreyen canlıların yaşama döngüsünde eşeyli ve eşeysiz üremenin birbirini takip etmesine ne ad verilir?

- A) Sitokinez
- B) Rejenerasyon
- C) Konjugasyon
- D) Metagenez

16. Aşağıdakilerden hangisi eşeyli üremez?

- A) Karayosunları
- B) Kurbağalar
- C) Tohumlu bitkiler
- D) Halkalı solucanlar

17. Döllenenmemiş yumurtadan yeni birey oluşumunun görüldüğü üreme şekli aşağıdakilerden hangisidir?

- A) Metagenez
- B) Partenogenez
- C) Konjugasyon
- D) Rejenerasyon

18. Yumurtlama ve menstrual döngünün bitmesine ne ad verilir?

- A) Partenogenez
- B) Metastaz
- C) Menopoz
- D) Oogenez

19. Patates, yer elması gibi bitkilerde yumru gövdenin göz bulunan kısımlarının oluşturduğu sürgünler yoluyla oluşan üreme türü aşağıdakilerden hangisidir?

- A) Tomurcuklanma
- B) Sporla üreme
- C) Bölünerek üreme
- D) Vejetatif üreme

20. Aşağıdakilerden hangisi eşeysiz üreme türlerinden biri değildir?

- A) Bölünerek üreme
- B) Tomurcuklanma
- C) Konjugasyon
- D) Sporla üreme

1. Bağımsızlığına yeni kavuşan Afrika ve Asya ülkelerinin ABD ve SSCB gibi iki büyük nükleer güç karşısında varlıklarını korumak, birlik ve dayanışmalarını sağlamak amacıyla 1955 yılında gerçekleşen konferans aşağıdakilerden hangisidir?
 - A) Tahran Konferansı
 - B) Kahire Konferansı
 - C) Bandung Konferansı
 - D) Yalta Konferansı
2. 1974 Kıbrıs Barış Harekâtı'nı gerekçe göstererek Türkiye'ye yapmakta olduğu ekonomik yardımını keserek silah ambargosu uygulayan devlet aşağıdakilerden hangisidir?
 - A) İsveç
 - B) ABD
 - C) Çin
 - D) Polonya
3. 1979'da ABD ve SSCB arasında imzalanan ve uzun menzilli nükleer silahları sınırlandıran antlaşma aşağıdakilerden hangisidir?
 - A) Paris Antlaşması
 - B) Marale Antlaşması
 - C) Rapallo Antlaşması
 - D) SALT-II Antlaşması
4. Pakistan ve Hindistan'ın bağımsızlıklarından itibaren iki ülke arasında yaşanan sorun ve çatışmaların en önemli nedeni aşağıdakilerden hangisidir?
 - A) Keşmir Meselesi
 - B) Leyte Savaşı
 - C) El-Kebir Olayı
 - D) Pugaçev İsyanı
5. 1971'de düzenlenen altıncı Akdeniz Oyunları'na ev sahipliği yapan ülke aşağıdakilerden hangisidir?
 - A) Yunanistan
 - B) Türkiye
 - C) İtalya
 - D) Bulgaristan
6. Küba Buhranı'nın en önemli özelliği aşağıdakilerden hangisidir?
 - A) SSCB'de glastnost ve perestroika politikalarının son bulması
 - B) ABD Dış İşleri Bakanı George C. Marshall'ın istifa etmesi
 - C) Nükleer silahlara sahip iki büyük gücün ilk kez doğrudan doğruya karşı karşıya gelmesi
 - D) SSCB'nin Molotov Planı'nı yürürlüğe sokması
7. Aşağıdakilerden hangisi Pakistan'ın başkenti İslamabad'da Ocak 1980'de olağanüstü toplanan İslam Ülkeleri Dış İşleri Bakanları Konferansı'nda alınan kararlardan biridir?
 - A) Bağdat Paktı'nın kurulması
 - B) Moskova Olimpiyat Oyunları'nın boykot edilmesi
 - C) Camp David Anlaşmalarının kabul edilmesi
 - D) Irak'ın Kuveyt'i işgalinin kınanması
8. Aşağıdakilerden hangisi 1954'te Çin Halk Cumhuriyeti Başbakanı ile Hindistan Başbakanı arasında kabul edilerek ilk defa dünyaya tanıtılmış olan "barış için de bir arada yaşamının beş ilkesi"nden biri değildir?
 - A) Kendi topraklarında başka devletlerin askeri üssüne izin vermeme
 - B) Askeri ittifaklara katılmama
 - C) Millî kurtuluş savaşlarını desteklememe
 - D) İkili ittifaklara girmeme
9. Aşağıdakilerden hangisi Türkiye-Yunanistan ilişkilerinde gerginliğin artmasının nedenlerinden biri değildir?
 - A) Kara sularının 12 mile çıkarılması
 - B) Otrar Hadisesi
 - C) Ege adalarının silahlandırılması
 - D) Kıta sahanlığı sorunu
10. İlk uzay aracı olan Sputnik'i uzaya fırlatan devlet aşağıdakilerden hangisidir?
 - A) İtalya
 - B) Almanya
 - C) ABD
 - D) SSCB

11. Türk lirasından altı sıfır hangi yıl silinmiştir?

- A) 2005
- B) 2007
- C) 2009
- D) 2011

12. Orta Asya Cumhuriyetleri arasında en büyük doğal gaz rezervlerine ve yıllık üretim kapasitesine sahip devlet aşağıdakilerden hangisidir?

- A) Kırgızistan
- B) Türkmenistan
- C) Özbekistan
- D) Tacikistan

13. Aşağıdakilerden hangisi Bakü-Tiflis-Ceyhan petrol boru hattının hayata geçirilmesine karşı çıkan devletlerden biri değildir?

- A) ABD
- B) Ermenistan
- C) İran
- D) Rusya

14. TBMM kararıyla 31 Ekim 1989 tarihinde cumhurbaşkanı olan kişi aşağıdakilerden hangisidir?

- A) İsmet İnönü
- B) Celal Bayar
- C) Ahmet Necdet Sezer
- D) Turgut Özal

15. Mısır, Sudan ve Etiyopya arasında su sorunu yaşanmasına neden olan nehir aşağıdakilerden hangisidir?

- A) Şeria
- B) Fırat
- C) Dicle
- D) Nil

16. Dünyaca ünlü Kırgız yazar aşağıdakilerden hangisidir?

- A) Nursultan Nazarbayev
- B) Mehmet Emin Resulzade
- C) Cengiz Aytmatov
- D) Cemil Meriç

17. Endüstriyel genişlemeye ve kitle iletişim araçlarının yaygınlaşmasına paralel olarak siyasi, kültürel ve ekonomik düzeydeki çok yönlü toplumsal ilişkilerin dünya çapında yaygınlaşması olarak tanımlanan kavram aşağıdakilerden hangisidir?

- A) Küreselleşme
- B) Ültimat
- C) Pakt
- D) Platform

18. SSCB'nin dağılmasından sonra 1991'de bağımsızlığını ilan eden Azerbaycan'ı ilk tanıyan ülke aşağıdakilerden hangisidir?

- A) İtalya
- B) İspanya
- C) Fransa
- D) Türkiye

19. SSCB'de "glastnostu ve perestroika" programlarının mimarı kimdir?

- A) Stalin
- B) Vladimir Putin
- C) Mihael Gorbaçov
- D) Boris Yeltsin

20. Aşağıdakilerden hangisi Şanghay İş Birliği Örgütü'ne üye ülkelerden biri değildir?

- A) Tacikistan
- B) Kazakistan
- C) İtalya
- D) Özbekistan

1. Ekonomi alanında, belirlenmiş hedeflere ulaşmak için ekonomik yapıyı, düzeni ve ekonomik faaliyetleri yönlendiren önlemlerin bütününe ne ad verilir?
- A) Kalkınma politikası
B) İktisat teorisi
C) Teorik ekonomi
D) Ekonomi politikası
2. Aşağıdakilerden hangisi, İktisat Kongresinde alınan önemli kararlardan biri değildir?
- A) Havacılık çalışmaları ile ilgili bir kurumun kurulması
B) Koruyucu gümrük vergileri ile sanayinin korunması
C) Günlük çalışma süresinin 8 saate indirilmesi
D) Özel teşebbüse kredi sağlayacak bir devlet bankasının kurulması
3. Aşağıdakilerden hangisi, yönlendirici vasıtalarla bir örnek değildir?
- A) İhracatı destekleme önlemleri
B) Nüfus planlaması
C) Kamulaştırma
D) Yatırımları destekleme önlemleri
4. Aşağıdakilerden hangisi ekonomi politikasının başlıca hedeflerinden biri değildir?
- A) Ekonomik denge
B) Tam istihdam
C) Nitelik belirleyen vasıtalar
D) Hakça gelir dağılımı
5. Toprak sahibinin elde ettiği gelire ne ad verilir?
- A) Rant
B) Faiz
C) Kâr
D) Sermaye
6. Aşağıdakilerden hangisi, 1927 yılında sanayi kuruluşlarını teşvik ve korumak amacıyla çıkarılan kanunlardan biridir?
- A) Teşvik-i Sanayi Kanunu
B) Umumi Hıfzıssıhha Kanunu
C) Meadin Nizamnamesi
D) Mecelle
7. Aşağıdakilerden hangisi ekonomi biliminin klasik sınıflandırılması içinde ver almaz?
- A) Tüketim
B) Faktör piyasası
C) Üretim
D) Bölüşüm
8. Bir malın tüketiminin sürekli artırılması sonucu ondan sağlanan faydanın azalması durumunu bilimsel olarak ilk açıklayan ekonomist aşağıdakilerden hangisidir?
- A) Ricardo
B) George
C) Aristo
D) Gossen
9. Aşağıdakilerden hangisi ihtiyaçlar arasında rekabet ve ikame imkânlarının tüketicilere sağladığı faydalardan biridir?
- A) Gelir dağılımını iyileştirir.
B) Bireylerin gelirlerini yükseltir.
C) Kalkınma hızını yükseltir.
D) Aynı ihtiyaca cevap veren malların fiyatları arasında orantılı bir denge sağlar.
10. Bir vasıtanın mal olabilmesi için gerekli olan özellik aşağıdakilerden hangisidir?
- A) Zaman içinde doğada tükenmesi
B) İnsanların elde etmek için çaba göstermeleri gerekmemesi
C) Herhangi bir ödeme yapılmadan sahip olunması
D) Üretiminin mümkün olması ve sağlanması için çaba harcanması
11. İhtiyaçların dört yasasıyla ilgili aşağıdaki ifadelerden hangisi yanlıştır?
- A) Fizyolojik ihtiyaçların kapsamı sınırlıdır.
B) İhtiyaçlar değişmektedir.
C) İhtiyaçlar objektiftir.
D) İhtiyaçlar birbirine rakiptir.
12. Aşağıdakilerden hangisi ekonomik ihtiyaç değildir?
- A) Televizyon ihtiyacı
B) Hava ihtiyacı
C) Konut ihtiyacı
D) Giyinme ihtiyacı
13. İnsanların bir mala verdikleri önemin derecesine ne ad verilir?
- A) Değer
B) İstek
C) Fayda
D) İhtiyaç

14. Elde etmek için hiçbir ekonomik faaliyette bulunulmayan ve miktarı ihtiyaçtan çok fazla olan mallara ne ad verilir?

- A) Zorunlu mal
- B) Ekonomik mal
- C) Lüks mal
- D) Serbest mal

15. Aşağıdakilerden hangisi, hem elektrik hem de sulama amaçlı GAP projelerinden biri değildir?

- A) Aşağı Fırat Projesi
- B) Adıyaman-Kahta Projesi
- C) Gaziantep Projesi
- D) Dicle-Kralkızı Projesi

16. Aşağıdakilerden hangisi, kıt malların faydasını artırarak üretimde bulunmanın yollarından biri değildir?

- A) İklim faydası yaratan üretim faaliyetleri
- B) Şekil faydası yaratan üretim faaliyetleri
- C) Zaman faydası meydana getiren üretim faaliyetleri
- D) Mekân faydası yaratan üretim faaliyetleri

17. Aşağıdakilerden hangisi, Türkiye'deki termik santrallerden biridir?

- A) Hirfanlı
- B) Tunçbilek
- C) Hazar
- D) Keban

18. Aşağıdakilerden hangisi, ikinci enerji kaynaklarından biri değildir?

- A) Kok kömürü
- B) Biogaz
- C) Rüzgâr enerjisi
- D) Şehir gazı

19. Türkiye'de jeotermal enerji en çok hangi bölgede yer alır?

- A) Batı Karadeniz
- B) Batı Anadolu
- C) Doğu Anadolu
- D) Güneydoğu Anadolu

20. Aşağıdakilerden hangisi kuruluş yeri seçiminde göz önünde bulundurulacak faktörlerden biri değildir?

- A) Enerji kaynaklarına yakın olması
- B) Kullanılan üretim teknolojisinin güncel olması
- C) Su kaynaklarına yakın olması
- D) Hammadde kaynaklarına yakın olması

1. Sümer mimarisinin **en önemli** eserlerinden, olan çok katlı ve kule şeklinde inşa ettikleri tapınaklara ne ad verilir?
 - A) Piramit
 - B) Ziggurat
 - C) Tümülüs
 - D) Mastaba
2. M.S. 82 yılında Roma İmparatoru Titus zamanında bitirilen, yapıldığı dönemde dört katlı yaklaşık 50 m. yüksekliğinde ve 50 ile 55 bin kişi kapasiteli olan günümüzde ise Roma'nın simgesi haline gelen amfityatronun adı nedir?
 - A) Colosseum
 - B) Palermo
 - C) Aspendos
 - D) Pompei
3. Aşağıdakilerden hangisi Sümer'ler tarafından kurulan şehir devletlerinden biri **değildir**?
 - A) Lagaş
 - B) Ur
 - C) Teb
 - D) Umma
4. Orta Taş Çağı adı da verilen M.Ö. 10. binde Buzul Çağı'nın sona ermesiyle, daha yumuşak yeni iklim koşullarına geçilirken başlayan çağa ne ad verilir?
 - A) Kalkolitik
 - B) Nolitik
 - C) Mezolitik
 - D) Paleolitik
5. Aşağıdakilerden hangisi antik Yunan mimarisinin tapınak tiplerinden biri **değildir**?
 - A) İyon
 - B) Dor
 - C) Korent
 - D) Milet
6. İtalyan Barok dönemi mimarlığının önde gelen temsilcisi, Saint Carlo Kilisesi, Saint Agnese Kilisesi, Alessandrina Kütüphanesi'nin mimarı aşağıdakilerden hangisidir?
 - A) Francesco Boromini
 - B) Jacques Louis David
 - C) Andrea Palladio
 - D) Antonio Canova
7. Frigya uygarlığının **en ünlü** kralı olan Midas'ın Gordion'da bulunan mezarı aşağıdaki mezar tiplerinden hangisine örnektir?
 - A) Dolmen
 - B) Mozole
 - C) Menhir
 - D) Tümülüs
8. Anadolu'nun batı ve güney kıyılarında ortaya çıkıp gelişen, **ilk** örneklerine MÖ 6. yüzyılda rastlanan, **en güzel** örneği ise iki Giritli mimar tarafından yapılan Efes Artemis Tapınağı olan mimari düzen / nizam aşağıdakilerden hangisidir?
 - A) İyon
 - B) Kompozit
 - C) Korint
 - D) Dor
9. Aşağıdakilerden hangisi olayların tarihlerini saptayarak oluşum sıralarını düzenleyen bir bilim dalıdır?
 - A) Kronoloji
 - B) Arkeoloji
 - C) Antropoloji
 - D) Etnoloji
10. Pandomima, aşağıdaki güzel sanatların hangi türü içinde değerlendirilebilir?
 - A) Plastik Sanatlar
 - B) Ritmik Sanatlar
 - C) Karma Sanatlar
 - D) Endüstriyel Sanatlar
11. "Sikke" adı verilen **ilk** para, aşağıdaki Anadolu uygarlıklarından hangisinin zamanında kullanılmaya başlanmıştır?
 - A) Frigya
 - B) Geç Hitit
 - C) Hitit
 - D) Lidya

12. Yunan heykelinin Helenistik devrinde portre sanatında en ileri giden sanatçıdır. Büyük İskender, portrelerini sadece ona yaptırmıştır. Tunçtan atlet heykelleri de dökmüş, insanları olduğu gibi değil, kendisine gördükleri gibi tasvire önem vermiştir. Oranlar sistemini 1/8 olarak uygulamış ve "vücudunu temizleyen atlet" heykelini yapmıştır.

Yukarıda özellikleri verilen Yunan heykel sanatçısı aşağıdakilerden hangisidir?

- A) Briyoksis
- B) Lisippos
- C) Leohares
- D) Praksiteles

13. Bizans mimarisi içerisinde dini mimarinin en önemli yapı tipleri bazilikalardır. Birkaç çeşit plan tiplerinde inşa edilen bu yapılarda orta neflerin merkezindeki kare bölümlerinin kubbe ile örtülmüş olanlarına "Kubbeli Bazilika" adı verilir. Bu yapı tipine en güzel örnek aşağıdaki mimari eserlerden hangisidir?

- A) Atik Mustafa Paşa Camii
- B) Efes Saint Jean Kilisesi
- C) Zeus Tapınağı
- D) Ayasofya

14. 19. yy Realizm akımının önde gelen temsilcilerinden olan, "Avray Kenti", "Manzara", "Narni Köprüsü" gibi tabloları ile tanınan ressam aşağıdakilerden hangisidir?

- A) Camille Corot
- B) Claude Monet
- C) Alfred Sisley
- D) Edouard Manet

15. Piramitlere geçişin ilk adımı sayılan, dikdörtgen biçiminde kerpiç ve taştan yapılan, dua bölümü, ziyaret yeri ve ölünün bulunduğu yer olmak üzere üç ayrı bölümden oluşan dini yapılara ne ad verilir?

- A) Kurgan
- B) Eyvan
- C) Keops
- D) Mastaba

16. Aşağıdakilerden hangisi Anadolu'da kurulan uygarlıklardan biri değildir?

- A) Asur
- B) Urartu
- C) Lidya
- D) Frig

17. Vicenza'daki Rotonda Villası ve Bazilika adını taşıyan belediye yapısı en önemli eserleri arasında olan "Mimarlığın Dört Kitabı" adlı kitabın yazarı, Neoklasizmin mimarideki öncü sanatçısı mimar aşağıdakilerden hangisidir?

- A) Andrea Palladio
- B) John Constable
- C) Francisco Goya
- D) Caspar David Friedrich

18. 19. Yüzyıl İngiltere'sinde farklı bir renk duyarlılığı ile çalışan manzara ressamlarından biri olan, eserlerinde her şeyin ince bir tül tabakasıyla kaplı olduğu, "Denizde Kar Fırtınası", "Trenin Köprüden Geçışı", gibi tabloları ile ünlenen ressam aşağıdakilerden hangisidir?

- A) Honore Daumier
- B) Jean François Millet
- C) Camille Corot
- D) William Turner

19. Aşağıdaki mağaralardan hangisi paleolitik çağ buluntusu veren yerlerden biri değildir?

- A) Öküzini
- B) Beldibi
- C) Belbaşı
- D) Karain

20. İnsanlığın ilk ortaya çıkışından, M.Ö. yaklaşık 10.000 yıl öncesine kadar süren arkeolojik çağa ne ad verilir?

- A) Kalkolitik
- B) Paleolitik
- C) Mezolitik
- D) Neolitik

1. Kur'an-ı Kerim'de genellikle on ayetten oluşan özel işaretlerle ayrılmış kısımlara ne ad verilir?

- A) Aşır
- B) Hizb
- C) Tertil
- D) Hıfz

2. Kur'an-ı Kerim ayetlerinin anlamlarının açıklanması, hükümlerinin ve bu hükümlerin dayandığı gerekçelerin açığa çıkarılması ve ayetlerin belirli bir yöntem çerçevesinde yorumlanmasına ne ad verilir?

- A) Suhuf
- B) Hatim
- C) Tefsir
- D) Mukabele

3. Zebur ile ilgili aşağıdaki ifadelerden hangisi **vanlıştır**?

- A) İbranicedir.
- B) İlk indirilen kitaptır.
- C) Hz. Davud'a indirilmiştir.
- D) Manzum bir metindir.

4. "Kanun Kitabı", "Nebiler Kitabı" ve "Yazılar Kitabı" olmak üzere üç bölümden oluşan kutsal kitap aşağıdakilerden hangisidir?

- A) Tevrat
- B) Zebur
- C) İncil
- D) Kur'an

5. Kur'an'ın indiriliş süreciyle ilgili aşağıdaki ifadelerden hangisi **vanlıştır**?

- A) Hicretten sonra gelen ayetler, ağırlıklı olarak sosyal ve içtimai konularla ilgilidir.
- B) İlk vahiy, 610 yılının Ramazan ayında gelmiştir.
- C) İlk gelen ayetler Alak suresinin 1-5. ayetleridir.
- D) Vahyin indiriliş süreci 10 yıl sürmüştür.

6. Medine'ye hicret etmiş olan Hz. Muhammed ve arkadaşlarının, hicretin 6. yılında Umre yapmak üzere Mekte yakınlarına geldiklerinde gerçekleşen olay aşağıdakilerden hangisidir?

- A) Orucun farz kılınması
- B) Hudeybiye Antlaşması
- C) Akabe Görüşmesi
- D) İsra-Miraç Hadisesi

7. Hz. Muhammed'in katıldığı üç büyük savaş tarihsel olarak aşağıdakilerin hangisinde doğru sıralanmıştır?

- A) Bedir - Hendek - Uhud
- B) Uhud - Bedir - Hendek
- C) Bedir - Uhud - Hendek
- D) Hendek- Uhud - Bedir

8. Sıdk ne anlama gelir?

- A) Doğru olmak
- B) Sosyal olmak
- C) Üstün zekâyâ sahip olmak
- D) Empati kurmak

9. "Ey Resul! Rabbinden sana indirileni insanlara ulaştır. Eğer bunu yapmazsan peygamberlik görevini yapmamış olursun ..." (Maide suresi, 67. ayet)

Bu ayette Hz. Muhammed'in hangi sıfatına işaret edilmiştir?

- A) Emanet
- B) Tebliğ
- C) Sıdk
- D) Fetanet

10. Mekte'deki müşriklerin baskılarının artması sonucunda Müslümanların bir kısmı nereye hicret etmiştir?

- A) Habeşistan'a
- B) Suriye'ye
- C) Medine'ye
- D) Taif'e

11. "Ey iman edenler! Adaleti titizlikle ayakta tutun, kendiniz, ana-babanız ve yakınlarınız aleyhinde de olsa Allah için doğrulukla şahitlik eden kimselerden olun. İster zengin, ister yoksul olsunlar, Allah onlara sizden daha yakındır. Hislerinize uyup adaletten sapmayınız." (Nisâ suresi 135. Ayet)

Bu ayete göre aşağıdaki ifadelerden hangisi doğrudur?

- A) Ana-baba aleyhinde şahitlik yapılmamalıdır.
B) Kararlar, kişilerin konumlarına göre verilmelidir.
C) Kişi şahitlik ederken doğruluktan ayrılmamalıdır.
D) Verilen kararlar yoksulların lehine olmalıdır.

12. Aşağıdakilerden hangisi İslam ahlâkına avkırı davranışlardan biridir?

- A) Ana babaya hürmet etmek
B) Komşulara yardım etmek
C) Hoşgörülü olmak
D) Başkasının özel hayatını araştırmak

13. İslam ahlâkının kaynağı aşağıdakilerden hangisidir?

- A) Örf ve adet
B) Kültürel miras
C) Akıl ve tecrübe
D) Kur'an ve sünnet

14. Hz. Muhammed'in Taif'te kendisini taşıyanlara karşı tutumu, Hudeybiye antlaşmasındaki tavrı ve Mekke'nin fethinde verdiği mesajlar O'nun hangi özelliğini öne çıkarmaktadır?

- A) Barış ve hoşgörüsünü
B) Tevhidi esas almasını
C) Cömertlik ve cesaretini
D) Doğruluk ve sabrını

15. Katip Çelebi, İbn Batuda ve Evliya Çelebi gibi isimler hangi alanda meşhur olan kişilerdir?

- A) Tarih
B) Coğrafya
C) Matematik
D) Optik

16. Aşağıdakilerden hangisi fıkıhın temel kaynaklarından biridir?

- A) Maslahat-ı Mürsele
B) Sedd-i Zeraî
C) İstihsan
D) Kıyas

17. Kur'an-ı Kerim'i doğru ve güzel okumayı konu edinen ilim dalı aşağıdakilerden hangisidir?

- A) Mukabele
B) Tilavet
C) Kıraat
D) Hatim

18. Kişinin hak, yetki ve sorumluluklarının bilincinde olmasına ne ad verilir?

- A) Tefsir
B) Hadis
C) Farz
D) Fıkıh

19. Aşağıdakilerden hangisi İslam Tarihi'nin konularından biri değildir?

- A) İslam medeniyetinin gelişim süreci
B) Mezheplerin ortaya çıkış nedenleri
C) Hz. Muhammed döneminin olayları
D) İslamiyetin doğuşu

20. Tıp ilmine katkılarından dolayı Paris Üniversitesi Tıp Fakültesi'nde büstü bulunan Müslüman alim aşağıdakilerden hangisidir?

- A) Cabir b. Hayyam
B) İbn-i Rüşd
C) İbn-i Sina
D) Farabi

1. Yayıların, hayvanların ve araçların karayolları üzerindeki hal ve hareketlerine ne ad verilir?

- A) Taşıt
- B) Duraklamak
- C) Trafikten men
- D) Trafik

2. Aşağıdakilerden hangisi araçların üzerinde ve uygun durumda bulundurmadan trafiğe çıkarılmayacakları belgelerden biri değildir?

- A) Tescil belgesi
- B) Satış belgesi
- C) Trafik belgesi
- D) Tescil plakası

3. Bir yöndeki trafiğe ait taşıt yolunun bir ayırıcı ile belirli şekilde diğer taşıt yolundan ayrılması ile meydana gelen kara yoluna ne ad verilir?

- A) Tek yönlü kara yolu
- B) Bölünmüş kara yolu
- C) Erişime kontrollü kara yolu
- D) İki yönlü kara yolu

4. I. Aracın döşemesinin değişmesi
II. Aracın başkasına devri
III. Araç üzerinde teknik değişiklik yapılması

Yukarıdaki durumlardan hangilerinin sonucunda motorlu araç tescil belgesi geçersiz sayılır?

- A) Yalnız II
- B) Yalnız III
- C) II ve III
- D) I, II ve III

5. Aşağıdakilerden hangisi motorlu araç sahiplerinin devlete karşı yükümlülüklerinin takibini sağlar?

- A) Kayıt ve Tescil
- B) Sürücü Belgesi
- C) Araç Muayene Belgesi
- D) Araç sahibinin vergi numarası

6. Otoyol ile ilgili aşağıdaki ifadelerden hangisi yanlıştır?

- A) Otoyolda durmak, duraklamak ve geriye gitmek yasaktır.
- B) Özellikle transit trafiğe tahsis edilmiştir.
- C) Otoyola girerken "Hızlanma (Katılma) Şeridi" kullanılır.
- D) Yayalar ve motorsuz araçlar otoyolu kullanabilirler.

7. "Bütün yasakların ve kısıtların sonu" anlamına gelen trafik işareti aşağıdakilerden hangisidir?

- A) 
- B) 
- C) 
- D) 

8. Işıklı trafik işaret cihazları ile ilgili aşağıdaki ifadelerden hangisi yanlıştır?

- A) Yeşil ışık, yolun trafiğe açık olduğunu gösterir.
- B) Işıklı oklar, yolun yayalara kapalı olduğunu gösterir.
- C) Kırmızı ışık, yolun trafiğe kapalı olduğunu ve mutlak bir duruş yapılmasını bildirir.
- D) Fasıllı olarak yanıp sönen sarı ışık, ikaz anlamında olup bu yerin yavaş ve dikkatli geçilmesini bildirir.

9.



Yukarıdaki trafik görevlisinin verdiği işaretin anlamı aşağıdakilerden hangisidir?

- A) Trafiği hızlandırma işareti
- B) Yolun trafiğe açık olması hali
- C) Yön tayini işareti
- D) Trafiğin bütün istikametlere kapanma hali

10. Kurallara uyulmak şartıyla araçlar tarafından geçilebilir anlamını taşıyan yol çizgisi aşağıdakilerden hangisidir?

- A) Kesik yol çizgisi
- B) Yan yana iki devamlı yol çizgisi
- C) Devamlı yol çizgisi
- D) Kesikli ve devamlı yol çizgisi

11. Aşağıdakilerden hangisi araç sürücülerinin trafik kazalarında asli (esas) kusurlu sayılacakları hallerden biri değildir?

- A) Uykusuz, yorgun, hasta olarak araç kullanma
- B) Kavşaklarda geçiş önceliğine uymama
- C) Geçme yasağı olan yerlerden geçme
- D) Arkadan çarpma

12. I. Kavşaklar, tüneller, köprüler
II. Yaya ve okul geçitleri
III. Otobüs, taksi, tramvay ve dolmuş durakları

Yukarıdakilerden hangileri duraklamanın yasak olduğu yerlerdendir?

- A) Yalnız I
- B) Yalnız II
- C) I ve II
- D) I, II ve III

13. Motorlu araç trafik belgeleri aşağıdakilerden hangisi tarafından taşıt cinslerine göre yönetmelikte belirtilen süre kadar uzatılır?

- A) Milli Eğitim Bakanlığı
- B) Emniyet Genel Müdürlüğü
- C) Belediye
- D) Yetkili muayene istasyonu

14. Aşağıdakilerden hangisi yayalara ait kaza sebeplerinden biri değildir?

- A) Araçlara ilk geçiş hakkının verilmemesi
- B) Duran aracın önünden veya arkasından çıkılması
- C) Alkollü araç kullanılması
- D) Yola birden çıkılması

15. Hurdaya çıkarılan araçların "hurda" olarak satışlarında aşağıdakilerden hangisi sahiplik belgesi olarak kullanılır?

- A) Ruhsat
- B) "Hurdaya çıkarılmıştır." damgası vurularak sahiplerine verilen tescil belgesi
- C) Araç satış belgesi
- D) Geçici izin belgesi

16.



Yukarıdaki bilgi işaretinin anlamı nedir?

- A) Çıkamaz yol
- B) Anayol
- C) Önceliği olan yol
- D) Girişi olmayan yol

17. Kamyon kullanabilmek için aşağıdaki sürücü belgelerinden hangisine sahip olmak gerekir?

- A) A1 Sınıfı
- B) B Sınıfı
- C) C Sınıfı
- D) D sınıfı

18. Aşağıdakilerden hangisi tescil işlemi yapmaya yetkili kuruluşlardan biri değildir?

- A) Türk Silahlı Kuvvetleri
- B) İl Özel İdaresi
- C) Belediyeler
- D) Trafik tescil kuruluşu

20. Yayıların ve araç kullananların diğey yaya ve araç kullananlara göre, yolu kullanma sırasına ne ad verilir?

- A) Geçiş yolu
- B) Geçiş üstünlüğü
- C) Geçiş hakkı
- D) Trafikten men

19. I. Araç durmadan kapı açmak
II. Kapıların kapanmasını beklemeden hareket etmek
III. Durakladıktan sonra aracın sağını kontrol etmeden kapı açmak ve kontrolsüz inip binmek
IV. Taşıt yolu üzerinde araçların sağ kapılarından yolcu indirip bindirmek

Yukarıdakilerden hangilerinin kara yolunu kullananlar için bir tehlike ve engel teşkil etmeyeceğinden emin olunmadıkça yapılması yasaktır?

- A) Yalnız I
- B) I ve II
- C) I, II ve III
- D) I, II, III ve IV

1. Aşağıdakilerden hangisi Coğrafi keşiflerin sonuçlarından biri değildir?
- A) Yeni kıta, ülke ve okyanusların bulunması
B) Akdeniz Limanlarının önem kazanması
C) Avrupa'dan keşfedilen yerlere göçlerin başlaması
D) Hıristiyanlığın yeni ülkelere yayılması
2. Osmanlı Devleti'nin ilk resmi tarihçisi (vakanüvisti) aşağıdakilerden hangisidir?
- A) Naima
B) Nef'i
C) İtri
D) Katip Çelebi
3. Osmanlı Devleti'nin fethettiği yerlere Anadolu'dan getirdiği Türkleri yerleştirmesinin amacı aşağıdakilerden hangisidir?
- A) Bölgedeki üretimi artırmak
B) Bölgenin yerli halkını göçe zorlamak
C) Fethedilen yerlere Türk-İslam kimliği kazandırmak
D) Bölgenin nüfusunu artırmak
4. Osmanlı Devleti'nin kuruluş döneminde eyalet, sancak ve kazalarda davalara bakmakla görevli kişi aşağıdakilerden hangisidir?
- A) Kadı
B) Yeniçeri ağası
C) Subaşı
D) Şeyhülislam
5. Aşağıdakilerden hangisi Celali İsyanları'nın sonuçlarından biri değildir?
- A) Köy ve kasalarda can ve mal güvenliğinin kalmaması
B) Vergilerin düzenli toplanmasının sağlanması
C) Halkın büyük şehirlere göç etmesi
D) Tarım üretiminin düşmesi
6. Aşağıdakilerden hangisi Tarhuncu Ahmet Paşa'nın devlet hazinesini düzeltmek için yaptığı çalışmalardan biri değildir?
- A) Devletin gelir ve giderlerini karşılaştıran bir rapor hazırlanması
B) Gereksiz bütün harcamaların önlenmesi
C) Devletin alacaklarının tahsil edilmeye başlanması
D) Yeni vergilerin getirilmesi
7. Arap ve Fars edebiyatı örnek alınarak, saray ve medrese çevresinde gelişen edebiyat türüne ne ad verilir?
- A) Garip edebiyatı
B) Halk edebiyatı
C) Tasavvuf edebiyatı
D) Divan edebiyatı
8. Osmanlı Devleti'nde düşman ülkelere seferler düzenleyerek bilgi toplamak, ordunun keşif hizmetini yapmak ve düşmanın pusu kurmasını önlemekle görevli askeri birlik aşağıdakilerden hangisidir?
- A) Tımarlı sipahiler
B) Akıncılar
C) Azaplar
D) Cebeciler
9. Aşağıdakilerden hangisi Celali İsyanları'nın nedenlerinden biri değildir?
- A) Köylünün üzerindeki vergi yükünün artması
B) Toprağını işleyemeyen köylünün eşkıyalığa başlaması
C) Kapıkulu Ocağı'na askerlikle ilgisi olmayanların alınması
D) Eyalet yöneticilerinin haksız ve adaletsiz uygulamalarının olması
10. Aşağıdakilerden hangisi İstanbul'un fethi için yapılan hazırlıklardan biri değildir?
- A) Karamanoğulları'yla anlaşarak Anadolu'nun güvenliğini sağlanması
B) Anadolu Hisarı'nın karşısına Rumeli Hisarı'nın yaptırılması
C) Haçlı ordusuyla anlaşma yapılarak Bizans'a yardım etmesinin engellenmesi
D) Edirne'de İstanbul surlarını yıkacak topların dökülmesi

11. Moğol İmparatorluğu'nun parçalanmasından üzerine İran ve çevresinde Hülâgu Han tarafından kurulan devlet aşağıdakilerden hangisidir?
- A) Altın Orda
B) İlhanlı
C) Türkiye Selçuklu
D) Memluk
12. Topkapı Sarayı'nın bir bölümü olan harem ile ilgili aşağıdaki ifadelerden hangisi yanlıştır?
- A) Harem aşası denen yöneticilerin denetimi altındaydı.
B) Hükümdar ve ailesinin yaşadığı bölümdü.
C) Babussade kapısı ile Enderun'a bağlanırdı.
D) Saray kadınlarının eğitim ve öğretimi burada yapılırdı.
13. Aşağıdakilerden hangisi Karesioğulları'nın Osmanlı Devleti'ne katılmasıyla Osmanlıya sağladığı faydalardan biri değildir?
- A) Macarların Balkanlar'daki etkisi azaldı.
B) Önemli devlet adamları ve yöneticileri Osmanlı hizmetine alındı.
C) Rumeli'ye geçiş için önemli bir adım atılmış oldu.
D) Karesioğulları'nın deniz gücü ve donanmasından yararlanıldı.
14. Aşağıdakilerden hangisi Osmanlı Devleti'ndeki askeri sınıflardan biri değildir?
- A) Kalemîye
B) Seyfiye
C) İlmiye
D) Reaya
15. Osmanlı Devleti'nde 11 yıl yaşanan fetret devrine son veren padişah aşağıdakilerden hangisidir?
- A) Mehmet Çelebi
B) Süleyman Çelebi
C) Musa Çelebi
D) İsa Çelebi
16. Osmanlı Devleti'nde devlet hazinesine ait ya da kişilerin kendi mülkleri olan arazi gelirlerini ilmi ve toplumsal kurumların masrafları için ayırdığı topraklara ne ad verilir?
- A) Dirlik
B) Ocaklık
C) Yurtluk
D) Vakıf
17. Anadolu'da Türk siyasi birliğini sağlama çalışmaları ilk kez hangi padişah döneminde başlamıştır?
- A) Yıldırım Bayezid
B) Ertuğrul Gazi
C) Osman Bey
D) Orhan Bey
18. XVI. yüzyılda dünyanın en büyük sömürge imparatorluğu aşağıdaki ülkelerden hangisidir?
- A) İspanya
B) ABD
C) İtalya
D) Fransa
19. Aşağıdakilerden hangisi Osmanlı Devleti ile Macarlar arasında 1444 yılında imzalanan Edirne-Segedin Antlaşması'nın maddeleri arasında ver almaz?
- A) Sırbistan bağımsız olacak fakat Osmanlı Devleti'ne vergi verecek
B) Tuna nehri iki taraf arasında sınır edilecek
C) Eflak tamamen Osmanlı egemenliğinde kalacak
D) Antlaşma on yıl geçerli olacak
20. Aşağıdakilerden hangisi Osmanlı bürokrasisini oluşturan kollardan biri değildir?
- A) İlmiye
B) Enderun
C) Kalemîye
D) Seyfiye

SEÇMELİ COĞRAFYA 4

A

2016 AÖÖ-AÖL III. DÖNEM 0103-A

1. Aşağıdakilerden hangisi Türkiye’de nüfusun 1985 yılından sonra düzenli olarak azalmasının nedenlerinden biri değildir?
 - A) Eğitim düzeyinin yükselmesi
 - B) Aile planlamasının uygulanması
 - C) Kent nüfusunun artması
 - D) Kadınların iş hayatından çekilmesi
2. Aşağıdakilerden hangisi Türkiye’deki heyelan set göllerinden biri değildir?
 - A) Abant Gölü
 - B) Sera Gölü
 - C) Nemrut Gölü
 - D) Tortum Gölü
3. Kurak ve yarı kurak bölgelerde, ilkbahar yağışlarıyla yeşeren ve yaz kuraklığı nedeniyle sararan ot topluluklarına ne ad verilir?
 - A) Maki
 - B) Bozkır
 - C) Çayır
 - D) Tundra
4. Göçebe çobanların çadırlarından oluşan, Batı ve Güney Toroslar ile Doğu ve Güneydoğu Anadolu bölgelerinde yaygın olan yerleşme türü aşağıdakilerden hangisidir?
 - A) Çiftlik
 - B) Ağıl
 - C) Kom
 - D) Oba
5. Aşağıdakilerden hangisi bozkırlarda yaygın olarak görülen ot türlerinden biridir?
 - A) Sakız
 - B) Zakkum
 - C) Kılıç otu
 - D) Defne
6. Aşağıdakilerden hangisi Türkiye’de görülen kışın yapraklarını döken ağaç türlerinden biridir?
 - A) Sedir
 - B) Kızılağaç
 - C) Ladin
 - D) Göknar
7. Türkiye’de, 1990 yılından sonra nüfus sayımlarının kaç yılda bir yapılmasına karar verilmiştir?
 - A) 5
 - B) 6
 - C) 8
 - D) 10
8. Kapalı havza veya eski göl tabanlarında oluşan toprak türü aşağıdakilerden hangisidir?
 - A) Regosoller
 - B) Tuzlu toprak
 - C) Kolüvyal toprak
 - D) Alüvyal toprak
9. Aşağıdakilerden hangisi Türkiye’deki göçün sonuçlarından biri değildir?
 - A) Şehir yaşamına uyum sağlamanın kolaylaşması
 - B) Eğitim ve sağlık hizmetlerinin aksaması
 - C) Çarpık kentleşmenin artması
 - D) Şehirlerde işsizliğin artması
10. Aşağıdakilerden hangisi kuraklığın başlıca sonuçlarından biri değildir?
 - A) Kıtık ve açlık tehlikesinin artması
 - B) İçme ve kullanma sularında sıkıntı yaşanmaması
 - C) Barajların su seviyesinin azalması
 - D) Ülke ekonomisinin zarar görmesi

11. Aşağıdakilerden hangisi erozyonu engellemek için alınması gereken önlemlerden biri değildir?

- A) Erozyona karşı halkın bilinçlendirilmesi
- B) Ormanlarda keçilerin otlatılmaması
- C) Tarım arazilerinin eğim yönünde sürülmesi
- D) Tarım topraklarının nadasa bırakılmaması

12. Aşağıdakilerden hangisi Coğrafi keşiflerin sonuçları arasında ver almaz?

- A) Baharat ve İpek yollarının önemi azalmıştır.
- B) Atlas okyanusu limanları kullanılmamaya başlamıştır.
- C) Akdeniz limanlarının önemi azalmıştır.
- D) Avrupa ve Amerika kıtaları önem kazanmıştır.

13. Tarihte kâğıdı ilk defa kullanan uygarlık aşağıdakilerden hangisidir?

- A) Çinliler
- B) Hunlar
- C) Assurlar
- D) Sümerler

14. Aşağıdakilerden hangisi sel ve taşkın olaylarının başlıca nedenlerinden biri değildir?

- A) Toprağın suyu fazla geçirmesi
- B) Karların hızlı erimesi
- C) Ani ve şiddetli yağışların yaşanması
- D) Doğal bitki örtüsünün yok edilmesi

15. Osmanlı Devleti'nde ilk nüfus sayımı hangi padişah döneminde yapılmıştır?

- A) II. Abdülhamit
- B) I. Mahmut
- C) II. Mahmut
- D) III. Selim

16. Aşağıdakilerden hangisi geçici kır yerleşmelerinden biri değildir?

- A) Mezra
- B) Ağıl
- C) Yayla
- D) Dam

17. Aşağıdakilerden hangisi afet öncesi alınması gereken önlemlerden biri değildir?

- A) Eğitim ve tatbikatların yapılması
- B) Afet yönetimi ve planlamasının yapılması
- C) Afet riski olan yerlerin belirlenmesi
- D) Yitecek, su, barınak ve ilaç eğitimi yapılması

18. Aşağıdakilerden hangisi Türkiye'nin en eski yerleşim alanlarından olmasının nedenlerinden biri değildir?

- A) Su kaynaklarının yeterli olması
- B) İkliminin elverişli olması
- C) Gelen her topluluğun devlet kurabilmesi
- D) Verimli tarım alanlarının olması

19. Maki ve çalılıkların olduğu yerlerde yetiştirilen hayvan türü aşağıdakilerden hangisidir?

- A) Kıl keçisi
- B) Sığır
- C) Arı
- D) Kümes hayvanları

20. Asya ve Amerika kıtalarını birbirinden ayıran boğaz aşağıdakilerden hangisidir?

- A) Cebelitarık Boğazı
- B) Hürmüz Boğazı
- C) Malakka Boğazı
- D) Bering Boğazı

1. Aşağıdakilerden hangisi nokta işaretinin kullanıldığı yerlerden biri değildir?

- A) Sayılardan sonra sıra belirtmek için konur.
- B) Sıralı cümleleri birbirinden ayırmak için konur.
- C) Bibliyografik künyelerin sonuna konur.
- D) Matematikte çarpma işareti yerine kullanılır.

2. Aşağıdaki cümlelerin hangisinde "-de"nin yazımı doğrudur?

- A) Sende beni hayal kırıklığına uğrattın.
- B) Aradığın şiirleri kitap da bulabilirsin.
- C) Akşam düzenlenen yemeğe ben de katılacağım.
- D) Mavi çantam kardeşim de kalmış.

3. Aşağıdakilerden hangisi dilin mülakatlardaki işlevlerinden biri değildir?

- A) Göndergesel işlevi
- B) Alıcıyı harekete geçirme işlevi
- C) Heyecana bağlı işlevi
- D) Dil ötesi işlevi

4. Aşağıdakilerden hangisi mülakatçının özelliklerinden biridir?

- A) Ayrıntılara önem vermesi
- B) Sabırlı, nazik ve dikkatli olması
- C) Aldığı cevaplara yorumunu katarak yazıya geçirmesi
- D) Mülakat esnasında sanat yönünden zengin bir dil kullanması

5. Nutuk türünün amacı nedir?

- A) Belli bir fikri, bir duyguyu aşlamak
- B) Bilgi vermek
- C) Bir sorunu değişik boyutları ile incelemek
- D) Ünlü birini tanıtmak

6. Aşağıdakilerin hangisinde virgül kaldırılırsa cümlenin anlamı değişir?

- A) Doktor hanım, başını kaldırıp yüzüne baktı.
- B) Karanlık, dar sokaklar uzadıkça uzuyordu.
- C) O gece, nöbet sırasının ona geldiğini öğrendi.
- D) Küçük, çam ağacının arkasına saklanmıştı.

7. Aşağıdaki kelimelerin hangisinin yazımı yanlıştır?

- A) kaçtı
- B) seçgin
- C) parkta
- D) kitaptan

8. Röportajın özellikleri ile ilgili aşağıdaki ifadelerden hangisi yanlıştır?

- A) Röportajı yapan kişi kendi görüşlerini röportaja katmaz.
- B) Röportajcı gördükleri ve izlenimleriyle yetinmeyip araştırma ve inceleme de yapar.
- C) Röportajcının amacı konuyu çarpıtmadan belgesel olarak okuyucuya sunmak ve okuyucuyu konunun içinde yaşatmaktır.
- D) Röportajlar okuyucunun dikkatini çekecek ve onları bazı konularda düşündürecek biçimde düzenlenir.

9. Göktürk Yazıtları'nın türü aşağıdakilerden hangisidir?

- A) Hikâye
- B) Söylev
- C) Söyleşi
- D) Röportaj

10. Bilimsel toplantılarda ilim ve fen insanların yaptıkları konuşmalar aşağıdaki söylev çeşitlerinden hangisine girer?

- A) Hukuksal söylev
- B) İktisadi söylev
- C) Siyasi söylev
- D) Akademik söylev

11. Mahkemelerde savcı ve avukatların yargılama sırasında savunmak ya da suçlamak amacıyla söyledikleri söylev türü aşağıdakilerden hangisidir?

- A) Siyasi söylev
- B) İktisadi söylev
- C) Hukuksal söylev
- D) Akademik söylev

12. Aşağıdakilerden hangisi sözlü anlatım türlerinden biridir?

- A) Hitabet
- B) Deneme
- C) Makale
- D) Eleştiri

13. Aşağıdakilerden hangisi "söylevci" ile aynı anlamdadır?

- A) Muallim
- B) Muhabir
- C) Eleştirmen
- D) Hatip

14. Mülakatla ilgili aşağıdaki ifadelerden hangisi yanlıştır?

- A) Mülakat yapılacak kişi ile konuşulanların dışına da çıkılabilir.
- B) Ayrıntıya girilmez.
- C) Alınan cevaplar aynen aktarılır.
- D) Görüşülen yer ve kişi tanıtılarak mülakata başlanabilir.

15. Aşağıdaki röportaj yazarı ve eseri eşleştirmelerinden hangisi yanlıştır?

- A) Yaşar Kemal - Bu Diyar Baştan Başa
- B) Fikret Ötyam - Doğudan Gezi Notları
- C) İbrahim Çallı - Çukurova Yana Yana
- D) Mustafa Baydar - Edebiyatçılarımız Ne Diyorlar

16. Aşağıdakilerden hangisi Latin edebiyatında tanınmış söylevcilerden biridir?

- A) Mirabeau
- B) Demosthenes
- C) Bossuet
- D) Cicero

17. Belli bir alanda üne kavuşmuş kişilerin özelliklerini belirten röportaj türü aşağıdakilerden hangisidir?

- A) İnsanı konu alan röportajlar
- B) Kitabı konu alan röportajlar
- C) Eşyayı konu alan röportajlar
- D) Bir yeri konu alan röportajlar

18. Cumhuriyet döneminin en büyük konuşmacısı aşağıdakilerden hangisidir?

- A) Ömer Naci
- B) Süleyman Nazif
- C) Mustafa Kemal Atatürk
- D) Hamdullah Suphi Tanrıöver

19. "Sevgili Arkadaşlarım! Yüksek öğrenim gençlerini, istediğimiz ve ihtiyaç duyduğumuz gibi milli bilinç sahibi, modern kültürlü olarak yetiştirmek için İstanbul Üniversitesi'nin gelişmesi, Ankara Üniversitesi'nin tamamlanması ve Doğu Üniversitesi'nin yapılan çalışmalarla belirlenmiş olan kurallar içinde Van Gölü civarında kurulması çalışmalarını hızla ve önemle sürdürülmektedir..."

Yukarıda bir parçası alıntılanan yazının türü aşağıdakilerden hangisidir?

- A) Söylev
- B) Mülakat
- C) Makale
- D) Nesir

20. "Yurttaşlarım! Az zamanda çok ve büyük işler yaptık; bu işlerin en büyüğü, temeli, Türk kahramanlığı ve yüksek Türk kültürü olan Türkiye Cumhuriyeti'dir.

Yukarıda bir parçası alıntılanan Atatürk'ün konuşmasının türü aşağıdakilerden hangisidir?

- A) Tirad
- B) Nutuk
- C) Nesir
- D) Hitabet

1. Wir wohnen in einem Haus mit Garten.

Wie lautet der obige Satz im Perfekt?

Verilen cümlelerin di' li geçmiş zaman şekli aşağıdakilerden hangisidir?

- A) Wir hätten in einem Haus mit Garten wohnen können.
 B) Wir hatten in einem Haus mit Garten wohnen wollen.
 C) Wir haben in einem Haus mit Garten gewohnt.
 D) Wir seien in einem Haus mit Garten gewohnt.

2. Was bedeutet "kısım" auf Deutsch?

"kısım" sözcüğünün Almancası aşağıdakilerden hangisidir?

- A) Der Ofen
 B) Der Haken
 C) Die Börse
 D) Der Teil

3. Die Sonne geht auf.

Wie lautet der obige Satz auf Türkisch?

Verilen cümlelerin Türkçesi aşağıdakilerden hangisidir?

- A) Güneş yakıyor.
 B) Güneş doğuyor.
 C) Güneş tutuldu.
 D) Güneş battı.

4. Das Kind bestellt Hamburger.

Wie lautet der obige Satz in der Pluralform?

Verilen cümlelerin çoğul hali aşağıdakilerden hangisidir?

- A) Die Kinder bestellen Hamburger.
 B) Die Kinder bestellten Hamburger.
 C) Das Kind bestellte Hamburgers.
 D) Das Kind will Hamburgers bestellen.

5. Spät am Abend die Frauen einkaufen.

Welches Wort passt in die obige Lücke?

Cümlede boş bırakılan yeri aşağıdakilerden hangisi doğru şekilde tamamlar?

- A) schrieben
 B) dachten
 C) gingen
 D) sein

6. Was ist ein Duden?

Welche Antwort passt zur obigen Frage?

Verilen sorunun cevabı aşağıdakilerden hangisidir?

- A) Dort kann man neue Geschichten finden.
 B) Dort kann man nachschlagen und neue Wörter lernen.
 C) Es ist eine Speisekarte.
 D) Das ist ein Schulbuch für Mathematik.

7. Es gab einen schrecklichen Regen,

Welches ergänzt die Lücke im obigen Satz?

Verilen cümleyi aşağıdakilerden hangisi tamamlar?

- A) kommst zum Essen.
 B) freue mich auf die Einladung.
 C) wenn ich studieren kann.
 D) als ich gestern in der Stadt war.

8. Das ist eine Einbahnstrasse.

Wie lautet der obige Satz auf Türkisch?

Verilen cümlelerin Türkçesi aşağıdakilerden hangisidir?

- A) Bu tek araçlık yol.
 B) Burada tek yönlü yol az.
 C) Bu tek yönlü bir yol.
 D) Buraya tek yönlü araçlar girebilir.

9. Ahmet macht jeden Sport.

Welches Wort passt nicht in die obige Lücke?

Cümlede boş bırakılan yeri aşağıdakilerden hangisi doğru tamamlamaz?

- A) Tag
- B) Morgen
- C) Abend
- D) Jahr

10., habe ich bessere Berufschancen.

Welches ergänzt die Lücke im obigen Satz?

Verilen cümleyi aşağıdakilerden hangisi tamamlar?

- A) Weil er Technologie Bücher gerne ließt
- B) Jetzt besuche ich einen Kurs
- C) Wenn ich die Deutschprüfung bestehe
- D) Ich bin zweisprachig aufgewachsen

11., dem ich immer vertrauen kann.

Welches ergänzt die Lücke im obigen Satz?

Verilen cümleyi aşağıdakilerden hangisi tamamlar?

- A) Ich wünsche mir einen Freund
- B) Mario hat eine Freundin
- C) Wir kennen viele Freunde
- D) Der einzige Mensch ist meine Frau

12. Anitkabir ist Ankara.

Welches Wort passt in die obige Lücke?

Cümlede boş bırakılan yeri aşağıdakilerden hangisi doğru şekilde tamamlar?

- A) nach
- B) in
- C) an
- D) auf

13. Frau Reinicke benutzt ihr Auto, wenn sie zur Arbeit fährt.

Welches Wort passt in die obige Lücke?

Cümlede boş bırakılan yeri aşağıdakilerden hangisi doğru şekilde tamamlar?

- A) gewöhnlich
- B) besorglich
- C) kindlich
- D) folglich

14. ZDF ist ein Fernsehsender. Ich mag den Sender.

Wie kann man die obigen Sätze verbinden?

Verilen cümlelerin birleştirilmiş hali aşağıdakilerden hangisidir?

- A) Wenn ZDF ein Fernsehsender ist, mag ich es nicht.
- B) Ich sehe alle Fernsehprogramme im ZDF.
- C) ZDF ist ein Fernsehsender, den ich mag.
- D) Die Sender, die im ZDF sind, sind alle neu.

15. Was bedeutet "deniz" auf Deutsch?

"deniz" sözcüğünün Almancası aşağıdakilerden hangisidir?

- A) Das Land
- B) Das Meer
- C) Die Wiese
- D) Der Baum

16. Wenn die Menschen nicht rauchen würden,

Welches ergänzt die Lücke im obigen Satz?

Verilen cümleyi aşağıdakilerden hangisi tamamlar?

- A) hättest viel arbeiten müssen.
- B) würden immer rauchen.
- C) hatten ein ruhiges Leben.
- D) wären sie gesünder.

17. Ich denke, daß wir uns spätestens zum Neujahr wieder sehen werden.

Welche Frage passt zur obigen Antwort?

Verilen cevabı gerektirecek soru aşağıdakilerden hangisidir?

- A) Wann sehen wir uns wieder?
- B) Warum kommst du so spät?
- C) Hattest du eine bequeme Heimreise?
- D) Hat dir diese Jacke besser gepaßt?

18. Wenn er die Möglichkeit, er nach Berlin fahren.

Welche Wörter passen in die obigen Lücken?

Cümlede boş bırakılan yerleri aşağıdakilerden hangileri doğru şekilde tamamlar?

- A) hatte / wird
- B) hätte / würde
- C) hat / wäre
- D) hätten / wirst

19., hoffentlich regnet es nicht!

Welcher Satz ergänzt die obigen Lücke?

Verilen cümleyi aşağıdakilerden hangisi tamamlar?

- A) Wir wollen einen Ausflug machen
- B) Ich habe keine Zeit
- C) Das ist eine hübsche Überraschung
- D) Wir müssen leider für die Prüfung arbeiten

20. Wann du deine Hausaufgaben?

Welche Wörter passen in die obigen Lücken?

Cümlede boş bırakılan yerleri aşağıdakilerden hangileri tamamlar?

- A) werden / machten
- B) wirst / machen
- C) wird / macht
- D) wird / seien

1. I never an octopus before.

Which of the following completes the sentence above?

Aşağıdakilerden hangisi yukarıdaki cümleyi doğru olarak tamamlar?

- A) ---- / seen
B) were / saw
C) will / see
D) have / seen

2. "İki yıldır onunla karşılaşmadım."

Which of the following is the English translation of the sentence above?

Yukarıdaki cümlenin İngilizce karşılığı aşağıdakilerden hangisidir?

- A) I don't meet her for two years.
B) I haven't met her for two years.
C) I am not going to meet her next year.
D) I can't meet her now.

3. New York is city in the world.

Which of the following completes the sentence above?

Aşağıdakilerden hangisi yukarıdaki cümleyi doğru olarak tamamlar?

- A) the most crowded
B) more crowded
C) crowded
D) less crowded

4. They played games in the park yesterday,?

Which of the following completes the sentence above?

Aşağıdakilerden hangisi yukarıdaki cümleyi doğru olarak tamamlar?

- A) did they
B) can't they
C) didn't they
D) won't they

5. Mum: Clean your room!
Son: I have cleaned it. It's clean now.

Which of the following completes the dialogue above?

Aşağıdakilerden hangisi yukarıdaki konuşmayı doğru olarak tamamlar?

- A) already
B) yet
C) lately
D) ever

6. Our house is than your house.

Which of the following completes the sentence above?

Aşağıdakilerden hangisi yukarıdaki cümleyi doğru olarak tamamlar?

- A) big
B) more bigger
C) more big
D) bigger

7. When I saw the kids in the garden,

Which of the following completes the sentence above?

Aşağıdakilerden hangisi yukarıdaki cümleyi doğru olarak tamamlar?

- A) they can fight
B) they were fighting
C) they fight
D) they will fight

8. Jack is a reader. He reads his book

Which of the following completes the sentence above?

Aşağıdakilerden hangisi yukarıdaki cümleyi doğru olarak tamamlar?

- A) quick / quick
B) quickly / quick
C) quick / quickly
D) quickly / quickly

9. If she some time, she me with my project.

Which of the following completes the sentence above?

Aşağıdakilerden hangisi yukarıdaki cümleyi doğru olarak tamamlar?

- A) has / will help
- B) is having / will help
- C) have / will help
- D) has / helped

10. I don't have enough time for holidays. I wish

Which of the following completes the sentence above?

Aşağıdakilerden hangisi yukarıdaki cümleyi doğru olarak tamamlar?

- A) I am having enough time
- B) I don't have enough time
- C) I had enough time
- D) I didn't have enough time

11. English is in England.

Which of the following completes the sentence above?

Aşağıdakilerden hangisi yukarıdaki cümleyi doğru olarak tamamlar?

- A) speaking
- B) spoken
- C) speaks
- D) speak

12. Cem by a thief last night.

Which of the following completes the sentence above?

Aşağıdakilerden hangisi yukarıdaki cümleyi doğru olarak tamamlar?

- A) robbed
- B) was robbed
- C) will rob
- D) has robbed

13. The dinner is for us at the moment.

Which of the following completes the sentence above?

Aşağıdakilerden hangisi yukarıdaki cümleyi doğru olarak tamamlar?

- A) preparing
- B) being prepared
- C) prepared
- D) has prepared

14. Tomorrow is Saturday. We go to school. We can go to the cinema.

Which of the following completes the sentence above?

Aşağıdakilerden hangisi yukarıdaki cümleyi doğru olarak tamamlar?

- A) have to
- B) must
- C) should
- D) don't have to

15. Mike: I borrow your suitcase Brian?
Brian: Yes, of course.

Which of the following completes the dialogue above?

Aşağıdakilerden hangisi yukarıdaki konuşmayı doğru olarak tamamlar?

- A) Can
- B) Will
- C) Did
- D) Do

16. My mother asked me what I was doing.

Which of the following is the direct speech form of the reported speech sentence above?

Aşağıdakilerden hangisi yukarıdaki dolaylı anlatım cümlesinin dolaysız anlatım biçimidir?

- A) My mother asks, "What have you done?"
- B) My mother asks, "What were you doing?"
- C) My mother asked, "What did you do?"
- D) My mother asked, "What are you doing?"

17. She said, "I'm a teacher."

Which of the following is the reported speech form of the direct speech sentence above?

Aşağıdakilerden hangisi yukarıdaki dolaysız anlatım cümlesinin dolaylı anlatım biçimidir?

- A) She said that she had been a teacher.
- B) She says that she is a teacher.
- C) She said that she has been a teacher.
- D) She said that she was a teacher.

18. Tom asked me I knew Spanish.

Which of the following completes the sentence above?

Aşağıdakilerden hangisi yukarıdaki cümleyi doğru olarak tamamlar?

- A) if
- B) when
- C) where
- D) what

19. If I went to France, I The Louvre Museum.

Which of the following completes the sentence above?

Aşağıdakilerden hangisi yukarıdaki cümleyi doğru olarak tamamlar?

- A) visit
- B) will visit
- C) would visit
- D) can visit

20. Julia would rather Franz Kafka than watch soap opera on television.

Which of the following completes the sentence above?

Aşağıdakilerden hangisi yukarıdaki cümleyi doğru olarak tamamlar?

- A) reading
- B) be reading
- C) read
- D) to read

1. J'ai deux voitures et Marie a 5 voitures, donc

Choisissez le mot qui convient.

Cümledeki boşluğu aşağıdakilerden hangisi doğru şekilde tamamlar?

- A) Marie a autant de voitures que moi
B) Marie a moins de voitures que moi
C) J'ai autant de voitures que Marie
D) J'ai moins de voitures que Marie

2. C'est qui est tombée.

Choisissez le mot qui convient.

Cümledeki boşluğu aşağıdakilerden hangisi doğru şekilde tamamlar?

- A) elle
B) lui
C) moi
D) toi

3. C'est la ville nous avons habité pendant 10 ans.

Choisissez le mot qui convient.

Cümledeki boşluğu aşağıdakilerden hangisi doğru şekilde tamamlar?

- A) qui
B) que
C) où
D) ce qui

4. Je viens Canada.

Choisissez le mot qui convient.

Cümledeki boşluğu aşağıdakilerden hangisi doğru şekilde tamamlar?

- A) du
B) de
C) de la
D) des

5. «Tu as pris ton parapluie?»

Choisissez la traduction qui convient.

Yukarıdaki cümlelerin Türkçe karşılığı aşağıdakilerden hangisidir?

- A) Şemsiyeni aldın mı?
B) Şemsiye alsak mı?
C) Şemsiye alalım mı?
D) Yağmur mu yağıyor?

6. Elle dira tu dis.

Choisissez l'expression qui convient.

Cümledeki boşluğu aşağıdakilerden hangisi doğru şekilde tamamlar?

- A) c'est qui
B) ce qui
C) ce que
D) c'est que

7. I. Pardon Monsieur.
II. Pouvez-vous m'indiquer le chemin pour aller à la tour Eiffel?
III. Je vois la pharmacie.
IV. S'il vous plaît?

Trouvez la phrase qui ne convient pas.

Cümleler sırasıyla okunduğunda, anlam bütünlüğünü bozan cümleyi bulunuz.

- A) I
B) II
C) III
D) IV

8. Nous au bord de la mer la semaine prochaine.

Choisissez le mot qui convient.

Cümledeki boşluğu aşağıdakilerden hangisi doğru şekilde tamamlar?

- A) vont
B) sommes allés
C) allions
D) irons

9. Denise joue 8 ans. Elle joue

Choisissez les mots qui conviennent.

Cümledeki boşlukları aşağıdakilerden hangisi doğru şekilde tamamlar?

- A) dans / aussi
B) depuis / bien
C) dans / mal
D) depuis / vraiment

10. Je peux parler français car je travaille

Choisissez le mot qui convient.

Cümledeki boşluğu aşağıdakilerden hangisi doğru şekilde tamamlar?

- A) pas
B) peu
C) beaucoup
D) jamais

11. - Tu écris souvent à tes parents?
- Oui, je écris souvent.

Choisissez le mot qui convient.

Yukarıdaki konuşmada boş bırakılan yeri aşağıdakilerden hangisi doğru şekilde tamamlar?

- A) elle
B) les
C) lui
D) leur

12. - Il va chez le médecin?
- Oui, il va.

Choisissez le mot qui convient.

Yukarıdaki konuşmada boş bırakılan yeri aşağıdakilerden hangisi doğru şekilde tamamlar?

- A) lui
B) en
C) y
D) me

13. Si tu veux maigrir, tu dois

Choisissez l'expression qui convient.

Cümledeki boşluğu aşağıdakilerden hangisi doğru şekilde tamamlar?

- A) dormir beaucoup
B) faire du sport
C) manger beaucoup
D) rater le bus

14. Tous les garçons aiment jouer football.

Choisissez le mot qui convient.

Cümledeki boşluğu aşağıdakilerden hangisi doğru şekilde tamamlar?

- A) au
B) à
C) du
D) les

15. Le cinquième mois de l'année c'est

Choisissez le mot qui convient.

Cümledeki boşluğu aşağıdakilerden hangisi doğru şekilde tamamlar?

- A) juin
B) août
C) septembre
D) mai

16. «Öğretmen nazikçe konuşuyor.»

Choisissez la traduction qui convient.

Yukarıdaki cümlenin Fransızca karşılığı aşağıdakilerden hangisidir?

- A) Le professeur est franc.
B) L'instituteur parle gentiment.
C) Le professeur est gentil.
D) L'instituteur parle doucement.

17. La voiture j'ai est

Choisissez les mots qui conviennent.

Cümledeki boşlukları aşağıdakilerden hangisi doğru şekilde tamamlar?

- A) qui / vue / bleue
B) que / vue / bleue
C) que / vu / bleu
D) qui / vu / bleu

18. Le bus est parti sans moi: j'ai le bus.

Choisissez le mot qui convient.

Cümledeki boşluğu aşağıdakilerden hangisi doğru şekilde tamamlar?

- A) raté
B) conduit
C) voyagé
D) pris

19. Quand je lui ai téléphoné, il déjà sorti.

Choisissez le mot qui convient.

Cümledeki boşluğu aşağıdakilerden hangisi doğru şekilde tamamlar?

- A) est
B) était
C) avait
D) a

20. hiver, il fait froid.

Choisissez le mot qui convient.

Cümledeki boşluğu aşağıdakilerden hangisi doğru şekilde tamamlar?

- A) En
B) De
C) Le mois
D) Au

1. Im 21. Jahrhundert sich das Leben in allen Bereichen

Welche Wörter passen in die obigen Lücken?

Cümlede boş bırakılan yerleri aşağıdakilerden hangileri tamamlar?

- A) hatte / angefangen
B) hat / verändert
C) sind / größer
D) werden / vergessen haben

2. Dein Zeugnis ist besser als

Welches Wort passt in die obige Lücke?

Cümlede boş bırakılan yeri aşağıdakilerden hangisi doğru şekilde tamamlar?

- A) meinem
B) mein
C) meins
D) meinen

3. Mein Haus ist als deine Wohnung.

Welches Wort passt nicht in die obige Lücke?

Cümlede boş bırakılan yeri aşağıdakilerden hangisi doğru şekilde tamamlamaz?

- A) schneller
B) teurer
C) schöner
D) grösser

4. Was bedeutet "kanun" auf Deutsch?

"kanun" sözcüğünün Almancası aşağıdakilerden hangisidir?

- A) Das Gesetz
B) Das Taschengeld
C) Der Feiertag
D) Die Unterstützung

5. Warum werden Verkehrspolizisten eingesetzt?

Welche Antwort passt zur obigen Frage?

Verilen sorunun cevabı aşağıdakilerden hangisidir?

- A) Sie sorgen für die soziale Ordnung.
B) Sie können eingesetzt werden, wenn die Kinder es brauchen.
C) Sie werden eingesetzt, um den Verkehr zu ordnen.
D) Sie unterstützen die Familien.

6. Gamze möchte Deutsch lernen.

Welche Frage passt zur obigen Antwort?

Verilen cevabı gerektirecek soru aşağıdakilerden hangisidir?

- A) Wann geht Gamze zu einem Sprachkurs?
B) Kann Gamze gut deutsch sprechen?
C) Zu welchem Kurs geht Gamze?
D) Was möchte Gamze?

7. Er ist zur Zeit in Ankara.

Welches Wort passt in die obige Lücke?

Cümlede boş bırakılan yeri aşağıdakilerden hangisi tamamlar?

- A) verboten
B) verspätet
C) wohnhaft
D) besetzt

8. Die Banken jeden Tag um 8.00 Uhr.

Welches Wort passt in die obige Lücke?

Cümlede boş bırakılan yeri aşağıdakilerden hangisi doğru şekilde tamamlar?

- A) endet
B) enden
C) öffnet
D) öffnen

9. 1980 1984 habe ich die Grundschule besucht.

Welche Wörter passen in die obigen Lücken?

Cümlede boş bırakılan yerleri aşağıdakilerden hangileri tamamlar?

- A) Bis / um
B) Von / bis
C) Seit / ab
D) Am / bis

10. Man sagt, er einen Brief an seine Freundin!

Welches Wort passt in die obige Lücke?

Cümlede boş bırakılan yeri aşağıdakilerden hangisi doğru şekilde tamamlar?

- A) schriebst
B) schriebe
C) schreibet
D) schreiben

11. A: Ihr seid noch hier?
B: Ja!
A: Wir dachten,

Welches ergänzt die Lücke im obigen Dialog?

Verilen karşılıklı konuşmada boş bırakılan yeri aşağıdakilerden hangisi tamamlar?

- A) er hätte das Buch gelesen!
B) alles könnte gut gehen!
C) ihr wärt im Seminar!
D) du hast doch Ferien!

12. Tekrar evlendiğini duydum.

Wie lautet der obige Satz auf Deutsch?

Verilen cümlelerin Almancası aşağıdakilerden hangisidir?

- A) Ich habe von Freunden gehört, dass du heiraten willst.
B) Ich dachte, dass du niemals wieder heiraten würdest.
C) Ich träumte davon, dass du heiratest.
D) Ich habe gehört, du hast wieder geheiratet.

13. Peter sagte mir, der Film sei von einem weltberühmten Regisseur gedreht worden.

Welche Frage passt zur obigen Antwort?

Verilen cevabı gerektirecek soru aşağıdakilerden hangisidir?

- A) Warum will Peter diesen Film nicht sehen?
B) Was hat Peter dir über den Film erzählt?
C) Wann fängt der Film an?
D) Warum möchte Peter immer lesen?

14. Der Reporter sagte,, bei dem glücklicherweise keiner verletzt wurde.

Welches ergänzt die Lücke im obigen Satz?

Verilen cümleyi aşağıdakilerden hangisi tamamlar?

- A) gestern habe es einen Verkehrsunfall gegeben
B) die Fußballmannschaft werde Erfolg haben
C) die Geschäfte seien durchgehend geschlossen
D) gestern war der Verkehr zu überfüllt

15. Die Bank ist am Montag der Reparatur durchgehend geschlossen.

Welches Wort passt in die obige Lücke?

Cümlede boş bırakılan yeri aşağıdakilerden hangisi tamamlar?

- A) wegen
B) irgendwann
C) nur
D) sonst

16. Wir kommen am Sonntag nach Eskişehir.

Welches ist die Konjunktivform vom obigen Satz?

Verilen cümlelerin Konjunktiv hali aşağıdakilerden hangisidir?

- A) Man hörte, daß ihr am Sonntag ins Theater gehen wollt.
B) Man spricht davon, daß wir am Sonntag ins Kino gehen.
C) Man sagt, ihr kämet am Sonntag nach Eskişehir.
D) Man will, daß ich am Sonntag nach Eskişehir komme.

17. Der Mann, der nebenan wohnt, ist Mathematiklehrer.

Wie lautet der obige Satz auf Türkisch?

Verilen cümlelerin Türkçesi aşağıdakilerden hangisidir?

- A) Yan tarafta oturan bey matematik öğretmeni.
- B) Yanındaki adam galiba matematik öğretmeni.
- C) Yanında oturan beyin matematik öğretmeni olduğunu söylüyorlar.
- D) Yukarıda gördüğün adam matematik öğretmeni olabilir.

18. Die Frau,, ist sehr freundlich.

Welcher Satz ergänzt nicht die obige Lücke?

Verilen cümleyi aşağıdakilerden hangisi tamamlamaz?

- A) das sehr alt ist
- B) der du hilfst
- C) die nach Ankara fährt
- D) deren Kinder in der Schule sind

19. Mit Käse.

Welche Frage passt zur obigen Antwort?

Verilen cevabı gerektirecek soru aşağıdakilerden hangisidir?

- A) Mit wem gehst du nach Holland?
- B) Mit welcher Spezialität ist Holland berühmt?
- C) Wo finde ich etwas gutes zum Essen?
- D) Haben Sie frisches Gemüse?

20. Der Mann, Sohn heute heiratet, ist sehr nervös.

Welches Wort passt in die obige Lücke?

Cümlede boş bırakılan yeri aşağıdakilerden hangisi tamamlar?

- A) deren
- B) dem
- C) dessen
- D) denen

1. While Tommy was reading a book, his friend him.

Which of the following completes the sentence above?

Aşağıdakilerden hangisi yukarıdaki cümleyi doğru olarak tamamlar?

- A) calls
B) called
C) is calling
D) was called

2. I get up at six two years ago, but now I get up at eight.

Which of the following completes the sentence above?

Aşağıdakilerden hangisi yukarıdaki cümleyi doğru olarak tamamlar?

- A) must have
B) used to
C) used
D) can

3. Tery used to a lot when he was a child.

Which of the following completes the sentence above?

Aşağıdakilerden hangisi yukarıdaki cümleyi doğru olarak tamamlar?

- A) cry
B) has cried
C) cried
D) crying

4. Ken used towith a toy guitar when he was a child.

Which of the following completes the sentence above?

Aşağıdakilerden hangisi yukarıdaki cümleyi doğru olarak tamamlar?

- A) will play
B) play
C) playing
D) played

5. My little sister any vegetables two years ago.

Which of the following completes the sentence above?

Aşağıdakilerden hangisi yukarıdaki cümleyi doğru olarak tamamlar?

- A) ate
B) use to eat
C) didn't use to eat
D) didn't used to eat

6. A: yesterday afternoon?
B: I was at home. I was helping my mum.

Which of the following completes the dialogue above?

Aşağıdakilerden hangisi yukarıdaki konuşmayı doğru olarak tamamlar?

- A) What have you done
B) What are you doing
C) What were you doing
D) What do you do

7. Paul has been a teacher two years.

Which of the following completes the sentence above?

Aşağıdakilerden hangisi yukarıdaki cümleyi doğru olarak tamamlar?

- A) since
B) for
C) already
D) before

8. I was going to theatre, I saw an accident.

Which of the following completes the sentence above?

Aşağıdakilerden hangisi yukarıdaki cümleyi doğru olarak tamamlar?

- A) Which
B) Where
C) While
D) Who

9. We our cousins for a long time.

Which of the following completes the sentence above?

Aşağıdakilerden hangisi yukarıdaki cümleyi doğru olarak tamamlar?

- A) didn't see
- B) hasn't seen
- C) see
- D) haven't seen

10. Ege hasn't done any homework the beginning of the term.

Which of the following completes the sentence above?

Aşağıdakilerden hangisi yukarıdaki cümleyi doğru olarak tamamlar?

- A) since
- B) for
- C) at
- D) to

11. I haven't seen her last month.

Which of the following completes the sentence above?

Aşağıdakilerden hangisi yukarıdaki cümleyi doğru olarak tamamlar?

- A) since
- B) for
- C) ago
- D) before

12. I television when the bell rang.

Which of the following completes the sentence above?

Aşağıdakilerden hangisi yukarıdaki cümleyi doğru olarak tamamlar?

- A) was watching
- B) have watched
- C) having watched
- D) watching

13. They were sitting at the breakfast table the guests came.

Which of the following completes the sentence above?

Aşağıdakilerden hangisi yukarıdaki cümleyi doğru olarak tamamlar?

- A) since
- B) while
- C) when
- D) already

14. Sally does her homework than me.

Which of the following completes the sentence above?

Aşağıdakilerden hangisi yukarıdaki cümleyi doğru olarak tamamlar?

- A) fast
- B) fastest
- C) more fast
- D) faster

15. Don't speak loudly, ?

Which of the following completes the sentence above?

Aşağıdakilerden hangisi yukarıdaki cümleyi doğru olarak tamamlar?

- A) do you
- B) does she
- C) will you
- D) are we

16. These books are than the ones in the other bookstore.

Which of the following completes the sentence above?

Aşağıdakilerden hangisi yukarıdaki cümleyi doğru olarak tamamlar?

- A) older
- B) more older
- C) the oldest
- D) old

17. Zerrin: Who will the washing up?

Nurcan: Well, I won't.

Which of the following completes the dialogue above?

Aşağıdakilerden hangisi yukarıdaki konuşmayı doğru olarak tamamlar?

- A) done
- B) doing
- C) does
- D) do

18. Joe: You went to Germany last week,?
Luke: Yes, I did.

Which of the following completes the dialogue above?

Aşağıdakilerden hangisi yukarıdaki konuşmayı doğru olarak tamamlar?

- A) do we
- B) didn't you
- C) did you
- D) weren't you

19. Mary: Let's watch a movie,?

Ernest: That's a good idea.

Which of the following completes the dialogue above?

Aşağıdakilerden hangisi yukarıdaki konuşmayı doğru olarak tamamlar?

- A) do they
- B) shall they
- C) will we
- D) shall we

20. Ali solved all the problems than his friends.

Which of the following completes the sentence above?

Aşağıdakilerden hangisi yukarıdaki cümleyi doğru olarak tamamlar?

- A) easy
- B) most easily
- C) easily
- D) more easily

1. Cette cravate 25 euros.

Choisissez le mot qui convient.

Cümledeki boşluğu aşağıdakilerden hangisi doğru şekilde tamamlar?

- A) achète
B) coûte
C) dit
D) vend

2. -

- Oui, je joue au basket chaque semaine.

Choisissez la question qui convient.

Yukarıdaki konuşmada cevabı gerektiren soru aşağıdakilerden hangisidir?

- A) Vous jouez au tennis?
B) Quel sport aimez-vous?
C) Vous pratiquez régulièrement un sport?
D) Pourquoi vous ne pratiquez pas un sport?

3. tranquille, tout s'arrangera.

Choisissez le mot qui convient.

Cümledeki boşluğu aşağıdakilerden hangisi doğru şekilde tamamlar?

- A) Soyez
B) Aie
C) Regardez
D) Tenez

4. Je joue basket.

Choisissez le mot qui convient.

Cümledeki boşluğu aşağıdakilerden hangisi doğru şekilde tamamlar?

- A) de la
B) du
C) au
D) de

5. L'homme travaille dans cette usine est mon oncle.

Choisissez le mot qui convient.

Cümledeki boşluğu aşağıdakilerden hangisi doğru şekilde tamamlar?

- A) où
B) qui
C) que
D) quand

6. Pierre :?

Paul : Je suis avocat.

Choisissez la question qui convient.

Yukarıdaki konuşmada cevabı gerektiren soru aşağıdakilerden hangisidir?

- A) Que dessines-tu?
B) Quel est ton nom?
C) Comment fais-tu?
D) Quel est ton métier?

7. «Eloïse a perdu sa carte d'identité.»

Choisissez la traduction qui convient.

Yukarıdaki cümlenin Türkçe karşılığı aşağıdakilerden hangisidir?

- A) Eloïse nüfus cüzdanını kaybetti.
B) Eloïse kartlarını dağıttı.
C) Eloïse kartlarını herkese verdi.
D) Eloïse kimlik bilgilerini aldı.

8. Quand je suis fatigué, je

Choisissez l'expression qui convient.

Yukarıdaki cümlede boş bırakılan yeri aşağıdakilerden hangisi doğru şekilde tamamlar?

- A) danse
B) me repose
C) fais du vélo
D) fait du violon

9. Je crois tu as raison.

Choisissez le mot qui convient.

Cümledeki boşluğu aşağıdakilerden hangisi doğru şekilde tamamlar?

- A) quoi
B) qui
C) qu'
D) que

10. Henri fait la cuisine de la musique.

Choisissez le mot qui convient.

Cümledeki boşluğu aşağıdakilerden hangisi doğru şekilde tamamlar?

- A) écoutant
B) écoute
C) en écoutant
D) écouter

11. «Yazacağım mektup yarın gönderilmiş olacak.»

Choisissez la traduction qui convient.

Yukarıdaki cümlelerin Fransızca karşılığı aşağıdakilerden hangisidir?

- A) La lettre que j'ai écrite a été envoyée hier.
- B) La lettre écrite a été envoyée.
- C) La lettre que j'écrirai sera envoyée demain.
- D) La lettre que j'écris sera envoyée demain.

12. I. Nous habitons à Paris.
II. L'école est proche.
III. C'est la capitale de la France.
IV. Il y a beaucoup de touristes ici.

Trouvez la phrase qui ne convient pas.

Cümleler sırasıyla okunduğunda, anlam bütünlüğünü bozan cümleyi bulunuz.

- A) I
- B) II
- C) III
- D) IV

13. L'école tu est en face du

Choisissez les mots qui conviennent.

Cümledeki boşlukları aşağıdakilerden hangisi doğru şekilde tamamlar?

- A) dont / vas / bistrot
- B) où / vas / cinéma
- C) que / voit / cinéma
- D) où / va / poste

14. Je joue piano.

Choisissez le mot qui convient.

Cümledeki boşluğu aşağıdakilerden hangisi doğru şekilde tamamlar?

- A) au
- B) de la
- C) du
- D) de

15. L'automne est une

Choisissez le mot qui convient.

Cümledeki boşluğu aşağıdakilerden hangisi doğru şekilde tamamlar?

- A) jour
- B) année
- C) semaine
- D) saison

16. Les vacances sont en décembre.

Choisissez le mot qui convient.

Cümledeki boşluğu aşağıdakilerden hangisi doğru şekilde tamamlar?

- A) d'été
- B) de Noël
- C) de printemps
- D) de février

17. La fille que vous voyez est la plus belle fille de l'école.

Choisissez la traduction qui convient.

Yukarıdaki cümlelerin Türkçe karşılığı aşağıdakilerden hangisidir?

- A) Gördüğünüz kız en güzel okula gider.
- B) Görüştüğüm kız benim için en güzeldir.
- C) Gördüğünüz kız okulun en güzel kızıdır.
- D) Gördüğümüz kız okulun en iyisidir.

18. Les courses se font au

Choisissez le mot qui convient.

Cümledeki boşluğu aşağıdakilerden hangisi doğru şekilde tamamlar?

- A) supermarché
- B) cinéma
- C) théâtre
- D) librairie

19. Il faut un passeport quand on veut partir

Choisissez l'expression qui convient.

Cümledeki boşluğu aşağıdakilerden hangisi doğru şekilde tamamlar?

- A) à la maison
- B) chez le médecin
- C) au magasin
- D) à l'étranger

20. Je veux acheter la voiture tu parles.

Choisissez le mot qui convient.

Cümledeki boşluğu aşağıdakilerden hangisi doğru şekilde tamamlar?

- A) dont
- B) qui
- C) que
- D) où

SINAVDA UYULMASI GEREKEN GENEL KURALLAR

1. Sınava girmek için gerekli belgelerinizin tümünü sınav başlamadan önce sıranızın üzerine bırakınız.
2. Sınav süresince görevlilerle konuşmak, görevlilere soru sormak yasaktır. Aynı şekilde görevlilerin de öğrencilerle/adaylarla yakından ve alçak sesle konuşmaları yasaktır. Gerekli durumlarda görevliler yerinizi değiştirebilir.
3. Size verilen cevap kâğıdının üzerindeki TCKN/Öğrenci no, ad, soyadı, bilgilerini kontrol ediniz, ilgili alanları eksiksiz doldurarak imzalayınız. Bu bilgiler size ait değilse, kâğıt üzerinde hiçbir işlem yapmadan görevlileri uyararak size ait cevap kâğıdını isteyiniz. Başkasına ait cevap kâğıdı kullanan öğrencilerin sınavları geçersiz sayılır.
4. Cevap kâğıdı üzerine test grubunu (kitapçık türünü) kodlamayan veya birden fazla grubu kodlayanların sınavları geçersiz sayılır.
5. Cevap kâğıdınıza yazacağınız her türlü yazı ve yapacağınız işaretlemeler için koyu siyah kurşun kalem kullanmalısınız. Farklı bir kalem (tükenmez, mürekkepli, renkli vb.) kullananların sınavları geçersiz sayılır.
6. Cevap kâğıdı üzerinde değişiklik yapmak istediğinizde, iz bırakmayan bir silgi kullanınız. Cevap kâğıdınızı buruşturmayınız, katlamayınız ve üzerine gereksiz hiçbir işaret koymayınız.
7. Cevaplarınızı, cevap kâğıdında ilgili test için ayrılmış olan alana, cevap yerinin dışına taşırmadan işaretleyiniz. Soru kitapçığı üzerinde yapılan işaretlemeler değerlendirmeye alınmayacaktır.
8. Her sorunun tek bir doğru cevabı vardır. Bir soru için birden çok cevabı işaretlerseniz, o soruyu yanlış cevaplamış sayılacaksınız.
9. Soru kitapçığınızı aldığınızda sayfalarına hızlıca bakarak hatalı ya da eksik baskı olup olmadığını kontrol ediniz. Hata/eksik olması durumunda kitapçığının değiştirilmesi için derhâl sınav görevlilerine başvurunuz. Sınav görevlileri sınavın başladığını belirtmeden kitapçığınızı tekrar açmayınız.
10. Cevap kâğıdınızda belirtilen kitapçık kodu ile soru kitapçığının kodunu karşılaştırınız. Aynı değilse, sınav görevlilerine durumu bildirerek doğru kitapçığın verilmesini talep ediniz.
11. Soru kitapçığındaki ilgili alanlara ad, soyadı, TCKN/Öğrenci no, sınav salon no, sıra no bilgilerinizi eksiksiz doldurarak imzanızı atınız. Soru kitapçığının sayfalarındaki boş yerleri müsvedde amacıyla kullanabilirsiniz.
12. Aşağıdaki durumlarda sınav görevlileri tarafından Bireysel Sınav İptal Tutanağı düzenlenerek ilgili öğrencilerin/adayların sınavları geçersiz sayılır:
 - a) Sınav kurallarına ve sınav görevlilerinin uyarılarına uymamak, sınav düzenini bozmak,
 - b) Kâğıt, kitap, defter, not vb. dokümanları; pergel, açıölçer, cetvel vb. araçları; cep telefonu, bilgisayar, tablet, telsiz, kamera vb. iletişim, depolama, kayıt ve veri aktarma cihazlarını; ruhsatlı veya resmi amaçlı olsa bile silah ve silah yerine geçebilecek nesneleri yanında bulundurmamak,
 - c) Sınav sırasında kalem, silgi vb. araç-gereç paylaşımında bulunmak,
 - d) Cevapları, cevap kâğıdı dışında bir yere yazmak ve sınav salonundan dışarı çıkarmak,
 - e) Sınava girebilmek için gerekli belgeleri eksik olduğu halde sınava katılıp, cevap kâğıdında işaretleme yapmak,
 - f) Sınav görevlileri tarafından öğrencinin/adayın kimliğinden şüphe duyulması,
 - g) Cevap kâğıdını ve/veya soru kitapçığını sınav görevlilerine eksiksiz ve sağlam şekilde teslim etmemek, sınav salonu dışına çıkarmak,
 - h) Kopya çekmek, vermek, çekilmesine yardımcı olmak vb. eylemlerde bulunmak,
 - i) Kendisi yerine başkasını sınava sokmak.
13. Sınav bitiminde, cevap kâğıdınızı ve soru kitapçığınızı salon görevlilerine eksiksiz biçimde teslim ediniz. Sınav bittikten sonra gönderilen cevap kâğıtları dikkate alınmayacaktır.

SINAV KURALLARINA UYDUĞUNUZ İÇİN TEŞEKKÜR EDER, SINAVINIZDA BAŞARILAR DİLERİZ.