

ANADOLU ÜNİVERSİTESİ
AÇIKÖĞRETİM FAKÜLTESİ
BA - AÇIKÖĞRETİM OKULLARI

T.C. MİLLİ EĞİTİM BAKANLIĞI
Hayat Boyu Öğrenme Genel Müdürlüğü
AÇIKÖĞRETİM LİSESİ – BATI AVRUPA PROGRAMI
2015-2016 ÖĞRETİM YILI II. DÖNEM SINAVI

1. OTURUM Cumartesi 09:00

TEST GRUBUNUZ

A 0101

ÖĞRENCİNİN

SOYADI :

ADI :

TC KİMLİK NO / ÖĞRENCİ NO :

SINAV SALON NO : SIRA NO:

İMZA:

Sınavla ilgili tüm kuralları okudum, anladım, kabul ediyorum.

SINAV İÇERİĞİ

Testin Adı	Soru Sayısı	Sayfa No	Testin Adı	Soru Sayısı	Sayfa No
DİN KÜLTÜRÜ VE AHLAK BİLGİSİ 5	20	02	SEÇMELİ TARİH 4	20	26
TARİH 3	20	04	KİMYA 1	20	28
GİRİŞİMCİLİK 1	20	06	SEÇMELİ DİL VE ANLATIM 4	20	30
SEÇMELİ COĞRAFYA 4	20	08	KİMYA 8	20	33
İŞLETME 1	20	10	HZ. MUHAMMED'İN HAYATI 1	20	37
PSİKOLOJİ 2	20	12	TEMEL DİNİ BİLGİLER 2	20	39
SOSYOLOJİ 2	20	14	MATEMATİK 8	20	41
FİZİK 6	20	16	SEÇMELİ TÜRK EDEBİYATI 6	20	44
DİL VE ANLATIM 8	20	20	ALMANCA 4	20	46
TÜRK EDEBİYATI 6	20	22	İNGİLİZCE 4	20	49
FİZİK 2	20	24	FRANSIZCA 4	20	52

SINAVDA UYULMASI GEREKEN ÖZEL KURALLAR

1. Bu kitapçıkta yer alan her bir test için cevaplama süresi **30** dakika, toplam süre **150** dakikadır.
2. Öğrenciler sınavın ilk 30 dakikası ve son 5 dakikası içinde sınavlarını tamamlasalar bile salonu terk edemezler. Sınavın başlamasını izleyen ilk 15 dakikadan sonra hiçbir öğrenci sınava alınmaz.
3. Yanlış cevaplarınız dikkate alınmayacaktır. Bu nedenle kitapçığındaki tüm sorular için size doğru gelen seçeneği işaretleyerek cevapsız soru bırakmamanız yararınıza olacaktır.
4. Sınav sırasında hesap makinesi kullanabilirsiniz. Ancak, kullanacağınız makinede alfabetik tuş takımının (A, B, C, ..., Y, Z), program yapılmasına, saklanmasına ve çalıştırılmasına imkân veren EXE, STORE, RUN vb. tuşlar bulunamaz.

"Sınavda Uyulması Gereken Genel Kurallar" soru kitapçığının arka sayfasında yer almaktadır. Bu kuralları da mutlaka dikkatlice okuyunuz.

Anadolu Üniversitesi tarafından hazırlanmış olan bu testlerin her hakkı saklıdır. Hangi amaçla olursa olsun, testlerin tamamının veya bir kısmının Anadolu Üniversitesi'nin yazılı izni olmadan kopya edilmesi, fotoğraflarının çekilmesi, herhangi bir yolla çoğaltılması, yayımlanması ya da kullanılması yasaktır. Bu yasağa uymayanlar gerekli cezai sorumluluğu ve testlerin hazırlanmasındaki mali külfeti peşinen kabullenmiş sayılır.

1. "Biz her şeyi belli bir ölçüye göre yarattık." ayetinde aşağıdakilerden hangisinin önemi vurgulanmıştır?
 - A) Sosyal yardımlaşmanın önemi
 - B) Kadere iman
 - C) İnsanın akıl sahibi olması
 - D) Ahiret hayatına iman
2. İslam dininin emir ve yasaklarından yalnızca kimler sorumlu tutulmuştur?
 - A) Kadere iman edenler
 - B) Zenginler
 - C) Akıl ve irade sahibi olanlar
 - D) Namaz kılanlar
3. Aşağıdakilerden hangisi tevekkül anlayışı ile bağdaşmaz?
 - A) Yolculuk esnasında trafik kurallarına uymak
 - B) Hasta olduğunda tedavi olmak
 - C) Kader mahkûmuyum diyerek hırsızlık yapmak
 - D) Sınav öncesinde ders çalışmak
4. Hz. Ali ve onun soyundan gelen on iki imama inanmayı imanın şartlarından biri olarak kabul eden mezhep aşağıdakilerden hangisidir?
 - A) Caferilik
 - B) Hanbelilik
 - C) Şafilik
 - D) Malikilik
5. Bir Müslüman'ın, dinin kişisel ve sosyal hayata dair hükümlerini bilmesine ne ad verilir?
 - A) Fıkıh
 - B) Kelam
 - C) Tefsir
 - D) Hadis
6. Aşağıdakilerden hangisi kaderle ilişkilendirilen kavramlardan biri değildir?
 - A) Ecel ve ömür
 - B) Tesadüf
 - C) Hayır ve Şer
 - D) Afet
7. Kabe'nin yeniden inşası ve tamirâtı sırasında Hacerül Esved taşının Kâbe'nin duvarına konulmasında Hz. Muhammed'e danışılması, O'nun hangi özelliğini ortaya koymaktadır?
 - A) Sabırlı olması
 - B) Cesur olması
 - C) Güvenilir olması
 - D) Merhametli olması
8. İbadetin samimiyet ve içtenlikle, maddi çıkar gözetmeksizin yalnız Allah'ın rızasını kazanmak için yapılmasına ne ad verilir?
 - A) İhlas
 - B) Kasıt
 - C) Niyet
 - D) Hayâ
9. Allah'ın başlangıçtan sonsuza kadar olmuş ve olacak olan tüm olayların yerini, zamanını bilip takdir etmesine ne ad verilir?
 - A) Yaratılış
 - B) Kaza
 - C) İrade
 - D) Kader
10. Dini bir terim olarak "Hayır" nedir?
 - A) İyi, güzel ve faydalı anlamlarına gelen, Allah'ın emrettiği, sevdiği ve yapılmasından hoşnut olduğu davranışlardır.
 - B) İnsan yaşamının ve diğer canlılar için önceden tespit edilmiş sürenin sonuçlanmasıdır.
 - C) Kötü, fena ve zararlı anlamlarına gelen, Allah'ın sevmediği, hoşlanmadığı ve yapılmasını istemediği davranışlardır.
 - D) Gerçekleştirilmek istenen herhangi bir iş için gerekli olan hazırlıklar yapıldıktan sonra Allah'a güvenip sonucun hayırlı olmasını Allah'tan istemedir.
11. Aşağıdakilerden hangisi ibadetler ile ilgili temel ilkelerden biri değildir?
 - A) Gösterişten uzak olma
 - B) İsteklilik
 - C) Karşılık
 - D) Kolaylık
12. Malikilik mezhebinin kurucusu olan İmam Malik'in oluşturduğu eser aşağıdakilerden hangisidir?
 - A) El va'd vel vaid
 - B) er-Risale
 - C) Nübüvvet
 - D) Muvatta
13. Allah'ın sonsuz güç ve irade sahibi olup, her şeye gücünün yetmesi aşağıdakilerden hangisini tanımlar?
 - A) Cüzi irade
 - B) Kaza
 - C) Tevekkül
 - D) Külli irade

14. Aşağıdakilerden hangisi cüzi iradeye bir örnektir?

- A) Nefes almak
- B) Türk olmak
- C) Erkek olmak
- D) Namaz kılmak

15. Ömrün bittiği, hayatın sona erdiği zamana ne ad verilir?

- A) Şer
- B) Ecel
- C) Kader
- D) İrade

16. Allah'ın önceden takdir edip belirlediği olayların zamanı geldiğinde Allah'ın takdirine uygun şekilde gerçekleşmesine ne ad verilir?

- A) İrade
- B) Kaza
- C) Ecel
- D) Kader

17. Osmanlı Devleti'nin resmi mezhebi aşağıdakilerden hangisidir?

- A) Hanefilik
- B) Şiiilik
- C) Hanbelilik
- D) Şafilik

18. Aşağıdakilerden hangisi ibadetlerin insana kazandırdıklarından biri değildir?

- A) Güven duygusunu geliştirmesi
- B) Kişiyi gurur ve kibire yaklaştırması
- C) İnsanın Yaratıcısı ile ilişkisini güçlendirmesi
- D) Sorumluluk bilincini geliştirmesi

19. Bir insanın bir şeyi yapıp yapamama gücünün sınırlı olmasına ne ad verilir?

- A) Tevekkül
- B) Külli irade
- C) Kaza
- D) Cüzi irade

20. Aşağıdakilerden hangisi sosyal yardımlaşmayı teşvik eden ibadetlerden biri değildir?

- A) Zekât vermek
- B) Kurban kesmek
- C) Temiz olmak
- D) Oruç tutmak

1. Osmanlı Devleti'nin Bizans kuvvetleriyle karşı karşıya geldiği ilk savaş aşağıdakilerden hangisidir?

- A) Sırpıncılığı
- B) Pelekanon
- C) Çirmen
- D) Koyunhisar

2. Divan-ı Hümayun hangi padişah zamanında kurulmuştur?

- A) Mehmet Çelebi
- B) Osman Bey
- C) Yıldırım Bayezid
- D) Orhan Bey

3. Topkapı Sarayı'nın bir bölümü olan Enderun'la ilgili aşağıdaki ifadelerden hangisi yanlıştır?

- A) Devletin ihtiyaç duyduğu devlet adamları burada yetiştirilirdi.
- B) Sarayın iç bölümünde yer alırdı.
- C) Saray kadınlarının eğitim ve öğretimi burada yapılırdı.
- D) Büyük oda, küçük oda, seferli odası, Doğancılar odası, hazine odası, kiler odası ve has oda olmak üzere yedi bölümden oluşurdu.

4. XVII. yüzyılda Avrupa'nın genel durumuyla ilgili aşağıdaki ifadelerden hangisi yanlıştır?

- A) Altın Orda Devleti'nin yıkılmasıyla Rusya gelişme ve büyüme fırsatı bulmuştur.
- B) Krallar siyasi merkeziyerçiliklerini kuvvetlendirmiştir.
- C) İngiltere bu dönemde Avrupa'nın en kuvvetli devletleri arasına girmiştir.
- D) Mutlakiyet yönetimi Avrupa'nın her yerinde uygulanır hale gelmiştir.

5. İstanbul kuşatması sırasında Bizans'a gelecek yardımı engellemek için Anadolu Hisarını yaptıran padişah aşağıdakilerden hangisidir?

- A) I. Mehmet
- B) I. Murat
- C) Yıldırım Bayezid
- D) II. Mehmet

6. IV. Mehmet zamanında yeniçerilerin ayaklanması sonucu otuz kadar devlet adamının idamıyla sonuçlanan olay aşağıdakilerden hangisidir?

- A) Vaka-i vakvakiye
- B) Vaka-i Hayriye
- C) 31 Mart olayı
- D) Celali ayaklanması

7. Osmanlı Devleti'nin ilk resmi tarihçisi (vakanüvisi) aşağıdakilerden hangisidir?

- A) İtri
- B) Katip Çelebi
- C) Naima
- D) Nef'i

8. Aşağıdakilerden hangisi İstanbul'un fethinin Türk tarihi açısından sonuçlarından biri değildir?

- A) Orta Çağ sona erip, Yeni Çağ'ın başlaması
- B) İstanbul'un, Osmanlı Devleti'nin başkenti olması
- C) Osmanlı Devleti'nin yükselme dönemine girmesi
- D) Osmanlıların İslam dünyası üzerindeki saygınlığının artması

9. Osmanlı Devleti'nde ilk bedesten hangi padişah zamanında yapılmıştır?

- A) Yıldırım Bayezit
- B) Orhan Bey
- C) Osman Bey
- D) I. Murat

10. Aşağıdakilerden hangisi Coğrafi keşiflerin Osmanlı Devleti'ne etkilerinden biri değildir?

- A) Osmanlı Devleti'nin denetimi altındaki ticaret yollarının önemini kaybetmesi
- B) Yeni bulunan kıtalarda Osmanlı Devleti'nin de sömürgeler edinmesi
- C) Altın ve gümüşün Osmanlı ülkesine girmesiyle akçenin değer kaybetmesi
- D) Hayat pahalılığının artmasının Osmanlı Devleti'nde birtakım siyasi ve sosyal olumsuzluklara neden olması

11. Moğol İmparatorluğu'nun parçalanmasından sonra, Cengiz Han'ın torunu Batu Han tarafından Karadeniz ve Hazar Denizi'nin kuzeyinde kurulan devlet aşağıdakilerden hangisidir?
- A) İlhanlı
B) Altın Orda
C) Memluk
D) Türkiye Selçuklu
12. Aşağıdakilerden hangisi Karesioğulları'nın Osmanlı Devleti'ne katılmasıyla Osmanlıya sağladığı faydalardan biri değildir?
- A) Önemli devlet adamları ve yöneticilerinin Osmanlı hizmetine alınması
B) Rumeli'ye geçiş için önemli bir adım atılmış olması
C) Karesioğulları'nın deniz gücü ve donanmasından yararlanılması
D) Macarların Balkanlar'daki etkisinin azalması
13. Aşağıdakilerden hangisi Tarhuncu Ahmet Paşa'nın devlet hazinesini düzeltmek için yaptığı çalışmalardan biri değildir?
- A) Devletin alacaklarının tahsil edilmeye başlanması
B) Devletin gelir ve giderlerini karşılaştıran bir rapor hazırlanması
C) Yeni vergilerin getirilmesi
D) Gereksiz bütün harcamaların önlenmesi
14. Buharın bir enerji kaynağı olarak kullanılabileceğini ortaya koyan bilim adamı aşağıdakilerden hangisidir?
- A) Toriçelli
B) Denis Papin
C) Kepler
D) Pascal
15. Aşağıdakilerden hangisi Divan-ı Hümayun'un üyelerinden biri değildir?
- A) Kaptan-ı derya
B) Kazasker
C) Muhtesip
D) Defterdar
16. İlk Osmanlı medresesi nerede açılmıştır?
- A) Bursa
B) İznik
C) Kütahya
D) Edirne
17. Halifeliğin Osmanlı Devleti'ne geçmesini sağlayan padişah aşağıdakilerden hangisidir?
- A) Fatih Sultan Mehmet
B) Yıldırım Bayezit
C) Kanuni Sultan Süleyman
D) Yavuz Sultan Selim
18. Osmanlı ordusunda, ordunun su ihtiyacını karşılayan gruba ne ad verilir?
- A) Sakalar
B) Beşliler
C) Deliler
D) Yörükler
19. Aşağıdakilerden hangisi Celali İsyanları'nın nedenlerinden biri değildir?
- A) Köylünün üzerindeki vergi yükünün artması
B) Toprağını işleyemeyen köylünün eşkıyalığa başlaması
C) Eyalet yöneticilerinin haksız ve adaletsiz uygulamalarının olması
D) Kapıkulu Ocağı'na askerlikle ilgisi olmayanların alınması
20. Aşağıdakilerden hangisi İstanbul'un fethinin nedenlerinden biri değildir?
- A) II. Mehmet'in Fatih unvanını almak istemesi
B) İstanbul'un önemli ticaret merkezi olması
C) Bizans'ın Osmanlı şehzadelerini kışkırtarak taht kavgalarına neden olması
D) İstanbul'un Osmanlı'nın Anadolu ve Rumeli toprakları arasındaki bağlantıyı kesmesi

1. Sanayi üretiminde kullanılan çeşitli ham maddeler ve ara mallar, ekonomik mal ve hizmetlerin üretimi amacıyla kullanılırken yok olsalar dahi aşağıdakilerin hangisiyle adlandırılır?
- A) Atık
B) Endüstriler arası kullanım
C) Tüketim
D) Üretim
2. Aşağıdakilerden hangisi malların piyasalarından söz edebilmek için taşınması gereken özelliklerden biri değildir?
- A) Dayanaklı mallar olması
B) Taşınması kolay olması
C) Malların aynı türden olması
D) Riskli olması
3. Ekonomi bilimine göre alıcı ve satıcıların birbirleriyle kolayca temas etmelerini sağlayan örgütsel varlığa ne ad verilir?
- A) Talep
B) Vizyon
C) Piyasa
D) Sermaye
4. Malların değerlerinin para yerine, diğer bir malla ifade edilmesine ne ad verilir?
- A) Arz
B) Reel değişim oranı
C) Prim
D) Sermaye
5. Aşağıdakilerden hangisi girişimci ve yönetici arasındaki başlıca farklardan biri değildir?
- A) Girişimci değişikliklerle başarı sağlarken yönetici tam anlamıyla statükoya bağlı kalır.
B) Girişimci olaylardaki fırsatları yakalarken yönetici problemleri görür.
C) Girişimci kâr amacı gütmekzen yönetici kâr amacı güder ve girişimlerin neticesinde doğabilecek riskleri üstlenir.
D) Yenilik girişimci ile, işlerin yürümesi ise yönetici ile olur.
6. Ekonomistlere göre fiyatı olan ve bedelini ödemek sureti ile satın alınabilen her türlü mal ve hizmete ne ad verilir?
- A) Piyasa
B) Tercih
C) Arz
D) Kit mal
7. Aşağıdakilerden hangisi yaratıcılığın aşamalarından biri değildir?
- A) Bilgi toplama aşaması
B) Pazarlama aşaması
C) Değerlendirme ve uygulama
D) Fikir deneyimi aşaması
8. Aşağıdakilerden hangisi girişimcilik faaliyetinin yararlarından biridir?
- A) Kaynak dağılımında eşitsizlik sağlanması
B) Sosyal adaleti sağlanması
C) Ülke ekonomisine yeni bir dinamizm kazandırması
D) Çalıřanları motive etmesi
9. Aşağıdakilerden hangisi girişimcilik için gerekli kaynak olan üretim faktörlerinden biri değildir?
- A) Liderlik
B) Sermaye
C) Emek
D) Doğa
10. Aşağıdakilerden hangisi girişimciliğın ana bileşenlerinden biri değildir?
- A) Sınırsız sermayeye sahibi olmak
B) Öncü olmak
C) Rekabetçi düşünmek
D) Risk almak
11. Aşağıdakilerden hangisi Swot analizinin kullanıldığı durumlardan biri değildir?
- A) Stratejik bir plan geliştirilmesi aşamasında
B) Kültürel etkilerin araştırılmasında
C) İş süreçlerinin geliştirilmesinde
D) Performans yönetiminde
12. Girişimcinin yeniliğe, yaratıcılığa ve orjinallığe açıklığının, başkalarının görüşlerinden ve katkılarından ilham alma derecesinin göstergesine ne ad verilir?
- A) Vizyon
B) Odaklanma
C) Motivasyon
D) Misyon

13. Aşağıdakilerden hangisi planların esnek olmasının girişimci açısından yararlarından biri değildir?

- A) Girişimcinin ufkunun açık olmasına yardımcı olması
- B) Rekabet avantajı elde etmelerini sağlaması
- C) Girişimcinin ayakta kalma olasılığını azaltması
- D) Girişimciye alternatif hareket seçeneklerini geliştirmesi

14. I. Yeni mal ve hizmet üretmek veya bilinen mal ve hizmetlerin nitelik ve kalitelerini yükseltmek
II. Yeni üretim yöntemleri geliştirmek ve uygulayabilmek
III. Endüstride yeni organizasyonlar kurmak

Yukarıdakilerden hangileri çağdaş bir girişimciden yerine getirmesi beklenen fonksiyonlardandır?

- A) Yalnız I
- B) Yalnız II
- C) I ve II
- D) I,II ve III

15. Aşağıdakilerden hangisi girişimcilerin kişisel özelliklerinden biri değildir?

- A) Değişime kapalı olması
- B) Riske katlanması
- C) Problem çözme yeteneğine sahip olması
- D) Yenilikçi ve yaratıcı olması

16. Aşağıdakilerden hangisi girişimcinin vizyon oluşturabilmesi için gereken özelliklerden biri değildir?

- A) Yöntem oluşturması
- B) Örnek olması
- C) Yardımsever olması
- D) Sınırsız kaynaklara sahip olması

17. İncelenen kurumun, tekniğin, sürecin, durumun veya kişinin güçlü yönlerini belirlemede dış çevreden kaynaklanan fırsat ve tehditleri saptamakta kullanılan tekniğe ne ad verilir?

- A) Fayda Maliyet analizi
- B) SWOT analizi
- C) Strateji analizi
- D) BCG analizi

18. Girişimcilerin örgütlenerek çeşitli işletme birlikleri kurmalarının temel amacı aşağıdakilerden hangisidir?

- A) Piyasaya hakim olmak
- B) Çevre kirlenmesini önlemek
- C) Stok devir hızını azaltmak
- D) Çalışanlarını motive etmek

19. Bir kimsenin davranış ve kararları sonucunda kaybetme şansına maruz kalmasına ne ad verilir?

- A) Kıtık
- B) Zarar
- C) Kâr
- D) Risk

20. 18. yüzyılın başında girişimciyi "henüz belirginleşmemiş bir bedele satmak üzere girdileri bugünden satın alan ve üreten kişi" olarak tanımlayan ekonomist aşağıdakilerden hangisidir?

- A) Ferdinand Porche
- B) Joseph Schumpeter
- C) Richard Cantillon
- D) Jetin Baptise Say

1. Aşağıdakilerden hangisi makiyi oluşturan bitki türlerinden biridir?

- A) Kestane
- B) Sandal
- C) Sedir
- D) Gökнар

2. Aşağıdakilerden hangisi azonal toprak çeşitlerinden biridir?

- A) Kırmızı Akdeniz toprağı
- B) Kahverengi bozkır toprağı
- C) Alüvyal topraklar
- D) Çernezyom topraklar

3. Aşağıdakilerden hangisi Karadeniz'e dökülen akarsulardan biri değildir?

- A) Kızılırmak
- B) Susurluk
- C) Sakarya
- D) Yeşilirmak

4. Aşağıdakilerden hangisi GAP ile Türkiye'de meydana gelen değişimlerden biri değildir?

- A) Tarıma dayalı sanayinin gelişmesi
- B) Enerji üretiminin artması
- C) Şehirleşme oranının azalması
- D) Su ürünleri üretiminin artması

5. Yaz dönemlerinde halkın hayvanlarını otlatmak için çıktıkları alanlara ne ad verilir?

- A) Yayla
- B) Mezra
- C) Çiftlik
- D) Oba

6. Aşağıdakilerden hangisi Türkiye'de nüfusun ve yerleşmenin dağılışını etkileyen doğal faktörlerden biri değildir?

- A) Ulaşım
- B) Su kaynakları
- C) Bitki örtüsü
- D) Yer şekilleri

7. Aşağıdakilerden hangisi Mentеше yöresinin nüfusunun az olmasının nedenlerinden biri değildir?

- A) Tarım alanlarının az olması
- B) Yükseltinin fazla olması
- C) Su miktarının az olması
- D) Eğimin fazla olması

8. Kara ve deniz yolunun kesiştiğı alanlara ne ad verilir?

- A) Körfez
- B) Koy
- C) Marina
- D) Liman

9. Aşağıdakilerden hangisi Türkiye'de görülen iğne yapraklı ağaç türlerinden biri değildir?

- A) Sarıçam
- B) Dişbudak
- C) Karaçam
- D) Sedir

10. Aşağıdakilerden hangisi Türkiye'de köy idari alanlarındaki devamlı yerleşmelerden biridir?

- A) Dam
- B) Kom
- C) Divan
- D) Oba

11. Aşağıdakilerden hangisi yan orman ürünlerinden biri değildir?

- A) Sığla yağı
- B) Keçi boynuzu
- C) Defne yaprağı
- D) Tomruk

12. Matbaa (makine) hangi yıl icat edilmiştir?

- A) 1375
- B) 1389
- C) 1435
- D) 1473

13. Aşağıdakilerden hangisi bir yerde erozyonun başlamasıyla meydana gelen değişimlerden biri değildir?

- A) Yağış miktarının artması
- B) Göçlerin başlaması
- C) Kıtık ve açlığın artması
- D) Üretimin azalması

14. Aşağıdakilerden hangisi Türkiye’de göç alan yerlerdeki başlıca çekici faktörlerden biri değildir?

- A) İş olanaklarının fazla olması
- B) Siyasi açıdan gelişmiş olması
- C) Daha kaliteli bir yaşam sunması
- D) Eğitim ve sağlık hizmetlerinin gelişmiş olması

15. Günümüzde Atlas Okyanusu ve Büyük Okyanusu birbirine bağlayan en kısa ticaret yolu aşağıdakilerden hangisidir?

- A) Panama Kanalı
- B) Süveyş Kanalı
- C) Korint Kanalı
- D) Kiel Kanalı

16. Aşağıdakilerden hangisi Türkiye’de fay hatları ile ilişkili olan deprem kuşaklarından biri değildir?

- A) Kuzey Anadolu deprem kuşağı
- B) İç Anadolu deprem kuşağı
- C) Batı Anadolu deprem kuşağı
- D) Güneydoğu Anadolu deprem kuşağı

17. Ülke sınırları içerisinde ve daha çok kırsal alanlardan kentlere doğru yapılan göç türü aşağıdakilerden hangisidir?

- A) İç göç
- B) Dış göç
- C) İşçi göçü
- D) Beyin göçü

18. Aşağıdakilerden hangisi 1985’ten sonra Türkiye nüfus artışındaki düzenli azalmanın nedenleri arasında yer almaz?

- A) Kadının iş hayatına daha fazla girmesi
- B) Eğitim seviyesinin yükselmesi
- C) Ekonomi alanında gelişmelerin yaşanması
- D) Evlilik oranının düşmesi

19. Aşağıdakilerden hangisi kuraklığa karşı alınması gereken önlemlerden biri değildir?

- A) Suyu tasarruflu kullanmak
- B) Doğal bitki örtüsünü korumak
- C) Yenilenebilir enerji kaynakları kullanmak
- D) Kuruyan barajları tarım alanına dönüştürmek

20. İlk telgraf hattı hangi yıl kurulmuştur?

- A) 1754
- B) 1800
- C) 1844
- D) 1905

1. Mal ve hizmet üretmek ve pazarlamak amacıyla üretim faktörlerini sistemli ve bilinçli bir şekilde bir araya getirerek kâr elde etmek için risk üstlenen kişiye ne ad verilir?
 - A) Lider
 - B) Girişimci
 - C) Kurmay
 - D) Yönetici
2. İnsan ihtiyaçlarının giderilmesine yönelik üretilen ancak elle tutulmayan ve saklanması mümkün olmayan faaliyetlere ne ad verilir?
 - A) Hizmet
 - B) Dayanıklı mal
 - C) Tüketim malı
 - D) Dayanıksız mal
3. Belirli bir faaliyetten ekonomik fayda sağlamak üzere, bütün ilgili tarafların katkı ve işbirliği ile belirli kurallar koyma ve kuralları uygulama işlemine ne ad verilir?
 - A) Telekomünikasyon
 - B) Organizasyon
 - C) Standardizasyon
 - D) Fabrikasyon
4. Üretimi için hiçbir çaba ya da örgütlenme gerektirmeyen ve doğada hazır bulunan mallara ne ad verilir?
 - A) Dayanıksız mallar
 - B) Ekonomik mallar
 - C) Dayanıklı mallar
 - D) Serbest mallar
5. Mal ve hizmetlerin herhangi bir ihtiyacı giderebilme özelliğine ne ad verilir?
 - A) Standart
 - B) Mal
 - C) Tüketim
 - D) Fayda
6. Aşağıdakilerden hangisi işletmenin genel amaçlarından biridir?
 - A) Uzun vadeli büyümeyi hedef haline getirmek
 - B) Kâr elde etmek
 - C) Tüketicilere nitelikli mal ve hizmet sunmak
 - D) Personeline yeterli ücret vermek
7. Bir toplumda düzeni sağlamak amacıyla yürürlükte bulunan yasalar, tüzük ve yönetmeliklerle, yazılı olan ve olmayan diğer kurallar bütününe ne ad verilir?
 - A) Hukuk
 - B) Sosyoloji
 - C) Genelge
 - D) Mevzuat
8. İnsanlar arasındaki benzerlik ve farklılıkları göz önüne alarak insanları karşılaştırmalı olarak inceleyen bilim dalı aşağıdakilerden hangisidir?
 - A) İstatistik
 - B) Antropoloji
 - C) Psikoloji
 - D) Hukuk
9. Kâr aşağıdaki değerlendirilmelerden hangisinde ölçüt olarak kullanılmaz?
 - A) Tüketicilerin tercihlerinde
 - B) İşletmenin büyümesinde
 - C) Üst yönetimin başarı değerlendirmesinde
 - D) Çalışanlar için özendirici olmasında
10. İşletmelerin belli bir dönem içinde elde ettiği gelirler ile aynı dönem içinde katlandığı giderler arasındaki olumlu farka ne ad verilir?
 - A) Zarar
 - B) Faiz
 - C) Pay
 - D) Kâr
11. Aşağıdakilerden hangisi şahıs şirketlerinin özelliklerinden biridir?
 - A) Sermayesinin yüzde ellisinin devlete ait olması
 - B) En az 7 ortak tarafından kurulması
 - C) Ortaklığın devrinin güç olması
 - D) Şirketten ayrılan ortağın şirket işlerinden dolayı üçüncü kişilere olan sorumluluğu hiçbir şekilde devam etmez.
12. Kazanç paylaşma dışında, kanunlarla yasaklanmamış belirli ve ortak bir amacı gerçekleştirmek üzere, en az yedi gerçek veya tüzel kişinin, bilgi ve çalışmalarını sürekli olarak birleştirmek suretiyle oluşturdukları tüzel kişiliğe sahip kişi topluluklarına ne ad verilir?
 - A) Dernek
 - B) Kooperatif
 - C) Kulüp
 - D) Vakıf

13. Aşağıdakilerden hangisi sermaye şirketlerinin üstünlüklerinden biridir?

- A) Şirket yönetiminin zaman içerisinde belli bir grubun eline geçebilmesi
- B) Sermayesinin tamamının devlete ait olması
- C) Ortaklık paylarının kolaylıkla devredilebilmesi
- D) Kurulmasının zor ve masraflı olması

14. Ticari bir işletmeyi bir ticaret unvanı altında işletmek amacıyla kurulan, şirket alacaklılarına karşı ortaklardan bir veya birkaçının sorumluluğu sınırlanmamış ve diğer ortak veya ortakların sorumluluğu belirli bir sermaye ile sınırlanmış olan şirkete ne ad verilir?

- A) Kollektif şirket
- B) Anonim şirket
- C) Limitet şirket
- D) Komandit şirket

15. Sermayesi belirli ve paylara bölünmüş olan, borçlarından dolayı sadece mal varlığıyla sorumlu bulunan şirkete ne ad verilir?

- A) Kollektif şirket
- B) Limitet şirket
- C) Anonim şirket
- D) Komandit şirket

16. Aşağıdakilerden hangisi kuruluş yeri seçiminde işgücü faktörü değerlendirilirken ele alınan konulardan biri değildir?

- A) İşgücünün aile yapısı
- B) İşgücünün niteliği
- C) İşgücünün miktarı
- D) İşgücünün maliyeti

17. Ticari, sınai, zirai ve mesleki faaliyetleri ile ilgili olarak bir iş yeri açıp faaliyete başlayanların bu faaliyetinden dolayı vergi yükümlülüğü çıkıyorsa aşağıdaki kurumlardan hangisine bildirimde bulunma sorumluluğu vardır?

- A) Sosyal Güvenlik Kurumu
- B) Maliye Bakanlığı
- C) Kalkınma Bakanlığı
- D) Türkiye İş Kurumu

18. Belirli sosyal risklerin yol açabileceği gelir kayıpları ve gider artışlarına karşı kişilerin güvenliklerinin sağlanmasına ne ad verilir?

- A) Siber güvenlik
- B) İş güvenliği
- C) Özel güvenlik
- D) Sosyal güvenlik

19. Bir salça fabrikasının domates üretimi yapılan bölgeye yakın kurulmasında etkili olan kuruluş yeri seçimi faktörü aşağıdakilerden hangisidir?

- A) Yerel yönetim imkânları
- B) Hammadde
- C) İklim koşulları
- D) Pazara yakınlık

20. Kısa veya uzun vadeli sigorta kolları bakımından adına prim ödenmesi gereken veya kendi adına prim ödemesi gereken kişiye ne ad verilir?

- A) Alt işveren
- B) İşyeri
- C) Sigortalı
- D) İşveren

1. Bireylerin çeşitli özelliklerini tanımaya ve karşılaştırmaya yarayan ölçme aracına ne ad verilir?
 - A) Test
 - B) Algı
 - C) Analiz
 - D) Forum

2. Kişilik özelliklerinin, iki uçta derecelendirilmiş bir boyutta gösterilmesine dayanan ölçek türü aşağıdakilerden hangisidir?
 - A) Envanter değerlendirme
 - B) Portfolyo değerlendirme
 - C) Doğrudan ölçme
 - D) Değerlendirme ölçekleri

3. Zihinde yer alan tasarımların çözümlenerek yeni bireşimlerin elde edilmesine ne ad verilir?
 - A) Yaratıcı hayal gücü
 - B) Yetenek
 - C) Tasarım
 - D) Zekâ

4. Piaget'e göre, çocuklukta bir evreden diğerine geçişte temel etken aşağıdakilerden hangisidir?
 - A) Dengesizlik
 - B) Hazır bulunuşluk
 - C) Olgunluk
 - D) Yaratıcılık

5. İnsanı etkileyen nesne, güç ve uyaranların hepsine birden ne ad verilir?
 - A) Eylem
 - B) Çevre
 - C) Bellek
 - D) İletişim

6. Psikolojik nedenli organik bozukluklar biçiminde ortaya hastalıklara ne ad verilir?
 - A) Biyolojik hastalık
 - B) Psikosomatik hastalık
 - C) Sosyolojik hastalık
 - D) Sosyopatik hastalık

7. Aşağıdakilerden hangisi uyma davranışını etkileyen faktörlerden biri değildir?
 - A) Açıklayıcı akıl yürütme
 - B) Grubu oluşturanların sayısı
 - C) Grupta söz birliği
 - D) Yüz yüze bulunma durumu

8. Stresin yarattığı fizyolojik ve organik tepkilerin zamanla etkisinin azalmasına ne ad verilir?
 - A) Benimseme
 - B) Duyarsızlaşma
 - C) Yıpranma
 - D) İşlevini yitirme

9. Aşağıdakilerden hangisi geçici gruplara örnek olarak verilebilir?
 - A) Siyasi partiler
 - B) Dini cemaatler
 - C) Sendikaya üye olanlar
 - D) Bilet kuyruğunda bekleyen insanlar

10. Davranış bozukluklarının grup içinde anlatıldığı ve böylece hataların ve yanlışların tespit edildiği tedavi yöntemi aşağıdakilerden hangisidir?
 - A) İş terapisi
 - B) Psikodrama
 - C) Grup terapisi
 - D) Drama

11. Bireyin hayatında etkisinde kaldığı ilk izlenimlere ne ad verilir?

- A) Özdeşim kurma
- B) Sosyal algı
- C) Bağlanma
- D) Kalıp yargı

12. Strese karşı gösterilen tepkilerden hangisinde engellenen amacın yerine, yeni bir amaç koyulur?

- A) Atılım
- B) Çekilme
- C) Kaçma
- D) Uzlaşma

13. Yanlış bir davranışa mantıksal bir açıklama getirerek gerilimden kurtulma çabası aşağıdaki savunma mekanizmalarından hangisi ile ilgilidir?

- A) Repression
- B) Kompansasyon
- C) Projeksiyon
- D) Rasyonalizasyon

14. Çocukluktan yetişkinliğe geçişi hazırlayan ara döneme ne ad verilir?

- A) Büyüme dönemi
- B) İkinci dönem
- C) Ergenlik dönemi
- D) Olgunluk dönemi

15. Aşağıdakilerden hangisi tutum kuramlarından biridir?

- A) Psikolojik Çelişki Kuramı
- B) Zihinsel Yargı Kuramı
- C) Bilişsel Çelişki Kuramı
- D) Duygusal Bağlılık Kuramı

16. Aşağıdakilerden hangisi Piaget'e göre zihnin evrelerinden biri değildir?

- A) Oral dönem
- B) Duyusal devimsel dönem
- C) İşlem öncesi dönem
- D) Somut işlemler dönemi

17. Stres karşısında bazen bilinçli bazen de deneme yanılma yoluyla gösterilen tepkilerin, zamanla alışkanlık haline gelmesi ve benzer durumlarla karşılaşıldığında da otomatik olarak aynı tepkinin verilmesine ne ad verilir?

- A) Sıralı tepki
- B) Bilinen tepki
- C) Tahmin edilen tepki
- D) Koşullanmış tepki

18. Aşağıdakilerden hangisi otokratik liderin özelliklerinden biri değildir?

- A) Grupta oldukça belirleyici olması
- B) Grubun tek hâkimi olması
- C) Yeniliğe ve değişime açık olması
- D) Grubu tek başına yönlendirmesi

19. Bireyin kişilere, nesnelere, olaylara ve ortama olumlu ya da olumsuz tepkide bulunma eğilimine ne ad verilir?

- A) Sağduyu
- B) Önduyu
- C) Tutum
- D) Yargı

20. Çocuğun, ilk döneminde anne ve babasını taklit etmesi, onların yargılarını ve davranışlarını benimsemesi aşağıdakilerden hangisi ile açıklanabilir?

- A) Olgunlaşma
- B) Özdeşim kurma
- C) Yansıtma
- D) Yüceltme

1. Tanzimat dönemi hangi yıllar arasını kapsamaktadır?

- A) 1750-1789
- B) 1790-1838
- C) 1839-1876
- D) 1877-1910

2. Aşağıdakilerden hangisi dikey yapılı partilere örnektir?

- A) İşçi partileri
- B) Liberal partiler
- C) İşveren partileri
- D) Çiftçi partileri

3. Aşağıdakilerden hangisi serbest mala örnektir?

- A) Demir
- B) Ekmek
- C) Güneş
- D) Elma

4. Aşağıdakilerden hangisi manevi kültür öğelerinden biri değildir?

- A) Üretim araçları
- B) Okul kuralları
- C) Medeni kanun
- D) Dinsel kurallar

5. Doğal afetler, toplumsal değişmeyi etkileyen aşağıdaki faktörlerden hangisi ile ilgilidir?

- A) Kitle iletişim araçları
- B) Bilim ve teknoloji
- C) Fiziki çevre
- D) Demografi

6. Kargaşa, düzensizlik, karışıklık ve köklü değişim anlamına gelen kavram aşağıdakilerden hangisidir?

- A) İhtilal
- B) İsyan
- C) Devrim
- D) Ayaklanma

7. Erkek ya da kadının aynı anda birden fazla eşle evlenmesine ne ad verilir?

- A) Monogami
- B) Poligami
- C) Egzogami
- D) Endogami

8. Aşağıdakilerden hangisi devletin temel işlevlerinden biri değildir?

- A) İç ve dış tehlikelere karşı ülkenin bağımsızlığını korumak
- B) Vatandaşın ekonomik, sosyal ve kültürel ihtiyaçlarını gidermek
- C) Sadece ülke içindeki vatandaşların çıkarlarını korumak
- D) Kanunlar yapmak, uygulamak ve uygulama sırasında çıkabilecek sorunları gidermek

9. I. Ekonomik büyüme
II. Orta tabakanın gelişmesi
III. Toplumsal bütünleşme

Yukarıdakilerden hangileri toplumsal gelişmenin başlıca göstergelerindedir?

- A) Yalnız II
- B) I ve II
- C) II ve III
- D) I, II ve III

10. Aşağıdakilerden hangisi Türkiye Cumhuriyeti Anayasası'na göre devlet adına yürütme organını oluşturan kurumlardan biridir?

- A) Cumhurbaşkanı
- B) Anayasa Mahkemesi
- C) Danıştay
- D) Yargıtay

11. I. Büyük boy kuramlar
II. Orta boy kuramlar
III. Küçük boy kuramlar

Yukarıdakilerden hangileri toplumsal değişme kuramlarındandır?

- A) Yalnız III
B) I ve II
C) II ve III
D) I, II ve III

12. Ulusal para değerinin devlet eliyle düşürülmesine ne ad verilir?

- A) Enflasyon
B) Devalüasyon
C) Revalüasyon
D) Deflasyon

13. Aşağıdakilerden hangisi kültürel değişim sürecini ortaya çıkaran öğelerden biri değildir?

- A) Birikim
B) Buluş
C) Hoşgörü
D) Yayılma

14. Feodal toplumlarda eğitim aşağıdakilerden hangisine dayalı olarak yapılmaktadır?

- A) Aile
B) Hukuk kuralları
C) Gelenek
D) Din

15. İnsanın doğal ve toplumsal çevresini denetimi altına almasını sağlayan kültürel öğelerin zaman içerisinde ve uygun koşullarda dönüşümüne ne ad verilir?

- A) Kültürel değişme
B) Kültürel yayılma
C) Kültürleşme
D) Kültürleme

16. Bireyin içinde yaşadığı toplumun kurallarını ve değerlerini öğrenmesine ne ad verilir?

- A) Olgu
B) Kültürlenme
C) Sosyalleşme
D) Norm

17. Aşağıdakilerden hangisi Medeni Kanuna göre boşanma nedenlerinden biri değildir?

- A) Zina
B) Borçlanma
C) Terk
D) Akıl hastalığı

18. Nüfusun sayısını ve yoğunluğunu, bölgesel ve sektörel dağılımını, niteliğini, nüfus hareketlerini ve nüfus ile ilgili diğer olay ve olguları inceleyen bilime ne ad verilir?

- A) Hidrografi
B) Demografi
C) Paleografi
D) Kaligrafi

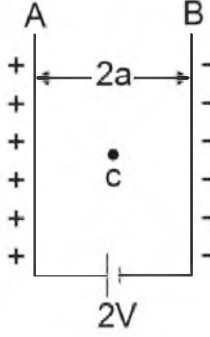
19. Aşağıdakilerden hangisi toplumsal çözülmenin nedenlerinden biri değildir?

- A) Demokratik kurumlaşma yetersizliği
B) İş bölümü yetersizliği
C) Milli birlik bilincinin zayıflaması
D) Teknolojik gelişme yetersizliği

20. Toplumsal değişme ile ilgili aşağıdaki ifadelerden hangisi yanlıştır?

- A) Bütün toplumlar için kaçınılmaz ve evrensel bir olgudur.
B) Belirli bir alanda ortaya çıkan olumlu değişimleri ifade eder.
C) Hızı toplumdan topluma değişiklik gösterir.
D) Doğal bir olgu ve zorunluluktur.

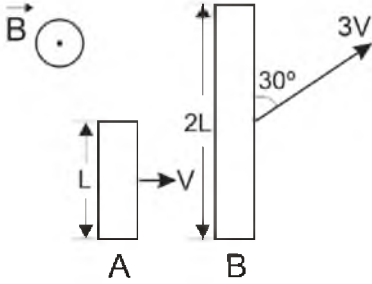
1.



Aralarındaki uzaklık $2d$ olan paralel plakalara $2V$ potansiyel farkı uygulanmıştır. C noktasındaki elektrik alan kaç (V/a) dir?

- A) 1
- B) 2
- C) $5/2$
- D) 3

2.



Şekildeki gibi boyları ve hızları verilen teller sayfa düzlemine dik bir manyetik alanda çekiliyorlar. Tellerin uçları arasında oluşan potansiyel farkları oranı (ϵ_A/ϵ_B) nedir? ($\sin 30^\circ = 0,5$)

- A) $1/6$
- B) $1/4$
- C) $1/3$
- D) 1

3.



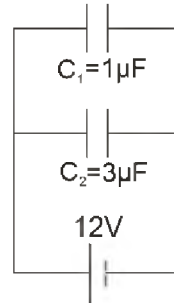
O noktasına yerleştirilmiş $9q$ yükünün A noktasında oluşturduğu potansiyel kaç kq/a 'dır? (k =sabit)

- A) 10
- B) 9
- C) 8
- D) 7

4. Bir alternatif akım devresinde gerilim $V = 30\sqrt{3} \sin 120\pi t$ denklemi ile veriliyor. Devrenin frekansı kaç Hz 'dir?

- A) 30
- B) 50
- C) 40
- D) 60

5.



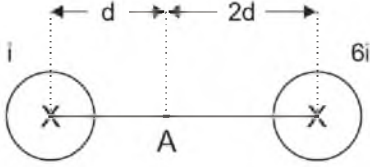
Şekildeki devrede C_1 kondansatörünün yükü kaç μC 'dur?

- A) 12
- B) 16
- C) 24
- D) 36

6. Manyetik alan şiddeti 10 Wb/m^2 olan bir bölgede alan çizgilerine dik olarak yerleştirilen, alanı 10 cm^2 olan yüzeyden geçen manyetik akı kaç weber (Wb) 'dir?

- A) $2 \cdot 10^{-2}$
B) $6 \cdot 10^{-2}$
C) $1 \cdot 10^{-3}$
D) $4 \cdot 10^{-3}$

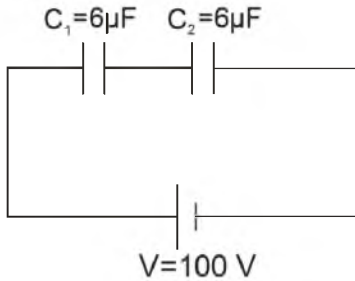
7.



Sayfa düzlemine dik olarak yerleştirilen iki iletken telden şekilde gösterildiği gibi akımlar geçmektedir. A noktasındaki manyetik alanın büyüklüğü ve yönü nedir? (k =sabit)

- A) $ki/d \uparrow$
B) $2ki/d \downarrow$
C) $3ki/d \downarrow$
D) $4ki/d \uparrow$

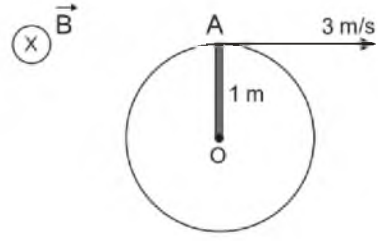
8.



Sıgaları verilen şekildeki devrede C_2 kondansatörünün taşıdığı enerji kaç joule (J) dur?

- A) $(1/2) \cdot 10^{-2}$
B) $(3/4) \cdot 10^{-2}$
C) $(3/4) \cdot 10^{-4}$
D) $(1/2) \cdot 10^{-4}$

9.



Şekildeki gibi sayfa düzleminden içeri doğru büyüklüğü $2 \cdot 10^{-2} \text{ Wb/m}^2$ olan bir manyetik alanda, alana dik olarak, O noktasından sabitlenen OA çubuğu 3 m/s hızla döndürülüyor. Çubukta oluşan indüksiyon emk kaç voltur?

- A) $5 \cdot 10^{-2}$
B) $4 \cdot 10^{-2}$
C) $3 \cdot 10^{-2}$
D) $2 \cdot 10^{-2}$

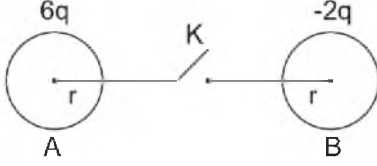
10. 10 T büyüklüğündeki düzgün manyetik alana dik olarak 2 sarımlı ve alanı $1 \cdot 10^{-4} \text{ m}^2$ olan bir tel çerçeve yerleştirilmiştir. Tel çerçeve $0,2$ saniyede alana paralel hale getiriliyor. Çerçevenin uçlarında oluşan indüksiyon emk kaç volt (V) 'dur?

- A) 0,01
B) 0,02
C) 0,04
D) 0,05

11. İletken ve yüklü bir kürenin özellikleri ile ilgili aşağıdaki ifadelerden hangisi yanlıştır?

- A) Dışa doğru elektrik alan eğrisel olarak azalır.
B) Kürenin içinde elektrik alan sıfırdır.
C) Yükler kürenin dışında toplanır.
D) Elektrik alan kürenin yüzeyinde en küçüktür.

12.



Şekildeki gibi yüklü A ve B iletken kürelerini birbirlerine bağlayan iletken tel üzerindeki K anahtarı kapatılırsa kürelerin ortak potansiyeli ne olur? (k =sabit)

- A) $3kq/2r$
- B) $2kq/r$
- C) $3kq/r$
- D) $6kq/r$

13. I. Pozitif yüklü cismin oluşturduğu elektrik alan yükten dışarı doğrudur.
 II. Pozitif yük yakınına getirilen pozitif yüke çekme kuvveti uygular.
 III. Pozitif yük yakınına getirilen negatif yüke çekme kuvveti uygular.

Pozitif yükle ilgili yukarıdaki ifadelerden hangileri doğrudur?

- A) Yalnız I
- B) Yalnız II
- C) I ve III
- D) II ve III

14. Boyutları $10\text{cm} \times 10\text{cm}$ ve aralarındaki uzaklık 1cm olan iki plakadan oluşan paralel plakalı kondansatörün sığası kaç farad (F) dir? ($k=9 \cdot 10^{-12} \text{ F/m}$)

- A) $9 \cdot 10^{-12}$
- B) $(5/2) \cdot 10^{-12}$
- C) $18 \cdot 10^{-12}$
- D) $36 \cdot 10^{-12}$

15. I. Manyetik alan vektörel bir büyüklüktür.
 II. İçinden akım geçen telin etrafında oluşan manyetik alanı bulmak için sağ el kuralı uygulanır.
 III. İçinden akım geçen telin etrafındaki bir noktadaki manyetik alan, telden geçen akım ile tele olan uzaklıkla doğru orantılıdır.

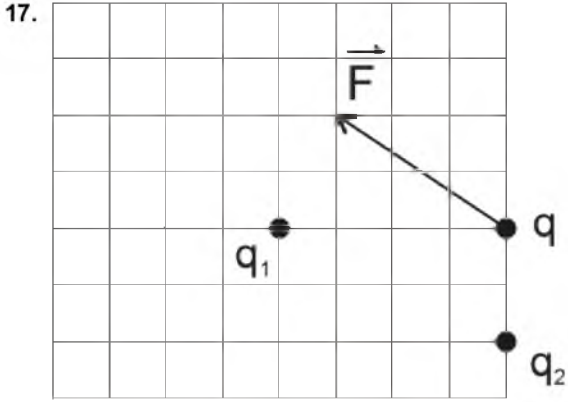
Manyetik alanla ilgili yukarıdaki ifadelerden hangileri doğrudur?

- A) Yalnız I
- B) Yalnız II
- C) I ve II
- D) I, II ve III

16. I. Bir kondansatörün sığası yük miktarına bağlıdır.
 II. Bir kondansatörü yüklemek için iş yapılır.
 III. Kondansatörler kullanıldıkları yere ve ihtiyaç duyulan kapasiteye göre üretilir.

Kondansatörlerle ilgili yukarıdaki ifadelerden hangileri doğrudur?

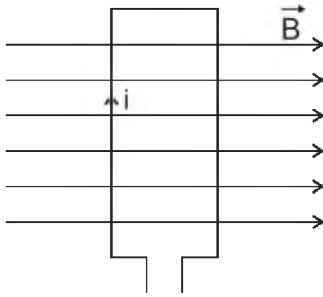
- A) Yalnız I
- B) Yalnız II
- C) I ve III
- D) II ve III



Şekildeki konumlarda bulunan noktasal q_1 ve q_2 yüklerinin q yükü üzerinde oluşturdukları bileşke elektriksel kuvvet F dir. Buna göre q_1/q_2 oranı nedir?

- A) 8
- B) 6
- C) 4
- D) 2

18.



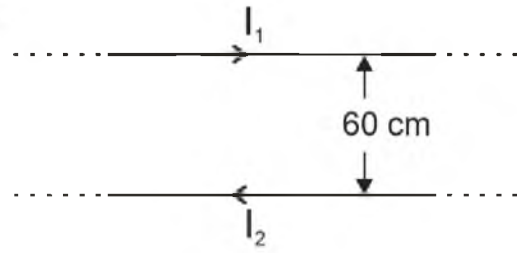
Sayfa düzleminde bulunan ve kenar uzunlukları $10\text{cm} \times 20\text{cm}$ olan tel halkaya şekildeki gibi şiddeti 400T olan manyetik alan uygulanıyor. Halkadan geçen akım 2A olduğuna göre halkada oluşan Tork(Moment) kaç $\text{Wb} \cdot \text{A}$ dir?

- A) 4
- B) 8
- C) 12
- D) 16

19. 20Ω luk bir direncin uçları arasındaki alternatif gerilimin maksimum değeri $V = 30\sqrt{2}$ V dur. Direncin üzerinden geçen akımın etkin değeri kaç amper (A) dir?

- A) 3,5
- B) 2,5
- C) 1,5
- D) 0,5

20.



Aralarındaki uzaklık 60cm olan paralel düz tellerden $I_1=3\text{A}$ ve $I_2=4\text{A}$ büyüklüğünde akım geçmektedir. Tellerin 1m büyüklüğündeki parçalarına uyguladıkları kuvvet kaç Newton (N) dur? ($k=10^{-7}\text{ N/m}$)

- A) $6 \cdot 10^{-6}$
- B) $4 \cdot 10^{-6}$
- C) $8 \cdot 10^{-4}$
- D) $4 \cdot 10^{-2}$

1. Çeşitli konularda uzmanların, dinleyiciler karşısında görüşlerini açıkladıkları toplantılara ne ad verilir?
- A) Konferans
B) Röportaj
C) Açık oturum
D) Söylev
2. Aşağıdakilerden hangisi konferansçının konferans sırasında dikkat etmesi gereken özelliklerden biridir?
- A) Konferansçı heyecanı ile hareket etmemelidir.
B) Konferansçının, dinleyicilerin kültür ve zevk düzeylerini dikkate alma zorunluluğu yoktur.
C) Elindeki notları dinleyiciye okumalıdır.
D) Argo ve bayağı sözlerden kaçınmalıdır.
3. Aşağıdakilerden hangisi makale ile bilimsel yazıların benzerliklerinden biri değildir?
- A) Okuyucunun bilgilendirilmesinin amaçlanması
B) Sanatsal yaklaşımın ön planda olması
C) Kurallı cümleler içermesi
D) Anlatılanların kanıtlanma zorunluluğunun olması
4. Türk edebiyatında ilk makale kim tarafından yazılmıştır?
- A) Nefi
B) Hüseyin Cahit
C) Namık Kemal
D) Şinasi
5. Aşağıdakilerden hangisi münazara tartışmalarının uyması gereken davranışlardan biri değildir?
- A) Aynı konuda üst üste söz almaya çalışmak
B) Süslü söyleyişlerden uzak durmak
C) Tartışma konusunun dışına çıkmamak
D) Başkanın uyarılarına karşı gelmemek
6. Aşağıdakilerden hangisi sözlü anlatım türlerinden biridir?
- A) Şiir
B) Konferans
C) Değerlendirme
D) Makale
7. Aşağıdakilerden hangisi konferansın özelliklerinden biri değildir?
- A) Kanıtlayıcı anlatım türlerinden uzak durması
B) Açıklayıcı olması
C) Öğretici olması
D) Nesnel ve gözlemlenebilir bilgi vermesi

8. "Sayın jüri üyeleri, değerli arkadaşlarım, tezimin doğru olduğunu savunmaya sanat ile sanatkâr kelimelerini açıklayarak başlayacağım"
- Yukarıda bir parçası alıntılanan konuşmanın gerçekleştirildiği ortam aşağıdakilerden hangisidir?
- A) Sempozyum
B) Münazara
C) Forum
D) Panel
9. Aşağıdakilerden hangisi ülkemizde ilk özel gazeteyi kuranlardan birisidir?
- A) Cenap Şehabettin
B) Hüseyin Cahit
C) Agah Efendi
D) Ahmet Emin
10. Aşağıdakilerden hangisi bilimsel yazılar içerisinde ver almaz?
- A) Bilimsel makaleler
B) Tiyatro metinleri
C) Konferans raporları
D) Değerlendirme yazıları
11. Adını Romalıların eskiden yaptıkları halk toplantılarından alan, bir sorun üzerinde bütün ilgililerin görüşlerini öğrenmek için yapılan toplantı türü aşağıdakilerden hangisidir?
- A) Forum
B) Sempozyum
C) Münazara
D) Söyleşi
12. Aşağıdakilerden hangisi sempozyum bildirisinin bölümlerinden biri değildir?
- A) Giriş
B) Deney
C) Bulgular
D) Taslak
13. Aşağıdakilerden hangisi açık bir anlatımın özelliklerinden biridir?
- A) Ses akışını bozan cümle kullanılması
B) Karışık, ağır bir dil kullanılması
C) İfadenin hiçbir engelle uğramadan akıp gitmesi
D) Gereksiz ifadelerle yer verilmesi

14. Aşağıdakilerden hangisi sempozyumlarda oturum başkanının görevlerinden biri değildir?

- A) Konuşmacıların sunu içeriklerini belirlemek
- B) Konu hakkında dinleyicilere kısa bir bilgi vermek
- C) Konuşmacıların sunu ve tartışma sürelerini belirtmek
- D) Konuşmacılardan sonra konuyu dinleyicilerin tartışmasına açmak

15. Panel türünün özelliklerini taşıyan Forumu Panelden ayıran en önemli fark aşağıdakilerden hangisidir?

- A) Düzeni sağlayan bir başkanın bulunması
- B) Kamuoyunu aydınlatmak amacıyla düzenlenmesi
- C) İşlenecek konunun toplantıyı düzenleyen kişi tarafından açıklanması
- D) Konuşmacılardan sonra dinleyicilerin de tartışmaya katılıp fikirlerini dile getirmeleri

16. Bilim insanlarının bir konunun çeşitli yönlerini inceleyip görüş bildirdikleri toplantılara ne ad verilir?

- A) Münazara
- B) Söylev
- C) Açık oturum
- D) Sempozyum

17. Makaleyle ilgili aşağıdaki ifadelerden hangisi yanlıştır?

- A) Üslup yönünden üçüncü tekil anlatım tercih edilir.
- B) Gazetede ilk sayfa ve birinci sütunda yer alan ve günlük olaylar, ülke sorunları hakkında görüşleri yansıtan yazılara başmakale adı verilir.
- C) Makalede temel öge duygudur.
- D) Bilimsel bir anlatım ağır basar.

18. Konferansta konuyla ilgili genel yargılar hangi bölümde yer alır?

- A) Soru-cevap
- B) Anafikir
- C) Hitap cümlesi
- D) Sonuç

19. Aşağıdakilerden hangisi konferans planı yapılırken dikkate alınması gereken unsurlardan biri değildir?

- A) Konuşmacıların kılık-kiyafetleri
- B) Konferansın amacı
- C) Konunun sunuluşu
- D) Sorular ve cevaplar

20. Aşağıdakilerden hangisi makalenin okuyucu kitlesine ulaşmasında en etkili olan öğedir?

- A) Sonuç
- B) Başlık
- C) Dipnot
- D) Tartışma

1. Aşağıdakilerden hangisi bildiride açıklanan Fecr-i Âtî sanatçıları arasında yer almaz?

- A) Emin Bülent
- B) Celal Sahir
- C) Mehmet Rauf
- D) Ahmet Samim

2. Halit Ziya Uşaklıgil'den sonra Edebiyat-ı Cedide topluluğunun en önemli romancılarındandır. On altı yaşında iken, Halit Ziya'nın İzmir'de çıkardığı Hizmet adlı dergide "Düşmüş" adlı ilk hikayesi yayımlandı.

Yukarıda söz edilen yazar aşağıdakilerden hangisidir?

- A) Cenap Şehabettin
- B) Mehmet Rauf
- C) Tefik Fikret
- D) Hüseyin Yalçın

3. Osmanlı Devleti içerisinde yaşayan halk arasında dil, din, ırk ayrımı yapılmaksızın herkesin eşit haklara sahip olmasını savunan görüş aşağıdakilerden hangisidir?

- A) Osmanlıcılık
- B) Batıcılık
- C) Türkçülük
- D) İslamcılık

4. Mensur şiirin ilk ortaya çıktığı ülke aşağıdakilerden hangisidir?

- A) Rusya
- B) İngiltere
- C) Almanya
- D) Fransa

5. Aşağıdakilerden hangisi Servet-i Fünûn Döneminin belli başlı sanatçılarından biri değildir?

- A) Ömer Seyfettin
- B) Ahmet Hikmet Müftüoğlu
- C) Hüseyin Cahit Yalçın
- D) Halit Ziya Uşaklıgil

6. Aşağıdakilerden hangisi realist yazarlardan biri değildir?

- A) Stendhal
- B) Victor Hugo
- C) Guy de Maupassant
- D) Honore de Balzac

7. Aşağıdakilerden hangisi Halide Edip Adıvar'ın eserlerinden biri değildir?

- A) Kalp Ağrısı
- B) Ateşten Gömlek
- C) Türkün Ateşle İmtihanı
- D) Yaban

8. "Çamdeviren", "Deli Ozan" gibi takma isimlerle mizah şiirleri yazan şair aşağıdakilerden hangisidir?

- A) Mehmet Emin Yurdakul
- B) Yahya Kemal
- C) Faruk Nafiz Çamlıbel
- D) Ahmet Haşim

9. Öz Şiir (saf şiir) anlayışının Türk edebiyatındaki önemli temsilcileri aşağıdakilerden hangisinde birlikte ve doğru olarak verilmiştir?

- A) Ahmet Haşim – Yahya Kemal Beyatlı
- B) Fuat Köprülü – Ziya Gökalp
- C) Ahmet Samim – Celal Sahir
- D) Ömer Seyfettin – Ali Canip Yöntem

10. Klasik olay hikâyesi tarzında yazan, Ömer Seyfettin'in de örnek aldığı Fransız yazar aşağıdakilerden hangisidir?

- A) Montaigne
- B) Moliere
- C) Guy de Maupassant
- D) Voltaire

11. Türk edebiyatında özellikle edebiyat tarihi çalışmalarlarıyla tanınan araştırmacı-yazar aşağıdakilerden hangisidir?

- A) Fuat Köprülü
- B) Yakup Kadri Karaosmanoğlu
- C) Halide Edip Adıvar
- D) Ahmet Hikmet Müftüoğlu

12. "Kiralık Konak, Nur Baba, Sodom ve Gomore, Hüküm Gecesi" adlı romanlar aşağıdaki yazarlardan hangisine aittir?

- A) Halit Ziya Uşaklıgil
- B) Yakup Kadri Karaosmanoğlu
- C) Halide Edip Adıvar
- D) Ahmet Rauf

13. İlk şiiri 1885'te daha öğrencilik yıllarında Saadet gazetesinde yayımlandı. Önceleri Muallim Naci'nin etkisinde kaldı. Daha sonra Rezaizade Mahmut Ekrem ve Abdülhak Hamit Tarhan'dan etkilenerek Batı tarzı şiire yöneldi. Servet-i Fünun dergisinde şiirleri yayımlandı. Tevfik Fikret ve Halit Ziya Uşaklıgil'le birlikte Servet-i Fünun edebiyatının üç önemli isminden biri oldu.

Yukarıda söz edilen sanatçı aşağıdakilerden hangisidir?

- A) Süleyman Nazif
- B) Hüseyin Cahit Yalçın
- C) Mehmet Rauf
- D) Cenap Şehabettin

14. "Hayal ile yoktur benim alışverişim / Her ne demişsem görüp de söylemişim" diyerek sanat anlayışını ortaya koyan şair aşağıdakilerden hangisidir?

- A) Ahmet Haşim
- B) Mehmet Âkif Ersoy
- C) Mehmet Emin Yurdakul
- D) Yahya Kemal Beyatlı

15. II. Abdülhamit'in 1878'te kurduğu baskı rejimi sonucunda ikinci dönem Tanzimat Edebiyatı sanatçılarının "sanat için sanat" görüşünden yola çıkarak öncülüğünü yapmış oldukları edebiyat anlayışı aşağıdakilerden hangisidir?

- A) Millî Edebiyat
- B) Cumhuriyet Dönemi Edebiyatı
- C) Tanzimat Edebiyatı
- D) Servet-i Fünûn Edebiyatı

16. Türk Edebiyatında nazmı nesre yaklaştırmada başarıya ulaşan yazarlar aşağıdakilerden hangisinde birlikte ve doğru olarak verilmiştir?

- A) Mehmet Âkif Ersoy – Tevfik Fikret
- B) Ahmet Haşim – Yahya Kemal
- C) Halit Ziya – Mehmet Rauf
- D) Ömer Seyfettin – Ali Canip Yöntem

17. Aşağıdakilerden hangisi Türk edebiyatında "Beş Hececiler" adıyla anılan yazarlar arasında ver almaz?

- A) Enis Behiç Koryürek
- B) Yusuf Ziya Ortaç
- C) Reşat Nuri Güntekin
- D) Faruk Nafiz Çamlıbel

18. Aşağıdakilerden hangisi Fecr-i Âti topluluğunun amaçları arasında ver almaz?

- A) Ülkemizin sanat ürünlerini Batı'ya; Batı'nın ürünlerini de ülkemize tanıtmak
- B) Dilin, edebiyatın ve diğer bilimlerin ilerlemesine katkı sağlamak
- C) Genç yetenekleri bir araya getirmek
- D) "Toplum için sanat" anlayışına bağlı olmak

19. "Türk Edebiyatında İlk Mutasavvıflar" adlı eser aşağıdaki yazarlardan hangisine aittir?

- A) Ziya Gökalp
- B) Fuat Köprülü
- C) Reşat Nuri Güntekin
- D) Tevfik Fikret

20. Aşağıdakilerden hangisi Servet-i Fünûn Döneminin düz yazı yazarları arasında ver almaz?

- A) Halit Ziya Uşaklıgil
- B) Mehmet Rauf
- C) Ali Ekrem Bolayır
- D) Hüseyin Cahit Yalçın

1. Aşağıdakilerden hangisi enerji birimidir?

- A) Newton.saniye(N.s)
- B) Watt(W)
- C) Kilowatt-saat(kWh)
- D) Joule(J)/saniye (J/s)

2. İnsanların günlük enerji ihtiyaçlarını karşıladıkları yiyecekler hangi tür enerji kaynağıdır?

- A) Nükleer
- B) Elektriksel
- C) Kimyasal
- D) Kinetik

3. Yerden 10 m yüksekte uçan 0,5 kg kütleli bir maket uçağın hızı 2 m/s ise maket uçağın toplam mekanik enerjisi kaç joule (J) dur?
 $g = 10\text{m/s}^2$

- A) 51
- B) 101
- C) 152
- D) 202

4. I. Maddenin cinsi
II. Maddenin kalınlığı
III. Maddenin iki ucu arasındaki sıcaklık farkı

Yukarıdaki faktörlerden hangisi enerji iletim hızını etkiler?

- A) Yalnız I
- B) Yalnız II
- C) II ve III
- D) I, II ve III

5. Aşağıdaki araçlardan hangisinin verimi en büyüktür?

- A) Araba motoru
- B) Elektrik motoru
- C) Floresan lamba
- D) Filaman ampul

6. Aşağıdakilerden hangisi venilenemez enerji kaynaklarının dezavantajıdır?

- A) Kolay taşınabilirler.
- B) Ucuzdurlar.
- C) Yüksek enerji yoğunluğuna sahiptirler.
- D) Çevre kirliliğine neden olurlar.

7. I. İş ,bir cisme etki eden kuvvetin o cisme etki doğrultusunda hareket ettirmesidir.
II. İş skaler büyüklük olup birimi joule (J) dur.
III. Hareketin doğrultusu ve uygulanan kuvvetin yönü birbirine dik ise iş yapılmaz.

Yukarıdaki iş ilgili ifadelerden hangisi doğrudur?

- A) I-II ve III
- B) II ve I
- C) I ve III
- D) II- III

8. Aşağıdakilerden hangisi bir enerji türü değildir?

- A) Elektrik
- B) Isı
- C) Ses
- D) Sıcaklık

9. 20°C sıcaklık değerinin Fahrenheit (°F) karşılığı nedir?

- A) 32
- B) 48
- C) 68
- D) 95

10. Bir çocuk, kaykay üzerine oturmuş kardeşini 90 N'luk bir kuvvet uygulayarak 2 m itmektedir. Yapılan iş kaç joule (J) dur?

- A) 180
- B) 100
- C) 90
- D) 45

11. Aşağıdakilerden hangisi yenilenebilir enerji kaynaklarından biri değildir?

- A) Dalga
- B) Doğal gaz
- C) Rüzgar
- D) Jeotermal

12. I. Sıcaklığın vektörel bir büyüklük olması
II. Isı alışverişi yapan maddelerin sıcaklığı değişirmesi
III. Sıcaklığın düşebileceği en küçük değerin sıfır Kelvin olması

Sıcaklık ile ilgili yukarıdaki özelliklerden hangisi doğrudur?

- A) Yalnız I
- B) I ve II
- C) I ve III
- D) II ve III

13. Bakır bir çubuğa ısı verilerek genişletilince, genişleyen çubuğun aşağıdaki büyüklüklerinden hangisinin değerinde azalma gözlenir?

- A) Hacim
- B) Öz kütle
- C) Sıcaklık
- D) Kütle

14. Aşağıdakilerden hangisi ısının birimidir?

- A) Metre(m)
- B) Newton(N)
- C) Joule(J)
- D) Kelvin(K)

15. Maddelerin gaz halinden sıvı hale geçmeden katı hale geçmesine ne ad verilir?

- A) Süblimleşme
- B) Kırışılma (kristalleşme)
- C) Yoğunlaşma
- D) Donma

16. Bir arabanın kütlesi sürücüsüyle birlikte 1000kg'dır. Bu araba 20m/s hızla giderken kinetik enerjisi kaç joule (J) olur?

- A) 50.000
- B) 100.000
- C) 150.000
- D) 200.000

17. Tüm gün çalışan bir inşaat işçisinin kaç kJ' luk enerjiye ihtiyacı duyar?

- A) 25000
- B) 18000
- C) 10000
- D) 5000

18. I. Genleşmesi düşük olan sıvı kullanılması
II. Bölme sayısının az olması
III. Kesit alanı küçük, kılcal boru kullanılması

Yukarıdakilerden hangisi sıvılı termometrelerin duyarlılığını artırır?

- A) Yalnız III
- B) I-II
- C) I-III
- D) I-II-III

19. Yerden 10 m yüksekten uçan 1 kg kütleli bir maket uçağın kütle çekim potansiyel enerjisi kaç joule (J) dur? $g = 10m/s^2$

- A) 10
- B) 50
- C) 100
- D) 150

20. Bilim insanlarının yaptığı hesaplamalar sonucunda ulaşılabilecek en düşük sıcaklığın kaç °C olduğu belirlenmiştir?

- A) -273,15
- B) -300,2
- C) -112,5
- D) 0,0

1. Osmanlı Devleti'nde 1718-1730 yılları arasında yaşanan döneme ne ad verilir?
- A) Lale devri
B) Çöküş dönemi
C) Yükseliş dönemi
D) Islahat devri
2. Küçük Kaynarca Antlaşması'ndan sonra Kırım'ı ele geçirmek için harekete geçen Rusya ile savaş hazırlıklarına başlayan Osmanlı Devleti arasında Fransa'nın arabuluculuğu ile yapılan antlaşma aşağıdakilerden hangisidir?
- A) Balta Limanı Antlaşması
B) Prut Antlaşması
C) Hünkâr İskeleyi Antlaşması
D) Aynalıkavak Sözleşmesi
3. Sened-i İttifak hangi padişah döneminde imzalanmıştır?
- A) I. Mahmut
B) II. Mahmut
C) II. Osman
D) III. Selim
4. Aşağıdakilerden hangisi Osmanlı Devleti'nin dağılmasını önlemeye yönelik ortaya çıkan fikir akımlarından biri değildir?
- A) İslamcılık
B) Kemalizm
C) Batıcılık
D) Osmanlıcılık
5. Osmanlı Devleti'nin XVIII. yüzyıl başlarında takip ettiği siyaset aşağıdakilerden hangisidir?
- A) Topraklarını genişletmek
B) Büyük bir sömürge imparatorluğu kurmak
C) Deniz aşırı ülkelerde ticaret yapmak
D) Kaybettiği toprakları geri almak
6. Azak Kalesi'nin alınmasıyla, Karlofça Antlaşması'yla kaybedilen toprakların geri alınabileceği umudunu güçlendiren antlaşma aşağıdakilerden hangisidir?
- A) Pasarofça Antlaşması
B) Zıstovi Antlaşması
C) Prut Antlaşması
D) İstanbul Antlaşması
7. 1881 yılında Osmanlı Devleti'nin dış borçlarının ödenmesi ile ilgili yeni esasların belirlendiği belge aşağıdakilerden hangisidir?
- A) Muharrem Kararnamesi
B) Islahat Fermanı
C) Tanzimat Fermanı
D) Balta Limanı Antlaşması
8. III. Selim'in yaptığı ıslahatların tümüne ne ad verilir?
- A) Nizam-ı Cedit
B) Sened-i ittifak
C) İrad-ı Cedit
D) Sekban-ı Cedit
9. Padişah ve ayanlar arasında imzalanan ve ayanların gücünün padişah tarafından resmen tanındığını gösteren belge aşağıdakilerden hangisidir?
- A) Muharrem Kararnamesi
B) Sened-i İttifak
C) Tanzimat Fermanı
D) Islahat Fermanı
10. Islahat Fermanı hangi yıl ilan edilmiştir?
- A) 1839
B) 1850
C) 1856
D) 1882

11. Rusya'nın Karadeniz'de güvenliğini sağladığı, boğazlar ile ilgili maddesinin İngiltere ve Fransa'nın çıkarlarına aykırı olduğu için tepki gösterdikleri antlaşma aşağıdakilerden hangisidir?
- A) Hünkâr İskeleyi
B) Balta Limanı
C) İstanbul
D) Edirne
12. Aşağıdakilerden hangisi Sanayi İnkılabı'nın Osmanlı Devleti üzerindeki olumsuz etkilerinden biri değildir?
- A) İthal malların Osmanlı pazarlarını ele geçirmesi
B) Dışarıya daha fazla mamul madde satar hale gelmesi
C) Küçük el tezgahlarının kapanması
D) Osmanlı esnafının hammade sıkıntısı yaşaması
13. Osmanlı Devleti'nin boğazlar konusunda son kez tek başına karar verdiği antlaşma aşağıdakilerden hangisidir?
- A) Londra
B) Hünkâr İskeleyi
C) Balta Limanı
D) İstanbul
14. Aşağıdakilerden hangisi Küçük Kaynarca Antlaşması'nın maddeleri arasında yer almaz?
- A) Osmanlı Devleti Rusya'ya savaş tazminatı ödeyecek
B) Ruslar İstanbul'da sürekli elçi bulundurabilecek
C) Ruslar, Osmanlı uyruğunda olan Ortodokslarla, Eflak ve Boğdan beylerinin haklarını koruyacak
D) Ruslar Akdeniz ve Karadeniz'deki Türk sularında ticaret yapamayacak
15. Aşağıdakilerden hangisi Tanzimat Fermanı'nda yer alan hükümlerden biri değildir?
- A) Gayrimüslim halka din ve vicdan özgürlüğünün sağlanması
B) Herkesten kazancına göre vergi alınması
C) Rüşvet ve adam kayırmanın önlenmesi
D) Müsadere usulünün kaldırılması
16. Aşağıdakilerden hangisi II. Mahmut döneminde eğitim alanında yapılan islahatlardan biri değildir?
- A) Orta dereceli okulların açılması
B) İlk kez Avrupaya öğrenci gönderilmesi
C) Müsadere Usulünün kaldırılması
D) İlk öğretimin zorunlu hale getirilmesi
17. Osmanlı Devleti olimpiyat oyunlarına ilk defa hangi yıl katılmıştır?
- A) 1890
B) 1892
C) 1912
D) 1915
18. Aşağıdakilerden hangisi 1829 yılında Osmanlı Devleti ve Rusya arasında yapılan Edirne Antlaşması'nın maddeleri arasında yer almaz?
- A) Eflak, Boğdan ve Sırbistan özerk hale gelecek
B) Yunanistan bağımsız olacak
C) Prut Nehri iki devlet arasında sınır kabul edilecek
D) Boğazlar Rus ticaret gemilerine kapatılacak
19. Sanayi İnkılabından sonra Avrupa'da en büyük sömürge imparatorluğunu kuran devlet aşağıdakilerden hangisidir?
- A) Rusya
B) Almanya
C) İngiltere
D) Fransa
20. Aşağıdakilerden hangisi Fransız İhtilali'nin Osmanlı Devleti üzerindeki etkilerinden biri değildir?
- A) Avrupalı devletlerin ve Rusya'nın azınlıkların çıkardığı isyanları desteklemesi
B) Azınlıkların kendi milli devletlerini kurmak için harekete geçmesi
C) Avrupa devletlerinin Osmanlı Devleti'nin iç işlerine karışmaya başlaması
D) Osmanlı Devleti'nin yükseliş dönemine geçmesi

1. "Karbonat" anyonunun formülü aşağıdakilerden hangisidir?
- A) SO_4^{2-}
 B) SO_3^{2-}
 C) HCO_3^-
 D) CO_3^{2-}
2. "Etan" bileşiğinin formülü aşağıdakilerden hangisidir?
- A) CH_4
 B) C_2H_6
 C) C_3H_8
 D) C_2H_5OH
3. Bilinen basit ayırma yöntemleriyle başka maddelere ayrılmayan maddelere ne ad verilir?
- A) Saf madde
 B) Karışım
 C) Şekerli su
 D) Kum-demir tozu
4. Cl^- sembolüyle verilen anyonun adı aşağıdakilerden hangisidir?
- A) İyondur
 B) Florür
 C) Klorür
 D) Nitrür
5. Bütün maddelerin dört elementten oluştuğu düşüncesini ortaya atan filozof aşağıdakilerden hangisidir?
- A) Lehn
 B) Democritus
 C) Hipokrat
 D) Aristo
6. Analitik kimya ile ilgili olarak aşağıdaki ifadelerden hangisi doğrudur?
- A) Canlıların yapısında yer alan kimyasal maddeleri ve yaşamları boyunca gerçekleşen kimyasal süreçleri inceler.
 B) Karbon temelli bileşiklerin yapısını, tepkimelerini inceler.
 C) Kimyasal sistemlerde fiziksel özellikleri ve enerji-iş dönüşümlerini inceler.
 D) Bir maddenin kimyasal bileşenlerinin bir kısmının ya da tamamının nitel ve nicel özelliklerini inceler.
7. Sistematik adı "sülfürik asit" olan bileşiğin geleneksel adı aşağıdakilerden hangisidir?
- A) Güherçile
 B) Yemek sodası
 C) Zaç yağı
 D) Tuz ruhu
8. Maddenin yapısı, maddeler arası dönüşümleri ve kullanım alanlarını, inceleyen bilim dalı aşağıdakilerden hangisidir?
- A) Biyoistatistik
 B) Kimya
 C) Biyokimya
 D) Biyoloji
9. $_{15}P$ elementinin katman elektron dizilimi aşağıdakilerden hangisidir?
- A) 2-8-2-3
 B) 2-8-5
 C) 2-8-8
 D) 8-2-5
10. Oda şartlarında gaz olan, hiçbir elementle bileşik oluşturmaya yatkın olmayan, en dış katmanında genellikle 8 elektron bulunduran elementlere verilen ad aşağıdakilerden hangisidir?
- A) Ametaller
 B) Asal gazlar
 C) Metaller
 D) Yarı-metaller
11. Bir atomun proton sayısı ve nötron sayısının toplamı aşağıdaki terimlerden hangisiyle ifade edilir?
- A) İzotop sayısı
 B) Elektron sayısı
 C) Kütle numarası
 D) Atom numarası
12. Gaz halindeki tek bir atomun en yüksek enerji düzeyindeki bir elektronunu uzaklaştırabilmek için gerekli minimum enerjiye verilen ad aşağıdakilerden hangisidir?
- A) İyonlaşma enerjisi
 B) Elektronegatiflik
 C) Atom yapıcağı
 D) Elektron ilgisi

13. Aşağıdakilerden hangisi ametalik özelliklerden biri değildir?

- A) Isı ve elektriği iyi iletmeleri
- B) Kristal yapıda olanların saydam olması
- C) Kendi aralarında elektron ortaklığıyla bileşik oluşturmaları
- D) Metallerle tepkimelerinden basit tuz oluşturmaları

14. Aşağıdakilerden hangisi Rutherford'un önerdiği atom modelinin adıdır?

- A) Thomson atom modeli
- B) Kuantum atom modeli
- C) Üzümlü kek modeli
- D) Çekirdek atom modeli

15. "Belli bir bileşiği oluşturan elementlerin birleşen kütle oranları her zaman sabit kalır" kuralı aşağıdakilerden hangisini ifade eder?

- A) Sabit Oranlar Kanunu
- B) İdeal Gaz Kanunu
- C) Kütlelerin Korunumu Kanunu
- D) Katlı Oranla Kanunu

16. Aşağıdakilerden hangisi elementin periyodik sistemdeki yerini belirler?

- A) Lewis sembolü
- B) İzotop numarası
- C) Atom numarası
- D) Kütle numarası

17.

1A
Li
Na
K
Rb

Periyodik tabloda verilen dört atomun atom yarıçaplarıyla (r) ilgili olarak aşağıdakilerden hangisi doğrudur?

- A) $r_{Li} > r_{Na} > r_K > r_{Rb}$
- B) $r_{Li} < r_{Na} < r_K < r_{Rb}$
- C) $r_{Li} = r_{Na} = r_K = r_{Rb}$
- D) $r_{Rb} > r_K > r_{Na} > r_{Li}$

18. Proton, nötron ve elektron gibi zerrelele verilen ad aşağıdakilerden hangisidir?

- A) Kütle numarası
- B) Parçacık
- C) Atom altı tanecik
- D) Elektron

19.

7A
⁹ F
¹⁷ Cl
³⁵ Br
⁵³ I

Dört elementin (F, Cl, Br, I) periyodik sistemdeki yerleri ve atom numaraları yukarıda verilmektedir. Bu elementlerden hangisinin elektronegatifliği en yüksektir?

- A) F
- B) Cl
- C) Br
- D) I

20. Aşağıdakilerden hangisi karbonun izotopu değildir?

- A) $^{12}_6C$
- B) $^{13}_6C$
- C) $^{14}_6C$
- D) $^{14}_8C$

1. Aşağıdakilerden hangisi söyleşmeye bağlı anlatımın kullanıldığı metin türlerinden biri değildir?

- A) Tiyatro
- B) Röportaj
- C) Deneme
- D) Mülakat

2. Aşağıdaki altı çizili sözcüklerden hangisinde zarf kullanılmıştır?

- A) Q fırının her ürünü çok lezzetli.
- B) Küçük çocuk arkadaşına seslendi.
- C) Benimle çok üzel konuşuyor.
- D) Aldıklarım arasında bu kitap sürükleyici.

3. Aşağıdaki cümlelerin hangisinde "kırmızı" sözcüğü sıfat olarak kullanılmıştır?

- A) Kırmızı renk bir kazak alacağım.
- B) Şu kalemlerden kırmızıyı verir misin?
- C) Etrafta ne varsa kırmızıydı.
- D) Kırmızılarını bu tarafa ayıralım.

4. Aşağıdakilerden hangisi bilimkurgunun temel konulardan biri değildir?

- A) Sporla ilgili olanlar
- B) Uzayla ilgili olanlar
- C) Makinelerle savaş
- D) Zaman içinde yolculuklar

5. Aşağıdaki kelimelerden hangisi tezlük birleşik fiillere verilen bir örnektir?

- A) Tutuvermek
- B) Düşeyazmak
- C) Görebilmek
- D) Seyreylemek

6. Aşağıdakilerden hangisi bir anlatım biçimi olan hikâye etmeyi oluşturan temel unsurlardan biri değildir?

- A) Kişi
- B) Başlık
- C) Olay
- D) Yer

7. Aşağıdakilerden hangisi divan edebiyatının mizahi örneklerinden biri değildir?

- A) Harname
- B) Göktürk Kitabeleri
- C) Hırrename
- D) Şikayetname

8. Aşağıdaki cümlelerin hangisinde sayı sıfatı kullanılmıştır?

- A) Her duyduğuna inanma.
- B) Üç kilo kiraz istiyorum.
- C) Birçok memleket gezdim.
- D) Bu eve kim gelecek?

9. Lirik anlatım ile ilgili aşağıdaki ifadelerden hangisi yanlıştır?

- A) Dil heyecana bağlı işlevi ile kullanılır.
- B) Daha çok şiir, roman, hikâye ve tiyatro türlerinde kullanılır.
- C) Lirik anlatımda fikirler ön plandadır.
- D) "Ben" ve "biz" zamirleri çok kullanılır.

10. Aşağıdaki cümlelerin hangisinde yeterlilik fiili vardır?

- A) Bu hikâye yıllardır süregelir.
- B) Gidedursun turnalar gurbet ellere.
- C) Giderken kapıyı kapatıverin.
- D) Okula geç kalırsam öğretmen kızabilir.

11. Masalla teknolojinin bir araya gelmesi aşağıdaki anlatım türlerinden hangisini açıklar?

- A) Lirik anlatım
- B) Epik anlatım
- C) Gelecekte söz eden anlatım
- D) Betimleyici anlatım

12. Aşağıdaki altı çizili kelimelerden hangisi yalın isimlere verilen bir örnektir?

- A) Doğalgaz savacı yine arızalandı.
- B) Demirci yine güne erken başladı.
- C) Dağlar güzeldir.
- D) Otobüs durağı bu sabah bomboştı.

13. Aşağıdaki kelimelerden hangisi addan ad yapan bir ek almıştır?

- A) büyüteç
- B) üçüz
- C) gelir
- D) silgi

14. Fiilin belirttiği işin nasıl, ne zaman ve ne biçimde yapıldığını bildiren anlatım biçimine ne ad verilir?

- A) Ulaş
- B) Eylemsi
- C) Ortaç
- D) Kip

15. Divan edebiyatında lirik şiir tarzında eserler veren şair kimdir?

- A) Yahya Kemal
- B) Yunus Emre
- C) Karacaoğlan
- D) Fuzuli

16. Dante'nin yazdığı İlahi Komedya, aşağıdaki destan türlerinden hangisine örnektir?

- A) Yapma destan
- B) Doğal destan
- C) Modern destan
- D) Çağdaş destan

17. Aşağıdakilerden hangisi soyut bir sözcüktür?

- A) sandalye
- B) kıskançlık
- C) okul
- D) ev

20. Dünya edebiyatından "Gulliver'in Gezileri" adlı eser, aşağıdaki anlatımlardan hangisine örnektir?

- A) Destansı
- B) Emredici
- C) Kanıtlayıcı
- D) Düşsel

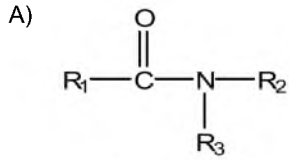
18. "ile" sözcüğü aşağıdakilerin hangisinde diğerlerinden farklı bir türde kullanılmıştır?

- A) Elindeki çanta ile içeri giremezsin.
- B) İstanbul ile Eskişehir arası iki saat sürüyor.
- C) Bu kadar ekmek ile ne yapacaksın?
- D) Ödevlerimizi arkadaşımız ile hazırladık.

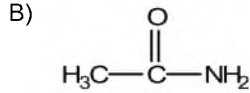
19. Aşağıdakilerden hangisi yeterlik eylemidir?

- A) gelivermek
- B) gidedurmak
- C) uyuyakalmak
- D) okuyabilmek

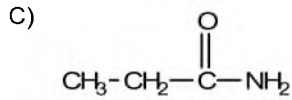
1. Aşağıdaki amittlere ait adlandırmalardan hangisi doğrudur?



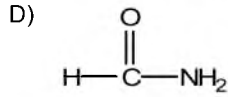
İkincil amit



Metanamit



Etanamit

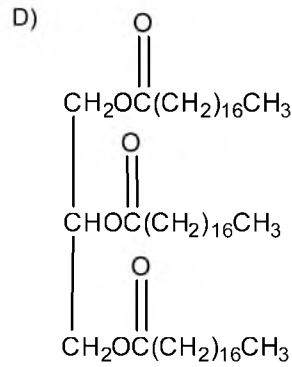
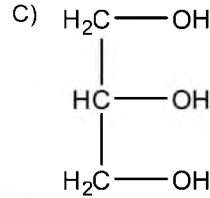
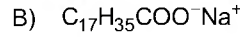
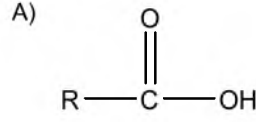


Formanit

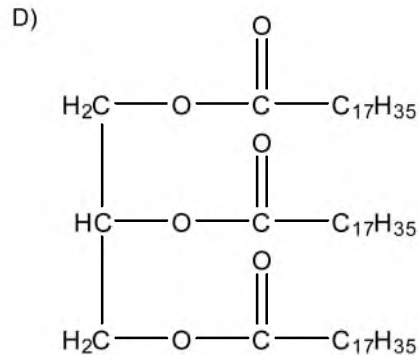
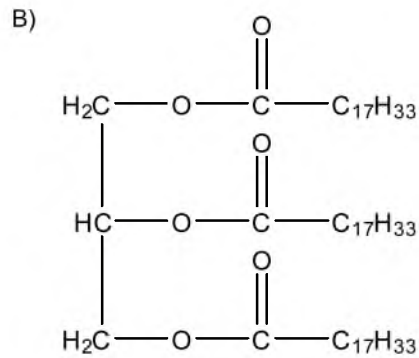
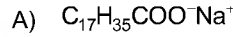
2. Amino bileşiklerin yapıları ve adlandırmaları ile ilgili aşağıdaki ifadelerden hangisi **yanlıştır**?

- A) Moleküllerinde hem karboksil grubu ($-\text{COOH}$), hem de amino grubu ($-\text{NH}_2$) taşıyan bileşikler aminoasitlerdir.
- B) Yapılarında hem $-\text{NH}_2$ grubu hem de $-\text{COOH}$ grubu buldukları için amfoter bileşikler olarak kabul edilirler.
- C) Moleküllerinde hem hidroksil grubu ($-\text{OH}$), hem de amino grubu ($-\text{NH}_2$) taşıyan bileşikler aminoasitlerdir.
- D) Doğal aminoasitlerin çoğunda $-\text{NH}_2$ grubu 2 numaralı C atomundadır.

3. Aşağıdakilerden hangisi yağ bileşiğidir?



4. Aşağıdakilerden hangisi sabun bileşiğidir?



5. Aşağıdakilerden hangisi çay şekeri olarak bilinen disakkarit bileşiğidir?

- A) Glikoz
- B) Sakaroz
- C) Laktoz
- D) Maltoz

6. Aşağıdaki bileşiklerden hangisi esterin genel formüllerinden biri değildir?

- A)
$$\begin{array}{c} \text{O} \\ \parallel \\ \text{R}_1-\text{C}-\text{OR}_2 \end{array}$$
- B)
$$\begin{array}{c} \text{O} \\ \parallel \\ \text{R}-\text{C}-\text{O}-\text{R}_1 \end{array}$$
- C)
$$\begin{array}{c} \text{O} \\ \parallel \\ \text{R}_1-\text{C}-\text{O}-\text{R}_2 \end{array}$$
- D)
$$\begin{array}{c} \text{O} \quad \text{O} \\ \parallel \quad \parallel \\ \text{R}-\text{C}-\text{O}-\text{C}-\text{R}_1 \end{array}$$

7. Aminlerin genel özellikleri ile ilgili aşağıdaki ifadelerden hangisi yanlıştır?

- A) Tüm amin bileşikleri suda hiç çözünmez, fakat organik çözücülerde çok iyi çözünür.
- B) Aminlerin ilk üyeleri gaz olup, kötü kokulu bileşiklerdir.
- C) Aminlerin düşük molekül kütleli üyeleri suda çok iyi çözünür. Karbon sayısı altıdan büyük olanlar organik çözücülerde çözünür.
- D) Birincil ve ikincil aminler N-H bağı içermelerinden dolayı suyla ve kendi molekülleri arasında hidrojen bağı oluşturur.

8. Aşağıdaki karboksilli asitlere ait adlandırmalardan hangisi yanlıştır?

- A)
$$\begin{array}{c} \text{O} \\ \parallel \\ \text{H}_3\text{C}-\text{CH}_2-\text{CH}_2-\text{C}-\text{OH} \end{array}$$

Pentanoik asit
- B)
$$\begin{array}{c} \text{O} \\ \parallel \\ \text{H}-\text{C}-\text{OH} \end{array}$$

Metanoik asit
- C)
$$\begin{array}{c} \text{O} \\ \parallel \\ \text{CH}_3-\text{C}-\text{OH} \end{array}$$

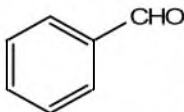
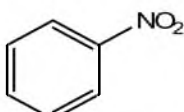
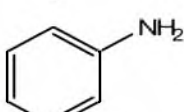
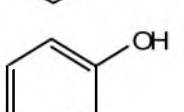
Etanoik asit
- D)
$$\begin{array}{c} \text{O} \\ \parallel \\ \text{CH}_3-\text{CH}_2-\text{C}-\text{OH} \end{array}$$

Propanoik asit

9. Aşağıdakilerden hangisi meyve şekeri ve levüloz olarak bilinen monosakkarit bileşiğidir?

- A) Glikoz
- B) Riboz
- C) Galaktoz
- D) Früktoz

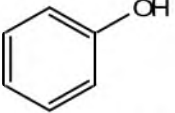
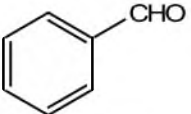
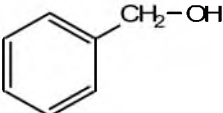
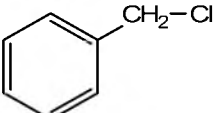
10. Aşağıdakilerden hangisi nitrobenzen bileşiğidir?

- A) 
- B) 
- C) 
- D) 

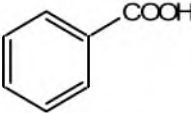
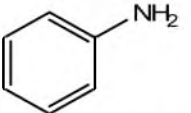
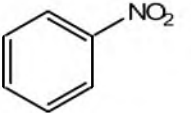
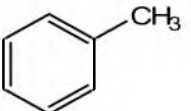
11. Karboksilli asitlerin fiziksel özellikleri ile ilgili aşağıdaki ifadelerden hangisi yanlıştır?

- A) Karboksilli asit molekülleri apolar yapıda olup moleküller arası dipol dipol bağlanması yaparlar.
 B) Karboksilli asitler, dimerik (iki molekülü) yapıda olabildiklerinden mol kütleleri aynı olan alkollere göre daha yüksek sıcaklıkta kaynarlar.
 C) Asetik asidin kütlece % 4-5'lik çözeltisi sirke olarak kullanılır.
 D) Küçük üyeleri renksiz, keskin ve çoğu zaman kötü kokulu sıvılardır.

12. Aşağıdakilerden hangisi benzil alkol bileşiğidir?


- A) 
 B) 
 C) 
 D) 

13. Aşağıdakilerden hangisi anilin bileşiğidir?

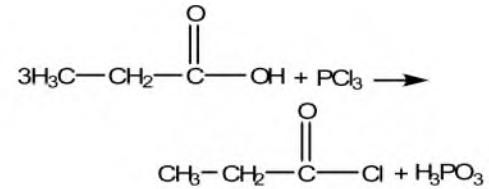
- A) 
 B) 
 C) 
 D) 

14. Karboksilli asitlerin kimyasal özellikleri ile ilgili aşağıda verilen tepkimelerden hangisi doğrudur?

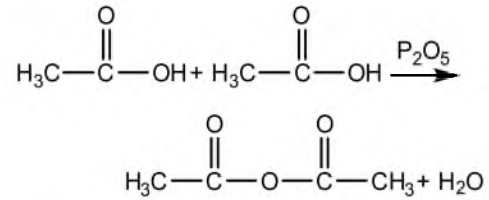
A) Nötralleşme tepkimesi



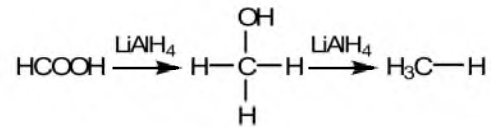
B) Asit klorürüleri oluşumu tepkimesi



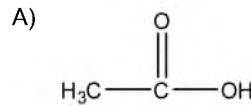
C) Anhidrit oluşumu tepkimesi



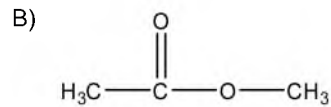
D) İndirgenme tepkimesi



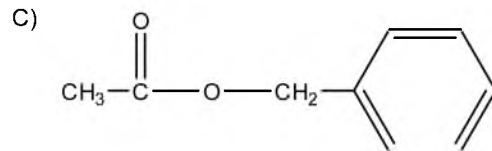
15. Aşağıdakilerden hangisi tabiatta bulunan ester bileşiklerinden biri değildir?



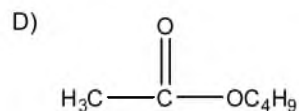
Asetik asit (sirke)



Metil asetat (nane)



Benzil asetat (yasemin)



Bütül pentanoat (ananas)

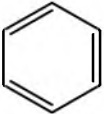
16. Aşağıdakilerden hangisi karboksilli asitlerin genel formüllerinden biri değildir?

- A) $\begin{array}{c} \text{O} \\ \parallel \\ \text{R}-\text{C}-\text{OH} \end{array}$
 B) RCO_2H
 C) $\begin{array}{c} \text{O} \\ \parallel \\ \text{R}-\text{C}-\text{H} \end{array}$
 D) $\text{R}-\text{COOH}$

17. Aşağıdaki organik bileşiklerden hangisi karbon hidrat içermez?

- A) Doğal su
 B) Unlu besinler
 C) Şekerli besinler
 D) Yapay ipekler

18. Aşağıdakilerden hangisi aromatik bileşiktir?

- A) $\begin{array}{c} \text{O} \\ \parallel \\ \text{H}_3\text{C}-\text{C}-\text{OH} \end{array}$
 B) $\begin{array}{c} \text{O} \\ \parallel \\ \text{H}_3\text{C}-\text{C}-\text{O}-\text{CH}_3 \end{array}$
 C) $\begin{array}{c} \text{H} \\ | \\ \text{H}_3\text{C}-\text{C}-\text{COOH} \\ | \\ \text{NH}_2 \end{array}$
 D) 

19. Aşağıdaki aminlere ait adlandırmalardan hangisi yanlıştır?

- A) $(\text{CH}_3)_3\text{N}$ Trimetilamin
 B) $(\text{C}_2\text{H}_5)_2\text{NH}$ Dietilamin
 C) $\text{CH}_3-\text{CH}_2-\text{NH}-\text{CH}_3$ Etilamin
 D) CH_3NH_2 Metilamin

20. Aşağıdakilerden hangisi bitkilerde bulunmayan fakat insan ve hayvanlarda bulunan polisakkarit bileşiğidir?

- A) Nişasta
 B) Glikojen
 C) Selüloz
 D) Maltoz

1. Aşağıdakilerden hangisi "iffet" kelimesinin anlamlarından biri değildir?

- A) Arlı olmak
- B) Fakirliğini ve zaruretini, çok muhtaç olmadıkça gizlemek
- C) Ahlâken temiz olmak
- D) Nefsi yasaklardan alı koymamak

2. İfk olayı aşağıdakilerden hangisidir?

- A) Hz. Ayşe'nin iftiraya uğraması
- B) Hz. Hatice'nin iftiraya uğraması
- C) Hz. Hafsa'nın iftiraya uğraması
- D) Hz. Cüveyriye'nin iftiraya uğraması

3. "Allah, ... size şekil verip de şekillerinizi güzel kılan ve sizi temiz şeylerle rızıklandırandır..."

Yukarıdaki sözler aşağıdaki surelerden hangisinde yer alır?

- A) Nahl suresi
- B) Mü'min suresi
- C) İsrâ suresi
- D) Fâtır suresi

4. Aşağıdakilerden hangisi Hz. Muhammed'in çocuklarından biri değildir?

- A) Kasım
- B) Ümmü Rukiye
- C) İbrahim
- D) Fatıma

5. Her an Allah'ın huzurunda olmanın bilinciyle yaşamaya ne ad verilir?

- A) İhsan
- B) Edep
- C) Hayâ
- D) İffet

6. Hz. Peygamber'in bizzat katıldığı son sefer aşağıdakilerden hangisidir?

- A) Necid Seferi
- B) Kureyş Seferi
- C) Mekke Seferi
- D) Tebük Seferi

7. Peygamberimizin 632 yılında yüz binin üzerinde insana yaptığı konuşmaya ne ad verilir?

- A) Belagat Hutbesi
- B) Veda Hutbesi
- C) Toplantı Hutbesi
- D) Kurtuluş Hutbesi

8. Kişi, Allah'a karşı hissettiği sorumluluk duygusu sebebiyle aşağıdaki söz ve davranışların hangisinden uzaklaşır?

- A) Toplumun beğenmediği söz ve davranışlardan
- B) Kişinin kötü olarak nitelendirdiği söz ve davranışlardan
- C) Kur'an'ın çirkin olarak nitelendirdiği söz ve davranışlardan
- D) Toplumun anlamadığı söz ve davranışlardan

9. Aşağıdakilerden hangisi hayâsızlığın neden olduğu durumlardan biri değildir?

- A) Toplumda sevilen kimse olma
- B) İnsanın sahip olduğu değerlerin zamanla yok olması
- C) Merhametlilik özelliğinin kaybedilmesi
- D) Güvenilirliğin yitirilmesi

10. Hz. Muhammed'in kızı Rukiye'nin doğduğu yıl aşağıdakilerden hangisidir?

- A) 598
- B) 600
- C) 602
- D) 604

11. Aşağıdakilerden hangisi Hz. Muhammed'in hediyeleşmekle ilgili söylediklerinden biri değildir?

- A) İnsanların vefa duygularıyla birbirlerini hatırlamalarına yardımcı olur.
- B) Gücü yetmeyenlerin gücenmesine neden olur.
- C) Kalpleri birbirine yakınlaştırır.
- D) İnsanlar arasında sevgi ve muhabbet duygularının gelişmesini sağlar.

12. Aşağıdakilerin hangisi Erdemliler Sözleşmesinde ver almaz?

- A) Arapoğulları
- B) Eset
- C) Teymoğulları
- D) Muttalip

13. İnsanlar arasında iletişimi sağlayan birinci unsur aşağıdakilerden hangisidir?

- A) Dokunma
- B) Gözlem
- C) Dil
- D) Kulak

14. Hz. Muhammed'le ilgili aşağıdaki ifadelerden hangisi yanlıştır?

- A) Peygamberimiz insanlarla ilişkilerde güler yüzlü olmayı tavsiye etmiştir.
- B) Peygamberimiz boş ve anlamsız sözler söylemekten insanları sakındırmıştır.
- C) Sohbet ortamlarında konuşulan iyi şeylerin, başkalarına aktarılmasını yasaklamıştır.
- D) Peygamberimiz müminlerin sert tavırlı olmaktan sakınmaya çağırmıştır.

15. Aşağıdakilerden hangisi Hz. Peygamber'in alışveriş yaparken davranılmasını öğütlediği davranışlardan biri değildir?

- A) Zorlaştırıcı değil kolaylaştırıcı olmak
- B) Hoşgörülü olmak
- C) Güler yüzlü olmak
- D) Sert olmak

16. Hz. Ali ile ilgili aşağıdaki ifadelerden hangisi yanlıştır?

- A) Hz. Muhammed'in halasının oğludur.
- B) Hz. Muhammed'e kan bağı ile bağlıdır.
- C) İlk müslümanlardan biridir.
- D) Hz. Muhammed tarafından yetiştirilmiştir.

17. Aşağıdakilerden hangisi Kur'an-ı Kerim'de, Allah'ın büyük bir mükâfat hazırladığı belirtilen kişilerden biri değildir?

- A) Sabreden kadınlar
- B) Kadınların itaat ettiği erkekler
- C) Sadaka veren kadınlar
- D) Mütevazi erkekler

18. Hz. Muhammed "Söylenen sözde sihir vardır" buyurarak aşağıdakilerden hangisini ifade etmiştir?

- A) Güzel sözlerin mekruh olduğunu
- B) Güzel sözlerin günah olduğunu
- C) Güzel söz söylemekten kaçınılması gerektiğini
- D) Güzel sözlerin insanlar üzerinde güçlü bir etki bıraktığını

19. I. Akabe Biati'nin yapıldığı yıl aşağıdakilerden hangisidir?

- A) 615
- B) 617
- C) 621
- D) 628

20. Hz. Ömer'in müslüman olduğu yıl aşağıdakilerden hangisidir?

- A) 608
- B) 612
- C) 616
- D) 619

1. Aşağıdakilerden hangisi Kur'an-ı Kerim'in bozulmadan günümüze kadar ulaşmasının nedenlerinden biri değildir?

- A) Yazılması
- B) Ezberlenmesi
- C) Allah'ın Kur'an'ı koruyacağını vadetmesi
- D) Hz. Peygamberin Kur'an'ı bir kitap haline getirmesi

2. Kuran-ı Kerim'in en kısa suresi aşağıdakilerden hangisidir?

- A) Kevser suresi
- B) İhlas suresi
- C) Bakara suresi
- D) Mâide suresi

3. "Allah bir insanla ancak vahiy yoluyla yahut perde arkasından konuşur. Yahut bir elçi gönderip, izniyle ona dilediğini vahyeder. Şüphesiz O yücedir, hüküm ve hikmet sahibidir." (Şûra suresi, 51. ayet)

Bu ayette Allah'ın insanlarla iletişim kurma şekillerinden hangisi yer almamıştır?

- A) Vahiy yoluyla
- B) Rüya yoluyla
- C) Melek aracılığıyla
- D) Perde arkasından

4. Zebur ile ilgili aşağıdaki ifadelerden hangisi vanlıştır?

- A) Manzum bir metindir.
- B) İbranicedir.
- C) İlk indirilen kitaptır.
- D) Hz. Davud'a indirilmiştir.

5. Aşağıdakilerden hangisi Kuran-ı Kerim'i tecvüt kurallarına uygun bir biçimde anlamını düşünerek okumayı ifade eder?

- A) Hatim
- B) Aşır
- C) Mukabele
- D) Tertil

6. Aşağıdakilerden hangisi bütün peygamberlerin üstün bir anlama kabiliyetine ve beyanına sahip olduğunu ifade eder?

- A) Fetanet
- B) Emanet
- C) İsmet
- D) Sıdk

7. Hz. Muhammed'in, Allah'ın Resulü ve peygamberlerin sonuncusu olduğu, Kur'an'ın hangi suresinde buyurulmuştur?

- A) Sebe suresi
- B) Mâide suresi
- C) Azhâb suresi
- D) Nahl suresi

8. İslam'ın, Kuran-ı Kerim'den sonra gelen ikinci ana kaynağı aşağıdakilerden hangisidir?

- A) Emanet
- B) Sünnet
- C) Sıdk
- D) Tebliğ

9. Aşağıdakilerden hangisi Hz. Muhammed'in hicretten önce İslam'ı duyurmak için gittiği şehirlerden biridir?

- A) Medine
- B) Hayber
- C) Şam
- D) Taif

10. "Ey Resul! Rabbinden sana indirileni insanlara ulaştır. Eğer bunu yapmazsan peygamberlik görevini yapmamış olursun ..." (Maide suresi, 67. ayet)

Bu ayette Hz. Muhammed'in hangi sıfatına işaret edilmiştir?

- A) Emanet
- B) Sıdk
- C) Tebliğ
- D) Fetanet

11. İnsanı varlıkları korumaya, sevmeye onlara iyilik ve yardım etmeye yönlendiren duyguyu aşağıdakilerden hangisidir?

- A) Merhamet
- B) Cömertlik
- C) Saygı
- D) Hoşgörü

12. Aşağıdakilerden hangisi İslam ahlâkına avkırı davranışlardan biridir?

- A) Komşulara yardım etmek
- B) Başkasının özel hayatını araştırmak
- C) Hoşgörülü olmak
- D) Ana babaya hürmet etmek

13. Hz. Muhammed'in Taif'te kendisini taşıyanlara karşı tutumu, Hudeybiye antlaşmasındaki tavrı ve Mekke'nin fethinde verdiği mesajlar O'nun hangi özelliğini öne çıkarmaktadır?

- A) Doğruluk ve sabrını
- B) Tevhidi esas almasını
- C) Barış ve hoşgörüsünü
- D) Cömertlik ve cesaretini

14. Aşağıdakilerden hangisi kibir ve haset duygularının neden olduğu durumlardan biri değildir?

- A) İnsanlar arasında kin ve düşmanlık meydana getirmesi
- B) Toplumdaki birlik, beraberlik, dayanışma ve yardımlaşmayı yok etmesi
- C) Toplumda huzursuzluğa neden olması
- D) İnsanların birbirlerine karşı olan önyargılarını azaltması

15. Sağlıklı bir toplumu oluşturan bireylerde aşağıdaki özelliklerden hangisinin bulunması beklenemez?

- A) Toplumun etkilendiği temel değerlerden uzak kalması
- B) Kişilik özelliklerinin farkında olması
- C) Hayatı bilinçli yaşayan kişiler olması
- D) İnsan sevgisini temel ahlâk kuralı olarak benimsemiş olması

16. Aşağıdakilerden hangisi Tefsir ilminin amaçlarından biridir?

- A) Hz. Muhammed'in sünnetinin yerel ve evrensel boyutunu kavratmak
- B) Kur'an'ı indiği tarihî zemin içinde tanıtmak
- C) Kalbi kötü huylardan temizlemek ve iyi huylarla donatmak
- D) İnsanlara, özgür ve sorumlu bir varlık olduğunu öğretmek

17. Fıkıh ilmi ile ilgili aşağıdaki ifadelerden hangisi yanlıştır?

- A) Temel kaynakları Kuran-ı Kerim, sünnet, icma ve kıyastır.
- B) Hz. Muhammed'in örnek kişiliğini delil olarak sonuca ulaşmaya çalışır.
- C) Fıkıh ilminin konusunu ibadet, ahlâk ve sosyal hayatla ilgili hükümler oluşturur.
- D) Fıkıh ilmi açısından önemli olan, sadece Kuran-ı Kerim ayetleridir.

18. "...ölçüyü koydu. Ölçüde haddi aşmayın." (Rahman suresi, 8-9. ayetler)

Bu ayet aşağıdakilerden hangisini ifade eder?

- A) İnsanın, doğadaki dengeyi bozmaması gerektiğini
- B) İnsanın, çalışırken helale ve harama dikkat etmesi gerektiğini
- C) İnsanın, özü ve sözünün bir olması gerektiğini
- D) İnsanın, sorunlara önyargısız bir şekilde yaklaşması gerektiğini

19. Matematikte sıfırı ilk keşfeden ve logaritma cetvelini oluşturan Müslüman bilim adamı aşağıdakilerden hangisidir?

- A) Kerhî
- B) İbrahim bin Ezra
- C) Ömer Hayyâm
- D) Harezmi

20. Aşağıdakilerden hangisi astronomiyle uğraşan Müslüman bilim adamlarından biri değildir?

- A) Belazurî
- B) Nasreddin Tusî
- C) Ali Kuşçu
- D) Uluğ Bey

1. $A = \begin{bmatrix} 1 & 3 \\ 2 & -4 \end{bmatrix}$ ve $B = \begin{bmatrix} -3 & -5 \\ 4 & 2 \end{bmatrix}$ matrisleri

veriliyor.

Buna göre, $3A-B$ matrisi aşağıdakilerden hangisidir?

A) $\begin{bmatrix} 6 & 14 \\ 10 & -10 \end{bmatrix}$

B) $\begin{bmatrix} 0 & 4 \\ 10 & -10 \end{bmatrix}$

C) $\begin{bmatrix} 6 & 14 \\ 2 & -14 \end{bmatrix}$

D) $\begin{bmatrix} 0 & 14 \\ 2 & -14 \end{bmatrix}$

2. $f(x)=6x^2-2x+1$ fonksiyonu veriliyor. $f(1)=5$ olduğuna göre, $f(-2)$ değeri kaçtır?

A) -19

B) -11

C) -7

D) 3

3. $y = \frac{3x^2 - 2x}{(x+5)^2}$ fonksiyonunun düşey asimptotu

olan doğru aşağıdakilerin hangisidir?

A) $x=-5$

B) $x=-1$

C) $x=2$

D) $x=4$

4. $\begin{vmatrix} -1 & 3 & 0 \\ 8 & 4 & -2 \\ 0 & -3 & 5 \end{vmatrix} = K$ ise $\begin{vmatrix} 2 & -6 & 0 \\ -4 & -2 & 1 \\ 0 & -9 & 15 \end{vmatrix}$

determinantının değeri kaçtır?

A) -6K

B) -3K

C) 3K

D) 12K

5. $\int_1^2 (6x^2 + 2x - 5) dx$ işleminin sonucu kaçtır?

A) 6

B) 8

C) 10

D) 12

6. $\begin{bmatrix} 2 & 5 \\ 3 & 8 \end{bmatrix}$ matrisinin, çarpma işlemine göre tersi olan matris aşağıdakilerden hangisidir?

A) $\begin{bmatrix} 8 & -5 \\ -3 & 2 \end{bmatrix}$

B) $\begin{bmatrix} -2 & 3 \\ 5 & -8 \end{bmatrix}$

C) $\begin{bmatrix} 2 & 3 \\ 5 & 8 \end{bmatrix}$

D) $\begin{bmatrix} -2 & 3 \\ -5 & -8 \end{bmatrix}$

7. $\int e^{2x+1} dx$ işleminin sonucu aşağıdakilerden hangisine eşittir?

A) $\frac{e^{2x+1}}{2x} + c$

B) $e^{2x+1} + c$

C) $2e^{2x+1} + c$

D) $\frac{e^{2x+1}}{2} + c$

8. $A = \begin{bmatrix} -2 & 3 & 1 \\ 0 & 2 & 4 \end{bmatrix}$ ise A^T aşağıdakilerden hangisidir?

A) $\begin{bmatrix} 4 & 2 & 0 \\ 1 & 3 & -2 \end{bmatrix}$

B) $\begin{bmatrix} -2 & 0 \\ 3 & 2 \\ 1 & 4 \end{bmatrix}$

C) $\begin{bmatrix} 0 & -2 \\ 2 & 3 \\ 4 & 1 \end{bmatrix}$

D) $\begin{bmatrix} 0 & 2 & 4 \\ -2 & 3 & 1 \end{bmatrix}$

9. $f(x) = \ln(-4x^3 + 3x^2 - 14)$ olduğuna göre $f'(-2)$ değeri kaçtır?

- A) -5
B) -2
C) 3
D) 4

10. $\int \frac{dx}{\sqrt{25-4x^2}}$ işleminin sonucu aşağıdakilerden hangisidir?

A) $\frac{1}{5} \arcsin \frac{2x}{5} + c$

B) $\frac{1}{5} \arccos \frac{2x}{5} + c$

C) $\frac{1}{2} \arcsin \frac{2x}{5} + c$

D) $\frac{1}{2} \arccos \frac{5x}{2} + c$

11. $A = \begin{bmatrix} 4 & -1 \\ 2 & 3 \end{bmatrix}$ ve $B = \begin{bmatrix} -1 & 3 & 2 \\ 1 & 0 & 5 \end{bmatrix}$ matrisleri veriliyor.

Buna göre AxB matrisi aşağıdakilerden hangisidir?

A) $\begin{bmatrix} -5 & 12 & 3 \\ 1 & 6 & 19 \end{bmatrix}$

B) $\begin{bmatrix} 5 & 8 \\ -4 & 11 \end{bmatrix}$

C) $\begin{bmatrix} -3 & 6 \\ 12 & 7 \end{bmatrix}$

D) $\begin{bmatrix} 6 & -3 & 14 \\ 0 & 11 & 7 \end{bmatrix}$

12. $A = \begin{bmatrix} x+2y & 5 \\ -2 & 4 \end{bmatrix}$ ve $B = \begin{bmatrix} 2 & 5 \\ -2 & 2x-y \end{bmatrix}$ matrisleri

veriliyor.

Buna göre $A=B$ ise $x+y$ kaçtır?

- A) 8
B) 6
C) 3
D) 2

13. $f(x) = 2x^3 - kx^2 + x$ fonksiyon eğrisinin apsisi $x=1$ olan noktasındaki teğetin denklemi $y+3x-2=0$ olduğuna göre, k kaçtır?

A) $-\frac{1}{2}$

B) $\frac{3}{2}$

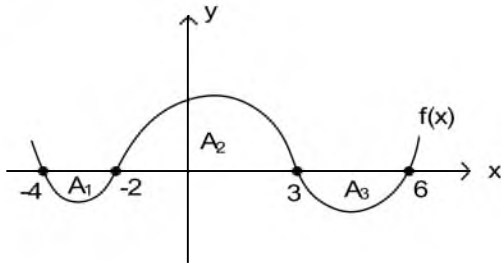
C) 2

D) 5

14. $f(x)=(a+1)x^2+ax-3$ ($a \in \mathbb{R}$) fonksiyonunun $x_0=1$ noktasındaki teğeti $x-y+5=0$ doğrusuna dik olduğuna göre a kaçtır?

- A) -1
B) $-\frac{1}{3}$
C) $\frac{1}{3}$
D) 1

15.



Yukarıdaki şekilde $f(x)$ fonksiyonunun grafiği verilmiştir.

$A_1=5 \text{ br}^2$, $A_2=14 \text{ br}^2$ ve $A_3=7 \text{ br}^2$ dir.

Buna göre, $\int_{-4}^6 f(x)dx$ işleminin sonucu kaçtır?

- A) -8
B) 2
C) 12
D) 16

16. $y=x^2$ parabolü ile $x=3$ ve $y=0$ doğrularının sınırladığı bölgenin alanı kaç birim karedir?

- A) 3
B) 9
C) 18
D) 27

17. $\int \tan x \, dx$ işleminin sonucu aşağıdakilerden hangisidir?

- A) $1+\cos^2x+c$
B) $\ln|\sin x|+c$
C) $1-\tan x+c$
D) $-\ln|\cos x|+c$

18. $f(x)=|5x^3-2|+4x^2$ fonksiyonu veriliyor. Buna göre, $f'(-1)$ aşağıdakilerden hangisidir?

- A) 7
B) 11
C) 22
D) 38

19. $\begin{vmatrix} 2 & x & 0 \\ x & 3 & 4 \\ 1 & x & -1 \end{vmatrix} = -1$ denkleminin çözüm kümesi

aşağıdakilerden hangisidir?

- A) $\{-5, 0\}$
B) $\{-1, 3\}$
C) $\{-1, 5\}$
D) $\{3, 6\}$

20. $f(x) = \frac{3x^3 - 4}{x^2 - 2x}$ olduğuna göre $f'(-1)$ değeri

kaçtır?

- A) $-\frac{1}{9}$
B) $-\frac{1}{2}$
C) $\frac{1}{3}$
D) $\frac{1}{12}$

1. Türk edebiyatında "Han Duvarları" ve "Çoban Çeşmesi" şairleriyle tanınan; sade dil ve hece ölçüsünü ustalıklarla kullanan; fıkra, manzum oyun, roman türünde de eser veren sanatçı aşağıdakilerden hangisidir?
- A) Mehmet Emin Yurdakul
B) Yahya Kemal Beyatlı
C) Ahmet Hikmet Müftüoğlu
D) Faruk Nafiz Çamlıbel
2. Türk edebiyatını dönemlere ayıran, bilimsel yöntemlerle inceleyen ilk araştırmacı, aşağıdakilerden hangisidir?
- A) Ahmet Haşım
B) Fuat Köprülü
C) Yahya Kemal
D) Ömer Seyfettin
3. Türk edebiyatında "saf şair" anlayışının önemli temsilcileri aşağıdakilerin hangisinde birlikte ve doğru olarak verilmiştir?
- A) Faruk Nafiz Çamlıbel-Orhan Seyfi Orhon
B) Yusuf Ziya Ortaç-Ahmet Haşım
C) Mehmet Âkif Ersoy-Mehmet Emin Yurdakul
D) Ahmet Haşım-Yahya Kemal Beyatlı
4. Divan edebiyatındaki beyit anlayışını kırarak nazmı nesre yaklaştıran şair aşağıdakilerden hangisidir?
- A) Tefik Fikret
B) Ahmet Haşım
C) Ali Ekrem Bolayır
D) Ziya Paşa
5. Aşağıdakilerden hangisi Millî edebiyatın amaçları arasında ver almaz?
- A) Dilde sadeleşme
B) Hece ölçüsünü kullanma
C) Yerli hayatı yansıtmaya
D) Eski nazım şekillerini kullanma
6. Osmanlı – Rus Savaşı ile Balkan Savaşı yenilgilerinin zemin hazırladığı fikir akımı aşağıdakilerden hangisidir?
- A) Milliyetçilik
B) Türkçülük
C) Osmanlıcılık
D) İslamcılık
7. Aşağıdakilerden hangisi Türkçülük akımının kültür ve edebiyat alanındaki yayın organlarından biri değildir?
- A) Türk Yurdu
B) Türk Derneği
C) Halkevleri
D) Türk Ocağı
8. Tahsin Nahit'in ilk şiirlerini yayımladığı dergi aşağıdakilerden hangisidir?
- A) Aşyan
B) Devir
C) İbret
D) Çocuk Bahçesi
9. "Millî Edebiyat Akımı"nın asıl yaygın organı aşağıdakilerden hangisidir?
- A) Genç Kalemler
B) Türk Yurdu
C) Türk Cemiyeti
D) Türk Ocağı
10. Gelenekçi şairlerin en çok saldırdığı yenilikçi şair aşağıdakilerden hangisidir?
- A) Recaizade Mahmut Ekrem
B) Tefik Fikret
C) Halit Ziya
D) Cenap Şehabettin
11. Şiiri "nesir-musikisi" diye adlandıran şair aşağıdakilerden hangisidir?
- A) Halit Ziya
B) Ahmet Haşım
C) Cenap Şehabettin
D) Tefik Fikret

12. Mehmet Rauf'un yazdığı ilk hikaye aşağıdakilerden hangisidir?

- A) Zavallı Kız
- B) Bir Aşkın Tarihi
- C) Düşmüş
- D) Son Emel

13. Çocuklar için sade bir dille "Şermin" adlı kitabı yazan sanatçı aşağıdakilerden hangisidir?

- A) Ziya Paşa
- B) Tevfik Fikret
- C) Mehmet Rauf
- D) Ahmet Mithat

14. "Ateşten Gömlek" ve "Vurun Kahpeye" adlı romanlar aşağıdaki yazarlardan hangisine aittir?

- A) Halide Edip Adıvar
- B) Yakup Kadri Karaosmanoğlu
- C) Ziya Gökalp
- D) Reşat Nuri Güntekin

15. Batılılaşmanın Türk edebiyatında başladığı dönem aşağıdakilerden hangisidir?

- A) Servet-i Fünûn Edebiyatı
- B) Fecr-i Ati Edebiyatı
- C) Tanzimat Edebiyatı
- D) Millî Edebiyat

16. Aşağıdakilerden hangisi "saf şiir" anlayışının özelliklerinden biri değildir?

- A) Nazmın nesre yaklaşması
- B) Sosyal temalardan çok bireysel duyarlılığın tercih edilmesi
- C) Ritm ve ahenge önem verilmesi
- D) Söze önem verilmesi

17. Türk edebiyatında mensur şiirin ilk başarılı örneklerini veren yazar aşağıdakilerden hangisidir?

- A) Şinasi
- B) Ziya Gökalp
- C) Halit Ziya
- D) Tevfik Fikret

18. Aşağıdakilerden hangisi Fecr-i Âtî topluluğunun bildiride adı geçen şairlerinden biri değildir?

- A) Tahsin Nahit
- B) Ahmet Vefik
- C) Emin Bülent
- D) Ahmet Haşim

19. Realizmin ortaya çıktığı ülke aşağıdakilerden hangisidir?

- A) Rusya
- B) Fransa
- C) Almanya
- D) İngiltere

20. Yakup Kadri Karaosmanoğlu'nun kuşaklar arasındaki çatışmayı gözler önüne serdiği, Batılılaşmayı yanlış anlayarak bir ailenin dağılmasına neden olan sorumsuz davranışları yediği eseri aşağıdakilerden hangisidir?

- A) Sodom ve Gomore
- B) Kiralık Konak
- C) Yaban
- D) Nur Baba

1. Die Mutter ist krank. Mutter liegt seit zwei Tagen im Bett.

Welches Wort passt in die obige Lücke?

Cümlede boş bırakılan yeri aşağıdakilerden hangisi tamamlar?

- A) Die gekranke
B) Das gekranke
C) Der bekrankte
D) Die kranke

2. In einen zerbrochenen Krug

Welches ergänzt die Lücke im obigen Satz?

Verilen cümleyi aşağıdakilerden hangisi tamamlar?

- A) kann man kein Wasser füllen.
B) hat man immer Wasser.
C) darf man Wasser füllen.
D) könnte man immer Wasser füllen.

3. Ev ödevlerini yapmak zorundasın.

Wie lautet der obige Satz auf Deutsch?

Verilen cümlelerin Almançası aşağıdakilerden hangisidir?

- A) Du willst diese Hausaufgaben machen.
B) Du hast deine Hausaufgaben gemacht.
C) Du mußt deine Hausaufgaben machen.
D) Du kannst deine Hausaufgaben machen.

4. Du sollst den türkischen Text ins Deutsche

Welches Wort passt in die obige Lücke?

Cümlede boş bırakılan yeri aşağıdakilerden hangisi doğru şekilde tamamlar?

- A) entscheiden
B) übersetzen
C) anstellen
D) lehren

5. Du musst die Hemden bügeln.

Wie lautet der obige Satz in der Imperativ-Form?

Verilen cümlelerin emir cümle şekli aşağıdakilerden hangisidir?

- A) Bügelst die Hemde!
B) Bügelt die Hemden!
C) Bügele die Hemden!
D) Bügeln wir die Hemden!

6. Nimm die Tabletten 1 Mal ein!

Welches Wort passt in die obige Lücke?

Cümlede boş bırakılan yeri aşağıdakilerden hangisi doğru şekilde tamamlar?

- A) täglich
B) alles
C) selbst
D) dasselbe

7. Ich möchte sehr gerne ein Fahrrad.

Welche Frage passt zur obigen Antwort?

Verilen cevabı gerektirecek soru aşağıdakilerden hangisidir?

- A) Möchtest du noch ein Kilo Tomaten?
B) Was willst du zum Geburtstag?
C) Willst du im Büro arbeiten?
D) Hast du einen grünen Bleistift?

8., dass wir diesen Sommer keinen Urlaub machen können!

Welches ergänzt die Lücke im obigen Satz?

Verilen cümleyi aşağıdakilerden hangisi tamamlar?

- A) Ich muß ihr erklären
B) Er will arbeiten
C) Ich bin geduldig
D) Er kommt auch

9. Eylülde baştan başlamalıyım!

Wie lautet der obige Satz auf Deutsch?

Verilen cümlelerin Almancası aşağıdakilerden hangisidir?

- A) Im September hat er von vorne angefangen!
- B) Ich muß im September von vorne anfangen!
- C) Ich soll im September wieder anfangen!
- D) Im September darf ich von vorne anfangen!

10. Ich ein Feuerzeug, wenn ich die Zigarette will.

Welche Wörter passen in die obigen Lücken?

Cümlede boş bırakılan yerleri aşağıdakilerden hangileri doğru şekilde tamamlar?

- A) brauchte / kaufen
- B) habe / angezündet
- C) brauche / anzünden
- D) hätte / gezündet

11. Serhat die Schule, heiratete er Sibel.

Welche Wörter passen in die obigen Lücken?

Cümlede boş bırakılan yerleri aşağıdakilerden hangileri tamamlar?

- A) Für / war
- B) Weil / anfing
- C) Wenn / stellte
- D) Als / beendete

12. Als wir Piknik machen wollten, hat es geregnet.

Wie lautet der obige Satz auf Türkisch?

Verilen cümlelerin Türkçesi aşağıdakilerden hangisidir?

- A) Eğer yağmur yağarsa piknik yapamayız.
- B) Eğer yağmur yağmazsa piknik yapmak istiyoruz.
- C) Piknik yapmak istediğimizde yağmur yağdı.
- D) Piknik yaparken yağmur yağmıştı.

13. Vergiß die Miete nicht, wir morgen noch bezahlen müssen!

Welches Wort passt in die obige Lücke?

Cümlede boş bırakılan yeri aşağıdakilerden hangisi doğru şekilde tamamlar?

- A) das
- B) die
- C) der
- D) den

14. Melda ist 20 Jahre alt. Tolga ist 9 Jahre alt.

Welche Schlußfolgerung kann man nach den obigen Sätzen machen?

Verilen cümlelere göre, aşağıdaki yargılardan hangisi doğrudur?

- A) Melda ist älter als Tolga.
- B) Tolga ist am ältesten.
- C) Tolga ist größer als Melda.
- D) Melda ist nicht so groß wie Tolga.

15., um schön zu werden.

Welches ergänzt die Lücke im obigen Satz?

Verilen cümleyi aşağıdakilerden hangisi tamamlar?

- A) Ich bin zu Hause
- B) Ich fahre selten
- C) Ich schminke mich
- D) Ich bin krank

16., damit wir keine Miete bezahlen müssen.

Welches ergänzt die Lücke im obigen Satz?

Verilen cümleyi aşağıdakilerden hangisi tamamlar?

- A) Wir müssen Deutsch lernen
- B) Wir kaufen uns eine Wohnung
- C) Wir möchten eine neue Tasche
- D) Wir haben ein Auto gekauft

17. A: Oh Nein! Der Zug ist abgefahren!
B: Nach einer Stunde kommt der nächste Zug!
A: Gut, dann muß ich noch eine Stunde hier warten.

Welches ergänzt den obigen Dialog?

Verilen karşılıklı konuşmayı aşağıdakilerden hangisi tamamlar?

- A) Sie brauchen nicht traurig zu sein!
B) Ich habe keine Eintrittskarte!
C) Das sieht gut aus!
D) Sie können mit mir einen Spaziergang machen!

18. Meine Mutter kocht jeden Tag, das bedeutet sie kocht

Welches Wort passt in die obige Lücke?

Cümlede boş bırakılan yeri aşağıdakilerden hangisi doğru şekilde tamamlar?

- A) niemals
B) manchmal
C) selten
D) immer

19. Was bedeutet "birşeyi etkilemek" auf Deutsch?

"birşeyi etkilemek" sözcüğünün Almancası aşağıdakilerden hangisidir?

- A) jemanden kennen
B) etwas bemerken
C) jemanden bemerken
D) etwas beeinflussen

20. Mutter freut sich, wenn sie am Muttertag Geschenke bekommt.

Welches Wort passt in die obige Lücke?

Cümlede boş bırakılan yeri aşağıdakilerden hangisi tamamlar?

- A) Alle
B) Mit
C) Jede
D) Nur

1. They haven't been in Italy

Which of the following completes the sentence above?

Aşağıdakilerden hangisi yukarıdaki cümleyi doğru olarak tamamlar?

- A) before
B) since
C) already
D) ever

2. My students some Christmas pictures last week.

Which of the following completes the sentence above?

Aşağıdakilerden hangisi yukarıdaki cümleyi doğru olarak tamamlar?

- A) draw
B) will draw
C) drew
D) have drawn

3. There's a big toy shop called 'Hamley's' Regent Street.

Which of the following completes the sentence above?

Aşağıdakilerden hangisi yukarıdaki cümleyi doğru olarak tamamlar?

- A) on
B) at
C) in
D) (--)

4. My cousins from Australia will be in Ankara the 1st of January.

Which of the following completes the sentence above?

Aşağıdakilerden hangisi yukarıdaki cümleyi doğru olarak tamamlar?

- A) in
B) on
C) from
D) (--)

5. Sena her pink dress since her birthday.

Which of the following completes the sentence above?

Aşağıdakilerden hangisi yukarıdaki cümleyi doğru olarak tamamlar?

- A) didn't wear
B) hasn't worn
C) worn
D) haven't worn

6. My dad is not a careful driver. He drives and has lots of accidents.

Which of the following completes the sentence above?

Aşağıdakilerden hangisi yukarıdaki cümleyi doğru olarak tamamlar?

- A) carefully
B) faster
C) the most careful
D) fast

7. Bungee jumping is than table tennis.

Which of the following completes the sentence above?

Aşağıdakilerden hangisi yukarıdaki cümleyi doğru olarak tamamlar?

- A) the most dangerous
B) more dangerous
C) dangerous
D) the more dangerous

8. The kids finished their homework to watch TV.

Which of the following completes the sentence above?

Aşağıdakilerden hangisi yukarıdaki cümleyi doğru olarak tamamlar?

- A) badly
B) good
C) quick
D) quickly

9. I don't like getting up early the mornings.

Which of the following completes the sentence above?

Aşağıdakilerden hangisi yukarıdaki cümleyi doğru olarak tamamlar?

- A) on
B) at
C) under
D) in

10. Have you sung in front of people?

Which of the following completes the sentence above?

Aşağıdakilerden hangisi yukarıdaki cümleyi doğru olarak tamamlar?

- A) already
B) ever
C) never
D) yet

11. The students have finished their studies. They're playing outside.

Which of the following completes the sentence above?

Aşağıdakilerden hangisi yukarıdaki cümleyi doğru olarak tamamlar?

- A) already
B) before
C) ever
D) yet

12. Leo made a delicious apple pie

Which of the following completes the sentence above?

Aşağıdakilerden hangisi yukarıdaki cümleyi doğru olarak tamamlar?

- A) tomorrow
B) next year
C) two days ago
D) at the moment

13. Robert: you speak French?

Sandra: Yes, of course. I stayed in Paris two years.

Which of the following completes the dialogue above?

Aşağıdakilerden hangisi yukarıdaki konuşmayı doğru olarak tamamlar?

- A) Should
B) Can
C) Shouldn't
D) Can't

14. Elise is than her grandmother.

Which of the following completes the sentence above?

Aşağıdakilerden hangisi yukarıdaki cümleyi doğru olarak tamamlar?

- A) young
B) youngest
C) younger
D) the young

15. The opera hasn't started

Which of the following completes the sentence above?

Aşağıdakilerden hangisi yukarıdaki cümleyi doğru olarak tamamlar?

- A) already
B) never
C) yet
D) ever

16. I study hard, because I'm going to have an exam tomorrow morning.

Which of the following completes the sentence above?

Aşağıdakilerden hangisi yukarıdaki cümleyi doğru olarak tamamlar?

- A) must
B) are
C) am
D) mustn't

17. Juliette hasn't finished her homework

Which of the following completes the sentence above?

Aşağıdakilerden hangisi yukarıdaki cümleyi doğru olarak tamamlar?

- A) yet
- B) already
- C) since
- D) for

18. You drink a glass of milk before you sleep. It helps you sleep well.

Which of the following completes the sentence above?

Aşağıdakilerden hangisi yukarıdaki cümleyi doğru olarak tamamlar?

- A) are
- B) mustn't
- C) shouldn't
- D) should

19. The Nile is river in the world.

Which of the following completes the sentence above?

Aşağıdakilerden hangisi yukarıdaki cümleyi doğru olarak tamamlar?

- A) the longest
- B) longer
- C) longest
- D) the longer

20. We married since July.

Which of the following completes the sentence above?

Aşağıdakilerden hangisi yukarıdaki cümleyi doğru olarak tamamlar?

- A) were
- B) had been
- C) have be
- D) have been

1. Marie gagne 100€, Jeanne gagne 100€. Marie est riche que Jeanne.

Choisissez le mot qui convient.

Yukarıdaki cümlede boş bırakılan yeri aşağıdakilerden hangisi doğru şekilde tamamlar?

- A) aussi
B) grand
C) plus
D) autant de

2. Vous préférez quelle voiture? ou?

Choisissez les mots qui conviennent.

Cümledeki boşlukları aşağıdakilerden hangisi doğru şekilde tamamlar?

- A) Celui-ci / celui là
B) Celui / celle
C) Celle / celui
D) Celle-ci / celle là

3. Pour moi, l'hiver est des saisons.

Choisissez le mot qui convient.

Cümledeki boşluğu aşağıdakilerden hangisi doğru şekilde tamamlar?

- A) le plus
B) le moindre
C) la pire
D) la moins

4. Le train est rapide que l'avion.

Choisissez le mot qui convient.

Cümledeki boşluğu aşağıdakilerden hangisi doğru şekilde tamamlar?

- A) plus
B) autant
C) mieux
D) moins

5. J'ai vu quelqu'un dans le salon.

Choisissez l'antonyme du mot souligné.

Yukarıdaki cümlede altı çizili sözcüğün zıt anlamlısı aşağıdakilerden hangisidir?

- A) quelque chose
B) justement
C) personne
D) rien

6. Le voleur déjà pris la fuite lorsqu'ils sont rentrés chez eux.

Choisissez le mot qui convient.

Cümledeki boşluğu aşağıdakilerden hangisi doğru şekilde tamamlar?

- A) avaient
B) avait
C) aura
D) a eu

7., les élèves iront à l'école.

Choisissez le mot qui convient.

Cümledeki boşluğu aşağıdakilerden hangisi doğru şekilde tamamlar?

- A) Hier
B) Demain
C) Avant-hier
D) La semaine dernière

8. Ce tableau est magnifique, il coûte cher.

Choisissez le mot qui convient.

Cümledeki boşluğu aşağıdakilerden hangisi doğru şekilde tamamlar?

- A) assez
B) malgré
C) mais
D) contrairement à

9. Bana yalan söyleseydin, üzülecektim.

Choisissez la traduction qui convient.

Yukarıdaki cümlenin Fransızca karşılığı aşağıdakilerden hangisidir?

- A) Si tu me mentais, je serais triste.
B) Si tu m'avais menti, je serai triste.
C) Si tu me mentais, je serai triste.
D) Si tu m'avais menti, je serais triste.

10. «Je voudrais bien une tasse de thé.»

Choisissez la traduction qui convient.

Yukarıdaki cümlenin Türkçe karşılığı aşağıdakilerden hangisidir?

- A) Çayı iyi isterim.
B) İyi bir çay isterim.
C) Bir fincan çay isterim.
D) Bir fincan çay verin.

11. Les escaliers sont

Choisissez le mot qui convient.

Cümledeki boşluğu aşağıdakilerden hangisi doğru şekilde tamamlar?

- A) efficace
- B) dangereux
- C) grande
- D) hautes

12. «Etkileyici!»

Choisissez la traduction qui convient.

Yukarıdaki cümlelerin Fransızca karşılığı aşağıdakilerden hangisidir?

- A) C'est impressionnant!
- B) C'est étrange!
- C) C'est drôle!
- D) C'est intéressant!

13. Fais un! Tu veux le rouge ou le noir.

Choisissez le mot qui convient.

Cümledeki boşluğu aşağıdakilerden hangisi doğru şekilde tamamlar?

- A) demande
- B) volonté
- C) fortune
- D) choix

14. Le bébé dort, il parler

Choisissez les mots qui conviennent.

Cümledeki boşlukları aşağıdakilerden hangisi doğru şekilde tamamlar?

- A) faut / doucement
- B) doit / violemment
- C) faut / honnêtement
- D) doit / couramment

15. François des lunettes.

Choisissez le mot qui convient.

Cümledeki boşluğu aşağıdakilerden hangisi doğru şekilde tamamlar?

- A) porte
- B) habille
- C) s'habille
- D) se voit

16. Pierre : Qu'annonceras-tu?

Paul : J'annoncerai aux invités que

Choisissez l'expression qui convient.

Yukarıdaki konuşmada boş bırakılan yeri aşağıdakilerden hangisi doğru şekilde tamamlar?

- A) je fiançais
- B) je m'étais fiancé
- C) je me fiançais
- D) je me suis fiancé

17. Il n'y avait personne, la porte était ouverte.

Choisissez l'expression qui convient.

Yukarıdaki cümlede boş bırakılan yeri aşağıdakilerden hangisi doğru şekilde tamamlar?

- A) maintenant
- B) en revanche
- C) contrairement à
- D) malgré

18. Si tu n'étais pas parti, tu du gâteau.

Choisissez le mot qui convient.

Cümledeki boşluğu aşağıdakilerden hangisi doğru şekilde tamamlar?

- A) avais mangé
- B) mangeras
- C) aurais mangé
- D) manges

19. Ce manteau est à moi: c'est

Choisissez le mot qui convient.

Cümledeki boşluğu aşağıdakilerden hangisi doğru şekilde tamamlar?

- A) les miennes
- B) le mien
- C) le tien
- D) la mienne

20. Quand il fera chaud, nous des vacances.

Choisissez le mot qui convient.

Cümledeki boşluğu aşağıdakilerden hangisi doğru şekilde tamamlar?

- A) faire
- B) faisons
- C) ferons
- D) faisons

BU SAYFA BOŞ BIRAKILMIŞTIR.

BU SAYFA BOŞ BIRAKILMIŞTIR.

SINAVDA UYULMASI GEREKEN GENEL KURALLAR

1. Sınava girmek için gerekli belgelerinizin tümünü sınav başlamadan önce sıranızın üzerine bırakınız.
2. Sınav süresince görevlilerle konuşmak, görevlilere soru sormak yasaktır. Aynı şekilde görevlilerin de öğrencilerle/adaylarla yakından ve alçak sesle konuşmaları yasaktır. Gerekli durumlarda görevliler yerinizi değiştirebilir.
3. Size verilen cevap kâğıdının üzerindeki TCKN/Öğrenci no, ad, soyadı, bilgilerini kontrol ediniz, ilgili alanları eksiksiz doldurarak imzalayınız. Bu bilgiler size ait değilse, kâğıt üzerinde hiçbir işlem yapmadan görevlileri uyararak size ait cevap kâğıdını isteyiniz. Başkasına ait cevap kâğıdı kullanan öğrencilerin sınavları geçersiz sayılır.
4. Cevap kâğıdı üzerine test grubunu (kitapçık türünü) kodlamayan veya birden fazla grubu kodlayanların sınavları geçersiz sayılır.
5. Cevap kâğıdınıza yazacağınız her türlü yazı ve yapacağınız işaretlemeler için koyu siyah kurşun kalem kullanmalısınız. Farklı bir kalem (tükenmez, mürekkepli, renkli vb.) kullananların sınavları geçersiz sayılır.
6. Cevap kâğıdı üzerinde değişiklik yapmak istediğinizde, iz bırakmayan bir silgi kullanınız. Cevap kâğıdınızı buruşturmayınız, katlamayınız ve üzerine gereksiz hiçbir işaret koymayınız.
7. Cevaplarınızı, cevap kâğıdında ilgili test için ayrılmış olan alana, cevap yerinin dışına taşırmadan işaretleyiniz. Soru kitapçığı üzerinde yapılan işaretlemeler değerlendirmeye alınmayacaktır.
8. Her sorunun tek bir doğru cevabı vardır. Bir soru için birden çok cevabı işaretlerseniz, o soruyu yanlış cevaplamış sayılacaksınız.
9. Soru kitapçığınızı aldığınızda sayfalarına hızlıca bakarak hatalı ya da eksik baskı olup olmadığını kontrol ediniz. Hata/eksik olması durumunda kitapçığının değiştirilmesi için derhâl sınav görevlilerine başvurunuz. Sınav görevlileri sınavın başladığını belirtmeden kitapçığınızı tekrar açmayınız.
10. Cevap kâğıdınızda belirtilen kitapçık kodu ile soru kitapçığının kodunu karşılaştırınız. Aynı değilse, sınav görevlilerine durumu bildirerek doğru kitapçığın verilmesini talep ediniz.
11. Soru kitapçığındaki ilgili alanlara ad, soyadı, TCKN/Öğrenci no, sınav salon no, sıra no bilgilerinizi eksiksiz doldurarak imzanızı atınız. Soru kitapçığının sayfalarındaki boş yerleri müsvedde amacıyla kullanabilirsiniz.
12. Aşağıdaki durumlarda sınav görevlileri tarafından Bireysel Sınav İptal Tutanağı düzenlenerek ilgili öğrencilerin/adayların sınavları geçersiz sayılır:
 - a) Sınav kurallarına ve sınav görevlilerinin uyarılarına uymamak, sınav düzenini bozmak,
 - b) Kâğıt, kitap, defter, not vb. dokümanları; pergel, açıölçer, cetvel vb. araçları; cep telefonu, bilgisayar, tablet, telsiz, kamera vb. iletişim, depolama, kayıt ve veri aktarma cihazlarını; ruhsatlı veya resmi amaçlı olsa bile silah ve silah yerine geçebilecek nesneleri yanında bulundurmamak,
 - c) Sınav sırasında kalem, silgi vb. araç-gereç paylaşımında bulunmak,
 - d) Cevapları, cevap kâğıdı dışında bir yere yazmak ve sınav salonundan dışarı çıkarmak,
 - e) Sınava girebilmek için gerekli belgeleri eksik olduğu halde sınava katılıp, cevap kâğıdında işaretleme yapmak,
 - f) Sınav görevlileri tarafından öğrencinin/adayın kimliğinden şüphe duyulması,
 - g) Cevap kâğıdını ve/veya soru kitapçığını sınav görevlilerine eksiksiz ve sağlam şekilde teslim etmemek, sınav salonu dışına çıkarmak,
 - h) Kopya çekmek, vermek, çekilmesine yardımcı olmak vb. eylemlerde bulunmak,
 - i) Kendisi yerine başkasını sınava sokmak.
13. Sınav bitiminde, cevap kâğıdınızı ve soru kitapçığınızı salon görevlilerine eksiksiz biçimde teslim ediniz. Sınav bittikten sonra gönderilen cevap kâğıtları dikkate alınmayacaktır.

SINAV KURALLARINA UYDUĞUNUZ İÇİN TEŞEKKÜR EDER, SINAVINIZDA BAŞARILAR DİLERİZ.