



ANADOLU ÜNİVERSİTESİ  
AÇIKÖĞRETİM FAKÜLTESİ  
BA - AÇIKÖĞRETİM OKULLARI

**T.C. MİLLİ EĞİTİM BAKANLIĞI**  
**Hayat Boyu Öğrenme Genel Müdürlüğü**  
**AÇIKÖĞRETİM LİSESİ – BATI AVRUPA PROGRAMI**  
**2015-2016 ÖĞRETİM YILI II. DÖNEM SINAVI**

3. OTURUM Cumartesi 13:00

TEST GRUBUNUZ

**A 0103**

**ÖĞRENCİNİN**

SOYADI : .....

ADI : .....

TC KİMLİK NO / ÖĞRENCİ NO : .....

SINAV SALON NO : ..... SIRA NO: .....

İMZA: .....

Sınavla ilgili tüm kuralları okudum, anladım, kabul ediyorum.

**SINAV İÇERİĞİ**

Testin Adı	Soru Sayısı	Sayfa No	Testin Adı	Soru Sayısı	Sayfa No
DİN KÜLTÜRÜ VE AHLAK BİLGİSİ 2	20	02	SEÇMELİ DİL VE ANLATIM 6	20	35
FELSEFE 2	20	04	SEÇMELİ TÜRK EDEBİYATI 3	20	37
TARİH 6	20	06	ALMANCA 1	20	40
T.C. İNKILAP TARİHİ VE ATATÜRKÇÜLÜK 1	20	08	İNGİLİZCE 1	20	43
COĞRAFYA 4	20	10	FRANSIZCA 1	20	46
DİL VE ANLATIM 1	20	12	ALMANCA 8	20	48
DİL VE ANLATIM 2	20	14	İNGİLİZCE 8	20	51
TÜRK EDEBİYATI 4	20	16	FRANSIZCA 8	20	54
FİZİK 4	20	18	SEÇMELİ ALMANCA 3	20	56
DİN KÜLTÜRÜ VE AHLAK BİLGİSİ 8	20	21	SEÇMELİ İNGİLİZCE 3	20	59
MATEMATİK 7	20	23	SEÇMELİ FRANSIZCA 3	20	62
MANTIK 1	20	26	MATEMATİK 1	20	64
SEÇMELİ DİL VE ANLATIM 3	20	28	KİMYA 7	20	66
KİMYA 5	20	31	COĞRAFYA 5	20	69
DEMOKRASİ VE İNSAN HAKLARI 2	20	33			

**SINAVDA UYULMASI GEREKEN ÖZEL KURALLAR**

1. Bu kitapçıkta yer alan her bir test için cevaplama süresi **30** dakika, toplam süre **150** dakikadır.
2. Öğrenciler sınavın ilk 30 dakikası ve son 5 dakikası içinde sınavlarını tamamlasalar bile salonu terk edemezler. Sınavın başlamasını izleyen ilk 15 dakikadan sonra hiçbir öğrenci sınava alınmaz.
3. Yanlış cevaplarınız dikkate alınmayacaktır. Bu nedenle kitapçıkta bulunan tüm sorular için size doğru gelen seçeneği işaretleyerek cevapsız soru bırakmamanız yararınıza olacaktır.
4. Sınav sırasında hesap makinesi kullanabilirsiniz. Ancak, kullanacağınız makinede alfabetik tuş takımının (A, B, C, ..., Y, Z), program yapılmasına, saklanmasına ve çalıştırılmasına imkân veren EXE, STORE, RUN vb. tuşlar bulunamaz.

"Sınavda Uyulması Gereken Genel Kurallar" soru kitapçığının arka sayfasında yer almaktadır. Bu kuralları da mutlaka dikkatlice okuyunuz.

Anadolu Üniversitesi tarafından hazırlanmış olan bu testlerin her hakkı saklıdır. Hangi amaçla olursa olsun, testlerin tamamının veya bir kısmının Anadolu Üniversitesi'nin yazılı izni olmadan kopya edilmesi, fotoğraflarının çekilmesi, herhangi bir yolla çoğaltılması, yayımlanması ya da kullanılması yasaktır. Bu yasağa uymayanlar gerekli cezai sorumluluğu ve testlerin hazırlanmasındaki mali külfeti peşinen kabullenmiş sayılır.

1. Aşağıdakilerden hangisi Türk milletini bir arada tutan, toplumu birleştiren ortak değerlerden biri değildir?

- A) Hürriyet ve bağımsızlık
- B) Vatan ve ülkü birliği
- C) Bayrak ve İstiklal Marşı
- D) Ferdiyetçilik ve maddiyatçılık

2. Aşağıdakilerden hangisi, Hz. Musa'ya indirilen ve Yahudilerin dinî öğretileri içerisinde yer alan "on emir" arasında yer almaz?

- A) Öldürmeyeceksin.
- B) Anne ve babana hürmet edeceksin.
- C) Zina etmeyeceksin.
- D) Allah'ın ismini boş yere ağza alabilirsin.

3. Dinin amacı aşağıdakilerden hangisidir?

- A) Yalancılık, kıskançlık gibi davranışları özendirmek
- B) İnsanı iyiye yönlendirip kötülüklerden uzak tutmak
- C) Kişinin yalnızca dünya hayatında mutlu olmasını sağlamak
- D) Cimrilik, geçimsizlik gibi davranışları desteklemek

4. İlk evrensel insan hakları ilkeleri aşağıdakilerden hangisinde yer almaktadır?

- A) Veda Hutbesi
- B) İnsan Hakları Evrensel Beyannamesi
- C) Birleşmiş Milletler Sözleşmesi
- D) Magna Carta

5. Aşağıdakilerden hangisi İslam dininin korunmasını istediği temel ilkelerden biri değildir?

- A) Aklın korunması
- B) Hırsızın korunması
- C) Namusun korunması
- D) Dinin korunması

6. Değerlerin ilk oluştuğu ve şekillendiği yer aşağıdakilerden hangisidir?

- A) İşyeri
- B) Dernek
- C) Okul
- D) Aile

7. İnsanın kendine has ve özgü olan, az veya çok her zaman gözlenebilen davranış ve alışkanlıklarına ne ad verilir?

- A) Örf
- B) Merhamet
- C) Kişilik
- D) İyilik

8. Atatürk'ün laiklik anlayışıyla ilgili aşağıdaki ifadelerden hangisi yanlıştır?

- A) Atatürk'ün laiklik anlayışı, asla dinsizlik değildir.
- B) Taassup hoş görülmemektedir.
- C) Atatürk'ün laiklik anlayışı, asla din karşıtlığı değildir.
- D) Atatürk'e göre laiklik; sahte dindarlıkla ve büyücülükle mücadele kapısını açtığı için gerçek dindarlığın gelişmesini sağlamaktadır.

9. Laik devlet ile ilgili aşağıdaki ifadelerden hangisi yanlıştır?

- A) Laik devletin resmi dini vardır.
- B) Laik devlet, din hürriyetini ana ilke olarak kabul eder.
- C) Laik devlet herkese dinini seçme ve onun gereklerini yerine getirme serbestliği tanır.
- D) Laik devlette insanlara bir dinin zorla benimsetilmesi söz konusu değildir.

10. İlahî dinlerin sonuncusu aşağıdakilerden hangisidir?

- A) İslam
- B) Musevilik
- C) Hristiyanlık
- D) Budizm

11. Avrupa'daki kilise otoritesi aşağıdaki hangi olayla son bulmuştur?

- A) Tanzimat Fermanı
- B) Yüz Yıl Savaşları
- C) 1789 Fransız İhtilali
- D) Birinci Dünya Savaşı

12. Osmanlı Devletinde "din ve vicdan hürriyeti ilkesi" ilk kez hangi belgede yer almıştır?

- A) Kanun-i Esasi
- B) Sened-i İttifak
- C) Islahat Fermanı
- D) Gülhane Hattı Hümayunu

13. Dini emirlerin ilk muhatabı olan yeryüzündeki ilk peygamber aşağıdakilerden hangisidir?

- A) Hz. Musa
- B) Hz. Nuh
- C) Hz. Âdem
- D) Hz. İdris

14. Aşağıdakilerden hangisi laikliğin temel amaçlarından biridir?

- A) Dinin istismar edilmesine müsaade etmek
- B) Dinde ruhbanlık anlayışının oluşmasını sağlamak
- C) Herkesin kanun önünde eşit olmasını sağlamak
- D) Devletin din ve mezheplere karşı taraflı davranmasını sağlamak

15. Aşağıdakilerden hangisi Türklerin İslam medeniyetine katkılarında biri değildir?

- A) Matematik, tıp, astronomi gibi alanlarda çalışma yapmayı yasaklamaları
- B) Türklerin hâkimiyet kurdukları topraklarda çok sayıda bilim adamı yetiştirmeleri
- C) Türklerin hâkimiyet kurdukları topraklarda çok sayıda cami ve medrese yapmaları
- D) Türklerin kurdukları medreselerde tefsir, kelim, hadis, fıkıh gibi alanlarda çalışmalar yapılması

16. Aşağıdakilerden hangisi Türklerin benimsediği Gök Tanrı inancının temel esasları arasında ver almaz?

- A) Dünyada iyilik edenler öldükten sonra karşılık olarak iyi bir yere gideceklerdir.
- B) Bir ve tek olan Gök Tanrı vardır.
- C) Dünya hayatından sonra sonlu bir hayat vardır.
- D) Tanrı yaratan, yaşatan ve koruyandır.

17. Divan ve Risalet'ün-Nushiyye kimin eserleridir?

- A) Mevlana
- B) Yunus Emre
- C) Hacı Bektaş Veli
- D) Ahmet Yesevî

18. Aşağıdakilerden hangisi Türklerin İslam dinini benimsemesinde etkili olan sebeplerden biri değildir?

- A) İslam medeniyetinin üstünlüğü ve yüceliği
- B) Müslüman tüccarların yalan söylemesi
- C) Tasavvuf eğitiminden geçmiş dervişlerin yaşayışları
- D) İslam dininin Türklerin mizacına uygun oluşu

19. Sulu boya veya altın yıldız kullanılarak kağıt ya da deri üzerine resim yapma sanatına ne ad verilir?

- A) Sülüs
- B) Tezhip
- C) Minyatür
- D) Ebru

20. Aşağıdakilerden hangisi Ahilik teşkilatında önemli olan prensiplerden biri değildir?

- A) Allah'ın emirlerine uyacaksınız.
- B) İftira ve gıybetten sakınmayacaksınız.
- C) İşinde ve hayatında güvenilir olacaksınız.
- D) İyi kalpli ve cömert olacaksınız.

1. Aşağıdakilerden hangisinde Korku Ütopyası eseri ve yazarı birlikte ve doğru olarak verilmiştir?
  - A) Thomas More – 1984
  - B) Yeni Dünya – Adous Huxley
  - C) Erdemli Toplum – Farabi
  - D) Güneşin Ülkesi – Campanella
2. Aşağıdakilerden hangisi din felsefesinin temel kavramlarından biri değildir?
  - A) Bürokrasi
  - B) İman
  - C) İbadet
  - D) Vahiy
3. Aşağıdakilerden hangisi din felsefesinin konularından biri değildir?
  - A) Evrenin yaratılışı
  - B) Tanrının varlığı
  - C) Güzel ahlak
  - D) Ruhun ölümsüzlüğü
4. Aşağıdakilerden hangisi estetik yargıların özelliklerinden biri değildir?
  - A) Sübjektif olması
  - B) Zaman içinde değişikliğe uğrayabilmesi
  - C) Kültürel özelliklerden etkilenmesi
  - D) Evrensel olması
5. Erdem ile ilgili aşağıdaki ifadelerden hangisi vanlıştır?
  - A) İyilik, dürüstlük, adalet gibi ahlaki nitelik taşıyan değerlere denir.
  - B) Bireyin iyi ve doğru eylemlerde bulunmaya mizaç ve moral olgunluk açısından yatkın olma durumudur.
  - C) Bireyin eylemlerinin doğuracağı sonuçları üstlenmesi durumudur.
  - D) İnsan varlığına gerçek anlamını veren ahlaki niteliklerin toplamına karşılık gelir.
6. Aşağıdakilerden hangisi siyaset felsefesinin temel sorularından biri değildir?
  - A) Ahlaki eylemin amacı nedir?
  - B) Devletin varlık nedeni nedir?
  - C) Meşruiyetin ölçütü nedir?
  - D) En iyi yönetim şekli hangisidir?
7. Güzelliği ve güzel sanatların doğasını inceleyen felsefe dalı aşağıdakilerden hangisidir?
  - A) Mantık
  - B) Etik
  - C) Ahlak
  - D) Estetik
8. Aşağıdakilerden hangisi bireyin temel haklarından biri değildir?
  - A) Toplumsal ve ekonomik haklar
  - B) Kişisel haklar
  - C) Dayanışma hakları
  - D) Siyasal haklar
9. İdeal bir toplum düzenini tasarlayan ilk filozof aşağıdakilerden hangisidir?
  - A) Farabi
  - B) George Orwel
  - C) Platon
  - D) Thomas More
10. Evrensel ahlak yasasının varlığını reddeden, hazzın yaşam içindeki tek gerçeklik ve en yüksek iyi olduğunu savunan görüşe ne ad verilir?
  - A) Ütopya
  - B) Epistemoloji
  - C) Hazcılık
  - D) Varoluşçuluk
11. Neyin iyi neyin kötü olduğunun sezgiyle kavranabileceğini savunan, sezgiciliğin kurucusu düşünür aşağıdakilerden hangisidir?
  - A) Bergson
  - B) Spinoza
  - C) Mevlana
  - D) Nietzsche
12. “Evrensel ahlak yasasını belirleyen en önemli öğe insanın, kendisinin de bir parçası olduğu doğa düzenini anlayarak ve bu bilgiye dayanarak ahlaki bir biçimde davranmasıdır.” görüşünü savunan düşünür aşağıdakilerden hangisidir?
  - A) Aristoteles
  - B) Kant
  - C) Demokritos
  - D) Spinoza
13. Din ile felsefeyi birbirinden ayırarak inceleyen ilk düşünür aşağıdakilerden hangisidir?
  - A) Kant
  - B) Huxley
  - C) Sartre
  - D) Orwel

14. İnsanın kendi çevresi ile kurduğu ilişkiyi estetik bir ifadeyle sunmasına ne ad verilir?

- A) Fenomen
- B) Sanat
- C) Etik
- D) Erdem

15. Aşağıdakilerden hangisi ahlak felsefesinin temel sorularından biri değildir?

- A) İyi nedir?
- B) İnsan ahlaki eylemde bulunurken özgür müdür?
- C) Bütün insanların ortaklaşa benimseyebilecekleri, ortak bir ahlak yasası var mıdır?
- D) İktidar kaynağını nereden alır?

16. Anarşizm ile ilgili aşağıdaki ifadelerden hangisi yanlıştır?

- A) İnsanlar üzerinde tahakküm kuran her türden kurumun ortadan kaldırılmasını savunur.
- B) En tanınmış temsilcisi Jean Paul Sartre'dir.
- C) Kurucusu, Proudhon'dur.
- D) Devletin ve iktidarın olmadığı bir toplum düzeninin kurulmasını amaçlar.

17. "Varolan her şeyin bir yaratıcısı olduğuna, bu yaratıcının mutlak ve sınırsız bir bilgi ve güce sahip olduğuna sarsılmaz bir inanç beslemek" aşağıdakilerden hangisiyle ifade edilir?

- A) Ateizm
- B) Teizm
- C) Agnostisizm
- D) Deizm

18. Ünlü eseri "Kanunların Ruhu"nda, cumhuriyet, monarşi ve despotizmin eksikliklerini ve üstünlüklerini irdeleyen düşünür aşağıdakilerden hangisidir?

- A) Bakunin
- B) Montesquieu
- C) Weber
- D) Hobbes

19. Aşağıdakilerden hangisi sanat eserinin özelliklerinden biri değildir?

- A) Doğayla uyumludur.
- B) İçerik ve biçim birlikte bir anlam taşır.
- C) Özgündür.
- D) Kendine ait özellikleri olan bir insan yaratısıdır.

20. Aşağıdakilerden hangisi siyaset felsefesinin temel kavramlarından biri değildir?

- A) Hukuk
- B) Egemenlik
- C) Meşruiyet
- D) Ahlak

1. Aşağıdakilerden hangisi Talas Savaşı'nın sonuçlarından biri değildir?

- A) Orta Asya, Çinlilerin kontrolüne girmekten kurtarıldı.
- B) Abbasi Devleti yönetiminde Türkler görev almaya başladı.
- C) Türk Arap dostluğu son buldu.
- D) Müslüman Araplar, Çinlilerden kâğıt imal etmesini öğrendi.

2. Kuran-ı Kerim ilk defa hangi halife zamanında kitap haline getirilmiştir?

- A) Hz. Osman
- B) Hz. Ebubekir
- C) Hz. Ömer
- D) Hz. Ali

3. Aşağıdakilerden hangisi Medine'de bulunan Müslümanlarla Mekkeliler arasında gerçekleşen savaşlardan biri değildir?

- A) Puvatya Savaşı
- B) Bedir Savaşı
- C) Uhud Savaşı
- D) Hendek Savaşı

4. Hz. Ömer dönemiyle ilgili aşağıdaki ifadelerden hangisi yanlıştır?

- A) Mısır, Suriye, Irak ve Azerbaycan fethedilmiştir.
- B) Cemal ve Siffin Savaşları yapılmıştır.
- C) Hicri takvim kullanılmaya başlanmıştır.
- D) "Beytül Mal" kurulmuştur.

5. Türkler'in, Abbasiler Dönemi'ne kadar İslamiyet'e kitleler halinde geçmelerini engelleyen gelişme aşağıdakilerden hangisidir?

- A) Ayn-ı Calut Savaşı'nın gerçekleşmesi
- B) Atabeylik Sistemi'nin oluşturulması
- C) Emevilerin mevali politikası
- D) İktâ Sistemi'nin uygulanması

6. Karahanlılar ile ilgili aşağıdaki ifadelerden hangisi yanlıştır?

- A) İslam öncesi Türk devletlerinde görülen ikili yönetim anlayışını devam ettirmişlerdir.
- B) Halkının tamamına yakını Türk'tür.
- C) İslamiyet'in Orta Asya'da yayılmasını sağlamışlardır.
- D) Resmî dil Farsça'dır.

7. Edip Ahmet'in ahlaki öğütler verdiği Karahanlı dönemi eser aşağıdakilerden hangisidir?

- A) Atabet'ül Hakayık
- B) Kısas-ı Enbiya
- C) El Mutahharat
- D) Ayn'ül Ayan

8. Aşağıdakilerden hangisi Dandanakan Meydan Muharebesi'nin sonuçlarından biri değildir?

- A) Türklerin batıya doğru ilerlemelerinin önü açıldı.
- B) Bizans'ın Anadolu'yu Türklerden alma ümitleri sona erdi.
- C) Horasan toprakları kesin olarak Selçuklulara geçti.
- D) Büyük Selçuklu Devleti resmen kuruldu.

9. Mısır'da kurulan ilk Türk-İslam devletleri aşağıdakilerden hangisinde birlikte ve doğru olarak verilmiştir?

- A) Harezmsahlar ve Babürler
- B) Karahanlılar ve Hazarlar
- C) Tolunoğulları ve İhşidoğulları
- D) Gazneliler ve Türgişler

10. Aşağıdakilerden hangisi Büyük Selçukluların yıkılma nedenlerinden biri değildir?

- A) Bâtınilerin zararlı çalışmaları
- B) Canberdi Gazali İsyanı'nın yaşanması
- C) Devlet idaresinin Farsların eline geçmesiyle Türkmenlerin küstürülmesi
- D) Ülkenin hanedan üyelerinin ortak malı sayılması

11. Avrupa'da "Avicenna" diye tanınan Türk İslam bilgini aşağıdakilerden hangisidir?

- A) Farabi
- B) El-Biruni
- C) İbn-i Sina
- D) Harezmi

12. Müslümanlardan yetiştirdikleri tarım ürünlerinden onda bir oranında alınan vergi aşağıdakilerden hangisidir?

- A) Öşür
- B) Haraç
- C) Cizye
- D) İспенç

13. Abbasi halifelerinin hükümdarlara gönderdikleri elbiselere ne ad verilir?

- A) Nevbet
- B) Tıraz
- C) Çetr
- D) Otağ

14. Türkçenin ilk sözlük ve dil bilgisi kitabı aşağıdakilerden hangisidir?

- A) Risalet'ül Nushiye
- B) Divan-ı Kebir
- C) İskendername
- D) Divanü Lügat - it- Türk

15. Aristo'nun eserlerini inceleyip yeni yorumlar getirdiği için ikinci öğretmen anlamına gelen "Muallim-i Sâni" unvanıyla anılan kişi kimdir?

- A) İbn-i Sina
- B) Ömer Hayyam
- C) Farabî
- D) Gazali

16. Kahire'deki "El-Ezher Camii" aşağıdaki devletlerden hangisine ait eserdir?

- A) Fâtımîler
- B) Eyyûbiler
- C) Memlukler
- D) Gazneliler

17. Şah Cihan, ölen karısı Mümtaz Mahal (Ercümen Banu Begüm) için yaptırdığı dünyanın en güzel ve gösterişli anıtlarından biri olan eser aşağıdakilerden hangisidir?

- A) İshak Paşa Sarayı
- B) Laskarisler Sarayı
- C) Agra Kalesi
- D) Tac Mahal

18. Eyyubiler devrinin ünlü tıp bilgini aşağıdakilerden hangisidir?

- A) Takıyyeddin Mehmet
- B) Kadızade-i Rumi
- C) Hazerfan Hüseyin
- D) İbn Meymum

19. Moğollarda aileye ne ad verilirdi?

- A) Yasun
- B) Köbegün
- C) Nöker
- D) Ortak

20. Aşağıdakilerden hangisi 1402 Ankara Savaşı'nın sonuçlarından biri değildir?

- A) Osmanlıların Balkanlarda yaptığı fetihlerin durması
- B) Nizam-ı Cedit adlı yeni bir ordunun kurulması
- C) Osmanlı Devleti'nin fetret devrine girmesi
- D) Anadolu Türk birliğinin bozulması

1. Osmanlı Devleti'nde ortaya çıkan Osmanlıcılık, İslamcılık, Turancılık, Türkçülük ve Batıcılık gibi düşünce akımlarının ortak amacı aşağıdakilerden hangisidir?
  - A) Avrupa Devletleri'nin Osmanlı Devleti'nin iç işlerine karışmasını önlemek ve devleti dağılmaktan kurtarmak
  - B) Paris Barış Konferansı'na Osmanlı Devleti'nin katılımını sağlamak
  - C) Devlet yönetimini teokratik yapıya kavuşturmak
  - D) Osmanlı Devleti'nin sınırlarını genişletmek
2. I. Dünya Savaşı başlamadan önce İttifak Devletleri arasında yer aldığı halde sonradan İtilaf Devletleri yanında savaşa katılan devlet aşağıdakilerden hangisidir?
  - A) Romanya
  - B) Fransa
  - C) İtalya
  - D) Rusya
3. Aşağıdakilerden hangisi II. Meşrutiyet'in demokrasi tarihimize getirdiği en önemli yeniliklerden biridir?
  - A) İlk geçici elçilerin Avrupa'ya yollanması
  - B) Siyasi partilerin kurulması
  - C) Rumeli Beylerbeyliğinin kurulması
  - D) İran ile Amasya Antlaşması'nın imzalanması
4. Aşağıdakilerden hangisi Trablusgarp Savaşı'nın nedenleri arasında ver almaz?
  - A) Bab-ı Ali Baskını'nın gerçekleşmesi
  - B) İtalya'nın gelişen sanayisi için ham madde ve pazar araması
  - C) Trablusgarp'ın İtalya'ya yakın olması
  - D) Trablusgarp ve Bingazi'nin Osmanlı Devleti tarafından savunulmasının güç olması
5. Aşağıdakilerden hangisi İtilaf Devletleri'nin Çanakkale Cephesi'ni açma amaçları arasında ver almaz?
  - A) Balkan devletlerinin İttifak Devletleri yanında yer almalarını önlemek
  - B) Kapitülasyonları kaldırmak
  - C) Rusya'ya yardım etmek
  - D) Süveyş Kanalı ve Hindistan yolu üzerindeki Osmanlı baskısını kaldırmak
6. Aşağıdakilerden hangisi Osmanlı Devleti'ni paylaşmak amacıyla yapılmış gizli anlaşmalardan biridir?
  - A) Versay Antlaşması
  - B) Sen Jermen Antlaşması
  - C) Nöyyi Antlaşması
  - D) Saint Jean de Maurienne Antlaşması
7. Mondros Ateşkes Antlaşması'ndan sonra ilk işgal edilen Osmanlı toprağı aşağıdakilerden hangisidir?
  - A) Samsun
  - B) Musul
  - C) Trabzon
  - D) İzmir
8. Aşağıdakilerden hangisi Millî Cemiyetlerden biridir?
  - A) Alyans İsrailit ve Makabi Cemiyeti
  - B) İngiliz Muhipler Cemiyeti
  - C) Wilson Prensipleri Cemiyeti
  - D) Kilikyalılar Cemiyeti
9. Yunanlıların 15 Mayıs 1919'da başlayan İzmir'i işgallerine karşın ilk kurşunu atan Hukuk-u Beşer (İnsan Hakları) Gazetesi başyazarı aşağıdakilerden hangisidir?
  - A) Namık Kemal
  - B) Rauf Orbay
  - C) Ziya Gökalp
  - D) Hasan Tahsin
10. Mustafa Kemal Atatürk ve arkadaşları tarafından Vatan ve Hürriyet Cemiyeti nerede kurulmuştur?
  - A) Şam
  - B) İzmir
  - C) İstanbul
  - D) Hatay



11. 31 Mart Ayaklanması'nı bastırmak için kurulan Hareket Ordusu'nun Kurmay Başkanlığına getirilen kişi aşağıdakilerden hangisidir?

- A) Celal Bayar
- B) Ali Fuat Cebesoy
- C) İsmet İnönü
- D) Mustafa Kemal Atatürk

12. Türkiye Büyük Millet Meclisi Hükümeti'nin uluslararası alanda sağladığı ilk başarı aşağıdakilerden hangisidir?

- A) Gümrü Antlaşması
- B) Moskova Antlaşması
- C) Ankara Antlaşması
- D) Lozan Barış Antlaşması

13. Son Osmanlı Mebusan Meclisi'nin en önemli hizmeti aşağıdakilerden hangisidir?

- A) Amasya Genelgesi'nin yayınlanması
- B) Temsil Heyeti'nin oluşturulması
- C) Misakımillî'nin ilan edilmesi
- D) Ankara'nın başkent olması

14. Kurtuluş Savaşı'nda düzenli ordunun aldığı ilk ve tek yenilgi aşağıdakilerden hangisidir?

- A) I. İnönü Savaşı
- B) II. İnönü Savaşı
- C) Eskişehir-Kütahya Savaşları
- D) Büyük Taarruz

15. Kurtuluş Savaşı'nın amacı, gerekçesi ve yöntemi ilk defa aşağıdakilerden hangisinde açıklanmıştır?

- A) Amasya Genelgesi
- B) Havza Genelgesi
- C) Alaşehir Kongresi
- D) Pozantı Kongresi

16. Aşağıdakilerden hangisi Türk Hükümeti tarafından Lozan'a gidecek heyetten kesinlikle taviz verilmemesi istenen konulardan biridir?

- A) Boğazlar
- B) Kapitülasyonlar
- C) Osmanlı Borçları
- D) Patrikhane

17. Aşağıdakilerden hangisi Kuvayımilliye'nin oluşmasının nedenleri arasında ver almaz?

- A) İtilaf Devletleri'nin Anadolu'yu yer yer işgal etmesi
- B) Osmanlı Devleti'nin işgallere karşı duyarsız davranması
- C) Sadabat Paktı'nın kurulması
- D) Mondros Ateşkes Antlaşması gereğince Osmanlı ordularının terhis edilerek devletin savunmasız bırakılması

18. Millî Mücadele'nin ilk yayın organı aşağıdakilerden hangisidir?

- A) Alemdar
- B) İrade-i Milliye
- C) Aydede
- D) Güler yüz

19. Mustafa Kemal Atatürk, "Hattı müdafaa yoktur, sathı müdafaa vardır. O sath bütün vatandır. Vatanın her karış toprağı, vatandaşın kanıyla sulanmadıkça terk olunmaz." emrini hangi savaşta vermiştir?

- A) I. İnönü Savaşı
- B) II. İnönü Savaşı
- C) Eskişehir-Kütahya Savaşları
- D) Sakarya Savaşı

20. Aşağıdakilerden hangisi Saltanatın kaldırılmasının nedenlerinden biri değildir?

- A) Saltanatın millî egemenlik anlayışına aykırı olması
- B) Medeni Kanun'un kabul edilmesi
- C) Ülke yönetiminde ve barış görüşmelerinde iki ayrı hükümetin bulunmasının uygun olmaması
- D) İstanbul Hükümeti ve padişahın Millî Mücadeleye karşı olması

1. Aşağıdakilerden hangisi seramik sanayisinin geliştiği şehirlerden biri değildir?

- A) İstanbul
- B) Kütahya
- C) Ankara
- D) Kocaeli

2. Aşağıdakilerden hangisi Türkiye'deki volkanik set göllerinden biri değildir?

- A) Erçek Gölü
- B) Balık Gölü
- C) Eymir Gölü
- D) Haçlı Gölü

3. Nüfusu 10 – 25 bin arasında olan kentlere ne ad verilir?

- A) Orta büyüklükte kentler
- B) Büyük kentler
- C) Metropol kentler
- D) Küçük kentler

4. Aşağıdakilerden hangisi bozkırlarda yaygın olarak görülen ot türlerinden biri değildir?

- A) Menengiç
- B) Üzerlik
- C) Koyun yumağı
- D) Peygamber çiçeği

5. Aşağıdakilerden hangisi alüvyal toprakların yaygın olduğu bölgelerden biri değildir?

- A) Dağların dorukları
- B) Delta ovaları
- C) Vadi tabanları
- D) Eski göl tabanları

6. Aşağıdakilerden hangisi Türkiye'de nüfusun yerleşimini ve dağılışını etkileyen beşeri faktörlerden biri değildir?

- A) Ulaşım
- B) Su kaynakları
- C) Ekonomi
- D) Bilim ve teknoloji

7. Aşağıdakilerden hangisi devamlı kır yerleşmelerinden biridir?

- A) Ağıl
- B) Oba
- C) Yayla
- D) Çiftlik

8. Çayırların yaygın olduğu yerlerde yetiştirilen hayvan türü aşağıdakilerden hangisidir?

- A) Kümes hayvanları
- B) Sığır
- C) Keçi
- D) Koyun

9. Aşağıdakilerden hangisi dağınık yerleşmelerin yaygın olduğu yerlerden biridir?

- A) Konya Ovası
- B) Çukurova
- C) Kıyı Ege
- D) Karadeniz

10. Aşağıdakilerden hangisi Türkiye'de görülen iğne yapraklı ağaçlardan biridir?

- A) Kızılağaç
- B) Karaçam
- C) Kayın
- D) Akçaağaç

11. Aşağıdakilerden hangisi coğrafi keşiflerin yapılmasının nedenlerinden biri değildir?

- A) Pusulanın icat edilmesi
- B) Baharat ve İpek Yolu'nun önemini kaybetmesi
- C) Gemicilik tekniğinin gelişmesi
- D) Avrupalıların daha ucuz ticaret yolları bulmaya çalışması

12. Dünyanın en eski ulaşım sistemi aşağıdakilerden hangisidir?

- A) Demir yolu
- B) Deniz yolu
- C) Hava yolu
- D) Kara yolu

13. Cumhuriyet döneminde ilk kapsamlı nüfus sayımı hangi yıl yapılmıştır?

- A) 1924
- B) 1925
- C) 1927
- D) 1935

14. Dünyayı dolaşan ilk denizci aşağıdakilerden hangisidir?

- A) Barthelemy Diaz
- B) Vasco de Gama
- C) Christoph Colomb
- D) Ferdinand Macellan

15. Aşağıdakilerden hangisi Türkiye'deki göçün nedenlerinden biri değildir?

- A) Nüfus dağılımındaki dengesizlik
- B) Eğitim, sağlık ve sosyal hizmetlerden daha fazla yararlanma isteği
- C) Miras yoluyla toprağın parçalanması
- D) Tarımda makineleşmenin yarattığı işsizlik

16. Aşağıdakilerden hangisi Türkiye'de nüfus artışının yol açtığı sorunlardan biri değildir?

- A) Milli gelirin azalması
- B) Göçlerin artması
- C) Refah seviyesinin artması
- D) Çevresel sorunların artması

17. Sumatra Adası ile Malaya Yarımadası arasında yer alan boğaz aşağıdakilerden hangisidir?

- A) Hürmüz Boğazı
- B) Cebelitarık Boğazı
- C) Malakka Boğazı
- D) Bering Boğazı

18. Türkiye'de çığ olaylarının en çok yaşandığı bölge aşağıdakilerden hangisidir?

- A) Doğu Anadolu Bölgesi
- B) İç Batı Anadolu Bölgesi
- C) Marmara Bölgesi
- D) Güneydoğu Anadolu Bölgesi

19. Aşağıdakilerden hangisi kuraklığın sonuçlarından biri değildir?

- A) Ülke milli gelirinin artması
- B) Büyük göçlerin yaşanması
- C) Hayvan ve bitki türlerinin zarar görmesi
- D) Tarım faaliyetlerinin yapılamaması

20. Aşağıdakilerden hangisi kütle hareketlerini önlemek ya da azaltmak için alınması gereken önlemlerden biri değildir?

- A) Bitki örtüsünün tahrip edilmemesi
- B) Çok eğimli alanların yerleşime açılması
- C) Boş alanların ağaçlandırılması
- D) Yamacın doğal dengesinin bozulmaması

1. Diller arasındaki yakınlık ve benzerliğe ne ad verilir?

- A) Dil kardeşliği
- B) Dil akrabalığı
- C) Dil birliği
- D) Dil yakınlığı

2. Aşağıdakilerden hangisi iletişim kurmak için gerekli temel öğelerden biri değildir?

- A) Kaynak
- B) İleti
- C) Yöntem
- D) Alıcı

3. Aşağıdakilerin hangisinde büyük harflerin yazımıyla ilgili bir yanlışlık yapılmıştır?

- A) Annem kardeşime masal okuyor.
- B) Leyla hanım sizi sordu.
- C) 31 Aralık Cuma günü yılbaşı.
- D) Doktor Selim burada mı?

4. İlk Türkçe belgelerin ortaya konulduğu çağ aşağıdakilerden hangisidir?

- A) Altay Çağı
- B) İlk Türkçe Çağı
- C) En Eski Türkçe Çağı
- D) Eski Türkçe Çağı

5. Sözcükleri biçim yönünden inceleyerek kök ve eklerin yapısını belirleyen bilim dalı aşağıdakilerden hangisidir?

- A) Biçim Bilgisi
- B) Ses Bilgisi
- C) Köken Bilim
- D) Anlam Bilim

6. Türkçe aşağıdaki dil gruplarından hangisinde yer alır?

- A) Hint Avrupa dilleri
- B) Ural-Altay dilleri
- C) Bantu dilleri
- D) Hami-Sami dilleri

7. Aşağıdakilerden hangisi Ural-Altay dillerinin özelliklerinden biri değildir?

- A) Bazı çekim eklerinin, yapım eki olarak da kullanılması
- B) Sözcüklerde dil bilgisi bakımından diş ve erkek tür ayrımının olmaması
- C) Ses, yapı ve söz dizini bakımından benzerlikler bulunması
- D) Baştan eklemeli bir yapısının olması

8. Aşağıdakilerden hangisi dil bilgisinin bölümlerinden biridir?

- A) Morfoloji
- B) Pedagoji
- C) Farmakoloji
- D) Sosyoloji

9. Türkçenin gelişmesine katkı sağlayan eserlerden biri olan "Atabetül Hakayık" ile ilgili aşağıdaki ifadelerden hangisi yanlıştır?

- A) Eser, Edip Ahmet tarafından yazılmıştır.
- B) Eser, ahlaki, öğretici tarzda yazılmış manzum bir eserdir.
- C) Eser, Anadolu Türkçesi ile yazılmıştır.
- D) Eserin tamamı dördlüklerden ve beyitlerden oluşmuştur.

10. Dil ile ilgili aşağıdaki ifadelerden hangisi doğrudur?

- A) Dil, bütün canlılara özgü bir iletişim aracıdır.
- B) Dilin sadece bir tane geniş anlamı vardır.
- C) Dilin görme, koklama, tat alma organlarıyla bir ilişkisi yoktur.
- D) İnsanlar dil aracılığıyla duygu, düşünce ve isteklerini karşılarındakine aktarırlar.

11. Aşağıdaki altı çizili sözcüklerden hangisinde yumuşama yoktur?

- A) Ekmeği bıçakla kesti.
- B) Küçük kız, tabağı kırdı.
- C) Patatesleri, kızgın yağa attı.
- D) Söğüdün altına uzandı.

12. Günlük yaşamda, evde, sokakta, çarşı pazarda kullanılan dile ne ad verilir?

- A) Ağız
- B) Yazı dili
- C) Lehçe
- D) Konuşma dili

13. Sözcüklerin birbiriyle olan ilişkilerini, cümledeki görevlerini ve durumunu inceleyen bilim dalı aşağıdakilerden hangisidir?

- A) Fonetik
- B) Semantik
- C) Sentaks
- D) Etimoloji

14. Aşağıdaki cümlelerin hangisinde virgülün görevi farklıdır?

- A) Kardeşim, bu hafta geliyor.
- B) Kitabını, defterini, kalemimi al.
- C) Annemi, babamı özledim.
- D) Elma, armut, muz aldık.

15. Aşağıdakilerin hangisinde "ki"nin yazımı doğrudur?

- A) Bana öylesine yakındaki kardeşimden ayırmazdım.
- B) Sinemadaki film çok eğlenceliydi.
- C) Masada ki silgi kimin?
- D) Benim kitabım masada senin ki nerede?

16. Aşağıdakilerin hangisinde "mi"nin yazımı yanlıştır?

- A) Oku muyorsan ver kitabımı.
- B) Bana da verecek misin?
- C) Daha doymadın mı?
- D) Yok mu senden başkası?

17. Aşağıdakilerden hangisi çekimli (bükümlü) dillerden biridir?

- A) Farsça
- B) Türkçe
- C) Moğolca
- D) Samoyetçe

18. Bir toplumun maddi ve manevi alanda ortaya koyduğu tüm eserlere ne ad verilir?

- A) Dil
- B) Kültür
- C) Din
- D) İnanç

19. Aşağıdaki cümlelerden hangisinin sonuna ünlem işareti gelmez?

- A) Eyvah, kahve taşı
- B) Sevgili arkadaşlar
- C) Hey, buraya bak
- D) Bu güzel kız da kim

20. Aşağıdaki sözcüklerin hangisine ek getirildiğinde kesme işareti (') kullanılır?

- A) Okul
- B) Eskişehir
- C) Havaalanı
- D) Karayolu

## 1. Aşağıdakilerden hangisi sıralı cümledir?

- A) Köroğlu kahvesini içti, sonra aldı sazı eline, görelim orada ne dedi.
- B) Günümüzde medeniyet ölçüsü kültür, sanat ve teknikte üstünlüktür.
- C) Gözlerinde endişe ve korku vardı.
- D) Sonunda beklediğimiz mektup geldi.

## 2. Aşağıdakilerden hangisi birleşik sözcüktür?

- A) Posta kutusu
- B) Destek
- C) Balık
- D) Yılbaşı

## 3. Aşağıdakilerden hangisi yalın cümle değildir?

- A) Kendini bir bırakırsa, hemen uyuyacaktı.
- B) Sabah geldik.
- C) Öğrenciyim.
- D) Bilmiyorum.

## 4. Aşağıdaki sözcüklerden hangisi yapım eki almamıştır?

- A) Tatsız
- B) Tuzlu
- C) Simitçi
- D) Evler

## 5. Sözcük türetmeye veya sözcüklerin görevlerini belirtmeye yarayan en küçük birime ne ad verilir?

- A) Ek
- B) Gövde
- C) Kök
- D) Kelime

## 6. Aşağıdaki cümlelerin hangisinde ikileme kullanılmıştır?

- A) Güzelliğin on para etmez.
- B) Damlaya damlaya göl olur.
- C) Mum dibine ışık vermez.
- D) Yalancının mumu yatsıya kadar yanar.

## 7. Aşağıdaki cümlelerden hangisinde edat tümleci yoktur?

- A) Eskişehir'e kadar demir yolu ile gittim.
- B) Ağaçların yaprakları elektrik ışıkları ile parlıyor.
- C) Doğru dürüst insan kalmamış.
- D) Artık hayatla tamamen barıştım.

## 8. Aşağıdaki sözcüklerden hangisi hem isim hem fiil köküdür?

- A) Ev
- B) Kol
- C) Yap
- D) Yaz

## 9. "Bahçe duvarının önü" tamlaması aşağıdaki tamlama türlerinden hangisine örnektir?

- A) Belirtisiz isim tamlaması
- B) Zincirleme isim tamlaması
- C) Belirtili isim tamlaması
- D) Takısız isim tamlaması

## 10. Aşağıdakilerden hangisi matematikle ilgili bir terimdir?

- A) Nota
- B) Perde
- C) Fiil
- D) Üçgen

## 11. "Hasan bahçedeki ağaçları budadı." cümlesinin öznesi aşağıdakilerden hangisidir?

- A) budadı
- B) bahçedeki
- C) ağaçları
- D) Hasan

## 12. Aşağıdaki cümlelerin hangisinde sıfat tamlaması yoktur?

- A) Artık berber görmeyen bu güzel saçlar solmuş.
- B) Bahçe duvarının önünde boynuna sarıldım.
- C) Yeşil gözleri, iki solgun boncuk gibiydi.
- D) Kızıl saçlarını savura savura koşuyordu.

## 13. Aşağıdakilerden hangisi devrik cümledir?

- A) Sen ne anlatıyorsun be adam?
- B) Kırk yıldır bu sanatı işlerim.
- C) Ben bu kitabı okuyacağım.
- D) Gözlerinden yaşlar aktı.

## 14. Aşağıdaki sözcüklerden hangisi soyuttur?

- A) Bayrak
- B) Ağaç
- C) Cadde
- D) Hürriyet

15. Aşağıdakilerden hangisi dilek-şart cümlesidir?

- A) Orada ne yapıyorsunuz?
- B) Başarmak için çok çalışmalıyım.
- C) Okulumu bitirip yüzmeyi öğrensem.
- D) En çok sevdiğim çiçek güldür.

16. "Merdivenleri üçer üçer atlayarak indim." cümlesinin yüklemi hangi sözcüktür?

- A) üçer üçer
- B) indim
- C) atlayarak
- D) merdivenleri

17. Aşağıdakilerden hangisi kurallı bir cümledir?

- A) Ayıkla pirincin taşını şimdi.
- B) Göresim geldi seni.
- C) Köroğlu ordunun yaklaştığını anladı.
- D) Severim gerçekçi edebiyatı.

18. Aşağıdakilerden hangisi türemiş sözcüktür?

- A) Yalan
- B) Yıllık
- C) Hesap
- D) Kitap

19. "Altın madalya" tamlaması aşağıdaki tamlama türlerinden hangisine örnektir?

- A) Takısız isim tamlaması
- B) Belirtisiz isim tamlaması
- C) Zincirleme isim tamlaması
- D) Belirtili isim tamlaması

20. Aşağıdaki cümlelerin hangisinde bir söz grubu vardır?

- A) Ahmet Almanya'dan dün geldi.
- B) Bu işten sen zararlı çıkacaksın.
- C) Ha o ha bu ne fark eder?
- D) Bu çocuk neden bağıyor?

1. Dörder mısralık bentlerden oluşan ve sitem temasını işleyen divan edebiyatı nazım şekli aşağıdakilerden hangisidir?
- A) Münşeat  
B) Musammat  
C) Murabba  
D) Müstezât
2. Kutadgu Bilig ile ilgili aşağıdaki ifadelerden hangisi yanlıştır?
- A) Bütünü 6645 beyitten oluşmuştur.  
B) Her beyit kendi içinde uyaklıdır.  
C) Aruzla yazılan ilk eserlerdendir.  
D) Süslü ve sanatlı bir dille yazılmıştır.
3. X. yüzyılda tam bir halk hikayesi biçimini alan, birbirini küçük yaşta seven ama kavuşamayan iki gencin aşkını anlatan mesnevi aşağıdakilerden hangisidir?
- A) Leylâ ve Mecnûn  
B) Hüsn ü Aşk  
C) Harnâme  
D) Mevlid
4. İslami döneme ait ilk eserleri ortaya koyan ilk Müslüman Türk devleti aşağıdakilerden hangisidir?
- A) Karahanlılar  
B) Emeviler  
C) Uygurlar  
D) Göktürkler
5. Aşağıdakilerden hangisi orta oyunu tiplerinden biridir?
- A) Külhanbeyi  
B) Pişekâr  
C) Tuzsuz Deli Bekir  
D) Karagöz
6. Tasavvuf edebiyatında ölümden alınacak dersler ve Tanrı düşüncesinin dile getirildiği şiirlere ne ad verilir?
- A) Gazel  
B) Hikmet  
C) Tevhit  
D) İlahi
7. XIII. yüzyılda, Anadolu'nun fethedilerek İslamlaştırıldığı dönemde yapılan kahramanlıkların anlatıldığı destan aşağıdakilerden hangisidir?
- A) Alp Er Tunga  
B) Ergenekon  
C) Seyyid Battal Gazi  
D) Bozkurt
8. Aşağıdakilerden hangisi seyahatname türünde önemli eserler veren seyyahlar arasında ver almaz?
- A) İbn Battuta  
B) Marco Polo  
C) Aşkı Efendi  
D) Evliya Çelebi
9. Aşağıdaki yazar ve eser eşleştirmelerinden hangisi yanlıştır?
- A) Mevlana Celaleddin-i Rumi - Mevlid  
B) Yusuf Has Hacıp - Kutadgu Bilig  
C) Kaşgarlı Mahmut - Divan-ı Lûgat'it Türk  
D) Edip Ahmet - Atabetü'l Hakâyık
10. Kırgızların geleneklerini, ahlak ve aile hayatlarını, dünya ve hayat görüşlerini anlatan destan aşağıdakilerden hangisidir?
- A) Oğuz Destanı  
B) Manas Destanı  
C) İlyada Destanı  
D) Türeyiş Destanı



11. Tabiat güzellikleri, sevgi, aşk, ayrılık vb. konuların işlendiği, özel bir ezgiyle söylenen halk edebiyatı nazım şekli aşağıdakilerden hangisidir?

- A) Mâni
- B) Koşuk
- C) Koşma
- D) Semai

12. Aşağıdakilerden hangisi anonim halk şiirinin özelliklerinden biri değildir?

- A) Hece ölçüsü kullanılması
- B) Dilinin ağır, anlatımının sanatlı olması
- C) Halkın ortaklaşa ürünü olması
- D) Daha çok yarım uyak kullanılması

13. Aşk, tasavvuf, din, ahlak, tarih, macera, yiğitlik ve mizah temaları içeren divan edebiyatı nazım şekli aşağıdakilerden hangisidir?

- A) Medhiye
- B) Mesnevi
- C) Hicviye
- D) Mersiye

14. Aşağıdakilerden hangisi kahramanlık temalı halk hikâyelerinden biridir?

- A) Köroğlu
- B) Âşık Garip
- C) Tahir ile Zühre
- D) Kerem ile Aslı

15. Aşağıdakilerden hangisi, Osmanlı İmparatorluğu'nda Cihannüma, Fezleke, Keşfu'z-zunun gibi önemli eserleriyle tanınan, XVII. yüzyılın çok yönlü yazarlarından ve düşünürlerinden biridir?

- A) Mütercim Asım
- B) Süleyman Çelebi
- C) Evliya Çelebi
- D) Kâtip Çelebi

16. Zamanın olaylarını yazmakla görevlendirilen kişiye ne ad verilir?

- A) Kâtip
- B) Vakanüvist
- C) Seyyah
- D) Meddah

17. Suyu gider al yazması başında İsmi kadın kendi on beş yaşında Dünyayı terk etti pek genç yaşında Dayanmalı Hakk'ın emri böyledir.

Yukarıdaki dörtlük aşağıdakilerden hangisine örnektir?

- A) Güzelleme
- B) Taşlama
- C) Koçaklama
- D) Ağıt

18. İlk dizesi yedi heceden az olan mânilere ne ad verilir?

- A) Düz mâni
- B) Eksik mâni
- C) Kesik mâni
- D) Ayaklı mâni

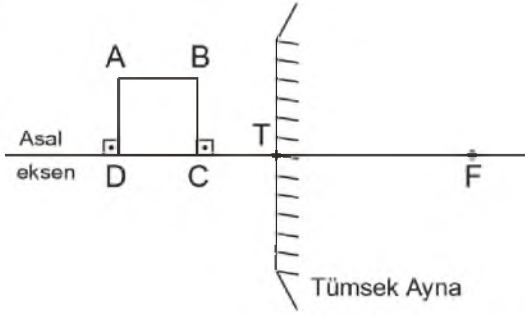
19. Gazelin en güzel beytine ne ad verilir?

- A) Beytül gazel
- B) Makta beyit
- C) Matla beyit
- D) Musammat gazel

20. Bilgi ve öğüt vermek için yazılan manzum eserlere ne ad verilir?

- A) Epik
- B) Pastoral
- C) Lirik
- D) Didaktik

1.



Yukarıdaki tümsek aynanın önüne konulan ABCD cisminin aynadaki görünümü aşağıdakilerden hangisidir?

- A)
- B)
- C)
- D)

2. I. Yayılma hızı artar.  
II. Dalga boyu azalır.  
III. Periyodu azalır.

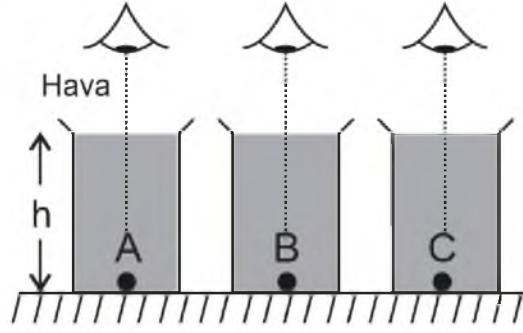
Derinliği sabit olan bir dalga leğeninde üretilen dalgaların frekansı iki katına çıkarıldığında yukarıdakilerden hangileri değişir?

- A) Yalnız III  
B) I ve II  
C) I ve III  
D) II ve III

3. Güneş ışığı altında kırmızı – beyaz renkli bir formaya yeşil camın arkasından bakıldığında aşağıdaki hangi renklerde görünür?

- A) Yeşil – mavi  
B) Kırmızı – siyah  
C) Yeşil – siyah  
D) Mavi – siyah

4.



Özdeş kaplarda yukarıdaki şekildeki gibi eşit yükseklikte doldurulmuş kırıcılık indisleri sırasıyla  $n_A = 3n$ ,  $n_B = 2n$  ve  $n_C = n$  olan sıvılar bulunmaktadır. Kapların tabanlarında bulunan özdeş cisimlere sıvıların yüzeyinden eşit uzaklıklardan bakan gözlemcilerin cisimleri gördükleri uzaklıklar  $h_A$ ,  $h_B$  ve  $h_C$  arasındaki doğru sıralama aşağıdakilerden hangisidir?

- A)  $h_C > h_B = h_A$   
B)  $h_C > h_B > h_A$   
C)  $h_C = h_B = h_A$   
D)  $h_C = h_B > h_A$

5. I. Yayı geren kuvvet arttıkça yaydaki atmanın hızı da artar.  
II. Yayın uzunluğu ve yayı geren kuvvet değiştirilmeden kütlesi artırılınca, atmaların hızı azalır.  
III. Uzunlukları aynı olan ve aynı kuvvet etkisinde olan yaylardan daha hafif olanında atmaların hızı daha büyüktür.

Bir yayda yayılan atmaların hızı ile ilgili yukarıdaki ifadelerden hangileri doğrudur?

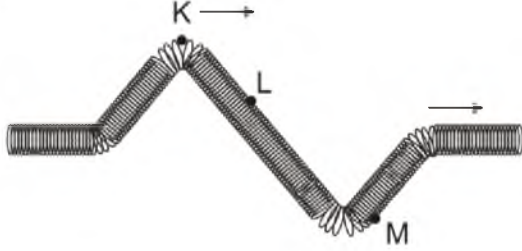
- A) I ve II  
B) I ve III  
C) II ve III  
D) I, II ve III

6. I. Dalgaların hızı  
II. Dalgaların frekansı  
III. Yayı geren kuvvet

Birbirlerinin ucuna eklenmiş ince ve kalın yaylardan birinde oluşturulan periyodik dalgalar diğerine geçtiğinde yukarıdakilerden hangileri her iki yay için meydana gelebilecek değişkenlerden biri değildir?

- A) Yalnız I  
B) Yalnız III  
C) I ve II  
D) II ve III

7.



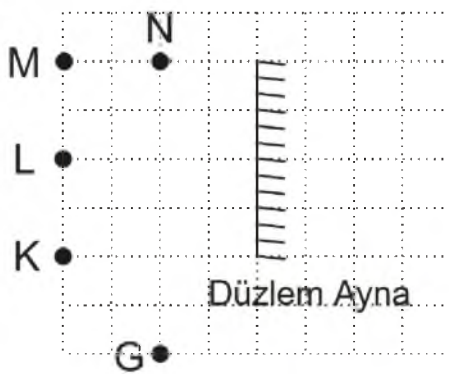
Yukarıdaki gergin bir yayda oluşturulan ve ok yönünde ilerleyen dalga için K, L ve M noktalarının hareket yönünde oluşturduğu değişimler aşağıdakilerden hangisidir?

- A) K, M ve L yukarı  
 B) K ve M aşağı, L yukarı  
 C) K ve L aşağı, M yukarı  
 D) K, M ve L aşağı
8. I. Asal eksene paralel gelen ışınlar odak noktasından geçecek şekilde kırılır.  
 II. Odak noktasından geçerek gelen ışınlar kırılarak asal eksene paralel gider.  
 III. Optik merkezden geçerek gelen ışınlar kırılmaya uğramazlar.

İnce kenarlı mercekteki özel ışınlar ile ilgili yukarıdaki ifadelerden hangileri doğrudur?

- A) Yalnız III  
 B) I ve II  
 C) I ve III  
 D) I,II ve III

9.



Düzlem ayna önündeki G noktasından yukarıdaki şekilde görüldüğü gibi düzlem aynaya bakan gözlemci K, L, M ve N noktalarından hangilerinin görüntüsünü düzlem aynada görür?

- A) M, N  
 B) Yalnız N  
 C) Yalnız M  
 D) L, K

10. Numarası +0,25 dioptri olan gözlük camının odak uzaklığı kaç metre'dir?

- A) 8  
 B) 4  
 C) 2  
 D) 1

11. I. Bir merceğin odak uzaklığı eğrilik yarıçapına bağlıdır.  
 II. Kalın kenarlı merceğe iraksak mercek de denir.  
 III. İnce kenarlı merceğe yakınsak mercek de denir.

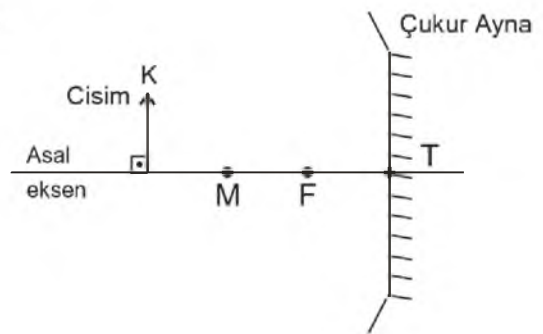
Merceklerle ilgili yukarıdaki ifadelerden hangileri doğrudur?

- A) I ve II  
 B) I ve III  
 C) II ve III  
 D) I,II ve III

12. Esnek bir yayda oluşturulan periyodik dalgaların 1 ile 4. dalga tepesi arasındaki uzaklığı 12 cm ise periyodik dalgaların dalga boyu kaç cm'dir?

- A) 4  
 B) 8  
 C) 12  
 D) 16

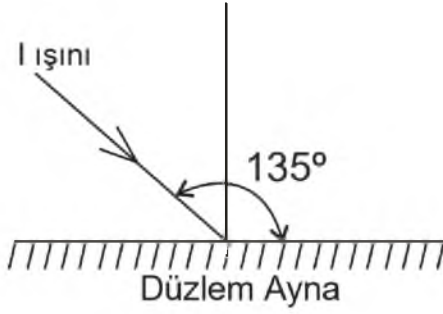
13.



Yukarıdaki şekilde görüldüğü gibi K cismini çukur aynanın merkezinin dışında ise yeni görüntü nerede oluşur ve özelliği nedir?

- A) Merkezde, sanal  
 B) Ayna ile odak arasında, gerçek  
 C) Odakla merkez arasında, gerçek  
 D) Odakta, gerçek

14.



Düzlem aynaya yukarıdaki şekildeki gibi gelen I ışınının düzlem aynadan yansıma açısı kaç derecedir?

- A) 60
- B) 45
- C) 30
- D) 20

15. I. Elektromanyetik dalgalar enerji taşır.  
II. Elektromanyetik dalgalar boşlukta yayılabilir.  
III. Elektromanyetik dalgalar yüklerin ivmeli hareketi ile oluşur.

Elektromanyetik dalgalarla ilgili yukarıdaki ifadelerden hangileri doğrudur?

- A) Yalnız I
- B) I ve II
- C) II ve III
- D) I,II ve III

16. Dalga boyu 30 m olan bir radyo dalgasının frekansı kaç MHz (MegaHertz)'dir? ( $c = 3 \cdot 10^8$  m/s,  $1 \text{ MHz} = 10^6$  Hz)

- A) 10
- B) 15
- C) 30
- D) 60

17. I. Canlı dokulara zarar verdiği için uzak durmak gerekir.  
II. Röntgen ışınları olarak da bilinir.  
III. Tıpta tanı ve kanser tedavisinde kullanılır.

X- ışınları ile ilgili yukarıdaki ifadelerden hangileri doğrudur?

- A) Yalnız I
- B) I ve II
- C) I ve III
- D) I,II ve III

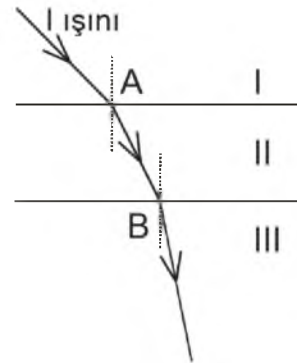
18. Periyodik bir dalga kaynağı dakikada 60 dalga üretmektedir. Dalgaların yayıldığı ortamdaki hızı 5 cm/s olduğuna göre dalga boyu kaç cm'dir?

- A) 5
- B) 10
- C) 15
- D) 20

19. Su derinliği her yerde aynı olan bir dalga leğeninde üretilen periyodik dalgaların frekansı 2 Hz, dalga boyları 5 cm olduğuna göre yayılma hızı kaç cm/s' dir?

- A) 20
- B) 15
- C) 10
- D) 5

20.



Saydam I, II ve III ortamları ve tek renkli I ışının bu ortamlarda izlediği yol yukarıdaki şekilde gibidir.

Buna göre I, II ve III ortamlarının kırıcılık indisleri  $n_1$ ,  $n_2$  ve  $n_3$  arasındaki büyüklük ilişkisi aşağıdakilerden hangisidir?

- A)  $n_1 < n_2 < n_3$
- B)  $n_1 > n_2 = n_3$
- C)  $n_1 = n_2 > n_3$
- D)  $n_2 > n_3 > n_1$

1. "Sana kötülük edenlere sen iyilik et." diyerek insanlığın temelinde sevgi, bağışlama ve iyiliğin olduğunu anlatan İslam âlimi aşağıdakilerden hangisidir?
- A) Hacı Bektaş Veli  
B) Cabbar Kulu  
C) Mevlana  
D) Seyyid Mahmud Hayrani
2. "Gel, ne olursan ol yine gel." diyerek hiçbir ayırım yapmadan bütün insanları İslam'ın barış ve huzur dolu ortamına çağıran İslam âlimi aşağıdakilerden hangisidir?
- A) Nasreddin Hoca  
B) Âşık Paşa  
C) Yunus Emre  
D) Mevlana
3. "Sakin ol, kimsenin gönlünü yıkma." diyerek sevenlerine gönül kırmamalarını tavsiye eden İslam âlimi aşağıdakilerden hangisidir?
- A) Mevlana  
B) Yunus Emre  
C) Ahi Evran  
D) Hacı Bektaş Veli
4. İslam dinine göre insanlığın atası aşağıdakilerden hangisidir?
- A) Hz. Yusuf  
B) Hz. Adem  
C) Hz. Yakup  
D) Hz. Muhammed
5. Barış ile ilgili aşağıdaki ifadelerden hangisi yanlıştır?
- A) Barışın dini, dili, ırkı, rengi, cinsiyeti, kültür ve medeniyeti vardır.  
B) Barış herkes için gerekli bir durumdur.  
C) Bireyler arasındaki barış, toplumsal barışı doğurur.  
D) Toplumsal barış, toplumda huzur, güven ve mutluluk sağlar.
6. Aşağıdakilerden hangisi barışın olumlu sonuçlarından biri değildir?
- A) Adaletsizlik  
B) Özgürlük  
C) Güven  
D) Kalkınma
7. Pir-i Türkistan olarak bilinen İslam âlimi aşağıdakilerden hangisidir?
- A) Yunus Emre  
B) Mevlana  
C) Ahmet Yesevi  
D) Hacı Bektaş Veli
8. Aşağıdakilerden hangisi İslam tarihinde Müslümanların barışa verdiği önemi gösteren olaylardan biri değildir?
- A) Mekke'nin Fethi  
B) II. Haçlı Seferi  
C) Medine Sözleşmesi  
D) Hudeybiye Antlaşması
9. "Giderdim gönülden kini, kin tutanın yoktur dini. Düşmanımız kindir bizim, biz kimseye kin tutmayız." diyerek insanların barış ve huzur içinde yaşaması gerektiğini vurgulayan büyük mutasavvıf ve halk şairi aşağıdakilerden hangisidir?
- A) Karacaoğlan  
B) Yunus Emre  
C) Mevlana  
D) Dadaloğlu
10. Aşağıdakilerden hangisi Tevhid-i Tedrisat Kanunu'yla gelen yeniliklerden biri değildir?
- A) Yüksek ilim konularının öğretiminde tekke ve zaviyelerin desteklenmesi  
B) İlahiyat fakültelerinin açılması  
C) Medreselerin varlığına son verilmesi  
D) Bütün okulların Maarif Vekâletine bağlanması
11. Atatürk'ün toplumun din alanındaki bilgisizliğini gidermek ve sağlıklı bir din eğitiminin verilmesi adına çıkardığı Tevhid-i Tedrisat Kanunu kaç yılında kabul edilmiştir?
- A) 3 Mart 1924  
B) 29 Ekim 1923  
C) 23 Nisan 1920  
D) 19 Mayıs 1919
12. Cumhuriyet Dönemi'nin ilk Diyanet İşleri Başkanı aşağıdakilerden hangisidir?
- A) Elmalılı Muhammed Hamdi Yazır  
B) Mehmet Akif Ersoy  
C) Ahmed Naim Efendi  
D) Rifat Börekçi

13. Aşağıdakilerden hangisi Çin ve Japon dinlerinden biridir?

- A) Sihizm
- B) Budizm
- C) Şintoizm
- D) Caynizm

14. "Din duygusu insanın yaratılışından gelen bir olgudur. İnsanın yaratılışı itibari ile her zaman sığınacağı, dua edip yalvaracağı yüce varlığa inanma ihtiyacı hissetmiştir." diyerek dinin insan için gerekli ve zorunlu bir ihtiyaç olduğunu ifade eden düşünür aşağıdakilerden hangisidir?

- A) Karl Marx
- B) Emile Durkheim
- C) Albert Einstein
- D) Max Müller

15. Budizm'in temel amacı olan; ihtiyarlardan, ölümden, dünya çilelerinden, arzu ve ihtiraslardan kurtulup yüceliğe ve huzura erme anlamına gelen ilke aşağıdakilerden hangisidir?

- A) Tipitaka
- B) Dhamma
- C) Nirvana
- D) Sangha

16. Caynizm'in kurucusu aşağıdakilerden hangisidir?

- A) Guru Nanak
- B) Vardhamana
- C) Buda
- D) Lao Tzu

17. Hz. Muhammed peygamberlik görevini kaç sene sürdürmüştür?

- A) 23
- B) 25
- C) 27
- D) 33

18. Hinduizmde sebep-sonuç kanunu olan kişinin kaderini belirleyen iş ve amellere ne ad verilir?

- A) Yoga
- B) Tenasüh
- C) Reenkarnasyon
- D) Karma

19. Hz. Muhammed nerede doğmuştur?

- A) Lübnan
- B) Medine
- C) Mekke
- D) Mısır

20. Son Peygamber aşağıdakilerden hangisidir?

- A) Hz. İsa
- B) İmam Mehdi
- C) Hz. Muhammed
- D) Hz. Davud

1.  $f(x) = \frac{6x^2 - 4x + 2}{7x^3 + 5}$  fonksiyonu veriliyor.

Buna göre,  $\lim_{x \rightarrow -\infty} f(x)$  değeri kaçtır?

- A)  $-\infty$   
B)  $-1$   
C)  $0$   
D)  $6/7$

2.  $f(x) = 2x - 3$  ve  $g(x) = 3x + 1$  fonksiyonları veriliyor. Buna göre  $\text{gof}(x)$  aşağıdakilerden hangisidir?

- A)  $6x^2 - 3$   
B)  $6x - 1$   
C)  $5x - 2$   
D)  $6x - 8$

3.  $f(x) = \frac{3x - 5}{x + k}$  fonksiyonu veriliyor. Buna göre,

$f(x) = f^{-1}(x)$  olması için  $k$  aşağıdakilerden hangisi olmalıdır?

- A)  $-3$   
B)  $-2$   
C)  $2$   
D)  $3$

4.  $f(x) = -2x^3 - 3x^2 + 5$  fonksiyonu veriliyor. Buna göre  $\lim_{x \rightarrow -1} f(x)$  değeri aşağıdakilerden hangisidir?

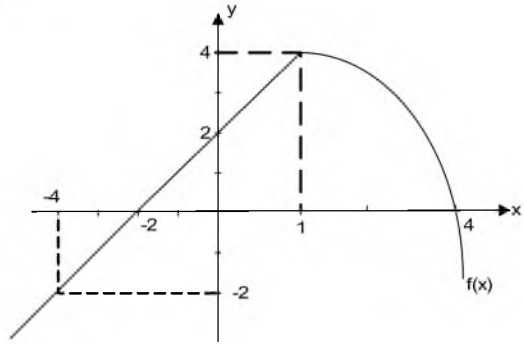
- A)  $0$   
B)  $4$   
C)  $6$   
D)  $10$

5.  $f(x) = \frac{-x + 4}{x + 1}$  ve  $g(x) = \frac{5x + 3}{3x - 1}$  fonksiyonları veriliyor.

Buna göre,  $\text{fog}(-2)$  kaçtır?

- A)  $-4$   
B)  $-1$   
C)  $2$   
D)  $3/2$

6.



Yukarıda  $f(x)$  fonksiyonunun grafiği verilmiştir. Buna göre,  $f(-4) + f(0) + f(4)$  toplamı kaçtır?

- A)  $-2$   
B)  $0$   
C)  $1$   
D)  $4$

7.  $f(x) = \frac{\tan x + \cos 4x}{\sin x}$  fonksiyonu veriliyor.

Buna göre  $\lim_{x \rightarrow \frac{\pi}{4}} f(x)$  değeri kaçtır?

- A)  $0$   
B)  $\sqrt{2}$   
C)  $2\sqrt{2}$   
D)  $4$

$$8. f(x) = \begin{cases} 3x^2 - x - 10, & x < -2 \text{ ise} \\ k, & x = -2 \text{ ise} \\ -mx + 2, & x > -2 \text{ ise} \end{cases}$$

$f(x)$  fonksiyonu  $\mathbb{R}$ 'de sürekli olduğuna göre  $k+m$  kaçtır?

- A) -4
- B) 5
- C) 8
- D) 12

9.  $f(x) = |3x+5| - |5-3x| + 6$  fonksiyonu veriliyor. Buna göre,  $\lim_{x \rightarrow -1} f(x)$  değeri kaçtır?

- A) 0
- B) 6
- C) 11
- D) 12

10.  $f: (4, +\infty) \rightarrow \mathbb{R}$ ,  $f(x) = \log_5(x-4)$  fonksiyonu veriliyor.

Buna göre,  $f^{-1}(x)$  aşağıdakilerden hangisidir?

- A)  $4^x - 3$
- B)  $\log_5(x+4)$
- C)  $5^x + 4$
- D)  $\log_4(x-5)$

$$11. f: \mathbb{R} \rightarrow \mathbb{R}, f(x) = \sqrt{\frac{x^2 + 3x - 18}{(x-1)^2}}$$

fonksiyonunun en geniş tanım kümesi aşağıdakilerden hangisidir?

- A)  $(-\infty, -6] \cup [3, +\infty)$
- B)  $[-6, 3]$
- C)  $[-3, 6]$
- D)  $(-\infty, -3] \cup [6, +\infty)$

12.  $f(x) = (4-a)x^2 + (8+4b)x + 5$  fonksiyonu sabit bir fonksiyon olduğuna göre  $a-b$  kaçtır?

- A) -6
- B) -2
- C) 2
- D) 6

$$13. f(x) = \begin{cases} \frac{x^2 - 1}{x - 1}, & x > 1 \\ 2x, & x = 1 \\ \frac{x - 5}{x - 3}, & x < 1 \end{cases} \text{ fonksiyonu veriliyor.}$$

Buna göre,  $f$  fonksiyonunun sürekli olduğu küme aşağıdakilerden hangisidir?

- A)  $\mathbb{R} - \{3\}$
- B)  $\mathbb{R} - \{1\}$
- C)  $\mathbb{R}$
- D)  $(1, 3)$



14.  $f(2x+3) = \frac{x^2-1}{2x-4}$  fonksiyonu veriliyor. Buna göre  $f(5)$ 'in değeri kaçtır?

A) 0  
B) 1  
C) 3  
D) 4

15.  $\text{sgn}(x^2+3x-4)=-1$  denklemini sağlayan kaç tane tamsayı vardır?

A) 1  
B) 2  
C) 3  
D) 4

16.  $f(x) = \frac{5x-7}{x^2-2x-1}$  fonksiyonu veriliyor. Buna göre,  $\lim_{x \rightarrow 3} f(x)$  değeri kaçtır?

A) 2  
B) 4  
C) 5  
D) 8

17.  $\lfloor 2x - 5 \rfloor = 7$

denklemini sağlayan  $x$  değerleri aşağıdakilerden hangisidir?

A)  $x > 12$   
B)  $x \leq 6$   
C)  $6 \leq x < \frac{13}{2}$   
D)  $10 \leq x < 14$

18.  $f: \mathbb{R} \rightarrow \mathbb{R}$   $f(x) = \begin{cases} 2x^2+1, & x < 4 \text{ ise} \\ 2, & x = 4 \text{ ise} \\ x^2-3, & x > 4 \text{ ise} \end{cases}$

fonksiyonu veriliyor.

Buna göre,  $f(2)+f(4)+f(6)$  aşağıdakilerden hangisidir?

A) 33  
B) 44  
C) 52  
D) 60

19.  $f(x-1)=x^2-2x$  fonksiyonu veriliyor. Buna göre,  $f(x)$  aşağıdakilerden hangisidir?

A)  $x^2-4x+3$   
B)  $x^2+3$   
C)  $x^2-1$   
D)  $x^2+4x+3$

20.  $f(x) = \begin{cases} \sqrt{3x}, & x < 2 \\ 5x+1, & x = 2 \\ 4x-7, & x > 2 \end{cases}$

fonksiyonu veriliyor. Buna göre  $\lim_{x \rightarrow 3} f(x)$  değeri kaçtır?

A) 3  
B) 5  
C) 7  
D) 16

1. Genelden özele yapılan akıl yürütme biçimine ne ad verilir?

- A) Totoloji
- B) Tümevarım
- C) Tümdengelim
- D) Benzeşim

2. Mantık ile ilgili aşağıdaki ifadelerden hangisi yanlıştır?

- A) Mantık, tüm bilimlerin temelinde yer alır.
- B) Mantık, doğru düşünmenin kurallarını inceleyen bir disiplindir.
- C) Mantık doğrusu, doğruluğu gözlem ve deneyle kanıtlanabilen yargılardır.
- D) Mantığın batı dillerindeki karşılığı "logic"tir.

3. Bir öncülü ya da sonucu eksik bırakılmış kıyaslara ne ad verilir?

- A) Zincirleme Kıyas
- B) Hulfi Kıyas
- C) Sorit
- D) Entimem

4. Önerme ile ilgili aşağıdaki ifadelerden hangisi yanlıştır?

- A) Tikel olumlu bir önermenin ters döndürmesi yoktur.
- B) "Her hakem adildir." önermesinin ters döndürmesi "Her adil olmayan hakemdir." önermesidir.
- C) Tikel olumsuz bir önermenin düz döndürmesi yoktur.
- D) "Bazı bitkiler kokusuzdur." önermesinin düz döndürmesi "Bazı kokusuzlar bitkidir." önermesidir.

5. Aşağıdakilerden hangisi bir önerme değildir?

- A) Başarılı olmak istiyorsan ders çalış.
- B) Elmanın rengi yeşildir.
- C) Çocuklar yaramazdır.
- D) İnsanlar kardeştir.

6. Aşağıdakilerden hangisi önemli İslam mantıkçılarından biri değildir?

- A) Farabi
- B) Razi
- C) İbn-i Sina
- D) Nefi

7. "Aynı niteliğin, aynı zamanda, aynı özneye, aynı bakımdan hem ait olması, hem de olmaması imkânsızdır."

Aristoteles'in yukarıdaki sözü mantık ilkelerinden hangisini ifade eder?

- A) Çelişmezlik
- B) Özdeşlik
- C) Üçüncü halin olanaksızlığı
- D) Belirsizlik

8. "Bazı insanlar cimridir." önermesinin düz döndürmesi aşağıdakilerden hangisidir?

- A) Bazı cimriler insan değildir.
- B) Tüm cimriler insandır.
- C) Tüm insanlar cimridir.
- D) Bazı cimriler insandır.

9. Aşağıdaki kavram çiftlerinden hangisinde sırasıyla kolektif ile distribütif kavram verilmiştir?

- A) Ayşe – Bazı Kadınlar
- B) Balık – Kuş
- C) Ordu – Asker
- D) Kedi – Bazı Kediler

10. Aşağıdakilerden hangisi mantık ilkelerinden biri değildir?

- A) Çelişmezlik
- B) Gözlem
- C) Yeter – Neden
- D) Üçüncü halin olanaksızlığı

11. "Bazı ağaçlar yeşil değildir." önermesinin ters döndürmesi aşağıdakilerden hangisidir?

- A) Bazı ağaçlar yeşildir.
- B) Her yeşil olmayan ağaçtır.
- C) Bazı yeşil olmayanlar ağaç değildir.
- D) Bazı yeşiller ağaçtır.

12. Aşağıdakilerden hangisi zorunlu (apodiktik) bir önermedir?

- A) Karenin bütün kenarları birbirine eşittir.
- B) Bazı insanlar bencildir.
- C) Bazı çocuklar yaramazdır.
- D) Kuşlar memeli hayvanlardır.

13. Aşağıdakilerden hangisi “Beş Tümel”den biri değildir?

- A) Özgünlük
- B) Tür
- C) Kıyas
- D) İlinti

14. Aşağıdakilerden hangisi Aristoteles’in mantık üzerine yazdığı altı kitaptan biri değildir?

- A) Semboller
- B) Topikler
- C) Sofistik Kanıtlar
- D) Birinci Analitikler

15. Aşağıdakilerden hangisinde sırasıyla “çirkin” ve “çirkinlik” kavramlarının çeşitleri verilmiştir?

- A) Somut kavram – Soyut kavram
- B) Kolektif kavram – Distribütif kavram
- C) Olumlu kavram – Olumsuz kavram
- D) Açık kavram – Genel kavram

16. Aşağıdaki kıyaslardan hangisi “ikilem”e bir örnektir?

- A) Ya bu deveyi güdeceksin ya da bu diyardan gideceksin; bu deveyi gütmeyeceksin; o halde bu diyardan gideceksin.
- B) Eğer sen bir öğretmensen, ne korkak ne de sertsindir; ama sen hem korkaksın hem de sert; o halde sen iyi bir öğretmen değilsin.
- C) Evren ya sonludur ya da sonsuzdur; evren sonlu değildir; o halde evren sonsuzdur.
- D) Dans etmek faydalıdır, çünkü ter atarsın.

17. “Hiçbir çocuk çirkin değildir.” önermesinin altık önermesi aşağıdakilerden hangisidir?

- A) Tüm çocuklar çirkindir.
- B) Hiçbir çocuk olmayan çirkin değildir.
- C) Bazı çirkin olmayanlar çocuktur.
- D) Bazı çocuklar güzel değildir.

18. Aşağıdakilerden hangisi “olumlu – olumsuz” kavram çiftine bir örnektir?

- A) Nazlı – Bencil
- B) Saygılı – Saygısız
- C) İyi – Kötü
- D) Tembel – Çirkin

19. Aşağıdaki kavram çiftlerinden hangisi çelişik kavramlara bir örnektir?

- A) Sakin - Sinirli
- B) Ters - Düz
- C) Çalışkan - Tembel
- D) İyi - İyi olmayan

20. Aşağıdakilerden hangisi geçerli akıl yürütmeyi ifade eder?

- A) Hem öncüllerin hem de sonucun doğru önermeler olmalarıdır.
- B) Akıl yürütmenin sonucunun, verilen öncüllerden zorunlu olarak çıkmasıdır.
- C) Akıl yürütmenin sonucu ile verilen öncüllerin çelişmesidir.
- D) Akıl yürütmenin sonucu ile verilen öncüllerin değillemelerinin bir arada tutarlı olmalarıdır.

1. “Ya konuştuğun gibi ol, ya olduğun gibi konuş.” sözü bir kişi için aşağıdaki hangi kavramın ölçüsü olmalıdır?

- A) Özgünlük
- B) Akıcılık
- C) Tutarlılık
- D) Bağdaşıklık

2. Not almak ile ilgili aşağıdaki ifadelerden hangisi yanlıştır?

- A) Paragraflardaki düşünceler mutlaka kişinin kendi sözcükleriyle yeniden anlatılmalıdır.
- B) Anlamı bilinmeyen sözcükler için sözlüğe başvurulmalıdır.
- C) Parçadaki anahtar sözcükler çok iyi seçilmelidir.
- D) Paragraflardaki düşünceler gelişmiş güzel sıralanmalıdır.

3. Aşağıdaki cümlelerin hangisinde anlatım bozukluğu vardır?

- A) Annemi üzmemek için uğraşıyorum.
- B) Okula gitmek için sabırsızlanıyor.
- C) Sağlığımız için doğru beslenmeliyiz.
- D) Patatesle kola yemeyi çok seviyorum.

4. Aşağıdakilerden hangisi bir sunumda görsel malzemenin kullanım amaçlarından biri değildir?

- A) Dinleyicilerin dikkatini dağıtmak
- B) Kavramları anlatırken zaman kazanmak
- C) Sunuma tat ve espri katmak
- D) Fikirleri sağlamlaştırmak

5. Sunum ile ilgili aşağıdaki ifadelerden hangisi doğrudur?

- A) Sunum sonrasında konuşmacı, kendisine yöneltilen sorularla başka bir tartışmayı alevlendirebilir.
- B) Yanardöner grafikler, sunum sırasında konuşmaya yardımcı olan önemli etkenler arasında yer alır.
- C) Önceden hazırlanmış ve planlanmış bir konunun, etkili ve anlaşılır bir biçimde dinleyicilere aktarılmasıdır.
- D) Sunumdan önce hiçbir prova yapılmasına gerek yoktur.

6. Aşağıdakilerin hangisinde sözcüğün yanlıs yerde kullanılmasından kaynaklanan anlatım bozukluğu vardır?

- A) Sabahları erkenden yollara düşüyorlar.
- B) Çiçekler ne güzel kokuyorlar.
- C) “Bu işin üstesinden gelemem.” diyor.
- D) Bugün çok başım ağrıyor.

7. Gelişme paragrafı ile ilgili aşağıdaki ifadelerden hangisi doğrudur?

- A) Konu soyutlaştırılır.
- B) Uzun yazı türlerinden yararlanır.
- C) Konunun örnek, alıntı ve karşılaştırma gibi yöntemlerle geliştirildiği bölümdür.
- D) Cümlelerin uzun olmasına özen gösterilir.

8. Aşağıdaki cümlelerin hangisinde gereksiz sözcük vardır?

- A) Oğlunuzun durumu yarın kurulda görüşülecek.
- B) Yarın sinemaya gidelim.
- C) Bir gece ansızın gelebilirim.
- D) Kısmen de olsa kendimi bu olayda tümüyle sorumlu hissediyorum.

9. Aşağıdakilerden hangisi panel başkanının görevlerinden biridir?

- A) Konuşmacıların konularını seçmelerine yardımcı olmak
- B) Dinleyicilerin görüş belirtmelerine izin vermek
- C) Her bir konuşmacı grubunu eleştirmek
- D) Panelin süresini dilediği gibi uzatmak ya da kısaltmak

10. Bir yazı ya da konuşmanın amacını belirleyen cümleye ne ad verilir?

- A) Ana düşünce
- B) Tür
- C) Başlık
- D) Kaynak

11. Bir yazının temel özellikleri ve anlatmak istediklerinin bozulmadan, kısaltılarak yeniden yazılmasına ne ad verilir?

- A) Özet çıkarma
- B) Kompozisyon yazma
- C) Yazı yazma
- D) Not alma

12. Aşağıdaki cümlelerin hangisinde birinci kişi anlatımı vardır?

- A) Minik kediyi evine aldı.
- B) Ahmet, yeni aldığı kitabı okuyor.
- C) Bir saat sonra yola çıkacağım.
- D) Annem, yarın ameliyat olacak.

13. Karşımızdakinin düşünce, duygu ve kanılarını yenileyerek değiştirmeyi amaçlayan konuşma biçimine ne ad verilir?

- A) Demeç
- B) Tartışma
- C) Sohbet
- D) Konferans

14. Aşağıdakilerden hangisi tartışma yönteminin aşamalarından biri değildir?

- A) Ölçme
- B) Araç ve tekniklerin belirlenmesi
- C) Değerlendirme
- D) Tartışmanın yapılacağı fiziksel ortamın düzenlenmesi

15. Güncel olan herhangi bir konu hakkında, herhangi bir grup ya da topluluğa bilgi vermek amacıyla yapılan etkinliklerin tümüne birden ne ad verilir?

- A) Sohbet
- B) Önerge
- C) Sunum
- D) Münazara

16. Aşağıdakilerden hangisi tartışma yönteminin aşamalarından biri değildir?

- A) Araç ve tekniklerin belirlenmesi
- B) Tartışmayı yönlendirecek soruların belirlenmesi
- C) Değerlendirme
- D) Ölçme

17. Aşağıdaki cümlelerin hangisinde soyut anlatım vardır?

- A) Kuş sesleriyle uyanacağımızı tahmin etmemiştim.
- B) Sevilirdim, üstüme titrenirdi.
- C) Evimizin bahçesini bahçıvan suladı.
- D) Yaz tatilinde küçük bir otele gitmek istiyorum.

18. Aşağıdakilerden hangisi tartışma başkanının görevlerinden biri değildir?

- A) Konuyu özellikleri ve sınırları ile dinleyicilere belirtmek
- B) Taraf tutmak
- C) Konuşmacılara yerine göre soru yöneltmek
- D) Tartışmanın sonucunu açıklamak

20. Aşağıdaki cümlelerin hangisinde anlatım yanlışlığı vardır?

- A) Bu karar, 140'a karşı 380 oyla alınmıştır.
- B) Eğri oturup, doğru konuşalım.
- C) Yer yer üç metreyi bulan kar yağışına rağmen maç iptal edilmedi.
- D) Bahçedeki zararlı otlar yolunarak bir yere yığılmalıdır.

19. Tartışma yönteminin bir aşaması olan "tartışma probleminin seçimi" ile ilgili aşağıdaki ifadelerden hangisi yanlıştır?

- A) Problem seçilirken, katılımcıların ilgi ve tutumları ile konuyla ilgili ön bilgileri göz önünde bulundurmak gerekir.
- B) Problem cümlesi sadece soru olarak ifade edilebilir.
- C) Konu katılımcılar için ilgi çekici olmalıdır.
- D) Problem cümlesinin açık olması, konuyu tam olarak belirtmesi ve sınırlayabilmesi gerekir.

1.  ${}_{3}\text{Li}$  : $[\text{He}]2s^1$   
 ${}_{11}\text{Na}$  : $[\text{Ne}]3s^1$   
 ${}_{19}\text{K}$  : $[\text{Ar}]4s^1$

Yukarıdaki elektron dizilimlerine göre  ${}_{3}\text{Li}$ ,  ${}_{11}\text{Na}$ ,  ${}_{19}\text{K}$  elementlerinin atom yarıçapları ile ilgili olarak aşağıdakilerden hangisi doğrudur?

- A)  $\text{Na} < \text{Li} < \text{K}$   
 B)  $\text{Li} < \text{Na} < \text{K}$   
 C)  $\text{Na} = \text{Li} < \text{K}$   
 D)  $\text{K} < \text{Na} < \text{Li}$
2. 90 MHz frekansta yayılan sinyalin dalga boyu kaç m'dir? ( $c=3,0 \times 10^8$  m/s)
- A) 1,2  
 B) 2,1  
 C) 3,3  
 D) 4,5
3. Katot ışınlarına elektriksel ve manyetik alan uygulayarak elektronların kütesinin yüküne oranını (m/e) hesaplayan bilim adamı kimdir?
- A) Antoine Lavoisier  
 B) Joseph John Thomson  
 C) Julius Plücker  
 D) George Johnstone Stoney
4. 1 pikometre (pm) kaç metre (m)'dir?
- A)  $1 \times 10^{-12}$   
 B)  $1 \times 10^{-10}$   
 C)  $1 \times 10^{-8}$   
 D)  $1 \times 10^{-6}$
5. 3 mol  $\text{H}_2\text{SO}_4$  bileşiği kaç tane molekül içerir? ( $N=6,02 \times 10^{23}$ )
- A)  $3,01 \times 10^{23}$   
 B)  $6,02 \times 10^{23}$   
 C)  $1,20 \times 10^{24}$   
 D)  $1,81 \times 10^{24}$
6. Kükürt trioksit bileşiğinin formülü aşağıdakilerden hangisidir?
- A)  $\text{SO}_2$   
 B)  $\text{SO}_3$   
 C)  $\text{SF}_6$   
 D)  $\text{SF}_2$

7. "Normal koşulları" tanımlayan sıcaklık ve basınç aşağıdakilerden hangisidir?

- A)  $0^\circ\text{C}$ , 1 atm  
 B)  $25^\circ\text{C}$ , 1 atm  
 C)  $30^\circ\text{C}$ , 1 atm  
 D)  $25^\circ\text{C}$ , 2 atm

8.  ${}_{7}\text{N}$  atomunun elektron dizilimi aşağıdakilerden hangisidir?

- A)  $1s^1 2s^1 2p^5$   
 B)  $1s^2 2s^2 2p^4$   
 C)  $1s^2 2s^2 2p^4$   
 D)  $1s^2 2s^2 2p^3$

9. Aşağıdaki terimlerden hangisi bir bağ oluşturan atomların bağ elektronlarını çekme eğilimlerinin bağlı büyüklüğünü gösterir?

- A) İyonlaşma enerjisi  
 B) Elektron ilgisi  
 C) Elektronegatiflik  
 D) Kütle numarası

10.  $2\text{NO}(\text{g}) + \text{O}_2(\text{g}) \longrightarrow 2\text{NO}_2(\text{g})$

2 mol NO gazından kaç gram  $\text{NO}_2$  gazı oluşur? ( $N=14$  g/mol;  $O=16$  g/mol)

- A) 23  
 B) 32  
 C) 46  
 D) 92

11. Metan ( $\text{CH}_4$ ) bileşiğindeki karbon (C) atomu hangi yükseltgenme basamağında yer alır?

- A) -4  
 B) -2  
 C) 2  
 D) 4

12. Hareket hızı 73 m/s olan elektrona eşlik eden dalganın dalga boyunu m cinsinden hesaplayınız?

( $m_e=9,1 \times 10^{-31}$  kg;  $h=6,63 \times 10^{-34}$  j.s)

- A)  $1,18 \times 10^{-7}$   
 B)  $3,25 \times 10^{-7}$   
 C)  $4,46 \times 10^{-7}$   
 D)  $9,98 \times 10^{-6}$

13.  $x\text{CH}_4(\text{g}) + y\text{O}_2(\text{g}) \longrightarrow z\text{CO}_2(\text{g}) + t\text{H}_2\text{O}(\text{g})$   
Yukarıdaki yanma tepkimesine göre x, y, z ve t ne olmalıdır?
- A) x=2; y=2; z=2; t=2  
B) x=1; y=2; z=2; t=2  
C) x=1; y=2; z=1; t=2  
D) x=1; y=2; z=1; t=1
14.  $\text{C}_2\text{H}_5\text{OH}$  molekülünün basit formülü aşağıdakilerden hangisidir?
- A)  $\text{C}_2\text{H}_6\text{O}$   
B)  $\text{C}_3\text{H}_6\text{O}$   
C)  $\text{C}_2\text{H}_6\text{O}_2$   
D)  $\text{C}_3\text{H}_6\text{O}_2$
15. Aşağıdakilerden hangisi 1A Grubu elementinin süperoksit bileşiğidir?
- A)  $\text{CaO}$   
B)  $\text{NO}_2$   
C)  $\text{CO}_2$   
D)  $\text{KO}_2$
16. Gazların hiçbir basınç altında sivilaştırılmadığı minimum sıcaklık değerine ne ad verilir?
- A) Kaynama sıcaklığı  
B) Kritik sıcaklık  
C) Oda sıcaklığı  
D) Normal sıcaklık
17. 24,44 L'lik kapta bulunan 20 atm'lik basınç uygulayan gazın, 298 K'deki mol sayısı kaçtır? (R: 0,082 Latm/Kmol)
- A) 3,45  
B) 5,89  
C) 20,00  
D) 26,85
18. Bağıl nemin %40 olduğu bölgede 25 °C sıcaklıkta havada bulunan su buharının kısmi basıncı 9,504 mmHg ise aynı sıcaklıkta suyun buhar basıncı kaç mmHg'dir?
- A) 30,45  
B) 23,76  
C) 15,48  
D) 45,26

19.

Orbital	n	l
?	4	0

Yukarıdaki tablodaki verilere göre “?” yerine aşağıdakilerden hangisi getirilmelidir?

- A) 4s  
B) 4f  
C) 4d  
D) 4p
20. 9 cm uzunluğundaki cam borunun bir ucundan  $\text{SO}_2$  gazı damlatılmış pamuk, diğer ucundan da aynı anda  $\text{CH}_4$  gazı damlatılmış pamuk kapatılırsa bu iki gazın cam boruda buluştuğu nokta aşağıdakilerden hangisidir?
- ( $\text{SO}_2=64 \text{ g/mol}$ ,  $\text{CH}_4=16 \text{ g/mol}$ )
- A)  $\text{CH}_4$  konulan tarafta 2. cm'de  
B)  $\text{CH}_4$  konulan tarafta 9. cm'de  
C)  $\text{CH}_4$  konulan tarafta 6. cm'de  
D)  $\text{SO}_2$  konulan tarafta 2. cm'de



1. Herhangi bir konuda mağdur olan kişilerin bunu yetkili makamlara yazılı olarak bildirerek; mağduriyetlerinin ortadan kaldırılmasını isteme hakkına ne ad verilir?
- A) Vatandaşlık hakkı  
B) Yaşama hakkı  
C) Dilekçe hakkı  
D) Sağlık hakkı
2. Toplum ve devlet faaliyetlerini ilgilendiren belli bir konunun TBMM Genel Kurulu'nda görüşülmesine ne ad verilir?
- A) Gensoru  
B) Meclis araştırması  
C) Genel görüşme  
D) Soru
3. Aşağıdakilerden hangisi Cumhuriyet dönemi anayasalarından biri değildir?
- A) 1876 Anayasası  
B) 1924 Anayasası  
C) 1961 Anayasası  
D) 1982 Anayasası
4. Bakanlar Kurulu tüzük hazırlarken aşağıdakilerden hangisinin görüşünü almak zorundadır?
- A) Cumhurbaşkanı  
B) Sayıştay  
C) Danıştay  
D) Anayasa Mahkemesi
5. Aşağıdakilerden hangisi III. Kuşak haklardan biri değildir?
- A) Gelişme  
B) Çevre  
C) Barış  
D) Mülkiyet
6. Gülhane Hattı Hümayunu ile ilgili aşağıdaki ifadelerden hangisi yanlıştır?
- A) Herkese can, mal, ırz ve namus güvenliği sağlanması öngörülmüştür.  
B) Vergi, askerlik ve yargı alanlarında yeni düzenlemeler getirilmesine karar verilmiştir.  
C) Yasama yetkisi, Ayan Meclisi ve Mebusan Meclisi'ne bırakılmıştır.  
D) Osmanlı topraklarında yaşayan Müslüman ve gayrimüslimlere eşit haklar tanınmıştır.
7. Aşağıdakilerden hangisi demokratikleşmeyi henüz tamamlamamış toplumlarda insan haklarının gerçekleştirilmesi konusunda yaşanan sorunların nedenlerinden biri değildir?
- A) Kamu düzeni ve temel haklar arasındaki dengenin kurulamaması  
B) Yöneticilerin kendi güçlerini arttırmak istemeleri  
C) Eğitimsizlik  
D) Gelenek ve törelerin unutulması
8. Kuvvetler ayrılığı ilkesi ilk kez aşağıdaki anayasalardan hangisi ile kabul edilmiştir?
- A) 1921  
B) 1924  
C) 1961  
D) 1982
9. Ulus devlet ve devlete dayalı hukuk fikrinin mimarı aşağıdakilerden hangisidir?
- A) Machiavelli  
B) Montesquieu  
C) Locke  
D) Hobbes
10. Aşağıdakilerden hangisi hukukun üstünlüğü kuralının özelliklerinden biri değildir?
- A) Yasaların anayasa ve insan haklarına uygun olması  
B) Devlet erklerinin tek elden yürütülmesi  
C) Yargının hür ve bağımsız olması  
D) Temel hak ve özgürlüklerin anayasal güvenceye kavuşturulması

11. Birleşmiş Milletler Örgütü kaç yılında kurulmuştur?

- A) 1945
- B) 1947
- C) 1949
- D) 1951

12. ILO (International Labour Organization) aşağıdaki barış antlaşmalarından hangisiyle kurulmuştur?

- A) Münih
- B) Versailles
- C) Trianon
- D) Saint Germain

13. Aşağıdakilerden hangisi ulusal düzeyde faaliyet gösteren sivil toplum örgütlerinden biri değildir?

- A) Uluslararası PEN Kulübü
- B) Türkiye İnsan Hakları Vakfı
- C) Mazlumder
- D) Türk Demokrasi Vakfı

14. Aşağıdakilerden hangisi uluslararası sivil toplum örgütlerinin faaliyet alanlarından biri değildir?

- A) Soykırımla mücadele
- B) Seçim sonuçlarının değerlendirilmesi
- C) Gelir adaletsizliğinin ortadan kaldırılması
- D) Salgın hastalıkların ortadan kaldırılması

15. Sözleşme içi denetim ile ilgili aşağıdaki ifadelerden hangisi yanlıştır?

- A) En güçlü ve rahat uygulanabilen koruma mekanizmasıdır.
- B) Denetlenecek devletin, sözleşmeyi hazırlayan uluslararası organizasyona üye olması yeterlidir.
- C) Sözleşmeyle oluşturulmuş denetim organının yetkisinin de kabul edilmiş olması gerekir.
- D) Denetlenmesi gereken devlet taraf devlet statüsündedir.

16. Hilafetin kaldırıldığı tarih aşağıdakilerden hangisidir?

- A) 19 Mayıs 1919
- B) 23 Nisan 1920
- C) 29 Ekim 1923
- D) 3 Mart 1924

17. Çoğunlukla aynı topraklar üzerinde yaşayan, aralarında dil, tarih, duygu, ülkü, gelenek ve görenek birliği olan insan topluluğuna ne ad verilir?

- A) Örgüt
- B) Devlet
- C) Millet
- D) Vatan

18. Aşağıdakilerden hangisi Atatürk inkılaplarının başlangıcını ve temelini oluşturan gelişmelerden biri değildir?

- A) Cumhuriyet yönetiminin benimsenmesi
- B) NATO'ya üye olunması
- C) TBMM'nin kurulması
- D) Hilafetin kaldırılması

19. Türkiye Cumhuriyeti Devleti'nin kurulduğu dönemde özel teşebbüsün ülke için gerekli olan atılımları başaramamış olması nedeniyle Atatürk, aşağıdaki ilkelerden hangisini uygulamaya koymuştur?

- A) Halkçılık
- B) Milliyetçilik
- C) Cumhuriyetçilik
- D) Devletçilik

20. Çağdaşlaşmayı devam ettirmek için bütün Atatürk ilkelerinin yaşama geçirilmesi aşağıdaki ilkelerden hangisi ile gerçekleşir?

- A) Halkçılık
- B) İnkılapçılık
- C) Devletçilik
- D) Laiklik

1. Yazılışları aynı, anlamları farklı olan kelimelere eş anlamlı kelimeler denir.

**Yukarıdaki bilgiye göre aşağıdaki eşleşmelerden hangisi yanlıştır?**

- A) adalet-hukuk  
B) hediye-armağan  
C) kelime-sözcük  
D) okul-mektep

2. "Onuncu Yıl Nutku" aşağıdaki türlerden hangisine örnektir?

- A) Mektuba  
B) Mülakata  
C) Hitabete  
D) Denemeye

3. Aşağıdaki alı çizili sözcüklerin hangisinde yazım yanlısı vardır?

- A) Cicekciden mavi orkide aldım.  
B) Küçük çocuk, kuşu kafesten kaçtığından beri ağlıyor.  
C) Ailesinin yanına, Zonguldak'a gitti.  
D) Kitaptan başka dostu yoktu.

4. Aşağıdaki cümlelerde altı çizili sözcüklerin hangisinde ünlü daralması vardır?

- A) Akşam arkadaşlarla yemeğe gideceğiz.  
B) Sınav sorularının tamamını cevaplamış.  
C) Annem bu akşam geliyor.  
D) Daha önce böyle bir olayla karsılaşmamıştım.

5. Röportajın sağlam bir düşünce ve teze dayanması yönüyle benzerlik gösterdiği tür aşağıdakilerden hangisidir?

- A) Fıkra  
B) Nutuk  
C) Deneme  
D) Makale

6. Aşağıdaki kelimelerden hangisinin eş seslisi yoktur?

- A) gece  
B) gül  
C) bağ  
D) yaz

7. Aşağıdakilerden hangisi virgölün kullanım amaçlarından biridir?

- A) Tarihlerin yazılışında gün, ay ve yılı gösteren sayıları birbirinden ayırmak  
B) Sıralı cümleleri birbirinden ayırmak  
C) Özel isimlere gelen ekleri ayırmak  
D) Bilinmeyen ve şüpheli karşılanan yer, tarih gibi durumları belirtmek

8. Aşağıdaki cümlelerin hangisinde ünlemin kullanımı doğrudur?

- A) Ordular! İlk hedefiniz Akdeniz'dir, ileri!  
B) Sevgili Kardeşim!  
C) At ölür, meydan kalır! Yiğit ölür, şanı kalır!  
D) Bugün gelenler şunlar! Masa, sandalye, halı!

9. Aşağıdakilerden hangisi mülakatçının özelliklerinden biridir?

- A) Ayrıntılara önem vermesi  
B) Sabırlı, nazik ve dikkatli olması  
C) Aldığı cevaplara yorumunu katarak yazıya geçirmesi  
D) Mülakat esnasında sanat yönünden zengin bir dil kullanması

10. Cumhuriyet döneminin en büyük konuşmacısı aşağıdakilerden hangisidir?

- A) Halide Edip  
B) Mustafa Kemal Atatürk  
C) Bekir Sıtkı  
D) Peyami Safa

11. Aşağıdaki cümlelerin hangisinde "-de"nin yazımı doğrudur?

- A) Bu kıyafetleri ben de çok beğendim.  
B) Aradıklarını bu kitap da bulabilirsin.  
C) Sen sınavı kazanacaklarında ben göreceğim.  
D) Kardeşimde bizimle gelecek.

12. Sorular herkesin anlayabileceği gibi açık ve net olmalı, alınan cevap aynen aktarılmalı ve ayrıntıya girilmemelidir.

**Yukarıda sözü edilen tür aşağıdakilerden hangisidir?**

- A) Söylev  
B) Fıkra  
C) Deneme  
D) Mülakat

13. Bilimsel toplantılarda ilim ve fen insanlarının yaptıkları söylev türüne ne ad verilir?

- A) İktisadi söylev
- B) Hukuksal söylev
- C) Akademik söylev
- D) Siyasi söylev

14. Aşağıdakilerden hangisi sözlü anlatım türlerinden biridir?

- A) Makale
- B) Hitabet
- C) Deneme
- D) Eleştiri

15. Söylevcinin amacı aşağıdakilerden hangisidir?

- A) Bilgi vermek
- B) Bir sorunu değişik boyutları ile incelemek
- C) Ünlü birini tanıtmak
- D) Dinleyenleri heyecanlandırarak bir fikri aşılacak

16. Aşağıdaki cümlelerin hangisinde "-ki"nin yazımı doğrudur?

- A) Öyle çok güldümki gözlerimden yaş geldi.
- B) Masada ki kitapları düzenledim.
- C) O hiç gülmediki!
- D) Bana öylesine yakındı ki kardeşimden ayıramazdım.

17. Aşağıdaki sözcüklerin hangisinde ses düşmesi vardır?

- A) karın
- B) minicik
- C) fikir
- D) kapıcı

18. Aşağıdaki sözcüklerin hangisinde ses türemesi yoktur?

- A) kitaplık
- B) gencecik
- C) hissetmek
- D) affetmek

19. Belli bir üne kavuşmuş kişilerin özelliklerini işleyen röportaj türü aşağıdakilerden hangisidir?

- A) Eşyayı konu alan röportajlar
- B) Toplumunu konu alan röportajlar
- C) Bir yeri konu alan röportajlar
- D) İnsanı konu alan röportajlar

20. Orduların moral gücünü yükseltmek ve güven duygusunu arttırmak için oluşturulan söylev türü aşağıdakilerden hangisidir?

- A) Askeri söylev
- B) Dini söylev
- C) Siyasi söylev
- D) İktisadi söylev

1. Eski Türklerde, gözlem ve uzun deneyimlerden süzülen duygu ve düşüncelerin özlü bir anlatımı olarak kabul edilen, dilden dile aktarılan atasözlerine ne ad verilir?

- A) Destan
- B) Sagu
- C) Koşuk
- D) Sav

2. Bin atlı akınlarda çocuklar gibi şendik;  
Bin atlı o gün dev gibi bir orduyu yendik!

Yukarıdaki dizelerin yer aldığı "Akıncı" adlı şiir aşağıdaki şairlerimizden hangisine aittir?

- A) Yahya Kemal Beyatlı
- B) Afşar Timuçin
- C) Ahmet Muhip Dırnas
- D) Ahmet Kutsi Tecer

3. İşgale uğrayan bir ülke ve savaş gibi önemli bir toplumsal olayı işleyen "Ateşten Gömlek" romanının yazarı, aşağıdakilerden hangisidir?

- A) Ahmet Hamdi Tanpınar
- B) Orhan Şaik Gökyay
- C) Halide Edip Adıvar
- D) Hüseyin Rahmi Gürpınar

4. Eski Türklerde, ölen kişinin ardından yapılan, ozanlar ve sığıtçı adı verilen ağıtçıların ölen kişinin niteliklerini dile getiren ağıtlar yaktıkları büyük yas törenlerine ne ad verilir?

- A) Biş
- B) Yuğ
- C) Uruk
- D) Sav

5. Aşağıdakilerden hangisi, tarihte Türk isminin geçtiği ilk metin olma özelliğini taşımaktadır?

- A) Oğuz Kağan Destanı
- B) Manas Destanı
- C) Göktürk Kitabeleri
- D) Türeyiş Destanı

6. Türk Edebiyatının en önemli eserlerindedir. Eser adını iyi ve kötü düşünceli iki prensten almaktadır. Eserin aslı Sanskritçedir. Dinsel masal niteliği taşımaktadır.

Yukarıda tanıtılan eser aşağıdakilerden hangisidir?

- A) Kalyanamkara ve Papamkara
- B) Kutadgu Bilig
- C) Atabetü'l Hakâyık
- D) İlyada ve Odysseia

7. Türk destan üslubundan izler taşır. Türklerin su sevgisinden, kuşları uğurlu sayan Şaman inanişinden yansımalar vardır.

Yukarıda tanıtılan destan aşağıdakilerden hangisidir?

- A) Oğuz Kağan Destanı
- B) Gılgamış Destanı
- C) İlyada Destanı
- D) Şu Destanı

8. Aşağıdakilerden hangisi İslamiyet'ten önceki Türk destanlarından biridir?

- A) Timur Destanı
- B) Cengiz Han Destanı
- C) Atilla Destanı
- D) Danişment Gazi Destanı

9. Uygur ülkesine bereket ve mutluluk veren Kutlu Dağ'ın Çinliler tarafından parça parça taşınmasıyla bozulan Uğur sonucu ülkede görülmemiş bir kıtlık başlar. Yaşam çekilmez hale dönüşür ve Uygur Türkleri güneybatıya göç ederler.

**Yukarıdaki parça hangi destanı anlatır?**

- A) Şu Destanı  
B) Ergenekon Destanı  
C) Oğuz Kağan Destanı  
D) Göç Destanı

10. Yunan Edebiyatının ünlü doğal destanları "İlyada ve Odyssea"yı kaleme alan millî destan şairi aşağıdakilerden hangisidir?

- A) Sophokles  
B) Homeros  
C) Milton  
D) Ariosto

11. Nasıl güzel geçti bütün yaz,  
Geceler küçük bahçede...  
Sen zambaklar kadar beyaz  
Ve ürkek bir düşüncede

**Yukarıdaki dizelerin yer aldığı "Bütün Yaz" adlı şiir aşağıdaki şairlerimizden hangisine aittir?**

- A) Ahmet Telli  
B) Ahmet Kutsi Tecer  
C) Ahmet Hamdi Tanpınar  
D) Ahmet Haşim

12. Alp Er Tunga öldi mü  
İssız ajun kaldı mu  
Ödleک öçin aldı mı  
Emdi yürek yırtılır

**Yukarıdaki dörtlük aşağıdaki şiir türlerinden hangisine örnektir?**

- A) Gazel  
B) Koşuk  
C) Sav  
D) Sagu

13. Yazının henüz bulunmadığı ya da yaygınlaşmadığı bir kültürde doğan, ancak kuşaktan kuşağa sözlü olarak aktarıldıktan sonra yazıya geçirilen destan türü aşağıdakilerden hangisidir?

- A) Anonim destan  
B) Halk hikâyesi  
C) Edebi destan  
D) Masal

14. Ala gözlerini sevdiğim dilber  
Şu gelip geçtiğin yollar öğünsün  
Kadir Mevlam seni öğmüş yaratmış  
Kısmeti olduğun kullar öğünsün

**Yukarıdaki dizelerin sahibi ünlü halk şairi kimdir?**

- A) Karacaoğlan  
B) Pir Sultan Abdal  
C) Dadaloğlu  
D) Âşık Veysel

15. 17. yüzyılda Toroslarda Türkmen aşiretleri arasında yaşamış ünlü halk şairimiz aşağıdakilerden hangisidir?

- A) Pir Sultan Abdal  
B) Âşık Veysel  
C) Karacaoğlan  
D) Nailî Kadim

16. Türk'ün öz benliğini yansıtan, yüksek bir ahlâka dayanan, kahramanlık ruhunu coşkun bir deyişle dile getiren, sevgiden gücünü alan aile bağlarını eserin tamamında sergileyen Türk ulusal kültürünün temel eseri, aşağıdakilerden hangisidir?

- A) Göktürk Yazıtları  
B) Danişment Gazi Destanı  
C) Dede Korkut Hikâyeleri  
D) Battal Gazi Destanı

17. Aşağıdakilerden hangisi, destan dönemi Türk edebiyatında Türklerin kullandıkları alfabelerden biridir?

- A) Kiril
- B) Göktürk
- C) Latin
- D) Arap

18. Ergenekon Destanı'nı 13. yüzyılda yazıya geçiren Moğol tarihçi aşağıdakilerden hangisidir?

- A) Cüveynî
- B) Gardezî
- C) El Harezmi
- D) Reşîdüddîn

19. Yirmisekiz Çelebi Mehmet Efendi'nin Ekim 1720 tarihinde Fransa'ya yaptığı ve bir yıl süren seyahatini, Fransa'ya ilişkin gözlemlerini padişaha sunmak amacıyla kaleme aldığı eserin adı nedir?

- A) Fransa Günlükleri
- B) Fransa Sefaretnamesi
- C) Paris Kasidesi
- D) Paris Şehrinden İzlenimler

20. Halk edebiyatında ölen kişinin ardından onun yiğitliklerini, iyiliklerini ve erdemlerini anlatan şiirlere ne ad verilir?

- A) Güzelleme
- B) Koçaklama
- C) Ağıt
- D) Sav

1. Ich komme aus Ankara.

**Wie lautet die Frage für die obige Antwort?**

**Verilen cevabı gerektirecek soru aşağıdakilerden hangisidir?**

- A) Wann kommst du?
- B) Wie kommt ihr?
- C) Woher kommst du?
- D) Wer kommt mit?

2. Ahmet und Mehmet ..... Geschwister.

**Welches Wort passt in die obige Lücke?**

**Cümlede boş bırakılan yeri aşağıdakilerden hangisi doğru şekilde tamamlar?**

- A) warst
- B) ist
- C) war
- D) sind

3. Was macht sechs durch zwei?

**Welche Antwort passt zur obigen Frage?**

**Verilen sorunun cevabı aşağıdakilerden hangisidir?**

- A) Drei
- B) Vier
- C) Fünf
- D) Sechs

4. Wie schmeckt dein Döner?

**Welche Antwort passt zur obigen Frage?**

**Verilen sorunun cevabı aşağıdakilerden hangisidir?**

- A) Es ist teuer!
- B) Er schmeckt super!
- C) Sie ist sehr kalt!
- D) Es gehört uns!

5. Ich möchte ..... Schnitzel!

**Welches Wort passt in die obige Lücke?**

**Cümlede boş bırakılan yeri aşağıdakilerden hangisi doğru şekilde tamamlar?**

- A) eine Portion
- B) eine Tüte
- C) ein Glas
- D) ein Liter

6. Wann geht ihr morgen zur Schule? (10.30)

**Welche Antwort passt zur obigen Frage?**

**Verilen sorunun cevabı aşağıdakilerden hangisidir?**

- A) Ab halb zehn bin ich in der Schule.
- B) Sehr früh muss ich zur Schule.
- C) Ich bin morgen zu Hause.
- D) Wir gehen um halb elf zur Schule.

7. Die Blumen blühen auf. Das Kinderfest wird gefeiert.

**Wie lautet die Frage für die obige Antwort?**

**Verilen cümleye yönelik soru cümlesi aşağıdakilerden hangisidir?**

- A) Wann laufen wir Ski?
- B) Wer geht in die Ferien?
- C) Was passiert im April?
- D) Warum ziehst du um?

8. Heute ist der letzte Tag, .....

**Welches ergänzt die Lücke im obigen Satz?**

**Verilen cümleyi aşağıdakilerden hangisi tamamlar?**

- A) ich muss die Bücher abgeben.
- B) das Buch liegt auf dem Tisch.
- C) er hat mir ein Buch geschenkt.
- D) sie ist von vorne ausgestiegen.



9. Atatürk hat ..... im Jahre 1923 gegründet.

**Welches Wort passt in die obige Lücke?**

**Cümlede boş bırakılan yeri aşağıdakilerden hangisi tamamlar?**

- A) die Mauer
- B) die Türkische Republik
- C) die Zeitung
- D) die Revolution

10. Vater: Kannst du mein Auto waschen?  
Sohn: Nein Vati, .....  
Vater: Okay, dann muss ich das Auto waschen!

**Welches ergänzt den obigen Dialog?**

**Verilen karşılıklı konuşmayı aşağıdakilerden hangisi tamamlar?**

- A) du bist auch eingeladen.
- B) wir waren im Kino!
- C) ich habe keine Zeit!
- D) er kommt aus der Türkei.

11. Während ich meine Hausaufgaben mache, höre ich ..... Musik.

**Welches Wort passt nicht in die obige Lücke?**

**Cümlede boş bırakılan yeri aşağıdakilerden hangisi tamamlamaz?**

- A) immer
- B) manchmal
- C) oft
- D) sonst

12. Patricia ist krank und muss zu Hause bleiben.

**Wie lautet der obige Satz im Präteritum?**

**Verilen cümlelerin geçmiş zaman şekli aşağıdakilerden hangisidir?**

- A) Patricia war krank und musste zu Hause bleiben.
- B) Patricia muss zu Hause bleiben, weil sie sich krank fühlt.
- C) Patricia kann zu Hause bleiben, wenn sie krank ist.
- D) Patricia hätte zu Hause bleiben können, wenn sie krank wäre.

13. Die Frau möchte wissen, ..... der erste Bus kommt.

**Welches Wort passt in die obige Lücke?**

**Cümlede boş bırakılan yeri aşağıdakilerden hangisi doğru şekilde tamamlar?**

- A) war
- B) wer
- C) wann
- D) wessen

14. Meine Tochter will wissen, ..... ich heute zu Hause bleibe.

**Welches Wort passt in die obige Lücke?**

**Cümlede boş bırakılan yeri aşağıdakilerden hangisi doğru şekilde tamamlar?**

- A) wenn
- B) wer
- C) weil
- D) ob

15. A: Kannst du mir beim Einkaufen helfen?  
B: Leider, Mutti!

**Was bedeutet das Gegenteil vom Wort "Leider" im Dialog?**

**Verilen karşılıklı konuşmadaki "Leider" sözcüğünün zıt anlamlısı aşağıdakilerden hangisidir?**

- A) Lieber  
B) Gern  
C) Vielleicht  
D) Manchmal

16. Kannst du das Licht ausmachen?

**Wie lautet der obige Satz in der Imperativ-Form?**

**Verilen cümlelerin emir cümle şekli aşağıdakilerden hangisidir?**

- A) Vergessen Sie das Licht!  
B) Das Licht ist aus bitte!  
C) Mach das Licht aus!  
D) Aus mit dem Licht!

17. Der türkische Schüler hat sich nach seiner Heimat .....

**Welches Wort passt in die obige Lücke?**

**Cümlede boş bırakılan yeri aşağıdakilerden hangisi doğru şekilde tamamlar?**

- A) geschrieben  
B) gerufen  
C) geseht  
D) gefahren

18. Ayşe findet die Modezeitungen ..... die politischen Zeitungen.

**Welches passt in die obige Lücke?**

**Cümlede boş bırakılan yeri aşağıdakilerden hangisi doğru şekilde tamamlar?**

- A) interessanter als  
B) schnell wie  
C) nicht so klein wie  
D) fleißiger als

19. A: Warum kommst du nicht zur Party?  
B: Ich bin nicht .....

**Welches ergänzt die Lücke im obigen Dialog?**

**Verilen karşılıklı konuşmada boş bırakılan yeri aşağıdakilerden hangisi tamamlar?**

- A) einzuladen  
B) hat eingeladen  
C) einladen wollen  
D) eingeladen worden

20. Die Mutter spült das Geschirr.

**Wie lautet der obige Satz in der Passivform?**

**Verilen cümlelerin edilgen hali aşağıdakilerden hangisidir?**

- A) Die Mutter will das Geschirr spülen.  
B) Das Geschirr wird gespült.  
C) Die Mutter hat abgespült.  
D) Das Geschirr soll gespült werden.

1. There ..... some students in the classroom.

**Which of the following completes the sentence above?**

**Aşağıdakilerden hangisi yukarıdaki cümleyi doğru olarak tamamlar?**

- A) has been
- B) is
- C) was
- D) are

2. Canan drinks tea every morning.

**Which of the following is the negative form of the sentence above?**

**Aşağıdakilerden hangisi yukarıdaki cümlenin olumsuz biçimidir?**

- A) Canan doesn't drink tea every morning.
- B) Canan wasn't drinking tea every morning.
- C) Canan isn't drinking tea every morning.
- D) Canan didn't drink tea every morning.

3. A: I need some sugar to make a cake.  
B: ..... do you need?

**Which of the following completes the dialogue above?**

**Aşağıdakilerden hangisi yukarıdaki konuşmayı doğru olarak tamamlar?**

- A) How many
- B) How
- C) What
- D) How much

4. A: What are .....?  
B: ..... are empty boxes.

**Which of the following completes the dialogue above?**

**Aşağıdakilerden hangisi yukarıdaki konuşmayı doğru olarak tamamlar?**

- A) these / They
- B) that / They
- C) those / It
- D) this / They

5. Sally ..... tea every morning.

**Which of the following completes the sentence above?**

**Aşağıdakilerden hangisi yukarıdaki cümleyi doğru olarak tamamlar?**

- A) drinking
- B) drink
- C) has drunk
- D) drinks

6. Is your uncle ..... engineer or ..... teacher?

**Which of the following completes the sentence above?**

**Aşağıdakilerden hangisi yukarıdaki cümleyi doğru olarak tamamlar?**

- A) an / the
- B) an / a
- C) the / a
- D) a / a

7. I don't need ..... coffee. I just need ..... glass of mineral water.

**Which of the following completes the sentence above?**

**Aşağıdakilerden hangisi yukarıdaki cümleyi doğru olarak tamamlar?**

- A) (--) / a  
B) a / any  
C) any / a  
D) a / a

8. A: How ..... apples are there in the basket?  
B: There are a few.

**Which of the following completes the dialogue above?**

**Aşağıdakilerden hangisi yukarıdaki konuşmayı doğru olarak tamamlar?**

- A) much  
B) many  
C) any  
D) some

9. They are going to meet in the new café ..... .

**Which of the following completes the sentence above?**

**Aşağıdakilerden hangisi yukarıdaki cümleyi doğru olarak tamamlar?**

- A) next Saturday  
B) two hours ago  
C) yesterday  
D) now

10. Daniel usually ..... his room on Sundays, but now he ..... TV.

**Which of the following completes the sentence above?**

**Aşağıdakilerden hangisi yukarıdaki cümleyi doğru olarak tamamlar?**

- A) is cleaning / watches  
B) clean / is watching  
C) cleans / is watching  
D) cleaned / watching

11. You ..... sing a song in the library.

**Which of the following completes the sentence above?**

**Aşağıdakilerden hangisi yukarıdaki cümleyi doğru olarak tamamlar?**

- A) needn't  
B) need  
C) mustn't  
D) must

12. I will meet you ..... three o'clock tomorrow.

**Which of the following completes the sentence above?**

**Aşağıdakilerden hangisi yukarıdaki cümleyi doğru olarak tamamlar?**

- A) between  
B) on  
C) in  
D) at

13. When Elena ..... married, she is going to go abroad.

**Which of the following completes the sentence above?**

**Aşağıdakilerden hangisi yukarıdaki cümleyi doğru olarak tamamlar?**

- A) have gotten  
B) gets  
C) getting  
D) got

14. I ..... send you my reports, don't worry.

Which of the following completes the sentence above?

Aşağıdakilerden hangisi yukarıdaki cümleyi doğru olarak tamamlar?

- A) will
- B) used to
- C) should
- D) must

15. I ..... be quite fat but now I am slim.

Which of the following completes the sentence above?

Aşağıdakilerden hangisi yukarıdaki cümleyi doğru olarak tamamlar?

- A) aren't
- B) used to
- C) wasn't
- D) am

16. A: What did you do when you saw the robbery?  
B: .....

Which of the following completes the dialogue above?

Aşağıdakilerden hangisi yukarıdaki konuşmayı doğru olarak tamamlar?

- A) I called the police
- B) I cleaned the house
- C) I washed the car
- D) I helped my dad

17. They finished their project .....

Which of the following completes the sentence above?

Aşağıdakilerden hangisi yukarıdaki cümleyi doğru olarak tamamlar?

- A) tomorrow
- B) every month
- C) next month
- D) last month

18. A: What did you do last night?  
B: I ..... English.

Which of the following completes the dialogue above?

Aşağıdakilerden hangisi yukarıdaki konuşmayı doğru olarak tamamlar?

- A) studying
- B) will study
- C) studied
- D) studies

19. 10 years ago, there ..... a few cars in my city, now there ..... so many cars.

Which of the following completes the sentence above?

Aşağıdakilerden hangisi yukarıdaki cümleyi doğru olarak tamamlar?

- A) are / used to be
- B) were / were
- C) used to be / are
- D) used to be / were

20. Student : ..... I open the door, sir?  
Teacher: Yes, of course.

Which of the following completes the dialogue above?

Aşağıdakilerden hangisi yukarıdaki konuşmayı doğru olarak tamamlar?

- A) Did
- B) Do
- C) Won't
- D) May

1. Il pleure ..... la journée.

**Choisissez le mot qui convient.**

**Cümledeki boşluğu aşağıdakilerden hangisi doğru şekilde tamamlar?**

- A) toutes
- B) tout
- C) tous
- D) toute

2. «Tu m'attends?»

**Choisissez la traduction qui convient.**

**Yukarıdaki cümlelerin Türkçe karşılığı aşağıdakilerden hangisidir?**

- A) Beni bekler misin?
- B) Sen gider misin?
- C) Bana gelir misin?
- D) Sana gelir mi?

3. Le ..... est doux et chaud.

**Choisissez le mot qui convient.**

**Cümledeki boşluğu aşağıdakilerden hangisi doğru şekilde tamamlar?**

- A) beton
- B) nylon
- C) fer
- D) velours

4. - Avez-vous vu ma sœur?

- Oui, je l'.....

**Choisissez l'expression qui convient.**

**Yukarıdaki konuşmada boş bırakılan yeri aşağıdakilerden hangisi doğru şekilde tamamlar?**

- A) ai vue
- B) ai vu
- C) a vue
- D) a vu

5. «Babam artık sigara içmeyecek.»

**Choisissez la traduction qui convient.**

**Yukarıdaki cümlelerin Fransızca karşılığı aşağıdakilerden hangisidir?**

- A) Mon père ne fumera pas.
- B) Mon père ne fumera plus.
- C) Mon père ne fumera jamais.
- D) Mon père ne fume pas encore.

6. Paul mesure 1m50. Pierre mesure 1m90. Paul est .....

**Choisissez le mot qui convient.**

**Cümledeki boşluğu aşağıdakilerden hangisi doğru şekilde tamamlar?**

- A) court
- B) maigre
- C) gros
- D) long

7. Pour envoyer un courrier électronique, .....

**Choisissez l'expression qui convient.**

**Cümledeki boşluğu aşağıdakilerden hangisi doğru şekilde tamamlar?**

- A) j'allume l'ordinateur
- B) j'éteins l'ordinateur
- C) j'allume l'appareil photo
- D) j'éteins l'appareil photo

8. I. Je me connecte à Internet.  
II. Je navigue.  
III. Je tcahtte.  
IV. C'est mon appareil photo.

**Trouvez la phrase qui ne convient pas.**

**Cümleler sırasıyla okunduğunda, anlam bütünlüğünü bozan cümleyi bulunuz.**

- A) I
- B) II
- C) III
- D) IV

9. - Vous ..... du thé?

- Non, je ne veux pas ..... thé.

**Choisissez les mots qui conviennent.**

**Yukarıdaki konuşmada boş bırakılan yerleri aşağıdakilerden hangisi doğru şekilde tamamlar?**

- A) pouvez / de
- B) voulez / de
- C) voulez / du
- D) pouvez / du

10. Elle s'est ..... les dents.

**Choisissez le mot qui convient.**

**Cümledeki boşluğu aşağıdakilerden hangisi doğru şekilde tamamlar?**

- A) brossée
- B) brossé
- C) brossés
- D) brossées

11. Si j'étais grand, je ..... partir seul.

**Choisissez le mot qui convient.**

**Cümledeki boşluğu aşağıdakilerden hangisi doğru şekilde tamamlar?**

- A) pourrai
- B) pourrais
- C) pourra
- D) pourras

12. Il a les ..... frisés et une .....

**Choisissez les mots qui conviennent.**

**Cümledeki boşlukları aşağıdakilerden hangisi doğru şekilde tamamlar?**

- A) lèvres / bracelet
- B) yeux / collier
- C) cheveux / barbe
- D) visages / chapeau

13. .... enfants ne vont pas à l'école.

**Choisissez le mot qui convient.**

**Cümledeki boşluğu aşağıdakilerden hangisi doğru şekilde tamamlar?**

- A) Certains
- B) Certain
- C) Certaines
- D) Certaine

14. - Tous les élèves respectent-..... leur professeur?

**Choisissez le mot qui convient.**

**Cümledeki boşluğu aşağıdakilerden hangisi doğru şekilde tamamlar?**

- A) elle
- B) ils
- C) le
- D) il

15. .... dans le bus.

**Choisissez l'expression qui convient.**

**Yukarıdaki cümlede boş bırakılan yeri aşağıdakilerden hangisi doğru şekilde tamamlar?**

- A) J'ai monté
- B) Elle a monté
- C) Il a monté
- D) Elle est montée

16. «S'il ne pleut pas, j'irai me promener.»

**Choisissez la traduction qui convient.**

**Yukarıdaki cümlenin Türkçe karşılığı aşağıdakilerden hangisidir?**

- A) Yağmur yağmadığında, gezerim.
- B) Yağmur yağıyor, ben geziyorum.
- C) Yağmurlu havada gezmiyorum
- D) Yağmur yağmazsa, gezmeye gideceğim.

17. Elles sont .....

**Choisissez le mot qui convient.**

**Cümledeki boşluğu aşağıdakilerden hangisi doğru şekilde tamamlar?**

- A) venue
- B) venus
- C) venues
- D) venu

18. Où es-tu? Je ne ..... vois pas.

**Choisissez le mot qui convient.**

**Cümledeki boşluğu aşağıdakilerden hangisi doğru şekilde tamamlar?**

- A) tu
- B) le
- C) te
- D) me

19. - Ils sont ..... arrivés?

- Non, ils ne sont pas encore arrivés.

**Choisissez le mot qui convient.**

**Yukarıdaki konuşmada boş bırakılan yeri aşağıdakilerden hangisi doğru şekilde tamamlar?**

- A) jamais
- B) aucun
- C) déjà
- D) rien

20. Vous ..... de bonne humeur.

**Choisissez le mot qui convient.**

**Cümledeki boşluğu aşağıdakilerden hangisi doğru şekilde tamamlar?**

- A) sommes
- B) êtes
- C) avez
- D) avons

1. Jeolog bilimsel bir araştırma için taşları kırmaktadır.

**Wie lautet der obige Satz auf Deutsch?**

**Verilen cümlelerin Almancası aşağıdakilerden hangisidir?**

- A) Der Wissenschaftler sucht für seine Untersuchung neue Steine.  
 B) Der Geologe schlägt die Steine für eine wissenschaftliche Untersuchung.  
 C) Die Steine hat der Geologe untersucht und wissenschaftlich geforscht.  
 D) Der Geologe braucht für seine wissenschaftliche Untersuchung neue Steine zum Schlagen.
2. Er hat verstanden, ..... er für die Prüfung arbeiten muß.

**Welches Wort passt in die obige Lücke?**

**Cümlede boş bırakılan yeri aşağıdakilerden hangisi tamamlar?**

- A) denn  
 B) dann  
 C) damit  
 D) daß
3. Schüler, ..... in eine Gesamtschule mit einer Oberstufe gehen, ..... das Abitur machen.

**Welche Wörter passen in die obigen Lücken?**

**Cümlede boş bırakılan yerleri aşağıdakilerden hangileri doğru şekilde tamamlar?**

- A) das / kannst  
 B) der / kann  
 C) die / können  
 D) den / könnte

4. .... die Schüler einen Realschulabschluss haben, können Sie einen Beruf .....

**Welche Wörter passen in die obigen Lücken?**

**Cümlede boş bırakılan yerleri aşağıdakilerden hangileri tamamlar?**

- A) Wo / erweitern  
 B) Wenn / erlernen  
 C) Weil / arbeitest  
 D) Wie / erfassen

5. Wir ..... eine Woche Urlaub machen.

**Welches Wort passt in die obige Lücke?**

**Cümlede boş bırakılan yeri aşağıdakilerden hangisi doğru şekilde tamamlar?**

- A) möchten  
 B) machen  
 C) möchtest  
 D) machst

6. Wenn ich ein ..... Büro hätte, würde ich mit einem guten Team arbeiten.

**Welches Wort passt in die obige Lücke?**

**Cümlede boş bırakılan yeri aşağıdakilerden hangisi doğru şekilde tamamlar?**

- A) gerne  
 B) gutem  
 C) eures  
 D) eigenes

7. Wir möchten Architekt .....

**Welches Wort passt in die obige Lücke?**

**Cümlede boş bırakılan yeri aşağıdakilerden hangisi tamamlar?**

- A) wurden  
 B) wirst  
 C) wurdest  
 D) werden



8. In der Zukunft könnte es Computer geben,  
.....

**Welches ergänzt die Lücke im obigen Satz?**

**Verilen cümleyi aşağıdakilerden hangisi tamamlar?**

- A) die weniger als 1 Kilo wiegen.  
B) dass der Hochradfahrer beim Fahren empfindet.  
C) das ist etwas besser als das Fernsehen.  
D) der Menschheit zur Verfügung gestellt hat.

9. Wie lautet das Singular von "Die Abfälle"?

**"Die Abfälle" sözcüğünün tekil hali aşağıdakilerden hangisidir?**

- A) Die Abfall  
B) Die Abfäll  
C) Der Abfall  
D) Das Abfallen

10. Im Sommer ist es wunderbar,.....

**Welches ergänzt die Lücke im obigen Satz?**

**Verilen cümleyi aşağıdakilerden hangisi tamamlar?**

- A) weil wir dann viel Spaß in den Ferien haben.  
B) weil sie kein Benzin und Wasser brauchen.  
C) wenn wir in Zukunft modern aussehen wollen.  
D) wenn wir eine wissenschaftliche Untersuchung machen müssen.

11. .... nannte man es Zweirad, .... wird es Fahrrad genannt.

**Welche Wörter passen in die obigen Lücken?**

**Cümlede boş bırakılan yerleri aşağıdakilerden hangileri doğru şekilde tamamlar?**

- A) Jetzt / etwas  
B) Immer / nur  
C) Früher / heute  
D) Nie / wie

12. Die grossen Städte haben alle Probleme:  
.....

**Welches ergänzt die Lücke im obigen Satz?**

**Verilen cümleyi aşağıdakilerden hangisi tamamlar?**

- A) Überschrift und Konferenz.  
B) Viel Lärm und Abgase.  
C) Innenstadt und Aussenstadt.  
D) Freude und Erfolg.

13. Ein Velotaxi braucht kein Benzin, .....

**Welches ergänzt die Lücke im obigen Satz?**

**Verilen cümleyi aşağıdakilerden hangisi tamamlar?**

- A) sondern nur menschliche Energie.  
B) sonst hat es viel Wasser.  
C) weil die Touristen es besonders lieben  
D) damit sie mehr Sonne haben.

14. Was bedeutet das Gegenteil von "Zufriedenheit"?

**"Zufriedenheit" sözcüğünün zıt anlamlısı aşağıdakilerden hangisidir?**

- A) Abfolge  
B) Unzufriedenheit  
C) Missfrieden  
D) Unerfolg

15. Der Rhein ist ..... Fluss von Deutschland.

**Welches Wort passt in die obige Lücke?**

**Cümlede boş bırakılan yeri aşağıdakilerden hangisi doğru şekilde tamamlar?**

- A) der längste  
B) der langem  
C) am langten  
D) länger

16. Von der Burg gibt es einen sehr ..... Blick auf das Rheintal.

**Welches Wort passt in die obige Lücke?**

**Cümlede boş bırakılan yeri aşağıdakilerden hangisi doğru şekilde tamamlar?**

- A) schönsten
- B) schönem
- C) schöner
- D) schönen

17. Nein, ich war noch nie in Ankara.

**Welche Frage passt zur obigen Antwort?**

**Verilen cevabı gerektirecek soru aşağıdakilerden hangisidir?**

- A) Wo liegt die Stadt Ankara?
- B) Wer fährt nach Ankara?
- C) Warst du schon mal in Ankara?
- D) Wie komme ich nach Ankara?

18. Yol levhasında birkaç şehir ve birkaç yer adı var.

**Wie lautet der obige Satz auf Deutsch?**

**Verilen cümlelerin Almancası aşağıdakilerden hangisidir?**

- A) Die Landkarte ist hier zu sehen.
- B) Auf dem Wegweiser stehen einige Städte und Orte.
- C) Der Wegweiser zeigt uns viele Lieder und Balladen.
- D) In den Besucherzentren finden Sie ausführliche Auskunft.

19. Was weißt du über Heinrich Heine?

**Welche Antwort passt zur obigen Frage?**

**Verilen sorunun cevabı aşağıdakilerden hangisidir?**

- A) Das ist ein Maler aus Frankreich.
- B) Das ist unsere neue Lehrerin.
- C) Wir haben auch Hunger.
- D) Heinrich Heine ist ein berühmter deutscher Dichter.

20. Im Museum kann ..... viele Informationen .....

**Welche Wörter passen in die obigen Lücken?**

**Cümlede boş bırakılan yerleri aşağıdakilerden hangileri doğru şekilde tamamlar?**

- A) am / sehen
- B) man / erhalten
- C) aus / finden
- D) zum / nehmen

1. The baby ..... in a few minutes.

**Which of the following completes the sentence above?**

**Aşağıdakilerden hangisi yukarıdaki cümleyi doğru olarak tamamlar?**

- A) will be sleeping  
B) will have slept  
C) sleeps  
D) slept

2. This time next Saturday I ..... to İstanbul for the weekend.

**Which of the following completes the sentence above?**

**Aşağıdakilerden hangisi yukarıdaki cümleyi doğru olarak tamamlar?**

- A) will be going  
B) go  
C) will go  
D) will have gone

3. My best friend ..... married by next June.

**Which of the following completes the sentence above?**

**Aşağıdakilerden hangisi yukarıdaki cümleyi doğru olarak tamamlar?**

- A) is  
B) will get  
C) gets  
D) will have got

4. The party ..... before midnight.

**Which of the following completes the sentence above?**

**Aşağıdakilerden hangisi yukarıdaki cümleyi doğru olarak tamamlar?**

- A) started  
B) will be starting  
C) starts  
D) will have started

5. Hasan ..... Hollywood by the end of the summer.

**Which of the following completes the sentence above?**

**Aşağıdakilerden hangisi yukarıdaki cümleyi doğru olarak tamamlar?**

- A) will be seeing  
B) will have seen  
C) saw  
D) sees

6. If I were very rich, I ..... poor people.

**Which of the following completes the sentence above?**

**Aşağıdakilerden hangisi yukarıdaki cümleyi doğru olarak tamamlar?**

- A) help  
B) will help  
C) helped  
D) would help

7. If you ..... ill, go to the doctor.

**Which of the following completes the sentence above?**

**Aşağıdakilerden hangisi yukarıdaki cümleyi doğru olarak tamamlar?**

- A) are  
B) be  
C) were  
D) was

8. If Jamie ..... his motorbike, he ..... a new car.

**Which of the following completes the sentence above?**

**Aşağıdakilerden hangisi yukarıdaki cümleyi doğru olarak tamamlar?**

- A) sells / would buy  
B) sells / will buy  
C) sell / will buy  
D) will sell / buys

9. If you hadn't been so late, you ..... the birthday party.

**Which of the following completes the sentence above?**

**Aşağıdakilerden hangisi yukarıdaki cümleyi doğru olarak tamamlar?**

- A) didn't miss
- B) would have missed
- C) wouldn't have missed
- D) wouldn't miss

10. If we ..... a taxi, we would have arrived earlier.

**Which of the following completes the sentence above?**

**Aşağıdakilerden hangisi yukarıdaki cümleyi doğru olarak tamamlar?**

- A) have taken
- B) will take
- C) take
- D) had taken

11. The film was very boring ..... some people fell asleep.

**Which of the following completes the sentence above?**

**Aşağıdakilerden hangisi yukarıdaki cümleyi doğru olarak tamamlar?**

- A) because
- B) to
- C) so
- D) at

12. .... they got home, the boy had eaten all the cake.

**Which of the following completes the sentence above?**

**Aşağıdakilerden hangisi yukarıdaki cümleyi doğru olarak tamamlar?**

- A) Because
- B) Whenever
- C) By the time
- D) Due to the fact that

13. .... that water has lots of benefits, Lucy drinks two litres a day.

**Which of the following completes the sentence above?**

**Aşağıdakilerden hangisi yukarıdaki cümleyi doğru olarak tamamlar?**

- A) Since
- B) Due to the fact
- C) For
- D) Because

14. He cannot go ..... he wants.

**Which of the following completes the sentence above?**

**Aşağıdakilerden hangisi yukarıdaki cümleyi doğru olarak tamamlar?**

- A) since
- B) for
- C) wherever
- D) by

15. Sarah ate a big sandwich ..... she was hungry.

**Which of the following completes the sentence above?**

**Aşağıdakilerden hangisi yukarıdaki cümleyi doğru olarak tamamlar?**

- A) as
- B) to
- C) in
- D) why

16. The walls ..... by the painters now.

**Which of the following completes the sentence above?**

**Aşağıdakilerden hangisi yukarıdaki cümleyi doğru olarak tamamlar?**

- A) are painted
- B) are being painted
- C) will be painted
- D) were painted

17. The windows ..... by Semih yesterday.

**Which of the following completes the sentence above?**

**Aşağıdakilerden hangisi yukarıdaki cümleyi doğru olarak tamamlar?**

- A) broke
- B) are broken
- C) were broken
- D) will be broken

18. Mehmet Rauf wrote 'Eylül'.

**Which of the following is the passive voice of the sentence above?**

**Aşağıdakilerden hangisi yukarıdaki cümlelerin edilgen yapıda kurulmuş biçimidir?**

- A) 'Eylül' was written by Mehmet Rauf.
- B) 'Eylül' is written by Mehmet Rauf.
- C) 'Eylül' has written by Mehmet Rauf.
- D) 'Eylül' has been written by Mehmet Rauf.

19. French ..... in Belgium.

**Which of the following completes the sentence above?**

**Aşağıdakilerden hangisi yukarıdaki cümleyi doğru olarak tamamlar?**

- A) speaks
- B) was spoken
- C) will be speak
- D) is spoken

20. The letters ..... by the secretary tomorrow.

**Which of the following completes the sentence above?**

**Aşağıdakilerden hangisi yukarıdaki cümleyi doğru olarak tamamlar?**

- A) are posted
- B) will be posted
- C) were posted
- D) posted

1. - Il vit en Angleterre?  
- Oui, il ..... travaille.

**Choisissez le mot qui convient.**

Yukarıdaki konuşmada boş bırakılan yeri aşağıdakilerden hangisi doğru şekilde tamamlar?

- A) y  
B) en  
C) dans  
D) le

2. .... j'ai le temps, je peux vous aider.

**Choisissez le mot qui convient.**

Cümledeki boşluğu aşağıdakilerden hangisi doğru şekilde tamamlar?

- A) Contre  
B) Pour  
C) Si  
D) À cause de

3. .... pense à soi-même.

**Choisissez le mot qui convient.**

Cümledeki boşluğu aşağıdakilerden hangisi doğru şekilde tamamlar?

- A) Qui  
B) Chacun  
C) Comme  
D) Toi

4. trop / je / fatigué / suis  
I II III IV

**Mettez dans le bon ordre.**

Yukarıdaki kelimelerin kurallı ve anlamlı bir bütün oluşturan dizilişi aşağıdakilerin hangisinde doğru olarak verilmiştir?

- A) I, III, II, IV  
B) II, I, III, IV  
C) II, III, I, IV  
D) II, IV, I, III

5. La cliente : .....

Le serveur : Tout de suite, Madame.

**Choisissez la réplique qui convient.**

Yukarıdaki konuşmada boş bırakılan yeri aşağıdakilerden hangisi doğru şekilde tamamlar?

- A) Monsieur, l'addition s'il vous plait!  
B) Vous voulez commander quelque chose?  
C) Chacun paie sa part?  
D) C'est trop pour moi!

6. Il est tombé ..... son ami.

**Choisissez le mot qui convient.**

Cümledeki boşluğu aşağıdakilerden hangisi doğru şekilde tamamlar?

- A) à cause du  
B) à cause des  
C) à cause  
D) à cause de

7. ...., elles sont allées au Musée du Louvre.

**Choisissez le mot qui convient.**

Cümledeki boşluğu aşağıdakilerden hangisi doğru şekilde tamamlar?

- A) Chacun  
B) Hier  
C) Demain  
D) Quand

8. «Marie est contre la vie en ville.»

**Choisissez la traduction qui convient.**

Yukarıdaki cümlenin Türkçe karşılığı aşağıdakilerden hangisidir?

- A) Marie şehirde yaşamak istiyor.  
B) Marie şehir hayatına karşıdır.  
C) Marie için şehir hayatı zordur.  
D) Marie oturduğu şehri çok seviyor.

9. Isabelle : .....

Alain : Nous irons à la mer.

Isabelle : .....

Alain : A Nice.

**Choisissez les expressions qui conviennent.**

Yukarıdaki konuşmada boş bırakılan yerleri aşağıdakilerden hangisi doğru şekilde tamamlar?

- A) Vous allez où / Quand  
B) Vous faites quoi cet été / Où  
C) Vous nagez / Où  
D) Vous aimez les vacances / Quelle ville

10. Connaissez-vous ce musicien ..... est allemand?

**Choisissez le mot qui convient.**

Cümledeki boşluğu aşağıdakilerden hangisi doğru şekilde tamamlar?

- A) qui  
B) donc  
C) où  
D) quel

11. Elle lit 2 livres ..... mois.

**Choisissez le mot qui convient.**

**Cümledeki boşluğu aşağıdakilerden hangisi doğru şekilde tamamlar?**

- A) la
- B) dans
- C) chacune
- D) par

12. - Qu'est-ce que vous préférez? Le cinéma ..... le théâtre?

- Le théâtre, bien sûr.

**Choisissez le mot qui convient.**

**Yukarıdaki konuşmada boş bırakılan yeri aşağıdakilerden hangisi doğru şekilde tamamlar?**

- A) et
- B) avec
- C) ou
- D) ni

13. Si vous avez soif, ..... de l'eau.

**Choisissez le mot qui convient.**

**Cümledeki boşluğu aşağıdakilerden hangisi doğru şekilde tamamlar?**

- A) soyez
- B) mangez
- C) buvez
- D) oubliez

14. Peux-tu ..... présenter s'il te plaît?

**Choisissez le mot qui convient.**

**Cümledeki boşluğu aşağıdakilerden hangisi doğru şekilde tamamlar?**

- A) vous
- B) leur
- C) ton
- D) te

15. A: Demain matin, je vais partir au Japon.

B: .....!

A: Merci.

**Choisissez l'expression qui convient.**

**Yukarıdaki konuşmada boş bırakılan yeri aşağıdakilerden hangisi doğru şekilde tamamlar?**

- A) Bon appétit
- B) Bon voyage
- C) Bonne nuit
- D) Bonne anniversaire

16. Il peut pleuvoir; n'oubliez pas ..... prendre votre parapluie.

**Choisissez le mot qui convient.**

**Cümledeki boşluğu aşağıdakilerden hangisi doğru şekilde tamamlar?**

- A) qui
- B) de
- C) à
- D) en

17. I. L'omelette est aux champignons.

II. Le jus de pomme est une boisson.

III. Le café aussi.

IV. Mais la glace est un dessert.

**Choisissez la phrase qui ne convient pas à l'ensemble.**

**Sırasıyla okunduğunda, anlam bütünlüğünü bozan cümleyi bulunuz.**

- A) I
- B) II
- C) III
- D) IV

18. La vie à la campagne est ..... .

**Choisissez le mot qui convient.**

**Cümledeki boşluğu aşağıdakilerden hangisi doğru şekilde tamamlar?**

- A) laid
- B) bruyante
- C) tranquille
- D) ennuyeux

19. Il va aller chercher le livre ..... son professeur demande.

**Choisissez le mot qui convient.**

**Cümledeki boşluğu aşağıdakilerden hangisi doğru şekilde tamamlar?**

- A) où
- B) qui
- C) sur
- D) que

20. Le mois prochain, nous ..... en France.

**Choisissez le mot qui convient.**

**Cümledeki boşluğu aşağıdakilerden hangisi doğru şekilde tamamlar?**

- A) irons
- B) avons
- C) allez
- D) ira

1. Die Katze sitzt .....

**Welcher Satz ergänzt die obige Lücke?**

**Verilen cümleyi aşağıdakilerden hangisi tamamlar?**

- A) über die Vase.
- B) in dem Kühlschrank.
- C) unter dem Tisch.
- D) in der Lampe.

2. Der Kuchen hat uns geschmeckt.

**Wie lautet der obige Satz in der Plusquamperfekt Form?**

**Verilen cümlelerin miş'li geçmiş zaman şekli aşağıdakilerden hangisidir?**

- A) Der Kuchen soll gut geschmeckt haben.
- B) Der Kuchen wird uns schmecken.
- C) Der Kuchen könnte uns schmecken.
- D) Der Kuchen hatte uns geschmeckt.

3. Anja geht mit Petra ins Theater.

**Wie lautet die passende Frage zur obigen Antwort?**

**Verilen cevabı gerektirecek soru aşağıdakilerden hangisidir?**

- A) Womit geht Anja ins Theater?
- B) Zu wem geht Anja?
- C) Wann geht Anja?
- D) Mit wem geht Anja ins Theater?

4. Frau Tibet geht heute um zwei Uhr ..... einer Besprechung.

**Welches Wort passt in die obige Lücke?**

**Cümlede boş bırakılan yeri aşağıdakilerden hangisi tamamlar?**

- A) zu
- B) auf
- C) in
- D) für

5. Die Frau hat eine neue ..... für den Tisch gekauft.

**Welches Wort passt in die obige Lücke?**

**Cümlede boş bırakılan yeri aşağıdakilerden hangisi tamamlar?**

- A) Zeitung
- B) Fernseher
- C) Tischdecke
- D) Stuhl

6. A: ..... hast du die Bücher gelegt?  
B: Hier ..... Tisch!

**Welche Wörter ergänzen die Lücken im obigen Dialog?**

**Verilen karşılıklı konuşmada boş bırakılan yerleri aşağıdakilerden hangileri tamamlar?**

- A) Was / in den
- B) Wohin / auf den
- C) Wann / aus dem
- D) Wenn / zu den

7. Ahmet ..... gestern schon um acht im Bett. Er war sehr müde.

**Welches Wort passt in die obige Lücke?**

**Cümlede boş bırakılan yeri aşağıdakilerden hangisi doğru şekilde tamamlar?**

- A) stand
- B) sitzt
- C) legte
- D) lag

8. Was bedeutet "das Bücherregal" auf Türkisch?

**"das Bücherregal" sözcüğünün Türkçesi aşağıdakilerden hangisidir?**

- A) Kitaplık
- B) Kitap kurdu
- C) Derslik
- D) Defter kabı



9. Japonca öğrenmek çok zordur.

**Wie lautet der obige Satz auf Deutsch?**

**Verilen cümlelerin Almancası aşağıdakilerden hangisidir?**

- A) Japan ist sehr weit von hier.  
B) Die Japaner sind schwere Menschen.  
C) Japanisch lernen ist sehr schwer.  
D) Die Japaner sprechen Japanisch.

10. Hans wählt mit dem groß..... Schalter sein Programm.

**Welche Endung passt in die obige Lücke?**

**Cümlede boş bırakılan yeri aşağıdaki son eklerden hangisi tamamlar?**

- A) -er  
B) -en  
C) -es  
D) -em

11. Ich hätte gern eine harte Bürste .....

**Welches Wort passt in die obige Lücke?**

**Cümlede boş bırakılan yeri aşağıdakilerden hangisi tamamlar?**

- A) im Topf!  
B) für Händetrocknen.  
C) mit Programm.  
D) zum Zähneputzen!

12. Was kann man mit einem Feuerzeug machen?

**Welche Antwort passt zur obigen Frage?**

**Verilen sorunun cevabı aşağıdakilerden hangisidir?**

- A) Damit spielt man Fußball.  
B) Damit kann man Platten spielen.  
C) Damit kann man ein Feuer machen.  
D) Damit kann man laut sprechen.

13. **Wie lautet das Adjektiv vom Wort "die Langsamkeit"?**

**"die Langsamkeit" sözcüğünün sıfat hali aşağıdakilerden hangisidir?**

- A) langsam  
B) landlich  
C) lang  
D) langse

14. Sie müssen diesen ..... Knopf drücken, wenn Sie die Maschine einschalten wollen.

**Welches Wort passt nicht in die obige Lücke?**

**Cümlede boş bırakılan yeri aşağıdakilerden hangisi doğru şekilde tamamlamaz?**

- A) roten  
B) schwarzen  
C) sprachlichen  
D) kleinen

15. sonnig / kalt / windig / wandern

**Welches Wort passt nicht zu den anderen in der obigen Wortgruppe?**

**Verilen sözcük grubuna uymayan aşağıdakilerden hangisidir?**

- A) sonnig  
B) wandern  
C) kalt  
D) windig

16. Sie freut sich sehr ..... Peters Besuch.

**Welches Wort passt in die obige Lücke?**

**Cümlede boş bırakılan yeri aşağıdakilerden hangisi tamamlar?**

- A) zu  
B) über  
C) an  
D) zum

17. .... habe ich meinen Führerschein und kann mir ein Auto kaufen.

**Welches Wort passt in die obige Lücke?**

**Cümlede boş bırakılan yeri aşağıdakilerden hangisi tamamlar?**

- A) Wegen
- B) Somit
- C) Trotzdem
- D) Endlich

18. Sie hat ....., sie ist jetzt satt.

**Welches Wort passt in die obige Lücke?**

**Cümlede boş bırakılan yeri aşağıdakilerden hangisi tamamlar?**

- A) gegessen
- B) geschlafen
- C) hingefallen
- D) vergessen

19. Heute Nachmittag habe ich meine Mutter besucht.

**Wie lautet der obige Satz im Futur?**

**Verilen cümlenin gelecek zaman şekli aşağıdakilerden hangisidir?**

- A) Heute Nachmittag darf ich meine Mutter besuchen.
- B) Heute Nachmittag besuchte ich meine Mutter.
- C) Heute Nachmittag werde ich meine Mutter besuchen.
- D) Heute Nachmittag hatte ich meine Mutter besucht.

20. .... ich nach Hause kam, .... ich sehr müde.

**Welche Wörter passen in die obigen Lücken?**

**Cümlede boş bırakılan yerleri aşağıdakilerden hangileri tamamlar?**

- A) Seit / wurde
- B) Als / war
- C) Wo / bin
- D) Wenn / und

1. A: ..... does Mark live?  
B: He lives in İstanbul.

Which of the following completes the sentence above?

Aşağıdakilerden hangisi yukarıdaki cümleyi doğru olarak tamamlar?

- A) Who  
B) When  
C) Which  
D) Where

2. He couldn't pass the test ..... he didn't study enough.

Which of the following completes the sentence above?

Aşağıdakilerden hangisi yukarıdaki cümleyi doğru olarak tamamlar?

- A) because  
B) and  
C) or  
D) so

3. Serap lost her cat ..... she is very sad.

Which of the following completes the sentence above?

Aşağıdakilerden hangisi yukarıdaki cümleyi doğru olarak tamamlar?

- A) but  
B) or  
C) nor  
D) so

4. Do you want to go to a park ..... a shopping mall?

Which of the following completes the sentence above?

Aşağıdakilerden hangisi yukarıdaki cümleyi doğru olarak tamamlar?

- A) for  
B) but  
C) so  
D) or

5. Do you want to swim in the pool ..... in the sea?

Which of the following completes the sentence above?

Aşağıdakilerden hangisi yukarıdaki cümleyi doğru olarak tamamlar?

- A) and  
B) or  
C) so  
D) for

6. The train..... leave in fifteen minutes.

Which of the following completes the sentence above?

Aşağıdakilerden hangisi yukarıdaki cümleyi doğru olarak tamamlar?

- A) is  
B) has  
C) is going to  
D) has been

7. A: Is she ..... a shower at the moment?  
B: Yes, she is.

Which of the following completes the dialogue above?

Aşağıdakilerden hangisi yukarıdaki konuşmayı doğru olarak tamamlar?

- A) having  
B) has  
C) have  
D) had

8. I sometimes drink coffee for breakfast.

Which of the following is the Turkish translation of the sentence above?

Aşağıdakilerden hangisi yukarıdaki cümlenin Türkçe karşılığıdır?

- A) Kahvaltıda bazen kahve içerim.  
B) Kahvaltıda hiç kahve içmem.  
C) Kahvaltıda sık sık kahve içerim.  
D) Kahvaltıda daima kahve içerim.

9. Our neighbours live in a ..... house near Şile.

Which of the following completes the sentence above?

Aşağıdakilerden hangisi yukarıdaki cümleyi doğru olarak tamamlar?

- A) old lovely little
- B) lovely old little
- C) lovely little old
- D) little lovely old

10. They are Tom and Philip. .... grandparents live in France.

Which of the following completes the sentence above?

Aşağıdakilerden hangisi yukarıdaki cümleyi doğru olarak tamamlar?

- A) His
- B) Her
- C) Their
- D) Our

11. A: ..... does the film start?  
B: It starts at 10 o'clock.

Which of the following completes the sentence above?

Aşağıdakilerden hangisi yukarıdaki cümleyi doğru olarak tamamlar?

- A) When
- B) What
- C) Why
- D) Whose

12. This is her umbrella. Where is .....?

Which of the following completes the sentence above?

Aşağıdakilerden hangisi yukarıdaki cümleyi doğru olarak tamamlar?

- A) her
- B) mine
- C) their
- D) me

13. Ayşe lives in England but she visits ..... family every month.

Which of the following completes the sentence above?

Aşağıdakilerden hangisi yukarıdaki cümleyi doğru olarak tamamlar?

- A) his
- B) him
- C) her
- D) hers

14. A: How often do you go to the gym?  
B: I go to the gym .....

Which of the following completes the dialogue above?

Aşağıdakilerden hangisi yukarıdaki konuşmayı doğru olarak tamamlar?

- A) twice a week
- B) yesterday
- C) last Wednesday
- D) last year

15. She doesn't drink ..... water.

Which of the following completes the sentence above?

Aşağıdakilerden hangisi yukarıdaki cümleyi doğru olarak tamamlar?

- A) a
- B) many
- C) a few
- D) much

16. They ..... a film now.

Which of the following completes the sentence above?

Aşağıdakilerden hangisi yukarıdaki cümleyi doğru olarak tamamlar?

- A) watch
- B) are watching
- C) watched
- D) will watch

17. Listen! The kids ..... a song about the animals.

**Which of the following completes the sentence above?**

**Aşağıdakilerden hangisi yukarıdaki cümleyi doğru olarak tamamlar?**

- A) sang
- B) are singing
- C) singing
- D) sing

18. I don't have ..... rock CDs.

**Which of the following completes the sentence above?**

**Aşağıdakilerden hangisi yukarıdaki cümleyi doğru olarak tamamlar?**

- A) much
- B) a few
- C) any
- D) a

19. They ..... a new house next year.

**Which of the following completes the sentence above?**

**Aşağıdakilerden hangisi yukarıdaki cümleyi doğru olarak tamamlar?**

- A) bought
- B) are go to buy
- C) are buy
- D) are going to buy

20. My brother always ..... milk before he sleeps.

**Which of the following completes the sentence above?**

**Aşağıdakilerden hangisi yukarıdaki cümleyi doğru olarak tamamlar?**

- A) drinking
- B) drinks
- C) will drink
- D) drink

1. Ne ..... pas ta veste!

**Choisissez le mot qui convient.**

**Cümledeki boşluğu aşağıdakilerden hangisi doğru şekilde tamamlar?**

- A) prends  
B) prend  
C) prendre  
D) pris

2. - Tu as téléphoné à Marie ?  
- Oui, je ..... ai téléphoné.

**Choisissez le mot qui convient.**

**Yukarıdaki konuşmada boş bırakılan yeri aşağıdakilerden hangisi doğru şekilde tamamlar?**

- A) lui  
B) en  
C) la  
D) y

3. Il court parce qu'il est ..... .

**Choisissez l'expression qui convient.**

**Cümledeki boşluğu aşağıdakilerden hangisi doğru şekilde tamamlar?**

- A) en retard  
B) à la mode  
C) en voiture  
D) à Paris

4. «J'ai réussi mon examen grâce à cette méthode.»

**Choisissez la traduction qui convient.**

**Yukarıdaki cümlelerin Türkçe karşılığı aşağıdakilerden hangisidir?**

- A) Sınavı yöntemle başardım.  
B) Bu yöntemi kullanarak başarılı olunuyor.  
C) Sınavımı bu yöntem sayesinde başardım.  
D) Sınava yöntemlerle çalışılır.

5. Cette histoire se passe ..... 1920.

**Choisissez le mot qui convient.**

**Cümledeki boşluğu aşağıdakilerden hangisi doğru şekilde tamamlar?**

- A) au  
B) le  
C) en  
D) de

6. Le sport ..... je préfère est le basketball.

**Choisissez l'expression qui convient.**

**Yukarıdaki cümlede boş bırakılan yeri aşağıdakilerden hangisi doğru şekilde tamamlar?**

- A) qui  
B) que  
C) ce que  
D) ce qui

7. Il ..... les droits des gens, il est avocat.

**Choisissez le mot qui convient.**

**Cümledeki boşluğu aşağıdakilerden hangisi doğru şekilde tamamlar?**

- A) peut  
B) a  
C) défend  
D) entend

8. .... vous dites est faux.

**Choisissez l'expression qui convient.**

**Cümledeki boşluğu aşağıdakilerden hangisi doğru şekilde tamamlar?**

- A) Que  
B) Ce qu'  
C) Ce qui  
D) Ce que

9. I. Le chien est adorable.  
II. Madame Pouce est blonde.  
III. C'est une femme qui porte des lunettes.  
IV. Elle aime les chiens.

**Trouvez la phrase qui ne convient pas.**

**Cümleler sırasıyla okunduğunda, anlam bütünlüğünü bozan cümleyi bulunuz.**

- A) I  
B) II  
C) III  
D) IV

10. .... parfum aimez-vous?

**Choisissez le mot qui convient.**

**Cümledeki boşluğu aşağıdakilerden hangisi doğru şekilde tamamlar?**

- A) Quelles  
B) Quelle  
C) Quels  
D) Quel

11. C'est ..... qui avons vu le voleur.

**Choisissez le mot qui convient.**

**Cümledeki boşluğu aşağıdakilerden hangisi doğru şekilde tamamlar?**

- A) nous
- B) vous
- C) toi
- D) lui

12. Est-ce que tu peux .....?

**Choisissez le mot qui convient.**

**Yukarıdaki cümlede boş bırakılan yeri aşağıdakilerden hangisi doğru şekilde tamamlar?**

- A) joué
- B) jouer
- C) jouait
- D) joue

13. - Vous allez à l'école en voiture?

- Non, nous ..... allons à pied.

**Choisissez le mot qui convient.**

**Yukarıdaki konuşmada boş bırakılan yeri aşağıdakilerden hangisi doğru şekilde tamamlar?**

- A) en
- B) au
- C) de
- D) y

14. Ankara est la capitale de la Turquie ..... 1923.

**Choisissez le mot qui convient.**

**Cümledeki boşluğu aşağıdakilerden hangisi doğru şekilde tamamlar?**

- A) combien de temps
- B) quand
- C) combien
- D) depuis

15. ce / résoudre / comment / problème?  
I II III IV

**Mettez dans le bon ordre.**

**Yukarıdaki kelimelerin anlamlı bir bütün oluşturan sırası aşağıdakilerin hangisinde doğru olarak verilmiştir?**

- A) II, III, I, IV
- B) II, IV, III, I
- C) III, II, I, IV
- D) III, IV, I, II

16. «Bugün hava ne soğuk, ne de sıcak.»

**Choisissez la traduction qui convient.**

**Yukarıdaki cümlelerin Fransızca karşılığı aşağıdakilerden hangisidir?**

- A) Aujourd'hui, il fait froid et chaud.
- B) Demain, il fera froid et chaud.
- C) Aujourd'hui, il fait ni froid ni chaud.
- D) Demain, il ne fera ni froid ni chaud.

17. Les gaz d'échappement sont dangereux ..... la santé.

**Choisissez le mot qui convient.**

**Cümledeki boşluğu aşağıdakilerden hangisi doğru şekilde tamamlar?**

- A) comme
- B) que
- C) qui
- D) pour

18. «Elle m'a demandé de l'aider.»

**Choisissez la traduction qui convient.**

**Yukarıdaki cümlelerin Türkçe karşılığı aşağıdakilerden hangisidir?**

- A) Ona yardım etmem için beni çağırdı.
- B) Ona yardım etmemi istedi.
- C) Onlara yardım edeceğim.
- D) Onlarla yardımlaşmamızı istedi.

19. Est-ce que quelqu'un vient avec moi?

**Choisissez l'antonyme du mot souligné.**

**Yukarıdaki cümlede altı çizili sözcüğün zıt anlamlısı aşağıdakilerden hangisidir?**

- A) rien
- B) quelque chose
- C) personne
- D) cependant

20. Pierre : Je voudrais réserver une place au restaurant.

L'employé : .....?

Pierre : Demain soir, à 19 heures.

L'employé : D'accord Monsieur.

**Choisissez la phrase qui convient.**

**Yukarıdaki konuşmada boş bırakılan yeri aşağıdakilerden hangisi doğru şekilde tamamlar?**

- A) Pour qui Monsieur
- B) Pour quand Monsieur
- C) Pourquoi Monsieur
- D) Quelle heure est-il Monsieur

1. 255 tane öz alt kümesi olan bir kümenin eleman sayısı kaçtır?

- A) 5  
B) 6  
C) 7  
D) 8

2. Matematik ve İngilizce derslerinin en az birinden başarılı olan 40 öğrencinin bulunduğu bir sınıfta 18 öğrenci yalnızca Matematik dersinden ve 10 öğrenci ise yalnızca İngilizce dersinden başarılı ise her iki dersten de başarılı olan öğrenci sayısı kaçtır?

- A) 14  
B) 12  
C) 10  
D) 8

3. Ortak özellik yöntemi ile verilen  $A = \{x \mid x, 1 \text{ ile } 9 \text{ arasında çift tamsayı}\}$  kümesinin liste yöntemi ile gösterimi aşağıdakilerden hangisidir?

- A)  $\{2,4,6\}$   
B)  $\{2,3,4,5,6,7,8\}$   
C)  $\{1,3,5,7\}$   
D)  $\{2,4,6,8\}$

4.  $A = \{1,2,a,b\}$  ve  $B = \{1,a,c,d\}$  olduğuna göre  $s(A \cup B)$  kaçtır?

- A) 6  
B) 5  
C) 4  
D) 3

5.  $(a+1,5) = (3,b-1)$  ise  $a \cdot b$  kaçtır?

- A) 2  
B) 6  
C) 8  
D) 12

6.  $A = \{1,2,\{1\},\{3\},\{1,2\}\}$  olduğuna göre aşağıdakilerden hangisi doğrudur?

- A)  $2 \subset A$   
B)  $\{1,2\} \in A$   
C)  $3 \in A$   
D)  $\{3\} \subset A$

$$7. \frac{2^5 \cdot 4^4}{8^3}$$

işleminin sonucu kaçtır?

- A) 4  
B) 8  
C) 16  
D) 32

$$8. \frac{2}{5} = \frac{10}{x} \text{ orantısında } x \text{ kaçtır?}$$

- A) 5  
B) 10  
C) 20  
D) 25

9. Aşağıdakilerden hangisi bir irrasyonel sayıdır?

- A) -2  
B)  $\frac{3}{5}$   
C)  $\sqrt{8}$   
D)  $\sqrt{16}$

10.  $6x-3=7$  denkleminin tam sayılar kümesinde çözüm kümesi aşağıdakilerden hangisidir?

- A)  $\emptyset$   
B)  $\{2\}$   
C)  $\{0\}$   
D)  $\left\{\frac{5}{3}\right\}$

11. Bir mağazada bir ürünün fiyatına önce %50 indirim ve ardından indirimli fiyat üzerinden %40 indirim yapılıyor.

Buna göre, bu ürüne yapılan toplam indirim yüzde kaçtır?

- A) 60  
B) 70  
C) 80  
D) 90



12.  $3^{3x-1}=9$  denklemini sağlayan  $x$  değeri kaçtır?

- A) 0  
B) 1  
C) 2  
D) 3

13.  $\{x \mid -1 \leq x < 5\}$  kümesinin belirttiği aralık aşağıdakilerden hangisidir?

- A)  $[-1,5)$   
B)  $(-1,5)$   
C)  $[-1,5]$   
D)  $(-1,5]$

14.  $\begin{cases} 2x - y = 3 \\ x + y = 6 \end{cases}$  denklem sisteminin çözüm kümesi aşağıdakilerden hangisidir?

- A)  $\{(-3,-3)\}$   
B)  $\{(3,-3)\}$   
C)  $\{(3,3)\}$   
D)  $\{(-3,3)\}$

15. Ali ile babasının bugünkü yaşları toplamı 40'dır. 5 yıl önce babasının yaşı, Ali'nin yaşının 5 katı olduğuna göre babasının şimdiki yaşı kaçtır?

- A) 30  
B) 32  
C) 34  
D) 35

16.  $\sqrt{6 + \sqrt{4 + \sqrt{64}}}$  işleminin sonucu kaçtır?

- A) 16  
B) 8  
C) 4  
D) 2

17.  $|x-5| \leq 2$  eşitsizliğini sağlayan tamsayılar kümesi aşağıdakilerden hangisidir?

- A)  $\{3,4,5,6,7\}$   
B)  $\{0,1,2,3,4,5,6,7\}$   
C)  $\{-3,-2,-1,0,1,2,3\}$   
D)  $\{-7,-6,-5,-4,-3,-2,-1,0,1,2,3\}$

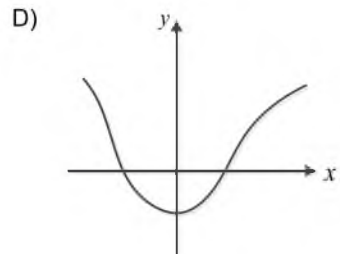
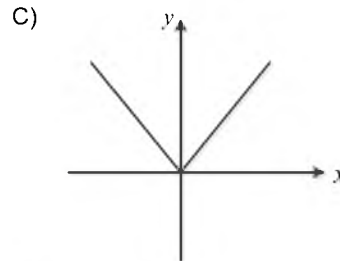
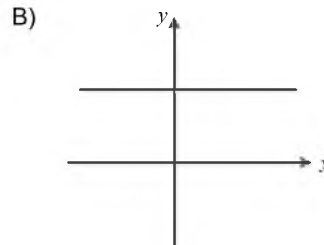
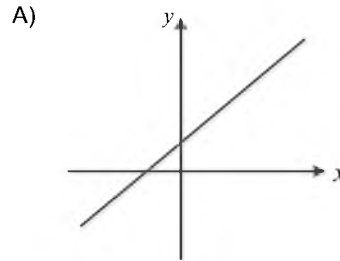
18.  $f: \mathbb{R} \rightarrow \mathbb{R}$ ,  $f(x) = (a-1)x + 5$  fonksiyonu sabit fonksiyon olduğuna göre  $a$  değeri kaçtır?

- A) -1  
B) 0  
C) 1  
D) 5

19.  $f: \mathbb{R} \rightarrow \mathbb{R}$ ,  $f(x) = x^2 + 5$  olduğuna göre  $f(-1)$  kaçtır?

- A) 4  
B) 5  
C) 6  
D) 7

20. Aşağıdaki grafikleri verilen fonksiyonlardan hangisi bire birdir?

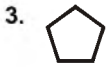


1. Aşağıdakilerden hangisi bütün aldehitler ve ketonlar için ortak tepkime çeşididir?

- A) Yükseltgenme
- B) İndirgenme
- C) Katılma
- D) Polimerleşme

2. Aşağıdaki bileşiklerden hangisinin Lewis yapısı yanlıştır? (1H, 6C, 7N, 9F, 8O)

- A)  $\text{H}:\ddot{\text{F}}:$
- B)  $\text{H}:\ddot{\text{O}}:\text{H}$   
 $\text{H}$
- C)  $\text{H}:\ddot{\text{N}}:\text{H}$   
 $\text{H}$
- D)  $:\text{N}::\text{N}:$



Halkalı gösterimi yukarıda verilen sikloalkanın molekül formülü aşağıdakilerden hangisidir?

- A)  $\text{C}_5\text{H}_8$
- B)  $\text{C}_5\text{H}_{10}$
- C)  $\text{C}_5\text{H}_5$
- D)  $\text{C}_5\text{H}_5\text{O}$

4. Aşağıdaki bileşiklerden hangisi hidrokarbondur?

- A)  $\text{C}_2\text{H}_6$
- B)  $\text{H}_2\text{CO}_3$
- C)  $\text{CH}_3\text{COOH}$
- D)  $\text{CO}_2$

5.



Yukarıdaki kavram haritasına göre X aşağıdakilerden hangisidir?

- A) Metalik bağlar
- B) Kimyasal bağlar
- C) Hidrojen bağları
- D) London bağları

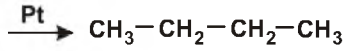
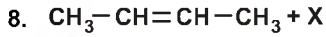
6. Aşağıdakilerden hangisi molekül formülü  $\text{C}_5\text{H}_{12}$  olan pentan bileşiğinin yapı izomeri değildir?

- A) n-pentan:  $\text{CH}_3-\text{CH}-\text{CH}_2$   
 $\text{CH}_3 \quad \text{CH}_3$
- B) n-pentan:  $\text{CH}_3-\text{CH}_2-\text{CH}_2-\text{CH}_2-\text{CH}_3$
- C) izo-pentan:  $\text{CH}_3-\text{CH}-\text{CH}_2-\text{CH}_3$   
 $\text{CH}_3$
- D) neo-pentan:  $\text{CH}_3-\text{C}-\text{CH}_3$   
 $\text{CH}_3$

7. Girenler  $\xrightarrow{[O]}$  Ürünler

Yukarıdaki tepkime denkleminde “[O]” sembolü aşağıdakilerden hangisini simgeler?

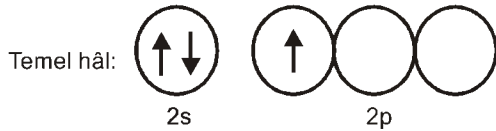
- A) Yanmayı
- B) Nötrleşmeyi
- C) İndirgenmeyi
- D) Yükseltgenmeyi



Yukarıdaki tepkimeye göre X aşağıdakilerden hangisidir?

- A)  $\text{O}_2$
- B)  $\text{HCl}$
- C)  $\text{H}_2$
- D)  $\text{Cl}_2$

9. Temel haldeki bir X atomunun değerlik orbitallerinin şeması aşağıdaki gibidir:



Buna göre,  $\text{XH}_3$  bileşiğinde X atomunun yaptığı hibritleşme aşağıdakilerden hangisidir? (1H)

- A) pp
- B)  $\text{sp}^2$
- C) sp
- D)  $\text{sp}^3$

10. Alkinlerin ilk üyesi olan asetilen aşağıdaki maddelerin hangisinden, bir dizi tepkime sonucu elde edilir?

- A)  $\text{Ca}(\text{NO}_3)_2$
- B)  $\text{CaCO}_3$
- C)  $\text{K}_2\text{SO}_4$
- D)  $\text{Mg}(\text{OH})_2$

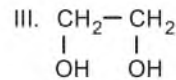
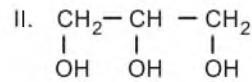
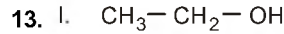
11. I. Hidrojen bağı içerir.  
II. Suda iyi çözünür.  
III. Sulu çözeltisi akımı iletir.

$\text{R}-\text{CH}_2-\text{OH}$  şeklindeki bir alkol ile ilgili yukarıdaki ifadelerden hangileri doğrudur?

- A) Yalnız I
- B) Yalnız II
- C) I ve II
- D) II ve III

12. Aşağıdaki bileşiklerden hangisinde atomlar arasında hem iyonik hem de kovalent bağ vardır? ( ${}_1\text{H}$ ,  ${}_6\text{C}$ ,  ${}_8\text{O}$ ,  ${}_7\text{N}$ ,  ${}_{11}\text{Na}$ ,  ${}_{17}\text{Cl}$ )

- A)  $\text{NH}_3$
- B)  $\text{NaNO}_3$
- C)  $\text{NaCl}$
- D)  $\text{CH}_4$



Yukarıdakilerden hangileri polialkoldür?

- A) Yalnız I
- B) I ve II
- C) II ve III
- D) I, II ve III

14. I. Genel formülleri  $\text{C}_n\text{H}_{2n+2}$ 'dir.  
II. En basit üyeleri  $\text{CH}_4$  (metan)'dir.  
III. Doymuş hidrokarbonlar grubudur.

Alkanlar ile ilgili yukarıdaki ifadelerden hangileri doğrudur?

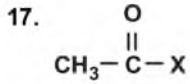
- A) Yalnız I
- B) I ve III
- C) II ve III
- D) I, II ve III

15. Aşağıdakilerden hangisi bir kimyasal bağ oluşurken daima açığa çıkar?

- A) Işık  
B) Ses  
C) Isı  
D) Gaz

16. İyonik katılar ile ilgili aşağıdaki ifadelerden hangisi yanlıştır?

- A) Yapılarında en az bir tane metal bulundurlar.  
B) Oda sıcaklığında katı ya da sıvı halde bulunurlar.  
C) Atomların elektron alış-verişinde bulunmaları sonucu oluşurlar.  
D) Anyon ve katyonların birbirine bağlanması ile oluşan kristal örgüleri vardır.



Yukarıdaki bileşiğin aldehit olduğu bilindiğine göre, X aşağıdakilerden hangisidir?

- A) H  
B) O  
C) CH<sub>3</sub>  
D) CH<sub>2</sub>CH<sub>3</sub>

18. BeH<sub>2</sub> molekülünün hacimsel modeli aşağıda verilmiştir.



Buna göre, BeH<sub>2</sub> molekülü ile ilgili aşağıdaki ifadelerden hangisi doğrudur?

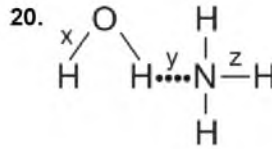
- A) Be ve H atomları arasındaki bağlar polardır.  
B) Molekülde H, merkez atomdur.  
C) Molekül kırık doğru şeklindedir.  
D) Molekül polardır.

19. Oktet ve dublet kuralına göre, A gruplarında bulunan bazı element atomlarının oluşturabilecekleri iyon yükleri tabloda verilmiştir.

Grup	2A	3A	5A	6A
Değerlik elektron sayısı	2	3	5	6
İyon yükü	+2	+3	?	-2

Buna göre, 5A grubundaki element atomlarının oluşturabileceği iyon yükü aşağıdakilerden hangisi olabilir?

- A) +4  
B) +3  
C) -1  
D) -3



- I. x, polar kovalent bağdır.  
II. y, hidrojen bağdır.  
III. z, polar kovalent bağdır.

Atomları ve molekülleri birarada tutan x, y ve z bağları ile ilgili yukarıdaki ifadelerden hangileri doğrudur?

- A) I ve II  
B) I ve III  
C) II ve III  
D) I, II ve III

1. Aşağıdakilerden hangisi canlıların yeryüzüne dağılışını etkileyen fiziki faktörlerden biri değildir?
- A) Yer şekilleri  
B) Toprak  
C) İklim  
D) İnsan
2. Aşağıdakilerden hangisi tükenebilen doğal kaynaklardan biridir?
- A) Kömür  
B) Rüzgar  
C) Dalga  
D) Güneş
3. Benzer bitki ve hayvan topluluklarını barındıran bölgelere ne ad verilir?
- A) Zooloji  
B) Ekosistem  
C) Biyosfer  
D) Biyom
4. Aşağıdakilerden hangisi Türkiye ekonomisini etkileyen faktörlerden biri değildir?
- A) İklim özellikleri  
B) Tarihsel bağlar  
C) Nüfus  
D) Coğrafi konum
5. Aşağıdakilerden hangisi ekosistemlerde yer alan canlı öğelerden biri değildir?
- A) Mikroorganizmalar  
B) Bitkiler  
C) Rüzgarlar  
D) Hayvanlar
6. Aşağıdaki tarım ürünlerinden hangisinin üretimi Gıda Tarım ve Hayvancılık Bakanlığının özel iznine bağlıdır?
- A) Haşhaş  
B) Zeytin  
C) Elma  
D) Mercimek
7. Aşağıdakilerden hangisi ipek böcekçiliğinin yoğun olarak yapıldığı illerden biridir?
- A) Manisa  
B) Rize  
C) Konya  
D) Bursa
8. Teknik ve coğrafyanın birbirine yaptığı etkiyi araştıran bilim dalı aşağıdakilerden hangisidir?
- A) Fiziki coğrafya  
B) Beşeri coğrafya  
C) Biyocoğrafya  
D) Teknocoğrafya
9. Dünyada eğitim faaliyetleri konusunda ön plana çıkan ve bu özelliği ile bilinen şehir aşağıdakilerden hangisidir?
- A) İstanbul  
B) Essen  
C) Oxford  
D) Marsilya
10. Bitki, alg ve bazı bakterilerin güneş ışınları aracılığıyla inorganik maddeleri organik besinlere dönüştürmelerine ne ad verilir?
- A) Sindirim  
B) Fotosentez  
C) Hidroliz  
D) Kemosentez
11. Doğada kendiliğinden oluşmuş, insan akıl ve tekniğinin ürünü olmayan, meydana gelme aşamalarında insanın herhangi bir rolünün bulunmadığı bütün zenginlik kaynaklarına ne ad verilir?
- A) Yerli üretim  
B) Nükleer enerji  
C) Doğal kaynak  
D) Elektrik enerjisi
12. Şehirleşmede ve şehirlerdeki nüfusta artışın hızlanmasının sebebi aşağıdakilerden hangisidir?
- A) Tarımsal faaliyetlerin artması  
B) Sanayileşme hareketleri  
C) Savaşların azalması  
D) Zenginleşme
13. Aşağıdakilerden hangisi Anadolu'da kurulmuş medeniyetlerden biri değildir?
- A) İnkâ  
B) Hitit  
C) Frigya  
D) Lidya

14. Türkiye’de en yıkıcı depremlerin üzerinde meydana geldiği fay hattı aşağıdakilerden hangisidir?

- A) Kuzey Anadolu fay hattı
- B) Doğu Anadolu fay hattı
- C) Batı Anadolu fay hattı
- D) İç Anadolu fay hattı

15. Türkiye’nin dünyada üretiminde ilk sırada olduğu maden aşağıdakilerden hangisidir?

- A) Demir
- B) Bor
- C) Boksit
- D) Bakır

16. Aşağıdakilerden hangisi karasal su ekosistemlerinden biri değildir?

- A) Bataklık ekosistemleri
- B) Deniz ekosistemleri
- C) Göl ekosistemleri
- D) Nehir ekosistemleri

17. Dünyanın finans merkezi olarak kabul edilen şehir aşağıdakilerden hangisidir?

- A) Paris
- B) Roma
- C) Hamburg
- D) New York

18. Aşağıdaki ülkelerden en fazla nüfusa sahip olanı hangisidir?

- A) Endonezya
- B) Japonya
- C) Çin
- D) Hindistan

19. Büyük ve Küçük Menderes ovaları Türkiye’nin hangi bölgesindedir?

- A) Akdeniz
- B) Karadeniz
- C) Ege
- D) Marmara

20. Cumhuriyet’in ilk yıllarında istihdam oranının en yüksek olduğu sektör aşağıdakilerden hangisidir?

- A) Tarım
- B) Turizm
- C) Sanayi
- D) Eğitim

BU SAYFA BOŞ BIRAKILMIŞTIR.

## SINAVDA UYULMASI GEREKEN GENEL KURALLAR

1. Sınava girmek için gerekli belgelerinizin tümünü sınav başlamadan önce sıranızın üzerine bırakınız.
2. Sınav süresince görevlilerle konuşmak, görevlilere soru sormak yasaktır. Aynı şekilde görevlilerin de öğrencilerle/adaylarla yakından ve alçak sesle konuşmaları yasaktır. Gerekli durumlarda görevliler yerinizi değiştirebilir.
3. Size verilen cevap kâğıdının üzerindeki TCKN/Öğrenci no, ad, soyadı, bilgilerini kontrol ediniz, ilgili alanları eksiksiz doldurarak imzalayınız. Bu bilgiler size ait değilse, kâğıt üzerinde hiçbir işlem yapmadan görevlileri uyararak size ait cevap kâğıdını isteyiniz. Başkasına ait cevap kâğıdı kullanan öğrencilerin sınavları geçersiz sayılır.
4. Cevap kâğıdı üzerine test grubunu (kitapçık türünü) kodlamayan veya birden fazla grubu kodlayanların sınavları geçersiz sayılır.
5. Cevap kâğıdınıza yazacağınız her türlü yazı ve yapacağınız işaretlemeler için koyu siyah kurşun kalem kullanmalısınız. Farklı bir kalem (tükenmez, mürekkepli, renkli vb.) kullananların sınavları geçersiz sayılır.
6. Cevap kâğıdı üzerinde değişiklik yapmak istediğinizde, iz bırakmayan bir silgi kullanınız. Cevap kâğıdınızı buruşturmayınız, katlamayınız ve üzerine gereksiz hiçbir işaret koymayınız.
7. Cevaplarınızı, cevap kâğıdında ilgili test için ayrılmış olan alana, cevap yerinin dışına taşırmadan işaretleyiniz. Soru kitapçığı üzerinde yapılan işaretlemeler değerlendirmeye alınmayacaktır.
8. Her sorunun tek bir doğru cevabı vardır. Bir soru için birden çok cevabı işaretlerseniz, o soruyu yanlış cevaplamış sayılacaksınız.
9. Soru kitapçığınızı aldığınızda sayfalarına hızlıca bakarak hatalı ya da eksik baskı olup olmadığını kontrol ediniz. Hata/eksik olması durumunda kitapçığının değiştirilmesi için derhâl sınav görevlilerine başvurunuz. Sınav görevlileri sınavın başladığını belirtmeden kitapçığınızı tekrar açmayınız.
10. Cevap kâğıdınızda belirtilen kitapçık kodu ile soru kitapçığının kodunu karşılaştırınız. Aynı değilse, sınav görevlilerine durumu bildirerek doğru kitapçığın verilmesini talep ediniz.
11. Soru kitapçığındaki ilgili alanlara ad, soyadı, TCKN/Öğrenci no, sınav salon no, sıra no bilgilerinizi eksiksiz doldurarak imzanızı atınız. Soru kitapçığının sayfalarındaki boş yerleri müsvedde amacıyla kullanabilirsiniz.
12. Aşağıdaki durumlarda sınav görevlileri tarafından Bireysel Sınav İptal Tutanağı düzenlenerek ilgili öğrencilerin/adayların sınavları geçersiz sayılır:
  - a) Sınav kurallarına ve sınav görevlilerinin uyarılarına uymamak, sınav düzenini bozmak,
  - b) Kâğıt, kitap, defter, not vb. dokümanları; pergel, açıölçer, cetvel vb. araçları; cep telefonu, bilgisayar, tablet, telsiz, kamera vb. iletişim, depolama, kayıt ve veri aktarma cihazlarını; ruhsatlı veya resmi amaçlı olsa bile silah ve silah yerine geçebilecek nesneleri yanında bulundurmamak,
  - c) Sınav sırasında kalem, silgi vb. araç-gereç paylaşımında bulunmak,
  - d) Cevapları, cevap kâğıdı dışında bir yere yazmak ve sınav salonundan dışarı çıkarmak,
  - e) Sınava girebilmek için gerekli belgeleri eksik olduğu halde sınava katılıp, cevap kâğıdında işaretleme yapmak,
  - f) Sınav görevlileri tarafından öğrencinin/adayın kimliğinden şüphe duyulması,
  - g) Cevap kâğıdını ve/veya soru kitapçığını sınav görevlilerine eksiksiz ve sağlam şekilde teslim etmemek, sınav salonu dışına çıkarmak,
  - h) Kopya çekmek, vermek, çekilmesine yardımcı olmak vb. eylemlerde bulunmak,
  - i) Kendisi yerine başkasını sınava sokmak.
13. Sınav bitiminde, cevap kâğıdınızı ve soru kitapçığınızı salon görevlilerine eksiksiz biçimde teslim ediniz. Sınav bittikten sonra gönderilen cevap kâğıtları dikkate alınmayacaktır.

**SINAV KURALLARINA UYDUĞUNUZ İÇİN TEŞEKKÜR EDER, SINAVINIZDA BAŞARILAR DİLERİZ.**