



ANADOLU ÜNİVERSİTESİ
AÇIKÖĞRETİM FAKÜLTESİ
BA - AÇIKÖĞRETİM OKULLARI

T.C. MİLLÎ EĞİTİM BAKANLIĞI
Hayat Boyu Öğrenme Genel Müdürlüğü
AÇIKÖĞRETİM LİSESİ – BATI AVRUPA PROGRAMI
2015-2016 ÖĞRETİM YILI II. DÖNEM SINAVI

3. OTURUM Cumartesi 13:00

TEST GRUBUNUZ

B 0103

ÖĞRENCİNİN

SOYADI :

ADI :

TC KİMLİK NO / ÖĞRENCİ NO :

SINAV SALON NO : SIRA NO:

İMZA:

Sınavla ilgili tüm kuralları okudum, anladım, kabul ediyorum.

SINAV İÇERİĞİ

Testin Adı	Soru Sayısı	Sayfa No	Testin Adı	Soru Sayısı	Sayfa No
DİN KÜLTÜRÜ VE AHLAK BİLGİSİ 2	20	02	SEÇMELİ DİL VE ANLATIM 6	20	35
FELSEFE 2	20	04	SEÇMELİ TÜRK EDEBİYATI 3	20	37
TARİH 6	20	06	ALMANCA 1	20	40
T.C. İNKILAP TARİHİ VE ATATÜRKÇÜLÜK 1	20	08	İNGİLİZCE 1	20	43
COĞRAFYA 4	20	10	FRANSIZCA 1	20	46
DİL VE ANLATIM 1	20	12	ALMANCA 8	20	48
DİL VE ANLATIM 2	20	14	İNGİLİZCE 8	20	51
TÜRK EDEBİYATI 4	20	16	FRANSIZCA 8	20	54
FİZİK 4	20	18	SEÇMELİ ALMANCA 3	20	56
DİN KÜLTÜRÜ VE AHLAK BİLGİSİ 8	20	21	SEÇMELİ İNGİLİZCE 3	20	59
MATEMATİK 7	20	23	SEÇMELİ FRANSIZCA 3	20	62
MANTIK 1	20	26	MATEMATİK 1	20	64
SEÇMELİ DİL VE ANLATIM 3	20	28	KİMYA 7	20	66
KİMYA 5	20	31	COĞRAFYA 5	20	69
DEMOKRASİ VE İNSAN HAKLARI 2	20	33			

SINAVDA UYULMASI GEREKEN ÖZEL KURALLAR

1. Bu kitapçıkta yer alan her bir test için cevaplama süresi **30** dakika, toplam süre **150** dakikadır.
2. Öğrenciler sınavın ilk 30 dakikası ve son 5 dakikası içinde sınavlarını tamamlasalar bile salonu terk edemezler. Sınavın başlamasını izleyen ilk 15 dakikadan sonra hiçbir öğrenci sınava alınmaz.
3. Yanlış cevaplarınız dikkate alınmayacaktır. Bu nedenle kitapçıkta bulunan tüm sorular için size doğru gelen seçeneği işaretleyerek cevapsız soru bırakmamanız yararınıza olacaktır.
4. Sınav sırasında hesap makinesi kullanabilirsiniz. Ancak, kullanacağınız makinede alfabetik tuş takımının (A, B, C, ..., Y, Z), program yapılmasına, saklanmasına ve çalıştırılmasına imkân veren EXE, STORE, RUN vb. tuşlar bulunamaz.

"Sınavda Uyulması Gereken Genel Kurallar" soru kitapçığının arka sayfasında yer almaktadır. Bu kuralları da mutlaka dikkatlice okuyunuz.

Anadolu Üniversitesi tarafından hazırlanmış olan bu testlerin her hakkı saklıdır. Hangi amaçla olursa olsun, testlerin tamamının veya bir kısmının Anadolu Üniversitesi'nin yazılı izni olmadan kopya edilmesi, fotoğraflarının çekilmesi, herhangi bir yolla çoğaltılması, yayımlanması ya da kullanılması yasaktır. Bu yasağa uymayanlar gerekli cezai sorumluluğu ve testlerin hazırlanmasındaki mali külfeti peşinen kabullenmiş sayılır.

1. Aşağıdakilerden hangisi, Hz. Musa'ya indirilen ve Yahudilerin dinî öğretileri içerisinde yer alan "on emir" arasında yer almaz?

- A) Öldürmeyeceksin.
- B) Zina etmeyeceksin.
- C) Allah'ın ismini boş yere ağza alabilirsin.
- D) Anne ve babana hürmet edeceksin.

2. Aşağıdakilerden hangisi İslam dininin korunmasını istediği temel ilkelerden biri değildir?

- A) Hırsızın korunması
- B) Aklın korunması
- C) Namusun korunması
- D) Dinin korunması

3. Değerlerin ilk olduğu ve şekillendiği yer aşağıdakilerden hangisidir?

- A) Okul
- B) Dernek
- C) İşyeri
- D) Aile

4. İnsanın kendine has ve özgü olan, az veya çok her zaman gözlenebilen davranış ve alışkanlıklarına ne ad verilir?

- A) İyilik
- B) Kişilik
- C) Örf
- D) Merhamet

5. İlk evrensel insan hakları ilkeleri aşağıdakilerden hangisinde yer almaktadır?

- A) İnsan Hakları Evrensel Beyannamesi
- B) Birleşmiş Milletler Sözleşmesi
- C) Magna Carta
- D) Veda Hutbesi

6. Dinin amacı aşağıdakilerden hangisidir?

- A) Kişinin yalnızca dünya hayatında mutlu olmasını sağlamak
- B) Yalancılık, kıskançlık gibi davranışları özendirmek
- C) Cimrilik, geçimsizlik gibi davranışları desteklemek
- D) İnsanı iyiye yönlendirip kötülüklerden uzak tutmak

7. Aşağıdakilerden hangisi Türk milletini bir arada tutan, toplumu birleştiren ortak değerlerden biri değildir?

- A) Vatan ve ülkü birliği
- B) Ferdiyetçilik ve maddiyatçılık
- C) Hürriyet ve bağımsızlık
- D) Bayrak ve İstiklal Marşı

8. Dini emirlerin ilk muhatabı olan yeryüzündeki ilk peygamber aşağıdakilerden hangisidir?

- A) Hz. İdris
- B) Hz. Nuh
- C) Hz. Âdem
- D) Hz. Musa

9. Osmanlı Devletinde "din ve vicdan hürriyeti ilkesi" ilk kez hangi belgede yer almıştır?

- A) Gülhane Hattı Hümayunu
- B) Sened-i İttifak
- C) Islahat Fermanı
- D) Kanun-i Esasi

10. Avrupa'daki kilise otoritesi aşağıdaki hangi olayla son bulmuştur?

- A) Birinci Dünya Savaşı
- B) Tanzimat Fermanı
- C) 1789 Fransız İhtilali
- D) Yüz Yıl Savaşları

11. Atatürk'ün laiklik anlayışıyla ilgili aşağıdaki ifadelerden hangisi yanlıştır?

- A) Taassup hoş görülmemektedir.
- B) Atatürk'ün laiklik anlayışı, asla dinsizlik değildir.
- C) Atatürk'ün laiklik anlayışı, asla din karşıtlığı değildir.
- D) Atatürk'e göre laiklik; sahte dindarlıkla ve büyüçülükle mücadele kapısını açtığı için gerçek dindarlığın gelişmesini sağlamaktadır.

12. Aşağıdakilerden hangisi laikliğin temel amaçlarından biridir?

- A) Herkesin kanun önünde eşit olmasını sağlamak
- B) Dinde ruhbanlık anlayışının oluşmasını sağlamak
- C) Devletin din ve mezheplere karşı taraflı davranmasını sağlamak
- D) Dinin istismar edilmesine müsaade etmek

13. İlahî dinlerin sonuncusu aşağıdakilerden hangisidir?

- A) Musevilik
- B) İslam
- C) Hristiyanlık
- D) Budizm

14. Laik devlet ile ilgili aşağıdaki ifadelerden hangisi yanlıştır?

- A) Laik devlet herkese dinini seçme ve onun gereklerini yerine getirme serbestliği tanır.
- B) Laik devletle insanlara bir dinin zorla benimsetilmesi söz konusu değildir.
- C) Laik devletin resmi dini vardır.
- D) Laik devlet, din hürriyetini ana ilke olarak kabul eder.

15. Aşağıdakilerden hangisi Türklerin benimsediği Gök Tanrı inancının temel esasları arasında ver almaz?

- A) Bir ve tek olan Gök Tanrı vardır.
- B) Dünya hayatından sonra sonlu bir hayat vardır.
- C) Dünyada iyilik edenler öldükten sonra karşılık olarak iyi bir yere gideceklerdir.
- D) Tanrı yaratan, yaşatan ve koruyandır.

16. Aşağıdakilerden hangisi Ahilik teşkilatında önemli olan prensiplerden biri değildir?

- A) İftira ve gıybetten sakınmayacaksınız.
- B) Allah'ın emirlerine uyacaksınız.
- C) İşinde ve hayatında güvenilir olacaksınız.
- D) İyi kalpli ve cömert olacaksınız.

17. Aşağıdakilerden hangisi Türklerin İslam dinini benimsemesinde etkili olan sebeplerden biri değildir?

- A) İslam dininin Türklerin mizacına uygun oluşu
- B) Tasavvuf eğitiminden geçmiş dervişlerin yaşayışları
- C) İslam medeniyetinin üstünlüğü ve yüceliği
- D) Müslüman tüccarların yalan söylemesi

18. Divan ve Risalet'ün-Nushiyye kimin eserleridir?

- A) Mevlana
- B) Yunus Emre
- C) Hacı Bektaş Veli
- D) Ahmet Yesevî

19. Sulu boya veya altın yıldız kullanılarak kağıt ya da deri üzerine resim yapma sanatına ne ad verilir?

- A) Tezhip
- B) Sülüs
- C) Minyatür
- D) Ebru

20. Aşağıdakilerden hangisi Türklerin İslam medeniyetine katkılarında biri değildir?

- A) Türklerin kurdukları medreselerde tefsir, kalam, hadis, fıkıh gibi alanlarda çalışmalar yapılması
- B) Türklerin hâkimiyet kurdukları topraklarda çok sayıda cami ve medrese yapmaları
- C) Matematik, tıp, astronomi gibi alanlarda çalışma yapmayı yasaklamaları
- D) Türklerin hâkimiyet kurdukları topraklarda çok sayıda bilim adamı yetiştirmeleri

1. İdeal bir toplum düzenini tasarlayan **ilk** filozof aşağıdakilerden hangisidir?
- A) Farabi
B) Thomas More
C) Platon
D) George Orwel
2. İnsanın kendi çevresi ile kurduğu ilişkiyi estetik bir ifadeyle sunmasına ne ad verilir?
- A) Sanat
B) Fenomen
C) Etik
D) Erdem
3. Aşağıdakilerden hangisi din felsefesinin konularından biri **değildir**?
- A) Evrenin yaratılışı
B) Tanrının varlığı
C) Güzel ahlak
D) Ruhun ölümsüzlüğü
4. Anarşizm ile ilgili aşağıdaki ifadelerden hangisi **yanlıştır**?
- A) Kurucusu, Proudhon'dur.
B) En tanınmış temsilcisi Jean Paul Sartre'dir.
C) İnsanlar üzerinde tahakküm kuran her türden kurumun ortadan kaldırılmasını savunur.
D) Devletin ve iktidarın olmadığı bir toplum düzeninin kurulmasını amaçlar.
5. Din ile felsefeyi birbirinden ayırarak inceleyen **ilk** düşünür aşağıdakilerden hangisidir?
- A) Kant
B) Huxley
C) Sartre
D) Orwel
6. Evrensel ahlak yasasının varlığını **reddeden**, hazzın yaşam içindeki tek gerçeklik ve **en yüksek** iyi olduğunu savunan görüşe ne ad verilir?
- A) Epistemoloji
B) Varoluşçuluk
C) Ütopya
D) Hazcılık
7. Aşağıdakilerden hangisi estetik yargıların özelliklerinden biri **değildir**?
- A) Zaman içinde değişikliğe uğrayabilmesi
B) Evrensel olması
C) Kültürel özelliklerden etkilenmesi
D) Sübjektif olması
8. Güzelliği ve güzel sanatların doğasını inceleyen felsefe dalı aşağıdakilerden hangisidir?
- A) Etik
B) Estetik
C) Ahlak
D) Mantık
9. Aşağıdakilerden hangisi siyaset felsefesinin **temel kavramlarından biri değildir**?
- A) Hukuk
B) Meşruiyet
C) Ahlak
D) Egemenlik
10. Aşağıdakilerden hangisi din felsefesinin **temel kavramlarından biri değildir**?
- A) Vahiy
B) İman
C) İbadet
D) Bürokrasi
11. "Varolan her şeyin bir yaratıcısı olduğuna, bu yaratıcının mutlak ve sınırsız bir bilgi ve güce sahip olduğuna sarsılmaz bir inanç beslemek" aşağıdakilerden hangisiyle ifade edilir?
- A) Teizm
B) Ateizm
C) Deizm
D) Agnostisizm
12. Aşağıdakilerden hangisi ahlak felsefesinin **temel sorularından biri değildir**?
- A) İktidar kaynağını nereden alır?
B) İnsan ahlaki eylemde bulunurken özgür müdür?
C) İyi nedir?
D) Bütün insanların ortaklaşa benimseyebilecekleri, ortak bir ahlak yasası var mıdır?
13. Aşağıdakilerden hangisi siyaset felsefesinin **temel sorularından biri değildir**?
- A) Meşruiyetin ölçütü nedir?
B) En iyi yönetim şekli hangisidir?
C) Devletin varlık nedeni nedir?
D) Ahlaki eylemin amacı nedir?
14. Aşağıdakilerden hangisi bireyin **temel haklarından biri değildir**?
- A) Siyasal haklar
B) Toplumsal ve ekonomik haklar
C) Dayanışma hakları
D) Kişisel haklar

15. Erdem ile ilgili aşağıdaki ifadelerden hangisi **vanlıştır?**

- A) İnsan varlığına gerçek anlamını veren ahlaki niteliklerin toplamına karşılık gelir.
- B) Bireyin iyi ve doğru eylemlerde bulunmaya mizaç ve moral olgunluk açısından yatkın olma durumudur.
- C) Bireyin eylemlerinin doğuracağı sonuçları üstlenmesi durumudur.
- D) İyilik, dürüstlük, adalet gibi ahlaki nitelik taşıyan değerlere denir.

16. Aşağıdakilerden hangisi sanat eserinin özelliklerinden biri **değildir?**

- A) İçerik ve biçim birlikte bir anlam taşır.
- B) Doğayla uyumludur.
- C) Özgündür.
- D) Kendine ait özellikleri olan bir insan yaratısıdır.

17. "Evrensel ahlak yasasını belirleyen **en önemli** öge insanın, kendisinin de bir parçası olduğu doğa düzenini anlayarak ve bu bilgiye dayanarak ahlaki bir biçimde davranmasıdır." görüşünü savunan düşünür aşağıdakilerden hangisidir?

- A) Demokritos
- B) Aristoteles
- C) Kant
- D) Spinoza

18. Ünlü eseri "Kanunların Ruhu"nda, cumhuriyet, monarşi ve despotizmin eksikliklerini ve üstünlüklerini irdeleyen düşünür aşağıdakilerden hangisidir?

- A) Weber
- B) Montesquieu
- C) Bakunin
- D) Hobbes

19. Aşağıdakilerden hangisinde Korku Ütopyası eseri ve yazarı birlikte ve doğru olarak verilmiştir?

- A) Yeni Dünya – Adous Huxley
- B) Güneşin Ülkesi – Campanella
- C) Thomas More – 1984
- D) Erdemli Toplum – Farabi

20. Neyin iyi neyin kötü olduğunun sezgiyle kavranabileceğini savunan, sezgiciliğin kurucusu düşünür aşağıdakilerden hangisidir?

- A) Spinoza
- B) Mevlana
- C) Nietzsche
- D) Bergson

1. Aşağıdakilerden hangisi Talas Savaşı'nın sonuçlarından biri değildir?

- A) Orta Asya, Çinlilerin kontrolüne girmekten kurtarıldı.
- B) Abbasi Devleti yönetiminde Türkler görev almaya başladı.
- C) Türk Arap dostluğu son buldu.
- D) Müslüman Araplar, Çinlilerden kâğıt imal etmesini öğrendi.

2. Türkler'in, Abbasiler Dönemi'ne kadar İslamiyet'e kitleler halinde geçmelerini engelleyen gelişme aşağıdakilerden hangisidir?

- A) İktâ Sistemi'nin uygulanması
- B) Ayn-ı Calut Savaşı'nın gerçekleşmesi
- C) Emevilerin mevali politikası
- D) Atabeylik Sistemi'nin oluşturulması

3. Hz. Ömer dönemiyle ilgili aşağıdaki ifadelerden hangisi yanlıştır?

- A) Hicri takvim kullanılmaya başlanmıştır.
- B) Mısır, Suriye, Irak ve Azerbaycan fethedilmiştir.
- C) "Beytül Mal" kurulmuştur.
- D) Cemal ve Sıffin Savaşları yapılmıştır.

4. Kuran-ı Kerim ilk defa hangi halife zamanında kitap haline getirilmiştir?

- A) Hz. Ali
- B) Hz. Ebubekir
- C) Hz. Ömer
- D) Hz. Osman

5. Aşağıdakilerden hangisi Medine'de bulunan Müslümanlarla Mekkeliler arasında gerçekleşen savaşlardan biri değildir?

- A) Puvatya Savaşı
- B) Bedir Savaşı
- C) Uhud Savaşı
- D) Hendek Savaşı

6. Aşağıdakilerden hangisi Büyük Selçukluların yıkılma nedenlerinden biri değildir?

- A) Devlet idaresinin Farsların eline geçmesiyle Türkmenlerin küstürülmesi
- B) Canberdi Gazali İsyanı'nın yaşanması
- C) Bâtınilerin zararlı çalışmaları
- D) Ülkenin hanedan üyelerinin ortak malı sayılması

7. Mısır'da kurulan ilk Türk-İslam devletleri aşağıdakilerden hangisinde birlikte ve doğru olarak verilmiştir?

- A) Tolunoğulları ve İhşidoğulları
- B) Karahanlılar ve Hazarlar
- C) Gazneliler ve Türgişler
- D) Harezmsahlar ve Babürler

8. Edip Ahmet'in ahlaki öğütler verdiği Karahanlı dönemi eser aşağıdakilerden hangisidir?

- A) Kısas-ı Enbiya
- B) El Mutahharat
- C) Ayn'ül Ayan
- D) Atabet'ül Hakayık

9. Aşağıdakilerden hangisi Dandanakan Meydan Muharebesi'nin sonuçlarından biri değildir?

- A) Bizans'ın Anadolu'yu Türklerden alma ümitleri sona erdi.
- B) Türklerin batıya doğru ilerlemelerinin önü açıldı.
- C) Horasan toprakları kesin olarak Selçuklulara geçti.
- D) Büyük Selçuklu Devleti resmen kuruldu.

10. Karahanlılar ile ilgili aşağıdaki ifadelerden hangisi yanlıştır?

- A) İslam öncesi Türk devletlerinde görülen ikili yönetim anlayışını devam ettirmişlerdir.
- B) Resmî dil Farsça'dır.
- C) Halkının tamamına yakını Türk'tür.
- D) İslamiyet'in Orta Asya'da yayılmasını sağlamışlardır.

11. Müslümanlardan yetiştirdikleri tarım ürünlerinden onda bir oranında alınan vergi aşağıdakilerden hangisidir?

- A) Cizye
- B) Haraç
- C) Öşür
- D) İспенç

12. Türkçenin ilk sözlük ve dil bilgisi kitabı aşağıdakilerden hangisidir?

- A) Divan-ı Kebir
- B) Divanü Lügat - it- Türk
- C) Risalet'ül Nushiye
- D) İskendername

13. Aristo'nun eserlerini inceleyip yeni yorumlar getirdiği için ikinci öğretmen anlamına gelen "Muallim-i Sâni" unvanıyla anılan kişi kimdir?

- A) Gazali
- B) Ömer Hayyam
- C) Farabî
- D) İbn-i Sina

14. Abbasi halifelerinin hükümdarlara gönderdikleri elbiselere ne ad verilir?

- A) Tıraz
- B) Nevbet
- C) Çetr
- D) Otağ

15. Avrupa'da "Aviccenna" diye tanınan Türk İslam bilgini aşağıdakilerden hangisidir?

- A) El-Biruni
- B) İbn-i Sina
- C) Farabi
- D) Harezmi

16. Kahire'deki "El-Ezher Camii" aşağıdaki devletlerden hangisine ait eserdir?

- A) Gazneliler
- B) Eyyûbiler
- C) Memlukler
- D) Fâtîmîler

17. Eyyubiler devrinin ünlü tıp bilgini aşağıdakilerden hangisidir?

- A) Hazerfan Hüseyin
- B) İbn Meymum
- C) Takıyyeddin Mehmet
- D) Kadızade-i Rumi

18. Şah Cihan, ölen karısı Mümtaz Mahal (Ercümen Banu Begüm) için yaptırdığı dünyanın en güzel ve gösterişli anıtlarından biri olan eser aşağıdakilerden hangisidir?

- A) Tac Mahal
- B) Laskarisler Sarayı
- C) İshak Paşa Sarayı
- D) Agra Kalesi

19. Moğollarda aileye ne ad verilir?

- A) Köbegün
- B) Nöker
- C) Yasun
- D) Ortak

20. Aşağıdakilerden hangisi 1402 Ankara Savaşı'nın sonuçlarından biri değildir?

- A) Osmanlıların Balkanlarda yaptığı fetihlerin durması
- B) Anadolu Türk birliğinin bozulması
- C) Osmanlı Devleti'nin fetret devrine girmesi
- D) Nizam-ı Cedit adlı yeni bir ordunun kurulması

1. Osmanlı Devleti'nde ortaya çıkan Osmanlılık, İslamcılık, Turancılık, Türkçülük ve Batıcılık gibi düşünce akımlarının ortak amacı aşağıdakilerden hangisidir?
 - A) Osmanlı Devleti'nin sınırlarını genişletmek
 - B) Paris Barış Konferansı'na Osmanlı Devleti'nin katılımını sağlamak
 - C) Avrupa Devletleri'nin Osmanlı Devleti'nin iç işlerine karışmasını önlemek ve devleti dağılmaktan kurtarmak
 - D) Devlet yönetimini teokratik yapıya kavuşturmak
2. I. Dünya Savaşı başlamadan önce İttifak Devletleri arasında yer aldığı halde sonradan İtilaf Devletleri yanında savaşa katılan devlet aşağıdakilerden hangisidir?
 - A) Fransa
 - B) İtalya
 - C) Romanya
 - D) Rusya
3. Aşağıdakilerden hangisi Trablusgarp Savaşı'nın nedenleri arasında ver almaz?
 - A) Bab-ı Ali Baskını'nın gerçekleşmesi
 - B) Trablusgarp ve Bingazi'nin Osmanlı Devleti tarafından savunulmasının güç olması
 - C) Trablusgarp'ın İtalya'ya yakın olması
 - D) İtalya'nın gelişen sanayisi için ham madde ve pazar araması
4. Aşağıdakilerden hangisi II. Meşrutiyet'in demokrasi tarihimize getirdiği en önemli yeniliklerden biridir?
 - A) İlk geçici elçilerin Avrupa'ya yollanması
 - B) Siyasi partilerin kurulması
 - C) Rumeli Beylerbeyliğinin kurulması
 - D) İran ile Amasya Antlaşması'nın imzalanması
5. Aşağıdakilerden hangisi İtilaf Devletleri'nin Çanakkale Cephesi'ni açma amaçları arasında ver almaz?
 - A) Rusya'ya yardım etmek
 - B) Süveyş Kanalı ve Hindistan yolu üzerindeki Osmanlı baskısını kaldırmak
 - C) Balkan devletlerinin İttifak Devletleri yanında yer almalarını önlemek
 - D) Kapitülasyonları kaldırmak
6. Yunanlıların 15 Mayıs 1919'da başlayan İzmir'i işgallerine karşın ilk kurşunu atan Hukuk-u Beşer (İnsan Hakları) Gazetesi başyazarı aşağıdakilerden hangisidir?
 - A) Ziya Gökalp
 - B) Hasan Tahsin
 - C) Namık Kemal
 - D) Rauf Orbay
7. Mondros Ateşkes Antlaşması'ndan sonra ilk işgal edilen Osmanlı toprağı aşağıdakilerden hangisidir?
 - A) Trabzon
 - B) Samsun
 - C) Musul
 - D) İzmir
8. Aşağıdakilerden hangisi Osmanlı Devleti'ni paylaşmak amacıyla yapılmış gizli anlaşmalardan biridir?
 - A) Sen German Antlaşması
 - B) Saint Jean de Maurienne Antlaşması
 - C) Nöyyi Antlaşması
 - D) Versay Antlaşması
9. Aşağıdakilerden hangisi Millî Cemiyetlerden biridir?
 - A) İngiliz Muhipler Cemiyeti
 - B) Wilson Prensipleri Cemiyeti
 - C) Alyans İsrailit ve Makabi Cemiyeti
 - D) Kilikyalılar Cemiyeti
10. Mustafa Kemal Atatürk ve arkadaşları tarafından Vatan ve Hürriyet Cemiyeti nerede kurulmuştur?
 - A) İzmir
 - B) Şam
 - C) İstanbul
 - D) Hatay

11. 31 Mart Ayaklanması'nı bastırmak için kurulan Hareket Ordusu'nun Kurmay Başkanlığına getirilen kişi aşağıdakilerden hangisidir?

- A) Ali Fuat Cebesoy
- B) İsmet İnönü
- C) Mustafa Kemal Atatürk
- D) Celal Bayar

12. Kurtuluş Savaşı'nda düzenli ordunun aldığı ilk ve tek yenilgi aşağıdakilerden hangisidir?

- A) I. İnönü Savaşı
- B) II. İnönü Savaşı
- C) Eskişehir-Kütahya Savaşları
- D) Büyük Taarruz

13. Aşağıdakilerden hangisi Türk Hükümeti tarafından Lozan'a gidecek heyetten kesinlikle taviz verilmemesi istenen konulardan biridir?

- A) Kapitülasyonlar
- B) Osmanlı Borçları
- C) Boğazlar
- D) Patrikhane

14. Millî Mücadele'nin ilk yayın organı aşağıdakilerden hangisidir?

- A) Aydede
- B) Alemdar
- C) Güler yüz
- D) İrade-i Milliye

15. Aşağıdakilerden hangisi Saltanatın kaldırılmasının nedenlerinden biri değildir?

- A) Saltanatın millî egemenlik anlayışına aykırı olması
- B) Medeni Kanun'un kabul edilmesi
- C) Ülke yönetiminde ve barış görüşmelerinde iki ayrı hükümetin bulunmasının uygun olmaması
- D) İstanbul Hükümeti ve padişahın Millî Mücadeleye karşı olması

16. Son Osmanlı Mebusan Meclisi'nin en önemli hizmeti aşağıdakilerden hangisidir?

- A) Amasya Genelgesi'nin yayınlanması
- B) Ankara'nın başkent olması
- C) Temsil Heyeti'nin oluşturulması
- D) Misakımillî'nin ilan edilmesi

17. Mustafa Kemal Atatürk, "Hattı müdafaa yoktur, sathı müdafaa vardır. O sath bütün vatandır. Vatanın her karış toprağı, vatandaşın kanıyla sulanmadıkça terk olunmaz." emrini hangi savaşta vermiştir?

- A) I. İnönü Savaşı
- B) II. İnönü Savaşı
- C) Eskişehir-Kütahya Savaşları
- D) Sakarya Savaşı

18. Türkiye Büyük Millet Meclisi Hükümeti'nin uluslararası alanda sağladığı ilk başarı aşağıdakilerden hangisidir?

- A) Gümrü Antlaşması
- B) Moskova Antlaşması
- C) Ankara Antlaşması
- D) Lozan Barış Antlaşması

19. Kurtuluş Savaşı'nın amacı, gerekçesi ve yöntemi ilk defa aşağıdakilerden hangisinde açıklanmıştır?

- A) Amasya Genelgesi
- B) Havza Genelgesi
- C) Alaşehir Kongresi
- D) Pozantı Kongresi

20. Aşağıdakilerden hangisi Kuvayımilliye'nin oluşmasının nedenleri arasında ver almaz?

- A) Mondros Ateşkes Antlaşması gereğince Osmanlı ordularının terhis edilerek devletin savunmasız bırakılması
- B) İtilaf Devletleri'nin Anadolu'yu yer yer işgal etmesi
- C) Sadabat Paktı'nın kurulması
- D) Osmanlı Devleti'nin işgallere karşı duyarsız davranması

1. Aşağıdakilerden hangisi alüvyal toprakların yaygın olduğu bölgelerden biri değildir?

- A) Vadi tabanları
- B) Delta ovaları
- C) Dağların dorukları
- D) Eski göl tabanları

2. Aşağıdakilerden hangisi Türkiye’de görülen iğne yapraklı ağaçlardan biridir?

- A) Kayın
- B) Akçaağaç
- C) Karaçam
- D) Kızılağaç

3. Aşağıdakilerden hangisi devamlı kır yerleşmelerinden biridir?

- A) Yayla
- B) Oba
- C) Ağıl
- D) Çiftlik

4. Aşağıdakilerden hangisi Türkiye’deki volkanik set göllerinden biri değildir?

- A) Erçek Gölü
- B) Eymir Gölü
- C) Balık Gölü
- D) Haçlı Gölü

5. Aşağıdakilerden hangisi Türkiye’de nüfusun yerleşimini ve dağılışını etkileyen beşeri faktörlerden biri değildir?

- A) Ulaşım
- B) Su kaynakları
- C) Ekonomi
- D) Bilim ve teknoloji

6. Çayırların yaygın olduğu yerlerde yetiştirilen hayvan türü aşağıdakilerden hangisidir?

- A) Sığır
- B) Keçi
- C) Koyun
- D) Kümes hayvanları

7. Aşağıdakilerden hangisi bozkırlarda yaygın olarak görülen ot türlerinden biri değildir?

- A) Peygamber çiçeği
- B) Koyun yumağı
- C) Üzerlik
- D) Menengiç

8. Nüfusu 10 – 25 bin arasında olan kentlere ne ad verilir?

- A) Metropol kentler
- B) Küçük kentler
- C) Büyük kentler
- D) Orta büyüklükte kentler

9. Aşağıdakilerden hangisi dağınık yerleşmelerin yaygın olduğu yerlerden biridir?

- A) Kıyı Ege
- B) Konya Ovası
- C) Karadeniz
- D) Çukurova

10. Aşağıdakilerden hangisi seramik sanayisinin geliştiği şehirlerden biri değildir?

- A) Kocaeli
- B) Ankara
- C) İstanbul
- D) Kütahya

11. Sumatra Adası ile Malaya Yarımadası arasında yer alan boğaz aşağıdakilerden hangisidir?

- A) Bering Boğazı
- B) Cebelitarık Boğazı
- C) Hürmüz Boğazı
- D) Malakka Boğazı

12. Aşağıdakilerden hangisi Türkiye’de nüfus artışının yol açtığı sorunlardan biri değildir?

- A) Çevresel sorunların artması
- B) Göçlerin artması
- C) Milli gelirin azalması
- D) Refah seviyesinin artması

13. Dünyayı dolaşan ilk denizci aşağıdakilerden hangisidir?

- A) Ferdinand Macellan
- B) Christoph Colomb
- C) Barthelemy Diaz
- D) Vasco de Gama

14. Aşağıdakilerden hangisi Türkiye'deki göçün nedenlerinden biri değildir?

- A) Nüfus dağılımındaki dengesizlik
- B) Eğitim, sağlık ve sosyal hizmetlerden daha fazla yararlanma isteği
- C) Miras yoluyla toprağın parçalanması
- D) Tarımda makineleşmenin yarattığı işsizlik

15. Cumhuriyet döneminde ilk kapsamlı nüfus sayımı hangi yıl yapılmıştır?

- A) 1924
- B) 1925
- C) 1927
- D) 1935

16. Aşağıdakilerden hangisi coğrafi keşiflerin yapılmasının nedenlerinden biri değildir?

- A) Gemicilik tekniğinin gelişmesi
- B) Baharat ve İpek Yolu'nun önemini kaybetmesi
- C) Pusulanın icat edilmesi
- D) Avrupalıların daha ucuz ticaret yolları bulmaya çalışması

17. Dünyanın en eski ulaşım sistemi aşağıdakilerden hangisidir?

- A) Demir yolu
- B) Deniz yolu
- C) Kara yolu
- D) Hava yolu

18. Aşağıdakilerden hangisi kütle hareketlerini önlemek ya da azaltmak için alınması gereken önlemlerden biri değildir?

- A) Bitki örtüsünün tahrip edilmemesi
- B) Boş alanların ağaçlandırılması
- C) Yamacın doğal dengesinin bozulmaması
- D) Çok eğimli alanların yerleşime açılması

19. Aşağıdakilerden hangisi kuraklığın sonuçlarından biri değildir?

- A) Ülke milli gelirinin artması
- B) Büyük göçlerin yaşanması
- C) Hayvan ve bitki türlerinin zarar görmesi
- D) Tarım faaliyetlerinin yapılamaması

20. Türkiye'de çığ olaylarının en çok yaşandığı bölge aşağıdakilerden hangisidir?

- A) Doğu Anadolu Bölgesi
- B) İç Batı Anadolu Bölgesi
- C) Marmara Bölgesi
- D) Güneydoğu Anadolu Bölgesi

1. Sözcükleri biçim yönünden inceleyerek kök ve eklerin yapısını belirleyen bilim dalı aşağıdakilerden hangisidir?
- A) Biçim Bilgisi
B) Ses Bilgisi
C) Köken Bilim
D) Anlam Bilim
2. Türkçe aşağıdaki dil gruplarından hangisinde yer alır?
- A) Hami-Sami dilleri
B) Hint Avrupa dilleri
C) Ural-Altay dilleri
D) Bantu dilleri
3. Bir toplumun maddi ve manevi alanda ortaya koyduğu tüm eserlere ne ad verilir?
- A) Dil
B) Din
C) İnanç
D) Kültür
4. Dil ile ilgili aşağıdaki ifadelerden hangisi doğrudur?
- A) İnsanlar dil aracılığıyla duygu, düşünce ve isteklerini karşılıklı olarak aktarırlar.
B) Dilin sadece bir tane geniş anlamı vardır.
C) Dil, bütün canlılara özgü bir iletişim aracıdır.
D) Dilin görme, koklama, tat alma organlarıyla bir ilişkisi yoktur.
5. Türkçenin gelişmesine katkı sağlayan eserlerden biri olan "Atabetül Hakayık" ile ilgili aşağıdaki ifadelerden hangisi yanlıştır?
- A) Eserin tamamı dördlüklerden ve beyitlerden oluşmuştur.
B) Eser, ahlaki, öğretici tarzda yazılmış manzum bir eserdir.
C) Eser, Anadolu Türkçesi ile yazılmıştır.
D) Eser, Edip Ahmet tarafından yazılmıştır.
6. İlk Türkçe belgelerin ortaya konulduğu çağ aşağıdakilerden hangisidir?
- A) En Eski Türkçe Çağı
B) Altay Çağı
C) İlk Türkçe Çağı
D) Eski Türkçe Çağı
7. Günlük yaşamda, evde, sokakta, çarşı pazarda kullanılan dile ne ad verilir?
- A) Lehçe
B) Yazı dili
C) Konuşma dili
D) Ağız
8. Sözcüklerin birbiriyle olan ilişkilerini, cümledeki görevlerini ve durumunu inceleyen bilim dalı aşağıdakilerden hangisidir?
- A) Etimoloji
B) Sentaks
C) Fonetik
D) Semantik
9. Aşağıdakilerden hangisi dil bilgisinin bölümlerinden biridir?
- A) Morfoloji
B) Pedagoji
C) Sosyoloji
D) Farmakoloji
10. Aşağıdakilerden hangisi Ural-Altay dillerinin özelliklerinden biri değildir?
- A) Ses, yapı ve söz dizini bakımından benzerlikler bulunması
B) Bazı çekim eklerinin, yapım eki olarak da kullanılması
C) Sözcüklerde dil bilgisi bakımından diş ve erkek tür ayrımının olmaması
D) Baştan eklemeli bir yapısının olması
11. Diller arasındaki yakınlık ve benzerliğe ne ad verilir?
- A) Dil birliği
B) Dil akrabalığı
C) Dil kardeşliği
D) Dil yakınlığı
12. Aşağıdakilerden hangisi çekimli (bükümlü) dillerden biridir?
- A) Farsça
B) Moğolca
C) Türkçe
D) Samoyetçe

13. Aşağıdakilerden hangisi iletişim kurmak için gerekli temel öğelerden biri değildir?

- A) İleti
- B) Yöntem
- C) Kaynak
- D) Alıcı

14. Aşağıdaki cümlelerin hangisinde virgülün görevi farklıdır?

- A) Kitabını, defterini, kalemimi al.
- B) Annemi, babamı özledim.
- C) Kardeşim, bu hafta geliyor.
- D) Elma, armut, muz aldık.

15. Aşağıdakilerin hangisinde "mi"nin yazımı vanlıştır?

- A) Bana da verecek misin?
- B) Yok mu senden başkası?
- C) Daha doymadın mı?
- D) Oku muyorsan ver kitabımı.

16. Aşağıdakilerin hangisinde büyük harflerin yazımıyla ilgili bir vanlılık yapılmıştır?

- A) Leyla hanım sizi sordu.
- B) 31 Aralık Cuma günü yılbaşı.
- C) Annem kardeşime masal okuyor.
- D) Doktor Selim burada mı?

17. Aşağıdaki cümlelerden hangisinin sonuna ünlem işareti gelmez?

- A) Hey, buraya bak
- B) Bu güzel kız da kim
- C) Eyvah, kahve taşıtı
- D) Sevgili arkadaşlar

18. Aşağıdaki altı çizili sözcüklerden hangisinde yumuşama yoktur?

- A) Ekmeği bıçakla kesti.
- B) Küçük kız, tabağı kırdı.
- C) Patatesleri, kızgın yağa attı.
- D) Söğüdün altına uzandı.

19. Aşağıdaki sözcüklerin hangisine ek getirildiğinde kesme işareti (') kullanılır?

- A) Eskişehir
- B) Karayolu
- C) Havaalanı
- D) Okul

20. Aşağıdakilerin hangisinde "ki"nin yazımı doğrudur?

- A) Bana öylesine yakındaki kardeşimden ayırmazdım.
- B) Sinemadaki film çok eğlenceliydi.
- C) Benim kitabım masada senin ki nerede?
- D) Masada ki silgi kimin?

1. Aşağıdaki cümlelerden hangisinde edat tümleci yoktur?

- A) Artık hayatla tamamen barıştım.
- B) Ağaçların yaprakları elektrik ışıkları ile parlıyor.
- C) Eskişehir'e kadar demir yolu ile gittim.
- D) Doğru dürüst insan kalmamış.

2. Aşağıdakilerden hangisi yalın cümle değildir?

- A) Kendini bir bırakırsa, hemen uyuyacaktı.
- B) Sabah geldik.
- C) Öğrenciyim.
- D) Bilmiyorum.

3. Sözcük türetmeye veya sözcüklerin görevlerini belirtmeye yarayan en küçük birime ne ad verilir?

- A) Gövde
- B) Ek
- C) Kök
- D) Kelime

4. Aşağıdaki sözcüklerden hangisi hem isim hem fiil köküdür?

- A) Ev
- B) Yap
- C) Kol
- D) Yaz

5. Aşağıdakilerden hangisi kurallı bir cümledir?

- A) Köroğlu ordunun yaklaştığını anladı.
- B) Göresim geldi seni.
- C) Severim gerçekçi edebiyatı.
- D) Ayıkla pirincin taşını şimdi.

6. Aşağıdaki cümlelerin hangisinde ikileme kullanılmıştır?

- A) Mum dibine ışık vermez.
- B) Güzelliğin on para etmez.
- C) Damlaya damlaya göl olur.
- D) Yalancının mumu yatsıya kadar yanar.

7. Aşağıdaki cümlelerin hangisinde sıfat tamlaması yoktur?

- A) Yeşil gözleri, iki solgun boncuk gibiydi.
- B) Kızıl saçlarını savura savura koşuyordu.
- C) Artık berber görmeyen bu güzel saçlar solmuş.
- D) Bahçe duvarının önünde boynuna sarıldım.

8. Aşağıdakilerden hangisi devrik cümledir?

- A) Sen ne anlatıyorsun be adam?
- B) Kırk yıldır bu sanatı işlerim.
- C) Ben bu kitabı okuyacağım.
- D) Gözlerinden yaşlar aktı.

9. Aşağıdakilerden hangisi matematikle ilgili bir terimdir?

- A) Perde
- B) Üçgen
- C) Nota
- D) Fiil

10. "Hasan bahçedeki ağaçları budadı." cümlesinin öznesi aşağıdakilerden hangisidir?

- A) Hasan
- B) bahçedeki
- C) ağaçları
- D) budadı

11. Aşağıdakilerden hangisi dilek-şart cümlesidir?

- A) Başarmak için çok çalışmalıyım.
- B) Orada ne yapıyorsunuz?
- C) Okulumu bitirip yüzmeyi öğrensem.
- D) En çok sevdiğim çiçek güldür.

12. "Bahçe duvarının önü" tamlaması aşağıdaki tamlama türlerinden hangisine örnektir?

- A) Takısız isim tamlaması
- B) Belirtisiz isim tamlaması
- C) Belirtili isim tamlaması
- D) Zincirleme isim tamlaması

13. "Merdivenleri üçer üçer atlayarak indim." cümlesinin yüklemi hangi sözcüktür?

- A) merdivenleri
- B) atlayarak
- C) indim
- D) üçer üçer

14. Aşağıdaki sözcüklerden hangisi yapım eki almamıştır?

- A) Evler
- B) Tatsız
- C) Tuzlu
- D) Simitçi

15. "Altın madalya" tamlaması aşağıdaki tamlama türlerinden hangisine örnektir?

- A) Belirtisiz isim tamlaması
- B) Takısız isim tamlaması
- C) Zincirleme isim tamlaması
- D) Belirtili isim tamlaması

16. Aşağıdakilerden hangisi türemiş sözcüktür?

- A) Yıllık
- B) Hesap
- C) Yalan
- D) Kitap

17. Aşağıdakilerden hangisi sıralı cümledir?

- A) Günümüzde medeniyet ölçüsü kültür, sanat ve teknikte üstünlüktür.
- B) Köroğlu kahvesini içti, sonra aldı sazı eline, görelim orada ne dedi.
- C) Gözlerinde endişe ve korku vardı.
- D) Sonunda beklediğimiz mektup geldi.

18. Aşağıdaki cümlelerin hangisinde bir söz grubu vardır?

- A) Bu çocuk neden bağılıyor?
- B) Ahmet Almanya'dan dün geldi.
- C) Ha o ha bu ne fark eder?
- D) Bu işten sen zararlı çıkacaksın.

19. Aşağıdakilerden hangisi birleşik sözcüktür?

- A) Destek
- B) Balık
- C) Yılbaşı
- D) Posta kutusu

20. Aşağıdaki sözcüklerden hangisi soyuttur?

- A) Cadde
- B) Ağaç
- C) Bayrak
- D) Hürriyet

1. Kırgızların geleneklerini, ahlak ve aile hayatlarını, dünya ve hayat görüşlerini anlatan destan aşağıdakilerden hangisidir?
- A) Manas Destanı
B) Oğuz Destanı
C) İlyada Destanı
D) Türeyiş Destanı
2. Aşağıdakilerden hangisi kahramanlık temalı halk hikâyelerinden biridir?
- A) Âşık Garip
B) Köroğlu
C) Tahir ile Zühre
D) Kerem ile Aslı
3. Zamanın olaylarını yazmakla görevlendirilen kişiye ne ad verilir?
- A) Meddah
B) Seyyah
C) Vakanüvist
D) Kâtip
4. Aşağıdaki yazar ve eser eşleştirmelerinden hangisi yanlıştır?
- A) Kaşgarlı Mahmut - Divan-ı Lügat'it Türk
B) Yusuf Has Hacı - Kutadgu Bilig
C) Mevlana Celaleddin-i Rumi - Mevlid
D) Edip Ahmet - Atabet'ül Hakâyık
5. Aşağıdakilerden hangisi anonim halk şiirinin özelliklerinden biri değildir?
- A) Hece ölçüsü kullanılması
B) Dilinin ağır, anlatımının sanatlı olması
C) Halkın ortaklaşa ürünü olması
D) Daha çok yarım uyak kullanılması
6. Dönder mısralık bentlerden oluşan ve sitem temasını işleyen divan edebiyatı nazım şekli aşağıdakilerden hangisidir?
- A) Murabba
B) Musammat
C) Münşeât
D) Müstezât
7. Gazelin en güzel beytine ne ad verilir?
- A) Musammat gazel
B) Beytül gazel
C) Makta beyit
D) Matla beyit
8. X. yüzyılda tam bir halk hikayesi biçimini alan, birbirini küçük yaşta seven ama kavuşamayan iki gencin aşkını anlatan mesnevi aşağıdakilerden hangisidir?
- A) Harnâme
B) Hüsn ü Aşk
C) Leylâ ve Mecnûn
D) Mevlid
9. XIII. yüzyılda, Anadolu'nun fethedilerek İslamlaştırıldığı dönemde yapılan kahramanlıkların anlatıldığı destan aşağıdakilerden hangisidir?
- A) Alp Er Tunga
B) Ergenekon
C) Seyyid Battal Gazi
D) Bozkurt
10. Aşağıdakilerden hangisi, Osmanlı İmparatorluğu'nda Cihannüma, Fezleke, Keşfu'z-zunün gibi önemli eserleriyle tanınan, XVII. yüzyılın çok yönlü yazarlarından ve düşünürlerinden biridir?
- A) Mütercim Asım
B) Süleyman Çelebi
C) Evliya Çelebi
D) Kâtip Çelebi
11. Bilgi ve öğüt vermek için yazılan manzum eserlere ne ad verilir?
- A) Pastoral
B) Didaktik
C) Epik
D) Lirik

12. İslami döneme ait ilk eserleri ortaya koyan ilk Müslüman Türk devleti aşağıdakilerden hangisidir?

- A) Karahanlılar
- B) Emeviler
- C) Uygurlar
- D) Göktürkler

13. Tabiat güzellikleri, sevgi, aşk, ayrılık vb. konuların işlendiği, özel bir ezgiyle söylenen halk edebiyatı nazım şekli aşağıdakilerden hangisidir?

- A) Koşma
- B) Koşuk
- C) Mâni
- D) Semai

14. Tasavvuf edebiyatında ölümden alınacak dersler ve Tanrı düşüncesinin dile getirildiği şiirlere ne ad verilir?

- A) Gazel
- B) Hikmet
- C) İlahi
- D) Tevhit

15. Aşk, tasavvuf, din, ahlak, tarih, macera, yiğitlik ve mizah temaları içeren divan edebiyatı nazım şekli aşağıdakilerden hangisidir?

- A) Medhiye
- B) Mersiye
- C) Hicviye
- D) Mesnevi

16. Kutadgu Bilig ile ilgili aşağıdaki ifadelerden hangisi yanlıştır?

- A) Süslü ve sanatlı bir dille yazılmıştır.
- B) Bütünü 6645 beyitten oluşmuştur.
- C) Aruzla yazılan ilk eserlerdendir.
- D) Her beyit kendi içinde uyaklıdır.

17. Suya gider al yazması başında İsmi kadın kendi on beş yaşında Dünyayı terk etti pek genç yaşında Dayanmalı Hakk'ın emri böyledir.

Yukarıdaki dördlük aşağıdakilerden hangisine örnektir?

- A) Güzelleme
- B) Taşlama
- C) Koçaklama
- D) Ağıt

18. Aşağıdakilerden hangisi orta oyunu tiplerinden biridir?

- A) Karagöz
- B) Külhanbeyi
- C) Pişekâr
- D) Tuzsuz Deli Bekir

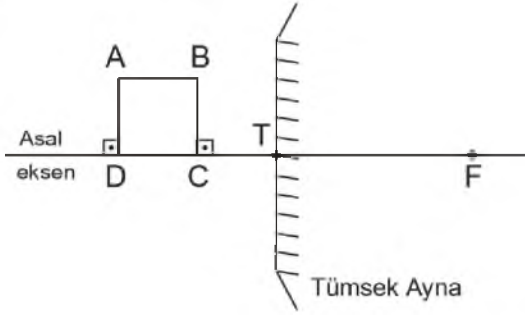
19. İlk dizesi yedi heceden az olan mânilere ne ad verilir?

- A) Kesik mâni
- B) Eksik mâni
- C) Düz mâni
- D) Ayaklı mâni

20. Aşağıdakilerden hangisi seyahatname türünde önemli eserler veren seyyahlar arasında ver almaz?

- A) Aşkî Efendi
- B) Evliya Çelebi
- C) İbn Battuta
- D) Marco Polo

1.



Yukarıdaki tümsek aynanın önüne konulan ABCD cisminin aynadaki görünümü aşağıdakilerden hangisidir?

- A)
- B)
- C)
- D)

2. I. Canlı dokulara zarar verdiği için uzak durmak gerekir.
II. Röntgen ışınları olarak da bilinir.
III. Tıpta tanı ve kanser tedavisinde kullanılır.

X- ışınları ile ilgili yukarıdaki ifadelerden hangileri doğrudur?

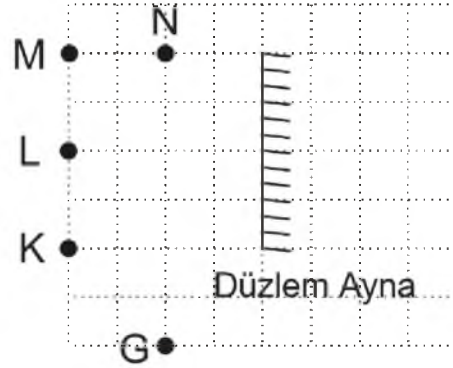
- A) Yalnız I
B) I ve II
C) I ve III
D) I,II ve III
3. Esnek bir yayda oluşturulan periyodik dalgaların 1 ile 4. dalga tepesi arasındaki uzaklığı 12 cm ise periyodik dalgaların dalga boyu kaç cm'dir?
- A) 4
B) 8
C) 12
D) 16

4. I. Yayı geren kuvvet arttıkça yaydaki atmanın hızı da artar.
II. Yayın uzunluğu ve yayı geren kuvvet değiştirilmeden kütlesi artırılınca, atmaların hızı azalır.
III. Uzunlukları aynı olan ve aynı kuvvet etkisinde olan yaylardan daha hafif olanında atmaların hızı daha büyüktür.

Bir yayda yayılan atmaların hızı ile ilgili yukarıdaki ifadelerden hangileri doğrudur?

- A) I ve II
B) I ve III
C) II ve III
D) I,II ve III

5.



Düzlem ayna önündeki G noktasından yukarıdaki şekilde görüldüğü gibi düzlem aynaya bakan gözlemci K, L, M ve N noktalarından hangilerinin görüntüsünü düzlem aynada görür?

- A) Yalnız M
B) M, N
C) L, K
D) Yalnız N
6. Su derinliği her yerde aynı olan bir dalga leğeninde üretilen periyodik dalgaların frekansı 2 Hz, dalga boyları 5 cm olduğuna göre yayılma hızı kaç cm/s' dir?
- A) 20
B) 15
C) 10
D) 5
7. Periyodik bir dalga kaynağı dakikada 60 dalga üretmektedir. Dalgaların yayıldığı ortamdaki hızı 5 cm/s olduğuna göre dalga boyu kaç cm'dir?
- A) 5
B) 10
C) 15
D) 20

8. I. Elektromanyetik dalgalar enerji taşır.
II. Elektromanyetik dalgalar boşlukta yayılabilir.
III. Elektromanyetik dalgalar yüklerin ivmeli hareketi ile oluşur.

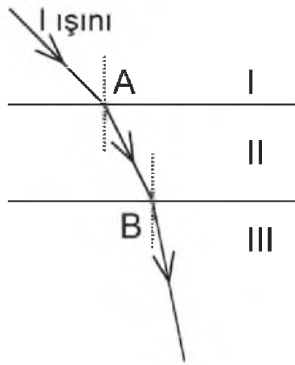
Elektromanyetik dalgalarla ilgili yukarıdaki ifadelerden hangileri doğrudur?

- A) Yalnız I
B) I ve II
C) II ve III
D) I,II ve III
9. Numarası +0,25 dioptri olan gözlük camının odak uzaklığı kaç metre'dir?
- A) 8
B) 4
C) 2
D) 1
10. I. Dalgaların hızı
II. Dalgaların frekansı
III. Yayı geren kuvvet

Birbirlerinin ucuna eklenmiş ince ve kalın yaylardan birinde oluşturulan periyodik dalgalar diğerine geçtiğinde yukarıdakilerden hangileri her iki yay için meydana gelebilecek değişkenlerden biri değildir?

- A) Yalnız I
B) Yalnız III
C) I ve II
D) II ve III

11.



Saydam I, II ve III ortamları ve tek renkli I ışının bu ortamlarda izlediği yol yukarıdaki şekilde gibidir.

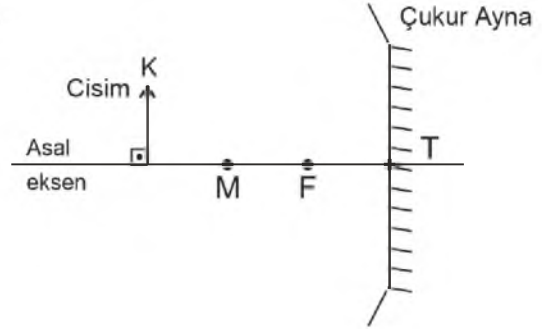
Buna göre I, II ve III ortamlarının kırıcılık indisleri n_1 , n_2 ve n_3 arasındaki büyüklük ilişkisi aşağıdakilerden hangisidir?

- A) $n_1 > n_2 = n_3$
B) $n_1 = n_2 > n_3$
C) $n_1 < n_2 < n_3$
D) $n_2 > n_3 > n_1$

12. Güneş ışığı altında kırmızı – beyaz renkli bir formaya yeşil camın arkasından bakıldığında aşağıdaki hangi renklerde görünür?

- A) Yeşil – siyah
B) Kırmızı – siyah
C) Mavi – siyah
D) Yeşil – mavi

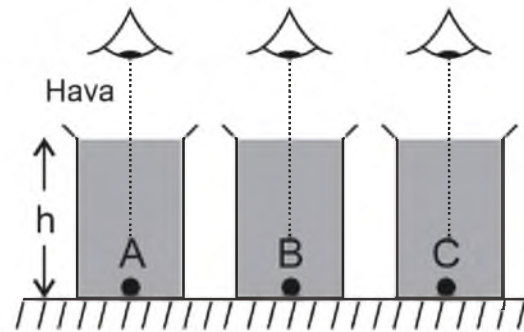
13.



Yukarıdaki şekilde görüldüğü gibi K cismi çukur aynanın merkezinin dışında ise yeni görüntü nerede oluşur ve özelliği nedir?

- A) Merkezde, sanal
B) Ayna ile odak arasında, gerçek
C) Odakla merkez arasında, gerçek
D) Odakta, gerçek

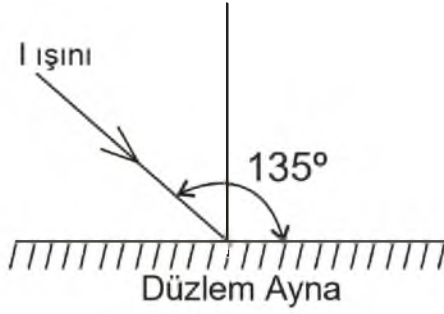
14.



Özdeş kaplarda yukarıdaki şekilde gibi eşit yükseklikte doldurulmuş kırıcılık indisleri sırasıyla $n_A = 3n$, $n_B = 2n$ ve $n_C = n$ olan sıvılar bulunmaktadır. Kapların tabanlarında bulunan özdeş cisimlere sıvıların yüzeyinden eşit uzaklıklardan bakan gözlemcilerin cisimleri gördükleri uzaklıklar h_A , h_B ve h_C arasındaki doğru sıralama aşağıdakilerden hangisidir?

- A) $h_C > h_B > h_A$
B) $h_C = h_B > h_A$
C) $h_C > h_B = h_A$
D) $h_C = h_B = h_A$

15.



Düzlem aynaya yukarıdaki şekildeki gibi gelen I ışınının düzlem aynadan yansıma açısı kaç derecedir?

- A) 60
- B) 45
- C) 30
- D) 20

16. I. Asal eksene paralel gelen ışınlar odak noktasından geçecek şekilde kırılır.
II. Odak noktasından geçerek gelen ışınlar kırılarak asal eksene paralel gider.
III. Optik merkezden geçerek gelen ışınlar kırılmaya uğramazlar.

İnce kenarlı mercekteki özel ışınlar ile ilgili yukarıdaki ifadelerden hangileri doğrudur?

- A) Yalnız III
- B) I ve II
- C) I ve III
- D) I,II ve III

17. Dalga boyu 30 m olan bir radyo dalgasının frekansı kaç MHz (MegaHertz)'dir? ($c = 3 \cdot 10^8$ m/s, $1 \text{ MHz} = 10^6$ Hz)

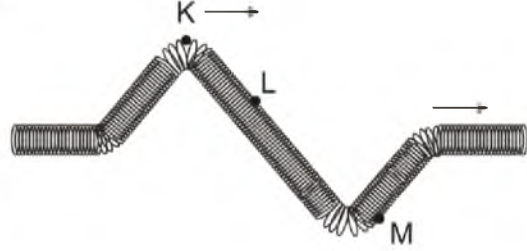
- A) 10
- B) 15
- C) 30
- D) 60

18. I. Yayılma hızı artar.
II. Dalga boyu azalır.
III. Periyodu azalır.

Derinliği sabit olan bir dalga leğeninde üretilen dalgaların frekansı iki katına çıkarıldığında yukarıdakilerden hangileri değişir?

- A) Yalnız III
- B) I ve II
- C) I ve III
- D) II ve III

19.



Yukarıdaki gergin bir yayda oluşturulan ve ok yönünde ilerleyen dalganın K, L ve M noktalarının hareket yönünde oluşturduğu değişimler aşağıdakilerden hangisidir?

- A) K, M ve L yukarı
- B) K ve M aşağı, L yukarı
- C) K ve L aşağı, M yukarı
- D) K, M ve L aşağı

20. I. Bir merceğin odak uzaklığı eğrilik yarıçapına bağlıdır.
II. Kalın kenarlı merceğe iraksak mercek de denir.
III. İnce kenarlı merceğe yakınsak mercek de denir.

Merceklerle ilgili yukarıdaki ifadelerden hangileri doğrudur?

- A) I ve II
- B) I ve III
- C) II ve III
- D) I,II ve III

1. "Gel, ne olursan ol yine gel." diyerek hiçbir ayırım yapmadan bütün insanları İslam'ın barış ve huzur dolu ortamına çağırarak İslam âlimi aşağıdakilerden hangisidir?
- A) Âşık Paşa
B) Yunus Emre
C) Nasreddin Hoca
D) Mevlana
2. Pir-i Türkistan olarak bilinen İslam âlimi aşağıdakilerden hangisidir?
- A) Ahmet Yesevi
B) Hacı Bektaş Veli
C) Yunus Emre
D) Mevlana
3. "Giderdim gönülden kini, kin tutanın yoktur dini. Düşmanımız kindir bizim, biz kimseye kin tutmayız." diyerek insanların barış ve huzur içinde yaşaması gerektiğini vurgulayan büyük mutasavvıf ve halk şairi aşağıdakilerden hangisidir?
- A) Mevlana
B) Karacaoğlan
C) Yunus Emre
D) Dadaloğlu
4. "Sana kötülük edenlere sen iyilik et." diyerek insanlığın temelinde sevgi, başıslama ve iyiliğin olduğunu anlatan İslam âlimi aşağıdakilerden hangisidir?
- A) Mevlana
B) Cabbar Kulu
C) Hacı Bektaş Veli
D) Seyyid Mahmud Hayrani
5. "Sakin ol, kimsenin gönlünü yıkma." diyerek sevenlerine gönül kırmamalarını tavsiye eden İslam âlimi aşağıdakilerden hangisidir?
- A) Mevlana
B) Yunus Emre
C) Hacı Bektaş Veli
D) Ahi Evran
6. Aşağıdakilerden hangisi barışın olumlu sonuçlarından biri değildir?
- A) Kalkınma
B) Adaletsizlik
C) Güven
D) Özgürlük
7. Aşağıdakilerden hangisi İslam tarihinde Müslümanların barışa verdiği önemi gösteren olaylardan biri değildir?
- A) Hudeybiye Antlaşması
B) Mekke'nin Fethi
C) Medine Sözleşmesi
D) II. Haçlı Seferi
8. İslam dinine göre insanlığın atası aşağıdakilerden hangisidir?
- A) Hz. Adem
B) Hz. Muhammed
C) Hz. Yakup
D) Hz. Yusuf
9. Barış ile ilgili aşağıdaki ifadelerden hangisi yanlıştır?
- A) Barış herkes için gerekli bir durumdur.
B) Barışın dini, dili, ırkı, rengi, cinsiyeti, kültür ve medeniyeti vardır.
C) Toplumsal barış, toplumda huzur, güven ve mutluluk sağlar.
D) Bireyler arasındaki barış, toplumsal barışı doğurur.
10. Atatürk'ün toplumun din alanındaki bilgisizliğini gidermek ve sağlıklı bir din eğitiminin verilmesi adına çıkardığı Tevhid-i Tedrisat Kanunu kaç yılında kabul edilmiştir?
- A) 3 Mart 1924
B) 29 Ekim 1923
C) 23 Nisan 1920
D) 19 Mayıs 1919
11. Aşağıdakilerden hangisi Tevhid-i Tedrisat Kanunu'yla gelen yeniliklerden biri değildir?
- A) Medreselerin varlığına son verilmesi
B) İlahiyat fakültelerinin açılması
C) Yüksek ilim konularının öğretiminde tekke ve zaviyelerin desteklenmesi
D) Bütün okulların Maarif Vekâletine bağlanması
12. Cumhuriyet Dönemi'nin ilk Diyanet İşleri Başkanı aşağıdakilerden hangisidir?
- A) Rifat Börekçi
B) Elmalılı Muhammed Hamdi Yazır
C) Mehmet Akif Ersoy
D) Ahmed Naim Efendi
13. Hz. Muhammed nerede doğmuştur?
- A) Lübnan
B) Mısır
C) Mekke
D) Medine

14. Hz. Muhammed peygamberlik görevini kaç sene sürdürmüştür?
- A) 23
B) 25
C) 27
D) 33
15. Caynizm'in kurucusu aşağıdakilerden hangisidir?
- A) Lao Tzu
B) Buda
C) Vardhamana
D) Guru Nanak
16. Budizm'in temel amacı olan; ihtiyarlıktan, ölümden, dünya çilelerinden, arzu ve ihtiraslardan kurtulup yüceliğe ve huzura erme anlamına gelen ilke aşağıdakilerden hangisidir?
- A) Sangha
B) Nirvana
C) Dhamma
D) Tipitaka
17. Aşağıdakilerden hangisi Çin ve Japon dinlerinden biridir?
- A) Budizm
B) Sihizm
C) Caynizm
D) Şintoizm
18. "Din duygusu insanın yaratılışından gelen bir olgudur. İnsanın yaratılışı itibari ile her zaman sığınacağı, dua edip yalvaracağı yüce varlığa inanma ihtiyacı hissetmiştir." diyerek dinin insan için gerekli ve zorunlu bir ihtiyaç olduğunu ifade eden düşünür aşağıdakilerden hangisidir?
- A) Karl Marx
B) Max Müller
C) Emile Durkheim
D) Albert Einstein
19. Son Peygamber aşağıdakilerden hangisidir?
- A) Hz. Davud
B) İmam Mehdi
C) Hz. İsa
D) Hz. Muhammed
20. Hinduizmde sebep-sonuç kanunu olan kişinin kaderini belirleyen iş ve amellere ne ad verilir?
- A) Reenkarnasyon
B) Yoga
C) Tenasüh
D) Karma

1. $f(4, +\infty) \rightarrow \mathbb{R}$, $f(x) = \log_5(x-4)$ fonksiyonu veriliyor.

Buna göre, $f^{-1}(x)$ aşağıdakilerden hangisidir?

- A) $4x-3$
B) $\log_5(x+4)$
C) $\log_4(x-5)$
D) $5x+4$

- 2.

$$f: \mathbb{R} \rightarrow \mathbb{R} \quad f(x) = \begin{cases} 2x^2 + 1, & x < 4 \text{ ise} \\ 2, & x = 4 \text{ ise} \\ x^2 - 3, & x > 4 \text{ ise} \end{cases}$$

fonksiyonu veriliyor.

Buna göre, $f(2)+f(4)+f(6)$ aşağıdakilerden hangisidir?

- A) 33
B) 44
C) 52
D) 60

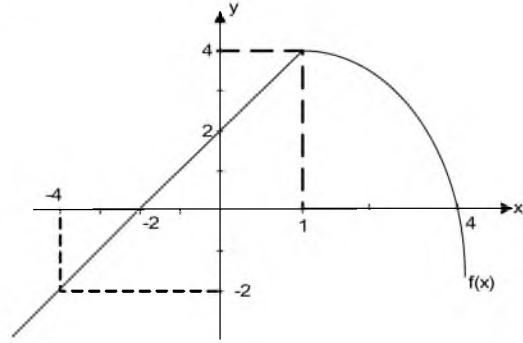
3. $\text{sgn}(x^2+3x-4)=-1$ denklemini sağlayan kaç tane tamsayı vardır?

- A) 1
B) 2
C) 3
D) 4

4. $f(x) = |3x+5| - |5-3x| + 6$ fonksiyonu veriliyor. Buna göre, $\lim_{x \rightarrow -1} f(x)$ değeri kaçtır?

- A) 0
B) 6
C) 11
D) 12

- 5.



Yukarıda $f(x)$ fonksiyonunun grafiği verilmiştir. Buna göre, $f(-4)+f(0)+f(4)$ toplamı kaçtır?

- A) -2
B) 0
C) 1
D) 4

6. $f(x) = \frac{-x+4}{x+1}$ ve $g(x) = \frac{5x+3}{3x-1}$ fonksiyonları veriliyor.

Buna göre, $f \circ g(-2)$ kaçtır?

- A) -4
B) -1
C) 2
D) 3/2

7. $f(x) = \frac{\tan x + \cos 4x}{\sin x}$ fonksiyonu veriliyor.

Buna göre $\lim_{x \rightarrow \frac{\pi}{4}} f(x)$ değeri kaçtır?

- A) 0
B) $\sqrt{2}$
C) $2\sqrt{2}$
D) 4

8. $f(x)=(4-a).x^2+(8+4b).x+5$ fonksiyonu sabit bir fonksiyon olduğuna göre $a-b$ kaçtır?

- A) -6
B) -2
C) 2
D) 6

9. $f(x)=2x-3$ ve $g(x)=3x+1$ fonksiyonları veriliyor. Buna göre $\text{gof}(x)$ aşağıdakilerden hangisidir?

- A) $5x-2$
B) $6x-1$
C) $6x-8$
D) $6x^2-3$

10. $\lfloor 2x - 5 \rfloor = 7$

denklemini sağlayan x değerleri aşağıdakilerden hangisidir?

- A) $x > 12$
B) $10 \leq x < 14$
C) $6 \leq x < \frac{13}{2}$
D) $x \leq 6$

11. $f(x) = \begin{cases} \frac{x^2-1}{x-1}, & x > 1 \\ 2x, & x = 1 \\ \frac{x-5}{x-3}, & x < 1 \end{cases}$ fonksiyonu veriliyor.

Buna göre, f fonksiyonunun sürekli olduğu küme aşağıdakilerden hangisidir?

- A) $\mathbb{R} - \{3\}$
B) $\mathbb{R} - \{1\}$
C) \mathbb{R}
D) $(1,3)$

12. $f(x-1)=x^2-2x$ fonksiyonu veriliyor. Buna göre, $f(x)$ aşağıdakilerden hangisidir?

- A) x^2-1
B) x^2+3
C) x^2-4x+3
D) x^2+4x+3

13. $f(2x+3) = \frac{x^2-1}{2x-4}$ fonksiyonu veriliyor. Buna göre $f(5)$ 'in değeri kaçtır?

- A) 0
B) 1
C) 3
D) 4

14. $f(x) = \begin{cases} \sqrt{3x}, & x < 2 \\ 5x+1, & x = 2 \\ 4x-7, & x > 2 \end{cases}$

fonksiyonu veriliyor. Buna göre $\lim_{x \rightarrow 3} f(x)$ değeri kaçtır?

- A) 3
B) 5
C) 7
D) 16

15. $f(x) = \frac{3x-5}{x+k}$ fonksiyonu veriliyor. Buna göre, $f(x)=f^{-1}(x)$ olması için k aşağıdakilerden hangisi olmalıdır?

- A) -3
B) -2
C) 2
D) 3

16. $f(x) = \frac{5x-7}{x^2-2x-1}$ fonksiyonu veriliyor. Buna göre, $\lim_{x \rightarrow 3} f(x)$ değeri kaçtır?

- A) 2
- B) 4
- C) 5
- D) 8

17. $f(x) = \frac{6x^2 - 4x + 2}{7x^3 + 5}$ fonksiyonu veriliyor.

Buna göre, $\lim_{x \rightarrow -\infty} f(x)$ değeri kaçtır?

- A) $-\infty$
- B) -1
- C) 0
- D) 6/7

18. $f(x) = -2x^3 - 3x^2 + 5$ fonksiyonu veriliyor. Buna göre $\lim_{x \rightarrow -1} f(x)$ değeri aşağıdakilerden hangisidir?

- A) 0
- B) 4
- C) 6
- D) 10

19. $f(x) = \begin{cases} 3x^2 - x - 10, & x < -2 \text{ ise} \\ k, & x = -2 \text{ ise} \\ -mx + 2, & x > -2 \text{ ise} \end{cases}$

$f(x)$ fonksiyonu \mathbb{R} 'de sürekli olduğuna göre $k+m$ kaçtır?

- A) -4
- B) 5
- C) 8
- D) 12

20. $f: \mathbb{R} \rightarrow \mathbb{R}, f(x) = \sqrt{\frac{x^2 + 3x - 18}{(x-1)^2}}$

fonksiyonunun en geniş tanım kümesi aşağıdakilerden hangisidir?

- A) $(-\infty, -3] \cup [6, +\infty)$
- B) $[-6, 3]$
- C) $(-\infty, -6] \cup [3, +\infty)$
- D) $[-3, 6]$

1. Aşağıdakilerden hangisi “olumlu – olumsuz” kavram çiftine bir örnektir?

- A) Saygılı – Saygısız
- B) Tembel – Çirkin
- C) İyi – Kötü
- D) Nazlı – Bencil

2. “Aynı niteliğin, aynı zamanda, aynı özneye, aynı bakımdan hem ait olması, hem de olmaması imkânsızdır.”

Aristoteles’in yukarıdaki sözü mantık ilkelerinden hangisini ifade eder?

- A) Özdeşlik
- B) Çelişmezlik
- C) Üçüncü halin olanaksızlığı
- D) Belirsizlik

3. Önerme ile ilgili aşağıdaki ifadelerden hangisi yanlıştır?

- A) Tikel olumsuz bir önermenin düz döndürmesi yoktur.
- B) Tikel olumlu bir önermenin ters döndürmesi yoktur.
- C) “Her hakem adildir.” önermesinin ters döndürmesi “Her adil olmayan hakemdir.” önermesidir.
- D) “Bazı bitkiler kokusuzdur.” önermesinin düz döndürmesi “Bazı kokusuzlar bitkidir.” önermesidir.

4. Aşağıdakilerden hangisi mantık ilkelerinden biri değildir?

- A) Çelişmezlik
- B) Gözlem
- C) Yeter – Neden
- D) Üçüncü halin olanaksızlığı

5. “Hiçbir çocuk çirkin değildir.” önermesinin altık önermesi aşağıdakilerden hangisidir?

- A) Hiçbir çocuk olmayan çirkin değildir.
- B) Bazı çirkin olmayanlar çocuktur.
- C) Tüm çocuklar çirkindir.
- D) Bazı çocuklar güzel değildir.

6. Bir öncülü ya da sonucu eksik bırakılmış kıyaslara ne ad verilir?

- A) Entimem
- B) Hulfi Kıyas
- C) Sorit
- D) Zincirleme Kıyas

7. Aşağıdakilerden hangisi önemli İslam mantıkçılarından biri değildir?

- A) Nefi
- B) Razi
- C) Farabi
- D) İbn-i Sina

8. “Bazı insanlar cimridir.” önermesinin düz döndürmesi aşağıdakilerden hangisidir?

- A) Tüm insanlar cimridir.
- B) Bazı cimriler insan değildir.
- C) Bazı cimriler insandır.
- D) Tüm cimriler insandır.

9. Mantık ile ilgili aşağıdaki ifadelerden hangisi yanlıştır?

- A) Mantık, tüm bilimlerin temelinde yer alır.
- B) Mantık, doğru düşünmenin kurallarını inceleyen bir disiplindir.
- C) Mantığın batı dillerindeki karşılığı “logic”tir.
- D) Mantık doğrusu, doğruluğu gözlem ve deneyle kanıtlanabilen yargılardır.

10. Genelden özele yapılan akıl yürütme biçimine ne ad verilir?

- A) Benzeşim
- B) Totoloji
- C) Tümevarım
- D) Tümdengelim

11. Aşağıdaki kavram çiftlerinden hangisi çelişik kavramlara bir örnektir?

- A) Sakin - Sinirli
- B) İyi - İyi olmayan
- C) Çalışkan - Tembel
- D) Ters - Düz

12. Aşağıdakilerden hangisi bir önerme değildir?

- A) Çocuklar yaramazdır.
- B) İnsanlar kardeştir.
- C) Elmanın rengi yeşildir.
- D) Başarılı olmak istiyorsan ders çalış.

13. Aşağıdakilerden hangisi Aristoteles’in mantık üzerine yazdığı altı kitaptan biri değildir?

- A) Sofistik Kanıtlar
- B) Topikler
- C) Semboller
- D) Birinci Analitikler

14. Aşağıdaki kıyaslardan hangisi "ikilem"e bir örnektir?

- A) Dans etmek faydalıdır, çünkü ter atarsın.
- B) Ya bu deveyi güdeceksin ya da bu diyardan gideceksin; bu deveyi gütmeyeceksin; o halde bu diyardan gideceksin.
- C) Eğer sen bir öğretmensen, ne korkak ne de sertsindir; ama sen hem korkaksın hem de sert; o halde sen iyi bir öğretmen değilsin.
- D) Evren ya sonludur ya da sonsuzdur; evren sonlu değildir; o halde evren sonsuzdur.

15. Aşağıdakilerden hangisi "Beş Tümel"den biri değildir?

- A) Tür
- B) İlinti
- C) Kıyas
- D) Özgülük

16. Aşağıdakilerden hangisi geçerli akıl yürütmeyi ifade eder?

- A) Akıl yürütmenin sonucunun, verilen öncüllerden zorunlu olarak çıkmasıdır.
- B) Akıl yürütmenin sonucu ile verilen öncüllerin gelişmesidir.
- C) Akıl yürütmenin sonucu ile verilen öncüllerin değişimlerinin bir arada tutarlı olmalarıdır.
- D) Hem öncüllerin hem de sonucun doğru önermeler olmalarıdır.

17. Aşağıdaki kavram çiftlerinden hangisinde sırasıyla kolektif ile distribütif kavram verilmiştir?

- A) Ayşe – Bazı Kadınlar
- B) Ordu – Asker
- C) Balık – Kuş
- D) Kedi – Bazı Kediler

18. Aşağıdakilerden hangisinde sırasıyla "çirkin" ve "çirkinlik" kavramlarının çeşitleri verilmiştir?

- A) Olumlu kavram – Olumsuz kavram
- B) Kolektif kavram – Distribütif kavram
- C) Açık kavram – Genel kavram
- D) Somut kavram – Soyut kavram

19. "Bazı ağaçlar yeşil değildir." önermesinin ters döndürmesi aşağıdakilerden hangisidir?

- A) Bazı yeşiller ağaçtır.
- B) Bazı yeşil olmayanlar ağaç değildir.
- C) Her yeşil olmayan ağaçtır.
- D) Bazı ağaçlar yeşildir.

20. Aşağıdakilerden hangisi zorunlu (apodiktik) bir önermedir?

- A) Karenin bütün kenarları birbirine eşittir.
- B) Kuşlar memeli hayvanlardır.
- C) Bazı insanlar bencildir.
- D) Bazı çocuklar yaramazdır.

1. Bir yazı ya da konuşmanın amacını belirleyen cümleye ne ad verilir?

- A) Ana düşünce
- B) Tür
- C) Başlık
- D) Kaynak

2. Aşağıdaki cümlelerin hangisinde birinci kişi anlatımı vardır?

- A) Ahmet, yeni aldığı kitabı okuyor.
- B) Minik kediyi evine aldı.
- C) Bir saat sonra yola çıkacağım.
- D) Annem, yarın ameliyat olacak.

3. Aşağıdaki cümlelerin hangisinde anlatım bozukluğu vardır?

- A) Sağlığımız için doğru beslenmeliyiz.
- B) Patatesle kola yemeyi çok seviyorum.
- C) Annemi üzmemek için uğraşıyorum.
- D) Okula gitmek için sabırsızlanıyor.

4. "Ya konuştuğun gibi ol, ya olduğun gibi konuş." sözü bir kişi için aşağıdaki hangi kavramın ölçüsü olmalıdır?

- A) Özgünlük
- B) Bağdaşıklık
- C) Tutarlılık
- D) Akıcılık

5. Aşağıdaki cümlelerin hangisinde gereksiz sözcük vardır?

- A) Oğlunuzun durumu yarın kurulda görüşülecek.
- B) Kısmen de olsa kendimi bu olayda tümüyle sorumlu hissediyorum.
- C) Yarın sinemaya gidelim.
- D) Bir gece ansızın gelebilirim.

6. Aşağıdakilerden hangisi panel başkanının görevlerinden biridir?

- A) Her bir konuşmacı grubunu eleştirmek
- B) Konuşmacıların konularını seçmelerine yardımcı olmak
- C) Dinleyicilerin görüş belirtmelerine izin vermek
- D) Panelin süresini dilediği gibi uzatmak ya da kısaltmak

7. Aşağıdaki cümlelerin hangisinde soyut anlatım vardır?

- A) Sevilirdim, üstüme titrenirdi.
- B) Evimizin bahçesini bahçıvan suladı.
- C) Yaz tatilinde küçük bir otele gitmek istiyorum.
- D) Kuş sesleriyle uyanacağımızı tahmin etmemiştim.

8. Aşağıdakilerden hangisi tartışma yönteminin aşamalarından biri değildir?

- A) Araç ve tekniklerin belirlenmesi
- B) Değerlendirme
- C) Tartışmanın yapılacağı fiziksel ortamın düzenlenmesi
- D) Ölçme

9. Aşağıdakilerin hangisinde sözcüğün **vanlıs** yerde kullanılmasından kaynaklanan anlatım bozukluğu vardır?

- A) "Bu işin üstesinden gelemem." diyor.
- B) Bugün çok başım ağrıyor.
- C) Sabahları erkenden yollara düşüyorlar.
- D) Çiçekler ne güzel kokuyorlar.

10. Güncel olan herhangi bir konu hakkında, herhangi bir grup ya da topluluğa bilgi vermek amacıyla yapılan etkinliklerin tümüne birden ne ad verilir?

- A) Önerge
- B) Sunum
- C) Sohbet
- D) Münazara

11. Aşağıdaki cümlelerin hangisinde anlatım **vanlıslığı** vardır?

- A) Yer yer üç metreyi bulan kar yağışına rağmen maç iptal edilmedi.
- B) Eğri oturup, doğru konuşalım.
- C) Bahçedeki zararlı otlar yolunarak bir yere yığılmalıdır.
- D) Bu karar, 140'a karşı 380 oyla alınmıştır.

12. Bir yazının temel özellikleri ve anlatmak istediklerinin bozulmadan, kısaltılarak yeniden yazılmasına ne ad verilir?

- A) Özet çıkarma
- B) Yazı yazma
- C) Not alma
- D) Kompozisyon yazma

13. Karşımızdakinin düşünce, duygu ve kanılarını yenileyerek değiştirmeyi amaçlayan konuşma biçimine ne ad verilir?

- A) Tartışma
- B) Sohbet
- C) Demeç
- D) Konferans

14. Aşağıdakilerden hangisi bir sunumda görsel malzemenin kullanım amaçlarından biri **değildir**?

- A) Fikirleri sağlamlaştırmak
- B) Sunuma tat ve espri katmak
- C) Kavramları anlatırken zaman kazanmak
- D) Dinleyicilerin dikkatini dağıtmak

15. Sunum ile ilgili aşağıdaki ifadelerden hangisi **doğrudur**?

- A) Sunumdan önce hiçbir prova yapılmasına gerek yoktur.
- B) Yanardöner grafikler, sunum sırasında konuşmaya yardımcı olan önemli etkenler arasında yer alır.
- C) Sunum sonrasında konuşmacı, kendisine yöneltilen sorularla başka bir tartışmayı alevlendirebilir.
- D) Önceden hazırlanmış ve planlanmış bir konunun, etkili ve anlaşılır bir biçimde dinleyicilere aktarılmasıdır.

16. Aşağıdakilerden hangisi tartışma yönteminin aşamalarından biri **değildir**?

- A) Değerlendirme
- B) Ölçme
- C) Araç ve tekniklerin belirlenmesi
- D) Tartışmayı yönlendirecek soruların belirlenmesi

17. Tartışma yönteminin bir aşaması olan "tartışma probleminin seçimi" ile ilgili aşağıdaki ifadelerden hangisi yanlıştır?

- A) Problem cümlesinin açık olması, konuyu tam olarak belirtmesi ve sınırlayabilmesi gerekir.
- B) Konu katılımcılar için ilgi çekici olmalıdır.
- C) Problem cümlesi sadece soru olarak ifade edilebilir.
- D) Problem seçilirken, katılımcıların ilgi ve tutumları ile konuyla ilgili ön bilgileri göz önünde bulundurmamak gerekir.

18. Not almak ile ilgili aşağıdaki ifadelerden hangisi yanlıştır?

- A) Paragraflardaki düşünceler mutlaka kişinin kendi sözcükleriyle yeniden anlatılmalıdır.
- B) Parçadaki anahtar sözcükler çok iyi seçilmelidir.
- C) Anlamı bilinmeyen sözcükler için sözlüğe başvurulmalıdır.
- D) Paragraflardaki düşünceler gelişimi güzel sıralanmalıdır.

19. Aşağıdakilerden hangisi tartışma başkanının görevlerinden biri değildir?

- A) Konuyu özellikleri ve sınırları ile dinleyicilere belirtmek
- B) Tartışmanın sonucunu açıklamak
- C) Konuşmacılara yerine göre soru yöneltmek
- D) Taraf tutmak

20. Gelişme paragrafı ile ilgili aşağıdaki ifadelerden hangisi doğrudur?

- A) Cümlelerin uzun olmasına özen gösterilir.
- B) Konunun örnek, alıntı ve karşılaştırma gibi yöntemlerle geliştirildiği bölümdür.
- C) Uzun yazı türlerinden yararlanır.
- D) Konu soyutlaştırılır.

1. 1 pikometre (pm) kaç metre (m)'dir?

- A) 1×10^{-12}
 B) 1×10^{-10}
 C) 1×10^{-8}
 D) 1×10^{-6}

2. 3 mol H_2SO_4 bileşiği kaç tane molekül içerir? (N= $6,02 \times 10^{23}$)

- A) $3,01 \times 10^{23}$
 B) $6,02 \times 10^{23}$
 C) $1,20 \times 10^{24}$
 D) $1,81 \times 10^{24}$

3. $xCH_4(g) + yO_2(g) \longrightarrow zCO_2(g) + tH_2O(g)$

Yukarıdaki yanma tepkimesine göre x, y, z ve t ne olmalıdır?

- A) x=2; y=2; z=2; t=2
 B) x=1; y=2; z=2; t=2
 C) x=1; y=2; z=1; t=2
 D) x=1; y=2; z=1; t=1

4. Kükürt trioksit bileşiğinin formülü aşağıdakilerden hangisidir?

- A) SO_3
 B) SF_6
 C) SO_2
 D) SF_2

5. Aşağıdakilerden hangisi 1A Grubu elementinin süperoksit bileşiğidir?

- A) CaO
 B) NO_2
 C) CO_2
 D) KO_2

6. Metan (CH_4) bileşiğindeki karbon (C) atomu hangi yükseltgenme basamağında yer alır?

- A) -4
 B) -2
 C) 2
 D) 4

7. Aşağıdaki terimlerden hangisi bir bağı oluşturan atomların bağ elektronlarını çekme eğilimlerinin bağlı büyüklüğünü gösterir?

- A) Elektron ilgisi
 B) Elektronegatiflik
 C) Kütle numarası
 D) İyonlaşma enerjisi

8. Hareket hızı 73 m/s olan elektrona eşlik eden dalganın dalga boyunu m cinsinden hesaplayınız?

($m_e = 9,1 \times 10^{-31}$ kg; $h = 6,63 \times 10^{-34}$ j.s)

- A) $1,18 \times 10^{-7}$
 B) $3,25 \times 10^{-7}$
 C) $4,46 \times 10^{-7}$
 D) $9,98 \times 10^{-6}$

9. C_2H_5OH molekülünün basit formülü aşağıdakilerden hangisidir?

- A) C_2H_6O
 B) C_3H_6O
 C) $C_2H_6O_2$
 D) $C_3H_6O_2$

10. 90 MHz frekansta yayılan sinyalin dalga boyu kaç m'dir? ($c = 3,0 \times 10^8$ m/s)

- A) 1,2
 B) 2,1
 C) 3,3
 D) 4,5

11. $2NO(g) + O_2(g) \longrightarrow 2NO_2(g)$

2 mol NO gazından kaç gram NO_2 gazı oluşur? (N=14 g/mol; O=16 g/mol)

- A) 23
 B) 32
 C) 46
 D) 92

12. ${}_3Li$:[He]2s¹

${}_{11}Na$:[Ne]3s¹

${}_{19}K$:[Ar]4s¹

Yukarıdaki elektron dizilimlerine göre ${}_3Li$, ${}_{11}Na$, ${}_{19}K$ elementlerinin atom yarıçapları ile ilgili olarak aşağıdakilerden hangisi doğrudur?

- A) $Na < Li < K$
 B) $Li < Na < K$
 C) $Na = Li < K$
 D) $K < Na < Li$

Orbital	n	l
?	4	0

13. Yukarıdaki tablodaki verilere göre "?" yerine aşağıdakilerden hangisi getirilmelidir?

- A) 4p
- B) 4f
- C) 4s
- D) 4d

14. ${}^7\text{N}$ atomunun elektron dizilimi aşağıdakilerden hangisidir?

- A) $1s^1 2s^1 2p^5$
- B) $1s^2 2s^2 2p^4$
- C) $1s^2 2s^2 2p^4$
- D) $1s^2 2s^2 2p^3$

15. 24,44 L'lik kapta bulunan 20 atm'lik basınç uygulayan gazın, 298 K'deki mol sayısı kaçtır? (R: 0,082 Latm/Kmol)

- A) 3,45
- B) 5,89
- C) 20,00
- D) 26,85

16. Katot ışınlarına elektriksel ve manyetik alan uygulayarak elektronların kütesinin yüküne oranını (m/e) hesaplayan bilim adamı kimdir?

- A) Julius Plücker
- B) Joseph John Thomson
- C) Antoine Lavoisier
- D) George Johnstone Stoney

17. "Normal koşulları" tanımlayan sıcaklık ve basınç aşağıdakilerden hangisidir?

- A) 0 °C, 1 atm
- B) 25 °C, 1 atm
- C) 30 °C, 1 atm
- D) 25 °C, 2 atm

18. 9 cm uzunluğundaki cam borunun bir ucundan SO_2 gazı damlatılmış pamuk, diğer ucundan da aynı anda CH_4 gazı damlatılmış pamuk kapatılırsa bu iki gazın cam boruda bulunduğu nokta aşağıdakilerden hangisidir?

($\text{SO}_2=64$ g/mol, $\text{CH}_4=16$ g/mol)

- A) CH_4 konulan tarafta 9. cm'de
- B) CH_4 konulan tarafta 6. cm'de
- C) CH_4 konulan tarafta 2. cm'de
- D) SO_2 konulan tarafta 2. cm'de

19. Gazların hiçbir basınç altında sıvılaştırılmadığı minimum sıcaklık değerine ne ad verilir?

- A) Kaynama sıcaklığı
- B) Normal sıcaklık
- C) Kritik sıcaklık
- D) Oda sıcaklığı

20. Bağıl nemin %40 olduğu bölgede 25 °C sıcaklıkta havada bulunan su buharının kısmi basıncı 9,504 mmHg ise aynı sıcaklıkta suyun buhar basıncı kaç mmHg'dir?

- A) 45,26
- B) 23,76
- C) 30,45
- D) 15,48

1. Bakanlar Kurulu tüzük hazırlarken aşağıdakilerden hangisinin görüşünü almak zorundadır?
 - A) Cumhurbaşkanı
 - B) Sayıştay
 - C) Danıştay
 - D) Anayasa Mahkemesi
2. Herhangi bir konuda mağdur olan kişilerin bunu yetkili makamlara yazılı olarak bildirerek; mağduriyetlerinin ortadan kaldırılmasını isteme hakkına ne ad verilir?
 - A) Dilekçe hakkı
 - B) Vatandaşlık hakkı
 - C) Yaşama hakkı
 - D) Sağlık hakkı
3. Aşağıdakilerden hangisi III. Kuşak haklardan biri değildir?
 - A) Mülkiyet
 - B) Barış
 - C) Gelişme
 - D) Çevre
4. Aşağıdakilerden hangisi Cumhuriyet dönemi anayasalarından biri değildir?
 - A) 1876 Anayasası
 - B) 1924 Anayasası
 - C) 1961 Anayasası
 - D) 1982 Anayasası
5. Toplum ve devlet faaliyetlerini ilgilendiren belli bir konunun TBMM Genel Kurulu'nda görüşülmesine ne ad verilir?
 - A) Meclis araştırması
 - B) Soru
 - C) Gensoru
 - D) Genel görüşme
6. Kuvvetler ayrılığı ilkesi ilk kez aşağıdaki anayasalardan hangisi ile kabul edilmiştir?
 - A) 1921
 - B) 1924
 - C) 1961
 - D) 1982
7. Aşağıdakilerden hangisi hukukun üstünlüğü kuralının özelliklerinden biri değildir?
 - A) Devlet erklerinin tek elden yürütülmesi
 - B) Temel hak ve özgürlüklerin anayasal güvenceye kavuşturulması
 - C) Yargının hür ve bağımsız olması
 - D) Yasaların anayasa ve insan haklarına uygun olması
8. Aşağıdakilerden hangisi demokratikleşmeyi henüz tamamlamamış toplumlarda insan haklarının gerçekleştirilmesi konusunda yaşanan sorunların nedenlerinden biri değildir?
 - A) Kamu düzeni ve temel haklar arasındaki dengenin kurulamaması
 - B) Gelenek ve törelerin unutulması
 - C) Eğitimsizlik
 - D) Yöneticilerin kendi güçlerini arttırmak istemeleri
9. Ulus devlet ve devlete dayalı hukuk fikrinin mimarı aşağıdakilerden hangisidir?
 - A) Hobbes
 - B) Locke
 - C) Machiavelli
 - D) Montesquieu
10. Gülhane Hattı Hümayunu ile ilgili aşağıdaki ifadelerden hangisi yanlıştır?
 - A) Vergi, askerlik ve yargı alanlarında yeni düzenlemeler getirilmesine karar verilmiştir.
 - B) Osmanlı topraklarında yaşayan Müslüman ve gayrimüslimlere eşit haklar tanınmıştır.
 - C) Yasama yetkisi, Ayan Meclisi ve Mebusan Meclisi'ne bırakılmıştır.
 - D) Herkese can, mal, ırz ve namus güvenliği sağlanması öngörülmüştür.
11. ILO (International Labour Organization) aşağıdaki barış antlaşmalarından hangisiyle kurulmuştur?
 - A) Saint Germain
 - B) Versailles
 - C) Trianon
 - D) Münih

12. Aşağıdakilerden hangisi ulusal düzeyde faaliyet gösteren sivil toplum örgütlerinden biri değildir?

- A) Türk Demokrasi Vakfı
- B) Türkiye İnsan Hakları Vakfı
- C) Mazlumder
- D) Uluslararası PEN Kulübü

13. Aşağıdakilerden hangisi uluslararası sivil toplum örgütlerinin faaliyet alanlarından biri değildir?

- A) Salgın hastalıkların ortadan kaldırılması
- B) Gelir adaletsizliğinin ortadan kaldırılması
- C) Seçim sonuçlarının değerlendirilmesi
- D) Soykırımın mücadelesi

14. Birleşmiş Milletler Örgütü kaç yılında kurulmuştur?

- A) 1945
- B) 1947
- C) 1949
- D) 1951

15. Sözleşme içi denetim ile ilgili aşağıdaki ifadelerden hangisi yanlıştır?

- A) Sözleşmeyle oluşturulmuş denetim organının yetkisinin de kabul edilmiş olması gerekir.
- B) Denetlenmesi gereken devlet taraf devlet statüsündedir.
- C) En güçlü ve rahat uygulanabilen koruma mekanizmasıdır.
- D) Denetlenecek devletin, sözleşmeyi hazırlayan uluslararası organizasyona üye olması yeterlidir.

16. Çağdaşlaşmayı devam ettirmek için bütün Atatürk ilkelerinin yaşama geçirilmesi aşağıdaki ilkelerden hangisi ile gerçekleşir?

- A) Devletçilik
- B) İnkılapçılık
- C) Halkçılık
- D) Laiklik

17. Çoğunlukla aynı topraklar üzerinde yaşayan, aralarında dil, tarih, duygu, ülkü, gelenek ve görenek birliği olan insan topluluğuna ne ad verilir?

- A) Devlet
- B) Örgüt
- C) Millet
- D) Vatan

18. Aşağıdakilerden hangisi Atatürk inkılaplarının başlangıcını ve temelini oluşturan gelişmelerden biri değildir?

- A) Hilafetin kaldırılması
- B) Cumhuriyet yönetiminin benimsenmesi
- C) TBMM'nin kurulması
- D) NATO'ya üye olunması

19. Türkiye Cumhuriyeti Devleti'nin kurulduğu dönemde özel teşebbüsün ülke için gerekli olan atılımları başaramamış olması nedeniyle Atatürk, aşağıdaki ilkelerden hangisini uygulamaya koymuştur?

- A) Milliyetçilik
- B) Devletçilik
- C) Cumhuriyetçilik
- D) Halkçılık

20. Hilafetin kaldırıldığı tarih aşağıdakilerden hangisidir?

- A) 19 Mayıs 1919
- B) 23 Nisan 1920
- C) 29 Ekim 1923
- D) 3 Mart 1924

1. Söylevcinin amacı aşağıdakilerden hangisidir?

- A) Dinleyenleri heyecanlandırarak bir fikri aşılama
- B) Bilgi vermek
- C) Bir sorunu değişik boyutları ile incelemek
- D) Ünlü birini tanıtmak

2. Aşağıdaki cümlelerde altı çizili sözcüklerin hangisinde ünlü daralması vardır?

- A) Akşam arkadaşlarla yemeğe gideceğiz.
- B) Sınav sorularının tamamını cevaplamış.
- C) Annem bu akşam geliyor.
- D) Daha önce böyle bir olayla karsılaşmamıştım.

3. Röportajın sağlam bir düşünce ve teze dayanması yönüyle benzerlik gösterdiği tür aşağıdakilerden hangisidir?

- A) Makale
- B) Fıkra
- C) Nutuk
- D) Deneme

4. Aşağıdaki cümlelerin hangisinde "-ki"nin yazımı doğrudur?

- A) Öyle çok güldümki gözlerimden yaş geldi.
- B) O hiç gülmediki!
- C) Masada ki kitapları düzenledim.
- D) Bana öylesine yakındı ki kardeşimden ayıramazdım.

5. Cumhuriyet döneminin en büyük konuşmacısı aşağıdakilerden hangisidir?

- A) Bekir Sıtkı
- B) Halide Edip
- C) Mustafa Kemal Atatürk
- D) Peyami Safa

6. Belli bir üne kavuşmuş kişilerin özelliklerini işleyen röportaj türü aşağıdakilerden hangisidir?

- A) Toplum konu alan röportajlar
- B) Eşyayı konu alan röportajlar
- C) Bir yeri konu alan röportajlar
- D) İnsanı konu alan röportajlar

7. Orduların moral gücünü yükseltmek ve güven duygusunu arttırmak için oluşturulan söylev türü aşağıdakilerden hangisidir?

- A) Askeri söylev
- B) Dini söylev
- C) Siyasi söylev
- D) İktisadi söylev

8. Aşağıdaki alı çizili sözcüklerin hangisinde yazım yanlışı vardır?

- A) Küçük çocuk, kuşu kafesten kacdıından beri ağlıyor.
- B) Ailesinin yanına, Zonguldak'a gitti.
- C) Çicekciden mavi orkide aldım.
- D) Kitaptan başka dostu yoktu.

9. Bilimsel toplantılarda ilim ve fen insanların yaptıkları söylev türüne ne ad verilir?

- A) Hukuksal söylev
- B) İktisadi söylev
- C) Akademik söylev
- D) Siyasi söylev

10. Aşağıdaki sözcüklerin hangisinde ses düşmesi vardır?

- A) fikir
- B) minicik
- C) kapıcı
- D) karın

11. Aşağıdaki cümlelerin hangisinde "-de"nin yazımı doğrudur?

- A) Sen sınavı kazanacaksın da ben göreceğim.
- B) Aradıklarını bu kitap da bulabilirsin.
- C) Bu kıyafetleri ben de çok beğendim.
- D) Kardeşimde bizimle gelecek.

12. Aşağıdaki kelimelerden hangisinin eş seslisi yoktur?

- A) gece
- B) gül
- C) bağ
- D) yaz

13. Aşağıdakilerden hangisi sözlü anlatım türlerinden biridir?

- A) Deneme
- B) Eleştiri
- C) Makale
- D) Hitabet

14. "Onuncu Yıl Nutku" aşağıdaki türlerden hangisine örnektir?

- A) Mektuba
- B) Hitabete
- C) Denemeye
- D) Mülakata

15. Aşağıdaki cümlelerin hangisinde ünlemin kullanımı doğrudur?

- A) Ordular! İlk hedefiniz Akdeniz'dir, ileri!
- B) At ölür, meydan kalır! Yiğit ölür, şanı kalır!
- C) Sevgili Kardeşim!
- D) Bugün gelenler şunlar! Masa, sandalye, halı!

16. Sorular herkesin anlayabileceği gibi açık ve net olmalı, alınan cevap aynen aktarılmalı ve ayrıntıya girilmemelidir.

Yukarıda sözü edilen tür aşağıdakilerden hangisidir?

- A) Söylev
- B) Mülakat
- C) Fıkra
- D) Deneme

17. Yazılışları aynı, anlamları farklı olan kelimelere eş anlamlı kelimeler denir.

Yukarıdaki bilgiye göre aşağıdaki eşleşmelerden hangisi yanlıştır?

- A) hediye-armağan
- B) adalet-hukuk
- C) kelime-sözcük
- D) okul-mektep

18. Aşağıdakilerden hangisi virgülün kullanım amaçlarından biridir?

- A) Özel isimlere gelen ekleri ayırmak
- B) Bilinmeyen ve şüpheyle karşılanan yer, tarih gibi durumları belirtmek
- C) Tarihlerin yazılışında gün, ay ve yılı gösteren sayıları birbirinden ayırmak
- D) Sıralı cümleleri birbirinden ayırmak

19. Aşağıdakilerden hangisi mülakatçının özelliklerinden biridir?

- A) Ayrıntılara önem vermesi
- B) Mülakat esnasında sanat yönünden zengin bir dil kullanması
- C) Sabırlı, nazik ve dikkatli olması
- D) Aldığı cevaplara yorumunu katarak yazıya geçirmesi

20. Aşağıdaki sözcüklerin hangisinde ses türemesi yoktur?

- A) affetmek
- B) gencecik
- C) hissetmek
- D) kitaplık

1. Yazının henüz bulunmadığı ya da yaygınlaşmadığı bir kültürde doğan, ancak kuşaktan kuşağa sözlü olarak aktarıldıktan sonra yazıya geçirilen destan türü aşağıdakilerden hangisidir?

- A) Anonim destan
- B) Masal
- C) Edebi destan
- D) Halk hikâyesi

2. Eski Türklerde, ölen kişinin ardından yapılan, ozanlar ve sıgırtçı adı verilen ağıtçıların ölen kişinin niteliklerini dile getiren ağıtlar yaktıkları büyük yas törenlerine ne ad verilir?

- A) Biş
- B) Uruk
- C) Sav
- D) Yuğ

3. Uygur ülkesine bereket ve mutluluk veren Kutlu Dağ'ın Çinliler tarafından parça parça taşınmasıyla bozulan Uğur sonucu ülkede görülmemiş bir kıtlık başlar. Yaşam çekilmez hale dönüşür ve Uygur Türkleri güneybatıya göç ederler.

Yukarıdaki parça hangi destanı anlatır?

- A) Şu Destanı
- B) Ergenekon Destanı
- C) Göç Destanı
- D) Oğuz Kağan Destanı

4. 17. yüzyılda Toroslarda Türkmen aşiretleri arasında yaşamış ünlü halk şairimiz aşağıdakilerden hangisidir?

- A) Nailî Kadim
- B) Karacaoğlan
- C) Pir Sultan Abdal
- D) Âşık Veysel

5. Ergenekon Destanı'nı 13. yüzyılda yazıya geçiren Moğol tarihçi aşağıdakilerden hangisidir?

- A) Gardezî
- B) El Harezmi
- C) Reşîdüddîn
- D) Cüveynî

6. Halk edebiyatında ölen kişinin ardından onun yiğitliklerini, iyiliklerini ve erdemlerini anlatan şiirlere ne ad verilir?

- A) Sav
- B) Koçaklama
- C) Ağıt
- D) Güzelleme

7. Alp Er Tunga öldi mü
İssız ajun kaldı mu
Ödlek öçin aldı mı
Emdi yürek yırtılır

Yukarıdaki dördlük aşağıdaki şiir türlerinden hangisine örnektir?

- A) Koşuk
- B) Sagu
- C) Sav
- D) Gazel

8. Yunan Edebiyatının ünlü doğal destanları "İlyada ve Odysseia"yı kaleme alan millî destan şairi aşağıdakilerden hangisidir?

- A) Ariosto
- B) Milton
- C) Sophokles
- D) Homeros

9. Türk destan üslubundan izler taşır. Türklerin su sevgisinden, kuşları uğurlu sayan Şaman inanişından yansımalar vardır.

Yukarıda tanıtılan destan aşağıdakilerden hangisidir?

- A) Şu Destanı
B) Oğuz Kağan Destanı
C) İlyada Destanı
D) Gılgamış Destanı

10. Yirmisekiz Çelebi Mehmet Efendi'nin Ekim 1720 tarihinde Fransa'ya yaptığı ve bir yıl süren seyahatini, Fransa'ya ilişkin gözlemlerini padişaha sunmak amacıyla kaleme aldığı eserin adı nedir?

- A) Fransa Sefaretnamesi
B) Fransa Günlükleri
C) Paris Kasidesi
D) Paris Şehrinden İzlenimler

11. Türk'ün öz benliğini yansıtan, yüksek bir ahlâka dayanan, kahramanlık ruhunu coşkun bir deyişle dile getiren, sevgiden gücünü alan aile bağlarını eserin tamamında sergileyen Türk ulusal kültürünün temel eseri, aşağıdakilerden hangisidir?

- A) Göktürk Yazıtları
B) Dede Korkut Hikâyeleri
C) Battal Gazi Destanı
D) Danişment Gazi Destanı

12. Eski Türklerde, gözlem ve uzun deneyimlerden süzülen duygu ve düşüncelerin özlü bir anlatımı olarak kabul edilen, dilden dile aktarılan atasözlerine ne ad verilir?

- A) Sav
B) Destan
C) Koşuk
D) Sagu

13. Ala gözlerini sevdiğim dilber
Şu gelip geçtiğin yollar öğünsün
Kadir Mevlam seni öğmüş yaratmış
Kısmeti olduğun kullar öğünsün

Yukarıdaki dizelerin sahibi ünlü halk şairi kimdir?

- A) Pir Sultan Abdal
B) Âşık Veysel
C) Dadaloğlu
D) Karacaoğlan

14. İşgale uğrayan bir ülke ve savaş gibi önemli bir toplumsal olayı işleyen "Ateşten Gömlek" romanının yazarı, aşağıdakilerden hangisidir?

- A) Orhan Şaik Gökyay
B) Hüseyin Rahmi Gürpınar
C) Ahmet Hamdi Tanpınar
D) Halide Edip Adıvar

15. Nasıl güzel geçti bütün yaz,
Geceler küçük bahçede...
Sen zambaklar kadar beyaz
Ve ürkek bir düşüncede

Yukarıdaki dizelerin yer aldığı "Bütün Yaz" adlı şiir aşağıdaki şairlerimizden hangisine aittir?

- A) Ahmet Kutsi Tecer
B) Ahmet Telli
C) Ahmet Hamdi Tanpınar
D) Ahmet Haşim

16. Türk Edebiyatının en önemli eserlerindedir. Eser adını iyi ve kötü düşünceli iki prensten almaktadır. Eserin aslı Sanskritçedir. Dinsel masal niteliği taşımaktadır.

Yukarıda tanıtılan eser aşağıdakilerden hangisidir?

- A) Atabetü'l Hakâyık
B) İlyada ve Odysseia
C) Kutadgu Bilig
D) Kalyanamkara ve Papamkara

17. Aşağıdakilerden hangisi İslamiyet'ten önceki Türk destanlarından biridir?

- A) Atilla Destanı
- B) Cengiz Han Destanı
- C) Danişment Gazi Destanı
- D) Timur Destanı

18. Aşağıdakilerden hangisi, tarihte Türk isminin geçtiği ilk metin olma özelliğini taşımaktadır?

- A) Türeyiş Destanı
- B) Oğuz Kağan Destanı
- C) Göktürk Kitabeleri
- D) Manas Destanı

19. Bin atlı akınlarda çocuklar gibi şendik;
Bin atlı o gün dev gibi bir orduyu yendik!

Yukarıdaki dizelerin yer aldığı "Akıncı" adlı şiir aşağıdaki şairlerimizden hangisine aittir?

- A) Afşar Timuçin
- B) Yahya Kemal Beyatlı
- C) Ahmet Muhip Dıranas
- D) Ahmet Kutsi Tecer

20. Aşağıdakilerden hangisi, destan dönemi Türk edebiyatında Türklerin kullandıkları alfabelerden biridir?

- A) Kiril
- B) Latin
- C) Arap
- D) Göktürk

1. Ich möchte Schnitzel!

Welches Wort passt in die obige Lücke?

Cümlede boş bırakılan yeri aşağıdakilerden hangisi doğru şekilde tamamlar?

- A) ein Liter
- B) eine Portion
- C) ein Glas
- D) eine Tüte

2. Ahmet und Mehmet Geschwister.

Welches Wort passt in die obige Lücke?

Cümlede boş bırakılan yeri aşağıdakilerden hangisi doğru şekilde tamamlar?

- A) warst
- B) sind
- C) ist
- D) war

3. Wie schmeckt dein Döner?

Welche Antwort passt zur obigen Frage?

Verilen sorunun cevabı aşağıdakilerden hangisidir?

- A) Er schmeckt super!
- B) Es gehört uns!
- C) Sie ist sehr kalt!
- D) Es ist teuer!

4. Was macht sechs durch zwei?

Welche Antwort passt zur obigen Frage?

Verilen sorunun cevabı aşağıdakilerden hangisidir?

- A) Drei
- B) Vier
- C) Fünf
- D) Sechs

5. Ich komme aus Ankara.

Wie lautet die Frage für die obige Antwort?

Verilen cevabı gerektirecek soru aşağıdakilerden hangisidir?

- A) Wann kommst du?
- B) Wie kommt ihr?
- C) Woher kommst du?
- D) Wer kommt mit?

6. Atatürk hat im Jahre 1923 gegründet.

Welches Wort passt in die obige Lücke?

Cümlede boş bırakılan yeri aşağıdakilerden hangisi tamamlar?

- A) die Türkische Republik
- B) die Zeitung
- C) die Revolution
- D) die Mauer

7. Die Blumen blühen auf. Das Kinderfest wird gefeiert.

Wie lautet die Frage für die obige Antwort?

Verilen cümleye yönelik soru cümlesi aşağıdakilerden hangisidir?

- A) Wann laufen wir Ski?
- B) Was passiert im April?
- C) Wer geht in die Ferien?
- D) Warum ziehst du um?

8. Wann geht ihr morgen zur Schule? (10.30)

Welche Antwort passt zur obigen Frage?

Verilen sorunun cevabı aşağıdakilerden hangisidir?

- A) Ich bin morgen zu Hause.
- B) Wir gehen um halb elf zur Schule.
- C) Sehr früh muss ich zur Schule.
- D) Ab halb zehn bin ich in der Schule.

9. Heute ist der letzte Tag,

Welches ergänzt die Lücke im obigen Satz?

Verilen cümleyi aşağıdakilerden hangisi tamamlar?

- A) er hat mir ein Buch geschenkt.
- B) das Buch liegt auf dem Tisch.
- C) ich muss die Bücher abgeben.
- D) sie ist von vorne ausgestiegen.

10. Vater: Kannst du mein Auto waschen?

Sohn: Nein Vati,

Vater: Okay, dann muss ich das Auto waschen!

Welches ergänzt den obigen Dialog?

Verilen karşılıklı konuşmayı aşağıdakilerden hangisi tamamlar?

- A) du bist auch eingeladen.
- B) wir waren im Kino!
- C) er kommt aus der Türkei.
- D) ich habe keine Zeit!

11. Meine Tochter will wissen, ich heute zu Hause bleibe.

Welches Wort passt in die obige Lücke?

Cümlede boş bırakılan yeri aşağıdakilerden hangisi doğru şekilde tamamlar?

- A) wenn
- B) ob
- C) wer
- D) weil

12. Die Frau möchte wissen, der erste Bus kommt.

Welches Wort passt in die obige Lücke?

Cümlede boş bırakılan yeri aşağıdakilerden hangisi doğru şekilde tamamlar?

- A) wann
- B) wer
- C) wessen
- D) war

13. Während ich meine Hausaufgaben mache, höre ich Musik.

Welches Wort passt nicht in die obige Lücke?

Cümlede boş bırakılan yeri aşağıdakilerden hangisi tamamlamaz?

- A) manchmal
- B) immer
- C) oft
- D) sonst

14. Patricia ist krank und muss zu Hause bleiben.

Wie lautet der obige Satz im Präteritum?

Verilen cümlelerin geçmiş zaman şekli aşağıdakilerden hangisidir?

- A) Patricia kann zu Hause bleiben, wenn sie krank ist.
- B) Patricia muss zu Hause bleiben, weil sie sich krank fühlt.
- C) Patricia war krank und musste zu Hause bleiben.
- D) Patricia hätte zu Hause bleiben können, wenn sie krank wäre.

15. A: Kannst du mir beim Einkaufen helfen?

B: Leider, Mutti!

Was bedeutet das Gegenteil vom Wort "Leider" im Dialog?

Verilen karşılıklı konuşmadaki "Leider" sözcüğünün zıt anlamlısı aşağıdakilerden hangisidir?

- A) Manchmal
- B) Lieber
- C) Vielleicht
- D) Gern

16. Die Mutter spült das Geschirr.

Wie lautet der obige Satz in der Passivform?

Verilen cümlelerin edilgen hali aşağıdakilerden hangisidir?

- A) Die Mutter will das Geschirr spülen.
- B) Das Geschirr wird gespült.
- C) Das Geschirr soll gespült werden.
- D) Die Mutter hat abgespült.

17. A: Warum kommst du nicht zur Party?

B: Ich bin nicht

Welches ergänzt die Lücke im obigen Dialog?

Verilen karşılıklı konuşmada boş bırakılan yeri aşağıdakilerden hangisi tamamlar?

- A) hat eingeladen
- B) einladen wollen
- C) eingeladen worden
- D) einzuladen

18. Kannst du das Licht ausmachen?

Wie lautet der obige Satz in der Imperativ-Form?

Verilen cümlelerin emir cümle şekli aşağıdakilerden hangisidir?

- A) Aus mit dem Licht!
- B) Vergessen Sie das Licht!
- C) Mach das Licht aus!
- D) Das Licht ist aus bitte!

19. Ayşe findet die Modezeitungen die politischen Zeitungen.

Welches passt in die obige Lücke?

Cümlede boş bırakılan yeri aşağıdakilerden hangisi doğru şekilde tamamlar?

- A) interessanter als
- B) schnell wie
- C) nicht so klein wie
- D) fleißiger als

20. Der türkische Schüler hat sich nach seiner Heimat

Welches Wort passt in die obige Lücke?

Cümlede boş bırakılan yeri aşağıdakilerden hangisi doğru şekilde tamamlar?

- A) geschrieben
- B) gefahren
- C) gerufen
- D) geseht

1. I don't need coffee. I just need glass of mineral water.

Which of the following completes the sentence above?

Aşağıdakilerden hangisi yukarıdaki cümleyi doğru olarak tamamlar?

- A) any / a
- B) a / any
- C) a / a
- D) (--)/ a

2. A: I need some sugar to make a cake.
B: do you need?

Which of the following completes the dialogue above?

Aşağıdakilerden hangisi yukarıdaki konuşmayı doğru olarak tamamlar?

- A) How many
- B) How much
- C) What
- D) How

3. Sally tea every morning.

Which of the following completes the sentence above?

Aşağıdakilerden hangisi yukarıdaki cümleyi doğru olarak tamamlar?

- A) drink
- B) drinks
- C) has drunk
- D) drinking

4. Is your uncle engineer or teacher?

Which of the following completes the sentence above?

Aşağıdakilerden hangisi yukarıdaki cümleyi doğru olarak tamamlar?

- A) an / the
- B) a / a
- C) the / a
- D) an / a

5. A: How apples are there in the basket?
B: There are a few.

Which of the following completes the dialogue above?

Aşağıdakilerden hangisi yukarıdaki konuşmayı doğru olarak tamamlar?

- A) some
- B) much
- C) any
- D) many

6. There some students in the classroom.

Which of the following completes the sentence above?

Aşağıdakilerden hangisi yukarıdaki cümleyi doğru olarak tamamlar?

- A) are
- B) is
- C) was
- D) has been

7. Canan drinks tea every morning.

Which of the following is the negative form of the sentence above?

Aşağıdakilerden hangisi yukarıdaki cümlenin olumsuz biçimidir?

- A) Canan wasn't drinking tea every morning.
- B) Canan didn't drink tea every morning.
- C) Canan doesn't drink tea every morning.
- D) Canan isn't drinking tea every morning.

8. A: What are?
B: are empty boxes.

Which of the following completes the dialogue above?

Aşağıdakilerden hangisi yukarıdaki konuşmayı doğru olarak tamamlar?

- A) that / They
B) these / They
C) this / They
D) those / It

9. Daniel usually his room on Sundays, but now he TV.

Which of the following completes the sentence above?

Aşağıdakilerden hangisi yukarıdaki cümleyi doğru olarak tamamlar?

- A) cleans / is watching
B) clean / is watching
C) is cleaning / watches
D) cleaned / watching

10. They are going to meet in the new café

Which of the following completes the sentence above?

Aşağıdakilerden hangisi yukarıdaki cümleyi doğru olarak tamamlar?

- A) yesterday
B) two hours ago
C) next Saturday
D) now

11. I will meet you three o'clock tomorrow.

Which of the following completes the sentence above?

Aşağıdakilerden hangisi yukarıdaki cümleyi doğru olarak tamamlar?

- A) on
B) in
C) at
D) between

12. I send you my reports, don't worry.

Which of the following completes the sentence above?

Aşağıdakilerden hangisi yukarıdaki cümleyi doğru olarak tamamlar?

- A) must
B) will
C) should
D) used to

13. When Elena married, she is going to go abroad.

Which of the following completes the sentence above?

Aşağıdakilerden hangisi yukarıdaki cümleyi doğru olarak tamamlar?

- A) getting
B) gets
C) have gotten
D) got

14. You sing a song in the library.

Which of the following completes the sentence above?

Aşağıdakilerden hangisi yukarıdaki cümleyi doğru olarak tamamlar?

- A) needn't
B) must
C) mustn't
D) need

15. 10 years ago, there a few cars in my city, now there so many cars.

Which of the following completes the sentence above?

Aşağıdakilerden hangisi yukarıdaki cümleyi doğru olarak tamamlar?

- A) used to be / are
- B) used to be / were
- C) are / used to be
- D) were / were

16. I be quite fat but now I am slim.

Which of the following completes the sentence above?

Aşağıdakilerden hangisi yukarıdaki cümleyi doğru olarak tamamlar?

- A) wasn't
- B) aren't
- C) am
- D) used to

17. A: What did you do last night?
B: I English.

Which of the following completes the dialogue above?

Aşağıdakilerden hangisi yukarıdaki konuşmayı doğru olarak tamamlar?

- A) studying
- B) studies
- C) will study
- D) studied

18. They finished their project

Which of the following completes the sentence above?

Aşağıdakilerden hangisi yukarıdaki cümleyi doğru olarak tamamlar?

- A) next month
- B) tomorrow
- C) every month
- D) last month

19. A: What did you do when you saw the robbery?
B:

Which of the following completes the dialogue above?

Aşağıdakilerden hangisi yukarıdaki konuşmayı doğru olarak tamamlar?

- A) I called the police
- B) I cleaned the house
- C) I helped my dad
- D) I washed the car

20. Student : I open the door, sir?
Teacher: Yes, of course.

Which of the following completes the dialogue above?

Aşağıdakilerden hangisi yukarıdaki konuşmayı doğru olarak tamamlar?

- A) Won't
- B) Do
- C) May
- D) Did

1. - Tous les élèves respectent-..... leur professeur?

Choisissez le mot qui convient.

Cümledeki boşluğu aşağıdakilerden hangisi doğru şekilde tamamlar?

- A) ils
B) il
C) elle
D) le

2. Vous de bonne humeur.

Choisissez le mot qui convient.

Cümledeki boşluğu aşağıdakilerden hangisi doğru şekilde tamamlar?

- A) êtes
B) avez
C) sommes
D) avons

3. «S'il ne pleut pas, j'irai me promener.»

Choisissez la traduction qui convient.

Yukarıdaki cümlelerin Türkçe karşılığı aşağıdakilerden hangisidir?

- A) Yağmur yağmazsa, gezmeye gideceğim.
B) Yağmur yağıyor, ben geziyorum.
C) Yağmur yağmadığında, gezerim.
D) Yağmurlu havada gezmiyorum

4. - Vous du thé?

- Non, je ne veux pas thé.

Choisissez les mots qui conviennent.

Yukarıdaki konuşmada boş bırakılan yerleri aşağıdakilerden hangisi doğru şekilde tamamlar?

- A) voulez / du
B) voulez / de
C) pouvez / de
D) pouvez / du

5. - Ils sont arrivés?

- Non, ils ne sont pas encore arrivés.

Choisissez le mot qui convient.

Yukarıdaki konuşmada boş bırakılan yeri aşağıdakilerden hangisi doğru şekilde tamamlar?

- A) déjà
B) jamais
C) rien
D) aucun

6. Il pleure la journée.

Choisissez le mot qui convient.

Cümledeki boşluğu aşağıdakilerden hangisi doğru şekilde tamamlar?

- A) toute
B) tout
C) tous
D) toutes

7. Pour envoyer un courrier électronique,

Choisissez l'expression qui convient.

Cümledeki boşluğu aşağıdakilerden hangisi doğru şekilde tamamlar?

- A) j'allume l'appareil photo
B) j'éteins l'ordinateur
C) j'allume l'ordinateur
D) j'éteins l'appareil photo

8. «Babam artık sigara içmeyecek.»

Choisissez la traduction qui convient.

Yukarıdaki cümlelerin Fransızca karşılığı aşağıdakilerden hangisidir?

- A) Mon père ne fumera pas.
B) Mon père ne fume pas encore.
C) Mon père ne fumera jamais.
D) Mon père ne fumera plus.

9. Où es-tu? Je ne vois pas.

Choisissez le mot qui convient.

Cümledeki boşluğu aşağıdakilerden hangisi doğru şekilde tamamlar?

- A) me
B) te
C) tu
D) le

10. Elle s'est les dents.

Choisissez le mot qui convient.

Cümledeki boşluğu aşağıdakilerden hangisi doğru şekilde tamamlar?

- A) brossées
B) brossée
C) brossés
D) brossé

11. - Avez-vous vu ma sœur?
- Oui, je l'.....

Choisissez l'expression qui convient.

Yukarıdaki konuşmada boş bırakılan yeri aşağıdakilerden hangisi doğru şekilde tamamlar?

- A) ai vu
B) a vu
C) ai vue
D) a vue

12. Il a les frisés et une

Choisissez les mots qui conviennent.

Cümledeki boşlukları aşağıdakilerden hangisi doğru şekilde tamamlar?

- A) yeux / collier
B) cheveux / barbe
C) lèvres / bracelet
D) visages / chapeau

13. Elles sont

Choisissez le mot qui convient.

Cümledeki boşluğu aşağıdakilerden hangisi doğru şekilde tamamlar?

- A) venu
B) venus
C) venue
D) venues

14. I. Je me connecte à Internet.
II. Je navigue.
III. Je tcahtte.
IV. C'est mon appareil photo.

Trouvez la phrase qui ne convient pas.

Cümleler sırasıyla okunduğunda, anlam bütünlüğünü bozan cümleyi bulunuz.

- A) I
B) II
C) III
D) IV

15. Paul mesure 1m50. Pierre mesure 1m90. Paul est

Choisissez le mot qui convient.

Cümledeki boşluğu aşağıdakilerden hangisi doğru şekilde tamamlar?

- A) long
B) gros
C) court
D) maigre

16. Si j'étais grand, je partir seul.

Choisissez le mot qui convient.

Cümledeki boşluğu aşağıdakilerden hangisi doğru şekilde tamamlar?

- A) pourrai
B) pourrais
C) pourra
D) pourras

17. Le est doux et chaud.

Choisissez le mot qui convient.

Cümledeki boşluğu aşağıdakilerden hangisi doğru şekilde tamamlar?

- A) nylon
B) beton
C) velours
D) fer

18. dans le bus.

Choisissez l'expression qui convient.

Yukarıdaki cümlede boş bırakılan yeri aşağıdakilerden hangisi doğru şekilde tamamlar?

- A) Elle est montée
B) Elle a monté
C) Il a monté
D) J'ai monté

19. «Tu m'attends?»

Choisissez la traduction qui convient.

Yukarıdaki cümlenin Türkçe karşılığı aşağıdakilerden hangisidir?

- A) Sana gelir mi?
B) Bana gelir misin?
C) Sen gider misin?
D) Beni bekler misin?

20. enfants ne vont pas à l'école.

Choisissez le mot qui convient.

Cümledeki boşluğu aşağıdakilerden hangisi doğru şekilde tamamlar?

- A) Certain
B) Certaines
C) Certains
D) Certaine

1. Er hat verstanden, er für die Prüfung arbeiten muß.

Welches Wort passt in die obige Lücke?

Cümlede boş bırakılan yeri aşağıdakilerden hangisi tamamlar?

- A) denn
B) daß
C) dann
D) damit

2. Jeolog bilimsel bir araştırma için taşları kırmaktadır.

Wie lautet der obige Satz auf Deutsch?

Verilen cümlelerin Almancası aşağıdakilerden hangisidir?

- A) Der Geologe schlägt die Steine für eine wissenschaftliche Untersuchung.
B) Der Wissenschaftler sucht für seine Untersuchung neue Steine.
C) Die Steine hat der Geologe untersucht und wissenschaftlich geforscht.
D) Der Geologe braucht für seine wissenschaftliche Untersuchung neue Steine zum Schlagen.

3. Schüler, in eine Gesamtschule mit einer Oberstufe gehen, das Abitur machen.

Welche Wörter passen in die obigen Lücken?

Cümlede boş bırakılan yerleri aşağıdakilerden hangileri doğru şekilde tamamlar?

- A) den / könnte
B) der / kann
C) das / kannst
D) die / können

4. Wir möchten Architekt

Welches Wort passt in die obige Lücke?

Cümlede boş bırakılan yeri aşağıdakilerden hangisi tamamlar?

- A) wirst
B) wurden
C) werden
D) wurdest

5. Wir eine Woche Urlaub machen.

Welches Wort passt in die obige Lücke?

Cümlede boş bırakılan yeri aşağıdakilerden hangisi doğru şekilde tamamlar?

- A) machst
B) machen
C) möchtest
D) möchten

6. die Schüler einen Realschulabschluss haben, können Sie einen Beruf

Welche Wörter passen in die obigen Lücken?

Cümlede boş bırakılan yerleri aşağıdakilerden hangileri tamamlar?

- A) Weil / arbeitest
B) Wo / erweitern
C) Wie / erfassen
D) Wenn / erlernen

7. Wenn ich ein Büro hätte, würde ich mit einem guten Team arbeiten.

Welches Wort passt in die obige Lücke?

Cümlede boş bırakılan yeri aşağıdakilerden hangisi doğru şekilde tamamlar?

- A) eigenes
B) gerne
C) eures
D) gutem

8. In der Zukunft könnte es Computer geben,

Welches ergänzt die Lücke im obigen Satz?

Verilen cümleyi aşağıdakilerden hangisi tamamlar?

- A) dass der Hochradfahrer beim Fahren empfindet.
B) die weniger als 1 Kilo wiegen.
C) das ist etwas besser als das Fernsehen.
D) der Menschheit zur Verfügung gestellt hat.

9. Im Sommer ist es wunderbar,.....

Welches ergänzt die Lücke im obigen Satz?

Verilen cümleyi aşağıdakilerden hangisi tamamlar?

- A) weil wir dann viel Spaß in den Ferien haben.
B) weil sie kein Benzin und Wasser brauchen.
C) wenn wir in Zukunft modern aussehen wollen.
D) wenn wir eine wissenschaftliche Untersuchung machen müssen.

10. Wie lautet das Singular von "Die Abfälle"?

"Die Abfälle" sözcüğünün tekil hali aşağıdakilerden hangisidir?

- A) Die Abfäll
B) Das Abfallen
C) Der Abfall
D) Die Abfall

11. Ein Velotaxi braucht kein Benzin,

Welches ergänzt die Lücke im obigen Satz?

Verilen cümleyi aşağıdakilerden hangisi tamamlar?

- A) damit sie mehr Sonne haben.
B) sondern nur menschliche Energie.
C) weil die Touristen es besonders lieben
D) sonst hat es viel Wasser.

12. Was bedeutet das Gegenteil von "Zufriedenheit"?

"Zufriedenheit" sözcüğünün zıt anlamlısı aşağıdakilerden hangisidir?

- A) Unerfolg
B) Unzufriedenheit
C) Missfrieden
D) Abfolge

13. Die grossen Städte haben alle Probleme:

Welches ergänzt die Lücke im obigen Satz?

Verilen cümleyi aşağıdakilerden hangisi tamamlar?

- A) Viel Lärm und Abgase.
B) Innenstadt und Aussenstadt.
C) Freude und Erfolg.
D) Überschrift und Konferenz.

14. nannte man es Zweirad, wird es Fahrrad genannt.

Welche Wörter passen in die obigen Lücken?

Cümlede boş bırakılan yerleri aşağıdakilerden hangileri doğru şekilde tamamlar?

- A) Immer / nur
B) Nie / wie
C) Früher / heute
D) Jetzt / etwas

15. Nein, ich war noch nie in Ankara.

Welche Frage passt zur obigen Antwort?

Verilen cevabı gerektirecek soru aşağıdakilerden hangisidir?

- A) Wo liegt die Stadt Ankara?
B) Wer fährt nach Ankara?
C) Wie komme ich nach Ankara?
D) Warst du schon mal in Ankara?

16. Im Museum kann viele Informationen
.....

Welche Wörter passen in die obigen Lücken?

Cümlede boş bırakılan yerleri aşağıdakilerden hangileri doğru şekilde tamamlar?

- A) aus / finden
- B) man / erhalten
- C) am / sehen
- D) zum / nehmen

17. Von der Burg gibt es einen sehr Blick
auf das Rheintal.

Welches Wort passt in die obige Lücke?

Cümlede boş bırakılan yeri aşağıdakilerden hangisi doğru şekilde tamamlar?

- A) schönsten
- B) schönem
- C) schönen
- D) schöner

18. Der Rhein ist Fluss von Deutschland.

Welches Wort passt in die obige Lücke?

Cümlede boş bırakılan yeri aşağıdakilerden hangisi doğru şekilde tamamlar?

- A) der langem
- B) der längste
- C) am langten
- D) länger

19. Yol levhasında birkaç şehir ve birkaç yer adı var.

Wie lautet der obige Satz auf Deutsch?

Verilen cümlelerin Almancası aşağıdakilerden hangisidir?

- A) Der Wegweiser zeigt uns viele Lieder und Balladen.
- B) Die Landkarte ist hier zu sehen.
- C) Auf dem Wegweiser stehen einige Städte und Orte.
- D) In den Besucherzentren finden Sie ausführliche Auskunft.

20. Was weißt du über Heinrich Heine?

Welche Antwort passt zur obigen Frage?

Verilen sorunun cevabı aşağıdakilerden hangisidir?

- A) Das ist unsere neue Lehrerin.
- B) Wir haben auch Hunger.
- C) Das ist ein Maler aus Frankreich.
- D) Heinrich Heine ist ein berühmter deutscher Dichter.

1. Hasan Hollywood by the end of the summer.

Which of the following completes the sentence above?

Aşağıdakilerden hangisi yukarıdaki cümleyi doğru olarak tamamlar?

- A) will be seeing
B) will have seen
C) sees
D) saw

2. The baby in a few minutes.

Which of the following completes the sentence above?

Aşağıdakilerden hangisi yukarıdaki cümleyi doğru olarak tamamlar?

- A) will have slept
B) will be sleeping
C) slept
D) sleeps

3. My best friend married by next June.

Which of the following completes the sentence above?

Aşağıdakilerden hangisi yukarıdaki cümleyi doğru olarak tamamlar?

- A) will have got
B) will get
C) gets
D) is

4. The party before midnight.

Which of the following completes the sentence above?

Aşağıdakilerden hangisi yukarıdaki cümleyi doğru olarak tamamlar?

- A) started
B) will be starting
C) starts
D) will have started

5. This time next Saturday I to İstanbul for the weekend.

Which of the following completes the sentence above?

Aşağıdakilerden hangisi yukarıdaki cümleyi doğru olarak tamamlar?

- A) will go
B) will have gone
C) go
D) will be going

6. If you hadn't been so late, you the birthday party.

Which of the following completes the sentence above?

Aşağıdakilerden hangisi yukarıdaki cümleyi doğru olarak tamamlar?

- A) wouldn't miss
B) didn't miss
C) would have missed
D) wouldn't have missed

7. If I were very rich, I poor people.

Which of the following completes the sentence above?

Aşağıdakilerden hangisi yukarıdaki cümleyi doğru olarak tamamlar?

- A) would help
B) will help
C) helped
D) help

8. If Jamie his motorbike, he a new car.

Which of the following completes the sentence above?

Aşağıdakilerden hangisi yukarıdaki cümleyi doğru olarak tamamlar?

- A) will sell / buys
B) sells / will buy
C) sells / would buy
D) sell / will buy

9. If you ill, go to the doctor.

Which of the following completes the sentence above?

Aşağıdakilerden hangisi yukarıdaki cümleyi doğru olarak tamamlar?

- A) was
- B) are
- C) be
- D) were

10. If we a taxi, we would have arrived earlier.

Which of the following completes the sentence above?

Aşağıdakilerden hangisi yukarıdaki cümleyi doğru olarak tamamlar?

- A) had taken
- B) have taken
- C) take
- D) will take

11. they got home, the boy had eaten all the cake.

Which of the following completes the sentence above?

Aşağıdakilerden hangisi yukarıdaki cümleyi doğru olarak tamamlar?

- A) By the time
- B) Whenever
- C) Because
- D) Due to the fact that

12. Sarah ate a big sandwich she was hungry.

Which of the following completes the sentence above?

Aşağıdakilerden hangisi yukarıdaki cümleyi doğru olarak tamamlar?

- A) in
- B) to
- C) as
- D) why

13. He cannot go he wants.

Which of the following completes the sentence above?

Aşağıdakilerden hangisi yukarıdaki cümleyi doğru olarak tamamlar?

- A) since
- B) for
- C) wherever
- D) by

14. that water has lots of benefits, Lucy drinks two litres a day.

Which of the following completes the sentence above?

Aşağıdakilerden hangisi yukarıdaki cümleyi doğru olarak tamamlar?

- A) Because
- B) Since
- C) For
- D) Due to the fact

15. The film was very boring some people fell asleep.

Which of the following completes the sentence above?

Aşağıdakilerden hangisi yukarıdaki cümleyi doğru olarak tamamlar?

- A) because
- B) at
- C) so
- D) to

16. The letters by the secretary tomorrow.

Which of the following completes the sentence above?

Aşağıdakilerden hangisi yukarıdaki cümleyi doğru olarak tamamlar?

- A) were posted
- B) posted
- C) will be posted
- D) are posted

17. Mehmet Rauf wrote 'Eylül'.

Which of the following is the passive voice of the sentence above?

Aşağıdakilerden hangisi yukarıdaki cümlelin edilgen yapıda kurulmuş biçimidir?

- A) 'Eylül' was written by Mehmet Rauf.
- B) 'Eylül' is written by Mehmet Rauf.
- C) 'Eylül' has written by Mehmet Rauf.
- D) 'Eylül' has been written by Mehmet Rauf.

18. The walls by the painters now.

Which of the following completes the sentence above?

Aşağıdakilerden hangisi yukarıdaki cümleyi doğru olarak tamamlar?

- A) were painted
- B) are painted
- C) will be painted
- D) are being painted

19. The windows by Semih yesterday.

Which of the following completes the sentence above?

Aşağıdakilerden hangisi yukarıdaki cümleyi doğru olarak tamamlar?

- A) broke
- B) were broken
- C) are broken
- D) will be broken

20. French in Belgium.

Which of the following completes the sentence above?

Aşağıdakilerden hangisi yukarıdaki cümleyi doğru olarak tamamlar?

- A) speaks
- B) will be speak
- C) is spoken
- D) was spoken

1. Connaissez-vous ce musicien est allemand?

Choisissez le mot qui convient.

Cümledeki boşluğu aşağıdakilerden hangisi doğru şekilde tamamlar?

- A) qui
B) donc
C) où
D) quel

2. j'ai le temps, je peux vous aider.

Choisissez le mot qui convient.

Cümledeki boşluğu aşağıdakilerden hangisi doğru şekilde tamamlar?

- A) Contre
B) Pour
C) Si
D) À cause de

3. Isabelle :

Alain : Nous irons à la mer.

Isabelle :

Alain : A Nice.

Choisissez les expressions qui conviennent.

Yukarıdaki konuşmada boş bırakılan yerleri aşağıdakilerden hangisi doğru şekilde tamamlar?

- A) Vous nagez / Où
B) Vous aimez les vacances / Quelle ville
C) Vous allez où / Quand
D) Vous faites quoi cet été / Où

4. Le mois prochain, nous en France.

Choisissez le mot qui convient.

Cümledeki boşluğu aşağıdakilerden hangisi doğru şekilde tamamlar?

- A) irons
B) ira
C) allez
D) avons

5. Il peut pleuvoir; n'oubliez pas prendre votre parapluie.

Choisissez le mot qui convient.

Cümledeki boşluğu aşağıdakilerden hangisi doğru şekilde tamamlar?

- A) de
B) en
C) qui
D) à

6. Il est tombé son ami.

Choisissez le mot qui convient.

Cümledeki boşluğu aşağıdakilerden hangisi doğru şekilde tamamlar?

- A) à cause du
B) à cause de
C) à cause
D) à cause des

7. A: Demain matin, je vais partir au Japon.

B:

A: Merci.

Choisissez l'expression qui convient.

Yukarıdaki konuşmada boş bırakılan yeri aşağıdakilerden hangisi doğru şekilde tamamlar?

- A) Bon appétit
B) Bon voyage
C) Bonne anniversaire
D) Bonne nuit

8. «Marie est contre la vie en ville.»

Choisissez la traduction qui convient.

Yukarıdaki cümlelerin Türkçe karşılığı aşağıdakilerden hangisidir?

- A) Marie şehir hayatına karşıdır.
B) Marie şehirde yaşamak istiyor.
C) Marie için şehir hayatı zordur.
D) Marie oturduğu şehri çok seviyor.

9. Il va aller chercher le livre son professeur demande.

Choisissez le mot qui convient.

Cümledeki boşluğu aşağıdakilerden hangisi doğru şekilde tamamlar?

- A) où
B) qui
C) que
D) sur

10. pense à soi-même.

Choisissez le mot qui convient.

Cümledeki boşluğu aşağıdakilerden hangisi doğru şekilde tamamlar?

- A) Toi
B) Comme
C) Chacun
D) Qui

11. - Qu'est-ce que vous préférez? Le cinéma le théâtre?
- Le théâtre, bien sûr.
Choisissez le mot qui convient.
Yukarıdaki konuşmada boş bırakılan yeri aşağıdakilerden hangisi doğru şekilde tamamlar?
A) avec
B) ou
C) et
D) ni
12. La vie à la campagne est
Choisissez le mot qui convient.
Cümledeki boşluğu aşağıdakilerden hangisi doğru şekilde tamamlar?
A) bruyante
B) ennuyeux
C) laid
D) tranquille
13. Peux-tu présenter s'il te plaît?
Choisissez le mot qui convient.
Cümledeki boşluğu aşağıdakilerden hangisi doğru şekilde tamamlar?
A) ton
B) te
C) vous
D) leur
14. I. L'omelette est aux champignons.
II. Le jus de pomme est une boisson.
III. Le café aussi.
IV. Mais la glace est un dessert.
Choisissez la phrase qui ne convient pas à l'ensemble.
Sırasıyla okunduğunda, anlam bütünlüğünü bozan cümleyi bulunuz.
A) I
B) II
C) III
D) IV
15. Elle lit 2 livres mois.
Choisissez le mot qui convient.
Cümledeki boşluğu aşağıdakilerden hangisi doğru şekilde tamamlar?
A) chacune
B) par
C) dans
D) la

16. Si vous avez soif, de l'eau.
Choisissez le mot qui convient.
Cümledeki boşluğu aşağıdakilerden hangisi doğru şekilde tamamlar?
A) oubliez
B) mangez
C) soyez
D) buvez
17. trop / je / fatigué / suis
I II III IV
Mettez dans le bon ordre.
Yukarıdaki kelimelerin kurallı ve anlamlı bir bütün oluşturan dizilişi aşağıdakilerin hangisinde doğru olarak verilmiştir?
A) I, III, II, IV
B) II, I, III, IV
C) II, III, I, IV
D) II, IV, I, III
18. - Il vit en Angleterre?
- Oui, il travaille.
Choisissez le mot qui convient.
Yukarıdaki konuşmada boş bırakılan yeri aşağıdakilerden hangisi doğru şekilde tamamlar?
A) le
B) y
C) en
D) dans
19. La cliente :
Le serveur : Tout de suite, Madame.
Choisissez la réplique qui convient.
Yukarıdaki konuşmada boş bırakılan yeri aşağıdakilerden hangisi doğru şekilde tamamlar?
A) Chacun paie sa part?
B) Vous voulez commander quelque chose?
C) C'est trop pour moi!
D) Monsieur, l'addition s'il vous plait!
20., elles sont allées au Musée du Louvre.
Choisissez le mot qui convient.
Cümledeki boşluğu aşağıdakilerden hangisi doğru şekilde tamamlar?
A) Demain
B) Chacun
C) Hier
D) Quand

1. Anja geht mit Petra ins Theater.

Wie lautet die passende Frage zur obigen Antwort?

Verilen cevabı gerektirecek soru aşağıdakilerden hangisidir?

- A) Mit wem geht Anja ins Theater?
 B) Zu wem geht Anja?
 C) Wann geht Anja?
 D) Womit geht Anja ins Theater?

2. Ahmet gestern schon um acht im Bett. Er war sehr müde.

Welches Wort passt in die obige Lücke?

Cümlede boş bırakılan yeri aşağıdakilerden hangisi doğru şekilde tamamlar?

- A) legte
 B) stand
 C) lag
 D) sitzt

3. Die Katze sitzt

Welcher Satz ergänzt die obige Lücke?

Verilen cümleyi aşağıdakilerden hangisi tamamlar?

- A) über die Vase.
 B) unter dem Tisch.
 C) in der Lampe.
 D) in dem Kühlschrank.

4. Die Frau hat eine neue für den Tisch gekauft.

Welches Wort passt in die obige Lücke?

Cümlede boş bırakılan yeri aşağıdakilerden hangisi tamamlar?

- A) Zeitung
 B) Tischdecke
 C) Fernseher
 D) Stuhl

5. Der Kuchen hat uns geschmeckt.

Wie lautet der obige Satz in der Plusquamperfekt Form?

Verilen cümlenin miş'li geçmiş zaman şekli aşağıdakilerden hangisidir?

- A) Der Kuchen hatte uns geschmeckt.
 B) Der Kuchen könnte uns schmecken.
 C) Der Kuchen soll gut geschmeckt haben.
 D) Der Kuchen wird uns schmecken.

6. Frau Tibet geht heute um zwei Uhr einer Besprechung.

Welches Wort passt in die obige Lücke?

Cümlede boş bırakılan yeri aşağıdakilerden hangisi tamamlar?

- A) in
 B) auf
 C) zu
 D) für

7. A: hast du die Bücher gelegt?
 B: Hier Tisch!

Welche Wörter ergänzen die Lücken im obigen Dialog?

Verilen karşılıklı konuşmada boş bırakılan yerleri aşağıdakilerden hangileri tamamlar?

- A) Was / in den
 B) Wenn / zu den
 C) Wann / aus dem
 D) Wohin / auf den

8. Hans wählt mit dem groß..... Schalter sein Programm.

Welche Endung passt in die obige Lücke?

Cümlede boş bırakılan yeri aşağıdaki son eklerden hangisi tamamlar?

- A) -er
 B) -en
 C) -es
 D) -em

9. Ich hätte gern eine harte Bürste

Welches Wort passt in die obige Lücke?

Cümlede boş bırakılan yeri aşağıdakilerden hangisi tamamlar?

- A) zum Zähneputzen!
- B) für Händetrocknen.
- C) mit Programm.
- D) im Topf!

10. Sie müssen diesen Knopf drücken, wenn Sie die Maschine einschalten wollen.

Welches Wort passt nicht in die obige Lücke?

Cümlede boş bırakılan yeri aşağıdakilerden hangisi doğru şekilde tamamlamaz?

- A) sprachlichen
- B) kleinen
- C) roten
- D) schwarzen

11. Wie lautet das Adjektiv vom Wort "die Langsamkeit"?

"die Langsamkeit" sözcüğünün sıfat hali aşağıdakilerden hangisidir?

- A) langse
- B) langsam
- C) lang
- D) landlich

12. Was kann man mit einem Feuerzeug machen?

Welche Antwort passt zur obigen Frage?

Verilen sorunun cevabı aşağıdakilerden hangisidir?

- A) Damit kann man laut sprechen.
- B) Damit kann man Platten spielen.
- C) Damit kann man ein Feuer machen.
- D) Damit spielt man Fußball.

13. Japonca öğrenmek çok zordur.

Wie lautet der obige Satz auf Deutsch?

Verilen cümlenin Almancası aşağıdakilerden hangisidir?

- A) Japan ist sehr weit von hier.
- B) Die Japaner sprechen Japanisch.
- C) Japanisch lernen ist sehr schwer.
- D) Die Japaner sind schwere Menschen.

14. Was bedeutet "das Bücherregal" auf Türkisch?

"das Bücherregal" sözcüğünün Türkçesi aşağıdakilerden hangisidir?

- A) Kitap kurdu
- B) Derslik
- C) Defter kabı
- D) Kitaplık

15. Heute Nachmittag habe ich meine Mutter besucht.

Wie lautet der obige Satz im Futur?

Verilen cümlenin gelecek zaman şekli aşağıdakilerden hangisidir?

- A) Heute Nachmittag darf ich meine Mutter besuchen.
- B) Heute Nachmittag besuchte ich meine Mutter.
- C) Heute Nachmittag werde ich meine Mutter besuchen.
- D) Heute Nachmittag hatte ich meine Mutter besucht.

16. ich nach Hause kam, ich sehr müde.

Welche Wörter passen in die obigen Lücken?

Cümlede boş bırakılan yerleri aşağıdakilerden hangileri tamamlar?

- A) Wo / bin
- B) Wenn / und
- C) Seit / wurde
- D) Als / war

17. Sie hat, sie ist jetzt satt.

Welches Wort passt in die obige Lücke?

Cümlede boş bırakılan yeri aşağıdakilerden hangisi tamamlar?

- A) vergessen
- B) hingefallen
- C) gegessen
- D) geschlafen

18. habe ich meinen Führerschein und kann mir ein Auto kaufen.

Welches Wort passt in die obige Lücke?

Cümlede boş bırakılan yeri aşağıdakilerden hangisi tamamlar?

- A) Wegen
- B) Trotzdem
- C) Somit
- D) Endlich

19. sonnig / kalt / windig / wandern

Welches Wort passt nicht zu den anderen in der obigen Wortgruppe?

Verilen sözcük grubuna uvmavan aşağıdakilerden hangisidir?

- A) wandern
- B) kalt
- C) windig
- D) sonnig

20. Sie freut sich sehr Peters Besuch.

Welches Wort passt in die obige Lücke?

Cümlede boş bırakılan yeri aşağıdakilerden hangisi tamamlar?

- A) an
- B) über
- C) zu
- D) zum

1. Serap lost her cat she is very sad.

Which of the following completes the sentence above?

Aşağıdakilerden hangisi yukarıdaki cümleyi doğru olarak tamamlar?

- A) but
B) or
C) nor
D) so

2. They a new house next year.

Which of the following completes the sentence above?

Aşağıdakilerden hangisi yukarıdaki cümleyi doğru olarak tamamlar?

- A) bought
B) are going to buy
C) are go to buy
D) are buy

3. Our neighbours live in a house near Şile.

Which of the following completes the sentence above?

Aşağıdakilerden hangisi yukarıdaki cümleyi doğru olarak tamamlar?

- A) old lovely little
B) lovely little old
C) lovely old little
D) little lovely old

4. A: How often do you go to the gym?
B: I go to the gym

Which of the following completes the dialogue above?

Aşağıdakilerden hangisi yukarıdaki konuşmayı doğru olarak tamamlar?

- A) last Wednesday
B) yesterday
C) twice a week
D) last year

5. She doesn't drink water.

Which of the following completes the sentence above?

Aşağıdakilerden hangisi yukarıdaki cümleyi doğru olarak tamamlar?

- A) much
B) a
C) a few
D) many

6. This is her umbrella. Where is

Which of the following completes the sentence above?

Aşağıdakilerden hangisi yukarıdaki cümleyi doğru olarak tamamlar?

- A) me
B) her
C) their
D) mine

7. I sometimes drink coffee for breakfast.

Which of the following is the Turkish translation of the sentence above?

Aşağıdakilerden hangisi yukarıdaki cümlenin Türkçe karşılığıdır?

- A) Kahvaltıda daima kahve içerim.
B) Kahvaltıda hiç kahve içmem.
C) Kahvaltıda sık sık kahve içerim.
D) Kahvaltıda bazen kahve içerim.

8. Listen! The kids a song about the animals.

Which of the following completes the sentence above?

Aşağıdakilerden hangisi yukarıdaki cümleyi doğru olarak tamamlar?

- A) are singing
B) sing
C) sang
D) singing

9. A: does the film start?
B: It starts at 10 o'clock.

Which of the following completes the sentence above?

Aşağıdakilerden hangisi yukarıdaki cümleyi doğru olarak tamamlar?

- A) When
B) What
C) Why
D) Whose

10. They a film now.

Which of the following completes the sentence above?

Aşağıdakilerden hangisi yukarıdaki cümleyi doğru olarak tamamlar?

- A) are watching
B) watched
C) will watch
D) watch

11. Do you want to go to a park a shopping mall?

Which of the following completes the sentence above?

Aşağıdakilerden hangisi yukarıdaki cümleyi doğru olarak tamamlar?

- A) for
B) or
C) but
D) so

12. They are Tom and Philip. grandparents live in France.

Which of the following completes the sentence above?

Aşağıdakilerden hangisi yukarıdaki cümleyi doğru olarak tamamlar?

- A) Our
B) Her
C) His
D) Their

13. I don't have rock CDs.

Which of the following completes the sentence above?

Aşağıdakilerden hangisi yukarıdaki cümleyi doğru olarak tamamlar?

- A) much
B) a
C) any
D) a few

14. A: Is she a shower at the moment?
B: Yes, she is.

Which of the following completes the dialogue above?

Aşağıdakilerden hangisi yukarıdaki konuşmayı doğru olarak tamamlar?

- A) has
B) had
C) having
D) have

15. A: does Mark live?
B: He lives in İstanbul.

Which of the following completes the sentence above?

Aşağıdakilerden hangisi yukarıdaki cümleyi doğru olarak tamamlar?

- A) Where
B) When
C) Which
D) Who

16. The train..... leave in fifteen minutes.

Which of the following completes the sentence above?

Aşağıdakilerden hangisi yukarıdaki cümleyi doğru olarak tamamlar?

- A) is
B) has
C) has been
D) is going to

17. My brother always milk before he sleeps.

Which of the following completes the sentence above?

Aşağıdakilerden hangisi yukarıdaki cümleyi doğru olarak tamamlar?

- A) drink
- B) drinks
- C) will drink
- D) drinking

18. Ayşe lives in England but she visits family every month.

Which of the following completes the sentence above?

Aşağıdakilerden hangisi yukarıdaki cümleyi doğru olarak tamamlar?

- A) him
- B) his
- C) her
- D) hers

19. He couldn't pass the test he didn't study enough.

Which of the following completes the sentence above?

Aşağıdakilerden hangisi yukarıdaki cümleyi doğru olarak tamamlar?

- A) or
- B) and
- C) because
- D) so

20. Do you want to swim in the pool in the sea?

Which of the following completes the sentence above?

Aşağıdakilerden hangisi yukarıdaki cümleyi doğru olarak tamamlar?

- A) for
- B) or
- C) and
- D) so

1. Le sport je préfère est le basketball.

Choisissez l'expression qui convient.

Yukarıdaki cümlede boş bırakılan yeri aşağıdakilerden hangisi doğru şekilde tamamlar?

- A) que
B) qui
C) ce que
D) ce qui

2. ce / résoudre / comment / problème?
I II III IV

Mettez dans le bon ordre.

Yukarıdaki kelimelerin anlamlı bir bütün oluşturan sırası aşağıdakilerin hangisinde doğru olarak verilmiştir?

- A) II, III, I, IV
B) II, IV, III, I
C) III, II, I, IV
D) III, IV, I, II

3. Est-ce que quelqu'un vient avec moi?

Choisissez l'antonyme du mot souligné.

Yukarıdaki cümlede altı çizili sözcüğün zıt anlamlısı aşağıdakilerden hangisidir?

- A) rien
B) quelque chose
C) personne
D) cependant

4. parfum aimez-vous?

Choisissez le mot qui convient.

Cümledeki boşluğu aşağıdakilerden hangisi doğru şekilde tamamlar?

- A) Quel
B) Quelle
C) Quels
D) Quelles

5. C'est qui avons vu le voleur.

Choisissez le mot qui convient.

Cümledeki boşluğu aşağıdakilerden hangisi doğru şekilde tamamlar?

- A) nous
B) vous
C) toi
D) lui

6. Il court parce qu'il est

Choisissez l'expression qui convient.

Cümledeki boşluğu aşağıdakilerden hangisi doğru şekilde tamamlar?

- A) en voiture
B) à la mode
C) en retard
D) à Paris

7. Les gaz d'échappement sont dangereux la santé.

Choisissez le mot qui convient.

Cümledeki boşluğu aşağıdakilerden hangisi doğru şekilde tamamlar?

- A) qui
B) que
C) pour
D) comme

8. Est-ce que tu peux

Choisissez le mot qui convient.

Yukarıdaki cümlede boş bırakılan yeri aşağıdakilerden hangisi doğru şekilde tamamlar?

- A) jouait
B) joué
C) jouer
D) joue

9. «J'ai réussi mon examen grâce à cette méthode.»

Choisissez la traduction qui convient.

Yukarıdaki cümlenin Türkçe karşılığı aşağıdakilerden hangisidir?

- A) Sınavı yöntemle başardım.
B) Sınavımı bu yöntem sayesinde başardım.
C) Bu yöntemi kullanarak başarılı oluyorum.
D) Sınava yöntemlerle çalışılır.

10. - Vous allez à l'école en voiture?
- Non, nous allons à pied.

Choisissez le mot qui convient.

Yukarıdaki konuşmada boş bırakılan yeri aşağıdakilerden hangisi doğru şekilde tamamlar?

- A) de
B) au
C) en
D) y

11. Ne pas ta veste!

Choisissez le mot qui convient.

Cümledeki boşluğu aşağıdakilerden hangisi doğru şekilde tamamlar?

- A) prends
- B) prend
- C) prendre
- D) pris

12. Cette histoire se passe 1920.

Choisissez le mot qui convient.

Cümledeki boşluğu aşağıdakilerden hangisi doğru şekilde tamamlar?

- A) au
- B) en
- C) le
- D) de

13. Pierre : Je voudrais réserver une place au restaurant.

L'employé:?

Pierre : Demain soir, à 19 heures.

L'employé: D'accord Monsieur.

Choisissez la phrase qui convient.

Yukarıdaki konuşmada boş bırakılan yeri aşağıdakilerden hangisi doğru şekilde tamamlar?

- A) Pourquoi Monsieur
- B) Quelle heure est-il Monsieur
- C) Pour qui Monsieur
- D) Pour quand Monsieur

14. Ankara est la capitale de la Turquie 1923.

Choisissez le mot qui convient.

Cümledeki boşluğu aşağıdakilerden hangisi doğru şekilde tamamlar?

- A) quand
- B) depuis
- C) combien
- D) combien de temps

15. «Elle m'a demandé de l'aider.»

Choisissez la traduction qui convient.

Yukarıdaki cümlelerin Türkçe karşılığı aşağıdakilerden hangisidir?

- A) Onlara yardım edeceğim.
- B) Ona yardım etmem için beni çağırırdı.
- C) Ona yardım etmemi istedi.
- D) Onlarla yardımlaşmamızı istedi.

16. Il les droits des gens, il est avocat.

Choisissez le mot qui convient.

Cümledeki boşluğu aşağıdakilerden hangisi doğru şekilde tamamlar?

- A) a
- B) défend
- C) peut
- D) entend

17. I. Le chien est adorable.

II. Madame Pouce est blonde.

III. C'est une femme qui porte des lunettes.

IV. Elle aime les chiens.

Trouvez la phrase qui ne convient pas.

Cümleler sırasıyla okunduğunda, anlam bütünlüğünü bozan cümleyi bulunuz.

- A) I
- B) II
- C) III
- D) IV

18. vous dites est faux.

Choisissez l'expression qui convient.

Cümledeki boşluğu aşağıdakilerden hangisi doğru şekilde tamamlar?

- A) Ce qu'
- B) Ce que
- C) Que
- D) Ce qui

19. «Bugün hava ne soğuk, ne de sıcak.»

Choisissez la traduction qui convient.

Yukarıdaki cümlelerin Fransızca karşılığı aşağıdakilerden hangisidir?

- A) Demain, il fera froid et chaud.
- B) Demain, il ne fera ni froid ni chaud.
- C) Aujourd'hui, il fait froid et chaud.
- D) Aujourd'hui, il fait ni froid ni chaud.

20. - Tu as téléphoné à Marie ?

- Oui, je ai téléphoné.

Choisissez le mot qui convient.

Yukarıdaki konuşmada boş bırakılan yeri aşağıdakilerden hangisi doğru şekilde tamamlar?

- A) la
- B) y
- C) en
- D) lui

1. Ortak özellik yöntemi ile verilen $A=\{x \mid x, 1 \text{ ile } 9 \text{ arasında çift tamsayı}\}$ kümesinin liste yöntemi ile gösterimi aşağıdakilerden hangisidir?

- A) $\{1,3,5,7\}$
 B) $\{2,3,4,5,6,7,8\}$
 C) $\{2,4,6,8\}$
 D) $\{2,4,6\}$

2. $A=\{1,2,\{1\},\{3\},\{1,2\}\}$ olduğuna göre aşağıdakilerden hangisi doğrudur?

- A) $\{1,2\} \in A$
 B) $2 \subset A$
 C) $\{3\} \subset A$
 D) $3 \in A$

3. Matematik ve İngilizce derslerinin en az birinden başarılı olan 40 öğrencinin bulunduğu bir sınıfta 18 öğrenci yalnızca Matematik dersinden ve 10 öğrenci ise yalnızca İngilizce dersinden başarılı ise her iki dersten de başarılı olan öğrenci sayısı kaçtır?

- A) 14
 B) 12
 C) 10
 D) 8

4. $(a+1,5)=(3,b-1)$ ise $a \cdot b$ kaçtır?

- A) 2
 B) 6
 C) 8
 D) 12

5. $A=\{1,2,a,b\}$ ve $B=\{1,a,c,d\}$ olduğuna göre $s(A \cup B)$ kaçtır?

- A) 6
 B) 5
 C) 4
 D) 3

6. 255 tane öz alt kümesi olan bir kümenin eleman sayısı kaçtır?

- A) 5
 B) 6
 C) 7
 D) 8

7. $|x-5| \leq 2$ eşitsizliğini sağlayan tamsayılar kümesi aşağıdakilerden hangisidir?

- A) $\{3,4,5,6,7\}$
 B) $\{0,1,2,3,4,5,6,7\}$
 C) $\{-3,-2,-1,0,1,2,3\}$
 D) $\{-7,-6,-5,-4,-3,-2,-1,0,1,2,3\}$

8. $6x-3=7$ denkleminin tam sayılar kümesinde çözüm kümesi aşağıdakilerden hangisidir?

- A) $\{0\}$
 B) $\left\{\frac{5}{3}\right\}$
 C) $\{2\}$
 D) \emptyset

9. Bir mağazada bir ürünün fiyatına önce %50 indirim ve ardından indirimli fiyat üzerinden %40 indirim yapılıyor.

Buna göre, bu ürüne yapılan toplam indirim yüzde kaçtır?

- A) 60
 B) 70
 C) 80
 D) 90

10. $\frac{2^5 \cdot 4^4}{8^3}$

işleminin sonucu kaçtır?

- A) 4
 B) 8
 C) 16
 D) 32

11. $\sqrt{6 + \sqrt{4}} + \sqrt{64}$ işleminin sonucu kaçtır?

- A) 16
 B) 8
 C) 4
 D) 2

12. $3^{3x-1}=9$ denklemini sağlayan x değeri kaçtır?

- A) 0
 B) 1
 C) 2
 D) 3

13. $\{x \mid -1 \leq x < 5\}$ kümesinin belirttiği aralık aşağıdakilerden hangisidir?

- A) $[-1,5)$
- B) $(-1,5]$
- C) $(-1,5)$
- D) $[-1,5]$

14. $\frac{2}{5} = \frac{10}{x}$ orantısında x kaçtır?

- A) 5
- B) 10
- C) 20
- D) 25

15. Ali ile babasının bugünkü yaşları toplamı 40'dır. 5 yıl önce babasının yaşı, Ali'nin yaşının 5 katı olduğuna göre babasının şimdiki yaşı kaçtır?

- A) 30
- B) 32
- C) 34
- D) 35

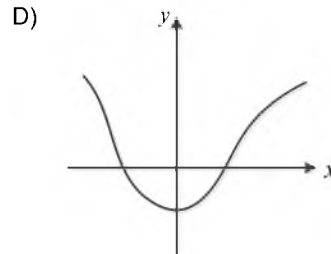
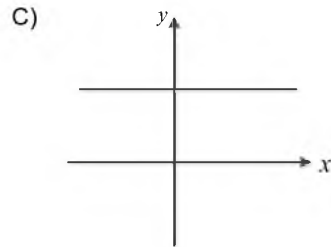
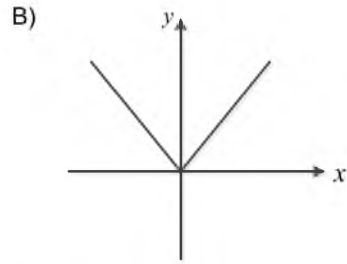
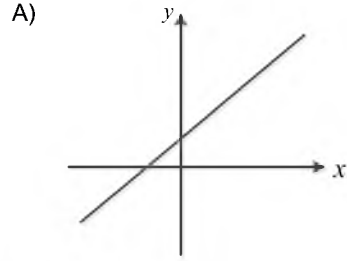
16. $\begin{cases} 2x - y = 3 \\ x + y = 6 \end{cases}$ denklem sisteminin çözüm kümesi aşağıdakilerden hangisidir?

- A) $\{(3,-3)\}$
- B) $\{(3,3)\}$
- C) $\{(-3,-3)\}$
- D) $\{(-3,3)\}$

17. Aşağıdakilerden hangisi bir irrasyonel sayıdır?

- A) -2
- B) $\frac{3}{5}$
- C) $\sqrt{8}$
- D) $\sqrt{16}$

18. Aşağıdaki grafikleri verilen fonksiyonlardan hangisi bire birdir?



19. $f: \mathbb{R} \rightarrow \mathbb{R}$, $f(x) = (a-1)x + 5$ fonksiyonu sabit fonksiyon olduğuna göre a değeri kaçtır?

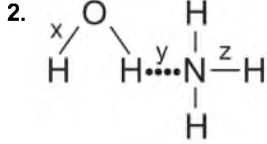
- A) -1
- B) 0
- C) 1
- D) 5

20. $f: \mathbb{R} \rightarrow \mathbb{R}$, $f(x) = x^2 + 5$ olduğuna göre $f(-1)$ kaçtır?

- A) 4
- B) 5
- C) 6
- D) 7

1. Aşağıdaki bileşiklerden hangisi hidrokarbondur?

- A) H_2CO_3
 B) C_2H_6
 C) CH_3COOH
 D) CO_2



- I. x, polar kovalent bağıdır.
 II. y, hidrojen bağıdır.
 III. z, polar kovalent bağıdır.

Atomları ve molekülleri birarada tutan x, y ve z bağları ile ilgili yukarıdaki ifadelerden hangileri doğrudur?

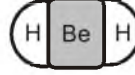
- A) I ve II
 B) I ve III
 C) II ve III
 D) I, II ve III

3. Girenler $\xrightarrow{[O]}$ Ürünler

Yukarıdaki tepkime denkleminde "[O]" sembolü aşağıdakilerden hangisini simgeler?

- A) Yanmayı
 B) Nötrleşmeyi
 C) İndirgenmeyi
 D) Yükseltgenmeyi

4. BeH_2 molekülünün hacimsel modeli aşağıda verilmiştir.



Buna göre, BeH_2 molekülü ile ilgili aşağıdaki ifadelerden hangisi doğrudur?

- A) Molekül kırık doğru şeklindedir.
 B) Be ve H atomları arasındaki bağlar polardır.
 C) Molekülde H, merkez atomdur.
 D) Molekül polardır.

5. Aşağıdakilerden hangisi bir kimyasal bağ oluşurken daima açığa çıkar?

- A) Isı
 B) Gaz
 C) Işık
 D) Ses

6. Aşağıdakilerden hangisi bütün aldehitler ve ketonlar için ortak tepkime çeşididir?

- A) Yükseltgenme
 B) İndirgenme
 C) Katılma
 D) Polimerleşme

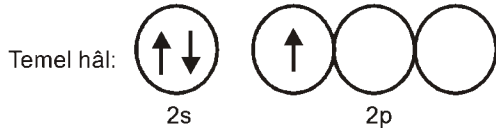
7. İyonik katılar ile ilgili aşağıdaki ifadelerden hangisi yanlıştır?

- A) Anyon ve katyonların birbirine bağlanması ile oluşan kristal örgüleri vardır.
 B) Atomların elektron alış-verişinde bulunmaları sonucu oluşurlar.
 C) Oda sıcaklığında katı ya da sıvı halde bulunurlar.
 D) Yapılarında en az bir tane metal bulundurulurlar.

8. Aşağıdaki bileşiklerden hangisinde atomlar arasında hem iyonik hem de kovalent bağ vardır? (1H , 6C , 8O , 7N , 11Na , 17Cl)

- A) NaNO_3
B) CH_4
C) NH_3
D) NaCl

9. Temel haldeki bir X atomunun değerlik orbitallerinin şeması aşağıdaki gibidir:



Buna göre, XH_3 bileşiğinde X atomunun yaptığı hibritleşme aşağıdakilerden hangisidir? (1H)

- A) sp^2
B) sp^3
C) pp
D) sp

10. Alkinlerin ilk üyesi olan asetilen aşağıdaki maddelerin hangisinden, bir dizi tepkime sonucu elde edilir?

- A) $\text{Ca}(\text{NO}_3)_2$
B) CaCO_3
C) K_2SO_4
D) $\text{Mg}(\text{OH})_2$

11. I. Genel formülleri $\text{C}_n\text{H}_{2n+2}$ 'dir.
II. En basit üyeleri CH_4 (metan)'dir.
III. Doymuş hidrokarbonlar grubudur.

Alkanlar ile ilgili yukarıdaki ifadelerden hangileri doğrudur?

- A) Yalnız I
B) I ve III
C) II ve III
D) I, II ve III

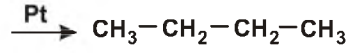
12.



Yukarıdaki kavram haritasına göre X aşağıdakilerden hangisidir?

- A) Kimyasal bağlar
B) London bağları
C) Hidrojen bağları
D) Metalik bağlar

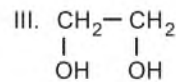
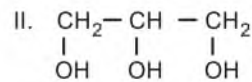
13. $\text{CH}_3-\text{CH}=\text{CH}-\text{CH}_3 + \text{X}$



Yukarıdaki tepkimeye göre X aşağıdakilerden hangisidir?

- A) H_2
B) O_2
C) Cl_2
D) HCl

14. I. $\text{CH}_3-\text{CH}_2-\text{OH}$



Yukarıdakilerden hangileri polialkoldür?

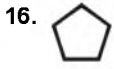
- A) Yalnız I
B) I ve II
C) II ve III
D) I, II ve III

15. Oktet ve dublet kuralına göre, A gruplarında bulunan bazı element atomlarının oluşturabilecekleri iyon yükleri tabloda verilmiştir.

Grup	2A	3A	5A	6A
Değerlik elektron sayısı	2	3	5	6
İyon yükü	+2	+3	?	-2

Buna göre, 5A grubundaki element atomlarının oluşturabileceği iyon yükü aşağıdakilerden hangisi olabilir?

- A) +4
B) +3
C) -1
D) -3

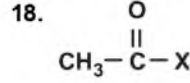


Halkalı gösterimi yukarıda verilen sikloalkanın molekül formülü aşağıdakilerden hangisidir?

- A) C₅H₈
B) C₅H₅
C) C₅H₁₀
D) C₅H₅O

17. Aşağıdaki bileşiklerden hangisinin Lewis yapısı yanlıştır? (1H, 6C, 7N, 9F, 8O)

- A) $\begin{array}{c} \text{H}:\ddot{\text{O}}:\text{H} \\ | \\ \text{H} \end{array}$
B) $\begin{array}{c} \text{H}:\ddot{\text{N}}:\text{H} \\ | \\ \text{H} \end{array}$
C) $\text{:N}::\text{N}:$
D) $\begin{array}{c} \text{H}:\ddot{\text{F}}: \end{array}$



Yukarıdaki bileşiğin aldehit olduğu bilindiğine göre, X aşağıdakilerden hangisidir?

- A) H
B) O
C) CH₃
D) CH₂CH₃

19. I. Hidrojen bağı içerir.
II. Suda iyi çözünür.
III. Sulu çözeltisi akımı iletir.

R-CH₂-OH şeklindeki bir alkol ile ilgili yukarıdaki ifadelerden hangileri doğrudur?

- A) Yalnız I
B) Yalnız II
C) I ve II
D) II ve III

20. Aşağıdakilerden hangisi molekül formülü C₅H₁₂ olan pentan bileşiğinin yapı izomeri değildir?

- A) n-pentan: CH₃-CH₂-CH₂-CH₂-CH₃
B) izo-pentan: $\begin{array}{c} \text{CH}_3 \\ | \\ \text{CH}_3-\text{CH}-\text{CH}_2-\text{CH}_3 \end{array}$
C) n-pentan: $\begin{array}{c} \text{CH}_3 \quad \text{CH}_3 \\ | \quad | \\ \text{CH}_2-\text{CH}-\text{CH}_2 \end{array}$
D) neo-pentan: $\begin{array}{c} \text{CH}_3 \\ | \\ \text{CH}_3-\text{C}-\text{CH}_3 \\ | \\ \text{CH}_3 \end{array}$

1. Büyük ve Küçük Menderes ovaları Türkiye'nin hangi bölgesindedir?
- A) Ege
B) Marmara
C) Karadeniz
D) Akdeniz
2. Aşağıdakilerden hangisi canlıların yeryüzüne dağılışını etkileyen fiziki faktörlerden biri değildir?
- A) Toprak
B) Yer şekilleri
C) İnsan
D) İklim
3. Teknik ve coğrafyanın birbirine yaptığı etkiyi araştıran bilim dalı aşağıdakilerden hangisidir?
- A) Teknocoğrafya
B) Biyocoğrafya
C) Fiziki coğrafya
D) Beşeri coğrafya
4. Aşağıdakilerden hangisi Anadolu'da kurulmuş medeniyetlerden biri değildir?
- A) İnkâ
B) Frigya
C) Lidya
D) Hitit
5. Aşağıdakilerden hangisi tükenebilen doğal kaynaklardan biridir?
- A) Kömür
B) Güneş
C) Rüzgar
D) Dalga
6. Türkiye'de en yıkıcı depremlerin üzerinde meydana geldiği fay hattı aşağıdakilerden hangisidir?
- A) Doğu Anadolu fay hattı
B) Kuzey Anadolu fay hattı
C) Batı Anadolu fay hattı
D) İç Anadolu fay hattı
7. Aşağıdakilerden hangisi ekosistemlerde yer alan canlı öğelerden biri değildir?
- A) Bitkiler
B) Hayvanlar
C) Rüzgarlar
D) Mikroorganizmalar
8. Dünyanın finans merkezi olarak kabul edilen şehir aşağıdakilerden hangisidir?
- A) Hamburg
B) New York
C) Roma
D) Paris
9. Dünyada eğitim faaliyetleri konusunda ön plana çıkan ve bu özelliği ile bilinen şehir aşağıdakilerden hangisidir?
- A) Marsilya
B) Essen
C) İstanbul
D) Oxford
10. Cumhuriyet'in ilk yıllarında istihdam oranının en yüksek olduğu sektör aşağıdakilerden hangisidir?
- A) Turizm
B) Tarım
C) Sanayi
D) Eğitim
11. Doğada kendiliğinden oluşmuş, insan akıl ve tekniğinin ürünü olmayan, meydana gelme aşamalarında insanın herhangi bir rolünün bulunmadığı bütün zenginlik kaynaklarına ne ad verilir?
- A) Doğal kaynak
B) Nükleer enerji
C) Yerli üretim
D) Elektrik enerjisi
12. Aşağıdakilerden hangisi ipek böcekçiliğinin yoğun olarak yapıldığı illerden biridir?
- A) Konya
B) Bursa
C) Manisa
D) Rize
13. Aşağıdaki ülkelerden en fazla nüfusa sahip olanı hangisidir?
- A) Hindistan
B) Japonya
C) Endonezya
D) Çin
14. Bitki, alg ve bazı bakterilerin güneş ışınları aracılığıyla inorganik maddeleri organik besinlere dönüştürmelerine ne ad verilir?
- A) Hidroliz
B) Kemosentez
C) Sindirim
D) Fotosentez

15. Şehirleşmede ve şehirlerdeki nüfusta artışın hızlanmasının sebebi aşağıdakilerden hangisidir?

- A) Tarımsal faaliyetlerin artması
- B) Sanayileşme hareketleri
- C) Zenginleşme
- D) Savaşların azalması

16. Aşağıdakilerden hangisi karasal su ekosistemlerinden biri değildir?

- A) Nehir ekosistemleri
- B) Göl ekosistemleri
- C) Deniz ekosistemleri
- D) Bataklık ekosistemleri

17. Türkiye'nin dünyada üretiminde ilk sırada olduğu maden aşağıdakilerden hangisidir?

- A) Boksit
- B) Demir
- C) Bakır
- D) Bor

18. Aşağıdakilerden hangisi Türkiye ekonomisini etkileyen faktörlerden biri değildir?

- A) İklim özellikleri
- B) Nüfus
- C) Tarihsel bağlar
- D) Coğrafi konum

19. Benzer bitki ve hayvan topluluklarını barındıran bölgelere ne ad verilir?

- A) Zooloji
- B) Ekosistem
- C) Biyom
- D) Biyosfer

20. Aşağıdaki tarım ürünlerinden hangisinin üretimi Gıda Tarım ve Hayvancılık Bakanlığının özel iznine bağlıdır?

- A) Mercimek
- B) Zeytin
- C) Elma
- D) Haşhaş

BU SAYFA BOŞ BIRAKILMIŞTIR.

SINAVDA UYULMASI GEREKEN GENEL KURALLAR

1. Sınava girmek için gerekli belgelerinizin tümünü sınav başlamadan önce sıranızın üzerine bırakınız.
2. Sınav süresince görevlilerle konuşmak, görevlilere soru sormak yasaktır. Aynı şekilde görevlilerin de öğrencilerle/adaylarla yakından ve alçak sesle konuşmaları yasaktır. Gerekli durumlarda görevliler yerinizi değiştirebilir.
3. Size verilen cevap kâğıdının üzerindeki TCKN/Öğrenci no, ad, soyadı, bilgilerini kontrol ediniz, ilgili alanları eksiksiz doldurarak imzalayınız. Bu bilgiler size ait değilse, kâğıt üzerinde hiçbir işlem yapmadan görevlileri uyararak size ait cevap kâğıdını isteyiniz. Başkasına ait cevap kâğıdı kullanan öğrencilerin sınavları geçersiz sayılır.
4. Cevap kâğıdı üzerine test grubunu (kitapçık türünü) kodlamayan veya birden fazla grubu kodlayanların sınavları geçersiz sayılır.
5. Cevap kâğıdınıza yazacağınız her türlü yazı ve yapacağınız işaretlemeler için koyu siyah kurşun kalem kullanmalısınız. Farklı bir kalem (tükenmez, mürekkepli, renkli vb.) kullananların sınavları geçersiz sayılır.
6. Cevap kâğıdı üzerinde değişiklik yapmak istediğinizde, iz bırakmayan bir silgi kullanınız. Cevap kâğıdınızı buruşturmayınız, katlamayınız ve üzerine gereksiz hiçbir işaret koymayınız.
7. Cevaplarınızı, cevap kâğıdında ilgili test için ayrılmış olan alana, cevap yerinin dışına taşırmadan işaretleyiniz. Soru kitapçığı üzerinde yapılan işaretlemeler değerlendirmeye alınmayacaktır.
8. Her sorunun tek bir doğru cevabı vardır. Bir soru için birden çok cevabı işaretlerseniz, o soruyu yanlış cevaplamış sayılacaksınız.
9. Soru kitapçığınızı aldığınızda sayfalarına hızlıca bakarak hatalı ya da eksik baskı olup olmadığını kontrol ediniz. Hata/eksik olması durumunda kitapçığının değiştirilmesi için derhâl sınav görevlilerine başvurunuz. Sınav görevlileri sınavın başladığını belirtmeden kitapçığınızı tekrar açmayınız.
10. Cevap kâğıdınızda belirtilen kitapçık kodu ile soru kitapçığının kodunu karşılaştırınız. Aynı değilse, sınav görevlilerine durumu bildirerek doğru kitapçığın verilmesini talep ediniz.
11. Soru kitapçığındaki ilgili alanlara ad, soyadı, TCKN/Öğrenci no, sınav salon no, sıra no bilgilerinizi eksiksiz doldurarak imzanızı atınız. Soru kitapçığının sayfalarındaki boş yerleri müsvedde amacıyla kullanabilirsiniz.
12. Aşağıdaki durumlarda sınav görevlileri tarafından Bireysel Sınav İptal Tutanağı düzenlenerek ilgili öğrencilerin/adayların sınavları geçersiz sayılır:
 - a) Sınav kurallarına ve sınav görevlilerinin uyarılarına uymamak, sınav düzenini bozmak,
 - b) Kâğıt, kitap, defter, not vb. dokümanları; pergel, açıölçer, cetvel vb. araçları; cep telefonu, bilgisayar, tablet, telsiz, kamera vb. iletişim, depolama, kayıt ve veri aktarma cihazlarını; ruhsatlı veya resmi amaçlı olsa bile silah ve silah yerine geçebilecek nesneleri yanında bulundurmamak,
 - c) Sınav sırasında kalem, silgi vb. araç-gereç paylaşımında bulunmak,
 - d) Cevapları, cevap kâğıdı dışında bir yere yazmak ve sınav salonundan dışarı çıkarmak,
 - e) Sınava girebilmek için gerekli belgeleri eksik olduğu halde sınava katılıp, cevap kâğıdında işaretleme yapmak,
 - f) Sınav görevlileri tarafından öğrencinin/adayın kimliğinden şüphe duyulması,
 - g) Cevap kâğıdını ve/veya soru kitapçığını sınav görevlilerine eksiksiz ve sağlam şekilde teslim etmemek, sınav salonu dışına çıkarmak,
 - h) Kopya çekmek, vermek, çekilmesine yardımcı olmak vb. eylemlerde bulunmak,
 - i) Kendisi yerine başkasını sınava sokmak.
13. Sınav bitiminde, cevap kâğıdınızı ve soru kitapçığınızı salon görevlilerine eksiksiz biçimde teslim ediniz. Sınav bittikten sonra gönderilen cevap kâğıtları dikkate alınmayacaktır.

SINAV KURALLARINA UYDUĞUNUZ İÇİN TEŞEKKÜR EDER, SINAVINIZDA BAŞARILAR DİLERİZ.