



ANADOLU ÜNİVERSİTESİ  
AÇIKÖĞRETİM FAKÜLTESİ  
BA - AÇIKÖĞRETİM OKULLARI

**T.C. MİLLÎ EĞİTİM BAKANLIĞI**  
**Hayat Boyu Öğrenme Genel Müdürlüğü**  
**AÇIKÖĞRETİM LİSESİ – BATI AVRUPA PROGRAMI**  
**2015-2016 ÖĞRETİM YILI II. DÖNEM SINAVI**

4. OTURUM Pazar 13:00

TEST GRUBUNUZ

**B 0104**

**ÖĞRENCİNİN**

SOYADI : .....

ADI : .....

TC KİMLİK NO / ÖĞRENCİ NO : .....

SINAV SALON NO : ..... SIRA NO: .....

İMZA: .....

Sınavla ilgili tüm kuralları okudum, anladım, kabul ediyorum.

**SINAV İÇERİĞİ**

| Testin Adı                     | Soru Sayısı | Sayfa No | Testin Adı                     | Soru Sayısı | Sayfa No |
|--------------------------------|-------------|----------|--------------------------------|-------------|----------|
| DİN KÜLTÜRÜ VE AHLAK BİLGİSİ 3 | 20          | 02       | TRAFİK VE İLK YARDIM BİLGİSİ 1 | 20          | 33       |
| DİN KÜLTÜRÜ VE AHLAK BİLGİSİ 6 | 20          | 04       | BIYOLOJİ 3                     | 20          | 35       |
| GİRİŞİMCİLİK 2                 | 20          | 06       | SEÇMELİ TARİH 3                | 20          | 37       |
| COĞRAFYA 2                     | 20          | 08       | COĞRAFYA 3                     | 20          | 39       |
| COĞRAFYA 6                     | 20          | 10       | MATEMATİK 6                    | 20          | 41       |
| COĞRAFYA 8                     | 20          | 12       | SEÇMELİ DİL VE ANLATIM 8       | 20          | 44       |
| MATEMATİK 5                    | 20          | 14       | SEÇMELİ ALMANCA 4              | 20          | 46       |
| SOSYOLOJİ 1                    | 20          | 16       | SEÇMELİ İNGİLİZCE 4            | 20          | 49       |
| DİL VE ANLATIM 4               | 20          | 18       | SEÇMELİ FRANSIZCA 4            | 20          | 52       |
| TÜRK EDEBİYATI 7               | 20          | 21       | SEÇMELİ ALMANCA 7              | 20          | 54       |
| KİMYA 4                        | 20          | 23       | SEÇMELİ İNGİLİZCE 7            | 20          | 57       |
| BIYOLOJİ 8                     | 20          | 25       | SEÇMELİ FRANSIZCA 7            | 20          | 60       |
| MANTIK 2                       | 20          | 27       | DİL VE ANLATIM 5               | 20          | 62       |
| SANAT TARİHİ 2                 | 20          | 29       | TÜRK EDEBİYATI 3               | 20          | 64       |
| SAĞLIK BİLGİSİ 1               | 20          | 31       |                                |             |          |

**SINAVDA UYULMASI GEREKEN ÖZEL KURALLAR**

1. Bu kitapçıkta yer alan her bir test için cevaplama süresi **30** dakika, toplam süre **150** dakikadır.
2. Öğrenciler sınavın ilk 30 dakikası ve son 5 dakikası içinde sınavlarını tamamlasalar bile salonu terk edemezler. Sınavın başlamasını izleyen ilk 15 dakikadan sonra hiçbir öğrenci sınava alınmaz.
3. Yanlış cevaplarınız dikkate alınmayacaktır. Bu nedenle kitapçıkta bulunan tüm sorular için size doğru gelen seçeneği işaretleyerek cevapsız soru bırakmamanız yararınıza olacaktır.
4. Sınav sırasında hesap makinesi kullanabilirsiniz. Ancak, kullanacağınız makinede alfabetik tuş takımının (A, B, C, ..., Y, Z), program yapılmasına, saklanmasına ve çalıştırılmasına imkân veren EXE, STORE, RUN vb. tuşlar bulunamaz.

"Sınavda Uyulması Gereken Genel Kurallar" soru kitapçığının arka sayfasında yer almaktadır. Bu kuralları da mutlaka dikkatlice okuyunuz.

Anadolu Üniversitesi tarafından hazırlanmış olan bu testlerin her hakkı saklıdır. Hangi amaçla olursa olsun, testlerin tamamının veya bir kısmının Anadolu Üniversitesi'nin yazılı izni olmadan kopya edilmesi, fotoğraflarının çekilmesi, herhangi bir yolla çoğaltılması, yayımlanması ya da kullanılması yasaktır. Bu yasağa uymayanlar gerekli cezai sorumluluğu ve testlerin hazırlanmasındaki mali külfeti peşinen kabullenmiş sayılır.

1. Aşağıdakilerden hangisi Hz. Muhammed'in özelliklerinden biri değildir?

- A) Lüksü ve israfı sevmesi
- B) Zamanı iyi değerlendirmesi
- C) Verdiği sözde durması
- D) Hoşgörülü olması

2. Tabiat olayları ile ilgilenen melek aşağıdakilerden hangisidir?

- A) Azrail
- B) Mikâil
- C) Münker
- D) İsrail

3. Kâbe'nin etrafında yedi kez dönmeye ne ad verilir?

- A) İhram
- B) Vakfe
- C) Sa'y
- D) Tavaf

4. Aşağıdakilerden hangisi vacip namazlardan biridir?

- A) Bayram namazı
- B) Cuma namazı
- C) Yatsı namazı
- D) Cenaze namazı

5. Hz. Muhammed kaç yılında vefat etmiştir?

- A) 596
- B) 615
- C) 632
- D) 710

6. Kur'an-ı Kerim'de kaç peygamberin adı geçmektedir?

- A) 13
- B) 25
- C) 37
- D) 48

7. Tevrat hangi peygambere gönderilmiştir?

- A) Hz. Musa
- B) Hz. Davut
- C) Hz. Eyüp
- D) Hz. Yusuf

8. Kıyametten sonra yeniden diriliş ile başlayan ve sonsuza kadar sürecek olan zamana ne ad verilir?

- A) Mizan
- B) Haşir
- C) Ahiret
- D) Kaza

9. "Sırat-ı Müstakim" in kelime anlamı nedir?

- A) Allah'ın birliği
- B) Güzel ahlâk
- C) Müjdeli haber
- D) Doğru yol

10. İbadetler kaç çeşittir?

- A) 2
- B) 3
- C) 4
- D) 5

11. İslam dini kaç temel inanç esası üzerine kurulmuştur?

- A) 2
- B) 3
- C) 4
- D) 6

12. Kur'an da kaç sure vardır?

- A) 100
- B) 110
- C) 114
- D) 120

13. Aşağıdakilerden hangisi farz namazlarından biri değildir?

- A) İkinci namazı
- B) Vitir namazı
- C) Sabah namazı
- D) Cenaze namazı

14. Aşağıdakilerden hangisi dört büyük melekten biri değildir?

- A) Münker ve Nekir
- B) İsrail
- C) Azrail
- D) Mikâil

15. Kur'anı Kerim hangi dilde gönderilmiştir?

- A) Samayetçe
- B) Farsça
- C) Latince
- D) Arapça

16. Sabah namazı kaç rekâttir?

- A) 2
- B) 4
- C) 8
- D) 10

17. Kâbe nerededir?

- A) Yemen
- B) Kudüs
- C) Medine
- D) Mekke

18. Kur'an okumak aşağıdakilerden hangisine bir örnektir?

- A) Vacip
- B) Mubah
- C) Sünnet
- D) Farz

19. Bayram namazı kaç rekâttır?

- A) 2
- B) 4
- C) 5
- D) 6

20. Kendisine kutsal kitap verilmeyip kendisinden önceki kitaplara uymak zorunda olan peygamberlere ne ad verilir?

- A) Veli
- B) Nebi
- C) Sahabe
- D) Resul

1. Aşağıdakilerden hangisi Diyanet İşleri Başkanlığı'na bağlı kurum ve kuruluşlardan biri değildir?
- A) Din İşleri Yüksek Kurulu  
B) Din Hizmetleri Dairesi  
C) Tasfiye İşleri Genel Müdürlüğü  
D) Mushafları İnceleme Kurulu
2. İlk Diyanet İşleri Reisi aşağıdakilerden hangisidir?
- A) Mehmet Rifat Börekçi  
B) Mehmet Akif Ersoy  
C) Mehmet Görmez  
D) M. Esad Coşan
3. Türkiye'deki tüm camilerde hutbelerin Türkçe okunmaya başladığı tarih aşağıdakilerden hangisidir?
- A) 1932  
B) 1938  
C) 1944  
D) 1948
4. Aşağıdakilerden hangisi bir din görevlisi değildir?
- A) Müftü  
B) Vaiz  
C) Öğretmen  
D) İmam-Hatip
5. Özel birtakım boyalarla su üzerinde yapılan şekillerin kâğıda çıkarılmasıyla oluşan süsleme sanatı aşağıdakilerden hangisidir?
- A) Hat  
B) Tezhip  
C) Minyatür  
D) Ebru
6. Soyca veya evlilik sonucu aralarında bağ bulunanlara ne ad verilir?
- A) Hasım  
B) Hısım  
C) Dost  
D) Yaren
7. Evlilik ile ilgili aşağıdaki ifadelerden hangisi yanlıştır?
- A) Doğal bir ihtiyaçtır.  
B) Hz. Muhammed'le başlayan evlilik günümüze kadar varlığını devam ettirmiştir.  
C) Çoğalma ve neslin devam etmesinin bir şartıdır.  
D) Her toplum evlenmeyi kendi inanç ve kültürüne göre belirler.
8. Yüce Allah'a yakarışı ve kulun acizliğini ifade eden edebi eserlere ne ad verilir?
- A) Münacat  
B) Tevhit  
C) Naat  
D) Methiye
9. Namaz vakitleri geldiğinde ezan okuyan, kamet getiren, caminin temizliği ve bakımı gibi görevlerde bulunan din görevlisi aşağıdakilerden hangisidir?
- A) Vaiz  
B) İmam  
C) Müezzin  
D) Cemaat
10. İslam tarihindeki ilk cami aşağıdakilerden hangisidir?
- A) Kubbetus Sahra  
B) Mescidi Nebi  
C) Kuba mescidi  
D) Kabe
11. Kur'an-ı Kerim metinlerinin hatasız ve eksiksiz basım ve yayımını sağlamak üzere kontrol edip onaylayan birim aşağıdakilerden hangisidir?
- A) Mushafları İnceleme ve Kıraat Kurulu  
B) Din İşleri Yüksek Kurulu  
C) Hac Dairesi  
D) Tasfiye İşleri Genel Müdürlüğü
12. İslam'daki evlilik anlayışıyla ilgili aşağıdaki ifadelerden hangisi yanlıştır?
- A) Evlilik insan şeref ve haysiyetini korumuştur.  
B) Evlilik insani ve medeni bir muameledir.  
C) Neslin devamı ve korunması için evlilik esastır.  
D) Boşanma zina sayılır ve yasaktır.
13. Hz. Muhammed'i öven edebi eserlere ne ad verilir?
- A) Ebru  
B) Mevlit  
C) Naat  
D) Tevhit

14. Aşağıdakilerden hangisi Diyanet İşleri Başkanlığı'nın dini yayınlarının temel amaçlarından biri değildir?

- A) Dini, esas kaynaklarından doğru bir şekilde öğretmek
- B) Toplumun din konusunda bilgilendirmek
- C) Hurafe ve yanlış inançlardan halkı korumak
- D) Toplumdaki bireylere okuma alışkanlığı kazandırmak

15. Aşağıdakilerden hangisi Süleyman Çelebinin Mevlididir?

- A) Divan-ı Hikmet
- B) Mesnevi
- C) Divan-ı Lugat-i Türk
- D) Vesilatün Necat

16. Aşağıdaki camilerden hangisi Edirne'de bulunur?

- A) Ayasofya
- B) Sultan Ahmet
- C) Hasan Paşa İmaret
- D) Selimiye

17. Diyanet İşleri Başkanlığının kuruluş tarihi aşağıdakilerden hangisidir?

- A) 3 Mart 1924
- B) 29 Ekim 1923
- C) 23 Nisan 1920
- D) 19 Mayıs 1919

18. Görevli oldukları il ya da ilçelerde din hizmetlerinden birinci derece sorumlu olan ve din hizmetlerini, dinî müesseseleri yöneten ve din görevlilerinin hizmetlerini düzenleyip denetleyen görevlilere ne ad verilir?

- A) Vaiz
- B) Müftü
- C) Din İşleri Yüksek Kurulu Başkanı
- D) İmam-Hatip

19. Ayetlerin, hadislerin veya dinî yazıların güzel ve estetik yazılması sanatına ne ad verilir?

- A) Hat
- B) Hüsnühat
- C) Tezhip
- D) Ebru

20. Aşağıdakilerden hangisi dinin de etkisiyle ortaya çıkan mimari eserlerden biri değildir?

- A) Külliye
- B) Naat
- C) Cami
- D) Medrese

1. Aşağıdakilerden hangisi bir yatırım projesinin doğuşuna yol açacak ihtiyacı belirlemek için dikkat edilmesi gereken hususlardan biri değildir?
  - A) İklim etkileri
  - B) Mevcut sanayilerin durumu
  - C) Toplumsal değişme eğilimleri
  - D) Demografik veriler
2. Girişimcilerin hedefledikleri amaçlarına ulaşabilmek için uygulamaya karar verdikleri fikir yada fikirler bütününe ne ad verilir?
  - A) Proje
  - B) Araştırma
  - C) İş fikri
  - D) Analiz
3. Uzmanlık, bilgi ve deneyimi gerektiren proje faaliyetine ne ad verilir?
  - A) Güdüleme
  - B) Fizibilite(Yapılabilirlik) çalışması
  - C) Çözümleme
  - D) Koordinasyon
4. Aşağıdakilerden hangisi bir faaliyetin proje sayılması için gerekli olan şartlardan biri değildir?
  - A) Belirli bir zaman diliminde gerçekleşmelidir.
  - B) Proje mekânı belli olmamalıdır.
  - C) Belirli kaynakları tüketmeli ve sonucunda belirli çıktılar sağlamalıdır.
  - D) Unsurları anlamında özgün ve tek olmalıdır.
5. Aşağıdakilerin hangisinde iş planı yönetim aracı olarak kullanılmaz?
  - A) Sonuçların izlenmesinde
  - B) Gelişmenin değerlendirilmesinde
  - C) İşletmenin evrelerine bağlı olarak takip edilecek yolların belirlenmesinde
  - D) Yapılacak yatırımı cazip hale getirmede
6. Aşağıdakilerden hangisi yapılabirlik etüdünün ekonomik incelemede yapılan araştırmalarından biri değildir?
  - A) Ürün araştırması
  - B) Kuruluş yeri seçimi
  - C) Ham madde analizi
  - D) Finansman giderlerinin belirlenmesi
7. Aşağıdakilerden hangisi Anonim şirketin özelliklerinden biridir?
  - A) Büyük sermaye toplama yeteneğine sahip olduğundan büyük işletmeler anonim şirket niteliğinde kurulur.
  - B) Ortakların ölümü veya ortaklıktan çekilmeleri şirketi etkiler.
  - C) İdarenin sorumluluğu kişiseldir.
  - D) Ortaklık kolaylıkla devredilemez.
8. Aşağıdakilerden hangisi işletmenin temel özelliklerinden biri değildir?
  - A) Hammadde temin etmesi
  - B) Mal ve hizmet üretmesi
  - C) Üretim faktörlerini bir araya getirmesi
  - D) Kâr sağlamaı
9. Aşağıdakilerden hangisi işletmenin temel fonksiyonlarından biri değildir?
  - A) Kolaylaştırıcı fonksiyon
  - B) Genel fonksiyon
  - C) Destekleyici fonksiyon
  - D) Özendirici fonksiyon
10. Kâr amacıyla mal ve hizmet üretmek veya pazarlamak için üretim faktörlerini planlı, tutarlı ve akılcı bir sistemle bir araya getiren teknik ve ekonomik birime ne ad verilir?
  - A) İşletme
  - B) Sendika
  - C) Vakıf
  - D) Piyasa
11. Otomobil fabrikaları aşağıdaki işletmelerden hangisine örnektir?
  - A) Kiralama işletmeleri
  - B) Ticaret işletmeleri
  - C) Sanayi işletmeleri
  - D) Finans işletmeleri
12. Aşağıdakilerden hangisi adi şirketin özelliklerinden biri değildir?
  - A) Ortakların sorumlulukları taahhüt ettikleri sermaye ile sınırlıdır.
  - B) Yönetim yetkisi ortaklardan birine birkaçına ya da dışardan birine bırakılabilir.
  - C) Şirket kârları bütün ortaklar arasında ve belirtilen oranlarda veya eşit olarak dağıtılır.
  - D) Her ortağın şirket yönetiminde yetkisi vardır.

13. Aşağıdakilerden hangisi sermaye kaynaklarının sağlanmasını ifade eder?

- A) Fizibilite
- B) Finansal yönetim
- C) Franchisor
- D) Finansman

14. Kamu işletmelerinin yer aldığı işletme türü ayrımı aşağıdakilerden hangisidir?

- A) Ekonomik şekilleri bakımından işletmeler
- B) Hukuki şekilleri bakımından işletmeler
- C) İşleyişleri bakımından işletmeler
- D) Süreleri bakımından işletmeler

15. Bir girişimcinin iş kurarken ekonomik istikrarsızlık engelini aşmasında aşağıdakilerden hangisi etkilidir?

- A) Çalışanların özgüvenini artırmak
- B) Grup çalışmasına önem vermek
- C) Sabitlenebilir değerleri tercih etmek
- D) Motivasyonu güçlendirmek

16. Aşağıdakilerden hangisi internet üzerinden satışın başarıya ulaşması için dikkat edilmesi gereken konulardan biri değildir?

- A) Doğru ihtiyaç tespiti
- B) Doğru mağaza yeri seçimi
- C) Doğru hedef kitle
- D) Doğru işletme kuralları

17. I. Ticari defterini tasdik ettirme sorumluluğu  
II. Ticari defteri saklama sorumluluğu  
III. Sosyal güvenlik kurumuna karşı sorumluluğu

**Yukarıdakilerden hangileri girişimcinin yasal sorumluluklarındandır?**

- A) Yalnız I
- B) Yalnız II
- C) I ve II
- D) I,II ve III

18. Türkiye'nin ekonomik ve sosyal ihtiyaçlarının karşılanmasında küçük ve orta ölçekli işletmelerin payını ve etkinliğini artırmak, rekabet güçlerini ve düzeylerini yükseltmek sanayide uyumunu ekonomik gelişmelere uygun biçimde gerçekleştirmek amacıyla kurulan kurum aşağıdakilerden hangisidir?

- A) BDDK
- B) TSKB
- C) KOSGEB
- D) SPK

19. Piyasada tanınmış yerleşmiş bir ismin ya da markanın işletme hakkını veren tarafa ne ad verilir?

- A) Müteşebbis
- B) Distribütörlük
- C) Franchisor
- D) Franchisee

20. Aşağıdakilerden hangisi Bayi ya da Distribütör'ü Franchising'ten ayıran özelliklerden biridir?

- A) Bayiler ürünlerini sattıkları işletme ile aynı görüntüde olmak zorundadır.
- B) Bayi ana şirkete para ödemez aksine satışları karşılığında para alır.
- C) Bayiler ana şirketin adıyla satış yapmak zorundadır.
- D) Bayiler ulusal reklam ve tanıtım kampanyalarına katılmak zorundadır.

1. Türkiye'de yeryüzü şekilleri sade ve engebesiz olsaydı ülkede daha çok hangi iklim türünün yayılma alanının genişlemesi beklenirdi?
  - A) Muson
  - B) Karasal
  - C) Akdeniz
  - D) Çöl
2. Aşağıdakilerden hangisi Türkiye'de görülen iklim çeşitlerinden biri değildir?
  - A) Akdeniz iklimi
  - B) Karadeniz iklimi
  - C) Tropikal iklim
  - D) Karasal iklim
3. Aşağıdakilerden hangisi liman şehri değildir?
  - A) İstanbul
  - B) Denizli
  - C) Sinop
  - D) İzmir
4. Aşağıdaki şehirlerden hangisi idari kent özelliğinde değildir?
  - A) Berlin
  - B) İstanbul
  - C) Viyana
  - D) Madrid
5. Akarsular tarafından derince yarılmış olan engebeli düzlüklere ne ad verilir?
  - A) Kanyon
  - B) Ova
  - C) Yamaç
  - D) Plato
6. Aşağıdakilerden hangisi köy altı yerleşmelerinin oluşmasındaki başlıca etmenlerden biri değildir?
  - A) Aileler arasında anlaşmazlıklar çıkması
  - B) Devlete ait arazilerin topraksız aileler tarafından kullanılması
  - C) Tarım arazilerinin yeterli olması ve birbirine yakın olması
  - D) Hayvanlar için otlak ve barınak temin edilmesi
7. İklim bölgeleri haritası incelendiğinde aşağıdaki ülkelerden hangisinin diğerlerinden farklı bir iklim özelliğine sahip olduğu söylenebilir?
  - A) Mısır
  - B) İngiltere
  - C) Belçika
  - D) İskoçya
8. Aşağıdaki şehirlerden hangisinde dağınık yerleşmelerin daha çok olduğu söylenebilir?
  - A) Rize
  - B) Balıkesir
  - C) Konya
  - D) Eskişehir
9. Orta Doğu Bölgesi'nde aşağıdaki özelliklerden hangisi daha fazla ön plana çıkar?
  - A) Yer şekilleri
  - B) Bitki örtüsü
  - C) İklim özellikleri
  - D) Zengin petrol rezervleri
10. Aşağıdakilerden hangisi, iklimi etkileyen özel konumla ilgili faktörlerden biri değildir?
  - A) Ülkenin sınırları
  - B) Etrafındaki kara kütleleri
  - C) Etrafındaki denizler
  - D) Basınç merkezleri
11. Akdeniz, Ege ve Marmara kıyılarında etkili olan, güneybatıdan esen sıcak ve kuru rüzgâr aşağıdakilerden hangisidir?
  - A) Karayel
  - B) Kible
  - C) Yıldız
  - D) Lodos
12. Aşağıdaki enerji kaynaklarından hangisinin çevreye zararı yoktur?
  - A) Petrol
  - B) Taş kömürü
  - C) Güneş enerjisi
  - D) Doğalgaz
13. Ekvatora uzaklıklarının yaklaşık olarak aynı olmasına rağmen Erzurum ve Balıkesir'in ortalama sıcaklıklarının farklı olmasının sebebi aşağıdakilerden hangisidir?
  - A) Demografik yapısı
  - B) Yüzölçümleri
  - C) Bitki örtüsü
  - D) Yükselti



14. Kıyı yakınındaki adaları kıyıya bağlayan kıyı kordonlarına ne ad verilir?

- A) Obruk
- B) Tombolo
- C) Dolin
- D) Lagün

15. Aşağıdakilerden hangisi köy altı yerleşme tiplerinden biri değildir?

- A) Kasaba
- B) Mezra
- C) Divan
- D) Kom

16. Aşağıdakilerden hangisi zirvesinde takke buzulu olan Türkiye'nin en yüksek dağıdır?

- A) Tendürek
- B) Bozdağ
- C) Ağrı
- D) Süphan

17. Türkiye'de kayaların erimesiyle oluşan karstik şekiller hangi kayaçların bulunduğu yörelerde daha fazla oluşurlar?

- A) Kireçtaşı
- B) Kumtaşı
- C) Andezit
- D) Bazalt

18. Aşağıdaki volkanik dağlardan hangisi İç Anadolu Bölgesi'nde, Kayseri şehri yakınlarındadır?

- A) Nemrut
- B) Süphan
- C) Tendürek
- D) Erciyes

19. Aşağıdaki akarsu havzalarından hangisi dışa akışı olmayan kapalı havza özelliğindedir?

- A) Menderes Havzası
- B) Tuz Gölü Havzası
- C) Sakarya Havzası
- D) Kızılırmak Havzası

20. İşlenmemiş (hammadde) ya da yarı işlenmiş maddelerin, fabrikalarda işlenerek kullanılabilir duruma getirilme işine ne ad verilir?

- A) Ulaşım sektörü
- B) Sanayi
- C) Ekonomik faaliyet
- D) Mesleki eğitim

1. **Kültür ile ilgili aşağıdaki ifadelerden hangisi vanlıştır?**
- A) Kültür sabittir ve değişmez.  
B) Kültür dinamiklidir.  
C) Her nesil miras olarak aldığı kültürü değiştirir ve geliştirir.  
D) Bir kültürün doğduğu yere kültür ocağı denir.
2. **Türk kültürü tarih boyunca aşağıdaki kültürlerin hangisinden etkilenmemiştir?**
- A) Yunan kültürü  
B) İngiliz kültürü  
C) Çin kültürü  
D) Hint kültürü
3. **Karadeniz Ekonomik İşbirliği Teşkilatının çalışmalarına öncülük eden ve ilk toplantısını düzenleyen ülke aşağıdakilerden hangisidir?**
- A) Rusya  
B) Almanya  
C) Türkiye  
D) Fransa
4. **Rusya'da 1986 yılında meydana gelen nükleer kaza aşağıdaki isimlerden hangisi ile anılır?**
- A) Thre Mile Island  
B) Moskova  
C) Fukuşima  
D) Çernobil
5. **Aşağıdakilerden hangisi Avrupa Birliğinin temeli olan Avrupa Kömür ve Çelik Topluluğunun kurucu ülkelerinden biri değildir?**
- A) Lüksemburg  
B) Almanya  
C) İngiltere  
D) Fransa
6. **Turistlerin gittikleri yerleri toplumsal açıdan etkilemeleri ve aynı zamanda bu yerlerden etkilenmeleri, turizmin etkilerinden hangisi ile ilgilidir?**
- A) Ekonomik etkiler  
B) Çevresel ve ekolojik etkileri  
C) Politik etkiler  
D) Sosyal kültürel etkiler
7. **Aşağıdakilerden hangisi doğal kaynakların kullanımında etkili olan faktörlerden biri değildir?**
- A) İnsan ihtiyaçları  
B) Doğal kaynağın potansiyeli  
C) Kullanılan yöntem ve teknolojiler  
D) Yeryüzü şekilleri
8. **Nükleer enerjiden elektrik üretme işlemi ilk olarak aşağıdaki ülkelerden hangisinde gerçekleştirilmiştir?**
- A) ABD  
B) Fransa  
C) İngiltere  
D) Almanya
9. **Türkiye'nin 1952 yılında üye olduğu ve yapılan anlaşma çerçevesinde Kore'ye asker gönderdiği örgüt aşağıdakilerden hangisidir?**
- A) OECD  
B) BM  
C) NATO  
D) AET
10. **Aşağıdakilerden hangisi arazi planlamalarında doğru sonuca ulaşmak için göz önünde bulundurulması gereken unsurlardan biri değildir?**
- A) İklim yapısı göz ardı edilmelidir.  
B) Arazi yetenek sınıflandırması ile ilgili etütler yapılmalıdır.  
C) Hedef tespit edilmelidir.  
D) Bölge halkının gereksinimleri düşünülmelidir.
11. **Aşağıdakilerden hangisi hidroelektrik santrallerinin sebep olduğu çevresel sorunlardan biri değildir?**
- A) Tarım arazilerinde tuzlanma ve çoraklaşmaya neden olması  
B) Doğal, tarihi ve kültürel alanları sular altında bırakması  
C) Ekolojik sistemi bozması  
D) Atmosfere aşırı karbondioksit salınımı yapması
12. **Aşağıdakilerden hangisi OPEC'in kurucu üyelerinden biri değildir?**
- A) Kuveyt  
B) ABD  
C) Suudi Arabistan  
D) Venezuela
13. **Aşağıdakilerden hangisi çevre kirliliği sorununa neden olan faaliyetlerden biri değildir?**
- A) Aşırı ağaç dikimi  
B) Kentleşme  
C) Sanayileşme  
D) Nüfus artışı

14. Yellowstone Ulusal Parkı hangi ülkede bulunmaktadır?

- A) Avustralya
- B) İngiltere
- C) Almanya
- D) ABD

15. Japonya ile ilgili aşağıdaki ifadelerden hangisi yanlıştır?

- A) Çok sayıda depremlerin yaşandığı bir ülkedir.
- B) Arazi yapısı geniş düzlüklerden oluşmaktadır.
- C) Çok sayıda volkan bulunur.
- D) Toplam arazisinin %70'i dağlarla kaplıdır.

16. Katı atıklar sorununun giderilmesinde doğa ile en barışık yöntem aşağıdakilerden hangisidir?

- A) Geri dönüşüm
- B) Dağlık alanlara depolamak
- C) Yakarak yok etmek
- D) Toprağa gömmek

17. Çöplerden elektrik enerjisi üretme yöntemi aşağıdaki enerji türlerinden hangisinin kapsamına girer?

- A) Hidrojen enerjisi
- B) Biyokütle enerjisi
- C) Jeotermal enerji
- D) Dalga enerjisi

18. Aşağıdakilerden hangisi Dünyanın Yedi Harikasından biri değildir?

- A) İskenderiye Feneri
- B) Efes Antik Tiyatrosu
- C) Artemis Tapınağı
- D) Babil'in Asma Bahçeleri

19. Selimiye Camisi aşağıdaki şehirlerden hangisinde bulunmaktadır?

- A) Tekirdağ
- B) Bursa
- C) Edirne
- D) İstanbul

20. Aşağıdakilerden hangisi ABD'de sel ve taşkınların meydana geldiği nehirlerden biri değildir?

- A) Nil
- B) Amazon
- C) Mississippi
- D) Obi

1. Aşağıdakilerden hangisi Doğu Karadeniz Bölgesel Gelişim Projesi (DOKAP) kapsamındaki illerden biri değildir?

- A) Rize
- B) Gümüşhane
- C) Samsun
- D) Giresun

2. Aşağıdakilerden hangisi Türkiye' de fizibilite çalışmaları tamamlanan projelerden biri değildir?

- A) GAP
- B) DOKAP
- C) DAP
- D) ZBK

3. Aşağıdakilerden hangisi Hazar Bölgesi'nde yer alan ülkelerden biri değildir?

- A) Kazakistan
- B) Suriye
- C) Azerbaycan
- D) Türkmenistan

4. Aşağıdakilerden hangisi Türkiye'nin üyesi olduğu uluslararası ekonomik örgütlerden biri değildir?

- A) Uluslararası Para Fonu
- B) Dünya Bankası
- C) Ekonomik Kalkınma ve İşbirliği Örgütü
- D) Birleşmiş Milletler

5. Almanya'nın başkenti aşağıdakilerden hangisidir?

- A) Berlin
- B) Paris
- C) Viyana
- D) Oslo

6. Dünya genelinde su sıkıntısı yaşayan ülkelerin çoğunluğu aşağıdaki bölgelerin hangisinde yer alır?

- A) Batı Avrupa
- B) Kuzey Amerika
- C) Kuzey Avrupa
- D) Orta Doğu

7. Enerji taşımacılığında ucuzluğu, güvenliği ve çevreyi düşünen ülkeler aşağıdaki taşımacılık türlerinden hangisini tercih etmektedirler?

- A) Deniz yolu taşımacılığını
- B) Boru hatları taşımacılığını
- C) Kara yolu taşımacılığını
- D) Demir yolu taşımacılığını

8. I. Irak  
II. Macaristan  
III. Gürcistan  
IV. Suriye

Yukarıdakilerden hangileri Türkiye'nin sınır komşuları arasında yer alır?

- A) I ve II
- B) II ve III
- C) I, III ve IV
- D) II, III ve IV

9. Orta Doğu'da su rezervleri bakımından en avantajlı ülke aşağıdakilerden hangisidir?

- A) Türkiye
- B) Irak
- C) Suriye
- D) İran

10. 20. yüzyılın başlarında dünyada ilk kez yapay döllenme programı uygulayarak Kuzey Amerika bizonunun soyunun tükenmesini engelleyen çevre koruma kuruluşu aşağıdakilerden hangisidir?

- A) Greenpeace
- B) Uluslararası Doğa Koruma Birliği
- C) Dünya Dostları
- D) Doğal Hayatı Koruma Derneği

11. Türkiye'nin 2020 yılında gerçekleşmesi beklenen nüfus miktarı aşağıdakilerden hangisidir?

- A) 100 milyon
- B) 95 milyon
- C) 90 milyon
- D) 85 milyon

12. Aşağıdakilerden hangisi uluslararası sıcak çatışmalara neden olan doğal unsurlardan biridir?

- A) Bağımsızlık istekleri
- B) Enerji kaynaklarının paylaşımı
- C) Sınır sorunları
- D) Ekonomik sorunlar

13. Türkiye'de aşağıdaki tarihlerden hangisine kadar nüfus artış hızını yükseltici politikalar uygulanmıştır?

- A) 1963
- B) 1955
- C) 1945
- D) 1933

14. Aşağıdakilerden hangisi Türkiye'de kuruyup ortadan kalkan göllerden biridir?

- A) Van Gölü
- B) Manyas Gölü
- C) Kestel Gölü
- D) Tuz Gölü

15. Aşağıdakilerden hangisi Güneydoğu Anadolu Projesi ile hedeflenen temel gelişmelerden biri değildir?

- A) Bölgeyi sanayi ve hizmet merkezi haline getirmek
- B) Bölgede istihdamı ve geliri artırmak
- C) Bölgede tarım ve hayvancılığın gelişimini sağlamak
- D) Bölge dışına yapılacak göçleri teşvik etmek

16. Aşağıdakilerden hangisi doğal mirastır?

- A) Çin Seddi
- B) İguaçu Çağlayanı
- C) Mısır Piramitleri
- D) Efes Antik Kenti

17. Aşağıdaki ülkelerden hangisi G-20 'ye üye değildir?

- A) Japonya
- B) Brezilya
- C) Türkiye
- D) İran

18. Aşağıdakilerden hangisi Çin Halk Cumhuriyeti'nde görülen iklimlerden biridir?

- A) Ekvatorial
- B) Akdeniz
- C) Karasal
- D) Tundra

19. Aşağıdakilerden hangisi Türkiye'de 1923-1963 yılları arasında uygulanan nüfus politikalarının dayanak noktalarından biri değildir?

- A) Orduda insan gücünden çok silah gücünün ön plana çıkması
- B) Tarımda makineleşmenin yetersiz olması
- C) Birinci Dünya Savaşı ve Kurtuluş savaşı nedeniyle erkek insan gücüne çok fazla ihtiyaç olması
- D) Fazla nüfusun bir ülke için siyasi ve askeri güç olarak görülmesi

20. Aşağıdakilerden hangisi jeolojik kökenli afetlerdendir?

- A) Sel
- B) Deprem
- C) Kasırga
- D) Kuraklık

1.  $a_n = \frac{n+1}{2n-3}$  dizisinin kaçınıcı terimi 1'e eşittir?

- A) 3  
B) 4  
C) 5  
D) 6

2.  $a_n = \frac{1-2^n}{3^n+8}$  dizisinin 3. terimi kaçtır?

- A)  $-\frac{2}{3}$   
B)  $-\frac{1}{3}$   
C)  $-\frac{1}{5}$   
D)  $-\frac{1}{8}$

3. Birinci terimi -3 ve ortak farkı 4 olan aritmetik dizinin 5. terimi kaçtır?

- A) 13  
B) 9  
C) 5  
D) 1

4. Birinci terimi 3 ve ortak farkı 5 olan 3, 8, 13, ....., 38 sonlu aritmetik dizinin terimler toplamı kaçtır?

- A) 164  
B) 144  
C) 124  
D) 114

5. Genel terimi  $a_n = \frac{2n+3}{7}$  olan aritmetik dizinin ortak farkı kaçtır?

- A)  $\frac{2}{7}$   
B)  $\frac{3}{7}$   
C)  $\frac{4}{7}$   
D)  $\frac{5}{7}$

6. Birinci terimi  $-\frac{1}{2}$  ve ortak farkı 5 olan aritmetik dizinin genel terimi aşağıdakilerden hangisidir?

- A)  $\frac{n-11}{2}$   
B)  $\frac{5n+3}{2}$   
C)  $\frac{n-1}{2}$   
D)  $\frac{10n-11}{2}$

7. İlk terimi 2 ve ilk üç teriminin toplamı 26 olan pozitif terimli geometrik dizinin 6. terimi kaçtır?

- A)  $3 \cdot 2^5$   
B)  $3 \cdot 2^6$   
C)  $2 \cdot 3^5$   
D)  $2 \cdot 3^6$

8. Bir geometrik dizide birinci terim 9 ve ortak çarpan  $\frac{1}{3}$  ise dizinin 5. terimi kaçtır?

- A) 3  
B) 1  
C)  $\frac{1}{3}$   
D)  $\frac{1}{9}$

9. Bir kültürdeki bakteri sayısı her saat 3 katına çıkmaktadır. Başlangıçta 100 bakterinin bulunduğu bu kültürde 3 saatin sonunda bakteri sayısı kaçtır?

- A) 270  
B) 300  
C) 900  
D) 2.700

10. Yıllık 5.000 TL'ye kiraya verilen bir evin kirası her yıl % 10 artmıştır. Buna göre, 3 yılın sonunda elde edilen toplam kira bedeli kaç TL'dir?

- A) 16.550  
B) 16.000  
C) 15.450  
D) 15.250

11. 5 basamaklı  $3 \times 5 \times 6$  sayısı 12 ile tam bölünebildiğine göre x kaçtır?

- A) 1
- B) 2
- C) 5
- D) 8

12. 60 litre su ve 36 litre yağ hiç artmayacak ve birbirine karışmayacak şekilde eşit hacimli kavanozlara doldurulacaktır. Buna göre en az kaç kavanoz gerekir?

- A) 12
- B) 8
- C) 5
- D) 3

13. Boyutları 6 cm, 8 cm ve 20 cm olan tuğlalardan en az kaç tanesi ile bir küp oluşturulabilir?

- A) 1.800
- B) 1.200
- C) 600
- D) 300

14. Elif kalemlerini üçer üçer saydığına 2 kalem, dörder dörder saydığına 3 kalem ve beşer beşer saydığına 4 kalem artıyor. Bu durumda Elif'in en az kaç kalemi vardır?

- A) 119
- B) 59
- C) 23
- D) 19

15. Bir hemşire 8 günde bir nöbet tutuyor. Bu hemşire ilk nöbetini Salı günü tuttuğuna göre 10. nöbetini hangi gün tutar?

- A) Çarşamba
- B) Salı
- C) Pazartesi
- D) Perşembe

16. Bir miktar para yıllık %20 basit faizle kaç ay sonra kendisinin  $\frac{1}{5}$  i kadar faiz getirir?

- A) 24
- B) 18
- C) 12
- D) 6

17. Yaşları 9 ve 12 olan iki çocuk 14 tane bilyeyi yaşları ile ters orantılı olarak paylaşacaktır.

Buna göre 9 yaşındaki çocuk kaç bilye alır?

- A) 12
- B) 9
- C) 8
- D) 6

18. 100 metre uzunluğunda bir tel 3, 4, 6, 7 sayıları ile doğru orantılı olacak biçimde dört parçaya ayrılırsa en küçük parça kaç metre olur?

- A) 10
- B) 15
- C) 20
- D) 25

19. Tuz oranı %15 olan 40 kg tuzlu su karışımına 2 kg tuz ve 8 kg su ilave edilirse yeni karışımın tuz oranı yüzde kaç olur?

- A) 15
- B) 16
- C) 20
- D) 25

20. Üç kişi 100.000 TL'yi; birinci kişi paranın  $\frac{1}{4}$  ünü, ikinci kişi kalan paranın  $\frac{2}{3}$  ünü alacak şekilde paylaşacağına göre üçüncü kişi kaç TL alır?

- A) 25.000
- B) 35.000
- C) 50.000
- D) 75.000

1. Aşağıdakilerden hangisi toplumsal grupların özelliklerinden biri değildir?

- A) Göreli bir sürekliliğe sahip olması
- B) Gruba özgü kimlik geliştirmesi
- C) Üyelerinin arasında iş bölümünün olması
- D) Farklı değerler etrafında birleşmiş olması

2. Nüfusu çeşitli özellikleriyle inceleyen bilim dalı aşağıdakilerden hangisidir?

- A) Demografi
- B) Antropoloji
- C) Sigolografı
- D) Filoloji

3. Küçük gruplarda bireyler arasındaki yaklaşma ve uzaklaşma modellerini açıklamayı sağlayan araştırma tekniği aşağıdakilerden hangisidir?

- A) Sosyometri
- B) Olay inceleme
- C) Anket
- D) Mülakat

4. Okulda kendi çocuğunun öğretmeni olan bir kadının evde anne gibi davranması gerekirken öğretmen gibi davranması aşağıdakilerden hangisine örnektir?

- A) Rol yansıtması
- B) Rol pekiştirmesi
- C) Rol çatışması
- D) Rol yüceltmesi

5. Köy, iş yeri, okul gibi küçük grupların yaşam biçimlerini, toplumsal ilişkilerini, tutumlarını incelemeye yarayan veri toplama tekniği aşağıdakilerden hangisidir?

- A) Yordama
- B) Basit gözlem
- C) Deneyleme
- D) Sistematiik gözlem

6. Aşağıdakilerden hangisi birincil gruplara örnektir?

- A) Siyasal partiler
- B) Dernekler
- C) Arkadaş grupları
- D) Devlet

7. "Enflasyon artarsa toplumsal sorunlar artar" varsayımı aşağıdakilerden hangisi ile ilgilidir?

- A) Gözlem
- B) Tümdengelim
- C) Tümevarım
- D) Genelleme

8. Aşağıdakilerden hangisi köy öncesi dönemde toprağa yerleşme nedenlerinden biri değildir?

- A) Hayvanların evcilleştirilmesi
- B) Toplayıcılık ve avcılık alanlarının artması
- C) Bitkilerin yetiştirilmesi
- D) Üretim araç ve gereçlerinin geliştirilmesi

9. Aşağıdakilerden hangisi bilimin temel ilkelerinden biri değildir?

- A) Evrensel olması
- B) Mantıksal olması
- C) Sübjektif olması
- D) Olgulara dayanması

10. Ulus devletlerin ortaya çıkmasında etkili olan gelişme aşağıdakilerden hangisidir?

- A) Yüzyıl savaşları
- B) Rönesans hareketleri
- C) Sanayi devrimi
- D) Coğrafi keşifler

11. I. Birey-birey ilişkisi  
II. Birey-grup ilişkisi  
III. Grup-grup ilişkisi

Yukarıdakilerden hangileri toplumsal ilişki türlerindedir?

- A) Yalnız I
- B) I ve II
- C) II ve III
- D) I, II ve III



12. Bir toplumda olumlu olarak değerlendirilen davranış biçimlerinin, o toplumun üyelerince benimsenmesini sağlamayı amaçlayan yolların ya da önlemlerin tümüne ne ad verilir?

- A) Toplumsal roller
- B) Toplumsal normlar
- C) Toplumsal değerler
- D) Toplumsal kontrol

13. Aşağıdakilerden hangisi bir insan birlikteliğinin toplum olabilmesi için gerçekleşmesi gereken koşullardan biri değildir?

- A) Farklı kültürel değerleri paylaşmış olması
- B) Bireylerin birlikte yaşama isteğinin olması
- C) İhtiyaçları karşılayan işlevlerin yerine getirilmesi
- D) Değişmeye rağmen süreklilik göstermesi

14. Aşağıdakilerden hangisi toplumsal değerlerin yerine getirdiği işlevlerden biri değildir?

- A) Bireyler ya da gruplar tarafından ortak olarak benimsenip paylaşıldığı için dayanışmayı güçlendirir.
- B) Bireyler üzerindeki baskıları kaldırarak rahat davranmasını sağlar.
- C) Statülerin belirlenmesinde önemli işlevlere sahiptir.
- D) Bireylerin toplumsal rollerini seçmelerinde ve gerçekleştirmelerinde rehberlik eder.

15. I. Sanayi öncesi kentler  
II. Sanayi kentleri  
III. Metropol kentler

Yukarıdakilerden hangileri tarihsel gelişimi açısından ele alınan kentlerdendir?

- A) Yalnız I
- B) I ve II
- C) II ve III
- D) I, II ve III

16. Yağmacılar, fanatik spor taraftarları, linç girişiminde bulunan topluluklar aşağıdaki kalabalık türlerinden hangisine örnektir?

- A) Sıradan
- B) İzleyici ve dinleyici
- C) Gösteri
- D) Etkin

17. Aşağıdakilerden hangisi kentleri çekici kılan nedenlerinden biri değildir?

- A) Cinsiyete dayalı doğal iş bölümünün olması
- B) Daha iyi hayat standardına ulaşma olanağı
- C) Meslek edinme olanaklarının fazlalığı
- D) Tüketim ürünlerinin bolluğu

18. Aşağıdakilerden hangisi bilimsel çalışmalara başlamadan önce uyulması gereken ilkelerden biri değildir?

- A) Konunun sınırlandırılması
- B) Bilmediğini varsayma
- C) Soyutluk
- D) Nedensellik

19. Aşağıdakilerden hangisi milleti oluşturan unsurlardan biri değildir?

- A) Siyaset birliği
- B) Toprak birliği
- C) Ekonomi birliği
- D) Soy birliği

20. Fiziki yapı, nüfus, toplumsal ilişkiler, kültür ve tabakalaşmanın karşılıklı ilişkiler içinde oluşturduğu bütüne ne ad verilir?

- A) Toplumsal statü
- B) Toplumsal hareketlilik
- C) Toplumsal sistem
- D) Toplumsal tabakalaşma

1. Epik sözcüğü, Türk dilinde aşağıdaki hangi adı almıştır?

- A) Hikaye
- B) Destan
- C) Öykü
- D) Masal

2. Aşağıdaki cümlelerin hangisinde zaman ulacı kullanılmıştır?

- A) Bu işleri kendimce yola koydum.
- B) Çok yemek yediğinden fazla kilo alıyorsun.
- C) Parayı aldığımda size borcumu ödeyeceğim.
- D) Benimle görüşmeden hiçbir yere gitme.

3. Aşağıdaki cümlelerin hangisinde işaret zamiri kullanılmıştır?

- A) O benim elmam.
- B) Ben ders çalışmak istiyorum.
- C) Biri bize doğru yaklaşıyordu.
- D) Hangisini okudum demiştin?

4. Aşağıdaki cümlelerin hangisinde küçültme eki cümleye "acıma" anlamı katmıştır?

- A) Çocukcağız hıçkıra hıçkıra ağlayınca çok üzüldüm.
- B) Kardeşçiyimi dünyalara değişmem.
- C) Küçücük elleriyle masayı hazırlıyor.
- D) Anneciğim, seni çok seviyorum.

5. Aşağıdakilerden hangisi geçişli bir eylemdir?

- A) uyumak
- B) süslenmek
- C) unutmak
- D) gülmek

6. Aşağıdaki eylemlerden hangisi dilek kiplerinden biriyle çekimlenmiştir?

- A) soruyor
- B) görmüş
- C) okur
- D) söyleyebilsem

7. Aşağıdakilerden hangisi soyut bir sözcüktür?

- A) ev
- B) sandalye
- C) kıskançlık
- D) okul

8. Fazıl Hüsnü Dağlarca'nın yazdığı Çakırın Destanı adlı eser aşağıdaki destan türlerinden hangisine örnektir?

- A) Modern destan
- B) Doğal destan
- C) Yapma destan
- D) Çağdaş destan

9. Aşağıdaki cümlelerin hangisinde edat kullanılmıştır?

- A) Bütün mücadelem senin için değil mi?
- B) Yarın markete gidelim.
- C) Çocuğun ağlaya ağlaya gözleri şişmişti.
- D) Dün müzeye gittim.

10. Aşağıdaki cümlelerin hangisinde altı çizili sözcük küçültme eki almamıştır?

- A) Bu ufacık odada çok sıkıldım.
- B) Ayakkabıları o minicik ayaklarına çok yakışmış!
- C) Bu güzel oyuncak bebeği satın aldım.
- D) Sevgili Aysecik, seni çok özledim.

11. Aşağıdaki cümlelerdeki altı çizili sözcüklerin hangisinde özel bir isim kullanılmıştır?

- A) Kuşumuz Boncuk'u geçen yıl almıştık.
- B) Yazar, yeni kitabını çıkaracakmış.
- C) Öğleden sonra amcama gideceğim.
- D) Bu konuyu daha önce de görmüştük.

12. Aşağıdaki cümlelerin hangisinde üleştirme sayı sıfatı vardır?

- A) Bir gün benim de bir evim olacak.
- B) Sekizinci katta oturuyoruz.
- C) Üçüncü listeye bakabilir miyim?
- D) Provalar ikişer gün arayla yapılacak.

13. Betimleme ile ilgili aşağıdaki ifadelerden hangisi yanlıştır?

- A) Edebi bir tür değildir.
- B) Anlatıcının amacına göre üç gruba ayrılır.
- C) Bir şeyi söz ya da yazıyla göz önünde canlanacak şekilde anlatmadır.
- D) Anlatılanın, kendine özgü niteliklerinin tipik yanları ortaya konulmalıdır.

14. Esin dolu, coşkulu, içli bir dil ile yazılan şiir türü aşağıdakilerden hangisidir?

- A) Satirik
- B) Epik
- C) Pastoral
- D) Lirik

15. Aşağıdaki cümlelerin hangisinde topluluk ismi vardır?

- A) Zavallı kedici çok acıkmıştı.
- B) İstanbul Türkiye'nin en büyük şehridir.
- C) Halk bu yaşananları heyecanla izledi.
- D) Kızcağz bana karanfil göndermiş.

16. Ciddi sayılan bir eserin bir bölümü veya bütünü alaya alarak, biçimini bozmadan ona bambaşka bir özellik vererek biçimle öz arasındaki bu ayrılıktan gülünç bir etki yaratan oyun türüne ne ad verilir?

- A) Mizah
- B) Parodi
- C) İroni
- D) Kara Mizah

17. Aşağıdaki cümlelerin hangisinde farklı türde bir zamir kullanılmıştır?

- A) Size gelirken pasta alıruz.
- B) Buraya kadar bisikletle gelmiş.
- C) Onu da toplantıya çağırmayı unutma.
- D) Beni görünce hatırmı sordu.

18. Emir, telkin ve öneri anlamı taşıyan ifadelere yer verilen anlatım türü aşağıdakilerden hangisidir?

- A) Açıklayıcı anlatım
- B) Emredici anlatım
- C) Kanıtlayıcı anlatım
- D) Tartışmacı anlatım

19. Aşağıdaki eylemlerden hangisi işteş çatılıdır?

- A) kapandı
- B) kırıldı
- C) gelmiş
- D) görüştük

20. Hikâyedeki olay ve olayların düğümlerinin çözüldüğü, merak edilen konuların ortadan kalktığı, bütün soruların cevaplandırıldığı bölüm aşağıdakilerden hangisidir?

- A) Gelişme
- B) Sonuç
- C) Düğüm
- D) Giriş

1. Eserlerinde, Türkiye'nin Tanzimat'tan itibaren geçirdiği değişimleri anlatan hem Millî edebiyat hem Cumhuriyet dönemi romancılarından olan yazar aşağıdakilerden hangisidir?
- A) Orhan Kemal  
B) Sait Faik  
C) Yakup Kadri  
D) Sabahattin Ali
2. "Kırk Yıl" adlı anı kitabı aşağıdaki yazarlardan hangisine aittir?
- A) Ahmet Rasim  
B) Yahya Kemal Beyatlı  
C) Halit Ziya Uşaklıgil  
D) Hüseyin Cahit Yalçın
3. Gerçeküstücü üslupla Türk-İslam mistisizmini ifade eden orijinal şiirler yazan şair aşağıdakilerden hangisidir?
- A) Sezai Karakoç  
B) Ece Ayhan  
C) Turgut Uyar  
D) İlhan Berk
4. Tiyatro, roman ve hikâyelerinde toplumun aksayan yönlerini, olayları, tipleri gülünç gösteren bir mizah üslubuyla anlatan yazar aşağıdakilerden hangisidir?
- A) Yaşar Kemal  
B) Tarık Buğra  
C) Yakup Kadri Karaosmanoğlu  
D) Aziz Nesin
5. "Otuz Beş Yaş Şiiri" aşağıdaki şairlerden hangisine aittir?
- A) Yahya Kemal Beyatlı  
B) Cahit Sıtkı Tarancı  
C) Ahmet Hamdi Tanpınar  
D) Ziya Osman Saba
6. Aşağıdakilerden hangisi Türk edebiyatındaki ilk deneme yazarları arasında yer almaz?
- A) Falih Rıfkı Atay  
B) Nurullah Ataç  
C) Ahmet Rasim  
D) Cenap Şahabettin
7. Aşağıdakilerden hangisi gezi yazılarının özelliklerinden biri değildir?
- A) Gezi yazılarında anlatılanların hayal ürünü olması  
B) Yalın bir dil kullanılması  
C) Anlatımda hikâye planına uygunluk gözetilmesi  
D) Güçlü bir gözleme dayanması
8. "Han Duvarları" adlı şiir aşağıdaki şairlerden hangisine aittir?
- A) Enis Behiç Koryürek  
B) Faruk Nafiz Çamlıbel  
C) Halit Fahri Ozansoy  
D) Mehmet Emin Yurdakul
9. Ruşen Eşref Üneydin'in Atatürk'ü anlattığı kitabı aşağıdakilerden hangisidir?
- A) Çocukluğum  
B) Karalama Defteri  
C) İlme Doğru  
D) Hatıralar
10. Mustafa Kemal ile karşılaşan Ahmet Haşim'in izlenimlerini anlattığı fıkra yazısı aşağıdakilerden hangisidir?
- A) Ulu Önder  
B) Gazi  
C) Portreler  
D) Paris Kütüphaneleri
11. Aşağıdaki eser-yazar eşleştirmelerinden hangisi yanlıştır?
- A) Dağ Çağırısı – Falih Rıfkı Atay  
B) İlme Doğru – Ziya Gökalp  
C) Sonbahar Türküsü – Ahmet Hamdi Tanpınar  
D) Paris Kütüphaneleri – Adile Ayda
12. Aşağıdakilerden hangisi Cumhuriyet Dönemi fıkra yazarlarından biri değildir?
- A) Yusuf Ziya Ortaç  
B) Burhan Felek  
C) Halide Edip Adıvar  
D) Refik Halit Karay

13. Beş Hececiler topluluğunun ortak özelliği aşağıdakilerden hangisidir?

- A) Şiirlerinde bireysel duygularını dile getirmeleri
- B) "Sanat sanat içindir." anlayışına bağlı kalmaları
- C) Süslü, kapalı bir söyleyişe yönelmeleri
- D) Halk şiiri geleneğinden yararlanmaları

14. İspinozlar, 72. Koğuş, Bekçi Murtaza, Kardeş Payı gibi kendi roman ve öykülerinden oyunlaştırdığı eserleriyle Türk tiyatrosunda toplumcu gerçekçi yaklaşımın başarılı örneklerini veren yazar aşağıdakilerden hangisidir?

- A) Ahmet Kutsi Tecer
- B) Yaşar Kemal
- C) Orhan Kemal
- D) Oktay Rifat

15. İçe dönük bir kişiliğe sahip olan şair, şiirlerinde büyük şehrin içinde kaybolmuş insanın kırık, karanlık, karmaşık duygularını yansıttı.

Yukarıda söz edilen şair aşağıdakilerden hangisidir?

- A) Atilla İlhan
- B) Behçet Necatigil
- C) Melih Cevdet
- D) Oktay Rifat

16. Aşağıdakilerden hangisi II. Dünya Savaşı yıllarında millî eğitim ve kültür alanında yapılan atılımlar arasında ver almaz?

- A) Dinî ağırlıklı kitapların basımının artması
- B) Köy Enstitülerinin kurulması
- C) Dünya klasiklerinin çevrilmesi
- D) Tercüme Bürosunun kurulması

17. Deneme türü ile ilgili aşağıdaki ifadelerden hangisi yanlıştır?

- A) Yazar, düşüncelerini ispatlamak için uğraşır.
- B) Deneme, bir çırpıda okunabilecek uzunlukta olur.
- C) Yazar duygularını kendi kendisiyle konuşur gibi yazar.
- D) Yazarın kültür konularındaki birikimi okuyucunun olaylara farklı pencerelerden bakmasını sağlar.

18. Aşağıdakilerden hangisi iyi bir makalenin özellikleri arasında ver almaz?

- A) Makale yazarının söz oyunlarına başvurmaması
- B) Öne sürülen düşüncenin inandırıcı bir biçimde geliştirilmiş olması ve kanıtlanabilmesi
- C) Okuyucu ile sohbet havasında yazılması
- D) Anlatımın yalın ve yoğun olması

19. "Sokrates'in Savunması" adlı oyunun yazarı aşağıdakilerden hangisidir?

- A) Haldun Taner
- B) Aziz Nesin
- C) Orhan Asena
- D) Turan Ofazoğlu

20. Bir insanın gezip gördüğü yerlerden edindiği izlenimleri, bilgileri aktardığı yazılara ne ad verilir?

- A) Söylev
- B) Fıkra
- C) Gezi yazısı
- D) Deneme

1. "Temizleyici" anlamına gelen kelime aşağıdakilerden hangisidir?
- A) Su  
B) Deterjan  
C) Misel  
D) Kir
2. Aşağıdakilerden hangisi gıdalardaki besin maddelerinden biri değildir?
- A) Karbonhidratlar  
B) Yağlar  
C) Proteinler  
D) Hidrokarbonlar
3. Kimya dilinde yağ asidi tuzlarına genel olarak ne denir?
- A) Yağ  
B) Tuz  
C) Sabun  
D) Asit
4. Aşağıdakilerden hangisi toprak kirliliğinin nedenlerinden bir değildir?
- A) Atmosferdeki oksijen oranının artması  
B) Kimyasal maddelerin döküldüğü kazalar  
C) Çöpler  
D) Asit yağmurları
5. Aşağıdakilerden hangisi toprakta birincil besin elementlerinden (makro elementlerden) biri değildir?
- A) K (potasyum)  
B) N (azot)  
C) P (fosfor)  
D) Hg (civa)
6. Mikroplardan arındırma amacıyla vücudun, mekanların, giysilerin ve döşemelerin temizlemesine ne ad verilir?
- A) Hidrofob  
B) Hijyen  
C) Antibiyotik  
D) Koruyucu ve pH düzenleyici
7. "Vücut dışındaki her hangi bir kısmın (dişler dâhil) temizlenmesi, güzelleştirilmesi, görünümünün değiştirilmesi veya hoş koku katmak amacıyla üretilmiş hazır ürünler ya da bunların hazırlanması için kullanılan ara maddeleri içine alan genel terim" aşağıdakilerden hangisidir?
- A) Polimer  
B) Termoplastik  
C) Monomer  
D) Kozmetik ürün
8. Barajlarda birikmiş suların potansiyel enerjisinden veya akarsuların kinetik enerjisinden yararlanarak elde edilen temiz enerji kaynağı aşağıdakilerden hangisidir?
- A) Güneş enerjisi  
B) Rüzgâr-dalga enerjisi  
C) Hidroelektrik enerji  
D) Jeotermal enerji
9. Aşağıdakilerden hangisi sulardaki ozonlamaya ait bir reaksiyondur?
- A)  $2 O_3 (suda) \rightleftharpoons 3 O_2 (suda)$   
B)  $Fe^{3+} + 3H_2O \rightleftharpoons Fe(OH)_3 \downarrow + 3 H^+$   
C)  $Cl_2(g) + H_2O \rightleftharpoons HClO + HCl$   
D)  $Al^{3+} + 3 H_2O \rightleftharpoons Al(OH)_3 \downarrow + 3 H^+$
10. Aşağıdakilerden hangisi bitkisel kaynaklardan elde edilen enerjidir?
- A) Hidrojen enerjisi  
B) Biyoenerji  
C) Güneş enerjisi  
D) Hidroelektrik enerjisi
11. Aşağıdakilerden hangisi içme suyunda istenmeyen özellikler arasında ver almaz?
- A) Bulanıklık  
B) Koku  
C) Renk  
D) Kaynaktan çıkış anındaki sıcaklığı

12. Aşağıdakilerden hangisi canlıların hayatlarını devam ettirmesi için enerji gerektiren süreçlerden biri değildir?

- A) Düşünme, algılama gibi beyin faaliyetleri
- B) Kasların kasılıp gevşemesi anlamına gelen mekanik hareketler
- C) Vücut içinde, doğal maddelerin fotosentez ile daha basit moleküllere dönüştürülmesi
- D) Vücut içinde çeşitli maddelerin taşınması

13. Aşağıdaki bileşiklerden hangisi süt şekeri dir?

- A) Laktöz
- B) Sakkaroz
- C) Maltoz
- D) Selüloz

14. Tortul kayalar  $Al^{3+}$ ,  $Fe^{2+}$ ,  $Fe^{3+}$ ,  $Ti^{3+}$  gibi yer kabuğunda bol bulunan kationların çözülebilir bileşiklerini de içerdiği için,  $Ca^{2+}$  ve  $Mg^{2+}$  bakımından zengin sular da bu kationlar da bulunur.

Yukarıdaki bilgiye göre bu tür sulara ne ad verilir?

- A) Sıcak su
- B) Sert su
- C) Soğuk su
- D) Yumuşak su

15. Aşağıdakilerden hangisi hava kirliliğine neden olan gazlardan biri değildir?

- A)  $O_2$
- B)  $SO_2$
- C)  $NO_2$
- D)  $CO_2$

16. Aşağıdakilerden hangisi yakıt olarak kullanılan petrol ürünlerinden biri değildir?

- A) Gaz yağı
- B) Dizel
- C) Naftalin
- D) Fuel-Oil

17. Bikarbonatlardan ileri gelen sertliğe ne ad verilir?

- A) Yumuşak sertlik
- B) Geçici sertlik
- C) Kalıcı sertlik
- D) Karbonat sertliği

18. Aşağıdakilerden hangisi kömürleşme olayında oluşan kömürlerden biri değildir?

- A) Taş kömürü
- B) Turba kömürü
- C) Linyit kömürü
- D) Toluen kömürü

19. Aşağıdaki ifadelerden hangisi kömürün yakıt olarak kullanılmasının sakıncalarından biridir?

- A) Kömür, güvenli bir şekilde saklanabilir ve gerektiğinde enerji üretmek için kullanılır.
- B) Kömür, petrol ve doğal gazla oranla miktarı çok daha fazla olan enerji kaynaklarından biridir.
- C) Kömür, yanarken kül ve diğer kirlenici maddeler (is, katran, vb) oluşarak çevreye ciddi zarar verir.
- D) Kömür, diğer fosil yakıtlara göre daha ucuzdur.

20. Aşağıdakilerden hangisi kağıdın hammaddesidir?

- A) Selüloz
- B) Pigment
- C) Nişasta (dekstrin)
- D) Kalsiyum karbonat







1. I. O geni çekinik özelliğindedir.  
II. A ve B genleri eş baskındır.  
III. Rh+ fenotipli bireyde genotip homozigot veya heterozigot olabilir.

**Kan gruplarını belirleyen genlerle ilgili yukarıdaki ifadelerden hangileri doğrudur?**

- A) I ve II  
B) I ve III  
C) II ve III  
D) I, II ve III
2. Aşağıdakilerden hangisi Mendel'in çalışmalarında bezelye kullanmasının nedenlerinden biridir?
- A) Bezelyenin çok kısa zamanda döl vermesi  
B) Çok taneli olması  
C) Bezelyenin kolay bulunabilmesi  
D) Klorofil yoğunluğunun olması

3. Aşağıdakilerden hangisi modifikasyona yol açabilen çevresel faktörlerden biri değildir?
- A) Nemlilik  
B) Sıcaklık  
C) Besin  
D) Dominant gen

4. AaBBdEE genotipli bir dişi bireyde aşağıdaki yumurta hücrelerinden hangisi oluşmaz?

- A) 
- B) 
- C) 
- D) 

5. İnsanlarda kan uyuşmazlığının görülebildiği durum aşağıdakilerden hangisidir?

- A) Anne Rh(-): Baba Rh(-) ise  
B) Anne Rh(+): Baba Rh(+)  
C) Anne Rh(-): Baba Rh(+)  
D) Anne Rh(+): Baba Rh(-)

6. Homozigot B kan grubundan bir kadınla, heterozigot A kan grubundan bir erkeğin doğacak çocuklarının alyuvarlarının yüzeyinde A antijeni bulunma olasılığı nedir?

- A) 0  
B) 1/4  
C) 1/2  
D) 1

7. Bir türde bir karakter üzerine A1 A2 A3 A4 A5 olmak üzere beş alel gen etki etmektedir.

**Buna göre bu karakter yönünden kaç çeşit genotip oluşabilir?**

- A) 6  
B) 9  
C) 12  
D) 15

8. Aşağıdakilerden hangisi eşey kromozomlarında ayrılmama sonucu oluşan hastalıklardan biri değildir?

- A) Daltonizm  
B) Süper dişi  
C) Turner  
D) Klinefelter

9. Kan plazmasında antikor bulunmayan kan grubu aşağıdakilerden hangisidir?

- A) A  
B) O  
C) AB  
D) B

10. Genlerin etkisiyle bireylerde ortaya çıkan dış görünüme ne ad verilir?

- A) Fenotip  
B) Baskın karakter  
C) Genotip  
D) Alel gen

11. Mutasyonlarla gen havuzundaki alel genlerin frekansının değişmesi aşağıdaki olaylardan hangisine sebep olur?
- A) Populasyon kararsız hale geçer.  
B) Populasyonda artış görülür.  
C) Populasyonda azalma görülür.  
D) Populasyon hızı yavaşlar.
12. Aşağıdakilerden hangisi populasyondaki genlerin frekansının değişmesine yol açan faktörlerden biri değildir?
- A) İzolasyon  
B) Göç  
C) Transkripsiyon  
D) Mutasyon
13. Bir populasyonun diğer populasyonlarla genetik alışverişinin kesilmesine ne ad verilir?
- A) Modifikasyon  
B) Doğal seçim  
C) Mutasyon  
D) İzolasyon
14. 800 kişilik bir popülasyonda 72 kişi çekinik karakteri fenotipte taşıyor ise, bu popülasyonda çekinik gen frekansı kaçtır?
- A) 0,3  
B) 0,4  
C) 0,5  
D) 0,7
15. Hardy-Weinberg kuralına göre bir karakteri belirleyen baskın ve çekinik genin frekans toplamının 1'e eşit olduğunu gösteren denklem aşağıdakilerden hangisidir?
- A)  $p^2+2pq=1$   
B)  $p+q=1$   
C)  $p^2+2pq+q^2=1$   
D)  $q^2+2pq=1$
16. Aşağıdakilerden hangisi biyolojik yöntemlerle elde edilen ürünlerden biri değildir?
- A) Leke çıkarıcı enzim içeren deterjanlar  
B) Kumaş ve dokuma ürünleri  
C) Süt ürünleri  
D) Kirli suların arıtımı
17. Aşağıdakilerden hangisi gen klonlamasında kullanılan enzimlerden biridir?
- A) Ligaz  
B) Fosfataz  
C) İnsülin  
D) Plazmit
18. Aşağıdakilerden hangisi DNA izolasyonunda kullanılan DNA enzimlerinden biri değildir?
- A) Polimeraz  
B) Monokleaz  
C) Restriksiyon endonokleaz  
D) Fosfataz
19. Kesilmiş bir DNA parçacığının yabancı DNA parçacığı ile birleştirilmesi sonucu ortaya çıkan DNA'ya ne ad verilir?
- A) Transgenik DNA  
B) Biyokül DNA  
C) Mikroorganizmal DNA  
D) Rekombinant DNA
20. Belirli bir DNA bölümünün kesilerek bir vektör içerisine konulması ve daha sonra bakteri içerisinde çoğaltılması işlemlerine ne ad verilir?
- A) Genetik bozulma  
B) Gen klonlaması  
C) Genetik yapılandırma  
D) Gen transferi

1. "İnsanlar paylaşmayı severlerse rahat diyalog kurarlar hem de dürüst ilişkiler yaşarlar." önermesinde kaç tane önerme eklemi ve bileşen kullanılmıştır?
- A) İki önerme eklemi, üç bileşen  
B) Bir önerme eklemi, bir bileşen  
C) Üç önerme eklemi, bir bileşen  
D) Dört önerme eklemi, dört bileşen
2. Eleştirel düşünme ile ilgili aşağıdaki ifadelerden hangisi **yanlıştır**?
- A) Eleştirel düşünmede kanıtlar, duygulara ve ön yargılara bağlıdır.  
B) Bir olay ya da düşüncenin doğru olup olmadığını anlamak için yapılan sistemli düşünme biçimidir.  
C) Tümdengelim, tümevarım ve analogiye dayanılarak yapılır.  
D) Akıl ilkelerine ve bilimsel yöntemle ispatlanmış bilgilere dayanır.
3. Önermelerin ikiden **fazla** değere sahip olabileceklerini kabul eden mantık sistemine ne ad verilir?
- A) Varlık Mantığı  
B) Tümel Özelleme  
C) Tikel Özelleme  
D) Çok Değerli Mantık
4. Doğadaki bir varlık sistemi ile ilgili ortaya konan önermelere ne ad verilir?
- A) Bilimsel Teori  
B) Topikler  
C) Kanıt  
D) Tümevarım
5. "Kar yağarsa okullar tatil olmaz." önermesi, önermeler mantığında nasıl sembolleştirilir?
- A)  $q \Rightarrow p$   
B)  $\sim p \Rightarrow q$   
C)  $p \Rightarrow \sim q$   
D)  $p \Leftrightarrow \sim q$
6. Kiplik mantığına göre, "üç artı altının dokuz etmesi zorunludur ama ısınan havanın yükselmesi mümkündür." önermesinin sembolleştirilmiş hali aşağıdakilerden hangisidir?
- A)  $\diamond p \wedge \square q$   
B)  $\diamond p \leftrightarrow \square q$   
C)  $\square q \wedge \diamond p$   
D)  $\square p \rightarrow \diamond p$
7. Aşağıdaki önermelerden hangisi p:Yanlış, q:Yanlış kabul edildiğinde "Doğru" değerini alır?
- A)  $\sim p \Rightarrow q$   
B)  $p \vee q$   
C)  $p \Leftrightarrow q$   
D)  $p \wedge q$
8. Aşağıdaki önermelerden hangisi bir totoloji'dir?
- A)  $p \vee p$   
B)  $p \Rightarrow p$   
C)  $p \wedge \sim p$   
D)  $\sim p \Leftrightarrow p$
9. Aşağıdakilerden hangisi mantık felsefesinin incelediği sorunlardan biri **değildir**?
- A) Bilginin kaynağı ile ilgili sorunlar  
B) Mantık kavramıyla ilgili sorunlar  
C) Mantık değişmezleriyle ilgili sorunlar  
D) Doğruluk ve varlıkla ilgili sorunlar
10. "Ya kilo alacaksın ya da az yemek yiyeceksin." önermesi, önermeler mantığında nasıl sembolleştirilir?
- A)  $p \Leftrightarrow q$   
B)  $p \Rightarrow q$   
C)  $p \wedge q$   
D)  $p \vee q$
11.  $\sim \exists x Gx$  önermesinin eşdeğeri aşağıdakilerden hangisidir?
- A)  $\sim \exists x \sim Gx$   
B)  $\forall x \sim Gx$   
C)  $\exists x Gx$   
D)  $\sim \forall x Gx$
12.  $p \vee q$  önermesinin eşdeğeri olan önerme aşağıdakilerden hangisidir?
- A)  $p \wedge q$   
B)  $\sim (\sim p \wedge \sim q)$   
C)  $p \Rightarrow q$   
D)  $p \Leftrightarrow q$
13. Aşağıdaki önermelerden hangisi geçerlidir?
- A)  $\forall x Fx \vee \forall x Gx$   
B)  $\exists x Gx \wedge \exists x Hx$   
C)  $\sim (\exists x Gx \rightarrow \forall x Gx)$   
D)  $\forall x Fx \vee \sim \forall x Fx$

14. Önerme ile ilgili aşağıdaki ifadelerden hangisi yanlıştır?

- A) Bir bileşik önermede birden fazla önerme eklemi bulunabilir.
- B) Bir önermenin doğruluk tablosundaki tüm yorumlamaları yanlışsa önerme tutarsızdır.
- C) Her tutarlı önerme geçerlidir.
- D) Basit bir önerme bir ad, bir yüklem ve bir bağdan oluşur.

15. Üç değerli mantığa göre aşağıdakilerden hangisi doğrudur?

- A) p "belirsiz" ve q "belirsiz" ise  $p \wedge q$  "yanlış" olur.
- B) p "doğru" ve q "belirsiz" ise  $p \rightarrow q$  "yanlış" olur.
- C) p "yanlış" ve q "yanlış" ise,  $q \vee p$  "yanlış" olur.
- D) p "belirsiz" ve q "belirsiz" ise,  $p \rightarrow q$  "belirsiz" olur.

16. Aşağıdaki önermelerden hangisi ikili yüklemli bir önermedir?

- A) Gözde ve Yusuf evlidir.
- B) Ayşe çalışkandır.
- C) Ezgi, Ezel ve Zeynep'ten şişmandır.
- D) Hüseyin keman çalar.

17. Varlık mantığı ile ilgili aşağıdaki ifadelerden hangisi yanlıştır?

- A) Özdeşlik mantığının mantık değişmezlerine "var" sözcüğünün eklenmesiyle elde edilmiştir.
- B) Vardır şeklinde ifade edilen mantık değişmezi "E" sembolüyle gösterilir.
- C) Hem gerçek hem de gerçek olmayan dünyalardaki varlıklar üzerine önermeler oluşturur.
- D) Gerçek dünyada var olmayan varlıkları da ad olarak ele alır.

18. "Uçan halı vardır." önermesi varlık mantığında nasıl sembolleştirilir?

- A)  $a \equiv a$
- B)  $E! a$
- C)  $\square p$
- D)  $a \equiv b$

19. Aşağıdaki önerme çiftlerinden hangisi birbirleriyle tutarlıdır?

- A)  $\forall xFx, \sim Fa$
- B)  $\exists xGx, \exists x \sim Gx$
- C)  $\sim \exists xFx, Fa$
- D)  $Ga, \sim Ga$

20. "Ceren sevimli ve akıllıdır." önermesi niceleme mantığında nasıl sembolleştirilir?

- A)  $\forall xFx$
- B)  $\exists x \wedge Ga$
- C)  $Fa \wedge Ga$
- D)  $Fa \Rightarrow Ga$

1. **Çinilerle bezendiği için Avrupalılarca “Mavi Cami” olarak adlandırılan Osmanlı camisi aşağıdakilerden hangisidir?**
  - A) İstanbul Süleymaniye Camisi
  - B) İstanbul Sultan Ahmet Camisi
  - C) Edirne Selimiye Camisi
  - D) Bursa Ulu Camisi
2. **Aşağıdaki sanatçılardan hangisi D Grubu içerisinde ver almaz?**
  - A) Abidin Dino
  - B) Nurullah Berk
  - C) Nuri İyem
  - D) Cemal Tollu
3. **İstanbul Taksim Cumhuriyet Anıtı aşağıdaki sanatçılardan hangisine aittir?**
  - A) Heinrich Krippel
  - B) Ali Hadi Bara
  - C) Pietro Canonica
  - D) Kenan Yontuç
4. **Revaklı avlu Osmanlı camilerinde ilk kez hangi yapıda kullanılmıştır?**
  - A) Edirne Üç Şerefeli Camisi
  - B) İstanbul Süleymaniye Camisi
  - C) İstanbul Fatih Camisi
  - D) Bursa Ulu Camisi
5. **Divriği Ulu Camisi ve Şifahanesi hangi beyliğe aittir?**
  - A) Mengücekliler
  - B) Danişmendliler
  - C) Artuklular
  - D) Saltuklular
6. **Hangisi yol üstlerinde gelip geçen yolcuların ve kervanların dinlenmeleri, güvenliklerinin sağlanması amaçlarıyla inşa edilen Karahanlı yapılarına verilen isimdir?**
  - A) Ribat
  - B) Medrese
  - C) Han
  - D) Bedesten
7. **Şamanizm, Budizm ve Manihaizm etkisinde göçebe bozkır halkının gündelik yaşantısını doğaüstü tasvirlerle yansıttığı gri ve grinin tonlarının hakim olduğu eserleri ile ünlü, 15. yüzyılda yaşamış ressam aşağıdakilerden hangisidir?**
  - A) Şerafeddin Sabuncuoğlu
  - B) Matrakçı Nasuh
  - C) Mehmet Siyah Kalem
  - D) Nigari
8. **Anadolu Selçuklu Dönemi mimarisinde kubbenin ayaklar üzerinde taşındığı, cephelerin dört yöne kemerlerle açıldığı çokgen ya da kare gövdeli türbeler hangi tip içerisinde değerlendirilir?**
  - A) Kare gövdeli türbeler
  - B) Eyvan tipi türbeler
  - C) İki katlı türbeler
  - D) Baldaken tipi türbeler
9. **Türk cami mimarisinde son cemaat yeri hangi dönemde ortaya çıkmıştır?**
  - A) Anadolu Selçuklu Dönemi
  - B) Beylikler Dönemi
  - C) Büyük Selçuklu Dönemi
  - D) Osmanlı Dönemi
10. **Aşağıdakilerden hangisi Birinci Ulusal Mimarlık Akımı mimarlarından?**
  - A) Emin Onat
  - B) Vedat Dolakay
  - C) Orhan Arda
  - D) Mimar Kemalettin
11. **“Kubbet’üs Sahra” aşağıdaki uygarlıklardan hangisine aittir?**
  - A) Abbasi
  - B) Emevi
  - C) Fatımi
  - D) Memlük
12. **Aşağıdakilerden hangisi bir Uşak halısı tipi değildir?**
  - A) Yıldızlı
  - B) Çiçekli
  - C) Kuşlu
  - D) Madalyonlu
13. **14. yüzyıl sonu 15. yüzyıl başlarında İznik’te üretilen, kirlili beyaz astar üzerine mavi geometrik desenler, stilize bitki, bulut motifleri ve hayvan figürleriyle bezenen Osmanlı seramikleri hangi isimle anılır?**
  - A) Şam işi seramikler
  - B) Haliç işi seramikler
  - C) Kütahya seramikleri
  - D) Milet işi seramikler
14. **Aşağıdakilerden hangisi Orhun anıtlarından biri değildir?**
  - A) Tonyukuk Anıtı
  - B) Kül Tigin Anıtı
  - C) İstemi Han Anıtı
  - D) Bilge Kağan Anıtı

15. Elhamra Sarayı aşağıdaki ülkelerden hangisinde yer almaktadır?

- A) İspanya
- B) İtalya
- C) İran
- D) Suriye

16. Aşağıdakilerden hangisi İslam dünyasının bilinen ilk türbe yapısıdır?

- A) Kubbet'üs Süleybiye Türbesi
- B) Arap Ata Türbesi
- C) Sultan Sencer Türbesi
- D) Aslan Cazip Türbesi

17. İlk kez Abbasiler tarafından uygulanmış, desenin oksitli bir karışımla işlendiği ve sarı ve kahverengi tonlarda olduğu çini tekniği aşağıdakilerden hangisidir?

- A) Sır altı tekniği
- B) Çini mozaik tekniği
- C) Minai
- D) Lüster

18. Eski Türk resim sanatının en eski örnekleri hangi uygarlığa aittir?

- A) Göktürk
- B) Hun
- C) Uygur
- D) Karahanlı

19. Aşağıdakilerden hangisi Memlük mimarisinin Kahire'deki en ünlü eseridir?

- A) Kordoba Camisi
- B) Ümeyye Camisi
- C) El Ezher Camisi
- D) Baybars Camisi

20. Daha çok el yazması kitaplarda boya ve yıldız kullanılarak ışık, gölge, boyut ve perspektif verilmeden yapılan resimlere ne ad verilir?

- A) Karikatür
- B) Minyatür
- C) Ebru
- D) İllüstrasyon

1. Hukuk kurallarının kişilere tanıdığı yetkiye ne ad verilir?
  - A) Sorumluluk
  - B) Mevzuat
  - C) Hak
  - D) Görev
2. Aşağıdakilerden hangisi hormonal bozukluklara bir örnektir?
  - A) Gut hastalığı
  - B) Hipotiroidizm
  - C) Böbrek taşı
  - D) Altıparmaklılık
3. Aşağıdakilerden hangisi gelişmeyi etkileyen unsurlardan biri değildir?
  - A) Büyüme
  - B) Öğrenme
  - C) Değişim
  - D) Olgunlaşma
4. Daniel Levinson'a göre yaşlılık döneminin başlangıcı kaç yaştır?
  - A) 60
  - B) 65
  - C) 70
  - D) 85
5. Kişinin hasta veya engelli olmaması durumuna ne ad verilir?
  - A) Bedensel iyilik hali
  - B) Ruhsal iyilik hali
  - C) Başarı iyilik hali
  - D) Sosyal iyilik hali
6. Aşağıdakilerden hangisi yaşlılık döneminde daha çok erkeklerde görülen hastalıklardan biridir?
  - A) Romatizma
  - B) Yüksek tansiyon
  - C) İşitme kaybı
  - D) Görme bozuklukları
7. Aşağıdakilerden hangisi gelişmenin büyümeden farklı özelliklerinden biridir?
  - A) Baş çevresinin büyümesi
  - B) Kişinin kendini ifade etmesi
  - C) Vücut kitlesinin artması
  - D) Ağırlığın artması
8. Aşağıdakilerden hangisi koruyucu sağlık hizmetlerinden biri değildir?
  - A) Sağlıklı beslenme alışkanlıklarının kazandırılması hizmetleri
  - B) Aile planlaması hizmetleri
  - C) Sağlık eğitimi hizmetleri
  - D) Günü birlik tedavi hizmetleri
9. Besin öğelerine göre sınıflamada aşağıdakilerden yiyeceklerden hangisi diğerlerinden farklı grupta yer alır?
  - A) Salça
  - B) Sos
  - C) Makarna
  - D) Baharat
10. İletiyi oluşturan bir yol veya araç ile hedef kitleye ulaştırılan iletişim birimine ne ad verilir?
  - A) Mesaj
  - B) Kaynak
  - C) Alıcı
  - D) Kanal
11. Sigara bırakma danışma hattı aşağıdakilerden hangisidir?
  - A) ALO 171
  - B) ALO 156
  - C) ALO 155
  - D) ALO 110
12. Aşağıdakilerden hangisi sağlığa zarar veren zayıflama yöntemlerinden biri değildir?
  - A) Şok diyetler
  - B) Diüretik ilaç kullanımları
  - C) Diyetisyenlerin önerdikleri kişiye özel diyetler
  - D) Tek tip besine dayalı diyetler
13. Bireylerin hasta olmalarını engellemek için yapılan hizmetler bütününe ne ad verilir?
  - A) Sağlık eğitimi
  - B) Sağlık reformu
  - C) Sağlığın geliştirilmesi
  - D) Sağlığın korunması
14. Sevgi göstermeme, aşağılama, devamlı eleştirme aşağıdaki aile içi şiddet davranışlarından hangisine bir örnektir?
  - A) Ekonomik istismar
  - B) Duygusal istismar
  - C) İhmal
  - D) Fiziksel şiddet

15. Alkol ile ilgili aşağıdaki ifadelerden hangisi **vanlıştır?**

- A) Alkol içildiğinde midede ve ince bağırsakta hızla emilerek kana karışır.
- B) Alkolün vücutta oluşturduğu ısı cilt ve solunum yoluyla kaybedilir.
- C) İçilen alkol idrar ve ter yoluyla vücuttan atılır.
- D) Alkol içildiğinde kalın bağırsakta parçalanır.

16. **Beden kitle indeksi kaç olan bireyler zayıf kabul edilir?**

- A) 18,5'in altı
- B) 18,5 - 24,9 arası
- C) 25 - 30 arası
- D) 30'un üzeri

17. **Tütünde bağımlılık yapan esas madde aşağıdakilerden hangisidir?**

- A) Amonyak
- B) Kadmiyum
- C) Nikotin
- D) Metanol

18. **Küçük dozlarda madde kullanımına bağlı olarak kişinin bedeninde ortaya çıkan etkiyi yakalayabilmek için maddenin dozunu zaman içerisinde artırma gereksinimine ne ad verilir?**

- A) Tolerans gelişimi
- B) Pasif içicilik
- C) Tiryakilik
- D) Yoksunluk sendromu

19. **Aşağıdakilerden hangisi iletişim engellerinden biri değildir?**

- A) Konuyu saptırmak
- B) Çözüm önerisi getirmek
- C) Yönlendirmek
- D) Ben dili kullanmak

20. **"Sınavım kötü geçti ama diğer sınavlara daha iyi hazırlanabilirim" tarzındaki düşünce yapısı aşağıdaki stresle başa çıkmada etkili yöntemlerden hangisine bir örnektir?**

- A) Sosyal etkinlikleri geliştirme
- B) Aşırı genellemelerden kaçınma
- C) Zihinde canlandırma
- D) Zaman yönetimi



1. Araçların durma ve duraklama halleri dışında, genelde uzun süreli bekletilmek üzere bırakılmasına ne ad verilir?

- A) Bekleme
- B) Park etme
- C) Dinlenme
- D) Duraklama

2. Yapılan denetimlerde, aracın tescili yapılmadan trafiğe çıktığı tespit edildiğinde uygulanacak ceza aşağıdakilerden hangisidir?

- A) Ağır hapis cezası
- B) Aracı trafikten men cezası
- C) Para cezası
- D) Hafif hapis ve para cezası

3. Gece banketli bir yolu kullanmak zorunda kalan yayanın aşağıdakilerden hangisini yapması yanlıştır?

- A) Üzerinde yansıtıcı bulundurması
- B) Açık renkte elbise giymesi
- C) El feneri taşıması
- D) Gidiş yönüne göre sağ bankette yürümesi

4. I. Aynı istikamete giden kişilerle araç müşterek kullanılmalı  
II. Kısa mesafelerde araç kullanılmamalı  
III. Mümkün olduğunca, toplu taşıma araçları (metro, tramvay, otobüs, dolmuş, vb.) tercih edilmeli  
IV. Trafiğin yoğun olduğu saatler tercih edilmeli

Yukarıdakilerden hangileri özel araçların gereksiz kullanımının yol açtığı zararları azaltmak için yapılması gerekenlerdir?

- A) Yalnız I
- B) I ve II
- C) I, II ve III
- D) I, II, III ve IV

5. Trafik kazalarında olay yerine ışıklı işaret veya yansıtıcı cihazlar konulmasının amacı aşağıdakilerden hangisidir?

- A) Çok sayıda yaralının olduğunu bildirmek
- B) Kaza yerindeki trafik akışını durdurmak.
- C) Trafik yoğunluğunu düzenlemek
- D) Diğer sürücülerin dikkatini çekerek uyararak

6. Tescil işlemleri tamamlanmış araçların trafiğe çıkarılmasına müsaade eden ve muayene sürelerini belirleyen belgeye ne ad verilir?

- A) Mali sorumluluk sigorta belgesi
- B) Sürücü belgesi
- C) Motorlu araç muayene belgesi
- D) Motorlu araç trafik belgesi

7. Kara yolları Trafik Yönetmeliği'nin öngörmüş olduğu azami hız sınırlarını % kaç oranında aştığı tespit edilen sürücülere cezai işlem yapılmaz?

- A) 10
- B) 15
- C) 17
- D) 20

8. Bakımı yapılmamış bir aracın egzozundan daha fazla kirletici gaz çıkar ve havaya karışır.

Yukarıdaki durumun öncelikle sebep olduğu kirlilik türü aşağıdakilerden hangisidir?

- A) Hava
- B) Toprak
- C) Gürültü
- D) Su

9. Araçlarda emniyet kemerinin zorunlu olmasının nedeni aşağıdakilerden hangisidir?

- A) Kazaların önlenmesi
- B) Kaza anında ölüm ve yaralanmaların en aza indirilmesi
- C) Denetimlerde herhangi bir sorun yaşanmaması
- D) Sürücülerin dikkatinin artırılması

10. Aşağıdakilerden hangisi yolculara ait kaza sebeplerinden biri değildir?

- A) Habersiz inilmesi binilmesi
- B) Taşıttan atılması
- C) Aşırı hız yapılması
- D) Taşıttan sarkılması

11.



Yukarıdaki trafik görevlisinin verdiği işaretin anlamı nedir?

- A) Yolu trafiğe açık olması hali
- B) Trafiğin bütün istikametlere kapanma hali
- C) Yön tayini işareti
- D) Trafiği hızlandırma işareti

12. Aksine bir durum yoksa, yol çizgileri ile belirlenmiş yaya geçitlerinin bulunduğu yerlerde geçiş önceliği aşağıdakilerden hangisine aittir?

- A) Sürücülere
- B) Bisikletlilere
- C) Yayalara
- D) Yolculara

13.



Yukarıdaki trafik tanzim işaretinin anlamı aşağıdakilerden hangisidir?

- A) Mecburi asgari hız
- B) Azami hız sınırlaması
- C) Mecburi ortalama hız
- D) Hız sınırlaması sonu

14. Aşağıdakilerden hangisi öndeki aracı geçmek için uygun yerlerden biridir?

- A) Kesik çizgili yol kesimi
- B) Kavşak
- C) Tepe üstü
- D) Hemzemin geçit

- 15. I. Kriko
- II. Buz kazıyıcı
- III. Bijon anahtarı
- IV. Çekme halatı

Yukarıdakilerden hangileri araçlarda bulundurulması gerekli olan yedek malzeme ve takımlardandır?

- A) Yalnız I
- B) I ve II
- C) I, III ve IV
- D) I, II, III ve IV

16. Aşağıdakilerden hangisi trafikte zorunlu "durma" nedenlerinden biri değildir?

- A) Yol tarifi alınması
- B) Görevli kişilerce verilen sesli, işaretli dur emrine uyulması
- C) Işıklı trafik işaret cihazında kırmızı ışığın yanması
- D) Trafik işaret levhalarının anlamına uyulması

17. Sürücülerin önlerinde giden araçla aralarında tutmak zorunda oldukları güvenli ve yeterli mesafeye ne ad verilir?

- A) Geçiş mesafesi
- B) Takip mesafesi
- C) İntikal mesafesi
- D) Görüş mesafesi

18. Aşağıdakilerden hangisi kara yolu çeşitlerinden biri değildir?

- A) Bölünmüş kara yolu
- B) Tek yönlü kara yolu
- C) İki yönlü kara yolu
- D) Taşıt kara yolu

19. Taşıt yolunu bölünmüş yol durumuna getiren ayırıcı anlamına gelen yol çizgisi aşağıdakilerden hangisidir?

- A) Yan yana iki devamlı yol çizgisi
- B) Kesikli ve devamlı yol çizgisi
- C) Devamlı yol çizgisi
- D) Kesik yol çizgisi

20. Kara yollarından yararlanan sürücü ve yayalar, aşağıdakilerden hangisinin ikaz ve uyarılarına öncelikle uymak zorundadır?

- A) Işıklı trafik işaret cihazı
- B) Trafik işaret levhası
- C) Yol çizgisi
- D) Trafik görevlisi

1. **Rejenerasyon ile ilgili aşağıdaki ifadelerden hangisi yanlıştır?**

- A) İnsanda rejenerasyon deri, karaciğer, dil, mide ve kırılan kemiklerin onarılmasında gözlenir.
- B) Hayvanların gelişmişlik düzeyi arttıkça rejenerasyon yeteneği artar.
- C) Denizanası, toprak solucanı, denizyıldızı ve planaryada rejenerasyonla üreme gözlenir.
- D) Omurgalılarda rejenerasyon bir yaranın iyileşmesi, doku veya hücre onarımı şeklinde gerçekleşir.

2. **Kanser tedavisiyle ilgili bilim dalı aşağıdakilerden hangisidir?**

- A) Onkoloji
- B) Endokrinoloji
- C) Patoloji
- D) Hematoloji

3. **Biri anadan diğeri babadan gelen şekil ve büyüklükleri aynı olan kromozomlara ne ad verilir?**

- A) Metafaz
- B) Cross-over
- C) Homolog kromozom
- D) İnterfaz

4. **İki bitki parçasının kaynaştırılıp tek bir bitkiymiş gibi büyüyecek şekilde birleştirilmesine ne ad verilir?**

- A) Döl değişimi
- B) Aşılama
- C) Rejenerasyon
- D) Tomurcuklanma

5. **Mitoz bölünme gerçekleşirken kromozomların mikroskopta en belirgin görüldüğü evre aşağıdakilerden hangisidir?**

- A) Telofaz
- B) Profaz
- C) Anafaz
- D) Metafaz

6. **Aşağıdakilerden hangisi cinsel yolla bulaşan hastalıklardan biridir?**

- A) HPV
- B) Tüberküloz
- C) Difteri
- D) Grip

7. **Aşağıdakilerden hangisi spermin yapısında ver almaz?**

- A) Çekirdek
- B) Kamçı
- C) Folikül
- D) Akrozom

8. **Medüz aşağıdakilerden hangisinin diğeri adıdır?**

- A) Planarya
- B) Denizanası
- C) Terliksi hayvan
- D) Toprak solucanı

9. **Ceninin tıbbi adı aşağıdakilerden hangisidir?**

- A) Koriyon
- B) Morula
- C) Blastomer
- D) Fetüs

10. **Eşey ana hücrelerinin diploit yapısı aşağıdakilerden hangisiyle sembolize edilir?**

- A) 2n
- B) 4n
- C) 6n
- D) 8n

11. Her bir homolog kromozom çiftinin bir araya gelerek oluşturduğu dört kromatitli yapıya ne ad verilir?
- A) Tetrat  
B) Mayoz  
C) Anafaz  
D) Plazmit
12. Dıştan tek sıralı hücre tabakasıyla çevrili, içi sıvı dolu bir küreye benzeyen embriyo evresi aşağıdakilerden hangisidir?
- A) Morula  
B) Organogenez  
C) Blastula  
D) Gastrula
13. Hidra ve mercan gibi omurgasızlarda görülen eşeysiz üreme türü aşağıdakilerden hangisidir?
- A) Sporla üreme  
B) Tomurcuklanma  
C) Bölünerek üreme  
D) Bitkilerde vejetatif üreme
14. Sürünücü gövde ile üreyen bitki türü aşağıdakilerden hangisidir?
- A) Soğan  
B) Zencefil  
C) Patates  
D) Çilek
15. Aşağıdakilerden hangisi folik asit eksikliğinde karşılaşılan sorunlardan biri değildir?
- A) Annede aşırı kilo alımı  
B) Annede anemi  
C) Nöral tüp defektleri  
D) Düşük doğum ağırlıklı bebekler
16. Dişi üreme sisteminde vajinayı döl yatağına bağlayan bölge aşağıdakilerden hangisidir?
- A) Over  
B) Endometrium  
C) Serviks  
D) Fallopi tüpü
17. Dişi ve erkek gametin birleşmesi sonucu zigot oluşmasına ne ad verilir?
- A) Cross-over  
B) Plazmit  
C) Konjugasyon  
D) Döllenme
18. Aşağıdakilerden hangisi eşeysiz ürer?
- A) Terliksi hayvan  
B) Balık  
C) Kurbağa  
D) Kuş
19. Canlının zarar gören kısımlarını onarmasına ne ad verilir?
- A) Medüz  
B) Rejenerasyon  
C) Polip  
D) Metagenez
20. İnsanda menstrual döngü yaklaşık kaç gündür?
- A) 16  
B) 24  
C) 28  
D) 36

1. İstanbul kuşatması sırasında Bizans'a gelecek yardımı engellemek için Anadolu Hisarı'nı yaptıran padişah aşağıdakilerden hangisidir?

- A) Yıldırım Bayezid
- B) I. Murat
- C) I. Mehmet
- D) II. Mehmet

2. Aşağıdakilerden hangisi 14. yüzyıl başlarında Yakın Doğu'da yer alan devletlerden biri değildir?

- A) Memluk
- B) Saksonya
- C) Altın Orda
- D) Bizans

3. Aşağıdakilerden hangisi dirlik sisteminin uygulanmasının sağladığı faydalardan biri değildir?

- A) Devlet, üretimi denetim altına almış ve sürekliliğini sağlamıştır.
- B) Hazineden para harcanmadan her an savaşa hazır bir ordu beslenmiştir.
- C) Araziden daha iyi faydalanılmış ve üretimin artması sağlanmıştır.
- D) Dirlik sisteminin uygulanması merkezi otoriteyi zayıflatmıştır.

4. Topkapı Sarayı'nın bir bölümü olan Enderun ile ilgili aşağıdaki ifadelerden hangisi vanlıştır?

- A) Saray kadınlarının eğitim ve öğretimi burada yapılırdı.
- B) Sarayın iç bölümünde yer alırdı.
- C) Devletin ihtiyaç duyduğu devlet adamları burada yetiştirilirdi.
- D) Büyük oda, küçük oda, seferli odası, Doğancılar odası, hazine odası, kiler odası ve has oda olmak üzere yedi bölümden oluşurdu.

5. I. Murat zamanında kurulan ve kapıkulu askerlerinin en itibarlı sınıfını oluşturan askeri birlik aşağıdakilerden hangisidir ?

- A) Acemi Ocağı
- B) Topçu Ocağı
- C) Cebeci Ocağı
- D) Yeniçeri Ocağı

6. Aşağıdakilerden hangisi İstanbul'un fethinin Türk tarihi açısından sonuçlarından biri değildir?

- A) Orta Çağ'ın sona erip, Yeni Çağ'ın başlaması
- B) Osmanlıların İslam dünyası üzerindeki saygınlığının artması
- C) İstanbul'un, Osmanlı Devleti'nin başkenti olması
- D) Osmanlı Devleti'nin yükselme dönemine girmesi

7. İlk Osmanlı medresesi nerede açılmıştır?

- A) Bursa
- B) Edirne
- C) Kütahya
- D) İznik

8. Otlukbeli Savaşı kimler arasında yapılmıştır?

- A) Osmanlı – Akkoyunlular
- B) Osmanlı – Karahanlılar
- C) Akkoyunlular – Karamanoğulları
- D) Karamanoğulları – Memlukler

9. Avrupada'ki mezhep çatışmalarının devletler arası bir sorun olmaktan çıkmasını sağlayan antlaşma aşağıdakilerden hangisidir?

- A) Suza
- B) Vestfalya
- C) Saint Germain
- D) Münster

10. Türklerin Orta Asya'dan beri oluşturarak Anadolu'ya getirdikleri ve babadan oğula sürdürdükleri sözlü edebiyat türüne ne ad verilir?

- A) Divan edebiyatı
- B) Tasavvuf edebiyatı
- C) Garip edebiyatı
- D) Halk edebiyatı

11. Aşağıdakilerden hangisi coğrafi keşiflerin sonuçlarından biri değildir?

- A) Ticaretle uğraşan burjuva sınıfının güçlenmesi
- B) Sömürge imparatorluklarının kurulması
- C) Atlas Okyanusu kıyısındaki limanların önemini kaybetmesi
- D) Avrupa'da bilgin ve sanatçıları himaye eden mesen sınıfının oluşması

12. 1256 yılında Hülagü Han tarafından İran ve çevresinde kurulan siyasal güç aşağıdakilerden hangisidir?

- A) Bizans İmparatorluğu
- B) İlhanlılar
- C) Moğol İmparatorluğu
- D) Trabzon İmparatorluğu

13. Bir devlet başkanının kayıtsız şartsız egemenliğine dayanan yönetim şekli aşağıdakilerden hangisidir?

- A) Merkantilizm
- B) Teokrasi
- C) Mutlakiyet
- D) Oligarşi

14. Divan-ı Hümayun hangi padişah zamanında kurulmuştur?

- A) I. Murat
- B) Osman Bey
- C) Orhan Bey
- D) II. Mehmet

15. IV. Mehmet zamanında yeniçerilerin ayaklanması sonucu otuz kadar devlet adamının idamıyla sonuçlanan olay aşağıdakilerden hangisidir?

- A) Vaka-i vakvakiye
- B) Vaka-i hayriye
- C) 31 Mart olayı
- D) Celali ayaklanması

16. Akdeniz'de üstünlüğün tamamen Osmanlılara geçtiği savaş aşağıdakilerden hangisidir?

- A) Cerbe Deniz Savaşı
- B) Sapienza Deniz Savaşı
- C) Preveze Deniz Savaşı
- D) İnebahtı Deniz Savaşı

17. Vasvar Antlaşması kimler arasında imzalanmıştır?

- A) Osmanlı Devleti – İngiltere
- B) Osmanlı Devleti – Avusturya
- C) Avusturya – Fransa
- D) Almanya – Rusya

18. İstanbul'u kuşatan ilk Osmanlı padişahı aşağıdakilerden hangisidir?

- A) II.Mehmet
- B) Yıldırım Bayezit
- C) I.Murat
- D) Orhan Bey

19. Aşağıdakilerden hangisi Niğbolu Savaşı'nın sonuçlarından biri değildir?

- A) Osmanlı Devleti'nin Avrupa üzerindeki baskısının artması
- B) Macarların etkisiz hale getirilmesi
- C) Osmanlı birliklerine Makedonya yolunun açılması
- D) Halife'nin, Yıldırım Bayezid'e "Anadolu'nun Sultanı" unvanını vermesi

20. Osmanlı Devleti ve İran arasında imzalanan ilk antlaşma aşağıdakilerden hangisidir?

- A) Ferhat Paşa
- B) Zıştovi
- C) Küçük Kaynarca
- D) Amasya

1. Aşağıdakilerden hangisi sıcak su kaynaklarının yaygın olduğu bölgeler arasında yer almaz?

- A) Kanada
- B) Yeni Zelanda
- C) Malezya
- D) Cezayir

2. Aşağıdakilerden hangisi iç püskürük kayaç türlerinden biri değildir?

- A) Diorit
- B) Granit
- C) Siyenit
- D) Andezit

3. Aşağıdakilerden hangisi kimyasal tortul kayalardan biri değildir?

- A) Kaya tuzu
- B) Kireç taşı
- C) Kum taşı
- D) Alçı taşı

4. Kalkerli arazi içinde suların eritme ve aşındırması sonucu meydana gelen yer altı boşluklarına ne ad verilir?

- A) Mağara
- B) Tünel
- C) Oyuk
- D) Kovuk

5. Aşağıdakilerden hangisi sıcak su kaynaklarının kullanıldığı alanlardan biri değildir?

- A) Konutların ısıtılması
- B) Kültür balıkçılığı
- C) Bahçe sulaması
- D) Elektrik enerjisi üretimi

6. Volkanik alanlarda, yerin derinliklerindeki sıcak gazların uyguladığı basıncın etkisiyle sıcak su ve buhar şeklinde püskürerek yeryüzüne çıkan sulara ne ad verilir?

- A) Artezyen
- B) Laterit
- C) Moren
- D) Gayzer

7. Aşağıdakilerden hangisi makiyi oluşturan bitki türlerinden biri değildir?

- A) Kocayemiş
- B) Sedir
- C) Defne
- D) Zakkum

8. Aşağıdaki ülkelerin hangisinde buzul göllerine rastlanmaz?

- A) Norveç
- B) Endonezya
- C) Danimarka
- D) Kanada

9. Aşağıdakilerden hangisi dünyada nüfus yoğunluğunun fazla olduğu yerlerden biridir?

- A) ABD'nin doğu kıyıları
- B) Kutup çevresi
- C) Dönenceler çevresi
- D) Himalaya dağları

10. Rüzgârların taşıyarak biriktirdiği malzemelerden oluşan toprak türü aşağıdakilerden hangisidir?

- A) Litoseller
- B) Lösler
- C) Regoseller
- D) Morenler

11. Aşağıdakilerden hangisi nüfusun dağılımını etkileyen doğal faktörlerden biri değildir?

- A) Toprak
- B) Ulaşım
- C) İklim
- D) Yer şekilleri

12. Aşağıdakilerden hangisi en çok beyin göçü alan ülkeler arasında yer almaz?

- A) Kanada
- B) İsviçre
- C) Fransa
- D) Almanya

13. Aşağıdakilerden hangisi Türkiye'nin iç kesimlerinde yer alan platolardan biri değildir?

- A) Obruk
- B) Haymana
- C) Cihanbeyli
- D) Çatalca

14. Karstik arazilerin mağara tavanlarının çökmesiyle oluşan çukurlara ne ad verilir?

- A) Dolin
- B) Polye
- C) Obruk
- D) Labya

15. Aşağıdakilerden hangisi gelişmiş ülkelerin özelliklerinden biri değildir?

- A) Sanayi ürünlerinin ithal edilmesi
- B) Milli gelirin yüksek olması
- C) Nüfusun çoğunluğunun kentlerde yaşaması
- D) Nüfus artış hızının düşük olması

16. Aşağıdakilerden hangisi üçüncül ekonomik faaliyetler arasında yer almaz?

- A) Pazarlama
- B) Bankacılık
- C) Reklam yayıncılığı
- D) Muhasebe

17. İlk insanların barınaklarının mağara, kaya sığınaklarının olduğu, geçimlerini avcılık yaparak sağladıkları, küçük gruplar halinde ve göçebe olarak yaşadıkları dönem aşağıdakilerden hangisidir?

- A) Mezolitik Çağ
- B) Kalkolitik Çağ
- C) Neolitik Çağ
- D) Paleolitik Çağ

18. Aşağıdakilerden hangisi Türkiye'nin matematik konumunun sonuçlarından biri değildir?

- A) Aynı anda tek bir ortak saatin kullanılması
- B) Güneş ışınlarının dik açıyla gelmemesi
- C) Yakın bir jeolojik zamanda oluşması
- D) Orta kuşakta eyer alması

19. Aşağıdakilerden hangisi Türkiye'de fazla yağış alan yerlerden biri değildir?

- A) Ergene havzası
- B) Yıldız dağları
- C) Menteşe yöresi
- D) Batı Karadeniz

20. Türkiye'nin en çok işçi gönderdiği ülke aşağıdakilerden hangisidir?

- A) Amerika
- B) İngiltere
- C) Fransa
- D) Almanya



1. Ölçeği 1/150.000 olan bir haritada 5 cm'lik bir uzunluk gerçekte kaç km'dir?

- A) 7,5  
B) 15  
C) 75  
D) 750

2. Yarıçapı 4 cm olan küre şeklinde cam bir aksesuar, küp şeklinde bir kutunun içine konarak paketleneyecektir. Kürenin taşınırken kırılmasını önlemek amacıyla tüm yüzlerine konulacak köpükler için, kutu ile küre arasında minimum 1 cm boşluk kalması isteniyor.

Buna göre küpün hacmi en az kaç  $\text{cm}^3$  tür?

- A) 32  
B) 64  
C) 512  
D) 1.000

3. Yarıçapı yüksekliğinin  $\frac{1}{4}$  ü kadar olan bir dik dairesel silindirin hacmi  $32\pi \text{ cm}^3$  olduğuna göre yarıçapı kaç m'dir?

- A) 6  
B) 4  
C) 3  
D) 2

4. Gerçek yüksekliği 300 m olan bir kulenin bir fotoğraftaki yüksekliği 2 cm'dir. Buna göre fotoğraf gerçek uzunluğu hangi oranda küçültülmüştür?

- A)  $\frac{1}{15}$   
B)  $\frac{1}{150}$   
C)  $\frac{1}{1.500}$   
D)  $\frac{1}{15.000}$

5. Alanı  $81\pi \text{ m}^2$  olan daire şeklindeki bir havuzun çevresi kaç m'dir?

- A)  $6\pi$   
B)  $9\pi$   
C)  $18\pi$   
D)  $36\pi$

6. 1/1.000 ölçekli bir krokide alanı  $5 \text{ cm}^2$  olan bir binanın gerçek alanı kaç  $\text{m}^2$  dir?

- A) 5.000.000  
B) 5.000  
C) 500  
D) 50

7. Silindir biçiminde bir kaptaki su vardır. Bu kaptaki suyun içine küp şeklinde bir cisim atılınca kaptaki su seviyesi 27 birim yükseliyor. Sonra kaba küp şeklinde bir cisim daha atılıyor. Bu sefer su 1 birim yükseliyor. Her iki cisimde tamamen su içinde kaldığına göre küplerin ayrıtlarının oranı kaçtır?

- A) 2  
B) 3  
C) 6  
D) 9

8. Dikdörtgenler prizması şeklindeki bir deponun içine seramik kolileri yerleştirilecektir. Deponun ayrıtları 3 m, 5 m ve 6 m'dir. Seramik kolileri ise ayrıtları 30 cm, 30 cm ve 20 cm olan kare prizma şeklindedir. Buna göre depoya en çok kaç koli yerleştirilebilir?

- A) 500  
B) 5.000  
C) 50.000  
D) 500.000

9. Hacmi  $36\pi \text{ m}^3$  olan bir kürenin yarıçapı kaç m'dir?

- A) 9  
B) 6  
C) 4  
D) 3

10. Bir serada yıllık 10 ton domates, 5 ton biber, 5 ton kabak ve 10 ton patlıcan yetiştirilmiştir.

Buna göre bu veriler dairesel grafikte gösterildiğinde; biberi belirten daire diliminin merkez açısı kaç derece olur?

- A)  $30^\circ$   
B)  $60^\circ$   
C)  $120^\circ$   
D)  $135^\circ$

11. Üç madeni para birlikte atıldığında 2 yazı ve bir tura gelme olasılığı kaçtır?

- A)  $\frac{1}{5}$   
 B)  $\frac{1}{4}$   
 C)  $\frac{1}{2}$   
 D)  $\frac{3}{8}$

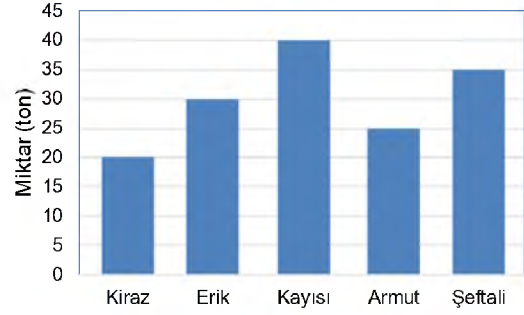
12. Bir torbada 4 kırmızı, 6 beyaz bilye vardır. Çekilen ilk bilye tekrar torbaya bırakılmak koşulu ile; bu torbadan art arda çekilen iki bilyenin ikisinin de kırmızı olma olasılığı kaçtır?

- A)  $\frac{2}{25}$   
 B)  $\frac{4}{25}$   
 C)  $\frac{2}{5}$   
 D)  $\frac{4}{5}$

13. 5 kız ve 7 erkek öğrenciden 4 kişi seçilecektir. Seçilen 4 kişiden 3'ünün kız olma olasılığı kaçtır?

- A)  $\frac{14}{99}$   
 B)  $\frac{2}{9}$   
 C)  $\frac{2}{7}$   
 D)  $\frac{7}{11}$

14.



Yukarıdaki grafikte bir üreticinin bir yılda ürettiği meyve miktarları verilmiştir.

**Bu grafiğe göre; 1 yılda üretilen erik miktarı üretilen toplam meyve miktarının yüzde kaçtır?**

- A) 15  
 B) 20  
 C) 25  
 D) 30

15.

| Günler    | Süre   |
|-----------|--------|
| Pazartesi | 1 saat |
| Salı      | 2 saat |
| Çarşamba  | 2 saat |
| Perşembe  | 3 saat |
| Cuma      | 3 saat |
| Cumartesi | 1 saat |
| Pazar     | 2 saat |

Yukarıdaki tabloda bir sporcunun haftanın günlerine göre çalıştığı süreler verilmiştir.

**Tabloya göre çalışma sürelerinin aritmetik ortalaması kaç saattir?**

- A) 1  
 B) 2  
 C) 3  
 D) 7

16. Bir madeni para ve bir zar birlikte atılıyor. Paranın yazı ve zarın 3 gelme olasılığı kaçtır?

- A)  $\frac{1}{12}$   
 B)  $\frac{1}{6}$   
 C)  $\frac{1}{3}$   
 D)  $\frac{1}{2}$

17. ve 18. soruları aşağıdaki tabloya göre cevaplayınız.

| Ürün İsmi | 2012 Yılı<br>Ürün Sayısı | 2013 Yılı<br>Ürün Sayısı |
|-----------|--------------------------|--------------------------|
| Gömlek    | 360                      | 400                      |
| Pantolon  | 450                      | 600                      |
| Elbise    | 350                      | 650                      |
| Etek      | 300                      | 550                      |
| Ceket     | 390                      | 600                      |
| Kazak     | 550                      | 750                      |

Yukarıdaki tabloda 2012 ve 2013 yıllarında bir mağazada çeşidine göre satılan ürün miktarları verilmiştir.

17. Buna göre satış miktarı 2013 yılında 2012 yılına göre en çok artan ürün aşağıdakilerden hangisidir?

- A) Etek
- B) Pantolon
- C) Elbise
- D) Gömlek

18. Buna göre 2012 yılında satılan ürünler dairesel grafikte gösterildiğinde; gömlekleri gösteren daire diliminin merkez açısı kaç derece olur?

- A) 30°
- B) 45°
- C) 54°
- D) 75°

19. 3 kırmızı, 5 mavi ve 7 yeşil kalemden rastgele 3 tanesi seçiliyor. Kalemlerden üçünün de farklı renk olma olasılığı kaçtır?

- A)  $\frac{1}{15}$
- B)  $\frac{3}{13}$
- C)  $\frac{7}{15}$
- D)  $\frac{3}{5}$

20. Bir torbada aynı büyüklükte 3 kırmızı ve 4 beyaz top vardır. Bu torbadan, çekilen top torbaya tekrar bırakılmamak koşulu ile, rastgele iki top çekildiğinde iki topun da kırmızı olma olasılığı kaçtır?

- A)  $\frac{1}{7}$
- B)  $\frac{3}{7}$
- C)  $\frac{4}{7}$
- D)  $\frac{2}{3}$

1. Bilimsel makalelerde araştırma sonucu elde edilen bulguların açık ve anlaşılır bir şekilde ortaya konduğu, tartışılıp geliştirildiği, başka çalışmalarla ilişkilendirildiği ve çalışmanın günlük hayattaki yeri ve önemi üzerinde durulduğu bölüme ne ad verilir?
- A) Özet  
B) Sonuç ve tartışma  
C) Asıl metin  
D) Başlık
2. Makalelerinde sürekli vatan, millet ve hürriyet temalarını işleyen yazar aşağıdakilerden hangisidir?
- A) Ali Naci  
B) Rezaizade Mahmut Ekrem  
C) Cahit Sıtkı  
D) Namık Kemal
3. Aşağıdakilerden hangisi bilimsel yazıların bölümlerinden biri değildir?
- A) Asıl metin  
B) Özet  
C) Soru-cevap  
D) Başlık
4. Türk Mavisi adlı şiir kitabının yazarı aşağıdakilerden hangisidir?
- A) Ahmet Haşim  
B) Cahit Külebi  
C) Cahit Sıtkı Tarancı  
D) Cemal Süreyya
5. Aşağıdakilerden hangisi açık oturum planında yer almaz?
- A) Konuşma özetleri  
B) Açık oturumun yapılaş nedeni  
C) Deney  
D) Konuşmacılara sorulacak sorular
6. Aşağıdakilerden hangisi sözlü anlatım türlerinden biridir?
- A) Forum  
B) Deneme  
C) Eleştiri  
D) Tiyatro
7. Aşağıdakilerden hangisi makale ile bilimsel yazıların ortak özelliklerinden biridir?
- A) Her iki türün de belli bir kesime hitap etmesi  
B) İki türde de sanatsal yaklaşımın ön planda olması  
C) Her iki türde de anlatılanların kanıtlanma zorunluluğunun olmaması  
D) İki türün de okuyucuyu bilgilendirmesi
8. "Ormanların korunmasında yasalar mı çevre bilinci mi daha etkili olur?" sorusunu tartışan iki grubun kendi görüşlerini açıklamak, kanıtlamak karşı tarafın zayıf noktalarını aramak için yaptıkları söyleşmeye ne ad verilir?
- A) Sempozyum  
B) Münazara  
C) Forum  
D) Mülakat
9. Aşağıdakilerden hangisi münazara başkanının görevlerinden biri değildir?
- A) Tartışmacılardan herhangi birinin katılmaması durumunda onun yerine geçmek  
B) Tartışanların düşüncelerini rahatlıkla dile getirebilecekleri bir ortam yaratmak  
C) Tartışma konusunun dışına çıkılmasını engellemek  
D) Tartışılan konunun nitelik ve sınırlarının dinleyiciler tarafından anlaşılmasını sağlamak
10. Aşağıdakilerden hangisi konferansın özelliklerinden biridir?
- A) Emredici anlatım türünü kullanması  
B) Ön hazırlık gerektirmemesi  
C) Amacının dinleyicileri bilgilendirmek olması  
D) Sadece sanat konularında verilmesi
11. Bilimsel yazılarda kullanılan dil işlevi aşağıdakilerden hangisidir?
- A) Göndergesel işlev  
B) Şiirsel işlev  
C) Dil ötesi işlevi  
D) Heyecana bağlı işlev
12. Yazar, düşünür ve sanatçıların veya kendi alanında uzman kişilerin genellikle bilim, sanat ve ekonomi konularında açıklama, tanıtma, bilgi verme, öğretme amacıyla yaptıkları konuşmalara ne ad verilir?
- A) Forum  
B) Mülakat  
C) Münazara  
D) Konferans
13. Aşağıdakilerden hangisi açık bir anlatımın sahip olması gereken unsurlardan biri değildir?
- A) Duruluk  
B) Akıcılık  
C) Yalınlık  
D) Sanatlı söyleyiş

14. Aşağıdakilerden hangisi bilimsel yazı türlerinden biridir?

- A) Tiyatro metinleri
- B) Sone
- C) Film senaryoları
- D) Toplantı özetleri

15. Aşağıdakilerden hangisi bilimsel yazıların giriş bölümlerinin taşıması gereken özelliklerden biri değildir?

- A) Her türlü terim ve kısaltmanın anlamlarının açıklanması
- B) Kullanılan yöntemin ve bu yöntemin seçiliş sebebinin gizli tutulması
- C) Çalışmanın gerekliliğinin ortaya konulması
- D) Ana bulguların dile getirilmesi

16. Aşağıdakilerden hangisi sempozyumun özelliklerinden biri değildir?

- A) Sempozyumlarda alınan kararların bilimsel değer taşıması
- B) Sempozyum bildirilerinin genellikle yayımlanan bir yazı türü olması
- C) Bir başkana ihtiyaç duymaması
- D) Aynı konunun farklı bakış açılarıyla ele alınması

17. Malzeme ve yöntem tanıtımının yapıldığı sempozyum bölümü aşağıdakilerden hangisidir?

- A) Bulgular
- B) Giriş
- C) Sonuç
- D) Deney

18. Bir kitabın veya derginin kişi, konu, yer adı gibi içindikileri yer numarasıyla belirten ve eserin sonunda yer alan alfabetik listeye ne ad verilir?

- A) İndeks
- B) Kaynakça
- C) Dipnot
- D) Dokümantasyon

19. Bilimsel yazı hazırlanırken başkasının görüşlerini alıp, gönderme yapılarak nereden alıntılındığı belirtilmediği takdirde ortaya çıkan bilimsel hırsızlığa ne ad verilir?

- A) Kaynak
- B) Alıntı
- C) İntihal
- D) Dipnot

20. Forum türünün amacı aşağıdakilerden hangisidir?

- A) Bir konu hakkında karşıt görüşleri savunmak
- B) Bilim, teknik, sanat gibi konular hakkında bilgi vermek
- C) Bir konu hakkında belli kararlara varmak
- D) Bir konu üzerinde bütün ilgililerin görüşlerini öğrenmek

1. Die Ferien waren angenehm. .... Ferien haben uns gut gefallen.

**Welches Wort passt in die obige Lücke?**

**Cümlede boş bırakılan yeri aşağıdakilerden hangisi doğru şekilde tamamlar?**

- A) Der angehende  
B) Die angenehmen  
C) Das angegebene  
D) Die genehme

2. Was für ein brav..... Junge!

**Welche Endung passt in die obige Lücke?**

**Cümlede boş bırakılan yeri aşağıdaki son eklerden hangisi doğru şekilde tamamlar?**

- A) -er  
B) -e  
C) -em  
D) -en

3. Burada sigara içemezsiniz!

**Wie lautet der obige Satz auf Deutsch?**

**Verilen cümlelerin Almanca'sı aşağıdakilerden hangisidir?**

- A) Sie können hier immer rauchen!  
B) Sie müssen hier nicht rauchen!  
C) Sie dürfen hier nicht rauchen!  
D) Sie möchten hier nicht rauchen!

4. Er ..... im Sommer in die Schweiz fahren.

**Welches Wort passt in die obige Lücke?**

**Cümlede boş bırakılan yeri aşağıdakilerden hangisi doğru şekilde tamamlar?**

- A) sollt  
B) will  
C) sollst  
D) willst

5. Wir ..... um Erlaubnis.

**Welches Wort passt in die obige Lücke?**

**Cümlede boş bırakılan yeri aşağıdakilerden hangisi tamamlar?**

- A) bitten  
B) hören  
C) nehmen  
D) kommen

6. Dem Verkäufer nicht vertrauen.

**Wie lautet der obige Satz in der Imperativ-Form?**

**Verilen cümlelerin emir cümle şekli aşağıdakilerden hangisidir?**

- A) Vertrauen nur dem Verkäufer!  
B) Vertraue nur dem Verkäufer!  
C) Vertraust dem Verkäufer immer nicht!  
D) Vertraue dem Verkäufer nicht!

7. Ich muss meiner Mutter ....., ..... ich eine neue Tasche brauche.

**Welche Wörter passen in die obigen Lücken?**

**Cümlede boş bırakılan yerleri aşağıdakilerden hangileri doğru şekilde tamamlar?**

- A) erklären / daß  
B) erklärt / sonst  
C) sagen / hätte  
D) sagte / hatten

8. Ich habe andere Pläne!

**Wie lautet die Frage für die obige Antwort?**

**Verilen cümleye yönelik soru cümlesi aşağıdakilerden hangisidir?**

- A) Was hast du gekauft?  
B) Was kochst du da?  
C) Warum kommst du nicht mit?  
D) Was hättest du gern?

9. A: Kommst du mit ins Kino?  
B: Nein, .....  
A: Schade, dann sehen wir uns später.

**Welches ergänzt die Lücke im obigen Dialog?**

**Verilen karşılıklı konuşmada boş bırakılan yeri aşağıdakilerden hangisi tamamlar?**

- A) es hat mir gut gefallen heute Abend.  
B) wir waren in den Winterferien dort.  
C) ich habe noch viel zu arbeiten.  
D) du übertreibst aber immer.

10. Als Schüler muss man immer fleißig sein.

**Welches hat die gleiche Bedeutung mit dem obigen Satz?**

**Verilen cümle ile aynı anlamı taşıyan aşağıdakilerin hangisidir?**

- A) Schüler haben immer fleißig zu sein!  
B) Schüler müssen nicht immer fleißig zu sein!  
C) Müssen die Schüler fleißig sein?  
D) Fleißig sind die Schüler immer!

11. Wenn du Kinderarzt ..... willst, mußt du studieren.

**Welches Wort passt in die obige Lücke?**

**Cümlede boş bırakılan yeri aşağıdakilerden hangisi tamamlar?**

- A) wirst  
B) werden  
C) würden  
D) würde

12. Als er mich anrief, ..... ich meine Hausaufgaben.

**Welches Wort passt in die obige Lücke?**

**Cümlede boş bırakılan yeri aşağıdakilerden hangisi tamamlar?**

- A) machen  
B) machtest  
C) machte  
D) macht

13. Am Wochenende gehen wir ..... ins Kino.

**Welches Wort passt nicht in die obige Lücke?**

**Cümlede boş bırakılan yeri aşağıdakilerden hangisi doğru şekilde tamamlamaz?**

- A) gern  
B) am liebsten  
C) meistens  
D) am meisten

14. In Ankara gibt es schöne Mädchen aber die ..... Mädchen leben in Eskişehir!

**Welches Wort passt in die obige Lücke?**

**Cümlede boş bırakılan yeri aşağıdakilerden hangisi doğru şekilde tamamlar?**

- A) schöner  
B) schönsten  
C) schönste  
D) schöne

15. Wir haben das Haus voriges Jahr gekauft!

**Welche Frage passt zur obigen Antwort?**

**Verilen cevabı gerektirecek soru aşağıdakilerden hangisidir?**

- A) Warum kauft ihr euch ein Haus?  
B) Wohin wollt ihr umziehen?  
C) Was für ein Haus ist das?  
D) Wann habt ihr dieses Haus gekauft?

16. Ayşe darf das Auto nicht fahren, .....

**Welches ergänzt den obigen Satz?**

**Cümleyi aşağıdakilerden hangisi doğru olarak tamamlar?**

- A) damit er einen Führerschein macht.  
B) damit sie in die Stadt gehen kann.  
C) weil er lieber ins Kino geht.  
D) weil sie erst 15 Jahre alt ist.

17. Martin: Seit wann lebst du in Berlin?  
 Tina: Ich lebe seit vier Jahren in Berlin.  
 Martin: .....  
 Tina: Ja, ich möchte auch nach meinem Studium hier in Berlin wohnen.

**Welches ergänzt die Lücke im obigen Dialog?**

**Verilen karşılıklı konuşmada boş bırakılan yeri aşağıdakilerden hangisi tamamlar?**

- A) Hast du einen Beruf ausgeübt?
- B) Hast du vor, noch lange hier zu wohnen?
- C) Warst du im Sommer auch in Berlin?
- D) Wo hast du vorher gelebt?

18. Seit heute morgen ist das Wetter ziemlich kalt.

**Wie lautet der obige Satz auf Türkisch?**

**Verilen cümlelerin Türkçesi aşağıdakilerden hangisidir?**

- A) Hava bugün biraz ısınacakmış.
- B) Sabahtan beri soğuk rüzgâr esiyor.
- C) Bugün hava sabahtan beri oldukça soğuk.
- D) Sabahları hava çok soğuk oluyor.

19. ...., daß es keine Arbeit gibt.

**Welches ergänzt den obigen Satz?**

**Verilen cümleyi aşağıdakilerden hangisi doğru olarak tamamlar?**

- A) Selbstständigkeit ist somit
- B) Kurzarbeit ist
- C) Verständnislosigkeit meint
- D) Arbeitslosigkeit bedeutet

20. Wir müssen morgen um 07.00 Uhr zur Schule.  
 Hattest du das gewußt?

**Wie kann man die obigen Sätze mit "daß" verbinden?**

**Verilen cümlelerin "daß" bağlacı ile birleştirilmiş hali aşağıdakilerden hangisidir?**

- A) Hattet ihr gewußt, daß die Schule morgen anfängt?
- B) Die Schule ist morgen freiwillig, das weißt du?
- C) Hattest du gewußt, daß wir morgen um 07.00 Uhr zur Schule müssen?
- D) Hast du gewußt, daß wir morgen keine Schule haben?



1. I studied ..... for the exam so I didn't fail.

Which of the following completes the sentence above?

Aşağıdakilerden hangisi yukarıdaki cümleyi doğru olarak tamamlar?

- A) hardest  
B) hardly  
C) harder  
D) hard

2. I can't understand what you speak. Please don't talk so .....

Which of the following completes the sentence above?

Aşağıdakilerden hangisi yukarıdaki cümleyi doğru olarak tamamlar?

- A) faster  
B) fastly  
C) fastest  
D) fast

3. Robert: ..... you speak French?  
Sandra: Yes, of course. I stayed in Paris for two years.

Which of the following completes the dialogue above?

Aşağıdakilerden hangisi yukarıdaki konuşmayı doğru olarak tamamlar?

- A) Shouldn't  
B) Should  
C) Can  
D) Can't

4. Have you ..... stayed in a hotel?

Which of the following completes the sentence above?

Aşağıdakilerden hangisi yukarıdaki cümleyi doğru olarak tamamlar?

- A) yet  
B) never  
C) just  
D) ever

5. Kaan ..... his bike since he was 9.

Which of the following completes the sentence above?

Aşağıdakilerden hangisi yukarıdaki cümleyi doğru olarak tamamlar?

- A) is having  
B) has had  
C) have had  
D) had

6. Eating fresh fruit is ..... than eating fast food.

Which of the following completes the sentence above?

Aşağıdakilerden hangisi yukarıdaki cümleyi doğru olarak tamamlar?

- A) the best  
B) better  
C) good  
D) the better

7. Your aunt ..... stop smoking. It's bad for her health.

Which of the following completes the sentence above?

Aşağıdakilerden hangisi yukarıdaki cümleyi doğru olarak tamamlar?

- A) should  
B) mustn't  
C) shouldn't  
D) can

8. Buses are ..... than planes.

Which of the following completes the sentence above?

Aşağıdakilerden hangisi yukarıdaki cümleyi doğru olarak tamamlar?

- A) the slower  
B) slow  
C) more slow  
D) slower

9. Have you ..... been to a live rock concert before?

**Which of the following completes the sentence above?**

**Aşağıdakilerden hangisi yukarıdaki cümleyi doğru olarak tamamlar?**

- A) just
- B) yet
- C) ever
- D) before

10. Yesterday afternoon we ..... a picnic in the countryside.

**Which of the following completes the sentence above?**

**Aşağıdakilerden hangisi yukarıdaki cümleyi doğru olarak tamamlar?**

- A) had
- B) have
- C) are
- D) will have

11. Jack and Jim ..... football two hours ago.

**Which of the following completes the sentence above?**

**Aşağıdakilerden hangisi yukarıdaki cümleyi doğru olarak tamamlar?**

- A) plays
- B) play
- C) played
- D) are playing

12. The nearest bus stop is ..... the bank.

**Which of the following completes the sentence above?**

**Aşağıdakilerden hangisi yukarıdaki cümleyi doğru olarak tamamlar?**

- A) between
- B) in
- C) under
- D) in front of

13. I ..... the glass of Coke on the table five minutes ago.

**Which of the following completes the sentence above?**

**Aşağıdakilerden hangisi yukarıdaki cümleyi doğru olarak tamamlar?**

- A) drink
- B) drinking
- C) drank
- D) drunk

14. Last weekend we ..... shopping at the new mall.

**Which of the following completes the sentence above?**

**Aşağıdakilerden hangisi yukarıdaki cümleyi doğru olarak tamamlar?**

- A) did
- B) do
- C) will do
- D) are doing

15. Our new office is ..... thirteenth floor of the building.

**Which of the following completes the sentence above?**

**Aşağıdakilerden hangisi yukarıdaki cümleyi doğru olarak tamamlar?**

- A) on
- B) next
- C) between
- D) in

16. He ..... play the guitar well. He is a good guitarist.

**Which of the following completes the sentence above?**

**Aşağıdakilerden hangisi yukarıdaki cümleyi doğru olarak tamamlar?**

- A) can't
- B) shouldn't
- C) can
- D) may

17. Rice is ..... food in China.

**Which of the following completes the sentence above?**

**Aşağıdakilerden hangisi yukarıdaki cümleyi doğru olarak tamamlar?**

- A) most popular
- B) the most popular
- C) more popular
- D) popular

18. .... winter, I like playing snowball.

**Which of the following completes the sentence above?**

**Aşağıdakilerden hangisi yukarıdaki cümleyi doğru olarak tamamlar?**

- A) In
- B) On
- C) At
- D) (...)

19. The little boy is very excited because he ..... a dolphin before.

**Which of the following completes the sentence above?**

**Aşağıdakilerden hangisi yukarıdaki cümleyi doğru olarak tamamlar?**

- A) has seen
- B) hasn't seen
- C) haven't seen
- D) have seen

20. Sara will be in Italy ..... the 1st of September .

**Which of the following completes the sentence above?**

**Aşağıdakilerden hangisi yukarıdaki cümleyi doğru olarak tamamlar?**

- A) in
- B) on
- C) (--)
- D) from

1. Quand il fera chaud, nous ..... des vacances.

**Choisissez le mot qui convient.**

**Cümledeki boşluğu aşağıdakilerden hangisi doğru şekilde tamamlar?**

- A) faisons  
B) faisons  
C) faire  
D) ferons

2. Le patron ..... de sortir, il n'est pas dans son bureau maintenant.

**Choisissez le mot qui convient.**

**Cümledeki boşluğu aşağıdakilerden hangisi doğru şekilde tamamlar?**

- A) va  
B) vient  
C) a  
D) est

3. «Konuşmadan önce, düşünmek gerekir.»

**Choisissez la traduction qui convient.**

**Yukarıdaki cümlelerin Fransızca karşılığı aşağıdakilerden hangisidir?**

- A) Il doit réfléchir pour parler.  
B) Il faut réfléchir pour parler.  
C) Il faut réfléchir avant de parler.  
D) Il doit réfléchir et penser.

4. Ali a 25 livres, Hakan a 42 livres. Ali a ..... de livres que Hakan.

**Choisissez le mot qui convient.**

**Cümledeki boşluğu aşağıdakilerden hangisi doğru şekilde tamamlar?**

- A) plus  
B) moins  
C) autant  
D) aussi

5. Quand je ....., il partait.

**Choisissez le mot qui convient.**

**Cümledeki boşluğu aşağıdakilerden hangisi doğru şekilde tamamlar?**

- A) m'étais réveillé  
B) me réveille  
C) me réveillerais  
D) réveille

6. .... la page.

**Choisissez le mot qui convient.**

**Cümledeki boşluğu aşağıdakilerden hangisi doğru şekilde tamamlar?**

- A) Trouble  
B) Tourne  
C) Reste  
D) Réfléchis

7. Pierre : Marie est allée au restaurant.

Paul : Qu'est-ce que tu dis?

Pierre : Je dis que .....

**Choisissez l'expression qui convient.**

**Yukarıdaki konuşmada boş bırakılan yeri aşağıdakilerden hangisi doğru şekilde tamamlar?**

- A) Marie ira au restaurant  
B) Marie est allée au restaurant  
C) Marie va au restaurant  
D) Marie sera allée au restaurant

8. La ..... est le plus long des animaux.

**Choisissez le mot qui convient.**

**Cümledeki boşluğu aşağıdakilerden hangisi doğru şekilde tamamlar?**

- A) girafe  
B) singe  
C) chien  
D) lionne

9. Nous sommes au printemps, mais bientôt ..... sera l'été.

**Choisissez le mot qui convient.**

**Cümledeki boşluğu aşağıdakilerden hangisi doğru şekilde tamamlar?**

- A) ce  
B) celui  
C) ceux  
D) celle

10. ....-vous du feu?

**Choisissez le mot qui convient.**

**Cümledeki boşluğu aşağıdakilerden hangisi doğru şekilde tamamlar?**

- A) Etiez  
B) Etes  
C) Auriez  
D) Avons

11. Il a autant ..... stylo ..... moi.

**Choisissez les mots qui conviennent.**

**Cümledeki boşlukları aşağıdakilerden hangisi doğru şekilde tamamlar?**

- A) de / qui
- B) que / de
- C) de / que
- D) que / que

12. Quand elle habitait à Paris, elle ..... dans un magasin.

**Choisissez le mot qui convient.**

**Cümledeki boşluğu aşağıdakilerden hangisi doğru şekilde tamamlar?**

- A) travaillait
- B) travaillant
- C) travaillera
- D) travaillé

13. Le bébé dort, il ..... parler .....

**Choisissez les mots qui conviennent.**

**Cümledeki boşlukları aşağıdakilerden hangisi doğru şekilde tamamlar?**

- A) faut / doucement
- B) doit / violemment
- C) faut / honnêtement
- D) doit / couramment

14. Cécile lui a dit que sa sœur ..... beaucoup.

**Choisissez le mot qui convient.**

**Cümledeki boşluğu aşağıdakilerden hangisi doğru şekilde tamamlar?**

- A) lis
- B) lit
- C) lisait
- D) lisez

15. Fais un .....! Tu veux le rouge ou le noir.

**Choisissez le mot qui convient.**

**Cümledeki boşluğu aşağıdakilerden hangisi doğru şekilde tamamlar?**

- A) volonté
- B) demande
- C) choix
- D) fortune

16. «Je voudrais bien une tasse de thé.»

**Choisissez la traduction qui convient.**

**Yukarıdaki cümlelerin Türkçe karşılığı aşağıdakilerden hangisidir?**

- A) Çayı iyi isterim.
- B) Bir fincan çay verin.
- C) İyi bir çay isterim.
- D) Bir fincan çay isterim.

17. Cette voiture est à vous: .....

**Choisissez le mot qui convient.**

**Cümledeki boşluğu aşağıdakilerden hangisi doğru şekilde tamamlar?**

- A) la sienne
- B) la vôtre
- C) le sien
- D) la nôtre

18. Marie gagne 100€, Jeanne gagne 100€. Marie est ..... riche que Jeanne.

**Choisissez l'expression qui convient.**

**Yukarıdaki cümlede boş bırakılan yeri aşağıdakilerden hangisi doğru şekilde tamamlar?**

- A) plus
- B) autant de
- C) grand
- D) aussi

19. .... rançon!

**Choisissez le mot qui convient.**

**Cümledeki boşluğu aşağıdakilerden hangisi doğru şekilde tamamlar?**

- A) Quels
- B) Quelles
- C) Quel
- D) Quelle

20. Elle est ..... habillée.

**Choisissez le mot qui convient.**

**Cümledeki boşluğu aşağıdakilerden hangisi doğru şekilde tamamlar?**

- A) prudente
- B) violente
- C) étrangement
- D) attentive

1. A: Woher kommt sie?  
B: .....  
A: Ach so, ich dachte, sie wäre aus England!

**Welches ergänzt den obigen Dialog?**

**Verilen karşılıklı konuşmayı aşağıdakilerden hangisi tamamlar?**

- A) Ich komme aus England!  
B) Man sagt, sie wäre aus Deutschland!  
C) Ich habe gesehen, daß sie nach England fährt.  
D) Man erzählt, daß wir nach Deutschland umziehen werden.

2. Der Löwe ist stark, aber ..... ist schwach.

**Welches Wort passt in die obige Lücke?**

**Cümlede boş bırakılan yeri aşağıdakilerden hangisi doğru şekilde tamamlar?**

- A) die Giraffe  
B) die Schildkröte  
C) der Tiger  
D) der Bär

3. A: .....  
B: Ja, ich habe eine Katze.

**Welcher Satz ergänzt den obigen Dialog?**

**Verilen karşılıklı konuşmayı aşağıdakilerden hangisi tamamlar?**

- A) Hast du Lust zum Schwimmen?  
B) Hast du ein Fahrrad?  
C) Habt ihr Ferien?  
D) Hast du ein Haustier?

4. Ich habe ..... zwei Jahren eine Katze.  
Ich habe sie sehr gern.

**Welches Wort passt in die obige Lücke?**

**Cümlede boş bırakılan yeri aşağıdakilerden hangisi doğru şekilde tamamlar?**

- A) für  
B) seit  
C) bis  
D) zu

5. Ich habe einen ....., ich muss die Länder und die Hauptstädte üben.

**Welches Wort passt in die obige Lücke?**

**Cümlede boş bırakılan yeri aşağıdakilerden hangisi tamamlar?**

- A) Mathematiktest  
B) Deuschtest  
C) Sporttest  
D) Erdkundetest

6. Die Musiklehrerin ..... Klavier und die Schüler ..... ihr zu.

**Welche Wörter passen in die obigen Lücken?**

**Cümlede boş bırakılan yerleri aşağıdakilerden hangileri tamamlar?**

- A) spielt / hören  
B) hat / frage  
C) möchte / schon  
D) kann / übe

7. Wie lautet das Wort "Die Konzerte" in der Singularform?

**"Die Konzerte" isminin tekil hali aşağıdakilerden hangisidir?**

- A) Die Konzert  
B) Der Konzert  
C) Das Konzert  
D) Den Konzert

8. Als mein Bruder vierzehn Jahre alt war, .....

**Welches ergänzt nicht die Lücke im obigen Satz?**

**Verilen cümleyi aşağıdakilerden hangisi tamamlamaz?**

- A) hat er immer klassische Musik gehört.  
B) wollte er eine Band gründen.  
C) hat er mit der Querflöte angefangen.  
D) will die Prüfung bestehen.

9. Wir wünschen dir alles Gute und viel ..... in der Zukunft.

**Welches Wort passt in die obige Lücke?**

**Cümlede boş bırakılan yeri aşağıdakilerden hangisi tamamlar?**

- A) Wetter
- B) Jahre
- C) Glück
- D) Frage

10. Gamze ..... sich ..... klassische Musik.

**Welche Wörter passen in die obigen Lücken?**

**Cümlede boş bırakılan yerleri aşağıdakilerden hangileri doğru şekilde tamamlar?**

- A) beendet / mit
- B) spielt / zu
- C) kauft / aus
- D) interessiert / für

11. wichtig / hilfsbereit / nett / freundlich

**Welches Wort passt nicht zu den anderen in der obigen Wortgruppe?**

**Verilen sözcük grubuna uymayan aşağıdakilerden hangisidir?**

- A) wichtig
- B) hilfsbereit
- C) nett
- D) freundlich

12. Bist du krank geworden?

**Welche Antwort passt zur obigen Frage?**

**Verilen sorunun cevabı aşağıdakilerden hangisidir?**

- A) Ja, ich bin krank geworden und meine Mutter hat mich zum Arzt gebracht.
- B) Nein, ich wollte auch an der Versammlung teilnehmen.
- C) Nein er hat gesagt, dass er am Wochenende kommen will.
- D) Ja, ich finde Familienfeste wichtig, weil wir in Kontakt bleiben.

13. Ich möchte den Film, der von einem ..... Regisseur gedreht worden ist, unbedingt sehen.

**Welches Wort passt in die obige Lücke?**

**Cümlede boş bırakılan yeri aşağıdakilerden hangisi tamamlar?**

- A) erfinderisch
- B) berühmten
- C) lustiges
- D) kleiner

14. Auf der Strasse ..... die Mutter und das Kind an der Hand.

**Welches Wort passt in die obige Lücke?**

**Cümlede boş bırakılan yeri aşağıdakilerden hangisi tamamlar?**

- A) nehmen euch
- B) helfen mit
- C) fassen sich
- D) haben dich

15. Ich glaube, sie planen eine Klassenfahrt.

**Welche Frage passt zur obigen Antwort?**

**Verilen cevabı gerektirecek soru aşağıdakilerden hangisidir?**

- A) Welche Schüler sind das?
- B) Wo sitzen die Schüler?
- C) Wann kommen die Schüler?
- D) Was planen die Schüler?

16. .... ist für die ganze Familie wichtig.

**Welches ergänzt die Lücke im obigen Satz?**

**Verilen cümleyi aşağıdakilerden hangisi tamamlar?**

- A) Viel frisches Gemüse und Obst
- B) Das ist ein Rezept für dich
- C) Unsere Wohnung liegt zentral
- D) Wir haben keine Tomaten mehr zu Hause

17. Was bedeutet das Wort "der Patient" auf Türkisch?

"der Patient" sözcüğünün Türkçesi aşağıdakilerden hangisidir?

- A) Müşteri
- B) Hasta
- C) Eczacı
- D) Doktor

18. .... ist etwas erhöht!

Welches Wort passt in die obige Lücke?

Cümlede boş bırakılan yeri aşağıdakilerden hangisi doğru şekilde tamamlar?

- A) Der Pulsschlag
- B) Die Nase
- C) Der Hals
- D) Das Rezept

19. Ich bleibe ....., weil ich jeden Tag eine halbe Stunde laufe!

Welches Wort passt in die obige Lücke?

Cümlede boş bırakılan yeri aşağıdakilerden hangisi doğru şekilde tamamlar?

- A) erst
- B) sehr
- C) fit
- D) gern

20. Salata için limona ihtiyacım var.

Wie lautet der obige Satz auf Deutsch?

Verilen cümlelerin Almancası aşağıdakilerden hangisidir?

- A) Wir müssen Zitrone kaufen.
- B) Ich esse gerne Salat mit Zitrone.
- C) Die Sose habe ich für dich vorbereitet.
- D) Ich brauche Zitrone für den Salat.



1. Your jeans are similar ..... mine but my jeans are tighter.

Which of the following completes the sentence above?

Aşağıdakilerden hangisi yukarıdaki cümleyi doğru olarak tamamlar?

- A) in  
B) to  
C) for  
D) at

2. Are you really afraid ..... dogs?

Which of the following completes the sentence above?

Aşağıdakilerden hangisi yukarıdaki cümleyi doğru olarak tamamlar?

- A) at  
B) of  
C) in  
D) on

3. Giresun is famous ..... its nuts.

Which of the following completes the sentence above?

Aşağıdakilerden hangisi yukarıdaki cümleyi doğru olarak tamamlar?

- A) in  
B) at  
C) on  
D) for

4. Are you pleased ..... your new car?

Which of the following completes the sentence above?

Aşağıdakilerden hangisi yukarıdaki cümleyi doğru olarak tamamlar?

- A) with  
B) from  
C) at  
D) on

5. Mustafa is extremely ..... at teaching English.

Which of the following completes the sentence above?

Aşağıdakilerden hangisi yukarıdaki cümleyi doğru olarak tamamlar?

- A) proud  
B) famous  
C) interested  
D) good

6. The teacher: "Whose pencil is that on the table?"  
The teacher asked whose pencil that ..... on the table

Which of the following completes the sentence above?

Aşağıdakilerden hangisi yukarıdaki cümleyi doğru olarak tamamlar?

- A) has been  
B) is  
C) did  
D) was

7. Greg: "I can play the guitar well."  
Greg said that he ..... the guitar well.

Which of the following completes the sentence above?

Aşağıdakilerden hangisi yukarıdaki cümleyi doğru olarak tamamlar?

- A) may play  
B) played  
C) could play  
D) is playing

8. My friend: "Is it rainy outside?"

Which of the following is the reported speech form of the direct speech sentence above?

Aşağıdakilerden hangisi yukarıdaki dolaysız anlatım cümlesinin dolaylı anlatım biçimidir?

- A) My friend wanted to know if it was rainy outside.  
B) My friend wanted to know was it rainy outside.  
C) My friend wanted to know if it is rainy outside.  
D) My friend wanted to know if it did rainy outside.

9. Mary: "Wait for me!"  
Mary told me .....

Which of the following completes the sentence above?

Aşağıdakilerden hangisi yukarıdaki cümleyi doğru olarak tamamlar?

- A) waiting for her
- B) to waiting for her
- C) to wait for her
- D) to wait for me

10. George said, "I will visit you tomorrow."  
George said that he would visit me .....

Which of the following completes the sentence above?

Aşağıdakilerden hangisi yukarıdaki cümleyi doğru olarak tamamlar?

- A) tomorrow
- B) now
- C) the previous day
- D) the next day

11. It ..... all day long.

Which of the following completes the sentence above?

Aşağıdakilerden hangisi yukarıdaki cümleyi doğru olarak tamamlar?

- A) snowed
- B) has been snowing
- C) is snowing
- D) snows

12. Where ..... you .....? I couldn't see you anywhere.

Which of the following completes the sentence above?

Aşağıdakilerden hangisi yukarıdaki cümleyi doğru olarak tamamlar?

- A) has / been
- B) do / be
- C) have / been
- D) was / be

13. She hasn't tasted a proper Turkish meal .....

Which of the following completes the sentence above?

Aşağıdakilerden hangisi yukarıdaki cümleyi doğru olarak tamamlar?

- A) just
- B) yet
- C) already
- D) while

14. Tom sabahtan beri odasını temizlemekte.

Which of the following is the English translation of the sentence above?

Aşağıdakilerden hangisi yukarıdaki cümlemin İngilizce karşılığıdır?

- A) Tom has been cleaning his room since morning.
- B) Tom cleaned his room this morning.
- C) Tom has been cleaning his room all day.
- D) Tom cleaned his room yesterday morning.

15. Craig has never ..... to Athens.

Which of the following completes the sentence above?

Aşağıdakilerden hangisi yukarıdaki cümleyi doğru olarak tamamlar?

- A) visit
- B) go
- C) been
- D) travel

16. Susan hadn't played basketball before.

Which of the following is the Turkish translation of the sentence above?

Aşağıdakilerden hangisi yukarıdaki cümlemin Türkçe karşılığıdır?

- A) Susan daha önce basketbol oynamamıştı.
- B) Susan daha önce basketbol oynamadı.
- C) Susan önceleri basketbol oynayamıyordu.
- D) Susan önceleri basketbol oynamadı.

17. After I ..... breakfast, I went to work.

**Which of the following completes the sentence above?**

**Aşağıdakilerden hangisi yukarıdaki cümleyi doğru olarak tamamlar?**

- A) having
- B) had
- C) have had
- D) had had

18. I ..... already ..... the dinner when my husband came from work.

**Which of the following completes the sentence above?**

**Aşağıdakilerden hangisi yukarıdaki cümleyi doğru olarak tamamlar?**

- A) have / prepared
- B) have / prepare
- C) had / prepared
- D) had / prepare

19. I couldn't do my homework because I ..... my books at school.

**Which of the following completes the sentence above?**

**Aşağıdakilerden hangisi yukarıdaki cümleyi doğru olarak tamamlar?**

- A) forgot
- B) had forgotten
- C) have forgotten
- D) am forgetting

20. We need to learn how to use internet in order to ..... in touch with the new information that we may use.

**Which of the following completes the sentence above?**

**Aşağıdakilerden hangisi yukarıdaki cümleyi doğru olarak tamamlar?**

- A) get
- B) find
- C) connect
- D) speak

1. Il n'a pas regardé la télévision ..... il avait des devoirs.

**Choisissez le mot qui convient.**

**Cümledeki boşluğu aşağıdakilerden hangisi doğru şekilde tamamlar?**

- A) comment  
B) qui  
C) comme  
D) car

2. J'écris une lettre .....

**Choisissez l'expression qui convient.**

**Cümledeki boşluğu aşağıdakilerden hangisi doğru şekilde tamamlar?**

- A) à mes amis  
B) mes amis  
C) Jean  
D) le médecin

3. .... vous avez faim, vous devez manger.

**Choisissez le mot qui convient.**

**Cümledeki boşluğu aşağıdakilerden hangisi doğru şekilde tamamlar?**

- A) Que  
B) Quand  
C) En  
D) Par

4. - Vous connaissez cette histoire?  
- Oui, nous ..... connaissons.

**Choisissez l'expression qui convient.**

**Yukarıdaki konuşmada boş bırakılan yeri aşağıdakilerden hangisi doğru şekilde tamamlar?**

- A) la  
B) le  
C) lui  
D) leur

5. Je dis «Super!» quand je .....

**Choisissez l'expression qui convient.**

**Cümledeki boşluğu aşağıdakilerden hangisi doğru şekilde tamamlar?**

- A) malheureux  
B) suis triste  
C) pleure  
D) suis content

6. J'ai mal à la tête, je prends une .....

**Choisissez le mot qui convient.**

**Cümledeki boşluğu aşağıdakilerden hangisi doğru şekilde tamamlar?**

- A) antibiotique  
B) aspirine  
C) grippe  
D) consultation

7. Marie: Qu'en penses-tu? Est-ce une bonne idée?

Alain : ....., oui.

Marie : Alors je suis contente.

**Choisissez l'expression qui convient.**

**Yukarıdaki konuşmada boş bırakılan yeri aşağıdakilerden hangisi doğru şekilde tamamlar?**

- A) Je le trouve  
B) A mon avis  
C) D'après toi  
D) A son avis

8. L'année dernière, il ..... trop chaud. Cette année, il ..... mieux.

**Choisissez les mots qui conviennent.**

**Cümledeki boşlukları aşağıdakilerden hangisi doğru şekilde tamamlar?**

- A) fait / faisait  
B) fait / fera  
C) fera / faisait  
D) faisait / fait

9. Cet homme pèse 180 kilos: c'est .....

**Choisissez le mot qui convient.**

**Cümledeki boşluğu aşağıdakilerden hangisi doğru şekilde tamamlar?**

- A) étonnant  
B) bon  
C) encourageant  
D) joyeux

10. Mon chien est ..... couleur .....

**Choisissez les mots qui conviennent.**

**Cümledeki boşlukları aşağıdakilerden hangisi doğru şekilde tamamlar?**

- A) du / marron  
B) du / blanche  
C) de / noire  
D) de / blanc

11. «La vie est chère.»

**Choisissez la traduction qui convient.**

**Yukarıdaki cümlelerin Türkçe karşılığı aşağıdakilerden hangisidir?**

- A) Hayat değerli.
- B) Sevgili hayat.
- C) Hayat pahalı.
- D) Hayat güzel.

12. «Je lui ai proposé un coup de main.»

**Choisissez la traduction qui convient.**

**Yukarıdaki cümlelerin Türkçe karşılığı aşağıdakilerden hangisidir?**

- A) Onun elini tuttum.
- B) Onun elleriyle oynadım.
- C) Onun ellerine baktım.
- D) Ona yardım teklif ettim.

13. J'achète des baskets à Luc. Je ..... achète.

**Choisissez l'expression qui convient.**

**Cümledeki boşluğu aşağıdakilerden hangisi doğru şekilde tamamlar?**

- A) les lui
- B) lui les
- C) le lui
- D) les le

14. La semaine prochaine, Lise et Marie ..... au cirque.

**Choisissez le mot qui convient.**

**Cümledeki boşluğu aşağıdakilerden hangisi doğru şekilde tamamlar?**

- A) allaient
- B) sont allés
- C) sont allées
- D) iront

15. On doit être rapide. On doit faire ..... nos devoirs.

**Choisissez le mot qui convient.**

**Cümledeki boşluğu aşağıdakilerden hangisi doğru şekilde tamamlar?**

- A) lentement
- B) rapidement
- C) lent
- D) rapide

16. I. Monsieur Rioux est directeur.  
II. Il a 55 ans.  
III. La réunion commence.  
IV. Il est marié.

**Choisissez la phrase qui ne convient pas.**

**Cümleler sırasıyla okunduğunda, anlam bütünlüğünü bozan cümleyi bulunuz.**

- A) I
- B) II
- C) III
- D) IV

17. «Sinemaya gitmek istediğini söylüyor.»

**Choisissez la traduction qui convient.**

**Yukarıdaki cümlelerin Fransızca karşılığı aşağıdakilerden hangisidir?**

- A) Elle dit qu'elle veut aller au cinéma.
- B) Elle veut aller au cinéma.
- C) Dis-lui d'aller au cinéma.
- D) Elle voudrait aller au cinéma.

18. J'en ai marre ..... ce vieux ordinateur!

**Choisissez le mot qui convient.**

**Cümledeki boşluğu aşağıdakilerden hangisi doğru şekilde tamamlar?**

- A) de
- B) de la
- C) pour
- D) car

19. C'est ..... qui m'appelles?

**Choisissez le mot qui convient.**

**Cümledeki boşluğu aşağıdakilerden hangisi doğru şekilde tamamlar?**

- A) ta
- B) toi
- C) te
- D) tu

20. - Tu veux manger .....?  
- Non je ne veux rien manger.

**Choisissez le mot qui convient.**

**Yukarıdaki konuşmada boş bırakılan yeri aşağıdakilerden hangisi doğru şekilde tamamlar?**

- A) jamais
- B) quelque chose
- C) rien
- D) quelqu'un

1. Türk Edebiyatında deneme türünün ilk örnekleri ne zaman verilmiştir?

- A) Cumhuriyetin ilanından sonra
- B) Tanzimat'tan sonra
- C) II.Meşrutiyet'ten sonra
- D) Islahat Fermanı'ndan sonra

2. Aşağıdakilerden hangisi haber yazılarının özelliklerinden biri değildir?

- A) Anlatılanların ilgi çekici olması
- B) Haber yazarının yorumlarına yer verilmesi
- C) Konunun günlük ve önemli olması
- D) Kolay anlaşılır olması

3. Aşağıdakilerden hangisi göstermeye bağlı edebi metinlerden biridir?

- A) Destan
- B) Mesnevi
- C) Masal
- D) Dram

4. Aşağıdakilerden hangisi mektup türlerinden biridir?

- A) Dinsel mektuplar
- B) Gazete mektupları
- C) İş mektupları
- D) Akademik mektuplar

5. Aşağıdakilerden hangisi modern Türk tiyatrosunun türlerinden biridir?

- A) Dram
- B) Orta oyunu
- C) Karagöz
- D) Mesnevi

6. Aşağıdakilerden hangisi eleştiri yazarına verilen isimlerden biri değildir?

- A) Münekkit
- B) Hatip
- C) Eleştirmen
- D) Tenkit yazarı

7. "Sakıp Sabancı, 7 Nisan 1933 tarihinde Kayseri'de dünyaya geldi. Çok genç yaşlarda çalışma hayatına atıldı..."

Yukarıda bir bölümü verilen metnin türü aşağıdakilerden hangisidir?

- A) Biyografi
- B) Makale
- C) Mülakat
- D) Anı

8. Sanat metinleriyle ilgili aşağıdaki ifadelerden hangisi doğrudur?

- A) Gerçeklik ön plandadır.
- B) Amaç, bilgi vermektir.
- C) Edebiyat biliminin içerisinde yer alır.
- D) Kelimeler somut anlamlıdır.

9. "Şair Evlenmesi" oyununun yazarı kimdir?

- A) Namık Kemal
- B) Melih Cevdet
- C) Baki
- D) Şinasi

10. Uzun zamandır görüşemediğiniz uzaktaki bir arkadaşınıza yaz tatili ile ilgili duygu ve isteklerinizi ilettiğiniz yazı türü aşağıdakilerden hangisidir?

- A) Manzum hikâye
- B) Hitap
- C) Mektup
- D) Dilekçe

11. Bir yazarın gazetelerde; güncel, önemli özelliği olan herhangi bir konu üzerinde kişisel görüş ve düşüncelerini akıcı bir dille belgelendirme gereği duymadan yazdığı ciddi ve nükteli fikir yazılarına ne ad verilir?

- A) Eleştiri
- B) Sohbet
- C) Makale
- D) Fıkra

12. Aşağıdakilerden hangisi öğretici metinlerden biridir?

- A) Trajedi
- B) Gazete Çevresinde Gelişen Metinler
- C) Manzum Hikâye
- D) Mesnevi

13. Edebiyatımızın gezi türündeki ilk ve en büyük eseri olarak nitelendirilen Seyahatname'nin yazarı kimdir?

- A) Evliya Çelebi
- B) Edip Ahmet Yükneki
- C) Pierre Loti
- D) Halikarnas Balıkcısı

14. Aşağıdakilerden hangisi hikâyenin bölümlerinden biri değildir?

- A) Düğüm
- B) Serim
- C) Fasıl
- D) Çözüm

15. Mektupla ilgili aşağıdaki ifadelerden hangisi yanlıştır?

- A) Mektubun sol üst köşesi mutlaka imzalanmalıdır.
- B) Bir haberi, dileği veya duyguyu başkasına iletmek için yazılır.
- C) Eldeki en eski mektup örnekleri Mısır firavunları ve Hititlerin mektuplarıdır.
- D) Mektup kâğıdı temiz ve çizgisiz olmalıdır.

16. Aşağıdakilerden hangisi konularına ve yazılış amaçlarına göre deneme çeşitlerinden biridir?

- A) Kişisel deneme
- B) Hukuksal deneme
- C) Klasik deneme
- D) Akademik deneme

17. Bir ilgi veya benzetme sonucu gerçek anlamından başka anlamda kullanılan söze ne ad verilir?

- A) Coşku
- B) Mecaz
- C) Şiirsel
- D) Mısra

18. Aşağıdakilerden hangisi dilekçenin özelliklerinden biri değildir?

- A) Anlatımın yalın ve duru olması
- B) Sol alt köşeye adresin yazılması
- C) Sağ alt köşeye ad ve soyadın yazılıp imza atılması
- D) Başlık ve metin olmak üzere iki bölümden oluşması

19. Aşağıdakilerden hangisi kişisel hayatı konu alan metinler içerisinde yer almaz?

- A) Sohbet
- B) Biyografi
- C) Günlük
- D) Anı

20. Aşağıdakilerden hangisi öğretici metinlerin özelliklerinden biridir?

- A) Dilin heyecana bağlı işlevde kullanılması
- B) Estetiğin ön planda olması
- C) Hayal gücünün ön planda olması
- D) İfadelerin açık ve net olması

1. **En eski** Türk destanlarının tarihsel sınıflandırması içinde **ilk** sırada yer alan destan aşağıdakilerden hangisidir?

- A) Türeyiş Destanı
- B) Yaratılış Destanı
- C) Bozkurt Destanı
- D) Göç Destanı

2. Balasagun yakınlarında bir şehir kuran hükümdar Şu'nun ilginç özelliklerinin, Büyük İskender'le yaptığı savaşların anlatıldığı Şu Destanı aşağıdakilerden hangisine aittir?

- A) Sakalara
- B) Göktürlere
- C) Kırgızlara
- D) Uygurlara

3. Aşağıdakilerden hangisi, destan dönemi Türk edebiyatında Türklerin kullandıkları alfabelerden biridir?

- A) Göktürk
- B) Kiril
- C) Arap
- D) Latin

4. "Biş ernek tüz ermes." (Beş parmak düz olmaz.)

Yukarıdaki sav örneğine **en uygun** atasözü aşağıdakilerden hangisidir?

- A) Ağaç yaşken eğilir.
- B) Cefayı çekmeyen sefayı bilemez.
- C) Hayırsız dost gereksiz post.
- D) Bir ağaçta gül de biter diken de.

5. Edebiyat ile ilgili aşağıdaki ifadelerden hangisi **yanlıştır**?

- A) Toplumsal olaylarla ilgili değildir.
- B) Anlatım aracı dildir.
- C) Bir söz sanatıdır.
- D) Tarih, felsefe, psikoloji, sosyoloji vb. bilim dallarından yararlanır.

6. Aşağıdaki Çağdaş Türk Edebiyatı destanları ve yazarları ile ilgili eşleştirmelerden hangisi **yanlıştır**?

- A) Sakarya Meydan Savaşı- Ceyhan Atuf Kansu
- B) Atatürk Kurtuluş Savaşı'nda- Cahit Külebi
- C) Berlin Üçlemesi- Fazıl Hüsnü Dağlarca
- D) Kurtuluş Savaşı Destanı- Nazım Hikmet

7. Divan-ı Lügat'it Türk'teki açıklamaya göre; söz, haber, salık, mektup, risale, atalar sözü, darb-ı mesel, kıssa, hikâye anlamına gelen özlü sözlere ne ad verilir?

- A) Destan
- B) Koşuk
- C) Sagu
- D) Sav

8. Dünyanın **en eski** destanlarından İlyada ve Odyssea kim tarafından derlenip manzum olarak yazıya geçirilmiştir?

- A) Evliya Çelebi
- B) Homeros
- C) Thomsen
- D) Tolstoy

9. Bir ulusun yüzyıllarca meydana getirdiği edebi eserleri inceleyerek geçirdiği dönemleri kronolojik bir sıra içinde inceleyen bilim dalı aşağıdakilerden hangisidir?

- A) Halk bilimi
- B) Edebi metinler
- C) Edebiyat tarihi
- D) Anlam bilimi

10. 1928 yılında yayımlanan ve Türkiye'de edebiyat tarihi alanında, Batılı anlamda yapılan **ilk** kapsamlı eser aşağıdakilerden hangisidir?

- A) Edebiyat Tarihi
- B) Milli Edebiyatımız
- C) Sanat Tarihi
- D) Türk Edebiyatına Giriş



11. Türk ruhundan çıkmış, Türk'ün öz benliğini yansıtan eserlerdir. Bunlar, kendilerine yurt edindikleri topraklar üzerinde boy atmışlardır. Aile içinde kök salmış bir ahlak, sağlam bir karakter, doğruluk, sözünün eri olma, kısacası insan olma bu hikâyelerin her yerinde onun en belli çizgisidir. Doğu edebiyatının taklitlerini veren öteki halk hikâyeleri yanında bunlar türlü bakımdan eşsizdirler.

**Yukarıda sözü edilen eser aşağıdakilerden hangisidir?**

- A) Danişment Gazi Destanı
- B) Battal Gazi Destanı
- C) Kül Tigin Yazıtı
- D) Dede Korkut Hikâyeleri

12. 13. yüzyıl Moğol tarihçisi Reşiduddin tarafından yazıya geçirilen destan aşağıdakilerden hangisidir?

- A) Göç Destanı
- B) Manas Destanı
- C) Ergenekon Destanı
- D) Şu Destanı

13. İslâmiyetten önceki dönemde yüğ törenlerinde bir kağanın, bir kahramanın ölümüne duyulan üzüntüyü ifade eden, ölen kişinin niteliklerini dile getiren, kopuz eşliğinde söylenen şiirlere ne ad verilir?

- A) Sav
- B) Koşuk
- C) Destan
- D) Sagu

14. Kalyanmkara ve Papamkara masalı ile ilgili aşağıdaki ifadelerden hangisi yanlıştır?

- A) Dinsel masal niteliği taşımaktadır.
- B) Eserin aslı Türkçedir.
- C) Eser adını iyi ve kötü düşünceli iki prenten almaktadır.
- D) Türk Edebiyatının en önemli eserlerindedir.

15. Aşağıdakilerden hangisi Türk Edebiyatı tarihçilerinden biri değildir?

- A) Mehmet Fuad Köprülü
- B) Nihat Sami Banarlı
- C) Yahya Kemal Beyatlı
- D) Ahmet Hamdi Tanpınar

16. Türk Edebiyat tarihinde, 10. yüzyılın ikinci yarısından 19. yüzyılın başlarına kadar devam eden döneme ne ad verilir?

- A) İslamiyet Öncesi Türk Edebiyatı
- B) Tanzimat Dönemi Türk Edebiyatı
- C) Milli Edebiyat
- D) İslami Dönem Türk Edebiyatı

17. Aşağıdakilerden hangisi, eski Türk şairlerine Türk boyları arasında verilen isimlerden biri değildir?

- A) Şair
- B) Baksı
- C) Oyun
- D) Şaman

18. Mehmet Fuad Köprülü ile ilgili aşağıdaki ifadelerden hangisi doğrudur?

- A) Tanzimat dönemi şair ve yazarlarındandır.
- B) Türkiye'de ilk defa tarih ve edebiyat tarihi incelemelerinde bilimsel yöntemleri ortaya koymuş bir bilim adamıdır.
- C) İstanbul doğumlu önemli bir divan şairidir.
- D) Romantizm akımının öncüsüdür.

19. Aşağıdakilerden hangisi, İslamiyet'ten sonraki Türk destanlarından biridir?

- A) Yaratılış Destanı
- B) Manas Destanı
- C) Saka Destanları
- D) Göktürk Destanları

20. M.Ö. 3000'lerde Mezopotamya'da doğmuştur. Bilinen en eski destandır. Günümüze ulaşmış en kapsamlı metni Akad dilinde yazılmıştır.

**Yukarıda sözü edilen destan aşağıdakilerden hangisidir?**

- A) Oğuz Kağan Destanı
- B) Şu Destanı
- C) Gılgamış Destanı
- D) İlyada Destanı

BU SAYFA BOŞ BIRAKILMIŞTIR.

BU SAYFA BOŞ BIRAKILMIŞTIR.

## SINAVDA UYULMASI GEREKEN GENEL KURALLAR

1. Sınava girmek için gerekli belgelerinizin tümünü sınav başlamadan önce sıranızın üzerine bırakınız.
2. Sınav süresince görevlilerle konuşmak, görevlilere soru sormak yasaktır. Aynı şekilde görevlilerin de öğrencilerle/adaylarla yakından ve alçak sesle konuşmaları yasaktır. Gerekli durumlarda görevliler yerinizi değiştirebilir.
3. Size verilen cevap kâğıdının üzerindeki TCKN/Öğrenci no, ad, soyadı, bilgilerini kontrol ediniz, ilgili alanları eksiksiz doldurarak imzalayınız. Bu bilgiler size ait değilse, kâğıt üzerinde hiçbir işlem yapmadan görevlileri uyararak size ait cevap kâğıdını isteyiniz. Başkasına ait cevap kâğıdı kullanan öğrencilerin sınavları geçersiz sayılır.
4. Cevap kâğıdı üzerine test grubunu (kitapçık türünü) kodlamayan veya birden fazla grubu kodlayanların sınavları geçersiz sayılır.
5. Cevap kâğıdınıza yazacağınız her türlü yazı ve yapacağınız işaretlemeler için koyu siyah kurşun kalem kullanmalısınız. Farklı bir kalem (tükenmez, mürekkepli, renkli vb.) kullananların sınavları geçersiz sayılır.
6. Cevap kâğıdı üzerinde değişiklik yapmak istediğinizde, iz bırakmayan bir silgi kullanınız. Cevap kâğıdınızı buruşturmayınız, katlamayınız ve üzerine gereksiz hiçbir işaret koymayınız.
7. Cevaplarınızı, cevap kâğıdında ilgili test için ayrılmış olan alana, cevap yerinin dışına taşırmadan işaretleyiniz. Soru kitapçığı üzerinde yapılan işaretlemeler değerlendirmeye alınmayacaktır.
8. Her sorunun tek bir doğru cevabı vardır. Bir soru için birden çok cevabı işaretlerseniz, o soruyu yanlış cevaplamış sayılacaksınız.
9. Soru kitapçığınızı aldığınızda sayfalarına hızlıca bakarak hatalı ya da eksik baskı olup olmadığını kontrol ediniz. Hata/eksik olması durumunda kitapçığının değiştirilmesi için derhâl sınav görevlilerine başvurunuz. Sınav görevlileri sınavın başladığını belirtmeden kitapçığınızı tekrar açmayınız.
10. Cevap kâğıdınızda belirtilen kitapçık kodu ile soru kitapçığının kodunu karşılaştırınız. Aynı değilse, sınav görevlilerine durumu bildirerek doğru kitapçığın verilmesini talep ediniz.
11. Soru kitapçığındaki ilgili alanlara ad, soyadı, TCKN/Öğrenci no, sınav salon no, sıra no bilgilerinizi eksiksiz doldurarak imzanızı atınız. Soru kitapçığının sayfalarındaki boş yerleri müsvedde amacıyla kullanabilirsiniz.
12. Aşağıdaki durumlarda sınav görevlileri tarafından Bireysel Sınav İptal Tutanağı düzenlenerek ilgili öğrencilerin/adayların sınavları geçersiz sayılır:
  - a) Sınav kurallarına ve sınav görevlilerinin uyarılarına uymamak, sınav düzenini bozmak,
  - b) Kâğıt, kitap, defter, not vb. dokümanları; pergel, açıölçer, cetvel vb. araçları; cep telefonu, bilgisayar, tablet, telsiz, kamera vb. iletişim, depolama, kayıt ve veri aktarma cihazlarını; ruhsatlı veya resmi amaçlı olsa bile silah ve silah yerine geçebilecek nesneleri yanında bulundurmamak,
  - c) Sınav sırasında kalem, silgi vb. araç-gereç paylaşımında bulunmak,
  - d) Cevapları, cevap kâğıdı dışında bir yere yazmak ve sınav salonundan dışarı çıkarmak,
  - e) Sınava girebilmek için gerekli belgeleri eksik olduğu halde sınava katılıp, cevap kâğıdında işaretleme yapmak,
  - f) Sınav görevlileri tarafından öğrencinin/adayın kimliğinden şüphe duyulması,
  - g) Cevap kâğıdını ve/veya soru kitapçığını sınav görevlilerine eksiksiz ve sağlam şekilde teslim etmemek, sınav salonu dışına çıkarmak,
  - h) Kopya çekmek, vermek, çekilmesine yardımcı olmak vb. eylemlerde bulunmak,
  - i) Kendisi yerine başkasını sınava sokmak.
13. Sınav bitiminde, cevap kâğıdınızı ve soru kitapçığınızı salon görevlilerine eksiksiz biçimde teslim ediniz. Sınav bittikten sonra gönderilen cevap kâğıtları dikkate alınmayacaktır.

**SINAV KURALLARINA UYDUĞUNUZ İÇİN TEŞEKKÜR EDER, SINAVINIZDA BAŞARILAR DİLERİZ.**