



ANADOLU ÜNİVERSİTESİ
AÇIKÖĞRETİM FAKÜLTESİ
BA - AÇIKÖĞRETİM OKULLARI

T.C. MİLLİ EĞİTİM BAKANLIĞI
Hayat Boyu Öğrenme Genel Müdürlüğü
AÇIKÖĞRETİM LİSESİ – BATI AVRUPA PROGRAMI
2015-2016 ÖĞRETİM YILI II. DÖNEM SINAVI

5. OTURUM Cumartesi 16:00

TEST GRUBUNUZ

B 0105

ÖĞRENCİNİN

SOYADI :

ADI :

TC KİMLİK NO / ÖĞRENCİ NO :

SINAV SALON NO : SIRA NO:

İMZA:

Sınavla ilgili tüm kuralları okudum, anladım, kabul ediyorum.

SINAV İÇERİĞİ

Testin Adı	Soru Sayısı	Sayfa No	Testin Adı	Soru Sayısı	Sayfa No
SEÇMELİ FELSEFE 2	20	02	SEÇMELİ DİL VE ANLATIM 7	20	32
FELSEFE 1	20	04	ALMANCA 3	20	34
TARİH 5	20	06	İNGİLİZCE 3	20	37
COĞRAFYA 1	20	08	FRANSIZCA 3	20	40
DİL VE ANLATIM 6	20	10	EKONOMİ 2	20	43
TÜRK EDEBİYATI 1	20	12	İNGİLİZCE 5	20	45
KİMYA 2	20	14	FRANSIZCA 5	20	48
KİMYA 3	20	16	ALMANCA 7	20	50
BİYOLOJİ 5	20	18	FRANSIZCA 7	20	53
ÇAĞDAŞ TÜRK VE DÜNYA TARİHİ 1	20	20	SEÇMELİ TÜRK EDEBİYATI 8	20	55
DEMOKRASİ VE İNSAN HAKLARI 1	20	22	SEÇMELİ ALMANCA 6	20	57
SANAT TARİHİ 1	20	24	SEÇMELİ İNGİLİZCE 6	20	60
DİL VE ANLATIM 3	20	26	SEÇMELİ FRANSIZCA 6	20	63
MATEMATİK 4	20	29	MATEMATİK 2	20	65

SINAVDA UYULMASI GEREKEN ÖZEL KURALLAR

1. Bu kitapçıkta yer alan her bir test için cevaplama süresi **30** dakika, toplam süre **150** dakikadır.
2. Öğrenciler sınavın ilk 30 dakikası ve son 5 dakikası içinde sınavlarını tamamlasalar bile salonu terk edemezler. Sınavın başlamasını izleyen ilk 15 dakikadan sonra hiçbir öğrenci sınava alınmaz.
3. Yanlış cevaplarınız dikkate alınmayacaktır. Bu nedenle kitapçıkta bulunan tüm sorular için size doğru gelen seçeneği işaretleyerek cevapsiz soru bırakmamanız yararınıza olacaktır.
4. Sınav sırasında hesap makinesi kullanabilirsiniz. Ancak, kullanacağınız makinede alfabetik tuş takımının (A, B, C, ..., Y, Z), program yapılmasına, saklanmasına ve çalıştırılmasına imkân veren EXE, STORE, RUN vb. tuşlar bulunamaz.

"Sınavda Uyulması Gereken Genel Kurallar" soru kitapçığının arka sayfasında yer almaktadır. Bu kuralları da mutlaka dikkatlice okuyunuz.

Anadolu Üniversitesi tarafından hazırlanmış olan bu testlerin her hakkı saklıdır. Hangi amaçla olursa olsun, testlerin tamamının veya bir kısmının Anadolu Üniversitesi'nin yazılı izni olmadan kopya edilmesi, fotoğraflarının çekilmesi, herhangi bir yolla çoğaltılması, yayımlanması ya da kullanılması yasaktır. Bu yasağa uymayanlar gerekli cezai sorumluluğu ve testlerin hazırlanmasındaki mali külfeti peşinen kabullenmiş sayılır.

SEÇMELİ FELSEFE 2

B

2016 AÖÖ-AÖL II. DÖNEM 0105-B

- İnsanların toplum içinde nasıl davranmalarını gerektiğini bildiren kurallardır.
•Devletin iktidar gücünü hiçbir baskı olmadan kullanabilmesidir.
•İzin verilmiş olan, yasaklanmamış olan davranışlarda bulunma serbestisidir.
Yukarıdakiler arasında tanımı verilmeven kavram aşağıdakilerden hangisidir?
A) Devlet
B) Egemenlik
C) Yasa
D) Hak
- İnsanların eylemlerini ve birbirleriyle ilişkilerini düzenlemek amacıyla oluşturulmuş normlar ya da değerler sistemine ne ad verilir?
A) Hukuk
B) Felsefe
C) Din
D) Ahlak
- Aşağıdakilerden hangisi evrensel ahlak yasasını tasavvuf düşüncesiyle temellendiren düşünürlerden biri değildir?
A) Biruni
B) Mevlana
C) Hacı Bektaş Veli
D) Yunus Emre
- Aşağıdakilerden hangisi din felsefesinin temel kavramlarından biri değildir?
A) Peygamber
B) Vahiy
C) Vicdan
D) Kutsal
- İyi niyete dayanan ve ödev duygusundan kaynaklanan her eylemin sonucu ne olursa olsun ahlaki olduğunu savunan düşünür aşağıdakilerden hangisidir?
A) Marx
B) Kant
C) Mevlana
D) Aristoteles
- İnsanın kendi çevresi ile kurduğu ilişkiyi estetik bir ifadeyle sunmasına ne ad verilir?
A) Sanat
B) Fenomen
C) Etik
D) Erdem

- Aşağıdakilerden hangisi Max Weber'in tanımladığı otorite türlerinden biri değildir?
A) Geleneksel otorite
B) Karizmatik otorite
C) Otokratik otorite
D) Demokratik otorite
- Devletin yapma bir kurum olduğunu savunan düşünürler aşağıdakilerden hangisinde birlikte ve doğru olarak verilmiştir?
A) Platon – Farabi
B) Hobbes – Aristoteles
C) Platon – Rousseau
D) Hobbes – Rousseau
- Aşağıdakilerden hangisi ahlak felsefesinin temel sorularından biri değildir?
A) İyi nedir?
B) İnsan yaradılışı bakımından bencil mi yoksa özgeci midir?
C) Meşruiyetin ölçütü nedir?
D) İnsan ahlaki eylemde bulunurken özgür müdür?
- Anarşizm görüşünün kurucusu aşağıdaki düşünürlerden hangisidir?
A) Kant
B) Sartre
C) Hegel
D) Proudhon
- Tanrı ile evreni bir ve aynı şey olarak gören düşünce biçimine ne ad verilir?
A) Deizm
B) Panteizm
C) Ateizm
D) Agnostisizm
- Aşağıdakilerden hangisi sanat eserinin özelliklerinden biri değildir?
A) Özgündür.
B) İçerik ve biçim birlikte bir anlam taşır.
C) Kendine ait özellikleri olan bir insan yaratısıdır.
D) Doğayla uyumludur.

13. “Gerçek estetik yargıların duyusal olmaktan çıkıp düşünsel düzeye çıktığını, kişisel olmaktan çıkıp zorunlu ve genel geçer hale geldiğini” ifade eden Kant, bu görüşüyle aşağıdakilerden hangisini savunmuştur?

- A) Ortak estetik yargıların var olduğunu
- B) Sanatla oyun arasında benzerlik olduğunu
- C) Estetik yargıların, kişilere göre farklılık gösterdiğini
- D) Güzel olan ile iyi hoş olanın aynı şey olduğunu

14. Vicdan ile ilgili aşağıdaki ifadelerden hangisi yanlıştır?

- A) Bireyin kendi değerleri üzerine doğrudan doğruya kendiliğinden yargılama yapmasını sağlar.
- B) Bireyin eylemlerinin doğuracağı sonuçları üstlenmesi durumudur.
- C) Vicdan ile bireyin ödevleri arasında sıkı bir ilişki vardır.
- D) Ahlaki özneyi kendi eylemleri hakkında bir yargıda bulunmaya zorlayan duygudur.

15. Yaşadığı dönemin İtalya’sındaki aksaklıklardan yola çıkarak “Güneş Ülkesi” adını verdiği ideal bir toplum düzenini tasarlayan düşünür aşağıdakilerden hangisidir?

- A) Bacon
- B) Campanella
- C) Bentham
- D) Mill

16. Aşağıdakilerden hangisi din konusunda felsefi bir yaklaşımdır?

- A) Dinin temel iddiaları üzerinde akla dayanarak, genel ve tutarlı biçimde düşünmek
- B) Dini temellendirmek ve inançları kuvvetlendirmek
- C) Olayları, dini kurallar çerçevesinde yorumlamak
- D) İnanılan dinin kurallarını açıklamak

17. Estetik yargı ile ilgili aşağıdaki ifadelerden hangisi yanlıştır?

- A) Bireyseldir.
- B) Zaman içinde değişikliğe uğrayabilir.
- C) Kültürel özelliklerden etkilenmez.
- D) Subjektiftir.

18. Devletin etki baskı ve yönlendirmesinin dışında, toplumun kendi kendisini yönlendirmek, çıkarlarını savunmak amacıyla kurulan örgütlere ne ad verilir?

- A) Siyasal partiler
- B) Sivil toplum örgütleri
- C) Bürokrasi
- D) Ütopya

19. Aşağıdakilerden hangisi din felsefesinin temel kavramlarından biri değildir?

- A) İbadet
- B) Erdem
- C) İman
- D) Vahiy

20. Aşağıdakilerden hangisi siyaset felsefesinin temel kavramlarından biri değildir?

- A) Hukuk
- B) Bürokrasi
- C) Erdem
- D) Yasa

1. Aşağıdakilerden hangisi Comte'un Üç Hal Yasası'nın evrelerinden biri değildir?
- A) Pozitif evre
B) Metafizik evre
C) Teolojik evre
D) Estetik evre
2. Aşağıdakilerden hangisi "Bilgi Kuramı"nın temel kavramlarından biri değildir?
- A) Fenomenoloji
B) Obje
C) Gerçeklik
D) Temellendirme
3. Evrenin ana maddesinin su olduğunu, herşeyin sudan oluştuğunu ve yine suya dönüşeceğini savunan düşünür aşağıdakilerden hangisidir?
- A) Thales
B) Demokritos
C) Platon
D) Herakleitos
4. Aşağıdakilerden hangisi materyalizmi savunan düşünürlerden biridir?
- A) Farabi
B) Aristoteles
C) Karl Marks
D) Platon
5. Aşağıdakilerden hangisi sanat bilgisinin özelliklerinden biri değildir?
- A) İnanca dayanması
B) Amacının "güzel" ve estetik haz olması
C) Öznel ve özgün bir ürün olması
D) Yaratıcı insan aklının ürünü olması
6. Dış dünyadaki varlıkların madde ve form olmak üzere iki öğeden oluştuğunu savunan düşünür aşağıdakilerden hangisidir?
- A) Aristoteles
B) Parmenides
C) Protogoras
D) Gorgias
7. Hiçbir şeyin var olmadığını, hiçbir şeyin bilinmeyeceğini savunan görüşe ne ad verilir?
- A) Septisizm
B) Materyalizm
C) Kritisizm
D) Nihilizm

8. Bilgi felsefesinin belli başlı kurucuları aşağıdakilerden hangisinde birlikte ve doğru olarak verilmiştir?
- A) Aristoteles - Descartes – Immanuel Kant
B) Descartes – Hegel – David Hume
C) Descartes - John Locke – Immanuel Kant
D) Aristoteles – John Locke – John Dewey
9. Aşağıdakilerden hangisi bilimi ürün olarak inceleyen filozoflardan biri değildir?
- A) Toulmin
B) Reichenbach
C) Carnap
D) Hempel
10. Aşağıdakilerden hangisi teknik bilginin tarihsel süreçte geçirdiği aşamalardan biri değildir?
- A) Otomasyon teknolojisi
B) Alet teknolojisi
C) Sistem teknolojisi
D) Makine teknolojisi
11. Doğruluğu ve gerçekliği tek yanlı olarak yalnızca eylemlerin sonuçları ile ele alan ve onları yalnızca sağladığı "fayda" açısından değerlendiren akım aşağıdakilerden hangisidir?
- A) Rasyonalizm
B) Emprizm
C) Pragmatizm
D) Nihilizm
12. Aşağıdakilerden hangisi felsefenin işlevlerinden biridir?
- A) Toplumsal yaşamı düzenler.
B) İnsana birçok konuda açık, seçik ve doğru düşünmeyi öğretir.
C) Doğanın yapısını ve işleyişini açıklar ve doğayı insan lehine değiştirir.
D) İnsanların iletişim kurmasını sağlar.
13. Felsefenin sözcük anlamı aşağıdakilerden hangisidir?
- A) Akıl
B) Zekâ
C) Bilgelik sevgisi
D) Ahlak

14. Felsefe bilgisi ile ilgili aşağıdaki ifadelerden hangisi yanlıştır?

- A) Merak eden, soran, sorgulayan bir tavrın ürünüdür.
- B) Dogmatik ve mutlaklıdır.
- C) Birleştirici ve bütünleştiricidir.
- D) Düzenli ve sistemlidir.

15. Doğru bilginin kaynağının akıl olduğunu savunan görüşe ne ad verilir?

- A) Liberalizm
- B) Pozitivizm
- C) Empirizm
- D) Rasyonalizm

16. Aşağıdakilerden hangisi metafiziğin incelediği temel problemlerden biri değildir?

- A) Tanrı ve ruhla ilgili problemler
- B) Estetik problemler
- C) Ontolojik problemler
- D) Kozmolojik problemler

17. Bilimsel yasa ve kuramları birer alet olarak gören enstrümantalizm öğretisi aşağıdaki düşünürlerden hangisine aittir?

- A) Auguste Comte
- B) Hegel
- C) Socrates
- D) John Dewey

18. Aşağıdakilerden hangisi insan bilimlerinden biri değildir?

- A) Antropoloji
- B) Astronomi
- C) Psikoloji
- D) Tarih

19. Aşağıdakilerden hangisi Kuhn'un savunduğu bilimin gelişim aşamalarından biri değildir?

- A) Devrim
- B) Bunalımlar
- C) Olağan bilim dönemi
- D) Klasik dönem

20. "Kanun" adlı eser aşağıdaki düşünürlerden hangisine aittir?

- A) Mevlana
- B) Birûnî
- C) Yunus Emre
- D) Gazali

1. Anav kültürü ile ilgili aşağıdaki ifadelerden hangisi yanlıştır?

- A) Güneşte kurutulmuş tuğlalardan yapılan evlerde oturulmuştur.
- B) Dört tekerlekli arabalar ve keçeden Türk çadırları ilk defa bu kültürde ortaya çıkmıştır.
- C) Koyun, sığır gibi hayvanlar beslenip, çiftçilik yapılmıştır.
- D) Bakırdan süs eşyaları yapılmıştır.

2. Ata binenin dengesini sağlamasına yardımcı olan üzenği ilk defa aşağıdaki kavimlerden hangisi tarafından kullanılmıştır?

- A) Avarlar
- B) Hazarlar
- C) Sabarlar
- D) İskitler

3. Türk tarihinde ilk düzenli ordu teşkilatını kuran hükümdar aşağıdakilerden hangisidir?

- A) Timur
- B) Mete
- C) Attila
- D) I. Murat

4. Kaşgarlı Mahmut, "Divân-ı Lûgat-it Türk" adlı eserinde, Türk adının hangi anlama geldiğini belirtmiştir?

- A) Kanun nizam sahibi
- B) Türemek
- C) Olgunluk çağı
- D) Çoğalmak

5. Aşağıdakilerden hangisi Orta Asya Türk göçlerinin nedenleri arasında ver almaz?

- A) Türk boyları arasında siyasal anlaşmazlıklardan dolayı savaşlar çıkması
- B) Katvan Savaşı'nın kaybedilmesi
- C) Kuraklık
- D) Salgın hastalıklar

6. Tarihte bilinen ilk Türk devleti aşağıdakilerden hangisidir?

- A) Hazar
- B) Uygur
- C) Türgişler
- D) Büyük Hun

7. Aşağıdakilerden hangisi Kavimler Göçü'nün sonuçlarından biri değildir?

- A) Feodalite (Derebeylik) rejiminin son bulması
- B) Roma İmparatorluğu'nun ikiye bölünmesi
- C) German kavimleri arasında Hristiyanlığın yayılmasıyla birlikte kilise ve din adamlarının güç kazanması
- D) Avrupa'daki kavimlerin birbirleriyle karışıp kaynaşması sonucunda bugünkü Avrupa milletlerinin temellerinin atılması

8. Anatólyos Barışı antlaşmasıyla ilgili aşağıdaki ifadelerden hangisi yanlıştır?

- A) Bizans, savaş tazminatı ödeyecek
- B) Bizans İmparatoru II. Theodosius tahtan indirilecek
- C) Bizans'ın ödediği yıllık vergi üç katına çıkarılacak
- D) Tuna'nın güneyinde beş günlük mesafedeki yerler askerden arındırılacak

9. İranlıların "Eftalit" adı ile isimlendirdikleri Türk Devleti aşağıdakilerden hangisidir?

- A) Akhunlar
- B) Avarlar
- C) Sabarlar
- D) Hazarlar

10. Karluklar ile ilgili aşağıdaki ifadelerden hangisi yanlıştır?

- A) 751 yılında yapılan Talas Savaşı'nda Abbasilerin yanında yer alarak Çinlilerin yenilmesine katkıda bulunmuşlardır.
- B) İslamiyet'i kabul eden ilk Türk topluluğudur.
- C) Codeks Cumanicus adıyla bir sözlükleri bulunmaktadır.
- D) Uygurlar ve Türgişler döneminde Türklerin yaşayışına giren şehirleşme Karluklar tarafından geliştirilerek devam ettirilmiştir.

11. Türk tarihinde Museviliği kabul eden ilk ve tek Türk Devleti aşağıdakilerden hangisidir?

- A) Uygurlar
- B) Kırgızlar
- C) Hazarlar
- D) Avarlar

12. Dünyanın en uzun destanı olarak bilinen Manas Destanı kime aittir?

- A) Kırgızlar
- B) Avarlar
- C) Hazarlar
- D) Türgişler

13. Tarihte İstanbul'u ilk defa kuşatan Türk kavmi aşağıdakilerden hangisidir?

- A) Türgişler
- B) Avarlar
- C) Hazarlar
- D) Ak Hunlar

14. İlk Türk Devletlerinde "ulus" kavramının karşılığı aşağıdakilerden hangisidir?

- A) Töre
- B) Mahkeme
- C) Tapınak
- D) Ülke

15. Orhun Yazıtlarını 1893 yılında okuyan Danimarkalı dil bilimci aşağıdakilerden hangisidir?

- A) Hieronymus Laski
- B) Herbert Marcuse
- C) Vilhelm Thomsen
- D) B. D. Koçnev

16. İlk Türk Devletlerinde "Oğuş" kavramının karşılığı aşağıdakilerden hangisidir?

- A) Meclis
- B) Aile
- C) Sülale
- D) Devlet

17. Türeyiş ve Göç Destanları aşağıdaki devletlerden hangisine aittir?

- A) Uygurlar
- B) Türgişler
- C) Kırgızlar
- D) Avarlar

18. Orta Asya Türk tarihine ait bilgilere en fazla aşağıdaki devletlerden hangisinin kaynaklarında rastlanır?

- A) Çin
- B) Fransa
- C) Almanya
- D) ABD

19. Moğolların devlet yönetiminde yönetici, komutan, öğretmen ve teknik eleman olarak görev yapmış Türk kavmi aşağıdakilerden hangisidir?

- A) Tolunoğulları
- B) Türgişler
- C) Hazarlar
- D) Uygurlar

20. Hunların Çin üzerine yaptıkları seferlerin başlıca nedeni aşağıdakilerden hangisidir?

- A) Mani Dini'nin yayılmasını engellemek
- B) Budizm'in yayılmasını sağlamak
- C) İpek Yolu'na hâkim olmak
- D) İslamiyet'in kuzeye doğru yayılmasını sağlamak

1. Yer kabuğu üzerinde, ağır ağır gelişen ve geniş alanları kapsayan yükselme ve alçalma hareketlerine ne ad verilir?
 - A) Orojenez
 - B) Epirojenez
 - C) Seizma
 - D) Volkanizma
2. Eş yükselti eğrilerine ne ad verilir?
 - A) İzohips
 - B) Geoit
 - C) Küre
 - D) Yamaç
3. Asya ve Avustralya'nın Büyük Okyanus kıyılarında oluşan rüzgarla ne ad verilir?
 - A) Sam
 - B) Lodos
 - C) Hamsin
 - D) Tayfun
4. Bir yamacın güneşin karşısındaki konumuna ne ad verilir?
 - A) Ekvator
 - B) Bakı
 - C) İklim
 - D) Yörüngen
5. Güney yarım kürede en uzun gündüzün yaşandığı tarih aşağıdakilerden hangisidir?
 - A) 21 Aralık
 - B) 23 Eylül
 - C) 21 Mart
 - D) 21 Haziran
6. Aşağıdakilerden hangisi sürekli rüzgârlardan biri değildir?
 - A) Alizeler
 - B) Fırtınalar
 - C) Kutup rüzgârları
 - D) Batı rüzgârları
7. Dünyada sıcaklığın dengeli dağılımına yardımcı olan katman aşağıdakilerden hangisidir?
 - A) Atmosfer
 - B) Hidrosfer
 - C) Litosfer
 - D) Biyosfer
8. Yeryüzü şekillerini inceleyen bilim dalı aşağıdakilerden hangisidir?
 - A) Jeomorfoloji
 - B) Hidrografiya
 - C) Klimatoloji
 - D) Biyocoğrafya
9. Yağmur yağışlarını ölçen alete ne ad verilir?
 - A) Takometre
 - B) Termometre
 - C) Pluviometre
 - D) Barometre
10. Doğal bitki örtüsü, bazı kurakçıl otlar ve kaktüs gibi bitkilerden oluşan iklim türü aşağıdakilerden hangisidir?
 - A) Karasal iklim
 - B) Kutup iklimi
 - C) Akdeniz iklimi
 - D) Çöl iklimi
11. Dik kıyılara hızla çarpan dalgaların, kıyıların alt tarafını aşındırarak oluşturduğu şekillere ne ad verilir?
 - A) Barkan
 - B) Aysberg
 - C) Lagün
 - D) Falez
12. Aşağıdakilerden hangisi iklimin temel elemanlarından biri değildir?
 - A) Basınç
 - B) Sıcaklık
 - C) Ormanlar
 - D) Nemlilik
13. Atmosferde en çok bulunan gaz aşağıdakilerden hangisidir?
 - A) Argon
 - B) Oksijen
 - C) Metan
 - D) Azot
14. Aşağıdakilerden hangisi dünyanın şeklinin sonuçlarından biri değildir?
 - A) Meridyen yaylarının kutuplarda birleşmesi
 - B) Güneş ışınlarının geliş açısının Ekvator'a doğru gidildikçe daralması
 - C) Dağların ve yeryüzü şekillerinin oluşması
 - D) Dünyanın güneşe bakan tarafının aydınlık iken diğer tarafının karanlık olması

15. Her meridyen yayı aralığı kaç dakikaya eşittir?

- A) 2
- B) 3
- C) 4
- D) 5

16. Sıcaklığın yeryüzünde veya yer yüzünün herhangi bir bölümünde dağılışını gösterebilmek için eş sıcaklık eğrileriyle yapılan haritalara ne ad verilir?

- A) Fiziki haritalar
- B) İzobar haritaları
- C) İklim haritaları
- D) İzoterm haritaları

17. Başlangıç meridyeninin geçtiği şehir aşağıdakilerden hangisidir?

- A) New York
- B) Greenwich
- C) Londra
- D) Viyana

18. Dünyanın kendi ekseni etrafındaki hareketini tamamlaması ile aşağıdakilerden hangisi meydana gelir?

- A) Yıl
- B) Gün
- C) Ay
- D) Saat

19. Ülkelerin sınırlarını gösteren haritalara ne ad verilir?

- A) Ekonomi haritaları
- B) Fiziki haritalar
- C) Siyasi haritalar
- D) Beşeri haritalar

20. Atmosfer içerisindeki hava olaylarının oluşmasını sağlayan güç aşağıdakilerden hangisidir?

- A) Güneş
- B) Mars
- C) Ay
- D) Rüzgar

1. Aşağıdaki cümlelerin hangisinde "-ki"nin yazımı doğrudur?

- A) İçimde ki kıvılcımın farkına vardı.
- B) Senin sözlerin anneminkilere benziyor.
- C) O beni sevmezki!
- D) Kapağı kadırmışki sandık bomboş.

2. Aşağıdakilerden hangisi II.Meşrutiyet dönemindeki en tanınmış söylevcilerden biridir?

- A) Ömer Naci
- B) Ahmet Haşim
- C) Yaşar Kemal
- D) Mehmet Rauf

3. "Türk Milleti! Kurtuluş Savaşı'na başladığımızın on beşinci yılındayız. Bugün cumhuriyetimizin onuncu yılını doldurduğu en büyük bayramdır. Kutlu olsun!"

Yukarıda bir parçası alıntılanan Atatürk'ün konuşmasının türü aşağıdakilerden hangisidir?

- A) Nesir
- B) Tirad
- C) Nutuk
- D) Hatırat

4. Aşağıdaki kelimelerden hangisinin anlamı doğru verilmiştir?

- A) hatip: konuşma
- B) tutarlılık: tutarlı olma durumu
- C) hitabet: etkili söz söyleyen kişi
- D) beşeriyet: canlılık

5. "Tanrı gibi Tanrı yaratmış Türk Bilge Kağanı, sözüm: Babam Türk Bilge Kağanı... Sir, Dokuz Oğuz, İki Ediz çadırılı beyleri, milleti.."

Yukarıda bir parçası alıntılanan eser aşağıdakilerden hangisidir?

- A) Fatih Sultan Mehmet'in Nutku
- B) Bugün de Diyorlar ki
- C) İstiklal Kulesi Yazıtları
- D) Göktürk Yazıtları

6. Aşağıdakilerden hangisi mülakatın özelliklerinden biridir?

- A) Her kesimden kişilerle yapılması
- B) Mülakatı hazırlayanın, aldığı cevapları yazıya dönüştürürken kendi yorumunu katması
- C) Öğretici ve ufuk açıcı olması
- D) Ayrıntıya girilmesi

7. Aşağıdaki yazar-eser eşleştirmelerinden hangisi yanlıştır?

- A) Fikret Oytam-Ha Bu Diyar
- B) Hikmet Feridun Es- Edebiyatçılarımız Ne Diyorlar ki
- C) Yaşar Kemal-Çukurova Yana Yana
- D) Nurullah Berk-Ustalarla Konuşmalar

8. Röportajla ilgili aşağıdaki ifadelerden hangisi yanlıştır?

- A) Röportajcı gördükleri ve izlenimleriyle yetinmeyip araştırma ve inceleme de yapar.
- B) Röportajlar okuyucunun dikkatini çekecek ve onları bazı konularda düşündürecek biçimde düzenlenmelidir.
- C) Röportajcının amacı konuyu çarpıtmadan belgesel olarak okuyucuya sunmak ve okuyucuyu konunun içinde yaşatmaktır.
- D) Röportajı yapan kişi kendi görüşlerini röportaja katmaz.

9. Aşağıdakilerden hangisi sözlü anlatım türlerinden biri değildir?

- A) Söylev
- B) Mülakat
- C) Deneme
- D) Röportaj

10. Mahkemelerde yargılama sırasında suçlamak ya da savunmak amacıyla söylenen söylevlere ne ad verilir?

- A) Sosyal söylev
- B) Hukuksal söylev
- C) Askeri söylev
- D) Siyasi söylev

11. "Gerçek Bir Yeryüzü Cenneti Sapanca" başlıklı röportajın türü aşağıdakilerden hangisidir?

- A) Gezi yazısı
- B) Belgesel
- C) Eşyayı konu alan
- D) Bir yeri konu alan

12. "Onlar benim fikir ve görüşlerime önem verirler." cümlesindeki anlatım bozukluğunun nedeni aşağıdakilerden hangisidir?

- A) Aynı anlamdaki sözcüklerin bir arada kullanılması
- B) Ses daralmasının gerçekleştiği sözcüklerin kullanılması
- C) Ses benzeşmesine uğramış sözcüklerin kullanılması
- D) Ses türemesinin gerçekleştiği sözcüklerin kullanılması

13. Aşağıdakilerden hangisi konularına göre söylev çeşitlerinden birdir?

- A) Sosyal söylev
- B) Şiirsel söylev
- C) Görsel söylev
- D) Hukuksal söylev

14. Anlam bakımından birbirinin karşıtı olan sözcüklere "zıt anlamlı sözcükler" denir.

Yukarıdaki bilgiye göre aşağıdaki eşleşmelerden hangisi yanlıştır?

- A) gece-gündüz
- B) dost-düşman
- C) ihtiyar-yaşlı
- D) dar-geniş

15. Aşağıdakilerden hangisi noktanın kullanım alanlarından biridir?

- A) Birbiri ardına sıralanan eş görevli kelime ve kelime gruplarının arasına konur.
- B) Cümlelerin sonuna konur.
- C) Soru bildiren cümlelerin sonuna konur.
- D) Tamamlanmamış cümlelerin sonuna konur.

16. Aşağıdakilerden hangisi mülakatlarda kullanılan dil işlevlerinden biri değildir?

- A) Dil ötesi
- B) Göndergesel
- C) Alıcıyı harekete geçirme
- D) Heyecana bağlı

17. Aşağıdaki sözcüklerin hangisinde ses düşmesi gerçekleşmiştir?

- A) kahvaltı
- B) kitap
- C) arkadaş
- D) alın

18. Bireysel ve toplumsal sorunları dini açıdan yorumlayan söylev türüne ne ad verilir?

- A) İktisadi
- B) Siyasi
- C) Dinsel
- D) Akademik

19. Aşağıdaki cümlelerin hangisinde -mı, -mi, -mu, -mü soru ekinin yazımı yanlıştır?

- A) Okuyor muyuz?
- B) Güler misin, ağlar mısın?
- C) Sen de mi geldin?
- D) Çocukmuyum?

20. Atatürk'ün "Söylev" adlı eserinde üzerinde durduğu en önemli dönem aşağıdakilerden hangisidir?

- A) Cumhuriyetin ilanı
- B) Osmanlı'nın son dönemleri
- C) Kurtuluş Savaşı yılları
- D) Çanakkale savaşları

1. Aşağıdakilerden hangisi sözlü anlatımın özelliklerinden biri değildir?

- A) Jest ve mimiklere yer verilmesi
- B) Uzun cümleler kullanılması
- C) Konuşma dilinin olanaklarından yararlanılması
- D) Sözlerin daha iyi anlaşılması için ses tonunun önemli olması

2. "Ses" adlı hikâye aşağıdaki yazarlardan hangisine aittir?

- A) Ahmet Kutsi Tecer
- B) Sait Faik
- C) Reşat Nuri Güntekin
- D) Sabahattin Âli

3. "Göktürk Yazıtları"yla ilgili aşağıdaki ifadelerden hangisi yanlıştır?

- A) Sekizinci yüzyıla tarihlenmesi
- B) Bilinen en eski yazılı edebiyat ürünü olması
- C) Papirüs kullanılması
- D) Uygurlardan kalma metinler olması

4. "Dokuzuncu Hariciye Koğuşu" adlı eser aşağıdaki yazarlardan hangisine aittir?

- A) Peyami Safa
- B) Memduh Şevket Esendal
- C) Sadri Ertem
- D) Sabahattin Ali

5. Yazılı anlatımda düşüncelerin bir sonuca bir yargıya varıldığı bölüme ne ad verilir?

- A) Giriş
- B) Sonuç
- C) Ana düşünce
- D) Gelişme

6. Aşağıdakilerden hangisi edebî eserlerin özelliklerinden biri değildir?

- A) Edebiyat ile ilgili kuramları öğretmesi
- B) İnsanda estetik duygular uyandırması
- C) Yazıldıkları çağın dil, kültür ve sanat anlayışlarını yansıtmaları
- D) İnsanların duygu, düşünce ve hayal dünyalarını geliştirmesi

7. "Kibarlık Budalası" adlı oyun aşağıdaki yazarlardan hangisine aittir?

- A) Molière
- B) Victor Hugo
- C) Gustave Flaubert
- D) Franz Kafka

8. Aşağıdakilerden hangisi edebî eser savılmaz?

- A) Şiir
- B) Roman
- C) Tarih
- D) Tiyatro

9. Sözlü edebiyat ürünleri aşağıdakilerin hangisinde birlikte ve doğru olarak verilmiştir?

- A) Kaside-Koşuk
- B) Gazel-Kaside
- C) Destan-Gazel
- D) Koşuk-Sav

10. Aşağıdakilerden hangisi halk edebiyatı nazım türlerinden biri olan "semai"nin özelliklerinden biri değildir?

- A) 8'li hece ölçüsüyle yazılması
- B) Uyak düzeninin koşmaya benzemesi (abab, cccb, dddb)
- C) Dörtlük sayısının sınırlı olması
- D) Konusunun aşk ve doğa güzellikleri olması

11. Fani Karac'oğlan fani
Veren alır tatlı canı
Yakışmazsa öldür beni
Yeşil bağla ala karşı

Yukarıdaki dördlükte yer alan "veren alır canı" sözüyle aşağıdaki edebî sanatlardan hangisi yapılmıştır?

- A) İrsalı mesel
- B) Telmih
- C) Tekrir
- D) Tariz

12. Tasavvuf edebiyatında mürşitlerin müritleri aydınlanmak amacıyla söyledikleri şiirlere ne ad verilir?

- A) Devriye
- B) Ayin
- C) Nutuk
- D) Şathiye

13. Aşağıdakilerden hangisi tasavvuf edebiyatı nazım türlerinden olan "nefes" in özelliklerinden biri değildir?

- A) Nazım biriminin dörtlük olması
- B) Bektaşî şairlerinin tarikatlarıyla ilgili konularda yazdıkları şiirler olması
- C) 14'lü hece ölçüsünün kullanılması
- D) Kendine özgü bir bestesinin olması

14. Aralarında ortak nitelik bulunan iki varlıktan zayıf olanı güçlü gibi gösterme sanatına ne ad verilir?

- A) Cinas
- B) Teşbih
- C) Kinaye
- D) Tariz

15. "Ak akçe kara gün içindir." atasözünde ak ve kara sözcüklerinin arasında aşağıdaki edebî sanatlardan hangisi vardır?

- A) Tezat
- B) Tekrir
- C) Tariz
- D) Telmih

16. "Ekmek ve Yıldızlar" adlı şiir aşağıdaki şairlerden hangisine aittir?

- A) Fazıl Hüsnü Dağlarca
- B) Oktay Rifat
- C) Ahmet Muhip Dıranas
- D) Behçet Necatigil

17. Aşağıdakilerden hangisi Batı etkisinde gelişen Türk edebiyatı nazım biçimlerinden biri değildir?

- A) Terzerima
- B) Serbest nazım
- C) Tuyug
- D) Sone

18. Klasik edebiyatta şair aşırı bir duyguya kapılarak makta beyitinden sonra da bir iki beyit daha söyleyebilir. Bu tür gazellere ne ad verilir?

- A) Yek ahenk gazel
- B) Yek avaz gazel
- C) Rindane gazel
- D) Müzeyyel gazel

19. "Divan-ı Hikmet" adlı eser aşağıdaki şairlerden hangisine aittir?

- A) Yunus Emre
- B) Hoca Ahmet Yesevî
- C) Şeyyat Hamza
- D) Edip Ahmet

20. Klasik edebiyatta dizeleri kendi arasında uyaklı olan müfretlere ne ad verilir?

- A) Musarra
- B) Murabba
- C) Müstezar
- D) Şarkı

1. Bazı maddelerin ısı etkisiyle elementlerine veya daha basit bileşiklere dönüşmesine ilişkin tepkimelere ne ad verilir?

- A) Oluşum tepkimesi
- B) Bozunma tepkimesi
- C) Fiziksel değişim
- D) Asit-baz tepkimesi

2. Aşağıdakilerden hangisi ametal atomları arasında oluşan güçlü bağlardandır?

- A) Metalik bağ
- B) Van der Waals etkileşimi
- C) İyonik bağ
- D) Kovalent bağ

3. Aşağıdaki özelliklerden hangisi metallerin iletken oluşunu açıklar?

- A) Örgüde elektron bulutu içermeleri
- B) Ametallerle tepkimelerinden tuz oluşturabilmeleri
- C) En dış katmanda çok sayıda elektron bulundurmaları
- D) Çok sert olmaları

4. Aşağıdaki değişimlerden hangisi fiziksel değişimdir?

- A) Gümüşün kararması
- B) Demirin paslanması
- C) Suyun kaynaması
- D) Kömürün yanması

5.

Tür	Elektron Dizilimi		
	1.Katman	2.Katman	3.Katman
F	2	7	-
Na	2	8	1

Yukarıdaki tabloyu dikkate aldığınızda Na ve F atomları bir araya geldiğinde oluşan etkileşimin adı aşağıdakilerden hangisidir?

- A) İyonik bağ
- B) İyon-dipol etkileşimi
- C) Metalik bağ
- D) Kovalent bağ

6. Potasyum klorat, yüksek sıcaklıkta termal bozunmaya uğrayarak potasyum klorür ve oksijen gazına dönüşüyorsa ve tepkimede ortama mangan dioksit bileşiği ekleniyorsa bu madde tepkimeden harcanmadan çıkıyorsa bu madde hakkında aşağıdakilerden hangisi kesinlikle söylenebilir?

- A) Titranttır.
- B) Çöktürücüdür.
- C) Asittir.
- D) Katalizördür.

7. Aşağıdaki etkileşim türlerinden hangisi güçlü etkileşim grubunda yer alır?

- A) Dipol-dipol etkileşimleri
- B) Metalik bağlar
- C) Hidrojen bağları
- D) London kuvvetleri

8. Elektronegatiflikleri farklı ametal atomları arasındaki kovalent bağlara polar kovalent bağ denir.

Yukarıda verilen tanıma göre aşağıdaki bileşiklerin hangisinde bu tür bağ söz konusudur?

- A) NaCl
- B) Cl₂
- C) HF
- D) F₂

9. 76 mmHg basıncının atm birimine dönüştürülmüş hali aşağıdakilerden hangisidir?

- A) 0,1
- B) 0,5
- C) 1,0
- D) 2,0

10. Aşağıdaki zayıf etkileşimlerden hangisi Van der Waals türü etkileşimlerden biri değildir?

- A) London kuvveti
- B) İyon-dipol etkileşimi
- C) Dipol-dipol etkileşimi
- D) Hidrojen bağı

11. Sıvı yüzeyini 1 birim büyütme için sıvıya verilmesi gerekli enerji aşağıdaki terimlerden hangisini tanımlar?

- A) Yüzey gerilimi
- B) Viskozite
- C) Ekstra-polasyon
- D) Buharlaştırma

12. 20 °C'de 200 litre gaz 0,9 atm'lik basınç uygularsa aynı sıcaklıktaki bu gaz 180 litre hacme sahip olduğunda kaç atm'lik basınç uygular? (Gazların ideal davrandığını kabul ediniz.)

- A) 0,3
- B) 0,5
- C) 0,8
- D) 1,0

13. Aşağıdakilerden hangisi dünyada her geçen gün hızla artan hava kirliliği nedenlerinden biridir?

- A) Doğalgaz kullanımı
- B) Ağaçlandırma
- C) Sanayileşme
- D) Organik tarım

14. Atomları istif düzeni belli bir geometriye sahip olmadan katılan maddelere ne ad verilir?

- A) Amorf katı
- B) Metalik katı
- C) Kovalent katı
- D) İyonik katı

15. 25 °C'nin karşılığı olan K cinsinden sıcaklık aşağıdakilerden hangisidir?

- A) 255
- B) 298
- C) 512
- D) 617

16. Maddenin katı halden gaz hale geçişine ne ad verilir?

- A) Buharlaşma
- B) Yoğuşma
- C) Kırışılma
- D) Süblimleşme

17. 0,1 mol Cl_2 gazının gram olarak kütlesi aşağıdakilerden hangisidir? (Cl atomunun mol kütlesi 35,5 g/mol)

- A) 3,55
- B) 7,10
- C) 28,60
- D) 48,70

18. Kapadokya'da gezi amaçlı kullanılan balonlar nasıl havalanır?

- A) İçlerine katı madde ilavesiyle
- B) İçlerine konan LPG sayesinde
- C) İçlerindeki havanın ısıtılmasıyla
- D) İçlerindeki suyun uzaklaştırılmasıyla

19. Aşağıdaki kısaltmalardan hangisi sıvılaştırılmış petrol gazı için kullanılır?

- A) TNT
- B) LPG
- C) NG
- D) CFC

20. Bitkilerde suyun köklerden yapraklara doğru yükselmesine sebep olan etki aşağıdakilerden hangisidir?

- A) Süblimleşme
- B) Buhar basıncı
- C) Yüzey gerilimi
- D) Yoğuşma

1. Elektron verme eğilimi hidrojenen büyük olan metallere ne ad verilir?
 - A) Aktif metal
 - B) Ametal
 - C) Pasif metal
 - D) Soy metal
2. Suda dağılmış, tanecik çapları 10 – 1000 nm arasında olan küçük tanecik boyutlu katılara ne ad verilir?
 - A) Katı kristal
 - B) Koagülasyon
 - C) Pıhtılaştırıcı
 - D) Koloit
3. Aşağıdaki sulu çözeltilerin hangisi bazik özellik gösterir?
 - A) N_2O_3
 - B) CaO
 - C) SO_2
 - D) CO_2
4. Bir maddenin bir katı yüzeyine tutunması olayına ne ad verilir?
 - A) Süspansiyon
 - B) Çekim
 - C) Adsorpsiyon
 - D) Emülsiyon
5. Aşağıdakilerden hangisi "gaz çözeltiler" için örnektir?
 - A) Şekerli su
 - B) Çelik
 - C) Kolonya
 - D) Hava
6. Çözünen maddenin cinsinden bağımsız olan, derişimiyle orantılı olarak değişen özelliklere ne ad verilir?
 - A) Kimyasal özellik
 - B) Fiziksel özellik
 - C) Koligatif özellik
 - D) Dekantasyon
7. Bir antifriz karışımın ambalajında % 40 (v/v) etilen glikol sıvısı içerdiği belirtilmişse, 2 L'lik antifriz karışımında kaç mL etilen glikol bulunur?
 - A) 200
 - B) 400
 - C) 600
 - D) 800
8. Çözünen maddenin çözücü molekülleri tarafından çevrelenmesine ne ad verilir?
 - A) Koloit
 - B) Hidrojenleme
 - C) Solvasyon
 - D) Çözelti
9. Aşağıdakilerden hangisi yoğunluk farkına dayalı ayırma yöntemidir?
 - A) Diyaliz
 - B) Santrifüjleme
 - C) İyon değiştirme
 - D) Buharlaştırma
10. Aşağıdakilerden hangisi nötral tuzdur?
 - A) NH_4Cl
 - B) Na_2CO_3
 - C) KNO_3
 - D) KF

11. Halk arasında nişadır olarak bilinen, NH_3 bazı ve HCl asidinden oluşan asidik tuz aşağıdakilerden hangisidir?
- A) Amonyum klorür
B) Şap
C) Digmonyum fosfat
D) Amonyum nitrat
12. Halk arasında sudkostik olarak da bilinen, katı haldeyken granül veya pul görünümünde olan, endüstride yaygın olarak kullanılan baz aşağıdakilerden hangisidir?
- A) Ca(OH)_2
B) NaOH
C) KOH
D) HNO_3
13. Aşağıdakilerden hangisi halk arasında limon asidi olarak bilinen, meyvelerde bol miktarda bulunan, hazır gıdalara da en çok katılan maddelerden biridir?
- A) Sudkostik
B) Borik asit
C) Formik asit
D) Sitrik asit
14. Aşağıdaki bileşiklerden hangisi asit ve bazın nötralleşmesiyle oluşmuş tuz çözeltisidir?
- A) NaCH_3COO
B) NaOH
C) CH_3COOH
D) MgO
15. Aşağıdakilerden hangisi heterojen karışım değildir?
- A) Süt
B) Kolonya
C) Saç spreyi
D) Tıraş köpüğü
16. Aşağıdakilerden hangisi asitlerin zararlı etkilerinden biridir?
- A) Asit yağmurları
B) Kağıt üretimi
C) Azotlu gübre üretimi
D) İnce bağırsakta besinlerin sindirimi
17. 2 mol HCl çözeltisi ile 1 mol NaOH çözeltisi nötralleşme tepkimesi verdiğinde oluşan çözeltiye birkaç damla fenolftaleyn indikatörü damlatıldığında çözeltinin rengi hakkında aşağıdakilerden hangisi doğrudur?
- A) Çözelti pembe renklidir.
B) Çözelti kırmızı renklidir.
C) Çözelti sarı renklidir.
D) Çözelti rensizdir.
18. Sodyum karbonat tuzunun formülü aşağıdakilerden hangisidir?
- A) Na_2S
B) NaF
C) Na_2CO_3
D) NaCl
19. Su, alkol ve yağ karışımı aşağıdaki cam malzemelerin hangisi ile birbirinden ayrılır?
- A) Ayırma hunisi
B) Erlen
C) Beher
D) Baget
20. Çözünenin az miktarda olup çözücüsünün fazla olduğu çözeltilere ne ad verilir?
- A) Derişik çözelti
B) Seyreltik çözelti
C) Aşırı doymuş çözelti
D) Doymuş çözelti

1. Aşağıdakilerden hangisi hem ototrof hem heterotrof canlılardan biridir?

- A) Palmiye ağacı
- B) Kuşlar
- C) Böcekçil bitkiler
- D) Balıklar

2. Fotosentez sırasında ışık enerjisi kullanılarak ATP sentezlenen fosforilasyon çeşidi aşağıdakilerden hangisidir?

- A) Kemosentetik fosforilasyon
- B) Substrat düzeyinde fosforilasyon
- C) Oksidatif fosforilasyon
- D) Fotofosforilasyon

3. Oksijen yokluğunda sadece glikoliz yoluyla enerji elde edilen metabolik sürece ne ad verilir?

- A) Fermantasyon
- B) Fotosentez
- C) Fosforilasyon
- D) Kemosentez

4. Bir glikoz molekülünün glikoliz yoluyla parçalanmasında harcanan ATP sayısı kaçtır?

- A) 2
- B) 3
- C) 4
- D) 5

5. Kendi besinlerini sentezleyebilen canlılara ne ad verilir?

- A) Heterotrof
- B) Ototrof
- C) Karnivor
- D) Herbivor

6. Enerji açığa çıkaran reaksiyon aşağıdakilerden hangisidir?

- A) Ekzergonik reaksiyon
- B) Endergonik reaksiyon
- C) Kimyasal reaksiyon
- D) Biyolojik reaksiyon

7. Solunumda görevli enzimler, ribozomlar ve mitokondri DNA'sının bulunduğu mitokondri kısmı aşağıdakilerden hangisidir?

- A) Dış zar
- B) Krista
- C) Matriks
- D) Zarlar arası boşluk

8. Aşağıdakilerden hangisi fotosentezin ışığa bağımlı reaksiyonlarının gerçekleştiği bölgedir?

- A) Stroma
- B) Tilakoid zar
- C) İç kloroplast zarı
- D) Dış kloroplast zarı

9. Aşağıdakilerden hangisi laktik asit fermantasyonu yoluyla üretilemez?

- A) Ekmek
- B) Peynir
- C) Yoğurt
- D) Tereyağı

10. Aşağıdakilerden hangisi ATP molekülünün yapısına girmez?

- A) Fosfat
- B) Riboz
- C) Adenin
- D) Sülfat

11. İçinde hem üreticiler hem de tüketiciler bulunan canlı grubu aşağıdakilerden hangisidir?

- A) Bakteriler
- B) Bitkiler
- C) Mantarlar
- D) Hayvanlar

12. Aşağıdakilerden hangisi kloroplast organelinin yapısında bulunmaz?

- A) Ara lamel
- B) Vakuol
- C) Tilakoid
- D) Stroma

13. Şeker sentezini başlatan molekül aşağıdakilerden hangisidir?

- A) Oksijen
- B) Su
- C) Karbondioksit
- D) ATP

14. Organik madde sentezinin kimyasal enerji kullanılarak elde edilmesi yöntemine ne ad verilir?

- A) Fotosentez
- B) Glikoliz
- C) Kemosentez
- D) Fermantasyon

15. İş yapabilme veya bir değişikliğe neden olabilme yeteneğine ne ad verilir?

- A) Hareket
- B) Çoğalma
- C) Canlılık
- D) Enerji

16. Fotosistemde klorofil ve karotenoitlerin bulunduğu bölge aşağıdakilerden hangisidir?

- A) Foton
- B) Anten kompleksi
- C) İlk elektron alıcı
- D) Reaksiyon merkezi

17. Değişen çevre koşullarına rağmen vücut içi fizyolojik ortamın dengede tutulmasına ne ad verilir?

- A) Dendrit
- B) Nöroplazma
- C) Homeostazi
- D) Nörolemma

18. Beyin içeriğinde yüzde olarak en yüksek oranda bulunan madde aşağıdakilerden hangisidir?

- A) Karbonhidrat
- B) Protein
- C) Yağ
- D) Su

19. Sinir hücresinde impuls oluşturabilen en düşük uyarı kuvvetine ne ad verilir?

- A) Uyarı
- B) Dendrit
- C) Eşik şiddeti
- D) Akson

20. Aşağıdakilerden hangisi bipolar nöronlara örnektir?

- A) Duyu nöronları
- B) Motor nöronlar
- C) Ara nöronlar
- D) Görme nöronları

1. I. Dünya Savaşı sonrasında uluslararası barışın korunması ve işbirliğinin sağlanması için galip devletler tarafından 1920 yılında aşağıdakilerden hangisi kurulmuştur?
 - A) Milletler Cemiyeti
 - B) Briand- Kellog Paktı
 - C) Birleşmiş Milletler
 - D) Varşova Paktı
2. Aşağıdakilerden hangisi Hitler Almanya'sının talep ettiği dış politikanın esaslarından biri değildir?
 - A) Almanya için yeni hayat sahaları bulunması
 - B) Almanya dışında yaşayan bütün Almanların birleştirilmesi
 - C) Almanya'nın Versay Barış Antlaşması'nın kısıtlamalarından kurtulması
 - D) Irkçı söylemlerin son bulması
3. Aşağıdakilerden hangisi Sadabat Paktı'nı imzalayan devletlerin kabul ettiği ilkelerden biri değildir?
 - A) Tarafların birbirlerinin iç işlerine karışmaması
 - B) Ortak çıkarları ilgilendiren uluslararası nitelikteki anlaşmazlıklarda birbirlerine danışılması
 - C) Kara sularının 12 mile çıkarılması
 - D) Birbirlerine karşı eylemde bulunulmaması
4. Aşağıdakilerden hangisi İmparator Meji Dönemi'nde Japonya'da yapılan yenilikler arasında yer almaz?
 - A) İlköğretimin kadın-erkek her Japon için zorunlu hale getirilmesi
 - B) Şogunların yönetimdeki etkinliklerinin artırılması
 - C) Mecburi askerlik sisteminin getirilmesi
 - D) Japon subayların Batılı okullarda eğitim alması
5. Türkiye'nin 10 Nisan 1936 tarihinde Boğazlar Sözleşmesi'nin değiştirilmesi isteğine tepki gösteren devlet aşağıdakilerden hangisidir?
 - A) Romanya
 - B) Yugoslavya
 - C) İtalya
 - D) Yunanistan
6. 3 Mart 1918 tarihinde İttifak Devletleriyle Brest-Litovsk Antlaşması'nı imzalayarak Birinci Dünya Savaşı'ndan çekilen devlet aşağıdakilerden hangisidir?
 - A) Japonya
 - B) Rusya
 - C) İtalya
 - D) Bulgaristan
7. Pearl Harbör Baskını ile ABD'nin deniz ve hava üslerine ani bir saldırı yaparak ABD'ye savaş açan devlet aşağıdakilerden hangisidir?
 - A) Çin
 - B) Rusya
 - C) Japonya
 - D) Almanya
8. 22 Haziran 1941 tarihinde "Barbarossa" hareketini başlatarak Baltık'tan Romanya'ya kadar uzanan geniş bir cephe üzerinden üç koldan Sovyet sınırını geçen devlet aşağıdakilerden hangisidir?
 - A) Fransa
 - B) İtalya
 - C) Almanya
 - D) İngiltere
9. 14-24 Ocak 1943'te Roosevelt ve Churchill'in, Kazablanka Konferansı'nda aldıkları karar aşağıdakilerden hangisidir?
 - A) Türkiye'nin Kore'ye asker göndermesi
 - B) Mihver devletlerin kayıtsız şartsız teslim alınması
 - C) Varşova Paktı'nın kurulması
 - D) Musul'un Irak'a verilmesi
10. Türkiye NATO'ya hangi yıl katılmıştır?
 - A) 1952
 - B) 1944
 - C) 1940
 - D) 1938

11. TBMM tarafından, II. Dünya Savaşı'nın etkilerini azaltmak ve ekonomik yönden gerekli koruyucu önlemleri almak amacıyla 18 Ocak 1940 tarihinde çıkarılan kanun aşağıdakilerden hangisidir?
- A) Hıyanet-i Vataniye Kanunu
B) Takrir-i Sükûn Kanunu
C) Tevhid-i Tedrisat Kanunu
D) Millî Korunma Kanunu
12. I. Dünya Savaşı sırasında Almanya'nın üzerinde bulunduğu toprakların Alman ırkına yeterli gelmeyeceğine ilişkin mevcut fikrin, Hitler tarafından yayılma politikasının gerekçesi olarak kabul edilmesi sonucunda ortaya çıkan kavram aşağıdakilerden hangisidir?
- A) Panslavizm
B) Demirperde
C) Hayat sahası
D) Maginot hattı
13. Aşağıdakilerden hangisi II. Dünya Savaşı'nın sonuçlarından biri değildir?
- A) Bozkurt-Louts Olayı'nın yaşanması
B) Tarım ve sanayi üretiminin önemli ölçüde azalması
C) Milyonlarca sivilin hayatını kaybetmesi
D) Faşizm ve Nazizm gibi akımların tasfiye edilmesi
14. Sputnik Uydusu'nu 1957 yılında uzaya gönderen devlet aşağıdakilerden hangisidir?
- A) Çin
B) SSCB
C) Fransa
D) Japonya
15. 1959 yılında Küba'da Batista diktatörlüğünü yikarak kendi hükümetini kuran kişi kimdir?
- A) Mahatma Gandhi
B) Harry S. Truman
C) Mao Zedong
D) Fidel Castro
16. Marshall Planı ve Truman Doktrini ile ilgili aşağıdaki ifadelerden hangisi doğrudur?
- A) Rusya'da Bolşevik İhtilali'nin çıkmasına neden olmuştur.
B) I. Dünya Savaşı sırasındaki çatışmaları durdurmuştur.
C) I. Dünya Savaşı'nda Kanal Cephesi'nin açılmasına neden olmuştur.
D) SSCB'nin Orta Doğu ve Avrupa'daki yayılma faaliyetlerine karşı ABD'nin almış olduğu ilk tedbirlerdir.
17. II. Dünya Savaşı'nda Almanları durduran ve ilk kez yenilgiye uğratan devlet aşağıdakilerden hangisidir?
- A) Çin
B) SSCB
C) İtalya
D) Japonya
18. Aşağıdakilerden hangisi 7 Ocak 1946 tarihinde Demokrat Parti'yi kuranlardan biri değildir?
- A) Yıldırım Akbulut
B) Fuat Köprülü
C) Adnan Menderes
D) Celal Bayar
19. Aşağıdakilerden hangisi 25 Mayıs 1963'te kurulan Afrika Birliği Teşkilatının başlıca amaçları arasında ver almaz?
- A) Afrika ülkeleri arasında bilim ve savunma politikalarını uyumlu hale getirmek
B) Afrika ülkeleri arasında etnik ayrımcılığı artırmak
C) Afrika ülkeleri arasında ekonomi, eğitim ve sağlık politikalarını uyumlu hale getirmek
D) Afrika ülkeleri arasında birlik ve dayanışmayı geliştirmek
20. SSCB'nin direktifleri sonucunda Haziran 1948'de Cominform'dan çıkarılan devlet aşağıdakilerden hangisidir?
- A) Almanya
B) Fransa
C) İtalya
D) Yugoslavya

1. Aşağıdakilerden hangisi pozitif hukuk normlarının hiyerarşik sıralamasında en üst basamakta yer alır?
- A) Anayasa
B) Kanun
C) Tüzük
D) Yönetmelik
2. Bir hukuk düzeninin öznesi aşağıdakilerden hangisidir?
- A) Dünya
B) Tarih
C) Çevre
D) Kişi
3. Aşağıdakilerden hangisi isteme haklarından biri değildir?
- A) Toplu iş sözleşmesi hakkı
B) Çalışma hakkı
C) Vatandaşlık hakkı
D) Konut hakkı
4. Devletin sınırsız ve koşulsuz bir bağımsızlığa sahip olmasına, ülke içinde kendine rakip başka bir gücün bulunmamasına ve uluslararası alanda ise diğer devletlerle eşit iradeye sahip olmasına ne ad verilir?
- A) Hak
B) Egemenlik
C) Eşitlik
D) Demokrasi
5. Aşağıdakilerden hangisi Türkiye Cumhuriyeti devlet sisteminin dayandığı temel esaslardan biri değildir?
- A) Laiklik
B) Atatürk milliyetçiliği
C) Kuvvetler birliği
D) Hukukun üstünlüğü
6. Aşağıdakilerden hangisi siyasi partilerin işlevlerinden biri değildir?
- A) Seçimler için aday göstermek
B) Halkı ülke sorunlarından uzak tutmak
C) İktidarı kullanarak ülkeyi yönetmek
D) Halk ile iktidar arasında aracılık yapmak
7. Toplumsal sözleşme anlayışını savunarak, demokrasi fikrini geliştiren düşünceler ortaya koyan düşünür aşağıdakilerden hangisidir?
- A) Rousseau
B) Copernic
C) Erasmus
D) Machiavelli
8. Seçmen olmanın vergi ödemek gibi belli şartlara bağlandığı oy türü aşağıdakilerden hangisidir?
- A) Kısıtlı
B) Genel
C) İhtiyari
D) Serbest
9. Osmanlı Devleti'nde padişahın yetkilerini sınırlayan, onu belli yönde davranmaya zorlayan ilk belge aşağıdakilerden hangisidir?
- A) Gülhane Hatt-ı Hümayunu
B) Sened-i İttifak
C) Kanun-i Esasi
D) Islahat Fermanı
10. Aşağıdakilerden hangisi bir ülkenin yönetim biçiminin demokrasi olarak adlandırılabilmesi için ihtiyaç duyulan ilke ve kurumlardan biri değildir?
- A) Çoğulculuk ve katılım
B) Hukukun üstünlüğü
C) Seçimler ve temsil
D) Hilafet
11. Avrupa Güvenlik ve İşbirliği Teşkilatı'nın ülkeler arasında doğacak çatışmaların önlenmesi için faaliyet gösteren organı aşağıdakilerden hangisidir?
- A) Çatışma Önleme Merkezi
B) Kıdemli Memurlar Komitesi
C) Danışma Komitesi
D) Hür Seçimler Bürosu

12. Avrupa İnsan Hakları Mahkemesi'nin kararlarının yerine getirilmesini denetleyen, yılda iki kez toplanan ve siyasi yaptırıma sahip olan denetim organı aşağıdakilerden hangisidir?
- A) Bakanlar Komitesi
B) Konsey
C) Danışma Komitesi
D) Delegeler Komitesi
13. Avrupa İnsan Hakları Mahkemesi ile ilgili aşağıdaki ifadelerden hangisi yanlıştır?
- A) Yargıçlar, seçildikleri ülkeden bağımsız olarak görev yaparlar.
B) Sözleşmeyi imzalayan devletlerin sözleşme hükümlerini yerine getirip getirmedikleri denetlenir.
C) Mahkemenin yaptırımı hapis cezası şeklinde de olabilir.
D) Üye devletlerden seçilen yargıçlardan oluşur.
14. Birleşmiş Milletler Örgütü'nün ilk denetim organı aşağıdakilerden hangisidir?
- A) İnsan Hakları Komitesi
B) Çocuk Hakları Komitesi
C) İşkenceye Karşı Komite
D) Irk Ayrımcılığının Kaldırılması Komitesi
15. Uluslararası koruma mekanizmalarının işletilmesinde, bir anlaşmaya taraf olmayan fakat anlaşmayı hazırlayan uluslararası organizasyona üye olan devletler için uygulanan denetim aşağıdakilerden hangisidir?
- A) Sözleşme dışı denetim
B) Sözleşme içi denetim
C) Müeyyide
D) Adli kontrol
16. Aşağıdakilerden hangisi Atatürk inkılabının dayandığı temel ilkelerden biri değildir?
- A) Laiklik
B) Cumhuriyetçilik
C) Milliyetçilik
D) Irkçılık
17. Bir toplumda toplumsal yapının bütününe dokunmaksızın eskiyen, güncelliğini kaybeden, toplumun ihtiyaçlarına cevap veremeyen kurum ve kuralların düzeltilmesine ve iyileştirilmesine ne ad verilir?
- A) Reform
B) Gelişme
C) Devrim
D) Çağdaşlaşma
18. Herkesin dininin gereklerini özgürce yaşayabilmesinin önkoşulu aşağıdakilerden hangisidir?
- A) Milliyetçilik
B) Ekonomik kalkınmışlık
C) Laiklik
D) Devletçilik
19. Aydınlanmayı "insanın aklını kendinin kullanmaya başlaması" şeklinde ifade eden düşünür aşağıdakilerden hangisidir?
- A) Comte
B) Locke
C) Montesquieu
D) Kant
20. Bir ülkede yaşayan, bir devlete vatandaşlık bağıyla bağlı, kendini o ülkenin kaderine bağlamış insanlardan oluşan bütüne ne ad verilir?
- A) Irk
B) Halk
C) Toplum
D) Soy

1. Taş, metal, tahta, mermer, seramik gibi kalıcı ve sert maddeler üzerine yazılan yazılarla uğraşan bilim dalı aşağıdakilerden hangisidir?
 - A) Antropoloji
 - B) Nüvizmatik
 - C) Epigrafi
 - D) Etnografya
2. "Sığınak ve Deniz Feneri", "Gravelines'de Kanal", "Pudralanan Genç Kadın" gibi tabloları ile tanınan Fransız ressam kimdir?
 - A) George Seurat
 - B) Poul Cezanne
 - C) Vincent van Gogh
 - D) Poul Gauguin
3. Akbabalar Steli olarak adlandırılan, düşmanların akbabalar tarafından parçalanışını tasvir eden eser aşağıdaki uygarlıklardan hangisine aittir?
 - A) Asur
 - B) Babil
 - C) Mısır
 - D) Sümer
4. Aşağıdakilerden hangisi Anadolu'da Dor düzenindeki tapınaklara örnektir?
 - A) Mausolleion
 - B) Efes, Artemis
 - C) Assos Athena
 - D) Didyma Apollon
5. Aşağıdakilerden hangisi antik Yunan mimarisinin tapınak tiplerinden biri değildir?
 - A) Korent
 - B) Dor
 - C) Milet
 - D) İyon
6. "Sikke" adı verilen ilk para, aşağıdaki Anadolu uygarlıklarından hangisinin zamanında kullanılmaya başlanmıştır?
 - A) Geç Hitit
 - B) Hitit
 - C) Frigya
 - D) Lidya
7. Çoğunlukla Hitit sanatında görülen, duvarları süsleyen kabartmalı taş bloklara ne ad verilir?
 - A) Sfenks
 - B) Ryton
 - C) Ortostat
 - D) Protern
8. 20. yüzyılın ilk çeyreğinde Kuzey Avrupa'da ortaya çıkan, dışa vurumculuk olarak da bilinen ve en önemli temsilcilerinden biri de Egon Schiele olan sanat akımı aşağıdakilerden hangisidir?
 - A) Sürrealizm
 - B) Fütürizm
 - C) Metafizik Resim
 - D) Ekspresyonizm
9. Yunan Heykeltiliğinde portre sanatının en önemli sanatçısı kimdir?
 - A) Leochares
 - B) Lysippos
 - C) Praksiteles
 - D) Miron
10. Aşağıdakilerden hangisi, İlk Çağda Anadolu'da kurulan devletlerden biri değildir?
 - A) Hititler
 - B) Asurlular
 - C) Lidyalılar
 - D) Urartular
11. Anadolu'da kurulan devletlerden biri olan Urartu Uygarlığının başkenti aşağıdakilerden hangisidir?
 - A) Alacahöyük
 - B) Gordion
 - C) Tuşpa
 - D) Sard
12. Hitit İmparatorluğu'nun başkenti aşağıdakilerden hangisidir?
 - A) Karatepe
 - B) Hattuşuş
 - C) Zincirli
 - D) Tuşba

13. Manet gibi figüre bağlı, hareket halindeki insanı betimlemede büyük ustalığı olan, "Mavi Balerin", "Concorde Meydanı", "Ütü Yapan Kadınlar", gibi tablolarıyla tanınan ressam kimdir?
- A) Maurice de Vlaminck
B) Henry Matisse
C) Toulouse Lautrec
D) Edgar Degas
14. Tapınak ve saraylarda görülen, "apadana" adı verilen çok sütunlu kabul salonları, aşağıdaki uygarlıklardan hangisinin ilk çağ Anadolu mimarlığına getirdiği yeniliklerden biridir?
- A) Lidyalılar
B) Urartular
C) Hititler
D) Frigyalılar
15. Mezopotamya'da Ur, Uruk, Umma ve Kaş gibi önemli şehir devletleri aşağıdaki uygarlıklardan hangisi tarafından kurulmuştur?
- A) Sümerler
B) Babiller
C) Hititler
D) Akadlar
16. Avrupa ve Amerika'da 1960'lı yıllarda yayılan, öncü sanatçıları, Roy Lichtenstein, Andy Warhol, Claes Oldenburg ve Peter Blake olan soyut sanat akımı aşağıdakilerden hangisidir?
- A) Non-Figüratif Resim
B) Sürrealizm
C) Doğa Ötesi Resim
D) Pop Art
17. İmparator Hadrianus döneminde M.S. 2. yüzyılda yaptırılan yuvarlak planlı Panteon tapınağı aşağıdaki şehirlerden hangisinde yer alır?
- A) Roma
B) Napoli
C) Milano
D) Venedik
18. İnsan topluluklarının avcı, toplayıcı, tüketici yaşam düzeyinden yerleşik üretici düzene geçtikleri dönem aşağıdakilerden hangisidir?
- A) Neolitik Çağ
B) Paleolitik Çağ
C) Kalkolitik Çağ
D) Mezolitik Çağ
19. Frigya uygarlığının en ünlü kralı olan Midas'ın Gordion'da bulunan mezarı aşağıdaki mezar tiplerinden hangisine örnektir?
- A) Tümülüs
B) Dolmen
C) Mozole
D) Menhir
20. Zevk ve lüks içindeki yaşam sahnelerini canlandıran, parlak renklerden oluşan resimleriyle tanınan fovizmin yaygınlaşmasında rol oynayan, "Boulogne Ormanı", "Şato ve Atlar" tabloları ile tanınan ressam kimdir?
- A) Pablo Picasso
B) Raoul Dufy
C) Edward Munch
D) Fernand Leger

1. Aşağıdaki cümlelerin hangisinde bir anlatım bozukluğu vardır?

- A) Ayşe anne olduktan sonra, tamamen farklı bir kişi oldu.
- B) Dershanemiz herkesi ücretsiz üniversite sınavına hazırlıyor.
- C) Yarışlara hazırlanırken büyük emek harcadı.
- D) Yan flüt çalabilmek benim için sadece bir hayal!

2. Elif kız hâlâ kayanın üzerinde kıpkızıl duruyordu. Denizin koyu çelik mavisinin üzerinde ara sıra batan güneşin ışığını kapayan kayıksa şimdi parlayan, şimdi sönen kızıl bir noktacıktı. Her seferinde daha uzakta parlıyordu. Sonunda görünmez oldu.

Yukarıdaki parçada kullanılan anlatım biçimi aşağıdakilerden hangisidir?

- A) Betimleme
- B) Öykülenme
- C) Açıklama
- D) Tartışma

3. Tartışma ile ilgili aşağıdaki ifadelerden hangisi yanlıştır?

- A) Düşünce, gözlem, kanı ve inançların etkilenmesi amaçlanır.
- B) Tartışma sırasında gerçekleri önemsememek gibi bir tutum sergilenir.
- C) Günlük yaşamda sık sık başvurulan bir anlatım türüdür.
- D) Bir tür etkileme sanatı olarak görülebilir.

4. Anlatım özelliklerinden biri olan “doğallık” ile ilgili aşağıdaki ifadelerden hangisi doğrudur?

- A) Anlatıcı, daha önce anlatılanlardan farklı konuları yakalamalıdır.
- B) Anlamı bilinmeyen sözcükler kullanılmamalıdır.
- C) Anlatılanların doğal olabilmesi için, anlatıcının kendine güveninin tam olması gerekir.
- D) Anlatım tutuk olmamalıdır.

5. Aşağıdaki cümlelerin hangisinde gereksiz sözcük kullanılmıştır?

- A) Bu karar, içinde bulunduğumuz devre döneminde uygulanacaktır.
- B) Onun yarışlarda birinci olduğuna sevindim.
- C) Bu konuda üç yıldır çalışıyoruz.
- D) Bir hafta sonra tatile çıkıyoruz.

6. Bir yazının temel özellikleri ve anlatmak istediklerinin bozulmadan, kısaltılarak yeniden yazılmasına ne ad verilir?

- A) Özet çıkarma
- B) Not alma
- C) Kompozisyon yazma
- D) Yazı yazma

7. Aşağıdaki cümlelerin hangisinde gereksiz sözcük vardır?

- A) Yarın sinemaya gidelim.
- B) Bir gece ansızın gelebilirim.
- C) Kısmen de olsa kendimi bu olayda tümüyle sorumlu hissediyorum.
- D) Oğlunuzun durumu yarın kurulda görüşülecek.

8. Bir yazı ya da konuşmanın amacını belirleyen cümleye ne ad verilir?

- A) Başlık
- B) Kaynak
- C) Tür
- D) Ana düşünce

9. Bir paneldeki konuşma ve konuşmacılar ile ilgili aşağıdaki ifadelerden hangisi yanlıştır?

- A) Konuşmacılar uzmanı oldukları konun ayrı birer yönünü ele alırlar.
- B) Panel sonunda yalnızca bir konuşmacının düşünceleri karar olarak alınır.
- C) Konuşmacı sayısı 3 ile 6 arasında değişebilir.
- D) Konuşmalar, açık oturumda olduğu gibi başkanın verdiği sıraya ve süreye göre yapılır.

10. Sunum ile ilgili aşağıdaki ifadelerden hangisi doğrudur?

- A) Sunum sonrasında konuşmacı, kendisine yöneltilen sorularla başka bir tartışmayı alevlendirebilir.
- B) Yanardöner grafikler, sunum sırasında konuşmaya yardımcı olan önemli etkenler arasında yer alır.
- C) Sunumdan önce hiçbir prova yapılmasına gerek yoktur.
- D) Önceden hazırlanmış ve planlanmış bir konunun, etkili ve anlaşılır bir biçimde dinleyicilere aktarılmasıdır.

11. Aşağıdaki cümlelerin hangisinde bir anlatım bozukluğu vardır?

- A) Bir reklam aramız var, şimdi onu izleyelim.
- B) Etkili bir konuşma yapmak oldukça zor bir iştir.
- C) Annem yarın işi bırakacağını söyledi.
- D) Dans etmeye bayılıyorum.

12. Aşağıdaki cümlelerin hangisinde soyut anlatım vardır?

- A) Sevilirdim, üstüme titrenirdi.
- B) Evimizin bahçesini bahçıvan suladı.
- C) Yaz tatilinde küçük bir otele gitmek istiyorum.
- D) Kuş sesleriyle uyanacağımızı tahmin etmemiştim.

13. İletişimde dilin sanatsal işlevi ile ilgili aşağıdaki ifadelerden hangisi doğrudur?

- A) İleti belirli bir olguyu ifade eder.
- B) İletinin, iletisinin kendisinde olmasıdır.
- C) Obje iletinin kendisi değildir.
- D) İleti, insandan ve hayattan soyut bir kavram haline gelir.

14. Güncel olan herhangi bir konu hakkında, herhangi bir grup ya da topluluğa bilgi vermek amacıyla yapılan etkinliklerin tümüne birden ne ad verilir?

- A) Önerge
- B) Münazara
- C) Sohbet
- D) Sunum

15. Aşağıdaki cümlelerin hangisinde üçüncü kişi anlatımı vardır?

- A) Sana ne zaman istersen borç veririm.
- B) Çalışmanıza biz de yardımcı oluruz.
- C) Çocuk sessizce odasına girip yatar.
- D) Birlikte çok güzel vakit geçirdik.

16. Aşağıdakilerden hangisi panel başkanının görevlerinden biridir?

- A) Dinleyicilerin görüş belirtmelerine izin vermek
- B) Konuşmacıların konularını seçmelerine yardımcı olmak
- C) Her bir konuşmacı grubunu eleştirmek
- D) Panelin süresini dilediği gibi uzatmak ya da kısaltmak

17. Aşağıdakilerin hangisinde sözcüğün vanlıs yerde kullanılmasından kaynaklanan anlatım bozukluğu vardır?

- A) Bugün çok başım ağrıyor.
- B) Çiçekler ne güzel kokuyorlar.
- C) "Bu işin üstesinden gelemem." diyor.
- D) Sabahları erkenden yollara düşüyorlar.

18. Toplumı ilgilendiren bir konunun, dinleyiciler önünde, sohbet havası içinde uzmanları tarafından tartışıldığı konuşmalara ne ad verilir?

- A) Münazara
- B) Münakaşa
- C) Forum
- D) Panel

19. Tartışma yönteminin bir aşaması olan "tartışma probleminin seçimi" ile ilgili aşağıdaki ifadelerden hangisi vanlıştır?

- A) Problem seçilirken, katılımcıların ilgi ve tutumları ile konuyla ilgili ön bilgileri göz önünde bulundurmak gerekir.
- B) Problem cümlesi sadece soru olarak ifade edilebilir.
- C) Konu katılımcılar için ilgi çekici olmalıdır.
- D) Problem cümlesinin açık olması, konuyu tam olarak belirtmesi ve sınırlayabilmesi gerekir.

20. Aşağıdakilerden hangisi iletişimde "dilin heyecana bağlı işlevi" ile oluşturulan metinlerden biri değildir?

- A) Eleştiri yazıları
- B) Söylevler
- C) Özel mektuplar
- D) Lirik şiirler

1. $x^2 - 5x + 6 = 0$ denkleminin reel köklerinin kümesi aşağıdakilerden hangisidir?

- A) $\{2,3\}$
 B) $\{-3,-2\}$
 C) $\{-5,1\}$
 D) $\{-5,6\}$

2. $f(x) = x^2 - 2x + 1$ fonksiyonunun en küçük değeri kaçtır?

- A) -2
 B) 0
 C) 1
 D) 2

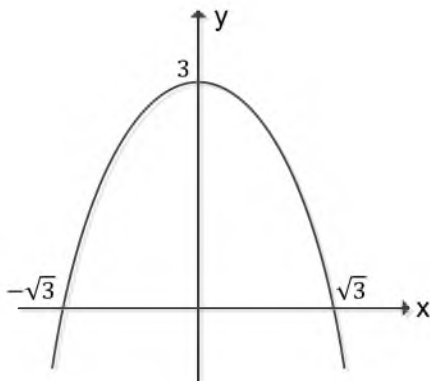
3. $P(x) = 1 + (3x - 1)^8$ polinomunun sabit terimi kaçtır?

- A) -1
 B) 0
 C) 1
 D) 2

4. $z = 1 + 3i$ kompleks sayısı için $z + \bar{z}$ aşağıdakilerden hangisidir?

- A) 2
 B) $6i$
 C) $2 + 6i$
 D) $2 - 6i$

5.



Yukarıda grafiği verilen ikinci dereceden fonksiyon aşağıdakilerden hangisidir?

- A) $x^2 - \sqrt{3}x + 3$
 B) $3 - x^2$
 C) $x^2 - 3x$
 D) $3x - x^2$

6. Dereceleri sırasıyla 4 ve 7 olan iki polinomun çarpımıyla elde edilen polinomun derecesi kaçtır?

- A) 4
 B) 7
 C) 11
 D) 28

7. $x + \frac{1}{x} = 2$ ise $x^2 + \frac{1}{x^2}$ ifadesinin değeri kaçtır?

- A) 2
 B) 3
 C) 4
 D) 6

8. $(4 + i) \cdot (1 + 3i)$ işleminin sonucu aşağıdakilerden hangisidir?

- A) $1 + 13i$
 B) $13 - i$
 C) $4 - i$
 D) $4 + 3i$

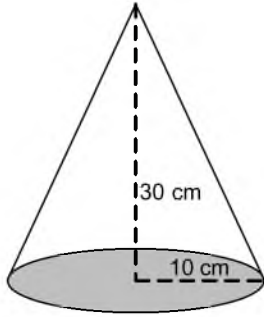
9. $x^3 - 5x^2 - 14x = 0$ denkleminin çözüm kümesi kaç elemanlıdır?

- A) 0
 B) 1
 C) 2
 D) 3

10. $P(x) = x^2 + 4x - 5$ polinomunun $2x - 4$ polinomu ile bölümünden elde edilen kalan kaçtır?

- A) -5
 B) 4
 C) 7
 D) 8

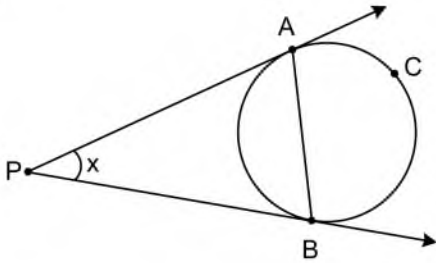
11.



Yukarıdaki taban yarıçap uzunluğu 10 cm ve yüksekliği 30 cm olan dik koninin hacmi kaç cm^3 tür?

- A) 10π
- B) 30π
- C) 300π
- D) 1.000π

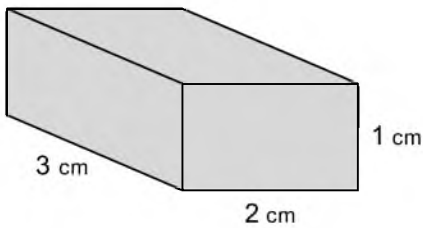
12.



Yukarıdaki şekilde ACB yayının ölçüsü 230° olduğuna göre $\text{APB}=x^\circ$ açısının ölçüsü kaç derecedir?

- A) 30
- B) 40
- C) 50
- D) 60

13.



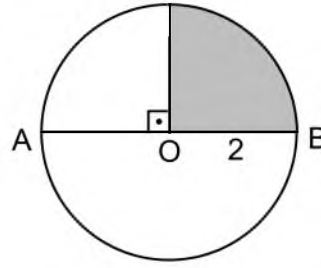
Yukarıdaki ayrıtları 1 cm, 2 cm ve 3 cm olan dikdörtgenler prizmasının yüzey alanı kaç cm^2 dir?

- A) 6
- B) 11
- C) 22
- D) 24

14. Yüzey alanı 150 cm^2 olan bir küpün hacmi kaç cm^3 tür?

- A) 125
- B) 150
- C) 625
- D) 900

15.




Yukarıdaki [AB] çaplı dairenin yarıçap uzunluğu 2 birim olduğuna göre, taralı bölgenin alanı kaç br^2 dir?

- A) $\frac{\pi}{2}$
- B) π
- C) 2π
- D) π^2

16. 20:30'u gösteren bir saatte akrep ile yelkovan arasındaki açının ölçüsü kaç derecedir?

- A) 45°
- B) 60°
- C) 75°
- D) 90°

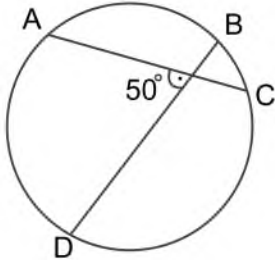
17.



Yukarıdaki taban yarıçap uzunluğu 1 br ve yüksekliği 4 br olan silindirin yüzey alanı kaç br^2 dir?

- A) π
- B) 4π
- C) 8π
- D) 10π

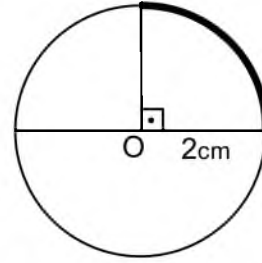
18.



Yukarıdaki çemberde BC yayının ölçüsü 15° olduğuna göre AD yayının ölçüsü kaç derecedir?

- A) 15
- B) 30
- C) 50
- D) 85

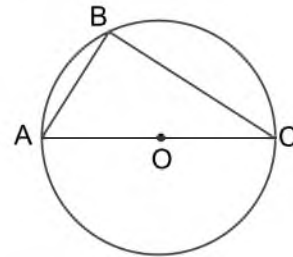
19.



Yukarıdaki yarıçapı 2 cm olan çemberin 90° lik ölçüye sahip bir yay parçasının uzunluğu kaç cm'dir?

- A) π
- B) 2π
- C) 4π
- D) $2\pi^2$

20.



Yukarıdaki şekilde A, B ve C noktaları O merkezli çemberin üzerinde bulunmaktadır. Çemberin yarıçapı 10 br ve $|AB|=6$ br olduğuna göre ABC üçgeninin alanı kaç br^2 dir?

- A) 8
- B) 24
- C) 36
- D) 48

1. Olayların merak uyandıracak ve şaşırtacak biçimde düzenlenerek çoğunlukla güldürmek amacıyla yazılan komedyaya türüne ne ad verilir?
 - A) Entrika komedyası
 - B) Karakter komedyası
 - C) Töre komedyası
 - D) Hayal komedyası
2. Aşağıdakilerden hangisi postmodern romanın özelliklerinden biridir?
 - A) Olay örgüsü üzerine kurulu bir anlatı tekniğine sahip olması
 - B) Sanatı bir tür oyun olarak görmesi
 - C) Aynı metin içerisinde tek anlatım tekniğini kullanması
 - D) Olayların uydurma ve kurmaca değil gözlem ve deneyime dayanması
3. Aşağıdakilerden hangisi Türk halk tiyatrosunun başlıca güldürü öğelerinden biri değildir?
 - A) Hayvanların insan gibi konuşmaları
 - B) Değişik yörelere özgü şive taklidi
 - C) Söz oyunları ve yanlış anlamalar
 - D) Kalıplaşmış davranışlar
4. İnsan yaşamının sınırsız kültür birikimi içinde yer alan ve insanı derinden etkileyen toplumsal, siyasi olaylar, inançlar, gelenek ve göreneklere bazen eleştirel bazen de bilimsel açıdan ele alıp anlatan roman türüne ne ad verilir?
 - A) Tarihi Roman
 - B) Sosyal Roman
 - C) Tahlil Romanı
 - D) Macera Romanı
5. Aşağıdakilerden hangisi çağdaş batı romanında kullanılan anlatım tekniklerinden biri değildir?
 - A) Görece zaman anlayışı
 - B) Montaj
 - C) Leitmotiv
 - D) Karışık anlatım
6. Mehmet Rauf tarafından yazılan ve Türk edebiyatının en başarılı psikolojik romanı olarak nitelendirilen eser aşağıdakilerden hangisidir?
 - A) Mai ve Siyah
 - B) Cimri
 - C) Eylül
 - D) Çalığışu

7. Seyircide acıma ve korku duyguları uyandırarak ruhu tutkularından temizlemek amacıyla yazılan ve kendine özgü kuralları bulunan drama çeşidine ne ad verilir?
 - A) Tiyatro
 - B) Tragedya
 - C) Komedyası
 - D) Dram
 8. Aşağıdakilerden hangisi ben merkezli hikâyenin özelliklerinden biri değildir?
 - A) Seçilmiş olay ve kişiler üzerine kurulması
 - B) Gerçeklikle hayallerin bir arada olması
 - C) Birinci şahsın ağzından anlatılması
 - D) Çarpıcı ve beklenmedik bir sonla bitirilmesi
 9. Aşağıdakilerden hangisi Karagöz oyunlarındaki kişilerden biri değildir?
 - A) Banker
 - B) Çelebi
 - C) Zenne
 - D) Tuzsuz Deli Bekir
 10. Aşağıdakilerden hangisi "köy seyirlik oyunlarının" özelliklerinden biridir?
 - A) Seçilen oyuna önceden hazırlık yapılması
 - B) Profesyonel oyuncular tarafından oynanması
 - C) Yazılı bir metnin bulunması
 - D) Ana öğesinin taklit olması
 11. Aşağıdakilerden hangisi müzikli oyun türlerinden biridir?
 - A) Fıkra
 - B) Dram
 - C) Revü
 - D) Absürd tiyatro
 12. "Orhan Veli 13 Nisan 1914'te Beykoz'da doğdu. Çocukluğu Beykoz ve Beşiktaş'ta geçti. İlk dört sınıfı Galatasaray Lisesi'nde okuyan Orhan Veli, 1925'te annesiyle beraber Ankara'ya gitti. "
- Yukarıda bir bölümü verilen eserin türü aşağıdakilerden hangisidir?
- A) Röportaj
 - B) Biyografi
 - C) Mülakat
 - D) Makale

13. Aşağıdakilerden hangisi fablın öğelerinden biri değildir?

- A) Olay
- B) Kişiler
- C) Mısra
- D) Zaman

14. Aşağıdakilerden hangisi komedya türlerinden biridir?

- A) Siyasi komedya
- B) Sosyal komedya
- C) Diyalog komedyası
- D) Yergi komedyası

15. Hikâye planında olayın geçtiği ortamın ve kişilerin tanıtıldığı, yer ve zamanın belirtildiği, olay ve olay kişilerinin betimlendiği bölüm aşağıdakilerden hangisidir?

- A) Tema
- B) Serim
- C) Düşüm
- D) Çözüm

16. Aşağıdaki hikayelerden hangisi Arap-İslam kaynaklıdır?

- A) Kerem ile Aslı
- B) Ferhat ile Şirin
- C) Leyla ile Mecnun
- D) Emrah ile Selvihan

17. Aşağıdakilerden hangisi “manzumenin” özelliklerinden biridir?

- A) Olay örgüsünün olması
- B) Çok anlamlılık ve imgelerin ağır basması
- C) Estetik kaygı taşıması
- D) Düz yazıyla ifade edilememesi

18. Aşağıdakilerden hangisi Batı etkisinde gelişen Türk edebiyatı nazım biçimlerinden biridir?

- A) Türkü
- B) Müztezat
- C) Şarkı
- D) Terzarima

19. Aşağıdakilerden hangisi operanın özelliklerinden biri değildir?

- A) Müzikli oyunların halka seslenen çeşidi olması
- B) Çok gösterişli dekor ve kıyafetler içinde sunulması
- C) Baştan sona bestelenmiş bir oyun çeşidi olması
- D) Ana karakterlerinin lirizm, aşk ve mistisizm olması

20. Aşağıdaki kelimelerden hangisinin anlamı vanlıs verilmiştir?

- A) Piyas: Tiyatro eserlerine verilen genel ad
- B) Mimik: Oyuncunun sahnede canlandığı kişilik
- C) Perde: Oyunların gelişmesine göre oluşan bölümler
- D) Aksesuar: Dekora yardımcı olan küçük eşyalar

1. A: Hast du meine Schlüssel gesehen?
B: Ja, sie sind hier der Schublade.

Welches ergänzt die Lücke im obigen Dialog?

Verilen karşılıklı konuşmada boş bırakılan yeri aşağıdakilerden hangisi tamamlar?

- A) zu
B) an
C) aus
D) in

2. A: Warum lachst du?
B: Weil ich

Welches ergänzt den obigen Dialog?

Verilen karşılıklı konuşmayı aşağıdakilerden hangisi tamamlar?

- A) überlegen habe.
B) langweilig ist.
C) das lustig finde.
D) müde wäre.

3. Was bedeutet "değiştirmek" auf Deutsch?

"değiştirmek" sözcüğünün Almancası aşağıdakilerden hangisidir?

- A) ändern
B) läuten
C) üben
D) überlegen

4. Ich komme gerade aus Italien und

Welches ergänzt die Lücke im obigen Satz?

Verilen cümleyi aşağıdakilerden hangisi tamamlar?

- A) drei Monate später fahre ich nach Spanien.
B) spreche ich immer auf Deutsch.
C) hast für die Prüfung zu arbeiten.
D) wollte unbedingt morgen zu mir kommen.

5. Ich lag im Bett und laß mein Buch.

Welche Frage passt zur obigen Antwort?

Verilen cevabı gerektirecek soru aşağıdakilerden hangisidir?

- A) Wem wollten Sie das Buch geben?
B) Wie heißt das Buch, das Sie lesen?
C) Was haben Sie gestern abend um zehn Uhr gemacht?
D) Wann sind Sie gestern abend nach Hause gegangen?

6. Hakan geht Ahmet ins Kino.

Welches Wort passt in die obige Lücke?

Cümlede boş bırakılan yeri aşağıdakilerden hangisi doğru şekilde tamamlar?

- A) sonst
B) oder
C) und
D) mit

7. Mein Bett ist meinem Tisch und meinem Schrank.

Welches Wort passt in die obige Lücke?

Cümlede boş bırakılan yeri aşağıdakilerden hangisi doğru şekilde tamamlar?

- A) zwischen
B) auf
C) in
D) unter

8. Wie lautet das Substantiv "der Tag" in der Adjektivform?

"der Tag" isminin sıfat hali aşağıdakilerden hangisidir?

- A) täglich
B) tagkeit
C) tagheit
D) tagten

9. Silvia wählt mit dem klein..... schwarz..... Schalter ihr Programm.

Welche Endungen passen in die obigen Lücken?

Cümlede boş bırakılan yerleri aşağıdaki son eklerden hangisi tamamlar?

- A) -em / -en
- B) -en / -en
- C) -er / -er
- D) -e / -es

10. Wir geben Ihnen Garantie 2 Jahre.

Welche Wörter passen in die obigen Lücken?

Cümlede boş bırakılan yerleri aşağıdakilerden hangileri doğru şekilde tamamlar?

- A) noch / schon
- B) nur / zum
- C) volle / für
- D) immer / aus

11. Was ist ein Schachgenie?

Welche Antwort passt zur obigen Frage?

Verilen sorunun cevabı aşağıdakilerden hangisidir?

- A) Ein Schachgenie kann fantastisch Schach spielen.
- B) Jemand, der sehr gut kochen kann.
- C) Ein Schachgenie beherrscht alle Wissenschaften.
- D) Jemand, der sehr viel Geld verdient.

12. A:

B: Sie müssen auf den zweiten roten Knopf drücken.

A: Danke sehr!

Welches ergänzt die Lücke im obigen Dialog?

Verilen karşılıklı konuşmada boş bırakılan yeri aşağıdakilerden hangisi tamamlar?

- A) Wo hast du das Werkzeug verloren?
- B) Haben Sie neue Waren?
- C) Wie funktioniert dieses Gerät?
- D) Hast du den roten Knopf gesehen?

13. dem großen Schalter wählen Sie Ihr gewünschtes Programm.

Welches Wort passt in die obige Lücke?

Cümlede boş bırakılan yeri aşağıdakilerden hangisi doğru şekilde tamamlar?

- A) Zum
- B) Mit
- C) Auf
- D) Um

14. Was bedeutet "Huzurevi" auf Deutsch?

"Huzurevi" sözcüğünün Almancası aşağıdakilerden hangisidir?

- A) Das Altenheim
- B) Der Bücherwurm
- C) Der Fremdenverkehr
- D) Die Rechenmaschine

15. Kayak yapmak ister misin?

Wie lautet der obige Satz auf Deutsch?

Verilen cümlenin Almancası aşağıdakilerden hangisidir?

- A) Hatten Sie Zeit zum Ski laufen?
- B) Bist du Ski gelaufen?
- C) Möchtest du Ski laufen?
- D) Möchtet ihr Ski laufen?

16. Am Sonntag bin ich zu Hause geblieben.

Wie lautet der obige Satz im Präsens?

Verilen cümlelerin şimdiki zaman şekli aşağıdakilerden hangisidir?

- A) Am Sonntag soll ich zu Hause bleiben.
- B) Am Sonntag bleibe ich zu Hause.
- C) Sonntags kann ich zu Hause bleiben.
- D) Sonntags bliebte ich nicht gerne zu Hause.

17. Weil er den Wasserhahn nicht zugeht hat.

Welche Frage passt zur obigen Antwort?

Verilen cevabı gerektirecek soru aşağıdakilerden hangisidir?

- A) Warum gehst du ins Badezimmer?
- B) Wo ist das Badezimmer?
- C) Was machst du im Badezimmer?
- D) Warum stand das Badezimmer unter Wasser?

18. Er frühstückt um acht Uhr.

Wie lautet der obige Satz im Futur?

Verilen cümlelerin gelecek zaman şekli aşağıdakilerden hangisidir?

- A) Er kann um acht Uhr frühstücken.
- B) Er wird um acht Uhr frühstücken.
- C) Er hatte um acht gefrühstückt.
- D) Er muss um acht Uhr gefrühstückt haben.

19. Ich möchte mit dir zusammen eine Reise machen.

Welches hat die gleiche Bedeutung mit dem obigen Satz?

Verilen cümle ile aynı anlamı taşıyan aşağıdakilerden hangisidir?

- A) Ich möchte dich zu mir einladen.
- B) Ich habe Reisepläne gemacht.
- C) Ich plane eine Reise in dein Land.
- D) Ich möchte mit dir zusammen verreisen.

20. Das Hotel / Die Pension / Das Motel / Das Hochhaus

Welches Wort passt nicht zu den anderen in der obigen Wortgruppe?

Verilen sözcük grubuna uymayan aşağıdakilerden hangisidir?

- A) Das Hotel
- B) Das Motel
- C) Die Pension
- D) Das Hochhaus

1. trousers are very trendy.

Which of the following completes the sentence above?

Aşağıdakilerden hangisi yukarıdaki cümleyi doğru olarak tamamlar?

- A) They
B) That
C) These
D) This

2. I am good at football my brother isn't.

Which of the following completes the sentence above?

Aşağıdakilerden hangisi yukarıdaki cümleyi doğru olarak tamamlar?

- A) but
B) and
C) because
D) or

3. A: Do we have any eggs for the cake?
B: Yes, we have eggs.

Which of the following completes the dialogue above?

Aşağıdakilerden hangisi yukarıdaki konuşmayı doğru olarak tamamlar?

- A) some
B) any
C) a
D) much

4. Mrs. Pitt is going to to Liverpool after lunch.

Which of the following completes the sentence above?

Aşağıdakilerden hangisi yukarıdaki cümleyi doğru olarak tamamlar?

- A) drives
B) driving
C) drove
D) drive

5. Cansu opened the door saw a strange woman.

Which of the following completes the sentence above?

Aşağıdakilerden hangisi yukarıdaki cümleyi doğru olarak tamamlar?

- A) or
B) so
C) and
D) for

6. At the moment we ready for the party.

Which of the following completes the sentence above?

Aşağıdakilerden hangisi yukarıdaki cümleyi doğru olarak tamamlar?

- A) got
B) get
C) are getting
D) will get

7. She doesn't drink water.

Which of the following completes the sentence above?

Aşağıdakilerden hangisi yukarıdaki cümleyi doğru olarak tamamlar?

- A) very
B) many
C) few
D) much

8. handbag is this here?

Which of the following completes the sentence above?

Aşağıdakilerden hangisi yukarıdaki cümleyi doğru olarak tamamlar?

- A) What
B) Where
C) Who
D) Whose

9. Amy usually books in her free time.

Which of the following completes the sentence above?

Aşağıdakilerden hangisi yukarıdaki cümleyi doğru olarak tamamlar?

- A) reads
B) read
C) is reading
D) is going to read

10. Kylie often eats salad for dinner.

Which of the following is the Turkish translation of the sentence above?

Aşağıdakilerden hangisi yukarıdaki cümlelerin Türkçe karşılığıdır?

- A) Kylie akşam yemeğinde ara sıra salata yer.
B) Kylie akşam yemeğinde sık sık salata yer.
C) Kylie akşam yemeğinde daima salata yer.
D) Kylie akşam yemeğinde genellikle salata yer.

11. A: do the banks open everyday?
B: The banks open at 9.00 am.

Which of the following completes the sentence above?

Aşağıdakilerden hangisi yukarıdaki cümleyi doğru olarak tamamlar?

- A) When
B) Why
C) What
D) How

12. My sister never milk.

Which of the following completes the sentence above?

Aşağıdakilerden hangisi yukarıdaki cümleyi doğru olarak tamamlar?

- A) drink
B) drinking
C) drinks
D) will drink

13. Mark doesn't have friends.

Which of the following completes the sentence above?

Aşağıdakilerden hangisi yukarıdaki cümleyi doğru olarak tamamlar?

- A) much
B) many
C) a little
D) a

14. There was a in front of my neighbour's house.

Which of the following completes the sentence above?

Aşağıdakilerden hangisi yukarıdaki cümleyi doğru olarak tamamlar?

- A) nice old English car
B) English nice old car
C) nice English old car
D) old nice English car

15. Liz: Are the children breakfast now?
Emily: Yes, they are.

Which of the following completes the dialogue above?

Aşağıdakilerden hangisi yukarıdaki konuşmayı doğru olarak tamamlar?

- A) have
B) having
C) had
D) has

16. Paris is the capital city of France.

Which of the following completes the sentence above?

Aşağıdakilerden hangisi yukarıdaki cümleyi doğru olarak tamamlar?

- A) An
B) The
C) (--)
D) A

17. My friend, Julie visits aunt every Saturday.

Which of the following completes the sentence above?

Aşağıdakilerden hangisi yukarıdaki cümleyi doğru olarak tamamlar?

- A) his
- B) she
- C) him
- D) her

18. clock on the wall doesn't work properly.

Which of the following completes the sentence above?

Aşağıdakilerden hangisi yukarıdaki cümleyi doğru olarak tamamlar?

- A) Is
- B) That
- C) These
- D) Those

19. My sister drinks glass of milk before sleeping.

Which of the following completes the sentence above?

Aşağıdakilerden hangisi yukarıdaki cümleyi doğru olarak tamamlar?

- A) an
- B) the
- C) –
- D) a

20. Mr Branson always a shower in the mornings.

Which of the following completes the sentence above?

Aşağıdakilerden hangisi yukarıdaki cümleyi doğru olarak tamamlar?

- A) take
- B) takes
- C) is taking
- D) will take

1. - Depuis jouez-vous de la musique?
- Depuis 5 ans.

Choisissez l'expression qui convient.

Yukarıdaki konuşmada boş bırakılan yeri aşağıdakilerden hangisi doğru şekilde tamamlar?

- A) combien
B) combien de temps
C) quand
D) comment

2. C'est une poupée marche.

Choisissez le mot qui convient.

Cümledeki boşluğu aşağıdakilerden hangisi doğru şekilde tamamlar?

- A) qui
B) que
C) et
D) ce qui

3. «Bugün hava ne soğuk, ne de sıcak.»

Choisissez la traduction qui convient.

Yukarıdaki cümlelerin Fransızca karşılığı aşağıdakilerden hangisidir?

- A) Aujourd'hui, il fait froid et chaud.
B) Demain, il fera froid et chaud.
C) Demain, il ne fera ni froid ni chaud.
D) Aujourd'hui, il fait ni froid ni chaud.

4. Achetez vous voulez.

Choisissez le mot qui convient.

Cümledeki boşluğu aşağıdakilerden hangisi doğru şekilde tamamlar?

- A) que
B) puisque
C) ce que
D) qui

5. Ne pas ton parapluie!

Choisissez le mot qui convient.

Cümledeki boşluğu aşağıdakilerden hangisi doğru şekilde tamamlar?

- A) prendre
B) prend
C) prends
D) pris

6. Paul : Je voudrais réserver une place.
L'employé:?
Paul : Pour Marseille.

Choisissez la réplique qui convient.

Yukarıdaki konuşmada boş bırakılan yeri aşağıdakilerden hangisi doğru şekilde tamamlar?

- A) Pour où Monsieur
B) Pour une personne
C) Oui, Monsieur, quel jour
D) On part quand

7. - Tu as téléphoné à Marie ?
- Oui, je ai téléphoné.

Choisissez le mot qui convient.

Yukarıdaki konuşmada boş bırakılan yeri aşağıdakilerden hangisi doğru şekilde tamamlar?

- A) y
B) la
C) en
D) lui

8. elle triste, Noémie pleure.

Choisissez le mot qui convient.

Cümledeki boşluğu aşağıdakilerden hangisi doğru şekilde tamamlar?

- A) Comme
B) Car
C) Mais
D) Comment

9. tu n'as pas d'argent, tu ne peux pas aller au cinéma.

Choisissez le mot qui convient.

Cümledeki boşluğu aşağıdakilerden hangisi doğru şekilde tamamlar?

- A) Car
B) Puisque
C) Personne
D) Pourquoi

10. Je conseille d'acheter cette cravate.

Choisissez le mot qui convient.

Cümledeki boşluğu aşağıdakilerden hangisi doğru şekilde tamamlar?

- A) suis
B) vous
C) le
D) peux

11. - Tu as mangé des pommes?

- Non,

Choisissez l'expression qui convient.

Yukarıdaki konuşmada boş bırakılan yeri aşağıdakilerden hangisi doğru şekilde tamamlar?

- A) je n'en mange pas
B) je dois en manger
C) je n'en ai pas mangé
D) j'en mange

12. Il court parce qu'il est

Choisissez l'expression qui convient.

Cümledeki boşluğu aşağıdakilerden hangisi doğru şekilde tamamlar?

- A) en retard
B) à la mode
C) en voiture
D) à Paris

13. - Vous allez à l'école en voiture?
- Non, nous allons à pied.

Choisissez le mot qui convient.

Yukarıdaki konuşmada boş bırakılan yeri aşağıdakilerden hangisi doğru şekilde tamamlar?

- A) de
B) au
C) y
D) en

14. I. Pierre est étudiant à la Sorbonne.
II. Il va devenir avocat.
III. C'est une université célèbre.
IV. Il lit donc beaucoup de livres.

Trouvez la phrase qui ne convient pas.

Cümleler sırasıyla okunduğunda, anlam bütünlüğünü bozan cümleyi bulunuz.

- A) I
B) II
C) III
D) IV

15. Eric : Ouvre la fenêtre?
Noémie : Quoi?
Eric : Je te dis la fenêtre.

Choisissez l'expression qui convient.

Yukarıdaki konuşmada boş bırakılan yeri aşağıdakilerden hangisi doğru şekilde tamamlar?

- A) ne pas ouvrir
B) d'ouvrir
C) de ne pas ouvrir
D) ouvrir

16. «Ağlayan bir çocuk gördüğünde ne yaparsın?»

Choisissez la traduction qui convient.

Yukarıdaki cümlelerin Fransızca karşılığı aşağıdakilerden hangisidir?

- A) Qu'est-ce que cet enfant fait en pleurant?
- B) Qu'est-ce que tu dis quand un enfant pleure?
- C) Que fait un enfant quand il pleure?
- D) Que fais-tu quand tu vois un enfant qui pleure?

17. Les cours sont donnés un enseignant compétent.

Choisissez le mot qui convient.

Cümledeki boşluğu aşağıdakilerden hangisi doğru şekilde tamamlar?

- A) sur
- B) avant
- C) par
- D) de

18. Pierre : Tu connais Marie?

Paul : Non,

Pierre : Ah bon!

Paul :

Pierre : C'est ma cousine.

Choisissez les expressions qui conviennent.

Yukarıdaki konuşmada boş bırakılan yerleri aşağıdakilerden hangisi doğru şekilde tamamlar?

- A) je la connais / C'est pourquoi
- B) je ne le connais pas / C'est quand
- C) je ne la connais pas / C'est quoi
- D) je ne la connais pas / C'est qui

19. «Ne copiez pas!»

Choisissez la traduction qui convient.

Yukarıdaki cümlelerin Türkçe karşılığı aşağıdakilerden hangisidir?

- A) Kopya çekilmez!
- B) Kopya çekmeyin!
- C) Kopya çekmemelisiniz!
- D) Kopya yanlıştır!

20. -

- Je veux bien un thé.

Choisissez la question qui convient.

Yukarıdaki konuşmada cevabı gerektiren soru aşağıdakilerden hangisidir?

- A) Vous voulez quelque chose à boire?
- B) Tu as quelque chose pour ouvrir cette bouteille?
- C) Vous n'avez rien trouvé?
- D) Entendez-vous quelque chose?

1. Nüfus ile ilgili aşağıdaki ifadelerden hangisi vanlıştır?

- A) Nüfusa dinamizm kazandıran, doğumlar, ölümler, iç ve dış göçlerdir.
- B) Nüfusun yapısını, cinsiyet, yaş, meslek grupları belirtir.
- C) Bir ülke nüfusunda 20-60 yaş arasındaki olgunlar diliminin büyük olması, ekonomik faaliyetleri azaltır.
- D) Bir ülkede nüfus sayısı o ülkenin ekonomik faaliyet hacmini, ekonomik gücünü belirleyen bir etkidir.

2. Aşağıdakilerden hangisi verimliliğe etki eden objektif etkenlerden biridir?

- A) Ücretin kesintiye uğraması
- B) Çalışanların terfilerinde kayırmacılığın artması
- C) İşçinin ücret kesintisi korkusu yaşaması
- D) İşyerinin sağlık ve teknik bakımından havalandırılması

3. Aşağıdakilerden hangisi sübjektif emeğe bir örnektir?

- A) Kumaş dokumak
- B) Taş kırmak
- C) Kitap okumak
- D) Tarladan ürün toplamak

4. Aşağıdakilerden hangisi hızlı nüfus artışının olumsuz yönlerinden biridir?

- A) Doğal kaynakların işletilmesini kolaylaştırması
- B) Yeni kurumların benimsenmesini ve ekonomik faaliyetlerin hızlanmasını sağlaması
- C) Kişilerin mekân içinde ve meslekler arasında hareketliliğini sağlaması
- D) Kamu yönetiminin yol, kanalizasyon, su, elektrik gibi altyapı hizmetlerini yürütmesinin zorlaştırması

5. Bedenen yapılan çalışmalar hangi emek sınıflaması içinde yer alır?

- A) Yaratıcı emek
- B) Sübjektif emek
- C) Karşılaştırmalı emek
- D) Objektif emek

6. Uzun vadeli borçların süresiyle ilgili aşağıdaki ifadelerden hangisi doğrudur?

- A) 3-6 aydır.
- B) 6 ay-1 yıldır.
- C) 1-3 yıldır.
- D) 3 yıl ve daha uzun vadelerdir.

7. İhtiyaçların karşılanması için gerekli olan malların üretiminde kullanılmak amacıyla elde edilmiş olan aracı mallara ekonomik anlamda ne ad verilir?

- A) Sermaye
- B) Rant
- C) Servet
- D) Dönen varlık

8. Aşağıdakilerden hangisi, tasarrufa etki eden objektif faktörlerden biri değildir?

- A) Kişilerin servetlerinin gelecekteki değeri
- B) Faiz alma isteği
- C) Miras bırakmak isteği
- D) Kişilerin gelir düzeyi

9. Aşağıdakilerden hangisi öz sermaye içinde ver almaz?

- A) Kuruluşun sağladığı kârın sahiplerine dağıtılmayarak işletmede bırakılan kısmı
- B) Kuruluşun çalışanlarına olan borçları
- C) Faaliyetlerin devamı süresince kuruluş sahipleri tarafından getirilen para
- D) Kâr üzerinden alınan yedek akçe

10. Aşağıdakilerden hangisi dönen varlıklardandır?

- A) Üretimde kullanılan hammaddeler
- B) Araziler
- C) Üretimin yapıldığı makineler
- D) Üretimin yapıldığı bina

11. Aşağıdakilerden hangisi, girişimcinin teknik işlevlerinden biri değildir?

- A) Kuruluş yerini seçmek
- B) Tüketicilerin satın alma güçlerine uygun mal ve hizmetleri üretmek
- C) Üretime katılan faktörlerin payını belirlemek
- D) Üretim faktörlerinin nasıl sağlanacağını belirlemek

12. Kolektif şirket ile ilgili aşağıdaki ifadelerden hangisi yanlıştır?

- A) Belirli bir unvan altında az sayıda ortak tarafından kurulur.
- B) Ortakların sorumluluğu şirkete koydukları sermaye ile sınırlıdır.
- C) Ortaklar çoğunlukla şirketi genişletecek cesareti gösteremezler.
- D) Ortaklar, şirketin çıkarları için çok çaba sarf ederler.

13. Aşağıdakilerden hangisi girişimcinin başlıca özelliklerinden biri değildir?

- A) Girişimci, toplum sağlığını her şeyin önünde tutan kişidir.
- B) Girişimci, üretim faktörlerinden yararlanarak mal ve hizmet üreten kişidir.
- C) Girişimci, girişim faaliyetlerinden doğan riskleri üstlenen kişidir.
- D) Girişimci, üretim faktörlerini akılcı bir şekilde sağlayan kişidir.

14. Sigortacılıktan başka her türlü ticari iş ile uğraşmak üzere kurulan, sorumlulukları gerek şirket, gerek ortaklar için konan sermaye ile sınırlandırılmış olan şirketlere ne ad verilir?

- A) Kolektif şirket
- B) Adi komandit şirket
- C) Limited şirket
- D) Anonim şirket

15. Sermayenin tamamı devlete ait olan ve tekel niteliğindeki mallar ile temel mal ve hizmetleri üretmek ve pazarlamak amacıyla yasayla kurulan, kamu hizmeti niteliği ağır basan kuruluşlara ne ad verilir?

- A) İktisadi Devlet Teşekkülleri
- B) İştirak
- C) Bağlı ortaklık
- D) Kamu İktisadi Kuruluşları

16. Gayri Safi gelirden girişimcinin üretim giderleri çıktıktan sonra kalan miktara ne ad verilir?

- A) Gerçek kâr
- B) Safi gelir
- C) Öz sermaye
- D) Servet

17. Türkiye Cumhuriyeti Merkez Bankası tarafından belirlenen faize ne ad verilir?

- A) Bağlı faiz
- B) Reel faiz
- C) Nominal faiz
- D) Serbest faiz

18. Atatürk, milli ekonominin temelini hangi sektöre bağlamıştır?

- A) Sanayi
- B) Hizmet
- C) Tarım
- D) Ulaştırma

19. Bir işçinin itibari ücretinin satın alma gücüne ne ad verilir?

- A) Reel ücret
- B) Nakdi ücret
- C) Ayni ücret
- D) Zamana göre ücret

20. Bir servetten doğan gelirlere ne ad verilir?

- A) İtibari gelir
- B) Temelli gelir
- C) Marjinal gelir
- D) Gerçek gelir

1. Sally does her homework than me.

Which of the following completes the sentence above?

Aşağıdakilerden hangisi yukarıdaki cümleyi doğru olarak tamamlar?

- A) faster
B) fastest
C) more fast
D) fast

2. Elaine a lot of nice people when she visited Turkey.

Which of the following completes the sentence above?

Aşağıdakilerden hangisi yukarıdaki cümleyi doğru olarak tamamlar?

- A) meets
B) met
C) has met
D) is meeting

3. Robots the world in the future.

Which of the following completes the sentence above?

Aşağıdakilerden hangisi yukarıdaki cümleyi doğru olarak tamamlar?

- A) will control
B) have controlled
C) controlled
D) are controlling

4. Carol has been playing basketball 1995.

Which of the following completes the sentence above?

Aşağıdakilerden hangisi yukarıdaki cümleyi doğru olarak tamamlar?

- A) ago
B) from
C) for
D) since

5. Mary used to basketball when she was fifteen.

Which of the following completes the sentence above?

Aşağıdakilerden hangisi yukarıdaki cümleyi doğru olarak tamamlar?

- A) is playing
B) has played
C) played
D) play

6. These books are than those books.

Which of the following completes the sentence above?

Aşağıdakilerden hangisi yukarıdaki cümleyi doğru olarak tamamlar?

- A) cheaper
B) cheap
C) more cheap
D) the cheap

7. Valerie has never played football, ?

Which of the following completes the sentence above?

Aşağıdakilerden hangisi yukarıdaki cümleyi doğru olarak tamamlar?

- A) have she
B) has she
C) is she
D) does she

8. He a doctor in the future.

Which of the following completes the sentence above?

Aşağıdakilerden hangisi yukarıdaki cümleyi doğru olarak tamamlar?

- A) will be
B) will being
C) is be
D) been

9. There a big park in the city but now there isn't.

Which of the following completes the sentence above?

Aşağıdakilerden hangisi yukarıdaki cümleyi doğru olarak tamamlar?

- A) used to been
- B) used
- C) used to be
- D) used to being

10. I haven't seen him years.

Which of the following completes the sentence above?

Aşağıdakilerden hangisi yukarıdaki cümleyi doğru olarak tamamlar?

- A) now
- B) for
- C) after
- D) ago

11. Finish your homework,?

Which of the following completes the sentence above?

Aşağıdakilerden hangisi yukarıdaki cümleyi doğru olarak tamamlar?

- A) shall we
- B) did you
- C) do you
- D) will you

12. What were you doing when I you last night?

Which of the following completes the sentence above?

Aşağıdakilerden hangisi yukarıdaki cümleyi doğru olarak tamamlar?

- A) call
- B) called
- C) has called
- D) calling

13. I have had my glasses ten years.

Which of the following completes the sentence above?

Aşağıdakilerden hangisi yukarıdaki cümleyi doğru olarak tamamlar?

- A) then
- B) for
- C) since
- D) ago

14. He in the park when it started to rain.

Which of the following completes the sentence above?

Aşağıdakilerden hangisi yukarıdaki cümleyi doğru olarak tamamlar?

- A) ran
- B) is running
- C) runs
- D) was running

15. Jane a newspaper while she was waiting at the bus-stop.

Which of the following completes the sentence above?

Aşağıdakilerden hangisi yukarıdaki cümleyi doğru olarak tamamlar?

- A) is reading
- B) reading
- C) was reading
- D) reads

16. Let's play a game, ?

Which of the following completes the sentence above?

Aşağıdakilerden hangisi yukarıdaki cümleyi doğru olarak tamamlar?

- A) does we
- B) do we
- C) shall we
- D) do they

17. While Mike was going to school, he an accident.

Which of the following completes the sentence above?

Aşağıdakilerden hangisi yukarıdaki cümleyi doğru olarak tamamlar?

- A) see
- B) is seeing
- C) have seen
- D) saw

18. She was cooking the electricity went off.

Which of the following completes the sentence above?

Aşağıdakilerden hangisi yukarıdaki cümleyi doğru olarak tamamlar?

- A) when
- B) which
- C) while
- D) who

19. Zeynep studies regularly,?

Which of the following completes the sentence above?

Aşağıdakilerden hangisi yukarıdaki cümleyi doğru olarak tamamlar?

- A) does she
- B) is she
- C) doesn't she
- D) did she

20. Lucy is a careful driver. I think she drives than me.

Which of the following completes the sentence above?

Aşağıdakilerden hangisi yukarıdaki cümleyi doğru olarak tamamlar?

- A) careless
- B) careful
- C) more carefully
- D) carefully

1. Il a mangé est toute verte.

Choisissez les mots qui conviennent.

Cümledeki boşlukları aşağıdakilerden hangisi doğru şekilde tamamlar?

- A) une pomme / qui
B) un abricot / que
C) une prune / que
D) un gâteau / qui

2. malade, elle n'est pas allée à l'école.

Choisissez le mot qui convient.

Cümledeki boşluğu aşağıdakilerden hangisi doğru şekilde tamamlar?

- A) Etant
B) Ayant
C) Marchant
D) Faisant

3. les / j'aime / brillantes / lumières
I II III IV

Mettez dans le bon ordre.

Yukarıdaki kelimelerin anlamlı ve kurallı bir bütün oluşturan sırası aşağıdakilerin hangisinde doğru olarak verilmiştir?

- A) II, I, III, IV
B) II, I, IV, III
C) III, IV, I, II
D) III, IV, II, I

4. Il peut jouer piano.

Choisissez le mot qui convient.

Cümledeki boşluğu aşağıdakilerden hangisi doğru şekilde tamamlar?

- A) du
B) au
C) de la
D) de

5. Elles pratiquent un sport.

Choisissez le mot qui convient.

Cümledeki boşluğu aşağıdakilerden hangisi doğru şekilde tamamlar?

- A) régulièrement
B) régulier
C) régulière
D) façon régulière

6. Il fait chaud, il

Choisissez l'expression qui convient.

Cümledeki boşluğu aşağıdakilerden hangisi doğru şekilde tamamlar?

- A) fait du soleil
B) pleut
C) neige
D) y a du vent

7. Les courses se font au

Choisissez le mot qui convient.

Cümledeki boşluğu aşağıdakilerden hangisi doğru şekilde tamamlar?

- A) librairie
B) cinéma
C) théâtre
D) supermarché

8. «Yurtdışına çıkmak için pasaport sahibi olmak gerekir.»

Choisissez la traduction qui convient.

Yukarıdaki cümlelerin Fransızca karşılığı aşağıdakilerden hangisidir?

- A) Le passeport est obligatoire à l'étranger.
B) Il faut avoir un passeport pour partir à l'étranger.
C) Il est possible d'avoir un passeport pour partir à l'étranger.
D) Il doit demander passeport pour partir à l'étranger.

9. Jacques et Claudine sont mariés. C'est un

Choisissez le mot qui convient.

Cümledeki boşluğu aşağıdakilerden hangisi doğru şekilde tamamlar?

- A) personnage
B) ami
C) couple
D) amie

10. C'est un policier.

Choisissez le mot qui convient.

Cümledeki boşluğu aşağıdakilerden hangisi doğru şekilde tamamlar?

- A) photo
B) émission
C) roman
D) peinture

11. La robe ma mère a choisi coûte 50 euros.

Choisissez le mot qui convient.

Cümledeki boşluğu aşağıdakilerden hangisi doğru şekilde tamamlar?

- A) dernière
B) où
C) que
D) qui

12. I. Ma mère a acheté un livre.
II. C'est un livre bien imprimé.
III. Il y a beaucoup de dessins.
IV. Je lis une lettre.

Trouvez la phrase qui ne convient pas.

Cümleler sırasıyla okunduğunda, anlam bütünlüğünü bozan cümleyi bulunuz.

- A) I
B) II
C) III
D) IV

13. «L'heure où mon fils s'endort est 21 heures.»

Choisissez la traduction qui convient.

Yukarıdaki cümlelerin Türkçe karşılığı aşağıdakilerden hangisidir?

- A) Kızım saat 21'de uyur.
B) Oğlumun uyandığı saat 21'dir.
C) Kızım saat 21'de uyanır.
D) Oğlumun uyuduğu saat 21'dir.

14. «Ağlayarak gittim.»

Choisissez la traduction qui convient.

Yukarıdaki cümlelerin Fransızca karşılığı aşağıdakilerden hangisidir?

- A) Je pars en pleurant.
B) Je suis partie en pleurant.
C) Je vais en pleurant.
D) Je viens en pleurant.

15. L'enfant tu m'as parlé est ici.

Choisissez le mot qui convient.

Cümledeki boşluğu aşağıdakilerden hangisi doğru şekilde tamamlar?

- A) qui
B) que
C) où
D) dont

16. L'automne est une

Choisissez le mot qui convient.

Cümledeki boşluğu aşağıdakilerden hangisi doğru şekilde tamamlar?

- A) année
B) jour
C) saison
D) semaine

17. C'est toi qui beaucoup.

Choisissez le mot qui convient.

Cümledeki boşluğu aşağıdakilerden hangisi doğru şekilde tamamlar?

- A) mangé
B) manger
C) mangeais
D) mangeait

18. Nous du ski la semaine prochaine.

Choisissez le mot qui convient.

Cümledeki boşluğu aşağıdakilerden hangisi doğru şekilde tamamlar?

- A) avons fait
B) apprendrons
C) faisons
D) ferons

19. quelles conditions vous viendrez avec nous?

Choisissez l'expression/le mot qui convient.

Cümledeki boşluğu aşağıdakilerden hangisi doğru şekilde tamamlar?

- A) Dans
B) Qui
C) En
D) Où

20. Lisa : Qu'est-ce que tu écoutes?
Henri :

Choisissez la réponse qui convient.

Yukarıdaki konuşmada soruyu gerektiren cevap aşağıdakilerden hangisidir?

- A) Les romans
B) Les BD
C) La radio
D) Les livres

1. kann nicht laufen, sondern schleichen.

Welches Wort passt in die obige Lücke?

Cümlede boş bırakılan yeri aşağıdakilerden hangisi tamamlar?

- A) Ein Tiger
B) Eine Schildkröte
C) Ein Pferd
D) Eine Schlange

2. Das Fahrrad steht dem Haus.

Welches Wort passt in die obige Lücke?

Cümlede boş bırakılan yeri aşağıdakilerden hangisi tamamlar?

- A) aus
B) vor
C) zwischen
D) über

3. Es bedeutet auf Wiedersehen sagen.

Welche Frage passt zur obigen Antwort?

Verilen cevabı gerektirecek soru aşağıdakilerden hangisidir?

- A) Hast du Kopfschmerzen?
B) Wo darf man hier rauchen?
C) Was bedeutet mit der Hand winken?
D) Kannst du Deutsch sprechen?

4. Spanisch wird in Spanien gesprochen.

Welche Frage passt zur obigen Antwort?

Verilen cevabı gerektirecek soru aşağıdakilerden hangisidir?

- A) Kannst du Spanisch sprechen?
B) Wo wird Spanisch gesprochen?
C) Wie hast du Spanisch gelernt?
D) Wer möchte Spanisch lernen?

5. **Welches zusammengesetzte Wort ist falsch?**

Verilen birleşik sözcüklerden hangisi yanlış?

- A) Das Haustier
B) Die Fremdsprache
C) Der Gestenkörper
D) Das Handzeichen

6. Für die Zukunft wünsche ich mir, daß ich in einer Band mitspielen kann., das wäre das Größte für mich!

Welcher Satz ergänzt die obige Lücke?

Verilen cümleyi aşağıdakilerden hangisi tamamlar?

- A) Vielleicht gründe ich sogar eine eigene Band
B) Es hat mir auch gut gefallen
C) In der Woche habe ich zwei Stunden
D) Ich bin daran gewöhnt

7. **Was bedeutet "der Reim" auf Türkisch?**

"der Reim" sözcüğünün Türkçesi aşağıdakilerden hangisidir?

- A) Satır
B) Kafiye
C) Dize
D) Güfte

8. Nein, er macht keine Musik!

Welche Frage passt zur obigen Antwort?

Verilen cevabı gerektirecek soru aşağıdakilerden hangisidir?

- A) Macht er Musik?
B) Hast du einen Computer?
C) Wie machst du deine Hausaufgaben?
D) Wann machst du Sport?

9. Ich mag nur populäre Musik.

Welche Frage passt zur obigen Antwort?

Verilen cevabı gerektirecek soru aşağıdakilerden hangisidir?

- A) Wann fängt das Konzert an?
- B) Was willst du in der Zukunft werden?
- C) Welche Sänger kennst du?
- D) Welche Musik magst du?

10. A: FürMusikinstrument interessierst du

B: Ich interessiere mich für die Trompete.

Welches ergänzt die Lücken im obigen Dialog?

Verilen karşılıklı konuşmada boş bırakılan yerleri aşağıdakilerden hangisi tamamlar?

- A) welche / dir
- B) wessen / mich
- C) welches / dich
- D) was / dir

11. Fatma findet Familienfeste sehr wichtig,

Welcher Satz ergänzt die obige Lücke?

Verilen cümleyi aşağıdakilerden hangisi tamamlar?

- A) weil sie ihre Hausaufgaben macht.
- B) weil er sich darauf freut.
- C) weil ich gerne zur Schule gehe.
- D) weil sie dort die ganze Familie sehen kann.

12. Die Jugendlichen wollen heutzutage sein.

Welches Wort passt nicht in die obige Lücke?

Cümlede boş bırakılan yeri aşağıdakilerden hangisi doğru şekilde tamamlamaz?

- A) erfolgreich
- B) selten
- C) selbstständig
- D) glücklich

13. Die Frau möchte ein blaues Kleid kaufen.

Welches Wort passt in die obige Lücke?

Cümlede boş bırakılan yeri aşağıdakilerden hangisi doğru tamamlar?

- A) dich
- B) sind
- C) sich
- D) mich

14., wenn man es teilt.

Welcher Satz ergänzt die obige Lücke?

Verilen cümleyi aşağıdakilerden hangisi tamamlar?

- A) Das Glück verdoppelt sich
- B) Sie können anderen Menschen helfen
- C) Das ist eine Hochzeit
- D) Jede Generation hat

15. Weil das Wetter kalt ist, spielen die Kinder in der Wohnung.

Welches Wort passt in die obige Lücke?

Cümlede boş bırakılan yeri aşağıdakilerden hangisi doğru şekilde tamamlar?

- A) drinnen
- B) vorne
- C) draussen
- D) über

16. Nabız atışı biraz yüksek.

Wie lautet der obige Satz auf Deutsch?

Verilen cümlelerin Almancası aşağıdakilerden hangisidir?

- A) Der Pulsschlag ist schwer zu hören.
- B) Der Pulsschlag ist etwas erhöht.
- C) Den Puls kann ich nicht fühlen.
- D) Die Lunge und der Hals ist frei.

17. Ich am Sonntag mit meinen Freunden im Wald.

Welches Wort passt in die obige Lücke?

Cümlede boş bırakılan yeri aşağıdakilerden hangisi tamamlar?

- A) mische
- B) springe
- C) schneide
- D) wandere

18. braucht Vitamine und Mineralien, um gesund zu bleiben.

Welches Wort passt in die obige Lücke?

Cümlede boş bırakılan yeri aşağıdakilerden hangisi doğru şekilde tamamlar?

- A) Das Essen
- B) Das Rezept
- C) Der Körper
- D) Die Zeit

19. Abhören / Lungen / die / Arzt / der

Wie kann man mit den obigen Wortgruppen einen sinnvollen und richtigen Satz bilden?

Verilen sözcük gruplarıyla kurulabilecek en anlamlı ve doğru cümle aşağıdakilerden hangisidir?

- A) Die Lungen der hören ab Arzt.
- B) Die Lungen abhören der Arzt.
- C) Der Arzt hört die Lungen ab.
- D) Der Arzt die Lungen abhören.

20. Arzt: Sie haben eine leichte Entzündung!

Patient:

Arzt: Wenn Sie Ihre Medikamente regelmäßig einnehmen, wird es Ihnen besser gehen. Gute Besserung!

Patient: Vielen Dank!

Welcher Satz ergänzt den obigen Dialog?

Verilen karşılıklı konuşmayı aşağıdakilerden hangisi tamamlar?

- A) Meine Spritze ist fertig und somit sind auch meine Schmerzen weg.
- B) Ich muß meine Medikamente einnehmen!
- C) Ich gebe mein Blut ab, nachdem ich etwas esse.
- D) Ich hoffe, daß es mir bald besser geht!

1. Nous ne pouvions pas avancer car du monde.

Choisissez l'expression qui convient.

Cümledeki boşluğu aşağıdakilerden hangisi doğru şekilde tamamlar?

- A) il y avait
B) il était
C) c'était
D) il faisait

2. Tu dois parler avec l'agent immobilier.

Choisissez la traduction qui convient.

Yukarıdaki cümlelerin Türkçe karşılığı aşağıdakilerden hangisidir?

- A) Mobilyacıyı araman gerekiyor.
B) Emlakçıyı aramalısın.
C) Mobilyacıyla konuşmalısın.
D) Emlakçıyla konuşman gerekiyor.

3. J'ai grossi : j'ai des kilos.

Choisissez le mot qui convient.

Cümledeki boşluğu aşağıdakilerden hangisi doğru şekilde tamamlar?

- A) mangé
B) fait
C) pris
D) donné

4. - Tu appelles tes parents?

- Oui, je appelle.

Choisissez l'expression qui convient.

Yukarıdaki konuşmada boş bırakılan yeri aşağıdakilerden hangisi doğru şekilde tamamlar?

- A) leur
B) les
C) le
D) l'

5. - Quel temps hier?

Choisissez l'expression qui convient.

Cümledeki boşluğu aşağıdakilerden hangisi doğru şekilde tamamlar?

- A) il fera
B) fera-t-il
C) faisait-il
D) il fait

6. C'est qui m'appelles?

Choisissez le mot qui convient.

Cümledeki boşluğu aşağıdakilerden hangisi doğru şekilde tamamlar?

- A) nous
B) vous
C) te
D) toi

7. La mère : Voilà mes livres? veux-tu?
Alain : Celui de Balzac.

Choisissez le mot qui convient.

Yukarıdaki konuşmada boş bırakılan yeri aşağıdakilerden hangisi doğru şekilde tamamlar?

- A) Lesquelles
B) Lequel
C) Lesquels
D) Laquelle

8. pas / d'alcool / beaucoup / prenez / ne
I II III IV V

Mettez dans le bon ordre.

Yukarıdaki kelimelerin anlamlı bir bütün oluşturan sırası aşağıdakilerin hangisinde doğru olarak verilmiştir?

- A) V, IV, III, II, I
B) V, IV, I, III, II
C) IV, V, I, II, III
D) IV, III, II, V, I

9. Elle est de sa maison à sept heures du matin.

Choisissez le mot qui convient.

Cümledeki boşluğu aşağıdakilerden hangisi doğru şekilde tamamlar?

- A) sortie
B) sors
C) sort
D) sortez

10. - Tu connais Richard?

- Oui, c'est le garçon fait du sport.

Choisissez le mot qui convient.

Yukarıdaki konuşmada boş bırakılan yeri aşağıdakilerden hangisi doğru şekilde tamamlar?

- A) qui
B) quand
C) pour
D) que

11. - C'est fermé samedi et dimanche?
- Oui. C'est ouvert tous les jours le week-end.

Choisissez le mot qui convient.

Yukarıdaki konuşmada boş bırakılan yeri aşağıdakilerden hangisi doğru şekilde tamamlar?

- A) mais
B) du
C) sauf
D) et

12. «Elle voudrait avoir plus d'argent.»

Choisissez la traduction qui convient.

Yukarıdaki cümlenin Türkçe karşılığı aşağıdakilerden hangisidir?

- A) Daha çok paraya ihtiyacı var.
B) Daha çok paraya sahip olmak istiyor.
C) İstedığı parayı vermeyecek.
D) Çok para istedi.

13. Le médecin a conseillé à Marie partir en vacances.

Choisissez le mot qui convient.

Cümledeki boşluğu aşağıdakilerden hangisi doğru şekilde tamamlar?

- A) de
B) du
C) en
D) pour

14. - Qu'est que vous avez dit?

- Pierre et Marie vont au cinéma.

Choisissez l'expression qui convient.

Yukarıdaki konuşmada boş bırakılan yeri aşağıdakilerden hangisi doğru şekilde tamamlar?

- A) Vous avez dit que
B) Nous avons dit qui
C) Nous avons dit que
D) Vous avez dit qui

15. Mon chien est couleur

Choisissez les mots qui conviennent.

Cümledeki boşlukları aşağıdakilerden hangisi doğru şekilde tamamlar?

- A) du / blanche
B) de / noire
C) du / marron
D) de / blanc

16. «Sinemaya gitmek istediğini söylüyor.»

Choisissez la traduction qui convient.

Yukarıdaki cümlenin Fransızca karşılığı aşağıdakilerden hangisidir?

- A) Dis-lui d'aller au cinéma.
B) Elle voudrait aller au cinéma.
C) Elle veut aller au cinéma.
D) Elle dit qu'elle veut aller au cinéma.

17. Il faut prendre des précautions le soleil.

Choisissez l'expression/le mot qui convient.

Cümledeki boşluğu aşağıdakilerden hangisi doğru şekilde tamamlar?

- A) par
B) en
C) à
D) contre

18. Pour aller à la poste, à droite.

Choisissez le mot qui convient.

Cümledeki boşluğu aşağıdakilerden hangisi doğru şekilde tamamlar?

- A) faîtes
B) tournez
C) traversez
D) tenez

19. Tu parles très vite, je comprends

Choisissez les mots qui conviennent.

Cümledeki boşlukları aşağıdakilerden hangisi doğru şekilde tamamlar?

- A) ne / personne
B) personne / ne
C) rien / ne
D) ne / rien

20. I. Monsieur Rioux est directeur.

II. Il a 55 ans.

III. La réunion commence.

IV. Il est marié.

Choisissez la phrase qui ne convient pas.

Sırasıyla okunduğunda anlam bütünlüğünü bozan cümleyi bulunuz.

- A) I
B) II
C) III
D) IV

1. Aşağıdakilerden hangisi 1960'lı yıllardan başlayarak köyü konu edinen ve zengin bir edebiyat oluşturan yazarlardan biri değildir?
- A) Talip Apaydın
B) Peyami Safa
C) Necati Cumalı
D) Fakir Baykurt
2. "Büyüyen Giden Hüzüne Gazel" adlı şiir aşağıdakilerden hangisine aittir?
- A) Turgut Uyar
B) Cemal Süreya
C) Atilla İlhan
D) İlhan Berk
3. Aşağıdakilerden hangisi "Modernizmi Esas Alan Eserler"den biri değildir?
- A) Yeni Hayat
B) Kuyucaklı Yusuf
C) Tutunamayanlar
D) Anayurt Oteli
4. Aşağıdakilerden hangisi 1940'larda gelişen yeni şiir anlayışına rağmen; ölçülü, uyaklı şiir anlayışını devam ettiren şairlerden biri değildir?
- A) Ahmet Muhip Dırnas
B) Ahmet Hamdi Tanpınar
C) Necip Fazıl Kısakürek
D) Asaf Halet Çelebi
5. "Üşür Ölüm Bile" adlı şiir aşağıdakilerden hangisine aittir?
- A) Sunay Akın
B) Ülkü Tamer
C) Edip Cansever
D) İlhan Berk
6. "Şapkam Dolu Çiçekle" adlı kitabında " Ne Fazıl Hüsnu Dağlarca başka türlü yazabilir, ne de başkası Fazıl Hüsnu Dağlarca gibi yazabilir." diyen şair aşağıdakilerden hangisidir?
- A) Hilmi Yavuz
B) Özdemir Asaf
C) Cemal Süreyya
D) İlhan Berk
7. Aşağıdakilerden hangisi ilk eserlerini Meşrutiyet Dönemi'nde yayımlamış ve ustalıklarını kanıtlamış yazarlar arasında yer almaz?
- A) Reşat Nuri Güntekin
B) Yakup Kadri Karaosmanoğlu
C) Halide Edip Adivar
D) Kemal Tahir
8. Aşağıdakilerden hangisi Garipçilerin şiirdeki ilkeleri arasında yer almaz?
- A) Günlük hayatın, küçük adamın sorunlarını dile getirmek
B) Gülmecedan, şaşırtmacadan yararlanmak
C) Gelenekten kopmadan sanat gayesiyle şiirler vermek
D) Yaşama sevincini ve yaşama hakkını işlemek
9. Cumhuriyet Dönemi'nin ilk sanatçı kuşağını oluşturan edebî topluluk aşağıdakilerden hangisidir?
- A) Millî Edebiyat
B) Fecr-i Ati Edebiyatı
C) Servet-i Fünûn Edebiyatı
D) İkinci Yeni Edebiyatı
10. "Bir İlbahar Hikâyesi" adlı eser aşağıdaki yazarlardan hangisine aittir?
- A) Kemal Özer
B) Tevfik Fikret
C) İlhan Berk
D) Sait Faik Abasıyanık
11. Bireyin öne çıktığı, ruh çözümlemelerine dayalı bir roman geliştiren ve "Dokuzuncu Hariciye Koğuşu" adlı romanı olan yazar aşağıdakilerden hangisidir?
- A) Orhan Kemal
B) Orhan Pamuk
C) Peyami Safa
D) Kemal Tahir

12. "Dostlar Beni Hatırlasın" adlı eser aşağıdakilerden hangisine aittir?

- A) Mevlana
- B) Yunus Emre
- C) Aşık Veysel
- D) Kaygusuz Abdal

13. Aşağıdakilerden hangisi Millî edebiyat akımının en tipik sürdürücüleri arasında yer almaz?

- A) Turgut Uyar
- B) Yusuf Ziya Ortaç
- C) Faruk Nafiz Çamlıbel
- D) Halit Fahri Ozansoy

14. Aşağıdakilerden hangisi "Anadolucu" ya da "Memleketçi" edebiyata karşı çıkan şairlerden biri değildir?

- A) Yaşar Nabi Nayır
- B) Enis Behiç Koryürek
- C) Muammer Lütfi
- D) Cevdet Kudret

15. Orhan Veli, Oktay Rifat ve Melih Cevdet Anday'ın "Bu kitap sizi alışılmış şeylerden şüpheye davet edecektir." diyerek yayımladıkları kitap aşağıdakilerden hangisidir?

- A) Kitabe-i Sengi-i Mezar
- B) Bayram
- C) Vazgeçemediğim
- D) Garip

16. Emeğiyle yaşayan küçük insanları konu edinen ve ilk eserlerini Meşrutiyet Dönemi'nde veren yazar aşağıdakilerden hangisidir?

- A) Yusuf Atılgan
- B) Memduh Şefket Esendal
- C) Ömer Seyfettin
- D) Sabahattin Ali

17. Aşağıdakilerden hangisi 1940'larda gelişen yeni şiirin başlıca temsilcileri arasında yer almaz?

- A) Behçet Necatigil
- B) Asaf Halet Çelebi
- C) Ahmet Oktay
- D) Mehmet Âkif Ersoy

18. "Yeni Hayat" ve "Kara Kitap" adlı eserler aşağıdakilerden hangisine aittir?

- A) Orhan Pamuk
- B) Orhan Kemal
- C) Kemal Tahir
- D) Tarık Buğra

19. Orhan Veli'nin ilk şiirlerinin yayımlandığı dergi aşağıdakilerden hangisidir?

- A) Bedir
- B) İbret
- C) Varlık
- D) Muhibir

20. İlim ilim bilmektir
İlim kendin bilmektir
Sen kendini bilmezsen
Ya nice okumaktır

Yukarıda verilen dördlük aşağıdakilerden hangisine aittir?

- A) Yunus Emre
- B) Dadaloğlu
- C) Aşık Veysel
- D) Karacaoğlan

1. A: Stell dir vor, du wärst jetzt in Antalya!
B: Ich würde immer schwimmen!

Welches ergänzt die Lücke im obigen Dialog?

Verilen karşılıklı konuşmada boş bırakılan yeri aşağıdakilerden hangisi tamamlar?

- A) Hatte sie gewusst!
B) Das wäre ja super!
C) Kommt mit!
D) Lauf schneller!

2. Er hätte sehr gern eine Hose. Seine alte ist zu kurz!

Welches Wort passt in die obige Lücke?

Cümlede boş bırakılan yeri aşağıdakilerden hangisi doğru şekilde tamamlar?

- A) neue
B) neu
C) neuen
D) neuem

3. Atilla ist, alles in der Prüfung wäre gut gelaufen.

Welches Wort passt in die obige Lücke?

Cümlede boş bırakılan yeri aşağıdakilerden hangisi doğru şekilde tamamlar?

- A) die Hoffnung
B) die Frage
C) das Denken
D) der Meinung

4. Woher kommt er?

Welche Antwort passt zur obigen Frage?

Verilen sorunun cevabı aşağıdakilerden hangisidir?

- A) Mein Bruder arbeitet in Deutschland.
B) Sein Vater fährt jedes Jahr nach Deutschland.
C) Ich wohne auch in Frankreich.
D) Man sagt, er wäre aus der Türkei.

5. Wir sehr gern auf einer Insel.

Welches Wort passt in die obige Lücke?

Cümlede boş bırakılan yeri aşağıdakilerden hangisi tamamlar?

- A) warst
B) wärst
C) wären
D) war

6. Was bedeutet "yelkenle gitmek" auf Deutsch?

"yelkenle gitmek" ifadesinin Almancası aşağıdakilerden hangisidir?

- A) segeln
B) angeln
C) schwimmen
D) wandern

7. Wenn ich jetzt viel Geld,ich nach New York fliegen.

Welche Wörter passen in die obigen Lücken?

Cümlede boş bırakılan yerleri aşağıdakilerden hangileri tamamlar?

- A) hättest / würdest
B) hattest / wirst
C) haben / wird
D) hätte / würde

8. Meine Mutter sagt,

Welches ergänzt nicht die Lücke im obigen Satz?

Verilen cümleyi aşağıdakilerden hangisi tamamlamaz?

- A) der Lehrer sei krank.
B) wir hätten morgen keine Schule.
C) wird die Prüfung bestehen.
D) der Arzt arbeite privat.

9. Dieser Roman ist von einem weltberühmten Schriftsteller worden.

Welches Wort passt in die obige Lücke?

Cümlede boş bırakılan yeri aşağıdakilerden hangisi tamamlar?

- A) geholt
B) gedreht
C) gemacht
D) geschrieben

10. A: Kommt deine Tochter auch mit uns nach Italien?
B: Nein, sie habe ihre Prüfungen zu bestehen!
A:

Welches ergänzt den obigen Dialog?

Verilen karşılıklı konuşmayı aşağıdakilerden hangisi tamamlar?

- A) Nein, ich kenne sie überhaupt nicht.
B) Ja, sie war auch mal in Italien.
C) Das ist aber Schade!
D) Ja, ich habe ihn abgeholt.

11. Sie muss sich beeilen, wenn sie den Bus erreichen will.

Welches Wort passt in die obige Lücke?

Cümlede boş bırakılan yeri aşağıdakilerden hangisi tamamlar?

- A) glücklicherweise
B) durchgehend
C) privat
D) rechtzeitig

12. Was bedeutet "die Schlucht" auf Türkisch?

"die Schlucht" sözcüğünün Türkçesi aşağıdakilerden hangisidir?

- A) Uçurum
B) Yazar
C) İz
D) Kaya

13. Weil er noch arbeiten muß!

Welche Frage passt zur obigen Antwort?

Verilen cevabı gerektirecek soru aşağıdakilerden hangisidir?

- A) Bist du immer erfolgreich?
B) Wer kommt heute zur Versammlung?
C) Warum hat dein Freund keine Zeit?
D) Seit wann lebst du hier?

14. Es hat einen Verkehrsunfall gegeben, dem glücklicherweise keiner verletzt wurde.

Welches Wort passt in die obige Lücke?

Cümlede boş bırakılan yeri aşağıdakilerden hangisi tamamlar?

- A) zu
B) bei
C) im
D) für

15., dessen Kinder zu laut sind, ist immer

Welche Wörter passen in die obigen Lücken?

Cümlede boş bırakılan yerleri aşağıdakilerden hangisi tamamlar?

- A) Das Kind / nett
- B) Die Frau / arbeiten
- C) Der Mann / nervös
- D) Dem Grossvater / viel

16. Ja, wir haben Käse, der aus Holland kommt.

Welche Frage passt zur obigen Antwort?

Verilen cevabı gerektirecek soru aşağıdakilerden hangisidir?

- A) Haben Sie Käse, der aus Holland kommt?
- B) Hast du auch Hunger?
- C) Kennst du den Käse, der aus Holland kommt?
- D) Kann ich ein Kilo Käse haben bitte?

17., das ich heute gekauft habe, passt mir sehr gut.

Welches Wort passt in die obige Lücke?

Cümlede boş bırakılan yeri aşağıdakilerden hangisi tamamlar?

- A) Das Kind
- B) Das Kleid
- C) Das Computer
- D) Der Füller

18. Schmeckt dir der Sauerkraut, der aus Deutschland kommt?

Welche Antwort passt zur obigen Frage?

Verilen sorunun cevabı aşağıdakilerden hangisidir?

- A) Ja, ich möchte auch ein Kilo holländischen Käse kaufen.
- B) Nein, ich mag den türkischen Döner nicht sehr gern.
- C) Ja, der Sauerkraut, der aus Deutschland kommt, schmeckt mir sehr gut.
- D) Nein, danke. Ich habe schon gegessen.

19., die aus Italien kommen, sollen einen guten Geschmack haben.

Welches Wort passt in die obige Lücke?

Cümlede boş bırakılan yeri aşağıdakilerden hangisi tamamlar?

- A) Die Nudeln
- B) Der Huhn
- C) Der Wein
- D) Das Fisch

20. Okulda bulduğum dolmakalem çok pahalı.

Wie lautet der obige Satz auf Deutsch?

Verilen cümlenin Almancası aşağıdakilerden hangisidir?

- A) Das Geschenk, das für mich sein soll, kann ein Füller sein.
- B) Der Füller, den ich in der Schule gefunden habe, ist sehr teuer.
- C) Der Füller, den du mir geschenkt hast, hat mir sehr gut gefallen.
- D) Die Geschenke, die nur Füller sind, hätten für dich sein können.

1. If it, Jane for a walk.

Which of the following completes the sentence above?

Aşağıdakilerden hangisi yukarıdaki cümleyi doğru olarak tamamlar?

- A) rained / will go
B) is raining / would go
C) rains / would
D) didn't rain / would go

2. Tony is a good teacher likes his job.

Which of the following completes the sentence above?

Aşağıdakilerden hangisi yukarıdaki cümleyi doğru olarak tamamlar?

- A) who
B) which
C) when
D) whose

3. If I feel good, I to the party.

Which of the following completes the sentence above?

Aşağıdakilerden hangisi yukarıdaki cümleyi doğru olarak tamamlar?

- A) went
B) have gone
C) am going
D) will go

4. We can't visit you tonight our cousins have come from Adana.

Which of the following completes the sentence above?

Aşağıdakilerden hangisi yukarıdaki cümleyi doğru olarak tamamlar?

- A) before
B) to
C) after
D) because

5. Mary: you repeat the sentence, please?

Teacher: Of course.

Which of the following completes the sentence above?

Aşağıdakilerden hangisi yukarıdaki cümleyi doğru olarak tamamlar?

- A) Could
B) Were
C) May
D) Are

6. The baby since she woke up.

Which of the following completes the sentence above?

Aşağıdakilerden hangisi yukarıdaki cümleyi doğru olarak tamamlar?

- A) cry
B) have been crying
C) has been crying
D) will be crying

7. If I you, I that jacket.

Which of the following completes the sentence above?

Aşağıdakilerden hangisi yukarıdaki cümleyi doğru olarak tamamlar?

- A) am / wouldn't buy
B) were / wouldn't buy
C) were / will bought
D) was / hasn't bought

8. Ann drew an excellent picture that everybody liked it very much.

Which of the following completes the sentence above?

Aşağıdakilerden hangisi yukarıdaki cümleyi doğru olarak tamamlar?

- A) every
B) too
C) such
D) at

9. They their homework at the present.

Which of the following completes the sentence above?

Aşağıdakilerden hangisi yukarıdaki cümleyi doğru olarak tamamlar?

- A) are doing
- B) will do
- C) do
- D) did

10. If we to the airport earlier, we wouldn't have missed the plane.

Which of the following completes the sentence above?

Aşağıdakilerden hangisi yukarıdaki cümleyi doğru olarak tamamlar?

- A) go
- B) went
- C) had gone
- D) would go

11. Dad, you help me with the shopping bags?

Which of the following completes the sentence above?

Aşağıdakilerden hangisi yukarıdaki cümleyi doğru olarak tamamlar?

- A) are
- B) must
- C) can
- D) were

12. We for tonight's dinner since breakfast.

Which of the following completes the sentence above?

Aşağıdakilerden hangisi yukarıdaki cümleyi doğru olarak tamamlar?

- A) have been cooking
- B) are cooking
- C) cook
- D) cooked

13. Those are the boys mother is a successful musician.

Which of the following completes the sentence above?

Aşağıdakilerden hangisi yukarıdaki cümleyi doğru olarak tamamlar?

- A) where
- B) who
- C) whose
- D) which

14. Don't call me at 8.00. I on my project.

Which of the following completes the sentence above?

Aşağıdakilerden hangisi yukarıdaki cümleyi doğru olarak tamamlar?

- A) will be working
- B) am working
- C) work
- D) worked

15. He is not a good driver. He drives too

Which of the following completes the sentence above?

Aşağıdakilerden hangisi yukarıdaki cümleyi doğru olarak tamamlar?

- A) faster
- B) fast
- C) the fastest
- D) fastly

16. I dinner with my old friends this time tomorrow.

Which of the following completes the sentence above?

Aşağıdakilerden hangisi yukarıdaki cümleyi doğru olarak tamamlar?

- A) am having
- B) had
- C) have
- D) will be having

17. Terry went to visit her child yesterday.

Which of the following completes the sentence above?

Aşağıdakilerden hangisi yukarıdaki cümleyi doğru olarak tamamlar?

- A) in
- B) abroad
- C) where
- D) go

18. I go to the library

Which of the following completes the dialogue above?

Aşağıdakilerden hangisi yukarıdaki konuşmayı doğru olarak tamamlar?

- A) at the moment
- B) three times a week
- C) yesterday
- D) last year

19. My daughters are doing a project about animals

Which of the following completes the sentence above?

Aşağıdakilerden hangisi yukarıdaki cümleyi doğru olarak tamamlar?

- A) to
- B) of
- C) in
- D) upstairs

20. Peter in the same house for 20 years.

Which of the following completes the sentence above?

Aşağıdakilerden hangisi yukarıdaki cümleyi doğru olarak tamamlar?

- A) lives
- B) has been living
- C) will live
- D) is living

1. J'ai terminé mon devoir en 5 minutes: il était

Choisissez le mot qui convient.

Cümledeki boşluğu aşağıdakilerden hangisi doğru şekilde tamamlar?

- A) difficile
B) facile
C) impossible
D) infaisable

2. En France, avec le baccalauréat on peut entrer

Choisissez le mot qui convient.

Cümledeki boşluğu aşağıdakilerden hangisi doğru şekilde tamamlar?

- A) à l'université
B) à l'école primaire
C) à l'école maternelle
D) au collège

3.-y seul.

Choisissez le mot qui convient.

Cümledeki boşluğu aşağıdakilerden hangisi doğru şekilde tamamlar?

- A) Allez
B) Va
C) Allons
D) Vas

4. Vous devez dire la vérité et parler de ce problème. et

Choisissez les expressions qui conviennent.

Cümledeki boşlukları aşağıdakilerden hangisi doğru şekilde tamamlar?

- A) Dites-y / parlons-y
B) Dites-la / parlez-en
C) Dites-le / parlons-en
D) Dites-en / parlez-y

5. «Les enfants ont mangé des bonbons.»

Choisissez la forme passive de la phrase ci-dessus.

Yukarıdaki cümlelerin edilgen hali aşağıdakilerden hangisidir?

- A) Les bonbons ont été mangés par les enfants.
B) Les bonbons se mangent par les enfants.
C) Les bonbons seront mangés par les enfants.
D) Les bonbons auront été mangés par les enfants.

6. On doit partir à 21 heures. mangé avant 20 heures.

Choisissez le mot qui convient.

Cümledeki boşluğu aşağıdakilerden hangisi doğru şekilde tamamlar?

- A) Avoir
B) Sois
C) Soyons
D) Ayez

7. Ma fille est mariée. Elle s'appelle Maude et mon s'appelle Paul.

Choisissez le mot qui convient.

Cümledeki boşluğu aşağıdakilerden hangisi doğru şekilde tamamlar?

- A) garçon
B) gendre
C) fils
D) frère

8. Pauvre Claudine, elle encore échoué.

Choisissez le mot qui convient.

Cümledeki boşluğu aşağıdakilerden hangisi doğru şekilde tamamlar?

- A) va
B) sera
C) allait
D) a

9. «Travaillons ensemble.»

Choisissez la traduction qui convient.

Yukarıdaki cümlelerin Türkçe karşılığı aşağıdakilerden hangisidir?

- A) Birlikte çalışalım.
B) Birlikte çalışın.
C) Birlik için çalışalım.
D) Birlik için çalışın.

10. Le gâteau est mangé par mon frère.

Choisissez la forme active de la phrase ci-dessus.

Yukarıda verilen cümlelerin aktif hali aşağıdakilerden hangisidir?

- A) Mon frère mangera le gâteau.
B) Mon frère mange le gâteau.
C) Mon frère a mangé le gâteau.
D) Mon frère mangeait le gâteau.

11. A on achète des médicaments.

Choisissez le mot qui convient.

Cümledeki boşluğu aşağıdakilerden hangisi doğru şekilde tamamlar?

- A) l'étude
- B) l'école
- C) la pharmacie
- D) la faculté

12. Je vais me à un examen.

Choisissez le mot qui convient.

Cümledeki boşluğu aşağıdakilerden hangisi doğru şekilde tamamlar?

- A) passer
- B) présenter
- C) subir
- D) faire

13. Je vends des vêtements: je fais du

Choisissez le mot qui convient.

Cümledeki boşluğu aşağıdakilerden hangisi doğru şekilde tamamlar?

- A) commerce
- B) droit
- C) sciences
- D) médecine

14. Mon amie a trois enfants: un et deux

Choisissez les mots qui conviennent.

Cümledeki boşlukları aşağıdakilerden hangisi doğru şekilde tamamlar?

- A) filles / garçon
- B) garçon / fille
- C) garçon / filles
- D) fille / garçons

15. I. Elle travaille beaucoup.
II. Mais elle s'amuse aussi beaucoup.
III. Aie lu les livres.
IV. Elle aime la vie.

Trouvez la phrase qui ne convient pas.

Cümleler sırasıyla okunduğunda, anlam bütünlüğünü bozan cümleyi bulunuz.

- A) I
- B) II
- C) III
- D) IV

16. «Il avait abandonné ses études pour travailler.»

Choisissez la traduction qui convient.

Yukarıdaki cümlelerin Türkçe karşılığı aşağıdakilerden hangisidir?

- A) İş için okulu bırakmak istedi.
- B) Öğrenimini bıraktı çünkü parası yok.
- C) İşe giderken okula da gitti.
- D) Çalışmak için öğrenimini bırakmıştı.

17. Je suis une

Choisissez le mot qui convient.

Cümledeki boşluğu aşağıdakilerden hangisi doğru şekilde tamamlar?

- A) études
- B) cours
- C) conférence
- D) séminaire

18. Laure : Tu n'as pas revu Claudine?

Marie :

Laure : Quand?

Marie : Hier, au supermarché.

Choisissez l'expression qui convient.

Yukarıdaki konuşmada boş bırakılan yeri aşağıdakilerden hangisi doğru şekilde tamamlar?

- A) Oui, je l'ai vue
- B) Non, je ne l'ai pas revue
- C) Non, je l'ai revue
- D) Si, je l'ai revue

19. La semaine prochaine, le match sûrement annulé.

Choisissez le mot qui convient.

Cümledeki boşluğu aşağıdakilerden hangisi doğru şekilde tamamlar?

- A) a été
- B) sera
- C) va être
- D) est

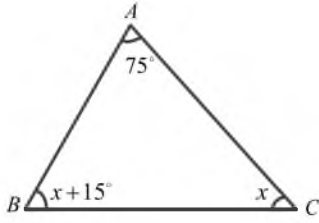
20. Ma sœur a une fille. C'est ma

Choisissez le mot qui convient.

Cümledeki boşluğu aşağıdakilerden hangisi doğru şekilde tamamlar?

- A) neveu
- B) gendre
- C) nièce
- D) cousine

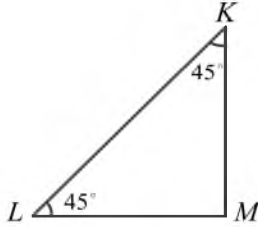
1.



Yukarıdaki ABC üçgeninde $m(\widehat{CAB}) = 75^\circ$, $m(\widehat{ABC}) = x + 15^\circ$ ve $m(\widehat{BCA}) = x^\circ$ ise $m(\widehat{ABC})$ kaç derecedir?

- A) 15
- B) 30
- C) 45
- D) 60

2.



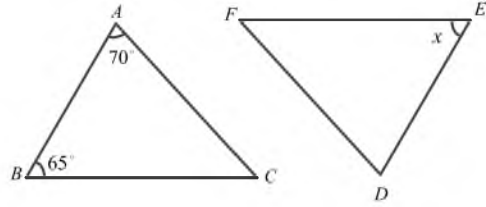
Yukarıdaki KLM üçgeninde $m(\widehat{MKL}) = 45^\circ$ ve $m(\widehat{KLM}) = 45^\circ$ ise bu üçgenin kenar uzunlukları ile ilgili aşağıdakilerden hangisi doğrudur?

- A) $|KL| = |LM| = |MK|$
- B) $|KL| > |LM| = |MK|$
- C) $|KL| < |MK| < |LM|$
- D) $|KL| < |MK| = |LM|$

3. Bir üçgenin kenar uzunlukları sırasıyla x , 5 ve 8 cm olduğuna göre x in alabileceği en büyük tamsayı değeri kaç cm'dir?

- A) 14
- B) 13
- C) 12
- D) 10

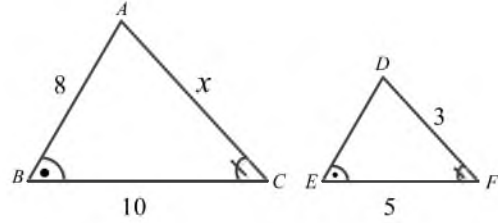
4.



Yukarıdaki ABC ve DEF üçgenlerinde; $m(\widehat{CAB}) = 70^\circ$, $m(\widehat{ABC}) = 65^\circ$, $m(\widehat{DEF}) = x^\circ$ ve ABC üçgeni ile DEF üçgeni eş üçgenler ise x kaç derecedir?

- A) 45
- B) 65
- C) 70
- D) 90

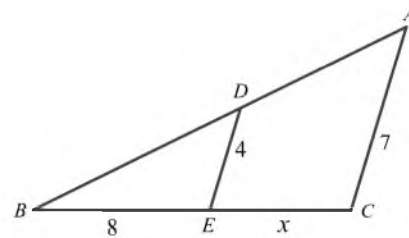
5.



Yukarıdaki ABC ve DEF üçgenlerinde $|AB|=8$ cm, $|BC|=10$ cm, $|EF|=5$ cm, $|FD|=3$ cm, $m(\widehat{ABC}) = m(\widehat{DEF})$ ve $m(\widehat{ACB}) = m(\widehat{DFE})$ olduğuna göre $|AC|=x$ kaç cm'dir?

- A) 3
- B) 4
- C) 5
- D) 6

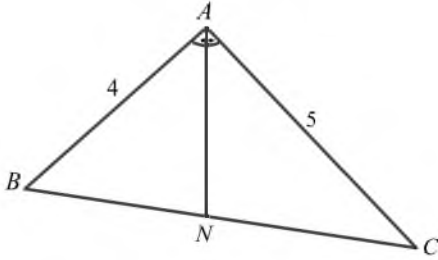
6.



Yukarıdaki ABC üçgeninde $[DE] \parallel [AC]$, $|BE|=8$ cm, $|EC|=x$ cm, $|ED|=4$ cm ve $|CA|=7$ cm olduğuna göre x kaç cm'dir?

- A) 6
- B) 7
- C) 8
- D) 9

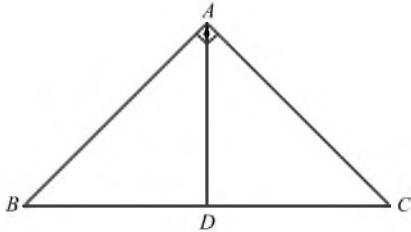
7.



Yukarıdaki ABC üçgeninde [AN] açıortay $|AB|=4$ cm, $|AC|=5$ cm ve $|BC|=7$ cm ise $|NC|$ kaç cm'dir?

- A) 35/9
- B) 32/9
- C) 30/9
- D) 28/9

8.



Yukarıdaki ABC üçgeninde [AD] kenarortay, $m(\widehat{CAB}) = 90^\circ$, $|BC|=10$ cm ise $|AD|$ kaç cm'dir?

- A) 4
- B) 5
- C) 6
- D) 7

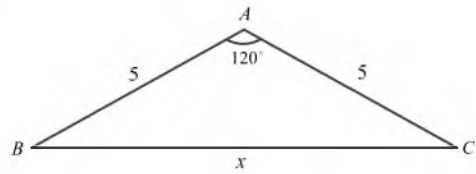
9. Bir dik üçgende dik kenarların uzunlukları sırasıyla 8 cm ve 15 cm ise hipotenüsün uzunluğu kaç cm'dir?

- A) 13
- B) 15
- C) 17
- D) 24

10. $\frac{\sin 45^\circ + \cos 45^\circ}{\sin 30^\circ + \cos 60^\circ}$ işleminin sonucu kaçtır?

- A) $\sqrt{2}$
- B) 2
- C) $2\sqrt{2}$
- D) 4

11.



Yukarıdaki ABC ikizkenar üçgeninde $m(\widehat{CAB}) = 120^\circ$ ve $|AB|=|AC|=5$ cm ise $|BC|=x$ kaç santimetredir?

- A) 5
- B) $5\sqrt{2}$
- C) $5\sqrt{3}$
- D) 10

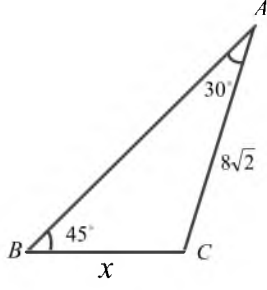
12. $0^\circ < \alpha < 90^\circ$ olmak üzere $\sin \alpha = \frac{3}{5}$ ise $\tan \alpha$ kaçtır?

- A) 3/4
- B) 4/5
- C) 5/4
- D) 5/3

13. Alanları oranı $\frac{64}{81}$ olan benzer iki üçgenin benzerlik oranı kaçtır?

- A) 2/9
- B) 4/9
- C) 2/3
- D) 8/9

14.



Yukarıdaki $\triangle ABC$ üçgeninde $m(\widehat{CAB}) = 30^\circ$, $m(\widehat{ABC}) = 45^\circ$, $|BC| = x$ cm ve $|CA| = 8\sqrt{2}$ cm ise x kaçtır?

- A) 10
- B) 8
- C) 6
- D) 4

15. $A(-1,2)$ ve $B(3,-2)$ olduğuna göre \overline{AB} vektörü aşağıdakilerden hangisidir?

- A) (4,-4)
- B) (2,-4)
- C) (4,0)
- D) (2,0)

16. $A(2,4)$ ve $B(3,3)$ olmak üzere $3\vec{A} - 2\vec{B}$ vektörünün uzunluğu kaç birimdir?

- A) 2
- B) 4
- C) 6
- D) 8

17. 4, x , 6, 10, 8 ve 12 tam sayılarının aritmetik ortalaması 10 olduğuna göre x kaçtır?

- A) 5
- B) 10
- C) 15
- D) 20

18. Bir futbol takımının son 8 maçta attığı gol sayısı sırasıyla 3, 7, 5, 6, 1, 3, 5, 2 olduğuna göre bu dağılımın ortanca değeri kaçtır?

- A) 3
- B) 4
- C) 5
- D) 6

19. Bir madeni para ve bir zar birlikte havaya atılıyor. Paranın tura ve zarın 5 gelme olasılığı kaçtır?

- A) 1/2
- B) 1/4
- C) 1/6
- D) 1/12

20. Bir torbada 2 mavi, 3 sarı ve 4 kırmızı top vardır. Bu torbadan rastgele çekilen bir topun renginin sarı olma olasılığı kaçtır?

- A) 2/9
- B) 1/3
- C) 4/9
- D) 2/3

SINAVDA UYULMASI GEREKEN GENEL KURALLAR

1. Sınava girmek için gerekli belgelerinizin tümünü sınav başlamadan önce sıranızın üzerine bırakınız.
2. Sınav süresince görevlilerle konuşmak, görevlilere soru sormak yasaktır. Aynı şekilde görevlilerin de öğrencilerle/adaylarla yakından ve alçak sesle konuşmaları yasaktır. Gerekli durumlarda görevliler yerinizi değiştirebilir.
3. Size verilen cevap kâğıdının üzerindeki TCKN/Öğrenci no, ad, soyadı, bilgilerini kontrol ediniz, ilgili alanları eksiksiz doldurarak imzalayınız. Bu bilgiler size ait değilse, kâğıt üzerinde hiçbir işlem yapmadan görevlileri uyararak size ait cevap kâğıdını isteyiniz. Başkasına ait cevap kâğıdı kullanan öğrencilerin sınavları geçersiz sayılır.
4. Cevap kâğıdı üzerine test grubunu (kitapçık türünü) kodlamayan veya birden fazla grubu kodlayanların sınavları geçersiz sayılır.
5. Cevap kâğıdınıza yazacağınız her türlü yazı ve yapacağınız işaretlemeler için koyu siyah kurşun kalem kullanmalısınız. Farklı bir kalem (tükenmez, mürekkepli, renkli vb.) kullananların sınavları geçersiz sayılır.
6. Cevap kâğıdı üzerinde değişiklik yapmak istediğinizde, iz bırakmayan bir silgi kullanınız. Cevap kâğıdınızı buruşturmayınız, katlamayınız ve üzerine gereksiz hiçbir işaret koymayınız.
7. Cevaplarınızı, cevap kâğıdında ilgili test için ayrılmış olan alana, cevap yerinin dışına taşırmadan işaretleyiniz. Soru kitapçığı üzerinde yapılan işaretlemeler değerlendirmeye alınmayacaktır.
8. Her sorunun tek bir doğru cevabı vardır. Bir soru için birden çok cevabı işaretlerseniz, o soruyu yanlış cevaplamış sayılacaksınız.
9. Soru kitapçığınızı aldığınızda sayfalarına hızlıca bakarak hatalı ya da eksik baskı olup olmadığını kontrol ediniz. Hata/eksik olması durumunda kitapçığının değiştirilmesi için derhâl sınav görevlilerine başvurunuz. Sınav görevlileri sınavın başladığını belirtmeden kitapçığınızı tekrar açmayınız.
10. Cevap kâğıdınızda belirtilen kitapçık kodu ile soru kitapçığının kodunu karşılaştırınız. Aynı değilse, sınav görevlilerine durumu bildirerek doğru kitapçığın verilmesini talep ediniz.
11. Soru kitapçığındaki ilgili alanlara ad, soyadı, TCKN/Öğrenci no, sınav salon no, sıra no bilgilerinizi eksiksiz doldurarak imzanızı atınız. Soru kitapçığının sayfalarındaki boş yerleri müsvedde amacıyla kullanabilirsiniz.
12. Aşağıdaki durumlarda sınav görevlileri tarafından Bireysel Sınav İptal Tutanağı düzenlenerek ilgili öğrencilerin/adayların sınavları geçersiz sayılır:
 - a) Sınav kurallarına ve sınav görevlilerinin uyarılarına uymamak, sınav düzenini bozmak,
 - b) Kâğıt, kitap, defter, not vb. dokümanları; pergel, açıölçer, cetvel vb. araçları; cep telefonu, bilgisayar, tablet, telsiz, kamera vb. iletişim, depolama, kayıt ve veri aktarma cihazlarını; ruhsatlı veya resmi amaçlı olsa bile silah ve silah yerine geçebilecek nesneleri yanında bulundurmamak,
 - c) Sınav sırasında kalem, silgi vb. araç-gereç paylaşımında bulunmak,
 - d) Cevapları, cevap kâğıdı dışında bir yere yazmak ve sınav salonundan dışarı çıkarmak,
 - e) Sınava girebilmek için gerekli belgeleri eksik olduğu halde sınava katılıp, cevap kâğıdında işaretleme yapmak,
 - f) Sınav görevlileri tarafından öğrencinin/adayın kimliğinden şüphe duyulması,
 - g) Cevap kâğıdını ve/veya soru kitapçığını sınav görevlilerine eksiksiz ve sağlam şekilde teslim etmemek, sınav salonu dışına çıkarmak,
 - h) Kopya çekmek, vermek, çekilmesine yardımcı olmak vb. eylemlerde bulunmak,
 - i) Kendisi yerine başkasını sınava sokmak.
13. Sınav bitiminde, cevap kâğıdınızı ve soru kitapçığınızı salon görevlilerine eksiksiz biçimde teslim ediniz. Sınav bittikten sonra gönderilen cevap kâğıtları dikkate alınmayacaktır.

SINAV KURALLARINA UYDUĞUNUZ İÇİN TEŞEKKÜR EDER, SINAVINIZDA BAŞARILAR DİLERİZ.