



ANADOLU ÜNİVERSİTESİ
AÇIKÖĞRETİM FAKÜLTESİ
BA - AÇIKÖĞRETİM OKULLARI

T.C. MİLLİ EĞİTİM BAKANLIĞI
Hayat Boyu Öğrenme Genel Müdürlüğü
AÇIKÖĞRETİM LİSESİ – BATI AVRUPA PROGRAMI
2015-2016 ÖĞRETİM YILI I. DÖNEM SINAVI

5. OTURUM Cumartesi 16:00
TEST GRUBUNUZ

B

0105

ÖĞRENCİNİN

SOYADI :

ADI :

TC KİMLİK NO / ÖĞRENCİ NO :

SINAV SALON NO : SIRA NO:

İMZA:

Sınavla ilgili tüm kuralları okudum, anladım, kabul ediyorum.

SINAV İÇERİĞİ

Testin Adı	Soru Sayısı	Sayfa No	Testin Adı	Soru Sayısı	Sayfa No
DİN KÜLTÜRÜ VE AHLAK BİLGİSİ 2	20	02	TEMEL DİNİ BİLGİLER 1	20	31
FELSEFE 1	20	04	MANTIK 2	20	33
SEÇMELİ FELSEFE 2	20	06	SANAT TARİHİ 2	20	35
TARİH 3	20	08	SEÇMELİ TARİH 3	20	37
COĞRAFYA 2	20	10	SEÇMELİ DİL VE ANLATIM 5	20	39
COĞRAFYA 4	20	12	SEÇMELİ DİL VE ANLATIM 7	20	41
COĞRAFYA 8	20	14	ALMANCA 3	20	43
DİL VE ANLATIM 5	20	17	İNGİLİZCE 3	20	46
TÜRK EDEBİYATI 4	20	19	FRANSIZCA 3	20	49
TÜRK EDEBİYATI 7	20	21	GİRİŞİMCİLİK 2	20	52
FİZİK 5	20	23	MATEMATİK 1	20	54
FİZİK 6	20	27			

SINAVDA UYULMASI GEREKEN ÖZEL KURALLAR

1. Bu kitapçıkta yer alan her bir test için cevaplama süresi **30** dakika, toplam süre **150** dakikadır.
2. Öğrenciler sınavın ilk 30 dakikası ve son 5 dakikası içinde sınavlarını tamamlasalar bile salonu terk edemezler. Sınavın başlamasını izleyen ilk 15 dakikadan sonra hiçbir öğrenci sınava alınmaz.
3. Yanlış cevaplarınız dikkate alınmayacaktır. Bu nedenle kitapçıktaki tüm sorular için size doğru gelen seçeneği işaretleyerek cevapsız soru bırakmamanız yararınıza olacaktır.
4. Sınav sırasında hesap makinesi kullanabilirsiniz. Ancak, kullanacağınız makinede alfabetik tuş takımının (A, B, C, ..., Y, Z), program yapılmasına, saklanmasına ve çalıştırılmasına imkân veren EXE, STORE, RUN vb. tuşlar bulunamaz.

"Sınavda Uygulanacak Genel Kurallar" soru kitapçığının arka sayfasında yer almaktadır. Bu kuralları da mutlaka dikkatlice okuyunuz.

Anadolu Üniversitesi tarafından hazırlanmış olan bu testlerin her hakkı saklıdır. Hangi amaçla olursa olsun, testlerin tamamının veya bir kısmının Anadolu Üniversitesi'nin yazılı izni olmadan kopya edilmesi, fotoğraflarının çekilmesi, herhangi bir yolla çoğaltılması, yayımlanması ya da kullanılması yasaktır. Bu yasağa uymayanlar gerekli cezai sorumluluğu ve testlerin hazırlanmasındaki mali külfeti peşinen kabullenmiş sayılır.

DİN KÜLTÜRÜ VE AHLAK BİLGİSİ 2

B

2015-2016 AÖÖ-AÖL I. DÖNEM 0105-B

1. Aşağıdakilerden hangisi Türk milletini bir arada tutan, toplumu birleştiren ortak değerlerden biri değildir?

- A) Bireycilik ve kendini düşünme
- B) Vatan ve ülkü birliği
- C) Bayrak ve İstiklâl Marşı
- D) Hürriyet ve bağımsızlık

2. "Örf ve âdetlerin din ile ilişkisi" ile ilgili aşağıdaki ifadelerden hangisi yanlıştır?

- A) Dinin koymuş olduğu değerlere ters düşen örfler ve âdetler terk edilmiştir.
- B) Örf ve âdetler din ile doğrudan ilişkili değildir.
- C) Müslüman toplumlarda dinin etkisiyle oluşmuş örf ve âdetler bulunmaktadır.
- D) Bayramlaşma, dinî gün ve gecelerde yapılan etkinlikler, selamlaşma gibi uygulamaların özünde din vardır.

3. Bir toplumda genel kabul gören veya benimsenen her türlü duygu, düşünce, davranış ve kurala ne ad verilir?

- A) Kanun
- B) Fikir
- C) Değer
- D) Devlet

4. İlk evrensel insan hakları ilkeleri aşağıdakilerden hangisinde yer almaktadır?

- A) Birleşmiş Milletler Sözleşmesi
- B) Veda Hutbesi
- C) İnsan Hakları Evrensel Beyannamesi
- D) Magna Carta

5. Aşağıdakilerden hangisi İslam dininin korunmasını istediği temel ilkelerden biri değildir?

- A) Namusun korunması
- B) Aklın korunması
- C) Yalancının korunması
- D) Dinin korunması

6. Aşağıdakilerden hangisi, Hz. Musa'ya indirilen ve Yahudilerin dinî öğretileri içerisinde yer alan "on emir" arasında savılamaz?

- A) Zina etmeyeceksin.
- B) Çalmayacaksın.
- C) Anne ve babana hürmet edeceksin.
- D) Komşuna karşı yalan şahitlik yapabilirsin.

7. Değerlerin ilk oluştuğu ve şekillendiği yer aşağıdakilerden hangisidir?

- A) Dernek
- B) İşyeri
- C) Okul
- D) Aile

8. İlahî dinlerin sonuncusu aşağıdakilerden hangisidir?

- A) İslam
- B) Budizm
- C) Musevilik
- D) Hristiyanlık

9. Avrupa'daki kilise otoritesi aşağıdaki hangi olayla son bulmuştur?

- A) İslahat Fermanı
- B) Yüzyıl Savaşları
- C) 1789 Fransız İhtilali
- D) Tanzimat Fermanı

10. Atatürk'ün laiklik anlayışıyla ilgili aşağıdaki ifadelerden hangisi yanlıştır?

- A) Atatürk'ün laiklik anlayışı, asla din karşıtlığı değildir.
- B) Atatürk'ün laiklik anlayışı, asla dinsizlik değildir.
- C) Taassup hoş görülmemektedir.
- D) Atatürk'e göre laiklik; sahte dindarlıkla ve büyüçülükle mücadele kapısını açtığı için gerçek dindarlığın gelişmesini sağlamaktadır.

11. Aşağıdakilerden hangisi laikliğin temel amaçlarından biri değildir?

- A) Herkesin din ve inanç hürriyetini güvence altına almak
- B) Dinin istismar edilmesine müsaade etmemek
- C) Dinde ruhbanlık anlayışının oluşmasını önlemek
- D) Devletin din ve mezheplere karşı tarafsız olmasını engellemek

12. "Laik devlet" ile ilgili aşağıdakilerden hangisi vanlıştır?

- A) Laik devlet; inancının gereğini yerine getirmeyenlere ve bir inanca sahip olmayanlara dayatma yapılması gerektiğini savunur.
- B) Laik devlet; din hürriyetini ana ilke olarak kabul eder.
- C) Laik devlet; laiklik ilkesini benimsemiş devlet yönetimi demektir.
- D) Laik devlete göre herkes dinini seçme ve onun gereklerini yerine getirme hakkına sahiptir.

13. Hacı Bektaş Veli'nin hikmetli sözlerinin ve manzum olarak söylediği şiirlerinin toplandığı eserin adı nedir?

- A) Makâlât
- B) Divan
- C) Risalet'ün-Nushiyye
- D) Er-Risale

14. Mesnevi kimin eseridir?

- A) Yunus Emre
- B) Ahmet Yesevi
- C) Mevlana
- D) Hacı Bektaş Veli

15. Aşağıdakilerden hangisi Türklerin İslamiyetten önce benimsediği dinlerden biri değildir?

- A) Musevilik
- B) Budizm
- C) Zerdüştlük
- D) Manihaizm

16. Aşağıdakilerden hangisi Ahilik teşkilatında önemli olan prensiplerden biri değildir?

- A) İşinde ve hayatında güvenilir olacaksınız.
- B) İyi kalpli ve cömert olacaksınız.
- C) Allah'ın emirlerine uyacaksınız.
- D) İftira ve gıybetten sakınmayacaksınız.

17. Aşağıdakilerden hangisi Türklerin İslam dinini benimsemesinde etkili olan sebeplerden biri değildir?

- A) İslam dininin hak ve gerçek din olması
- B) İslam dininin hoşgörü ve sevgi anlayışı
- C) Gök Tanrı inancı ile İslam dininin benzeşmemesi
- D) Müslüman tüccarların dürüstlüğü

18. Ebu Hanife'nin asıl adı nedir?

- A) Amr Bin As
- B) Cafer Bin Tayyar
- C) İmam Maturidi
- D) Numan Bin Sabit

19. Aşağıdakilerden hangisi Türklerin benimsediği Gök Tanrı inancının temel esasları arasında yer almaz?

- A) Tanrı yaratan, yaşatan ve koruyandır.
- B) Dünya hayatından sonra hayat yoktur.
- C) Bir ve tek olan Gök Tanrı vardır.
- D) Dünyada iyilik edenler öldükten sonra bunun karşılığı olarak iyi bir yere gidecekler ve sonsuz olarak yaşayacaklardır.

20. Kitap kenarlarının ve satır aralarının altın tozu, çiçek ve nakışlarla süslenmesine ne ad verilir?

- A) Ebru
- B) Tezhip
- C) Sülüs
- D) Hüsnühat

1. Aşağıdakilerden hangisi "bilimsel bilgi"nin özelliklerinden biri değildir?
- A) Mantıksal olması
B) Eleştireci olması
C) Sübjektif olması
D) Olgusal olması
2. Doğruluğu ve gerçekliği tek yanlı olarak yalnızca eylemlerin sonuçları ile değerlendiren ve onları yalnızca sağladığı "fayda" açısından değerlendiren akım aşağıdakilerden hangisidir?
- A) Emprizm
B) Pragmatizm
C) Rasyonalizm
D) Nihilizm
3. Dış dünyadaki varlıkların madde ve form olmak üzere iki öğeden oluştuğunu savunan düşünür aşağıdakilerden hangisidir?
- A) Gorgias
B) Protogoras
C) Aristoteles
D) Parmenides
4. Bilginin kaynağında tecrübenin, deneyin bulunduğunu savunan düşünür aşağıdakilerden hangisidir?
- A) Descartes
B) Hobbes
C) Whitehead
D) Locke
5. Aşağıdakilerden hangisi Comte'un üç hal yasası evrelerinden biri değildir?
- A) Teolojik Evre
B) Metafizik Evre
C) Estetik Evre
D) Pozitif Evre
6. "Dünyadaki değişme mekanik olarak değil, diyalektik yasalara göre ani sıçramalar yoluyla gerçekleşir" görüşünü ifade eden düşünür aşağıdakilerden hangisidir?
- A) Hegel
B) Husserl
C) Comte
D) Marx
7. Aşağıdakilerden hangisi materyalizmi savunan düşünürlerden biri değildir?
- A) Spencer
B) Hobbes
C) Demokritos
D) La Mettrie

8. Sınırları önceden belirlenmiş bir alanda, bilmek amacıyla genel geçer bilgiye ulaşmak için sistemli olarak belli bir yöntemle elde edilen bilgiye ne ad verilir?
- A) Teknik bilgi
B) Sanat bilgisi
C) Bilimsel bilgi
D) Gündelik bilgi
9. Felsefenin sözcük anlamı aşağıdakilerden hangisidir?
- A) Ahlak
B) Zekâ
C) Akıl
D) Bilgelik sevgisi
10. Felsefesini hem emprizme hem de rasyonalizme dayandıran görüş aşağıdakilerden hangisidir?
- A) Kritisizm
B) Pozitivizm
C) Septisizm
D) Entüsyonizm
11. "Kanun" adlı eser aşağıdakilerden hangisine aittir?
- A) Gazali
B) Birûnî
C) Yunus Emre
D) Mevlana
12. Ontoloji terimini ilk kullanan düşünür aşağıdakilerden hangisidir?
- A) Fichte
B) Wolff
C) Hegel
D) Schelling
13. Bilginin ne olduğunu, nasıl ve ne yollardan elde edildiğini araştıran felsefe dalı aşağıdakilerden hangisidir?
- A) Rasyonalizm
B) Ontoloji
C) Antropoloji
D) Epistemoloji
14. Varlığın var olup olmadığı, ruh, tanrı, öteki dünya, ölümsüzlük gibi felsefenin ilk ve son sorunlarıyla uğraşan alanı aşağıdakilerden hangisidir?
- A) Metafizik
B) Astrofizik
C) Astroloji
D) Ontoloji

15. Aşağıdakilerden hangisi felsefe bilgisinin özelliklerinden biri değildir?

- A) Rastlantıya dayanması
- B) Evrensel olması
- C) Kümülatif olması
- D) Birleştirici ve bütünleştirici olması

16. Varlığı fenomen olarak gören ve bundan yola çıkarak, fenomenoloji akımını kuran düşünür aşağıdakilerden hangisidir?

- A) Lamarck
- B) Husserl
- C) Hegel
- D) Marx

17. Evrenin ana maddesinin su olduğunu, her şeyin sudan oluştuğunu ve yine suya dönüşeceğini savunan düşünür aşağıdakilerden hangisidir?

- A) Thales
- B) Demokritos
- C) Herakleitos
- D) Platon

18. Hiçbir şeyin var olmadığını, hiçbir şeyin bilinemeveceğini savunan felsefi öğretiye ne ad verilir?

- A) Kuramcılık
- B) Nihilizm
- C) Mantıkçılık
- D) Ontoloji

19. İnsan zihninden bağımsız bir gerçeğin var olduğunu savunan felsefi öğretiye ne ad verilir?

- A) Ampirizm
- B) Kritisizm
- C) Realizm
- D) Septisizm

20. Aşağıdakilerden hangisi duyularla kavranamayan, zaman ve mekân dünyasında ver almayan varlıklar üzerinde çalışan bir bilim dalıdır?

- A) Biyoloji
- B) Fizik
- C) Matematik
- D) Kimya

1. Aşağıdakilerden hangisi estetik yargıya bir örnektir?

- A) Picasso'nun bütün resimleri güzeldir.
- B) Bırakılan taş yere düşer.
- C) Bütün canlılar ölümlüdür.
- D) Arkadaşa yardımcı olmak iyi bir davranıştır.

2. Aşağıdakilerden hangisi bireyin temel haklarından biri değildir?

- A) Kişisel Haklar
- B) Kolektif Haklar
- C) Toplumsal ve Ekonomik Haklar
- D) Siyasal Haklar

3. I. Mevlana
II. Yunus Emre
III. Hacı Bektaş Veli

Yukarıdakilerden hangileri evrensel ahlak yasasını tasavvuf düşüncesiyle temellendirmiştir?

- A) Yalnız I
- B) I ve II
- C) II ve III
- D) I, II ve III

4. Liberalizmi savunan düşünürlere göre, ideal düzenin var olması aşağıdakilerden hangisine bağlıdır?

- A) Toplumda birey özgürlüklerinin tam olarak yerine getirilmesine
- B) Toplumun hukuk kurallarından daha çok örf ve geleneklere göre yönetilmesine
- C) İnsanlar arasında tam eşitliğin gerçekleşmesine
- D) Üretim araçlarının toplumun ortak mülkiyetinde olmasına

5. Aşağıdakilerden hangisi ahlak felsefesinin kavramlarından biridir?

- A) Erdem
- B) Meşruiyet
- C) Kutsal
- D) Güznel

6. Sartre hangi felsefi yaklaşımın temsilcisidir?

- A) Hazcılık
- B) Varoluşçuluk
- C) Sezgicilik
- D) Faydacılık

7. Panteizme göre, Tanrı'nın evrenden ayrı bir varlığı yoktur. Tanrı evrenin kendisidir. Evrende var olan herşey, aslında bir bütün olarak Tanrı'yı oluşturur. Tanrı her şeydir ve her şey Tanrı'dır. Tanrı, nesnelerin dışında değil, içindedir.

Bu açıklamaya göre Panteizm ile ilgili aşağıdaki yargılardan hangisine ulaşılabilir?

- A) Tanrı'nın varlığını reddeder.
- B) Tanrı ve evrenin birbirinden bağımsız olduğunu kabul eder.
- C) Tanrı'nın varlığını evren ile özdeşleştirir.
- D) Tanrı'nın varlığının bilinemeyeceğini savunur.

8. İnsanın kendi çevresi ile kurduğu ilişkiyi estetik bir ifadeyle sunmasına ne ad verilir?

- A) Din
- B) Ahlak
- C) Sanat
- D) Bilim

9. Estetik yargı ile ilgili aşağıdaki ifadelerden hangisi yanlıştır?

- A) Estetik yargılar objektiftir.
- B) Estetik yargılar bireyseldir.
- C) Estetik yargılar relatifdir.
- D) Estetik yargılar zorunludur.

10. Kant'ın ahlaki eylem ile ilgili görüşü aşağıdakilerden hangisidir?

- A) Ahlaki eylemin amacı mutluluktur.
- B) Bir eylemin iyi ya da kötü olduğuna, iyi ideasına uygun olup olmadığına bakılarak karar verilir.
- C) Neyin iyi, neyin kötü olduğu sezgiyle kavranabilir.
- D) Bir eylem, bir ödev duygusuyla yapılmış ise ahlaki eylemdir.

11. Aşağıdakilerden hangisi ahlak yargılarının özelliklerinden biri değildir?

- A) Estetik beğeni ile ilgili yargılardır.
- B) Yaptırım gücüne sahiptir.
- C) Kişiden kişiye değişebilir.
- D) Değerlerle ilgilidir.

12. "Gerçek estetik yargıların duyusal olmaktan çıkıp düşünsel düzeye çıktığını, kişisel olmaktan çıkıp zorunlu ve genel geçer hale geldiğini" ifade eden Kant, bu görüşüyle aşağıdakilerden hangisini savunmuştur?

- A) Sanatla oyun arasında benzerlik olduğunu
- B) Estetik yargıların, kişilere göre farklılık gösterdiğini
- C) Ortak estetik yargıların var olduğunu
- D) Güzel olan ile iyi hoş olanın aynı şey olduğunu

13. Aşağıdakilerden hangisi ideal bir düzenin olabileceğini reddeden "nihilizm" in temsilcilerinden biridir?

- A) Comte
- B) Nietzsche
- C) Marx
- D) Platon

14. Sanatçının eserlerini nasıl oluşturduğu ile ilgili aşağıdaki ifadelerden hangisi yanlıştır?

- A) Estetik duygulardan arınarak sanat eserini oluşturur.
- B) Madde ve biçime ilişkin her şeyle oynayarak oluşturur.
- C) Kendi yeteneği ve hayal gücünü kullanarak oluşturur.
- D) Nesnelere taklit ederek oluşturur.

15. Aşağıdakilerden hangisi din felsefesinin temel kavramlarından biri değildir?

- A) Kutsal
- B) Vahiy
- C) İman
- D) Yönetim

16. Aşağıdakilerden hangisi siyaset felsefesinin temel sorularından biri değildir?

- A) Meşruiyetin ölçütü nedir?
- B) Evren yaratılmış mıdır?
- C) En iyi yönetim biçimi hangisidir?
- D) Bürokrasiden vazgeçilebilir mi?

17. Zihinde tasarlanmış, gerçekleşmesi mümkün olmayan düşsel bir toplum biçimini ve siyasi yönetim tarzını ifade eden kavram aşağıdakilerden hangisidir?

- A) Anomi
- B) Devlet
- C) Ütopya
- D) Bürokrasi

18. Aşağıdakilerden hangisi ahlak felsefesinin temel sorularından biridir?

- A) Var oluşun kaynağı nedir?
- B) Meşruiyetin ölçütü nedir?
- C) Sivil toplum ne anlama gelir?
- D) İnsan ahlaki eylemde bulunurken özgür müdür?

19. Max Weber'in "Liderin sahip olduğuna inanılan olağanüstü niteliklerinden doğar." şeklinde ifade ettiği otorite türü aşağıdakilerden hangisidir?

- A) Hukuksal
- B) Demokratik
- C) Karizmatik
- D) Geleneksel

20. Farabi'nin, seçimle belirlenen erdemli kişiler tarafından yönetilen ütopyik devlet tasarısını anlattığı eseri aşağıdakilerden hangisidir?

- A) Ütopya
- B) Güneş Ülkesi
- C) Erdemli Şehir
- D) Yeni Dünya

1. Osmanlı Devleti ve İnan arasında imzalanan ilk antlaşma aşağıdakilerden hangisidir?

- A) Karlofça
- B) Nasuh Paşa
- C) Ferhat Paşa
- D) Amasya

2. IV. Mehmet zamanında yeniçerilerin ayaklanması sonucu otuz kadar devlet adamının idamıyla sonuçlanan olay aşağıdakilerden hangisidir?

- A) Celali ayaklanması
- B) Vaka-i vakvakiye
- C) 31 Mart olayı
- D) Vaka-i Hayriye

3. Evliya Çelebi'nin Osmanlı ülkesini baştanbaşa gezerek otuz yıl süren seyahatlerini anlattığı eseri aşağıdakilerden hangisidir?

- A) Cihannüma
- B) Keşf-i Zünun
- C) Seyahatname
- D) Hitay Sefaretnamesi

4. Aşağıdakilerden hangisi dirlik sisteminin uygulanmasının sağladığı faydalardan biri değildir?

- A) Hazineden para harcanmadan her an savaşa hazır bir ordu beslenmiştir.
- B) Araziden daha iyi faydalanılmış ve üretimin artması sağlanmıştır.
- C) Devlet, üretimi denetim altına almış ve sürekliliğini sağlamıştır.
- D) Dirlik sisteminin uygulanması merkezi otoriteyi zayıflatmıştır.

5. Osmanlı Devleti ve Rusya arasında imzalanan ilk antlaşma aşağıdakilerden hangisidir?

- A) Bucaş
- B) Vasvar
- C) Bahçesaray (Çehrin)
- D) Zitvatoruk

6. Osmanlı Devleti'nin Avusturya'ya karşı üstünlüğünü sona erdiren antlaşma aşağıdakilerden hangisidir?

- A) Kasrı Şirin
- B) Zitvatoruk
- C) Pasarofça
- D) Küçük Kaynarca

7. Osmanlı Devleti'nin fethettiği yerlere Anadolu'dan getirdiği Türkleri yerleştirmesinin amacı aşağıdakilerden hangisidir?

- A) Fethedilen yerlere Türk-İslam kimliği kazandırmak
- B) Bölgenin yerli halkını göçe zorlamak
- C) Bölgedeki üretimi artırmak
- D) Bölgenin nüfusunu artırmak

8. Moğol İmparatorluğu'nun parçalanması üzerine İnan ve çevresinde Hülâgu Han tarafından kurulan devlet aşağıdakilerden hangisidir?

- A) Memluk
- B) Türkiye Selçuklu
- C) İlhanlı
- D) Altın Orda

9. İstanbul hangi yıl fethedilmiştir?

- A) 1450
- B) 1453
- C) 1459
- D) 1460

10. Karadeniz'in Türk gölü olmasını sağlayan olay aşağıdakilerden hangisidir?

- A) Mora'nın Fethi
- B) Kırım'ın Fethi
- C) Eflak Seferi
- D) Bosna-Hersek Seferi

11. Aşağıdakilerden hangisi Osmanlı bürokrasisini oluşturan kollardan biri değildir?

- A) Enderun
- B) İlimiye
- C) Kalemîye
- D) Seyfiye

12. Osmanlı Devleti'nde 11 yıl boyunca yaşanan Fetret Devrine son veren padişah aşağıdakilerden hangisidir?

- A) İsa Çelebi
- B) Musa Çelebi
- C) Süleyman Çelebi
- D) Mehmet Çelebi

13. XVII. yüzyılda ıslahat hareketlerinde ilk esaslı adımı atan padişah aşağıdakilerden hangisidir?

- A) II. Osman (Genç Osman)
- B) III. Murat
- C) IV. Mehmet
- D) IV. Murat

14. Osmanlılarda ilk para hangi padişah zamanında basılmıştır?

- A) I. Murat
- B) Orhan Bey
- C) Çelebi Mehmet
- D) Osman Bey

15. Osmanlı Devleti'nde eğitim ve öğretim faaliyetlerinin yapıldığı en önemli kurum aşağıdakilerden hangisidir?

- A) Tophane
- B) Medrese
- C) Mehterhane
- D) Humbarahane

16. Osmanlıda el yazması kitapları süsleme sanatına ne ad verilir?

- A) Ciltçilik
- B) Minyatür
- C) Hat
- D) Tezhip

17. Osmanlı Devleti'nde padişah kızlarına, annelerine ve eşlerine ayrılan toprak aşağıdakilerden hangisidir?

- A) Paşmaklık
- B) Malikâne
- C) Yurtluk
- D) Ocaklık

18. Aşağıdakilerden hangisi Rönesans'ın nedenlerinden biri değildir?

- A) Kâğıt ve matbaanın kullanılmasıyla okuma ve yazma bilenlerin sayısının artması
- B) Coğrafi keşiflerle zenginleşen Avrupalıların sanatçı ve bilim insanlarını korumaları
- C) Skolastik düşüncenin güç kazanması
- D) İstanbul'un fethinden sonra İtalya'ya giden Bizanslı aydınların antik dönem edebiyat ve sanatının yayılmasını sağlamaları

19. Vasvar Antlaşması kimler arasında imzalanmıştır?

- A) Osmanlı Devleti – İngiltere
- B) Osmanlı Devleti – Avusturya
- C) Avusturya – Fransa
- D) Almanya – Rusya

20. Aşağıdakilerden hangisi Osmanlı Devleti ile Macarlar arasında 1444 yılında imzalanan Edirne-Segedin Antlaşması'nın maddeleri arasında yer almaz?

- A) Sırbistan bağımsız olacak fakat Osmanlı Devleti'ne vergi verecek
- B) Antlaşma on yıl geçerli olacak
- C) Tuna nehri iki taraf arasında sınır kabul edilecek
- D) Eflak tamamen Osmanlı egemenliğinde kalacak

1. Aşağıdakilerden hangisi küresel ısınmaya **en fazla** sebep olan etkenlerden biridir?
- A) Tarımsal üretimin artması
B) Aşırı yağışlar
C) Balıkçılık faaliyetleri
D) Sanayi üretimi sırasında ortaya çıkan atıklar
2. Aşağıdakilerden hangisi oluşumuna göre ovalardan biri **değildir**?
- A) Karstik ovalar
B) Tektonik ovalar
C) Kıyı ovaları
D) Delta ovaları
3. Bir ülkenin gümrük hattı dışında sayılan, ülkede geçerli ticari, mali ve ekonomik alanlara ilişkin hukuki ve idari düzenlemelerin uygulanmadığı veya kısmen uygulandığı, sanayi ve ticari faaliyetler için daha geniş teşviklerin tanındığı yerlere ne ad verilir?
- A) Yarı yapılandırılmış bölge
B) Serbest bölge
C) Kısıtlı bölge
D) Değiş-tokuş bölgesi
4. Akarsuların, eğimin azaldığı yerlerde sağa sola kıvrılarak akmasına ne ad verilir?
- A) Menderes
B) Peribacası
C) Vadi
D) Kırgıbayır
5. Ekvatora uzaklıklarının yaklaşık olarak aynı olmasına rağmen Erzurum ve Balıkesir'in ortalama sıcaklıklarının farklı olmasının sebebi aşağıdakilerden hangisidir?
- A) Yükselti
B) Demografik yapısı
C) Bitki örtüsü
D) Yüzölçümleri
6. Akdeniz, Ege ve Marmara kıyılarında etkili olan, güneybatıdan esen sıcak ve kuru rüzgâr aşağıdakilerden hangisidir?
- A) Karayel
B) Kible
C) Lodos
D) Yıldız
7. Aşağıdakilerden hangisi, iklimi etkileyen özel konumla ilgili faktörlerden biri **değildir**?
- A) Etrafındaki denizler
B) Basınç merkezleri
C) Etrafındaki kara kütleleri
D) Ülkenin sınırları
8. Aşağıdaki ülkelerden hangisi Avrupa Birliğine üye **değildir**?
- A) Romanya
B) Slovenya
C) Hırvatistan
D) Arnavutluk
9. Aşağıdakilerden hangisi köy altı yerleşme tiplerinden biri **değildir**?
- A) Mezra
B) Kasaba
C) Kom
D) Divan
10. Akarsular tarafından derince yarılmış olan engebeli düzlüklere ne ad verilir?
- A) Plato
B) Ova
C) Kanyon
D) Yamaç
11. Tarla ve bahçe ziraatı olarak topraktan yararlanma, hayvancılık, ormancılık, balıkçılık, madencilik faaliyetlerini konu alan coğrafya dalı aşağıdakilerden hangisidir?
- A) Yerleşme coğrafyası
B) Tarım coğrafyası
C) Ticaret coğrafyası
D) Nüfus coğrafyası
12. Aşağıdaki enerji kaynaklarından hangisinin çevreye zararı **yoktur**?
- A) Taş kömürü
B) Doğalgaz
C) Güneş enerjisi
D) Petrol
13. Peribacaları hangi şehirde bulunmaktadır?
- A) Yozgat
B) Nevşehir
C) Çorum
D) Kayseri

14. Aşağıdaki şehirlerden hangisi idari kent özelliğinde değildir?

- A) Berlin
- B) Ankara
- C) Selanik
- D) Madrid

15. Kıyı yakınındaki adaları kıyıya bağlayan kıyı kordonlarına ne ad verilir?

- A) Lagün
- B) Obruk
- C) Dolin
- D) Tombolo

16. Aşağıdakilerden hangisi liman şehri değildir?

- A) İstanbul
- B) Van
- C) Sinop
- D) İzmir

17. Aşağıdakilerden hangisi sürekli kuraklık yaşanan bölgelerden biri değildir?

- A) Kuzey Afrika
- B) Arap Yarımadası
- C) Kuzey Avrupa
- D) Batı Avustralya

18. Aşağıdakilerden hangisi Türkiye'de görülen iklim çeşitlerinden biri değildir?

- A) Tropikal iklim
- B) Karasal iklim
- C) Karadeniz iklimi
- D) Akdeniz iklimi

19. Obrukların oluşum şekli aşağıdakilerden hangisidir?

- A) Karstik arazilerin mağara tavanlarının çökmesiyle oluşur.
- B) Sert rüzgârların aşındırmasıyla oluşur.
- C) Akarsuların debilerinin yüksek olması ve kuvvetli aşındırma yapmasıyla oluşur.
- D) Şiddetli yağışlar sonucu oluşur.

20. Aşağıdaki illerden hangisi yıllık ortalama sıcaklık değerleri bakımından diğerlerinden daha sıcaktır?

- A) Ankara
- B) Erzurum
- C) Samsun
- D) Antalya

1. Seramik, porselen, çömlek, tuğla ve kiremit üretiminde kullanılan ana madde aşağıdakilerden hangisidir?

- A) Kil
- B) Çorak
- C) Kırmızı toprak
- D) Kahverengi toprak

2. Aşağıdakilerden hangisi kent ve kır yerleşimlerini birbirinden ayırmak için kullanılan ölçütlerden biri değildir?

- A) Ulaşım olanakları
- B) Nüfus sayısı
- C) İdari yapı
- D) Geçim kaynakları

3. Aşağıdakilerden hangisi Türkiye'deki göçü engellemek için alınabilecek önlemlerden biri değildir?

- A) Kırsal alanda sosyal hizmetleri arttırmak
- B) Besi ve ahır hayvancılığını geliştirmek
- C) Modern tarım yöntemlerini yaygınlaştırmak
- D) Tarıma dayalı sanayi kollarını şehirlere taşınmak

4. Tarihi İpek Yolu'nun başladığı ülke aşağıdakilerden hangisidir?

- A) Moğolistan
- B) İran
- C) Çin
- D) Hindistan

5. Aşağıdakilerden hangisi yer kökenli doğal afetlerden biri değildir?

- A) Çiğ
- B) Deprem
- C) Tsunami
- D) Volkanik püskürtme

6. Hindistan'a ulaşan ilk denizci kimdir?

- A) Macellan
- B) Barthelemy Diaz
- C) Vasco de Gama
- D) Christoph Colomb

7. Aşağıdakilerden hangisi tuğla ve kiremit üreten tesislerin yoğunlaştığı şehirlerden biri değildir?

- A) İzmir
- B) Manisa
- C) Uşak
- D) Batman

8. Aşağıdakilerden hangisi Türkiye'de en çok göç veren şehirlerden biri değildir?

- A) Bingöl
- B) Mersin
- C) Ağrı
- D) Bitlis

9. Aşağıdakilerden hangisi kuraklığa karşı alınması gereken önlemlerden biri değildir?

- A) Fosil kökenli yakıtların kullanılması
- B) Geri dönüşümün yaygınlaştırılması
- C) Uygun yerlerde barajların inşa edilmesi
- D) Kuraklığa dayanıklı tarım ürünlerinin ekilmesi

10. Aşağıdakilerden hangisi Türkiye'de nüfusun ve yerleşmenin dağılışını etkileyen doğal faktörlerden biri değildir?

- A) Toprak çeşitliliği
- B) Jeolojik yapı
- C) İç ve dış göçler
- D) Kara ve denizlerin dağılışı

11. Toprağın akarsu, sel suları ve rüzgar gibi dış kuvvetler tarafından aşındırılarak taşınmasına ne ad verilir?
- A) Heyelan
B) Erozyon
C) Torak kayması
D) Deprem
12. Volkanik püskürmelerin en fazla görüldüğü yer aşağıdakilerden hangisidir?
- A) Hint Okyanusu çevresi
B) Atlas Okyanusu çevresi
C) Büyük Okyanus çevresi
D) Akdeniz çevresi
13. Doğal bir liman olmasına rağmen hinterlandı dar olduğu için yeterince gelişmemiş olan liman aşağıdakilerden hangisidir?
- A) İzmir
B) Mersin
C) İstanbul
D) Sinop
14. Aşağıdakilerden hangisi Türkiye’de toplu köy yerleşmelerinin yaygın olduğu yerlerden biri değildir?
- A) Engebeli araziler
B) Vadi tabanları
C) Dağ etekleri
D) Dağ yamaçları
15. Aşağıdakilerden hangisi Akdeniz’e dökülen akarsulardan biri değildir?
- A) Ceyhan
B) Bakırçay
C) Seyhan
D) Göksu
16. Birkaç mahallenin tek muhtarlık olarak birleştiği kır yerleşmelerine ne ad verilir?
- A) Oba
B) Yayla
C) Divan
D) Mezra
17. Basra Körfezi’ni Umman Denizi’ne bağlayan boğaz aşağıdakilerden hangisidir?
- A) Malaka Boğazı
B) Bering Boğazı
C) Cebelitarık Boğazı
D) Hürmüz Boğazı
18. Aşağıdakilerden hangisi Türkiye’de görülen geniş yapraklı ağaçlardan biridir?
- A) Meşe
B) Ladin
C) Sedir
D) Servi
19. Aşağıdakilerden hangisi Türkiye nüfusunun yapısal özelliklerini yansıtan kriterlerden biri değildir?
- A) Nüfusun eğitim durumuna göre dağılımı
B) Nüfusun cinsiyete göre dağılımı
C) Nüfusun konuşulan dillere göre dağılımı
D) Nüfusun yaş gruplarına göre dağılımı
20. Aşağıdakilerden hangisi zonal toprak çeşitlerinden biridir?
- A) Alüvyal topraklar
B) Çernezyom topraklar
C) Tuzlu topraklar
D) Kolüvyal topraklar

1. 1963'te yıkılan Kıbrıs Cumhuriyeti aşağıdaki hangi ülkenin Kıbrıs Adası'ndan çekilmesi sonucu kurulmuştur?

- A) İngiltere
- B) Almanya
- C) Yunanistan
- D) Fransa

2. Aşağıdakilerden hangisi günümüzdeki sıcak çatışma bölgelerinden biri değildir?

- A) Orta Afrika
- B) Orta Doğu
- C) Sibirya
- D) Kafkasya

3. Birleşmiş Milletler 2010 Dünya İnsani Gelişme Raporu'na göre, aşağıdaki ülkelerden hangisinin İnsani Gelişim Endeksi en yüksektir?

- A) Meksika
- B) Arjantin
- C) Çin
- D) Japonya

4. I. Dünya Bankası
II. Avrupa Konseyi
III. Ekonomik Kalkınma ve İşbirliği Örgütü
IV. Birleşmiş Milletler

Yukarıdakilerden hangileri Türkiye'nin üye olduğu ekonomik örgütler arasında yer alır?

- A) I ve II
- B) I ve III
- C) II ve III
- D) III ve IV

5. I. Evlenme yaşının erkekler ve kızlar için 21'e yükseltilmesi
II. Çok çocuklu ailelere vergi muafiyetinin getirilmesi
III. Nüfus artırma politikası ile doğum evi kurulması,
IV. Gebeliği önleyici ilaç ve araçların satılmasının yaygınlaştırılması

Yukarıdakilerden hangileri Türkiye'de 1960 yılına kadar izlenen nüfus politikaları arasında yer alır?

- A) I ve II
- B) I ve III
- C) II ve III
- D) III ve IV

6. I. Boğazların bulunması
II. Dağların uzanış yönü
III. Zengin petrol kaynakları bölgelerine komşu olması

Yukarıdakilerden hangileri Türkiye'nin jeopolitik önemini artıran unsurlar arasında yer alır?

- A) I ve II
- B) I ve III
- C) II ve III
- D) I, II ve III

7. Aşağıdakilerden hangisi Yeşilirmak Havzası Gelişim Projesi kapsamındaki illerden biridir?

- A) Çorum
- B) Bartın
- C) Zonguldak
- D) Karabük

8. Orta Doğu petrollerinin çıkış kapısı konumunda olan ve İran Körfezi'ni Umman Denizi'ne bağlayan boğaz aşağıdakilerden hangisidir?

- A) Macellan Boğazı
- B) Malakka Boğazı
- C) Bering Boğazı
- D) Hürmüz Boğazı

9. Ülkelerin gelişmişlik düzeylerini belirtmek için en çok kullanılan ölçüt aşağıdakilerden hangisidir?

- A) Kişi başına düşen milli gelir
- B) Okur-yazar oranı
- C) Doktor başına düşen hasta sayısı
- D) Kişi başına düşen elektrik tüketimi

10. Aşağıdaki barajlardan hangisi GAP kapsamında yer almaktadır?

- A) Hirfanlı
- B) Demirköprü
- C) Kemer
- D) Atatürk

11. Türkiye'nin nüfusu 1927 yılında 13.6 milyon iken 2010 yılında 73.7 milyona yükselmiştir.

Aşağıdakilerden hangisi belirtilen yıllar arasında nüfusun hızlı artmasının nedenlerinden biri değildir?

- A) Ekonomik koşulların iyileşmesi
- B) Yurtdışına işçi göçü ile sağlanan gelirin artması
- C) Sağlık hizmetlerinin gelişmesi
- D) Beslenme koşullarının düzelmesi

12. Aşağıdakilerden hangisi doğal miraslarımızı korumak için yapılabilecek faaliyetler arasında yer almaz?

- A) Su kaynaklarının aşırı derecede kullanılması
- B) Çöplerin geri dönüşüm için ayrılması
- C) Orman alanlarının geliştirilmesi
- D) Yenilenebilir enerji kaynaklarının tercih edilmesi

13. Aşağıdakilerden hangisi Orta Doğu'nun dünya açısından önemli bir bölge olmasının nedenlerinden biri değildir?

- A) Kutsal mekanları barındırması
- B) Dünya petrol rezervlerinin büyük bölümüne sahip olması
- C) Su rezervlerinin çok olması
- D) Önemli ticaret yollarının kavşak noktasında bulunması

14. Aşağıdakilerden hangisi, fizibilite çalışmaları tamamlanan projelerin hayata geçirilmesi ile, söz konusu bölgelerde hedeflenen temel gelişmelerden biri değildir?

- A) Bölge dışına yapılan göçleri artırmak
- B) Bölgeyi sanayi ve hizmet merkezi haline getirmek
- C) Bölge içinde sermaye birikimini sağlamak
- D) Kişi başına düşen milli geliri artırmak

15. Aşağıdakilerden hangisi Greenpeace çevre örgütünün başlıca çalışma alanları arasında yer almaz?

- A) Zehirli kimyasalların ortadan kaldırılması
- B) Küresel ısınmanın durdurulması
- C) Temiz ve geri dönüştürülebilir enerjinin kullanılması
- D) Genleri ile oynanmış organizmaların doğaya bırakılmalarının yaygınlaştırılması

16. I. Önemli ulaşım yollarının kontrolü
II. Bağımsızlık istekleri
III. Yeraltı zenginliklerinin paylaşımı
IV. Su kaynaklarının paylaşımı

Yukarıdakilerden hangileri uluslararası sıcak çatışmalara neden olan beşeri ve ekonomik unsurlar arasında yer alır?

- A) I ve II
- B) I ve III
- C) II ve III
- D) III ve IV

17. Türkiye'nin 2050 yılındaki nüfus piramidi tabanının daralarak arı kovani şekline benzeyeceği tahmin edilmektedir.

Yukarıda açıklanan durum aşağıdakilerden hangisinin göstergesidir?

- A) Genç nüfus oranının artacağı
- B) Yaşlı nüfus oranının artacağı
- C) İşsiz kişi sayısının artacağı
- D) Nüfus artış hızının artacağı

18. Aşağıdakilerden hangisi deniz ve okyanuslarda canlı hayatının devamlılığına katkı yapar?

- A) Dip tarama yöntemiyle avlanma
- B) Radyoaktif atıklar
- C) Endüstriyel balıkçılık
- D) Dönemsel avlanma yasakları

20. Artvin, Bayburt, Giresun gibi illeri kapsayan proje aşağıdakilerden hangisidir?

- A) DOKAP
- B) ZBK
- C) DAP
- D) GAP

19. I. Uluabat Gölü
II. Samsam Gölü
III. Gavur Gölü
IV. Van Gölü

Yukarıdakilerden hangileri Türkiye'nin kaybolan sulak alanları arasında yer alır?

- A) I ve II
- B) I ve III
- C) II ve III
- D) III ve IV

1. Gezi yazılarının eski adı aşağıdakilerden hangisidir?

- A) Vakaname
- B) Seyahatname
- C) Hatıra
- D) Name

2. Çevresi izleyicilerle çevrili bir alan içinde oynanan, yazılı metne dayanmayan, içinde müzik, raks ve şarkı da bulunan doğaçlama bir oyun olarak tarif edilen tür aşağıdakilerden hangisidir?

- A) Karagöz
- B) Müzikal
- C) Orta oyunu
- D) Komedi

3. Günlük ve anı ile ilgili olarak aşağıdakilerden hangisi söylenemez?

- A) Günlüklerin günü gününe yazıldığı
- B) Anıların geçmişe yönelik olduğu
- C) Günlüklerde özneliğin ağır bastığı
- D) Anılarda anlatılanların belgelere dayandığı

4. Sohbet (söyleşi) ile ilgili aşağıdaki ifadelerden hangisi yanlıştır?

- A) Sohbet resmî bir dil ve üslup kullanılır.
- B) Konuşup görüşme anlamına gelir.
- C) Sohbet türünde yazılan kitaplar da vardır.
- D) Atasözü ve deyimlerden yararlanır.

5. Aşağıdakilerden hangisi hikâyenin bölümlerinden biri değildir?

- A) Değerlendirme
- B) Gelişme
- C) Giriş
- D) Sonuç

6. Herhangi bir konu üzerinde yazarın düşüncelerini kesin yargıya varmadan, kurallara bağlamadan görüş ve düşüncelerini serbestçe ortaya koyduğu fikir yazılarına ne ad verilir?

- A) Fıkra
- B) Makale
- C) Eleştiri
- D) Deneme

7. Fıkra ile ilgili aşağıdaki ifadelerden hangisi yanlıştır?

- A) Olaya dayalı bir anlatımı vardır.
- B) Anlatım sizli bizli ve resmidir.
- C) Dil göndergesel işlevinde kullanılır.
- D) Giriş, gelişme ve sonuç bölümlerinden oluşur.

8. Dilekçe ile ilgili aşağıdaki ifadelerden hangisi yanlıştır?

- A) Anlatım yalın ve duru olmalıdır.
- B) İmzasız dilekçeler geçersiz sayılır.
- C) Kâğıt yetmezse arka sayfaya devam edilir.
- D) Sol alt köşeye adres yazılır.

9. Edebiyatımızın gezi türündeki ilk ve en büyük eseri olarak nitelendirilen Seyahatname eserinin yazarı aşağıdakilerden hangisidir?

- A) Halikarnas Balıkcısı
- B) Edip Ahmet Yükneki
- C) Pierre Loti
- D) Evliya Çelebi

10. Makale türü Türk edebiyatına hangi dönemde girmiştir?

- A) Tanzimat
- B) Cumhuriyet
- C) İslahat
- D) Fetret

11. Metinlerin sınıflandırılmasına göre, olay çevresinde oluşan edebi metinler aşağıdakilerden hangisinin içinde yer alır?

- A) Tarihi metinler
- B) Gazete çevresinde gelişen metinler
- C) Sanat metinleri
- D) Öğretici metinler

12. Aşağıdakilerden hangisi modern Türk tiyatrosu içerisinde yer almaz?

- A) Komedi
- B) Dram
- C) Trajedi
- D) Orta oyunu

13. Atatürk'ün manevi kızı Afet İnan'a yazdığı yazının türü aşağıdakilerden hangisidir?

- A) Özel mektup
- B) Edebi mektup
- C) Günce
- D) Anı

14. Eleştiri türüyle ilgili aşağıdakilerden hangisi yanlıştır?

- A) Eleştiride eserin bütün özelliklerini ortaya koymak gereksizdir.
- B) Edebiyatımızdaki ilk eleştiri Namık Kemal'in Tahrir-i Harabat eseridir.
- C) Eleştiri yapan kişi geniş bilgi ve kültür birikimiyle donanımlı olmalı.
- D) Kişinin kendi eleştirisini yansıtan yazılara otokritik adı verilir.

15. Bir kişinin söylediğinin aynı şekilde değil de bazı değişiklikler yapılarak anlatılmasına ne ad verilir?

- A) Öznel anlatım
- B) Nesnel anlatım
- C) Doğrudan anlatım
- D) Dolaylı anlatım

16. Sanat metinleriyle ilgili aşağıdaki ifadelerden hangisi yanlıştır?

- A) Sanat metinlerine edebi metinler de denir.
- B) Edebiyat biliminin içerisinde yer alır.
- C) Her okunduğunda farklı yorumlanmaz.
- D) Estetik ön plandadır.

17. Anlatmaya bağlı edebi metinler edebiyatımızda aşağıdakilerden hangisiyle başlar?

- A) Tarihi metinler
- B) Destan
- C) Dram
- D) Şiir

18. Aşağıdakilerden hangisi göstermeye bağlı edebi metinlerden biri değildir?

- A) Mesnevi
- B) Trajedi
- C) Karagöz
- D) Dram

19. Kavuklu ve Pişekâr'ın kahramanları olduğu oyun türü aşağıdakilerden hangisidir?

- A) Köy seyirlik oyunu
- B) Orta oyunu
- C) Trajedi
- D) Destan

20. Aşağıdakilerden hangisi gölge oyununun (Karagöz-Hacivat) bölümlerinden biri değildir?

- A) Muhavere
- B) Mesnevi
- C) Fasıl
- D) Mukaddime

1. Terkibibent adlı eseriyle toplumu içinden çürüten yanlış davranışları yeren sanatçı aşağıdakilerden hangisidir?

- A) Ziya Paşa
- B) Kemal Paşa
- C) Mustafa Paşa
- D) Ahmet Vefik Paşa

2. Dört mısralık Divan Edebiyatı nazım şekli aşağıdakilerden hangisidir?

- A) Gazel
- B) Mesnevi
- C) Rubai
- D) Kaside

3. Belimizde kılıcımız kirmâni
Taşı deler mızrağımın temreni
Hakkımızda devlet etmiş fermanı
Ferman padişahın dağlar bizimdir.

Dadaloğlu'nun bu dörtlüğü aşağıdakilerden hangisine örnektir?

- A) Koçaklama
- B) Taşlama
- C) Güzelleme
- D) Öğüt

4. 'Cömertlikte ve yardım etmede akarsu gibi ol' sözü kime aittir?

- A) Mevlâna
- B) Âşık Paşa
- C) Fuzulî
- D) Nâbi

5. Kısa, nükteli ve güldürücü hikâyelere ne ad verilir?

- A) Fıkra
- B) Methiye
- C) Mitos
- D) İlahi

6. Âşık Paşa'nın didaktik mesnevisinin adı nedir?

- A) Hayriyye
- B) Lütfiyye
- C) Hüsn ü Aşk
- D) Garibnâme

7. Aşağıdakilerden hangisi Türk halk tiyatrosu içinde ver almaz?

- A) Orta oyunu
- B) Dram
- C) Meddah
- D) Köy seyirlik oyunu

8. XVII. yüzyıl Türk toplumunun sanatını, tarihini, folklorunu, gelenek ve göreneklerini ayrıntılarıyla anlatan, Türk edebiyatında gezi türündeki eserlerin en ünlüsü olarak kabul edilen "Seyahatnâme" kim tarafından yazılmıştır?

- A) Çelebi Mehmet
- B) Kâtip Çelebi
- C) Evliya Çelebi
- D) Süleyman Çelebi

9. Şairin bir kimsenin ölümünden duyduğu üzüntüyü anlattığı kasideye ne ad verilir?

- A) Münacaat
- B) Mersiye
- C) Tevhit
- D) Hicviye

10. Aşağıdakilerden hangisi, çağdaş Türk şiirinde rubai biçimini kullanan şairlerden biri değildir?

- A) Edip Cansever
- B) Nazım Hikmet
- C) Yahya Kemal Beyatlı
- D) Ümit Yaşar Oğuzcan

11. Allah'a yakarışı işleyen ve bağışlanmayı dileyen şiirlere ne ad verilir?

- A) Kaside
- B) Münacaat
- C) Naat
- D) Tevhit

12. Lâle Devri'nin İstanbul'unu, doğal güzelliklerini ve eğlence hayatını gazel ve şarkılarında ölümsüzleştiren; millileşme-mahallileşme akımının temsilcisi, klasik edebiyatın usta şairi aşağıdakilerden hangisidir?

- A) Bâkî
- B) Şeyh Galip
- C) Nedim
- D) Şeyhi

13. Manas Destanı ile ilgili aşağıdaki ifadelerden hangisi yanlıştır?

- A) Dize başlarında aliterasyonlar bulunur.
- B) Kırgızlara aittir.
- C) Genellikle 7'li ve 8'li hece ölçüsüyle söylenir.
- D) Dörtlükler halinde düzenlenmiştir.

14. Aşağıdakilerden hangisi Eski Türk Edebiyatında romanın yerini tutan uzun kahramanlık hikâyelerinden biridir?

- A) Şikayetnâme
- B) Seyahatnâme
- C) Battalnâme
- D) Vakayınâme

15. Hz. Muhammed'i öven kasidelere ne ad verilir?

- A) Hicviye
- B) Methiye
- C) Münacaat
- D) Naat

16. Divan-ı Hikmet'in yazarı kimdir?

- A) Yunus Emre
- B) Yusuf Has Hacib
- C) Kaşgarlı Mahmut
- D) Ahmet Yesevi

17. İlahilerinde Tanrı aşkını, insan sevgisini, hoşgörüyü yansıtmıştır. Ona göre insan, nefesine hâkim olmakla tutkularından kurtularak Tanrı'ya ulaşabilir. Farsçanın yaygın olduğu bir dönemde sade Türkçeyle şiirler söylemiştir.

Yukarıda sözü edilen XIII. yüzyılın büyük tasavvuf şairi kimdir?

- A) Ahmet Yesevî
- B) Kaygusuz Abdal
- C) Yunus Emre
- D) Fuzulî

18. Gazel nazım şeklinin en güzel beyitine ne ad verilir?

- A) Matla beyit
- B) Makta beyit
- C) Beytül-gazel
- D) Musammat gazel

19. Attila İlhan'ın gazel biçiminin bazı özelliklerinden yararlanarak yazdığı şiiri aşağıdakilerden hangisidir?

- A) Hasköy Bahriye Kahvesine Gazel
- B) Ben Sana Mecburum
- C) Güzel Bir Kıza Gazel
- D) Ayrılık Sevdaya Dâhil

20. "Bugünden sonra divanda, dergâhta, bargâhta, mecliste, meydanda Türkçeden başka dil kullanılmayacaktır." diyerek bir fermanla Türkçeye sahip çıkmak isteyen devlet adamı aşağıdakilerden hangisidir?

- A) Yavuz Sultan Selim
- B) Karamanoğlu Mehmet Bey
- C) Kanuni Sultan Süleyman
- D) Fatih Sultan Mehmet

1. Şiirlerinde daha çok "ölüm, kader" gibi temaları işleyen şair aşağıdakilerden hangisidir?

- A) Ziya Osman Saba
- B) Muammer Lütfi
- C) Vasfi Mahir Kocatürk
- D) Kenan Hulusi Koray

2. "Çalıkuşu" romanı ile yaygın bir ün kazanan, eserlerinde Anadolu kasaba ve şehirlerini fon olarak almış, insanları sorunlarıyla işleyen yazar aşağıdakilerden hangisidir?

- A) Reşat Nuri Güntekin
- B) Peyami Safa
- C) Sait Faik Abasıyanık
- D) Sabahattin Âli

3. Hecenin Beş Şairinden biri olup, Anadolu edebiyatının en öne çıkan adıdır. İleri gazetesi adına 1922'de gittiği Ankara'da kalarak Kurtuluş hareketine katılmıştır. Milli ve yerli sanat anlayışına göre kaleme aldığı "Han Duvarları" adlı şiiri vardır.

Yukarıda sözü edilen şair aşağıdakilerden hangisidir?

- A) Mehmet Âkif Ersoy
- B) Yahya Kemal Beyatlı
- C) Faruk Nafiz Çamlıbel
- D) Mehmet Emin Yurdakul

4. Aşağıdakilerden hangisi, II. Dünya Savaşı yıllarında Türkiye'de yapılan milli eğitim ve kültür alanındaki atımlardan biri değildir?

- A) Gelenekçi edebiyatın getirdiği sınırlılıkların devam etmesi
- B) Köy enstitülerinin açılması
- C) Tercüme bürosunun kurulması
- D) Türk ve İslam Ansiklopedilerinin yayımına başlanması

5. "Alemdağ'da Var Bir Yılan" hikâye kitabında gerçek, rüya ve hayali iç içe ele alan yazar aşağıdakilerden hangisidir?

- A) Sabahattin Âli
- B) Reşat Nuri Güntekin
- C) Halide Edip Adıvar
- D) Sait Faik Abasıyanık

6. Varlık dergisinde ölçüsüz, uyaksız, şairanelikten uzak yeni bir şiir akımı başlatan üç şair aşağıdakilerin hangisinde birlikte ve doğru olarak verilmiştir?

- A) Rifat Ilgaz-Enver Gökçe- Oktay Rifat
- B) Orhan Veli Kanık-Melih Cevdet Anday-Oktay Rifat
- C) Attila İlhan-Orhan Veli Kanık-Melih Cevdet Anday
- D) Ömer Faruk Toprak-Arif Damar-Ahmet Arif

7. Şiirlerinde daha çok büyük şehrin içinde kaybolmuş insanın kırık, karanlık, karmaşık duygularını anlatan şair aşağıdakilerden hangisidir?

- A) Behçet Necatigil
- B) Cahit Külebi
- C) Asaf Halef Çelebi
- D) Fazıl Hüsnü Dağlarca

8. Hikâyelerini, "Abdullah Efendi'nin Rüyaları" adı altında toplamış olan ve eserlerinde rüya ve bilinç altına büyük önem veren yazar aşağıdakilerden hangisidir?

- A) Sabahattin Âli
- B) Ahmet Hamdi Tanpınar
- C) Peyami Safa
- D) Cevat Şakir Kabaağaçlı

9. "Akşam Musikisi" adlı şiir aşağıdaki şairlerden hangisine aittir?

- A) Halit Fahri Ozansoy
- B) Yahya Kemal Beyatlı
- C) Enis Behiç Koryürek
- D) Yusuf Ziya Ortaç

10. 2006'da Nobel Edebiyat Ödülü'nü kazanan yazar aşağıdakilerden hangisidir?

- A) Mermi Uygur
- B) Buket Uzuner
- C) Yaşar Kemal
- D) Orhan Pamuk

11. Türkçe yazılan ilk gezi kitabı kime aittir?

- A) Çelebi Mehmet Efendi
- B) Ahmet Haşim
- C) Seydi Ali Reis
- D) Katip Çelebi

12. İtalyan edebiyatında **en** tanınmış anı yazarı aşağıdakilerden hangisidir?

- A) Alberto Moraio
- B) Silvio Pellica
- C) Manzoni
- D) Fillippo Marinetti

13. "Hatıralar" adlı anı kitabında Atatürk'ü anlatan yazar aşağıdakilerden hangisidir?

- A) Ruşen Eşref Ünaydın
- B) Ahmet İhsan Tokgöz
- C) Halit Ziya Uşaklıgil
- D) Ahmet Rasim

14. Aşağıdakilerden hangisi iyi bir makalenin özellikleri arasında **ver almaz**?

- A) Öne sürülen düşüncenin inandırıcı bir biçimde geliştirilmiş olması ve kanıtlanabilmesi
- B) Anlatımın yalın ve yoğun olması
- C) Makale yazarının söz oyunlarına başvurmaması
- D) Okuyucu ile sohbet havasında yazılması

15. Gezi edebiyatının **ilk** klasik örneğini veren seyyah aşağıdakilerden hangisidir?

- A) Marco Polo
- B) Stendhal
- C) Victor Hugo
- D) Dostoyevski

16. Ahmet Haşim'in denemeleri aşağıdakilerin hangisinde birlikte ve doğru olarak verilmiştir?

- A) Erguvan İstanbul – Dağ Şarkısı
- B) Sonbahar Türküsü – Doğa
- C) Evrak-ı Eyyam – Tiryaki Sözleri
- D) Gurubahâne-i Lakkakan – Bize Göre

17. Bir kimsenin kendi başından geçenleri veya tanık olduğu olayları anlattığı esere ne ad verilir?

- A) Günlük
- B) Gezi yazısı
- C) Anı
- D) Deneme

18. Yazarın herhangi bir konu üzerinde kesin hükümlere varmadan, kendi kişisel görüş ve düşüncelerini anlattığı yazı türü aşağıdakilerden hangisidir?

- A) Fıkra
- B) Deneme
- C) Röportaj
- D) Makale

19. "Seyir Defteri" adlı gezi kitabının yazarı aşağıdakilerden hangisidir?

- A) Falih Rıfkı Atay
- B) Yaşar Kemal
- C) Nedim Gürsel
- D) Özcan Yurdakul

20. Aşağıdakilerden hangisi Türk edebiyatındaki **ilk** deneme yazarları arasında **ver almaz**?

- A) Falih Rıfkı Atay
- B) Nurullah Ataç
- C) Ahmet Rasim
- D) Cenap Şahabettin

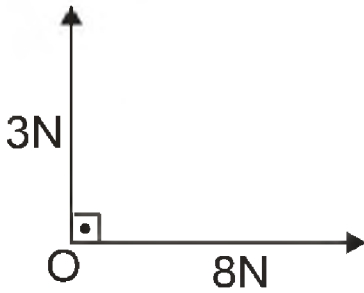
1. Aşağıdakilerden hangisi vektörel büyüklüktür?

- A) Zaman
- B) Kütle
- C) Enerji
- D) Kuvvet

2. Hızı 20m/s olan bir otomobil trafik ışıklarına yaklaşırken kırmızı ışığın yanması üzerine düzgün olarak yavaşlamaya başlıyor. Otomobil 4 saniyede yavaşlayarak durduğuna göre duruncaya kadar aldığı yol kaç metre(m) dir?

- A) 40
- B) 30
- C) 20
- D) 10

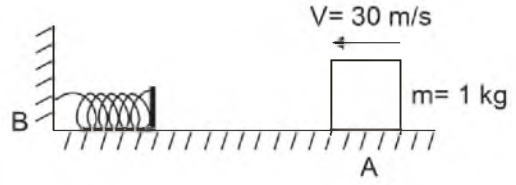
3.



Yukarıda görüldüğü gibi O noktasında bulunan cisme iki kuvvet uygulanmaktadır. Cisme uygulanan bileşke kuvvet kaç newton(N) dur?

- A) 8
- B) 9
- C) 10
- D) 15

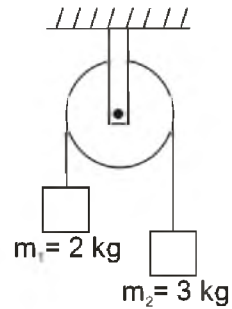
4.



A noktasından 30m/s hızla fırlatılan 1kg kütleli bir blok B noktasına sabitlenmiş olan yayı 2m sıkıştırılmaktadır. Yay sabiti kaç N/m dir? (Sürtünmeleri ihmal ediniz.)

- A) 225
- B) 175
- C) 150
- D) 100

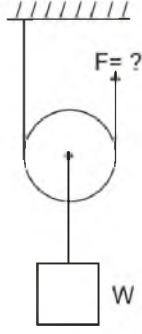
5.



Yukarıdaki şekilde kütlesi ihmal edilebilir bir makaraya kütleleri 2kg ve 3kg olan iki cisim asılmıştır. Sistemin ivmesi kaç m/s^2 dir? $g=10m/s^2$ (Sürtünmeler ihmal edilmektedir.)

- A) 1
- B) 2
- C) 3
- D) 5

6.



Şekilde görüldüğü gibi 5kg kütleli bir W yükü 10N ağırlığındaki makara ile dengeleniyor. F kuvveti kaç newton (N)dur? ($g=10\text{m/s}^2$)

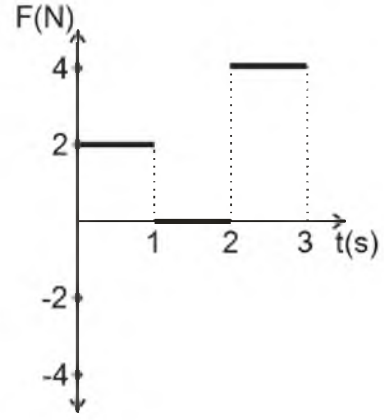
- A) 20
- B) 25
- C) 30
- D) 50

7. I. Hız-zaman grafiğinin eğimi ivmeyi verir.
 II. Hız-zaman grafiğinin altındaki alan yer değiştirmeyi verir.
 III. İvme-zaman grafiğinin altında kalan alan hız değişimini verir.

Hız-zaman ve ivme –zaman grafikleri ile ilgili yukarıdaki ifadelerden hangileri doğrudur?

- A) Yalnız I
- B) Yalnız II
- C) II ve III
- D) I, II ve III

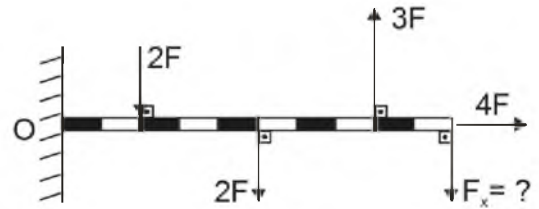
8.



Yukarıda durmakta olan 1kg kütleli bir cisme etki eden kuvvetin zamana bağlı olarak değişimi görülmektedir. 3.saniye sonunda cismin hızı kaç m/s dir?

- A) 10
- B) 6
- C) 4
- D) 2

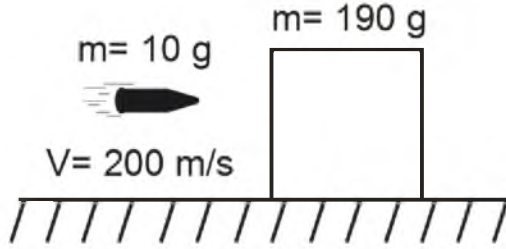
9.



Şekilde ağırlığı 2F olan homojen çubuk O noktası etrafında dönebilmektedir. Bileşke tork sıfır olduğuna göre F_x kuvveti kaç F dir?

- A) 1
- B) 2
- C) 3
- D) 4

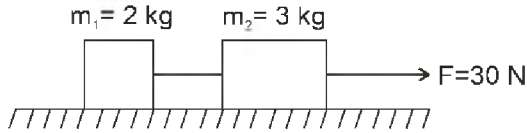
10.



Kütlesi 10g olan bir mermi sürtünmesiz düzlemde duran kütlesi 190 g olan bir bloğa saplanıyor. Merminin hızı 200m/s olduğuna göre çarpışmadan sonra blok ve merminin ortak hızı kaç m/s dir?

- A) 2
B) 6
C) 8
D) 10

11.



Şekildeki sistemde cisimlerle yüzey arasındaki sürtünme katsayısı 0,4 olduğuna göre, sistemin ivmesi kaç m/s^2 dir? $g=10m/s^2$

- A) 4
B) 3
C) 2
D) 1

12. Vida adımı 0,2 cm ve kuvvetin uygulandığı çemberin yarıçapı 0,6 cm olan vidanın tahta içinde ilerlemesine karşı koyan kuvvet direngen kuvvete uygulanan kuvvetin kaç katıdır? ($\pi = 3$ alınız)

- A) 10
B) 12
C) 15
D) 24

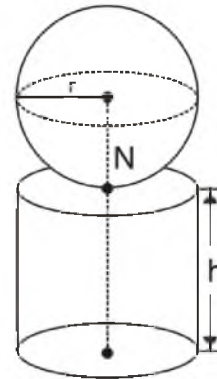
13. İlk hızı 4m/s olan bir araba düzgün olarak $3m/s^2$ lik ivme ile hızlanıyor. Arabanın 2 saniye sonundaki hızı kaç m/s dir?

- A) 6
B) 8
C) 10
D) 12

14. 20 m yükseklikteki bir apartmanın balkonundan bir çocuk 0,5 kg kütleli bir top düşürmüştür. Top serbest düşme hareketi yaptığına göre, yerden 10m yüksekte hızı kaç m/s olur? ($g=10m/s^2$)

- A) $10\sqrt{2}$
B) $2\sqrt{3}$
C) $5\sqrt{3}$
D) $2\sqrt{5}$

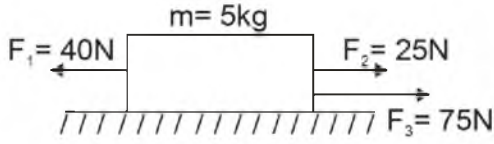
15.



Aynı maddeden yapılmış içi dolu küre ile içi dolu silindir şeklindeki gibi birbirlerine bağlanmıştır. Bu şeklin ağırlık merkezinin N noktasında olması için r/h oranı ne olmalıdır?

- A) $\sqrt{\frac{2}{3}}$
B) $\sqrt{\frac{3}{8}}$
C) $\frac{3}{5}$
D) $\frac{7}{9}$

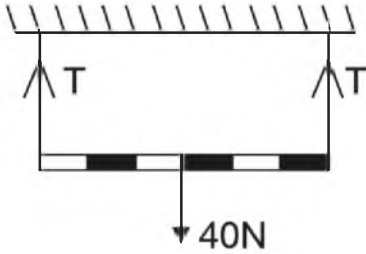
16.



Yukarıdaki şekilde görüldüğü gibi sürtünmesiz bir yüzeyde durmakta olan 5kg kütleli cisme üç kuvvet aynı anda etki etmektedir. Cismin ivmesi kaç m/s^2 dir?

- A) 8
- B) 6
- C) 10
- D) 12

17.



Yukarıdaki şekilde görüldüğü gibi 40N ağırlığındaki düzgün homojen çubuk dengededir. İpteki gerilme kaç newton (N) dur?

- A) 15
- B) 20
- C) 25
- D) 35

18. Suya göre hızı 1m/s olan bir yüzücü akıntı hızı 2m/s olan bir nehirde akıntı ile aynı yönde 10 saniye yüzüyor. Yüzücünün 10 saniye sonra yüzmeye başladığı noktaya uzaklığı kaç metre (m) olur?

- A) 25
- B) 20
- C) 15
- D) 30

19. Bahçede oynayan bir çocuk elindeki topu düşey doğrultuda yukarı doğru 20m/s hızla fırlatıyor. Top 2 saniye sonra yerden kaç metre (m) yüksekte olur? ($g=10m/s^2$)

- A) 6
- B) 8
- C) 20
- D) 25

20. I. Uygulanan kuvvet ile Δt zaman aralığının çarpımına itme denir.
 II. Kuvvet- zaman grafiğinin altında kalan alan itmeye eşittir.
 III. Bir cismin kütlesi ile hızının çarpımına momentum denir.

Yukarıdaki itme ve momentumla ilgili ifadelerden hangileri doğrudur?

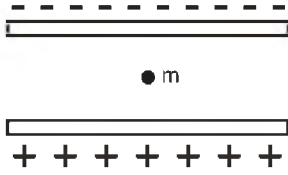
- A) I, II ve III
- B) I ve III
- C) I ve II
- D) Yalnız I

1. I. Mikrodalga fırınlarda kullanılır.
II. Fotoğraf makinalarının flaşlarında kullanılır.
III. Bilgisayarların klavye tuşlarında kullanılır.

Sığaçların kullanımı ile ilgili yukarıdaki ifadelerden hangileri doğrudur?

- A) Yalnız I
B) I ve II
C) II ve III
D) I, II ve III

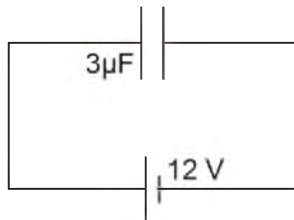
2.



Yukarıdaki şekilde görüldüğü gibi aralarındaki uzaklık 11 cm olan iletken özdeş paralel levhalar arasındaki potansiyel farkı 220 V olduğunda yükü $+2 \cdot 10^{-3}$ C olan parçacık askıda kalıyor. Parçacığın kütlesi kaç kg dır? ($g=10\text{m/s}^2$)

- A) 0,8
B) 0,6
C) 0,4
D) 0,2

3.



Yukarıdaki şekildeki kondansatörün taşıdığı enerji kaç joule (J) dur? ($\mu=10^{-6}$)

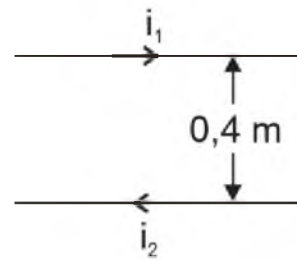
- A) $216 \cdot 10^{-6}$
B) $108 \cdot 10^{-6}$
C) $116 \cdot 10^{-6}$
D) $90 \cdot 10^{-6}$

4. I. Sığaçlar aralarında yalıtkan ortam olan iki iletken oluşur.
II. Sığaçlar elektrik potansiyel enerjiyi ve elektrik yükünü depolayan araçlardır.
III. Seri bağlı sığaçlarda tüm plakaların yükleri birbirine eşit olur.

Sığaçlarla ilgili yukarıdaki ifadelerden hangileri doğrudur?

- A) Yalnız I
B) I ve II
C) II ve III
D) I, II ve III

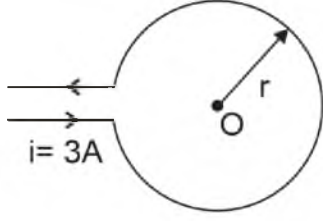
5.



Yukarıdaki şekilde görüldüğü gibi aralarındaki uzaklık 0,4 m olan paralel düz tellerden $i_1= 3\text{A}$ ve $i_2= 4\text{A}$ büyüklüğünde akım geçmektedir. Tellerin 1 metre uzunluğundaki parçalarına uyguladıkları manyetik kuvvet kaç newton (N) dur? ($K= 10^{-7} \text{N/A}^2$)

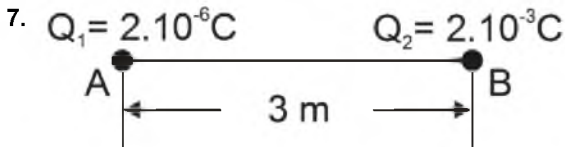
- A) $3 \cdot 10^{-6}$
B) $6 \cdot 10^{-6}$
C) $9 \cdot 10^{-6}$
D) $12 \cdot 10^{-6}$

6.



Yukarıdaki şekilde görüldüğü gibi sayfa düzleminde bulunan r yarıçaplı halkanın O noktasında oluşturduğu manyetik alan büyüklüğü ve yönü nedir? ($K=\mu_0/4\pi$, $\pi=3$)

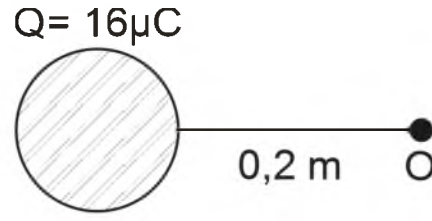
- A) $18Ki/r$ \otimes
 B) $10Ki/r$ \otimes
 C) $18Ki/r$ \odot
 D) $10Ki/r$ \odot



Yukarıdaki şekilde görüldüğü gibi sabit A ve B noktasal yükleri arasındaki elektriksel kuvvet kaç newton(N) dur? ($K=9 \cdot 10^9 \text{ Nm}^2/\text{C}^2$)

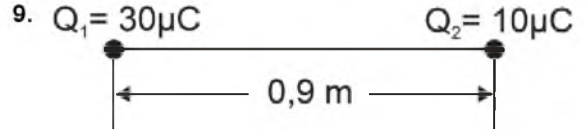
- A) 2
 B) 4
 C) 5
 D) 6

8.



Yukarıdaki şekle göre noktasal Q yükünün O noktasında oluşturduğu elektrik alan kaç N/C dur? ($k=9 \cdot 10^9 \text{ N.m}^2/\text{C}^2$)

- A) $36 \cdot 10^5$
 B) $18 \cdot 10^5$
 C) $9 \cdot 10^5$
 D) $6 \cdot 10^5$



Yukarıdaki şekildeki sistemin elektriksel potansiyel enerjisi kaç joule(J) dur? ($k=9 \cdot 10^9 \text{ Nm}^2/\text{C}^2$)

- A) 2,0
 B) 3,0
 C) 6,0
 D) 9,0

10. I. Elektrik alan pozitif birim yüke etki eden elektriksel kuvvettir.
 II. Elektrik alanın yüklü parçacık üzerine yaptığı iş elektriksel potansiyel enerji olarak tanımlanır.
 III. İletken ve yüklü bir kürenin içindeki elektrik alan sıfırdır.

Elektrik alanla ilgili yukarıdaki ifadelerden hangileri doğrudur?

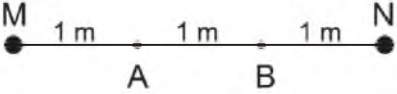
- A) Yalnız I
 B) I ve II
 C) II ve III
 D) I, II ve III

11. Her bir armatürde $50 \cdot 10^{-6} \text{ C}$ ' luk yük bulunan $5 \cdot 10^{-6} \text{ F}$ sığalı bir kondansatörün armatürleri arasındaki potansiyel farkı kaç volt(V) tur?

- A) 20
B) 15
C) 10
D) 5

12. Manyetik alan şiddeti 10 wb/m^2 olan düzgün manyetik alana dik olarak konulan tek sarımlı bir dikdörtgen çerçevenin kenar uzunlukları 10 cm ve 20 cm dir. Tel çerçeve $0,1$ saniyede alana dik paralel hale getiriliyor. Çerçeve oluşmuş indüksiyon emk kaç volt(V) dur?

- A) 2
B) 4
C) 6
D) 8

13. $q_1 = 400 \mu\text{C}$ $q_2 = -100 \mu\text{C}$


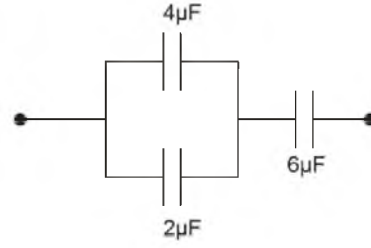
Yukarıdaki şekilde görüldüğü gibi M ve N noktasal yüklerinin A ve B noktalarında oluşturduğu V_{AB} potansiyel farkı kaç volt(V)dur?

- A) 11,4
B) -22,5
C) -12,4
D) -11,4

14. 40Ω 'luk bir direncin uçları arasındaki alternatif gerilimin maksimum değeri $40\sqrt{2}$ volt (V) dur. Direnç üzerinden geçen akımın etkin değeri kaç amper (A) dir?

- A) 4
B) 3
C) 2
D) 1

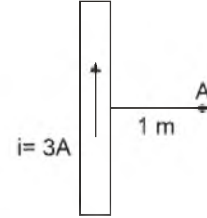
15.



Yukarıdaki şekildeki devre parçasının eşdeğer sığası kaç μF dir?

- A) 3
B) 6
C) 9
D) 12

16.



Yukarıdaki şekilde görüldüğü gibi içinden 3A akım geçen telin A noktasında oluşturduğu manyetik alanın büyüklüğü kaç wb/m^2 dir? ($K = 10^{-7} \text{ N/A}^2$)

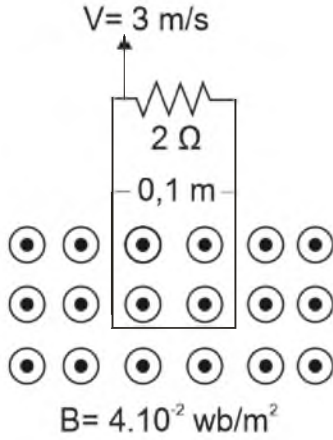
- A) $2 \cdot 10^5$
B) $9 \cdot 10^{-7}$
C) $6 \cdot 10^{-7}$
D) $4 \cdot 10^{-7}$

17. I. Üzerinden akım geçen telin etrafındaki manyetik alan sağ el kuralı ile bulunur.
II. Birim yüzeyden dik olarak geçen manyetik alan çizgileri sayısına manyetik akı denir.
III. Akım makarasının içerisinde oluşan manyetik alan, sarım sayısı ile doğru orantılıdır.

Manyetik alanla ilgili yukarıdaki ifadelerden hangileri doğrudur?

- A) Yalnız II
B) I ve II
C) II ve III
D) I, II ve III

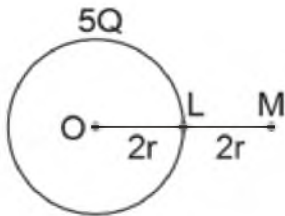
18.



Yukarıdaki şekilde görülen 0,1m uzunluğundaki tel çerçeve 3m/s hızla çekilmektedir. 2Ω değerindeki dirençten geçen indüksiyon akımı kaç amper(A) dir?

- A) 7.10^{-3}
- B) 6.10^{-3}
- C) 5.10^{-3}
- D) 4.10^{-3}

19.



Şekilde görüldüğü gibi sabit yükü $+5Q$ olan $2r$ yarıçaplı bir küre yukarıdaki şekildeki gibi yerleştiriliyor L ve M noktalarındaki elektrik alanlarının oranı nedir?

- A) 4
- B) 3
- C) 2
- D) 1

20. Bir alternatif akım devresinde akım makarasının indüktansı 60Ω , devrenin frekansı 50 Hz 'dir. Akım makarasının öz indüksiyon katsayısı kaç henry (H)'dir? ($\pi=3$)

- A) 0,4
- B) 0,3
- C) 0,2
- D) 0,1

1. "Ba's" kavramı aşağıdakilerden hangisini ifade eder?

- A) Sırat köprüsünden geçişi
- B) Sur'a birinci üflenişi
- C) Öldükten sonra dirilişi
- D) Sevap ve günahın tartılışını

2. I. Tanrı inancının olması
II. Ölüm ötesiyle ilgili görüşünün olması
III. İnananlarının belli sorumluluklarının olması

Yukarıdakilerden hangileri bir inancın din sayılabilmesi için gerekli unsurlardır?

- A) Yalnız I
- B) Yalnız III
- C) II ve III
- D) I, II ve III

3. Aşağıdakilerden hangisi ibadetin ilkelerinden biri değildir?

- A) İbadet, başkalarının zoruyla da olsa mutlaka yapılmalıdır.
- B) İbadet, içtenlikle yapılmalıdır.
- C) İbadet, hür iradeyle isteyerek yapılmalıdır.
- D) İnsan ibadetlerini Allah rızası için yapmalı, karşılığını O'ndan beklemelidir.

4. Hinduizm'de, kast sistemi dışında kalan ve hiçbir hakkı bulunmayan gruba ne ad verilir?

- A) Yoga
- B) Ganj
- C) Parya
- D) Karma

5. Aşağıdakilerden hangisi Hristiyanlık ve İslamiyet'in ittifak ettiği hususlardan biri değildir?

- A) Hz. İsa'nın annesi Meryem'dir.
- B) Hz. İsa çarmıha gerilerek öldürülmüştür.
- C) Ahiret hayatında ceza ve mükâfat vardır.
- D) Hristiyanlık havariler yoluyla yayılmıştır.

6. Aşağıdakilerden hangisi dinin insana sağladığı faydalardan biri değildir?

- A) Ölümle yok olma endişesini gidermesi
- B) Anlam anlayışına cevap vermesi
- C) İnsanın kendine olan güvenini artırması
- D) Sınırsız bir özgürlük sağlaması

7. Aşağıdakilerden hangisi Allah'ın zati sıfatlarından biri değildir?

- A) Kıdem
- B) Kudret
- C) Vahdaniyet
- D) Kıyam bi nefsihi

8. Dinin temel amacı nedir?

- A) İnsanların dünyada ve ahirette mutlu olmalarını sağlamak
- B) İnsanların iyi ve kötüyü ayırt etmelerini sağlamak
- C) İnsanların birbirleriyle yardımlaşmalarını sağlamak
- D) İnsanları kötülüklerden korumak

9. Aşağıdakilerden hangisi inanç-ibadet ilişkisi olarak değerlendirilemez?

- A) Allah'a iman - Namaz kılama
- B) Peygamberlere iman - Sünnetlerini yerine getirme
- C) Meleklerle iman - Kötü davranışlardan kaçınma
- D) Ahirete iman - Mahşer meydanında toplanma

10. Tabiat olaylarının oluşumu ve rızıkların dağıtımı ile görevli olan melek aşağıdakilerden hangisidir?

- A) Cebrail
- B) Mikail
- C) İsrail
- D) Azrail

11. Allah'ın subuti sıfatlarından hangisi O'nun herşeyi işittiğini ifade eder?

- A) İrade
- B) Tekvin
- C) Semi
- D) Kudret

12. Tanrısal, mutlak bilgiye sezgiyle ulaşılabilirliğini ileri süren görüş aşağıdakilerden hangisidir?

- A) Agnostizm
- B) Monoteizm
- C) Politeizm
- D) Gnostizm

13. "Yaratılmışı hoş gör, yaratandan ötürü" (Yunus Emre)

Bu sözü kendisine ilke edinen bir kişiden aşağıdaki davranışlardan hangisini yapması beklenir?

- A) Kötülere merhamet etmesi
- B) İnsanları küçümsemesi
- C) Başkalarını çekiştirmesi
- D) Canlılara eziyet etmesi

14. Peygamberimiz bir hadisinde 124 bin (diğer bir rivayette 224 bin) peygamber gönderildiğinden bahsetmektedir. Aşağıdakilerden hangisi Hz. Muhammed'in bu hadisine delil oluşturur?

- A) İnsanların ırklara ayrılması
- B) Her toplumun birbirinden farklı diller konuşması
- C) Farklı toplumlarda benzeşen inançlar ve ahlâk esaslarının olması
- D) Peygamberlerin pek çok konuda örnek olması

15. I. Namaz kılmak
II. Oruç tutmak
III. Zekât vermek
IV. Hacca gitmek

Yukarıdaki ibadetlerden hangileri hem bedeni hem de mali olarak yapılır?

- A) Yalnız III
- B) Yalnız IV
- C) I ve II
- D) II ve III

16. Kur'an'da "Beytu-l Atik" ve "Beytu-l Mamur" olarak adlandırılan yer aşağıdakilerden hangisidir?

- A) Kâbe
- B) Mescid-i Nebi
- C) Beytu-l İzze
- D) Beytu-l Maktis

17. "Sübhanek" duasının hangi bölümü, vakit namazlarında okunmadığı halde cenaze namazında okunur?

- A) Vebihamdik
- B) Vetebâra kesmuk
- C) Veteâla ceddük
- D) Vecelle senâük

18. Aşağıdakilerden hangisi namazın içindeki farzlardan (kılınış şartlarından) biridir?

- A) Setr-i avret
- B) İstikbal-i kible
- C) İftitah tekbiri
- D) Niyet

19. Öğle namazı kaç rek'attır?

- A) 10
- B) 8
- C) 5
- D) 4

20. İncil'in yazılışı ile ilgili aşağıdaki ifadelerden hangisi doğrudur?

- A) Hz. İsa'ya yazılı levhalar halinde verilmiştir.
- B) Hz. İsa'dan sonra yazılmıştır.
- C) Hz. İsa tarafından yazılan İncil nüshaları kaybolmuştur.
- D) Hz. İsa, Havarilerine yazdırmıştır.

1. Aşağıdakilerden hangisi mantık felsefesinin amaçlarından biri değildir?

- A) Mantık değişmezleri ile ilgili sorunları araştırmak
- B) Mantığın ilkelerini sorgulamak
- C) Mantığı gözlem ve deneye dayandırmanın yollarını araştırmak
- D) Mantığın kavramlarını sorgulamak

2. Kiplik mantığına göre, “üç artı altının dokuz etmesi zorunludur ama ısınan havanın yükselmesi mümkündür.” önermesinin sembolleştirilmiş hali aşağıdakilerden hangisidir?

- A) $\square p \rightarrow \diamond p$
- B) $\square q \wedge \diamond p$
- C) $\diamond p \wedge \square q$
- D) $\diamond p \leftrightarrow \square q$

3. “İnsanlar paylaşmayı severlerse rahat diyalog kurarlar hem de dürüst ilişkiler yaşarlar.” önermesinde kaç tane önerme eklemi ve bileşen kullanılmıştır?

- A) Üç önerme eklemi, bir bileşen
- B) İki önerme eklemi, üç bileşen
- C) Bir önerme eklemi, bir bileşen
- D) Dört önerme eklemi, dört bileşen

4. Doğruluğu açıkça belli olan önermelere ne ad verilir?

- A) Eşitlik
- B) Tanım
- C) Aksiyom
- D) Tutarlılık

5. Kiplik mantığına göre aşağıdaki önermelerden hangisi bütün mümkün dünyalarda yanlıştır?

- A) Altın sarı değildir.
- B) Menekşe mordur ve menekşe mor değildir.
- C) Anıtkabir Ankara'dadır veya Anıtkabir Ankara'da değildir.
- D) Dikdörtgen dört kenarlıdır.

6. “Ya kilo alacaksın ya da az yemek yiyeceksin.” önermesi, önermeler mantığında nasıl sembolleştirilir?

- A) $p \wedge q$
- B) $p \Rightarrow q$
- C) $p \Leftrightarrow q$
- D) $p \vee q$

7. Aşağıdaki önerme çiftlerinden hangisi birbirleriyle tutarlıdır?

- A) $\forall xFx, \sim Fa$
- B) $\sim \exists xFx, Fa$
- C) $\exists xGx, \exists x \sim Gx$
- D) $Ga, \sim Ga$

8. Aşağıdaki önermelerden hangisi p:Yanlış, q:Yanlış kabul edildiğinde “Doğru” değerini alır?

- A) $\sim p \Rightarrow q$
- B) $p \vee q$
- C) $p \Leftrightarrow q$
- D) $p \wedge q$

9. “Uçan halı vardır.” önermesi varlık mantığında nasıl sembolleştirilir?

- A) $\square p$
- B) $E! a$
- C) $a = b$
- D) $a = a$

10. Aşağıdaki önermelerden hangisi geçerlidir?

- A) $\forall xFx \vee \sim \forall xFx$
- B) $\exists xGx \wedge \exists xHx$
- C) $\forall xFx \vee \forall xGx$
- D) $\sim (\exists xGx \rightarrow \forall xGx)$

11. Aksiyomlardan türetilmiş olan önermelere ne ad verilir?

- A) Teorem
- B) Analiz
- C) Eksik tümevarım
- D) Tam tümevarım

12. “Kar yağarsa okullar tatil olmaz.” önermesi, önermeler mantığında nasıl sembolleştirilir?

- A) $q \Rightarrow p$
- B) $p \Rightarrow \sim q$
- C) $p \Leftrightarrow \sim q$
- D) $\sim p \Rightarrow q$

13. $\sim \exists xGx$ önermesinin eşdeğeri aşağıdakilerden hangisidir?

- A) $\forall x \sim Gx$
- B) $\sim \exists x \sim Gx$
- C) $\exists xGx$
- D) $\sim \forall xGx$

14. $p \vee q$ önermesinin eşdeğeri olan önerme aşağıdakilerden hangisidir?

- A) $\sim(\sim p \wedge \sim q)$
- B) $p \wedge q$
- C) $p \Leftrightarrow q$
- D) $p \Rightarrow q$

15. Önerme ile ilgili aşağıdaki ifadelerden hangisi doğrudur?

- A) Bir önermenin doğruluk tablosundaki tüm yorumlamaları yanlışsa önerme tutarsızdır.
- B) Her tutarsız önerme geçerlidir.
- C) Bir önermenin tutarlı olabilmesi için doğruluk tablosundaki tüm yorumlamaların doğru olması gerekir.
- D) Her tutarlı önerme geçerlidir.

16. Aşağıdaki önermelerden hangisi ikili yüklemli bir önermedir?

- A) Özlem başarılıdır.
- B) Mustafa, Taner ile Semih'ten uzundur.
- C) Fuat, piyano çalar.
- D) Orhan ile Ahmet arkadaştır.

17. "Ceren sevimli ve akıllıdır." önermesi nicelikle mantığında nasıl sembolleştirilir?

- A) $\exists x \wedge Ga$
- B) $\forall xFx$
- C) $Fa \Rightarrow Ga$
- D) $Fa \wedge Ga$

18. Üç değerli mantığa göre aşağıdakilerden hangisi doğrudur?

- A) p "doğru" ve q "belirsiz" ise $p \rightarrow q$ "yanlış" olur.
- B) p "belirsiz" ve q "belirsiz" ise $p \wedge q$ "yanlış" olur.
- C) p "yanlış" ve q "yanlış" ise, $q \vee p$ "yanlış" olur.
- D) p "belirsiz" ve q "belirsiz" ise, $p \rightarrow q$ "belirsiz" olur.

19. Aşağıdaki önermelerden hangisi sembolik mantıkta bileşik bir önermedir?

- A) Zeynep yaşlıdır.
- B) Bütün insanlar akıllıdır.
- C) Mozart filozof değildir.
- D) Mehmet çok çalışkandır.

20. Aşağıdaki önermelerden hangisi bir totolojidir?

- A) $\sim p \Leftrightarrow p$
- B) $p \wedge \sim p$
- C) $p \Rightarrow p$
- D) $p \vee p$

1. Pazırık halısı aşağıdaki uygarlıklardan hangisine aittir?
 - A) Hun
 - B) Pers
 - C) Göktürk
 - D) Uygur
2. Göktürklerde soylu ve hükümdarların mezarlarına veya anıtlarına dikilen insan figürlü taştan heykele ne isim verilir?
 - A) Dikili taş
 - B) Kurgan
 - C) Büst
 - D) Balbal
3. Hun sanatına ait eserler ilk olarak nerelerde bulunmuştur?
 - A) Çadırlar
 - B) Kurganlar
 - C) Müzeler
 - D) Özel koleksiyonlar
4. Aşağıdakilerden hangisi "Orhun Anıtları"ndan biri değildir?
 - A) Kültigin
 - B) Oğuz Kağan
 - C) Bilge Kağan
 - D) Tonyukuk
5. Topkapı Sarayı'nın inşasına hangi padişah döneminde başlanmıştır?
 - A) Kanuni Sultan Süleyman
 - B) Yavuz Sultan Selim
 - C) Fatih Sultan Mehmet
 - D) Dördüncü Murat
6. Aşağıdakilerden hangisi Mimar Sinan'ın "kalfalık eserim" diye tanımladığı yapıdır?
 - A) İstanbul Şehzade Camisi
 - B) İstanbul Şehzade Mehmet Medresesi
 - C) İstanbul Süleymaniye Camisi
 - D) Edirne Selimiye Camisi
7. Aşağıdakilerden hangisi İslam sanatının ilk cami tipidir?
 - A) Transept planlı
 - B) Merkezi planlı
 - C) Küfe planlı
 - D) Kare planlı
8. İstanbul Nusretiye Camisi hangi üslupta inşa edilmiştir?
 - A) Seçmeci (Eklektik) Üslup
 - B) Neoklasik Üslup
 - C) Türk Barok Üslubu
 - D) Türk Ampir Üslubu
9. Eyvanlı cami tipi ilk kez aşağıdaki Türk devletlerinden hangisi döneminde uygulanmıştır?
 - A) Osmanlılar
 - B) Gazneliler
 - C) Anadolu Selçukluları
 - D) Büyük Selçuklular
10. Aşağıdakilerden hangisi günümüze ulaşmış en eski Osmanlı medresesidir?
 - A) Bursa Muradiye Medresesi
 - B) İstanbul Rüstem Paşa Medresesi
 - C) Bursa Yeşil Medrese
 - D) İznik Süleyman Paşa Medresesi
11. Türk minyatür sanatının en eski örnekleri hangi döneme aittir?
 - A) Uygur
 - B) Göktürk
 - C) Anadolu Selçuklu
 - D) Osmanlı
12. 16.Yüzyılda Kur'anların yazılmasında kullanılan yuvarlak karakterli yazı çeşidi aşağıdakilerden hangisidir?
 - A) Sülüs
 - B) Ta'lik
 - C) Divani
 - D) Siyakat
13. Aşağıdakilerden hangisi Anadolu Selçuklu dönemine ait bir minyatürlü el yazmasıdır?
 - A) Cerrahiye-i İlhaniye
 - B) Varka ile Gülşah
 - C) İskendername
 - D) Şehinşahname
14. Padişahların imzası niteliğinde olan hat sanatı eserine ne isim verilir?
 - A) Sülüs
 - B) Celi
 - C) Tuğra
 - D) Rik'a

15. Ahmedi tarafından resmedilen ve Osmanlı padişahlarının resimli ilk tarihi olan eser aşağıdakilerden hangisidir?

- A) Cerrahiye-i İlhaniye
- B) Şehinşahname
- C) İskendername
- D) Süleymanname

16. Anıtkabir'in mimarları aşağıdakilerden hangisinde birlikte verilmiştir?

- A) Vedat Tek – Mimar Kemalettin
- B) Emin Onat – Orhan Arda
- C) Mimar Kemalettin – Orhan Arda
- D) Emin Onat – Vedat Tek

17. Cumhuriyet döneminin ilk sanatçı topluluğu aşağıdakilerden hangisidir?

- A) Müstakil Ressam ve Heykeltıraşlar Birliği
- B) D Grubu
- C) Yeniler Grubu
- D) Onlar Grubu

18. Çeşitli hayvan resimleriyle tanınmakla birlikte özellikle at başları üzerine yoğunlaşan Türk ressam aşağıdakilerden hangisidir?

- A) Osman Hamdi Bey
- B) Bedri Rahmi Eyüboğlu
- C) Nuri İyem
- D) Orhan Peker

19. Aşağıdakilerden hangisi Cumhuriyet dönemi heykeltıraşlarından biri değildir?

- A) Bedri Rahmi Eyüboğlu
- B) Ratip Aşit Acudoğlu
- C) Zühdü Müridoğlu
- D) Kenan Yontuç

20. Yeniler Grubu içerisinde yer alan ve toplumsal gerçekçilik anlayışı doğrultusunda ele aldığı iri gözlü köylü kadın portreleriyle tanınan Türk ressam aşağıdakilerden hangisidir?

- A) Nurullah Berk
- B) Nuri İyem
- C) Bedri Rahmi Eyüboğlu
- D) Abidin Dino

1. Yıldırım Bayezit'in Timur'a esir düştüğü savaş aşağıdakilerden hangisidir?

- A) Ankara
- B) Niğbolu
- C) Sırsındığı
- D) Koyunhisar

2. Osmanlı Devleti'nde tımar sistemi hangi padişah zamanında kurulmuştur?

- A) I. Murat
- B) Osman Bey
- C) Orhan Bey
- D) Mehmet Çelebi

3. Aşağıdakilerden hangisi Sırsındığı Savaşı'nın sonuçlarından biri değildir?

- A) Edirne ve Batı Trakya'nın daha emniyetli hale gelmesi
- B) Balkanlar'daki Türk fetihlerinin hızlanması
- C) Eflak ve Boğdan'ın Osmanlı üstünlüğünü tanınması
- D) Macarların Balkanlar'daki etkisinin azalması

4. Devşirme Sistemi ile ilgili aşağıdaki ifadelerden hangisi yanlıştır?

- A) Bir aileden birden fazla çocuk alınmazdı.
- B) Osmanlı ülkesinde yaşayan Hristiyan ailelerin sağlık ve kuvvetli olan erkek çocuklarından biri alınırdı.
- C) Üç – beş yılda bir yapılır, sekiz ve on yaş arası çocuklar devşirilirdi.
- D) Ailelerden alınan çocukların din, gelenek, adet ve görenekleri değiştirilmezdi.

5. Osmanlı Devleti'nde mülk topraklarından gayrimüslümlere ait olanına ne ad verilirdi?

- A) Haracî toprak
- B) Öşrî toprak
- C) Mirî toprak
- D) Malikâne

6. Divan-ı hümayun hangi padişah zamanında kurulmuştur?

- A) Osman Bey
- B) Mehmet Çelebi
- C) Orhan Bey
- D) Yıldırım Bayezid

7. Osmanlı Devleti'nin ilk defa top kullandığı savaş aşağıdakilerden hangisidir?

- A) Çirmen
- B) I. Kosova
- C) Sırsındığı
- D) II. Kosova

8. Moğol İmparatorluğu'nun parçalanmasından sonra Cengiz Han'ın torunu Batu Han tarafından Karadeniz ve Hazar Denizi'nin kuzeyinde kurulan devlet aşağıdakilerden hangisidir?

- A) İlhanlı
- B) Türkiye Selçuklu
- C) Altın Orda
- D) Memluk

9. Osmanlı Devleti'nde ilk daimi ve düzenli ordu hangi padişah zamanında kurulmuştur?

- A) Osman Bey
- B) Orhan Bey
- C) Yıldırım Bayezit
- D) I. Murat

10. Aşağıdakilerden hangisi İstanbul'un fethinin nedenlerinden biri değildir?

- A) II. Mehmet'in Fatih unvanını almak istemesi
- B) İstanbul'un önemli ticaret merkezi olması
- C) Bizans'ın Osmanlı şehzadelerini kışkırtarak taht kavgalarına neden olması
- D) İstanbul'un Osmanlı'nın Anadolu ve Rumeli toprakları arasındaki bağlantıyı kesmesi

11. Aşağıdakilerden hangisi Yavuz Sultan Selim'in Mısır seferinin sonuçlarından biri değildir?

- A) Bizans İmparatorluğunun sona ermesi
- B) Memluk Devleti'nin yıkılması
- C) Baharat yolunun Osmanlıların kontrolüne geçmesi
- D) Halifeliğin Osmanlılara geçmesi

12. Aşağıdakilerden hangisi Rönesans'ın sonuçlarından biri değildir?

- A) Avrupa'da resim, heykel, edebiyat ve mimari alanında gelişmelerin yaşanması
- B) Papaların eski güç ve itibarını kaybetmesi
- C) Reform hareketlerinin yaşanmasında etkili olması
- D) Skolastik düşüncenin yerini pozitif düşünceye bırakması

13. Tekkelerde yetişen ve daha çok dini değerlere ağırlık veren şairler tarafından geliştirilen edebiyet türüne ne ad verilir?

- A) Garip edebiyatı
- B) Divan edebiyatı
- C) Halk edebiyatı
- D) Tasavvuf edebiyatı

14. Fransa'ya kapütülasyon adı verilen ticari ve hukuki ayrıcalıklar hangi yıl verilmiştir?

- A) 1453
- B) 1520
- C) 1535
- D) 1610

15. Karadeniz'in Türk gölü olmasını sağlayan olay aşağıdakilerden hangisidir?

- A) Eflak Seferi
- B) Mora'nın Fethi
- C) Kırım'ın Fethi
- D) Bosna-Hersek Seferi

16. Bugünkü Türkiye-İran sınırının büyük ölçüde belirlendiği, Osmanlı Devleti ve İran arasında uzun süreli barış dönemini başlatan antlaşma aşağıdakilerden hangisidir?

- A) Nasuh Paşa
- B) Kasr-ı Şirin
- C) Amasya
- D) Ferhat Paşa

17. Evliya Çelebi'nin Osmanlı ülkesini baştanbaşa gezerek otuz yıl süren seyahatlerini anlattığı eseri aşağıdakilerden hangisidir?

- A) Seyahatname
- B) Cihannüma
- C) Keşf-i Zünun
- D) Hitay Sefaretnamesi

18. XVII. yüzyılda merkezi otoritenin bozulması sonucu Mısır, Trablusgarp, Yemen ve Basra gibi eyaletlerde çıkan isyanlara ne ad verilir?

- A) Celali ayaklanmaları
- B) İstanbul ayaklanmaları
- C) Yeniçeri ayaklanmaları
- D) Eyalet ayaklanmaları

19. Aşağıdakilerden hangisi Karlofça Antlaşması'nın maddeleri arasında yer almaz?

- A) Podolya ve Ukrayna Lehistan'a verilecek
- B) Antlaşma 25 yıl sürecek ve Avusturya'nın garantisi altında olacak
- C) Avusturya Osmanlı Devleti'ne savaş tazminatı ödeyecek
- D) Mora Yarımadası ve Dalmaçya kıyıları Venediklilere verilecek

20. İçki, tütün ve geceleri sokağa çıkma yasağı getiren padişah aşağıdakilerden hangisidir?

- A) II. Mehmet
- B) II. Osman
- C) III. Murat
- D) IV. Murat

1. Tanınmış yazarların birbirlerine yazdıkları, fikir ve sanat olaylarını ve eserleri tartıştıkları mektuplar aşağıdakilerden hangisidir?
- A) Özel mektuplar
B) Edebi mektuplar
C) Teşekkür mektupları
D) Tebrik mektupları
2. Eldeki en eski mektup örnekleri kimlere aittir?
- A) Lidyalılara ve Fenikelilere
B) Romalılara ve Galyalılara
C) Friglere ve Traklara
D) Mısır firavunları ve Hititlere
3. Aşağıdakilerden hangisi kişisel hayatı konu alan metinler içerisinde yer almaz?
- A) Günlük
B) Biyografi
C) Anı
D) Sohbet
4. Mesnevi hangi metin grubu içinde yer alır?
- A) Göstermeye bağlı edebi metinler
B) Anlatmaya bağlı edebi metinler
C) Felsefi metinler
D) Tarihi metinler
5. Aşağıdakilerden hangisi olay çevresinde oluşan edebi metinlerin özelliklerinden biri değildir?
- A) İnsana özgü durumlar somutlaştırılır.
B) Bir olay örgüsü vardır.
C) Kurmacanın imkânlarından yararlanır.
D) Her okunduğunda farklı yorumlanmaz.
6. Aşağıdakilerden hangisi Geleneksel Türk Tiyatrosu içerisinde yer almaz?
- A) Mesnevi
B) Orta Oyunu
C) Karagöz
D) Köy tiyatrosu

7. Edebiyatımızın gezi türündeki ilk ve en büyük eseri olarak nitelendirilen Seyahatname eserinin yazarı aşağıdakilerden hangisidir?
- A) Evliya Çelebi
B) Edip Ahmet Yükneki
C) Pierre Loti
D) Halikarnas Balıkcısı
8. Fıkra ile ilgili aşağıdaki ifadelerden hangisi yanlıştır?
- A) Anlatım sizli bizli ve resmidir.
B) Olaya dayalı bir anlatımı vardır.
C) Dil göndergesel işlevinde kullanılır.
D) Giriş, gelişme ve sonuç bölümlerinden oluşur.
9. Dilekçeyle ilgili aşağıdaki ifadelerden hangisi yanlıştır?
- A) Sağ alt köşeye ad ve soyadı yazılır ve imza atılır.
B) Anlatım yalın ve duru olmalıdır.
C) Dilekçe yazımında kalemin rengi ve türü önemli değildir.
D) Sol alt köşeye adres yazılır.
10. Aşağıdakilerden hangisi anlatmaya bağlı edebi metinlerden biri değildir?
- A) Şiir
B) Destan
C) Roman
D) Masal
11. Herhangi bir konuda kişinin düşüncelerinin hiç değiştirilmeden verilmesine ne ad verilir?
- A) Nesnel anlatım
B) Öznel anlatım
C) Doğrudan anlatım
D) Dolaylı anlatım

12. Aşağıdakilerden hangisi gölge oyununun (Karagöz-Hacivat) bölümlerinden biri değildir?

- A) Fasil
- B) Mesnevi
- C) Mukaddime
- D) Muhavere

13. Sohbet (söyleşi) ile ilgili aşağıdaki ifadelerden hangisi yanlıştır?

- A) Atasözü ve deyimlerden yararlanır.
- B) Sohbet resmî bir dil ve üslup kullanılır.
- C) Sohbet türünde yazılan kitaplar da vardır.
- D) Konuşup görüşme anlamına gelir.

14. Makale türü Türk edebiyatına hangi dönemde girmiştir?

- A) Fetret
- B) Tanzimat
- C) Cumhuriyet
- D) Islahat

15. Aşağıdakilerden hangisi öğretici metinlerin özelliklerinden biri değildir?

- A) Estetik ön plandadır.
- B) Amaç gerçeğin yeniden yorumlanması değil olduğu gibi anlatılmasıdır.
- C) İfadeler açık ve nettir.
- D) Önemli olan okuyucuya bilgi vermek ya da paylaşmaktır.

16. Aşağıdakilerden hangisi konularına ve yazılış amaçlarına göre deneme çeşitlerinden biri değildir?

- A) Felsefi
- B) Eleştirel
- C) Klasik
- D) Kişisel

17. Bilimsel bir konuyu veya bir kimsenin yaşamını, kişiliğini, eserlerini ayrıntılı olarak inceleyen esere ne ad verilir?

- A) Otobiyografi
- B) Anı
- C) Deneme
- D) Monografi

18. Köy tiyatrosu hangi metin grubu içinde yer alır?

- A) Anlatmaya bağlı edebi metinler
- B) Öğretici metinler
- C) Göstermeye bağlı edebi metinler
- D) Tarihi metinler

19. "Şair Evlenmesi" oyununun yazarı aşağıdakilerden hangisidir?

- A) Şinasi
- B) Namık Kemal
- C) Baki
- D) Melih Cevdet

20. Aşağıdakilerden hangisi hikâyenin öğelerinden biri değildir?

- A) Zaman
- B) Mekân
- C) Merak
- D) Kişiler

1. Türk edebiyatında masalı gerçek anlamda ilk defa "Mukaddeme-i Celal" adlı eserinde kullanan yazarımız aşağıdakilerden hangisidir?
- A) Namık Kemal
B) Şinasi
C) Atilla İlhan
D) Kemal Tahir
2. "Aslan toprakla oynuyormuş bir gün;
Bir de bakmış pençesinde fare,
Aslan, aslan yürekliymiş o gün,
Kıymamış canına, bırakmış yere."
- Yukarıda bir parçası alıntılanan öğretici metnin türü aşağıdakilerden hangisidir?
- A) Destan
B) Fabl
C) Anı
D) Gezi yazısı
3. Aşağıdakilerden hangisi şiirin dış yapı özelliklerinden biri değildir?
- A) Kafiye
B) Nazım şekli
C) Ölçü
D) Şiirin öz derinliği
4. Aşağıdakilerden hangisi durum hikâyeciliğinin özelliklerinden biri değildir?
- A) Hikâye mutlaka serim, düğüm, çözüm planına uyularak belli bir sonuçla bitirilir.
B) Merak ögesi ikinci plandadır.
C) Gerçeklik abartılmadan anlatılır.
D) Kahramanlar karşılıklı konuşmalar içinde bulunur.
5. Aşağıdakilerden hangisi konularına göre masal gruplarından biri değildir?
- A) Zincirlemeli masallar
B) Asıl masallar
C) Hayvan masalları
D) Düşündürücü masallar
6. Yazarın sanat metinlerinde iletmek istediği mesaja ne ad verilir?
- A) Gönderge
B) Anlam
C) Yorum
D) Yoğun anlam
7. Aşağıdakilerden hangisi Türk Edebiyatı'nın gelişim sürecinde kurulan topluluklardan biri değildir?
- A) Üç Hececiler
B) Tanzimat Edebiyatı
C) Beş Hececiler
D) Milli Edebiyat
8. Türk masallarını derleme, yayımlama ve inceleme çalışmaları ne zaman yoğunlaşmıştır?
- A) Tanzimat
B) Cumhuriyet
C) Meşrutiyet
D) İslahat
9. Battal Gazi, Köroğlu hikâyeleri hangi türün örnekleridir?
- A) Masalsı hikâyelerin
B) Aşk hikâyelerinin
C) Kahramanlık hikâyelerinin
D) Köy hikâyelerinin
10. Aşağıdakilerden hangisi dramatik bir eserde yer alan konuşma çeşitlerinin özel adlarından biri değildir?
- A) Tirad
B) Monolog
C) Diyalog
D) Figüran
11. Aşağıdaki yazarlardan hangisi 1970'li yıllardan sonra Türk romanında toplum sorunlarına yönelişle, ideolojik boyutu ağır basan romanların arttığı dönemi temsil eden yazarlardan biri değildir?
- A) Oğuz Atay
B) Emine İşinsu
C) Yakup Kadri
D) Pınar Kür
12. Çalıkuşu'nun yazarı aşağıdakilerden hangisidir?
- A) Peyami Safa
B) Reşat Nuri
C) Sait Faik
D) Kemal Tahir
13. Atilla İlhan'ın "Leitmotiv" tekniği ile yazdığı romanı aşağıdakilerden hangisidir?
- A) Ay Falcısı
B) Dersaadet'te Sabah Ezanları
C) Beyaz Kale
D) Canbaz

14. Bir şiirin en güzel dizesine ne ad verilir?

- A) Mısra-ı berceste
- B) Terci-i bend
- C) Beyit
- D) Bent

15. Aşağıdakilerden hangisi tragedya'daki üç birlik kuralının öğelerinden biri değildir?

- A) Yer birliği
- B) Olay birliği
- C) Karakter birliği
- D) Zaman birliği

16. Shakespeare'in Venedik Taciri adlı eseri hangi türün örneğidir?

- A) Dram
- B) Tragedya
- C) Karakter komedyası
- D) Yergi komedyası

17. "Çıkıp yücesine seyran eyledim
Gördüm ak kuğulu göller perişan
Bir furkat geldi de durdum ağladım
Öpüp kokladığım güller perişan"

Yukarıdaki dizelerle ilgili aşağıdaki ifadelerden hangisi yanlıştır?

- A) Şiiri Orhan Veli yazmıştır.
- B) Dil şiirsel işlevinde kullanılmıştır.
- C) Şiirde coşkuyu ve heyecanı dile getiren anlatım tarzından yararlanılmıştır.
- D) Şiirin nazım birimi dörtlülüklerden oluşmaktadır.

18. Avrupa'daki anlamıyla öykü türü edebiyatımıza hangi dönemde girmiştir?

- A) Islahat
- B) Kurtuluş savaşı
- C) Tanzimat
- D) Cumhuriyet

19. Epik tiyatroyla ilgili aşağıdaki ifadelerden hangisi yanlıştır?

- A) Seyircinin tiyatro düşünden uyanması için olayın akışı sık aralıklarla kesilir.
- B) Amaç seyirciyi farklı diyarlara götürmek ve orda olduğu sürece büyülemektir.
- C) Duygu yerine akıl ön plana çıkarılır.
- D) Sahne dekor ve etki altına alıcı duygulu olaylardan uzak tutulur.

20. "Güzel şeyler düşünelim diye
Yemyeşil oluvermiş ağaçlar"

Yukarıdaki dizelerde şairin; ağaçların yeşil olmasını tabiata değil de güzel şeyler düşünebilme nedenine bağlamasında aşağıdaki sanatlardan hangisi söz konusudur?

- A) Tevriye
- B) Tenasüp
- C) Teşhis ve intak
- D) Hüsn-i Tâil

1. A: liegt Sivrihisar?
B: Sivrihisar liegt bei Eskişehir.

Welches ergänzt die Lücke im obigen Dialog?

Verilen karşılıklı konuşmada boş bırakılan yeri aşağıdakilerden hangisi tamamlar?

- A) Zu welcher Stadt
B) Bei welcher Stadt
C) Von welcher Stadt
D) Mit welcher Stadt

2. Er hat seine Tasche Telefon gelegt.

Welche Wörter passen in die obigen Lücken?

Cümlede boş bırakılan yerleri aşağıdakilerden hangileri tamamlar?

- A) zu der
B) in den
C) neben das
D) unter die

3. Sonntags ich bis zehn Uhr.

Welches Wort passt in die obige Lücke?

Cümlede boş bırakılan yeri aşağıdakilerden hangisi tamamlar?

- A) schlafe
B) setze
C) lege
D) stehe

4. Hallo, woher kenne ich dich?

Welche Antwort passt zur obigen Frage?

Verilen sorunun cevabı aşağıdakilerden hangisidir?

- A) Uns? Das geht aber nicht.
B) Mich? Das weiß ich nicht.
C) Die kennen uns.
D) Mir? Das ist nicht wahr.

5. Was bedeutet "ändern" auf Türkisch?

"ändern" sözcüğünün Türkçesi aşağıdakilerden hangisidir?

- A) kullanmak
B) çalışmak
C) almak
D) değiştirmek

6. Sie muß lernen, richtig zu benutzen

Welches Wort passt nicht in die obige Lücke?

Cümlede boş bırakılan yeri aşağıdakilerden hangisi tamamlamaz?

- A) das Wörterbuch
B) die Präpositionen
C) der Bild
D) das Auto

7. im Wald sitzt auf dem Baum.

Welches Wort passt in die obige Lücke?

Cümlede boş bırakılan yeri aşağıdakilerden hangisi doğru şekilde tamamlar?

- A) Im Foto
B) Der Vogel
C) Der Tisch
D) Im Kühlschrank

8. Was ist ein Kochgenie?

Welche Antwort passt zur obigen Frage?

Verilen sorunun cevabı aşağıdakilerden hangisidir?

- A) Jemand, der fantastisch spielen kann.
B) Jemand, der sehr viel verdient.
C) Ein Kochgenie kann sehr gut kochen.
D) Ein Kochgenie kann jede Sprache sprechen.

9. A: Was, wenn ich auf diesen Knopf hier drücke?

B: Dann die grüne Lampe.

Welche Wörter passen in die obigen Lücke im obigen Dialog?

Verilen karşılıklı konuşmada boş bırakılan yerleri aşağıdakilerden hangisi tamamlar?

- A) passiert / leuchtet
B) mache / drückt
C) stecke / machten
D) leuchte / lernt

10. einem Kilometerzähler kann man Kilometer zählen.

Welches Wort passt in die obige Lücke?

Cümlede boş bırakılan yeri aşağıdakilerden hangisi tamamlar?

- A) Seit
B) Bei
C) Für
D) Mit

11. Was bedeutet "Yavaşlık" auf Deutsch?

"Yavaşlık" sözcüğünün Almancası aşağıdakilerden hangisidir?

- A) Die Langheit
B) Die Lange
C) Die Langsamkeit
D) Die Langlicheit

12. Der Van See ist der See in der Türkei.

Welches Wort passt in die obige Lucke?

Cümlede boş bırakılan yeri aşağıdakilerden hangisi tamamlar?

- A) höchstes
B) kleinster
C) tiefer
D) größte

13. Wir möchten die Schauspielerinnen kennen lernen.

Welches Wort passt in die obige Lücke?

Cümlede boş bırakılan yeri aşağıdakilerden hangisi tamamlar?

- A) berühmte
B) berühmt
C) berühmtem
D) berühmter

14. Das ist eine ausführliche sprachliche Arbeit.

Wie lautet der obige Satz auf Türkisch?

Verilen cümlelerin Türkçesi aşağıdakilerden hangisidir?

- A) Bu çalışmayı bizim öğretmenimiz çok ayrıntılı bir şekilde hazırladı.
B) Bu ayrıntılı dilsel bir çalışma.
C) Bu çalışmayı en kısa zamanda bitirmeliyim.
D) Bu çalışma hem dilsel hem de bilimsel özellik taşıyor.

15. Die Kinder gehen um acht Uhr in die Schule.

Wie lautet der obige Satz im Futur?

Verilen cümlelerin gelecek zaman şekli aşağıdakilerden hangisidir?

- A) Das Kind geht jeden Tag um acht Uhr in die Schule.
B) Die Kinder können um acht Uhr in der Schule sein.
C) Die Kinder werden um acht Uhr in die Schule gehen.
D) Das Kind möchte um acht Uhr in die Schule gehen.

16. schlafen / einsteigen / aussteigen / losfahren

Welches Wort passt nicht zu den anderen in der obigen Wortgruppe?

Verilen sözcük grubuna uvmayan aşağıdakilerden hangisidir?

- A) schlafen
B) einsteigen
C) aussteigen
D) losfahren

17. Was ihr in den Ferien machen?

Welches Wort passt in die obige Lücke?

Cümlede boş bırakılan yeri aşağıdakilerden hangisi tamamlar?

- A) will
- B) wollt
- C) wirst
- D) wollen

18. Er möchte mit mir zusammen eine Reise machen.

Welches hat die gleiche Bedeutung mit dem obigen Satz?

Verilen cümle ile aynı anlamı taşıyan aşağıdakilerin hangisidir?

- A) Er möchte mit mir zusammen in dein Land zurückfahren.
- B) Er möchte dich zu mir einladen.
- C) Er macht mir einen Reisevorschlag.
- D) Er möchte mit mir zusammen verreisen.

19. Ist es möglich, daß wir bei euch übernachten können?

Welche Antwort passt zur obigen Frage?

Verilen sorunun cevabı aşağıdakilerden hangisidir?

- A) Wir müssen hier übernachten.
- B) Nächste Woche möchten wir wieder kommen.
- C) Nein, wir können nicht mitkommen.
- D) Ja, natürlich könnt ihr bei uns übernachten.

20. Banyo su altında kaldı.

Wie lautet der obige Satz auf Deutsch?

Verilen cümlenin Almancası aşağıdakilerden hangisidir?

- A) Im Badezimmer gibt es warmes Wasser.
- B) Das Badezimmer steht unter Wasser.
- C) Das Badezimmer ist viel zu klein.
- D) Im Badezimmer kann man baden.

1. boys are really kind.

Which of the following completes the sentence above?

Aşağıdakilerden hangisi yukarıdaki cümleyi doğru olarak tamamlar?

- A) That
B) These
C) This
D) Is

2. Is your mother engineer or doctor?

Which of the following completes the sentence above?

Aşağıdakilerden hangisi yukarıdaki cümleyi doğru olarak tamamlar?

- A) a / a
B) an / the
C) the / a
D) an / a

3. A: do you go to school?
B: I go to school by bus.

Which of the following completes the dialogue above?

Aşağıdakilerden hangisi yukarıdaki konuşmayı doğru olarak tamamlar?

- A) Which
B) Who
C) What
D) How

4. Richard never to bed late at the weekends.

Which of the following completes the sentence above?

Aşağıdakilerden hangisi yukarıdaki cümleyi doğru olarak tamamlar?

- A) will go
B) is going
C) go
D) goes

5. I usually drink tea for breakfast.

Which of the following is the Turkish translation of the sentence above?

Aşağıdakilerden hangisi yukarıdaki cümlenin Türkçe karşılığıdır?

- A) Kahvaltıda daima çay içerim.
B) Kahvaltıda sık sık çay içerim.
C) Kahvaltıda genellikle çay içerim.
D) Kahvaltıda hiç çay içmem.

6. My little brother always early in the mornings.

Which of the following completes the sentence above?

Aşağıdakilerden hangisi yukarıdaki cümleyi doğru olarak tamamlar?

- A) woke up
B) wakes up
C) wake up
D) is waking up

7. They are Paul and Lucy. parents are in Italy.

Which of the following completes the sentence above?

Aşağıdakilerden hangisi yukarıdaki cümleyi doğru olarak tamamlar?

- A) Her
B) Our
C) Their
D) His

8. Do you read science fiction books?

Which of the following completes the sentence above?

Aşağıdakilerden hangisi yukarıdaki cümleyi doğru olarak tamamlar?

- A) a lot of
B) much
C) a little
D) a

9. They are working on a project

Which of the following completes the sentence above?

Aşağıdakilerden hangisi yukarıdaki cümleyi doğru olarak tamamlar?

- A) yet
- B) every day
- C) at the moment
- D) last night

10. This is Mary. sons are in France.

Which of the following completes the sentence above?

Aşağıdakilerden hangisi yukarıdaki cümleyi doğru olarak tamamlar?

- A) His
- B) Their
- C) Her
- D) Our

11. This is your umbrella. Where is

Which of the following completes the sentence above?

Aşağıdakilerden hangisi yukarıdaki cümleyi doğru olarak tamamlar?

- A) me
- B) our
- C) mine
- D) her

12. Ayşe often coffee but now she tea in the office.

Which of the following completes the sentence above?

Aşağıdakilerden hangisi yukarıdaki cümleyi doğru olarak tamamlar?

- A) drinks / drinking
- B) drinks / is drinking
- C) drinks / drinks
- D) drinking / drink

13. I was very tired I went to bed and slept early.

Which of the following completes the sentence above?

Aşağıdakilerden hangisi yukarıdaki cümleyi doğru olarak tamamlar?

- A) or
- B) because
- C) so
- D) and

14. Greg: What are your plans for next year?
Betty: I a dance school.

Which of the following completes the dialogue above?

Aşağıdakilerden hangisi yukarıdaki konuşmayı doğru olarak tamamlar?

- A) open
- B) am going to open
- C) opened
- D) have opened

15. Do you want to go to the theater cinema?

Which of the following completes the sentence above?

Aşağıdakilerden hangisi yukarıdaki cümleyi doğru olarak tamamlar?

- A) yet
- B) or
- C) for
- D) so

16. My brother has got courage to tell this.

Which of the following completes the sentence above?

Aşağıdakilerden hangisi yukarıdaki cümleyi doğru olarak tamamlar?

- A) a little
- B) a few
- C) many
- D) a lot of

17. My parents live in a(n) house near İzmir.

Which of the following completes the sentence above?

Aşağıdakilerden hangisi yukarıdaki cümleyi doğru olarak tamamlar?

- A) lovely little old
- B) lovely old little
- C) old lovely little
- D) little old lively

18. Catherine is playing tennis, her favourite sport is football.

Which of the following completes the sentence above?

Aşağıdakilerden hangisi yukarıdaki cümleyi doğru olarak tamamlar?

- A) but
- B) or
- C) so
- D) and

19. We get married next month.

Which of the following completes the sentence above?

Aşağıdakilerden hangisi yukarıdaki cümleyi doğru olarak tamamlar?

- A) going
- B) are going to
- C) go
- D) are going

20. I met a in the shopping center.

Which of the following completes the sentence above?

Aşağıdakilerden hangisi yukarıdaki cümleyi doğru olarak tamamlar?

- A) nice lady young
- B) lady nice young
- C) young nice lady
- D) nice young lady

1. -

- Je veux bien un thé.

Choisissez la question qui convient.

Yukarıdaki konuşmada cevabı gerektiren soru aşağıdakilerden hangisidir?

- A) Entendez-vous quelque chose?
- B) Tu as quelque chose pour ouvrir cette bouteille?
- C) Vous voulez quelque chose à boire?
- D) Vous n'avez rien trouvé?

2. I. Le chien est adorable.
II. Madame Pouce est blonde.
III. C'est une femme qui porte des lunettes.
IV. Elle aime les chiens.

Trouvez la phrase qui ne convient pas.

Cümleler sırasıyla okunduğunda, anlam bütünlüğünü bozan cümleyi bulunuz.

- A) I
- B) II
- C) III
- D) IV

3. - Vous allez à l'école en voiture?
- Non, nous allons à pied.

Choisissez le mot qui convient.

Yukarıdaki konuşmada boş bırakılan yeri aşağıdakilerden hangisi doğru şekilde tamamlar?

- A) y
- B) de
- C) en
- D) au

4. Je suis fatigué et triste. ne va bien au travail.

Choisissez le mot qui convient.

Cümledeki boşluğu aşağıdakilerden hangisi doğru şekilde tamamlar?

- A) Quelque chose
- B) Rien
- C) Aucun
- D) Quelqu'un

5. - Quand partez-vous en vacances?

-

Choisissez l'expression qui convient.

Yukarıdaki konuşmada boş bırakılan yeri aşağıdakilerden hangisi doğru şekilde tamamlar?

- A) Avec lui
- B) Oui
- C) A Paris
- D) Demain

6. cette / aime / qui / actrice ?
I II III IV

Mettez dans le bon ordre.

Yukarıdaki kelimelerin anlamlı bir bütün oluşturan sırası aşağıdakilerin hangisinde doğru olarak verilmiştir?

- A) I, IV, II, III
- B) II, IV, III, I
- C) III, II, I, IV
- D) III, IV, I, II

7. Achetez vous voulez.

Choisissez le mot qui convient.

Cümledeki boşluğu aşağıdakilerden hangisi doğru şekilde tamamlar?

- A) que
- B) puisque
- C) ce que
- D) qui

8. J'attends 10 minutes.

Choisissez le mot/l'expression qui convient.

Cümledeki boşluğu aşağıdakilerden hangisi doğru şekilde tamamlar?

- A) le
- B) avant
- C) après
- D) depuis

9. - Est-ce que tu as téléphoné à Philippe?
- Non, je ne ai pas téléphoné.

Choisissez le mot qui convient.

Yukarıdaki konuşmada boş bırakılan yeri aşağıdakilerden hangisi doğru şekilde tamamlar?

- A) leur
B) la
C) lui
D) le

10. Il les droits des gens, il est avocat.

Choisissez le mot qui convient.

Cümledeki boşluğu aşağıdakilerden hangisi doğru şekilde tamamlar?

- A) défend
B) peut
C) entend
D) fais

11. «Senin için endişelendim.»

Choisissez la traduction qui convient.

Yukarıdaki cümlelerin Fransızca karşılığı aşağıdakilerden hangisidir?

- A) Tu m'inquiètes.
B) Je suis une personne inquiète.
C) Je me suis inquiétée pour toi.
D) Tu es une personne inquiétante.

12. Ne pas ton parapluie!

Choisissez le mot qui convient.

Cümledeki boşluğu aşağıdakilerden hangisi doğru şekilde tamamlar?

- A) pris
B) prend
C) prendre
D) prends

13. Le voyage a été par nos amis.

Choisissez le mot qui convient.

Cümledeki boşluğu aşağıdakilerden hangisi doğru şekilde tamamlar?

- A) organisé
B) transporté
C) écrit
D) cassé

14. il fait beau, je me promène.

Choisissez le mot qui convient.

Yukarıdaki cümlede boş bırakılan yeri aşağıdakilerden hangisi doğru şekilde tamamlar?

- A) Comme
B) Pendant
C) Depuis
D) Que

15. nous finissons nos devoirs, nous allons dehors.

Choisissez le mot qui convient.

Cümledeki boşluğu aşağıdakilerden hangisi doğru şekilde tamamlar?

- A) Car
B) Dès que
C) Parce que
D) Depuis que

16. C'est qui avaient raconté l'histoire.

Choisissez le mot qui convient.

Yukarıdaki cümlede boş bırakılan yeri aşağıdakilerden hangisi doğru şekilde tamamlar?

- A) ils
B) vous
C) nous
D) eux

17. Éric : Tu veux du thé ou du café.
Noémie : Je ne veux du thé du café.
Éric :?
Noémie : Je veux de l'eau.

Choisissez les expressions qui conviennent.

Yukarıdaki konuşmada boş bırakılan yerleri aşağıdakilerden hangisi doğru şekilde tamamlar?

- A) ni / pas / Que veux-tu
- B) ni / ni / Que veux-tu
- C) ne / pas / Qu'est-ce que tu veux
- D) ne / ne / Qu'est-ce que tu veux

18. «Ne tür müzikten hoşlanırsınız?»

Choisissez la traduction qui convient.

Yukarıdaki cümlenin Fransızca karşılığı aşağıdakilerden hangisidir?

- A) Quelle musique préférez-vous?
- B) Quelle musique écoutez-vous?
- C) Quel genre de musique faites-vous?
- D) Quel genre de musique aimez-vous?

19. Quand part le train?

Choisissez la traduction qui convient.

Yukarıdaki cümlenin Türkçe karşılığı aşağıdakilerden hangisidir?

- A) Tren ne kadar gecikecek?
- B) Tren ne zaman hareket ediyor?
- C) Tren ne zaman gelecek?
- D) Tren ne kadar zamanda gidiyor?

20. La maman : Qui a cassé le vase?
L'enfant : Jean.
La maman : C'est Jean?
L'enfant : Oui,

Choisissez l'expression qui convient.

Yukarıdaki konuşmada boş bırakılan yeri aşağıdakilerden hangisi doğru şekilde tamamlar?

- A) ce n'est pas lui
- B) c'est elle
- C) c'est Jean qui l'a cassé
- D) c'est lui qui l'a cassée

1. Aşağıdakilerden hangisi finansal inceleme kapsamında yapılan çalışmalardan biridir?

- A) Makine donanımının seçilmesi
- B) Alternatif teknolojilerin değerlendirilmesi
- C) Finansman tablolarının hazırlanması
- D) Temel mühendislik tasarımlarının yapılması

2. Aşağıdakilerden hangisi iş planı hazırlanırken dikkat edilmesi gereken hususlardan biri değildir?

- A) Planın oldukça kısa olması
- B) Belgeleme ve arşivlemeye önem verilmesi
- C) Plan düzgün bir şekilde organize edilerek bir bütün oluşturulması
- D) Başkaları tarafından hazırlanmış örnek planın kullanılmasına özen gösterilmesi

3. Yapılabilirlik etüdünün faydaları aşağıdakilerden hangisidir?

- A) Geri dönüşümü hızlandırır.
- B) Kredilerin doğru ve etkin kullanılmasını sağlar.
- C) Toplumun eğitim seviyesini artırır.
- D) Rekabeti artırır.

4. Aşağıdakilerden hangisi ham madde ve yardımcı girdiler seçilirken önemli olan etmenlerden biri değildir?

- A) Personel seçimi
- B) Talep analizi
- C) Üretim programı
- D) Teknoloji seçimi

5. Aşağıdakilerden hangisi fizibilite etüdünün aşamalarından biri değildir?

- A) Sistematiik inceleme
- B) Ekonomik inceleme
- C) Hukuki inceleme
- D) Teknik inceleme

6. Aşağıdakilerden hangisi iyi bir iş fikri bulabilmek için yapılması gerekenlerden biri değildir?

- A) Açık fikirli olmak
- B) İş yaşamındaki geleneksel eğilimlere yönelmek
- C) Pazar boşluklarını mutlaka kontrol etmek
- D) Araştırma yapmak

7. Aşağıdakilerden hangisi işleyişleri bakımından işletmeler arasında ver almaz?

- A) Sanayi işletmeleri
- B) Tarım işletmeleri
- C) Finans işletmeleri
- D) Kamu işletmeleri

8. Aşağıdakilerden hangisi sermaye kaynaklarının sağlanmasını ifade eder?

- A) Finansal yönetim
- B) Fizibilite
- C) Finansman
- D) Franchising

9. Aşağıdakilerden hangisi işletmelerin ekonomik şekilleri bakımından sınıflandırılmasında yer alan işletme türlerinden biridir?

- A) Hizmet üreten işletmeler
- B) Kamu işletmeleri
- C) Kiralama işletmeleri
- D) Finans işletmeleri

10. Aşağıdakilerden hangisi işletmenin genelde kabul edilen amaçlarından biri değildir?

- A) İşletmenin yaşamını devam ettirme
- B) Kâr sağlama
- C) Lider yetiştirme
- D) Topluma hizmet etme

11. Kâr amacıyla mal ve hizmet üretmek veya pazarlamak için üretim faktörlerini planlı, tutarlı ve akılcı bir sistemle bir araya getiren teknik ve ekonomik birime ne ad verilir?

- A) Vakıf
- B) Fizibilite
- C) İşletme
- D) Sendika

12. Aşağıdakilerden hangisi işletmelerin ülke ekonomisine katkılarında biri değildir?

- A) El sanatlarını geliştirmek
- B) Toplumun çeşitli ihtiyaçlarını karşılayarak başka ülkelere muhtaç olmadan yaşamalarını sağlamak
- C) Ülkeye yeni teknolojilerin girmesini sağlamak
- D) Sağladığı iş olanakları ile işsizliği önlemek

13. Kişi yada işletmelerin ihtiyaç duydukları fonların belirlenerek sağlanması ve bu fonların en uygun alanlara kaydırılarak yönetilmesine ne ad verilir?

- A) Planlama
- B) Üretim
- C) Pazarlama
- D) Finansal Yönetim

14. Piyasada tanınmış yerleşmiş bir ismin ya da markanın işletme hakkını veren tarafa ne ad verilir?

- A) Müteşebbis
- B) Franchisor
- C) Distribütörlük
- D) Franchisee

15. Bir işletme sistemi çerçevesinde yapılan satış etkinliklerinde denenmiş, kendini ispat etmiş bir markanın desteği ve güvencesi altında iş yapan firmaların mal ve hizmet dağılımına yönelik olarak belli bir bedel karşılığında söz konusu marka ve sistemin sahibi olan firma ile girmiş oldukları bağımsız ticari ilişki türüne ne ad verilir?

- A) Franchising
- B) Know-how
- C) Distribütör
- D) Kartel

16. Bir girişimcinin iş kurarken ekonomik istikrarsızlık engelini aşmasında aşağıdakilerden hangisi etkilidir?

- A) Grup çalışmasına önem vermek
- B) Sabitlenebilir değerleri tercih etmek
- C) Çalışanların özgüvenini artırmak
- D) Motivasyonu güçlendirmek

17. Türkiye'nin ekonomik ve sosyal ihtiyaçlarının karşılanmasında küçük ve orta ölçekli işletmelerin payını ve etkinliğini artırmak, rekabet güçlerini ve düzeylerini yükseltmek sanayide uyumunu ekonomik gelişmelere uygun biçimde gerçekleştirmek amacıyla kurulan kurum aşağıdakilerden hangisidir?

- A) SPK
- B) KOSGEB
- C) TSE
- D) BDDK

18. Aşağıdakilerden hangisi internet üzerinden satışın başarıya ulaşması için dikkat edilmesi gereken konulardan biri değildir?

- A) Doğru ihtiyaç tespiti
- B) Doğru hedef kitle
- C) Doğru mağaza yeri seçimi
- D) Doğru ürün seçimi

19. I. Ticari defterini tasdik ettirme sorumluluğu
II. Ticari defteri saklama sorumluluğu
III. Sosyal güvenlik kurumuna karşı sorumluluğu

Yukarıdakilerden hangileri girişimcinin yasal sorumluluklarındandır?

- A) Yalnız I
- B) Yalnız II
- C) I ve II
- D) I,II ve III

20. Aşağıdakilerden hangisi Bayi ya da Distribütör'ü Franchising'ten ayıran özelliklerden biridir?

- A) Bayiler ana şirketin adıyla satış yapmak zorundadır.
- B) Bayiler ulusal reklam ve tanıtım kampanyalarına katılmak zorundadır.
- C) Bayiler ürünlerini sattıkları işletme ile aynı görüntüde olmak zorundadır.
- D) Bayi ana şirkete para ödemez aksine satışları karşılığında para alır.

1. $s(A) = 7$, $s(B) = 5$, $s(C) = 3$, $s(A \cap B) = 3$,
 $s(A \cap C) = 2$, $s(B \cap C) = 2$ ve $s(A \cap B \cap C) = 1$
ise $s(A \cup B \cup C)$ aşağıdakilerden hangisidir?
- A) 6
B) 7
C) 8
D) 9
2. İngilizce, Matematik ve Türkçe derslerinin en az birinden geçen öğrencilerin bulunduğu 38 kişilik bir sınıfta 4 öğrenci üç dersten de geçmiştir. İngilizce dersinden geçen 18, Matematik dersinden geçen 20 ve Türkçe dersinden geçen 25 öğrenci olduğuna göre, yalnız iki dersten geçen öğrenci sayısı kaçtır?
- A) 17
B) 19
C) 21
D) 23
3. $A = \{1,2,5\}$, $B = \{3,5\}$ ve $C = \{1,2,3,4\}$ kümeleri veriliyor. $(A \cup B) \cap C$ kümesi aşağıdakilerden hangisidir?
- A) $\{2,5\}$
B) $\{1,2,5\}$
C) $\{1,3,5\}$
D) $\{1,2,3\}$
4. "MATEMATİK" kelimesindeki harflerin oluşturduğu küme A olsun. A kümesinin alt kümelerinin kaçında T ve K harfleri bulunur?
- A) 4
B) 8
C) 12
D) 16
5. Bir sınıfta basketbol veya voleybol sporlarından en az birini oynayan 40 öğrenci vardır. 6 öğrenci hem basketbol hem de voleybol oynamaktadır. Basketbol oynayanların sayısı, voleybol oynayanların sayısından 6 fazladır. Buna göre bu sınıfta sadece voleybol oynayan kaç öğrenci vardır?
- A) 14
B) 16
C) 18
D) 20
6. A bir küme olmak üzere aşağıdakilerden hangisi $A \times A$ kartezyen çarpım kümesinin eleman sayısı olabilir?
- A) 9
B) 10
C) 12
D) 14
7. $2.3^3 + 5.3^3 + 9.3^3 + 11.3^3$ işleminin sonucu kaçtır?
- A) 3^5
B) 3^6
C) 3^7
D) 3^8
8. $6x - \frac{2}{3} \geq \frac{4}{3}$ eşitsizliğinin çözüm kümesi aşağıdakilerden hangisidir?
- A) $\varnothing = \left\{ x \mid x \geq \frac{1}{9}, x \in \mathbb{R} \right\}$
B) $\varnothing = \left\{ x \mid x \leq \frac{1}{3}, x \in \mathbb{R} \right\}$
C) $\varnothing = \left\{ x \mid x \geq \frac{1}{3}, x \in \mathbb{R} \right\}$
D) $\varnothing = \left\{ x \mid x \leq \frac{1}{9}, x \in \mathbb{R} \right\}$

9. $\frac{\sqrt{20} + \sqrt{45} + \sqrt{80} + \sqrt{125}}{\sqrt{35} \cdot \sqrt{7}}$ işleminin sonucu kaçtır?

- A) 2
B) $\sqrt{5}$
C) $\sqrt{7}$
D) 3

10. $5x - 2 = 3(2x - 1) - 4$ denkleminin çözüm kümesi aşağıdakilerden hangisidir?

- A) {2}
B) {3}
C) {4}
D) {5}

11. $\begin{cases} 2x + 5y = 1 \\ 3x + 4y = -2 \end{cases}$ denklem sistemini sağlayan (x,y) ikilisi aşağıdakilerden hangisidir?

- A) (-2,1)
B) (2,1)
C) (-2,-1)
D) (2,-1)

12. $s(A \cup B) = 6$ ve $s(A \cap B) = 2$ olduğuna göre, $A \times B$ kümesinin eleman sayısı en çok kaçtır?

- A) 12
B) 16
C) 18
D) 24

13. $B \times A = \{(3,3), (3,5), (3,8), (5,3), (5,5), (5,8)\}$ olduğuna göre $A \cap B$ kümesi aşağıdakilerden hangisidir?

- A) {3,8}
B) {3,5,8}
C) {3,5}
D) {5,8}

14. $|4x - 1| \leq 11$ eşitsizliğini sağlayan x tamsayılarının toplamı kaçtır?

- A) 0
B) 1
C) 2
D) 3

15. Bir işi Rıza 6 günde ve Süleyman 12 günde bitirmektedir. Buna göre, bu işi Rıza ve Süleyman birlikte kaç günde bitirir?

- A) 2
B) 3
C) 4
D) 5

16. $(2x + 3)^{2x-4} = 1$ denkleminin çözüm kümesi aşağıdakilerden hangisidir?

- A) $\mathcal{C} = \{-2, 2\}$
B) $\mathcal{C} = \{-2, -1, 2\}$
C) $\mathcal{C} = \{-2, 1, 2\}$
D) $\mathcal{C} = \{-2, 1\}$

17. $f(2x - 1) = 3x + 4$ olduğuna göre $f(9)$ değeri kaçtır?

- A) 15
- B) 17
- C) 18
- D) 19

18.

$$f: \mathbb{R} \rightarrow \mathbb{R}, f(x) = \begin{cases} -x, & x < 0 \text{ ise} \\ -4, & x = 0 \text{ ise} \\ x - 2, & x > 0 \text{ ise} \end{cases}$$

fonksiyonu için $f(-2) + f(0) + f(6)$ kaçtır?

- A) -2
- B) 2
- C) 4
- D) 6

19. f doğrusal fonksiyonu için $f(1) = 5$ ve $f(-2) = 11$ olduğuna göre, $f(3)$ kaçtır?

- A) 1
- B) 2
- C) 3
- D) 4

20.

Girdi x	Çıktı f(x)
-1	4
0	1
1	-2
2	-5

Yukarıdaki tabloda girdi ve çıktıları verilen f doğrusal fonksiyonu aşağıdakilerden hangisidir?

- A) $f(x) = 3x + 1$
- B) $f(x) = -3x + 2$
- C) $f(x) = -3x + 1$
- D) $f(x) = -3x - 1$

BU SAYFA BOŞ BIRAKILMIŞTIR.

BU SAYFA BOŞ BIRAKILMIŞTIR.

BU SAYFA BOŞ BIRAKILMIŞTIR.

SINAVDA UYULMASI GEREKEN GENEL KURALLAR

1. Sınava girmek için gerekli belgelerinizin tümünü sınav başlamadan önce sıranızın üzerine bırakınız.
2. Sınav süresince görevlilerle konuşmak, görevlilere soru sormak yasaktır. Aynı şekilde görevlilerin de öğrencilerle/adaylarla yakından ve alçak sesle konuşmaları yasaktır. Gerekli durumlarda görevliler yerinizi değiştirebilir.
3. Size verilen cevap kâğıdının üzerindeki TCKN/Öğrenci no, ad, soyadı, bilgilerini kontrol ediniz, ilgili alanları eksiksiz doldurarak imzalayınız. Bu bilgiler size ait değilse, kâğıt üzerinde hiçbir işlem yapmadan görevlileri uyararak size ait cevap kâğıdını isteyiniz. Başkasına ait cevap kâğıdı kullanan öğrencilerin sınavları geçersiz sayılır.
4. Cevap kâğıdı üzerine test grubunu (kitapçık türünü) kodlamayan veya birden fazla grubu kodlayanların sınavları geçersiz sayılır.
5. Cevap kâğıdınıza yazacağınız her türlü yazı ve yapacağınız işaretlemeler için koyu siyah kurşun kalem kullanmalısınız. Farklı bir kalem (tükenmez, mürekkepli, renkli vb.) kullananların sınavları geçersiz sayılır.
6. Cevap kâğıdı üzerinde değişiklik yapmak istediğinizde, iz bırakmayan bir silgi kullanınız. Cevap kâğıdınızı buruşturmayınız, katlamayınız ve üzerine gereksiz hiçbir işaret koymayınız.
7. Cevaplarınızı, cevap kâğıdında ilgili test için ayrılmış olan alana, cevap yerinin dışına taşırmadan işaretleyiniz. Soru kitapçığı üzerinde yapılan işaretlemeler değerlendirmeye alınmayacaktır.
8. Her sorunun tek bir doğru cevabı vardır. Bir soru için birden çok cevabı işaretlerseniz, o soruyu yanlış cevaplamış sayılacaksınız.
9. Soru kitapçığınızı aldığınızda sayfalarına hızlıca bakarak hatalı ya da eksik baskı olup olmadığını kontrol ediniz. Hata/eksik olması durumunda kitapçığının değiştirilmesi için derhâl sınav görevlilerine başvurunuz. Sınav görevlileri sınavın başladığını belirtmeden kitapçığınızı tekrar açmayınız.
10. Cevap kâğıdınızda belirtilen kitapçık kodu ile soru kitapçığının kodunu karşılaştırınız. Aynı değilse, sınav görevlilerine durumu bildirerek doğru kitapçığın verilmesini talep ediniz.
11. Soru kitapçığındaki ilgili alanlara ad, soyadı, TCKN/Öğrenci no, sınav salon no, sıra no bilgilerinizi eksiksiz doldurarak imzanızı atınız. Soru kitapçığının sayfalarındaki boş yerleri müsvedde amacıyla kullanabilirsiniz.
12. Aşağıdaki durumlarda sınav görevlileri tarafından Bireysel Sınav İptal Tutanağı düzenlenerek ilgili öğrencilerin/adayların sınavları geçersiz sayılır:
 - a) Sınav kurallarına ve sınav görevlilerinin uyarılarına uymamak, sınav düzenini bozmak,
 - b) Kâğıt, kitap, defter, not vb. dokümanları; pergel, açıölçer, cetvel vb. araçları; cep telefonu, bilgisayar, tablet, telsiz, kamera vb. iletişim, depolama, kayıt ve veri aktarma cihazlarını; ruhsatlı veya resmi amaçlı olsa bile silah ve silah yerine geçebilecek nesneleri yanında bulundurmamak,
 - c) Sınav sırasında kalem, silgi vb. araç-gereç paylaşımında bulunmak,
 - d) Cevapları, cevap kâğıdı dışında bir yere yazmak ve sınav salonundan dışarı çıkarmak,
 - e) Sınava girebilmek için gerekli belgeleri eksik olduğu halde sınava katılıp, cevap kâğıdında işaretleme yapmak,
 - f) Sınav görevlileri tarafından öğrencinin/adayın kimliğinden şüphe duyulması,
 - g) Cevap kâğıdını ve/veya soru kitapçığını sınav görevlilerine eksiksiz ve sağlam şekilde teslim etmemek, sınav salonu dışına çıkarmak,
 - h) Kopya çekmek, vermek, çekilmesine yardımcı olmak vb. eylemlerde bulunmak,
 - i) Kendisi yerine başkasını sınava sokmak.
13. Sınav bitiminde, cevap kâğıdınızı ve soru kitapçığınızı salon görevlilerine eksiksiz biçimde teslim ediniz. Sınav bittikten sonra gönderilen cevap kâğıtları dikkate alınmayacaktır.

SINAV KURALLARINA UYDUĞUNUZ İÇİN TEŞEKKÜR EDER, SINAVINIZDA BAŞARILAR DİLERİZ.