



ANADOLU ÜNİVERSİTESİ  
AÇIKÖĞRETİM FAKÜLTESİ  
BA - AÇIKÖĞRETİM OKULLARI

**T.C. MİLLİ EĞİTİM BAKANLIĞI**  
**Hayat Boyu Öğrenme Genel Müdürlüğü**  
**AÇIKÖĞRETİM ORTAOKULU – BATI AVRUPA PROGRAMI**  
**2015-2016 ÖĞRETİM YILI I. DÖNEM SINAVI**

3. OTURUM Cumartesi 13:00

TEST GRUBUNUZ

**A**

**0300**

**ÖĞRENCİNİN**

SOYADI : .....

ADI : .....

TC KİMLİK NO / ÖĞRENCİ NO : .....

SINAV SALON NO : ..... SIRA NO: .....

İMZA: .....

Sınavla ilgili tüm kuralları okudum, anladım, kabul ediyorum.

**SINAV İÇERİĞİ**

Testin Adı	Soru Sayısı	Sayfa No	Testin Adı	Soru Sayısı	Sayfa No
TÜRKÇE 5	20	02	TÜRKÇE 7	20	14
MATEMATİK 5	20	04	MATEMATİK 7	20	16
FEN VE TEKNOLOJİ 5	20	08	FEN VE TEKNOLOJİ 7	20	20
SOSYAL BİLGİLER 5	20	10	SOSYAL BİLGİLER 7	20	22
DİN KÜLTÜRÜ VE AHLAK BİLGİSİ 5	20	12	TÜRKÇE 8	20	24

**SINAVDA UYULMASI GEREKEN ÖZEL KURALLAR**

1. Bu kitapçıkta yer alan her bir test için cevaplama süresi **30** dakika, toplam süre **150** dakikadır.
2. Öğrenciler sınavın ilk 30 dakikası ve son 5 dakikası içinde sınavlarını tamamlasalar bile salonu terk edemezler. Sınavın başlamasını izleyen ilk 15 dakikadan sonra hiçbir öğrenci sınava alınmaz.
3. Yanlış cevaplarınız dikkate alınmayacaktır. Bu nedenle kitapçıkta bulunan tüm sorular için size doğru gelen seçeneği işaretleyerek cevapsız soru bırakmamanız yararınıza olacaktır.
4. Sınav sırasında hesap makinesi kullanabilirsiniz. Ancak, kullanacağınız makinede alfabetik tuş takımının (A, B, C, ..., Y, Z), program yapılmasına, saklanmasına ve çalıştırılmasına imkân veren EXE, STORE, RUN vb. tuşlar bulunamaz.

"Sınavda Uyulması Gereken Genel Kurallar" soru kitapçığının arka sayfasında yer almaktadır. Bu kuralları da mutlaka dikkatlice okuyunuz.

*Anadolu Üniversitesi tarafından hazırlanmış olan bu testlerin her hakkı saklıdır. Hangi amaçla olursa olsun, testlerin tamamının veya bir kısmının Anadolu Üniversitesi'nin yazılı izni olmadan kopya edilmesi, fotoğraflarının çekilmesi, herhangi bir yolla çoğaltılması, yayımlanması ya da kullanılması yasaktır. Bu yasağa uymayanlar gerekli cezai sorumluluğu ve testlerin hazırlanmasındaki mali külfeti peşinen kabullenmiş sayılır.*

1. Aşağıdaki sözcüklerden hangisinin hecelenmesi doğrudur?
- A) ge – rek – sin – im  
B) yu – mur – ta – la – rın  
C) koz – a – dan  
D) baş – ka – laş – ım
2. Aşağıdaki cümlelerden hangisinin fiili olumsuzdur?
- A) Anneannem bizi kapıda bekliyordu.  
B) Babam hemen ansiklopediye uzandı.  
C) Sevinçten çığlıklar atıyordum.  
D) Tatile gitmiyoruz.
3. Aşağıdakilerden hangisi "sert" sözcüğünün zıt anlamlısıdır?
- A) yüksek  
B) ılık  
C) soğuk  
D) yumuşak
4. Aşağıdaki cümlelerden hangisi tekerlemedir?
- A) Annem sevinçten ne yapacağını bilemiyordu.  
B) İyi ki öğretmenimiz böyle bir ödev vermişti.  
C) Kartal kalkar dal sarkar, dal sarkar kartal kalkar!  
D) Babam bizi otogara kadar götürdü.
5. "Atatürk ..... çok sevdiği milletine hizmet etmekten büyük bir zevk duymuştur." cümlesinde boş bırakılan yeri aşağıdaki sözcüklerden hangisi en uygun şekilde tamamlar?
- A) sanki  
B) veya  
C) her zaman  
D) ya da
6. Aşağıdaki sözcüklerden hangisinin yazımı yanlıştır?
- A) jüri  
B) baş vuru  
C) kâğıt  
D) marangoz
7. "Kapıyı birdenbire açtı." cümlesinde altı çizili sözcük aşağıdakilerden hangisiyle eş anlamlıdır?
- A) aniden  
B) çeşitli  
C) oldukça  
D) süreli

8. "Çalışmamı bir an önce ..... için sabırsızlanıyordum." cümlesinde boş bırakılan yere aşağıdakilerden hangisi getirilirse cümlenin anlamı bozulur?
- A) yükseltmek  
B) bitirmek  
C) tamamlamak  
D) teslim etmek
9. "Küçük, önemsiz şeyleri abartmak" anlamında kullanılan deyim aşağıdakilerden hangisidir?
- A) Kulağını bükmek  
B) Güçlük çekmek  
C) Pireyi deve yapmak  
D) Gururunu okşamak
10. Aşağıdaki cümlelerin hangisinde benzetme yapılmıştır?
- A) Küçük çocuk kırmızı ışık yanınca yaya geçidinin önünde bekledi.  
B) Pamuk gibi bembeyaz saçları, sakalı vardı.  
C) Yaşlı adam bastonuyla yolu tıklatarak yürüdü.  
D) Emin adımlarla karşıya geçmişlerdi.
11. "Masal masal mat atar  
Dil okur damak tadar!"  
Yukarıdaki dizeler aşağıdakilerden hangisine örnektir?
- A) Tekerlemeye  
B) Deyime  
C) Atasözüne  
D) Fıkraya
12. Aşağıdakilerden hangisi "kuvvet" sözcüğü ile eş anlamlıdır?
- A) ümit  
B) zafer  
C) hareket  
D) güç
13. Aşağıdaki cümlelerin hangisinde zıt anlamlı sözcükler kullanılmıştır?
- A) Kelebekler sıcağın ya da soğuktan kendilerini korur.  
B) Arılar çiçek çiçek gezerek bal özü toplarlar.  
C) Büfeyi işleten İlhan Amca'yı tanıyordum.  
D) Annem o akşam valizlerimizi hazırlamaya girişti.

14. "Kültürlü ..... aydın bir kişiydi." cümlesini aşağıdakilerden hangisi en uygun şekilde tamamlar?

- A) ve
- B) dahi
- C) veya
- D) ya da

15. Aşağıdaki sözcüklerden hangisinin hecelenmesi yanlıştır?

- A) pal – to – su – nun
- B) çiğ – ne – me – ye
- C) ka – la – ba – lık – tan
- D) avu – cu – nun

16. Aşağıdaki fiillerden hangisinin yazımı yanlıştır?

- A) yapabiliyorum
- B) saklayacak
- C) yapacağım
- D) bitmiyor

17. Aşağıdaki sözcüklerden hangisi özel isim değildir?

- A) Adana
- B) Türkiye
- C) Millet
- D) Ağrı Dağı

18. Aşağıdaki cümlelerden hangisinin sonuna nokta (.) işareti kullanılmalıdır?

- A) Onların istedikleri şey uçurtmanın uçması değil miydi
- B) Uçurtma yarışı hakkında bilgi verebilir misiniz
- C) Selçuk koşarak çarşığı geçti
- D) Aaa gerçekten o

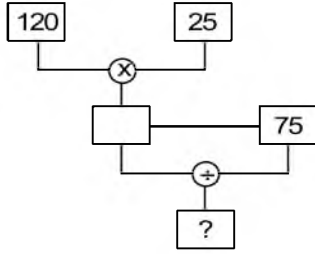
19. "Olgun portakallar, ..... yapraklarla çok güzel görünüyordu." cümlesinde boş bırakılan yeri aşağıdaki sözcüklerden hangisi en uygun şekilde tamamlar?

- A) turunç
- B) buruşmuş
- C) dökülen
- D) yeşil

20. "Barış mutlu yaşamak ( ) gelişmek ve üretmek için ilk şarttır." cümlesinde boş parantezle gösterilen yere aşağıdaki noktalama işaretlerinden hangisi getirilmelidir?

- A) İki nokta (:)
- B) Virgül (,)
- C) Noktalı virgül (;)
- D) Nokta (.)

1.



Yukarıdaki şekilde soru işareti yerine aşağıdakilerden hangisi gelmelidir?

- A) 40
- B) 45
- C) 50
- D) 55

2. 909 081 201 sayısının okunuşu aşağıdakilerden hangisidir?

- A) Doksan milyon dokuz yüz sekiz bin yüz yirmi bir
- B) Doksan dokuz milyon sekiz yüz on iki bin bir
- C) Dokuz yüz dokuz milyon seksen bir bin iki yüz bir
- D) Dokuz yüz dokuz milyon sekiz yüz on iki bin bir

3. Bir kurbağa düştüğü 52 m derinliğindeki kuyudan çıkmak için zıplamaktadır. Her gün 6 m zıplayan kurbağa geceleri 2 m aşağı kaymaktadır.

Buna göre, kurbağanın kuyudan çıkabilmesi için kaç gün geçmesi gerekir?

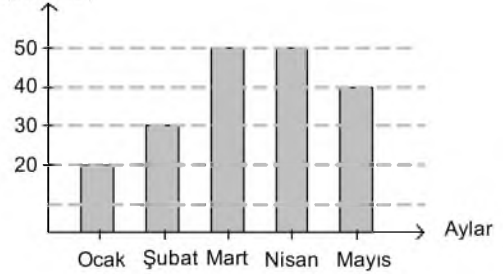
- A) 13
- B) 14
- C) 15
- D) 16

4. Şevket, marketten kilosu 4,25 liradan 3 kg mercimek, kilosu 7,5 liradan 8 kg pirinç ve kilosu 2,45 liradan 5 kg bulgur almıştır.

Buna göre, Şevket market'e kaç lira ödemiştir?

- A) 85
- B) 89
- C) 92,5
- D) 94,25

5. Satış Miktarı (Bin Adet)



Yukarıdaki grafikte bir işyerinin beş aylık satış miktarı verilmiştir.

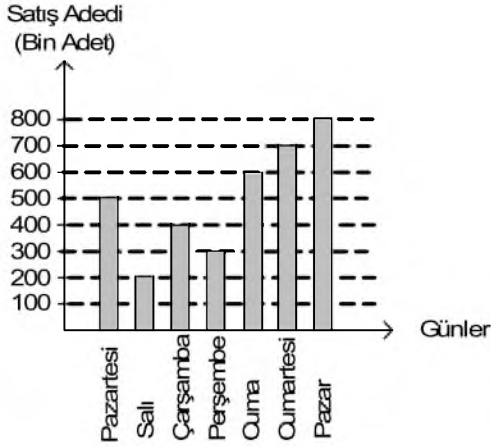
Buna göre, hangi ayda bir önceki aya göre satış miktarı düşmüştür?

- A) Şubat
- B) Nisan
- C) Ocak
- D) Mayıs

6. Bir açısı  $38^\circ$  olan dik açılı üçgenin üçüncü açısı kaç derecedir?

- A)  $44^\circ$
- B)  $52^\circ$
- C)  $56^\circ$
- D)  $64^\circ$

7 - 9. soruları aşağıdaki tabloya göre cevaplayınız.



Yukarıdaki grafikte A Gazetesinin haftalık satış adetleri verilmiştir.

7. Bir haftada A gazetesi toplam kaç bin adet satılmıştır?

- A) 2800
- B) 3200
- C) 3500
- D) 4000

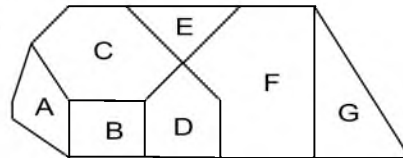
8. Buna göre, A Gazetesi Pazartesi günü kaç adet satılmıştır?

- A) 300.000
- B) 400.000
- C) 500.000
- D) 600.000

9. En çok gazetenin satıldığı gün Salı gününden kaç bin adet fazladır?

- A) 300
- B) 400
- C) 500
- D) 600

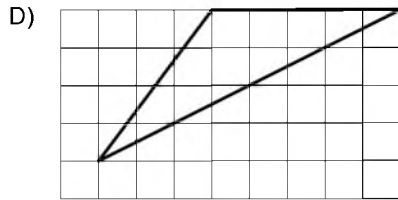
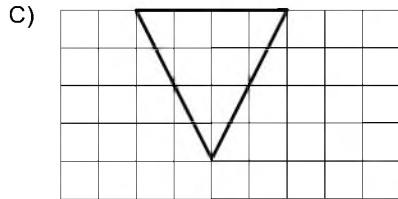
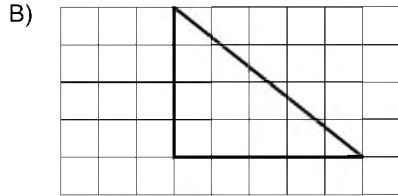
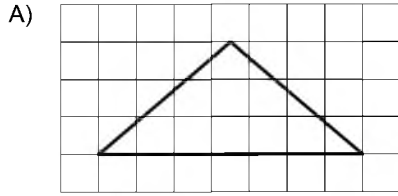
10.



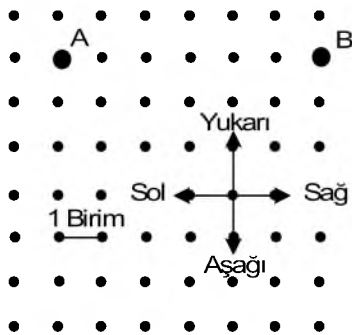
Yukarıdaki şekilde beş kenarlı çokgenler hangi harflerle belirtilmiştir?

- A) A ve C
- B) A ve D
- C) B, C ve G
- D) A, C, E ve F

11. Aşağıdakilerden hangisi geniş açılı bir üçgendir?



12.



Yukarıdaki şekle göre aşağıdaki ifadelerden hangisi doğrudur?

- A) A noktası B noktasının 5 birim sağındadır.  
 B) A noktası B noktasının 6 birim solundadır.  
 C) B noktası A noktasının 5 birim sağındadır.  
 D) B noktası A noktasının 6 birim solundadır.

13. Bir boyacı bir duvarın 1. gün  $\frac{2}{3}$  ünü, 2. gün  $\frac{1}{6}$  sını boyamıştır.

Buna göre, duvarın kaçta kaç boyanmamıştır?

- A)  $\frac{1}{2}$   
 B)  $\frac{1}{3}$   
 C)  $\frac{1}{4}$   
 D)  $\frac{1}{6}$

14. Bir yolun  $\frac{2}{5}$  i asfaltlanmıştır. Asfaltlanan kısım 76 km olduğuna göre, yolun tamamı kaç km dir?

- A) 190  
 B) 210  
 C) 240  
 D) 280

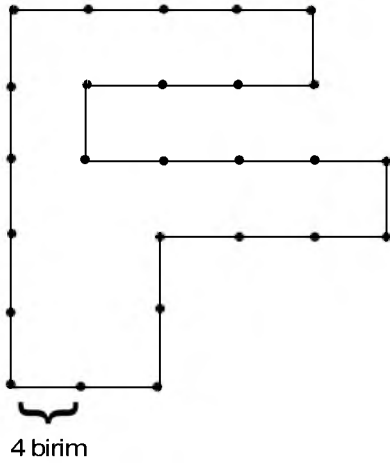
15.  $7 - \frac{24}{7}$  işleminin sonucu aşağıdakilerden hangisidir?

- A)  $\frac{7}{24}$   
 B)  $\frac{24}{49}$   
 C)  $\frac{17}{7}$   
 D)  $\frac{25}{7}$

16. 84,509 ondalık kesrindeki 5 rakamının bulunduğu basamak aşağıdakilerden hangisidir?

- A) Onlar basamağı
- B) Yüzler basamağı
- C) Onda birler basamağı
- D) Binde birler basamağı

17.



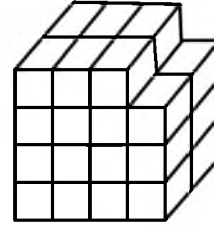
Bir kenarı 4 birim olan yukarıdaki şeklin çevre uzunluğu kaç birimdir?

- A) 96
- B) 100
- C) 104
- D) 108

18. Dikdörtgenler ile ilgili aşağıdaki ifadelerden hangisi yanlıştır?

- A) Açılarının ölçüleri toplamı  $360^\circ$  dir.
- B) Bütün kenar uzunlukları eşittir.
- C) Kenar sayısı kadar simetri doğrusu vardır.
- D) Köşegenleri birbirine eşittir.

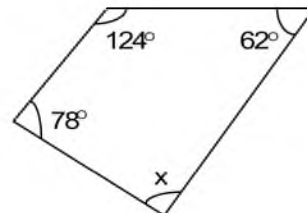
19.



Yukarıdaki birim küplerden oluşan şekilde toplam kaç küp vardır?

- A) 28
- B) 29
- C) 30
- D) 31

20.



Yukarıdaki dörtgende x açısı kaç derecedir?

- A)  $84^\circ$
- B)  $92^\circ$
- C)  $96^\circ$
- D)  $104^\circ$

1. Aşağıdakilerden hangisi boşaltım sisteminde görevli organlardan biridir?

- A) Karaciğer
- B) Akciğer
- C) Böbrek
- D) Kalp

2. Isı enerjisinin birimi aşağıdakilerden hangisidir?

- A) joule
- B) hertz
- C) gram
- D) watt

3. Suyun kaynama sıcaklığı kaç °C dir?

- A) -4
- B) 0
- C) 50
- D) 100

4.



Yukarıdaki sindirim sistemi şemasında soru işareti yerine aşağıdakilerden hangisi gelmelidir?

- A) Pankreas
- B) Karaciğer
- C) Böbrek
- D) Mide

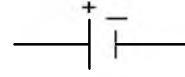
5. Besinlerin çok küçük parçalara ayrılarak kana karışabilecek duruma gelmesi için uğradıkları değişime ne ad verilir?

- A) Boşaltım
- B) Sindirim
- C) Solunum
- D) Dolaşım

6. Maddenin ısı vererek hacminin azalmasına ne ad verilir?

- A) Genleşme
- B) Yoğuşma
- C) Büzülme
- D) Buharlaştırma

7.



Yukarıda sembolü gösterilen devre elemanı nedir?

- A) Anahtar
- B) Ampul
- C) Pili
- D) Bağlantı Kablosu

8. Aşağıdakilerden hangisi kuvvet birimidir?

- A) Kilogram
- B) Newton
- C) Gram
- D) Metre

9. Bir araştırmada sonucu etkileyebilecek olan, etkisi azaltılıp çoğaltılabilen değişkene ne ad verilir?

- A) Tahmin grubu
- B) Kontrol grubu
- C) Bağımsız değişken
- D) Bağımlı değişken

10. Günlük hayatta yaylı el kantarı olarak bilinen kuvvetölçerin bilimsel adı aşağıdakilerden hangisidir?

- A) Dirençölçer
- B) Dinamometre
- C) Elektroskop
- D) Mezura

11. Basit bir elektrik devresinde ampulün takıldığı yuvaya ne ad verilir?

- A) Priz
- B) Sigorta
- C) Anahtar
- D) Duy

12. Fosilleri inceleyen bilim dalına ne ad verilir?

- A) Paleontoloji
- B) Antropoloji
- C) Biyoloji
- D) Nöroloji



13. Canlıların üzerinde yaşadığı tabakaya ne ad verilir?

- A) Yer kabuğu
- B) Granit
- C) Kayaç
- D) Stratosfer

14. Aşağıdakilerden hangisi omurgalı hayvanlardan biridir?

- A) Kelebek
- B) Arı
- C) Örümcek
- D) Kurbağa

15. Aşağıdakilerden hangisi çiçekli bitki değildir?

- A) Kara yosunu
- B) Çam
- C) Papatya
- D) Kiraz çiçeği

16. Ses ile ilgili aşağıdaki ifadelerden hangisi vanlıştır?

- A) Bir kaynaktan yayılan sesler, farklı ortamlarda farklı işitilir.
- B) Cam yünü, lastik, strafor gibi maddeler sesi daha az iletir.
- C) En iyi boşlukta yayılır.
- D) Titreşen cisimler tarafından üretilir.

17. Aşağıdakilerden hangisi yer kabuğunda ver almaz?

- A) Hava
- B) Kayaç
- C) Maden
- D) Fosil

18. Işığı geçirmeven maddelere ne ad verilir?

- A) Saydam
- B) Strafor
- C) Opak
- D) Yarı saydam

19. Işığın saydam olmayan maddelerden geçememesi sonucunda oluşan karanlık bölgeye ne ad verilir?

- A) Geçirgen
- B) Yarı gölge
- C) Opak
- D) Tam gölge

20. Canlı kalıntılarını çürüterek yaşayan mantar türü aşağıdakilerden hangisidir?

- A) Küf mantarı
- B) Şapkalı mantar
- C) Kültür mantarı
- D) Maya mantarı

1. Eğirdir Gölü aşağıdaki illerden hangisinin sınırları içindedir?

- A) Bursa'nın
- B) Isparta'nın
- C) Bolu'nun
- D) Nevşehir'in

2. Aşağıdakilerden hangisi valiye bağlı değildir?

- A) Belediye
- B) Tarım İl Müdürlüğü
- C) İl Emniyet Müdürlüğü
- D) İl Milli Eğitim Müdürlüğü

3. Akarsular tarafından derin yarılmış, çevresine göre yüksek olan geniş düzlüklere ne ad verilir?

- A) Göl
- B) Vadi
- C) Ova
- D) Plato

4. Türk Bayrağı Kanunu hangi yıl çıkarılmıştır?

- A) 1938
- B) 1947
- C) 1976
- D) 1983

5. Telgraf hattında ilk mesajı kim göndermiştir?

- A) Graham Bell
- B) Samuel Morse
- C) John Logre Baird
- D) John Meyers

6. Türkiye'de maden çeşitliliğinin ve rezervinin en fazla olduğu bölge aşağıdakilerden hangisidir?

- A) Ege
- B) Doğu Anadolu
- C) Akdeniz
- D) Karadeniz

7. Televizyon hangi yıl icat edilmiştir?

- A) 1926
- B) 1934
- C) 1946
- D) 1958

8. Ormanlarla ilgili aşağıdaki ifadelerden hangisi yanlıştır?

- A) Yaban hayatını korurlar.
- B) Erozyonu önlerler.
- C) Su varlığını azaltırlar.
- D) İklimi düzenlerler.

9. Türk Dil Kurumu ne zaman kurulmuştur?

- A) 1932
- B) 1947
- C) 1963
- D) 1978

10. Aşağıdakilerden hangisi Türkiye'nin İran'dan en çok ithal ettiği ürünlerden biri değildir?

- A) Elektronik aletler
- B) Ham petrol
- C) Ham deri
- D) İşlenmemiş madenler

11. Türkiye'de balıkçılığın yüzde kaç Karadeniz'de yapılır?

- A) 25
- B) 48
- C) 56
- D) 75

12. Aşağıdakilerden hangisi Türkiye Cumhuriyeti nüfus cüzdanında yer almaz?

- A) Doğum yeri
- B) Ad
- C) Doğum saati
- D) Anne adı

13. Aşağıdaki ülkelerden hangisinin başkenti Dodoma'dır?

- A) Endonezya
- B) Çin
- C) Tanzanya
- D) Şili

14. Eğitim alanında hizmet vermek amacıyla kurulan ilk sivil toplum kuruluşu aşağıdakilerden hangisidir?

- A) KEDV
- B) Darüşşafaka Cemiyeti
- C) Türkiye Eğitim Gönüllüleri Vakfı
- D) LÖSEV

15. Aşağıdaki tarihi yerler ve doğal güzellikler ile bulunduğu şehirlere ilişkin eşleştirmelerden hangisi yanlıştır?

- A) Bitlis-Hasan Padişah Kümbeti
- B) Kastamonu-Ilıca Şelalesi
- C) Mersin-Pamukkale Travertenleri
- D) Antalya-Alanya Kalesi

16. Türkiye Cumhuriyeti'nin ilk anayasası aşağıdakilerden hangisidir?

- A) 1921 Anayasası
- B) 1924 Anayasası
- C) 1961 Anayasası
- D) 1982 Anayasası

17. Aşağıdaki illerden hangisi 1. derece deprem bölgesinde ver almaz?

- A) Kocaeli
- B) Karaman
- C) Bolu
- D) Yalova

18. Mimar Sinan'ın ustalık eseri olarak nitelendirdiği, Edirne'de bulunan Türkiye'nin en yüksek minareli camii aşağıdakilerden hangisidir?

- A) Sultanahmet Camii
- B) Süleymaniye Camii
- C) Ulu Camii
- D) Selimiye Camii

19. Belirli düşüncelerin, bireyler arasındaki ilişkilerin ve karşılıklı görevlerin oluşturduğu, genellikle devletle ilişkisi olan toplumsal örgütlenmelere ne ad verilir?

- A) Grup
- B) Okul
- C) Şirket
- D) Kurum

20. Sorumluluk kavramı ile ilgili aşağıdaki ifadelerden hangisi yanlıştır?

- A) Huzurlu bir aile ortamına uygun davranışlar sergilemek tüm aile üyelerinin ortak sorumluluğudur.
- B) Okulda verilen ödevleri yapmak öğrencilerin sorumluluklarından biridir.
- C) Ev işlerinin sorumluluğu anneye aittir.
- D) Öğrencilerin derslerinde başarılı olabilmeleri için gerekli çalışmaları yapmaları sorumluluklarından biridir.

1. "Semi" kelimesinin anlamı aşağıdakilerden hangisidir?

- A) Allah'ın her şeyi işitmesi
- B) Allah'ın her şeyi görmesi
- C) Allah'ın bir olması
- D) Allah'ın her şeyi bilmesi

2. Tevhit inancı ne demektir?

- A) Allah'ın yasakladığı her türlü davranıştan kaçınmak
- B) Kâinattaki tek yaratıcının Allah olduğuna inanmak
- C) Tan yerinin ağarmasından akşam güneş batıncaya kadar herhangi bir şey yiyip, içmemek
- D) Allah'a kulluk etmek

3. Vahdaniyet'in anlamı aşağıdakilerden hangisidir?

- A) Allah'ın bir olması
- B) Allah'ın her şeyi bilmesi
- C) Allah'ın her şeyi görmesi
- D) Allah'ın her şeyi işitmesi

4. Allah'ın Kur'an'da kullarından kesinlikle yapmalarını istediği iş ve davranışlara ne ad verilir?

- A) Vacip
- B) Dua
- C) Farz
- D) Sünnet

5. Allah'a kulluk etmeye, saygı göstermeye, buyruklarını yerine getirmeye veya yasaklarından kaçınmaya ne ad verilir?

- A) İbadet
- B) Farz
- C) Vacip
- D) Sünnet

6. İbadet etmek amacıyla yapılan yerlere ne ad verilir?

- A) Minber
- B) Mabet
- C) Kürsü
- D) Dergâh

7. Camide Cuma ve bayram namazlarında katibin hutbe okumak için çıktığı merdivenli yüksekçe yere ne ad verilir?

- A) Minare
- B) Minber
- C) Mihrap
- D) Vaaz kürsüsü

8. Hz. Peygambere sevgimizi, bağlılığımızı ve saygımızı belirtmek için yaptığımız duaya ne ad verilir?

- A) Tevhit
- B) Şehadet
- C) İbadet
- D) Salavat

9. Namazların son oturuşunda aşağıdaki dualardan hangisi okunur?

- A) Allahümme Salli
- B) Rabbenâ
- C) Fatiha
- D) Tahiyat

10. Hz. Muhammed ile Hz. Hatice'nin evliliklerinden kaç çocukları dünyaya gelmiştir?

- A) 4
- B) 5
- C) 6
- D) 7

11. Kur'an ayetlerinin yaklaşık anlamıyla başka bir dile çevrilmesine ne ad verilir?

- A) Vahiy
- B) Meal
- C) Sure
- D) Tefsir

12. Kur'an-ı Kerim ile ilgili aşağıdaki ifadelerden hangisi yanlıştır?

- A) İbadet konusunda temel kaynak Kur'an'dır.
- B) Kur'an'ı okumak ve anlamaya çalışmak bir ibadettir.
- C) Ahlak konusunda temel kaynak Kur'an'dır.
- D) Allah tarafından gönderilen ilk kitaptır.

13. Aşağıdakilerden hangisi insan ile ilgili özelliklerden biri değildir?

- A) İnanır.
- B) Tercih eder.
- C) Yaratır.
- D) Şükreder.

14. Aşağıdakilerden hangisi dinî bayramlarımızdan biridir?

- A) Ulusal Egemenlik ve Çocuk Bayramı
- B) Zafer Bayramı
- C) Cumhuriyet Bayramı
- D) Kurban Bayramı

15. Hıdrellez, her yıl aşağıdaki tarihlerden hangisinde bayram olarak kutlanır?

- A) 6 Mayıs
- B) 6 Haziran
- C) 6 Ağustos
- D) 6 Eylül

16. Hz. Muhammed'in doğduğu gecenin yıldönümü aşağıdaki kandillerden hangisidir?

- A) Miraç
- B) Berat
- C) Regaip
- D) Mevlit

17. Türkiye Büyük Millet Meclisi'nin açılışı nedeniyle kutlanan bayram aşağıdakilerden hangisidir?

- A) 29 Ekim Cumhuriyet Bayramı
- B) 19 Mayıs Atatürk'ü Anma ve Gençlik ve Spor Bayramı
- C) 30 Ağustos Zafer Bayramı
- D) 23 Nisan Ulusal Egemenlik ve Çocuk Bayramı

18. Allah yolunda, vatani koruma uğrunda düşmanla savaşmış hayatta kalanlara ne ad verilir?

- A) Asker
- B) Şehit
- C) Gazi
- D) Komutan

19. İstiklâl Marşı'nın yazarı aşağıdaki şairlerden hangisidir?

- A) Mehmet Âkif Ersoy
- B) Behçet Kemal Çağlar
- C) Fatih Rıfki Atay
- D) Cahit Sıtkı Tarancı

20. Türkiye Cumhuriyeti'nin bağımsızlık sembolü aşağıdakilerden hangisidir?

- A) Adetler
- B) Toprak parçası
- C) Gelenekler
- D) Bayrak

1. Aşağıdaki cümlelerin hangisinde yer-yön zarfı vardır?

- A) Koşarak ileri atıldı.
- B) Ali sınavdan en yüksek puanı aldı.
- C) Bilge dün akşam geldi.
- D) Bu filmi pek beğenmedim.

2. Aşağıdaki cümlelerin hangisinde zaman zarfı vardır?

- A) Babam bisikletimi tamir etti.
- B) Teyzeler İstanbul'a taşındı.
- C) Hepimiz Ayşe'nin doğumünü için buluştuk.
- D) Ankara'ya yarın gideceğim.

3. Aşağıdaki fiillerin hangisi dilek kipinde çekimlenmiştir?

- A) sevindi
- B) okusam
- C) gülüyor
- D) çalıştım

4. Aşağıdakilerden hangisi "sert" sözcüğünün zıt anlamlısıdır?

- A) zarif
- B) ince
- C) yumuşak
- D) zayıf

5. "yanmak" sözcüğü aşağıdaki cümlelerin hangisinde diğerlerinden farklı bir anlamda kullanılmıştır?

- A) Yanan ormanların yerine yeni ağaçlar dikilecekmiş.
- B) Şöminede odunlar çıtırdarak yanıyordu.
- C) Haberi duyunca içim yandı.
- D) Alev alan kâğıt bir anda yandı.

6. Aşağıdaki cümlelerin hangisinde zaman zarfı kullanılmıştır?

- A) Ceyda işten yorgun döndü.
- B) Tren geriye gidiyor.
- C) Atilla odasında ders çalışıyor.
- D) Geçen yaz İzmir'e gittik.

7. Aşağıdakilerin hangisinde "okumak" fiili gereklilik kipinde çekimlenmiştir?

- A) okumalısın
- B) okudum
- C) okumuyorlar
- D) okusaydın

8. Aşağıdakilerden hangisi "hekim" sözcüğünün eş anlamlısıdır?

- A) hakim
- B) doktor
- C) öğretmen
- D) talebe

9. Aşağıdakilerin hangisinde fiil farklı bir kişiyle çekimlenmiştir?

- A) En çok bizde kalmak istiyormuş.
- B) Çocuk her yıl boy atıyor.
- C) Çiçek baharda çok güzel açıyor.
- D) Telefondaki sesi tanıyamadım.

10. Aşağıdakilerin hangisinde zarf kullanılmamıştır?

- A) Akşamları süt içmeden yatmam.
- B) Köydeki arkadaşlarımı çok özliyorum.
- C) Kitabı arkadaşımından ödünç aldım.
- D) Hiç böyle bir ev görmemişim.

11. Aşağıdakilerden hangisi bir tanım cümlesidir?

- A) Köpeğimiz çok akıllı bir hayvan.
- B) Her hafta bir kalem kaybediyorum.
- C) Ağaçların altından uyuyakalmışız.
- D) Harfler seslerin işaretidir.

12. Aşağıdakilerden hangisi bir düşünce yazısı türüdür?

- A) Öykü
- B) Deneme
- C) Olay
- D) Tiyatro

13. Aşağıdaki fiillerden hangisi şart birleşik zamanla çekimlenmiştir?

- A) gidecekse
- B) başladım
- C) bitmişti
- D) olmadı

14. Aşağıdaki fiillerden hangisi basit fiildir?

- A) gezin-
- B) al-
- C) sırala-
- D) azal-

15. Aşağıdakilerden hangisi birleşik fiildir?

- A) yapabilmek
- B) büyümek
- C) getirmek
- D) çözmek

16. Aşağıdaki cümlelerin hangisinde fiilde anlam kayması vardır?

- A) Dün işe gelmedi.
- B) Yarın İzmir'e gelecekler.
- C) Bizim kız bu habere çok sevinir.
- D) Aldığım tüm kitapları okudum.

17. Aşağıdaki fiillerden hangisi rivayet bileşik zamanla çekimlenmiştir?

- A) söylerse
- B) gitmeliydi
- C) sorsaydı
- D) konuşmazmış

18. Aşağıdakilerin hangisinde kip kayması vardır?

- A) Dün arkadaşlarla çok eğlendik.
- B) İşim var, kapıyı sen aç.
- C) Yarın akşam bize yemeğe geliyorlar.
- D) Sınav sonuçları haftaya açıklanacak.

19. Aşağıdaki cümlelerin hangisinin yüklemde ek fiil kullanılmıştır?

- A) Dün gece çok güzel rüyalar gördüm.
- B) Çiçekler çok güzeldi.
- C) Babam her gün gazete okur.
- D) Dün seni aradım.

20. Aşağıdaki türemiş fiillerden hangisi fiilden fiil türeten bir ek almıştır?

- A) dile-
- B) kopar-
- C) yürü-
- D) sev-

1.  $-\frac{11}{14}, -\frac{11}{8}, -\frac{11}{10}$

rasyonel sayıların büyükten küçüğe doğru sıralanışı aşağıdakilerin hangisinde verilmiştir?

A)  $-\frac{11}{14} > -\frac{11}{10} > -\frac{11}{8}$

B)  $-\frac{11}{14} > -\frac{11}{8} > -\frac{11}{10}$

C)  $-\frac{11}{10} > -\frac{11}{8} > -\frac{11}{14}$

D)  $-\frac{11}{8} > -\frac{11}{10} > -\frac{11}{14}$

2. a negatif bir rasyonel sayı olduğuna göre, aşağıdaki sayılardan hangisi en küçüktür?

A) a-2

B) a+2

C) a-4

D) a+4

3. Gece dışarı asılan termometre 31°C yi göstermektedir. Termometre her 1,5 saatte bir 4°C düşmektedir.

Buna göre, termometrenin 9 saat sonraki sıcaklığı kaç °C olur?

A) 7

B) 8

C) 9

D) 10

4. Bir fabrikada 221 litrelik süt  $3\frac{2}{5}$  litrelik şişelere doldurulmak isteniyor.

Buna göre, kaç şişeye ihtiyaç vardır?


A) 62

B) 63

C) 64

D) 65

5.



Yukarıdaki kare 25 eş kareye bölünmüş ve bu karelerin 9 tanesi taranmıştır.

Buna göre, taralı kareler tüm karelerin yüzde kaçıdır?

A) 30

B) 32

C) 36

D) 40

6. Bir satıcı 110 TL ye aldığı bir mal için 20 TL masraf yapmıştır.

Satıcı bu malı %30 kârla satacağına göre, malın satış fiyatı kaç TL dir?

A) 152

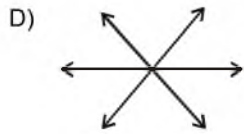
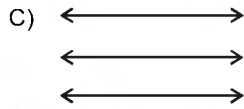
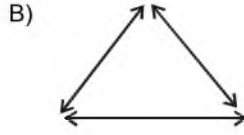
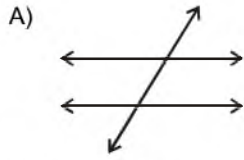
B) 169

C) 175

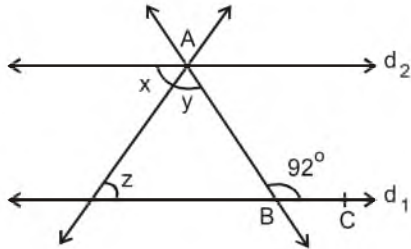
D) 180



7. Aşağıdakilerden hangisi noktadaş üç doğrudur?



8.



Yukarıdaki şekilde  $d_1 // d_2$  dir.  $\widehat{s(ABC)} = 92^\circ$  ve  $x = y$  olduğuna göre,  $z$  kaç derecedir?

- A)  $42^\circ$   
B)  $44^\circ$   
C)  $46^\circ$   
D)  $48^\circ$

9.  $\frac{x+4}{5} - \frac{4-x}{10} = \frac{x}{-4}$  denkleminde  $x$  in değeri kaçtır?

- A) -6  
B) -4  
C) 4  
D) 8

10. Denklemi  $y = -\frac{5}{6}x + 4$  olan doğru üzerindeki bir K noktasının apsisi +18 ise ordinatı kaçtır?

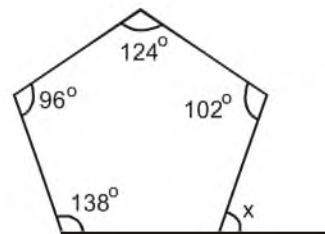
- A) -14  
B) -11  
C) 8  
D) 10

11. Biri diğerinden 9 yaş büyük olan iki kardeşin 5 yıl sonraki yaşları toplamı 35 olacaktır.

Buna göre, küçük kardeş kaç yaşındadır?

- A) 6  
B) 7  
C) 8  
D) 9

12.



Yukarıdaki çokgende  $x$  kaç derecedir?

- A)  $80^\circ$   
B)  $90^\circ$   
C)  $100^\circ$   
D)  $110^\circ$

13.



Yukarıdaki şekil O noktası etrafında saat ibresinin tersi yönünde  $180^\circ$  döndürülüyor.

Döndürülme işleminden sonra oluşan şekil aşağıdakilerden hangisidir?

- A)
- B)
- C)
- D)

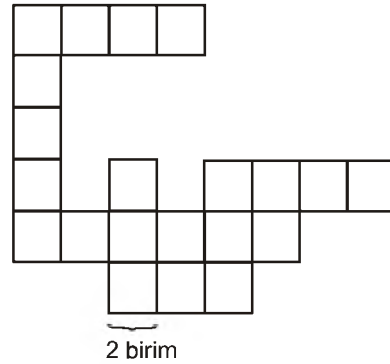
14. Aşağıdaki çokgenlerden hangisi dış bükeydir?

- A)
- B)
- C)
- D)

15. Taban yarıçapı 5 cm ve yüksekliği 12 cm olan dik dairesel silindirin hacmi kaç  $\text{cm}^3$  tür? ( $\rho = 3$  alınız.)

- A) 450  
B) 600  
C) 900  
D) 1200

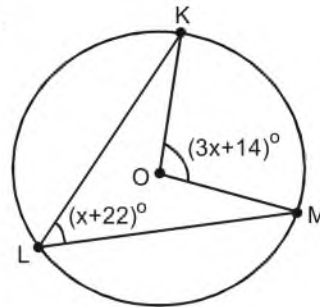
16.



Birim karelerden oluşturulmuş yukarıdaki şeklin çevre uzunluğu kaç birimdir?

- A) 74  
B) 76  
C) 78  
D) 82

17.



Şekildeki O merkezli çemberde,

$$m(\widehat{KLM}) = (x + 22)^\circ \text{ ve}$$

$$m(\widehat{KOM}) = (3x + 14)^\circ \text{ dir.}$$

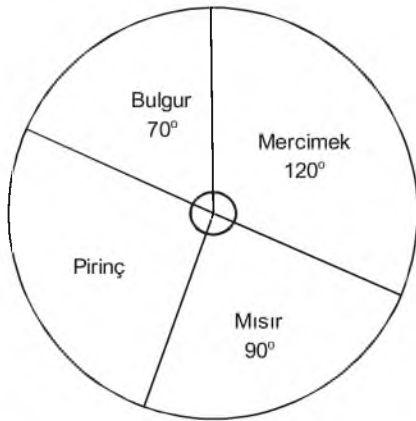
Buna göre,  $m(\widehat{KOM})$  kaç derecedir?

- A)  $86^\circ$   
B)  $89^\circ$   
C)  $104^\circ$   
D)  $110^\circ$

18. Aşağıdaki veri gruplarından hangisinin tepe değeri (modu) en büyüktür?

- A) 83, 81, 81, 92, 98  
 B) 91, 98, 91, 90, 91, 89  
 C) 94, 92, 93, 92, 96, 76  
 D) 100, 88, 88, 86, 88, 100

19.



Yukarıdaki dairesel grafikte, bir ülkede ihraç edilen baklagillerin dağılımı verilmiştir.

150 ton mercimek ihraç edildiğine göre, kaç ton pirinç ihraç edilmiştir?

- A) 80  
 B) 100  
 C) 110  
 D) 120

20.

Dersler	Matematik	İngilizce
Kız	18	12
Erkek	11	14

Yukarıdaki tabloda, 7/A şubesinde Matematik ve İngilizce dersinden geçen kız ve erkek öğrencilerin sayıları verilmiştir.

Buna göre, rasgele seçilen bir öğrencinin kız veya İngilizce dersinden geçmiş olma olasılığı nedir?

- A)  $\frac{1}{5}$   
 B)  $\frac{2}{5}$   
 C)  $\frac{3}{5}$   
 D)  $\frac{4}{5}$

2015-2016 AÖÖ-AÖL I. DÖNEM 0300-A

1. Aşağıdakilerden hangisi orta kulakta bulunan kemiklerden biri değildir?

- A) Salyangoz
- B) Üzengi
- C) Örs
- D) Çekiç

2. Kan içindeki zararlı atıkları ve üreyi süzerek idrar şeklinde vücuttan uzaklaştıran organ aşağıdakilerden hangisidir?

- A) Mide
- B) Böbrek
- C) Karaciğer
- D) Akciğer

3. Aşağıdakilerden hangisi kinetik enerjiye sahip değildir?

- A) Akan su
- B) Oturan çocuk
- C) Hareket halindeki araba
- D) Fırlatılan top

4. Aşağıdakilerden hangisi doğuştan kazanılmış reflektir?

- A) Örgü örmek
- B) Dans etmek
- C) Yüzmek
- D) Öksürmek

5. Aşağıdakilerden hangisi desteğin uçta, yükün ortada olduğu tek taraflı kaldıraçlara bir örnektir?

- A) Tahterevalli
- B) Gazoz açacağı
- C) Makas
- D) Kayık küreği

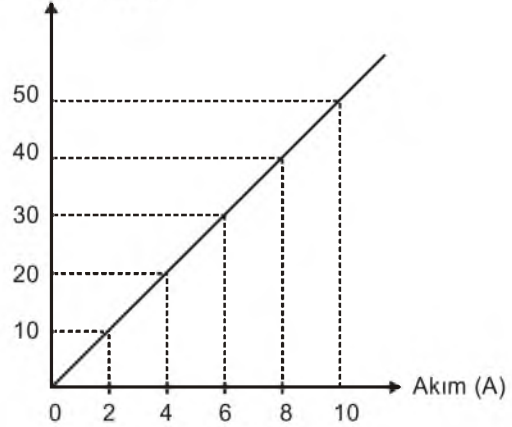
6. Hareketli cisimlerin hızlarından dolayı sahip olduğu enerji türüne ne ad verilir?

- A) Kimyasal
- B) Potansiyel
- C) Isı
- D) Kinetik

7. Atom numarası 11 olan Sodyum (Na) elementinin elektron dizilimi aşağıdakilerden hangisidir?

- A) 2, 8, 7
- B) 2, 8, 2
- C) 2, 8, 1
- D) 2, 6

8. Gerilim (V)



Bir devre elemanına ait yukarıda verilen gerilim-akım grafiğine göre, bu devre elemanının direnci kaç ohm dur?

- A) 2
- B) 5
- C) 8
- D) 10

9. Aşağıdaki karışımlardan hangisi bir çözeltilidir?

- A) Tuz – Su
- B) Toprak – Su
- C) Su – Zeytinyağı
- D) Su – Tebeşir

10. Direnç, hangi sembolle gösterilir?

- A)
- B)
- C)
- D)

11. Aşağıdakilerden hangisi homojen bir karışımdır?

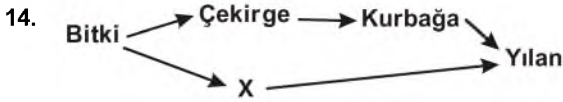
- A) Su-zeytinyağı
- B) Salata
- C) Maden suyu
- D) Çamurlu su

12. Pil (üreteç) hangi sembolle gösterilir?

- A)
- B)
- C)
- D)

13. Kırmızı ışık altında bakılan beyaz bir cisim hangi renkte görülür?

- A) Kırmızı
- B) Gri
- C) Beyaz
- D) Siyah



Yukarıdaki besin zincirinde X canlısının beslenme şekli ile ilgili aşağıdaki ifadelerden hangisi doğrudur?

- A) Kendi besinini kendi üretir.
- B) Hem et ile hem ot ile beslenir.
- C) Yalnız et ile beslenir.
- D) Yalnız ot ile beslenir.

15. Yeryüzüne kadar ulaşan gök cisimlerine ne ad verilir?

- A) Gök taşı
- B) Meteor
- C) Yıldız
- D) Gezegen

16. Popülasyonun tanımı aşağıdakilerden hangisidir?

- A) Bir bölgede yaşayan ve birbirleriyle etkileşim içinde olan canlılarla bunların cansız çevrelerinin oluşturduğu doğa parçası
- B) Canlıları doğrudan ya da dolaylı olarak etkileyen ortamın her bir elemanı
- C) Bir canlının doğal olarak yaşayıp üreyebildiği yer
- D) Belirli bir bölgede yaşayan, aynı türe ait bireylerin oluşturduğu topluluk

17. Bir canlının doğal olarak yaşayıp üreyebildiği yere ne ad verilir?

- A) Mutasyon
- B) Adaptasyon
- C) Habitat
- D) Popülasyon

18. Aşağıdakilerden hangisi iç gezegenlerden biridir?

- A) Merkür
- B) Jüpiter
- C) Uranüs
- D) Satürn

19. Güneş sisteminde Güneş'e en yakın gezegen aşağıdakilerden hangisidir?

- A) Dünya
- B) Mars
- C) Merkür
- D) Venüs

20. Röntgen filmlerinin çekilmesinde kullanılan, insan vücuduna etkileri olan ışık türü aşağıdakilerden hangisidir?

- A) Mor ötesi ışınlar
- B) Mikro dalgalar
- C) Gama ışınları
- D) X-ışınları

1. Anadolu Türk mimarisinin en önemli anıtlarından biri olan Divriği Ulu Camii (1228) aşağıdaki beyliklerden hangisi tarafından yaptırılmıştır?
- A) Mengücekliler  
B) Saltuklular  
C) Osmanlılar  
D) Artuklular
2. Aşağıdakilerden hangisi meslek tercihi yaparken göz önünde bulundurulacaklar arasında yer almaz?
- A) Yetenekler  
B) Kişisel özellikler  
C) İlgil ve istekler  
D) Yakınların beklentileri
3. Mustafa Kemal, aşağıdaki savaşların hangisinden sonra "Anafartalar Kahramanı" olarak tanınmıştır?
- A) Trablusgarp  
B) Balkan  
C) Kafkasya  
D) Çanakkale
4. Devletin çalışanlara sosyal güvence sağlamak amacıyla kurduğu Emekli Sandığı, BAĞ-KUR, SSK gibi sosyal güvenlik kurumları hangi isim altında birleştirilmiştir?
- A) Milli Güvenlik Kurumu- MGK  
B) Türkiye Güvenlik Kurumu- TGK  
C) Türkiye Sigortalar Kurumu- TSK  
D) Sosyal Güvenlik Kurumu- SGK
5. Milliyetçilik akımından en çok Rusya, Osmanlı ve Avusturya-Macaristan İmparatorlukları etkilenmiştir.
- Bunun nedeni aşağıdakilerden hangisidir?**
- A) Avrupa'ya yakın olmaları  
B) Çok uluslu bir yapıya sahip olmaları  
C) Baskıcı bir yönetime sahip olmaları  
D) Ortak düşmana sahip olmaları
6. Aşağıdakilerden hangisi Türkiye'de hızlı nüfus artışının sonuçlarından biri değildir?
- A) Çevre sorunlarında artış  
B) Milli gelirdede artış  
C) Gelir dağılımında dengesizlik  
D) Doğal kaynaklarda azalış
7. Aşağıdakilerden hangisi iyi bir dinleyicinin özelliklerinden biridir?
- A) Dinlerken başka bir işle meşgul olma  
B) Göz teması kurma  
C) Dikkatini karşısındaki kişiye vermeme  
D) Dinlemekten çok konuşma
8. İlk Osmanlı medresesi 1331 yılında Orhan Bey tarafından nerede açılmıştır?
- A) Konya  
B) Kayseri  
C) İznik  
D) Söğüt
9. Aşağıdaki deniz savaşlarından hangisinden sonra Akdeniz bütünüyle Osmanlı Devleti'nin egemenliğine girmiştir?
- A) Korfu  
B) Rodos  
C) Preveze  
D) İnebahtı
10. Katolik Kilisesi'ni aslına döndürmek amacıyla yapılan değişiklik ve düzenlemelere ne ad verilir?
- A) Rönesans  
B) Protestan  
C) Reform  
D) Aydınlanma

11. Aşağıdakilerden hangisi insanlığın sanat, edebiyat, bilim ve düşünce mirasının korunmasının yollarından biri değildir?

- A) Müze ve kütüphaneler kurmak
- B) Ortak mirası korumak ve geliştirmek
- C) Bireyleri eğitmek
- D) İnsanların kullanımını kısıtlamak

12. Avrupa'da akla dayanan düşünce sisteminin egemen olduğu döneme ne ad verilir?

- A) Aydınlanma Çağı
- B) Karanlık Çağ
- C) Orta Çağ
- D) Yenilik Çağı

13. Aşağıdakilerden hangisi "Ben" dilinin özelliklerinden biri değildir?

- A) Suçlayıcı, eleştirici, yargılayıcı olması
- B) Konuşan kişiyi rahatlatması
- C) Suçluluk hissettirmemesi
- D) Anlaşmazlıkları azaltması

14. Aşağıdakilerden hangisi Osmanlı Devleti'nin güçlü bir devlet olarak ortaya çıkmasında rol oynayan etkenlerden biri değildir?

- A) Coğrafi konumu
- B) Yerleşik bir nüfusa sahip olması
- C) Türk beyliklerine karşı izlediği barışçı politika
- D) Bizans'ın zayıf olması

15. Türkiye'de ilk düzenli nüfus sayımı ne zaman yapılmıştır?

- A) 1927
- B) 1967
- C) 1978
- D) 1998

16. Osmanlılar hangi Oğuz boyuna mensuptur?

- A) Afşar
- B) Kayı
- C) Mengücek
- D) Karaman

17. Orta Asya Türk devletlerinde siyasi, ekonomik ve askeri kararların alındığı meclise ne ad verilir?

- A) Töre
- B) Cenk
- C) Kurultay
- D) İl

18. İlk Çağ uygarlıkları, günümüz bilim ve teknolojisinin gelişmesine katkıda bulunan ilk buluşları gerçekleştirmişlerdir.

Aşağıdakilerden hangisi bu buluşlardan biri değildir?

- A) Yazı
- B) Tekerlek
- C) Takvim
- D) Buhar gücü

19. İlk Türk devletlerinde Kut adı verilen yönetme yetkisinin kan yoluyla babadan oğula geçtiği kabul edilirdi.

Buna göre aşağıdakilerden hangisi söylenbilir?

- A) Devletin saltanatla yönetildiği
- B) Ülke yönetiminde meclisin önemli olduğu
- C) Taht kavgalarının olmadığı
- D) Yönetme yetkisinin halkta olduğu

20. Coğrafi keşiflere kadar dünya ticaretinde önemli olan ticaret yolu aşağıdakilerden hangisidir?

- A) Kral Yolu
- B) Süveyş Kanalı
- C) İpek Yolu
- D) İstanbul Boğazi

1. Aşağıdaki cümlelerden hangisinin yüklemi **olumsuzdur**?

- A) Yaşlı kadın bankta oturuyordu.
- B) Kapıyı annem açtı.
- C) Küçük kız yere düştü.
- D) Bugün okula gitmedim.

2. Aşağıdaki fiillerden hangisi emir kipiyle çekimlenmiştir?

- A) uyansa
- B) koşmamalısın
- C) gidiyordu
- D) yat

3. Aşağıdaki fiillerden hangisi mastar eki almıştır?

- A) koşuyor
- B) uyumuş
- C) geldi
- D) uçmak

4. Aşağıdaki cümlelerin hangisinin yüklemi ek fiil almış bir isimdir?

- A) Bütün gün ayakta durmaktan çok yorulmuştum.
- B) Ege'nin en güzel şehri İzmir'dir.
- C) Bu saat oldu, hâlâ gelmedi.
- D) Bütün gün onu bekledim.

5. Aşağıdaki cümlelerin hangisinde terim kullanılmıştır?

- A) Üçgenin iç açıları toplamı 180°dir.
- B) Göz görmeyince gönül katlanırmış.
- C) Sandalyenin ayaklarından biri kırıldı.
- D) Dün sabah ani bir kararla Ankara'ya gitti.

6. Aşağıdaki cümlelerden hangisinin yüklemi gelecek zaman ve 3. tekil kişi ile çekimlenmiştir?

- A) Her sabah erkenden kalkar, işe gider.
- B) Aldığım kitapların hepsini okudum.
- C) Yaz tatilinde denize gittik.
- D) Babam Ankara'dan yarın dönecek.

7. Aşağıdaki fiillerden hangisi 1. tekil kişi ve şimdiki zamanla çekimlenmiştir?

- A) okuyor
- B) yıkadım
- C) öğreniyorum
- D) öğreneceksin

8. Aşağıdaki cümlelerden hangisinin yüklemi geçişli bir fiil **değildir**?

- A) Okula gittim.
- B) Onu tanıdım.
- C) Vapuru kaçırdım.
- D) Bir balık tuttum.

9. Aşağıdakilerden hangisi bileşik fiildir?

- A) gör-
- B) düş-
- C) yazıver-
- D) kır-

10. Aşağıdaki cümlelerden hangisinin yüklemi edilgendir?

- A) Ailece pikniğe gittik.
- B) Bütün ev temizlendi.
- C) Merdivenleri koşarak çıktılar.
- D) O kitapların hepsini okudum.

11. "buket" sözcüğünün eş anlamlısı aşağıdakilerden hangisidir?

- A) demet
- B) çiçek
- C) gam
- D) mesut

12. Aşağıdakilerden hangisi ad cümlesidir?

- A) Babam bugün işe gitmedi.
- B) Hafta sonu pikniğe gideceğiz.
- C) Arkadaşımın babası öğretmendir.
- D) Bugün okullar tatil oldu.

13. Aşağıdaki sözcüklerden hangisi eş sesli **değildir**?

- A) el
- B) büyük
- C) yüz
- D) yat

14. Aşağıdaki cümlelerin hangisinde fiilimsi vardır?

- A) Yaşlı kadın banka oturup dinlendi.
- B) Çevreyi temiz tutmalıyız.
- C) Okula erkenden gittim.
- D) Bütün ödevlerimi zamanında yaptım.

15. Aşağıdaki sözcüklerden hangisi kaynaştırma harfi almıştır?

- A) kapıcı
- B) odanın
- C) okulda
- D) susuz



16. Aşağıdaki cümlelerden hangisinde dolaylı tümleş vardır?

- A) Arabayla gittik.
- B) Ağaçlar çiçek açtı.
- C) Okuldan geliyorum.
- D) Kapı uzun uzun çaldı.

17. Aşağıdaki cümlelerin hangisinde edat vardır?

- A) Babam işten yorgun gelirdi.
- B) Atilla bugün derse gelmedi.
- C) Doğum günümde tüm aile bir aradaydık.
- D) Okula bisiklet ile gidiyorum.

18. Bir olayı, bir varlığı, bir kişiyi; karşısındakinin gözünde canlandıracak, gerekli izlenimleri uyandıracak biçimde yapılan anlatıma ne ad verilir?

- A) Tartışmacı anlatım
- B) Hikaye etme
- C) Betimleme (tasvir)
- D) Açıklayıcı anlatım

19. Aşağıdaki sözcüklerin hangisinde ünlü düşmesi yoktur?

- A) Soğuktan burnu kızarmış.
- B) Akli fikri derslerindeydi.
- C) Omzunu incitmişti.
- D) Bacağım çok ağrıyordu.

20. Aşağıdakilerin hangisinde ünlü daralması vardır?

- A) anlıyorum
- B) öğrenecek
- C) geldi
- D) çalındı

BU SAYFA BOŞ BIRAKILMIŞTIR.

BU SAYFA BOŞ BIRAKILMIŞTIR.

## SINAVDA UYULMASI GEREKEN GENEL KURALLAR

1. Sınava girmek için gerekli belgelerinizin tümünü sınav başlamadan önce sıranızın üzerine bırakınız.
2. Sınav süresince görevlilerle konuşmak, görevlilere soru sormak yasaktır. Aynı şekilde görevlilerin de öğrencilerle/adaylarla yakından ve alçak sesle konuşmaları yasaktır. Gerekli durumlarda görevliler yerinizi değiştirebilir.
3. Size verilen cevap kâğıdının üzerindeki TCKN/Öğrenci no, ad, soyadı, bilgilerini kontrol ediniz, ilgili alanları eksiksiz doldurarak imzalayınız. Bu bilgiler size ait değilse, kâğıt üzerinde hiçbir işlem yapmadan görevlileri uyararak size ait cevap kâğıdını isteyiniz. Başkasına ait cevap kâğıdı kullanan öğrencilerin sınavları geçersiz sayılır.
4. Cevap kâğıdı üzerine test grubunu (kitapçık türünü) kodlamayan veya birden fazla grubu kodlayanların sınavları geçersiz sayılır.
5. Cevap kâğıdınıza yazacağınız her türlü yazı ve yapacağınız işaretlemeler için koyu siyah kurşun kalem kullanmalısınız. Farklı bir kalem (tükenmez, mürekkepli, renkli vb.) kullananların sınavları geçersiz sayılır.
6. Cevap kâğıdı üzerinde değişiklik yapmak istediğinizde, iz bırakmayan bir silgi kullanınız. Cevap kâğıdınızı buruşturmayınız, katlamayınız ve üzerine gereksiz hiçbir işaret koymayınız.
7. Cevaplarınızı, cevap kâğıdında ilgili test için ayrılmış olan alana, cevap yerinin dışına taşırmadan işaretleyiniz. Soru kitapçığı üzerinde yapılan işaretlemeler değerlendirmeye alınmayacaktır.
8. Her sorunun tek bir doğru cevabı vardır. Bir soru için birden çok cevabı işaretlerseniz, o soruyu yanlış cevaplamış sayılacaksınız.
9. Soru kitapçığınızı aldığınızda sayfalarına hızlıca bakarak hatalı ya da eksik baskı olup olmadığını kontrol ediniz. Hata/eksik olması durumunda kitapçığının değiştirilmesi için derhâl sınav görevlilerine başvurunuz. Sınav görevlileri sınavın başladığını belirtmeden kitapçığınızı tekrar açmayınız.
10. Cevap kâğıdınızda belirtilen kitapçık kodu ile soru kitapçığının kodunu karşılaştırınız. Aynı değilse, sınav görevlilerine durumu bildirerek doğru kitapçığın verilmesini talep ediniz.
11. Soru kitapçığındaki ilgili alanlara ad, soyadı, TCKN/Öğrenci no, sınav salon no, sıra no bilgilerinizi eksiksiz doldurarak imzanızı atınız. Soru kitapçığının sayfalarındaki boş yerleri müsvedde amacıyla kullanabilirsiniz.
12. Aşağıdaki durumlarda sınav görevlileri tarafından Bireysel Sınav İptal Tutanağı düzenlenerek ilgili öğrencilerin/adayların sınavları geçersiz sayılır:
  - a) Sınav kurallarına ve sınav görevlilerinin uyarılarına uymamak, sınav düzenini bozmak,
  - b) Kâğıt, kitap, defter, not vb. dokümanları; pergel, açıölçer, cetvel vb. araçları; cep telefonu, bilgisayar, tablet, telsiz, kamera vb. iletişim, depolama, kayıt ve veri aktarma cihazlarını; ruhsatlı veya resmi amaçlı olsa bile silah ve silah yerine geçebilecek nesnelere yanında bulundurmamak,
  - c) Sınav sırasında kalem, silgi vb. araç-gereç paylaşımında bulunmak,
  - d) Cevapları, cevap kâğıdı dışında bir yere yazmak ve sınav salonundan dışarı çıkarmak,
  - e) Sınava girebilmek için gerekli belgeleri eksik olduğu halde sınava katılıp, cevap kâğıdında işaretleme yapmak,
  - f) Sınav görevlileri tarafından öğrencinin/adayın kimliğinden şüphe duyulması,
  - g) Cevap kâğıdını ve/veya soru kitapçığını sınav görevlilerine eksiksiz ve sağlam şekilde teslim etmemek, sınav salonu dışına çıkarmak,
  - h) Kopya çekmek, vermek, çekilmesine yardımcı olmak vb. eylemlerde bulunmak,
  - i) Kendisi yerine başkasını sınava sokmak.
13. Sınav bitiminde, cevap kâğıdınızı ve soru kitapçığınızı salon görevlilerine eksiksiz biçimde teslim ediniz. Sınav bittikten sonra gönderilen cevap kâğıtları dikkate alınmayacaktır.

**SINAV KURALLARINA UYDUĞUNUZ İÇİN TEŞEKKÜR EDER, SINAVINIZDA BAŞARILAR DİLERİZ.**