



ANADOLU ÜNİVERSİTESİ
AÇIKÖĞRETİM FAKÜLTESİ
BA - AÇIKÖĞRETİM OKULLARI

T.C. MİLLİ EĞİTİM BAKANLIĞI
Hayat Boyu Öğrenme Genel Müdürlüğü
AÇIKÖĞRETİM ORTAOKULU – BATI AVRUPA PROGRAMI
2015-2016 ÖĞRETİM YILI I. DÖNEM SINAVI

3. OTURUM Cumartesi 13:00

TEST GRUBUNUZ

B

0300

ÖĞRENCİNİN

SOYADI :

ADI :

TC KİMLİK NO / ÖĞRENCİ NO :

SINAV SALON NO : SIRA NO:

İMZA:

Sınavla ilgili tüm kuralları okudum, anladım, kabul ediyorum.

SINAV İÇERİĞİ

Testin Adı	Soru Sayısı	Sayfa No	Testin Adı	Soru Sayısı	Sayfa No
TÜRKÇE 5	20	02	TÜRKÇE 7	20	14
MATEMATİK 5	20	04	MATEMATİK 7	20	16
FEN VE TEKNOLOJİ 5	20	08	FEN VE TEKNOLOJİ 7	20	20
SOSYAL BİLGİLER 5	20	10	SOSYAL BİLGİLER 7	20	22
DİN KÜLTÜRÜ VE AHLAK BİLGİSİ 5	20	12	TÜRKÇE 8	20	24

SINAVDA UYULMASI GEREKEN ÖZEL KURALLAR

1. Bu kitapçıkta yer alan her bir test için cevaplama süresi **30** dakika, toplam süre **150** dakikadır.
2. Öğrenciler sınavın ilk 30 dakikası ve son 5 dakikası içinde sınavlarını tamamlasalar bile salonu terk edemezler. Sınavın başlamasını izleyen ilk 15 dakikadan sonra hiçbir öğrenci sınava alınmaz.
3. Yanlış cevaplarınız dikkate alınmayacaktır. Bu nedenle kitapçıkta bulunan tüm sorular için size doğru gelen seçeneği işaretleyerek cevapsız soru bırakmamanız yararınıza olacaktır.
4. Sınav sırasında hesap makinesi kullanabilirsiniz. Ancak, kullanacağınız makinede alfabetik tuş takımınının (A, B, C, ..., Y, Z), program yapılmasına, saklanmasına ve çalıştırılmasına imkân veren EXE, STORE, RUN vb. tuşlar bulunamaz.

"Sınavda Uyulması Gereken Genel Kurallar" soru kitapçığının arka sayfasında yer almaktadır. Bu kuralları da mutlaka dikkatlice okuyunuz.

Anadolu Üniversitesi tarafından hazırlanmış olan bu testlerin her hakkı saklıdır. Hangi amaçla olursa olsun, testlerin tamamının veya bir kısmının Anadolu Üniversitesi'nin yazılı izni olmadan kopya edilmesi, fotoğraflarının çekilmesi, herhangi bir yolla çoğaltılması, yayımlanması ya da kullanılması yasaktır. Bu yasağa uymayanlar gerekli cezai sorumluluğu ve testlerin hazırlanmasındaki mali külfeti peşinen kabullenmiş sayılır.

1. "Masal masal mat atar
Dil okur damak tadar!"
Yukarıdaki dizeler aşağıdakilerden hangisine
örnektir?
- A) Deyime
B) Tekerlemeye
C) Atasözüne
D) Fıkraya
2. "Çalışmamı bir an önce için
sabırsızlanıyordum." cümlesinde boş
bırakılan yere aşağıdakilerden hangisi
getirilirse cümlenin anlamı bozulur?
- A) teslim etmek
B) bitirmek
C) tamamlamak
D) yükseltmek
3. Aşağıdakilerden hangisi "kuvvet" sözcüğü ile
eşanlamlıdır?
- A) zafer
B) ümit
C) hareket
D) güç
4. Aşağıdaki sözcüklerden hangisinin
hecelemesi doğrudur?
- A) yu – mur – ta – la – rın
B) ge – rek – sin – im
C) koz – a – dan
D) baş – ka – laş – ım
5. Aşağıdaki sözcüklerden hangisinin yazımı
yanlıştır?
- A) kâğıt
B) baş vuru
C) marangoz
D) jüri
6. Aşağıdaki cümlelerin hangisinde zıt anlamlı
sözcükler kullanılmıştır?
- A) Kelebekler sıcaktan ya da soğuktan
kendilerini korur.
B) Arılar çiçek çiçek gezerek bal özü toplarlar.
C) Büfeyi işleten İlhan Amca' yı tanıyordum.
D) Annem o akşam valizlerimizi hazırlamaya
girişti.
7. "Küçük, önemsiz şeyleri abartmak"
anlamında kullanılan deyim aşağıdakilerden
hangisidir?
- A) Gururunu okşamak
B) Güçlük çekmek
C) Pireyi deve yapmak
D) Kulağını bükmek
8. Aşağıdaki cümlelerin hangisinde benzetme
yapılmıştır?
- A) Küçük çocuk kırmızı ışık yanınca yaya
geçidinin önünde bekledi.
B) Emin adımlarla karşıya geçmişlerdi.
C) Pamuk gibi bembeyaz saçları, sakalı vardı.
D) Yaşlı adam bastonuyla yolu tıklatarak
yürüdü.
9. Aşağıdakilerden hangisi "sert" sözcüğünün
zıt anlamlısıdır?
- A) yumuşak
B) yüksek
C) ılık
D) soğuk
10. Aşağıdaki cümlelerden hangisi tekerlemedir?
- A) Babam bizi otogara kadar götürdü.
B) İyi ki öğretmenimiz böyle bir ödev vermişti.
C) Annem sevinçten ne yapacağını
bilemiyordu.
D) Kartal kalkar dal sarkar, dal sarkar kartal
kalkar!
11. Aşağıdaki cümlelerden hangisinin sonuna
nokta (.) işareti kullanılmalıdır?
- A) Onların istedikleri şey uçurtmanın uçması
değil miydi
B) Aaa gerçekten o
C) Uçurtma yarışı hakkında bilgi verebilir
misiniz
D) Selçuk koşarak çarşığı geçti
12. Aşağıdaki sözcüklerden hangisi özel isim
değildir?
- A) Türkiye
B) Millet
C) Adana
D) Ağrı Dağı
13. "Kapıyı birdenbire açtı." cümlesinde altı çizili
sözcük aşağıdakilerden hangisiyle
eşanlamlıdır?
- A) çeşitli
B) aniden
C) oldukça
D) süreli

14. "Barış mutlu yaşamak () gelişmek ve üretmek için ilk şarttır." cümlesinde boş parantezle gösterilen yere aşağıdaki noktalama işaretlerinden hangisi getirilmelidir?

- A) Noktalı virgül (;)
- B) Nokta (.)
- C) Virgül (,)
- D) İki nokta (:)

15. "Atatürk çok sevdiği milletine hizmet etmekten büyük bir zevk duymuştur." cümlesinde boş bırakılan yeri aşağıdaki sözcüklerden hangisi en uygun şekilde tamamlar?

- A) veya
- B) sanki
- C) her zaman
- D) ya da

16. Aşağıdaki cümlelerden hangisinin fiili olumsuzdur?

- A) Anneannem bizi kapıda bekliyordu.
- B) Babam hemen ansiklopediye uzandı.
- C) Tatile gitmiyoruz.
- D) Sevinçten çığlıklar atıyordum.

17. "Olgun portakallar, yapraklarla çok güzel görünüyordu." cümlesinde boş bırakılan yeri aşağıdaki sözcüklerden hangisi en uygun şekilde tamamlar?

- A) dökülen
- B) yeşil
- C) turunç
- D) buruşmuş

18. "Kültürlü aydın bir kişiydi." cümlesini aşağıdakilerden hangisi en uygun şekilde tamamlar?

- A) veya
- B) ya da
- C) ve
- D) dahi

19. Aşağıdaki sözcüklerden hangisinin hecelenmesi yanlıştır?

- A) ka – la – ba – lık – tan
- B) pal – to – su – nun
- C) çığ – ne – me – ye
- D) avu – cu – nun

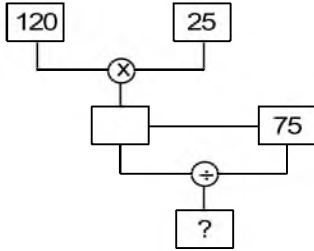
20. Aşağıdaki fiillerden hangisinin yazımı yanlıştır?

- A) bitmiyor
- B) saklayacak
- C) yapabiliyorum
- D) yapacağım

1. 909 081 201 sayısının okunuşu aşağıdakilerden hangisidir?

- A) Doksan milyon dokuz yüz sekiz bin yüz yirmi bir
- B) Doksan dokuz milyon sekiz yüz on iki bin bir
- C) Dokuz yüz dokuz milyon seksen bir bin iki yüz bir
- D) Dokuz yüz dokuz milyon sekiz yüz on iki bin bir

2.



Yukarıdaki şekilde soru işareti yerine aşağıdakilerden hangisi gelmelidir?

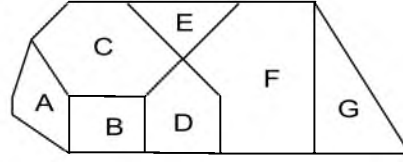
- A) 40
- B) 45
- C) 50
- D) 55

3. Şevket, marketten kilosu 4,25 liradan 3 kg mercimek, kilosu 7,5 liradan 8 kg pirinç ve kilosu 2,45 liradan 5 kg bulgur almıştır.

Buna göre, Şevket market'e kaç lira ödemiştir?

- A) 85
- B) 89
- C) 92,5
- D) 94,25

4.



Yukarıdaki şekilde beş kenarlı çokgenler hangi harflerle belirtilmiştir?

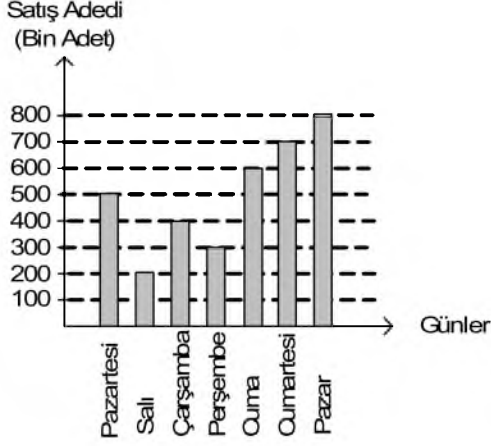
- A) A ve C
- B) A ve D
- C) B, C ve G
- D) A, C, E ve F

5. Bir kurbağa düştüğü 52 m derinliğindeki kuyudan çıkmak için zıplamaktadır. Her gün 6 m zıplayan kurbağa geceleri 2 m aşağı kaymaktadır.

Buna göre, kurbağanın kuyudan çıkabilmesi için kaç gün geçmesi gerekir?

- A) 13
- B) 14
- C) 15
- D) 16

6 - 8. soruları aşağıdaki tabloya göre cevaplayınız.



Yukarıdaki grafikte A Gazetesinin haftalık satış adetleri verilmiştir.

6. Bir haftada A gazetesi toplam kaç bin adet satılmıştır?

- A) 2800
- B) 3200
- C) 3500
- D) 4000

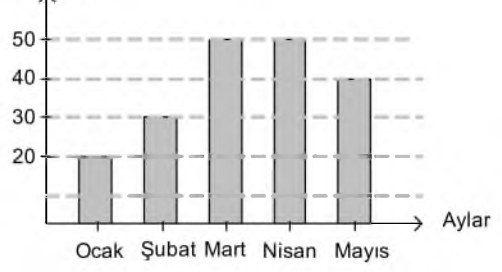
7. Buna göre, A Gazetesi Pazartesi günü kaç adet satılmıştır?

- A) 300.000
- B) 400.000
- C) 500.000
- D) 600.000

8. En çok gazetenin satıldığı gün Salı gününden kaç bin adet fazladır?

- A) 300
- B) 400
- C) 500
- D) 600

9. Satış Miktarı (Bin Adet)

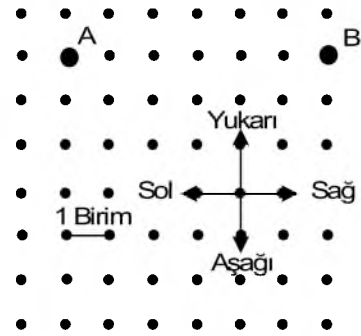


Yukarıdaki grafikte bir işyerinin beş aylık satış miktarı verilmiştir.

Buna göre, hangi ayda bir önceki aya göre satış miktarı düşmüştür?

- A) Ocak
- B) Şubat
- C) Nisan
- D) Mayıs

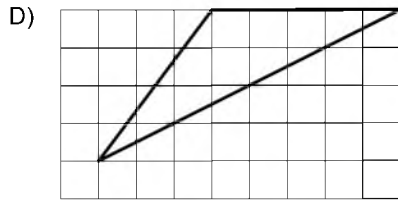
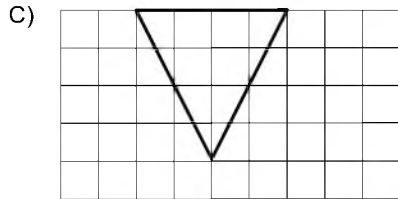
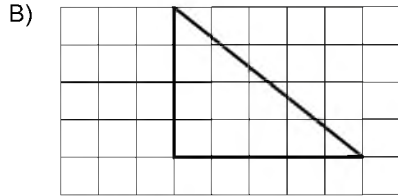
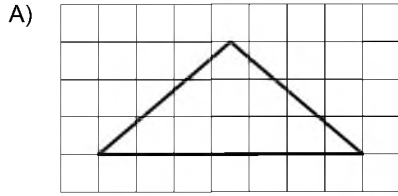
10.



Yukarıdaki şekle göre aşağıdaki ifadelerden hangisi doğrudur?

- A) A noktası B noktasının 5 birim sağındadır.
- B) A noktası B noktasının 6 birim solundadır.
- C) B noktası A noktasının 5 birim sağındadır.
- D) B noktası A noktasının 6 birim solundadır.

11. Aşağıdakilerden hangisi geniş açılı bir üçgendir?



12. Bir yolun $\frac{2}{5}$ i asfaltlanmıştır. Asfaltlanan kısım 76 km olduğuna göre, yolun tamamı kaç km dir?

- A) 190
B) 210
C) 240
D) 280

13. Bir açısı 38° olan dik açılı üçgenin üçüncü açısı kaç derecedir?

- A) 44°
B) 52°
C) 56°
D) 64°

14. $7 - \frac{24}{7}$ işleminin sonucu aşağıdakilerden hangisidir?

- A) $\frac{7}{24}$
B) $\frac{24}{49}$
C) $\frac{17}{7}$
D) $\frac{25}{7}$

15. 84,509 ondalık kesrindeki 5 rakamının bulunduğu basamak aşağıdakilerden hangisidir?

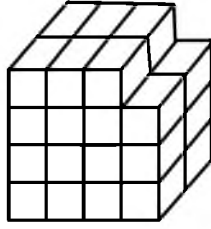
- A) Onlar basamağı
B) Yüzler basamağı
C) Onda birler basamağı
D) Binde birler basamağı

16. Bir boyacı bir duvarın 1. gün $\frac{2}{3}$ ünü, 2. gün $\frac{1}{6}$ sını boyamıştır.

Buna göre, duvarın kaçta kaç boyanmamıştır?

- A) $\frac{1}{2}$
B) $\frac{1}{3}$
C) $\frac{1}{4}$
D) $\frac{1}{6}$

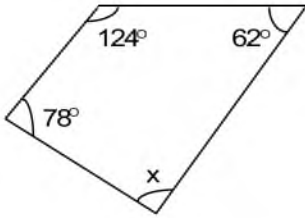
17.



Yukarıdaki birim küplerden oluşan şekilde toplam kaç küp vardır?

- A) 28
- B) 29
- C) 30
- D) 31

18.



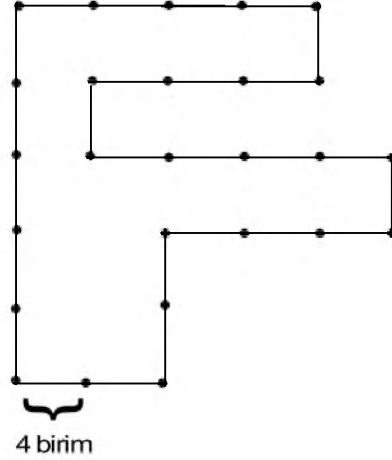
Yukarıdaki dörtgende x açısı kaç derecedir?

- A) 84°
- B) 92°
- C) 96°
- D) 104°

19. Dikdörtgenler ile ilgili aşağıdaki ifadelerden hangisi yanlıştır?

- A) Açılarının ölçüleri toplamı 360° dir.
- B) Bütün kenar uzunlukları eşittir.
- C) Köşegenleri birbirine eşittir.
- D) Kenar sayısı kadar simetri doğrusu vardır.

20.



Bir kenarı 4 birim olan yukarıdaki şeklin çevre uzunluğu kaç birimdir?

- A) 96
- B) 100
- C) 104
- D) 108

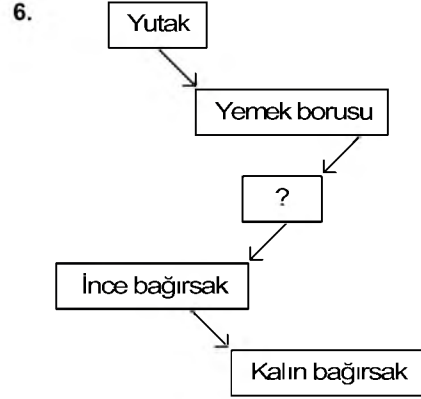
1. Suyun kaynama sıcaklığı kaç °C dir?
 - A) -4
 - B) 0
 - C) 50
 - D) 100

2. Besinlerin çok küçük parçalara ayrılarak kana karışabilecek duruma gelmesi için uğradıkları değişime ne ad verilir?
 - A) Sindirim
 - B) Boşaltım
 - C) Solunum
 - D) Dolaşım

3. Aşağıdakilerden hangisi boşaltım sisteminde görevli organlardan biridir?
 - A) Akciğer
 - B) Karaciğer
 - C) Böbrek
 - D) Kalp

4. Maddenin ısı vererek hacminin azalmasına ne ad verilir?
 - A) Buharlaşma
 - B) Yoğuşma
 - C) Büzülme
 - D) Genleşme

5. Isı enerjisinin birimi aşağıdakilerden hangisidir?
 - A) hertz
 - B) joule
 - C) watt
 - D) gram



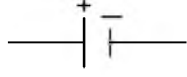
Yukarıdaki sindirim sistemi şemasında soru işareti yerine aşağıdakilerden hangisi gelmelidir?

- A) Böbrek
 - B) Karaciğer
 - C) Mide
 - D) Pankreas
-
7. Günlük hayatta yaylı el kantarı olarak bilinen kuvvetölçerin bilimsel adı aşağıdakilerden hangisidir?
 - A) Mezura
 - B) Dinamometre
 - C) Elektroskop
 - D) Dirençölçer

 8. Bir araştırmada sonucu etkileyebilecek olan, etkisi azaltılıp çoğaltılabilen değişkene ne ad verilir?
 - A) Bağımlı değişken
 - B) Bağımsız değişken
 - C) Kontrol grubu
 - D) Tahmin grubu

 9. Basit bir elektrik devresinde ampulün takıldığı yuvaya ne ad verilir?
 - A) Duy
 - B) Sigorta
 - C) Anahtar
 - D) Priz

10.



Yukarıda sembolü gösterilen devre elemanı nedir?

- A) Anahtar
- B) Ampul
- C) Bağlantı Kablosu
- D) PİL

11. Aşağıdakilerden hangisi kuvvet birimidir?

- A) Metre
- B) Gram
- C) Kilogram
- D) Newton

12. Aşağıdakilerden hangisi çiçekli bitki değildir?

- A) Kiraz çiçeği
- B) Çam
- C) Papatya
- D) Kara yosunu

13. Canlı kalıntılarını çürüterek yaşayan mantar türü aşağıdakilerden hangisidir?

- A) Küf mantarı
- B) Şapkalı mantar
- C) Kültür mantarı
- D) Maya mantarı

14. Fosilleri inceleyen bilim dalına ne ad verilir?

- A) Paleontoloji
- B) Antropoloji
- C) Biyoloji
- D) Nöroloji

15. Aşağıdakilerden hangisi yer kabuğunda ver almaz?

- A) Hava
- B) Kayaç
- C) Maden
- D) Fosil

16. Işığı gecirmeyen maddelere ne ad verilir?

- A) Yarı saydam
- B) Strafor
- C) Opak
- D) Sıydam

17. Ses ile ilgili aşağıdaki ifadelerden hangisi yanlıştır?

- A) Cam yünü, lastik, strafor gibi maddeler sesi daha az iletir.
- B) Titreşen cisimler tarafından üretilir.
- C) Bir kaynaktan yayılan sesler, farklı ortamlarda farklı işitilir.
- D) En iyi boşlukta yayılır.

18. Aşağıdakilerden hangisi omurgalı hayvanlardan biridir?

- A) Kelebek
- B) Kurbağa
- C) Arı
- D) Örümcek

19. Işığın saydam olmayan maddelerden geçememesi sonucunda oluşan karanlık bölgeye ne ad verilir?

- A) Opak
- B) Yarı gölge
- C) Geçirgen
- D) Tam gölge

20. Canlıların üzerinde yaşadığı tabakaya ne ad verilir?

- A) Kayaç
- B) Granit
- C) Yer kabuğu
- D) Stratosfer

1. Türk Bayrağı Kanunu hangi yıl çıkarılmıştır?

- A) 1938
- B) 1947
- C) 1976
- D) 1983

2. Televizyon hangi yıl icat edilmiştir?

- A) 1926
- B) 1934
- C) 1946
- D) 1958

3. Ormanlarla ilgili aşağıdaki ifadelerden hangisi yanlıştır?

- A) Erozyonu önlerler.
- B) Su varlığını azaltırlar.
- C) Yaban hayatını korurlar.
- D) İklimi düzenlerler.

4. Aşağıdakilerden hangisi valiye bağlı değildir?

- A) Tarım İl Müdürlüğü
- B) Belediye
- C) İl Emniyet Müdürlüğü
- D) İl Milli Eğitim Müdürlüğü

5. Eğitim alanında hizmet vermek amacıyla kurulan ilk sivil toplum kuruluşu aşağıdakilerden hangisidir?

- A) Darüşşafaka Cemiyeti
- B) Türkiye Eğitim Gönüllüleri Vakfı
- C) LÖSEV
- D) KEDV

6. Türkiye Cumhuriyeti'nin ilk anayasası aşağıdakilerden hangisidir?

- A) 1921 Anayasası
- B) 1924 Anayasası
- C) 1961 Anayasası
- D) 1982 Anayasası

7. Aşağıdakilerden hangisi Türkiye'nin İran'dan en çok ithal ettiği ürünlerden biri değildir?

- A) Ham petrol
- B) Elektronik aletler
- C) Ham deri
- D) İşlenmemiş madenler

8. Belirli düşüncelerin, bireyler arasındaki ilişkilerin ve karşılıklı görevlerin oluşturduğu, genellikle devletle ilişkisi olan toplumsal örgütlenmelere ne ad verilir?

- A) Grup
- B) Şirket
- C) Kurum
- D) Okul

9. Aşağıdaki illerden hangisi 1. derece deprem bölgesinde ver almaz?

- A) Bolu
- B) Kocaeli
- C) Karaman
- D) Yalova

10. Akarsular tarafından derin yarılmış, çevresine göre yüksekte olan geniş düzlüklere ne ad verilir?

- A) Göl
- B) Vadi
- C) Ova
- D) Plato

11. Türkiye'de maden çeşitliliğinin ve rezervinin en fazla olduğu bölge aşağıdakilerden hangisidir?

- A) Karadeniz
- B) Ege
- C) Akdeniz
- D) Doğu Anadolu

12. Türk Dil Kurumu ne zaman kurulmuştur?

- A) 1932
- B) 1947
- C) 1963
- D) 1978

13. Aşağıdakilerden hangisi Türkiye Cumhuriyeti nüfus cüzdanında ver almaz?

- A) Doğum saati
- B) Anne adı
- C) Doğum yeri
- D) Ad

14. Mimar Sinan'ın ustalık eseri olarak nitelendirdiği, Edirne'de bulunan Türkiye'nin en yüksek minareli camii aşağıdakilerden hangisidir?

- A) Sultanahmet Camii
- B) Selimiye Camii
- C) Ulu Camii
- D) Süleymaniye Camii

15. Aşağıdaki ülkelerden hangisinin başkenti Dodoma'dır?

- A) Çin
- B) Tanzanya
- C) Endonezya
- D) Şili

16. Telgraf hattında ilk mesajı kim göndermiştir?

- A) John Meyers
- B) Graham Bell
- C) Samuel Morse
- D) John Logre Baird

17. Sorumluluk kavramı ile ilgili aşağıdaki ifadelerden hangisi yanlıştır?

- A) Okulda verilen ödevleri yapmak öğrencilerin sorumluluklarından biridir.
- B) Öğrencilerin derslerinde başarılı olabilmeleri için gerekli çalışmaları yapmaları sorumluluklarından biridir.
- C) Ev işlerinin sorumluluğu anneye aittir.
- D) Huzurlu bir aile ortamına uygun davranışlar sergilemek tüm aile üyelerinin ortak sorumluluğudur.

18. Türkiye'de balıkçılığın yüzde kaç Karadeniz'de yapılır?

- A) 25
- B) 48
- C) 56
- D) 75

19. Aşağıdaki tarihi yerler ve doğal güzellikler ile bulunduğu şehirlere ilişkin eşleştirmelerden hangisi yanlıştır?

- A) Bitlis-Hasan Padişah Kümbeti
- B) Antalya-Alanya Kalesi
- C) Mersin-Pamukkale Travertenleri
- D) Kastamonu-Ilıca Şelalesi

20. Eğirdir Gölü aşağıdaki illerden hangisinin sınırları içindedir?

- A) Bolu'nun
- B) Nevşehir'in
- C) Bursa'nın
- D) Isparta'nın

1. "Semi" kelimesinin anlamı aşağıdakilerden hangisidir?

- A) Allah'ın her şeyi işitmesi
- B) Allah'ın her şeyi görmesi
- C) Allah'ın bir olması
- D) Allah'ın her şeyi bilmesi

2. Tevhit inancı ne demektir?

- A) Tan yerinin ağarmasından akşam güneş batıncaya kadar herhangi bir şey yiyip, içmemek
- B) Kâinattaki tek yaratıcının Allah olduğuna inanmak
- C) Allah'ın yasakladığı her türlü davranıştan kaçınmak
- D) Allah'a kulluk etmek

3. Vahdaniyet'in anlamı aşağıdakilerden hangisidir?

- A) Allah'ın her şeyi bilmesi
- B) Allah'ın bir olması
- C) Allah'ın her şeyi işitmesi
- D) Allah'ın her şeyi görmesi

4. Allah'a kulluk etmeye, saygı göstermeye, buyruklarını yerine getirmeye veya yasaklarından kaçınmaya ne ad verilir?

- A) İbadet
- B) Farz
- C) Vacip
- D) Sünnet

5. İbadet etmek amacıyla yapılan yerlere ne ad verilir?

- A) Dergâh
- B) Minber
- C) Kürsü
- D) Mabet

6. Allah'ın Kur'an'da kullarından kesinlikle yapmalarını istediği iş ve davranışlara ne ad verilir?

- A) Sünnet
- B) Vacip
- C) Farz
- D) Dua

7. Camide Cuma ve bayram namazlarında katibin hutbe okumak için çıktığı merdivenli yüksekçe yere ne ad verilir?

- A) Vaaz kürsüsü
- B) Mihrap
- C) Minare
- D) Minber

8. Hz. Muhammed ile Hz. Hatice'nin evliliklerinden kaç çocukları dünyaya gelmiştir?

- A) 4
- B) 5
- C) 6
- D) 7

9. Namazların son oturuşunda aşağıdaki dualardan hangisi okunur?

- A) Rabbenâ
- B) Allahümme Salli
- C) Fatiha
- D) Tahiyat

10. Hz. Peygambere sevgimizi, bağlılığımızı ve saygımızı belirtmek için yaptığımız duaya ne ad verilir?

- A) Tevhit
- B) İbadet
- C) Şehadet
- D) Salavat

11. Kur'an-ı Kerim ile ilgili aşağıdaki ifadelerden hangisi yanlıştır?

- A) İbadet konusunda temel kaynak Kur'an'dır.
- B) Allah tarafından gönderilen ilk kitaptır.
- C) Ahlak konusunda temel kaynak Kur'an'dır.
- D) Kur'an'ı okumak ve anlamaya çalışmak bir ibadettir.

12. Kur'an ayetlerinin yaklaşık anlamıyla başka bir dile çevrilmesine ne ad verilir?

- A) Tefsir
- B) Sure
- C) Vahiy
- D) Meal

13. Aşağıdakilerden hangisi insan ile ilgili özelliklerden biri değildir?

- A) İnanır.
- B) Tercih eder.
- C) Yaratır.
- D) Şükreder.

14. Türkiye Büyük Millet Meclisi'nin açılışı nedeniyle kutlanan bayram aşağıdakilerden hangisidir?

- A) 19 Mayıs Atatürk'ü Anma ve Gençlik ve Spor Bayramı
- B) 30 Ağustos Zafer Bayramı
- C) 29 Ekim Cumhuriyet Bayramı
- D) 23 Nisan Ulusal Egemenlik ve Çocuk Bayramı

15. Aşağıdakilerden hangisi dinî bayramlarımızdan biridir?

- A) Cumhuriyet Bayramı
- B) Kurban Bayramı
- C) Zafer Bayramı
- D) Ulusal Egemenlik ve Çocuk Bayramı

16. Hıdrellez, her yıl aşağıdaki tarihlerden hangisinde bayram olarak kutlanır?

- A) 6 Mayıs
- B) 6 Haziran
- C) 6 Ağustos
- D) 6 Eylül

17. Hz. Muhammed'in doğduğu gecenin yıldönümü aşağıdaki kandillerden hangisidir?

- A) Mevlit
- B) Berat
- C) Miraç
- D) Regaip

18. İstiklâl Marşı'nın yazarı aşağıdaki şairlerden hangisidir?

- A) Cahit Sıtkı Tarancı
- B) Mehmet Âkif Ersoy
- C) Fatih Rıfki Atay
- D) Behçet Kemal Çağlar

19. Türkiye Cumhuriyeti'nin bağımsızlık sembolü aşağıdakilerden hangisidir?

- A) Adetler
- B) Toprak parçası
- C) Bayrak
- D) Gelenekler

20. Allah yolunda, vatani koruma uğrunda düşmanla savaşıp hayatta kalanlara ne ad verilir?

- A) Asker
- B) Şehit
- C) Komutan
- D) Gazi

1. Aşağıdakilerden hangisi “sert” sözcüğünün **zıt** anlamlısıdır?

- A) zayıf
- B) yumuşak
- C) ince
- D) zarif

2. Aşağıdaki cümlelerin hangisinde yer-yön zarfı vardır?

- A) Koşarak ileri atıldı.
- B) Ali sınavdan en yüksek puanı aldı.
- C) Bilge dün akşam geldi.
- D) Bu filmi pek beğenmedim.

3. Aşağıdaki cümlelerin hangisinde zaman zarfı kullanılmıştır?

- A) Atilla odasında ders çalışıyor.
- B) Tren geriye gidiyor.
- C) Geçen yaz İzmir’e gittik.
- D) Ceyda işten yorgun döndü.

4. Aşağıdakilerden hangisi “hekim” sözcüğünün eş anlamlısıdır?

- A) talebe
- B) doktor
- C) öğretmen
- D) hakim

5. Aşağıdaki fiillerin hangisi dilek kipinde çekimlenmiştir?

- A) sevindi
- B) gülüyor
- C) çalıştım
- D) okusam

6. Aşağıdaki cümlelerin hangisinde zaman zarfı vardır?

- A) Hepimiz Ayşe'nin doğumgünü için buluştuk.
- B) Teyzemler İstanbul'a taşındı.
- C) Ankara'ya yarın gideceğim.
- D) Babam bisikletimi tamir etti.

7. Aşağıdakilerin hangisinde fiil **farklı** bir kişiyle çekimlenmiştir?

- A) Çocuk her yıl boy atıyor.
- B) En çok bizde kalmak istiyormuş.
- C) Çiçek baharda çok güzel açıyor.
- D) Telefondaki sesi tanıyamadım.

8. “yanmak” sözcüğü aşağıdaki cümlelerin hangisinde diğerlerinden **farklı** bir anlamda kullanılmıştır?

- A) Yanan ormanların yerine yeni ağaçlar dikilecekti.
- B) Şöminede odunlar çitirdayarak yanıyor.
- C) Alev alan kâğıt bir anda yandı.
- D) Haberi duyunca içim yandı.

9. Aşağıdakilerin hangisinde “okumak” fiili gereklilik kipinde çekimlenmiştir?

- A) okumalısın
- B) okudum
- C) okumuyorlar
- D) okusaydın

10. Aşağıdakilerin hangisinde zarf kullanılmamıştır?

- A) Hiç böyle bir ev görmemiştim.
- B) Kitabı arkadaşımın ödünç aldım.
- C) Köydeki arkadaşlarımı çok özleyorum.
- D) Akşamları süt içmeden yatmam.

11. Aşağıdakilerden hangisi bir tanım cümlesidir?

- A) Ağaçların altından uyuyakalmışız.
- B) Her hafta bir kalem kaybediyorum.
- C) Harfler seslerin işaretidir.
- D) Köpeğimiz çok akıllı bir hayvan.

12. Aşağıdaki cümlelerin hangisinin yüklemde ek fiil kullanılmıştır?

- A) Dün seni aradım.
- B) Babam her gün gazete okur.
- C) Dün gece çok güzel rüyalar gördüm.
- D) Çiçekler çok güzeldi.

13. Aşağıdakilerden hangisi bir düşünce yazısı türüdür?

- A) Tiyatro
- B) Öykü
- C) Olay
- D) Deneme

14. Aşağıdaki fiillerden hangisi rivayet bileşik zamanla çekimlenmiştir?

- A) konuşmazmış
- B) gitmeliydi
- C) söylerse
- D) sorsaydı

15. Aşağıdaki fiillerden hangisi şart birleşik zamanla çekimlenmiştir?

- A) bitmişti
- B) başladım
- C) gidecekse
- D) olmadı

16. Aşağıdakilerin hangisinde kip kayması vardır?

- A) İşim var, kapıyı sen aç.
- B) Yarın akşam bize yemeğe geliyorlar.
- C) Sınav sonuçları haftaya açıklanacak.
- D) Dün arkadaşlarla çok eğlendik.

17. Aşağıdaki türemiş fiillerden hangisi fiilden fiil türeten bir ek almıştır?

- A) yürü-
- B) dile-
- C) kopar-
- D) sev-

18. Aşağıdaki fiillerden hangisi basit fiildir?

- A) al-
- B) sırala-
- C) azal-
- D) gezin-

19. Aşağıdaki cümlelerin hangisinde fiilde anlam kayması vardır?

- A) Yarın İzmir'e gelecekler.
- B) Bizim kız bu habere çok sevinir.
- C) Dün işe gelmedi.
- D) Aldığım tüm kitapları okudum.

20. Aşağıdakilerden hangisi birleşik fiildir?

- A) getirmek
- B) çözmek
- C) yapabilmek
- D) büyümek

1. **a negatif bir rasyonel sayı olduğuna göre, aşağıdaki sayılardan hangisi en küçüktür?**

A) $a-2$
 B) $a+2$
 C) $a-4$
 D) $a+4$

2. $-\frac{11}{14}, -\frac{11}{8}, -\frac{11}{10}$

rasyonel sayıların büyükten küçüğe doğru sıralanışı aşağıdakilerin hangisinde verilmiştir?

A) $-\frac{11}{14} > -\frac{11}{10} > -\frac{11}{8}$
 B) $-\frac{11}{10} > -\frac{11}{8} > -\frac{11}{14}$
 C) $-\frac{11}{8} > -\frac{11}{10} > -\frac{11}{14}$
 D) $-\frac{11}{14} > -\frac{11}{8} > -\frac{11}{10}$

3. Bir fabrikada 221 litrelik süt $3\frac{2}{5}$ litrelik şişelere doldurulmak isteniyor.

Buna göre, kaç şişeye ihtiyaç vardır?

A) 62
 B) 63
 C) 64
 D) 65

4. Gece dışarı asılan termometre 31°C yi göstermektedir. Termometre her 1,5 saatte bir 4°C düşmektedir.

Buna göre, termometrenin 9 saat sonraki sıcaklığı kaç $^{\circ}\text{C}$ olur?

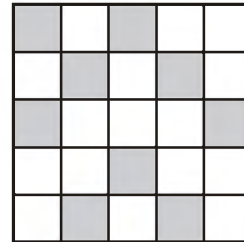
A) 7
 B) 8
 C) 9
 D) 10

5. Bir satıcı 110 TL ye aldığı bir mal için 20 TL masraf yapmıştır.

Satıcı bu malı %30 kârla satacağına göre, malın satış fiyatı kaç TL dir?

A) 152
 B) 169
 C) 175
 D) 180

- 6.

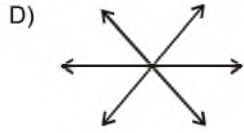
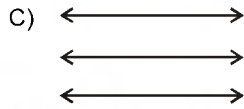
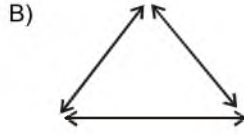
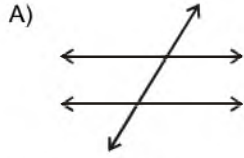


Yukarıdaki kare 25 eş kareye bölünmüş ve bu karelerin 9 tanesi taranmıştır.

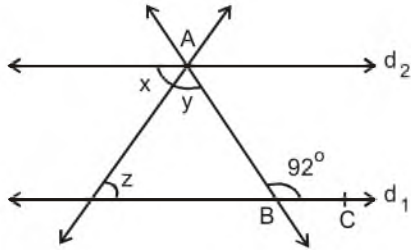
Buna göre, taralı kareler tüm karelerin yüzde kaçıdır?

A) 30
 B) 32
 C) 36
 D) 40

7. Aşağıdakilerden hangisi noktadaş üç doğrudur?



8.



Yukarıdaki şekilde $d_1 // d_2$ dir. $\widehat{s(ABC)} = 92^\circ$ ve $x = y$ olduğuna göre, z kaç derecedir?

- A) 42°
B) 44°
C) 46°
D) 48°

9. Biri diğerinden 9 yaş büyük olan iki kardeşin 5 yıl sonraki yaşları toplamı 35 olacaktır.

Buna göre, küçük kardeş kaç yaşındadır?

- A) 6
B) 7
C) 8
D) 9

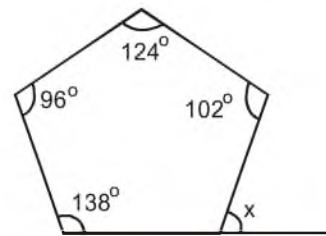
10. $\frac{x+4}{5} - \frac{4-x}{10} = \frac{x}{-4}$ denkleminde x in değeri kaçtır?

- A) -6
B) -4
C) 4
D) 8

11. Denklemi $y = -\frac{5}{6}x + 4$ olan doğru üzerindeki bir K noktasının apsisi +18 ise ordinatı kaçtır?

- A) -14
B) -11
C) 8
D) 10


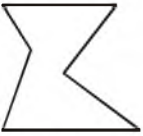

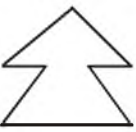
12.



Yukarıdaki çokgende x kaç derecedir?

- A) 80°
B) 90°
C) 100°
D) 110°

13. Aşağıdaki çokgenlerden hangisi dış bükeydir?





- A) 
- B) 
- C) 
- D) 

14.

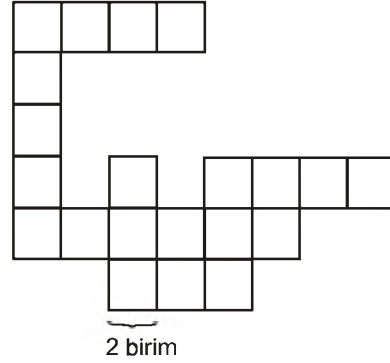


Yukarıdaki şekil O noktası etrafında saat ibresinin tersi yönünde 180° döndürülüyor.

Döndürülme işleminden sonra oluşan şekil aşağıdakilerden hangisidir?

- A) 
- B) 
- C) 
- D) 

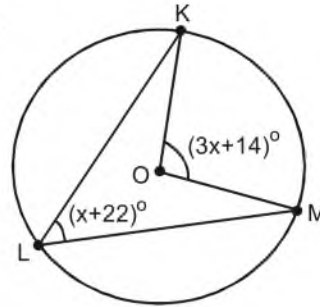
15.



Birim karelerden oluşturulmuş yukarıdaki şeklin çevre uzunluğu kaç birimdir?

- A) 74
B) 76
C) 78
D) 82

16.



Şekildeki O merkezli çemberde,

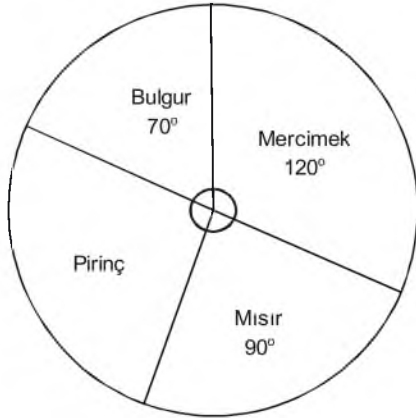
$$m(\widehat{KLM}) = (x + 22)^\circ \text{ ve}$$

$$m(\widehat{KOM}) = (3x + 14)^\circ \text{ dir.}$$

Buna göre, $m(\widehat{KOM})$ kaç derecedir?

- A) 86°
B) 89°
C) 104°
D) 110°

17.



Yukarıdaki dairesel grafikte, bir ülkede ihraç edilen baklagillerin dağılımı verilmiştir.

150 ton mercimek ihraç edildiğine göre, kaç ton pirinç ihraç edilmiştir?

- A) 80
- B) 100
- C) 110
- D) 120

18. Aşağıdaki veri gruplarından hangisinin tepe değeri (modu) **en büyüktür?**

- A) 83, 81, 81, 92, 98
- B) 91, 98, 91, 90, 91, 89
- C) 94, 92, 93, 92, 96, 76
- D) 100, 88, 88, 86, 88, 100

19.

Dersler	Matematik	İngilizce
Kız	18	12
Erkek	11	14

Yukarıdaki tabloda, 7/A şubesinde Matematik ve İngilizce dersinden geçen kız ve erkek öğrencilerin sayıları verilmiştir.

Buna göre, rasgele seçilen bir öğrencinin kız veya İngilizce dersinden geçmiş olma olasılığı nedir?

- A) $\frac{1}{5}$
- B) $\frac{2}{5}$
- C) $\frac{3}{5}$
- D) $\frac{4}{5}$

20. Taban yarıçapı 5 cm ve yüksekliği 12 cm olan dik dairesel silindirin hacmi kaç cm^3 tür? ($\pi = 3$ alınız.)

- A) 450
- B) 600
- C) 900
- D) 1200

1. Kan içindeki zararlı atıkları ve üreyi süzerek idrar şeklinde vücuttan uzaklaştıran organ aşağıdakilerden hangisidir?

- A) Karaciğer
- B) Akciğer
- C) Mide
- D) Böbrek

2. Aşağıdakilerden hangisi kinetik enerjiye sahip değildir?

- A) Akan su
- B) Oturan çocuk
- C) Hareket halindeki araba
- D) Fırlatılan top

3. Aşağıdakilerden hangisi doğuştan kazanılmış reflektir?

- A) Yüzmek
- B) Öksürmek
- C) Örgü örmek
- D) Dans etmek

4. Aşağıdakilerden hangisi desteğin uçta, yükün ortada olduğu tek taraflı kaldıraçlara bir örnektir?

- A) Kayık küreği
- B) Tahterevallı
- C) Makas
- D) Gazoz açacağı




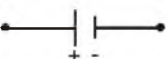
5. Aşağıdakilerden hangisi orta kulakta bulunan kemiklerden biri değildir?

- A) Üzengi
- B) Salyangoz
- C) Örs
- D) Çekiç

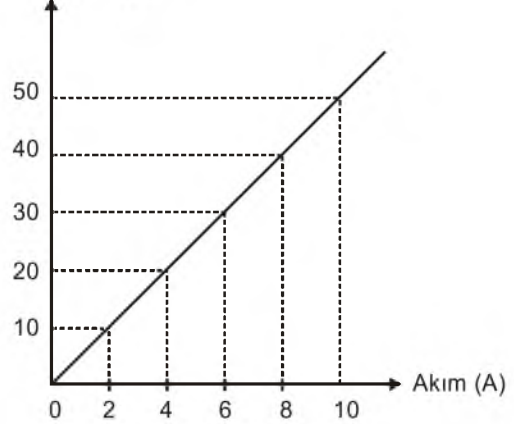
6. Hareketli cisimlerin hızlarından dolayı sahip olduğu enerji türüne ne ad verilir?

- A) Isı
- B) Potansiyel
- C) Kimyasal
- D) Kinetik

7. Pil (üreteç) hangi sembolle gösterilir?

- A) 
- B) 
- C) 
- D) 

8. Gerilim (V)




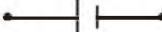


Bir devre elemanına ait yukarıda verilen gerilim-akım grafiğine göre, bu devre elemanının direnci kaç ohm dur?

- A) 2
- B) 5
- C) 8
- D) 10

9. Aşağıdakilerden hangisi homojen bir karışımdır?

- A) Su-zeytinyağı
- B) Salata
- C) Maden suyu
- D) Çamurlu su

10. Direnç, hangi sembolle gösterilir?

- A) 
- B) 
- C) 
- D) 

11. Aşağıdaki karışımlardan hangisi bir çözeltilidir?

- A) Tuz – Su
- B) Toprak – Su
- C) Su – Zeytinyağı
- D) Su – Tebeşir

12. Atom numarası 11 olan Sodyum (Na) elementinin elektron dizilimi aşağıdakilerden hangisidir?

- A) 2, 8, 7
- B) 2, 8, 2
- C) 2, 8, 1
- D) 2, 6

13. Popülasyonun tanımı aşağıdakilerden hangisidir?

- A) Bir bölgede yaşayan ve birbirleriyle etkileşim içinde olan canlılarla bunların cansız çevrelerinin oluşturduğu doğa parçası
- B) Belirli bir bölgede yaşayan, aynı türe ait bireylerin oluşturduğu topluluk
- C) Bir canlının doğal olarak yaşayıp üreyebildiği yer
- D) Canlıları doğrudan ya da dolaylı olarak etkileyen ortamın her bir elemanı

14. Yeryüzüne kadar ulaşan gök cisimlerine ne ad verilir?

- A) Gök taşı
- B) Meteor
- C) Yıldız
- D) Gezegen

15. Kırmızı ışık altında bakılan beyaz bir cisim hangi renkte görülür?

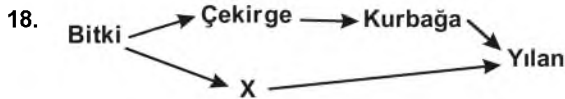
- A) Kırmızı
- B) Siyah
- C) Gri
- D) Beyaz

16. Aşağıdakilerden hangisi iç gezegenlerden biridir?

- A) Merkür
- B) Jüpiter
- C) Uranüs
- D) Satürn

17. Güneş sisteminde Güneş'e en yakın gezegen aşağıdakilerden hangisidir?

- A) Dünya
- B) Mars
- C) Merkür
- D) Venüs



Yukarıdaki besin zincirinde X canlısının beslenme şekli ile ilgili aşağıdaki ifadelerden hangisi doğrudur?

- A) Kendi besinini kendi üretir.
- B) Yalnız et ile beslenir.
- C) Yalnız ot ile beslenir.
- D) Hem et ile hem ot ile beslenir.

19. Bir canlının doğal olarak yaşayıp üreyebildiği yere ne ad verilir?

- A) Popülasyon
- B) Adaptasyon
- C) Habitat
- D) Mutasyon

20. Röntgen filmlerinin çekilmesinde kullanılan, insan vücuduna etkileri olan ışık türü aşağıdakilerden hangisidir?

- A) Mor ötesi ışınlar
- B) Mikro dalgalar
- C) Gama ışınları
- D) X-ışınları

1. Aşağıdakilerden hangisi "Ben" dilinin özelliklerinden biri değildir?

- A) Anlaşmazlıkları azaltması
- B) Suçlayıcı, eleştirici, yargılayıcı olması
- C) Konuşan kişiyi rahatlatması
- D) Suçluluk hissettirmemesi

2. Osmanlılar hangi Oğuz boyuna mensuptur?

- A) Afşar
- B) Karaman
- C) Mengücek
- D) Kayı

3. Türkiye'de ilk düzenli nüfus sayımı ne zaman yapılmıştır?

- A) 1927
- B) 1967
- C) 1978
- D) 1998

4. Milliyetçilik akımından en çok Rusya, Osmanlı ve Avusturya-Macaristan İmparatorlukları etkilenmiştir.

Bunun nedeni aşağıdakilerden hangisidir?

- A) Avrupa'ya yakın olmaları
- B) Çok uluslu bir yapıya sahip olmaları
- C) Baskıcı bir yönetime sahip olmaları
- D) Ortak düşmana sahip olmaları

5. Devletin çalışanlara sosyal güvence sağlamak amacıyla kurduğu Emekli Sandığı, BAĞ-KUR, SSK gibi sosyal güvenlik kurumları hangi isim altında birleştirilmiştir?

- A) Türkiye Güvenlik Kurumu- TGK
- B) Milli Güvenlik Kurumu- MGK
- C) Türkiye Sigortalar Kurumu- TSK
- D) Sosyal Güvenlik Kurumu- SGK

6. İlk Türk devletlerinde Kut adı verilen yönetim yetkisinin kan yoluyla babadan oğula geçtiği kabul edilirdi.

Buna göre aşağıdakilerden hangisi söylenebilir?

- A) Devletin saltanatla yönetildiği
- B) Ülke yönetiminde meclisin önemli olduğu
- C) Yönetme yetkisinin halkta olduğu
- D) Taht kavgalarının olmadığı

7. Coğrafi keşiflere kadar dünya ticaretinde önemli olan ticaret yolu aşağıdakilerden hangisidir?

- A) İstanbul Boğazı
- B) İpek Yolu
- C) Kral Yolu
- D) Süveyş Kanalı

8. Avrupa'da akla dayanan düşünce sisteminin egemen olduğu döneme ne ad verilir?

- A) Aydınlanma Çağı
- B) Karanlık Çağ
- C) Orta Çağ
- D) Yenilik Çağı

9. Aşağıdakilerden hangisi Türkiye'de hızlı nüfus artışının sonuçlarından biri değildir?

- A) Gelir dağılımında dengesizlik
- B) Milli gelirde artış
- C) Doğal kaynaklarda azalış
- D) Çevre sorunlarında artış

10. Orta Asya Türk devletlerinde siyasi, ekonomik ve askeri kararların alındığı meclise ne ad verilir?

- A) Töre
- B) Kurultay
- C) Cenk
- D) İl

11. Aşağıdakilerden hangisi insanlığın sanat, edebiyat, bilim ve düşünce mirasının korunmasının yollarından biri değildir?

- A) Müze ve kütüphaneler kurmak
- B) Ortak mirası korumak ve geliştirmek
- C) Bireyleri eğitmek
- D) İnsanların kullanımını kısıtlamak

12. İlk Çağ uygarlıkları, günümüz bilim ve teknolojisinin gelişmesine katkıda bulunan ilk buluşları gerçekleştirmişlerdir.

Aşağıdakilerden hangisi bu buluşlardan biri değildir?

- A) Tekerlek
- B) Yazı
- C) Takvim
- D) Buhar gücü

13. Aşağıdaki deniz savaşlarından hangisinden sonra Akdeniz bütünüyle Osmanlı Devleti'nin egemenliğine girmiştir?

- A) İnebahtı
- B) Rodos
- C) Preveze
- D) Korfu

14. İlk Osmanlı medresesi 1331 yılında Orhan Bey tarafından nerede açılmıştır?

- A) Söğüt
- B) Kayseri
- C) İznik
- D) Konya

15. Katolik Kilisesi'ni aslına döndürmek amacıyla yapılan değişiklik ve düzenlemelere ne ad verilir?

- A) Rönesans
- B) Aydınlanma
- C) Reform
- D) Protestan

16. Aşağıdakilerden hangisi Osmanlı Devleti'nin güçlü bir devlet olarak ortaya çıkmasında rol oynayan etkenlerden biri değildir?

- A) Yerleşik bir nüfusa sahip olması
- B) Bizans'ın zayıf olması
- C) Türk beyliklerine karşı izlediği barışçı politika
- D) Coğrafi konumu

17. Aşağıdakilerden hangisi iyi bir dinleyicinin özelliklerinden biridir?

- A) Dinlerken başka bir işle meşgul olma
- B) Dinlemekten çok konuşma
- C) Göz teması kurma
- D) Dikkatini karşısındaki kişiye vermeme

18. Anadolu Türk mimarisinin en önemli anıtlarından biri olan Divriği Ulu Camii (1228) aşağıdaki beyliklerden hangisi tarafından yaptırılmıştır?

- A) Saltuklular
- B) Osmanlılar
- C) Mengücekliler
- D) Artuklular

19. Mustafa Kemal, aşağıdaki savaşların hangisinden sonra "Anafartalar Kahramanı" olarak tanınmıştır?

- A) Trablusgarp
- B) Balkan
- C) Kafkasya
- D) Çanakkale

20. Aşağıdakilerden hangisi meslek tercihi yaparken göz önünde bulundurulacaklar arasında ver almaz?

- A) Yakınların beklentileri
- B) Kişisel özellikler
- C) Yetenekler
- D) İlgi ve istekler

1. Aşağıdaki fiillerden hangisi mastar eki almıştır?

- A) geldi
- B) uyumuş
- C) koşuyor
- D) uçmak

2. Aşağıdaki cümlelerden hangisinin yüklemi olumsuzdur?

- A) Küçük kız yere düştü.
- B) Yaşlı kadın bankta oturuyordu.
- C) Kapıyı annem açtı.
- D) Bugün okula gitmedim.

3. Aşağıdaki cümlelerin hangisinde terim kullanılmıştır?

- A) Dün sabah ani bir kararla Ankara'ya gitti.
- B) Göz görmeyince gönül katlanırmış.
- C) Üçgenin iç açıları toplamı 180'dir.
- D) Sandalyenin ayaklarından biri kırık.

4. Aşağıdaki cümlelerden hangisinin yüklemi gelecek zaman ve 3. tekil kişi ile çekimlenmiştir?

- A) Babam Ankara'dan yarın dönecek.
- B) Yaz tatilinde denize gittik.
- C) Aldığım kitapların hepsini okudum.
- D) Her sabah erkenden kalkar, işe gider.

5. Aşağıdaki fiillerden hangisi emir kipiyle çekimlenmiştir?

- A) gidiyordu
- B) yat
- C) koşmamalısın
- D) uyanca

6. Aşağıdaki fiillerden hangisi 1. tekil kişi ve şimdiki zamanla çekimlenmiştir?

- A) yıkadım
- B) okuyor
- C) öğreniyorum
- D) öğreneceksin

7. Aşağıdaki cümlelerin hangisinin yüklemi ek fiil almış bir isimdir?

- A) Ege'nin en güzel şehri İzmir'dir.
- B) Bu saat oldu, hâlâ gelmedi.
- C) Bütün gün onu bekledim.
- D) Bütün gün ayakta durmaktan çok yorulmuştum.

8. Aşağıdakilerden hangisi ad cümlesidir?

- A) Hafta sonu pikniğe gideceğiz.
- B) Bugün okullar tatil oldu.
- C) Babam bugün işe gitmedi.
- D) Arkadaşımın babası öğretmendir.

9. Aşağıdakilerden hangisi bileşik fiildir?

- A) yazıver-
- B) düş-
- C) gör-
- D) kır-

10. "buket" sözcüğünün eş anlamlısı aşağıdakilerden hangisidir?

- A) çiçek
- B) demet
- C) mesut
- D) gam

11. Aşağıdaki sözcüklerden hangisi eş sesli değildir?

- A) yat
- B) yüz
- C) büyük
- D) el

12. Aşağıdaki cümlelerin hangisinde fiilimsi vardır?

- A) Yaşlı kadın banka oturup dinlendi.
- B) Okula erkenden gittim.
- C) Bütün ödevlerimi zamanında yaparım.
- D) Çevreyi temiz tutmalıyız.

13. Aşağıdaki cümlelerden hangisinin yüklemi edilgendir?

- A) O kitapların hepsini okudum.
- B) Bütün ev temizlendi.
- C) Merdivenleri koşarak çıktılar.
- D) Ailece pikniğe gittik.

14. Aşağıdaki cümlelerden hangisinin yüklemi geçişli bir fiil değildir?

- A) Onu tanıdım.
- B) Bir balık tuttum.
- C) Okula gittim.
- D) Vapuru kaçırdım.

15. Aşağıdakilerin hangisinde ünlü daralması vardır?

- A) geldi
- B) anlıyorum
- C) öğrenecek
- D) çalındı

16. Aşağıdaki sözcüklerden hangisi kaynaştırma harfi almıştır?

- A) odanın
- B) kapıcı
- C) okulda
- D) susuz

17. Bir olayı, bir varlığı, bir kişiyi; karşısındakinin gözünde canlandıracak, gerekli izlenimleri uyandıracak biçimde yapılan anlatıma ne ad verilir?

- A) Tartışmacı anlatım
- B) Açıklayıcı anlatım
- C) Betimleme (tasvir)
- D) Hikaye etme

18. Aşağıdaki cümlelerden hangisinde dolaylı tümleş vardır?

- A) Kapı uzun uzun çaldı.
- B) Ağaçlar çiçek açtı.
- C) Arabayla gittik.
- D) Okuldan geliyorum.

19. Aşağıdaki cümlelerin hangisinde edat vardır?

- A) Atilla bugün derse gelmedi.
- B) Doğum günümde tüm aile bir aradaydık.
- C) Okula bisiklet ile gidiyorum.
- D) Babam işten yorgun gelirdi.

20. Aşağıdaki sözcüklerin hangisinde ünlü düşmesi yoktur?

- A) Omzunu incitmişti.
- B) Bacağım çok ağrıyordu.
- C) Soğuktan burnu kızarmış.
- D) Akli fikri derslerindeydi.

BU SAYFA BOŞ BIRAKILMIŞTIR.

BU SAYFA BOŞ BIRAKILMIŞTIR.

SINAVDA UYULMASI GEREKEN GENEL KURALLAR

1. Sınava girmek için gerekli belgelerinizin tümünü sınav başlamadan önce sıranızın üzerine bırakınız.
2. Sınav süresince görevlilerle konuşmak, görevlilere soru sormak yasaktır. Aynı şekilde görevlilerin de öğrencilerle/adaylarla yakından ve alçak sesle konuşmaları yasaktır. Gerekli durumlarda görevliler yerinizi değiştirebilir.
3. Size verilen cevap kâğıdının üzerindeki TCKN/Öğrenci no, ad, soyadı, bilgilerini kontrol ediniz, ilgili alanları eksiksiz doldurarak imzalayınız. Bu bilgiler size ait değilse, kâğıt üzerinde hiçbir işlem yapmadan görevlileri uyararak size ait cevap kâğıdını isteyiniz. Başkasına ait cevap kâğıdı kullanan öğrencilerin sınavları geçersiz sayılır.
4. Cevap kâğıdı üzerine test grubunu (kitapçık türünü) kodlamayan veya birden fazla grubu kodlayanların sınavları geçersiz sayılır.
5. Cevap kâğıdınıza yazacağınız her türlü yazı ve yapacağınız işaretlemeler için koyu siyah kurşun kalem kullanmalısınız. Farklı bir kalem (tükenmez, mürekkepli, renkli vb.) kullananların sınavları geçersiz sayılır.
6. Cevap kâğıdı üzerinde değişiklik yapmak istediğinizde, iz bırakmayan bir silgi kullanınız. Cevap kâğıdınızı buruşturmayınız, katlamayınız ve üzerine gereksiz hiçbir işaret koymayınız.
7. Cevaplarınızı, cevap kâğıdında ilgili test için ayrılmış olan alana, cevap yerinin dışına taşırmadan işaretleyiniz. Soru kitapçığı üzerinde yapılan işaretlemeler değerlendirmeye alınmayacaktır.
8. Her sorunun tek bir doğru cevabı vardır. Bir soru için birden çok cevabı işaretlerseniz, o soruyu yanlış cevaplamış sayılacaksınız.
9. Soru kitapçığınızı aldığınızda sayfalarına hızlıca bakarak hatalı ya da eksik baskı olup olmadığını kontrol ediniz. Hata/eksik olması durumunda kitapçığının değiştirilmesi için derhâl sınav görevlilerine başvurunuz. Sınav görevlileri sınavın başladığını belirtmeden kitapçığınızı tekrar açmayınız.
10. Cevap kâğıdınızda belirtilen kitapçık kodu ile soru kitapçığının kodunu karşılaştırınız. Aynı değilse, sınav görevlilerine durumu bildirerek doğru kitapçığın verilmesini talep ediniz.
11. Soru kitapçığınızdaki ilgili alanlara ad, soyadı, TCKN/Öğrenci no, sınav salon no, sıra no bilgilerinizi eksiksiz doldurarak imzanızı atınız. Soru kitapçığının sayfalarındaki boş yerleri müsvedde amacıyla kullanabilirsiniz.
12. Aşağıdaki durumlarda sınav görevlileri tarafından Bireysel Sınav İptal Tutanağı düzenlenerek ilgili öğrencilerin/adayların sınavları geçersiz sayılır:
 - a) Sınav kurallarına ve sınav görevlilerinin uyarılarına uymamak, sınav düzenini bozmak,
 - b) Kâğıt, kitap, defter, not vb. dokümanları; pergel, açıölçer, cetvel vb. araçları; cep telefonu, bilgisayar, tablet, telsiz, kamera vb. iletişim, depolama, kayıt ve veri aktarma cihazlarını; ruhsatlı veya resmi amaçlı olsa bile silah ve silah yerine geçebilecek nesneleri yanında bulundurmamak,
 - c) Sınav sırasında kalem, silgi vb. araç-gereç paylaşımında bulunmak,
 - d) Cevapları, cevap kâğıdı dışında bir yere yazmak ve sınav salonundan dışarı çıkarmak,
 - e) Sınava girebilmek için gerekli belgeleri eksik olduğu halde sınava katılıp, cevap kâğıdında işaretleme yapmak,
 - f) Sınav görevlileri tarafından öğrencinin/adayın kimliğinden şüphe duyulması,
 - g) Cevap kâğıdını ve/veya soru kitapçığını sınav görevlilerine eksiksiz ve sağlam şekilde teslim etmemek, sınav salonu dışına çıkarmak,
 - h) Kopya çekmek, vermek, çekilmesine yardımcı olmak vb. eylemlerde bulunmak,
 - i) Kendisi yerine başkasını sınava sokmak.
13. Sınav bitiminde, cevap kâğıdınızı ve soru kitapçığınızı salon görevlilerine eksiksiz biçimde teslim ediniz. Sınav bittikten sonra gönderilen cevap kâğıtları dikkate alınmayacaktır.

SINAV KURALLARINA UYDUĞUNUZ İÇİN TEŞEKKÜR EDER, SINAVINIZDA BAŞARILAR DİLERİZ.